

Combined Graduate Level Examination 2024 Tier I

| | |
|----------------|--|
| Roll Number | |
| Candidate Name | |
| Venue Name | |
| Exam Date | 12/09/2024 |
| Exam Time | 9:00 AM - 10:00 AM |
| Subject | Combined Graduate Level Examination Tier I |


Section : General Intelligence and Reasoning

Q.1 उस समुच्चय का चयन कीजिए, जिसमें संख्याएँ एक-दूसरे से उसी तरह संबंधित हैं, जैसे दिए गए समुच्चय की संख्याएँ हैं।
(213, 157), (185, 129)
(ध्यान दीजिए: संख्याओं को उनके घटक अंकों में विभाजित किए बिना, पूर्ण संख्याओं पर संक्रियाएँ की जानी चाहिए। उदाहरण के लिए 13 - 13 पर संक्रिया जैसे जोड़ना / हटाना / गुणा करना आदि 13 पर किया जा सकता है। 13 को 1 और 3 में तोड़ना और फिर 1 और 3 पर गणितीय संक्रियाएँ करने की अनुमति नहीं है)

Ans  1. (171, 123)

 2. (192, 152)

 3. (164, 108)

 4. (189, 141)

Question ID : 630680319359

Option 1 ID : 6306801242343

Option 2 ID : 6306801242342

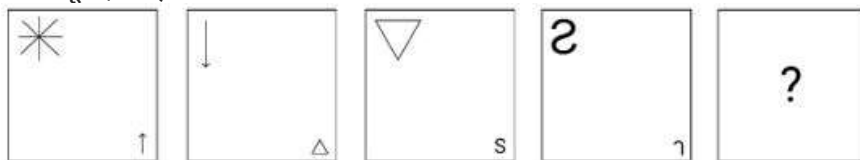
Option 3 ID : 6306801242344

Option 4 ID : 6306801242341

Status : Answered

Chosen Option : 3

Q.2 दिए गए विकल्पों में से उस आकृति की पहचान कीजिए, जिसे '?' के स्थान पर रखने पर श्रृंखला तार्किक रूप से पूर्ण हो जाएगी।

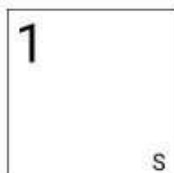


Ans


✗ 1.



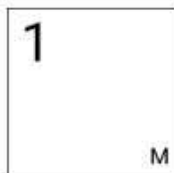
✗ 2.



✓ 3.



✗ 4.



Question ID : 630680366157

Option 1 ID : 6306801426156

Option 2 ID : 6306801426153

Option 3 ID : 6306801426154

Option 4 ID : 6306801426155

Status : Answered

Chosen Option : 3

Q.3 एक पासे के विभिन्न फलकों पर छः शब्द खाना (Eat), रोना (Cry), खेलना (Play), सोना (Sleep), दौड़ना (Run) और नहाना (Bath) लिखे हुए हैं। नीचे चित्र में इस पासे की तीन स्थितियां दिखाई गई हैं। खाना (Eat) शब्द के विपरीत फलक पर कौन-सा शब्द है?



Eat = खाना
Cry = रोना
Play = खेलना
Sleep = सोना
Run = दौड़ना

- Ans ☒ 1. दौड़ना (Run)
☒ 2. सोना (Sleep)
☒ 3. रोना (Cry)
☒ 4. खेलना (Play)

Question ID : 630680296578
Option 1 ID : 6306801153964
Option 2 ID : 6306801153965
Option 3 ID : 6306801153963
Option 4 ID : 6306801153966

Status : Answered

Chosen Option : 1

Q.4 जब दर्पण को नीचे दर्शाए गए अनुसार MN पर रखा जाता है तो दी गई आकृति के सही दर्पण प्रतिबिंब का चयन कीजिए।



- Ans ☒ 1. @ 4 7 w R h
☒ 2. @ 4 7 w R h
☒ 3. @ 4 7 w R h
☒ 4. @ 4 7 w R h

Question ID : 630680356660
Option 1 ID : 6306801388644
Option 2 ID : 6306801388641
Option 3 ID : 6306801388642
Option 4 ID : 6306801388643

Status : Answered

Chosen Option : 2

Q.5 एक निश्चित कूट भाषा में,

'A + B' का अर्थ है 'A, B की माता है';
'A - B' का अर्थ है 'A, B का भाई है';
'A × B' का अर्थ है 'A, B की पत्नी है' और
'A ÷ B' का अर्थ है 'A, B का पिता है'।

उपर्युक्त के आधार पर, यदि ' $4 + 3 ÷ 2 ÷ 1 - 5$ ' है, तो 4, 2 से किस प्रकार संबंधित है?

- Ans
- ☒ 1. पिता का पिता
 - ☒ 2. पिता की माता
 - ☒ 3. माता का पिता
 - ☒ 4. माता की माता

Question ID : 630680300377

Option 1 ID : 6306801168407

Option 2 ID : 6306801168409

Option 3 ID : 6306801168408

Option 4 ID : 6306801168410

Status : Answered

Chosen Option : 2

Q.6 दिए गए विकल्पों में से उस आकृति का चयन कीजिए जो निम्नलिखित श्रृंखला में प्रश्न चिह्न (?) को प्रतिस्थापित कर सकती है।



Ans

☒ 1.



☒ 2.



☒ 3.



☒ 4.



Question ID : 63068057468

Option 1 ID : 630680221717

Option 2 ID : 630680221716

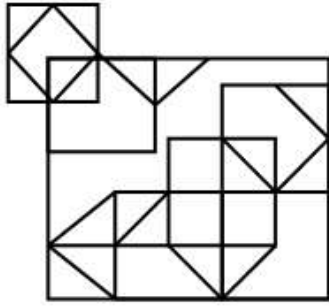
Option 3 ID : 630680221714

Option 4 ID : 630680221715

Status : Answered

Chosen Option : 3

Q.7 दी गई आकृति में कितने त्रिभुज हैं?



- Ans
- ☒ 1. 20
 - ☒ 2. 16
 - ☒ 3. 21
 - ☒ 4. 18

Question ID : 630680281042

Option 1 ID : 6306801092406

Option 2 ID : 6306801092404

Option 3 ID : 6306801092405

Option 4 ID : 6306801092403

Status : Answered

Chosen Option : 3

Q.8 संख्याओं के दो सेट नीचे दिए गए हैं। संख्याओं के प्रत्येक सेट में, पहले नंबर पर कुछ गणितीय संक्रिया(ओं) का परिणाम दूसरे नंबर पर होता है। इसी प्रकार, दूसरे नंबर पर कुछ गणितीय संक्रिया(ओं) का परिणाम तीसरे नंबर पर होता है, और इसी प्रकार आगे भी होता है। दिए गए विकल्पों में से कौन-सा विकल्प दिए गए सेटों की तरह समान संक्रियाओं वाले सेट का अनुसरण करता है?

(नोट: संख्याओं को उनके घटक अंकों में तोड़े बिना, ये संक्रियाएँ संपूर्ण संख्याओं पर की जानी चाहिए। उदाहरण के लिए 13 को लीजिए - 13 पर संक्रियाएँ जैसे कि 13 में जोड़ना/घटाना/गुणा करना, की जा सकती हैं। 13 को 1 और 3 में तोड़ना और फिर 1 और 3 पर गणितीय संक्रियाएँ करने की अनुमति नहीं है।)

18 – 36 – 72 – 107; 15 – 30 – 60 – 95

- Ans
- ☒ 1. 30 – 60 – 90 – 115
 - ☒ 2. 25 – 50 – 100 – 125
 - ☒ 3. 11 – 22 – 66 – 101
 - ☒ 4. 22 – 44 – 88 – 123

Question ID : 630680791155

Option 1 ID : 6306803100346

Option 2 ID : 6306803100344

Option 3 ID : 6306803100343

Option 4 ID : 6306803100345

Status : Answered

Chosen Option : 4

Q.9 जब दर्पण को MN पर रखा जाता हो तो दी गई आकृति के सही दर्पण प्रतिबिंब का चयन कीजिए।



Ans

☒ 1.

☒ 2.

☒ 3.

☒ 4.

Question ID : 630680325821

Option 1 ID : 6306801267477

Option 2 ID : 6306801267480

Option 3 ID : 6306801267478

Option 4 ID : 6306801267479

Status : Answered

Chosen Option : 3

Q.10 एक निश्चित तर्क का अनुसरण करते हुए $\left[\frac{24}{7}\right]$ का संबंध $\left[\frac{12}{7}\right]$ है। समान संबंध का अनुसरण करते हुए $\left[\frac{11}{15}\right], \left[\frac{11}{30}\right]$ से संबंधित है। समान तर्क का अनुसरण करते हुए $\left[\frac{9}{13}\right]$ का संबंध निम्नलिखित में से किससे है?

(नोट: संख्याओं को उनके घटक अंकों में विभक्त किए बिना पूर्ण संख्याओं पर संक्रियाएं की जानी चाहिए। उदाहरण के लिए 13 को लें- 13 पर संक्रियाएं, जैसे कि जोड़ना/घटाना/गुणा आदि 13 में की जा सकती हैं। 13 को 1 और 3 में विभक्त करना और फिर 1 और 3 पर गणितीय संक्रियाएं करने की अनुमति नहीं है।)

Ans

☒ 1. $\left[\frac{15}{26}\right]$

☒ 2. $\left[\frac{9}{26}\right]$

☒ 3. $\left[\frac{10}{27}\right]$

☒ 4. $\left[\frac{9}{39}\right]$

Question ID : 630680344256

Option 1 ID : 6306801339337

Option 2 ID : 6306801339339

Option 3 ID : 6306801339338

Option 4 ID : 6306801339340

Status : Answered

Chosen Option : 2

Q.11 उस शब्द-युग्म का चयन करें, जो नीचे दिए गए शब्दों के युग्म में व्यक्त किए गए संबंध के समान संबंधों का सबसे बेहतर ढंग से प्रतिनिधित्व करता है।
(शब्दों को अर्थपूर्ण हिंदी शब्द माना जाना चाहिए और शब्द में अक्षरों की संख्या/व्यंजनों/स्वरों की संख्या के आधार पर एक दूसरे से संबंधित नहीं होना चाहिए)
Virus : Parasite (विषाणु : परजीवी)

- Ans
- ☒ 1. Fenugreek : Micro organism (मेथी : सूक्ष्मजीव)
 - ☒ 2. Algae : Flower (शैवाल : पुष्प)
 - ☒ 3. Amaltas : Tree (अमलतास : वृक्ष)
 - ☒ 4. Fungus : Jasmine (कवक : चमेली)

Question ID : 630680417411
Option 1 ID : 6306801628410
Option 2 ID : 6306801628408
Option 3 ID : 6306801628407
Option 4 ID : 6306801628409
Status : Answered
Chosen Option : 3

Q.12 एक निश्चित कोड कूट में, 'FACED' को 'GZDDE' के रूप में लिखा जाता है और 'VACAY' को 'WZDZZ' के रूप में लिखा जाता है। उसी भाषा में 'LABOR' को किस प्रकार लिखा जाएगा?

- Ans
- ☒ 1. MBCPS
 - ☒ 2. MADMS
 - ☒ 3. MBDPS
 - ☒ 4. MZCNS

Question ID : 630680172749
Option 1 ID : 630680669397
Option 2 ID : 630680669398
Option 3 ID : 630680669399
Option 4 ID : 630680669396
Status : Answered
Chosen Option : 4

Q.13 अंग्रेजी वर्णमाला-क्रम के आधार पर 'WISK' एक निश्चित तरीके से 'DRHP' से संबंधित है। उसी तरह 'LENT' का संबंध 'OVMG' से है। उसी तर्क के अनुसार 'BANG' का संबंध निम्नलिखित में से किससे है?

- Ans
- ☒ 1. ZYLU
 - ☒ 2. YZNU
 - ☒ 3. ZYNS
 - ☒ 4. YZMT

Question ID : 630680416358
Option 1 ID : 6306801624195
Option 2 ID : 6306801624196
Option 3 ID : 6306801624197
Option 4 ID : 6306801624198
Status : Answered
Chosen Option : 4

Q.14 निम्नलिखित श्रृंखला में, केवल एक अक्षर-समूह गलत है। गलत अक्षर-समूह का चयन कीजिए।

YCG IMQ SVZ CGK MQU

- Ans ☒ 1. MQU
☒ 2. IMQ
☒ 3. SVZ
☒ 4. CGK

Question ID : 630680790683
Option 1 ID : 6306803098485
Option 2 ID : 6306803098486
Option 3 ID : 6306803098484
Option 4 ID : 6306803098487
Status : Answered
Chosen Option : 3

Q.15 श्रृंखला को पूरा करने के लिए दिए गए विकल्पों में से संख्या का चयन करें।
25, 30, 40, 55, 75, ____

- Ans ☒ 1. 105
☒ 2. 80
☒ 3. 85
☒ 4. 100

Question ID : 630680411911
Option 1 ID : 6306801606482
Option 2 ID : 6306801606479
Option 3 ID : 6306801606480
Option 4 ID : 6306801606481
Status : Answered
Chosen Option : 4

Q.16 अंग्रेजी वर्णमाला क्रम के आधार पर, निम्नलिखित चार अक्षर-समूहों में से तीन किसी निश्चित तरीके से एकसमान हैं और इस प्रकार एक समूह बनाते हैं। कौन-सा अक्षर-समूह उस समूह से संबंधित नहीं है? (नोट: असंगत अक्षर-समूह, व्यंजनों/स्वरो की संख्या या अक्षर-समूह में इनके स्थान पर आधारित नहीं है।)

- Ans ☒ 1. JHD
☒ 2. FDZ
☒ 3. AYU
☒ 4. KJE

Question ID : 630680812274
Option 1 ID : 6306803182542
Option 2 ID : 6306803182544
Option 3 ID : 6306803182543
Option 4 ID : 6306803182541
Status : Answered
Chosen Option : 4

Q.17 यदि BINDER शब्द के सभी अक्षरों को वर्णानुक्रम में व्यवस्थित किया जाए, तो कितने अक्षरों की स्थिति अपरिवर्तित बनी रहेगी?

- Ans
- ☒ 1. एक
 - ☒ 2. तीन
 - ☒ 3. दो
 - ☒ 4. किसी की भी नहीं

Question ID : 630680131815

Option 1 ID : 630680510471

Option 2 ID : 630680510473

Option 3 ID : 630680510472

Option 4 ID : 630680510470

Status : Answered

Chosen Option : 3

Q.18 यदि 'ENTOMB' शब्द के सभी अक्षरों को अंग्रेजी वर्णमाला क्रम में व्यवस्थित किया जाए, तो कितने अक्षरों की स्थिति में कोई बदलाव नहीं होगा?

- Ans
- ☒ 1. तीन
 - ☒ 2. दो
 - ☒ 3. एक
 - ☒ 4. एक भी नहीं

Question ID : 630680375918

Option 1 ID : 6306801464746

Option 2 ID : 6306801464745

Option 3 ID : 6306801464744

Option 4 ID : 6306801464743

Status : Answered

Chosen Option : 4

Q.19 एक निश्चित कोड भाषा में, 'FIVE' को '12184410' और 'FOUR' को '12304236' लिखा जाता है। उसी भाषा में 'THREE' कैसे लिखा जाएगा?

- Ans
- ☒ 1. 4016361110
 - ☒ 2. 4016361010
 - ☒ 3. 4016361310
 - ☒ 4. 4016361212

Question ID : 630680416224

Option 1 ID : 6306801623662

Option 2 ID : 6306801623661

Option 3 ID : 6306801623660

Option 4 ID : 6306801623659

Status : Answered

Chosen Option : 2

Q.20 निम्नलिखित चार विकल्पों में से तीन किसी न किसी रूप में समान हैं और इस प्रकार, एक समूह बनाते हैं। कौन-सा विकल्प उस समूह से संबंधित नहीं है?
(ध्यान दें: संख्याओं को उनके घटक अंकों में तोड़ें बिना, संक्रियाएं पूर्ण संख्याओं पर की जानी चाहिए। उदाहरण के लिए 13 को लें- संख्या 13 में की जाने वाली संक्रिया, जैसे कि जोड़ना/घटाना/गुणा करना केवल 13 में किया जा सकता है। 13 को अंक 1 और 3 में तोड़ना और फिर 1 और 3 के साथ गणितीय संक्रियाएं करने की अनुमति नहीं है।)

Ans ☒ 1. $540 - 188 - 128$

☒ 2. $72 - 284 - 266$

☒ 3. $90 - 22 - 12$

☒ 4. $81 - 101 - 92$

Question ID : 630680196584

Option 1 ID : 630680762637

Option 2 ID : 630680762638

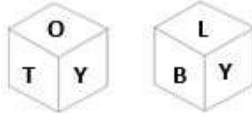
Option 3 ID : 630680762635

Option 4 ID : 630680762636

Status : Answered

Chosen Option : 2

Q.21 T, O, B, L, Y और V फलों वाले एक ही पासे की दो अलग-अलग स्थितियाँ नीचे दिखाई गई हैं। उस अक्षर का चयन कीजिए जो L अक्षर वाले फलक के विपरीत फलक पर होगा।



Ans ☒ 1. Y

☒ 2. B

☒ 3. V

☒ 4. O

Question ID : 630680349072

Option 1 ID : 6306801358580

Option 2 ID : 6306801358578

Option 3 ID : 6306801358577

Option 4 ID : 6306801358579

Status : Answered

Chosen Option : 4

Q.22 निम्नलिखित में से कौन-सा पद दी गई श्रृंखला में प्रश्न-चिह्न (?) को प्रतिस्थापित करेगा?
IMHP, MPJQ, QSLR, UVNS, ?

Ans ☒ 1. XYPT

☒ 2. YXPT

☒ 3. YYOT

☒ 4. YYPT

Question ID : 630680417060

Option 1 ID : 6306801627005

Option 2 ID : 6306801627003

Option 3 ID : 6306801627006

Option 4 ID : 6306801627004

Status : Answered

Chosen Option : 4

Q.23 तीन कथन दिए गए हैं, जिसके बाद तीन निष्कर्ष I, II और III दिए गए हैं। कथनों को सत्य मानते हुए, भले ही वे सामान्य रूप से ज्ञात तथ्यों से भिन्न प्रतीत होते हों, निर्धारित करें कि कौन सा/से निष्कर्ष कथनों का तार्किक रूप से अनुसरण करता/करते है/हैं।

कथन:

सभी पेज, डायरियां हैं।
कुछ डायरियां, किताबें हैं।
सभी किताबें, नोटबुक हैं।

निष्कर्ष:

- I. कोई पेज, नोटबुक नहीं है।
II. सभी पेज, नोटबुक हैं।
III. सभी डायरियों के नोटबुक होने की संभावना है।

Ans ☒ 1. निष्कर्ष I और निष्कर्ष II, दोनों अनुसरण करते हैं।

☒ 2. केवल निष्कर्ष II अनुसरण करता है

☒ 3. केवल निष्कर्ष I और III अनुसरण करते हैं

☒ 4. केवल निष्कर्ष III अनुसरण करता है

Question ID : 630680416385

Option 1 ID : 6306801624305

Option 2 ID : 6306801624304

Option 3 ID : 6306801624306

Option 4 ID : 6306801624303

Status : Answered

Chosen Option : 4

Q.24 निम्नलिखित समीकरण को सही करने के लिए किन दो चिह्नों को आपस में बदलना चाहिए?
 $247 \div 13 + 16 \times 3 - 148 = 119$

Ans ☒ 1. \div और \times

☒ 2. $+$ और \times

☒ 3. $-$ और $+$

☒ 4. $-$ और \times

Question ID : 630680204290

Option 1 ID : 630680792243

Option 2 ID : 630680792246

Option 3 ID : 630680792244

Option 4 ID : 630680792245

Status : Answered

Chosen Option : 3

Q.25 यदि '+' और '-' को आपस में बदल दिया जाए और 'x' और '÷' को आपस में बदल दिया जाए, तो निम्नलिखित समीकरण में प्रश्न-चिह्न (?) के स्थान पर क्या आएगा?
 $342 \times 18 + 79 - 45 \div 3 = ?$

Ans ☒ 1. 75

☒ 2. 85

☒ 3. 65

☒ 4. 55

Question ID : 630680336425

Option 1 ID : 6306801308421

Option 2 ID : 6306801308423

Option 3 ID : 6306801308422

Option 4 ID : 6306801308424

Status : Answered

Chosen Option : 1

Q.1 निम्नलिखित में से किसे 2022-23 में आयोजित हुए जी-20 सम्मेलन में शेरपा के रूप में चुना गया?

- Ans
- ☐ 1. शक्तिकांत दास
 - ☐ 2. पीयूष गोयल
 - ☐ 3. अश्विनी वैष्णव
 - ☒ 4. अमिताभ कांत

Question ID : 630680413020
Option 1 ID : 6306801610906
Option 2 ID : 6306801610903
Option 3 ID : 6306801610905
Option 4 ID : 6306801610904
Status : Not Answered
Chosen Option : --

Q.2 निम्नलिखित विकल्पों में से भारत की सबसे पुरानी लौह-इस्पात कंपनी की पहचान कीजिए।

- Ans
- ☒ 1. टाटा आयरन एंड स्टील कंपनी (TISCO)
 - ☐ 2. मैसूर आयरन एंड स्टील वर्क्स
 - ☐ 3. विश्वेश्वरैया आयरन एंड स्टील वर्क्स
 - ☐ 4. इंडियन आयरन एंड स्टील कंपनी (IISCO)

Question ID : 630680394655
Option 1 ID : 6306801538908
Option 2 ID : 6306801538907
Option 3 ID : 6306801538909
Option 4 ID : 6306801538906
Status : Not Answered
Chosen Option : --

Q.3 निम्नलिखित में से कौन-सी एशिया की सबसे बड़ी कृत्रिम झील है?

- Ans
- ☐ 1. चिलिका झील
 - ☐ 2. डल झील
 - ☐ 3. नैनी झील
 - ☒ 4. भोपाल झील

Question ID : 630680115420
Option 1 ID : 630680447033
Option 2 ID : 630680447032
Option 3 ID : 630680447030
Option 4 ID : 630680447031
Status : Not Answered
Chosen Option : --

Q.4 वित्तीय सेवाओं, अर्थात् मूल बचत और जमा खातों, विप्रेषण, ऋण, बीमा, पेंशन तक किफायती तरीके से पहुंच सुनिश्चित करने के लिए वित्तीय समावेशन के लिए राष्ट्रीय मिशन कौन सा है?

- Ans
- ☐ 1. दीन दयाल उपाध्याय ग्रामीण कौशल्य योजना
 - ☒ 2. प्रधानमंत्री जन धन योजना
 - ☐ 3. स्वर्ण जयंती ग्राम स्वरोजगार योजना
 - ☐ 4. दीनदयाल अंत्योदय योजना

Question ID : 630680213955
Option 1 ID : 630680829868
Option 2 ID : 630680829869
Option 3 ID : 630680829870
Option 4 ID : 630680829867
Status : Answered
Chosen Option : 2

Q.5 हेमिस उत्सव किस राज्य/केंद्र शासित प्रदेश में मनाया जाता है?

- Ans
- ☒ 1. लक्षद्वीप
 - ☒ 2. सिक्किम
 - ☒ 3. पंजाब
 - ☒ 4. लद्दाख

Question ID : 630680158770

Option 1 ID : 630680614572

Option 2 ID : 630680614573

Option 3 ID : 630680614575

Option 4 ID : 630680614574

Status : Answered

Chosen Option : 4

Q.6 शुद्ध निवेश क्या है?

- Ans
- ☒ 1. किसी देश में सभी निवेशों का योग
 - ☒ 2. सकल पूंजी निवेश – अप्रत्यक्ष कर
 - ☒ 3. सकल निवेश – मूल्यहास
 - ☒ 4. सकल निवेश + मूल्यहास

Question ID : 63068068591

Option 1 ID : 630680265057

Option 2 ID : 630680265056

Option 3 ID : 630680265055

Option 4 ID : 630680265054

Status : Answered

Chosen Option : 3

Q.7 वर्ष 2002 में, जाकिर हुसैन किस पुरस्कार से सम्मानित होने वाले सबसे कम उम्र के तालवादक बने?

- Ans
- ☒ 1. ग्रैमी पुरस्कार
 - ☒ 2. पद्म भूषण
 - ☒ 3. संगीत नाटक अकादमी पुरस्कार
 - ☒ 4. नेशनल हेरिटेज फैलोशिप

Question ID : 630680511802

Option 1 ID : 6306802000178

Option 2 ID : 6306802000179

Option 3 ID : 6306802000180

Option 4 ID : 6306802000181

Status : Answered

Chosen Option : 1

Q.8 ब्रिटिश भारत के, निम्नलिखित संस्थानों का उनसे संबंधित संस्थापकों के साथ मिलान कीजिए।

| संस्थान | उनसे संबंधित संस्थापक |
|------------------------------|---|
| a. बंगाल की एशियाटिक सोसायटी | i. वारेन हेस्टिंग्स (Warren Hastings) |
| b. बनारस संस्कृत कॉलेज | ii. लॉर्ड वेलेस्ली (Lord Wellesley) |
| c. फोर्ट विलियम कॉलेज | iii. जोनाथन डंकन (Jonathan Duncan) |
| d. कलकत्ता मद्रास | iv. सर विलियम जोन्स (Sir William Jones) |

- Ans ☒ 1. a-ii, b-i, c-iv, d-iii
☒ 2. a-iv, b-iii, c-ii, d-i
☒ 3. a-i, b-ii, c-iii, d-iv
☒ 4. a-iii, b-iv, c-i, d-ii

Question ID : 630680412386
Option 1 ID : 6306801608370
Option 2 ID : 6306801608368
Option 3 ID : 6306801608369
Option 4 ID : 6306801608367
Status : Answered
Chosen Option : 2

Q.9 निम्नलिखित में से कौन-सा नाटक हर्षवर्द्धन द्वारा नहीं लिखा गया था?

- Ans ☒ 1. रत्नावली
☒ 2. विक्रमोर्वशीयम्
☒ 3. नागानंद
☒ 4. प्रियदर्शिका

Question ID : 630680412478
Option 1 ID : 6306801608738
Option 2 ID : 6306801608735
Option 3 ID : 6306801608736
Option 4 ID : 6306801608737
Status : Answered
Chosen Option : 2

Q.10 भारत के संविधान के किस अनुच्छेद में यह प्रावधान है कि 'भारत का एक उपराष्ट्रपति होगा'?

- Ans ☒ 1. अनुच्छेद 61
☒ 2. अनुच्छेद 63
☒ 3. अनुच्छेद 62
☒ 4. अनुच्छेद 65

Question ID : 630680215485
Option 1 ID : 630680835919
Option 2 ID : 630680835921
Option 3 ID : 630680835920
Option 4 ID : 630680835922
Status : Answered
Chosen Option : 2

Q.11 एलोरा का भव्य कैलास मंदिर किस राष्ट्रकूट राजा के शासनकाल के दौरान बनाया गया था?

- Ans ☒ 1. इंद्र तृतीय (Indra III)
☒ 2. कृष्ण प्रथम (Krishna I)
☒ 3. अमोघवर्ष (Amoghavarsha)
☒ 4. गोविंद तृतीय (Govinda III)

Question ID : 630680412407
Option 1 ID : 6306801608454
Option 2 ID : 6306801608451
Option 3 ID : 6306801608453
Option 4 ID : 6306801608452
Status : Answered
Chosen Option : 2

Q.12 1857 के सिपाही विद्रोह के संदर्भ में, निम्नलिखित में से किस तारीख को मेरठ के सैनिकों ने दिल्ली के लिए यात्रा शुरू की थी?

- Ans ☒ 1. 2 जून
☒ 2. 19 अप्रैल
☒ 3. 29 मार्च
☒ 4. 10 मई

Question ID : 630680511526
Option 1 ID : 6306801999229
Option 2 ID : 6306801999227
Option 3 ID : 6306801999226
Option 4 ID : 6306801999228
Status : Answered
Chosen Option : 4

Q.13 अगस्त 2022 में सामाजिक न्याय और अधिकारिता मंत्रालय ने 75 नगर पालिकाओं में भीख माँगने वाले लोगों को व्यापक पुनर्वास सेवाएँ प्रदान करने के उद्देश्य से _____ योजना शुरू की।

- Ans ☒ 1. स्माइल-75
☒ 2. ट्रिंकल-75
☒ 3. राइज-75
☒ 4. बीम-75

Question ID : 630680327510
Option 1 ID : 6306801274040
Option 2 ID : 6306801274037
Option 3 ID : 6306801274038
Option 4 ID : 6306801274039
Status : Not Answered
Chosen Option : --

Q.14 वे जीव जिनमें निश्चित केन्द्रक या अंगक नहीं होते, उन्हें _____ जगत में वर्गीकृत किया जाता है।

- Ans ☒ 1. प्लांटी (Plantae)
☒ 2. प्रोटिस्टा (Protista)
☒ 3. फंजाई (Fungi)
☒ 4. मोनेरा (Monera)

Question ID : 630680517135
Option 1 ID : 6306802020939
Option 2 ID : 6306802020937
Option 3 ID : 6306802020936
Option 4 ID : 6306802020938
Status : Not Answered
Chosen Option : --

Q.15 हरित क्रांति प्रौद्योगिकी के परिणामस्वरूप अनाज उत्पादन में वृद्धि हुई जिससे उत्पादन 1965-66 में 72.4 मिलियन टन से 1978-79 में _____ मिलियन टन हो गया।

- Ans
- ☒ 1. 150.8
 - ☒ 2. 165.9
 - ☒ 3. 131.9
 - ☒ 4. 141.2

Question ID : 6306801048049
Option 1 ID : 6306804114242
Option 2 ID : 6306804114245
Option 3 ID : 6306804114243
Option 4 ID : 6306804114244
Status : Not Answered
Chosen Option : --

Q.16 $H_2S_2O_7$ में 'S' की ऑक्सीकरण संख्या की गणना कीजिए।

- Ans
- ☒ 1. 3
 - ☒ 2. 2
 - ☒ 3. 7
 - ☒ 4. 6

Question ID : 630680184312
Option 1 ID : 630680714258
Option 2 ID : 630680714257
Option 3 ID : 630680714260
Option 4 ID : 630680714259
Status : Not Answered
Chosen Option : --

Q.17 एक एथलीट द्वारा फेंका गया भाला _____ गति में होता है।

- Ans
- ☒ 1. ऋचुरेखीय
 - ☒ 2. वक्रीय
 - ☒ 3. आवर्ती
 - ☒ 4. दोलनी

Question ID : 63068094225
Option 1 ID : 630680365596
Option 2 ID : 630680365595
Option 3 ID : 630680365597
Option 4 ID : 630680365598
Status : Answered
Chosen Option : 2

Q.18 राइजोबियम, नाइट्रोसोमोनास और नाइट्रोबैक्टर जैसे सूक्ष्मजीवों का उपयोग कहाँ किया जाता है?

- Ans
- ☒ 1. नाइट्रोजन चक्र
 - ☒ 2. जल चक्र
 - ☒ 3. कार्बन चक्र
 - ☒ 4. सल्फर चक्र

Question ID : 630680305605
Option 1 ID : 6306801188793
Option 2 ID : 6306801188796
Option 3 ID : 6306801188794
Option 4 ID : 6306801188795
Status : Answered
Chosen Option : 1

Q.19 निम्नलिखित में से कौन बाँस की बाँसुरी के विश्व विख्यात प्रतिपादक हैं?

- Ans ☒ 1. रवि शंकर
☒ 2. हरिप्रसाद चौरसिया
☒ 3. बिस्मिल्ला खाँ
☒ 4. एम एस सुब्बुलक्ष्मी

Question ID : 63068089803
Option 1 ID : 630680347989
Option 2 ID : 630680347987
Option 3 ID : 630680347988
Option 4 ID : 630680347986
Status : Answered
Chosen Option : 2

Q.20 एक विद्यार्थी अपने स्कूल असाइनमेंट में, पार्क में उपयोग करने के लिए घर पर खाद बनाने का तरीका सीख रहा है। वह निम्नलिखित में से कौन-सा मौलिक कर्तव्य निभा रहा है?

- Ans ☒ 1. सार्वजनिक संपत्ति की सुरक्षा करना और हिंसा से दूर रहना
☒ 2. व्यक्तिगत और सामूहिक गतिविधि के सभी क्षेत्रों में उत्कृष्टता की दिशा में सतत प्रयास करना
☒ 3. प्राकृतिक पर्यावरण की रक्षा और संवर्द्धन करना
☒ 4. वैज्ञानिक दृष्टिकोण, मानवतावाद और अन्वेषण की भावना विकसित करना

Question ID : 630680229988
Option 1 ID : 630680892392
Option 2 ID : 630680892393
Option 3 ID : 630680892394
Option 4 ID : 630680892391
Status : Answered
Chosen Option : 3

Q.21 पूर्वांचल हिमालय में निम्नलिखित में से कौन-सा शामिल नहीं है?

- Ans ☒ 1. पीर पंजाल पर्वत श्रृंखला
☒ 2. मणिपुर की पहाड़ियाँ
☒ 3. नागा पहाड़ियाँ
☒ 4. मिज़ो पहाड़ियाँ

Question ID : 630680309101
Option 1 ID : 6306801202582
Option 2 ID : 6306801202584
Option 3 ID : 6306801202581
Option 4 ID : 6306801202583
Status : Answered
Chosen Option : 1

Q.22 भारत ने हॉकी में ओलंपिक में अपनी शुरुआत किस वर्ष की थी?

- Ans ☒ 1. 1928
☒ 2. 1936
☒ 3. 1932
☒ 4. 1924

Question ID : 630680510755
Option 1 ID : 6306801996151
Option 2 ID : 6306801996153
Option 3 ID : 6306801996152
Option 4 ID : 6306801996150
Status : Not Answered
Chosen Option : --

Q.23 कथकली जो भारत के शास्त्रीय नृत्यों में से एक नृत्य है, मुख्य रूप से भारत के निम्नलिखित में से किस राज्य में किया जाता है?

- Ans ☒ 1. केरल
☐ 2. उत्तर प्रदेश
☐ 3. मणिपुर
☐ 4. असम

Question ID : 630680405000
Option 1 ID : 6306801579432
Option 2 ID : 6306801579431
Option 3 ID : 6306801579434
Option 4 ID : 6306801579433
Status : Answered
Chosen Option : 1

Q.24 निम्नलिखित में से किस वर्ष में भारत ने पहली बार आई.सी.सी. (ICC) पुरुष क्रिकेट विश्व कप जीता?

- Ans ☐ 1. 1987 में
☐ 2. 1992 में
☐ 3. 1996 में
☒ 4. 1983 में

Question ID : 630680510790
Option 1 ID : 6306801996291
Option 2 ID : 6306801996292
Option 3 ID : 6306801996293
Option 4 ID : 6306801996290
Status : Not Answered
Chosen Option : --

Q.25 विमानपत्तन आर्थिक नियामक प्राधिकरण (AERA) संशोधन अधिनियम, 2021 में निम्नलिखित में से कौन-सा संशोधन नहीं किया गया है?

- Ans ☐ 1. सरकार किसी भी हवाई अड्डे को सिर्फ अधिसूचना के जरिए प्रमुख हवाई अड्डा मान सकती है।
☒ 2. एक प्रमुख हवाई अड्डा वह है जिसमें न्यूनतम 35 लाख यात्रियों का वार्षिक आवागमन होता है।
☐ 3. सरकार संभावित बोलीकर्ताओं को PPP मोड में पैकेज के रूप में हवाई अड्डों की पेशकश कर सकती है।
☐ 4. सरकार लाभ कमाने वाले और घाटे में चल रहे हवाई अड्डों को एक साथ मिला देगी।

Question ID : 630680114023
Option 1 ID : 630680441495
Option 2 ID : 630680441497
Option 3 ID : 630680441496
Option 4 ID : 630680441494
Status : Not Answered
Chosen Option : --

Q.1 एक परीक्षा में अंग्रेजी और गणित में प्राप्त अंकों के आधार पर 100 छात्रों का वर्गीकरण नीचे दी गई तालिका में दिया गया है। तालिका का अध्ययन कीजिए और निम्नलिखित प्रश्न का उत्तर दीजिए।

| 50 में से अंक | | | | | |
|---------------|----------------|----------------|----------------|----------------|---------------|
| विषय | 40 और उससे ऊपर | 30 और उससे ऊपर | 20 और उससे ऊपर | 10 और उससे ऊपर | 0 और उससे ऊपर |
| अंग्रेजी | 10 | 31 | 80 | 92 | 100 |
| गणित | 3 | 23 | 65 | 81 | 100 |
| कुल | 7 | 27 | 73 | 87 | 100 |

यदि गणित में उच्च अध्ययन करने के लिए गणित में कम से कम 40% अंक आवश्यक हैं, तो कितने छात्र गणित में उच्च अध्ययन करने के पात्र होंगे?

- Ans ☒ 1. 70
☒ 2. 55
☒ 3. 65
☒ 4. 50

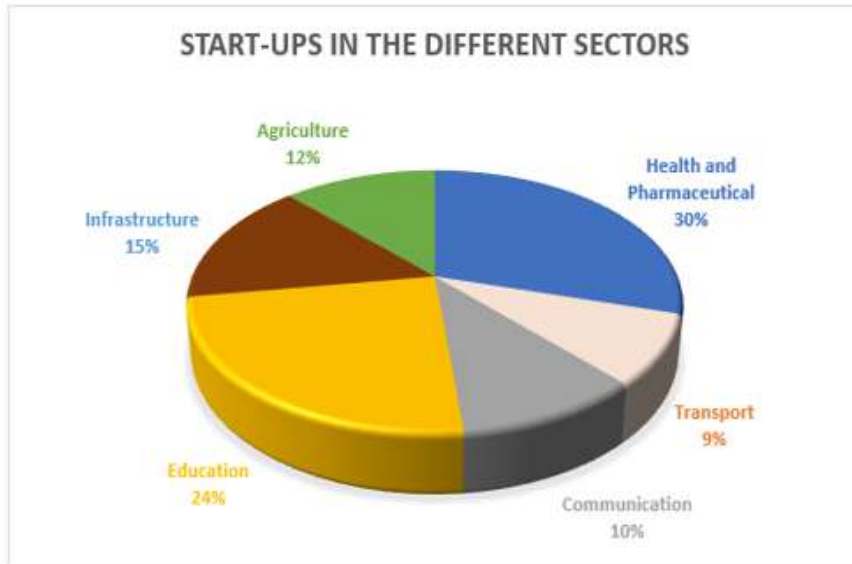
Question ID : 630680405109
Option 1 ID : 6306801579795
Option 2 ID : 6306801579793
Option 3 ID : 6306801579796
Option 4 ID : 6306801579794
Status : Answered
Chosen Option : 3

Q.2 M और N एक वृत्ताकार पथ पर चलते हैं। वे विपरीत दिशाओं में एक ही बिंदु से 5:00 a.m. को चलना शुरू करते हैं। M और N क्रमशः 5 चक्कर प्रति घंटे और 2 चक्कर प्रति घंटे की चाल से चलते हैं। वे उसी दिन 6.30 a.m. से पहले कितनी बार एक दूसरे को पार करेंगे?

- Ans ☒ 1. 5
☒ 2. 7
☒ 3. 3
☒ 4. 10

Question ID : 630680138077
Option 1 ID : 630680534581
Option 2 ID : 630680534578
Option 3 ID : 630680534579
Option 4 ID : 630680534580
Status : Answered
Chosen Option : 2

Q.3 दिए गए पाई चार्ट का ध्यानपूर्वक अध्ययन करें और उसके बाद पूछे गए प्रश्न का उत्तर दें।
दिया गया पाई चार्ट एक विशेष वर्ष में विभिन्न क्षेत्रों में स्टार्ट-अप दर्शाता है।



START-UPS IN THE DIFFERENT SECTORS - विभिन्न क्षेत्रों में स्टार्ट-अप

Agriculture – कृषि

Health and pharmaceutical – स्वास्थ्य एवं फार्मास्यूटिकल

Transport – परिवहन

Communication – संचार

Education – शिक्षा

Infrastructure – आधारभूत ढांचा

यदि सफल स्टार्ट-अप की कुल संख्या 2910 है, तो शिक्षा और कृषि क्षेत्रों में स्टार्ट-अप की संख्या ज्ञात कीजिए। (दशमलव भाग की उपेक्षा करें।)

Ans ☒ 1. 1048

☒ 2. 1047

☒ 3. 698

☒ 4. 1074

Question ID : 630680428001

Option 1 ID : 6306801670048

Option 2 ID : 6306801670049

Option 3 ID : 6306801670050

Option 4 ID : 6306801670051

Status : Answered

Chosen Option : 1

Q.4 $\left(\frac{\sin\theta - 2\sin^3\theta}{2\cos^3\theta - \cos\theta} \right)^3 \frac{1}{\tan\theta} - \sec^2\theta$ का मान ज्ञात कीजिए।

Ans ☒ 1. -1

☒ 2. 1

☒ 3. 2

☒ 4. 0

Question ID : 630680397722

Option 1 ID : 6306801550883

Option 2 ID : 6306801550885

Option 3 ID : 6306801550886

Option 4 ID : 6306801550884

Status : Answered

Chosen Option : 1

Q.5 यदि $2\operatorname{cosec}^2\theta + 3\cot^2\theta = 17$ है, तो $0^\circ \leq \theta \leq 90^\circ$ होने पर, ' θ ' का मान ज्ञात कीजिए।

Ans ☒ 1. 30°

☐ 2. 45°

☐ 3. 90°

☐ 4. 75°

Question ID : 630680397023

Option 1 ID : 6306801548147

Option 2 ID : 6306801548144

Option 3 ID : 6306801548145

Option 4 ID : 6306801548146

Status : Answered

Chosen Option : 1

Q.6 दो पाइप, A और B, एक टंकी को क्रमशः 10 मिनट और 20 मिनट में भर सकते हैं। पाइप C टंकी को 30 मिनट में खाली कर सकता है। प्रारंभ में तीनों पाइप एक साथ खोले जाते हैं। हालाँकि, टंकी भरने से 2 मिनट पहले पाइप C बंद कर दिया जाता है। कितने समय (मिनट में) में टंकी भर जाएगी?

Ans ☐ 1. 6

☒ 2. 8

☐ 3. 10

☐ 4. 12

Question ID : 630680388586

Option 1 ID : 6306801514808

Option 2 ID : 6306801514807

Option 3 ID : 6306801514809

Option 4 ID : 6306801514806

Status : Answered

Chosen Option : 2

Q.7 दो वृत्त C_1 और C_2 एक दूसरे को बाह्य रूप से स्पर्श करते हैं। C_1 की त्रिज्या = 16 cm और C_2 की त्रिज्या = 8 cm है। उनकी उभयनिष्ठ स्पर्शरेखा की लंबाई (cm में) ज्ञात कीजिए।

Ans ☐ 1. $16\sqrt{3}$

☐ 2. $8\sqrt{3}$

☒ 3. $16\sqrt{2}$

☐ 4. $8\sqrt{2}$

Question ID : 630680285611

Option 1 ID : 6306801110413

Option 2 ID : 6306801110414

Option 3 ID : 6306801110412

Option 4 ID : 6306801110411

Status : Answered

Chosen Option : 3

Q.8 त्रिभुज PQR में, भुजा QR पर S एक बिंदु इस प्रकार है कि $PS \perp QR$ है, तो निम्नलिखित में से कौन-सा विकल्प सत्य है?

- Ans
- ☒ 1. $PQ^2 + PR^2 = QS^2 + SR^2$
 - ☒ 2. $PR^2 + QS^2 = PQ^2 + SR^2$
 - ☒ 3. $PS^2 + PR^2 = PQ^2 + QR^2$
 - ☒ 4. $PS^2 + QS^2 = PQ^2 + PR^2$

Question ID : 630680421424
Option 1 ID : 6306801644159
Option 2 ID : 6306801644161
Option 3 ID : 6306801644160
Option 4 ID : 6306801644162
Status : Answered
Chosen Option : 2

Q.9 यदि 72864*\$ एक ऐसी संख्या है जो 8 और 5 दोनों से विभाज्य है, तो क्रमशः * और \$ के स्थान पर कौन-से अंक आने चाहिए?

- Ans
- ☒ 1. 4 और 5
 - ☒ 2. 2 और 5
 - ☒ 3. 2 और 0
 - ☒ 4. 4 और 0

Question ID : 630680135106
Option 1 ID : 630680523212
Option 2 ID : 630680523213
Option 3 ID : 630680523211
Option 4 ID : 630680523210
Status : Answered
Chosen Option : 4

Q.10 12 संख्याओं का औसत 48 है। पहली 5 संख्याओं का औसत 45 है और अगली 4 संख्याओं का औसत 52 है। यदि 10वीं संख्या, 11वीं संख्या से 10 कम है और 12वीं संख्या से 5 अधिक है, तो 11वीं संख्या और 12वीं संख्या का औसत क्या है?

- Ans
- ☒ 1. 47.5
 - ☒ 2. 50.5
 - ☒ 3. 46.5
 - ☒ 4. 48.5

Question ID : 630680397520
Option 1 ID : 6306801549999
Option 2 ID : 6306801550001
Option 3 ID : 6306801549998
Option 4 ID : 6306801550000
Status : Answered
Chosen Option : 4

Q.11 ₹120 का भुगतान ₹10, ₹5 और ₹2 के सिक्कों से किया जाता है। इसके लिए कुल 25 सिक्कों का उपयोग किया जाता है।

निम्नलिखित में से कौन-सी संख्या, भुगतान में उपयोग किए गए ₹10 के सिक्कों की संख्या है?

- Ans
- ☒ 1. 4
 - ☒ 2. 6
 - ☒ 3. 8
 - ☒ 4. 10

Question ID : 630680387754

Option 1 ID : 6306801511650

Option 2 ID : 6306801511651

Option 3 ID : 6306801511648

Option 4 ID : 6306801511649

Status : Answered

Chosen Option : 3

Q.12 यदि $x + \frac{1}{x} = 15$ है, तो $\frac{7x^2 - 9x + 7}{x^2 - x + 1}$ का मान क्या है?

- Ans
- ☒ 1. $-\frac{48}{7}$
 - ☒ 2. $\frac{48}{7}$
 - ☒ 3. $\frac{22}{7}$
 - ☒ 4. $-\frac{22}{7}$

Question ID : 630680413499

Option 1 ID : 6306801612822

Option 2 ID : 6306801612821

Option 3 ID : 6306801612820

Option 4 ID : 6306801612823

Status : Answered

Chosen Option : 2

Q.13 मान लीजिए $t = \frac{2}{5}$ है, तो व्यंजक $t^3 + \left(\frac{3}{5}\right)^3 + \frac{9}{5}t$ का मान कितना है?

- Ans
- ☒ 1. $\frac{1}{2}$
 - ☒ 2. 1
 - ☒ 3. 2
 - ☒ 4. $\frac{1}{5}$

Question ID : 630680413484

Option 1 ID : 6306801612762

Option 2 ID : 6306801612760

Option 3 ID : 6306801612761

Option 4 ID : 6306801612763

Status : Answered

Chosen Option : 2

Q.14 निम्नलिखित व्यंजक का मान ज्ञात कीजिए।

$$\sqrt{\frac{1+\sin\theta}{1-\sin\theta}}$$

- Ans
- ☒ 1. $\sec\theta + \cot\theta$
 - ☒ 2. $\operatorname{cosec}\theta + \cot\theta$
 - ☒ 3. $\sec\theta + \tan\theta$
 - ☒ 4. $\operatorname{cosec}\theta + \tan\theta$

Question ID : 630680385446

Option 1 ID : 6306801502601

Option 2 ID : 6306801502598

Option 3 ID : 6306801502599

Option 4 ID : 6306801502600

Status : Answered

Chosen Option : 3

Q.15 त्रिभुज ABC और DEF में $AB = FD$ और $\angle A = \angle D$ है। SAS कसौटी के अनुसार दो त्रिभुज सर्वांगसम होते हैं, यदि _____ है।

- Ans
- ☒ 1. $BC = EF$
 - ☒ 2. $BC = DE$
 - ☒ 3. $AC = DE$
 - ☒ 4. $AC = EF$

Question ID : 630680526507

Option 1 ID : 6306802058094

Option 2 ID : 6306802058095

Option 3 ID : 6306802058096

Option 4 ID : 6306802058097

Status : Answered

Chosen Option : 3

Q.16 दी गई तालिका 4 अलग-अलग महीनों में चार अलग-अलग कंपनियों द्वारा बेचे गए साबुनों की संख्या को दर्शाती है।

| महीना कंपनी | मई | जून | जुलाई | अगस्त |
|----------------|------|------|-------|-------|
| P | 1924 | 1780 | 1820 | 1490 |
| Q | 1540 | 1245 | 1648 | 2450 |
| R | 2035 | 1485 | 1350 | 1650 |
| S | 1736 | 1855 | 1470 | 1180 |

मई में कंपनी Q और S द्वारा बेचे गए साबुनों की कुल संख्या, जुलाई में कंपनी P द्वारा बेचे गए साबुनों की संख्या से कितने प्रतिशत अधिक है?

- Ans
- ☒ 1. 80%
 - ☒ 2. 90%
 - ☒ 3. 65%
 - ☒ 4. 75%

Question ID : 630680523768

Option 1 ID : 6306802047225

Option 2 ID : 6306802047226

Option 3 ID : 6306802047223

Option 4 ID : 6306802047224

Status : Answered

Chosen Option : 1

Q.17 राज ₹1,200 को अपने तीन मित्रों के बीच 2 : 1 : 3 के अनुपात में बांटता है। सबसे बड़े हिस्से के तीन गुना और सबसे छोटे हिस्से के दो गुना के योग के बराबर धनराशि ज्ञात करें।

- Ans
- ☒ 1. ₹1,800
 - ☒ 2. ₹2,000
 - ☒ 3. ₹2,200
 - ☒ 4. ₹2,400

Question ID : 630680429073
Option 1 ID : 6306801674338
Option 2 ID : 6306801674339
Option 3 ID : 6306801674336
Option 4 ID : 6306801674337
Status : Answered
Chosen Option : 3

Q.18 P, Q और R की आय का अनुपात 10 : 12 : 9 है और उनके व्यय का अनुपात 12 : 15 : 8 है। यदि Q अपनी आय का 25% भाग बचाता है, तो P, Q और R की बचत का अनुपात क्या है?

- Ans
- ☒ 1. 21 : 14 : 15
 - ☒ 2. 21 : 15 : 14
 - ☒ 3. 15 : 14 : 21
 - ☒ 4. 14 : 15 : 21

Question ID : 630680427951
Option 1 ID : 6306801669849
Option 2 ID : 6306801669850
Option 3 ID : 6306801669851
Option 4 ID : 6306801669848
Status : Answered
Chosen Option : 4

Q.19 सरल कीजिए:
 $15.5 - [3 - \{7 - (5 - (14.5 - 13.5))\}]$

- Ans
- ☒ 1. 12.5
 - ☒ 2. 14.5
 - ☒ 3. 15.5
 - ☒ 4. 13.5

Question ID : 630680426225
Option 1 ID : 6306801663003
Option 2 ID : 6306801663005
Option 3 ID : 6306801663006
Option 4 ID : 6306801663004
Status : Answered
Chosen Option : 3

Q.20 एक दुकानदार ने एक वस्तु पर ₹5,000 मूल्य अंकित किया। दुकानदार 20%, 15% और 10% की क्रमिक छूट देता है। वस्तु का विक्रय मूल्य क्या है?

Ans ☒ 1. ₹3,060

☐ 2. ₹2,750

☐ 3. ₹2,800

☐ 4. ₹3,000

Question ID : 63068068319

Option 1 ID : 630680263986

Option 2 ID : 630680263987

Option 3 ID : 630680263989

Option 4 ID : 630680263988

Status : Answered

Chosen Option : 1

Q.21 एक बेलन की ऊँचाई 20 cm है। पार्श्व पृष्ठ का क्षेत्रफल 1760 cm^2 है। इसका आयतन क्या है?

Ans ☐ 1. 12302 cm^3

☒ 2. 12320 cm^3

☐ 3. 12032 cm^3

☐ 4. 12203 cm^3

Question ID : 630680101508

Option 1 ID : 630680394554

Option 2 ID : 630680394553

Option 3 ID : 630680394552

Option 4 ID : 630680394555

Status : Answered

Chosen Option : 2

Q.22 दी गई तालिका का अध्ययन कीजिए और निम्नलिखित प्रश्न का उत्तर दीजिए।
दी गई तालिका एक कंपनी में विभिन्न प्रकार के रेफ्रिजरेटरों के उत्पादन को दर्शाती है।

| वर्ष | रेफ्रिजरेटर के प्रकार | | |
|------|-----------------------|------|------|
| | A | B | C |
| 2011 | 2018 | 1800 | 1932 |
| 2012 | 2040 | 1890 | 1800 |
| 2013 | 2035 | 1910 | 1890 |
| 2014 | 2020 | 1940 | 1978 |
| 2015 | 1997 | 1960 | 1900 |

दिए गए वर्षों में से किस वर्ष/वर्षों में B प्रकार के रेफ्रिजरेटर का उत्पादन दिए गए वर्षों में उसके औसत उत्पादन के सबसे करीब था?

Ans ☐ 1. केवल 2012

☐ 2. 2013 और 2015 दोनों

☐ 3. 2014

☒ 4. 2012 और 2013 दोनों

Question ID : 630680410324

Option 1 ID : 6306801600027

Option 2 ID : 6306801600029

Option 3 ID : 6306801600028

Option 4 ID : 6306801600030

Status : Answered

Chosen Option : 1

Q.23 साधारण ब्याज की एक निश्चित दर पर निवेश करने पर एक निश्चित धनराशि 14 वर्षों में स्वयं की सात गुना हो जाती है। इसे उसी ब्याज दर पर स्वयं की 18 गुना होने में कितना समय (वर्षों में, 2 दशमलव स्थानों तक पूर्णांकित) लगेगा?

- Ans ☒ 1. 42.78
☒ 2. 39.67
☒ 3. 27.33
☒ 4. 35.5

Question ID : 630680392654
Option 1 ID : 6306801530956
Option 2 ID : 6306801530954
Option 3 ID : 6306801530955
Option 4 ID : 6306801530957
Status : Answered
Chosen Option : 2

Q.24 एक त्रिभुज के तीनों कोणों की मापों का अनुपात 17 : 13 : 15 है। इन तीनों कोणों में सबसे बड़े और सबसे छोटे कोण के बीच का धनात्मक अंतर ज्ञात कीजिए।

- Ans ☒ 1. 12°
☒ 2. 16°
☒ 3. 24°
☒ 4. 20°

Question ID : 630680196702
Option 1 ID : 630680763107
Option 2 ID : 630680763108
Option 3 ID : 630680763110
Option 4 ID : 630680763109
Status : Answered
Chosen Option : 2

Q.25 यदि $28.9 : x :: x : 36.1$, और $x > 0$ है, तो x का मान ज्ञात करें।

- Ans ☒ 1. 30.4
☒ 2. 32.3
☒ 3. 38.3
☒ 4. 35

Question ID : 630680802597
Option 1 ID : 6306803144547
Option 2 ID : 6306803144544
Option 3 ID : 6306803144546
Option 4 ID : 6306803144545
Status : Answered
Chosen Option : 2

Q.1 The following sentence has been divided into four segments. Identify the segment that contains an error.

Mrs. Sreelakshmi's / musical intelligence / is superior than / Mrs. Suma's.

Ans ☒ 1. Mrs. Sreelakshmi's

☒ 2. is superior than

☒ 3. musical intelligence

☒ 4. Mrs. Suma's.

Question ID : 630680206703

Option 1 ID : 630680801411

Option 2 ID : 630680801413

Option 3 ID : 630680801412

Option 4 ID : 630680801414

Status : Answered

Chosen Option : 2

Q.2 Select the INCORRECTLY spelt word.

Ans ☒ 1. Proceed

☒ 2. Exceed

☒ 3. Succeed

☒ 4. Preceed

Question ID : 630680360089

Option 1 ID : 6306801402304

Option 2 ID : 6306801402303

Option 3 ID : 6306801402301

Option 4 ID : 6306801402302

Status : Answered

Chosen Option : 4

Q.3 Identify the most appropriate ANTONYM of the given word.
Secure

Ans ☒ 1. Save

☒ 2. Succeed

☒ 3. Attack

☒ 4. Trundle

Question ID : 630680392740

Option 1 ID : 6306801531298

Option 2 ID : 6306801531299

Option 3 ID : 6306801531300

Option 4 ID : 6306801531301

Status : Answered

Chosen Option : 3

Q.4 Sentences of a paragraph are given below in jumbled order. Arrange the sentences in the correct order to form a meaningful and coherent paragraph.
A. The genuine beliefs, though not unconsciously acquired by most children; and even if they depart from these beliefs in later life
B. Something of them remains deeply implanted, ready to emerge in a time of stress of crisis
C. The importance of education in forming character and opinion is very great and well recognised by all
D. Education is, as a rule, the strongest force on the side of what exists and again fundamental change

- Ans ☒ 1. CBAD
☒ 2. DABC
☒ 3. DCAB
☒ 4. CABD

Question ID : 630680167079

Option 1 ID : 630680647176

Option 2 ID : 630680647177

Option 3 ID : 630680647178

Option 4 ID : 630680647179

Status : Answered

Chosen Option : 3

Q.5 Select the option that can be used as a one-word-substitute for the given group of words.

A false idea or belief

- Ans ☒ 1. Reticence
☒ 2. Fallacy
☒ 3. Atrophy
☒ 4. Entropy

Question ID : 630680317313

Option 1 ID : 6306801234383

Option 2 ID : 6306801234382

Option 3 ID : 6306801234384

Option 4 ID : 6306801234381

Status : Answered

Chosen Option : 2

Q.6 Select the option that will improve the underlined part of the given sentence.
If I was the queen, I would give a handsome sum towards education.

- Ans ☒ 1. would be the queen
☒ 2. will be the queen
☒ 3. have been the queen
☒ 4. were the queen

Question ID : 630680160926

Option 1 ID : 630680623071

Option 2 ID : 630680623069

Option 3 ID : 630680623068

Option 4 ID : 630680623070

Status : Answered

Chosen Option : 4





Q.7 Select the option that can be used as a one-word substitute for the given group of words.

That which cannot be conquered

- Ans  1. Ineffable
 2. Invincible
 3. Indelible
 4. Invisible





Question ID : 630680129471
Option 1 ID : 630680501505
Option 2 ID : 630680501503
Option 3 ID : 630680501504
Option 4 ID : 630680501502
Status : Answered
Chosen Option : 2

Q.8 Select the most appropriate meaning of the underlined word in the given sentence.
He is an atheist, although he respects everyone's belief.

- Ans  1. One who believes in nature
 2. One who does not believe in God
 3. One who is extremist
 4. One who believes in God

Question ID : 630680129839
Option 1 ID : 630680502946
Option 2 ID : 630680502949
Option 3 ID : 630680502947
Option 4 ID : 630680502948
Status : Answered
Chosen Option : 2

Q.9 Select the most appropriate ANTONYM of the given word.
Receive

- Ans  1. Exile
 2. Fund
 3. Admit
 4. Reward

Question ID : 630680517354
Option 1 ID : 6306802021813
Option 2 ID : 6306802021814
Option 3 ID : 6306802021812
Option 4 ID : 6306802021815
Status : Answered
Chosen Option : 1

Q.10 Select the most appropriate synonym of the given word.
Acquiesce

- Ans ☒ 1. Desist
☒ 2. Thwart
☒ 3. Cease
☒ 4. Concur

Question ID : 630680177546
Option 1 ID : 630680688346
Option 2 ID : 630680688345
Option 3 ID : 630680688347
Option 4 ID : 630680688344
Status : Answered
Chosen Option : 4

Q.11 Select the option that corrects the error in the given sentence.
He ran quick to catch the bus.

- Ans ☒ 1. rapid
☒ 2. quickly
☒ 3. insipid
☒ 4. quiet

Question ID : 630680514390
Option 1 ID : 6306802010187
Option 2 ID : 6306802010185
Option 3 ID : 6306802010186
Option 4 ID : 6306802010188
Status : Answered
Chosen Option : 2

Q.12 Select the most appropriate meaning of the underlined idiom in the following sentence.

In my new office, all employees were different, so I felt like a fish out of water.

- Ans ☒ 1. Frustrated
☒ 2. Disappointed
☒ 3. Uncomfortable
☒ 4. Homeless

Question ID : 630680316702
Option 1 ID : 6306801231985
Option 2 ID : 6306801231987
Option 3 ID : 6306801231988
Option 4 ID : 6306801231986
Status : Answered
Chosen Option : 3

Q.13 Select the most appropriate synonym for the underlined word in the given sentence.
His ambition in life is to become a happy and satisfied man.

- Ans ☒ 1. Satisfaction
☒ 2. Apathy
☒ 3. Amend
☒ 4. Eagerness

Question ID : 630680167053
Option 1 ID : 630680647074
Option 2 ID : 630680647073
Option 3 ID : 630680647075
Option 4 ID : 630680647072
Status : Answered
Chosen Option : 1

Q.14 Select the INCORRECTLY spelt word.

- Ans ☒ 1. Accommodate
☒ 2. Embarrass
☒ 3. Occurrence
☒ 4. Exhilerate

Question ID : 630680409927
Option 1 ID : 6306801598537
Option 2 ID : 6306801598538
Option 3 ID : 6306801598540
Option 4 ID : 6306801598539
Status : Answered
Chosen Option : 3

Q.15 Select the most appropriate option to substitute the underlined segment in the given sentence.
Gourav was no good than a foolish person.

- Ans ☒ 1. not best
☒ 2. not good
☒ 3. no better
☒ 4. no best

Question ID : 630680180697
Option 1 ID : 630680700286
Option 2 ID : 630680700287
Option 3 ID : 630680700284
Option 4 ID : 630680700285
Status : Answered
Chosen Option : 3

Q.16 Select the most appropriate synonym of the bracketed word in the following sentence to fill in the blank.

During Covid times, many organisations made _____(sentimental) appeals to raise funds for migrant workers.

Ans ☒ 1. mawkish

☒ 2. practical

☒ 3. cynical

☒ 4. sincere

Question ID : 630680310099

Option 1 ID : 6306801206537

Option 2 ID : 6306801206539

Option 3 ID : 6306801206538

Option 4 ID : 6306801206540

Status : Answered

Chosen Option : 4

Q.17 Read the sentence carefully and select the most suitable idiom to fill in the blank.

The renowned publisher decided to withdraw a book from the market. No one was interested in the book as the arguments presented were _____.

Ans ☒ 1. out of the woods

☒ 2. high and mighty

☒ 3. beside the mark

☒ 4. under the rose

Question ID : 630680123921

Option 1 ID : 630680480549

Option 2 ID : 630680480547

Option 3 ID : 630680480548

Option 4 ID : 630680480546

Status : Answered

Chosen Option : 2

Q.18 Select the option that expresses the following sentence in passive voice.
Sonam does not like bananas.

Ans ☒ 1. Bananas are not liked by Sonam.

☒ 2. Bananas had not been liked by Sonam.

☒ 3. Bananas have not been liked by Sonam.

☒ 4. Banana is not liked by Sonam.

Question ID : 630680415245

Option 1 ID : 6306801619728

Option 2 ID : 6306801619730

Option 3 ID : 6306801619729

Option 4 ID : 6306801619727

Status : Answered

Chosen Option : 1

Q.19 Select the option that can be used as a one-word substitute for the underlined group of words.

In Indian mythology, most of the Asuras wish to be never able to die.

- Ans ☒ 1. Invisible
☒ 2. Immortal
☒ 3. Impervious
☒ 4. Invincible

Question ID : 630680129380
Option 1 ID : 630680501138
Option 2 ID : 630680501141
Option 3 ID : 630680501139
Option 4 ID : 630680501140
Status : Answered
Chosen Option : 2

Q.20 Select the option that expresses the given sentence in passive voice
Someone has taken my secret diary.

- Ans ☒ 1. My secret diary had been taken by someone.
☒ 2. My secret diary has to be taken by someone.
☒ 3. My secret diary has been taken by someone.
☒ 4. My secret diary will have been taken by someone.

Question ID : 630680415260
Option 1 ID : 6306801619789
Option 2 ID : 6306801619788
Option 3 ID : 6306801619790
Option 4 ID : 6306801619787
Status : Answered
Chosen Option : 3

Comprehension:

In the following passage, some words have been deleted. Read the passage carefully and select the most appropriate option to fill in each blank.

The beginning of the story is (1)_____ in its presentation but (2)_____ the style eases out and becomes haunting in its simplicity. The author brings out the human elements in his story. This common element of sympathy and sacrifice is given a new (3)_____ by the old artist who shows by his last desperate act that one can be a hero for one day if only one cares (4)_____. O Henry's treatment of his material is balanced and controlled, a fine (5)_____ of humour and pathos.

SubQuestion No : 21

Q.21 Select the most appropriate option to fill in blank number 1.

- Ans ☒ 1. delectable
☒ 2. prone
☒ 3. quaint
☒ 4. habitual

Question ID : 630680147131
Option 1 ID : 630680569340
Option 2 ID : 630680569341
Option 3 ID : 630680569339
Option 4 ID : 630680569338
Status : Answered
Chosen Option : 3

Comprehension:

In the following passage, some words have been deleted. Read the passage carefully and select the most appropriate option to fill in each blank.

The beginning of the story is (1)_____ in its presentation but (2)_____ the style eases out and becomes haunting in its simplicity. The author brings out the human elements in his story. This common element of sympathy and sacrifice is given a new (3)_____ by the old artist who shows by his last desperate act that one can be a hero for one day if only one cares (4)_____. O Henry's treatment of his material is balanced and controlled, a fine (5)_____ of humour and pathos.

SubQuestion No : 22

Q.22 Select the most appropriate option to fill in blank number 2.

- Ans ☒ 1. hardly
☒ 2. recently
☒ 3. gradually
☒ 4. initially

Question ID : 630680147132

Option 1 ID : 630680569345

Option 2 ID : 630680569343

Option 3 ID : 630680569344

Option 4 ID : 630680569342

Status : Answered

Chosen Option : 3

Comprehension:

In the following passage, some words have been deleted. Read the passage carefully and select the most appropriate option to fill in each blank.

The beginning of the story is (1)_____ in its presentation but (2)_____ the style eases out and becomes haunting in its simplicity. The author brings out the human elements in his story. This common element of sympathy and sacrifice is given a new (3)_____ by the old artist who shows by his last desperate act that one can be a hero for one day if only one cares (4)_____. O Henry's treatment of his material is balanced and controlled, a fine (5)_____ of humour and pathos.

SubQuestion No : 23

Q.23 Select the most appropriate option to fill in blank number 3.

- Ans ☒ 1. dimension
☒ 2. supervision
☒ 3. infection
☒ 4. condition

Question ID : 630680147133

Option 1 ID : 630680569346

Option 2 ID : 630680569348

Option 3 ID : 630680569347

Option 4 ID : 630680569349

Status : Answered

Chosen Option : 1





Comprehension:

In the following passage, some words have been deleted. Read the passage carefully and select the most appropriate option to fill in each blank.

The beginning of the story is (1)_____ in its presentation but (2)_____ the style eases out and becomes haunting in its simplicity. The author brings out the human elements in his story. This common element of sympathy and sacrifice is given a new (3)_____ by the old artist who shows by his last desperate act that one can be a hero for one day if only one cares (4)_____. O Henry's treatment of his material is balanced and controlled, a fine (5)_____ of humour and pathos.

SubQuestion No : 24

Q.24 Select the most appropriate option to fill in blank number 4.

- Ans  1. though
 2. enough
 3. through
 4. tough

Question ID : **630680147134**

Option 1 ID : **630680569351**

Option 2 ID : **630680569353**

Option 3 ID : **630680569352**

Option 4 ID : **630680569350**

Status : **Answered**

Chosen Option : **2**





Comprehension:

In the following passage, some words have been deleted. Read the passage carefully and select the most appropriate option to fill in each blank.

The beginning of the story is (1)_____ in its presentation but (2)_____ the style eases out and becomes haunting in its simplicity. The author brings out the human elements in his story. This common element of sympathy and sacrifice is given a new (3)_____ by the old artist who shows by his last desperate act that one can be a hero for one day if only one cares (4)_____. O Henry's treatment of his material is balanced and controlled, a fine (5)_____ of humour and pathos.

SubQuestion No : 25

Q.25 Select the most appropriate option to fill in blank number 5.

- Ans  1. blend
 2. amend
 3. ascend
 4. legend

Question ID : **630680147135**

Option 1 ID : **630680569355**

Option 2 ID : **630680569356**

Option 3 ID : **630680569357**

Option 4 ID : **630680569354**

Status : **Answered**

Chosen Option : **1**