

Combined Graduate Level Examination 2024 Tier I

Roll Number	
Candidate Name	
Venue Name	
Exam Date	18/09/2024
Exam Time	12:30 PM - 1:30 PM
Subject	Combined Graduate Level Examination Tier I

Section : General Intelligence and Reasoning

Q.1 एक निश्चित कूट भाषा में, 'HIT' को '132' के रूप में कूटबद्ध किया जाता है और 'SBYZ' को '144' के रूप में कूटबद्ध किया जाता है। उसी भाषा में 'YRF' को किस रूप में कूटबद्ध किया जाएगा?

Ans ☒ 1. 108

☒ 2. 96

☒ 3. 124

☒ 4. 112

Question ID : 630680416286

Option 1 ID : 6306801623907

Option 2 ID : 6306801623908

Option 3 ID : 6306801623909

Option 4 ID : 6306801623910

Status : Answered

Chosen Option : 2

Q.2 एक निश्चित कूट भाषा में,

'A + B' का अर्थ है 'A, B की माता है';

'A - B' का अर्थ है 'A, B का भाई है';

'A × B' का अर्थ है 'A, B की पत्नी है' और

'A ÷ B' का अर्थ है 'A, B का पिता है'।

उपर्युक्त के आधार पर, यदि 'A × B ÷ C + D' है, तो A, D से किस प्रकार संबंधित है?

Ans ☒ 1. पिता का पिता

☒ 2. माता की माता

☒ 3. माता का पिता

☒ 4. पिता की माता

Question ID : 630680300379

Option 1 ID : 6306801168415

Option 2 ID : 6306801168418

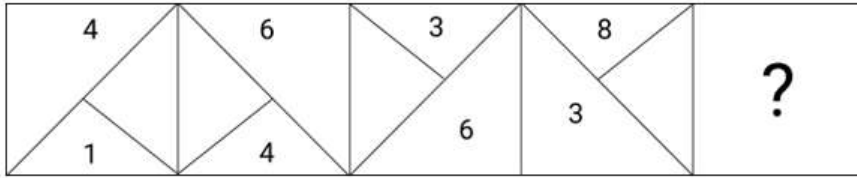
Option 3 ID : 6306801168416

Option 4 ID : 6306801168417

Status : Answered

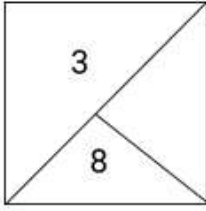
Chosen Option : 2

Q.3 विकल्पों में दी गई उस आकृति की पहचान कीजिए जिसे ? के स्थान पर रखने पर श्रृंखला तर्कसंगत रूप से पूर्ण हो जाएगी।

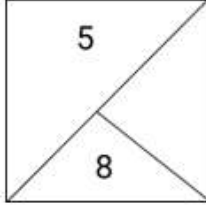


Ans

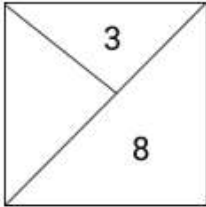
✗ 1.



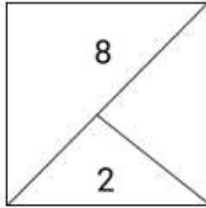
✓ 2.



✗ 3.



✗ 4.



Question ID : 630680524402

Option 1 ID : 6306802049708

Option 2 ID : 6306802049710

Option 3 ID : 6306802049709

Option 4 ID : 6306802049707

Status : Answered

Chosen Option : 2

Q.4 शब्द 'SLANTED' के प्रत्येक अक्षर को अंग्रेजी वर्णमाला क्रम में व्यवस्थित किया जाता है। इस प्रकार बने नए अक्षर-समूह में बाएँ छोर से चौथे अक्षर और दाएँ छोर से दूसरे अक्षर के बीच अंग्रेजी वर्णमाला श्रृंखला में कितने अक्षर हैं?

Ans ✗ 1. आठ

✓ 2. छः

✗ 3. पाँच

✗ 4. सात

Question ID : 630680327767

Option 1 ID : 6306801275060

Option 2 ID : 6306801275058

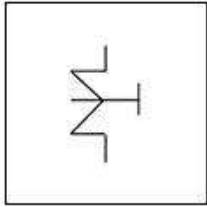
Option 3 ID : 6306801275057

Option 4 ID : 6306801275059

Status : Answered

Chosen Option : 2

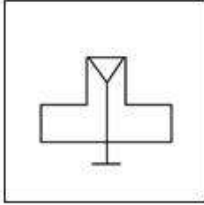
Q.5 उस विकल्प आकृति का चयन करें जिसमें दी गई आकृति (X) सन्निहित है (घुमाने की अनुमति नहीं है)।



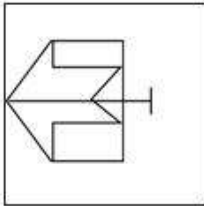
(X)

Ans

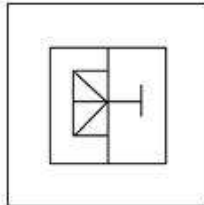
✗ 1.



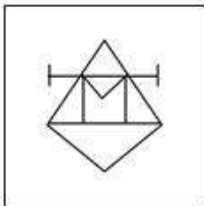
✗ 2.



✓ 3.



✗ 4.



Question ID : 630680296889

Option 1 ID : 6306801155199

Option 2 ID : 6306801155202

Option 3 ID : 6306801155200

Option 4 ID : 6306801155201

Status : Answered

Chosen Option : 3

Q.6 विकल्पों में दी गई उस आकृति की पहचान कीजिए ? के स्थान पर रखने पर श्रृंखला तर्कसंगत रूप से पूर्ण हो जाएगी।

A	A	A	A	
	⌚	⌚	⌚	
		S	S	
			T	
				?

Ans

✗ 1.

A	⌚	S
		T
		S

✗ 2.

A	⌚	S
		T
		T

✗ 3.

A	⌚	S
T		
R		

✓ 4.

A	⌚	S
		T
		R

Question ID : 630680524406

Option 1 ID : 6306802049724

Option 2 ID : 6306802049723

Option 3 ID : 6306802049726

Option 4 ID : 6306802049725

Status : Answered

Chosen Option : 4

Q.7 उस विकल्प का चयन करें जो पांचवें पद से उसी प्रकार संबंधित है जिस प्रकार दूसरा पद, पहले पद से संबंधित है और चौथा पद, तीसरे पद से संबंधित है।

CARBON : ACIYNO :: DAMAGE : ADNZEG :: MARGIN : ?

Ans ✗ 1. MARGNI

✗ 2. AMGRNI

✗ 3. MATINI

✓ 4. AMITNI

Question ID : 630680416199

Option 1 ID : 6306801623559

Option 2 ID : 6306801623561

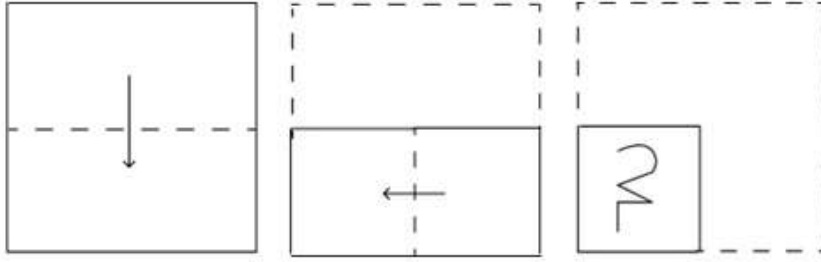
Option 3 ID : 6306801623562

Option 4 ID : 6306801623560

Status : Answered

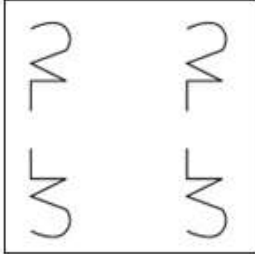
Chosen Option : 4

Q.8 एक कागज को नीचे दिखाए अनुसार मोड़ा और काटा जाता है। खोलने पर यह कैसा दिखाई देगा?

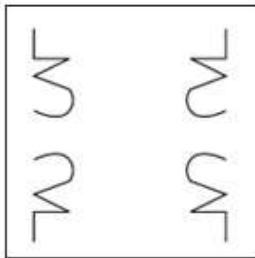


Ans

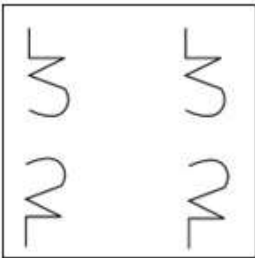
✗ 1.



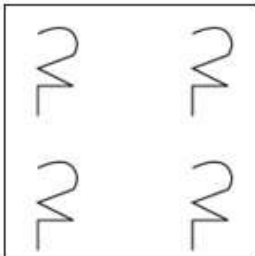
✓ 2.



✗ 3.



✗ 4.



Question ID : 630680294958

Option 1 ID : 6306801147562

Option 2 ID : 6306801147563

Option 3 ID : 6306801147561

Option 4 ID : 6306801147560

Status : Answered

Chosen Option : 2

Q.9 निम्नलिखित में से कौन-सा पद दी गई श्रृंखला में प्रश्न चिह्न (?) का स्थान लेगा?
MJPT, PGMW, SDJZ, ?, YXDF

- Ans ☒ 1. VAGD
☒ 2. VAGC
☒ 3. VZFC
☒ 4. WAGD

Question ID : 630680417057
Option 1 ID : 6306801626992
Option 2 ID : 6306801626994
Option 3 ID : 6306801626991
Option 4 ID : 6306801626993
Status : Answered
Chosen Option : 2

Q.10 नीचे संख्याओं के दो समुच्चय दिए गए हैं। संख्याओं के प्रत्येक समुच्चय में, पहली संख्या पर कुछ निश्चित गणितीय संक्रिया करने पर दूसरी संख्या प्राप्त होती है। इसी प्रकार, दूसरी संख्या पर कुछ निश्चित गणितीय संक्रिया करने पर तीसरी संख्या प्राप्त होती है और इसी तरह आगे भी होती है। दिए गए विकल्पों में से कौन-सा विकल्प दिए गए समुच्चयों की तरह संक्रियाओं के समान समुच्चय का अनुसरण करता है?

(नोट: संख्याओं को उनके घटक अंकों में तोड़े बिना, पूर्ण संख्याओं पर संक्रियाएँ की जानी चाहिए।
उदाहरण के लिए 13 लीजिए - 13 पर की जाने वाली संक्रियाएँ जैसे कि 13 में जोड़ना/घटाना/गुणा करना आदि केवल 13 पर किया जा सकता है। 13 को 1 और 3 में तोड़ना, तथा 1 और 3 पर गणितीय संक्रिया करने की अनुमति नहीं है।)

7 - 14 - 28 - 38; 4 - 8 - 16 - 26

- Ans ☒ 1. 6 - 12 - 24 - 36
☒ 2. 15 - 25 - 50 - 60
☒ 3. 8 - 16 - 32 - 40
☒ 4. 13 - 26 - 52 - 62

Question ID : 630680814085
Option 1 ID : 6306803189557
Option 2 ID : 6306803189559
Option 3 ID : 6306803189558
Option 4 ID : 6306803189560
Status : Answered
Chosen Option : 4

Q.11 एक निश्चित कूट भाषा में, 'play in the sunshine' को 'sh ko zm fq' के रूप में कूटबद्ध किया जाता है और 'the sunshine is bright' को 'ko sh gp rs' के रूप में कूटबद्ध किया जाता है। उस भाषा में 'sunshine' के लिए संभावित कूट क्या है?

- Ans ☒ 1. either 'gp' or 'sh'
☒ 2. zm
☒ 3. ko
☒ 4. either 'sh' or 'ko'

Question ID : 630680199100
Option 1 ID : 630680772110
Option 2 ID : 630680772109
Option 3 ID : 630680772107
Option 4 ID : 630680772108
Status : Answered
Chosen Option : 4

Q.12 उस विकल्प का चयन करें जो उन अक्षरों को निरूपित करता है जिन्हें नीचे दिए गए रिक्त स्थानों में बाएँ से दाएँ रखे जाने पर दी गई अक्षर श्रृंखला पूरी हो जाएगी।

LMN_OLLM_QOLL_NQO_LMNQ_LLM

- Ans
- ☒ 1. NQLMO
 - ☒ 2. QLMNO
 - ☒ 3. QMNLO
 - ☒ 4. QNMLQ

Question ID : 630680416267
Option 1 ID : 6306801623833
Option 2 ID : 6306801623834
Option 3 ID : 6306801623831
Option 4 ID : 6306801623832
Status : Answered
Chosen Option : 4

Q.13 एक निश्चित कूट भाषा में, 'TRIED' को '54123' के रूप में कूटबद्ध किया जाता है और 'TREAD' को '12365' के रूप में कूटबद्ध किया जाता है। दी गई कूट भाषा में 'I' के लिए कूट क्या है?

- Ans
- ☒ 1. 5
 - ☒ 2. 4
 - ☒ 3. 6
 - ☒ 4. 1

Question ID : 630680797072
Option 1 ID : 6306803123246
Option 2 ID : 6306803123245
Option 3 ID : 6306803123247
Option 4 ID : 6306803123244
Status : Answered
Chosen Option : 2

Q.14 'डटे रहना' (Persist), 'टढ़ रहना' (Endure) से उसी प्रकार संबंधित है, जिस प्रकार 'टालना' (Stall) '_____ ' से संबंधित है।

(शब्दों को सार्थक हिंदी शब्द माना जाना चाहिए और शब्दों को अक्षरों की संख्या/व्यंजनों/स्वरों की संख्या के आधार पर एक दूसरे से संबंधित नहीं किया जाना चाहिए।)

- Ans
- ☒ 1. उन्नति करना (Progress)
 - ☒ 2. स्थगित करना (Delay)
 - ☒ 3. आगे बढ़ना (Surge)
 - ☒ 4. शिकायत करना (Complain)

Question ID : 630680416709
Option 1 ID : 6306801625600
Option 2 ID : 6306801625602
Option 3 ID : 6306801625601
Option 4 ID : 6306801625599
Status : Answered
Chosen Option : 2

Q.15 अंग्रेजी वर्णमाला क्रम के आधार पर, निम्नलिखित चार अक्षर-समूहों में से तीन किसी निश्चित तरीके से एकसमान हैं और इस प्रकार एक समूह बनाते हैं। कौन-सा अक्षर-समूह उस समूह से संबंधित नहीं है? (नोट: असंगत अक्षर-समूह, व्यंजनों/स्वरो की संख्या या अक्षर-समूह में इनके स्थान पर आधारित नहीं है।)

Ans ☒ 1. AAY

☒ 2. VUT

☒ 3. KJI

☒ 4. HGF

Question ID : 630680812265

Option 1 ID : 6306803182509

Option 2 ID : 6306803182510

Option 3 ID : 6306803182511

Option 4 ID : 6306803182512

Status : Answered

Chosen Option : 1

Q.16 निम्नलिखित में से कौन सी संख्या दी गई श्रृंखला में प्रश्न चिह्न (?) का स्थान लेगी?
20, 25, 25, 35, 30, 45, ?, 55, 40

Ans ☒ 1. 35

☒ 2. 60

☒ 3. 30

☒ 4. 50

Question ID : 630680411883

Option 1 ID : 6306801606369

Option 2 ID : 6306801606368

Option 3 ID : 6306801606370

Option 4 ID : 6306801606367

Status : Answered

Chosen Option : 1

Q.17 उस समुच्चय का चयन कीजिए, जिसमें संख्याएँ एक-दूसरे से उसी तरह संबंधित हैं, जैसे दिए गए समुच्चय की संख्याएँ हैं।
(28, 224); (47, 376)
(ध्यान दीजिए: संख्याओं को उनके घटक अंकों में विभाजित किए बिना, पूर्ण संख्याओं पर संक्रियाएँ की जानी चाहिए। उदाहरण के लिए 13 - 13 पर संक्रिया जैसे जोड़ना / हटाना / गुणा करना आदि 13 पर किया जा सकता है। 13 को 1 और 3 में तोड़ना और फिर 1 और 3 पर गणितीय संक्रियाएँ करने की अनुमति नहीं है)

Ans ☒ 1. (31, 248)

☒ 2. (22, 178)

☒ 3. (19, 212)

☒ 4. (24, 168)

Question ID : 630680319357

Option 1 ID : 6306801242334

Option 2 ID : 6306801242333

Option 3 ID : 6306801242335

Option 4 ID : 6306801242336

Status : Answered

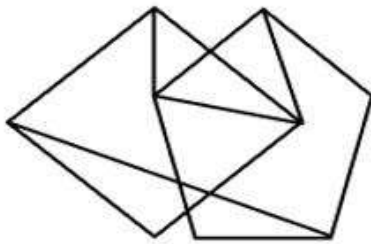
Chosen Option : 1

Q.18 यदि '+' और '-' को आपस में बदल दिया जाए और 'x' और '÷' को आपस में बदल दिया जाए, तो निम्नलिखित समीकरण में प्रश्न-चिन्ह (?) के स्थान पर क्या आएगा?
 $272 \times 16 + 97 - 23 \div 4 = ?$

- Ans
- ☒ 1. 21
 - ☒ 2. 2
 - ☒ 3. 22
 - ☒ 4. 12

Question ID : 630680336423
 Option 1 ID : 6306801308416
 Option 2 ID : 6306801308415
 Option 3 ID : 6306801308414
 Option 4 ID : 6306801308413
 Status : Answered
 Chosen Option : 4

Q.19 दी गई आकृति में कितने त्रिभुज हैं?



- Ans
- ☒ 1. 11
 - ☒ 2. 9
 - ☒ 3. 8
 - ☒ 4. 7

Question ID : 630680295188
 Option 1 ID : 6306801148479
 Option 2 ID : 6306801148477
 Option 3 ID : 6306801148478
 Option 4 ID : 6306801148476
 Status : Answered
 Chosen Option : 1

Q.20 उस विकल्प का चयन कीजिए, जिसमें संख्याएँ वही संबंध साझा करती हैं, जो संख्याओं के दिए गए युग्म द्वारा साझा किया गया है।

(7, 333)

(5, 115)

(नोट: पूर्ण संख्याओं पर संक्रिया का प्रयोग, संख्याओं को उनके घटक अंकों में विभक्त किए बिना किया जाना चाहिए। उदाहरण के लिए, 13 :- 13 पर संक्रिया जैसे कि जोड़ने/घटाने/गुणा करने आदि को 13 में किया जा सकता है। 13 को 1 और 3 में विभक्त करके और फिर 1 और 3 पर गणितीय संक्रियाओं का प्रयोग करने की अनुमति नहीं है।)

- Ans
- ☒ 1. (4, 54)
 - ☒ 2. (8, 492)
 - ☒ 3. (3, 24)
 - ☒ 4. (6, 226)

Question ID : 630680329211
 Option 1 ID : 6306801280665
 Option 2 ID : 6306801280668
 Option 3 ID : 6306801280667
 Option 4 ID : 6306801280666
 Status : Answered
 Chosen Option : 1

Q.21 यदि निम्नलिखित समीकरण में '+' और '-' को आपस में बदल दिया जाए और 'x' और '÷' को आपस में बदल दिया जाए, तो प्रश्न चिह्न (?) के स्थान पर कौन-सी संख्या आएगी?
 $121 \times 11 - 28 \div 3 + 17 = ?$

Ans ☒ 1. 78

☐ 2. 91

☐ 3. 85

☐ 4. 64

Question ID : 630680163583

Option 1 ID : 630680633517

Option 2 ID : 630680633519

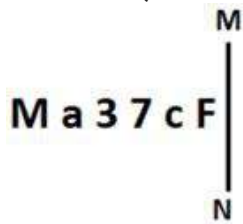
Option 3 ID : 630680633518

Option 4 ID : 630680633516

Status : Answered

Chosen Option : 1

Q.22 जब दर्पण को नीचे दर्शाए गए अनुसार MN पर रखा जाता है तो दी गई आकृति के सही दर्पण प्रतिबिंब का चयन कीजिए।



Ans ☐ 1.

☐ 2.

☐ 3.

☒ 4.

Question ID : 630680356653

Option 1 ID : 6306801388616

Option 2 ID : 6306801388613

Option 3 ID : 6306801388615

Option 4 ID : 6306801388614

Status : Answered

Chosen Option : 4

Q.23 निम्नलिखित संख्याओं में से तीन किसी प्रकार से एक समान हैं और एक उनसे असंगत है। उस असंगत का चयन कीजिए।

(नोट: गणितीय संक्रियाएं संख्याओं को उनके घटक अंकों में तोड़े बिना पूर्ण संख्याओं पर की जानी चाहिए। उदाहरण के लिए 13 - 13 पर की जाने वाली संक्रियाएं, जैसे जोड़ना, घटाना, गुणा करना इत्यादि, केवल 13 पर की जा सकती हैं। 13 को 1 और 3 में तोड़ना और तब 1 और 3 पर गणितीय संक्रियाएँ करने की अनुमति नहीं है।) gfdt54wqq

Ans ☐ 1. $9 - 243$

☐ 2. $11 - 363$

☒ 3. $15 - 450$

☐ 4. $13 - 507$

Question ID : 630680389581

Option 1 ID : 6306801518784

Option 2 ID : 6306801518785





Option 3 ID : 6306801518783

Option 4 ID : 6306801518782

Status : Answered

Chosen Option : 3

Q.24 चार अक्षर-समूह दिए गए हैं, जिनमें से तीन किसी न किसी रूप में एकसमान हैं और एक असमान है। निम्नलिखित में से असमान विकल्प को चुनिए।
नोट: अक्षर समूह में, असंगत व्यंजनों/स्वरों की संख्या या उनकी स्थिति पर आधारित नहीं है।

- Ans
-  1. ZXU
 -  2. YWT
 -  3. XVS
 -  4. WUQ

Question ID : 630680195788

Option 1 ID : 630680759603

Option 2 ID : 630680759604

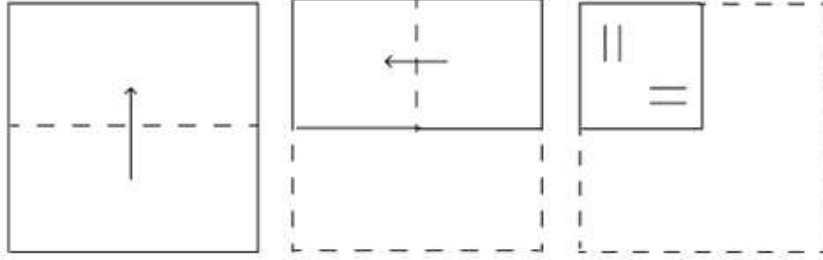
Option 3 ID : 630680759605

Option 4 ID : 630680759606

Status : Answered

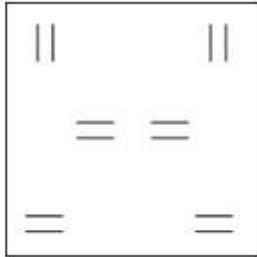
Chosen Option : 4

Q.25 एक कागज को नीचे दिखाए अनुसार मोड़ा और काटा जाता है। खोलने पर यह कैसा दिखाई देगा?

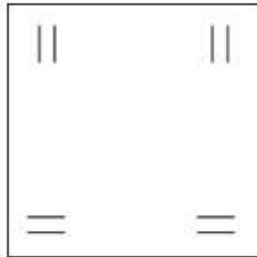


Ans

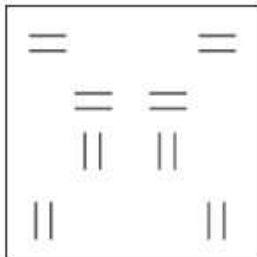
✗ 1.



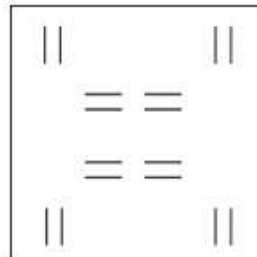
✗ 2.



✗ 3.



✓ 4.



Question ID : 630680294959

Option 1 ID : 6306801147565

Option 2 ID : 6306801147564

Option 3 ID : 6306801147567

Option 4 ID : 6306801147566

Status : Answered

Chosen Option : 4

Q.1 महामारी रोग (संशोधन) अधिनियम, 2020 ने निम्नलिखित में से किस अधिनियम में संशोधन किया?

- Ans
- ☐ 1. महामारी रोग अधिनियम, 1892
 - ☐ 2. महामारी रोग अधिनियम, 1890
 - ☐ 3. महामारी रोग अधिनियम, 1895
 - ☒ 4. महामारी रोग अधिनियम, 1897

Question ID : 630680139322

Option 1 ID : 630680539363

Option 2 ID : 630680539362

Option 3 ID : 630680539365

Option 4 ID : 630680539364

Status : Answered

Chosen Option : 4

Q.2 प्रसिद्ध गजल गायिका गिरिजा देवी का जन्म _____ में हुआ था।

- Ans
- ☐ 1. कर्नाटक
 - ☒ 2. उत्तर प्रदेश
 - ☐ 3. बिहार
 - ☐ 4. पंजाब

Question ID : 630680164564

Option 1 ID : 630680637374

Option 2 ID : 630680637373

Option 3 ID : 630680637375

Option 4 ID : 630680637372

Status : Answered

Chosen Option : 2

Q.3 महाराष्ट्र के किस भारतीय संगीतज्ञ को पद्म विभूषण 2023 प्राप्त हुआ है?

- Ans
- ☐ 1. रामदास पलसुले
 - ☒ 2. ज़ाकिर हुसैन
 - ☐ 3. मिलिंद दाते
 - ☐ 4. भरत कामत

Question ID : 630680511791

Option 1 ID : 6306802000137

Option 2 ID : 6306802000136

Option 3 ID : 6306802000135

Option 4 ID : 6306802000134

Status : Answered

Chosen Option : 2

Q.4 एक वर्ष के दौरान फर्म की माल-सूची में परिवर्तन को निम्नलिखित में से कौन-सा विकल्प सही ढंग से परिभाषित करता है?

- Ans
- ☒ 1. वर्ष के दौरान फर्म का उत्पादन – वर्ष के दौरान फर्म की बिक्री
 - ☐ 2. पिछले वर्ष के दौरान फर्म का उत्पादन – वर्ष के दौरान फर्म की बिक्री
 - ☐ 3. वर्ष के दौरान फर्म का उत्पादन – पिछले वर्ष के दौरान फर्म की बिक्री
 - ☐ 4. वर्ष के दौरान फर्म की बिक्री – वर्ष के दौरान फर्म का उत्पादन

Question ID : 630680127433

Option 1 ID : 630680493992

Option 2 ID : 630680493993

Option 3 ID : 630680493994

Option 4 ID : 630680493995

Status : Answered

Chosen Option : 1

Q.5 पारिस्थितिकी की कौन-सी शाखा प्राचीन पर्यावरण की विशेषताओं और प्राचीन पादपों और जंतुओं के साथ उनके संबंध से संबंधित है?

- Ans
- ☒ 1. मत्स्यविज्ञान
 - ☒ 2. कवक विज्ञान
 - ☒ 3. पुरापारिस्थितिकी
 - ☒ 4. प्रेत-विद्या

Question ID : 630680407456
Option 1 ID : 6306801588763
Option 2 ID : 6306801588764
Option 3 ID : 6306801588765
Option 4 ID : 6306801588762
Status : Answered
Chosen Option : 3

Q.6 भारतीय खेल प्राधिकरण (स्पोर्ट्स ऑथोरिटी ऑफ इंडिया) किस मंत्रालय के अंतर्गत आता है?

- Ans
- ☒ 1. सामाजिक न्याय मंत्रालय
 - ☒ 2. युवा मामले और खेल मंत्रालय
 - ☒ 3. स्वास्थ्य और परिवार कल्याण मंत्रालय
 - ☒ 4. शिक्षा मंत्रालय

Question ID : 630680339375
Option 1 ID : 6306801320069
Option 2 ID : 6306801320070
Option 3 ID : 6306801320071
Option 4 ID : 6306801320072
Status : Answered
Chosen Option : 2

Q.7 निम्नलिखित में से किस साम्राज्य को अहार या राष्ट्र नामक उपविभागों में विभाजित किया गया था जिसका अर्थ जिला था?

- Ans
- ☒ 1. शक
 - ☒ 2. कुषाण
 - ☒ 3. सातवाहन
 - ☒ 4. पार्थियन

Question ID : 630680412515
Option 1 ID : 6306801608885
Option 2 ID : 6306801608883
Option 3 ID : 6306801608884
Option 4 ID : 6306801608886
Status : Answered
Chosen Option : 2

Q.8 वर्ष 2023 में सिक्किम के मुख्यमंत्री प्रेम सिंह तमांग द्वारा शुरू की गई 'मेरो रुख मेरो संतति' पहल के अंतर्गत, सिक्किम में जन्म लेने वाले प्रत्येक बच्चे के लिए कितने पेड़ लगाए जाएंगे?

- Ans ☒ 1. 150
☒ 2. 100
☒ 3. 200
☒ 4. 50

Question ID : 630680413081

Option 1 ID : 6306801611149

Option 2 ID : 6306801611148

Option 3 ID : 6306801611150

Option 4 ID : 6306801611147

Status : Answered

Chosen Option : 2

Q.9 किस भारतीय राजनेता को लोकनायक कहा जाता था?

- Ans ☒ 1. बाल गंगाधर तिलक
☒ 2. सुभाष चंद्र बोस
☒ 3. राम मनोहर लोहिया
☒ 4. जय प्रकाश नारायण

Question ID : 630680511494

Option 1 ID : 6306801999101

Option 2 ID : 6306801999098

Option 3 ID : 6306801999100

Option 4 ID : 6306801999099

Status : Answered

Chosen Option : 1

Q.10 टाइम मैगज़ीन की '2021 के 100 सबसे प्रभावशाली लोगों' की सूची में तीन भारतीयों को शामिल किया गया था। सूची में किसका नाम नहीं था?

- Ans ☒ 1. ममता बनर्जी
☒ 2. नरेंद्र मोदी
☒ 3. अदर पूनावाला
☒ 4. अमिताभ बच्चन

Question ID : 630680115310

Option 1 ID : 630680446591

Option 2 ID : 630680446590

Option 3 ID : 630680446592

Option 4 ID : 630680446593

Status : Answered

Chosen Option : 4

Q.11 मनुष्यों में अपशिष्ट उत्पादों का निस्पंदन वृक्क में होता है। वृक्क के भीतर काफी संख्या में निस्पंदन इकाइयां (filtration units) होती हैं, जो इस कार्य को करने में सहायक होती हैं। इन निस्पंदन इकाइयों को _____ कहा जाता है।

- Ans ☒ 1. कूपिका (alveoli)
☒ 2. वृक्काणु (nephrons)
☒ 3. केशिका (capillaries)
☒ 4. बोमैन संपुट (Bowman's capsules)

Question ID : 630680517184

Option 1 ID : 6306802021132

Option 2 ID : 6306802021135

Option 3 ID : 6306802021133

Option 4 ID : 6306802021134

Status : Answered

Chosen Option : 2

Q.12 किस संख्या को आवोगाद्रो नियतांक कहा जाता है, जिसका नाम 19वीं शताब्दी के वैज्ञानिक एमेडियो अवोगाद्रो (Amedeo Avogadro) के नाम पर रखा गया है?

- Ans ☒ 1. 6.012×10^{21}
☒ 2. 6.022×10^{23}
☒ 3. 6.032×10^{19}
☒ 4. 6.020×10^{20}

Question ID : 630680302887

Option 1 ID : 6306801178213

Option 2 ID : 6306801178211

Option 3 ID : 6306801178212

Option 4 ID : 6306801178210

Status : Answered

Chosen Option : 2

Q.13 भारत में राजनीतिक दलों के संबंध में निम्नलिखित में से कौन-सा कथन सही है?

- Ans ☒ 1. दल की स्थिति संसद द्वारा प्रदान की जाती है।
☒ 2. भारत में एक बहुदलीय प्रणाली है, जिसे राष्ट्रीय, राज्य या क्षेत्रीय स्तर के रूप में वर्गीकृत किया गया है।
☒ 3. किसी राजनीतिक दल का प्रतीक भारत के राष्ट्रपति द्वारा आवंटित किया जाता है।
☒ 4. सभी दल भारत के सर्वोच्च न्यायालय में पंजीकृत होते हैं।

Question ID : 630680157584

Option 1 ID : 630680609865

Option 2 ID : 630680609864

Option 3 ID : 630680609867

Option 4 ID : 630680609866

Status : Answered

Chosen Option : 2

Q.14 हरित क्रांति के बाद सभी खाद्यान्नों में वृद्धि किस प्रकार थी?

- Ans
- ☒ 1. समानुपाती
 - ☒ 2. अप्रत्याशित
 - ☒ 3. ऐकिक
 - ☒ 4. असमानुपाती

Question ID : 630680410839
Option 1 ID : 6306801602111
Option 2 ID : 6306801602113
Option 3 ID : 6306801602114
Option 4 ID : 6306801602112
Status : Answered
Chosen Option : 4

Q.15 निम्नलिखित में से कौन-सी नदी पूर्व की ओर बहने वाली नदी है?

- Ans
- ☒ 1. नर्मदा नदी
 - ☒ 2. गोदावरी नदी
 - ☒ 3. तापी नदी
 - ☒ 4. माही नदी

Question ID : 630680401704
Option 1 ID : 6306801566593
Option 2 ID : 6306801566590
Option 3 ID : 6306801566592
Option 4 ID : 6306801566591
Status : Answered
Chosen Option : 2

Q.16 देवी भद्रकाली को प्रसन्न करने के लिए एक स्थानीय नृत्य 'पदायनी' मुख्य रूप से _____ में प्रदर्शित किया जाता है।

- Ans
- ☒ 1. ओडिशा
 - ☒ 2. असम
 - ☒ 3. पश्चिम बंगाल
 - ☒ 4. केरल

Question ID : 630680309152
Option 1 ID : 6306801202788
Option 2 ID : 6306801202786
Option 3 ID : 6306801202785
Option 4 ID : 6306801202787
Status : Answered
Chosen Option : 2

Q.17 राजा भलीन्द्र सिंह ट्रॉफी निम्नलिखित में से किस राष्ट्रीय खेल आयोजन से संबंधित है?

- Ans
- ☒ 1. खेलो इंडिया यूथ गेम्स
 - ☒ 2. राष्ट्रीय खेल
 - ☒ 3. खेलो इंडिया यूनिवर्सिटी गेम्स
 - ☒ 4. खेलो इंडिया शीतकालीन गेम्स

Question ID : 630680510810
Option 1 ID : 6306801996371
Option 2 ID : 6306801996370
Option 3 ID : 6306801996373
Option 4 ID : 6306801996372
Status : Answered
Chosen Option : 3

Q.18 _____, तोल्काप्पियार (Tolkappiyar) द्वारा लिखित सबसे प्रारंभिक तमिल साहित्य है।

Ans ☒ 1. तोल्काप्पियम (Tolkappiyam)

☒ 2. एत्तुतोगई (Ettutogai)

☒ 3. कलित्तोकाई (Kalittogai)

☒ 4. नारीनई (Narrinai)

Question ID : 630680412283

Option 1 ID : 6306801607956

Option 2 ID : 6306801607955

Option 3 ID : 6306801607958

Option 4 ID : 6306801607957

Status : Answered

Chosen Option : 1

Q.19 _____ के दौरान, भारत सरकार द्वारा सूखा प्रवण क्षेत्रों में लोगों को रोज़गार प्रदान करने के लिए, सूखा प्रवण क्षेत्र कार्यक्रम {Drought Prone Area Programme (DPAP)} शुरू किया गया था?

Ans ☒ 1. छठी पंचवर्षीय योजना

☒ 2. सातवीं पंचवर्षीय योजना

☒ 3. चौथी पंचवर्षीय योजना

☒ 4. तीसरी पंचवर्षीय योजना

Question ID : 630680409646

Option 1 ID : 6306801597415

Option 2 ID : 6306801597416

Option 3 ID : 6306801597414

Option 4 ID : 6306801597413

Status : Answered

Chosen Option : 1

Q.20 निम्नलिखित में से कौन-सी, भारतीय संविधान की विशेषता नहीं है?

Ans ☒ 1. स्वतंत्र न्यायपालिका

☒ 2. कठोरता और लचीलेपन का मेल

☒ 3. सार्वभौमिक वयस्क मताधिकार

☒ 4. दोहरी नागरिकता

Question ID : 630680329440

Option 1 ID : 6306801281502

Option 2 ID : 6306801281501

Option 3 ID : 6306801281503

Option 4 ID : 6306801281504

Status : Answered

Chosen Option : 4

Q.21 $4\text{NH}_3(\text{g}) + 5\text{O}_2(\text{g}) \rightarrow 4\text{NO}(\text{g}) + 6\text{H}_2\text{O}(\text{g})$ के आधार पर, निम्नलिखित में से कौन-से कथन सत्य हैं?

- (a) N उपचयित हो जाता है।
- (b) O उपचयित हो जाता है।
- (c) N अपचयित हो जाता है।
- (d) O अपचयित हो जाता है।

Ans ☒ 1. (a) और (d)

☒ 2. (b) और (c)

☒ 3. (c) और (d)

☒ 4. (a) और (b)

Question ID : 630680517158

Option 1 ID : 6306802021028

Option 2 ID : 6306802021031

Option 3 ID : 6306802021030

Option 4 ID : 6306802021029

Status : Answered

Chosen Option : 3

Q.22 इजराइल और जॉर्डन के बीच दक्षिण-पश्चिम एशिया में स्थलरुद्ध साल्ट लेक निम्नलिखित में से कौन-सी है?

Ans ☒ 1. डेड सी

☒ 2. डॉन जुआन पॉन्ड

☒ 3. कैस्पियन सी

☒ 4. अरल सी

Question ID : 630680144815

Option 1 ID : 630680560302

Option 2 ID : 630680560303

Option 3 ID : 630680560305

Option 4 ID : 630680560304

Status : Answered

Chosen Option : 2

Q.23 रथ उत्सव भगवान जगन्नाथ के साथ सुभद्रा और _____ को समर्पित है।

Ans ☒ 1. अर्जुन

☒ 2. बलभद्र

☒ 3. हनुमान

☒ 4. सुदामा

Question ID : 630680160208

Option 1 ID : 630680620207

Option 2 ID : 630680620204

Option 3 ID : 630680620206

Option 4 ID : 630680620205

Status : Answered

Chosen Option : 2

Q.24 निम्नलिखित में से कौन-सा भारत के प्रमुख औद्योगिक क्षेत्र का एक उदाहरण है?

- Ans ☒ 1. छोटा नागपुर क्षेत्र
☐ 2. जयपुर- अजमेर
☐ 3. बिलासपुर-कोरबा
☐ 4. भोजपुर-मुंगेर

Question ID : 630680327629
Option 1 ID : 6306801274513
Option 2 ID : 6306801274515
Option 3 ID : 6306801274516
Option 4 ID : 6306801274514
Status : Answered
Chosen Option : 3

Q.25 भारत में 1792 में, निम्नलिखित में से किस गवर्नर-जनरल द्वारा दरोगा प्रणाली की शुरुआत की गई थी?

- Ans ☐ 1. लॉर्ड मिंटो
☐ 2. लॉर्ड विलियम बेंटिक
☒ 3. लॉर्ड कॉर्नवालिस
☐ 4. लॉर्ड मेयो

Question ID : 630680412331
Option 1 ID : 6306801608147
Option 2 ID : 6306801608148
Option 3 ID : 6306801608149
Option 4 ID : 6306801608150
Status : Answered
Chosen Option : 4

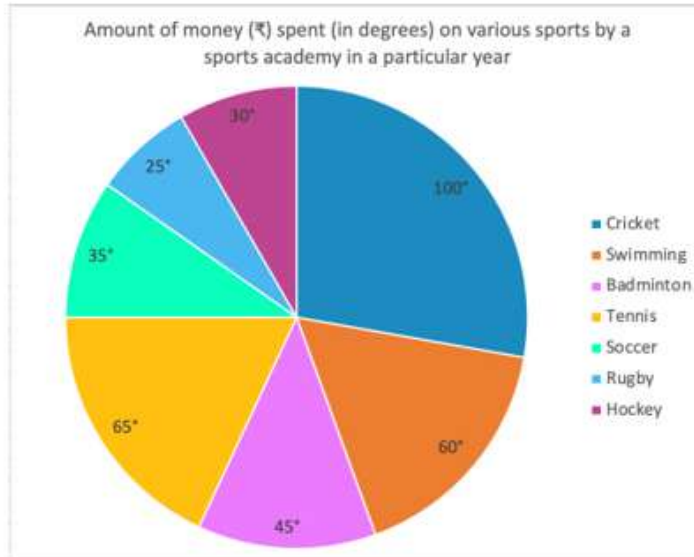
Section : Quantitative Aptitude

Q.1 पाइप A और B एक टैंक को क्रमशः 6 घंटे और 8 घंटे में पूरा भर सकते हैं। दोनों पाइपों को एक साथ 3 घंटे के लिए खोल दिया जाता है। उसके बाद पाइप A को बंद कर दिया जाता है, और पाइप B टैंक को भरना जारी रखता है। टैंक कितने घंटे में पूरा भर जायेगा?

- Ans ☐ 1. 3
☐ 2. 2
☒ 3. 4
☐ 4. 6

Question ID : 630680477703
Option 1 ID : 6306801865961
Option 2 ID : 6306801865962
Option 3 ID : 6306801865960
Option 4 ID : 6306801865963
Status : Answered
Chosen Option : 3

Q.2 दिया गया पाई चार्ट एक विशेष वर्ष में एक खेल अकादमी द्वारा विभिन्न खेलों पर खर्च की गई धनराशि (₹) को (डिग्री में) दर्शाता है। पाई चार्ट का अध्ययन कीजिए और इसके बाद आगे आने वाले प्रश्न का उत्तर दीजिए।



Amount of money (₹) spent (in degrees) on various sports by a sports academy in a particular year - एक विशेष वर्ष में एक खेल अकादमी द्वारा विभिन्न खेलों पर खर्च की गई धनराशि (₹) (डिग्री में), Cricket – क्रिकेट, Swimming – तैराकी, Badminton – बैडमिंटन, Tennis – टेनिस, Soccer – फुटबॉल, Rugby – रग्बी, Hockey – हॉकी; यदि फुटबॉल पर ₹42,000 खर्च किए गए थे, तो बैडमिंटन, टेनिस और रग्बी पर कुल मिलाकर खर्च की गई धनराशि, क्रिकेट, तैराकी और हॉकी पर कुल मिलाकर खर्च की गई धनराशि से कितने प्रतिशत (2 दशमलव स्थान तक पूर्णांकित) अधिक/कम है?

- Ans ☒ 1. कम, 28.95%
- ☒ 2. अधिक, 34.87%
- ☒ 3. कम, 34.87%
- ☒ 4. अधिक, 28.95%

Question ID : 630680387064

Option 1 ID : 6306801508968

Option 2 ID : 6306801508967

Option 3 ID : 6306801508966

Option 4 ID : 6306801508969

Status : Answered

Chosen Option : 1

Q.3 साधारण ब्याज पर विभिन्न बैंकों में निवेश के लिए कुल ₹2,00,000 को दो भागों में बांटा गया। एक पर 4% वार्षिक ब्याज प्राप्त होता है। जबकि दूसरे पर 6% वार्षिक ब्याज प्राप्त होता है। यदि एक वर्ष के अंत में पूर्ण राशि पर कुल ब्याज 4.7% वार्षिक दर के बराबर है। तो, प्रत्येक बैंक में निवेश की गई राशि (₹ में) क्रमशः _____ है।

- Ans ☒ 1. 1,30,000 और 70,000
- ☒ 2. 1,45,000 और 55,000
- ☒ 3. 1,20,000 और 80,000
- ☒ 4. 1,60,000 और 40,000

Question ID : 630680392930

Option 1 ID : 6306801532058

Option 2 ID : 6306801532061

Option 3 ID : 6306801532060

Option 4 ID : 6306801532059

Status : Answered

Chosen Option : 1

Q.4 A और B की वर्तमान आयु (वर्षों में) 3 : 4 के अनुपात में है। पाँच वर्ष पूर्व, उनकी आयु का अनुपात 2 : 3 था। A की वर्तमान आयु (वर्षों में) कितनी है?

- Ans
- ☐ 1. 21
 - ☐ 2. 28
 - ☐ 3. 20
 - ☒ 4. 15

Question ID : 630680295359

Option 1 ID : 6306801149162

Option 2 ID : 6306801149163

Option 3 ID : 6306801149161

Option 4 ID : 6306801149160

Status : Answered

Chosen Option : 4

Q.5 दो उम्मीदवारों के बीच चुनाव में, 88% मत पाने वाला उम्मीदवार 684 मतों के बहुमत से जीत जाता है। डाले गए मतों की कुल संख्या कितनी है? (डाले गए सभी मत वैध हैं)

- Ans
- ☐ 1. 750
 - ☐ 2. 800
 - ☐ 3. 850
 - ☒ 4. 900

Question ID : 630680428068

Option 1 ID : 6306801670316

Option 2 ID : 6306801670317

Option 3 ID : 6306801670318

Option 4 ID : 6306801670319

Status : Answered

Chosen Option : 4

Q.6 निम्नलिखित में से कौन सा भिन्न सबसे बड़ा है?

$$\frac{2}{3}, \frac{6}{53}, \frac{79}{90}, \frac{33}{44}$$

- Ans
- ☐ 1. $\frac{33}{44}$
 - ☐ 2. $\frac{2}{3}$
 - ☒ 3. $\frac{79}{90}$
 - ☐ 4. $\frac{6}{53}$

Question ID : 630680797476

Option 1 ID : 6306803124863

Option 2 ID : 6306803124861

Option 3 ID : 6306803124860

Option 4 ID : 6306803124862

Status : Answered

Chosen Option : 3

Q.7

यदि $\tan \theta = \frac{8}{15}$ और θ कोई न्यूनकोण हो, तो $\frac{\sqrt{1-\sin \theta}}{\sqrt{1+\sin \theta}}$ का मान ज्ञात कीजिए।

Ans

✓ 1. $\frac{3}{5}$

✗ 2. $\frac{2}{5}$

✗ 3. $\frac{4}{5}$

✗ 4. $\frac{1}{5}$

Question ID : 630680526476

Option 1 ID : 6306802057973

Option 2 ID : 6306802057971

Option 3 ID : 6306802057972

Option 4 ID : 6306802057970

Status : Answered

Chosen Option : 1

Q.8 दो क्रमिक छूट देने के बाद ₹150 अंकित मूल्य वाला एक खिलौना ₹105 में बेचा जाता है। यदि पहली छूट 12.5% है, तो दूसरी छूट कितनी है?

Ans ✗ 1. 22%

✗ 2. 18%

✓ 3. 20%

✗ 4. 21%

Question ID : 630680218766

Option 1 ID : 630680848974

Option 2 ID : 630680848971

Option 3 ID : 630680848972

Option 4 ID : 630680848973

Status : Answered

Chosen Option : 3

Q.9 निम्न तालिका का अध्ययन कीजिए और प्रश्न का उत्तर दीजिए।

विषय	लड़के	लड़कियाँ
इंजीनियरिंग	120	80
मेडिकल	80	120

मेडिकल का चयन करने वाले विद्यार्थियों में कितने प्रतिशत लड़के हैं?

- Ans
- ☐ 1. 50%
 - ☐ 2. 30%
 - ☐ 3. 45%
 - ☒ 4. 40%

Question ID : 630680428111
Option 1 ID : 6306801670488
Option 2 ID : 6306801670491
Option 3 ID : 6306801670490
Option 4 ID : 6306801670489
Status : Answered
Chosen Option : 4

Q.10 18 cm भुजाओं वाले एक समबाहु त्रिभुज का क्षेत्रफल (cm^2 में) ज्ञात कीजिए।

- Ans
- ☒ 1. $81\sqrt{3}$
 - ☐ 2. $75\sqrt{3}$
 - ☐ 3. $77\sqrt{3}$
 - ☐ 4. $79\sqrt{3}$

Question ID : 630680421434
Option 1 ID : 6306801644202
Option 2 ID : 6306801644199
Option 3 ID : 6306801644200
Option 4 ID : 6306801644201
Status : Answered
Chosen Option : 1

Q.11 एक $\triangle PQR$ में, $PQ = PR$ और PT , QR पर लंब है। यदि $PQ = 17 \text{ cm}$, $PT = 15 \text{ cm}$ है, तो QR की माप (cm में) क्या है?

- Ans
- ☐ 1. 8
 - ☐ 2. 24
 - ☐ 3. 32
 - ☒ 4. 16

Question ID : 630680526542
Option 1 ID : 6306802058234
Option 2 ID : 6306802058236
Option 3 ID : 6306802058237
Option 4 ID : 6306802058235
Status : Answered
Chosen Option : 4

Q.12 दिए गए आँकड़ों से शर्ट और ट्राउज़र के क्रय मूल्य का अनुपात ज्ञात कीजिए।

वस्तु	विक्रय मूल्य	लाभ
शर्ट	₹1,200	20%
ट्राउज़र	₹660	10%

Ans ☒ 1. 3 : 4
☒ 2. 1 : 3
☒ 3. 5 : 3
☒ 4. 2 : 1

Question ID : 630680428090
 Option 1 ID : 6306801670407
 Option 2 ID : 6306801670404
 Option 3 ID : 6306801670406
 Option 4 ID : 6306801670405
 Status : Answered
 Chosen Option : 3

Q.13 एक लंब वृत्तीय शंकु के आधार की त्रिज्या 9 cm है और इसकी तिर्यक ऊंचाई 49 cm है। शंकु का वक्र पृष्ठीय क्षेत्रफल ज्ञात करें।

Ans ☒ 1. 1262 cm²
☒ 2. 1386 cm²
☒ 3. 1490 cm²
☒ 4. 1265 cm²

Question ID : 630680102085
 Option 1 ID : 630680396699
 Option 2 ID : 630680396697
 Option 3 ID : 630680396698
 Option 4 ID : 630680396696
 Status : Answered
 Chosen Option : 2

Q.14 सिद्धि अपने स्कूटर को ₹71785 में बेचकर, विक्रय मूल्य के $\frac{1}{5}$ भाग के बराबर लाभ अर्जित करती है। उसका लाभ प्रतिशत ज्ञात कीजिए।

Ans ☒ 1. 20%
☒ 2. 25%
☒ 3. 10%
☒ 4. 15%

Question ID : 630680922763
 Option 1 ID : 6306803615899
 Option 2 ID : 6306803615898
 Option 3 ID : 6306803615900
 Option 4 ID : 6306803615901
 Status : Answered
 Chosen Option : 2

Q.15 51 kg वजन वाले एक छात्र के स्थान पर नया छात्र आ जाने पर 10 छात्रों का औसत वजन आधा kg बढ़ जाता है। नए छात्र का वजन ज्ञात करें।

- Ans ☒ 1. 45 kg
☒ 2. 56 kg
☒ 3. 66 kg
☒ 4. 75 kg

Question ID : 630680397048

Option 1 ID : 6306801548251

Option 2 ID : 6306801548250

Option 3 ID : 6306801548248

Option 4 ID : 6306801548249

Status : Answered

Chosen Option : 2

Q.16 $4a^2$ और x का माध्यानुपाती $\frac{1}{5a}$ है, जहां a धनात्मक संख्या है, तो x का मान _____ है।

- Ans ☒ 1. $\frac{1}{100a^4}$
☒ 2. $\frac{1}{100a^2}$
☒ 3. $\frac{1}{25a^4}$
☒ 4. $\frac{1}{25a^2}$

Question ID : 630680428707

Option 1 ID : 6306801672872

Option 2 ID : 6306801672874

Option 3 ID : 6306801672873

Option 4 ID : 6306801672875

Status : Answered

Chosen Option : 1

Q.17 $\frac{\tan 55^\circ}{\cot 35^\circ}$ का मान ज्ञात कीजिए।

- Ans ☒ 1. $\sec 55^\circ$
☒ 2. 0
☒ 3. 1
☒ 4. $\cos 35^\circ$

Question ID : 630680402545

Option 1 ID : 6306801569753

Option 2 ID : 6306801569752

Option 3 ID : 6306801569751

Option 4 ID : 6306801569754

Status : Answered

Chosen Option : 3

Q.18 7 इकाई त्रिज्या वाले एक वृत्त पर, PQ और QR प्रत्येक 7 इकाई लंबाई वाली जीवाएँ हैं। जीवा PR की लंबाई इकाई में कितनी है?

Ans

☒ 1. $\frac{14}{\sqrt{3}}$

☒ 2. $\frac{7}{\sqrt{3}}$

☒ 3. $\frac{21}{\sqrt{3}}$

☒ 4. $\frac{28}{\sqrt{3}}$

Question ID : 630680297303

Option 1 ID : 6306801156679

Option 2 ID : 6306801156680

Option 3 ID : 6306801156681

Option 4 ID : 6306801156682

Status : Answered

Chosen Option : 3

Q.19 4800 m की एक वृत्ताकार दौड़ में, A और B एक ही बिंदु से और एक ही समय में 36 km/h और 54 km/h की चाल से दौड़ना शुरू करते हैं। यदि वे विपरीत दिशा में दौड़ रहे हैं तो वे ट्रैक पर पहली बार फिर से कब मिलेंगे?

Ans

☒ 1. 192 सेकंड

☒ 2. 178 सेकंड

☒ 3. 205 सेकंड

☒ 4. 200 सेकंड

Question ID : 630680138472

Option 1 ID : 630680536079

Option 2 ID : 630680536078

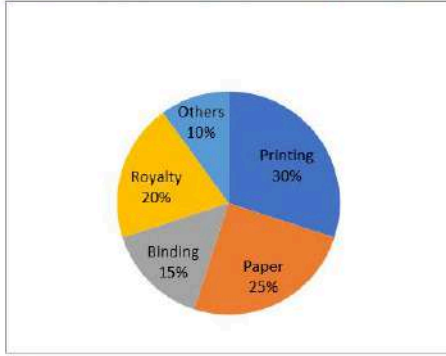
Option 3 ID : 630680536081

Option 4 ID : 630680536080

Status : Answered

Chosen Option : 1

Q.20 निम्न पाई-चार्ट एक प्रकाशक द्वारा पुस्तक प्रकाशन पर विभिन्न मदों में किए गए व्यय को दर्शाता है।



Others=अन्य

Printing=मुद्रण

Paper=कागज

Binding=जिल्दसाजी

Royalty=रॉयल्टी

दिया गया है कि पुस्तक का अंकित मूल्य ₹270 है, यदि पुस्तक का अंकित मूल्य इसके क्रय मूल्य से 20% अधिक है, तो पुस्तक की एक प्रति प्रकाशित करने के लिए कागज की लागत क्या है?

- Ans
- ☒ 1. ₹62.15
 - ☒ 2. ₹68.75
 - ☒ 3. ₹58.45
 - ☒ 4. ₹56.25

Question ID : 630680428166

Option 1 ID : 6306801670708

Option 2 ID : 6306801670709

Option 3 ID : 6306801670711

Option 4 ID : 6306801670710

Status : Answered

Chosen Option : 4

Q.21 यदि किसी वृत्त के चाप PAQ और RBS सर्वासम हैं, तो PQ और RS का अनुपात ज्ञात कीजिए।

- Ans
- ☒ 1. 1 : 2
 - ☒ 2. 2 : 3
 - ☒ 3. 1 : 3
 - ☒ 4. 1 : 1

Question ID : 630680198933

Option 1 ID : 630680771460

Option 2 ID : 630680771461

Option 3 ID : 630680771462

Option 4 ID : 630680771459

Status : Answered

Chosen Option : 4

Q.22 निम्न का मान ज्ञात करें। $\frac{\sin A}{1 + \cos A} + \cot A$, जहां A एक न्यून कोण है।

- Ans
- ☒ 1. $\sin A + \cos A$
 - ☒ 2. $\operatorname{cosec} A$
 - ☒ 3. $\sin A$
 - ☒ 4. $\cos A$

Question ID : 630680151962

Option 1 ID : 630680587895

Option 2 ID : 630680587892

Option 3 ID : 630680587894

Option 4 ID : 630680587893

Status : Answered

Chosen Option : 2

Q.23

यदि $x + \frac{1}{x} = 2$ है, तो $\left(x^{2723} + \frac{1}{x^{2356}}\right)$ का मान ज्ञात कीजिए।

- Ans ☒ 1. 1
☒ 2. 0
☒ 3. -1
☒ 4. 2

Question ID : 630680413474

Option 1 ID : 6306801612721

Option 2 ID : 6306801612722

Option 3 ID : 6306801612723

Option 4 ID : 6306801612720

Status : Answered

Chosen Option : 4

Q.24 यदि 19^{200} को 20 से विभाजित किया जाता है, तो शेषफल ज्ञात कीजिए।

- Ans ☒ 1. -1
☒ 2. 2
☒ 3. 1
☒ 4. 3

Question ID : 630680116279

Option 1 ID : 630680450436

Option 2 ID : 630680450437

Option 3 ID : 630680450435

Option 4 ID : 630680450434

Status : Answered

Chosen Option : 3

Q.25 निम्नलिखित को सरल कीजिए।

$$\frac{(7.3)^3 - (4.7)^3}{(7.3)^2 + 7.3 \times 4.7 + (4.7)^2}$$

- Ans ☒ 1. 12
☒ 2. 3.2
☒ 3. 11
☒ 4. 2.6

Question ID : 630680413476

Option 1 ID : 6306801612730

Option 2 ID : 6306801612729

Option 3 ID : 6306801612728

Option 4 ID : 6306801612731

Status : Answered

Chosen Option : 4

Q.1 Select the option that expresses the given sentence in passive voice.
The tutor was not teaching the student.

- Ans ☒ 1. The student was teaching the tutor.
- ☒ 2. The student was not being taught by the tutor.
- ☒ 3. The student was not being teaching by the tutor.
- ☒ 4. The student was not taught by the tutor.

Question ID : 630680192069

Option 1 ID : 630680744880

Option 2 ID : 630680744878

Option 3 ID : 630680744879

Option 4 ID : 630680744877

Status : Answered

Chosen Option : 2

Q.2 Select the most appropriate meaning of the given group of words.

A bitter pill

- Ans ☒ 1. Getting furious easily
- ☒ 2. Talking nonsense
- ☒ 3. Facing a distressing situation
- ☒ 4. Arguing unnecessarily

Question ID : 630680317356

Option 1 ID : 6306801234541

Option 2 ID : 6306801234542

Option 3 ID : 6306801234543

Option 4 ID : 6306801234544

Status : Answered

Chosen Option : 3

Q.3 The following sentence has been split into segments. Identify the segment that contains an error. If you don't find any error, mark 'No error' as your answer.
People admired him, for / he lived by the same principals / that he preached.

- Ans ☒ 1. No error
- ☒ 2. People admired him, for
- ☒ 3. he lived by the same principals
- ☒ 4. that he preached

Question ID : 630680295984

Option 1 ID : 6306801151651

Option 2 ID : 6306801151648

Option 3 ID : 6306801151649

Option 4 ID : 6306801151650

Status : Answered

Chosen Option : 3

Q.4 Select the most appropriate meaning of the given word.
Pugnacious

- Ans ☒ 1. Waspyish
☒ 2. Impatient
☒ 3. Good-tempered
☒ 4. Arrogant

Question ID : 630680132473
Option 1 ID : 630680513027
Option 2 ID : 630680513029
Option 3 ID : 630680513028
Option 4 ID : 630680513026
Status : Answered
Chosen Option : 2

Q.5 Select the correctly spelt word to fill in the blank.

Calder Hall is a nuclear power station in England which is known as the first nuclear power station to generate electricity for _____ purposes.

- Ans ☒ 1. commercial
☒ 2. comercaill
☒ 3. comercial
☒ 4. commercell

Question ID : 630680374786
Option 1 ID : 6306801460311
Option 2 ID : 6306801460313
Option 3 ID : 6306801460312
Option 4 ID : 6306801460314
Status : Answered
Chosen Option : 1

Q.6 Select the most appropriate option that means the same as the underlined group of words to fill in the blank.

Most of the rivers dry up during the summer season, but the Ganga is full of water round the year because it is _____.

- Ans ☒ 1. perennial
☒ 2. biannual
☒ 3. annual
☒ 4. biennial

Question ID : 630680414593
Option 1 ID : 6306801617125
Option 2 ID : 6306801617126
Option 3 ID : 6306801617123
Option 4 ID : 6306801617124
Status : Answered
Chosen Option : 3

Q.7 Select the most appropriate option that can substitute the underlined word in the given sentence.

Bankrupts are those who are incapable to pay their debts.

- Ans ☒ 1. powerful
☒ 2. meagre
☒ 3. capable
☒ 4. incompetent

Question ID : 630680161534
Option 1 ID : 630680625466
Option 2 ID : 630680625467
Option 3 ID : 630680625464
Option 4 ID : 630680625465
Status : Answered
Chosen Option : 4

Q.8 Select the most appropriate option to substitute the underlined segment in the given sentence.

Rohan exercised and ate a lot, lest he should not be weak .

- Ans ☒ 1. lest he would be weak
☒ 2. lest he should be weak
☒ 3. lest he should not weak
☒ 4. lest he would not be weak.

Question ID : 630680176627
Option 1 ID : 630680684730
Option 2 ID : 630680684729
Option 3 ID : 630680684728
Option 4 ID : 630680684731
Status : Answered
Chosen Option : 1

Q.9 Select the option that expresses the given sentence in passive voice.
Can you compose an inspiring poem?

- Ans ☒ 1. Can an inspiring poem be composed?
☒ 2. Can an inspiring poem by you composed?
☒ 3. Can an inspiring poem be composed by you?
☒ 4. An inspiring poem can be composed by you.

Question ID : 630680192070
Option 1 ID : 630680744881
Option 2 ID : 630680744882
Option 3 ID : 630680744884
Option 4 ID : 630680744883
Status : Answered
Chosen Option : 3

Q.10 Select the most appropriate meaning of the given group of words.

On cloud nine

- Ans ☒ 1. Flying in the sky
☒ 2. Being angry with someone
☒ 3. Being very high
☒ 4. Being very delighted

Question ID : 630680317354
Option 1 ID : 6306801234534
Option 2 ID : 6306801234536
Option 3 ID : 6306801234535
Option 4 ID : 6306801234533

Status : Answered

Chosen Option : 4

Q.11 Parts of a sentence are given below in jumbled order. Select the option that arranges the parts in the correct sequence to form a meaningful sentence.

(P) dreams provide an escape
(Q) where reality is suspended
(R) into a world
(O) of endless possibilities

- Ans ☒ 1. PROQ
☒ 2. QORP
☒ 3. OPQR
☒ 4. RPOQ

Question ID : 630680380980
Option 1 ID : 6306801484907
Option 2 ID : 6306801484908
Option 3 ID : 6306801484910
Option 4 ID : 6306801484909

Status : Answered

Chosen Option : 1

Q.12 Parts of a sentence are given below in jumbled order. Arrange the parts in the correct order to form a meaningful sentence.

A. So I am not very sure
B. I have a driving license
C. Of myself reaching home safely
D. But no real driving experience

- Ans ☒ 1. BDAC
☒ 2. CABD
☒ 3. BDCA
☒ 4. BCAD

Question ID : 630680166069
Option 1 ID : 630680643249
Option 2 ID : 630680643251
Option 3 ID : 630680643248
Option 4 ID : 630680643250

Status : Answered

Chosen Option : 1

Q.13 Select the most appropriate synonym of the given word.
Kilter

- Ans ☒ 1. Anarchy
☒ 2. Shambles
☒ 3. Disrepair
☒ 4. Order

Question ID : 630680209306
Option 1 ID : 630680811442
Option 2 ID : 630680811439
Option 3 ID : 630680811440
Option 4 ID : 630680811441
Status : Answered
Chosen Option : 3

Q.14 Select the most appropriate synonym of the given word.
Condone

- Ans ☒ 1. Solicitude
☒ 2. Solace
☒ 3. Penalty
☒ 4. Pardon

Question ID : 630680177544
Option 1 ID : 630680688337
Option 2 ID : 630680688336
Option 3 ID : 630680688339
Option 4 ID : 630680688338
Status : Answered
Chosen Option : 4

Q.15 The given sentence is divided into four segments. Select the option that has the segment with a grammatical error.
We were on the way/ to the party;/ suddenly, there/ will a heavy downpour.

- Ans ☒ 1. will a heavy downpour.
☒ 2. suddenly, there
☒ 3. We were on the way
☒ 4. to the party;

Question ID : 630680206613
Option 1 ID : 630680801054
Option 2 ID : 630680801053
Option 3 ID : 630680801051
Option 4 ID : 630680801052
Status : Answered
Chosen Option : 1

Q.16 Select the most appropriate synonym of the given word.
Tendency

- Ans ☒ 1. Decoy
☒ 2. Aversion
☒ 3. Proneness
☒ 4. Distaste

Question ID : 630680300701
Option 1 ID : 6306801169621
Option 2 ID : 6306801169622
Option 3 ID : 6306801169620
Option 4 ID : 6306801169619
Status : Answered
Chosen Option : 3

Q.17 Select the option that can substitute/replace the bracketed word correctly and complete the sentence.
He (seek) for the wallet in his pocket.

- Ans ☒ 1. Are seeking
☒ 2. Had seeking
☒ 3. Seeking
☒ 4. Sought

Question ID : 630680176847
Option 1 ID : 630680685595
Option 2 ID : 630680685594
Option 3 ID : 630680685593
Option 4 ID : 630680685592
Status : Answered
Chosen Option : 4

Q.18 Select the correct spelling to fill in the blank.

When numerous ideas are presented in a historical context, more than mere _____ can be seen.

- Ans ☒ 1. paralelism
☒ 2. parollelism
☒ 3. paralialism
☒ 4. parallelism

Question ID : 630680409977
Option 1 ID : 6306801598740
Option 2 ID : 6306801598738
Option 3 ID : 6306801598737
Option 4 ID : 6306801598739
Status : Answered
Chosen Option : 4

Q.19 Select the most appropriate ANTONYM of the given word.

Dogmatic

- Ans ☒ 1. Diplomatic
☒ 2. Conservative
☒ 3. Liberal
☒ 4. Concerned

Question ID : 630680360823

Option 1 ID : 6306801405167

Option 2 ID : 6306801405165

Option 3 ID : 6306801405168

Option 4 ID : 6306801405166

Status : Answered

Chosen Option : 3

Q.20 Select the most appropriate ANTONYM for the underlined word in the given sentence.
Despite his annoyance, Rahul knew that rushing the delicate process would only lead to mistakes.

- Ans ☒ 1. Gnawer
☒ 2. Serenity
☒ 3. Susceptibility
☒ 4. Absurdity

Question ID : 630680517480

Option 1 ID : 6306802022318

Option 2 ID : 6306802022317

Option 3 ID : 6306802022316

Option 4 ID : 6306802022319

Status : Answered

Chosen Option : 2

Comprehension:

In the following passage, some words have been deleted. Read the passage carefully and select the most appropriate option to fill in each blank.

This Diwali is more significant because we are going to celebrate it after three years, without the evil shadow of Covid-19 that (1)_____ looming over all festivities. The lockdowns and endless bad news of death and (2)_____ had turned our country into a zone of gloom. But, this season of Diwali (3)_____ all the sorrows of people by lighting the candle of hope in their lives. We can see the lights, the candles, the lanterns, and the busy people coming out of their houses and purchasing toys for their children. Let's (4)_____ those people who have made such a huge contribution to (5)_____ good thoughts and saving people's lives.

SubQuestion No : 21

Q.21 Select the most appropriate option to fill in blank number 1.

- Ans ☒ 1. was
☒ 2. is
☒ 3. were
☒ 4. are

Question ID : 630680164743

Option 1 ID : 630680638060

Option 2 ID : 630680638061

Option 3 ID : 630680638062

Option 4 ID : 630680638063

Status : Answered

Chosen Option : 1

Comprehension:

In the following passage, some words have been deleted. Read the passage carefully and select the most appropriate option to fill in each blank.

This Diwali is more significant because we are going to celebrate it after three years, without the evil shadow of Covid-19 that (1)_____ looming over all festivities. The lockdowns and endless bad news of death and (2)_____ had turned our country into a zone of gloom. But, this season of Diwali (3)_____ all the sorrows of people by lighting the candle of hope in their lives. We can see the lights, the candles, the lanterns, and the busy people coming out of their houses and purchasing toys for their children. Let's (4)_____ those people who have made such a huge contribution to (5)_____ good thoughts and saving people's lives.

SubQuestion No : 22

Q.22 Select the most appropriate option to fill in blank number 2.

- Ans ☒ 1. demonetisation
☒ 2. disease
☒ 3. economic boom
☒ 4. new birth

Question ID : 630680164744

Option 1 ID : 630680638067

Option 2 ID : 630680638065

Option 3 ID : 630680638064

Option 4 ID : 630680638066

Status : Answered

Chosen Option : 2

Comprehension:

In the following passage, some words have been deleted. Read the passage carefully and select the most appropriate option to fill in each blank.

This Diwali is more significant because we are going to celebrate it after three years, without the evil shadow of Covid-19 that (1)_____ looming over all festivities. The lockdowns and endless bad news of death and (2)_____ had turned our country into a zone of gloom. But, this season of Diwali (3)_____ all the sorrows of people by lighting the candle of hope in their lives. We can see the lights, the candles, the lanterns, and the busy people coming out of their houses and purchasing toys for their children. Let's (4)_____ those people who have made such a huge contribution to (5)_____ good thoughts and saving people's lives.

SubQuestion No : 23

Q.23 Select the most appropriate option to fill in blank number 3.

- Ans ☒ 1. has hovered
☒ 2. had recognised
☒ 3. has adopted
☒ 4. has shed

Question ID : 630680164745

Option 1 ID : 630680638071

Option 2 ID : 630680638068

Option 3 ID : 630680638069

Option 4 ID : 630680638070

Status : Answered

Chosen Option : 1

Comprehension:

In the following passage, some words have been deleted. Read the passage carefully and select the most appropriate option to fill in each blank.

This Diwali is more significant because we are going to celebrate it after three years, without the evil shadow of Covid-19 that (1)_____ looming over all festivities. The lockdowns and endless bad news of death and (2)_____ had turned our country into a zone of gloom. But, this season of Diwali (3)_____ all the sorrows of people by lighting the candle of hope in their lives. We can see the lights, the candles, the lanterns, and the busy people coming out of their houses and purchasing toys for their children. Let's (4)_____ those people who have made such a huge contribution to (5)_____ good thoughts and saving people's lives.

SubQuestion No : 24

Q.24 Select the most appropriate option to fill in blank number 4.

- Ans ☒ 1. onerous
☒ 2. berate
☒ 3. salute
☒ 4. terminate

Question ID : 630680164746

Option 1 ID : 630680638072

Option 2 ID : 630680638073

Option 3 ID : 630680638075

Option 4 ID : 630680638074

Status : Answered

Chosen Option : 3

Comprehension:

In the following passage, some words have been deleted. Read the passage carefully and select the most appropriate option to fill in each blank.

This Diwali is more significant because we are going to celebrate it after three years, without the evil shadow of Covid-19 that (1)_____ looming over all festivities. The lockdowns and endless bad news of death and (2)_____ had turned our country into a zone of gloom. But, this season of Diwali (3)_____ all the sorrows of people by lighting the candle of hope in their lives. We can see the lights, the candles, the lanterns, and the busy people coming out of their houses and purchasing toys for their children. Let's (4)_____ those people who have made such a huge contribution to (5)_____ good thoughts and saving people's lives.

SubQuestion No : 25

Q.25 Select the most appropriate option to fill in blank number 5.

- Ans ☒ 1. stagnating
☒ 2. spreading
☒ 3. implicating
☒ 4. impeding

Question ID : 630680164747

Option 1 ID : 630680638078

Option 2 ID : 630680638079

Option 3 ID : 630680638077

Option 4 ID : 630680638076

Status : Answered

Chosen Option : 2