

Combined Graduate Level Examination 2024 Tier I

Roll Number	
Candidate Name	
Venue Name	
Exam Date	19/09/2024
Exam Time	12:30 PM - 1:30 PM
Subject	Combined Graduate Level Examination Tier I

Section : General Intelligence and Reasoning

Q.1 उन गणितीय चिह्नों के सही संयोजन का चयन करें जिन्हें नीचे दिए गए रिक्त स्थानों में क्रमिक रूप से बाएँ से दाएँ रखने पर दिया गया समीकरण संतुलित हो जाएगा।
 $8_27_9_6_5 = 0$

- Ans
- ☒ 1. +, +, -, +
 - ☒ 2. -, +, +, +
 - ☒ 3. -, +, +, +
 - ☒ 4. +, +, -, -

Question ID : 630680411780
Option 1 ID : 6306801605956
Option 2 ID : 6306801605958
Option 3 ID : 6306801605957
Option 4 ID : 6306801605955
Status : Answered
Chosen Option : 4

Q.2 एक निश्चित कूट भाषा में, 'toys are gadgets' को 'dj sq ty' के रूप में कूटबद्ध किया जाता है और 'gadgets are machines' को 'mp ty dj' के रूप में कूटबद्ध किया जाता है। उस भाषा में 'gadgets' के लिए संभावित कूट क्या है?

- Ans
- ☒ 1. either 'ty' or 'mp'
 - ☒ 2. either 'ty' or 'dj'
 - ☒ 3. dj
 - ☒ 4. sq

Question ID : 630680137034
Option 1 ID : 630680530737
Option 2 ID : 630680530735
Option 3 ID : 630680530734
Option 4 ID : 630680530736
Status : Answered
Chosen Option : 2

Q.3 एक निश्चित कूट में,

'it is raining' को 'dy po ko' के रूप में कूटबद्ध किया जाता है,
'is raining now' को 'po jo ko' के रूप में कूटबद्ध किया जाता है और
'is now it' को 'po jo dy' के रूप में कूटबद्ध किया जाता है।

(सभी कूट केवल दो अक्षर वाले कूट हैं।)

'raining' के लिए कूट क्या है?

Ans ☒ 1. ko

☐ 2. po

☐ 3. jo

☐ 4. dy

Question ID : 630680797067

Option 1 ID : 6306803123224

Option 2 ID : 6306803123226

Option 3 ID : 6306803123227

Option 4 ID : 6306803123225

Status : Answered

Chosen Option : 1

Q.4 दिए गए विकल्पों में से उस आकृति का चयन कीजिए जो निम्नलिखित श्रृंखला में प्रश्न चिह्न (?) को प्रतिस्थापित कर सकती है।

6	C	1	2	
2 = 1	M 6 P	P M 6	C 1 =	?
P C M	1 = 2	= 2 C	6 M P	

Ans

☒ 1.

6		
= C 1		
M P 2		

☐ 2.

C		
1 = 2		
P 6 M		

☐ 3.

P		
= C 1		
2 6 M		

☐ 4.

6		
M = 1		
P C 2		

Question ID : 630680283524

Option 1 ID : 6306801102215

Option 2 ID : 6306801102217

Option 3 ID : 6306801102218

Option 4 ID : 6306801102216

Status : Answered

Chosen Option : 1

Q.5 एक निश्चित तर्क का अनुसरण करते हुए 97 का संबंध 49 से है। उसी तर्क का अनुसरण करते हुए, 115 का संबंध 58 से है। उसी तर्क का अनुसरण करते हुए, 133 का संबंध निम्नलिखित में से किससे है? (नोट: संख्याओं को उनके घटक अंकों में विभक्त किए बिना पूर्ण संख्याओं पर संक्रियाएं की जानी चाहिए। उदाहरण के लिए 13 को लें- 13 पर संक्रियाएं, जैसे कि जोड़ना/घटाना/गुणा आदि 13 में की जा सकती हैं। 13 को 1 और 3 में विभक्त करना और फिर 1 और 3 पर गणितीय संक्रियाएं करने की अनुमति नहीं है।)

- Ans ☒ 1. 82
☒ 2. 67
☒ 3. 89
☒ 4. 64

Question ID : 630680344255

Option 1 ID : 6306801339335

Option 2 ID : 6306801339334

Option 3 ID : 6306801339336

Option 4 ID : 6306801339333

Status : Answered

Chosen Option : 2

Q.6 चार अक्षर समूह दिए गए हैं, जिनमें से तीन किसी न किसी रूप में एक समान हैं। उस असमान विकल्प को चुनिए।

नोट : अक्षर समूह में, असमान विकल्प व्यंजनों/स्वरों की संख्या या उनकी स्थिति पर आधारित नहीं है।

- Ans ☒ 1. HGI
☒ 2. TSU
☒ 3. XYW
☒ 4. LKM

Question ID : 63068062110

Option 1 ID : 630680239760

Option 2 ID : 630680239759

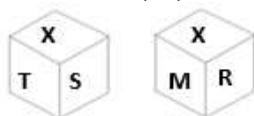
Option 3 ID : 630680239761

Option 4 ID : 630680239758

Status : Answered

Chosen Option : 3

Q.7 एक पासे के विभिन्न फलकों पर छह अक्षर X, T, S, M, R और O लिखे गए हैं। इस पासे की दो स्थितियाँ नीचे चित्र में दर्शाई गई हैं। R के विपरीत वाले फलक पर आने वाला अक्षर ज्ञात कीजिए।



- Ans ☒ 1. O
☒ 2. S
☒ 3. T
☒ 4. M

Question ID : 630680222370

Option 1 ID : 630680863313

Option 2 ID : 630680863311

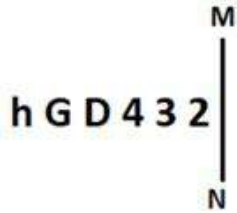
Option 3 ID : 630680863312

Option 4 ID : 630680863314

Status : Answered

Chosen Option : 2

Q.8 जब दर्पण को नीचे दर्शाए गए अनुसार MN पर रखा जाता है तो दी गई आकृति के सही दर्पण प्रतिबिंब का चयन कीजिए।



- Ans
- ☒ 1.
 - ☒ 2.
 - ☒ 3.
 - ☒ 4.

Question ID : 630680356658

Option 1 ID : 6306801388635

Option 2 ID : 6306801388636

Option 3 ID : 6306801388634

Option 4 ID : 6306801388633

Status : Answered

Chosen Option : 4

Q.9 एक निश्चित कूट भाषा में,
'A ! B' का अर्थ है कि 'A, B का पिता है',
'A & B' का अर्थ है कि 'A, B का भाई है',
'A * B' का अर्थ है कि 'A, B की पत्नी है' और
'A # B' का अर्थ है कि 'A, B की पुत्री है'।
निम्नलिखित में से किसका अर्थ यह है कि S, M की देवरानी/जेठानी है?

- Ans
- ☒ 1.
 - ☒ 2.
 - ☒ 3.
 - ☒ 4.

Question ID : 630680797546

Option 1 ID : 6306803125141

Option 2 ID : 6306803125140

Option 3 ID : 6306803125143

Option 4 ID : 6306803125142

Status : Answered

Chosen Option : 1

Q.10 निम्नलिखित में से कौन-सा पद दी गई श्रृंखला में प्रश्न चिह्न (?) को प्रतिस्थापित करेगा?
ABNI, DAQH, ?, JYWF

- Ans
- ☒ 1.
 - ☒ 2.
 - ☒ 3.
 - ☒ 4.

Question ID : 630680416958

Option 1 ID : 6306801626595

Option 2 ID : 6306801626597

Option 3 ID : 6306801626598

Option 4 ID : 6306801626596

Status : Answered

Chosen Option : 1

Q.11 उस विकल्प का चयन कीजिए जो उन अक्षरों को प्रदर्शित करता है जिन्हें नीचे दिए गए रिक्त स्थानों में बाएं से दाएं क्रमिक रूप से रखने पर अक्षर श्रृंखला पूर्ण हो जाएगी।

_ B _ _ _ A L _ _ L _ _

- Ans
- ☒ 1. BBALLBAA
 - ☒ 2. BLABBALL
 - ☒ 3. LBAALLBA
 - ☒ 4. LALBBABA

Question ID : 630680262383
Option 1 ID : 6306801019174
Option 2 ID : 6306801019172
Option 3 ID : 6306801019173
Option 4 ID : 6306801019171

Status : Answered

Chosen Option : 4

Q.12 अंग्रेजी वर्णमाला-क्रम के आधार पर 'NQRP' एक निश्चित तरीके से 'RUVT' से संबंधित है। उसी तरह 'DGLF' का संबंध 'HKPJ' से है। उसी तर्क के अनुसार 'KCUM' का संबंध निम्नलिखित में से किससे है?

- Ans
- ☒ 1. PGZR
 - ☒ 2. PHYR
 - ☒ 3. OGYQ
 - ☒ 4. OHZQ

Question ID : 630680416367
Option 1 ID : 6306801624233
Option 2 ID : 6306801624234
Option 3 ID : 6306801624231
Option 4 ID : 6306801624232

Status : Answered

Chosen Option : 3

Q.13 उस विकल्प का चयन कीजिए जिसमें संख्याएँ वही संबंध साझा करती हैं जो संबंध संख्याओं के दिए गए युग्म द्वारा साझा किया गया है।

(नोट: संख्याओं को उनके घटक अंकों में तोड़े बिना, पूर्ण संख्याओं पर संक्रियाएँ की जानी चाहिए। उदाहरण के लिए 13 को लें - 13 पर संक्रियाएं, जैसे 13 में जोड़ना/घटाना/गुणा करना आदि की जा सकती हैं। 13 को 1 और 3 में तोड़ने और फिर 1 और 3 पर गणितीय संक्रियाएँ करने की अनुमति नहीं है)

13 : 55
23 : 105

- Ans
- ☒ 1. 31 : 145
 - ☒ 2. 11 : 51
 - ☒ 3. 29 : 113
 - ☒ 4. 7 : 26

Question ID : 630680327804
Option 1 ID : 6306801275186
Option 2 ID : 6306801275187
Option 3 ID : 6306801275185
Option 4 ID : 6306801275188

Status : Answered

Chosen Option : 1

Q.14 इस प्रश्न में तीन कथन दिए गए हैं, जिसके बाद दो निष्कर्ष I और II दिए गए हैं। कथनों को सत्य मानते हुए, भले ही वे सामान्य रूप से ज्ञात तथ्यों से भिन्न प्रतीत होते हों, यह निर्णय लीजिए कि कौन-सा/से निष्कर्ष कथनों का तार्किक रूप से अनुसरण करता है/करते हैं।

कथन:

सभी शिक्षक, नर्तक हैं।

सभी नर्तक, इंजीनियर हैं।

कुछ इंजीनियर, सुंदर हैं।

निष्कर्ष:

I. सभी शिक्षक, सुंदर हैं।

II. कुछ नर्तक, सुंदर हैं।

- Ans
- ☒ 1. केवल निष्कर्ष I अनुसरण करता है।
 - ☒ 2. केवल निष्कर्ष II अनुसरण करता है।
 - ☒ 3. न तो निष्कर्ष I और न ही II अनुसरण करता है।
 - ☒ 4. निष्कर्ष I और II दोनों अनुसरण करते हैं।

Question ID : 630680416137

Option 1 ID : 6306801623311

Option 2 ID : 6306801623312

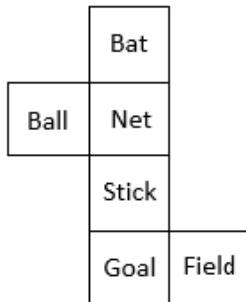
Option 3 ID : 6306801623314

Option 4 ID : 6306801623313

Status : Answered

Chosen Option : 3

Q.15 दी गई शीट को दर्शाई गई रेखाओं के अनुदिश मोड़कर एक घन का निर्माण किया जाता है। इस प्रकार बनने वाले घन में, 'Ball' के विपरीत फलक पर कौन-सा शब्द होगा?



- Ans
- ☒ 1. Bat
 - ☒ 2. Field
 - ☒ 3. Stick
 - ☒ 4. Goal

Question ID : 630680318342

Option 1 ID : 6306801238445

Option 2 ID : 6306801238447

Option 3 ID : 6306801238446

Option 4 ID : 6306801238448

Status : Answered

Chosen Option : 2

Q.16 यदि '+' और 'x' को आपस में बदल दिया जाए और '-' और '÷' को आपस में बदल दिया जाए, तो निम्नलिखित समीकरण में प्रश्न चिह्न (?) के स्थान पर क्या आएगा?

$$16 - 2 \times 42 + 13 \div 12 = ?$$

Ans ☒ 1. 762

☒ 2. 560

☒ 3. 950

☒ 4. 542

Question ID : 630680327810

Option 1 ID : 6306801275211

Option 2 ID : 6306801275209

Option 3 ID : 6306801275212

Option 4 ID : 6306801275210

Status : Answered

Chosen Option : 4

Q.17 एक निश्चित कूट भाषा में, 'MAIN' को 'OHBL' लिखा जाता है और 'MAIL' को 'MHBL' लिखा जाता है। इसी कूट भाषा में 'MANY' को किस प्रकार लिखा जाएगा?

Ans ☒ 1. ZMBL

☒ 2. ZBLM

☒ 3. ZMLB

☒ 4. ZLMB

Question ID : 630680416250

Option 1 ID : 6306801623764

Option 2 ID : 6306801623766

Option 3 ID : 6306801623763

Option 4 ID : 6306801623765

Status : Answered

Chosen Option : 1

Q.18 दिए गए संख्या-युग्मों में दूसरी संख्या, पहली संख्या पर कुछ गणितीय संक्रिया/संक्रियाएँ करके प्राप्त की गई है। एक को छोड़कर सभी संख्या-युग्मों में समान संक्रिया/संक्रियाएँ की गई है/हैं। वह असंगत संख्या-युग्म ज्ञात कीजिए।
(नोट: संख्याओं को उसके घटक अंकों में विभाजित किए बिना संबंध ज्ञात किया जाना चाहिए)

Ans ☒ 1. 1156 : 1225

☒ 2. 1764 : 1849

☒ 3. 1521 : 1600

☒ 4. 784 : 961

Question ID : 630680412044

Option 1 ID : 6306801607013

Option 2 ID : 6306801607014

Option 3 ID : 6306801607011

Option 4 ID : 6306801607012

Status : Answered

Chosen Option : 4

Q.19 Each vowel in the word 'ISOLATED' is changed to the following letter in the English alphabetical order and each consonant is changed to the preceding letter in the English alphabetical order. How many letters are there in the English alphabetical order between the letter which is the third from the left end and the second from the left end in the group of letters thus formed?

- Ans ☒ 1. Two
☒ 2. Four
☒ 3. Three
☒ 4. One


















Question ID : 630680313409
Option 1 ID : 6306801219503
Option 2 ID : 6306801219501
Option 3 ID : 6306801219502
Option 4 ID : 6306801219504
Status : Answered
Chosen Option : 3

Q.20 उस शब्द-युग्म का चयन करें, जो नीचे दिए गए शब्दों के युग्म में व्यक्त किए गए संबंध के समान संबंधों का सबसे बेहतर ढंग से प्रतिनिधित्व करता है।
(शब्दों को अर्थपूर्ण हिंदी शब्द माना जाना चाहिए और शब्द में अक्षरों की संख्या/व्यंजनों/स्वरों की संख्या के आधार पर एक दूसरे से संबंधित नहीं होना चाहिए)
New Zealand : Wellington (न्यूजीलैंड : वेलिंगटन)

- Ans ☒ 1. China : Hong Kong (चीन : हांगकांग)
☒ 2. Ethiopia : Addis Ababa (इथियोपिया : अदीस अबाबा)
☒ 3. Egypt : Tunis (मिस्र : ट्यूनिस्)
☒ 4. South Korea : Suwon Si (दक्षिण कोरिया : सुवन सी)

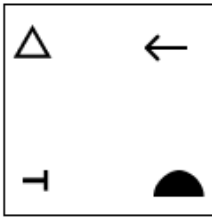
Question ID : 630680417414
Option 1 ID : 6306801628419
Option 2 ID : 6306801628420
Option 3 ID : 6306801628421
Option 4 ID : 6306801628422
Status : Answered
Chosen Option : 2

Q.21 विकल्पों में दिए गए उस चित्र की पहचान कीजिए जिसे प्रश्न चिह्न (?) के स्थान पर रखने पर श्रृंखला तार्किक रूप से पूर्ण हो जाएगी?

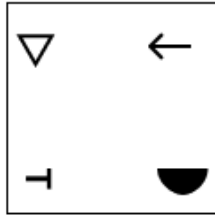
								
								

Ans

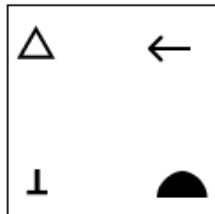
✗ 1.



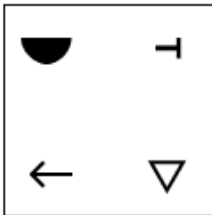
✓ 2.



✗ 3.



✗ 4.



Question ID : 630680471499

Option 1 ID : 6306801841712

Option 2 ID : 6306801841710

Option 3 ID : 6306801841713

Option 4 ID : 6306801841711

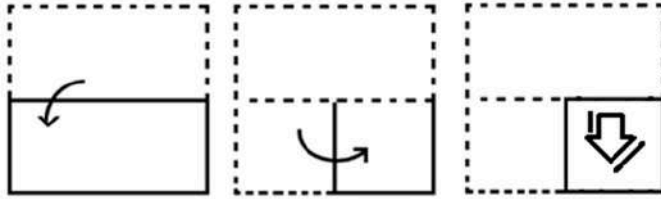
Status : Answered

Chosen Option : 1

Q.22 नीचे दी गई आकृतियों में कागज के एक टुकड़े को मोड़ने का क्रम और

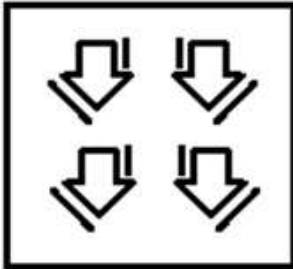
मुड़े हुए कागज को काटने का तरीका दर्शाया गया है। कागज खुलने पर

यह कैसा दिखेगा?

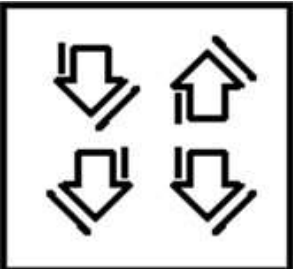


Ans

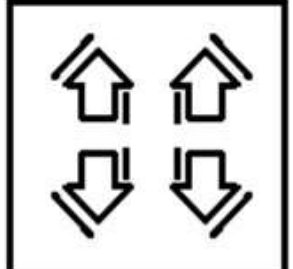
✗ 1.



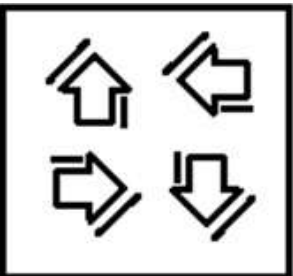
✗ 2.



✓ 3.



✗ 4.



Question ID : 630680105031

Option 1 ID : 630680408236

Option 2 ID : 630680408237

Option 3 ID : 630680408238

Option 4 ID : 630680408235

Status : Answered

Chosen Option : 3

Q.23 एक निश्चित तर्क का अनुसरण करते हुए 13 का संबंध 119 से है। उसी तर्क का अनुसरण करते हुए, 9 का संबंध 31 से है। उसी तर्क का अनुसरण करते हुए, 8 का संबंध निम्नलिखित में से किससे है?
नोट: संख्याओं को उनके घटक अंकों में विभक्त किए बिना पूर्ण संख्याओं पर संक्रियाएं की जानी चाहिए। उदाहरण के लिए 13 को लें- 13 पर संक्रियाएं, जैसे कि जोड़ना/घटाना/गुणा आदि 13 में की जा सकती हैं। 13 को 1 और 3 में विभक्त करना और फिर 1 और 3 पर गणितीय संक्रियाएं करने की अनुमति नहीं है।

Ans  1. 24

 2. 14

 3. 27

 4. 10

Question ID : 630680344259

Option 1 ID : 6306801339350

Option 2 ID : 6306801339351

Option 3 ID : 6306801339352

Option 4 ID : 6306801339349


Status : Answered

Chosen Option : 2

Q.24 दिए गए विकल्पों में से उस संख्या का चयन कीजिए, जो निम्नलिखित श्रृंखला में प्रश्न-चिह्न (?) को प्रतिस्थापित कर सकती है।
625, 382, 301, 274, 265, ?

Ans  1. 248

 2. 262

 3. 258

 4. 260

Question ID : 630680411903

Option 1 ID : 6306801606450

Option 2 ID : 6306801606449

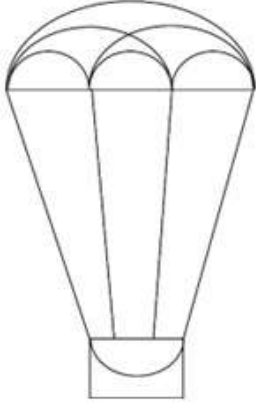
Option 3 ID : 6306801606448

Option 4 ID : 6306801606447

Status : Answered

Chosen Option : 2

Q.25 दी गई आकृति में कितने अर्धवृत्त हैं?



- Ans
- ☒ 1. 6
 - ☒ 2. 7
 - ☒ 3. 8
 - ☒ 4. 5

Question ID : 630680296587
Option 1 ID : 6306801154000
Option 2 ID : 6306801154001
Option 3 ID : 6306801154002
Option 4 ID : 6306801153999
Status : Answered
Chosen Option : 2

Section : General Awareness

Q.1 निम्नलिखित में से किस आयोग/समिति ने कुछ मौलिक कर्तव्यों के कार्यान्वयन के लिए कानूनी प्रावधानों के अस्तित्व की पहचान की?

- Ans
- ☒ 1. वसंतराव नाइक समिति
 - ☒ 2. सरकारिया आयोग
 - ☒ 3. राजमन्नार आयोग
 - ☒ 4. न्यायमूर्ति वर्मा समिति

Question ID : 630680305668
Option 1 ID : 6306801189048
Option 2 ID : 6306801189047
Option 3 ID : 6306801189046
Option 4 ID : 6306801189045
Status : Not Answered
Chosen Option : --

Q.2 गुटनिरपेक्ष आंदोलन का पहला आधिकारिक शिखर सम्मेलन कहाँ आयोजित किया गया था?

- Ans
- ☒ 1. मिस्र
 - ☒ 2. भारत
 - ☒ 3. न्यूयॉर्क
 - ☒ 4. यूगोस्लाविया

Question ID : 630680511550
Option 1 ID : 6306801999323
Option 2 ID : 6306801999322
Option 3 ID : 6306801999324
Option 4 ID : 6306801999325
Status : Answered
Chosen Option : 3

Q.3 निम्नलिखित में से पारिस्थितिक दक्षता की सबसे अच्छी परिभाषा कौन-सी है?

- Ans
- ☒ 1. खाद्य श्रृंखला में विभिन्न पोषी स्तरों पर संचित ऊर्जा की मात्रा
 - ☒ 2. खाद्य श्रृंखला में विभिन्न पोषी स्तरों पर द्रव्यमान और ऊर्जा प्रवाह के बीच का अनुपात
 - ☒ 3. खाद्य श्रृंखला में विभिन्न बिंदुओं पर ऊर्जा प्रवाह के बीच का अनुपात
 - ☒ 4. खाद्य श्रृंखला में विभिन्न पोषी स्तरों पर उपयोग की जाने वाली ऊर्जा की मात्रा

Question ID : 630680199651

Option 1 ID : 630680774211

Option 2 ID : 630680774214

Option 3 ID : 630680774212

Option 4 ID : 630680774213

Status : Answered

Chosen Option : 4

Q.4 किस राज्य के मुख्यमंत्री ने 2022 में 'कौशल्य मातृत्व योजना' शुरू की है, जो सुरक्षित मातृत्व के लिए दूसरी लड़की को जन्म देने वाली महिलाओं को ₹5,000 की वित्तीय सहायता प्रदान करती है?

- Ans
- ☒ 1. छत्तीसगढ़
 - ☒ 2. उत्तर प्रदेश
 - ☒ 3. राजस्थान
 - ☒ 4. गुजरात

Question ID : 630680413082

Option 1 ID : 6306801611151

Option 2 ID : 6306801611153

Option 3 ID : 6306801611152

Option 4 ID : 6306801611154

Status : Not Answered

Chosen Option : --

Q.5 निम्नलिखित में से कौन-सा संयुक्त क्षेत्र उद्योग का एक उदाहरण है?

- Ans
- ☒ 1. ऑयल इंडिया लिमिटेड
 - ☒ 2. भारत हेवी इलेक्ट्रिकल्स लिमिटेड
 - ☒ 3. टाटा आयरन एंड स्टील कंपनी
 - ☒ 4. स्टील अथॉरिटी ऑफ इंडिया लिमिटेड

Question ID : 630680327628

Option 1 ID : 6306801274512

Option 2 ID : 6306801274510

Option 3 ID : 6306801274511

Option 4 ID : 6306801274509

Status : Answered

Chosen Option : 4

Q.6 निम्नलिखित में से किस राज्य में मुख्यतः मी-डैम-मी-फी (Me-dam-me-phi) उत्सव मनाया जाता है?

- Ans
- ☒ 1. ओडिशा
 - ☒ 2. बिहार
 - ☒ 3. नागालैंड
 - ☒ 4. असम

Question ID : 630680164569

Option 1 ID : 630680637395

Option 2 ID : 630680637393

Option 3 ID : 630680637394

Option 4 ID : 630680637392

Status : Answered

Chosen Option : 3

Q.7 भारतीय संविधान के भाग XI में अनुच्छेद 245 से 255 _____ से संबंधित हैं।

- Ans ☒ 1. केंद्र और राज्यों के बीच वित्तीय संबंध
☒ 2. केंद्र और राज्यों के बीच विधायी संबंध
☒ 3. अधिकरण
☒ 4. आपातकालीन प्रावधान

Question ID : 630680326536
Option 1 ID : 6306801270230
Option 2 ID : 6306801270229
Option 3 ID : 6306801270231
Option 4 ID : 6306801270232
Status : Answered
Chosen Option : 2

Q.8 निम्नलिखित में से क्या उन लोगों के लिए छोटे ऋण का प्रावधान करता है जिनकी वित्तीय सेवाओं तक कोई अन्य पहुंच नहीं होती है?

- Ans ☒ 1. सूक्ष्म ऋण
☒ 2. प्रधानमंत्री आवास योजना
☒ 3. गृह ऋण
☒ 4. सूक्ष्म वित्त

Question ID : 630680127431
Option 1 ID : 630680493985
Option 2 ID : 630680493987
Option 3 ID : 630680493986
Option 4 ID : 630680493984
Status : Answered
Chosen Option : 1

Q.9 गंधर्व महाविद्यालय, जिसकी स्थापना पंडित विनय चंद्र मौद्गल्य ने की थी, _____ में स्थित है।

- Ans ☒ 1. पुणे
☒ 2. कोलकाता
☒ 3. मुंबई
☒ 4. नई दिल्ली

Question ID : 630680309167
Option 1 ID : 6306801202845
Option 2 ID : 6306801202847
Option 3 ID : 6306801202846
Option 4 ID : 6306801202848
Status : Answered
Chosen Option : 2

Q.10 10वीं शताब्दी में भारत में महारानी दिद्दा उत्तर भारत के निम्नलिखित में से किस क्षेत्र की शासिका बनीं?

- Ans ☒ 1. मालवा
☒ 2. दिल्ली
☒ 3. कन्नौज
☒ 4. कश्मीर

Question ID : 630680412416
Option 1 ID : 6306801608487
Option 2 ID : 6306801608488
Option 3 ID : 6306801608489
Option 4 ID : 6306801608490
Status : Not Answered
Chosen Option : --

Q.11 मुलायम सिंह यादव, जिनका अक्टूबर 2022 में निधन हो गया, किस राज्य के मुख्यमंत्री थे?

- Ans
- ☒ 1. मध्य प्रदेश
 - ☒ 2. गुजरात
 - ☒ 3. बिहार
 - ☒ 4. उत्तर प्रदेश

Question ID : 630680413029
Option 1 ID : 6306801610941
Option 2 ID : 6306801610940
Option 3 ID : 6306801610939
Option 4 ID : 6306801610942
Status : Answered
Chosen Option : 4

Q.12 लूनी नदी किस राज्य-समूह में बहती है?

- Ans
- ☒ 1. राजस्थान और गुजरात
 - ☒ 2. बिहार और पश्चिम बंगाल
 - ☒ 3. महाराष्ट्र और कर्नाटक
 - ☒ 4. आंध्र प्रदेश और तेलंगाना

Question ID : 630680328131
Option 1 ID : 6306801276493
Option 2 ID : 6306801276494
Option 3 ID : 6306801276495
Option 4 ID : 6306801276496
Status : Answered
Chosen Option : 1

Q.13 वर्ष 2023-24 के लिए वित्त मंत्रालय का विनिवेश लक्ष्य क्या है?

- Ans
- ☒ 1. ₹53,000 करोड़
 - ☒ 2. ₹54,000 करोड़
 - ☒ 3. ₹50,000 करोड़
 - ☒ 4. ₹51,000 करोड़

Question ID : 630680413060
Option 1 ID : 6306801611063
Option 2 ID : 6306801611066
Option 3 ID : 6306801611065
Option 4 ID : 6306801611064
Status : Not Answered
Chosen Option : --

Q.14 निम्न में से कौन-सा दस्तावेज़ भारत में सार्वजनिक एवं निजी उद्योगों की स्थापना के लिए एक रूपरेखा, नियम और विनियम प्रदान करता है?

- Ans
- ☒ 1. केंद्रीय बजट
 - ☒ 2. औद्योगिक नीति
 - ☒ 3. कंपनी का वित्तीय विवरण
 - ☒ 4. व्यापार संघ की वार्षिक रिपोर्ट

Question ID : 630680410798
Option 1 ID : 6306801601953
Option 2 ID : 6306801601951
Option 3 ID : 6306801601952
Option 4 ID : 6306801601954
Status : Answered
Chosen Option : 2

Q.15 तापमान में 10°की वृद्धि के साथ एक रासायनिक अभिक्रिया के लिए, दर स्थिरांक लगभग _____ हो जाता है।

- Ans
- ☒ 1. आधा
 - ☒ 2. एक-चौथाई
 - ☒ 3. तीन गुना
 - ☒ 4. दोगुना

Question ID : 63068052321
Option 1 ID : 630680201386
Option 2 ID : 630680201388
Option 3 ID : 630680201389
Option 4 ID : 630680201387
Status : Not Answered
Chosen Option : --

Q.16 एग्रीकल्चरल शॉट (Agricultural shot) शब्द का इस्तेमाल निम्नलिखित में से किस खेल में किया जाता है?

- Ans
- ☒ 1. लॉन टेनिस
 - ☒ 2. फुटबॉल
 - ☒ 3. क्रिकेट
 - ☒ 4. टेबल टेनिस

Question ID : 630680510813
Option 1 ID : 6306801996385
Option 2 ID : 6306801996382
Option 3 ID : 6306801996383
Option 4 ID : 6306801996384
Status : Answered
Chosen Option : 1

Q.17 शतरंज में, निम्नलिखित में से कौन केवल अपने ठीक सामने वाले खाली खाने में ही आगे बढ़ सकता है?

- Ans
- ☒ 1. प्यादा
 - ☒ 2. हाथी
 - ☒ 3. ऊँट
 - ☒ 4. वजीर / रानी

Question ID : 630680510774
Option 1 ID : 6306801996226
Option 2 ID : 6306801996227
Option 3 ID : 6306801996228
Option 4 ID : 6306801996229
Status : Answered
Chosen Option : 1

Q.18 एक ही दिन के दौरान होने वाले उच्च वायु तापमान और निम्न वायु तापमान के बीच के अंतर को _____ तापमान कहा जाता है।

- Ans
- ☒ 1. वार्षिक
 - ☒ 2. आर्द्र बल्ब
 - ☒ 3. दैनिक
 - ☒ 4. ऊयूरियन

Question ID : 63068099315
Option 1 ID : 630680385964
Option 2 ID : 630680385966
Option 3 ID : 630680385965
Option 4 ID : 630680385967
Status : Answered
Chosen Option : 3

Q.19 कौन से भारतीय संगीतकार और सितार वादक नेशनल ऑर्केस्ट्रा ऑफ इंडिया के संस्थापक हैं/थे?

- Ans
- ☒ 1. अय्यागारि श्यामसुंदरम
 - ☒ 2. रवि शंकर
 - ☒ 3. शाहिद परवेज़ खान
 - ☒ 4. किशन महाराज

Question ID : 630680560748
Option 1 ID : 6306802191975
Option 2 ID : 6306802191974
Option 3 ID : 6306802191972
Option 4 ID : 6306802191973
Status : Answered
Chosen Option : 2

Q.20 निम्नलिखित में से किस वर्ष में वी.डी. सावरकर को अंग्रेजों द्वारा अंडमान जेल भेजा गया था?

- Ans
- ☒ 1. 1911
 - ☒ 2. 1910
 - ☒ 3. 1923
 - ☒ 4. 1922

Question ID : 630680412311
Option 1 ID : 6306801608069
Option 2 ID : 6306801608070
Option 3 ID : 6306801608067
Option 4 ID : 6306801608068
Status : Answered
Chosen Option : 4

Q.21 मेंडलीफ के अनुमान के अनुसार, एलुमिनियम का परमाणु द्रव्यमान कितना था?

- Ans
- ☒ 1. 72
 - ☒ 2. 68
 - ☒ 3. 44
 - ☒ 4. 100

Question ID : 63068094251
Option 1 ID : 630680365701
Option 2 ID : 630680365700
Option 3 ID : 630680365699
Option 4 ID : 630680365702
Status : Answered
Chosen Option : 3

Q.22 राष्ट्रीय कैरियर सेवा और माइक्रोसॉफ्ट इंडिया द्वारा डिजिटल कौशल के माध्यम से रोजगार के लिए संयुक्त डिजिटल कौशल पहल कौन सी है?

- Ans
- ☒ 1. विद्यादान
 - ☒ 2. डिजीसक्षम
 - ☒ 3. शिक्षा वाणी
 - ☒ 4. स्वयं

Question ID : 630680183662

Option 1 ID : 630680711659

Option 2 ID : 630680711660

Option 3 ID : 630680711658

Option 4 ID : 630680711657

Status : Answered

Chosen Option : 2

Q.23 प्रायद्वीपीय भारत में, निम्नलिखित में से कौन-सा साम्राज्य उत्तरी महाराष्ट्र और विदर्भ पर शासन करने वाली स्थानीय शक्ति थी?

- Ans
- ☒ 1. वाकाटक
 - ☒ 2. चालुक्य
 - ☒ 3. मौखरि
 - ☒ 4. मैत्रक

Question ID : 630680412523

Option 1 ID : 6306801608916

Option 2 ID : 6306801608915

Option 3 ID : 6306801608917

Option 4 ID : 6306801608918

Status : Answered

Chosen Option : 1

Q.24 पंडवानी गायिका उषा बारले को 2023 में भारत सरकार द्वारा निम्नलिखित में से किस पुरस्कार से सम्मानित किया गया?

- Ans
- ☒ 1. पद्म श्री
 - ☒ 2. भारत रत्न
 - ☒ 3. पद्म भूषण
 - ☒ 4. पद्म विभूषण

Question ID : 630680415815

Option 1 ID : 6306801622030

Option 2 ID : 6306801622027

Option 3 ID : 6306801622029

Option 4 ID : 6306801622028

Status : Answered

Chosen Option : 1

Q.25 निम्नलिखित में से कौन-सा, प्रोकैरियोटिक कोशिकाओं का उदाहरण है?

- Ans ☒ 1. बैक्टीरिया
☒ 2. लीशमेनिया
☒ 3. प्लाज्मोडियम
☒ 4. यीस्ट

Question ID : 630680113756

Option 1 ID : 630680440551

Option 2 ID : 630680440553

Option 3 ID : 630680440550

Option 4 ID : 630680440552

Status : Answered

Chosen Option : 4

Section : Quantitative Aptitude

Q.1 किसी वस्तु की कीमत लगातार दो बार बढ़ाई जाती है। अंतिम कीमत ₹2,295 है और प्रारंभिक कीमत ₹1,000 थी। दूसरी बार प्रतिशत वृद्धि, पहली बार प्रतिशत वृद्धि से दोगुनी थी। दूसरी बार कीमत में कितने प्रतिशत की वृद्धि की गई?

- Ans ☒ 1. 65%
☒ 2. 25%
☒ 3. 35%
☒ 4. 70%

Question ID : 630680427978

Option 1 ID : 6306801669958

Option 2 ID : 6306801669956

Option 3 ID : 6306801669957

Option 4 ID : 6306801669959

Status : Answered

Chosen Option : 4

Q.2 PQ और RS, A और B पर प्रतिच्छेद करने वाली दो वृत्तों की उभयनिष्ठ स्पर्श रेखाएं हैं। A और B, दोनों ओर बढ़ाए जाने पर, स्पर्श रेखा PQ और RS से क्रमशः X और Y पर मिलते हैं। यदि $AB = 3\text{ cm}$ और $XY = 5\text{ cm}$ है, तो PQ _____ है।

- Ans ☒ 1. 4 cm
☒ 2. 3 cm
☒ 3. 5 cm
☒ 4. 6 cm

Question ID : 630680285537

Option 1 ID : 6306801110116

Option 2 ID : 6306801110115

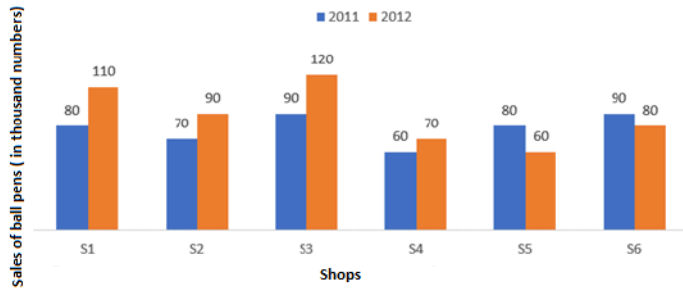
Option 3 ID : 6306801110117

Option 4 ID : 6306801110118

Status : Answered

Chosen Option : 1

Q.3 नीचे दिया गया दंड आलेख दो क्रमिक वर्षों, 2011 और 2012 के दौरान छः दुकानों S1, S2, S3, S4, S5 और S6 से बॉल पेनों की बिक्री (हजार संख्या में) को दर्शाता है।



Sales of ball pens (in thousand numbers) = बॉल पेनों की बिक्री (हजार संख्या में)

Shops = दुकान

दोनों वर्षों में दुकान S2 की कुल बिक्री और दोनों वर्षों में दुकान S5 की कुल बिक्री का अनुपात क्या है?

Ans ☒ 1. 5 : 8

☒ 2. 8 : 7

☒ 3. 7 : 5

☒ 4. 3 : 7

Question ID : 630680397950

Option 1 ID : 6306801551815

Option 2 ID : 6306801551816

Option 3 ID : 6306801551817

Option 4 ID : 6306801551814

Status : Answered

Chosen Option : 2

Q.4 एक बल्लेबाज का बीस मैचों में औसत स्कोर 15 है और पच्चीस अन्य मैचों में औसत स्कोर 24 है। सभी पैंतालीस मैचों में औसत स्कोर ज्ञात कीजिए।

Ans ☒ 1. 19.5

☒ 2. 20

☒ 3. 22

☒ 4. 21

Question ID : 630680397312

Option 1 ID : 6306801549304

Option 2 ID : 6306801549305

Option 3 ID : 6306801549307

Option 4 ID : 6306801549306

Status : Answered

Chosen Option : 2

Q.5 व्यंजक $\frac{1 - \sin(2t)}{1 + \sin(2t)} \times \frac{\cos(t) + \sin(t)}{\cos(t) - \sin(t)}$ का मान _____ है।

- Ans
- ☒ 1. $\frac{1 - 2\tan(t)}{1 + 2\tan(t)}$
 - ☒ 2. $\frac{1 + \tan(t)}{1 - \tan(t)}$
 - ☒ 3. $\frac{1 - \tan(t)}{1 + \tan(t)}$
 - ☒ 4. $\frac{1 + 2\tan(t)}{1 - 2\tan(t)}$

Question ID : 630680373885

Option 1 ID : 6306801456812

Option 2 ID : 6306801456811

Option 3 ID : 6306801456814

Option 4 ID : 6306801456813

Status : Answered

Chosen Option : 3

Q.6 दो वर्षों के अंतराल पर पैदा हुए 6 बच्चों की आयु का योग 90 वर्ष है। सबसे बड़े बच्चे की आयु (वर्ष में) क्या है?

- Ans
- ☒ 1. 14
 - ☒ 2. 16
 - ☒ 3. 10
 - ☒ 4. 20

Question ID : 630680285564

Option 1 ID : 6306801110224

Option 2 ID : 6306801110225

Option 3 ID : 6306801110223

Option 4 ID : 6306801110226

Status : Answered

Chosen Option : 4

Q.7 वृत्त की त्रिज्या 10 cm है और जीवा से केंद्र की लंबवत दूरी 6 cm है। जीवा की लंबाई कितनी है?

- Ans
- ☒ 1. 14 cm
 - ☒ 2. 18 cm
 - ☒ 3. 12 cm
 - ☒ 4. 16 cm

Question ID : 630680196686

Option 1 ID : 630680763044

Option 2 ID : 630680763046

Option 3 ID : 630680763043

Option 4 ID : 630680763045

Status : Answered

Chosen Option : 4

Q.8 $(2 \sin \theta + 3 \cos \theta)$ का अधिकतम मान ज्ञात कीजिए।

Ans  1. $\sqrt{13}$

 2. $\sqrt{17}$

 3. $\sqrt{11}$

 4. 9

Question ID : 630680526473

Option 1 ID : 6306802057961

Option 2 ID : 6306802057960

Option 3 ID : 6306802057958

Option 4 ID : 6306802057959

Status : Answered

Chosen Option : 1

Q.9 निम्नलिखित व्यंजक का मान ज्ञात कीजिए।
 $25 \div 5 + 3 \text{ of } 2 - 4 + 6 \text{ of } 3 \div 2 - 8 + 4$

Ans  1. 12

 2. 16

 3. 4

 4. 8

Question ID : 630680421213

Option 1 ID : 6306801643329

Option 2 ID : 6306801643330

Option 3 ID : 6306801643327

Option 4 ID : 6306801643328

Status : Answered

Chosen Option : 1

Q.10 एक स्कूल बिल्डिंग में एक ओवरहेड टैंक है। इस टैंक को भरने के लिए 50 बाल्टी पानी की आवश्यकता होती है। मान लीजिए कि बाल्टी की क्षमता इसकी वर्तमान क्षमता का दो-पाँचवां भाग कर दी जाती है। तो उसी टैंक को भरने के लिए कितनी बाल्टी पानी की आवश्यकता होगी?

Ans  1. 20

 2. 125

 3. 62.5

 4. 60

Question ID : 6306801047987

Option 1 ID : 6306804113993

Option 2 ID : 6306804113990

Option 3 ID : 6306804113992

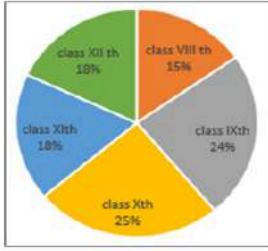
Option 4 ID : 6306804113991

Status : Answered

Chosen Option : 1

Q.11

दिया गया पाई चार्ट शैक्षणिक वर्ष 2022-23 में एक स्कूल की विभिन्न कक्षाओं में प्रवेश पाने वाले विद्यार्थियों की संख्या को दर्शाता है।



Class XII th – कक्षा 12, Class VIII th – कक्षा 8, Class IX th – कक्षा 9, Class X th – कक्षा 10, Class XI th – कक्षा 11
यदि कक्षा 8 में 600 विद्यार्थियों को प्रवेश दिया गया तो कक्षा 12 की तुलना में कक्षा 10 में कितने विद्यार्थी अधिक थे?

- Ans
- ☒ 1. 240
 - ☒ 2. 295
 - ☒ 3. 298
 - ☒ 4. 280

Question ID : 630680428148
Option 1 ID : 6306801670636
Option 2 ID : 6306801670638
Option 3 ID : 6306801670639
Option 4 ID : 6306801670637
Status : Answered
Chosen Option : 4

Q.12 ₹275 अंकित मूल्य वाली एक वस्तु को 5% छूट पर बेचा जाता है। विक्रेता अभी भी 4.5% लाभ प्राप्त करता है। उसने इसके लिए कितना भुगतान किया था?

- Ans
- ☒ 1. ₹200
 - ☒ 2. ₹125
 - ☒ 3. ₹225
 - ☒ 4. ₹250

Question ID : 630680239487
Option 1 ID : 630680928900
Option 2 ID : 630680928899
Option 3 ID : 630680928902
Option 4 ID : 630680928901
Status : Answered
Chosen Option : 4

Q.13 $\left[1 - \sin^2 32^\circ + \frac{1}{1 + \tan^2 58^\circ}\right]$ को सरल कीजिए।

Ans

✓ 1. 1

✗ 2. $\frac{1}{2}$

✗ 3. $\sqrt{3}$

✗ 4. $\sin 32^\circ$

Question ID : 630680396998

Option 1 ID : 6306801548050

Option 2 ID : 6306801548051

Option 3 ID : 6306801548048

Option 4 ID : 6306801548049

Status : Answered

Chosen Option : 1

Q.14 एक चतुर्भुज PQRS, O केंद्र वाले वृत्त में इस प्रकार खींचा गया है कि PQ, व्यास है और $\angle PSR = 120^\circ$ है। $\angle QPR$ का मान ज्ञात कीजिए।

Ans

✓ 1. 30°

✗ 2. 50°

✗ 3. 40°

✗ 4. 60°

Question ID : 630680401713

Option 1 ID : 6306801566626

Option 2 ID : 6306801566628

Option 3 ID : 6306801566627

Option 4 ID : 6306801566629

Status : Answered

Chosen Option : 1

Q.15 एक चोर को एक पुलिसकर्मी 200 मीटर की दूरी से देखता है। जैसे ही पुलिस कर्मी पीछा करना शुरू करता है, तो चोर भी भागने लगता है। यदि चोर की चाल 9 km/h हो और पुलिसकर्मी की चाल 10 km/h हो, तो चोर पकड़े जाने से पहले कितनी दूर भागेगा?

Ans

✗ 1. 1.6 km

✓ 2. 1.8 km

✗ 3. 1.2 km

✗ 4. 1.4 km

Question ID : 630680428343

Option 1 ID : 6306801671418

Option 2 ID : 6306801671419

Option 3 ID : 6306801671416

Option 4 ID : 6306801671417

Status : Answered

Chosen Option : 2

Q.16 तीन वर्ष पहले, एक व्यक्ति की आयु उसके छोटे भाई की आयु की छह गुनी थी। आठ वर्ष बाद, व्यक्ति की आयु उसके छोटे भाई की आयु के दोगुने से तीन वर्ष कम होगी। व्यक्ति और उसके छोटे भाई की वर्तमान आयु ज्ञात करें।

- Ans
- ☒ 1. 5 वर्ष और 15 वर्ष
 - ☒ 2. 12 वर्ष और 4 वर्ष
 - ☒ 3. 15 वर्ष और 5 वर्ष
 - ☒ 4. 4 वर्ष और 12 वर्ष

Question ID : 630680285539
Option 1 ID : 6306801110123
Option 2 ID : 6306801110124
Option 3 ID : 6306801110125
Option 4 ID : 6306801110126
Status : Answered
Chosen Option : 3

Q.17 ₹1,456 की राशि, जब दस वर्षों के लिए निवेश की जाती है, तो यह परिपक्वता पर ₹2,366 हो जाती है। साधारण ब्याज की वार्षिक दर ज्ञात कीजिए जिसे निवेश की गई राशि पर भुगतान किया जाना था।

- Ans
- ☒ 1. 6.25%
 - ☒ 2. 5.75%
 - ☒ 3. 6.5%
 - ☒ 4. 6.15%

Question ID : 63068070516
Option 1 ID : 630680272689
Option 2 ID : 630680272687
Option 3 ID : 630680272688
Option 4 ID : 630680272686
Status : Answered
Chosen Option : 1

Q.18 $\triangle ABC$ और $\triangle DEF$ दो त्रिभुज इस प्रकार हैं कि $\triangle ABC \cong \triangle FDE$ है। यदि $AB = 17$ cm, $\angle B = 52^\circ$ और $\angle A = 95^\circ$ है, तो निम्नलिखित में से कौन-सा विकल्प सत्य है?

- Ans
- ☒ 1. $DF = 17$ cm, $\angle E = 33^\circ$
 - ☒ 2. $DE = 17$ cm, $\angle E = 33^\circ$
 - ☒ 3. $DE = 17$ cm, $\angle F = 33^\circ$
 - ☒ 4. $DF = 17$ cm, $\angle D = 33^\circ$

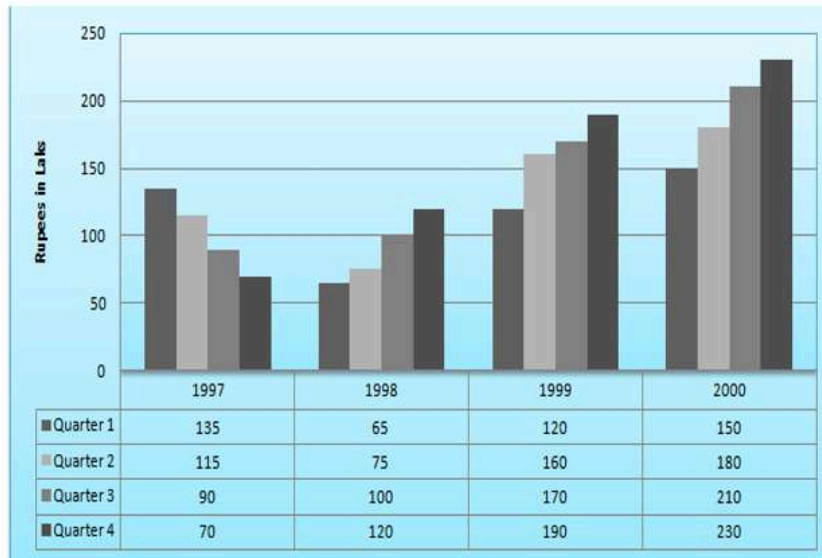
Question ID : 630680380384
Option 1 ID : 6306801482532
Option 2 ID : 6306801482534
Option 3 ID : 6306801482531
Option 4 ID : 6306801482533
Status : Answered
Chosen Option : 1

Q.19 एक वृत्ताकार बेलन की आधार त्रिज्या 10.5 cm है। यदि इसके वक्र पृष्ठ का क्षेत्रफल 792 cm² है, तो बेलन का आयतन क्या है?

- Ans
- ☒ 1. 4152 cm³
 - ☒ 2. 4518 cm³
 - ☒ 3. 4158 cm³
 - ☒ 4. 4185 cm³

Question ID : 630680421535
 Option 1 ID : 6306801644603
 Option 2 ID : 6306801644604
 Option 3 ID : 6306801644605
 Option 4 ID : 6306801644606
 Status : Answered
 Chosen Option : 3

Q.20 दिए गए दंड आलेख का अध्ययन कीजिए और निम्नलिखित प्रश्न का उत्तर दीजिए।
 नीचे दिए गए दंडआलेख में एक डिपार्टमेंटल स्टोर के वर्ष 1997 से 2000 तक के तिमाही लाभ (लाख में) को दिखाया गया है।



वर्ष 1997 से 2000 तक डिपार्टमेंटल स्टोर के वार्षिक लाभ में कितने प्रतिशत की वृद्धि हुई?
 Rupees in Lakhs - लाख रुपयों में, Quarter - तिमाही

- Ans
- ☒ 1. $87\frac{33}{41}\%$
 - ☒ 2. $83\frac{33}{41}\%$
 - ☒ 3. $85\frac{33}{41}\%$
 - ☒ 4. $84\frac{33}{41}\%$

Question ID : 630680428035
 Option 1 ID : 6306801670184
 Option 2 ID : 6306801670187
 Option 3 ID : 6306801670185
 Option 4 ID : 6306801670186
 Status : Not Answered
 Chosen Option : --

Q.21 A और B एक काम को क्रमशः 12 दिन और 16 दिन में कर सकते हैं। यदि वे 6 दिन तक एक साथ काम करते हैं, तो कितना काम शेष रहेगा?

Ans

☒ 1. $\frac{7}{8}$

☒ 2. $\frac{1}{7}$

☒ 3. $\frac{5}{7}$

☒ 4. $\frac{1}{8}$

Question ID : 630680381423

Option 1 ID : 6306801486631

Option 2 ID : 6306801486633

Option 3 ID : 6306801486632

Option 4 ID : 6306801486634

Status : Answered

Chosen Option : 4

Q.22 दी गई संख्याओं A, B, C और D में से कौन-सी संख्या 11 से विभाज्य नहीं है?

A = 712712

B = 177210

C = 64614

D = 756148

Ans

☒ 1. B

☒ 2. C

☒ 3. D

☒ 4. A

Question ID : 630680121148

Option 1 ID : 630680469555

Option 2 ID : 630680469556

Option 3 ID : 630680469557

Option 4 ID : 630680469554

Status : Answered

Chosen Option : 3

Q.23

यदि $\left(x + \frac{1}{x}\right) = 7$, $x > 0$ है। $\left(x - \frac{1}{x}\right)$ का धनात्मक मान कितना है?

Ans

☒ 1. $3\sqrt{5}$

☒ 2. $5\sqrt{4}$

☒ 3. $4\sqrt{5}$

☒ 4. $5\sqrt{5}$

Question ID : 630680413495

Option 1 ID : 6306801612804

Option 2 ID : 6306801612807

Option 3 ID : 6306801612805

Option 4 ID : 6306801612806

Status : Answered

Chosen Option : 1

Q.24 एक दुकानदार ₹44 प्रति kg की दर से चावल बेचता है, जिसका क्रय मूल्य ₹40 प्रति kg है। इससे संतुष्ट नहीं होने पर वह हर पैकेट से 200 ग्राम चावल निकालकर अपना लाभ बढ़ाने की कोशिश करता है। दुकानदार के कुल लाभ प्रतिशत की गणना करें।

- Ans
- ☒ 1. 35%
 - ☒ 2. 37%
 - ☒ 3. 37.5%
 - ☒ 4. 35.5%

Question ID : 630680429047

Option 1 ID : 6306801674232

Option 2 ID : 6306801674234

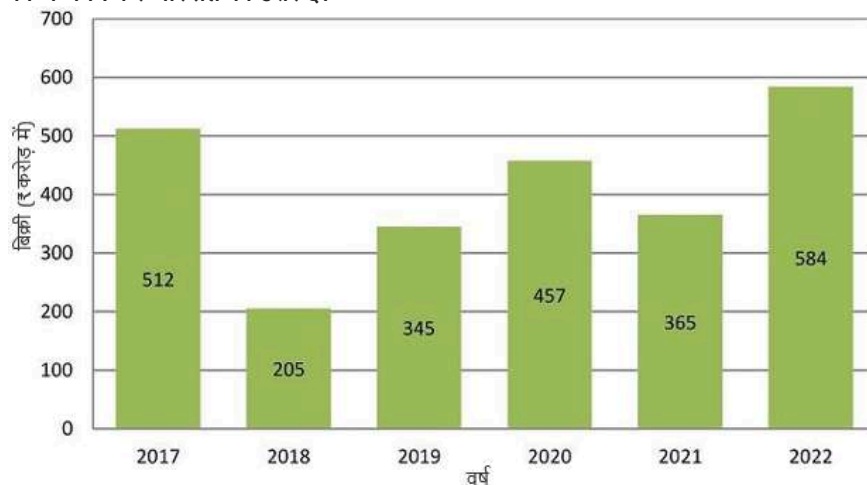
Option 3 ID : 6306801674235

Option 4 ID : 6306801674233

Status : Answered

Chosen Option : 3

Q.25 निम्नलिखित बार ग्राफ दिए गए वर्षों में एक कंपनी द्वारा की गई बिक्री (₹ करोड़ में) को दर्शाता है। ग्राफ का अध्ययन करें और प्रश्न का उत्तर दें।



अधिकतम और न्यूनतम बिक्री का माध्य (₹ करोड़ में) कितना है?

- Ans
- ☒ 1. 484.2
 - ☒ 2. 394.5
 - ☒ 3. 412.3
 - ☒ 4. 326.7

Question ID : 630680403244

Option 1 ID : 6306801572473

Option 2 ID : 6306801572475

Option 3 ID : 6306801572474

Option 4 ID : 6306801572476

Status : Answered

Chosen Option : 2

Q.1 Parts of a sentence are given below in jumbled order. Arrange the parts in the correct order to form a meaningful sentence.

- A. all the plants and animals of today
- B. it is written that Brahma is the God of creation
- C. and it is He who has made
- D. in the book of Hindu mythology

Ans  1. DCBA
 2. DBCA
 3. DACB
 4. CABD

Question ID : 630680166070

Option 1 ID : 630680643253

Option 2 ID : 630680643252

Option 3 ID : 630680643255


Option 4 ID : 630680643254

Status : Answered

Chosen Option : 2

Q.2 Select the most appropriate synonym of the underlined word.

It takes time to adapt to a new environment.

Ans  1. Apply
 2. Adjust
 3. Understand
 4. Control

Question ID : 630680360820

Option 1 ID : 6306801405155

Option 2 ID : 6306801405154

Option 3 ID : 6306801405156

Option 4 ID : 6306801405153

Status : Answered

Chosen Option : 2

Q.3 Select the option that can be used as a one-word substitute for the given group of words.

One who tends to look at the dark side of things

Ans  1. Optimist
 2. Pessimist
 3. Dynamist
 4. Polemist

Question ID : 630680129474

Option 1 ID : 630680501515

Option 2 ID : 630680501514

Option 3 ID : 630680501517

Option 4 ID : 630680501516

Status : Answered

Chosen Option : 2

Q.4 Select the most appropriate idiom that can substitute the underlined segment in the given sentence.
Roshan, it's time for you to give your speech to the whole school, wishing you luck to do well.

- Ans**
- ☒ 1. high five
 - ☒ 2. down in the dumps
 - ☒ 3. hands down
 - ☒ 4. break a leg

Question ID : 630680375538
Option 1 ID : 6306801463308
Option 2 ID : 6306801463309
Option 3 ID : 6306801463310
Option 4 ID : 6306801463307
Status : Answered
Chosen Option : 4

Q.5 Select the most appropriate ANTONYM of the given word.
Inevitable

- Ans**
- ☒ 1. Confident
 - ☒ 2. Avoidable
 - ☒ 3. Inexorable
 - ☒ 4. Clear

Question ID : 630680517369
Option 1 ID : 6306802021873
Option 2 ID : 6306802021874
Option 3 ID : 6306802021875
Option 4 ID : 6306802021872
Status : Answered
Chosen Option : 2

Q.6 The following sentence has been split into four segments. Identify the segment that contains a spelling error.
Big Data has inandated / the education industry. / It has transformed it / by leaps and bounds.

- Ans**
- ☒ 1. It has transformed it
 - ☒ 2. Big Data has inandated
 - ☒ 3. the education industry
 - ☒ 4. by leaps and bounds

Question ID : 630680409962
Option 1 ID : 6306801598679
Option 2 ID : 6306801598677
Option 3 ID : 6306801598678
Option 4 ID : 6306801598680
Status : Answered
Chosen Option : 2

Q.7 Select the most appropriate meaning of the underlined idiom/phrase.

I had heard of henpecked husbands and now, I felt that I saw one.

- Ans ☒ 1. Dominating husbands
☒ 2. Oppressed husband
☒ 3. Controlling husband
☒ 4. Bossy husbands

Question ID : 630680119690

Option 1 ID : 630680463845

Option 2 ID : 630680463843

Option 3 ID : 630680463844

Option 4 ID : 630680463842

Status : Answered

Chosen Option : 1

Q.8 The following sentence has been divided into three segments. One of them may contain an error. Select the option that has the segment with the error. If you don't find any error, select 'No error' as your answer.
Mr. Ali's shop / is further to / the hospital.

- Ans ☒ 1. is further to
☒ 2. No error
☒ 3. the hospital.
☒ 4. Mr. Ali's shop

Question ID : 630680206701

Option 1 ID : 630680801404

Option 2 ID : 630680801406

Option 3 ID : 630680801405

Option 4 ID : 630680801403

Status : Answered

Chosen Option : 1

Q.9 Select the option that can be used as a one-word substitute for the given group of words.

The statistical study of human populations.

- Ans ☒ 1. Photography
☒ 2. Astronomy
☒ 3. Demography
☒ 4. Palaeography

Question ID : 630680414694

Option 1 ID : 6306801617521

Option 2 ID : 6306801617519

Option 3 ID : 6306801617522

Option 4 ID : 6306801617520

Status : Answered

Chosen Option : 3

Q.10 Parts of a sentence are given below in jumbled order. Arrange the parts in the correct order to form a meaningful sentence.

- (A) a lot
- (B) my daily routine
- (C) i have missed
- (D) since my retirement
- (E) at the workplace

Ans ☒ 1. BADEC

☒ 2. CBEAD

☒ 3. BEADC

☒ 4. BACED

Question ID : 630680360057

Option 1 ID : 6306801402175

Option 2 ID : 6306801402174

Option 3 ID : 6306801402173

Option 4 ID : 6306801402176

Status : Answered

Chosen Option : 2

Q.11 Select the most appropriate option that can substitute the underlined segment in the given sentence.

She was foolish enough to think that she be completely safe now.

Ans ☒ 1. is completely safe

☒ 2. were completely safe

☒ 3. have been completely safe

☒ 4. has being completely safe

Question ID : 630680159749

Option 1 ID : 630680618459

Option 2 ID : 630680618456

Option 3 ID : 630680618457

Option 4 ID : 630680618458

Status : Answered

Chosen Option : 2

Q.12 Parts of the following sentence have been given as options. Select the option that contains an error.

It rain a lot in this part of the country.

Ans ☒ 1. It rain

☒ 2. in this part

☒ 3. of the country

☒ 4. a lot

Question ID : 630680514368

Option 1 ID : 6306802010097

Option 2 ID : 6306802010099

Option 3 ID : 6306802010100

Option 4 ID : 6306802010098

Status : Answered

Chosen Option : 1

Q.13 Select the option that expresses the following sentence in active voice.
The concert tickets were bought by my friend

- Ans ☒ 1. My friend buys the concert tickets.
☒ 2. My friend is buying the concert tickets.
☒ 3. My friend bought the concert tickets.
☒ 4. My friend has bought the concert tickets.

Question ID : 630680415303

Option 1 ID : 6306801619959

Option 2 ID : 6306801619961

Option 3 ID : 6306801619962

Option 4 ID : 6306801619960

Status : Answered

Chosen Option : 3

Q.14 Select the most appropriate synonym of the underlined word in the given sentence.
She is a very creative artist and one can see that in her paintings.

- Ans ☒ 1. Pedantic
☒ 2. Likeable
☒ 3. Innovative
☒ 4. Good

Question ID : 630680129933

Option 1 ID : 630680503319

Option 2 ID : 630680503321

Option 3 ID : 630680503318

Option 4 ID : 630680503320

Status : Answered

Chosen Option : 3

Q.15 Select the option that expresses the given sentence in passive voice.
Inayat did not greet her.

- Ans ☒ 1. She was not going to be greeted by Inayat.
☒ 2. She was not at all greeted by Inayat.
☒ 3. She was not being greeted by Inayat.
☒ 4. She was not greeted by Inayat.

Question ID : 630680206653

Option 1 ID : 630680801213

Option 2 ID : 630680801212

Option 3 ID : 630680801211

Option 4 ID : 630680801214

Status : Answered

Chosen Option : 4

Q.16 Identify from the given options the word which is similar in meaning to the following word.
Morbid

- Ans** ☒ 1. Gloomy
 ☒ 2. Blithe
 ☒ 3. Grand
 ☒ 4. Bet

Question ID : 630680360070
Option 1 ID : 6306801402226
Option 2 ID : 6306801402227
Option 3 ID : 6306801402225
Option 4 ID : 6306801402228
Status : Answered
Chosen Option : 1

Q.17 Identify the most appropriate **ANTONYM** of the underlined word in the following sentence.
I love the stunning view of the mountain.

- Ans** ☒ 1. Toxic
 ☒ 2. Mundane
 ☒ 3. Superfluous
 ☒ 4. Smashing

Question ID : 630680374325
Option 1 ID : 6306801458494
Option 2 ID : 6306801458492
Option 3 ID : 6306801458491
Option 4 ID : 6306801458493
Status : Answered
Chosen Option : 2

Q.18 Select the most appropriate **ANTONYM** of the given word.
Hinder

- Ans** ☒ 1. Praise
 ☒ 2. Joy
 ☒ 3. Block
 ☒ 4. Facilitate

Question ID : 630680517557
Option 1 ID : 6306802022625
Option 2 ID : 6306802022624
Option 3 ID : 6306802022627
Option 4 ID : 6306802022626
Status : Answered
Chosen Option : 4

Q.19 Select the option that can be used as a one-word substitute for the underlined group of words.

In industries, it is very common to observe that people show undue favour to one's own relative during the hiring process.

- Ans
- ☒ 1. liberalism
 - ☒ 2. racism
 - ☒ 3. communism
 - ☒ 4. nepotism

Question ID : 630680158617

Option 1 ID : 630680613960

Option 2 ID : 630680613961

Option 3 ID : 630680613963

Option 4 ID : 630680613962

Status : Answered

Chosen Option : 4

Q.20 Select the correctly spelled sentence.

- Ans
- ☒ 1. The athletees achievements are impressive.
 - ☒ 2. The athlete's achievements are imprressive.
 - ☒ 3. The athlete's acheivements are impressive.
 - ☒ 4. The athlete's achievements are impressive.

Question ID : 630680377274

Option 1 ID : 6306801470161

Option 2 ID : 6306801470160

Option 3 ID : 6306801470159

Option 4 ID : 6306801470162

Status : Answered

Chosen Option : 4

Comprehension:

In the following passage, some words have been deleted. Read the passage carefully and select the most appropriate option to fill in each blank.

Recently, the (1)_____ of heart-attacks in young Indians (2)_____ increased tremendously. Doctors are surprised to note that young men and women with seemingly healthy lifestyle are suffering deadly heart attacks. (3)_____ diet and exercise play a (4)_____ role in a person's overall wellbeing, mental health is also a valuable factor. The (5)_____ urban lifestyle is causing anxiety and depression in young Indians which may be a major factor behind the increased numbers.

SubQuestion No : 21

Q.21 Select the most appropriate option to fill in blank number 1.

- Ans
- ☒ 1. percent
 - ☒ 2. height
 - ☒ 3. number
 - ☒ 4. amount

Question ID : 630680146350

Option 1 ID : 630680566284

Option 2 ID : 630680566285

Option 3 ID : 630680566282

Option 4 ID : 630680566283

Status : Answered

Chosen Option : 1

Comprehension:

In the following passage, some words have been deleted. Read the passage carefully and select the most appropriate option to fill in each blank.

Recently, the (1)_____ of heart-attacks in young Indians (2)_____ increased tremendously. Doctors are surprised to note that young men and women with seemingly healthy lifestyle are suffering deadly heart attacks. (3)_____ diet and exercise play a (4)_____ role in a person's overall wellbeing, mental health is also a valuable factor. The (5)_____ urban lifestyle is causing anxiety and depression in young Indians which may be a major factor behind the increased numbers.

SubQuestion No : 22

Q.22 Select the most appropriate option to fill in blank number 2.

- Ans ☒ 1. have
☒ 2. have been
☒ 3. had
☒ 4. has

Question ID : 630680146351

Option 1 ID : 630680566287

Option 2 ID : 630680566289

Option 3 ID : 630680566288

Option 4 ID : 630680566286

Status : Answered

Chosen Option : 2

Comprehension:

In the following passage, some words have been deleted. Read the passage carefully and select the most appropriate option to fill in each blank.

Recently, the (1)_____ of heart-attacks in young Indians (2)_____ increased tremendously. Doctors are surprised to note that young men and women with seemingly healthy lifestyle are suffering deadly heart attacks. (3)_____ diet and exercise play a (4)_____ role in a person's overall wellbeing, mental health is also a valuable factor. The (5)_____ urban lifestyle is causing anxiety and depression in young Indians which may be a major factor behind the increased numbers.

SubQuestion No : 23

Q.23 Select the most appropriate option to fill in blank number 3.

- Ans ☒ 1. However
☒ 2. Since
☒ 3. In spite of
☒ 4. Although

Question ID : 630680146352

Option 1 ID : 630680566292

Option 2 ID : 630680566293

Option 3 ID : 630680566290

Option 4 ID : 630680566291

Status : Answered

Chosen Option : 4

Comprehension:

In the following passage, some words have been deleted. Read the passage carefully and select the most appropriate option to fill in each blank.

Recently, the (1)_____ of heart-attacks in young Indians (2)_____ increased tremendously. Doctors are surprised to note that young men and women with seemingly healthy lifestyle are suffering deadly heart attacks. (3)_____ diet and exercise play a (4)_____ role in a person's overall wellbeing, mental health is also a valuable factor. The (5)_____ urban lifestyle is causing anxiety and depression in young Indians which may be a major factor behind the increased numbers.

SubQuestion No : 24

Q.24 Select the most appropriate option to fill in blank number 4.

Ans ☒ 1. historic

☒ 2. monumental

☒ 3. increased

☒ 4. epic

Question ID : 630680146353

Option 1 ID : 630680566297

Option 2 ID : 630680566296

Option 3 ID : 630680566294

Option 4 ID : 630680566295

Status : Answered

Chosen Option : 4

Comprehension:

In the following passage, some words have been deleted. Read the passage carefully and select the most appropriate option to fill in each blank.

Recently, the (1)_____ of heart-attacks in young Indians (2)_____ increased tremendously. Doctors are surprised to note that young men and women with seemingly healthy lifestyle are suffering deadly heart attacks. (3)_____ diet and exercise play a (4)_____ role in a person's overall wellbeing, mental health is also a valuable factor. The (5)_____ urban lifestyle is causing anxiety and depression in young Indians which may be a major factor behind the increased numbers.

SubQuestion No : 25

Q.25 Select the most appropriate option to fill in blank number 5.

Ans ☒ 1. wilderness

☒ 2. cosmic

☒ 3. fast-paced

☒ 4. rapidly

Question ID : 630680146354

Option 1 ID : 630680566298

Option 2 ID : 630680566300

Option 3 ID : 630680566301

Option 4 ID : 630680566299

Status : Answered

Chosen Option : 3