

## Constable GD in Central Armed Police Forces CAPFs SSF Rifleman GD in Assam Rifles Examination 2024

Roll Number	
Candidate Name	
Venue Name	
Exam Date	01/03/2024
Exam Time	5:00 PM - 6:00 PM
Subject	Constable GD Examination 2024

### Section : Part-A-General Intelligence and Reasoning

**Q.1** In the following question below are given some statements followed by some conclusions based on those statements. Taking the given statements to be true even if they seem to be at variance from commonly known facts. Read all the conclusions and then decide which of the given conclusion(s) logically follows the given statements.

Statements:

- I. No Flower is Plant.
- II. Some Animal are Flower.

Conclusions:

- I. Some Animal are not Plant.
- II. All Plant are Animal.

- Ans**
- 1. Neither conclusion follows
  - 2. Only conclusion I follows
  - 3. Both conclusions I and II follows
  - 4. Only conclusion II follows

Question ID : 264330187449  
 Option 1 ID : 264330733727  
 Option 2 ID : 264330733724  
 Option 3 ID : 264330733726  
 Option 4 ID : 264330733725

Status : Answered

Chosen Option : 2

**Q.2** Select the option that is related to the fifth letter cluster in the same way as the fourth letter cluster is related to the third letter cluster and the second letter cluster is related to the first letter cluster.

CLEAN : CNLAE :: CHART : CTHRA :: RIGHT : ?

- Ans**
- 1. RTIHG
  - 2. HITRG
  - 3. GHITR
  - 4. RGTIH

Question ID : 264330192071  
 Option 1 ID : 264330751638  
 Option 2 ID : 264330751641  
 Option 3 ID : 264330751639  
 Option 4 ID : 264330751640

Status : Answered

Chosen Option : 1

**Q.3** Six friends Alex, Brad, Charlie, David, Eric, and Frank are sitting around a circular table facing away from the center. Alex is sitting to the immediate right of Brad. Frank sits exactly between Charlie and David. Charlie sits to the immediate right of Eric. Who sits to the immediate right of David?

- Ans**
- 1. Brad
  - 2. Eric
  - 3. Alex
  - 4. Frank

Question ID : 264330192196  
Option 1 ID : 264330752139  
Option 2 ID : 264330752138  
Option 3 ID : 264330752140  
Option 4 ID : 264330752141  
Status : Answered  
Chosen Option : 1

**Q.4** Eight teachers Jatin, Abhi, Gopal, Heena, Isha, Rohit, Kajal and Leela are sitting around a circular table facing opposite to the centre (not necessarily in the same order). Abhi is second to the left of Heena. Rohit is third to the right of Heena. Gopal is second to the right of Jatin. Rohit is second to the left of Jatin. Kajal is third to the left of Isha. Who is sitting to the immediate right of Abhi?

- Ans**
- 1. Heena
  - 2. Leela
  - 3. Gopal
  - 4. Jatin

Question ID : 264330187048  
Option 1 ID : 264330732122  
Option 2 ID : 264330732123  
Option 3 ID : 264330732120  
Option 4 ID : 264330732121  
Status : Answered  
Chosen Option : 3

**Q.5** Which of the following letter will replace the question mark (?) in the given series?

P, K, G, D, B, ?

- Ans**
- 1. X
  - 2. Z
  - 3. Y
  - 4. A

Question ID : 264330192168  
Option 1 ID : 264330752029  
Option 2 ID : 264330752027  
Option 3 ID : 264330752028  
Option 4 ID : 264330752026  
Status : Answered  
Chosen Option : 4

Q.6 If  $8\text{ G }4\text{ H }9\text{ I }3 = 15$  and  $17\text{ G }18\text{ H }27\text{ I }9 = 38$ , then  $7\text{ G }8\text{ H }10\text{ I }2 = ?$

- Ans
- 1. 21
  - 2. 24
  - 3. 20
  - 4. 18

Question ID : 264330191522  
Option 1 ID : 264330749443  
Option 2 ID : 264330749445  
Option 3 ID : 264330749444  
Option 4 ID : 264330749442  
Status : Answered  
Chosen Option : 3

Q.7 In the following question, select the missing number from the given series.

35, 4, 41, 0, 43, ?

- Ans
- 1. -3
  - 2. 0
  - 3. -4
  - 4. -2

Question ID : 264330191380  
Option 1 ID : 264330748875  
Option 2 ID : 264330748874  
Option 3 ID : 264330748877  
Option 4 ID : 264330748876  
Status : Answered  
Chosen Option : 3

Q.8 In the following question, select the missing number from the given series.

13, -11, -35, -59, -83, ?

- Ans
- 1. -125
  - 2. -120
  - 3. -107
  - 4. -115

Question ID : 264330190338  
Option 1 ID : 264330744937  
Option 2 ID : 264330744934  
Option 3 ID : 264330744936  
Option 4 ID : 264330744935  
Status : Answered  
Chosen Option : 3

Q.9 Which two numbers should be interchanged to make the given equation correct?

$$17 - 8 \times 2 + 6 + 4 = 7$$

- Ans
- ✓ 1. 6 and 8
  - ✗ 2. 4 and 7
  - ✗ 3. 2 and 4
  - ✗ 4. 17 and 7

Question ID : 264330191120

Option 1 ID : 264330747836

Option 2 ID : 264330747837

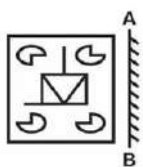
Option 3 ID : 264330747835

Option 4 ID : 264330747834

Status : Answered

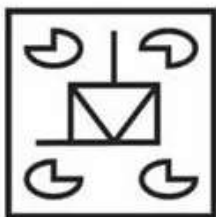
Chosen Option : 1

**Q.10** If a mirror is placed on the line AB, then out of the option figures which figure will be the right image of the question figure?



Ans

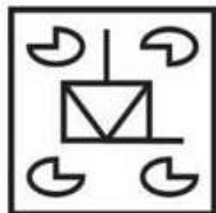
✗ 1.



✗ 2.



✓ 3.



✗ 4.



Question ID : 264330190445

Option 1 ID : 264330745365

Option 2 ID : 264330745363

Option 3 ID : 264330745362

Option 4 ID : 264330745364

Status : Answered

Chosen Option : 3

**Q.11** In the following question, select the related letter pair from the given alternatives.

WTPF : YVRH ::?

**Ans**  1. ANON : MOUM

2. WYUZ : TSKD

3. CIRT : IKMD

4. QJAN : SLCP

Question ID : 264330190131

Option 1 ID : 264330744108

Option 2 ID : 264330744106

Option 3 ID : 264330744109

Option 4 ID : 264330744107

Status : Answered

Chosen Option : 4

**Q.12** Which one set of letters when sequentially placed at the gaps in the given letter series shall complete it?

\_n\_mn\_m\_wmnw

**Ans**  1. wmnw

2. mwwn

3. mnwn

4. mmwn

Question ID : 264330191108

Option 1 ID : 264330747786

Option 2 ID : 264330747787

Option 3 ID : 264330747789

Option 4 ID : 264330747788

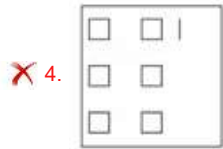
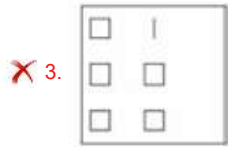
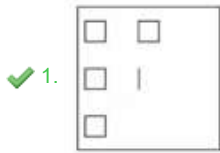
Status : Answered

Chosen Option : 2

**Q.13** Select the figure that will replace the question mark (?) in the following figure series.



Ans



Question ID : 264330192164

Option 1 ID : 264330752011

Option 2 ID : 264330752013

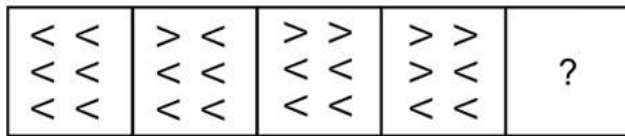
Option 3 ID : 264330752010

Option 4 ID : 264330752012

Status : Answered

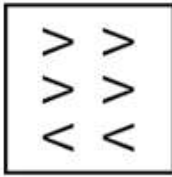
Chosen Option : 1

**Q.14** Select the figure that will replace the question mark (?) in the following figure series.




Ans


✓ 1.




✗ 2.



✗ 3.



✗ 4.



Question ID : 264330192143

Option 1 ID : 264330751929

Option 2 ID : 264330751927

Option 3 ID : 264330751926

Option 4 ID : 264330751928

Status : Answered

Chosen Option : 1

**Q.15** After arranging the given words according to dictionary order, which word will come at 'Fourth' position?

1. Weep
2. Ween
3. Weed
4. Weight
5. Week

Ans

✗ 1. Weed

✓ 2. Weep

✗ 3. Week

✗ 4. Weight

Question ID : 264330191310

Option 1 ID : 264330748596

Option 2 ID : 264330748595

Option 3 ID : 264330748597

Option 4 ID : 264330748594

Status : Answered

Chosen Option : 2



**Q.16** In a certain code language, 'BIB' is coded as '36', 'BOG' is coded as '210'. What is the code for 'EBB' in that code language?

- Ans**
- 1. 40
  - 2. 20
  - 3. 10
  - 4. 30

Question ID : 264330190553  
 Option 1 ID : 264330745794  
 Option 2 ID : 264330745795  
 Option 3 ID : 264330745797  
 Option 4 ID : 264330745796  
 Status : Answered  
 Chosen Option : 2

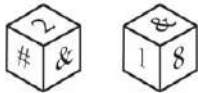
**Q.17**  $A + B$  means A is the wife of B,  $A \times B$  means A is the father of B,  $A \div B$  means A is the mother of B,  $A \text{ S } B$  means A is the brother of B and  $A - B$  means A is the sister of B.

If  $Z - T + S \times Y + H \text{ S } B$ , then how is H related to S?

- Ans**
- 1. Son's wife
  - 2. Son
  - 3. Daughter's daughter
  - 4. Daughter's husband

Question ID : 264330190494  
 Option 1 ID : 264330745558  
 Option 2 ID : 264330745560  
 Option 3 ID : 264330745559  
 Option 4 ID : 264330745561  
 Status : Answered  
 Chosen Option : 4

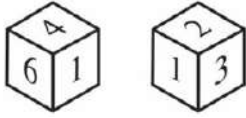
**Q.18** Two positions of a dice are given below. What will come on the face opposite to the face containing '1' on it?



- Ans**
- 1. 2
  - 2. &
  - 3. #
  - 4. 8

Question ID : 264330188038  
 Option 1 ID : 264330736080  
 Option 2 ID : 264330736083  
 Option 3 ID : 264330736082  
 Option 4 ID : 264330736081  
 Status : Answered  
 Chosen Option : 1

**Q.19** Two positions of a dice are given below. What will come on the face opposite to the face containing '4' on it?



- Ans**
- 1. 2
  - 2. 6
  - 3. 5
  - 4. 3

Question ID : 264330191385

Option 1 ID : 264330748897

Option 2 ID : 264330748894

Option 3 ID : 264330748895

Option 4 ID : 264330748896

Status : Answered

Chosen Option : 4

**Q.20** In a certain code language, 'TDF' is coded as '1440', 'LTB' is coded as '1440'. What is the code for 'IHG' in that code language?

- Ans**
- 1. 1465
  - 2. 1275
  - 3. 1575
  - 4. 1512

Question ID : 264330191554

Option 1 ID : 264330749572

Option 2 ID : 264330749570

Option 3 ID : 264330749573

Option 4 ID : 264330749571

Status : Answered

Chosen Option : 4

Section : Part-B-General Knowledge and General awareness

**Q.1** Directive Principles of State Policy in the Indian Constitution aim to create a:

- Ans**
- 1. Capitalist state
  - 2. Totalitarian state
  - 3. Welfare state
  - 4. Communist state

Question ID : 264330191300

Option 1 ID : 264330748554

Option 2 ID : 264330748556

Option 3 ID : 264330748557

Option 4 ID : 264330748555

Status : Answered

Chosen Option : 2

Q.2 Sri Lanka is separated from India by a narrow channel of sea, formed by \_\_\_\_\_ and the Gulf of Mannar.

- Ans
- 1. Strait of Gibraltar
  - 2. Bering Strait
  - 3. Palk Strait
  - 4. Malacca Strait

Question ID : 264330188839  
Option 1 ID : 264330739158  
Option 2 ID : 264330739160  
Option 3 ID : 264330739161  
Option 4 ID : 264330739159  
Status : Answered  
Chosen Option : 3

Q.3 The Simon Commission, appointed in 1927, was criticized in India because:

- Ans
- 1. It did not include any Indian members
  - 2. It recommended the withdrawal of British rule from India
  - 3. It recommended constitutional reforms for India
  - 4. It proposed to divide India into two separate countries

Question ID : 264330188921  
Option 1 ID : 264330739489  
Option 2 ID : 264330739487  
Option 3 ID : 264330739486  
Option 4 ID : 264330739488  
Status : Answered  
Chosen Option : 1

Q.4 Which Indian state is known for the traditional dance form of Sattriya?

- Ans
- 1. Odisha
  - 2. Assam
  - 3. Sikkim
  - 4. West Bengal

Question ID : 264330190870  
Option 1 ID : 264330746836  
Option 2 ID : 264330746834  
Option 3 ID : 264330746837  
Option 4 ID : 264330746835  
Status : Answered  
Chosen Option : 2

Q.5 Which city hosted the Intercontinental Cup 2023 which was won by the Indian football team?

- Ans  1. Bhubaneswar  
 2. Delhi  
 3. Rourkela  
 4. Ranchi

Question ID : 264330191081  
Option 1 ID : 264330747680  
Option 2 ID : 264330747681  
Option 3 ID : 264330747679  
Option 4 ID : 264330747678  
Status : Answered  
Chosen Option : 1

Q.6 The most common tool for the Iron Age was the \_\_\_\_\_, which was used for felling trees, chopping wood, and as a weapon.

- Ans  1. Sword  
 2. Axe  
 3. Driller  
 4. Saw Machine

Question ID : 264330191796  
Option 1 ID : 264330750540  
Option 2 ID : 264330750538  
Option 3 ID : 264330750541  
Option 4 ID : 264330750539  
Status : Answered  
Chosen Option : 2

Q.7 Which of the following pair of cricket tournament run by BCCI and its type is correct?

I. Vijay Hazare Trophy – List A matches

II. Syed Mushtaq Ali Trophy – T20 matches

- Ans  1. Only I  
 2. Only II  
 3. Both I and II  
 4. Neither I nor II

Question ID : 264330188866  
Option 1 ID : 264330739266  
Option 2 ID : 264330739267  
Option 3 ID : 264330739268  
Option 4 ID : 264330739269  
Status : Not Answered  
Chosen Option : --

Q.8 Population Census in India is conducted within a span of \_\_\_\_\_

- Ans
- 1. 20 years
  - 2. 7 years
  - 3. 10 years
  - 4. 15 years

Question ID : 264330192034  
Option 1 ID : 264330751493  
Option 2 ID : 264330751490  
Option 3 ID : 264330751491  
Option 4 ID : 264330751492  
Status : Answered  
Chosen Option : 3

Q.9 With respect to trade and industry, what does 'DPIIT' stand for?

- Ans
- 1. Development and Promotion of Industry and International Trade
  - 2. Development and Promotion of Industry and Internal Trade
  - 3. Department for Promotion of Industry and Internal Trade
  - 4. Department for Promotion of Industry and International Trade

Question ID : 264330188790  
Option 1 ID : 264330738964  
Option 2 ID : 264330738962  
Option 3 ID : 264330738965  
Option 4 ID : 264330738963  
Status : Answered  
Chosen Option : 1

Q.10 The Government of Karnataka organizes the \_\_\_\_\_ festival every year, which features an scintillating performances of dance, drama and music, is organized amidst the rocks and ruins that date back to hundreds of years, in the village situated near Vijaynagar.

- Ans
- 1. Nishagandhi Festival
  - 2. Natyanjali Utsav
  - 3. Hampi Dance Utsav
  - 4. Mamallapuram Utsav

Question ID : 264330191732  
Option 1 ID : 264330750283  
Option 2 ID : 264330750284  
Option 3 ID : 264330750285  
Option 4 ID : 264330750282  
Status : Answered  
Chosen Option : 3

Q.11 K.N. Shanth Kumar was elected chairman of which body from September 2023?

- Ans
- ✓ 1. PTI
  - ✗ 2. NABARD
  - ✗ 3. SEBI
  - ✗ 4. BCCI

Question ID : 264330190788  
Option 1 ID : 264330746506  
Option 2 ID : 264330746509  
Option 3 ID : 264330746507  
Option 4 ID : 264330746508  
Status : Not Answered  
Chosen Option : --

Q.12 In which sport is a "puck" used?

- Ans
- ✗ 1. Snooker
  - ✓ 2. ice-hockey
  - ✗ 3. Table tennis
  - ✗ 4. Soccer

Question ID : 264330190943  
Option 1 ID : 264330747126  
Option 2 ID : 264330747128  
Option 3 ID : 264330747127  
Option 4 ID : 264330747129  
Status : Not Answered  
Chosen Option : --

Q.13 The motion of electric charges creates current and generates an electromagnetic force, resulting in \_\_\_\_\_.

- Ans
- ✗ 1. Gravity
  - ✗ 2. Electricity
  - ✗ 3. Optics
  - ✓ 4. Magnetism

Question ID : 264330191873  
Option 1 ID : 264330750846  
Option 2 ID : 264330750847  
Option 3 ID : 264330750848  
Option 4 ID : 264330750849  
Status : Answered  
Chosen Option : 2

Q.14 Amjad Ali Khan is music exponent of \_\_\_\_\_.

- Ans
- 1. Sarod
  - 2. Tabla
  - 3. Flute
  - 4. Sitar

Question ID : 264330191458  
Option 1 ID : 264330749186  
Option 2 ID : 264330749187  
Option 3 ID : 264330749189  
Option 4 ID : 264330749188  
Status : Answered  
Chosen Option : 1

Q.15 Who was selected as the recipient of the 41st Lokmanya Tilak Award, on 1st August 2023?

- Ans
- 1. Kamala Harris
  - 2. Dr. K. Sivan
  - 3. Yogi Adityanath
  - 4. Narendra Modi

Question ID : 264330191750  
Option 1 ID : 264330750357  
Option 2 ID : 264330750354  
Option 3 ID : 264330750356  
Option 4 ID : 264330750355  
Status : Not Answered  
Chosen Option : --

Q.16 Which of the following artists has won the Sangeet Natak Akademi Award for their contribution to Mohiniyattam?

- Ans
- 1. Surupa Sen
  - 2. Tapan Kumar
  - 3. Gopika Verma
  - 4. Maya Krishna Rao

Question ID : 264330191038  
Option 1 ID : 264330747509  
Option 2 ID : 264330747508  
Option 3 ID : 264330747507  
Option 4 ID : 264330747506  
Status : Not Answered  
Chosen Option : --

Q.17 The Bharatiya Nagarik Suraksha Sanhita Bill, 2023 introduced by \_\_\_\_\_ ministry in 2023.

- Ans
- 1. Health
  - 2. Law and Justice
  - 3. Finance
  - 4. Home Affairs

Question ID : 264330191788  
Option 1 ID : 264330750507  
Option 2 ID : 264330750508  
Option 3 ID : 264330750509  
Option 4 ID : 264330750506  
Status : Answered  
Chosen Option : 4

Q.18 Read the following about Goods and Service Tax (GST):

- A. Goods and Service Tax (GST) is the single comprehensive indirect tax, operational from 1 July 2017, on supply of goods and services, right from the manufacturer/ service provider to the consumer.  
B. It is a destination based consumption tax with facility of Input Tax Credit in the supply chain.  
Identify the CORRECT statement/statements.

- Ans
- 1. Only A
  - 2. Both A and B
  - 3. Only B
  - 4. Neither A nor B

Question ID : 264330192025  
Option 1 ID : 264330751454  
Option 2 ID : 264330751456  
Option 3 ID : 264330751455  
Option 4 ID : 264330751457  
Status : Answered  
Chosen Option : 1

Q.19 Which of the following is NOT one of the pillars in the Key Approach to the Foreign Trade Policy 2023 of India?

- Ans
- 1. Restriction to imports
  - 2. Ease of doing business, reduction in transaction cost and e-initiatives
  - 3. Incentive to Remission
  - 4. Export promotion through collaboration

Question ID : 264330188771  
Option 1 ID : 264330738889  
Option 2 ID : 264330738888  
Option 3 ID : 264330738886  
Option 4 ID : 264330738887  
Status : Answered  
Chosen Option : 1



**Q.20** As per which article of the Indian Constitution, the Lok Sabha is the lower House of the parliament?

- Ans**
- 1. 80
  - 2. 82
  - 3. 81
  - 4. 79

Question ID : **264330191221**  
Option 1 ID : **264330748239**  
Option 2 ID : **264330748241**  
Option 3 ID : **264330748240**  
Option 4 ID : **264330748238**  
Status : **Answered**  
Chosen Option : **4**

Section : **Part-C-Elementary Mathematics**

**Q.1** A trader sells two shirts for Rs. 4500 each article. If he earns a profit of 20 percent on one and loses 40 percent on the other, then what will be his overall loss percentage?

- Ans**
- 1. 10 percent
  - 2. 8 percent
  - 3. 20 percent
  - 4. 15 percent

Question ID : **264330188601**  
Option 1 ID : **264330738208**  
Option 2 ID : **264330738209**  
Option 3 ID : **264330738206**  
Option 4 ID : **264330738207**  
Status : **Answered**  
Chosen Option : **3**

**Q.2** Average age of a group of 17 boys is 28 years. Two boys with ages 22 years and 28 years left the group. One boy with age 34 years joined the group. What is the new average age of the group?

- Ans**
- 1. 28.75 years
  - 2. 28.60 years
  - 3. 28.40 years
  - 4. 27.20 years

Question ID : **264330191633**  
Option 1 ID : **264330749889**  
Option 2 ID : **264330749888**  
Option 3 ID : **264330749886**  
Option 4 ID : **264330749887**  
Status : **Answered**  
Chosen Option : **1**

**Q.3** M, N and O alone can complete a work in 10, 12 and 15 days respectively. In how many days M, N and O together can complete  $\frac{1}{6}$  of the same work?

- Ans**
- 1.  $\frac{2}{3}$  days
  - 2.  $\frac{1}{3}$  days
  - 3.  $\frac{5}{3}$  days
  - 4.  $\frac{4}{3}$  days

Question ID : 264330187216  
Option 1 ID : 264330732792  
Option 2 ID : 264330732793  
Option 3 ID : 264330732795  
Option 4 ID : 264330732794  
Status : Answered  
Chosen Option : 1

**Q.4** Which of the following number is not divisible by 25?

- Ans**
- 1. 5625
  - 2. 8565
  - 3. 6400
  - 4. 7875

Question ID : 264330187522  
Option 1 ID : 264330734019  
Option 2 ID : 264330734017  
Option 3 ID : 264330734016  
Option 4 ID : 264330734018  
Status : Answered  
Chosen Option : 2

**Q.5** Average of 5 numbers is 48. Average of first two numbers is thrice the average of other three numbers. What is the sum of first two numbers?

- Ans**
- 1. 160
  - 2. 150
  - 3. 200
  - 4. 210

Question ID : 264330187683  
Option 1 ID : 264330734662  
Option 2 ID : 264330734661  
Option 3 ID : 264330734663  
Option 4 ID : 264330734660  
Status : Not Answered  
Chosen Option : --

**Q.6** Marked price of a computer is Rs. 25000 and discount percentage is 15 percent. If the selling price of computer is Rs. 12750, then what is the additional discount percentage?

- Ans**
- 1. 25 percent
  - 2. 30 percent
  - 3. 35 percent
  - 4. 40 percent

Question ID : 264330187210  
Option 1 ID : 264330732768  
Option 2 ID : 264330732769  
Option 3 ID : 264330732771  
Option 4 ID : 264330732770  
Status : Answered  
Chosen Option : 4

**Q.7** If  $p : q : r = 5 : 3 : 2$ , then what is the value of  $2p : 4q : 3r$ ?

- Ans**
- 1. 5 : 6 : 4
  - 2. 3 : 2 : 4
  - 3. 6 : 2 : 1
  - 4. 5 : 6 : 3

Question ID : 264330187951  
Option 1 ID : 264330735732  
Option 2 ID : 264330735735  
Option 3 ID : 264330735734  
Option 4 ID : 264330735733  
Status : Answered  
Chosen Option : 4

**Q.8** John can do a work in 12 days and Anju in 20 days. If they work on it together for 6 days, then the fraction of the work that is left is :

- Ans**
- 1.  $\frac{1}{6}$
  - 2.  $\frac{2}{3}$
  - 3.  $\frac{1}{5}$
  - 4.  $\frac{1}{4}$

Question ID : 264330192406  
Option 1 ID : 264330752978  
Option 2 ID : 264330752980  
Option 3 ID : 264330752979  
Option 4 ID : 264330752981  
Status : Answered  
Chosen Option : 3

**Q.9** Two trains are running in opposite direction with the same speed. If the length of each train is 540 metres and they cross each other in 54 seconds, then what is the speed of each train?

- Ans**
- 1. 15 m/s
  - 2. 10 m/s
  - 3. 20 m/s
  - 4. 5 m/s

Question ID : 264330188548  
Option 1 ID : 264330737995  
Option 2 ID : 264330737996  
Option 3 ID : 264330737994  
Option 4 ID : 264330737997  
Status : Answered  
Chosen Option : 3

**Q.10** What is the value of  $117 + 51 - 14 \div 7 + 251$ ?

- Ans**
- 1. 467
  - 2. 437
  - 3. 427
  - 4. 417

Question ID : 264330187839  
Option 1 ID : 264330735284  
Option 2 ID : 264330735287  
Option 3 ID : 264330735286  
Option 4 ID : 264330735285  
Status : Answered  
Chosen Option : 4

**Q.11** X1 is 11 percent more than X2 and 67 percent less than X3. If value of X2 is Rs. 1331, then what is the value of X3?

- Ans**
- 1. Rs. 4777
  - 2. Rs. 4477
  - 3. Rs. 4747
  - 4. Rs. 4447

Question ID : 264330187666  
Option 1 ID : 264330734595  
Option 2 ID : 264330734592  
Option 3 ID : 264330734594  
Option 4 ID : 264330734593  
Status : Answered  
Chosen Option : 2

Q.12 A sum amounts to ₹ 16,854 in 2 years at 6% compound interest. Find the sum.

- Ans
- 1. ₹ 11,000
  - 2. ₹ 14,000
  - 3. ₹ 15,000
  - 4. ₹ 16,000

Question ID : 264330191663  
Option 1 ID : 264330750009  
Option 2 ID : 264330750006  
Option 3 ID : 264330750008  
Option 4 ID : 264330750007  
Status : Answered  
Chosen Option : 3

Q.13 What is the value of  $80 - [25 + \{20 - (7 + 2)\}]$ ?

- Ans
- 1. 46
  - 2. 36
  - 3. 54
  - 4. 44

Question ID : 264330187840  
Option 1 ID : 264330735290  
Option 2 ID : 264330735288  
Option 3 ID : 264330735291  
Option 4 ID : 264330735289  
Status : Answered  
Chosen Option : 4

Q.14 If on selling 36 items, a shopkeeper gains the selling price of 9 items, find the profit percentage.

- Ans
- 1. 37.66%
  - 2. 30.33%
  - 3. 33.33%
  - 4. 31.66%

Question ID : 264330190735  
Option 1 ID : 264330746373  
Option 2 ID : 264330746370  
Option 3 ID : 264330746372  
Option 4 ID : 264330746371  
Status : Answered  
Chosen Option : 3

Q.15 Which of the following number is divisible by 4?

- Ans
- 1. 7846
  - 2. 4370
  - 3. 1582
  - 4. 7348

Question ID : 264330187281  
Option 1 ID : 264330733052  
Option 2 ID : 264330733054  
Option 3 ID : 264330733055  
Option 4 ID : 264330733053  
Status : Answered  
Chosen Option : 4

Q.16 A table is sold at a discount of 45 percent. If the marked price of the table is Rs. 8800, then what is the selling price of the table?

- Ans
- 1. Rs. 4860
  - 2. Rs. 5060
  - 3. Rs. 4840
  - 4. Rs. 5040

Question ID : 264330187989  
Option 1 ID : 264330735887  
Option 2 ID : 264330735884  
Option 3 ID : 264330735886  
Option 4 ID : 264330735885  
Status : Answered  
Chosen Option : 3

Q.17 If 15 percent of a number is 120, then what will be the 180 percent of that number?

- Ans
- 1. 1430
  - 2. 1440
  - 3. 1420
  - 4. 1410

Question ID : 264330188558  
Option 1 ID : 264330738035  
Option 2 ID : 264330738037  
Option 3 ID : 264330738036  
Option 4 ID : 264330738034  
Status : Answered  
Chosen Option : 2

**Q.18** A certain sum of money becomes triple of itself in 12 years at simple interest. In how many years it will become five times of itself?

- Ans**
- 1. 26 years
  - 2. 22 years
  - 3. 30 years
  - 4. 24 years

Question ID : 264330188566  
Option 1 ID : 264330738069  
Option 2 ID : 264330738066  
Option 3 ID : 264330738067  
Option 4 ID : 264330738068  
Status : Answered  
Chosen Option : 4

**Q.19** If  $x : y : z = 3 : 6 : 7$  and  $5y - x + 2z = 123$ , then what is the value of  $y$ ?

- Ans**
- 1. 18
  - 2. 84
  - 3. 21
  - 4. 9

Question ID : 264330188565  
Option 1 ID : 264330738064  
Option 2 ID : 264330738065  
Option 3 ID : 264330738062  
Option 4 ID : 264330738063  
Status : Answered  
Chosen Option : 1

**Q.20** Half of the perimeter of a rectangle is 20 cm. If the length of the rectangle is 8 cm more than its breadth, then what is the area of the rectangle?

- Ans**
- 1.  $84 \text{ cm}^2$
  - 2.  $64 \text{ cm}^2$
  - 3.  $70 \text{ cm}^2$
  - 4.  $90 \text{ cm}^2$

Question ID : 264330187998  
Option 1 ID : 264330735921  
Option 2 ID : 264330735920  
Option 3 ID : 264330735922  
Option 4 ID : 264330735923  
Status : Answered  
Chosen Option : 1

Q.1 Select the most appropriate word to fill in the blank.

\_\_\_\_\_ of the two boys turned up the next day.

- Ans
- 1. But
  - 2. Neither
  - 3. Not
  - 4. Every

Question ID : 264330186597  
Option 1 ID : 264330730570  
Option 2 ID : 264330730569  
Option 3 ID : 264330730568  
Option 4 ID : 264330730571  
Status : Answered  
Chosen Option : 2

Q.2 Improve the underlined part of the sentence. Choose "No improvement" as an answer if the sentence is grammatically correct.

I saw Samuel yesterday, but he didn't see me.

- Ans
- 1. didn't saw me
  - 2. sees me
  - 3. No improvement
  - 4. was seen me

Question ID : 264330185796  
Option 1 ID : 264330727518  
Option 2 ID : 264330727517  
Option 3 ID : 264330727519  
Option 4 ID : 264330727516  
Status : Answered  
Chosen Option : 3

Q.3 Improve the underlined part of the sentence. Choose "No improvement" as an answer if the sentence is grammatically correct.

I has mailed you the invoice.

- Ans
- 1. has mail
  - 2. No improvement
  - 3. will mailed
  - 4. will mail

Question ID : 264330186279  
Option 1 ID : 264330729357  
Option 2 ID : 264330729359  
Option 3 ID : 264330729358  
Option 4 ID : 264330729356  
Status : Answered  
Chosen Option : 4



**Q.4** Find the part of the given sentence that has an error in it. If there is no error, choose 'No error'.  
If you are stressed and upset, talking about your feelings can helped.

- Ans**
- 1. No error
  - 2. If you are stressed
  - 3. your feelings can helped.
  - 4. and upset, talking about

Question ID : 264330185710  
Option 1 ID : 264330727191  
Option 2 ID : 264330727188  
Option 3 ID : 264330727190  
Option 4 ID : 264330727189  
Status : Answered  
Chosen Option : 3

**Q.5** Choose the word that is opposite in meaning to the given word.

Abundance

- Ans**
- 1. Endemic
  - 2. Scanty
  - 3. Deluge
  - 4. Epidemic

Question ID : 264330185764  
Option 1 ID : 264330727395  
Option 2 ID : 264330727392  
Option 3 ID : 264330727393  
Option 4 ID : 264330727394  
Status : Answered  
Chosen Option : 2

**Q.6** Choose the correct word to complete the sentence:

It was one of the most \_\_\_\_\_ incidents in aviation history during the Pacific War.

- Ans**
- 1. colluding
  - 2. archaic
  - 3. mundane
  - 4. bewildering

Question ID : 264330186428  
Option 1 ID : 264330729927  
Option 2 ID : 264330729926  
Option 3 ID : 264330729925  
Option 4 ID : 264330729924  
Status : Answered  
Chosen Option : 4

Q.7 Choose the word that is opposite in meaning to the given word.

Approach

- Ans
- 1. Restore
  - 2. Advance
  - 3. Mollify
  - 4. Withdraw

Question ID : 264330186311  
Option 1 ID : 264330729477  
Option 2 ID : 264330729478  
Option 3 ID : 264330729476  
Option 4 ID : 264330729479  
Status : Answered  
Chosen Option : 4

Q.8 Select the most appropriate synonym of the given word.

Induction

- Ans
- 1. Capital
  - 2. References
  - 3. Expulsion
  - 4. Inauguration

Question ID : 264330186961  
Option 1 ID : 264330731953  
Option 2 ID : 264330731955  
Option 3 ID : 264330731952  
Option 4 ID : 264330731954  
Status : Answered  
Chosen Option : 4

Q.9 Select the most appropriate antonym of the given word.

Detriment

- Ans
- 1. Dilemma
  - 2. Advantage
  - 3. Corner
  - 4. Difficulty

Question ID : 264330186585  
Option 1 ID : 264330730522  
Option 2 ID : 264330730523  
Option 3 ID : 264330730520  
Option 4 ID : 264330730521  
Status : Answered  
Chosen Option : 2

**Q.10** Find the part of the given sentence that has an error in it. If there is no error, choose 'No error'.

He pressed her further about Arthur and she final answered.

- Ans**
- ✓ 1. she final answered.
  - ✗ 2. further about Arthur and
  - ✗ 3. No error
  - ✗ 4. He pressed her

Question ID : 264330186213  
Option 1 ID : 264330729106  
Option 2 ID : 264330729105  
Option 3 ID : 264330729107  
Option 4 ID : 264330729104  
Status : Answered  
Chosen Option : 1

**Q.11** Select the sentence with no spelling errors.

- Ans**
- ✗ 1. He leaned against that same stone column, thinking, serching in his mind, felling acutely.
  - ✗ 2. He leaned aganst that same stone column, thinking, searching in his mind, feeling acutely.
  - ✗ 3. He leened against that same stone column, thinking, searching in his mind, feeling acutely.
  - ✓ 4. He leaned against that same stone column, thinking, searching in his mind, feeling acutely.

Question ID : 264330185748  
Option 1 ID : 264330727335  
Option 2 ID : 264330727332  
Option 3 ID : 264330727334  
Option 4 ID : 264330727333  
Status : Answered  
Chosen Option : 4

**Q.12** Find the part of the given sentence that has an error in it. If there is no error, choose 'No error'.

No one knows that she comes from a richer family.

- Ans**
- ✓ 1. from a richer family.
  - ✗ 2. No one knows
  - ✗ 3. No error
  - ✗ 4. that she comes

Question ID : 264330185940  
Option 1 ID : 264330728066  
Option 2 ID : 264330728064  
Option 3 ID : 264330728067  
Option 4 ID : 264330728065  
Status : Answered  
Chosen Option : 1

Q.13 Select the incorrectly spelt word from the given sentence.

Despite inhuriting his father's principality, Babur had to flee from his own kingdom.

- Ans
- 1. Despite
  - 2. inhuriting
  - 3. principality
  - 4. flee

Question ID : 264330185642  
Option 1 ID : 264330726928  
Option 2 ID : 264330726929  
Option 3 ID : 264330726930  
Option 4 ID : 264330726931  
Status : Answered  
Chosen Option : 2

Q.14 Choose the idiom/phrase that can substitute the highlighted group of words meaningfully.

Both the countries finally decided **to make peace**.

- Ans
- 1. A piece of cake
  - 2. Break a leg
  - 3. Make ends meet
  - 4. Bury the hatchet

Question ID : 264330185956  
Option 1 ID : 264330728126  
Option 2 ID : 264330728124  
Option 3 ID : 264330728127  
Option 4 ID : 264330728125  
Status : Answered  
Chosen Option : 4

Q.15 In the following question, out of the given four alternatives, select the alternative which best expresses the meaning of the Idiom/Phrase.

A wild cat strike

- Ans
- 1. A wrong action
  - 2. Winsome situation
  - 3. A strike that is started by a group of workers without the approval of their union
  - 4. Protest by farmers

Question ID : 264330186691  
Option 1 ID : 264330730926  
Option 2 ID : 264330730925  
Option 3 ID : 264330730927  
Option 4 ID : 264330730924  
Status : Answered  
Chosen Option : 3

**Comprehension:**

Read the passage carefully and select the correct answer for the given blanks out of the four alternatives.

To better understand how native and non-native species (1) \_\_\_\_\_ to extreme weather events, the scientists behind the new study reanalysed information (2) \_\_\_\_\_ 443 peer-reviewed studies on how species responded to wildfires, droughts and (3) \_\_\_\_\_. In all, they (4) \_\_\_\_\_ data on 187 non-native species and 1,852 native species from all major animal (5) \_\_\_\_\_.

**SubQuestion No : 16**

Q.16 Select the most appropriate option for blank(1)

- Ans
- 1. simulate
  - 2. flirt
  - 3. bargain
  - 4. respond

Question ID : 264330185947

Option 1 ID : 264330728091

Option 2 ID : 264330728089

Option 3 ID : 264330728090

Option 4 ID : 264330728088

Status : Answered

Chosen Option : 4

**Comprehension:**

Read the passage carefully and select the correct answer for the given blanks out of the four alternatives.

To better understand how native and non-native species (1) \_\_\_\_\_ to extreme weather events, the scientists behind the new study reanalysed information (2) \_\_\_\_\_ 443 peer-reviewed studies on how species responded to wildfires, droughts and (3) \_\_\_\_\_. In all, they (4) \_\_\_\_\_ data on 187 non-native species and 1,852 native species from all major animal (5) \_\_\_\_\_.

**SubQuestion No : 17**

Q.17 Select the most appropriate option for blank(2)

- Ans
- 1. with
  - 2. by
  - 3. below
  - 4. from

Question ID : 264330185948

Option 1 ID : 264330728095

Option 2 ID : 264330728094

Option 3 ID : 264330728092

Option 4 ID : 264330728093

Status : Answered

Chosen Option : 1

**Comprehension:**

Read the passage carefully and select the correct answer for the given blanks out of the four alternatives.

To better understand how native and non-native species (1) \_\_\_\_\_ to extreme weather events, the scientists behind the new study reanalysed information (2) \_\_\_\_\_ 443 peer-reviewed studies on how species responded to wildfires, droughts and (3) \_\_\_\_\_. In all, they (4) \_\_\_\_\_ data on 187 non-native species and 1,852 native species from all major animal (5) \_\_\_\_\_.

**SubQuestion No : 18**

**Q.18** Select the most appropriate option for blank(3)

- Ans**
- 1. accidents
  - 2. storms
  - 3. curses
  - 4. blasts

Question ID : 264330185949

Option 1 ID : 264330728099

Option 2 ID : 264330728098

Option 3 ID : 264330728097

Option 4 ID : 264330728096

Status : Answered

Chosen Option : 2

**Comprehension:**

Read the passage carefully and select the correct answer for the given blanks out of the four alternatives.

To better understand how native and non-native species (1) \_\_\_\_\_ to extreme weather events, the scientists behind the new study reanalysed information (2) \_\_\_\_\_ 443 peer-reviewed studies on how species responded to wildfires, droughts and (3) \_\_\_\_\_. In all, they (4) \_\_\_\_\_ data on 187 non-native species and 1,852 native species from all major animal (5) \_\_\_\_\_.

**SubQuestion No : 19**

**Q.19** Select the most appropriate option for blank(4)

- Ans**
- 1. mingled
  - 2. cooperated
  - 3. separated
  - 4. gathered

Question ID : 264330185950

Option 1 ID : 264330728103

Option 2 ID : 264330728102

Option 3 ID : 264330728101

Option 4 ID : 264330728100

Status : Answered

Chosen Option : 4

**Comprehension:**

Read the passage carefully and select the correct answer for the given blanks out of the four alternatives.

To better understand how native and non-native species (1) \_\_\_\_\_ to extreme weather events, the scientists behind the new study reanalysed information (2) \_\_\_\_\_ 443 peer-reviewed studies on how species responded to wildfires, droughts and (3) \_\_\_\_\_. In all, they (4) \_\_\_\_\_ data on 187 non-native species and 1,852 native species from all major animal (5) \_\_\_\_\_.

**SubQuestion No : 20**

**Q.20** Select the most appropriate option for blank(5)

- Ans
- 1. bands
  - 2. flock
  - 3. groups
  - 4. troupes

Question ID : 264330185951

Option 1 ID : 264330728105

Option 2 ID : 264330728107

Option 3 ID : 264330728106

Option 4 ID : 264330728104

Status : Answered

Chosen Option : 4

## Section : Part-D-Hindi

**Q.1** निम्नलिखित प्रश्न में, चार विकल्पों में से, उस विकल्प का चयन करें जो कोष्ठक में दिए गए शब्द के विलोम शब्द का सही विकल्प है।  
यदि आप (सकारात्मक) \_\_\_\_\_ सोच रखते हैं, तो यह आपके जीवन में काफी बुरा प्रभाव डालता है।

- Ans
- 1. खुश
  - 2. नकारात्मक
  - 3. सही
  - 4. वर्तमान

Question ID : 264330189534

Option 1 ID : 264330741825

Option 2 ID : 264330741822

Option 3 ID : 264330741823

Option 4 ID : 264330741824

Status : Not Answered

Chosen Option : --

Q.2 निम्नलिखित प्रश्न में, चार विकल्पों में से, उस विकल्प का चयन करें जो दिए गए मुहावरे का सही अर्थ वाला विकल्प है।  
आधा तीतर आधा बटेर

- Ans
- ✗ 1. कोई असर न होना
  - ✗ 2. दरिद्रता में भी आनंद मनाना
  - ✗ 3. कभी भी दिखाई न देना
  - ✓ 4. बेमेल तथा बेढंगा होना

Question ID : 264330189598  
Option 1 ID : 264330742067  
Option 2 ID : 264330742068  
Option 3 ID : 264330742066  
Option 4 ID : 264330742069  
Status : Not Answered  
Chosen Option : --

Q.3 निम्नलिखित प्रश्न में, दिए गए चार विकल्पों में से, उस विकल्प का चयन करें जो दिए गए मुहावरे के अर्थ को सर्वश्रेष्ठ रूप से व्यक्त करता है।

एक अनार सौ बीमार

- Ans
- ✗ 1. कई रोगियों की सेवा करने वाला एक नौकर
  - ✗ 2. समस्या को हल करने वाली एक युक्ति न सूझना
  - ✗ 3. आवश्यकता से बहुत कम साधन प्राप्त होना
  - ✓ 4. किसी एक वस्तु की प्राप्ति के लिए अनेक लोगों का प्रयत्न करना

Question ID : 264330190082  
Option 1 ID : 264330743913  
Option 2 ID : 264330743912  
Option 3 ID : 264330743911  
Option 4 ID : 264330743910  
Status : Not Answered  
Chosen Option : --

Q.4 दिए गए वाक्य में रेखांकित शब्दों के लिए सही शब्दों वाले विकल्प का चयन करें।

मैं मेरी कलम से लिखता हूँ।

- Ans
- ✗ 1. हम मेरी कलम से लिखता हूँ।
  - ✓ 2. मैं अपनी कलम से लिखता हूँ।
  - ✗ 3. मैं हमारी कलम से लिखता हूँ।
  - ✗ 4. परिवर्तन की आवश्यकता नहीं है।

Question ID : 264330188164  
Option 1 ID : 264330736573  
Option 2 ID : 264330736574  
Option 3 ID : 264330736572  
Option 4 ID : 264330736575  
Status : Not Answered  
Chosen Option : --



Q.5 निम्नलिखित प्रश्न में, चार विकल्पों में से, उस विकल्प का चयन करें जो रिक्त स्थान के लिए सही शब्द वाला विकल्प हो।

हमारे जीवन को चलाने के लिए भोजन एक \_\_\_\_\_ की भांति काम करता है।

- Ans
- 1. ट्रेन
  - 2. पेय
  - 3. ईंधन
  - 4. गाड़ी

Question ID : 264330188353

Option 1 ID : 264330737292

Option 2 ID : 264330737295

Option 3 ID : 264330737293

Option 4 ID : 264330737294

Status : Not Answered

Chosen Option : --

Q.6 निम्नलिखित प्रश्न में, चार विकल्पों में से, उस विकल्प का चयन करें जो कोष्ठक में दिए गए शब्द के तद्भव रूप का सही विकल्प है। हमारे बाग में माली ने फूलों की बहुत ही सुंदर (केदारिका) \_\_\_\_\_ बना रखी है।

- Ans
- 1. कलम
  - 2. प्रकार
  - 3. क्यारी
  - 4. खेती

Question ID : 264330189707

Option 1 ID : 264330742482

Option 2 ID : 264330742484

Option 3 ID : 264330742485

Option 4 ID : 264330742483

Status : Not Answered

Chosen Option : --

Q.7 दिए गए वाक्य में से निरर्थक शब्द ज्ञात कीजिए।

जाकर थोड़ी चाय-वाय बना लाओ।

- Ans
- 1. थोड़ी
  - 2. चाय-वाय
  - 3. बना
  - 4. जाकर

Question ID : 264330189120

Option 1 ID : 264330740246

Option 2 ID : 264330740249

Option 3 ID : 264330740247

Option 4 ID : 264330740248

Status : Not Answered

Chosen Option : --

Q.8 दिए गए वाक्य का वह भाग ज्ञात करें, जिसमें कोई त्रुटि है।

छात्रों ने मुख्य अतिथि को एक फूलों की माला पहनाई।

Ans

- ✗ 1. पहनाई।
- ✗ 2. मुख्य अतिथि को
- ✓ 3. एक फूलों की माला
- ✗ 4. छात्रों ने

Question ID : 264330189185

Option 1 ID : 264330740497

Option 2 ID : 264330740495

Option 3 ID : 264330740496

Option 4 ID : 264330740494

Status : Not Answered

Chosen Option : --

Q.9 दिए गए वाक्यांश के लिए सार्थक शब्द ज्ञात कीजिए।

जिसका मन कहीं अन्यत्र लगा हो

Ans

- ✗ 1. अयमनस्क
- ✗ 2. अन्यमनसक
- ✓ 3. अन्यमनस्क
- ✗ 4. अंमनस्क

Question ID : 264330189320

Option 1 ID : 264330741009

Option 2 ID : 264330741008

Option 3 ID : 264330741007

Option 4 ID : 264330741006

Status : Not Answered

Chosen Option : --

Q.10 निम्नलिखित वाक्य में, उस वाक्यांश को पहचानिए जिसमें मात्राओं से संबंधित अशुद्धियाँ हैं। यदि कोई गलती नहीं है तो 'कोई त्रुटि नहीं है' का चुनाव कीजिए।  
प्राचीनकाल से ही नारियाँ हमारे देश में पुरुषों के/ बराबर बैठती रहा हैं और समाज से निर्माण कार्यो को/ अपना योगदान देती रही हैं।

Ans

- ✓ 1. बराबर बैठती रहा हैं और समाज से निर्माण कार्यो को
- ✗ 2. अपना योगदान देती रही हैं
- ✗ 3. प्राचीनकाल से ही नारियाँ हमारे देश में पुरुषों के
- ✗ 4. कोई त्रुटि नहीं है

Question ID : 264330189874

Option 1 ID : 264330743119

Option 2 ID : 264330743120

Option 3 ID : 264330743118

Option 4 ID : 264330743121

Status : Not Answered

Chosen Option : --

**Q.11** निम्नलिखित वाक्य में, उस वाक्यांश को पहचानिए जिसमें मात्राओं से संबंधित अशुद्धियाँ हैं। यदि कोई गलती नहीं है तो 'कोई त्रुटि नहीं है' का चुनाव कीजिए।  
बोलने वाले के हावभाव और उसका सलीका, / उसकी प्रकृति और सांस्कृतिक-सामाजिक पृष्ठभूमि/ को पल भर में बता देते हैं।

- Ans**
- ✓ 1. उसकी प्रकृति और सांस्कृतिक-सामाजिक पृष्ठभूमि
  - ✗ 2. कोई त्रुटि नहीं है
  - ✗ 3. को पल भर में बता देते हैं
  - ✗ 4. बोलने वाले के हावभाव और उसका सलीका,

Question ID : **264330189831**  
 Option 1 ID : **264330742955**  
 Option 2 ID : **264330742957**  
 Option 3 ID : **264330742956**  
 Option 4 ID : **264330742954**  
 Status : **Not Answered**  
 Chosen Option : --

**Q.12** निम्नलिखित प्रश्न में, चार विकल्पों में से, उस विकल्प का चयन करें जो रिक्त स्थान के लिए सही भाववाचक संज्ञा वाला विकल्प हो।  
आज के समय में तकनीक की \_\_\_\_\_ बहुत ज्यादा है।

- Ans**
- ✓ 1. उपयोगिता
  - ✗ 2. उपयोग
  - ✗ 3. बातें
  - ✗ 4. समस्या

Question ID : **264330189877**  
 Option 1 ID : **264330743132**  
 Option 2 ID : **264330743130**  
 Option 3 ID : **264330743133**  
 Option 4 ID : **264330743131**  
 Status : **Not Answered**  
 Chosen Option : --

**Q.13** दिए गए वाक्य में रेखांकित शब्द का विलोम शब्द ज्ञात कीजिए।

उन्हें आध्यात्मिक ज्ञान है।

- Ans**
- ✓ 1. भौतिक
  - ✗ 2. अपकार
  - ✗ 3. गमन
  - ✗ 4. सौम्य

Question ID : **264330190016**  
 Option 1 ID : **264330743658**  
 Option 2 ID : **264330743660**  
 Option 3 ID : **264330743661**  
 Option 4 ID : **264330743659**  
 Status : **Not Answered**  
 Chosen Option : --

Q.14 दिए गए शब्द का पर्यायवाची ज्ञात कीजिए।

दिन

- Ans
- 1. आशय
  - 2. राक्षस
  - 3. दिवस
  - 4. गज

Question ID : 264330190035

Option 1 ID : 264330743732

Option 2 ID : 264330743731

Option 3 ID : 264330743730

Option 4 ID : 264330743733

Status : Not Answered

Chosen Option : --

Q.15 दिए गए वाक्य में उचित पर्यायवाची शब्द का चयन करके रिक्त स्थान की पूर्ति करें।

\_\_\_\_\_ (बादल) के बरसते ही मोर नाचने लगे।

- Ans
- 1. कन्या
  - 2. मयूर
  - 3. छल
  - 4. मेघ

Question ID : 264330189385

Option 1 ID : 264330741256

Option 2 ID : 264330741254

Option 3 ID : 264330741257

Option 4 ID : 264330741255

Status : Not Answered

Chosen Option : --

**Comprehension:**

नीचे दिए गये गद्यांश में कुछ शब्द छोड़ दिये गए हैं। प्रत्येक अनुच्छेद के सामने चार विकल्प दिए गए हैं। इस गद्यांश को ध्यानपूर्वक पढ़ें और चारों विकल्पों में से सर्वोत्तम विकल्प चुनें।

जल ही जीवन है और इससे ही हमारा जीवन चलता है पर क्या इसे कोई मानता है, नहीं। आज का जो समय है उस समय में पानी की एक-एक बूंद \_\_\_\_\_ आवश्यक है। यह भी सत्य है कि अगर आप पानी नहीं बचायेंगे तो आने वाली पीढ़ी एक एक बूंद को \_\_\_\_\_। जितनी तेजी से धरती पर जल स्तर घट रहा है उससे तो ऐसा ही लग रहा है। शुरूआत में जहाँ पृथ्वी पर काफी गहराई में पानी था तो आज ऐसी स्थिति है कि आज यहाँ 90 से 100 फुट पानी नीचे जा चुका है। जिस प्रकार से पानी की \_\_\_\_\_ होती है उससे यह सीख जरूर मिलती है कि पानी को आने वाले कल के लिए बचाना चाहिए। आज की पानी की बचत आने वाले समय के लिए जरूरी है। आज देखा जाये तो पानी ही जीवन का आधार है और अगर पानी को बचाना है तो इसका \_\_\_\_\_ जरूरी है। पानी की उपलब्धता भी काफी तेजी से घट रही है, और महामारी भी बढ़ रही है। पानी को बचाना हमारी राष्ट्रीय ज़िम्मेदारी है एवं यह मुद्दा अंतरराष्ट्रीय स्तर पर भी काफी तेजी से फैल रहा है। पानी के स्रोतों में कमी आ रही है। पानी को सुरक्षित रखना व इसे बचाना हमारी \_\_\_\_\_ ज़िम्मेदारी है।

**SubQuestion No : 16**

Q.16 आज का जो समय है उस समय में पानी की एक-एक बूंद \_\_\_\_\_ आवश्यक है।

- Ans
- 1. गँवाना
  - 2. घटाना
  - 3. बचाना
  - 4. गिराना

Question ID : 264330189902

Option 1 ID : 264330743222

Option 2 ID : 264330743224

Option 3 ID : 264330743225

Option 4 ID : 264330743223

Status : Not Answered

Chosen Option : --

**Comprehension:**

नीचे दिए गये गद्यांश में कुछ शब्द छोड़ दिये गए हैं। प्रत्येक अनुच्छेद के सामने चार विकल्प दिए गए हैं। इस गद्यांश को ध्यानपूर्वक पढ़ें और चारों विकल्पों में से सर्वोत्तम विकल्प चुनें।

जल ही जीवन है और इससे ही हमारा जीवन चलता है पर क्या इसे कोई मानता है, नहीं। आज का जो समय है उस समय में पानी की एक-एक बूंद \_\_\_\_\_ आवश्यक है। यह भी सत्य है कि अगर आप पानी नहीं बचायेंगे तो आने वाली पीढ़ी एक एक बूंद को \_\_\_\_\_। जितनी तेजी से धरती पर जल स्तर घट रहा है उससे तो ऐसा ही लग रहा है। शुरूआत में जहाँ पृथ्वी पर काफी गहराई में पानी था तो आज ऐसी स्थिति है कि आज यहाँ 90 से 100 फुट पानी नीचे जा चुका है। जिस प्रकार से पानी की \_\_\_\_\_ होती है उससे यह सीख जरूर मिलती है कि पानी को आने वाले कल के लिए बचाना चाहिए। आज की पानी की बचत आने वाले समय के लिए जरूरी है। आज देखा जाये तो पानी ही जीवन का आधार है और अगर पानी को बचाना है तो इसका \_\_\_\_\_ जरूरी है। पानी की उपलब्धता भी काफी तेजी से घट रही है, और महामारी भी बढ़ रही है। पानी को बचाना हमारी राष्ट्रीय ज़िम्मेदारी है एवं यह मुद्दा अंतरराष्ट्रीय स्तर पर भी काफी तेजी से फैल रहा है। पानी के स्रोतों में कमी आ रही है। पानी को सुरक्षित रखना व इसे बचाना हमारी \_\_\_\_\_ ज़िम्मेदारी है।

**SubQuestion No : 17**

Q.17 यह भी सत्य है कि अगर आप पानी नहीं बचायेंगे तो आने वाली पीढ़ी एक-एक बूंद को \_\_\_\_\_।

- Ans
- 1. मेहनत
  - 2. पीयेगी
  - 3. अभाव
  - 4. तरसेगी

Question ID : 264330189903

Option 1 ID : 264330743227

Option 2 ID : 264330743226

Option 3 ID : 264330743229

Option 4 ID : 264330743228

Status : Not Answered

Chosen Option : --

**Comprehension:**

नीचे दिए गये गद्यांश में कुछ शब्द छोड़ दिये गए हैं। प्रत्येक अनुच्छेद के सामने चार विकल्प दिए गए हैं। इस गद्यांश को ध्यानपूर्वक पढ़ें और चारों विकल्पों में से सर्वोत्तम विकल्प चुनें।

जल ही जीवन है और इससे ही हमारा जीवन चलता है पर क्या इसे कोई मानता है, नहीं। आज का जो समय है उस समय में पानी की एक-एक बूंद \_\_\_\_\_ आवश्यक है। यह भी सत्य है कि अगर आप पानी नहीं बचायेंगे तो आने वाली पीढ़ी एक एक बूंद को \_\_\_\_\_। जितनी तेजी से धरती पर जल स्तर घट रहा है उससे तो ऐसा ही लग रहा है। शुरूआत में जहाँ पृथ्वी पर काफी गहराई में पानी था तो आज ऐसी स्थिति है कि आज यहाँ 90 से 100 फुट पानी नीचे जा चुका है। जिस प्रकार से पानी की \_\_\_\_\_ होती है उससे यह सीख जरूर मिलती है कि पानी को आने वाले कल के लिए बचाना चाहिए। आज की पानी की बचत आने वाले समय के लिए जरूरी है। आज देखा जाये तो पानी ही जीवन का आधार है और अगर पानी को बचाना है तो इसका \_\_\_\_\_ जरूरी है। पानी की उपलब्धता भी काफी तेजी से घट रही है, और महामारी भी बढ़ रही है। पानी को बचाना हमारी राष्ट्रीय जिम्मेदारी है एवं यह मुद्दा अंतरराष्ट्रीय स्तर पर भी काफी तेजी से फैल रहा है। पानी के स्रोतों में कमी आ रही है। पानी को सुरक्षित रखना व इसे बचाना हमारी \_\_\_\_\_ जिम्मेदारी है।

**SubQuestion No : 18**

**Q.18** जिस प्रकार से पानी की \_\_\_\_\_ होती है उससे यह सीख जरूर मिलती है कि पानी को आने वाले कल के लिए बचाना चाहिए।

- Ans**
- 1. इंतज़ार
  - 2. आसानी
  - 3. बर्बादी
  - 4. आभास

Question ID : 264330189904

Option 1 ID : 264330743233

Option 2 ID : 264330743232

Option 3 ID : 264330743230

Option 4 ID : 264330743231

Status : Not Answered

Chosen Option : --

**Comprehension:**

नीचे दिए गये गद्यांश में कुछ शब्द छोड़ दिये गए हैं। प्रत्येक अनुच्छेद के सामने चार विकल्प दिए गए हैं। इस गद्यांश को ध्यानपूर्वक पढ़ें और चारों विकल्पों में से सर्वोत्तम विकल्प चुनें।

जल ही जीवन है और इससे ही हमारा जीवन चलता है पर क्या इसे कोई मानता है, नहीं। आज का जो समय है उस समय में पानी की एक-एक बूंद \_\_\_\_\_ आवश्यक है। यह भी सत्य है कि अगर आप पानी नहीं बचायेंगे तो आने वाली पीढ़ी एक एक बूंद को \_\_\_\_\_। जितनी तेजी से धरती पर जल स्तर घट रहा है उससे तो ऐसा ही लग रहा है। शुरूआत में जहाँ पृथ्वी पर काफी गहराई में पानी था तो आज ऐसी स्थिति है कि आज यहाँ 90 से 100 फुट पानी नीचे जा चुका है। जिस प्रकार से पानी की \_\_\_\_\_ होती है उससे यह सीख जरूर मिलती है कि पानी को आने वाले कल के लिए बचाना चाहिए। आज की पानी की बचत आने वाले समय के लिए जरूरी है। आज देखा जाये तो पानी ही जीवन का आधार है और अगर पानी को बचाना है तो इसका \_\_\_\_\_ जरूरी है। पानी की उपलब्धता भी काफी तेजी से घट रही है, और महामारी भी बढ़ रही है। पानी को बचाना हमारी राष्ट्रीय जिम्मेदारी है एवं यह मुद्दा अंतरराष्ट्रीय स्तर पर भी काफी तेजी से फैल रहा है। पानी के स्रोतों में कमी आ रही है। पानी को सुरक्षित रखना व इसे बचाना हमारी \_\_\_\_\_ जिम्मेदारी है।

**SubQuestion No : 19**

**Q.19** आज देखा जाये तो पानी ही जीवन का आधार है और अगर पानी को बचाना है तो इसका \_\_\_\_\_ जरूरी है।

- Ans**
- 1. फायदा
  - 2. समझ
  - 3. संरक्षण
  - 4. प्रतीक्षा

Question ID : 264330189905

Option 1 ID : 264330743235

Option 2 ID : 264330743236

Option 3 ID : 264330743237

Option 4 ID : 264330743234

Status : Not Answered

Chosen Option : --

**Comprehension:**

नीचे दिए गये गद्यांश में कुछ शब्द छोड़ दिये गए हैं। प्रत्येक अनुच्छेद के सामने चार विकल्प दिए गए हैं। इस गद्यांश को ध्यानपूर्वक पढ़ें और चारों विकल्पों में से सर्वोत्तम विकल्प चुनें।

जल ही जीवन है और इससे ही हमारा जीवन चलता है पर क्या इसे कोई मानता है, नहीं। आज का जो समय है उस समय में पानी की एक-एक बूंद \_\_\_\_\_ आवश्यक है। यह भी सत्य है कि अगर आप पानी नहीं बचायेंगे तो आने वाली पीढ़ी एक एक बूंद को \_\_\_\_\_। जितनी तेजी से धरती पर जल स्तर घट रहा है उससे तो ऐसा ही लग रहा है। शुरूआत में जहाँ पृथ्वी पर काफी गहराई में पानी था तो आज ऐसी स्थिति है कि आज यहाँ 90 से 100 फुट पानी नीचे जा चुका है। जिस प्रकार से पानी की \_\_\_\_\_ होती है उससे यह सीख जरूर मिलती है कि पानी को आने वाले कल के लिए बचाना चाहिए। आज की पानी की बचत आने वाले समय के लिए जरूरी है। आज देखा जाये तो पानी ही जीवन का आधार है और अगर पानी को बचाना है तो इसका \_\_\_\_\_ जरूरी है। पानी की उपलब्धता भी काफी तेजी से घट रही है, और महामारी भी बढ़ रही है। पानी को बचाना हमारी राष्ट्रीय ज़िम्मेदारी है एवं यह मुद्दा अंतरराष्ट्रीय स्तर पर भी काफी तेजी से फैल रहा है। पानी के स्रोतों में कमी आ रही है। पानी को सुरक्षित रखना व इसे बचाना हमारी \_\_\_\_\_ ज़िम्मेदारी है।

**SubQuestion No : 20**

Q.20 पानी को सुरक्षित रखना व इसे बचाना हमारी \_\_\_\_\_ ज़िम्मेदारी है।

- Ans
- 1. जैविक
  - 2. नैतिक
  - 3. भारतीय
  - 4. आर्थिक

Question ID : 264330189906

Option 1 ID : 264330743241

Option 2 ID : 264330743239

Option 3 ID : 264330743240

Option 4 ID : 264330743238

Status : Not Answered

Chosen Option : --