

Constable GD in Central Armed Police Forces CAPFs SSF Rifleman GD in Assam Rifles Examination 2024

Exam Date	21/02/2024
Exam Time	11:30 AM - 12:30 PM
Subject	Constable GD Examination 2024

Section : Part-A-General Intelligence and Reasoning

Q.1 खालील प्रश्नात, दिलेल्या मालिकेतील गहाळ संख्या निवडा.

22, 12, 13, 20.5, 42, ?

- Ans
- 1. 118
 - 2. 110
 - 3. 111
 - 4. 106

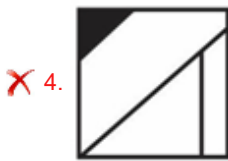
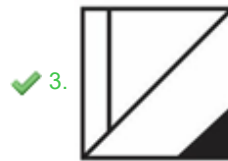
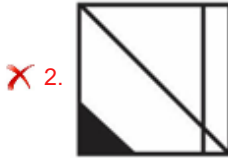
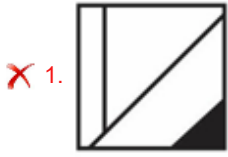
Q.2 दिलेल्या मालिकेतील प्रश्नचिन्हाच्या (?) जागी कोणते अक्षर येऊ शकेल?

?, Y, V, S, P, M

- Ans
- 1. A
 - 2. C
 - 3. Z
 - 4. B



Ans



Q.4 दिलेल्या पर्यायांमधून दिलेल्या प्रश्नाशी संबंधित अक्षरे निवडा.

FXVI : EWXH :: GLNB : ?

- Ans
- ✗ 1. XAPD
 - ✗ 2. XAQD
 - ✗ 3. DMLU
 - ✓ 4. FKMA

Q.5 जर $16A + 13B + 6C + 9 = 85$ असेल आणि $15A + 20B + 7C + 30 = 125$, असेल, तर $10A + 15B + 6C + 20 = ?$

- Ans
- ✗ 1. 90
 - ✗ 2. 98
 - ✗ 3. 95
 - ✓ 4. 80

Q.6. A, B, C, D आणि E अशा पाच व्यक्ती एका वर्तुळाकार टेबलाभोवती केंद्राकडे तोंड करून बसल्या आहेत (त्याच क्रमाने बसल्या आहेत असे आवश्यक नाही). C आणि D यांच्यामध्ये केवळ एकच व्यक्ती बसली आहे (जेव्हा केवळ एका बाजूने गणना केली जाते). B ही D च्या डावीकडे दुसऱ्या स्थानावर बसली आहे. A ही B च्या लगतच उजवीकडे बसली आहे. तर B च्या लगतच डावीकडे कोण बसले आहे?

- Ans
- 1. A
 - 2. E
 - 3. D
 - 4. C

Q.7 पुढील प्रश्नात दिलेल्या मालिकेतून गहाळ असणारी संख्या निवडा.

41, 63, 85, 107, 129, ?

- Ans
- 1. 154
 - 2. 150
 - 3. 151
 - 4. 170

Q.8 एका विशिष्ट सांकेतिक भाषेत, DEFINITE ला 'FITEDENI' असे, BUFFALOW ला 'FFOWBUAL' असे संकेतबद्ध केले जाते. तर त्याच सांकेतिक भाषेत ATTACHED साठी कोणता संकेत असेल?

- Ans
- 1. TAEADTCH
 - 2. TAEDATHC
 - 3. TAEDATCH
 - 4. TEADATCH

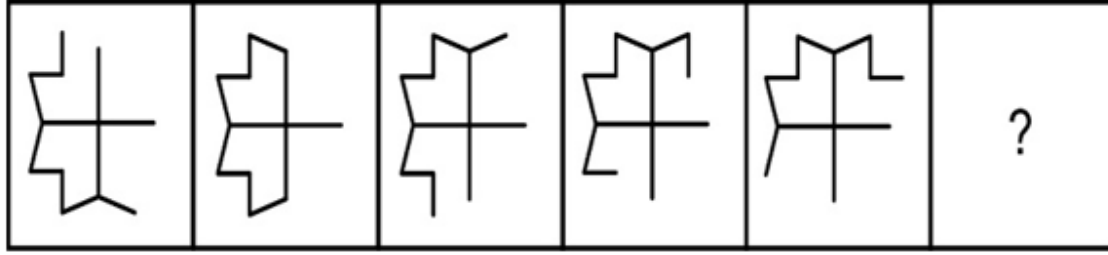
Q.9 खालीलपैकी कोणता अक्षरांचा गट, डावीकडून उजवीकडे क्रमवार ठेवल्यास दिलेली मालिका पूर्ण होईल?

b_ccddeeffbbccddeeffbbccddeef_bbccdde_f_

- Ans
- 1. eeff
 - 2. bfef
 - 3. fefe
 - 4. befef

Q.10 एका विशिष्ट सांकेतिक भाषेत, 'TIME' ला '43' असे, 'WHEN' ला '46' असे संकेतबद्ध केले जाते. तर त्याच सांकेतिक भाषेत 'TURN' साठी कोणता संकेत असेल?

- Ans
- 1. 73
 - 2. 64
 - 3. 69
 - 4. 67



Ans

✗ 1.



✗ 2.



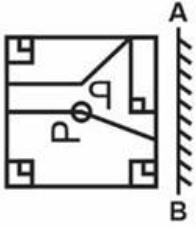
✓ 3.



✗ 4.

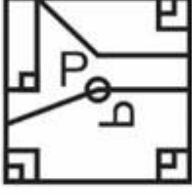


Q.12 **Prepp** लेव्हेर आरसा ठेवल्यास, दिलेल्या पर्यायांतील आकृत्यांपैकी कोणती आकृती प्रश्नातील आकृतीची आरशातील योग्य प्रतिमा असेल?

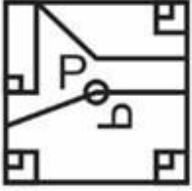


Ans

✗ 1.



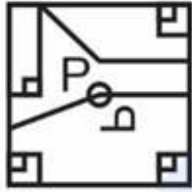
✗ 2.



✗ 3.



✓ 4.



Q.13 दिलेल्या दोन संख्यांची अदलाबदल केल्यास, पुढीलपैकी कोणते समीकरण संतुलित होणार नाही?

3 आणि 8

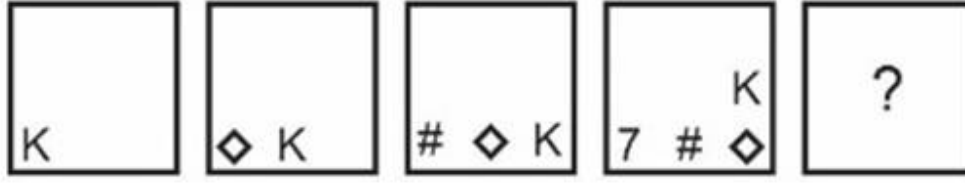
✗ 1. $8 + 4 \times 3 - 6 = 29$

✗ 2. $8 \times 2 - 3 \div 1 = -2$

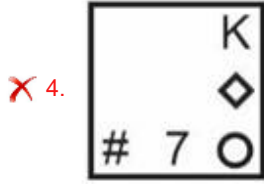
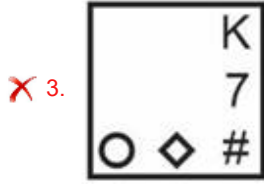
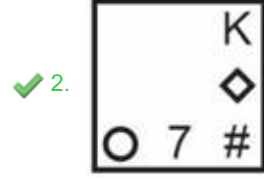
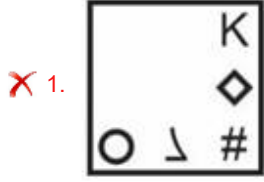
✗ 3. $9 + 8 - 3 \times 1 = 4$

✓ 4. $3 - 8 + 6 = 12$

Q.14 पुढील प्रश्नात दिलेल्या पर्यायांमधून प्रश्नचिन्हाच्या (?) जागा येऊ शकणारी आकृती निवडा.



Ans



Q.15 पुढील प्रश्नात काही विधाने आणि त्या विधानांवर आधारित निष्कर्ष दिलेले आहेत. दिलेली विधाने सामान्यपणे ज्ञात असणाऱ्या तथ्यांपेक्षा भिन्न असली तरीही सत्य आहेत असे माना. सर्व विधाने वाचा आणि कोणता/ते निष्कर्ष दिलेल्या विधानांशी तर्कसंगत आहे हे ठरवा.

विधाने:

- I. सर्व L हे V आहेत.
- II. एकही L हा J नाही.

निष्कर्ष:

- I. सर्व V हे L आहेत.
- II. सर्व J हे V आहेत.

Ans

- ✗ 1. केवळ निष्कर्ष II तर्कसंगत आहे.
- ✗ 2. केवळ निष्कर्ष I तर्कसंगत आहे.
- ✓ 3. एकही निष्कर्ष तर्कसंगत नाही.
- ✗ 4. I आणि II हे दोन्हीही निष्कर्ष तर्कसंगत आहेत.

Q × R' म्हणजे 'Q ही R ची पत्नी आहे'

'Q + R' म्हणजे 'Q हे R चे पती आहेत'

'Q ÷ R' म्हणजे 'Q ही R ची मुलगी आहे'

'Q - R' म्हणजे 'Q ही R ची आई आहे'

तर 'W ÷ E + F - G' या समीकरणात W चे G शी काय नाते आहे?

Ans

✗ 1. मुलगी

✓ 2. बहिण

✗ 3. आई

✗ 4. पत्नी

Q.17

इंग्रजी शब्दकोशातील क्रमानुसार दिलेल्या शब्दांची मांडणी करा.

1. Line

2. Linament

3. Linger

4. Linear

5. Linguist

Ans

✗ 1. 1,2,4,3,5

✗ 2. 1,2,3,4,5

✗ 3. 2,1,3,4,5

✓ 4. 2,1,4,3,5

ज्याप्रमाणे आकृतीत प्रश्न आकृती दडलेली/अंतर्निहित आहे, अशी आकृती दिलेल्या पर्याय आकृत्यांमधून निवडा. (उभे-आडवे फिरवणे अभिप्रेत नाही)

D

Ans

X 1.



X 2.



✓ 3.



X 4.



Q.19

A, B, C, D, E, F, G आणि H हे चार मुलगे एका रांगेत दक्षिणेकडे तोंड करून बसले आहेत (त्याच क्रमाने बसले असतील असे आवश्यक नाही). A आणि H हे रांगेच्या टोकांना बसले आहेत. E आणि F हे B चे लगतचे शेजारी आहेत. C हा B च्या डावीकडे चौथ्या स्थानी बसला आहे. F हा A च्या लगतच डावीकडे आहे. D हा C चा लगतचा शेजारी नाही. तर E च्या लगतच उजवीकडे कोण बसले आहे?

Ans

X 1. F

X 2. D

X 3. G

✓ 4. B

Q.20

ज्याप्रमाणे चौथा शब्द तिसऱ्या शब्दाशी संबंधित आहे, आणि दुसरा शब्द पहिल्या शब्दाशी संबंधित आहे, त्याचप्रमाणे पाचव्या शब्दाशी संबंधित असलेला पर्याय निवडा.

बंगळूर : बगीचांचे शहर :: श्रीनगर : तलावांचे शहर :: कोलकाता : ?

Ans

✓ 1. आनंदाचे शहर

X 2. मंदिरांचे शहर

X 3. फुलांचे शहर

X 4. पर्वतांचे शहर

- Q.1
- Ans
- ✗ 1. जागतिक बँक
 - ✗ 2. ब्रिक्स (BRICS)
 - ✓ 3. संयुक्त राष्ट्र
 - ✗ 4. शांघाय सहकार्य संघटना

Q.2 खालीलपैकी कोणते युद्ध/लढाई मंगल पांडे यांच्या फाशीशी संबंधित आहे?

- Ans
- ✓ 1. 1857 चा भारतीय उठाव
 - ✗ 2. पहिले अँग्लो-बर्मीज युद्ध
 - ✗ 3. दुसरे अँग्लो-मराठा युद्ध
 - ✗ 4. प्लासीची लढाई

Q.3 भरतनाट्यम नृत्यशैलीतील योगदानासाठी खालीलपैकी कोणाला संगीत नाटक अकादमीद्वारे पुरस्कार देण्यात आला?

- Ans
- ✗ 1. सुरुबा सेन
 - ✓ 2. राधा श्रीधर
 - ✗ 3. मौलिक शाह
 - ✗ 4. अखाम लक्ष्मी देवी

Q.4 _____ हा क्रिकेटमधील एक शॉट आहे, ज्यामध्ये फलंदाज बॅट उभी स्विंग (Swings the bat Vertically) करतो आणि चेंडू जमिनीला लागतच राहिल अशाप्रकारे मारतो. चेंडू कव्हर आणि मिड-ऑफच्या मध्ये मारला जातो.

- Ans
- ✗ 1. फ्रंट फूट डिफेन्स (Front Foot Defense)
 - ✗ 2. स्ट्रेट ड्राइव्ह (Straight Drive)
 - ✓ 3. ऑफ ड्राइव्ह (Off drive)
 - ✗ 4. ऑन ड्राइव्ह (On Drive)

Q.5 रणजित सिंग सुवर्ण चषक (Ranjit Singh Gold Cup) खालीलपैकी कोणत्या खेळाशी संबंधित आहे?

- Ans
- ✓ 1. हॉकी
 - ✗ 2. क्रिकेट
 - ✗ 3. कबड्डी
 - ✗ 4. पोलो

- Ans
- 1. तक्षशिला
 - 2. उज्जयिनी
 - 3. पाटलीपुत्र
 - 4. सुवर्णगिरी

Q.7 दुसऱ्या पंचवार्षिक योजनेत जलद औद्योगिकीकरण आणि सार्वजनिक क्षेत्रावर भर देण्यात आला. _____ यांच्या नेतृत्वाखाली त्याचा मसुदा तयार करण्यात आला आणि त्याचे नियोजन करण्यात आले.

- Ans
- 1. के.व्ही. सुंदरम
 - 2. पी. सी. महालनोबिस
 - 3. सुब्रमण्यम स्वामी
 - 4. सी. राजगोपालाचारी

Q.8 कोणती नृत्य शैली भगवान कृष्ण आणि त्याची राणी सत्यभामा यांच्या 'भामाकलापम' कथेशी संबंधित आहे?

- Ans
- 1. ओडिसी
 - 2. कथक
 - 3. कुचिपुडी
 - 4. भरतनाट्यम

Q.9 बेरियम हायड्रॉक्साईडचे रासायनिक सूत्र काय आहे?

- Ans
- 1. Ba(OH)₃
 - 2. BaOH
 - 3. Ba(OH)₂
 - 4. Ba₂OH

Q.10 राज्यसभेची कमाल सदस्यसंख्या खालीलपैकी कोणती आहे?

- Ans
- 1. 450
 - 2. 350
 - 3. 250
 - 4. 150

Q.11 जागतिक बँकेच्या मते, 2011 ते 2019 या कालावधीत भारतातील आत्यंतिक गरिबी (extreme poverty) किती प्रमाणात कमी झाली आहे?

- Ans
- 1. 15.3%
 - 2. 14.3%
 - 3. 12.3%
 - 4. 13.3%

भूषविणाऱ्या पहिल्या दक्षिण आशियाई महिला ठरल्या आहेत.

- Ans
- 1. पॅरिस
 - 2. व्हॅंकूवर
 - 3. न्युयॉर्क
 - 4. ओटावा

Q.13 फिफा (FIFA) विश्वचषक 2022 चे यजमानपद कोणत्या देशाकडे होते?

- Ans
- 1. कतार
 - 2. सौदी अरेबिया
 - 3. जर्मनी
 - 4. ब्राझील

Q.14 बोहाग बिहू यास _____ म्हणूनही ओळखले जाते.

- Ans
- 1. रंगाली बिहू (Rangali Bihu)
 - 2. कोंगाली बिहू (Kongali Bihu)
 - 3. माघ बिहू (Magh Bihu)
 - 4. कटी बिहू (Kati Bihu)

Q.15 जानेवारी 2023 मध्ये कोणत्या राज्य शासनाने राज्यातील रहिवासी महिलांना शासकीय नोकऱ्यांमध्ये 30 टक्के क्षैतिज (horizontal) आरक्षण देणारा कायदा मंजूर केला आहे?

- Ans
- 1. हिमाचल प्रदेश
 - 2. उत्तर प्रदेश
 - 3. बिहार
 - 4. उत्तराखंड

Q.16 FIFA विश्वचषक, 2022 कोणत्या देशाने जिंकला?

- Ans
- 1. क्रोएशिया
 - 2. अर्जेन्टिना
 - 3. फ्रान्स
 - 4. जर्मनी

- Ans
- 1. राष्ट्रीय किंवा स्थानिक कोणत्याही आणीबाणीच्या काळात
 - 2. शांततेच्या काळात
 - 3. मूलभूत हक्क कोणत्याही परिस्थितीत निलंबित केले जाऊ शकत नाहीत
 - 4. युद्ध किंवा बाहेरील आक्रमण सारख्या बाह्य आणीबाणीच्या वेळी

Q.18 "मेक इन इंडिया" ची सुरुवात 25 सप्टेंबर _____ पासून झाली.

- Ans
- 1. 2011
 - 2. 2014
 - 3. 2015
 - 4. 2016

Q.19 अंकिता रैना खालीलपैकी कोणता खेळ खेळते?

- Ans
- 1. बॅडमिंटन
 - 2. क्रिकेट
 - 3. फुटबॉल
 - 4. लॉन टेनिस

Q.20 विनिमय माध्यम म्हणून कार्य करणे ही _____ प्रथम आणि प्रमुख भूमिका आहे.

- Ans
- 1. नियोजनाची
 - 2. उत्पादाची
 - 3. अर्थसंकल्पाची
 - 4. पैश्याची

Section : Part-C-Elementary Mathematics

Q.1 जर A चे $\frac{4}{5}$ हे B च्या $\frac{2}{5}$ इतके असतील, तर A:B चे मूल्य शोधा.

- Ans
- 1. 2: 1
 - 2. 1: 2
 - 3. 3: 4
 - 4. 2: 3

Q.2. बिंदू P बिंदू पासून 12 km/hr या वेगाने चालतो. त्याने चालायला सुरुवात केल्यानंतर 6 तासांनी Y नेही त्याच P बिंदू पासून त्याच्या सायकलीवरून 16 km/hr या वेगाने यायला सुरुवात केली. तर P बिंदू पासून सुरुवात केल्यानंतर Y हा X ला किती अंतरावर गाठेल?

- Ans
- ✓ 1. 288 km
 - ✗ 2. 224 km
 - ✗ 3. 324 km
 - ✗ 4. 256 km

Q.3 खालीलपैकी कोणत्या संख्येला 11 ने निःशेष भाग जाणार नाही?

- Ans
- ✗ 1. 2563
 - ✗ 2. 2651
 - ✗ 3. 2728
 - ✓ 4. 2763

Q.4 $4400 - (3200 \div 16) + 32 \times 4$ चे मूल्य किती असेल?

- Ans
- ✗ 1. 4068
 - ✗ 2. 4164
 - ✗ 3. 3924
 - ✓ 4. 4328

Q.5 A ला प्रथम 20 टक्क्यांनी वाढवले आणि नंतर त्यास 30 टक्क्यांनी कमी केले. तर A चे अंतिम मूल्य हे A च्या सुरुवातीच्या मूल्याच्या किती टक्के आहे?

- Ans
- ✓ 1. 84 टक्के
 - ✗ 2. 94 टक्के
 - ✗ 3. 74 टक्के
 - ✗ 4. 156 टक्के

Q.6 A एक काम 7 तासांत पूर्ण करू शकतो, B व C तेच काम $2\frac{1}{4}$ तासांत पूर्ण करू शकतात, आणि C व A तेच काम $7\frac{1}{2}$ तासांत पूर्ण करू शकतात. तर B ला तेच काम एकट्याने पूर्ण करण्यास किती वेळ लागेल?

- Ans
- ✗ 1. 24 तास
 - ✗ 2. 20 तास
 - ✓ 3. 21 तास
 - ✗ 4. 22 तास

Q.7 छापील किंमतीच्या $\frac{5}{12}$ ने पुस्तक विकल्यास 50 टक्के तोटा होतो. तर पुस्तकाची छापील किंमत आणि खरेदी किंमत यांचे गुणोत्तर किती असेल?

- Ans
- ✗ 1. 5 : 6
 - ✗ 2. 2 : 5
 - ✗ 3. 3 : 8
 - ✓ 4. 6 : 5

Q.8 30, 120 आणि 15 यांचे चौथे प्रमाणपद शोधा.

- Ans
- 1. 90
 - 2. 100
 - 3. 120
 - 4. 60

Q.9 एक टेबल ₹ 11,480 ला विकल्यास 18% चा तोटा होतो. तर तोच टेबल ₹ 15,540 ला विकल्यास होणाऱ्या तोट्याची किंवा नफ्याची टक्केवारी काढा.

- Ans
- 1. 12% तोटा
 - 2. 11% नफा
 - 3. 12% नफा
 - 4. 10% तोटा

Q.10 $42 + 43 - 6 \text{ of } 4 \times (45 \div (7 - 2))$ चे मूल्य किती आहे?

- Ans
- 1. -111
 - 2. -131
 - 3. -141
 - 4. -121

Q.11 जॉनने वार्षिक 5% सरळव्याज मिळणाऱ्या एका बँक खात्यात \$1000 ठेव म्हणून जमा केले. तर 2 वर्षांनंतर त्याला किती व्याज मिळेल?

- Ans
- 1. \$110
 - 2. \$115
 - 3. \$120
 - 4. \$100

Q.12 दोन संख्या अशाप्रकारे आहेत की त्यातील पहिली संख्या दुसऱ्या संख्येच्या अर्धी आहे. जर त्या संख्यांची सरासरी 15 असेल, तर त्यातील पहिली संख्या कोणती असेल?

- Ans
- 1. 8
 - 2. 12
 - 3. 14
 - 4. 10

Q.13 Rs. 22000 वर 2 वर्षांसाठी मिळणारे चक्रवाढ व्याज (चक्रवाढ व्याजाच्या अर्धवार्षिक गणनेने) हे Rs. 10210.2 इतके आहे. तर वार्षिक व्याजदर किती असेल?

- Ans
- 1. 40 टक्के
 - 2. 25 टक्के
 - 3. 30 टक्के
 - 4. 20 टक्के

Q.14 $420 + 64 \div 8 - 3 \times 2$ चे मूल्य किती असेल?

- Ans
- 1. 420
 - 2. 416
 - 3. 422
 - 4. 424

Q.15 जर 5 शर्टांची खरेदी किंमत ही 3 शर्टांच्या विक्री किंमतीइतकी असेल, तर नफ्याची टक्केवारी शोधा.

- Ans
- 1. 63.33% नफा
 - 2. 66.66% नफा
 - 3. 55.33% नफा
 - 4. 33.66% नफा

Q.16 4 संख्यांची सरासरी 24 आहे. पहिल्या 2 संख्यांची सरासरी ही शेवटच्या 2 संख्यांच्या सरासरीच्या दुप्पट आहे. तर शेवटच्या 2 संख्यांची बेरीज किती आहे?

- Ans
- 1. 56
 - 2. 72
 - 3. 48
 - 4. 32

Q.17 A आणि B एक काम $14/3$ दिवसांत करू शकतात तर B आणि C हे तेच काम $12/5$ दिवसांत करू शकतात आणि C आणि A हे तेच काम $16/3$ दिवसांत करू शकतात. एकत्रितपणे काम केल्यास, ते तिघे 2 दिवसांत त्याच कामाचा किती भाग पूर्ण करू शकतात?

- Ans
- 1. 225/336
 - 2. 277/336
 - 3. 127/336
 - 4. 275/336

Q.18 जर U ला V पेक्षा 5 टक्के अधिक गुण मिळाले असतील, तर V चे गुण U च्या गुणांपेक्षा किती टक्क्यांनी कमी असतील?

- Ans
- 1. 4.7 टक्के
 - 2. 5.7 टक्के
 - 3. 3.7 टक्के
 - 4. 2.7 टक्के

Q.19 एका वस्तूची छापील किंमत आणि विक्री किंमत अनुक्रमे Rs. 6600 आणि Rs. 4752 आहे. तर किती टक्के सवलत देण्यात आली?

- Ans
- 1. 25 टक्के
 - 2. 34 टक्के
 - 3. 28 टक्के
 - 4. 32 टक्के

Q.20 एका घनाच्या बाजूची लांबी 14 cm आहे. तर घनाचे पार्श्व पृष्ठफळ किती असेल?

- Ans
- 1. 512 cm²
 - 2. 784 cm²
 - 3. 856 cm²
 - 4. 624 cm²

Section : Part-D-English

Q.1 Improve the underlined part of the sentence. Choose 'No improvement' as an answer if the sentence is grammatically correct.

The cakes was for her birthday.

- Ans
- 1. cake are for
 - 2. cake is for
 - 3. No improvement
 - 4. cakes is for

Q.2 Choose the word that is opposite in meaning to the given word.

Advantages

- Ans
- 1. Adjourns
 - 2. Refuges
 - 3. Minuses
 - 4. Boons

Q.3 Select the incorrectly spelt word from the given sentence.

Retail outlets are closing down, so the customers are left with no other choise but to make online purchase.

- Ans
- 1. purchase
 - 2. customers
 - 3. Retail
 - 4. choise

Q.4 Select the most appropriate option for the given blank.

The team _____ children on proper safety procedures.

- Ans
- 1. education
 - 2. educated
 - 3. educate
 - 4. educating

Q.5 Select the sentence with no spelling errors.

- Ans
- 1. When placed on the column, each ring slid down to its correct position, if possible.
 - 2. When placed on the column, each ring slid down to its correct position, if posible.
 - 3. When placed on the column, each ring slid down to its corect position, if possible.
 - 4. When placed on the colum, each ring slid down to its correct position, if possible.

Q.6 Improve the underlined part of the sentence. Choose 'No improvement' as an answer if the sentence is grammatically correct.

I want to loose weight, yet I eat chocolate daily.

- Ans
- 1. No improvement
 - 2. lose weightd
 - 3. lose weight
 - 4. lost weights

Q.7 Choose the most appropriate antonym of the underlined word.

For twenty years you hold an innocent and virtuous woman under an infamous suspicion.

- Ans
- 1. Moral
 - 2. Unethical
 - 3. Blameless
 - 4. Righteous

Q.8 Select the most appropriate option for the given blank.

I don't know why he _____ suicide despite being born into such a wonderful family.

- Ans
- 1. obligated
 - 2. committed
 - 3. pledged
 - 4. executed

Q.9 Select the incorrectly spelt word from the given sentence.

And with modern technology, it would be possible to distribute lesure justly without injury to civilization.

- Ans
- 1. Possible
 - 2. Technology
 - 3. Distribute
 - 4. Lesure

I feel they are **watching me too closely and making me feel uncomfortable** in the new college.

- Ans
- 1. Breathing down one's neck
 - 2. In the dark
 - 3. Break a leg
 - 4. Run out of steam

Q.11 Select the most appropriate meaning of the given idiom.

Shot in the arm.

- Ans
- 1. To take a chance.
 - 2. Something that lifts your spirit.
 - 3. To hit someone.
 - 4. To reveal what you really think.

Q.12 Identify the segment that contains a grammatical error. If there is no error, select 'No error'.

You could see / they were being careful as hell / not to drink up the minimum fastest.

- Ans
- 1. You could see
 - 2. not to drink up the minimum fastest.
 - 3. they were being careful as hell
 - 4. No error

Q.13 Find the part of the given sentence that has an error in it. If there is no error, choose 'No error'.

Each and every one of them want to discuss the post production amount.

- Ans
- 1. them want to discuss
 - 2. Each and every one of
 - 3. No error
 - 4. the post production amount.

Q.14 Improve the underlined part of the sentence. Choose 'No improvement' as an answer if the sentence is grammatically correct.

He had chop the onions on the cutting board.

- Ans
- 1. chopping an
 - 2. No improvement
 - 3. chopped the
 - 4. chop the

Q.15 Identify the segment that contains a grammatical error. If there is no error, select 'No error'.

In the afternoon we walk in the Parks; / and I wondered who shod all the horses there, / and wished Joe did.

- Ans
- 1. and wished Joe did.
 - 2. In the afternoon we walk in the Parks;
 - 3. No error
 - 4. and I wondered who shod all the horses there,

Comprehension:

Read the passage carefully and select the correct answer for the given blanks out of the four alternatives.

Several lines of geological evidence (1)_____ that an asteroid that was as much as 10 kilometers (6 miles) in diameter hit the Earth at the end of the Cretaceous (2)_____. This evidence includes an ancient impact crater in the Yucatan Peninsula of Mexico that dates (3)_____ the time of the extinction. The impact would have produced an enormous dust cloud that would have (4)_____ into the atmosphere and (5)_____ the planet.

SubQuestion No : 16

Q.16 Select the most appropriate option for blank(1)

- Ans
- 1. indicate
 - 2. sign
 - 3. prevaricate
 - 4. intimate

Comprehension:

Read the passage carefully and select the correct answer for the given blanks out of the four alternatives.

Several lines of geological evidence (1)_____ that an asteroid that was as much as 10 kilometers (6 miles) in diameter hit the Earth at the end of the Cretaceous (2)_____. This evidence includes an ancient impact crater in the Yucatan Peninsula of Mexico that dates (3)_____ the time of the extinction. The impact would have produced an enormous dust cloud that would have (4)_____ into the atmosphere and (5)_____ the planet.

SubQuestion No : 17

Q.17 Select the most appropriate option for blank(2)

- Ans
- 1. spell
 - 2. period
 - 3. span
 - 4. space

Read the passage carefully and select the correct answer for the given blanks out of the four alternatives.

Several lines of geological evidence (1)_____ that an asteroid that was as much as 10 kilometers (6 miles) in diameter hit the Earth at the end of the Cretaceous (2)_____. This evidence includes an ancient impact crater in the Yucatan Peninsula of Mexico that dates (3)_____ the time of the extinction. The impact would have produced an enormous dust cloud that would have (4)_____ into the atmosphere and (5)_____ the planet.

SubQuestion No : 18

Q.18 Select the most appropriate option for blank(3)

- Ans
- 1. to
 - 2. in
 - 3. of
 - 4. for

Comprehension:

Read the passage carefully and select the correct answer for the given blanks out of the four alternatives.

Several lines of geological evidence (1)_____ that an asteroid that was as much as 10 kilometers (6 miles) in diameter hit the Earth at the end of the Cretaceous (2)_____. This evidence includes an ancient impact crater in the Yucatan Peninsula of Mexico that dates (3)_____ the time of the extinction. The impact would have produced an enormous dust cloud that would have (4)_____ into the atmosphere and (5)_____ the planet.

SubQuestion No : 19

Q.19 Select the most appropriate option for blank(4)

- Ans
- 1. raise in
 - 2. rise in
 - 3. risen up
 - 4. raised up

Comprehension:

Read the passage carefully and select the correct answer for the given blanks out of the four alternatives.

Several lines of geological evidence (1)_____ that an asteroid that was as much as 10 kilometers (6 miles) in diameter hit the Earth at the end of the Cretaceous (2)_____. This evidence includes an ancient impact crater in the Yucatan Peninsula of Mexico that dates (3)_____ the time of the extinction. The impact would have produced an enormous dust cloud that would have (4)_____ into the atmosphere and (5)_____ the planet.

SubQuestion No : 20

Q.20 Select the most appropriate option for blank(5)

- Ans
- 1. fenced
 - 2. captured
 - 3. walled
 - 4. encircled

Q.1 निम्नलिखित प्रश्न में, दिए गए चार विकल्पों में से, उस विकल्प का चयन करें जो दिए गए मुहावरे के अर्थ को सर्वश्रेष्ठ रूप से व्यक्त करता है।

अंधे के हाथों बटेर लगना

- Ans
- ✗ 1. अचानक से अपार संपत्ति मिलना
 - ✓ 2. संयोग से अयोग्य व्यक्ति को सफलता मिलना
 - ✗ 3. अकेले व्यक्ति द्वारा कोई बड़ा काम करना
 - ✗ 4. अचानक समस्या की युक्ति मिलना

Q.2 निम्नलिखित वाक्य में, उस वाक्यांश को पहचानिए जिसमें मात्राओं से संबंधित अशुद्धियाँ हैं। यदि कोई गलती नहीं है तो 'कोई त्रुटि नहीं है' का चुनाव कीजिए।
शिक्षित व्यक्ति सही और गलत में फर्क/ को पहचान कर समाज की बेहतरी/ को लिया भी कार्य कर सकता है।

- Ans
- ✗ 1. कोई त्रुटि नहीं है
 - ✓ 2. को लिया भी कार्य कर सकता है
 - ✗ 3. को पहचान कर समाज की बेहतरी
 - ✗ 4. शिक्षित व्यक्ति सही और गलत में फर्क

Q.3 निम्नलिखित प्रश्न में, दिए गए चार विकल्पों में से, उस विकल्प का चयन करें जो दिए गए मुहावरे के अर्थ को सर्वश्रेष्ठ रूप से व्यक्त करता है।

धाक जमाना

- Ans
- ✓ 1. प्रभाव जमाना
 - ✗ 2. दिखावा करना
 - ✗ 3. रो कर दिखाना
 - ✗ 4. निडर होना

Q.4 दिए गए शब्द का विलोम शब्द ज्ञात कीजिए।

प्रत्येक

- Ans
- ✗ 1. सरल
 - ✗ 2. प्रति
 - ✓ 3. अनेक
 - ✗ 4. एक

विकल्प नहीं है।

हमें कभी भी किसी का भी (उपहास) _____ करके उसके दिल को ठेस नहीं पहुँचाना चाहिए।

- Ans
- 1. मजाक
 - 2. शची
 - 3. परिहास
 - 4. खिल्ली

Q.6 निम्नलिखित वाक्य में रेखांकित भाग के लिए एक सार्थक शब्द ज्ञात कीजिए।
केवल भगवान ही चक्र धारण करते हैं।

- Ans
- 1. अस्त्रधरता
 - 2. विष्णु
 - 3. चक्रधर
 - 4. निनजा

Q.7 निम्नलिखित प्रश्न में, चार विकल्पों में से, उस विकल्प का चयन करें जो रिक्त स्थान के लिए सही स्त्रीलिंग रूप वाला विकल्प हो।
उसके चेहरे पर _____ लगातार गिर रही हैं।

- Ans
- 1. छप्पर
 - 2. कूड़ा
 - 3. ताज
 - 4. बूंदे

Q.8 निम्नलिखित प्रश्न में, चार विकल्पों में से, उस सही विकल्प का चयन करें जो वाक्यांश के लिए एक शब्द का विकल्प हो।

किसी वाद का विरोध करने वाला

- Ans
- 1. प्रणतपाल
 - 2. प्रवर्तक
 - 3. परोक्ष
 - 4. प्रतिवादी

Q.9 दिए गए वाक्य में रेखांकित शब्द का तद्रूप शब्द ज्ञात कीजिए।

यह उच्च कोटि के लेखक हैं।

- Ans
- 1. ऊँचा
 - 2. नीचा
 - 3. उधर
 - 4. ऊपर

विष्णु

- Ans
- 1. प्रणाली
 - 2. लक्ष्मीपति
 - 3. कर्ण
 - 4. लीन

Q.11 निम्नलिखित प्रश्न में, चार विकल्पों में से, उस सही विकल्प का चयन करें जो वाक्यांश के लिए एक शब्द का उचित विकल्प हो।
मांस रहित भोजन

- Ans
- 1. निरामिष
 - 2. पार्थिव
 - 3. निशाचर
 - 4. मुमुक्षु

Q.12 दिए गए विकल्पों में से शुद्ध वर्तनी वाले विकल्प का चयन करें।

- Ans
- 1. उस पर जाने कौन सी धून सवार है।
 - 2. उस समय की स्थिति ठीक नहीं थी।
 - 3. वर्तमान युग सूचना क्रांति का है।
 - 4. यहाँ का माहोल अच्छा नहीं है।

Q.13 दिए गए वाक्य में रेखांकित शब्द का तत्सम शब्द ज्ञात कीजिए।
पेड़ों पर बंदर बैठे हैं।

- Ans
- 1. वानर
 - 2. वन
 - 3. बांदर
 - 4. बंदरी

Q.14 दिए गए वाक्य में रेखांकित शब्द का विलोम शब्द ज्ञात कीजिए।
बाहर शीत हवा बह रही है।

- Ans
- 1. उष्ण
 - 2. ठंड
 - 3. ठंडापन
 - 4. मोटी

www.prepp.in दिए गए वाक्य का वह भाग ज्ञात करें, जिसमें कोई त्रुटि है।

आज इंटरनेट घर-घर से जरूरत बन गया है।

- Ans
- 1. घर-घर
 - 2. आज इंटरनेट
 - 3. गया है।
 - 4. से जरूरत बन

Comprehension:

नीचे दिए गए गद्य में कुछ शब्द छोड़ दिए गए हैं और प्रत्येक रिक्त स्थान के चार विकल्प दिए गए हैं। इन चारों में से कौन सा विकल्प रिक्त स्थान की पूर्ति करेगा-

राजा राममोहन राय एक ऐसे भारतीय समाज का (1)_____ देख रहे थे जिसमें प्रगतिशीलता और (2)_____ हो। उनके उदारवादी (3)_____ आधुनिक समाज को बुनने के लिए धागे का काम कर रहे थे। उन्हें इस बात का भी भान था की मनुष्य जीवन में सबसे (4)_____ उसकी सजगता है जिसके कारण उसे अपने मूलभूत (5)_____ और अपने उत्तरदायित्वों का पता चलता है।

SubQuestion No : 16

Q.16 रिक्त 1 के लिए सबसे उपयुक्त विकल्प का चयन कीजिए।

- Ans
- 1. देश
 - 2. उत्तर
 - 3. स्वप्न
 - 4. द्वेष

Comprehension:

नीचे दिए गए गद्य में कुछ शब्द छोड़ दिए गए हैं और प्रत्येक रिक्त स्थान के चार विकल्प दिए गए हैं। इन चारों में से कौन सा विकल्प रिक्त स्थान की पूर्ति करेगा-

राजा राममोहन राय एक ऐसे भारतीय समाज का (1)_____ देख रहे थे जिसमें प्रगतिशीलता और (2)_____ हो। उनके उदारवादी (3)_____ आधुनिक समाज को बुनने के लिए धागे का काम कर रहे थे। उन्हें इस बात का भी भान था की मनुष्य जीवन में सबसे (4)_____ उसकी सजगता है जिसके कारण उसे अपने मूलभूत (5)_____ और अपने उत्तरदायित्वों का पता चलता है।

SubQuestion No : 17

Q.17 रिक्त 2 के लिए सबसे उपयुक्त विकल्प का चयन कीजिए।

- Ans
- 1. बगैर
 - 2. दुर्जन
 - 3. आधुनिकता
 - 4. पिछड़ा

नीचे दिए गए गद्य में कुछ शब्द छोड़ दिए गए हैं और प्रत्येक रिक्त स्थान के चार विकल्प दिए गए हैं। इन चारों में से कौन सा विकल्प रिक्त स्थान की पूर्ति करेगा-

राजा राममोहन राय एक ऐसे भारतीय समाज का (1)_____ देख रहे थे जिसमें प्रगतिशीलता और (2)_____ हो। उनके उदारवादी (3)_____ आधुनिक समाज को बुनने के लिए धागे का काम कर रहे थे। उन्हें इस बात का भी भान था की मनुष्य जीवन में सबसे (4)_____ उसकी सजगता है जिसके कारण उसे अपने मूलभूत (5)_____ और अपने उत्तरदायित्वों का पता चलता है।

SubQuestion No : 18

Q.18 रिक्त 3 के लिए सबसे उपयुक्त विकल्प का चयन कीजिए।

- Ans
- 1. समूह
 - 2. कार्यालय
 - 3. परोपकार
 - 4. विचार

Comprehension:

नीचे दिए गए गद्य में कुछ शब्द छोड़ दिए गए हैं और प्रत्येक रिक्त स्थान के चार विकल्प दिए गए हैं। इन चारों में से कौन सा विकल्प रिक्त स्थान की पूर्ति करेगा-

राजा राममोहन राय एक ऐसे भारतीय समाज का (1)_____ देख रहे थे जिसमें प्रगतिशीलता और (2)_____ हो। उनके उदारवादी (3)_____ आधुनिक समाज को बुनने के लिए धागे का काम कर रहे थे। उन्हें इस बात का भी भान था की मनुष्य जीवन में सबसे (4)_____ उसकी सजगता है जिसके कारण उसे अपने मूलभूत (5)_____ और अपने उत्तरदायित्वों का पता चलता है।

SubQuestion No : 19

Q.19 रिक्त 4 के लिए सबसे उपयुक्त विकल्प का चयन कीजिए।

- Ans
- 1. अलगाव
 - 2. महत्वपूर्ण
 - 3. कमज़ोर
 - 4. आकांशा

नीचे दिए गए गद्य में कुछ शब्द छोड़ दिए गए हैं और प्रत्येक रिक्त स्थान के चार विकल्प दिए गए हैं। इन चारों में से कौन सा विकल्प रिक्त स्थान की पूर्ति करेगा-

राजा राममोहन राय एक ऐसे भारतीय समाज का (1)_____ देख रहे थे जिसमें प्रगतिशीलता और (2)_____ हो। उनके उदारवादी (3)_____ आधुनिक समाज को बुनने के लिए धागे का काम कर रहे थे। उन्हें इस बात का भी भान था की मनुष्य जीवन में सबसे (4)_____ उसकी सजगता है जिसके कारण उसे अपने मूलभूत (5)_____ और अपने उत्तरदायित्वों का पता चलता है।

SubQuestion No : 20

Q.20

रिक्त 5 के लिए सबसे उपयुक्त विकल्प का चयन कीजिए।

Ans

- 1. अधिकारियों
- 2. अन्तरिक्ष
- 3. अधिकारों
- 4. अवधि