


## Constable GD in Central Armed Police Forces CAPFs SSF Rifleman GD in Assam Rifles Examination 2024

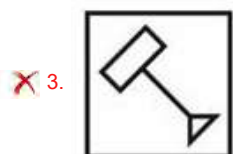
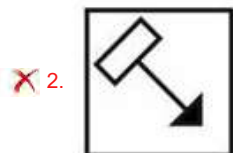
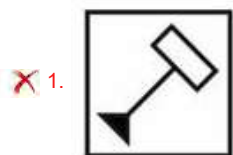
Roll Number	
Candidate Name	
Venue Name	
Exam Date	23/02/2024
Exam Time	5:00 PM - 6:00 PM
Subject	Constable GD Examination 2024

### Section : Part-A-General Intelligence and Reasoning

**Q.1** In the following question, select the figure which can be placed at the sign of question mark (?) from the given alternatives.



Ans



Question ID : 264330190162

Option 1 ID : 264330744233

Option 2 ID : 264330744230

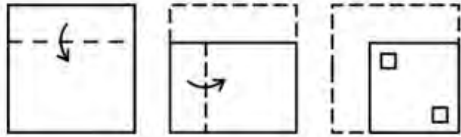
Option 3 ID : 264330744232

Option 4 ID : 264330744231

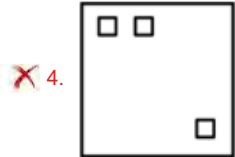
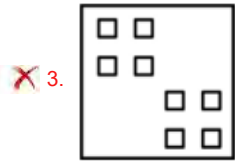
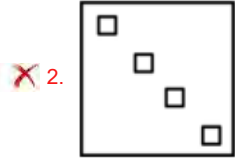
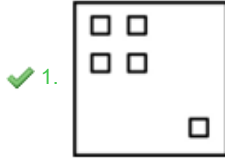
Status : Answered

Chosen Option : 4

Q.2 A paper is folded and cut as shown below. How will it appear when unfolded?



Ans



Question ID : 264330192327  
 Option 1 ID : 264330752663  
 Option 2 ID : 264330752665  
 Option 3 ID : 264330752664  
 Option 4 ID : 264330752662  
 Status : Answered  
 Chosen Option : 1

Q.3 A series is given with one term missing. Select the correct alternative from the given ones that will complete the series.

MQRT, QUVX, UYZB, YCDE, ?

- Ans
- ✗ 1. BQMR
  - ✗ 2. CMCF
  - ✓ 3. CGHJ
  - ✗ 4. CMRQ

Question ID : 264330190167  
 Option 1 ID : 264330744253  
 Option 2 ID : 264330744252  
 Option 3 ID : 264330744250  
 Option 4 ID : 264330744251  
 Status : Answered  
 Chosen Option : 3

**Q.4** In the following question, select the related letter pair from the given alternatives.

CO : XJ :: ?

- Ans**
- 1. EQ : ZL
  - 2. PS : RV
  - 3. DQ : ET
  - 4. HU : IV

Question ID : 264330187423

Option 1 ID : 264330733621

Option 2 ID : 264330733623

Option 3 ID : 264330733622

Option 4 ID : 264330733620

Status : Answered

Chosen Option : 1

**Q.5** Which two signs should be interchanged to make the given equation correct?

$$12 + 6 \times 2 - 24 \div 8 = 3$$

- Ans**
- 1. - and =
  - 2. + and -
  - 3.  $\div$  and -
  - 4.  $\times$  and -

Question ID : 264330192242

Option 1 ID : 264330752323

Option 2 ID : 264330752322

Option 3 ID : 264330752324

Option 4 ID : 264330752325

Status : Answered

Chosen Option : 2

**Q.6** In a certain code language, 'MATHS' is coded as '56012', 'PASTE' is coded as '05769', 'NASAL' is coded as '86356'.  
What can be the code for 'N' in that code language?

- Ans**
- 1. 8
  - 2. 5
  - 3. 6
  - 4. 2

Question ID : 264330187385

Option 1 ID : 264330733468

Option 2 ID : 264330733470

Option 3 ID : 264330733469

Option 4 ID : 264330733471

Status : Answered

Chosen Option : 1

Q.7 Which one set of letters when sequentially placed at the gaps in the given letter series shall complete it?  
abbab\_b\_bb\_babb\_bb

- Ans  1. babb  
 2. abab  
 3. baba  
 4. abbb

Question ID : 264330192089

Option 1 ID : 264330751711

Option 2 ID : 264330751713

Option 3 ID : 264330751712

Option 4 ID : 264330751710

Status : Not Attempted and  
Marked For Review

Chosen Option : --

Q.8 In the following question, select the related letters from the given alternatives.

PSV : QTW :: CGK : ?

- Ans  1. XKL  
 2. DHL  
 3. ZAC  
 4. HUV

Question ID : 264330187142

Option 1 ID : 264330732498

Option 2 ID : 264330732499

Option 3 ID : 264330732496

Option 4 ID : 264330732497

Status : Answered

Chosen Option : 2

Q.9 Eight boys A, B, C, D, E, F, G and H are sitting in a row facing towards the south (not necessarily in the same order). A and H are at extreme ends of the row. E and F are immediate neighbours of B. C is fourth to the left of B. F is to the immediate left of A. D is not the immediate neighbour of C. Who is sitting on the immediate right of C?

- Ans  1. D  
 2. H  
 3. G  
 4. E

Question ID : 264330190336

Option 1 ID : 264330744927

Option 2 ID : 264330744926

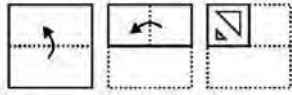
Option 3 ID : 264330744929

Option 4 ID : 264330744928

Status : Answered

Chosen Option : 3

**Q.10** A piece of paper is folded and punched as shown below in the question figures, indicate how it will appear when opened.



**Ans**

✓ 1.



✗ 2.



✗ 3.



✗ 4.



Question ID : 264330187376

Option 1 ID : 264330733432

Option 2 ID : 264330733433

Option 3 ID : 264330733434

Option 4 ID : 264330733435

Status : Answered

Chosen Option : 1

**Q.11** By Interchanging the given two numbers (not digits) which of the following equation will be not correct?

2 and 3

✗ 1.  $5 - 3 + 1 \times 2 + 7 = 6$

✓ 2.  $8 + 7 \times 3 - 6 \div 2 = 22$

✗ 3.  $7 \times 3 - 9 \div 2 + 4 = 15$

✗ 4.  $7 + 8 - 6 \div 2 \times 3 = 11$

Question ID : 264330192061

Option 1 ID : 264330751600

Option 2 ID : 264330751598

Option 3 ID : 264330751601

Option 4 ID : 264330751599

Status : Answered

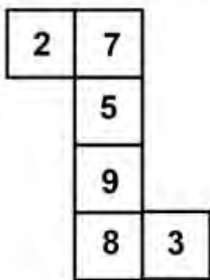
Chosen Option : 2

**Q.12** In a certain code language, 'SATIN' is coded as '35247', 'SCARE' is coded as '26839', 'SOUT' is coded as '0341'.  
What can be the code for 'I' in that code language?

- Ans**
- 1. 4
  - 2. 3
  - 3. 5
  - 4. 2

Question ID : 264330191394  
Option 1 ID : 264330748932  
Option 2 ID : 264330748930  
Option 3 ID : 264330748933  
Option 4 ID : 264330748931  
Status : Answered  
Chosen Option : 3

**Q.13** On folding the given die, which number will be opposite to the number 9?



- Ans**
- 1. 2
  - 2. 7
  - 3. 5
  - 4. 3

Question ID : 264330188056  
Option 1 ID : 264330736152  
Option 2 ID : 264330736153  
Option 3 ID : 264330736155  
Option 4 ID : 264330736154  
Status : Answered  
Chosen Option : 2

**Q.14** In the following question below are given some statements followed by some conclusions based on those statements. Taking the given statements to be true even if they seem to be at variance from commonly known facts. Read all the conclusions and then decide which of the given conclusion(s) logically follows the given statements.

Statements:

I. Some F are T.

II. All F are K.

Conclusions:

I. Some K are T.

II. All T are F.

III. All K are F.

- Ans**
- 1. Only conclusion II follows
  - 2. Neither conclusion follows
  - 3. Both conclusions I and III follows
  - 4. Only conclusion I follows

Question ID : 264330190437

Option 1 ID : 264330745330

Option 2 ID : 264330745333

Option 3 ID : 264330745331

Option 4 ID : 264330745332

Status : Answered

Chosen Option : 4

**Q.15** P is the sister of Q. Q is the mother of S. S is the brother of R. R is the father of T. T is the husband of U. How is R related to U?

- Ans**
- 1. Mother
  - 2. Husband's father
  - 3. Son
  - 4. Father

Question ID : 264330190134

Option 1 ID : 264330744119

Option 2 ID : 264330744118

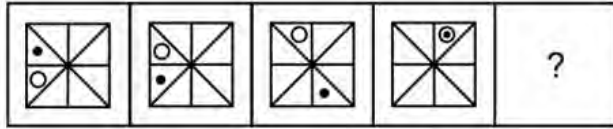
Option 3 ID : 264330744121

Option 4 ID : 264330744120

Status : Answered

Chosen Option : 2

**Q.16** Select the figure that will replace the question mark (?) in the following figure series.



Ans

- 1.
- 2.
- 3.
- 4.

Question ID : 264330188055

Option 1 ID : 264330736148

Option 2 ID : 264330736150

Option 3 ID : 264330736149

Option 4 ID : 264330736151

Status : Answered

Chosen Option : 3

**Q.17** Five persons A, B, C, D and E are sitting around a circular table facing towards the centre (not necessarily in the same order). B is sitting second to the right of D. A is sitting second to the right of B. C is not an immediate neighbour of A. Who is sitting on the immediate right of D?

- 1. C
- 2. A
- 3. B
- 4. E

Question ID : 264330191336

Option 1 ID : 264330748700

Option 2 ID : 264330748698

Option 3 ID : 264330748701

Option 4 ID : 264330748699

Status : Answered

Chosen Option : 1



**Q.18** Which of the following numbers will replace the question mark (?) in the given series?

18, 23, 32, 37, 46, ?

**Ans**  1. 51

2. 61

3. 57

4. 49

Question ID : 264330190419

Option 1 ID : 264330745259

Option 2 ID : 264330745261

Option 3 ID : 264330745260

Option 4 ID : 264330745258

Status : Answered

Chosen Option : 1

**Q.19** After arranging the given words according to dictionary order, which word will come at 'Fifth' position?

1. Rebind

2. Rebate

3. Rebirth

4. Rebel

5. Rebeck

**Ans**  1. Rebel

2. Rebirth

3. Rebeck

4. Rebate

Question ID : 264330191370

Option 1 ID : 264330748837

Option 2 ID : 264330748834

Option 3 ID : 264330748835

Option 4 ID : 264330748836

Status : Answered

Chosen Option : 2

**Q.20** Which of the following numbers will replace the question mark (?) in the given series?

15, 31, 63, 127, 255, ?

**Ans**  1. 511

2. 482

3. 629

4. 358

Question ID : 264330192119

Option 1 ID : 264330751832

Option 2 ID : 264330751833

Option 3 ID : 264330751831

Option 4 ID : 264330751830

Status : Answered

Chosen Option : 1

Q.1 Who has assumed the charge as Chairperson, International Financial Services Centres Authority (IFSCA) from August 2023?

- Ans
- 1. Vijay Sampla
  - 2. Dinkar Gupta
  - 3. K.N. Vyas
  - 4. K. Rajaraman

Question ID : 264330188773  
Option 1 ID : 264330738896  
Option 2 ID : 264330738897  
Option 3 ID : 264330738895  
Option 4 ID : 264330738894  
Status : Not Answered  
Chosen Option : --

Q.2 Which element has the highest atomic number and is the heaviest naturally occurring element?

- Ans
- 1. Plutonium (Pu)
  - 2. Thorium (Th)
  - 3. Uranium (U)
  - 4. Neptunium (Np)

Question ID : 264330190952  
Option 1 ID : 264330747165  
Option 2 ID : 264330747162  
Option 3 ID : 264330747164  
Option 4 ID : 264330747163  
Status : Answered  
Chosen Option : 4

Q.3 Which of the following countries is NOT a member of SAARC?

- Ans
- 1. Bangladesh
  - 2. China
  - 3. Nepal
  - 4. Bhutan

Question ID : 264330188859  
Option 1 ID : 264330739238  
Option 2 ID : 264330739241  
Option 3 ID : 264330739240  
Option 4 ID : 264330739239  
Status : Answered  
Chosen Option : 4

Q.4 With respect to the green revolution, what does 'HYV' stands for?

- Ans
- 1. High Young Varieties
  - 2. Heavy Youth Varieties
  - 3. Heavy Young Varieties
  - 4. High Yielding Varieties

Question ID : 264330191086

Option 1 ID : 264330747699

Option 2 ID : 264330747701

Option 3 ID : 264330747700

Option 4 ID : 264330747698

Status : Answered

Chosen Option : 4

Q.5 To which of the following states does the dance form Chhau belong?

- Ans
- 1. West Bengal
  - 2. Uttarakhand
  - 3. Tamil Nadu
  - 4. Maharashtra

Question ID : 264330188875

Option 1 ID : 264330739303

Option 2 ID : 264330739305

Option 3 ID : 264330739304

Option 4 ID : 264330739302

Status : Answered

Chosen Option : 2

Q.6 Krishna Rao Shankar Pandit, Raja Bhaiya Poonchwale are associated with which Gharana?

- Ans
- 1. Jaipur Atrauli Gharana
  - 2. Gwalior Gharana
  - 3. Agra Gharana
  - 4. Lucknow Gharana

Question ID : 264330191037

Option 1 ID : 264330747502

Option 2 ID : 264330747505

Option 3 ID : 264330747504

Option 4 ID : 264330747503

Status : Answered

Chosen Option : 4

Q.7 Who among the following is appointed as 25th Director General of Indian Coast Guard?

- Ans
- 1. Rajendra Singh
  - 2. Rakesh Pal
  - 3. Krishnaswamy Natarajan
  - 4. Virender Singh Pathania

Question ID : 26433019190  
Option 1 ID : 264330751317  
Option 2 ID : 264330751314  
Option 3 ID : 264330751316  
Option 4 ID : 264330751315  
Status : Not Answered  
Chosen Option : --

Q.8 In south India, the \_\_\_\_\_ was a village assembly found in areas where the landowners were not brahmins.

- Ans
- 1. Kayasthas
  - 2. Samantas
  - 3. Nagaram
  - 4. Ur

Question ID : 264330190775  
Option 1 ID : 264330746457  
Option 2 ID : 264330746456  
Option 3 ID : 264330746454  
Option 4 ID : 264330746455  
Status : Not Answered  
Chosen Option : --

Q.9 What is the total literacy rate according to the 2001 census of India?

- Ans
- 1. 60.83 percent
  - 2. 68.83 percent
  - 3. 70.83 percent
  - 4. 64.83 percent

Question ID : 264330188638  
Option 1 ID : 264330738354  
Option 2 ID : 264330738356  
Option 3 ID : 264330738357  
Option 4 ID : 264330738355  
Status : Answered  
Chosen Option : 4

**Q.10** Which classical dancer was one of the youngest recipient of Padma Bhushan (1992) for her contributions to the field of classical dancing?

- Ans**
- 1. Sonal Mansingh
  - 2. Mallika Sarabhai
  - 3. Rukmini Devi Arundale
  - 4. Alarmel Valli

Question ID : 264330190878  
Option 1 ID : 264330746867  
Option 2 ID : 264330746868  
Option 3 ID : 264330746866  
Option 4 ID : 264330746869  
Status : Not Answered  
Chosen Option : --

**Q.11** Which sport is played by the Indian sportsperson Ankita Das?

- Ans**
- 1. Table Tennis
  - 2. Volleyball
  - 3. Badminton
  - 4. Squash

Question ID : 264330191243  
Option 1 ID : 264330748328  
Option 2 ID : 264330748329  
Option 3 ID : 264330748327  
Option 4 ID : 264330748326  
Status : Answered  
Chosen Option : 1

**Q.12** Which of the following statements is NOT correct regarding Fundamental Duties mentioned in the Indian Constitution?

- Ans**
- 1. Fundamental Duties are mentioned in Article 51A in the Indian Constitution
  - 2. The Constitution (Eighty-sixth Amendment) Act, 2002 is related to the Fundamental Duties
  - 3. The Constitution (Forty-second Amendment) Act, 1976 is related to the Fundamental Duties
  - 4. Fundamental Duties are mentioned in PART VA in the Indian Constitution

Question ID : 264330190659  
Option 1 ID : 264330746221  
Option 2 ID : 264330746220  
Option 3 ID : 264330746219  
Option 4 ID : 264330746218  
Status : Answered  
Chosen Option : 4

Q.13 Making sugar from sugar cane falls under which sector of economic activity?

- Ans
- 1. Primary sector
  - 2. Tertiary Sector
  - 3. Secondary sector
  - 4. Quaternary sector

Question ID : 264330192005  
Option 1 ID : 264330751374  
Option 2 ID : 264330751376  
Option 3 ID : 264330751375  
Option 4 ID : 264330751377  
Status : Answered  
Chosen Option : 3

Q.14 The aim of the MISTHI Scheme is to protect and revive \_\_\_\_\_ ecosystem on the Indian coast while enhancing the socio-economic status of nearby communities

- Ans
- 1. deciduous
  - 2. coniferous
  - 3. mangrove
  - 4. every

Question ID : 264330191288  
Option 1 ID : 264330748509  
Option 2 ID : 264330748508  
Option 3 ID : 264330748507  
Option 4 ID : 264330748506  
Status : Answered  
Chosen Option : 3

Q.15 The \_\_\_\_\_ Dance Festival is organized by the Kerala Tourism Development Corporation. It celebrated twice a year, once in the month of October-November and then in the month of March-April in Kanakunnu palace compound, in the city of Trivandrum or Thiruvananthapuram, Kerala.

- Ans
- 1. Nishagandhi Festival
  - 2. Hampi Dance Utsav
  - 3. Mamallapuram Utsav
  - 4. Natyanjali Utsav

Question ID : 264330191792  
Option 1 ID : 264330750523  
Option 2 ID : 264330750525  
Option 3 ID : 264330750522  
Option 4 ID : 264330750524  
Status : Answered  
Chosen Option : 3

Q.16 Who is known as the father of green revolution in India?

- Ans
- 1. Durgesh Patel
  - 2. M.S Swaminathan
  - 3. Sam Pitroda
  - 4. Verghese Kurien

Question ID : 264330191966  
Option 1 ID : 264330751219  
Option 2 ID : 264330751218  
Option 3 ID : 264330751221  
Option 4 ID : 264330751220  
Status : Answered  
Chosen Option : 2

Q.17 Who among the following people was popular as the "Nightingale of India"?

- Ans
- 1. Margaret Thatcher
  - 2. Sarojini Naidu
  - 3. Beryl Markham
  - 4. Indira Gandhi

Question ID : 264330191897  
Option 1 ID : 264330750944  
Option 2 ID : 264330750943  
Option 3 ID : 264330750945  
Option 4 ID : 264330750942  
Status : Answered  
Chosen Option : 2

Q.18 Which of the following pair regarding event and its type is correct?

I. Javelin – Jumping

II. high jump – Throwing

- Ans
- 1. Both I and II
  - 2. Only I
  - 3. Neither I nor II
  - 4. Only II

Question ID : 264330188867  
Option 1 ID : 264330739272  
Option 2 ID : 264330739270  
Option 3 ID : 264330739273  
Option 4 ID : 264330739271  
Status : Answered  
Chosen Option : 3

**Q.19** Which game uses the Elo rating system to assess the skill levels of its players?

- Ans**
- 1. Badminton
  - 2. Chess
  - 3. Tennis
  - 4. Basketball

Question ID : 264330190883  
Option 1 ID : 264330746889  
Option 2 ID : 264330746887  
Option 3 ID : 264330746888  
Option 4 ID : 264330746886  
Status : Not Answered  
Chosen Option : --

**Q.20** The \_\_\_\_\_ has the power to summon and prorogue either House of Parliament or to dissolve Lok Sabha.

- Ans**
- 1. Lok Sabha Speaker
  - 2. Prime Minister
  - 3. Chief Justice of India
  - 4. President

Question ID : 264330191461  
Option 1 ID : 264330749199  
Option 2 ID : 264330749198  
Option 3 ID : 264330749200  
Option 4 ID : 264330749201  
Status : Answered  
Chosen Option : 4

Section : Part-C-Elementary Mathematics

**Q.1** The average marks obtained by a group of 11 students is 53 and the average marks obtained by another group of 13 students is 48. What is the average marks obtained by all 24 students (approximately)?

- Ans**
- 1. 52.45
  - 2. 48.14
  - 3. 46.32
  - 4. 50.29

Question ID : 264330187924  
Option 1 ID : 264330735627  
Option 2 ID : 264330735625  
Option 3 ID : 264330735624  
Option 4 ID : 264330735626  
Status : Answered  
Chosen Option : 4



**Q.2** The selling price of a car is Rs. 640. If the car is sold at a discount of 60 percent, then what will be the marked price of the car?

- Ans**
- 1. Rs. 2000
  - 2. Rs. 2400
  - 3. Rs. 1600
  - 4. Rs. 1800

Question ID : 264330187869  
Option 1 ID : 264330735405  
Option 2 ID : 264330735404  
Option 3 ID : 264330735406  
Option 4 ID : 264330735407  
Status : Answered  
Chosen Option : 3

**Q.3** A shopkeeper sold a flower pot for Rs. 3500. If the cost price of the flower pot is Rs.2800, find the profit percent.

- Ans**
- 1. 20%
  - 2. 30%
  - 3. 25%
  - 4. 15%

Question ID : 264330192296  
Option 1 ID : 264330752539  
Option 2 ID : 264330752541  
Option 3 ID : 264330752540  
Option 4 ID : 264330752538  
Status : Answered  
Chosen Option : 3

**Q.4** If 30 percent of E is equal to 60 percent of F, then what is the value of E : F?

- Ans**
- 1. 5 : 1
  - 2. 3 : 1
  - 3. 4 : 1
  - 4. 2 : 1

Question ID : 264330187471  
Option 1 ID : 264330733815  
Option 2 ID : 264330733813  
Option 3 ID : 264330733814  
Option 4 ID : 264330733812  
Status : Answered  
Chosen Option : 4

Q.5 What is the value of  $1.4 \times 1.4 + 1.2 \times 1.2 + 1.3 \times 1.3$ ?

- Ans
- 1. 8.19
  - 2. 5.09
  - 3. 9.29
  - 4. 2.19

Question ID : 264330187761  
Option 1 ID : 264330734974  
Option 2 ID : 264330734975  
Option 3 ID : 264330734973  
Option 4 ID : 264330734972  
Status : Answered  
Chosen Option : 2

Q.6 What is the value of  $\frac{144}{33}$  of  $\frac{11}{12} - \frac{132}{13}$  of  $\frac{52}{12}$  ?

- Ans
- 1. 44
  - 2. -40
  - 3. -44
  - 4. 40

Question ID : 264330191609  
Option 1 ID : 264330749793  
Option 2 ID : 264330749790  
Option 3 ID : 264330749791  
Option 4 ID : 264330749792  
Status : Answered  
Chosen Option : 2

Q.7 Simplify:  $24 \div (2 \times 3) + 1$ .

- Ans
- 1. 3
  - 2. 4
  - 3. 5
  - 4. 7

Question ID : 264330188493  
Option 1 ID : 264330737776  
Option 2 ID : 264330737774  
Option 3 ID : 264330737775  
Option 4 ID : 264330737777  
Status : Answered  
Chosen Option : 3

Q.8 What is that rate of simple interest at which a sum of money becomes three times of itself in 34 years?

- Ans  1. 5.29 percent  
 2. 5.88 percent  
 3. 5.68 percent  
 4. 6.82 percent

Question ID : 264330187973  
Option 1 ID : 264330735822  
Option 2 ID : 264330735820  
Option 3 ID : 264330735823  
Option 4 ID : 264330735821  
Status : Answered  
Chosen Option : 2

Q.9 Find the value of  $12 \times 5 \times 3 \div [129 - 69]$ .

- Ans  1. 9  
 2. 3  
 3. 6  
 4. 2

Question ID : 264330191147  
Option 1 ID : 264330747945  
Option 2 ID : 264330747944  
Option 3 ID : 264330747943  
Option 4 ID : 264330747942  
Status : Answered  
Chosen Option : 2

Q.10 P sells a chair to Q at a profit of 40 percent and Q sells it to R at a profit of 80 percent. What is the ratio of cost prices of P and R?

- Ans  1. 12 : 25  
 2. 25 : 63  
 3. 13 : 12  
 4. 25 : 36

Question ID : 264330187548  
Option 1 ID : 264330734122  
Option 2 ID : 264330734120  
Option 3 ID : 264330734123  
Option 4 ID : 264330734121  
Status : Answered  
Chosen Option : 2

**Q.11** Initial value of a car is Rs. 150000. The value of car depreciated by 20 percent of its initial value each year. What will be its value after 2 years?

- Ans**
- 1. Rs. 82000
  - 2. Rs. 84000
  - 3. Rs. 96000
  - 4. Rs. 78000

Question ID : 264330187674  
Option 1 ID : 264330734625  
Option 2 ID : 264330734627  
Option 3 ID : 264330734626  
Option 4 ID : 264330734624  
Status : Answered  
Chosen Option : 3

**Q.12** A can do a piece of work in 55 days. He works for 20 days and then B alone finishes the remaining work in 49 days. How many days will both take together to complete the work?

- Ans**
- 1.  $\frac{385}{12}$  days
  - 2.  $\frac{514}{55}$  days
  - 3.  $\frac{124}{5}$  days
  - 4.  $\frac{445}{14}$  days

Question ID : 264330188097  
Option 1 ID : 264330736316  
Option 2 ID : 264330736318  
Option 3 ID : 264330736319  
Option 4 ID : 264330736317  
Status : Answered  
Chosen Option : 1

**Q.13** A is 40 percent less efficient than B. If B can make a helmet in 16 days, then in how many days can A make the same helmet?

- Ans**
- 1. 80/3 days
  - 2. 80/7 days
  - 3. 90/7 days
  - 4. 75/4 days

Question ID : 264330187596  
Option 1 ID : 264330734313  
Option 2 ID : 264330734314  
Option 3 ID : 264330734315  
Option 4 ID : 264330734312  
Status : Answered  
Chosen Option : 1

**Q.14** In a class, 38 percent are boys and the number of girls are 31. What is the number of boys in the class?

- Ans
- 1. 17
  - 2. 19
  - 3. 16
  - 4. 15

Question ID : 264330187825  
Option 1 ID : 264330735228  
Option 2 ID : 264330735229  
Option 3 ID : 264330735230  
Option 4 ID : 264330735231  
Status : Answered  
Chosen Option : 1

**Q.15** In a mixture of 220 litre the ratio of water and milk is 6 : 5 respectively. How much water must be added to make the ratio of water and milk as 5 : 4 respectively?

- Ans
- 1. 2 litre
  - 2. 5 litre
  - 3. 10 litre
  - 4. 3 litre

Question ID : 264330187652  
Option 1 ID : 264330734538  
Option 2 ID : 264330734537  
Option 3 ID : 264330734536  
Option 4 ID : 264330734539  
Status : Answered  
Chosen Option : 2

**Q.16** The length of the side of a cube is 13 cm. What is the lateral surface area of the cube?

- Ans
- 1. 625 cm<sup>2</sup>
  - 2. 576 cm<sup>2</sup>
  - 3. 676 cm<sup>2</sup>
  - 4. 484 cm<sup>2</sup>

Question ID : 264330187178  
Option 1 ID : 264330732641  
Option 2 ID : 264330732640  
Option 3 ID : 264330732643  
Option 4 ID : 264330732642  
Status : Answered  
Chosen Option : 3

**Q.17** A man spends 58% of his income. His income increases by 30% and his expenditure also increases by 25%. Find the percentage of increase in his savings.

- Ans**
- 1. 42.5%
  - 2. 55.7%
  - 3. 36.9%
  - 4. 66.2%

Question ID : 264330188086  
Option 1 ID : 264330736273  
Option 2 ID : 264330736274  
Option 3 ID : 264330736272  
Option 4 ID : 264330736275  
Status : Answered  
Chosen Option : 3

**Q.18** The marked price is 28% higher than the cost price. A discount of 15% is given on the marked price. What is the gain or loss percentage?

- Ans**
- 1. 4.4% loss
  - 2. 6.5% gain
  - 3. 5.2% loss
  - 4. 8.8% gain

Question ID : 264330191659  
Option 1 ID : 264330749993  
Option 2 ID : 264330749992  
Option 3 ID : 264330749991  
Option 4 ID : 264330749990  
Status : Marked For Review  
Chosen Option : 4

**Q.19** The average of 16.5, 9, 10.5, 12.5 and Y is 12.5. What is the value of Y?

- Ans**
- 1. 16
  - 2. 14
  - 3. 17
  - 4. 11

Question ID : 264330187203  
Option 1 ID : 264330732741  
Option 2 ID : 264330732742  
Option 3 ID : 264330732743  
Option 4 ID : 264330732740  
Status : Answered  
Chosen Option : 2

**Q.20** Two trains are running in opposite direction with the same speed. If the length of each train is 160 metres and they cross each other in 32 seconds, then what is the speed of each train?

- Ans**
- 1. 18 km/hr
  - 2. 45 km/hr
  - 3. 72 km/hr
  - 4. 36 km/hr

Question ID : 264330187595  
Option 1 ID : 264330734309  
Option 2 ID : 264330734310  
Option 3 ID : 264330734311  
Option 4 ID : 264330734308  
Status : Answered  
Chosen Option : 1

Section : Part-D-English

**Q.1** Select the most appropriate word to fill in the blank.

His first marriage was certainly a \_\_\_\_\_ in judgment.

- Ans**
- 1. loose
  - 2. lapse
  - 3. fail
  - 4. loss

Question ID : 264330185819  
Option 1 ID : 264330727604  
Option 2 ID : 264330727605  
Option 3 ID : 264330727606  
Option 4 ID : 264330727607  
Status : Answered  
Chosen Option : 2

**Q.2** Improve the underlined part of the sentence. Choose 'No improvement' as an answer if the sentence is grammatically correct.

He's take an course in marketing.

- Ans**
- 1. takes a course
  - 2. No improvement
  - 3. taking a course
  - 4. take a course

Question ID : 264330185837  
Option 1 ID : 264330727674  
Option 2 ID : 264330727675  
Option 3 ID : 264330727672  
Option 4 ID : 264330727673  
Status : Answered  
Chosen Option : 3

Q.3 Select the most appropriate word to fill in the blank.

He would have preferred anger to her cold \_\_\_\_\_.

- Ans
- 1. indifferent
  - 2. indifference
  - 3. differently
  - 4. difference

Question ID : 264330185756  
 Option 1 ID : 264330727365  
 Option 2 ID : 264330727364  
 Option 3 ID : 264330727367  
 Option 4 ID : 264330727366  
 Status : Not Answered  
 Chosen Option : --

Q.4 Select the word segment that substitutes (replaces) the bracketed word segment correctly and completes the sentence meaningfully. Select the option 'no correction required' if the sentence is correct as given.

Having settled that I must go to the Blue Boar, my mind was (much more disturb by indecision) whether or not to take the Avenger.

- Ans
- 1. much disturb by indecisions
  - 2. much disturbed by indecision
  - 3. No correction required
  - 4. more disturb by indecisions

Question ID : 264330186510  
 Option 1 ID : 264330730237  
 Option 2 ID : 264330730236  
 Option 3 ID : 264330730239  
 Option 4 ID : 264330730238  
 Status : Answered  
 Chosen Option : 2

Q.5 Select the sentence with no spelling errors.

- Ans
- 1. Men and women balance each other out, and we have to get to a point where we are comfortable with appreciating each other.
  - 2. Men and women balance each other out, and we have to get to a point where we are comfortable with appreciating each other.
  - 3. Men and women balanse each other out, and we have to get to a point where we are comfortable with appreciating each other.
  - 4. Men and women balance each other out, and we have to get to a point where we are comfortable with appreciating each other.

Question ID : 264330185811  
 Option 1 ID : 264330727572  
 Option 2 ID : 264330727574  
 Option 3 ID : 264330727575  
 Option 4 ID : 264330727573  
 Status : Answered  
 Chosen Option : 2



**Q.6** Choose the idiom/ phrase that can substitute the highlighted group of words meaningfully.

I worked for hours on that project but now it is cancelled.  
All my hard work has been wasted.

- Ans  1. Beat the drum  
 2. Gone down the drain  
 3. Through thick and thin  
 4. In the same boat

Question ID : 264330186629  
Option 1 ID : 264330730690  
Option 2 ID : 264330730691  
Option 3 ID : 264330730689  
Option 4 ID : 264330730688  
Status : Answered  
Chosen Option : 2

**Q.7** Find the part of the given sentence that has an error in it. If there is no error, choose 'No error'.  
There will be many important lessons to be learn from the COVID-19 pandemic.

- Ans  1. No error  
 2. There will be many important  
 3. from the COVID-19 pandemic.  
 4. lessons to be learn

Question ID : 264330185857  
Option 1 ID : 264330727751  
Option 2 ID : 264330727748  
Option 3 ID : 264330727750  
Option 4 ID : 264330727749  
Status : Answered  
Chosen Option : 4

**Q.8** In the following question, out of the given four alternatives, select the alternative which best expresses the meaning of the Idiom/Phrase.

Neck or nothing

- Ans  1. Passion for singing  
 2. Next to nothing  
 3. To have no money  
 4. Under going great risks

Question ID : 264330186292  
Option 1 ID : 264330729405  
Option 2 ID : 264330729404  
Option 3 ID : 264330729406  
Option 4 ID : 264330729407  
Status : Answered  
Chosen Option : 2

Q.9 Select the most appropriate option for the given blank.

They are \_\_\_\_\_ an election in their college.

- Ans
- 1. becoming
  - 2. summing
  - 3. holding
  - 4. admitting

Question ID : 264330186212  
Option 1 ID : 264330729102  
Option 2 ID : 264330729100  
Option 3 ID : 264330729101  
Option 4 ID : 264330729103  
Status : Answered  
Chosen Option : 3

Q.10 Four sentences are given, out of which three have all correct spellings. Choose the sentence with the incorrect spelt word/ words.

- Ans
- 1. He unlocked the door, and I cleared out up the river-bank.
  - 2. I noticed some pieces of limbs and such things floating down, and a sprinkling of bark
  - 3. I went along up the bank with one eye out for pap and the other one out for what the rise might fetch along.
  - 4. I reckoned I wouldn't stay on hand till he got that chance.

Question ID : 264330186966  
Option 1 ID : 264330731972  
Option 2 ID : 264330731974  
Option 3 ID : 264330731975  
Option 4 ID : 264330731973  
Status : Answered  
Chosen Option : 4

Q.11 Select the most appropriate option for the given blank.

I have been \_\_\_\_\_ in a very good family.

- Ans
- 1. boosted
  - 2. uplifted
  - 3. raised
  - 4. strengthened

Question ID : 264330185854  
Option 1 ID : 264330727739  
Option 2 ID : 264330727737  
Option 3 ID : 264330727736  
Option 4 ID : 264330727738  
Status : Answered  
Chosen Option : 3

Q.12 Choose the word that means the same as the given word.

Agreement

- Ans
- 1. Census
  - 2. Puny
  - 3. Consent
  - 4. Celibate

Question ID : 264330186099  
Option 1 ID : 264330728670  
Option 2 ID : 264330728669  
Option 3 ID : 264330728668  
Option 4 ID : 264330728671  
Status : Answered  
Chosen Option : 3

Q.13 Find the part of the given sentence that has an error in it. If there is no error, choose 'No error'.

The cause for the collapse is still under investigation.

- Ans
- 1. the collapse is
  - 2. No error
  - 3. The cause for
  - 4. still under investigation.

Question ID : 264330186192  
Option 1 ID : 264330729025  
Option 2 ID : 264330729027  
Option 3 ID : 264330729024  
Option 4 ID : 264330729026  
Status : Answered  
Chosen Option : 3

Q.14 Choose the most appropriate antonym of the underlined word.

He made me think of an old time magician more than anything, and I felt that with a touch of his wand he could transform us all.

- Ans
- 1. Commute
  - 2. Stagnate
  - 3. Convert
  - 4. Alter

Question ID : 264330185660  
Option 1 ID : 264330726997  
Option 2 ID : 264330726998  
Option 3 ID : 264330726999  
Option 4 ID : 264330726996  
Status : Answered  
Chosen Option : 2

**Q.15** Find the part of the given sentence that has an error in it. If there is no error, choose 'No error'.

I know how hardest you have tried to fit in my shoes.

- Ans**
- 1. I know how hardest
  - 2. No error
  - 3. you have tried to
  - 4. fit in my shoes

Question ID : 264330186592

Option 1 ID : 264330730548

Option 2 ID : 264330730551

Option 3 ID : 264330730549

Option 4 ID : 264330730550

Status : Answered

Chosen Option : 1

**Comprehension:**

In the following passage some of the words have been left out. Read the passage carefully and select the correct answer for the given blank out of the four alternatives.

In recent years, outbreaks of H1N1, dengue, chikungunya, etc., have kept state health departments (1) \_\_\_\_\_ the country busy. During the 2018 Nipah outbreak, Kerala (2) \_\_\_\_\_ challenges like mobilising diagnostic facilities, planning treatment protocols, setting up isolation wards, procuring protective gear (3) \_\_\_\_\_ vaccines, spreading awareness and instituting community surveillance. (4) \_\_\_\_\_ states must also prepare for (5) \_\_\_\_\_ contingencies.

**SubQuestion No : 16**

**Q.16** Select the most appropriate option for blank(1)

- Ans**
- 1. along
  - 2. across
  - 3. among
  - 4. with

Question ID : 264330186767

Option 1 ID : 264330731214

Option 2 ID : 264330731213

Option 3 ID : 264330731212

Option 4 ID : 264330731215

Status : Answered

Chosen Option : 2

**Comprehension:**

In the following passage some of the words have been left out. Read the passage carefully and select the correct answer for the given blank out of the four alternatives.

In recent years, outbreaks of H1N1, dengue, chikungunya, etc., have kept state health departments (1) \_\_\_\_\_ the country busy. During the 2018 Nipah outbreak, Kerala (2) \_\_\_\_\_ challenges like mobilising diagnostic facilities, planning treatment protocols, setting up isolation wards, procuring protective gear (3) \_\_\_\_\_ vaccines, spreading awareness and instituting community surveillance. (4) \_\_\_\_\_ states must also prepare for (5) \_\_\_\_\_ contingencies.

**SubQuestion No : 17**

Q.17 Select the most appropriate option for blank(2)

- Ans
- 1. casted
  - 2. faced
  - 3. surrendered
  - 4. accepted

Question ID : 264330186768

Option 1 ID : 264330731218

Option 2 ID : 264330731216

Option 3 ID : 264330731217

Option 4 ID : 264330731219

Status : Answered

Chosen Option : 2

**Comprehension:**

In the following passage some of the words have been left out. Read the passage carefully and select the correct answer for the given blank out of the four alternatives.

In recent years, outbreaks of H1N1, dengue, chikungunya, etc., have kept state health departments (1) \_\_\_\_\_ the country busy. During the 2018 Nipah outbreak, Kerala (2) \_\_\_\_\_ challenges like mobilising diagnostic facilities, planning treatment protocols, setting up isolation wards, procuring protective gear (3) \_\_\_\_\_ vaccines, spreading awareness and instituting community surveillance. (4) \_\_\_\_\_ states must also prepare for (5) \_\_\_\_\_ contingencies.

**SubQuestion No : 18**

Q.18 Select the most appropriate option for blank(3)

- Ans
- 1. or
  - 2. but
  - 3. yet
  - 4. and

Question ID : 264330186769

Option 1 ID : 264330731223

Option 2 ID : 264330731220

Option 3 ID : 264330731221

Option 4 ID : 264330731222

Status : Answered

Chosen Option : 1

**Comprehension:**

In the following passage some of the words have been left out. Read the passage carefully and select the correct answer for the given blank out of the four alternatives.

In recent years, outbreaks of H1N1, dengue, chikungunya, etc., have kept state health departments (1) \_\_\_\_\_ the country busy. During the 2018 Nipah outbreak, Kerala (2) \_\_\_\_\_ challenges like mobilising diagnostic facilities, planning treatment protocols, setting up isolation wards, procuring protective gear (3) \_\_\_\_\_ vaccines, spreading awareness and instituting community surveillance. (4) \_\_\_\_\_ states must also prepare for (5) \_\_\_\_\_ contingencies.

**SubQuestion No : 19**

**Q.19** Select the most appropriate option for blank(4)

- Ans
- 1. None
  - 2. Every
  - 3. Other
  - 4. Another

Question ID : 264330186770

Option 1 ID : 264330731226

Option 2 ID : 264330731227

Option 3 ID : 264330731225

Option 4 ID : 264330731224

Status : Answered

Chosen Option : 2

**Comprehension:**

In the following passage some of the words have been left out. Read the passage carefully and select the correct answer for the given blank out of the four alternatives.

In recent years, outbreaks of H1N1, dengue, chikungunya, etc., have kept state health departments (1) \_\_\_\_\_ the country busy. During the 2018 Nipah outbreak, Kerala (2) \_\_\_\_\_ challenges like mobilising diagnostic facilities, planning treatment protocols, setting up isolation wards, procuring protective gear (3) \_\_\_\_\_ vaccines, spreading awareness and instituting community surveillance. (4) \_\_\_\_\_ states must also prepare for (5) \_\_\_\_\_ contingencies.

**SubQuestion No : 20**

**Q.20** Select the most appropriate option for blank(5)

- Ans
- 1. like
  - 2. both
  - 3. that
  - 4. such

Question ID : 264330186771

Option 1 ID : 264330731229

Option 2 ID : 264330731228

Option 3 ID : 264330731230

Option 4 ID : 264330731231

Status : Answered

Chosen Option : 4

Q.1 दिए गए वाक्य में रेखांकित शब्द का विलोम शब्द ज्ञात कीजिए।

मुझे अपना काम पूरा होने की आशा है।

- Ans
- 1. अनादर
  - 2. निराशा
  - 3. कायर
  - 4. दोष

Question ID : 264330190038  
 Option 1 ID : 264330743745  
 Option 2 ID : 264330743743  
 Option 3 ID : 264330743744  
 Option 4 ID : 264330743742  
 Status : Not Answered  
 Chosen Option : --

Q.2 दिए गए शब्द का पर्यायवाची ज्ञात कीजिए।

कपट

- Ans
- 1. कमर
  - 2. भलाई
  - 3. फरेब
  - 4. आनंद

Question ID : 264330188194  
 Option 1 ID : 264330736684  
 Option 2 ID : 264330736685  
 Option 3 ID : 264330736687  
 Option 4 ID : 264330736686  
 Status : Not Answered  
 Chosen Option : --

Q.3 दिए गए वाक्य में रेखांकित शब्द के लिए सही वर्तनी ज्ञात कीजिए।

मैंने यह चित्र कल स्वप्न में देखा था।

- Ans
- 1. सव्पन
  - 2. स्वप्न
  - 3. सवप्न
  - 4. स्वपिन

Question ID : 264330189139  
 Option 1 ID : 264330740321  
 Option 2 ID : 264330740318  
 Option 3 ID : 264330740319  
 Option 4 ID : 264330740320  
 Status : Not Answered  
 Chosen Option : --

Q.4 दिए गए वाक्य में उचित देशज-विदेशज शब्द का चयन करके रिक्त स्थान की पूर्ति कीजिए।

जाओ जाकर मालिक से अपनी \_\_\_\_\_ ले लो।

- Ans
- 1. तनख्वाह
  - 2. इम्तिहान
  - 3. तारीख
  - 4. अदालत

Question ID : 264330188993

Option 1 ID : 264330739765

Option 2 ID : 264330739763

Option 3 ID : 264330739762

Option 4 ID : 264330739764

Status : Not Answered

Chosen Option : --

Q.5 दिए गए वाक्य में रेखांकित शब्दों के लिए सही शब्दों वाले विकल्प का चयन करें।

मेरे तो केवल मात्र एक ही आधार आप है।

- Ans
- 1. मेरे तो केवल ही आधार आप है।
  - 2. मेरे तो केवल एक ही आधार आप है।
  - 3. मेरे तो केवल मात्र ही आधार आप है।
  - 4. परिवर्तन की आवश्यकता नहीं है।

Question ID : 264330188227

Option 1 ID : 264330736814

Option 2 ID : 264330736813

Option 3 ID : 264330736812

Option 4 ID : 264330736815

Status : Not Answered

Chosen Option : --

Q.6 निम्नलिखित प्रश्न में, दिए गए चार विकल्पों में से, उस विकल्प का चयन करें जो दिए गए मुहावरे के अर्थ को सर्वश्रेष्ठ रूप से व्यक्त करता है।

पानी पीकर जात पूछना

- Ans
- 1. अपनी गलती दूसरे से पूछना
  - 2. गलती करने वाले पर हावी होना
  - 3. हर समय बेपरवाह रहना
  - 4. काम करने के बाद जाँच पड़ताल

Question ID : 264330189052

Option 1 ID : 264330739988

Option 2 ID : 264330739989

Option 3 ID : 264330739986

Option 4 ID : 264330739987

Status : Not Answered

Chosen Option : --



Q.7 दिए गए वाक्य में रेखांकित शब्दों के लिए सही शब्दों वाले विकल्प का चयन करें।

तुम्हारे व्यवहार से मैं क्षुब्ध हूँ।

Ans

- 1. तुम्हारे व्यवहार से मैं क्षुब्धा हूँ।
- 2. परिवर्तन की आवश्यकता नहीं है।
- 3. तुम्हारे व्यवहार से मैं क्षुब्धता हूँ।
- 4. तुम्हारे व्यवहार से मैं क्षुब्ध हूँ।

Question ID : 264330189018

Option 1 ID : 264330739859

Option 2 ID : 264330739861

Option 3 ID : 264330739860

Option 4 ID : 264330739858

Status : Not Answered

Chosen Option : --

Q.8 दिए गए विकल्पों में से तीन विकल्प त्रुटियुक्त हैं, जबकि एक सही है। उस सही विकल्प का चयन करें।

Ans

- 1. उसने कहा मैं चार भाई हूँ।
- 2. उसने कहा वह चार भाई हूँ।
- 3. उसने कहा कि वे चार भाई हैं।
- 4. उसने कहा वे चार भाई हूँ।

Question ID : 264330189395

Option 1 ID : 264330741294

Option 2 ID : 264330741295

Option 3 ID : 264330741297

Option 4 ID : 264330741296

Status : Not Answered

Chosen Option : --

Q.9 दिए गए वाक्य में रेखांकित शब्दों के लिए सही शब्दों वाले विकल्प का चयन करें।

रविवार के दिन तो हर जगह अवकाश होता है।

Ans

- 1. रविवार पर तो दिन तो हर जगह अवकाश होता है।
- 2. रविवार में तो दिन तो हर जगह अवकाश होता है।
- 3. रविवार को तो हर जगह अवकाश होता है।
- 4. परिवर्तन की आवश्यकता नहीं है।

Question ID : 264330189186

Option 1 ID : 264330740498

Option 2 ID : 264330740500

Option 3 ID : 264330740499

Option 4 ID : 264330740501

Status : Not Answered

Chosen Option : --

Q.10 निम्नलिखित प्रश्न में, चार विकल्पों में से, उस विकल्प का चयन करें जो कोष्ठक में दिए गए शब्द के विलोम शब्द का सही

विकल्प है।

मेरा मित्र बहुत ही बड़ा (आस्तिक) \_\_\_\_\_ है।

Ans

1. पुजारी  
 2. सनाथ  
 3. नास्तिक  
 4. सभ्य

Question ID : 264330189680

Option 1 ID : 264330742378

Option 2 ID : 264330742381

Option 3 ID : 264330742379

Option 4 ID : 264330742380

Status : Not Answered

Chosen Option : --

Q.11 निम्नलिखित प्रश्न में, चार विकल्पों में से, उस विकल्प का चयन करें जो कोष्ठक में दिए गए शब्द के तत्सम रूप का सही विकल्प है।

(आंवला) \_\_\_\_\_ विटामिन सी का बहुत ही अच्छा स्रोत होता है।

Ans

1. आद्रक  
 2. आम्र  
 3. आमीर  
 4. आमलक

Question ID : 264330188371

Option 1 ID : 264330737363

Option 2 ID : 264330737361

Option 3 ID : 264330737362

Option 4 ID : 264330737360

Status : Not Answered

Chosen Option : --

Q.12 दिए गए वाक्य में उचित पर्यायवाची शब्द का चयन करके रिक्त स्थान की पूर्ति करें।

जल्दी करो। \_\_\_\_\_ (वक्त) निकल रहा है।

Ans

1. राशि  
 2. भाषा  
 3. समय  
 4. इशारा

Question ID : 264330190036

Option 1 ID : 264330743734

Option 2 ID : 264330743736

Option 3 ID : 264330743735

Option 4 ID : 264330743737

Status : Not Answered

Chosen Option : --

Q.13 निम्नलिखित प्रश्न में, चार विकल्पों में से, उस विकल्प का चयन करें जो दी गई लोकोक्ति का सही अर्थ वाला विकल्प है।

आंखों के आगे पलकों की बुराई

Ans  1. दिखावटी रोना

2.

किसी के भाई- बन्धुओं या इष्ट-मित्रों के सामने उसकी बुराई करना

3. नाम और गुण में विरोध होना

4.

जिस काम के लिए गए थे, उसे छोड़कर दूसरे काम में लग गए

Question ID : 264330188346

Option 1 ID : 264330737265

Option 2 ID : 264330737266

Option 3 ID : 264330737264

Option 4 ID : 264330737267

Status : Not Answered

Chosen Option : --

Q.14 निम्नलिखित वाक्य में, उस वाक्यांश को पहचानिए जिसमें मात्राओं से संबंधित अशुद्धियाँ हैं। यदि कोई गलती नहीं है तो 'कोई त्रुटि नहीं है' का चुनाव कीजिए।  
जनसँख्या से मामले को भारत दुनिया में दूसरा/ सबसे बड़ा राष्ट्र है और भारत में लड़कियों/ की शिक्षा की दर बहुत कम है।

Ans  1. कोई त्रुटि नहीं है

2. जनसँख्या से मामले को भारत दुनिया में दूसरा

3. की शिक्षा की दर बहुत कम है

4. सबसे बड़ा राष्ट्र है और भारत में लड़कियों

Question ID : 264330189600

Option 1 ID : 264330742077

Option 2 ID : 264330742074

Option 3 ID : 264330742076

Option 4 ID : 264330742075

Status : Not Answered

Chosen Option : --

Q.15 दिए गए वाक्य का वह भाग ज्ञात करें, जिसमें कोई त्रुटि है।  
इतना आलस्यता करोगे तो जीवन में कुछ नहीं कर पाओगे।

- Ans
- 1. कर पाओगे।
  - 2. में कुछ नहीं
  - 3. करोगे तो जीवन
  - 4. इतना आलस्यता

Question ID : 264330189121  
Option 1 ID : 264330740253  
Option 2 ID : 264330740252  
Option 3 ID : 264330740251  
Option 4 ID : 264330740250  
Status : Not Answered  
Chosen Option : --

#### Comprehension:

नीचे दिए गये गद्यांश में कुछ शब्द छोड़ दिये गए हैं। प्रत्येक अनुच्छेद के सामने चार विकल्प दिए गए हैं। इस गद्यांश को ध्यानपूर्वक पढ़ें और चारों विकल्पों में से सर्वोत्तम विकल्प चुनें।

भारतीय राष्ट्रीय ध्वज हमारी \_\_\_\_\_ का प्रतीक है। देश में अपना ध्वज लहराने का मतलब है कि वो देश स्वतंत्र है। आजादी के बाद पहले प्रधानमंत्री जवाहरलाल नेहरू ने कहा था 'राष्ट्रीय ध्वज सिर्फ हमारी स्वतंत्रता नहीं है, बल्कि ये देश की समस्त जनता की स्वतंत्रता का प्रतीक है।' भारतीय कानून के अनुसार राष्ट्रीय ध्वज \_\_\_\_\_ के कपड़े का होना चाहिए। शुरुआत में राष्ट्रीय ध्वज का इस्तेमाल आम नागरिकों द्वारा सिर्फ राष्ट्रीय दिवस जैसे स्वतंत्रता दिवस व गणतन्त्र दिवस को ही होता था, बाकी के दिनों में वे उसको नहीं \_\_\_\_\_ सकते थे। हमारा राष्ट्रीय ध्वज हमारे देश की संस्कृति, सभ्यता और \_\_\_\_\_ को दर्शाता है। हवा में लहराता हुआ हमारा राष्ट्रीय ध्वज हमारे देश की \_\_\_\_\_ को प्रदर्शित करता है। यह हमारा ध्वज हमारे देश के नागरिकों की स्वतंत्रता के साथ-साथ अंग्रेजों के अत्याचार से मुक्त होने पर अपना एवं अपने देशवासियों का गौरवयुक्त अभिमान है।

#### SubQuestion No : 16

Q.16 भारतीय राष्ट्रीय ध्वज हमारी \_\_\_\_\_ का प्रतीक है।

- Ans
- 1. संरचना
  - 2. पराधीनता
  - 3. अच्छाई
  - 4. स्वाधीनता

Question ID : 264330189923  
Option 1 ID : 264330743304  
Option 2 ID : 264330743302  
Option 3 ID : 264330743303  
Option 4 ID : 264330743305  
Status : Not Answered  
Chosen Option : --

**Comprehension:**

नीचे दिए गये गद्यांश में कुछ शब्द छोड़ दिये गए हैं। प्रत्येक अनुच्छेद के सामने चार विकल्प दिए गए हैं। इस गद्यांश को ध्यानपूर्वक पढ़ें और चारों विकल्पों में से सर्वोत्तम विकल्प चुनें।

भारतीय राष्ट्रीय ध्वज हमारी \_\_\_\_\_ का प्रतीक है। देश में अपना ध्वज लहराने का मतलब है कि वो देश स्वतंत्र है। आजादी के बाद पहले प्रधानमंत्री जवाहरलाल नेहरू ने कहा था 'राष्ट्रीय ध्वज सिर्फ हमारी स्वतंत्रता नहीं है, बल्कि ये देश की समस्त जनता की स्वतंत्रता का प्रतीक है।' भारतीय कानून के अनुसार राष्ट्रीय ध्वज \_\_\_\_\_ के कपड़े का होना चाहिए। शुरुआत में राष्ट्रीय ध्वज का इस्तेमाल आम नागरिकों द्वारा सिर्फ राष्ट्रीय दिवस जैसे स्वतंत्रता दिवस व गणतन्त्र दिवस को ही होता था, बाकी के दिनों में वे उसको नहीं \_\_\_\_\_ सकते थे। हमारा राष्ट्रीय ध्वज हमारे देश की संस्कृति, सभ्यता और \_\_\_\_\_ को दर्शाता है। हवा में लहराता हुआ हमारा राष्ट्रीय ध्वज हमारे देश की \_\_\_\_\_ को प्रदर्शित करता है। यह हमारा ध्वज हमारे देश के नागरिकों की स्वतंत्रता के साथ-साथ अंग्रेजों के अत्याचार से मुक्त होने पर अपना एवं अपने देशवासियों का गौरवयुक्त अभिमान है।

**SubQuestion No : 17**

Q.17 भारतीय कानून के अनुसार राष्ट्रीय ध्वज \_\_\_\_\_ के कपड़े का होना चाहिए।

- Ans
- 1. मलमल
  - 2. अच्छे
  - 3. सूती
  - 4. खादी

Question ID : 264330189924

Option 1 ID : 264330743306

Option 2 ID : 264330743309

Option 3 ID : 264330743307

Option 4 ID : 264330743308

Status : Not Answered

Chosen Option : --

**Comprehension:**

नीचे दिए गये गद्यांश में कुछ शब्द छोड़ दिये गए हैं। प्रत्येक अनुच्छेद के सामने चार विकल्प दिए गए हैं। इस गद्यांश को ध्यानपूर्वक पढ़ें और चारों विकल्पों में से सर्वोत्तम विकल्प चुनें।

भारतीय राष्ट्रीय ध्वज हमारी \_\_\_\_\_ का प्रतीक है। देश में अपना ध्वज लहराने का मतलब है कि वो देश स्वतंत्र है। आजादी के बाद पहले प्रधानमंत्री जवाहरलाल नेहरू ने कहा था 'राष्ट्रीय ध्वज सिर्फ हमारी स्वतंत्रता नहीं है, बल्कि ये देश की समस्त जनता की स्वतंत्रता का प्रतीक है।' भारतीय कानून के अनुसार राष्ट्रीय ध्वज \_\_\_\_\_ के कपड़े का होना चाहिए। शुरुआत में राष्ट्रीय ध्वज का इस्तेमाल आम नागरिकों द्वारा सिर्फ राष्ट्रीय दिवस जैसे स्वतंत्रता दिवस व गणतन्त्र दिवस को ही होता था, बाकी के दिनों में वे उसको नहीं \_\_\_\_\_ सकते थे। हमारा राष्ट्रीय ध्वज हमारे देश की संस्कृति, सभ्यता और \_\_\_\_\_ को दर्शाता है। हवा में लहराता हुआ हमारा राष्ट्रीय ध्वज हमारे देश की \_\_\_\_\_ को प्रदर्शित करता है। यह हमारा ध्वज हमारे देश के नागरिकों की स्वतंत्रता के साथ-साथ अंग्रेजों के अत्याचार से मुक्त होने पर अपना एवं अपने देशवासियों का गौरवयुक्त अभिमान है।

**SubQuestion No : 18**

Q.18 बाकि के दिनों में वे उसको नहीं \_\_\_\_\_ सकते थे।

- Ans
- 1. फहरा
  - 2. ला
  - 3. दिखा
  - 4. उतार

Question ID : 264330189925

Option 1 ID : 264330743311

Option 2 ID : 264330743313

Option 3 ID : 264330743312

Option 4 ID : 264330743310

Status : Not Answered

Chosen Option : --

**Comprehension:**

नीचे दिए गये गद्यांश में कुछ शब्द छोड़ दिये गए हैं। प्रत्येक अनुच्छेद के सामने चार विकल्प दिए गए हैं। इस गद्यांश को ध्यानपूर्वक पढ़ें और चारों विकल्पों में से सर्वोत्तम विकल्प चुनें।

भारतीय राष्ट्रीय ध्वज हमारी \_\_\_\_\_ का प्रतीक है। देश में अपना ध्वज लहराने का मतलब है कि वो देश स्वतंत्र है। आजादी के बाद पहले प्रधानमंत्री जवाहरलाल नेहरू ने कहा था 'राष्ट्रीय ध्वज सिर्फ हमारी स्वतंत्रता नहीं है, बल्कि ये देश की समस्त जनता की स्वतंत्रता का प्रतीक है।' भारतीय कानून के अनुसार राष्ट्रीय ध्वज \_\_\_\_\_ के कपड़े का होना चाहिए। शुरुआत में राष्ट्रीय ध्वज का इस्तेमाल आम नागरिकों द्वारा सिर्फ राष्ट्रीय दिवस जैसे स्वतंत्रता दिवस व गणतन्त्र दिवस को ही होता था, बाकी के दिनों में वे उसको नहीं \_\_\_\_\_ सकते थे। हमारा राष्ट्रीय ध्वज हमारे देश की संस्कृति, सभ्यता और \_\_\_\_\_ को दर्शाता है। हवा में लहराता हुआ हमारा राष्ट्रीय ध्वज हमारे देश की \_\_\_\_\_ को प्रदर्शित करता है। यह हमारा ध्वज हमारे देश के नागरिकों की स्वतंत्रता के साथ-साथ अंग्रेजों के अत्याचार से मुक्त होने पर अपना एवं अपने देशवासियों का गौरवयुक्त अभिमान है।

**SubQuestion No : 19**

Q.19 हमारा राष्ट्रीय ध्वज हमारे देश की संस्कृति, सभ्यता और \_\_\_\_\_ को दर्शाता है।

- Ans
- 1. गतिविधि
  - 2. इतिहास
  - 3. जनसंख्या
  - 4. हास

Question ID : 264330189926  
 Option 1 ID : 264330743316  
 Option 2 ID : 264330743314  
 Option 3 ID : 264330743317  
 Option 4 ID : 264330743315  
 Status : Not Answered  
 Chosen Option : --

**Comprehension:**

नीचे दिए गये गद्यांश में कुछ शब्द छोड़ दिये गए हैं। प्रत्येक अनुच्छेद के सामने चार विकल्प दिए गए हैं। इस गद्यांश को ध्यानपूर्वक पढ़ें और चारों विकल्पों में से सर्वोत्तम विकल्प चुनें।

भारतीय राष्ट्रीय ध्वज हमारी \_\_\_\_\_ का प्रतीक है। देश में अपना ध्वज लहराने का मतलब है कि वो देश स्वतंत्र है। आजादी के बाद पहले प्रधानमंत्री जवाहरलाल नेहरू ने कहा था 'राष्ट्रीय ध्वज सिर्फ हमारी स्वतंत्रता नहीं है, बल्कि ये देश की समस्त जनता की स्वतंत्रता का प्रतीक है।' भारतीय कानून के अनुसार राष्ट्रीय ध्वज \_\_\_\_\_ के कपड़े का होना चाहिए। शुरुआत में राष्ट्रीय ध्वज का इस्तेमाल आम नागरिकों द्वारा सिर्फ राष्ट्रीय दिवस जैसे स्वतंत्रता दिवस व गणतन्त्र दिवस को ही होता था, बाकी के दिनों में वे उसको नहीं \_\_\_\_\_ सकते थे। हमारा राष्ट्रीय ध्वज हमारे देश की संस्कृति, सभ्यता और \_\_\_\_\_ को दर्शाता है। हवा में लहराता हुआ हमारा राष्ट्रीय ध्वज हमारे देश की \_\_\_\_\_ को प्रदर्शित करता है। यह हमारा ध्वज हमारे देश के नागरिकों की स्वतंत्रता के साथ-साथ अंग्रेजों के अत्याचार से मुक्त होने पर अपना एवं अपने देशवासियों का गौरवयुक्त अभिमान है।

**SubQuestion No : 20**

Q.20 हवा में लहराता हुआ हमारा राष्ट्रीय ध्वज हमारे देश की \_\_\_\_\_ को प्रदर्शित करता है।

- Ans
- 1. स्वतंत्रता
  - 2. लड़ाई
  - 3. शुरुआत
  - 4. परतंत्रता

Question ID : 264330189927  
 Option 1 ID : 264330743319  
 Option 2 ID : 264330743318  
 Option 3 ID : 264330743320  
 Option 4 ID : 264330743321  
 Status : Not Answered  
 Chosen Option : --