

**Constable GD in Central Armed Police Forces CAPFs SSF Rifleman GD in Assam
Rifles Examination 2024**

Roll Number	
Candidate Name	
Venue Name	
Exam Date	24/02/2024
Exam Time	11:30 AM - 12:30 PM
Subject	Constable GD Examination 2024

Section : Part-A-General Intelligence and Reasoning

Q.1 Which of the following numbers will replace the question mark (?) in the given series?
31, 32, 36, ?, 61, 86

- Ans
- 1. 39
 - 2. 49
 - 3. 45
 - 4. 58

Question ID : 264330188051
Option 1 ID : 264330736132
Option 2 ID : 264330736134
Option 3 ID : 264330736133
Option 4 ID : 264330736135
Status : Answered
Chosen Option : 3


Q.2 In the following question, select the related letter pair from the given alternatives.

JRVP : IQUO :: ?

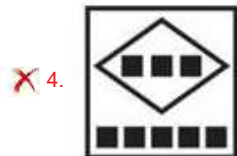
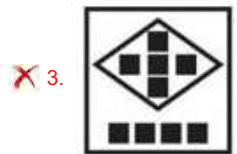
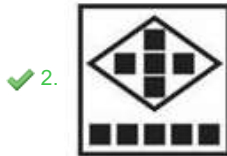
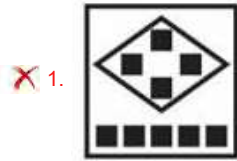
- Ans
- 1. NDUR : ABOC
 - 2. QJBV : PIAU
 - 3. NOPX : ZWXV
 - 4. WWYR : URUO

Question ID : 264330190251
Option 1 ID : 264330744588
Option 2 ID : 264330744589
Option 3 ID : 264330744587
Option 4 ID : 264330744586
Status : Answered
Chosen Option : 2

Q.3 In the following question, select the figure which can be placed at the sign of question mark (?) from the given alternatives.



Ans



Question ID : 264330190202
 Option 1 ID : 264330744392
 Option 2 ID : 264330744393
 Option 3 ID : 264330744390
 Option 4 ID : 264330744391
 Status : Answered
 Chosen Option : 2

Q.4 If $13 A 14 B 15 C 20 = 243$ and $15 A 10 B 8 C 9 = 104$, then $45 A 10 B 18 C 50 = ?$

- Ans 1. 280
 2. 275
 3. 145
 4. 265

Question ID : 264330190441
 Option 1 ID : 264330745348
 Option 2 ID : 264330745346
 Option 3 ID : 264330745349
 Option 4 ID : 264330745347
 Status : Answered
 Chosen Option : 2

Q.5 Which answer figure will complete the pattern in the question figure? (rotation is NOT allowed)



Ans



Question ID : 264330190165

Option 1 ID : 264330744242

Option 2 ID : 264330744243

Option 3 ID : 264330744244

Option 4 ID : 264330744245

Status : Answered

Chosen Option : 3

Q.6 In the following question, select the missing number from the given series.

115, 94, 72, 49, 25, ?

Ans 1. 1

2. 8

3. 0

4. 7

Question ID : 264330187050

Option 1 ID : 264330732130

Option 2 ID : 264330732128

Option 3 ID : 264330732131

Option 4 ID : 264330732129

Status : Answered

Chosen Option : 3

Q.7 Arrange the given words in the sequence in which they occur in the dictionary.

1. Light

2. Like

3. Lift

4. Life

5. Lignite

- Ans
- 1. 1,3,4,5,2
 - 2. 4,3,1,2,5
 - 3. 1,4,3,2,5
 - 4. 4,3,1,5,2

Question ID : 264330190229

Option 1 ID : 264330744500

Option 2 ID : 264330744501

Option 3 ID : 264330744499

Option 4 ID : 264330744498

Status : Answered

Chosen Option : 4

Q.8 Three Statements are given followed by two conclusions numbered I and II. Assuming the statements to be true, even if they seem to be at variance with commonly known facts, decide which of the conclusions logically follow(s) from the statements.

Statement I: All curtains are beds.

Statement II: Some beds are chairs.

Statement III: Some chairs are not tables.

Conclusion I: Some chairs are tables.

Conclusion II: Some chairs being curtains is possible.

- Ans
- 1. Both conclusions I and II follow
 - 2. Only conclusion I follows
 - 3. Only conclusion II follows
 - 4. Neither conclusion I nor II follows

Question ID : 264330192198

Option 1 ID : 264330752148

Option 2 ID : 264330752146

Option 3 ID : 264330752147

Option 4 ID : 264330752149

Status : Answered

Chosen Option : 3

Q.9 Which two signs should be interchanged to make the given equation correct?

$$26 + 2 \times 8 - 4 \div 1 = 14$$

- Ans
- 1. + and -
 - 2. = and -
 - 3. - and \times
 - 4. = and \times

Question ID : 264330192161

Option 1 ID : 264330752001

Option 2 ID : 264330751999

Option 3 ID : 264330752000

Option 4 ID : 264330751998

Status : Answered

Chosen Option : 4

Q.10 Six people Alice, Bob, Carol, David, Emily, and Frank are sitting on a circular table facing towards the centre. David sits between Alice and Emily. Carol sits to the immediate right of Bob. Frank and Alice are not neighbors. Carol is an immediate neighbour of Frank. Who sits to the immediate right of Emily?

- Ans
- 1. David
 - 2. Frank
 - 3. Bob
 - 4. Carol

Question ID : 264330191577

Option 1 ID : 264330749665

Option 2 ID : 264330749662

Option 3 ID : 264330749664

Option 4 ID : 264330749663

Status : Answered

Chosen Option : 1

Q.11 Pointing towards a picture of a man, Rakhi said, "He is the brother of my son's mother". How man is related to Rakhi?

- Ans
- 1. Brother
 - 2. Son
 - 3. Father's brother
 - 4. Father

Question ID : 264330187366

Option 1 ID : 264330733393

Option 2 ID : 264330733394

Option 3 ID : 264330733395

Option 4 ID : 264330733392

Status : Answered

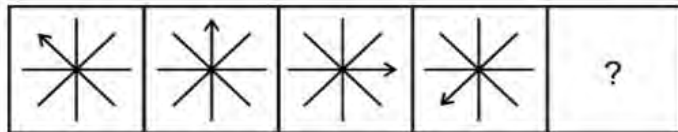
Chosen Option : 1

Q.12 In a certain code language, if BOTTLE is coded as CNUUMD, GLASS is coded as HMZTT, then what will MIRROR be coded as?

- Ans
- 1. NHSNSS
 - 2. NSHSNS
 - 3. NHSSSN
 - 4. NHSSNS

Question ID : 264330192153
 Option 1 ID : 264330751966
 Option 2 ID : 264330751968
 Option 3 ID : 264330751969
 Option 4 ID : 264330751967
 Status : Answered
 Chosen Option : 4

Q.13 Select the figure that will replace the question mark (?) in the following figure series.



Ans

- 1.
- 2.
- 3.
- 4.

Question ID : 264330190303
 Option 1 ID : 264330744796
 Option 2 ID : 264330744794
 Option 3 ID : 264330744795
 Option 4 ID : 264330744797
 Status : Answered
 Chosen Option : 1

Q.14 Select the option that is related to the third word in the same way as the second word is related to the first word.

Penguin : Chick :: Duck : ?

- Ans**
- 1. Cub
 - 2. Duckling
 - 3. Kitten
 - 4. Joey

Question ID : 264330191110

Option 1 ID : 264330747794

Option 2 ID : 264330747796

Option 3 ID : 264330747795

Option 4 ID : 264330747797

Status : Answered

Chosen Option : 4

prepp
Your Personal Exam Guide

Q.15 If a mirror is placed on the line AB, then out of the option figures which figure will be the right image of the question figure?



Ans


1.



2.



3.



4.



Question ID : 264330190146

Option 1 ID : 264330744169

Option 2 ID : 264330744167

Option 3 ID : 264330744168

Option 4 ID : 264330744166

Status : Answered

Chosen Option : 2

Q.16 A series is given with one term missing. Select the correct alternative from the given ones that will complete the series.

QV, TO, MR, PK, ?

- Ans**
- 1. IQ
 - 2. IN
 - 3. IR
 - 4. IM

Question ID : 264330187399

Option 1 ID : 264330733527

Option 2 ID : 264330733526

Option 3 ID : 264330733525

Option 4 ID : 264330733524

Status : Answered

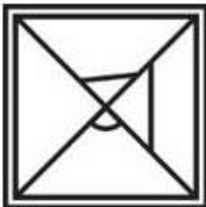
Chosen Option : 2

Q.17 From the given option figures, select the one in which the question figure is hidden/embedded, (rotation is not allowed)



Ans

1.



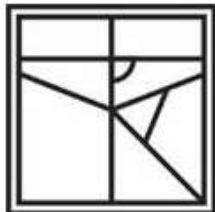
2.



3.



4.



Question ID : 264330190544

Option 1 ID : 264330745759

Option 2 ID : 264330745758

Option 3 ID : 264330745761

Option 4 ID : 264330745760

Status : Answered

Chosen Option : 4

Q.18 Five friends Pooja, Bhawna, Charu, Geeta and Hema are sitting around a circular table facing towards the centre. Charu is not the immediate neighbour of Bhawna. Bhawna is second to the left of Hema. Geeta is the immediate neighbour of Bhawna and Hema. Who is sitting to the immediate left of Charu?

- Ans**
- 1. Bhawna
 - 2. Geeta
 - 3. Hema
 - 4. Pooja

Question ID : 264330187087
Option 1 ID : 264330732278
Option 2 ID : 264330732279
Option 3 ID : 264330732276
Option 4 ID : 264330732277
Status : Answered
Chosen Option : 3

Q.19 Which of the following letter-number cluster will replace the blank (___) in the given series?
IDG, ____, EZC, CXA, AVY, YTW

- Ans**
- 1. GBF
 - 2. GCF
 - 3. GBE
 - 4. JBE

Question ID : 264330188040
Option 1 ID : 264330736090
Option 2 ID : 264330736091
Option 3 ID : 264330736089
Option 4 ID : 264330736088
Status : Answered
Chosen Option : 3

Q.20 In a certain code language, 'FIELD' is coded as '41', 'WONDER' is coded as '84'. What is the code for 'SKILL' in that code language?

- Ans**
- 1. 65
 - 2. 63
 - 3. 68
 - 4. 70

Question ID : 264330190193
Option 1 ID : 264330744355
Option 2 ID : 264330744354
Option 3 ID : 264330744356
Option 4 ID : 264330744357
Status : Answered
Chosen Option : 2

Q.1 According to the data from the Ministry of Mines, the largest resources of gold ore (primary) are located in which of the following Indian states?

- Ans**
- 1. West Bengal
 - 2. Karnataka
 - 3. Rajasthan
 - 4. Bihar

Question ID : 264330188831
Option 1 ID : 264330739128
Option 2 ID : 264330739129
Option 3 ID : 264330739127
Option 4 ID : 264330739126
Status : Answered
Chosen Option : 2

Q.2 Which of the following sports is played by Siddharth Suchde?

- Ans**
- 1. Tennis
 - 2. Badminton
 - 3. Football
 - 4. Squash

Question ID : 264330191943
Option 1 ID : 264330751129
Option 2 ID : 264330751126
Option 3 ID : 264330751128
Option 4 ID : 264330751127
Status : Not Answered
Chosen Option : --

Q.3 Tapan Kumar Pattanayak won the Sangeet Natak Akademi Award in which dance form?

- Ans**
- 1. Kuchipudi
 - 2. Sattriya
 - 3. Odissi
 - 4. Chhau

Question ID : 264330191999
Option 1 ID : 264330751351
Option 2 ID : 264330751352
Option 3 ID : 264330751353
Option 4 ID : 264330751350
Status : Answered
Chosen Option : 4

Q.4 _____ unveiled the Logo, Theme and Website of India's G20 Presidency in Virtual mode.(November 2022)

- Ans
- 1. Home Minister Amit Shah
 - 2. Finance Minister Nirmala Sitharaman
 - 3. President Draupadi Murmu
 - 4. Prime Minister Shri Narendra Modi

Question ID : 264330191429
Option 1 ID : 264330749072
Option 2 ID : 264330749070
Option 3 ID : 264330749073
Option 4 ID : 264330749071
Status : Answered
Chosen Option : 4

Q.5 Who has been appointed as the new CEO of NITI Aayog?

- Ans
- 1. P.C. Sudhakar
 - 2. Parameshwaran Iyer
 - 3. M. K. Talwar
 - 4. BVR Subrahmanyam

Question ID : 264330190829
Option 1 ID : 264330746673
Option 2 ID : 264330746670
Option 3 ID : 264330746672
Option 4 ID : 264330746671
Status : Answered
Chosen Option : 4

Q.6 Which country is India's neighbour to the west, sharing a significant border, and is often a topic of geopolitical significance?

- Ans
- 1. Sri Lanka
 - 2. Pakistan
 - 3. Nepal
 - 4. Bhutan

Question ID : 264330191715
Option 1 ID : 264330750217
Option 2 ID : 264330750216
Option 3 ID : 264330750214
Option 4 ID : 264330750215
Status : Answered
Chosen Option : 2

Q.7 How many players are there on a standard ice hockey (when there is no overtime or penalties) team during a game?

- Ans 1. Six
 2. Five
 3. Seven
 4. Four

Question ID : 264330190863
Option 1 ID : 264330746808
Option 2 ID : 264330746807
Option 3 ID : 264330746809
Option 4 ID : 264330746806
Status : Answered
Chosen Option : 1

Q.8 Who was the founder of the Shunga Dynasty in India?

- Ans 1. Kanva
 2. Pushyamitra
 3. Vasumitra
 4. Devabhuti

Question ID : 264330190875
Option 1 ID : 264330746857
Option 2 ID : 264330746856
Option 3 ID : 264330746854
Option 4 ID : 264330746855
Status : Answered
Chosen Option : 2

Q.9 Which of the following festival has 'Jalli Kattu' as a feature?

- Ans 1. Bihu
 2. Vishu
 3. Pongal
 4. Onam

Question ID : 264330188756
Option 1 ID : 264330738827
Option 2 ID : 264330738828
Option 3 ID : 264330738826
Option 4 ID : 264330738829
Status : Answered
Chosen Option : 3

Q.10 Which of the following is required by the aquatic animals to breathe under water?

- Ans
- 1. Dissolved Nitrogen
 - 2. Dissolved CO₂
 - 3. Dissolved H₂S
 - 4. Dissolved Oxygen

Question ID : 264330190572
Option 1 ID : 264330745870
Option 2 ID : 264330745872
Option 3 ID : 264330745873
Option 4 ID : 264330745871
Status : Answered
Chosen Option : 1

Q.11 According to the 2011 Census of India, the proportion of _____ population has declined by 0.2 PP (percentage point).

- Ans
- 1. Muslim
 - 2. Hindu
 - 3. Sikh
 - 4. Buddhist

Question ID : 264330190573
Option 1 ID : 264330745877
Option 2 ID : 264330745874
Option 3 ID : 264330745875
Option 4 ID : 264330745876
Status : Answered
Chosen Option : 4

Q.12 The Bardoli Satyagraha took place in which year?

- Ans
- 1. 1924
 - 2. 1922
 - 3. 1926
 - 4. 1928

Question ID : 264330191957
Option 1 ID : 264330751183
Option 2 ID : 264330751182
Option 3 ID : 264330751184
Option 4 ID : 264330751185
Status : Answered
Chosen Option : 4

Q.13 Which of the following articles of the Indian Constitution is mentioned under the Right to Equality?

- Ans**
- 1. Protection of life and personal liberty
 - 2. Freedom to manage religious affairs
 - 3. Abolition of titles
 - 4. Right to education

Question ID : 264330188684

Option 1 ID : 264330738539

Option 2 ID : 264330738541

Option 3 ID : 264330738538

Option 4 ID : 264330738540

Status : Answered

Chosen Option : 3

Q.14 Which regulatory body in India oversees and supervises microfinance institutions (MFIs) to ensure their compliance with regulations?

- Ans**
- 1. Securities and Exchange Board of India (SEBI)
 - 2. Insurance Regulatory and Development Authority (IRDA)
 - 3. Competition Commission of India (CCI)
 - 4. Reserve Bank of India (RBI)

Question ID : 264330190964

Option 1 ID : 264330747210

Option 2 ID : 264330747212

Option 3 ID : 264330747211

Option 4 ID : 264330747213

Status : Answered

Chosen Option : 2

Q.15 Which of the following is an example of Quasi-Judicial Bodies in India?

- Ans**
- 1. Supreme Court
 - 2. Zonal council
 - 3. Inter-State Council
 - 4. State Consumer Disputes Redressal Commission

Question ID : 264330191981

Option 1 ID : 264330751278

Option 2 ID : 264330751280

Option 3 ID : 264330751281

Option 4 ID : 264330751279

Status : Answered

Chosen Option : 4

Q.16 Which sport features the "Breaststroke" as a technique?

- Ans 1. Shooting
2. Swimming
3. Horse riding
4. Pool

Question ID : 264330188927
Option 1 ID : 264330739510
Option 2 ID : 264330739512
Option 3 ID : 264330739513
Option 4 ID : 264330739511
Status : Answered
Chosen Option : 2

Q.17 Which of the following Articles of Indian Constitution under the fundamental duties is related to the value and preservation of the rich heritage of our composite culture?

- Ans 1. Article 51A(e)
2. Article 51A(f)
3. Article 51A(g)
4. Article 51A(c)

Question ID : 264330191017
Option 1 ID : 264330747423
Option 2 ID : 264330747424
Option 3 ID : 264330747425
Option 4 ID : 264330747422
Status : Answered
Chosen Option : 4

Q.18 The Union Cabinet chaired by the Prime Minister of India, has approved a bus scheme "PM-eBus Sewa" for augmenting city bus operation by _____ e-buses on PPP model.

- Ans 1. 5000
2. 11000
3. 7000
4. 10000

Question ID : 264330190807
Option 1 ID : 264330746582
Option 2 ID : 264330746585
Option 3 ID : 264330746583
Option 4 ID : 264330746584
Status : Not Answered
Chosen Option : --

Q.19 Implementation of family planning Programmes were amongst major targets of which of the following five year plan of India?

- Ans
- 1. Seventh five year plan
 - 2. Fourth five year plan
 - 3. Sixth five year plan
 - 4. Fifth five year plan

Question ID : 264330188650
Option 1 ID : 264330738405
Option 2 ID : 264330738402
Option 3 ID : 264330738404
Option 4 ID : 264330738403
Status : Answered
Chosen Option : 3

Q.20 To which of the following states does the folk dance Khorisa belong?

- Ans
- 1. West Bengal
 - 2. Maharashtra
 - 3. Assam
 - 4. Haryana

Question ID : 264330192011
Option 1 ID : 264330751399
Option 2 ID : 264330751400
Option 3 ID : 264330751401
Option 4 ID : 264330751398
Status : Answered
Chosen Option : 1

Section : Part-C-Elementary Mathematics

Q.1 There are 120 hens in a poultry. Due to the addition of 140 more hens, the expenses of the poultry increases by Rs. 4050 while the average expenditure per hen diminishes by Rs. 3. What was the original expenditure of the poultry?

- Ans
- 1. Rs. 4780
 - 2. Rs. 4140
 - 3. Rs. 4540
 - 4. Rs. 4350

Question ID : 264330187804
Option 1 ID : 264330735146
Option 2 ID : 264330735145
Option 3 ID : 264330735147
Option 4 ID : 264330735144
Status : Not Answered
Chosen Option : --

Q.2 The average of 17 numbers is 47. If each of the numbers is multiplied by 6, then find the new average.

- Ans**
- 1. 270
 - 2. 282
 - 3. 280
 - 4. 265

Question ID : 264330191151
Option 1 ID : 264330747959
Option 2 ID : 264330747961
Option 3 ID : 264330747958
Option 4 ID : 264330747960
Status : Answered
Chosen Option : 3

Q.3 The difference between simple interest on a certain sum at the annual rate of 10 percent for 7 years and 8 years is Rs. 57. What is the sum?

- Ans**
- 1. Rs. 550
 - 2. Rs. 610
 - 3. Rs. 570
 - 4. Rs. 590

Question ID : 264330187953
Option 1 ID : 264330735742
Option 2 ID : 264330735740
Option 3 ID : 264330735741
Option 4 ID : 264330735743
Status : Not Answered
Chosen Option : --

Q.4 What is the value of $3[4 + 2\{42 - 4(9 - 1)\}]$?

- Ans**
- 1. 48
 - 2. 72
 - 3. 81
 - 4. 69

Question ID : 264330191629
Option 1 ID : 264330749870
Option 2 ID : 264330749872
Option 3 ID : 264330749873
Option 4 ID : 264330749871
Status : Answered
Chosen Option : 2

Q.5 Cost price of a cooler is Rs. 6400. If the profit percentage is 24 percent, then what is the selling price of the cooler?

- Ans
- 1. Rs. 8456
 - 2. Rs. 7256
 - 3. Rs. 8239
 - 4. Rs. 7936

Question ID : 264330188007
Option 1 ID : 264330735958
Option 2 ID : 264330735959
Option 3 ID : 264330735956
Option 4 ID : 264330735957
Status : Answered
Chosen Option : 4

Q.6 What is the value of $520 \div 10 + 25 \times 7 - 62 \times 3$?

- Ans
- 1. 47
 - 2. 45
 - 3. 41
 - 4. 49

Question ID : 264330188532
Option 1 ID : 264330737931
Option 2 ID : 264330737932
Option 3 ID : 264330737933
Option 4 ID : 264330737930
Status : Answered
Chosen Option : 3

Q.7 Calculate the area of a right-angled triangle with a base of 22 cm and height corresponding to that base is 15 cm.

- Ans
- 1. 165 cm²
 - 2. 140 cm²
 - 3. 180 cm²
 - 4. 150 cm²

Question ID : 264330188511
Option 1 ID : 264330737848
Option 2 ID : 264330737847
Option 3 ID : 264330737846
Option 4 ID : 264330737849
Status : Answered
Chosen Option : 1

Q.8 If the ratio of marked price and selling price of an article is 13 : 9, then what is the discount percentage?

- Ans**
- 1. 28.76 percent
 - 2. 30.77 percent
 - 3. 25 percent
 - 4. 32.77 percent

Question ID : 264330187829
Option 1 ID : 264330735246
Option 2 ID : 264330735245
Option 3 ID : 264330735247
Option 4 ID : 264330735244
Status : Answered
Chosen Option : 2

Q.9 The profit earned on selling an article for Rs. 4550 is 5 times of the loss incurred on selling the same article for Rs. 3290. What will be the selling price of the article to earn a profit of 20 percent?

- Ans**
- 1. Rs. 3900
 - 2. Rs. 4200
 - 3. Rs. 4000
 - 4. Rs. 4500

Question ID : 264330190376
Option 1 ID : 264330745086
Option 2 ID : 264330745089
Option 3 ID : 264330745087
Option 4 ID : 264330745088
Status : Not Answered
Chosen Option : --

Q.10 Abhishek marks the price of his laptop 80 percent above the cost price. He allows his customer a discount of 25 percent on the marked price. What is the profit percentage?

- Ans**
- 1. 35 percent
 - 2. 25 percent
 - 3. 55 percent
 - 4. 40 percent

Question ID : 264330187690
Option 1 ID : 264330734688
Option 2 ID : 264330734689
Option 3 ID : 264330734690
Option 4 ID : 264330734691
Status : Answered
Chosen Option : 1

Q.11 When a number is successively decreased by 10 percent, 15 percent and 56 percent, then it becomes 20196. What is that number?

- Ans**
- 1. 60000
 - 2. 80000
 - 3. 40000
 - 4. 50000

Question ID : 264330187866
Option 1 ID : 264330735392
Option 2 ID : 264330735395
Option 3 ID : 264330735393
Option 4 ID : 264330735394
Status : Answered
Chosen Option : 2

Q.12 What is the value of $1100 \div 5 + 420 \div 2 + 550 \div 5$?

- Ans**
- 1. 460
 - 2. 500
 - 3. 540
 - 4. 510

Question ID : 264330187759
Option 1 ID : 264330734967
Option 2 ID : 264330734964
Option 3 ID : 264330734965
Option 4 ID : 264330734966
Status : Answered
Chosen Option : 3

Q.13 If 25 workers can build a wall in 10 days, how many days will it take for 20 workers to build a similar wall?

- Ans**
- 1. 25/2 days
 - 2. 23/3 days
 - 3. 25/4 days
 - 4. 21/2 days

Question ID : 264330191705
Option 1 ID : 264330750176
Option 2 ID : 264330750175
Option 3 ID : 264330750177
Option 4 ID : 264330750174
Status : Answered
Chosen Option : 1

Q.14 A is four times as good a workman as B and together they finish a piece of work in $8\frac{4}{15}$ days. In how many days can A alone finish the work?

- Ans**
- 1. 10 days
 - 2. 15 days
 - 3. 9 days
 - 4. 7 days

Question ID : 264330191686
Option 1 ID : 264330750101
Option 2 ID : 264330750098
Option 3 ID : 264330750100
Option 4 ID : 264330750099
Status : Answered
Chosen Option : 4

Q.15 If A percent of A is 9604, then what is the value of A?

- Ans**
- 1. 920
 - 2. 1020
 - 3. 980
 - 4. 880

Question ID : 264330187705
Option 1 ID : 264330734748
Option 2 ID : 264330734750
Option 3 ID : 264330734749
Option 4 ID : 264330734751
Status : Not Answered
Chosen Option : --

Q.16 Which among the following is divisible by 4, 7 and 23?

- Ans**
- 1. 6457
 - 2. 6440
 - 3. 6245
 - 4. 6490

Question ID : 264330187762
Option 1 ID : 264330734976
Option 2 ID : 264330734978
Option 3 ID : 264330734979
Option 4 ID : 264330734977
Status : Answered
Chosen Option : 2

Q.17 In a mixture, milk and water are in ratio of 7 : 9. Some milk is added to the mixture because of which ratio of milk and water becomes 11 : 9. How much milk was added as a percentage of initial mixture?

- Ans**
- 1. 60 percent
 - 2. 30 percent
 - 3. 25 percent
 - 4. 10 percent

Question ID : 264330188625

Option 1 ID : 264330738305

Option 2 ID : 264330738303

Option 3 ID : 264330738302

Option 4 ID : 264330738304

Status : Answered

Chosen Option : 1

Q.18 What will be the compound interest (compounding annually) on a sum of Rs. 9000 at the rate of 32 percent per annum for 2 years?

- Ans**
- 1. Rs. 6681.6
 - 2. Rs. 6400.4
 - 3. Rs. 6790.7
 - 4. Rs. 6908.3

Question ID : 264330187754

Option 1 ID : 264330734945

Option 2 ID : 264330734946

Option 3 ID : 264330734944

Option 4 ID : 264330734947

Status : Not Answered

Chosen Option : --

Q.19 A thief steals a car at 2:00 p.m. and drives it at 70 km per hour. The theft is discovered at 3:00 p.m. and the owner sets off in another car at 105 km an hour. At what time owner will overtake the thief?

- Ans**
- 1. 5:00 p.m
 - 2. 4:30 p.m
 - 3. 3:30 p.m
 - 4. 3:45 p.m

Question ID : 264330191163

Option 1 ID : 264330748006

Option 2 ID : 264330748007

Option 3 ID : 264330748008

Option 4 ID : 264330748009

Status : Not Answered

Chosen Option : --

Q.20 In a bag, the ratio of black balls to white balls is 7:4. If there are 44 white balls, find the total number of balls in the bag.

- Ans**
- 1. 121
 - 2. 110
 - 3. 128
 - 4. 112

Question ID : 264330190739
Option 1 ID : 264330746389
Option 2 ID : 264330746386
Option 3 ID : 264330746388
Option 4 ID : 264330746387
Status : Answered
Chosen Option : 1

Section : Part-D-English

Q.1 Find the part of the given sentence that has an error in it. If there is no error, choose 'No error'.
Pandemic is the highest level of global health emergency and had signifies widespread outbreaks affecting multiple regions of the world.

- Ans**
- 1. health emergency and had signifies widespread
 - 2. outbreaks affecting multiple regions of the world.
 - 3. No error
 - 4. Pandemic is the highest level of global

Question ID : 264330186341
Option 1 ID : 264330729593
Option 2 ID : 264330729594
Option 3 ID : 264330729595
Option 4 ID : 264330729592
Status : Answered
Chosen Option : 1

Q.2 Fill in the blank with the most appropriate option.

On the _____ in the train he talked to his neighbours about politics and the new railways

- Ans**
- 1. tourism
 - 2. entourage
 - 3. journey
 - 4. itinerary

Question ID : 264330186554
Option 1 ID : 264330730405
Option 2 ID : 264330730407
Option 3 ID : 264330730406
Option 4 ID : 264330730404
Status : Answered
Chosen Option : 3

Q.3 Choose the most appropriate synonym of the underlined word.

To me, this was both a perfect articulation of the problem and the suggestion of a solution.

Ans 1. Mispronounce

2. Damp

3. Park

4. Enunciation

Question ID : 264330185826

Option 1 ID : 264330727628

Option 2 ID : 264330727630

Option 3 ID : 264330727631

Option 4 ID : 264330727629

Status : Answered

Chosen Option : 4

Q.4 Improve the underlined part of the sentence. Choose 'No improvement' as an answer if the sentence is grammatically correct.

Walking through the dew, he wet his sneakers.

Ans 1. No improvement

2. from the dew

3. through the dewy

4. across the dewy

Question ID : 264330185921

Option 1 ID : 264330727995

Option 2 ID : 264330727992

Option 3 ID : 264330727993

Option 4 ID : 264330727994

Status : Answered

Chosen Option : 3

Q.5 Select the most appropriate antonym of the given word.

Procure

Ans 1. Consume

2. Abstain

3. Multiply

4. Hinder

Question ID : 264330186816

Option 1 ID : 264330731401

Option 2 ID : 264330731402

Option 3 ID : 264330731400

Option 4 ID : 264330731403

Status : Answered

Chosen Option : 2

Q.6 Select the most appropriate antonym of the given word.

Characteristic

- Ans
- 1. Affordable
 - 2. Distinctive
 - 3. Inbred
 - 4. Usual

Question ID : 264330186878

Option 1 ID : 264330731638

Option 2 ID : 264330731639

Option 3 ID : 264330731636

Option 4 ID : 264330731637

Status : Answered

Chosen Option : 3

Q.7 Select the most appropriate antonym of the given word.

Prospect

- Ans
- 1. Contemplation
 - 2. Forecast
 - 3. Calculations
 - 4. Impossibility

Question ID : 264330186962

Option 1 ID : 264330731956

Option 2 ID : 264330731959

Option 3 ID : 264330731958

Option 4 ID : 264330731957

Status : Answered

Chosen Option : 1

Q.8 Choose the idiom/phrase that can substitute the highlighted group of words meaningfully.

He **studied till late at night** before his exam and it has paid off.

- Ans
- 1. Run out of steam
 - 2. See eye to eye
 - 3. Lose your marbles
 - 4. Burn the midnight oil

Question ID : 264330186671

Option 1 ID : 264330730848

Option 2 ID : 264330730849

Option 3 ID : 264330730851

Option 4 ID : 264330730850

Status : Answered

Chosen Option : 4

Q.9 Select the most appropriate word to fill in the blank.

Out of all, this is the _____ school in the city.

- Ans
- 1. famousest
 - 2. more famous
 - 3. famous
 - 4. most famous

Question ID : 264330186744
Option 1 ID : 264330731130
Option 2 ID : 264330731129
Option 3 ID : 264330731128
Option 4 ID : 264330731131
Status : Answered
Chosen Option : 4

Q.10 Select the sentence with no spelling errors.

- Ans
- 1. Police who did not understand the urthodox methods of the Black Hood suspected him of numerous crimes.
 - 2. Police who did not understand the orthodox methods of the Black Hood suspected him of numerous crimes.
 - 3. Police who did not understand the orthodox methuds of the Black Hood suspected him of numerous crimes.
 - 4. Police who did not understand the orthodox methods of the Black Hood suspected him of numeruos crimes.

Question ID : 264330185643
Option 1 ID : 264330726935
Option 2 ID : 264330726934
Option 3 ID : 264330726932
Option 4 ID : 264330726933
Status : Answered
Chosen Option : 2

Q.11 Find the part of the given sentence that has an error in it. If there is no error, choose 'No error'.

There was no one in the cinema hall beside Sham and Rohan.

- Ans
- 1. in the cinema hall
 - 2. beside Sham and Rohan.
 - 3. No error
 - 4. There was no one

Question ID : 264330186717
Option 1 ID : 264330731025
Option 2 ID : 264330731026
Option 3 ID : 264330731027
Option 4 ID : 264330731024
Status : Answered
Chosen Option : 2

Q.12 Identify the segment that contains a grammatical error. If there is no error, select 'No error'.

Suddenly he plumped himself/ right into the arms of a tallest, ungainly man, / who had crossed from the other side.

- Ans**
- 1. who had crossed from the other side.
 - 2. right into the arms of a tallest,ungainly man,
 - 3. Suddenly he plumed himself
 - 4. No error

Question ID : 264330186571
Option 1 ID : 264330730470
Option 2 ID : 264330730469
Option 3 ID : 264330730468
Option 4 ID : 264330730471
Status : Answered
Chosen Option : 3

Q.13 Select the most appropriate word to fill in the blank.

The explosion _____ a huge crater.

- Ans**
- 1. have left
 - 2. left
 - 3. leave
 - 4. will leaves

Question ID : 264330186219
Option 1 ID : 264330729130
Option 2 ID : 264330729131
Option 3 ID : 264330729129
Option 4 ID : 264330729128
Status : Answered
Chosen Option : 2

Q.14 Select the incorrectly spelt word from the given sentence.

She found fault in every sentence of the exercise sheet that I asimilated from prior observations.

- Ans**
- 1. prior
 - 2. fault
 - 3. asimilated
 - 4. exercise

Question ID : 264330185978
Option 1 ID : 264330728211
Option 2 ID : 264330728208
Option 3 ID : 264330728210
Option 4 ID : 264330728209
Status : Answered
Chosen Option : 3

Q.15 In the following question, out of the given four alternatives, select the alternative which best expresses the meaning of the Idiom/Phrase.

To huff and puff

- Ans**
- 1. To be perplexed
 - 2. To get into trouble
 - 3. To speak ill of
 - 4. To breathe heavily or rapidly because one is exhausted

Question ID : 264330186376

Option 1 ID : 264330729724

Option 2 ID : 264330729726

Option 3 ID : 264330729725

Option 4 ID : 264330729727

Status : Answered

Chosen Option : 4

Comprehension:

Read the passage carefully and select the correct answer for the given blanks out of the four alternatives.

While you are at Chilika, (1) _____ a moment to yourself and admire the beauty of this fabled lake. Indulge in a leisurely boat ride to visit the many (2) _____ that the vast expanse of the lake encompasses- the beacon island, bird island to (3) _____ a few and of course watch the migratory birds and the critically (4) _____ Irrawaddy Dolphins frolic in the prey laden brackish waters. Go heritage hunting in the nearby quaint townships- Chilika never (5) _____ to amaze.

SubQuestion No : 16

Q.16 Select the most appropriate option for blank (1)

- Ans**
- 1. take
 - 2. sleep
 - 3. make
 - 4. carry

Question ID : 264330185842

Option 1 ID : 264330727691

Option 2 ID : 264330727688

Option 3 ID : 264330727690

Option 4 ID : 264330727689

Status : Answered

Chosen Option : 1

Comprehension:

Read the passage carefully and select the correct answer for the given blanks out of the four alternatives.

While you are at Chilika, (1) _____ a moment to yourself and admire the beauty of this fabled lake. Indulge in a leisurely boat ride to visit the many (2) _____ that the vast expanse of the lake encompasses- the beacon island, bird island to (3) _____ a few and of course watch the migratory birds and the critically (4) _____ Irrawaddy Dolphins frolic in the prey laden brackish waters. Go heritage hunting in the nearby quaint townships- Chilika never (5) _____ to amaze.

SubQuestion No : 17

Q.17 Select the most appropriate option for blank (2)

- Ans
- 1. sections
 - 2. periods
 - 3. marks
 - 4. spots

Question ID : 264330185843

Option 1 ID : 264330727694

Option 2 ID : 264330727693

Option 3 ID : 264330727692

Option 4 ID : 264330727695

Status : Answered

Chosen Option : 4

Comprehension:

Read the passage carefully and select the correct answer for the given blanks out of the four alternatives.

While you are at Chilika, (1) _____ a moment to yourself and admire the beauty of this fabled lake. Indulge in a leisurely boat ride to visit the many (2) _____ that the vast expanse of the lake encompasses- the beacon island, bird island to (3) _____ a few and of course watch the migratory birds and the critically (4) _____ Irrawaddy Dolphins frolic in the prey laden brackish waters. Go heritage hunting in the nearby quaint townships- Chilika never (5) _____ to amaze.

SubQuestion No : 18

Q.18 Select the most appropriate option for blank (3)

- Ans
- 1. word
 - 2. name
 - 3. call
 - 4. announce

Question ID : 264330185844

Option 1 ID : 264330727697

Option 2 ID : 264330727698

Option 3 ID : 264330727699

Option 4 ID : 264330727696

Status : Answered

Chosen Option : 1

Comprehension:

Read the passage carefully and select the correct answer for the given blanks out of the four alternatives.

While you are at Chilika, (1) _____ a moment to yourself and admire the beauty of this fabled lake. Indulge in a leisurely boat ride to visit the many (2) _____ that the vast expanse of the lake encompasses- the beacon island, bird island to (3) _____ a few and of course watch the migratory birds and the critically (4) _____ Irrawaddy Dolphins frolic in the prey laden brackish waters. Go heritage hunting in the nearby quaint townships- Chilika never (5) _____ to amaze.

SubQuestion No : 19

Q.19 Select the most appropriate option for blank (4)

- Ans**
- 1. ventured
 - 2. sheltered
 - 3. screened
 - 4. endangered

Question ID : 264330185845

Option 1 ID : 264330727700

Option 2 ID : 264330727703

Option 3 ID : 264330727702

Option 4 ID : 264330727701

Status : Answered

Chosen Option : 4

Comprehension:

Read the passage carefully and select the correct answer for the given blanks out of the four alternatives.

While you are at Chilika, (1) _____ a moment to yourself and admire the beauty of this fabled lake. Indulge in a leisurely boat ride to visit the many (2) _____ that the vast expanse of the lake encompasses- the beacon island, bird island to (3) _____ a few and of course watch the migratory birds and the critically (4) _____ Irrawaddy Dolphins frolic in the prey laden brackish waters. Go heritage hunting in the nearby quaint townships- Chilika never (5) _____ to amaze.

SubQuestion No : 20

Q.20 Select the most appropriate option for blank (5)

- Ans**
- 1. ceases
 - 2. extenuates
 - 3. layoffs
 - 4. actuates

Question ID : 264330185846

Option 1 ID : 264330727704

Option 2 ID : 264330727706

Option 3 ID : 264330727707

Option 4 ID : 264330727705

Status : Answered

Chosen Option : 1

Q.1 दिए गए वाक्य में उचित पर्यायवाची शब्द का चयन करके रिक्त स्थान की पूर्ति करें।

देवप्रयाग में दो नदियों का _____ (मेल) होता है।

- Ans
- 1. उचित
 - 2. संगम
 - 3. अवधि
 - 4. मन्द

Question ID : 264330188258
 Option 1 ID : 264330736929
 Option 2 ID : 264330736928
 Option 3 ID : 264330736930
 Option 4 ID : 264330736931
 Status : Not Answered
 Chosen Option : --

Q.2 निम्नलिखित प्रश्न में, चार विकल्पों में से, उस विकल्प का चयन करें जो रिक्त स्थान के लिए सही शब्द वाला विकल्प हो।

जब समाचार-पत्रों में _____ के लिए कोई सूचना प्रकाशित की जाती है तो उसको विज्ञापन कहते हैं।

- Ans
- 1. विशिष्ट व्यक्तित्व
 - 2. बच्चों
 - 3. सर्वसाधारण
 - 4. कुछ

Question ID : 264330189858
 Option 1 ID : 264330743061
 Option 2 ID : 264330743060
 Option 3 ID : 264330743059
 Option 4 ID : 264330743058
 Status : Not Answered
 Chosen Option : --

Q.3 दिए गए वाक्य में रेखांकित शब्दों के लिए सही शब्दों वाले विकल्प का चयन करें।

जितना गुड़ डालोगे, वैसा मीठा होगा।

- Ans
- 1. जितना गुड़ डालोगे, उतना मीठा होगा।
 - 2. परिवर्तन की आवश्यकता नहीं है।
 - 3. जितना गुड़ डालोगे, उतना मीठी होगा।
 - 4. जितना गुड़ डालोगे, वैसी मीठी होगा।

Question ID : 264330188997
 Option 1 ID : 264330739780
 Option 2 ID : 264330739781
 Option 3 ID : 264330739779
 Option 4 ID : 264330739778
 Status : Not Answered
 Chosen Option : --

Q.4 निम्नलिखित प्रश्न में, दिए गए चार विकल्पों में से, उस विकल्प का चयन करें जो दिए गए मुहावरे के अर्थ को सर्वश्रेष्ठ रूप से व्यक्त करता है।

कलेजे पर पत्थर रखना

Ans

- ✓ 1. धैर्य धारण करना
 ✗ 2. बुद्धि भ्रष्ट होना
 ✗ 3. बड़ा बदला लेना
 ✗ 4. अत्यंत भयभीत होना

Question ID : 264330188199

Option 1 ID : 264330736705

Option 2 ID : 264330736706

Option 3 ID : 264330736707

Option 4 ID : 264330736704

Status : Not Answered

Chosen Option : --

Q.5 निम्नलिखित प्रश्न में, चार विकल्पों में से, उस विकल्प का चयन करें जो कोष्ठक में दिए गए शब्द के पर्यायवाची शब्द का सही विकल्प है।

किसी ने सही ही कहा है कि (एकता) _____ में शक्ति होती है।

Ans

- ✓ 1. सुमति
 ✗ 2. ठसक
 ✗ 3. अनुरूप
 ✗ 4. अनुग्रह

Question ID : 264330188383

Option 1 ID : 264330737405

Option 2 ID : 264330737407

Option 3 ID : 264330737406

Option 4 ID : 264330737404

Status : Not Answered

Chosen Option : --

Q.6 दिए गए विकल्पों में से तीन विकल्प त्रुटियुक्त हैं, जबकि एक सही है। उस सही विकल्प का चयन करें।

Ans

- ✓ 1. इस गाँव के घर-घर में यही दशा है।
 ✗ 2. इस गाँव को घर-घर यही दशा है।
 ✗ 3. इस गाँव से घर-घर यही दशा है।
 ✗ 4. इस गाँव के घर-घर यही दशा है।

Question ID : 264330189310

Option 1 ID : 264330740972

Option 2 ID : 264330740970

Option 3 ID : 264330740971

Option 4 ID : 264330740973

Status : Not Answered

Chosen Option : --

Q.7 निम्नलिखित प्रश्न में, दिए गए चार विकल्पों में से, उस विकल्प का चयन करें जो दिए गए मुहावरे के अर्थ को सर्वश्रेष्ठ रूप से व्यक्त करता है।

चिपके रहना

Ans

- 1. मजबूती से चिपकना
- 2. प्रिय संतान
- 3. बीमारी का कारण
- 4. साथ-साथ रहना

Question ID : 264330190081

Option 1 ID : 264330743906

Option 2 ID : 264330743909

Option 3 ID : 264330743908

Option 4 ID : 264330743907

Status : Not Answered

Chosen Option : --

Q.8 निम्नलिखित प्रश्न में, चार विकल्पों में से, उस विकल्प का चयन करें जो कोष्ठक में दिए गए शब्द के तत्सम रूप का सही विकल्प है।

पता नहीं कहाँ से एक (तिनका) _____ आकर आँख में चला गया जो अब दर्द दे रहा है।

Ans

- 1. तृण
- 2. तैल
- 3. तरवारि
- 4. त्वरित

Question ID : 264330188329

Option 1 ID : 264330737200

Option 2 ID : 264330737202

Option 3 ID : 264330737203

Option 4 ID : 264330737201

Status : Not Answered

Chosen Option : --

Q.9 दिए गए वाक्य में रेखांकित शब्द के लिए सही वर्तनी ज्ञात कीजिए।

हिंदी हमारी मात्रभाषा है।

Ans

- 1. मातरिभाषा
- 2. मात्रभाषा
- 3. मातृभाषा
- 4. मातरभाषा

Question ID : 264330189034

Option 1 ID : 264330739919

Option 2 ID : 264330739921

Option 3 ID : 264330739920

Option 4 ID : 264330739918

Status : Not Answered

Chosen Option : --

Q.10 दिए गए वाक्य में रेखांकित शब्द का विलोम शब्द ज्ञात कीजिए।

वह देश में है।

- Ans
- 1. ग्रामीण
 - 2. शहर
 - 3. विदेश
 - 4. स्वदेश

Question ID : 264330189218
 Option 1 ID : 264330740621
 Option 2 ID : 264330740620
 Option 3 ID : 264330740618
 Option 4 ID : 264330740619
 Status : Not Answered
 Chosen Option : --

Q.11 दिए गए वाक्य में रेखांकित भाग के लिए उचित सार्थक शब्द का चयन कीजिए।

रावेस होते ही सब उठ गए।

- Ans
- 1. बसेरा
 - 2. रेसब
 - 3. सवेरा
 - 4. बेसब्र

Question ID : 264330189350
 Option 1 ID : 264330741122
 Option 2 ID : 264330741123
 Option 3 ID : 264330741125
 Option 4 ID : 264330741124
 Status : Not Answered
 Chosen Option : --

Q.12 दिए गए वाक्य में से गलत वर्तनी ज्ञात कीजिए।

प्रकृति का सौंदर्य देखते ही बनता है।

- Ans
- 1. प्रकृति
 - 2. सौंदर्य
 - 3. बनता
 - 4. देखते

Question ID : 264330189243
 Option 1 ID : 264330740714
 Option 2 ID : 264330740715
 Option 3 ID : 264330740716
 Option 4 ID : 264330740717
 Status : Not Answered
 Chosen Option : --

Q.13 दिए गए वाक्यांश के लिए सार्थक शब्द ज्ञात कीजिए।

द्रुपद की पुत्री

- Ans
- 1. द्रोपदी
 - 2. द्रौपदी
 - 3. द्रुपद
 - 4. निशाचारी

Question ID : 264330190076

Option 1 ID : 264330743887

Option 2 ID : 264330743886

Option 3 ID : 264330743888

Option 4 ID : 264330743889

Status : Not Answered

Chosen Option : --

Q.14 दिए गए वाक्य में रेखांकित शब्द का विलोम शब्द ज्ञात कीजिए।

वायु प्रदूषण से काफी हानि हो रही है।

- Ans
- 1. जीतना
 - 2. नुकसान
 - 3. लाभ
 - 4. फायदा

Question ID : 264330192822

Option 1 ID : 264330754640

Option 2 ID : 264330754639

Option 3 ID : 264330754638

Option 4 ID : 264330754641

Status : Not Answered

Chosen Option : --

Q.15 दिए गए वाक्य का वह भाग ज्ञात करें, जिसमें कोई त्रुटि है।

समाचार पत्र विभिन्न प्रकरणों पर जनमत तैयार करने के लिए एक शक्ति यंत्र है।

- Ans
- 1. प्रकरणों पर जनमत तैयार
 - 2. करने के लिए एक
 - 3. समाचार पत्र विभिन्न
 - 4. शक्ति यंत्र है।

Question ID : 264330189248

Option 1 ID : 264330740735

Option 2 ID : 264330740736

Option 3 ID : 264330740734

Option 4 ID : 264330740737

Status : Not Answered

Chosen Option : --

Comprehension:

नीचे दिए गये गद्यांश में कुछ शब्द छोड़ दिये गए हैं, प्रत्येक अनुच्छेद के सामने चार विकल्प दिए गए हैं। इस गद्यांश को ध्यानपूर्वक पढ़ें और चार विकल्पों में से सर्वोत्तम उत्तर वाला विकल्प चुनें।

आलस्य एक ऐसा भाव है जो मनुष्य को कार्य करने की _____ नहीं देता अर्थात् मनुष्य कोई भी काम नहीं करना चाहता। उसे कोई भी कार्य करना अच्छा नहीं लगता सिवाय आराम फरमाने के। आलस्य मनुष्य को _____ मार्ग पर ले जाता है। आलसी मनुष्य को अपने कुर्सी से उठने में भी कठिनाई होती है। उसे लगता है कि उसका काम कोई दूसरा व्यक्ति कर दे तो उसकी नींद पूरी हो जाए। अब बताइये आलसी मनुष्य अपना _____ खुद ही बन जाता है। उसे परिश्रम का महत्व समझ नहीं आता। मनुष्य में कई तरह के दोष हैं जैसे, लालच, क्रोध, हिंसा, जलन आदि लेकिन सबसे भयानक आलस का रोग है। आलस्य मनुष्य को असफलता की राह पर ले जाता है। असफलता, अवनति और विनाश आलसी मनुष्य के _____ हैं। शेर भी जंगल में शिकार करके अपनी भूख मिटाता है। शेर जंगल का राजा होता है लेकिन वह भी परिश्रम करके जानवर का शिकार करता है। कहने का तात्पर्य है बिना कोई काम किये किसी को जीवन में _____ प्राप्ति नहीं होती।

SubQuestion No : 16

Q.16 आलस्य एक ऐसा भाव है जो मनुष्य को कार्य करने की _____ नहीं देता।

- Ans 1. इज़ाज़त
 2. समय
 3. ज़रूरत
 4. अनुभव

Question ID : 264330189734

Option 1 ID : 264330742582

Option 2 ID : 264330742584

Option 3 ID : 264330742583

Option 4 ID : 264330742585

Status : Not Answered

Chosen Option : --

Comprehension:

नीचे दिए गये गद्यांश में कुछ शब्द छोड़ दिये गए हैं, प्रत्येक अनुच्छेद के सामने चार विकल्प दिए गए हैं। इस गद्यांश को ध्यानपूर्वक पढ़ें और चार विकल्पों में से सर्वोत्तम उत्तर वाला विकल्प चुनें।

आलस्य एक ऐसा भाव है जो मनुष्य को कार्य करने की _____ नहीं देता अर्थात् मनुष्य कोई भी काम नहीं करना चाहता। उसे कोई भी कार्य करना अच्छा नहीं लगता सिवाय आराम फरमाने के। आलस्य मनुष्य को _____ मार्ग पर ले जाता है। आलसी मनुष्य को अपने कुर्सी से उठने में भी कठिनाई होती है। उसे लगता है कि उसका काम कोई दूसरा व्यक्ति कर दे तो उसकी नींद पूरी हो जाए। अब बताइये आलसी मनुष्य अपना _____ खुद ही बन जाता है। उसे परिश्रम का महत्व समझ नहीं आता। मनुष्य में कई तरह के दोष हैं जैसे, लालच, क्रोध, हिंसा, जलन आदि लेकिन सबसे भयानक आलस का रोग है। आलस्य मनुष्य को असफलता की राह पर ले जाता है। असफलता, अवनति और विनाश आलसी मनुष्य के _____ हैं। शेर भी जंगल में शिकार करके अपनी भूख मिटाता है। शेर जंगल का राजा होता है लेकिन वह भी परिश्रम करके जानवर का शिकार करता है। कहने का तात्पर्य है बिना कोई काम किये किसी को जीवन में _____ प्राप्ति नहीं होती।

SubQuestion No : 17

Q.17 आलस्य मनुष्य को _____ मार्ग पर ले जाता है।

- Ans 1. अच्छे
 2. सुगम
 3. दुर्गम
 4. मनचाहे

Question ID : 264330189735

Option 1 ID : 264330742587

Option 2 ID : 264330742586

Option 3 ID : 264330742588

Option 4 ID : 264330742589

Status : Not Answered

Chosen Option : --

Comprehension:

नीचे दिए गये गद्यांश में कुछ शब्द छोड़ दिये गए हैं, प्रत्येक अनुच्छेद के सामने चार विकल्प दिए गए हैं। इस गद्यांश को ध्यानपूर्वक पढ़ें और चार विकल्पों में से सर्वोत्तम उत्तर वाला विकल्प चुनें।

आलस्य एक ऐसा भाव है जो मनुष्य को कार्य करने की _____ नहीं देता अर्थात् मनुष्य कोई भी काम नहीं करना चाहता। उसे कोई भी कार्य करना अच्छा नहीं लगता सिवाय आराम फरमाने के। आलस्य मनुष्य को _____ मार्ग पर ले जाता है। आलसी मनुष्य को अपने कुर्सी से उठने में भी कठिनाई होती है। उसे लगता है कि उसका काम कोई दूसरा व्यक्ति कर दे तो उसकी नींद पूरी हो जाए। अब बताइये आलसी मनुष्य अपना _____ खुद ही बन जाता है। उसे परिश्रम का महत्व समझ नहीं आता। मनुष्य में कई तरह के दोष हैं जैसे, लालच, क्रोध, हिंसा, जलन आदि लेकिन सबसे भयानक आलस का रोग है। आलस्य मनुष्य को असफलता की राह पर ले जाता है। असफलता, अवनति और विनाश आलसी मनुष्य के _____ हैं। शेर भी जंगल में शिकार करके अपनी भूख मिटाता है। शेर जंगल का राजा होता है लेकिन वह भी परिश्रम करके जानवर का शिकार करता है। कहने का तात्पर्य है बिना कोई काम किये किसी को जीवन में _____ प्राप्ति नहीं होती।

SubQuestion No : 18

Q.18 अब बताइये आलसी मनुष्य अपना _____ खुद ही बन जाता है।

- Ans
- 1. पसंदीदा
 - 2. दोस्त
 - 3. प्यारा
 - 4. दुश्मन

Question ID : 264330189736

Option 1 ID : 264330742592

Option 2 ID : 264330742590

Option 3 ID : 264330742593

Option 4 ID : 264330742591

Status : Not Answered

Chosen Option : --

Comprehension:

नीचे दिए गये गद्यांश में कुछ शब्द छोड़ दिये गए हैं, प्रत्येक अनुच्छेद के सामने चार विकल्प दिए गए हैं। इस गद्यांश को ध्यानपूर्वक पढ़ें और चार विकल्पों में से सर्वोत्तम उत्तर वाला विकल्प चुनें।

आलस्य एक ऐसा भाव है जो मनुष्य को कार्य करने की _____ नहीं देता अर्थात् मनुष्य कोई भी काम नहीं करना चाहता। उसे कोई भी कार्य करना अच्छा नहीं लगता सिवाय आराम फरमाने के। आलस्य मनुष्य को _____ मार्ग पर ले जाता है। आलसी मनुष्य को अपने कुर्सी से उठने में भी कठिनाई होती है। उसे लगता है कि उसका काम कोई दूसरा व्यक्ति कर दे तो उसकी नींद पूरी हो जाए। अब बताइये आलसी मनुष्य अपना _____ खुद ही बन जाता है। उसे परिश्रम का महत्व समझ नहीं आता। मनुष्य में कई तरह के दोष हैं जैसे, लालच, क्रोध, हिंसा, जलन आदि लेकिन सबसे भयानक आलस का रोग है। आलस्य मनुष्य को असफलता की राह पर ले जाता है। असफलता, अवनति और विनाश आलसी मनुष्य के _____ हैं। शेर भी जंगल में शिकार करके अपनी भूख मिटाता है। शेर जंगल का राजा होता है लेकिन वह भी परिश्रम करके जानवर का शिकार करता है। कहने का तात्पर्य है बिना कोई काम किये किसी को जीवन में _____ प्राप्ति नहीं होती।

SubQuestion No : 19

Q.19 असफलता, अवनति और विनाश आलसी मनुष्य के _____ हैं।

- Ans
- 1. महान
 - 2. प्रणाम
 - 3. परिणाम
 - 4. अपने

Question ID : 264330189737

Option 1 ID : 264330742595

Option 2 ID : 264330742597

Option 3 ID : 264330742594

Option 4 ID : 264330742596

Status : Not Answered

Chosen Option : --

Comprehension:

नीचे दिए गये गद्यांश में कुछ शब्द छोड़ दिये गए हैं, प्रत्येक अनुच्छेद के सामने चार विकल्प दिए गए हैं। इस गद्यांश को ध्यानपूर्वक पढ़ें और चार विकल्पों में से सर्वोत्तम उत्तर वाला विकल्प चुनें।

आलस्य एक ऐसा भाव है जो मनुष्य को कार्य करने की _____ नहीं देता अर्थात् मनुष्य कोई भी काम नहीं करना चाहता। उसे कोई भी कार्य करना अच्छा नहीं लगता सिवाय आराम फरमाने के। आलस्य मनुष्य को _____ मार्ग पर ले जाता है। आलसी मनुष्य को अपने कुर्सी से उठने में भी कठिनाई होती है। उसे लगता है कि उसका काम कोई दूसरा व्यक्ति कर दे तो उसकी नींद पूरी हो जाए। अब बताइये आलसी मनुष्य अपना _____ खुद ही बन जाता है। उसे परिश्रम का महत्व समझ नहीं आता। मनुष्य में कई तरह के दोष हैं जैसे, लालच, क्रोध, हिंसा, जलन आदि लेकिन सबसे भयानक आलस का रोग है। आलस्य मनुष्य को असफलता की राह पर ले जाता है। असफलता, अवनति और विनाश आलसी मनुष्य के _____ हैं। शेर भी जंगल में शिकार करके अपनी भूख मिटाता है। शेर जंगल का राजा होता है लेकिन वह भी परिश्रम करके जानवर का शिकार करता है। कहने का तात्पर्य है बिना कोई काम किये किसी को जीवन में _____ प्राप्ति नहीं होती।

SubQuestion No : 20

Q.20 कहने का तात्पर्य है बिना कोई काम किये किसी को जीवन में _____ प्राप्ति नहीं होती।

- Ans
- 1. कठिनाई
 - 2. आलस
 - 3. दुख की
 - 4. लक्ष्य

Question ID : 264330189738

Option 1 ID : 264330742598

Option 2 ID : 264330742599

Option 3 ID : 264330742600

Option 4 ID : 264330742601

Status : Not Answered

Chosen Option : --