

Combined Graduate Level Examination 2024 Tier I

Roll Number	
Candidate Name	
Venue Name	
Exam Date	26/09/2024
Exam Time	12:30 PM - 1:30 PM
Subject	Combined Graduate Level Examination Tier I

Section : General Intelligence and Reasoning

Q.1 एक निश्चित कूट भाषा में,

'A + B' का अर्थ है 'A, B की माता है';
'A - B' का अर्थ है 'A, B का भाई है';
'A × B' का अर्थ है 'A, B की पत्नी है' और
'A ÷ B' का अर्थ है 'A, B का पिता है'

उपरोक्त के आधार पर, यदि 'B + R × I - T ÷ H' है, तो I का H से क्या सम्बन्ध है?

- Ans ☒ 1. पिता के पिता
☒ 2. पिता का भाई
☒ 3. भाई
☒ 4. पिता की बहन

Question ID : 630680324897
Option 1 ID : 6306801263988
Option 2 ID : 6306801263985
Option 3 ID : 6306801263987
Option 4 ID : 6306801263986

Status : Answered

Chosen Option : 2

Q.2 चार विकल्पों में से कौन सा विकल्प निम्नलिखित श्रृंखला में प्रश्नचिह्न (?) के स्थान पर आएगा?
FX32, EV38, DT44, CR50, ?

- Ans ☒ 1. CR54
☒ 2. BP56
☒ 3. DP55
☒ 4. CQ55

Question ID : 630680416332
Option 1 ID : 6306801624094
Option 2 ID : 6306801624092
Option 3 ID : 6306801624091
Option 4 ID : 6306801624093

Status : Answered

Chosen Option : 2

Q.3 दिए गए विकल्पों में से उस संख्या का चयन कीजिए, जो निम्नलिखित श्रृंखला में प्रश्न-चिह्न (?) को प्रतिस्थापित कर सकती है।
176, 167, 156, 147, 136, ?

- Ans
- ☒ 1. 124
 - ☒ 2. 126
 - ☒ 3. 119
 - ☒ 4. 127

Question ID : 630680411900

Option 1 ID : 6306801606435

Option 2 ID : 6306801606437

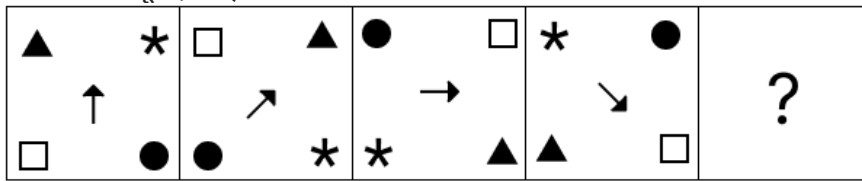
Option 3 ID : 6306801606438

Option 4 ID : 6306801606436

Status : Answered

Chosen Option : 4

Q.4 विकल्पों में दिए गए उस चित्र की पहचान कीजिए जिसे प्रश्न चिह्न (?) के स्थान पर रखने पर श्रृंखला तार्किक रूप से पूर्ण हो जाएगी?



Ans

- ☒ 1.
- ☒ 2.
- ☒ 3.
- ☒ 4.

Question ID : 630680471500

Option 1 ID : 6306801841717

Option 2 ID : 6306801841716

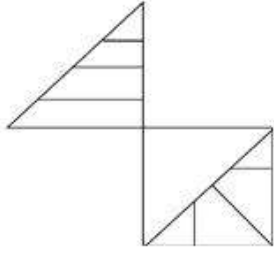
Option 3 ID : 6306801841715

Option 4 ID : 6306801841714

Status : Answered

Chosen Option : 2

Q.5 नीचे दी गई आकृति में कितने त्रिभुज हैं?



- Ans
- ☒ 1. 12
 - ☒ 2. 14
 - ☒ 3. 10
 - ☒ 4. 8

Question ID : 630680296927
Option 1 ID : 6306801155353
Option 2 ID : 6306801155354
Option 3 ID : 6306801155352
Option 4 ID : 6306801155351
Status : Answered
Chosen Option : 3

Q.6 शब्द 'DARKEN' के प्रत्येक अक्षर को अंग्रेजी वर्णमाला क्रम में व्यवस्थित किया जाता है। इस प्रकार बने नए अक्षर-समूह में बाएँ छोर से दूसरे अक्षर और दाएँ छोर से तीसरे अक्षर के बीच अंग्रेजी वर्णमाला शृंखला में कितने अक्षर हैं?

- Ans
- ☒ 1. सात
 - ☒ 2. पाँच
 - ☒ 3. छः
 - ☒ 4. आठ

Question ID : 630680327765
Option 1 ID : 6306801275051
Option 2 ID : 6306801275049
Option 3 ID : 6306801275050
Option 4 ID : 6306801275052
Status : Answered
Chosen Option : 3

Q.7 एक निश्चित कूट भाषा में, 'D' को '16' के रूप में कूटबद्ध किया जाता है, 'B' को '4' के रूप में कूटबद्ध किया जाता है और 'T' को '400' के रूप में कूटबद्ध किया जाता है। उसी भाषा में 'H' को किस प्रकार कूटबद्ध किया जाएगा?

- Ans
- ☒ 1. 64
 - ☒ 2. 25
 - ☒ 3. 8
 - ☒ 4. 36

Question ID : 630680416272
Option 1 ID : 6306801623853
Option 2 ID : 6306801623854
Option 3 ID : 6306801623852
Option 4 ID : 6306801623851
Status : Answered
Chosen Option : 1

Q.8 दिए गए कथनों और निष्कर्षों को ध्यानपूर्वक पढ़िए। आपको दिए गए कथनों को सत्य मानना है, भले ही वे सामान्यतः ज्ञात तथ्यों से भिन्न प्रतीत होते हों। आपको यह तय करना है कि कौन-सा/से निष्कर्ष दिए गए कथनों का तार्किक रूप से अनुसरण करता है/करते हैं।
 कथन: सभी अंगूर, जामुन हैं।
 कुछ जामुन, जूस हैं।
 सभी जूस, सोडा हैं।
 निष्कर्ष: (I) कुछ जामुन, अंगूर हैं।
 (II) कुछ सोडा, जामुन हैं।

- Ans ☒ 1. केवल निष्कर्ष (I) अनुसरण करता है
☒ 2. निष्कर्ष (I) और (II) दोनों अनुसरण करते हैं
☒ 3. निष्कर्ष (I) और (II) दोनों अनुसरण नहीं करते हैं
☒ 4. केवल निष्कर्ष (II) अनुसरण करता है

Question ID : 630680403884
 Option 1 ID : 6306801575022
 Option 2 ID : 6306801575024
 Option 3 ID : 6306801575025
 Option 4 ID : 6306801575023
 Status : Answered
 Chosen Option : 2

Q.9 नीचे संख्याओं के दो समुच्चय दिए गए हैं। संख्याओं के प्रत्येक समुच्चय में, पहली संख्या पर कुछ निश्चित गणितीय संक्रिया करने पर दूसरी संख्या प्राप्त होती है। इसी प्रकार, दूसरी संख्या पर कुछ निश्चित गणितीय संक्रिया करने पर तीसरी संख्या प्राप्त होती है और इसी तरह आगे भी होती है। दिए गए विकल्पों में से कौन-सा विकल्प दिए गए समुच्चयों की तरह संक्रियाओं के समान समुच्चय का अनुसरण करता है?

(नोट: संख्याओं को उनके घटक अंकों में तोड़े बिना, पूर्ण संख्याओं पर संक्रियाएँ की जानी चाहिए।
 उदाहरण के लिए 13 लीजिए - 13 पर की जाने वाली संक्रियाएँ जैसे कि 13 में जोड़ना/घटाना/गुणा करना आदि केवल 13 पर किया जा सकता है। 13 को 1 और 3 में तोड़ना, तथा 1 और 3 पर गणितीय संक्रिया करने की अनुमति नहीं है।)

48 – 50 – 46 – 52; 37 – 39 – 35 – 41

- Ans ☒ 1. 21 – 23 – 29 – 27
☒ 2. 19 – 17 – 21 – 25
☒ 3. 26 – 28 – 24 – 30
☒ 4. 15 – 13 – 9 – 19

Question ID : 630680814084
 Option 1 ID : 6306803189555
 Option 2 ID : 6306803189554
 Option 3 ID : 6306803189553
 Option 4 ID : 6306803189556
 Status : Answered
 Chosen Option : 3

Q.10 एक निश्चित कूट भाषा में, 'bright colour rainbow' को 'mq bj st' के रूप में कूटबद्ध किया जाता है और 'sunny bright day' को 'nv bj fm' के रूप में कूटबद्ध किया जाता है। उस भाषा में 'bright' को किस प्रकार कूटबद्ध किया है?

- Ans ☒ 1. bj
☒ 2. st
☒ 3. mq
☒ 4. nv

Question ID : 63068082924
 Option 1 ID : 630680321558
 Option 2 ID : 630680321557
 Option 3 ID : 630680321559
 Option 4 ID : 630680321556
 Status : Answered
 Chosen Option : 1

Q.11 यदि निम्नलिखित समीकरण में '+' और '-' को आपस में बदल दिया जाए और 'x' और '÷' को आपस में बदल दिया जाए, तो प्रश्न चिह्न (?) के स्थान पर कौन-सी संख्या आएगी?
 $11 \div 8 - 78 \times 6 + 37 = ?$

- Ans
-  1. 58
 -  2. 62
 -  3. 71
 -  4. 64

Question ID : 630680163577

Option 1 ID : 630680633493

Option 2 ID : 630680633492

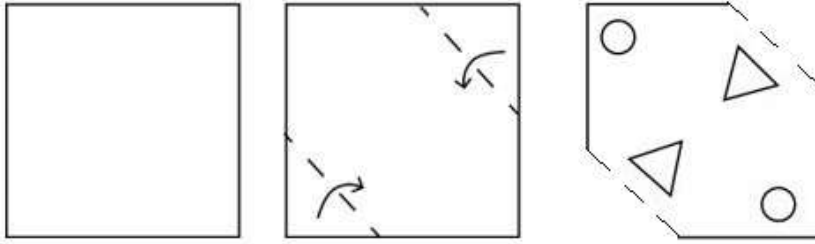
Option 3 ID : 630680633494

Option 4 ID : 630680633495

Status : Answered

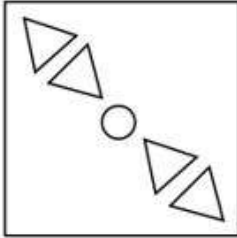
Chosen Option : 4

Q.12 कागज के एक टुकड़े को निर्देशों के अनुसार क्रमिक रूप से बिंदुदार रेखा पर से मोड़ा जाता है और फिर उस पर आखिरी में छिद्र किया जाता है। तो बताइए कि खोलने पर यह कागज कैसा दिखेगा?

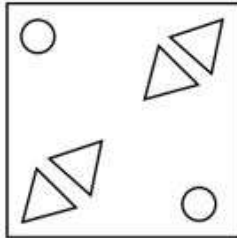


Ans

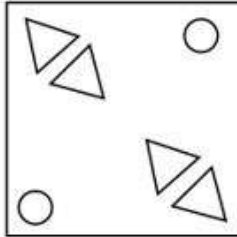
✗ 1.



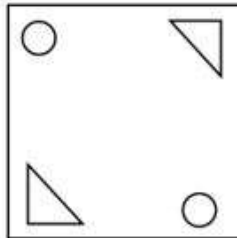
✓ 2.



✗ 3.



✗ 4.



Question ID : 630680366397

Option 1 ID : 6306801427106

Option 2 ID : 6306801427105

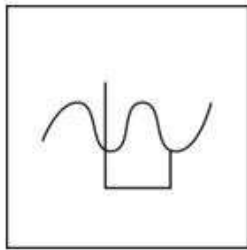
Option 3 ID : 6306801427108

Option 4 ID : 6306801427107

Status : Answered

Chosen Option : 2

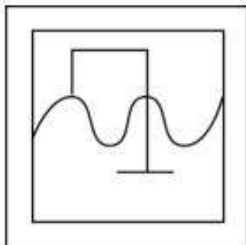
Q.13 उस विकल्प आकृति का चयन कीजिए जिसमें दी गई आकृति (X) सन्निहित है (आकृति को घुमाने की अनुमति नहीं है)।



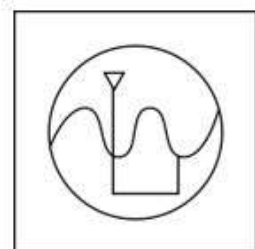
(X)

Ans

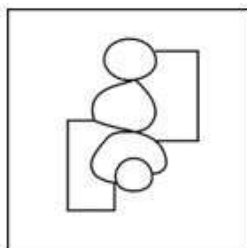
✗ 1.



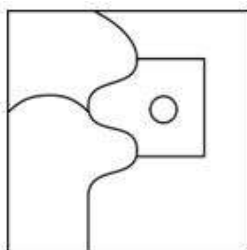
✓ 2.



✗ 3.



✗ 4.



Question ID : 630680332539

Option 1 ID : 6306801293595

Option 2 ID : 6306801293593

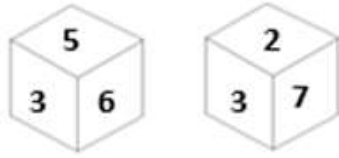
Option 3 ID : 6306801293594

Option 4 ID : 6306801293596

Status : Answered

Chosen Option : 2

Q.14 एक पासे के विभिन्न फलकों पर छह संख्याएँ 5, 3, 6, 7, 9 और 2 अंकित हैं। इस पासे की दो स्थितियाँ नीचे दी गई आकृति में दर्शाई गई हैं। 5 वाले फलक के विपरीत फलक पर संख्या ज्ञात कीजिए।



- Ans
- ☒ 1. 3
 - ☒ 2. 9
 - ☒ 3. 6
 - ☒ 4. 2

Question ID : 630680382714
 Option 1 ID : 6306801491772
 Option 2 ID : 6306801491771
 Option 3 ID : 6306801491774
 Option 4 ID : 6306801491773
 Status : Answered
 Chosen Option : 4

Q.15 एक निश्चित कूट भाषा में, 'FUTURE' को 'IXWXUH' के रूप में लिखा जाता है और 'ISLAND' को 'LVODQG' के रूप में लिखा जाता है। उसी भाषा में 'JERSEY' को किस प्रकार लिखा जाएगा?

- Ans
- ☒ 1. KGTVGA
 - ☒ 2. MHTVGB
 - ☒ 3. MHUVHB
 - ☒ 4. KHTUHA

Question ID : 630680172752
 Option 1 ID : 630680669410
 Option 2 ID : 630680669408
 Option 3 ID : 630680669411
 Option 4 ID : 630680669409
 Status : Answered
 Chosen Option : 3

Q.16 'छिपाना' (Conceal), 'प्रकट करना' (Disclose) से उसी प्रकार संबंधित है, जिस प्रकार 'समरूप' (Identical) '_____ ' से संबंधित है।
 (शब्दों को सार्थक हिंदी शब्द माना जाना चाहिए और शब्दों को अक्षरों की संख्या/व्यंजनों/स्वरों की संख्या के आधार पर एक दूसरे से संबंधित नहीं किया जाना चाहिए।

- Ans
- ☒ 1. अनुरूप (Analogous)
 - ☒ 2. भिन्न (Distinct)
 - ☒ 3. सजातीय (Homogeneous)
 - ☒ 4. समान (Similar)

Question ID : 630680416704
 Option 1 ID : 6306801625581
 Option 2 ID : 6306801625582
 Option 3 ID : 6306801625580
 Option 4 ID : 6306801625579
 Status : Answered
 Chosen Option : 2

Q.17 निम्नलिखित समीकरण में, यदि '+' और '-' को आपस में बदल दिया जाए तथा 'x' और '+' को आपस में बदल दिया जाए, तो '?' के स्थान पर क्या आएगा?

$$7 + 4 \div 18 - 3 \times 2 = ?$$

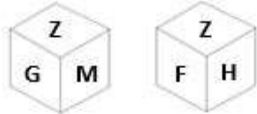
- Ans ☐ 1. 20
☒ 2. 24
☐ 3. 18
☐ 4. 16

Question ID : 630680339260
Option 1 ID : 6306801319609
Option 2 ID : 6306801319610
Option 3 ID : 6306801319611
Option 4 ID : 6306801319612

Status : Answered

Chosen Option : 2

Q.18 Z, G, M, F, H और S फलों वाले एक ही पासे की दो अलग-अलग स्थितियाँ नीचे दिखाई गई हैं। उस अक्षर का चयन कीजिए जो G अक्षर वाले फलक के विपरीत फलक पर होगा।



- Ans ☐ 1. H
☐ 2. M
☒ 3. F
☐ 4. S

Question ID : 630680349071
Option 1 ID : 6306801358574
Option 2 ID : 6306801358573
Option 3 ID : 6306801358576
Option 4 ID : 6306801358575

Status : Answered

Chosen Option : 3

Q.19 चार अक्षर-समूह दिए गए हैं, जिनमें से तीन किसी न किसी रूप में एकसमान हैं और एक उनसे असंगत है। उस असंगत अक्षर-समूह का चयन कीजिए।
नोट: अक्षर समूह में, असंगत व्यंजनों/स्वरों की संख्या या उनकी स्थिति पर आधारित नहीं है।

- Ans ☐ 1. MORW
☒ 2. ORTU
☐ 3. XZCH
☐ 4. PRUZ

Question ID : 63068085566
Option 1 ID : 630680331771
Option 2 ID : 630680331768
Option 3 ID : 630680331769
Option 4 ID : 630680331770

Status : Answered

Chosen Option : 2

Q.20 उस समुच्चय का चयन कीजिए जिसमें संख्याएँ उसी प्रकार से संबंधित हैं जिस प्रकार निम्नलिखित समुच्चय की संख्याएँ संबंधित हैं।
 $3 - 20 - 5$
 $4 - 17 - 3$
 नोट: संख्याओं को उनके घटक अंकों में तोड़े बिना, पूर्ण संख्याओं पर संक्रियाएँ की जानी चाहिए।
 उदाहरण के लिए 13 को लें - 13 पर संक्रियाएँ जैसे 13 में जोड़ना/घटाना/गुणा करना आदि की जा सकती हैं। 13 को 1 और 3 में तोड़ने और फिर 1 और 3 पर गणितीय संक्रियाएँ करने की अनुमति नहीं है।

Ans ☒ 1. $9 - 77 - 8$

☐ 2. $5 - 28 - 9$

☐ 3. $11 - 28 - 5$

☐ 4. $8 - 36 - 11$

Question ID : 630680313543

Option 1 ID : 6306801220039

Option 2 ID : 6306801220037

Option 3 ID : 6306801220040

Option 4 ID : 6306801220038

Status : Answered

Chosen Option : 1

Q.21 दिए गए संख्या युग्मों में दूसरी संख्या, पहली संख्या पर कुछ गणितीय संक्रिया/संक्रियाएँ करके प्राप्त की गई है। एक संख्या-युग्म को छोड़कर, शेष सभी पर उसी संक्रिया/संक्रियाओं का अनुपालन किया गया है। उस असंगत संख्या-युग्म का चयन कीजिए।
 (नोट : संख्याओं को उसके घटक अंकों में खंडित किए बिना संक्रियाएँ पूर्णांकों पर की जानी चाहिए।
 उदाहरण के लिए 13- 13 पर की जाने वाली संक्रियाएँ जैसे जोड़ना/घटाना/गुणा इत्यादि 13 पर ही की जानी चाहिए। 13 को 1 और 3 में खंडित करना और फिर 1 और 3 पर गणितीय संक्रियाएँ करना वर्जित है।)

Ans ☐ 1. $35 : 36$

☒ 2. $34 : 44$

☐ 3. $23 : 25$

☐ 4. $13 : 16$

Question ID : 630680412029

Option 1 ID : 6306801606952

Option 2 ID : 6306801606954

Option 3 ID : 6306801606953

Option 4 ID : 6306801606951

Status : Answered

Chosen Option : 2

Q.22 उस समुच्चय का चयन कीजिए जिसमें संख्याएँ उसी प्रकार संबंधित हैं जिस प्रकार निम्नलिखित समुच्चय की संख्याएँ संबंधित हैं।
 (नोट: संख्याओं को उसके घटक अंकों में तोड़े बिना, पूर्ण संख्याओं पर संक्रियाएँ की जानी चाहिए।
 उदाहरण के लिए संख्या 13 को लें - 13 पर संक्रियाएँ, जैसे कि 13 में जोड़ना/घटाना/गुणा करना आदि, की जा सकती हैं। 13 को 1 और 3 में तोड़ने और फिर 1 और 3 पर गणितीय संक्रियाएँ करने की अनुमति नहीं है।)
 (16, 7, 112)
 (8, 12, 96)

Ans ☐ 1. (13, 7, 96)

☒ 2. (15, 8, 120)

☐ 3. (12, 5, 65)

☐ 4. (14, 9, 128)

Question ID : 630680338900

Option 1 ID : 6306801318191

Option 2 ID : 6306801318190

Option 3 ID : 6306801318189

Option 4 ID : 6306801318192

Status : Answered

Chosen Option : 2

Q.23 अक्षरों के उस संयोजन का चयन कीजिए, जो दी गई श्रृंखला के रिक्त स्थान में क्रमिक रूप से रखे जाने पर श्रृंखला को पूर्ण करेगा।
ABC_FG_JK_MOPQ_TUV_Y

- Ans ☒ 1. EHLRX
☒ 2. EHLRW
☒ 3. DHLRW
☒ 4. DHLSX

Question ID : 630680222415
Option 1 ID : 630680863459
Option 2 ID : 630680863460
Option 3 ID : 630680863462
Option 4 ID : 630680863461
Status : Answered
Chosen Option : 2

Q.24 निम्नलिखित श्रृंखला को जारी रखने के लिए प्रश्न चिह्न (?) के स्थान पर कौन-सी आकृति आनी चाहिए?

S	P	F	F	V	S	V	F	N	N	C	V	
	V			N			C			P		?
		N	C		C	P		P	S		S	F

Ans

- ☒ 1.

C	N	F
	V	
	P	S
- ☒ 2.

C	N	P
	S	
	F	V
- ☒ 3.

F	P	N
	S	
	C	V
- ☒ 4.

V	N	C
	F	
	P	S

Question ID : 630680214429
Option 1 ID : 630680831750
Option 2 ID : 630680831747
Option 3 ID : 630680831748
Option 4 ID : 630680831749
Status : Answered
Chosen Option : 2

Q.25 निम्नलिखित में से कौन-सा पद दी गई श्रृंखला में प्रश्न चिह्न (?) का स्थान लेगा?
QGMW, VCPU, AYSS, ?, KQYO

- Ans ☒ 1. FUVQ
☐ 2. FUXO
☐ 3. FTUO
☐ 4. FVQO

Question ID : 630680417053
Option 1 ID : 6306801626976
Option 2 ID : 6306801626977
Option 3 ID : 6306801626975
Option 4 ID : 6306801626978
Status : Answered
Chosen Option : 1

Section : General Awareness

Q.1 कॉलम A में दिए गए बिंदुओं का कॉलम B के बिंदुओं से मिलान कीजिए।

कॉलम A उपसंघ (Subphylum)	कॉलम B जीव (Animal)
i. हेक्सापोडा (Hexapoda)	a. डैफ्निया (Daphnia)
ii. क्रस्टेशिया (Crustacea)	b. मच्छर (Mosquito)
iii. मीरियापोडा (Myriapoda)	c. लिमूलस (Limulus)
iv. चेलीसेराटा (Chelicerata)	d. जूलस (Julus)

- Ans ☐ 1. i-a, ii-b, iii-c, iv-d
☐ 2. i-b, ii-c, iii-a, iv-d
☐ 3. i-d, ii-c, iii-b, iv-a
☒ 4. i-b, ii-a, iii-d, iv-c

Question ID : 630680199662
Option 1 ID : 630680774255
Option 2 ID : 630680774256
Option 3 ID : 630680774258
Option 4 ID : 630680774257
Status : Not Answered
Chosen Option : --

Q.2 दुग्ध उत्पादकों को डेयरी सहकारी समितियों के माध्यम से गांवों में उचित मूल्य पर अपना दूध बेचने की सुविधा प्रदान करने के लिए उत्तर प्रदेश राज्य सरकार द्वारा 2023 में शुरू की गई 'नंद बाबा दुग्ध मिशन' योजना की लागत क्या है?

- Ans ☐ 1. ₹500 करोड़
☐ 2. ₹1,500 करोड़
☐ 3. ₹2,000 करोड़
☒ 4. ₹1,000 करोड़

Question ID : 630680413086
Option 1 ID : 6306801611167
Option 2 ID : 6306801611169
Option 3 ID : 6306801611170
Option 4 ID : 6306801611168
Status : Not Answered
Chosen Option : --

Q.3 कैसलिंग (Castling) निम्नलिखित में से किस खेल से संबंधित है?

- Ans ☒ 1. शतरंज
☒ 2. टेनिस
☒ 3. टेबल टेनिस
☒ 4. बिलियर्ड्स

Question ID : 630680510773
Option 1 ID : 6306801996224
Option 2 ID : 6306801996223
Option 3 ID : 6306801996222
Option 4 ID : 6306801996225
Status : Not Answered
Chosen Option : --

Q.4 निम्न में से कौन-सा संगठन स्वस्थ और पोषणीय भोजन तक पहुँच में सुधार करने हेतु प्रेरणादायक, विविध और प्रभावशाली समाधान प्रदान करने के लिए संयुक्त राष्ट्र द्वारा घोषित 'सर्वश्रेष्ठ लघु व्यवसाय: सभी के लिए अच्छा भोजन' के रूप में \$100,000 के नकद पुरस्कार का विजेता नहीं है?

- Ans ☒ 1. एडिबल रूट्स प्राइवेट लिमिटेड
☒ 2. पतंजलि
☒ 3. ऊर्जा डेवलपमेंट सॉल्यूशंस इंडिया प्राइवेट लिमिटेड
☒ 4. तरु नेचुरल्स

Question ID : 630680196012
Option 1 ID : 630680760435
Option 2 ID : 630680760438
Option 3 ID : 630680760436
Option 4 ID : 630680760437
Status : Not Answered
Chosen Option : --

Q.5 वर्ष 2019 में असम के किस गायक/गायिका को मरणोपरांत भारत रत्न से सम्मानित किया गया था?

- Ans ☒ 1. रामेश्वर पाठक
☒ 2. भूपेन हजारिका
☒ 3. अर्चना महंत
☒ 4. पद्मनाभ बोरदोलोई

Question ID : 630680511799
Option 1 ID : 6306802000166
Option 2 ID : 6306802000167
Option 3 ID : 6306802000168
Option 4 ID : 6306802000169
Status : Answered
Chosen Option : 1

Q.6 फुगड़ी (Fugdi) नृत्य निम्नलिखित में से किस राज्य से संबंधित है?

- Ans ☒ 1. उत्तराखंड
☒ 2. उत्तर प्रदेश
☒ 3. केरल
☒ 4. गोवा

Question ID : 630680402090
Option 1 ID : 6306801568106
Option 2 ID : 6306801568105
Option 3 ID : 6306801568107
Option 4 ID : 6306801568104
Status : Answered
Chosen Option : 1

Q.7 जब निचली अदालत ने अपने अधिकार क्षेत्र से बाहर जाकर किसी मामले पर विचार किया हो तो किसी उच्च न्यायालय या सर्वोच्च न्यायालय द्वारा कौन सी रिट जारी की जाती है?

- Ans ☒ 1. बन्दी प्रत्यक्षीकरण (Habeas Corpus)
☒ 2. निषेधाज्ञा (Prohibition)
☒ 3. उत्प्रेषण लेख (Certiorari)
☒ 4. अधिकार पृच्छा (Quo Warrant)

Question ID : 630680408203
Option 1 ID : 6306801591707
Option 2 ID : 6306801591708
Option 3 ID : 6306801591710
Option 4 ID : 6306801591709
Status : Answered
Chosen Option : 4

Q.8 त्सांग पो और जमुना किस नदी के अन्य नाम हैं?

- Ans ☒ 1. नर्मदा
☒ 2. गंगा
☒ 3. सिंधु
☒ 4. ब्रह्मपुत्र

Question ID : 630680309103
Option 1 ID : 6306801202592
Option 2 ID : 6306801202589
Option 3 ID : 6306801202590
Option 4 ID : 6306801202591
Status : Answered
Chosen Option : 3

Q.9 चंदेरी के मेदिनी राय, मेवात के हसन खान और महमूद लोदी निम्नलिखित में से किस मुगल शासक के खिलाफ लड़ने के लिए अपनी सेना सहित राणा सांगा के साथ मिल गए थे?

- Ans ☒ 1. बाबर
☒ 2. औरंगजेब
☒ 3. अकबर
☒ 4. हुमायूँ

Question ID : 630680412427
Option 1 ID : 6306801608532
Option 2 ID : 6306801608534
Option 3 ID : 6306801608533
Option 4 ID : 6306801608531
Status : Answered
Chosen Option : 1

Q.10 उमयालपुरम के शिवरामन निम्नलिखित में से किस वाद्य यंत्र से जुड़े एक प्रसिद्ध संगीतकार हैं?

- Ans ☒ 1. सितार
☒ 2. गिटार
☒ 3. मृदंगम
☒ 4. ढोल

Question ID : 630680216239
Option 1 ID : 630680838931
Option 2 ID : 630680838934
Option 3 ID : 630680838933
Option 4 ID : 630680838932
Status : Answered
Chosen Option : 2

Q.11 पर्वत के निम्नलिखित में से किस भाग में नमी युक्त हवाओं से सबसे अधिक वर्षा होगी?

- Ans
- ☐ 1. उच्चावच दिशा में (Relief side)
 - ☐ 2. ऊपर की दिशा में (Upward side)
 - ☐ 3. अनुवात दिशा में (Leeward side)
 - ☒ 4. हवा की दिशा में (Windward side)

Question ID : 63068094177
Option 1 ID : 630680365403
Option 2 ID : 630680365404
Option 3 ID : 630680365405
Option 4 ID : 630680365406
Status : Answered
Chosen Option : 1

Q.12 निम्नलिखित में से कौन-सा दल/पार्टी भारतीय राष्ट्रीय आंदोलन के दौरान सैन फ्रांसिस्को, संयुक्त राज्य अमेरिका में शुरू किया गया था /की गई थी?

- Ans
- ☒ 1. गदर पार्टी
 - ☐ 2. हिंदुस्तान सोशलिस्ट रिपब्लिकन एसोसिएशन
 - ☐ 3. स्वराज पार्टी
 - ☐ 4. खिलाफत समिति

Question ID : 630680511504
Option 1 ID : 6306801999140
Option 2 ID : 6306801999139
Option 3 ID : 6306801999138
Option 4 ID : 6306801999141
Status : Answered
Chosen Option : 2

Q.13 निम्नलिखित में से कौन भारत के सबसे कम समय तक सेवा करने वाले प्रधान मंत्री थे?

- Ans
- ☐ 1. चंद्र शेखर
 - ☐ 2. अटल बिहारी वाजपेयी
 - ☒ 3. गुलजारीलाल नंदा
 - ☐ 4. चरण सिंह

Question ID : 630680305542
Option 1 ID : 6306801188544
Option 2 ID : 6306801188542
Option 3 ID : 6306801188541
Option 4 ID : 6306801188543
Status : Answered
Chosen Option : 2

Q.14 यू.एन.डी.पी. (UNDP) के अनुसार, मानव विकास सूचकांक (2022) में, श्रीलंका का स्थान क्या है?

- Ans
- ☒ 1. 73/189
 - ☐ 2. 72/189
 - ☐ 3. 75/189
 - ☐ 4. 74/189

Question ID : 630680409641
Option 1 ID : 6306801597394
Option 2 ID : 6306801597393
Option 3 ID : 6306801597396
Option 4 ID : 6306801597395
Status : Answered
Chosen Option : 4

Q.15 वर्नियर कैलीपर के संदर्भ में आंतरिक जबड़े (जॉ) का उपयोग निम्न के मापन के लिए किया जाता है:

- Ans ☒ 1. बीकर की गहराई
- ☒ 2. एक खोखले बेलन और पाइप का आंतरिक व्यास
- ☒ 3. लंबाई, जो 1 mm तक सटीक हो
- ☒ 4. एक छड़ की लंबाई और एक गोले का व्यास

Question ID : 63068076925
Option 1 ID : 630680297799
Option 2 ID : 630680297798
Option 3 ID : 630680297800
Option 4 ID : 630680297797
Status : Not Answered
Chosen Option : --

Q.16 मुंबई बंदरगाह पर दबाव कम करने के लिए निम्नलिखित में से किस बंदरगाह को उपग्रह बंदरगाह (Satellite port) के रूप में विकसित किया गया था?

- Ans ☒ 1. मारमागाओ बंदरगाह
- ☒ 2. दीनदयाल बंदरगाह प्राधिकरण
- ☒ 3. न्यू मैंगलोर बंदरगाह
- ☒ 4. जवाहरलाल नेहरू बंदरगाह

Question ID : 630680227941
Option 1 ID : 630680884440
Option 2 ID : 630680884442
Option 3 ID : 630680884439
Option 4 ID : 630680884441
Status : Answered
Chosen Option : 4

Q.17 यदि एक छड़ चुंबक को एक डोरी से लटका दिया जाए, तो उसका उत्तरी ध्रुव किस दिशा में इंगित करेगा?

- Ans ☒ 1. दक्षिण
- ☒ 2. पश्चिम
- ☒ 3. उत्तर
- ☒ 4. पूर्व

Question ID : 63068094224
Option 1 ID : 630680365592
Option 2 ID : 630680365594
Option 3 ID : 630680365591
Option 4 ID : 630680365593
Status : Answered
Chosen Option : 3

Q.18 मथुरा कला विद्यालय के संदर्भ में, निम्नलिखित में से किस काल के दौरान कार्तिकेय, विष्णु और कुबेर जैसे ब्राह्मण देवताओं की कई मूर्तियां उकेरी गई थी?

- Ans ☒ 1. शक
☒ 2. कुषाण
☒ 3. सातवाहन
☒ 4. पार्थियन

Question ID : 630680412361
Option 1 ID : 6306801608268
Option 2 ID : 6306801608267
Option 3 ID : 6306801608269
Option 4 ID : 6306801608270
Status : Answered
Chosen Option : 3

Q.19 रोट्टेला पांडुगा या रोटी महोत्सव किस भारतीय राज्य में मनाया जाता है?

- Ans ☒ 1. कर्नाटक
☒ 2. आंध्र प्रदेश
☒ 3. तमिलनाडु
☒ 4. महाराष्ट्र

Question ID : 630680166678
Option 1 ID : 630680645624
Option 2 ID : 630680645625
Option 3 ID : 630680645626
Option 4 ID : 630680645627
Status : Answered
Chosen Option : 1

Q.20 ब्रिटिश भारत में बेलूर मठ की स्थापना निम्नलिखित में से किस समाज सुधारक द्वारा की गई थी?

- Ans ☒ 1. के. टी. तेलंग
☒ 2. आर. जी. भंडारकर
☒ 3. स्वामी विवेकानन्द
☒ 4. वी. एन. मांडलिक

Question ID : 630680412366
Option 1 ID : 6306801608289
Option 2 ID : 6306801608287
Option 3 ID : 6306801608290
Option 4 ID : 6306801608288
Status : Answered
Chosen Option : 3

Q.21 हरित क्रांति से भारत के किस राज्य का सबसे अधिक रूपांतरण हुआ?

- Ans ☒ 1. केरल
☒ 2. महाराष्ट्र
☒ 3. पश्चिम बंगाल
☒ 4. पंजाब

Question ID : 630680411101
Option 1 ID : 6306801603156
Option 2 ID : 6306801603158
Option 3 ID : 6306801603159
Option 4 ID : 6306801603157
Status : Answered
Chosen Option : 4

Q.22 36वें राष्ट्रीय खेलों में, हशिका रामचन्द्र ने निम्नलिखित में से किस खेल में छः स्वर्ण पदक जीते?

- Ans
- ☒ 1. बैडमिंटन
 - ☒ 2. मुक्केबाजी
 - ☒ 3. तैराकी
 - ☒ 4. कुश्ती

Question ID : 630680510806
Option 1 ID : 6306801996357
Option 2 ID : 6306801996356
Option 3 ID : 6306801996354
Option 4 ID : 6306801996355
Status : Not Answered
Chosen Option : --

Q.23 स्तम्भ A में दिए गए पदों को स्तम्भ B में उनके संबंधित गुणों के साथ सुमेलित कीजिये।

स्तम्भ-A	स्तम्भ-B
i. ग्लूकोज	a. ग्लूकोज के टूटने में मध्यवर्ती पदार्थ
ii. यीस्ट	b. ग्लूकोज पाइरुविक अम्ल में परिवर्तित हो जाता है
iii. ग्लाइकोलिसिस	c. किण्वन प्रक्रम के लिए पोषक तत्वों का उपयोग करता है
iv. पाइरुविक अम्ल	d. श्वसन के लिए सर्वोत्तम कार्बनिक क्रियाधार

- Ans
- ☒ 1. i-a, ii-b, iii-c, iv-d
 - ☒ 2. i-b, ii-d, iii-a, iv-c
 - ☒ 3. i-d, ii-c, iii-b, iv-a
 - ☒ 4. i-b, ii-a, iii-d, iv-c

Question ID : 630680117896
Option 1 ID : 630680456762
Option 2 ID : 630680456763
Option 3 ID : 630680456765
Option 4 ID : 630680456764
Status : Not Answered
Chosen Option : --

Q.24 भारतीय संविधान में 'न्यायपालिका की स्वतंत्रता' की अवधारणा _____ के संविधान से ली गई है।

- Ans
- ☒ 1. फ्रांस
 - ☒ 2. संयुक्त राज्य अमेरिका
 - ☒ 3. ब्रिटेन
 - ☒ 4. आयरलैंड

Question ID : 630680413056
Option 1 ID : 6306801611047
Option 2 ID : 6306801611049
Option 3 ID : 6306801611048
Option 4 ID : 6306801611050
Status : Answered
Chosen Option : 2

Q.25 निम्नलिखित में से किस स्थिति में सरकार घाटे का बजट चलाती है?

- Ans
- ☐ 1. जब सरकारी राजस्व व्यय से अधिक हो जाता है।
 - ☐ 2. जब सरकारी व्यय राजस्व के बराबर होता है।
 - ☐ 3. जब सरकारी व्यय और राजस्व दोनों शून्य हों।
 - ☒ 4. जब सरकारी व्यय राजस्व से अधिक हो जाता है।

Question ID : 630680324425

Option 1 ID : 6306801262183

Option 2 ID : 6306801262182

Option 3 ID : 6306801262181

Option 4 ID : 6306801262184

Status : Answered

Chosen Option : 4

Section : Quantitative Aptitude

Q.1 O केंद्र वाले वृत्त में, एक चाप ABC वृत्त के केंद्र पर 138° का कोण अंतरित करता है। जीवा AB को बिंदु P तक बढ़ाया जाता है। तो, $\angle CBP$ की माप कितनी होगी?

- Ans
- ☐ 1. 111°
 - ☒ 2. 69°
 - ☐ 3. 108°
 - ☐ 4. 42°

Question ID : 630680397660

Option 1 ID : 6306801550561

Option 2 ID : 6306801550563

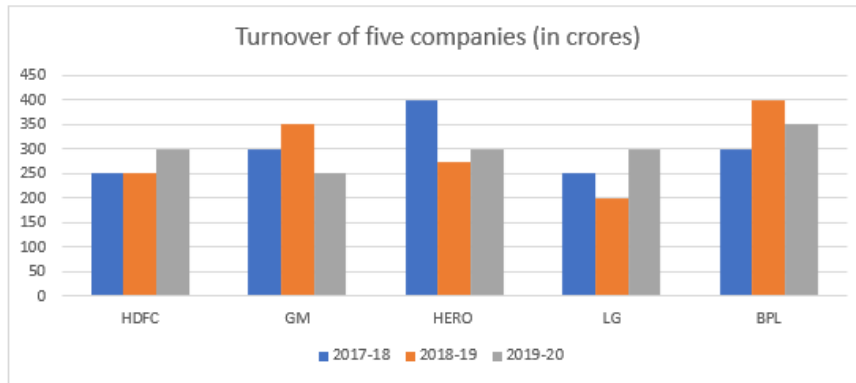
Option 3 ID : 6306801550564

Option 4 ID : 6306801550562

Status : Answered

Chosen Option : 4

Q.2 दिया गया बार ग्राफ पांच कंपनियों का टर्नओवर (करोड़ में) दर्शाता है।



Turnover of five companies (in crores) - पांच कंपनियों का टर्नओवर (करोड़ में)

HDFC- एचडीएफसी, GM- जीएम, Hero-हीरो, LG-एलजी, BPL बीपीएल

वर्ष 2018-2019 और 2019-2020 के बीच सभी कंपनियों के कुल औसत बिक्री टर्नओवर के बीच कितना अंतर है?

- Ans
- ☒ 1. ₹3.5 करोड़
 - ☒ 2. ₹6.5 करोड़
 - ☒ 3. ₹5 करोड़
 - ☒ 4. ₹2 करोड़

Question ID : 630680428230

Option 1 ID : 6306801670965

Option 2 ID : 6306801670967

Option 3 ID : 6306801670966

Option 4 ID : 6306801670964

Status : Not Answered

Chosen Option : --

Q.3 ΔABC में, B पर समकोण है। यदि $\tan C = \sqrt{3}$ है, तो $\frac{\sin^2 C + \cos^2 C}{1 + \cot^2 C}$ ज्ञात कीजिए।

- Ans
- ☒ 1. $\frac{3}{4}$
 - ☒ 2. $\frac{4}{15}$
 - ☒ 3. $\frac{3}{16}$
 - ☒ 4. $\frac{16}{3}$

Question ID : 630680526509

Option 1 ID : 6306802058104

Option 2 ID : 6306802058103

Option 3 ID : 6306802058102

Option 4 ID : 6306802058105

Status : Answered

Chosen Option : 1

Q.4 निम्न आँकड़ों का अध्ययन कीजिए और प्रश्न का उत्तर दीजिए।

साझेदार	शेयरों का प्रतिशत
जीवन	10%
किरण	15%
लोकेश	8%
रसूल	22%
मीरा	45%

कंपनी ने अपने पाँच साझेदारों के बीच 10 लाख शेयर जारी किए हैं। यदि जीवन मीरा को अपने 20,000 शेयर बेचने की पेशकश करता है, तो मीरा के पास कितने शेयर होंगे?

Ans  1. 4,70,000

 2. 4,80,000

 3. 4,60,000

 4. 5,10,000

Question ID : 630680428114

Option 1 ID : 6306801670501

Option 2 ID : 6306801670502

Option 3 ID : 6306801670503

Option 4 ID : 6306801670500

Status : Not Answered

Chosen Option : --

Q.5 250 m की दूरी पर एक पुलिस कार को देखकर एक चोर एक निश्चित चाल से अपनी बाइक से भागता है। पुलिस की गाड़ी चोर का पीछा करती है और उसे पकड़ लेती है। यदि चोर पकड़े जाने से पहले 1.5 km भागता है और पुलिस की कार की चाल 70 km/h है, तो चोर की बाइक की चाल (km/h में) कितनी है?

Ans  1. 60

 2. 65

 3. 55

 4. 50

Question ID : 630680428724

Option 1 ID : 6306801672942

Option 2 ID : 6306801672943

Option 3 ID : 6306801672941

Option 4 ID : 6306801672940

Status : Not Answered

Chosen Option : --

Q.6 सुरेश के खर्च और बचत का अनुपात 3 : 1 है। उसका वेतन 25% बढ़ जाता है। यदि उसकी बचत 20% बढ़ जाए तो उसका खर्च कितने प्रतिशत बढ़ेगा?

Ans

- ☐ 1. $28\frac{2}{3}\%$
☐ 2. $27\frac{2}{3}\%$
☐ 3. $25\frac{2}{3}\%$
☒ 4. $26\frac{2}{3}\%$

Question ID : 630680397737

Option 1 ID : 6306801550965

Option 2 ID : 6306801550964

Option 3 ID : 6306801550962

Option 4 ID : 6306801550963

Status : Answered

Chosen Option : 4

Q.7 यदि एक लम्ब वृत्तीय बेलन की त्रिज्या और ऊँचाई क्रमशः 21 cm और 5 cm है, तो बेलन का संपूर्ण पृष्ठीय क्षेत्रफल क्या है ($\pi = \frac{22}{7}$ का उपयोग कीजिए)?

Ans

- ☒ 1. 3432 cm^2
☐ 2. 5212 cm^2
☐ 3. 4312 cm^2
☐ 4. 3816 cm^2

Question ID : 630680421517

Option 1 ID : 6306801644532

Option 2 ID : 6306801644534

Option 3 ID : 6306801644533

Option 4 ID : 6306801644531

Status : Answered

Chosen Option : 1

Q.8 9.5% वार्षिक साधारण ब्याज की दर से 2 वर्षों में कितना मूलधन ₹21,420 हो जाएगा?

Ans

- ☒ 1. ₹18,000
☐ 2. ₹16,000
☐ 3. ₹11,273
☐ 4. ₹12,000

Question ID : 630680361798

Option 1 ID : 6306801408958

Option 2 ID : 6306801408959

Option 3 ID : 6306801408957

Option 4 ID : 6306801408960

Status : Answered

Chosen Option : 1

Q.9 निम्नलिखित व्यंजक को सरल कीजिए।

$$(60 + 64 \div 4 \text{ of } 4) \times \{1000 \div ((10 \text{ of } (3 + 2)) \times 2 \text{ of } 5)\} - 28 + (100 \times 3 \text{ of } 3).$$

- Ans
- ☒ 1. 600
 - ☒ 2. 500
 - ☒ 3. 1000
 - ☒ 4. 100

Question ID : 630680421901

Option 1 ID : 6306801646045

Option 2 ID : 6306801646044

Option 3 ID : 6306801646046

Option 4 ID : 6306801646047

Status : Answered

Chosen Option : 3

Q.10

यदि $8\cot\theta = 7$ है, तो $\frac{1 + \sin\theta}{\cos\theta}$ का मान ज्ञात कीजिए।

- Ans
- ☒ 1. $\frac{8 + \sqrt{113}}{7}$
 - ☒ 2. $\frac{1 + \sqrt{113}}{8}$
 - ☒ 3. $\frac{7 + \sqrt{113}}{8}$
 - ☒ 4. $\frac{1 + \sqrt{113}}{7}$

Question ID : 6306801048019

Option 1 ID : 6306804114124

Option 2 ID : 6306804114122

Option 3 ID : 6306804114123

Option 4 ID : 6306804114125

Status : Answered

Chosen Option : 1

Q.11 $\triangle ABC$ में, $DE \parallel BC$ है और $5AE = 3EC$ है। यदि $AB = 6.4$ इकाई है, तो DB का मान (इकाई में) ज्ञात कीजिए।

- Ans
- ☒ 1. 4
 - ☒ 2. 2.4
 - ☒ 3. 3.2
 - ☒ 4. 5

Question ID : 630680397157

Option 1 ID : 6306801548686

Option 2 ID : 6306801548684

Option 3 ID : 6306801548687

Option 4 ID : 6306801548685

Status : Answered

Chosen Option : 1

Q.12 $45yz0$ पांच अंकों की एक ऐसी संख्या है जो 40 से विभाज्य है। $(y + z)$ का अधिकतम संभावित मान क्या है?

- Ans ☒ 1. 17
☒ 2. 16
☒ 3. 18
☒ 4. 15

Question ID : 630680115765
Option 1 ID : 630680448400
Option 2 ID : 630680448399
Option 3 ID : 630680448401
Option 4 ID : 630680448398
Status : Answered
Chosen Option : 1

Q.13 रमन अपनी वस्तुओं का विक्रय मूल्य क्रय मूल्य से 16% अधिक पर निर्धारित करता है। वह अपनी वस्तुएं निर्धारित मूल्य से 12% कम पर बेचता है। दो दशमलव स्थान तक सही लाभ प्रतिशत ज्ञात कीजिए।

- Ans ☒ 1. 2.08%
☒ 2. 1.07%
☒ 3. 0.08%
☒ 4. 3.01%

Question ID : 630680429029
Option 1 ID : 6306801674161
Option 2 ID : 6306801674162
Option 3 ID : 6306801674163
Option 4 ID : 6306801674160
Status : Answered
Chosen Option : 1

Q.14 यदि $a : b = c : d = e : f = 5 : 7$ है, तो $(3a + 5c + 11e) : (3b + 5d + 11f)$ का अनुपात क्या है?

- Ans ☒ 1. 3 : 7
☒ 2. 5 : 7
☒ 3. 11 : 7
☒ 4. 7 : 11

Question ID : 630680524324
Option 1 ID : 6306802049447
Option 2 ID : 6306802049449
Option 3 ID : 6306802049448
Option 4 ID : 6306802049450
Status : Answered
Chosen Option : 2

Q.15 $\triangle ABC$ की भुजा BC को बिंदु D तक बढ़ाया गया है। यदि $AC = BC$ और $\angle BAC = 70^\circ$ है, तो $2.5\angle ACD - 1.5\angle ABC$ का मान ज्ञात कीजिए।

- Ans
- ☒ 1. 235°
 - ☒ 2. 230°
 - ☒ 3. 225°
 - ☒ 4. 245°

Question ID : 630680379709
 Option 1 ID : 6306801479881
 Option 2 ID : 6306801479880
 Option 3 ID : 6306801479879
 Option 4 ID : 6306801479882
 Status : Not Answered
 Chosen Option : --

Q.16 एक त्रिज्यखंड का केंद्रीय कोण 80° है और जिसकी लंबाई 96π है। वृत्त की त्रिज्या क्या है?

- Ans
- ☒ 1. 116 यूनिट
 - ☒ 2. 196 यूनिट
 - ☒ 3. 204 यूनिट
 - ☒ 4. 216 यूनिट

Question ID : 630680296207
 Option 1 ID : 6306801152496
 Option 2 ID : 6306801152497
 Option 3 ID : 6306801152498
 Option 4 ID : 6306801152499
 Status : Answered
 Chosen Option : 4

Q.17 यदि $p = \frac{\sin A}{1 + \cos A}$ है, तो $\frac{\sin A}{1 - \cos A}$ का मान किसके बराबर है?

- Ans
- ☒ 1. $\frac{1}{p+1}$
 - ☒ 2. $\frac{1}{p}$
 - ☒ 3. $p-1$
 - ☒ 4. $\frac{1}{1-p}$

Question ID : 630680397695
 Option 1 ID : 6306801550739
 Option 2 ID : 6306801550738
 Option 3 ID : 6306801550737
 Option 4 ID : 6306801550740
 Status : Not Answered
 Chosen Option : --


Q.18 नीचे दी गई तालिका 2022 में चार विभिन्न कंपनियों में कर्मचारियों का बंटन दर्शाती है।

कंपनी	परिक्षेत्रों की संख्या	प्रति परिक्षेत्र कर्मचारियों की औसत संख्या	पुरुष : महिला
A	30	300	3:5
B	35	400	5:3
C	27	500	4:5
D	25	450	5:4

2022 में कंपनी D में कार्यरत पुरुष कर्मचारियों की कुल संख्या ज्ञात करें।

Ans  1. 6750

 2. 6250

 3. 6500

 4. 6000

Question ID : 630680428172

Option 1 ID : 6306801670735

Option 2 ID : 6306801670732

Option 3 ID : 6306801670734

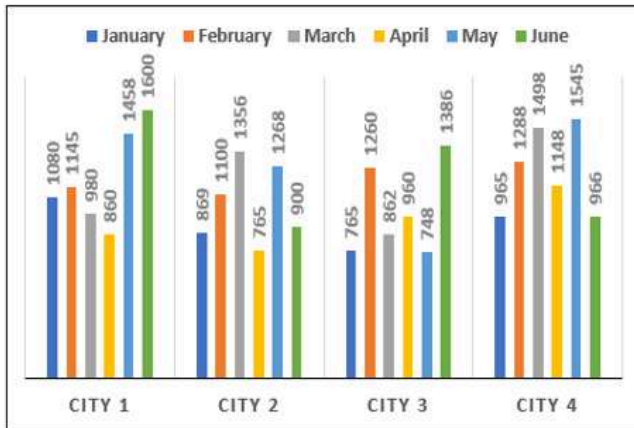
Option 4 ID : 6306801670733

Status : Not Answered

Chosen Option : --

Q.19 दिए गए बार-ग्राफ का अध्ययन कीजिए और इसके बाद आगे दिए गए प्रश्न का उत्तर दीजिए।

निम्नलिखित बार ग्राफ उल्लिखित महीनों में शहर 1, 2, 3 और 4 में हुई मौतों की संख्या को दर्शाता है।



CITY 1 = शहर 1, CITY 2 = शहर 2, CITY 3 = शहर 3, CITY 4 = शहर 4

January = जनवरी, February = फरवरी, March = मार्च, April = अप्रैल,

May = मई, June = जून

सभी शहरों में अप्रैल के दौरान होने वाली मौतों की औसत संख्या (अगले पूर्णांक तक पूर्णांकित) ज्ञात कीजिए।

Ans ☒ 1. 934

☒ 2. 928

☒ 3. 965

☒ 4. 953

Question ID : 630680387182

Option 1 ID : 6306801509423

Option 2 ID : 6306801509424

Option 3 ID : 6306801509422

Option 4 ID : 6306801509425

Status : Not Answered

Chosen Option : --

Q.20 एक घोल के आधे lt में 15% एल्कोहॉल है। एल्कोहॉल की सांद्रता को 50% में बदलने के लिए, मिश्रित की जाने वाली एल्कोहॉल की मात्रा ज्ञात कीजिए।

Ans ☒ 1. 250 ml

☒ 2. 350 ml

☒ 3. 175 ml

☒ 4. 400 ml

Question ID : 630680518837

Option 1 ID : 6306802027821

Option 2 ID : 6306802027822

Option 3 ID : 6306802027820

Option 4 ID : 6306802027823

Status : Not Answered

Chosen Option : --

Q.21 किसी स्टोर में एक इलेक्ट्रॉनिक घड़ी का अंकित मूल्य ₹15,620 है और यह 27% की छूट पर उपलब्ध है। यदि कोई ग्राहक स्टोर से खरीदारी करता है, तो उसके द्वारा चुकाया गया मूल्य (₹ में, निकटतम दहाई स्थान तक) कितना है?

Ans ☒ 1. 11,400

☐ 2. 9,880

☐ 3. 10,800

☐ 4. 12,500

Question ID : 630680427949

Option 1 ID : 6306801669841

Option 2 ID : 6306801669842

Option 3 ID : 6306801669843

Option 4 ID : 6306801669840

Status : Answered

Chosen Option : 4

Q.22 दो क्रमागत सम संख्याओं का योग 174 है। छोटी संख्या ज्ञात कीजिए।

Ans ☒ 1. 86

☐ 2. 90

☐ 3. 88

☐ 4. 84

Question ID : 630680196644

Option 1 ID : 630680762877

Option 2 ID : 630680762876

Option 3 ID : 630680762878

Option 4 ID : 630680762875

Status : Not Answered

Chosen Option : --

Q.23 यदि $2a - b = 3$ और $8a^3 - b^3 = 999$ है, तो $4a^2 - b^2$ का मान ज्ञात कीजिए।

Ans ☐ 1. 67

☒ 2. 63

☐ 3. 65

☐ 4. 61

Question ID : 630680413512

Option 1 ID : 6306801612875

Option 2 ID : 6306801612873

Option 3 ID : 6306801612874

Option 4 ID : 6306801612872

Status : Not Answered

Chosen Option : --

Q.24

यदि $x = \sqrt{6} + 2$ और $y = \sqrt{6} - 2$ है, तो $\left(\frac{x}{y} + \frac{y}{x}\right)^2 - 3$ का मान क्या होगा?

- Ans ☒ 1. 42
☒ 2. 97
☒ 3. 22
☒ 4. 35

Question ID : 630680413535
 Option 1 ID : 6306801612966
 Option 2 ID : 6306801612967
 Option 3 ID : 6306801612964
 Option 4 ID : 6306801612965
 Status : Not Answered
 Chosen Option : --

Q.25 वरुण और राजू, एक साथ मिलकर कार्य करते हुए, किसी कार्य को 40 घंटे में पूरा कर सकते हैं, जबकि अकेले वरुण, उसी कार्य को 50 घंटे में पूरा कर सकता है। अकेले राजू, कितने घंटे में कार्य पूरा करेगा?

- Ans ☒ 1. 150
☒ 2. 190
☒ 3. 170
☒ 4. 200

Question ID : 630680386147
 Option 1 ID : 6306801505298
 Option 2 ID : 6306801505300
 Option 3 ID : 6306801505299
 Option 4 ID : 6306801505301
 Status : Not Answered
 Chosen Option : --

Section : English Comprehension

Q.1 Select the most appropriate option to fill in the blank.

I like bread made up of corn _____.

- Ans ☒ 1. flour
☒ 2. floor
☒ 3. flower
☒ 4. failure

Question ID : 630680129336
 Option 1 ID : 630680500964
 Option 2 ID : 630680500962
 Option 3 ID : 630680500963
 Option 4 ID : 630680500965
 Status : Answered
 Chosen Option : 1

Q.2 Select the option that expresses the following sentence in passive voice.
Gill scored 3 centuries in Tata IPL 2023

- Ans**
- ☒ 1. 3 centuries had been scored by Gill in Tata IPL 2023.
 - ☒ 2. 3 centuries were being scored by Gill in Tata IPL 2023.
 - ☒ 3. 3 centuries has been scored by Gill in Tata IPL 2023.
 - ☒ 4. 3 centuries were scored by Gill in Tata IPL 2023.

Question ID : 630680415244
Option 1 ID : 6306801619723
Option 2 ID : 6306801619726
Option 3 ID : 6306801619724
Option 4 ID : 6306801619725
Status : Answered
Chosen Option : 4

Q.3 Select the correct ANTONYM of the underlined word to fill in the blank and complete the following sentence.
He is always active in a party but _____ in the class.

- Ans**
- ☒ 1. careless
 - ☒ 2. angry
 - ☒ 3. naughty
 - ☒ 4. inert

Question ID : 630680168029
Option 1 ID : 630680650744
Option 2 ID : 630680650746
Option 3 ID : 630680650747
Option 4 ID : 630680650745
Status : Answered
Chosen Option : 4

Q.4 Select the most appropriate ANTONYM of the given word.
Insert

- Ans**
- ☒ 1. Remove
 - ☒ 2. Select
 - ☒ 3. Inform
 - ☒ 4. Inject

Question ID : 630680517558
Option 1 ID : 6306802022629
Option 2 ID : 6306802022630
Option 3 ID : 6306802022631
Option 4 ID : 6306802022628
Status : Answered
Chosen Option : 4

Q.5 Select the option that expresses the opposite meaning of the underlined word.
In front of the big screen, this behaviour is generally considered taboo.

- Ans ☒ 1. Prescription
☒ 2. Acceptable
☒ 3. Obedience
☒ 4. Promotion

Question ID : 630680377997
Option 1 ID : 6306801473047
Option 2 ID : 6306801473048
Option 3 ID : 6306801473049
Option 4 ID : 6306801473050
Status : Answered
Chosen Option : 3

Q.6 Identify the error in the given sentence.
My colleague always works latest than me.

- Ans ☒ 1. than me.
☒ 2. latest
☒ 3. My colleague
☒ 4. always works

Question ID : 630680402695
Option 1 ID : 6306801570384
Option 2 ID : 6306801570383
Option 3 ID : 6306801570381
Option 4 ID : 6306801570382
Status : Answered
Chosen Option : 2

Q.7 Select the most appropriate option that can substitute the underlined word in the given sentence.

Verity is a good virtue for human life.

- Ans ☒ 1. Cooperation
☒ 2. Knowledge
☒ 3. Truth
☒ 4. Information

Question ID : 630680161536
Option 1 ID : 630680625475
Option 2 ID : 630680625473
Option 3 ID : 630680625474
Option 4 ID : 630680625472
Status : Answered
Chosen Option : 1

Q.8 Select the option that can be used as a one-word substitute for the given group of words.

Loud enough to be heard.

- Ans ☒ 1. Audacious
☒ 2. Audible
☒ 3. Audacity
☒ 4. Audit

Question ID : 630680414788
Option 1 ID : 6306801617895
Option 2 ID : 6306801617897
Option 3 ID : 6306801617896
Option 4 ID : 6306801617898
Status : Answered
Chosen Option : 2

Q.9 Select the most appropriate verb / verb phrase to fill in the blank.
The team _____ the championship before their star player got injured.

- Ans ☒ 1. win
☒ 2. has won
☒ 3. had won
☒ 4. was won

Question ID : 630680514383
Option 1 ID : 6306802010158
Option 2 ID : 6306802010159
Option 3 ID : 6306802010160
Option 4 ID : 6306802010157
Status : Answered
Chosen Option : 3

Q.10 Parts of a sentence are given below in jumbled order. Arrange the parts in the correct order to form a meaningful sentence.

P) once said
Q) a wise man
R) that action speaks
S) louder than words

- Ans ☒ 1. PQRS
☒ 2. SQPR
☒ 3. QSRP
☒ 4. QPRS

Question ID : 630680377251
Option 1 ID : 6306801470067
Option 2 ID : 6306801470069
Option 3 ID : 6306801470070
Option 4 ID : 6306801470068
Status : Answered
Chosen Option : 4

Q.11 Select the most appropriate option that can rectify the incorrectly spelt word in the following sentence.

In our quest for power, we often fail to acknowlege the existence of other people.

- Ans
- ☒ 1. acknowlede
 - ☒ 2. accknowledge
 - ☒ 3. acknowledje
 - ☒ 4. acknowledge

Question ID : 630680360094
Option 1 ID : 6306801402323
Option 2 ID : 6306801402324
Option 3 ID : 6306801402321
Option 4 ID : 6306801402322

Status : Answered

Chosen Option : 4

Q.12 Select the most appropriate option to fill in the blank.

Just bite the _____ and tell him the truth.

- Ans
- ☒ 1. gun
 - ☒ 2. dust
 - ☒ 3. bullet
 - ☒ 4. shot

Question ID : 630680123954
Option 1 ID : 630680480676
Option 2 ID : 630680480677
Option 3 ID : 630680480675
Option 4 ID : 630680480674

Status : Answered

Chosen Option : 1

Q.13 Parts of a sentence are given below in jumbled order. Arrange the parts in the correct order to form a meaningful sentence.

Founding father / is / of / New Historicism / Greenbalt / considered / the.

- Ans
- ☒ 1. Greenbalt is considered the founding father of New Historicism.
 - ☒ 2. The founding father of New Historicism is considered Greenbalt.
 - ☒ 3. Greenbelt is the founding father of New Historicism considered.
 - ☒ 4. The founding father is considered Greenbalt of New Historicism.

Question ID : 63068054130
Option 1 ID : 630680208563
Option 2 ID : 630680208562
Option 3 ID : 630680208564
Option 4 ID : 630680208565

Status : Answered

Chosen Option : 1

Q.14 Select the option that can be used as a one-word substitute for the given group of words.

Money collected from people for a cause.

- Ans ☒ 1. Savings
☒ 2. Fund
☒ 3. Deposit
☒ 4. Collection

Question ID : 630680158477

Option 1 ID : 630680613432

Option 2 ID : 630680613434

Option 3 ID : 630680613433

Option 4 ID : 630680613435

Status : Answered

Chosen Option : 2

Q.15 Select the most appropriate meaning of the underlined idiom.

Bincy's mother kept her cards close to her chest.

- Ans ☒ 1. Decided to show more affection
☒ 2. Kept her plans and thoughts hidden
☒ 3. Kept her purse and money by herself
☒ 4. Informed that all the cards must be kept safe

Question ID : 630680366848

Option 1 ID : 6306801428870

Option 2 ID : 6306801428871

Option 3 ID : 6306801428869

Option 4 ID : 6306801428872

Status : Answered

Chosen Option : 2

Q.16 Select the option that expresses the following sentence in active voice.

The issue has been successfully resolved by the customer care team.

- Ans ☒ 1. The customer care team successfully resolves the issue.
☒ 2. The customer care team has successfully resolved the issue.
☒ 3. The issue has successfully resolved the customer care team.
☒ 4. The customer care team successfully resolved the issue.

Question ID : 630680415162

Option 1 ID : 6306801619398

Option 2 ID : 6306801619397

Option 3 ID : 6306801619396

Option 4 ID : 6306801619395

Status : Answered

Chosen Option : 2

Q.17 Identify from the given options the word which is similar in meaning to the following word.

Munificent

- Ans** ☒ 1. Malicious
☒ 2. Underappreciated
☒ 3. Miserly
☒ 4. Magnanimous

Question ID : 630680360069

Option 1 ID : 6306801402223

Option 2 ID : 6306801402221

Option 3 ID : 6306801402222

Option 4 ID : 6306801402224

Status : Not Answered

Chosen Option : --

Q.18 Select the INCORRECTLY spelt word.

- Ans** ☒ 1. Apparatus
☒ 2. Atrocios
☒ 3. Aptitude
☒ 4. Accessibility

Question ID : 630680409973

Option 1 ID : 6306801598722

Option 2 ID : 6306801598721

Option 3 ID : 6306801598723

Option 4 ID : 6306801598724

Status : Answered

Chosen Option : 2

Q.19 Select the most appropriate synonym of the given word.
Carcass

- Ans** ☒ 1. Scrap
☒ 2. Prison
☒ 3. Corpse
☒ 4. Gale

Question ID : 630680145487

Option 1 ID : 630680562923

Option 2 ID : 630680562922

Option 3 ID : 630680562924

Option 4 ID : 630680562925

Status : Answered

Chosen Option : 1

Q.20 Sentences of a paragraph are given below in jumbled order. Arrange the sentences in the correct order to form a meaningful and coherent paragraph.

- A.He remembered her as she once was – an eager, glowing girl.
- B.He had not seen her for nearly thirteen years.
- C.Mr. Satterthwaite went to meet her.
- D.And now he saw – a Frozen Lady.

Ans  1. CBAD

 2. ABCD

 3. DBAC

 4. DCBA

Question ID : 630680375514

Option 1 ID : 6306801463214

Option 2 ID : 6306801463211

Option 3 ID : 6306801463213

Option 4 ID : 6306801463212

Status : Answered

Chosen Option : 1

Comprehension:

In the following passage, some words have been deleted. Read the passage carefully and select the most appropriate option to fill in each blank.

Social media companies (1)_____ claim that they promote democracy and are dedicated to the empowerment of ordinary individuals. The assertion (2)_____ entirely unfounded. Recent history shows how (3)_____ citizens have been mobilised against totalitarian regimes on social networking sites. Starting from MeToo to Black Lives Matter, digital networks (4)_____ indispensable in bringing together critical voices against social and political (5)_____.

SubQuestion No : 21

Q.21 Select the most appropriate option to fill in blank no. 1.

Ans  1. never

 2. frequently

 3. don't

 4. seldom

Question ID : 630680154515

Option 1 ID : 630680597873

Option 2 ID : 630680597872

Option 3 ID : 630680597875

Option 4 ID : 630680597874

Status : Answered

Chosen Option : 1

Comprehension:

In the following passage, some words have been deleted. Read the passage carefully and select the most appropriate option to fill in each blank.

Social media companies (1)_____ claim that they promote democracy and are dedicated to the empowerment of ordinary individuals. The assertion (2)_____ entirely unfounded. Recent history shows how (3)_____ citizens have been mobilised against totalitarian regimes on social networking sites. Starting from MeToo to Black Lives Matter, digital networks (4)_____ indispensable in bringing together critical voices against social and political (5)_____.

SubQuestion No : 22

Q.22 Select the most appropriate option to fill in blank no. 2.

- Ans ☒ 1. should
☒ 2. cannot
☒ 3. shall
☒ 4. may not be

Question ID : 630680154516

Option 1 ID : 630680597877

Option 2 ID : 630680597879

Option 3 ID : 630680597876

Option 4 ID : 630680597878

Status : Answered

Chosen Option : 4

Comprehension:

In the following passage, some words have been deleted. Read the passage carefully and select the most appropriate option to fill in each blank.

Social media companies (1)_____ claim that they promote democracy and are dedicated to the empowerment of ordinary individuals. The assertion (2)_____ entirely unfounded. Recent history shows how (3)_____ citizens have been mobilised against totalitarian regimes on social networking sites. Starting from MeToo to Black Lives Matter, digital networks (4)_____ indispensable in bringing together critical voices against social and political (5)_____.

SubQuestion No : 23

Q.23 Select the most appropriate option to fill in blank no. 3.

- Ans ☒ 1. neutral
☒ 2. foreign
☒ 3. alien
☒ 4. common

Question ID : 630680154517

Option 1 ID : 630680597881

Option 2 ID : 630680597883

Option 3 ID : 630680597882

Option 4 ID : 630680597880

Status : Answered

Chosen Option : 4

Comprehension:

In the following passage, some words have been deleted. Read the passage carefully and select the most appropriate option to fill in each blank.

Social media companies (1)_____ claim that they promote democracy and are dedicated to the empowerment of ordinary individuals. The assertion (2)_____ entirely unfounded. Recent history shows how (3)_____ citizens have been mobilised against totalitarian regimes on social networking sites. Starting from MeToo to Black Lives Matter, digital networks (4)_____ indispensable in bringing together critical voices against social and political (5)_____.

SubQuestion No : 24

Q.24 Select the most appropriate option to fill in blank no. 4.

- Ans
- ☒ 1. were
 - ☒ 2. can
 - ☒ 3. that
 - ☒ 4. have been

Question ID : 630680154518

Option 1 ID : 630680597887

Option 2 ID : 630680597886

Option 3 ID : 630680597884

Option 4 ID : 630680597885

Status : Answered

Chosen Option : 4

Comprehension:

In the following passage, some words have been deleted. Read the passage carefully and select the most appropriate option to fill in each blank.

Social media companies (1)_____ claim that they promote democracy and are dedicated to the empowerment of ordinary individuals. The assertion (2)_____ entirely unfounded. Recent history shows how (3)_____ citizens have been mobilised against totalitarian regimes on social networking sites. Starting from MeToo to Black Lives Matter, digital networks (4)_____ indispensable in bringing together critical voices against social and political (5)_____.

SubQuestion No : 25

Q.25 Select the most appropriate option to fill in blank no. 5.

- Ans
- ☒ 1. injustice
 - ☒ 2. election
 - ☒ 3. democracy
 - ☒ 4. justice

Question ID : 630680154519

Option 1 ID : 630680597889

Option 2 ID : 630680597891

Option 3 ID : 630680597890

Option 4 ID : 630680597888

Status : Answered

Chosen Option : 4