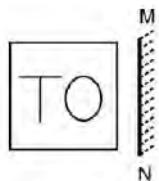


Constable GD in Central Armed Police Forces CAPFs SSF Rifleman GD in Assam Rifles Examination 2024

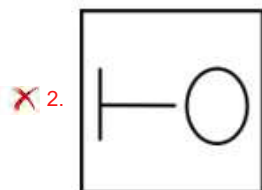
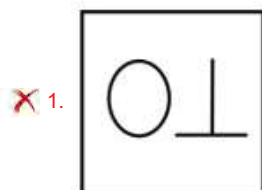
Roll Number	
Candidate Name	
Venue Name	
Exam Date	26/02/2024
Exam Time	11:30 AM - 12:30 PM
Subject	Constable GD Examination 2024

Section : Part-A-General Intelligence and Reasoning

Q.1 Select the correct mirror image of the given figure when the mirror MN is placed to the right side of the figure.



Ans



Question ID : 264330192286

Option 1 ID : 264330752501

Option 2 ID : 264330752499

Option 3 ID : 264330752500

Option 4 ID : 264330752498

Status : Answered

Chosen Option : 3

Q.2 Six friends Adam, Beth, Carl, Diana, Eric, and Fiona are sitting around a circular table facing the center. Beth sits to the immediate right of Carl. Adam is second to the right of Beth. Fiona and Adam are neighbours. Diana is not sitting next to Eric or Fiona. Who is sitting to the immediate right of Eric?

- Ans**
- 1. Beth
 - 2. Adam
 - 3. Carl
 - 4. Fiona

Question ID : 264330192217

Option 1 ID : 264330752225

Option 2 ID : 264330752223

Option 3 ID : 264330752224

Option 4 ID : 264330752222

Status : Answered

Chosen Option : 3

Prepp
Your Personal Exam Guide

Q.3 If a mirror is placed on the line AB, then out of the option figures which figure will be the right image of the question figure?



Ans

✗ 1.



✗ 2.



✗ 3.



✓ 4.



Question ID : 264330187138

Option 1 ID : 264330732481

Option 2 ID : 264330732482

Option 3 ID : 264330732483

Option 4 ID : 264330732480

Status : Answered

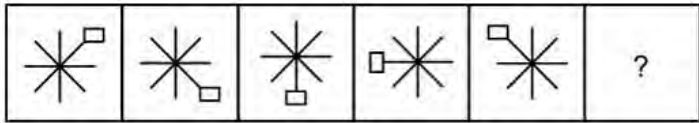
Chosen Option : 4

Q.4 In a certain code language, 'MUSCLE' is coded as 'NTBMD'. What is the code for 'PLANET' in that code language?

- Ans**
- 1. QKBMGS
 - 2. QKBMFS
 - 3. QLBMGS
 - 4. QLCMGS

Question ID : 264330192053
 Option 1 ID : 264330751569
 Option 2 ID : 264330751568
 Option 3 ID : 264330751567
 Option 4 ID : 264330751566
 Status : Answered
 Chosen Option : 2

Q.5 Select the figure that will replace the question mark (?) in the following figure series.



- Ans**
- 1.
 - 2.
 - 3.
 - 4.

prepp
Your Personal Exam Guide

Question ID : 264330192324
 Option 1 ID : 264330752652
 Option 2 ID : 264330752650
 Option 3 ID : 264330752651
 Option 4 ID : 264330752653
 Status : Answered
 Chosen Option : 1

Q.6 Pointing towards a photo of a man, Rakhi said, "He is the father of my grandfather's son". How is the man related to Rakhi?

- Ans**
- 1. Husband
 - 2. Father
 - 3. Brother
 - 4. Grandfather

Question ID : 264330190234
Option 1 ID : 264330744521
Option 2 ID : 264330744518
Option 3 ID : 264330744520
Option 4 ID : 264330744519
Status : Answered
Chosen Option : 4

Q.7 Arrange the given words in the sequence in which they occur in the dictionary.

- 1. Consume
- 2. Consumer
- 3. Consult
- 4. Contact
- 5. Contain

- Ans**
- 1. 3,1,2,5,4
 - 2. 1,2,3,5,4
 - 3. 3,1,2,4,5
 - 4. 1,2,4,5,3

Question ID : 264330190169
Option 1 ID : 264330744258
Option 2 ID : 264330744259
Option 3 ID : 264330744261
Option 4 ID : 264330744260
Status : Answered
Chosen Option : 3

Q.8 In the following question below are given some statements followed by some conclusions based on those statements. Taking the given statements to be true even if they seem to be at variance from commonly known facts. Read all the conclusions and then decide which of the given conclusion (s) logically follows the given statements.

Statements:

- I. No land is cup.
- II. Some spoon are land.

Conclusions:

- I. All cup are land.
- II. All cup are spoon.
- III. Some cup are not land.

- Ans**
- 1. Neither conclusion follows
 - 2. Both conclusions I and III follows
 - 3. Only conclusion II follows
 - 4. Only conclusion III follows

Question ID : 264330187389

Option 1 ID : 264330733487

Option 2 ID : 264330733486

Option 3 ID : 264330733484

Option 4 ID : 264330733485

Status : Answered

Chosen Option : 1

Q.9 In the following question, select the related letters from the given alternatives.

HXP : CSK :: ANT : ?

- Ans**
- 1. PPO
 - 2. VIO
 - 3. DPP
 - 4. ZXX

Question ID : 264330190170

Option 1 ID : 264330744262

Option 2 ID : 264330744263

Option 3 ID : 264330744265

Option 4 ID : 264330744264

Status : Answered

Chosen Option : 2

Q.10 Which two numbers should be interchanged to make the given equation correct?

$$36 \times 11 \div 3 - 10 + 4 = 49$$

- Ans**
- 1. 10 and 4
 - 2. 4 and 11
 - 3. 49 and 36
 - 4. 11 and 3

Question ID : 264330190301

Option 1 ID : 264330744788

Option 2 ID : 264330744789

Option 3 ID : 264330744787

Option 4 ID : 264330744786

Status : Answered

Chosen Option : 2

Q.11 In the following question, select the related letter pair from the given alternatives.

DHKL : CGJK :: ?

- Ans
- 1. TXZW : RULM
 - 2. ZUZY : ABOD
 - 3. FXYI : EWXH
 - 4. NUWX : RUCN

Question ID : 264330190151

Option 1 ID : 264330744186

Option 2 ID : 264330744188

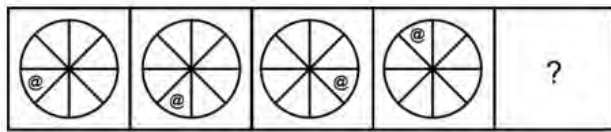
Option 3 ID : 264330744187

Option 4 ID : 264330744189

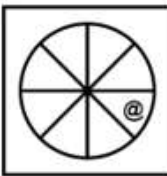



Status : Answered

Chosen Option : 3

Q.12 Select the figure that will replace the question mark (?) in the following figure series.



Ans

- 1. 
- 2. 
- 3. 
- 4. 

Question ID : 264330191603

Option 1 ID : 264330749766

Option 2 ID : 264330749768

Option 3 ID : 264330749769

Option 4 ID : 264330749767

Status : Answered

Chosen Option : 4

Q.13 A series is given with one term missing. Select the correct alternative from the given ones that will complete the series.

PQRT, STUV, VWXZ, YZAC, ?

- Ans**
- 1. BMTD
 - 2. AMRQ
 - 3. BRQC
 - 4. BCDF

Question ID : 264330187439

Option 1 ID : 264330733686

Option 2 ID : 264330733684

Option 3 ID : 264330733687

Option 4 ID : 264330733685

Status : Answered

Chosen Option : 4

Q.14 Which of the following letter cluster will replace the blank (___) in the given series?

IAL, JAK, KAJ, LAI, _____

- Ans**
- 1. HAM
 - 2. MAH
 - 3. JAM
 - 4. MAJ

Question ID : 264330192189

Option 1 ID : 264330752110

Option 2 ID : 264330752112

Option 3 ID : 264330752111

Option 4 ID : 264330752113

Status : Answered

Chosen Option : 2

Q.15 In a certain code language, if TOGETHER is coded as 'RPEFRICS', TOMORROW is coded as 'RPKPPSMX', then what will 'BATHROOM' be coded as?

- Ans**
- 1. RHSPLRWM
 - 2. ZBRIPPMN
 - 3. NMPPIRBZ
 - 4. WLEPSJAS

Question ID : 264330190412

Option 1 ID : 264330745230

Option 2 ID : 264330745232

Option 3 ID : 264330745233

Option 4 ID : 264330745231

Status : Answered

Chosen Option : 2

Q.16 Six friends Aarav, Bhavya, Charul, Devansh, Ekta, and Faizan are seated at a circular table facing each other. Bhavya is to the immediate left of Faizan, and Aarav is second to the left of Bhavya. Charul is second to the left of Devansh. Who is the immediate neighbour of both Bhavya and Aarav?

- Ans**
- 1. Devansh
 - 2. Bhavya
 - 3. Aarav
 - 4. Faizan

Question ID : 264330192276

Option 1 ID : 264330752461

Option 2 ID : 264330752460

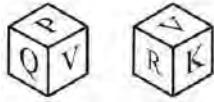
Option 3 ID : 264330752459

Option 4 ID : 264330752458

Status : Answered

Chosen Option : 1

Q.17 Two positions of a dice are given below. What will come on the face opposite to the face containing 'K' on it?



- Ans**
- 1. V
 - 2. Q
 - 3. P
 - 4. R

Question ID : 264330187396

Option 1 ID : 264330733514

Option 2 ID : 264330733515

Option 3 ID : 264330733512

Option 4 ID : 264330733513

Status : Answered

Chosen Option : 2

Q.18 By interchanging the given two signs which of the following equation will be correct?

× and ÷

- Ans**
- 1. $11 \div 12 \times 6 + 8 - 10 = 20$
 - 2. $9 \times 3 - 4 \div 2 + 5 = 4$
 - 3. $70 \div 3 \times 7 + 50 - 10 = 80$
 - 4. $5 + 6 \times 2 - 4 \div 1 = 10$

Question ID : 264330190440

Option 1 ID : 264330745343

Option 2 ID : 264330745345

Option 3 ID : 264330745342

Option 4 ID : 264330745344

Status : Answered

Chosen Option : 1

Q.19 In the following question, select the missing number from the given series.

5, 19, 75, 299, 1195, ?

Ans 1. 4779

2. 4781

3. 4785

4. 4750

Question ID : 264330190439

Option 1 ID : 264330745340

Option 2 ID : 264330745338

Option 3 ID : 264330745339

Option 4 ID : 264330745341

Status : Answered

Chosen Option : 1

Q.20 Which of the following numbers will replace the question mark (?) in the given series?

62, 67, 74, 83, 94, 107, ?

Ans 1. 122

2. 112

3. 121

4. 120

Question ID : 264330190718

Option 1 ID : 264330746305

Option 2 ID : 264330746303

Option 3 ID : 264330746302

Option 4 ID : 264330746304

Status : Answered

Chosen Option : 1

Section : Part-B-General Knowledge and General awareness

Q.1 Who wrote the original handwritten version of the Indian Constitution?

Ans 1. Kailash Nath Katju

2. Prem Behari Narain Raizada

3. B.N.Rau

4. BR. Ambedkar

Question ID : 264330192000

Option 1 ID : 264330751355

Option 2 ID : 264330751356

Option 3 ID : 264330751354

Option 4 ID : 264330751357

Status : Answered

Chosen Option : 2

Q.2 Into how many ages is the prehistoric times in terms of technology divided?

- Ans
- 1. Six
 - 2. Three
 - 3. Four
 - 4. Five

Question ID : 264330191216
Option 1 ID : 264330748221
Option 2 ID : 264330748218
Option 3 ID : 264330748219
Option 4 ID : 264330748220
Status : Answered
Chosen Option : 2

Q.3 Brahmotsavam festival is historically native to which of the following states?

- Ans
- 1. Karnataka
 - 2. Kerala
 - 3. Tamil Nadu
 - 4. Andhra Pradesh

Question ID : 264330191213
Option 1 ID : 264330748209
Option 2 ID : 264330748208
Option 3 ID : 264330748207
Option 4 ID : 264330748206
Status : Answered
Chosen Option : 1

Q.4 The concept of "judicial review" in India allows the judiciary to review and strike down laws that are found to be:

- Ans
- 1. Passed by the Parliament
 - 2. Supported by the President
 - 3. In violation of fundamental rights
 - 4. Supported by a two-thirds majority in the State Legislature

Question ID : 264330190980
Option 1 ID : 264330747275
Option 2 ID : 264330747274
Option 3 ID : 264330747276
Option 4 ID : 264330747277
Status : Answered
Chosen Option : 3

Q.5 After the first five-year Plan of India, two subsequent five-year plans were formulated till _____.

- Ans
- 1. 1962
 - 2. 1964
 - 3. 1965
 - 4. 1963

Question ID : 264330190625
Option 1 ID : 264330746082
Option 2 ID : 264330746084
Option 3 ID : 264330746085
Option 4 ID : 264330746083
Status : Answered
Chosen Option : 3

Q.6 In which year was the first War of Independence taken place in India?

- Ans
- 1. 1857
 - 2. 1657
 - 3. 1757
 - 4. 1557

Question ID : 264330192037
Option 1 ID : 264330751505
Option 2 ID : 264330751503
Option 3 ID : 264330751504
Option 4 ID : 264330751502
Status : Answered
Chosen Option : 1

Q.7 In August 2023, Former Indian cricketer _____ will become a "national icon" of the Election Commission (EC) to spread awareness regarding the need for greater voter participation in the electoral process.

- Ans
- 1. Kapil Dev
 - 2. Sunil Gavaskar
 - 3. M S Dhoni
 - 4. Sachin Tendulkar

Question ID : 264330191790
Option 1 ID : 264330750517
Option 2 ID : 264330750514
Option 3 ID : 264330750516
Option 4 ID : 264330750515
Status : Marked For Review
Chosen Option : 3

Q.8 Sonal Mansingh is mainly associated with which dance style?

- Ans
- 1. Odissi and Kathak
 - 2. Bharatnatyam and Sattriya
 - 3. Bharatnatyam and Kathak
 - 4. Odissi and Bharatnatyam

Question ID : 264330190598

Option 1 ID : 264330745975

Option 2 ID : 264330745977

Option 3 ID : 264330745976

Option 4 ID : 264330745974

Status : Marked For Review

Chosen Option : 2

Q.9 In which month, Women's Reservation Bill 2023 [The Constitution (One Hundred Twenty-Eighth Amendment) Bill, 2023] was introduced in Lok Sabha in 2023?

- Ans
- 1. May
 - 2. March
 - 3. July
 - 4. September

Question ID : 264330188812

Option 1 ID : 264330739051

Option 2 ID : 264330739050

Option 3 ID : 264330739052

Option 4 ID : 264330739053

Status : Answered

Chosen Option : 3

Q.10 Renowned violinist - _____ trained in Carnatic music as well as Western classical music.

- Ans
- 1. Ravi Shankar
 - 2. Ustad Bismillah Khan
 - 3. Lakshminarayana Subramaniam
 - 4. Ustad Zakir Hussain

Question ID : 264330191878

Option 1 ID : 264330750869

Option 2 ID : 264330750868

Option 3 ID : 264330750866

Option 4 ID : 264330750867

Status : Marked For Review

Chosen Option : 1

Q.11 Which sport is played by the Indian sportsperson Sania Mirza?

- Ans
- 1. Badminton
 - 2. Table Tennis
 - 3. Lawn Tennis
 - 4. Hockey

Question ID : 264330191282
Option 1 ID : 264330748483
Option 2 ID : 264330748482
Option 3 ID : 264330748485
Option 4 ID : 264330748484
Status : Answered
Chosen Option : 3

Q.12 According to the 2011 Census of India, among the State/ UTs, the male and female literacy rate is highest in _____.

- Ans
- 1. Kerala
 - 2. Mizoram
 - 3. Goa
 - 4. Tamil Nadu

Question ID : 264330190613
Option 1 ID : 264330746034
Option 2 ID : 264330746035
Option 3 ID : 264330746036
Option 4 ID : 264330746037
Status : Answered
Chosen Option : 1

Q.13 Who has been chosen as the national icon to raise awareness about voting and educate voters for the upcoming 2024 elections in India?

- Ans
- 1. Amitabh Bachchan
 - 2. Aamir Khan
 - 3. Sachin Tendulkar
 - 4. MS Dhoni

Question ID : 264330190868
Option 1 ID : 264330746828
Option 2 ID : 264330746829
Option 3 ID : 264330746826
Option 4 ID : 264330746827
Status : Marked For Review
Chosen Option : 3

Q.14 In India, there are how many steel-manufacturing Central Public Sector Enterprises (CPSEs) under the Ministry of Steel?

- Ans**
- 1. Four
 - 2. Five
 - 3. Two
 - 4. Three

Question ID : 264330190826
Option 1 ID : 264330746660
Option 2 ID : 264330746661
Option 3 ID : 264330746658
Option 4 ID : 264330746659
Status : **Marked For Review**
Chosen Option : 3

Q.15 The National Rural Employment Guarantee Act (NREGA) aims to provide a guarantee of how many days of employment per year to rural households in India?

- Ans**
- 1. 100
 - 2. 75
 - 3. 50
 - 4. 1000

Question ID : 264330191495
Option 1 ID : 264330749335
Option 2 ID : 264330749336
Option 3 ID : 264330749334
Option 4 ID : 264330749337
Status : **Answered**
Chosen Option : 1

Q.16 Which of the following statements regarding money is correct?

- I. Money supply is a stock variable.
- II. The total stock of money in circulation among the public at a particular point of time is called money supply.

- Ans**
- 1. Only I
 - 2. Both I and II
 - 3. Only II
 - 4. Neither I nor II

Question ID : 264330191064
Option 1 ID : 264330747610
Option 2 ID : 264330747612
Option 3 ID : 264330747611
Option 4 ID : 264330747613
Status : **Answered**
Chosen Option : 3

Q.17 Which of the following pair of sports persons – sports associated with is correct?

I. Manu Bhaker – Shooting

II. Tajinderpal Singh Toor – Shotput

- Ans
- 1. Only II
 - 2. Only I
 - 3. Both I and II
 - 4. Neither I nor II

Question ID : 264330188787

Option 1 ID : 264330738951

Option 2 ID : 264330738950

Option 3 ID : 264330738952

Option 4 ID : 264330738953

Status : Answered

Chosen Option : 3

Q.18 In Football a direct _____ is awarded if a player commits any of the following offences against an opponent in a manner considered by the referee to be careless, reckless or using excessive force:

- Ans
- 1. hat trick
 - 2. court kick
 - 3. head kick
 - 4. free kick

Question ID : 264330190903

Option 1 ID : 264330746967

Option 2 ID : 264330746968

Option 3 ID : 264330746966

Option 4 ID : 264330746969

Status : Answered

Chosen Option : 4

Q.19 In which Indian state is Kambala, the traditional buffalo race, conducted during the winter months to celebrate the harvest season?

- Ans
- 1. Kerala
 - 2. Karnataka
 - 3. Telangana
 - 4. Tamil Nadu

Question ID : 264330190871

Option 1 ID : 264330746838

Option 2 ID : 264330746841

Option 3 ID : 264330746839

Option 4 ID : 264330746840

Status : Answered

Chosen Option : 4

Q.20 Which dance style was kept alive by the Devadasis?

- Ans 1. Kathakali
 2. Bharatnatyam
 3. Kuchipudi
 4. Odissi

Question ID : 264330188635
Option 1 ID : 264330738342
Option 2 ID : 264330738345
Option 3 ID : 264330738344
Option 4 ID : 264330738343
Status : Answered
Chosen Option : 1

Section : Part-C-Elementary Mathematics

Q.1 What is the value of $[21 + 14 - 7 \times (91 \div 7 - 12) + 42]$?

- Ans 1. 70
 2. 50
 3. 80
 4. 60

Question ID : 264330187560
Option 1 ID : 264330734169
Option 2 ID : 264330734168
Option 3 ID : 264330734171
Option 4 ID : 264330734170
Status : Answered
Chosen Option : 1

Q.2 Chetan alone can do a work in 6 days working 5 hours a day. Rashmi alone can do the same work in 2 days working 10 hours a day. How many hours do they need to work together in a day to complete the same work in 4 days?

- Ans 1. 4 hours
 2. 5 hours
 3. 3 hours
 4. 2.5 hours

Question ID : 264330190385
Option 1 ID : 264330745124
Option 2 ID : 264330745125
Option 3 ID : 264330745122
Option 4 ID : 264330745123
Status : Answered
Chosen Option : 3

Q.3 Weight of A1 is six times of A2 and A2's weight is 50 percent more than that of A3. If the average weight of all three is 299 kgs, then what is the weight of A1?

- Ans**
- 1. 1544 kg
 - 2. 979 kg
 - 3. 897 kg
 - 4. 702 kg

Question ID : 264330190094
Option 1 ID : 264330743961
Option 2 ID : 264330743959
Option 3 ID : 264330743958
Option 4 ID : 264330743960
Status : Answered
Chosen Option : 4

Q.4 Y and Z together can complete a work in 20 days. Z alone can complete the same work in 60 days. In how many days will Y alone complete the same work?

- Ans**
- 1. 35 days
 - 2. 42 days
 - 3. 30 days
 - 4. 37 days

Question ID : 264330187976
Option 1 ID : 264330735834
Option 2 ID : 264330735832
Option 3 ID : 264330735835
Option 4 ID : 264330735833
Status : Answered
Chosen Option : 3

Q.5 Find the rate of discount when the marked price is ₹ 2280 and the selling price is ₹ 1482.

- Ans**
- 1. 35%
 - 2. 33%
 - 3. 25%
 - 4. 40%

Question ID : 264330191658
Option 1 ID : 264330749988
Option 2 ID : 264330749987
Option 3 ID : 264330749986
Option 4 ID : 264330749989
Status : Answered
Chosen Option : 1

Q.6 On a sum, simple interest at the annual rate of 10 percent for 7 years is Rs. 21630. What will be the compound interest on the same sum at the annual rate of 20 percent (compounding annually) for 2 years?

- Ans**
- 1. Rs. 12788
 - 2. Rs. 12570
 - 3. Rs. 13484
 - 4. Rs. 13596

Question ID : 264330187494
Option 1 ID : 264330733907
Option 2 ID : 264330733904
Option 3 ID : 264330733906
Option 4 ID : 264330733905
Status : Answered
Chosen Option : 4

Q.7 The ratio of three numbers is 9 : 8 : 7. If the sum of the three numbers is 480, then what is the largest number among the three numbers?

- Ans**
- 1. 160
 - 2. 170
 - 3. 180
 - 4. 140

Question ID : 264330187292
Option 1 ID : 264330733096
Option 2 ID : 264330733098
Option 3 ID : 264330733099
Option 4 ID : 264330733097
Status : Answered
Chosen Option : 3

Q.8 What is the value of $0.\bar{4} + 0.\bar{2}$?

- Ans**
- 1. $\frac{8}{9}$
 - 2. $\frac{7}{8}$
 - 3. $\frac{2}{3}$
 - 4. $\frac{6}{7}$

Question ID : 264330187981
Option 1 ID : 264330735855
Option 2 ID : 264330735854
Option 3 ID : 264330735852
Option 4 ID : 264330735853
Status : Answered
Chosen Option : 3

Q.9 Two trains are moving in the same direction at the speed of 34 km/hr and 86 km/hr, their lengths are 300 metres and 480 metres respectively. What will be the time taken by faster train to cross the slower train?

- Ans**
- 1. 36 seconds
 - 2. 54 seconds
 - 3. 60 seconds
 - 4. 48 seconds

Question ID : 264330191644

Option 1 ID : 264330749930

Option 2 ID : 264330749933

Option 3 ID : 264330749931

Option 4 ID : 264330749932

Status : **Not Attempted and Marked For Review**

Chosen Option : --

Q.10 75% of 1256 is

- Ans**
- 1. 756
 - 2. 942
 - 3. 848
 - 4. 876

Question ID : 264330192474

Option 1 ID : 264330753250

Option 2 ID : 264330753253

Option 3 ID : 264330753251

Option 4 ID : 264330753252

Status : **Answered**

Chosen Option : 2

Q.11 The difference between cost price and selling price of a table is Rs. 224. If loss percentage is 40 percent, then what is the selling price?

- Ans**
- 1. Rs. 336
 - 2. Rs. 406
 - 3. Rs. 352
 - 4. Rs. 306

Question ID : 264330187648

Option 1 ID : 264330734521

Option 2 ID : 264330734523

Option 3 ID : 264330734522

Option 4 ID : 264330734520

Status : **Answered**

Chosen Option : 1

Q.12 A certain sum becomes 5 times of itself in 8 years at a rate of simple interest. In 24 years it will become how many times of itself at the same rate of simple interest?

- Ans**
- 1. 10
 - 2. 11
 - 3. 13
 - 4. 12

Question ID : 264330191141
Option 1 ID : 264330747918
Option 2 ID : 264330747919
Option 3 ID : 264330747921
Option 4 ID : 264330747920
Status : Answered
Chosen Option : 4

Q.13 Find the HCF of 31 and 73.

- Ans**
- 1. 1
 - 2. 11
 - 3. 3
 - 4. 7

Question ID : 264330188495
Option 1 ID : 264330737782
Option 2 ID : 264330737785
Option 3 ID : 264330737783
Option 4 ID : 264330737784
Status : Answered
Chosen Option : 1

Q.14 What is the average of all the multiples of 13 from 70 to 144?

- Ans**
- 1. 110.5
 - 2. 111.5
 - 3. 109
 - 4. 105

Question ID : 264330187603
Option 1 ID : 264330734342
Option 2 ID : 264330734343
Option 3 ID : 264330734341
Option 4 ID : 264330734340
Status : Answered
Chosen Option : 1

Q.15 Umesh sells an article and earns a profit of 75 percent. What will be the ratio of cost price and selling price?

- Ans
- 1. 7 : 4
 - 2. 5 : 8
 - 3. 8 : 5
 - 4. 4 : 7

Question ID : 264330187987
Option 1 ID : 264330735876
Option 2 ID : 264330735879
Option 3 ID : 264330735877
Option 4 ID : 264330735878
Status : Answered
Chosen Option : 4

Q.16 If the ratio of the ages of A and B is 3:4 and the sum of their ages is 28, then find the age of B.

- Ans
- 1. 18 years
 - 2. 16 years
 - 3. 14 years
 - 4. 17 years

Question ID : 264330191700
Option 1 ID : 264330750157
Option 2 ID : 264330750156
Option 3 ID : 264330750155
Option 4 ID : 264330750154
Status : Answered
Chosen Option : 2

Q.17 If the perimeter of a rhombus is 200 cm and one of its diagonal is 80 cm, then what is the area of the rhombus?

- Ans
- 1. 1600 cm²
 - 2. 1620 cm²
 - 3. 2400 cm²
 - 4. 2250 cm²

Question ID : 264330187938
Option 1 ID : 264330735682
Option 2 ID : 264330735680
Option 3 ID : 264330735681
Option 4 ID : 264330735683
Status : Marked For Review
Chosen Option : 1

Q.18 Average of 50 observations was calculated as 23. Three observations 19, 33 and 66 were wrongly taken as 30, 38 and 69. What will be the correct average?

- Ans**
- 1. 23.42
 - 2. 22.62
 - 3. 21.78
 - 4. 19.92

Question ID : 264330188577

Option 1 ID : 264330738113

Option 2 ID : 264330738111

Option 3 ID : 264330738112

Option 4 ID : 264330738110

Status : **Not Attempted and Marked For Review**

Chosen Option : --

Q.19 Hiten marks his pen at Rs. 15625 and after allowing discount of 20 percent, he still earns 25 percent profit. What is the cost price of the pen?

- Ans**
- 1. Rs. 10500
 - 2. Rs. 11800
 - 3. Rs. 10000
 - 4. Rs. 12500

Question ID : 264330187490

Option 1 ID : 264330733888

Option 2 ID : 264330733889

Option 3 ID : 264330733891

Option 4 ID : 264330733890

Status : **Answered**

Chosen Option : 3

Q.20

What is the value of $\frac{0.25 \times (0.25 \div 0.25)}{(0.25 \times 0.25) \times 0.25}$?

- Ans**
- 1. 1.6
 - 2. 0.4
 - 3. 4
 - 4. 16

Question ID : 264330188554

Option 1 ID : 264330738019

Option 2 ID : 264330738021

Option 3 ID : 264330738020

Option 4 ID : 264330738018

Status : **Answered**

Chosen Option : 3

Q.1 Choose the word that is opposite in meaning to the given word.

Accessible

- Ans
- 1. Popular
 - 2. Budget
 - 3. Furnished
 - 4. Lacking

Question ID : 264330185827

Option 1 ID : 264330727634

Option 2 ID : 264330727633

Option 3 ID : 264330727632

Option 4 ID : 264330727635

Status : Answered

Chosen Option : 4

Q.2 Find the part of the given sentence that has an error in it. If there is no error, choose 'No error'.

Why are you calling her the much amazing woman?

- Ans
- 1. her the much
 - 2. Why are you calling
 - 3. amazing woman?
 - 4. No error

Question ID : 264330185961

Option 1 ID : 264330728145

Option 2 ID : 264330728144

Option 3 ID : 264330728146

Option 4 ID : 264330728147

Status : Answered

Chosen Option : 1

Q.3 Select the sentence with no spelling errors.

- Ans
- 1. These structures have come to play an important role.
 - 2. These structres have come to play an important role.
 - 3. These strucures have come to play an important role.
 - 4. These structures have come to play an importent role.

Question ID : 264330185958

Option 1 ID : 264330728133

Option 2 ID : 264330728132

Option 3 ID : 264330728135

Option 4 ID : 264330728134

Status : Answered

Chosen Option : 1

Q.4 Identify the segment that contains a grammatical error. If there is no error, select 'No error'.

After I shut the door and started back to the living room, / he yelled something at me, / but I couldn't strictly hear him.

- Ans**
- 1. but I couldn't strictly hear him.
 - 2. After I shut the door and started back to the living room,
 - 3. he yelled something at me,
 - 4. No error

Question ID : 264330186885

Option 1 ID : 264330731666

Option 2 ID : 264330731664

Option 3 ID : 264330731665

Option 4 ID : 264330731667

Status : Marked For Review

Chosen Option : 3

Q.5 Choose the most appropriate antonym of the underlined word.

Figurative language employs words with meanings not strictly literal, but varying from their ordinary definitions.

- Ans**
- 1. flowery
 - 2. fanciful
 - 3. descriptive
 - 4. literal

Question ID : 264330186122

Option 1 ID : 264330728758

Option 2 ID : 264330728756

Option 3 ID : 264330728757

Option 4 ID : 264330728759

Status : Answered

Chosen Option : 4

Q.6 Select the word segment that substitutes (replaces) the bracketed word segment correctly and completes the sentence meaningfully. Select the option 'no correction required' if the sentence is correct as given.

She opened her mouth to say something, (but as she does she realizes that she) couldn't find any words to express her surprise.

- Ans**
- 1. but when she does she realises that she
 - 2. but when she didn't she realised that she
 - 3. No correction required
 - 4. but when she did she realized that she

Question ID : 264330186889

Option 1 ID : 264330731681

Option 2 ID : 264330731682

Option 3 ID : 264330731683

Option 4 ID : 264330731680

Status : Answered

Chosen Option : 4

Q.7 Select the most appropriate option for the given blank.

They _____ a strike when the party members refused their plea.

- Ans
- 1. called
 - 2. told
 - 3. behold
 - 4. fallen

Question ID : 264330186632
Option 1 ID : 264330730701
Option 2 ID : 264330730703
Option 3 ID : 264330730702
Option 4 ID : 264330730700
Status : Answered
Chosen Option : 1

Q.8 Choose the word that means the same as the given word.

Gullibly

- Ans
- 1. Critical
 - 2. Naïve
 - 3. Immunity
 - 4. Fraternity

Question ID : 264330186646
Option 1 ID : 264330730752
Option 2 ID : 264330730755
Option 3 ID : 264330730754
Option 4 ID : 264330730753
Status : Answered
Chosen Option : 2

Q.9 Select the most appropriate word to fill in the blank.

The markets experienced a _____ at the news of the sale.

- Ans
- 1. meltdown
 - 2. melting
 - 3. melt
 - 4. melting down

Question ID : 264330185776
Option 1 ID : 264330727443
Option 2 ID : 264330727440
Option 3 ID : 264330727442
Option 4 ID : 264330727441
Status : Marked For Review
Chosen Option : 3

Q.10 Improve the underlined part of the sentence. Choose 'No improvement' as an answer if the sentence is grammatically correct.

Emily has just come homes from school.

- Ans**
- 1. No improvement
 - 2. came homes
 - 3. come home
 - 4. came homely

Question ID : 264330186217

Option 1 ID : 264330729123

Option 2 ID : 264330729122

Option 3 ID : 264330729120

Option 4 ID : 264330729121

Status : Answered

Chosen Option : 3

Q.11 Find the part of the given sentence that has an error in it. If there is no error, choose 'No error'.

It's so stressful to think that what you have build with hard work is at risk .

- Ans**
- 1. think that what you have build
 - 2. No error
 - 3. It's so stressful to
 - 4. with hard work is at risk.

Question ID : 264330186677

Option 1 ID : 264330730873

Option 2 ID : 264330730875

Option 3 ID : 264330730872

Option 4 ID : 264330730874

Status : Marked For Review

Chosen Option : 2

Q.12 Choose the idiom/phrase that can substitute the highlighted group of words meaningfully.

The matter is very serious and delicate. So, I urge you **to behave or speak carefully to avoid causing problem.**

- Ans**
- 1. Cut corners
 - 2. To tread carefully
 - 3. In the dark
 - 4. Beat around the bush

Question ID : 264330185872

Option 1 ID : 264330727805

Option 2 ID : 264330727806

Option 3 ID : 264330727807

Option 4 ID : 264330727804

Status : Answered

Chosen Option : 2

Q.13 Improve the underlined part of the sentence. Choose 'No improvement' as an answer if the sentence is grammatically correct.

The pasta is served with a meat sauce.

- Ans**
- 1. is serves
 - 2. No improvement
 - 3. is serve
 - 4. are served

Question ID : 264330186342
Option 1 ID : 264330729598
Option 2 ID : 264330729599
Option 3 ID : 264330729597
Option 4 ID : 264330729596
Status : Answered
Chosen Option : 2

Q.14 In the following question, out of the given four alternatives, select the alternative which best expresses the meaning of the Idiom/Phrase.

To throw cold water on.

- Ans**
- 1. To elevate someone's plans
 - 2. To be discouraging or unenthusiastic about something
 - 3. To make someone see the truth
 - 4. To awake someone

Question ID : 264330186649
Option 1 ID : 264330730766
Option 2 ID : 264330730767
Option 3 ID : 264330730764
Option 4 ID : 264330730765
Status : Answered
Chosen Option : 2

Q.15 Select the incorrectly spelt word from the given sentence.

A vivacious and attractive blonde, Mary had no shortage of male admirers.

- Ans**
- 1. admirers
 - 2. vivacious
 - 3. shortage
 - 4. attractive

Question ID : 264330185810
Option 1 ID : 264330727571
Option 2 ID : 264330727568
Option 3 ID : 264330727570
Option 4 ID : 264330727569
Status : Answered
Chosen Option : 2

Comprehension:

Read the passage carefully and select the correct answer for the given blanks out of the four alternatives.

Government of India stands committed to (1) _____ climate change. The Government is implementing several programmes and (2) _____ including the National Action Plan on Climate Change (NAPCC), which (3) _____ missions in specific areas of solar energy, energy efficiency, water, sustainable agriculture, Himalayan ecosystem, sustainable habitat, health, green India and (4) _____ knowledge for climate change. The NAPCC provides an overarching (5) _____ for all climate actions.

SubQuestion No : 16

Q.16 Select the most appropriate option for blank(1)

- Ans
- 1. replicating
 - 2. combating
 - 3. marking
 - 4. insinuating

Question ID : 264330185926

Option 1 ID : 264330728009

Option 2 ID : 264330728008

Option 3 ID : 264330728011

Option 4 ID : 264330728010

Status : Answered

Chosen Option : 2

Comprehension:

Read the passage carefully and select the correct answer for the given blanks out of the four alternatives.

Government of India stands committed to (1) _____ climate change. The Government is implementing several programmes and (2) _____ including the National Action Plan on Climate Change (NAPCC), which (3) _____ missions in specific areas of solar energy, energy efficiency, water, sustainable agriculture, Himalayan ecosystem, sustainable habitat, health, green India and (4) _____ knowledge for climate change. The NAPCC provides an overarching (5) _____ for all climate actions.

SubQuestion No : 17

Q.17 Select the most appropriate option for blank(2)

- Ans
- 1. tokens
 - 2. themes
 - 3. schemes
 - 4. subjects

Question ID : 264330185927

Option 1 ID : 264330728012

Option 2 ID : 264330728015

Option 3 ID : 264330728014

Option 4 ID : 264330728013

Status : Answered

Chosen Option : 3

Comprehension:

Read the passage carefully and select the correct answer for the given blanks out of the four alternatives.

Government of India stands committed to (1) _____ climate change. The Government is implementing several programmes and (2) _____ including the National Action Plan on Climate Change (NAPCC), which (3) _____ missions in specific areas of solar energy, energy efficiency, water, sustainable agriculture, Himalayan ecosystem, sustainable habitat, health, green India and (4) _____ knowledge for climate change. The NAPCC provides an overarching (5) _____ for all climate actions.

SubQuestion No : 18

Q.18 Select the most appropriate option for blank(3)

Ans 1. comprises

2. comprising

3. comprise

4. comprised

Question ID : 264330185928

Option 1 ID : 264330728016

Option 2 ID : 264330728017

Option 3 ID : 264330728018

Option 4 ID : 264330728019

Status : Answered

Chosen Option : 1

Comprehension:

Read the passage carefully and select the correct answer for the given blanks out of the four alternatives.

Government of India stands committed to (1) _____ climate change. The Government is implementing several programmes and (2) _____ including the National Action Plan on Climate Change (NAPCC), which (3) _____ missions in specific areas of solar energy, energy efficiency, water, sustainable agriculture, Himalayan ecosystem, sustainable habitat, health, green India and (4) _____ knowledge for climate change. The NAPCC provides an overarching (5) _____ for all climate actions.

SubQuestion No : 19

Q.19 Select the most appropriate option for blank(4)

Ans 1. nostalgic

2. strategic

3. stubborn

4. manipulative

Question ID : 264330185929

Option 1 ID : 264330728021

Option 2 ID : 264330728020

Option 3 ID : 264330728023

Option 4 ID : 264330728022

Status : Answered

Chosen Option : 2

Comprehension:

Read the passage carefully and select the correct answer for the given blanks out of the four alternatives.

Government of India stands committed to (1) _____ climate change. The Government is implementing several programmes and (2) _____ including the National Action Plan on Climate Change (NAPCC), which (3) _____ missions in specific areas of solar energy, energy efficiency, water, sustainable agriculture, Himalayan ecosystem, sustainable habitat, health, green India and (4) _____ knowledge for climate change. The NAPCC provides an overarching (5) _____ for all climate actions.

SubQuestion No : 20

Q.20 Select the most appropriate option for blank(5)

- Ans**
- 1. Stature
 - 2. pretext
 - 3. framework
 - 4. sojourn

Question ID : 264330185930

Option 1 ID : 264330728027

Option 2 ID : 264330728026

Option 3 ID : 264330728024

Option 4 ID : 264330728025

Status : Answered

Chosen Option : 3

Section : Part-D-Hindi

Q.1 दिए गए शब्द का पर्यायवाची ज्ञात कीजिए।

शीघ्र

- Ans**
- 1. नाग
 - 2. विलंब
 - 3. अविलंब
 - 4. दिव

Question ID : 264330189972

Option 1 ID : 264330743492

Option 2 ID : 264330743490

Option 3 ID : 264330743491

Option 4 ID : 264330743493

Status : Not Answered

Chosen Option : --

Q.2 निम्नलिखित प्रश्न में, दिए गए चार विकल्पों में से, उस विकल्प का चयन करें जो दिए गए मुहावरे के अर्थ को सर्वश्रेष्ठ रूप से व्यक्त करता है।

एक आँख से देखना

- Ans**
- 1. आँख मारना
 - 2. सबको बराबर समझना
 - 3. काना होना
 - 4. किसी को छेड़ना

Question ID : 264330189977

Option 1 ID : 264330743511

Option 2 ID : 264330743513

Option 3 ID : 264330743510

Option 4 ID : 264330743512

Status : Not Answered

Chosen Option : --

Q.3 दिए गए वाक्य में से गलत वर्तनी ज्ञात कीजिए।

ऐसी बाणी बोलिए जिससे हृदय शीतल रहें।

- Ans**
- 1. बाणी
 - 2. हृदय
 - 3. शीतल
 - 4. बोलिए

Question ID : 264330190062

Option 1 ID : 264330743835

Option 2 ID : 264330743836

Option 3 ID : 264330743837

Option 4 ID : 264330743834

Status : Not Answered

Chosen Option : --

Q.4 निम्नलिखित प्रश्न में, चार विकल्पों में से, उस विकल्प का चयन करें जो रिक्त स्थान के लिए सही शब्द वाला विकल्प हो।
रक्त और रक्त उत्पादों का आदान प्रदान हर वर्ष लाखों लोगों को _____ में सहायता करता है।

- Ans**
- 1. बचाने
 - 2. व्यस्त
 - 3. जानकारी
 - 4. आयोजन

Question ID : 264330189900

Option 1 ID : 264330743218

Option 2 ID : 264330743221

Option 3 ID : 264330743220

Option 4 ID : 264330743219

Status : Not Answered

Chosen Option : --

Q.5 दिए गए वाक्य में उचित पर्यायवाची शब्द का चयन करके रिक्त स्थान की पूर्ति करें।

वह _____ (लौकिक) बातों से परे है।

- Ans
- 1. चैन
 - 2. भास्कर
 - 3. अराधना
 - 4. सांसारिक

Question ID : 264330189070
 Option 1 ID : 264330740055
 Option 2 ID : 264330740056
 Option 3 ID : 264330740057
 Option 4 ID : 264330740054
 Status : Not Answered
 Chosen Option : --

Q.6 निम्नलिखित प्रश्न में, चार विकल्पों में से, उस विकल्प का चयन करें जो रिक्त स्थान के लिए सही शब्द वाला विकल्प हो।
 सपने हर किसी के होते हैं, लेकिन केवल वे जिन्हें सही मायने में संजोया जा सकता है, उन्हें ही _____ माना जा सकता है।

- Ans
- 1. अनदेखा
 - 2. कभी-कभार
 - 3. वास्तविक
 - 4. आश्चर्य

Question ID : 264330189774
 Option 1 ID : 264330742740
 Option 2 ID : 264330742739
 Option 3 ID : 264330742738
 Option 4 ID : 264330742741
 Status : Not Answered
 Chosen Option : --

Q.7 निम्नलिखित प्रश्न में, चार विकल्पों में से, उस विकल्प का चयन करें जो दिए गए मुहावरे का सही अर्थ वाला विकल्प है।
 ठीकरा फूटना

- Ans
- 1. मुक्त कर देना
 - 2. किसी के सर झूठा दोष लगाना
 - 3. अनिष्ट की आशंका
 - 4. अन्याय करना

Question ID : 264330189556
 Option 1 ID : 264330741909
 Option 2 ID : 264330741908
 Option 3 ID : 264330741906
 Option 4 ID : 264330741907
 Status : Not Answered
 Chosen Option : --

Q.8 निम्नलिखित वाक्य में रेखांकित भाग के लिए एक सार्थक शब्द ज्ञात कीजिए।

मेरी पत्नी के नयन बिल्कुल हिरणी से है।

- Ans
- 1. मृगपादुका
 - 2. मृगावाती
 - 3. मृगोष्ठ
 - 4. मृगनयनी

Question ID : 264330190033

Option 1 ID : 264330743723

Option 2 ID : 264330743725

Option 3 ID : 264330743724

Option 4 ID : 264330743722

Status : Not Answered

Chosen Option : --

Q.9 दिए गए वाक्य में रेखांकित शब्द का विलोम शब्द ज्ञात कीजिए।

हमें बड़ों का अपमान नहीं करना चाहिए।

- Ans
- 1. सम्मान
 - 2. मुक्ति
 - 3. शोक
 - 4. साक्षर

Question ID : 264330189093

Option 1 ID : 264330740145

Option 2 ID : 264330740143

Option 3 ID : 264330740142

Option 4 ID : 264330740144

Status : Not Answered

Chosen Option : --

Q.10 दिए गए वाक्य में रेखांकित शब्द के लिए सही वर्तनी ज्ञात कीजिए।

हमें परसपर सहयोग करना चाहिए।

- Ans
- 1. परसप्र
 - 2. पर्सपर
 - 3. परस्पर
 - 4. प्रसपर

Question ID : 264330192826

Option 1 ID : 264330754655

Option 2 ID : 264330754654

Option 3 ID : 264330754657

Option 4 ID : 264330754656

Status : Not Answered

Chosen Option : --

Q.11 दिए गए वाक्य में रेखांकित शब्द का विलोम शब्द ज्ञात कीजिए।

इसके प्रयोग के लिए शुल्क लगेगा।

- Ans
- 1. धन
 - 2. निःशुल्क
 - 3. भीरू
 - 4. दौलत

Question ID : 264330190058
 Option 1 ID : 264330743818
 Option 2 ID : 264330743820
 Option 3 ID : 264330743821
 Option 4 ID : 264330743819
 Status : Not Answered
 Chosen Option : --

Q.12 दिए गए वाक्य का वह भाग ज्ञात करें, जिसमें कोई त्रुटि है।

ईशा ने माँ से कहा कि उसे भारत का भूगोल की एक प्रति खरीदनी है।

- Ans
- 1. ईशा ने माँ से
 - 2. की एक प्रति खरीदनी है।
 - 3. भारत का भूगोल
 - 4. कहा कि उसे

Question ID : 264330189058
 Option 1 ID : 264330740010
 Option 2 ID : 264330740013
 Option 3 ID : 264330740012
 Option 4 ID : 264330740011
 Status : Not Answered
 Chosen Option : --

Q.13 निम्नलिखित प्रश्न में, चार विकल्पों में से, उस विकल्प का चयन करें जो रिक्त स्थान के लिए सही स्त्रीलिंग रूप वाला विकल्प हो।

तुम्हारी _____ कुछ ठीक नहीं लग रही है।

- Ans
- 1. घाव
 - 2. होश
 - 3. स्वास्थ्य
 - 4. तबीयत

Question ID : 264330189542
 Option 1 ID : 264330741857
 Option 2 ID : 264330741856
 Option 3 ID : 264330741855
 Option 4 ID : 264330741854
 Status : Not Answered
 Chosen Option : --

Q.14 दिए गए विकल्पों में से सार्थक शब्द ज्ञात कीजिए।

- Ans
- 1. चागीब
 - 2. नथास्
 - 3. लटिज
 - 4. हवाई

Question ID : 264330189203

Option 1 ID : 264330740564

Option 2 ID : 264330740565

Option 3 ID : 264330740563

Option 4 ID : 264330740562

Status : Not Answered

Chosen Option : --

Q.15 निम्नलिखित प्रश्न में, चार विकल्पों में से, उस विकल्प का चयन करें जो कोष्ठक में दिए गए शब्द के तत्सम रूप का सही विकल्प है। हमें बिना पाखण्डी और (कायर) _____ बने सब कार्य करना चाहिए।

- Ans
- 1. कुब्ज
 - 2. काष्ठ
 - 3. कातर
 - 4. कज्जल

Question ID : 264330189897

Option 1 ID : 264330743209

Option 2 ID : 264330743206

Option 3 ID : 264330743207

Option 4 ID : 264330743208

Status : Not Answered

Chosen Option : --

Comprehension:

नीचे दिए गये गद्यांश में कुछ शब्द छोड़ दिये गए हैं, प्रत्येक अनुच्छेद के सामने चार विकल्प दिए गए हैं। इस गद्यांश को ध्यानपूर्वक पढ़ें और चार विकल्पों में से सर्वोत्तम उत्तर वाला विकल्प चुनें।

धन जीवन की आधारभूत आवश्यकता है, जिसके बिना कोई भी स्वस्थ और _____ जीवन की कल्पना नहीं कर सकता है। हमें अपनी छोटी से छोटी आवश्यकता को पूरा करने के लिए धन की आवश्यकता होती है। आधुनिक समय में, जब सभ्यता का विकास तेजी से हो रहा है और हर कोई पाश्चात्य संस्कृति का _____ कर रहा है, ऐसे समय में हमें वस्तुओं के बढ़ते हुए मूल्य के कारण अधिक धन की आवश्यकता होती है। पहले समय में, एक प्रथा प्रचलन में थी जिसे विनिमय प्रणाली कहा जाता था, जिसमें किसी को भी एक वस्तु के _____ में दूसरी वस्तु प्राप्त हो जाती थी हालांकि, अब इस आधुनिक संसार में प्रत्येक वस्तु या चीज को खरीदने के लिए केवल धन की आवश्यकता होती है। धन का महत्व दिन प्रति दिन बढ़ता जा रहा है, क्योंकि हमारा रहन-सहन बहुत _____ हो गया है। धन के महत्व में उत्पादन, उपभोग, विनिमय, वितरण, सार्वजनिक राजस्व आदि के क्षेत्र में बड़े स्तर पर वृद्धि हुई है। यह आय, रोजगार, आगम-निर्गम, सामान्य मूल्य स्तर आदि के निर्धारण में बहुत _____ भूमिका निभाता है। यदि वर्तमान समय के परिदृश्य को देखा जाए तो इस बात में कोई संदेह नहीं है कि, जिसके पास धन की अधिकता है, वो ही संसार में अधिक सभ्य माना जाता है।

SubQuestion No : 16

Q.16 जिसके बिना कोई भी स्वस्थ और _____ जीवन की कल्पना नहीं कर सकता है।

Ans

- ✓ 1. शान्तिपूर्ण
 ✗ 2. अकेले
 ✗ 3. अज्ञान
 ✗ 4. अशान्तिपूर्ण

Question ID : 264330189818

Option 1 ID : 264330742905

Option 2 ID : 264330742904

Option 3 ID : 264330742903

Option 4 ID : 264330742902

Status : Not Answered

Chosen Option : --

Comprehension:

नीचे दिए गये गद्यांश में कुछ शब्द छोड़ दिये गए हैं, प्रत्येक अनुच्छेद के सामने चार विकल्प दिए गए हैं। इस गद्यांश को ध्यानपूर्वक पढ़ें और चार विकल्पों में से सर्वोत्तम उत्तर वाला विकल्प चुनें।

धन जीवन की आधारभूत आवश्यकता है, जिसके बिना कोई भी स्वस्थ और _____ जीवन की कल्पना नहीं कर सकता है। हमें अपनी छोटी से छोटी आवश्यकता को पूरा करने के लिए धन की आवश्यकता होती है। आधुनिक समय में, जब सभ्यता का विकास तेजी से हो रहा है और हर कोई पाश्चात्य संस्कृति का _____ कर रहा है, ऐसे समय में हमें वस्तुओं के बढ़ते हुए मूल्य के कारण अधिक धन की आवश्यकता होती है। पहले समय में, एक प्रथा प्रचलन में थी जिसे विनिमय प्रणाली कहा जाता था, जिसमें किसी को भी एक वस्तु के _____ में दूसरी वस्तु प्राप्त हो जाती थी हालांकि, अब इस आधुनिक संसार में प्रत्येक वस्तु या चीज को खरीदने के लिए केवल धन की आवश्यकता होती है। धन का महत्व दिन प्रति दिन बढ़ता जा रहा है, क्योंकि हमारा रहन-सहन बहुत _____ हो गया है। धन के महत्व में उत्पादन, उपभोग, विनिमय, वितरण, सार्वजनिक राजस्व आदि के क्षेत्र में बड़े स्तर पर वृद्धि हुई है। यह आय, रोजगार, आगम-निर्गम, सामान्य मूल्य स्तर आदि के निर्धारण में बहुत _____ भूमिका निभाता है। यदि वर्तमान समय के परिदृश्य को देखा जाए तो इस बात में कोई संदेह नहीं है कि, जिसके पास धन की अधिकता है, वो ही संसार में अधिक सभ्य माना जाता है।

SubQuestion No : 17

Q.17 आधुनिक समय में, जब सभ्यता का विकास तेजी से हो रहा है और हर कोई पाश्चात्य संस्कृति का _____ कर रहा है

Ans 1. अनुसरण

2. प्रयास

3. अनदेखा

4. दोहन

Question ID : 264330189819

Option 1 ID : 264330742906

Option 2 ID : 264330742909

Option 3 ID : 264330742908

Option 4 ID : 264330742907

Status : Not Answered

Chosen Option : --

Comprehension:

नीचे दिए गये गद्यांश में कुछ शब्द छोड़ दिये गए हैं, प्रत्येक अनुच्छेद के सामने चार विकल्प दिए गए हैं। इस गद्यांश को ध्यानपूर्वक पढ़ें और चार विकल्पों में से सर्वोत्तम उत्तर वाला विकल्प चुनें।

धन जीवन की आधारभूत आवश्यकता है, जिसके बिना कोई भी स्वस्थ और _____ जीवन की कल्पना नहीं कर सकता है। हमें अपनी छोटी से छोटी आवश्यकता को पूरा करने के लिए धन की आवश्यकता होती है। आधुनिक समय में, जब सभ्यता का विकास तेजी से हो रहा है और हर कोई पाश्चात्य संस्कृति का _____ कर रहा है, ऐसे समय में हमें वस्तुओं के बढ़ते हुए मूल्य के कारण अधिक धन की आवश्यकता होती है। पहले समय में, एक प्रथा प्रचलन में थी जिसे विनिमय प्रणाली कहा जाता था, जिसमें किसी को भी एक वस्तु के _____ में दूसरी वस्तु प्राप्त हो जाती थी हालांकि, अब इस आधुनिक संसार में प्रत्येक वस्तु या चीज को खरीदने के लिए केवल धन की आवश्यकता होती है। धन का महत्व दिन प्रति दिन बढ़ता जा रहा है, क्योंकि हमारा रहन-सहन बहुत _____ हो गया है। धन के महत्व में उत्पादन, उपभोग, विनिमय, वितरण, सार्वजनिक राजस्व आदि के क्षेत्र में बड़े स्तर पर वृद्धि हुई है। यह आय, रोजगार, आगम-निर्गम, सामान्य मूल्य स्तर आदि के निर्धारण में बहुत _____ भूमिका निभाता है। यदि वर्तमान समय के परिदृश्य को देखा जाए तो इस बात में कोई संदेह नहीं है कि, जिसके पास धन की अधिकता है, वो ही संसार में अधिक सभ्य माना जाता है।

SubQuestion No : 18

Q.18 जिसमें किसी को भी एक वस्तु के _____ में दूसरी वस्तु प्राप्त हो जाती थी

Ans 1. बदले

2. खरीदने

3. साथ

4. पास

Question ID : 264330189820

Option 1 ID : 264330742911

Option 2 ID : 264330742913

Option 3 ID : 264330742910

Option 4 ID : 264330742912

Status : Not Answered

Chosen Option : --

Comprehension:

नीचे दिए गये गद्यांश में कुछ शब्द छोड़ दिये गए हैं, प्रत्येक अनुच्छेद के सामने चार विकल्प दिए गए हैं। इस गद्यांश को ध्यानपूर्वक पढ़ें और चार विकल्पों में से सर्वोत्तम उत्तर वाला विकल्प चुनें।

धन जीवन की आधारभूत आवश्यकता है, जिसके बिना कोई भी स्वस्थ और _____ जीवन की कल्पना नहीं कर सकता है। हमें अपनी छोटी से छोटी आवश्यकता को पूरा करने के लिए धन की आवश्यकता होती है। आधुनिक समय में, जब सभ्यता का विकास तेजी से हो रहा है और हर कोई पाश्चात्य संस्कृति का _____ कर रहा है, ऐसे समय में हमें वस्तुओं के बढ़ते हुए मूल्य के कारण अधिक धन की आवश्यकता होती है। पहले समय में, एक प्रथा प्रचलन में थी जिसे विनिमय प्रणाली कहा जाता था, जिसमें किसी को भी एक वस्तु के _____ में दूसरी वस्तु प्राप्त हो जाती थी हालांकि, अब इस आधुनिक संसार में प्रत्येक वस्तु या चीज को खरीदने के लिए केवल धन की आवश्यकता होती है। धन का महत्व दिन प्रति दिन बढ़ता जा रहा है, क्योंकि हमारा रहन-सहन बहुत _____ हो गया है। धन के महत्व में उत्पादन, उपभोग, विनिमय, वितरण, सार्वजनिक राजस्व आदि के क्षेत्र में बड़े स्तर पर वृद्धि हुई है। यह आय, रोजगार, आगम-निर्गम, सामान्य मूल्य स्तर आदि के निर्धारण में बहुत _____ भूमिका निभाता है। यदि वर्तमान समय के परिदृश्य को देखा जाए तो इस बात में कोई संदेह नहीं है कि, जिसके पास धन की अधिकता है, वो ही संसार में अधिक सभ्य माना जाता है।

SubQuestion No : 19

Q.19 धन का महत्व दिन प्रतिदिन बढ़ता जा रहा है, क्योंकि हमारा रहन-सहन बहुत _____ हो गया है।

- Ans**
- 1. सस्ता
 - 2. बेकार
 - 3. दिखावा
 - 4. महँगा

Question ID : 264330189821

Option 1 ID : 264330742915

Option 2 ID : 264330742914

Option 3 ID : 264330742917

Option 4 ID : 264330742916

Status : Not Answered

Chosen Option : --

Comprehension:

नीचे दिए गये गद्यांश में कुछ शब्द छोड़ दिये गए हैं, प्रत्येक अनुच्छेद के सामने चार विकल्प दिए गए हैं। इस गद्यांश को ध्यानपूर्वक पढ़ें और चार विकल्पों में से सर्वोत्तम उत्तर वाला विकल्प चुनें।

धन जीवन की आधारभूत आवश्यकता है, जिसके बिना कोई भी स्वस्थ और _____ जीवन की कल्पना नहीं कर सकता है। हमें अपनी छोटी से छोटी आवश्यकता को पूरा करने के लिए धन की आवश्यकता होती है। आधुनिक समय में, जब सभ्यता का विकास तेजी से हो रहा है और हर कोई पाश्चात्य संस्कृति का _____ कर रहा है, ऐसे समय में हमें वस्तुओं के बढ़ते हुए मूल्य के कारण अधिक धन की आवश्यकता होती है। पहले समय में, एक प्रथा प्रचलन में थी जिसे विनिमय प्रणाली कहा जाता था, जिसमें किसी को भी एक वस्तु के _____ में दूसरी वस्तु प्राप्त हो जाती थी हालांकि, अब इस आधुनिक संसार में प्रत्येक वस्तु या चीज को खरीदने के लिए केवल धन की आवश्यकता होती है। धन का महत्व दिन प्रति दिन बढ़ता जा रहा है, क्योंकि हमारा रहन-सहन बहुत _____ हो गया है। धन के महत्व में उत्पादन, उपभोग, विनिमय, वितरण, सार्वजनिक राजस्व आदि के क्षेत्र में बड़े स्तर पर वृद्धि हुई है। यह आय, रोजगार, आगम-निर्गम, सामान्य मूल्य स्तर आदि के निर्धारण में बहुत _____ भूमिका निभाता है। यदि वर्तमान समय के परिदृश्य को देखा जाए तो इस बात में कोई संदेह नहीं है कि, जिसके पास धन की अधिकता है, वो ही संसार में अधिक सभ्य माना जाता है।

SubQuestion No : 20

Q.20 यह आय, रोजगार, आगम-निर्गम, सामान्य मूल्य स्तर आदि के निर्धारण में बहुत _____ भूमिका निभाता है।

Ans

- ✓ 1. महत्वपूर्ण
- ✗ 2. कम
- ✗ 3. सजगता
- ✗ 4. विफलता

Question ID : 264330189822

Option 1 ID : 264330742919

Option 2 ID : 264330742918

Option 3 ID : 264330742920

Option 4 ID : 264330742921

Status : Not Answered

Chosen Option : --