

Constable GD in Central Armed Police Forces CAPFs SSF Rifleman GD in Assam Rifles Examination 2024

Roll Number	
Candidate Name	
Venue Name	
Exam Date	28/02/2024
Exam Time	2:30 PM - 3:30 PM
Subject	Constable GD Examination 2024

Section : Part-A-General Intelligence and Reasoning

Q.1 Three positions of a dice are given below. What will come on the face opposite to the face containing '6' on it?



- Ans
- 1. 3
 - 2. 2
 - 3. 1
 - 4. 4

Question ID : 264330190226

Option 1 ID : 264330744489

Option 2 ID : 264330744486

Option 3 ID : 264330744487

Option 4 ID : 264330744488

Status : Answered

Chosen Option : 2

Q.2 In the following question, select the related letters from the given alternatives.

ISF : DNA :: MMT : ?

- Ans
- 1. CBP
 - 2. HHO
 - 3. RQR
 - 4. STU

Question ID : 264330190450

Option 1 ID : 264330745383

Option 2 ID : 264330745385

Option 3 ID : 264330745384

Option 4 ID : 264330745382

Status : Answered

Chosen Option : 2

Q.3 Which of the following groups of letters when sequentially placed from left to right will complete the given series?

p_qqrrssppq_rssppqqrssppqqr_s_

- Ans**
- 1. prpr
 - 2. srqp
 - 3. pqrs
 - 4. qprs

Question ID : 264330191329

Option 1 ID : 264330748672

Option 2 ID : 264330748673

Option 3 ID : 264330748670

Option 4 ID : 264330748671

Status : Answered

Chosen Option : 3

Q.4 Select the option that is related to the fifth word in the same way as the fourth word is related to the third word and the second word is related to the first word.

HAWA MAHAL : RAJASTHAN :: CHARMINAR : TELANGANA :: STATUE OF UNITY : ?

- Ans**
- 1. MAHARASHTRA
 - 2. BIHAR
 - 3. KARNATAKA
 - 4. GUJARAT

Question ID : 264330192272

Option 1 ID : 264330752442

Option 2 ID : 264330752444

Option 3 ID : 264330752445

Option 4 ID : 264330752443

Status : Answered

Chosen Option : 4

Q.5 Three Statements are given followed by two conclusions numbered I and II. Assuming the statements to be true, even if they seem to be at variance with commonly known facts, decide which of the conclusions logically follow(s) from the statements.

Statement I: Some books are pens.

Statement II: All pens are pencils.

Statement III: No pencil is a marker.

Conclusion I: Some books are not pens.

Conclusion II: No pen is a marker.

- Ans**
- 1. Only conclusion I follows
 - 2. Both conclusions I and II follow
 - 3. Neither conclusion I nor II follows
 - 4. Only conclusion II follows

Question ID : 264330190417

Option 1 ID : 264330745250

Option 2 ID : 264330745252

Option 3 ID : 264330745253

Option 4 ID : 264330745251

Status : Answered

Chosen Option : 4

Q.6 A series is given with one term missing. Select the correct alternative from the given ones that will complete the series.

NRTS, JNPO, FJLK, BFHG, ?

- Ans**
- 1. YMRF
 - 2. XTRS
 - 3. XMRF
 - 4. XBDC

Question ID : 264330190447

Option 1 ID : 264330745373

Option 2 ID : 264330745370

Option 3 ID : 264330745372

Option 4 ID : 264330745371

Status : Answered

Chosen Option : 4

Q.7 In a certain code language, if SUNSET is coded as 'TTOTDU' and MOONRISE is coded as 'NNNOSHTD', then what will STARS be coded as?

- Ans**
- 1. TUSTZ
 - 2. TUZTS
 - 3. TZUST
 - 4. TUZST

Question ID : 264330192253

Option 1 ID : 264330752368

Option 2 ID : 264330752367

Option 3 ID : 264330752369

Option 4 ID : 264330752366

Status : Answered

Chosen Option : 4

Q.8 In the following question, select the figure which can be placed at the sign of question mark (?) from the given alternatives.



Ans


✗ 1.



✓ 2.



✗ 3.



✗ 4.



Question ID : 264330191523

Option 1 ID : 264330749448

Option 2 ID : 264330749446

Option 3 ID : 264330749447

Option 4 ID : 264330749449

Status : Answered

Chosen Option : 2

Q.9 In a certain code language, 'GERMAN' is coded as 'HDSLBM'. What is the code for 'EXPAND' in that code language?

- Ans**
- 1. FWQZPD
 - 2. FWQZPB
 - 3. FWQZOC
 - 4. FWQZOB

Question ID : 264330190332
Option 1 ID : 264330744911
Option 2 ID : 264330744913
Option 3 ID : 264330744910
Option 4 ID : 264330744912
Status : Answered
Chosen Option : 3

Q.10 After interchanging the given two signs what will be the values of equation (I) and (II) respectively?

× and ÷

I. $16 \times 4 - 8 \div 2 + 20$

II. $35 \div 7 \times 5 + 15 - 18$

- Ans**
- 1. 15 and 20
 - 2. 17 and 41
 - 3. 8 and 46
 - 4. 10 and 46

Question ID : 264330190340
Option 1 ID : 264330744944
Option 2 ID : 264330744943
Option 3 ID : 264330744945
Option 4 ID : 264330744942
Status : Answered
Chosen Option : 3

Q.11 Arrange the given words in alphabetical order:

1. DAISY
2. DART
3. DAFFODIL
4. DANDY
5. DAHLIA

- Ans**
- 1. 3, 1, 2, 5, 4
 - 2. 3, 5, 1, 2, 4
 - 3. 3, 2, 1, 5, 4
 - 4. 3, 5, 1, 4, 2

Question ID : 264330191570
Option 1 ID : 264330749636
Option 2 ID : 264330749634
Option 3 ID : 264330749637
Option 4 ID : 264330749635
Status : Answered
Chosen Option : 4

Q.12 Which of the following numbers will replace the question mark (?) in the given series?

7, 9, 13, 21, 37, ?

Ans ✓ 1. 69

✗ 2. 55

✗ 3. 67

✗ 4. 42

Question ID : 264330192080

Option 1 ID : 264330751677

Option 2 ID : 264330751675

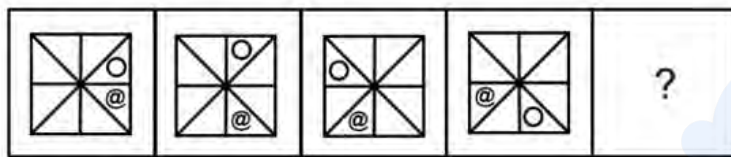
Option 3 ID : 264330751676

Option 4 ID : 264330751674

Status : Answered

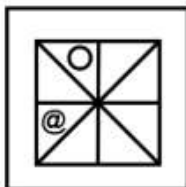
Chosen Option : 1

Q.13 Select the figure that will replace the question mark (?) in the following figure series.

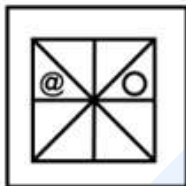


Ans

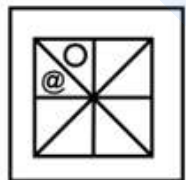
✗ 1.



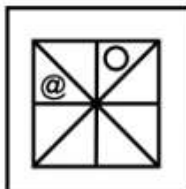
✗ 2.



✓ 3.



✗ 4.



Question ID : 264330192244

Option 1 ID : 264330752332

Option 2 ID : 264330752331

Option 3 ID : 264330752333

Option 4 ID : 264330752330

Status : Answered

Chosen Option : 2

Q.14 A is the brother of B. B is the sister of C. C is the mother of D. D is the wife of E. E is the father of F. F is the brother of G. How is C related to E?

- Ans**
- 1. Wife's mother
 - 2. Brother
 - 3. Mother
 - 4. Wife's father

Question ID : 264330188026
Option 1 ID : 264330736035
Option 2 ID : 264330736033
Option 3 ID : 264330736032
Option 4 ID : 264330736034
Status : Answered
Chosen Option : 1

Q.15 In the following question, select the missing number from the given series.

71, 82, 93, 104, 115, ?

- Ans**
- 1. 128
 - 2. 125
 - 3. 130
 - 4. 126

Question ID : 264330187450
Option 1 ID : 264330733729
Option 2 ID : 264330733728
Option 3 ID : 264330733731
Option 4 ID : 264330733730
Status : Answered
Chosen Option : 4

Q.16 Eight friends A, B, C, D, E, F, G and H are seated in a straight line and all of them are facing north, but not necessarily in the same order. B sits second to right of F. F sits at one of the extreme ends of the line. Only three people sit between B and E. C sits third to the left of D. Only two people sit between D and A. G is not an immediate neighbour of E. Who is sitting on the immediate left of H?

- Ans**
- 1. D
 - 2. A
 - 3. E
 - 4. F

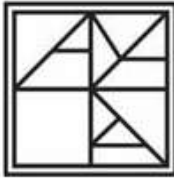
Question ID : 264330191357
Option 1 ID : 264330748783
Option 2 ID : 264330748782
Option 3 ID : 264330748784
Option 4 ID : 264330748785
Status : Answered
Chosen Option : 1

Q.17 From the given option figures, select the one in which the question figure is hidden/embedded, (rotation is not allowed)



Ans

1.



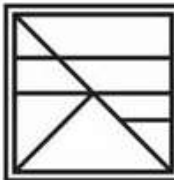
2.



3.



4.



Question ID : 264330187357
 Option 1 ID : 264330733356
 Option 2 ID : 264330733357
 Option 3 ID : 264330733358
 Option 4 ID : 264330733359
 Status : Answered
 Chosen Option : 3

Q.18 Five persons Amuj, Bheem, Chetan, Dheer and Imran are sitting around a circular table facing towards the centre (not necessarily in the same order). Only one person is sitting between Chetan and Dheer. Bheem is sitting second to the left of Dheer. Amuj is sitting to the immediate right of Bheem. Who is sitting to the immediate left of Amuj?

Ans 1. Bheem

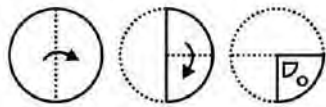
2. Dheer

3. Imran

4. Chetan

Question ID : 264330187107
 Option 1 ID : 264330732357
 Option 2 ID : 264330732356
 Option 3 ID : 264330732359
 Option 4 ID : 264330732358
 Status : Answered
 Chosen Option : 1

Q.19 A piece of paper is folded and punched as shown below in the question figures, indicate how it will appear when opened?

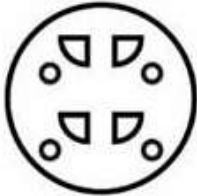


Ans

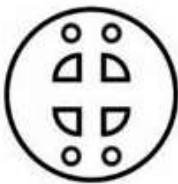
1.



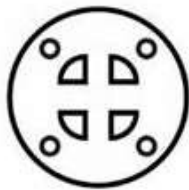
2.



3.



4.



Question ID : 264330190204

Option 1 ID : 264330744399

Option 2 ID : 264330744401

Option 3 ID : 264330744398

Option 4 ID : 264330744400

Status : Answered

Chosen Option : 4

Q.20 If $8 * 4 @ 6 \# 3 = 195$ and $6 * 3 @ 5 \# 10 = 100$, then $7 * 3 @ 4 \# 15 = ?$

Ans 1. 99

2. 100

3. 108

4. 110

Question ID : 264330191562

Option 1 ID : 264330749603

Option 2 ID : 264330749602

Option 3 ID : 264330749605

Option 4 ID : 264330749604

Status : Answered

Chosen Option : 1

Q.1 In which of the following states of India is the festival Baisakhi celebrated?

- Ans
- 1. Punjab
 - 2. Assam
 - 3. Tamil Nadu
 - 4. West Bengal

Question ID : 264330188876
Option 1 ID : 264330739308
Option 2 ID : 264330739306
Option 3 ID : 264330739309
Option 4 ID : 264330739307
Status : Answered
Chosen Option : 1

Q.2 शतरंज में, अंकों के संदर्भ में किस मोहरे का मूल्य सबसे कम होता है?

- Ans
- 1. हाथी (Rook)
 - 2. राजा (King)
 - 3. वजीर (Queen)
 - 4. घोड़ा (Knight)

Question ID : 264330190941
Option 1 ID : 264330747118
Option 2 ID : 264330747121
Option 3 ID : 264330747120
Option 4 ID : 264330747119
Status : Answered
Chosen Option : 1

Q.3 In India, the _____ is the legislative branch of governance; it is in charge of formulating laws.

- Ans
- 1. Supreme Court
 - 2. Home Minister
 - 3. President
 - 4. Parliament

Question ID : 264330191801
Option 1 ID : 264330750558
Option 2 ID : 264330750561
Option 3 ID : 264330750559
Option 4 ID : 264330750560
Status : Answered
Chosen Option : 4

Q.4 Who of the following was invented and popularized Mohan Veena?

- Ans
- 1. Annapurna Devi
 - 2. Pt. Ram Narayan
 - 3. Pt. Ravi Shankar
 - 4. Pt. Vishwa Mohan Bhat

Question ID : 264330188662
Option 1 ID : 264330738453
Option 2 ID : 264330738450
Option 3 ID : 264330738451
Option 4 ID : 264330738452
Status : Answered
Chosen Option : 2

Q.5 The duration of a kabaddi match is of how many minutes (excluding break time) ?

- Ans
- 1. 50 minutes
 - 2. 40 minutes
 - 3. 45 minutes
 - 4. 30 minutes

Question ID : 264330191984
Option 1 ID : 264330751293
Option 2 ID : 264330751292
Option 3 ID : 264330751290
Option 4 ID : 264330751291
Status : Answered
Chosen Option : 2

Q.6 _____ is a form of matter in which many of the electrons wander around freely among the nuclei of the atoms.

- Ans
- 1. Liquid
 - 2. Plasma
 - 3. Gas
 - 4. Solid

Question ID : 264330191733
Option 1 ID : 264330750287
Option 2 ID : 264330750289
Option 3 ID : 264330750288
Option 4 ID : 264330750286
Status : Answered
Chosen Option : 1

Q.7 Which of the following is the unique dance tradition of Himachal Pradesh?

- Ans
- 1. Cheraw
 - 2. Dandari
 - 3. Bihu
 - 4. Nati

Question ID : 264330191991
Option 1 ID : 264330751321
Option 2 ID : 264330751320
Option 3 ID : 264330751318
Option 4 ID : 264330751319
Status : Answered
Chosen Option : 4

Q.8 When a person seems to be working, but their work is not contributing to the output, it is known as _____.

- Ans
- 1. Seasonal unemployment
 - 2. Disguised unemployment
 - 3. Frictional unemployment
 - 4. Cyclical unemployment

Question ID : 264330191255
Option 1 ID : 264330748375
Option 2 ID : 264330748376
Option 3 ID : 264330748374
Option 4 ID : 264330748377
Status : Answered
Chosen Option : 2

Q.9 Nandini Krishak Samriddhi Yojna 2023 is associated with which of the following?

- Ans
- 1. Milk
 - 2. Rice
 - 3. Wheat
 - 4. Sugarcane

Question ID : 264330188632
Option 1 ID : 264330738330
Option 2 ID : 264330738331
Option 3 ID : 264330738332
Option 4 ID : 264330738333
Status : Answered
Chosen Option : 4

Q.10 Which of these artists is a Manipuri dance style doyenne?

- Ans
- 1. Gopi Krishan
 - 2. Rajkumar Singhajit Singh
 - 3. T Balasaraswati
 - 4. Pt. Gopal Prasad Dubey

Question ID : 264330188783
Option 1 ID : 264330738937
Option 2 ID : 264330738936
Option 3 ID : 264330738934
Option 4 ID : 264330738935
Status : Answered
Chosen Option : 2

Q.11 In the Union Budget 2021-22, presented on 1st February 2021, the Finance Minister of India announced an outlay of INR 1.97 Lakh Crores for the Production-Linked Incentive (PLI) Schemes for _____ key sectors.

- Ans
- 1. 13
 - 2. 11
 - 3. 12
 - 4. 10

Question ID : 264330190786
Option 1 ID : 264330746501
Option 2 ID : 264330746499
Option 3 ID : 264330746500
Option 4 ID : 264330746498
Status : Answered
Chosen Option : 3

Q.12 In which year was the Rowlatt Act passed in India?

- Ans
- 1. 1919
 - 2. 1913
 - 3. 1909
 - 4. 1923

Question ID : 264330188661
Option 1 ID : 264330738448
Option 2 ID : 264330738447
Option 3 ID : 264330738446
Option 4 ID : 264330738449
Status : Answered
Chosen Option : 1

Q.13 Which Indian cricketer has been announced as Brand Ambassador of Bharat Petroleum Corporation Ltd.(BPCL) in August 2023?

- Ans**
- 1. Sachin Tendulkar
 - 2. M.S. Dhoni
 - 3. Rahul Dravid
 - 4. Virat Kohli

Question ID : 264330192029
Option 1 ID : 264330751472
Option 2 ID : 264330751473
Option 3 ID : 264330751471
Option 4 ID : 264330751470
Status : Answered
Chosen Option : 2

Q.14 What is the total rural literacy rate according to the 1951 census of India?

- Ans**
- 1. 12.1 percent
 - 2. 14.1 percent
 - 3. 18.1 percent
 - 4. 16.1 percent

Question ID : 264330191053
Option 1 ID : 264330747566
Option 2 ID : 264330747567
Option 3 ID : 264330747569
Option 4 ID : 264330747568
Status : Answered
Chosen Option : 2

Q.15 Which of the following statements is correct regarding Capital Expenditure?

I. Capital expenditure result in creation of physical or financial assets or reduction in financial liabilities.

II. Non-plan capital expenditure covers various general, social and economic services provided by the government.

- Ans**
- 1. Only II
 - 2. Both I and II
 - 3. Only I
 - 4. Neither I nor II

Question ID : 264330190784
Option 1 ID : 264330746491
Option 2 ID : 264330746492
Option 3 ID : 264330746490
Option 4 ID : 264330746493
Status : Answered
Chosen Option : 2

Q.16 Mauryan Empire in India was established in 322 B.C. with its capital in Pataliputra which is now known as _____.

- Ans
- 1. Patna
 - 2. Panaji
 - 3. Delhi
 - 4. Patiala

Question ID : 264330191856
Option 1 ID : 264330750780
Option 2 ID : 264330750779
Option 3 ID : 264330750778
Option 4 ID : 264330750781
Status : Answered
Chosen Option : 1

Q.17 What is the full form of NEIA?

- Ans
- 1. National Export Insurance Authority
 - 2. National Export Issuance Account
 - 3. National Export Insurance Account
 - 4. National Emergency Insurance Account

Question ID : 264330191926
Option 1 ID : 264330751058
Option 2 ID : 264330751060
Option 3 ID : 264330751059
Option 4 ID : 264330751061
Status : Answered
Chosen Option : 3

Q.18 Finance Minister Nirmala Sitharaman has so far presented four union budgets. She became _____ woman till now to achieve this feat. (January 2023)

- Ans
- 1. second
 - 2. third
 - 3. fourth
 - 4. first

Question ID : 264330191430
Option 1 ID : 264330749075
Option 2 ID : 264330749076
Option 3 ID : 264330749077
Option 4 ID : 264330749074
Status : Answered
Chosen Option : 4

Q.19 Which sport is related with AFC Challenge Cup?

- Ans
- 1. Hockey
 - 2. Cricket
 - 3. Football
 - 4. Tennis

Question ID : 264330191903
Option 1 ID : 264330750968
Option 2 ID : 264330750966
Option 3 ID : 264330750967
Option 4 ID : 264330750969
Status : Answered
Chosen Option : 3

Q.20 Which of the following articles of the Indian Constitution mentions that the State shall maintain just and honourable relations between nations?

- Ans
- 1. Article 47
 - 2. Article 49
 - 3. Article 51
 - 4. Article 48

Question ID : 264330191099
Option 1 ID : 264330747750
Option 2 ID : 264330747752
Option 3 ID : 264330747753
Option 4 ID : 264330747751
Status : Answered
Chosen Option : 1

Section : Part-C-Elementary Mathematics

Q.1 What is the value of $5\frac{1}{4} + 6\frac{1}{2} + 7\frac{3}{4} - 8\frac{1}{2}$?

- Ans
- 1. 10
 - 2. 8
 - 3. 9
 - 4. 11

Question ID : 264330187881
Option 1 ID : 264330735452
Option 2 ID : 264330735455
Option 3 ID : 264330735454
Option 4 ID : 264330735453
Status : Answered
Chosen Option : 4

Q.2 Compound interest (compounding annually) on a sum for 2 years is Rs. 6681.6. If rate of interest is 32 percent per annum, then what is the sum?

- Ans**
- 1. Rs. 8700
 - 2. Rs. 8400
 - 3. Rs. 9000
 - 4. Rs. 8800

Question ID : 264330188567
Option 1 ID : 264330738071
Option 2 ID : 264330738073
Option 3 ID : 264330738072
Option 4 ID : 264330738070
Status : Answered
Chosen Option : 1

Q.3 If B can do 20 percent of a work in 7 days, then B can complete the entire work in how many days?

- Ans**
- 1. 45 days
 - 2. 42 days
 - 3. 35 days
 - 4. 37 days

Question ID : 264330187556
Option 1 ID : 264330734152
Option 2 ID : 264330734153
Option 3 ID : 264330734154
Option 4 ID : 264330734155
Status : Answered
Chosen Option : 3

Q.4 The average income of 5 persons is ₹ 550 and that of another 15 persons is ₹ 450. Find the average income of the whole group.

- Ans**
- 1. ₹ 525
 - 2. ₹ 325
 - 3. ₹ 675
 - 4. ₹ 475

Question ID : 264330191672
Option 1 ID : 264330750044
Option 2 ID : 264330750043
Option 3 ID : 264330750045
Option 4 ID : 264330750042
Status : Answered
Chosen Option : 4

Q.5 If $X : Y = 1 : 5$, then what is the value of $X : (X + Y)$?

- Ans 1. $1 : 6$
 2. $1 : 5$
 3. $5 : 6$
 4. $6 : 1$

Question ID : 264330187731
Option 1 ID : 264330734854
Option 2 ID : 264330734855
Option 3 ID : 264330734853
Option 4 ID : 264330734852
Status : Answered
Chosen Option : 1

Q.6 If one of the sides of an equilateral triangle is $\frac{1}{3}$ cm. Find the area of the triangle.

- Ans 1. $\frac{4}{3}$ cm²
 2. $\frac{\sqrt{3}}{4}$ cm²
 3. $\frac{4}{\sqrt{3}}$ cm²
 4. $\frac{1}{(12\sqrt{3})}$ cm²

Question ID : 264330192407
Option 1 ID : 264330752985
Option 2 ID : 264330752983
Option 3 ID : 264330752982
Option 4 ID : 264330752984
Status : Answered
Chosen Option : 4

Q.7 C is thrice as good a workman as D and together they can finish a work in 31 days. In how many days will D alone complete the same work?

- Ans 1. 124 days
 2. 130 days
 3. 144 days
 4. 136 days

Question ID : 264330187817
Option 1 ID : 264330735196
Option 2 ID : 264330735197
Option 3 ID : 264330735199
Option 4 ID : 264330735198
Status : Answered
Chosen Option : 1

Q.8 Pankaj purchases a watch for Rs. 800. He sells the watch at a discount of 20 percent and earns a profit of 20 percent. What is the marked price of the watch?

- Ans**
- 1. Rs. 900
 - 2. Rs. 1200
 - 3. Rs. 840
 - 4. Rs. 1000

Question ID : 264330187890
Option 1 ID : 264330735490
Option 2 ID : 264330735491
Option 3 ID : 264330735488
Option 4 ID : 264330735489
Status : Answered
Chosen Option : 2

Q.9 L's income is 125 percent of M's income and L's expenditure is 120 percent of M's expenditure. If L's income is 180 percent of M's expenditure, then what is the respective ratio of L's savings and M's savings?

- Ans**
- 1. 17 : 23
 - 2. 12 : 5
 - 3. 15 : 11
 - 4. 5 : 9

Question ID : 264330187226
Option 1 ID : 264330732832
Option 2 ID : 264330732833
Option 3 ID : 264330732835
Option 4 ID : 264330732834
Status : Answered
Chosen Option : 1

Q.10 What is the value of $52 + 4 \text{ of } (28 + 2) - 17 \times 4$?

- Ans**
- 1. 104
 - 2. 100
 - 3. 110
 - 4. 112

Question ID : 264330187800
Option 1 ID : 264330735129
Option 2 ID : 264330735128
Option 3 ID : 264330735130
Option 4 ID : 264330735131
Status : Answered
Chosen Option : 1

Q.11 Find the mean proportion between 21 and 189.

- Ans 1. 68
 2. 63
 3. 62
 4. 66

Question ID : 264330191200
Option 1 ID : 264330748155
Option 2 ID : 264330748156
Option 3 ID : 264330748157
Option 4 ID : 264330748154
Status : Answered
Chosen Option : 2

Q.12 If product of two numbers is 108 and the HCF between them is 3. What is the LCM of the two numbers?

- Ans 1. 25
 2. 36
 3. 32
 4. 42

Question ID : 264330192291
Option 1 ID : 264330752521
Option 2 ID : 264330752518
Option 3 ID : 264330752520
Option 4 ID : 264330752519
Status : Answered
Chosen Option : 2

Q.13 Two trains are moving in the same direction at the speed of 73 km/hr and 123 km/hr. The time taken by faster train to cross a man sitting in the slower train is 27 seconds. What will be the length of the faster train?

- Ans 1. 485 metres
 2. 430 metres
 3. 375 metres
 4. 320 metres

Question ID : 264330187615
Option 1 ID : 264330734391
Option 2 ID : 264330734389
Option 3 ID : 264330734388
Option 4 ID : 264330734390
Status : Answered
Chosen Option : 3

Q.14 The price of an edible oil is increased by 45%. To maintain the budget, Rekha reduces the consumption of this oil by 20%. Find the increase in expenditure due to this edible oil.

- Ans**
- 1. 18%
 - 2. 15%
 - 3. 17%
 - 4. 16%

Question ID : 264330188420
Option 1 ID : 264330737550
Option 2 ID : 264330737549
Option 3 ID : 264330737548
Option 4 ID : 264330737551
Status : Answered
Chosen Option : 4

Q.15 If the selling price of a bottle is Rs. 408 and loss percentage is 32 percent, then what is the cost price of the bottle?

- Ans**
- 1. Rs. 600
 - 2. Rs. 700
 - 3. Rs. 720
 - 4. Rs. 650

Question ID : 264330188540
Option 1 ID : 264330737962
Option 2 ID : 264330737964
Option 3 ID : 264330737965
Option 4 ID : 264330737963
Status : Answered
Chosen Option : 1

Q.16 Find the value of $755 - [250 + \{33 - (100 - 70)\}]$

- Ans**
- 1. 500
 - 2. 510
 - 3. 502
 - 4. 506

Question ID : 264330191668
Option 1 ID : 264330750026
Option 2 ID : 264330750027
Option 3 ID : 264330750029
Option 4 ID : 264330750028
Status : Answered
Chosen Option : 3

Q.17 Average of 3 numbers is 23. First number is 5 less than the average of the other two. Third number is 13 more than the average of other two. What is the difference between first and third number?

- Ans**
- 1. 21
 - 2. 12
 - 3. 17
 - 4. 18

Question ID : 264330187584
Option 1 ID : 264330734264
Option 2 ID : 264330734267
Option 3 ID : 264330734266
Option 4 ID : 264330734265
Status : Answered
Chosen Option : 1

Q.18 Mary borrowed \$3000 from a friend at a simple interest rate of 6% per annum. If she repays the loan after 1.5 years, find the total interest paid.

- Ans**
- 1. \$270
 - 2. \$250
 - 3. \$290
 - 4. \$280

Question ID : 264330190741
Option 1 ID : 264330746394
Option 2 ID : 264330746395
Option 3 ID : 264330746397
Option 4 ID : 264330746396
Status : Answered
Chosen Option : 1

Q.19 Vikas sells 2 tables at the rate of Rs. 504 per table. He earns 40 percent profit on first table and suffers a loss of 40 percent on second table. What is the total cost price of both the tables?

- Ans**
- 1. Rs. 1500
 - 2. Rs. 1200
 - 3. Rs. 1400
 - 4. Rs. 1000

Question ID : 264330187688
Option 1 ID : 264330734683
Option 2 ID : 264330734682
Option 3 ID : 264330734680
Option 4 ID : 264330734681
Status : Answered
Chosen Option : 2

Q.20 The selling price of an article is Rs. 3410. If discount of 45 percent is given, then what will be the marked price of the article?

- Ans**
- 1. Rs. 6500
 - 2. Rs. 6400
 - 3. Rs. 6000
 - 4. Rs. 6200

Question ID : 264330188542

Option 1 ID : 264330737970

Option 2 ID : 264330737973

Option 3 ID : 264330737972

Option 4 ID : 264330737971

Status : Answered

Chosen Option : 4

Section : Part-D-English

Q.1 Select the most appropriate synonym of the given word.

Asleep

- Ans**
- 1. Dormant
 - 2. Active
 - 3. Dizzy
 - 4. Drowsy

Question ID : 264330186856

Option 1 ID : 264330731555

Option 2 ID : 264330731553

Option 3 ID : 264330731552

Option 4 ID : 264330731554

Status : Answered

Chosen Option : 2

Q.2 Fill in the blank with the most appropriate option.

When supper was _____, Uncle Jack went to the Livingroom and sat down.

- Ans**
- 1. closed
 - 2. finish
 - 3. completed
 - 4. over

Question ID : 264330186806

Option 1 ID : 264330731367

Option 2 ID : 264330731364

Option 3 ID : 264330731366

Option 4 ID : 264330731365

Status : Answered

Chosen Option : 4

Q.3 Identify the segment that contains a grammatical error. If there is no error, select 'No error'.

When I asked her / how she came to be at the window / she shook her head and turns away.

- Ans
- 1. she shook her head and turns away.
 - 2. how she came to be at the window
 - 3. No error
 - 4. When I asked her

Question ID : 264330186803
Option 1 ID : 264330731354
Option 2 ID : 264330731353
Option 3 ID : 264330731355
Option 4 ID : 264330731352
Status : Answered
Chosen Option : 2

Q.4 Select the most appropriate option for the given blank.

My mother thinks that my aunt has _____ a spell on me.

- Ans
- 1. cast
 - 2. modelled
 - 3. filed
 - 4. produced

Question ID : 264330186127
Option 1 ID : 264330728777
Option 2 ID : 264330728779
Option 3 ID : 264330728778
Option 4 ID : 264330728776
Status : Answered
Chosen Option : 3

Q.5 Choose the word that is opposite in meaning to the given word.

Appreciate

- Ans
- 1. Burgeon
 - 2. Savvy
 - 3. Flourish
 - 4. Disvalue

Question ID : 264330186332
Option 1 ID : 264330729559
Option 2 ID : 264330729558
Option 3 ID : 264330729557
Option 4 ID : 264330729556
Status : Answered
Chosen Option : 4

Q.6 Choose the most appropriate antonym of the underlined word.

Young, glamorous candidates have typically fared better in general elections.

- Ans
- 1. Attractive
 - 2. Alluring
 - 3. Flashy
 - 4. Repulsive

Question ID : 264330185618
Option 1 ID : 264330726839
Option 2 ID : 264330726838
Option 3 ID : 264330726836
Option 4 ID : 264330726837
Status : Answered
Chosen Option : 3

Q.7 Choose the idiom/phrase that can substitute the highlighted group of words meaningfully.

Learn to separate what is useful from what is worthless. Otherwise, you will always be tied up with unnecessary things.

- Ans
- 1. Spill the beans
 - 2. Let the cat out of the bag
 - 3. Separate the wheat from the chaff
 - 4. Chew the cud

Question ID : 264330185725
Option 1 ID : 264330727245
Option 2 ID : 264330727247
Option 3 ID : 264330727244
Option 4 ID : 264330727246
Status : Answered
Chosen Option : 2

Q.8 Improve the underlined part of the sentence. Choose 'No improvement' as an answer if the sentence is grammatically correct.

She had finished all her homework from 5 a.m. on that day.

- Ans
- 1. till 5 a.m. at that day
 - 2. No improvement
 - 3. by 5 a.m. in that day
 - 4. by 5 a.m. on that day

Question ID : 264330186280
Option 1 ID : 264330729362
Option 2 ID : 264330729363
Option 3 ID : 264330729360
Option 4 ID : 264330729361
Status : Answered
Chosen Option : 4

Q.9 Identify the segment that contains a grammatical error. If there is no error, select 'No error'.

I thanked him, / staring at him far beyond the bounds of good manners, / and holding tight to Joe.

- Ans**
- 1. and holding tight to de.
 - 2. I thanked him,
 - 3. No error
 - 4. staring at him far beyond the bounds of good manners,

Question ID : 264330186528

Option 1 ID : 264330730306

Option 2 ID : 264330730304

Option 3 ID : 264330730307

Option 4 ID : 264330730305

Status : Answered

Chosen Option : 3

Q.10 Improve the underlined part of the sentence. Choose 'No improvement' as an answer if the sentence is grammatically correct.

They gave we a tour of their new house.

- Ans**
- 1. us a tour
 - 2. us a toured
 - 3. No improvement
 - 4. we a touring

Question ID : 264330186658

Option 1 ID : 264330730801

Option 2 ID : 264330730800

Option 3 ID : 264330730803

Option 4 ID : 264330730802

Status : Answered

Chosen Option : 1

Q.11 Select the most appropriate meaning of the given idiom.

Nothing to Sneeze at

- Ans**
- 1. Not important
 - 2. To keep secrets.
 - 3. Not well known of used.
 - 4. Lowest Ranking

Question ID : 264330186586

Option 1 ID : 264330730524

Option 2 ID : 264330730527

Option 3 ID : 264330730525

Option 4 ID : 264330730526

Status : Answered

Chosen Option : 1

Q.12 Select the sentence with no spelling errors.

Ans 1.

She had seen public executions before, but this one would hant her for ears to come.

2.

She had seen public exsecutions before, but this one would haunt her for years to come.

3.

She had seen public executions before, but this one would haunt her for years to come.

4.

She had seen public executions before, but this one would hawnt her for years to come.

Question ID : 264330185874

Option 1 ID : 264330727815

Option 2 ID : 264330727814

Option 3 ID : 264330727813

Option 4 ID : 264330727812

Status : Answered

Chosen Option : 1

Q.13 Find the part of the given sentence that has an error in it. If there is no error, choose 'No error'.

We need to upgrade to the late software to run this application.

Ans 1. We need to upgrade

2. to run this application

3. to the late software

4. No error

Question ID : 264330186214

Option 1 ID : 264330729108

Option 2 ID : 264330729110

Option 3 ID : 264330729109

Option 4 ID : 264330729111

Status : Answered

Chosen Option : 3

Q.14 Select the most appropriate word to fill in the blank.

He is _____ charming and witty.

Ans 1. not only

2. neither

3. both

4. yet

Question ID : 264330186596

Option 1 ID : 264330730564

Option 2 ID : 264330730567

Option 3 ID : 264330730566

Option 4 ID : 264330730565

Status : Answered

Chosen Option : 3

Q.15 Select the incorrectly spelt word from the given sentence.

As he got older, the two stoped going to the park, and their relationship began to deteriorate.

- Ans**
- 1. relationship
 - 2. deteriorate
 - 3. older
 - 4. stoped

Question ID : 264330186630

Option 1 ID : 264330730694

Option 2 ID : 264330730695

Option 3 ID : 264330730692

Option 4 ID : 264330730693

Status : Answered

Chosen Option : 4

Comprehension:

Read the passage carefully and select the correct answer for the given blanks out of the four alternatives.

Deep Ocean Mission would not result in any over-exploitation of marine (1) _____ by corporate houses and will not affect the life and livelihoods of (2) _____ in the country. The Deep Ocean Mission aims to explore deep-oceanic resources and (3) _____ technologies for their sustainable use. The outcome of the program is intended (4) _____ identify potential new resources and develop technology for harnessing them in the future, which may generate (5) _____ opportunities for livelihood.

SubQuestion No : 16

Q.16 Select the most appropriate option for blank(1)

- Ans**
- 1. assets
 - 2. subjects
 - 3. sectors
 - 4. resources

Question ID : 264330185758

Option 1 ID : 264330727371

Option 2 ID : 264330727370

Option 3 ID : 264330727369

Option 4 ID : 264330727368

Status : Answered

Chosen Option : 4

Comprehension:

Read the passage carefully and select the correct answer for the given blanks out of the four alternatives.

Deep Ocean Mission would not result in any over-exploitation of marine (1) _____ by corporate houses and will not affect the life and livelihoods of (2) _____ in the country. The Deep Ocean Mission aims to explore deep-oceanic resources and (3) _____ technologies for their sustainable use. The outcome of the program is intended (4) _____ identify potential new resources and develop technology for harnessing them in the future, which may generate (5) _____ opportunities for livelihood.

SubQuestion No : 17

Q.17 Select the most appropriate option for blank(2)

- Ans
- 1. fishermen
 - 2. guards
 - 3. sculptors
 - 4. sailors

Question ID : 264330185759

Option 1 ID : 264330727374

Option 2 ID : 264330727372

Option 3 ID : 264330727373

Option 4 ID : 264330727375

Status : Answered

Chosen Option : 1

Comprehension:

Read the passage carefully and select the correct answer for the given blanks out of the four alternatives.

Deep Ocean Mission would not result in any over-exploitation of marine (1) _____ by corporate houses and will not affect the life and livelihoods of (2) _____ in the country. The Deep Ocean Mission aims to explore deep-oceanic resources and (3) _____ technologies for their sustainable use. The outcome of the program is intended (4) _____ identify potential new resources and develop technology for harnessing them in the future, which may generate (5) _____ opportunities for livelihood.

SubQuestion No : 18

Q.18 Select the most appropriate option for blank(3)

- Ans
- 1. shrivel
 - 2. forsake
 - 3. develop
 - 4. celebrate

Question ID : 264330185760

Option 1 ID : 264330727377

Option 2 ID : 264330727376

Option 3 ID : 264330727379

Option 4 ID : 264330727378

Status : Answered

Chosen Option : 3

Comprehension:

Read the passage carefully and select the correct answer for the given blanks out of the four alternatives.

Deep Ocean Mission would not result in any over-exploitation of marine (1) _____ by corporate houses and will not affect the life and livelihoods of (2) _____ in the country. The Deep Ocean Mission aims to explore deep-oceanic resources and (3) _____ technologies for their sustainable use. The outcome of the program is intended (4) _____ identify potential new resources and develop technology for harnessing them in the future, which may generate (5) _____ opportunities for livelihood.

SubQuestion No : 19

Q.19 Select the most appropriate option for blank(4)

- Ans
- 1. to
 - 2. of
 - 3. in
 - 4. for

Question ID : 264330185761

Option 1 ID : 264330727383

Option 2 ID : 264330727382

Option 3 ID : 264330727380

Option 4 ID : 264330727381

Status : Answered

Chosen Option : 1

Comprehension:

Read the passage carefully and select the correct answer for the given blanks out of the four alternatives.

Deep Ocean Mission would not result in any over-exploitation of marine (1) _____ by corporate houses and will not affect the life and livelihoods of (2) _____ in the country. The Deep Ocean Mission aims to explore deep-oceanic resources and (3) _____ technologies for their sustainable use. The outcome of the program is intended (4) _____ identify potential new resources and develop technology for harnessing them in the future, which may generate (5) _____ opportunities for livelihood.

SubQuestion No : 20

Q.20 Select the most appropriate option for blank(5)

- Ans
- 1. additive
 - 2. adding
 - 3. addition
 - 4. additional

Question ID : 264330185762

Option 1 ID : 264330727384

Option 2 ID : 264330727385

Option 3 ID : 264330727387

Option 4 ID : 264330727386

Status : Answered

Chosen Option : 4

Q.1 निम्नलिखित प्रश्न में, चार विकल्पों में से, उस विकल्प का चयन करें जो कोष्ठक में दिए गए शब्द के तत्सम रूप का सही विकल्प है।
शाम होते ही सबके रसोईघरों से (अंगीठी) _____ जलाने का धुआँ उठ रहा है।

- Ans
- 1. अंत्र
 - 2. घास
 - 3. अग्निष्ठिका
 - 4. कोयला

Question ID : 264330189876
Option 1 ID : 264330743128
Option 2 ID : 264330743126
Option 3 ID : 264330743129
Option 4 ID : 264330743127
Status : Not Answered
Chosen Option : --

Q.2 दिए गए वाक्यांश के लिए सार्थक शब्द ज्ञात कीजिए।

जो मोक्ष की इच्छा रखता हो

- Ans
- 1. आदियोगी
 - 2. सन्यासी
 - 3. वैरागी
 - 4. मुमुक्षु

Question ID : 264330189005
Option 1 ID : 264330739807
Option 2 ID : 264330739806
Option 3 ID : 264330739808
Option 4 ID : 264330739809
Status : Not Answered
Chosen Option : --

Q.3 निम्नलिखित प्रश्न में, दिए गए चार विकल्पों में से, उस विकल्प का चयन करें जो दिए गए मुहावरे के अर्थ को सर्वश्रेष्ठ रूप से व्यक्त करता है।

गरदन झुकना

- Ans
- 1. बहुत कष्ट उठाना
 - 2. लज्जित होना
 - 3. अचभे में पड़ जाना
 - 4. नफरत मिलना

Question ID : 264330189976
Option 1 ID : 264330743507
Option 2 ID : 264330743508
Option 3 ID : 264330743506
Option 4 ID : 264330743509
Status : Not Answered
Chosen Option : --

Q.4 निम्नलिखित प्रश्न में, दिए गए चार विकल्पों में से, उस विकल्प का चयन करें जो दिए गए मुहावरे के अर्थ को सर्वश्रेष्ठ रूप से व्यक्त करता है।

किस्मत खुल जाना

- Ans**
- 1. कोई बड़ी जंग जितना
 - 2. शादी होना
 - 3. भाग्योदय होना
 - 4. खोया हुआ धन वापस मिलना

Question ID : 264330189200

Option 1 ID : 264330740552

Option 2 ID : 264330740551

Option 3 ID : 264330740553

Option 4 ID : 264330740550

Status : Not Answered

Chosen Option : --

Q.5 निम्नलिखित वाक्य में, उस वाक्यांश को पहचानिए जिसमें मात्राओं से संबंधित अशुद्धियाँ हैं। यदि कोई गलती नहीं है तो 'कोई त्रुटि नहीं है' का चुनाव कीजिए।
किसी के द्वारा लिखा गया भाषण अगर आप देते हैं/ तो वह उतना आकर्षित नहीं होगा जितना अगर आप अपने स्वयं के/ विचार अपने श्रोताओं को साझा कराके उससे बना सकते हैं।

- Ans**
- 1. तो वह उतना आकर्षित नहीं होगा जितना अगर आप अपने स्वयं के
 - 2. किसी के द्वारा लिखा गया भाषण अगर आप देते हैं
 - 3. विचार अपने श्रोताओं को साझा कराके उससे बना सकते हैं
 - 4. कोई त्रुटि नहीं है

Question ID : 264330189937

Option 1 ID : 264330743359

Option 2 ID : 264330743358

Option 3 ID : 264330743360

Option 4 ID : 264330743361

Status : Not Answered

Chosen Option : --

Q.6 दिए गए शब्द का विलोम शब्द ज्ञात कीजिए।

जुल्मी

- Ans**
- 1. अजीर्ण
 - 2. रहमदिल
 - 3. अजेय
 - 4. प्रशंसा

Question ID : 264330192821

Option 1 ID : 264330754637

Option 2 ID : 264330754636

Option 3 ID : 264330754634

Option 4 ID : 264330754635

Status : Not Answered

Chosen Option : --

Q.7 दिए गए वाक्य का वह भाग ज्ञात करें, जिसमें कोई त्रुटि है।

बच्चों पर अधिक सख्ती मत करो क्योंकि इस उम्र में वे अनेकों गलतियाँ करते हैं।

Ans

- 1. इस उम्र में वे अनेकों
- 2. बच्चों पर इतनी सख्ती
- 3. मत करो क्योंकि
- 4. गलतियाँ करते हैं।

Question ID : 264330190046

Option 1 ID : 264330743776

Option 2 ID : 264330743774

Option 3 ID : 264330743775

Option 4 ID : 264330743777

Status : Not Answered

Chosen Option : --

Q.8 दिए गए वाक्य में रेखांकित शब्द का तत्सम शब्द ज्ञात कीजिए।

जब तक लक्ष्मण नहीं आए, तब तक उर्मिला नींद में ही थी।

Ans

- 1. निद्रा
- 2. निम्ब
- 3. नव
- 4. नकुल

Question ID : 264330188286

Option 1 ID : 264330737036

Option 2 ID : 264330737037

Option 3 ID : 264330737039

Option 4 ID : 264330737038

Status : Not Answered

Chosen Option : --

Q.9 दिए गए वाक्य में उचित पर्यायवाची शब्द का चयन करके रिक्त स्थान की पूर्ति करें।

जल्दी आओ घर में _____ (भुजंग) घुस आया है।

Ans

- 1. वीणा
- 2. काल
- 3. साँप
- 4. ज्ञान

Question ID : 264330188279

Option 1 ID : 264330737009

Option 2 ID : 264330737010

Option 3 ID : 264330737008

Option 4 ID : 264330737011

Status : Not Answered

Chosen Option : --

Q.10 दिए गए वाक्य में रेखांकित शब्द का विलोम शब्द ज्ञात कीजिए।

क्या वजह है जो सुरेश इतना प्रफुल्लित है?

- Ans
- 1. प्रसन्नता
 - 2. खुशी
 - 3. अप्रसन्न
 - 4. प्रसन्न

Question ID : 264330189345
 Option 1 ID : 264330741105
 Option 2 ID : 264330741102
 Option 3 ID : 264330741103
 Option 4 ID : 264330741104
 Status : Not Answered
 Chosen Option : --

Q.11 निम्नलिखित वाक्य में रेखांकित भाग के लिए एक सार्थक शब्द ज्ञात कीजिए।

उसने मुलाकात के लिए दोपहर का समय रखा है।

- Ans
- 1. उतरायण
 - 2. मध्याह्न
 - 3. पूर्वाह्न
 - 4. अपराह्न

Question ID : 264330189466
 Option 1 ID : 264330741565
 Option 2 ID : 264330741563
 Option 3 ID : 264330741562
 Option 4 ID : 264330741564
 Status : Not Answered
 Chosen Option : --

Q.12 दिए गए वाक्यांश के लिए सार्थक शब्द ज्ञात कीजिए।

किसी कार्य में निपुण

- Ans
- 1. कारीगर
 - 2. बुद्धिमान
 - 3. होशियार
 - 4. पारंगत

Question ID : 264330189047
 Option 1 ID : 264330739966
 Option 2 ID : 264330739967
 Option 3 ID : 264330739968
 Option 4 ID : 264330739969
 Status : Not Answered
 Chosen Option : --

Q.13 निम्नलिखित वाक्य में, उस वाक्यांश को पहचानिए जिसमें कोई गलती है। यदि कोई गलती नहीं है तो 'कोई त्रुटि नहीं है' का चुनाव कीजिए।
नारियों का स्थान वैदिक काल से ही देव/ तुल्य है इसलिए नारियों की तुलना देवी/ देवताओं और भगवानों को की जाती है।

- Ans**
- 1. देवताओं और भगवानों को की जाती है
 - 2. तुल्य है इसलिए नारियों की तुलना देवी
 - 3. नारियों का स्थान वैदिक काल से ही देव
 - 4. कोई त्रुटि नहीं है

Question ID : **264330189894**
 Option 1 ID : **264330743196**
 Option 2 ID : **264330743195**
 Option 3 ID : **264330743194**
 Option 4 ID : **264330743197**
 Status : **Not Answered**
 Chosen Option : --

Q.14 निम्नलिखित प्रश्न में, चार विकल्पों में से, उस विकल्प का चयन करें जो कोष्ठक में दिए गए शब्द के पर्यायवाची शब्द का सही विकल्प नहीं है।
मुझे पढ़ाई के अलावा विभिन्न (खेल) _____ खेलना बहुत पसंद है।

- Ans**
- 1. दृष्टांत
 - 2. केलि
 - 3. तमाशा
 - 4. क्रीड़ा

Question ID : **264330189994**
 Option 1 ID : **264330743575**
 Option 2 ID : **264330743577**
 Option 3 ID : **264330743576**
 Option 4 ID : **264330743574**
 Status : **Not Answered**
 Chosen Option : --

Q.15 निम्नलिखित प्रश्न में, चार विकल्पों में से, उस विकल्प का चयन करें जो रिक्त स्थान के लिए सही भाववाचक संज्ञा वाला विकल्प हो।
मैंने अपने महाविद्यालय में बहुत से _____ का अध्ययन किया है।

- Ans**
- 1. किताब
 - 2. साहित्यिक
 - 3. पाठ
 - 4. साहित्य

Question ID : **264330189982**
 Option 1 ID : **264330743531**
 Option 2 ID : **264330743530**
 Option 3 ID : **264330743533**
 Option 4 ID : **264330743532**
 Status : **Not Answered**
 Chosen Option : --

Comprehension:

नीचे दिए गये गद्यांश में कुछ शब्द छोड़ दिये गए हैं, प्रत्येक अनुच्छेद के सामने चार विकल्प दिये गए हैं। इस गद्यांश को ध्यानपूर्वक पढ़ें और चार विकल्पों में से सर्वोत्तम उत्तर वाला विकल्प चुनें।
भारत त्योहारों का देश है। यहां हर वर्ष, हर माह, हर राज्य में _____ अनुसार कई तरह के त्यौहार मनाए जाते हैं। भारत में मनाए जाने वाले हर त्योहार के पीछे कोई ना कोई _____ कहानी होती है। जिसमें झलक होती है हमारे देश की सांस्कृतिक विरासत की। जो पीढ़ियों से हमारे देश में मनाए जा रहे हैं। हर त्यौहार की अपनी एक खासियत है और एक _____ महत्व है। हमारे देश में विभिन्न धर्मों और जातियों के लोग रहते हैं और उनके विविध कर्म संस्कार होते हैं। वह अपने कर्म और संस्कारों को समय-समय पर _____ रूप से प्रकट करते रहते हैं, इन रूपों को हम आप दिन बड़े आयोजनों के रूप में देखा करते हैं। इस प्रकार हर धर्म में, कोई ना कोई उत्सव मनाए जाने की परंपरा है। जिन्हें हम बरसों से मनाते आ रहे हैं क्योंकि ये त्यौहार, हमारे देश की संस्कृति, रीति-रिवाज और परंपराओं के प्रतीक हैं। _____ में सबसे ज्यादा त्यौहार हमारे देश में ही मनाया जाते हैं।

SubQuestion No : 16

Q.16 यहां हर वर्ष, हर माह, हर राज्य में _____ अनुसार कई तरह के त्यौहार मनाए जाते हैं।

- Ans
- 1. मन
 - 2. ज़रूरत
 - 3. तिथि
 - 4. लोगों

Question ID : 264330189545

Option 1 ID : 264330741862

Option 2 ID : 264330741864

Option 3 ID : 264330741863

Option 4 ID : 264330741865

Status : Not Answered

Chosen Option : --

Comprehension:

नीचे दिए गये गद्यांश में कुछ शब्द छोड़ दिये गए हैं, प्रत्येक अनुच्छेद के सामने चार विकल्प दिये गए हैं। इस गद्यांश को ध्यानपूर्वक पढ़ें और चार विकल्पों में से सर्वोत्तम उत्तर वाला विकल्प चुनें।
भारत त्योहारों का देश है। यहां हर वर्ष, हर माह, हर राज्य में _____ अनुसार कई तरह के त्यौहार मनाए जाते हैं। भारत में मनाए जाने वाले हर त्योहार के पीछे कोई ना कोई _____ कहानी होती है। जिसमें झलक होती है हमारे देश की सांस्कृतिक विरासत की। जो पीढ़ियों से हमारे देश में मनाए जा रहे हैं। हर त्यौहार की अपनी एक खासियत है और एक _____ महत्व है। हमारे देश में विभिन्न धर्मों और जातियों के लोग रहते हैं और उनके विविध कर्म संस्कार होते हैं। वह अपने कर्म और संस्कारों को समय-समय पर _____ रूप से प्रकट करते रहते हैं, इन रूपों को हम आप दिन बड़े आयोजनों के रूप में देखा करते हैं। इस प्रकार हर धर्म में, कोई ना कोई उत्सव मनाए जाने की परंपरा है। जिन्हें हम बरसों से मनाते आ रहे हैं क्योंकि ये त्यौहार, हमारे देश की संस्कृति, रीति-रिवाज और परंपराओं के प्रतीक हैं। _____ में सबसे ज्यादा त्यौहार हमारे देश में ही मनाया जाते हैं।

SubQuestion No : 17

Q.17 भारत में मनाए जाने वाले हर त्योहार के पीछे कोई ना कोई _____ कहानी होती है।

- Ans
- 1. ऐतिहासिक
 - 2. नवीन
 - 3. काल्पनिक
 - 4. मनगढ़ंत

Question ID : 264330189546

Option 1 ID : 264330741866

Option 2 ID : 264330741867

Option 3 ID : 264330741869

Option 4 ID : 264330741868

Status : Not Answered

Chosen Option : --

Comprehension:

नीचे दिए गये गद्यांश में कुछ शब्द छोड़ दिये गए हैं, प्रत्येक अनुच्छेद के सामने चार विकल्प दिये गए हैं। इस गद्यांश को ध्यानपूर्वक पढ़ें और चार विकल्पों में से सर्वोत्तम उत्तर वाला विकल्प चुनें।
भारत त्योहारों का देश है। यहां हर वर्ष, हर माह, हर राज्य में _____ अनुसार कई तरह के त्यौहार मनाए जाते हैं। भारत में मनाए जाने वाले हर त्योहार के पीछे कोई ना कोई _____ कहानी होती है। जिसमें झलक होती है हमारे देश की सांस्कृतिक विरासत की। जो पीढ़ियों से हमारे देश में मनाए जा रहे हैं। हर त्यौहार की अपनी एक खासियत है और एक _____ महत्व है। हमारे देश में विभिन्न धर्मों और जातियों के लोग रहते हैं और उनके विविध कर्म संस्कार होते हैं। वह अपने कर्म और संस्कारों को समय-समय पर _____ रूप से प्रकट करते रहते हैं, इन रूपों को हम आप दिन बड़े आयोजनों के रूप में देखा करते हैं। इस प्रकार हर धर्म में, कोई ना कोई उत्सव मनाए जाने की परंपरा है। जिन्हें हम बरसों से मनाते आ रहे हैं क्योंकि ये त्यौहार, हमारे देश की संस्कृति, रीति-रिवाज और परंपराओं के प्रतीक हैं। _____ में सबसे ज्यादा त्यौहार हमारे देश में ही मनाया जाते हैं।

SubQuestion No : 18

Q.18 हर त्यौहार की अपनी एक खासियत है और एक _____ महत्व है।

- Ans
- 1. मनमाना
 - 2. मानविक
 - 3. धार्मिक
 - 4. मानसिक

Question ID : 264330189547

Option 1 ID : 264330741871

Option 2 ID : 264330741870

Option 3 ID : 264330741873

Option 4 ID : 264330741872

Status : Not Answered

Chosen Option : --

Comprehension:

नीचे दिए गये गद्यांश में कुछ शब्द छोड़ दिये गए हैं, प्रत्येक अनुच्छेद के सामने चार विकल्प दिये गए हैं। इस गद्यांश को ध्यानपूर्वक पढ़ें और चार विकल्पों में से सर्वोत्तम उत्तर वाला विकल्प चुनें।
भारत त्योहारों का देश है। यहां हर वर्ष, हर माह, हर राज्य में _____ अनुसार कई तरह के त्यौहार मनाए जाते हैं। भारत में मनाए जाने वाले हर त्योहार के पीछे कोई ना कोई _____ कहानी होती है। जिसमें झलक होती है हमारे देश की सांस्कृतिक विरासत की। जो पीढ़ियों से हमारे देश में मनाए जा रहे हैं। हर त्यौहार की अपनी एक खासियत है और एक _____ महत्व है। हमारे देश में विभिन्न धर्मों और जातियों के लोग रहते हैं और उनके विविध कर्म संस्कार होते हैं। वह अपने कर्म और संस्कारों को समय-समय पर _____ रूप से प्रकट करते रहते हैं, इन रूपों को हम आप दिन बड़े आयोजनों के रूप में देखा करते हैं। इस प्रकार हर धर्म में, कोई ना कोई उत्सव मनाए जाने की परंपरा है। जिन्हें हम बरसों से मनाते आ रहे हैं क्योंकि ये त्यौहार, हमारे देश की संस्कृति, रीति-रिवाज और परंपराओं के प्रतीक हैं। _____ में सबसे ज्यादा त्यौहार हमारे देश में ही मनाया जाते हैं।

SubQuestion No : 19

Q.19 वह अपने कर्म और संस्कारों को समय-समय पर _____ रूप से प्रकट करते रहते हैं।

- Ans
- 1. विशेष
 - 2. अनजाने
 - 3. जैसे-तैसे
 - 4. छोटे-मोटे

Question ID : 264330189548

Option 1 ID : 264330741874

Option 2 ID : 264330741876

Option 3 ID : 264330741875

Option 4 ID : 264330741877

Status : Not Answered

Chosen Option : --

Comprehension:

नीचे दिए गये गद्यांश में कुछ शब्द छोड़ दिये गए हैं, प्रत्येक अनुच्छेद के सामने चार विकल्प दिये गए हैं। इस गद्यांश को ध्यानपूर्वक पढ़ें और चार विकल्पों में से सर्वोत्तम उत्तर वाला विकल्प चुनें।

भारत त्योहारों का देश है। यहां हर वर्ष, हर माह, हर राज्य में _____ अनुसार कई तरह के त्यौहार मनाए जाते हैं। भारत में मनाए जाने वाले हर त्योहार के पीछे कोई ना कोई _____ कहानी होती है। जिसमें झलक होती है हमारे देश की सांस्कृतिक विरासत की। जो पीढ़ियों से हमारे देश में मनाए जा रहे हैं। हर त्यौहार की अपनी एक खासियत है और एक _____ महत्व है। हमारे देश में विभिन्न धर्मों और जातियों के लोग रहते हैं और उनके विविध कर्म संस्कार होते हैं। वह अपने कर्म और संस्कारों को समय-समय पर _____ रूप से प्रकट करते रहते हैं, इन रूपों को हम आए दिन बड़े आयोजनों के रूप में देखा करते हैं। इस प्रकार हर धर्म में, कोई ना कोई उत्सव मनाए जाने की परंपरा है। जिन्हें हम बरसों से मनाते आ रहे हैं क्योंकि ये त्यौहार, हमारे देश की संस्कृति, रीति-रिवाज और परंपराओं के प्रतीक हैं। _____ में सबसे ज्यादा त्यौहार हमारे देश में ही मनाया जाते हैं।

SubQuestion No : 20

Q.20 _____ में सबसे ज्यादा त्यौहार हमारे देश में ही मनाया जाते हैं।

- Ans
- 1. त्योहारों
 - 2. खेल-खेल
 - 3. विश्व
 - 4. अड़ोस-पड़ोस

Question ID : 264330189549

Option 1 ID : 264330741880

Option 2 ID : 264330741881

Option 3 ID : 264330741879

Option 4 ID : 264330741878

Status : Not Answered

Chosen Option : --