

**Constable GD in Central Armed Police Forces CAPFs SSF Rifleman GD in Assam Rifles Examination 2024**

Roll Number	
Candidate Name	
Venue Name	
Exam Date	28/02/2024
Exam Time	5:00 PM - 6:00 PM
Subject	Constable GD Examination 2024

## Section : Part-A-General Intelligence and Reasoning

**Q.1** In the following question, select the related letter pair from the given alternatives.

TG : YL :: ?

- Ans
- 1. TG : QD
  - 2. WJ : BO
  - 3. NA : KU
  - 4. ZM : VW

Question ID : 264330191312

Option 1 ID : 264330748603

Option 2 ID : 264330748604

Option 3 ID : 264330748605

Option 4 ID : 264330748602

Status : Answered

Chosen Option : 2

**Q.2** Five people Alice, Bob, Carol, Dave, and Emma are sitting on a circular table facing towards the center. Dave sits in between Bob and Carol. Emma sits to the left of Alice. Alice and Carol are not neighbours. Who sits to the immediate right of Carol?

- Ans
- 1. Emma
  - 2. Dave
  - 3. Alice
  - 4. Bob

Question ID : 264330190715

Option 1 ID : 264330746290

Option 2 ID : 264330746292

Option 3 ID : 264330746291

Option 4 ID : 264330746293

Status : Answered

Chosen Option : 1

Q.3 Which of the following groups of letters when sequentially placed from left to right will complete the given series?

eeefff\_gghhheeefffggg\_hheeefff\_gghh\_

- Ans
- 1. fegh
  - 2. hghg
  - 3. ghgh
  - 4. gghh

Question ID : 264330187360  
Option 1 ID : 264330733371  
Option 2 ID : 264330733369  
Option 3 ID : 264330733370  
Option 4 ID : 264330733368  
Status : Answered  
Chosen Option : 3

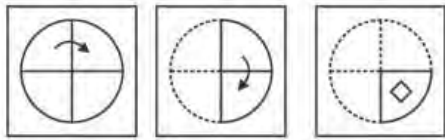
Q.4 Which two signs should be interchanged to make the given equation correct?

$$20 + 2 \div 4 - 8 \times 28 = 30$$

- Ans
- 1.  $\times$  and  $-$
  - 2.  $\times$  and  $+$
  - 3.  $\times$  and  $\div$
  - 4.  $+$  and  $\div$

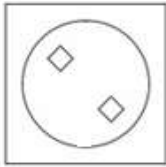
Question ID : 264330192281  
Option 1 ID : 264330752479  
Option 2 ID : 264330752478  
Option 3 ID : 264330752480  
Option 4 ID : 264330752481  
Status : Answered  
Chosen Option : 2

Q.5 A paper is folded and cut as shown below. How will it appear when unfolded?

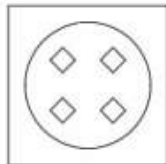


Ans

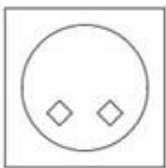
1.



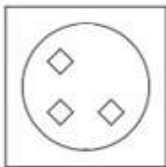
2.



3.



4.



Question ID : 264330192167

Option 1 ID : 264330752022

Option 2 ID : 264330752024


Option 3 ID : 264330752023

Option 4 ID : 264330752025

Status : Answered

Chosen Option : 2

**Q.6** In the following question, select the figure which can be placed at the sign of question mark (?) from the given alternatives.



**Ans**

1.



2.



3.



4.



Question ID : 264330190563

Option 1 ID : 264330745834

Option 2 ID : 264330745837

Option 3 ID : 264330745836

Option 4 ID : 264330745835

Status : Answered

Chosen Option : 4

**Q.7** Arrange the given words in alphabetical order:

1. Notch
2. Noise
3. Noble
4. Noisy
5. Nosey

**Ans**  1. 3,2,4,5,1

2. 3,2,5,4,1

3. 3,1,4,5,2

4. 3,5,4,1,2

Question ID : 264330192330

Option 1 ID : 264330752677

Option 2 ID : 264330752676

Option 3 ID : 264330752675

Option 4 ID : 264330752674

Status : Answered

Chosen Option : 1

**Q.8** In the following question below are given some statements followed by some conclusions based on those statements. Taking the given statements to be true even if they seem to be at variance from commonly known facts. Read all the conclusions and then decide which of the given conclusion(s) logically follows the given statements.

Statements:

I. All P are G.

II. Some B are G.

Conclusions:

I. Some B are not P.

II. All G are P.

III. Some G are P.

- Ans**
- 1. Both conclusions I and II follows
  - 2. Neither conclusion follows
  - 3. All conclusion follows
  - 4. Only conclusion III follows

Question ID : 264330190237

Option 1 ID : 264330744531

Option 2 ID : 264330744532

Option 3 ID : 264330744533

Option 4 ID : 264330744530

Status : Answered

Chosen Option : 2

**Q.9** In the following question, select the missing number from the given series.

203, 235, 268, 302, 337, ?

- Ans**
- 1. 373
  - 2. 370
  - 3. 364
  - 4. 360

Question ID : 264330187090

Option 1 ID : 264330732288

Option 2 ID : 264330732291

Option 3 ID : 264330732290

Option 4 ID : 264330732289

Status : Answered

Chosen Option : 1

**Q.10** In the following question, select the related letters from the given alternatives.

FJN : GKO :: WZC : ?

- Ans**
- 1. IHC
  - 2. KMN
  - 3. XAD
  - 4. BZY

Question ID : 264330191511

Option 1 ID : 264330749399

Option 2 ID : 264330749398

Option 3 ID : 264330749400

Option 4 ID : 264330749401

Status : Answered

Chosen Option : 3

**Q.11** In a certain code language, 'ZNHD' is coded as '7519', 'HMDE' is coded as '2167', 'NEAO' is coded as '3852'. What is the code for 'Z' in that code language?

- Ans**
- 1. 7
  - 2. 5
  - 3. 1
  - 4. 9

Question ID : 264330190253  
 Option 1 ID : 264330744594  
 Option 2 ID : 264330744597  
 Option 3 ID : 264330744595  
 Option 4 ID : 264330744596  
 Status : Answered  
 Chosen Option : 4

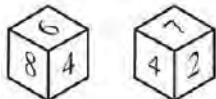
**Q.12** If  $10A5B6C30 = 270$  and  $4A6B7C8 = 160$ , then

$8A5B6C10 = ?$

- Ans**
- 1. 230
  - 2. 290
  - 3. 300
  - 4. 240

Question ID : 264330191322  
 Option 1 ID : 264330748642  
 Option 2 ID : 264330748643  
 Option 3 ID : 264330748644  
 Option 4 ID : 264330748645  
 Status : Not Answered  
 Chosen Option : --

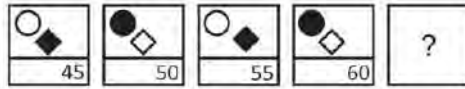
**Q.13** Two positions of a dice are given below. What will come on the face opposite to the face containing '8' on it?



- Ans**
- 1. 7
  - 2. 5
  - 3. 6
  - 4. 2

Question ID : 264330190545  
 Option 1 ID : 264330745763  
 Option 2 ID : 264330745765  
 Option 3 ID : 264330745762  
 Option 4 ID : 264330745764  
 Status : Answered  
 Chosen Option : 1

**Q.14** In the following question, select the figure which can be placed at the sign of question mark (?) from the given alternatives.



**Ans**

- 1.
- 2.
- 3.
- 4.

Question ID : 264330190242  
 Option 1 ID : 264330744550  
 Option 2 ID : 264330744552  
 Option 3 ID : 264330744553  
 Option 4 ID : 264330744551  
 Status : Answered  
 Chosen Option : 4

**Q.15** In a certain code language, 'TOWNS' is coded as '60329', 'SWORD' is coded as '21968', 'TRIPS' is coded as '48732'. What is the code for 'R' in that code language?

- 1. 2
- 2. 9
- 3. 1
- 4. 8

Question ID : 264330188025  
 Option 1 ID : 264330736028  
 Option 2 ID : 264330736030  
 Option 3 ID : 264330736029  
 Option 4 ID : 264330736031  
 Status : Answered  
 Chosen Option : 4

**Q.16** If  $A + B$  means A is the wife of B,  $A \times B$  means A is the father of B,  $A - B$  means A is the mother of B,  $A \div B$  means A is the brother of B and  $A - B$  means A is the sister of B.

If  $P + D \div S \div B + H \times T - M$ , then how is D related to H?

- Ans**
- 1. Wife's brother
  - 2. Husband's brother
  - 3. Sister
  - 4. Brother

Question ID : 264330191515  
Option 1 ID : 264330749414  
Option 2 ID : 264330749417  
Option 3 ID : 264330749416  
Option 4 ID : 264330749415  
Status : Not Answered  
Chosen Option : --

**Q.17** Six people A, B, C, D, E, and F are sitting in a circle facing away from the centre. A and C are sitting exactly opposite to each other. B, who is sitting to the immediate left of A, is also exactly opposite to D. F is not sitting next to A. Who is sitting to the opposite of E?

- Ans**
- 1. A
  - 2. F
  - 3. C
  - 4. D

Question ID : 264330191597  
Option 1 ID : 264330749742  
Option 2 ID : 264330749743  
Option 3 ID : 264330749744  
Option 4 ID : 264330749745  
Status : Answered  
Chosen Option : 2



**Q.18** From the given option figures, select the one in which the question figure is hidden/embedded. (rotation is NOT allowed)

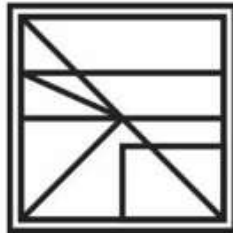


Ans

1.



2.



3.



4.



Question ID : 264330190144

Option 1 ID : 264330744158

Option 2 ID : 264330744161

Option 3 ID : 264330744160

Option 4 ID : 264330744159

Status : Answered

Chosen Option : 1

**Q.19** A series is given with one term missing. Select the correct alternative from the given ones that will complete the series.

LCT, QIB, VOJ, AUR, ?

Ans  1. YAB

2. FAZ

3. BAE

4. FAQ

Question ID : 264330187099

Option 1 ID : 264330732324

Option 2 ID : 264330732325

Option 3 ID : 264330732327

Option 4 ID : 264330732326

Status : Answered

Chosen Option : 2

**Q.20** Which of the following numbers will replace the question mark (?) in the given series?

27, 28, 32, ?, 57, 82

- Ans**
- 1. 50
  - 2. 36
  - 3. 41
  - 4. 54

Question ID : **264330192280**  
Option 1 ID : **264330752476**  
Option 2 ID : **264330752474**  
Option 3 ID : **264330752475**  
Option 4 ID : **264330752477**  
Status : **Answered**  
Chosen Option : **2**

Section : Part-B-General Knowledge and General awareness

**Q.1** Who is regarded as the founding father of modern economics?

- Ans**
- 1. Daniel Kahneman
  - 2. Alfred Marshall
  - 3. Adam Smith
  - 4. Karl Marx

Question ID : **264330191965**  
Option 1 ID : **264330751216**  
Option 2 ID : **264330751215**  
Option 3 ID : **264330751217**  
Option 4 ID : **264330751214**  
Status : **Answered**  
Chosen Option : **3**

**Q.2** Which maestro of the tabla, a percussion instrument, is regarded as one of the greatest musicians in the world and has collaborated with numerous international artists?

- Ans**
- 1. L. Subramaniam
  - 2. Shiv Kumar Sharma
  - 3. Zakir Hussain
  - 4. Hari Prasad Chaurasia

Question ID : **264330191718**  
Option 1 ID : **264330750226**  
Option 2 ID : **264330750228**  
Option 3 ID : **264330750227**  
Option 4 ID : **264330750229**  
Status : **Answered**  
Chosen Option : **3**

Q.3 When the Banning of Unregulated Deposit Schemes Act passed?

- Ans
- 1. 2018
  - 2. 2015
  - 3. 2016
  - 4. 2019

Question ID : 264330191067  
Option 1 ID : 264330747623  
Option 2 ID : 264330747622  
Option 3 ID : 264330747625  
Option 4 ID : 264330747624  
Status : Answered  
Chosen Option : 1

Q.4 Who has been appointed as the first woman Chairperson of the Railway Board?

- Ans
- 1. Manju Gupta
  - 2. Kalyani Chadha
  - 3. M. Kalavathy
  - 4. Jaya Varma Sinha

Question ID : 264330192010  
Option 1 ID : 264330751397  
Option 2 ID : 264330751394  
Option 3 ID : 264330751395  
Option 4 ID : 264330751396  
Status : Answered  
Chosen Option : 4

Q.5 \_\_\_\_\_ is swim on the back in swimming.

- Ans
- 1. Backstroke
  - 2. Freestyle
  - 3. Streamline
  - 4. Butterfly stroke

Question ID : 264330190963  
Option 1 ID : 264330747208  
Option 2 ID : 264330747207  
Option 3 ID : 264330747209  
Option 4 ID : 264330747206  
Status : Answered  
Chosen Option : 1

Q.6 Articles 14 to 18 of the Indian Constitution mention provisions related to which of the following rights?

- Ans
- 1. Right to Equality
  - 2. Right to Freedom
  - 3. Right against Exploitation
  - 4. Right to Freedom of Religion

Question ID : 264330188664  
Option 1 ID : 264330738461  
Option 2 ID : 264330738460  
Option 3 ID : 264330738458  
Option 4 ID : 264330738459  
Status : Answered  
Chosen Option : 1

Q.7 The government of India introduced a new economic policy in \_\_\_\_\_

- Ans
- 1. 1991
  - 2. 1980
  - 3. 1947
  - 4. 1995

Question ID : 264330191432  
Option 1 ID : 264330749082  
Option 2 ID : 264330749084  
Option 3 ID : 264330749085  
Option 4 ID : 264330749083  
Status : Answered  
Chosen Option : 2

Q.8 Which of the following pair of sports persons – sports associated with is correct?

I. Pooja Vastrakar – Shooting

II. Kuldeep Yadav – Cricket

- Ans
- 1. Only I
  - 2. Only II
  - 3. Neither I nor II
  - 4. Both I and II

Question ID : 264330190782  
Option 1 ID : 264330746482  
Option 2 ID : 264330746483  
Option 3 ID : 264330746485  
Option 4 ID : 264330746484  
Status : Answered  
Chosen Option : 4

Q.9 \_\_\_\_\_ can be played indoors or outdoors.

- Ans
- 1. Cricket
  - 2. Volleyball
  - 3. Table Tennis
  - 4. Golf

Question ID : 264330191803  
Option 1 ID : 264330750567  
Option 2 ID : 264330750569  
Option 3 ID : 264330750568  
Option 4 ID : 264330750566  
Status : Answered  
Chosen Option : 3

Q.10 \_\_\_\_\_ represents a potential for further intellectual growth and contribution to economic-socio-cultural development of society.

- Ans
- 1. Economy
  - 2. Census
  - 3. Politics
  - 4. Literacy

Question ID : 264330191874  
Option 1 ID : 264330750853  
Option 2 ID : 264330750850  
Option 3 ID : 264330750852  
Option 4 ID : 264330750851  
Status : Answered  
Chosen Option : 4

Q.11 The portion of agricultural produce which is sold in the market by the farmers is called \_\_\_\_\_.

- Ans
- 1. marketed deficit
  - 2. marketed surplus
  - 3. produced surplus
  - 4. produced deficit

Question ID : 264330191466  
Option 1 ID : 264330749218  
Option 2 ID : 264330749219  
Option 3 ID : 264330749220  
Option 4 ID : 264330749221  
Status : Answered  
Chosen Option : 2

Q.12 The last and \_\_\_\_\_ tirthankara of the Jainas was Vardhamana Mahavira.

- Ans
- 1. 23<sup>rd</sup>
  - 2. 24<sup>th</sup>
  - 3. 21<sup>st</sup>
  - 4. 22<sup>nd</sup>

Question ID : 264330190635  
Option 1 ID : 264330746124  
Option 2 ID : 264330746125  
Option 3 ID : 264330746122  
Option 4 ID : 264330746123  
Status : Answered  
Chosen Option : 3

Q.13 Which of the following is the last five year plan of India?

- Ans
- 1. Eleventh
  - 2. Tenth
  - 3. Twelfth
  - 4. Ninth

Question ID : 264330188891  
Option 1 ID : 264330739368  
Option 2 ID : 264330739367  
Option 3 ID : 264330739369  
Option 4 ID : 264330739366  
Status : Answered  
Chosen Option : 3

Q.14 In India, the total number of members in the Legislative Council of a State having such a Council shall not exceed \_\_\_\_\_ of the total number of members in the Legislative Assembly of that State.

- Ans
- 1. one-fourth
  - 2. one-third
  - 3. two-third
  - 4. one-fifth

Question ID : 264330188785  
Option 1 ID : 264330738943  
Option 2 ID : 264330738942  
Option 3 ID : 264330738945  
Option 4 ID : 264330738944  
Status : Answered  
Chosen Option : 3

**Q.15** Which dance form from West Bengal combines elements of classical dance with martial arts, and its movements often depict stories from Indian mythology?

- Ans**
- 1. Mohiniattam
  - 2. Kuchipudi
  - 3. Chhau
  - 4. Odissi

Question ID : 264330190930  
Option 1 ID : 264330747076  
Option 2 ID : 264330747075  
Option 3 ID : 264330747077  
Option 4 ID : 264330747074  
Status : Answered  
Chosen Option : 3

**Q.16** Who has won the prestigious 'Eni Award,' which is considered among the top global honours for scientific research in energy and environment in July 2023?

- Ans**
- 1. Iqbal Singh Lalpura
  - 2. Subodh Jaiswal
  - 3. P.D. Vaghela
  - 4. Thalappil Pradeep

Question ID : 264330190808  
Option 1 ID : 264330746586  
Option 2 ID : 264330746587  
Option 3 ID : 264330746589  
Option 4 ID : 264330746588  
Status : Answered  
Chosen Option : 3

**Q.17** The Dandi March, led by Mahatma Gandhi in 1930, was a significant protest against which British policy?

- Ans**
- 1. Indigo cultivation
  - 2. Land revenue
  - 3. Textile trade regulations
  - 4. Salt tax

Question ID : 264330191717  
Option 1 ID : 264330750223  
Option 2 ID : 264330750222  
Option 3 ID : 264330750224  
Option 4 ID : 264330750225  
Status : Answered  
Chosen Option : 4

Q.18 What is the sex ratio in India as per the 2011 census (Females per Thousand Males)?

Ans  1. 943

2. 923

3. 903

4. 963

Question ID : 264330192035

Option 1 ID : 264330751496

Option 2 ID : 264330751495

Option 3 ID : 264330751494

Option 4 ID : 264330751497

Status : Answered

Chosen Option : 1

Q.19 T. Balasaraswati is related to which of the following dance?

Ans  1. Bharatnatyam

2. Kathak

3. Kathakali

4. Odissi

Question ID : 264330192019

Option 1 ID : 264330751432

Option 2 ID : 264330751431

Option 3 ID : 264330751430

Option 4 ID : 264330751433

Status : Answered

Chosen Option : 1

Q.20 Philosophers classified matter in the form of how many basic elements?

Ans  1. 6

2. 4

3. 8

4. 5

Question ID : 264330191092

Option 1 ID : 264330747722

Option 2 ID : 264330747723

Option 3 ID : 264330747725

Option 4 ID : 264330747724

Status : Answered

Chosen Option : 2



**Q.1** Sarah invested \$5000 at a simple interest rate of 10% per annum. Find the amount she will receive at the end of three years.

- Ans**
- 1. \$6200
  - 2. \$6300
  - 3. \$6800
  - 4. \$6500

Question ID : 264330191702  
Option 1 ID : 264330750164  
Option 2 ID : 264330750162  
Option 3 ID : 264330750163  
Option 4 ID : 264330750165  
Status : Answered  
Chosen Option : 4

**Q.2** The average of d, e, f and g is 40. If the average of d and e is 14, then what will be the average of f and g?

- Ans**
- 1. 69
  - 2. 66
  - 3. 67
  - 4. 72

Question ID : 264330187663  
Option 1 ID : 264330734581  
Option 2 ID : 264330734582  
Option 3 ID : 264330734583  
Option 4 ID : 264330734580  
Status : Answered  
Chosen Option : 2

**Q.3** If the cost of 8 apples and 9 mangoes is same as the cost of 10 apples and 6 mangoes, then what is the ratio of the price of a mango and the price of an apple?

- Ans**
- 1. 1 : 2
  - 2. 2 : 5
  - 3. 2 : 3
  - 4. 3 : 2

Question ID : 264330187252  
Option 1 ID : 264330732939  
Option 2 ID : 264330732936  
Option 3 ID : 264330732937  
Option 4 ID : 264330732938  
Status : Answered  
Chosen Option : 3

Q.4 Find the area of the triangle whose perimeter is 110 cm and whose sides are in a ratio of 2 : 4 : 5.

- Ans
- 1.  $24\sqrt{222} \text{ cm}^2$
  - 2.  $24\sqrt{231} \text{ cm}^2$
  - 3.  $25\sqrt{231} \text{ cm}^2$
  - 4.  $25\sqrt{222} \text{ cm}^2$

Question ID : 264330191166  
Option 1 ID : 264330748020  
Option 2 ID : 264330748021  
Option 3 ID : 264330748019  
Option 4 ID : 264330748018  
Status : Answered  
Chosen Option : 3

Q.5 Sunil and Pradeep can complete a work in 5 days and 15 days, respectively. They both work for one day and then Sunil leaves. In how many days is the remaining work completed by Pradeep?

- Ans
- 1. 9 days
  - 2. 7 days
  - 3. 11 days
  - 4. 12 days

Question ID : 264330188530  
Option 1 ID : 264330737922  
Option 2 ID : 264330737925  
Option 3 ID : 264330737923  
Option 4 ID : 264330737924  
Status : Answered  
Chosen Option : 3

Q.6 Which of the following number is not divisible by 24?

- Ans
- 1. 4128
  - 2. 4080
  - 3. 4032
  - 4. 4148

Question ID : 264330187482  
Option 1 ID : 264330733858  
Option 2 ID : 264330733857  
Option 3 ID : 264330733856  
Option 4 ID : 264330733859  
Status : Answered  
Chosen Option : 4

**Q.7** If the price of honey increases by 15%, by what percentage a housewife should reduce the consumption of honey so that expense is not increased?

- Ans**
- 1. 11%
  - 2. 9%
  - 3. 13%
  - 4. 15%

Question ID : 264330192475  
Option 1 ID : 264330753255  
Option 2 ID : 264330753254  
Option 3 ID : 264330753256  
Option 4 ID : 264330753257  
Status : Answered  
Chosen Option : 3

**Q.8** 0.025 is what percentage of 0.5?

- Ans**
- 1. 8 percent
  - 2. 5 percent
  - 3. 7 percent
  - 4. 10 percent

Question ID : 264330187285  
Option 1 ID : 264330733068  
Option 2 ID : 264330733070  
Option 3 ID : 264330733071  
Option 4 ID : 264330733069  
Status : Answered  
Chosen Option : 2

**Q.9** Population of a town increases at the rate of 35 percent per annum. If the population of town will be 91125 after 2 years, then what is the present population of the town?

- Ans**
- 1. 50000
  - 2. 51000
  - 3. 57000
  - 4. 55000

Question ID : 264330187834  
Option 1 ID : 264330735267  
Option 2 ID : 264330735264  
Option 3 ID : 264330735265  
Option 4 ID : 264330735266  
Status : Not Answered  
Chosen Option : --

**Q.10** Ramesh goes to his office by scooter at the speed of 45 km/hr and reaches 10 minutes earlier. If he goes at the speed 30 km/hr, then he reaches 10 minutes late. What will be the speed of the scooter to reach on the usual time?

- Ans**
- 1. 45 km/hr
  - 2. 36 km/hr
  - 3. 30 km/hr
  - 4. 20 km/hr

Question ID : 264330190103  
Option 1 ID : 264330743996  
Option 2 ID : 264330743997  
Option 3 ID : 264330743995  
Option 4 ID : 264330743994  
Status : Not Answered  
Chosen Option : --

**Q.11** A can finish a piece of work in  $27/2$  days and B can do the same work in half the time taken by A. By working together what part of the same work they can finish in a day?

- Ans**
- 1.  $2/7$
  - 2.  $3/5$
  - 3.  $2/5$
  - 4.  $2/9$

Question ID : 264330191685  
Option 1 ID : 264330750095  
Option 2 ID : 264330750097  
Option 3 ID : 264330750096  
Option 4 ID : 264330750094  
Status : Not Answered  
Chosen Option : --

**Q.12** An article is sold for Rs. 5000 at a loss of 25 percent. What is the cost price of the article?

- Ans**
- 1. Rs. 6666.66
  - 2. Rs. 6000
  - 3. Rs. 7500
  - 4. Rs. 6500

Question ID : 264330187567  
Option 1 ID : 264330734199  
Option 2 ID : 264330734197  
Option 3 ID : 264330734198  
Option 4 ID : 264330734196  
Status : Answered  
Chosen Option : 4

Q.13 What is the value of  $428 \div 108 \div 4 - 32 \times 3$ ?

- Ans
- 1. 345
  - 2. 351
  - 3. 342
  - 4. 359

Question ID : 264330187739  
Option 1 ID : 264330734885  
Option 2 ID : 264330734886  
Option 3 ID : 264330734884  
Option 4 ID : 264330734887  
Status : Answered  
Chosen Option : 4

Q.14 What is the value of  $1615 \div 17 + 22 \times 18 \div 9$ ?

- Ans
- 1. 149
  - 2. 139
  - 3. 141
  - 4. 147

Question ID : 264330187799  
Option 1 ID : 264330735127  
Option 2 ID : 264330735124  
Option 3 ID : 264330735125  
Option 4 ID : 264330735126  
Status : Answered  
Chosen Option : 2

Q.15 The ratio of copper and zinc in brass is 17 : 13. How much amount of copper will be there in 240 kg of brass?

- Ans
- 1. 136 kg
  - 2. 163 kg
  - 3. 102 kg
  - 4. 119 kg

Question ID : 264330187491  
Option 1 ID : 264330733893  
Option 2 ID : 264330733892  
Option 3 ID : 264330733894  
Option 4 ID : 264330733895  
Status : Answered  
Chosen Option : 1

**Q.16** If two successive discounts of 50 percent and 10 percent are given, then what will be the ratio of marked price to selling price?

- Ans**
- 1. 20/11
  - 2. 9/20
  - 3. 11/20
  - 4. 20/9

Question ID : 264330187970  
Option 1 ID : 264330735810  
Option 2 ID : 264330735809  
Option 3 ID : 264330735808  
Option 4 ID : 264330735811  
Status : Answered  
Chosen Option : 3

**Q.17** After giving a discount of 45 percent a cycle is sold for Rs. 5060. What is the marked price of the cycle?

- Ans**
- 1. Rs. 9600
  - 2. Rs. 9200
  - 3. Rs. 8000
  - 4. Rs. 8500

Question ID : 264330187249  
Option 1 ID : 264330732924  
Option 2 ID : 264330732927  
Option 3 ID : 264330732926  
Option 4 ID : 264330732925  
Status : Not Answered  
Chosen Option : --

**Q.18** The sum of three numbers x, y and z is 100. The average of x and y is 40 and the average of y and z is 50. What is the value of y?

- Ans**
- 1. 90
  - 2. 60
  - 3. 80
  - 4. 75

Question ID : 264330187824  
Option 1 ID : 264330735224  
Option 2 ID : 264330735225  
Option 3 ID : 264330735226  
Option 4 ID : 264330735227  
Status : Answered  
Chosen Option : 3

**Q.19** While selling a shirt for Rs. 1200, a person suffered a loss of 25 percent. At what price he should have sold the shirt to earn a profit of 35 percent?

- Ans**
- 1. Rs. 2160
  - 2. Rs. 2200
  - 3. Rs. 2240
  - 4. Rs. 2340

Question ID : 264330187188  
Option 1 ID : 264330732683  
Option 2 ID : 264330732680  
Option 3 ID : 264330732682  
Option 4 ID : 264330732681  
Status : Answered  
Chosen Option : 1

**Q.20** Which of the following number is not divisible by 36?

- Ans**
- 1. 3400
  - 2. 3708
  - 3. 3816
  - 4. 3636

Question ID : 264330188002  
Option 1 ID : 264330735936  
Option 2 ID : 264330735938  
Option 3 ID : 264330735939  
Option 4 ID : 264330735937  
Status : Answered  
Chosen Option : 1

Section : Part-D-English

**Q.1** Select the incorrectly spelt word from the given sentence.

Ricords of temperature, rainfall and critics' ratings were used as yardsticks by the researchers.

- Ans**
- 1. temperature
  - 2. researchers
  - 3. ricords
  - 4. yardsticks

Question ID : 264330186189  
Option 1 ID : 264330729013  
Option 2 ID : 264330729015  
Option 3 ID : 264330729012  
Option 4 ID : 264330729014  
Status : Answered  
Chosen Option : 3

**Q.2** Find the part of the given sentence that has an error in it. If there is no error, choose 'No error'.

Divya needs to meet her mother so bad that she is calling her.

- Ans**
- 1. mother so bad that
  - 2. she is calling her.
  - 3. Divya needs to meet her
  - 4. No error

Question ID : 264330185751  
Option 1 ID : 264330727345  
Option 2 ID : 264330727346  
Option 3 ID : 264330727344  
Option 4 ID : 264330727347  
Status : Answered  
Chosen Option : 3

**Q.3** Select the sentence with no spelling errors.

- Ans**
- 1. And so, we compiled this list through convrsations with colleagues and social media crowdsourcing.
  - 2. And so, we compiled this list through conversations with collegues and social media crowdsourcing.
  - 3. And so, we compiled this list through conversations with colleagues and social medea crowdsourcing.
  - 4. And so, we compiled this list through conversations with colleagues and social media crowdsourcing.

Question ID : 264330185937  
Option 1 ID : 264330728052  
Option 2 ID : 264330728053  
Option 3 ID : 264330728054  
Option 4 ID : 264330728055  
Status : Answered  
Chosen Option : 4

**Q.4** Find the part of the given sentence that has an error in it. If there is no error, choose 'No error'.

Conspiracy theories thrives on distrust of the government.

- Ans**
- 1. Conspiracy theories thrives
  - 2. the government.
  - 3. on distrust of
  - 4. No error

Question ID : 264330186086  
Option 1 ID : 264330728620  
Option 2 ID : 264330728622  
Option 3 ID : 264330728621  
Option 4 ID : 264330728623  
Status : Answered  
Chosen Option : 3



**Q.5** Identify the segment that contains a grammatical error. If there is no error, select 'No error'

He then set out on his journey, / and rides on and on till he reached a jungle / where he found some water and shady trees.

- Ans**
- 1. He then set out on his journey,
  - 2. No error
  - 3. where he found some water and shady trees.
  - 4. and rides on and on till he reached a jungle

Question ID : 264330186488  
Option 1 ID : 264330730152  
Option 2 ID : 264330730155  
Option 3 ID : 264330730154  
Option 4 ID : 264330730153  
Status : Answered  
Chosen Option : 1

**Q.6** Improve the underlined part of the sentence. Choose 'No improvement' as an answer if the sentence is grammatically correct.

The deer eat all the lettuce in the garden.

- Ans**
- 1. No improvement
  - 2. eaten all
  - 3. had eat all
  - 4. ate all

Question ID : 264330185900  
Option 1 ID : 264330727915  
Option 2 ID : 264330727914  
Option 3 ID : 264330727913  
Option 4 ID : 264330727912  
Status : Answered  
Chosen Option : 4

**Q.7** Choose the word that means the same as the given word.

Grit

- Ans**
- 1. Pulse
  - 2. Courage
  - 3. Nerveless
  - 4. Unnerved

Question ID : 264330186709  
Option 1 ID : 264330730995  
Option 2 ID : 264330730992  
Option 3 ID : 264330730994  
Option 4 ID : 264330730993  
Status : Answered  
Chosen Option : 1

**Q.8** In the following question, out of the given four alternatives, select the alternative which best expresses the meaning of the Idiom/Phrase.

Run of the mill

- Ans**
- 1. Ordinary
  - 2. Antagonist
  - 3. Caretaker
  - 4. Leader

Question ID : 264330186355

Option 1 ID : 264330729645

Option 2 ID : 264330729646

Option 3 ID : 264330729644

Option 4 ID : 264330729647

Status : Answered

Chosen Option : 4

**Q.9** Select the word segment that substitutes (replaces) the bracketed word segment correctly and completes the sentence meaningfully. Select the option 'no correction required' if the sentence is correct as given.

I got round into the High-street again, (a tiny after that pitfall), and felt myself in comparative security.

- Ans**
- 1. a little beyond that pitfall
  - 2. a little beyond those pitfall
  - 3. No correction required
  - 4. some more besides the pitfall

Question ID : 264330186532

Option 1 ID : 264330730321

Option 2 ID : 264330730322

Option 3 ID : 264330730323

Option 4 ID : 264330730320

Status : Answered

Chosen Option : 1

**Q.10** Choose the word that is opposite in meaning to the given word.

Arrogant

- Ans**
- 1. Uppity
  - 2. Modest
  - 3. Assemble
  - 4. Unreserved

Question ID : 264330186016

Option 1 ID : 264330728355

Option 2 ID : 264330728353

Option 3 ID : 264330728352

Option 4 ID : 264330728354

Status : Answered

Chosen Option : 2

Q.11 Choose the idiom/phrase that can substitute the highlighted group of words meaningfully.

The police have been **investigating** his accounts looking for evidence of fraud.

- Ans
- 1. Through thick and thin
  - 2. Hitting the hay
  - 3. Digging around
  - 4. In the dark

Question ID : 264330186356  
Option 1 ID : 264330729651  
Option 2 ID : 264330729649  
Option 3 ID : 264330729648  
Option 4 ID : 264330729650  
Status : Answered  
Chosen Option : 1

Q.12 Choose the most appropriate antonym of the underlined word.

The good death means accepting death as **inevitable**, and not fighting it when the time comes.

- Ans
- 1. Imminent
  - 2. Assured
  - 3. Avoidable
  - 4. Fixed

Question ID : 264330186711  
Option 1 ID : 264330731001  
Option 2 ID : 264330731002  
Option 3 ID : 264330731000  
Option 4 ID : 264330731003  
Status : Answered  
Chosen Option : 3

Q.13 Select the most appropriate antonym of the given word.

Intermediate

- Ans
- 1. Transitional
  - 2. Poignant
  - 3. Abnormal
  - 4. Average

Question ID : 264330186542  
Option 1 ID : 264330730356  
Option 2 ID : 264330730359  
Option 3 ID : 264330730358  
Option 4 ID : 264330730357  
Status : Answered  
Chosen Option : 1

**Q.14** Improve the underlined part of the sentence. Choose 'No improvement' as an answer if the sentence is grammatically correct.

Make your decision based on facts.

- Ans**
- 1. base on
  - 2. No improvement
  - 3. baser on
  - 4. based at

Question ID : 264330185963  
 Option 1 ID : 264330728152  
 Option 2 ID : 264330728155  
 Option 3 ID : 264330728154  
 Option 4 ID : 264330728153  
 Status : Answered  
 Chosen Option : 2

**Q.15** Select the most appropriate word to fill in the blank.

The captured party consisted \_\_\_\_\_ two women and a man.

- Ans**
- 1. off
  - 2. with
  - 3. of
  - 4. for

Question ID : 264330186282  
 Option 1 ID : 264330729370  
 Option 2 ID : 264330729368  
 Option 3 ID : 264330729369  
 Option 4 ID : 264330729371  
 Status : Answered  
 Chosen Option : 1

### Comprehension:

Read the passage carefully and select the correct answer for the given blanks out of the four alternatives.

Mechanical Engineering is one of the most perennial (1) \_\_\_\_\_ of engineering which has always been the choice of innovative minds since its inception. Mechanical engineering deals with the (2) \_\_\_\_\_ of machines, thermodynamics, fluids, mechanics, and structural scrutiny. Applications of Mechanical Engineering are omnipresent and inseparable (3) \_\_\_\_\_ society. Even in today's digital world, this stream has its charm and (4) \_\_\_\_\_, the theories of Mechanical Engineering are used in scheming some of the best and most (5) \_\_\_\_\_ state-of-the-art motor vehicles, developed units, airplanes as well as other industrial machinery.

### SubQuestion No : 16

**Q.16** Select the most appropriate option for blank(1)

- Ans**
- 1. sphere
  - 2. sectors
  - 3. branches
  - 4. area

Question ID : 264330186368  
 Option 1 ID : 264330729694  
 Option 2 ID : 264330729695  
 Option 3 ID : 264330729692  
 Option 4 ID : 264330729693  
 Status : Answered  
 Chosen Option : 3

**Comprehension:**

Read the passage carefully and select the correct answer for the given blanks out of the four alternatives.

Mechanical Engineering is one of the most perennial (1) \_\_\_\_\_ of engineering which has always been the choice of innovative minds since its inception. Mechanical engineering deals with the (2) \_\_\_\_\_ of machines, thermodynamics, fluids, mechanics, and structural scrutiny. Applications of Mechanical Engineering are omnipresent and inseparable (3) \_\_\_\_\_ society. Even in today's digital world, this stream has its charm and (4) \_\_\_\_\_, the theories of Mechanical Engineering are used in scheming some of the best and most (5) \_\_\_\_\_ state-of-the-art motor vehicles, developed units, airplanes as well as other industrial machinery.

**SubQuestion No : 17**

Q.17 Select the most appropriate option for blank(2)

- Ans
- 1. sets
  - 2. views
  - 3. notions
  - 4. clues

Question ID : 264330186369

Option 1 ID : 264330729698

Option 2 ID : 264330729699

Option 3 ID : 264330729697

Option 4 ID : 264330729696

Status : Answered

Chosen Option : 3

**Comprehension:**

Read the passage carefully and select the correct answer for the given blanks out of the four alternatives.

Mechanical Engineering is one of the most perennial (1) \_\_\_\_\_ of engineering which has always been the choice of innovative minds since its inception. Mechanical engineering deals with the (2) \_\_\_\_\_ of machines, thermodynamics, fluids, mechanics, and structural scrutiny. Applications of Mechanical Engineering are omnipresent and inseparable (3) \_\_\_\_\_ society. Even in today's digital world, this stream has its charm and (4) \_\_\_\_\_, the theories of Mechanical Engineering are used in scheming some of the best and most (5) \_\_\_\_\_ state-of-the-art motor vehicles, developed units, airplanes as well as other industrial machinery.

**SubQuestion No : 18**

Q.18 Select the most appropriate option for blank(3)

- Ans
- 1. from
  - 2. of
  - 3. off
  - 4. by

Question ID : 264330186370

Option 1 ID : 264330729702

Option 2 ID : 264330729703

Option 3 ID : 264330729701

Option 4 ID : 264330729700

Status : Answered

Chosen Option : 1

**Comprehension:**

Read the passage carefully and select the correct answer for the given blanks out of the four alternatives.

Mechanical Engineering is one of the most perennial (1) \_\_\_\_\_ of engineering which has always been the choice of innovative minds since its inception. Mechanical engineering deals with the (2) \_\_\_\_\_ of machines, thermodynamics, fluids, mechanics, and structural scrutiny. Applications of Mechanical Engineering are omnipresent and inseparable (3) \_\_\_\_\_ society. Even in today's digital world, this stream has its charm and (4) \_\_\_\_\_, the theories of Mechanical Engineering are used in scheming some of the best and most (5) \_\_\_\_\_ state-of-the-art motor vehicles, developed units, airplanes as well as other industrial machinery.

**SubQuestion No : 19**

Q.19 Select the most appropriate option for blank(4)

- Ans
- 1. attention
  - 2. fascination
  - 3. tension
  - 4. clemency

Question ID : 264330186371

Option 1 ID : 264330729706

Option 2 ID : 264330729704

Option 3 ID : 264330729707

Option 4 ID : 264330729705

Status : Answered

Chosen Option : 2

**Comprehension:**

Read the passage carefully and select the correct answer for the given blanks out of the four alternatives.

Mechanical Engineering is one of the most perennial (1) \_\_\_\_\_ of engineering which has always been the choice of innovative minds since its inception. Mechanical engineering deals with the (2) \_\_\_\_\_ of machines, thermodynamics, fluids, mechanics, and structural scrutiny. Applications of Mechanical Engineering are omnipresent and inseparable (3) \_\_\_\_\_ society. Even in today's digital world, this stream has its charm and (4) \_\_\_\_\_, the theories of Mechanical Engineering are used in scheming some of the best and most (5) \_\_\_\_\_ state-of-the-art motor vehicles, developed units, airplanes as well as other industrial machinery.

**SubQuestion No : 20**

Q.20 Select the most appropriate option for blank(5)

- Ans
- 1. proficient
  - 2. slight
  - 3. bleak
  - 4. morbid

Question ID : 264330186372

Option 1 ID : 264330729710

Option 2 ID : 264330729711

Option 3 ID : 264330729709

Option 4 ID : 264330729708

Status : Answered

Chosen Option : 1

Q.1 दिए गए वाक्य में रेखांकित शब्द के लिए सही वर्तनी ज्ञात कीजिए।

महाभारत के युध् में पांडवों की विजय हुई थी।

- Ans
- 1. यूद्ध
  - 2. युद्ध
  - 3. युद
  - 4. यूध

Question ID : 264330189076  
 Option 1 ID : 264330740081  
 Option 2 ID : 264330740080  
 Option 3 ID : 264330740078  
 Option 4 ID : 264330740079  
 Status : Not Answered  
 Chosen Option : --

Q.2 दिए गए शब्द का पर्यायवाची ज्ञात कीजिए।

झोंपड़ी

- Ans
- 1. रीति
  - 2. पताका
  - 3. धक्का
  - 4. पर्णकुटी

Question ID : 264330188943  
 Option 1 ID : 264330739572  
 Option 2 ID : 264330739571  
 Option 3 ID : 264330739570  
 Option 4 ID : 264330739573  
 Status : Not Answered  
 Chosen Option : --

Q.3 निम्नलिखित प्रश्न में, दिए गए चार विकल्पों में से, उस विकल्प का चयन करें जो दिए गए मुहावरे के अर्थ को सर्वश्रेष्ठ रूप से व्यक्त करता है।

खिचड़ी पकाना

- Ans
- 1. बहुत सारा खाना बनाना
  - 2. खाना बनाना
  - 3. षड्यन्त्र रचना
  - 4. छुपकर बातें करना

Question ID : 264330189325  
 Option 1 ID : 264330741027  
 Option 2 ID : 264330741026  
 Option 3 ID : 264330741029  
 Option 4 ID : 264330741028  
 Status : Not Answered  
 Chosen Option : --

Q.4 निम्नलिखित प्रश्न में, चार विकल्पों में से, उस सही विकल्प का चयन करें जो वाक्यांश के लिए एक शब्द का विकल्प हो।  
जो धन को व्यर्थ ही खर्च करता हो

- Ans
- 1. अपव्ययी
  - 2. अपूर्व
  - 3. परोक्ष
  - 4. मितव्ययी

Question ID : 264330189992  
Option 1 ID : 264330743567  
Option 2 ID : 264330743568  
Option 3 ID : 264330743566  
Option 4 ID : 264330743569  
Status : Not Answered  
Chosen Option : --

Q.5 दिए गए वाक्य में रेखांकित शब्द का तत्सम शब्द ज्ञात कीजिए।

बनारस की तो बात ही कुछ और है।

- Ans
- 1. वाराण
  - 2. वाराणी
  - 3. वाराणसी
  - 4. वाराणास

Question ID : 264330189477  
Option 1 ID : 264330741606  
Option 2 ID : 264330741608  
Option 3 ID : 264330741609  
Option 4 ID : 264330741607  
Status : Not Answered  
Chosen Option : --

Q.6 निम्नलिखित प्रश्न में, चार विकल्पों में से, उस विकल्प का चयन करें जो कोष्ठक में दिए गए शब्द के विलोम शब्द का सही अर्थ है।  
जब तक लड़की की शादी नहीं हो जाती तब तक माँ-बाप (निश्चित) \_\_\_\_\_ नहीं होते।।

- Ans
- 1. चिंतित
  - 2. बेशक
  - 3. अवश्य
  - 4. निःसंदेह

Question ID : 264330189911  
Option 1 ID : 264330743261  
Option 2 ID : 264330743259  
Option 3 ID : 264330743258  
Option 4 ID : 264330743260  
Status : Not Answered  
Chosen Option : --



Q.7 दिए गए वाक्य में उचित पर्यायवाची शब्द का चयन करके रिक्त स्थान की पूर्ति करें।

अकेले चलते समय हमेशा \_\_\_\_\_ (सजग) रहना चाहिए।

- Ans
- 1. वीणा
  - 2. सावधान
  - 3. वार
  - 4. सारा

Question ID : 264330192820

Option 1 ID : 264330754632

Option 2 ID : 264330754631

Option 3 ID : 264330754633

Option 4 ID : 264330754630

Status : Not Answered

Chosen Option : --

Q.8 निम्नलिखित प्रश्न में, चार विकल्पों में से, उस सही विकल्प का चयन करें जो वाक्यांशों के लिए एक शब्द का विकल्प हो।

जानने को इच्छुक

- Ans
- 1. जिज्ञासु
  - 2. जिजीविषा
  - 3. जिज्ञासा
  - 4. जिगीषु

Question ID : 264330189551

Option 1 ID : 264330741887

Option 2 ID : 264330741886

Option 3 ID : 264330741889

Option 4 ID : 264330741888

Status : Not Answered

Chosen Option : --

Q.9 दिए गए वाक्य का वह भाग ज्ञात करें, जिसमें कोई त्रुटि है।

प्रिया की बातें सुनकर रमेश की आँख से आँसू निकल पड़े।

- Ans
- 1. आँख से
  - 2. सुनकर रमेश की
  - 3. आँसू निकल पड़े।
  - 4. प्रिया की बातें

Question ID : 264330189038

Option 1 ID : 264330739936

Option 2 ID : 264330739935

Option 3 ID : 264330739937

Option 4 ID : 264330739934

Status : Not Answered

Chosen Option : --

Q.10 निम्नलिखित प्रश्न में, चार विकल्पों में से, उस विकल्प का चयन करें जो कोष्ठक में दिए गए शब्द के तद्भव रूप का सही विकल्प है।  
मेरे पैर में एक (कंटक) \_\_\_\_\_ चुभ गया।

- Ans
- 1. कील
  - 2. कीड़ा
  - 3. पत्थर
  - 4. काँटा

Question ID : 264330189812  
Option 1 ID : 264330742883  
Option 2 ID : 264330742885  
Option 3 ID : 264330742882  
Option 4 ID : 264330742884  
Status : Not Answered  
Chosen Option : --

Q.11 दिए गए वाक्यांश के लिए सार्थक शब्द ज्ञात कीजिए।

जो पढ़ा न जा सके

- Ans
- 1. अलिखित
  - 2. अपठनीय
  - 3. अपठित
  - 4. अपथित

Question ID : 264330188171  
Option 1 ID : 264330736597  
Option 2 ID : 264330736598  
Option 3 ID : 264330736596  
Option 4 ID : 264330736599  
Status : Not Answered  
Chosen Option : --

Q.12 दिए गए वाक्य में रेखांकित शब्द के लिए सही वर्तनी ज्ञात कीजिए।

बीमारी के बाद उसे बहुत कमज़ोरि है।

- Ans
- 1. कमज़ोरी
  - 2. कमज़ेर
  - 3. कामजोर
  - 4. कमजोरि

Question ID : 264330188949  
Option 1 ID : 264330739596  
Option 2 ID : 264330739597  
Option 3 ID : 264330739595  
Option 4 ID : 264330739594  
Status : Not Answered  
Chosen Option : --

**Q.13** निम्नलिखित प्रश्न में, दिए गए चार विकल्पों में से, उस विकल्प का चयन करें जो दिए गए मुहावरे के अर्थ को सर्वश्रेष्ठ रूप से व्यक्त करता है।

गोलमाल करना

**Ans**

- 1. खूब हँसना
- 2. मूर्ख बनाना
- 3. बेईमानी करना
- 4. बहका देना

Question ID : 264330189074

Option 1 ID : 264330740071

Option 2 ID : 264330740072

Option 3 ID : 264330740070

Option 4 ID : 264330740073

Status : Not Answered

Chosen Option : --

**Q.14** निम्नलिखित प्रश्न में, चार विकल्पों में से, उस विकल्प का चयन करें जो कोष्ठक में दिए गए शब्द के विलोम शब्द का सही विकल्प है।

मेरा भाई बड़ा ही (आलसी) \_\_\_\_\_ प्रवृत्ति का है।

**Ans**

- 1. कर्मठ
- 2. कामचोर
- 3. काहिल
- 4. अकर्मण्य

Question ID : 264330189807

Option 1 ID : 264330742862

Option 2 ID : 264330742865

Option 3 ID : 264330742864

Option 4 ID : 264330742863

Status : Not Answered

Chosen Option : --

**Q.15** निम्नलिखित प्रश्न में, चार विकल्पों में से, उस विकल्प का चयन करें जो रिक्त स्थान के लिए सही भाववाचक संज्ञा वाला विकल्प हो।

माँ लक्ष्मी की कृपा से सभी को \_\_\_\_\_ प्राप्त होती है।

**Ans**

- 1. सम्पन्नता
- 2. विपन्नता
- 3. आराम
- 4. फल-फूल

Question ID : 264330189793

Option 1 ID : 264330742811

Option 2 ID : 264330742813

Option 3 ID : 264330742812

Option 4 ID : 264330742810

Status : Not Answered

Chosen Option : --

**Comprehension:**

नीचे दिए गये गद्यांश में कुछ शब्द छोड़ दिये गए हैं, प्रत्येक अनुच्छेद के सामने चार विकल्प दिये गए हैं। इस गद्यांश को ध्यानपूर्वक पढ़ें और चार विकल्पों में से सर्वोत्तम उत्तर वाला विकल्प चुनें।

हमारे भारत देश की उन्नति हम पर ही \_\_\_\_\_ करती है। हमें हमारे देश की उन्नति पर महत्व देते हुए सबसे पहले हमारे क्या कर्तव्य हैं यह समझना जरूरी है। एक व्यक्ति की \_\_\_\_\_ उसके राष्ट्र व उसके स्वयं की उन्नति है। इसके लिए सबसे पहले तो हमारे क्या कर्तव्य हैं ये समझना होगा। आर्थिक विकास में वृद्धि, अनुशासन, अच्छी शिक्षा, हमारे देश की गरीबी को मिटाने, सभी राजनीतिक और सामाजिक मुद्दों को मिटाना \_\_\_\_\_ है। सभी से आदर की भावना रखकर वोट डालने जाना सभी वह कार्य जो देश की उन्नति में बाधा पहुंचाते हैं उन्हें खत्म करना, जब यह बाधाएं खत्म होगी तभी देश और हमारी उन्नति संभव है। हमारे देश भारत के उन्नति का एक महत्वपूर्ण तत्व \_\_\_\_\_ में एकता की भावना है। हमारे देश में विभिन्न जाति और धर्म के लोग हैं जो आपस में मिलकर रहते हैं जो हमारे उन्नति का एक अति आवश्यक तत्व है। भारत देश में हर एक हजार किलोमीटर पर \_\_\_\_\_ बदलती जाती है। तरह-तरह की बोलियां, संस्कृति है जो हमारे देश को एक धागे में बांधे रखती है और यही कारण है कि इस एकता की वजह से ही हमारा देश भारत नित्य नए आयाम कायम कर रहा है और उन्नति प्राप्त कर रहा है।

**SubQuestion No : 16**

Q.16 हमारे भारत देश की उन्नति हम पर ही \_\_\_\_\_ करती है।

- Ans
- 1. निर्भर
  - 2. दबाव
  - 3. कार्य
  - 4. दिखावा

Question ID : 264330189671  
Option 1 ID : 264330742345  
Option 2 ID : 264330742342  
Option 3 ID : 264330742343  
Option 4 ID : 264330742344  
Status : Not Answered  
Chosen Option : --

**Comprehension:**

नीचे दिए गये गद्यांश में कुछ शब्द छोड़ दिये गए हैं, प्रत्येक अनुच्छेद के सामने चार विकल्प दिये गए हैं। इस गद्यांश को ध्यानपूर्वक पढ़ें और चार विकल्पों में से सर्वोत्तम उत्तर वाला विकल्प चुनें।

हमारे भारत देश की उन्नति हम पर ही \_\_\_\_\_ करती है। हमें हमारे देश की उन्नति पर महत्व देते हुए सबसे पहले हमारे क्या कर्तव्य हैं यह समझना जरूरी है। एक व्यक्ति की \_\_\_\_\_ उसके राष्ट्र व उसके स्वयं की उन्नति है। इसके लिए सबसे पहले तो हमारे क्या कर्तव्य हैं ये समझना होगा। आर्थिक विकास में वृद्धि, अनुशासन, अच्छी शिक्षा, हमारे देश की गरीबी को मिटाने, सभी राजनीतिक और सामाजिक मुद्दों को मिटाना \_\_\_\_\_ है। सभी से आदर की भावना रखकर वोट डालने जाना सभी वह कार्य जो देश की उन्नति में बाधा पहुंचाते हैं उन्हें खत्म करना, जब यह बाधाएं खत्म होगी तभी देश और हमारी उन्नति संभव है। हमारे देश भारत के उन्नति का एक महत्वपूर्ण तत्व \_\_\_\_\_ में एकता की भावना है। हमारे देश में विभिन्न जाति और धर्म के लोग हैं जो आपस में मिलकर रहते हैं जो हमारे उन्नति का एक अति आवश्यक तत्व है। भारत देश में हर एक हजार किलोमीटर पर \_\_\_\_\_ बदलती जाती है। तरह-तरह की बोलियां, संस्कृति है जो हमारे देश को एक धागे में बांधे रखती है और यही कारण है कि इस एकता की वजह से ही हमारा देश भारत नित्य नए आयाम कायम कर रहा है और उन्नति प्राप्त कर रहा है।

**SubQuestion No : 17**

Q.17 एक व्यक्ति की \_\_\_\_\_ उसके राष्ट्र व उसके स्वयं की उन्नति है।

- Ans
- 1. समृद्धि
  - 2. उन्नति
  - 3. सिद्धि
  - 4. अवनति

Question ID : 264330189672  
Option 1 ID : 264330742347  
Option 2 ID : 264330742348  
Option 3 ID : 264330742349  
Option 4 ID : 264330742346  
Status : Not Answered  
Chosen Option : --

**Comprehension:**

नीचे दिए गये गद्यांश में कुछ शब्द छोड़ दिये गए हैं, प्रत्येक अनुच्छेद के सामने चार विकल्प दिये गए हैं। इस गद्यांश को ध्यानपूर्वक पढ़ें और चार विकल्पों में से सर्वोत्तम उत्तर वाला विकल्प चुनें।

हमारे भारत देश की उन्नति हम पर ही \_\_\_\_\_ करती है। हमें हमारे देश की उन्नति पर महत्व देते हुए सबसे पहले हमारे क्या कर्तव्य हैं यह समझना जरूरी है। एक व्यक्ति की \_\_\_\_\_ उसके राष्ट्र व उसके स्वयं की उन्नति है। इसके लिए सबसे पहले तो हमारे क्या कर्तव्य हैं ये समझना होगा। आर्थिक विकास में वृद्धि, अनुशासन, अच्छी शिक्षा, हमारे देश की गरीबी को मिटाने, सभी राजनीतिक और सामाजिक मुद्दों को मिटाना \_\_\_\_\_ है। सभी से आदर की भावना रखकर वोट डालने जाना सभी वह कार्य जो देश की उन्नति में बाधा पहुंचाते हैं उन्हें खत्म करना, जब यह बाधाएं खत्म होगी तभी देश और हमारी उन्नति संभव है। हमारे देश भारत के उन्नति का एक महत्वपूर्ण तत्व \_\_\_\_\_ में एकता की भावना है। हमारे देश में विभिन्न जाति और धर्म के लोग हैं जो आपस में मिलकर रहते हैं जो हमारे उन्नति का एक अति आवश्यक तत्व है। भारत देश में हर एक हजार किलोमीटर पर \_\_\_\_\_ बदलती जाती है। तरह-तरह की बोलियां, संस्कृति है जो हमारे देश को एक धागे में बांधे रखती है और यही कारण है कि इस एकता की वजह से ही हमारा देश भारत नित्य नए आयाम कायम कर रहा है और उन्नति प्राप्त कर रहा है।

**SubQuestion No : 18**

**Q.18** आर्थिक विकास में वृद्धि, अनुशासन, अच्छी शिक्षा, हमारे देश की गरीबी को मिटाने, सभी राजनीतिक और सामाजिक मुद्दों को मिटाना \_\_\_\_\_ है।

Ans

- ✓ 1. जरूरी  
✗ 2. अकारण  
✗ 3. क्यों  
✗ 4. अनावश्यक

Question ID : 264330189673

Option 1 ID : 264330742350

Option 2 ID : 264330742353

Option 3 ID : 264330742352

Option 4 ID : 264330742351

Status : Not Answered

Chosen Option : --

**Comprehension:**

नीचे दिए गये गद्यांश में कुछ शब्द छोड़ दिये गए हैं, प्रत्येक अनुच्छेद के सामने चार विकल्प दिये गए हैं। इस गद्यांश को ध्यानपूर्वक पढ़ें और चार विकल्पों में से सर्वोत्तम उत्तर वाला विकल्प चुनें।

हमारे भारत देश की उन्नति हम पर ही \_\_\_\_\_ करती है। हमें हमारे देश की उन्नति पर महत्व देते हुए सबसे पहले हमारे क्या कर्तव्य हैं यह समझना जरूरी है। एक व्यक्ति की \_\_\_\_\_ उसके राष्ट्र व उसके स्वयं की उन्नति है। इसके लिए सबसे पहले तो हमारे क्या कर्तव्य हैं ये समझना होगा। आर्थिक विकास में वृद्धि, अनुशासन, अच्छी शिक्षा, हमारे देश की गरीबी को मिटाने, सभी राजनीतिक और सामाजिक मुद्दों को मिटाना \_\_\_\_\_ है। सभी से आदर की भावना रखकर वोट डालने जाना सभी वह कार्य जो देश की उन्नति में बाधा पहुंचाते हैं उन्हें खत्म करना, जब यह बाधाएं खत्म होगी तभी देश और हमारी उन्नति संभव है। हमारे देश भारत के उन्नति का एक महत्वपूर्ण तत्व \_\_\_\_\_ में एकता की भावना है। हमारे देश में विभिन्न जाति और धर्म के लोग हैं जो आपस में मिलकर रहते हैं जो हमारे उन्नति का एक अति आवश्यक तत्व है। भारत देश में हर एक हजार किलोमीटर पर \_\_\_\_\_ बदलती जाती है। तरह-तरह की बोलियां, संस्कृति है जो हमारे देश को एक धागे में बांधे रखती है और यही कारण है कि इस एकता की वजह से ही हमारा देश भारत नित्य नए आयाम कायम कर रहा है और उन्नति प्राप्त कर रहा है।

**SubQuestion No : 19**

**Q.19** हमारे देश भारत के उन्नति का एक महत्वपूर्ण तत्व \_\_\_\_\_ में एकता की भावना है।

Ans

- ✗ 1. देशों  
✓ 2. अनेकता  
✗ 3. कार्यों  
✗ 4. पड़ोसियों

Question ID : 264330189674

Option 1 ID : 264330742356

Option 2 ID : 264330742355

Option 3 ID : 264330742357

Option 4 ID : 264330742354

Status : Not Answered

Chosen Option : --

**Comprehension:**

नीचे दिए गये गद्यांश में कुछ शब्द छोड़ दिये गए हैं, प्रत्येक अनुच्छेद के सामने चार विकल्प दिये गए हैं। इस गद्यांश को ध्यानपूर्वक पढ़ें और चार विकल्पों में से सर्वोत्तम उत्तर वाला विकल्प चुनें।

हमारे भारत देश की उन्नति हम पर ही \_\_\_\_\_ करती है। हमें हमारे देश की उन्नति पर महत्व देते हुए सबसे पहले हमारे क्या कर्तव्य हैं यह समझना जरूरी है। एक व्यक्ति की \_\_\_\_\_ उसके राष्ट्र व उसके स्वयं की उन्नति है। इसके लिए सबसे पहले तो हमारे क्या कर्तव्य हैं ये समझना होगा। आर्थिक विकास में वृद्धि, अनुशासन, अच्छी शिक्षा, हमारे देश की गरीबी को मिटाने, सभी राजनीतिक और सामाजिक मुद्दों को मिटाना \_\_\_\_\_ है। सभी से आदर की भावना रखकर वोट डालने जाना सभी वह कार्य जो देश की उन्नति में बाधा पहुंचाते हैं उन्हें खत्म करना, जब यह बाधाएं खत्म होगी तभी देश और हमारी उन्नति संभव है। हमारे देश भारत के उन्नति का एक महत्वपूर्ण तत्व \_\_\_\_\_ में एकता की भावना है। हमारे देश में विभिन्न जाति और धर्म के लोग हैं जो आपस में मिलकर रहते हैं जो हमारे उन्नति का एक अति आवश्यक तत्व है। भारत देश में हर एक हजार किलोमीटर पर \_\_\_\_\_ बदलती जाती है। तरह-तरह की बोलियां, संस्कृति है जो हमारे देश को एक धागे में बांधे रखती है और यही कारण है कि इस एकता की वजह से ही हमारा देश भारत नित्य नए आयाम कायम कर रहा है और उन्नति प्राप्त कर रहा है।

**SubQuestion No : 20**

Q.20

भारत देश में हर एक हजार किलोमीटर पर \_\_\_\_\_ बदलती जाती हैं।

Ans

- ✓ 1. बोलियां  
 ✗ 2. पदार्थ  
 ✗ 3. रिश्ते  
 ✗ 4. पानी

Question ID : 264330189675

Option 1 ID : 264330742358

Option 2 ID : 264330742361

Option 3 ID : 264330742359

Option 4 ID : 264330742360

Status : Not Answered

Chosen Option : --