

**Constable GD in Central Armed Police Forces CAPFs SSF Rifleman GD in Assam
Rifles Examination 2024**

Roll Number	
Candidate Name	
Venue Name	
Exam Date	29/02/2024
Exam Time	5:00 PM - 6:00 PM
Subject	Constable GD Examination 2024

Section : Part-A-General Intelligence and Reasoning

Q.1 Five friends Oliver, Penny, Quin, Ryan, and Sophie are sitting on a circular table facing the center. Oliver is sitting to the immediate right of Penny. Ryan is sitting exactly between Quin and Sophie. Sophie is not a neighbour to Penny. Who is sitting to the immediate right of Quin?

- Ans
- 1. Sophie
 - 2. Penny
 - 3. Ryan
 - 4. Oliver

Question ID : 264330192237

Option 1 ID : 264330752302

Option 2 ID : 264330752305

Option 3 ID : 264330752304

Option 4 ID : 264330752303

Status : Answered

Chosen Option : 2

Q.2 From the given option figures, select the one in which the question figure is hidden/embedded. (rotation is NOT allowed)



Ans

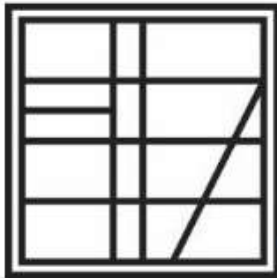
✓ 1.



✗ 2.



✗ 3.



✗ 4.



Question ID : 264330187096

Option 1 ID : 264330732312

Option 2 ID : 264330732314

Option 3 ID : 264330732313

Option 4 ID : 264330732315

Status : Answered

Chosen Option : 1

Q.3 Select the option that is related to the third word in the same way as the second word is related to the first word.
 Sydney : Australia :: Toronto : ?

- Ans**
- 1. United Kingdom
 - 2. New Zealand
 - 3. Canada
 - 4. United States

Question ID : 264330192152
 Option 1 ID : 264330751962
 Option 2 ID : 264330751963
 Option 3 ID : 264330751965
 Option 4 ID : 264330751964
 Status : Answered
 Chosen Option : 3

Q.4 Arrange the given words in alphabetical order:

1. PARALLEL
2. PARADISE
3. PARAGRAPH
4. PARALLELISM
5. PARASITE

- Ans**
- 1. 2, 1, 4, 3, 5
 - 2.
 - 3. 2, 3, 4, 5, 1
 - 4. 3, 1, 4, 2, 5

Question ID : 264330192250
 Option 1 ID : 264330752354
 Option 2 ID : 264330752357
 Option 3 ID : 264330752355
 Option 4 ID : 264330752356
 Status : Answered
 Chosen Option : 2

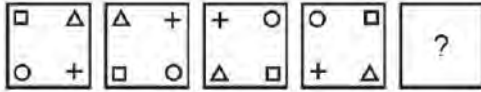
Q.5 Three positions of a dice are given below. What will come on the face opposite to the face containing 'X' on it?



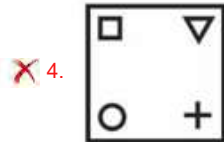
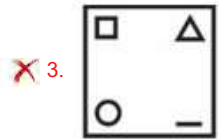
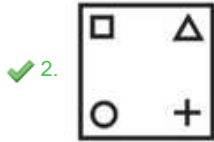
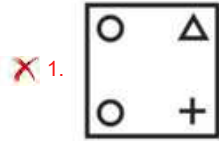
- Ans**
- 1. A
 - 2. C
 - 3. U
 - 4. Y

Question ID : 264330190126
 Option 1 ID : 264330744088
 Option 2 ID : 264330744089
 Option 3 ID : 264330744086
 Option 4 ID : 264330744087
 Status : Answered
 Chosen Option : 4

Q.6 In the following question, select the figure which can be placed at the sign of question mark (?) from the given alternatives.



Ans



Question ID : 264330190502

Option 1 ID : 264330745592

Option 2 ID : 264330745591

Option 3 ID : 264330745593

Option 4 ID : 264330745590

Status : Answered

Chosen Option : 2

Q.7 If $A + B$ means A is the wife of B, $A \times B$ means A is the father of B, $A - B$ means A is the mother of B, $A \S B$ means A is the brother of B and $A - B$ means A is the sister of B.

If $P + D \S B + H \times T - M$, then how is P related to H?

Ans 1. Sister

2. Wife's mother

3. Wife's sister

4. Mother

Question ID : 264330190274

Option 1 ID : 264330744680

Option 2 ID : 264330744679

Option 3 ID : 264330744678

Option 4 ID : 264330744681

Status : Answered

Chosen Option : 2

Q.8 Which two numbers should be interchanged to make the given equation correct?

$$10 - 26 + 12 \times 20 \div 5 = 18$$

- Ans
- 1. 18 and 10
 - 2. 10 and 20
 - 3. 12 and 18
 - 4. 12 and 26

Question ID : 264330192082

Option 1 ID : 264330751682

Option 2 ID : 264330751684

Option 3 ID : 264330751685

Option 4 ID : 264330751683

Status : Answered

Chosen Option : 2

Q.9 Which of the following numbers will replace the question mark (?) in the given series?

6, 12, 24, 48, ?, 192

- Ans
- 1. 64
 - 2. 72
 - 3. 81
 - 4. 96

Question ID : 264330191599

Option 1 ID : 264330749752

Option 2 ID : 264330749753

Option 3 ID : 264330749750

Option 4 ID : 264330749751

Status : Answered

Chosen Option : 4

Q.10 Six family members Lila, Max, Nora, Oliver, Penny, and Quinn are seated at a circular table facing each other.

Max is to the immediate left of Quinn, and Lila is second to the left of Max. Nora is second to the left of Penny. Who sits exactly between Quinn and Nora?

- Ans
- 1. Oliver
 - 2. Lila
 - 3. Penny
 - 4. Max

Question ID : 264330188047

Option 1 ID : 264330736119

Option 2 ID : 264330736118

Option 3 ID : 264330736117

Option 4 ID : 264330736116

Status : Answered

Chosen Option : 1

Q.11 In a certain code language, 'CHARGE' is coded as 'GHTBJD'. What is the code for 'CIRCLE' in that code language?

- Ans**
- 1. GMSEKD
 - 2. GMESKE
 - 3. GEMSKD
 - 4. GMESKD

Question ID : 264330190172
 Option 1 ID : 264330744273
 Option 2 ID : 264330744271
 Option 3 ID : 264330744270
 Option 4 ID : 264330744272
 Status : Answered
 Chosen Option : 4

Q.12 In the following question, select the related letters from the given alternatives.

XY : WW :: JM : ?

- Ans**
- 1. IK
 - 2. GZ
 - 3. MZ
 - 4. RU

Question ID : 264330191311
 Option 1 ID : 264330748600
 Option 2 ID : 264330748599
 Option 3 ID : 264330748598
 Option 4 ID : 264330748601
 Status : Answered
 Chosen Option : 1

Q.13 Which of the following letter cluster will replace the blank (____) in the given series?

SNTQ, UNVO, WNXO, _____, ANBO

- Ans**
- 1. DUNO
 - 2. DUNZ
 - 3. YNZO
 - 4. UNZO

Question ID : 264330192329
 Option 1 ID : 264330752672
 Option 2 ID : 264330752670
 Option 3 ID : 264330752671
 Option 4 ID : 264330752673
 Status : Answered
 Chosen Option : 3

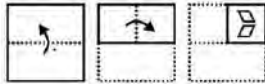
Q.14 Three Statements are given followed by two conclusions numbered I and II. Assuming the statements to be true, even if they seem to be at variance with commonly known facts, decide which of the conclusions logically follow(s) from the statements.

- Statement I: Some A are B.
- Statement II: Some B are K.
- Statement III: All K are J.
- Conclusion I: Some B are J.
- Conclusion II: Some A are J.

- Ans**
- 1. Neither conclusion I nor II follows
 - 2. Only conclusion II follows
 - 3. Only conclusion I follows
 - 4. Both conclusions I and II follow

Question ID : 264330192378
 Option 1 ID : 264330752869
 Option 2 ID : 264330752867
 Option 3 ID : 264330752866
 Option 4 ID : 264330752868
 Status : Answered
 Chosen Option : 4

Q.15 A piece of paper is folded and punched as shown below in the question figures. From the given option figures, indicate how it will appear when opened?



Ans

- 1.
- 2.
- 3.
- 4.

Question ID : 264330191345
 Option 1 ID : 264330748735
 Option 2 ID : 264330748736
 Option 3 ID : 264330748734
 Option 4 ID : 264330748737
 Status : Answered
 Chosen Option : 1

Q.16 In a certain code language, if SIXTEEN is coded as '10', NINE is coded as '7', then what will 'EIGHT' be coded as?

- Ans
- 1. 6
 - 2. 7
 - 3. 9
 - 4. 8

Question ID : 264330190292
Option 1 ID : 264330744750
Option 2 ID : 264330744751
Option 3 ID : 264330744753
Option 4 ID : 264330744752
Status : Not Answered
Chosen Option : --

Q.17 By Interchanging the given two numbers which of the following equation will be not correct?

4 and 7

- Ans
- 1. $7 + 2 - 4 \times 3 = -15$
 - 2. $7 - 4 + 9 = 6$
 - 3. $4 \times 2 + 7 - 3 = 15$
 - 4. $4 \div 2 + 3 + 7 = 6$

Question ID : 264330191541
Option 1 ID : 264330749519
Option 2 ID : 264330749520
Option 3 ID : 264330749521
Option 4 ID : 264330749518
Status : Answered
Chosen Option : 1

Q.18 Which of the following letter will replace the question mark (?) in the given series?

?, N, K, H, E, B

- Ans
- 1. R
 - 2. P
 - 3. O
 - 4. Q

Question ID : 264330192328
Option 1 ID : 264330752669
Option 2 ID : 264330752667
Option 3 ID : 264330752666
Option 4 ID : 264330752668
Status : Answered
Chosen Option : 4

Q.19 In the following question, select the missing number from the given series.

3, 14, ?, 16, -1, 18, -3





- Ans**
- 1. 1
 - 2. 3
 - 3. 2
 - 4. 0

Question ID : 264330192060
 Option 1 ID : 264330751596
 Option 2 ID : 264330751595
 Option 3 ID : 264330751594
 Option 4 ID : 264330751597
 Status : Answered
 Chosen Option : 1

Q.20 In the following question, select the figure which can be placed at the sign of question mark (?) from the given alternatives.



Ans

- 1. 
- 2. 
- 3. 
- 4. 

Question ID : 264330191324
 Option 1 ID : 264330748650
 Option 2 ID : 264330748653
 Option 3 ID : 264330748652
 Option 4 ID : 264330748651
 Status : Answered
 Chosen Option : 4

Q.1 India, also known as Bharat, is a :

- Ans
- 1. Union of country
 - 2. Union of states
 - 3. Union of World
 - 4. Federal of states

Question ID : 264330191921
Option 1 ID : 264330751041
Option 2 ID : 264330751040
Option 3 ID : 264330751038
Option 4 ID : 264330751039
Status : Answered
Chosen Option : 2

Q.2 Which of the following is the time period of the Tenth Five Year Plan?

- Ans
- 1. 1997-2002
 - 2. 2012-2017
 - 3. 2007-2012
 - 4. 2002 –2007

Question ID : 264330191267
Option 1 ID : 264330748422
Option 2 ID : 264330748425
Option 3 ID : 264330748424
Option 4 ID : 264330748423
Status : Not Answered
Chosen Option : --

Q.3 During the ancient period in India, the term 'sandhi-vigrahika' was used to refer to which of the following?

- Ans
- 1. Chief judicial officer
 - 2. Highest Punishment
 - 3. Minister of war and peace
 - 4. Chief craftsman

Question ID : 264330188760
Option 1 ID : 264330738842
Option 2 ID : 264330738843
Option 3 ID : 264330738844
Option 4 ID : 264330738845
Status : Answered
Chosen Option : 3

Q.4 The Indian Constitution guarantees Universal Adult Franchise for all its _____.

- Ans
- 1. educated people
 - 2. tax payers
 - 3. citizen and non-citizens
 - 4. citizens

Question ID : 264330188824
Option 1 ID : 264330739099
Option 2 ID : 264330739100
Option 3 ID : 264330739101
Option 4 ID : 264330739098
Status : Answered
Chosen Option : 4

Q.5 The _____ of a firm during a year = production of the firm during the year – sale of the firm during the year.

- Ans
- 1. change in inventories and working capitals
 - 2. opening stock
 - 3. change of inventories
 - 4. closing stock

Question ID : 264330188849
Option 1 ID : 264330739201
Option 2 ID : 264330739199
Option 3 ID : 264330739198
Option 4 ID : 264330739200
Status : Not Answered
Chosen Option : --

Q.6 Pt. Ravi Shankar, Shahid Parvez Khan, Budhaditya Mukherjee, Anushka Shankar, are associated with _____.

- Ans
- 1. flute
 - 2. sitar
 - 3. guitar
 - 4. sarod

Question ID : 264330190917
Option 1 ID : 264330747025
Option 2 ID : 264330747024
Option 3 ID : 264330747023
Option 4 ID : 264330747022
Status : Answered
Chosen Option : 2

Q.7 The _____ repeals the Indian Penal Code, 1860 (IPC).

- Ans
- 1. The Indian Judiciary Act
 - 2. The Legal Reforms Amendment Act
 - 3. The Criminal Code Abolition Bill
 - 4. Bharatiya Nyaya Sanhita Bill

Question ID : 264330190967
Option 1 ID : 264330747224
Option 2 ID : 264330747223
Option 3 ID : 264330747222
Option 4 ID : 264330747225
Status : Not Answered
Chosen Option : --

Q.8 Which city hosted the 2022 Commonwealth Games?

- Ans
- 1. New Delhi
 - 2. Gold coast
 - 3. Durban
 - 4. Birmingham

Question ID : 264330188687
Option 1 ID : 264330738553
Option 2 ID : 264330738552
Option 3 ID : 264330738550
Option 4 ID : 264330738551
Status : Answered
Chosen Option : 4

Q.9 The Census of 1881 which was undertaken on 17th February, 1881 by _____.

- Ans
- 1. James Prinsep
 - 2. H. Beverley
 - 3. J. A. Bains
 - 4. W.C. Plowden

Question ID : 264330191093
Option 1 ID : 264330747728
Option 2 ID : 264330747727
Option 3 ID : 264330747729
Option 4 ID : 264330747726
Status : Answered
Chosen Option : 1

Q.10 In India, the Green Revolution was mainly led by _____.

- Ans 1. M.S. Swaminathan
 2. M. D. Swami
 3. John Norman
 4. Radhakrishnan

Question ID : 264330191746
Option 1 ID : 264330750341
Option 2 ID : 264330750338
Option 3 ID : 264330750340
Option 4 ID : 264330750339
Status : Answered
Chosen Option : 1

Q.11 In which Indian state is the 'International Lusophone Festival' hosted?

- Ans 1. Rajasthan
 2. Kerala
 3. Maharashtra
 4. Goa

Question ID : 264330191292
Option 1 ID : 264330748524
Option 2 ID : 264330748522
Option 3 ID : 264330748525
Option 4 ID : 264330748523
Status : Not Answered
Chosen Option : --

Q.12 The Office of the Registrar General and Census Commissioner comes under which of the following ministries of Government of India

- Ans 1. Ministry of Statistics and Program Implementation
 2. Ministry of Labour and Employment
 3. Ministry of Commerce and Industry
 4. Ministry of Home Affairs

Question ID : 264330191475
Option 1 ID : 264330749255
Option 2 ID : 264330749257
Option 3 ID : 264330749256
Option 4 ID : 264330749254
Status : Answered
Chosen Option : 1

Q.13 The legendary Kuchipudi dancer Dr. Raja Reddy referred to one of the following as a 'Kaliyuga Satyabhama'?

- Ans
- 1. Kanak Rele
 - 2. Geeta Mahalik
 - 3. Mayak Rao
 - 4. Sobha Naidu

Question ID : 264330188863
Option 1 ID : 264330739255
Option 2 ID : 264330739254
Option 3 ID : 264330739256
Option 4 ID : 264330739257
Status : Answered
Chosen Option : 4

Q.14 Which of the following elements is a part of the P block of the periodic table?

- Ans
- 1. Hydrogen
 - 2. Oxygen
 - 3. Rhodium
 - 4. Silver

Question ID : 264330191933
Option 1 ID : 264330751089
Option 2 ID : 264330751088
Option 3 ID : 264330751087
Option 4 ID : 264330751086
Status : Answered
Chosen Option : 1

Q.15 As of October 2023, who is the central vigilance commissioner of India?

- Ans
- 1. H. J. Dora
 - 2. Suresh N Patel
 - 3. Pradeep Kumar
 - 4. Praveen Kumar Srivastava

Question ID : 264330191209
Option 1 ID : 264330748193
Option 2 ID : 264330748191
Option 3 ID : 264330748192
Option 4 ID : 264330748190
Status : Answered
Chosen Option : 4

Q.16 A handball team consists of _____ players.

- Ans
- 1. 4
 - 2. 6
 - 3. 7
 - 4. 5

Question ID : 264330188828
Option 1 ID : 264330739114
Option 2 ID : 264330739116
Option 3 ID : 264330739117
Option 4 ID : 264330739115
Status : Answered
Chosen Option : 2

Q.17 Prime Minister Narendra Modi inaugurated the National Sickle Cell Anemia Elimination Mission 2047 in Lalpur village of _____ (July 2023).

- Ans
- 1. Bihar
 - 2. Uttar Pradesh
 - 3. Himachal Pradesh
 - 4. Madhya Pradesh

Question ID : 264330190909
Option 1 ID : 264330746992
Option 2 ID : 264330746990
Option 3 ID : 264330746991
Option 4 ID : 264330746993
Status : Not Answered
Chosen Option : --

Q.18 Which team won the Sultan of Johor Cup 2023?

- Ans
- 1. India
 - 2. Germany
 - 3. Pakistan
 - 4. Australia

Question ID : 264330188667
Option 1 ID : 264330738471
Option 2 ID : 264330738472
Option 3 ID : 264330738470
Option 4 ID : 264330738473
Status : Not Answered
Chosen Option : --

Q.19 Who established India's first girl's school?

- Ans
- 1. Vijay Lakshmi Pandit
 - 2. Savitribai Phule
 - 3. Usha Mehta
 - 4. Sarojini Naidu

Question ID : 264330191997
Option 1 ID : 264330751344
Option 2 ID : 264330751342
Option 3 ID : 264330751343
Option 4 ID : 264330751345
Status : Answered
Chosen Option : 2

Q.20 This legendary Kathak dancer, known for his innovative and modern approach to the dance form, is often referred to as the "Emperor of Kathak." Who is he?

- Ans
- 1. Balasaraswati
 - 2. Uday Shankar
 - 3. Birju Maharaj
 - 4. Kelucharan Mohapatra

Question ID : 264330191711
Option 1 ID : 264330750199
Option 2 ID : 264330750198
Option 3 ID : 264330750200
Option 4 ID : 264330750201
Status : Answered
Chosen Option : 3

Section : Part-C-Elementary Mathematics

Q.1 The cost of manufacture of a tape recorder is ₹ 3500. The manufacturer fixes the marked price 30% above the cost price and allows a discount in such as to get a profit of 5%. Find the discount percentage.

- Ans
- 1. 17.5%
 - 2. 19.23%
 - 3. 21.15%
 - 4. 15.14%

Question ID : 264330191158
Option 1 ID : 264330747989
Option 2 ID : 264330747986
Option 3 ID : 264330747988
Option 4 ID : 264330747987
Status : Not Answered
Chosen Option : --

Q.2 Average of 9 consecutive natural numbers is 51. What is the smallest number among these numbers?

- Ans 1. 47
 2. 53
 3. 49
 4. 67

Question ID : 264330191132
Option 1 ID : 264330747882
Option 2 ID : 264330747885
Option 3 ID : 264330747884
Option 4 ID : 264330747883
Status : Answered
Chosen Option : 2

Q.3 What is the smallest perfect square which is divisible by both 12 and 5?

- Ans 1. 4900
 2. 3600
 3. 900
 4. 2500

Question ID : 264330191630
Option 1 ID : 264330749877
Option 2 ID : 264330749875
Option 3 ID : 264330749876
Option 4 ID : 264330749874
Status : Answered
Chosen Option : 2

Q.4 32 kg of sugar costing Rs. 24 per kg is mixed with 24 kg of sugar costing Rs. 31 per kg. What is the cost of the mixture?

- Ans 1. Rs. 26/ kg
 2. Rs. 27/ kg
 3. Rs. 29/ kg
 4. Rs. 31/ kg

Question ID : 264330187703
Option 1 ID : 264330734740
Option 2 ID : 264330734741
Option 3 ID : 264330734742
Option 4 ID : 264330734743
Status : Not Answered
Chosen Option : --

Q.5 The length of the longest rod that can be placed in a cubical room is $50\sqrt{3}$ cm. What is the volume of the cube?

- Ans
- 1. 125000 cm^3
 - 2. 250000 cm^3
 - 3. 175000 cm^3
 - 4. 300000 cm^3

Question ID : 264330187718
Option 1 ID : 264330734803
Option 2 ID : 264330734801
Option 3 ID : 264330734802
Option 4 ID : 264330734800
Status : Answered
Chosen Option : 4

Q.6 What is the value of $\left(\frac{133}{7} + \frac{91}{13} - \frac{216}{36}\right) + \left(\frac{209}{11} - \frac{96}{16} + \frac{45}{5}\right)$?

- Ans
- 1. 42
 - 2. 52
 - 3. 32
 - 4. 72

Question ID : 264330187280
Option 1 ID : 264330733048
Option 2 ID : 264330733049
Option 3 ID : 264330733050
Option 4 ID : 264330733051
Status : Not Answered
Chosen Option : --

Q.7 Ankit sells a chair at a loss of 25 percent. If he sells it for Rs. 900 more, then he earns a profit of 5 percent. What should be the selling price of the chair to earn a profit of 40 percent?

- Ans
- 1. Rs. 4000
 - 2. Rs. 4800
 - 3. Rs. 4200
 - 4. Rs. 4500

Question ID : 264330187628
Option 1 ID : 264330734440
Option 2 ID : 264330734442
Option 3 ID : 264330734443
Option 4 ID : 264330734441
Status : Not Answered
Chosen Option : --

Q.8 Four numbers are in the ratio of 7 : 8 : 9 : 10. Sum of these number is 68. What will be the sum of the first and fourth number?

- Ans**
- 1. 36
 - 2. 38
 - 3. 68
 - 4. 34

Question ID : 264330191640
Option 1 ID : 264330749917
Option 2 ID : 264330749916
Option 3 ID : 264330749914
Option 4 ID : 264330749915
Status : Answered
Chosen Option : 4

Q.9 The product of the two numbers is 4107. If the HCF of these numbers is 37, then find the greater number.

- Ans**
- 1. 111
 - 2. 80
 - 3. 74
 - 4. 94

Question ID : 264330191149
Option 1 ID : 264330747951
Option 2 ID : 264330747953
Option 3 ID : 264330747950
Option 4 ID : 264330747952
Status : Answered
Chosen Option : 1

Q.10 A man travelled four equal distances of 7 km at the speeds of 8 km/hr, 16 km/hr, 24 km/hr and 32 km/hr respectively. What is his average speed?

- Ans**
- 1. $374/25$ km/hr
 - 2. $396/25$ km/hr
 - 3. $384/25$ km/hr
 - 4. $352/25$ km/hr

Question ID : 264330187955
Option 1 ID : 264330735751
Option 2 ID : 264330735749
Option 3 ID : 264330735748
Option 4 ID : 264330735750
Status : Not Answered
Chosen Option : --

Q.11 By selling an article for ₹ 2352, one gains ₹ 752. What is the gain percent?

- Ans
- 1. 41%
 - 2. 35%
 - 3. 33%
 - 4. 47%

Question ID : 264330188422
Option 1 ID : 264330737559
Option 2 ID : 264330737558
Option 3 ID : 264330737556
Option 4 ID : 264330737557
Status : Answered
Chosen Option : 2

Q.12 The difference between the compound interest (compounding annually) and simple interest on a sum at the rate of 50 percent per annum for 2 years is Rs. 7200. What is the sum?

- Ans
- 1. Rs. 28500
 - 2. Rs. 28800
 - 3. Rs. 25700
 - 4. Rs. 24900

Question ID : 264330187314
Option 1 ID : 264330733184
Option 2 ID : 264330733187
Option 3 ID : 264330733186
Option 4 ID : 264330733185
Status : Not Answered
Chosen Option : --

Q.13 Raj is 20 percent less efficient than Rahul. If Rahul can make a computer in 20 days, then Raj can make the same computer in how many days?

- Ans
- 1. 25 days
 - 2. 30 days
 - 3. 35 days
 - 4. 27 days

Question ID : 264330187497
Option 1 ID : 264330733918
Option 2 ID : 264330733917
Option 3 ID : 264330733916
Option 4 ID : 264330733919
Status : Not Answered
Chosen Option : --

Q.14 C and D together can complete a work in 40 days. C is 40 percent more efficient than D. C alone can complete the same work in how many days?

- Ans**
- 1. 470/7 days
 - 2. 460/9 days
 - 3. 480/7 days
 - 4. 480/11 days

Question ID : 264330187636
Option 1 ID : 264330734474
Option 2 ID : 264330734475
Option 3 ID : 264330734472
Option 4 ID : 264330734473
Status : Not Answered
Chosen Option : --

Q.15 If the sum of two quantities is equal to six times their difference, then find the ratio of the two quantities.

- Ans**
- 1. 3: 7
 - 2. 7: 5
 - 3. 4: 9
 - 4. 5: 2

Question ID : 264330191681
Option 1 ID : 264330750080
Option 2 ID : 264330750078
Option 3 ID : 264330750081
Option 4 ID : 264330750079
Status : Answered
Chosen Option : 2

Q.16 If price of papaya is increased by 40 percent, then by what percentage consumption of papaya should be decreased so that the expenditure incurred on papaya gets decreased by 10 percent?

- Ans**
- 1. 35.7 percent
 - 2. 32.7 percent
 - 3. 38.7 percent
 - 4. 36.7 percent

Question ID : 264330187206
Option 1 ID : 264330732753
Option 2 ID : 264330732752
Option 3 ID : 264330732755
Option 4 ID : 264330732754
Status : Not Answered
Chosen Option : --

Q.17

What is the value of $\frac{512}{8} \times \left(\frac{2401}{49} - \frac{88}{11} \right) + \frac{2197}{169}$?

- Ans
- 1. 2647
 - 2. 2637
 - 3. 2537
 - 4. 2547

Question ID : 264330187200

Option 1 ID : 264330732728

Option 2 ID : 264330732731

Option 3 ID : 264330732730

Option 4 ID : 264330732729

Status : Answered

Chosen Option : 1

Q.18 If the ratio of marked price and selling price of an article is 3 : 2, then what is the discount percentage?

- Ans
- 1. 50 percent
 - 2. 33.33 percent
 - 3. 100 percent
 - 4. 75 percent

Question ID : 264330188562

Option 1 ID : 264330738052

Option 2 ID : 264330738051

Option 3 ID : 264330738053

Option 4 ID : 264330738050

Status : Answered

Chosen Option : 2

Q.19 If 63 percent of $v = 36$ percent of 238, then what is the value of v ?

- Ans
- 1. 116
 - 2. 136
 - 3. 126
 - 4. 146

Question ID : 264330187465

Option 1 ID : 264330733788

Option 2 ID : 264330733790

Option 3 ID : 264330733789

Option 4 ID : 264330733791

Status : Answered

Chosen Option : 2

Q.20 Simple interest on a sum for 5 years is equal to 25 percent of the principal. In how many years interest will be equal to the principal?

- Ans**
- 1. 18 years
 - 2. 16 years
 - 3. 25 years
 - 4. 20 years

Question ID : 264330188546

Option 1 ID : 264330737987

Option 2 ID : 264330737986

Option 3 ID : 264330737989

Option 4 ID : 264330737988

Status : Answered

Chosen Option : 4

Section : Part-D-English

Q.1 Select the most appropriate word to fill in the blank.

A _____ table discussion took place between the heads of states.

- Ans**
- 1. rounded
 - 2. centre
 - 3. round
 - 4. circle

Question ID : 264330185944

Option 1 ID : 264330728080

Option 2 ID : 264330728081

Option 3 ID : 264330728082

Option 4 ID : 264330728083

Status : Answered

Chosen Option : 3

Q.2 Choose the word that is opposite in meaning to the given word.

Plea

- Ans**
- 1. Answer
 - 2. Pure
 - 3. Appeal
 - 4. Suit

Question ID : 264330186689

Option 1 ID : 264330730917

Option 2 ID : 264330730916

Option 3 ID : 264330730918

Option 4 ID : 264330730919

Status : Not Answered

Chosen Option : --

Q.3 Choose the most appropriate antonym of the underlined word.

Google wants to make sure that the information it suggests is **authentic** and comes from the experts in that niche.

- Ans
- 1. Accurate
 - 2. Factual
 - 3. Corrupt
 - 4. Pure

Question ID : 264330185912
Option 1 ID : 264330727958
Option 2 ID : 264330727957
Option 3 ID : 264330727956
Option 4 ID : 264330727959
Status : Answered
Chosen Option : 3

Q.4 Choose the idiom/phrase that can substitute the highlighted group of words meaningfully.

She is **listening with full attention** whenever there is a mention of her favourite hero.

- Ans
- 1. Break a leg
 - 2. Beat around the bush
 - 3. Run out of steam
 - 4. All ears

Question ID : 264330186230
Option 1 ID : 264330729169
Option 2 ID : 264330729170
Option 3 ID : 264330729171
Option 4 ID : 264330729168
Status : Answered
Chosen Option : 4

Q.5 Choose the word that means the same as the given word.

Fascinate

- Ans
- 1. Inspire
 - 2. Entice
 - 3. Insure
 - 4. Impel

Question ID : 264330186289
Option 1 ID : 264330729393
Option 2 ID : 264330729392
Option 3 ID : 264330729394
Option 4 ID : 264330729395
Status : Answered
Chosen Option : 1

Q.6 Select the incorrectly spelt word from the given sentence.

At this important junctur, we asked several experts from different fields what their burning question about the coronavirus is.

- Ans**
- 1. junctur
 - 2. question
 - 3. burning
 - 4. fields

Question ID : 264330185621
 Option 1 ID : 264330726848
 Option 2 ID : 264330726850
 Option 3 ID : 264330726851
 Option 4 ID : 264330726849
 Status : Answered
 Chosen Option : 1

Q.7 Four sentences are given, out of which three have all correct spellings. Choose the sentence with the incorrect spelt word/ words.

- Ans**
- 1. His life had reduced itself to the functions of weaving and hoarding, without any contemplation of an end toward which the functions tended.
 - 2. I knew he would take an interest in this kind of business, and throw in the fancy touches.
 - 3. I resisted all the way; a circumstance which grately strengthend the bad opinion Bessie and Miss Abbot were disposed to entertain of me.
 - 4. When Abe's car pulled up ahead of them the east was crayoned red and yellow, promising a sultry day.

Question ID : 264330186967
 Option 1 ID : 264330731978
 Option 2 ID : 264330731977
 Option 3 ID : 264330731976
 Option 4 ID : 264330731979
 Status : Answered
 Chosen Option : 4

Q.8 Find the part of the given sentence that has an error in it. If there is no error, choose 'No error'.

The team didn't noticed any side effects in their vaccinated mice.

- Ans**
- 1. No error
 - 2. The team didn't noticed
 - 3. any side effects
 - 4. in their vaccinated mice.

Question ID : 264330185603
 Option 1 ID : 264330726783
 Option 2 ID : 264330726780
 Option 3 ID : 264330726781
 Option 4 ID : 264330726782
 Status : Answered
 Chosen Option : 1

Q.9 What does the idiom "barking up the wrong tree" mean?

Ans 1.

Pursuing the wrong course of action or making a mistaken assumption

2.

Having something that is certain is much better than taking a risk for more, because chances are you might lose everything.

3. Something good that isn't recognized at first.

4. Being upset for something that happened in the past.

Question ID : 264330186397

Option 1 ID : 264330729807

Option 2 ID : 264330729804

Option 3 ID : 264330729805

Option 4 ID : 264330729806

Status : Answered

Chosen Option : 1

Q.10 Fill in the blank with the most appropriate option.

The reaction came when he realized the waste and extravagance _____.

Ans 1. participated

2. involved

3. hooked

4. caught

Question ID : 264330186954

Option 1 ID : 264330731930

Option 2 ID : 264330731928

Option 3 ID : 264330731931

Option 4 ID : 264330731929

Status : Answered

Chosen Option : 2

Q.11 Fill in the blank with the most appropriate option.

The _____ are broken now, it seems they won't reunite.

Ans 1. core

2. cords

3. cored

4. chords

Question ID : 264330186905

Option 1 ID : 264330731741

Option 2 ID : 264330731740

Option 3 ID : 264330731743

Option 4 ID : 264330731742

Status : Answered

Chosen Option : 4

Q.12 Find the part of the given sentence that has an error in it. If there is no error, choose 'No error'.

Hina is a best girl and knows how to manage everything.

- Ans**
- 1. Hina is a best girl
 - 2. and knows how
 - 3. to manage everything
 - 4. No error

Question ID : 264330186676
Option 1 ID : 264330730868
Option 2 ID : 264330730869
Option 3 ID : 264330730870
Option 4 ID : 264330730871
Status : Answered
Chosen Option : 1

Q.13 Find the part of the given sentence that has an error in it. If there is no error, choose 'No error'.

The circumstances surrounding many custody disputes had have changed drastically in the past week.

- Ans**
- 1. drastically in the past week.
 - 2. The circumstances surrounding many
 - 3. custody disputes had have changed
 - 4. No error

Question ID : 264330186719
Option 1 ID : 264330731034
Option 2 ID : 264330731032
Option 3 ID : 264330731033
Option 4 ID : 264330731035
Status : Answered
Chosen Option : 3

Q.14 Select the most appropriate word to fill in the blank.

My best friend always _____ to me and is so non-judgmental.

- Ans**
- 1. listener
 - 2. listening
 - 3. listen
 - 4. listens

Question ID : 264330186176
Option 1 ID : 264330728967
Option 2 ID : 264330728965
Option 3 ID : 264330728964
Option 4 ID : 264330728966
Status : Answered
Chosen Option : 4

Q.15 Replace the bracketed word with one of the given options, which suitably replaces the word without changing the meaning of the sentence:

As with all new technologies, costs are expected to fall as the products become more (ubiquitous).

Ans ✓ 1. pervasive

✗ 2. elusive

✗ 3. limited

✗ 4. scarce

Question ID : 264330186406

Option 1 ID : 264330729841

Option 2 ID : 264330729842

Option 3 ID : 264330729840

Option 4 ID : 264330729843

Status : Answered

Chosen Option : 1

Comprehension:

In the following passage some of the words have been left out. Read the passage carefully and select the correct answer for the given blank out of the four alternatives.

Since so much of our lives are digital today, such spyware attacks are (1) _____ malicious and disruptive. This is precisely why there is a (2) _____ need for strong data protection and privacy architectures across the world. In fact, data protection and privacy (3) _____ to be recognised as core, non-negotiable values. The Supreme Court in India has recognised privacy as a fundamental right. (4) _____ the government's personal data protection bill introduced in Parliament leaves (5) _____ to be desired.

SubQuestion No : 16

Q.16 Select the most appropriate option for blank(1)

Ans ✗ 1. largely

✗ 2. mainly

✗ 3. usually

✓ 4. highly

Question ID : 264330186788

Option 1 ID : 264330731292

Option 2 ID : 264330731294

Option 3 ID : 264330731295

Option 4 ID : 264330731293

Status : Answered

Chosen Option : 1

Comprehension:

In the following passage some of the words have been left out. Read the passage carefully and select the correct answer for the given blank out of the four alternatives.

Since so much of our lives are digital today, such spyware attacks are (1) _____ malicious and disruptive. This is precisely why there is a (2) _____ need for strong data protection and privacy architectures across the world. In fact, data protection and privacy (3) _____ to be recognised as core, non-negotiable values. The Supreme Court in India has recognised privacy as a fundamental right. (4) _____ the government's personal data protection bill introduced in Parliament leaves (5) _____ to be desired.

SubQuestion No : 17

Q.17 Select the most appropriate option for blank(2)

- Ans 1. highly
 2. great
 3. big
 4. largely

Question ID : 264330186789

Option 1 ID : 264330731299

Option 2 ID : 264330731298

Option 3 ID : 264330731296

Option 4 ID : 264330731297

Status : Answered

Chosen Option : 2

Comprehension:

In the following passage some of the words have been left out. Read the passage carefully and select the correct answer for the given blank out of the four alternatives.

Since so much of our lives are digital today, such spyware attacks are (1) _____ malicious and disruptive. This is precisely why there is a (2) _____ need for strong data protection and privacy architectures across the world. In fact, data protection and privacy (3) _____ to be recognised as core, non-negotiable values. The Supreme Court in India has recognised privacy as a fundamental right. (4) _____ the government's personal data protection bill introduced in Parliament leaves (5) _____ to be desired.

SubQuestion No : 18

Q.18 Select the most appropriate option for blank(3)

- Ans 1. want
 2. wants
 3. needs
 4. need

Question ID : 264330186790

Option 1 ID : 264330731302

Option 2 ID : 264330731303

Option 3 ID : 264330731300

Option 4 ID : 264330731301

Status : Answered

Chosen Option : 3

Comprehension:

In the following passage some of the words have been left out. Read the passage carefully and select the correct answer for the given blank out of the four alternatives.

Since so much of our lives are digital today, such spyware attacks are (1) _____ malicious and disruptive. This is precisely why there is a (2) _____ need for strong data protection and privacy architectures across the world. In fact, data protection and privacy (3) _____ to be recognised as core, non-negotiable values. The Supreme Court in India has recognised privacy as a fundamental right. (4) _____ the government's personal data protection bill introduced in Parliament leaves (5) _____ to be desired.

SubQuestion No : 19

Q.19 Select the most appropriate option for blank(4)

Ans 1. Yet

2. Through

3. Such

4. So

Question ID : 264330186791

Option 1 ID : 264330731304

Option 2 ID : 264330731306

Option 3 ID : 264330731305

Option 4 ID : 264330731307

Status : Answered

Chosen Option : 4

Comprehension:

In the following passage some of the words have been left out. Read the passage carefully and select the correct answer for the given blank out of the four alternatives.

Since so much of our lives are digital today, such spyware attacks are (1) _____ malicious and disruptive. This is precisely why there is a (2) _____ need for strong data protection and privacy architectures across the world. In fact, data protection and privacy (3) _____ to be recognised as core, non-negotiable values. The Supreme Court in India has recognised privacy as a fundamental right. (4) _____ the government's personal data protection bill introduced in Parliament leaves (5) _____ to be desired.

SubQuestion No : 20

Q.20 Select the most appropriate option for blank(5)

Ans 1. a lot

2. so

3. might

4. very

Question ID : 264330186792

Option 1 ID : 264330731311

Option 2 ID : 264330731310

Option 3 ID : 264330731308

Option 4 ID : 264330731309

Status : Answered

Chosen Option : 1

Q.1 निम्नलिखित प्रश्न में, चार विकल्पों में से, उस विकल्प का चयन करें जो कोष्ठक में दिए गए शब्द के तद्वत रूप का सही विकल्प है।
मैंने उस चीज़ को (अदर्श) _____ प्राप्त करने की सोचा था लेकिन नहीं मिला।

- Ans 1. आधा
 2. थोड़ा
 3. कम
 4. पूरा

Question ID : 264330189770
 Option 1 ID : 264330742722
 Option 2 ID : 264330742724
 Option 3 ID : 264330742725
 Option 4 ID : 264330742723
 Status : Not Answered
 Chosen Option : --

Q.2 दिए गए वाक्य में रेखांकित शब्दों के लिए सही शब्दों वाले विकल्प का चयन करें।
उसने एक मोती का हार खरीदा।

- Ans 1. उसने एक मोती का एक हार खरीदी।
 2. उसने मोतियों का एक हार खरीदा।
 3. उसने एक मोतियों का एक हार खरीदी।
 4. परिवर्तन की आवश्यकता नहीं है।

Question ID : 264330188122
 Option 1 ID : 264330736412
 Option 2 ID : 264330736414
 Option 3 ID : 264330736413
 Option 4 ID : 264330736415
 Status : Not Answered
 Chosen Option : --

Q.3 दिए गए वाक्य का वह भाग ज्ञात करें, जिसमें कोई त्रुटि है। यदि कोई त्रुटि नहीं है, तो 'कोई त्रुटि नहीं है' चुनें।
समाज की जितनी दुर्गति पहले कभी नहीं हुई।

- Ans 1. जितनी दुर्गति पहले
 2. कभी नहीं हुई।
 3. कोई त्रुटि नहीं है
 4. समाज की

Question ID : 264330192808
 Option 1 ID : 264330754587
 Option 2 ID : 264330754588
 Option 3 ID : 264330754589
 Option 4 ID : 264330754586
 Status : Not Answered
 Chosen Option : --

Q.4 दिए गए वाक्य का वह भाग ज्ञात करें, जिसमें कोई त्रुटि है।

मुझे बताओ कि विश्वनाथ और आनंद में सबसे तेज कौन है?

- Ans
- 1. में सबसे
 - 2. विश्वनाथ और आनंद
 - 3. मुझे बताओ कि
 - 4. तेज कौन है

Question ID : 264330188247

Option 1 ID : 264330736890

Option 2 ID : 264330736889

Option 3 ID : 264330736888

Option 4 ID : 264330736891

Status : Not Answered

Chosen Option : --

Q.5 निम्नलिखित प्रश्न में, चार विकल्पों में से, उस सही विकल्प का चयन करें जो वाक्यांश के लिए एक शब्द का विकल्प हो।

जो बहुत क्रूर व्यवहार करता हो

- Ans
- 1. आक्रांत
 - 2. आश्वस्त
 - 3. आततायी
 - 4. आचारपूत

Question ID : 264330188381

Option 1 ID : 264330737398

Option 2 ID : 264330737396

Option 3 ID : 264330737399

Option 4 ID : 264330737397

Status : Not Answered

Chosen Option : --

Q.6 दिए गए वाक्य में रेखांकित शब्द के लिए सही वर्तनी ज्ञात कीजिए।

वह आपकी बात आवश्य सुनेंगे।

- Ans
- 1. अवशाय
 - 2. अवश्य
 - 3. अवाश्य
 - 4. अवशय

Question ID : 264330188179

Option 1 ID : 264330736629

Option 2 ID : 264330736631

Option 3 ID : 264330736628

Option 4 ID : 264330736630

Status : Not Answered

Chosen Option : --

Q.7 दिए गए वाक्य में रेखांकित शब्द का विलोम शब्द ज्ञात कीजिए।

सूर्य अस्त होते ही पक्षी चहचहाने लगते हैं।

- Ans
- 1. उदय
 - 2. संतोष
 - 3. ढल
 - 4. सहित

Question ID : 264330188302
 Option 1 ID : 264330737096
 Option 2 ID : 264330737099
 Option 3 ID : 264330737097
 Option 4 ID : 264330737098
 Status : Not Answered
 Chosen Option : --

Q.8 निम्नलिखित प्रश्न में, दिए गए चार विकल्पों में से, उस विकल्प का चयन करें जो दिए गए मुहावरे के अर्थ को सर्वश्रेष्ठ रूप से व्यक्त करता है।

लक्ष्मण की भ्रातृ-भक्ति

- Ans
- 1. अत्यंत प्रिय होना
 - 2. अच्छा होने का दिखावा करना
 - 3. भाई की निःस्वार्थ सेवा
 - 4. भाई की खुशामद करना

Question ID : 264330189494
 Option 1 ID : 264330741670
 Option 2 ID : 264330741673
 Option 3 ID : 264330741672
 Option 4 ID : 264330741671
 Status : Not Answered
 Chosen Option : --

Q.9 निम्नलिखित प्रश्न में, चार विकल्पों में से, उस विकल्प का चयन करें जो दिए गए मुहावरे का सही अर्थ वाला विकल्प है।

अँगारे बरसना

- Ans
- 1. अत्यधिक गर्मी पड़ना
 - 2. बेकार में गुस्सा होना
 - 3. जलाना
 - 4. आग उगलना

Question ID : 264330189787
 Option 1 ID : 264330742787
 Option 2 ID : 264330742789
 Option 3 ID : 264330742786
 Option 4 ID : 264330742788
 Status : Not Answered
 Chosen Option : --

Q.10 निम्नलिखित प्रश्न में, चार विकल्पों में से, उस विकल्प का चयन करें जो कोष्ठक में दिए गए शब्द के तत्सम रूप का सही विकल्प है।
रोज़ सुबह-सवेरे जल्दी (उठ) _____ जाना सेहत के लिए लाभदायक होता है।

- Ans
- 1. उच्छ्वास
 - 2. उच्च
 - 3. उत्तिष्ठ
 - 4. उत्पघते

Question ID : 264330188350
Option 1 ID : 264330737281
Option 2 ID : 264330737283
Option 3 ID : 264330737280
Option 4 ID : 264330737282
Status : Not Answered
Chosen Option : --

Q.11 दिए गए शब्द का पर्यायवाची ज्ञात कीजिए।

गजानन

- Ans
- 1. इंद्र
 - 2. विष्णु
 - 3. गणेश
 - 4. शिव

Question ID : 264330188236
Option 1 ID : 264330736847
Option 2 ID : 264330736846
Option 3 ID : 264330736844
Option 4 ID : 264330736845
Status : Not Answered
Chosen Option : --

Q.12 निम्नलिखित प्रश्न में, चार विकल्पों में से, उस विकल्प का चयन करें जो कोष्ठक में दिए गए शब्द के विलोम शब्द का सही विकल्प है।
ठंड का मौसम सभी के (अनुकूल) _____ नहीं होता।

- Ans
- 1. अपेक्षित
 - 2. अनुसार
 - 3. प्रतिकूल
 - 4. आसान

Question ID : 264330189869
Option 1 ID : 264330743101
Option 2 ID : 264330743099
Option 3 ID : 264330743098
Option 4 ID : 264330743100
Status : Not Answered
Chosen Option : --

Q.13 निम्नलिखित प्रश्न में, चार विकल्पों में से, उस विकल्प का चयन करें जो कोष्ठक में दिए गए शब्द के पर्यायवाची शब्द का सही विकल्प है।
आज भी गाँवों में लोगों के घरों में (खूँटी) _____ बनी हुई दिखाई देती है।

- Ans
- 1. रंज
 - 2. नीरव
 - 3. मेख
 - 4. छूछा

Question ID : 264330188342
Option 1 ID : 264330737251
Option 2 ID : 264330737250
Option 3 ID : 264330737248
Option 4 ID : 264330737249
Status : Not Answered
Chosen Option : --

Q.14 निम्नलिखित प्रश्न में, चार विकल्पों में से, उस सही विकल्प का चयन करें जो वाक्यांशों के लिए एक शब्द का विकल्प हो।
दूसरे के अन्दर की गहराई ताड़नेवाला

- Ans
- 1. अपसव्य
 - 2. उपदिशा
 - 3. अन्तर्यामी
 - 4. अन्तर्दर्शी

Question ID : 264330189676
Option 1 ID : 264330742364
Option 2 ID : 264330742365
Option 3 ID : 264330742362
Option 4 ID : 264330742363
Status : Not Answered
Chosen Option : --

Q.15 दिए गए वाक्य में रेखांकित शब्द के लिए सही वर्तनी ज्ञात कीजिए।

तुम्हारी बात का मलतब मैं समझा नहीं।

- Ans
- 1. मबतल
 - 2. मलबत
 - 3. मलतुब
 - 4. मतलब

Question ID : 264330189979
Option 1 ID : 264330743518
Option 2 ID : 264330743520
Option 3 ID : 264330743519
Option 4 ID : 264330743521
Status : Not Answered
Chosen Option : --

Comprehension:

नीचे दिए गये गद्यांश में कुछ शब्द छोड़ दिये गए हैं, प्रत्येक अनुच्छेद के सामने चार विकल्प दिये गए हैं। इस गद्यांश को ध्यानपूर्वक पढ़ें और चार विकल्पों में से सर्वोत्तम उत्तर वाला विकल्प चुनें।
हमारे देश की यही _____ है, कि यहां त्योहारों पर भरपूर आनंद मिलता है तथा त्योहारों के अवसर पर मेले को देखने से भी मनोरंजन प्राप्त होता है। मेलों में ज्यादा से ज्यादा लोग मेला देखने के लिए जाते हैं। मेला हमारे जीवन में बहुत खुशी और _____ ले कर आता है। मेलों की _____ बच्चे हों या बड़े सभी के चेहरे पर देखने को मिलती है। हमारे यहां पर सभी लोग अपने परिवार जनों के साथ जब मेला देखने जाते हैं, तो बहुत ही खुशी का अनुभव करते हैं, क्योंकि मेलों में विभिन्न तरह के खेलों का _____ किया जाता है। मेलों में विभिन्न तरह के कार्यक्रम भी आयोजित किए जाते हैं। मेलों में मन को लुभाने वाले बहुत से मनोरंजन वाले दृश्य इनमें देखने को मिलते हैं। आज हर मनुष्य अपने कार्यों में व्यस्त रहता है। इन सभी के लिए तथा मनुष्य की थकान को दूर करने के लिए मनुष्य मेलों में जाकर अपनी _____ को दूर कर सकता है।

SubQuestion No : 16

Q.16 हमारे देश की यही _____ है, कि यहां त्योहारों पर भरपूर आनंद मिलता है।

- Ans
- 1. दिखावा
 - 2. आयोजन
 - 3. विशेषता
 - 4. प्रशंसा

Question ID : 264330189524

Option 1 ID : 264330741782

Option 2 ID : 264330741785

Option 3 ID : 264330741784

Option 4 ID : 264330741783

Status : Not Answered

Chosen Option : --

Comprehension:

नीचे दिए गये गद्यांश में कुछ शब्द छोड़ दिये गए हैं, प्रत्येक अनुच्छेद के सामने चार विकल्प दिये गए हैं। इस गद्यांश को ध्यानपूर्वक पढ़ें और चार विकल्पों में से सर्वोत्तम उत्तर वाला विकल्प चुनें।
हमारे देश की यही _____ है, कि यहां त्योहारों पर भरपूर आनंद मिलता है तथा त्योहारों के अवसर पर मेले को देखने से भी मनोरंजन प्राप्त होता है। मेलों में ज्यादा से ज्यादा लोग मेला देखने के लिए जाते हैं। मेला हमारे जीवन में बहुत खुशी और _____ ले कर आता है। मेलों की _____ बच्चे हों या बड़े सभी के चेहरे पर देखने को मिलती है। हमारे यहां पर सभी लोग अपने परिवार जनों के साथ जब मेला देखने जाते हैं, तो बहुत ही खुशी का अनुभव करते हैं, क्योंकि मेलों में विभिन्न तरह के खेलों का _____ किया जाता है। मेलों में विभिन्न तरह के कार्यक्रम भी आयोजित किए जाते हैं। मेलों में मन को लुभाने वाले बहुत से मनोरंजन वाले दृश्य इनमें देखने को मिलते हैं। आज हर मनुष्य अपने कार्यों में व्यस्त रहता है। इन सभी के लिए तथा मनुष्य की थकान को दूर करने के लिए मनुष्य मेलों में जाकर अपनी _____ को दूर कर सकता है।

SubQuestion No : 17

Q.17 मेला हमारे जीवन में बहुत खुशी और _____ ले कर आता है।

- Ans
- 1. स्वार्थ
 - 2. आनंद
 - 3. उपहास
 - 4. दुःख

Question ID : 264330189525

Option 1 ID : 264330741788

Option 2 ID : 264330741787

Option 3 ID : 264330741789

Option 4 ID : 264330741786

Status : Not Answered

Chosen Option : --

Comprehension:

नीचे दिए गये गद्यांश में कुछ शब्द छोड़ दिये गए हैं, प्रत्येक अनुच्छेद के सामने चार विकल्प दिये गए हैं। इस गद्यांश को ध्यानपूर्वक पढ़ें और चार विकल्पों में से सर्वोत्तम उत्तर वाला विकल्प चुनें। हमारे देश की यही _____ है, कि यहां त्योहारों पर भरपूर आनंद मिलता है तथा त्योहारों के अवसर पर मेले को देखने से भी मनोरंजन प्राप्त होता है। मेलों में ज्यादा से ज्यादा लोग मेला देखने के लिए जाते हैं। मेला हमारे जीवन में बहुत खुशी और _____ ले कर आता है। मेलों की _____ बच्चे हों या बड़े सभी के चेहरे पर देखने को मिलती है। हमारे यहां पर सभी लोग अपने परिवार जनों के साथ जब मेला देखने जाते हैं, तो बहुत ही खुशी का अनुभव करते हैं, क्योंकि मेलों में विभिन्न तरह के खेलों का _____ किया जाता है। मेलों में विभिन्न तरह के कार्यक्रम भी आयोजित किए जाते हैं। मेलों में मन को लुभाने वाले बहुत से मनोरंजन वाले दृश्य इनमें देखने को मिलते हैं। आज हर मनुष्य अपने कार्यों में व्यस्त रहता है। इन सभी के लिए तथा मनुष्य की थकान को दूर करने के लिए मनुष्य मेलों में जाकर अपनी _____ को दूर कर सकता है।

SubQuestion No : 18

Q.18 मेलों की _____ बच्चे हों या बड़े सभी के चेहरे पर देखने को मिलती है।

- Ans
- 1. रौनक
 - 2. आपाधापी
 - 3. व्यवस्थाएँ
 - 4. भागदौड़

Question ID : 264330189526

Option 1 ID : 264330741790

Option 2 ID : 264330741792

Option 3 ID : 264330741793

Option 4 ID : 264330741791

Status : Not Answered

Chosen Option : --

Comprehension:

नीचे दिए गये गद्यांश में कुछ शब्द छोड़ दिये गए हैं, प्रत्येक अनुच्छेद के सामने चार विकल्प दिये गए हैं। इस गद्यांश को ध्यानपूर्वक पढ़ें और चार विकल्पों में से सर्वोत्तम उत्तर वाला विकल्प चुनें। हमारे देश की यही _____ है, कि यहां त्योहारों पर भरपूर आनंद मिलता है तथा त्योहारों के अवसर पर मेले को देखने से भी मनोरंजन प्राप्त होता है। मेलों में ज्यादा से ज्यादा लोग मेला देखने के लिए जाते हैं। मेला हमारे जीवन में बहुत खुशी और _____ ले कर आता है। मेलों की _____ बच्चे हों या बड़े सभी के चेहरे पर देखने को मिलती है। हमारे यहां पर सभी लोग अपने परिवार जनों के साथ जब मेला देखने जाते हैं, तो बहुत ही खुशी का अनुभव करते हैं, क्योंकि मेलों में विभिन्न तरह के खेलों का _____ किया जाता है। मेलों में विभिन्न तरह के कार्यक्रम भी आयोजित किए जाते हैं। मेलों में मन को लुभाने वाले बहुत से मनोरंजन वाले दृश्य इनमें देखने को मिलते हैं। आज हर मनुष्य अपने कार्यों में व्यस्त रहता है। इन सभी के लिए तथा मनुष्य की थकान को दूर करने के लिए मनुष्य मेलों में जाकर अपनी _____ को दूर कर सकता है।

SubQuestion No : 19

Q.19 मेलों में विभिन्न तरह के खेलों का _____ किया जाता है।

- Ans
- 1. आयोजन
 - 2. उपयोग
 - 3. प्रयोग
 - 4. आसान

Question ID : 264330189527

Option 1 ID : 264330741797

Option 2 ID : 264330741795

Option 3 ID : 264330741794

Option 4 ID : 264330741796

Status : Not Answered

Chosen Option : --

Comprehension:

नीचे दिए गये गद्यांश में कुछ शब्द छोड़ दिये गए हैं, प्रत्येक अनुच्छेद के सामने चार विकल्प दिये गए हैं। इस गद्यांश को ध्यानपूर्वक पढ़ें और चार विकल्पों में से सर्वोत्तम उत्तर वाला विकल्प चुनें।

हमारे देश की यही _____ है, कि यहां त्योहारों पर भरपूर आनंद मिलता है तथा त्योहारों के अवसर पर मेले को देखने से भी मनोरंजन प्राप्त होता है। मेलों में ज्यादा से ज्यादा लोग मेला देखने के लिए जाते हैं। मेला हमारे जीवन में बहुत खुशी और _____ ले कर आता है। मेलों की _____ बच्चे हों या बड़े सभी के चेहरे पर देखने को मिलती है। हमारे यहां पर सभी लोग अपने परिवार जनों के साथ जब मेला देखने जाते हैं, तो बहुत ही खुशी का अनुभव करते हैं, क्योंकि मेलों में विभिन्न तरह के खेलों का _____ किया जाता है। मेलों में विभिन्न तरह के कार्यक्रम भी आयोजित किए जाते हैं। मेलों में मन को लुभाने वाले बहुत से मनोरंजन वाले दृश्य इनमें देखने को मिलते हैं। आज हर मनुष्य अपने कार्यों में व्यस्त रहता है। इन सभी के लिए तथा मनुष्य की थकान को दूर करने के लिए मनुष्य मेलों में जाकर अपनी _____ को दूर कर सकता है।

SubQuestion No : 20

Q.20 मनुष्य मेलों में जाकर अपनी _____ को दूर कर सकता है।

- Ans
- 1. पहचान
 - 2. थकान
 - 3. परिवार
 - 4. पैसों

Question ID : 264330189528

Option 1 ID : 264330741800

Option 2 ID : 264330741799

Option 3 ID : 264330741801

Option 4 ID : 264330741798

Status : Not Answered

Chosen Option : --