

Constable GD in Central Armed Police Forces CAPFs SSF Rifleman GD in Assam Rifles Examination 2024

Roll Number	
Candidate Name	
Venue Name	
Exam Date	30/03/2024
Exam Time	9:00 AM - 10:00 AM
Subject	Constable GD Examination 2024

Section : Part-A-General Intelligence and Reasoning

Q.1 Select the option that is related to the fifth word in the same way as the fourth word is related to the third word and the second word is related to the first word.

BIHAR : PATNA :: JHARKHAND : RANCHI :: RAJASTHAN : ?

- Ans** 1. UDAIPUR
 2. JAIPUR
 3. JODHPUR
 4. MANIPUR

Question ID : 264330190291

Option 1 ID : 264330744748

Option 2 ID : 264330744746

Option 3 ID : 264330744747

Option 4 ID : 264330744749

Status : Answered

Chosen Option : 2

Q.2 Which of the following numbers will replace the question mark (?) in the given series?

12, 24, 48, 96, 192, ?

- Ans** 1. 222
 2. 384
 3. 318
 4. 280

Question ID : 264330192100

Option 1 ID : 264330751754

Option 2 ID : 264330751755

Option 3 ID : 264330751757

Option 4 ID : 264330751756

Status : Answered

Chosen Option : 2

Q.3 Seven boys P, Q, R, S, T, U and V are sitting around a circular table facing towards the centre (not necessarily in the same order). V is second to the right of R. U is to immediate left of R. P is third to the right of T. S and T are the immediate neighbour of Q. Who is sitting on the immediate right of Q?

- Ans**
- 1. U
 - 2. S
 - 3. R
 - 4. T

Question ID : 264330192057

Option 1 ID : 264330751584

Option 2 ID : 264330751582

Option 3 ID : 264330751585

Option 4 ID : 264330751583

Status : Answered

Chosen Option : 4

Q.4 Six students Sarah, Tom, Lily, John, Mike, and Emma are sitting in a circle facing the center. John is sitting third to the left of Lily and is between Sarah and Tom. Tom is not a neighbour to Mike. Sarah sits to the immediate left of Mike. Who is sitting to the immediate right of Emma?

- Ans**
- 1. Sarah
 - 2. John
 - 3. Mike
 - 4. Tom

Question ID : 264330190415

Option 1 ID : 264330745243

Option 2 ID : 264330745244

Option 3 ID : 264330745245

Option 4 ID : 264330745242

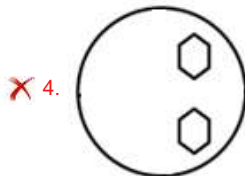
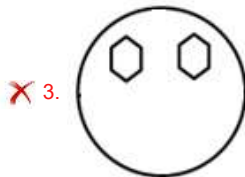
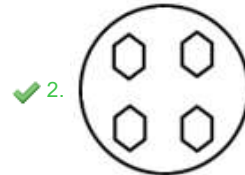
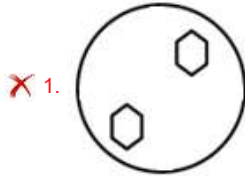
Status : Answered

Chosen Option : 4

Q.5 A paper is folded and cut as shown below. How will it appear when unfolded?



Ans



Question ID : 264330192227

Option 1 ID : 264330752262

Option 2 ID : 264330752263

Option 3 ID : 264330752264

Option 4 ID : 264330752265

Status : Answered

Chosen Option : 2

Q.6 In the following question, select the missing number from the given series.

990, 962, 934, 906, 878, ?

Ans ✗ 1. 860

✓ 2. 850

✗ 3. 854

✗ 4. 840

Question ID : 264330191519

Option 1 ID : 264330749433

Option 2 ID : 264330749431

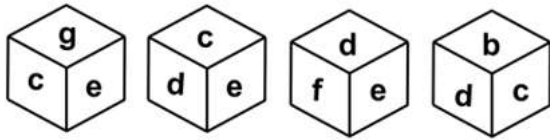
Option 3 ID : 264330749432

Option 4 ID : 264330749430

Status : Answered

Chosen Option : 2

Q.7 Four different positions of the same dice are given below. Find the letter opposite of c.



- Ans
- 1. g
 - 2. d
 - 3. e
 - 4. f

Question ID : 264330191124
 Option 1 ID : 264330747850
 Option 2 ID : 264330747851
 Option 3 ID : 264330747852
 Option 4 ID : 264330747853
 Status : Answered
 Chosen Option : 4

Q.8 In the following question, select the figure which can be placed at the sign of question mark (?) from the given alternatives.



- Ans
- 1.
 - 2.
 - 3.
 - 4.

Question ID : 264330187355
 Option 1 ID : 264330733350
 Option 2 ID : 264330733348
 Option 3 ID : 264330733351
 Option 4 ID : 264330733349
 Status : Answered
 Chosen Option : 4

Q.9 After interchanging the given two signs what will be the values of equation (I) and (II) respectively?

\times and $-$

I. $7 \times 8 - 6 + 15 \div 3$

II. $8 - 9 \times 2 + 45 \div 5$

- Ans**
- 1. 84 and 42
 - 2. -36 and 79
 - 3. -8 and 10
 - 4. 56 and 18

Question ID : 264330190240

Option 1 ID : 264330744542

Option 2 ID : 264330744545

Option 3 ID : 264330744544

Option 4 ID : 264330744543

Status : Answered

Chosen Option : 2

Q.10 In a certain code language, 'LOUD' is coded as 'IKRZ'. What is the code for 'PALE' in that code language?

- Ans**
- 1. MVIA
 - 2. MWIA
 - 3. MWIB
 - 4. MWJA

Question ID : 264330187404

Option 1 ID : 264330733546

Option 2 ID : 264330733545

Option 3 ID : 264330733544

Option 4 ID : 264330733547

Status : Answered

Chosen Option : 2

Q.11 'A \times B' means 'A is the father of B'

'A + B' means 'A is the mother of B'

'A \div B' means 'A is the son of B'

'A - B' means 'A is the daughter of B'

How is A related to D in the expression 'A \div B + C \times D'?

- Ans**
- 1. Brother
 - 2. Father
 - 3. Son
 - 4. Father's brother

Question ID : 264330192375

Option 1 ID : 264330752854

Option 2 ID : 264330752855

Option 3 ID : 264330752856

Option 4 ID : 264330752857

Status : Answered

Chosen Option : 4

Q.12 Select the option that is related to the fifth word in the same way as the fourth word is related to the third word and the second word is related to the first word.

CREATE : DESTROY :: DIVIDE : UNITE :: IMPORTANT : ?

- Ans**
- 1. VITAL
 - 2. IRRELEVANT
 - 3. REQUIRED
 - 4. SIGNIFICANT

Question ID : 264330192311

Option 1 ID : 264330752599

Option 2 ID : 264330752598

Option 3 ID : 264330752600

Option 4 ID : 264330752601

Status : Answered

Chosen Option : 2

Q.13 In a certain code language, if 'WHISTLE' is coded as 'VGHRSKD' and 'FLUTE' is coded as 'EKTSD,' then what will 'TRUMPET' be coded as?

- Ans**
- 1. SQLODTS
 - 2. SQTLDOS
 - 3. SQTLODS
 - 4. SQLTODS

Question ID : 264330192134

Option 1 ID : 264330751891

Option 2 ID : 264330751890

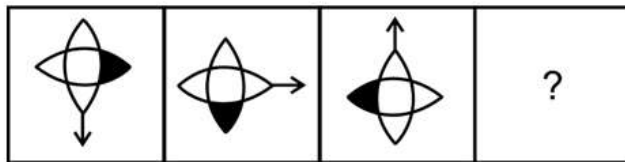
Option 3 ID : 264330751892

Option 4 ID : 264330751893

Status : Answered

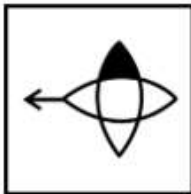
Chosen Option : 3

Q.14 Select the figure that will replace the question mark (?) in the following figure series.

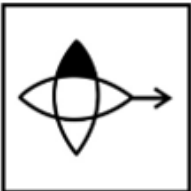


Ans

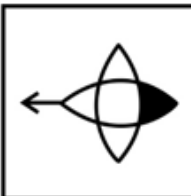
✓ 1.



✗ 2.



✗ 3.



✗ 4.



Question ID : 264330192343

Option 1 ID : 264330752728

Option 2 ID : 264330752727

Option 3 ID : 264330752726

Option 4 ID : 264330752729

Status : Answered

Chosen Option : 1

Q.15 Which of the following letter clusters will replace the question mark (?) in the given series?

G, J, M, P, ?

Ans ✓ 1. S

✗ 2. T

✗ 3. R

✗ 4. M

Question ID : 264330192088

Option 1 ID : 264330751708

Option 2 ID : 264330751709

Option 3 ID : 264330751706

Option 4 ID : 264330751707

Status : Answered

Chosen Option : 1

Q.16 Which of the following groups of letters when sequentially placed from left to right will complete the given series?

lmnopl_noplmn_plmnopl_noplmn_p

- Ans**
- 1. momo
 - 2. moom
 - 3. mmon
 - 4. popm

Question ID : 264330187420

Option 1 ID : 264330733611

Option 2 ID : 264330733609

Option 3 ID : 264330733608

Option 4 ID : 264330733610

Status : Answered

Chosen Option : 1

Q.17 If $10 @ 70 * 60 \# 90 = 4300$ and $105 @ 70 * 30 \# 85 = 2290$, then $80 @ 40 * 50 \# 60 = ?$

- Ans**
- 1. 2140
 - 2. 2100
 - 3. 2160
 - 4. 2190

Question ID : 264330187453

Option 1 ID : 264330733741

Option 2 ID : 264330733740

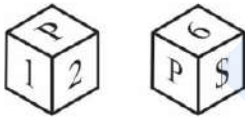
Option 3 ID : 264330733742

Option 4 ID : 264330733743

Status : Answered

Chosen Option : 3

Q.18 Two positions of a dice are given below. What will come on the face opposite to the face containing '6' on it?



- Ans**
- 1. 1
 - 2. 2
 - 3. P
 - 4. S

Question ID : 264330191325

Option 1 ID : 264330748656

Option 2 ID : 264330748654

Option 3 ID : 264330748657

Option 4 ID : 264330748655

Status : Answered

Chosen Option : 2

Q.19 In the following question below are given some statements followed by some conclusions based on those statements. Taking the given statements to be true even if they seem to be at variance from commonly known facts. Read all the conclusions and then decide which of the given conclusion (s) logically follows the given statements.

Statements:

- I. Some tree are flower.
- II. No flower is red.

Conclusions:

- I. All tree are red.
- II. All red are flower.
- III. Some tree are not red.

- Ans**
- 1. All conclusion follows
 - 2. Only conclusion III follows
 - 3. Only conclusion II follows
 - 4. Both conclusions II and III follows

Question ID : 264330187429

Option 1 ID : 264330733645

Option 2 ID : 264330733647

Option 3 ID : 264330733644

Option 4 ID : 264330733646

Status : Answered

Chosen Option : 2

Q.20 Arrange the given words in alphabetical order:

- 1. LOST
- 2. LIST
- 3. LIKE
- 4. LONG
- 5. LATE

- Ans**
- 1. 5,3,2,4,1
 - 2. 5,1,2,3,4
 - 3. 5,2,1,4,3
 - 4. 5,4,1,2,3

Question ID : 264330190289

Option 1 ID : 264330744741

Option 2 ID : 264330744740

Option 3 ID : 264330744739

Option 4 ID : 264330744738

Status : Answered

Chosen Option : 1

Q.1 Who became the first Indian to receive the Grand Order of the Chain of Yellow Star in the republic of Suriname in June, 2023?

- Ans
- 1. Narendra Modi
 - 2. Amit Shah
 - 3. Droupadi Murmu
 - 4. Rajnath Singh

Question ID : 264330190649
Option 1 ID : 264330746178
Option 2 ID : 264330746180
Option 3 ID : 264330746179
Option 4 ID : 264330746181
Status : Answered
Chosen Option : 1

Q.2 When a person leaves one job (either voluntarily or involuntarily) without finding another one, they are known to be going through _____.

- Ans
- 1. Frictional unemployment
 - 2. Disguised unemployment
 - 3. Seasonal unemployment
 - 4. Cyclical unemployment

Question ID : 264330191975
Option 1 ID : 264330751254
Option 2 ID : 264330751256
Option 3 ID : 264330751255
Option 4 ID : 264330751257
Status : Answered
Chosen Option : 2

Q.3 Which of the following events was played in National Games 2023?

I. Rowing

II. Rollball

- Ans
- 1. Only II
 - 2. Only I
 - 3. Neither I nor II
 - 4. Both I and II

Question ID : 264330188848
Option 1 ID : 264330739195
Option 2 ID : 264330739194
Option 3 ID : 264330739197
Option 4 ID : 264330739196
Status : Answered
Chosen Option : 4

Q.4 Read the following about the Green Revolution in India.

A. The green revolution in India refers to a period when Indian Agriculture was converted into an industrial system due to the adoption of modern methods and technology such as the use of HYV seeds, tractors, irrigation facilities, pesticides and fertilizers.

B. It was funded by the US and the Indian Government and the Ford and Rockefeller Foundation.
Identify the CORRECT statement/statements.

- Ans**
- 1. Only A
 - 2. Only B
 - 3. Neither A nor B
 - 4. Both A and B

Question ID : 264330191266

Option 1 ID : 264330748418

Option 2 ID : 264330748419

Option 3 ID : 264330748421

Option 4 ID : 264330748420

Status : Answered

Chosen Option : 2

Q.5 The Green Revolution in India primarily focused on improving the production of _____.

- Ans**
- 1. wheat and maize
 - 2. wheat and rice
 - 3. cotton and maize
 - 4. rice and cotton

Question ID : 264330191487

Option 1 ID : 264330749302

Option 2 ID : 264330749303

Option 3 ID : 264330749304

Option 4 ID : 264330749305

Status : Answered

Chosen Option : 2

Q.6 Who is the first Indian singer to have perform at the Royal Albert Hall in London?

- Ans**
- 1. Lata Mangeshkar
 - 2. Asha Bhosle
 - 3. A.R Rahman
 - 4. K. J. Yesudas

Question ID : 264330191274

Option 1 ID : 264330748451

Option 2 ID : 264330748452

Option 3 ID : 264330748453

Option 4 ID : 264330748450

Status : Answered

Chosen Option : 4

Q.7 Which of the following is NOT associated with musical instrument Sarangi?

- Ans
- 1. Shakoor Khan
 - 2. Ramesh Mishra
 - 3. Nikhil Banerjee
 - 4. Ustad Bind Khan

Question ID : 264330190817
Option 1 ID : 264330746622
Option 2 ID : 264330746623
Option 3 ID : 264330746625
Option 4 ID : 264330746624
Status : Answered
Chosen Option : 3

Q.8 The _____ literacy rates exclude Assam where the Census could not be conducted.

- Ans
- 1. 1951
 - 2. 1971
 - 3. 1981
 - 4. 1961

Question ID : 264330191960
Option 1 ID : 264330751194
Option 2 ID : 264330751196
Option 3 ID : 264330751197
Option 4 ID : 264330751195
Status : Answered
Chosen Option : 3

Q.9 The famous work "Arthashastra" attributed to which ancient Indian scholar and strategist?

- Ans
- 1. Panini
 - 2. Kalidasa
 - 3. Chanakya
 - 4. Valmiki

Question ID : 264330190975
Option 1 ID : 264330747256
Option 2 ID : 264330747257
Option 3 ID : 264330747254
Option 4 ID : 264330747255
Status : Answered
Chosen Option : 2

Q.10 Which of the following festival is celebrated on 25th December all over the world?

- Ans**
- 1. Diwali
 - 2. Christmas
 - 3. Eid
 - 4. Holi

Question ID : 264330191912
Option 1 ID : 264330751005
Option 2 ID : 264330751003
Option 3 ID : 264330751002
Option 4 ID : 264330751004
Status : Answered
Chosen Option : 2

Q.11 In September 2023, Vijayawada Railway Station was awarded the _____-certification with the highest rating of Platinum by the Indian Green Building Council (IGBC).

- Ans**
- 1. Green Railway Station
 - 2. Cleanest Railway Station
 - 3. Biggest Railway Station
 - 4. Solar Railway Station

Question ID : 264330191789
Option 1 ID : 264330750511
Option 2 ID : 264330750513
Option 3 ID : 264330750512
Option 4 ID : 264330750510
Status : Answered
Chosen Option : 2

Q.12 Which state's government has granted approval for the 'Location Accessible Multi-modal Initiative (LAccMI)' scheme, aimed at establishing a sustainable, affordable, and safe transportation network for passengers and goods across the state?

- Ans**
- 1. Madhya Pradesh
 - 2. Odisha
 - 3. Maharashtra
 - 4. West Bengal

Question ID : 264330191268
Option 1 ID : 264330748429
Option 2 ID : 264330748426
Option 3 ID : 264330748427
Option 4 ID : 264330748428
Status : Answered
Chosen Option : 1

Q.13 The Modern Periodic Table has 18 vertical columns known as 'groups' and _____ horizontal rows known as 'periods'.

- Ans**
- 1. 7
 - 2. 6
 - 3. 12
 - 4. 8

Question ID : 264330191413
Option 1 ID : 264330749007
Option 2 ID : 264330749008
Option 3 ID : 264330749009
Option 4 ID : 264330749006
Status : Answered
Chosen Option : 4

Q.14 Which one is not the festival of Gujarat?

- Ans**
- 1. Sunburn Festival
 - 2. Kutch Festival
 - 3. Paragliding Festival
 - 4. Uttarayan Kite Festival

Question ID : 264330191877
Option 1 ID : 264330750863
Option 2 ID : 264330750862
Option 3 ID : 264330750865
Option 4 ID : 264330750864
Status : Answered
Chosen Option : 1

Q.15 Gopika Varma receives the Sangeet Natak Akademi Award 2018 for her contribution to _____

- Ans**
- 1. Kuchipudi
 - 2. Kathak
 - 3. Odissi
 - 4. Mohiniyattam

Question ID : 264330191018
Option 1 ID : 264330747429
Option 2 ID : 264330747428
Option 3 ID : 264330747427
Option 4 ID : 264330747426
Status : Answered
Chosen Option : 1

Q.16 Which sport is played by the Indian sportsperson Jwala Gutta?

- Ans
- 1. Hockey
 - 2. Badminton
 - 3. Table Tennis
 - 4. Cricket

Question ID : 264330191222
Option 1 ID : 264330748243
Option 2 ID : 264330748245
Option 3 ID : 264330748244
Option 4 ID : 264330748242
Status : Answered
Chosen Option : 2

Q.17 Major Dhyan Chand is a famous name in the game of _____.

- Ans
- 1. Tennis
 - 2. Football
 - 3. Hockey
 - 4. Cricket

Question ID : 264330191922
Option 1 ID : 264330751044
Option 2 ID : 264330751045
Option 3 ID : 264330751043
Option 4 ID : 264330751042
Status : Answered
Chosen Option : 3

Q.18 Which of the following articles of Indian Constitution is related to the Election Commission of India?

- Ans
- 1. Article 323
 - 2. Article 322
 - 3. Article 324
 - 4. Article 321

Question ID : 264330190600
Option 1 ID : 264330745984
Option 2 ID : 264330745983
Option 3 ID : 264330745985
Option 4 ID : 264330745982
Status : Answered
Chosen Option : 3

Q.19 To which of the following states does the dance form Laho belong?

- Ans
- 1. Maharashtra
 - 2. Meghalaya
 - 3. Manipur
 - 4. Arunachal Pradesh

Question ID : 264330191251
Option 1 ID : 264330748359
Option 2 ID : 264330748360
Option 3 ID : 264330748361
Option 4 ID : 264330748358
Status : Answered
Chosen Option : 1

Q.20 Demonetisation was a new initiative taken by the Government of India in _____ to tackle the problem of corruption, black money, terrorism and circulation of fake currency in the economy.

- Ans
- 1. November 2017
 - 2. October 2016
 - 3. November 2016
 - 4. October 2017

Question ID : 264330190644
Option 1 ID : 264330746161
Option 2 ID : 264330746158
Option 3 ID : 264330746159
Option 4 ID : 264330746160
Status : Answered
Chosen Option : 4

Section : Part-C-Elementary Mathematics

Q.1 Amar, Samar and Umesh together can complete a book in 15 days. Amar and Samar together can complete the same book in 30 days. Umesh alone can complete the same book in how many days?

- Ans
- 1. 40 days
 - 2. 35 days
 - 3. 30 days
 - 4. 60 days

Question ID : 264330187236
Option 1 ID : 264330732874
Option 2 ID : 264330732873
Option 3 ID : 264330732872
Option 4 ID : 264330732875
Status : Answered
Chosen Option : 3

Q.2 Neeraj is 4 times as efficient as Dheeraj and together they complete a work in 44 days. How many days will Neeraj alone take to complete the same work?

- Ans**
- 1. 80 days
 - 2. 65 days
 - 3. 55 days
 - 4. 70 days

Question ID : 264330188550
Option 1 ID : 264330738005
Option 2 ID : 264330738002
Option 3 ID : 264330738003
Option 4 ID : 264330738004
Status : Answered
Chosen Option : 3

Q.3 The average of a set of 7 numbers is 18. If one number is removed, the average becomes 15. What is the value of the removed number?

- Ans**
- 1. 33
 - 2. 31
 - 3. 36
 - 4. 34

Question ID : 264330188516
Option 1 ID : 264330737866
Option 2 ID : 264330737869
Option 3 ID : 264330737868
Option 4 ID : 264330737867
Status : Answered
Chosen Option : 3

Q.4 When a number is successively decreased by 15 percent, 80 percent and 44 percent, then it becomes 19992. What is that number?

- Ans**
- 1. 220000
 - 2. 211000
 - 3. 210100
 - 4. 210000

Question ID : 264330187766
Option 1 ID : 264330734992
Option 2 ID : 264330734993
Option 3 ID : 264330734995
Option 4 ID : 264330734994
Status : Answered
Chosen Option : 4

Q.5 If $(5t + 3u) : (5t - 3u) = 5 : 3$, then what is the value of $t : u$?

- Ans 1. 12 : 5
 2. 6 : 7
 3. 4 : 5
 4. 8 : 7

Question ID : 264330187311
Option 1 ID : 264330733172
Option 2 ID : 264330733174
Option 3 ID : 264330733175
Option 4 ID : 264330733173
Status : Answered
Chosen Option : 1

Q.6 Two boys are standing on the opposite ends of a 540 metres long bridge. If they start walking towards each other at same time at the speed of 18 metres/minute and 12 metres/minute respectively, then in how much time will they meet each other?

- Ans 1. 18 minutes
 2. 14 minutes
 3. 26 minutes
 4. 32 minutes

Question ID : 264330188628
Option 1 ID : 264330738316
Option 2 ID : 264330738315
Option 3 ID : 264330738317
Option 4 ID : 264330738314
Status : Answered
Chosen Option : 1

Q.7 Calculate: $2 \times (4 + 6) - 5$.

- Ans 1. 16
 2. 15
 3. 14
 4. 18

Question ID : 264330188492
Option 1 ID : 264330737773
Option 2 ID : 264330737770
Option 3 ID : 264330737772
Option 4 ID : 264330737771
Status : Answered
Chosen Option : 2

Q.8 If Marked price of an article is Rs. 2500 and selling price is Rs. 1800. What is the discount?

- Ans**
- 1. 500
 - 2. 850
 - 3. 750
 - 4. 700

Question ID : 264330187169
Option 1 ID : 264330732604
Option 2 ID : 264330732605
Option 3 ID : 264330732606
Option 4 ID : 264330732607
Status : Answered
Chosen Option : 4

Q.9 Rs. 7200 is divided among P, Q and R such that 6 times of P's share is equal to 2 times of Q's share which is equal to 3 times of R's share. What is the share of Q?

- Ans**
- 1. Rs. 4800
 - 2. Rs. 3600
 - 3. Rs. 1200
 - 4. Rs. 2400

Question ID : 264330187592
Option 1 ID : 264330734299
Option 2 ID : 264330734296
Option 3 ID : 264330734297
Option 4 ID : 264330734298
Status : Answered
Chosen Option : 2

Q.10 The difference between the compound interest (compounding annually) and simple interest on a sum at the rate of 30 percent per annum for 2 years is Rs. 5400. What is the sum?

- Ans**
- 1. Rs. 65000
 - 2. Rs. 68000
 - 3. Rs. 70000
 - 4. Rs. 60000

Question ID : 264330187474
Option 1 ID : 264330733824
Option 2 ID : 264330733826
Option 3 ID : 264330733827
Option 4 ID : 264330733825
Status : Answered
Chosen Option : 4

Q.11 If the cost price of an article is 80 percent of its selling price, then what is the profit percentage?

- Ans**
- 1. 20 percent
 - 2. 30 percent
 - 3. 35 percent
 - 4. 25 percent

Question ID : 264330187627
Option 1 ID : 264330734438
Option 2 ID : 264330734437
Option 3 ID : 264330734436
Option 4 ID : 264330734439
Status : Answered
Chosen Option : 4

Q.12 What is the value of $4(12 - 10 + 42 - 17) \div 3 + 4$?

- Ans**
- 1. 60
 - 2. 50
 - 3. 30
 - 4. 40

Question ID : 264330187580
Option 1 ID : 264330734251
Option 2 ID : 264330734250
Option 3 ID : 264330734248
Option 4 ID : 264330734249
Status : Answered
Chosen Option : 4

Q.13 Price of 1 kg of sugar is increased by 34 percent and the increase is of Rs. 51. What is the new price of the sugar per kg?

- Ans**
- 1. Rs. 150
 - 2. Rs. 201
 - 3. Rs. 120
 - 4. Rs. 130

Question ID : 264330187845
Option 1 ID : 264330735311
Option 2 ID : 264330735308
Option 3 ID : 264330735310
Option 4 ID : 264330735309
Status : Answered
Chosen Option : 2

Q.14 What is the value of $[81 \text{ of } (44 - 11 + 2) \div (44 \div 22 + 5)]$?

- Ans
- 1. 162
 - 2. 81
 - 3. 324
 - 4. 405

Question ID : 264330187520
Option 1 ID : 264330734009
Option 2 ID : 264330734008
Option 3 ID : 264330734010
Option 4 ID : 264330734011
Status : Answered
Chosen Option : 4

Q.15 A shopkeeper sells his goods at a 12% profit after marking them up by 20%. What is the discount percentage?

- Ans
- 1. 4.55%
 - 2. 6.66%
 - 3. 5.5%
 - 4. 7.2%

Question ID : 264330191198
Option 1 ID : 264330748148
Option 2 ID : 264330748149
Option 3 ID : 264330748146
Option 4 ID : 264330748147
Status : Answered
Chosen Option : 2

Q.16 Average price of 38 pens is Rs. 25. If 8 new pens are added, then the average price rise by Rs. 4. What is the total price of the 8 new pens?

- Ans
- 1. Rs. 325
 - 2. Rs. 411
 - 3. Rs. 384
 - 4. Rs. 450

Question ID : 264330187304
Option 1 ID : 264330733146
Option 2 ID : 264330733147
Option 3 ID : 264330733145
Option 4 ID : 264330733144
Status : Answered
Chosen Option : 3

Q.17 A person loses 15 percent on selling 50 shoes for Rs. 85. What should be the selling price of 50 shoes to earn a profit of 35 percent?

- Ans**
- 1. Rs. 115
 - 2. Rs. 135
 - 3. Rs. 110
 - 4. Rs. 120

Question ID : 264330187728
Option 1 ID : 264330734842
Option 2 ID : 264330734841
Option 3 ID : 264330734843
Option 4 ID : 264330734840
Status : Answered
Chosen Option : 2

Q.18 At what annual rate of interest will a sum of money be thrice in 5 years at simple interest?

- Ans**
- 1. 34%
 - 2. 40%
 - 3. 45%
 - 4. 30%

Question ID : 264330191161
Option 1 ID : 264330747999
Option 2 ID : 264330747998
Option 3 ID : 264330748001
Option 4 ID : 264330748000
Status : Answered
Chosen Option : 2

Q.19 Evaluate:

$$[(36 - 12) \div 6] + [98 - 21 \div 3 \times 2]$$

- Ans**
- 1. 73
 - 2. 88
 - 3. 96
 - 4. 102

Question ID : 264330192388
Option 1 ID : 264330752906
Option 2 ID : 264330752907
Option 3 ID : 264330752908
Option 4 ID : 264330752909
Status : Answered
Chosen Option : 2

Q.20 If total surface area of a cube is 600 cm^2 , then what is the volume of cube?

- Ans
- 1. 900 cm^3
 - 2. 1728 cm^3
 - 3. 1000 cm^3
 - 4. 750 cm^3

Question ID : 264330187758
Option 1 ID : 264330734962
Option 2 ID : 264330734963
Option 3 ID : 264330734961
Option 4 ID : 264330734960
Status : Answered
Chosen Option : 3

Section : Part-D-English

Q.1 Improve the underlined part of the sentence. Choose 'No improvement' as an answer if the sentence is grammatically correct.

A healthy person usually does not suffering from the disease.

- Ans
- 1. not suffer from
 - 2. not suffers with
 - 3. No improvement
 - 4. not suffered from

Question ID : 264330185670
Option 1 ID : 264330727038
Option 2 ID : 264330727036
Option 3 ID : 264330727039
Option 4 ID : 264330727037
Status : Not Answered
Chosen Option : --

Q.2 Choose the word that means the same as the given word.

Hinder

- Ans
- 1. Sore
 - 2. Aid
 - 3. Impede
 - 4. Stare

Question ID : 264330186247
Option 1 ID : 264330729235
Option 2 ID : 264330729233
Option 3 ID : 264330729234
Option 4 ID : 264330729232
Status : Not Answered
Chosen Option : --

Q.3 Choose the idiom/phrase that can substitute the highlighted group of words meaningfully.

Driving fast on this bad road is **likely to create problem**.

- Ans**
- 1. Asking for trouble
 - 2. In seventh heaven
 - 3. Put off
 - 4. Beat around the bush

Question ID : 264330186166
Option 1 ID : 264330728924
Option 2 ID : 264330728927
Option 3 ID : 264330728926
Option 4 ID : 264330728925
Status : Not Answered
Chosen Option : --

Q.4 Choose the correct word to complete the sentence:

The pianist's _____ performance left the audience spellbound, each note conveying a range of emotions.

- Ans**
- 1. jarring
 - 2. stagnant
 - 3. riveting
 - 4. controversial

Question ID : 264330186470
Option 1 ID : 264330730084
Option 2 ID : 264330730087
Option 3 ID : 264330730085
Option 4 ID : 264330730086
Status : Not Answered
Chosen Option : --

Q.5 Choose the option which is antonym of (opposite of) the word "dissonance" in the sentence given below:

After hours of negotiations, they finally reached a mutual agreement that satisfied both parties involved in the business deal.

- Ans**
- 1. agreement
 - 2. deal
 - 3. mutual
 - 4. negotiations

Question ID : 264330186459
Option 1 ID : 264330730042
Option 2 ID : 264330730043
Option 3 ID : 264330730041
Option 4 ID : 264330730040
Status : Not Answered
Chosen Option : --

Q.6 In the following question, out of the given four alternatives, select the alternative which best expresses the meaning of the Idiom/Phrase.
All along

- Ans**
- 1. At the desired place
 - 2. Everywhere
 - 3. All the time; from the beginning
 - 4. People in unity

Question ID : 264330186796
Option 1 ID : 264330731326
Option 2 ID : 264330731325
Option 3 ID : 264330731324
Option 4 ID : 264330731327
Status : Not Answered
Chosen Option : --

Q.7 Fill in the blank with the most appropriate option.

Calpurnia scratched in her handbag and brought _____ a battered leather coin purse.

- Ans**
- 1. fourth
 - 2. four
 - 3. fore
 - 4. forth

Question ID : 264330186821
Option 1 ID : 264330731422
Option 2 ID : 264330731423
Option 3 ID : 264330731421
Option 4 ID : 264330731420
Status : Not Answered
Chosen Option : --

Q.8 Find the part of the given sentence that has an error in it. If there is no error, choose 'No error'.
Much of the world lived in countries that impose controls on what can and cannot be said about their governments online.

- Ans**
- 1. No error
 - 2. Much of the world lived in countries
 - 3. that impose controls on what can and
 - 4. cannot be said about their governments online

Question ID : 264330186088
Option 1 ID : 264330728631
Option 2 ID : 264330728628
Option 3 ID : 264330728629
Option 4 ID : 264330728630
Status : Not Answered
Chosen Option : --

Q.9 Select the most appropriate word to fill in the blank.

_____ is not an option for me. I have to succeed at any cost.

- Ans
- 1. Failhood
 - 2. Loser
 - 3. Failure
 - 4. Failed

Question ID : 264330185777
Option 1 ID : 264330727447
Option 2 ID : 264330727446
Option 3 ID : 264330727444
Option 4 ID : 264330727445
Status : Not Answered
Chosen Option : --

Q.10 Select the incorrectly spelt word from the given sentence.

When we reach home after travelling for weeks, the home is the same, but something in our minds has changed, and that changes everything.

- Ans
- 1. changed
 - 2. weeks
 - 3. everything
 - 4. travelling

Question ID : 264330185894
Option 1 ID : 264330727890
Option 2 ID : 264330727888
Option 3 ID : 264330727891
Option 4 ID : 264330727889
Status : Not Answered
Chosen Option : --

Q.11 Select the sentence with no spelling errors.

- Ans
- 1. It may not ever be realised for such a complex disease.
 - 2. It may not ever be realised for such a complax disease.
 - 3. It may not ever be relised for such a complex disease.
 - 4. It may not ever be realised for such a complex disease.

Question ID : 264330186631
Option 1 ID : 264330730696
Option 2 ID : 264330730697
Option 3 ID : 264330730698
Option 4 ID : 264330730699
Status : Not Answered
Chosen Option : --

Q.12 Find the part of the given sentence that has an error in it. If there is no error, choose 'No error'.

Sometimes it's well to break a goal down into subgoals.

- Ans**
- 1. No error
 - 2. to break a goal
 - 3. down into subgoals.
 - 4. Sometimes it's well

Question ID : 264330186171
Option 1 ID : 264330728947
Option 2 ID : 264330728945
Option 3 ID : 264330728946
Option 4 ID : 264330728944
Status : Not Answered
Chosen Option : --

Q.13 Select the most appropriate option for the given blank.

I want you to check if I have _____ an order or not.

- Ans**
- 1. placed
 - 2. sited
 - 3. made
 - 4. pushed

Question ID : 264330186254
Option 1 ID : 264330729260
Option 2 ID : 264330729263
Option 3 ID : 264330729261
Option 4 ID : 264330729262
Status : Not Answered
Chosen Option : --

Q.14 Find the part of the given sentence that has an error in it. If there is no error, choose 'No error'.

Their position in the market is more stronger than yours.

- Ans**
- 1. market is more stronger
 - 2. No error
 - 3. than yours
 - 4. Their position in the

Question ID : 264330186634
Option 1 ID : 264330730709
Option 2 ID : 264330730711
Option 3 ID : 264330730710
Option 4 ID : 264330730708
Status : Not Answered
Chosen Option : --

Q.15 Select the most appropriate option for the given blank.

Clouds of volcanic ash _____ menacingly overhead.

- Ans
- 1. loomed
 - 2. has been loomed
 - 3. looming
 - 4. had loom

Question ID : 264330185734

Option 1 ID : 264330727280

Option 2 ID : 264330727282

Option 3 ID : 264330727283

Option 4 ID : 264330727281

Status : Not Answered

Chosen Option : --

Comprehension:

In the following passage some words have been deleted. Fill in the blanks with the help of the alternatives given. Select the most appropriate option for each number.

There (1) _____ never many girls at all at the football games. Only seniors were allowed to bring (2) _____ with them. It was a terrible school, no matter how you (3) _____ at it. I like to be somewhere at least where you can see a few girls around (4) _____, even if they're only scratching their arms or (5) _____ their noses or even just giggling or something.

SubQuestion No : 16

Q.16 Select the most appropriate option to fill in the blank No. 1.

- Ans
- 1. are
 - 2. was
 - 3. were
 - 4. where

Question ID : 264330186851

Option 1 ID : 264330731535

Option 2 ID : 264330731532

Option 3 ID : 264330731534

Option 4 ID : 264330731533

Status : Not Answered

Chosen Option : --

Comprehension:

In the following passage some words have been deleted. Fill in the blanks with the help of the alternatives given. Select the most appropriate option for each number.

There (1) _____ never many girls at all at the football games. Only seniors were allowed to bring (2) _____ with them. It was a terrible school, no matter how you (3) _____ at it. I like to be somewhere at least where you can see a few girls around (4) _____, even if they're only scratching their arms or (5) _____ their noses or even just giggling or something.

SubQuestion No : 17

Q.17 Select the most appropriate option to fill in the blank No. 2.

- Ans
- 1. girls
 - 2. boys
 - 3. parents
 - 4. kids

Question ID : 264330186852

Option 1 ID : 264330731539

Option 2 ID : 264330731537

Option 3 ID : 264330731538

Option 4 ID : 264330731536

Status : Not Answered

Chosen Option : --

Comprehension:

In the following passage some words have been deleted. Fill in the blanks with the help of the alternatives given. Select the most appropriate option for each number.

There (1) _____ never many girls at all at the football games. Only seniors were allowed to bring (2) _____ with them. It was a terrible school, no matter how you (3) _____ at it. I like to be somewhere at least where you can see a few girls around (4) _____, even if they're only scratching their arms or (5) _____ their noses or even just giggling or something.

SubQuestion No : 18

Q.18 Select the most appropriate option to fill in the blank No. 3.

- Ans
- 1. glanced
 - 2. looked
 - 3. see
 - 4. observed

Question ID : 264330186853

Option 1 ID : 264330731541

Option 2 ID : 264330731540

Option 3 ID : 264330731542

Option 4 ID : 264330731543

Status : Not Answered

Chosen Option : --

Comprehension:

In the following passage some words have been deleted. Fill in the blanks with the help of the alternatives given. Select the most appropriate option for each number.

There (1) _____ never many girls at all at the football games. Only seniors were allowed to bring (2) _____ with them. It was a terrible school, no matter how you (3) _____ at it. I like to be somewhere at least where you can see a few girls around (4) _____, even if they're only scratching their arms or (5) _____ their noses or even just giggling or something.

SubQuestion No : 19

Q.19 Select the most appropriate option to fill in the blank No. 4.

- Ans
- 1. once in a while
 - 2. rarely
 - 3. mostly
 - 4. all the time

Question ID : 264330186854

Option 1 ID : 264330731545

Option 2 ID : 264330731546

Option 3 ID : 264330731544

Option 4 ID : 264330731547

Status : Not Answered

Chosen Option : --

Comprehension:

In the following passage some words have been deleted. Fill in the blanks with the help of the alternatives given. Select the most appropriate option for each number.

There (1) _____ never many girls at all at the football games. Only seniors were allowed to bring (2) _____ with them. It was a terrible school, no matter how you (3) _____ at it. I like to be somewhere at least where you can see a few girls around (4) _____, even if they're only scratching their arms or (5) _____ their noses or even just giggling or something.

SubQuestion No : 20

Q.20 Select the most appropriate option to fill in the blank No. 5.

- Ans
- 1. drying
 - 2. banging
 - 3. clinching
 - 4. blowing

Question ID : 264330186855

Option 1 ID : 264330731549

Option 2 ID : 264330731548

Option 3 ID : 264330731551

Option 4 ID : 264330731550

Status : Not Answered

Chosen Option : --

Q.1 दिए गए वाक्य में उचित पर्यायवाची शब्द का चयन करके रिक्त स्थान की पूर्ति करें।

_____ (सम्भवतः) वह कल नहीं आएगा।

- Ans
- 1. गण
 - 2. उत्तम
 - 3. शायद
 - 4. उपयुक्त

Question ID : 264330190078

Option 1 ID : 264330743896

Option 2 ID : 264330743897

Option 3 ID : 264330743894

Option 4 ID : 264330743895

Status : Answered

Chosen Option : 3

Q.2 निम्नलिखित प्रश्न में, चार विकल्पों में से, उस विकल्प का चयन करें जो कोष्ठक में दिए गए शब्द के तत्सम रूप का सही विकल्प है।

मुझे घर में मक्खी-मच्छरों को देखकर बहुत ही (घिन) _____ सी आती है।

- Ans
- 1. मज़ा
 - 2. गंदगी
 - 3. अब्ज
 - 4. घृणा

Question ID : 264330189855

Option 1 ID : 264330743047

Option 2 ID : 264330743048

Option 3 ID : 264330743049

Option 4 ID : 264330743046

Status : Answered

Chosen Option : 4

Q.3 निम्नलिखित वाक्य में, उस वाक्यांश को पहचानिए जिसमें मात्राओं से संबंधित अशुद्धियाँ हैं। यदि कोई गलती नहीं है तो 'कोई त्रुटि नहीं है' का चुनाव कीजिए।
सहिष्णुता उन लोगों का अभिन्न गुण है/ जो विभिन्न समूहों को होते हुये पर एक-दूसरे से/ सम्मानपूर्वक और समझदारी से जुड़े हुये हैं।

- Ans
- 1. जो विभिन्न समूहों को होते हुये पर एक-दूसरे से
 - 2. कोई त्रुटि नहीं है
 - 3. सम्मानपूर्वक और समझदारी से जुड़े हुये हैं
 - 4. सहिष्णुता उन लोगों का अभिन्न गुण है

Question ID : 264330189748

Option 1 ID : 264330742639

Option 2 ID : 264330742641

Option 3 ID : 264330742640

Option 4 ID : 264330742638

Status : Answered

Chosen Option : 1

Q.4 दिए गए वाक्य में उचित देशज-विदेशज शब्द का चयन करके रिक्त स्थान की पूर्ति कीजिए।
पुलिस को कुछ _____ मिले हैं।

- Ans
- 1. लफंगा
 - 2. सुराग
 - 3. आका
 - 4. सौगात

Question ID : 264330190085
Option 1 ID : 264330743923
Option 2 ID : 264330743925
Option 3 ID : 264330743924
Option 4 ID : 264330743922
Status : Answered
Chosen Option : 2

Q.5 निम्नलिखित वाक्य में रेखांकित भाग के लिए एक सार्थक शब्द ज्ञात कीजिए।

हवन में जलाई जाने वाली लकड़ियाँ गीली हैं।

- Ans
- 1. समिधा
 - 2. ज्वाला
 - 3. दिगम्बर
 - 4. बड़वाग्नि

Question ID : 264330189383
Option 1 ID : 264330741248
Option 2 ID : 264330741247
Option 3 ID : 264330741246
Option 4 ID : 264330741249
Status : Answered
Chosen Option : 1

Q.6 निम्नलिखित प्रश्न में, चार विकल्पों में से, उस विकल्प का चयन करें जो कोष्ठक में दिए गए शब्द के पर्यायवाची शब्द का सही विकल्प है।
मेरे गाँव के खेत में चावल की (फसल) _____ बहुत ज्यादा होती है।

- Ans
- 1. खसीस
 - 2. आखु
 - 3. खिरमन
 - 4. खंग

Question ID : 264330189700
Option 1 ID : 264330742455
Option 2 ID : 264330742454
Option 3 ID : 264330742457
Option 4 ID : 264330742456
Status : Answered
Chosen Option : 3

Q.7 दिए गए वाक्य का वह भाग ज्ञात करें, जिसमें कोई त्रुटि है।

जब बाजार में एक जैसी अनेक वस्तु होती हैं, तो उनकी माँग को बढ़ाने का उपाय विज्ञापन है।

- Ans
- ✗ 1. का उपाय विज्ञापन है।
 - ✓ 2. अनेक वस्तु होती हैं,
 - ✗ 3. तो उनकी माँग को बढ़ाने
 - ✗ 4. जब बाजार में एक जैसी

Question ID : 264330189226

Option 1 ID : 264330740653

Option 2 ID : 264330740651

Option 3 ID : 264330740652

Option 4 ID : 264330740650

Status : Answered

Chosen Option : 3

Q.8 निम्नलिखित प्रश्न में, चार विकल्पों में से, उस विकल्प का चयन करें जो कोष्ठक में दिए गए शब्द के विलोम शब्द का सही विकल्प है।
किसी भी देश का (उत्थान) _____ वहाँ की जनता के कार्य से होता है।

- Ans
- ✗ 1. तरक्की
 - ✗ 2. उपमा
 - ✓ 3. पतन
 - ✗ 4. उपहास

Question ID : 264330189723

Option 1 ID : 264330742542

Option 2 ID : 264330742545

Option 3 ID : 264330742543

Option 4 ID : 264330742544

Status : Answered

Chosen Option : 3

Q.9 दिए गए विकल्पों में से तीन विकल्प त्रुटियुक्त हैं, जबकि एक सही है। उस सही विकल्प का चयन करें।

- Ans
- ✗ 1. मेरा और उसका घोर संबंध है।
 - ✗ 2. मेरा और उसका घेर संबंध है।
 - ✗ 3. मेरा और उसका घना संबंध है।
 - ✓ 4. मेरा और उसका घनिष्ठ संबंध है।

Question ID : 264330189437

Option 1 ID : 264330741455

Option 2 ID : 264330741457

Option 3 ID : 264330741456

Option 4 ID : 264330741454

Status : Answered

Chosen Option : 4

Q.10 निम्नलिखित प्रश्न में, दिए गए चार विकल्पों में से, उस विकल्प का चयन करें जो दिए गए मुहावरे के अर्थ को सर्वश्रेष्ठ रूप से व्यक्त करता है।

तिनके का सहारा होना

- Ans**
- ✓ 1. जहाँ कुछ न हो वहाँ थोड़ी सी भी मदद मिल जाना
 - ✗ 2. किसी भिखारी के मदद करने की बात कहना
 - ✗ 3. बुरे व्यक्ति का मदद की बात कहना
 - ✗ 4. किसी की उदार बातों का मजाक बनाना

Question ID : 264330190061

Option 1 ID : 264330743831

Option 2 ID : 264330743830

Option 3 ID : 264330743833

Option 4 ID : 264330743832

Status : Answered

Chosen Option : 1

Q.11 दिए गए वाक्य में रेखांकित शब्दों के लिए सही शब्दों वाले विकल्प का चयन करें।

एक चाय का प्याला ले आओ।

- Ans**
- ✗ 1. एक चाय की प्याला ले आओ।
 - ✗ 2. परिवर्तन की आवश्यकता नहीं है।
 - ✗ 3. एक चाय प्याला ले आओ।
 - ✓ 4. चाय का एक प्याला ले आओ।

Question ID : 264330188269

Option 1 ID : 264330736972

Option 2 ID : 264330736975

Option 3 ID : 264330736973

Option 4 ID : 264330736974

Status : Answered

Chosen Option : 4

Q.12 निम्नलिखित वाक्य में, उस वाक्यांश को पहचानिए जिसमें मात्राओं से संबंधित अशुद्धियाँ हैं। यदि कोई त्रुटि नहीं है, तो

'कोई त्रुटि नहीं है' का चुनाव कीजिए।

हमारे सैनिक /इतने वीर हैं की /मृत्यु के सामने भी नहीं घबराते।

- Ans**
- ✗ 1. हमारे सैनिक
 - ✗ 2. कोई त्रुटि नहीं है।
 - ✗ 3. मृत्यु के सामने भी नहीं घबराते।
 - ✓ 4. इतने वीर हैं की

Question ID : 264330189684

Option 1 ID : 264330742394

Option 2 ID : 264330742397

Option 3 ID : 264330742396

Option 4 ID : 264330742395

Status : Answered

Chosen Option : 3

Q.13 दिए गए वाक्यांश के लिए सार्थक शब्द ज्ञात कीजिए।

अंडे से जन्म हुआ

- Ans
- 1. स्तनपायी
 - 2. अण्डज
 - 3. अविनाशी
 - 4. अजय

Question ID : 264330189194
 Option 1 ID : 264330740528
 Option 2 ID : 264330740529
 Option 3 ID : 264330740526
 Option 4 ID : 264330740527
 Status : Answered
 Chosen Option : 2

Q.14 निम्नलिखित प्रश्न में, दिए गए चार विकल्पों में से, उस विकल्प का चयन करें जो दिए गए मुहावरे के अर्थ को सर्वश्रेष्ठ रूप से व्यक्त करता है।

किसी सूरत में

- Ans
- 1. सत्य पर दृढ़ होना
 - 2. हर हाल में
 - 3. खास चेहरा
 - 4. सत्यवादी होना

Question ID : 264330189262
 Option 1 ID : 264330740786
 Option 2 ID : 264330740787
 Option 3 ID : 264330740788
 Option 4 ID : 264330740789
 Status : Answered
 Chosen Option : 2

Q.15 निम्नलिखित प्रश्न में, चार विकल्पों में से, उस विकल्प का चयन करें जो कोष्ठक में दिए गए शब्द के विलोम शब्द का सही विकल्प है।
 हमारे घर की बहुत सी वस्तुएं (जंगम) _____ अवस्था में रहती हैं।

- Ans
- 1. अनजान
 - 2. लोभी
 - 3. शोषण
 - 4. स्थावर

Question ID : 264330188385
 Option 1 ID : 264330737415
 Option 2 ID : 264330737414
 Option 3 ID : 264330737412
 Option 4 ID : 264330737413
 Status : Answered
 Chosen Option : 4

Comprehension:

नीचे दिए गये गद्यांश में कुछ शब्द छोड़ दिए गए हैं, प्रत्येक अनुच्छेद के सामने चार विकल्प दिए गए हैं। इस गद्यांश को ध्यानपूर्वक पढ़ें और चार विकल्पों में से सर्वोत्तम उत्तर वाला विकल्प चुनें।
बसंत पंचमी का दिन बच्चों की शिक्षा-दीक्षा के आरम्भ के लिए बहुत ही ज्यादा _____ माना जाता है। माना जाता है कि इस दिन से शिक्षा प्रारंभ होने से बच्चे जानवान बनते हैं और _____ होती है। बच्चों के अन्नप्राशन के लिए भी यह दिन बहुत शुभ होता है। गृह प्रवेश और नए कार्य भी इसी दिन से शुरू किये जाते हैं। पौराणिक कथा के अनुसार जब सृष्टि की रचना की गई तब उस समय वातावरण में नीरसता, उदासी थी। ऐसा लग रहा था मानो किसी की वाणी नहीं है, सभी _____ हैं। भगवान विष्णु को यह देखकर अच्छा नहीं लगा, फिर उन्होंने अपने कमंडल से जल छिड़का, जल कणों के छिड़कते ही पेड़ों से एक शक्ति उत्पन्न हुई, जो अपने दोनों हाथों से वीणा बजा रही थी। साथ ही एस देवी के हाथों में पुस्तक और मोती की माला थी। इस देवी ने ही समस्त _____ को वाणी प्रदान की। जिसके बाद से ही इन्हें सरस्वती कहा गया। यह देवी विद्या और बुद्धि की अधिष्ठात्री हैं, इसलिए इन्हें _____ भी कहा जाता है।

SubQuestion No : 16

Q.16 बसंत पंचमी का दिन बच्चों की शिक्षा-दीक्षा के आरम्भ के लिए बहुत ही ज्यादा _____ माना जाता है।

- Ans 1. शुभ
 2. अनजान
 3. अशुभ
 4. आसान

Question ID : 264330188376

Option 1 ID : 264330737379

Option 2 ID : 264330737378

Option 3 ID : 264330737376

Option 4 ID : 264330737377

Status : Answered

Chosen Option : 1

Comprehension:

नीचे दिए गये गद्यांश में कुछ शब्द छोड़ दिए गए हैं, प्रत्येक अनुच्छेद के सामने चार विकल्प दिए गए हैं। इस गद्यांश को ध्यानपूर्वक पढ़ें और चार विकल्पों में से सर्वोत्तम उत्तर वाला विकल्प चुनें।
बसंत पंचमी का दिन बच्चों की शिक्षा-दीक्षा के आरम्भ के लिए बहुत ही ज्यादा _____ माना जाता है। माना जाता है कि इस दिन से शिक्षा प्रारंभ होने से बच्चे जानवान बनते हैं और _____ होती है। बच्चों के अन्नप्राशन के लिए भी यह दिन बहुत शुभ होता है। गृह प्रवेश और नए कार्य भी इसी दिन से शुरू किये जाते हैं। पौराणिक कथा के अनुसार जब सृष्टि की रचना की गई तब उस समय वातावरण में नीरसता, उदासी थी। ऐसा लग रहा था मानो किसी की वाणी नहीं है, सभी _____ हैं। भगवान विष्णु को यह देखकर अच्छा नहीं लगा, फिर उन्होंने अपने कमंडल से जल छिड़का, जल कणों के छिड़कते ही पेड़ों से एक शक्ति उत्पन्न हुई, जो अपने दोनों हाथों से वीणा बजा रही थी। साथ ही एस देवी के हाथों में पुस्तक और मोती की माला थी। इस देवी ने ही समस्त _____ को वाणी प्रदान की। जिसके बाद से ही इन्हें सरस्वती कहा गया। यह देवी विद्या और बुद्धि की अधिष्ठात्री हैं, इसलिए इन्हें _____ भी कहा जाता है।

SubQuestion No : 17

Q.17 माना जाता है कि इस दिन से शिक्षा प्रारंभ होने से बच्चे जानवान बनते हैं और _____ होती है।

- Ans 1. खानपान
 2. शक्ति क्षीण
 3. बुद्धि तीव्र
 4. अज्ञानी

Question ID : 264330188377

Option 1 ID : 264330737382

Option 2 ID : 264330737380

Option 3 ID : 264330737381

Option 4 ID : 264330737383

Status : Answered

Chosen Option : 3

Comprehension:

नीचे दिए गये गद्यांश में कुछ शब्द छोड़ दिए गए हैं, प्रत्येक अनुच्छेद के सामने चार विकल्प दिए गए हैं। इस गद्यांश को ध्यानपूर्वक पढ़ें और चार विकल्पों में से सर्वोत्तम उत्तर वाला विकल्प चुनें।
 बसंत पंचमी का दिन बच्चों की शिक्षा-दीक्षा के आरम्भ के लिए बहुत ही ज्यादा _____ माना जाता है। माना जाता है कि इस दिन से शिक्षा प्रारंभ होने से बच्चे जानवान बनते हैं और _____ होती है। बच्चों के अन्नप्राशन के लिए भी यह दिन बहुत शुभ होता है। गृह प्रवेश और नए कार्य भी इसी दिन से शुरू किये जाते हैं। पौराणिक कथा के अनुसार जब सृष्टि की रचना की गई तब उस समय वातावरण में नीरसता, उदासी थी। ऐसा लग रहा था मानो किसी की वाणी नहीं है, सभी _____ हैं। भगवन विष्णु को यह देखकर अच्छा नहीं लगा, फिर उन्होंने अपने कमंडल से जल छिड़का, जल कणों के छिड़कते ही पेड़ों से एक शक्ति उत्पन्न हुई, जो अपने दोनों हाथों से वीणा बजा रही थी। साथ ही एस देवी के हाथों में पुस्तक और मोती की माला थी। इस देवी ने ही समस्त _____ को वाणी प्रदान की। जिसके बाद से ही इन्हें सरस्वती कहा गया। यह देवी विद्या और बुद्धि की अधिष्ठात्री हैं, इसलिए इन्हें _____ भी कहा जाता है।

SubQuestion No : 18

Q.18 ऐसा लग रहा था मानो किसी की वाणी नहीं है, सभी _____ हैं।

- Ans
- 1. अचूक
 - 2. मूक
 - 3. बहुत बोलते
 - 4. बड़बोले

Question ID : 264330188378

Option 1 ID : 264330737385

Option 2 ID : 264330737386

Option 3 ID : 264330737384

Option 4 ID : 264330737387

Status : Answered

Chosen Option : 1

Comprehension:

नीचे दिए गये गद्यांश में कुछ शब्द छोड़ दिए गए हैं, प्रत्येक अनुच्छेद के सामने चार विकल्प दिए गए हैं। इस गद्यांश को ध्यानपूर्वक पढ़ें और चार विकल्पों में से सर्वोत्तम उत्तर वाला विकल्प चुनें।
 बसंत पंचमी का दिन बच्चों की शिक्षा-दीक्षा के आरम्भ के लिए बहुत ही ज्यादा _____ माना जाता है। माना जाता है कि इस दिन से शिक्षा प्रारंभ होने से बच्चे जानवान बनते हैं और _____ होती है। बच्चों के अन्नप्राशन के लिए भी यह दिन बहुत शुभ होता है। गृह प्रवेश और नए कार्य भी इसी दिन से शुरू किये जाते हैं। पौराणिक कथा के अनुसार जब सृष्टि की रचना की गई तब उस समय वातावरण में नीरसता, उदासी थी। ऐसा लग रहा था मानो किसी की वाणी नहीं है, सभी _____ हैं। भगवन विष्णु को यह देखकर अच्छा नहीं लगा, फिर उन्होंने अपने कमंडल से जल छिड़का, जल कणों के छिड़कते ही पेड़ों से एक शक्ति उत्पन्न हुई, जो अपने दोनों हाथों से वीणा बजा रही थी। साथ ही एस देवी के हाथों में पुस्तक और मोती की माला थी। इस देवी ने ही समस्त _____ को वाणी प्रदान की। जिसके बाद से ही इन्हें सरस्वती कहा गया। यह देवी विद्या और बुद्धि की अधिष्ठात्री हैं, इसलिए इन्हें _____ भी कहा जाता है।

SubQuestion No : 19

Q.19 इस देवी ने ही समस्त _____ को वाणी प्रदान की।

- Ans
- 1. प्राणियों
 - 2. प्रकृति
 - 3. जानवरों
 - 4. देवों

Question ID : 264330188379

Option 1 ID : 264330737389

Option 2 ID : 264330737391

Option 3 ID : 264330737390

Option 4 ID : 264330737388

Status : Answered

Chosen Option : 1

Comprehension:

नीचे दिए गये गद्यांश में कुछ शब्द छोड़ दिए गए हैं, प्रत्येक अनुच्छेद के सामने चार विकल्प दिए गए हैं। इस गद्यांश को ध्यानपूर्वक पढ़ें और चार विकल्पों में से सर्वोत्तम उत्तर वाला विकल्प चुनें।

बसंत पंचमी का दिन बच्चों की शिक्षा-दीक्षा के आरम्भ के लिए बहुत ही ज्यादा _____ माना जाता है। माना जाता है कि इस दिन से शिक्षा प्रारंभ होने से बच्चे जानवान बनते हैं और _____ होती है। बच्चों के अन्नप्राशन के लिए भी यह दिन बहुत शुभ होता है। गृह प्रवेश और नए कार्य भी इसी दिन से शुरू किये जाते हैं। पौराणिक कथा के अनुसार जब सृष्टि की रचना की गई तब उस समय वातावरण में नीरसता, उदासी थी। ऐसा लग रहा था मानो किसी की वाणी नहीं है, सभी _____ हैं। भगवान विष्णु को यह देखकर अच्छा नहीं लगा, फिर उन्होंने अपने कमंडल से जल छिड़का, जल कणों के छिड़कते ही पेड़ों से एक शक्ति उत्पन्न हुई, जो अपने दोनों हाथों से वीणा बजा रही थी। साथ ही एस देवी के हाथों में पुस्तक और मोती की माला थी। इस देवी ने ही समस्त _____ को वाणी प्रदान की। जिसके बाद से ही इन्हें सरस्वती कहा गया। यह देवी विद्या और बुद्धि की अधिष्ठात्री हैं, इसलिए इन्हें _____ भी कहा जाता है।

SubQuestion No : 20

Q.20 यह देवी विद्या और बुद्धि की अधिष्ठात्री हैं, इसलिए इन्हें _____ भी कहा जाता है।

Ans

✓ 1. विद्यादायिनी

✗ 2. लक्ष्मी

✗ 3. माता

✗ 4. देवी

Question ID : 264330188380

Option 1 ID : 264330737392

Option 2 ID : 264330737394

Option 3 ID : 264330737395

Option 4 ID : 264330737393

Status : Answered

Chosen Option : 1