

**Constable GD in Central Armed Police Forces CAPFs SSF Rifleman GD in Assam Rifles Examination 2024**

Roll Number	
Candidate Name	
Venue Name	
Exam Date	05/03/2024
Exam Time	2:30 PM - 3:30 PM
Subject	Constable GD Examination 2024

## Section : Part-A-General Intelligence and Reasoning

**Q.1** Which two numbers should be interchanged to make the given equation correct?

$$14 \times 4 + 6 + 5 - 8 = 3$$

- Ans**
- 1. 8 and 4
  - 2. 3 and 5
  - 3. 14 and 6
  - 4. 3 and 4

Question ID : 264330192282  
Option 1 ID : 264330752482  
Option 2 ID : 264330752483  
Option 3 ID : 264330752484  
Option 4 ID : 264330752485

Status : Answered

Chosen Option : 4

**Q.2** Which of the following groups of letters when sequentially placed from left to right will complete the given series?

abb\_abbcabbcabca\_bcabca\_bc\_bbc

- Ans**
- 1. cbba
  - 2. abcd
  - 3. cdba
  - 4. aabb

Question ID : 264330187340  
Option 1 ID : 264330733289  
Option 2 ID : 264330733288  
Option 3 ID : 264330733291  
Option 4 ID : 264330733290

Status : Answered

Chosen Option : 1

Q.3 Which of the following numbers will replace the question mark (?) in the given series?

71, ?, 80, 85, 89, 94

- Ans
- 1. 74
  - 2. 78
  - 3. 79
  - 4. 76

Question ID : 264330192340  
Option 1 ID : 264330752714  
Option 2 ID : 264330752716  
Option 3 ID : 264330752717  
Option 4 ID : 264330752715  
Status : Answered  
Chosen Option : 4

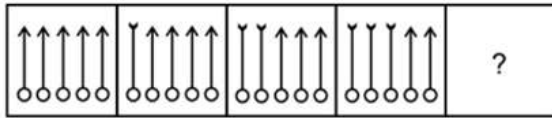
Q.4 In the following question, select the missing number from the given series.

177, 145, 113, 81, 49, ?

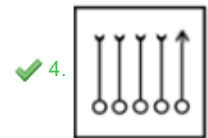
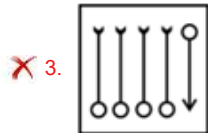
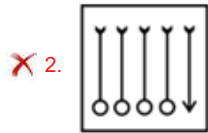
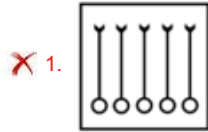
- Ans
- 1. 20
  - 2. 30
  - 3. 24
  - 4. 17

Question ID : 264330190438  
Option 1 ID : 264330745334  
Option 2 ID : 264330745336  
Option 3 ID : 264330745337  
Option 4 ID : 264330745335  
Status : Answered  
Chosen Option : 4

**Q.5** Select the figure that will replace the question mark (?) in the following figure series.



**Ans**



Question ID : 264330191122

Option 1 ID : 264330747842

Option 2 ID : 264330747845

Option 3 ID : 264330747844

Option 4 ID : 264330747843

Status : Answered

Chosen Option : 4

**Q.6** Five friends P, B, C, G and H are sitting around a circular table facing towards the centre. B is sitting to the immediate left of C. G and H are not the immediate neighbour of C. H is sitting second to the right of P. Who is sitting on the immediate right of G?

**Ans** ✓ 1. H

✗ 2. B

✗ 3. C

✗ 4. P

Question ID : 264330191536

Option 1 ID : 264330749498

Option 2 ID : 264330749499

Option 3 ID : 264330749501

Option 4 ID : 264330749500

Status : Answered

Chosen Option : 1

**Q.7** A series is given with one term missing. Select the correct alternative from the given ones that will complete the series.

NS, PK, HM, JE, ?

- Ans**
- 1. BM
  - 2. BS
  - 3. BC
  - 4. BG

Question ID : 264330187419

Option 1 ID : 264330733607

Option 2 ID : 264330733606

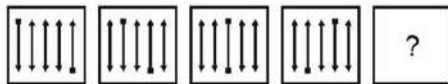
Option 3 ID : 264330733604

Option 4 ID : 264330733605

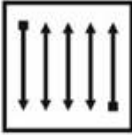
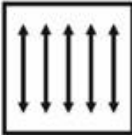
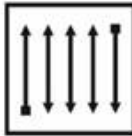
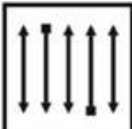
Status : Answered

Chosen Option : 3

**Q.8** In the following question, select the figure which can be placed at the sign of question mark (?) from the given alternatives.



**Ans**

- 1. 
- 2. 
- 3. 
- 4. 

Question ID : 264330187115

Option 1 ID : 264330732389

Option 2 ID : 264330732391

Option 3 ID : 264330732388

Option 4 ID : 264330732390

Status : Answered

Chosen Option : 3

**Q.9** By Interchanging the given two numbers which of the following equation will be not correct?

4 and 9

- Ans**
- 1.  $8 + 4 \times 3 - 9 = 31$
  - 2.  $4 - 9 + 8 = 15$
  - 3.  $9 \times 1 - 4 + 6 = 1$
  - 4.  $9 - 4 + 3 + 1 = 2$

Question ID : **264330187052**

Option 1 ID : **264330732136**

Option 2 ID : **264330732137**

Option 3 ID : **264330732138**

Option 4 ID : **264330732139**

Status : **Answered**

Chosen Option : **2**

**Q.10** Eight teachers Jatin, Abhi, Gopal, Heena, Isha, Rohit, Kajal and Leela are sitting around a circular table facing opposite to the centre (not necessarily in the same order). Abhi is second to the left of Heena. Rohit is third to the right of Heena. Gopal is second to the right of Jatin. Rohit is second to the left of Jatin. Kajal is third to the left of Isha. Who is sitting to the immediate right of Gopal?

- Ans**
- 1. Kajal
  - 2. Abhi
  - 3. Heena
  - 4. Jatin

Question ID : **264330187068**

Option 1 ID : **264330732203**

Option 2 ID : **264330732200**

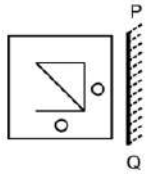
Option 3 ID : **264330732201**

Option 4 ID : **264330732202**

Status : **Answered**

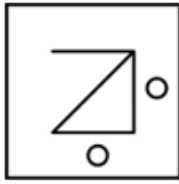
Chosen Option : **3**

**Q.11** Select the correct mirror image of the given figure when the mirror PQ is placed to the right side of the figure.

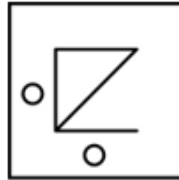


**Ans**

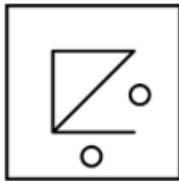
✗ 1.



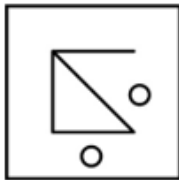
✓ 2.



✗ 3.



✗ 4.



Question ID : 264330190725

Option 1 ID : 264330746333

Option 2 ID : 264330746331

Option 3 ID : 264330746332

Option 4 ID : 264330746330

Status : Answered

Chosen Option : 2

**Q.12** In a certain code language, if COMPUTER is coded as 'DPNQVUFS' and KEYBOARD is coded as 'LFZCPBSE,' then what will MOUSE be coded as?

**Ans** ✗ 1. NVTPF

✓ 2. NPVTF

✗ 3. NPTVF

✗ 4. NPTFV

Question ID : 264330190712

Option 1 ID : 264330746281

Option 2 ID : 264330746279

Option 3 ID : 264330746278

Option 4 ID : 264330746280

Status : Answered

Chosen Option : 2

**Q.13** In the following question below are given some statements followed by some conclusions based on those statements. Taking the given statements to be true even if they seem to be at variance from commonly known acts. Read all the conclusions and then decide which of the given conclusion logically follows the given statements.

Statements:

I. No Brush is Bed.

II. Some Table are Brush.

Conclusions:

I. Some Table are not Bed.

II. All Bed are Table.

- Ans**
- 1. Both conclusions I and II follows
  - 2. Only conclusion II follows
  - 3. Neither conclusion follows
  - 4. Only conclusion I follows

Question ID : 264330190497

Option 1 ID : 264330745572

Option 2 ID : 264330745571

Option 3 ID : 264330745573

Option 4 ID : 264330745570

Status : Answered

Chosen Option : 4

**Q.14** In a certain code language, 'LOSS' is coded as 'OSVW'. What is the code for 'MANY' in that code language?

- Ans**
- 1. PFQC
  - 2. PERC
  - 3. PEQC
  - 4. PEQD

Question ID : 264330190272

Option 1 ID : 264330744672

Option 2 ID : 264330744673

Option 3 ID : 264330744670

Option 4 ID : 264330744671

Status : Answered

Chosen Option : 3

**Q.15** Select the option that is related to the fifth letter cluster in the same way as the fourth letter cluster is related to the third letter cluster and the second letter cluster is related to the first letter cluster.

PIRATE : PEITRA :: SYSTEM : SMYEST :: PHYSIQUE : ?

- Ans**
- 1. UEIQPHYS
  - 2. YSPHUEIQ
  - 3. PEHUYQSI
  - 4. SYHPQIEU

Question ID : 264330192171

Option 1 ID : 264330752040

Option 2 ID : 264330752039

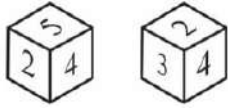
Option 3 ID : 264330752038

Option 4 ID : 264330752041

Status : Answered

Chosen Option : 3

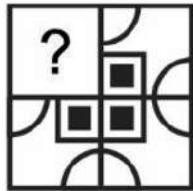
**Q.16** Two positions of a dice are given below. What will come on the face opposite to the face containing '5' on it?



- Ans**
- 1. 2
  - 2. 6
  - 3. 3
  - 4. 1

Question ID : 264330191346  
 Option 1 ID : 264330748738  
 Option 2 ID : 264330748740  
 Option 3 ID : 264330748741  
 Option 4 ID : 264330748739  
 Status : Answered  
 Chosen Option : 3

**Q.17** Which answer figure will complete the pattern in the question figure? (rotation is NOT allowed)



- Ans**
- 1.
  - 2.
  - 3.
  - 4.

Question ID : 264330192347  
 Option 1 ID : 264330752742  
 Option 2 ID : 264330752745  
 Option 3 ID : 264330752744  
 Option 4 ID : 264330752743  
 Status : Answered  
 Chosen Option : 1



**Q.18** In the following question, select the related letter pair from the given alternatives.

YL : XI :: ?

Ans  1. FQ : AB

2. EC : RI

3. ZK : IT

4. EI : DF

Question ID : 264330190211

Option 1 ID : 264330744427

Option 2 ID : 264330744428

Option 3 ID : 264330744426

Option 4 ID : 264330744429

Status : Answered

Chosen Option : 4

**Q.19**  $A \times B$  means A is the brother of B,  $A + B$  means A is the father of B,  $A - B$  means A is the sister of B and  $A \div B$  means A is the wife of B.

If  $P \times Q + H + D - B + M$ , then how is Q related to M?

Ans  1. Father's sister

2. Father's mother

3. Mother's mother

4. Sister

Question ID : 264330187086

Option 1 ID : 264330732272

Option 2 ID : 264330732273

Option 3 ID : 264330732275

Option 4 ID : 264330732274

Status : Answered

Chosen Option : 3

**Q.20** Arrange the given words in alphabetical order:

1. READ

2. RIDE

3. RINSE

4. REAL

5. RIGHT

Ans  1. 1,3,2,5,4

2. 1,4,2,5,3

3. 1,3,2,4,5

4. 3,2,1,4,5

Question ID : 264330192070

Option 1 ID : 264330751637

Option 2 ID : 264330751636

Option 3 ID : 264330751635

Option 4 ID : 264330751634

Status : Answered

Chosen Option : 2

Q.1 Credit of invention of the Chess game goes to:

- Ans
- 1. India
  - 2. Iran
  - 3. England
  - 4. Japan

Question ID : 264330191784  
Option 1 ID : 264330750492  
Option 2 ID : 264330750490  
Option 3 ID : 264330750491  
Option 4 ID : 264330750493  
Status : Answered  
Chosen Option : 1

Q.2 From which date, Indian Financial year begins?

- Ans
- 1. 31st March
  - 2. 1st March
  - 3. 1st April
  - 4. 1st January

Question ID : 264330191765  
Option 1 ID : 264330750416  
Option 2 ID : 264330750415  
Option 3 ID : 264330750417  
Option 4 ID : 264330750414  
Status : Answered  
Chosen Option : 3

Q.3 What does "LBW" stand for in cricket?

- Ans
- 1. Last Ball Wicket
  - 2. Long Boundary Wicket
  - 3. Leg Break Wrist
  - 4. Leg Before Wicket

Question ID : 264330190882  
Option 1 ID : 264330746884  
Option 2 ID : 264330746883  
Option 3 ID : 264330746885  
Option 4 ID : 264330746882  
Status : Answered  
Chosen Option : 4

Q.4 Which Indian dancer won the Sangeet Natak Akademi Award for Manipuri Dance in 2018?

- Ans
- 1. Gopika Varma
  - 2. Akham Lakshmi Devi
  - 3. Surupa Sen
  - 4. Dr. Aruna Mohanty

Question ID : 264330191259  
Option 1 ID : 264330748392  
Option 2 ID : 264330748393  
Option 3 ID : 264330748390  
Option 4 ID : 264330748391  
Status : Answered  
Chosen Option : 4

Q.5 Which of the following statement is 'true' for 'dobereiner's triads'?

I. Triads were in order of atomic masses.

II. Atomic mass of middle element was roughly the average of atomic masses of other two elements.

- Ans
- 1. Both I and II
  - 2. Only I
  - 3. Only II
  - 4. Neither I nor II

Question ID : 264330191052  
Option 1 ID : 264330747564  
Option 2 ID : 264330747562  
Option 3 ID : 264330747563  
Option 4 ID : 264330747565  
Status : Answered  
Chosen Option : 1

Q.6 Most of Ashoka's inscriptions were in \_\_\_\_\_ language and were written in the \_\_\_\_\_ script.

- Ans
- 1. Prakrit, Brahmi
  - 2. Pali, Kharosthi
  - 3. Sanskrit, Kharosthi
  - 4. Sanskrit, Brahmi

Question ID : 264330188860  
Option 1 ID : 264330739242  
Option 2 ID : 264330739244  
Option 3 ID : 264330739243  
Option 4 ID : 264330739245  
Status : Answered  
Chosen Option : 3

Q.7 Which of the following sectors is the most labour absorbing sector of the economy?

- Ans
- 1. Banking
  - 2. Industry
  - 3. Agriculture
  - 4. Service

Question ID : 264330192015  
Option 1 ID : 264330751416  
Option 2 ID : 264330751414  
Option 3 ID : 264330751417  
Option 4 ID : 264330751415  
Status : Answered  
Chosen Option : 2

Q.8 Which of the following is a dance form of Assam?

- Ans
- 1. Bihu
  - 2. Garba
  - 3. Ghoomar
  - 4. Kathakali

Question ID : 264330191211  
Option 1 ID : 264330748199  
Option 2 ID : 264330748200  
Option 3 ID : 264330748198  
Option 4 ID : 264330748201  
Status : Answered  
Chosen Option : 1

Q.9 The period from the decline of the Mauryas to the rise of the Guptas (2nd century BCE to 3rd century CE) is known in

Indian history as the \_\_\_\_\_ period.

- Ans
- 1. Post – Mauryan
  - 2. Pre – Mauryan
  - 3. Pre-British
  - 4. Industrialization

Question ID : 264330191857  
Option 1 ID : 264330750783  
Option 2 ID : 264330750782  
Option 3 ID : 264330750784  
Option 4 ID : 264330750785  
Status : Answered  
Chosen Option : 1

Q.10 In which of the following states is the festival Vishu celebrated?

- Ans
- 1. West Bengal
  - 2. Madhya Pradesh
  - 3. Kerala
  - 4. Bihar

Question ID : 264330191932  
Option 1 ID : 264330751084  
Option 2 ID : 264330751085  
Option 3 ID : 264330751082  
Option 4 ID : 264330751083  
Status : Answered  
Chosen Option : 3

Q.11 Which Five-Year Plan of India was known as the "Mahalanobis Plan"?

- Ans
- 1. Fourth Five-Year Plan
  - 2. First Five-Year Plan
  - 3. Third Five-Year Plan
  - 4. Second Five-Year Plan

Question ID : 264330191306  
Option 1 ID : 264330748581  
Option 2 ID : 264330748578  
Option 3 ID : 264330748580  
Option 4 ID : 264330748579  
Status : Answered  
Chosen Option : 1

Q.12 In July 2023, who has been awarded the British Prime Minister's Points of Light award for volunteering several sustainability initiatives, including raising funds for children, since the age of three?

- Ans
- 1. Anoushka Jolly
  - 2. Aadithya Suresh
  - 3. Moksha Roy
  - 4. Hanaya Nisar

Question ID : 264330188813  
Option 1 ID : 264330739056  
Option 2 ID : 264330739054  
Option 3 ID : 264330739055  
Option 4 ID : 264330739057  
Status : Answered  
Chosen Option : 1

Q.13 What is the time period of the rolling plan during the five-year plan in India?

- Ans
- 1. 1978 – 80
  - 2. 1975 – 78
  - 3. 1968 – 70
  - 4. 1971 – 73

Question ID : 264330191026  
Option 1 ID : 264330747461  
Option 2 ID : 264330747460  
Option 3 ID : 264330747458  
Option 4 ID : 264330747459  
Status : Answered  
Chosen Option : 1

Q.14 Who won the ICC ODI World Cup 2011?

- Ans
- 1. England
  - 2. Australia
  - 3. India
  - 4. Sri Lanka

Question ID : 264330191982  
Option 1 ID : 264330751282  
Option 2 ID : 264330751283  
Option 3 ID : 264330751284  
Option 4 ID : 264330751285  
Status : Answered  
Chosen Option : 3

Q.15 Which of the following is NOT one of the fundamental rights mentioned in the Indian Constitution?

- Ans
- 1. Right to constitutional remedies
  - 2. Right to freedom of Religion
  - 3. Right to equality
  - 4. Right to exploitation

Question ID : 264330191740  
Option 1 ID : 264330750316  
Option 2 ID : 264330750315  
Option 3 ID : 264330750314  
Option 4 ID : 264330750317  
Status : Answered  
Chosen Option : 4

**Q.16** In January 2023, who has been appointed as the Director General in the Directorate of General of Civil Aviation (DGCA)?

- Ans**
- 1. Pramod Kumar Misra
  - 2. Vikram Dev Dutt
  - 3. Ajay Kumar Bhalla
  - 4. Ajay Kumar Sood

Question ID : 264330191089  
Option 1 ID : 264330747711  
Option 2 ID : 264330747710  
Option 3 ID : 264330747712  
Option 4 ID : 264330747713  
Status : Answered  
Chosen Option : 3

**Q.17** Union Finance Minister Nirmala Sitharaman announced Atmanirbhar Clean Plant Programme with an outlay of \_\_\_\_\_ to boost availability of disease-free and quality planting material for high value horticultural crops.

- Ans**
- 1. Rs 2,200 crore
  - 2. Rs 1000 crore
  - 3. Rs 100 crore
  - 4. Rs 500 crore

Question ID : 264330190907  
Option 1 ID : 264330746982  
Option 2 ID : 264330746985  
Option 3 ID : 264330746983  
Option 4 ID : 264330746984  
Status : Answered  
Chosen Option : 2

**Q.18** According to Constitution of India a governor can be appointed \_\_\_\_\_

- Ans**
- 1. for two or more states
  - 2. only for a union territory
  - 3. for not more than 2 states
  - 4. for a single state at a time

Question ID : 264330191441  
Option 1 ID : 264330749120  
Option 2 ID : 264330749121  
Option 3 ID : 264330749119  
Option 4 ID : 264330749118  
Status : Answered  
Chosen Option : 1

**Q.19** The first census of Independent India was conducted in 1951, which was the \_\_\_\_\_ census in its continuous series.

- Ans**
- 1. eighth
  - 2. fifth
  - 3. seventh
  - 4. sixth

Question ID : 264330188738  
Option 1 ID : 264330738757  
Option 2 ID : 264330738754  
Option 3 ID : 264330738756  
Option 4 ID : 264330738755  
Status : Answered  
Chosen Option : 3

**Q.20** Which of the following has invented the musical instrument Bamhum and Tikzik?

- Ans**
- 1. Takar Nabam
  - 2. Lily Adoryllene
  - 3. Lou Majaw
  - 4. Moa Subong

Question ID : 264330188762  
Option 1 ID : 264330738852  
Option 2 ID : 264330738853  
Option 3 ID : 264330738851  
Option 4 ID : 264330738850  
Status : Answered  
Chosen Option : 2

Section : Part-C-Elementary Mathematics

**Q.1** Minto alone can make a table in 75 days while Pinto alone can make it in 150 days. Pinto started the work and worked for 30 days. In how many days Minto can finish the remaining work?

- Ans**
- 1. 75 days
  - 2. 60 days
  - 3. 70 days
  - 4. 85 days

Question ID : 264330187776  
Option 1 ID : 264330735033  
Option 2 ID : 264330735034  
Option 3 ID : 264330735035  
Option 4 ID : 264330735032  
Status : Answered  
Chosen Option : 2



Q.2 Simplify:  $18 - (3/2) \times (4 + 1)$ .

- Ans
- 1. 16.4
  - 2. 10.5
  - 3. 12.4
  - 4. 11.5

Question ID : 264330190728  
Option 1 ID : 264330746345  
Option 2 ID : 264330746342  
Option 3 ID : 264330746343  
Option 4 ID : 264330746344  
Status : Answered  
Chosen Option : 2

Q.3 If  $p : q = 1 : 3$  and  $r : s = 2p : 3q$ , then what is the value of  $pr : qs$ ?

- Ans
- 1. 27 : 2
  - 2. 2 : 29
  - 3. 2 : 25
  - 4. 2 : 27

Question ID : 264330187732  
Option 1 ID : 264330734859  
Option 2 ID : 264330734857  
Option 3 ID : 264330734856  
Option 4 ID : 264330734858  
Status : Answered  
Chosen Option : 4

Q.4 The compound interest (compounding annually) on a principal amount of Rs. 12,000 for 2 years is Rs. 4,320 more than the simple interest for the same period. Find the rate of interest per annum.

- Ans
- 1. 68%
  - 2. 60%
  - 3. 55%
  - 4. 72%

Question ID : 264330191703  
Option 1 ID : 264330750169  
Option 2 ID : 264330750168  
Option 3 ID : 264330750166  
Option 4 ID : 264330750167  
Status : Answered  
Chosen Option : 2

**Q.5** A, B, and C can complete a piece of work in 16 days, 24 days, and 32 days respectively. How many days will all three take together to complete the work?

- Ans**
- 1.  $17/3$  days
  - 2.  $99/4$  days
  - 3.  $35/8$  days
  - 4.  $96/13$  days

Question ID : 264330188432  
Option 1 ID : 264330737596  
Option 2 ID : 264330737598  
Option 3 ID : 264330737597  
Option 4 ID : 264330737599  
Status : Answered  
Chosen Option : 4

**Q.6** The cost price of an article is ₹ 650. After allowing a discount of 45%, a gain of 10% was made. Find the marked price of the article.

- Ans**
- 1. ₹ 2400
  - 2. ₹ 1300
  - 3. ₹ 1500
  - 4. ₹ 2000

Question ID : 264330191157  
Option 1 ID : 264330747985  
Option 2 ID : 264330747983  
Option 3 ID : 264330747982  
Option 4 ID : 264330747984  
Status : Answered  
Chosen Option : 2

**Q.7** If  $g : h : j = 5 : 2 : 1$ , then what is the value of  $g : 2h : j$ ?

- Ans**
- 1.  $3 : 5 : 2$
  - 2.  $5 : 4 : 1$
  - 3.  $5 : 4 : 2$
  - 4.  $5 : 1 : 3$

Question ID : 264330187511  
Option 1 ID : 264330733974  
Option 2 ID : 264330733972  
Option 3 ID : 264330733973  
Option 4 ID : 264330733975  
Status : Answered  
Chosen Option : 2

**Q.8** A person goes from Q to S at a speed of 45 km/hr. He comes back from S to Q at a certain speed. If his average speed is 36 km/hr, then what was his speed while moving from S towards Q?

- Ans**
- 1. 24 km/hr
  - 2. 45 km/hr
  - 3. 36 km/hr
  - 4. 30 km/hr

Question ID : 264330187515  
Option 1 ID : 264330733988  
Option 2 ID : 264330733989  
Option 3 ID : 264330733991  
Option 4 ID : 264330733990  
Status : Answered  
Chosen Option : 4

**Q.9** What is the value of  $1008 - 40 \times 20 \div 10 + 2$ ?

- Ans**
- 1. 940
  - 2. 926
  - 3. 930
  - 4. 936

Question ID : 264330187159  
Option 1 ID : 264330732565  
Option 2 ID : 264330732566  
Option 3 ID : 264330732567  
Option 4 ID : 264330732564  
Status : Answered  
Chosen Option : 3

**Q.10** The price of an article is first decreased by 32% and then increased by 44%. If the resulting price is ₹ 489.6, then find the original price of the article.

- Ans**
- 1. ₹ 500
  - 2. ₹ 750
  - 3. ₹ 450
  - 4. ₹ 600

Question ID : 264330188421  
Option 1 ID : 264330737553  
Option 2 ID : 264330737555  
Option 3 ID : 264330737552  
Option 4 ID : 264330737554  
Status : Answered  
Chosen Option : 1

Q.11 If total surface area of a cube is  $726 \text{ cm}^2$ , then what is the volume of cube?

- Ans
- 1.  $1000 \text{ cm}^3$
  - 2.  $1728 \text{ cm}^3$
  - 3.  $729 \text{ cm}^3$
  - 4.  $1331 \text{ cm}^3$

Question ID : 264330187738  
Option 1 ID : 264330734880  
Option 2 ID : 264330734882  
Option 3 ID : 264330734881  
Option 4 ID : 264330734883  
Status : Answered  
Chosen Option : 4

Q.12 In a dance competition 40 percent of the students were boy and the remaining were girls. If the average age of boys is 18 years and that of girls was 15 years. Find the average age of the students who attended the competition.

- Ans
- 1. 14.8 years
  - 2. 16.2 years
  - 3. 13.5 years
  - 4. 15 years

Question ID : 264330192473  
Option 1 ID : 264330753248  
Option 2 ID : 264330753249  
Option 3 ID : 264330753246  
Option 4 ID : 264330753247  
Status : Answered  
Chosen Option : 2

Q.13 What will be the ratio of the Least Common Multiple and Highest Common Factor of 22, 11 and 44?

- Ans
- 1. 6:1
  - 2. 2:1
  - 3. 8:1
  - 4. 4:1

Question ID : 264330190350  
Option 1 ID : 264330744984  
Option 2 ID : 264330744982  
Option 3 ID : 264330744985  
Option 4 ID : 264330744983  
Status : Answered  
Chosen Option : 4

**Q.14** Alex invested \$1500 in a savings bond with a simple interest rate of 6% per annum. How much interest will he receive after 4 years?

- Ans**
- 1. \$313
  - 2. \$360
  - 3. \$326
  - 4. \$382

Question ID : 264330191201  
Option 1 ID : 264330748158  
Option 2 ID : 264330748160  
Option 3 ID : 264330748161  
Option 4 ID : 264330748159  
Status : Answered  
Chosen Option : 2

**Q.15** If an article is sold at a 10% loss after a discount of 20%, what is the original marked price as a percentage of the cost price?

- Ans**
- 1. 110%
  - 2. 125.5%
  - 3. 118.5%
  - 4. 112.5%

Question ID : 264330188503  
Option 1 ID : 264330737815  
Option 2 ID : 264330737816  
Option 3 ID : 264330737817  
Option 4 ID : 264330737814  
Status : Answered  
Chosen Option : 4

**Q.16** The average of b, c, d and e is 25. If the average of b and c is 11, then what will be the average of d and e?

- Ans**
- 1. 39
  - 2. 36
  - 3. 38
  - 4. 35

Question ID : 264330187643  
Option 1 ID : 264330734503  
Option 2 ID : 264330734502  
Option 3 ID : 264330734501  
Option 4 ID : 264330734500  
Status : Answered  
Chosen Option : 1

**Q.17** If a person's salary is increased by 12%, what is the new salary if the original salary was Rs. 15,000?

- Ans**
- 1. Rs. 16500
  - 2. Rs. 16700
  - 3. Rs. 16200
  - 4. Rs. 16800

Question ID : 264330191173  
Option 1 ID : 264330748049  
Option 2 ID : 264330748046  
Option 3 ID : 264330748048  
Option 4 ID : 264330748047  
Status : Answered  
Chosen Option : 4

**Q.18** If the loss incurred on selling an article is 38 percent, then what will be the ratio of its cost price and selling price?

- Ans**
- 1. 40 : 31
  - 2. 31 : 50
  - 3. 31 : 40
  - 4. 50 : 31

Question ID : 264330191135  
Option 1 ID : 264330747894  
Option 2 ID : 264330747896  
Option 3 ID : 264330747897  
Option 4 ID : 264330747895  
Status : Answered  
Chosen Option : 4

**Q.19** Siraj earns a profit of 32% on selling price. Find the approximate profit percent on the cost price.

- Ans**
- 1. 49%
  - 2. 45%
  - 3. 47%
  - 4. 51%

Question ID : 264330192477  
Option 1 ID : 264330753264  
Option 2 ID : 264330753262  
Option 3 ID : 264330753263  
Option 4 ID : 264330753265  
Status : Answered  
Chosen Option : 3

Q.20 What is the value of  $91 \times 7 + 49 \times 13 - 42 \div 7 \times 5$ ?

- Ans
- 1. 1252
  - 2. 1244
  - 3. 1248
  - 4. 1242

Question ID : 264330190347  
Option 1 ID : 264330744973  
Option 2 ID : 264330744971  
Option 3 ID : 264330744972  
Option 4 ID : 264330744970  
Status : Answered  
Chosen Option : 2

Section : Part-D-English

Q.1 Choose the idiom/phrase that can substitute the highlighted group of words meaningfully.

I had a feeling that I was unable to speak due to sadness as I watched the casket of the fallen soldier return home.

- Ans
- 1. Tongue And Cheek
  - 2. In the dark
  - 3. Lump in the throat
  - 4. Cut corners

Question ID : 264330186755  
Option 1 ID : 264330731168  
Option 2 ID : 264330731171  
Option 3 ID : 264330731170  
Option 4 ID : 264330731169  
Status : Answered  
Chosen Option : 3

Q.2 In the following question, out of the given four alternatives, select the alternative which best expresses the meaning of the Idiom/Phrase.

To throw down the gauntlet

- Ans
- 1. To surrender
  - 2. To plead for mercy
  - 3. To challenge somebody to do something
  - 4. To ignore without any reason

Question ID : 264330185808  
Option 1 ID : 264330727561  
Option 2 ID : 264330727562  
Option 3 ID : 264330727560  
Option 4 ID : 264330727563  
Status : Answered  
Chosen Option : 3

**Q.3** Improve the underlined part of the sentence. Choose 'No improvement' as an answer if the sentence is grammatically correct.

They had to cultivate crops which the company asked them to do.

- Ans**
- 1. No improvement
  - 2. cultivate cropping
  - 3. had cultivating crops
  - 4. had to cultivates crops

Question ID : 264330185733

Option 1 ID : 264330727279

Option 2 ID : 264330727278

Option 3 ID : 264330727276

Option 4 ID : 264330727277

Status : Answered

Chosen Option : 1

**Q.4** Find the part of the given sentence that has an error in it. If there is no error, choose 'No error'.

The main driver of today's global warming were the combustion of fossil fuels.

- Ans**
- 1. The main driver of
  - 2. today's global warming were the
  - 3. combustion of fossil fuels
  - 4. No error

Question ID : 264330185668

Option 1 ID : 264330727028

Option 2 ID : 264330727029

Option 3 ID : 264330727030

Option 4 ID : 264330727031

Status : Answered

Chosen Option : 2

**Q.5** Select the sentence with no spelling errors.

- Ans**
- 1.  
Just who is crazy enough to go swimming when the pond across the street has a layer of ice across the top?
  - 2.  
Just who is crazy enough to go swimming when the pond across the streat has a layer of ice across the top?
  - 3.  
Just who is crezy enough to go swimming when the pond across the street has a layer of ice across the top?
  - 4.  
Just who is crazy enough to go swimming when the pond across the street has a layer of ice across the top?

Question ID : 264330185664

Option 1 ID : 264330727013

Option 2 ID : 264330727015

Option 3 ID : 264330727014

Option 4 ID : 264330727012

Status : Answered

Chosen Option : 4



**Q.6** Find the part of the given sentence that has an error in it. If there is no error, choose 'No error'.

Some of the flowers in my garden is not blooming properly.

**Ans** ✓ 1. is not blooming properly.

✗ 2. Some of the

✗ 3. No error

✗ 4. flowers in my garden

Question ID : 264330185708

Option 1 ID : 264330727182

Option 2 ID : 264330727180

Option 3 ID : 264330727183

Option 4 ID : 264330727181

Status : Answered

Chosen Option : 1

**Q.7** Select the most appropriate option for the given blank.

I am allergic \_\_\_\_\_ some medicines.

**Ans** ✗ 1. with

✓ 2. to

✗ 3. on

✗ 4. of

Question ID : 264330185896

Option 1 ID : 264330727898

Option 2 ID : 264330727897

Option 3 ID : 264330727896

Option 4 ID : 264330727899

Status : Answered

Chosen Option : 2

**Q.8** Find the part of the given sentence that has an error in it. If there is no error, choose 'No error'.

I don't mind trying to make your day as well as you make mine.

**Ans** ✗ 1. I don't mind trying

✗ 2. No error

✓ 3. as well as you make mine

✗ 4. to make your day

Question ID : 264330186361

Option 1 ID : 264330729668

Option 2 ID : 264330729671

Option 3 ID : 264330729670

Option 4 ID : 264330729669

Status : Answered

Chosen Option : 3

Q.9 Fill in the blank with the most appropriate option.

He said he would split open a raw Irish potato and stick the quarter in \_\_\_\_\_ and keep it there all night.

- Ans
- 1. slice
  - 2. between
  - 3. gap
  - 4. along

Question ID : 264330186911  
Option 1 ID : 264330731767  
Option 2 ID : 264330731765  
Option 3 ID : 264330731766  
Option 4 ID : 264330731764  
Status : Answered  
Chosen Option : 3

Q.10 From the options given below choose the synonym (similar meaning) of the word:

Decapitate

- Ans
- 1. Invigorate
  - 2. Feeble
  - 3. Affection
  - 4. Behead

Question ID : 264330186415  
Option 1 ID : 264330729873  
Option 2 ID : 264330729874  
Option 3 ID : 264330729875  
Option 4 ID : 264330729872  
Status : Answered  
Chosen Option : 3

Q.11 Select the most appropriate option for the given blank.

\_\_\_\_\_ the flying bricks and bottles, the riot police kept calm.

- Ans
- 1. about
  - 2. beside
  - 3. until
  - 4. amid

Question ID : 264330185608  
Option 1 ID : 264330726802  
Option 2 ID : 264330726801  
Option 3 ID : 264330726800  
Option 4 ID : 264330726803  
Status : Answered  
Chosen Option : 4

**Q.12** Select the incorrectly spelt word from the given sentence.

Leisure is esential to civilization, and in former times leisure for the few was only rendered possible by the labours of the many.

- Ans**
- 1. possible
  - 2. esential
  - 3. rendered
  - 4. Leisure

Question ID : 264330185726

Option 1 ID : 264330727251

Option 2 ID : 264330727249

Option 3 ID : 264330727250

Option 4 ID : 264330727248

Status : Answered

Chosen Option : 2

**Q.13** Choose the most appropriate antonym of the underlined word.

We urge regulators to adopt a pragmatic and proportionate approach until a sustainable long-term solution can be reached.

- Ans**
- 1. Practical
  - 2. Sober
  - 3. Idealistic
  - 4. Logical

Question ID : 264330186774

Option 1 ID : 264330731241

Option 2 ID : 264330731243

Option 3 ID : 264330731240

Option 4 ID : 264330731242

Status : Answered

Chosen Option : 2

**Q.14** Choose the word that is opposite in meaning to the given word.

Irritate

- Ans**
- 1. Miff
  - 2. Pester
  - 3. Pacify
  - 4. Annoy

Question ID : 264330186353

Option 1 ID : 264330729637

Option 2 ID : 264330729639

Option 3 ID : 264330729636

Option 4 ID : 264330729638

Status : Answered

Chosen Option : 3

Q.15 Select the most appropriate word to fill in the blank.

Others looked at the issue \_\_\_\_\_.

- Ans
- 1. different
  - 2. difference
  - 3. differently
  - 4. differential

Question ID : 264330186303  
Option 1 ID : 264330729450  
Option 2 ID : 264330729448  
Option 3 ID : 264330729451  
Option 4 ID : 264330729449  
Status : Answered  
Chosen Option : 3

**Comprehension:**

In the following passage some words have been deleted. Fill in the blanks with the help of the alternatives given. Select the most appropriate option for each number.

For all that I knew this (1) \_\_\_\_\_ well, I (2) \_\_\_\_\_ felt as if it were not safe to let the coach-office be out of my sight (3) \_\_\_\_\_ than five minutes at a time; and in this (4) \_\_\_\_\_ of unreason I had performed the first half-hour of a (5) \_\_\_\_\_ of four or five hours, when Wemmick ran against me.

**SubQuestion No : 16**

Q.16 Select the most appropriate option to fill in the blank No. 1.

- Ans
- 1. closely
  - 2. perfectly
  - 3. doubtfully
  - 4. loosely

Question ID : 264330186536  
Option 1 ID : 264330730334  
Option 2 ID : 264330730332  
Option 3 ID : 264330730333  
Option 4 ID : 264330730335  
Status : Answered  
Chosen Option : 2

**Comprehension:**

In the following passage some words have been deleted. Fill in the blanks with the help of the alternatives given. Select the most appropriate option for each number.

For all that I knew this (1) \_\_\_\_\_ well, I (2) \_\_\_\_\_ felt as if it were not safe to let the coach-office be out of my sight (3) \_\_\_\_\_ than five minutes at a time; and in this (4) \_\_\_\_\_ of unreason I had performed the first half-hour of a (5) \_\_\_\_\_ of four or five hours, when Wemmick ran against me.

**SubQuestion No : 17**

Q.17 Select the most appropriate option to fill in the blank No. 2.

- Ans
- 1. can
  - 2. sometime
  - 3. still
  - 4. some

Question ID : 264330186537

Option 1 ID : 264330730336

Option 2 ID : 264330730339

Option 3 ID : 264330730337

Option 4 ID : 264330730338

Status : Answered

Chosen Option : 1

**Comprehension:**

In the following passage some words have been deleted. Fill in the blanks with the help of the alternatives given. Select the most appropriate option for each number.

For all that I knew this (1) \_\_\_\_\_ well, I (2) \_\_\_\_\_ felt as if it were not safe to let the coach-office be out of my sight (3) \_\_\_\_\_ than five minutes at a time; and in this (4) \_\_\_\_\_ of unreason I had performed the first half-hour of a (5) \_\_\_\_\_ of four or five hours, when Wemmick ran against me.

**SubQuestion No : 18**

Q.18 Select the most appropriate option to fill in the blank No. 3.

- Ans
- 1. bigger
  - 2. larger
  - 3. shorter
  - 4. longer

Question ID : 264330186538

Option 1 ID : 264330730340

Option 2 ID : 264330730341

Option 3 ID : 264330730343

Option 4 ID : 264330730342

Status : Answered

Chosen Option : 3

**Comprehension:**

In the following passage some words have been deleted. Fill in the blanks with the help of the alternatives given. Select the most appropriate option for each number.

For all that I knew this (1) \_\_\_\_\_ well, I (2) \_\_\_\_\_ felt as if it were not safe to let the coach-office be out of my sight (3) \_\_\_\_\_ than five minutes at a time; and in this (4) \_\_\_\_\_ of unreason I had performed the first half-hour of a (5) \_\_\_\_\_ of four or five hours, when Wemmick ran against me.

**SubQuestion No : 19**

**Q.19** Select the most appropriate option to fill in the blank No. 4.

- Ans**
- 1. stance
  - 2. status
  - 3. glance
  - 4. condition

Question ID : 264330186539

Option 1 ID : 264330730344

Option 2 ID : 264330730345

Option 3 ID : 264330730346

Option 4 ID : 264330730347

Status : Answered

Chosen Option : 4

**Comprehension:**

In the following passage some words have been deleted. Fill in the blanks with the help of the alternatives given. Select the most appropriate option for each number.

For all that I knew this (1) \_\_\_\_\_ well, I (2) \_\_\_\_\_ felt as if it were not safe to let the coach-office be out of my sight (3) \_\_\_\_\_ than five minutes at a time; and in this (4) \_\_\_\_\_ of unreason I had performed the first half-hour of a (5) \_\_\_\_\_ of four or five hours, when Wemmick ran against me.

**SubQuestion No : 20**

**Q.20** Select the most appropriate option to fill in the blank No. 5.

- Ans**
- 1. clocking
  - 2. sight
  - 3. vision
  - 4. watch

Question ID : 264330186540

Option 1 ID : 264330730349

Option 2 ID : 264330730350

Option 3 ID : 264330730351

Option 4 ID : 264330730348

Status : Answered

Chosen Option : 4

Q.1 दिए गए वाक्य में उचित देशज-विदेशज शब्द का चयन करके रिक्त स्थान की पूर्ति कीजिए।

नहीं! मुझे तुमसे कोई \_\_\_\_\_ नहीं चाहिए।

- Ans
- 1. ईमारत
  - 2. एहसान
  - 3. कुर्सी
  - 4. उम्र

Question ID : 264330189266

Option 1 ID : 264330740804

Option 2 ID : 264330740803

Option 3 ID : 264330740805

Option 4 ID : 264330740802

Status : Not Answered

Chosen Option : --

Q.2 निम्नलिखित वाक्य में रेखांकित भाग के लिए एक सार्थक शब्द ज्ञात कीजिए।

सारी धातुएँ पृथ्वी से जुड़ी हैं।

- Ans
- 1. पार्थिव
  - 2. भोमिक
  - 3. भुगोल
  - 4. भू

Question ID : 264330188941

Option 1 ID : 264330739564

Option 2 ID : 264330739563

Option 3 ID : 264330739565

Option 4 ID : 264330739562

Status : Not Answered

Chosen Option : --

Q.3 दिए गए वाक्य में से निरर्थक शब्द ज्ञात कीजिए।

बाज़ार से टटमार ले आओ।

- Ans
- 1. आओ
  - 2. बाज़ार
  - 3. लाओ
  - 4. टटमार

Question ID : 264330189015

Option 1 ID : 264330739847

Option 2 ID : 264330739846

Option 3 ID : 264330739849

Option 4 ID : 264330739848

Status : Not Answered

Chosen Option : --

Q.4 निम्नलिखित प्रश्न में, चार विकल्पों में से, उस विकल्प का चयन करें जो दिये गए मुहावरे का सही अर्थ वाला विकल्प है।

उड़ती चिड़िया पहचानना

- Ans
- ✗ 1. विपरीत कार्य करना
  - ✗ 2. बहुत क्रुद्ध होना
  - ✓ 3. बहुत अनुभवी होना
  - ✗ 4. भीतर ही भीतर रोना

Question ID : 264330189745

Option 1 ID : 264330742626

Option 2 ID : 264330742627

Option 3 ID : 264330742628

Option 4 ID : 264330742629

Status : Not Answered

Chosen Option : --

Q.5 दिए गए वाक्यांश के लिए सार्थक शब्द ज्ञात कीजिए।

जो आदेश एक निश्चित अवधि तक लागू हो

- Ans
- ✓ 1. अध्यादेश
  - ✗ 2. अधिसूचना
  - ✗ 3. अधिनियम
  - ✗ 4. अनिकेत

Question ID : 264330189971

Option 1 ID : 264330743486

Option 2 ID : 264330743487

Option 3 ID : 264330743488

Option 4 ID : 264330743489

Status : Not Answered

Chosen Option : --

Q.6 दिए गए शब्द का पर्यायवाची ज्ञात कीजिए।

स्वतंत्रता

- Ans
- ✗ 1. सर्प
  - ✗ 2. रिक्त
  - ✓ 3. आजादी
  - ✗ 4. विपदा

Question ID : 264330189069

Option 1 ID : 264330740052

Option 2 ID : 264330740051

Option 3 ID : 264330740053

Option 4 ID : 264330740050

Status : Not Answered

Chosen Option : --



Q.7 दिए गए वाक्य का वह भाग ज्ञात करें, जिसमें कोई त्रुटि है। यदि कोई त्रुटि नहीं है, तो 'कोई त्रुटि नहीं है' चुनें।

कुमारी विजयलक्ष्मी कल अपने पति के साथ नैनीताल जाएगी।

- Ans
- ✗ 1. के साथ नैनीताल जाएगी।
  - ✓ 2. कुमारी विजयलक्ष्मी
  - ✗ 3. कोई त्रुटि नहीं है
  - ✗ 4. कल अपने पति

Question ID : 264330188183

Option 1 ID : 264330736646

Option 2 ID : 264330736644

Option 3 ID : 264330736647

Option 4 ID : 264330736645

Status : Not Answered

Chosen Option : --

Q.8 दिए गए वाक्य में उचित पर्यायवाची शब्द का चयन करके रिक्त स्थान की पूर्ति करें।

इन फूलों से कितनी अच्छी \_\_\_\_\_ (महक) आ रही है।

- Ans
- ✗ 1. शांत
  - ✗ 2. बदबू
  - ✗ 3. भूमि
  - ✓ 4. सुगंध

Question ID : 264330189049

Option 1 ID : 264330739974

Option 2 ID : 264330739977

Option 3 ID : 264330739976

Option 4 ID : 264330739975

Status : Not Answered

Chosen Option : --

Q.9 निम्नलिखित प्रश्न में, चार विकल्पों में से, उस विकल्प का चयन करें जो रिक्त स्थान के लिए सही पुल्लिंग रूप वाला विकल्प हो।

मैंने जो अपना \_\_\_\_\_ तुम्हें कल दिया था वह मुझे वापस चाहिए।

- Ans
- ✗ 1. किताब
  - ✗ 2. तोपी
  - ✗ 3. मिठाई
  - ✓ 4. रुमाल

Question ID : 264330189689

Option 1 ID : 264330742415

Option 2 ID : 264330742414

Option 3 ID : 264330742416

Option 4 ID : 264330742417

Status : Not Answered

Chosen Option : --

Q.10 निम्नलिखित प्रश्न में, चार विकल्पों में से, उस विकल्प का चयन करें जो कोष्ठक में दिए गये शब्द के विलोम शब्द का सही विकल्प हो।  
प्रकृति (चेतन) है, \_\_\_\_\_ नहीं।

- Ans
- 1. सचेत
  - 2. होशियार
  - 3. जड़
  - 4. सावधान

Question ID : 264330188280  
Option 1 ID : 264330737015  
Option 2 ID : 264330737013  
Option 3 ID : 264330737014  
Option 4 ID : 264330737012  
Status : Not Answered  
Chosen Option : --

Q.11 दिए गए वाक्य में रेखांकित शब्दों के लिए सही शब्दों वाले विकल्प का चयन करें।  
एक आवश्यक कार्य से मुझे जयपुर जाना है।

- Ans
- 1. परिवर्तन की आवश्यकता नहीं है।
  - 2. एक आवश्यकपूर्वक कार्य से मुझे जयपुर जाना है।
  - 3. एक आवश्यकता कार्य से मुझे जयपुर जाना है।
  - 4. एक आवश्यक कार्य से मुझे जयपुर जाना है।

Question ID : 264330189039  
Option 1 ID : 264330739941  
Option 2 ID : 264330739940  
Option 3 ID : 264330739938  
Option 4 ID : 264330739939  
Status : Not Answered  
Chosen Option : --

Q.12 निम्नलिखित प्रश्न में, चार विकल्पों में से, उस विकल्प का चयन करें जो दी गई लोकोक्ति का सही अर्थ वाला विकल्प है।  
बिंध गया सो मोती, रह गया सो सीप

- Ans
- 1. एक न एक दिन अच्छे दिन आ ही जाते हैं
  - 2. जो वस्तु काम आ जाए वही अच्छी
  - 3. जरूरत के अनुसार ही सामान बनाना
  - 4. रक्षक का भक्षक हो जाना

Question ID : 264330189872  
Option 1 ID : 264330743111  
Option 2 ID : 264330743113  
Option 3 ID : 264330743110  
Option 4 ID : 264330743112  
Status : Not Answered  
Chosen Option : --

Q.13 दिए गए वाक्य में रेखांकित शब्द के लिए सही वर्तनी ज्ञात कीजिए।

कर्ण एक वीर योधा था।

Ans

- ✓ 1. योद्धा
- ✗ 2. योदधा
- ✗ 3. योधदा
- ✗ 4. योधा

Question ID : 264330189055

Option 1 ID : 264330740000

Option 2 ID : 264330740001

Option 3 ID : 264330739999

Option 4 ID : 264330739998

Status : Not Answered

Chosen Option : --

Q.14 दिए गए वाक्य में रेखांकित शब्द का विलोम शब्द ज्ञात कीजिए।  
आजकल हर कोई अमृत पीकर अमर होना चाहता है।

Ans

- ✓ 1. विष
- ✗ 2. आय
- ✗ 3. भोजन
- ✗ 4. पानी

Question ID : 264330188155

Option 1 ID : 264330736537

Option 2 ID : 264330736539

Option 3 ID : 264330736538

Option 4 ID : 264330736536

Status : Not Answered

Chosen Option : --

Q.15 निम्नलिखित वाक्य में, उस वाक्यांश को पहचानिए जिसमें मात्राओं से संबंधित अशुद्धियाँ हैं। यदि कोई गलती नहीं है तो 'कोई त्रुटि नहीं है' का चुनाव कीजिए।  
प्रत्येक कार्य को रोमांच निहित होते हैं/ हालांकि, यह लोगों की सोच के/ अनुसार थोड़ा अलग होता है।

Ans

- ✗ 1. कोई त्रुटि नहीं है
- ✗ 2. अनुसार थोड़ा अलग होता है
- ✗ 3. हालांकि, यह लोगों की सोच के
- ✓ 4. प्रत्येक कार्य को रोमांच निहित होते हैं

Question ID : 264330188389

Option 1 ID : 264330737431

Option 2 ID : 264330737430

Option 3 ID : 264330737429

Option 4 ID : 264330737428

Status : Not Answered

Chosen Option : --

**Comprehension:**

नीचे दिए गये गद्यांश में कुछ शब्द छोड़ दिए गए हैं, प्रत्येक अनुच्छेद के सामने चार विकल्प दिए गए हैं। इस गद्यांश को ध्यानपूर्वक पढ़ें और चार विकल्पों में से सर्वोत्तम उत्तर वाला विकल्प चुनें।

मौसम को छह ऋतुओं में विभाजित किया जाता है - ग्रीष्म ऋतु, शीत ऋतु, वर्षा ऋतु, बसंत ऋतु, शरद ऋतु, शिशिर ऋतु। इन सबमें बसंत ऋतु को ऋतुओं का \_\_\_\_\_ कहा जाता है। सभी ऋतुओं में यह सबसे महत्वपूर्ण मानी जाती है। इस ऋतु के आते ही धरती अपना \_\_\_\_\_ करती है और हरियाली की चादर ओढ़ लेती है। पूरी धरती हरी-भरी हो जाती है। इस मौसम में हवा में एक अलग ही \_\_\_\_\_ आ जाती है। खेतों में लहलहाती फसल और बगीचों में फूलों की सुगंध, वातावरण को खुशनुमा बना देती है। इस ऋतु के आगमन के साथ ही प्रकृति में कई \_\_\_\_\_ होते हैं। पतझड़ के कारण झड़ चुके पेड़ों में नई कोपलें आ जाती हैं और फूल आने लगते हैं। मैदानों में हरी-हरी घास उग आती है। वृक्षों पर पक्षी घोंसला बनाते हैं और सुबह सवेरे उनकी चहचहाहट पूरे वातावरण में गुंजायमान रहती है। पूरी धरती दुल्हन की तरह शृंगार कर लेती है। सरसों के खेत \_\_\_\_\_ की तरह चमकने लगते हैं, इसी मौसम में किसान फसल काटने की तैयारी में जुट जाते हैं।

**SubQuestion No : 16**

Q.16 इन सबमें बसंत ऋतु को ऋतुओं का \_\_\_\_\_ कहा जाता है।

- Ans
- 1. राजा
  - 2. प्रजा
  - 3. प्रेरणास्रोत
  - 4. सरपंच

Question ID : 264330188355

Option 1 ID : 264330737299

Option 2 ID : 264330737296

Option 3 ID : 264330737298

Option 4 ID : 264330737297

Status : Not Answered

Chosen Option : --

**Comprehension:**

नीचे दिए गये गद्यांश में कुछ शब्द छोड़ दिए गए हैं, प्रत्येक अनुच्छेद के सामने चार विकल्प दिए गए हैं। इस गद्यांश को ध्यानपूर्वक पढ़ें और चार विकल्पों में से सर्वोत्तम उत्तर वाला विकल्प चुनें।

मौसम को छह ऋतुओं में विभाजित किया जाता है - ग्रीष्म ऋतु, शीत ऋतु, वर्षा ऋतु, बसंत ऋतु, शरद ऋतु, शिशिर ऋतु। इन सबमें बसंत ऋतु को ऋतुओं का \_\_\_\_\_ कहा जाता है। सभी ऋतुओं में यह सबसे महत्वपूर्ण मानी जाती है। इस ऋतु के आते ही धरती अपना \_\_\_\_\_ करती है और हरियाली की चादर ओढ़ लेती है। पूरी धरती हरी-भरी हो जाती है। इस मौसम में हवा में एक अलग ही \_\_\_\_\_ आ जाती है। खेतों में लहलहाती फसल और बगीचों में फूलों की सुगंध, वातावरण को खुशनुमा बना देती है। इस ऋतु के आगमन के साथ ही प्रकृति में कई \_\_\_\_\_ होते हैं। पतझड़ के कारण झड़ चुके पेड़ों में नई कोपलें आ जाती हैं और फूल आने लगते हैं। मैदानों में हरी-हरी घास उग आती है। वृक्षों पर पक्षी घोंसला बनाते हैं और सुबह सवेरे उनकी चहचहाहट पूरे वातावरण में गुंजायमान रहती है। पूरी धरती दुल्हन की तरह शृंगार कर लेती है। सरसों के खेत \_\_\_\_\_ की तरह चमकने लगते हैं, इसी मौसम में किसान फसल काटने की तैयारी में जुट जाते हैं।

**SubQuestion No : 17**

Q.17 इस ऋतु के आते ही धरती अपना \_\_\_\_\_ करती है और हरियाली की चादर ओढ़ लेती है।

- Ans
- 1. बदलाव
  - 2. अल्पाहार
  - 3. आगमन
  - 4. शृंगार

Question ID : 264330188356

Option 1 ID : 264330737301

Option 2 ID : 264330737302

Option 3 ID : 264330737303

Option 4 ID : 264330737300

Status : Not Answered

Chosen Option : --

**Comprehension:**

नीचे दिए गये गद्यांश में कुछ शब्द छोड़ दिए गए हैं, प्रत्येक अनुच्छेद के सामने चार विकल्प दिए गए हैं। इस गद्यांश को ध्यानपूर्वक पढ़ें और चार विकल्पों में से सर्वोत्तम उत्तर वाला विकल्प चुनें।

मौसम को छह ऋतुओं में विभाजित किया जाता है - ग्रीष्म ऋतु, शीत ऋतु, वर्षा ऋतु, बसंत ऋतु, शरद ऋतु, शिशिर ऋतु। इन सबमें बसंत ऋतु को ऋतुओं का \_\_\_\_\_ कहा जाता है। सभी ऋतुओं में यह सबसे महत्वपूर्ण मानी जाती है। इस ऋतु के आते ही धरती अपना \_\_\_\_\_ करती है और हरियाली की चादर ओढ़ लेती है। पूरी धरती हरी-भरी हो जाती है। इस मौसम में हवा में एक अलग ही \_\_\_\_\_ आ जाती है। खेतों में लहलहाती फसल और बगीचों में फूलों की सुगंध, वातावरण को खुशनुमा बना देती है। इस ऋतु के आगमन के साथ ही प्रकृति में कई \_\_\_\_\_ होते हैं। पतझड़ के कारण झड़ चुके पेड़ों में नई कोपलें आ जाती हैं और फूल आने लगते हैं। मैदानों में हरी-हरी घास उग आती है। वृक्षों पर पक्षी घोंसला बनाते हैं और सुबह सवेरे उनकी चहचहाहट पूरे वातावरण में गुंजायमान रहती है। पूरी धरती दुल्हन की तरह शृंगार कर लेती है। सरसों के खेत \_\_\_\_\_ की तरह चमकने लगते हैं, इसी मौसम में किसान फसल काटने की तैयारी में जुट जाते हैं।

**SubQuestion No : 18**

Q.18 इस मौसम में हवा में एक अलग ही \_\_\_\_\_ आ जाती है।

- Ans
- 1. खुशी
  - 2. अरमान
  - 3. ताजगी
  - 4. पहचान

Question ID : 264330188357

Option 1 ID : 264330737307

Option 2 ID : 264330737306

Option 3 ID : 264330737305

Option 4 ID : 264330737304

Status : Not Answered

Chosen Option : --

**Comprehension:**

नीचे दिए गये गद्यांश में कुछ शब्द छोड़ दिए गए हैं, प्रत्येक अनुच्छेद के सामने चार विकल्प दिए गए हैं। इस गद्यांश को ध्यानपूर्वक पढ़ें और चार विकल्पों में से सर्वोत्तम उत्तर वाला विकल्प चुनें।

मौसम को छह ऋतुओं में विभाजित किया जाता है - ग्रीष्म ऋतु, शीत ऋतु, वर्षा ऋतु, बसंत ऋतु, शरद ऋतु, शिशिर ऋतु। इन सबमें बसंत ऋतु को ऋतुओं का \_\_\_\_\_ कहा जाता है। सभी ऋतुओं में यह सबसे महत्वपूर्ण मानी जाती है। इस ऋतु के आते ही धरती अपना \_\_\_\_\_ करती है और हरियाली की चादर ओढ़ लेती है। पूरी धरती हरी-भरी हो जाती है। इस मौसम में हवा में एक अलग ही \_\_\_\_\_ आ जाती है। खेतों में लहलहाती फसल और बगीचों में फूलों की सुगंध, वातावरण को खुशनुमा बना देती है। इस ऋतु के आगमन के साथ ही प्रकृति में कई \_\_\_\_\_ होते हैं। पतझड़ के कारण झड़ चुके पेड़ों में नई कोपलें आ जाती हैं और फूल आने लगते हैं। मैदानों में हरी-हरी घास उग आती है। वृक्षों पर पक्षी घोंसला बनाते हैं और सुबह सवेरे उनकी चहचहाहट पूरे वातावरण में गुंजायमान रहती है। पूरी धरती दुल्हन की तरह शृंगार कर लेती है। सरसों के खेत \_\_\_\_\_ की तरह चमकने लगते हैं, इसी मौसम में किसान फसल काटने की तैयारी में जुट जाते हैं।

**SubQuestion No : 19**

Q.19 इस ऋतु के आगमन के साथ ही प्रकृति में कई \_\_\_\_\_ होते हैं।

- Ans
- 1. अपनापन
  - 2. बदलाव
  - 3. निहाल
  - 4. द्वेष

Question ID : 264330188358

Option 1 ID : 264330737309

Option 2 ID : 264330737310

Option 3 ID : 264330737311

Option 4 ID : 264330737308

Status : Not Answered

Chosen Option : --

**Comprehension:**

नीचे दिए गये गद्यांश में कुछ शब्द छोड़ दिए गए हैं, प्रत्येक अनुच्छेद के सामने चार विकल्प दिए गए हैं। इस गद्यांश को ध्यानपूर्वक पढ़ें और चार विकल्पों में से सर्वोत्तम उत्तर वाला विकल्प चुनें।

मौसम को छह ऋतुओं में विभाजित किया जाता है - ग्रीष्म ऋतु, शीत ऋतु, वर्षा ऋतु, बसंत ऋतु, शरद ऋतु, शिशिर ऋतु। इन सबमें बसंत ऋतु को ऋतुओं का \_\_\_\_\_ कहा जाता है। सभी ऋतुओं में यह सबसे महत्वपूर्ण मानी जाती है। इस ऋतु के आते ही धरती अपना \_\_\_\_\_ करती है और हरियाली की चादर ओढ़ लेती है। पूरी धरती हरी-भरी हो जाती है। इस मौसम में हवा में एक अलग ही \_\_\_\_\_ आ जाती है। खेतों में लहलहाती फसल और बगीचों में फूलों की सुगंध, वातावरण को खुशनुमा बना देती है। इस ऋतु के आगमन के साथ ही प्रकृति में कई \_\_\_\_\_ होते हैं। पतझड़ के कारण झड़ चुके पेड़ों में नई कोपलें आ जाती हैं और फूल आने लगते हैं। मैदानों में हरी-हरी घास उग आती है। वृक्षों पर पक्षी घोंसला बनाते हैं और सुबह सवेरे उनकी चहचहाहट पूरे वातावरण में गुंजायमान रहती है। पूरी धरती दुल्हन की तरह शृंगार कर लेती है। सरसों के खेत \_\_\_\_\_ की तरह चमकने लगते हैं, इसी मौसम में किसान फसल काटने की तैयारी में जुट जाते हैं।

**SubQuestion No : 20**

Q.20 सरसों के खेत \_\_\_\_\_ की तरह चमकने लगते हैं।

- Ans
- 1. बादलों
  - 2. रंगों
  - 3. सोने
  - 4. तांबे

Question ID : 264330188359

Option 1 ID : 264330737312

Option 2 ID : 264330737314

Option 3 ID : 264330737313

Option 4 ID : 264330737315

Status : Not Answered

Chosen Option : --