

Constable GD in Central Armed Police Forces CAPFs SSF Rifleman GD in Assam Rifles Examination 2024

Roll Number	
Candidate Name	
Venue Name	
Exam Date	06/03/2024
Exam Time	9:00 AM - 10:00 AM
Subject	Constable GD Examination 2024

Section : Part-A-General Intelligence and Reasoning

Q.1 In a certain code language, if ABROAD is coded as 'RBAQCF', COUPLE is coded as 'UOCRNG', then what will 'DECADE' be coded as?

- Ans
- 1. GFCCED
 - 2. CEDCFG
 - 3. GFCDEC
 - 4. DECGFC

Question ID : 264330190413
 Option 1 ID : 264330745236
 Option 2 ID : 264330745237
 Option 3 ID : 264330745234
 Option 4 ID : 264330745235

Status : Answered

Chosen Option : 2

Q.2 Eight girls A, B, C, D, E, F, G and H are sitting around a circular table facing towards the centre (not necessarily in the same order). A is second to the left of D. D is third to the left of E. C is third to the right of G. G is not the immediate neighbour of E. H is third to the right of B. B is second to the right of G. Who is sitting on the immediate left of E?

- Ans
- 1. C
 - 2. A
 - 3. B
 - 4. H

Question ID : 264330187368
 Option 1 ID : 264330733401
 Option 2 ID : 264330733402
 Option 3 ID : 264330733400
 Option 4 ID : 264330733403

Status : Answered

Chosen Option : 4

Q.3 In the following question below are given some statements followed by some conclusions based on those statements. Taking the given statements to be true even if they seem to be at variance from commonly known facts. Read all the conclusions and then decide which of the given conclusion (s) logically follows the given statements.

Statements:

I. All C are V.

II. No C is B.

Conclusions:

I. All V are C.

II. All B are V.

- Ans**
- 1. Both conclusions I and II follows
 - 2. Only conclusion II follows
 - 3. Neither conclusion follows
 - 4. Only conclusion I follows

Question ID : 264330187409

Option 1 ID : 264330733566

Option 2 ID : 264330733565

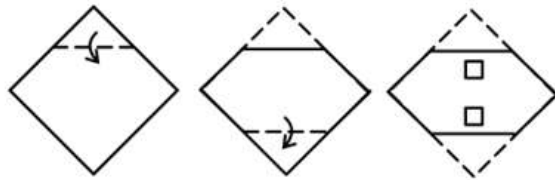
Option 3 ID : 264330733567

Option 4 ID : 264330733564

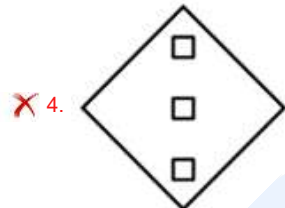
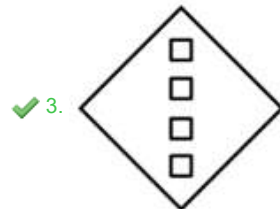
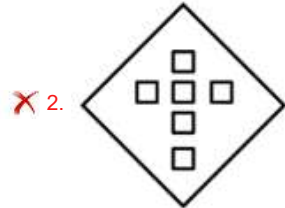
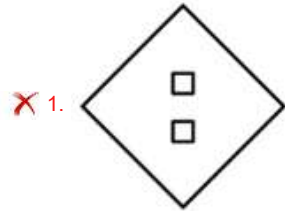
Status : Not Answered

Chosen Option : --

Q.4 A paper is folded and cut as shown below. How will it appear when unfolded?



Ans



Question ID : 264330192147
 Option 1 ID : 264330751942
 Option 2 ID : 264330751945
 Option 3 ID : 264330751943
 Option 4 ID : 264330751944

Status : Answered
 Chosen Option : 3

Q.5 Arrange the given words in alphabetical order:

1. EXOTIC
2. EXEMPLIFY
3. EXERCISE
4. EXHAUST
5. EXCHANGE

- Ans
- ✓ 1. 5, 2, 3, 4, 1
 - ✗ 2. 5, 2, 4, 1, 3
 - ✗ 3. 5, 3, 2, 4, 1
 - ✗ 4. 5, 4, 2, 3, 1

Question ID : 264330192150

Option 1 ID : 264330751955

Option 2 ID : 264330751954

Option 3 ID : 264330751956





Option 4 ID : 264330751957

Status : Answered

Chosen Option : 4

Q.6 Which answer figure will complete the pattern in the question figure? (rotation is not allowed)



- Ans
- ✓ 1. 
 - ✗ 2. 
 - ✗ 3. 
 - ✗ 4. 

Question ID : 264330190284

Option 1 ID : 264330744718

Option 2 ID : 264330744721

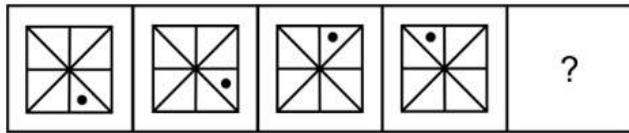
Option 3 ID : 264330744719

Option 4 ID : 264330744720

Status : Answered

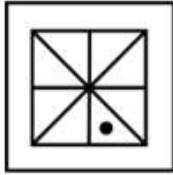
Chosen Option : 1

Q.7 Select the figure that will replace the question mark (?) in the following figure series.

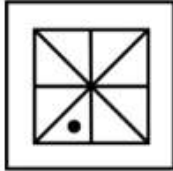


Ans

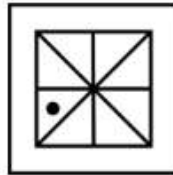
✗ 1.



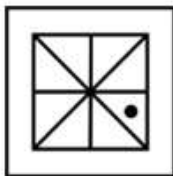
✗ 2.



✓ 3.



✗ 4.



Question ID : 264330192203
 Option 1 ID : 264330752168
 Option 2 ID : 264330752169
 Option 3 ID : 264330752167
 Option 4 ID : 264330752166
 Status : Answered
 Chosen Option : 3

Q.8 In the following question, select the missing number from the given series.

1, 14, -3, 16, -7, ?

Ans ✓ 1. 22

✗ 2. 20

✗ 3. 30

✗ 4. 27

Question ID : 264330191340
 Option 1 ID : 264330748715
 Option 2 ID : 264330748714
 Option 3 ID : 264330748717
 Option 4 ID : 264330748716
 Status : Answered
 Chosen Option : 1

Q.9 Seven boys Lalit, Pawan, Nitin, Rohan, Tarun, Varun and Aman are sitting around a circular table facing towards the centre (not necessarily in the same order). Pawan is second to the left of Aman. Varun is third to the right of Pawan. Nitin is not the immediate neighbour of Pawan or Varun. Lalit is third to the right of Tarun. Who is sitting second to the left of Pawan?

- Ans**
- 1. Lalit
 - 2. Varun
 - 3. Nitin
 - 4. Aman

Question ID : **264330190455**
Option 1 ID : **264330745402**
Option 2 ID : **264330745403**
Option 3 ID : **264330745405**
Option 4 ID : **264330745404**
Status : **Not Answered**
Chosen Option : --

Q.10 In the following question, select the related letter pair from the given alternatives.

UYP : TXO :: ?

- Ans**
- 1. UXT : BFU
 - 2. COX : ZUZ
 - 3. FSH : ERG
 - 4. ACD : AEX

Question ID : **264330187063**
Option 1 ID : **264330732182**
Option 2 ID : **264330732183**
Option 3 ID : **264330732181**
Option 4 ID : **264330732180**
Status : **Not Answered**
Chosen Option : --

Q.11 In the following question, select the missing number from the given series.

64, 32, 16, 8, 4, ?, 1

- Ans**
- 1. 4
 - 2. 6
 - 3. 3
 - 4. 2

Question ID : **264330187130**
Option 1 ID : **264330732449**
Option 2 ID : **264330732450**
Option 3 ID : **264330732448**
Option 4 ID : **264330732451**
Status : **Answered**
Chosen Option : **4**

Q.12 A series is given with one term missing. Select the correct alternative from the given ones that will complete the series.

NMR, SSZ, XYH, CEP, ?

- Ans**
- 1. RQM
 - 2. HXE
 - 3. HKX
 - 4. YMR

Question ID : 264330187059
Option 1 ID : 264330732164
Option 2 ID : 264330732166
Option 3 ID : 264330732165
Option 4 ID : 264330732167
Status : Answered
Chosen Option : 3

Q.13 Select the option that is related to the third word in the same way as the second word is related to the first word.

Firefighter : Hose :: Gardener : ?

- Ans**
- 1. Shovel
 - 2. Net
 - 3. Towel
 - 4. Pen

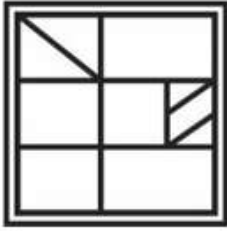
Question ID : 264330191591
Option 1 ID : 264330749719
Option 2 ID : 264330749721
Option 3 ID : 264330749720
Option 4 ID : 264330749718
Status : Not Answered
Chosen Option : --

Q.14 From the given option figures, select the one in which the question figure is hidden/embedded. (rotation is NOT allowed)

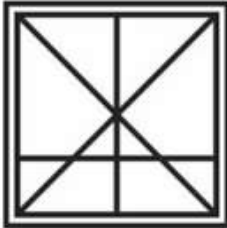


Ans

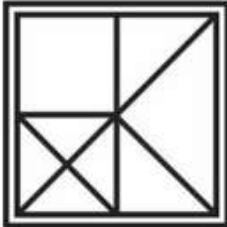
✗ 1.



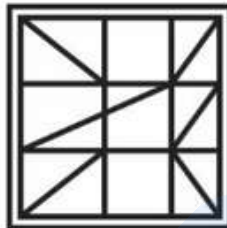
✗ 2.



✗ 3.



✓ 4.



Question ID : 264330187076

Option 1 ID : 264330732235

Option 2 ID : 264330732234

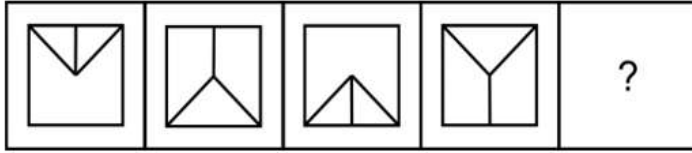
Option 3 ID : 264330732233

Option 4 ID : 264330732232

Status : Answered

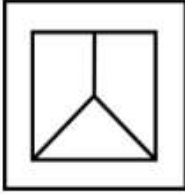
Chosen Option : 4

Q.15 Select the figure that will replace the question mark (?) in the following figure series.



Ans

✗ 1.




✗ 2.



✓ 3.



✗ 4.



Question ID : 264330190423

Option 1 ID : 264330745276

Option 2 ID : 264330745274

Option 3 ID : 264330745277

Option 4 ID : 264330745275

Status : Answered

Chosen Option : 3

Q.16 'E × F' means 'E is the wife of F'
 'E + F' means 'E is the brother of F'
 'E ÷ F' means 'E is the sister of F'
 'E - F' means 'E is the son of F'
 How is S related to I in the expression 'S + H × I + J'?

- Ans
- 1. Father
 - 2. Wife's brother
 - 3. Brother
 - 4. Sister's husband

Question ID : 264330192075
 Option 1 ID : 264330751655
 Option 2 ID : 264330751657
 Option 3 ID : 264330751654
 Option 4 ID : 264330751656
 Status : Not Answered
 Chosen Option : --

Q.17 In a certain code language, 'CASKM' is coded as '69271', 'CHARM' is coded as '13576', 'CIAOS' is coded as '74682'. What can be the code for 'H' in that code language?

- Ans
- 1. 1
 - 2. 6
 - 3. 3
 - 4. 7

Question ID : 264330187145
 Option 1 ID : 264330732509
 Option 2 ID : 264330732511
 Option 3 ID : 264330732508
 Option 4 ID : 264330732510
 Status : Answered
 Chosen Option : 3

Q.18 Which two numbers should be interchanged to make the given equation correct?

$$10 \times 2 + 8 \div 5 - 4 = 14$$

- Ans
- 1. 2 and 4
 - 2. 8 and 10
 - 3. 10 and 14
 - 4. 2 and 5

Question ID : 264330192241
 Option 1 ID : 264330752319
 Option 2 ID : 264330752318
 Option 3 ID : 264330752321
 Option 4 ID : 264330752320
 Status : Answered
 Chosen Option : 2

Q.19 If $10 * 14 @ 2 \# 8 = 8$ and $19 * 16 @ 4 \# 5 = 15$, then $30 * 19 @ 11 \# 12 = ?$

- Ans
- 1. -83
 - 2. -30
 - 3. -10
 - 4. 0

Question ID : 264330190221
Option 1 ID : 264330744469
Option 2 ID : 264330744467
Option 3 ID : 264330744466
Option 4 ID : 264330744468
Status : Not Answered
Chosen Option : --

Q.20 Which of the following groups of letters when sequentially placed from left to right will complete the given series?

ccdde_ffggcc_deeffggccdd_eff_g

- Ans
- 1. efcg
 - 2. cdeg
 - 3. edeg
 - 4. efgh

Question ID : 264330190268
Option 1 ID : 264330744655
Option 2 ID : 264330744656
Option 3 ID : 264330744657
Option 4 ID : 264330744654
Status : Answered
Chosen Option : 2

Section : Part-B-General Knowledge and General awareness

Q.1 According to ____ policy, instead of importing vehicles made in a foreign country, industries would be encouraged to produce them in India itself.

- Ans
- 1. import substitution
 - 2. ruralisation
 - 3. Indian substitution
 - 4. export substitution

Question ID : 264330191446
Option 1 ID : 264330749138
Option 2 ID : 264330749141
Option 3 ID : 264330749140
Option 4 ID : 264330749139
Status : Answered
Chosen Option : 1

Q.2 Executive power of an Indian State is vested in _____.

- Ans
- 1. Council of Ministers
 - 2. Governor
 - 3. Chief Minister
 - 4. Prime Minister

Question ID : 264330191741
Option 1 ID : 264330750320
Option 2 ID : 264330750319
Option 3 ID : 264330750318
Option 4 ID : 264330750321
Status : Answered
Chosen Option : 1

Q.3 Who among the following was well – known for their kathakali dancing?

- Ans
- 1. Madavoor Vasudevan Nair
 - 2. Bino Devi
 - 3. Pt. Gopal Prasad
 - 4. C.V. Chandrasekhar

Question ID : 264330188823
Option 1 ID : 264330739097
Option 2 ID : 264330739094
Option 3 ID : 264330739096
Option 4 ID : 264330739095
Status : Answered
Chosen Option : 1

Q.4 Which government of India program provides 100 days of wage employment to households in rural areas to ensure livelihood security?

- Ans
- 1. Prime Minister Rozgar Yozana
 - 2. Mahatma Gandhi National Rural Employment Guarantee scheme
 - 3. Swarnajayanti Gram Swarozgar Yojana
 - 4. Pradhan Mantri Gramodaya Yozana

Question ID : 264330191295
Option 1 ID : 264330748537
Option 2 ID : 264330748536
Option 3 ID : 264330748534
Option 4 ID : 264330748535
Status : Answered
Chosen Option : 1

Q.5 At absolute zero (0 K or -273.15°C), the particles of matter:

- Ans
- 1. Stop moving
 - 2. Undergo fusion
 - 3. Move at the speed of light
 - 4. Vibrate in fixed positions

Question ID : 264330191493

Option 1 ID : 264330749329

Option 2 ID : 264330749326

Option 3 ID : 264330749327

Option 4 ID : 264330749328

Status : Answered

Chosen Option : 1

Q.6 Dipika Pallikal is a _____.

- Ans
- 1. badminton player
 - 2. tennis player
 - 3. squash player
 - 4. table tennis player

Question ID : 264330192003

Option 1 ID : 264330751367

Option 2 ID : 264330751369

Option 3 ID : 264330751368

Option 4 ID : 264330751366

Status : Answered

Chosen Option : 2

Q.7 According to the 2011 census of India, which of the following states has a total literacy rate of 91.3 percent?

- Ans
- 1. Kerala
 - 2. Sikkim
 - 3. Manipur
 - 4. Mizoram

Question ID : 264330188678

Option 1 ID : 264330738515

Option 2 ID : 264330738517

Option 3 ID : 264330738516

Option 4 ID : 264330738514

Status : Answered

Chosen Option : 1

Q.8 Who is known as the Prince of Patriots?

- Ans
- 1. Rajendra Prasad
 - 2. Vallabhbhai Patel
 - 3. Bhagat Singh
 - 4. Subhash Chandra Bose

Question ID : 264330191237
Option 1 ID : 264330748304
Option 2 ID : 264330748303
Option 3 ID : 264330748305
Option 4 ID : 264330748302
Status : Answered
Chosen Option : 3

Q.9 How many players are there on a standard Kho Kho team during a match?

- Ans
- 1. 10
 - 2. 11
 - 3. 15
 - 4. 9

Question ID : 264330191504
Option 1 ID : 264330749372
Option 2 ID : 264330749371
Option 3 ID : 264330749373
Option 4 ID : 264330749370
Status : Answered
Chosen Option : 2

Q.10 Dr. Manmohan Singh was recently honored with a Lifetime Achievement Honour by which organization for his contributions to economic and political life?

- Ans
- 1. UK's Department for International Trade
 - 2. Oxford University
 - 3. United Nations
 - 4. India-UK Achievers Honours

Question ID : 264330190848
Option 1 ID : 264330746749
Option 2 ID : 264330746748
Option 3 ID : 264330746746
Option 4 ID : 264330746747
Status : Answered
Chosen Option : 2

Q.11 Which Mauryan Indian emperor is renowned for his edicts and pillars?

- Ans
- 1. Kanishka
 - 2. Ashoka
 - 3. Samudragupta
 - 4. Harsha

Question ID : 264330190935
Option 1 ID : 264330747094
Option 2 ID : 264330747097
Option 3 ID : 264330747095
Option 4 ID : 264330747096
Status : Answered
Chosen Option : 3

Q.12 "Strive to minimize the inequalities in income" is mentioned under _____ of Constitution of India.

- Ans
- 1. Directive Principles
 - 2. Not mentioned in Constitution
 - 3. Fundamental Rights
 - 4. Fundamental Duties

Question ID : 264330190879
Option 1 ID : 264330746872
Option 2 ID : 264330746873
Option 3 ID : 264330746870
Option 4 ID : 264330746871
Status : Answered
Chosen Option : 3

Q.13 'Amongmong Festival' is associated with which of the following states/UTs?

- Ans
- 1. Uttrakhand
 - 2. Himachal Pradesh
 - 3. Nagaland
 - 4. Punjab

Question ID : 264330188816
Option 1 ID : 264330739067
Option 2 ID : 264330739066
Option 3 ID : 264330739069
Option 4 ID : 264330739068
Status : Answered
Chosen Option : 3

Q.14 Addition to the stock of capital of a firm is known as _____.

- Ans
- 1. accumulation
 - 2. capital gain
 - 3. investment
 - 4. capital loss

Question ID : 264330188869
Option 1 ID : 264330739281
Option 2 ID : 264330739279
Option 3 ID : 264330739278
Option 4 ID : 264330739280
Status : Answered
Chosen Option : 3

Q.15 Ayushmann Khurrana's association with UNICEF primarily aims to:

- Ans
- 1. Support child rights and well-being
 - 2. Advocating for gender equality
 - 3. Advocate for wildlife conservation
 - 4. Promoting women's right and well being

Question ID : 264330188914
Option 1 ID : 264330739458
Option 2 ID : 264330739461
Option 3 ID : 264330739459
Option 4 ID : 264330739460
Status : Answered
Chosen Option : 3

Q.16 The objective of the "Gadgil Formula," introduced during the Fourth Five Year Plan, was to allocate plan assistance to states based on their:

- Ans
- 1. Area and literacy rate
 - 2. Industrial output and trade balance
 - 3. Population and per capita income
 - 4. Agricultural production and exports

Question ID : 264330191507
Option 1 ID : 264330749385
Option 2 ID : 264330749383
Option 3 ID : 264330749382
Option 4 ID : 264330749384
Status : Answered
Chosen Option : 4

Q.17 As per National Geospatial Policy (NGP) 2022, online courses in geospatial science & technology areas are to be made available through iGoT _____ platform.

- Ans**
- 1. Saksharta
 - 2. Vigyaan
 - 3. Siksha
 - 4. Karmayogi

Question ID : 264330190767
Option 1 ID : 264330746424
Option 2 ID : 264330746425
Option 3 ID : 264330746423
Option 4 ID : 264330746422
Status : Answered
Chosen Option : 4

Q.18 Which Indian personality is known as the Mozart of Madras?

- Ans**
- 1. A.R Rahman
 - 2. Kavita Krishnamurthy
 - 3. K. J. Yesudas
 - 4. Lata Mangeshkar

Question ID : 264330191958
Option 1 ID : 264330751187
Option 2 ID : 264330751189
Option 3 ID : 264330751188
Option 4 ID : 264330751186
Status : Answered
Chosen Option : 4

Q.19 Which of the following folk dance is related to state of Maharashtra?

- Ans**
- 1. Lezim
 - 2. Munari
 - 3. Painka
 - 4. Chhau

Question ID : 264330191891
Option 1 ID : 264330750921
Option 2 ID : 264330750919
Option 3 ID : 264330750918
Option 4 ID : 264330750920
Status : Answered
Chosen Option : 4

Q.20 Which team won the Ranji Trophy 2022/23?

- Ans
- 1. Mumbai
 - 2. Bengal
 - 3. Saurashtra
 - 4. Himachal Pradesh

Question ID : 264330188786
Option 1 ID : 264330738948
Option 2 ID : 264330738947
Option 3 ID : 264330738946
Option 4 ID : 264330738949
Status : Answered
Chosen Option : 4

Section : Part-C-Elementary Mathematics

Q.1 A dealer sells two laptops at the rate of Rs. 10000 per laptop. On one he earns a profit of 40 percent and on the other he loses 40 percent. What is his profit/loss percentage in the whole transaction?

- Ans
- 1. 16 percent loss
 - 2. 20 percent profit
 - 3. 20 percent loss
 - 4. 16 percent profit

Question ID : 264330187708
Option 1 ID : 264330734763
Option 2 ID : 264330734760
Option 3 ID : 264330734761
Option 4 ID : 264330734762
Status : Answered
Chosen Option : 1

Q.2 What is the value of $8400 \div 21 + 42 \times 5 - 410$?

- Ans
- 1. 440
 - 2. 200
 - 3. 100
 - 4. 300

Question ID : 264330187939
Option 1 ID : 264330735684
Option 2 ID : 264330735687
Option 3 ID : 264330735686
Option 4 ID : 264330735685
Status : Answered
Chosen Option : 2

Q.3 The ratio of income of Ramesh and Suresh are 3: 4. The ratio of expenditure of Ramesh and Suresh is 2: 3 and each saves Rs 200. Find the income of Ramesh and Suresh.

- Ans**
- 1. Rs. 750 and Rs. 400
 - 2. Rs. 600 and Rs. 800
 - 3. Rs. 700 and Rs. 800
 - 4. Rs. 800 and Rs. 500

Question ID : 264330192301

Option 1 ID : 264330752560

Option 2 ID : 264330752558

Option 3 ID : 264330752559

Option 4 ID : 264330752561

Status : Answered

Chosen Option : 2

Q.4 X and Y together can complete a work in 10 days. Y and Z together can complete the same work in 12.5 days. Z and X together can complete the same work in 50 days. In how many days can all the three complete the same work while working together?

- Ans**
- 1. 20 days
 - 2. 12.5 days
 - 3. 15 days
 - 4. 10 days

Question ID : 264330187996

Option 1 ID : 264330735912

Option 2 ID : 264330735915

Option 3 ID : 264330735913

Option 4 ID : 264330735914

Status : Answered

Chosen Option : 4

Q.5 Rs. 9000 is lent at the annual rate of 20 percent for 2 years. Which of the following is statement(s) is/are correct?

I. Simple interest to be received on this sum is Rs. 3500.

II. Compound Interest (compounding annually) to be received on this sum is Rs. 3960.

- Ans**
- 1. Only I
 - 2. Both I and II
 - 3. Only II
 - 4. Neither I nor II

Question ID : 264330190362

Option 1 ID : 264330745030

Option 2 ID : 264330745032

Option 3 ID : 264330745031

Option 4 ID : 264330745033

Status : Not Answered

Chosen Option : --

Q.6 A person bought some pens at the rate of 14 for a rupee and sold them at the rate of 12 for a rupee. What is the profit percentage?

- Ans**
- 1. 20 percent
 - 2. 10 percent
 - 3. 25 percent
 - 4. 16.66 percent

Question ID : 264330190375

Option 1 ID : 264330745083

Option 2 ID : 264330745085

Option 3 ID : 264330745084

Option 4 ID : 264330745082

Status : Answered

Chosen Option : 4

Q.7 The respective ratio of income and expenditure of Raman is 9 : 7. If his income is increased by 20 percent and expenditure is decreased by 70 percent, then what will be the new respective ratio of his income and expenditure?

- Ans**
- 1. 35 : 7
 - 2. 7 : 36
 - 3. 36 : 7
 - 4. 7 : 35

Question ID : 264330187966

Option 1 ID : 264330735795

Option 2 ID : 264330735793

Option 3 ID : 264330735794

Option 4 ID : 264330735792

Status : Answered

Chosen Option : 4

Q.8 The average weight of a group of 24 persons is 34 kg. The average weight of another group of 48 persons is K kg. If the average weight of all the 72 persons is 56 kg, then what is the value of K?

- Ans**
- 1. 67 kg
 - 2. 70 kg
 - 3. 64 kg
 - 4. 68 kg

Question ID : 264330187644

Option 1 ID : 264330734505

Option 2 ID : 264330734507

Option 3 ID : 264330734504

Option 4 ID : 264330734506

Status : Not Answered

Chosen Option : --

Q.9 Marks of two candidates J and K are in the ratio of 15 : 17. If the marks of J are 300, then what will be the marks of K?

- Ans
- 1. 340
 - 2. 320
 - 3. 300
 - 4. 310

Question ID : 264330187571
Option 1 ID : 264330734214
Option 2 ID : 264330734213
Option 3 ID : 264330734212
Option 4 ID : 264330734215
Status : Not Answered
Chosen Option : --

Q.10 What is the curved surface area of a hemisphere whose radius is 21 cm?

- Ans
- 1. 2772 cm^2
 - 2. 3296 cm^2
 - 3. 2542 cm^2
 - 4. 2984 cm^2

Question ID : 264330187818
Option 1 ID : 264330735200
Option 2 ID : 264330735203
Option 3 ID : 264330735202
Option 4 ID : 264330735201
Status : Answered
Chosen Option : 2

Q.11 If $m-n=11$, and $m^2 + n^2 = 141$. Find the value of mn .

- Ans
- 1. 27
 - 2. 15
 - 3. 10
 - 4. 23

Question ID : 264330192469
Option 1 ID : 264330753233
Option 2 ID : 264330753231
Option 3 ID : 264330753230
Option 4 ID : 264330753232
Status : Answered
Chosen Option : 4

Q.12 The average age of a family of four is 25 years. If the ages of three family members are 20, 22, and 28, what is the age of the fourth family member?

- Ans**
- 1. 30 years
 - 2. 33 years
 - 3. 27 years
 - 4. 25 years

Question ID : 264330190731
Option 1 ID : 264330746357
Option 2 ID : 264330746356
Option 3 ID : 264330746355
Option 4 ID : 264330746354
Status : Answered
Chosen Option : 4

Q.13 What is the discount percentage offered on a book having marked price Rs. 3950 being sold at Rs. 3160?

- Ans**
- 1. 15 percent
 - 2. 20 percent
 - 3. 30 percent
 - 4. 25 percent

Question ID : 264330187609
Option 1 ID : 264330734364
Option 2 ID : 264330734365
Option 3 ID : 264330734366
Option 4 ID : 264330734367
Status : Not Answered
Chosen Option : --

Q.14 What is the smallest perfect square which is divisible by both 4 and 3?

- Ans**
- 1. 36
 - 2. 16
 - 3. 49
 - 4. 25

Question ID : 264330188574
Option 1 ID : 264330738099
Option 2 ID : 264330738100
Option 3 ID : 264330738101
Option 4 ID : 264330738098
Status : Not Answered
Chosen Option : --

Q.15 A shopkeeper allows a 25% discount on the marked price of an article and he suffers a loss of 10%. If the article is sold at the marked price, then find the profit percentage.

- Ans**
- 1. 30%
 - 2. 10%
 - 3. 20%
 - 4. 15%

Question ID : 264330191679
Option 1 ID : 264330750073
Option 2 ID : 264330750072
Option 3 ID : 264330750070
Option 4 ID : 264330750071
Status : Not Answered
Chosen Option : --

Q.16 Two trains start running from stations C and D at same time. Both trains are running towards each other at speeds of 32 km/hr and 96 km/hr respectively. When they meet each other, then the second train had travelled 160 km more than the first. What is the distance between C and D?

- Ans**
- 1. 320 km
 - 2. 280 km
 - 3. 360 km
 - 4. 450 km

Question ID : 264330187675
Option 1 ID : 264330734628
Option 2 ID : 264330734630
Option 3 ID : 264330734629
Option 4 ID : 264330734631
Status : Not Answered
Chosen Option : --

Q.17 If 55 is subtracted from 65 percent of a number, then the result is 400. What is the value of the number?

- Ans**
- 1. 600
 - 2. 500
 - 3. 700
 - 4. 800

Question ID : 264330188618
Option 1 ID : 264330738275
Option 2 ID : 264330738274
Option 3 ID : 264330738276
Option 4 ID : 264330738277
Status : Not Answered
Chosen Option : --

Q.18 A sum of Rs. 2000 becomes Rs. 5920 when invested in a scheme of simple interest. If the annual rate of interest and the number of years for which the sum was invested are same, then what is the annual rate of interest?

- Ans**
- 1. 14 percent
 - 2. 15 percent
 - 3. 17 percent
 - 4. 16 percent

Question ID : 264330191642
Option 1 ID : 264330749924
Option 2 ID : 264330749925
Option 3 ID : 264330749922
Option 4 ID : 264330749923
Status : Not Answered
Chosen Option : --

Q.19 What is the value of $\frac{42}{23} \times \frac{46}{7}$ of $\frac{28}{92} \div \frac{21}{69}$?

- Ans**
- 1. 62
 - 2. 12
 - 3. 52
 - 4. 32

Question ID : 264330187960
Option 1 ID : 264330735770
Option 2 ID : 264330735768
Option 3 ID : 264330735771
Option 4 ID : 264330735769
Status : Not Answered
Chosen Option : --

Q.20 P and Q together can complete a work in 30 days. They started the work together but after 20 days P left the work. If the remaining work is completed by Q in 50 more days, then P alone can complete the entire work in how many days?

- Ans**
- 1. 150 days
 - 2. 37.5 days
 - 3. 100/3 days
 - 4. 170 days

Question ID : 264330187997
Option 1 ID : 264330735918
Option 2 ID : 264330735916
Option 3 ID : 264330735917
Option 4 ID : 264330735919
Status : Not Answered
Chosen Option : --

Q.1 Choose the most appropriate antonym of the underlined word.

While he stood, in the clutch of his adversary, he still held his hand on his sword.

- Ans
- 1. Rival
 - 2. Enemy
 - 3. Helper
 - 4. Foe

Question ID : 264330185849
Option 1 ID : 264330727716
Option 2 ID : 264330727717
Option 3 ID : 264330727718
Option 4 ID : 264330727719
Status : Not Answered
Chosen Option : --

Q.2 Choose the word that is opposite in meaning to the given word.

Anxious

- Ans
- 1. Preoccupied
 - 2. Distressed
 - 3. Inclined
 - 4. Calm

Question ID : 264330186710
Option 1 ID : 264330730996
Option 2 ID : 264330730997
Option 3 ID : 264330730998
Option 4 ID : 264330730999
Status : Answered
Chosen Option : 2

Q.3 Find the part of the given sentence that has an error in it. If there is no error, choose 'No error'.

The Vice-President and the Chief Secretary is visiting our office today.

- Ans
- 1. The Vice-President and
 - 2. our office today.
 - 3. No error
 - 4. the Chief Secretary is visiting

Question ID : 264330185918
Option 1 ID : 264330727980
Option 2 ID : 264330727982
Option 3 ID : 264330727983
Option 4 ID : 264330727981
Status : Answered
Chosen Option : 2

Q.4 Improve the underlined part of the sentence. Choose 'No improvement' as an answer if the sentence is grammatically correct.

The tree were blowing over in the storm.

- Ans**
- ✓ 1. blew over
 - ✗ 2. No improvement
 - ✗ 3. blown over
 - ✗ 4. was blow over

Question ID : 264330185606

Option 1 ID : 264330726792

Option 2 ID : 264330726795

Option 3 ID : 264330726794

Option 4 ID : 264330726793

Status : Answered

Chosen Option : 4

Q.5 Choose the idiom/phrase that can substitute the highlighted group of words meaningfully.

It's such a small issue. People are unnecessarily making **something unimportant into a big deal**.

- Ans**
- ✗ 1. Have second thoughts
 - ✗ 2. Raining cats and dogs
 - ✗ 3. A bull in a China shop
 - ✓ 4. Make a mountain out of a molehill

Question ID : 264330185830

Option 1 ID : 264330727647

Option 2 ID : 264330727646

Option 3 ID : 264330727645

Option 4 ID : 264330727644

Status : Answered

Chosen Option : 1

Q.6 Improve the underlined part of the sentence. Choose 'No improvement' as an answer if the sentence is grammatically correct.

I have owning a scooter for a decade now.

- Ans**
- ✗ 1. No improvement
 - ✗ 2. has own a
 - ✗ 3. have own an
 - ✓ 4. have owned a

Question ID : 264330186259

Option 1 ID : 264330729283

Option 2 ID : 264330729281

Option 3 ID : 264330729280

Option 4 ID : 264330729282

Status : Answered

Chosen Option : 4

Q.7 Select the sentence with no spelling errors.

Ans 1.

There are many cases in which, by diviating from the strictly ethic code, you do not harm anyone, you only injure your own soul.

2.

There are many cases in which, by deviating from the strictly ethic code, you do not harm anyone, you only injure your own soule.

3.

There are many cases in which, by deviating from the strictly ethec code, you do not harm anyone, you only injure your own soul.

4.

There are many cases in which, by deviating from the strictly ethic code, you do not harm anyone, you only injure your own soul.

Question ID : 264330186084

Option 1 ID : 264330728612

Option 2 ID : 264330728615

Option 3 ID : 264330728613

Option 4 ID : 264330728614

Status : Answered

Chosen Option : 4

Q.8 In the following question, out of the given four alternatives, select the alternative which best expresses the meaning of the Idiom/Phrase.

To stick one's neck out

Ans 1. To resign

2. To enjoy

3. To bring things to notice

4. To take a risk

Question ID : 264330186123

Option 1 ID : 264330728763

Option 2 ID : 264330728760

Option 3 ID : 264330728762

Option 4 ID : 264330728761

Status : Answered

Chosen Option : 4

Q.9 Choose the most appropriate synonym of the underlined word.

Several religious organizations are involved in the effort to facilitate the settlement of the immigrants arriving in the area.

Ans 1. Hinder

2. Retard

3. Demolish

4. Ease

Question ID : 264330186869

Option 1 ID : 264330731605

Option 2 ID : 264330731606

Option 3 ID : 264330731607

Option 4 ID : 264330731604

Status : Not Answered

Chosen Option : --

Q.10 Fill in the blank with the most appropriate option.

She had not even a hope of being asked for it, because she was so successful in _____ that the idea would never occur to anyone.

- Ans**
- 1. society
 - 2. civilization
 - 3. heritage
 - 4. culture

Question ID : 264330186513
Option 1 ID : 264330730251
Option 2 ID : 264330730250
Option 3 ID : 264330730249
Option 4 ID : 264330730248
Status : Answered
Chosen Option : 1

Q.11 Select the most appropriate option for the given blank.

We can't _____ restrictions on such matters.

- Ans**
- 1. advance
 - 2. hold
 - 3. impose
 - 4. impel

Question ID : 264330186380
Option 1 ID : 264330729741
Option 2 ID : 264330729740
Option 3 ID : 264330729743
Option 4 ID : 264330729742
Status : Answered
Chosen Option : 2

Q.12 Find the part of the given sentence that has an error in it. If there is no error, choose 'No error'.

A major concern is the decline in forest area in places that has good forest cover.

- Ans**
- 1. No error
 - 2. A major concern is the decline
 - 3. that has good forest cover.
 - 4. in forest area in places

Question ID : 264330185584
Option 1 ID : 264330726711
Option 2 ID : 264330726708
Option 3 ID : 264330726710
Option 4 ID : 264330726709
Status : Answered
Chosen Option : 3

Q.13 Select the incorrectly spelt word from the given sentence.

Some people regard a fear of new things as an unmistakable sign of a provincial attitude.

- Ans**
- 1. Some
 - 2. attitude
 - 3. unmistakable
 - 4. provincial

Question ID : 264330186252
Option 1 ID : 264330729252
Option 2 ID : 264330729255
Option 3 ID : 264330729253
Option 4 ID : 264330729254
Status : Answered
Chosen Option : 2

Q.14 Choose the most appropriate synonym of the underlined word.

State prosecutors allege that Salim took efforts to hide his actions from his legal staff.

- Ans**
- 1. Bare
 - 2. Conceal
 - 3. Exposed
 - 4. Apparent

Question ID : 264330185868
Option 1 ID : 264330727788
Option 2 ID : 264330727791
Option 3 ID : 264330727789
Option 4 ID : 264330727790
Status : Not Answered
Chosen Option : --

Q.15 Find the part of the given sentence that has an error in it. If there is no error, choose 'No error'.

My cognitive process is far most distinct than her ideologies.

- Ans**
- 1. far most distinct
 - 2. than her ideologies
 - 3. My cognitive process is
 - 4. No error

Question ID : 264330186319
Option 1 ID : 264330729509
Option 2 ID : 264330729510
Option 3 ID : 264330729508
Option 4 ID : 264330729511
Status : Not Answered
Chosen Option : --

Comprehension:

Read the passage carefully and select the correct answer for the given blanks out of the four alternatives.

The smog towers were (1) _____ by the Centre under the orders of the Supreme Court of India (2) _____ January 13, 2020 and are being monitored by the Union Ministry of Environment, Forest and Climate Change, the DPCC said. They (3) _____ installed on an experimental basis and the results were not encouraging (4) _____ the heavy expenditure.

If smog towers were to be used to reduce air pollution in Delhi by 17 per cent, at least 40,000 of them will be (5) _____, the affidavit stated.

SubQuestion No : 16

Q.16 Select the most appropriate option for blank(1)

- Ans**
- 1. surmounted
 - 2. moulded
 - 3. fabricated
 - 4. installed

Question ID : 264330186347

Option 1 ID : 264330729613

Option 2 ID : 264330729614

Option 3 ID : 264330729615

Option 4 ID : 264330729612

Status : Not Answered

Chosen Option : --

Comprehension:

Read the passage carefully and select the correct answer for the given blanks out of the four alternatives.

The smog towers were (1) _____ by the Centre under the orders of the Supreme Court of India (2) _____ January 13, 2020 and are being monitored by the Union Ministry of Environment, Forest and Climate Change, the DPCC said. They (3) _____ installed on an experimental basis and the results were not encouraging (4) _____ the heavy expenditure.

If smog towers were to be used to reduce air pollution in Delhi by 17 per cent, at least 40,000 of them will be (5) _____, the affidavit stated.

SubQuestion No : 17

Q.17 Select the most appropriate option for blank(2)

- Ans**
- 1. at
 - 2. on
 - 3. over
 - 4. in

Question ID : 264330186348

Option 1 ID : 264330729617

Option 2 ID : 264330729618

Option 3 ID : 264330729616

Option 4 ID : 264330729619

Status : Not Attempted and
Marked For Review

Chosen Option : --

Comprehension:

Read the passage carefully and select the correct answer for the given blanks out of the four alternatives.

The smog towers were (1) _____ by the Centre under the orders of the Supreme Court of India (2) _____ January 13, 2020 and are being monitored by the Union Ministry of Environment, Forest and Climate Change, the DPCC said. They (3) _____ installed on an experimental basis and the results were not encouraging (4) _____ the heavy expenditure.

If smog towers were to be used to reduce air pollution in Delhi by 17 per cent, at least 40,000 of them will be (5) _____, the affidavit stated.

SubQuestion No : 18

Q.18 Select the most appropriate option for blank(3)

- Ans**
- 1. had
 - 2. were
 - 3. been
 - 4. is

Question ID : 264330186349

Option 1 ID : 264330729621

Option 2 ID : 264330729620

Option 3 ID : 264330729622

Option 4 ID : 264330729623

Status : Not Answered

Chosen Option : --

Comprehension:

Read the passage carefully and select the correct answer for the given blanks out of the four alternatives.

The smog towers were (1) _____ by the Centre under the orders of the Supreme Court of India (2) _____ January 13, 2020 and are being monitored by the Union Ministry of Environment, Forest and Climate Change, the DPCC said. They (3) _____ installed on an experimental basis and the results were not encouraging (4) _____ the heavy expenditure.

If smog towers were to be used to reduce air pollution in Delhi by 17 per cent, at least 40,000 of them will be (5) _____, the affidavit stated.

SubQuestion No : 19

Q.19 Select the most appropriate option for blank(4)

- Ans**
- 1. implying
 - 2. manipulating
 - 3. considering
 - 4. setting

Question ID : 264330186350

Option 1 ID : 264330729625

Option 2 ID : 264330729627

Option 3 ID : 264330729624

Option 4 ID : 264330729626

Status : Not Answered

Chosen Option : --

Comprehension:

Read the passage carefully and select the correct answer for the given blanks out of the four alternatives.

The smog towers were (1) _____ by the Centre under the orders of the Supreme Court of India (2) _____ January 13, 2020 and are being monitored by the Union Ministry of Environment, Forest and Climate Change, the DPCC said. They (3) _____ installed on an experimental basis and the results were not encouraging (4) _____ the heavy expenditure.

If smog towers were to be used to reduce air pollution in Delhi by 17 per cent, at least 40,000 of them will be (5) _____, the affidavit stated.

SubQuestion No : 20

Q.20 Select the most appropriate option for blank(5)

- Ans**
- 1. coerced
 - 2. required
 - 3. negated
 - 4. vexed

Question ID : 264330186351

Option 1 ID : 264330729631

Option 2 ID : 264330729628

Option 3 ID : 264330729630

Option 4 ID : 264330729629

Status : Not Answered

Chosen Option : --

Section : Part-D-Hindi

Q.1 निम्नलिखित प्रश्न में, चार विकल्पों में से, उस विकल्प का चयन करें जो कोष्ठक में दिए गए शब्द के विलोम शब्द का सही विकल्प है।
हमें दूसरों से ज्यादा (उपेक्षा) _____ नहीं करनी चाहिए।

- Ans**
- 1. अधम
 - 2. अपकार
 - 3. अल्प
 - 4. अपेक्षा

Question ID : 264330189681

Option 1 ID : 264330742385

Option 2 ID : 264330742383

Option 3 ID : 264330742384

Option 4 ID : 264330742382

Status : Not Answered

Chosen Option : --

Q.2 निम्नलिखित प्रश्न में, चार विकल्पों में से, उस विकल्प का चयन करें जो दी गई मुहावरे का सही अर्थ वाला विकल्प है।
टिप्पस लगाना

- Ans
- 1. निकम्मा होना
 - 2. सिफारिश करना
 - 3. चुप रहना
 - 4. चुगली करना

Question ID : 264330188324
Option 1 ID : 264330737181
Option 2 ID : 264330737182
Option 3 ID : 264330737180
Option 4 ID : 264330737183
Status : Not Answered
Chosen Option : --

Q.3 दिए गए वाक्यांश के लिए सार्थक शब्द ज्ञात कीजिए।

जो चीज़ इस संसार की न हो

- Ans
- 1. अंतःपुर
 - 2. अलौकिक
 - 3. अद्भुत
 - 4. विशेष

Question ID : 264330188235
Option 1 ID : 264330736840
Option 2 ID : 264330736841
Option 3 ID : 264330736842
Option 4 ID : 264330736843
Status : Not Answered
Chosen Option : --

Q.4 निम्नलिखित प्रश्न में, चार विकल्पों में से, उस सही विकल्प का चयन करें जो वाक्यांश के लिए एक शब्द का उचित विकल्प हो।
जैसा पहले कभी न हुआ हो

- Ans
- 1. अपव्ययी
 - 2. अधिसूचना
 - 3. अभूतपूर्व
 - 4. अद्वितीय

Question ID : 264330189886
Option 1 ID : 264330743162
Option 2 ID : 264330743163
Option 3 ID : 264330743164
Option 4 ID : 264330743165
Status : Not Answered
Chosen Option : --

Q.5 निम्नलिखित प्रश्न में, चार विकल्पों में से, उस विकल्प का चयन करें जो कोष्ठक में दिए गए शब्द के विलोम शब्द का सही विकल्प है।
तुमने जो कार्य किया वह तुमसे (अपेक्षित) _____ था।

- Ans**
- 1. अस्वीकार
 - 2. पेक्षित
 - 3. अनपेक्षित
 - 4. उपेक्षा

Question ID : 264330189701
Option 1 ID : 264330742461
Option 2 ID : 264330742458
Option 3 ID : 264330742459
Option 4 ID : 264330742460
Status : Not Answered
Chosen Option : --

Q.6 दिए गए वाक्य में रेखांकित भाग के लिए उचित सार्थक शब्द का चयन कीजिए।
बच्चे तंपग उड़ा रहे है।

- Ans**
- 1. लंपत
 - 2. पलंग
 - 3. गंपत
 - 4. पतंग

Question ID : 264330189246
Option 1 ID : 264330740727
Option 2 ID : 264330740726
Option 3 ID : 264330740729
Option 4 ID : 264330740728
Status : Not Answered
Chosen Option : --

Q.7 दिए गए विकल्पों में से तीन विकल्प त्रुटियुक्त हैं, जबकि एक सही है। उस सही विकल्प का चयन करें।

- Ans**
- 1. ये लोग कहाँ जा रहे हैं?
 - 2. यो लोग कहाँ जा रहे हैं?
 - 3. यह लोग कहाँ जा रहे हैं?
 - 4. वह लोग कहाँ जा रहे हैं?

Question ID : 264330189374
Option 1 ID : 264330741216
Option 2 ID : 264330741215
Option 3 ID : 264330741214
Option 4 ID : 264330741217
Status : Not Answered
Chosen Option : --

Q.8 दिए गए वाक्य में से गलत वर्तनी ज्ञात कीजिए।

अपने बड़ों का तिरसकार करना पाप है।

- Ans
- 1. अपने
 - 2. पाप
 - 3. बड़ों
 - 4. तिरसकार

Question ID : 264330189244
 Option 1 ID : 264330740721
 Option 2 ID : 264330740720
 Option 3 ID : 264330740718
 Option 4 ID : 264330740719
 Status : Not Answered
 Chosen Option : --

Q.9 दिए गए वाक्य में उचित पर्यायवाची शब्द का चयन करके रिक्त स्थान की पूर्ति करें।

हर व्यक्ति को _____ (बराबर) समझो।

- Ans
- 1. नाग
 - 2. समान
 - 3. उज्वल
 - 4. शहंशाह

Question ID : 264330189175
 Option 1 ID : 264330740457
 Option 2 ID : 264330740454
 Option 3 ID : 264330740456
 Option 4 ID : 264330740455
 Status : Not Answered
 Chosen Option : --

Q.10 निम्नलिखित प्रश्न में, चार विकल्पों में से, उस विकल्प का चयन करें जो कोष्ठक में दिए गए शब्द के तद्रूप रूप का सही विकल्प है।
 सूखे मेवे में मुझे (अक्षोट) _____ खाना बहुत पसंद है।

- Ans
- 1. काजू
 - 2. किशमिश
 - 3. अखरोट
 - 4. बादाम

Question ID : 264330188370
 Option 1 ID : 264330737358
 Option 2 ID : 264330737359
 Option 3 ID : 264330737357
 Option 4 ID : 264330737356
 Status : Not Answered
 Chosen Option : --

Q.11 निम्नलिखित प्रश्न में, चार विकल्पों में से, उस विकल्प का चयन करें जो दी गई लोकोक्ति का सही अर्थ वाला है।
आंखों के आगे पलकों की बुराई

Ans 1. दोनों तरफ विपत्ति होना

2.

किसी के भाई- बन्धुओं या इष्ट-मित्रों के सामने उसकी बुराई करना

3. गुणहीन को बहुत गुणी कहना

4. दिखावटी रोना

Question ID : 264330189935

Option 1 ID : 264330743353

Option 2 ID : 264330743351

Option 3 ID : 264330743350

Option 4 ID : 264330743352

Status : Not Answered

Chosen Option : --

Q.12 निम्नलिखित वाक्य में, उस वाक्यांश को पहचानिए जिसमें मात्राओं से संबंधित अशुद्धियाँ हैं। यदि कोई गलती नहीं है तो 'कोई त्रुटि नहीं है' का चुनाव कीजिए।
पुस्तक हमारे जीवन में बहुत ही/ महत्वपूर्ण भूमिका निभाता है और/ हमारे सच्चे मार्गदर्शक कहलाते हैं।

Ans 1. हमारे सच्चे मार्गदर्शक कहलाते हैं

2. पुस्तक हमारे जीवन में बहुत ही

3. महत्वपूर्ण भूमिका निभाता है और

4. कोई त्रुटि नहीं है

Question ID : 264330188347

Option 1 ID : 264330737270

Option 2 ID : 264330737268

Option 3 ID : 264330737269

Option 4 ID : 264330737271

Status : Not Answered

Chosen Option : --

Q.13 निम्नलिखित प्रश्न में, चार विकल्पों में से, उस विकल्प का चयन करें जो कोष्ठक में दिए गए शब्द के पर्यायवाची शब्द का सही विकल्प है।
मुझे सफेद रंग के (शशक) _____ बहुत पसंद हैं।

Ans 1. खरहा

2. शेर

3. गिरगिट

4. कुत्ता

Question ID : 264330188341

Option 1 ID : 264330737245

Option 2 ID : 264330737247

Option 3 ID : 264330737246

Option 4 ID : 264330737244

Status : Not Answered

Chosen Option : --

Q.14 दिए गए वाक्य में रेखांकित शब्दों के लिए सही शब्दों वाले विकल्प का चयन करें।

अनूप सर अखबार पढ़कर के जाएँगे।

- Ans
- ✗ 1. अनूप सर अखबार पढ़ने के जाएँगे।
 - ✗ 2. परिवर्तन की आवश्यकता नहीं है।
 - ✗ 3. अनूप सर अखबार पढ़को जाएँगे।
 - ✓ 4. अनूप सर अखबार पढ़कर जाएँगे।

Question ID : 264330189228

Option 1 ID : 264330740660

Option 2 ID : 264330740661

Option 3 ID : 264330740659

Option 4 ID : 264330740658

Status : Not Answered

Chosen Option : --

Q.15 दिए गए वाक्य का वह भाग ज्ञात करें, जिसमें कोई त्रुटि है।

इस विद्वान महिला का सम्मान इसे पुरस्कार देकर किया गया।

- Ans
- ✓ 1. इस विद्वान
 - ✗ 2. महिला का सम्मान
 - ✗ 3. इसे पुरस्कार
 - ✗ 4. देकर किया गया।

Question ID : 264330189100

Option 1 ID : 264330740170

Option 2 ID : 264330740171

Option 3 ID : 264330740172

Option 4 ID : 264330740173

Status : Not Answered

Chosen Option : --

Comprehension:

नीचे दिए गये गद्यांश में कुछ शब्द छोड़ दिये गए हैं, प्रत्येक अनुच्छेद के सामने चार विकल्प दिए गए हैं। इस गद्यांश को ध्यानपूर्वक पढ़ें और चार विकल्पों में से सर्वोत्तम उत्तर वाला विकल्प चुनें।

हमारे भारत में - जहां स्वच्छता होती है, वहां पर ईश्वर _____ करते हैं, इस प्रथा को माना जाता है, इसलिए हमें भी स्वच्छता को अपनाना चाहिए। इसकी शुरुआत हमें और आपको मिलकर करनी होगी। जिससे कि हमारा पूरा देश साफ सुथरा हो जाए। स्वच्छ भारत अभियान भारत को _____ करने के लिए एक कड़ी का काम कर रहा है। लोग इसके उद्देश्य से उत्साहित होकर स्वच्छता के प्रति सचेत हो रहे हैं। यह भारत सरकार द्वारा उठाया गया एक _____ कदम है। स्वच्छ भारत अभियान में आप भी भागीदार बनें। लोगों को स्वच्छता के प्रति _____ बनाएँ। स्वच्छ भारत अभियान से हमारा आने वाला कल बहुत ही सुंदर एवं अकल्पनीय होगा। अगर आप और हम मिलकर स्वच्छ भारत अभियान के लक्ष्य को पूरा करने में लग जाए तो वह दिन दूर नहीं जब हमारा पूरा देश, विदेशों की तरह पूरी तरह से साफ सुथरा दिखाई देगा। एक स्वस्थ देश और स्वस्थ समाज की जरूरत है कि उसके नागरिक स्वस्थ रहें तथा हर व्यवसाय में स्वच्छता हो। और इस नेक काम के लिए हम सब को _____ आगे आना होगा और साथ-साथ काम करके इस मिशन को पूरा करना होगा।

SubQuestion No : 16

Q.16 हमारे भारत में - जहां स्वच्छता होती है, वहां पर ईश्वर _____ करते हैं।

- Ans
- 1. पूजते
 - 2. प्रयास
 - 3. निवास
 - 4. देखते

Question ID : 264330189776

Option 1 ID : 264330742745

Option 2 ID : 264330742742

Option 3 ID : 264330742743

Option 4 ID : 264330742744

Status : Not Answered

Chosen Option : --

Comprehension:

नीचे दिए गये गद्यांश में कुछ शब्द छोड़ दिये गए हैं, प्रत्येक अनुच्छेद के सामने चार विकल्प दिए गए हैं। इस गद्यांश को ध्यानपूर्वक पढ़ें और चार विकल्पों में से सर्वोत्तम उत्तर वाला विकल्प चुनें।

हमारे भारत में - जहां स्वच्छता होती है, वहां पर ईश्वर _____ करते हैं, इस प्रथा को माना जाता है, इसलिए हमें भी स्वच्छता को अपनाना चाहिए। इसकी शुरुआत हमें और आपको मिलकर करनी होगी। जिससे कि हमारा पूरा देश साफ सुथरा हो जाए। स्वच्छ भारत अभियान भारत को _____ करने के लिए एक कड़ी का काम कर रहा है। लोग इसके उद्देश्य से उत्साहित होकर स्वच्छता के प्रति सचेत हो रहे हैं। यह भारत सरकार द्वारा उठाया गया एक _____ कदम है। स्वच्छ भारत अभियान में आप भी भागीदार बनें। लोगों को स्वच्छता के प्रति _____ बनाएँ। स्वच्छ भारत अभियान से हमारा आने वाला कल बहुत ही सुंदर एवं अकल्पनीय होगा। अगर आप और हम मिलकर स्वच्छ भारत अभियान के लक्ष्य को पूरा करने में लग जाए तो वह दिन दूर नहीं जब हमारा पूरा देश, विदेशों की तरह पूरी तरह से साफ सुथरा दिखाई देगा। एक स्वस्थ देश और स्वस्थ समाज की जरूरत है कि उसके नागरिक स्वस्थ रहें तथा हर व्यवसाय में स्वच्छता हो। और इस नेक काम के लिए हम सब को _____ आगे आना होगा और साथ-साथ काम करके इस मिशन को पूरा करना होगा।

SubQuestion No : 17

Q.17 स्वच्छ भारत अभियान भारत को _____ करने के लिए एक कड़ी का काम कर रहा है।

- Ans
- 1. स्वच्छ
 - 2. सही
 - 3. प्रसिद्ध
 - 4. अस्वच्छ

Question ID : 264330189777

Option 1 ID : 264330742746

Option 2 ID : 264330742749

Option 3 ID : 264330742747

Option 4 ID : 264330742748

Status : Not Answered

Chosen Option : --

Comprehension:

नीचे दिए गये गद्यांश में कुछ शब्द छोड़ दिये गए हैं, प्रत्येक अनुच्छेद के सामने चार विकल्प दिए गए हैं। इस गद्यांश को ध्यानपूर्वक पढ़ें और चार विकल्पों में से सर्वोत्तम उत्तर वाला विकल्प चुनें।

हमारे भारत में - जहां स्वच्छता होती है, वहां पर ईश्वर _____ करते हैं, इस प्रथा को माना जाता है, इसलिए हमें भी स्वच्छता को अपनाना चाहिए। इसकी शुरुआत हमें और आपको मिलकर करनी होगी। जिससे कि हमारा पूरा देश साफ सुथरा हो जाए। स्वच्छ भारत अभियान भारत को _____ करने के लिए एक कड़ी का काम कर रहा है। लोग इसके उद्देश्य से उत्साहित होकर स्वच्छता के प्रति सचेत हो रहे हैं। यह भारत सरकार द्वारा उठाया गया एक _____ कदम है। स्वच्छ भारत अभियान में आप भी भागीदार बनें। लोगों को स्वच्छता के प्रति _____ बनाएँ। स्वच्छ भारत अभियान से हमारा आने वाला कल बहुत ही सुंदर एवं अकल्पनीय होगा। अगर आप और हम मिलकर स्वच्छ भारत अभियान के लक्ष्य को पूरा करने में लग जाए तो वह दिन दूर नहीं जब हमारा पूरा देश, विदेशों की तरह पूरी तरह से साफ सुथरा दिखाई देगा। एक स्वस्थ देश और स्वस्थ समाज की जरूरत है कि उसके नागरिक स्वस्थ रहें तथा हर व्यवसाय में स्वच्छता हो। और इस नेक काम के लिए हम सब को _____ आगे आना होगा और साथ-साथ काम करके इस मिशन को पूरा करना होगा।

SubQuestion No : 18

Q.18 यह भारत सरकार द्वारा उठाया गया एक _____ कदम है।

- Ans
- 1. कल्पनीय
 - 2. सराहनीय
 - 3. महंगा
 - 4. कठिन

Question ID : 264330189778

Option 1 ID : 264330742752

Option 2 ID : 264330742753

Option 3 ID : 264330742751

Option 4 ID : 264330742750

Status : Not Answered

Chosen Option : --

Comprehension:

नीचे दिए गये गद्यांश में कुछ शब्द छोड़ दिये गए हैं, प्रत्येक अनुच्छेद के सामने चार विकल्प दिए गए हैं। इस गद्यांश को ध्यानपूर्वक पढ़ें और चार विकल्पों में से सर्वोत्तम उत्तर वाला विकल्प चुनें।

हमारे भारत में - जहां स्वच्छता होती है, वहां पर ईश्वर _____ करते हैं, इस प्रथा को माना जाता है, इसलिए हमें भी स्वच्छता को अपनाना चाहिए। इसकी शुरुआत हमें और आपको मिलकर करनी होगी। जिससे कि हमारा पूरा देश साफ सुथरा हो जाए। स्वच्छ भारत अभियान भारत को _____ करने के लिए एक कड़ी का काम कर रहा है। लोग इसके उद्देश्य से उत्साहित होकर स्वच्छता के प्रति सचेत हो रहे हैं। यह भारत सरकार द्वारा उठाया गया एक _____ कदम है। स्वच्छ भारत अभियान में आप भी भागीदार बनें। लोगों को स्वच्छता के प्रति _____ बनाएँ। स्वच्छ भारत अभियान से हमारा आने वाला कल बहुत ही सुंदर एवं अकल्पनीय होगा। अगर आप और हम मिलकर स्वच्छ भारत अभियान के लक्ष्य को पूरा करने में लग जाए तो वह दिन दूर नहीं जब हमारा पूरा देश, विदेशों की तरह पूरी तरह से साफ सुथरा दिखाई देगा। एक स्वस्थ देश और स्वस्थ समाज की जरूरत है कि उसके नागरिक स्वस्थ रहें तथा हर व्यवसाय में स्वच्छता हो। और इस नेक काम के लिए हम सब को _____ आगे आना होगा और साथ-साथ काम करके इस मिशन को पूरा करना होगा।

SubQuestion No : 19

Q.19 लोगों को स्वच्छता के प्रति _____ बनाएँ।

- Ans
- 1. पूरा
 - 2. एक
 - 3. दिशा
 - 4. जागरुक

Question ID : 264330189779

Option 1 ID : 264330742757

Option 2 ID : 264330742756

Option 3 ID : 264330742755

Option 4 ID : 264330742754

Status : Not Answered

Chosen Option : --

Comprehension:

नीचे दिए गये गद्यांश में कुछ शब्द छोड़ दिये गए हैं, प्रत्येक अनुच्छेद के सामने चार विकल्प दिए गए हैं। इस गद्यांश को ध्यानपूर्वक पढ़ें और चार विकल्पों में से सर्वोत्तम उत्तर वाला विकल्प चुनें।

हमारे भारत में - जहां स्वच्छता होती है, वहां पर ईश्वर _____ करते हैं, इस प्रथा को माना जाता है, इसलिए हमें भी स्वच्छता को अपनाना चाहिए। इसकी शुरुआत हमें और आपको मिलकर करनी होगी। जिससे कि हमारा पूरा देश साफ सुथरा हो जाए। स्वच्छ भारत अभियान भारत को _____ करने के लिए एक कड़ी का काम कर रहा है। लोग इसके उद्देश्य से उत्साहित होकर स्वच्छता के प्रति सचेत हो रहे हैं। यह भारत सरकार द्वारा उठाया गया एक _____ कदम है। स्वच्छ भारत अभियान में आप भी भागीदार बनें। लोगों को स्वच्छता के प्रति _____ बनाएँ। स्वच्छ भारत अभियान से हमारा आने वाला कल बहुत ही सुंदर एवं अकल्पनीय होगा। अगर आप और हम मिलकर स्वच्छ भारत अभियान के लक्ष्य को पूरा करने में लग जाए तो वह दिन दूर नहीं जब हमारा पूरा देश, विदेशों की तरह पूरी तरह से साफ सुथरा दिखाई देगा। एक स्वस्थ देश और स्वस्थ समाज की जरूरत है कि उसके नागरिक स्वस्थ रहें तथा हर व्यवसाय में स्वच्छता हो। और इस नेक काम के लिए हम सब को _____ आगे आना होगा और साथ-साथ काम करके इस मिशन को पूरा करना होगा।

SubQuestion No : 20

Q.20 इस नेक काम के लिए हम सब को _____ आगे आना होगा और साथ-साथ काम कर के इस मिशन को पूरा करना होगा।

- Ans**
- 1. देखकर
 - 2. जीतकर
 - 3. पताकर
 - 4. मिलकर

Question ID : 264330189780

Option 1 ID : 264330742758

Option 2 ID : 264330742760

Option 3 ID : 264330742761

Option 4 ID : 264330742759

Status : Not Answered

Chosen Option : --