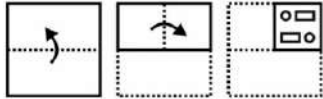


## Constable GD in Central Armed Police Forces CAPFs SSF Rifleman GD in Assam Rifles Examination 2024

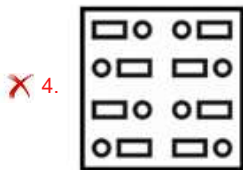
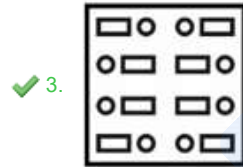
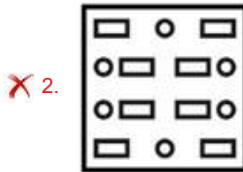
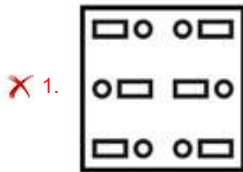
Roll Number	
Candidate Name	
Venue Name	
Exam Date	06/03/2024
Exam Time	2:30 PM - 3:30 PM
Subject	Constable GD Examination 2024

Section : Part-A-General Intelligence and Reasoning

**Q.1** A piece of paper is folded and punched as shown below in the question figures. From the given option figures, indicate how it will appear when opened?



Ans



Question ID : 264330190124

Option 1 ID : 264330744080

Option 2 ID : 264330744078

Option 3 ID : 264330744079

Option 4 ID : 264330744081

Status : Answered

Chosen Option : 3

Q.2 Which two numbers should be interchanged to make the given equation correct?

$$15 - 26 + 13 \times 22 \div 5 = 35$$

- Ans
- 1. 22 and 26
  - 2. 15 and 13
  - 3. 15 and 22
  - 4. 35 and 5

Question ID : 264330192182

Option 1 ID : 264330752083

Option 2 ID : 264330752082

Option 3 ID : 264330752084

Option 4 ID : 264330752085

Status : Answered

Chosen Option : 3

Q.3 Which two numbers should be interchanged to make the given equation correct?

$$14 \times 5 + 36 - 27 \div 3 = 85$$

- Ans
- 1. 36 and 85
  - 2. 27 and 36
  - 3. 14 and 36
  - 4. 5 and 3

Question ID : 264330191581

Option 1 ID : 264330749678

Option 2 ID : 264330749679

Option 3 ID : 264330749681

Option 4 ID : 264330749680

Status : Answered

Chosen Option : 2

**Q.4** In the following question, select the figure which can be placed at the sign of question mark (?) from the given alternatives.



**Ans**

✗ 1.



✓ 2.



✗ 3.



✗ 4.



Question ID : 264330188034  
 Option 1 ID : 264330736065  
 Option 2 ID : 264330736067  
 Option 3 ID : 264330736064  
 Option 4 ID : 264330736066  
 Status : Answered  
 Chosen Option : 4

**Q.5** A series is given with one term missing. Select the correct alternative from the given ones that will complete the series.

MR, TO, QV, XS, ?

**Ans**

✓ 1. UZ

✗ 2. UY

✗ 3. UR

✗ 4. UQ

Question ID : 264330190327  
 Option 1 ID : 264330744890  
 Option 2 ID : 264330744893  
 Option 3 ID : 264330744891  
 Option 4 ID : 264330744892  
 Status : Answered  
 Chosen Option : 1

**Q.6** Three Statements are given followed by two conclusions numbered I and II. Assuming the statements to be true, even if they seem to be at variance with commonly known facts, decide which of the conclusions logically follow(s) from the statements.

Statement I: No powder is a lipstick.

Statement II: All lipsticks are creams.

Statement III: No cream is a lotion.

Conclusion I: No lipstick is a lotion.

Conclusion II: No powder is a cream.

- Ans**
- 1. Neither conclusion I nor II follows
  - 2. Only conclusion II follows
  - 3. Both conclusions I and II follow
  - 4. Only conclusion I follows

Question ID : 264330192218

Option 1 ID : 264330752229

Option 2 ID : 264330752227

Option 3 ID : 264330752228

Option 4 ID : 264330752226

Status : Answered

Chosen Option : 1

**Q.7** In the following question, select the figure which can be placed at the sign of question mark (?) from the given alternatives.



**Ans**

1.



2.



3.



4.



Question ID : 264330190263

Option 1 ID : 264330744636

Option 2 ID : 264330744637

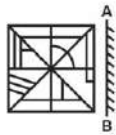
Option 3 ID : 264330744634

Option 4 ID : 264330744635

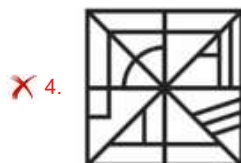
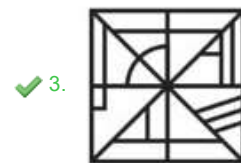
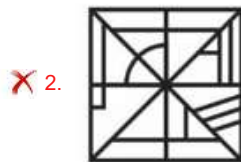
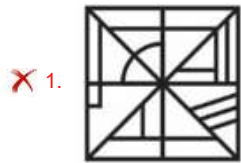
Status : Answered

Chosen Option : 4

**Q.8** If a mirror is placed on the line AB, then out of the option figures which figure will be the right image of the question figure?



**Ans**



Question ID : 264330188037

Option 1 ID : 264330736076

Option 2 ID : 264330736078

Option 3 ID : 264330736077

Option 4 ID : 264330736079

Status : Answered

Chosen Option : 3

**Q.9** Which of the following numbers will replace the question mark (?) in the given series?

7, 17, 37, 77, 157, ?

**Ans** ✗ 1. 485

✗ 2. 284

✗ 3. 382

✓ 4. 317

Question ID : 264330192139

Option 1 ID : 264330751912

Option 2 ID : 264330751910

Option 3 ID : 264330751911

Option 4 ID : 264330751913

Status : Answered

Chosen Option : 4

**Q.10** Eight boys A, B, C, D, E, F, G and H are sitting in a row facing towards the south (not necessarily in the same order). A and H are at extreme ends of the row. E and F are immediate neighbours of B. C is fourth to the left of B. F is to the immediate left of A. D is not the immediate neighbour of C. Who is sitting on the immediate left of B?

- Ans**
- 1. F
  - 2. G
  - 3. D
  - 4. E

Question ID : 264330188028  
Option 1 ID : 264330736041  
Option 2 ID : 264330736043  
Option 3 ID : 264330736042  
Option 4 ID : 264330736040  
Status : Answered  
Chosen Option : 4

**Q.11** In the following question, select the related letters from the given alternatives.

BKO : ENR :: TYC : ?

- Ans**
- 1. SUV
  - 2. LXJ
  - 3. IND
  - 4. WBF

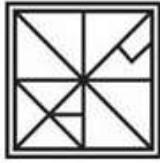
Question ID : 264330190210  
Option 1 ID : 264330744423  
Option 2 ID : 264330744425  
Option 3 ID : 264330744422  
Option 4 ID : 264330744424  
Status : Answered  
Chosen Option : 4

**Q.12** From the given option figures, select the one in which the question figure is hidden/embedded. (rotation is not allowed)

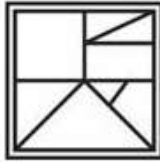


**Ans**

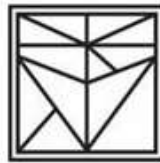
1.



2.



3.



4.



Question ID : 264330190286

Option 1 ID : 264330744729

Option 2 ID : 264330744726

Option 3 ID : 264330744728

Option 4 ID : 264330744727

Status : Answered

Chosen Option : 3

**Q.13** Five friends P, B, C, G and H are sitting around a circular table facing towards the centre. B is sitting to the immediate left of C. G and H are not the immediate neighbour of C. H is sitting second to the right of P. Who is sitting on the immediate right of C?

**Ans**  1. B

2. G

3. P

4. H

Question ID : 264330187407

Option 1 ID : 264330733558

Option 2 ID : 264330733556

Option 3 ID : 264330733559

Option 4 ID : 264330733557

Status : Answered

Chosen Option : 3

**Q.14** Which of the following groups of letters when sequentially placed from left to right will complete the given series?

hiijhi\_jhi\_jhi\_jhiijhiijh\_ij

- Ans**
- 1. hiih
  - 2. hjji
  - 3. hijj
  - 4. iiii

Question ID : 264330187120  
Option 1 ID : 264330732408  
Option 2 ID : 264330732411  
Option 3 ID : 264330732410  
Option 4 ID : 264330732409  
Status : Answered  
Chosen Option : 4

**Q.15** In a certain code language, 'ADVISE' is coded as 'YBTGQC'. What is the code for 'BUILDS' in that code language?

- Ans**
- 1. ZSGJBQ
  - 2. ZSGKBQ
  - 3. ZSGJCR
  - 4. ZSGJCQ

Question ID : 264330187384  
Option 1 ID : 264330733467  
Option 2 ID : 264330733465  
Option 3 ID : 264330733466  
Option 4 ID : 264330733464  
Status : Answered  
Chosen Option : 1

**Q.16** Select the option that is related to the fifth word in the same way as the fourth word is related to the third word and the second word is related to the first word.

BANGLADESH : TAKA :: ARGENTINA : PESO :: JAPAN : ?

- Ans**
- 1. YEN
  - 2. DINAR
  - 3. RIAL
  - 4. EURO

Question ID : 264330192172  
Option 1 ID : 264330752044  
Option 2 ID : 264330752043  
Option 3 ID : 264330752042  
Option 4 ID : 264330752045  
Status : Answered  
Chosen Option : 1



Q.17 In the following question, select the missing number from the given series.

54, 55, ?, 90, 154, 279

- Ans  1. 63  
 2. 70  
 3. 60  
 4. 58

Question ID : 264330187391  
Option 1 ID : 264330733493  
Option 2 ID : 264330733494  
Option 3 ID : 264330733492  
Option 4 ID : 264330733495  
Status : Answered  
Chosen Option : 1

Q.18 A is the husband of B. B is the sister of C. C is the brother of D. D is the father of E. E is the wife of F. How is D related to F?

- Ans  1. Wife's father  
 2. Father  
 3. Mother  
 4. Brother

Question ID : 264330191315  
Option 1 ID : 264330748614  
Option 2 ID : 264330748616  
Option 3 ID : 264330748615  
Option 4 ID : 264330748617  
Status : Answered  
Chosen Option : 1

Q.19 Arrange the given words in the sequence in which they occur in the dictionary.

1. Consign
2. Consider
3. Consist
4. Consonant
5. Consolation

- Ans  1. 1, 2, 4, 5, 3  
 2. 2, 1, 3, 4, 5  
 3. 1, 2, 4, 3, 5  
 4. 2, 1, 3, 5, 4

Question ID : 264330190149  
Option 1 ID : 264330744180  
Option 2 ID : 264330744178  
Option 3 ID : 264330744181  
Option 4 ID : 264330744179  
Status : Answered  
Chosen Option : 2

**Q.20** In a certain code language, 'FORCE' is coded as '83052', 'GAMES' is coded as '42761', 'FORUM' is coded as '08957'. What is the code for 'C' in that code language?

- Ans**
- 1. 3
  - 2. 8
  - 3. 2
  - 4. 5

Question ID : 264330190453  
Option 1 ID : 264330745396  
Option 2 ID : 264330745397  
Option 3 ID : 264330745394  
Option 4 ID : 264330745395  
Status : Marked For Review  
Chosen Option : 4

Section : Part-B-General Knowledge and General awareness

**Q.1** What is the total population of Hindus according to the 2011 Census of India?

- Ans**
- 1. 81.63 crores
  - 2. 96.63 crores
  - 3. 91.63 crores
  - 4. 86.63 crores

Question ID : 264330191013  
Option 1 ID : 264330747409  
Option 2 ID : 264330747406  
Option 3 ID : 264330747407  
Option 4 ID : 264330747408  
Status : Marked For Review  
Chosen Option : 3

**Q.2** Kummi dance is related to state of:

- Ans**
- 1. Tamil Nadu
  - 2. Chhattisgarh
  - 3. Bihar
  - 4. Uttar Pradesh

Question ID : 264330191911  
Option 1 ID : 264330751000  
Option 2 ID : 264330751001  
Option 3 ID : 264330750998  
Option 4 ID : 264330750999  
Status : Answered  
Chosen Option : 3

Q.3 Which sport is played by the Indian sportsperson Poulomi Ghatak?

- Ans
- 1. Cricket
  - 2. Table Tennis
  - 3. Badminton
  - 4. Squash

Question ID : 264330190843  
Option 1 ID : 264330746726  
Option 2 ID : 264330746727  
Option 3 ID : 264330746728  
Option 4 ID : 264330746729  
Status : Answered  
Chosen Option : 3

Q.4 Read the following about balanced budget.

A. The government may spend an amount equal to the revenue it collects. This is known as a balanced budget.

B. If it needs to incur higher expenditure, it will have to raise the amount through taxes in order to keep the budget balanced.

Identify the CORRECT statement/statements.

- Ans
- 1. Only B
  - 2. Only A
  - 3. Neither A nor B
  - 4. Both A and B

Question ID : 264330192045  
Option 1 ID : 264330751535  
Option 2 ID : 264330751534  
Option 3 ID : 264330751537  
Option 4 ID : 264330751536  
Status : Answered  
Chosen Option : 3

Q.5 How many National Festivals does India celebrate?

- Ans
- 1. Three
  - 2. Five
  - 3. One
  - 4. Two

Question ID : 264330191852  
Option 1 ID : 264330750764  
Option 2 ID : 264330750765  
Option 3 ID : 264330750762  
Option 4 ID : 264330750763  
Status : Answered  
Chosen Option : 1

Q.6 Which sport is played by the Indian sportsperson Gaurav Ghei?

- Ans
- 1. Cricket
  - 2. Hockey
  - 3. Golf
  - 4. Football

Question ID : 264330188886  
Option 1 ID : 264330739347  
Option 2 ID : 264330739349  
Option 3 ID : 264330739346  
Option 4 ID : 264330739348  
Status : Answered  
Chosen Option : 3

Q.7 Bhutan is neighbouring country of India. Which State of India shares border with Bhutan?

- Ans
- 1. West Bengal
  - 2. Jammu and Kashmir
  - 3. Punjab
  - 4. Haryana

Question ID : 264330191755  
Option 1 ID : 264330750374  
Option 2 ID : 264330750377  
Option 3 ID : 264330750376  
Option 4 ID : 264330750375  
Status : Answered  
Chosen Option : 4

Q.8 The proportion of GDP contributed by the industrial sector increased in the period from 11.8 per cent in 1950-51 to \_\_\_\_\_ per cent in 1990-91.

- Ans
- 1. 26.6
  - 2. 24.6
  - 3. 22.6
  - 4. 20.6

Question ID : 264330191106  
Option 1 ID : 264330747781  
Option 2 ID : 264330747780  
Option 3 ID : 264330747779  
Option 4 ID : 264330747778  
Status : Answered  
Chosen Option : 2

Q.9 Which famous personality was awarded the prestigious German Peace Prize?

- Ans
- 1. Amit Shah
  - 2. Saurabh Shukla
  - 3. Lalji Mukherjee
  - 4. Salman Rushdie

Question ID : 264330191890  
Option 1 ID : 264330750915  
Option 2 ID : 264330750916  
Option 3 ID : 264330750917  
Option 4 ID : 264330750914  
Status : Answered  
Chosen Option : 1

Q.10 Which of the following articles of the Indian Constitution mentions power of Governor to grant pardons, etc., and to suspend, remit or commute sentences in certain cases?

- Ans
- 1. Article 161
  - 2. Article 163
  - 3. Article 164
  - 4. Article 162

Question ID : 264330190820  
Option 1 ID : 264330746637  
Option 2 ID : 264330746635  
Option 3 ID : 264330746634  
Option 4 ID : 264330746636  
Status : Answered  
Chosen Option : 1

Q.11 In 2023, the International Astronomical Union named a minor planet after Indian meteor astronomer \_\_\_\_\_.

- Ans
- 1. Somnath Bharadwaj
  - 2. J.C. Bhattacharya
  - 3. Aswin Sekhar
  - 4. Vinod Johri

Question ID : 264330188633  
Option 1 ID : 264330738336  
Option 2 ID : 264330738335  
Option 3 ID : 264330738334  
Option 4 ID : 264330738337  
Status : Answered  
Chosen Option : 2

Q.12 Zakir Hussain is famous for:

- Ans
- 1. Flute
  - 2. Tabla
  - 3. Harmonium
  - 4. Veena

Question ID : 264330191758  
Option 1 ID : 264330750388  
Option 2 ID : 264330750387  
Option 3 ID : 264330750386  
Option 4 ID : 264330750389  
Status : Answered  
Chosen Option : 3

Q.13 Which country's government awarded Mallika Sarabhai the Palme D'or?

- Ans
- 1. India
  - 2. USA
  - 3. Japan
  - 4. France

Question ID : 264330190858  
Option 1 ID : 264330746787  
Option 2 ID : 264330746788  
Option 3 ID : 264330746789  
Option 4 ID : 264330746786  
Status : Answered  
Chosen Option : 2

Q.14 The Integrated Goods and Services Tax (Amendment) Bill, 2023 amends the Integrated Goods and Services Tax (IGST) Act, \_\_\_\_\_.

- Ans
- 1. 2015
  - 2. 2013
  - 3. 2019
  - 4. 2017

Question ID : 264330188832  
Option 1 ID : 264330739131  
Option 2 ID : 264330739130  
Option 3 ID : 264330739133  
Option 4 ID : 264330739132  
Status : Answered  
Chosen Option : 4

Q.15 The "Licence Raj" in India during the mid-20th century referred to a system of:

- Ans
- 1. Trade unions
  - 2. Industrial licensing
  - 3. Import restrictions
  - 4. Export incentives

Question ID : 264330191506  
Option 1 ID : 264330749381  
Option 2 ID : 264330749379  
Option 3 ID : 264330749378  
Option 4 ID : 264330749380  
Status : Answered  
Chosen Option : 2

Q.16 Definite shape, distinct boundaries are the characteristics of which state of matter?

- Ans
- 1. Semisolid
  - 2. Liquid
  - 3. Solid
  - 4. Gas

Question ID : 264330191012  
Option 1 ID : 264330747405  
Option 2 ID : 264330747403  
Option 3 ID : 264330747402  
Option 4 ID : 264330747404  
Status : Answered  
Chosen Option : 2

Q.17 Which of the following sites is situated on the river Ghod, a tributary of the Bhima?

- Ans
- 1. Banawali
  - 2. Kot Diji
  - 3. Inamgaon
  - 4. Chanhudaro

Question ID : 264330190655  
Option 1 ID : 264330746204  
Option 2 ID : 264330746205  
Option 3 ID : 264330746202  
Option 4 ID : 264330746203  
Status : Answered  
Chosen Option : 1

Q.18 In which year was the Interim government formed at the Centre?

- Ans
- 1. 1946
  - 2. 1926
  - 3. 1936
  - 4. 1916

Question ID : 264330191277  
Option 1 ID : 264330748465  
Option 2 ID : 264330748463  
Option 3 ID : 264330748464  
Option 4 ID : 264330748462  
Status : Answered  
Chosen Option : 3

Q.19 Article 12 of the Indian Constitution provides for \_\_\_\_\_.

- Ans
- 1. Definition of Fundamental Rights
  - 2. Definition of 'State'
  - 3. Definition of Directive Principles of State Policy
  - 4. Definition of Fundamental Duties

Question ID : 264330188644  
Option 1 ID : 264330738379  
Option 2 ID : 264330738378  
Option 3 ID : 264330738381  
Option 4 ID : 264330738380  
Status : Answered  
Chosen Option : 3

Q.20 Which of the following sports is played by Vijendra Singh?

- Ans
- 1. Football
  - 2. Boxing
  - 3. Cricket
  - 4. Badminton

Question ID : 264330191942  
Option 1 ID : 264330751123  
Option 2 ID : 264330751125  
Option 3 ID : 264330751122  
Option 4 ID : 264330751124  
Status : Answered  
Chosen Option : 1



**Q.1** Cost price of a cooler is Rs. 4500. If the profit percentage is 18 percent, then what is the selling price of the cooler?

- Ans**
- 1. Rs. 5310
  - 2. Rs. 5270
  - 3. Rs. 5530
  - 4. Rs. 5420

Question ID : 264330187467  
Option 1 ID : 264330733797  
Option 2 ID : 264330733799  
Option 3 ID : 264330733798  
Option 4 ID : 264330733796  
Status : Answered  
Chosen Option : 1

**Q.2** The simple interest received on a sum is  $\frac{64}{81}$  of the sum. The number of years is equal to the annual rate of interest. What is the annual rate of interest?

- Ans**
- 1. 9.28 percent
  - 2. 6.24 percent
  - 3. 8.88 percent
  - 4. 7.42 percent

Question ID : 264330187213  
Option 1 ID : 264330732780  
Option 2 ID : 264330732783  
Option 3 ID : 264330732781  
Option 4 ID : 264330732782  
Status : Not Answered  
Chosen Option : --

**Q.3** The cost price of 16 articles is equal to the selling price of 18 articles. Find the loss percent in the transaction.

- Ans**
- 1. 14.2%
  - 2. 12%
  - 3. 11.11%
  - 4. 13.5%

Question ID : 264330191657  
Option 1 ID : 264330749985  
Option 2 ID : 264330749983  
Option 3 ID : 264330749982  
Option 4 ID : 264330749984  
Status : Not Answered  
Chosen Option : --

**Q.4** The simple interest on a certain sum of money at rate of interest 8% per annum for 2 years is Rs.1120. What is the compound interest (compounding annually) on the same sum for the same period and at the same rate of interest?

- Ans**
- 1. Rs. 1489.8
  - 2. Rs. 1331.2
  - 3. Rs. 1215.3
  - 4. Rs. 1164.8

Question ID : 264330192483  
Option 1 ID : 264330753289  
Option 2 ID : 264330753288  
Option 3 ID : 264330753287  
Option 4 ID : 264330753286  
Status : Answered  
Chosen Option : 2

**Q.5** If the average of 23, 27, 26, 22, C and D is 28, then what is the average of C and D?

- Ans**
- 1. 33
  - 2. 35
  - 3. 31
  - 4. 32

Question ID : 264330190091  
Option 1 ID : 264330743948  
Option 2 ID : 264330743947  
Option 3 ID : 264330743949  
Option 4 ID : 264330743946  
Status : Not Answered  
Chosen Option : --

**Q.6** Simplify:  $10 + 2 \times (7 - 4) \div 2$ .

- Ans**
- 1. 12
  - 2. 13
  - 3. 6
  - 4. 10

Question ID : 264330191688  
Option 1 ID : 264330750106  
Option 2 ID : 264330750109  
Option 3 ID : 264330750108  
Option 4 ID : 264330750107  
Status : Answered  
Chosen Option : 2

**Q.7** Two numbers are in the ratio of 6 : 17. If the sum of the two numbers is 92, then what is the difference between the two numbers?

- Ans**
- 1. 77
  - 2. 66
  - 3. 55
  - 4. 44

Question ID : **264330187991**  
Option 1 ID : **264330735895**  
Option 2 ID : **264330735894**  
Option 3 ID : **264330735892**  
Option 4 ID : **264330735893**  
Status : **Not Answered**  
Chosen Option : --

**Q.8** For what value of M, 7547M is divisible by 9?

- Ans**
- 1. 4
  - 2. 2
  - 3. 7
  - 4. 8

Question ID : **264330187622**  
Option 1 ID : **264330734418**  
Option 2 ID : **264330734417**  
Option 3 ID : **264330734419**  
Option 4 ID : **264330734416**  
Status : **Not Answered**  
Chosen Option : --

**Q.9** A bowler takes an average of 12 wickets per match in first 14 matches. He takes an average of 12 wickets per match in all the 28 matches. What is the average wickets taken by the bowler per match for last 14 matches?

- Ans**
- 1. 10.7
  - 2. 12
  - 3. 10.5
  - 4. 11

Question ID : **264330190372**  
Option 1 ID : **264330745071**  
Option 2 ID : **264330745073**  
Option 3 ID : **264330745072**  
Option 4 ID : **264330745070**  
Status : **Answered**  
Chosen Option : **2**

**Q.10** Karan's efficiency is 240 percent of Vinod's efficiency. If Karan can complete a work in 34 days, then how many days will they together take to complete the same work?

- Ans**
- 1. 24 days
  - 2. 27 days
  - 3. 25 days
  - 4. 30 days

Question ID : 264330187836  
 Option 1 ID : 264330735272  
 Option 2 ID : 264330735274  
 Option 3 ID : 264330735273  
 Option 4 ID : 264330735275  
 Status : Not Answered  
 Chosen Option : --

**Q.11** If a number U is 90 percent less than another number V and V is 13 percent more than 5400, then what is the value of U?

- Ans**
- 1. 6102
  - 2. 61.2
  - 3. 610.2
  - 4. 602.2

Question ID : 264330187225  
 Option 1 ID : 264330732829  
 Option 2 ID : 264330732828  
 Option 3 ID : 264330732831  
 Option 4 ID : 264330732830  
 Status : Answered  
 Chosen Option : 2

**Q.12**

What is the value of  $\frac{132}{69}$  of  $\frac{23}{44} - \frac{196}{28} \times \frac{14}{49}$  ?

- Ans**
- 1. -1
  - 2. 0
  - 3. -2
  - 4. 1

Question ID : 264330187740  
 Option 1 ID : 264330734890  
 Option 2 ID : 264330734888  
 Option 3 ID : 264330734891  
 Option 4 ID : 264330734889  
 Status : Not Answered  
 Chosen Option : --

Q.13 Marked price of an article is Rs. 1020 and selling price is Rs. 703.8. What is the discount percentage?

- Ans
- 1. 27 percent
  - 2. 31 percent
  - 3. 69 percent
  - 4. 23 percent

Question ID : 264330188563  
Option 1 ID : 264330738056  
Option 2 ID : 264330738055  
Option 3 ID : 264330738054  
Option 4 ID : 264330738057  
Status : Answered  
Chosen Option : 4

Q.14

What is the Highest Common Factor of  $\frac{4}{5}$ ,  $\frac{3}{10}$  and  $\frac{7}{15}$  ?

- Ans
- 1.  $\frac{10}{3}$
  - 2.  $\frac{1}{30}$
  - 3. 30
  - 4.  $\frac{1}{3}$

Question ID : 264330187161  
Option 1 ID : 264330732574  
Option 2 ID : 264330732572  
Option 3 ID : 264330732575  
Option 4 ID : 264330732573  
Status : Not Answered  
Chosen Option : --

Q.15 Price of 25 chairs is 80 percent more than the price of 20 tables. If price of 22 tables is Rs. 10648, then what is the price of 50 chairs?

- Ans
- 1. Rs. 34488
  - 2. Rs. 34848
  - 3. Rs. 34888
  - 4. Rs. 38848

Question ID : 264330187706  
Option 1 ID : 264330734752  
Option 2 ID : 264330734755  
Option 3 ID : 264330734753  
Option 4 ID : 264330734754  
Status : Not Answered  
Chosen Option : --

**Q.16** A shopkeeper sells his goods at a 5% profit after marking them up by 25%. What is the discount percentage offered by the shopkeeper?

- Ans**
- 1. 15.4%
  - 2. 17.5%
  - 3. 18%
  - 4. 16%

Question ID : 264330191197  
Option 1 ID : 264330748142  
Option 2 ID : 264330748144  
Option 3 ID : 264330748145  
Option 4 ID : 264330748143  
Status : Not Answered  
Chosen Option : --

**Q.17** The lengths of the sides of a triangle are 5 cm , 4 cm and 7 cm. Find the area of the triangle.

- Ans**
- 1.  $7\sqrt{2}$  cm<sup>2</sup>
  - 2.  $4\sqrt{6}$  cm<sup>2</sup>
  - 3.  $6\sqrt{3}$  cm<sup>2</sup>
  - 4.  $5\sqrt{6}$  cm<sup>2</sup>

Question ID : 264330192487  
Option 1 ID : 264330753304  
Option 2 ID : 264330753302  
Option 3 ID : 264330753305  
Option 4 ID : 264330753303  
Status : Not Answered  
Chosen Option : --

**Q.18** Two trains, one 380 metres and the other 160 metres long are running in opposite directions on parallel tracks, at the speed of 70 km/hr and 38 km/hr respectively. How much time will they take to cross each other?

- Ans**
- 1. 22 seconds
  - 2. 18 seconds
  - 3. 14 seconds
  - 4. 26 seconds

Question ID : 264330187995  
Option 1 ID : 264330735908  
Option 2 ID : 264330735911  
Option 3 ID : 264330735909  
Option 4 ID : 264330735910  
Status : Not Answered  
Chosen Option : --

**Q.19** Preeti alone can complete a work in 30 days and Payal alone can complete the same work in 90 days. Payal alone worked for first 18 days and then left the work. In how many days will Preeti alone complete the remaining work?

- Ans**
- 1. 24 days
  - 2. 27 days
  - 3. 29 days
  - 4. 25 days

Question ID : 264330187197  
Option 1 ID : 264330732718  
Option 2 ID : 264330732716  
Option 3 ID : 264330732717  
Option 4 ID : 264330732719  
Status : Answered  
Chosen Option : 1

**Q.20** In a muffin recipe, the ratio of flour to sugar is 3:2, and the ratio of sugar to butter is 4:3. What is the ratio of flour to butter in the recipe?

- Ans**
- 1. 1 : 2
  - 2. 1 : 3
  - 3. 2 : 1
  - 4. 3 : 1

Question ID : 264330191701  
Option 1 ID : 264330750158  
Option 2 ID : 264330750160  
Option 3 ID : 264330750161  
Option 4 ID : 264330750159  
Status : Not Answered  
Chosen Option : --

Section : Part-D-English

**Q.1** Improve the underlined part of the sentence. Choose 'No improvement' as an answer if the sentence is grammatically correct.

The rain slowed downer and became a light mist.

- Ans**
- 1. slowed downs
  - 2. No improvement
  - 3. slowed down
  - 4. slow down

Question ID : 264330186615  
Option 1 ID : 264330730638  
Option 2 ID : 264330730639  
Option 3 ID : 264330730637  
Option 4 ID : 264330730636  
Status : Answered  
Chosen Option : 3

Q.2 Select the most appropriate option for the given blank.  
\_\_\_\_\_ your time and decide which job you want.

- Ans
- 1. Have
  - 2. Take
  - 3. Make
  - 4. Set

Question ID : 264330186758  
Option 1 ID : 264330731181  
Option 2 ID : 264330731180  
Option 3 ID : 264330731182  
Option 4 ID : 264330731183  
Status : Answered  
Chosen Option : 2

Q.3 Improve the underlined part of the sentence. Choose 'No improvement' as an answer if the sentence is grammatically correct.

I has driven by the park on my way to work.

- Ans
- 1. drive by
  - 2. drives by
  - 3. No improvement
  - 4. driving by

Question ID : 264330185690  
Option 1 ID : 264330727114  
Option 2 ID : 264330727112  
Option 3 ID : 264330727115  
Option 4 ID : 264330727113  
Status : Answered  
Chosen Option : 3

Q.4 Select the most appropriate option for the given blank.

The meeting has been called \_\_\_\_\_ because James is ill.

- Ans
- 1. in
  - 2. of
  - 3. off
  - 4. to

Question ID : 264330185651  
Option 1 ID : 264330726967  
Option 2 ID : 264330726964  
Option 3 ID : 264330726965  
Option 4 ID : 264330726966  
Status : Answered  
Chosen Option : 3



**Q.5** Find the part of the given sentence that has an error in it. If there is no error, choose 'No error'.

I know they have a most good detective on the payroll.

- Ans**
- 1. No error
  - 2. I know they
  - 3. have a most good
  - 4. detective on the payroll.

Question ID : 264330185750

Option 1 ID : 264330727343

Option 2 ID : 264330727340

Option 3 ID : 264330727341

Option 4 ID : 264330727342

Status : Answered

Chosen Option : 3

**Q.6** Select the incorrectly spelt word from the given sentence.

Although Marie Curie eventually suffered a fatal illness from her long exposur to radium, she never became disillusioned about her work.

- Ans**
- 1. exposur
  - 2. eventually
  - 3. Although
  - 4. disillusioned

Question ID : 264330186210

Option 1 ID : 264330729094

Option 2 ID : 264330729093

Option 3 ID : 264330729092

Option 4 ID : 264330729095

Status : Answered

Chosen Option : 1

**Q.7** Choose the most appropriate antonym of the underlined word.

The former stand-up comedian has evolved into one of the most versatile entertainers in showbiz.

- Ans**
- 1. Varied
  - 2. Amateur
  - 3. Adaptable
  - 4. Gifted

Question ID : 264330185933

Option 1 ID : 264330728039

Option 2 ID : 264330728036

Option 3 ID : 264330728037

Option 4 ID : 264330728038

Status : Answered

Chosen Option : 2

**Q.8** Choose the idiom/phrase that can substitute the highlighted group of words meaningfully.

My twin boys are **very restless about something** today.

- Ans**
- 1. Green with envy
  - 2. Off on the wrong foot
  - 3. In the dark
  - 4. Have ants in their pants

Question ID : 264330186103  
Option 1 ID : 264330728684  
Option 2 ID : 264330728686  
Option 3 ID : 264330728687  
Option 4 ID : 264330728685  
Status : Answered  
Chosen Option : 2

**Q.9** Find the part of the given sentence that has an error in it. If there is no error, choose 'No error'.

Our situation is more better than that of our contemporaries right now.

- Ans**
- 1. Our situation is more better
  - 2. No error
  - 3. than that of our
  - 4. contemporaries right now.

Question ID : 264330185877  
Option 1 ID : 264330727824  
Option 2 ID : 264330727827  
Option 3 ID : 264330727825  
Option 4 ID : 264330727826  
Status : Answered  
Chosen Option : 3

**Q.10** Fill in the blank with the most appropriate option.

At this dismal intelligence, I twisted the only button on my waistcoat round and \_\_\_\_\_.

- Ans**
- 1. up on
  - 2. over
  - 3. round
  - 4. around

Question ID : 264330186828  
Option 1 ID : 264330731448  
Option 2 ID : 264330731450  
Option 3 ID : 264330731451  
Option 4 ID : 264330731449  
Status : Answered  
Chosen Option : 4

Q.11 Choose the word that means the same as the given word.

Offensive

- Ans
- 1. Dulcet
  - 2. Merry
  - 3. Amusing
  - 4. Upsetting

Question ID : 264330185994  
Option 1 ID : 264330728271  
Option 2 ID : 264330728270  
Option 3 ID : 264330728269  
Option 4 ID : 264330728268  
Status : Answered  
Chosen Option : 3

Q.12 Identify the segment that contains a grammatical error. If there is no error, select 'No error'.

I felt I am dying of weakness, / and have barely strength to write, / but it must be done if I die in the doing.

- Ans
- 1. but it must be done if I die in the doing.
  - 2. and have barely strength to write,
  - 3. No error
  - 4. I felt I am dying of weakness,

Question ID : 264330186845  
Option 1 ID : 264330731514  
Option 2 ID : 264330731513  
Option 3 ID : 264330731515  
Option 4 ID : 264330731512  
Status : Answered  
Chosen Option : 4

Q.13 In the following question, out of the given four alternatives, select the alternative which best expresses the meaning of the Idiom/Phrase.

Cost an arm and a leg

- Ans
- 1. To lose a friend
  - 2. Occurring unexpectedly
  - 3. To be a good dancer
  - 4. Be extremely expensive

Question ID : 264330185913  
Option 1 ID : 264330727960  
Option 2 ID : 264330727962  
Option 3 ID : 264330727961  
Option 4 ID : 264330727963  
Status : Answered  
Chosen Option : 3

**Q.14** The sentence has been divided into three parts, identify the segment which contains a spelling error in the sentence given below. Choose no error if there is no error in the sentence.

The Chandrayaan 2 could have been a success, / if it hadn't lost the connection with the control room / in the final moments of its landing.

- Ans**
- 1. in the final moments of its landing.
  - 2. if it hadn't lost the connection with the control room
  - 3. no error
  - 4. The Chandrayaan 2 could have been a success,

Question ID : 264330186421  
 Option 1 ID : 264330729898  
 Option 2 ID : 264330729897  
 Option 3 ID : 264330729899  
 Option 4 ID : 264330729896  
 Status : Answered  
 Chosen Option : 1

**Q.15** Choose the option which is antonym of (opposite of) the word "extraneous" in the sentence given below:

Proper time management is essential for maintaining a healthy work-life balance.

- Ans**
- 1. maintaining
  - 2. Proper
  - 3. essential
  - 4. balance

Question ID : 264330186479  
 Option 1 ID : 264330730118  
 Option 2 ID : 264330730116  
 Option 3 ID : 264330730117  
 Option 4 ID : 264330730119  
 Status : Answered  
 Chosen Option : 1

### Comprehension:

In the following passage some of the words have been left out. Read the passage carefully and select the correct answer for the given blank out of the four alternatives.

Households these days resort to chemicals to get (1) \_\_\_\_\_ of rats. The use of these is making conditions (2) \_\_\_\_\_ for the mongoose, snakes and owls. Even if not consumed (3) \_\_\_\_\_, by feeding on rodents that (4) \_\_\_\_\_ exposed to these poisonous chemicals, these natural pest controllers in our backyards are (5) \_\_\_\_\_ grave risk.

### SubQuestion No : 16

**Q.16** Select the most appropriate option for blank (1)

- Ans**
- 1. void
  - 2. rid
  - 3. empty
  - 4. relieve

Question ID : 264330186746  
 Option 1 ID : 264330731132  
 Option 2 ID : 264330731135  
 Option 3 ID : 264330731133  
 Option 4 ID : 264330731134  
 Status : Answered  
 Chosen Option : 3

**Comprehension:**

In the following passage some of the words have been left out. Read the passage carefully and select the correct answer for the given blank out of the four alternatives.

Households these days resort to chemicals to get (1) \_\_\_\_\_ of rats. The use of these is making conditions (2) \_\_\_\_\_ for the mongoose, snakes and owls. Even if not consumed (3) \_\_\_\_\_, by feeding on rodents that (4) \_\_\_\_\_ exposed to these poisonous chemicals, these natural pest controllers in our backyards are (5) \_\_\_\_\_ grave risk.

**SubQuestion No : 17**

Q.17 Select the most appropriate option for blank (2)

- Ans
- 1. opposing
  - 2. low
  - 3. contrary
  - 4. unfavourable

Question ID : 264330186747

Option 1 ID : 264330731138

Option 2 ID : 264330731139

Option 3 ID : 264330731136

Option 4 ID : 264330731137

Status : Answered

Chosen Option : 4

**Comprehension:**

In the following passage some of the words have been left out. Read the passage carefully and select the correct answer for the given blank out of the four alternatives.

Households these days resort to chemicals to get (1) \_\_\_\_\_ of rats. The use of these is making conditions (2) \_\_\_\_\_ for the mongoose, snakes and owls. Even if not consumed (3) \_\_\_\_\_, by feeding on rodents that (4) \_\_\_\_\_ exposed to these poisonous chemicals, these natural pest controllers in our backyards are (5) \_\_\_\_\_ grave risk.

**SubQuestion No : 18**

Q.18 Select the most appropriate option for blank (3)

- Ans
- 1. frankly
  - 2. directly
  - 3. simply
  - 4. thoroughly

Question ID : 264330186748

Option 1 ID : 264330731143

Option 2 ID : 264330731140

Option 3 ID : 264330731142

Option 4 ID : 264330731141

Status : Answered

Chosen Option : 2

**Comprehension:**

In the following passage some of the words have been left out. Read the passage carefully and select the correct answer for the given blank out of the four alternatives.

Households these days resort to chemicals to get (1) \_\_\_\_\_ of rats. The use of these is making conditions (2) \_\_\_\_\_ for the mongoose, snakes and owls. Even if not consumed (3) \_\_\_\_\_, by feeding on rodents that (4) \_\_\_\_\_ exposed to these poisonous chemicals, these natural pest controllers in our backyards are (5) \_\_\_\_\_ grave risk.

**SubQuestion No : 19**

Q.19 Select the most appropriate option for blank (4)

- Ans
- 1. had
  - 2. have been
  - 3. have
  - 4. has been

Question ID : 264330186749

Option 1 ID : 264330731144

Option 2 ID : 264330731147

Option 3 ID : 264330731146

Option 4 ID : 264330731145

Status : Answered

Chosen Option : 2

**Comprehension:**

In the following passage some of the words have been left out. Read the passage carefully and select the correct answer for the given blank out of the four alternatives.

Households these days resort to chemicals to get (1) \_\_\_\_\_ of rats. The use of these is making conditions (2) \_\_\_\_\_ for the mongoose, snakes and owls. Even if not consumed (3) \_\_\_\_\_, by feeding on rodents that (4) \_\_\_\_\_ exposed to these poisonous chemicals, these natural pest controllers in our backyards are (5) \_\_\_\_\_ grave risk.

**SubQuestion No : 20**

Q.20 Select the most appropriate option for blank (5)

- Ans
- 1. on
  - 2. from
  - 3. at
  - 4. of

Question ID : 264330186750

Option 1 ID : 264330731148

Option 2 ID : 264330731151

Option 3 ID : 264330731150

Option 4 ID : 264330731149

Status : Answered

Chosen Option : 1

Q.1 दिए गए वाक्य में रेखांकित शब्दों के लिए सही शब्दों वाले विकल्प का चयन करें।

हमारे को यह विचार छोड़ने चाहिए।

- Ans
- ✗ 1. हमने को यह विचार छोड़ने चाहिए।
  - ✗ 2. परिवर्तन की आवश्यकता नहीं है।
  - ✓ 3. हमें यह विचार छोड़ने चाहिए।
  - ✗ 4. हमसे को यह विचार छोड़ने चाहिए।

Question ID : 264330189396  
 Option 1 ID : 264330741298  
 Option 2 ID : 264330741301  
 Option 3 ID : 264330741299  
 Option 4 ID : 264330741300  
 Status : Not Answered  
 Chosen Option : --

Q.2 निम्नलिखित प्रश्न में, चार विकल्पों में से, उस विकल्प का चयन करें जो दिये गए मुहावरों का सही अर्थ वाला विकल्प है।  
 कुएं में भाँग पड़ना

- Ans
- ✓ 1. सभी की बुद्धि भ्रष्ट होना
  - ✗ 2. अलग होना
  - ✗ 3. निरंतर कार्य करते रहना
  - ✗ 4. अस्थायी वस्तु होना

Question ID : 264330189703  
 Option 1 ID : 264330742467  
 Option 2 ID : 264330742469  
 Option 3 ID : 264330742468  
 Option 4 ID : 264330742466  
 Status : Not Answered  
 Chosen Option : --

Q.3 दिए गए वाक्य में उचित पर्यायवाची शब्द का चयन करके रिक्त स्थान की पूर्ति करें।  
 तुम्हें तो \_\_\_\_\_ (शर्म)के मारे डूब मरना चाहिए।

- Ans
- ✗ 1. बुराई
  - ✗ 2. समीर
  - ✗ 3. न्यून
  - ✓ 4. हया

Question ID : 264330188132  
 Option 1 ID : 264330736451  
 Option 2 ID : 264330736450  
 Option 3 ID : 264330736448  
 Option 4 ID : 264330736449  
 Status : Not Answered  
 Chosen Option : --



Q.4 निम्नलिखित प्रश्न में, चार विकल्पों में से, उस विकल्प का चयन करें जो कोष्ठक में दिए गए शब्द के पर्यायवाची शब्द का सही विकल्प है।  
प्रत्येक व्यक्ति किसी न किसी को अपना (प्रतिरूप) \_\_\_\_\_ मानकर अपनी दिशा निर्धारित करता है।

- Ans
- ✓ 1. आदर्श
  - ✗ 2. अवरोधक
  - ✗ 3. बुनियाद
  - ✗ 4. समावेश

Question ID : 264330189552  
Option 1 ID : 264330741890  
Option 2 ID : 264330741892  
Option 3 ID : 264330741891  
Option 4 ID : 264330741893  
Status : Not Answered  
Chosen Option : --

Q.5 दिए गए वाक्य में उचित देशज-विदेशज शब्द का चयन करके रिक्त स्थान की पूर्ति कीजिए।  
मेरे लिए पानी का एक \_\_\_\_\_ ले आओ।

- Ans
- ✗ 1. कमेटी
  - ✗ 2. कोट
  - ✗ 3. टिकट
  - ✓ 4. गिलास

Question ID : 264330189056  
Option 1 ID : 264330740004  
Option 2 ID : 264330740003  
Option 3 ID : 264330740002  
Option 4 ID : 264330740005  
Status : Not Answered  
Chosen Option : --

Q.6 दिए गए वाक्य में रेखांकित शब्द का तद्भव शब्द ज्ञात कीजिए।  
मुझे उसकी बातों से घात पहुँची।

- Ans
- ✗ 1. घात
  - ✗ 2. घेवर
  - ✗ 3. घाम
  - ✓ 4. घाव

Question ID : 264330189498  
Option 1 ID : 264330741687  
Option 2 ID : 264330741686  
Option 3 ID : 264330741689  
Option 4 ID : 264330741688  
Status : Not Answered  
Chosen Option : --



Q.7 दिए गए विकल्पों में से तीन विकल्प त्रुटियुक्त हैं, जबकि एक सही है। उस सही विकल्प का चयन करें।

- Ans
- 1. सबसे नमस्ते!
  - 2. सब ने नमस्ते!
  - 3. सबको नमस्ते!
  - 4. सबमें नमस्ते!

Question ID : 264330189311  
 Option 1 ID : 264330740974  
 Option 2 ID : 264330740977  
 Option 3 ID : 264330740975  
 Option 4 ID : 264330740976  
 Status : Not Answered  
 Chosen Option : --

Q.8 दिए गए शब्द का विलोम शब्द ज्ञात कीजिए।

तरल

- Ans
- 1. ठोस
  - 2. सूखा
  - 3. बंजर
  - 4. झाड़ी

Question ID : 264330188301  
 Option 1 ID : 264330737093  
 Option 2 ID : 264330737092  
 Option 3 ID : 264330737095  
 Option 4 ID : 264330737094  
 Status : Not Answered  
 Chosen Option : --

Q.9 दिए गए वाक्य का वह भाग ज्ञात करें, जिसमें कोई त्रुटि है।

जहाँ तुम्हारी बिस्तर लगा है, अपना सामान भी उधर ही रखो।

- Ans
- 1. अपना सामान भी
  - 2. जहाँ तुम्हारी
  - 3. बिस्तर लगा है,
  - 4. उधर ही रखो।

Question ID : 264330190045  
 Option 1 ID : 264330743772  
 Option 2 ID : 264330743770  
 Option 3 ID : 264330743771  
 Option 4 ID : 264330743773  
 Status : Not Answered  
 Chosen Option : --

Q.10 निम्नलिखित वाक्य में रेखांकित भाग के लिए एक सार्थक शब्द ज्ञात कीजिए।

रजोगुण वाले व्यक्ति को झुकाना आसान नहीं।

- Ans
- 1. सात्विक
  - 2. रसिक
  - 3. राजसिक
  - 4. वाचिक

Question ID : 264330189970  
 Option 1 ID : 264330743484  
 Option 2 ID : 264330743482  
 Option 3 ID : 264330743485  
 Option 4 ID : 264330743483  
 Status : Not Answered  
 Chosen Option : --

Q.11 दिए गए विकल्पों में से शुद्ध वर्तनी वाले विकल्प का चयन करें।

- Ans
- 1. जैसा बोला है वेसा ही करो।
  - 2. समय का सदूपयोग करो।
  - 3. लाला की दुकान पर तो बहुत बिक्री होती है।
  - 4. तुम कौन से जमाने की बात कह रहे हो?

Question ID : 264330189454  
 Option 1 ID : 264330741518  
 Option 2 ID : 264330741519  
 Option 3 ID : 264330741521  
 Option 4 ID : 264330741520  
 Status : Not Answered  
 Chosen Option : --

Q.12 निम्नलिखित वाक्य में रेखांकित भाग के लिए एक सार्थक शब्द ज्ञात कीजिए।

इतना प्रिय बोलने वाली वह स्त्री कौन है?

- Ans
- 1. पत्नी
  - 2. द्रौपदी
  - 3. प्रेयसी
  - 4. प्रियंवदा

Question ID : 264330189487  
 Option 1 ID : 264330741643  
 Option 2 ID : 264330741642  
 Option 3 ID : 264330741644  
 Option 4 ID : 264330741645  
 Status : Not Answered  
 Chosen Option : --

**Q.13** निम्नलिखित प्रश्न में, दिए गए चार विकल्पों में से, उस विकल्प का चयन करें जो दिए गए मुहावरे के अर्थ को सर्वश्रेष्ठ रूप से व्यक्त करता है।

तलवे चाटना

**Ans**

- ✓ 1. दीन-हीन बनकर खुशामद करना
- ✗ 2. सेवा भाव से सेवा करना
- ✗ 3. किसी की बुराई तो किसी की खुशामद करना
- ✗ 4. जल्दबाजी का काम मनवाना

Question ID : 264330188948

Option 1 ID : 264330739592

Option 2 ID : 264330739590

Option 3 ID : 264330739593

Option 4 ID : 264330739591

Status : Not Answered

Chosen Option : --

**Q.14** दिए गए विकल्पों में से शुद्ध वर्तनी वाले विकल्प का चयन करें।

**Ans**

- ✗ 1. मुझे आमंत्रण मत भेजना।
- ✗ 2. कंचन की बात को दील पर मत लेना।
- ✓ 3. हर कार्य को ध्यानपूर्वक करो।
- ✗ 4. अपनी शत्रु मुझे मत बताना

Question ID : 264330189474

Option 1 ID : 264330741596

Option 2 ID : 264330741594

Option 3 ID : 264330741595

Option 4 ID : 264330741597

Status : Not Answered

Chosen Option : --

**Q.15** दिए गए वाक्य में रेखांकित शब्द का विलोम शब्द ज्ञात कीजिए।

अभी बहुत कार्य शेष है।

**Ans**

- ✗ 1. अपूर्ण
- ✓ 2. पूर्ण
- ✗ 3. बाकी
- ✗ 4. आधार

Question ID : 264330190059

Option 1 ID : 264330743824

Option 2 ID : 264330743822

Option 3 ID : 264330743823

Option 4 ID : 264330743825

Status : Not Answered

Chosen Option : --

**Comprehension:**

नीचे दिए गये गद्यांश में कुछ शब्द छोड़ दिये गए हैं, प्रत्येक अनुच्छेद के सामने चार विकल्प दिए गए हैं। इस गद्यांश को ध्यानपूर्वक पढ़ें और चार विकल्पों में से सर्वोत्तम उत्तर वाला विकल्प चुनें।

विज्ञान की प्रगति ने जीवन को और अधिक \_\_\_\_\_ और आसान बना दिया है। यदि हम इसका सही उपयोग करें तो विज्ञान का उपयोग हमें स्वस्थ और आसान जीवन जीने में मदद कर सकता है। इंटरनेट की खोज से स्मार्टफोन का उदय आधुनिक दुनिया के लिए एक \_\_\_\_\_ है। आज हमारी उंगलियों पर सभी सुविधाएं उपलब्ध हैं। आर्टिफिशियल इंटेलिजेंस और इंटरनेट ऑफ थिंग्स जैसी नई तकनीक चीजों को भी संवाद करने की अनुमति देती है। आज विज्ञान ने न सिर्फ इंसान को स्मार्ट बनाया है बल्कि चीजें भी स्मार्ट होती जा रही हैं। विज्ञान के अजूबे अनंत हैं और यह कितनी दूर तक जा सकता है इसकी कोई \_\_\_\_\_ नहीं है। लेकिन अपने अच्छे गुणों के बावजूद विज्ञान बुरा भी साबित हो सकता है अगर इंसान इसे \_\_\_\_\_ से इस्तेमाल न करे तो। हम सबके लिए यह ध्यान रखना बहुत ही महत्वपूर्ण है कि किसी भी चीज की अधिकता जहर होती है, और यही बात विज्ञान पर भी लागू होती है। मानव जाति पर विज्ञान के सकारात्मक प्रभाव के लिए, किसी भी संसाधन का \_\_\_\_\_ उपयोग करना बहुत ही ज्यादा महत्वपूर्ण है।

**SubQuestion No : 16**

Q.16 विज्ञान की प्रगति ने जीवन को और अधिक \_\_\_\_\_ और आसान बना दिया है।

- Ans
- 1. परेशानदायक
  - 2. दर्दनाक
  - 3. सहाय
  - 4. आरामदायक

Question ID : 264330189860

Option 1 ID : 264330743062

Option 2 ID : 264330743063

Option 3 ID : 264330743064

Option 4 ID : 264330743065

Status : Not Answered

Chosen Option : --

**Comprehension:**

नीचे दिए गये गद्यांश में कुछ शब्द छोड़ दिये गए हैं, प्रत्येक अनुच्छेद के सामने चार विकल्प दिए गए हैं। इस गद्यांश को ध्यानपूर्वक पढ़ें और चार विकल्पों में से सर्वोत्तम उत्तर वाला विकल्प चुनें।

विज्ञान की प्रगति ने जीवन को और अधिक \_\_\_\_\_ और आसान बना दिया है। यदि हम इसका सही उपयोग करें तो विज्ञान का उपयोग हमें स्वस्थ और आसान जीवन जीने में मदद कर सकता है। इंटरनेट की खोज से स्मार्टफोन का उदय आधुनिक दुनिया के लिए एक \_\_\_\_\_ है। आज हमारी उंगलियों पर सभी सुविधाएं उपलब्ध हैं। आर्टिफिशियल इंटेलिजेंस और इंटरनेट ऑफ थिंग्स जैसी नई तकनीक चीजों को भी संवाद करने की अनुमति देती है। आज विज्ञान ने न सिर्फ इंसान को स्मार्ट बनाया है बल्कि चीजें भी स्मार्ट होती जा रही हैं। विज्ञान के अजूबे अनंत हैं और यह कितनी दूर तक जा सकता है इसकी कोई \_\_\_\_\_ नहीं है। लेकिन अपने अच्छे गुणों के बावजूद विज्ञान बुरा भी साबित हो सकता है अगर इंसान इसे \_\_\_\_\_ से इस्तेमाल न करे तो। हम सबके लिए यह ध्यान रखना बहुत ही महत्वपूर्ण है कि किसी भी चीज की अधिकता जहर होती है, और यही बात विज्ञान पर भी लागू होती है। मानव जाति पर विज्ञान के सकारात्मक प्रभाव के लिए, किसी भी संसाधन का \_\_\_\_\_ उपयोग करना बहुत ही ज्यादा महत्वपूर्ण है।

**SubQuestion No : 17**

Q.17 इंटरनेट की खोज से स्मार्टफोन का उदय आधुनिक दुनिया के लिए एक \_\_\_\_\_ है।

- Ans
- 1. अधिकता
  - 2. वरदान
  - 3. आम
  - 4. परिणाम

Question ID : 264330189861

Option 1 ID : 264330743069

Option 2 ID : 264330743066

Option 3 ID : 264330743068

Option 4 ID : 264330743067

Status : Not Answered

Chosen Option : --

**Comprehension:**

नीचे दिए गये गद्यांश में कुछ शब्द छोड़ दिये गए हैं, प्रत्येक अनुच्छेद के सामने चार विकल्प दिए गए हैं। इस गद्यांश को ध्यानपूर्वक पढ़ें और चार विकल्पों में से सर्वोत्तम उत्तर वाला विकल्प चुनें।

विज्ञान की प्रगति ने जीवन को और अधिक \_\_\_\_\_ और आसान बना दिया है। यदि हम इसका सही उपयोग करें तो विज्ञान का उपयोग हमें स्वस्थ और आसान जीवन जीने में मदद कर सकता है। इंटरनेट की खोज से स्मार्टफोन का उदय आधुनिक दुनिया के लिए एक \_\_\_\_\_ है। आज हमारी उंगलियों पर सभी सुविधाएं उपलब्ध हैं। आर्टिफिशियल इंटेलिजेंस और इंटरनेट ऑफ थिंग्स जैसी नई तकनीक चीजों को भी संवाद करने की अनुमति देती है। आज विज्ञान ने न सिर्फ इंसान को स्मार्ट बनाया है बल्कि चीजें भी स्मार्ट होती जा रही हैं। विज्ञान के अजूबे अनंत हैं और यह कितनी दूर तक जा सकता है इसकी कोई \_\_\_\_\_ नहीं है। लेकिन अपने अच्छे गुणों के बावजूद विज्ञान बुरा भी साबित हो सकता है अगर इंसान इसे \_\_\_\_\_ से इस्तेमाल न करे तो। हम सबके लिए यह ध्यान रखना बहुत ही महत्वपूर्ण है कि किसी भी चीज की अधिकता जहर होती है, और यही बात विज्ञान पर भी लागू होती है। मानव जाति पर विज्ञान के सकारात्मक प्रभाव के लिए, किसी भी संसाधन का \_\_\_\_\_ उपयोग करना बहुत ही ज्यादा महत्वपूर्ण है।

**SubQuestion No : 18**

Q.18 विज्ञान के अजूबे अनंत हैं और यह कितनी दूर तक जा सकता है इसकी कोई \_\_\_\_\_ नहीं है।

- Ans
- 1. जिम्मेदारी
  - 2. प्रतिमा
  - 3. साझेदारी
  - 4. सीमा

Question ID : 264330189862

Option 1 ID : 264330743073

Option 2 ID : 264330743072

Option 3 ID : 264330743070

Option 4 ID : 264330743071

Status : Not Answered

Chosen Option : --

**Comprehension:**

नीचे दिए गये गद्यांश में कुछ शब्द छोड़ दिये गए हैं, प्रत्येक अनुच्छेद के सामने चार विकल्प दिए गए हैं। इस गद्यांश को ध्यानपूर्वक पढ़ें और चार विकल्पों में से सर्वोत्तम उत्तर वाला विकल्प चुनें।

विज्ञान की प्रगति ने जीवन को और अधिक \_\_\_\_\_ और आसान बना दिया है। यदि हम इसका सही उपयोग करें तो विज्ञान का उपयोग हमें स्वस्थ और आसान जीवन जीने में मदद कर सकता है। इंटरनेट की खोज से स्मार्टफोन का उदय आधुनिक दुनिया के लिए एक \_\_\_\_\_ है। आज हमारी उंगलियों पर सभी सुविधाएं उपलब्ध हैं। आर्टिफिशियल इंटेलिजेंस और इंटरनेट ऑफ थिंग्स जैसी नई तकनीक चीजों को भी संवाद करने की अनुमति देती है। आज विज्ञान ने न सिर्फ इंसान को स्मार्ट बनाया है बल्कि चीजें भी स्मार्ट होती जा रही हैं। विज्ञान के अजूबे अनंत हैं और यह कितनी दूर तक जा सकता है इसकी कोई \_\_\_\_\_ नहीं है। लेकिन अपने अच्छे गुणों के बावजूद विज्ञान बुरा भी साबित हो सकता है अगर इंसान इसे \_\_\_\_\_ से इस्तेमाल न करे तो। हम सबके लिए यह ध्यान रखना बहुत ही महत्वपूर्ण है कि किसी भी चीज की अधिकता जहर होती है, और यही बात विज्ञान पर भी लागू होती है। मानव जाति पर विज्ञान के सकारात्मक प्रभाव के लिए, किसी भी संसाधन का \_\_\_\_\_ उपयोग करना बहुत ही ज्यादा महत्वपूर्ण है।

**SubQuestion No : 19**

Q.19 लेकिन अपने अच्छे गुणों के बावजूद विज्ञान बुरा भी साबित हो सकता है अगर इंसान इसे \_\_\_\_\_ से इस्तेमाल न करे तो।

- Ans
- 1. हमेशा
  - 2. समझदारी
  - 3. गुणों
  - 4. कम

Question ID : 264330189863

Option 1 ID : 264330743075

Option 2 ID : 264330743076

Option 3 ID : 264330743077

Option 4 ID : 264330743074

Status : Not Answered

Chosen Option : --

**Comprehension:**

नीचे दिए गये गद्यांश में कुछ शब्द छोड़ दिये गए हैं, प्रत्येक अनुच्छेद के सामने चार विकल्प दिए गए हैं। इस गद्यांश को ध्यानपूर्वक पढ़ें और चार विकल्पों में से सर्वोत्तम उत्तर वाला विकल्प चुनें।

विज्ञान की प्रगति ने जीवन को और अधिक \_\_\_\_\_ और आसान बना दिया है। यदि हम इसका सही उपयोग करें तो विज्ञान का उपयोग हमें स्वस्थ और आसान जीवन जीने में मदद कर सकता है। इंटरनेट की खोज से स्मार्टफोन का उदय आधुनिक दुनिया के लिए एक \_\_\_\_\_ है। आज हमारी उंगलियों पर सभी सुविधाएं उपलब्ध हैं। आर्टिफिशियल इंटेलिजेंस और इंटरनेट ऑफ थिंग्स जैसी नई तकनीक चीजों को भी संवाद करने की अनुमति देती है। आज विज्ञान ने न सिर्फ इंसान को स्मार्ट बनाया है बल्कि चीजें भी स्मार्ट होती जा रही हैं। विज्ञान के अजूबे अनंत हैं और यह कितनी दूर तक जा सकता है इसकी कोई \_\_\_\_\_ नहीं है। लेकिन अपने अच्छे गुणों के बावजूद विज्ञान बुरा भी साबित हो सकता है अगर इंसान इसे \_\_\_\_\_ से इस्तेमाल न करे तो। हम सबके लिए यह ध्यान रखना बहुत ही महत्वपूर्ण है कि किसी भी चीज की अधिकता जहर होती है, और यही बात विज्ञान पर भी लागू होती है। मानव जाति पर विज्ञान के सकारात्मक प्रभाव के लिए, किसी भी संसाधन का \_\_\_\_\_ उपयोग करना बहुत ही ज्यादा महत्वपूर्ण है।

**SubQuestion No : 20**

**Q.20** मानव जाति पर विज्ञान के सकारात्मक प्रभाव के लिए, किसी भी संसाधन का \_\_\_\_\_ उपयोग करना बहुत ही ज्यादा महत्वपूर्ण है।

- Ans**
- 1. अतिशय
  - 2. बेमतलब
  - 3. अनिश्चित
  - 4. उचित

Question ID : 264330189864

Option 1 ID : 264330743079

Option 2 ID : 264330743078

Option 3 ID : 264330743080

Option 4 ID : 264330743081

Status : Not Answered

Chosen Option : --