

Question Paper Preview

Notations :

- Options shown in green color and with ✓ icon are correct.
- Options shown in red color and with ✗ icon are incorrect.

Subject Name :	FIRE OPERATOR
Creation Date :	2021-04-20 12:26:26
Duration :	120
Total Marks :	200
Display Marks:	Yes
Share Answer Key With Delivery Engine :	No
Actual Answer Key :	Yes
Calculator :	None
Magnifying Glass Required? :	No
Ruler Required? :	No
Eraser Required? :	No
Scratch Pad Required? :	No
Rough Sketch/Notepad Required? :	No
Protractor Required? :	No
Show Watermark on Console? :	Yes
Highlighter :	No
Auto Save on Console? (SA type of questions will be always auto saved) :	No

Mental Ability1

Group Number :	1
Group Id :	540626202
Group Maximum Duration :	0
Group Minimum Duration :	0

Show Attended Group? :	No
Edit Attended Group? :	No
Break time :	0
Group Marks :	20
Is this Group for Examiner? :	No

General intelligence and reasoning Ability1

Section Id :	540626281
Section Number :	1
Section type :	Online
Mandatory or Optional :	Mandatory
Number of Questions :	20
Number of Questions to be attempted :	20
Section Marks :	20
Enable Mark as Answered Mark for Review and Clear Response :	Yes
Sub-Section Number :	1
Sub-Section Id :	540626326
Question Shuffling Allowed :	Yes

Question Number : 1 Question Id : 5406267038 Question Type : MCQ Option Shuffling : Yes Is Question Mandatory : No Option Orientation : Vertical

Correct Marks : 1 Wrong Marks : 0.25

From the given responses, find the missing letter-cluster in the series.

ABILITY , BILITYA , ILITYAB, ?

Options :

- ✘ LITYIAB
- ✘ LITYAIB
- ✔ LITYABI
- ✘ LITYBAI

Question Number : 1 Question Id : 5406267038 Question Type : MCQ Option Shuffling : Yes Is Question Mandatory : No Option

Orientation : Vertical

Correct Marks : 1 Wrong Marks : 0.25

दिए गए विकल्पों में से, श्रेणी में लुप्त अक्षर-समूह को ज्ञात करें।

ABILITY , BILITYA , ILITYAB, ?

Options :

1. ✘ LITYIAB
2. ✘ LITYAIB
3. ✔ LITYABI
4. ✘ LITYBAI

Question Number : 2 Question Id : 5406267039 Question Type : MCQ Option Shuffling : Yes Is Question Mandatory : No Option

Orientation : Vertical

Correct Marks : 1 Wrong Marks : 0.25

From the given responses, find the missing letter-cluster in the series.

egj, fim, gkp, ?

Options :

1. ✔ hms
2. ✘ hsm
3. ✘ fjh
4. ✘ fsm

Question Number : 2 Question Id : 5406267039 Question Type : MCQ Option Shuffling : Yes Is Question Mandatory : No Option

Orientation : Vertical

Correct Marks : 1 Wrong Marks : 0.25

दिए गए विकल्पों में से, श्रेणी में लुप्त अक्षर-समूह को ज्ञात करें।

egj, fim, gkp, ?

Options :

1. ✔ hms
2. ✘ hsm
3. ✘ fjh

4. ✘ fsm

Question Number : 3 Question Id : 5406267040 Question Type : MCQ Option Shuffling : Yes Is Question Mandatory : No Option Orientation : Vertical

Correct Marks : 1 Wrong Marks : 0.25

From the given responses, find the missing term in the series.

J1 , N5 , R9 , V4 , ?

Options :

1. ✔ Z8

2. ✘ W9

3. ✘ V3

4. ✘ Z2

Question Number : 3 Question Id : 5406267040 Question Type : MCQ Option Shuffling : Yes Is Question Mandatory : No Option Orientation : Vertical

Correct Marks : 1 Wrong Marks : 0.25

दिए गए विकल्पों में से, श्रेणी में लुप्त अक्षर को ज्ञात करें।

J1 , N5 , R9 , V4 , ?

Options :

1. ✔ Z8

2. ✘ W9

3. ✘ V3

4. ✘ Z2

Question Number : 4 Question Id : 5406267041 Question Type : MCQ Option Shuffling : Yes Is Question Mandatory : No Option Orientation : Vertical

Correct Marks : 1 Wrong Marks : 0.25

Which of the following can replace the question mark?

CD-12, LB-24, BP-32, NE-?

Options :

1. ✓ 70
2. ✗ 75
3. ✗ 45
4. ✗ 95

Question Number : 4 Question Id : 5406267041 Question Type : MCQ Option Shuffling : Yes Is Question Mandatory : No Option Orientation : Vertical

Correct Marks : 1 Wrong Marks : 0.25

निम्न में से किसे, प्रश्न चिन्ह के स्थान पर प्रतिस्थापित किया जा सकता है?

CD-12, LB-24, BP-32, NE-?

Options :

1. ✓ 70
2. ✗ 75
3. ✗ 45
4. ✗ 95

Question Number : 5 Question Id : 5406267042 Question Type : MCQ Option Shuffling : Yes Is Question Mandatory : No Option Orientation : Vertical

Correct Marks : 1 Wrong Marks : 0.25

‘Temperature’ is related to ‘Kelvin’, in the same way ‘Time’ is related to ‘_____’.

Options :

1. ✗ Litre
2. ✗ Metre
3. ✗ Newton
4. ✓ Seconds

Question Number : 5 Question Id : 5406267042 Question Type : MCQ Option Shuffling : Yes Is Question Mandatory : No Option Orientation : Vertical

Correct Marks : 1 Wrong Marks : 0.25

जिस प्रकार “तापमान” का संबंध “केल्विन” से है, उसी प्रकार “समय” का संबंध “_____” से है।

Options :

1. ✘ लीटर
2. ✘ मीटर
3. ✘ न्यूटन
4. ✔ सेकंड

Question Number : 6 Question Id : 5406267043 Question Type : MCQ Option Shuffling : Yes Is Question Mandatory : No Option Orientation : Vertical

Correct Marks : 1 Wrong Marks : 0.25

In the given arrangement, which is the 5th element to the left of the 11th element from left end?

Z A 4 # 2 T L M 3 @ 7 D % 8 1 W X

Options :

1. ✘ 7
2. ✔ T
3. ✘ W
4. ✘ A

Question Number : 6 Question Id : 5406267043 Question Type : MCQ Option Shuffling : Yes Is Question Mandatory : No Option Orientation : Vertical

Correct Marks : 1 Wrong Marks : 0.25

दी गई व्यवस्था में, बाएँ छोर से 11वें तत्व के बाएँ से 5वाँ तत्व कौन सा है?

Z A 4 # 2 T L M 3 @ 7 D % 8 1 W X

Options :

1. ✘ 7
2. ✔ T
3. ✘ W
4. ✘ A

Question Number : 7 Question Id : 5406267044 Question Type : MCQ Option Shuffling : Yes Is Question Mandatory : No Option Orientation : Vertical

Correct Marks : 1 Wrong Marks : 0.25

In the following question, select the related word from the given alternatives.

Taj Mahal : India :: _____ : _____

Options :

1. ✓ Eiffel tower : France
2. ✗ Alhambra : Iran
3. ✗ Statue of Liberty : Australia
4. ✗ Opera house : China

Question Number : 7 Question Id : 5406267044 Question Type : MCQ Option Shuffling : Yes Is Question Mandatory : No Option Orientation : Vertical

Correct Marks : 1 Wrong Marks : 0.25

निम्नलिखित प्रश्न में, दिए गए विकल्पों में से सम्बन्धित शब्द को चुनिए।

ताजमहल : भारत :: _____ : _____

Options :

1. ✓ एफिल टॉवर: फ्रांस
2. ✗ अलहम्ब्रा : ईरान
3. ✗ स्टैचू ऑफ लिबर्टी : ऑस्ट्रेलिया
4. ✗ ओपेरा हाउस : चीन

Question Number : 8 Question Id : 5406267045 Question Type : MCQ Option Shuffling : Yes Is Question Mandatory : No Option Orientation : Vertical

Correct Marks : 1 Wrong Marks : 0.25

Select the related letter-cluster from the given alternatives.

STREWED : DEERSTW :: SPREAD : ?

Options :

1. ✗ DAEPRS
2. ✗ AEDPRS
3. ✗ ADEPSR
4. ✓ ADEPRS

Question Number : 8 Question Id : 5406267045 Question Type : MCQ Option Shuffling : Yes Is Question Mandatory : No Option Orientation : Vertical

Correct Marks : 1 Wrong Marks : 0.25

दिए गए विकल्पों में से संबंधित अक्षर-समूह का चयन कीजिए।

STREWED : DEERSTW :: SPREAD : ?

Options :

1. ✘ DAEPRS
2. ✘ AEDPRS
3. ✘ ADEPSR
4. ✔ ADEPRS

Question Number : 9 Question Id : 5406267046 Question Type : MCQ Option Shuffling : Yes Is Question Mandatory : No Option Orientation : Vertical

Correct Marks : 1 Wrong Marks : 0.25

Select the option that is related to the third term in the same way as the second term is related to the first term.

AZ : 625 :: GR : _____

Options :

1. ✘ 64
2. ✘ 81
3. ✔ 121
4. ✘ 144

Question Number : 9 Question Id : 5406267046 Question Type : MCQ Option Shuffling : Yes Is Question Mandatory : No Option Orientation : Vertical

Correct Marks : 1 Wrong Marks : 0.25

जिस प्रकार नीचे दिए गए अक्षरों/संख्याओं के समूह में दूसरा पद, पहले पद से संबंधित है, उसी प्रकार तीसरे पद से संबंधित विकल्प का चयन कीजिए।

AZ : 625 :: GR : _____

Options :

1. ✘ 64
2. ✘ 81

3. ✓ 121

4. ✗ 144

Question Number : 10 Question Id : 5406267047 Question Type : MCQ Option Shuffling : Yes Is Question Mandatory : No Option Orientation : Vertical

Correct Marks : 1 Wrong Marks : 0.25

Select the option that is related to the third term in the same way as the second term is related to the first term.

FLOWER : UOLDVI :: JASMINE : _____

Options :

1. ✗ QZGNRMV

2. ✗ QZHMRNV

3. ✗ QAHNRMV

4. ✓ QZHNRMV

Question Number : 10 Question Id : 5406267047 Question Type : MCQ Option Shuffling : Yes Is Question Mandatory : No Option Orientation : Vertical

Correct Marks : 1 Wrong Marks : 0.25

जिस प्रकार नीचे दिए गए अक्षरों के समूह में दूसरा पद, पहले पद से संबंधित है, उसी प्रकार तीसरे पद से संबंधित विकल्प का चयन कीजिए।

FLOWER : UOLDVI :: JASMINE : _____

Options :

1. ✗ QZGNRMV

2. ✗ QZHMRNV

3. ✗ QAHNRMV

4. ✓ QZHNRMV

Question Number : 11 Question Id : 5406267048 Question Type : MCQ Option Shuffling : Yes Is Question Mandatory : No Option Orientation : Vertical

Correct Marks : 1 Wrong Marks : 0.25

If 'cycle' is called 'bus', 'bus' is called 'train', 'train' is called 'ship', 'ship' is called 'plane' and 'plane' is called 'cycle' in a certain language, then which of the following travels on water as per this language?

Options :

1. ✘ Ship
2. ✘ Bus
3. ✘ Train
4. ✔ Plane

Question Number : 11 Question Id : 5406267048 Question Type : MCQ Option Shuffling : Yes Is Question Mandatory : No Option Orientation : Vertical

Correct Marks : 1 Wrong Marks : 0.25

यदि एक निश्चित भाषा में 'साइकिल' को 'बस' कहा जाता है, 'बस' को 'ट्रेन' कहा जाता है, 'ट्रेन' को 'जहाज' कहा जाता है, 'जहाज' को 'विमान' कहा जाता है और 'विमान' को 'साइकिल' कहा जाता है, तो इस भाषा के अनुसार पानी पर निम्नलिखित में से किसके द्वारा यात्रा की जाती है?

Options :

1. ✘ जहाज
2. ✘ बस
3. ✘ ट्रेन
4. ✔ विमान

Question Number : 12 Question Id : 5406267049 Question Type : MCQ Option Shuffling : Yes Is Question Mandatory : No Option Orientation : Vertical

Correct Marks : 1 Wrong Marks : 0.25

In a certain code, OIL is coded as MQGKJN, then how is NEWS coded in the same way?

Options :

1. ✘ LPCGUYRU
2. ✘ LPCGUVQU
3. ✘ LPCGUYQT
4. ✔ LPCGUYQU

Question Number : 12 Question Id : 5406267049 Question Type : MCQ Option Shuffling : Yes Is Question Mandatory : No Option Orientation : Vertical

Correct Marks : 1 Wrong Marks : 0.25

एक निश्चित कोड में, OIL को MQGKJN लिखा जाता है। उस कोड में NEWS को कैसे लिखा जाएगा?

Options :

1. ✘ LPCGUYRU
2. ✘ LPCGUVQU
3. ✘ LPCGUYQT
4. ✔ LPCGUYQU

Question Number : 13 Question Id : 5406267050 Question Type : MCQ Option Shuffling : Yes Is Question Mandatory : No Option Orientation : Vertical

Correct Marks : 1 Wrong Marks : 0.25

If R is coded as 4, M is coded as 1, N is coded as 5, S is coded as 8, Q is coded as 0, L is coded as 6 and P is coded as 3, then what is the coded form of SMLRP?

Options :

1. ✘ 81364
2. ✘ 81346
3. ✔ 81643
4. ✘ 81436

Question Number : 13 Question Id : 5406267050 Question Type : MCQ Option Shuffling : Yes Is Question Mandatory : No Option Orientation : Vertical

Correct Marks : 1 Wrong Marks : 0.25

यदि R को 4 से कोडित करते हैं, M को 1 से कोडित करते हैं, N को 5 से कोडित करते हैं, S को 8 से कोडित करते हैं, Q को 0 से कोडित करते हैं, L को 6 से कोडित करते हैं और P को 3 से कोडित करते हैं, तो SMLRP का कोडित रूप क्या होगा?

Options :

1. ✘ 81364
2. ✘ 81346
3. ✔ 81643
4. ✘ 81436

Question Number : 14 Question Id : 5406267051 Question Type : MCQ Option Shuffling : Yes Is Question Mandatory : No Option Orientation : Vertical

Correct Marks : 1 Wrong Marks : 0.25

In a certain code language, 'si po re' means 'book is thick', 'ti na re' means 'bag is heavy', 'ka si' means 'interesting book' and 'de ti' means 'that bag'. What should stand for 'that is interesting' in that code language?

Options :

1. ✘ ka re na
2. ✘ de si re
3. ✘ ti po ka
4. ✔ ka de re

Question Number : 14 Question Id : 5406267051 Question Type : MCQ Option Shuffling : Yes Is Question Mandatory : No Option Orientation : Vertical

Correct Marks : 1 Wrong Marks : 0.25

किसी निश्चित कूट में, 'si po re' का अर्थ 'book is thick' है, 'ti na re' का अर्थ 'bag is heavy' है, 'ka si' का अर्थ 'interesting book' है 'de ti' का अर्थ 'that bag' है, तो उस कूट भाषा में निम्न में से, किसका अर्थ 'that is interesting' होना चाहिए?

Options :

1. ✘ ka re na
2. ✘ de si re
3. ✘ ti po ka
4. ✔ ka de re

Question Number : 15 Question Id : 5406267052 Question Type : MCQ Option Shuffling : Yes Is Question Mandatory : No Option Orientation : Vertical

Correct Marks : 1 Wrong Marks : 0.25

Aditya is taller than Yatendra, Amit is taller than Aditya. Subhash is taller than Amit. Hemant is tallest of all. If they stand according to their height, who will be exactly in the middle?

Options :

1. ✘ Aditya
2. ✘ Subhash
3. ✘ Yatendra
4. ✔ Amit

Question Number : 15 Question Id : 5406267052 Question Type : MCQ Option Shuffling : Yes Is Question Mandatory : No Option Orientation : Vertical

Correct Marks : 1 Wrong Marks : 0.25

आदित्य, यतेंद्र से लम्बा है तथा अमित, आदित्य से लम्बा है। सुभाष, अमित से लम्बा है। हेमंत सभी से लम्बा है। यदि वे अपनी लम्बाई के अनुसार खड़े होते हैं, तो

ठीक मध्य में कौन होगा?

Options :

1. ✘ आदित्य
2. ✘ सुभाष
3. ✘ यतेंद्र
4. ✔ अमित

Question Number : 16 Question Id : 5406267053 Question Type : MCQ Option Shuffling : Yes Is Question Mandatory : No Option Orientation : Vertical

Correct Marks : 1 Wrong Marks : 0.25

A is the father of B, C is the daughter of B, D is the brother of B and E is the son of A. What is the relationship between C and E?

Options :

1. ✘ Brother and sister
2. ✘ Cousins
3. ✔ Niece and uncle
4. ✘ Uncle and aunt

Question Number : 16 Question Id : 5406267053 Question Type : MCQ Option Shuffling : Yes Is Question Mandatory : No Option Orientation : Vertical

Correct Marks : 1 Wrong Marks : 0.25

A, B का पिता है, C, B की पुत्री है, D, B का भाई है तथा E, A का पुत्र है। C और E के मध्य क्या सम्बन्ध है?

Options :

1. ✘ भाई और बहन
2. ✘ चचेरे भाई- बहन
3. ✔ भतीजी और चाचा/मामा
4. ✘ चाचा/मामा और चाची/मामी

Question Number : 17 Question Id : 5406267054 Question Type : MCQ Option Shuffling : Yes Is Question Mandatory : No Option Orientation : Vertical

Correct Marks : 1 Wrong Marks : 0.25

Kapil is a student of 12th class. In his class, his position is 14th from the top and 48th from the bottom. What is the total number of the students in the class?

Options :

1. ✘ 64
2. ✘ 62
3. ✔ 61
4. ✘ 63

Question Number : 17 Question Id : 5406267054 Question Type : MCQ Option Shuffling : Yes Is Question Mandatory : No Option Orientation : Vertical

Correct Marks : 1 Wrong Marks : 0.25

कपिल 12वीं कक्षा का छात्र है। उसकी कक्षा में, उसकी स्थिति शीर्ष से 14वें स्थान पर है तथा नीचे से 48वें स्थान पर है। कक्षा में छात्रों की कुल संख्या क्या है?

Options :

1. ✘ 64
2. ✘ 62
3. ✔ 61
4. ✘ 63

Question Number : 18 Question Id : 5406267055 Question Type : MCQ Option Shuffling : Yes Is Question Mandatory : No Option Orientation : Vertical

Correct Marks : 1 Wrong Marks : 0.25

A, M, P, D, Q, R, W and B are sitting around a circle facing at the centre. D is fourth to the left of A, who is third to the right of M. P is third to the left of Q, who is third to the left of M. R is third to the right of W, who is third to the right of B. Who is second to the left of D?

Options :

1. ✘ W
2. ✘ B
3. ✔ Q
4. ✘ P

Question Number : 18 Question Id : 5406267055 Question Type : MCQ Option Shuffling : Yes Is Question Mandatory : No Option Orientation : Vertical

Correct Marks : 1 Wrong Marks : 0.25

A, M, P, D, Q, R, W और B एक वृत्त के चारों ओर केन्द्र की ओर मुख किये बैठे हैं। D, A के बाएं से चौथा है, जो M के दाएं से तीसरा है। P, Q के बाएं से तीसरा है, जो M के बाएं से तीसरा है। R, W के दाएं से तीसरा है, जो B के दाएं से तीसरा है। D के बाएं से दूसरा कौन है?

Options :

1. ✘ W
2. ✘ B
3. ✔ Q
4. ✘ P

Question Number : 19 Question Id : 5406267056 Question Type : MCQ Option Shuffling : Yes Is Question Mandatory : No Option Orientation : Vertical

Correct Marks : 1 Wrong Marks : 0.25

Five chairs C01, C02, C03, C04 and C05 are placed one above the other but not necessarily in the same order. If C03 is above C02, C01 is above C05 but below C04 and C05 is above C03, which chair is in the middle?

Options :

1. ✔ C05
2. ✘ C03
3. ✘ C01
4. ✘ C04

Question Number : 19 Question Id : 5406267056 Question Type : MCQ Option Shuffling : Yes Is Question Mandatory : No Option Orientation : Vertical

Correct Marks : 1 Wrong Marks : 0.25

पांच कुर्सियां C01, C02, C03, C04 और C05 एक के ऊपर एक रखी गई हैं, लेकिन जरूरी नहीं कि उसी क्रम में हो। यदि C03, C02 के ऊपर है, C01, C05 के ऊपर किन्तु C04 के नीचे है और C05, C03 के ऊपर है। कौन सी कुर्सी बीच में है?

Options :

1. ✔ C05
2. ✘ C03
3. ✘ C01
4. ✘ C04

Question Number : 20 Question Id : 5406267057 Question Type : MCQ Option Shuffling : Yes Is Question Mandatory : No Option Orientation : Vertical

Correct Marks : 1 Wrong Marks : 0.25

In question given below, there are two statements followed by two conclusions numbered I and II. You have to take the given statements to be

true even if they seem to be at variance with the commonly known facts and then decide which of the given conclusions logically follows from the two given statements, disregarding commonly known facts.

Statements:

Some Lawyers are girls.

All girls are fair.

Conclusions:

I. Some girls are lawyers.

II. No fair is girl.

Options :

1. ✓ Only conclusion I follows
2. ✗ Only conclusion II follows
3. ✗ Neither conclusion I nor II follows
4. ✗ Both conclusions I and II follow

Question Number : 20 Question Id : 5406267057 Question Type : MCQ Option Shuffling : Yes Is Question Mandatory : No Option Orientation : Vertical

Correct Marks : 1 Wrong Marks : 0.25

नीचे दिए गए प्रश्न में दो कथन और उसके बाद दो निष्कर्ष I और II दिए गए हैं। आपको दिए गए दोनों कथनों को सत्य मानना है भले ही वे सर्वज्ञात तथ्यों से भिन्न प्रतीत होते हों। सभी निष्कर्षों को पढ़िए फिर तय कीजिए कि दिए गए निष्कर्षों में से कौन-सा निष्कर्ष दिए गए कथनों का तर्कसंगत रूप से अनुसरण करता है, चाहे सर्वज्ञात तथ्य कुछ भी हों।

कथन:

कुछ वकील, लड़कियाँ हैं।
सभी लड़कियाँ, गोरी हैं।

निष्कर्ष:

- I. कुछ लड़कियाँ, वकील हैं।
- II. कोई गोरी, लड़की नहीं है।

Options :

1. ✓ केवल निष्कर्ष I अनुसरण करता है
2. ✗ केवल निष्कर्ष II अनुसरण करता है
3. ✗ न तो निष्कर्ष I और न ही II अनुसरण करता है

4. ✖ निष्कर्ष I और II दोनों अनुसरण करते हैं

Mental Ability2

Group Number :	2
Group Id :	540626203
Group Maximum Duration :	0
Group Minimum Duration :	0
Show Attended Group? :	No
Edit Attended Group? :	No
Break time :	0
Group Marks :	20
Is this Group for Examiner? :	No

General intelligence and reasoning Ability2

Section Id :	540626282
Section Number :	1
Section type :	Online
Mandatory or Optional :	Mandatory
Number of Questions :	20
Number of Questions to be attempted :	20
Section Marks :	20
Enable Mark as Answered Mark for Review and Clear Response :	Yes
Sub-Section Number :	1
Sub-Section Id :	540626327
Question Shuffling Allowed :	Yes

Question Number : 21 Question Id : 5406267058 Question Type : MCQ Option Shuffling : Yes Is Question Mandatory : No Option Orientation : Vertical

Correct Marks : 1 Wrong Marks : 0.25

In the question given below, there are three statements followed by three conclusions. You have to take the given statements to be true even if

they seem to be at variance with commonly known facts and then decide which of the given conclusion logically follow(s) from the given statements.

Statements:

- All windows are doors.
- All buildings are doors.
- All doors are boats.

Conclusions:

- I. All windows are boats.
- II. All buildings are boats.
- III. Some boats are doors.

Options :

1. ✘ Only conclusion I follows
2. ✘ Only conclusion I and III follow
3. ✘ Only conclusion II and III follow
4. ✔ All conclusions I, II and III follow

Question Number : 21 Question Id : 5406267058 Question Type : MCQ Option Shuffling : Yes Is Question Mandatory : No Option Orientation : Vertical

Correct Marks : 1 Wrong Marks : 0.25

नीचे दिए गए प्रश्न में तीन कथन और उसके बाद तीन निष्कर्ष दिए गए हैं। आपको दिए गए कथनों को सत्य मानना है, भले ही वे सर्वज्ञात तथ्यों से भिन्न प्रतीत होते हों। सभी निष्कर्षों को पढ़िए फिर तय कीजिए कि दिए गए निष्कर्षों में से कौन सा तर्कसंगत रूप से अनुसरण करता है, चाहे सर्वज्ञात तथ्य कुछ भी हों।

कथन:

- सभी खिड़कियां दरवाजे हैं।
- सभी इमारतें दरवाजे हैं।
- सभी दरवाजे नाव हैं।

निष्कर्ष:

- I. सभी खिड़कियां, नाव हैं।
- II. सभी इमारतें, नाव हैं।
- III. कुछ नाव, दरवाजे हैं।

Options :

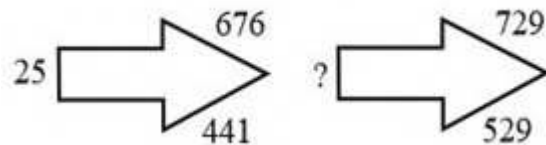
1. ✘ केवल निष्कर्ष I अनुसरण करता है

2. ✘ केवल निष्कर्ष I और III अनुसरण करते हैं
3. ✘ केवल निष्कर्ष II और III अनुसरण करते हैं
4. ✔ सभी निष्कर्ष I, II और III अनुसरण करते हैं

Question Number : 22 Question Id : 5406267059 Question Type : MCQ Option Shuffling : Yes Is Question Mandatory : No Option Orientation : Vertical

Correct Marks : 1 Wrong Marks : 0.25

What value should come in place of question mark?



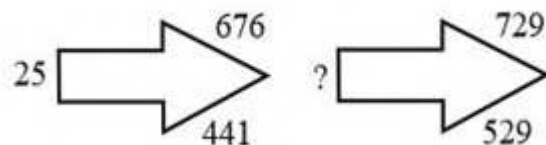
Options :

1. ✘ 25
2. ✘ 9
3. ✘ 36
4. ✔ 16

Question Number : 22 Question Id : 5406267059 Question Type : MCQ Option Shuffling : Yes Is Question Mandatory : No Option Orientation : Vertical

Correct Marks : 1 Wrong Marks : 0.25

प्रश्नवाचक चिन्ह के स्थान पर क्या मान आएगा?



Options :

1. ✘ 25
2. ✘ 9
3. ✘ 36

4. ✓ 16

Question Number : 23 Question Id : 5406267060 Question Type : MCQ Option Shuffling : Yes Is Question Mandatory : No Option Orientation : Vertical

Correct Marks : 1 Wrong Marks : 0.25

Select the correct combination of mathematical signs to replace '*' and to balance the given equation.

$$8 * 6 * 96 * 2 = 0$$

Options :

1. ✗ $\times \div -$

2. ✓ $\times - \div$

3. ✗ $- \times \div$

4. ✗ $\div - \times$

Question Number : 23 Question Id : 5406267060 Question Type : MCQ Option Shuffling : Yes Is Question Mandatory : No Option Orientation : Vertical

Correct Marks : 1 Wrong Marks : 0.25

*' चिह्नों को बदलने के लिए और दिए गए समीकरण को संतुलित करने के लिए गणितीय संकेतों का सही संयोजन चुनें।

$$8 * 6 * 96 * 2 = 0$$

Options :

1. ✗ $\times \div -$

2. ✓ $\times - \div$

3. ✗ $- \times \div$

4. ✗ $\div - \times$

Question Number : 24 Question Id : 5406267061 Question Type : MCQ Option Shuffling : Yes Is Question Mandatory : No Option Orientation : Vertical

Correct Marks : 1 Wrong Marks : 0.25

Which one will replace the question mark (?).

1	2	2
3	4	5
5	6	7
35	56	?

Options :

1. ✓ 78
2. ✗ 68
3. ✗ 88
4. ✗ 98

Question Number : 24 Question Id : 5406267061 Question Type : MCQ Option Shuffling : Yes Is Question Mandatory : No Option Orientation : Vertical

Correct Marks : 1 Wrong Marks : 0.25

निम्न में से कौन प्रश्न चिन्ह (?) को प्रतिस्थापित करेगा?

1	2	2
3	4	5
5	6	7
35	56	?

Options :

1. ✓ 78
2. ✗ 68
3. ✗ 88
4. ✗ 98

Question Number : 25 Question Id : 5406267062 Question Type : MCQ Option Shuffling : Yes Is Question Mandatory : No Option

Orientation : Vertical

Correct Marks : 1 Wrong Marks : 0.25

If '+' means '-', '-' means '×', '×' means '÷' and '÷' means '+', then the value of $16 \times 2 \div 25 + 7 - 4$ is:

Options :

1. ✘ 104
2. ✔ 5
3. ✘ 22
4. ✘ 4

Question Number : 25 Question Id : 5406267062 Question Type : MCQ Option Shuffling : Yes Is Question Mandatory : No Option

Orientation : Vertical

Correct Marks : 1 Wrong Marks : 0.25

यदि '+' का अर्थ '-' है, '-' का अर्थ '×' है, '×' का अर्थ '÷' है और '÷' का अर्थ '+' है; तो $16 \times 2 \div 25 + 7 - 4$ का मान है:

Options :

1. ✘ 104
2. ✔ 5
3. ✘ 22
4. ✘ 4

Question Number : 26 Question Id : 5406267063 Question Type : MCQ Option Shuffling : Yes Is Question Mandatory : No Option

Orientation : Vertical

Correct Marks : 1 Wrong Marks : 0.25

Find the wrong term in the given series.

2, 3, 5, 8, 17, 33

Options :

1. ✘ 33
2. ✘ 17
3. ✔ 8
4. ✘ 5

Question Number : 26 Question Id : 5406267063 Question Type : MCQ Option Shuffling : Yes Is Question Mandatory : No Option

Orientation : Vertical

Correct Marks : 1 Wrong Marks : 0.25

दी गई श्रृंखला में गलत पद ज्ञात करें।

2, 3, 5, 8, 17, 33

Options :

1. ✘ 33

2. ✘ 17

3. ✔ 8

4. ✘ 5

Question Number : 27 Question Id : 5406267064 Question Type : MCQ Option Shuffling : Yes Is Question Mandatory : No Option

Orientation : Vertical

Correct Marks : 1 Wrong Marks : 0.25

Find the missing term in the given series.

12, 32, 72, 152, ?, 632

Options :

1. ✘ 515

2. ✘ 613

3. ✘ 815

4. ✔ 312

Question Number : 27 Question Id : 5406267064 Question Type : MCQ Option Shuffling : Yes Is Question Mandatory : No Option

Orientation : Vertical

Correct Marks : 1 Wrong Marks : 0.25

दी गई श्रृंखला में लुप्त पद ज्ञात कीजिए।

12, 32, 72, 152, ?, 632

Options :

1. ✘ 515

2. ✘ 613

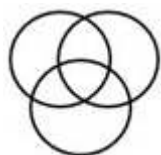
3. ✘ 815

4. ✓ 312

Question Number : 28 Question Id : 5406267065 Question Type : MCQ Option Shuffling : Yes Is Question Mandatory : No Option Orientation : Vertical

Correct Marks : 1 Wrong Marks : 0.25

Which of the following option is best represented by the following diagram?



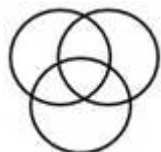
Options :

1. ✗ Chair, Table, Furniture
2. ✓ Doctor, Social person, honest person
3. ✗ Family, Parents, Children
4. ✗ Gold, Silver, Ornaments

Question Number : 28 Question Id : 5406267065 Question Type : MCQ Option Shuffling : Yes Is Question Mandatory : No Option Orientation : Vertical

Correct Marks : 1 Wrong Marks : 0.25

निम्नलिखित में से कौन सा विकल्प, निम्न आकृति द्वारा दर्शाया जा सकता है?



Options :

1. ✗ कुर्सी, मेज, फर्नीचर
2. ✓ डॉक्टर, सामाजिक व्यक्ति, ईमानदार व्यक्ति
3. ✗ परिवार, अभिभावक, बच्चे
4. ✗ सोना, चाँदी, आभूषण

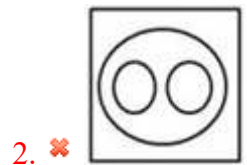
Question Number : 29 Question Id : 5406267066 Question Type : MCQ Option Shuffling : Yes Is Question Mandatory : No Option

Orientation : Vertical

Correct Marks : 1 Wrong Marks : 0.25

Which of the given venn diagrams correctly depict the mutual relationship that exist between "Sportspersons, Cricketers, Batsmen"?

Options :



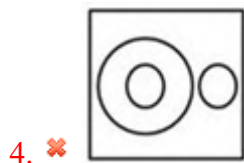
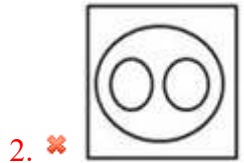
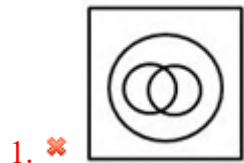
Question Number : 29 Question Id : 5406267066 Question Type : MCQ Option Shuffling : Yes Is Question Mandatory : No Option

Orientation : Vertical

Correct Marks : 1 Wrong Marks : 0.25

दिए गए वेन आरेखों में से कौन सा "खिलाड़ी, क्रिकेटर, बल्लेबाज" के बीच के परस्पर सम्बन्ध को सही तरीके से दर्शाता है?

Options :



Question Number : 30 Question Id : 5406267067 Question Type : MCQ Option Shuffling : Yes Is Question Mandatory : No Option Orientation : Vertical

Correct Marks : 1 Wrong Marks : 0.25

Two ladies and two men are playing cards and are seated at North, East, South and West directions of a table. No lady is facing East. Persons sitting opposite to each other are not of the same gender. One man is facing South. In which directions are the ladies facing?

Options :

1. ✘ East and West
2. ✘ South and East
3. ✘ North and East
4. ✔ North and West

Question Number : 30 Question Id : 5406267067 Question Type : MCQ Option Shuffling : Yes Is Question Mandatory : No Option

Orientation : Vertical

Correct Marks : 1 Wrong Marks : 0.25

दो महिलाएँ और दो पुरुष एक मेज पर उत्तर, पूर्व, दक्षिण और पश्चिम दिशा में बैठकर कार्ड खेल रहे हैं। किसी भी महिला का मुख पूर्व की ओर नहीं है। एक दूसरे के विपरीत बैठे व्यक्तियों का लिंग समान नहीं है। एक आदमी का मुख दक्षिण की ओर है। महिलाएँ किस दिशा में मुख की हुई हैं?

Options :

1. ✘ पूर्व और पश्चिम
2. ✘ दक्षिण और पूर्व
3. ✘ उत्तर और पूर्व
4. ✔ उत्तर और पश्चिम

Question Number : 31 Question Id : 5406267068 Question Type : MCQ Option Shuffling : Yes Is Question Mandatory : No Option

Orientation : Vertical

Correct Marks : 1 Wrong Marks : 0.25

Fernandel and Arletty starts from their office and walk in opposite direction each travelling 10 km. Fernandel then turns left and walks 10 km. Arletty turns right and walks 10 km. How far are they now from each other?

Options :

1. ✘ 10 km
2. ✘ 5 km
3. ✘ 8 km
4. ✔ 20 km

Question Number : 31 Question Id : 5406267068 Question Type : MCQ Option Shuffling : Yes Is Question Mandatory : No Option

Orientation : Vertical

Correct Marks : 1 Wrong Marks : 0.25

फेरनेन्डल और एरलेट्टी अपने दफ्तर से चलना शुरू करती है और विपरीत दिशा में प्रत्येक 10 किमी चलती है। फेरनेन्डल फिर बाँये मुड़ती है और 10 किमी चलती है। एरलेट्टी दाँये मुड़ती है और 10 किमी चलती है। वे दोनों एक दूसरे से अब कितनी दूरी पर है?

Options :

1. ✘ 10 किमी
2. ✘ 5 किमी
3. ✘ 8 किमी
4. ✔ 20 किमी

Question Number : 32 Question Id : 5406267069 Question Type : MCQ Option Shuffling : Yes Is Question Mandatory : No Option Orientation : Vertical

Correct Marks : 1 Wrong Marks : 0.25

Atul walks 2 km towards South. He then turns right and walks 3 km. He now turns left and walks 5 km. Further, he moves 2 km after turning to the left. In which direction he is facing now?

Options :

1. ✘ West
2. ✔ East
3. ✘ North
4. ✘ South

Question Number : 32 Question Id : 5406267069 Question Type : MCQ Option Shuffling : Yes Is Question Mandatory : No Option Orientation : Vertical

Correct Marks : 1 Wrong Marks : 0.25

अतुल 2 किमी दक्षिण दिशा में चलता है। इसके बाद वह दाएं मुड़कर 3 किमी चलता है। अब वह बाएं मुड़कर 5 किमी चलता है। अंत में वह बाएं मुड़कर 2 किमी चलता है। अतुल का मुख अब किस दिशा में है?

Options :

1. ✘ पश्चिम
2. ✔ पूर्व
3. ✘ उत्तर
4. ✘ दक्षिण

Question Number : 33 Question Id : 5406267070 Question Type : MCQ Option Shuffling : Yes Is Question Mandatory : No Option Orientation : Vertical

Correct Marks : 1 Wrong Marks : 0.25

One morning after sunrise, Vikram and Shailaish were standing in a park with their backs towards each other. Vikram's shadow fell exactly towards his left. In which direction was Shailaish facing?

Options :

1. ✘ East
2. ✔ South
3. ✘ West
4. ✘ North

Question Number : 33 Question Id : 5406267070 Question Type : MCQ Option Shuffling : Yes Is Question Mandatory : No Option Orientation : Vertical

Correct Marks : 1 Wrong Marks : 0.25

एक सुबह सूर्योदय के पश्चात, विक्रम और शैलेष एक उद्यान में एक दूसरे की ओर पीठ करके खड़े हुए थे। विक्रम की परछाई उसके ठीक बाईं ओर बन रही थी। शैलेष का मुख किस दिशा में था?

Options :

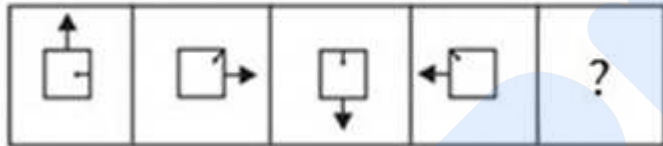
1. ✖ पूर्व
2. ✔ दक्षिण
3. ✖ पश्चिम
4. ✖ उत्तर

Question Number : 34 Question Id : 5406267071 Question Type : MCQ Option Shuffling : Yes Is Question Mandatory : No Option Orientation : Vertical

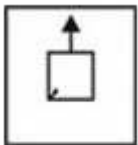
Correct Marks : 1 Wrong Marks : 0.25

Complete the series by choosing right figure from the given choices.

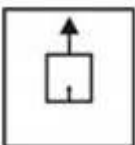
Question figure:



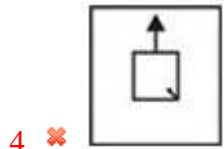
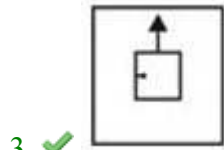
Options :



1. ✖



2. ✖

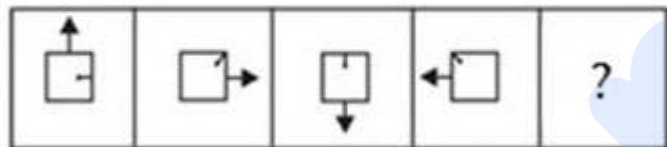


Question Number : 34 Question Id : 5406267071 Question Type : MCQ Option Shuffling : Yes Is Question Mandatory : No Option Orientation : Vertical

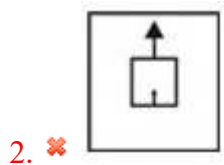
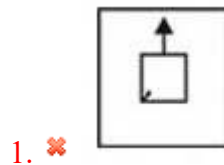
Correct Marks : 1 Wrong Marks : 0.25

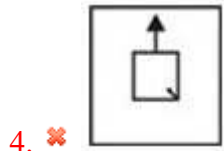
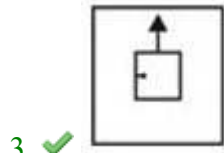
दिए गए विकल्पों में से सही आकृति का चयन करके श्रेणी को पूरा करें।

प्रश्न आकृति:



Options :

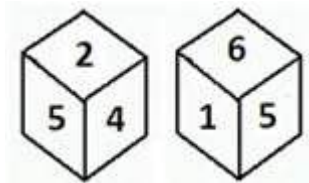




Question Number : 35 Question Id : 5406267072 Question Type : MCQ Option Shuffling : Yes Is Question Mandatory : No Option Orientation : Vertical

Correct Marks : 1 Wrong Marks : 0.25

Two positions of the same dice are given. Which number will be at the top if '3' is at the bottom?



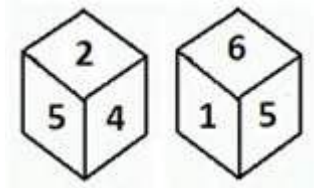
Options :

1. ✗ 6
2. ✗ 4
3. ✓ 5
4. ✗ 2

Question Number : 35 Question Id : 5406267072 Question Type : MCQ Option Shuffling : Yes Is Question Mandatory : No Option Orientation : Vertical

Correct Marks : 1 Wrong Marks : 0.25

एक ही पासे की दो स्थितियाँ नीचे दर्शाई गई हैं। यदि निचले फलक पर '3' हो तो ऊपरी फलक पर कौन सी संख्या होगी?



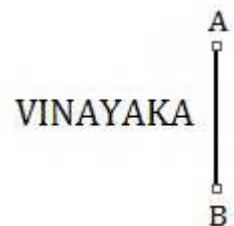
Options :

1. ✘ 6
2. ✘ 4
3. ✔ 5
4. ✘ 2

Question Number : 36 Question Id : 5406267073 Question Type : MCQ Option Shuffling : Yes Is Question Mandatory : No Option Orientation : Vertical

Correct Marks : 1 Wrong Marks : 0.25

Find the Mirror image of the given group of letters.



Options :

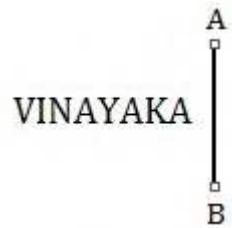
1. ✘ INVAYAKA
2. ✘ AKAYANIV
3. ✔ AKAYANIV
4. ✘ IIVAAKAY

Question Number : 36 Question Id : 5406267073 Question Type : MCQ Option Shuffling : Yes Is Question Mandatory : No Option

Orientation : Vertical

Correct Marks : 1 Wrong Marks : 0.25

दिए गए शब्दों के समूह का दर्पण प्रतिबिम्ब ज्ञात करें।



Options :


1. ✘ INVAYAKA
2. ✘ AKAYANIV
3. ✔ AKAYANIV
4. ✘ NIVAAKAY

Question Number : 37 Question Id : 5406267074 Question Type : MCQ Option Shuffling : Yes Is Question Mandatory : No Option

Orientation : Vertical

Correct Marks : 1 Wrong Marks : 0.25

How many triangles are there in the given figure?




Options :

1. ✘ 6
2. ✘ 7
3. ✔ 8
4. ✘ 9

Question Number : 37 Question Id : 5406267074 Question Type : MCQ Option Shuffling : Yes Is Question Mandatory : No Option Orientation : Vertical

Correct Marks : 1 Wrong Marks : 0.25

निम्न आकृति में त्रिभुजों की संख्या ज्ञात करें ।




Options :

1. ✘ 6
2. ✘ 7
3. ✔ 8
4. ✘ 9

Question Number : 38 Question Id : 5406267075 Question Type : MCQ Option Shuffling : Yes Is Question Mandatory : No Option Orientation : Vertical

Correct Marks : 1 Wrong Marks : 0.25

How many rectangles are there in the given figure?




Options :

1. ✓ 6
2. ✗ 7
3. ✗ 8
4. ✗ 5

Question Number : 38 Question Id : 5406267075 Question Type : MCQ Option Shuffling : Yes Is Question Mandatory : No Option Orientation : Vertical

Correct Marks : 1 Wrong Marks : 0.25

दी गई आकृति में, आयतों की संख्या कितनी है?



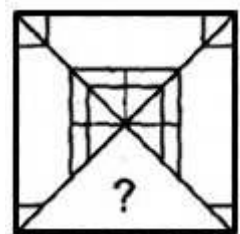
Options :

1. ✓ 6
2. ✗ 7
3. ✗ 8
4. ✗ 5

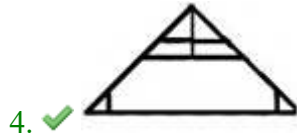
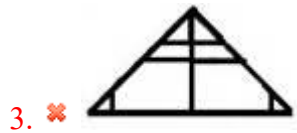
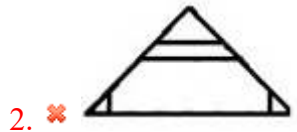
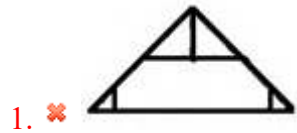
Question Number : 39 Question Id : 5406267076 Question Type : MCQ Option Shuffling : Yes Is Question Mandatory : No Option Orientation : Vertical

Correct Marks : 1 Wrong Marks : 0.25

Which answer figure will complete the pattern of the question figure?



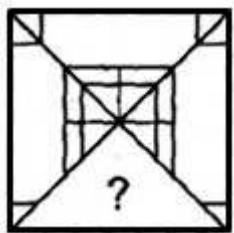
Options :



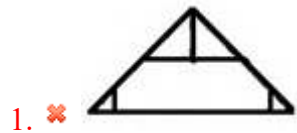
Question Number : 39 Question Id : 5406267076 Question Type : MCQ Option Shuffling : Yes Is Question Mandatory : No Option Orientation : Vertical

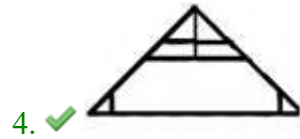
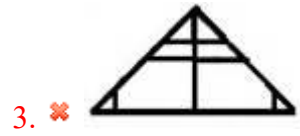
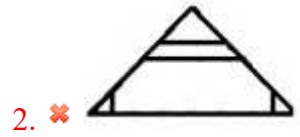
Correct Marks : 1 Wrong Marks : 0.25

निम्न में से कौन सी उत्तर आकृति, प्रश्न आकृति को पूर्ण करेगी?



Options :

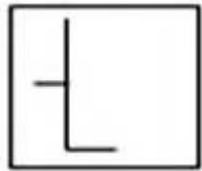




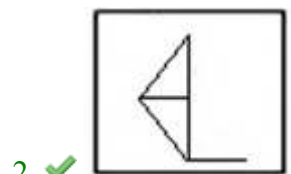
Question Number : 40 Question Id : 5406267077 Question Type : MCQ Option Shuffling : Yes Is Question Mandatory : No Option Orientation : Vertical

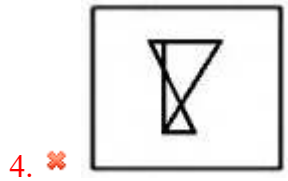

Correct Marks : 1 Wrong Marks : 0.25

Choose the alternative which closely resembles the embedded figure of the given figure.



Options :

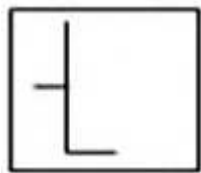




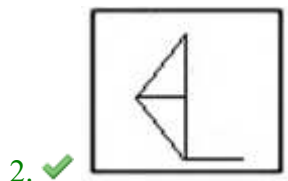
Question Number : 40 Question Id : 5406267077 Question Type : MCQ Option Shuffling : Yes Is Question Mandatory : No Option Orientation : Vertical

Correct Marks : 1 Wrong Marks : 0.25


उस विकल्प का चयन करें जिसमें प्रश्न आकृति, उत्तर आकृति में सन्निहित है।



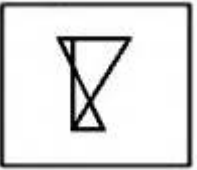
Options :



3. ✖



4. ✖



General Awareness1

Group Number :	3
Group Id :	540626204
Group Maximum Duration :	0
Group Minimum Duration :	0
Show Attended Group? :	No
Edit Attended Group? :	No
Break time :	0
Group Marks :	20
Is this Group for Examiner? :	No

General Awareness1

Section Id :	540626283
Section Number :	1
Section type :	Online
Mandatory or Optional :	Mandatory
Number of Questions :	20
Number of Questions to be attempted :	20
Section Marks :	20

Enable Mark as Answered Mark for Review and Clear Response : Yes
 Sub-Section Number : 1
 Sub-Section Id : 540626328
 Question Shuffling Allowed : Yes

Question Number : 41 Question Id : 5406267078 Question Type : MCQ Option Shuffling : Yes Is Question Mandatory : No Option Orientation : Vertical

Correct Marks : 1 Wrong Marks : 0.25

Fill in the blank with the correct option.

(i) _____ the traditional theatre form of Kashmir, is a unique combination of dance, music and acting whereas originally the theatre form Swang, was mainly (ii) _____ based.

Options :

1. ✘ (i) Nautanki, (ii) Dance
2. ✘ (i) Rasleela, (ii) Dance
3. ✔ (i) Bhand Pather, (ii) Music
4. ✘ (i) Nautanki, (ii) Music

Question Number : 41 Question Id : 5406267078 Question Type : MCQ Option Shuffling : Yes Is Question Mandatory : No Option Orientation : Vertical

Correct Marks : 1 Wrong Marks : 0.25

सही विकल्प के साथ रिक्त स्थान भरें।

(i) _____ कश्मीर का पारंपरिक नाट्य रूप है। यह नृत्य, संगीत और नाट्यकला का अनूठा संगम है, जबकि मूलतः स्वांग मुख्य रूप से (ii) _____ पर आधारित था।

Options :

1. ✘ (i) नौटंकी, (ii) नृत्य
2. ✘ (i) रासलीला, (ii) नृत्य
3. ✔ (i) भांड पाथर, (ii) संगीत
4. ✘ (i) नौटंकी, (ii) संगीत

Question Number : 42 Question Id : 5406267079 Question Type : MCQ Option Shuffling : Yes Is Question Mandatory : No Option Orientation : Vertical

Correct Marks : 1 Wrong Marks : 0.25

Which of the following dance forms was introduced by the great Vaishnava saint and reformer of Assam, Mahapurusha Sankaradeva?

Options :

1. ✓ Sattriya
2. ✗ Bihu
3. ✗ Popir
4. ✗ Ponunj

Question Number : 42 Question Id : 5406267079 Question Type : MCQ Option Shuffling : Yes Is Question Mandatory : No Option Orientation : Vertical

Correct Marks : 1 Wrong Marks : 0.25

निम्नलिखित में से किस नृत्य को असम के महान वैष्णव संत और सुधारक श्रीमंत शंकरदेव द्वारा परिचित कराया गया?

Options :

1. ✓ सत्रिया
2. ✗ बिहु
3. ✗ पोपीर
4. ✗ पोनुंज

Question Number : 43 Question Id : 5406267080 Question Type : MCQ Option Shuffling : Yes Is Question Mandatory : No Option Orientation : Vertical

Correct Marks : 1 Wrong Marks : 0.25

Which of the following ancient poets is known as Adikavi?

Options :

1. ✓ Valmiki
2. ✗ Banabhatta
3. ✗ Bilhana
4. ✗ Sri Aurobindo

Question Number : 43 Question Id : 5406267080 Question Type : MCQ Option Shuffling : Yes Is Question Mandatory : No Option Orientation : Vertical

Correct Marks : 1 Wrong Marks : 0.25

निम्नलिखित में से किस प्राचीन कवि को आदिकवि के नाम से जाना जाता है?

Options :

1. ✓ वाल्मीकि
2. ✗ बाणभट्ट
3. ✗ बिलहाना
4. ✗ श्री अरबिंदो

Question Number : 44 Question Id : 5406267081 Question Type : MCQ Option Shuffling : Yes Is Question Mandatory : No Option Orientation : Vertical

Correct Marks : 1 Wrong Marks : 0.25

Hornbill festival is celebrated in which of the following states?

Options :

1. ✗ Mizoram
2. ✓ Nagaland
3. ✗ Arunachal Pradesh
4. ✗ Assam

Question Number : 44 Question Id : 5406267081 Question Type : MCQ Option Shuffling : Yes Is Question Mandatory : No Option Orientation : Vertical

Correct Marks : 1 Wrong Marks : 0.25

हॉर्नबिल त्योहार निम्नलिखित में से किस राज्य में मनाया जाता है?

Options :

1. ✗ मिजोरम
2. ✓ नगालैंड
3. ✗ अरुणाचल प्रदेश
4. ✗ असम

Question Number : 45 Question Id : 5406267082 Question Type : MCQ Option Shuffling : Yes Is Question Mandatory : No Option Orientation : Vertical

Correct Marks : 1 Wrong Marks : 0.25

Standing Buddha of Sarnath is a fine example of which dynasty?

Options :

1. ✘ Maurya
2. ✔ Gupta
3. ✘ Delhi Sultanate
4. ✘ Pratiharas

Question Number : 45 Question Id : 5406267082 Question Type : MCQ Option Shuffling : Yes Is Question Mandatory : No Option Orientation : Vertical

Correct Marks : 1 Wrong Marks : 0.25

सारनाथ में खड़े हुए बुद्ध, की प्रतिमा किस वंश का एक उत्कृष्ट उदाहरण है?

Options :

1. ✘ मौर्य
2. ✔ गुप्त
3. ✘ दिल्ली सल्तनत
4. ✘ प्रतिहार

Question Number : 46 Question Id : 5406267083 Question Type : MCQ Option Shuffling : Yes Is Question Mandatory : No Option Orientation : Vertical

Correct Marks : 1 Wrong Marks : 0.25

Which of the following physical capitals is a working capital for a factory?

Options :

1. ✘ Tools
2. ✘ Machines
3. ✘ Buildings
4. ✔ Raw Materials

Question Number : 46 Question Id : 5406267083 Question Type : MCQ Option Shuffling : Yes Is Question Mandatory : No Option Orientation : Vertical

Correct Marks : 1 Wrong Marks : 0.25

निम्नलिखित में से कौनसी भौतिक पूंजी एक कारखाने के लिए एक कार्यशील पूंजी है?

Options :

1. ✘ औज़ारों

2. ✘ मशीनें
3. ✘ भवनों
4. ✔ कच्चा माल

Question Number : 47 Question Id : 5406267084 Question Type : MCQ Option Shuffling : Yes Is Question Mandatory : No Option Orientation : Vertical

Correct Marks : 1 Wrong Marks : 0.25

Which of the following international monetary organizations publish the World Development Reports?

Options :

1. ✘ International Monetary Funds
2. ✔ World Bank
3. ✘ World Economic Forum
4. ✘ New Development Bank

Question Number : 47 Question Id : 5406267084 Question Type : MCQ Option Shuffling : Yes Is Question Mandatory : No Option Orientation : Vertical

Correct Marks : 1 Wrong Marks : 0.25

निम्नलिखित में से कौन सा अंतर्राष्ट्रीय मौद्रिक संगठन विश्व विकास रिपोर्ट प्रकाशित करता है?

Options :

1. ✘ अंतर्राष्ट्रीय मुद्रा कोष
2. ✔ विश्व बैंक
3. ✘ विश्व आर्थिक मंच
4. ✘ न्यू डेवलपमेंट बैंक

Question Number : 48 Question Id : 5406267085 Question Type : MCQ Option Shuffling : Yes Is Question Mandatory : No Option Orientation : Vertical

Correct Marks : 1 Wrong Marks : 0.25

Which of the following sector's activities do NOT produce any goods?

Options :

1. ✘ Primary sector
2. ✘ Secondary sector

3. ✓ Tertiary sector
4. ✗ Both secondary and tertiary sectors

Question Number : 48 Question Id : 5406267085 Question Type : MCQ Option Shuffling : Yes Is Question Mandatory : No Option Orientation : Vertical

Correct Marks : 1 Wrong Marks : 0.25

निम्नलिखित में से कौन सी क्षेत्रक की गतिविधियाँ किसी भी वस्तुओं का उत्पादन नहीं करती हैं?

Options :

1. ✗ प्राथमिक क्षेत्रक
2. ✗ द्वितीयक क्षेत्रक
3. ✓ तृतीयक क्षेत्रक
4. ✗ द्वितीयक एवं तृतीयक क्षेत्रक दोनों

Question Number : 49 Question Id : 5406267086 Question Type : MCQ Option Shuffling : Yes Is Question Mandatory : No Option Orientation : Vertical

Correct Marks : 1 Wrong Marks : 0.25

According to the Economic Survey 2020-21, which of the following has been dubbed as the 'sprint runner' of the Indian economy?

Options :

1. ✗ Manufacturing
2. ✓ Digital Technology
3. ✗ Agriculture
4. ✗ Media

Question Number : 49 Question Id : 5406267086 Question Type : MCQ Option Shuffling : Yes Is Question Mandatory : No Option Orientation : Vertical

Correct Marks : 1 Wrong Marks : 0.25

आर्थिक सर्वेक्षण 2020-21 के अनुसार, निम्नलिखित में से किसे भारतीय अर्थव्यवस्था के 'स्प्रींट रनर' कहा गया है?

Options :

1. ✗ विनिर्माण
2. ✓ डिजिटल प्रौद्योगिकी
3. ✗ कृषि

4. ✖ मीडिया

Question Number : 50 Question Id : 5406267087 Question Type : MCQ Option Shuffling : Yes Is Question Mandatory : No Option Orientation : Vertical

Correct Marks : 1 Wrong Marks : 0.25

Consider an experiment given below.

Take a tin can with a lid. Fill it approximately half with water. Heat it till the water boils. Remove from heat. Now, pour fresh water over the can. What happens to the shape of the can?

Options :

1. ✖ Can will expand
2. ✔ Can gets distorted
3. ✖ Can will burst
4. ✖ No change in the structure of the can

Question Number : 50 Question Id : 5406267087 Question Type : MCQ Option Shuffling : Yes Is Question Mandatory : No Option Orientation : Vertical

Correct Marks : 1 Wrong Marks : 0.25

नीचे दिए गए एक क्रियाकलाप पर विचार करें।

ढक्कन वाला टिन का एक डिब्बा लें। इसे तकरीबन आधा पानी से भरें। पानी में उबाल आने तक इसे गर्म करें। गर्मी के स्रोत को हटा दें। अब बर्तन पर ताजा पानी डालें। बर्तन के आकार पर क्या प्रभाव पड़ेगा?

Options :

1. ✖ डब्बे का विस्तार होगा
2. ✔ डब्बा विरूपित हो जायेगा
3. ✖ डब्बा फट जाएगा
4. ✖ डब्बे की संरचना में कोई बदलाव नहीं होगा

Question Number : 51 Question Id : 5406267088 Question Type : MCQ Option Shuffling : Yes Is Question Mandatory : No Option Orientation : Vertical

Correct Marks : 1 Wrong Marks : 0.25

Raw potato is a perfect sample for the test of presence of _____.

Options :

1. ✘ Protein
2. ✔ Starch
3. ✘ Vitamin B12
4. ✘ Vitamin C

Question Number : 51 Question Id : 5406267088 Question Type : MCQ Option Shuffling : Yes Is Question Mandatory : No Option Orientation : Vertical

Correct Marks : 1 Wrong Marks : 0.25

कच्चा आलू _____ की उपस्थिति के परीक्षण के लिए एक आदर्श नमूना है।

Options :

1. ✘ प्रोटीन
2. ✔ मंड
3. ✘ विटामिन बी12
4. ✘ विटामिन सी

Question Number : 52 Question Id : 5406267089 Question Type : MCQ Option Shuffling : Yes Is Question Mandatory : No Option Orientation : Vertical

Correct Marks : 1 Wrong Marks : 0.25

Which of the following are NOT the consequences of Deforestation?

Options :

1. ✘ Increase in temperature level of earth
2. ✘ Increase in pollution level on earth
3. ✘ Extinction of animal species
4. ✔ Increase in groundwater level

Question Number : 52 Question Id : 5406267089 Question Type : MCQ Option Shuffling : Yes Is Question Mandatory : No Option Orientation : Vertical

Correct Marks : 1 Wrong Marks : 0.25

निम्न में से कौन सा वनों की कटाई का परिणाम नहीं है?

Options :

1. ✘ पृथ्वी के तापमान स्तर में वृद्धि

- ✘ पृथ्वी पर प्रदूषण के स्तर में वृद्धि
- ✘ पशु प्रजातियों का विलुप्त होना
- ✔ भूजल स्तर में वृद्धि

Question Number : 53 Question Id : 5406267090 Question Type : MCQ Option Shuffling : Yes Is Question Mandatory : No Option Orientation : Vertical

Correct Marks : 1 Wrong Marks : 0.25

Which of the following organism does NOT belong to the Monera kingdom?

Options :

- ✘ Bacteria
- ✘ Rod-shaped Bacillus
- ✔ Yeast
- ✘ Cyanobacteria

Question Number : 53 Question Id : 5406267090 Question Type : MCQ Option Shuffling : Yes Is Question Mandatory : No Option Orientation : Vertical

Correct Marks : 1 Wrong Marks : 0.25

निम्नलिखित में से कौन सा जीव मोनेरा जगत से संबंधित नहीं है?

Options :

- ✘ जीवाणु
- ✘ रॉड के आकार का बेसिलस
- ✔ यीस्ट
- ✘ साइनोबैक्टीरीया

Question Number : 54 Question Id : 5406267091 Question Type : MCQ Option Shuffling : Yes Is Question Mandatory : No Option Orientation : Vertical

Correct Marks : 1 Wrong Marks : 0.25

Which of the following is NOT an example of Acute disease?

Options :

- ✘ Common Cold
- ✘ Strep throat

3. ✓ High blood pressure
4. ✗ Flu

Question Number : 54 Question Id : 5406267091 Question Type : MCQ Option Shuffling : Yes Is Question Mandatory : No Option Orientation : Vertical

Correct Marks : 1 Wrong Marks : 0.25

निम्नलिखित में से कौन सा तीव्र रोग का उदाहरण नहीं है?

Options :

1. ✗ सामान्य जुखाम
2. ✗ खराब गला
3. ✓ उच्च रक्त चाप
4. ✗ फ़्लू

Question Number : 55 Question Id : 5406267092 Question Type : MCQ Option Shuffling : Yes Is Question Mandatory : No Option Orientation : Vertical

Correct Marks : 1 Wrong Marks : 0.25

What does treatment of wastewater involve?

Options :

1. ✗ Physical and Chemical processes only
2. ✗ Physical and Biological processes only
3. ✗ Chemical and Biological processes only
4. ✓ Physical, Chemical and Biological processes

Question Number : 55 Question Id : 5406267092 Question Type : MCQ Option Shuffling : Yes Is Question Mandatory : No Option Orientation : Vertical

Correct Marks : 1 Wrong Marks : 0.25

अपशिष्ट जल के उपचार में क्या सम्मिलित है?

Options :

1. ✗ केवल भौतिक और रासायनिक प्रक्रियाएँ
2. ✗ केवल भौतिक और जैविक प्रक्रियाएं
3. ✗ केवल रासायनिक और जैविक प्रक्रियाएं

4. ✓ भौतिक, रासायनिक और जैविक प्रक्रियाएं

Question Number : 56 Question Id : 5406267093 Question Type : MCQ Option Shuffling : Yes Is Question Mandatory : No Option Orientation : Vertical

Correct Marks : 1 Wrong Marks : 0.25

Which of the following is a solid form of water?

Options :

1. ✗ Water in oceans
2. ✗ Water vapour
3. ✓ Glaciers
4. ✗ Natural geysers

Question Number : 56 Question Id : 5406267093 Question Type : MCQ Option Shuffling : Yes Is Question Mandatory : No Option Orientation : Vertical

Correct Marks : 1 Wrong Marks : 0.25

निम्न में से कौन सा जल का ठोस रूप है?

Options :

1. ✗ महासागरों में जल
2. ✗ जलवाष्प
3. ✓ हिमनद
4. ✗ प्राकृतिक ऊष्ण जल स्त्रोत

Question Number : 57 Question Id : 5406267094 Question Type : MCQ Option Shuffling : Yes Is Question Mandatory : No Option Orientation : Vertical

Correct Marks : 1 Wrong Marks : 0.25

Where is the Lakshadweep located?

Options :

1. ✗ Bay of Bengal
2. ✓ Arabian sea
3. ✗ Pacific ocean
4. ✗ Atlantic ocean

Question Number : 57 Question Id : 5406267094 Question Type : MCQ Option Shuffling : Yes Is Question Mandatory : No Option Orientation : Vertical

Correct Marks : 1 Wrong Marks : 0.25

लक्षद्वीप कहाँ स्थित है?

Options :

1. ✘ बंगाल की खाड़ी
2. ✔ अरब सागर
3. ✘ प्रशांत महासागर
4. ✘ अटलांटिक महासागर

Question Number : 58 Question Id : 5406267095 Question Type : MCQ Option Shuffling : Yes Is Question Mandatory : No Option Orientation : Vertical

Correct Marks : 1 Wrong Marks : 0.25

Which of the following sub-divisions of the Himalayas comprises the Karakoram, Ladakh, Zaskar and Pir Panjal ranges?

Options :

1. ✘ Darjeeling and Sikkim Himalayas
2. ✘ Arunachal Himalayas
3. ✘ Himachal and Uttarakhand Himalayas
4. ✔ Kashmir or Northwestern Himalayas

Question Number : 58 Question Id : 5406267095 Question Type : MCQ Option Shuffling : Yes Is Question Mandatory : No Option Orientation : Vertical

Correct Marks : 1 Wrong Marks : 0.25

हिमालय के निम्नलिखित उप प्रभागों में से किस में काराकोरम, लद्दाख, जस्कर और पीर पंजाल पर्वतमालायें सम्मिलित हैं?

Options :

1. ✘ दार्जिलिंग और सिक्किम हिमालय
2. ✘ अरुणाचल हिमालय
3. ✘ हिमाचल और उत्तराखंड हिमालय
4. ✔ कश्मीर या उत्तर पश्चिमी हिमालय

Question Number : 59 Question Id : 5406267096 Question Type : MCQ Option Shuffling : Yes Is Question Mandatory : No Option Orientation : Vertical

Correct Marks : 1 Wrong Marks : 0.25

The technique of shifting or slash and burn cultivation practiced by the ethnic tribal communities of the Arunachal Himalayas, is known as _____ cultivation.

Options :

1. ✓ Jhumming
2. ✗ Terrace
3. ✗ Contour
4. ✗ Shelter Belts

Question Number : 59 Question Id : 5406267096 Question Type : MCQ Option Shuffling : Yes Is Question Mandatory : No Option Orientation : Vertical

Correct Marks : 1 Wrong Marks : 0.25

अरुणाचल हिमालय के जातीय आदिवासी समुदायों द्वारा प्रचलित स्थानान्तरी कृषि या स्लैश और बर्न कृषि तकनीक को _____ कृषि के रूप में जाना जाता है।

Options :

1. ✓ झूम
2. ✗ वेदिका
3. ✗ समोच्चरेखिया
4. ✗ रक्षक मेखलाएँ

Question Number : 60 Question Id : 5406267097 Question Type : MCQ Option Shuffling : Yes Is Question Mandatory : No Option Orientation : Vertical

Correct Marks : 1 Wrong Marks : 0.25

The higher reaches of the Darjeeling and Sikkim Himalayas are inhabited by which of the following tribes?

Options :

1. ✓ Lepcha
2. ✗ Zulu
3. ✗ Himba
4. ✗ Bushman

Question Number : 60 Question Id : 5406267097 Question Type : MCQ Option Shuffling : Yes Is Question Mandatory : No Option

Orientation : Vertical

Correct Marks : 1 Wrong Marks : 0.25

दार्जिलिंग और सिक्किम हिमालय के ऊँचे शिखरों पर निम्नलिखित में से कौन सी जनजातियाँ पाई जाती हैं?

Options :

1. ✓ लेप्चा
2. ✗ जुलु
3. ✗ हिम्बा
4. ✗ बुशमैन

General Awareness2

Group Number :	4
Group Id :	540626205
Group Maximum Duration :	0
Group Minimum Duration :	0
Show Attended Group? :	No
Edit Attended Group? :	No
Break time :	0
Group Marks :	20
Is this Group for Examiner? :	No

General Awareness2

Section Id :	540626284
Section Number :	1
Section type :	Online
Mandatory or Optional :	Mandatory
Number of Questions :	20
Number of Questions to be attempted :	20
Section Marks :	20
Enable Mark as Answered Mark for Review and Clear Response :	Yes
Sub-Section Number :	1

Sub-Section Id :

540626329

Question Shuffling Allowed :

Yes

Question Number : 61 Question Id : 5406267098 Question Type : MCQ Option Shuffling : Yes Is Question Mandatory : No Option Orientation : Vertical

Correct Marks : 1 Wrong Marks : 0.25

Before entering into Bangladesh, in which direction does the Bramhaputra river turn almost 90 degree at Dhubri?

Options :

1. ✘ North
2. ✔ South
3. ✘ East
4. ✘ West

Question Number : 61 Question Id : 5406267098 Question Type : MCQ Option Shuffling : Yes Is Question Mandatory : No Option Orientation : Vertical

Correct Marks : 1 Wrong Marks : 0.25

बांग्लादेश में प्रवेश करने से पूर्व, ब्रह्मपुत्र नदी धुबरी किस दिशा में लगभग 90 डिग्री मुड़ती है?

Options :

1. ✘ उत्तर
2. ✔ दक्षिण
3. ✘ पूर्व
4. ✘ पश्चिम

Question Number : 62 Question Id : 5406267099 Question Type : MCQ Option Shuffling : Yes Is Question Mandatory : No Option Orientation : Vertical

Correct Marks : 1 Wrong Marks : 0.25

Indian Standard Time is ahead of Greenwich Mean Time by _____.

Options :

1. ✘ 6 hours
2. ✔ 5 hours 30 minutes
3. ✘ 4 hours 30 minutes
4. ✘ 3 hours 30 minutes

Question Number : 62 Question Id : 5406267099 Question Type : MCQ Option Shuffling : Yes Is Question Mandatory : No Option Orientation : Vertical

Correct Marks : 1 Wrong Marks : 0.25

भारतीय मानक समय ग्रीनविच माध्यम समय से _____ आगे है।

Options :

1. ✘ 6 घंटे
2. ✔ 5 घंटे 30 मिनट
3. ✘ 4 घंटे 30 मिनट
4. ✘ 3 घंटे 30 मिनट

Question Number : 63 Question Id : 5406267100 Question Type : MCQ Option Shuffling : Yes Is Question Mandatory : No Option Orientation : Vertical

Correct Marks : 1 Wrong Marks : 0.25

Which of the following is the oldest Veda?

Options :

1. ✔ Rigveda
2. ✘ Samaveda
3. ✘ Yajurveda
4. ✘ Atharvaveda

Question Number : 63 Question Id : 5406267100 Question Type : MCQ Option Shuffling : Yes Is Question Mandatory : No Option Orientation : Vertical

Correct Marks : 1 Wrong Marks : 0.25

निम्नलिखित में से कौन सा सबसे प्राचीन वेद है?

Options :

1. ✔ ऋग्वेद
2. ✘ सामवेद
3. ✘ यजुर्वेद
4. ✘ अथर्ववेद

Question Number : 64 Question Id : 5406267101 Question Type : MCQ Option Shuffling : Yes Is Question Mandatory : No Option Orientation : Vertical

Correct Marks : 1 Wrong Marks : 0.25

Arrange the ancient cities and kingdoms given below from North to South - Kanauj, Ajanta, Aihole

Options :

1. ✘ Ajanta, Aihole, Kanauj
2. ✘ Kanauj, Aihole, Ajanta
3. ✔ Kanauj, Ajanta, Aihole
4. ✘ Aihole, Kanauj, Ajanta

Question Number : 64 Question Id : 5406267101 Question Type : MCQ Option Shuffling : Yes Is Question Mandatory : No Option Orientation : Vertical

Correct Marks : 1 Wrong Marks : 0.25

दिए गए प्राचीन शहरों और राज्यों को उत्तर से दक्षिण में व्यवस्थित करें - कन्नौज, अजंता, ऐहोल

Options :

1. ✘ अजंता, ऐहोल, कन्नौज
2. ✘ कन्नौज, ऐहोल, अजंता
3. ✔ कन्नौज, अजंता, ऐहोल
4. ✘ ऐहोल, कन्नौज, अजंता

Question Number : 65 Question Id : 5406267102 Question Type : MCQ Option Shuffling : Yes Is Question Mandatory : No Option Orientation : Vertical

Correct Marks : 1 Wrong Marks : 0.25

Which of the following dynasties ruled before the Tughluq Dynasty?

Options :

1. ✘ Sayyid dynasty
2. ✘ Lodi dynasty
3. ✔ Khilji dynasty
4. ✘ Mughal dynasty

Question Number : 65 Question Id : 5406267102 Question Type : MCQ Option Shuffling : Yes Is Question Mandatory : No Option Orientation : Vertical

Correct Marks : 1 Wrong Marks : 0.25

तुगलक वंश से पहले कौन से राजवंशों का शासन था?

Options :

1. ✘ सैय्यद वंश
2. ✘ लोदी वंश
3. ✔ खिलजी वंश
4. ✘ मुगल वंश

Question Number : 66 Question Id : 5406267103 Question Type : MCQ Option Shuffling : Yes Is Question Mandatory : No Option Orientation : Vertical

Correct Marks : 1 Wrong Marks : 0.25

On which river's banks was the first English factory set up in 1651?

Options :

1. ✘ Barak
2. ✔ Hugli
3. ✘ Mahanadi
4. ✘ Narmada

Question Number : 66 Question Id : 5406267103 Question Type : MCQ Option Shuffling : Yes Is Question Mandatory : No Option Orientation : Vertical

Correct Marks : 1 Wrong Marks : 0.25

प्रथम अंग्रेजी कारखाना 1651 में कौनसी नदी के किनारे स्थापित किया गया था?

Options :

1. ✘ बराक
2. ✔ हुगली
3. ✘ महानदी
4. ✘ नर्मदा

Question Number : 67 Question Id : 5406267104 Question Type : MCQ Option Shuffling : Yes Is Question Mandatory : No Option Orientation : Vertical

Correct Marks : 1 Wrong Marks : 0.25

Who raised the slogan, "Freedom is my birthright and I shall have it!"?

Options :

1. ✓ Bal Gangadhar Tilak
2. ✗ Dadabhai Naraji
3. ✗ Badruddin Tyabji
4. ✗ WC Bonnerji

Question Number : 67 Question Id : 5406267104 Question Type : MCQ Option Shuffling : Yes Is Question Mandatory : No Option Orientation : Vertical

Correct Marks : 1 Wrong Marks : 0.25

"स्वतंत्रता मेरा जन्मसिद्ध अधिकार है और मैं इसे लेकर रहूंगा!" यह नारा किसने प्रचलित किया था?

Options :

1. ✓ बाल गंगाधर तिलक
2. ✗ दादाभाई नरोजी
3. ✗ बदरुद्दीन तैयबजी
4. ✗ डब्ल्यू.सी बोन्नर्जी

Question Number : 68 Question Id : 5406267105 Question Type : MCQ Option Shuffling : Yes Is Question Mandatory : No Option Orientation : Vertical

Correct Marks : 1 Wrong Marks : 0.25

Who is the current chairman of Defence Research and Development Organisation?

Options :

1. ✓ Dr G. Satheesh Reddy
2. ✗ Ajay Tyagi
3. ✗ Ranjish Kumar
4. ✗ Devi Kasturba

Question Number : 68 Question Id : 5406267105 Question Type : MCQ Option Shuffling : Yes Is Question Mandatory : No Option Orientation : Vertical

Correct Marks : 1 Wrong Marks : 0.25

रक्षा अनुसंधान एवं विकास संगठन के वर्तमान अध्यक्ष कौन हैं?

Options :

1. ✓ डॉ जी. सतीश रेड्डी
2. ✘ अजय त्यागी
3. ✘ रंजिश कुमार
4. ✘ देवी कस्तूरबा

Question Number : 69 Question Id : 5406267106 Question Type : MCQ Option Shuffling : Yes Is Question Mandatory : No Option Orientation : Vertical

Correct Marks : 1 Wrong Marks : 0.25

Who was awarded Best Actor in a leading role in the Dadasaheb Phalke Awards 2021?

Options :

1. ✓ Akshay Kumar
2. ✘ Ranveer Singh
3. ✘ Ayushmaan Khurana
4. ✘ Shahid Kapoor

Question Number : 69 Question Id : 5406267106 Question Type : MCQ Option Shuffling : Yes Is Question Mandatory : No Option Orientation : Vertical

Correct Marks : 1 Wrong Marks : 0.25

दादासाहेब फाल्के पुरस्कार 2021 में अग्रणी भूमिका (लीडिंग रोल) में सर्वश्रेष्ठ अभिनेता पुरस्कार किसे दिया गया है?

Options :

1. ✓ अक्षय कुमार
2. ✘ रणवीर सिंह
3. ✘ आयुष्मान खुराना
4. ✘ शाहीद कपूर

Question Number : 70 Question Id : 5406267107 Question Type : MCQ Option Shuffling : Yes Is Question Mandatory : No Option Orientation : Vertical

Correct Marks : 1 Wrong Marks : 0.25

What is the name of the autobiography of Viswanathan Anand?

Options :

1. ✘ Chess Master

2. ✓ Mind Master
3. ✗ Mind Blogging
4. ✗ Power of Concentration

Question Number : 70 Question Id : 5406267107 Question Type : MCQ Option Shuffling : Yes Is Question Mandatory : No Option Orientation : Vertical

Correct Marks : 1 Wrong Marks : 0.25

विश्वनाथन आनंद की आत्मकथा का नाम क्या है?

Options :

1. ✗ चेस मास्टर
2. ✓ माइंड मास्टर
3. ✗ माइंड ब्लॉगिंग
4. ✗ पॉवर ऑफ़ कंसंट्रेशन

Question Number : 71 Question Id : 5406267108 Question Type : MCQ Option Shuffling : Yes Is Question Mandatory : No Option Orientation : Vertical

Correct Marks : 1 Wrong Marks : 0.25

What does the below traffic sign mean?



Options :

1. ✓ Trucks Prohibited

2. ✖ Entry prohibited, except for trucks
3. ✖ Parking and stopping prohibited for trucks
4. ✖ Warning for trucks

Question Number : 71 Question Id : 5406267108 Question Type : MCQ Option Shuffling : Yes Is Question Mandatory : No Option Orientation : Vertical

Correct Marks : 1 Wrong Marks : 0.25

नीचे दिया गया ट्रैफ़िक निशान क्या बताता है?



Options :

1. ✔ ट्रक प्रतिबंधित है
2. ✖ ट्रकों को छोड़कर प्रवेश प्रतिबंधित है
3. ✖ ट्रकों के लिए पार्किंग और रोक प्रतिबंधित है
4. ✖ ट्रकों के लिए चेतावनी

Question Number : 72 Question Id : 5406267109 Question Type : MCQ Option Shuffling : Yes Is Question Mandatory : No Option Orientation : Vertical

Correct Marks : 1 Wrong Marks : 0.25

What does the below traffic sign mean ?



Options :

1. ✓ Warning for a roundabout
2. ✗ Turning around mandatory (U-turn)
3. ✗ Turning left prohibited
4. ✗ Turning right prohibited

Question Number : 72 Question Id : 5406267109 Question Type : MCQ Option Shuffling : Yes Is Question Mandatory : No Option Orientation : Vertical

Correct Marks : 1 Wrong Marks : 0.25

नीचे दिया गया ट्रैफ़िक निशान क्या बताता है?

prepp
Your Personal Exam Guide



Options :

1. ✓ एक गोल चक्कर (राउंडअबाउट) की चेतावनी
2. ✗ यू-टर्न अनिवार्य
3. ✗ बाएं मुड़ना प्रतिबंधित है
4. ✗ दाहिनी ओर मुड़ना प्रतिबंधित है

Question Number : 73 Question Id : 5406267110 Question Type : MCQ Option Shuffling : Yes Is Question Mandatory : No Option Orientation : Vertical

Correct Marks : 1 Wrong Marks : 0.25

What does the below traffic sign mean?



Options :

1. ✘ Pedestrians walking right are prohibited
2. ✘ Entry prohibited, except for cyclists
3. ✘ Begin of a zone for pedestrians
4. ✔ Pedestrians prohibited

Question Number : 73 Question Id : 5406267110 Question Type : MCQ Option Shuffling : Yes Is Question Mandatory : No Option Orientation : Vertical

Correct Marks : 1 Wrong Marks : 0.25

नीचे दिया गया ट्रैफ़िक निशान क्या बताता है?



Options :

1. ✘ पैदल चलने वालों के दाहिने ओर चलना प्रतिबंधित है
2. ✘ साइकिल चालकों को छोड़कर प्रवेश प्रतिबंधित है
3. ✘ पैदल यात्रियों के लिए क्षेत्र की शुरुआत
4. ✔ पैदल चलने वाले प्रतिबंधित है

Question Number : 74 Question Id : 5406267111 Question Type : MCQ Option Shuffling : Yes Is Question Mandatory : No Option Orientation : Vertical

Correct Marks : 1 Wrong Marks : 0.25

What does the below traffic sign mean?



Options :

1. ✘ Entry prohibited
2. ✘ Crossroad ahead
3. ✔ Parking and stopping prohibited
4. ✘ Parking allowed

Question Number : 74 Question Id : 5406267111 Question Type : MCQ Option Shuffling : Yes Is Question Mandatory : No Option Orientation : Vertical

Correct Marks : 1 Wrong Marks : 0.25

नीचे दिया गया ट्रैफ़िक निशान क्या बताता है?



Options :

1. ✘ प्रवेश प्रतिबंधित है
2. ✘ आगे चौराहा है
3. ✔ पार्किंग और रोक प्रतिबंधित है
4. ✘ पार्किंग की अनुमति है

Question Number : 75 Question Id : 5406267112 Question Type : MCQ Option Shuffling : Yes Is Question Mandatory : No Option Orientation : Vertical

Correct Marks : 1 Wrong Marks : 0.25

What does the below traffic sign mean?



Options :

1. ✘ Road with one-way traffic
2. ✘ Turning left prohibited
3. ✔ Turning left mandatory
4. ✘ Begin of a priority road

Question Number : 75 Question Id : 5406267112 Question Type : MCQ Option Shuffling : Yes Is Question Mandatory : No Option Orientation : Vertical

Correct Marks : 1 Wrong Marks : 0.25

नीचे दिया गया ट्रैफ़िक निशान क्या बताता है?

prepp
Your Personal Exam Guide



Options :

1. ✘ वन-वे ट्रैफिक वाली सड़क
2. ✘ बाएं मुड़ना प्रतिबंधित है
3. ✔ बाएं मुड़ना अनिवार्य है
4. ✘ प्राथमिकता वाली सड़क की शुरुआत

Question Number : 76 Question Id : 5406267113 Question Type : MCQ Option Shuffling : Yes Is Question Mandatory : No Option Orientation : Vertical

Correct Marks : 1 Wrong Marks : 0.25

While driving on a curve the driver should _____.

Options :

1. ✘ stop and see if a vehicle is coming from the opposite side
2. ✘ wait for the other vehicles to cross over
3. ✔ slow down
4. ✘ increase the speed of his vehicle

Question Number : 76 Question Id : 5406267113 Question Type : MCQ Option Shuffling : Yes Is Question Mandatory : No Option Orientation : Vertical

Correct Marks : 1 Wrong Marks : 0.25

मोड़ पर ड्राइविंग करते समय ड्राइवर को _____ ।

Options :

1. ✘ रूकना और देखना चाहिए कि क्या कोई वाहन विपरीत दिशा से तो नहीं आ रहा है।
2. ✘ अन्य वाहनों के पार होने की प्रतीक्षा करनी चाहिए।
3. ✔ गति धीमी करनी चाहिए।
4. ✘ अपने वाहन की गति बढ़ानी चाहिए।

Question Number : 77 Question Id : 5406267114 Question Type : MCQ Option Shuffling : Yes Is Question Mandatory : No Option Orientation : Vertical

Correct Marks : 1 Wrong Marks : 0.25

After completing a right turn, the driver should _____ merge with mainstream traffic.

Options :

1. ✘ speed up to
2. ✘ not allow others to
3. ✔ slowly and smoothly
4. ✘ stop for a moment to

Question Number : 77 Question Id : 5406267114 Question Type : MCQ Option Shuffling : Yes Is Question Mandatory : No Option Orientation : Vertical

Correct Marks : 1 Wrong Marks : 0.25

दायाँ मोड़ पूरा करने के बाद, मुख्यधारा के ट्रैफ़िक के साथ मिलने के लिए ड्राइवर को _____ चाहिए।

Options :

1. ✘ गति बढ़ानी
2. ✘ दूसरों को निकलने नहीं देना
3. ✔ धीमी गति से और आसानी से
4. ✘ एक क्षण के लिए रुकना

Question Number : 78 Question Id : 5406267115 Question Type : MCQ Option Shuffling : Yes Is Question Mandatory : No Option Orientation : Vertical

Correct Marks : 1 Wrong Marks : 0.25

Where should a bus be stopped at a bus stop?

Options :

1. ✓ As close as possible to the kerb
2. ✗ 50 feet away from the kerb
3. ✗ 100 feet away from the kerb
4. ✗ As far as possible from the kerb

Question Number : 78 Question Id : 5406267115 Question Type : MCQ Option Shuffling : Yes Is Question Mandatory : No Option Orientation : Vertical

Correct Marks : 1 Wrong Marks : 0.25

किसी बस स्टॉप पर बस को कहाँ पर रोका जाना चाहिए?

Options :

1. ✓ जितना संभव हो कर्ब के पास में
2. ✗ कर्ब से 50 फीट की दूरी पर
3. ✗ कर्ब से 100 फीट दूर
4. ✗ जहाँ तक संभव हो कर्ब से दूर

Question Number : 79 Question Id : 5406267116 Question Type : MCQ Option Shuffling : Yes Is Question Mandatory : No Option Orientation : Vertical

Correct Marks : 1 Wrong Marks : 0.25

The resistive force between a vehicle's tyres and the road is known as _____.

Options :

1. ✗ Tyre resistance
2. ✗ Road resistance
3. ✗ Earthing resistance
4. ✓ Rolling resistance

Question Number : 79 Question Id : 5406267116 Question Type : MCQ Option Shuffling : Yes Is Question Mandatory : No Option Orientation : Vertical

Correct Marks : 1 Wrong Marks : 0.25

वाहन के टायर और सड़क के बीच प्रतिरोधी बल _____ कहलाता है।

Options :

1. ✗ टायर प्रतिरोध

2. ✘ सड़क प्रतिरोध
3. ✘ अर्थिंग प्रतिरोध
4. ✔ रोलिंग प्रतिरोध

Question Number : 80 Question Id : 5406267117 Question Type : MCQ Option Shuffling : Yes Is Question Mandatory : No Option Orientation : Vertical

Correct Marks : 1 Wrong Marks : 0.25

Which of the following is the standard format for recording defects in a vehicle at a service station?

Options :

1. ✘ Vehicle manual
2. ✘ Log book
3. ✔ Job card
4. ✘ Maintenance manual

Question Number : 80 Question Id : 5406267117 Question Type : MCQ Option Shuffling : Yes Is Question Mandatory : No Option Orientation : Vertical

Correct Marks : 1 Wrong Marks : 0.25

सर्विस स्टेशन पर किसी वाहन में दोष रिकार्ड करने के लिए इनमें से कौन एक मानक प्रारूप है?

Options :

1. ✘ वाहन का मैनुअल (निर्देशिका)
2. ✘ लॉग बुक
3. ✔ जॉब कार्ड
4. ✘ रखरखाव निर्देशिका

Arithmetic Ability1

Group Number :	5
Group Id :	540626206
Group Maximum Duration :	0
Group Minimum Duration :	0
Show Attended Group? :	No

Edit Attended Group? :	No
Break time :	0
Group Marks :	20
Is this Group for Examiner? :	No

Arithmetical and Numerical ability1

Section Id :	540626285
Section Number :	1
Section type :	Online
Mandatory or Optional :	Mandatory
Number of Questions :	20
Number of Questions to be attempted :	20
Section Marks :	20
Enable Mark as Answered Mark for Review and Clear Response :	Yes
Sub-Section Number :	1
Sub-Section Id :	540626330
Question Shuffling Allowed :	Yes

Question Number : 81 Question Id : 5406267118 Question Type : MCQ Option Shuffling : Yes Is Question Mandatory : No Option Orientation : Vertical

Correct Marks : 1 Wrong Marks : 0.25

What will come in the place of question mark (?) in the given question?

40 percent of $540 + 18^2 = ?$ percent of 1200

Options :

1. ✓ 45
2. ✗ 30
3. ✗ 35
4. ✗ 40

Question Number : 81 Question Id : 5406267118 Question Type : MCQ Option Shuffling : Yes Is Question Mandatory : No Option Orientation : Vertical

Correct Marks : 1 Wrong Marks : 0.25

निम्नलिखित प्रश्न में प्रश्नवाचक चिन्ह (?) के स्थान पर क्या आना चाहिए?

540 का 40 प्रतिशत + $18^2 = ?$ 1200 का प्रतिशत

Options :

1. ✓ 45
2. ✗ 30
3. ✗ 35
4. ✗ 40

Question Number : 82 Question Id : 5406267119 Question Type : MCQ Option Shuffling : Yes Is Question Mandatory : No Option Orientation : Vertical

Correct Marks : 1 Wrong Marks : 0.25

What will come in the place of question mark (?) in the given question?

$$\sqrt{361} = ? - 14^2 - 17 \times 7$$

Options :

1. ✗ 320
2. ✗ 364
3. ✗ 327
4. ✓ 334

Question Number : 82 Question Id : 5406267119 Question Type : MCQ Option Shuffling : Yes Is Question Mandatory : No Option Orientation : Vertical

Correct Marks : 1 Wrong Marks : 0.25

निम्नलिखित प्रश्न में प्रश्नवाचक चिन्ह (?) के स्थान पर क्या आना चाहिए?

$$\sqrt{361} = ? - 14^2 - 17 \times 7$$

Options :

1. ✗ 320
2. ✗ 364
3. ✗ 327

4. ✓ 334

Question Number : 83 Question Id : 5406267120 Question Type : MCQ Option Shuffling : Yes Is Question Mandatory : No Option Orientation : Vertical

Correct Marks : 1 Wrong Marks : 0.25

What will come in the place of question mark (?) in the given question?

$$34^2 - 26^2 = ?^2 - 30 \text{ percent of } 320$$

Options :

1. ✗ 12

2. ✗ 18

3. ✓ 24

4. ✗ 30

Question Number : 83 Question Id : 5406267120 Question Type : MCQ Option Shuffling : Yes Is Question Mandatory : No Option Orientation : Vertical

Correct Marks : 1 Wrong Marks : 0.25

निम्नलिखित प्रश्न में प्रश्नवाचक चिन्ह (?) के स्थान पर क्या आना चाहिए?

$$34^2 - 26^2 = ?^2 - 320 \text{ का } 30 \text{ प्रतिशत}$$

Options :

1. ✗ 12

2. ✗ 18

3. ✓ 24

4. ✗ 30

Question Number : 84 Question Id : 5406267121 Question Type : MCQ Option Shuffling : Yes Is Question Mandatory : No Option Orientation : Vertical

Correct Marks : 1 Wrong Marks : 0.25

What will come in the place of 'x' in the given question?

$$\frac{2}{7} \text{ of } \frac{21}{29} \text{ of } 348 = x$$

Options :

1. ✓ 72
2. ✗ 66
3. ✗ 96
4. ✗ 78

Question Number : 84 Question Id : 5406267121 Question Type : MCQ Option Shuffling : Yes Is Question Mandatory : No Option Orientation : Vertical

Correct Marks : 1 Wrong Marks : 0.25

निम्नलिखित प्रश्न में 'x' के स्थान पर क्या आना चाहिए?

$$348 \text{ का } \frac{21}{29} \text{ का } \frac{2}{7} = x$$

Options :

1. ✓ 72
2. ✗ 66
3. ✗ 96
4. ✗ 78

Question Number : 85 Question Id : 5406267122 Question Type : MCQ Option Shuffling : Yes Is Question Mandatory : No Option Orientation : Vertical

Correct Marks : 1 Wrong Marks : 0.25

What will come in the place of question mark (?) in the given question?

$$(420 \div 12 \times 35 + 45^2 - 15^2) = ?^2$$

Options :

1. ✗ 25
2. ✗ 35
3. ✗ 45
4. ✓ 55

Question Number : 85 Question Id : 5406267122 Question Type : MCQ Option Shuffling : Yes Is Question Mandatory : No Option Orientation : Vertical

Correct Marks : 1 Wrong Marks : 0.25

निम्नलिखित प्रश्न में प्रश्नवाचक चिन्ह (?) के स्थान पर क्या आना चाहिए?

$$(420 \div 12 \times 35 + 45^2 - 15^2) = ?^2$$

Options :

1. ✘ 25
2. ✘ 35
3. ✘ 45
4. ✔ 55

Question Number : 86 Question Id : 5406267123 Question Type : MCQ Option Shuffling : Yes Is Question Mandatory : No Option Orientation : Vertical

Correct Marks : 1 Wrong Marks : 0.25

What will come in the place of question mark (?) in the given question?

$$280 \div 14 \times 15 + 25^2 = ?^2 + 20 \text{ percent of } 125$$

Options :

1. ✘ 25
2. ✔ 30
3. ✘ 35
4. ✘ 40

Question Number : 86 Question Id : 5406267123 Question Type : MCQ Option Shuffling : Yes Is Question Mandatory : No Option Orientation : Vertical

Correct Marks : 1 Wrong Marks : 0.25

निम्नलिखित प्रश्न में प्रश्नवाचक चिन्ह (?) के स्थान पर क्या आना चाहिए?

$$280 \div 14 \times 15 + 25^2 = ?^2 + 125 \text{ का } 20 \text{ प्रतिशत}$$

Options :

1. ✘ 25
2. ✔ 30
3. ✘ 35
4. ✘ 40

Question Number : 87 Question Id : 5406267124 Question Type : MCQ Option Shuffling : Yes Is Question Mandatory : No Option Orientation : Vertical

Correct Marks : 1 Wrong Marks : 0.25

The greatest number that divides 1040 and 885 leaving remainders 20 and 35 respectively is:

Options :

1. ✘ 155
2. ✔ 170
3. ✘ 85
4. ✘ 190

Question Number : 87 Question Id : 5406267124 Question Type : MCQ Option Shuffling : Yes Is Question Mandatory : No Option Orientation : Vertical

Correct Marks : 1 Wrong Marks : 0.25

वह बड़ी से बड़ी संख्या, जिससे 1040 और 885 को भाग देने पर शेषफल क्रमशः 20 और 35 बचता है:

Options :

1. ✘ 155
2. ✔ 170
3. ✘ 85
4. ✘ 190

Question Number : 88 Question Id : 5406267125 Question Type : MCQ Option Shuffling : Yes Is Question Mandatory : No Option Orientation : Vertical

Correct Marks : 1 Wrong Marks : 0.25

Three bells ring simultaneously at 7 p.m. They ring at regular intervals of 15 minutes, 18 minutes and 20 minutes respectively. The time when all the three bells will ring together is:

Options :

1. ✔ 10 p.m.

2. ✘ 10:30 p.m.
3. ✘ 9 p.m.
4. ✘ 9.30 p.m.

Question Number : 88 Question Id : 5406267125 Question Type : MCQ Option Shuffling : Yes Is Question Mandatory : No Option Orientation : Vertical

Correct Marks : 1 Wrong Marks : 0.25

तीन घंटियाँ एक साथ शाम 7 बजे बजती हैं। वे क्रमशः 15 मिनट, 18 मिनट और 20 मिनट के अंतराल पर बजती हैं। तीनों घंटिया एक साथ अगली बार कब बजेगी?

Options :

1. ✔ रात 10 बजे
2. ✘ रात 10:30 बजे
3. ✘ रात 9 बजे
4. ✘ रात 9.30 बजे

Question Number : 89 Question Id : 5406267126 Question Type : MCQ Option Shuffling : Yes Is Question Mandatory : No Option Orientation : Vertical

Correct Marks : 1 Wrong Marks : 0.25

A number when divided by 252 leaves the remainder 34. Find the remainder when the same number is divided by 21.

Options :

1. ✘ 11
2. ✔ 13
3. ✘ 22
4. ✘ 17

Question Number : 89 Question Id : 5406267126 Question Type : MCQ Option Shuffling : Yes Is Question Mandatory : No Option Orientation : Vertical

Correct Marks : 1 Wrong Marks : 0.25

जब किसी संख्या को 252 से विभाजित किया जाता है तो शेषफल 34 प्राप्त होता है। उसी संख्या को 21 से विभाजित करने पर प्राप्त शेषफल ज्ञात कीजिए।

Options :

1. ✘ 11

2. ✓ 13
3. ✗ 22
4. ✗ 17

Question Number : 90 Question Id : 5406267127 Question Type : MCQ Option Shuffling : Yes Is Question Mandatory : No Option Orientation : Vertical

Correct Marks : 1 Wrong Marks : 0.25

The average of 7 numbers is 12 and that of another 9 numbers is 16. The average of these 16 numbers is:

Options :

1. ✗ 16.5
2. ✗ 17.25
3. ✗ 15.75
4. ✓ 14.25

Question Number : 90 Question Id : 5406267127 Question Type : MCQ Option Shuffling : Yes Is Question Mandatory : No Option Orientation : Vertical

Correct Marks : 1 Wrong Marks : 0.25

7 संख्याओं का औसत 12 है और 9 अन्य संख्याओं का औसत 16 है। इन 16 संख्याओं का औसत होगा:

Options :

1. ✗ 16.5
2. ✗ 17.25
3. ✗ 15.75
4. ✓ 14.25

Question Number : 91 Question Id : 5406267128 Question Type : MCQ Option Shuffling : Yes Is Question Mandatory : No Option Orientation : Vertical

Correct Marks : 1 Wrong Marks : 0.25

The average runs scored by a batsman in 14 matches is 39. In the next 12 matches, the batsman scored an average of 31 runs. Find his average score in all the 26 matches.

Options :

1. ✗ 34.5
2. ✓ 35.3

3. ✖ 35.8

4. ✖ 36.2

Question Number : 91 Question Id : 5406267128 Question Type : MCQ Option Shuffling : Yes Is Question Mandatory : No Option Orientation : Vertical

Correct Marks : 1 Wrong Marks : 0.25

एक बल्लेबाज द्वारा 14 मैचों में बनाए गए औसत रन 39 हैं। अगले 12 मैचों में, बल्लेबाज ने औसतन 31 रन बनाए। सभी 26 मैचों में उसका औसत रन ज्ञात कीजिए।

Options :

1. ✖ 34.5

2. ✔ 35.3

3. ✖ 35.8

4. ✖ 36.2

Question Number : 92 Question Id : 5406267129 Question Type : MCQ Option Shuffling : Yes Is Question Mandatory : No Option Orientation : Vertical

Correct Marks : 1 Wrong Marks : 0.25

The marked price of a radio is Rs. 1200. The shopkeeper allows a discount of 12 percent and still gains 32 percent. If no discount is allowed, find his gain percent.

Options :

1. ✖ 20 percent

2. ✖ 44 percent

3. ✖ 47.84 percent

4. ✔ 50 percent

Question Number : 92 Question Id : 5406267129 Question Type : MCQ Option Shuffling : Yes Is Question Mandatory : No Option Orientation : Vertical

Correct Marks : 1 Wrong Marks : 0.25

किसी रेडियों का अंकित मूल्य 1200 रुपये है। दुकानदार इस पर 12 प्रतिशत छूट देने के बावजूद 32 प्रतिशत लाभ कमाता है। यदि कोई छूट नहीं दी जाए तो उसे कितने प्रतिशत का लाभ होगा?

Options :

1. ✖ 20 प्रतिशत

2. ✘ 44 प्रतिशत
3. ✘ 47.84 प्रतिशत
4. ✔ 50 प्रतिशत

Question Number : 93 Question Id : 5406267130 Question Type : MCQ Option Shuffling : Yes Is Question Mandatory : No Option Orientation : Vertical

Correct Marks : 1 Wrong Marks : 0.25

27 percent of a number is 783. What will be 55 percent of that number?

Options :

1. ✘ 1584
2. ✘ 1566
3. ✔ 1595
4. ✘ 1605

Question Number : 93 Question Id : 5406267130 Question Type : MCQ Option Shuffling : Yes Is Question Mandatory : No Option Orientation : Vertical

Correct Marks : 1 Wrong Marks : 0.25

किसी संख्या का 27 प्रतिशत 783 है। उस संख्या का 55 प्रतिशत क्या होगा?

Options :

1. ✘ 1584
2. ✘ 1566
3. ✔ 1595
4. ✘ 1605

Question Number : 94 Question Id : 5406267131 Question Type : MCQ Option Shuffling : Yes Is Question Mandatory : No Option Orientation : Vertical

Correct Marks : 1 Wrong Marks : 0.25

If the numerator of a fraction is increased by 25 percent and the denominator is decreased by 50 percent, then the fraction obtained is $\frac{2}{5}$. What is the original fraction?

Options :

1. ✘ $\frac{3}{25}$
2. ✔ $\frac{4}{25}$

3. ✖ 6/25

4. ✖ 7/25

Question Number : 94 Question Id : 5406267131 Question Type : MCQ Option Shuffling : Yes Is Question Mandatory : No Option Orientation : Vertical

Correct Marks : 1 Wrong Marks : 0.25

यदि एक भिन्न के अंश को 25 प्रतिशत से बढ़ाया जाता है और भाजक को 50 प्रतिशत से कम किया जाता है, तो प्राप्त भिन्न $2/5$ है। वास्तविक भिन्न क्या होगा?

Options :

1. ✖ 3/25

2. ✔ 4/25

3. ✖ 6/25

4. ✖ 7/25

Question Number : 95 Question Id : 5406267132 Question Type : MCQ Option Shuffling : Yes Is Question Mandatory : No Option Orientation : Vertical

Correct Marks : 1 Wrong Marks : 0.25

Raman could save 20 percent of his income. But two years later when his income is increased by 50 percent he could save the same amount only as before. By how much percent has his expenditure increased?

Options :

1. ✖ 50 percent

2. ✖ 55 percent

3. ✔ 62.5 percent

4. ✖ 60 percent

Question Number : 95 Question Id : 5406267132 Question Type : MCQ Option Shuffling : Yes Is Question Mandatory : No Option Orientation : Vertical

Correct Marks : 1 Wrong Marks : 0.25

रमन अपनी आय का 20 प्रतिशत बचा सकता है। लेकिन दो वर्ष बाद जब उसकी आय में 50 प्रतिशत की वृद्धि हुई तब भी वह पहले के बराबर राशि ही बचा सकता है, तो उसका व्यय कितने प्रतिशत बढ़ गया है?

Options :

1. ✖ 50 प्रतिशत

2. ✖ 55 प्रतिशत

3. ✓ 62.5 प्रतिशत
4. ✗ 60 प्रतिशत

Question Number : 96 Question Id : 5406267133 Question Type : MCQ Option Shuffling : Yes Is Question Mandatory : No Option Orientation : Vertical

Correct Marks : 1 Wrong Marks : 0.25

If the ratio of cost price and marked price of a shirt is 9 : 11 and the profit percentage and discount percentage are the same, then the profit percentage is:

Options :

1. ✗ 22.22 percent
2. ✗ 18.18 percent
3. ✗ 12.5 percent
4. ✓ 10 percent

Question Number : 96 Question Id : 5406267133 Question Type : MCQ Option Shuffling : Yes Is Question Mandatory : No Option Orientation : Vertical

Correct Marks : 1 Wrong Marks : 0.25

यदि एक कमीज के क्रय मूल्य तथा अंकित मूल्य का अनुपात क्रमशः 9 : 11 है तथा लाभ प्रतिशत और छूट प्रतिशत समान है, तो लाभ प्रतिशत हैं:

Options :

1. ✗ 22.22 प्रतिशत
2. ✗ 18.18 प्रतिशत
3. ✗ 12.5 प्रतिशत
4. ✓ 10 प्रतिशत

Question Number : 97 Question Id : 5406267134 Question Type : MCQ Option Shuffling : Yes Is Question Mandatory : No Option Orientation : Vertical

Correct Marks : 1 Wrong Marks : 0.25

A shopkeeper calculated his profit percentage on the selling price and says it is 12.5 percent. What is the actual profit percentage (on cost price)?

Options :

1. ✓ 14.28 percent
2. ✗ 12.5 percent
3. ✗ 11.11 percent

4. ✖ 10 percent

Question Number : 97 Question Id : 5406267134 Question Type : MCQ Option Shuffling : Yes Is Question Mandatory : No Option Orientation : Vertical

Correct Marks : 1 Wrong Marks : 0.25

एक दुकानदार अपने लाभ प्रतिशत की गणना विक्रय मूल्य पर करता है और कहता है कि यह 12.5 प्रतिशत है, तो उसका वास्तविक लाभ प्रतिशत (क्रय मूल्य पर) ज्ञात कीजिए।

Options :

1. ✔ 14.28 प्रतिशत
2. ✖ 12.5 प्रतिशत
3. ✖ 11.11 प्रतिशत
4. ✖ 10 प्रतिशत

Question Number : 98 Question Id : 5406267135 Question Type : MCQ Option Shuffling : Yes Is Question Mandatory : No Option Orientation : Vertical

Correct Marks : 1 Wrong Marks : 0.25

A person buys an article at $\frac{7}{9}$ of its value and sells it for 20 percent more than its value. What is his gain percentage?

Options :

1. ✖ 44.4 percent
2. ✔ 54.3 percent
3. ✖ 45.3 percent
4. ✖ 50 percent

Question Number : 98 Question Id : 5406267135 Question Type : MCQ Option Shuffling : Yes Is Question Mandatory : No Option Orientation : Vertical

Correct Marks : 1 Wrong Marks : 0.25

एक आदमी किसी वस्तु को उसके मूल्य के $\frac{7}{9}$ भाग पर खरीदता है और उसे उसके मूल्य से 20 प्रतिशत अधिक पर बेचता है। उसका लाभ प्रतिशत ज्ञात कीजिए।

Options :

1. ✖ 44.4 प्रतिशत
2. ✔ 54.3 प्रतिशत

3. ✖ 45.3 प्रतिशत

4. ✖ 50 प्रतिशत

Question Number : 99 Question Id : 5406267136 Question Type : MCQ Option Shuffling : Yes Is Question Mandatory : No Option Orientation : Vertical

Correct Marks : 1 Wrong Marks : 0.25

If $x : y = 7 : 3$ then the value of $\frac{9x+5y}{3x+2y}$ will be:

Options :

1. ✖ 78/29

2. ✔ 26/9

3. ✖ 5/2

4. ✖ 7/3

Question Number : 99 Question Id : 5406267136 Question Type : MCQ Option Shuffling : Yes Is Question Mandatory : No Option Orientation : Vertical

Correct Marks : 1 Wrong Marks : 0.25

यदि $x : y = 7 : 3$ तो $\frac{9x+5y}{3x+2y}$ का मान होगा:

Options :

1. ✖ 78/29

2. ✔ 26/9

3. ✖ 5/2

4. ✖ 7/3

Question Number : 100 Question Id : 5406267137 Question Type : MCQ Option Shuffling : Yes Is Question Mandatory : No Option Orientation : Vertical

Correct Marks : 1 Wrong Marks : 0.25

A bag has Rs. 46 in the form of 1 rupee, 50 paise and 10 paise coins in the ratio of 1 : 2 : 3 respectively. How many 50 paise coins are there in the bag?

Options :

1. ✖ 20
2. ✔ 40
3. ✖ 60
4. ✖ 80

Question Number : 100 Question Id : 5406267137 Question Type : MCQ Option Shuffling : Yes Is Question Mandatory : No Option Orientation : Vertical

Correct Marks : 1 Wrong Marks : 0.25

एक बैग में क्रमशः 1 : 2 : 3 के अनुपात में 1 रुपये, 50 पैसे और 10 पैसे के रूप में 46 रुपये हैं। बैग में 50 पैसे के सिक्कों की संख्या कितनी होगी?

Options :

1. ✖ 20
2. ✔ 40
3. ✖ 60
4. ✖ 80

Arithmetic Ability2

Group Number :	6
Group Id :	540626207
Group Maximum Duration :	0
Group Minimum Duration :	0
Show Attended Group? :	No
Edit Attended Group? :	No
Break time :	0
Group Marks :	20
Is this Group for Examiner? :	No

Arithmetical and Numerical ability2

Section Id :	540626286
Section Number :	1

Section type :	Online
Mandatory or Optional :	Mandatory
Number of Questions :	20
Number of Questions to be attempted :	20
Section Marks :	20
Enable Mark as Answered Mark for Review and Clear Response :	Yes
Sub-Section Number :	1
Sub-Section Id :	540626331
Question Shuffling Allowed :	Yes

Question Number : 101 Question Id : 5406267138 Question Type : MCQ Option Shuffling : Yes Is Question Mandatory : No Option Orientation : Vertical

Correct Marks : 1 Wrong Marks : 0.25

A vessel contains a 540 litres mixture of honey, milk and water in the ratio of 3 : 4 : 5 respectively. 15 litres of honey and 20 litres of milk is added to this mixture. Find the new ratio of honey, milk and water in the vessel.

Options :

- ✘ 4 : 5 : 6
- ✘ 5 : 6 : 7
- ✔ 6 : 8 : 9
- ✘ 3 : 5 : 6

Question Number : 101 Question Id : 5406267138 Question Type : MCQ Option Shuffling : Yes Is Question Mandatory : No Option Orientation : Vertical

Correct Marks : 1 Wrong Marks : 0.25

एक बर्तन जिसमें 540 लीटर, शहद, दूध और पानी का मिश्रण क्रमशः 3 : 4 : 5 के अनुपात में है। इस मिश्रण में 15 लीटर शहद और 20 लीटर दूध और मिलाया जाता है, तो बर्तन में शहद, दूध और पानी का नया अनुपात ज्ञात कीजिए।

Options :

- ✘ 4 : 5 : 6
- ✘ 5 : 6 : 7
- ✔ 6 : 8 : 9
- ✘ 3 : 5 : 6

Question Number : 102 Question Id : 5406267139 Question Type : MCQ Option Shuffling : Yes Is Question Mandatory : No Option

Orientation : Vertical

Correct Marks : 1 Wrong Marks : 0.25

If the simple interest on Rs. 1200 for 4 years and at the same rate of interest simple interest on Rs. 1600 for 3 years together fetched Rs. 480, then what is the rate of interest per annum?

Options :

1. ✘ 6 percent
2. ✘ 5.5 percent
3. ✔ 5 percent
4. ✘ 6.25 percent

Question Number : 102 Question Id : 5406267139 Question Type : MCQ Option Shuffling : Yes Is Question Mandatory : No Option

Orientation : Vertical

Correct Marks : 1 Wrong Marks : 0.25

यदि 4 वर्षों के लिए 1200 रुपये पर साधारण ब्याज और उसी ब्याज दर से 3 वर्षों के लिए 1600 रुपये पर प्राप्त साधारण ब्याज का योगफल 480 रूपए प्राप्त होता है, तो वार्षिक ब्याज दर ज्ञात कीजिये।

Options :

1. ✘ 6 प्रतिशत
2. ✘ 5.5 प्रतिशत
3. ✔ 5 प्रतिशत
4. ✘ 6.25 प्रतिशत

Question Number : 103 Question Id : 5406267140 Question Type : MCQ Option Shuffling : Yes Is Question Mandatory : No Option

Orientation : Vertical

Correct Marks : 1 Wrong Marks : 0.25

Find the compound Interest on Rs. 10,000 at the rate of 18 percent per annum for 8 months when interest is compounded every 4 months?

Options :

1. ✘ Rs. 2520
2. ✔ Rs. 1236
3. ✘ Rs. 2472
4. ✘ Rs. 2480

Question Number : 103 Question Id : 5406267140 Question Type : MCQ Option Shuffling : Yes Is Question Mandatory : No Option Orientation : Vertical

Correct Marks : 1 Wrong Marks : 0.25

10,000 रुपयों का प्रतिवर्ष 18 प्रतिशत चक्रवृद्धि ब्याज की दर से 8 महीनो का चक्रवृद्धि ब्याज ज्ञात कीजिए जब ब्याज प्रत्येक 4 महीने पर संयोजित होता है?

Options :

1. ✘ 2520 रूपये
2. ✔ 1236 रूपये
3. ✘ 2472 रूपये
4. ✘ 2480 रूपये

Question Number : 104 Question Id : 5406267141 Question Type : MCQ Option Shuffling : Yes Is Question Mandatory : No Option Orientation : Vertical

Correct Marks : 1 Wrong Marks : 0.25

Raman borrows a sum of Rs. 30000 at 25 percent p.a. simple interest, and then lends it to Raghav at 40 percent p.a. compound interest, compounded half yearly. What will be gain/loss of Raman after one year?

Options :

1. ✘ Rs. 4500
2. ✔ Rs. 5700
3. ✘ Rs. 6300
4. ✘ Rs. 7200

Question Number : 104 Question Id : 5406267141 Question Type : MCQ Option Shuffling : Yes Is Question Mandatory : No Option Orientation : Vertical

Correct Marks : 1 Wrong Marks : 0.25

रमन ने 30000 रूपये, 25 प्रतिशत प्रतिवर्ष साधारण ब्याज की दर से उधार लेता है और फिर राघव को 40 प्रतिशत प्रति वर्ष की चक्रवृद्धि ब्याज पर उधार देता है जो कि छमाही देय है। एक वर्ष बाद, रमन का लाभ/हानि कितना होगा?

Options :

1. ✘ 4500 रूपये
2. ✔ 5700 रूपये
3. ✘ 6300 रूपये
4. ✘ 7200 रूपये

Question Number : 105 Question Id : 5406267142 Question Type : MCQ Option Shuffling : Yes Is Question Mandatory : No Option Orientation : Vertical

Correct Marks : 1 Wrong Marks : 0.25

A train can cross a pole and a bridge 75 meters long in 10 seconds and 25 seconds respectively. Find the length of the train.

Options :

1. ✘ 60 m
2. ✔ 50 m
3. ✘ 80 m
4. ✘ 100 m

Question Number : 105 Question Id : 5406267142 Question Type : MCQ Option Shuffling : Yes Is Question Mandatory : No Option Orientation : Vertical

Correct Marks : 1 Wrong Marks : 0.25

एक ट्रेन एक खम्भे और 75 मीटर लम्बे पुल को पार करने में क्रमशः 10 सेकंड और 25 सेकंड लगाती है। ट्रेन की लंबाई ज्ञात कीजिए।

Options :

1. ✘ 60 मीटर
2. ✔ 50 मीटर
3. ✘ 80 मीटर
4. ✘ 100 मीटर

Question Number : 106 Question Id : 5406267143 Question Type : MCQ Option Shuffling : Yes Is Question Mandatory : No Option Orientation : Vertical

Correct Marks : 1 Wrong Marks : 0.25

A man can row at 9 km/hr in still water. If the stream speed is 6 km/hr and it takes him 14 hours to row to a place and back, how far is the place?

Options :

1. ✔ 35 km
2. ✘ 90 km
3. ✘ 135 km
4. ✘ 112.5 km

Question Number : 106 Question Id : 5406267143 Question Type : MCQ Option Shuffling : Yes Is Question Mandatory : No Option Orientation : Vertical

Correct Marks : 1 Wrong Marks : 0.25

एक आदमी स्थिर पानी में 9 किमी / घंटे की गति से तैर सकता है। यदि धारा की गति 6 किमी / घंटा है और उसे एक स्थान पर जाने और पुनः वापस आने में कुल 14 घंटे का समय लगता है, तो वह स्थान कितनी दूरी पर है?

Options :

1. ✓ 35 किमी
2. ✗ 90 किमी
3. ✗ 135 किमी
4. ✗ 112.5 किमी

Question Number : 107 Question Id : 5406267144 Question Type : MCQ Option Shuffling : Yes Is Question Mandatory : No Option Orientation : Vertical

Correct Marks : 1 Wrong Marks : 0.25

Smith travels along four sides of a square at speeds of 20, 10, 40 and 30 km/hr respectively. The average speed of Smith is:

Options :

1. ✗ 25 km/hr
2. ✗ 18.4 km/hr
3. ✓ 19.2 km/hr
4. ✗ 32.4 km/hr

Question Number : 107 Question Id : 5406267144 Question Type : MCQ Option Shuffling : Yes Is Question Mandatory : No Option Orientation : Vertical

Correct Marks : 1 Wrong Marks : 0.25

स्मिथ क्रमशः 20, 10, 40 और 30 किमी/घंटा की गति से एक वर्ग के चार भुजाओ पर गति करता है। स्मिथ की औसत गति है:

Options :

1. ✗ 25 किमी/घंटा
2. ✗ 18.4 किमी/घंटा
3. ✓ 19.2 किमी/घंटा
4. ✗ 32.4 किमी/घंटा

Question Number : 108 Question Id : 5406267145 Question Type : MCQ Option Shuffling : Yes Is Question Mandatory : No Option Orientation : Vertical

Correct Marks : 1 Wrong Marks : 0.25

A car takes 6 hours to cover a distance of 180 km. How much should the speed in km/hr be maintained to cover the same distance in $\frac{3}{5}$ th of the previous time?

Options :

1. ✘ 30
2. ✘ 40
3. ✔ 50
4. ✘ 60

Question Number : 108 Question Id : 5406267145 Question Type : MCQ Option Shuffling : Yes Is Question Mandatory : No Option Orientation : Vertical

Correct Marks : 1 Wrong Marks : 0.25

एक कार को 180 किमी की दूरी तय करने में 6 घंटे लगते हैं। समान दूरी को प्रारम्भिक समय का $\frac{3}{5}$ वें समय में तय करने के लिए कार की गति किमी/घंटे में कितनी होनी चाहिए?

Options :

1. ✘ 30
2. ✘ 40
3. ✔ 50
4. ✘ 60

Question Number : 109 Question Id : 5406267146 Question Type : MCQ Option Shuffling : Yes Is Question Mandatory : No Option Orientation : Vertical

Correct Marks : 1 Wrong Marks : 0.25

A and B can do a piece of work in 15 days and C and D can do same piece of work in 18 days. In how many days will A, B, C and D do the same piece of work together?

Options :

1. ✘ 45/11 days
2. ✔ 90/11 days
3. ✘ 135/11 days
4. ✘ 60/11 days

Question Number : 109 Question Id : 5406267146 Question Type : MCQ Option Shuffling : Yes Is Question Mandatory : No Option

Orientation : Vertical

Correct Marks : 1 Wrong Marks : 0.25

A और B किसी कार्य को 15 दिन में पूरा कर सकते हैं तथा C और D उसी कार्य को 18 दिनों में पूरा कर सकते हैं, तो A, B, C और D उसी कार्य को एक साथ कितने दिनों में पूरा करेंगे?

Options :

1. ✘ 45/11 दिन
2. ✔ 90/11 दिन
3. ✘ 135/11 दिन
4. ✘ 60/11 दिन

Question Number : 110 Question Id : 5406267147 Question Type : MCQ Option Shuffling : Yes Is Question Mandatory : No Option Orientation : Vertical

Correct Marks : 1 Wrong Marks : 0.25

If 14 men can do a job in 8 days, what fraction of the job can be done by 3 men in 4 days?

Options :

1. ✘ 1/12
2. ✘ 3/26
3. ✘ 3/14
4. ✔ 3/28

Question Number : 110 Question Id : 5406267147 Question Type : MCQ Option Shuffling : Yes Is Question Mandatory : No Option Orientation : Vertical

Correct Marks : 1 Wrong Marks : 0.25

यदि 14 आदमी किसी एक काम को 8 दिनों में पूरा कर सकते हैं, तो उस काम का कितना भाग 3 आदमी 4 दिन में पूरा कर सकते हैं?

Options :

1. ✘ 1/12
2. ✘ 3/26
3. ✘ 3/14
4. ✔ 3/28

Question Number : 111 Question Id : 5406267148 Question Type : MCQ Option Shuffling : Yes Is Question Mandatory : No Option Orientation : Vertical

Correct Marks : 1 Wrong Marks : 0.25

Tap A is 50 percent more efficient than tap B. Both taps together can fill the tank in $(96/5)$ hours. Find the time taken by tap A to fill the tank alone.

Options :

1. ✘ 12 hours
2. ✘ 16 hours
3. ✘ 24 hours
4. ✔ 32 hours

Question Number : 111 Question Id : 5406267148 Question Type : MCQ Option Shuffling : Yes Is Question Mandatory : No Option Orientation : Vertical

Correct Marks : 1 Wrong Marks : 0.25

नल A की क्षमता, नल B से 50 प्रतिशत अधिक है। दोनों एक साथ टैंक भरने में $(96/5)$ घंटे लगाते हैं। टैंक भरने में अकेले नल A को कितना समय लगेगा?

Options :

1. ✘ 12 घंटे
2. ✘ 16 घंटे
3. ✘ 24 घंटे
4. ✔ 32 घंटे

Question Number : 112 Question Id : 5406267149 Question Type : MCQ Option Shuffling : Yes Is Question Mandatory : No Option Orientation : Vertical

Correct Marks : 1 Wrong Marks : 0.25

A cylinder of height 36 cm and base radius 8 cm is melted to form a sphere. Find the radius of the sphere.

Options :

1. ✘ 3 cm
2. ✘ 4 cm
3. ✔ 12 cm
4. ✘ 8 cm

Question Number : 112 Question Id : 5406267149 Question Type : MCQ Option Shuffling : Yes Is Question Mandatory : No Option Orientation : Vertical

Correct Marks : 1 Wrong Marks : 0.25

36 सेमी ऊँचाई और 8 सेमी आधार त्रिज्या का एक बेलन पिघलाया जाता है और एक गोला बनाया जाता है। गोले की त्रिज्या ज्ञात कीजिए।

Options :

1. ✘ 3 सेमी
2. ✘ 4 सेमी
3. ✔ 12 सेमी
4. ✘ 8 सेमी

Question Number : 113 Question Id : 5406267150 Question Type : MCQ Option Shuffling : Yes Is Question Mandatory : No Option Orientation : Vertical

Correct Marks : 1 Wrong Marks : 0.25

If a carpenter increases the edges of a square wooden top from 14 cm to 18 cm, the cost of top is increased by Rs. 384. Find the rate of wooden top per square centimetre.

Options :

1. ✘ Rs. 4
2. ✔ Rs. 3
3. ✘ Rs. 4.5
4. ✘ Rs. 5

Question Number : 113 Question Id : 5406267150 Question Type : MCQ Option Shuffling : Yes Is Question Mandatory : No Option Orientation : Vertical

Correct Marks : 1 Wrong Marks : 0.25

यदि एक बढ़ई एक वर्गाकार लकड़ी के शीर्ष के किनारों को 14 सेमी. से बढ़ाकर 18 सेमी. कर देता है, तो शीर्ष की कीमत 384 रुपये से बढ़ जाती है। लकड़ी के शीर्ष की कीमत प्रति वर्ग सेमी में ज्ञात कीजिए।

Options :

1. ✘ 4 रुपये
2. ✔ 3 रुपये
3. ✘ 4.5 रुपये
4. ✘ 5 रुपये

Question Number : 114 Question Id : 5406267151 Question Type : MCQ Option Shuffling : Yes Is Question Mandatory : No Option Orientation : Vertical

Correct Marks : 1 Wrong Marks : 0.25

The sum of areas of two rectangles (R1 and R2) of same length is 594 sq. cm and the ratio of breadth of rectangle R1 to breadth of rectangle R2 is 5 : 4. If the area of square having length of side equal to the length of rectangle is 484 sq. cm, then find the area of rectangle R1.

Options :

1. ✘ 240 sq. cm
2. ✘ 280 sq. cm
3. ✔ 330 sq. cm
4. ✘ 360 sq. cm

Question Number : 114 Question Id : 5406267151 Question Type : MCQ Option Shuffling : Yes Is Question Mandatory : No Option Orientation : Vertical

Correct Marks : 1 Wrong Marks : 0.25

दो समान लंबाई के आयतों (R1 और R2) के क्षेत्रफल का योग 594 वर्ग सेमी तथा आयत R1 की चौड़ाई और आयत R2 की चौड़ाई का अनुपात 5 : 4 है। यदि एक वर्ग जिसकी लंबाई आयत की लंबाई के समान है, का क्षेत्रफल 484 वर्ग सेमी है, तो आयत R1 का क्षेत्रफल ज्ञात कीजिए।

Options :

1. ✘ 240 वर्ग सेमी
2. ✘ 280 वर्ग सेमी
3. ✔ 330 वर्ग सेमी
4. ✘ 360 वर्ग सेमी

Question Number : 115 Question Id : 5406267152 Question Type : MCQ Option Shuffling : Yes Is Question Mandatory : No Option Orientation : Vertical

Correct Marks : 1 Wrong Marks : 0.25

Following table shows total number of Employees of XYZ Ltd. in 5 different Cities [A, B, C, D and E] and ratio of number of employees working in HR, Accounts and Production departments respectively.

City	Total Employees	HR : Accounts : Production
A	240	1 : 2 : 3
B	450	7 : 1 : 1
C	360	5 : 4 : 3
D	180	2 : 5 : 3
E	330	6 : 4 : 1

Note: Employees works in only the above given departments in the each city.

Employees of Accounts departments in City D is what percent more or less than employees of Production departments in City B.

Options :

1. ✘ 60 percent
2. ✔ 80 percent
3. ✘ 100 percent
4. ✘ 50 percent

Question Number : 115 Question Id : 5406267152 Question Type : MCQ Option Shuffling : Yes Is Question Mandatory : No Option Orientation : Vertical

Correct Marks : 1 Wrong Marks : 0.25

निम्नलिखित तालिका 5 अलग-अलग शहरों [A, B, C, D और E] में XYZ लिमिटेड के कर्मचारियों की कुल संख्या और क्रमशः एचआर, लेखा और उत्पादन विभागों में काम करने वाले कर्मचारियों की संख्या के अनुपात को दर्शाता है।

शहर	कुल कर्मचारी	एचआर : लेखा : उत्पादन
A	240	1 : 2 : 3
B	450	7 : 1 : 1
C	360	5 : 4 : 3
D	180	2 : 5 : 3
E	330	6 : 4 : 1

नोट: प्रत्येक शहर में कर्मचारी केवल ऊपर दिए गए विभागों में काम करते हैं।

शहर D में लेखा विभागों के कर्मचारी, शहर B में उत्पादन विभागों के कर्मचारियों की तुलना में कितने प्रतिशत कम या ज्यादा हैं?

Options :

1. ✘ 60 प्रतिशत
2. ✔ 80 प्रतिशत
3. ✘ 100 प्रतिशत
4. ✘ 50 प्रतिशत

Question Number : 116 Question Id : 5406267153 Question Type : MCQ Option Shuffling : Yes Is Question Mandatory : No Option Orientation : Vertical

Correct Marks : 1 Wrong Marks : 0.25

Following table shows total number of Employees of XYZ Ltd. in 5 different Cities [A, B, C, D and E] and ratio of number of employees working in HR, Accounts and Production departments respectively.

City	Total Employees	HR : Accounts : Production
A	240	1 : 2 : 3
B	450	7 : 1 : 1
C	360	5 : 4 : 3
D	180	2 : 5 : 3
E	330	6 : 4 : 1

Note: Employees works in only the above given departments in the each city.

Find the respective ratio between number of employees in City D to the number of employees of HR departments in City E.

Options :

1. ✓ 1 : 1
2. ✗ 1 : 2
3. ✗ 2 : 1
4. ✗ 3 : 2

Question Number : 116 Question Id : 5406267153 Question Type : MCQ Option Shuffling : Yes Is Question Mandatory : No Option Orientation : Vertical

Correct Marks : 1 Wrong Marks : 0.25

निम्नलिखित तालिका 5 अलग-अलग शहरों [A, B, C, D और E] में XYZ लिमिटेड के कर्मचारियों की कुल संख्या और क्रमशः एचआर, लेखा और उत्पादन विभागों में काम करने वाले कर्मचारियों की संख्या के अनुपात को दर्शाता है।

शहर	कुल कर्मचारी	एचआर : लेखा : उत्पादन
A	240	1 : 2 : 3
B	450	7 : 1 : 1
C	360	5 : 4 : 3
D	180	2 : 5 : 3
E	330	6 : 4 : 1

नोट: प्रत्येक शहर में कर्मचारी केवल ऊपर दिए गए विभागों में काम करते हैं।

शहर D के कर्मचारियों की संख्या और शहर E के एचआर विभाग के कर्मचारियों की संख्या का क्रमशः अनुपात ज्ञात कीजिए।

Options :

1. ✓ 1 : 1
2. ✗ 1 : 2
3. ✗ 2 : 1
4. ✗ 3 : 2

Question Number : 117 Question Id : 5406267154 Question Type : MCQ Option Shuffling : Yes Is Question Mandatory : No Option Orientation : Vertical

Correct Marks : 1 Wrong Marks : 0.25

Following table shows total number of Employees of XYZ Ltd. in 5 different Cities [A, B, C, D and E] and ratio of number of employees working in HR, Accounts and Production departments respectively.

City	Total Employees	HR : Accounts : Production
A	240	1 : 2 : 3
B	450	7 : 1 : 1
C	360	5 : 4 : 3
D	180	2 : 5 : 3
E	330	6 : 4 : 1

Note: Employees works in only the above given departments in the each city.

Find the total number of employees of accounts department in city E, employees of accounts department in city A and employees of production department in city B?

Options :

1. ✘ 200
2. ✔ 250
3. ✘ 300
4. ✘ 350

Question Number : 117 Question Id : 5406267154 Question Type : MCQ Option Shuffling : Yes Is Question Mandatory : No Option Orientation : Vertical

Correct Marks : 1 Wrong Marks : 0.25

निम्नलिखित तालिका 5 अलग-अलग शहरों [A, B, C, D और E] में XYZ लिमिटेड के कर्मचारियों की कुल संख्या और क्रमशः एचआर, लेखा और उत्पादन विभागों में काम करने वाले कर्मचारियों की संख्या के अनुपात को दर्शाता है।

शहर	कुल कर्मचारी	एचआर : लेखा : उत्पादन
A	240	1 : 2 : 3
B	450	7 : 1 : 1
C	360	5 : 4 : 3
D	180	2 : 5 : 3
E	330	6 : 4 : 1

नोट: प्रत्येक शहर में कर्मचारी केवल ऊपर दिए गए विभागों में काम करते हैं।

शहर E के लेखा विभाग के कर्मचारियों, शहर A के लेखा विभाग के कर्मचारियों और शहर B के उत्पादन विभाग के कर्मचारियों की कुल संख्या ज्ञात कीजिए।

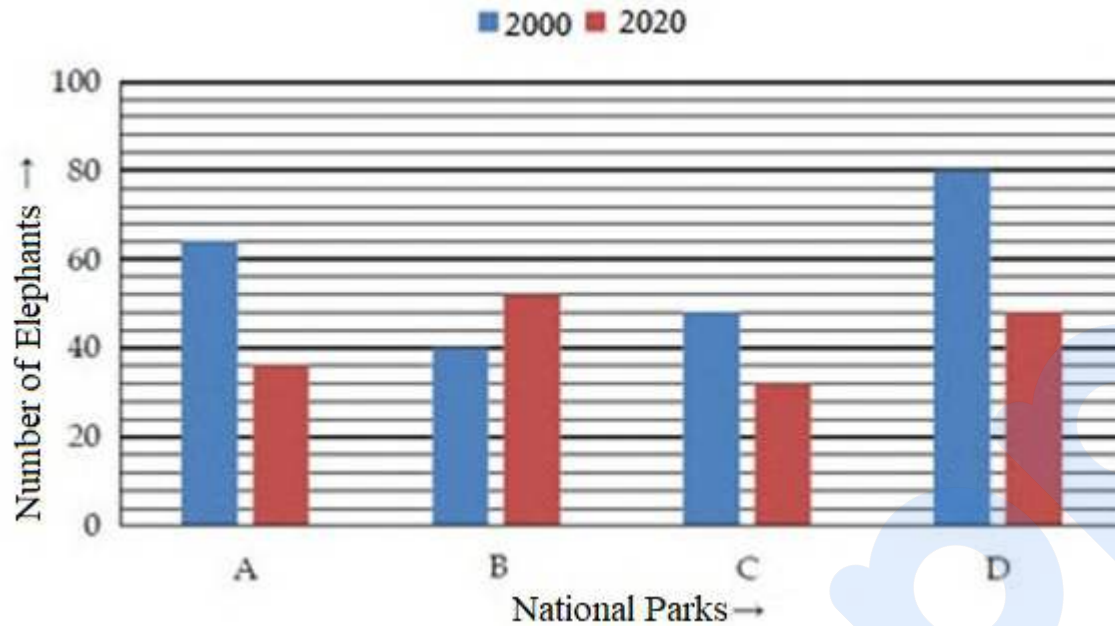
Options :

1. ✘ 200
2. ✔ 250
3. ✘ 300
4. ✘ 350

Question Number : 118 Question Id : 5406267155 Question Type : MCQ Option Shuffling : Yes Is Question Mandatory : No Option Orientation : Vertical

Correct Marks : 1 Wrong Marks : 0.25

Bar chart given below shows the number of elephants in different National Parks i.e. A to D of a country in two different years. Study the data carefully and answer the following question.



Number of Elephant in National Park A and B together in 2020 is how much less/more than Number of Elephant in National Park B and D together in 2000?

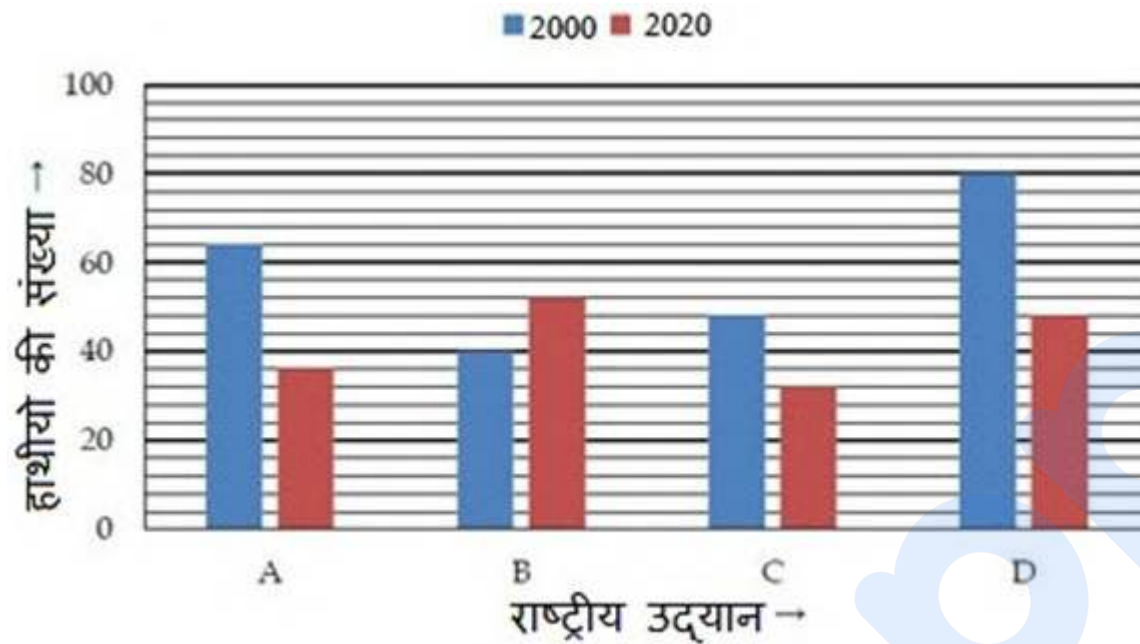
Options :

1. ✘ 35
2. ✘ 44
3. ✘ 42
4. ✔ 32

Question Number : 118 Question Id : 5406267155 Question Type : MCQ Option Shuffling : Yes Is Question Mandatory : No Option Orientation : Vertical

Correct Marks : 1 Wrong Marks : 0.25

नीचे दिया गया बार चार्ट दो अलग वर्षों में एक देश के चार विभिन्न राष्ट्रीय उद्यानों A से D में हाथियों की संख्या को दर्शाता है। आकड़ों का ध्यानपूर्वक अध्ययन कीजिए और दिए गए प्रश्न का उत्तर दीजिए।



वर्ष 2020 में राष्ट्रीय उद्यान A और B में हाथियों की कुल संख्या, वर्ष 2000 में राष्ट्रीय उद्यान B और D में हाथियों की कुल संख्या से कितना कम या अधिक है?

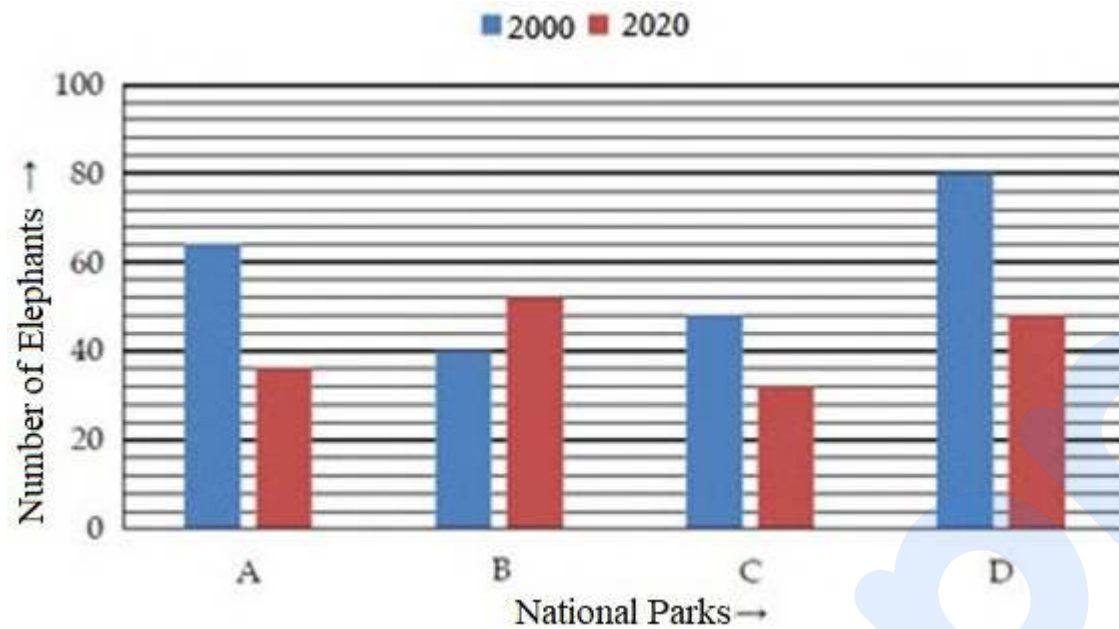
Options :

1. ✘ 35
2. ✘ 44
3. ✘ 42
4. ✔ 32

Question Number : 119 Question Id : 5406267156 Question Type : MCQ Option Shuffling : Yes Is Question Mandatory : No Option Orientation : Vertical

Correct Marks : 1 Wrong Marks : 0.25

Bar chart given below shows number of elephant in different National Parks i.e. A to D of a country in two different years. Study the data carefully and answer the following question.



Find the ratio between number of elephant of national park A in 2020 to number of elephant of national park D in 2000?

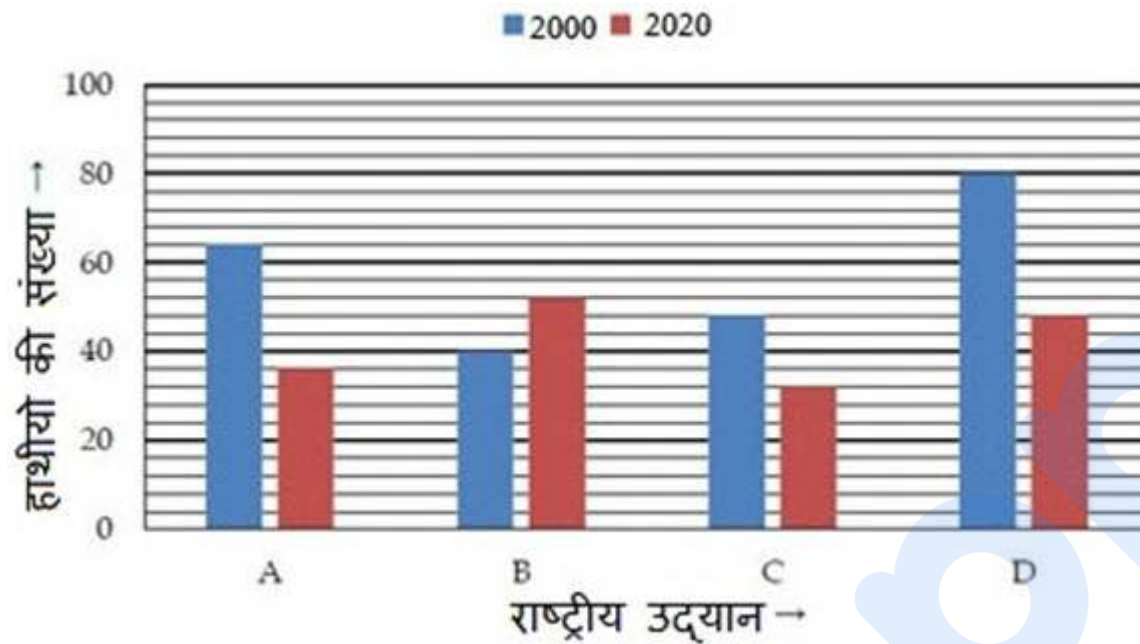
Options :

- ✓ 9 : 20
- ✗ 20 : 9
- ✗ 11 : 13
- ✗ 13 : 11

Question Number : 119 Question Id : 5406267156 Question Type : MCQ Option Shuffling : Yes Is Question Mandatory : No Option Orientation : Vertical

Correct Marks : 1 Wrong Marks : 0.25

नीचे दिया गया बार चार्ट दो अलग वर्षों में एक देश के चार विभिन्न राष्ट्रीय उद्यानों A से D में हाथियों की संख्या को दर्शाता है। आकड़ों का ध्यानपूर्वक अध्ययन कीजिए और दिए गए प्रश्न का उत्तर दीजिए।



2020 में राष्ट्रीय उद्यान A के हाथियों की संख्या और 2000 में राष्ट्रीय उद्यान D के हाथियों की संख्या का अनुपात ज्ञात कीजिए।

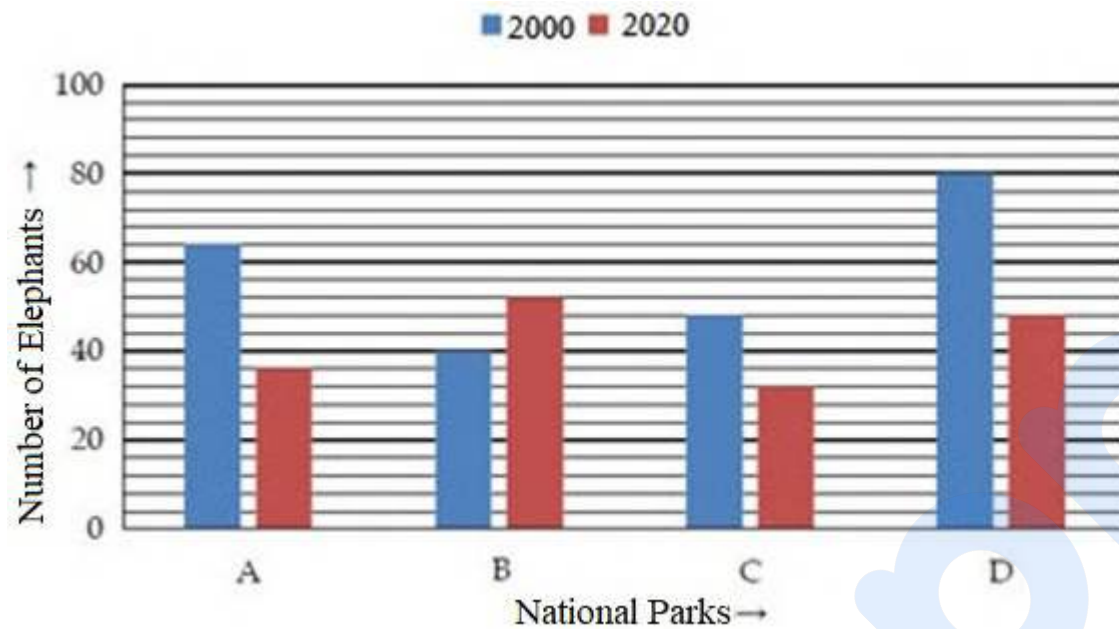
Options :

1. ✓ 9 : 20
2. ✗ 20 : 9
3. ✗ 11 : 13
4. ✗ 13 : 11

Question Number : 120 Question Id : 5406267157 Question Type : MCQ Option Shuffling : Yes Is Question Mandatory : No Option Orientation : Vertical

Correct Marks : 1 Wrong Marks : 0.25

Bar chart given below shows number of elephant in different National Parks i.e. A to D of a country in two different years. Study the data carefully and answer the following question.



Find the average of number of elephant in the national park A in 2020, national park C in 2000 and national park D in 2020?

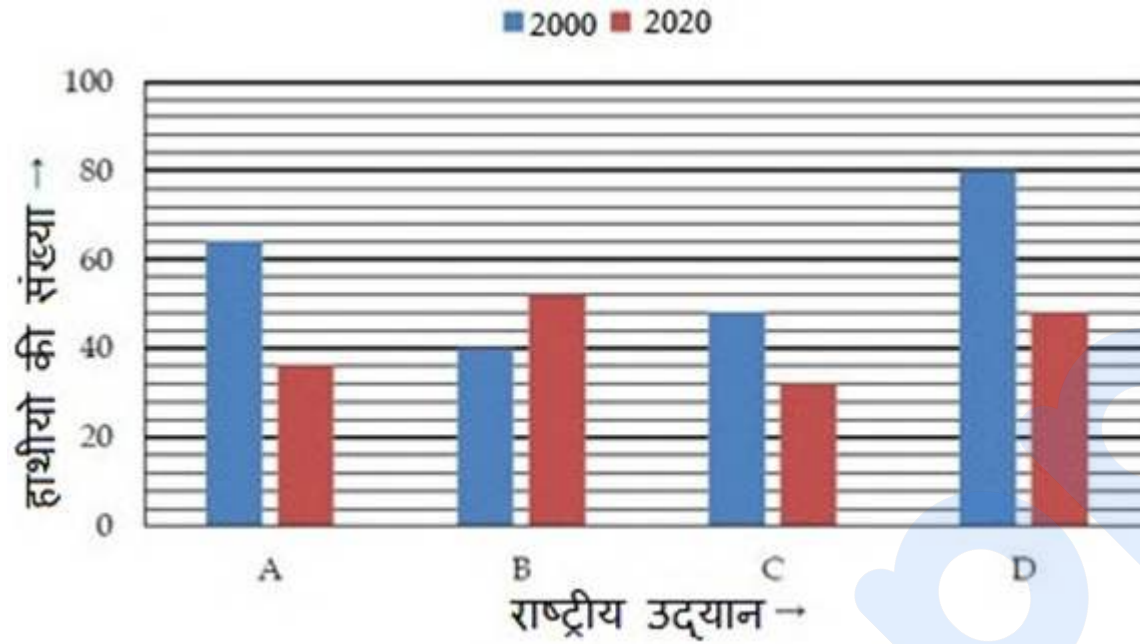
Options :

- ✘ 30
- ✘ 32
- ✔ 44
- ✘ 45

Question Number : 120 Question Id : 5406267157 Question Type : MCQ Option Shuffling : Yes Is Question Mandatory : No Option Orientation : Vertical

Correct Marks : 1 Wrong Marks : 0.25

नीचे दिया गया बार चार्ट दो अलग वर्षों में एक देश के चार विभिन्न राष्ट्रीय उद्यानों A से D में हाथियों की संख्या को दर्शाता है। आकड़ों का ध्यानपूर्वक अध्ययन कीजिए और दिए गए प्रश्न का उत्तर दीजिए।



2020 में राष्ट्रीय उद्यान A, 2000 में राष्ट्रीय उद्यान C और 2020 में राष्ट्रीय उद्यान D में हाथियों की संख्या का औसत ज्ञात कीजिए।

Options :

1. ✘ 30
2. ✘ 32
3. ✔ 44
4. ✘ 45

General English 1

Group Number :	7
Group Id :	540626208
Group Maximum Duration :	0
Group Minimum Duration :	0
Show Attended Group? :	No
Edit Attended Group? :	No
Break time :	0
Group Marks :	20

Is this Group for Examiner? :

No

English Language & Comprehension1

Section Id :	540626287
Section Number :	1
Section type :	Online
Mandatory or Optional :	Mandatory
Number of Questions :	20
Number of Questions to be attempted :	20
Section Marks :	20
Enable Mark as Answered Mark for Review and Clear Response :	Yes
Sub-Section Number :	1
Sub-Section Id :	540626332
Question Shuffling Allowed :	Yes

Question Number : 121 Question Id : 5406267158 Question Type : MCQ Option Shuffling : Yes Is Question Mandatory : No Option Orientation : Vertical

Correct Marks : 1 Wrong Marks : 0.25

Choose the grammatically correct sentence out of the given options.

Options :

1. ✓ She is the weaker of the two sisters.
2. ✗ She is weaker of the two sisters.
3. ✗ She is the weaker of two sisters.
4. ✗ She is weaker of two sisters.

Question Number : 121 Question Id : 5406267158 Question Type : MCQ Option Shuffling : Yes Is Question Mandatory : No Option Orientation : Vertical

Correct Marks : 1 Wrong Marks : 0.25

Choose the grammatically correct sentence out of the given options.

Options :

1. ✓ She is the weaker of the two sisters.

2. ✘ She is weaker of the two sisters.
3. ✘ She is the weaker of two sisters.
4. ✘ She is weaker of two sisters.

Question Number : 122 Question Id : 5406267159 Question Type : MCQ Option Shuffling : Yes Is Question Mandatory : No Option Orientation : Vertical

Correct Marks : 1 Wrong Marks : 0.25

Identify the segment in the sentence which contains the grammatical error from the given options.

A country is usually make up of different communities of people.

Options :

1. ✘ A country
2. ✘ usually
3. ✔ make up
4. ✘ communities

Question Number : 122 Question Id : 5406267159 Question Type : MCQ Option Shuffling : Yes Is Question Mandatory : No Option Orientation : Vertical

Correct Marks : 1 Wrong Marks : 0.25

Identify the segment in the sentence which contains the grammatical error from the given options.

A country is usually make up of different communities of people.

Options :

1. ✘ A country
2. ✘ usually
3. ✔ make up
4. ✘ communities

Question Number : 123 Question Id : 5406267160 Question Type : MCQ Option Shuffling : Yes Is Question Mandatory : No Option Orientation : Vertical

Correct Marks : 1 Wrong Marks : 0.25

Identify the segment in the sentence which contains the grammatical error from the given options. If there is no error, mark your answer as 'No error'.

All charges against them were withdrew after the prosecution's case collapsed.

Options :

1. ✓ All charges against them were withdrew
2. ✗ after the prosecution's
3. ✗ case collapsed.
4. ✗ No Error.

Question Number : 123 Question Id : 5406267160 Question Type : MCQ Option Shuffling : Yes Is Question Mandatory : No Option Orientation : Vertical

Correct Marks : 1 Wrong Marks : 0.25

Identify the segment in the sentence which contains the grammatical error from the given options. If there is no error, mark your answer as 'No error'.

All charges against them were withdrew after the prosecution's case collapsed.

Options :

1. ✓ All charges against them were withdrew
2. ✗ after the prosecution's
3. ✗ case collapsed.
4. ✗ No Error.

Question Number : 124 Question Id : 5406267161 Question Type : MCQ Option Shuffling : Yes Is Question Mandatory : No Option Orientation : Vertical

Correct Marks : 1 Wrong Marks : 0.25

Identify the segment in the sentence which contains the grammatical error from the given options. If there is no error, mark your answer as 'No error'.

Washing the leaves or the fruits of a crop, for example, will not get rid of the pesticide.

Options :

1. ✗ Washing the leaves or the
2. ✗ fruits of a crop, for example,
3. ✗ will not get rid of the pesticide.
4. ✓ No error

Question Number : 124 Question Id : 5406267161 Question Type : MCQ Option Shuffling : Yes Is Question Mandatory : No Option Orientation : Vertical

Correct Marks : 1 Wrong Marks : 0.25

Identify the segment in the sentence which contains the grammatical error from the given options. If there is no error, mark your answer as 'No error'.

Washing the leaves or the fruits of a crop, for example, will not get rid of the pesticide.

Options :

1. ✘ Washing the leaves or the
2. ✘ fruits of a crop, for example,
3. ✘ will not get rid of the pesticide.
4. ✔ No error

Question Number : 125 Question Id : 5406267162 Question Type : MCQ Option Shuffling : Yes Is Question Mandatory : No Option Orientation : Vertical

Correct Marks : 1 Wrong Marks : 0.25

Select the most appropriate option to substitute the underlined segment in the given sentence. If there is no need to substitute it, select 'No substitution required'.

A large variety of crops are grown to meet the requirement as the growth population.

Options :

1. ✘ as the population grow
2. ✘ the growth populated
3. ✔ of the growing population
4. ✘ No substitution required

Question Number : 125 Question Id : 5406267162 Question Type : MCQ Option Shuffling : Yes Is Question Mandatory : No Option Orientation : Vertical

Correct Marks : 1 Wrong Marks : 0.25

Select the most appropriate option to substitute the underlined segment in the given sentence. If there is no need to substitute it, select 'No substitution required'.

A large variety of crops are grown to meet the requirement as the growth population.

Options :

1. ✘ as the population grow
2. ✘ the growth populated
3. ✔ of the growing population
4. ✘ No substitution required

Question Number : 126 Question Id : 5406267163 Question Type : MCQ Option Shuffling : Yes Is Question Mandatory : No Option Orientation : Vertical

Correct Marks : 1 Wrong Marks : 0.25

Select the most appropriate option to substitute the underlined segment in the given sentence. If there is no need to substitute it, select 'No substitution required'.

Many people travelled lengthy distances in search of opportunity for work.

Options :

1. ✘ travelling long distant
2. ✔ travel long distances
3. ✘ travel lengthy distance
4. ✘ No substitution required

Question Number : 126 Question Id : 5406267163 Question Type : MCQ Option Shuffling : Yes Is Question Mandatory : No Option Orientation : Vertical

Correct Marks : 1 Wrong Marks : 0.25

Select the most appropriate option to substitute the underlined segment in the given sentence. If there is no need to substitute it, select 'No substitution required'.

Many people travelled lengthy distances in search of opportunity for work.

Options :

1. ✘ travelling long distant
2. ✔ travel long distances
3. ✘ travel lengthy distance
4. ✘ No substitution required

Question Number : 127 Question Id : 5406267164 Question Type : MCQ Option Shuffling : Yes Is Question Mandatory : No Option

Orientation : Vertical

Correct Marks : 1 Wrong Marks : 0.25

Select the most appropriate option to substitute the underlined segment in the given sentence. If there is no need to substitute it, select 'No substitution required'.

The Himalayas represent one of the more rugged mountain barriers of the world.

Options :

1. ✘ the more
2. ✔ one of the most
3. ✘ one in the most
4. ✘ No substitution required

Question Number : 127 Question Id : 5406267164 Question Type : MCQ Option Shuffling : Yes Is Question Mandatory : No Option

Orientation : Vertical

Correct Marks : 1 Wrong Marks : 0.25

Select the most appropriate option to substitute the underlined segment in the given sentence. If there is no need to substitute it, select 'No substitution required'.

The Himalayas represent one of the more rugged mountain barriers of the world.

Options :

1. ✘ the more
2. ✔ one of the most
3. ✘ one in the most
4. ✘ No substitution required

Question Number : 128 Question Id : 5406267165 Question Type : MCQ Option Shuffling : Yes Is Question Mandatory : No Option

Orientation : Vertical

Correct Marks : 1 Wrong Marks : 0.25

Select the most appropriate option to substitute the underlined segment in the given sentence. If there is no need to substitute it, select 'No substitution required'.

Steel is tough and it can easily be shaped, cut, or made into wire.

Options :

1. ✘ easy be shape

2. ✘ easily shaped
3. ✘ easily shape
4. ✔ No substitution required

Question Number : 128 Question Id : 5406267165 Question Type : MCQ Option Shuffling : Yes Is Question Mandatory : No Option Orientation : Vertical

Correct Marks : 1 Wrong Marks : 0.25

Select the most appropriate option to substitute the underlined segment in the given sentence. If there is no need to substitute it, select 'No substitution required'.

Steel is tough and it can easily be shaped, cut, or made into wire.

Options :

1. ✘ easy be shape
2. ✘ easily shaped
3. ✘ easily shape
4. ✔ No substitution required

Question Number : 129 Question Id : 5406267166 Question Type : MCQ Option Shuffling : Yes Is Question Mandatory : No Option Orientation : Vertical

Correct Marks : 1 Wrong Marks : 0.25

Fill in the blank with the correct option.

Everyone _____ save the natural resources of the earth.

Options :

1. ✔ must
2. ✘ might
3. ✘ could
4. ✘ dare

Question Number : 129 Question Id : 5406267166 Question Type : MCQ Option Shuffling : Yes Is Question Mandatory : No Option Orientation : Vertical

Correct Marks : 1 Wrong Marks : 0.25

Fill in the blank with the correct option.

Everyone _____ save the natural resources of the earth.

Options :

1. ✓ must
2. ✗ might
3. ✗ could
4. ✗ dare

Question Number : 130 Question Id : 5406267167 Question Type : MCQ Option Shuffling : Yes Is Question Mandatory : No Option Orientation : Vertical

Correct Marks : 1 Wrong Marks : 0.25

Fill in the blank with the correct option.

_____ you tell me the way to the station please?

Options :

1. ✗ Might
2. ✗ Must
3. ✗ May
4. ✓ Could

Question Number : 130 Question Id : 5406267167 Question Type : MCQ Option Shuffling : Yes Is Question Mandatory : No Option Orientation : Vertical

Correct Marks : 1 Wrong Marks : 0.25

Fill in the blank with the correct option.

_____ you tell me the way to the station please?

Options :

1. ✗ Might
2. ✗ Must
3. ✗ May
4. ✓ Could

Question Number : 131 Question Id : 5406267168 Question Type : MCQ Option Shuffling : Yes Is Question Mandatory : No Option

Orientation : Vertical

Correct Marks : 1 Wrong Marks : 0.25

Fill in the blanks with the correct prepositions.

She ran _____ the police station _____ help.

Options :

1. ✘ for, for
2. ✘ into, by
3. ✔ towards, for
4. ✘ besides, for

Question Number : 131 Question Id : 5406267168 Question Type : MCQ Option Shuffling : Yes Is Question Mandatory : No Option

Orientation : Vertical

Correct Marks : 1 Wrong Marks : 0.25

Fill in the blanks with the correct prepositions.

She ran _____ the police station _____ help.

Options :

1. ✘ for, for
2. ✘ into, by
3. ✔ towards, for
4. ✘ besides, for

Question Number : 132 Question Id : 5406267169 Question Type : MCQ Option Shuffling : Yes Is Question Mandatory : No Option

Orientation : Vertical

Correct Marks : 1 Wrong Marks : 0.25

Fill in the blank with the correct option.

Changing the course of the river _____ cause serious environmental damage to the whole valley.

Options :

1. ✔ would
2. ✘ must
3. ✘ cannot

4. ✘ might not

Question Number : 132 Question Id : 5406267169 Question Type : MCQ Option Shuffling : Yes Is Question Mandatory : No Option Orientation : Vertical

Correct Marks : 1 Wrong Marks : 0.25

Fill in the blank with the correct option.

Changing the course of the river _____ cause serious environmental damage to the whole valley.

Options :

1. ✔ would

2. ✘ must

3. ✘ cannot

4. ✘ might not

Question Number : 133 Question Id : 5406267170 Question Type : MCQ Option Shuffling : Yes Is Question Mandatory : No Option Orientation : Vertical

Correct Marks : 1 Wrong Marks : 0.25

Fill in the blank with the correct option.

Jorge didn't play well. He _____ feeling tired.

Options :

1. ✘ can have been

2. ✘ cannot have been

3. ✘ shall have been

4. ✔ might have been

Question Number : 133 Question Id : 5406267170 Question Type : MCQ Option Shuffling : Yes Is Question Mandatory : No Option Orientation : Vertical

Correct Marks : 1 Wrong Marks : 0.25

Fill in the blank with the correct option.

Jorge didn't play well. He _____ feeling tired.

Options :

1. ✘ can have been
2. ✘ cannot have been
3. ✘ shall have been
4. ✔ might have been

Question Number : 134 Question Id : 5406267171 Question Type : MCQ Option Shuffling : Yes Is Question Mandatory : No Option Orientation : Vertical

Correct Marks : 1 Wrong Marks : 0.25

Fill in the blank with the correct option.

I _____ done something if I had known you were in trouble.

Options :

1. ✘ should have
2. ✔ would have
3. ✘ must have
4. ✘ ought to have

Question Number : 134 Question Id : 5406267171 Question Type : MCQ Option Shuffling : Yes Is Question Mandatory : No Option Orientation : Vertical

Correct Marks : 1 Wrong Marks : 0.25

Fill in the blank with the correct option.

I _____ done something if I had known you were in trouble.

Options :

1. ✘ should have
2. ✔ would have
3. ✘ must have
4. ✘ ought to have

Question Number : 135 Question Id : 5406267172 Question Type : MCQ Option Shuffling : Yes Is Question Mandatory : No Option Orientation : Vertical

Correct Marks : 1 Wrong Marks : 0.25

The question below consists of a set of labelled sentences. Out of the four options given, select the most logical order of the sentences to form a

coherent sentence.

1. The mail should have
- P. and now I think there
- Q. been sent by now
- R. would be a big problem

Options :

1. ✘ PRQ
2. ✔ QPR
3. ✘ RQP
4. ✘ QRP

Question Number : 135 Question Id : 5406267172 Question Type : MCQ Option Shuffling : Yes Is Question Mandatory : No Option Orientation : Vertical

Correct Marks : 1 Wrong Marks : 0.25

The question below consists of a set of labelled sentences. Out of the four options given, select the most logical order of the sentences to form a coherent sentence.

1. The mail should have
- P. and now I think there
- Q. been sent by now
- R. would be a big problem

Options :

1. ✘ PRQ
2. ✔ QPR
3. ✘ RQP
4. ✘ QRP

Question Number : 136 Question Id : 5406267173 Question Type : MCQ Option Shuffling : Yes Is Question Mandatory : No Option Orientation : Vertical

Correct Marks : 1 Wrong Marks : 0.25

The question below consists of a set of labelled sentences. Out of the four options given, select the most logical order of the sentences to form a coherent paragraph.

1. I bought a new phone

- P. quite satisfied
- Q. the next street and I am
- R. from the store in

Options :

- 1. ✘ PQR
- 2. ✘ PRQ
- 3. ✔ RQP
- 4. ✘ RPQ

Question Number : 136 Question Id : 5406267173 Question Type : MCQ Option Shuffling : Yes Is Question Mandatory : No Option Orientation : Vertical

Correct Marks : 1 Wrong Marks : 0.25

The question below consists of a set of labelled sentences. Out of the four options given, select the most logical order of the sentences to form a coherent paragraph.

- 1. I bought a new phone
- P. quite satisfied
- Q. the next street and I am
- R. from the store in

Options :

- 1. ✘ PQR
- 2. ✘ PRQ
- 3. ✔ RQP
- 4. ✘ RPQ

Question Number : 137 Question Id : 5406267174 Question Type : MCQ Option Shuffling : Yes Is Question Mandatory : No Option Orientation : Vertical

Correct Marks : 1 Wrong Marks : 0.25

The question below consists of a set of labelled sentences. Out of the four options given, select the most logical order of the sentences to form a coherent paragraph.

- 1. There was no use
- P. than six months
- Q. trying any more as
- R. it was running on a loss for more

Options :

1. ✓ QRP
2. ✗ PQR
3. ✗ QPR
4. ✗ PRQ

Question Number : 137 Question Id : 5406267174 Question Type : MCQ Option Shuffling : Yes Is Question Mandatory : No Option Orientation : Vertical

Correct Marks : 1 Wrong Marks : 0.25

The question below consists of a set of labelled sentences. Out of the four options given, select the most logical order of the sentences to form a coherent paragraph.

1. There was no use
- P. than six months
- Q. trying any more as
- R. it was running on a loss for more

Options :

1. ✓ QRP
2. ✗ PQR
3. ✗ QPR
4. ✗ PRQ

Question Number : 138 Question Id : 5406267175 Question Type : MCQ Option Shuffling : Yes Is Question Mandatory : No Option Orientation : Vertical

Correct Marks : 1 Wrong Marks : 0.25

The question below consists of a set of labelled sentences. Out of the four options given, select the most logical order of the sentences to form a coherent sentence.

1. You can get it anywhere
- P. buy it here
- Q. but I think it
- R. will be best to

Options :

1. ✓ QRP

2. ✘ RQP
3. ✘ PQR
4. ✘ RPQ

Question Number : 138 Question Id : 5406267175 Question Type : MCQ Option Shuffling : Yes Is Question Mandatory : No Option Orientation : Vertical

Correct Marks : 1 Wrong Marks : 0.25

The question below consists of a set of labelled sentences. Out of the four options given, select the most logical order of the sentences to form a coherent sentence.

1. You can get it anywhere
- P. buy it here
- Q. but I think it
- R. will be best to

Options :

1. ✔ QRP
2. ✘ RQP
3. ✘ PQR
4. ✘ RPQ

Question Number : 139 Question Id : 5406267176 Question Type : MCQ Option Shuffling : Yes Is Question Mandatory : No Option Orientation : Vertical

Correct Marks : 1 Wrong Marks : 0.25

What is the meaning of the prefix 'iso' in the word 'isolation'?

Options :

1. ✘ near
2. ✔ single
3. ✘ far
4. ✘ beyond

Question Number : 139 Question Id : 5406267176 Question Type : MCQ Option Shuffling : Yes Is Question Mandatory : No Option Orientation : Vertical

Correct Marks : 1 Wrong Marks : 0.25

What is the meaning of the prefix 'iso' in the word 'isolation'?

Options :

1. ✘ near
2. ✔ single
3. ✘ far
4. ✘ beyond

Question Number : 140 Question Id : 5406267177 Question Type : MCQ Option Shuffling : Yes Is Question Mandatory : No Option Orientation : Vertical

Correct Marks : 1 Wrong Marks : 0.25

Out of the four words given below, find the word which is a synonym of 'contradict':

Options :

1. ✘ Confirm
2. ✘ Sanction
3. ✔ Oppose
4. ✘ Approve

Question Number : 140 Question Id : 5406267177 Question Type : MCQ Option Shuffling : Yes Is Question Mandatory : No Option Orientation : Vertical

Correct Marks : 1 Wrong Marks : 0.25

Out of the four words given below, find the word which is a synonym of 'contradict':

Options :

1. ✘ Confirm
2. ✘ Sanction
3. ✔ Oppose
4. ✘ Approve

General English2

Group Number :

8

Group Id :

540626209

Group Maximum Duration :

0

Group Minimum Duration :	0
Show Attended Group? :	No
Edit Attended Group? :	No
Break time :	0
Group Marks :	20
Is this Group for Examiner? :	No

English Language & Comprehension2

Section Id :	540626288
Section Number :	1
Section type :	Online
Mandatory or Optional :	Mandatory
Number of Questions :	16
Number of Questions to be attempted :	16
Section Marks :	20
Enable Mark as Answered Mark for Review and Clear Response :	Yes
Sub-Section Number :	1
Sub-Section Id :	540626333
Question Shuffling Allowed :	Yes

Question Number : 141 Question Id : 5406267178 Question Type : MCQ Option Shuffling : Yes Is Question Mandatory : No Option Orientation : Vertical

Correct Marks : 1 Wrong Marks : 0.25

Select the synonym of the given word.

PRECEDING

Options :

1. ✓ Previous
2. ✗ Later
3. ✗ Latter
4. ✗ Beyond

Question Number : 141 Question Id : 5406267178 Question Type : MCQ Option Shuffling : Yes Is Question Mandatory : No Option Orientation : Vertical

Correct Marks : 1 Wrong Marks : 0.25

Select the synonym of the given word.

PRECEDING

Options :

1. ✓ Previous
2. ✗ Later
3. ✗ Latter
4. ✗ Beyond

Question Number : 142 Question Id : 5406267179 Question Type : MCQ Option Shuffling : Yes Is Question Mandatory : No Option Orientation : Vertical

Correct Marks : 1 Wrong Marks : 0.25

Select the antonym of the given word.

REBELLION

Options :

1. ✓ Submission
2. ✗ Revolt
3. ✗ Mutiny
4. ✗ Disobedience

Question Number : 142 Question Id : 5406267179 Question Type : MCQ Option Shuffling : Yes Is Question Mandatory : No Option Orientation : Vertical

Correct Marks : 1 Wrong Marks : 0.25

Select the antonym of the given word.

REBELLION

Options :

1. ✓ Submission
2. ✗ Revolt

3. ✘ Mutiny
4. ✘ Disobedience

Question Number : 143 Question Id : 5406267180 Question Type : MCQ Option Shuffling : Yes Is Question Mandatory : No Option Orientation : Vertical

Correct Marks : 1 Wrong Marks : 0.25

Select the antonym of the given word.

GUILELESS

Options :

1. ✔ Wily
2. ✘ Trusting
3. ✘ Impatient
4. ✘ Productive

Question Number : 143 Question Id : 5406267180 Question Type : MCQ Option Shuffling : Yes Is Question Mandatory : No Option Orientation : Vertical

Correct Marks : 1 Wrong Marks : 0.25

Select the antonym of the given word.

GUILELESS

Options :

1. ✔ Wily
2. ✘ Trusting
3. ✘ Impatient
4. ✘ Productive

Question Number : 144 Question Id : 5406267181 Question Type : MCQ Option Shuffling : Yes Is Question Mandatory : No Option Orientation : Vertical

Correct Marks : 1 Wrong Marks : 0.25

Out of the four words given below, find the word which is correctly spelt?

Options :

1. ✘ Knowlege

2. ✘ Laboratory
3. ✔ Professor
4. ✘ Promianence

Question Number : 144 Question Id : 5406267181 Question Type : MCQ Option Shuffling : Yes Is Question Mandatory : No Option Orientation : Vertical

Correct Marks : 1 Wrong Marks : 0.25

Out of the four words given below, find the word which is correctly spelt?

Options :

1. ✘ Knowlege
2. ✘ Laboratory
3. ✔ Professor
4. ✘ Promianence

Question Number : 145 Question Id : 5406267182 Question Type : MCQ Option Shuffling : Yes Is Question Mandatory : No Option Orientation : Vertical

Correct Marks : 1 Wrong Marks : 0.25

Out of the four words given below, find the word which is correctly spelt?

Options :

1. ✘ Enviroment
2. ✘ Encuaragement
3. ✔ Questionnaire
4. ✘ Farenheit

Question Number : 145 Question Id : 5406267182 Question Type : MCQ Option Shuffling : Yes Is Question Mandatory : No Option Orientation : Vertical

Correct Marks : 1 Wrong Marks : 0.25

Out of the four words given below, find the word which is correctly spelt?

Options :

1. ✘ Enviroment
2. ✘ Encuaragement
3. ✔ Questionnaire

4. ✘ Farenheit

Question Number : 146 Question Id : 5406267183 Question Type : MCQ Option Shuffling : Yes Is Question Mandatory : No Option Orientation : Vertical

Correct Marks : 1 Wrong Marks : 0.25

Out of the four words given below, find the word which is NOT correctly spelt?

Options :

1. ✘ Emanate
2. ✘ Extravagant
3. ✘ Existence
4. ✔ Emotionel

Question Number : 146 Question Id : 5406267183 Question Type : MCQ Option Shuffling : Yes Is Question Mandatory : No Option Orientation : Vertical

Correct Marks : 1 Wrong Marks : 0.25

Out of the four words given below, find the word which is NOT correctly spelt?

Options :

1. ✘ Emanate
2. ✘ Extravagant
3. ✘ Existence
4. ✔ Emotionel

Question Number : 147 Question Id : 5406267184 Question Type : MCQ Option Shuffling : Yes Is Question Mandatory : No Option Orientation : Vertical

Correct Marks : 1 Wrong Marks : 0.25

Out of the four words given below, find the word which is NOT correctly spelt?

Options :

1. ✘ Independent
2. ✘ Separate
3. ✔ Scissors
4. ✘ Playwright

Question Number : 147 Question Id : 5406267184 Question Type : MCQ Option Shuffling : Yes Is Question Mandatory : No Option Orientation : Vertical

Correct Marks : 1 Wrong Marks : 0.25

Out of the four words given below, find the word which is NOT correctly spelt?

Options :

1. ✘ Independent
2. ✘ Separate
3. ✔ Scissors
4. ✘ Playwright

Question Number : 148 Question Id : 5406267185 Question Type : MCQ Option Shuffling : Yes Is Question Mandatory : No Option Orientation : Vertical

Correct Marks : 1 Wrong Marks : 0.25

Out of the four words given below, find the word which is NOT correctly spelt?

Options :

1. ✘ Interesting
2. ✘ Synonymous
3. ✔ Celestiale
4. ✘ Desperate

Question Number : 148 Question Id : 5406267185 Question Type : MCQ Option Shuffling : Yes Is Question Mandatory : No Option Orientation : Vertical

Correct Marks : 1 Wrong Marks : 0.25

Out of the four words given below, find the word which is NOT correctly spelt?

Options :

1. ✘ Interesting
2. ✘ Synonymous
3. ✔ Celestiale
4. ✘ Desperate

Question Number : 149 Question Id : 5406267186 Question Type : MCQ Option Shuffling : Yes Is Question Mandatory : No Option Orientation : Vertical

Correct Marks : 1 Wrong Marks : 0.25

Fill in the blank with the correct phrasal verb.

The doctor _____ hope when the patient started sinking.

Options :

1. ✘ gave on
2. ✔ gave up
3. ✘ gave off
4. ✘ gave away

Question Number : 149 Question Id : 5406267186 Question Type : MCQ Option Shuffling : Yes Is Question Mandatory : No Option Orientation : Vertical

Correct Marks : 1 Wrong Marks : 0.25

Fill in the blank with the correct phrasal verb.

The doctor _____ hope when the patient started sinking.

Options :

1. ✘ gave on
2. ✔ gave up
3. ✘ gave off
4. ✘ gave away

Question Number : 150 Question Id : 5406267187 Question Type : MCQ Option Shuffling : Yes Is Question Mandatory : No Option Orientation : Vertical

Correct Marks : 1 Wrong Marks : 0.25

Fill in the blank with the correct phrasal verb.

Teenagers generally _____ fast food restaurants.

Options :

1. ✘ hang in
2. ✘ hang up
3. ✘ hang on
4. ✔ hang around

Question Number : 150 Question Id : 5406267187 Question Type : MCQ Option Shuffling : Yes Is Question Mandatory : No Option Orientation : Vertical

Correct Marks : 1 Wrong Marks : 0.25

Fill in the blank with the correct phrasal verb.

Teenagers generally ____ fast food restaurants.

Options :

1. ✘ hang in
2. ✘ hang up
3. ✘ hang on
4. ✔ hang around

Question Number : 151 Question Id : 5406267188 Question Type : MCQ Option Shuffling : Yes Is Question Mandatory : No Option Orientation : Vertical

Correct Marks : 1 Wrong Marks : 0.25

Select the meaning of the given idiom.

Hit a bad patch

Options :

1. ✘ To admit defeat
2. ✘ To be unwell
3. ✘ To be noisy
4. ✔ To experience difficulty

Question Number : 151 Question Id : 5406267188 Question Type : MCQ Option Shuffling : Yes Is Question Mandatory : No Option Orientation : Vertical

Correct Marks : 1 Wrong Marks : 0.25

Select the meaning of the given idiom.

Hit a bad patch

Options :

1. ✘ To admit defeat

2. ✘ To be unwell
3. ✘ To be noisy
4. ✔ To experience difficulty

Question Number : 152 Question Id : 5406267189 Question Type : MCQ Option Shuffling : Yes Is Question Mandatory : No Option Orientation : Vertical

Correct Marks : 1 Wrong Marks : 0.25

Select the meaning of the given idiom.

Hold your horses

Options :

1. ✘ Be a wealthy person
2. ✔ Be patient
3. ✘ Be ready for action
4. ✘ Be confident

Question Number : 152 Question Id : 5406267189 Question Type : MCQ Option Shuffling : Yes Is Question Mandatory : No Option Orientation : Vertical

Correct Marks : 1 Wrong Marks : 0.25

Select the meaning of the given idiom.

Hold your horses

Options :

1. ✘ Be a wealthy person
2. ✔ Be patient
3. ✘ Be ready for action
4. ✘ Be confident

Question Number : 153 Question Id : 5406267190 Question Type : MCQ Option Shuffling : Yes Is Question Mandatory : No Option Orientation : Vertical

Correct Marks : 1 Wrong Marks : 0.25

Select the meaning of the given idiom.

Haste makes waste

Options :

1. ✘ To be irresponsible
2. ✘ To waste money
3. ✘ To be impatient
4. ✔ To do things quickly results in mistakes

Question Number : 153 Question Id : 5406267190 Question Type : MCQ Option Shuffling : Yes Is Question Mandatory : No Option Orientation : Vertical

Correct Marks : 1 Wrong Marks : 0.25

Select the meaning of the given idiom.

Haste makes waste

Options :

1. ✘ To be irresponsible
2. ✘ To waste money
3. ✘ To be impatient
4. ✔ To do things quickly results in mistakes

Question Number : 154 Question Id : 5406267191 Question Type : MCQ Option Shuffling : Yes Is Question Mandatory : No Option Orientation : Vertical

Correct Marks : 1 Wrong Marks : 0.25

In the following question, out of the four alternatives, select the alternative which is the most appropriate substitute of the phrase.

That cannot be avoided

Options :

1. ✔ Inevitable
2. ✘ Irresistible
3. ✘ Infallible
4. ✘ Irreparable

Question Number : 154 Question Id : 5406267191 Question Type : MCQ Option Shuffling : Yes Is Question Mandatory : No Option Orientation : Vertical

Correct Marks : 1 Wrong Marks : 0.25

In the following question, out of the four alternatives, select the alternative which is the most appropriate substitute of the phrase.

That cannot be avoided

Options :

1. ✓ Inevitable
2. ✗ Irresistible
3. ✗ Infallible
4. ✗ Irreparable

Question Number : 155 Question Id : 5406267192 Question Type : MCQ Option Shuffling : Yes Is Question Mandatory : No Option Orientation : Vertical

Correct Marks : 1 Wrong Marks : 0.25

In the following question, out of the four alternatives, select the alternative which is the most appropriate substitute of the phrase.

One who looks at the dark side of life or things

Options :

1. ✓ Pessimist
2. ✗ Therapist
3. ✗ Sadist
4. ✗ Optimist

Question Number : 155 Question Id : 5406267192 Question Type : MCQ Option Shuffling : Yes Is Question Mandatory : No Option Orientation : Vertical

Correct Marks : 1 Wrong Marks : 0.25

In the following question, out of the four alternatives, select the alternative which is the most appropriate substitute of the phrase.

One who looks at the dark side of life or things

Options :

1. ✓ Pessimist
2. ✗ Therapist
3. ✗ Sadist
4. ✗ Optimist

Sub-Section Number : 2
Sub-Section Id : 540626334
Question Shuffling Allowed : Yes

Question Id : 5406267193 Question Type : COMPREHENSION Sub Question Shuffling Allowed : Yes Group Comprehension Questions : No

Question Numbers : (156 to 160)

Read the following passage and answer the given questions.

When I was at college I used to spend my summer vacations in Dehra, at my grandmother's place. I would leave the plains early in May and return in July. Deoli was a small station about thirty miles from Dehra; it marked the beginning of the heavy jungles of the Indian Terai. The train would reach Deoli at about five in the morning, when the station would be dimly lit with electric bulbs and oil lamps, and the jungle across the railway tracks would just be visible in the faint light of dawn. Deoli had only one platform, an office for the station master and a waiting room. The platform boasted a tea stall, a fruit vendor, and a few stray dogs; not much else, because the train stopped there only ten minutes before rushing on into the forests. Why it stopped at Deoli, I don't know. Nothing ever happened there. Nobody got off the train and nobody got in. There were never any coolies on the platform. But the train would halt there a full ten minutes, and then a bell would sound, the guard would blow his whistle, and presently Deoli would be left behind and forgotten. I used to wonder what happened in Deoli, behind the station walls. I always felt sorry for that lonely little platform and for the place that nobody wanted to visit. I decided that one day I would get off the train at Deoli, and spend the day there, just to please the town. I was eighteen, visiting my grandmother, and the night train stopped at Deoli. A girl came down the platform, selling baskets. It was a cold morning and the girl had a shawl thrown across her shoulders. Her feet were bare and her clothes were old, but she was a young girl, walking gracefully and with dignity. When she came to my window, she stopped.

Sub questions

Question Number : 156 Question Id : 5406267194 Question Type : MCQ Option Shuffling : Yes Is Question Mandatory : No Option Orientation : Vertical

Correct Marks : 1 Wrong Marks : 0.25

How far was Deoli station from Dehra?

Options :

1. ✓ 30 miles
2. ✗ 35 miles
3. ✗ 25 miles
4. ✗ 32miles

Question Number : 157 Question Id : 5406267195 Question Type : MCQ Option Shuffling : Yes Is Question Mandatory : No Option Orientation : Vertical

Correct Marks : 1 Wrong Marks : 0.25

When did the author go to visit his grandmother while he was in college?

Options :

1. ✓ May
2. ✗ July
3. ✗ April
4. ✗ December

Question Number : 158 Question Id : 5406267196 Question Type : MCQ Option Shuffling : Yes Is Question Mandatory : No Option Orientation : Vertical

Correct Marks : 1 Wrong Marks : 0.25

Where was the author's grandmother's house situated?

Options :

1. ✗ Deoli
2. ✓ Dehra
3. ✗ Mussoorie
4. ✗ Terai

Question Number : 159 Question Id : 5406267197 Question Type : MCQ Option Shuffling : Yes Is Question Mandatory : No Option Orientation : Vertical

Correct Marks : 1 Wrong Marks : 0.25

Why did the author want to visit Deoli?

Options :

1. ✗ Because his friend lived there and he wanted to visit her.
2. ✗ Because Deoli was a very beautiful town and he wanted to explore its beauty.
3. ✓ Because the small town of Deoli arouse curiosity in him and he felt sorry for the town which no one wanted to visit.
4. ✗ Because his grandmother's house was near Deoli.

Question Number : 160 Question Id : 5406267198 Question Type : MCQ Option Shuffling : Yes Is Question Mandatory : No Option Orientation : Vertical

Correct Marks : 1 Wrong Marks : 0.25

Which of the following meaning is best conveyed by the word 'boasted' as has been used in the passage?

Options :

1. ✓ Possessed

2. ✘ Bragged
3. ✘ Belittled
4. ✘ Overflowed

Question Id : 5406267193 Question Type : COMPREHENSION Sub Question Shuffling Allowed : Yes Group Comprehension Questions : No

Question Numbers : (156 to 160)

Read the following passage and answer the given questions.

When I was at college I used to spend my summer vacations in Dehra, at my grandmother's place. I would leave the plains early in May and return in July. Deoli was a small station about thirty miles from Dehra; it marked the beginning of the heavy jungles of the Indian Terai. The train would reach Deoli at about five in the morning, when the station would be dimly lit with electric bulbs and oil lamps, and the jungle across the railway tracks would just be visible in the faint light of dawn. Deoli had only one platform, an office for the station master and a waiting room. The platform boasted a tea stall, a fruit vendor, and a few stray dogs; not much else, because the train stopped there only ten minutes before rushing on into the forests. Why it stopped at Deoli, I don't know. Nothing ever happened there. Nobody got off the train and nobody got in. There were never any coolies on the platform. But the train would halt there a full ten minutes, and then a bell would sound, the guard would blow his whistle, and presently Deoli would be left behind and forgotten. I used to wonder what happened in Deoli, behind the station walls. I always felt sorry for that lonely little platform and for the place that nobody wanted to visit. I decided that one day I would get off the train at Deoli, and spend the day there, just to please the town. I was eighteen, visiting my grandmother, and the night train stopped at Deoli. A girl came down the platform, selling baskets. It was a cold morning and the girl had a shawl thrown across her shoulders. Her feet were bare and her clothes were old, but she was a young girl, walking gracefully and with dignity. When she came to my window, she stopped.

Sub questions

Question Number : 156 Question Id : 5406267194 Question Type : MCQ Option Shuffling : Yes Is Question Mandatory : No Option Orientation : Vertical

Correct Marks : 1 Wrong Marks : 0.25

How far was Deoli station from Dehra?

Options :

1. ✔ 30 miles
2. ✘ 35 miles
3. ✘ 25 miles
4. ✘ 32miles

Question Number : 157 Question Id : 5406267195 Question Type : MCQ Option Shuffling : Yes Is Question Mandatory : No Option Orientation : Vertical

Correct Marks : 1 Wrong Marks : 0.25

When did the author go to visit his grandmother while he was in college?

Options :

1. ✓ May
2. ✗ July
3. ✗ April
4. ✗ December

Question Number : 158 Question Id : 5406267196 Question Type : MCQ Option Shuffling : Yes Is Question Mandatory : No Option Orientation : Vertical

Correct Marks : 1 Wrong Marks : 0.25

Where was the author's grandmother's house situated?

Options :

1. ✗ Deoli
2. ✓ Dehra
3. ✗ Mussoorie
4. ✗ Terai

Question Number : 159 Question Id : 5406267197 Question Type : MCQ Option Shuffling : Yes Is Question Mandatory : No Option Orientation : Vertical

Correct Marks : 1 Wrong Marks : 0.25

Why did the author want to visit Deoli?

Options :

1. ✗ Because his friend lived there and he wanted to visit her.
2. ✗ Because Deoli was a very beautiful town and he wanted to explore its beauty.
3. ✓ Because the small town of Deoli arouse curiosity in him and he felt sorry for the town which no one wanted to visit.
4. ✗ Because his grandmother's house was near Deoli.

Question Number : 160 Question Id : 5406267198 Question Type : MCQ Option Shuffling : Yes Is Question Mandatory : No Option Orientation : Vertical

Correct Marks : 1 Wrong Marks : 0.25

Which of the following meaning is best conveyed by the word 'boasted' as has been used in the passage?

Options :

1. ✓ Possessed
2. ✗ Bragged
3. ✗ Belittled
4. ✗ Overflowed

General Hindi1

Group Number :	9
Group Id :	540626210
Group Maximum Duration :	0
Group Minimum Duration :	0
Show Attended Group? :	No
Edit Attended Group? :	No
Break time :	0
Group Marks :	20
Is this Group for Examiner? :	No

Hindi Language & Comprehension1

Section Id :	540626289
Section Number :	1
Section type :	Online
Mandatory or Optional :	Mandatory
Number of Questions :	20
Number of Questions to be attempted :	20
Section Marks :	20
Enable Mark as Answered Mark for Review and Clear Response :	Yes
Sub-Section Number :	1
Sub-Section Id :	540626335
Question Shuffling Allowed :	Yes

Question Number : 161 Question Id : 5406267199 Question Type : MCQ Option Shuffling : Yes Is Question Mandatory : No Option

Orientation : Vertical

Correct Marks : 1 Wrong Marks : 0.25

निम्नलिखित में से 'दिवसावसान' का सही संधि विच्छेद क्या है?

Options :

1. ✘ दिवस + वासन
2. ✘ दिवसाव + असान
3. ✔ दिवस + अवसान
4. ✘ दीवस + अवशान

Question Number : 161 Question Id : 5406267199 Question Type : MCQ Option Shuffling : Yes Is Question Mandatory : No Option

Orientation : Vertical

Correct Marks : 1 Wrong Marks : 0.25

निम्नलिखित में से 'दिवसावसान' का सही संधि विच्छेद क्या है?

Options :

1. ✘ दिवस + वासन
2. ✘ दिवसाव + असान
3. ✔ दिवस + अवसान
4. ✘ दीवस + अवशान

Question Number : 162 Question Id : 5406267200 Question Type : MCQ Option Shuffling : Yes Is Question Mandatory : No Option

Orientation : Vertical

Correct Marks : 1 Wrong Marks : 0.25

निम्न में से कौन-सा तत्सम शब्द है?

Options :

1. ✔ अंगरक्षक
2. ✘ अटारी
3. ✘ अलोना
4. ✘ अंगोछा

Question Number : 162 Question Id : 5406267200 Question Type : MCQ Option Shuffling : Yes Is Question Mandatory : No Option

Orientation : Vertical

Correct Marks : 1 Wrong Marks : 0.25

निम्न में से कौन-सा तत्सम शब्द है?

Options :

1. ✓ अंगरक्षक
2. ✗ अटारी
3. ✗ अलोना
4. ✗ अंगोछा

Question Number : 163 Question Id : 5406267201 Question Type : MCQ Option Shuffling : Yes Is Question Mandatory : No Option Orientation : Vertical

Correct Marks : 1 Wrong Marks : 0.25

निम्नलिखित में से कौन-सा विकल्प द्विगु समास का उदाहरण है?

Options :

1. ✗ आजीवन
2. ✗ महात्मा
3. ✗ मतदाता
4. ✓ सतमंजिल

Question Number : 163 Question Id : 5406267201 Question Type : MCQ Option Shuffling : Yes Is Question Mandatory : No Option Orientation : Vertical

Correct Marks : 1 Wrong Marks : 0.25

निम्नलिखित में से कौन-सा विकल्प द्विगु समास का उदाहरण है?

Options :

1. ✗ आजीवन
2. ✗ महात्मा
3. ✗ मतदाता
4. ✓ सतमंजिल

Question Number : 164 Question Id : 5406267202 Question Type : MCQ Option Shuffling : Yes Is Question Mandatory : No Option Orientation : Vertical

Correct Marks : 1 Wrong Marks : 0.25

निम्नलिखित में से कौन-सा शब्द 'इक' प्रत्यय से नहीं बना है?

Options :

1. ✘ सामाजिक
2. ✘ दैनिक
3. ✔ इक्यावन
4. ✘ भौमिक

Question Number : 164 Question Id : 5406267202 Question Type : MCQ Option Shuffling : Yes Is Question Mandatory : No Option Orientation : Vertical

Correct Marks : 1 Wrong Marks : 0.25

निम्नलिखित में से कौन-सा शब्द 'इक' प्रत्यय से नहीं बना है?

Options :

1. ✘ सामाजिक
2. ✘ दैनिक
3. ✔ इक्यावन
4. ✘ भौमिक

Question Number : 165 Question Id : 5406267203 Question Type : MCQ Option Shuffling : Yes Is Question Mandatory : No Option Orientation : Vertical

Correct Marks : 1 Wrong Marks : 0.25

निम्नलिखित में से सर्वनाम 'अपना' से कौन-सी भाववाचक संज्ञा बनती है?

Options :

1. ✔ अपनापन
2. ✘ कठोर
3. ✘ निकटता
4. ✘ अपना-अपना

Question Number : 165 Question Id : 5406267203 Question Type : MCQ Option Shuffling : Yes Is Question Mandatory : No Option Orientation : Vertical

Correct Marks : 1 Wrong Marks : 0.25

निम्नलिखित में से सर्वनाम 'अपना' से कौन-सी भाववाचक संज्ञा बनती है?

Options :

1. ✓ अपनापन
2. ✗ कठोर
3. ✗ निकटता
4. ✗ अपना-अपना

Question Number : 166 Question Id : 5406267204 Question Type : MCQ Option Shuffling : Yes Is Question Mandatory : No Option Orientation : Vertical

Correct Marks : 1 Wrong Marks : 0.25

दिए गए शब्द के अर्थ विकल्पों में दिए गए हैं। इनमें से कोई एक विकल्प गलत है, जो संबंधित शब्द का अर्थ नहीं है, उसका चयन कीजिए।

उर्मी

Options :

1. ✗ वेग
2. ✗ तरंग
3. ✓ गर्दभ
4. ✗ लहर

Question Number : 166 Question Id : 5406267204 Question Type : MCQ Option Shuffling : Yes Is Question Mandatory : No Option Orientation : Vertical

Correct Marks : 1 Wrong Marks : 0.25

दिए गए शब्द के अर्थ विकल्पों में दिए गए हैं। इनमें से कोई एक विकल्प गलत है, जो संबंधित शब्द का अर्थ नहीं है, उसका चयन कीजिए।

उर्मी

Options :

1. ✗ वेग
2. ✗ तरंग
3. ✓ गर्दभ
4. ✗ लहर

Question Number : 167 Question Id : 5406267205 Question Type : MCQ Option Shuffling : Yes Is Question Mandatory : No Option Orientation : Vertical

Correct Marks : 1 Wrong Marks : 0.25

निम्न में से शब्द "इन्दिरा" का पर्यायवाची कौन-सा है?

Options :

1. ✘ आतुर
2. ✔ रमा
3. ✘ भय
4. ✘ उपक्रम

Question Number : 167 Question Id : 5406267205 Question Type : MCQ Option Shuffling : Yes Is Question Mandatory : No Option Orientation : Vertical

Correct Marks : 1 Wrong Marks : 0.25

निम्न में से शब्द "इन्दिरा" का पर्यायवाची कौन-सा है?

Options :

1. ✘ आतुर
2. ✔ रमा
3. ✘ भय
4. ✘ उपक्रम

Question Number : 168 Question Id : 5406267206 Question Type : MCQ Option Shuffling : Yes Is Question Mandatory : No Option Orientation : Vertical

Correct Marks : 1 Wrong Marks : 0.25

दिए गए शब्द-युग्म के सही अर्थ-भेद का चयन कीजिए।

अभिज्ञ - अविज्ञ

Options :

1. ✘ विज्ञ - जानकार
2. ✘ बिना पत्ते का - अभ्यस्त
3. ✘ आकृति - खान
4. ✔ जानकार - मूर्ख

Question Number : 168 Question Id : 5406267206 Question Type : MCQ Option Shuffling : Yes Is Question Mandatory : No Option

Orientation : Vertical

Correct Marks : 1 Wrong Marks : 0.25

दिए गए शब्द-युग्म के सही अर्थ-भेद का चयन कीजिए।

अभिज्ञ - अविज्ञ

Options :

1. ✘ विज्ञ - जानकार
2. ✘ बिना पत्ते का - अभ्यस्त
3. ✘ आकृति - खान
4. ✔ जानकार - मूर्ख

Question Number : 169 Question Id : 5406267207 Question Type : MCQ Option Shuffling : Yes Is Question Mandatory : No Option

Orientation : Vertical

Correct Marks : 1 Wrong Marks : 0.25

निम्न में से "उद्धत" का विलोम शब्द क्या है?

Options :

1. ✘ रोपण
2. ✘ अनुक्त
3. ✔ विनीत
4. ✘ कोशिश

Question Number : 169 Question Id : 5406267207 Question Type : MCQ Option Shuffling : Yes Is Question Mandatory : No Option

Orientation : Vertical

Correct Marks : 1 Wrong Marks : 0.25

निम्न में से "उद्धत" का विलोम शब्द क्या है?

Options :

1. ✘ रोपण
2. ✘ अनुक्त
3. ✔ विनीत
4. ✘ कोशिश

Question Number : 170 Question Id : 5406267208 Question Type : MCQ Option Shuffling : Yes Is Question Mandatory : No Option

Orientation : Vertical

Correct Marks : 1 Wrong Marks : 0.25

दिए गए वाक्य के लिए एक शब्द का चयन कीजिए।

'जो परिणय सूत्र में न बँधा हो'

Options :

1. ✓ अपरिणीत
2. ✗ अज्ञ
3. ✗ सद्यःपरिणीत
4. ✗ अभियोगी

Question Number : 170 Question Id : 5406267208 Question Type : MCQ Option Shuffling : Yes Is Question Mandatory : No Option

Orientation : Vertical

Correct Marks : 1 Wrong Marks : 0.25

दिए गए वाक्य के लिए एक शब्द का चयन कीजिए।

'जो परिणय सूत्र में न बँधा हो'

Options :

1. ✓ अपरिणीत
2. ✗ अज्ञ
3. ✗ सद्यःपरिणीत
4. ✗ अभियोगी

Question Number : 171 Question Id : 5406267209 Question Type : MCQ Option Shuffling : Yes Is Question Mandatory : No Option

Orientation : Vertical

Correct Marks : 1 Wrong Marks : 0.25

निम्न में से अशुद्ध वर्तनी वाले शब्द का चयन कीजिए।

Options :

1. ✗ निर्वाचन
2. ✗ आचरण
3. ✓ स्वामीत्व

4. ✖ व्यवसाय

Question Number : 171 Question Id : 5406267209 Question Type : MCQ Option Shuffling : Yes Is Question Mandatory : No Option Orientation : Vertical

Correct Marks : 1 Wrong Marks : 0.25

निम्न में से अशुद्ध वर्तनी वाले शब्द का चयन कीजिए।

Options :

1. ✖ निर्वाचन
2. ✖ आचरण
3. ✓ स्वामीत्व
4. ✖ व्यवसाय

Question Number : 172 Question Id : 5406267210 Question Type : MCQ Option Shuffling : Yes Is Question Mandatory : No Option Orientation : Vertical

Correct Marks : 1 Wrong Marks : 0.25

निम्नलिखित में से "पृथक" का विलोम शब्द क्या है?

Options :

1. ✖ पठित
2. ✖ दक्ष
3. ✖ निकट
4. ✓ संयुक्त

Question Number : 172 Question Id : 5406267210 Question Type : MCQ Option Shuffling : Yes Is Question Mandatory : No Option Orientation : Vertical

Correct Marks : 1 Wrong Marks : 0.25

निम्नलिखित में से "पृथक" का विलोम शब्द क्या है?

Options :

1. ✖ पठित
2. ✖ दक्ष
3. ✖ निकट
4. ✓ संयुक्त

Question Number : 173 Question Id : 5406267211 Question Type : MCQ Option Shuffling : Yes Is Question Mandatory : No Option Orientation : Vertical

Correct Marks : 1 Wrong Marks : 0.25

निम्न में से असंगत (बेमेल) शब्द का चयन कीजिए।

Options :

1. ✘ रखवाली
2. ✘ रक्षा
3. ✘ सुरक्षा
4. ✔ आरक्षण

Question Number : 173 Question Id : 5406267211 Question Type : MCQ Option Shuffling : Yes Is Question Mandatory : No Option Orientation : Vertical

Correct Marks : 1 Wrong Marks : 0.25

निम्न में से असंगत (बेमेल) शब्द का चयन कीजिए।

Options :

1. ✘ रखवाली
2. ✘ रक्षा
3. ✘ सुरक्षा
4. ✔ आरक्षण

Question Number : 174 Question Id : 5406267212 Question Type : MCQ Option Shuffling : Yes Is Question Mandatory : No Option Orientation : Vertical

Correct Marks : 1 Wrong Marks : 0.25

निम्न में से कौन-सा "नैसर्गिक" का विलोम शब्द है?

Options :

1. ✘ शरासन
2. ✔ कृत्रिम
3. ✘ दनुज
4. ✘ रूग्ण

Question Number : 174 Question Id : 5406267212 Question Type : MCQ Option Shuffling : Yes Is Question Mandatory : No Option Orientation : Vertical

Correct Marks : 1 Wrong Marks : 0.25

निम्न में से कौन-सा "नैसर्गिक" का विलोम शब्द है?

Options :

1. ✘ शरासन
2. ✔ कृत्रिम
3. ✘ दनुज
4. ✘ रूग्ण

Question Number : 175 Question Id : 5406267213 Question Type : MCQ Option Shuffling : Yes Is Question Mandatory : No Option Orientation : Vertical

Correct Marks : 1 Wrong Marks : 0.25

निम्न में से शुद्ध वर्तनी वाले शब्द का चयन कीजिए।

Options :

1. ✔ क्षुधा
2. ✘ पाठसाला
3. ✘ परिशद
4. ✘ कोशठ

Question Number : 175 Question Id : 5406267213 Question Type : MCQ Option Shuffling : Yes Is Question Mandatory : No Option Orientation : Vertical

Correct Marks : 1 Wrong Marks : 0.25

निम्न में से शुद्ध वर्तनी वाले शब्द का चयन कीजिए।

Options :

1. ✔ क्षुधा
2. ✘ पाठसाला
3. ✘ परिशद
4. ✘ कोशठ

Question Number : 176 Question Id : 5406267214 Question Type : MCQ Option Shuffling : Yes Is Question Mandatory : No Option

Orientation : Vertical

Correct Marks : 1 Wrong Marks : 0.25

निम्न में से कौन-सा शब्द स्त्रीलिंग है?

Options :

1. ✘ शरबत
2. ✔ परवरिश
3. ✘ घी
4. ✘ तेल

Question Number : 176 Question Id : 5406267214 Question Type : MCQ Option Shuffling : Yes Is Question Mandatory : No Option

Orientation : Vertical

Correct Marks : 1 Wrong Marks : 0.25

निम्न में से कौन-सा शब्द स्त्रीलिंग है?

Options :

1. ✘ शरबत
2. ✔ परवरिश
3. ✘ घी
4. ✘ तेल

Question Number : 177 Question Id : 5406267215 Question Type : MCQ Option Shuffling : Yes Is Question Mandatory : No Option

Orientation : Vertical

Correct Marks : 1 Wrong Marks : 0.25

निम्न में से "भक्षक" का स्त्रीलिंग रूप क्या होगा?

Options :

1. ✘ भक्षीका
2. ✘ भक्षका
3. ✔ भक्षिका
4. ✘ भक्षिका

Question Number : 177 Question Id : 5406267215 Question Type : MCQ Option Shuffling : Yes Is Question Mandatory : No Option

Orientation : Vertical

Correct Marks : 1 Wrong Marks : 0.25

निम्न में से "भक्षक" का स्त्रीलिंग रूप क्या होगा?

Options :

1. ✘ भक्षीका
2. ✘ भक्षका
3. ✔ भक्षिका
4. ✘ भक्षिका

Question Number : 178 Question Id : 5406267216 Question Type : MCQ Option Shuffling : Yes Is Question Mandatory : No Option Orientation : Vertical

Correct Marks : 1 Wrong Marks : 0.25

निम्न में से कौन-सा बहुवचन है?

Options :

1. ✘ मैं
2. ✘ तुम
3. ✔ आप लोग
4. ✘ राधिका

Question Number : 178 Question Id : 5406267216 Question Type : MCQ Option Shuffling : Yes Is Question Mandatory : No Option Orientation : Vertical

Correct Marks : 1 Wrong Marks : 0.25

निम्न में से कौन-सा बहुवचन है?

Options :

1. ✘ मैं
2. ✘ तुम
3. ✔ आप लोग
4. ✘ राधिका

Question Number : 179 Question Id : 5406267217 Question Type : MCQ Option Shuffling : Yes Is Question Mandatory : No Option Orientation : Vertical

Correct Marks : 1 Wrong Marks : 0.25

जिसके लिए कुछ किया जाए या जिसे कुछ दिया जाए, उसे कौन-सा कारक कहते हैं।

Options :

1. ✘ अपादान कारक
2. ✔ संप्रदान कारक
3. ✘ कर्म कारक
4. ✘ संबोधक कारक

Question Number : 179 Question Id : 5406267217 Question Type : MCQ Option Shuffling : Yes Is Question Mandatory : No Option Orientation : Vertical

Correct Marks : 1 Wrong Marks : 0.25

जिसके लिए कुछ किया जाए या जिसे कुछ दिया जाए, उसे कौन-सा कारक कहते हैं।

Options :

1. ✘ अपादान कारक
2. ✔ संप्रदान कारक
3. ✘ कर्म कारक
4. ✘ संबोधक कारक

Question Number : 180 Question Id : 5406267218 Question Type : MCQ Option Shuffling : Yes Is Question Mandatory : No Option Orientation : Vertical

Correct Marks : 1 Wrong Marks : 0.25

भूतकाल के कितने भेद होते हैं?

Options :

1. ✔ 6
2. ✘ 7
3. ✘ 5
4. ✘ 8

Question Number : 180 Question Id : 5406267218 Question Type : MCQ Option Shuffling : Yes Is Question Mandatory : No Option Orientation : Vertical

Correct Marks : 1 Wrong Marks : 0.25

भूतकाल के कितने भेद होते हैं?

Options :

1. ✓ 6
2. ✘ 7
3. ✘ 5
4. ✘ 8

General Hindi2

Group Number :	10
Group Id :	540626211
Group Maximum Duration :	0
Group Minimum Duration :	120
Show Attended Group? :	No
Edit Attended Group? :	No
Break time :	0
Group Marks :	20
Is this Group for Examiner? :	No

Hindi Language & Comprehension2

Section Id :	540626290
Section Number :	1
Section type :	Online
Mandatory or Optional :	Mandatory
Number of Questions :	16
Number of Questions to be attempted :	16
Section Marks :	20
Enable Mark as Answered Mark for Review and Clear Response :	Yes
Sub-Section Number :	1
Sub-Section Id :	540626336
Question Shuffling Allowed :	Yes

Question Number : 181 Question Id : 5406267219 Question Type : MCQ Option Shuffling : Yes Is Question Mandatory : No Option
Orientation : Vertical

Correct Marks : 1 Wrong Marks : 0.25

निम्न में से किस वाक्य में सर्वनाम का प्रयोग नहीं हुआ है?

Options :

1. ✘ तुम नहीं पढ़ते।
2. ✘ कोई तो आया ही है।
3. ✘ वह दौड़ता है।
4. ✔ मोहन पढ़ता है।

Question Number : 181 Question Id : 5406267219 Question Type : MCQ Option Shuffling : Yes Is Question Mandatory : No Option
Orientation : Vertical

Correct Marks : 1 Wrong Marks : 0.25

निम्न में से किस वाक्य में सर्वनाम का प्रयोग नहीं हुआ है?

Options :

1. ✘ तुम नहीं पढ़ते।
2. ✘ कोई तो आया ही है।
3. ✘ वह दौड़ता है।
4. ✔ मोहन पढ़ता है।

Question Number : 182 Question Id : 5406267220 Question Type : MCQ Option Shuffling : Yes Is Question Mandatory : No Option
Orientation : Vertical

Correct Marks : 1 Wrong Marks : 0.25

वाक्य के शुद्ध रूप का चयन कीजिए।

Options :

1. ✘ बच्चों ने शिक्षक को एक फूलों की माला पहनाई।
2. ✔ बच्चों ने शिक्षक को फूलों की एक माला पहनाई।
3. ✘ शिक्षक को एक फूलों की माला पहनाई बच्चों ने।
4. ✘ बच्चें ने शिक्षक को एक फूलों की माला पहनाई।

Question Number : 182 Question Id : 5406267220 Question Type : MCQ Option Shuffling : Yes Is Question Mandatory : No Option

Orientation : Vertical

Correct Marks : 1 Wrong Marks : 0.25

वाक्य के शुद्ध रूप का चयन कीजिए।

Options :

1. ✘ बच्चों ने शिक्षक को एक फूलों की माला पहनाई।
2. ✔ बच्चों ने शिक्षक को फूलों की एक माला पहनाई।
3. ✘ शिक्षक को एक फूलों की माला पहनाई बच्चों ने।
4. ✘ बच्चों ने शिक्षक को एक फूलों की माला पहनाई।

Question Number : 183 Question Id : 5406267221 Question Type : MCQ Option Shuffling : Yes Is Question Mandatory : No Option

Orientation : Vertical

Correct Marks : 1 Wrong Marks : 0.25

निम्नलिखित में से वाच्य प्रकार का चयन कीजिए।

"राधा से अब अकेले नहीं रहा जाता"

Options :

1. ✔ भाववाच्य
2. ✘ कर्मवाच्य
3. ✘ कर्तृवाच्य
4. ✘ अकर्मवाच्य

Question Number : 183 Question Id : 5406267221 Question Type : MCQ Option Shuffling : Yes Is Question Mandatory : No Option

Orientation : Vertical

Correct Marks : 1 Wrong Marks : 0.25

निम्नलिखित में से वाच्य प्रकार का चयन कीजिए।

"राधा से अब अकेले नहीं रहा जाता"

Options :

1. ✔ भाववाच्य
2. ✘ कर्मवाच्य
3. ✘ कर्तृवाच्य
4. ✘ अकर्मवाच्य

Question Number : 184 Question Id : 5406267222 Question Type : MCQ Option Shuffling : Yes Is Question Mandatory : No Option Orientation : Vertical

Correct Marks : 1 Wrong Marks : 0.25

निम्नलिखित में से वाक्य प्रकार का चयन कीजिए।

"जब वह कोलकाता पहुँचा तब प्रधानमंत्री जा चुके थे।"

Options :

1. ✘ सरल वाक्य
2. ✘ संकेतवाचक वाक्य
3. ✔ मिश्र वाक्य
4. ✘ विस्मयादिबोधक वाक्य

Question Number : 184 Question Id : 5406267222 Question Type : MCQ Option Shuffling : Yes Is Question Mandatory : No Option Orientation : Vertical

Correct Marks : 1 Wrong Marks : 0.25

निम्नलिखित में से वाक्य प्रकार का चयन कीजिए।

"जब वह कोलकाता पहुँचा तब प्रधानमंत्री जा चुके थे।"

Options :

1. ✘ सरल वाक्य
2. ✘ संकेतवाचक वाक्य
3. ✔ मिश्र वाक्य
4. ✘ विस्मयादिबोधक वाक्य

Question Number : 185 Question Id : 5406267223 Question Type : MCQ Option Shuffling : Yes Is Question Mandatory : No Option Orientation : Vertical

Correct Marks : 1 Wrong Marks : 0.25

निम्न में से शुद्ध वाक्य का चयन कीजिए।

Options :

1. ✘ हेमन्त, आपसे प्रणाम किये था।
2. ✘ रमायण एक धार्मिक पुस्तक है।

3. ✓ पंकज इस लेख को सरलता से पढ़ सकता है।
4. ✘ यह मेरे और मेरे भाइयों का घर है।

Question Number : 185 Question Id : 5406267223 Question Type : MCQ Option Shuffling : Yes Is Question Mandatory : No Option Orientation : Vertical

Correct Marks : 1 Wrong Marks : 0.25

निम्न में से शुद्ध वाक्य का चयन कीजिए।

Options :

1. ✘ हेमन्त, आपसे प्रणाम किये था।
2. ✘ रमायण एक धार्मिक पुस्तक है।
3. ✓ पंकज इस लेख को सरलता से पढ़ सकता है।
4. ✘ यह मेरे और मेरे भाइयों का घर है।

Question Number : 186 Question Id : 5406267224 Question Type : MCQ Option Shuffling : Yes Is Question Mandatory : No Option Orientation : Vertical

Correct Marks : 1 Wrong Marks : 0.25

निम्नलिखित में से वाक्य प्रकार का चयन कीजिए।

"राहुल ने मेहनत की होती तो अवश्य अच्छा परिणाम मिलता"

Options :

1. ✓ संकेतवाचक
2. ✘ इच्छावाचक
3. ✘ विस्मयवाचक
4. ✘ संदेहवाचक

Question Number : 186 Question Id : 5406267224 Question Type : MCQ Option Shuffling : Yes Is Question Mandatory : No Option Orientation : Vertical

Correct Marks : 1 Wrong Marks : 0.25

निम्नलिखित में से वाक्य प्रकार का चयन कीजिए।

"राहुल ने मेहनत की होती तो अवश्य अच्छा परिणाम मिलता"

Options :

1. ✓ संकेतवाचक
2. ✗ इच्छावाचक
3. ✗ विस्मयवाचक
4. ✗ संदेहवाचक

Question Number : 187 Question Id : 5406267225 Question Type : MCQ Option Shuffling : Yes Is Question Mandatory : No Option Orientation : Vertical

Correct Marks : 1 Wrong Marks : 0.25

निम्न में से कौन-सा वाक्य अपूर्ण भूतकाल से संबंधित है?

Options :

1. ✗ वह गाना गाएगा।
2. ✗ वह गाना गाता है।
3. ✓ वह गाना गा रहा था।
4. ✗ वह गाना गा चुका था।

Question Number : 187 Question Id : 5406267225 Question Type : MCQ Option Shuffling : Yes Is Question Mandatory : No Option Orientation : Vertical

Correct Marks : 1 Wrong Marks : 0.25

निम्न में से कौन-सा वाक्य अपूर्ण भूतकाल से संबंधित है?

Options :

1. ✗ वह गाना गाएगा।
2. ✗ वह गाना गाता है।
3. ✓ वह गाना गा रहा था।
4. ✗ वह गाना गा चुका था।

Question Number : 188 Question Id : 5406267226 Question Type : MCQ Option Shuffling : Yes Is Question Mandatory : No Option Orientation : Vertical

Correct Marks : 1 Wrong Marks : 0.25

मुहावरा "शहद लगाकर चाटना" का क्या अर्थ होता है?

Options :

1. ✘ इज्जत में धब्बा लगना।
2. ✔ बेकार की वस्तु सँभालकर रखना।
3. ✘ अधिक मालदार होना।
4. ✘ किसी सुंदर वस्तु में और निखार।

Question Number : 188 Question Id : 5406267226 Question Type : MCQ Option Shuffling : Yes Is Question Mandatory : No Option Orientation : Vertical

Correct Marks : 1 Wrong Marks : 0.25

मुहावरा "शहद लगाकर चाटना" का क्या अर्थ होता है?

Options :

1. ✘ इज्जत में धब्बा लगना।
2. ✔ बेकार की वस्तु सँभालकर रखना।
3. ✘ अधिक मालदार होना।
4. ✘ किसी सुंदर वस्तु में और निखार।

Question Number : 189 Question Id : 5406267227 Question Type : MCQ Option Shuffling : Yes Is Question Mandatory : No Option Orientation : Vertical

Correct Marks : 1 Wrong Marks : 0.25

निम्न में से किस मुहावरे का अर्थ "अनहोनी होना" होता है।

Options :

1. ✘ बेसिर पैर की बात करना
2. ✘ बात का धनी होना।
3. ✘ बाएँ हाथ का खेल होना।
4. ✔ मेंढकी को जुकाम होना ।

Question Number : 189 Question Id : 5406267227 Question Type : MCQ Option Shuffling : Yes Is Question Mandatory : No Option Orientation : Vertical

Correct Marks : 1 Wrong Marks : 0.25

निम्न में से किस मुहावरे का अर्थ "अनहोनी होना" होता है।

Options :

1. ✘ बेसिर पैर की बात करना
2. ✘ बात का धनी होना।
3. ✘ बाएँ हाथ का खेल होना।
4. ✔ मेंढकी को जुकाम होना ।

Question Number : 190 Question Id : 5406267228 Question Type : MCQ Option Shuffling : Yes Is Question Mandatory : No Option Orientation : Vertical

Correct Marks : 1 Wrong Marks : 0.25

निम्न में से मुहावरा "पाजामे से बाहर होना" का क्या अर्थ है?

Options :

1. ✔ आपे से बाहर होना।
2. ✘ समाप्त कर देना ।
3. ✘ पाजामा बड़ा होना।
4. ✘ बहुत मजबूत होना।

Question Number : 190 Question Id : 5406267228 Question Type : MCQ Option Shuffling : Yes Is Question Mandatory : No Option Orientation : Vertical

Correct Marks : 1 Wrong Marks : 0.25

निम्न में से मुहावरा "पाजामे से बाहर होना" का क्या अर्थ है?

Options :

1. ✔ आपे से बाहर होना।
2. ✘ समाप्त कर देना ।
3. ✘ पाजामा बड़ा होना।
4. ✘ बहुत मजबूत होना।

Question Number : 191 Question Id : 5406267229 Question Type : MCQ Option Shuffling : Yes Is Question Mandatory : No Option Orientation : Vertical

Correct Marks : 1 Wrong Marks : 0.25

लोकोक्ति "कहीं का ईंट कहीं का रोड़ा भानुमति ने कुनबा जोड़ा" का क्या अर्थ है?

Options :

1. ✘ बुरी संगत का प्रभाव हमेशा पड़ता है

2. ✘ मुसीबत में और मुसीबत आना
3. ✔ इधर - उधर की अनमोल बातें
4. ✘ बहुत अच्छी जोड़ी बनाना।

Question Number : 191 Question Id : 5406267229 Question Type : MCQ Option Shuffling : Yes Is Question Mandatory : No Option Orientation : Vertical

Correct Marks : 1 Wrong Marks : 0.25

लोकोक्ति "कहीं का ईंट कहीं का रोड़ा भानुमति ने कुनबा जोड़ा" का क्या अर्थ है?

Options :

1. ✘ बुरी संगत का प्रभाव हमेशा पड़ता है
2. ✘ मुसीबत में और मुसीबत आना
3. ✔ इधर - उधर की अनमोल बातें
4. ✘ बहुत अच्छी जोड़ी बनाना।

Question Number : 192 Question Id : 5406267230 Question Type : MCQ Option Shuffling : Yes Is Question Mandatory : No Option Orientation : Vertical

Correct Marks : 1 Wrong Marks : 0.25

लोकोक्ति "दुधारू गाय की दो लात भली" का क्या अर्थ है?

Options :

1. ✔ जिससे लाभ हो उसकी दो बातें सहना
2. ✘ उचित न्याय
3. ✘ देना न लेना मुफ्त में काम का इरादा
4. ✘ बहुत संघर्ष कर अमीर बनना।

Question Number : 192 Question Id : 5406267230 Question Type : MCQ Option Shuffling : Yes Is Question Mandatory : No Option Orientation : Vertical

Correct Marks : 1 Wrong Marks : 0.25

लोकोक्ति "दुधारू गाय की दो लात भली" का क्या अर्थ है?

Options :

1. ✔ जिससे लाभ हो उसकी दो बातें सहना
2. ✘ उचित न्याय

3. ✘ देना न लेना मुफ्त में काम का इरादा
4. ✘ बहुत संघर्ष कर अमीर बनना।

Question Number : 193 Question Id : 5406267231 Question Type : MCQ Option Shuffling : Yes Is Question Mandatory : No Option Orientation : Vertical

Correct Marks : 1 Wrong Marks : 0.25

निम्न में से लोकोक्ति "सहज पके सो मीठा होय" का क्या अर्थ है?

Options :

1. ✘ अंधा होने के पूर्व देखा गया दृश्य।
2. ✘ उपकार करने के बदले स्वयं का दुख ।
3. ✔ धीरे - धीरे किया गया कार्य अच्छा होता है।
4. ✘ धोखे से धन जमा करना ।

Question Number : 193 Question Id : 5406267231 Question Type : MCQ Option Shuffling : Yes Is Question Mandatory : No Option Orientation : Vertical

Correct Marks : 1 Wrong Marks : 0.25

निम्न में से लोकोक्ति "सहज पके सो मीठा होय" का क्या अर्थ है?

Options :

1. ✘ अंधा होने के पूर्व देखा गया दृश्य।
2. ✘ उपकार करने के बदले स्वयं का दुख ।
3. ✔ धीरे - धीरे किया गया कार्य अच्छा होता है।
4. ✘ धोखे से धन जमा करना ।

Question Number : 194 Question Id : 5406267232 Question Type : MCQ Option Shuffling : Yes Is Question Mandatory : No Option Orientation : Vertical

Correct Marks : 1 Wrong Marks : 0.25

हाय! वह मारा गया। 'हाय' शब्द के बाद प्रयुक्त होने वाला विराम चिन्ह कौन-सा है?

Options :

1. ✘ लाघव चिन्ह
2. ✔ विस्मय वाचक चिन्ह
3. ✘ पूर्णविराम चिन्ह

4. ✖ योजक चिन्ह

Question Number : 194 Question Id : 5406267232 Question Type : MCQ Option Shuffling : Yes Is Question Mandatory : No Option Orientation : Vertical

Correct Marks : 1 Wrong Marks : 0.25

हाय! वह मारा गया। 'हाय' शब्द के बाद प्रयुक्त होने वाला विराम चिन्ह कौन-सा है?

Options :

1. ✖ लाघव चिन्ह
2. ✔ विस्मय वाचक चिन्ह
3. ✖ पूर्णविराम चिन्ह
4. ✖ योजक चिन्ह

Question Number : 195 Question Id : 5406267233 Question Type : MCQ Option Shuffling : Yes Is Question Mandatory : No Option Orientation : Vertical

Correct Marks : 1 Wrong Marks : 0.25

निम्नलिखित में से नीचे दिए गए वाक्य में किस चिन्ह का प्रयोग किया गया है?

भाई - बहन में काफी प्रेम है

Options :

1. ✖ अर्द्धविराम चिन्ह
2. ✖ लाघव चिन्ह
3. ✖ विस्मयादिबोधक चिन्ह
4. ✔ योजक चिन्ह

Question Number : 195 Question Id : 5406267233 Question Type : MCQ Option Shuffling : Yes Is Question Mandatory : No Option Orientation : Vertical

Correct Marks : 1 Wrong Marks : 0.25

निम्नलिखित में से नीचे दिए गए वाक्य में किस चिन्ह का प्रयोग किया गया है?

भाई - बहन में काफी प्रेम है

Options :

1. ✖ अर्द्धविराम चिन्ह

2. ✖ लाघव चिन्ह
3. ✖ विस्मयादिबोधक चिन्ह
4. ✔ योजक चिन्ह

Sub-Section Number :	2
Sub-Section Id :	540626337
Question Shuffling Allowed :	Yes

Question Id : 5406267234 Question Type : COMPREHENSION Sub Question Shuffling Allowed : Yes Group Comprehension Questions : No

Question Numbers : (196 to 200)

दिए गए गद्यांश का ध्यानपूर्वक अध्ययन कर प्रश्नों के उत्तर दीजिए।

न्यूयार्क अमेरिका का सबसे बड़ा और प्रमुख नगर है। यह न्यूयार्क राज्य में है, जो अमेरिका के उत्तरपूर्वी भाग में स्थित है। न्यूयार्क नगर, सन 1790 से अमेरिका का सर्वाधिक जनसंख्या वाला नगर है, जबकि न्यूयार्क का महानगरीय क्षेत्र विश्व के सर्वाधिक जनसंख्या वाले महानगरीय क्षेत्रों में से एक है। यह विश्व का एक प्रमुख महानगर है और विश्व व्यापार, वाणिज्य, संस्कृति, फैशन और मनोरंजन पर इसका बहुत प्रभाव है। संयुक्त राष्ट्र का मुख्यालय यहाँ स्थित होने के कारण यह अन्तर्राष्ट्रीय मामलों का भी एक प्रमुख केन्द्र है।

अटलांटिक की ओर मुख किए हुए विशाल बंदरगाह वाले इस महानगर में पाँच बरो (प्रशासनिक इकाईयाँ) हैं: ब्रॉन्क्स, ब्रुक्लिन, मैनहटन, क्वींस और स्टेटन द्वीप। नगर की अनुमानित जनसंख्या लगभग 82 लाख है, जो 790 वर्ग किलोमीटर के क्षेत्रफल में बसी हुई है, जो न्यूयार्क को अमेरिका का सर्वाधिक जनसंख्या घनत्व वाला नगर बनाता है। न्यूयार्क महानगरीय क्षेत्र की अनुमानित 1.88 करोड़ की जनसंख्या भी अमेरिका में सर्वाधिक है, जो 17,400 वर्ग किलोमीटर क्षेत्रफल में बसी हुई है।

न्यूयार्क शहर, संयुक्त राज्य अमेरिका के पूर्वोत्तर में न्यू यॉर्क राज्य में वॉशिंगटन, डी० सी० और बोस्टन के बीच लगभग आधे रास्ते में स्थित है। हडसन नदी के मुहाने पर स्थित होने से, जोकि एक स्वाभाविक बंदरगाह हैं, और फिर अटलांटिक महासागर ने, शहर को एक व्यापारिक बंदरगाह के रूप में महत्वपूर्ण स्थान बना दिया है। अधिकांश न्यूयॉर्क शहर लांग आइलैंड, मैनहट्टन, और स्टेटन द्वीप के तीन द्वीपों को मिला कर बनाया गया है।

हडसन नदी, हडसन घाटी के माध्यम से न्यू यॉर्क खाड़ी की ओर बहती है। न्यूयॉर्क शहर और ट्रॉय, न्यूयॉर्क के बीच नदी एक मुहाना बनती है। हडसन नदी अमेरिकी राज्य न्यू जर्सी को शहर से अलग करती है। हार्लेम नदी, पूर्वी और हडसन नदियों के बीच एक और ज्वारीय जलसंयोगी, ब्रॉक्स से मैनहट्टन को अलग करती है। ब्रॉक्स नदी, जो ब्रॉन्क्स और वेस्टचेस्टर काउंटी के माध्यम से बहती है, शहर की एकमात्र, पूर्ण रूप से ताजे पानी की नदी है।

शहर का कुल क्षेत्रफल 468.484 वर्ग मील (1,213.37 वर्ग किलोमीटर) है, जिसमें 302.643 वर्ग मील (783.84 वर्ग किलोमीटर) भूमि और 165.841 वर्ग मील (429.53 वर्ग किलोमीटर) जलक्षेत्र शामिल है। शहर का उच्चतम बिंदु स्टेटन द्वीप पर टॉड हिल है, जो समुद्र तल से 409.8 फीट (124.9 मीटर) ऊपर है।

Sub questions

Question Number : 196 Question Id : 5406267235 Question Type : MCQ Option Shuffling : Yes Is Question Mandatory : No Option Orientation : Vertical

Correct Marks : 1 Wrong Marks : 0.25

निम्न में से उपरोक्त गद्यांश का उचित शीर्षक क्या है?

Options :

1. ✘ संयुक्त राष्ट्र का मुख्यालय
2. ✘ मैनहट्टन द्वीप
3. ✔ न्यूयार्क : अमेरिका का प्रमुख नगर
4. ✘ न्यूयॉर्क की खाड़ी

Question Number : 197 Question Id : 5406267236 Question Type : MCQ Option Shuffling : Yes Is Question Mandatory : No Option Orientation : Vertical

Correct Marks : 1 Wrong Marks : 0.25

उपरोक्त गद्यांश के अनुसार न्यूयार्क किस नदी के मुहाने पर स्थित है?

Options :

1. ✘ नील नदी
2. ✘ अमेजन नदी
3. ✘ यांग्त्सी नदी
4. ✔ हडसन नदी

Question Number : 198 Question Id : 5406267237 Question Type : MCQ Option Shuffling : Yes Is Question Mandatory : No Option Orientation : Vertical

Correct Marks : 1 Wrong Marks : 0.25

उपरोक्त गद्यांश के अनुसार कौन-सा विकल्प सही नहीं है?

Options :

1. ✘ संयुक्त राष्ट्र का मुख्यालय न्यूयार्क में स्थित है।
2. ✔ न्यूयार्क की अनुमानित जनसंख्या लगभग 82 लाख है, जो 970 वर्ग किलोमीटर के क्षेत्रफल में बसी हुई है।
3. ✘ अमेरिका का सर्वाधिक जनसंख्या घनत्व वाला नगर न्यूयार्क है।
4. ✘ ब्रॉक्स नदी शहर की एकमात्र, पूर्ण रूप से ताजे पानी की नदी है।

Question Number : 199 Question Id : 5406267238 Question Type : MCQ Option Shuffling : Yes Is Question Mandatory : No Option Orientation : Vertical

Correct Marks : 1 Wrong Marks : 0.25

उपरोक्त गद्यांश के अनुसार न्यूयार्क महानगर में निम्नलिखित में से कौन-सी प्रशासनिक इकाई है?

Options :

1. ✘ ब्रॉन्क्स

2. ✘ क्रीस
3. ✘ ब्रुक्लिन
4. ✔ ब्रॉन्क्स, क्रीस एवं ब्रुक्लिन

Question Number : 200 Question Id : 5406267239 Question Type : MCQ Option Shuffling : Yes Is Question Mandatory : No Option Orientation : Vertical

Correct Marks : 1 Wrong Marks : 0.25

उपरोक्त गद्यांश के अनुसार न्यूयार्क शहर का उच्चतम बिंदु स्टैटन द्वीप पर टॉड हिल है, जो समुद्र तल से कितने मीटर ऊपर है?

Options :

1. ✘ 142.9 मीटर
2. ✘ 149.9 मीटर
3. ✔ 124.9 मीटर
4. ✘ 194.9 मीटर

Question Id : 5406267234 Question Type : COMPREHENSION Sub Question Shuffling Allowed : Yes Group Comprehension Questions : No

Question Numbers : (196 to 200)

दिए गए गद्यांश का ध्यानपूर्वक अध्ययन कर प्रश्नों के उत्तर दीजिए।

न्यूयार्क अमेरिका का सबसे बड़ा और प्रमुख नगर है। यह न्यूयार्क राज्य में है, जो अमेरिका के उत्तरपूर्वी भाग में स्थित है। न्यूयार्क नगर, सन 1790 से अमेरिका का सर्वाधिक जनसंख्या वाला नगर है, जबकि न्यूयार्क का महानगरीय क्षेत्र विश्व के सर्वाधिक जनसंख्या वाले महानगरीय क्षेत्रों में से एक है। यह विश्व का एक प्रमुख महानगर है और विश्व व्यापार, वाणिज्य, संस्कृति, फैशन और मनोरंजन पर इसका बहुत प्रभाव है। संयुक्त राष्ट्र का मुख्यालय यहाँ स्थित होने के कारण यह अन्तर्राष्ट्रीय मामलों का भी एक प्रमुख केन्द्र है।

अटलांटिक की ओर मुख किए हुए विशाल बंदरगाह बाले इस महानगर में पाँच बरो (प्रशासनिक इकाईयाँ) हैं: ब्रॉन्क्स, ब्रुक्लिन, मैनहटन, क्रीस और स्टैटन द्वीप। नगर की अनुमानित जनसंख्या लगभग 82 लाख है, जो 790 वर्ग किलोमीटर के क्षेत्रफल में बसी हुई है, जो न्यूयार्क को अमेरिका का सर्वाधिक जनसंख्या घनत्व वाला नगर बनाता है। न्यूयार्क महानगरीय क्षेत्र की अनुमानित 1.88 करोड़ की जनसंख्या भी अमेरिका में सर्वाधिक है, जो 17,400 वर्ग किलोमीटर क्षेत्रफल में बसी हुई है।

न्यूयार्क शहर, संयुक्त राज्य अमेरिका के पूर्वोत्तर में न्यू यॉर्क राज्य में वॉशिंगटन, डी० सी० और बोस्टन के बीच लगभग आधे रास्ते में स्थित है। हडसन नदी के मुहाने पर स्थित होने से, जोकि एक स्वाभाविक बंदरगाह हैं, और फिर अटलांटिक महासागर ने, शहर को एक व्यापारिक बंदरगाह के रूप में महत्वपूर्ण स्थान बना दिया है। अधिकांश न्यूयॉर्क शहर लांग आइलैंड, मैनहट्टन, और स्टैटन द्वीप के तीन द्वीपों को मिला कर बनाया गया है।

हडसन नदी, हडसन घाटी के माध्यम से न्यू यॉर्क खाड़ी की ओर बहती है। न्यूयॉर्क शहर और ट्रॉय, न्यूयॉर्क के बीच नदी एक मुहाना बनती है। हडसन नदी अमेरिकी राज्य न्यू जर्सी को शहर से अलग करती है। हार्लेम नदी, पूर्वी और हडसन नदियों के बीच एक और ज्वारीय जलसंयोगी, ब्रॉक्स से मैनहट्टन को अलग करती है। ब्रॉक्स नदी, जो ब्रॉन्क्स और वेस्टचेस्टर काउंटी के माध्यम से बहती है, शहर की एकमात्र, पूर्ण रूप से ताजे पानी की नदी है।

शहर का कुल क्षेत्रफल 468.484 वर्ग मील (1,213.37 वर्ग किलोमीटर) है, जिसमें 302.643 वर्ग मील (783.84 वर्ग किलोमीटर) भूमि और 165.841 वर्ग मील (429.53 वर्ग किलोमीटर) जलक्षेत्र शामिल है। शहर का उच्चतम बिंदु स्टैटन द्वीप पर टॉड हिल है, जो समुद्र तल से 409.8 फीट (124.9 मीटर) ऊपर है।

Sub questions

Question Number : 196 Question Id : 5406267235 Question Type : MCQ Option Shuffling : Yes Is Question Mandatory : No Option Orientation : Vertical

Correct Marks : 1 Wrong Marks : 0.25

निम्न में से उपरोक्त गद्यांश का उचित शीर्षक क्या है?

Options :

1. ✘ संयुक्त राष्ट्र का मुख्यालय
2. ✘ मैनहट्टन द्वीप
3. ✔ न्यूयार्क : अमेरिका का प्रमुख नगर
4. ✘ न्यूयॉर्क की खाड़ी

Question Number : 197 Question Id : 5406267236 Question Type : MCQ Option Shuffling : Yes Is Question Mandatory : No Option Orientation : Vertical

Correct Marks : 1 Wrong Marks : 0.25

उपरोक्त गद्यांश के अनुसार न्यूयार्क किस नदी के मुहाने पर स्थित है?

Options :

1. ✘ नील नदी
2. ✘ अमेजन नदी
3. ✘ यांग्त्सी नदी
4. ✔ हडसन नदी

Question Number : 198 Question Id : 5406267237 Question Type : MCQ Option Shuffling : Yes Is Question Mandatory : No Option Orientation : Vertical

Correct Marks : 1 Wrong Marks : 0.25

उपरोक्त गद्यांश के अनुसार कौन-सा विकल्प सही नहीं है?

Options :

1. ✘ संयुक्त राष्ट्र का मुख्यालय न्यूयार्क में स्थित है।
2. ✔ न्यूयार्क की अनुमानित जनसंख्या लगभग 82 लाख है, जो 970 वर्ग किलोमीटर के क्षेत्रफल में बसी हुई है।
3. ✘ अमेरिका का सर्वाधिक जनसंख्या घनत्व वाला नगर न्यूयार्क है।

4. ✘ ब्रॉक्स नदी शहर की एकमात्र, पूर्ण रूप से ताजे पानी की नदी है।

Question Number : 199 Question Id : 5406267238 Question Type : MCQ Option Shuffling : Yes Is Question Mandatory : No Option Orientation : Vertical

Correct Marks : 1 Wrong Marks : 0.25

उपरोक्त गद्यांश के अनुसार न्यूयार्क महानगर में निम्नलिखित में से कौन-सी प्रशासनिक इकाई है?

Options :

1. ✘ ब्रॉन्क्स
2. ✘ क्वींस
3. ✘ ब्रुक्लिन
4. ✔ ब्रॉन्क्स, क्वींस एवं ब्रुक्लिन

Question Number : 200 Question Id : 5406267239 Question Type : MCQ Option Shuffling : Yes Is Question Mandatory : No Option Orientation : Vertical

Correct Marks : 1 Wrong Marks : 0.25

उपरोक्त गद्यांश के अनुसार न्यूयार्क शहर का उच्चतम बिंदु स्टैटन द्वीप पर टॉड हिल है, जो समुद्र तल से कितने मीटर ऊपर है?

Options :

1. ✘ 142.9 मीटर
2. ✘ 149.9 मीटर
3. ✔ 124.9 मीटर
4. ✘ 194.9 मीटर