

# Question Paper Preview

**Notations :**

- Options shown in green color and with ✓ icon are correct.
- Options shown in red color and with ✗ icon are incorrect.

<b>Subject Name :</b>	FIRE OPERATOR
<b>Creation Date :</b>	2021-04-20 17:19:04
<b>Duration :</b>	120
<b>Total Marks :</b>	200
<b>Display Marks:</b>	Yes
<b>Share Answer Key With Delivery Engine :</b>	No
<b>Actual Answer Key :</b>	Yes
<b>Calculator :</b>	None
<b>Magnifying Glass Required? :</b>	No
<b>Ruler Required? :</b>	No
<b>Eraser Required? :</b>	No
<b>Scratch Pad Required? :</b>	No
<b>Rough Sketch/Notepad Required? :</b>	No
<b>Protractor Required? :</b>	No
<b>Show Watermark on Console? :</b>	Yes
<b>Highlighter :</b>	No
<b>Auto Save on Console? ( SA type of questions will be always auto saved ) :</b>	No

## Mental Ability1

<b>Group Number :</b>	1
<b>Group Id :</b>	540626212
<b>Group Maximum Duration :</b>	0
<b>Group Minimum Duration :</b>	0

Show Attended Group? :	No
Edit Attended Group? :	No
Break time :	0
Group Marks :	20
Is this Group for Examiner? :	No

## General intelligence and reasoning Ability1

Section Id :	540626291
Section Number :	1
Section type :	Online
Mandatory or Optional :	Mandatory
Number of Questions :	20
Number of Questions to be attempted :	20
Section Marks :	20
Enable Mark as Answered Mark for Review and Clear Response :	Yes
Sub-Section Number :	1
Sub-Section Id :	540626338
Question Shuffling Allowed :	Yes

Question Number : 1 Question Id : 5406266836 Question Type : MCQ Option Shuffling : Yes Is Question Mandatory : No Option Orientation : Vertical

Correct Marks : 1 Wrong Marks : 0.25

From the given responses, find the missing letter in the series.

CDE, IHG, KLM, QPO, STU, ?

Options :

1. ✓ YXW
2. ✗ WXY
3. ✗ XYW
4. ✗ XWY

Question Number : 1 Question Id : 5406266836 Question Type : MCQ Option Shuffling : Yes Is Question Mandatory : No Option

**Orientation : Vertical**

**Correct Marks : 1 Wrong Marks : 0.25**

दिए गए विकल्पों में से, श्रेणी में लुप्त अक्षर ज्ञात कीजिए।

CDE, IHG, KLM, QPO, STU, ?

**Options :**

1. ✓ YXW
2. ✗ WXY
3. ✗ XYW
4. ✗ XWY

**Question Number : 2 Question Id : 5406266837 Question Type : MCQ Option Shuffling : Yes Is Question Mandatory : No Option**

**Orientation : Vertical**

**Correct Marks : 1 Wrong Marks : 0.25**

From the given responses, find the missing letter in the series.

DMP, FLN, HKL, JJJ, ?

**Options :**

1. ✗ MII
2. ✓ LIH
3. ✗ MIF
4. ✗ MIH

**Question Number : 2 Question Id : 5406266837 Question Type : MCQ Option Shuffling : Yes Is Question Mandatory : No Option**

**Orientation : Vertical**

**Correct Marks : 1 Wrong Marks : 0.25**

दिए गए विकल्पों में से, श्रेणी में लुप्त अक्षर ज्ञात कीजिए।

DMP, FLN, HKL, JJJ, ?

**Options :**

1. ✗ MII
2. ✓ LIH
3. ✗ MIF

4. ✘ MIH

**Question Number : 3 Question Id : 5406266838 Question Type : MCQ Option Shuffling : Yes Is Question Mandatory : No Option Orientation : Vertical**

**Correct Marks : 1 Wrong Marks : 0.25**

From the given responses, find the missing letter in the series.

ZY, WVU, ?, NMLKJ

**Options :**

1. ✔ SRQP
2. ✘ SPQR
3. ✘ SPQ
4. ✘ SPQP

**Question Number : 3 Question Id : 5406266838 Question Type : MCQ Option Shuffling : Yes Is Question Mandatory : No Option Orientation : Vertical**

**Correct Marks : 1 Wrong Marks : 0.25**

दिए गए विकल्पों में से, श्रेणी में लुप्त अक्षर ज्ञात कीजिए।

ZY, WVU, ?, NMLKJ

**Options :**

1. ✔ SRQP
2. ✘ SPQR
3. ✘ SPQ
4. ✘ SPQP

**Question Number : 4 Question Id : 5406266839 Question Type : MCQ Option Shuffling : Yes Is Question Mandatory : No Option Orientation : Vertical**

**Correct Marks : 1 Wrong Marks : 0.25**

Select the related word from the given alternatives.

CURE : DISEASE :: HEAL : ?

**Options :**

1. ✘ Illness
2. ✔ Injury
3. ✘ Recover
4. ✘ Sick

**Question Number : 4 Question Id : 5406266839 Question Type : MCQ Option Shuffling : Yes Is Question Mandatory : No Option Orientation : Vertical**

**Correct Marks : 1 Wrong Marks : 0.25**

दिए गए विकल्पों में से संबंधित शब्द को चुनिए।

इलाज : रोग :: घाव भरना : ?

**Options :**

1. ✘ बीमारी
2. ✔ चोट
3. ✘ स्वस्थ होना
4. ✘ अस्वस्थ

**Question Number : 5 Question Id : 5406266840 Question Type : MCQ Option Shuffling : Yes Is Question Mandatory : No Option Orientation : Vertical**

**Correct Marks : 1 Wrong Marks : 0.25**

Select the related word from the given alternatives.

Cotton : White :: Coal : ?

**Options :**

1. ✘ Fire
2. ✘ Mine
3. ✘ Wood
4. ✔ Black

**Question Number : 5 Question Id : 5406266840 Question Type : MCQ Option Shuffling : Yes Is Question Mandatory : No Option Orientation : Vertical**

**Correct Marks : 1 Wrong Marks : 0.25**

दिए गए विकल्पों में से संबंधित शब्द को चुनिए।

कपास : सफेद :: कोयला : ?

**Options :**

1. ✘ आग
2. ✘ खदान
3. ✘ लकड़ी
4. ✔ काला

**Question Number : 6 Question Id : 5406266841 Question Type : MCQ Option Shuffling : Yes Is Question Mandatory : No Option Orientation : Vertical**

**Correct Marks : 1 Wrong Marks : 0.25**

Select the related word from the given alternatives.

Words : Sentence :: Paragraph : ?

**Options :**

1. ✘ Typing
2. ✔ Essay
3. ✘ Letters
4. ✘ Phrase

**Question Number : 6 Question Id : 5406266841 Question Type : MCQ Option Shuffling : Yes Is Question Mandatory : No Option Orientation : Vertical**

**Correct Marks : 1 Wrong Marks : 0.25**

दिए गए विकल्पों में से संबंधित शब्द को चुनिए।

शब्द : वाक्य :: पैराग्राफ : ?

**Options :**

1. ✘ टंकण
2. ✔ निबंध
3. ✘ अक्षर

4. ✖ वाक्यांश

**Question Number : 7 Question Id : 5406266842 Question Type : MCQ Option Shuffling : Yes Is Question Mandatory : No Option Orientation : Vertical**

**Correct Marks : 1 Wrong Marks : 0.25**

A 'Magazine' is related to 'Editor' in the same way as an 'Drama' is related to \_\_\_\_\_.

**Options :**

1. ✔ Director
2. ✖ Hero
3. ✖ Heroine
4. ✖ Painter

**Question Number : 7 Question Id : 5406266842 Question Type : MCQ Option Shuffling : Yes Is Question Mandatory : No Option Orientation : Vertical**

**Correct Marks : 1 Wrong Marks : 0.25**

जिस प्रकार 'पत्रिका', 'सम्पादक' से संबंधित है, उसी प्रकार 'नाटक' \_\_\_\_\_ से संबंधित है।

**Options :**

1. ✔ निर्देशक
2. ✖ नायक
3. ✖ नायिका
4. ✖ चित्रकार

**Question Number : 8 Question Id : 5406266843 Question Type : MCQ Option Shuffling : Yes Is Question Mandatory : No Option Orientation : Vertical**

**Correct Marks : 1 Wrong Marks : 0.25**

In the following question, select the related letters from the given alternatives.

CEGI : XVTR :: DFHJ : ?

**Options :**

1. ✖ XTRT
2. ✖ XQOM
3. ✖ ZVSQ

4. ✓ WUSQ

**Question Number : 8 Question Id : 5406266843 Question Type : MCQ Option Shuffling : Yes Is Question Mandatory : No Option Orientation : Vertical**

**Correct Marks : 1 Wrong Marks : 0.25**

निम्न प्रश्न में, दिए गए विकल्पों में से सम्बन्धित अक्षरो का चयन कीजिए।

CEGI : XVTR :: DFHJ : ?

**Options :**

1. ✗ XTRT
2. ✗ XQOM
3. ✗ ZVSQ
4. ✓ WUSQ

**Question Number : 9 Question Id : 5406266844 Question Type : MCQ Option Shuffling : Yes Is Question Mandatory : No Option Orientation : Vertical**

**Correct Marks : 1 Wrong Marks : 0.25**

In the following question, select the related letters from the given alternatives.

QS UW : TVXZ :: ACEG : ?

**Options :**

1. ✗ KMNP
2. ✗ EGMN
3. ✓ DFHJ
4. ✗ FHIL

**Question Number : 9 Question Id : 5406266844 Question Type : MCQ Option Shuffling : Yes Is Question Mandatory : No Option Orientation : Vertical**

**Correct Marks : 1 Wrong Marks : 0.25**

निम्न प्रश्न में, दिए गए विकल्पों में से सम्बन्धित अक्षरो का चयन कीजिए।

QS UW : TVXZ :: ACEG : ?

**Options :**



1. ✘ KMNP
2. ✘ EGMN
3. ✔ DFHJ
4. ✘ FHIL

**Question Number : 10 Question Id : 5406266845 Question Type : MCQ Option Shuffling : Yes Is Question Mandatory : No Option Orientation : Vertical**

**Correct Marks : 1 Wrong Marks : 0.25**

In the following question, select the related letters from the given alternatives.

AZB : BYC :: CXD : \_\_\_\_\_

**Options :**

1. ✔ DWE
2. ✘ DEF
3. ✘ YOG
4. ✘ FRE

**Question Number : 10 Question Id : 5406266845 Question Type : MCQ Option Shuffling : Yes Is Question Mandatory : No Option Orientation : Vertical**

**Correct Marks : 1 Wrong Marks : 0.25**

निम्न प्रश्न में, दिए गए विकल्पों में से सम्बन्धित अक्षरो का चयन कीजिए।

AZB : BYC :: CXD : \_\_\_\_\_

**Options :**

1. ✔ DWE
2. ✘ DEF
3. ✘ YOG
4. ✘ FRE

**Question Number : 11 Question Id : 5406266846 Question Type : MCQ Option Shuffling : Yes Is Question Mandatory : No Option Orientation : Vertical**

**Correct Marks : 1 Wrong Marks : 0.25**

If 'A' is coded as 1, 'B' as 3, 'C' as 5 and so on, which of the following is the sum of the numerical value of the word 'FAZED'?

**Options :**

1. ✘ 81
2. ✔ 79
3. ✘ 77
4. ✘ 80

**Question Number : 11 Question Id : 5406266846 Question Type : MCQ Option Shuffling : Yes Is Question Mandatory : No Option Orientation : Vertical**

**Correct Marks : 1 Wrong Marks : 0.25**

यदि 'A' का कूट 1, 'B' का कूट 3, 'C' का 5 तथा इसी प्रकार हो तो, निम्नलिखित में से 'FAZED' शब्द के संख्यात्मक मान का योगफल क्या होगा?

**Options :**

1. ✘ 81
2. ✔ 79
3. ✘ 77
4. ✘ 80

**Question Number : 12 Question Id : 5406266847 Question Type : MCQ Option Shuffling : Yes Is Question Mandatory : No Option Orientation : Vertical**

**Correct Marks : 1 Wrong Marks : 0.25**

If "MUSIC" is coded as "NDVJT" in a certain code language, then how will "OCTAVE" be coded in the same language?

**Options :**

1. ✔ PFDWUB
2. ✘ PDFWUB
3. ✘ WUBPDF
4. ✘ WDFPUB

**Question Number : 12 Question Id : 5406266847 Question Type : MCQ Option Shuffling : Yes Is Question Mandatory : No Option Orientation : Vertical**

**Correct Marks : 1 Wrong Marks : 0.25**

किसी निश्चित कूट भाषा में, "MUSIC" को "NDVJT" के रूप में लिखा जाता है, तो उसी कूट भाषा में, "OCTAVE" को किस प्रकार लिखा जाएगा?

**Options :**

1. ✓ PFDWUB
2. ✗ PDFWUB
3. ✗ WUBPDF
4. ✗ WDFPUB

**Question Number : 13 Question Id : 5406266848 Question Type : MCQ Option Shuffling : Yes Is Question Mandatory : No Option Orientation : Vertical**

**Correct Marks : 1 Wrong Marks : 0.25**

If 'red' means 'black', 'black' means 'brown', 'brown' means 'yellow', 'yellow' means 'pink' and 'pink' means 'red', and then what will be the colour of blood in this language?

**Options :**

1. ✗ Pink
2. ✗ Red
3. ✓ Black
4. ✗ Brown

**Question Number : 13 Question Id : 5406266848 Question Type : MCQ Option Shuffling : Yes Is Question Mandatory : No Option Orientation : Vertical**

**Correct Marks : 1 Wrong Marks : 0.25**

यदि 'लाल' का अर्थ 'काला' है, 'काले' का अर्थ 'भूरा' है, 'भूरे' का अर्थ 'पीला' है, 'पीले' का अर्थ 'गुलाबी' है और 'गुलाबी' का अर्थ 'लाल' है, तो इस भाषा में रक्त का रंग क्या होगा?

**Options :**

1. ✗ गुलाबी
2. ✗ लाल
3. ✓ काला
4. ✗ भूरा

**Question Number : 14 Question Id : 5406266849 Question Type : MCQ Option Shuffling : Yes Is Question Mandatory : No Option Orientation : Vertical**

**Correct Marks : 1 Wrong Marks : 0.25**

If 'INSPITE' is coded as '91419169205' in a certain language, then how will 'INSTEAD' be coded in the same language?

**Options :**

1. ✓ 9141920514
2. ✗ 9141902514
3. ✗ 9141920154
4. ✗ 9114920514

**Question Number : 14 Question Id : 5406266849 Question Type : MCQ Option Shuffling : Yes Is Question Mandatory : No Option Orientation : Vertical**

**Correct Marks : 1 Wrong Marks : 0.25**

यदि 'INSPITE' को एक निश्चित भाषा में '91419169205' के रूप में कूटित किया गया है, तो 'INSTEAD' को उसी भाषा में कैसे कूटित किया जाएगा?

**Options :**

1. ✓ 9141920514
2. ✗ 9141902514
3. ✗ 9141920154
4. ✗ 9114920514

**Question Number : 15 Question Id : 5406266850 Question Type : MCQ Option Shuffling : Yes Is Question Mandatory : No Option Orientation : Vertical**

**Correct Marks : 1 Wrong Marks : 0.25**

Six girls P, Q, R, S T and U sit in a row, not necessarily in the same order. T sits exactly in between R and Q. P sits exactly in between Q and U. Who sits exactly in between T and P?

**Options :**

1. ✓ Q
2. ✗ R
3. ✗ S
4. ✗ U

**Question Number : 15 Question Id : 5406266850 Question Type : MCQ Option Shuffling : Yes Is Question Mandatory : No Option Orientation : Vertical**

**Correct Marks : 1 Wrong Marks : 0.25**

छह लड़कियां P, Q, R, S, T और U एक पंक्ति में बैठती हैं, जरूरी नहीं कि इसी क्रम में हो। T, R और Q के ठीक बीच में बैठती है। P, Q और U के ठीक बीच में बैठती है। T और P के ठीक बीच में कौन बैठती है?

**Options :**

1. ✓ Q
2. ✗ R
3. ✗ S
4. ✗ U

**Question Number : 16 Question Id : 5406266851 Question Type : MCQ Option Shuffling : Yes Is Question Mandatory : No Option Orientation : Vertical**

**Correct Marks : 1 Wrong Marks : 0.25**

Four persons A, B, C and D arrive to attend a meeting. D arrives 10 minutes after B and twenty minutes before A, who arrives 10 minutes before C. Who is the first person to arrive at the meeting?

**Options :**

1. ✗ A
2. ✓ B
3. ✗ C
4. ✗ Either D or B

**Question Number : 16 Question Id : 5406266851 Question Type : MCQ Option Shuffling : Yes Is Question Mandatory : No Option Orientation : Vertical**

**Correct Marks : 1 Wrong Marks : 0.25**

चार व्यक्ति A, B, C और D एक मीटिंग में भाग लेने के लिए आते हैं। D, B के 10 मिनट बाद और A से बीस मिनट पहले आता है, जो C से 10 मिनट पहले आता है। मीटिंग में पहुंचने वाला पहला व्यक्ति कौन है?

**Options :**

1. ✗ A
2. ✓ B
3. ✗ C
4. ✗ या तो D या B

**Question Number : 17 Question Id : 5406266852 Question Type : MCQ Option Shuffling : Yes Is Question Mandatory : No Option Orientation : Vertical**

**Correct Marks : 1 Wrong Marks : 0.25**

Six persons – A, B, C, D, E and F sit around a circular table. D is adjacent to A and E. B is adjacent to E and F. Who is opposite C?

**Options :**

1. ✓ E
2. ✗ A
3. ✗ F
4. ✗ D

**Question Number : 17 Question Id : 5406266852 Question Type : MCQ Option Shuffling : Yes Is Question Mandatory : No Option Orientation : Vertical**

**Correct Marks : 1 Wrong Marks : 0.25**

छह व्यक्ति- A, B, C, D, E और F एक वृत्ताकार मेज के चारों ओर बैठे हैं, जरूरी नहीं कि इसी क्रम में हो। D, A और E के निकटवर्ती है। B, E और F के निकटवर्ती है। C के विपरीत कौन है?

**Options :**

1. ✓ E
2. ✗ A
3. ✗ F
4. ✗ D

**Question Number : 18 Question Id : 5406266853 Question Type : MCQ Option Shuffling : Yes Is Question Mandatory : No Option Orientation : Vertical**

**Correct Marks : 1 Wrong Marks : 0.25**

If you are 19<sup>th</sup> person in a queue starting from one end and 17<sup>th</sup> from another end. What is the number of persons in the queue?

**Options :**

1. ✗ 36
2. ✓ 35
3. ✗ 37
4. ✗ 33

**Question Number : 18 Question Id : 5406266853 Question Type : MCQ Option Shuffling : Yes Is Question Mandatory : No Option Orientation : Vertical**

**Correct Marks : 1 Wrong Marks : 0.25**

यदि आप कतार में एक छोर से 19 वें व्यक्ति हैं तथा दूसरे छोर से 17वें स्थान पर हैं। कतार में व्यक्तियों की संख्या कितनी है?

**Options :**

1. ✘ 36
2. ✔ 35
3. ✘ 37
4. ✘ 33

**Question Number : 19 Question Id : 5406266854 Question Type : MCQ Option Shuffling : Yes Is Question Mandatory : No Option Orientation : Vertical**

**Correct Marks : 1 Wrong Marks : 0.25**

If A is mother of B & C, E is husband of B, D is father-in-law of E, F is daughter of E then How is F related to C?

**Options :**

1. ✘ Daughter
2. ✘ Sister
3. ✘ Mother
4. ✔ Niece

**Question Number : 19 Question Id : 5406266854 Question Type : MCQ Option Shuffling : Yes Is Question Mandatory : No Option Orientation : Vertical**

**Correct Marks : 1 Wrong Marks : 0.25**

यदि A, B और C की माता है, E, B का पति है, D, E का ससुर है, F, E का बेटा है, तो F, C से किस प्रकार संबंधित है?

**Options :**

1. ✘ बेटी
2. ✘ बहन
3. ✘ माँ
4. ✔ भांजी

**Question Number : 20 Question Id : 5406266855 Question Type : MCQ Option Shuffling : Yes Is Question Mandatory : No Option Orientation : Vertical**

**Correct Marks : 1 Wrong Marks : 0.25**

In the question below are given two statements followed by three conclusions. You have to take the given statements to be true even if they seem to be at variance from commonly-known facts. Read all the conclusions and then decide which of the given conclusion(s) logically follows from the given statements disregarding commonly known facts.

Statements:

Some trees are roads.  
All roads are stones.

Conclusions:

I. All trees are roads.  
II. Some stones are trees.  
III. No stone is tree.

**Options :**

1. ✘ Only either II or III follows
2. ✘ Only either I or II follows
3. ✘ Only either I or III follows
4. ✔ Only II follows

**Question Number : 20 Question Id : 5406266855 Question Type : MCQ Option Shuffling : Yes Is Question Mandatory : No Option Orientation : Vertical**

**Correct Marks : 1 Wrong Marks : 0.25**

नीचे दिए गए प्रश्न में दो कथन और उसके बाद तीन निष्कर्ष दिए गए हैं। आपको दिए गए कथनों को सत्य मानना है भले ही वे सर्वज्ञात तथ्यों से भिन्न प्रतीत होते हों। सभी निष्कर्षों को पढ़िए फिर तय कीजिए कि दिए गए निष्कर्षों में से कौन सा तर्कसंगत रूप से अनुसरण करता है, चाहे सर्वज्ञात तथ्य कुछ भी हों।

कथन:

कुछ पेड़, सड़क हैं।  
सभी सड़क, पत्थर हैं।

निष्कर्ष:

I. सभी पेड़, सड़क हैं।  
II. कुछ पत्थर, पेड़ हैं।  
III. कोई पत्थर, पेड़ नहीं है।

**Options :**

1. ✘ केवल या तो II या III अनुसरण करता है
2. ✘ केवल या तो I या II अनुसरण करता है
3. ✘ केवल या तो I या III अनुसरण करता है
4. ✔ केवल II अनुसरण करता है



## Mental Ability2

<b>Group Number :</b>	2
<b>Group Id :</b>	540626213
<b>Group Maximum Duration :</b>	0
<b>Group Minimum Duration :</b>	0
<b>Show Attended Group? :</b>	No
<b>Edit Attended Group? :</b>	No
<b>Break time :</b>	0
<b>Group Marks :</b>	20
<b>Is this Group for Examiner? :</b>	No

## General intelligence and reasoning Ability2

<b>Section Id :</b>	540626292
<b>Section Number :</b>	1
<b>Section type :</b>	Online
<b>Mandatory or Optional :</b>	Mandatory
<b>Number of Questions :</b>	20
<b>Number of Questions to be attempted :</b>	20
<b>Section Marks :</b>	20
<b>Enable Mark as Answered Mark for Review and Clear Response :</b>	Yes
<b>Sub-Section Number :</b>	1
<b>Sub-Section Id :</b>	540626339
<b>Question Shuffling Allowed :</b>	Yes

**Question Number : 21 Question Id : 5406266856 Question Type : MCQ Option Shuffling : Yes Is Question Mandatory : No Option Orientation : Vertical**

**Correct Marks : 1 Wrong Marks : 0.25**

In the question below are given three statements followed by three conclusions. You have to take the given statements to be true even if they seem to be at variance from commonly-known facts. Read all the conclusions and then decide which of the given conclusion(s) logically follows from the given statements disregarding commonly known facts.

Statements:

Some sugars are fats.

Some fats are vitamins.

Some vitamins are proteins.

Conclusions:

I. Some proteins are fats.

II. Some fats are sugars.

III. Some vitamins are sugars.

**Options :**

1. ✘ None follows

2. ✘ Only I follows

3. ✘ Only III follows

4. ✔ Only II follows

**Question Number : 21 Question Id : 5406266856 Question Type : MCQ Option Shuffling : Yes Is Question Mandatory : No Option Orientation : Vertical**

**Correct Marks : 1 Wrong Marks : 0.25**

नीचे दिए गए प्रश्न में तीन कथन और उसके बाद तीन निष्कर्ष दिए गए हैं। आपको दिए गए कथनों को सत्य मानना है भले ही वे सर्वज्ञात तथ्यों से भिन्न प्रतीत होते हों। सभी निष्कर्षों को पढ़िए फिर तय कीजिए कि दिए गए निष्कर्षों में से कौन सा तर्कसंगत रूप से अनुसरण करता है, चाहे सर्वज्ञात तथ्य कुछ भी हों।

कथन:

कुछ शर्करा, वसा हैं।

कुछ वसा, विटामिन हैं।

कुछ विटामिन, प्रोटीन हैं।

निष्कर्ष:

I. कुछ प्रोटीन, वसा हैं।

II. कुछ वसा, शर्करा हैं।

III. कुछ विटामिन, शर्करा हैं।

**Options :**

1. ✘ कोई अनुसरण नहीं करता है

2. ✘ केवल I अनुसरण करता है

3. ✘ केवल III अनुसरण करता है

4. ✓ केवल II अनुसरण करता है

**Question Number : 22 Question Id : 5406266857 Question Type : MCQ Option Shuffling : Yes Is Question Mandatory : No Option Orientation : Vertical**

**Correct Marks : 1 Wrong Marks : 0.25**

Choose the appropriate combination of signs to solve the following expression.

$$16 * 8 * 1 * 8$$

**Options :**

1. ✗ = - ÷

2. ✓ - ÷ =

3. ✗ ÷ - =

4. ✗ ÷ = -

**Question Number : 22 Question Id : 5406266857 Question Type : MCQ Option Shuffling : Yes Is Question Mandatory : No Option Orientation : Vertical**

**Correct Marks : 1 Wrong Marks : 0.25**

निम्न व्यंजक को हल करने के लिए संकेतों के उपयुक्त संयोजन का चयन कीजिए।

$$16 * 8 * 1 * 8$$

**Options :**

1. ✗ = - ÷

2. ✓ - ÷ =

3. ✗ ÷ - =

4. ✗ ÷ = -

**Question Number : 23 Question Id : 5406266858 Question Type : MCQ Option Shuffling : Yes Is Question Mandatory : No Option Orientation : Vertical**

**Correct Marks : 1 Wrong Marks : 0.25**

Find the missing number in the series given below.

13457892, 1345789, 345789, 34578, ?

**Options :**

1. ✘ 3457
2. ✔ 4578
3. ✘ 8754
4. ✘ 4789

**Question Number : 23 Question Id : 5406266858 Question Type : MCQ Option Shuffling : Yes Is Question Mandatory : No Option Orientation : Vertical**

**Correct Marks : 1 Wrong Marks : 0.25**

नीचे दी गयी श्रेणी में लुप्त संख्या ज्ञात कीजिए।

13457892, 1345789, 345789, 34578, ?

**Options :**

1. ✘ 3457
2. ✔ 4578
3. ✘ 8754
4. ✘ 4789

**Question Number : 24 Question Id : 5406266859 Question Type : MCQ Option Shuffling : Yes Is Question Mandatory : No Option Orientation : Vertical**

**Correct Marks : 1 Wrong Marks : 0.25**

Find the missing number in the series given below.

3, 8, 22, 63, 185, ?

**Options :**

1. ✘ 285
2. ✘ 295
3. ✘ 310
4. ✔ 550

**Question Number : 24 Question Id : 5406266859 Question Type : MCQ Option Shuffling : Yes Is Question Mandatory : No Option Orientation : Vertical**

**Correct Marks : 1 Wrong Marks : 0.25**

नीचे दी गयी श्रेणी में लुप्त संख्या ज्ञात कीजिए।

3, 8, 22, 63, 185, ?

Options :

1. ✘ 285
2. ✘ 295
3. ✘ 310
4. ✔ 550

Question Number : 25 Question Id : 5406266860 Question Type : MCQ Option Shuffling : Yes Is Question Mandatory : No Option Orientation : Vertical

Correct Marks : 1 Wrong Marks : 0.25

Which two signs should be interchange to make the following equation correct?

$$18 + 24 - 6 \times 6 \div 3 = 39$$

Options :

1. ✘  $\div$  and  $+$
2. ✘  $+$  and  $-$
3. ✔  $\div$  and  $-$
4. ✘  $\times$  and  $+$

Question Number : 25 Question Id : 5406266860 Question Type : MCQ Option Shuffling : Yes Is Question Mandatory : No Option Orientation : Vertical

Correct Marks : 1 Wrong Marks : 0.25

निम्नलिखित समीकरण को सही बनाने के लिए किन दो चिन्हों को परस्पर बदलना चाहिए?

$$18 + 24 - 6 \times 6 \div 3 = 39$$

Options :

1. ✘  $\div$  और  $+$
2. ✘  $+$  और  $-$
3. ✔  $\div$  और  $-$
4. ✘  $\times$  और  $+$

**Question Number : 26 Question Id : 5406266861 Question Type : MCQ Option Shuffling : Yes Is Question Mandatory : No Option Orientation : Vertical**

**Correct Marks : 1 Wrong Marks : 0.25**

In the following question, select the related number from the given alternatives.

215 : 342 :: 728 : ?

**Options :**

1. ✘ 989
2. ✘ 859
3. ✘ 987
4. ✔ 999

**Question Number : 26 Question Id : 5406266861 Question Type : MCQ Option Shuffling : Yes Is Question Mandatory : No Option Orientation : Vertical**

**Correct Marks : 1 Wrong Marks : 0.25**

निम्नलिखित प्रश्न में, दिए गए विकल्पों में से सम्बन्धित संख्या का चयन कीजिए।

215 : 342 :: 728 : ?

**Options :**

1. ✘ 989
2. ✘ 859
3. ✘ 987
4. ✔ 999

**Question Number : 27 Question Id : 5406266862 Question Type : MCQ Option Shuffling : Yes Is Question Mandatory : No Option Orientation : Vertical**

**Correct Marks : 1 Wrong Marks : 0.25**

What comes in place of question mark (?) in the figure given below?

12	44	96
41	23	205
50	33	?

**Options :**

1. ✓ 300
2. ✗ 500
3. ✗ 330
4. ✗ 350

**Question Number : 27 Question Id : 5406266862 Question Type : MCQ Option Shuffling : Yes Is Question Mandatory : No Option Orientation : Vertical**

**Correct Marks : 1 Wrong Marks : 0.25**

नीचे दिए गए चित्र में प्रश्न चिन्ह (?) के स्थान पर क्या आएगा?

12	44	96
41	23	205
50	33	?

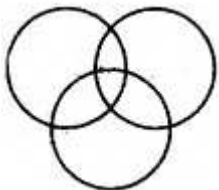
**Options :**

1. ✓ 300
2. ✗ 500
3. ✗ 330
4. ✗ 350

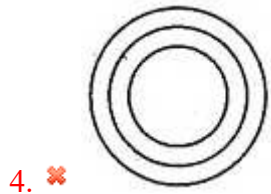
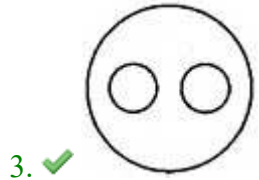
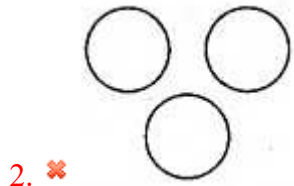
**Question Number : 28 Question Id : 5406266863 Question Type : MCQ Option Shuffling : Yes Is Question Mandatory : No Option Orientation : Vertical**

**Correct Marks : 1 Wrong Marks : 0.25**

Which of the following diagram represents January, December and Months?

**Options :**

1. ✗

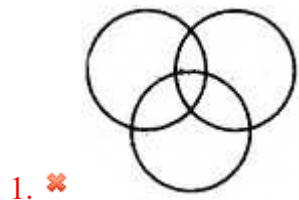


**Question Number : 28 Question Id : 5406266863 Question Type : MCQ Option Shuffling : Yes Is Question Mandatory : No Option Orientation : Vertical**

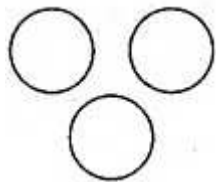
**Correct Marks : 1 Wrong Marks : 0.25**

निम्नलिखित में से कौन सी आकृति जनवरी, दिसंबर और महीनों को दर्शाती हैं?

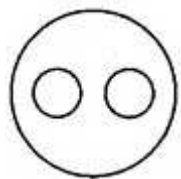
**Options :**



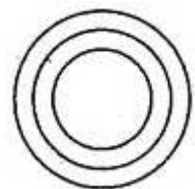




2. ✘



3. ✔



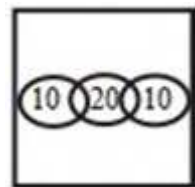
4. ✘

**Question Number : 29 Question Id : 5406266864 Question Type : MCQ Option Shuffling : Yes Is Question Mandatory : No Option Orientation : Vertical**

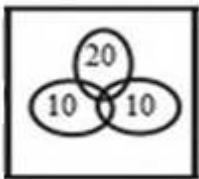
**Correct Marks : 1 Wrong Marks : 0.25**

In a group of 60 persons, some prefer tea; some prefer coffee and some both. If 50 prefer coffee and 20 both, then which of the following is the correct way of representing the Venn diagram?

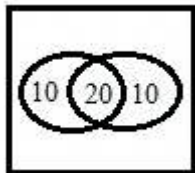
**Options :**



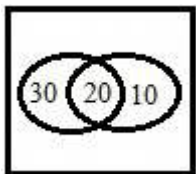
1. ✘



2. ✘



3. ✘



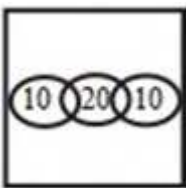
4. ✔

**Question Number : 29 Question Id : 5406266864 Question Type : MCQ Option Shuffling : Yes Is Question Mandatory : No Option Orientation : Vertical**

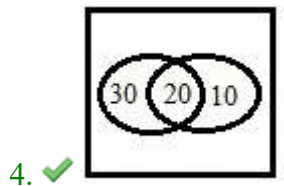
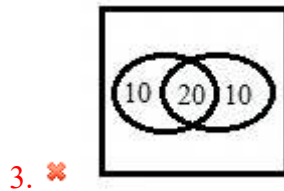
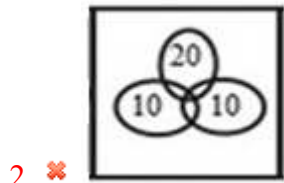
**Correct Marks : 1 Wrong Marks : 0.25**

60 व्यक्तियों के समूह में, कुछ चाय पसंद करते हैं; कुछ कॉफी पसंद करते हैं और कुछ दोनों। यदि 50 कॉफी और 20 दोनों पसंद करते हैं, तो निम्न में से कौन सा वेन आरेख को सही तरीके से दर्शाता है?

**Options :**



1. ✘



**Question Number : 30 Question Id : 5406266865 Question Type : MCQ Option Shuffling : Yes Is Question Mandatory : No Option Orientation : Vertical**

**Correct Marks : 1 Wrong Marks : 0.25**

Laxman went 15 km to north then he turned West and covered 10 kms. Then he turned South and covered 5 kms. Finally turning to East he covered 10 kms. In which direction he is from his house?

**Options :**

1. ✘ East
2. ✘ West
3. ✔ North
4. ✘ South

**Question Number : 30 Question Id : 5406266865 Question Type : MCQ Option Shuffling : Yes Is Question Mandatory : No Option Orientation : Vertical**

**Correct Marks : 1 Wrong Marks : 0.25**

लक्ष्मण उत्तर दिशा में 15 कि.मी. चला और फिर वह पश्चिम दिशा में मुड़कर 10 कि.मी.चला। फिर वह दक्षिण दिशा में मुड़ा और 5 कि.मी. चला। अंततः पूर्व दिशा में मुड़कर वह 10 कि.मी. चला। अब वह अपने घर से किस दिशा की ओर है?

Options :

1. ✖ पूर्व
2. ✖ पश्चिम
3. ✔ उत्तर
4. ✖ दक्षिण

**Question Number : 31 Question Id : 5406266866 Question Type : MCQ Option Shuffling : Yes Is Question Mandatory : No Option Orientation : Vertical**

**Correct Marks : 1 Wrong Marks : 0.25**

Pran and Khan start from their office and walks in opposite direction, each traveling 10 km. Pran then turns left and walks 10 km while Khan turns right and walks 10 km. How far they are now from each other?

Options :

1. ✖ 0 km
2. ✖ 5 km
3. ✖ 10 km
4. ✔ 20 km

**Question Number : 31 Question Id : 5406266866 Question Type : MCQ Option Shuffling : Yes Is Question Mandatory : No Option Orientation : Vertical**

**Correct Marks : 1 Wrong Marks : 0.25**

प्रान और खान उनके दफ्तर से विपरीत दिशाओं में चलना प्रारंभ करते हुए प्रत्येक 10 किमी चलते हैं। प्रान फिर बाएं मुड़ जाता है और 10 किमी चलता है जबकि खान दाएं मुड़ जाता है और 10 किमी चलता है। वह एक दूसरे से कितनी दूरी पर हैं?

Options :

1. ✖ 0 किमी
2. ✖ 5 किमी
3. ✖ 10 किमी
4. ✔ 20 किमी

**Question Number : 32 Question Id : 5406266867 Question Type : MCQ Option Shuffling : Yes Is Question Mandatory : No Option Orientation : Vertical**

**Correct Marks : 1 Wrong Marks : 0.25**

Dhanesh walks 50 metre east and then he turns to his right and walks 30 metres. Now, in which direction is he from his starting point?

**Options :**

1. ✘ South-west
2. ✘ North-east
3. ✘ North-west
4. ✔ South-east

**Question Number : 32 Question Id : 5406266867 Question Type : MCQ Option Shuffling : Yes Is Question Mandatory : No Option Orientation : Vertical**

**Correct Marks : 1 Wrong Marks : 0.25**

धनेश 50 मीटर पूर्व की ओर चलता है और वह फिर दाएं मुड़ता है और 30 मीटर चलता है। अब वह प्रारंभिक बिंदु से किस दिशा में है?

**Options :**

1. ✘ दक्षिण-पश्चिम
2. ✘ उत्तर-पूर्व
3. ✘ उत्तर-पश्चिम
4. ✔ दक्षिण-पूर्व

**Question Number : 33 Question Id : 5406266868 Question Type : MCQ Option Shuffling : Yes Is Question Mandatory : No Option Orientation : Vertical**

**Correct Marks : 1 Wrong Marks : 0.25**

A person starts walking from point P in east direction. After walking 3 m he turned right and walked for 5 m. He then turned left and walked for 4 m. He then turned left and walked for 6 m. He then turned left and walked for 4 m and stopped at point Q. What is the direction of point Q with respect to point P?

**Options :**

1. ✔ North-east
2. ✘ South-west
3. ✘ West
4. ✘ South

**Question Number : 33 Question Id : 5406266868 Question Type : MCQ Option Shuffling : Yes Is Question Mandatory : No Option Orientation : Vertical**

**Correct Marks : 1 Wrong Marks : 0.25**

एक व्यक्ति पूर्व दिशा में बिंदु P से चलना प्रारम्भ करता है। 3 मीटर चलने के बाद वह दाईं ओर मुड़ जाता है और 5 मीटर चलता है। फिर वह बाईं ओर मुड़ता है

और 4 मीटर चलता है। फिर वह बाईं ओर मुड़ता है और 6 मीटर चलता है। फिर वह बाईं ओर मुड़ता है और 4 मीटर चलता है और बिंदु Q पर रुक जाता है। बिंदु P के संबंध में, बिंदु Q की दिशा क्या है?

Options :


1. ✓ उत्तर-पूर्व
2. ✗ दक्षिण पश्चिम
3. ✗ पश्चिम
4. ✗ दक्षिण

Question Number : 34 Question Id : 5406266869 Question Type : MCQ Option Shuffling : Yes Is Question Mandatory : No Option Orientation : Vertical

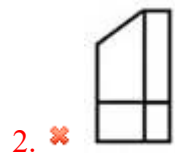
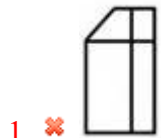
Correct Marks : 1 Wrong Marks : 0.25

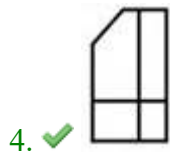
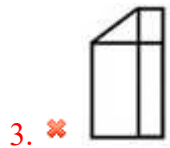
Which answer figure will complete the pattern in the question figure?

Question Figure:



Options :






Question Number : 34 Question Id : 5406266869 Question Type : MCQ Option Shuffling : Yes Is Question Mandatory : No Option Orientation : Vertical

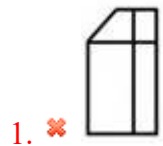
Correct Marks : 1 Wrong Marks : 0.25

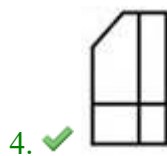
कौन-सी उत्तर आकृति, प्रश्न आकृति में पैटर्न को पूरा करेगी?

प्रश्न आकृति:



Options :



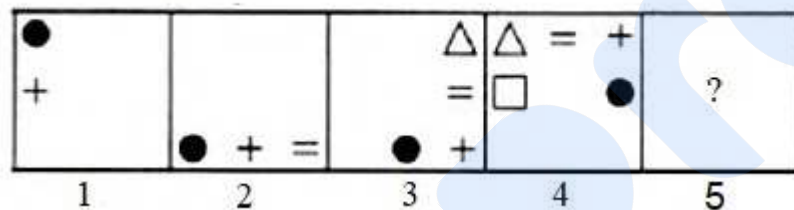


**Question Number : 35 Question Id : 5406266870 Question Type : MCQ Option Shuffling : Yes Is Question Mandatory : No Option Orientation : Vertical**

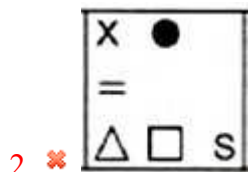
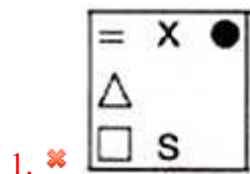
**Correct Marks : 1 Wrong Marks : 0.25**

In the question given below, which one of the four answer figures should come after the question figure on the right, if the sequence were continued.

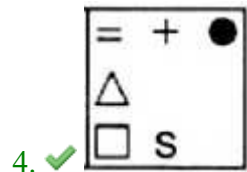
**Question figure:**



**Options :**





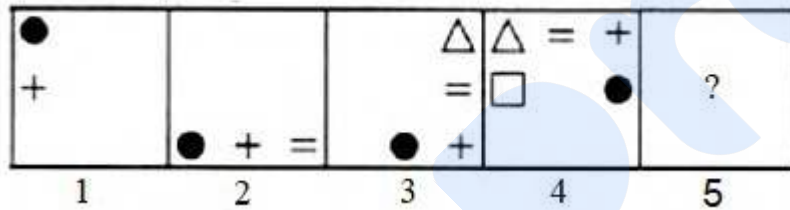


**Question Number : 35 Question Id : 5406266870 Question Type : MCQ Option Shuffling : Yes Is Question Mandatory : No Option Orientation : Vertical**

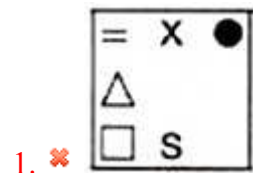
**Correct Marks : 1 Wrong Marks : 0.25**

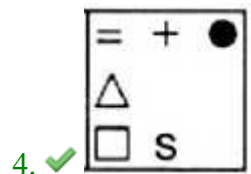
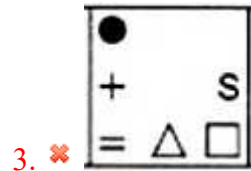
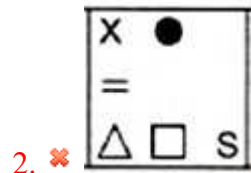
नीचे दिए गए प्रश्न में, निम्नलिखित चार उत्तर आकृति में से कौन सी आकृति, प्रश्न आकृति के बाद आएगा यदि इस क्रम को आगे बढ़ाया जाये।

प्रश्न आकृति:



Options :



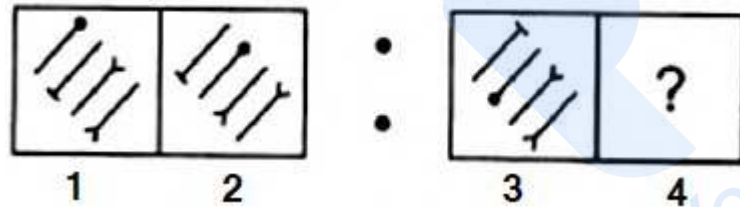


**Question Number : 36 Question Id : 5406266871 Question Type : MCQ Option Shuffling : Yes Is Question Mandatory : No Option Orientation : Vertical**

**Correct Marks : 1 Wrong Marks : 0.25**


In the question, select the related figure from the given alternatives.

**Question Figure:**



**Options :**



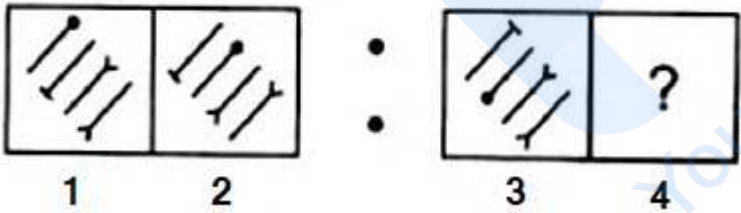


Question Number : 36 Question Id : 5406266871 Question Type : MCQ Option Shuffling : Yes Is Question Mandatory : No Option Orientation : Vertical

Correct Marks : 1 Wrong Marks : 0.25

प्रश्न में, दिए गए विकल्पों में से संबंधित आकृति का चयन कीजिए।

प्रश्न आकृति:



Options :



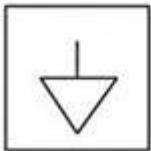


Question Number : 37 Question Id : 5406266872 Question Type : MCQ Option Shuffling : Yes Is Question Mandatory : No Option Orientation : Vertical

Correct Marks : 1 Wrong Marks : 0.25

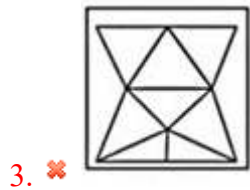
In the following question, find the answer figure in which question figure is embedded.

**Question Figure:**



**Options :**



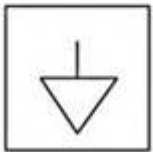


Question Number : 37 Question Id : 5406266872 Question Type : MCQ Option Shuffling : Yes Is Question Mandatory : No Option Orientation : Vertical

Correct Marks : 1 Wrong Marks : 0.25

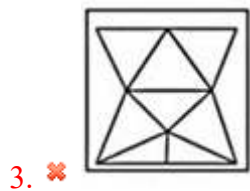
निम्नलिखित प्रश्न में, उस उत्तर आकृति को ज्ञात कीजिए जिसमें प्रश्न आकृति सन्निहित है।

प्रश्न आकृति:



Options :



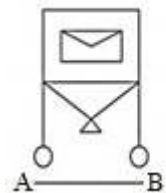


**Question Number : 38 Question Id : 5406266873 Question Type : MCQ Option Shuffling : Yes Is Question Mandatory : No Option Orientation : Vertical**

**Correct Marks : 1 Wrong Marks : 0.25**

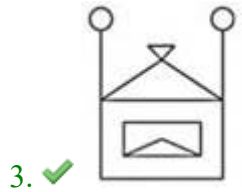
If a mirror is placed on the line AB, then which of the following answer figure is the right image of the given figure?

**Question Figure:**



**Options :**



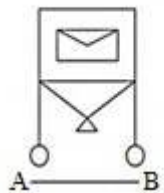


**Question Number : 38 Question Id : 5406266873 Question Type : MCQ Option Shuffling : Yes Is Question Mandatory : No Option Orientation : Vertical**

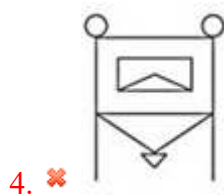
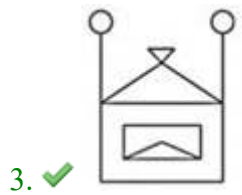
**Correct Marks : 1 Wrong Marks : 0.25**

उत्तर आकृतियों में कौन सी आकृति प्रश्न आकृति का सही प्रतिबिम्ब होगी जब दर्पण को रेखा AB पर रखा जाये?

प्रश्न आकृति:



**Options :**



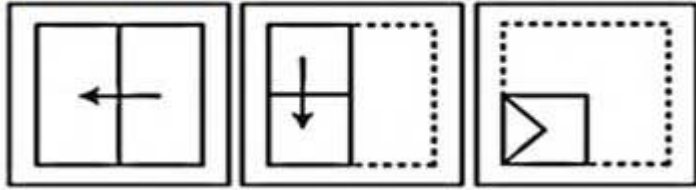
**Question Number : 39 Question Id : 5406266874 Question Type : MCQ Option Shuffling : Yes Is Question Mandatory : No Option Orientation : Vertical**

**Correct Marks : 1 Wrong Marks : 0.25**

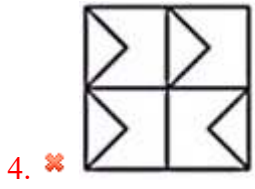
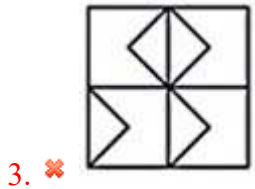
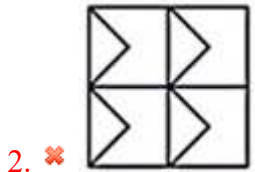
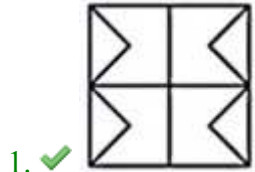
A piece of paper is folded and punched as shown below in the question figures. From the given answer figures, indicate how it will appear when opened.



Question Figure:



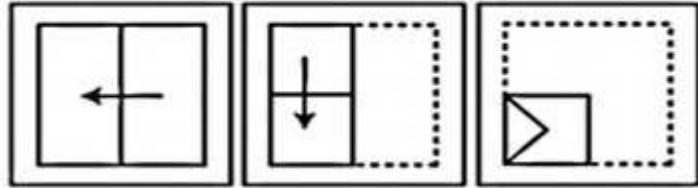
Options :



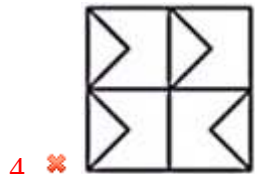
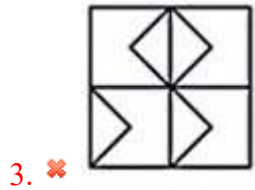
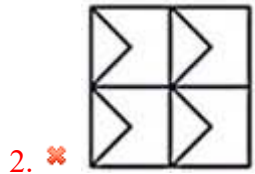
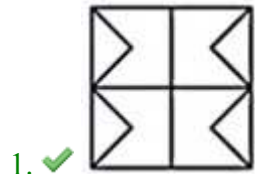
Question Number : 39 Question Id : 5406266874 Question Type : MCQ Option Shuffling : Yes Is Question Mandatory : No Option Orientation : Vertical Correct Marks : 1 Wrong Marks : 0.25

प्रश्न चित्र में दिखाए गए अनुसार कागज का एक टुकड़ा मोड़ा जाता है और फिर उसमें छेद किया जाता है। कागज को खोलने के बाद वह कैसा दिखाई देगा?

प्रश्न आकृति:

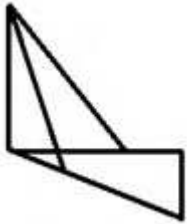


Options :



Question Number : 40 Question Id : 5406266875 Question Type : MCQ Option Shuffling : Yes Is Question Mandatory : No Option Orientation : Vertical Correct Marks : 1 Wrong Marks : 0.25

How many triangles are there in the following figure?



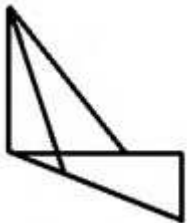
Options :

- 1. ✘ 3
- 2. ✔ 6
- 3. ✘ 9
- 4. ✘ 4

Question Number : 40 Question Id : 5406266875 Question Type : MCQ Option Shuffling : Yes Is Question Mandatory : No Option Orientation : Vertical

Correct Marks : 1 Wrong Marks : 0.25

निम्नलिखित आकृति में कितने त्रिभुज हैं?



Options :

- 1. ✘ 3
- 2. ✔ 6
- 3. ✘ 9
- 4. ✘ 4

<b>Group Number :</b>	3
<b>Group Id :</b>	540626214
<b>Group Maximum Duration :</b>	0
<b>Group Minimum Duration :</b>	0
<b>Show Attended Group? :</b>	No
<b>Edit Attended Group? :</b>	No
<b>Break time :</b>	0
<b>Group Marks :</b>	20
<b>Is this Group for Examiner? :</b>	No

## General Awareness1

<b>Section Id :</b>	540626293
<b>Section Number :</b>	1
<b>Section type :</b>	Online
<b>Mandatory or Optional :</b>	Mandatory
<b>Number of Questions :</b>	20
<b>Number of Questions to be attempted :</b>	20
<b>Section Marks :</b>	20
<b>Enable Mark as Answered Mark for Review and Clear Response :</b>	Yes
<b>Sub-Section Number :</b>	1
<b>Sub-Section Id :</b>	540626340
<b>Question Shuffling Allowed :</b>	Yes

**Question Number : 41 Question Id : 5406266876 Question Type : MCQ Option Shuffling : Yes Is Question Mandatory : No Option Orientation : Vertical**

**Correct Marks : 1 Wrong Marks : 0.25**

In which year was the Hawa Mahal of Jaipur constructed?

**Options :**

1. ✘ 1791
2. ✘ 1795
3. ✔ 1799
4. ✘ 1806

**Question Number : 41 Question Id : 5406266876 Question Type : MCQ Option Shuffling : Yes Is Question Mandatory : No Option Orientation : Vertical**

**Correct Marks : 1 Wrong Marks : 0.25**

जयपुर का हवा महल किस वर्ष बनाया गया था?

**Options :**

1. ✘ 1791
2. ✘ 1795
3. ✔ 1799
4. ✘ 1806

**Question Number : 42 Question Id : 5406266877 Question Type : MCQ Option Shuffling : Yes Is Question Mandatory : No Option Orientation : Vertical**

**Correct Marks : 1 Wrong Marks : 0.25**

Which of the following dance-forms is the Geetar Nach a part of?

**Options :**

1. ✘ Kuchipudi
2. ✔ Sattriya
3. ✘ Kathak
4. ✘ Kathakali

**Question Number : 42 Question Id : 5406266877 Question Type : MCQ Option Shuffling : Yes Is Question Mandatory : No Option Orientation : Vertical**

**Correct Marks : 1 Wrong Marks : 0.25**

गिटर नाच निम्नलिखित में से कौन से नृत्य-रूप का हिस्सा है?

**Options :**

1. ✘ कुचिपुड़ी
2. ✔ सत्तिया
3. ✘ कथक
4. ✘ कथकली

**Question Number : 43 Question Id : 5406266878 Question Type : MCQ Option Shuffling : Yes Is Question Mandatory : No Option Orientation : Vertical**

**Correct Marks : 1 Wrong Marks : 0.25**

Which of the following states is Theyyam a ritual art of?

**Options :**

1. ✘ Gujarat
2. ✘ Andhra Pradesh
3. ✔ Kerala
4. ✘ Maharashtra

**Question Number : 43 Question Id : 5406266878 Question Type : MCQ Option Shuffling : Yes Is Question Mandatory : No Option Orientation : Vertical**

**Correct Marks : 1 Wrong Marks : 0.25**

निम्नलिखित में से किस राज्य में तेय्यम एक सांस्कृतिक कला है?

**Options :**

1. ✘ गुजरात
2. ✘ आंध्र प्रदेश
3. ✔ केरल
4. ✘ महाराष्ट्र

**Question Number : 44 Question Id : 5406266879 Question Type : MCQ Option Shuffling : Yes Is Question Mandatory : No Option Orientation : Vertical**

**Correct Marks : 1 Wrong Marks : 0.25**

In which of the following cities is the Sheesh Mahal situated?

**Note: For this question, discrepancy is found in question/answer. So, this question is ignored for all candidates.**

**Options :**

1. Patiala
2. Jodhpur
3. Ahmedabad
4. Raipur

**Question Number : 44 Question Id : 5406266879 Question Type : MCQ Option Shuffling : Yes Is Question Mandatory : No Option Orientation : Vertical**

**Correct Marks : 1 Wrong Marks : 0.25**

शीश महल निम्नलिखित में से किस शहर में स्थित है?

**Note: For this question, discrepancy is found in question/answer. So, this question is ignored for all candidates.**

**Options :**

1. पटियाला
2. जोधपुर
3. अहमदाबाद
4. रायपुर

**Question Number : 45 Question Id : 5406266880 Question Type : MCQ Option Shuffling : Yes Is Question Mandatory : No Option Orientation : Vertical**

**Correct Marks : 1 Wrong Marks : 0.25**

Who out of the following sing the folk music Sana Lamok in the North-East?

**Options :**

1. ✘ Farmers
2. ✘ Unmarried girls
3. ✔ Priests
4. ✘ Sailors

**Question Number : 45 Question Id : 5406266880 Question Type : MCQ Option Shuffling : Yes Is Question Mandatory : No Option Orientation : Vertical**

**Correct Marks : 1 Wrong Marks : 0.25**

निम्नलिखित में से कौन उत्तर-पूर्व में लोक संगीत साना लामोक गाता है?

**Options :**

1. ✘ किसान
2. ✘ अविवाहित लड़कियां

3. ✓ पुजारियों

4. ✗ नाविकों

**Question Number : 46 Question Id : 5406266881 Question Type : MCQ Option Shuffling : Yes Is Question Mandatory : No Option Orientation : Vertical**

**Correct Marks : 1 Wrong Marks : 0.25**

Who is the Chairperson of the State Bank of India?

**Options :**

1. ✗ Anshula Kant

2. ✗ Arundhati Bhattacharya

3. ✗ Urijit Patel

4. ✓ Dinesh Kumar Khara

**Question Number : 46 Question Id : 5406266881 Question Type : MCQ Option Shuffling : Yes Is Question Mandatory : No Option Orientation : Vertical**

**Correct Marks : 1 Wrong Marks : 0.25**

भारतीय स्टेट बैंक के अध्यक्ष कौन हैं?

**Options :**

1. ✗ अंशुला कान्त

2. ✗ अरुंधती भट्टाचार्य

3. ✗ उर्जित पटेल

4. ✓ दिनेश कुमार खारा

**Question Number : 47 Question Id : 5406266882 Question Type : MCQ Option Shuffling : Yes Is Question Mandatory : No Option Orientation : Vertical**

**Correct Marks : 1 Wrong Marks : 0.25**

Which of the following was launched in the Union Budget 2020-21?

**Options :**

1. ✓ Kisan Rail

2. ✗ Krishi Rin

3. ✗ Krishi Urja



## 4. ✖ Kisan Shakti

**Question Number : 47 Question Id : 5406266882 Question Type : MCQ Option Shuffling : Yes Is Question Mandatory : No Option Orientation : Vertical**

**Correct Marks : 1 Wrong Marks : 0.25**

निम्नलिखित में से किसे केंद्रीय बजट 2020-21 में लॉन्च किया गया था?

**Options :**

1. ✔ किसान रेल
2. ✖ कृषि ऋण
3. ✖ कृषि ऊर्जा
4. ✖ किसान शक्ति

**Question Number : 48 Question Id : 5406266883 Question Type : MCQ Option Shuffling : Yes Is Question Mandatory : No Option Orientation : Vertical**

**Correct Marks : 1 Wrong Marks : 0.25**

What are the people called who are rich most of the time but may sometimes have a patch of bad luck?

**Options :**

1. ✖ Chronic poor
2. ✖ Churning poor
3. ✔ Occasionally poor
4. ✖ Non-poor

**Question Number : 48 Question Id : 5406266883 Question Type : MCQ Option Shuffling : Yes Is Question Mandatory : No Option Orientation : Vertical**

**Correct Marks : 1 Wrong Marks : 0.25**

निम्नलिखित में से उस वर्ग के लोगों को क्या कहा जाता है जो अधिकांश समय धनि रहते हैं परन्तु कभी कभी उनका भाग्य साथ नहीं देता?

**Options :**

1. ✖ चिरकालिक निर्धन
2. ✖ चक्रीय निर्धन
3. ✔ अनियमित निर्धन
4. ✖ गैर-निर्धन

**Question Number : 49 Question Id : 5406266884 Question Type : MCQ Option Shuffling : Yes Is Question Mandatory : No Option Orientation : Vertical**

**Correct Marks : 1 Wrong Marks : 0.25**

As per the Union Budget 2021, the Indian economy is showing what type of economic recovery?

**Options :**

1. ✘ I-shaped
2. ✘ A-shaped
3. ✔ V-shaped
4. ✘ C-shaped

**Question Number : 49 Question Id : 5406266884 Question Type : MCQ Option Shuffling : Yes Is Question Mandatory : No Option Orientation : Vertical**

**Correct Marks : 1 Wrong Marks : 0.25**

केंद्रीय बजट 2021 के अनुसार भारतीय अर्थव्यवस्था किस प्रकार की रिकवरी की ओर अग्रसर है?

**Options :**

1. ✘ I-आकार की
2. ✘ A-आकार की
3. ✔ V-आकार की
4. ✘ C-आकार की

**Question Number : 50 Question Id : 5406266885 Question Type : MCQ Option Shuffling : Yes Is Question Mandatory : No Option Orientation : Vertical**

**Correct Marks : 1 Wrong Marks : 0.25**

In which of the following food articles is oxalic acid found?

**Options :**

1. ✘ Amla
2. ✘ Grapes
3. ✔ Spinach
4. ✘ Vinegar

**Question Number : 50 Question Id : 5406266885 Question Type : MCQ Option Shuffling : Yes Is Question Mandatory : No Option**

**Orientation : Vertical**

**Correct Marks : 1 Wrong Marks : 0.25**

निम्नलिखित में से किस खाद्य वस्तु में ऑक्सालिक अम्ल पाया जाता है?

**Options :**

1. ✘ अमला
2. ✘ अंगूर
3. ✔ पालक
4. ✘ सिरका

**Question Number : 51 Question Id : 5406266886 Question Type : MCQ Option Shuffling : Yes Is Question Mandatory : No Option Orientation : Vertical**

**Correct Marks : 1 Wrong Marks : 0.25**

Which of the following scientists had discovered that time period of a given pendulum is constant?

**Options :**

1. ✔ Galileo Galilie
2. ✘ Nicolas Copernicus
3. ✘ Johannes Kepler
4. ✘ Albert Einstein

**Question Number : 51 Question Id : 5406266886 Question Type : MCQ Option Shuffling : Yes Is Question Mandatory : No Option Orientation : Vertical**

**Correct Marks : 1 Wrong Marks : 0.25**

निम्नलिखित में से किस वैज्ञानिक ने यह खोज किया की दिए गए लोलक का आवर्तकाल नियत होता है?

**Options :**

1. ✔ गैलिलियो गैलिली
2. ✘ निकोलस कोपरनिकस
3. ✘ योहानेस (जोहैनीज़) केप्लर
4. ✘ अल्बर्ट आइंस्टीन

**Question Number : 52 Question Id : 5406266887 Question Type : MCQ Option Shuffling : Yes Is Question Mandatory : No Option Orientation : Vertical**

**Correct Marks : 1 Wrong Marks : 0.25**

Which of the following is a naturally occurring polymer?

**Options :**

1. ✘ Nylon
2. ✘ Rayon
3. ✘ Terylene
4. ✔ Cotton

**Question Number : 52 Question Id : 5406266887 Question Type : MCQ Option Shuffling : Yes Is Question Mandatory : No Option Orientation : Vertical**

**Correct Marks : 1 Wrong Marks : 0.25**

निम्नलिखित में से कौनसा एक प्राकृतिक बहुलक है?

**Options :**

1. ✘ नायलॉन
2. ✘ रेयॉन
3. ✘ टेरीलीन
4. ✔ कपास

**Question Number : 53 Question Id : 5406266888 Question Type : MCQ Option Shuffling : Yes Is Question Mandatory : No Option Orientation : Vertical**

**Correct Marks : 1 Wrong Marks : 0.25**

Which of the following is a bacterial disease?

**Options :**

1. ✘ COVID
2. ✘ Malaria
3. ✔ Typhoid
4. ✘ Influenza

**Question Number : 53 Question Id : 5406266888 Question Type : MCQ Option Shuffling : Yes Is Question Mandatory : No Option Orientation : Vertical**

**Correct Marks : 1 Wrong Marks : 0.25**

निम्नलिखित में से कौनसा रोग जीवाणु द्वारा होता है?

**Options :**

1. ✘ कोविड
2. ✘ मलेरिया
3. ✔ टाइफाइड
4. ✘ इन्फ्लुएंजा

**Question Number : 54 Question Id : 5406266889 Question Type : MCQ Option Shuffling : Yes Is Question Mandatory : No Option Orientation : Vertical**

**Correct Marks : 1 Wrong Marks : 0.25**

What is the Spring Balance used to measure?

**Options :**

1. ✔ Force
2. ✘ Temperature
3. ✘ Length
4. ✘ Voltage

**Question Number : 54 Question Id : 5406266889 Question Type : MCQ Option Shuffling : Yes Is Question Mandatory : No Option Orientation : Vertical**

**Correct Marks : 1 Wrong Marks : 0.25**

किस को मापने के लिए कमानीदार तुला का उपयोग किया जाता है।

**Options :**

1. ✔ बल
2. ✘ तापमान
3. ✘ लम्बाई
4. ✘ वोल्टेज

**Question Number : 55 Question Id : 5406266890 Question Type : MCQ Option Shuffling : Yes Is Question Mandatory : No Option Orientation : Vertical**

**Correct Marks : 1 Wrong Marks : 0.25**

What are yeasts, molds, mushrooms examples of?

**Options :**

1. ✓ Fungi
2. ✗ Protista
3. ✗ Monera
4. ✗ Plantae

**Question Number : 55 Question Id : 5406266890 Question Type : MCQ Option Shuffling : Yes Is Question Mandatory : No Option Orientation : Vertical**

**Correct Marks : 1 Wrong Marks : 0.25**

निम्नलिखित में से यीस्ट, मोल्ड, मशरूम किसके उदाहरण है?

**Options :**

1. ✓ कवक
2. ✗ प्रोटिस्टा
3. ✗ मोनेरा
4. ✗ प्लांटी

**Question Number : 56 Question Id : 5406266891 Question Type : MCQ Option Shuffling : Yes Is Question Mandatory : No Option Orientation : Vertical**

**Correct Marks : 1 Wrong Marks : 0.25**

Which of the following are also known as sponges?

**Options :**

1. ✗ Coelenterata
2. ✗ Platyhelminthes
3. ✓ Porifera
4. ✗ Nematode

**Question Number : 56 Question Id : 5406266891 Question Type : MCQ Option Shuffling : Yes Is Question Mandatory : No Option Orientation : Vertical**

**Correct Marks : 1 Wrong Marks : 0.25**

निम्नलिखित में से स्पंज किसे कहा जाता है?

**Options :**

1. ✗ सीलेंटेरेटा

2. ✘ प्लेटीहेल्मिन्थीज
3. ✔ पोरिफेरा
4. ✘ निमेटोडा

**Question Number : 57 Question Id : 5406266892 Question Type : MCQ Option Shuffling : Yes Is Question Mandatory : No Option Orientation : Vertical**

**Correct Marks : 1 Wrong Marks : 0.25**

Wind erosion is significant in which of the following regions?

**Options :**

1. ✘ Wetlands
2. ✘ Coastal regions
3. ✘ Heavy rainfall and steep slopes
4. ✔ Arid and semi arid regions

**Question Number : 57 Question Id : 5406266892 Question Type : MCQ Option Shuffling : Yes Is Question Mandatory : No Option Orientation : Vertical**

**Correct Marks : 1 Wrong Marks : 0.25**

निम्नलिखित में से किस क्षेत्र में पवन द्वारा अपरदन काफी देखा जाता है?

**Options :**

1. ✘ आर्द्र भूमि
2. ✘ तटवर्ती क्षेत्र
3. ✘ भारी वर्षा और खड़ी ढाल
4. ✔ शुष्क और अर्ध शुष्क क्षेत्र

**Question Number : 58 Question Id : 5406266893 Question Type : MCQ Option Shuffling : Yes Is Question Mandatory : No Option Orientation : Vertical**

**Correct Marks : 1 Wrong Marks : 0.25**

“Asia has many places where people are few and few places where people are very many” is quoted by which of the following geographer?

**Options :**

1. ✘ George Carlin
2. ✔ George B.Cressey

3. ✖ Arthur Gomes

4. ✖ Griffith Taylor

**Question Number : 58 Question Id : 5406266893 Question Type : MCQ Option Shuffling : Yes Is Question Mandatory : No Option Orientation : Vertical**

**Correct Marks : 1 Wrong Marks : 0.25**

"एशिया में अधिक स्थानों पर कम लोग और कम स्थानों पर अधिक लोग रहते हैं।" निम्न में से किस भूगोलवेत्ता द्वारा उद्धृत किया गया है?

**Options :**

1. ✖ जॉर्ज कार्लिन

2. ✔ जॉर्ज बी. क्रेस्सी

3. ✖ आर्थर गोम्स

4. ✖ ग्रिफ़िथ टेलर

**Question Number : 59 Question Id : 5406266894 Question Type : MCQ Option Shuffling : Yes Is Question Mandatory : No Option Orientation : Vertical**

**Correct Marks : 1 Wrong Marks : 0.25**

Which one of the following tree grows mainly in the western part of the Himalayas and is a highly valued endemic species for its durable wood, mainly used in construction activities?

**Options :**

1. ✖ Silver Firs

2. ✖ Junipers

3. ✔ Deodar

4. ✖ Pines

**Question Number : 59 Question Id : 5406266894 Question Type : MCQ Option Shuffling : Yes Is Question Mandatory : No Option Orientation : Vertical**

**Correct Marks : 1 Wrong Marks : 0.25**

निम्न में से कौन सा वृक्ष मुख्य रूप से हिमालय के पश्चिमी भाग में पाया जाता है और इसकी लकड़ी अधिक मज़बूत होती है और निर्माण कार्य में प्रयुक्त की जाती है?

**Options :**

1. ✖ सिल्वर फर

2. ✖ जुनिपर



3. ✓ देवदार

4. ✗ पाइन

**Question Number : 60 Question Id : 5406266895 Question Type : MCQ Option Shuffling : Yes Is Question Mandatory : No Option Orientation : Vertical**

**Correct Marks : 1 Wrong Marks : 0.25**

On which of the following river, the Sardar Sarovar Project has been constructed?

**Options :**

1. ✗ Vaitarna

2. ✗ Saraswati

3. ✗ Sabarmati

4. ✓ Narmada

**Question Number : 60 Question Id : 5406266895 Question Type : MCQ Option Shuffling : Yes Is Question Mandatory : No Option Orientation : Vertical**

**Correct Marks : 1 Wrong Marks : 0.25**

निम्नलिखित में से किस नदी पर, सरदार सरोवर परियोजना का निर्माण किया गया है?

**Options :**

1. ✗ वैतरना

2. ✗ सरस्वती

3. ✗ साबरमती

4. ✓ नर्मदा

## General Awareness2

**Group Number :**

4

**Group Id :**

540626215

**Group Maximum Duration :**

0

**Group Minimum Duration :**

0

**Show Attended Group? :**

No

**Edit Attended Group? :**

No

Break time :	0
Group Marks :	20
Is this Group for Examiner? :	No

## General Awareness2

Section Id :	540626294
Section Number :	1
Section type :	Online
Mandatory or Optional :	Mandatory
Number of Questions :	20
Number of Questions to be attempted :	20
Section Marks :	20
Enable Mark as Answered Mark for Review and Clear Response :	Yes
Sub-Section Number :	1
Sub-Section Id :	540626341
Question Shuffling Allowed :	Yes

**Question Number : 61 Question Id : 5406266896 Question Type : MCQ Option Shuffling : Yes Is Question Mandatory : No Option Orientation : Vertical**

**Correct Marks : 1 Wrong Marks : 0.25**

Where is the Great Indian Desert located?

**Options :**

- ✘ Southeast of the Aravalli hills
- ✔ Northwest of the Aravalli hills
- ✘ South of Malwa Plateau
- ✘ East of the Malwa Plateau

**Question Number : 61 Question Id : 5406266896 Question Type : MCQ Option Shuffling : Yes Is Question Mandatory : No Option Orientation : Vertical**

**Correct Marks : 1 Wrong Marks : 0.25**

विशाल भारतीय मरुस्थल कहाँ स्थित है?

**Options :**

1. ✘ अरावली पहाड़ियों के दक्षिणपूर्व में
2. ✔ अरावली पहाड़ियों के उत्तरपश्चिम में
3. ✘ मालवा पठार के दक्षिण में
4. ✘ मालवा पठार के पूर्व में

**Question Number : 62 Question Id : 5406266897 Question Type : MCQ Option Shuffling : Yes Is Question Mandatory : No Option Orientation : Vertical**

**Correct Marks : 1 Wrong Marks : 0.25**

Which of the following water body separates Andaman and Nicobar island?

**Options :**

1. ✘ 5 Degree Channel
2. ✔ 10 degree channel
3. ✘ 15 degree channel
4. ✘ 20 degree channel

**Question Number : 62 Question Id : 5406266897 Question Type : MCQ Option Shuffling : Yes Is Question Mandatory : No Option Orientation : Vertical**

**Correct Marks : 1 Wrong Marks : 0.25**

निम्नलिखित में से कौन सा जल निकाय अंडमान और निकोबार द्वीप को दो अलग भागों में बांटता है?

**Options :**

1. ✘ 5 डिग्री चैनल
2. ✔ 10 डिग्री चैनल
3. ✘ 15 डिग्री चैनल
4. ✘ 20 डिग्री चैनल

**Question Number : 63 Question Id : 5406266898 Question Type : MCQ Option Shuffling : Yes Is Question Mandatory : No Option Orientation : Vertical**

**Correct Marks : 1 Wrong Marks : 0.25**

In which year was Pulakesin defeated and killed by the Pallav king Narasimhavarman?

**Options :**

1. ✘ 621 AD
2. ✘ 628 AD
3. ✘ 639 AD
4. ✔ 642 AD

**Question Number : 63 Question Id : 5406266898 Question Type : MCQ Option Shuffling : Yes Is Question Mandatory : No Option Orientation : Vertical**

**Correct Marks : 1 Wrong Marks : 0.25**

निम्नलिखित में से किस वर्ष में पल्लव राजा नरसिंहवर्मन ने पुलकेसन को परास्त कर मार डाला था?

**Options :**

1. ✘ 621 इसवी
2. ✘ 628 इसवी
3. ✘ 639 इसवी
4. ✔ 642 इसवी

**Question Number : 64 Question Id : 5406266899 Question Type : MCQ Option Shuffling : Yes Is Question Mandatory : No Option Orientation : Vertical**

**Correct Marks : 1 Wrong Marks : 0.25**

Under which of the following Mughal rulers did the Mughal Empire reach its peak in matter of area?

**Options :**

1. ✘ Babur
2. ✘ Akbar
3. ✘ Shah Jahan
4. ✔ Aurangzeb

**Question Number : 64 Question Id : 5406266899 Question Type : MCQ Option Shuffling : Yes Is Question Mandatory : No Option Orientation : Vertical**

**Correct Marks : 1 Wrong Marks : 0.25**

निम्नलिखित में से किस मुगल शासक के कार्यकाल में मुगल शासन अपने क्षेत्र में सर्वोच्च बिन्दु तक पहुंचा?

**Options :**

1. ✘ बाबर

2. ✘ अकबर
3. ✘ शाहजहाँ
4. ✔ औरंगजेब

**Question Number : 65 Question Id : 5406266900 Question Type : MCQ Option Shuffling : Yes Is Question Mandatory : No Option Orientation : Vertical**

**Correct Marks : 1 Wrong Marks : 0.25**

Under whose leadership did the English fight in the Battle of Plassey?

**Options :**

1. ✔ Robert Clive
2. ✘ Lord Dalhousie
3. ✘ Lord Dufferin
4. ✘ Lord Curzon

**Question Number : 65 Question Id : 5406266900 Question Type : MCQ Option Shuffling : Yes Is Question Mandatory : No Option Orientation : Vertical**

**Correct Marks : 1 Wrong Marks : 0.25**

प्लासी की लड़ाई में अंग्रेज किसके नेतृत्व में लड़े थे?

**Options :**

1. ✔ रोबर्ट क्लाइव
2. ✘ लार्ड डलहौज़ी
3. ✘ लॉर्ड डफ़रिन
4. ✘ लार्ड कर्जन

**Question Number : 66 Question Id : 5406266901 Question Type : MCQ Option Shuffling : Yes Is Question Mandatory : No Option Orientation : Vertical**

**Correct Marks : 1 Wrong Marks : 0.25**

Which of the following Sultans was Balban Prime Minister to?

**Options :**

1. ✘ Qutub-ud-din Aibak
2. ✔ Nasir-ud-din Mahmud

3. ✘ Jalal-ud-din Khilji

4. ✘ Ghyasuddin Khilji

**Question Number : 66 Question Id : 5406266901 Question Type : MCQ Option Shuffling : Yes Is Question Mandatory : No Option Orientation : Vertical**

**Correct Marks : 1 Wrong Marks : 0.25**

निम्नलिखित में से बलबन किस सुल्तान के प्रधानमंत्री थे?

**Options :**

1. ✘ कुतुब-उद-दीन ऐबक

2. ✔ नासिर-उद-दीन महमूद

3. ✘ जलाल-उद-दीन खिलजी

4. ✘ गयासुद्दीन खिलजी

**Question Number : 67 Question Id : 5406266902 Question Type : MCQ Option Shuffling : Yes Is Question Mandatory : No Option Orientation : Vertical**

**Correct Marks : 1 Wrong Marks : 0.25**

Who was known as Sher-e-Punjab?

**Options :**

1. ✘ Bhagat Singh

2. ✘ Lala Hardayal

3. ✔ Lala Lajpat Rai

4. ✘ Chandrashekhar Azad

**Question Number : 67 Question Id : 5406266902 Question Type : MCQ Option Shuffling : Yes Is Question Mandatory : No Option Orientation : Vertical**

**Correct Marks : 1 Wrong Marks : 0.25**

शेर-ए-पंजाब के नाम से किसे जाना जाता था?

**Options :**

1. ✘ भगत सिंह

2. ✘ लाला हरदयाल

3. ✔ लाला लाजपत राय

4. ✘ चंद्रशेखर आज़ाद

**Question Number : 68 Question Id : 5406266903 Question Type : MCQ Option Shuffling : Yes Is Question Mandatory : No Option Orientation : Vertical**

**Correct Marks : 1 Wrong Marks : 0.25**

Which day is celebrated as the Jan Aushadhi Diwas?

**Options :**

1. ✘ March 5th
2. ✔ March 7th
3. ✘ March 8th
4. ✘ March 10th

**Question Number : 68 Question Id : 5406266903 Question Type : MCQ Option Shuffling : Yes Is Question Mandatory : No Option Orientation : Vertical**

**Correct Marks : 1 Wrong Marks : 0.25**

किस दिन को जन औषधि दिवस के रूप में मनाया जाता है?

**Options :**

1. ✘ 5 मार्च
2. ✔ 7 मार्च
3. ✘ 8 मार्च
4. ✘ 10 मार्च

**Question Number : 69 Question Id : 5406266904 Question Type : MCQ Option Shuffling : Yes Is Question Mandatory : No Option Orientation : Vertical**

**Correct Marks : 1 Wrong Marks : 0.25**

Who is the present Home Minister of India?

**Options :**

1. ✘ Rajnath Singh
2. ✔ Amit Shah
3. ✘ Prakash Javadekar
4. ✘ Ravi Shankar Prasad

**Question Number : 69 Question Id : 5406266904 Question Type : MCQ Option Shuffling : Yes Is Question Mandatory : No Option Orientation : Vertical**

**Correct Marks : 1 Wrong Marks : 0.25**

भारत के वर्तमान गृह मंत्री कौन हैं?

**Options :**

1. ✘ राजनाथ सिंह
2. ✔ अमित शाह
3. ✘ प्रकाश जावडेकर
4. ✘ रवि शंकर प्रसाद

**Question Number : 70 Question Id : 5406266905 Question Type : MCQ Option Shuffling : Yes Is Question Mandatory : No Option Orientation : Vertical**

**Correct Marks : 1 Wrong Marks : 0.25**

Where is the headquarters of the Land Ports Authority of India situated?

**Options :**

1. ✘ Mumbai
2. ✘ Chennai
3. ✘ Kolkata
4. ✔ Delhi

**Question Number : 70 Question Id : 5406266905 Question Type : MCQ Option Shuffling : Yes Is Question Mandatory : No Option Orientation : Vertical**

**Correct Marks : 1 Wrong Marks : 0.25**

भारतीय भूमि बंदरगाह प्राधिकरण का मुख्यालय कहाँ स्थित है?

**Options :**

1. ✘ मुंबई
2. ✘ चेन्नई
3. ✘ कोलकाता
4. ✔ दिल्ली



Question Number : 71 Question Id : 5406266906 Question Type : MCQ Option Shuffling : Yes Is Question Mandatory : No Option Orientation : Vertical

Correct Marks : 1 Wrong Marks : 0.25

What does the below traffic sign mean?



Options :

1. ✘ Parking prohibited
2. ✔ Driving straight ahead mandatory
3. ✘ Warning for a curve ahead
4. ✘ Road with two-way traffic

Question Number : 71 Question Id : 5406266906 Question Type : MCQ Option Shuffling : Yes Is Question Mandatory : No Option Orientation : Vertical

Correct Marks : 1 Wrong Marks : 0.25

नीचे दिया गया ट्रैफ़िक निशान क्या बताता है?



**Options :**

1. ✘ पार्किंग प्रतिबंधित है
2. ✔ ड्राइविंग सीधे आगे अनिवार्य है
3. ✘ आगे एक वक्र की चेतावनी
4. ✘ दो तरफा यातायात की सड़क

**Question Number : 72 Question Id : 5406266907 Question Type : MCQ Option Shuffling : Yes Is Question Mandatory : No Option Orientation : Vertical**

**Correct Marks : 1 Wrong Marks : 0.25**

What does the below traffic sign mean?



**Options :**

1. ✔ Mandatory left
2. ✘ Turning left prohibited
3. ✘ Warning for a curve on left
4. ✘ Begin of a priority road

**Question Number : 72 Question Id : 5406266907 Question Type : MCQ Option Shuffling : Yes Is Question Mandatory : No Option Orientation : Vertical**

**Correct Marks : 1 Wrong Marks : 0.25**

नीचे दिया गया ट्रैफ़िक निशान क्या बताता है?



**Options :**

1. ✓ बाईं ओर अनिवार्य
2. ✗ बाएं मुड़ना प्रतिबंधित है
3. ✗ बाईं ओर एक वक्र की चेतावनी
4. ✗ प्राथमिकता वाली सड़क की शुरुआत

**Question Number : 73 Question Id : 5406266908 Question Type : MCQ Option Shuffling : Yes Is Question Mandatory : No Option Orientation : Vertical**

**Correct Marks : 1 Wrong Marks : 0.25**

What does the below traffic sign mean?



**Options :**

1. ✗ Road with two-way traffic
2. ✗ Turning left or right mandatory
3. ✗ Parking allowed

4. ✓ Entry prohibited (road with one-way traffic)

**Question Number : 73 Question Id : 5406266908 Question Type : MCQ Option Shuffling : Yes Is Question Mandatory : No Option Orientation : Vertical**

**Correct Marks : 1 Wrong Marks : 0.25**

नीचे दिया गया ट्रैफ़िक निशान क्या बताता है?



**Options :**

1. ✘ दो तरफ़ा यातायात की सड़क
2. ✘ बाएँ या दाएँ मुड़ना अनिवार्य
3. ✘ पार्किंग की अनुमति है
4. ✓ प्रवेश प्रतिबंधित (वन-वे ट्रैफ़िक वाली सड़क)

**Question Number : 74 Question Id : 5406266909 Question Type : MCQ Option Shuffling : Yes Is Question Mandatory : No Option Orientation : Vertical**

**Correct Marks : 1 Wrong Marks : 0.25**

What does the below traffic sign mean?



Options :

1. ✓ Warning for a traffic light
2. ✗ Warning for railroad crossing
3. ✗ Dead end street
4. ✗ Entry prohibited

Question Number : 74 Question Id : 5406266909 Question Type : MCQ Option Shuffling : Yes Is Question Mandatory : No Option Orientation : Vertical

Correct Marks : 1 Wrong Marks : 0.25

नीचे दिया गया ट्रैफ़िक निशान क्या बताता है?



Options :

1. ✓ ट्रैफ़िक लाइट की चेतावनी
2. ✗ रेल क्रॉसिंग की चेतावनी
3. ✗ डेड एन्ड स्ट्रीट

4. ✖ प्रवेश प्रतिबंधित है

**Question Number : 75 Question Id : 5406266910 Question Type : MCQ Option Shuffling : Yes Is Question Mandatory : No Option Orientation : Vertical**

**Correct Marks : 1 Wrong Marks : 0.25**

What does the below traffic sign mean?



**Note: For this question, discrepancy is found in question/answer. So, this question is ignored for all candidates.**

**Options :**

1. Warning for an uncontrolled crossroad on left
2. Turning left mandatory
3. Passing left mandatory
4. Turning left prohibited

**Question Number : 75 Question Id : 5406266910 Question Type : MCQ Option Shuffling : Yes Is Question Mandatory : No Option Orientation : Vertical**

**Correct Marks : 1 Wrong Marks : 0.25**

नीचे दिया गया ट्रैफ़िक निशान क्या बताता है?



**Note:** For this question, discrepancy is found in question/answer. So, this question is ignored for all candidates.

**Options :**

1. बाईं ओर एक अनियंत्रित चौराहे की चेतावनी
2. बाएं मुड़ना अनिवार्य है
3. बाईं ओर से गुजरना अनिवार्य है
4. बाएं मुड़ना प्रतिबंधित है

**Question Number : 76 Question Id : 5406266911 Question Type : MCQ Option Shuffling : Yes Is Question Mandatory : No Option Orientation : Vertical**

**Correct Marks : 1 Wrong Marks : 0.25**

As a driver, what should be the first thing you would do if your vehicle plunges into water?

**Options :**

1. ✘ Honk horn
2. ✘ Shout for help
3. ✔ Remove seat belt
4. ✘ Open window

**Question Number : 76 Question Id : 5406266911 Question Type : MCQ Option Shuffling : Yes Is Question Mandatory : No Option Orientation : Vertical**

**Correct Marks : 1 Wrong Marks : 0.25**

अगर आपका वाहन पानी में डूब जाए तो एक ड्राइवर के रूप में आपको क्या करना चाहिए?

**Options :**

1. ✘ हॉर्न बजाना
2. ✘ मदद के लिए चिल्लाना
3. ✔ सीट बेल्ट हटाना
4. ✘ खिड़की खोलना

**Question Number : 77 Question Id : 5406266912 Question Type : MCQ Option Shuffling : Yes Is Question Mandatory : No Option Orientation : Vertical**

**Correct Marks : 1 Wrong Marks : 0.25**

A pry bar is used occasionally to check the \_\_\_\_\_.

**Options :**

1. ✘ tightness of screws
2. ✘ inflation of tyres
3. ✔ tension of belt
4. ✘ tension of spring

**Question Number : 77 Question Id : 5406266912 Question Type : MCQ Option Shuffling : Yes Is Question Mandatory : No Option Orientation : Vertical**

**Correct Marks : 1 Wrong Marks : 0.25**

\_\_\_\_\_ की जांच करने के लिए कभी-कभी एक प्राइ बार का उपयोग किया जाता है।

**Options :**

1. ✘ पेंचों की कसावट
2. ✘ टायरों का फुलाव
3. ✔ बेल्ट का तनाव
4. ✘ स्प्रिंग का तनाव

**Question Number : 78 Question Id : 5406266913 Question Type : MCQ Option Shuffling : Yes Is Question Mandatory : No Option Orientation : Vertical**

**Correct Marks : 1 Wrong Marks : 0.25**

A vehicle without a body is called a:

**Options :**



1. ✘ power plant
2. ✘ suspension system
3. ✘ controlling system
4. ✔ chassis

**Question Number : 78 Question Id : 5406266913 Question Type : MCQ Option Shuffling : Yes Is Question Mandatory : No Option Orientation : Vertical**

**Correct Marks : 1 Wrong Marks : 0.25**

बॉडी के बिना कोई वाहन इनमें से क्या कहलाता है?

**Options :**

1. ✘ पॉवर प्लांट
2. ✘ सस्पेंशन सिस्टम
3. ✘ कंट्रोलिंग सिस्टम
4. ✔ चेसिस

**Question Number : 79 Question Id : 5406266914 Question Type : MCQ Option Shuffling : Yes Is Question Mandatory : No Option Orientation : Vertical**

**Correct Marks : 1 Wrong Marks : 0.25**

Which of the following is NOT a cause of accidents?

**Options :**

1. ✔ Road safety awareness publicity programs
2. ✘ Lack of highway safety
3. ✘ Drunken driving
4. ✘ Rash driving

**Question Number : 79 Question Id : 5406266914 Question Type : MCQ Option Shuffling : Yes Is Question Mandatory : No Option Orientation : Vertical**

**Correct Marks : 1 Wrong Marks : 0.25**

इनमें से कौन सा दुर्घटनाओं का एक कारण नहीं है?

**Options :**

1. ✔ सड़क सुरक्षा जागरूकता प्रचार कार्यक्रम

2. ✖ राजमार्ग सुरक्षा का अभाव
3. ✖ नशे के प्रभाव में ड्राइविंग करना
4. ✖ अंधाधुंध ड्राइविंग करना

**Question Number : 80 Question Id : 5406266915 Question Type : MCQ Option Shuffling : Yes Is Question Mandatory : No Option Orientation : Vertical**

**Correct Marks : 1 Wrong Marks : 0.25**

Yellow or fluorescent yellow-green road signs warn drivers that they are entering a \_\_\_\_\_ zone.

**Options :**

1. ✔ school
2. ✖ industry
3. ✖ market
4. ✖ domestic

**Question Number : 80 Question Id : 5406266915 Question Type : MCQ Option Shuffling : Yes Is Question Mandatory : No Option Orientation : Vertical**

**Correct Marks : 1 Wrong Marks : 0.25**

पीले या फ्लोरोसेंट पीले-हरे रंग के सड़क संकेत ड्राइवरों को सचेत करते हैं कि वे \_\_\_\_\_ क्षेत्र में प्रवेश कर रहे हैं।

**Options :**

1. ✔ स्कूल
2. ✖ उद्योग
3. ✖ बाज़ार
4. ✖ घरेलू

## Arithmetic Ability1

<b>Group Number :</b>	5
<b>Group Id :</b>	540626216
<b>Group Maximum Duration :</b>	0
<b>Group Minimum Duration :</b>	0
<b>Show Attended Group? :</b>	No

<b>Edit Attended Group? :</b>	No
<b>Break time :</b>	0
<b>Group Marks :</b>	20
<b>Is this Group for Examiner? :</b>	No

## Arithmetical and Numerical ability1

<b>Section Id :</b>	540626295
<b>Section Number :</b>	1
<b>Section type :</b>	Online
<b>Mandatory or Optional :</b>	Mandatory
<b>Number of Questions :</b>	20
<b>Number of Questions to be attempted :</b>	20
<b>Section Marks :</b>	20
<b>Enable Mark as Answered Mark for Review and Clear Response :</b>	Yes
<b>Sub-Section Number :</b>	1
<b>Sub-Section Id :</b>	540626342
<b>Question Shuffling Allowed :</b>	Yes

**Question Number : 81 Question Id : 5406266916 Question Type : MCQ Option Shuffling : Yes Is Question Mandatory : No Option Orientation : Vertical**

**Correct Marks : 1 Wrong Marks : 0.25**

What should come in place of the question mark (?) in the following question?

$$2 - [6 - \{3 + (-4 + 5 + 1) \times 8\} + 12] = ?$$

**Options :**

1. ✘ 1
2. ✘ 2
3. ✔ 3
4. ✘ 4

**Question Number : 81 Question Id : 5406266916 Question Type : MCQ Option Shuffling : Yes Is Question Mandatory : No Option**

**Orientation : Vertical**

**Correct Marks : 1 Wrong Marks : 0.25**

निम्नलिखित प्रश्न में प्रश्नवाचक चिन्ह (?) के स्थान पर कौन सा मान आना चाहिए?

$$2 - [6 - \{3 + (-4 + 5 + 1) \times 8\} + 12] = ?$$

**Options :**

1. ✘ 1
2. ✘ 2
3. ✔ 3
4. ✘ 4

**Question Number : 82 Question Id : 5406266917 Question Type : MCQ Option Shuffling : Yes Is Question Mandatory : No Option Orientation : Vertical**

**Correct Marks : 1 Wrong Marks : 0.25**

What should come in place of the question mark (?) in the following question?

$$\sqrt{3596} \times 52.034 = ?$$

**Options :**

1. ✘ 3180
2. ✘ 3200
3. ✔ 3120
4. ✘ 3210

**Question Number : 82 Question Id : 5406266917 Question Type : MCQ Option Shuffling : Yes Is Question Mandatory : No Option Orientation : Vertical**

**Correct Marks : 1 Wrong Marks : 0.25**

निम्नलिखित प्रश्न में प्रश्नवाचक चिन्ह (?) के स्थान पर कौन सा मान आना चाहिए?

$$\sqrt{3596} \times 52.034 = ?$$

**Options :**

1. ✘ 3180
2. ✘ 3200

3. ✓ 3120

4. ✗ 3210

**Question Number : 83 Question Id : 5406266918 Question Type : MCQ Option Shuffling : Yes Is Question Mandatory : No Option Orientation : Vertical**

**Correct Marks : 1 Wrong Marks : 0.25**

What should come in place of the question mark (?) in the following question?

$$125^2 \times 2^3 + 35000 = (?)^2$$

**Options :**

1. ✗ 200

2. ✓ 400

3. ✗ 1600

4. ✗ 800

**Question Number : 83 Question Id : 5406266918 Question Type : MCQ Option Shuffling : Yes Is Question Mandatory : No Option Orientation : Vertical**

**Correct Marks : 1 Wrong Marks : 0.25**

निम्नलिखित प्रश्न में प्रश्नवाचक चिन्ह (?) के स्थान पर कौन सा मान आना चाहिए?

$$125^2 \times 2^3 + 35000 = (?)^2$$

**Options :**

1. ✗ 200

2. ✓ 400

3. ✗ 1600

4. ✗ 800

**Question Number : 84 Question Id : 5406266919 Question Type : MCQ Option Shuffling : Yes Is Question Mandatory : No Option Orientation : Vertical**

**Correct Marks : 1 Wrong Marks : 0.25**

What should come in place of the question mark (?) in the following question?

$$\sqrt[3]{\frac{?}{9261}} = \frac{11}{21}$$

Options :

1. ✘ 121
2. ✔ 1331
3. ✘ 14641
4. ✘ 2662

Question Number : 84 Question Id : 5406266919 Question Type : MCQ Option Shuffling : Yes Is Question Mandatory : No Option Orientation : Vertical

Correct Marks : 1 Wrong Marks : 0.25

निम्नलिखित प्रश्न में प्रश्नवाचक चिन्ह (?) के स्थान पर कौन सा मान आना चाहिए?

$$\sqrt[3]{\frac{?}{9261}} = \frac{11}{21}$$

Options :

1. ✘ 121
2. ✔ 1331
3. ✘ 14641
4. ✘ 2662

Question Number : 85 Question Id : 5406266920 Question Type : MCQ Option Shuffling : Yes Is Question Mandatory : No Option Orientation : Vertical

Correct Marks : 1 Wrong Marks : 0.25

Simplify:  $\frac{2}{7}$  of  $\frac{14}{19}$  of 304 =?

Options :

1. ✘ 75
2. ✔ 64
3. ✘ 46

4. ✖ 78

Question Number : 85 Question Id : 5406266920 Question Type : MCQ Option Shuffling : Yes Is Question Mandatory : No Option Orientation : Vertical

Correct Marks : 1 Wrong Marks : 0.25

सरल करें: 304 का  $\frac{14}{19}$  का  $\frac{2}{7}$  =?

Options :

1. ✖ 75
2. ✔ 64
3. ✖ 46
4. ✖ 78

Question Number : 86 Question Id : 5406266921 Question Type : MCQ Option Shuffling : Yes Is Question Mandatory : No Option Orientation : Vertical

Correct Marks : 1 Wrong Marks : 0.25

L.C.M. of two numbers is 12 time their H.C.F. The sum of H.C.F. and L.C.M. is 403. If one of the numbers is 124, then find the other.

Options :

1. ✔ 93
2. ✖ 76
3. ✖ 112
4. ✖ 64

Question Number : 86 Question Id : 5406266921 Question Type : MCQ Option Shuffling : Yes Is Question Mandatory : No Option Orientation : Vertical

Correct Marks : 1 Wrong Marks : 0.25

दो संख्याओं का ल.स. उनके म.स. का 12 गुना है। ल.स. और म.स. का योगफल 403 है। यदि संख्याओं में से एक 124 है, तो दूसरी संख्या ज्ञात कीजिए।

Options :

1. ✔ 93
2. ✖ 76
3. ✖ 112

4. ✘ 64

**Question Number : 87 Question Id : 5406266922 Question Type : MCQ Option Shuffling : Yes Is Question Mandatory : No Option Orientation : Vertical**

**Correct Marks : 1 Wrong Marks : 0.25**

HCF and LCM of two numbers are 21 and 4284 respectively. If one of the numbers lies between 200 and 300, then what will be the sum of two numbers?

**Options :**

1. ✔ 609
2. ✘ 735
3. ✘ 483
4. ✘ 567

**Question Number : 87 Question Id : 5406266922 Question Type : MCQ Option Shuffling : Yes Is Question Mandatory : No Option Orientation : Vertical**

**Correct Marks : 1 Wrong Marks : 0.25**

दो संख्याओं के म.स. और ल.स. क्रमशः 21 और 4284 हैं। यदि इन संख्याओं में से एक 200 और 300 के बीच है, तो दोनों संख्याओं का योगफल क्या होगा?

**Options :**

1. ✔ 609
2. ✘ 735
3. ✘ 483
4. ✘ 567

**Question Number : 88 Question Id : 5406266923 Question Type : MCQ Option Shuffling : Yes Is Question Mandatory : No Option Orientation : Vertical**

**Correct Marks : 1 Wrong Marks : 0.25**

What is the smallest digit that should be replaced in place of P in the number 376P12, to make it divisible by 12?

**Options :**

1. ✘ 1
2. ✔ 2
3. ✘ 0
4. ✘ 5



**Question Number : 88 Question Id : 5406266923 Question Type : MCQ Option Shuffling : Yes Is Question Mandatory : No Option Orientation : Vertical**

**Correct Marks : 1 Wrong Marks : 0.25**

376P12 में P के स्थान पर सबसे छोटा अंक क्या होना चाहिए जिससे यह 12 से विभाज्य हो सके ?

**Options :**

1. ✘ 1
2. ✔ 2
3. ✘ 0
4. ✘ 5

**Question Number : 89 Question Id : 5406266924 Question Type : MCQ Option Shuffling : Yes Is Question Mandatory : No Option Orientation : Vertical**

**Correct Marks : 1 Wrong Marks : 0.25**

Which of the following numbers are divisible by 2, 5 and 9?

**Options :**

1. ✘ 14900
2. ✘ 91400
3. ✘ 723450
4. ✔ 215370

**Question Number : 89 Question Id : 5406266924 Question Type : MCQ Option Shuffling : Yes Is Question Mandatory : No Option Orientation : Vertical**

**Correct Marks : 1 Wrong Marks : 0.25**

निम्नलिखित में से कौन सी संख्या 2, 5 और 9 से विभाज्य है?

**Options :**

1. ✘ 14900
2. ✘ 91400
3. ✘ 723450
4. ✔ 215370

**Question Number : 90 Question Id : 5406266925 Question Type : MCQ Option Shuffling : Yes Is Question Mandatory : No Option**

**Orientation : Vertical**

**Correct Marks : 1 Wrong Marks : 0.25**

In a set of seven consecutive even numbers, the average of fourth and seventh even numbers are 223. Find the sum of all seven numbers.

**Options :**

1. ✘ 1680
2. ✔ 1540
3. ✘ 1356
4. ✘ 1484

**Question Number : 90 Question Id : 5406266925 Question Type : MCQ Option Shuffling : Yes Is Question Mandatory : No Option**

**Orientation : Vertical**

**Correct Marks : 1 Wrong Marks : 0.25**

सात क्रमिक सम संख्याओं के एक समूह में, चौथे और सातवें सम संख्याओं का औसत 223 है। सभी सात संख्याओं का योग ज्ञात कीजिए।

**Options :**

1. ✘ 1680
2. ✔ 1540
3. ✘ 1356
4. ✘ 1484

**Question Number : 91 Question Id : 5406266926 Question Type : MCQ Option Shuffling : Yes Is Question Mandatory : No Option**

**Orientation : Vertical**

**Correct Marks : 1 Wrong Marks : 0.25**

The mean of  $x$  and  $1/x$  is  $N$ , then find the mean of  $x^2$  and  $1/x^2$  ?

**Options :**

1. ✘  $N^2 - 2$
2. ✘  $N^2$
3. ✔  $2N^2 - 1$
4. ✘  $4N^2 - 2$

**Question Number : 91 Question Id : 5406266926 Question Type : MCQ Option Shuffling : Yes Is Question Mandatory : No Option**

**Orientation : Vertical**

**Correct Marks : 1 Wrong Marks : 0.25**

x तथा  $1/x$  का माध्य N है, तो  $x^2$  तथा  $1/x^2$  का माध्य ज्ञात कीजिए।

**Options :**

1. ✘  $N^2 - 2$
2. ✘  $N^2$
3. ✔  $2N^2 - 1$
4. ✘  $4N^2 - 2$

**Question Number : 92 Question Id : 5406266927 Question Type : MCQ Option Shuffling : Yes Is Question Mandatory : No Option Orientation : Vertical**

**Correct Marks : 1 Wrong Marks : 0.25**

Successive discount of 40 percent, 20 percent and 10 percent is equivalent to a net discount of:

**Options :**

1. ✘ 35 percent
2. ✘ 46.8 percent
3. ✔ 56.8 percent
4. ✘ 43.2 percent

**Question Number : 92 Question Id : 5406266927 Question Type : MCQ Option Shuffling : Yes Is Question Mandatory : No Option Orientation : Vertical**

**Correct Marks : 1 Wrong Marks : 0.25**

लगातार दी गयी तीन क्रमागत छूट 40 प्रतिशत, 20 प्रतिशत और 10 प्रतिशत किस एक एकल छूट के बराबर है?

**Options :**

1. ✘ 35 प्रतिशत
2. ✘ 46.8 प्रतिशत
3. ✔ 56.8 प्रतिशत
4. ✘ 43.2 प्रतिशत

**Question Number : 93 Question Id : 5406266928 Question Type : MCQ Option Shuffling : Yes Is Question Mandatory : No Option Orientation : Vertical**

**Correct Marks : 1 Wrong Marks : 0.25**

Gagan's present age in years is  $\frac{2}{5}$ th of Shankar's age. After few years, Gagan's age will be half of Shankar's age. By what percentage will Shankar's age increase during this period?

Options :

- ✘ 15 percent
- ✘ 18 percent
- ✘ 24 percent
- ✔ 20 percent

Question Number : 93 Question Id : 5406266928 Question Type : MCQ Option Shuffling : Yes Is Question Mandatory : No Option Orientation : Vertical

Correct Marks : 1 Wrong Marks : 0.25

गगन की वर्तमान आयु, शंकर की आयु का  $\frac{2}{5}$ वाँ भाग (वर्ष में) है। कुछ वर्षों के बाद, गगन की उम्र, शंकर की उम्र की आधी हो जाएगी। इस अवधि के दौरान शंकर की आयु कितने प्रतिशत बढ़ जाएगी?

Options :

- ✘ 15 प्रतिशत
- ✘ 18 प्रतिशत
- ✘ 24 प्रतिशत
- ✔ 20 प्रतिशत

Question Number : 94 Question Id : 5406266929 Question Type : MCQ Option Shuffling : Yes Is Question Mandatory : No Option Orientation : Vertical

Correct Marks : 1 Wrong Marks : 0.25

If 34.5 percent of a number is 338.1, then find 85 percent of the number.

Options :

- ✔ 833
- ✘ 850
- ✘ 862.5
- ✘ 782.5

Question Number : 94 Question Id : 5406266929 Question Type : MCQ Option Shuffling : Yes Is Question Mandatory : No Option Orientation : Vertical

Correct Marks : 1 Wrong Marks : 0.25

यदि किसी संख्या का 34.5 प्रतिशत 338.1 हैं, तो संख्या का 85 प्रतिशत ज्ञात कीजिए।

**Options :**

1. ✓ 833
2. ✗ 850
3. ✗ 862.5
4. ✗ 782.5

**Question Number : 95 Question Id : 5406266930 Question Type : MCQ Option Shuffling : Yes Is Question Mandatory : No Option Orientation : Vertical**

**Correct Marks : 1 Wrong Marks : 0.25**

What is the value of 125 percent of 25 percent of 80?

**Options :**

1. ✗ 50
2. ✓ 25
3. ✗ 20
4. ✗ 40

**Question Number : 95 Question Id : 5406266930 Question Type : MCQ Option Shuffling : Yes Is Question Mandatory : No Option Orientation : Vertical**

**Correct Marks : 1 Wrong Marks : 0.25**

80 का 25 प्रतिशत के 125 प्रतिशत का मान क्या है ?

**Options :**

1. ✗ 50
2. ✓ 25
3. ✗ 20
4. ✗ 40

**Question Number : 96 Question Id : 5406266931 Question Type : MCQ Option Shuffling : Yes Is Question Mandatory : No Option Orientation : Vertical**

**Correct Marks : 1 Wrong Marks : 0.25**

A dealer sells a chair for Rs. 2400, making a profit of 25 percent. He sells a table at a loss of 10 percent and on the whole makes neither profit nor loss. What is the cost price of table?

Options :

1. ✘ Rs. 5100
2. ✘ Rs. 3600
3. ✘ Rs. 5600
4. ✔ Rs. 4800

**Question Number : 96 Question Id : 5406266931 Question Type : MCQ Option Shuffling : Yes Is Question Mandatory : No Option Orientation : Vertical**

**Correct Marks : 1 Wrong Marks : 0.25**

एक विक्रेता 2400 रुपये में एक कुर्सी बेचता है और 25 प्रतिशत का लाभ कमाता है। वह 10 प्रतिशत की हानि पर एक मेज बेचता है और इन सभी में वह न तो लाभ कमाता है और न ही उसे हानि होती है। मेज की लागत मूल्य क्या है ?

Options :

1. ✘ 5100 रुपये
2. ✘ 3600 रुपये
3. ✘ 5600 रुपये
4. ✔ 4800 रुपये

**Question Number : 97 Question Id : 5406266932 Question Type : MCQ Option Shuffling : Yes Is Question Mandatory : No Option Orientation : Vertical**

**Correct Marks : 1 Wrong Marks : 0.25**

Rakesh bought an old car at some price. He repaired and sold the car at 80 percent above the buying price. He got the profit of 25 percent. How much percent of buying price did he spend on repairs?

Options :

1. ✘ 32.5 percent
2. ✘ 60 percent
3. ✔ 44 percent
4. ✘ 55 percent

**Question Number : 97 Question Id : 5406266932 Question Type : MCQ Option Shuffling : Yes Is Question Mandatory : No Option Orientation : Vertical**

**Correct Marks : 1 Wrong Marks : 0.25**

राकेश ने एक निश्चित कीमत पर एक पुरानी कार खरीदी। उसने कार की मरम्मत की और खरीदे गए मूल्य से 80 प्रतिशत अधिक मूल्य पर कार को बेच दिया।

उसे 25 प्रतिशत का लाभ हुआ। मरम्मत पर उसने खरीदे गए मूल्य का कितना प्रतिशत खर्च किया?

**Options :**

1. ✘ 32.5 प्रतिशत
2. ✘ 60 प्रतिशत
3. ✔ 44 प्रतिशत
4. ✘ 55 प्रतिशत

**Question Number : 98 Question Id : 5406266933 Question Type : MCQ Option Shuffling : Yes Is Question Mandatory : No Option Orientation : Vertical**

**Correct Marks : 1 Wrong Marks : 0.25**

A table was sold at Rs. 600 and hence the numerically profit percentage is same as the cost price. Find the cost price of the table.

**Options :**

1. ✔ Rs. 200
2. ✘ Rs. 300
3. ✘ Rs. 350
4. ✘ Rs. 400

**Question Number : 98 Question Id : 5406266933 Question Type : MCQ Option Shuffling : Yes Is Question Mandatory : No Option Orientation : Vertical**

**Correct Marks : 1 Wrong Marks : 0.25**

एक मेज को 600 रुपये में बेचा गया और इस प्रकार संख्यात्मक रूप से प्रतिशत लाभ, क्रय मूल्य के बराबर पाया गया। मेज का क्रय मूल्य ज्ञात कीजिए।

**Options :**

1. ✔ 200 रुपये
2. ✘ 300 रुपये
3. ✘ 350 रुपये
4. ✘ 400 रुपये

**Question Number : 99 Question Id : 5406266934 Question Type : MCQ Option Shuffling : Yes Is Question Mandatory : No Option Orientation : Vertical**

**Correct Marks : 1 Wrong Marks : 0.25**

Out of the total 390 students studying in a college of arts and science, boys and girls are in the ratio of 7 : 6 respectively and the number of students studying arts and science are in the ratio of 3 : 7 respectively. The boys and the girls studying arts are in the ratio 4 : 5 respectively. How

many boys are studying science?

**Options :**

1. ✘ 52
2. ✘ 65
3. ✘ 115
4. ✔ 158

**Question Number : 99 Question Id : 5406266934 Question Type : MCQ Option Shuffling : Yes Is Question Mandatory : No Option Orientation : Vertical**

**Correct Marks : 1 Wrong Marks : 0.25**

कला और विज्ञान के कॉलेज में पढ़ने वाले कुल 390 छात्रों में से क्रमशः लड़के और लड़कियां 7 : 6 के अनुपात में हैं तथा कला और विज्ञान पढ़ने वाले छात्रों की संख्या क्रमशः 3 : 7 के अनुपात में है। कला का अध्ययन करने वाले लड़के और लड़कियां क्रमशः 4 : 5 के अनुपात में हैं। कितने लड़के विज्ञान पढ़ रहे हैं ?

**Options :**

1. ✘ 52
2. ✘ 65
3. ✘ 115
4. ✔ 158

**Question Number : 100 Question Id : 5406266935 Question Type : MCQ Option Shuffling : Yes Is Question Mandatory : No Option Orientation : Vertical**

**Correct Marks : 1 Wrong Marks : 0.25**

Four milkmen rented a pasture. A grazed 18 cows for 4 months, B 25 cows for 2 months, C 28 cows of 5 months and D 21 cows for 3 months. If A's share of rent is Rs. 1800, then what is the total rent of the field (in rupees)?

**Options :**

1. ✘ 1500
2. ✘ 1775
3. ✔ 8125
4. ✘ 1650

**Question Number : 100 Question Id : 5406266935 Question Type : MCQ Option Shuffling : Yes Is Question Mandatory : No Option Orientation : Vertical**

**Correct Marks : 1 Wrong Marks : 0.25**



चार खालो ने एक चारागाह किराए पर लिया। A ने 4 महीने के लिए 18 गायों, B ने 2 महीने के लिए 25 गायों, C ने 5 महीने के लिए 28 गायों और D ने 3 महीने के लिए 21 गायों को चराया। यदि A का किराया 1800 रूपये है, तो क्षेत्र का कुल किराया (रूपयों में) कितना है?

**Options :**

1. ✘ 1500
2. ✘ 1775
3. ✔ 8125
4. ✘ 1650

## Arithmetic Ability2

<b>Group Number :</b>	6
<b>Group Id :</b>	540626217
<b>Group Maximum Duration :</b>	0
<b>Group Minimum Duration :</b>	0
<b>Show Attended Group? :</b>	No
<b>Edit Attended Group? :</b>	No
<b>Break time :</b>	0
<b>Group Marks :</b>	20
<b>Is this Group for Examiner? :</b>	No

## Arithmetical and Numerical ability2

<b>Section Id :</b>	540626296
<b>Section Number :</b>	1
<b>Section type :</b>	Online
<b>Mandatory or Optional :</b>	Mandatory
<b>Number of Questions :</b>	20
<b>Number of Questions to be attempted :</b>	20
<b>Section Marks :</b>	20
<b>Enable Mark as Answered Mark for Review and Clear Response :</b>	Yes
<b>Sub-Section Number :</b>	1
<b>Sub-Section Id :</b>	540626343

Question Shuffling Allowed :

Yes

**Question Number : 101 Question Id : 5406266936 Question Type : MCQ Option Shuffling : Yes Is Question Mandatory : No Option Orientation : Vertical**

**Correct Marks : 1 Wrong Marks : 0.25**

The present age of Ram and Shyam are 18 and 26 years respectively. If after 'x' years the ratio of their age will be 4 : 5, then what is the value of 'x'?

**Options :**

1. ✘ 12 years
2. ✔ 14 years
3. ✘ 15 years
4. ✘ 16 years

**Question Number : 101 Question Id : 5406266936 Question Type : MCQ Option Shuffling : Yes Is Question Mandatory : No Option Orientation : Vertical**

**Correct Marks : 1 Wrong Marks : 0.25**

राम और श्याम की वर्तमान आयु क्रमशः 18 वर्ष और 26 वर्ष है। यदि 'x' वर्ष बाद उनकी आयु का अनुपात 4 : 5 हो जाता है, तो 'x' का मान क्या है?

**Options :**

1. ✘ 12 वर्ष
2. ✔ 14 वर्ष
3. ✘ 15 वर्ष
4. ✘ 16 वर्ष

**Question Number : 102 Question Id : 5406266937 Question Type : MCQ Option Shuffling : Yes Is Question Mandatory : No Option Orientation : Vertical**

**Correct Marks : 1 Wrong Marks : 0.25**

The compound interest on a certain sum for 2 years at 12.5 percent p.a. compounded annually is Rs. 956.25. What will be the simple interest on the same sum for double the time at half the rate of interest?

**Options :**

1. ✘ Rs. 750
2. ✘ Rs. 850
3. ✔ Rs. 900

4. ✘ Rs. 800

**Question Number : 102 Question Id : 5406266937 Question Type : MCQ Option Shuffling : Yes Is Question Mandatory : No Option Orientation : Vertical**

**Correct Marks : 1 Wrong Marks : 0.25**

2 वर्ष के लिए एक निश्चित राशि पर 12.5 प्रतिशत प्रतिवर्ष वार्षिक गणना से चक्रवृद्धि ब्याज 956.25 रूपये है। समान राशि पर ब्याज की आधी दर पर दोगुने समय के लिए साधारण ब्याज क्या होगा?

**Options :**

1. ✘ 750 रूपये
2. ✘ 850 रूपये
3. ✔ 900 रूपये
4. ✘ 800 रूपये

**Question Number : 103 Question Id : 5406266938 Question Type : MCQ Option Shuffling : Yes Is Question Mandatory : No Option Orientation : Vertical**

**Correct Marks : 1 Wrong Marks : 0.25**

An amount of Rs. 2175 is lent for 8 months at a fixed rate of simple interest and another amount of Rs. 725 is lent for 4 months at thrice rate of interest given on the first amount and a total of Rs. 282.75 is being earned as interest. At what interest rate was the first amount lent?

**Options :**

1. ✔ 13 percent
2. ✘ 10 percent
3. ✘ 12.5 percent
4. ✘ 15 percent

**Question Number : 103 Question Id : 5406266938 Question Type : MCQ Option Shuffling : Yes Is Question Mandatory : No Option Orientation : Vertical**

**Correct Marks : 1 Wrong Marks : 0.25**

साधारण ब्याज की एक निश्चित दर पर 2175 रुपये की राशि 8 महीने के लिए उधार दी जाती है और 725 रुपये की एक दूसरी राशि, पहली राशि पर दिए गए ब्याज दर के तीन गुनी दर से 4 महीने के लिए उधार दी जाती है और कुल 282.75 रुपये ब्याज कमाया जाता है। पहली राशि को किस ब्याज दर पर उधार दिया गया था?

**Options :**

1. ✔ 13 प्रतिशत

2. ✘ 10 प्रतिशत
3. ✘ 12.5 प्रतिशत
4. ✘ 15 प्रतिशत

**Question Number : 104 Question Id : 5406266939 Question Type : MCQ Option Shuffling : Yes Is Question Mandatory : No Option Orientation : Vertical**

**Correct Marks : 1 Wrong Marks : 0.25**

A sum fetched a total simple interest of Rs. 1200 at the rate of 7.5 percent per year in 4 years. What is the sum (in Rs.)?

**Options :**

1. ✔ 4000
2. ✘ 6000
3. ✘ 8000
4. ✘ 7500

**Question Number : 104 Question Id : 5406266939 Question Type : MCQ Option Shuffling : Yes Is Question Mandatory : No Option Orientation : Vertical**

**Correct Marks : 1 Wrong Marks : 0.25**

एक राशि पर 4 वर्ष में 7.5 प्रतिशत प्रति वर्ष की दर से 1200 रूपये का साधारण ब्याज प्राप्त किया गया। वह राशि (रूपये में) क्या है?

**Options :**

1. ✔ 4000
2. ✘ 6000
3. ✘ 8000
4. ✘ 7500

**Question Number : 105 Question Id : 5406266940 Question Type : MCQ Option Shuffling : Yes Is Question Mandatory : No Option Orientation : Vertical**

**Correct Marks : 1 Wrong Marks : 0.25**

Veeru and Dheeru run a 6 km race on a round race course of 400 m. If their speeds are in the ratio of 5 : 4, how often does the Veeru cross the Dheeru?

**Options :**

1. ✘ 4 times
2. ✘ 5 times

3. ✘ 2 times

4. ✔ 3 times

**Question Number : 105 Question Id : 5406266940 Question Type : MCQ Option Shuffling : Yes Is Question Mandatory : No Option Orientation : Vertical**

**Correct Marks : 1 Wrong Marks : 0.25**

वीरू और धीरू ने 400 मीटर के वृत्ताकार दौड़ के मैदान में 6 किमी की दौड़ लगाई। यदि उनकी गति 5 : 4 के अनुपात में है, तो वीरू कितनी बार धीरू को पार करता है?

**Options :**

1. ✘ 4 बार

2. ✘ 5 बार

3. ✘ 2 बार

4. ✔ 3 बार

**Question Number : 106 Question Id : 5406266941 Question Type : MCQ Option Shuffling : Yes Is Question Mandatory : No Option Orientation : Vertical**

**Correct Marks : 1 Wrong Marks : 0.25**

Sunil can row in still water with a speed of 6 km/h. If the speed of current is 1.2 km/h, he takes 1 hour to go to a certain place and come back. How far is that place?

**Options :**

1. ✔ 2.88 km

2. ✘ 3.56 km

3. ✘ 1.44 km

4. ✘ 9.6 km

**Question Number : 106 Question Id : 5406266941 Question Type : MCQ Option Shuffling : Yes Is Question Mandatory : No Option Orientation : Vertical**

**Correct Marks : 1 Wrong Marks : 0.25**

सुनील स्थिर पानी में 6 किमी/घण्टा की गति से तैर सकता है। यदि धारा की गति 1.2 किमी/घण्टा है तो वह एक निश्चित स्थान तक जाने और आने में कुल 1 घंटे का समय लेता है। वह स्थान कितनी दूर स्थित है?

**Options :**

1. ✔ 2.88 किमी

2. ✘ 3.56 किमी
3. ✘ 1.44 किमी
4. ✘ 9.6 किमी

**Question Number : 107 Question Id : 5406266942 Question Type : MCQ Option Shuffling : Yes Is Question Mandatory : No Option Orientation : Vertical**

**Correct Marks : 1 Wrong Marks : 0.25**

A train 150 metres long running at a speed of 60 km/hour takes 30 seconds to cross a bridge. What is the length of the bridge?

**Options :**

1. ✔ 350 m
2. ✘ 450 m
3. ✘ 300 m
4. ✘ 400 m

**Question Number : 107 Question Id : 5406266942 Question Type : MCQ Option Shuffling : Yes Is Question Mandatory : No Option Orientation : Vertical**

**Correct Marks : 1 Wrong Marks : 0.25**

एक 150 मीटर लम्बी रेलगाड़ी 60 किलोमीटर/घंटे की गति से चलकर एक पुल को 30 सेकंड में पार करती है। पुल की लम्बाई क्या है?

**Options :**

1. ✔ 350 मीटर
2. ✘ 450 मीटर
3. ✘ 300 मीटर
4. ✘ 400 मीटर

**Question Number : 108 Question Id : 5406266943 Question Type : MCQ Option Shuffling : Yes Is Question Mandatory : No Option Orientation : Vertical**

**Correct Marks : 1 Wrong Marks : 0.25**

A man covers 36 km at 12 km/hr, 16 km at 8 km/h and 60 km at 15 km/hr, then find the average speed in covering the whole distance.

**Options :**

1. ✘ 12.24 km/hr
2. ✔ 12.44 km/hr

3. ✘ 13.34 km/hr

4. ✘ 14.44 km/hr

**Question Number : 108 Question Id : 5406266943 Question Type : MCQ Option Shuffling : Yes Is Question Mandatory : No Option Orientation : Vertical**

**Correct Marks : 1 Wrong Marks : 0.25**

एक व्यक्ति 36 किमी की दूरी 12 किमी/घंटे, 16 किमी की दूरी 8 किमी/घंटे और 60 किमी की दूरी 15 किमी/घंटे की गति से तय करता है, तो उसकी औसत गति ज्ञात कीजिए।

**Options :**

1. ✘ 12.24 किमी/घंटा

2. ✔ 12.44 किमी/घंटा

3. ✘ 13.34 किमी/घंटा

4. ✘ 14.44 किमी/घंटा

**Question Number : 109 Question Id : 5406266944 Question Type : MCQ Option Shuffling : Yes Is Question Mandatory : No Option Orientation : Vertical**

**Correct Marks : 1 Wrong Marks : 0.25**

Nipul starts working on a job and works on it for 16 days and completes 40 percent of the work. After that, he employs Ravi and together they work for another 16 days and the work gets completed. Nipul is how much more efficient than Ravi?

**Options :**

1. ✔ 100 percent

2. ✘ 50 percent

3. ✘ 150 percent

4. ✘ 200 percent

**Question Number : 109 Question Id : 5406266944 Question Type : MCQ Option Shuffling : Yes Is Question Mandatory : No Option Orientation : Vertical**

**Correct Marks : 1 Wrong Marks : 0.25**

निपुल एक काम करना शुरू करता है और 16 दिन कार्य करते हुए उस कार्य का 40 प्रतिशत भाग पूरा करता है। उसके बाद, वह रवि को नियुक्त करता है और साथ में वे और 16 दिन काम करते हैं और कार्य पूरा हो जाता है। निपुल, रवि से कितना अधिक कार्यकुशल है?

**Options :**

1. ✔ 100 प्रतिशत

2. ✖ 50 प्रतिशत
3. ✖ 150 प्रतिशत
4. ✖ 200 प्रतिशत

**Question Number : 110 Question Id : 5406266945 Question Type : MCQ Option Shuffling : Yes Is Question Mandatory : No Option Orientation : Vertical**

**Correct Marks : 1 Wrong Marks : 0.25**

2 men and 3 boys can do a piece of work in 10 days while 3 men and 2 boys can finish it in 8 days. In how many days 2 men and 1 boy will finish the work?

**Options :**

1. ✖ 13.5 day
2. ✖ 13 day
3. ✔ 12.5 day
4. ✖ 14 day

**Question Number : 110 Question Id : 5406266945 Question Type : MCQ Option Shuffling : Yes Is Question Mandatory : No Option Orientation : Vertical**

**Correct Marks : 1 Wrong Marks : 0.25**

2 आदमी तथा 3 लड़के मिलकर किसी काम को 10 दिन में पूरा कर सकते हैं जबकि 3 आदमी तथा 2 लड़के इसी काम को 8 दिन में पूरा कर सकते हैं। 2 आदमी तथा 1 लड़का मिलकर इस कार्य को कितने दिन में पूरा कर पायेंगे?

**Options :**

1. ✖ 13.5 दिन
2. ✖ 13 दिन
3. ✔ 12.5 दिन
4. ✖ 14 दिन

**Question Number : 111 Question Id : 5406266946 Question Type : MCQ Option Shuffling : Yes Is Question Mandatory : No Option Orientation : Vertical**

**Correct Marks : 1 Wrong Marks : 0.25**

A can do a work in 24 days and B in 40 days. If they work on it together for 10 days, then what fraction of work is left?

**Options :**

1. ✖ 1/2



2. ✓ 1/3
3. ✗ 2/3
4. ✗ 3/4

**Question Number : 111 Question Id : 5406266946 Question Type : MCQ Option Shuffling : Yes Is Question Mandatory : No Option Orientation : Vertical**

**Correct Marks : 1 Wrong Marks : 0.25**

A एक काम को 24 दिनों में और B, 40 दिनों में पूरा कर सकता है। यदि वे एक साथ मिलकर 10 दिनों तक काम करते हैं, तो काम का कितना भाग शेष बचता है?

**Options :**

1. ✗ 1/2
2. ✓ 1/3
3. ✗ 2/3
4. ✗ 3/4

**Question Number : 112 Question Id : 5406266947 Question Type : MCQ Option Shuffling : Yes Is Question Mandatory : No Option Orientation : Vertical**

**Correct Marks : 1 Wrong Marks : 0.25**

Four equal maximum sized circular papers are cut off from a square paper sheet of area 3136 sq. cm. What is the area of remaining sheet of paper?

**Options :**

1. ✗ 708 sq. cm
2. ✗ 942 sq. cm
3. ✓ 672 sq. cm
4. ✗ 760 sq. cm

**Question Number : 112 Question Id : 5406266947 Question Type : MCQ Option Shuffling : Yes Is Question Mandatory : No Option Orientation : Vertical**

**Correct Marks : 1 Wrong Marks : 0.25**

चार समान अधिकतम आकार की गोलाकार कागज , 3136 वर्ग सेमी की वर्गाकार कागज की शीट से काट दी जाती हैं। कागज की शेष शीट का क्षेत्रफल क्या है?

**Options :**

1. ✗ 708 वर्ग सेमी

2. ✘ 942 वर्ग सेमी
3. ✔ 672 वर्ग सेमी
4. ✘ 760 वर्ग सेमी

**Question Number : 113 Question Id : 5406266948 Question Type : MCQ Option Shuffling : Yes Is Question Mandatory : No Option Orientation : Vertical**

**Correct Marks : 1 Wrong Marks : 0.25**

A cube of 6 cm side is cut into cubes of 2 cm side. What is the ratio of the total surface area of the larger cube to that of the sum of the total surface areas of the smaller cubes?

**Options :**

1. ✘ 1 : 6
2. ✔ 1 : 3
3. ✘ 1 : 4
4. ✘ 1 : 9

**Question Number : 113 Question Id : 5406266948 Question Type : MCQ Option Shuffling : Yes Is Question Mandatory : No Option Orientation : Vertical**

**Correct Marks : 1 Wrong Marks : 0.25**

6 सेमी भुजा के एक घन को 2 सेमी भुजा के घनों में काट दिया जाता है। बड़े घन के कुल सतह क्षेत्रफल का छोटे घनों के कुल सतह क्षेत्रफलों के योग से अनुपात क्या है ?

**Options :**

1. ✘ 1 : 6
2. ✔ 1 : 3
3. ✘ 1 : 4
4. ✘ 1 : 9

**Question Number : 114 Question Id : 5406266949 Question Type : MCQ Option Shuffling : Yes Is Question Mandatory : No Option Orientation : Vertical**

**Correct Marks : 1 Wrong Marks : 0.25**

The area of an equilateral triangle is  $441\sqrt{3}$  sq cm. Find its perimeter.

**Options :**

1. ✘ 216 cm

2. ✘ 124 cm
3. ✘ 132 cm
4. ✔ 126 cm

**Question Number : 114 Question Id : 5406266949 Question Type : MCQ Option Shuffling : Yes Is Question Mandatory : No Option Orientation : Vertical**

**Correct Marks : 1 Wrong Marks : 0.25**

एक समबाहु त्रिभुज का क्षेत्रफल  $441\sqrt{3}$  वर्ग सेमी है। इसका परिमाण ज्ञात कीजिए।

**Options :**

1. ✘ 216 सेमी
2. ✘ 124 सेमी
3. ✘ 132 सेमी
4. ✔ 126 सेमी

**Question Number : 115 Question Id : 5406266950 Question Type : MCQ Option Shuffling : Yes Is Question Mandatory : No Option Orientation : Vertical**

**Correct Marks : 1 Wrong Marks : 0.25**

A survey of novel reading habits of the people of five cities A, B, C, D, E is given below. The column I in the table represents percentage of novel readers in each city who read only one novel in a week. The column II gives the total number of novel readers who read two or more novels in a week. Read the table and answer the following question.

City	I	II
A	55	4500
B	45	3300
C	70	3900
D	40	4800
E	82	2700

Which city has the highest number of novel reader who read only one novel a week?

Options :

1. ✘ D
2. ✘ C
3. ✔ E
4. ✘ B

**Question Number : 115 Question Id : 5406266950 Question Type : MCQ Option Shuffling : Yes Is Question Mandatory : No Option Orientation : Vertical**

**Correct Marks : 1 Wrong Marks : 0.25**

नीचे दिए गए पांच शहरों A, B, C, D, E में लोगों की उपन्यास पढ़ने की आदतों के एक सर्वेक्षण को दर्शाया गया है। तालिका में कॉलम I प्रत्येक शहर में उपन्यास पाठकों के प्रतिशत को दर्शाता है जो एक सप्ताह में केवल एक उपन्यास पढ़ते हैं। कॉलम II उपन्यास पाठकों की कुल संख्या को दर्शाता है जो एक सप्ताह में दो या दो से अधिक उपन्यास पढ़ते हैं। तालिका का अध्ययन करें और निम्नलिखित प्रश्न का उत्तर दीजिए।

शहर	I	II
A	55	4500
B	45	3300
C	70	3900
D	40	4800
E	82	2700

सप्ताह में केवल एक उपन्यास पढ़ने वाले पाठकों की संख्या किस शहर में सबसे अधिक है ?

Options :

1. ✘ D
2. ✘ C
3. ✔ E
4. ✘ B

**Question Number : 116 Question Id : 5406266951 Question Type : MCQ Option Shuffling : Yes Is Question Mandatory : No Option**

**Orientation : Vertical****Correct Marks : 1 Wrong Marks : 0.25**

A survey of novel reading habits of the people of five cities A, B, C, D, E is given below. The column I in the table represents percentage of novel readers in each city who read only one novel in a week. The column II gives the total number of novel readers who read two or more novels in a week. Read the table and answer the following question:

City	I	II
A	55	4500
B	45	3300
C	70	3900
D	40	4800
E	82	2700

The highest number of novel readers in any given city is:

**Options :**

- ✘ 13000
- ✘ 10000
- ✘ 25000
- ✔ 15000

**Question Number : 116 Question Id : 5406266951 Question Type : MCQ Option Shuffling : Yes Is Question Mandatory : No Option****Orientation : Vertical****Correct Marks : 1 Wrong Marks : 0.25**

नीचे दिए गए पांच शहरों A, B, C, D, E में लोगों की उपन्यास पढ़ने की आदतों के एक सर्वेक्षण को दर्शाया गया है। तालिका में कॉलम I प्रत्येक शहर में उपन्यास पाठकों के प्रतिशत को दर्शाता है जो एक सप्ताह में केवल एक उपन्यास पढ़ते हैं। कॉलम II उपन्यास पाठकों की कुल संख्या को दर्शाता है जो एक सप्ताह में दो या दो से अधिक उपन्यास पढ़ते हैं। तालिका का अध्ययन करें और निम्नलिखित प्रश्न का उत्तर दीजिए।

शहर	I	II
A	55	4500
B	45	3300
C	70	3900
D	40	4800
E	82	2700

दिए गए किसी भी शहर में उपन्यास पाठकों की अधिकतम संख्या कितनी है?

**Options :**

- ✘ 13000
- ✘ 10000
- ✘ 25000
- ✔ 15000

**Question Number : 117 Question Id : 5406266952 Question Type : MCQ Option Shuffling : Yes Is Question Mandatory : No Option Orientation : Vertical**

**Correct Marks : 1 Wrong Marks : 0.25**

A survey of novel reading habits of the people of five cities A, B, C, D, E is given below. The column I in the table represents percentage of novel readers in each city who read only one novel in a week. The column II gives the total number of novel readers who read two or more novels in a week. Read the table and answer the following question:

City	I	II
A	55	4500
B	45	3300
C	70	3900
D	40	4800
E	82	2700

How many novel reader in the city C read only one novel a week?

**Options :**

1. ✓ 9100
2. ✗ 9000
3. ✗ 8800
4. ✗ 9200

**Question Number : 117 Question Id : 5406266952 Question Type : MCQ Option Shuffling : Yes Is Question Mandatory : No Option Orientation : Vertical**

**Correct Marks : 1 Wrong Marks : 0.25**

नीचे दिए गए पांच शहरों A, B, C, D, E में लोगों की उपन्यास पढ़ने की आदतों के एक सर्वेक्षण को दर्शाया गया है। तालिका में कॉलम I प्रत्येक शहर में उपन्यास पाठकों के प्रतिशत को दर्शाता है जो एक सप्ताह में केवल एक उपन्यास पढ़ते हैं। कॉलम II उपन्यास पाठकों की कुल संख्या को दर्शाता है जो एक सप्ताह में दो या दो से अधिक उपन्यास पढ़ते हैं। तालिका का अध्ययन करें और निम्नलिखित प्रश्न का उत्तर दीजिए।

शहर	I	II
A	55	4500
B	45	3300
C	70	3900
D	40	4800
E	82	2700

शहर C में कितने उपन्यास पाठकों ने एक सप्ताह में केवल एक उपन्यास पढ़ा?

**Options :**

1. ✓ 9100
2. ✗ 9000
3. ✗ 8800
4. ✗ 9200

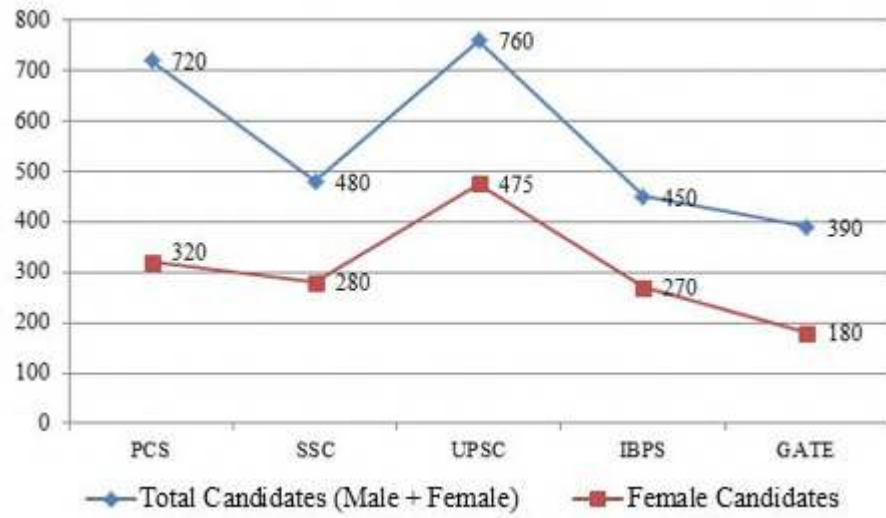
**Question Number : 118 Question Id : 5406266953 Question Type : MCQ Option Shuffling : Yes Is Question Mandatory : No Option Orientation : Vertical**

**Correct Marks : 1 Wrong Marks : 0.25**

Answer the question based on the information given below.

The line graph given below shows the distribution of the number of candidates who appeared for interview in five different competitive examinations.





Number of male candidates who appeared for interview in IBPS are what percent less/more than the number of male candidates who appeared for interview in SSC?

**Options :**

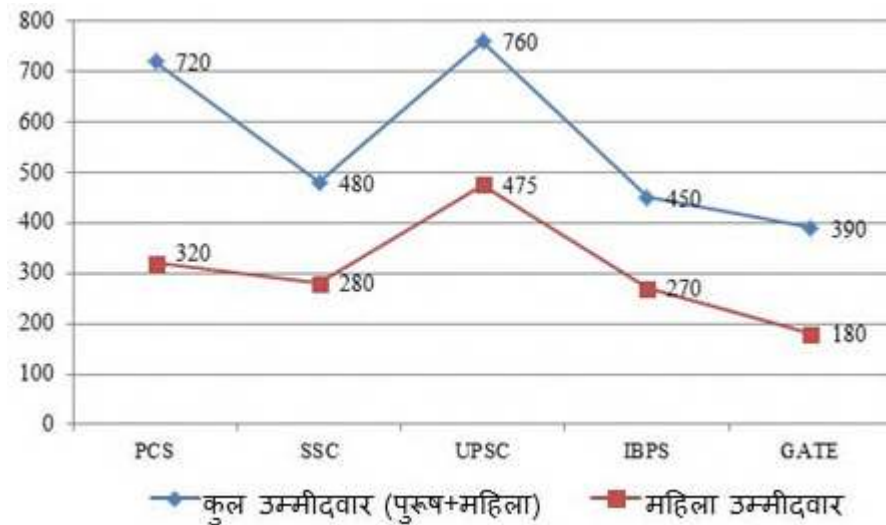
1. ✘ 5 percent
2. ✔ 10 percent
3. ✘ 15 percent
4. ✘ 20 percent

**Question Number : 118 Question Id : 5406266953 Question Type : MCQ Option Shuffling : Yes Is Question Mandatory : No Option Orientation : Vertical**

**Correct Marks : 1 Wrong Marks : 0.25**

नीचे दी गई जानकारी के आधार पर प्रश्न का उत्तर दीजिए।

नीचे दिया गया ग्राफ पांच अलग प्रतियोगी परीक्षाओं में साक्षात्कार के लिए उपस्थित होने वाले उम्मीदवारों की संख्या के वितरण को दर्शाता है।



आईबीपीएस (IBPS) में साक्षात्कार के लिए उपस्थित होने वाले पुरुष उम्मीदवारों की संख्या, एसएससी (SSC) में साक्षात्कार के लिए उपस्थित होने वाले पुरुष उम्मीदवारों की संख्या से कितना प्रतिशत कम/अधिक है?

Options :

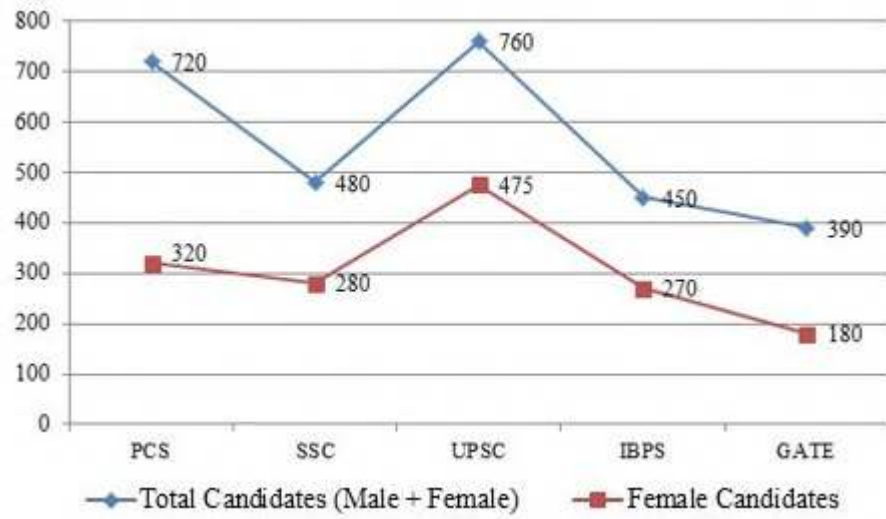
1. ✘ 5 प्रतिशत
2. ✔ 10 प्रतिशत
3. ✘ 15 प्रतिशत
4. ✘ 20 प्रतिशत

**Question Number : 119 Question Id : 5406266954 Question Type : MCQ Option Shuffling : Yes Is Question Mandatory : No Option Orientation : Vertical**

**Correct Marks : 1 Wrong Marks : 0.25**

Answer the question based on the information given below.

The line graph given below shows the distribution of the number of candidates who appeared for interview in five different competitive examinations.



What is the ratio of the number of male candidates who appeared for interview in GATE and IBPS together to the number of female candidates appeared for interview in PCS and SSC together?

**Options :**

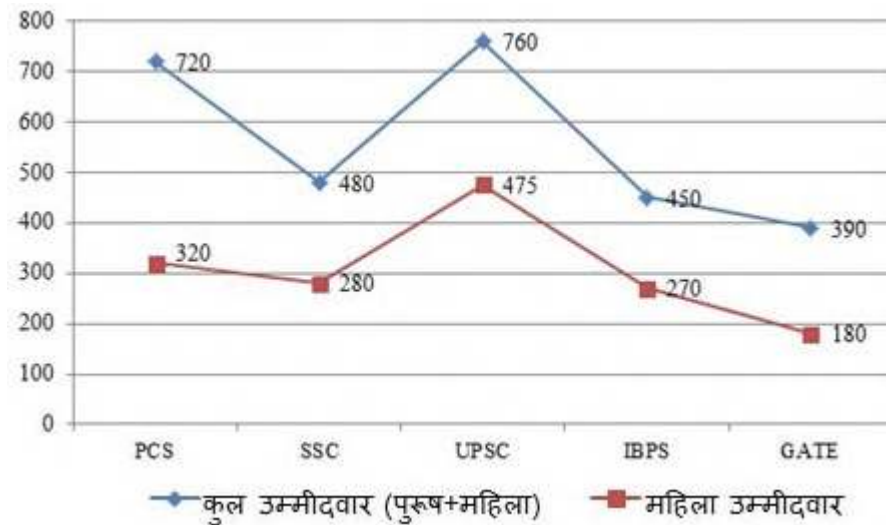
1. ✘ 3:7
2. ✔ 13:20
3. ✘ 8:19
4. ✘ 3:5

**Question Number : 119 Question Id : 5406266954 Question Type : MCQ Option Shuffling : Yes Is Question Mandatory : No Option Orientation : Vertical**

**Correct Marks : 1 Wrong Marks : 0.25**

नीचे दी गई जानकारी के आधार पर प्रश्न का उत्तर दीजिए।

नीचे दिया गया ग्राफ पांच अलग प्रतियोगी परीक्षाओं में साक्षात्कार के लिए उपस्थित होने वाले उम्मीदवारों की संख्या के वितरण को दर्शाता है।



गेट (GATE) और आईबीपीएस (IBPS) में साक्षात्कार के लिए उपस्थित पुरुष उम्मीदवारों की संख्या और पीसीएस (PCS) और एसएससी (SSC) साक्षात्कार के लिए उपस्थित महिला उम्मीदवारों की संख्या का अनुपात ज्ञात कीजिए।

**Options :**

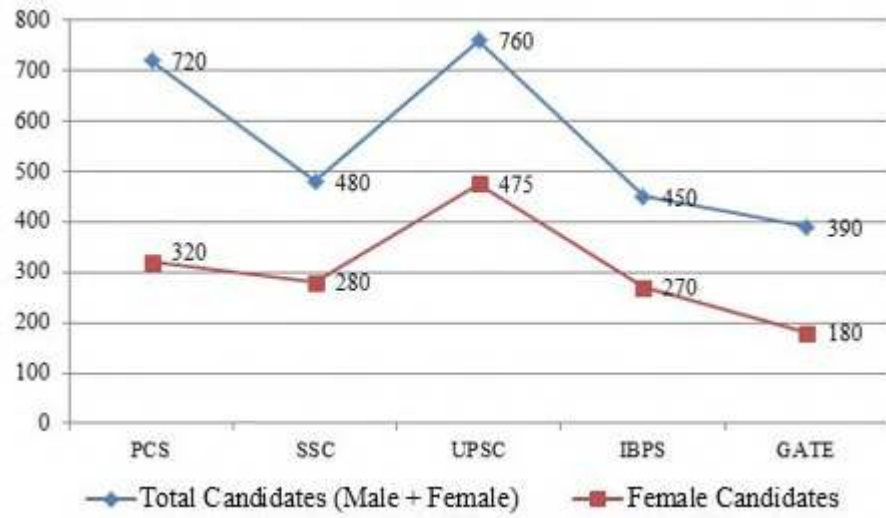
1. ✘ 3:7
2. ✔ 13:20
3. ✘ 8:19
4. ✘ 3:5

**Question Number : 120 Question Id : 5406266955 Question Type : MCQ Option Shuffling : Yes Is Question Mandatory : No Option Orientation : Vertical**

**Correct Marks : 1 Wrong Marks : 0.25**

Answer the question based on the information given below.

The line graph given below shows the distribution of the number of candidates who appeared for interview in five different competitive examinations.



What is the difference between the total number of females who appeared for interview in SSC and IBPS together, and total number of males who appeared for interview in UPSC and GATE together?

Options :

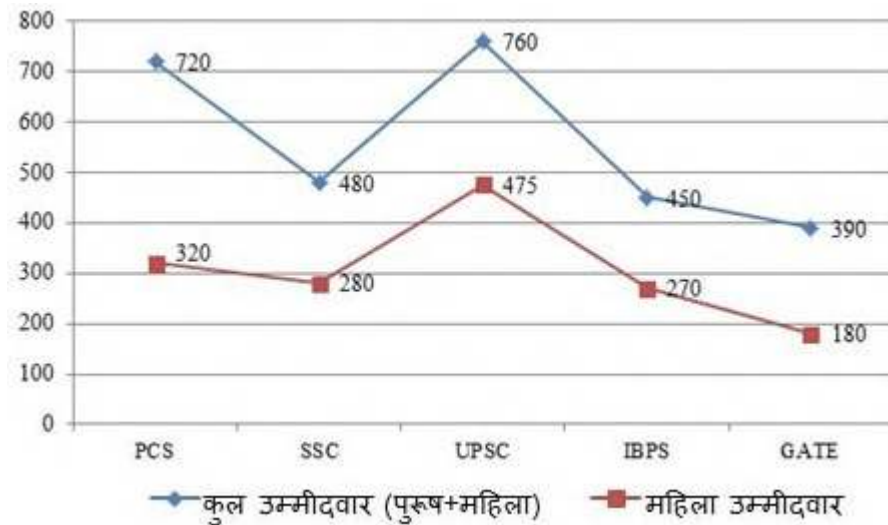
1. ✘ 50
2. ✔ 55
3. ✘ 60
4. ✘ 65

**Question Number : 120 Question Id : 5406266955 Question Type : MCQ Option Shuffling : Yes Is Question Mandatory : No Option Orientation : Vertical**

**Correct Marks : 1 Wrong Marks : 0.25**

नीचे दी गई जानकारी के आधार पर प्रश्न का उत्तर दीजिए।

नीचे दिया गया ग्राफ पांच अलग प्रतियोगी परीक्षाओं में साक्षात्कार के लिए उपस्थित होने वाले उम्मीदवारों की संख्या के वितरण को दर्शाता है।



एसएससी (SSC) और आईबीपीएस (IBPS) में साक्षात्कार के लिए उपस्थित होने वाली महिलाओं की कुल संख्या और यूपीएससी (UPSC) और गेट (GATE) में साक्षात्कार के लिए उपस्थित होने वाले पुरुषों की कुल संख्या में कितना अंतर है?

Options :

1. ✘ 50
2. ✔ 55
3. ✘ 60
4. ✘ 65

## General English 1

Group Number :	7
Group Id :	540626218
Group Maximum Duration :	0
Group Minimum Duration :	0
Show Attended Group? :	No
Edit Attended Group? :	No
Break time :	0
Group Marks :	20
Is this Group for Examiner? :	No

## English Language & Comprehension1

Section Id :	540626297
Section Number :	1
Section type :	Online
Mandatory or Optional :	Mandatory
Number of Questions :	20
Number of Questions to be attempted :	20
Section Marks :	20
Enable Mark as Answered Mark for Review and Clear Response :	Yes
Sub-Section Number :	1
Sub-Section Id :	540626344
Question Shuffling Allowed :	Yes

**Question Number : 121 Question Id : 5406266956 Question Type : MCQ Option Shuffling : Yes Is Question Mandatory : No Option Orientation : Vertical**

**Correct Marks : 1 Wrong Marks : 0.25**

In the following question, some part of the sentence may have errors. Find out which part of the sentence has an error and select the appropriate option. If a sentence is free from error, select 'No Error'.

Winter storms normal bring ordinary rain, freezing rain, sleet as well as snow.

**Options :**

1. ✓ Winter storms normal
2. ✗ bring ordinary rain, freezing rain,
3. ✗ sleet as well as snow.
4. ✗ No error

**Question Number : 121 Question Id : 5406266956 Question Type : MCQ Option Shuffling : Yes Is Question Mandatory : No Option Orientation : Vertical**

**Correct Marks : 1 Wrong Marks : 0.25**

In the following question, some part of the sentence may have errors. Find out which part of the sentence has an error and select the appropriate option. If a sentence is free from error, select 'No Error'.

Winter storms normal bring ordinary rain, freezing rain, sleet as well as snow.

**Options :**

1. ✓ Winter storms normal
2. ✗ bring ordinary rain, freezing rain,
3. ✗ sleet as well as snow.
4. ✗ No error

**Question Number : 122 Question Id : 5406266957 Question Type : MCQ Option Shuffling : Yes Is Question Mandatory : No Option Orientation : Vertical**

**Correct Marks : 1 Wrong Marks : 0.25**

In the following question, some part of the sentence may have errors. Find out which part of the sentence has an error and select the appropriate option. If a sentence is free from error, select 'No Error'.

She spins around like a little girl with her tongue stick out to catch the drops.

**Options :**

1. ✗ She spins around like a
2. ✗ little girl with her tongue
3. ✓ stick out to catch the drops.
4. ✗ No error

**Question Number : 122 Question Id : 5406266957 Question Type : MCQ Option Shuffling : Yes Is Question Mandatory : No Option Orientation : Vertical**

**Correct Marks : 1 Wrong Marks : 0.25**

In the following question, some part of the sentence may have errors. Find out which part of the sentence has an error and select the appropriate option. If a sentence is free from error, select 'No Error'.

She spins around like a little girl with her tongue stick out to catch the drops.

**Options :**

1. ✗ She spins around like a
2. ✗ little girl with her tongue
3. ✓ stick out to catch the drops.
4. ✗ No error



**Question Number : 123 Question Id : 5406266958 Question Type : MCQ Option Shuffling : Yes Is Question Mandatory : No Option Orientation : Vertical**

**Correct Marks : 1 Wrong Marks : 0.25**

In the following question, some part of the sentence may have errors. Find out which part of the sentence has an error and select the appropriate option. If a sentence is free from error, select 'No Error'.

They swim under water by propelling themselves with their wings.

**Options :**

1. ✘ They swim under water
2. ✔ by propelling themselves
3. ✘ with their wings.
4. ✘ No error

**Question Number : 123 Question Id : 5406266958 Question Type : MCQ Option Shuffling : Yes Is Question Mandatory : No Option Orientation : Vertical**

**Correct Marks : 1 Wrong Marks : 0.25**

In the following question, some part of the sentence may have errors. Find out which part of the sentence has an error and select the appropriate option. If a sentence is free from error, select 'No Error'.

They swim under water by propelling themselves with their wings.

**Options :**

1. ✘ They swim under water
2. ✔ by propelling themselves
3. ✘ with their wings.
4. ✘ No error

**Question Number : 124 Question Id : 5406266959 Question Type : MCQ Option Shuffling : Yes Is Question Mandatory : No Option Orientation : Vertical**

**Correct Marks : 1 Wrong Marks : 0.25**

In the following question, some part of the sentence may have errors. Find out which part of the sentence has an error and select the appropriate option. If a sentence is free from error, select 'No Error'.

The few articles of furniture included a narrow bed, a chair, and desk in one corner.

**Options :**

1. ✘ The few articles of furniture
2. ✘ included a narrow bed, a chair,
3. ✔ and desk in one corner.
4. ✘ No error

**Question Number : 124 Question Id : 5406266959 Question Type : MCQ Option Shuffling : Yes Is Question Mandatory : No Option Orientation : Vertical**

**Correct Marks : 1 Wrong Marks : 0.25**

In the following question, some part of the sentence may have errors. Find out which part of the sentence has an error and select the appropriate option. If a sentence is free from error, select 'No Error'.

The few articles of furniture included a narrow bed, a chair, and desk in one corner.

**Options :**

1. ✘ The few articles of furniture
2. ✘ included a narrow bed, a chair,
3. ✔ and desk in one corner.
4. ✘ No error

**Question Number : 125 Question Id : 5406266960 Question Type : MCQ Option Shuffling : Yes Is Question Mandatory : No Option Orientation : Vertical**

**Correct Marks : 1 Wrong Marks : 0.25**

Select the most appropriate option to substitute the underlined segment in the given sentence. If there is no need to substitute it, select 'No improvement'.

Many organizations still exist and trying to function despite a general lack of funds.

**Options :**

1. ✔ try to function
2. ✘ trying to functioning
3. ✘ tried to function
4. ✘ No improvement

**Question Number : 125 Question Id : 5406266960 Question Type : MCQ Option Shuffling : Yes Is Question Mandatory : No Option**

**Orientation : Vertical**

**Correct Marks : 1 Wrong Marks : 0.25**

Select the most appropriate option to substitute the underlined segment in the given sentence. If there is no need to substitute it, select 'No improvement'.

Many organizations still exist and trying to function despite a general lack of funds.

**Options :**

1. ✓ try to function
2. ✗ trying to functioning
3. ✗ tried to function
4. ✗ No improvement

**Question Number : 126 Question Id : 5406266961 Question Type : MCQ Option Shuffling : Yes Is Question Mandatory : No Option Orientation : Vertical**

**Correct Marks : 1 Wrong Marks : 0.25**

Select the most appropriate option to substitute the underlined segment in the given sentence. If there is no need to substitute it, select 'No improvement'.

Book cover design have improve drastically since the middle of the last decade.

**Options :**

1. ✗ have improved drastically
2. ✓ has improved drastically
3. ✗ has improve drastic
4. ✗ No improvement

**Question Number : 126 Question Id : 5406266961 Question Type : MCQ Option Shuffling : Yes Is Question Mandatory : No Option Orientation : Vertical**

**Correct Marks : 1 Wrong Marks : 0.25**

Select the most appropriate option to substitute the underlined segment in the given sentence. If there is no need to substitute it, select 'No improvement'.

Book cover design have improve drastically since the middle of the last decade.

**Options :**

1. ✗ have improved drastically

2. ✓ has improved drastically
3. ✗ has improve drastic
4. ✗ No improvement

**Question Number : 127 Question Id : 5406266962 Question Type : MCQ Option Shuffling : Yes Is Question Mandatory : No Option Orientation : Vertical**

**Correct Marks : 1 Wrong Marks : 0.25**

Select the most appropriate option to substitute the underlined segment in the given sentence. If there is no need to substitute it, select 'No improvement'.

A number of changes has been made in an effort to reduce the problems experienced in the past.

**Options :**

1. ✗ A number of change have
2. ✗ The numbers of change have
3. ✓ A number of changes have
4. ✗ No improvement

**Question Number : 127 Question Id : 5406266962 Question Type : MCQ Option Shuffling : Yes Is Question Mandatory : No Option Orientation : Vertical**

**Correct Marks : 1 Wrong Marks : 0.25**

Select the most appropriate option to substitute the underlined segment in the given sentence. If there is no need to substitute it, select 'No improvement'.

A number of changes has been made in an effort to reduce the problems experienced in the past.

**Options :**

1. ✗ A number of change have
2. ✗ The numbers of change have
3. ✓ A number of changes have
4. ✗ No improvement

**Question Number : 128 Question Id : 5406266963 Question Type : MCQ Option Shuffling : Yes Is Question Mandatory : No Option Orientation : Vertical**

**Correct Marks : 1 Wrong Marks : 0.25**

Select the most appropriate option to substitute the underlined segment in the given sentence. If there is no need to substitute it, select 'No improvement'.

Dieters often cut back on protein in an effort to reduce calories and lose weight.

**Options :**

- ✘ cuts back on protein
- ✘ cutting back in protein
- ✘ cut backing in protein
- ✔ No improvement

**Question Number : 128 Question Id : 5406266963 Question Type : MCQ Option Shuffling : Yes Is Question Mandatory : No Option Orientation : Vertical**

**Correct Marks : 1 Wrong Marks : 0.25**

Select the most appropriate option to substitute the underlined segment in the given sentence. If there is no need to substitute it, select 'No improvement'.

Dieters often cut back on protein in an effort to reduce calories and lose weight.

**Options :**

- ✘ cuts back on protein
- ✘ cutting back in protein
- ✘ cut backing in protein
- ✔ No improvement

**Question Number : 129 Question Id : 5406266964 Question Type : MCQ Option Shuffling : Yes Is Question Mandatory : No Option Orientation : Vertical**

**Correct Marks : 1 Wrong Marks : 0.25**

Select the most appropriate option to fill in the blank.

Females lay eggs in other birds' nests and \_\_\_\_\_ the rearing to other species.

**Options :**

- ✔ leave
- ✘ leaving
- ✘ left
- ✘ is leaving

**Question Number : 129 Question Id : 5406266964 Question Type : MCQ Option Shuffling : Yes Is Question Mandatory : No Option Orientation : Vertical**

**Correct Marks : 1 Wrong Marks : 0.25**

Select the most appropriate option to fill in the blank.

Females lay eggs in other birds' nests and \_\_\_\_\_ the rearing to other species.

**Options :**

1. ✓ leave
2. ✗ leaving
3. ✗ left
4. ✗ is leaving

**Question Number : 130 Question Id : 5406266965 Question Type : MCQ Option Shuffling : Yes Is Question Mandatory : No Option Orientation : Vertical**

**Correct Marks : 1 Wrong Marks : 0.25**

Select the most appropriate option to fill in the blank.

The black back of the bird separated the two wings from \_\_\_\_\_.

**Options :**

1. ✗ other
2. ✓ each other
3. ✗ another
4. ✗ one another

**Question Number : 130 Question Id : 5406266965 Question Type : MCQ Option Shuffling : Yes Is Question Mandatory : No Option Orientation : Vertical**

**Correct Marks : 1 Wrong Marks : 0.25**

Select the most appropriate option to fill in the blank.

The black back of the bird separated the two wings from \_\_\_\_\_.

**Options :**

1. ✗ other

2. ✓ each other
3. ✗ another
4. ✗ one another

**Question Number : 131 Question Id : 5406266966 Question Type : MCQ Option Shuffling : Yes Is Question Mandatory : No Option Orientation : Vertical**

**Correct Marks : 1 Wrong Marks : 0.25**

Select the most appropriate option to fill in the blank.

We saw each other again at the finish line and the amputee introduced \_\_\_\_\_ as Jim Boney.

**Options :**

1. ✗ itself
2. ✗ herself
3. ✓ himself
4. ✗ themselves

**Question Number : 131 Question Id : 5406266966 Question Type : MCQ Option Shuffling : Yes Is Question Mandatory : No Option Orientation : Vertical**

**Correct Marks : 1 Wrong Marks : 0.25**

Select the most appropriate option to fill in the blank.

We saw each other again at the finish line and the amputee introduced \_\_\_\_\_ as Jim Boney.

**Options :**

1. ✗ itself
2. ✗ herself
3. ✓ himself
4. ✗ themselves

**Question Number : 132 Question Id : 5406266967 Question Type : MCQ Option Shuffling : Yes Is Question Mandatory : No Option Orientation : Vertical**

**Correct Marks : 1 Wrong Marks : 0.25**

Select the most appropriate option to fill in the blanks.

The new institute is \_\_\_\_\_ independent body to register and administer \_\_\_\_\_ teaching profession across all school sectors in the state.

**Options :**

1. ✓ an, the
2. ✗ a, the
3. ✗ the, the
4. ✗ No article needed

**Question Number : 132 Question Id : 5406266967 Question Type : MCQ Option Shuffling : Yes Is Question Mandatory : No Option Orientation : Vertical**

**Correct Marks : 1 Wrong Marks : 0.25**

Select the most appropriate option to fill in the blanks.

The new institute is \_\_\_\_\_ independent body to register and administer \_\_\_\_\_ teaching profession across all school sectors in the state.

**Options :**

1. ✓ an, the
2. ✗ a, the
3. ✗ the, the
4. ✗ No article needed

**Question Number : 133 Question Id : 5406266968 Question Type : MCQ Option Shuffling : Yes Is Question Mandatory : No Option Orientation : Vertical**

**Correct Marks : 1 Wrong Marks : 0.25**

Select the most appropriate option to fill in the blank.

Our politicians have plundered the system for \_\_\_\_\_ long that corruption is now a part of life.

**Options :**

1. ✓ so
2. ✗ very
3. ✗ much
4. ✗ many

**Question Number : 133 Question Id : 5406266968 Question Type : MCQ Option Shuffling : Yes Is Question Mandatory : No Option Orientation : Vertical**



**Correct Marks : 1 Wrong Marks : 0.25**

Select the most appropriate option to fill in the blank.

Our politicians have plundered the system for \_\_\_\_\_ long that corruption is now a part of life.

**Options :**

1. ✓ so
2. ✗ very
3. ✗ much
4. ✗ many

**Question Number : 134 Question Id : 5406266969 Question Type : MCQ Option Shuffling : Yes Is Question Mandatory : No Option Orientation : Vertical**

**Correct Marks : 1 Wrong Marks : 0.25**

Select the most appropriate option to fill in the blank.

The fact on which he now relies is that \_\_\_\_\_ he stole, he did not in fact threaten violence.

**Options :**

1. ✗ but
2. ✓ though
3. ✗ because
4. ✗ as

**Question Number : 134 Question Id : 5406266969 Question Type : MCQ Option Shuffling : Yes Is Question Mandatory : No Option Orientation : Vertical**

**Correct Marks : 1 Wrong Marks : 0.25**

Select the most appropriate option to fill in the blank.

The fact on which he now relies is that \_\_\_\_\_ he stole, he did not in fact threaten violence.

**Options :**

1. ✗ but
2. ✓ though
3. ✗ because
4. ✗ as

**Question Number : 135 Question Id : 5406266970 Question Type : MCQ Option Shuffling : Yes Is Question Mandatory : No Option Orientation : Vertical**

**Correct Marks : 1 Wrong Marks : 0.25**

Parts of a sentence have been jumbled up. Arrange these parts in a meaningful order.

- A: to prevent the COVID – 19 infections
- B: Coronavirus advisory, the universities have
- C: started taking precautions
- D: after the Centre issued

**Options :**

- 1. ✓ DBCA
- 2. ✗ DCAB
- 3. ✗ DABC
- 4. ✗ DBAC

**Question Number : 135 Question Id : 5406266970 Question Type : MCQ Option Shuffling : Yes Is Question Mandatory : No Option Orientation : Vertical**

**Correct Marks : 1 Wrong Marks : 0.25**

Parts of a sentence have been jumbled up. Arrange these parts in a meaningful order.

- A: to prevent the COVID – 19 infections
- B: Coronavirus advisory, the universities have
- C: started taking precautions
- D: after the Centre issued

**Options :**

- 1. ✓ DBCA
- 2. ✗ DCAB
- 3. ✗ DABC
- 4. ✗ DBAC

**Question Number : 136 Question Id : 5406266971 Question Type : MCQ Option Shuffling : Yes Is Question Mandatory : No Option Orientation : Vertical**

**Correct Marks : 1 Wrong Marks : 0.25**

Parts of a sentence have been jumbled up. Arrange these parts in a meaningful order.

A: a national conference and award ceremony

B: Delhi by Sri Aurobindo Society and HDFC Bank to recognize

C: was organized recently at Dogra Hall- Indian Institute of Technology,

D: the effective grassroots innovations in teaching

**Options :**

1. ✘ ABCD

2. ✔ ACBD

3. ✘ ABDC

4. ✘ ADCB

**Question Number : 136 Question Id : 5406266971 Question Type : MCQ Option Shuffling : Yes Is Question Mandatory : No Option Orientation : Vertical**

**Correct Marks : 1 Wrong Marks : 0.25**

Parts of a sentence have been jumbled up. Arrange these parts in a meaningful order.

A: a national conference and award ceremony

B: Delhi by Sri Aurobindo Society and HDFC Bank to recognize

C: was organized recently at Dogra Hall- Indian Institute of Technology,

D: the effective grassroots innovations in teaching

**Options :**

1. ✘ ABCD

2. ✔ ACBD

3. ✘ ABDC

4. ✘ ADCB

**Question Number : 137 Question Id : 5406266972 Question Type : MCQ Option Shuffling : Yes Is Question Mandatory : No Option Orientation : Vertical**

**Correct Marks : 1 Wrong Marks : 0.25**

Arrange the jumbled sentences to make a meaningful paragraph.

A: saints are conduits through whom the divine power reveals itself

B: she has direct vision of God

C: saints are an integral part of all religions

D: a saint is one who has eliminated her base passions by diligent worship and by her altruistic deeds

**Options :**

1. ✘ CDBA
2. ✘ CBDA
3. ✔ CADB
4. ✘ CABD

**Question Number : 137 Question Id : 5406266972 Question Type : MCQ Option Shuffling : Yes Is Question Mandatory : No Option Orientation : Vertical**

**Correct Marks : 1 Wrong Marks : 0.25**

Arrange the jumbled sentences to make a meaningful paragraph.

A: saints are conduits through whom the divine power reveals itself

B: she has direct vision of God

C: saints are an integral part of all religions

D: a saint is one who has eliminated her base passions by diligent worship and by her altruistic deeds

**Options :**

1. ✘ CDBA
2. ✘ CBDA
3. ✔ CADB
4. ✘ CABD

**Question Number : 138 Question Id : 5406266973 Question Type : MCQ Option Shuffling : Yes Is Question Mandatory : No Option Orientation : Vertical**

**Correct Marks : 1 Wrong Marks : 0.25**

Arrange the jumbled sentences to make a meaningful paragraph.

A: yet a closer look at the interconnected world might show the opposite

B: it calls to mind Mark Twain's quip about the reports of his death being "greatly exaggerated"

C: with trade, travel, and economic growth retreating at a furious pace, such dire predictions may sound truer than ever

D: globalisation has been pronounced dead so many times

**Options :**

1. ✘ DCAB

2. ✘ DABC
3. ✘ DBAC
4. ✔ DBCA

**Question Number : 138 Question Id : 5406266973 Question Type : MCQ Option Shuffling : Yes Is Question Mandatory : No Option Orientation : Vertical**

**Correct Marks : 1 Wrong Marks : 0.25**

Arrange the jumbled sentences to make a meaningful paragraph.

- A: yet a closer look at the interconnected world might show the opposite  
B: it calls to mind Mark Twain's quip about the reports of his death being "greatly exaggerated"  
C: with trade, travel, and economic growth retreating at a furious pace, such dire predictions may sound truer than ever  
D: globalisation has been pronounced dead so many times

**Options :**

1. ✘ DCAB
2. ✘ DABC
3. ✘ DBAC
4. ✔ DBCA

**Question Number : 139 Question Id : 5406266974 Question Type : MCQ Option Shuffling : Yes Is Question Mandatory : No Option Orientation : Vertical**

**Correct Marks : 1 Wrong Marks : 0.25**

Select the most appropriate synonym of the given word.

Candid

**Options :**

1. ✔ Straightforward
2. ✘ Special
3. ✘ Serene
4. ✘ Severe

**Question Number : 139 Question Id : 5406266974 Question Type : MCQ Option Shuffling : Yes Is Question Mandatory : No Option Orientation : Vertical**

**Correct Marks : 1 Wrong Marks : 0.25**

Select the most appropriate synonym of the given word.

Candid

**Options :**

1. ✓ Straightforward
2. ✗ Special
3. ✗ Serene
4. ✗ Severe

**Question Number : 140 Question Id : 5406266975 Question Type : MCQ Option Shuffling : Yes Is Question Mandatory : No Option Orientation : Vertical**

**Correct Marks : 1 Wrong Marks : 0.25**

Select the most appropriate synonym of the given word.

Scanty

**Options :**

1. ✗ Basic
2. ✓ Insufficient
3. ✗ Ample
4. ✗ Plentiful

**Question Number : 140 Question Id : 5406266975 Question Type : MCQ Option Shuffling : Yes Is Question Mandatory : No Option Orientation : Vertical**

**Correct Marks : 1 Wrong Marks : 0.25**

Select the most appropriate synonym of the given word.

Scanty

**Options :**

1. ✗ Basic
2. ✓ Insufficient
3. ✗ Ample
4. ✗ Plentiful

## General English2

<b>Group Number :</b>	8
<b>Group Id :</b>	540626219
<b>Group Maximum Duration :</b>	0
<b>Group Minimum Duration :</b>	0
<b>Show Attended Group? :</b>	No
<b>Edit Attended Group? :</b>	No
<b>Break time :</b>	0
<b>Group Marks :</b>	20
<b>Is this Group for Examiner? :</b>	No

## English Language & Comprehension2

<b>Section Id :</b>	540626298
<b>Section Number :</b>	1
<b>Section type :</b>	Online
<b>Mandatory or Optional :</b>	Mandatory
<b>Number of Questions :</b>	16
<b>Number of Questions to be attempted :</b>	16
<b>Section Marks :</b>	20
<b>Enable Mark as Answered Mark for Review and Clear Response :</b>	Yes
<b>Sub-Section Number :</b>	1
<b>Sub-Section Id :</b>	540626345
<b>Question Shuffling Allowed :</b>	Yes

**Question Number : 141 Question Id : 5406266976 Question Type : MCQ Option Shuffling : Yes Is Question Mandatory : No Option Orientation : Vertical**

**Correct Marks : 1 Wrong Marks : 0.25**

Select the correct pair of homophones to fill in the blanks.

I am feeling numb from the top of my head to the aching \_\_\_\_\_ of my foot. God's plan is revealed by faith and shows us that humans have an immortal \_\_\_\_\_.

**Options :**

1. ✘ soul; sole
2. ✘ sole; sole
3. ✔ sole; soul
4. ✘ soul; soul

**Question Number : 141 Question Id : 5406266976 Question Type : MCQ Option Shuffling : Yes Is Question Mandatory : No Option Orientation : Vertical**

**Correct Marks : 1 Wrong Marks : 0.25**

Select the correct pair of homophones to fill in the blanks.

I am feeling numb from the top of my head to the aching \_\_\_\_\_ of my foot. God's plan is revealed by faith and shows us that humans have an immortal \_\_\_\_\_.

**Options :**

1. ✘ soul; sole
2. ✘ sole; sole
3. ✔ sole; soul
4. ✘ soul; soul

**Question Number : 142 Question Id : 5406266977 Question Type : MCQ Option Shuffling : Yes Is Question Mandatory : No Option Orientation : Vertical**

**Correct Marks : 1 Wrong Marks : 0.25**

Select the most appropriate antonym of the given word.

Insipid

**Options :**

1. ✘ Pathetic
2. ✘ Flavorless
3. ✘ Commonplace
4. ✔ Delicious



**Question Number : 142 Question Id : 5406266977 Question Type : MCQ Option Shuffling : Yes Is Question Mandatory : No Option Orientation : Vertical**

**Correct Marks : 1 Wrong Marks : 0.25**

Select the most appropriate antonym of the given word.

Inspid

**Options :**

1. ✘ Pathetic
2. ✘ Flavorless
3. ✘ Commonplace
4. ✔ Delicious

**Question Number : 143 Question Id : 5406266978 Question Type : MCQ Option Shuffling : Yes Is Question Mandatory : No Option Orientation : Vertical**

**Correct Marks : 1 Wrong Marks : 0.25**

Select the most appropriate antonym of the given word.

Unsettled

**Options :**

1. ✔ Composed
2. ✘ Immune
3. ✘ Anxious
4. ✘ Aimless

**Question Number : 143 Question Id : 5406266978 Question Type : MCQ Option Shuffling : Yes Is Question Mandatory : No Option Orientation : Vertical**

**Correct Marks : 1 Wrong Marks : 0.25**

Select the most appropriate antonym of the given word.

Unsettled

**Options :**

1. ✔ Composed
2. ✘ Immune

3. ✘ Anxious

4. ✘ Aimless

**Question Number : 144 Question Id : 5406266979 Question Type : MCQ Option Shuffling : Yes Is Question Mandatory : No Option Orientation : Vertical**

**Correct Marks : 1 Wrong Marks : 0.25**

Select the incorrectly spelt word.

**Options :**

1. ✔ Plusible

2. ✘ Furious

3. ✘ Tragic

4. ✘ Lavish

**Question Number : 144 Question Id : 5406266979 Question Type : MCQ Option Shuffling : Yes Is Question Mandatory : No Option Orientation : Vertical**

**Correct Marks : 1 Wrong Marks : 0.25**

Select the incorrectly spelt word.

**Options :**

1. ✔ Plusible

2. ✘ Furious

3. ✘ Tragic

4. ✘ Lavish

**Question Number : 145 Question Id : 5406266980 Question Type : MCQ Option Shuffling : Yes Is Question Mandatory : No Option Orientation : Vertical**

**Correct Marks : 1 Wrong Marks : 0.25**

Select the incorrectly spelt word.

**Options :**

1. ✘ Probable

2. ✘ Indifferent

3. ✘ Gracious

4. ✔ Dissappear

**Question Number : 145 Question Id : 5406266980 Question Type : MCQ Option Shuffling : Yes Is Question Mandatory : No Option Orientation : Vertical**

**Correct Marks : 1 Wrong Marks : 0.25**

Select the incorrectly spelt word.

**Options :**

1. ✘ Probable
2. ✘ Indifferent
3. ✘ Gracious
4. ✔ Dissappear

**Question Number : 146 Question Id : 5406266981 Question Type : MCQ Option Shuffling : Yes Is Question Mandatory : No Option Orientation : Vertical**

**Correct Marks : 1 Wrong Marks : 0.25**

Select the incorrectly spelt word.

**Options :**

1. ✘ Nimble
2. ✘ Prosaic
3. ✔ Torpide
4. ✘ Historical

**Question Number : 146 Question Id : 5406266981 Question Type : MCQ Option Shuffling : Yes Is Question Mandatory : No Option Orientation : Vertical**

**Correct Marks : 1 Wrong Marks : 0.25**

Select the incorrectly spelt word.

**Options :**

1. ✘ Nimble
2. ✘ Prosaic
3. ✔ Torpide
4. ✘ Historical

**Question Number : 147 Question Id : 5406266982 Question Type : MCQ Option Shuffling : Yes Is Question Mandatory : No Option**

**Orientation : Vertical**

**Correct Marks : 1 Wrong Marks : 0.25**

Select the incorrectly spelt word.

**Options :**

1. ✘ Indecent
2. ✘ Inflammable
3. ✘ Encyclopedia
4. ✔ Preacheble

**Question Number : 147 Question Id : 5406266982 Question Type : MCQ Option Shuffling : Yes Is Question Mandatory : No Option**

**Orientation : Vertical**

**Correct Marks : 1 Wrong Marks : 0.25**

Select the incorrectly spelt word.

**Options :**

1. ✘ Indecent
2. ✘ Inflammable
3. ✘ Encyclopedia
4. ✔ Preacheble

**Question Number : 148 Question Id : 5406266983 Question Type : MCQ Option Shuffling : Yes Is Question Mandatory : No Option**

**Orientation : Vertical**

**Correct Marks : 1 Wrong Marks : 0.25**

Select the incorrectly spelt word.

**Options :**

1. ✔ Satisfactory
2. ✘ Elegance
3. ✘ Laconic
4. ✘ Impressive

**Question Number : 148 Question Id : 5406266983 Question Type : MCQ Option Shuffling : Yes Is Question Mandatory : No Option**

**Orientation : Vertical**

**Correct Marks : 1 Wrong Marks : 0.25**

Select the incorrectly spelt word.

**Options :**

1. ✓ Satisfactory
2. ✗ Elegance
3. ✗ Laconic
4. ✗ Impressive

**Question Number : 149 Question Id : 5406266984 Question Type : MCQ Option Shuffling : Yes Is Question Mandatory : No Option Orientation : Vertical**

**Correct Marks : 1 Wrong Marks : 0.25**

Select the most appropriate meaning of the underlined idiom in the given sentence.

It will be a cold day in Hell when I let you borrow my car.

**Options :**

1. ✓ An impossible event
2. ✗ To be very cold
3. ✗ A celebration
4. ✗ A gathering

**Question Number : 149 Question Id : 5406266984 Question Type : MCQ Option Shuffling : Yes Is Question Mandatory : No Option Orientation : Vertical**

**Correct Marks : 1 Wrong Marks : 0.25**

Select the most appropriate meaning of the underlined idiom in the given sentence.

It will be a cold day in Hell when I let you borrow my car.

**Options :**

1. ✓ An impossible event
2. ✗ To be very cold
3. ✗ A celebration
4. ✗ A gathering

**Question Number : 150 Question Id : 5406266985 Question Type : MCQ Option Shuffling : Yes Is Question Mandatory : No Option Orientation : Vertical**

**Correct Marks : 1 Wrong Marks : 0.25**

Select the most appropriate meaning of the underlined idiom in the given sentence.

I'm a nurse, so if I make a mistake at my job, it's a matter of life and death.

**Options :**

1. ✘ Unimportant
2. ✔ Gravely serious
3. ✘ Lacking value
4. ✘ Without sense

**Question Number : 150 Question Id : 5406266985 Question Type : MCQ Option Shuffling : Yes Is Question Mandatory : No Option Orientation : Vertical**

**Correct Marks : 1 Wrong Marks : 0.25**

Select the most appropriate meaning of the underlined idiom in the given sentence.

I'm a nurse, so if I make a mistake at my job, it's a matter of life and death.

**Options :**

1. ✘ Unimportant
2. ✔ Gravely serious
3. ✘ Lacking value
4. ✘ Without sense

**Question Number : 151 Question Id : 5406266986 Question Type : MCQ Option Shuffling : Yes Is Question Mandatory : No Option Orientation : Vertical**

**Correct Marks : 1 Wrong Marks : 0.25**

Select the most appropriate meaning of the underlined idiom in the given sentence.

Don't beat around the bush—just tell me the truth.

**Options :**

1. ✘ To be direct in approach
2. ✘ Without fear
3. ✔ To speak vaguely
4. ✘ To be fair

**Question Number : 151 Question Id : 5406266986 Question Type : MCQ Option Shuffling : Yes Is Question Mandatory : No Option Orientation : Vertical**

**Correct Marks : 1 Wrong Marks : 0.25**

Select the most appropriate meaning of the underlined idiom in the given sentence.

Don't beat around the bush—just tell me the truth.

**Options :**

1. ✘ To be direct in approach
2. ✘ Without fear
3. ✔ To speak vaguely
4. ✘ To be fair

**Question Number : 152 Question Id : 5406266987 Question Type : MCQ Option Shuffling : Yes Is Question Mandatory : No Option Orientation : Vertical**

**Correct Marks : 1 Wrong Marks : 0.25**

Select the most appropriate meaning of the underlined idiom in the given sentence.

There are as many who want the church to maintain its traditional values as there are those who think it must keep in tune with the times.

**Options :**

1. ✘ Lacking support
2. ✘ Irreversible
3. ✘ Orthodox
4. ✔ Contemporary

**Question Number : 152 Question Id : 5406266987 Question Type : MCQ Option Shuffling : Yes Is Question Mandatory : No Option Orientation : Vertical**

**Correct Marks : 1 Wrong Marks : 0.25**

Select the most appropriate meaning of the underlined idiom in the given sentence.

There are as many who want the church to maintain its traditional values as there are those who think it must keep in tune with the times.

**Options :**

1. ✘ Lacking support

2. ✘ Irreversible
3. ✘ Orthodox
4. ✔ Contemporary

**Question Number : 153 Question Id : 5406266988 Question Type : MCQ Option Shuffling : Yes Is Question Mandatory : No Option Orientation : Vertical**

**Correct Marks : 1 Wrong Marks : 0.25**

Select the most appropriate meaning of the underlined idiom in the given sentence.

My gut instinct about Kara's new boyfriend proved correct when we discovered he had a pretty extensive criminal history.

**Options :**

1. ✔ An intuition
2. ✘ Logical analysis
3. ✘ Practical idea
4. ✘ An unnatural event

**Question Number : 153 Question Id : 5406266988 Question Type : MCQ Option Shuffling : Yes Is Question Mandatory : No Option Orientation : Vertical**

**Correct Marks : 1 Wrong Marks : 0.25**

Select the most appropriate meaning of the underlined idiom in the given sentence.

My gut instinct about Kara's new boyfriend proved correct when we discovered he had a pretty extensive criminal history.

**Options :**

1. ✔ An intuition
2. ✘ Logical analysis
3. ✘ Practical idea
4. ✘ An unnatural event

**Question Number : 154 Question Id : 5406266989 Question Type : MCQ Option Shuffling : Yes Is Question Mandatory : No Option Orientation : Vertical**

**Correct Marks : 1 Wrong Marks : 0.25**

Select the word which means the same as the group of words given.



A person who helps another commit a crime.

**Options :**

1. ✓ **Accomplice**
2. ✗ **Bureaucrat**
3. ✗ **Plaintiff**
4. ✗ **Absconder**

**Question Number : 154 Question Id : 5406266989 Question Type : MCQ Option Shuffling : Yes Is Question Mandatory : No Option Orientation : Vertical**

**Correct Marks : 1 Wrong Marks : 0.25**

Select the word which means the same as the group of words given.

A person who helps another commit a crime.

**Options :**

1. ✓ **Accomplice**
2. ✗ **Bureaucrat**
3. ✗ **Plaintiff**
4. ✗ **Absconder**

**Question Number : 155 Question Id : 5406266990 Question Type : MCQ Option Shuffling : Yes Is Question Mandatory : No Option Orientation : Vertical**

**Correct Marks : 1 Wrong Marks : 0.25**

Select the word which means the same as the group of words given.

A person who brings a case against another in a court of law.

**Options :**

1. ✗ **Senator**
2. ✓ **Plaintiff**
3. ✗ **Defendant**
4. ✗ **Accused**

**Question Number : 155 Question Id : 5406266990 Question Type : MCQ Option Shuffling : Yes Is Question Mandatory : No Option Orientation : Vertical**

**Correct Marks : 1 Wrong Marks : 0.25**

Select the word which means the same as the group of words given.

A person who brings a case against another in a court of law.

**Options :**

1. ✘ Senator
2. ✔ Plaintiff
3. ✘ Defendant
4. ✘ Accused

**Sub-Section Number :**

2

**Sub-Section Id :**

540626346

**Question Shuffling Allowed :**

Yes

**Question Id : 5406266991 Question Type : COMPREHENSION Sub Question Shuffling Allowed : Yes Group Comprehension Questions : No**

**Question Numbers : (156 to 160)**

Read the following passage and answer the questions below.

The Louvre's headline-making "Leonardo da Vinci" exhibition, which marked the 500th anniversary of the Renaissance master's death, closed its four-month run this week with a record-breaking figure: in total, 1,071,840 visitors traveled from around the world to marvel at the unprecedented retrospective.

The outstanding attendance figures shattered the Louvre's previous record of 540,000 visitors, which was established for an exhibition of Eugène Delacroix in 2018. Daily attendance numbers for the Leonardo show hovered at nearly 10,000 people. The figures were bolstered by the museum's addition of 46 evening openings, allowing visits to see the show until 10 p.m. Museum membership grew by over 10 percent over the course of the exhibition.

"It's wonderful that 500 years after his death, an Italian Renaissance artist continues to fascinate the general public so much," Jean-Luc Martinez, president and director of the Louvre museum, said in a statement.

"Today, I have two reasons for pride: the success of bringing together the greatest number of Leonardo's works and in welcoming so many and such diverse audiences."

Highlights of the exhibition included five of the museum's own paintings, including Saint Jean Baptiste, Virgin of the Rocks, and the Mona Lisa (which remained in its usual location) along with four borrowed paintings: Benois Madonna, the La Scapiliata, St Jerome, and Portrait of a Musician.

During the last three days of the exhibition, the demand was such that the museum kept its doors open for nearly 81 hours straight, offering free

admission, coffee, and madeleines. The red-eye strategy allowed an additional 30,000 visitors to see the show in its final days. But even then, some art lovers were still shut out after the final timed tickets were snapped up in under three hours. Perhaps as a comfort to these disappointed Leonardo fans, the Louvre has announced that it will be releasing a film focusing on the exhibition, titled A Night at the Louvre: Leonardo da Vinci, later this year.

### Sub questions

**Question Number : 156 Question Id : 5406266992 Question Type : MCQ Option Shuffling : Yes Is Question Mandatory : No Option Orientation : Vertical**

**Correct Marks : 1 Wrong Marks : 0.25**

The great renaissance artist "Leonardo da Vinci" was born in which country?

**Options :**

1. ✘ France
2. ✔ Italy
3. ✘ Poland
4. ✘ Hungary

**Question Number : 157 Question Id : 5406266993 Question Type : MCQ Option Shuffling : Yes Is Question Mandatory : No Option Orientation : Vertical**

**Correct Marks : 1 Wrong Marks : 0.25**

How many visitors were there at the Louvre for an exhibition of Eugene Delacroix in 2018?

**Options :**

1. ✘ 1,071,840
2. ✔ 540,000
3. ✘ 10,000
4. ✘ 30,000

**Question Number : 158 Question Id : 5406266994 Question Type : MCQ Option Shuffling : Yes Is Question Mandatory : No Option Orientation : Vertical**

**Correct Marks : 1 Wrong Marks : 0.25**

What was the occasion behind The Louvre's headline making "Leonardo da Vinci" exhibition?

**Options :**

1. ✔ It marked the 500th anniversary of Leonardo da Vinci's death.
2. ✘ It had the intention of bringing together a huge number of diverse audiences.

3. ✘ It had the intention of satisfying the needs of the yellow-vest demonstrators.
4. ✘ It had the intention of earning a huge revenue through the high amount of ticket fare.

**Question Number : 159 Question Id : 5406266995 Question Type : MCQ Option Shuffling : Yes Is Question Mandatory : No Option Orientation : Vertical**

**Correct Marks : 1 Wrong Marks : 0.25**

Which one of the following paintings was borrowed by the Louvre for the exhibition?

**Options :**

1. ✘ Virgin of the Rocks
2. ✔ Portrait of a Musician
3. ✘ Saint Jean Baptiste
4. ✘ Mona Lisa

**Question Number : 160 Question Id : 5406266996 Question Type : MCQ Option Shuffling : Yes Is Question Mandatory : No Option Orientation : Vertical**

**Correct Marks : 1 Wrong Marks : 0.25**

For how many approximate straight hours had the museum kept its door open during the final three days of the exhibiton?

**Options :**

1. ✘ 90 hours
2. ✔ 81 hours
3. ✘ 60 minutes
4. ✘ 24 hours

**Question Id : 5406266991 Question Type : COMPREHENSION Sub Question Shuffling Allowed : Yes Group Comprehension Questions : No**

**Question Numbers : (156 to 160)**

Read the following passage and answer the questions below.

The Louvre's headline-making "Leonardo da Vinci" exhibition, which marked the 500th anniversary of the Renaissance master's death, closed its four-month run this week with a record-breaking figure: in total, 1,071,840 visitors traveled from around the world to marvel at the unprecedented retrospective.

The outstanding attendance figures shattered the Louvre's previous record of 540,000 visitors, which was established for an exhibition of Eugène Delacroix in 2018. Daily attendance numbers for the Leonardo show hovered at nearly 10,000 people. The figures were bolstered by the

museum's addition of 46 evening openings, allowing visits to see the show until 10 p.m. Museum membership grew by over 10 percent over the course of the exhibition.

"It's wonderful that 500 years after his death, an Italian Renaissance artist continues to fascinate the general public so much," Jean-Luc Martinez, president and director of the Louvre museum, said in a statement.

"Today, I have two reasons for pride: the success of bringing together the greatest number of Leonardo's works and in welcoming so many and such diverse audiences."

Highlights of the exhibition included five of the museum's own paintings, including Saint Jean Baptiste, Virgin of the Rocks, and the Mona Lisa (which remained in its usual location) along with four borrowed paintings: Benois Madonna, the La Scapiliata, St Jerome, and Portrait of a Musician.

During the last three days of the exhibition, the demand was such that the museum kept its doors open for nearly 81 hours straight, offering free admission, coffee, and madeleines. The red-eye strategy allowed an additional 30,000 visitors to see the show in its final days. But even then, some art lovers were still shut out after the final timed tickets were snapped up in under three hours. Perhaps as a comfort to these disappointed Leonardo fans, the Louvre has announced that it will be releasing a film focusing on the exhibition, titled A Night at the Louvre: Leonardo da Vinci, later this year.

#### Sub questions

**Question Number : 156 Question Id : 5406266992 Question Type : MCQ Option Shuffling : Yes Is Question Mandatory : No Option Orientation : Vertical**

**Correct Marks : 1 Wrong Marks : 0.25**

The great renaissance artist "Leonardo da Vinci" was born in which country?

**Options :**

1. ✘ France
2. ✔ Italy
3. ✘ Poland
4. ✘ Hungary

**Question Number : 157 Question Id : 5406266993 Question Type : MCQ Option Shuffling : Yes Is Question Mandatory : No Option Orientation : Vertical**

**Correct Marks : 1 Wrong Marks : 0.25**

How many visitors were there at the Louvre for an exhibition of Eugene Delacroix in 2018?

**Options :**

1. ✘ 1,071,840
2. ✔ 540,000

3. ✘ 10,000

4. ✘ 30,000

**Question Number : 158 Question Id : 5406266994 Question Type : MCQ Option Shuffling : Yes Is Question Mandatory : No Option Orientation : Vertical**

**Correct Marks : 1 Wrong Marks : 0.25**

What was the occasion behind The Louvre's headline making "Leonardo da Vinci" exhibition?

**Options :**

1. ✔ It marked the 500th anniversary of Leonardo da Vinci's death.
2. ✘ It had the intention of bringing together a huge number of diverse audiences.
3. ✘ It had the intention of satisfying the needs of the yellow-vest demonstrators.
4. ✘ It had the intention of earning a huge revenue through the high amount of ticket fare.

**Question Number : 159 Question Id : 5406266995 Question Type : MCQ Option Shuffling : Yes Is Question Mandatory : No Option Orientation : Vertical**

**Correct Marks : 1 Wrong Marks : 0.25**

Which one of the following paintings was borrowed by the Louvre for the exhibition?

**Options :**

1. ✘ Virgin of the Rocks
2. ✔ Portrait of a Musician
3. ✘ Saint Jean Baptiste
4. ✘ Mona Lisa

**Question Number : 160 Question Id : 5406266996 Question Type : MCQ Option Shuffling : Yes Is Question Mandatory : No Option Orientation : Vertical**

**Correct Marks : 1 Wrong Marks : 0.25**

For how many approximate straight hours had the museum kept its door open during the final three days of the exhibiton?

**Options :**

1. ✘ 90 hours
2. ✔ 81 hours
3. ✘ 60 minutes
4. ✘ 24 hours

## General Hindi1

Group Number :	9
Group Id :	540626220
Group Maximum Duration :	0
Group Minimum Duration :	0
Show Attended Group? :	No
Edit Attended Group? :	No
Break time :	0
Group Marks :	20
Is this Group for Examiner? :	No

## Hindi Language & Comprehension1

Section Id :	540626299
Section Number :	1
Section type :	Online
Mandatory or Optional :	Mandatory
Number of Questions :	20
Number of Questions to be attempted :	20
Section Marks :	20
Enable Mark as Answered Mark for Review and Clear Response :	Yes
Sub-Section Number :	1
Sub-Section Id :	540626347
Question Shuffling Allowed :	Yes

Question Number : 161 Question Id : 5406266997 Question Type : MCQ Option Shuffling : Yes Is Question Mandatory : No Option Orientation : Vertical

Correct Marks : 1 Wrong Marks : 0.25

निम्नलिखित में से 'आध्यात्मिक' में कौन-सी संधि है?

Options :

1. ✓ यण संधि
2. ✗ गुण संधि
3. ✗ दीर्घ संधि
4. ✗ अयादि संधि

**Question Number : 161 Question Id : 5406266997 Question Type : MCQ Option Shuffling : Yes Is Question Mandatory : No Option Orientation : Vertical**

**Correct Marks : 1 Wrong Marks : 0.25**

निम्नलिखित में से 'आध्यात्मिक' में कौन-सी संधि है?

**Options :**

1. ✓ यण संधि
2. ✗ गुण संधि
3. ✗ दीर्घ संधि
4. ✗ अयादि संधि

**Question Number : 162 Question Id : 5406266998 Question Type : MCQ Option Shuffling : Yes Is Question Mandatory : No Option Orientation : Vertical**

**Correct Marks : 1 Wrong Marks : 0.25**

निम्नलिखित में से कौन-सा शब्द "अति" उपसर्ग का प्रयोग कर नहीं बनाया गया है?

**Options :**

1. ✗ अतिवृद्धि
2. ✓ अधिकृत
3. ✗ अत्युक्ति
4. ✗ अत्याचार

**Question Number : 162 Question Id : 5406266998 Question Type : MCQ Option Shuffling : Yes Is Question Mandatory : No Option Orientation : Vertical**

**Correct Marks : 1 Wrong Marks : 0.25**

निम्नलिखित में से कौन-सा शब्द "अति" उपसर्ग का प्रयोग कर नहीं बनाया गया है?

**Options :**

1. ✗ अतिवृद्धि



2. ✓ अधिकृत
3. ✗ अत्युक्ति
4. ✗ अत्याचार

**Question Number : 163 Question Id : 5406266999 Question Type : MCQ Option Shuffling : Yes Is Question Mandatory : No Option Orientation : Vertical**

**Correct Marks : 1 Wrong Marks : 0.25**

निम्नलिखित में से "गुणहीन" में कौन-सा समास है?

**Options :**

1. ✗ द्विगु समास
2. ✗ द्वंद्व समास
3. ✓ तत्पुरुष समास
4. ✗ कर्मधारय समास

**Question Number : 163 Question Id : 5406266999 Question Type : MCQ Option Shuffling : Yes Is Question Mandatory : No Option Orientation : Vertical**

**Correct Marks : 1 Wrong Marks : 0.25**

निम्नलिखित में से "गुणहीन" में कौन-सा समास है?

**Options :**

1. ✗ द्विगु समास
2. ✗ द्वंद्व समास
3. ✓ तत्पुरुष समास
4. ✗ कर्मधारय समास

**Question Number : 164 Question Id : 5406267000 Question Type : MCQ Option Shuffling : Yes Is Question Mandatory : No Option Orientation : Vertical**

**Correct Marks : 1 Wrong Marks : 0.25**

निम्न में से तत्सम शब्द का चयन कीजिए:

**Options :**

1. ✓ क्रोड
2. ✗ गधा

3. ✘ गुफा
4. ✘ गाँव

**Question Number : 164 Question Id : 5406267000 Question Type : MCQ Option Shuffling : Yes Is Question Mandatory : No Option Orientation : Vertical**

**Correct Marks : 1 Wrong Marks : 0.25**

निम्न में से तत्सम शब्द का चयन कीजिए:

**Options :**

1. ✔ क्रोड
2. ✘ गधा
3. ✘ गुफा
4. ✘ गाँव

**Question Number : 165 Question Id : 5406267001 Question Type : MCQ Option Shuffling : Yes Is Question Mandatory : No Option Orientation : Vertical**

**Correct Marks : 1 Wrong Marks : 0.25**

निम्नलिखित में से कौन-सा शब्द समूहवाचक संज्ञा नहीं है?

**Options :**

1. ✘ कक्षा
2. ✘ संघ
3. ✘ टुकड़ी
4. ✔ ताँबा

**Question Number : 165 Question Id : 5406267001 Question Type : MCQ Option Shuffling : Yes Is Question Mandatory : No Option Orientation : Vertical**

**Correct Marks : 1 Wrong Marks : 0.25**

निम्नलिखित में से कौन-सा शब्द समूहवाचक संज्ञा नहीं है?

**Options :**

1. ✘ कक्षा
2. ✘ संघ
3. ✘ टुकड़ी

4. ✓ ताँबा

**Question Number : 166 Question Id : 5406267002 Question Type : MCQ Option Shuffling : Yes Is Question Mandatory : No Option Orientation : Vertical**

**Correct Marks : 1 Wrong Marks : 0.25**

दिए गए वाक्य के लिए एक शब्द का चयन कीजिए:

"जिस पर अभियोग लगाया गया हो"

**Options :**

1. ✗ अभिमुख
2. ✗ अभियोग
3. ✓ अभियुक्त
4. ✗ अभियोगी

**Question Number : 166 Question Id : 5406267002 Question Type : MCQ Option Shuffling : Yes Is Question Mandatory : No Option Orientation : Vertical**

**Correct Marks : 1 Wrong Marks : 0.25**

दिए गए वाक्य के लिए एक शब्द का चयन कीजिए:

"जिस पर अभियोग लगाया गया हो"

**Options :**

1. ✗ अभिमुख
2. ✗ अभियोग
3. ✓ अभियुक्त
4. ✗ अभियोगी

**Question Number : 167 Question Id : 5406267003 Question Type : MCQ Option Shuffling : Yes Is Question Mandatory : No Option Orientation : Vertical**

**Correct Marks : 1 Wrong Marks : 0.25**

निम्नलिखित में से कौन-सा शब्द "अनुचित" का पर्यायवाची नहीं है?

**Options :**

1. ✗ गैरवाजिब

2. ✘ बेजा
3. ✘ अनुपयुक्त
4. ✔ शोध

**Question Number : 167 Question Id : 5406267003 Question Type : MCQ Option Shuffling : Yes Is Question Mandatory : No Option Orientation : Vertical**

**Correct Marks : 1 Wrong Marks : 0.25**

निम्नलिखित में से कौन-सा शब्द "अनुचित" का पर्यायवाची नहीं है?

**Options :**

1. ✘ गैरवाजिब
2. ✘ बेजा
3. ✘ अनुपयुक्त
4. ✔ शोध

**Question Number : 168 Question Id : 5406267004 Question Type : MCQ Option Shuffling : Yes Is Question Mandatory : No Option Orientation : Vertical**

**Correct Marks : 1 Wrong Marks : 0.25**

दिए गए शब्द-युग्म के सही अर्थ-भेद वाले विकल्प का चयन कीजिए:

डोंगी - ढोंगी

**Options :**

1. ✘ चम्मच - नौटंकी
2. ✔ छोटी नाव - पाखण्डी
3. ✘ बिना ब्याह - उकसाना
4. ✘ पाखण्डी - नर्तक

**Question Number : 168 Question Id : 5406267004 Question Type : MCQ Option Shuffling : Yes Is Question Mandatory : No Option Orientation : Vertical**

**Correct Marks : 1 Wrong Marks : 0.25**

दिए गए शब्द-युग्म के सही अर्थ-भेद वाले विकल्प का चयन कीजिए:

डोंगी - ढोंगी

**Options :**

1. ✘ चम्मच - नौटंकी
2. ✔ छोटी नाव - पाखण्डी
3. ✘ बिना ब्याह - उकसाना
4. ✘ पाखण्डी - नर्तक

**Question Number : 169 Question Id : 5406267005 Question Type : MCQ Option Shuffling : Yes Is Question Mandatory : No Option Orientation : Vertical**

**Correct Marks : 1 Wrong Marks : 0.25**

निम्नलिखित में से "खीझना" का विलोम शब्द क्या है?

**Options :**

1. ✔ रीझना
2. ✘ नागर
3. ✘ पुरूषार्थी
4. ✘ मुरझाना

**Question Number : 169 Question Id : 5406267005 Question Type : MCQ Option Shuffling : Yes Is Question Mandatory : No Option Orientation : Vertical**

**Correct Marks : 1 Wrong Marks : 0.25**

निम्नलिखित में से "खीझना" का विलोम शब्द क्या है?

**Options :**

1. ✔ रीझना
2. ✘ नागर
3. ✘ पुरूषार्थी
4. ✘ मुरझाना

**Question Number : 170 Question Id : 5406267006 Question Type : MCQ Option Shuffling : Yes Is Question Mandatory : No Option Orientation : Vertical**

**Correct Marks : 1 Wrong Marks : 0.25**

निम्नलिखित में से हिन्दी में व्यंजन वर्णों की संख्या कितनी है?

**Options :**

1. ✘ उन्तीस
2. ✘ इकतीस
3. ✔ तैंतीस
4. ✘ अड़तीस

**Question Number : 170 Question Id : 5406267006 Question Type : MCQ Option Shuffling : Yes Is Question Mandatory : No Option Orientation : Vertical**

**Correct Marks : 1 Wrong Marks : 0.25**

निम्नलिखित में से हिन्दी में व्यंजन वर्णों की संख्या कितनी है?

**Options :**

1. ✘ उन्तीस
2. ✘ इकतीस
3. ✔ तैंतीस
4. ✘ अड़तीस

**Question Number : 171 Question Id : 5406267007 Question Type : MCQ Option Shuffling : Yes Is Question Mandatory : No Option Orientation : Vertical**

**Correct Marks : 1 Wrong Marks : 0.25**

निम्न में से "रुग्ण" का विलोम शब्द क्या है?

**Options :**

1. ✔ नीरोग
2. ✘ बलशाली
3. ✘ हटा - कट्टा
4. ✘ ताकतवर

**Question Number : 171 Question Id : 5406267007 Question Type : MCQ Option Shuffling : Yes Is Question Mandatory : No Option Orientation : Vertical**

**Correct Marks : 1 Wrong Marks : 0.25**

निम्न में से "रुग्ण" का विलोम शब्द क्या है?

**Options :**

1. ✔ नीरोग

2. ✘ बलशाली
3. ✘ हट्टा - कट्टा
4. ✘ ताकतवर

**Question Number : 172 Question Id : 5406267008 Question Type : MCQ Option Shuffling : Yes Is Question Mandatory : No Option Orientation : Vertical**

**Correct Marks : 1 Wrong Marks : 0.25**

निम्न में से अशुद्ध वर्तनी वाले शब्द का चयन कीजिए:

**Options :**

1. ✔ नीरूक्ति
2. ✘ क्रान्तिकारी
3. ✘ वास्तव
4. ✘ भौगोलिक

**Question Number : 172 Question Id : 5406267008 Question Type : MCQ Option Shuffling : Yes Is Question Mandatory : No Option Orientation : Vertical**

**Correct Marks : 1 Wrong Marks : 0.25**

निम्न में से अशुद्ध वर्तनी वाले शब्द का चयन कीजिए:

**Options :**

1. ✔ नीरूक्ति
2. ✘ क्रान्तिकारी
3. ✘ वास्तव
4. ✘ भौगोलिक

**Question Number : 173 Question Id : 5406267009 Question Type : MCQ Option Shuffling : Yes Is Question Mandatory : No Option Orientation : Vertical**

**Correct Marks : 1 Wrong Marks : 0.25**

असंगत/बेमेल शब्द का चयन कीजिए:

**Options :**

1. ✘ एशिया
2. ✘ यूरोप

3. ✓ महाद्वीप
4. ✗ अफ्रीका

**Question Number : 173 Question Id : 5406267009 Question Type : MCQ Option Shuffling : Yes Is Question Mandatory : No Option Orientation : Vertical**

**Correct Marks : 1 Wrong Marks : 0.25**

असंगत/बेमेल शब्द का चयन कीजिए:

**Options :**

1. ✗ एशिया
2. ✗ यूरोप
3. ✓ महाद्वीप
4. ✗ अफ्रीका

**Question Number : 174 Question Id : 5406267010 Question Type : MCQ Option Shuffling : Yes Is Question Mandatory : No Option Orientation : Vertical**

**Correct Marks : 1 Wrong Marks : 0.25**

निम्नलिखित में से कौन-सा शब्द "भौरा" का पर्यायवाची है?

**Options :**

1. ✗ झणदा
2. ✓ मधुप
3. ✗ त्रियामा
4. ✗ नरेश

**Question Number : 174 Question Id : 5406267010 Question Type : MCQ Option Shuffling : Yes Is Question Mandatory : No Option Orientation : Vertical**

**Correct Marks : 1 Wrong Marks : 0.25**

निम्नलिखित में से कौन-सा शब्द "भौरा" का पर्यायवाची है?

**Options :**

1. ✗ झणदा
2. ✓ मधुप
3. ✗ त्रियामा



4. ✘ नरेश

**Question Number : 175 Question Id : 5406267011 Question Type : MCQ Option Shuffling : Yes Is Question Mandatory : No Option Orientation : Vertical**

**Correct Marks : 1 Wrong Marks : 0.25**

निम्नलिखित में से किस शब्द की वर्तनी शुद्ध है?

**Options :**

1. ✘ प्राकृतीक
2. ✔ आत्मसात
3. ✘ स्त्रीयाँ
4. ✘ रीकेश्ट

**Question Number : 175 Question Id : 5406267011 Question Type : MCQ Option Shuffling : Yes Is Question Mandatory : No Option Orientation : Vertical**

**Correct Marks : 1 Wrong Marks : 0.25**

निम्नलिखित में से किस शब्द की वर्तनी शुद्ध है?

**Options :**

1. ✘ प्राकृतीक
2. ✔ आत्मसात
3. ✘ स्त्रीयाँ
4. ✘ रीकेश्ट

**Question Number : 176 Question Id : 5406267012 Question Type : MCQ Option Shuffling : Yes Is Question Mandatory : No Option Orientation : Vertical**

**Correct Marks : 1 Wrong Marks : 0.25**

निम्न में से पुल्लिंग शब्द का चयन कीजिए:

**Options :**

1. ✘ कविता
2. ✘ जीभ
3. ✘ रक्षा
4. ✔ बुढ़ापा

**Question Number : 176 Question Id : 5406267012 Question Type : MCQ Option Shuffling : Yes Is Question Mandatory : No Option Orientation : Vertical**

**Correct Marks : 1 Wrong Marks : 0.25**

निम्न में से पुल्लिंग शब्द का चयन कीजिए:

**Options :**

1. ✘ कविता
2. ✘ जीभ
3. ✘ रक्षा
4. ✔ बुढ़ापा

**Question Number : 177 Question Id : 5406267013 Question Type : MCQ Option Shuffling : Yes Is Question Mandatory : No Option Orientation : Vertical**

**Correct Marks : 1 Wrong Marks : 0.25**

निम्नलिखित में से शब्द "मुस्कराहट" में कौन-सी संज्ञा है?

**Options :**

1. ✘ व्यक्तिवाचक संज्ञा
2. ✔ भाववाचक संज्ञा
3. ✘ संकेतवाचक संज्ञा
4. ✘ द्रव्यवाचक संज्ञा

**Question Number : 177 Question Id : 5406267013 Question Type : MCQ Option Shuffling : Yes Is Question Mandatory : No Option Orientation : Vertical**

**Correct Marks : 1 Wrong Marks : 0.25**

निम्नलिखित में से शब्द "मुस्कराहट" में कौन-सी संज्ञा है?

**Options :**

1. ✘ व्यक्तिवाचक संज्ञा
2. ✔ भाववाचक संज्ञा
3. ✘ संकेतवाचक संज्ञा
4. ✘ द्रव्यवाचक संज्ञा

Question Number : 178 Question Id : 5406267014 Question Type : MCQ Option Shuffling : Yes Is Question Mandatory : No Option Orientation : Vertical

Correct Marks : 1 Wrong Marks : 0.25

'हिमालय से गंगा निकलती है', यह वाक्य किस कारक का उदाहरण है?

Options :

1. ✘ संबंध कारक
2. ✔ अपादान कारक
3. ✘ संप्रदान कारक
4. ✘ अधिकरण कारक

Question Number : 178 Question Id : 5406267014 Question Type : MCQ Option Shuffling : Yes Is Question Mandatory : No Option Orientation : Vertical

Correct Marks : 1 Wrong Marks : 0.25

'हिमालय से गंगा निकलती है', यह वाक्य किस कारक का उदाहरण है?

Options :

1. ✘ संबंध कारक
2. ✔ अपादान कारक
3. ✘ संप्रदान कारक
4. ✘ अधिकरण कारक

Question Number : 179 Question Id : 5406267015 Question Type : MCQ Option Shuffling : Yes Is Question Mandatory : No Option Orientation : Vertical

Correct Marks : 1 Wrong Marks : 0.25

वर्तमान काल के कितने भेद हैं?

Options :

1. ✘ पाँच
2. ✘ चार
3. ✘ छः
4. ✔ तीन

Question Number : 179 Question Id : 5406267015 Question Type : MCQ Option Shuffling : Yes Is Question Mandatory : No Option

**Orientation : Vertical**

**Correct Marks : 1 Wrong Marks : 0.25**

वर्तमान काल के कितने भेद है?

**Options :**

1. ✘ पाँच
2. ✘ चार
3. ✘ छः
4. ✔ तीन

**Question Number : 180 Question Id : 5406267016 Question Type : MCQ Option Shuffling : Yes Is Question Mandatory : No Option**

**Orientation : Vertical**

**Correct Marks : 1 Wrong Marks : 0.25**

निम्न में से भाववाच्य से संबंधित वाक्य कौन-सा है?

**Options :**

1. ✔ उस बेचारे से रोया भी नहीं जाता।
2. ✘ वह बेचारा रोता है।
3. ✘ कमलेश पत्र लिखता हैं।
4. ✘ भाग्यश्री नृत्य करती है।

**Question Number : 180 Question Id : 5406267016 Question Type : MCQ Option Shuffling : Yes Is Question Mandatory : No Option**

**Orientation : Vertical**

**Correct Marks : 1 Wrong Marks : 0.25**

निम्न में से भाववाच्य से संबंधित वाक्य कौन-सा है?

**Options :**

1. ✔ उस बेचारे से रोया भी नहीं जाता।
2. ✘ वह बेचारा रोता है।
3. ✘ कमलेश पत्र लिखता हैं।
4. ✘ भाग्यश्री नृत्य करती है।

<b>Group Number :</b>	10
<b>Group Id :</b>	540626221
<b>Group Maximum Duration :</b>	0
<b>Group Minimum Duration :</b>	120
<b>Show Attended Group? :</b>	No
<b>Edit Attended Group? :</b>	No
<b>Break time :</b>	0
<b>Group Marks :</b>	20
<b>Is this Group for Examiner? :</b>	No

## Hindi Language & Comprehension2

<b>Section Id :</b>	540626300
<b>Section Number :</b>	1
<b>Section type :</b>	Online
<b>Mandatory or Optional :</b>	Mandatory
<b>Number of Questions :</b>	16
<b>Number of Questions to be attempted :</b>	16
<b>Section Marks :</b>	20
<b>Enable Mark as Answered Mark for Review and Clear Response :</b>	Yes
<b>Sub-Section Number :</b>	1
<b>Sub-Section Id :</b>	540626348
<b>Question Shuffling Allowed :</b>	Yes

**Question Number : 181 Question Id : 5406267017 Question Type : MCQ Option Shuffling : Yes Is Question Mandatory : No Option Orientation : Vertical**

**Correct Marks : 1 Wrong Marks : 0.25**

कल क्या होगा, यह कौन जानता है' - वाक्य में प्रयुक्त "कौन" किस प्रकार का सर्वनाम है?

**Options :**

- ✘ पुरूषवाचक
- ✔ प्रश्नवाचक
- ✘ निजवाचक

## 4. ✖ निश्चयवाचक

**Question Number : 181 Question Id : 5406267017 Question Type : MCQ Option Shuffling : Yes Is Question Mandatory : No Option Orientation : Vertical**

**Correct Marks : 1 Wrong Marks : 0.25**

कल क्या होगा, यह कौन जानता है' - वाक्य में प्रयुक्त "कौन" किस प्रकार का सर्वनाम है?

**Options :**

1. ✖ पुरुषवाचक
2. ✔ प्रश्नवाचक
3. ✖ निजवाचक
4. ✖ निश्चयवाचक

**Question Number : 182 Question Id : 5406267018 Question Type : MCQ Option Shuffling : Yes Is Question Mandatory : No Option Orientation : Vertical**

**Correct Marks : 1 Wrong Marks : 0.25**

निम्न में से शुद्ध वाक्य का चयन कीजिए:

**Options :**

1. ✖ मकड़ी जाला बुनते हुए बना रही है।
2. ✖ उन्हें सुनकर मैं विस्मय हूँ।
3. ✔ यहाँ केवल फल मिलते हैं।
4. ✖ हमने अच्छे-अच्छे काम करे।

**Question Number : 182 Question Id : 5406267018 Question Type : MCQ Option Shuffling : Yes Is Question Mandatory : No Option Orientation : Vertical**

**Correct Marks : 1 Wrong Marks : 0.25**

निम्न में से शुद्ध वाक्य का चयन कीजिए:

**Options :**

1. ✖ मकड़ी जाला बुनते हुए बना रही है।
2. ✖ उन्हें सुनकर मैं विस्मय हूँ।
3. ✔ यहाँ केवल फल मिलते हैं।
4. ✖ हमने अच्छे-अच्छे काम करे।

**Question Number : 183 Question Id : 5406267019 Question Type : MCQ Option Shuffling : Yes Is Question Mandatory : No Option Orientation : Vertical**

**Correct Marks : 1 Wrong Marks : 0.25**

निम्न में से सरल वाक्य का चयन कीजिए:

**Options :**

1. ✓ पंगु होने के कारण वह घोड़े पर नहीं चढ़ सकता।
2. ✗ उसने गलत कार्य किया और अपयश कमाया।
3. ✗ वह जगह कहां है जहाँ मैं बैठूँ।
4. ✗ राजकुमार ने भाई को मार डाला और स्वयं राजा बन गया।

**Question Number : 183 Question Id : 5406267019 Question Type : MCQ Option Shuffling : Yes Is Question Mandatory : No Option Orientation : Vertical**

**Correct Marks : 1 Wrong Marks : 0.25**

निम्न में से सरल वाक्य का चयन कीजिए:

**Options :**

1. ✓ पंगु होने के कारण वह घोड़े पर नहीं चढ़ सकता।
2. ✗ उसने गलत कार्य किया और अपयश कमाया।
3. ✗ वह जगह कहां है जहाँ मैं बैठूँ।
4. ✗ राजकुमार ने भाई को मार डाला और स्वयं राजा बन गया।

**Question Number : 184 Question Id : 5406267020 Question Type : MCQ Option Shuffling : Yes Is Question Mandatory : No Option Orientation : Vertical**

**Correct Marks : 1 Wrong Marks : 0.25**

वाक्य के शुद्ध रूप का चयन कीजिए:

**Options :**

1. ✗ उसका आचरण दुराचरण है।
2. ✓ उसका आचरण बुरा है।
3. ✗ उसकी दुराचरण बुरा है।
4. ✗ उसका आचरण दुराचरण बुरा है।

Question Number : 184 Question Id : 5406267020 Question Type : MCQ Option Shuffling : Yes Is Question Mandatory : No Option

Orientation : Vertical

Correct Marks : 1 Wrong Marks : 0.25

वाक्य के शुद्ध रूप का चयन कीजिए:

Options :

1. ✘ उसका आचरण दुराचरण है।
2. ✔ उसका आचरण बुरा है।
3. ✘ उसकी दुराचरण बुरा है।
4. ✘ उसका आचरण दुराचरण बुरा है।

Question Number : 185 Question Id : 5406267021 Question Type : MCQ Option Shuffling : Yes Is Question Mandatory : No Option

Orientation : Vertical

Correct Marks : 1 Wrong Marks : 0.25

दिए गए वाक्य को मिश्र वाक्य में परिवर्तित कर सही विकल्प का चयन कीजिए।

"सोने की चिड़िया कहलानेवाला भारत यही है।"

Options :

1. ✘ सोने की चिड़िया कहलाने वाला भारत तो यही है।
2. ✘ वही सोने की चिड़िया है जो भारत कहलाता था।
3. ✔ यह वही भारत है जो सोने की चिड़िया कहलाता था।
4. ✘ वही भारत है, ये जो कहलाता था सोने की चिड़िया।

Question Number : 185 Question Id : 5406267021 Question Type : MCQ Option Shuffling : Yes Is Question Mandatory : No Option

Orientation : Vertical

Correct Marks : 1 Wrong Marks : 0.25

दिए गए वाक्य को मिश्र वाक्य में परिवर्तित कर सही विकल्प का चयन कीजिए।

"सोने की चिड़िया कहलानेवाला भारत यही है।"

Options :

1. ✘ सोने की चिड़िया कहलाने वाला भारत तो यही है।



2. ✘ वही सोने की चिड़िया है जो भारत कहलाता था।
3. ✔ यह वही भारत है जो सोने की चिड़िया कहलाता था।
4. ✘ वही भारत है, ये जो कहलाता था सोने की चिड़िया।

**Question Number : 186 Question Id : 5406267022 Question Type : MCQ Option Shuffling : Yes Is Question Mandatory : No Option Orientation : Vertical**

**Correct Marks : 1 Wrong Marks : 0.25**

निम्न में से मिश्र वाक्य का चयन कीजिए:

**Options :**

1. ✘ उसने कार्य पूर्ण कर लिया होगा।
2. ✔ जहां राम रहता है वहीं श्याम भी रहता है।
3. ✘ हाँ, हाँ सब ठीक है।
4. ✘ अब तुम बिल्कुल स्वस्थ हो गए हो।

**Question Number : 186 Question Id : 5406267022 Question Type : MCQ Option Shuffling : Yes Is Question Mandatory : No Option Orientation : Vertical**

**Correct Marks : 1 Wrong Marks : 0.25**

निम्न में से मिश्र वाक्य का चयन कीजिए:

**Options :**

1. ✘ उसने कार्य पूर्ण कर लिया होगा।
2. ✔ जहां राम रहता है वहीं श्याम भी रहता है।
3. ✘ हाँ, हाँ सब ठीक है।
4. ✘ अब तुम बिल्कुल स्वस्थ हो गए हो।

**Question Number : 187 Question Id : 5406267023 Question Type : MCQ Option Shuffling : Yes Is Question Mandatory : No Option Orientation : Vertical**

**Correct Marks : 1 Wrong Marks : 0.25**

यदि वाक्य में शोक, हर्ष, घृणा, खुशी आदि का भाव अभिव्यक्त हो तो उसे \_\_\_\_\_ कहते है।

**Options :**

1. ✘ मिश्र वाक्य
2. ✔ विस्मयादिबोधक वाक्य

3. ✖ सरल वाक्य
4. ✖ विधानवाचक वाक्य

**Question Number : 187 Question Id : 5406267023 Question Type : MCQ Option Shuffling : Yes Is Question Mandatory : No Option Orientation : Vertical**

**Correct Marks : 1 Wrong Marks : 0.25**

यदि वाक्य में शोक, हर्ष, घृणा, खुशी आदि का भाव अभिव्यक्त हो तो उसे \_\_\_\_\_ कहते है।

**Options :**

1. ✖ मिश्र वाक्य
2. ✔ विस्मयादिबोधक वाक्य
3. ✖ सरल वाक्य
4. ✖ विधानवाचक वाक्य

**Question Number : 188 Question Id : 5406267024 Question Type : MCQ Option Shuffling : Yes Is Question Mandatory : No Option Orientation : Vertical**

**Correct Marks : 1 Wrong Marks : 0.25**

निम्नलिखित में से मुहावरा "सिंहावलोकन करना" का क्या अर्थ है?

**Options :**

1. ✖ नज़र फेर लेना
2. ✖ सरसरी नज़र से देखना
3. ✖ गम्भीर दृष्टि से देखना
4. ✔ आगे बढ़ते हुए पीछे की बातों पर नज़र डालना

**Question Number : 188 Question Id : 5406267024 Question Type : MCQ Option Shuffling : Yes Is Question Mandatory : No Option Orientation : Vertical**

**Correct Marks : 1 Wrong Marks : 0.25**

निम्नलिखित में से मुहावरा "सिंहावलोकन करना" का क्या अर्थ है?

**Options :**

1. ✖ नज़र फेर लेना
2. ✖ सरसरी नज़र से देखना
3. ✖ गम्भीर दृष्टि से देखना

4. ✓ आगे बढ़ते हुए पीछे की बातों पर नज़र डालना

**Question Number : 189 Question Id : 5406267025 Question Type : MCQ Option Shuffling : Yes Is Question Mandatory : No Option Orientation : Vertical**

**Correct Marks : 1 Wrong Marks : 0.25**

निम्नलिखित में से किस मुहावरे का अर्थ "किसी वस्तु का अन्दर ही अन्दर हास होते जाना" होता है?

**Options :**

1. ✓ घुन लगना
2. ✗ बढ़ा लगना
3. ✗ लकीर का फकीर होना
4. ✗ हाल पतना होना

**Question Number : 189 Question Id : 5406267025 Question Type : MCQ Option Shuffling : Yes Is Question Mandatory : No Option Orientation : Vertical**

**Correct Marks : 1 Wrong Marks : 0.25**

निम्नलिखित में से किस मुहावरे का अर्थ "किसी वस्तु का अन्दर ही अन्दर हास होते जाना" होता है?

**Options :**

1. ✓ घुन लगना
2. ✗ बढ़ा लगना
3. ✗ लकीर का फकीर होना
4. ✗ हाल पतना होना

**Question Number : 190 Question Id : 5406267026 Question Type : MCQ Option Shuffling : Yes Is Question Mandatory : No Option Orientation : Vertical**

**Correct Marks : 1 Wrong Marks : 0.25**

मुहावरा "सींग काटकर बछड़ों में मिलना" का क्या अर्थ है?

**Options :**

1. ✗ बच्चों की तरह व्यवहार करना
2. ✗ निरभिमानी होना
3. ✓ वास्तविकता छिपाकर कार्य करना
4. ✗ बुढ़ापे में विवाह करना

**Question Number : 190 Question Id : 5406267026 Question Type : MCQ Option Shuffling : Yes Is Question Mandatory : No Option Orientation : Vertical**

**Correct Marks : 1 Wrong Marks : 0.25**

मुहावरा "सींग काटकर बछड़ों में मिलना" का क्या अर्थ है?

**Options :**

1. ✘ बच्चों की तरह व्यवहार करना
2. ✘ निरभिमानी होना
3. ✔ वास्तविकता छिपाकर कार्य करना
4. ✘ बुढ़ापे में विवाह करना

**Question Number : 191 Question Id : 5406267027 Question Type : MCQ Option Shuffling : Yes Is Question Mandatory : No Option Orientation : Vertical**

**Correct Marks : 1 Wrong Marks : 0.25**

लोकोक्ति "पढ़े फारसी बेचे तेल, यह देखो कुदरत का खेल" का क्या अर्थ है?

**Options :**

1. ✘ योग्यता से उच्च स्तर का कार्य करना।
2. ✔ विवश होकर योग्यता से निम्न स्तर का कार्य करना।
3. ✘ मूर्ख किन्तु धनी।
4. ✘ जो अपना हित- अनहित न समझ सके।

**Question Number : 191 Question Id : 5406267027 Question Type : MCQ Option Shuffling : Yes Is Question Mandatory : No Option Orientation : Vertical**

**Correct Marks : 1 Wrong Marks : 0.25**

लोकोक्ति "पढ़े फारसी बेचे तेल, यह देखो कुदरत का खेल" का क्या अर्थ है?

**Options :**

1. ✘ योग्यता से उच्च स्तर का कार्य करना।
2. ✔ विवश होकर योग्यता से निम्न स्तर का कार्य करना।
3. ✘ मूर्ख किन्तु धनी।
4. ✘ जो अपना हित- अनहित न समझ सके।

**Question Number : 192 Question Id : 5406267028 Question Type : MCQ Option Shuffling : Yes Is Question Mandatory : No Option Orientation : Vertical**

**Correct Marks : 1 Wrong Marks : 0.25**

लोकोक्ति या कहावत के प्रचलित रूप का चयन कीजिए:

**Options :**

1. ✘ गुरू गुड़ ही रहे, चेले शक्कर ही रहे।
2. ✘ गुरू गुड़ हो गए चेले शक्कर ही रहे।
3. ✔ गुरू गुड़ ही रहे, चेले शक्कर हो गए।
4. ✘ गुरू गुड़ हो गए चेले शक्कर हो गए।

**Question Number : 192 Question Id : 5406267028 Question Type : MCQ Option Shuffling : Yes Is Question Mandatory : No Option Orientation : Vertical**

**Correct Marks : 1 Wrong Marks : 0.25**

लोकोक्ति या कहावत के प्रचलित रूप का चयन कीजिए:

**Options :**

1. ✘ गुरू गुड़ ही रहे, चेले शक्कर ही रहे।
2. ✘ गुरू गुड़ हो गए चेले शक्कर ही रहे।
3. ✔ गुरू गुड़ ही रहे, चेले शक्कर हो गए।
4. ✘ गुरू गुड़ हो गए चेले शक्कर हो गए।

**Question Number : 193 Question Id : 5406267029 Question Type : MCQ Option Shuffling : Yes Is Question Mandatory : No Option Orientation : Vertical**

**Correct Marks : 1 Wrong Marks : 0.25**

वाक्य में प्रयुक्त किसी पद या संपूर्ण वाक्य को स्पष्ट करने के लिए \_\_\_\_\_ का प्रयोग किया जाता है।

**Options :**

1. ✘ लाघव चिन्ह
2. ✘ योजक चिन्ह
3. ✘ पूर्णविराम चिन्ह
4. ✔ कोष्ठक चिन्ह

**Question Number : 193 Question Id : 5406267029 Question Type : MCQ Option Shuffling : Yes Is Question Mandatory : No Option**

**Orientation : Vertical**

**Correct Marks : 1 Wrong Marks : 0.25**

वाक्य में प्रयुक्त किसी पद या संपूर्ण वाक्य को स्पष्ट करने के लिए \_\_\_\_\_ का प्रयोग किया जाता है।

**Options :**

1. ✘ लाघव चिन्ह
2. ✘ योजक चिन्ह
3. ✘ पूर्णविराम चिन्ह
4. ✔ कोष्ठक चिन्ह

**Question Number : 194 Question Id : 5406267030 Question Type : MCQ Option Shuffling : Yes Is Question Mandatory : No Option**

**Orientation : Vertical**

**Correct Marks : 1 Wrong Marks : 0.25**

निम्न में से किस वाक्य में अर्द्धविराम चिन्ह का सही प्रयोग नहीं किया गया है?

**Options :**

1. ✘ मैं पढ़ रहा था ; मेरा भाई खेल रहा था कि पिताजी चीख पड़े।
2. ✘ शिक्षक के आते ही बच्चे शांत हो गए ; उनकी जुबान बंद हो गई।
3. ✔ नहीं ; नहीं ; ऐसा नहीं हो सकता।
4. ✘ मैं उसे मना करता हूँ ; वह मानती ही नहीं।

**Question Number : 194 Question Id : 5406267030 Question Type : MCQ Option Shuffling : Yes Is Question Mandatory : No Option**

**Orientation : Vertical**

**Correct Marks : 1 Wrong Marks : 0.25**

निम्न में से किस वाक्य में अर्द्धविराम चिन्ह का सही प्रयोग नहीं किया गया है?

**Options :**

1. ✘ मैं पढ़ रहा था ; मेरा भाई खेल रहा था कि पिताजी चीख पड़े।
2. ✘ शिक्षक के आते ही बच्चे शांत हो गए ; उनकी जुबान बंद हो गई।
3. ✔ नहीं ; नहीं ; ऐसा नहीं हो सकता।
4. ✘ मैं उसे मना करता हूँ ; वह मानती ही नहीं।

**Question Number : 195 Question Id : 5406267031 Question Type : MCQ Option Shuffling : Yes Is Question Mandatory : No Option**

**Orientation : Vertical**

**Correct Marks : 1 Wrong Marks : 0.25**

निम्नलिखित में से तुलनाबोधक सा, सी, से के पूर्व किस चिन्ह का प्रयोग किया जाता है?

**Options :**

1. ✘ विस्मयवाचक चिन्ह
2. ✔ योजक चिन्ह
3. ✘ त्रुटि चिन्ह
4. ✘ लाघव चिन्ह

**Question Number : 195 Question Id : 5406267031 Question Type : MCQ Option Shuffling : Yes Is Question Mandatory : No Option Orientation : Vertical**

**Correct Marks : 1 Wrong Marks : 0.25**

निम्नलिखित में से तुलनाबोधक सा, सी, से के पूर्व किस चिन्ह का प्रयोग किया जाता है?

**Options :**

1. ✘ विस्मयवाचक चिन्ह
2. ✔ योजक चिन्ह
3. ✘ त्रुटि चिन्ह
4. ✘ लाघव चिन्ह

**Sub-Section Number :**

2

**Sub-Section Id :**

540626349

**Question Shuffling Allowed :**

Yes

**Question Id : 5406267032 Question Type : COMPREHENSION Sub Question Shuffling Allowed : Yes Group Comprehension Questions : No**

**Question Numbers : (196 to 200)**

दिए गए गद्यांश का ध्यानपूर्वक अध्ययन कर प्रश्नों के उत्तर दीजिए-

पुलवामा हमला: गुरुवार 14 फरवरी, 2019 का दिन था। दोपहर के 3:30 बजे थे। सीआरपीएफ से संबंधित 78 बसों करीब 2500 जवानों को लेकर नेशनल हाईवे 44 से गुजर रही थीं। हर बार की तरह इस बार सड़क पर दूसरे वाहनों की आवाजाही को रोके बिना ये काफिला आगे बढ़ रहा था। बसों में बैठे कई जवान छुट्टी पर वापस अपने घर जा रहे थे। उनके चेहरों पर अपनों से मिलने की खुशी थी। इसी हाईवे पर दो दिन पहले भी आतंकी सीआरपीएफ के जवानों पर हमले को अंजाम दे चुके थे। इसलिए हर कोई सतर्क था। तभी एक कार ने सड़क की दूसरी तरफ से आकर इस काफिले के साथ चल रही बस में टक्कर मार दी। इसके साथ ही एक जबरदस्त धमाका हुआ। बस के साथ जवानों के शरीर के परखच्चे कई मीटर दूर छिटक गए। जवान कुछ समझ पाते या हमले का जवाब देने के लिए अपनी पोजिशन ले पाते उनके ऊपर आतंकीयों ने फायरिंग शुरू कर दी। सीआरपीएफ जवानों ने भी जवाबी कार्रवाई की, लेकिन आतंकी वहां से भागने में

सफल हो गए। धुआं छटा और फायरिंग बंद हुई तो वहां का नजारा दिल दहला देने वाला था। हर तरफ मांस के टुकड़े और खून पड़ा हुआ था। जवान अपने साथी जवानों की तलाश कर रहे थे। कुछ ही देर में ये खबर मीडिया के जरिए पूरे देश में आग की तरह फैल गई। हर कोई इस हमले से गुस्से में था। इस हमले में सीआरपीएफ के 40 जवान शहीद हो गए थे। यह जवान सीआरपीएफ की 76 बटालियन से थे। इसके अलावा कई जवान घायल हो गए थे। इन जवानों को तुरंत श्रीनगर में आर्मी के बेस हास्पिटल ले जाया गया।

1989 के बाद जवानों पर ये सबसे बड़ा हमला था। इस हमले ने पूरे देश को हिला कर रख दिया था। वहीं जवानों को ले जाते समय सुरक्षा को लेकर भी सवाल उठे। ये भी कहा गया कि आखिर इतने बड़े जवानों के काफिले को ले जाते समय निजी वाहनों की आवाजाही को क्यों नहीं रोका गया। पाकिस्तान बेस्ड आतंकी संगठन जैश ए मोहम्मद ने इस हमले की जिम्मेदारी ली। विस्फोटक से भरी कार को बस से टकराने वाले आतंकी की पहचान आदिल अहमद डार के रूप में सामने आई। 22 वर्ष का आदिल दो साल पहले इस आतंकी संगठन के साथ जुड़ा था। मार्च 2018 में उसके परिवार ने आखिरी बार आदिल अहमद डार को देखा था। उस वक्त वह साइकिल से कहीं बाहर निकला था और फिर वापस नहीं लौटा था। जवानों पर आत्मघाती हमले को अंजाम देने वाले आदिल को पुलिस ने छह बार अलग-अलग मामलों में हिरासत में भी लिया था, लेकिन हर बार उसको चेतावनी देकर छोड़ दिया था।

### Sub questions

**Question Number : 196 Question Id : 5406267033 Question Type : MCQ Option Shuffling : Yes Is Question Mandatory : No Option Orientation : Vertical**

**Correct Marks : 1 Wrong Marks : 0.25**

निम्नलिखित में से उपरोक्त गद्यांश का उचित शीर्षक क्या है?

**Options :**

1. ✘ अनंतनाग में आतंकी हमला
2. ✘ 26/11 आतंकी हमला
3. ✘ उरी द सर्जिकल स्ट्राइक
4. ✔ पुलवामा हमला

**Question Number : 197 Question Id : 5406267034 Question Type : MCQ Option Shuffling : Yes Is Question Mandatory : No Option Orientation : Vertical**

**Correct Marks : 1 Wrong Marks : 0.25**

निम्नलिखित में से, उपरोक्त गद्यांश के अनुसार पुलवामा हमले की जिम्मेदारी किस संगठन ने ली थी?

**Options :**

1. ✘ अफगानिस्तान बेस्ड आतंकी संगठन जैश ए मोहम्मद
2. ✘ इस्लामिक स्टेट ऑफ इराक एंड सीरिया
3. ✔ पाकिस्तान बेस्ड आतंकी संगठन जैश ए मोहम्मद
4. ✘ पाकिस्तान बेस्ड आतंकी संगठन लश्कर ऐ तैयबा

**Question Number : 198 Question Id : 5406267035 Question Type : MCQ Option Shuffling : Yes Is Question Mandatory : No Option**



**Orientation : Vertical**

**Correct Marks : 1 Wrong Marks : 0.25**

निम्नलिखित में से, उपरोक्त गद्यांश के संदर्भ में कौन-सा कथन सही नहीं है?

**Options :**

1. ✘ हमले में घायल हुए जवानों को तुरंत श्रीनगर में आर्मी के बेस हास्पिटल ले जाया गया था।
2. ✘ पुलवामा हमला जहा हुआ उसी हाईवे पर दो दिन पहले भी आतंकी सीआरपीएफ के जवानों पर हमले को अंजाम दे चुके थे।
3. ✘ 1989 के बाद जवानों पर हुआ सबसे बड़ा हमला, पुलवामा हमला था।
4. ✔ पुलवामा हमले में सीआरपीएफ के 40 जवान शहीद हो गए थे। यह जवान सीआरपीएफ की 67वीं बटालियन से थे।

**Question Number : 199 Question Id : 5406267036 Question Type : MCQ Option Shuffling : Yes Is Question Mandatory : No Option**

**Orientation : Vertical**

**Correct Marks : 1 Wrong Marks : 0.25**

निम्न में से, उपरोक्त गद्यांश के अनुसार पुलवामा हमले के संदर्भ में कौन-सा कथन पूर्ण रूप से सही है?

**Options :**

1. ✔ सीआरपीएफ से संबंधित 78 बसें करीब 2500 जवानों को लेकर नेशनल हाईवे 44 से गुजर रही थीं।
2. ✘ आरपीएफ से संबंधित 87 बसें करीब 2500 जवानों को लेकर नेशनल हाईवे 44 से गुजर रही थीं।
3. ✘ सीआरपीएफ से संबंधित 78 बसें करीब 5200 जवानों को लेकर नेशनल हाईवे 42 से गुजर रही थीं।
4. ✘ आरपीएफ से संबंधित 78 बसें करीब 25000 जवानों को लेकर नेशनल हाईवे 44 से गुजर रही थीं।

**Question Number : 200 Question Id : 5406267037 Question Type : MCQ Option Shuffling : Yes Is Question Mandatory : No Option**

**Orientation : Vertical**

**Correct Marks : 1 Wrong Marks : 0.25**

उपरोक्त गद्यांश के अनुसार जवानों पर आत्मघाती हमले को अंजाम देने वाले आदिल को पुलिस ने \_\_\_\_\_ अलग-अलग मामलों में हिरासत में भी लिया था।

**Options :**

1. ✘ चार बार
2. ✘ तीन बार
3. ✘ पांच बार
4. ✔ छह बार

**Question Id : 5406267032 Question Type : COMPREHENSION Sub Question Shuffling Allowed : Yes Group Comprehension Questions : No**

**Question Numbers : (196 to 200)**

दिए गए गद्यांश का ध्यानपूर्वक अध्ययन कर प्रश्नों के उत्तर दीजिए-

पुलवामा हमला: गुरुवार 14 फरवरी, 2019 का दिन था। दोपहर के 3:30 बजे थे। सीआरपीएफ से संबंधित 78 बसों करीब 2500 जवानों को लेकर नेशनल हाईवे 44 से गुजर रही थीं। हर बार की तरह इस बार सड़क पर दूसरे वाहनों की आवाजाही को रोके बिना ये काफिला आगे बढ़ रहा था। बसों में बैठे कई जवान छुट्टी पर वापस अपने घर जा रहे थे। उनके चेहरों पर अपनों से मिलने की खुशी थी। इसी हाईवे पर दो दिन पहले भी आतंकी सीआरपीएफ के जवानों पर हमले को अंजाम दे चुके थे। इसलिए हर कोई सतर्क था। तभी एक कार ने सड़क की दूसरी तरफ से आकर इस काफिले के साथ चल रही बस में टक्कर मार दी। इसके साथ ही एक जबरदस्त धमाका हुआ। बस के साथ जवानों के शरीर के परखच्चे कई मीटर दूर छिटक गए। जवान कुछ समझ पाते या हमले का जवाब देने के लिए अपनी पोजिशन ले पाते उनके ऊपर आतंकीयों ने फायरिंग शुरू कर दी। सीआरपीएफ जवानों ने भी जवाबी कार्रवाई की, लेकिन आतंकी वहां से भागने में सफल हो गए। धुआं छटा और फायरिंग बंद हुई तो वहां का नजारा दिल दहला देने वाला था। हर तरफ मांस के टुकड़े और खून पड़ा हुआ था। जवान अपने साथी जवानों की तलाश कर रहे थे। कुछ ही देर में ये खबर मीडिया के जरिए पूरे देश में आग की तरह फैल गई। हर कोई इस हमले से गुस्से में था। इस हमले में सीआरपीएफ के 40 जवान शहीद हो गए थे। यह जवान सीआरपीएफ की 76 बटालियन से थे। इसके अलावा कई जवान घायल हो गए थे। इन जवानों को तुरंत श्रीनगर में आर्मी के बेस हास्पिटल ले जाया गया।

1989 के बाद जवानों पर ये सबसे बड़ा हमला था। इस हमले ने पूरे देश को हिला कर रख दिया था। वहीं जवानों को ले जाते समय सुरक्षा को लेकर भी सवाल उठे। ये भी कहा गया कि आखिर इतने बड़े जवानों के काफिले को ले जाते समय निजी वाहनों की आवाजाही को क्यों नहीं रोका गया। पाकिस्तान बेस्ड आतंकी संगठन जैश ए मोहम्मद ने इस हमले की जिम्मेदारी ली। विस्फोटक से भरी कार को बस से टकराने वाले आतंकी की पहचान आदिल अहमद डार के रूप में सामने आई। 22 वर्ष का आदिल दो साल पहले इस आतंकी संगठन के साथ जुड़ा था। मार्च 2018 में उसके परिवार ने आखिरी बार आदिल अहमद डार को देखा था। उस वक्त वह साइकिल से कहीं बाहर निकला था और फिर वापस नहीं लौटा था। जवानों पर आत्मघाती हमले को अंजाम देने वाले आदिल को पुलिस ने छह बार अलग-अलग मामलों में हिरासत में भी लिया था, लेकिन हर बार उसको चेतावनी देकर छोड़ दिया था।

**Sub questions**

**Question Number : 196 Question Id : 5406267033 Question Type : MCQ Option Shuffling : Yes Is Question Mandatory : No Option Orientation : Vertical**

**Correct Marks : 1 Wrong Marks : 0.25**

निम्नलिखित में से उपरोक्त गद्यांश का उचित शीर्षक क्या है?

**Options :**

1. ✘ अनंतनाग में आतंकी हमला
2. ✘ 26/11 आतंकी हमला
3. ✘ उरी द सर्जिकल स्ट्राइक
4. ✔ पुलवामा हमला

**Question Number : 197 Question Id : 5406267034 Question Type : MCQ Option Shuffling : Yes Is Question Mandatory : No Option Orientation : Vertical**

**Correct Marks : 1 Wrong Marks : 0.25**

निम्नलिखित में से, उपरोक्त गद्यांश के अनुसार पुलवामा हमले की जिम्मेदारी किस संगठन ने ली थी?

**Options :**

1. ✘ अफगानिस्तान बेस्ड आतंकी संगठन जैश ए मोहम्मद
2. ✘ इस्लामिक स्टेट ऑफ इराक एंड सीरिया
3. ✔ पाकिस्तान बेस्ड आतंकी संगठन जैश ए मोहम्मद
4. ✘ पाकिस्तान बेस्ड आतंकी संगठन लश्कर ऐ तैयबा

**Question Number : 198 Question Id : 5406267035 Question Type : MCQ Option Shuffling : Yes Is Question Mandatory : No Option Orientation : Vertical**

**Correct Marks : 1 Wrong Marks : 0.25**

निम्नलिखित में से, उपरोक्त गद्यांश के संदर्भ में कौन-सा कथन सही नहीं है?

**Options :**

1. ✘ हमले में घायल हुए जवानों को तुरंत श्रीनगर में आर्मी के बेस हास्पिटल ले जाया गया था।
2. ✘ पुलवामा हमला जहा हुआ उसी हाईवे पर दो दिन पहले भी आतंकी सीआरपीएफ के जवानों पर हमले को अंजाम दे चुके थे।
3. ✘ 1989 के बाद जवानों पर हुआ सबसे बड़ा हमला, पुलवामा हमला था।
4. ✔ पुलवामा हमले में सीआरपीएफ के 40 जवान शहीद हो गए थे। यह जवान सीआरपीएफ की 67वीं बटालियन से थे।

**Question Number : 199 Question Id : 5406267036 Question Type : MCQ Option Shuffling : Yes Is Question Mandatory : No Option Orientation : Vertical**

**Correct Marks : 1 Wrong Marks : 0.25**

निम्न में से, उपरोक्त गद्यांश के अनुसार पुलवामा हमले के संदर्भ में कौन-सा कथन पूर्ण रूप से सही है?

**Options :**

1. ✔ सीआरपीएफ से संबंधित 78 बसों करीब 2500 जवानों को लेकर नेशनल हाईवे 44 से गुजर रही थीं।
2. ✘ आरपीएफ से संबंधित 87 बसों करीब 2500 जवानों को लेकर नेशनल हाईवे 44 से गुजर रही थीं।
3. ✘ सीआरपीएफ से संबंधित 78 बसों करीब 5200 जवानों को लेकर नेशनल हाईवे 42 से गुजर रही थीं।
4. ✘ आरपीएफ से संबंधित 78 बसों करीब 25000 जवानों को लेकर नेशनल हाईवे 44 से गुजर रही थीं।

**Question Number : 200 Question Id : 5406267037 Question Type : MCQ Option Shuffling : Yes Is Question Mandatory : No Option Orientation : Vertical**

**Correct Marks : 1 Wrong Marks : 0.25**

उपरोक्त गद्यांश के अनुसार जवानों पर आत्मघाती हमले को अंजाम देने वाले आदिल को पुलिस ने \_\_\_\_\_ अलग-अलग मामलों में हिरासत में भी लिया था।

**Options :**

1. ✘ चार बार

2. ✖ तीन बार
3. ✖ पांच बार
4. ✔ छह बार

