

# Question Paper Preview

**Notations :**

- Options shown in green color and with ✓ icon are correct.
- Options shown in red color and with ✗ icon are incorrect.

<b>Subject Name :</b>	FIRE OPERATOR
<b>Creation Date :</b>	2021-04-20 19:10:23
<b>Duration :</b>	120
<b>Total Marks :</b>	200
<b>Display Marks:</b>	Yes
<b>Share Answer Key With Delivery Engine :</b>	No
<b>Actual Answer Key :</b>	Yes
<b>Calculator :</b>	None
<b>Magnifying Glass Required? :</b>	No
<b>Ruler Required? :</b>	No
<b>Eraser Required? :</b>	No
<b>Scratch Pad Required? :</b>	No
<b>Rough Sketch/Notepad Required? :</b>	No
<b>Protractor Required? :</b>	No
<b>Show Watermark on Console? :</b>	Yes
<b>Highlighter :</b>	No
<b>Auto Save on Console? ( SA type of questions will be always auto saved ) :</b>	No

## Mental Ability1

<b>Group Number :</b>	1
<b>Group Id :</b>	540626222
<b>Group Maximum Duration :</b>	0
<b>Group Minimum Duration :</b>	0

Show Attended Group? :	No
Edit Attended Group? :	No
Break time :	0
Group Marks :	20
Is this Group for Examiner? :	No

## General intelligence and reasoning Ability1

Section Id :	540626301
Section Number :	1
Section type :	Online
Mandatory or Optional :	Mandatory
Number of Questions :	20
Number of Questions to be attempted :	20
Section Marks :	20
Enable Mark as Answered Mark for Review and Clear Response :	Yes
Sub-Section Number :	1
Sub-Section Id :	540626350
Question Shuffling Allowed :	Yes

Question Number : 1 Question Id : 5406267240 Question Type : MCQ Option Shuffling : Yes Is Question Mandatory : No Option Orientation : Vertical

Correct Marks : 1 Wrong Marks : 0.25

From the given responses, find the missing letter in the series.

FED, IHG , LKJ , ONM, ?

Options :

- ✘ MKJ
- ✘ VUT
- ✘ CBA
- ✔ RQP

Question Number : 1 Question Id : 5406267240 Question Type : MCQ Option Shuffling : Yes Is Question Mandatory : No Option

**Orientation : Vertical**

**Correct Marks : 1 Wrong Marks : 0.25**

दिए गए विकल्पों में से श्रेणी में लुप्त अक्षर ज्ञात कीजिए।

FED, IHG , LKJ , ONM, ?

**Options :**

1. ✘ MKJ
2. ✘ VUT
3. ✘ CBA
4. ✔ RQP

**Question Number : 2 Question Id : 5406267241 Question Type : MCQ Option Shuffling : Yes Is Question Mandatory : No Option**

**Orientation : Vertical**

**Correct Marks : 1 Wrong Marks : 0.25**

From the given words, select the word which cannot be formed using the letters of the given word.

LATCHING

**Options :**

1. ✘ THING
2. ✘ CHAIN
3. ✔ CHEAT
4. ✘ CLING

**Question Number : 2 Question Id : 5406267241 Question Type : MCQ Option Shuffling : Yes Is Question Mandatory : No Option**

**Orientation : Vertical**

**Correct Marks : 1 Wrong Marks : 0.25**

निम्नलिखित विकल्पों में से वह शब्द चुनिए जो दिए गए शब्द के अक्षरों का प्रयोग करके नहीं बनाया जा सकता ।

LATCHING

**Options :**

1. ✘ THING
2. ✘ CHAIN
3. ✔ CHEAT

## 4. ✘ CLING

**Question Number : 3 Question Id : 5406267242 Question Type : MCQ Option Shuffling : Yes Is Question Mandatory : No Option Orientation : Vertical**

**Correct Marks : 1 Wrong Marks : 0.25**

From the given responses, find the missing letter in the series.

SCD, TEF, UGH, ?, WKL

**Options :**

1. ✔ VIJ
2. ✘ VJI
3. ✘ CMN
4. ✘ UJI

**Question Number : 3 Question Id : 5406267242 Question Type : MCQ Option Shuffling : Yes Is Question Mandatory : No Option Orientation : Vertical**

**Correct Marks : 1 Wrong Marks : 0.25**

दिए गए विकल्पों में से श्रेणी में लुप्त अक्षर को ज्ञात कीजिए।

SCD, TEF, UGH, ?, WKL

**Options :**

1. ✔ VIJ
2. ✘ VJI
3. ✘ CMN
4. ✘ UJI

**Question Number : 4 Question Id : 5406267243 Question Type : MCQ Option Shuffling : Yes Is Question Mandatory : No Option Orientation : Vertical**

**Correct Marks : 1 Wrong Marks : 0.25**

An 'Island' is related to 'Sea' in the same way as an 'Oasis' is related to:

**Options :**

1. ✘ Water
2. ✘ Illusion

3. ✘ Pond
4. ✔ Desert

**Question Number : 4 Question Id : 5406267243 Question Type : MCQ Option Shuffling : Yes Is Question Mandatory : No Option Orientation : Vertical**

**Correct Marks : 1 Wrong Marks : 0.25**

एक 'द्वीप', जिस प्रकार 'समुद्र' से संबंधित होता है, उसी प्रकार 'मरूद्यान' संबंधित होता है:

**Options :**

1. ✘ पानी से
2. ✘ भ्रम से
3. ✘ तालाब
4. ✔ रेगिस्तान से

**Question Number : 5 Question Id : 5406267244 Question Type : MCQ Option Shuffling : Yes Is Question Mandatory : No Option Orientation : Vertical**

**Correct Marks : 1 Wrong Marks : 0.25**

Select the related word from the given alternatives.

Psychology : Human being : : Ornithology : ?

**Options :**

1. ✔ Birds
2. ✘ Volcanoes
3. ✘ Insects
4. ✘ Reptiles

**Question Number : 5 Question Id : 5406267244 Question Type : MCQ Option Shuffling : Yes Is Question Mandatory : No Option Orientation : Vertical**

**Correct Marks : 1 Wrong Marks : 0.25**

दिए गए विकल्पों में से संबंधित शब्द को चुनिए।

साइकोलोजी : मानव : : ओर्नीथोलोजी : ?

**Options :**

1. ✓ पक्षी
2. ✗ ज्वालामुखी
3. ✗ कीड़े-मकोड़े
4. ✗ सरीसृप

**Question Number : 6 Question Id : 5406267245 Question Type : MCQ Option Shuffling : Yes Is Question Mandatory : No Option Orientation : Vertical**

**Correct Marks : 1 Wrong Marks : 0.25**

Select the related word from the given alternatives.

Star : Telescope : : Virus : ?

**Options :**

1. ✗ Periscope
2. ✓ Microscope
3. ✗ Deck
4. ✗ Gyroscope

**Question Number : 6 Question Id : 5406267245 Question Type : MCQ Option Shuffling : Yes Is Question Mandatory : No Option Orientation : Vertical**

**Correct Marks : 1 Wrong Marks : 0.25**

दिए गये विकल्पों में से सम्बंधित शब्द को चुनिए।

तारा : दूरदर्शी : : विषाणु : ?

**Options :**

1. ✗ परिदर्शी
2. ✓ सूक्ष्मदर्शी
3. ✗ डेक
4. ✗ घूर्णाक्षदर्शी

**Question Number : 7 Question Id : 5406267246 Question Type : MCQ Option Shuffling : Yes Is Question Mandatory : No Option Orientation : Vertical**

**Correct Marks : 1 Wrong Marks : 0.25**

Select the related word from the given alternatives.

Money : Poverty :: Education : ?

**Options :**

1. ✘ Knowledge
2. ✘ Greediness
3. ✔ Illiteracy
4. ✘ Unsuccess

**Question Number : 7 Question Id : 5406267246 Question Type : MCQ Option Shuffling : Yes Is Question Mandatory : No Option Orientation : Vertical**

**Correct Marks : 1 Wrong Marks : 0.25**

दिए गए विकल्पों में से संबंधित शब्द को चुनिए।

धन : निर्धनता :: शिक्षा : ?

**Options :**

1. ✘ ज्ञान
2. ✘ लालच
3. ✔ निरक्षरता
4. ✘ असफलता

**Question Number : 8 Question Id : 5406267247 Question Type : MCQ Option Shuffling : Yes Is Question Mandatory : No Option Orientation : Vertical**

**Correct Marks : 1 Wrong Marks : 0.25**

Select the related letters from the given alternatives.

WVT : SRP :: MLJ : ?

**Options :**

1. ✘ KHG
2. ✘ IHG
3. ✔ IHF
4. ✘ HEF

Question Number : 8 Question Id : 5406267247 Question Type : MCQ Option Shuffling : Yes Is Question Mandatory : No Option Orientation : Vertical

Correct Marks : 1 Wrong Marks : 0.25

दिए गए विकल्पों में से संबंधित अक्षरों को चुनिए।

WVT : SRP :: MLJ : ?

Options :

- ✘ KHG
- ✘ IHG
- ✔ IHF
- ✘ HEF

Question Number : 9 Question Id : 5406267248 Question Type : MCQ Option Shuffling : Yes Is Question Mandatory : No Option Orientation : Vertical

Correct Marks : 1 Wrong Marks : 0.25

Select the related letters from the given alternatives.

CDF : GHJ :: KLN : \_\_\_\_\_

Options :

- ✔ OPR
- ✘ VHF
- ✘ YFD
- ✘ EDU

Question Number : 9 Question Id : 5406267248 Question Type : MCQ Option Shuffling : Yes Is Question Mandatory : No Option Orientation : Vertical

Correct Marks : 1 Wrong Marks : 0.25

दिए गए विकल्पों में से संबंधित अक्षरों को चुनिए।

CDF : GHJ :: KLN : \_\_\_\_\_

Options :

- ✔ OPR
- ✘ VHF



3. ✘ YFD

4. ✘ EDU

**Question Number : 10 Question Id : 5406267249 Question Type : MCQ Option Shuffling : Yes Is Question Mandatory : No Option Orientation : Vertical**

**Correct Marks : 1 Wrong Marks : 0.25**

Select the related letters from the given alternatives.

BLX : GR :: HNV : ?

**Options :**

1. ✔ KR

2. ✘ LQ

3. ✘ RK

4. ✘ JS

**Question Number : 10 Question Id : 5406267249 Question Type : MCQ Option Shuffling : Yes Is Question Mandatory : No Option Orientation : Vertical**

**Correct Marks : 1 Wrong Marks : 0.25**

दिए गए विकल्पों में से संबंधित अक्षरों का चयन कीजिए।

BLX : GR :: HNV : ?

**Options :**

1. ✔ KR

2. ✘ LQ

3. ✘ RK

4. ✘ JS

**Question Number : 11 Question Id : 5406267250 Question Type : MCQ Option Shuffling : Yes Is Question Mandatory : No Option Orientation : Vertical**

**Correct Marks : 1 Wrong Marks : 0.25**

In a certain code MISTAKEN is written as NJTUBLFO. How is GROUNDED written in that code?

**Options :**

1. ✘ CDCMTNQF

2. ✘ TNQFCDCM
3. ✘ EFEOTNQF
4. ✔ HSPVOEFE

**Question Number : 11 Question Id : 5406267250 Question Type : MCQ Option Shuffling : Yes Is Question Mandatory : No Option Orientation : Vertical**

**Correct Marks : 1 Wrong Marks : 0.25**

एक निश्चित कूट में MISTAKEN को NJTUBLFO लिखा जाता है। उस कूट में GROUNDED को किस प्रकार लिखेंगे?

**Options :**

1. ✘ CDCMTNQF
2. ✘ TNQFCDCM
3. ✘ EFEOTNQF
4. ✔ HSPVOEFE

**Question Number : 12 Question Id : 5406267251 Question Type : MCQ Option Shuffling : Yes Is Question Mandatory : No Option Orientation : Vertical**

**Correct Marks : 1 Wrong Marks : 0.25**

If pen is called pencil, pencil is called eraser, eraser is called paper and paper is called ink in a certain coded language, then what do we write on?

**Options :**

1. ✘ Paper
2. ✘ Pen
3. ✘ Pencil
4. ✔ Ink

**Question Number : 12 Question Id : 5406267251 Question Type : MCQ Option Shuffling : Yes Is Question Mandatory : No Option Orientation : Vertical**

**Correct Marks : 1 Wrong Marks : 0.25**

यदि किसी निश्चित कूट भाषा में, 'कलम' को 'पेंसिल' कहा जाता है, 'पेंसिल' को 'रबड़' कहा जाता है, 'रबड़' को 'कागज' कहा जाता है, 'कागज' को 'स्याही' कहा जाता है तो हम निम्नलिखित में किस पर लिखते हैं?

**Options :**

1. ✘ कागज
2. ✘ कलम

3. ✘ पेंसिल
4. ✔ स्याही

**Question Number : 13 Question Id : 5406267252 Question Type : MCQ Option Shuffling : Yes Is Question Mandatory : No Option Orientation : Vertical**

**Correct Marks : 1 Wrong Marks : 0.25**

If B is coded as 8, F is coded as 6, Q is coded as 4, D is coded as 7, T is coded as 2, M is coded as 3, and K is coded as 5, then what is the coded form of QKTBFM?

**Options :**

1. ✘ 452683
2. ✘ 472683
3. ✘ 452783
4. ✔ 452863

**Question Number : 13 Question Id : 5406267252 Question Type : MCQ Option Shuffling : Yes Is Question Mandatory : No Option Orientation : Vertical**

**Correct Marks : 1 Wrong Marks : 0.25**

यदि B को 8 कूटित करते हैं, F को 6 कूटित करते हैं, Q को 4 कूटित करते हैं, D को 7 कूटित करते हैं, T को 2 कूटित करते हैं, M को 3 कूटित करते हैं, और K को 5 कूटित करते हैं, तो QKTBFM का कूटित रूप क्या होगा?

**Options :**

1. ✘ 452683
2. ✘ 472683
3. ✘ 452783
4. ✔ 452863

**Question Number : 14 Question Id : 5406267253 Question Type : MCQ Option Shuffling : Yes Is Question Mandatory : No Option Orientation : Vertical**

**Correct Marks : 1 Wrong Marks : 0.25**

If "ASPIRE" is coded as "ZBRTOQHJQSDF" in a certain coded language, then how will "TARGET" be coded in the same language?

**Options :**

1. ✘ SUBCSRIHDFSU
2. ✘ SUBSCIRHDFSU

3. ✓ SUZBQSFHDFSU

4. ✗ SUCDQSFHDFSU

**Question Number : 14 Question Id : 5406267253 Question Type : MCQ Option Shuffling : Yes Is Question Mandatory : No Option Orientation : Vertical**

**Correct Marks : 1 Wrong Marks : 0.25**

किसी निश्चित कूट भाषा में, “ASPIRE” को “ZBRTOQHJQSDF” के रूप में लिखा जाता है, तो उसी कूट भाषा में, “TARGET” को किस प्रकार लिखा जाएगा?

**Options :**

1. ✗ SUBCSRIHDFSU

2. ✗ SUBSCIRHDFSU

3. ✓ SUZBQSFHDFSU

4. ✗ SUCDQSFHDFSU

**Question Number : 15 Question Id : 5406267254 Question Type : MCQ Option Shuffling : Yes Is Question Mandatory : No Option Orientation : Vertical**

**Correct Marks : 1 Wrong Marks : 0.25**

Five boys A, B, C, D and E sit in a row, not necessarily in the same order. D is equidistant from B and C and is also equidistant from E and A. If E is equidistant from B and D, then who sits to the immediate left of E?

**Options :**

1. ✗ B

2. ✗ D

3. ✗ A

4. ✓ Either B or D

**Question Number : 15 Question Id : 5406267254 Question Type : MCQ Option Shuffling : Yes Is Question Mandatory : No Option Orientation : Vertical**

**Correct Marks : 1 Wrong Marks : 0.25**

पांच लड़के A, B, C, D और E एक पंक्ति में बैठते हैं, जरूरी नहीं कि इसी क्रम में हों। D, B और C से समान दूरी पर है और E और A से भी समान दूरी पर है। यदि E, B और D से समान दूरी पर है, तो E के निकटवर्ती बाएं कौन बैठा है?

**Options :**

1. ✗ B

2. ✗ D

3. ✘ A
4. ✔ या तो B या D

**Question Number : 16 Question Id : 5406267255 Question Type : MCQ Option Shuffling : Yes Is Question Mandatory : No Option Orientation : Vertical**

**Correct Marks : 1 Wrong Marks : 0.25**

If 'A' is taller than 'B'. 'C' is shorter than 'D' and 'B' is taller than 'C' and 'D', then who is the shortest among these four?

**Options :**

1. ✘ A
2. ✘ B
3. ✘ D
4. ✔ C

**Question Number : 16 Question Id : 5406267255 Question Type : MCQ Option Shuffling : Yes Is Question Mandatory : No Option Orientation : Vertical**

**Correct Marks : 1 Wrong Marks : 0.25**

यदि 'A', 'B' से लंबा है। 'C', 'D' से छोटा है और 'B', 'C' तथा 'D' से लंबा है, तो इन चार में सबसे छोटा कौन है?

**Options :**

1. ✘ A
2. ✘ B
3. ✘ D
4. ✔ C

**Question Number : 17 Question Id : 5406267256 Question Type : MCQ Option Shuffling : Yes Is Question Mandatory : No Option Orientation : Vertical**

**Correct Marks : 1 Wrong Marks : 0.25**

Five students - A, B, C, D and E entered the classroom at five different timings, not necessarily in the same order. B entered before D but after E. C entered after B but before A. D is not the last person to enter, then who is the last person to enter into the class?

**Options :**

1. ✘ C
2. ✘ D
3. ✔ A

4. ✘ B

**Question Number : 17 Question Id : 5406267256 Question Type : MCQ Option Shuffling : Yes Is Question Mandatory : No Option Orientation : Vertical**

**Correct Marks : 1 Wrong Marks : 0.25**

पांच छात्र - A, B, C, D और E ने पांच अलग-अलग समय पर कक्षा में प्रवेश किया, जरूरी नहीं कि इसी क्रम में हो। B ने D से पहले लेकिन E के बाद प्रवेश किया। C, B के बाद लेकिन A से पहले प्रवेश करता है। D प्रवेश करने वाला अंतिम व्यक्ति नहीं है फिर कक्षा में प्रवेश करने वाला अंतिम व्यक्ति कौन है?

**Options :**

1. ✘ C

2. ✘ D

3. ✔ A

4. ✘ B

**Question Number : 18 Question Id : 5406267257 Question Type : MCQ Option Shuffling : Yes Is Question Mandatory : No Option Orientation : Vertical**

**Correct Marks : 1 Wrong Marks : 0.25**

There are 23 girls in a row. The position of the girl at the middle is 12<sup>th</sup> from the beginning. What will be the position of that girl from the end?

**Options :**

1. ✘ 11<sup>th</sup>2. ✔ 12<sup>th</sup>3. ✘ 13<sup>th</sup>4. ✘ 10<sup>th</sup>

**Question Number : 18 Question Id : 5406267257 Question Type : MCQ Option Shuffling : Yes Is Question Mandatory : No Option Orientation : Vertical**

**Correct Marks : 1 Wrong Marks : 0.25**

एक पंक्ति में 23 लड़कियाँ हैं। एक लड़की जो मध्य में है उसका स्थान प्रारंभ से 12वां है, तो अंत से उसका स्थान क्या होगा?

**Options :**

1. ✘ 11वां

2. ✔ 12वां

3. ✘ 13वां

4. ✖ 10वां

**Question Number : 19 Question Id : 5406267258 Question Type : MCQ Option Shuffling : Yes Is Question Mandatory : No Option Orientation : Vertical**

**Correct Marks : 1 Wrong Marks : 0.25**

In a family of six persons with one couple, P is married to R and is father of O. R has two children and is sister-in-law of A. A is brother of P and a male member in the family. S, who is son of R has a maternal uncle. If Z is maternal uncle of O, then how S is related to Z?

**Options :**

1. ✔ Nephew
2. ✖ Brother-in-law
3. ✖ Father
4. ✖ Son-in-law

**Question Number : 19 Question Id : 5406267258 Question Type : MCQ Option Shuffling : Yes Is Question Mandatory : No Option Orientation : Vertical**

**Correct Marks : 1 Wrong Marks : 0.25**

छह व्यक्तियों के परिवार में, एक विवाहित जोड़ा है। P का विवाह R से हुआ है और वह O का पिता है। R के दो बच्चे हैं और वह A की भाभी है। A, P का भाई है और पुरुष सदस्य है। S, जो R का पुत्र है, के एक मामा है। यदि Z, O का मामा है, तो S, Z से किस प्रकार संबंधित है?

**Options :**

1. ✔ भांजा
2. ✖ साला
3. ✖ पिता
4. ✖ दामाद

**Question Number : 20 Question Id : 5406267259 Question Type : MCQ Option Shuffling : Yes Is Question Mandatory : No Option Orientation : Vertical**

**Correct Marks : 1 Wrong Marks : 0.25**

In the question below, there are three statements followed by two conclusions. You have to take the given statements to be true even if they seem to be at variance with commonly known facts and then decide which of the given conclusion logically follow(s) from the given statements.

Statements:

- Some cars are wheels.
- All wheels are branches.

Some branches are tins.

Conclusions:

- I. Some cars are branches.
- II. Some tins are branches.

**Options :**

1. ✘ Only Conclusion I follows
2. ✘ Only Conclusion II follows
3. ✘ Either Conclusion I or II follows
4. ✔ Both Conclusions I and II follow

**Question Number : 20 Question Id : 5406267259 Question Type : MCQ Option Shuffling : Yes Is Question Mandatory : No Option Orientation : Vertical**

**Correct Marks : 1 Wrong Marks : 0.25**

नीचे दिए गए प्रश्न में तीन कथन और उसके बाद दो निष्कर्ष दिए गए हैं। आपको दिए गए तीनों कथनों को सत्य मानना है भले ही वे सर्वज्ञात तथ्यों से भिन्न प्रतीत होते हों। सभी निष्कर्षों को पढ़िए फिर तय कीजिए कि दिए गए निष्कर्षों में से कौन सा तर्कसंगत रूप से अनुसरण करता है, चाहे सर्वज्ञात तथ्य कुछ भी हों।

कथन:

- कुछ कार, पहिए हैं।  
सभी पहिए, डालियाँ हैं।  
कुछ डालियाँ, टिन हैं।

निष्कर्ष:

- I. कुछ कार, डालियाँ हैं।
- II. कुछ टिन, डालियाँ हैं।

**Options :**

1. ✘ केवल निष्कर्ष I अनुसरण करता है
2. ✘ केवल निष्कर्ष II अनुसरण करता है
3. ✘ या निष्कर्ष I या II अनुसरण करता है
4. ✔ दोनों निष्कर्ष I और II अनुसरण करता है



<b>Group Number :</b>	2
<b>Group Id :</b>	540626223
<b>Group Maximum Duration :</b>	0
<b>Group Minimum Duration :</b>	0
<b>Show Attended Group? :</b>	No
<b>Edit Attended Group? :</b>	No
<b>Break time :</b>	0
<b>Group Marks :</b>	20
<b>Is this Group for Examiner? :</b>	No

## General intelligence and reasoning Ability2

<b>Section Id :</b>	540626302
<b>Section Number :</b>	1
<b>Section type :</b>	Online
<b>Mandatory or Optional :</b>	Mandatory
<b>Number of Questions :</b>	20
<b>Number of Questions to be attempted :</b>	20
<b>Section Marks :</b>	20
<b>Enable Mark as Answered Mark for Review and Clear Response :</b>	Yes
<b>Sub-Section Number :</b>	1
<b>Sub-Section Id :</b>	540626351
<b>Question Shuffling Allowed :</b>	Yes

**Question Number : 21 Question Id : 5406267260 Question Type : MCQ Option Shuffling : Yes Is Question Mandatory : No Option Orientation : Vertical**

**Correct Marks : 1 Wrong Marks : 0.25**

In the question below, there are two statements followed by three conclusions. You have to take the given statements to be true even if they seem to be at variance with commonly known facts and then decide which of the given conclusion logically follow(s) from the given statements.

Statements:

All rats are cars.

All cars are tiger.

Conclusions:

- I. Some rats are tigers.
- II. All tigers are rats.
- III. Some cars are rats.

**Options :**

1. ✘ Only Conclusion I follows
2. ✘ Only Conclusion III follows
3. ✘ Only Conclusion I and II follow
4. ✔ Only Conclusion I and III follow

**Question Number : 21 Question Id : 5406267260 Question Type : MCQ Option Shuffling : Yes Is Question Mandatory : No Option Orientation : Vertical**

**Correct Marks : 1 Wrong Marks : 0.25**

नीचे दिए गए प्रश्न में दो कथन और उसके बाद तीन निष्कर्ष दिए गए हैं। आपको दिए गए तीनों कथनों को सत्य मानना है भले ही वे सर्वज्ञात तथ्यों से भिन्न प्रतीत होते हों। सभी निष्कर्षों को पढ़िए फिर तय कीजिए कि दिए गए निष्कर्षों में से कौन सा तर्कसंगत रूप से अनुसरण करता है, चाहे सर्वज्ञात तथ्य कुछ भी हों।

कथन:

- सभी चूहे, कार हैं।  
सभी कार, बाघ हैं।

निष्कर्ष:

- I. कुछ चूहे, बाघ हैं।
- II. सभी बाघ, चूहे हैं।
- III. कुछ कार, चूहे हैं।

**Options :**

1. ✘ केवल निष्कर्ष I अनुसरण करता है
2. ✘ केवल निष्कर्ष III अनुसरण करता है
3. ✘ केवल निष्कर्ष I और II अनुसरण करता है
4. ✔ केवल निष्कर्ष I और III अनुसरण करता है

**Question Number : 22 Question Id : 5406267261 Question Type : MCQ Option Shuffling : Yes Is Question Mandatory : No Option Orientation : Vertical**

**Correct Marks : 1 Wrong Marks : 0.25**

Select the correct combination of mathematical signs to replace \* signs and to balance the given equation.

$$8 * 6 * 96 * 2 = 0$$

Options :

1. ✘  $\times \div -$
2. ✔  $\times - \div$
3. ✘  $- \times \div$
4. ✘  $\div - \times$

Question Number : 22 Question Id : 5406267261 Question Type : MCQ Option Shuffling : Yes Is Question Mandatory : No Option Orientation : Vertical

Correct Marks : 1 Wrong Marks : 0.25

\* चिह्नों को बदलने के लिए और दिए गए समीकरण को संतुलित करने के लिए गणितीय संकेतों के सही संयोजन का चयन कीजिए।

$$8 * 6 * 96 * 2 = 0$$

Options :

1. ✘  $\times \div -$
2. ✔  $\times - \div$
3. ✘  $- \times \div$
4. ✘  $\div - \times$

Question Number : 23 Question Id : 5406267262 Question Type : MCQ Option Shuffling : Yes Is Question Mandatory : No Option Orientation : Vertical

Correct Marks : 1 Wrong Marks : 0.25

Find the missing number in the series given below.

0, 2, 6, ?, 20, 30

Options :

1. ✘ 10
2. ✘ 11
3. ✔ 12
4. ✘ 14

Question Number : 23 Question Id : 5406267262 Question Type : MCQ Option Shuffling : Yes Is Question Mandatory : No Option Orientation : Vertical

Correct Marks : 1 Wrong Marks : 0.25

नीचे दी गयी श्रेणी में लुप्त संख्या ज्ञात कीजिए।

0, 2, 6, ?, 20, 30

Options :

1. ✘ 10
2. ✘ 11
3. ✔ 12
4. ✘ 14

Question Number : 24 Question Id : 5406267263 Question Type : MCQ Option Shuffling : Yes Is Question Mandatory : No Option Orientation : Vertical

Correct Marks : 1 Wrong Marks : 0.25

Find the missing number in a series given below.

4, 9, 20, 43, 90, ?

Options :

1. ✘ 180
2. ✘ 182
3. ✘ 179
4. ✔ 185

Question Number : 24 Question Id : 5406267263 Question Type : MCQ Option Shuffling : Yes Is Question Mandatory : No Option Orientation : Vertical

Correct Marks : 1 Wrong Marks : 0.25

नीचे दी गयी श्रेणी में लुप्त संख्या ज्ञात कीजिए।

4, 9, 20, 43, 90, ?

Options :

1. ✘ 180
2. ✘ 182

3. ✘ 179

4. ✔ 185

**Question Number : 25 Question Id : 5406267264 Question Type : MCQ Option Shuffling : Yes Is Question Mandatory : No Option Orientation : Vertical**

**Correct Marks : 1 Wrong Marks : 0.25**

Which two signs should be interchanged in the following equation to make it correct?

$$12 - 6 \div 12 \times 6 + 6 = 9$$

**Options :**

1. ✘  $\div$  and  $\times$ 2. ✘  $+$  and  $\div$ 3. ✔  $-$  and  $+$ 4. ✘  $\times$  and  $+$ 

**Question Number : 25 Question Id : 5406267264 Question Type : MCQ Option Shuffling : Yes Is Question Mandatory : No Option Orientation : Vertical**

**Correct Marks : 1 Wrong Marks : 0.25**

निम्नलिखित समीकरण को सही करने के लिए किन दो चिन्हों को आपस में बदला जाना चाहिए?

$$12 - 6 \div 12 \times 6 + 6 = 9$$

**Options :**

1. ✘  $\div$  और  $\times$ 2. ✘  $+$  और  $\div$ 3. ✔  $-$  और  $+$ 4. ✘  $\times$  और  $+$ 

**Question Number : 26 Question Id : 5406267265 Question Type : MCQ Option Shuffling : Yes Is Question Mandatory : No Option Orientation : Vertical**

**Correct Marks : 1 Wrong Marks : 0.25**

In the following question, select the related number from the given alternatives.

$$113 : 50 :: 146 : ?$$

**Options :**

1. ✘ 160
2. ✔ 110
3. ✘ 220
4. ✘ 120

**Question Number : 26 Question Id : 5406267265 Question Type : MCQ Option Shuffling : Yes Is Question Mandatory : No Option Orientation : Vertical**

**Correct Marks : 1 Wrong Marks : 0.25**

निम्नलिखित प्रश्न में दिए गए विकल्पों में से सम्बन्धित संख्या को चुनिए।

113 : 50 :: 146 : ?

**Options :**

1. ✘ 160
2. ✔ 110
3. ✘ 220
4. ✘ 120

**Question Number : 27 Question Id : 5406267266 Question Type : MCQ Option Shuffling : Yes Is Question Mandatory : No Option Orientation : Vertical**

**Correct Marks : 1 Wrong Marks : 0.25**

What comes in place of (?) in the figure given below.

84	21	105
280	?	126
145	29	232

**Options :**

1. ✔ 14
2. ✘ 21
3. ✘ 26
4. ✘ 29

**Question Number : 27 Question Id : 5406267266 Question Type : MCQ Option Shuffling : Yes Is Question Mandatory : No Option Orientation : Vertical**

**Correct Marks : 1 Wrong Marks : 0.25**

नीचे दी गयी आकृति में (?) के स्थान पर क्या आएगा?

84	21	105
280	?	126
145	29	232

**Options :**


1. ✓ 14
2. ✗ 21
3. ✗ 26
4. ✗ 29

**Question Number : 28 Question Id : 5406267267 Question Type : MCQ Option Shuffling : Yes Is Question Mandatory : No Option Orientation : Vertical**

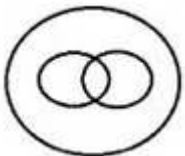
**Correct Marks : 1 Wrong Marks : 0.25**

Which one of the following diagram represent the relationship between students, singers and dancers?

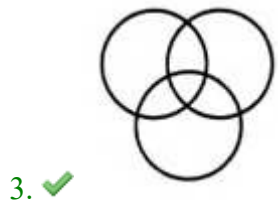
**Options :**



1. ✗



2. ✗

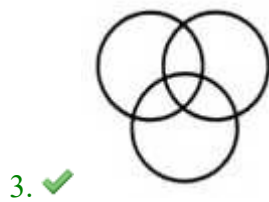
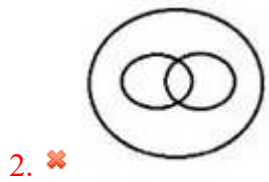



Question Number : 28 Question Id : 5406267267 Question Type : MCQ Option Shuffling : Yes Is Question Mandatory : No Option Orientation : Vertical

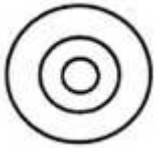
Correct Marks : 1 Wrong Marks : 0.25

निम्न में से कौन सी उत्तर आकृति, विद्यार्थियों, गायकों और नृतकों के मध्य सम्बन्ध को दर्शाती है?

Options :







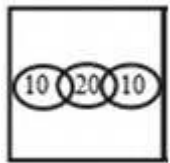
4. ✘

**Question Number : 29 Question Id : 5406267268 Question Type : MCQ Option Shuffling : Yes Is Question Mandatory : No Option Orientation : Vertical**

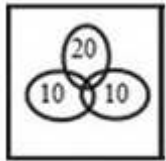
**Correct Marks : 1 Wrong Marks : 0.25**

In a group of 40 players, some play cricket, some play football and some both. If 30 play cricket and 20 both, then which of the following is the correct way of representing the Venn diagram?

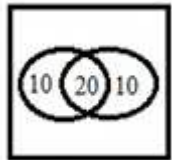
**Options :**



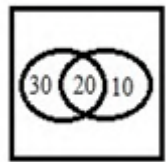
1. ✘



2. ✘



3. ✔



4. ✘

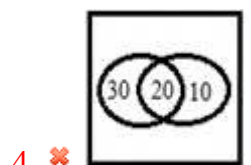
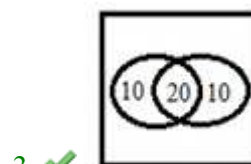
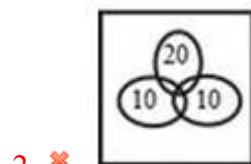
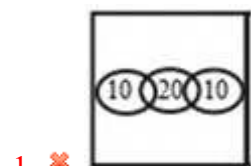
**Question Number : 29 Question Id : 5406267268 Question Type : MCQ Option Shuffling : Yes Is Question Mandatory : No Option**

**Orientation : Vertical**

**Correct Marks : 1 Wrong Marks : 0.25**

40 खिलाड़ियों के एक समूह में, कुछ क्रिकेट खेलते हैं, कुछ फुटबॉल खेलते हैं और कुछ दोनों। यदि 30 क्रिकेट खेलते हैं और 20 दोनों, तो निम्न में से कौन सा वेन आरेख को सही तरीके से दर्शाता है?

**Options :**



**Question Number : 30 Question Id : 5406267269 Question Type : MCQ Option Shuffling : Yes Is Question Mandatory : No Option**

**Orientation : Vertical**

**Correct Marks : 1 Wrong Marks : 0.25**

A man from a point, walks 4 miles north, turns to his right and walks 2 miles, again turns to his right and walks 2 miles, again turns to his right and walks 2 miles. In which direction would he be now from the starting position?

**Options :**

1. ✓ North
2. ✗ South
3. ✗ East
4. ✗ West

**Question Number : 30 Question Id : 5406267269 Question Type : MCQ Option Shuffling : Yes Is Question Mandatory : No Option Orientation : Vertical**

**Correct Marks : 1 Wrong Marks : 0.25**

एक बिंदु से एक आदमी, 4 मील उत्तर की ओर चलता है, अपने दाहिनी ओर मुड़ता है और 2 मील चलता है, फिर से अपने दाहिनी ओर मुड़ता है और 2 मील चलता है, फिर से अपने दाहिनी ओर मुड़ता है और 2 मील से चलता है। वह अपनी प्रारंभिक स्थिति से किस दिशा में है?

**Options :**

1. ✓ उत्तर
2. ✗ दक्षिण
3. ✗ पूर्व
4. ✗ पश्चिम

**Question Number : 31 Question Id : 5406267270 Question Type : MCQ Option Shuffling : Yes Is Question Mandatory : No Option Orientation : Vertical**

**Correct Marks : 1 Wrong Marks : 0.25**

Tom walked 10 miles from point P towards the East. He then took right turn and walked 5 miles and taking another right turn walked again for another 5 miles. In which direction is point P from the point where Tom is standing now?

**Options :**

1. ✗ West
2. ✓ North-West
3. ✗ North-East
4. ✗ Can't be determined

**Question Number : 31 Question Id : 5406267270 Question Type : MCQ Option Shuffling : Yes Is Question Mandatory : No Option Orientation : Vertical**

**Correct Marks : 1 Wrong Marks : 0.25**

टॉम बिंदु P से पूर्व की ओर 10 मील चलता है। वह फिर दाएं मुड़ता है और 5 मील चलता है और दोबारा दाएं मुड़ता है और 5 मील चलता है। टॉम, जिस बिन्दु पर खड़ा है, उससे बिंदु P किस दिशा में है?

**Options :**

1. ✘ पश्चिम
2. ✔ उत्तर-पश्चिम
3. ✘ उत्तर-पूर्व
4. ✘ ज्ञात नहीं किया जा सकता

**Question Number : 32 Question Id : 5406267271 Question Type : MCQ Option Shuffling : Yes Is Question Mandatory : No Option Orientation : Vertical**

**Correct Marks : 1 Wrong Marks : 0.25**

Naveen walks 20 m towards east. He then turns left and walks 10 metres. He again turns left and walks 20 metres. How far is he from his starting point?

**Options :**

1. ✔ 10 metres
2. ✘ 50 metres
3. ✘ 40 metres
4. ✘ 30 metres

**Question Number : 32 Question Id : 5406267271 Question Type : MCQ Option Shuffling : Yes Is Question Mandatory : No Option Orientation : Vertical**

**Correct Marks : 1 Wrong Marks : 0.25**

नवीन पूर्व की ओर 20 मीटर चलता है। फिर वह बायें मुड़ता है तथा 10 मीटर चलता है। वह फिर से बायें मुड़ता है तथा 20 मीटर चलता है। वह अपने शुरुआती बिंदु से कितनी दूर है?

**Options :**

1. ✔ 10 मीटर
2. ✘ 50 मीटर
3. ✘ 40 मीटर
4. ✘ 30 मीटर

**Question Number : 33 Question Id : 5406267272 Question Type : MCQ Option Shuffling : Yes Is Question Mandatory : No Option Orientation : Vertical**

**Correct Marks : 1 Wrong Marks : 0.25**

A person starts walking from point P in north direction. After walking 4 m he turned right and walked for 3 m. He then turned right and walked

for 6 m. He then turned right and walked for 5 m. He then turned left and walked for 4 m. He again turned left and walked for 2 m and stopped at point Q. What is the direction of point Q with respect to point P?

**Options :**

1. ✘ North-east
2. ✘ East
3. ✘ West
4. ✔ South

**Question Number : 33 Question Id : 5406267272 Question Type : MCQ Option Shuffling : Yes Is Question Mandatory : No Option Orientation : Vertical**

**Correct Marks : 1 Wrong Marks : 0.25**

एक व्यक्ति बिंदु P से उत्तर दिशा की ओर चलना शुरू करता है। 4 मीटर चलने के बाद, वह दाईं ओर मुड़ता है और 3 मीटर चलता है। वह फिर दाईं ओर मुड़ता है और 6 मीटर चलता है। वह फिर दाईं ओर मुड़ता है और 5 मीटर चलता है। वह फिर बाईं ओर मुड़ता है और 4 मीटर चलता है। वह फिर बाईं ओर मुड़ता है और 2 मीटर चलता है और बिंदु Q पर रुक जाता है। बिंदु P के सम्बन्ध में बिंदु Q की दिशा क्या है?

**Options :**

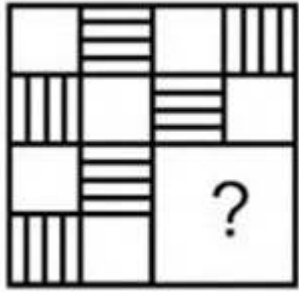
1. ✘ उत्तर-पूर्व
2. ✘ पूर्व
3. ✘ पश्चिम
4. ✔ दक्षिण

**Question Number : 34 Question Id : 5406267273 Question Type : MCQ Option Shuffling : Yes Is Question Mandatory : No Option Orientation : Vertical**

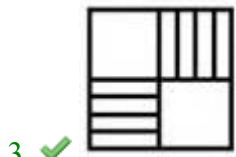
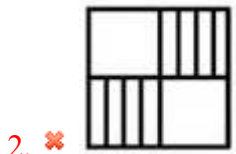
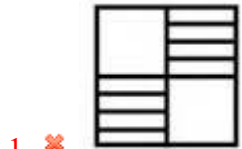
**Correct Marks : 1 Wrong Marks : 0.25**

Which answer figure will complete the pattern in the question figure?

Question figure:




Options :



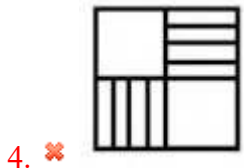
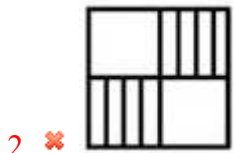
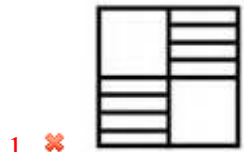
Question Number : 34 Question Id : 5406267273 Question Type : MCQ Option Shuffling : Yes Is Question Mandatory : No Option Orientation : Vertical Correct Marks : 1 Wrong Marks : 0.25

कौन-सी उत्तर आकृति, प्रश्न आकृति में पैटर्न को पूरा करेगी?

प्रश्न आकृति:



Options :

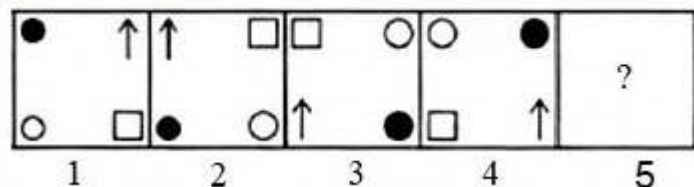


**Orientation : Vertical**

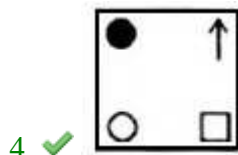
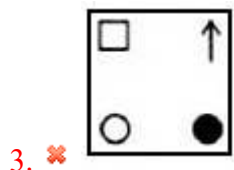
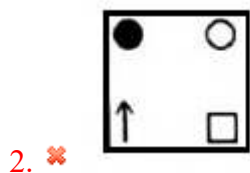
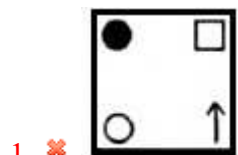
**Correct Marks : 1 Wrong Marks : 0.25**

In the question given below, which one of the four answer figures should come after the question figures on the right, if the sequence were continued.

**Question figure:**



**Options :**



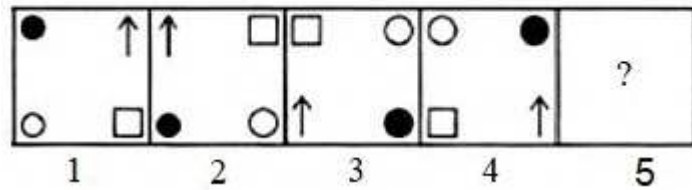


**Orientation : Vertical**

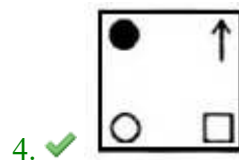
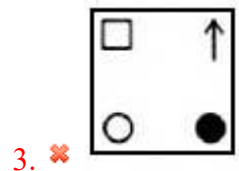
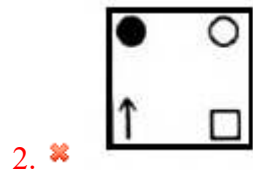
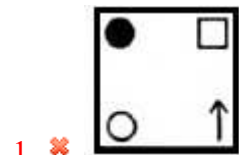
**Correct Marks : 1 Wrong Marks : 0.25**

नीचे दिए गए प्रश्न में, चार उत्तर आकृतियों में से एक प्रश्न आकृति के दाएं आकृति के बाद आना चाहिए, यदि अनुक्रम को जारी रखा जाए।

प्रश्न आकृति:



Options :

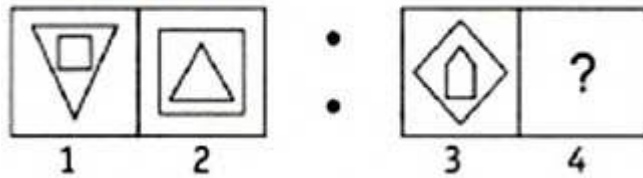


**Orientation : Vertical**

**Correct Marks : 1 Wrong Marks : 0.25**

In the question, select the related figure from the given alternatives.

**Question figure:**



**Options :**

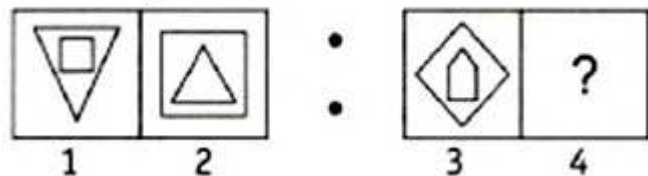


**Question Number : 36 Question Id : 5406267275 Question Type : MCQ Option Shuffling : Yes Is Question Mandatory : No Option Orientation : Vertical**

**Correct Marks : 1 Wrong Marks : 0.25**

प्रश्न में, दिए गए विकल्पों में से संबंधित आकृति का चयन कीजिए।

प्रश्न आकृति:



Options :

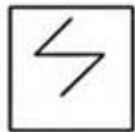
- 1. ✓
- 2. ✗
- 3. ✗
- 4. ✗

Question Number : 37 Question Id : 5406267276 Question Type : MCQ Option Shuffling : Yes Is Question Mandatory : No Option Orientation : Vertical

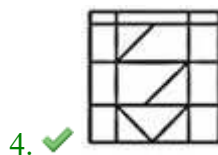
Correct Marks : 1 Wrong Marks : 0.25

In the following question, find the answer figure in which question figure is embedded.

Question figure:



Options :

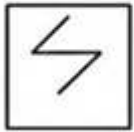


Question Number : 37 Question Id : 5406267276 Question Type : MCQ Option Shuffling : Yes Is Question Mandatory : No Option Orientation : Vertical

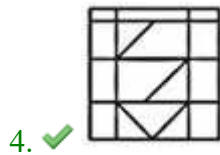
Correct Marks : 1 Wrong Marks : 0.25

निम्नलिखित प्रश्न में, उस उत्तर आकृति को ज्ञात कीजिए जिसमें प्रश्न आकृति सन्निहित है।

प्रश्न आकृति:



Options :

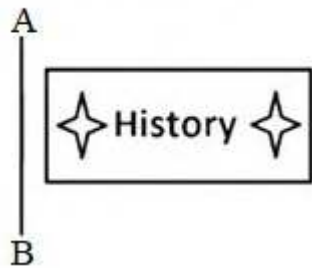


Question Number : 38 Question Id : 5406267277 Question Type : MCQ Option Shuffling : Yes Is Question Mandatory : No Option Orientation : Vertical

Correct Marks : 1 Wrong Marks : 0.25

If a mirror is placed on the line AB, then which of the answer figure is the right image of the given figure?

Question figure:



Options :

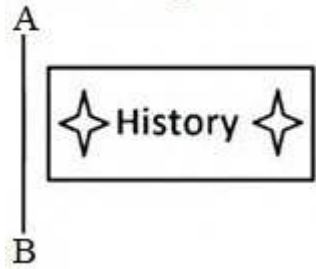


Question Number : 38 Question Id : 5406267277 Question Type : MCQ Option Shuffling : Yes Is Question Mandatory : No Option Orientation : Vertical


Correct Marks : 1 Wrong Marks : 0.25

यदि रेखा AB पर एक दर्पण रखा जाता है, तो उत्तर चित्रों में से दिए गए चित्र का सही चित्र कौन सा है?

प्रश्न आकृति:



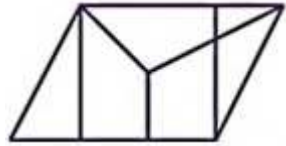
Options :



Question Number : 39 Question Id : 5406267278 Question Type : MCQ Option Shuffling : Yes Is Question Mandatory : No Option Orientation : Vertical

Correct Marks : 1 Wrong Marks : 0.25

How many triangles are present in the following figure?




Options :

1. ✓ 5
2. ✗ 3
3. ✗ 6
4. ✗ 8

**Question Number : 39 Question Id : 5406267278 Question Type : MCQ Option Shuffling : Yes Is Question Mandatory : No Option Orientation : Vertical**

**Correct Marks : 1 Wrong Marks : 0.25**

निम्नलिखित आकृति में कितने त्रिभुज हैं?



Options :

1. ✓ 5
2. ✗ 3
3. ✗ 6
4. ✗ 8

**Question Number : 40 Question Id : 5406267279 Question Type : MCQ Option Shuffling : Yes Is Question Mandatory : No Option Orientation : Vertical**

**Correct Marks : 1 Wrong Marks : 0.25**

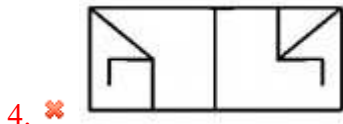
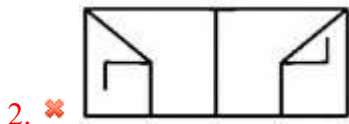
A piece of paper is folded and punched as shown below in the question figures. From the given answer figures, indicate how it will appear when opened.



**Question figure:**



**Options :**



**Question Number : 40 Question Id : 5406267279 Question Type : MCQ Option Shuffling : Yes Is Question Mandatory : No Option Orientation : Vertical**

**Correct Marks : 1 Wrong Marks : 0.25**

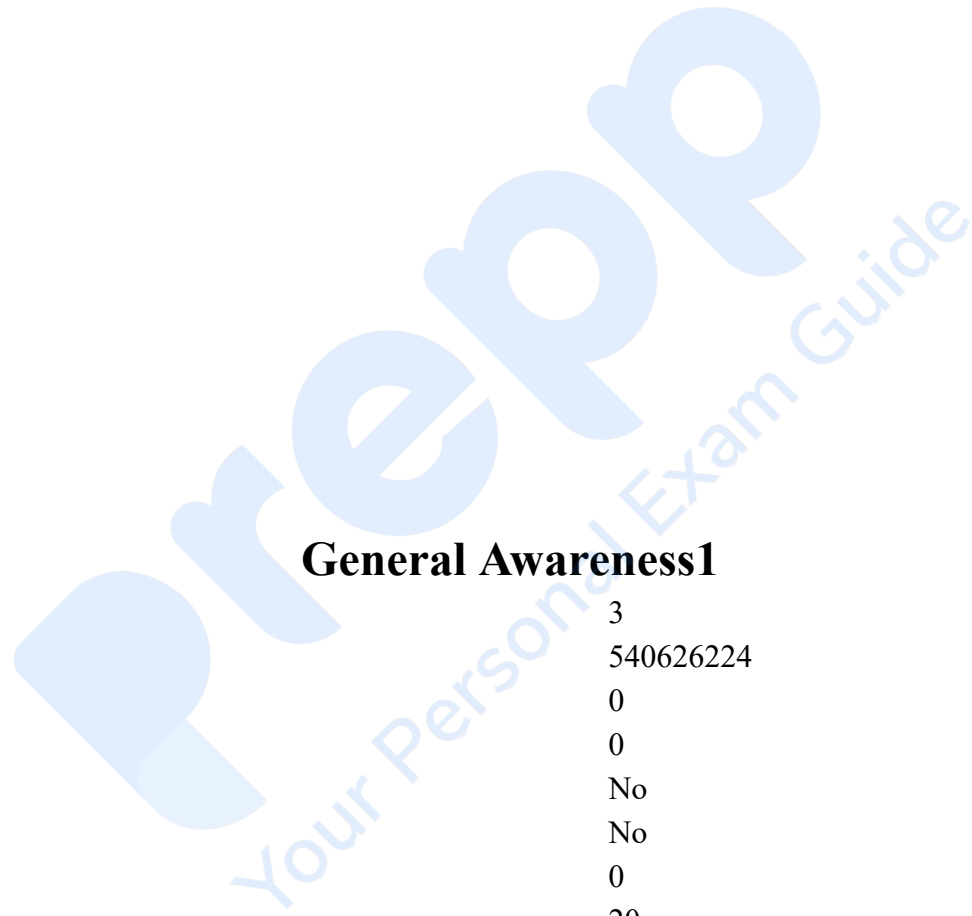
प्रश्न चित्र में दिखाए गए अनुसार कागज़ का एक टुकड़ा मुड़ा हुआ है और फिर उसमें छेद किया गया है। कागज़ को खोलने के बाद वह कैसा दिखाई देगा?

**प्रश्न आकृति:**



Options :

- 1. ✓
- 2. ✗
- 3. ✗
- 4. ✗



<b>Group Number :</b>	3
<b>Group Id :</b>	540626224
<b>Group Maximum Duration :</b>	0
<b>Group Minimum Duration :</b>	0
<b>Show Attended Group? :</b>	No
<b>Edit Attended Group? :</b>	No
<b>Break time :</b>	0
<b>Group Marks :</b>	20
<b>Is this Group for Examiner? :</b>	No

### General Awareness1

<b>Section Id :</b>	540626303
<b>Section Number :</b>	1
<b>Section type :</b>	Online
<b>Mandatory or Optional :</b>	Mandatory
<b>Number of Questions :</b>	20
<b>Number of Questions to be attempted :</b>	20
<b>Section Marks :</b>	20
<b>Enable Mark as Answered Mark for Review and Clear Response :</b>	Yes
<b>Sub-Section Number :</b>	1
<b>Sub-Section Id :</b>	540626352
<b>Question Shuffling Allowed :</b>	Yes

**Question Number : 41 Question Id : 5406267280 Question Type : MCQ Option Shuffling : Yes Is Question Mandatory : No Option Orientation : Vertical**

**Correct Marks : 1 Wrong Marks : 0.25**

Which of the following places was also known as Kakanaya in the ancient times and has many monuments important for the Buddhists?

**Options :**

1. ✘ Sarnath
2. ✔ Sanchi
3. ✘ Gaya
4. ✘ Khajuraho

**Question Number : 41 Question Id : 5406267280 Question Type : MCQ Option Shuffling : Yes Is Question Mandatory : No Option Orientation : Vertical**

**Correct Marks : 1 Wrong Marks : 0.25**

निम्नलिखित में से किस स्थान को प्राचीन काल में काकानाया के नाम से भी जाना जाता था और यहाँ बौद्धों के लिए कई महत्वपूर्ण स्मारक हैं?

**Options :**

1. ✘ सारनाथ
2. ✔ साँची
3. ✘ गया
4. ✘ खजुराहो

**Question Number : 42 Question Id : 5406267281 Question Type : MCQ Option Shuffling : Yes Is Question Mandatory : No Option Orientation : Vertical**

**Correct Marks : 1 Wrong Marks : 0.25**

Which of the following dance-forms has been revitalised as a result of Mughal influence on Indian culture?

**Options :**

1. ✘ Kathakali
2. ✔ Kathak
3. ✘ Odissi
4. ✘ Kuchipudi

**Question Number : 42 Question Id : 5406267281 Question Type : MCQ Option Shuffling : Yes Is Question Mandatory : No Option Orientation : Vertical**

**Correct Marks : 1 Wrong Marks : 0.25**

निम्नलिखित में से कौनसा नृत्य भारतीय संस्कृति पर मुगल प्रभाव से विकसित हुआ है?

**Options :**

1. ✘ कथकली
2. ✔ कथक
3. ✘ ओडिसी
4. ✘ कुचिपुड़ी

**Question Number : 43 Question Id : 5406267282 Question Type : MCQ Option Shuffling : Yes Is Question Mandatory : No Option Orientation : Vertical**

**Correct Marks : 1 Wrong Marks : 0.25**

In which of the following places is the Chaturprahar Music Festival organised annually?

**Options :**

1. ✘ Goa
2. ✘ Prayagraj
3. ✘ Varanasi
4. ✔ Mumbai

**Question Number : 43 Question Id : 5406267282 Question Type : MCQ Option Shuffling : Yes Is Question Mandatory : No Option Orientation : Vertical**

**Correct Marks : 1 Wrong Marks : 0.25**

निम्नलिखित में से किस स्थान पर प्रतिवर्ष चतुर्प्रहर संगीत समारोह आयोजित किया जाता है?

**Options :**

1. ✘ गोवा
2. ✘ प्रयागराज
3. ✘ वाराणसी
4. ✔ मुंबई

**Question Number : 44 Question Id : 5406267283 Question Type : MCQ Option Shuffling : Yes Is Question Mandatory : No Option Orientation : Vertical**

**Correct Marks : 1 Wrong Marks : 0.25**

For which of the following musical instruments is Ustad Bismillah Khan famous?

**Options :**

1. ✘ Sitar
2. ✘ Sarod
3. ✔ Shehnai
4. ✘ Sarangi

**Question Number : 44 Question Id : 5406267283 Question Type : MCQ Option Shuffling : Yes Is Question Mandatory : No Option Orientation : Vertical**

**Correct Marks : 1 Wrong Marks : 0.25**

निम्नलिखित में से किस वाद्ययंत्र के लिए उस्ताद बिस्मिल्लाह खान प्रसिद्ध है?

**Options :**

1. ✘ सितार
2. ✘ सरोद
3. ✔ शेहनाई
4. ✘ सारंगी

**Question Number : 45 Question Id : 5406267284 Question Type : MCQ Option Shuffling : Yes Is Question Mandatory : No Option Orientation : Vertical**

**Correct Marks : 1 Wrong Marks : 0.25**

In which of the following states is Champaner-Pavagadh Archaeological Park situated?

Options :

1. ✘ Punjab
2. ✔ Gujarat
3. ✘ Bihar
4. ✘ Jharkhand

Question Number : 45 Question Id : 5406267284 Question Type : MCQ Option Shuffling : Yes Is Question Mandatory : No Option Orientation : Vertical

Correct Marks : 1 Wrong Marks : 0.25

चंपानेर-पावागढ़ पुरातत्व पार्क निम्नलिखित में से किस राज्य में स्थित है?

Options :

1. ✘ पंजाब
2. ✔ गुजरात
3. ✘ बिहार
4. ✘ झारखण्ड

Question Number : 46 Question Id : 5406267285 Question Type : MCQ Option Shuffling : Yes Is Question Mandatory : No Option Orientation : Vertical

Correct Marks : 1 Wrong Marks : 0.25

With which of the following is the KUSUM scheme of the Central Government related to?

Options :

1. ✔ Solar-powered irrigation
2. ✘ Subsidies on fertilisers
3. ✘ Electricity outreach to villages
4. ✘ Skill development

Question Number : 46 Question Id : 5406267285 Question Type : MCQ Option Shuffling : Yes Is Question Mandatory : No Option Orientation : Vertical

Correct Marks : 1 Wrong Marks : 0.25

केंद्र सरकार की कुसुम योजना निम्नलिखित में से किसके साथ संबंधित है?

Options :

1. ✓ सौर ऊर्जा से चलने वाली सिंचाई
2. ✗ उर्वरक पर सब्सिडी
3. ✗ गांवों तक बिजली पहुंचाना
4. ✗ कौशल विकास

**Question Number : 47 Question Id : 5406267286 Question Type : MCQ Option Shuffling : Yes Is Question Mandatory : No Option Orientation : Vertical**

**Correct Marks : 1 Wrong Marks : 0.25**

As per the Union Budget 2021, by which year does the National Rail Plan aim to develop adequate rail infrastructure to cater to the projected traffic requirements up to 2050?

**Options :**

1. ✗ 2027
2. ✗ 2029
3. ✓ 2030
4. ✗ 2032

**Question Number : 47 Question Id : 5406267286 Question Type : MCQ Option Shuffling : Yes Is Question Mandatory : No Option Orientation : Vertical**

**Correct Marks : 1 Wrong Marks : 0.25**

केंद्रीय बजट 2021 के अनुसार, किस वर्ष तक राष्ट्रीय रेल योजना का लक्ष्य 2050 तक की प्रक्षेपित ट्रेफिक को पूरा करने के लिए पर्याप्त रेल अवसंरचना विकसित करना है?

**Options :**

1. ✗ 2027
2. ✗ 2029
3. ✓ 2030
4. ✗ 2032

**Question Number : 48 Question Id : 5406267287 Question Type : MCQ Option Shuffling : Yes Is Question Mandatory : No Option Orientation : Vertical**

**Correct Marks : 1 Wrong Marks : 0.25**

Granting special status to industries like Navaratnas, Maharatnas, Miniratnas are suggestive of which of the following practices by the Indian Government?

**Options :**

1. ✘ Liberalisation
2. ✔ Privatisation
3. ✘ Globalisation
4. ✘ Liberalisation and Globalisation both

**Question Number : 48 Question Id : 5406267287 Question Type : MCQ Option Shuffling : Yes Is Question Mandatory : No Option Orientation : Vertical**

**Correct Marks : 1 Wrong Marks : 0.25**

नवरत्न, महारत्न, मिनिरत्न जैसे उद्योगों को विशेष दर्जा देना, भारत सरकार के निम्नलिखित में से किस प्रथा का संकेत है?

**Options :**

1. ✘ उदारीकरण
2. ✔ निजीकरण
3. ✘ वैश्वीकरण
4. ✘ उदारीकरण और वैश्वीकरण

**Question Number : 49 Question Id : 5406267288 Question Type : MCQ Option Shuffling : Yes Is Question Mandatory : No Option Orientation : Vertical**

**Correct Marks : 1 Wrong Marks : 0.25**

Which of the following banks has recently been merged with DBS Bank?

**Options :**

1. ✔ Lakshmi Vilas Bank
2. ✘ PayTM Bank
3. ✘ India Post Payments Bank
4. ✘ Bandhan Bank

**Question Number : 49 Question Id : 5406267288 Question Type : MCQ Option Shuffling : Yes Is Question Mandatory : No Option Orientation : Vertical**

**Correct Marks : 1 Wrong Marks : 0.25**

निम्नलिखित में से किस बैंक का हाल ही में डीबीएस बैंक में विलय हुआ है?

**Options :**



1. ✓ लक्ष्मी विलास बैंक
2. ✗ पेटीएम बैंक
3. ✗ भारतीय डाक भुगतान बैंक
4. ✗ बंधन बैंक

**Question Number : 50 Question Id : 5406267289 Question Type : MCQ Option Shuffling : Yes Is Question Mandatory : No Option Orientation : Vertical**

**Correct Marks : 1 Wrong Marks : 0.25**

Which of the following scientists had discovered the value of the universal gravitation constant?

**Options :**

1. ✗ Joseph Priestly
2. ✓ Henry Cavendish
3. ✗ Issac Newton
4. ✗ Joseph Black

**Question Number : 50 Question Id : 5406267289 Question Type : MCQ Option Shuffling : Yes Is Question Mandatory : No Option Orientation : Vertical**

**Correct Marks : 1 Wrong Marks : 0.25**

निम्नलिखित में से किस वैज्ञानिक ने सार्वत्रिक गुरुत्वीय स्थिरांक के मान का ज्ञात किया?

**Options :**

1. ✗ जोसेफ प्रिस्टले
2. ✓ हेनरी कैवेंडिश
3. ✗ आइजैक न्यूटन
4. ✗ जोसेफ ब्लैक

**Question Number : 51 Question Id : 5406267290 Question Type : MCQ Option Shuffling : Yes Is Question Mandatory : No Option Orientation : Vertical**

**Correct Marks : 1 Wrong Marks : 0.25**

Which of the following body-organs is affected by Japanese Encephalitis?

**Options :**

1. ✗ Bones

2. ✘ Kidneys
3. ✔ Brains
4. ✘ Heart

**Question Number : 51 Question Id : 5406267290 Question Type : MCQ Option Shuffling : Yes Is Question Mandatory : No Option Orientation : Vertical**

**Correct Marks : 1 Wrong Marks : 0.25**

निम्नलिखित में से कौन सा शरीर का अंग जापानी इंसेफेलाइटिस से प्रभावित होता है?

**Options :**

1. ✘ हड्डियों
2. ✘ गुर्दे
3. ✔ मस्तिष्क
4. ✘ हृदय

**Question Number : 52 Question Id : 5406267291 Question Type : MCQ Option Shuffling : Yes Is Question Mandatory : No Option Orientation : Vertical**

**Correct Marks : 1 Wrong Marks : 0.25**

In which of the following group of plants is the plant-body differentiated into roots, stem and leaves and has specialised tissue for the conduction of water?

**Options :**

1. ✘ Plantae
2. ✘ Thallophyta
3. ✔ Pteridophyta
4. ✘ Bryophyta

**Question Number : 52 Question Id : 5406267291 Question Type : MCQ Option Shuffling : Yes Is Question Mandatory : No Option Orientation : Vertical**

**Correct Marks : 1 Wrong Marks : 0.25**

किस वर्ग के पौधों का शरीर जड़, तना तथा पट्टी में विभाजित होता है और इनमें शरीर के एक भाग से दूसरे भाग तक जल तथा अन्य पदार्थों के संवहन के लिए संवहन ऊतक भी पाए जाते हैं?

**Options :**

1. ✘ प्लांटी

2. ✘ थैलोफाइटा
3. ✔ टेरीडोफाइटा
4. ✘ ब्रायोफाइटा

**Question Number : 53 Question Id : 5406267292 Question Type : MCQ Option Shuffling : Yes Is Question Mandatory : No Option Orientation : Vertical**

**Correct Marks : 1 Wrong Marks : 0.25**

If an athlete is running, then in which of the following tracks shape will his velocity changes continuously even though the magnitude remains the same?

**Options :**

1. ✘ Square shaped track
2. ✘ Hexagonal shaped track
3. ✘ Octagonal shaped track
4. ✔ Circular track

**Question Number : 53 Question Id : 5406267292 Question Type : MCQ Option Shuffling : Yes Is Question Mandatory : No Option Orientation : Vertical**

**Correct Marks : 1 Wrong Marks : 0.25**

यदि एक एथलिट एक बंद पथ (ट्रैक) पर दौड़ रहा हो, तो पथ का क्या आकार होना चाहिए जिससे की वेग के परिमाण तो ना बदले, परन्तु अपनी गति की दिशा लगातार बदलती जाए?

**Options :**

1. ✘ आयताकार पथ
2. ✘ षटकोणीय पथ
3. ✘ अष्टकोणीय पथ
4. ✔ वृत्तीय पथ

**Question Number : 54 Question Id : 5406267293 Question Type : MCQ Option Shuffling : Yes Is Question Mandatory : No Option Orientation : Vertical**

**Correct Marks : 1 Wrong Marks : 0.25**

Which group of animalia are jellyfish and sea anemones common examples of?

**Options :**

1. ✔ Coelenterata

2. ✘ Porifera
3. ✘ Annelida
4. ✘ Nematoda

**Question Number : 54 Question Id : 5406267293 Question Type : MCQ Option Shuffling : Yes Is Question Mandatory : No Option Orientation : Vertical**

**Correct Marks : 1 Wrong Marks : 0.25**

जेलिफ़िश और समुद्री एनीमोन, एनिमेलिया वर्ग के कौनसे उपवर्ग के उदाहरण हैं?

**Options :**

1. ✔ सिलेंटेरेटा
2. ✘ पोरिफेरा
3. ✘ एनीलिडा
4. ✘ निमेटोडा

**Question Number : 55 Question Id : 5406267294 Question Type : MCQ Option Shuffling : Yes Is Question Mandatory : No Option Orientation : Vertical**

**Correct Marks : 1 Wrong Marks : 0.25**

When a copper vessel is exposed to moist air for long, it acquires a dull coating. What is the colour of that coating?

**Options :**

1. ✘ Red
2. ✘ White
3. ✔ Green
4. ✘ Brown

**Question Number : 55 Question Id : 5406267294 Question Type : MCQ Option Shuffling : Yes Is Question Mandatory : No Option Orientation : Vertical**

**Correct Marks : 1 Wrong Marks : 0.25**

जब कॉपर के बर्तन को लम्बे समय तक नम वायु में खुला रखा जाता है तो उस पर एक हलकी परत जम जाती है। यह परत किस रंग की होती है?

**Options :**

1. ✘ लाल
2. ✘ सफ़ेद

3. ✓ हरे

4. ✗ भूरे

**Question Number : 56 Question Id : 5406267295 Question Type : MCQ Option Shuffling : Yes Is Question Mandatory : No Option Orientation : Vertical**

**Correct Marks : 1 Wrong Marks : 0.25**

How many maximum number of naturally occurring elements are there on the earth?

**Options :**

1. ✗ 87

2. ✗ 90

3. ✓ 94

4. ✗ 102

**Question Number : 56 Question Id : 5406267295 Question Type : MCQ Option Shuffling : Yes Is Question Mandatory : No Option Orientation : Vertical**

**Correct Marks : 1 Wrong Marks : 0.25**

पृथ्वी पर प्राकृतिक रूप से अधिकतम कितने तत्व पाए जाते हैं?

**Options :**

1. ✗ 87

2. ✗ 90

3. ✓ 94

4. ✗ 102

**Question Number : 57 Question Id : 5406267296 Question Type : MCQ Option Shuffling : Yes Is Question Mandatory : No Option Orientation : Vertical**

**Correct Marks : 1 Wrong Marks : 0.25**

In the Great Himalayan range, the valleys are mostly inhabited by which nomadic group?

**Options :**

1. ✗ Bhil

2. ✓ Bhotia

3. ✗ Saka

4. ✗ Maasai

**Question Number : 57 Question Id : 5406267296 Question Type : MCQ Option Shuffling : Yes Is Question Mandatory : No Option Orientation : Vertical**

**Correct Marks : 1 Wrong Marks : 0.25**

ग्रेट हिमालयन रेंज की घाटियों में अधिकतर कौनसा खानाबदोश समूह निवास करता है?

**Options :**

1. ✘ भील
2. ✔ भोटिया
3. ✘ साका
4. ✘ मसाई

**Question Number : 58 Question Id : 5406267297 Question Type : MCQ Option Shuffling : Yes Is Question Mandatory : No Option Orientation : Vertical**

**Correct Marks : 1 Wrong Marks : 0.25**

The Eastern Hills and Mountain system has their general alignment in which direction?

**Options :**

1. ✘ East to west
2. ✘ West to East
3. ✔ North to south
4. ✘ South to North

**Question Number : 58 Question Id : 5406267297 Question Type : MCQ Option Shuffling : Yes Is Question Mandatory : No Option Orientation : Vertical**

**Correct Marks : 1 Wrong Marks : 0.25**

पूर्वी पहाड़ियों और पर्वतीय प्रणाली का अपना सामान्य संरेखण किस दिशा में है?

**Options :**

1. ✘ पूर्व से पश्चिम
2. ✘ पश्चिम से पूर्व
3. ✔ उत्तर से दक्षिण
4. ✘ दक्षिण से उत्तर

**Question Number : 59 Question Id : 5406267298 Question Type : MCQ Option Shuffling : Yes Is Question Mandatory : No Option Orientation : Vertical**

**Correct Marks : 1 Wrong Marks : 0.25**

Which one of the following river is the largest tributary of the Indus?

**Options :**

1. ✘ Beas
2. ✘ Ravi
3. ✘ Satluj
4. ✔ Chenab

**Question Number : 59 Question Id : 5406267298 Question Type : MCQ Option Shuffling : Yes Is Question Mandatory : No Option Orientation : Vertical**

**Correct Marks : 1 Wrong Marks : 0.25**

निम्नलिखित नदियों में से कौन सी सिंधु की सबसे बड़ी सहायक नदी है?

**Options :**

1. ✘ व्यास
2. ✘ रावि
3. ✘ सतलुज
4. ✔ चिनाब

**Question Number : 60 Question Id : 5406267299 Question Type : MCQ Option Shuffling : Yes Is Question Mandatory : No Option Orientation : Vertical**

**Correct Marks : 1 Wrong Marks : 0.25**

Which type of soil the result of intense leaching due to tropical rains?

**Options :**

1. ✔ Laterite Soil
2. ✘ Red soil
3. ✘ Yellow soil
4. ✘ Black Soil

**Question Number : 60 Question Id : 5406267299 Question Type : MCQ Option Shuffling : Yes Is Question Mandatory : No Option Orientation : Vertical**

**Correct Marks : 1 Wrong Marks : 0.25**

किस प्रकार की मिट्टी तीव्र उष्ण कटिबंधीय वर्षा के कारण हुए तीव्र निक्षालन का परिणाम है??

**Options :**

1. ✓ लेटराइट मृदा
2. ✗ लाल मृदा
3. ✗ पीली मृदा
4. ✗ काली मृदा

## General Awareness2

<b>Group Number :</b>	4
<b>Group Id :</b>	540626225
<b>Group Maximum Duration :</b>	0
<b>Group Minimum Duration :</b>	0
<b>Show Attended Group? :</b>	No
<b>Edit Attended Group? :</b>	No
<b>Break time :</b>	0
<b>Group Marks :</b>	20
<b>Is this Group for Examiner? :</b>	No

## General Awareness2

<b>Section Id :</b>	540626304
<b>Section Number :</b>	1
<b>Section type :</b>	Online
<b>Mandatory or Optional :</b>	Mandatory
<b>Number of Questions :</b>	20
<b>Number of Questions to be attempted :</b>	20
<b>Section Marks :</b>	20
<b>Enable Mark as Answered Mark for Review and Clear Response :</b>	Yes
<b>Sub-Section Number :</b>	1
<b>Sub-Section Id :</b>	540626353



Question Shuffling Allowed :

Yes

**Question Number : 61 Question Id : 5406267300 Question Type : MCQ Option Shuffling : Yes Is Question Mandatory : No Option Orientation : Vertical**

**Correct Marks : 1 Wrong Marks : 0.25**

Which of the following countries are separated by India through Gulf of Mannar?

**Options :**

1. ✘ Maldives
2. ✔ Sri Lanka
3. ✘ Myanmar
4. ✘ Nepal

**Question Number : 61 Question Id : 5406267300 Question Type : MCQ Option Shuffling : Yes Is Question Mandatory : No Option Orientation : Vertical**

**Correct Marks : 1 Wrong Marks : 0.25**

निम्नलिखित में से कौनसा देश भारत से मन्नार की खाड़ी से अलग हुआ है?

**Options :**

1. ✘ मालदीव
2. ✔ श्रीलंका
3. ✘ म्यांमार
4. ✘ नेपाल

**Question Number : 62 Question Id : 5406267301 Question Type : MCQ Option Shuffling : Yes Is Question Mandatory : No Option Orientation : Vertical**

**Correct Marks : 1 Wrong Marks : 0.25**

Which of the following are not a species of Tropical Thorn Forest?

**Options :**

1. ✘ Babool
2. ✘ Ber
3. ✘ Neem
4. ✔ Hura

**Question Number : 62 Question Id : 5406267301 Question Type : MCQ Option Shuffling : Yes Is Question Mandatory : No Option Orientation : Vertical**

**Correct Marks : 1 Wrong Marks : 0.25**

निम्नलिखित में से कौनसी प्रजाति उष्ण कटीबंधीय कांटेदार वन की नहीं है?

**Options :**

1. ✘ बबूल
2. ✘ बेर
3. ✘ नीम
4. ✔ हुरा

**Question Number : 63 Question Id : 5406267302 Question Type : MCQ Option Shuffling : Yes Is Question Mandatory : No Option Orientation : Vertical**

**Correct Marks : 1 Wrong Marks : 0.25**

In which of the following places was Gautam Buddha born?

**Options :**

1. ✔ Lumbini
2. ✘ Kapilavastu
3. ✘ Gaya
4. ✘ Sarnath

**Question Number : 63 Question Id : 5406267302 Question Type : MCQ Option Shuffling : Yes Is Question Mandatory : No Option Orientation : Vertical**

**Correct Marks : 1 Wrong Marks : 0.25**

गौतम बुद्ध का जन्म निम्नलिखित में से किस स्थान में हुआ था?

**Options :**

1. ✔ लुम्बिनी
2. ✘ कपिलवस्तु
3. ✘ गया
4. ✘ सारनाथ

**Question Number : 64 Question Id : 5406267303 Question Type : MCQ Option Shuffling : Yes Is Question Mandatory : No Option**

**Orientation : Vertical**

**Correct Marks : 1 Wrong Marks : 0.25**

In which of the following years did Alexander invade India?

**Options :**

1. ✘ 332 BC
2. ✘ 330 BC
3. ✘ 328 BC
4. ✔ 326 BC

**Question Number : 64 Question Id : 5406267303 Question Type : MCQ Option Shuffling : Yes Is Question Mandatory : No Option**

**Orientation : Vertical**

**Correct Marks : 1 Wrong Marks : 0.25**

निम्नलिखित में से किस वर्ष में सिकंदर (अलेक्जेंडर) ने भारत पर आक्रमण किया था?

**Options :**

1. ✘ ईसा पूर्व 332
2. ✘ ईसा पूर्व 330
3. ✘ ईसा पूर्व 328
4. ✔ ईसा पूर्व 326

**Question Number : 65 Question Id : 5406267304 Question Type : MCQ Option Shuffling : Yes Is Question Mandatory : No Option**

**Orientation : Vertical**

**Correct Marks : 1 Wrong Marks : 0.25**

In which of the following regions did the Senas establish their dominance?

**Options :**

1. ✔ Bengal
2. ✘ Punjab
3. ✘ Gujarat
4. ✘ Kashmir

**Question Number : 65 Question Id : 5406267304 Question Type : MCQ Option Shuffling : Yes Is Question Mandatory : No Option**

**Orientation : Vertical**

**Correct Marks : 1 Wrong Marks : 0.25**

निम्नलिखित में से किस क्षेत्र में सेन राजवंश ने अपना शासन स्थापित किया?

Options :

1. ✓ बंगाल
2. ✗ पंजाब
3. ✗ गुजरात
4. ✗ कश्मीर

Question Number : 66 Question Id : 5406267305 Question Type : MCQ Option Shuffling : Yes Is Question Mandatory : No Option Orientation : Vertical

Correct Marks : 1 Wrong Marks : 0.25

For which of the following movements did Gandhiji gave the 'Do or Die' slogan?

Options :

1. ✗ Non-Cooperation Movement
2. ✗ Rowlatt Satyagraha
3. ✗ Dandi March
4. ✓ Quit India Movement

Question Number : 66 Question Id : 5406267305 Question Type : MCQ Option Shuffling : Yes Is Question Mandatory : No Option Orientation : Vertical

Correct Marks : 1 Wrong Marks : 0.25

निम्नलिखित में से किस आंदोलन के लिए गांधीजी ने 'करो या मरो' का नारा दिया था?

Options :

1. ✗ असहयोग आंदोलन
2. ✗ रौलट सत्याग्रह
3. ✗ दांडी मार्च
4. ✓ भारत छोड़ो आंदोलन

Question Number : 67 Question Id : 5406267306 Question Type : MCQ Option Shuffling : Yes Is Question Mandatory : No Option Orientation : Vertical

Correct Marks : 1 Wrong Marks : 0.25

In which year did the rule of the East India Company end?

**Options :**

1. ✘ 1855
2. ✘ 1856
3. ✘ 1857
4. ✔ 1858

**Question Number : 67 Question Id : 5406267306 Question Type : MCQ Option Shuffling : Yes Is Question Mandatory : No Option Orientation : Vertical**

**Correct Marks : 1 Wrong Marks : 0.25**

किस वर्ष में ईस्ट इंडिया कंपनी का शासन समाप्त हो गया?

**Options :**

1. ✘ 1855
2. ✘ 1856
3. ✘ 1857
4. ✔ 1858

**Question Number : 68 Question Id : 5406267307 Question Type : MCQ Option Shuffling : Yes Is Question Mandatory : No Option Orientation : Vertical**

**Correct Marks : 1 Wrong Marks : 0.25**

In which role has India joined the "Indian Ocean Commission"?

**Options :**

1. ✘ Member
2. ✔ Observer
3. ✘ Dialogue Partner
4. ✘ India has not joined Indian Ocean Commission

**Question Number : 68 Question Id : 5406267307 Question Type : MCQ Option Shuffling : Yes Is Question Mandatory : No Option Orientation : Vertical**

**Correct Marks : 1 Wrong Marks : 0.25**

भारत "हिंद महासागर आयोग" में किस भूमिका में शामिल हुआ है?

**Options :**

1. ✘ सदस्य

2. ✓ पर्यवेक्षक
3. ✗ संवाद सहयोगी
4. ✗ भारत हिंद महासागर आयोग में शामिल नहीं हुआ है

**Question Number : 69 Question Id : 5406267308 Question Type : MCQ Option Shuffling : Yes Is Question Mandatory : No Option Orientation : Vertical**

**Correct Marks : 1 Wrong Marks : 0.25**

Which of the following days is celebrated as the International Women's Day?

**Options :**

1. ✗ 8th February
2. ✗ 28th February
3. ✗ 6th March
4. ✓ 8th March

**Question Number : 69 Question Id : 5406267308 Question Type : MCQ Option Shuffling : Yes Is Question Mandatory : No Option Orientation : Vertical**

**Correct Marks : 1 Wrong Marks : 0.25**

निम्नलिखित में से किस दिन को अंतर्राष्ट्रीय महिला दिवस के रूप में मनाया जाता है?

**Options :**

1. ✗ 8 फरवरी
2. ✗ 28 फरवरी
3. ✗ 6 मार्च
4. ✓ 8 मार्च

**Question Number : 70 Question Id : 5406267309 Question Type : MCQ Option Shuffling : Yes Is Question Mandatory : No Option Orientation : Vertical**

**Correct Marks : 1 Wrong Marks : 0.25**

Where will the 108th Indian Science Congress be held?

**Options :**

1. ✗ Mumbai
2. ✓ Pune

3. ✘ Chennai

4. ✘ Surat

**Question Number : 70 Question Id : 5406267309 Question Type : MCQ Option Shuffling : Yes Is Question Mandatory : No Option Orientation : Vertical**

**Correct Marks : 1 Wrong Marks : 0.25**

108 वीं भारतीय विज्ञान कांग्रेस कहाँ आयोजित की जाएगी?

**Options :**

1. ✘ मुंबई

2. ✔ पुणे


3. ✘ चेन्नई

4. ✘ सूरत

**Question Number : 71 Question Id : 5406267310 Question Type : MCQ Option Shuffling : Yes Is Question Mandatory : No Option Orientation : Vertical**

**Correct Marks : 1 Wrong Marks : 0.25**

What does the below traffic sign mean?



Note: For this question, discrepancy is found in question/answer. So, this

question is ignored for all candidates.

**Options :**

1. Dead end street
2. Warning for a movable bridge
3. Cyclists prohibited
4. Warning for a narrowing

**Question Number : 71 Question Id : 5406267310 Question Type : MCQ Option Shuffling : Yes Is Question Mandatory : No Option Orientation : Vertical**

**Correct Marks : 1 Wrong Marks : 0.25**

नीचे दिया गया ट्रैफ़िक निशान क्या बताता है?



Note: For this question, discrepancy is found in question/answer. So, this question is ignored for all candidates.

**Options :**

1. डेड एन्ड स्ट्रीट
2. जंगम (मुवेबल) पुल की चेतावनी
3. साइकिल चालक प्रतिबंधित है
4. संकीर्णता (न्यारोइंग) की चेतावनी



**Question Number : 72 Question Id : 5406267311 Question Type : MCQ Option Shuffling : Yes Is Question Mandatory : No Option Orientation : Vertical**

**Correct Marks : 1 Wrong Marks : 0.25**

What does the below traffic sign mean?



**Options :**

1. ✓ Warning for a curve to the left
2. ✗ Driving straight ahead prohibited
3. ✗ Turning left prohibited
4. ✗ Turning left mandatory

**Question Number : 72 Question Id : 5406267311 Question Type : MCQ Option Shuffling : Yes Is Question Mandatory : No Option Orientation : Vertical**

**Correct Marks : 1 Wrong Marks : 0.25**

नीचे दिया गया ट्रैफ़िक निशान क्या बताता है?



Options :

1. ✓ बाईं ओर एक वक्र की चेतावनी
2. ✘ सीधे आगे ड्राइविंग प्रतिबंधित है
3. ✘ बाएं मुड़ना प्रतिबंधित है
4. ✘ बाएं मुड़ना अनिवार्य है

Question Number : 73 Question Id : 5406267312 Question Type : MCQ Option Shuffling : Yes Is Question Mandatory : No Option Orientation : Vertical

Correct Marks : 1 Wrong Marks : 0.25

What does the below traffic sign mean?



Options :

1. ✘ Turning left mandatory
2. ✔ Turning right prohibited
3. ✘ Warning for an uncontrolled crossroad on left
4. ✘ Dead end street

Question Number : 73 Question Id : 5406267312 Question Type : MCQ Option Shuffling : Yes Is Question Mandatory : No Option Orientation : Vertical

Correct Marks : 1 Wrong Marks : 0.25

नीचे दिया गया ट्रैफ़िक निशान क्या बताता है?



Options :

1. ✘ बाएं मुड़ना अनिवार्य है
2. ✔ दाहिनी ओर मुड़ना प्रतिबंधित है
3. ✘ बाईं ओर एक अनियंत्रित चौराहे की चेतावनी
4. ✘ डेड एन्ड स्ट्रीट

Question Number : 74 Question Id : 5406267313 Question Type : MCQ Option Shuffling : Yes Is Question Mandatory : No Option Orientation : Vertical

Correct Marks : 1 Wrong Marks : 0.25

What does the below traffic sign mean?



Options :

1. ✘ Trucks prohibited
2. ✘ Dead end street
3. ✔ Vehicles with an axle weight heavier than indicated prohibited
4. ✘ Vehicles heavier than indicated prohibited

Question Number : 74 Question Id : 5406267313 Question Type : MCQ Option Shuffling : Yes Is Question Mandatory : No Option Orientation : Vertical

Correct Marks : 1 Wrong Marks : 0.25

नीचे दिया गया ट्रैफ़िक निशान क्या बताता है?



Options :

1. ✘ ट्रक प्रतिबंधित है
2. ✘ डेड एन्ड स्ट्रीट
3. ✔ संकेत से अधिक भारी धुरा भार वाले वाहन प्रतिबंधित है
4. ✘ संकेत से भारी वाहन प्रतिबंधित है

Question Number : 75 Question Id : 5406267314 Question Type : MCQ Option Shuffling : Yes Is Question Mandatory : No Option Orientation : Vertical

Correct Marks : 1 Wrong Marks : 0.25

What does the below traffic sign mean?



Options :

1. ✘ Crossroad ahead
2. ✘ Warning for roadworks
3. ✘ Warning for a riverbank
4. ✔ Warning for a bad road surface

Question Number : 75 Question Id : 5406267314 Question Type : MCQ Option Shuffling : Yes Is Question Mandatory : No Option Orientation : Vertical

Correct Marks : 1 Wrong Marks : 0.25

नीचे दिया गया ट्रैफ़िक निशान क्या बताता है?



Options :

1. ✘ आगे चौराहा है
2. ✘ सड़क कार्यों की चेतावनी
3. ✘ एक नदी के किनारे की चेतावनी
4. ✔ खराब सड़क की सतह की चेतावनी

Question Number : 76 Question Id : 5406267315 Question Type : MCQ Option Shuffling : Yes Is Question Mandatory : No Option Orientation : Vertical

Correct Marks : 1 Wrong Marks : 0.25

The two-second rule is applicable \_\_\_\_\_.

Options :

1. ✔ for maintaining a safe distance from other vehicles
2. ✘ for handling emergencies
3. ✘ for warming up the vehicle's engine
4. ✘ for the cooling period of the vehicle's engine

Question Number : 76 Question Id : 5406267315 Question Type : MCQ Option Shuffling : Yes Is Question Mandatory : No Option Orientation : Vertical

Correct Marks : 1 Wrong Marks : 0.25

दो-सेकेंड का नियम \_\_\_\_\_ के लिए लागू होता है।



**Options :**

1. ✓ अन्य वाहनों से एक सुरक्षित दूरी बनाए रखने
2. ✗ आपात स्थिति का सामना करने
3. ✗ वाहन के इंजन को गर्म करने
4. ✗ वाहन के इंजन के कूलिंग पीरियड के लिए

**Question Number : 77 Question Id : 5406267316 Question Type : MCQ Option Shuffling : Yes Is Question Mandatory : No Option Orientation : Vertical**

**Correct Marks : 1 Wrong Marks : 0.25**

If the level of electrolyte in a car's battery is low, it should be filled with:

**Options :**

1. ✗ hydro sulfuric acid
2. ✗ alkali acid
3. ✓ distilled water
4. ✗ clean water

**Question Number : 77 Question Id : 5406267316 Question Type : MCQ Option Shuffling : Yes Is Question Mandatory : No Option Orientation : Vertical**

**Correct Marks : 1 Wrong Marks : 0.25**

अगर किसी कार की बैटरी में इलेक्ट्रोलाइट का स्तर कम है, तो उसमें इनमें से क्या भरा जाना चाहिए?

**Options :**

1. ✗ हाइड्रो सल्फ्यूरिक एसिड
2. ✗ अल्कली एसिड
3. ✓ आसुत जल (डिस्टिल्ड वाटर)
4. ✗ साफ पानी

**Question Number : 78 Question Id : 5406267317 Question Type : MCQ Option Shuffling : Yes Is Question Mandatory : No Option Orientation : Vertical**

**Correct Marks : 1 Wrong Marks : 0.25**

A chassis of medium vehicle body type is used for a:

**Options :**

1. ✘ car
2. ✘ jeep
3. ✔ van
4. ✘ bus

**Question Number : 78 Question Id : 5406267317 Question Type : MCQ Option Shuffling : Yes Is Question Mandatory : No Option Orientation : Vertical**

**Correct Marks : 1 Wrong Marks : 0.25**

मध्यम वाहन बॉडी प्रकार की चैसिस का उपयोग इनमें से किसके लिए किया जाता है?

**Options :**

1. ✘ कार
2. ✘ जीप
3. ✔ वैन
4. ✘ बस

**Question Number : 79 Question Id : 5406267318 Question Type : MCQ Option Shuffling : Yes Is Question Mandatory : No Option Orientation : Vertical**

**Correct Marks : 1 Wrong Marks : 0.25**

\_\_\_\_\_ traffic signs convey traffic regulations that requires drivers to take immediate action to avoid threat to traffic safety.

**Options :**

1. ✔ Red
2. ✘ Orange
3. ✘ Yellow
4. ✘ White

**Question Number : 79 Question Id : 5406267318 Question Type : MCQ Option Shuffling : Yes Is Question Mandatory : No Option Orientation : Vertical**

**Correct Marks : 1 Wrong Marks : 0.25**

\_\_\_\_\_ ट्रैफिक संकेत ऐसे ट्रैफिक नियमों से सूचित करते हैं, जो ट्रैफिक सुरक्षा के लिए खतरे से बचाव हेतु ड्राइवरों से तुरंत कार्रवाई करने की अपेक्षा करते हैं।

**Options :**

1. ✔ लाल

2. ✘ नारंगी
3. ✘ पीला
4. ✘ सफेद

**Question Number : 80 Question Id : 5406267319 Question Type : MCQ Option Shuffling : Yes Is Question Mandatory : No Option Orientation : Vertical**

**Correct Marks : 1 Wrong Marks : 0.25**

Orange highway traffic signs warn drivers to be careful when approaching a \_\_\_\_\_ zone.

**Options :**

1. ✘ school
2. ✘ factory
3. ✔ construction
4. ✘ hill

**Question Number : 80 Question Id : 5406267319 Question Type : MCQ Option Shuffling : Yes Is Question Mandatory : No Option Orientation : Vertical**

**Correct Marks : 1 Wrong Marks : 0.25**

नारंगी रंग के राजमार्ग यातायात संकेत, ड्राइवर्स को \_\_\_\_\_ क्षेत्र के पास पहुंचते समय सतर्क करते हैं।

**Options :**

1. ✘ स्कूल
2. ✘ फ़ैक्टरी
3. ✔ निर्माण
4. ✘ पहाड़ी

## Arithmetic Ability1

<b>Group Number :</b>	5
<b>Group Id :</b>	540626226
<b>Group Maximum Duration :</b>	0
<b>Group Minimum Duration :</b>	0
<b>Show Attended Group? :</b>	No

<b>Edit Attended Group? :</b>	No
<b>Break time :</b>	0
<b>Group Marks :</b>	20
<b>Is this Group for Examiner? :</b>	No

## Arithmetical and Numerical ability1

<b>Section Id :</b>	540626305
<b>Section Number :</b>	1
<b>Section type :</b>	Online
<b>Mandatory or Optional :</b>	Mandatory
<b>Number of Questions :</b>	20
<b>Number of Questions to be attempted :</b>	20
<b>Section Marks :</b>	20
<b>Enable Mark as Answered Mark for Review and Clear Response :</b>	Yes
<b>Sub-Section Number :</b>	1
<b>Sub-Section Id :</b>	540626354
<b>Question Shuffling Allowed :</b>	Yes

**Question Number : 81 Question Id : 5406267320 Question Type : MCQ Option Shuffling : Yes Is Question Mandatory : No Option Orientation : Vertical**

**Correct Marks : 1 Wrong Marks : 0.25**

What should come in place of the question mark (?) in the following question?

$$\frac{49^2 \times 18^2}{324} = ?$$

**Options :**

1. ✘ 49
2. ✘ 98
3. ✔  $49^2$
4. ✘  $98^2$

Question Number : 81 Question Id : 5406267320 Question Type : MCQ Option Shuffling : Yes Is Question Mandatory : No Option Orientation : Vertical

Correct Marks : 1 Wrong Marks : 0.25

निम्नलिखित प्रश्न में प्रश्नवाचक चिन्ह (?) के स्थान पर कौन सा मान आना चाहिए?

$$\frac{49^2 \times 18^2}{324} = ?$$

Options :

1. ✘ 49
2. ✘ 98
3. ✔  $49^2$
4. ✘  $98^2$

Question Number : 82 Question Id : 5406267321 Question Type : MCQ Option Shuffling : Yes Is Question Mandatory : No Option Orientation : Vertical

Correct Marks : 1 Wrong Marks : 0.25

What should come in place of the question mark (?) in the following question?

$$\frac{(1.8)^3 + (1.2)^3}{3.24 - 2.16 + 1.44} = ?$$

Options :

1. ✘ 2
2. ✘ 5
3. ✘ 6
4. ✔ 3

Question Number : 82 Question Id : 5406267321 Question Type : MCQ Option Shuffling : Yes Is Question Mandatory : No Option Orientation : Vertical

Correct Marks : 1 Wrong Marks : 0.25

निम्नलिखित प्रश्न में प्रश्नवाचक चिन्ह (?) के स्थान पर कौन सा मान आना चाहिए?

$$\frac{(1.8)^3 + (1.2)^3}{3.24 - 2.16 + 1.44} = ?$$

Options :

1. ✖ 2
2. ✖ 5
3. ✖ 6
4. ✔ 3

Question Number : 83 Question Id : 5406267322 Question Type : MCQ Option Shuffling : Yes Is Question Mandatory : No Option Orientation : Vertical

Correct Marks : 1 Wrong Marks : 0.25

What should come in place of the question mark (?) in the following question?

$$(48)^2 \div \sqrt{?} = 2^5 \times 3$$

Options :

1. ✖ 16
2. ✖ 24
3. ✖ 12
4. ✔ 576

Question Number : 83 Question Id : 5406267322 Question Type : MCQ Option Shuffling : Yes Is Question Mandatory : No Option Orientation : Vertical

Correct Marks : 1 Wrong Marks : 0.25

निम्नलिखित प्रश्न में प्रश्नवाचक चिन्ह (?) के स्थान पर कौन सा मान आना चाहिए?

$$(48)^2 \div \sqrt{?} = 2^5 \times 3$$

Options :

1. ✖ 16
2. ✖ 24
3. ✖ 12

4. ✓ 576

**Question Number : 84 Question Id : 5406267323 Question Type : MCQ Option Shuffling : Yes Is Question Mandatory : No Option Orientation : Vertical**

**Correct Marks : 1 Wrong Marks : 0.25**

What should come in place of the question mark (?) in the following question?

$$6 \div 6 \times 9 + 6 - 9 \times 6 - 6 + 6 \times 9 = ?$$

**Options :**

1. ✗ 7
2. ✗ 8
3. ✓ 9
4. ✗ 10

**Question Number : 84 Question Id : 5406267323 Question Type : MCQ Option Shuffling : Yes Is Question Mandatory : No Option Orientation : Vertical**

**Correct Marks : 1 Wrong Marks : 0.25**

निम्नलिखित प्रश्न में प्रश्नवाचक चिन्ह (?) के स्थान पर कौन सा मान आना चाहिए?

$$6 \div 6 \times 9 + 6 - 9 \times 6 - 6 + 6 \times 9 = ?$$

**Options :**

1. ✗ 7
2. ✗ 8
3. ✓ 9
4. ✗ 10

**Question Number : 85 Question Id : 5406267324 Question Type : MCQ Option Shuffling : Yes Is Question Mandatory : No Option Orientation : Vertical**

**Correct Marks : 1 Wrong Marks : 0.25**

What should come in place of the question mark (?) in the following question?

$$\sqrt{729} \times 56 \div 8 = ?$$

**Options :**

1. ✖ 138
2. ✖ 142
3. ✔ 189
4. ✖ 198

**Question Number : 85 Question Id : 5406267324 Question Type : MCQ Option Shuffling : Yes Is Question Mandatory : No Option Orientation : Vertical**

**Correct Marks : 1 Wrong Marks : 0.25**

निम्नलिखित प्रश्न में प्रश्नवाचक चिन्ह (?) के स्थान पर कौन सा मान आना चाहिए?

$$\sqrt{729} \times 56 \div 8 = ?$$

**Options :**

1. ✖ 138
2. ✖ 142
3. ✔ 189
4. ✖ 198

**Question Number : 86 Question Id : 5406267325 Question Type : MCQ Option Shuffling : Yes Is Question Mandatory : No Option Orientation : Vertical**

**Correct Marks : 1 Wrong Marks : 0.25**

A red light flashes four times per minute and a green light flashes six times in two minutes at regular intervals. If both lights start flashing at the same time, how many times do they flash together in one hour?

**Options :**

1. ✖ 30
2. ✖ 24
3. ✖ 20
4. ✔ 60

**Question Number : 86 Question Id : 5406267325 Question Type : MCQ Option Shuffling : Yes Is Question Mandatory : No Option Orientation : Vertical**

**Correct Marks : 1 Wrong Marks : 0.25**



एक लाल बत्ती प्रति मिनट चार बार और एक हरी बत्ती दो मिनट में छह बार नियमित अंतराल पर चमकती है। यदि दोनों बत्तियाँ एक ही समय में चमकना शुरू करती हैं, तो वे एक घंटे में कितनी बार एक साथ चमकती हैं?

Options :

1. ✘ 30
2. ✘ 24
3. ✘ 20
4. ✔ 60

Question Number : 87 Question Id : 5406267326 Question Type : MCQ Option Shuffling : Yes Is Question Mandatory : No Option Orientation : Vertical

Correct Marks : 1 Wrong Marks : 0.25

Three pizzas of weight 460 g, 800 g and 720 g are to be divided into parts of equal weights. Further, each part must be as heavy as possible. If one such part is served to one guest, then what is the maximum number of guests that got pizza?

Options :

1. ✘ 86
2. ✘ 72
3. ✘ 112
4. ✔ 99

Question Number : 87 Question Id : 5406267326 Question Type : MCQ Option Shuffling : Yes Is Question Mandatory : No Option Orientation : Vertical

Correct Marks : 1 Wrong Marks : 0.25

460 ग्राम, 800 ग्राम और 720 ग्राम वजन के तीन पिज्जा को समान वजन के भागों में विभाजित किया जाना है। इसके अलावा, प्रत्येक भाग जितना संभव हो उतना भारी होना चाहिए। यदि इस तरह के एक भाग को एक मेहमान को परोसा जाता है, तो पिज्जा पाने वाले मेहमानों की अधिकतम संख्या क्या है?

Options :

1. ✘ 86
2. ✘ 72
3. ✘ 112
4. ✔ 99

Question Number : 88 Question Id : 5406267327 Question Type : MCQ Option Shuffling : Yes Is Question Mandatory : No Option Orientation : Vertical

**Correct Marks : 1 Wrong Marks : 0.25**

The 8 digit number 7654321k is exactly divisible by 16 where 'k' is a single digit whole number. Find the value of 'k'.

**Options :**

1. ✘ 8
2. ✘ 2
3. ✘ 4
4. ✔ 6

**Question Number : 88 Question Id : 5406267327 Question Type : MCQ Option Shuffling : Yes Is Question Mandatory : No Option Orientation : Vertical**

**Correct Marks : 1 Wrong Marks : 0.25**

8 अंकों की संख्या 7654321k, 16 से पूर्णतः विभाज्य है जहां 'k' एक एकल अंक पूर्ण संख्या है। 'k' का मान ज्ञात कीजिए।

**Options :**

1. ✘ 8
2. ✘ 2
3. ✘ 4
4. ✔ 6

**Question Number : 89 Question Id : 5406267328 Question Type : MCQ Option Shuffling : Yes Is Question Mandatory : No Option Orientation : Vertical**

**Correct Marks : 1 Wrong Marks : 0.25**

When a number 327 is divided by 4, 5, 7 and 2 successively, the respective remainders are x, y, z and k. Find the LCM of x,y,z and k.

**Options :**

1. ✘ 21
2. ✘ 15
3. ✘ 24
4. ✔ 30

**Question Number : 89 Question Id : 5406267328 Question Type : MCQ Option Shuffling : Yes Is Question Mandatory : No Option Orientation : Vertical**

**Correct Marks : 1 Wrong Marks : 0.25**

जब एक संख्या 327 को क्रमशः 4, 5, 7 और 2 से विभाजित किया जाता है, तो शेषफल क्रमशः x, y, z और k प्राप्त होते हैं। x, y, z और k का लघुत्तम

समापवर्तक ज्ञात कीजिए।

**Options :**

1. ✘ 21
2. ✘ 15
3. ✘ 24
4. ✔ 30

**Question Number : 90 Question Id : 5406267329 Question Type : MCQ Option Shuffling : Yes Is Question Mandatory : No Option Orientation : Vertical**

**Correct Marks : 1 Wrong Marks : 0.25**

In an office, the average salary of marketing department is Rs. 8000, the average salary of account department is Rs. 7000, the average salary of sells department is Rs. 9000, the average salary of marketing department and account department is Rs. 7500 and average salary of account department and sells department is Rs. 8000. What is the average salary of all three departments together?

**Options :**

1. ✔ Rs. 8000
2. ✘ Rs. 8250
3. ✘ Rs. 8400
4. ✘ Rs. 7900

**Question Number : 90 Question Id : 5406267329 Question Type : MCQ Option Shuffling : Yes Is Question Mandatory : No Option Orientation : Vertical**

**Correct Marks : 1 Wrong Marks : 0.25**

एक कार्यालय में, विपणन विभाग का औसत वेतन 8000 रूपये, लेखा विभाग का औसत वेतन 7000 रूपये, बिक्री विभाग का औसत वेतन 9000 रूपये, विपणन विभाग और लेखा विभाग का औसत वेतन 7500 रूपये तथा लेखा विभाग और बिक्री विभाग का औसत वेतन 8000 रूपये है। तीनों विभागों का एक साथ औसत वेतन कितना है?

**Options :**

1. ✔ 8000 रूपये
2. ✘ 8250 रूपये
3. ✘ 8400 रूपये
4. ✘ 7900 रूपये

**Question Number : 91 Question Id : 5406267330 Question Type : MCQ Option Shuffling : Yes Is Question Mandatory : No Option**

**Orientation : Vertical**

**Correct Marks : 1 Wrong Marks : 0.25**

In a class of 22 students, 21 students get an average of 44 marks. If the remaining student gets average 66 marks, then find the average marks of the whole class?

**Options :**

1. ✘ 15
2. ✘ 30
3. ✔ 45
4. ✘ 60

**Question Number : 91 Question Id : 5406267330 Question Type : MCQ Option Shuffling : Yes Is Question Mandatory : No Option**

**Orientation : Vertical**

**Correct Marks : 1 Wrong Marks : 0.25**

22 छात्रों की एक कक्षा में 21 छात्रों ने औसत 44 अंक प्राप्त किये। यदि शेष छात्र औसत 66 अंक प्राप्त किये हो, तो कक्षा का कुल औसत अंक क्या है?

**Options :**

1. ✘ 15
2. ✘ 30
3. ✔ 45
4. ✘ 60

**Question Number : 92 Question Id : 5406267331 Question Type : MCQ Option Shuffling : Yes Is Question Mandatory : No Option**

**Orientation : Vertical**

**Correct Marks : 1 Wrong Marks : 0.25**

If a retailer offers a discount of 20 percent on the marked price of his goods and thus ends up selling at cost price, what was the percent mark up?

**Options :**

1. ✘ 20
2. ✔ 25
3. ✘ 30
4. ✘ 40

**Question Number : 92 Question Id : 5406267331 Question Type : MCQ Option Shuffling : Yes Is Question Mandatory : No Option**

**Orientation : Vertical**

**Correct Marks : 1 Wrong Marks : 0.25**

यदि कोई खुदरा व्यापारी अपने सामान के अंकित मूल्य पर 20 प्रतिशत की छूट देता है और इस तरह लागत मूल्य पर बेचता है, तो लागत मूल्य से अंकित मूल्य कितना प्रतिशत अधिक था?

**Options :**

1. ✘ 20
2. ✔ 25
3. ✘ 30
4. ✘ 40

**Question Number : 93 Question Id : 5406267332 Question Type : MCQ Option Shuffling : Yes Is Question Mandatory : No Option Orientation : Vertical**

**Correct Marks : 1 Wrong Marks : 0.25**

Colony B has 75 percent more population than colony A. Number of females in colony A is equal to number of males in colony B. In both the colonies, what percentage of the total population are males?

**Options :**

1. ✘ 33.33 percent
2. ✔ 36.36 percent
3. ✘ 39.8 percent
4. ✘ 31.25 percent

**Question Number : 93 Question Id : 5406267332 Question Type : MCQ Option Shuffling : Yes Is Question Mandatory : No Option Orientation : Vertical**

**Correct Marks : 1 Wrong Marks : 0.25**

कॉलोनी B में कॉलोनी A की तुलना में 75 प्रतिशत अधिक जनसंख्या है। कॉलोनी A में महिलाओं की संख्या कॉलोनी B में पुरुषों की संख्या के बराबर है। दोनों कॉलोनी में कुल जनसंख्या का कितना प्रतिशत पुरुष हैं?

**Options :**

1. ✘ 33.33 प्रतिशत
2. ✔ 36.36 प्रतिशत
3. ✘ 39.8 प्रतिशत
4. ✘ 31.25 प्रतिशत

**Question Number : 94 Question Id : 5406267333 Question Type : MCQ Option Shuffling : Yes Is Question Mandatory : No Option**

**Orientation : Vertical**

**Correct Marks : 1 Wrong Marks : 0.25**

A number  $N$  is divided in three parts such that the sum of first two parts is  $K$  percent of third part. Find the third part.

**Options :**

1. ✓  $100N/K+100$
2. ✗  $100N/N+50$
3. ✗  $100N/100K+1$
4. ✗  $50N/100+K$

**Question Number : 94 Question Id : 5406267333 Question Type : MCQ Option Shuffling : Yes Is Question Mandatory : No Option**

**Orientation : Vertical**

**Correct Marks : 1 Wrong Marks : 0.25**

एक संख्या  $N$  को तीन भागों में इस प्रकार बाँटा जाता है कि पहले दो भागों का योग तीसरे भाग का  $K$  प्रतिशत है। तीसरा भाग ज्ञात कीजिए।

**Options :**

1. ✓  $100N/K+100$
2. ✗  $100N/N+50$
3. ✗  $100N/100K+1$
4. ✗  $50N/100+K$

**Question Number : 95 Question Id : 5406267334 Question Type : MCQ Option Shuffling : Yes Is Question Mandatory : No Option**

**Orientation : Vertical**

**Correct Marks : 1 Wrong Marks : 0.25**

If 20 percent of  $a = b$ , then  $b$  percent of 20 is the same as what percent of  $a$ ?

**Options :**

1. ✗ 8 percent
2. ✗ 40 percent
3. ✓ 4 percent
4. ✗ 80 percent

**Question Number : 95 Question Id : 5406267334 Question Type : MCQ Option Shuffling : Yes Is Question Mandatory : No Option**

**Orientation : Vertical**

**Correct Marks : 1 Wrong Marks : 0.25**

यदि a का 20 प्रतिशत = b हो, तो 20 का b प्रतिशत, a के कितने प्रतिशत के बराबर होगा?

**Options :**

1. ✘ 8 प्रतिशत
2. ✘ 40 प्रतिशत
3. ✔ 4 प्रतिशत
4. ✘ 80 प्रतिशत

**Question Number : 96 Question Id : 5406267335 Question Type : MCQ Option Shuffling : Yes Is Question Mandatory : No Option Orientation : Vertical**

**Correct Marks : 1 Wrong Marks : 0.25**

Rachit and Archit buy two goods at Rs. P and Rs. 2P respectively. Rachit marks his goods at 'x' percent above the cost price and sold it, Archit marks his goods at 2x percent above the cost price and offers a discount of 'x' percent. If both make the same profit, then what is the value of 'x'?

**Options :**

1. ✔ 25
2. ✘ 50
3. ✘ 40
4. ✘ 10

**Question Number : 96 Question Id : 5406267335 Question Type : MCQ Option Shuffling : Yes Is Question Mandatory : No Option Orientation : Vertical**

**Correct Marks : 1 Wrong Marks : 0.25**

रचित और अर्चित क्रमशः P रूपये और 2P रूपये में दो सामान खरीदते हैं। रचित अपने सामान को लागत मूल्य से 'x' प्रतिशत अधिक अंकित करके बेचता है, अर्चित अपने सामान को लागत मूल्य से 2x प्रतिशत अधिक अंकित करके 'x' प्रतिशत की छूट देता है। यदि दोनों सामान लाभ कमाते हैं, तो 'x' का मान क्या है?

**Options :**

1. ✔ 25
2. ✘ 50
3. ✘ 40
4. ✘ 10

**Question Number : 97 Question Id : 5406267336 Question Type : MCQ Option Shuffling : Yes Is Question Mandatory : No Option Orientation : Vertical**

**Correct Marks : 1 Wrong Marks : 0.25**

The ratio between the cost price and marked price of an article is 3 : 4. If the selling price of that article is Rs. 7225 and the shopkeeper gave two successive discounts of 15 percent each on the marked price, then find the loss of shopkeeper during this transaction.

**Options :**

1. ✓ Rs. 275
2. ✗ Rs. 150
3. ✗ Rs. 325
4. ✗ Rs. 290

**Question Number : 97 Question Id : 5406267336 Question Type : MCQ Option Shuffling : Yes Is Question Mandatory : No Option Orientation : Vertical**

**Correct Marks : 1 Wrong Marks : 0.25**

किसी वस्तु की लागत मूल्य और अंकित मूल्य के बीच का अनुपात 3 : 4 है। यदि उस वस्तु का विक्रय मूल्य 7225 रूपये है और दुकानदार ने अंकित मूल्य पर प्रत्येक 15 प्रतिशत के दो क्रमिक छूट दिए हैं, तो इस लेनदेन के दौरान दुकानदार को हुए नुकसान को ज्ञात कीजिए।

**Options :**

1. ✓ 275 रूपये
2. ✗ 150 रूपये
3. ✗ 325 रूपये
4. ✗ 290 रूपये

**Question Number : 98 Question Id : 5406267337 Question Type : MCQ Option Shuffling : Yes Is Question Mandatory : No Option Orientation : Vertical**

**Correct Marks : 1 Wrong Marks : 0.25**

The marked price of a shirt and trousers are in the ratio 1 : 2. The shopkeeper gives 40 percent discount on the shirt. If the total discount on both is 30 percent, find the discount offered on the trousers?

**Options :**

1. ✗ 15 percent
2. ✗ 20 percent
3. ✓ 25 percent
4. ✗ 30 percent

**Question Number : 98 Question Id : 5406267337 Question Type : MCQ Option Shuffling : Yes Is Question Mandatory : No Option Orientation : Vertical**



**Correct Marks : 1 Wrong Marks : 0.25**

एक कमीज तथा एक पेंट के अंकित मूल्यों का अनुपात 1 : 2 है। यदि दुकानदार कमीज पर 40 प्रतिशत छूट तथा दोनों पर कुल 30 प्रतिशत छूट दे, तो पेंट पर कितना छूट दिया गया?

**Options :**

1. ✘ 15 प्रतिशत
2. ✘ 20 प्रतिशत
3. ✔ 25 प्रतिशत
4. ✘ 30 प्रतिशत

**Question Number : 99 Question Id : 5406267338 Question Type : MCQ Option Shuffling : Yes Is Question Mandatory : No Option Orientation : Vertical**

**Correct Marks : 1 Wrong Marks : 0.25**

The ratio in which Surendra and Narendra have contributed the capitals in a company is 3 : 4. Narendra has invested his capital for only 3 months and has received half as much profit as Surendra. For how much time Surendra invested his capital in the company?

**Options :**

1. ✔ 8 months
2. ✘ 6 months
3. ✘ 9 months
4. ✘ 12 months

**Question Number : 99 Question Id : 5406267338 Question Type : MCQ Option Shuffling : Yes Is Question Mandatory : No Option Orientation : Vertical**

**Correct Marks : 1 Wrong Marks : 0.25**

सुरेंद्र और नरेंद्र ने एक कंपनी में 3 : 4 के अनुपात में राशि निवेश किया। नरेंद्र केवल 3 महीने के लिए अपनी पूंजी का निवेश किया और जितना सुरेंद्र ने लाभ प्राप्त किया, उससे आधा लाभ प्राप्त किया। कितने समय के लिए सुरेंद्र ने अपनी पूंजी कंपनी में निवेश किया ?

**Options :**

1. ✔ 8 महीने
2. ✘ 6 महीने
3. ✘ 9 महीने
4. ✘ 12 महीने

Question Number : 100 Question Id : 5406267339 Question Type : MCQ Option Shuffling : Yes Is Question Mandatory : No Option

Orientation : Vertical

Correct Marks : 1 Wrong Marks : 0.25

If  $x : y = 1 : 2$ ,  $y : z = 1 : 3$ ,  $z : w = 3 : 8$  and  $u : w = 2 : 5$ , then find the value of  $(xyu) : (w^2z)$

Options :

1. ✘ 1 : 90
2. ✘ 3 : 80
3. ✔ 1 : 120
4. ✘ 3 : 160

Question Number : 100 Question Id : 5406267339 Question Type : MCQ Option Shuffling : Yes Is Question Mandatory : No Option

Orientation : Vertical

Correct Marks : 1 Wrong Marks : 0.25

यदि  $x : y = 1 : 2$ ,  $y : z = 1 : 3$ ,  $z : w = 3 : 8$  और  $u : w = 2 : 5$ , तो  $(xyu) : (w^2z)$  का मान ज्ञात कीजिए ।

Options :

1. ✘ 1 : 90
2. ✘ 3 : 80
3. ✔ 1 : 120
4. ✘ 3 : 160

## Arithmetic Ability2

Group Number :	6
Group Id :	540626227
Group Maximum Duration :	0
Group Minimum Duration :	0
Show Attended Group? :	No
Edit Attended Group? :	No
Break time :	0
Group Marks :	20
Is this Group for Examiner? :	No

## Arithmetical and Numerical ability2

Section Id :	540626306
Section Number :	1
Section type :	Online
Mandatory or Optional :	Mandatory
Number of Questions :	20
Number of Questions to be attempted :	20
Section Marks :	20
Enable Mark as Answered Mark for Review and Clear Response :	Yes
Sub-Section Number :	1
Sub-Section Id :	540626355
Question Shuffling Allowed :	Yes

**Question Number : 101 Question Id : 5406267340 Question Type : MCQ Option Shuffling : Yes Is Question Mandatory : No Option Orientation : Vertical**

**Correct Marks : 1 Wrong Marks : 0.25**

The ratio of copper and zinc in the mixture is 5 : 2. If 1.25 kg of zinc is added to 17.5 kg of mixture, then find the ratio of copper and zinc in the new mixture?

**Options :**

1. ✘ 1 : 2
2. ✔ 2 : 1
3. ✘ 2 : 3
4. ✘ 3 : 2

**Question Number : 101 Question Id : 5406267340 Question Type : MCQ Option Shuffling : Yes Is Question Mandatory : No Option Orientation : Vertical**

**Correct Marks : 1 Wrong Marks : 0.25**

एक मिश्रण में तांबे तथा जस्ते का अनुपात 5 : 2 है। यदि 17.5 किलोग्राम मिश्रण में 1.25 किलोग्राम जस्ता मिलाया जाये, तो मिश्रण में तांबे तथा जस्ते का क्या अनुपात होगा?

**Options :**

1. ✘ 1 : 2

2. ✓ 2 : 1
3. ✗ 2 : 3
4. ✗ 3 : 2

**Question Number : 102 Question Id : 5406267341 Question Type : MCQ Option Shuffling : Yes Is Question Mandatory : No Option Orientation : Vertical**

**Correct Marks : 1 Wrong Marks : 0.25**

On what sum of money will the compound interest of 2 years be the same as the simple interest on Rs. 1236 for 8 years, if the rate of interest is 6 percent per annum in both the cases?

**Options :**

1. ✗ Rs. 4150
2. ✗ Rs. 3900
3. ✓ Rs. 4800
4. ✗ Rs. 5600

**Question Number : 102 Question Id : 5406267341 Question Type : MCQ Option Shuffling : Yes Is Question Mandatory : No Option Orientation : Vertical**

**Correct Marks : 1 Wrong Marks : 0.25**

किस राशि पर 2 वर्ष का चक्रवृद्धि ब्याज 8 वर्षों के लिए 1236 रूपये पर साधारण ब्याज के समान होगा, यदि दोनों स्थिति में ब्याज की दर 6 प्रतिशत प्रति वर्ष है?

**Options :**

1. ✗ 4150 रूपये
2. ✗ 3900 रूपये
3. ✓ 4800 रूपये
4. ✗ 5600 रूपये

**Question Number : 103 Question Id : 5406267342 Question Type : MCQ Option Shuffling : Yes Is Question Mandatory : No Option Orientation : Vertical**

**Correct Marks : 1 Wrong Marks : 0.25**

Yuvraj borrows Rs. 15000 for 3 years at 4 percent p.a. simple interest. He immediately lends it to another person at 12 percent p.a. for 2 years on compound interest compounded annually. Find his gain in this transaction.

**Options :**

1. ✗ Rs. 1972

2. ✘ Rs. 2240
3. ✘ Rs. 1832
4. ✔ Rs. 2016

**Question Number : 103 Question Id : 5406267342 Question Type : MCQ Option Shuffling : Yes Is Question Mandatory : No Option Orientation : Vertical**

**Correct Marks : 1 Wrong Marks : 0.25**

युवराज ने 3 वर्ष के लिए 4 प्रतिशत प्रतिवर्ष साधारण ब्याज पर 15000 रूपये उधार लिए। वह तुरंत इसे चक्रवृद्धि ब्याज पर 12 प्रतिशत प्रतिवर्ष वार्षिक गणना पर 2 वर्ष के लिए किसी अन्य व्यक्ति को उधार देता है। इस लेन-देन में उसका लाभ ज्ञात कीजिए।

**Options :**

1. ✘ 1972 रूपये
2. ✘ 2240 रूपये
3. ✘ 1832 रूपये
4. ✔ 2016 रूपये

**Question Number : 104 Question Id : 5406267343 Question Type : MCQ Option Shuffling : Yes Is Question Mandatory : No Option Orientation : Vertical**

**Correct Marks : 1 Wrong Marks : 0.25**

In how many years will the simple interest on a sum of money be equal to the principal at the rate of 16.66 percent per annum?

**Options :**

1. ✘ 4 years
2. ✘ 5 years
3. ✔ 6 years
4. ✘ 8 years

**Question Number : 104 Question Id : 5406267343 Question Type : MCQ Option Shuffling : Yes Is Question Mandatory : No Option Orientation : Vertical**

**Correct Marks : 1 Wrong Marks : 0.25**

कितने वर्षों में 16.66 प्रतिशत प्रति वर्ष की दर से किसी धन राशि पर साधारण ब्याज, मूलधन के बराबर होगा?

**Options :**

1. ✘ 4 वर्ष

2. ✘ 5 वर्ष
3. ✔ 6 वर्ष
4. ✘ 8 वर्ष

**Question Number : 105 Question Id : 5406267344 Question Type : MCQ Option Shuffling : Yes Is Question Mandatory : No Option Orientation : Vertical**

**Correct Marks : 1 Wrong Marks : 0.25**

Sunita is waiting on the railway station for the arrival of her train. Two trains GT Express and Malwa Express running in opposite directions cross Sunita on the platform in 27 seconds and 17 seconds respectively and they cross each other in 23 seconds. What is the ratio of speed of GT Express to speed of Malwa Express?

**Options :**

1. ✘ 2 : 3
2. ✘ 1 : 2
3. ✔ 3 : 2
4. ✘ 2 : 1

**Question Number : 105 Question Id : 5406267344 Question Type : MCQ Option Shuffling : Yes Is Question Mandatory : No Option Orientation : Vertical**

**Correct Marks : 1 Wrong Marks : 0.25**

सुनीता अपनी रेलगाड़ी के आने के लिए रेलवे स्टेशन पर प्रतीक्षा कर रही है। विपरीत दिशा में चलने वाली दो रेलगाड़ी जीटी एक्सप्रेस और मालवा एक्सप्रेस क्रमशः 27 सेकंड और 17 सेकंड में प्लेटफॉर्म पर सुनीता को पार करती हैं और वे 23 सेकंड में एक दूसरे को पार करती हैं। जीटी एक्सप्रेस की गति का मालवा एक्सप्रेस की गति से अनुपात क्या है?

**Options :**

1. ✘ 2 : 3
2. ✘ 1 : 2
3. ✔ 3 : 2
4. ✘ 2 : 1

**Question Number : 106 Question Id : 5406267345 Question Type : MCQ Option Shuffling : Yes Is Question Mandatory : No Option Orientation : Vertical**

**Correct Marks : 1 Wrong Marks : 0.25**

A train running at 76 km per hour passes a man who is walking at 4 km per hour in the same direction in 6 secs. Find the length of the train.

**Options :**

1. ✘ 130 m
2. ✔ 120 m
3. ✘ 110 m
4. ✘ 100 m

**Question Number : 106 Question Id : 5406267345 Question Type : MCQ Option Shuffling : Yes Is Question Mandatory : No Option Orientation : Vertical**

**Correct Marks : 1 Wrong Marks : 0.25**

एक रेलगाड़ी 76 किमी/घंटा की गति से चलते हुये 4 किमी/घंटा की गति से समान दिशा में चलते हुये एक व्यक्ति को 6 सेकेंड में पार करती है। रेलगाड़ी की लम्बाई ज्ञात कीजिए।

**Options :**

1. ✘ 130 मीटर
2. ✔ 120 मीटर
3. ✘ 110 मीटर
4. ✘ 100 मीटर

**Question Number : 107 Question Id : 5406267346 Question Type : MCQ Option Shuffling : Yes Is Question Mandatory : No Option Orientation : Vertical**

**Correct Marks : 1 Wrong Marks : 0.25**

A train 180 m long moving at the speed of 20m/sec. overtakes a man moving at a speed of 10 m/sec in the same direction. Find the time taken by train to pass the man.

**Options :**

1. ✘ 6 sec
2. ✘ 9 sec
3. ✔ 18 sec
4. ✘ 27 sec

**Question Number : 107 Question Id : 5406267346 Question Type : MCQ Option Shuffling : Yes Is Question Mandatory : No Option Orientation : Vertical**

**Correct Marks : 1 Wrong Marks : 0.25**

180 मीटर लम्बी एक ट्रेन 20 मीटर/सेकंड की गति से चल रही है, समान दिशा में एक व्यक्ति 10 मीटर/सेकंड की गति से जा रहा है। ट्रेन द्वारा व्यक्ति को पार

करने में कितना समय लगेगा?

Options :

1. ✘ 6 सेकंड
2. ✘ 9 सेकंड
3. ✔ 18 सेकंड
4. ✘ 27 सेकंड

Question Number : 108 Question Id : 5406267347 Question Type : MCQ Option Shuffling : Yes Is Question Mandatory : No Option Orientation : Vertical

Correct Marks : 1 Wrong Marks : 0.25

A car is chasing a motorcycle which is 5 km ahead. Their respective speeds are 90 km/hr and 75 km/hr. After how much time will the car catch motorcycle?

Options :

1. ✘ 1/2 hr
2. ✔ 1/3 hr
3. ✘ 2/3 hr
4. ✘ 3/4 hr

Question Number : 108 Question Id : 5406267347 Question Type : MCQ Option Shuffling : Yes Is Question Mandatory : No Option Orientation : Vertical

Correct Marks : 1 Wrong Marks : 0.25

एक कार, एक मोटर साइकिल का पीछा कर रही है जो 5 किमी आगे है उनकी गति क्रमशः 90 किमी/घंटे और 75 किमी/घंटे है। कितने समय के बाद कार मोटरसाइकिल को पकड़ लेगी?

Options :

1. ✘ 1/2 घंटा
2. ✔ 1/3 घंटा
3. ✘ 2/3 घंटा
4. ✘ 3/4 घंटा

Question Number : 109 Question Id : 5406267348 Question Type : MCQ Option Shuffling : Yes Is Question Mandatory : No Option Orientation : Vertical

Correct Marks : 1 Wrong Marks : 0.25



A work twice as fast as B. If both of them can together finish a piece of work in 12 days, then B alone can do it in how many days?

**Options :**

1. ✘ 24 days
2. ✘ 27 days
3. ✔ 36 days
4. ✘ 48 days

**Question Number : 109 Question Id : 5406267348 Question Type : MCQ Option Shuffling : Yes Is Question Mandatory : No Option Orientation : Vertical**

**Correct Marks : 1 Wrong Marks : 0.25**

A की कार्य क्षमता B से दुगुनी है। यदि दोनों मिलकर किसी कार्य को 12 दिन में पूरा करें, तो B अकेला इस कार्य को कितने दिनों में पूरा करेगा?

**Options :**

1. ✘ 24 दिन
2. ✘ 27 दिन
3. ✔ 36 दिन
4. ✘ 48 दिन

**Question Number : 110 Question Id : 5406267349 Question Type : MCQ Option Shuffling : Yes Is Question Mandatory : No Option Orientation : Vertical**

**Correct Marks : 1 Wrong Marks : 0.25**

In a hostel, the food is sufficient for 300 students for 35 days, if each student is given 240 g meals in a day. But 180 more students joined the hostel. Now what should be the reduction in meal of each student so that the food will last for same number of days?

**Options :**

1. ✘ 150 g
2. ✔ 90 g
3. ✘ 60 g
4. ✘ 130 g

**Question Number : 110 Question Id : 5406267349 Question Type : MCQ Option Shuffling : Yes Is Question Mandatory : No Option Orientation : Vertical**

**Correct Marks : 1 Wrong Marks : 0.25**

यदि प्रत्येक छात्र को दिन में 240 ग्राम भोजन दिया जाए तो एक एक छात्रावास में, 35 दिनों के लिए 300 छात्रों के लिए भोजन पर्याप्त होता है। यदि 180 और छात्र

छात्रावास में शामिल हुए तो प्रत्येक छात्र के भोजन में कितनी कमी होनी चाहिए ताकि भोजन समान दिनों तक पर्याप्त रहे?

**Options :**

1. ✘ 150 ग्राम
2. ✔ 90 ग्राम
3. ✘ 60 ग्राम
4. ✘ 130 ग्राम

**Question Number : 111 Question Id : 5406267350 Question Type : MCQ Option Shuffling : Yes Is Question Mandatory : No Option Orientation : Vertical**

**Correct Marks : 1 Wrong Marks : 0.25**

Ramesh can do a piece of work in 20 days. He works for 5 days and then Bhavesh finishes the remaining work in 10 days. By working together, In how many days will Ramesh and Bhavesh finishes the work?

**Options :**

1. ✔ 8 days
2. ✘ 10 days
3. ✘ 12 days
4. ✘ 6 days

**Question Number : 111 Question Id : 5406267350 Question Type : MCQ Option Shuffling : Yes Is Question Mandatory : No Option Orientation : Vertical**

**Correct Marks : 1 Wrong Marks : 0.25**

रमेश किसी काम को 20 दिनों में कर सकता है। वह 5 दिनों तक काम करता है तथा शेष काम को भावेश 10 दिन में करता है। एक साथ काम करते हुए रमेश व भावेश दोनों मिलकर उस काम को कितने दिनों में पूरा करेंगे?

**Options :**

1. ✔ 8 दिन
2. ✘ 10 दिन
3. ✘ 12 दिन
4. ✘ 6 दिन

**Question Number : 112 Question Id : 5406267351 Question Type : MCQ Option Shuffling : Yes Is Question Mandatory : No Option Orientation : Vertical**

**Correct Marks : 1 Wrong Marks : 0.25**

A rectangular tank is 62 cm deep. If 3000 cubic cm of water be drawn off the tank, the level of the water in the tank goes down by 4 cm. How many cubic cm of water can the tank hold?

**Options :**

1. ✘ 43500 cubic cm
2. ✘ 58400 cubic cm
3. ✘ 52600 cubic cm
4. ✔ 46500 cubic cm

**Question Number : 112 Question Id : 5406267351 Question Type : MCQ Option Shuffling : Yes Is Question Mandatory : No Option Orientation : Vertical**

**Correct Marks : 1 Wrong Marks : 0.25**

एक आयताकार टैंक 62 सेमी गहरा है। यदि टैंक से 3000 घन सेमी पानी निकाला जाता है, तो टैंक में पानी का स्तर 4 सेमी नीचे चला जाता है। टैंक में कितने घन सेमी पानी को रखा जा सकता है?

**Options :**

1. ✘ 43500 घन सेमी
2. ✘ 58400 घन सेमी
3. ✘ 52600 घन सेमी
4. ✔ 46500 घन सेमी

**Question Number : 113 Question Id : 5406267352 Question Type : MCQ Option Shuffling : Yes Is Question Mandatory : No Option Orientation : Vertical**

**Correct Marks : 1 Wrong Marks : 0.25**

A cylindrical tennis ball container can contain maximum four balls stacked on one another. The top and bottom balls also touch the lid and the base of the container respectively. If the volume of a tennis ball is  $240 \text{ cm}^3$ , then what is the volume of the container?

**Options :**

1. ✘  $1280 \text{ cm}^3$
2. ✘  $2140 \text{ cm}^3$
3. ✔  $1440 \text{ cm}^3$
4. ✘  $1560 \text{ cm}^3$

**Question Number : 113 Question Id : 5406267352 Question Type : MCQ Option Shuffling : Yes Is Question Mandatory : No Option**

**Orientation : Vertical****Correct Marks : 1 Wrong Marks : 0.25**

एक बेलनाकार टेनिस की गेंद के पात्र में एक दूसरे के ऊपर अधिकतम चार गेंदें रखी जा सकती हैं। ऊपर और नीचे की गेंदें क्रमशः ढक्कन और पात्र के आधार को भी छूती हैं। यदि टेनिस की एक गेंद का आयतन  $240 \text{ सेमी}^3$  है, तो पात्र का आयतन क्या है?

**Options :**

1. ✘  $1280 \text{ सेमी}^3$
2. ✘  $2140 \text{ सेमी}^3$
3. ✔  $1440 \text{ सेमी}^3$
4. ✘  $1560 \text{ सेमी}^3$

**Question Number : 114 Question Id : 5406267353 Question Type : MCQ Option Shuffling : Yes Is Question Mandatory : No Option****Orientation : Vertical****Correct Marks : 1 Wrong Marks : 0.25**

What is the perpendicular distance (in cm) between the parallel sides of a trapezium whose area is  $154 \text{ sq cm}$ . and the lengths of the parallel sides are  $12 \text{ cm}$  and  $32 \text{ cm}$ ?

**Options :**

1. ✘  $14 \text{ cm}$
2. ✘  $6.8 \text{ cm}$
3. ✘  $9.6 \text{ cm}$
4. ✔  $7 \text{ cm}$

**Question Number : 114 Question Id : 5406267353 Question Type : MCQ Option Shuffling : Yes Is Question Mandatory : No Option****Orientation : Vertical****Correct Marks : 1 Wrong Marks : 0.25**

एक समलम्ब चतुर्भुज की समानांतर भुजाओं के बीच लंबवत दूरी (सेमी में) क्या है जिसका क्षेत्रफल  $154 \text{ वर्ग सेमी}$  और समानांतर भुजाओं की लंबाई  $12 \text{ सेमी}$  और  $32 \text{ सेमी}$  है?

**Options :**

1. ✘  $14 \text{ सेमी}$
2. ✘  $6.8 \text{ सेमी}$
3. ✘  $9.6 \text{ सेमी}$
4. ✔  $7 \text{ सेमी}$

**Question Number : 115 Question Id : 5406267354 Question Type : MCQ Option Shuffling : Yes Is Question Mandatory : No Option Orientation : Vertical**

**Correct Marks : 1 Wrong Marks : 0.25**

Answer the question based on the information given below.

The table given below shows the number of chocolates distributed by 5 different students of the same class on their birthday in the class. It also shows the price per chocolate for each student.

Students	Number of chocolates distributed	Price per chocolate (in Rs.)
Aman	78	12.5
Bipin	54	25
Chand	82	15
Dev	120	8
Emma	36	40

Find the difference between the amount spent by Bipin and by Chand.

**Options :**

- ✘ Rs. 150
- ✔ Rs. 120
- ✘ Rs. 80
- ✘ Rs. 180

**Question Number : 115 Question Id : 5406267354 Question Type : MCQ Option Shuffling : Yes Is Question Mandatory : No Option Orientation : Vertical**

**Correct Marks : 1 Wrong Marks : 0.25**

नीचे दी गई जानकारी के आधार पर प्रश्न का उत्तर दीजिए।

नीचे दिया गया टेबल एक ही कक्षा के 5 अलग छात्रों द्वारा जन्मदिन पर वितरित चॉकलेट की संख्या को दर्शाया गया है। यह प्रत्येक छात्र के प्रति चॉकलेट की कीमत को भी दर्शाता है।

छात्र	वितरित चॉकलेट की संख्या	प्रति चॉकलेट मूल्य (रु. में)
अमन	78	12.5
बिपिन	54	25
चाँद	82	15
देव	120	8
एमा	36	40

बिपिन और चाँद द्वारा खर्च की गयी राशि के बीच का अंतर ज्ञात कीजिए।

Options :

1. ✘ 150 रूपये
2. ✔ 120 रूपये
3. ✘ 80 रूपये
4. ✘ 180 रूपये

Question Number : 116 Question Id : 5406267355 Question Type : MCQ Option Shuffling : Yes Is Question Mandatory : No Option Orientation : Vertical

Correct Marks : 1 Wrong Marks : 0.25

Answer the question based on the information given below.

The table given below shows the number of chocolates distributed by 5 different students of the same class on their birthday in the class. It also shows the price per chocolate for each student.

Students	Number of chocolates distributed	Price per chocolate (in Rs.)
Aman	78	12.5
Bipin	54	25
Chand	82	15
Dev	120	8
Emma	36	40

Find the total amount spent by Aman.

Options :

1. ✓ Rs. 975
2. ✘ Rs. 1020
3. ✘ Rs. 845
4. ✘ Rs. 1005

**Question Number : 116 Question Id : 5406267355 Question Type : MCQ Option Shuffling : Yes Is Question Mandatory : No Option Orientation : Vertical**

**Correct Marks : 1 Wrong Marks : 0.25**

नीचे दी गई जानकारी के आधार पर प्रश्न का उत्तर दीजिए।

नीचे दिया गया टेबल एक ही कक्षा के 5 अलग छात्रों द्वारा जन्मदिन पर वितरित चॉकलेट की संख्या को दर्शाया गया है। यह प्रत्येक छात्र के प्रति चॉकलेट की कीमत को भी दर्शाता है।

छात्र	वितरित चॉकलेट की संख्या	प्रति चॉकलेट मूल्य (रु. में)
अमन	78	12.5
बिपिन	54	25
चाँद	82	15
देव	120	8
एमा	36	40

अमन द्वारा खर्च की गई कुल राशि ज्ञात कीजिए।

**Options :**

1. ✓ 975 रूपये
2. ✘ 1020 रूपये
3. ✘ 845 रूपये
4. ✘ 1005 रूपये

**Question Number : 117 Question Id : 5406267356 Question Type : MCQ Option Shuffling : Yes Is Question Mandatory : No Option Orientation : Vertical**

**Correct Marks : 1 Wrong Marks : 0.25**

Answer the question based on the information given below.

The table given below shows the number of chocolates distributed by 5 different students of the same class on their birthday in the class. It also shows the price per chocolate for each student.

Students	Number of chocolates distributed	Price per chocolate (in Rs.)
Aman	78	12.5
Bipin	54	25
Chand	82	15
Dev	120	8
Emma	36	40

Find the average number of chocolates distributed by each of the given student.

**Options :**

- ✘ 70
- ✘ 78
- ✘ 76
- ✔ 74

**Question Number : 117 Question Id : 5406267356 Question Type : MCQ Option Shuffling : Yes Is Question Mandatory : No Option Orientation : Vertical**

**Correct Marks : 1 Wrong Marks : 0.25**

नीचे दी गई जानकारी के आधार पर प्रश्न का उत्तर दीजिए।

नीचे दिया गया टेबल एक ही कक्षा के 5 अलग छात्रों द्वारा जन्मदिन पर वितरित चोकलेट की संख्या को दर्शाया गया है। यह प्रत्येक छात्र के प्रति चॉकलेट की कीमत को भी दर्शाता है।



छात्र	वितरित चॉकलेट की संख्या	प्रति चॉकलेट मूल्य (रु. में)
अमन	78	12.5
बिपिन	54	25
चाँद	82	15
देव	120	8
एमा	36	40

दिए गए प्रत्येक छात्र द्वारा वितरित चोकलेट की औसत संख्या ज्ञात कीजिए।

**Options :**

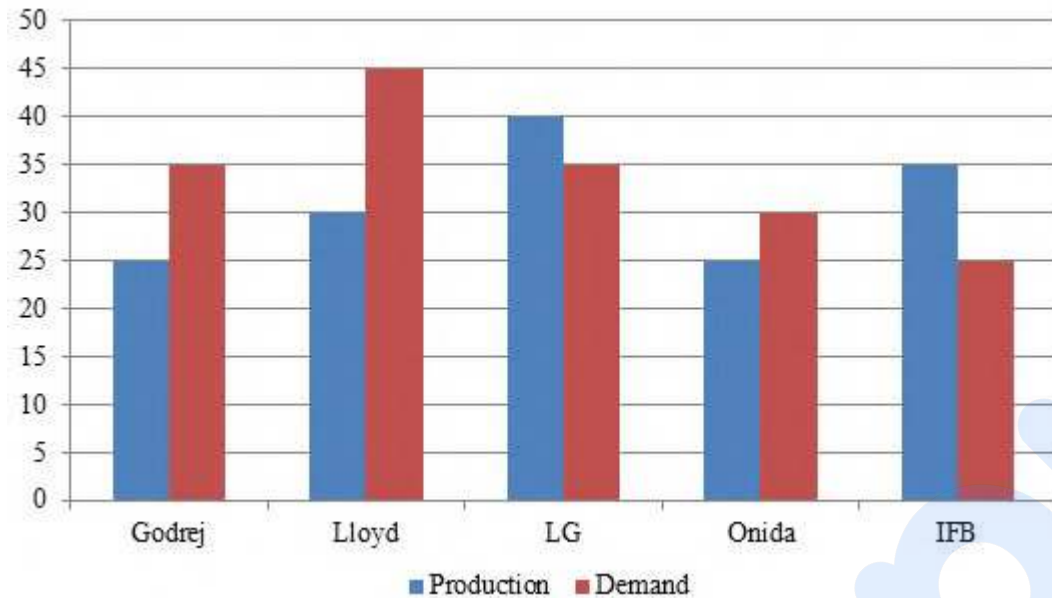
- ✘ 70
- ✘ 78
- ✘ 76
- ✔ 74

**Question Number : 118 Question Id : 5406267357 Question Type : MCQ Option Shuffling : Yes Is Question Mandatory : No Option Orientation : Vertical**

**Correct Marks : 1 Wrong Marks : 0.25**

Study the following bar graph carefully and answer the question.

Following graph gives the demand and production of washing machine of five companies Godrej, Lloyd, LG, Onida, IFB.



The demand of Onida is what percent of the demand of IFB?

**Options :**

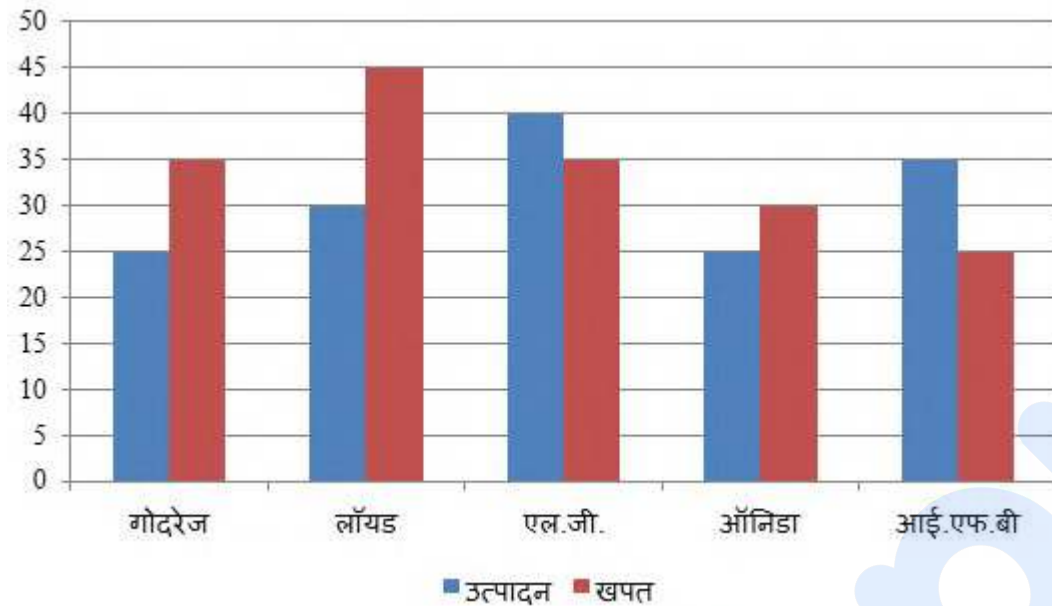
1. ✘ 90 percent
2. ✔ 120 percent
3. ✘ 100 percent
4. ✘ 80 percent

**Question Number : 118 Question Id : 5406267357 Question Type : MCQ Option Shuffling : Yes Is Question Mandatory : No Option Orientation : Vertical**

**Correct Marks : 1 Wrong Marks : 0.25**

निम्नलिखित बार ग्राफ का ध्यानपूर्वक अध्ययन कीजिए और प्रश्न का उत्तर दीजिए।

निम्नलिखित ग्राफ पाँच वाशिंग मशीन की कंपनियों गोदरेज, लॉयड, एल.जी., ऑनिडा तथा आई.एफ.बी. की उत्पादन और खपत को दर्शाता है।



ऑनिडा की खपत, आई.एफ.बी. की खपत का कितना प्रतिशत है?

**Options :**

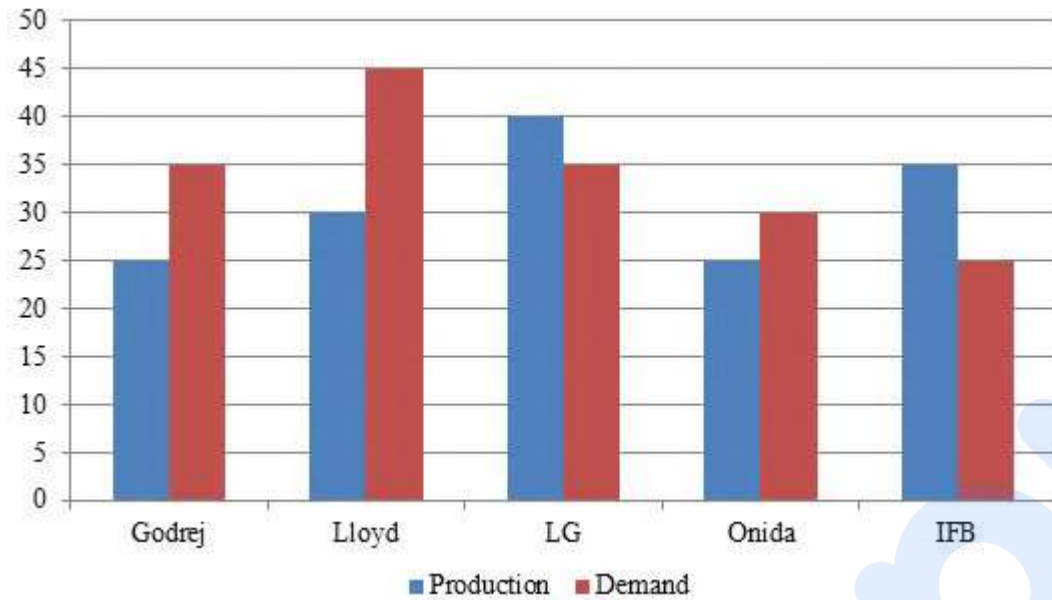
1. ✘ 90 प्रतिशत
2. ✔ 120 प्रतिशत
3. ✘ 100 प्रतिशत
4. ✘ 80 प्रतिशत

**Question Number : 119 Question Id : 5406267358 Question Type : MCQ Option Shuffling : Yes Is Question Mandatory : No Option Orientation : Vertical**

**Correct Marks : 1 Wrong Marks : 0.25**

Study the following bar graph carefully and answer the question.

Following graph gives the demand and production of washing machine of five companies Godrej, Lloyd, LG, Onida, IFB.



What is the average production of washing machine by all the companies?

Options :

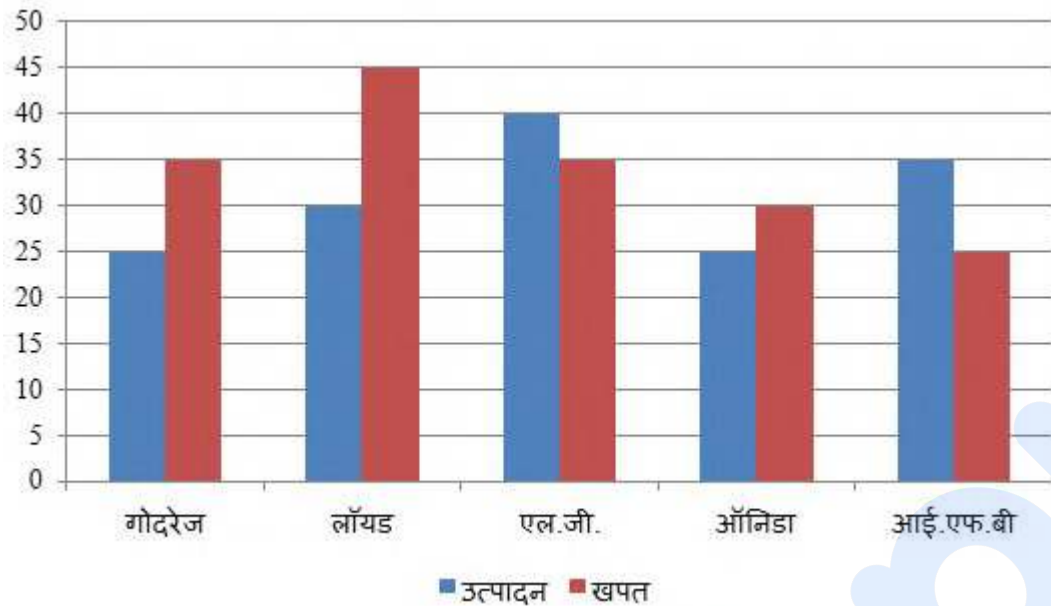
- ✘ 25
- ✘ 30
- ✔ 31
- ✘ 28

Question Number : 119 Question Id : 5406267358 Question Type : MCQ Option Shuffling : Yes Is Question Mandatory : No Option Orientation : Vertical

Correct Marks : 1 Wrong Marks : 0.25

निम्नलिखित बार ग्राफ का ध्यानपूर्वक अध्ययन कीजिए और प्रश्न का उत्तर दीजिए।

निम्नलिखित ग्राफ पाँच वाशिंग मशीन की कंपनियों गोदरेज, लॉयड, एल.जी., ऑनिडा तथा आई.एफ.बी. की उत्पादन और खपत को दर्शाता है।



सभी कंपनियों द्वारा वाशिंग मशीन का औसत उत्पादन क्या है?

Options :

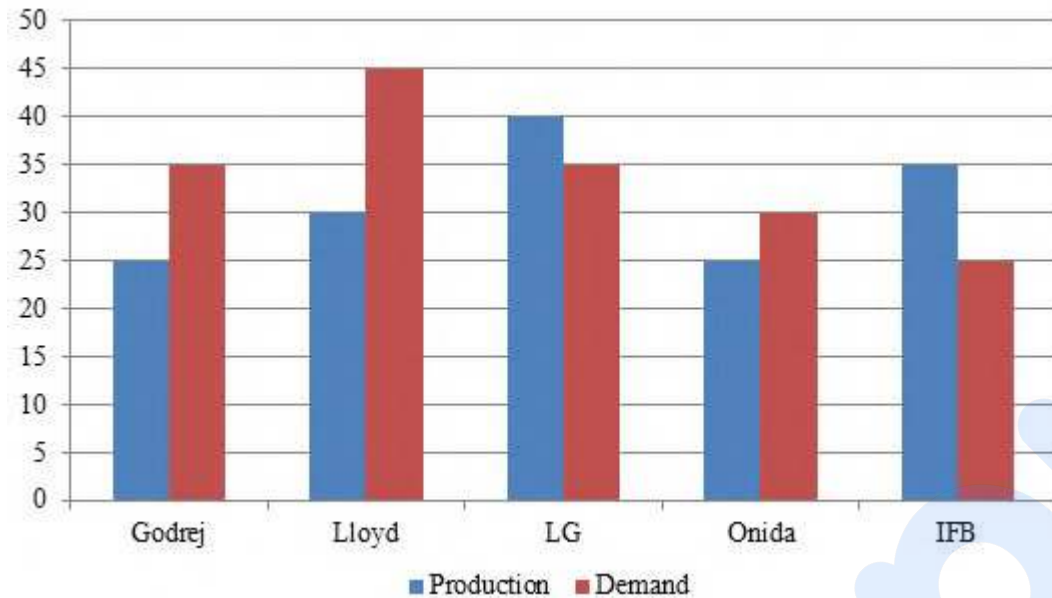
1. ✘ 25
2. ✘ 30
3. ✔ 31
4. ✘ 28

Question Number : 120 Question Id : 5406267359 Question Type : MCQ Option Shuffling : Yes Is Question Mandatory : No Option Orientation : Vertical

Correct Marks : 1 Wrong Marks : 0.25

Study the following bar graph carefully and answer the question.

Following graph gives the demand and production of washing machine of five companies Godrej, Lloyd, LG, Onida, IFB.



What is the respective ratio of the demand of Godrej and Lloyd?

**Options :**

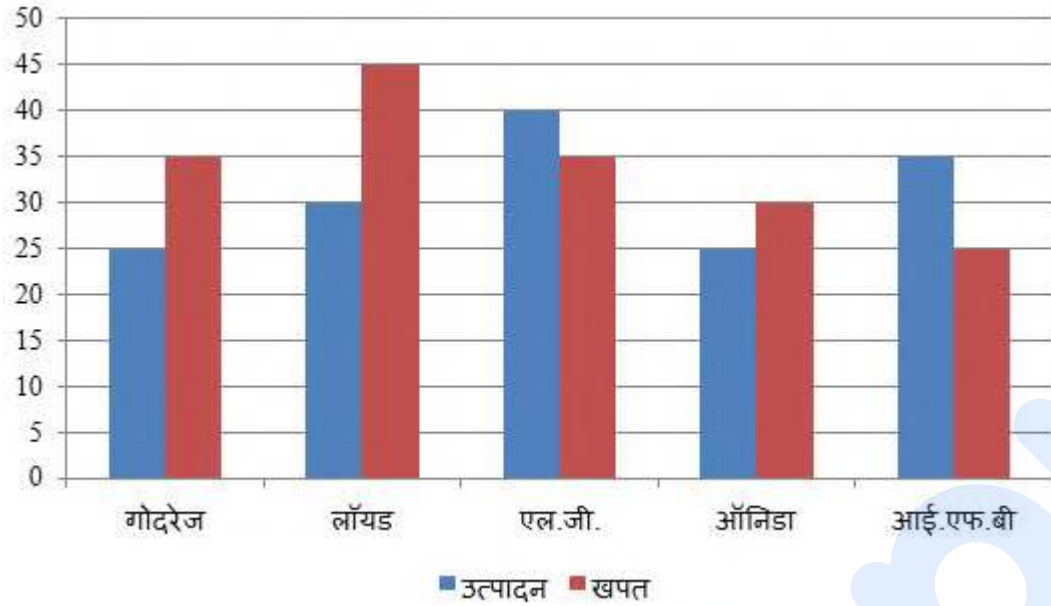
- ✘ 9 : 7
- ✘ 10 : 8
- ✘ 8 : 10
- ✔ 7 : 9

**Question Number : 120 Question Id : 5406267359 Question Type : MCQ Option Shuffling : Yes Is Question Mandatory : No Option Orientation : Vertical**

**Correct Marks : 1 Wrong Marks : 0.25**

निम्नलिखित बार ग्राफ का ध्यानपूर्वक अध्ययन कीजिए और प्रश्न का उत्तर दीजिए।

निम्नलिखित ग्राफ पाँच वाशिंग मशीन की कंपनियों गोदरेज, लॉयड, एल.जी., ऑनिडा तथा आई.एफ.बी. की उत्पादन और खपत को दर्शाता है।



गोदरेज और लॉयड की खपत का क्रमशः अनुपात क्या है?

Options :

1. ✘ 9 : 7
2. ✘ 10 : 8
3. ✘ 8 : 10
4. ✔ 7 : 9

## General English 1

Group Number :	7
Group Id :	540626228
Group Maximum Duration :	0
Group Minimum Duration :	0
Show Attended Group? :	No
Edit Attended Group? :	No
Break time :	0
Group Marks :	20

Is this Group for Examiner? :

No

## English Language & Comprehension1

Section Id :	540626307
Section Number :	1
Section type :	Online
Mandatory or Optional :	Mandatory
Number of Questions :	20
Number of Questions to be attempted :	20
Section Marks :	20
Enable Mark as Answered Mark for Review and Clear Response :	Yes
Sub-Section Number :	1
Sub-Section Id :	540626356
Question Shuffling Allowed :	Yes

**Question Number : 121 Question Id : 5406267360 Question Type : MCQ Option Shuffling : Yes Is Question Mandatory : No Option Orientation : Vertical**

**Correct Marks : 1 Wrong Marks : 0.25**

In the following question, some part of the sentence may have errors. Find out which part of the sentence has an error and select the appropriate option. If a sentence is free from error, select 'No Error'.

Alexander's books is full of stories of magic, sorcery, and out-of-body experiences.

**Options :**

1. ✓ Alexander's books is full of
2. ✗ stories of magic, sorcery,
3. ✗ and out-of-body experiences.
4. ✗ No error

**Question Number : 121 Question Id : 5406267360 Question Type : MCQ Option Shuffling : Yes Is Question Mandatory : No Option Orientation : Vertical**

**Correct Marks : 1 Wrong Marks : 0.25**

In the following question, some part of the sentence may have errors. Find out which part of the sentence has an error and select the appropriate



option. If a sentence is free from error, select 'No Error'.

Alexander's books is full of stories of magic, sorcery, and out-of-body experiences.

**Options :**

1. ✓ Alexander's books is full of
2. ✗ stories of magic, sorcery,
3. ✗ and out-of-body experiences.
4. ✗ No error

**Question Number : 122 Question Id : 5406267361 Question Type : MCQ Option Shuffling : Yes Is Question Mandatory : No Option Orientation : Vertical**

**Correct Marks : 1 Wrong Marks : 0.25**

In the following question, some part of the sentence may have errors. Find out which part of the sentence has an error and select the appropriate option. If a sentence is free from error, select 'No Error'.

I rise from the chair, take of the glasses, and walk out of the door.

**Options :**

1. ✗ I rise from the chair,
2. ✓ take of the glasses,
3. ✗ and walk out of the door.
4. ✗ No error

**Question Number : 122 Question Id : 5406267361 Question Type : MCQ Option Shuffling : Yes Is Question Mandatory : No Option Orientation : Vertical**

**Correct Marks : 1 Wrong Marks : 0.25**

In the following question, some part of the sentence may have errors. Find out which part of the sentence has an error and select the appropriate option. If a sentence is free from error, select 'No Error'.

I rise from the chair, take of the glasses, and walk out of the door.

**Options :**

1. ✗ I rise from the chair,
2. ✓ take of the glasses,
3. ✗ and walk out of the door.
4. ✗ No error

**Question Number : 123 Question Id : 5406267362 Question Type : MCQ Option Shuffling : Yes Is Question Mandatory : No Option Orientation : Vertical**

**Correct Marks : 1 Wrong Marks : 0.25**

In the following question, some part of the sentence may have errors. Find out which part of the sentence has an error and select the appropriate option. If a sentence is free from error, select 'No Error'.

The plan is to retain the office building and sub-divide it into offices in small businesses.

**Options :**

1. ✘ The plan is to retain the office
2. ✘ building and sub-divide it into
3. ✔ offices in small businesses.
4. ✘ No error

**Question Number : 123 Question Id : 5406267362 Question Type : MCQ Option Shuffling : Yes Is Question Mandatory : No Option Orientation : Vertical**

**Correct Marks : 1 Wrong Marks : 0.25**

In the following question, some part of the sentence may have errors. Find out which part of the sentence has an error and select the appropriate option. If a sentence is free from error, select 'No Error'.

The plan is to retain the office building and sub-divide it into offices in small businesses.

**Options :**

1. ✘ The plan is to retain the office
2. ✘ building and sub-divide it into
3. ✔ offices in small businesses.
4. ✘ No error

**Question Number : 124 Question Id : 5406267363 Question Type : MCQ Option Shuffling : Yes Is Question Mandatory : No Option Orientation : Vertical**

**Correct Marks : 1 Wrong Marks : 0.25**

In the following question, some part of the sentence may have errors. Find out which part of the sentence has an error and select the appropriate option. If a sentence is free from error, select 'No Error'.

The only true security against nuclear dangers is an enforceable ban on all nuclear weapons.

**Options :**

1. ✘ The only true security against
2. ✘ nuclear dangers is an enforceable
3. ✘ ban on all nuclear weapons.
4. ✔ No error

**Question Number : 124 Question Id : 5406267363 Question Type : MCQ Option Shuffling : Yes Is Question Mandatory : No Option Orientation : Vertical**

**Correct Marks : 1 Wrong Marks : 0.25**

In the following question, some part of the sentence may have errors. Find out which part of the sentence has an error and select the appropriate option. If a sentence is free from error, select 'No Error'.

The only true security against nuclear dangers is an enforceable ban on all nuclear weapons.

**Options :**

1. ✘ The only true security against
2. ✘ nuclear dangers is an enforceable
3. ✘ ban on all nuclear weapons.
4. ✔ No error

**Question Number : 125 Question Id : 5406267364 Question Type : MCQ Option Shuffling : Yes Is Question Mandatory : No Option Orientation : Vertical**

**Correct Marks : 1 Wrong Marks : 0.25**

Select the most appropriate option to substitute the underlined segment in the given sentence. If there is no need to substitute it, select 'No improvement'.

Those who has wrote the right answers were thrilled when each result was announced.

**Options :**

1. ✔ had written
2. ✘ have written
3. ✘ has writing
4. ✘ No improvement

**Question Number : 125 Question Id : 5406267364 Question Type : MCQ Option Shuffling : Yes Is Question Mandatory : No Option**

**Orientation : Vertical**

**Correct Marks : 1 Wrong Marks : 0.25**

Select the most appropriate option to substitute the underlined segment in the given sentence. If there is no need to substitute it, select 'No improvement'.

Those who has wrote the right answers were thrilled when each result was announced.

**Options :**

1. ✓ had written
2. ✗ have written
3. ✗ has writing
4. ✗ No improvement

**Question Number : 126 Question Id : 5406267365 Question Type : MCQ Option Shuffling : Yes Is Question Mandatory : No Option Orientation : Vertical**

**Correct Marks : 1 Wrong Marks : 0.25**

Select the most appropriate option to substitute the underlined segment in the given sentence. If there is no need to substitute it, select 'No improvement'.

We would buying fresh fruit and pick fresh vegetables from a small garden in the back.

**Options :**

1. ✗ buy fresh fruit and picking fresh vegetables
2. ✓ buy fresh fruit and pick fresh vegetables
3. ✗ buying fresh fruit and picking fresh vegetables
4. ✗ No improvement

**Question Number : 126 Question Id : 5406267365 Question Type : MCQ Option Shuffling : Yes Is Question Mandatory : No Option Orientation : Vertical**

**Correct Marks : 1 Wrong Marks : 0.25**

Select the most appropriate option to substitute the underlined segment in the given sentence. If there is no need to substitute it, select 'No improvement'.

We would buying fresh fruit and pick fresh vegetables from a small garden in the back.

**Options :**

1. ✗ buy fresh fruit and picking fresh vegetables

2. ✓ buy fresh fruit and pick fresh vegetables
3. ✗ buying fresh fruit and picking fresh vegetables
4. ✗ No improvement

**Question Number : 127 Question Id : 5406267366 Question Type : MCQ Option Shuffling : Yes Is Question Mandatory : No Option Orientation : Vertical**

**Correct Marks : 1 Wrong Marks : 0.25**

Select the most appropriate option to substitute the underlined segment in the given sentence. If there is no need to substitute it, select 'No improvement'.

In rural areas, villages are often composed of kin groups that offers support on difficult times.

**Options :**

1. ✗ which offers support during
2. ✗ that offered support for
3. ✓ that offer support during
4. ✗ No improvement

**Question Number : 127 Question Id : 5406267366 Question Type : MCQ Option Shuffling : Yes Is Question Mandatory : No Option Orientation : Vertical**

**Correct Marks : 1 Wrong Marks : 0.25**

Select the most appropriate option to substitute the underlined segment in the given sentence. If there is no need to substitute it, select 'No improvement'.

In rural areas, villages are often composed of kin groups that offers support on difficult times.

**Options :**

1. ✗ which offers support during
2. ✗ that offered support for
3. ✓ that offer support during
4. ✗ No improvement

**Question Number : 128 Question Id : 5406267367 Question Type : MCQ Option Shuffling : Yes Is Question Mandatory : No Option Orientation : Vertical**

**Correct Marks : 1 Wrong Marks : 0.25**

Select the most appropriate option to substitute the underlined segment in the given sentence. If there is no need to substitute it, select 'No improvement'.

Symmetric and geometric designs are the most common features of Belarusian decorative patterns.

**Options :**

- ✘ is the most common features
- ✘ are more common feature
- ✘ was the most common feature
- ✔ No improvement

**Question Number : 128 Question Id : 5406267367 Question Type : MCQ Option Shuffling : Yes Is Question Mandatory : No Option Orientation : Vertical**

**Correct Marks : 1 Wrong Marks : 0.25**

Select the most appropriate option to substitute the underlined segment in the given sentence. If there is no need to substitute it, select 'No improvement'.

Symmetric and geometric designs are the most common features of Belarusian decorative patterns.

**Options :**

- ✘ is the most common features
- ✘ are more common feature
- ✘ was the most common feature
- ✔ No improvement

**Question Number : 129 Question Id : 5406267368 Question Type : MCQ Option Shuffling : Yes Is Question Mandatory : No Option Orientation : Vertical**

**Correct Marks : 1 Wrong Marks : 0.25**

Select the most appropriate option to fill in the blank.

One may think that becoming forgetful or repeating \_\_\_\_\_ is a natural part of growing older.

**Options :**

- ✔ oneself
- ✘ himself
- ✘ herself
- ✘ itself

**Question Number : 129 Question Id : 5406267368 Question Type : MCQ Option Shuffling : Yes Is Question Mandatory : No Option Orientation : Vertical**

**Correct Marks : 1 Wrong Marks : 0.25**

Select the most appropriate option to fill in the blank.

One may think that becoming forgetful or repeating \_\_\_\_\_ is a natural part of growing older.

**Options :**

1. ✓ oneself
2. ✗ himself
3. ✗ herself
4. ✗ itself

**Question Number : 130 Question Id : 5406267369 Question Type : MCQ Option Shuffling : Yes Is Question Mandatory : No Option Orientation : Vertical**

**Correct Marks : 1 Wrong Marks : 0.25**

Select the most appropriate option to fill in the blank.

The family is \_\_\_\_\_ extremely important environmental influence on personality development.

**Options :**

1. ✗ a
2. ✓ an
3. ✗ the
4. ✗ No article is needed

**Question Number : 130 Question Id : 5406267369 Question Type : MCQ Option Shuffling : Yes Is Question Mandatory : No Option Orientation : Vertical**

**Correct Marks : 1 Wrong Marks : 0.25**

Select the most appropriate option to fill in the blank.

The family is \_\_\_\_\_ extremely important environmental influence on personality development.

**Options :**

1. ✗ a

2. ✓ an
3. ✗ the
4. ✗ No article is needed

**Question Number : 131 Question Id : 5406267370 Question Type : MCQ Option Shuffling : Yes Is Question Mandatory : No Option Orientation : Vertical**

**Correct Marks : 1 Wrong Marks : 0.25**

Select the most appropriate option to fill in the blank.

High fuel costs \_\_\_\_\_ commodities more expensive and put a premium on locally produced goods.

**Options :**

1. ✗ is made
2. ✗ making
3. ✓ make
4. ✗ makes

**Question Number : 131 Question Id : 5406267370 Question Type : MCQ Option Shuffling : Yes Is Question Mandatory : No Option Orientation : Vertical**

**Correct Marks : 1 Wrong Marks : 0.25**

Select the most appropriate option to fill in the blank.

High fuel costs \_\_\_\_\_ commodities more expensive and put a premium on locally produced goods.

**Options :**

1. ✗ is made
2. ✗ making
3. ✓ make
4. ✗ makes

**Question Number : 132 Question Id : 5406267371 Question Type : MCQ Option Shuffling : Yes Is Question Mandatory : No Option Orientation : Vertical**

**Correct Marks : 1 Wrong Marks : 0.25**

Select the most appropriate option to fill in the blank.



If you suffer from jaw joint problems you may have several of \_\_\_\_\_ symptoms or you may just have one.

**Options :**

1. ✘ this
2. ✘ that
3. ✘ those
4. ✔ these

**Question Number : 132 Question Id : 5406267371 Question Type : MCQ Option Shuffling : Yes Is Question Mandatory : No Option Orientation : Vertical**

**Correct Marks : 1 Wrong Marks : 0.25**

Select the most appropriate option to fill in the blank.

If you suffer from jaw joint problems you may have several of \_\_\_\_\_ symptoms or you may just have one.

**Options :**

1. ✘ this
2. ✘ that
3. ✘ those
4. ✔ these

**Question Number : 133 Question Id : 5406267372 Question Type : MCQ Option Shuffling : Yes Is Question Mandatory : No Option Orientation : Vertical**

**Correct Marks : 1 Wrong Marks : 0.25**

Select the most appropriate option to fill in the blank.

She said traders desperately wanted a variety of shops to attract \_\_\_\_\_ customers.

**Options :**

1. ✔ more
2. ✘ fewer
3. ✘ much
4. ✘ less

**Question Number : 133 Question Id : 5406267372 Question Type : MCQ Option Shuffling : Yes Is Question Mandatory : No Option Orientation : Vertical**

**Correct Marks : 1 Wrong Marks : 0.25**

Select the most appropriate option to fill in the blank.

She said traders desperately wanted a variety of shops to attract \_\_\_\_\_ customers.

**Options :**

1. ✓ more
2. ✗ fewer
3. ✗ much
4. ✗ less

**Question Number : 134 Question Id : 5406267373 Question Type : MCQ Option Shuffling : Yes Is Question Mandatory : No Option Orientation : Vertical**

**Correct Marks : 1 Wrong Marks : 0.25**

Select the most appropriate option to fill in the blank.

The thieves ordered him to open the safe, but \_\_\_\_\_ it was on a time lock he could not.

**Options :**

1. ✗ though
2. ✓ because
3. ✗ hence
4. ✗ although

**Question Number : 134 Question Id : 5406267373 Question Type : MCQ Option Shuffling : Yes Is Question Mandatory : No Option Orientation : Vertical**

**Correct Marks : 1 Wrong Marks : 0.25**

Select the most appropriate option to fill in the blank.

The thieves ordered him to open the safe, but \_\_\_\_\_ it was on a time lock he could not.

**Options :**

1. ✗ though
2. ✓ because
3. ✗ hence
4. ✗ although

**Question Number : 135 Question Id : 5406267374 Question Type : MCQ Option Shuffling : Yes Is Question Mandatory : No Option Orientation : Vertical**

**Correct Marks : 1 Wrong Marks : 0.25**

Parts of a sentence have been jumbled up. Arrange these parts in a meaningful order.

- A: has led to communal riots
- B: citizenship (amendment) act
- C: appears to simmer – and of late
- D: the controversy over the

**Options :**

1. ✓ DBCA
2. ✗ DCAB
3. ✗ DABC
4. ✗ DBAC

**Question Number : 135 Question Id : 5406267374 Question Type : MCQ Option Shuffling : Yes Is Question Mandatory : No Option Orientation : Vertical**

**Correct Marks : 1 Wrong Marks : 0.25**

Parts of a sentence have been jumbled up. Arrange these parts in a meaningful order.

- A: has led to communal riots
- B: citizenship (amendment) act
- C: appears to simmer – and of late
- D: the controversy over the

**Options :**

1. ✓ DBCA
2. ✗ DCAB
3. ✗ DABC
4. ✗ DBAC

**Question Number : 136 Question Id : 5406267375 Question Type : MCQ Option Shuffling : Yes Is Question Mandatory : No Option Orientation : Vertical**

**Correct Marks : 1 Wrong Marks : 0.25**

Parts of a sentence have been jumbled up. Arrange these parts in a meaningful order.

A: a major report published by

B: found that an average of 25 percent of all animal and plant

C: the Intergovernmental Science-Policy Platform on Biodiversity and Ecosystem Services (IPBES) in 2019

D: species assessed face extinction, many within decades

**Options :**

1. ✘ ABCD
2. ✔ ACBD
3. ✘ ABDC
4. ✘ ADCB

**Question Number : 136 Question Id : 5406267375 Question Type : MCQ Option Shuffling : Yes Is Question Mandatory : No Option Orientation : Vertical**

**Correct Marks : 1 Wrong Marks : 0.25**

Parts of a sentence have been jumbled up. Arrange these parts in a meaningful order.

A: a major report published by

B: found that an average of 25 percent of all animal and plant

C: the Intergovernmental Science-Policy Platform on Biodiversity and Ecosystem Services (IPBES) in 2019

D: species assessed face extinction, many within decades

**Options :**

1. ✘ ABCD
2. ✔ ACBD
3. ✘ ABDC
4. ✘ ADCB

**Question Number : 137 Question Id : 5406267376 Question Type : MCQ Option Shuffling : Yes Is Question Mandatory : No Option Orientation : Vertical**

**Correct Marks : 1 Wrong Marks : 0.25**

Arrange the jumbled sentences to make a meaningful paragraph.

A: every natural thing that is happening on this earth is related to climate change

B: the news is spreading like a wildfire

C: the world is obsessed with the “climate change” phenomena

D: now Antarctic has registered a temperature of more than 20 degrees Celsius (68F) for the first time on record

**Options :**

1. ✘ CDBA
2. ✘ CBDA
3. ✔ CADB
4. ✘ CABD

**Question Number : 137 Question Id : 5406267376 Question Type : MCQ Option Shuffling : Yes Is Question Mandatory : No Option Orientation : Vertical**

**Correct Marks : 1 Wrong Marks : 0.25**

Arrange the jumbled sentences to make a meaningful paragraph.

A: every natural thing that is happening on this earth is related to climate change

B: the news is spreading like a wildfire

C: the world is obsessed with the “climate change” phenomena

D: now Antarctic has registered a temperature of more than 20 degrees Celsius (68F) for the first time on record

**Options :**

1. ✘ CDBA
2. ✘ CBDA
3. ✔ CADB
4. ✘ CABD

**Question Number : 138 Question Id : 5406267377 Question Type : MCQ Option Shuffling : Yes Is Question Mandatory : No Option Orientation : Vertical**

**Correct Marks : 1 Wrong Marks : 0.25**

Arrange the jumbled sentences to make a meaningful paragraph.

A: yet the farming community, agricultural sector at large has gone through a lot of turbulence and the healthcare sector has conveniently sidelined it

B: in terms of farm outputs, India ranks second

C: over 50 percent of the India workforce was driven by agriculture and contributed to more than 18 percent of the country’s GDP

D: India’s history of agricultural progress dates back to the Indus Valley Civilization

**Options :**

1. ✘ DCAB

2. ✘ DABC
3. ✘ DBAC
4. ✔ DBCA

**Question Number : 138 Question Id : 5406267377 Question Type : MCQ Option Shuffling : Yes Is Question Mandatory : No Option Orientation : Vertical**

**Correct Marks : 1 Wrong Marks : 0.25**

Arrange the jumbled sentences to make a meaningful paragraph.

A: yet the farming community, agricultural sector at large has gone through a lot of turbulence and the healthcare sector has conveniently side-lined it

B: in terms of farm outputs, India ranks second

C: over 50 percent of the India workforce was driven by agriculture and contributed to more than 18 percent of the country's GDP

D: India's history of agricultural progress dates back to the Indus Valley Civilization

**Options :**

1. ✘ DCAB
2. ✘ DABC
3. ✘ DBAC
4. ✔ DBCA

**Question Number : 139 Question Id : 5406267378 Question Type : MCQ Option Shuffling : Yes Is Question Mandatory : No Option Orientation : Vertical**

**Correct Marks : 1 Wrong Marks : 0.25**

Select the most appropriate synonym of the given word.

Uncompromising

**Options :**

1. ✔ Inflexible
2. ✘ Insecure
3. ✘ Compliant
4. ✘ Flexible

**Question Number : 139 Question Id : 5406267378 Question Type : MCQ Option Shuffling : Yes Is Question Mandatory : No Option**

**Orientation : Vertical**

**Correct Marks : 1 Wrong Marks : 0.25**

Select the most appropriate synonym of the given word.

Uncompromising

**Options :**

1. ✓ Inflexible
2. ✗ Insecure
3. ✗ Compliant
4. ✗ Flexible

**Question Number : 140 Question Id : 5406267379 Question Type : MCQ Option Shuffling : Yes Is Question Mandatory : No Option**

**Orientation : Vertical**

**Correct Marks : 1 Wrong Marks : 0.25**

Select the most appropriate synonym of the given word.

Miser

**Options :**

1. ✗ Squanderer
2. ✓ Accumulator
3. ✗ Waster
4. ✗ Spendthrift

**Question Number : 140 Question Id : 5406267379 Question Type : MCQ Option Shuffling : Yes Is Question Mandatory : No Option**

**Orientation : Vertical**

**Correct Marks : 1 Wrong Marks : 0.25**

Select the most appropriate synonym of the given word.

Miser

**Options :**

1. ✗ Squanderer
2. ✓ Accumulator
3. ✗ Waster

## 4. ✖ Spendthrift

## General English2

<b>Group Number :</b>	8
<b>Group Id :</b>	540626229
<b>Group Maximum Duration :</b>	0
<b>Group Minimum Duration :</b>	0
<b>Show Attended Group? :</b>	No
<b>Edit Attended Group? :</b>	No
<b>Break time :</b>	0
<b>Group Marks :</b>	20
<b>Is this Group for Examiner? :</b>	No

## English Language & Comprehension2

<b>Section Id :</b>	540626308
<b>Section Number :</b>	1
<b>Section type :</b>	Online
<b>Mandatory or Optional :</b>	Mandatory
<b>Number of Questions :</b>	16
<b>Number of Questions to be attempted :</b>	16
<b>Section Marks :</b>	20
<b>Enable Mark as Answered Mark for Review and Clear Response :</b>	Yes
<b>Sub-Section Number :</b>	1
<b>Sub-Section Id :</b>	540626357
<b>Question Shuffling Allowed :</b>	Yes

**Question Number : 141 Question Id : 5406267380 Question Type : MCQ Option Shuffling : Yes Is Question Mandatory : No Option Orientation : Vertical**

**Correct Marks : 1 Wrong Marks : 0.25**

Select the correct pair of homophones to fill in the blanks.



Thomas Weir was sentenced to death and burned at the \_\_\_\_\_, while his sister was hanged.

The thick eight-ounce \_\_\_\_\_ was cooked just medium as she had ordered it in the restaurant.

**Options :**

1. ✘ stake; stake
2. ✘ steak; stake
3. ✔ stake; steak
4. ✘ steak, steak

**Question Number : 141 Question Id : 5406267380 Question Type : MCQ Option Shuffling : Yes Is Question Mandatory : No Option Orientation : Vertical**

**Correct Marks : 1 Wrong Marks : 0.25**

Select the correct pair of homophones to fill in the blanks.

Thomas Weir was sentenced to death and burned at the \_\_\_\_\_, while his sister was hanged.

The thick eight-ounce \_\_\_\_\_ was cooked just medium as she had ordered it in the restaurant.

**Options :**

1. ✘ stake; stake
2. ✘ steak; stake
3. ✔ stake; steak
4. ✘ steak, steak

**Question Number : 142 Question Id : 5406267381 Question Type : MCQ Option Shuffling : Yes Is Question Mandatory : No Option Orientation : Vertical**

**Correct Marks : 1 Wrong Marks : 0.25**

Select the most appropriate antonym of the given word.

Colossal

**Options :**

1. ✘ Mighty
2. ✘ Immense
3. ✘ Extensive
4. ✔ Negligible

**Question Number : 142 Question Id : 5406267381 Question Type : MCQ Option Shuffling : Yes Is Question Mandatory : No Option Orientation : Vertical**

**Correct Marks : 1 Wrong Marks : 0.25**

Select the most appropriate antonym of the given word.

Colossal

**Options :**

1. ✘ Mighty
2. ✘ Immense
3. ✘ Extensive
4. ✔ Negligible

**Question Number : 143 Question Id : 5406267382 Question Type : MCQ Option Shuffling : Yes Is Question Mandatory : No Option Orientation : Vertical**

**Correct Marks : 1 Wrong Marks : 0.25**

Select the most appropriate antonym of the given word.

Oscillate

**Options :**

1. ✔ Stabilize
2. ✘ Swing
3. ✘ Vibrate
4. ✘ Alternate

**Question Number : 143 Question Id : 5406267382 Question Type : MCQ Option Shuffling : Yes Is Question Mandatory : No Option Orientation : Vertical**

**Correct Marks : 1 Wrong Marks : 0.25**

Select the most appropriate antonym of the given word.

Oscillate

**Options :**

1. ✔ Stabilize

2. ✘ Swing
3. ✘ Vibrate
4. ✘ Alternate

**Question Number : 144 Question Id : 5406267383 Question Type : MCQ Option Shuffling : Yes Is Question Mandatory : No Option Orientation : Vertical**

**Correct Marks : 1 Wrong Marks : 0.25**

Select the incorrectly spelt word.

**Options :**

1. ✔ Hebiscus
2. ✘ Tenacity
3. ✘ Generous
4. ✘ Reindeer

**Question Number : 144 Question Id : 5406267383 Question Type : MCQ Option Shuffling : Yes Is Question Mandatory : No Option Orientation : Vertical**

**Correct Marks : 1 Wrong Marks : 0.25**

Select the incorrectly spelt word.

**Options :**

1. ✔ Hebiscus
2. ✘ Tenacity
3. ✘ Generous
4. ✘ Reindeer

**Question Number : 145 Question Id : 5406267384 Question Type : MCQ Option Shuffling : Yes Is Question Mandatory : No Option Orientation : Vertical**

**Correct Marks : 1 Wrong Marks : 0.25**

Select the incorrectly spelt word.

**Options :**

1. ✘ Conclusive
2. ✔ Represive
3. ✘ Repulsive

4. ✘ Exclusive

**Question Number : 145 Question Id : 5406267384 Question Type : MCQ Option Shuffling : Yes Is Question Mandatory : No Option Orientation : Vertical**

**Correct Marks : 1 Wrong Marks : 0.25**

Select the incorrectly spelt word.

**Options :**

1. ✘ Conclusive
2. ✔ Repressive
3. ✘ Repulsive
4. ✘ Exclusive

**Question Number : 146 Question Id : 5406267385 Question Type : MCQ Option Shuffling : Yes Is Question Mandatory : No Option Orientation : Vertical**

**Correct Marks : 1 Wrong Marks : 0.25**

Select the incorrectly spelt word.

**Options :**

1. ✘ Gullible
2. ✘ Introvert
3. ✔ Ambiverte
4. ✘ Extrovert

**Question Number : 146 Question Id : 5406267385 Question Type : MCQ Option Shuffling : Yes Is Question Mandatory : No Option Orientation : Vertical**

**Correct Marks : 1 Wrong Marks : 0.25**

Select the incorrectly spelt word.

**Options :**

1. ✘ Gullible
2. ✘ Introvert
3. ✔ Ambiverte
4. ✘ Extrovert

**Question Number : 147 Question Id : 5406267386 Question Type : MCQ Option Shuffling : Yes Is Question Mandatory : No Option Orientation : Vertical**

**Correct Marks : 1 Wrong Marks : 0.25**

Select the incorrectly spelt word.

**Options :**

1. ✘ Hesitate
2. ✘ Incorporate
3. ✘ Depreciate
4. ✔ Asociate

**Question Number : 147 Question Id : 5406267386 Question Type : MCQ Option Shuffling : Yes Is Question Mandatory : No Option Orientation : Vertical**

**Correct Marks : 1 Wrong Marks : 0.25**

Select the incorrectly spelt word.

**Options :**

1. ✘ Hesitate
2. ✘ Incorporate
3. ✘ Depreciate
4. ✔ Asociate

**Question Number : 148 Question Id : 5406267387 Question Type : MCQ Option Shuffling : Yes Is Question Mandatory : No Option Orientation : Vertical**

**Correct Marks : 1 Wrong Marks : 0.25**

Select the incorrectly spelt word.

**Options :**

1. ✔ Affordaeble
2. ✘ Miniscule
3. ✘ Intermittent
4. ✘ Improbable

**Question Number : 148 Question Id : 5406267387 Question Type : MCQ Option Shuffling : Yes Is Question Mandatory : No Option Orientation : Vertical**

**Correct Marks : 1 Wrong Marks : 0.25**

Select the incorrectly spelt word.

**Options :**

1. ✓ **Affordaeble**
2. ✗ **Miniscule**
3. ✗ **Intermittent**
4. ✗ **Improbable**

**Question Number : 149 Question Id : 5406267388 Question Type : MCQ Option Shuffling : Yes Is Question Mandatory : No Option Orientation : Vertical**

**Correct Marks : 1 Wrong Marks : 0.25**

Select the most appropriate meaning of the underlined idiom in the given sentence.

Even though the joke was in poor taste, everyone in the audience laughed hysterically at it.

**Options :**

1. ✓ **Inappropriate**
2. ✗ **Acceptable**
3. ✗ **Understandable**
4. ✗ **Unfriendly**

**Question Number : 149 Question Id : 5406267388 Question Type : MCQ Option Shuffling : Yes Is Question Mandatory : No Option Orientation : Vertical**

**Correct Marks : 1 Wrong Marks : 0.25**

Select the most appropriate meaning of the underlined idiom in the given sentence.

Even though the joke was in poor taste, everyone in the audience laughed hysterically at it.

**Options :**

1. ✓ **Inappropriate**
2. ✗ **Acceptable**
3. ✗ **Understandable**
4. ✗ **Unfriendly**

**Question Number : 150 Question Id : 5406267389 Question Type : MCQ Option Shuffling : Yes Is Question Mandatory : No Option**

**Orientation : Vertical**

**Correct Marks : 1 Wrong Marks : 0.25**

Select the most appropriate meaning of the underlined idiom in the given sentence.

After spending hours working on this project, I'm running out of steam—can we take a break?

**Options :**

1. ✘ Lacking money
2. ✔ To lose one's energy
3. ✘ To be indecisive
4. ✘ Unconcerned

**Question Number : 150 Question Id : 5406267389 Question Type : MCQ Option Shuffling : Yes Is Question Mandatory : No Option**

**Orientation : Vertical**

**Correct Marks : 1 Wrong Marks : 0.25**

Select the most appropriate meaning of the underlined idiom in the given sentence.

After spending hours working on this project, I'm running out of steam—can we take a break?

**Options :**

1. ✘ Lacking money
2. ✔ To lose one's energy
3. ✘ To be indecisive
4. ✘ Unconcerned

**Question Number : 151 Question Id : 5406267390 Question Type : MCQ Option Shuffling : Yes Is Question Mandatory : No Option**

**Orientation : Vertical**

**Correct Marks : 1 Wrong Marks : 0.25**

Select the most appropriate meaning of the underlined idiom in the given sentence.

We're letting him join in out of courtesy, not because we want to be friends with him.

**Options :**

1. ✔ With kindly consideration
2. ✘ To be forced
3. ✘ Improper behavior

## 4. ✘ Out of sympathy

**Question Number : 151 Question Id : 5406267390 Question Type : MCQ Option Shuffling : Yes Is Question Mandatory : No Option Orientation : Vertical**

**Correct Marks : 1 Wrong Marks : 0.25**

Select the most appropriate meaning of the underlined idiom in the given sentence.

We're letting him join in out of courtesy, not because we want to be friends with him.

**Options :**

1. ✔ With kindly consideration
2. ✘ To be forced
3. ✘ Improper behavior
4. ✘ Out of sympathy

**Question Number : 152 Question Id : 5406267391 Question Type : MCQ Option Shuffling : Yes Is Question Mandatory : No Option Orientation : Vertical**

**Correct Marks : 1 Wrong Marks : 0.25**

Select the most appropriate meaning of the underlined idiom in the given sentence.

You got here in the nick of time—we're just about to start the show.

**Options :**

1. ✘ In an interval
2. ✘ Arriving late
3. ✘ In a specified time limit
4. ✔ At the last possible moment

**Question Number : 152 Question Id : 5406267391 Question Type : MCQ Option Shuffling : Yes Is Question Mandatory : No Option Orientation : Vertical**

**Correct Marks : 1 Wrong Marks : 0.25**

Select the most appropriate meaning of the underlined idiom in the given sentence.

You got here in the nick of time—we're just about to start the show.

**Options :**



1. ✘ In an interval
2. ✘ Arriving late
3. ✘ In a specified time limit
4. ✔ At the last possible moment

**Question Number : 153 Question Id : 5406267392 Question Type : MCQ Option Shuffling : Yes Is Question Mandatory : No Option Orientation : Vertical**

**Correct Marks : 1 Wrong Marks : 0.25**

Select the most appropriate meaning of the underlined idiom in the given sentence.

Well, that's a fine kettle of fish. I thought I paid the credit card bill, but it turns out that I missed the due date by a week.

**Options :**

1. ✔ An awkward situation
2. ✘ Appropriate event
3. ✘ A confusing state
4. ✘ A comedy of situation

**Question Number : 153 Question Id : 5406267392 Question Type : MCQ Option Shuffling : Yes Is Question Mandatory : No Option Orientation : Vertical**

**Correct Marks : 1 Wrong Marks : 0.25**

Select the most appropriate meaning of the underlined idiom in the given sentence.

Well, that's a fine kettle of fish. I thought I paid the credit card bill, but it turns out that I missed the due date by a week.

**Options :**

1. ✔ An awkward situation
2. ✘ Appropriate event
3. ✘ A confusing state
4. ✘ A comedy of situation

**Question Number : 154 Question Id : 5406267393 Question Type : MCQ Option Shuffling : Yes Is Question Mandatory : No Option Orientation : Vertical**

**Correct Marks : 1 Wrong Marks : 0.25**

Select the word which means the same as the group of words given.

A person who gives money or other help to a person or cause.

**Options :**

1. ✓ Benefactor
2. ✗ Benediction
3. ✗ Beneficiary
4. ✗ Bonafide

**Question Number : 154 Question Id : 5406267393 Question Type : MCQ Option Shuffling : Yes Is Question Mandatory : No Option Orientation : Vertical**

**Correct Marks : 1 Wrong Marks : 0.25**

Select the word which means the same as the group of words given.

A person who gives money or other help to a person or cause.

**Options :**

1. ✓ Benefactor
2. ✗ Benediction
3. ✗ Beneficiary
4. ✗ Bonafide

**Question Number : 155 Question Id : 5406267394 Question Type : MCQ Option Shuffling : Yes Is Question Mandatory : No Option Orientation : Vertical**

**Correct Marks : 1 Wrong Marks : 0.25**

Select the word which means the same as the group of words given.

The treatment of disease by the use of chemical substances.

**Options :**

1. ✗ Pathology
2. ✓ Chemotherapy
3. ✗ Cytology
4. ✗ Cryptology

**Question Number : 155 Question Id : 5406267394 Question Type : MCQ Option Shuffling : Yes Is Question Mandatory : No Option**

**Orientation : Vertical**

**Correct Marks : 1 Wrong Marks : 0.25**

Select the word which means the same as the group of words given.

The treatment of disease by the use of chemical substances.

**Options :**

1. ✘ Pathology
2. ✔ Chemotherapy
3. ✘ Cytology
4. ✘ Cryptology

**Sub-Section Number :**

2

**Sub-Section Id :**

540626358

**Question Shuffling Allowed :**

Yes

**Question Id : 5406267395 Question Type : COMPREHENSION Sub Question Shuffling Allowed : Yes Group Comprehension Questions : No**

**Question Numbers : (156 to 160)**

Read the following passage and answer the given questions.

The board of Flipkart Online Services Pvt. has approved an agreement to sell about 75 percent of the company to a Walmart Inc.-led group for approximately \$15 billion, according to people familiar with the matter, an enormous bet by the American retailer on international expansion.

Under the proposed deal, SoftBank Group Corp. will sell all of the 20-plus percent stake it holds in Flipkart through an investment fund at a valuation of roughly \$20 billion, said the people, asking not to be named because the matter is private. Google-parent Alphabet Inc. is likely to participate in the investment with Walmart, said one of the people. A final close is expected within 10 days, though terms could still change and a deal isn't certain, they said.

That would seal a Walmart triumph over Amazon.com Inc., which has been trying to take control of Flipkart with a competing offer. Flipkart's board ultimately decided a deal with Walmart is more likely to win regulatory approval because Amazon is the No. 2 e-commerce operator in India behind Flipkart and its primary competitor. Amazon is out of the running unless Walmart hits unforeseen trouble.

**Sub questions**

**Question Number : 156 Question Id : 5406267396 Question Type : MCQ Option Shuffling : Yes Is Question Mandatory : No Option Orientation : Vertical**

**Correct Marks : 1 Wrong Marks : 0.25**

Walmart Inc. an international retailer belongs to which country?

**Options :**

1. ✓ United States of America
2. ✗ England
3. ✗ France
4. ✗ Germany

**Question Number : 157 Question Id : 5406267397 Question Type : MCQ Option Shuffling : Yes Is Question Mandatory : No Option Orientation : Vertical**

**Correct Marks : 1 Wrong Marks : 0.25**

How much percent stake does SoftBank Group Corp. has in Flipkart?

**Options :**

1. ✗ less than 20 percent
2. ✓ more than 20 percent
3. ✗ they do not have any stake in Flipkart
4. ✗ 20 percent

**Question Number : 158 Question Id : 5406267398 Question Type : MCQ Option Shuffling : Yes Is Question Mandatory : No Option Orientation : Vertical**

**Correct Marks : 1 Wrong Marks : 0.25**

Why was Walmart a better option for Flipkart over others?

**Options :**

1. ✗ As Amazon is out of the running
2. ✓ As the deal with Walmart is more likely to win them regulatory approval
3. ✗ As Flipkart is predicted to hit unforeseen trouble
4. ✗ As SoftBank Group Corp will sell all of its stakes in Flipkart through an investment fund

**Question Number : 159 Question Id : 5406267399 Question Type : MCQ Option Shuffling : Yes Is Question Mandatory : No Option Orientation : Vertical**

**Correct Marks : 1 Wrong Marks : 0.25**

Flipkart would be selling 75 percent of the company to which of the following company?

**Options :**

1. ✗ eBay

2. ✘ Amazon
3. ✔ Walmart
4. ✘ Alibaba

**Question Number : 160 Question Id : 5406267400 Question Type : MCQ Option Shuffling : Yes Is Question Mandatory : No Option Orientation : Vertical**

**Correct Marks : 1 Wrong Marks : 0.25**

Who is Flipkart's primary competitor in India?

**Options :**

1. ✘ Soft Bank
2. ✘ Walmart
3. ✘ eBay
4. ✔ Amazon

**Question Id : 5406267395 Question Type : COMPREHENSION Sub Question Shuffling Allowed : Yes Group Comprehension Questions : No**

**Question Numbers : (156 to 160)**

Read the following passage and answer the given questions.

The board of Flipkart Online Services Pvt. has approved an agreement to sell about 75 percent of the company to a Walmart Inc.-led group for approximately \$15 billion, according to people familiar with the matter, an enormous bet by the American retailer on international expansion.

Under the proposed deal, SoftBank Group Corp. will sell all of the 20-plus percent stake it holds in Flipkart through an investment fund at a valuation of roughly \$20 billion, said the people, asking not to be named because the matter is private. Google-parent Alphabet Inc. is likely to participate in the investment with Walmart, said one of the people. A final close is expected within 10 days, though terms could still change and a deal isn't certain, they said.

That would seal a Walmart triumph over Amazon.com Inc., which has been trying to take control of Flipkart with a competing offer. Flipkart's board ultimately decided a deal with Walmart is more likely to win regulatory approval because Amazon is the No. 2 e-commerce operator in India behind Flipkart and its primary competitor. Amazon is out of the running unless Walmart hits unforeseen trouble.

**Sub questions**

**Question Number : 156 Question Id : 5406267396 Question Type : MCQ Option Shuffling : Yes Is Question Mandatory : No Option Orientation : Vertical**

**Correct Marks : 1 Wrong Marks : 0.25**

Walmart Inc. an international retailer belongs to which country?

**Options :**

1. ✓ United States of America
2. ✗ England
3. ✗ France
4. ✗ Germany

**Question Number : 157 Question Id : 5406267397 Question Type : MCQ Option Shuffling : Yes Is Question Mandatory : No Option Orientation : Vertical**

**Correct Marks : 1 Wrong Marks : 0.25**

How much percent stake does SoftBank Group Corp. has in Flipkart?

**Options :**

1. ✗ less than 20 percent
2. ✓ more than 20 percent
3. ✗ they do not have any stake in Flipkart
4. ✗ 20 percent

**Question Number : 158 Question Id : 5406267398 Question Type : MCQ Option Shuffling : Yes Is Question Mandatory : No Option Orientation : Vertical**

**Correct Marks : 1 Wrong Marks : 0.25**

Why was Walmart a better option for Flipkart over others?

**Options :**

1. ✗ As Amazon is out of the running
2. ✓ As the deal with Walmart is more likely to win them regulatory approval
3. ✗ As Flipkart is predicted to hit unforeseen trouble
4. ✗ As SoftBank Group Corp will sell all of its stakes in Flipkart through an investment fund

**Question Number : 159 Question Id : 5406267399 Question Type : MCQ Option Shuffling : Yes Is Question Mandatory : No Option Orientation : Vertical**

**Correct Marks : 1 Wrong Marks : 0.25**

Flipkart would be selling 75 percent of the company to which of the following company?

**Options :**

1. ✘ eBay
2. ✘ Amazon
3. ✔ Walmart
4. ✘ Alibaba

**Question Number : 160 Question Id : 5406267400 Question Type : MCQ Option Shuffling : Yes Is Question Mandatory : No Option Orientation : Vertical**

**Correct Marks : 1 Wrong Marks : 0.25**

Who is Flipkart's primary competitor in India?

**Options :**

1. ✘ Soft Bank
2. ✘ Walmart
3. ✘ eBay
4. ✔ Amazon

## General Hindi1

<b>Group Number :</b>	9
<b>Group Id :</b>	540626230
<b>Group Maximum Duration :</b>	0
<b>Group Minimum Duration :</b>	0
<b>Show Attended Group? :</b>	No
<b>Edit Attended Group? :</b>	No
<b>Break time :</b>	0
<b>Group Marks :</b>	20
<b>Is this Group for Examiner? :</b>	No

## Hindi Language & Comprehension1

<b>Section Id :</b>	540626309
<b>Section Number :</b>	1
<b>Section type :</b>	Online

<b>Mandatory or Optional :</b>	Mandatory
<b>Number of Questions :</b>	20
<b>Number of Questions to be attempted :</b>	20
<b>Section Marks :</b>	20
<b>Enable Mark as Answered Mark for Review and Clear Response :</b>	Yes
<b>Sub-Section Number :</b>	1
<b>Sub-Section Id :</b>	540626359
<b>Question Shuffling Allowed :</b>	Yes

**Question Number : 161 Question Id : 5406267401 Question Type : MCQ Option Shuffling : Yes Is Question Mandatory : No Option Orientation : Vertical**

**Correct Marks : 1 Wrong Marks : 0.25**

निम्न में से "जात्याभिमानी" का सही संधि विच्छेद क्या है?

**Options :**

1. ✘ जात्या + अभिमानी
2. ✔ जाति + अभिमानी
3. ✘ जात्या + भीमानी
4. ✘ जाति + अभीमानि

**Question Number : 161 Question Id : 5406267401 Question Type : MCQ Option Shuffling : Yes Is Question Mandatory : No Option Orientation : Vertical**

**Correct Marks : 1 Wrong Marks : 0.25**

निम्न में से "जात्याभिमानी" का सही संधि विच्छेद क्या है?

**Options :**

1. ✘ जात्या + अभिमानी
2. ✔ जाति + अभिमानी
3. ✘ जात्या + भीमानी
4. ✘ जाति + अभीमानि

**Question Number : 162 Question Id : 5406267402 Question Type : MCQ Option Shuffling : Yes Is Question Mandatory : No Option Orientation : Vertical**

**Correct Marks : 1 Wrong Marks : 0.25**



जय' शब्द में कौन-सा उपसर्ग लगाने से वह 'जय' का विलोमार्थक हो जाएगा?

Options :

1. ✘ आ
2. ✘ वि
3. ✘ परि
4. ✔ परा

Question Number : 162 Question Id : 5406267402 Question Type : MCQ Option Shuffling : Yes Is Question Mandatory : No Option Orientation : Vertical

Correct Marks : 1 Wrong Marks : 0.25

जय' शब्द में कौन-सा उपसर्ग लगाने से वह 'जय' का विलोमार्थक हो जाएगा?

Options :

1. ✘ आ
2. ✘ वि
3. ✘ परि
4. ✔ परा

Question Number : 163 Question Id : 5406267403 Question Type : MCQ Option Shuffling : Yes Is Question Mandatory : No Option Orientation : Vertical

Correct Marks : 1 Wrong Marks : 0.25

"सत्याग्रह" शब्द का समास विग्रह क्या होगा?

Options :

1. ✔ सत्य के लिए आग्रह
2. ✘ सत्य एवं आग्रह
3. ✘ सत्य का आग्रह
4. ✘ सत्य का ग्रह

Question Number : 163 Question Id : 5406267403 Question Type : MCQ Option Shuffling : Yes Is Question Mandatory : No Option Orientation : Vertical

Correct Marks : 1 Wrong Marks : 0.25

"सत्याग्रह" शब्द का समास विग्रह क्या होगा?

Options :

1. ✓ सत्य के लिए आग्रह
2. ✗ सत्य एवं आग्रह
3. ✗ सत्य का आग्रह
4. ✗ सत्य का ग्रह

Question Number : 164 Question Id : 5406267404 Question Type : MCQ Option Shuffling : Yes Is Question Mandatory : No Option Orientation : Vertical

Correct Marks : 1 Wrong Marks : 0.25

निम्न में से तद्भव शब्द का चयन कीजिए:

Options :

1. ✗ मूषक
2. ✗ बालुका
3. ✓ मकड़ी
4. ✗ वाद्य

Question Number : 164 Question Id : 5406267404 Question Type : MCQ Option Shuffling : Yes Is Question Mandatory : No Option Orientation : Vertical

Correct Marks : 1 Wrong Marks : 0.25

निम्न में से तद्भव शब्द का चयन कीजिए:

Options :

1. ✗ मूषक
2. ✗ बालुका
3. ✓ मकड़ी
4. ✗ वाद्य

Question Number : 165 Question Id : 5406267405 Question Type : MCQ Option Shuffling : Yes Is Question Mandatory : No Option Orientation : Vertical

Correct Marks : 1 Wrong Marks : 0.25

निम्नलिखित में से कौन-सा शब्द द्रव्यवाचक संज्ञा नहीं है?

Options :

1. ✘ पीतल
2. ✔ लम्बाई
3. ✘ चाँदी
4. ✘ सोना

**Question Number : 165 Question Id : 5406267405 Question Type : MCQ Option Shuffling : Yes Is Question Mandatory : No Option Orientation : Vertical**

**Correct Marks : 1 Wrong Marks : 0.25**

निम्नलिखित में से कौन-सा शब्द द्रव्यवाचक संज्ञा नहीं है?

**Options :**

1. ✘ पीतल
2. ✔ लम्बाई
3. ✘ चाँदी
4. ✘ सोना

**Question Number : 166 Question Id : 5406267406 Question Type : MCQ Option Shuffling : Yes Is Question Mandatory : No Option Orientation : Vertical**

**Correct Marks : 1 Wrong Marks : 0.25**

दिए गए वाक्य के लिए एक शब्द का चयन कीजिए:

"बहुत दिनों तक रहने वाला"

**Options :**

1. ✘ चिरंजीवी
2. ✘ छिद्रान्वेषी
3. ✘ तत्वविद्
4. ✔ चिरस्थायी

**Question Number : 166 Question Id : 5406267406 Question Type : MCQ Option Shuffling : Yes Is Question Mandatory : No Option Orientation : Vertical**

**Correct Marks : 1 Wrong Marks : 0.25**

दिए गए वाक्य के लिए एक शब्द का चयन कीजिए:

"बहुत दिनों तक रहने वाला"

Options :

1. ✘ चिरंजीवी
2. ✘ छिद्रान्वेषी
3. ✘ तत्वविद्
4. ✔ चिरस्थायी

Question Number : 167 Question Id : 5406267407 Question Type : MCQ Option Shuffling : Yes Is Question Mandatory : No Option Orientation : Vertical

Correct Marks : 1 Wrong Marks : 0.25

निम्नलिखित में से कौन-सा शब्द "समसामयिक" का पर्यायवाची है?

Options :

1. ✔ समकालिक
2. ✘ आलोचक
3. ✘ आत्माश्रय
4. ✘ आसक्ति

Question Number : 167 Question Id : 5406267407 Question Type : MCQ Option Shuffling : Yes Is Question Mandatory : No Option Orientation : Vertical

Correct Marks : 1 Wrong Marks : 0.25

निम्नलिखित में से कौन-सा शब्द "समसामयिक" का पर्यायवाची है?

Options :

1. ✔ समकालिक
2. ✘ आलोचक
3. ✘ आत्माश्रय
4. ✘ आसक्ति

Question Number : 168 Question Id : 5406267408 Question Type : MCQ Option Shuffling : Yes Is Question Mandatory : No Option Orientation : Vertical

Correct Marks : 1 Wrong Marks : 0.25

निम्नलिखित में से दिए गए शब्द-युग्म के सही अर्थ-भेद वाले विकल्प का चयन कीजिए:

कोश - कोष

Options :

1. ✘ असत्यवादी - रक्षक
2. ✔ शब्दकोश - खजाना
3. ✘ दर्शन - प्रस्थान
4. ✘ मील के बराबर एक नाप - शब्दकोश

Question Number : 168 Question Id : 5406267408 Question Type : MCQ Option Shuffling : Yes Is Question Mandatory : No Option Orientation : Vertical

Correct Marks : 1 Wrong Marks : 0.25

निम्नलिखित में से दिए गए शब्द-युग्म के सही अर्थ-भेद वाले विकल्प का चयन कीजिए:

कोश - कोष

Options :

1. ✘ असत्यवादी - रक्षक
2. ✔ शब्दकोश - खजाना
3. ✘ दर्शन - प्रस्थान
4. ✘ मील के बराबर एक नाप - शब्दकोश

Question Number : 169 Question Id : 5406267409 Question Type : MCQ Option Shuffling : Yes Is Question Mandatory : No Option Orientation : Vertical

Correct Marks : 1 Wrong Marks : 0.25

निम्नलिखित में से "कोलाहल" का विलोम शब्द क्या है?

Options :

1. ✘ अपकीर्ति
2. ✘ बदसूरत
3. ✔ शान्ति
4. ✘ कोप

Question Number : 169 Question Id : 5406267409 Question Type : MCQ Option Shuffling : Yes Is Question Mandatory : No Option Orientation : Vertical

Correct Marks : 1 Wrong Marks : 0.25

निम्नलिखित में से "कोलाहल" का विलोम शब्द क्या है?

Options :

1. ✘ अपकीर्ति
2. ✘ बदसूरत
3. ✔ शान्ति
4. ✘ कोप

Question Number : 170 Question Id : 5406267410 Question Type : MCQ Option Shuffling : Yes Is Question Mandatory : No Option Orientation : Vertical

Correct Marks : 1 Wrong Marks : 0.25

निम्नलिखित में से कौन-सा अग्र स्वर नहीं है?

Options :

1. ✔ अ
2. ✘ इ
3. ✘ ए
4. ✘ ऐ

Question Number : 170 Question Id : 5406267410 Question Type : MCQ Option Shuffling : Yes Is Question Mandatory : No Option Orientation : Vertical

Correct Marks : 1 Wrong Marks : 0.25

निम्नलिखित में से कौन-सा अग्र स्वर नहीं है?

Options :

1. ✔ अ
2. ✘ इ
3. ✘ ए
4. ✘ ऐ

Question Number : 171 Question Id : 5406267411 Question Type : MCQ Option Shuffling : Yes Is Question Mandatory : No Option

**Orientation : Vertical**

**Correct Marks : 1 Wrong Marks : 0.25**

निम्न में से अशुद्ध वर्तनी वाले शब्द का चयन कीजिए:

**Options :**

1. ✓ प्रतियक्ष
2. ✗ प्राप्त
3. ✗ निकाय
4. ✗ धनोपार्जन

**Question Number : 171 Question Id : 5406267411 Question Type : MCQ Option Shuffling : Yes Is Question Mandatory : No Option**

**Orientation : Vertical**

**Correct Marks : 1 Wrong Marks : 0.25**

निम्न में से अशुद्ध वर्तनी वाले शब्द का चयन कीजिए:

**Options :**

1. ✓ प्रतियक्ष
2. ✗ प्राप्त
3. ✗ निकाय
4. ✗ धनोपार्जन

**Question Number : 172 Question Id : 5406267412 Question Type : MCQ Option Shuffling : Yes Is Question Mandatory : No Option**

**Orientation : Vertical**

**Correct Marks : 1 Wrong Marks : 0.25**

निम्नलिखित में से "पाश्चात्य" का विलोम शब्द क्या है?

**Options :**

1. ✗ आगमन
2. ✓ पौरस्त्य
3. ✗ खण्डित
4. ✗ अपरिपक्व

**Question Number : 172 Question Id : 5406267412 Question Type : MCQ Option Shuffling : Yes Is Question Mandatory : No Option**

**Orientation : Vertical**

**Correct Marks : 1 Wrong Marks : 0.25**

निम्नलिखित में से "पाश्चात्य" का विलोम शब्द क्या है?

**Options :**

1. ✘ आगमन
2. ✔ पौरस्त्य
3. ✘ खण्डित
4. ✘ अपरिपक्व

**Question Number : 173 Question Id : 5406267413 Question Type : MCQ Option Shuffling : Yes Is Question Mandatory : No Option Orientation : Vertical**

**Correct Marks : 1 Wrong Marks : 0.25**

निम्नलिखित में से कौन-सा शब्द "असुर" का पर्यायवाची नहीं है?

**Options :**

1. ✘ दनुज
2. ✘ दानव
3. ✔ मयूख
4. ✘ दैत्य

**Question Number : 173 Question Id : 5406267413 Question Type : MCQ Option Shuffling : Yes Is Question Mandatory : No Option Orientation : Vertical**

**Correct Marks : 1 Wrong Marks : 0.25**

निम्नलिखित में से कौन-सा शब्द "असुर" का पर्यायवाची नहीं है?

**Options :**

1. ✘ दनुज
2. ✘ दानव
3. ✔ मयूख
4. ✘ दैत्य

**Question Number : 174 Question Id : 5406267414 Question Type : MCQ Option Shuffling : Yes Is Question Mandatory : No Option Orientation : Vertical**

**Correct Marks : 1 Wrong Marks : 0.25**



निम्न में से असंगत/बेमेल शब्द का चयन कीजिए:

Options :

1. ✓ गौण
2. ✗ मछली
3. ✗ झख
4. ✗ मीन

Question Number : 174 Question Id : 5406267414 Question Type : MCQ Option Shuffling : Yes Is Question Mandatory : No Option Orientation : Vertical

Correct Marks : 1 Wrong Marks : 0.25

निम्न में से असंगत/बेमेल शब्द का चयन कीजिए:

Options :

1. ✓ गौण
2. ✗ मछली
3. ✗ झख
4. ✗ मीन

Question Number : 175 Question Id : 5406267415 Question Type : MCQ Option Shuffling : Yes Is Question Mandatory : No Option Orientation : Vertical

Correct Marks : 1 Wrong Marks : 0.25

निम्नलिखित में से किस शब्द की वर्तनी शुद्ध है?

Options :

1. ✗ क्रपया
2. ✗ अतीआवश्यक
3. ✗ क्रियान्वायन
4. ✓ अतिरंजित

Question Number : 175 Question Id : 5406267415 Question Type : MCQ Option Shuffling : Yes Is Question Mandatory : No Option Orientation : Vertical

Correct Marks : 1 Wrong Marks : 0.25

निम्नलिखित में से किस शब्द की वर्तनी शुद्ध है?

**Options :**

1. ✘ क्रपया
2. ✘ अतीआवश्यक
3. ✘ क्रियान्वायन
4. ✔ अतिरंजित

**Question Number : 176 Question Id : 5406267416 Question Type : MCQ Option Shuffling : Yes Is Question Mandatory : No Option Orientation : Vertical**

**Correct Marks : 1 Wrong Marks : 0.25**

निम्न में से स्त्रीलिंग शब्द का चयन कीजिए:

**Options :**

1. ✘ आज्ञाकारी
2. ✘ बलवान
3. ✘ शर्व
4. ✔ पोशाक

**Question Number : 176 Question Id : 5406267416 Question Type : MCQ Option Shuffling : Yes Is Question Mandatory : No Option Orientation : Vertical**

**Correct Marks : 1 Wrong Marks : 0.25**

निम्न में से स्त्रीलिंग शब्द का चयन कीजिए:

**Options :**

1. ✘ आज्ञाकारी
2. ✘ बलवान
3. ✘ शर्व
4. ✔ पोशाक

**Question Number : 177 Question Id : 5406267417 Question Type : MCQ Option Shuffling : Yes Is Question Mandatory : No Option Orientation : Vertical**

**Correct Marks : 1 Wrong Marks : 0.25**

निम्नलिखित में से "रीति" का बहुवचन \_\_\_\_\_ है।

**Options :**

1. ✓ रीतियाँ
2. ✗ रीतीयाँ
3. ✗ रितियाँ
4. ✗ रीती

**Question Number : 177 Question Id : 5406267417 Question Type : MCQ Option Shuffling : Yes Is Question Mandatory : No Option Orientation : Vertical**

**Correct Marks : 1 Wrong Marks : 0.25**

निम्नलिखित में से "रीति" का बहुवचन \_\_\_\_\_ है।

**Options :**

1. ✓ रीतियाँ
2. ✗ रीतीयाँ
3. ✗ रितियाँ
4. ✗ रीती

**Question Number : 178 Question Id : 5406267418 Question Type : MCQ Option Shuffling : Yes Is Question Mandatory : No Option Orientation : Vertical**

**Correct Marks : 1 Wrong Marks : 0.25**

सोहन ने अपनी पत्नी के द्वारा खाना बनवाया, यहाँ "के द्वारा" किस कारक की विभक्ति है?

**Options :**

1. ✗ सम्बोधन कारक
2. ✓ करण कारक
3. ✗ संप्रदान कारक
4. ✗ अधिकरण कारक

**Question Number : 178 Question Id : 5406267418 Question Type : MCQ Option Shuffling : Yes Is Question Mandatory : No Option Orientation : Vertical**

**Correct Marks : 1 Wrong Marks : 0.25**

सोहन ने अपनी पत्नी के द्वारा खाना बनवाया, यहाँ "के द्वारा" किस कारक की विभक्ति है?

**Options :**

1. ✗ सम्बोधन कारक

2. ✓ करण कारक
3. ✗ संप्रदान कारक
4. ✗ अधिकरण कारक

**Question Number : 179 Question Id : 5406267419 Question Type : MCQ Option Shuffling : Yes Is Question Mandatory : No Option Orientation : Vertical**

**Correct Marks : 1 Wrong Marks : 0.25**

यदि तुम पढ़ोगे, तो पास हो जाओगे।' यह वाक्य किस काल का उदाहरण है?

**Options :**

1. ✗ सामान्य भविष्यत्
2. ✗ संदिग्ध वर्तमान
3. ✓ हेतुहेतुमद् भविष्यत्
4. ✗ पूर्ण भूत

**Question Number : 179 Question Id : 5406267419 Question Type : MCQ Option Shuffling : Yes Is Question Mandatory : No Option Orientation : Vertical**

**Correct Marks : 1 Wrong Marks : 0.25**

यदि तुम पढ़ोगे, तो पास हो जाओगे।' यह वाक्य किस काल का उदाहरण है?

**Options :**

1. ✗ सामान्य भविष्यत्
2. ✗ संदिग्ध वर्तमान
3. ✓ हेतुहेतुमद् भविष्यत्
4. ✗ पूर्ण भूत

**Question Number : 180 Question Id : 5406267420 Question Type : MCQ Option Shuffling : Yes Is Question Mandatory : No Option Orientation : Vertical**

**Correct Marks : 1 Wrong Marks : 0.25**

निम्न में से कर्तृवाच्य से संबंधित वाक्य कौन-सा है?

**Options :**

1. ✗ मुझसे दौड़ा जाता है।
2. ✓ कुत्ता भाग रहा है।

3. ✘ रीना से दही खाया जाता है।
4. ✘ लड़की से चाय पी जाती है।

**Question Number : 180 Question Id : 5406267420 Question Type : MCQ Option Shuffling : Yes Is Question Mandatory : No Option Orientation : Vertical**

**Correct Marks : 1 Wrong Marks : 0.25**

निम्न में से कर्तृवाच्य से संबंधित वाक्य कौन-सा है?

**Options :**

1. ✘ मुझसे दौड़ा जाता है।
2. ✔ कुत्ता भाग रहा है।
3. ✘ रीना से दही खाया जाता है।
4. ✘ लड़की से चाय पी जाती है।

## General Hindi2

<b>Group Number :</b>	10
<b>Group Id :</b>	540626231
<b>Group Maximum Duration :</b>	0
<b>Group Minimum Duration :</b>	120
<b>Show Attended Group? :</b>	No
<b>Edit Attended Group? :</b>	No
<b>Break time :</b>	0
<b>Group Marks :</b>	20
<b>Is this Group for Examiner? :</b>	No

## Hindi Language & Comprehension2

<b>Section Id :</b>	540626310
<b>Section Number :</b>	1
<b>Section type :</b>	Online
<b>Mandatory or Optional :</b>	Mandatory

Number of Questions :	16
Number of Questions to be attempted :	16
Section Marks :	20
Enable Mark as Answered Mark for Review and Clear Response :	Yes
Sub-Section Number :	1
Sub-Section Id :	540626360
Question Shuffling Allowed :	Yes

**Question Number : 181 Question Id : 5406267421 Question Type : MCQ Option Shuffling : Yes Is Question Mandatory : No Option Orientation : Vertical**

**Correct Marks : 1 Wrong Marks : 0.25**

निम्न में से संबंधवाचक सर्वनाम से संबंधित वाक्य कौन-सा है?

**Options :**

1. ✘ भारत में लगभग 125 करोड़ लोग निवास करते हैं।
2. ✔ जो करेगा सो भरेगा।
3. ✘ आप कहा रहते हैं?
4. ✘ मोहन तो आया है।

**Question Number : 181 Question Id : 5406267421 Question Type : MCQ Option Shuffling : Yes Is Question Mandatory : No Option Orientation : Vertical**

**Correct Marks : 1 Wrong Marks : 0.25**

निम्न में से संबंधवाचक सर्वनाम से संबंधित वाक्य कौन-सा है?

**Options :**

1. ✘ भारत में लगभग 125 करोड़ लोग निवास करते हैं।
2. ✔ जो करेगा सो भरेगा।
3. ✘ आप कहा रहते हैं?
4. ✘ मोहन तो आया है।

**Question Number : 182 Question Id : 5406267422 Question Type : MCQ Option Shuffling : Yes Is Question Mandatory : No Option Orientation : Vertical**

**Correct Marks : 1 Wrong Marks : 0.25**

निम्न में से शुद्ध वाक्य का चयन कीजिए:

**Options :**

1. ✖ इस बात के कहने में मरे को कोई संकोच नहीं होगा।
2. ✖ मैं अपनी बात सप्रमाण सहित कहूँगा।
3. ✖ मेरे कहने को किसी ने न माना।
4. ✔ मैं जो कहूँगा क्या तुम वह मानोगे?

**Question Number : 182 Question Id : 5406267422 Question Type : MCQ Option Shuffling : Yes Is Question Mandatory : No Option Orientation : Vertical**

**Correct Marks : 1 Wrong Marks : 0.25**

निम्न में से शुद्ध वाक्य का चयन कीजिए:

**Options :**

1. ✖ इस बात के कहने में मरे को कोई संकोच नहीं होगा।
2. ✖ मैं अपनी बात सप्रमाण सहित कहूँगा।
3. ✖ मेरे कहने को किसी ने न माना।
4. ✔ मैं जो कहूँगा क्या तुम वह मानोगे?

**Question Number : 183 Question Id : 5406267423 Question Type : MCQ Option Shuffling : Yes Is Question Mandatory : No Option Orientation : Vertical**

**Correct Marks : 1 Wrong Marks : 0.25**

निम्न में से संयुक्त वाक्य का चयन कीजिए:

**Options :**

1. ✔ पैसा साध्य नहीं है, किन्तु साधन है।
2. ✖ पैसा साध्य न होकर साधन है।
3. ✖ अपने गुणों के कारण उसका सभी जगह आदर - सत्कार होता था।
4. ✖ दोनों में से कोई काम पूरा नहीं हुआ।

**Question Number : 183 Question Id : 5406267423 Question Type : MCQ Option Shuffling : Yes Is Question Mandatory : No Option Orientation : Vertical**

**Correct Marks : 1 Wrong Marks : 0.25**

निम्न में से संयुक्त वाक्य का चयन कीजिए:

**Options :**

1. ✓ पैसा साध्य नहीं है, किन्तु साधन है।
2. ✗ पैसा साध्य न होकर साधन है।
3. ✗ अपने गुणों के कारण उसका सभी जगह आदर - सत्कार होता था।
4. ✗ दोनों में से कोई काम पूरा नहीं हुआ।

**Question Number : 184 Question Id : 5406267424 Question Type : MCQ Option Shuffling : Yes Is Question Mandatory : No Option Orientation : Vertical**

**Correct Marks : 1 Wrong Marks : 0.25**

दिए गए वाक्य को सरल वाक्य में परिवर्तित कीजिए:

"चूँकि सुषमा बीमार है, इसलिए वह स्कूल नहीं गई।"

**Options :**

1. ✗ सुषमा बीमार है, अतः वह स्कूल नहीं जायेगी।
2. ✗ यद्यपि सुषमा बीमार है, तथापि वह स्कूल नहीं जायेगी।
3. ✗ सुषमा बीमार है, तो वह आज स्कूल नहीं गई।
4. ✓ सुषमा, बीमार होने के कारण आज स्कूल नहीं गई।

**Question Number : 184 Question Id : 5406267424 Question Type : MCQ Option Shuffling : Yes Is Question Mandatory : No Option Orientation : Vertical**

**Correct Marks : 1 Wrong Marks : 0.25**

दिए गए वाक्य को सरल वाक्य में परिवर्तित कीजिए:

"चूँकि सुषमा बीमार है, इसलिए वह स्कूल नहीं गई।"

**Options :**

1. ✗ सुषमा बीमार है, अतः वह स्कूल नहीं जायेगी।
2. ✗ यद्यपि सुषमा बीमार है, तथापि वह स्कूल नहीं जायेगी।
3. ✗ सुषमा बीमार है, तो वह आज स्कूल नहीं गई।
4. ✓ सुषमा, बीमार होने के कारण आज स्कूल नहीं गई।

**Question Number : 185 Question Id : 5406267425 Question Type : MCQ Option Shuffling : Yes Is Question Mandatory : No Option Orientation : Vertical**

**Correct Marks : 1 Wrong Marks : 0.25**



वाक्य के शुद्ध रूप का चयन कीजिए:

**Options :**

1. ✘ आप किधर को जा रहे हैं?
2. ✔ आप कहाँ जा रहे हैं?
3. ✘ आप कहाँ को जा रहे हैं?
4. ✘ आप किधर जा रहे हैं?

**Question Number : 185 Question Id : 5406267425 Question Type : MCQ Option Shuffling : Yes Is Question Mandatory : No Option Orientation : Vertical**

**Correct Marks : 1 Wrong Marks : 0.25**

वाक्य के शुद्ध रूप का चयन कीजिए:

**Options :**

1. ✘ आप किधर को जा रहे हैं?
2. ✔ आप कहाँ जा रहे हैं?
3. ✘ आप कहाँ को जा रहे हैं?
4. ✘ आप किधर जा रहे हैं?

**Question Number : 186 Question Id : 5406267426 Question Type : MCQ Option Shuffling : Yes Is Question Mandatory : No Option Orientation : Vertical**

**Correct Marks : 1 Wrong Marks : 0.25**

दिए गए वाक्य के प्रकार का चयन कीजिए:

"शेरशाह सूरी एक बहादुर बादशाह था।"

**Options :**

1. ✔ विधानवाचक वाक्य
2. ✘ संयुक्त वाक्य
3. ✘ मिश्र वाक्य
4. ✘ विस्मयादिबोधक वाक्य

**Question Number : 186 Question Id : 5406267426 Question Type : MCQ Option Shuffling : Yes Is Question Mandatory : No Option Orientation : Vertical**

**Correct Marks : 1 Wrong Marks : 0.25**

दिए गए वाक्य के प्रकार का चयन कीजिए:

"शेरशाह सूरी एक बहादुर बादशाह था।"

**Options :**

1. ✓ विधानवाचक वाक्य
2. ✗ संयुक्त वाक्य
3. ✗ मिश्र वाक्य
4. ✗ विस्मयादिबोधक वाक्य

**Question Number : 187 Question Id : 5406267427 Question Type : MCQ Option Shuffling : Yes Is Question Mandatory : No Option Orientation : Vertical**

**Correct Marks : 1 Wrong Marks : 0.25**

जिस वाक्य में केवल एक उद्देश्य और एक विधेय हो अथवा अनेक उद्देश्यों का सभी विधेयों से समान संबंध हो, \_\_\_\_\_ कहलाता है।

**Options :**

1. ✗ मिश्र वाक्य
2. ✗ प्रश्नवाचक वाक्य
3. ✓ सरल वाक्य
4. ✗ विधानवाचक वाक्य

**Question Number : 187 Question Id : 5406267427 Question Type : MCQ Option Shuffling : Yes Is Question Mandatory : No Option Orientation : Vertical**

**Correct Marks : 1 Wrong Marks : 0.25**

जिस वाक्य में केवल एक उद्देश्य और एक विधेय हो अथवा अनेक उद्देश्यों का सभी विधेयों से समान संबंध हो, \_\_\_\_\_ कहलाता है।

**Options :**

1. ✗ मिश्र वाक्य
2. ✗ प्रश्नवाचक वाक्य
3. ✓ सरल वाक्य
4. ✗ विधानवाचक वाक्य

**Question Number : 188 Question Id : 5406267428 Question Type : MCQ Option Shuffling : Yes Is Question Mandatory : No Option**

**Orientation : Vertical**

**Correct Marks : 1 Wrong Marks : 0.25**

निम्न में से मुहावरा "बगले झाँकना" का क्या अर्थ है?

**Options :**

1. ✓ लज्जित होकर इधर उधर देखना।
2. ✗ पूर्णतया स्वस्थ होना
3. ✗ बहुत बेईमान होना
4. ✗ मर जाना

**Question Number : 188 Question Id : 5406267428 Question Type : MCQ Option Shuffling : Yes Is Question Mandatory : No Option**

**Orientation : Vertical**

**Correct Marks : 1 Wrong Marks : 0.25**

निम्न में से मुहावरा "बगले झाँकना" का क्या अर्थ है?

**Options :**

1. ✓ लज्जित होकर इधर उधर देखना।
2. ✗ पूर्णतया स्वस्थ होना
3. ✗ बहुत बेईमान होना
4. ✗ मर जाना

**Question Number : 189 Question Id : 5406267429 Question Type : MCQ Option Shuffling : Yes Is Question Mandatory : No Option**

**Orientation : Vertical**

**Correct Marks : 1 Wrong Marks : 0.25**

निम्नलिखित में से किस मुहावरे का अर्थ "शोभा बढ़ाना" होता है?

**Options :**

1. ✓ चार चाँद लगाना
2. ✗ चार दिन की चाँदनी
3. ✗ ईद का चाँद होना
4. ✗ जमीन पर पैर न पड़ना

**Question Number : 189 Question Id : 5406267429 Question Type : MCQ Option Shuffling : Yes Is Question Mandatory : No Option**

**Orientation : Vertical**

**Correct Marks : 1 Wrong Marks : 0.25**

निम्नलिखित में से किस मुहावरे का अर्थ "शोभा बढ़ाना" होता है?

**Options :**

1. ✓ चार चाँद लगाना
2. ✗ चार दिन की चाँदनी
3. ✗ ईद का चाँद होना
4. ✗ जमीन पर पैर न पड़ना

**Question Number : 190 Question Id : 5406267430 Question Type : MCQ Option Shuffling : Yes Is Question Mandatory : No Option Orientation : Vertical**

**Correct Marks : 1 Wrong Marks : 0.25**

निम्नलिखित में से मुहावरा "सिर से तिनका उतारना" का क्या अर्थ है?

**Options :**

1. ✗ अपना कर्तव्य पूरा करना
2. ✓ जरा-सा उपकार करना
3. ✗ अपनी गलती की क्षमा माँगना
4. ✗ अहसान का बदला चुकाना

**Question Number : 190 Question Id : 5406267430 Question Type : MCQ Option Shuffling : Yes Is Question Mandatory : No Option Orientation : Vertical**

**Correct Marks : 1 Wrong Marks : 0.25**

निम्नलिखित में से मुहावरा "सिर से तिनका उतारना" का क्या अर्थ है?

**Options :**

1. ✗ अपना कर्तव्य पूरा करना
2. ✓ जरा-सा उपकार करना
3. ✗ अपनी गलती की क्षमा माँगना
4. ✗ अहसान का बदला चुकाना

**Question Number : 191 Question Id : 5406267431 Question Type : MCQ Option Shuffling : Yes Is Question Mandatory : No Option Orientation : Vertical**

**Correct Marks : 1 Wrong Marks : 0.25**

निम्नलिखित में से लोकोक्ति "नई नाइन बाँस का नैहन्ना" का क्या अर्थ है?

**Options :**

1. ✘ झगड़े को जड़ से नष्ट कर देना।
2. ✘ आँखों में धूल झोंकना
3. ✔ नये शौक को पूरा करने के लिए अजीब काम करना
4. ✘ नये शौक पालना।

**Question Number : 191 Question Id : 5406267431 Question Type : MCQ Option Shuffling : Yes Is Question Mandatory : No Option Orientation : Vertical**

**Correct Marks : 1 Wrong Marks : 0.25**

निम्नलिखित में से लोकोक्ति "नई नाइन बाँस का नैहन्ना" का क्या अर्थ है?

**Options :**

1. ✘ झगड़े को जड़ से नष्ट कर देना।
2. ✘ आँखों में धूल झोंकना
3. ✔ नये शौक को पूरा करने के लिए अजीब काम करना
4. ✘ नये शौक पालना।

**Question Number : 192 Question Id : 5406267432 Question Type : MCQ Option Shuffling : Yes Is Question Mandatory : No Option Orientation : Vertical**

**Correct Marks : 1 Wrong Marks : 0.25**

निम्न में से लोकोक्ति "ढोल का पोल" का क्या अर्थ है?

**Options :**

1. ✘ उत्कर्ष का समय समाप्त होना
2. ✘ अधिक मजाक बुरा होता है।
3. ✘ विपत्ति पड़ने पर बुद्धि का काम न करना
4. ✔ सिर्फ दिखावा गुण कुछ नहीं

**Question Number : 192 Question Id : 5406267432 Question Type : MCQ Option Shuffling : Yes Is Question Mandatory : No Option Orientation : Vertical**

**Correct Marks : 1 Wrong Marks : 0.25**

निम्न में से लोकोक्ति "ढोल का पोल" का क्या अर्थ है?

**Options :**

1. ✘ उत्कर्ष का समय समाप्त होना
2. ✘ अधिक मजाक बुरा होता है।
3. ✘ विपत्ति पड़ने पर बुद्धि का काम न करना
4. ✔ सिर्फ दिखावा गुण कुछ नहीं

**Question Number : 193 Question Id : 5406267433 Question Type : MCQ Option Shuffling : Yes Is Question Mandatory : No Option Orientation : Vertical**

**Correct Marks : 1 Wrong Marks : 0.25**

निम्न में से लेखक, पुस्तक और उद्धरण के नाम के पहले \_\_\_\_\_ का प्रयोग किया जाता है।

**Options :**

1. ✔ निर्देशक चिन्ह
2. ✘ विस्मयादिबोधक चिन्ह
3. ✘ अर्द्धविराम चिन्ह
4. ✘ अल्पविराम चिन्ह

**Question Number : 193 Question Id : 5406267433 Question Type : MCQ Option Shuffling : Yes Is Question Mandatory : No Option Orientation : Vertical**

**Correct Marks : 1 Wrong Marks : 0.25**

निम्न में से लेखक, पुस्तक और उद्धरण के नाम के पहले \_\_\_\_\_ का प्रयोग किया जाता है।

**Options :**

1. ✔ निर्देशक चिन्ह
2. ✘ विस्मयादिबोधक चिन्ह
3. ✘ अर्द्धविराम चिन्ह
4. ✘ अल्पविराम चिन्ह

**Question Number : 194 Question Id : 5406267434 Question Type : MCQ Option Shuffling : Yes Is Question Mandatory : No Option Orientation : Vertical**

**Correct Marks : 1 Wrong Marks : 0.25**

निम्न में से किस वाक्य में विस्मयादिबोधक चिन्ह का प्रयोग सही नहीं किया गया है?

**Options :**

1. ✘ हाय ! वह मर गया।
2. ✘ वाह ! कितनी अच्छी जगह है।
3. ✘ धिक्कार है तुम्हे!
4. ✔ देवी मुझे शक्ति दो !

**Question Number : 194 Question Id : 5406267434 Question Type : MCQ Option Shuffling : Yes Is Question Mandatory : No Option Orientation : Vertical**

**Correct Marks : 1 Wrong Marks : 0.25**

निम्न में से किस वाक्य में विस्मयादिबोधक चिन्ह का प्रयोग सही नहीं किया गया है?

**Options :**

1. ✘ हाय ! वह मर गया।
2. ✘ वाह ! कितनी अच्छी जगह है।
3. ✘ धिक्कार है तुम्हे!
4. ✔ देवी मुझे शक्ति दो !

**Question Number : 195 Question Id : 5406267435 Question Type : MCQ Option Shuffling : Yes Is Question Mandatory : No Option Orientation : Vertical**

**Correct Marks : 1 Wrong Marks : 0.25**

निम्नलिखित में से शैक्षणिक उपाधि एवं पदों को लिखने के लिए किस चिन्ह का प्रयोग किया जाता है?

**Options :**

1. ✘ अल्पविराम चिन्ह
2. ✘ अर्द्धविराम चिन्ह
3. ✔ लाघव चिन्ह
4. ✘ प्रश्नवाचक चिन्ह

**Question Number : 195 Question Id : 5406267435 Question Type : MCQ Option Shuffling : Yes Is Question Mandatory : No Option Orientation : Vertical**

**Correct Marks : 1 Wrong Marks : 0.25**

निम्नलिखित में से शैक्षणिक उपाधि एवं पदों को लिखने के लिए किस चिन्ह का प्रयोग किया जाता है?

**Options :**

1. ✘ अल्पविराम चिन्ह

2. ✖ अर्द्धविराम चिन्ह

3. ✔ लाघव चिन्ह

4. ✖ प्रश्नवाचक चिन्ह

Sub-Section Number :

2

Sub-Section Id :

540626361

Question Shuffling Allowed :

Yes

**Question Id : 5406267436 Question Type : COMPREHENSION Sub Question Shuffling Allowed : Yes Group Comprehension Questions : No**

**Question Numbers : (196 to 200)**

दिए गए गद्यांश का ध्यानपूर्वक अध्ययन कर प्रश्नों के उत्तर दीजिए:

लोकसभा, भारतीय संसद का निचला सदन है। भारतीय संसद का ऊपरी सदन राज्य सभा है। लोक सभा सार्वभौमिक वयस्क मताधिकार के आधार पर लोगों द्वारा प्रत्यक्ष चुनाव द्वारा चुने हुए प्रतिनिधियों से गठित होती है। भारतीय संविधान के अनुसार सदन में सदस्यों की अधिकतम संख्या 552 तक हो सकती है, जिसमें से 530 सदस्य विभिन्न राज्यों के और 20 सदस्य तक केन्द्र शासित प्रदेशों का प्रतिनिधित्व कर सकते हैं। सदन में पर्याप्त प्रतिनिधित्व नहीं होने की स्थिति में राष्ट्रपति यदि चाहे तो आंग्ल-भारतीय समुदाय के 2 प्रतिनिधियों को लोकसभा के लिए मनोनीत कर सकता है। लोकसभा की कार्यवाधि 5 वर्ष है परंतु इसे समय से पूर्व भंग किया जा सकता है।

प्रथम लोक सभा का गठन 1952 में हुआ, उस समय भारतीय राष्ट्रीय कांग्रेस 364 सीटों के साथ जीत हासिल करके सत्ता में पहुँची। इसके साथ ही जवाहर लाल नेहरू भारत के पहले प्रधानमंत्री बने। तब भारतीय राष्ट्रीय कांग्रेस को लगभग 45 प्रतिशत मत मिले थे।

भारत के प्रत्येक राज्य को उसकी जनसंख्या के आधार पर लोकसभा-सदस्य मिलते हैं। वर्तमान में यह 1971 की जनसंख्या पर आधारित है। अगली बार लोकसभा के सदस्यों की संख्या वर्ष 2026 में निर्धारित किया जायेगा। इससे पहले प्रत्येक दशक की जनगणना के आधार पर सदस्य स्थान निर्धारित होते थे। यह कार्य 84वें संविधान संशोधन(2001) से किया गया था, जिससे राज्य अपनी आबादी के आधार पर ज्यादा से ज्यादा स्थान प्राप्त करने का प्रयास नहीं करें। वर्तमान स्वरूप में राज्यों की जनसंख्या के अनुसार वितरित सीटों की संख्या के अनुसार उत्तर भारत का प्रतिनिधित्व, दक्षिण भारत के मुकाबले बहुत कम है। जहाँ दक्षिण के चार राज्यों, तमिलनाडु, आंध्र प्रदेश, कर्नाटक और केरल को जिनकी संयुक्त जनसंख्या देश की जनसंख्या का सिर्फ 21% है, को 129 लोक सभा की सीटें आवंटित की गयी हैं जबकि, सबसे अधिक जनसंख्या वाले हिन्दी भाषायी राज्य उत्तर प्रदेश और बिहार जिनकी संयुक्त जनसंख्या देश की जनसंख्या का 25.1% है के खाते में सिर्फ 120 सीटें ही आती हैं। वर्तमान में अध्यक्ष और आंग्ल-भारतीय समुदाय के दो मनोनीत सदस्यों को मिलाकर, सदन की सदस्य संख्या 545 है।

यदि समय से पहले भंग ना किया गया हो तो, लोक सभा का कार्यकाल अपनी पहली बैठक से लेकर अगले पाँच वर्ष तक होता है उसके बाद यह स्वतः भंग हो जाती है। लोक सभा के कार्यकाल के दौरान यदि आपातकाल की घोषणा की जाती है तो संसद को इसका कार्यकाल कानून के द्वारा एक समय में अधिकतम एक वर्ष तक बढ़ाने का अधिकार है, जबकि आपातकाल की घोषणा समाप्त होने की स्थिति में इसे किसी भी परिस्थिति में छः महीने से अधिक नहीं बढ़ाया जा सकता। लोकसभा अपने निर्वाचित सदस्यों में से एक सदस्य को अपने अध्यक्ष (स्पीकर) के रूप में चुनती है। कार्य संचालन में अध्यक्ष की सहायता उपाध्यक्ष द्वारा की जाती है, जिसका चुनाव भी लोक सभा के निर्वाचित सदस्य करते हैं। लोक सभा में कार्य संचालन का उत्तरदायित्व अध्यक्ष का होता है। वर्तमान में लोकसभा अध्यक्ष ओम बिरला है।

दोनों सदनों का सम्मिलित सत्र बुलाने पर स्पीकर ही उसका अध्यक्ष होगा। उसके अनुपस्थित होने पर उपस्पीकर तथा उसके भी न होने पर राज्यसभा का



उपसभापति अथवा सत्र द्वारा नांमाकित कोई भी सदस्य सत्र का अध्यक्ष होता है। धन बिल का निर्धारण स्पीकर करता है। यदि धन बिल पर स्पीकर साक्ष्यांकित नहीं करता है, तो उस बिल को धन बिल नहीं माना जायेगा। स्पीकर का निर्णय अंतिम तथा बाध्यकारी होता है। सभी संसदीय समितियाँ उसकी अधीनता में कार्य करती हैं। उसके किसी समिति का सदस्य चुने जाने पर वह उसका पदेन अध्यक्ष होगा। लोकसभा के विघटन होने पर भी स्पीकर पद पर कार्यरत रहता है। नवीन लोकसभा के चुने जाने पर ही वह अपना पद छोड़ता है।

### Sub questions

**Question Number : 196 Question Id : 5406267437 Question Type : MCQ Option Shuffling : Yes Is Question Mandatory : No Option Orientation : Vertical**

**Correct Marks : 1 Wrong Marks : 0.25**

उपरोक्त गद्यांश के संदर्भ में कौन-सा कथन सही नहीं है?

**Options :**

1. ✘ यदि धन बिल पर स्पीकर साक्ष्यांकित नहीं करता है, तो उस बिल को धन बिल नहीं माना जायेगा।
2. ✘ लोकसभा अपने निर्वाचित सदस्यों में से एक सदस्य को अपने अध्यक्ष (स्पीकर) के रूप में चुनती है।
3. ✔ लोकसभा की कार्यावधि 6 वर्ष है परंतु इसे समय से पूर्व भंग किया जा सकता है।
4. ✘ भारतीय संसद का ऊपरी सदन राज्य सभा है।

**Question Number : 197 Question Id : 5406267438 Question Type : MCQ Option Shuffling : Yes Is Question Mandatory : No Option Orientation : Vertical**

**Correct Marks : 1 Wrong Marks : 0.25**

दिए गए विकल्पों में से गद्यांश का उचित शीर्षक बताइए:

**Options :**

1. ✘ विधान परिषद
2. ✘ विधानसभा
3. ✘ राज्यसभा
4. ✔ लोकसभा

**Question Number : 198 Question Id : 5406267439 Question Type : MCQ Option Shuffling : Yes Is Question Mandatory : No Option Orientation : Vertical**

**Correct Marks : 1 Wrong Marks : 0.25**

उपरोक्त गद्यांश के अनुसार लोक सभा के कार्यकाल के दौरान यदि आपातकाल की घोषणा की जाती है तो संसद को इसका कार्यकाल कानून के द्वारा एक समय में \_\_\_\_\_ तक बढ़ाने का अधिकार है।

**Options :**

1. ✘ अधिकतम 18 माह
2. ✔ अधिकतम एक वर्ष
3. ✘ अधिकतम छः माह
4. ✘ अधिकतम तीन माह

**Question Number : 199 Question Id : 5406267440 Question Type : MCQ Option Shuffling : Yes Is Question Mandatory : No Option Orientation : Vertical**

**Correct Marks : 1 Wrong Marks : 0.25**

उपरोक्त गद्यांश में प्रयुक्त शब्द “साक्ष्यांकित” का निम्न में से क्या अर्थ है?

**Options :**

1. ✔ प्रमाणित
2. ✘ संपन्न
3. ✘ चमकीला
4. ✘ अनिश्चित

**Question Number : 200 Question Id : 5406267441 Question Type : MCQ Option Shuffling : Yes Is Question Mandatory : No Option Orientation : Vertical**

**Correct Marks : 1 Wrong Marks : 0.25**

उपरोक्त गद्यांश के अनुसार कौन-सा कथन सही है?

**Options :**

1. ✔ यदि समय से पहले भंग ना किया गया हो तो, लोक सभा का कार्यकाल अपनी पहली बैठक से लेकर अगले पाँच वर्ष तक होता है उसके बाद यह स्वतः भंग हो जाती है।
2. ✘ अधिक जनसंख्या वाले हिन्दी भाषायी राज्य उत्तर प्रदेश और बिहार जिनकी संयुक्त जनसंख्या देश की जनसंख्या का 21% है के खाते में सिर्फ 120 सीटें ही आती हैं।
3. ✘ तमिलनाडु, आंध्र प्रदेश, कर्नाटक और केरल को जिनकी संयुक्त जनसंख्या देश की जनसंख्या का सिर्फ 25.1% है, को 129 लोक सभा की सीटें आवंटित की गयी हैं।
4. ✘ भारत के प्रत्येक राज्य को उसकी जनसंख्या के आधार पर लोकसभा-सदस्य मिलते हैं। वर्तमान में यह 2011 की जनसंख्या पर आधारित है।

**Question Id : 5406267436 Question Type : COMPREHENSION Sub Question Shuffling Allowed : Yes Group Comprehension Questions : No**

**Question Numbers : (196 to 200)**

दिए गए गद्यांश का ध्यानपूर्वक अध्ययन कर प्रश्नों के उत्तर दीजिए:

लोकसभा, भारतीय संसद का निचला सदन है। भारतीय संसद का ऊपरी सदन राज्य सभा है। लोक सभा सार्वभौमिक वयस्क मताधिकार के आधार पर लोगों द्वारा प्रत्यक्ष चुनाव द्वारा चुने हुए प्रतिनिधियों से गठित होती है। भारतीय संविधान के अनुसार सदन में सदस्यों की अधिकतम संख्या 552 तक हो सकती है, जिसमें से 530 सदस्य विभिन्न राज्यों के और 20 सदस्य तक केन्द्र शासित प्रदेशों का प्रतिनिधित्व कर सकते हैं। सदन में पर्याप्त प्रतिनिधित्व नहीं होने की स्थिति में राष्ट्रपति यदि चाहे तो आंग्ल-भारतीय समुदाय के 2 प्रतिनिधियों को लोकसभा के लिए मनोनीत कर सकता है। लोकसभा की कार्यवधि 5 वर्ष है परंतु इसे समय से पूर्व भंग किया जा सकता है।

प्रथम लोक सभा का गठन 1952 में हुआ, उस समय भारतीय राष्ट्रीय कांग्रेस 364 सीटों के साथ जीत हासिल करके सत्ता में पहुँची। इसके साथ ही जवाहर लाल नेहरू भारत के पहले प्रधानमंत्री बने। तब भारतीय राष्ट्रीय कांग्रेस को लगभग 45 प्रतिशत मत मिले थे।

भारत के प्रत्येक राज्य को उसकी जनसंख्या के आधार पर लोकसभा-सदस्य मिलते हैं। वर्तमान में यह 1971 की जनसंख्या पर आधारित है। अगली बार लोकसभा के सदस्यों की संख्या वर्ष 2026 में निर्धारित किया जायेगा। इससे पहले प्रत्येक दशक की जनगणना के आधार पर सदस्य स्थान निर्धारित होते थे। यह कार्य 84वें संविधान संशोधन(2001) से किया गया था, जिससे राज्य अपनी आबादी के आधार पर ज्यादा से ज्यादा स्थान प्राप्त करने का प्रयास नहीं करें।

वर्तमान स्वरूप में राज्यों की जनसंख्या के अनुसार वितरित सीटों की संख्या के अनुसार उत्तर भारत का प्रतिनिधित्व, दक्षिण भारत के मुकाबले बहुत कम है। जहाँ दक्षिण के चार राज्यों, तमिलनाडु, आंध्र प्रदेश, कर्नाटक और केरल को जिनकी संयुक्त जनसंख्या देश की जनसंख्या का सिर्फ 21% है, को 129 लोक सभा की सीटें आवंटित की गयी हैं जबकि, सबसे अधिक जनसंख्या वाले हिन्दी भाषायी राज्य उत्तर प्रदेश और बिहार जिनकी संयुक्त जनसंख्या देश की जनसंख्या का 25.1% है के खाते में सिर्फ 120 सीटें ही आती हैं। वर्तमान में अध्यक्ष और आंग्ल-भारतीय समुदाय के दो मनोनीत सदस्यों को मिलाकर, सदन की सदस्य संख्या 545 है।

यदि समय से पहले भंग ना किया गया हो तो, लोक सभा का कार्यकाल अपनी पहली बैठक से लेकर अगले पाँच वर्ष तक होता है उसके बाद यह स्वतः भंग हो जाती है। लोक सभा के कार्यकाल के दौरान यदि आपातकाल की घोषणा की जाती है तो संसद को इसका कार्यकाल कानून के द्वारा एक समय में अधिकतम एक वर्ष तक बढ़ाने का अधिकार है, जबकि आपातकाल की घोषणा समाप्त होने की स्थिति में इसे किसी भी परिस्थिति में छः महीने से अधिक नहीं बढ़ाया जा सकता। लोकसभा अपने निर्वाचित सदस्यों में से एक सदस्य को अपने अध्यक्ष (स्पीकर) के रूप में चुनती है। कार्य संचालन में अध्यक्ष की सहायता उपाध्यक्ष द्वारा की जाती है, जिसका चुनाव भी लोक सभा के निर्वाचित सदस्य करते हैं। लोक सभा में कार्य संचालन का उत्तरदायित्व अध्यक्ष का होता है। वर्तमान में लोकसभा अध्यक्ष ओम बिरला है।

दोनों सदनों का सम्मिलित सत्र बुलाने पर स्पीकर ही उसका अध्यक्ष होगा। उसके अनुपस्थित होने पर उपस्पीकर तथा उसके भी न होने पर राज्यसभा का उपसभापति अथवा सत्र द्वारा नामांकित कोई भी सदस्य सत्र का अध्यक्ष होता है। धन बिल का निर्धारण स्पीकर करता है। यदि धन बिल पर स्पीकर साक्ष्यांकित नहीं करता है, तो उस बिल को धन बिल नहीं माना जायेगा। स्पीकर का निर्णय अंतिम तथा बाध्यकारी होता है। सभी संसदीय समितियाँ उसकी अधीनता में कार्य करती हैं। उसके किसी समिति का सदस्य चुने जाने पर वह उसका पदेन अध्यक्ष होगा। लोकसभा के विघटन होने पर भी स्पीकर पद पर कार्यरत रहता है। नवीन लोकसभा के चुने जाने पर ही वह अपना पद छोड़ता है।

### Sub questions

**Question Number : 196 Question Id : 5406267437 Question Type : MCQ Option Shuffling : Yes Is Question Mandatory : No Option Orientation : Vertical**

**Correct Marks : 1 Wrong Marks : 0.25**

उपरोक्त गद्यांश के संदर्भ में कौन-सा कथन सही नहीं है?

**Options :**

- ❌ यदि धन बिल पर स्पीकर साक्ष्यांकित नहीं करता है, तो उस बिल को धन बिल नहीं माना जायेगा।
- ❌ लोकसभा अपने निर्वाचित सदस्यों में से एक सदस्य को अपने अध्यक्ष (स्पीकर) के रूप में चुनती है।
- ✅ लोकसभा की कार्यवाधि 6 वर्ष है परंतु इसे समय से पूर्व भंग किया जा सकता है।
- ❌ भारतीय संसद का ऊपरी सदन राज्य सभा है।

**Question Number : 197 Question Id : 5406267438 Question Type : MCQ Option Shuffling : Yes Is Question Mandatory : No Option Orientation : Vertical**

**Correct Marks : 1 Wrong Marks : 0.25**

दिए गए विकल्पों में से गद्यांश का उचित शीर्षक बताइए:

**Options :**

- ❌ विधान परिषद
- ❌ विधानसभा
- ❌ राज्यसभा
- ✅ लोकसभा

**Question Number : 198 Question Id : 5406267439 Question Type : MCQ Option Shuffling : Yes Is Question Mandatory : No Option Orientation : Vertical**

**Correct Marks : 1 Wrong Marks : 0.25**

उपरोक्त गद्यांश के अनुसार लोक सभा के कार्यकाल के दौरान यदि आपातकाल की घोषणा की जाती है तो संसद को इसका कार्यकाल कानून के द्वारा एक समय में \_\_\_\_\_ तक बढ़ाने का अधिकार है।

**Options :**

- ❌ अधिकतम 18 माह
- ✅ अधिकतम एक वर्ष
- ❌ अधिकतम छः माह
- ❌ अधिकतम तीन माह

**Question Number : 199 Question Id : 5406267440 Question Type : MCQ Option Shuffling : Yes Is Question Mandatory : No Option Orientation : Vertical**

**Correct Marks : 1 Wrong Marks : 0.25**

उपरोक्त गद्यांश में प्रयुक्त शब्द “साक्ष्यांकित” का निम्न में से क्या अर्थ है?

**Options :**

- ✅ प्रमाणित

2. ✖ संपन्न
3. ✖ चमकीला
4. ✖ अनिश्चित

**Question Number : 200 Question Id : 5406267441 Question Type : MCQ Option Shuffling : Yes Is Question Mandatory : No Option Orientation : Vertical**

**Correct Marks : 1 Wrong Marks : 0.25**

उपरोक्त गद्यांश के अनुसार कौन-सा कथन सही है?

**Options :**

1. ✔ यदि समय से पहले भंग ना किया गया हो तो, लोक सभा का कार्यकाल अपनी पहली बैठक से लेकर अगले पाँच वर्ष तक होता है उसके बाद यह स्वतः भंग हो जाती है।
2. ✖ अधिक जनसंख्या वाले हिन्दी भाषायी राज्य उत्तर प्रदेश और बिहार जिनकी संयुक्त जनसंख्या देश की जनसंख्या का 21% है के खाते में सिर्फ 120 सीटें ही आती हैं।
3. ✖ तमिलनाडु, आंध्र प्रदेश, कर्नाटक और केरल को जिनकी संयुक्त जनसंख्या देश की जनसंख्या का सिर्फ 25.1% है, को 129 लोक सभा की सीटें आवंटित की गयी हैं।
4. ✖ भारत के प्रत्येक राज्य को उसकी जनसंख्या के आधार पर लोकसभा-सदस्य मिलते हैं। वर्तमान में यह 2011 की जनसंख्या पर आधारित है।