

Question Paper Preview

Notations :

- Options shown in green color and with ✓ icon are correct.
- Options shown in red color and with ✗ icon are incorrect.

Subject Name :	FIRE OPERATOR
Creation Date :	2021-04-22 12:21:33
Duration :	120
Total Marks :	200
Display Marks:	Yes
Share Answer Key With Delivery Engine :	No
Actual Answer Key :	Yes
Calculator :	None
Magnifying Glass Required? :	No
Ruler Required? :	No
Eraser Required? :	No
Scratch Pad Required? :	No
Rough Sketch/Notepad Required? :	No
Protractor Required? :	No
Show Watermark on Console? :	Yes
Highlighter :	No
Auto Save on Console? (SA type of questions will be always auto saved) :	No

Mental Ability1

Group Number :	1
Group Id :	540626232
Group Maximum Duration :	0
Group Minimum Duration :	0

Show Attended Group? :	No
Edit Attended Group? :	No
Break time :	0
Group Marks :	20
Is this Group for Examiner? :	No

General intelligence and reasoning Ability1

Section Id :	540626311
Section Number :	1
Section type :	Online
Mandatory or Optional :	Mandatory
Number of Questions :	20
Number of Questions to be attempted :	20
Section Marks :	20
Enable Mark as Answered Mark for Review and Clear Response :	Yes
Sub-Section Number :	1
Sub-Section Id :	540626362
Question Shuffling Allowed :	Yes

Question Number : 1 Question Id : 5406267442 Question Type : MCQ Option Shuffling : Yes Is Question Mandatory : No Option Orientation : Vertical

Correct Marks : 1 Wrong Marks : 0.25

A series is given with one term missing. Select the correct alternative from the given ones that will complete the series.

QN, TQ, WT, ZW, ?

Options :

- ✘ BX
- ✔ CZ
- ✘ BY
- ✘ CY

Question Number : 1 Question Id : 5406267442 Question Type : MCQ Option Shuffling : Yes Is Question Mandatory : No Option

Orientation : Vertical

Correct Marks : 1 Wrong Marks : 0.25

एक अनुक्रम दिया गया है, जिसमें से एक पद लुप्त है। दिए गए विकल्पों में से वह सही विकल्प चुनिए, जो अनुक्रम को पूरा करे।

QN, TQ, WT, ZW, ?

Options :

1. ✘ BX
2. ✔ CZ
3. ✘ BY
4. ✘ CY

Question Number : 2 Question Id : 5406267443 Question Type : MCQ Option Shuffling : Yes Is Question Mandatory : No Option

Orientation : Vertical

Correct Marks : 1 Wrong Marks : 0.25

A series is given with one term missing. Select the correct alternative from the given ones that will complete the series.

EQ85, GS133, IU189, KW253, ?

Options :

1. ✘ NX326
2. ✔ MY325
3. ✘ MX326
4. ✘ NY325

Question Number : 2 Question Id : 5406267443 Question Type : MCQ Option Shuffling : Yes Is Question Mandatory : No Option

Orientation : Vertical

Correct Marks : 1 Wrong Marks : 0.25

एक अनुक्रम दिया गया है, जिसमें से एक पद लुप्त है। दिए गए विकल्पों में से वह सही विकल्प चुनिए, जो अनुक्रम को पूरा करे।

EQ85, GS133, IU189, KW253, ?

Options :

1. ✘ NX326
2. ✔ MY325
3. ✘ MX326

4. ✘ NY325

Question Number : 3 Question Id : 5406267444 Question Type : MCQ Option Shuffling : Yes Is Question Mandatory : No Option Orientation : Vertical

Correct Marks : 1 Wrong Marks : 0.25

A series is given with one term missing. Select the correct alternative from the given ones that will complete the series.

YBZA, BECD, EHFG, HKIJ, ?

Options :

1. ✘ LOMN
2. ✘ JMKL
3. ✔ KNLM
4. ✘ KOLN

Question Number : 3 Question Id : 5406267444 Question Type : MCQ Option Shuffling : Yes Is Question Mandatory : No Option Orientation : Vertical

Correct Marks : 1 Wrong Marks : 0.25

एक अनुक्रम दिया गया है, जिसमें से एक पद लुप्त है। दिए गए विकल्पों में से वह सही विकल्प चुनिए, जो अनुक्रम को पूरा करे।

YBZA, BECD, EHFG, HKIJ, ?

Options :

1. ✘ LOMN
2. ✘ JMKL
3. ✔ KNLM
4. ✘ KOLN

Question Number : 4 Question Id : 5406267445 Question Type : MCQ Option Shuffling : Yes Is Question Mandatory : No Option Orientation : Vertical

Correct Marks : 1 Wrong Marks : 0.25

In the following question, select the odd word pair from the given alternatives.

Options :

1. ✘ Mosquito – Insect
2. ✘ Bread – Food

3. ✓ Tiger – Yellow
4. ✗ Pencil – Stationery

Question Number : 4 Question Id : 5406267445 Question Type : MCQ Option Shuffling : Yes Is Question Mandatory : No Option Orientation : Vertical

Correct Marks : 1 Wrong Marks : 0.25

निम्नलिखित प्रश्न में दिए गए विकल्पों में से विषम शब्द युग्म को चुनिए।

Options :

1. ✗ मच्छर – कीड़ा
2. ✗ ब्रेड – भोजन
3. ✓ बाघ – पीला
4. ✗ पेंसिल – लेखन सामग्री

Question Number : 5 Question Id : 5406267446 Question Type : MCQ Option Shuffling : Yes Is Question Mandatory : No Option Orientation : Vertical

Correct Marks : 1 Wrong Marks : 0.25

In the following question, select the odd letter/letters from the given alternatives.

Options :

1. ✗ CFJO
2. ✗ GJNS
3. ✗ MPTY
4. ✓ SUWZ

Question Number : 5 Question Id : 5406267446 Question Type : MCQ Option Shuffling : Yes Is Question Mandatory : No Option Orientation : Vertical

Correct Marks : 1 Wrong Marks : 0.25

निम्नलिखित प्रश्न में दिए गए विकल्पों में से विषम अक्षर/अक्षरों को चुनिए।

Options :

1. ✗ CFJO
2. ✗ GJNS
3. ✗ MPTY

4. ✓ SUWZ

Question Number : 6 Question Id : 5406267447 Question Type : MCQ Option Shuffling : Yes Is Question Mandatory : No Option Orientation : Vertical

Correct Marks : 1 Wrong Marks : 0.25

In the following question, select the odd letter/letters from the given alternatives.

Options :

1. ✗ HIKNR
2. ✗ NOQTX
3. ✓ IJLOT
4. ✗ YZBEI

Question Number : 6 Question Id : 5406267447 Question Type : MCQ Option Shuffling : Yes Is Question Mandatory : No Option Orientation : Vertical

Correct Marks : 1 Wrong Marks : 0.25

निम्नलिखित प्रश्न में दिए गए विकल्पों में से विषम अक्षर/अक्षरों को चुनिए।

Options :

1. ✗ HIKNR
2. ✗ NOQTX
3. ✓ IJLOT
4. ✗ YZBEI

Question Number : 7 Question Id : 5406267448 Question Type : MCQ Option Shuffling : Yes Is Question Mandatory : No Option Orientation : Vertical

Correct Marks : 1 Wrong Marks : 0.25

In the following question, select the related words from the given alternatives.

Gun : Weapon :: Car : ?

Options :

1. ✓ Vehicle
2. ✗ Fast
3. ✗ Engine

4. ✖ Tyres

Question Number : 7 Question Id : 5406267448 Question Type : MCQ Option Shuffling : Yes Is Question Mandatory : No Option Orientation : Vertical

Correct Marks : 1 Wrong Marks : 0.25

निम्नलिखित प्रश्न में दिए गए विकल्पों में से संबंधित शब्दों को चुनिए।

बंदुक : हथियार :: कार : ?

Options :

1. ✔ वाहन
2. ✖ तेज
3. ✖ ईजन
4. ✖ टायर

Question Number : 8 Question Id : 5406267449 Question Type : MCQ Option Shuffling : Yes Is Question Mandatory : No Option Orientation : Vertical

Correct Marks : 1 Wrong Marks : 0.25

In the following question, select the related letters from the given alternatives.

DEARB : DUEJJ :: ROULF : ?

Options :

1. ✖ HOZTY
2. ✖ HOYXX
3. ✖ HOXTX
4. ✔ HOYTX

Question Number : 8 Question Id : 5406267449 Question Type : MCQ Option Shuffling : Yes Is Question Mandatory : No Option Orientation : Vertical

Correct Marks : 1 Wrong Marks : 0.25

निम्नलिखित प्रश्न में दिए गए विकल्पों में से संबंधित अक्षरों को चुनिए।

DEARB : DUEJJ :: ROULF : ?

Options :

1. ✘ HOZTY
2. ✘ HOYXX
3. ✘ HOXTX
4. ✔ HOYTX

Question Number : 9 Question Id : 5406267450 Question Type : MCQ Option Shuffling : Yes Is Question Mandatory : No Option Orientation : Vertical

Correct Marks : 1 Wrong Marks : 0.25

In the following question, select the related letter pair from the given alternatives.

KNAR : NKDO :: ?

Options :

1. ✘ EARH : HDUE
2. ✔ DILH : GFOE
3. ✘ PTNG : SQRD
4. ✘ LOAC : OJDZ

Question Number : 9 Question Id : 5406267450 Question Type : MCQ Option Shuffling : Yes Is Question Mandatory : No Option Orientation : Vertical

Correct Marks : 1 Wrong Marks : 0.25

निम्नलिखित प्रश्न में दिए गए विकल्पों में से संबंधित अक्षर युग्म को चुनिए।

KNAR : NKDO :: ?

Options :

1. ✘ EARH : HDUE
2. ✔ DILH : GFOE
3. ✘ PTNG : SQRD
4. ✘ LOAC : OJDZ

Question Number : 10 Question Id : 5406267451 Question Type : MCQ Option Shuffling : Yes Is Question Mandatory : No Option Orientation : Vertical

Correct Marks : 1 Wrong Marks : 0.25

In a certain code language, 'CAR' is called as 'RED', 'RED' is called as 'BULLET', 'BULLET' is called as 'YELLOW', 'YELLOW' is called

as 'GIRAFFE', 'GIRAFFE' is called as 'BOTTLE'. Which vehicle have four wheels?

Options :

1. ✘ BULLET
2. ✔ RED
3. ✘ GIRAFFE
4. ✘ BOTTLE

Question Number : 10 Question Id : 5406267451 Question Type : MCQ Option Shuffling : Yes Is Question Mandatory : No Option Orientation : Vertical

Correct Marks : 1 Wrong Marks : 0.25

एक विशिष्ट कोड भाषा में, 'कार' को 'लाल' कहा जाता है, 'लाल' को 'गोली' कहा जाता है, 'गोली' को 'पीला' कहा जाता है, 'पीला' को 'जिराफ़' कहा जाता है, 'जिराफ़' को 'बोतल' कहा जाता है। किस वाहन में चार पहिये होते हैं?

Options :

1. ✘ गोली
2. ✔ लाल
3. ✘ जिराफ़
4. ✘ बोतल

Question Number : 11 Question Id : 5406267452 Question Type : MCQ Option Shuffling : Yes Is Question Mandatory : No Option Orientation : Vertical

Correct Marks : 1 Wrong Marks : 0.25

In a certain code language, 'APPLE' is written as 'JQUUF'. What is the code for 'TIGER' in that code language?

Options :

1. ✘ WJLYN
2. ✔ WJLNY
3. ✘ WJYNL
4. ✘ WLJNY

Question Number : 11 Question Id : 5406267452 Question Type : MCQ Option Shuffling : Yes Is Question Mandatory : No Option Orientation : Vertical

Correct Marks : 1 Wrong Marks : 0.25

एक विशिष्ट कोड भाषा में, 'APPLE' को 'JQUUF' लिखा जाता है। इस कोड भाषा में 'TIGER' का कोड क्या है?

Options :

1. ✘ WJLYN
2. ✔ WJLNY
3. ✘ WJYNL
4. ✘ WLJNY

Question Number : 12 Question Id : 5406267453 Question Type : MCQ Option Shuffling : Yes Is Question Mandatory : No Option Orientation : Vertical

Correct Marks : 1 Wrong Marks : 0.25

In a certain code language, 'Where shall I park' is written as 'np of ct ez', 'I made to heaven' is written as 'ct dz nq vj', 'He has to go' is written as 'ej sf nq ol'. What is the code for 'I to' in that code language?

Options :

1. ✘ ez dz
2. ✘ np vj
3. ✘ ez ol
4. ✔ ct nq

Question Number : 12 Question Id : 5406267453 Question Type : MCQ Option Shuffling : Yes Is Question Mandatory : No Option Orientation : Vertical

Correct Marks : 1 Wrong Marks : 0.25

एक विशिष्ट कोड भाषा में, 'Where shall I park' को 'np of ct ez' लिखा जाता है, 'I made to heaven' को 'ct dz nq vj' लिखा जाता है, 'He has to go' को 'ej sf nq ol' लिखा जाता है। इस कोड भाषा में 'I to' का कोड क्या है?

Options :

1. ✘ ez dz
2. ✘ np vj
3. ✘ ez ol
4. ✔ ct nq

Question Number : 13 Question Id : 5406267454 Question Type : MCQ Option Shuffling : Yes Is Question Mandatory : No Option Orientation : Vertical

Correct Marks : 1 Wrong Marks : 0.25

In a certain code language, 'METRO' is written as '74', 'CANAL' is written as '34'. What is the code for 'DEITY' in that code language?

Options :

1. ✘ 70
2. ✔ 66
3. ✘ 63
4. ✘ 65

Question Number : 13 Question Id : 5406267454 Question Type : MCQ Option Shuffling : Yes Is Question Mandatory : No Option Orientation : Vertical

Correct Marks : 1 Wrong Marks : 0.25

एक विशिष्ट कोड भाषा में, 'METRO' को '74' लिखा जाता है, 'CANAL' को '34' लिखा जाता है। इस कोड भाषा में 'DEITY' का कोड क्या है?

Options :

1. ✘ 70
2. ✔ 66
3. ✘ 63
4. ✘ 65

Question Number : 14 Question Id : 5406267455 Question Type : MCQ Option Shuffling : Yes Is Question Mandatory : No Option Orientation : Vertical

Correct Marks : 1 Wrong Marks : 0.25

Age of five boys J, K, L, M and N is compared. Age of M is more than L but less than N. Age of no two boys is same. Age of J is less than L. If age of N is not the maximum, then age of how many boys is more than M?

Options :

1. ✔ 2
2. ✘ 1
3. ✘ 3
4. ✘ 0

Question Number : 14 Question Id : 5406267455 Question Type : MCQ Option Shuffling : Yes Is Question Mandatory : No Option Orientation : Vertical

Correct Marks : 1 Wrong Marks : 0.25

पाँच लड़कों J, K, L, M तथा N की आयु की तुलना की गयी है। M की आयु L से अधिक है लेकिन N से कम है। कोई भी दो लड़कों की आयु समान नहीं है। J की आयु L से कम है। यदि N की आयु अधिकतम नहीं है, तो कितने लड़कों की आयु M से अधिक है?

Options :

1. ✓ 2
2. ✗ 1
3. ✗ 3
4. ✗ 0

Question Number : 15 Question Id : 5406267456 Question Type : MCQ Option Shuffling : Yes Is Question Mandatory : No Option Orientation : Vertical

Correct Marks : 1 Wrong Marks : 0.25

Six persons A, F, K, P, R and T are sitting around a circular table facing towards the centre. K is sitting second to the left of T. A is sitting to the immediate left of K. F and R are immediate neighbours. If F is to the right of R, then which of the following pair represents the immediate neighbours?

Options :

1. ✗ PR
2. ✗ TF
3. ✗ AP
4. ✓ FA

Question Number : 15 Question Id : 5406267456 Question Type : MCQ Option Shuffling : Yes Is Question Mandatory : No Option Orientation : Vertical

Correct Marks : 1 Wrong Marks : 0.25

छह व्यक्ति A, F, K, P, R तथा T केंद्र की ओर मुँह करके एक वृत्ताकार मेज के ईर्द – गिर्द बैठे हुए हैं। K, T के बायीं ओर दूसरे स्थान पर बैठा हुआ है। A, K के तुरंत बायीं ओर बैठा हुआ है। F तथा R निकटतम पड़ोसी हैं। यदि F, R के दायीं ओर है, निम्नलिखित में से कौन सा युग्म निकटतम पड़ोसियों को दर्शाता है?

Options :

1. ✗ PR
2. ✗ TF
3. ✗ AP
4. ✓ FA

Question Number : 16 Question Id : 5406267457 Question Type : MCQ Option Shuffling : Yes Is Question Mandatory : No Option Orientation : Vertical

Correct Marks : 1 Wrong Marks : 0.25

Six books A, B, C, D, E and F are kept one above the other (not necessarily in the same order). Only two books are between F and C. Only C and E are between D and A. Only two books are below A. Minimum one book is kept below F.

Which of the following statement(s) is/are not correct?

- I. Only two books are between B and E
- II. Only one book is between C and D

Options :

- 1. ✖ Only I
- 2. ✔ Only II
- 3. ✖ Both I and II
- 4. ✖ Neither I nor II

Question Number : 16 Question Id : 5406267457 Question Type : MCQ Option Shuffling : Yes Is Question Mandatory : No Option Orientation : Vertical

Correct Marks : 1 Wrong Marks : 0.25

छह किताबों A, B, C, D, E तथा F को एक के ऊपर एक रखा गया है (जरूरी नहीं की इसी क्रम में हो)। F तथा C के मध्य केवल दो किताब हैं। D तथा A के मध्य में केवल C तथा E है। A के नीचे केवल दो किताब हैं। F के नीचे कम से कम एक किताब रखी गयी है।

निम्नलिखित में से कौन सा/से कथन सही नहीं है/हैं?

- I. B तथा E के मध्य केवल दो किताब हैं
- II. C तथा D के मध्य केवल एक किताब है

Options :

- 1. ✖ केवल I
- 2. ✔ केवल II
- 3. ✖ I तथा II दोनों
- 4. ✖ ना ही I ना ही II

Question Number : 17 Question Id : 5406267458 Question Type : MCQ Option Shuffling : Yes Is Question Mandatory : No Option Orientation : Vertical

Correct Marks : 1 Wrong Marks : 0.25

Six boys B1, B2, B3, B4, B5 and B6 likes one shirt among S1, S2, S3, S4, S5 and S6. They also like one colour among C1, C2, C3, C4, C5 and C6. No two boys like same shirt and same colour. B1 likes S6 but don't like C6 and C5. B4 likes S1 and C2. B5 and B6 neither likes C5 nor C6. One who likes S3 also likes C6. B6 likes S4. B5 neither likes C1 nor C3. B5 don't likes S5. If B2 doesn't like even numbered colour, then which of the following combination(s) of boy – colour – shirt can be correct?

- I. B1 – C3 – S6
- II. B2 – C6 – S5
- III. B3 – C5 – S5

Options :

- 1. ✓ Only I
- 2. ✗ I, II and III
- 3. ✗ II and III
- 4. ✗ I and III

Question Number : 17 Question Id : 5406267458 Question Type : MCQ Option Shuffling : Yes Is Question Mandatory : No Option Orientation : Vertical

Correct Marks : 1 Wrong Marks : 0.25

छह लड़कों B1, B2, B3, B4, B5 तथा B6 को S1, S2, S3, S4, S5 तथा S6 में से एक कमीज पसंद है। उन्हें C1, C2, C3, C4, C5 तथा C6 में से एक रंग भी पसंद है। कोई भी दो लड़कों को समान कमीज तथा समान रंग पसंद नहीं है। B1 को S6 पसंद है लेकिन C6 तथा C5 पसंद नहीं है। B4 को S1 तथा C2 पसंद है। B5 तथा B6 को ना ही C5 ना ही C6 पसंद है। वह जिसे S3 पसंद है उसको C6 भी पसंद है। B6 को S4 पसंद है। B5 को ना ही C1 ना ही C3 पसंद है। B5 को S5 पसंद नहीं है। यदि B2 को सम संख्या वाला रंग पसंद नहीं है, तो लड़का – रंग – कमीज का निम्नलिखित में से कौन सा/से संयोजन सही हो सकता/सकते है/ हैं?

- I. B1 – C3 – S6
- II. B2 – C6 – S5
- III. B3 – C5 – S5

Options :

- 1. ✓ केवल I
- 2. ✗ I, II तथा III
- 3. ✗ II तथा III
- 4. ✗ I तथा III

Question Number : 18 Question Id : 5406267459 Question Type : MCQ Option Shuffling : Yes Is Question Mandatory : No Option Orientation : Vertical

Correct Marks : 1 Wrong Marks : 0.25

If 'A + B' means 'B is the brother of A', 'A ÷ B' means 'B is the wife of A', 'A × B' means 'B is the son of A', 'A – B' means 'B is the father of A', then which of the following is/are correct about $L ÷ R + P – Q × T ÷ G$?

- I. G is the sister in law of P.
- II. R is the sister of T.
- III. Q is the father in law of G.
- IV. L is the wife of R.

Options :

- 1. ✘ I and III
- 2. ✘ II, III and IV
- 3. ✔ I, II and III
- 4. ✘ I, II, III and IV

Question Number : 18 Question Id : 5406267459 Question Type : MCQ Option Shuffling : Yes Is Question Mandatory : No Option Orientation : Vertical

Correct Marks : 1 Wrong Marks : 0.25

यदि 'A + B' का अर्थ 'B, A का भाई है', 'A ÷ B' का अर्थ 'B, A की पत्नी है', 'A × B' का अर्थ 'B, A का पुत्र है', 'A - B' का अर्थ 'B, A का पिता है', तो निम्नलिखित में से कौन सा/से $L ÷ R + P - Q × T ÷ G$ के बारे में सही है/हैं?

- I. G, P की भाभी है।
- II. R, T की बहन है।
- III. Q, G का ससुर है।
- IV. L, R की पत्नी है।

Options :

- 1. ✘ I तथा III
- 2. ✘ II, III तथा IV
- 3. ✔ I, II तथा III
- 4. ✘ I, II, III तथा IV

Question Number : 19 Question Id : 5406267460 Question Type : MCQ Option Shuffling : Yes Is Question Mandatory : No Option Orientation : Vertical

Correct Marks : 1 Wrong Marks : 0.25

In the following question below are given some statements followed by some conclusions based on those statements. Taking the given statements to be true even if they seem to be at variance from commonly known facts. Read all the conclusions and then decide which of the given conclusion logically follows the given statements.

Statements:

- I. All bottle are pen.
- II. All car are bottle.

Conclusions:

- I. All pen are car.
- II. Some car are pen.

Options :

1. ✘ Only conclusion I follows
2. ✔ Only conclusion II follows
3. ✘ Both conclusion I and II follows
4. ✘ Neither conclusion follows

Question Number : 19 Question Id : 5406267460 Question Type : MCQ Option Shuffling : Yes Is Question Mandatory : No Option Orientation : Vertical

Correct Marks : 1 Wrong Marks : 0.25

नीचे दिए गए प्रश्न में कुछ कथन और उनके बाद उन कथनों पर आधारित कुछ निष्कर्ष दिए गए हैं। दिए गए कथनों को सही माने, चाहे उनमें सामान्य ज्ञात तथ्यों से भिन्नता हो। सभी निष्कर्ष पढ़ें और फिर निर्धारित करें कि दिए गए कौन से निष्कर्ष, दिए गए कथनों के आधार पर युक्तिसंगत हैं।

कथन:

- I. सभी बोटल कलम हैं।
- II. सभी कार बोटल हैं।

निष्कर्ष:

- I. सभी कलम कार हैं।
- II. कुछ कार कलम हैं।

Options :

1. ✘ केवल निष्कर्ष I अनुसरण करता है
2. ✔ केवल निष्कर्ष II अनुसरण करता है
3. ✘ दोनों निष्कर्ष I तथा II अनुसरण करते हैं
4. ✘ कोई भी निष्कर्ष अनुसरण नहीं करता है

Question Number : 20 Question Id : 5406267461 Question Type : MCQ Option Shuffling : Yes Is Question Mandatory : No Option Orientation : Vertical

Correct Marks : 1 Wrong Marks : 0.25

In the following question below are given some statements followed by some conclusions based on those statements. Taking the given statements to be true even if they seem to be at variance from commonly known facts. Read all the conclusions and then decide which of the given conclusion logically follows the given statements.

Statements:

- I. Some F are T.
- II. No J is F.

Conclusions:

- I. Some T are F.
- II. Some F are not T.

Options :

- 1. ✓ Only conclusion I follows
- 2. ✗ Only conclusion II follows
- 3. ✗ Both conclusion I and II follows
- 4. ✗ Neither conclusion follows

Question Number : 20 Question Id : 5406267461 Question Type : MCQ Option Shuffling : Yes Is Question Mandatory : No Option Orientation : Vertical

Correct Marks : 1 Wrong Marks : 0.25

नीचे दिए गए प्रश्न में कुछ कथन और उनके बाद उन कथनों पर आधारित कुछ निष्कर्ष दिए गए हैं। दिए गए कथनों को सही माने, चाहे उनमें सामान्य ज्ञात तथ्यों से भिन्नता हो। सभी निष्कर्ष पढ़ें और फिर निर्धारित करें कि दिए गए कौन से निष्कर्ष, दिए गए कथनों के आधार पर युक्तिसंगत हैं।

कथन:

- I. कुछ F, T हैं।
- II. कोई भी J, F नहीं है।

निष्कर्ष:

- I. कुछ T, F हैं।
- II. कुछ F, T नहीं हैं।

Options :

- 1. ✓ केवल निष्कर्ष I अनुसरण करता है
- 2. ✗ केवल निष्कर्ष II अनुसरण करता है
- 3. ✗ दोनों निष्कर्ष I तथा II अनुसरण करते हैं
- 4. ✗ कोई भी निष्कर्ष अनुसरण नहीं करता है

Mental Ability2

Group Number :	2
Group Id :	540626233
Group Maximum Duration :	0
Group Minimum Duration :	0
Show Attended Group? :	No
Edit Attended Group? :	No
Break time :	0
Group Marks :	20
Is this Group for Examiner? :	No

General intelligence and reasoning Ability2

Section Id :	540626312
Section Number :	1
Section type :	Online
Mandatory or Optional :	Mandatory
Number of Questions :	20
Number of Questions to be attempted :	20
Section Marks :	20
Enable Mark as Answered Mark for Review and Clear Response :	Yes
Sub-Section Number :	1
Sub-Section Id :	540626363
Question Shuffling Allowed :	Yes

Question Number : 21 Question Id : 5406267462 Question Type : MCQ Option Shuffling : Yes Is Question Mandatory : No Option Orientation : Vertical

Correct Marks : 1 Wrong Marks : 0.25

In the following question below are given some statements followed by some conclusions based on those statements. Taking the given statements to be true even if they seem to be at variance from commonly known facts. Read all the conclusions and then decide which of the given conclusion logically follows the given statements.

Statements:

- I. All M are L.
- II. Some J are M.

Conclusions:

- I. Some L are J.
- II. All M are J.
- III. Some L are not J.

Options :

1. ✘ Both conclusion II and III follows
2. ✘ All conclusions follows
3. ✘ Both conclusion I and III follows
4. ✔ Only conclusion I follows

Question Number : 21 Question Id : 5406267462 Question Type : MCQ Option Shuffling : Yes Is Question Mandatory : No Option Orientation : Vertical

Correct Marks : 1 Wrong Marks : 0.25

नीचे दिए गए प्रश्न में कुछ कथन और उनके बाद उन कथनों पर आधारित कुछ निष्कर्ष दिए गए हैं। दिए गए कथनों को सही माने, चाहे उनमें सामान्य ज्ञात तथ्यों से भिन्नता हो। सभी निष्कर्ष पढ़ें और फिर निर्धारित करें कि दिए गए कौन से निष्कर्ष, दिए गए कथनों के आधार पर युक्तिसंगत हैं।

कथन:

- I. सभी M, L हैं।
- II. कुछ J, M हैं।

निष्कर्ष:

- I. कुछ L, J हैं।
- II. सभी M, J हैं।
- III. कुछ L, J नहीं है।

Options :

1. ✘ दोनों निष्कर्ष II तथा III अनुसरण करते हैं
2. ✘ सभी निष्कर्ष अनुसरण करते हैं
3. ✘ दोनों निष्कर्ष I तथा III अनुसरण करते हैं
4. ✔ केवल निष्कर्ष I अनुसरण करता है

Question Number : 22 Question Id : 5406267463 Question Type : MCQ Option Shuffling : Yes Is Question Mandatory : No Option Orientation : Vertical

Correct Marks : 1 Wrong Marks : 0.25

In the following question below are given some statements followed by some conclusions based on those statements. Taking the given statements to be true even if they seem to be at variance from commonly known facts. Read all the conclusions and then decide which of the given conclusion logically follows the given statements.

Statements:

- I. No X is R.
- II. No A is X.
- III. Some V are R.

Conclusions:

- I. Some X are not R.
- II. Some V are not X.
- III. Some A are not X.

Options :

- 1. ✖ Both conclusion I and II follows
- 2. ✖ Only conclusion III follows
- 3. ✖ Both conclusion I and III follows
- 4. ✔ All conclusions follows

Question Number : 22 Question Id : 5406267463 Question Type : MCQ Option Shuffling : Yes Is Question Mandatory : No Option Orientation : Vertical

Correct Marks : 1 Wrong Marks : 0.25

नीचे दिए गए प्रश्न में कुछ कथन और उनके बाद उन कथनों पर आधारित कुछ निष्कर्ष दिए गए हैं। दिए गए कथनों को सही माने, चाहे उनमें सामान्य ज्ञात तथ्यों से भिन्नता हो। सभी निष्कर्ष पढ़ें और फिर निर्धारित करें कि दिए गए कौन से निष्कर्ष, दिए गए कथनों के आधार पर युक्तिसंगत हैं।

कथन:

- I. कोई भी X, R नहीं है।
- II. कोई भी A, X नहीं है।
- III. कुछ V, R हैं।

निष्कर्ष:

- I. कुछ X, R नहीं है।

- II. कुछ V, X नहीं है।
 III. कुछ A, X नहीं है।

Options :

1. ✘ दोनों निष्कर्ष I तथा II अनुसरण करते हैं
2. ✘ केवल निष्कर्ष III अनुसरण करता है
3. ✘ दोनों निष्कर्ष I तथा III अनुसरण करते हैं
4. ✔ सभी निष्कर्ष अनुसरण करते हैं

Question Number : 23 Question Id : 5406267464 Question Type : MCQ Option Shuffling : Yes Is Question Mandatory : No Option Orientation : Vertical

Correct Marks : 1 Wrong Marks : 0.25

In the following question below are given some statements followed by some conclusions based on those statements. Taking the given statements to be true even if they seem to be at variance from commonly known facts. Read all the conclusions and then decide which of the given conclusion logically follows the given statements.

Statements:

- I. All rat are bat.
- II. All car are lion.
- III. Some rat are car.

Conclusions:

- I. Some lion are rat.
- II. All bat are car.
- III. Some bat are lion.

Options :

1. ✘ Both conclusion II and III follows
2. ✘ Only conclusion II follows
3. ✔ Both conclusion I and III follows
4. ✘ All conclusion follows

Question Number : 23 Question Id : 5406267464 Question Type : MCQ Option Shuffling : Yes Is Question Mandatory : No Option Orientation : Vertical

Correct Marks : 1 Wrong Marks : 0.25

नीचे दिए गए प्रश्न में कुछ कथन और उनके बाद उन कथनों पर आधारित कुछ निष्कर्ष दिए गए हैं। दिए गए कथनों को सही माने, चाहे उनमें सामान्य ज्ञात तथ्यों

से भिन्नता हो। सभी निष्कर्ष पढ़ें और फिर निर्धारित करें कि दिए गए कौन से निष्कर्ष, दिए गए कथनों के आधार पर युक्तिसंगत हैं।

कथन:

- I. सभी चूहे बल्ले हैं।
- II. सभी कार शेर हैं।
- III. कुछ चूहे कार हैं।

निष्कर्ष:

- I. कुछ शेर चूहे हैं।
- II. सभी बल्ले कार हैं।
- III. कुछ बल्ले शेर हैं।

Options :

1. ✘ दोनों निष्कर्ष II तथा III अनुसरण करते हैं
2. ✘ केवल निष्कर्ष II अनुसरण करता है
3. ✔ दोनों निष्कर्ष I तथा III अनुसरण करते हैं
4. ✘ सभी निष्कर्ष अनुसरण करते हैं

Question Number : 24 Question Id : 5406267465 Question Type : MCQ Option Shuffling : Yes Is Question Mandatory : No Option Orientation : Vertical

Correct Marks : 1 Wrong Marks : 0.25

A series is given with one term wrong. Select that wrong term from the given alternatives.

89, 93, 97, 102, 105, 109

Options :

1. ✔ 102
2. ✘ 93
3. ✘ 89
4. ✘ 105

Question Number : 24 Question Id : 5406267465 Question Type : MCQ Option Shuffling : Yes Is Question Mandatory : No Option Orientation : Vertical

Correct Marks : 1 Wrong Marks : 0.25

एक अनुक्रम दिया गया है, जिसमें से एक पद गलत है। दिए गए विकल्पों में से उस गलत पद को चुनिए।

89, 93, 97, 102, 105, 109

Options :

1. ✓ 102
2. ✗ 93
3. ✗ 89
4. ✗ 105

Question Number : 25 Question Id : 5406267466 Question Type : MCQ Option Shuffling : Yes Is Question Mandatory : No Option Orientation : Vertical

Correct Marks : 1 Wrong Marks : 0.25

In the following question, select the missing number from the given series.

2, 7, 27, 107, ?

Options :

1. ✗ 425
2. ✗ 429
3. ✗ 423
4. ✓ 427

Question Number : 25 Question Id : 5406267466 Question Type : MCQ Option Shuffling : Yes Is Question Mandatory : No Option Orientation : Vertical

Correct Marks : 1 Wrong Marks : 0.25

निम्नलिखित प्रश्न में दी गई श्रृंखला में से लुप्त अंक ज्ञात कीजिए।

2, 7, 27, 107, ?

Options :

1. ✗ 425
2. ✗ 429
3. ✗ 423
4. ✓ 427

Question Number : 26 Question Id : 5406267467 Question Type : MCQ Option Shuffling : Yes Is Question Mandatory : No Option

Orientation : Vertical

Correct Marks : 1 Wrong Marks : 0.25

A series is given with one term wrong. Select that wrong term from the given alternatives.

7, 3.5, 3.5, 4.5, 28, 224, 3584

Options :

1. ✓ 4.5
2. ✗ 3.5
3. ✗ 28
4. ✗ 224

Question Number : 26 Question Id : 5406267467 Question Type : MCQ Option Shuffling : Yes Is Question Mandatory : No Option

Orientation : Vertical

Correct Marks : 1 Wrong Marks : 0.25

एक अनुक्रम दिया गया है, जिसमें से एक पद गलत है। दिए गए विकल्पों में से उस गलत पद को चुनिए।

7, 3.5, 3.5, 4.5, 28, 224, 3584

Options :

1. ✓ 4.5
2. ✗ 3.5
3. ✗ 28
4. ✗ 224

Question Number : 27 Question Id : 5406267468 Question Type : MCQ Option Shuffling : Yes Is Question Mandatory : No Option

Orientation : Vertical

Correct Marks : 1 Wrong Marks : 0.25

If $18 \% 34 @ 2 = 86$ and $31 @ 2 \% 17 = 79$, then $16 \% 23 @ 4 = ?$

Options :

1. ✓ 108
2. ✗ 124
3. ✗ 82
4. ✗ 136

Question Number : 27 Question Id : 5406267468 Question Type : MCQ Option Shuffling : Yes Is Question Mandatory : No Option Orientation : Vertical

Correct Marks : 1 Wrong Marks : 0.25

यदि $18\% \text{ } 34 @ 2 = 86$ तथा $31 @ 2\% \text{ } 17 = 79$ हो, तो $16\% \text{ } 23 @ 4 = ?$

Options :

1. ✓ 108

2. ✗ 124

3. ✗ 82

4. ✗ 136

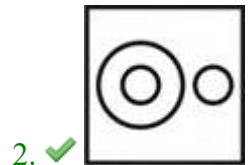
Question Number : 28 Question Id : 5406267469 Question Type : MCQ Option Shuffling : Yes Is Question Mandatory : No Option Orientation : Vertical

Correct Marks : 1 Wrong Marks : 0.25

Identify the diagram that best represents the relationship among the given classes.

Male, Female, Brother

Options :





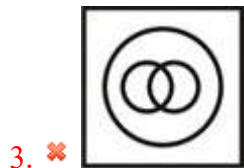
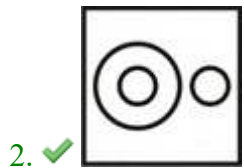
Question Number : 28 Question Id : 5406267469 Question Type : MCQ Option Shuffling : Yes Is Question Mandatory : No Option Orientation : Vertical

Correct Marks : 1 Wrong Marks : 0.25

वह आरेख चुनिए जो नीचे दिए गए वर्गों के बीच के संबंध का सही निरूपण करता है।

पुरुष, महिला, भाई

Options :

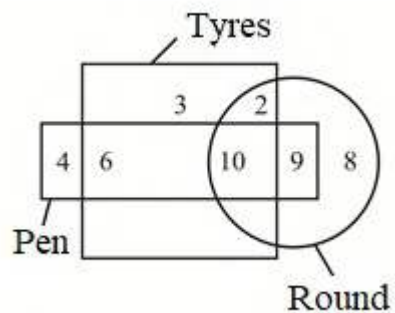


Question Number : 29 Question Id : 5406267470 Question Type : MCQ Option Shuffling : Yes Is Question Mandatory : No Option

Orientation : Vertical

Correct Marks : 1 Wrong Marks : 0.25

How many tyres are round only?



Options :

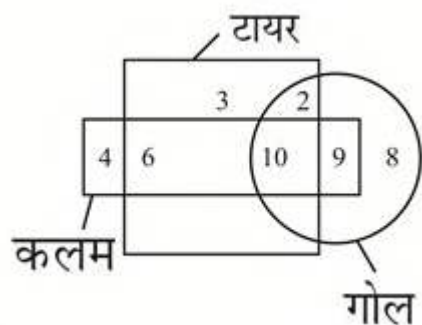
1. ✘ 3
2. ✔ 2
3. ✘ 5
4. ✘ 9

Question Number : 29 Question Id : 5406267470 Question Type : MCQ Option Shuffling : Yes Is Question Mandatory : No Option

Orientation : Vertical

Correct Marks : 1 Wrong Marks : 0.25

कितने टायर केवल गोल हैं?



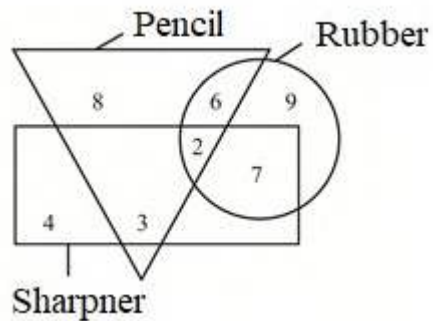
Options :

1. ✘ 3
2. ✔ 2
3. ✘ 5
4. ✘ 9

Question Number : 30 Question Id : 5406267471 Question Type : MCQ Option Shuffling : Yes Is Question Mandatory : No Option Orientation : Vertical

Correct Marks : 1 Wrong Marks : 0.25

How many rubbers are pencils?



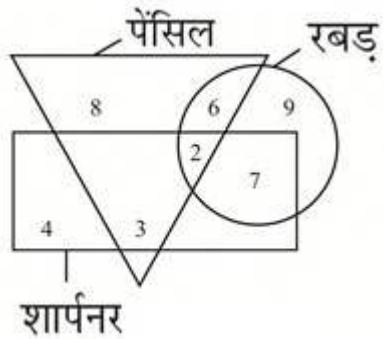
Options :

1. ✘ 15
2. ✘ 9
3. ✘ 16
4. ✔ 8

Question Number : 30 Question Id : 5406267471 Question Type : MCQ Option Shuffling : Yes Is Question Mandatory : No Option Orientation : Vertical

Correct Marks : 1 Wrong Marks : 0.25

कितनी रबड़ पेंसिल हैं?



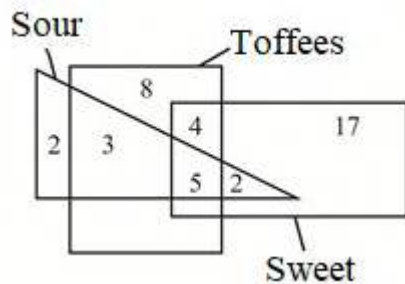
Options :

1. ✘ 15
2. ✘ 9
3. ✘ 16
4. ✔ 8

Question Number : 31 Question Id : 5406267472 Question Type : MCQ Option Shuffling : Yes Is Question Mandatory : No Option Orientation : Vertical

Correct Marks : 1 Wrong Marks : 0.25

Based on the given venn diagram, which of the following statement(s) is/are correct?



- I. Number of sweet toffees are 9.
- II. Number of toffees which are sweet and sour both are 7.

Options :

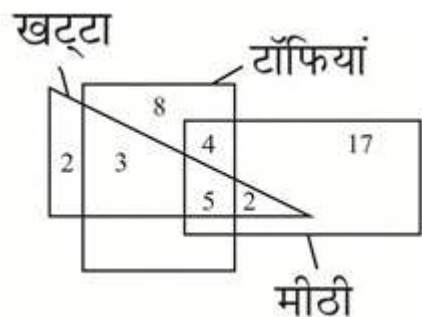
1. ✔ Only I
2. ✘ Only II

3. ✖ Both I and II
4. ✖ Neither I nor II

Question Number : 31 Question Id : 5406267472 Question Type : MCQ Option Shuffling : Yes Is Question Mandatory : No Option Orientation : Vertical

Correct Marks : 1 Wrong Marks : 0.25

दिये गए वेन आरेख के आधार पर, निम्नलिखित में से कौन सा/से कथन सही है/हैं?



- I. मीठी टॉफियों की संख्या 9 है।
- II. वह टॉफियाँ जो मीठी तथा खट्टी दोनों हैं, की संख्या 7 है।

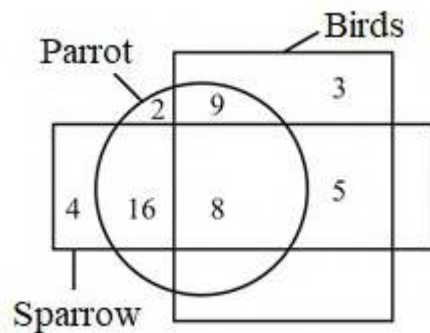
Options :

1. ✔ केवल I
2. ✖ केवल II
3. ✖ I तथा II दोनों
4. ✖ ना ही I ना ही II

Question Number : 32 Question Id : 5406267473 Question Type : MCQ Option Shuffling : Yes Is Question Mandatory : No Option Orientation : Vertical

Correct Marks : 1 Wrong Marks : 0.25

Based on the given venn diagram, which of the following statement(s) is/are correct?



- I. Number of sparrow which are parrot are 24.
 II. Total number of birds are 25.

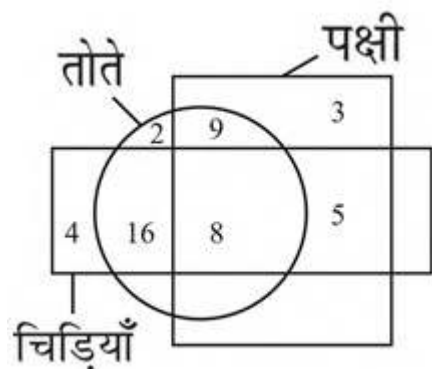
Options :

1. ✘ Only I
2. ✘ Only II
3. ✔ Both I and II
4. ✘ Neither I nor II

Question Number : 32 Question Id : 5406267473 Question Type : MCQ Option Shuffling : Yes Is Question Mandatory : No Option Orientation : Vertical

Correct Marks : 1 Wrong Marks : 0.25

दिये गए वेन आरेख के आधार पर, निम्नलिखित में से कौन सा/से कथन सही है/हैं?



- I. वह चिड़िया जो तोता हैं, की संख्या 24 हैं।
 II. पक्षियों की कुल संख्या 25 हैं।

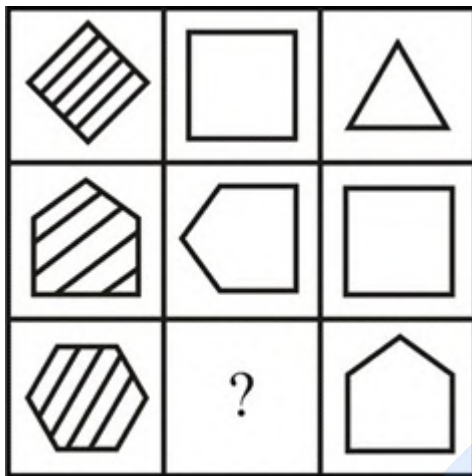
Options :

1. ✖ केवल I
2. ✖ केवल II
3. ✔ I तथा II दोनों
4. ✖ ना ही I ना ही II



Question Number : 33 Question Id : 5406267474 Question Type : MCQ Option Shuffling : Yes Is Question Mandatory : No Option Orientation : Vertical

Correct Marks : 1 Wrong Marks : 0.25

Which answer figure will complete the pattern in the question figure?



Options :









1. ✖ 
2. ✔ 



Question Number : 33 Question Id : 5406267474 Question Type : MCQ Option Shuffling : Yes Is Question Mandatory : No Option Orientation : Vertical

Correct Marks : 1 Wrong Marks : 0.25

कौन सी उत्तर आकृति प्रश्न आकृति के प्रतिरूप को पूरा करेगी?

		
		
	?	

Options :






Question Number : 34 Question Id : 5406267475 Question Type : MCQ Option Shuffling : Yes Is Question Mandatory : No Option Orientation : Vertical

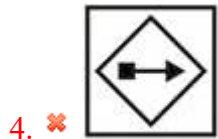
Correct Marks : 1 Wrong Marks : 0.25

In the following question, select the wrong figure from the given series.



Options :






Question Number : 34 Question Id : 5406267475 Question Type : MCQ Option Shuffling : Yes Is Question Mandatory : No Option Orientation : Vertical

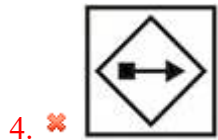
Correct Marks : 1 Wrong Marks : 0.25

निम्नलिखित प्रश्न में, दी गयी श्रृंखला में से गलत आकृति को चुनिए।



Options :





Question Number : 35 Question Id : 5406267476 Question Type : MCQ Option Shuffling : Yes Is Question Mandatory : No Option Orientation : Vertical

Correct Marks : 1 Wrong Marks : 0.25

In the following question, select the odd figure from the given alternatives.

Options :



Question Number : 35 Question Id : 5406267476 Question Type : MCQ Option Shuffling : Yes Is Question Mandatory : No Option Orientation : Vertical

Correct Marks : 1 Wrong Marks : 0.25

निम्नलिखित प्रश्न में, दिए गए विकल्पों में से विषम आकृति को चुनिए।

Options :



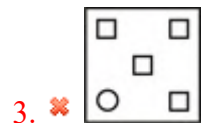
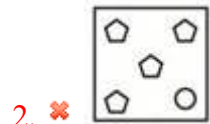
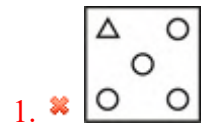


Question Number : 36 Question Id : 5406267477 Question Type : MCQ Option Shuffling : Yes Is Question Mandatory : No Option Orientation : Vertical

Correct Marks : 1 Wrong Marks : 0.25

In the following question, select the odd figure from the given alternatives.

Options :

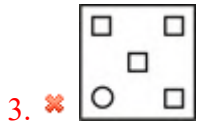
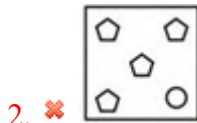
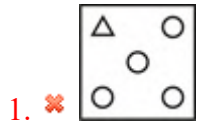


Question Number : 36 Question Id : 5406267477 Question Type : MCQ Option Shuffling : Yes Is Question Mandatory : No Option Orientation : Vertical

Correct Marks : 1 Wrong Marks : 0.25

निम्नलिखित प्रश्न में, दिए गए विकल्पों में से विषम आकृति को चुनिए।

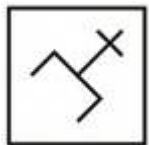
Options :



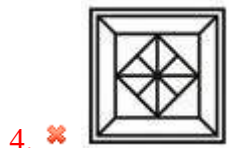
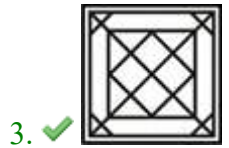
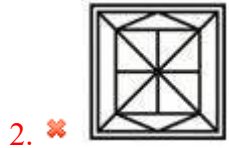
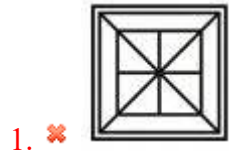
Question Number : 37 Question Id : 5406267478 Question Type : MCQ Option Shuffling : Yes Is Question Mandatory : No Option Orientation : Vertical

Correct Marks : 1 Wrong Marks : 0.25

From the given answer figures, select the one in which the question figure is hidden/embedded.



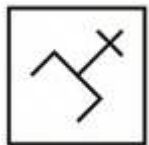
Options :



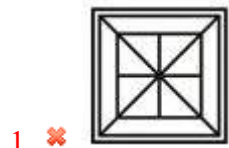
Question Number : 37 Question Id : 5406267478 Question Type : MCQ Option Shuffling : Yes Is Question Mandatory : No Option Orientation : Vertical

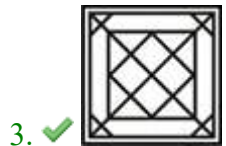
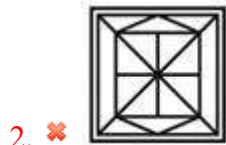
Correct Marks : 1 Wrong Marks : 0.25

दी गई उत्तर आकृतियों में से उस उत्तर आकृति को चुनिए जिस में प्रश्न आकृति निहित है।



Options :

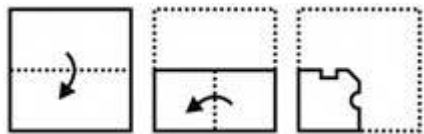




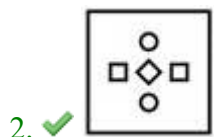
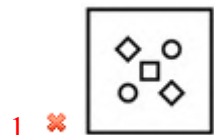
Question Number : 38 Question Id : 5406267479 Question Type : MCQ Option Shuffling : Yes Is Question Mandatory : No Option Orientation : Vertical

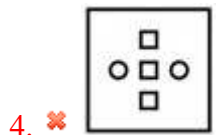
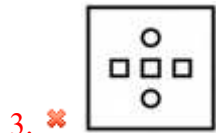
Correct Marks : 1 Wrong Marks : 0.25

A piece of paper is folded and punched as shown below in the question figures. From the given answer figures, indicate how it will appear when opened?



Options :

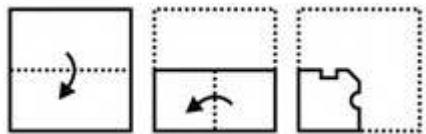




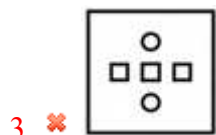
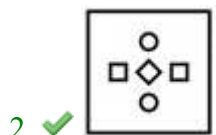
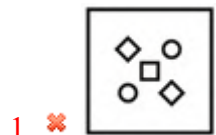
Question Number : 38 Question Id : 5406267479 Question Type : MCQ Option Shuffling : Yes Is Question Mandatory : No Option Orientation : Vertical

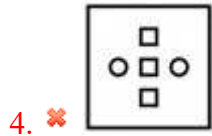
Correct Marks : 1 Wrong Marks : 0.25

नीचे के प्रश्न आकृतियों में दिखाए अनुसार कागज को मोड़कर छेदने तथा खोलने के बाद वह किस उत्तर आकृति जैसा दिखाई देगा?



Options :

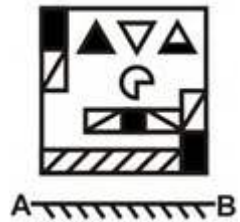




Question Number : 39 Question Id : 5406267480 Question Type : MCQ Option Shuffling : Yes Is Question Mandatory : No Option Orientation : Vertical

Correct Marks : 1 Wrong Marks : 0.25

If a mirror is placed on the line AB, then which of the answer figures is the right image of the given figure?



Options :



4. ✘



Question Number : 39 Question Id : 5406267480 Question Type : MCQ Option Shuffling : Yes Is Question Mandatory : No Option Orientation : Vertical

Correct Marks : 1 Wrong Marks : 0.25

यदि एक दर्पण को AB रेखा पर रखा जाए, तो दी गई उत्तर आकृतियों में से कौन सी आकृति प्रश्न आकृति की सही प्रतिबिंब होगी?



A B

Options :

1. ✘



2. ✘



3. ✔



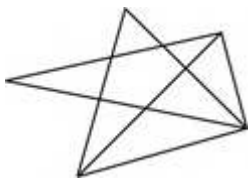


4. ✘

Question Number : 40 Question Id : 5406267481 Question Type : MCQ Option Shuffling : Yes Is Question Mandatory : No Option Orientation : Vertical

Correct Marks : 1 Wrong Marks : 0.25

How many triangles are there in the given figure?



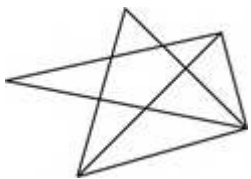
Options :

1. ✘ 14
2. ✘ 18
3. ✘ 17
4. ✔ 19

Question Number : 40 Question Id : 5406267481 Question Type : MCQ Option Shuffling : Yes Is Question Mandatory : No Option Orientation : Vertical

Correct Marks : 1 Wrong Marks : 0.25

दी गई आकृति में कितने त्रिभुज हैं?



Options :

1. ✘ 14

2. ✘ 18
3. ✘ 17
4. ✔ 19

General Awareness1

Group Number :	3
Group Id :	540626234
Group Maximum Duration :	0
Group Minimum Duration :	0
Show Attended Group? :	No
Edit Attended Group? :	No
Break time :	0
Group Marks :	20
Is this Group for Examiner? :	No

General Awareness1

Section Id :	540626313
Section Number :	1
Section type :	Online
Mandatory or Optional :	Mandatory
Number of Questions :	20
Number of Questions to be attempted :	20
Section Marks :	20
Enable Mark as Answered Mark for Review and Clear Response :	Yes
Sub-Section Number :	1
Sub-Section Id :	540626364
Question Shuffling Allowed :	Yes

Question Number : 41 Question Id : 5406267482 Question Type : MCQ Option Shuffling : Yes Is Question Mandatory : No Option Orientation : Vertical

Correct Marks : 1 Wrong Marks : 0.25

Kite festival is associated with which state?

Options :

1. ✓ Gujarat
2. ✗ Punjab
3. ✗ Bihar
4. ✗ Kerala

Question Number : 41 Question Id : 5406267482 Question Type : MCQ Option Shuffling : Yes Is Question Mandatory : No Option Orientation : Vertical

Correct Marks : 1 Wrong Marks : 0.25

पतंग उत्सव किस राज्य से संबंधित है?

Options :

1. ✓ गुजरात
2. ✗ पंजाब
3. ✗ बिहार
4. ✗ केरल

Question Number : 42 Question Id : 5406267483 Question Type : MCQ Option Shuffling : Yes Is Question Mandatory : No Option Orientation : Vertical

Correct Marks : 1 Wrong Marks : 0.25

Shafat Ahmed Khan is associated with which musical instrument?

Options :

1. ✗ Dholak
2. ✗ Sitar
3. ✓ Tabla
4. ✗ Ektara

Question Number : 42 Question Id : 5406267483 Question Type : MCQ Option Shuffling : Yes Is Question Mandatory : No Option Orientation : Vertical

Correct Marks : 1 Wrong Marks : 0.25

शफ़ात अहमद खान किस वाद्य यंत्र से जुड़े हैं?

Options :

1. ✘ ढोलक
2. ✘ सितार
3. ✔ तबला
4. ✘ एकतारा

Question Number : 43 Question Id : 5406267484 Question Type : MCQ Option Shuffling : Yes Is Question Mandatory : No Option Orientation : Vertical

Correct Marks : 1 Wrong Marks : 0.25

Which of the following pair of musician - instrument is correct?

- I. Ustad Bismillah Khan – Shehnai
- II. Ustad Alla Rakha Khan – Santoor

Options :

1. ✔ Only I
2. ✘ Only II
3. ✘ Both I and II
4. ✘ Neither I nor II

Question Number : 43 Question Id : 5406267484 Question Type : MCQ Option Shuffling : Yes Is Question Mandatory : No Option Orientation : Vertical

Correct Marks : 1 Wrong Marks : 0.25

संगीतकार – यंत्र का निम्नलिखित में से कौन सा युग्म सही है?

- I. उस्ताद बिस्मिल्लाह खान – शहनाई
- II. उस्ताद अल्ला रक्खा खान – संतूर

Options :

1. ✔ केवल I
2. ✘ केवल II
3. ✘ I और II दोनों
4. ✘ न तो I न ही II

Question Number : 44 Question Id : 5406267485 Question Type : MCQ Option Shuffling : Yes Is Question Mandatory : No Option

Orientation : Vertical

Correct Marks : 1 Wrong Marks : 0.25

Which of the following pairs of state-dance is NOT correct?

- I. Mizoram – Khuallam
- II. Telangana – Wangala
- III. Uttar Pardesh – Charkula

Options :

- 1. ✘ I and II
- 2. ✘ I and III
- 3. ✘ II and III
- 4. ✔ Only II

Question Number : 44 Question Id : 5406267485 Question Type : MCQ Option Shuffling : Yes Is Question Mandatory : No Option

Orientation : Vertical

Correct Marks : 1 Wrong Marks : 0.25

निम्नलिखित में से कौन सा राज्य-नृत्य का युग्म सही नहीं है?

- I. मिजोरम – खुआलम
- II. तेलंगाना – वांगला
- III. उत्तर परदेश - चरकुला

Options :

- 1. ✘ I तथा II
- 2. ✘ I तथा III
- 3. ✘ II तथा III
- 4. ✔ केवल II

Question Number : 45 Question Id : 5406267486 Question Type : MCQ Option Shuffling : Yes Is Question Mandatory : No Option

Orientation : Vertical

Correct Marks : 1 Wrong Marks : 0.25

_____ records the transactions in goods, services and assets between residents of a country with the rest of the world for a specified period.

- I. Balance of Payment
- II. Balance of Trade

Options :

- 1. ✓ Only I
- 2. ✗ Only II
- 3. ✗ Both I and II
- 4. ✗ Neither I nor II

Question Number : 45 Question Id : 5406267486 Question Type : MCQ Option Shuffling : Yes Is Question Mandatory : No Option Orientation : Vertical

Correct Marks : 1 Wrong Marks : 0.25

_____ एक देश के निवासियों और शेष विश्व के बीच वस्तुओं, सेवाओं और परिसंपत्तियों की लेन-देन का विवरण दर्ज़ करता है।

- I. अदायगी संतुलन
- II. संतुलित व्यापार

Options :

- 1. ✓ केवल I
- 2. ✗ केवल II
- 3. ✗ I तथा II दोनों
- 4. ✗ ना तो I ना तो II

Question Number : 46 Question Id : 5406267487 Question Type : MCQ Option Shuffling : Yes Is Question Mandatory : No Option Orientation : Vertical

Correct Marks : 1 Wrong Marks : 0.25

The value of GDP at the current prevailing prices is _____.

Options :

- 1. ✓ Nominal GDP
- 2. ✗ Real GDP
- 3. ✗ GDP Deflator
- 4. ✗ GDP Inflation

Question Number : 46 Question Id : 5406267487 Question Type : MCQ Option Shuffling : Yes Is Question Mandatory : No Option

Orientation : Vertical

Correct Marks : 1 Wrong Marks : 0.25

वर्तमान कीमत पर जी.डी.पी. का मूल्य _____ है।

Options :

1. ✓ मौद्रिक जी.डी.पी.
2. ✗ वास्तविक जी.डी.पी.
3. ✗ जी.डी.पी. अवस्फीतिक
4. ✗ जी.डी.पी. स्फीतिक

Question Number : 47 Question Id : 5406267488 Question Type : MCQ Option Shuffling : Yes Is Question Mandatory : No Option

Orientation : Vertical

Correct Marks : 1 Wrong Marks : 0.25

When tax collection exceeds the required expenditure, the budget is said to be in _____.

Options :

1. ✗ deficit
2. ✓ surplus
3. ✗ balance
4. ✗ either deficit or balance

Question Number : 47 Question Id : 5406267488 Question Type : MCQ Option Shuffling : Yes Is Question Mandatory : No Option

Orientation : Vertical

Correct Marks : 1 Wrong Marks : 0.25

जब कर से प्राप्त राशी आवश्यक आय से अधिक होती है, तो बजट _____ में कहा जाता है।

Options :

1. ✗ घाटा
2. ✓ अधिशेष
3. ✗ शेष
4. ✗ घाटे अथवा शेष

Question Number : 48 Question Id : 5406267489 Question Type : MCQ Option Shuffling : Yes Is Question Mandatory : No Option

Orientation : Vertical

Correct Marks : 1 Wrong Marks : 0.25

Which of the following is NOT the instruments of monetary policy of India?

- I. Corridor
- II. Statutory Liquidity Ratio

Options :

- 1. ✘ Only I
- 2. ✘ Only II
- 3. ✘ Both I and II
- 4. ✔ Neither I nor II

Question Number : 48 Question Id : 5406267489 Question Type : MCQ Option Shuffling : Yes Is Question Mandatory : No Option Orientation : Vertical

Correct Marks : 1 Wrong Marks : 0.25

निम्नलिखित में से कौन भारत की मौद्रिक नीति का साधन नहीं है?

- I. गलियारा
- II. संविधिक चलनिधि अनुपात

Options :

- 1. ✘ केवल I
- 2. ✘ केवल II
- 3. ✘ I तथा II दोनों
- 4. ✔ ना तो I ना तो II

Question Number : 49 Question Id : 5406267490 Question Type : MCQ Option Shuffling : Yes Is Question Mandatory : No Option Orientation : Vertical

Correct Marks : 1 Wrong Marks : 0.25

Which of the following statement is true about the government budget?

- I. It gives a statement of the estimated receipts and expenditures of the government.
- II. It is divided into the revenue budget and capital budget.

Options :

- 1. ✘ Only I

2. ✘ Only II
3. ✔ Both I and II
4. ✘ Neither I nor II

Question Number : 49 Question Id : 5406267490 Question Type : MCQ Option Shuffling : Yes Is Question Mandatory : No Option Orientation : Vertical

Correct Marks : 1 Wrong Marks : 0.25

निम्नलिखित में से कौन सा कथन सरकारी बजट के संदर्भ में सही है?

- I. यह सरकार की अनुमानित प्राप्तियों और व्ययों का विवरण देता है।
- II. इसे राजस्व बजट और पूँजीगत बजट में विभाजित किया जाता है।

Options :

1. ✘ केवल I
2. ✘ केवल II
3. ✔ I तथा II दोनों
4. ✘ ना तो I ना तो II

Question Number : 50 Question Id : 5406267491 Question Type : MCQ Option Shuffling : Yes Is Question Mandatory : No Option Orientation : Vertical

Correct Marks : 1 Wrong Marks : 0.25

The sun is visible to us about _____ minutes before the actual sunrise.

Options :

1. ✘ 1
2. ✘ 3
3. ✔ 2
4. ✘ 4

Question Number : 50 Question Id : 5406267491 Question Type : MCQ Option Shuffling : Yes Is Question Mandatory : No Option Orientation : Vertical

Correct Marks : 1 Wrong Marks : 0.25

सूर्य हमें वास्तविक सूर्योदय से लगभग _____ मिनट पहले दिखाई देने लगता है।

Options :

1. ✘ 1
2. ✘ 3
3. ✔ 2
4. ✘ 4

Question Number : 51 Question Id : 5406267492 Question Type : MCQ Option Shuffling : Yes Is Question Mandatory : No Option Orientation : Vertical

Correct Marks : 1 Wrong Marks : 0.25

Which of the following statement(s) is/are correct?

- I. Acids turns blue litmus red.
- II. Bases turns red litmus blue.

Options :

1. ✘ Only I
2. ✘ Only II
3. ✔ Both I and II
4. ✘ Neither I nor II

Question Number : 51 Question Id : 5406267492 Question Type : MCQ Option Shuffling : Yes Is Question Mandatory : No Option Orientation : Vertical

Correct Marks : 1 Wrong Marks : 0.25

निम्नलिखित में से कौन सा/से कथन सही है/हैं?

- I. अम्ल नीले लिटमस को लाल कर देता है।
- II. क्षारक लाल लिटमस को नीला कर देता है।

Options :

1. ✘ केवल I
2. ✘ केवल II
3. ✔ I तथा II दोनों
4. ✘ ना ही I ना ही II

Question Number : 52 Question Id : 5406267493 Question Type : MCQ Option Shuffling : Yes Is Question Mandatory : No Option

Orientation : Vertical

Correct Marks : 1 Wrong Marks : 0.25

Which of the following is true about eukaryotic cell?

- I. Nuclear region is well defined.
- II. Nuclear region is surrounded by nuclear membrane.
- III. It has a single chromosome.

Options :

- 1. ✓ I and II
- 2. ✗ II and III
- 3. ✗ I and III
- 4. ✗ I, II and III

Question Number : 52 Question Id : 5406267493 Question Type : MCQ Option Shuffling : Yes Is Question Mandatory : No Option

Orientation : Vertical

Correct Marks : 1 Wrong Marks : 0.25

यूकैरियोटी कोशिका के संदर्भ में निम्नलिखित में से कौन सा सही है?

- I. केंद्रकीय क्षेत्र सुस्पष्ट होता है।
- II. केंद्रकीय क्षेत्र चारों ओर से केंद्रकीय झिल्ली से घिरा रहता है।
- III. इसमें एक क्रोमोसोम होता है।

Options :

- 1. ✓ I तथा II
- 2. ✗ II तथा III
- 3. ✗ I तथा III
- 4. ✗ I, II तथा III

Question Number : 53 Question Id : 5406267494 Question Type : MCQ Option Shuffling : Yes Is Question Mandatory : No Option

Orientation : Vertical

Correct Marks : 1 Wrong Marks : 0.25

Which of the following statement is correct?

- I. Sliding friction is smaller than static friction.
- II. Rolling friction is smaller than sliding friction.

Options :

1. ✘ Only I
2. ✘ Only II
3. ✔ Both I and II
4. ✘ Neither I nor II

Question Number : 53 Question Id : 5406267494 Question Type : MCQ Option Shuffling : Yes Is Question Mandatory : No Option Orientation : Vertical

Correct Marks : 1 Wrong Marks : 0.25

निम्नलिखित में से कौन सा कथन सही है?

- I. सर्पी घर्षण स्थैतिक घर्षण से कम होता है।
- II. लोटनीक घर्षण सर्पी घर्षण से कम होता है।

Options :

1. ✘ केवल I
2. ✘ केवल II
3. ✔ I तथा II दोनों
4. ✘ ना ही I ना ही II

Question Number : 54 Question Id : 5406267495 Question Type : MCQ Option Shuffling : Yes Is Question Mandatory : No Option Orientation : Vertical

Correct Marks : 1 Wrong Marks : 0.25

Which of the following is a domain of environment?

- I. Hydrosphere
- II. Lithosphere

Options :

1. ✘ Only I
2. ✘ Only II
3. ✔ Both I and II
4. ✘ Neither I nor II

Question Number : 54 Question Id : 5406267495 Question Type : MCQ Option Shuffling : Yes Is Question Mandatory : No Option Orientation : Vertical

Correct Marks : 1 Wrong Marks : 0.25

निम्नलिखित में से कौन सा पर्यावरण का एक क्षेत्र है?

- I. जलमंडल
- II. स्थलमंडल

Options :

1. ✘ केवल I
2. ✘ केवल II
3. ✔ I तथा II दोनों
4. ✘ ना ही I ना ही II

Question Number : 55 Question Id : 5406267496 Question Type : MCQ Option Shuffling : Yes Is Question Mandatory : No Option Orientation : Vertical

Correct Marks : 1 Wrong Marks : 0.25

_____ is the first state of India which has made rooftop rainwater harvesting structure compulsory to all the houses across state.

Options :

1. ✔ Tamil Nadu
2. ✘ Meghalaya
3. ✘ Kerala
4. ✘ Uttarakhand

Question Number : 55 Question Id : 5406267496 Question Type : MCQ Option Shuffling : Yes Is Question Mandatory : No Option Orientation : Vertical

Correct Marks : 1 Wrong Marks : 0.25

_____ भारत का वह पहला राज्य है जिसने पूरे राज्य में हर घर में वर्षाजल संग्रहण ढाँचों को बनाना आवश्यक कर दिया है।

Options :

1. ✔ तमिलनाडु
2. ✘ मेघालय
3. ✘ केरल
4. ✘ उत्तराखंड

Question Number : 56 Question Id : 5406267497 Question Type : MCQ Option Shuffling : Yes Is Question Mandatory : No Option Orientation : Vertical

Correct Marks : 1 Wrong Marks : 0.25

Which of the following is the highest Plateau in the world?

Options :

1. ✓ Tibet Plateau
2. ✗ Deccan Plateau
3. ✗ East African Plateau
4. ✗ Western Australia Plateau

Question Number : 56 Question Id : 5406267497 Question Type : MCQ Option Shuffling : Yes Is Question Mandatory : No Option Orientation : Vertical

Correct Marks : 1 Wrong Marks : 0.25

निम्नलिखित में से कौन से विश्व का सबसे ऊँचा पठार है?

Options :

1. ✓ तिब्बत पठार
2. ✗ दक्कन पठार
3. ✗ पूर्वी अफ्रिकी पठार
4. ✗ पश्चिमी ऑस्ट्रेलिया पठार

Question Number : 57 Question Id : 5406267498 Question Type : MCQ Option Shuffling : Yes Is Question Mandatory : No Option Orientation : Vertical

Correct Marks : 1 Wrong Marks : 0.25

Odisha is located on the _____ seacoast of India.

Options :

1. ✗ Northern
2. ✗ Southern
3. ✓ Eastern
4. ✗ Western

Question Number : 57 Question Id : 5406267498 Question Type : MCQ Option Shuffling : Yes Is Question Mandatory : No Option

Orientation : Vertical

Correct Marks : 1 Wrong Marks : 0.25

ओड़िशा भारत के _____ समुद्री तट पर स्थित है।

Options :

1. ✘ उत्तरी
2. ✘ दक्षिणी
3. ✔ पूर्वी
4. ✘ पश्चिमी

Question Number : 58 Question Id : 5406267499 Question Type : MCQ Option Shuffling : Yes Is Question Mandatory : No Option

Orientation : Vertical

Correct Marks : 1 Wrong Marks : 0.25

Which of the following statement regarding Tropical Deciduous Forest is correct?

- I. These forests are called monsoon forests.
- II. Sal, Peepal and Neem are important trees of these forest.

Options :

1. ✘ Only I
2. ✘ Only II
3. ✔ Both I and II
4. ✘ Neither I nor II

Question Number : 58 Question Id : 5406267499 Question Type : MCQ Option Shuffling : Yes Is Question Mandatory : No Option

Orientation : Vertical

Correct Marks : 1 Wrong Marks : 0.25

उष्णकटिबंधीय पर्णपाती वन के संदर्भ में निम्नलिखित में से कौन सा कथन सही है?

- I. इन वनों को मानसून वन भी कहते हैं।
- II. इन वनों के महत्वपूर्ण वृक्ष साल, पीपल और नीम हैं।

Options :

1. ✘ केवल I
2. ✘ केवल II

3. ✓ I तथा II दोनों
4. ✗ ना ही I ना ही II

Question Number : 59 Question Id : 5406267500 Question Type : MCQ Option Shuffling : Yes Is Question Mandatory : No Option Orientation : Vertical

Correct Marks : 1 Wrong Marks : 0.25

The Rigveda was composed about _____ years ago.

Options :

1. ✓ 3500
2. ✗ 4000
3. ✗ 2000
4. ✗ 2800

Question Number : 59 Question Id : 5406267500 Question Type : MCQ Option Shuffling : Yes Is Question Mandatory : No Option Orientation : Vertical

Correct Marks : 1 Wrong Marks : 0.25

ऋग्वेद की रचना लगभग _____ वर्ष पूर्व हुई।

Options :

1. ✓ 3500
2. ✗ 4000
3. ✗ 2000
4. ✗ 2800

Question Number : 60 Question Id : 5406267501 Question Type : MCQ Option Shuffling : Yes Is Question Mandatory : No Option Orientation : Vertical

Correct Marks : 1 Wrong Marks : 0.25

In which city/cities fire altars were found?

- I. Kalibangan
II. Lothal

Options :

1. ✗ Only I

2. ✘ Only II
3. ✔ Both I and II
4. ✘ Neither I nor II

Question Number : 60 Question Id : 5406267501 Question Type : MCQ Option Shuffling : Yes Is Question Mandatory : No Option Orientation : Vertical

Correct Marks : 1 Wrong Marks : 0.25

किन नगर/नगरों में अग्निकुण्ड मिले थे?

- I. कालीबंगा
- II. लोथल

Options :

1. ✘ केवल I
2. ✘ केवल II
3. ✔ I तथा II दोनों
4. ✘ ना ही I ना ही II

General Awareness2

Group Number :	4
Group Id :	540626235
Group Maximum Duration :	0
Group Minimum Duration :	0
Show Attended Group? :	No
Edit Attended Group? :	No
Break time :	0
Group Marks :	20
Is this Group for Examiner? :	No

General Awareness2

Section Id : 540626314

Section Number :	1
Section type :	Online
Mandatory or Optional :	Mandatory
Number of Questions :	20
Number of Questions to be attempted :	20
Section Marks :	20
Enable Mark as Answered Mark for Review and Clear Response :	Yes
Sub-Section Number :	1
Sub-Section Id :	540626365
Question Shuffling Allowed :	Yes

Question Number : 61 Question Id : 5406267502 Question Type : MCQ Option Shuffling : Yes Is Question Mandatory : No Option Orientation : Vertical

Correct Marks : 1 Wrong Marks : 0.25

Which Dynasty ruled Delhi during 1451-1526?

Options :

1. ✘ Rajput Dynasty
2. ✔ Lodi Dynasty
3. ✘ Sayyid Dynasty
4. ✘ Tughluq Dynasty

Question Number : 61 Question Id : 5406267502 Question Type : MCQ Option Shuffling : Yes Is Question Mandatory : No Option Orientation : Vertical

Correct Marks : 1 Wrong Marks : 0.25

1451-1526 के दौरान दिल्ली पर किस वंश ने शासन किया था?

Options :

1. ✘ राजपूत वंश
2. ✔ लोदी वंश
3. ✘ सैय्यद वंश
4. ✘ तुगलक वंश

Question Number : 62 Question Id : 5406267503 Question Type : MCQ Option Shuffling : Yes Is Question Mandatory : No Option

Orientation : Vertical

Correct Marks : 1 Wrong Marks : 0.25

_____ was the Governor General of India during 1848 to 1856.

Options :

1. ✘ Lord Rippon
2. ✘ Warren Hastings
3. ✔ Lord Dalhousie
4. ✘ Lord Curzon

Question Number : 62 Question Id : 5406267503 Question Type : MCQ Option Shuffling : Yes Is Question Mandatory : No Option

Orientation : Vertical

Correct Marks : 1 Wrong Marks : 0.25

1848 से 1856 के दौरान _____ भारत के गर्वनर जनरल थे।

Options :

1. ✘ लॉर्ड रिपन
2. ✘ वॉरेन हेस्टिंग्स
3. ✔ लॉर्ड डलहौजी
4. ✘ लॉर्ड कर्ज़न

Question Number : 63 Question Id : 5406267504 Question Type : MCQ Option Shuffling : Yes Is Question Mandatory : No Option

Orientation : Vertical

Correct Marks : 1 Wrong Marks : 0.25

In which year, 'Poona Pact' was introduced?

Options :

1. ✘ 1930
2. ✘ 1922
3. ✘ 1938
4. ✔ 1932

Question Number : 63 Question Id : 5406267504 Question Type : MCQ Option Shuffling : Yes Is Question Mandatory : No Option

Orientation : Vertical

Correct Marks : 1 Wrong Marks : 0.25

किस वर्ष में 'पूना पैक्ट' लाया गया था?

Options :

1. ✘ 1930
2. ✘ 1922
3. ✘ 1938
4. ✔ 1932

Question Number : 64 Question Id : 5406267505 Question Type : MCQ Option Shuffling : Yes Is Question Mandatory : No Option Orientation : Vertical

Correct Marks : 1 Wrong Marks : 0.25

Who was the first woman to climb Mount Everest?

Options :

1. ✘ Anshu Jamsenpa
2. ✘ Savitskaya
3. ✔ Junko Tabei
4. ✘ Bachendri Pal

Question Number : 64 Question Id : 5406267505 Question Type : MCQ Option Shuffling : Yes Is Question Mandatory : No Option Orientation : Vertical

Correct Marks : 1 Wrong Marks : 0.25

माउंट एवरेस्ट पर चढ़ने वाली पहली महिला कौन थी?

Options :

1. ✘ अंशु जामसेनपा
2. ✘ सविस्काया
3. ✔ जुंको तबे
4. ✘ बछेंद्री पाल

Question Number : 65 Question Id : 5406267506 Question Type : MCQ Option Shuffling : Yes Is Question Mandatory : No Option Orientation : Vertical

Correct Marks : 1 Wrong Marks : 0.25

'World Economic Outlook 2020' report was published by which organisation?

Options :

1. ✘ World Bank
2. ✘ World Economic Forum
3. ✔ International Monetary Fund
4. ✘ Asian Development Bank

Question Number : 65 Question Id : 5406267506 Question Type : MCQ Option Shuffling : Yes Is Question Mandatory : No Option Orientation : Vertical

Correct Marks : 1 Wrong Marks : 0.25

‘विश्व आर्थिक आउटलुक 2020’ रिपोर्ट किस संगठन द्वारा प्रकाशित की गई थी?

Options :

1. ✘ वर्ल्ड बैंक
2. ✘ वर्ल्ड इकनॉमिक फोरम
3. ✔ इंटरनेशनल मोनेटरी फण्ड
4. ✘ एशियन डेवलपमेंट बैंक

Question Number : 66 Question Id : 5406267507 Question Type : MCQ Option Shuffling : Yes Is Question Mandatory : No Option Orientation : Vertical

Correct Marks : 1 Wrong Marks : 0.25

Which of the following is NOT the winner of Nobel prize in Economics 2020?

Note: For this question, discrepancy is found in question/answer. So, this question is ignored for all candidates.

Options :

1. Louise Glick
2. Roger Penrose
3. World food programme
4. Peter Handke

Question Number : 66 Question Id : 5406267507 Question Type : MCQ Option Shuffling : Yes Is Question Mandatory : No Option Orientation : Vertical

Correct Marks : 1 Wrong Marks : 0.25

निम्नलिखित में से कौन अर्थशास्त्र 2020 में नोबेल पुरस्कार का विजेता नहीं है?

Note: For this question, discrepancy is found in question/answer. So, this question is ignored for all candidates.

Options :

1. लुईस ग्लिक
2. रोगर पेनरोज़
3. वर्ल्ड फूड प्रोगराम
4. पीटर हैडके

Question Number : 67 Question Id : 5406267508 Question Type : MCQ Option Shuffling : Yes Is Question Mandatory : No Option Orientation : Vertical

Correct Marks : 1 Wrong Marks : 0.25

Who is the author of the book 'City of Girls'?

Options :

1. ✓ Elizabeth Gilbert
2. ✗ Khushwant Singh
3. ✗ Margaret Atwood
4. ✗ R P N Singh

Question Number : 67 Question Id : 5406267508 Question Type : MCQ Option Shuffling : Yes Is Question Mandatory : No Option Orientation : Vertical

Correct Marks : 1 Wrong Marks : 0.25

‘सिटी ऑफ़ गर्ल्स’ पुस्तक के लेखक कौन हैं?

Options :

1. ✓ एलिजाबेथ गिल्बर्ट
2. ✗ खुशवंत सिंह
3. ✗ मागरिट एटवुड
4. ✗ आर पी एन सिंह

Question Number : 68 Question Id : 5406267509 Question Type : MCQ Option Shuffling : Yes Is Question Mandatory : No Option Orientation : Vertical

Correct Marks : 1 Wrong Marks : 0.25

First RORO rail service of south western railways has been started from which state of India?

Options :

1. ✘ Tamil Nadu
2. ✔ Karnataka
3. ✘ Kerala
4. ✘ Goa

Question Number : 68 Question Id : 5406267509 Question Type : MCQ Option Shuffling : Yes Is Question Mandatory : No Option Orientation : Vertical

Correct Marks : 1 Wrong Marks : 0.25

दक्षिण पश्चिमी रेलवे की पहली RORO रेल सेवा भारत के किस राज्य से शुरू की गई है?

Options :

1. ✘ तमिलनाडु
2. ✔ कर्नाटक
3. ✘ केरल
4. ✘ गोवा

Question Number : 69 Question Id : 5406267510 Question Type : MCQ Option Shuffling : Yes Is Question Mandatory : No Option Orientation : Vertical

Correct Marks : 1 Wrong Marks : 0.25

Who has been honoured with Dadasaheb Phalke Award 2020?

Options :

1. ✘ Rishi Kapoor
2. ✘ Shahrukh Khan
3. ✘ Akshay Kumar
4. ✔ Dhanush K. Raja

Question Number : 69 Question Id : 5406267510 Question Type : MCQ Option Shuffling : Yes Is Question Mandatory : No Option Orientation : Vertical

Correct Marks : 1 Wrong Marks : 0.25

किसे दादा साहेब फाल्के पुरस्कार 2020 से सम्मानित किया गया है?

Options :

1. ✘ ऋषि कपूर
2. ✘ शाहरुख खान
3. ✘ अक्षय कुमार
4. ✔ धनुष के. राजा

Question Number : 70 Question Id : 5406267511 Question Type : MCQ Option Shuffling : Yes Is Question Mandatory : No Option Orientation : Vertical

Correct Marks : 1 Wrong Marks : 0.25

Who won the 2020 Booker Prize?

Options :

1. ✔ Douglas Stuart
2. ✘ Tsitsi Dangarembga
3. ✘ Avni Doshi
4. ✘ Brandon Taylor

Question Number : 70 Question Id : 5406267511 Question Type : MCQ Option Shuffling : Yes Is Question Mandatory : No Option Orientation : Vertical

Correct Marks : 1 Wrong Marks : 0.25

2020 बुकर पुरस्कार किसने जीता?

Options :

1. ✔ डगलस स्टुअर्ट
2. ✘ टसिसी डंगरेंबगा
3. ✘ अवनि दोषी
4. ✘ ब्रैंडन टेलर

Question Number : 71 Question Id : 5406267512 Question Type : MCQ Option Shuffling : Yes Is Question Mandatory : No Option Orientation : Vertical

Correct Marks : 1 Wrong Marks : 0.25

What does the below traffic sign mean?



Options :

1. ✘ Warning for a tunnel
2. ✘ Entry prohibited
3. ✘ Crossroad ahead
4. ✔ Vehicles higher in height than indicated prohibited

Question Number : 71 Question Id : 5406267512 Question Type : MCQ Option Shuffling : Yes Is Question Mandatory : No Option Orientation : Vertical

Correct Marks : 1 Wrong Marks : 0.25

नीचे दिया गया ट्रैफ़िक निशान क्या बताता है?



Options :

1. ✘ सुरंग (टनेल) की चेतावनी
2. ✘ प्रवेश प्रतिबंधित
3. ✘ आगे चौराहा है
4. ✔ संकेतित ऊंचाई से अधिक ऊंचाईवाले वाहनों को प्रतिबंधित किया है

Question Number : 72 Question Id : 5406267513 Question Type : MCQ Option Shuffling : Yes Is Question Mandatory : No Option Orientation : Vertical

Correct Marks : 1 Wrong Marks : 0.25

What does the below traffic sign mean?



Options :

1. ✘ Pedestrians prohibited
2. ✘ Railway workshop ahead
3. ✔ Warning for a railroad crossing without barriers
4. ✘ Warning for a tram

Question Number : 72 Question Id : 5406267513 Question Type : MCQ Option Shuffling : Yes Is Question Mandatory : No Option Orientation : Vertical

Correct Marks : 1 Wrong Marks : 0.25

नीचे दिया गया ट्रैफ़िक निशान क्या बताता है?

prepp
Your Personal Exams Guide



Options :

1. ✘ पैदल चलने वाले प्रतिबंधित
2. ✘ आगे रेलवे कार्यशाला है
3. ✔ बाधाओं बिना रेल क्रॉसिंग की चेतावनी
4. ✘ एक ट्राम की चेतावनी

Question Number : 73 Question Id : 5406267514 Question Type : MCQ Option Shuffling : Yes Is Question Mandatory : No Option Orientation : Vertical

Correct Marks : 1 Wrong Marks : 0.25

What does the below traffic sign mean?



Options :

1. ✘ Mandatory Left turn
2. ✘ Turning left prohibited
3. ✘ Trucks parking prohibited
4. ✔ Vehicles longer than indicated prohibited

Question Number : 73 Question Id : 5406267514 Question Type : MCQ Option Shuffling : Yes Is Question Mandatory : No Option Orientation : Vertical

Correct Marks : 1 Wrong Marks : 0.25

नीचे दिया गया ट्रैफ़िक निशान क्या बताता है?



Options :

1. ✘ बाईं ओर अनिवार्य मोड़
2. ✘ बाएं मुड़ना प्रतिबंधित है
3. ✘ ट्रकों की पार्किंग प्रतिबंधित है
4. ✔ संकेतित लंबाई से अधिक लंबाईवाले वाहन प्रतिबंधित हैं

Question Number : 74 Question Id : 5406267515 Question Type : MCQ Option Shuffling : Yes Is Question Mandatory : No Option Orientation : Vertical

Correct Marks : 1 Wrong Marks : 0.25

What does the below traffic sign mean?



Options :

1. ✘ Parking allowed for vehicles heavier than indicated
2. ✘ Trucks parking prohibited
3. ✘ Vehicles longer than indicated prohibited
4. ✔ Vehicles heavier than indicated prohibited

Question Number : 74 Question Id : 5406267515 Question Type : MCQ Option Shuffling : Yes Is Question Mandatory : No Option Orientation : Vertical

Correct Marks : 1 Wrong Marks : 0.25

नीचे दिया गया ट्रैफ़िक निशान क्या बताता है?




Options :

1. ✘ संकेतित वजन से अधिक वजनवाले वाहनों को पार्किंग की अनुमति है
2. ✘ ट्रकों की पार्किंग प्रतिबंधित
3. ✘ संकेतित लंबाई से अधिक लंबाईवाले वाहन प्रतिबंधित हैं
4. ✔ संकेतित वजन से अधिक वजनवाले वाहन प्रतिबंधित हैं

Question Number : 75 Question Id : 5406267516 Question Type : MCQ Option Shuffling : Yes Is Question Mandatory : No Option Orientation : Vertical

Correct Marks : 1 Wrong Marks : 0.25

What does the below traffic sign mean?



Options :


1. ✘ Parking allowed
2. ✔ Stop and give way to all drivers
3. ✘ Dead end street
4. ✘ Warning for roadworks

Question Number : 75 Question Id : 5406267516 Question Type : MCQ Option Shuffling : Yes Is Question Mandatory : No Option Orientation : Vertical

Correct Marks : 1 Wrong Marks : 0.25

नीचे दिया गया ट्रैफ़िक निशान क्या बताता है?

prepp
Your Personal Exam Guide



Options :

1. ✘ पार्किंग की अनुमति है
2. ✔ रुकें और सभी ड्राइवरो को रास्ता दें
3. ✘ डेड एन्ड स्ट्रीट
4. ✘ सड़क कार्यों की चेतावनी

Question Number : 76 Question Id : 5406267517 Question Type : MCQ Option Shuffling : Yes Is Question Mandatory : No Option Orientation : Vertical

Correct Marks : 1 Wrong Marks : 0.25

Re-circulating ball type gear is used in:

Options :

1. ✘ Two-wheelers
2. ✘ Three-wheelers
3. ✘ Light motor vehicles
4. ✔ Heavy motor vehicles

Question Number : 76 Question Id : 5406267517 Question Type : MCQ Option Shuffling : Yes Is Question Mandatory : No Option Orientation : Vertical

Correct Marks : 1 Wrong Marks : 0.25

री-सर्कुलेटिंग बॉल टाइप गियर का उपयोग इनमें से किसमें किया जाता है?

Options :

1. ✘ दुपहिया वाहन
2. ✘ तिपहिया वाहन
3. ✘ हल्के मोटर वाहन
4. ✔ भारी मोटर वाहन

Question Number : 77 Question Id : 5406267518 Question Type : MCQ Option Shuffling : Yes Is Question Mandatory : No Option Orientation : Vertical

Correct Marks : 1 Wrong Marks : 0.25

A road sign with a red circle:

Options :

1. ✘ instructs what should be done
2. ✔ instructs what should not be done
3. ✘ represents a cautionary sign
4. ✘ displays information

Question Number : 77 Question Id : 5406267518 Question Type : MCQ Option Shuffling : Yes Is Question Mandatory : No Option Orientation : Vertical

Correct Marks : 1 Wrong Marks : 0.25

लाल घेरे के साथ सड़क का चिन्ह:

Options :

1. ✘ निर्देश देता है कि क्या किया जाना चाहिए
2. ✔ निर्देश देता है कि क्या नहीं किया जाना चाहिए
3. ✘ सावधानी सूचक संकेत दर्शाता है
4. ✘ सूचना प्रदर्शित करता है

Question Number : 78 Question Id : 5406267519 Question Type : MCQ Option Shuffling : Yes Is Question Mandatory : No Option Orientation : Vertical

Correct Marks : 1 Wrong Marks : 0.25

_____ traffic signs display road services and evacuation route information.

Options :

1. ✘ Green
2. ✘ Brown
3. ✔ Blue
4. ✘ Black

Question Number : 78 Question Id : 5406267519 Question Type : MCQ Option Shuffling : Yes Is Question Mandatory : No Option Orientation : Vertical

Correct Marks : 1 Wrong Marks : 0.25

_____ ट्रैफिक संकेत सड़क सेवाओं और निकास मार्ग की सूचनाएं प्रदर्शित करते हैं।

Options :

1. ✘ हरे
2. ✘ भूरे
3. ✔ नीले
4. ✘ काले

Question Number : 79 Question Id : 5406267520 Question Type : MCQ Option Shuffling : Yes Is Question Mandatory : No Option Orientation : Vertical

Correct Marks : 1 Wrong Marks : 0.25

_____ converts the rotary movement of the steering wheel into angular turning of the front wheels.

Options :

1. ✔ Steering gear box
2. ✘ Steering arm
3. ✘ Track arms
4. ✘ Track rod or Tie rod

Question Number : 79 Question Id : 5406267520 Question Type : MCQ Option Shuffling : Yes Is Question Mandatory : No Option Orientation : Vertical

Correct Marks : 1 Wrong Marks : 0.25

_____ स्टीयरिंग व्हील की घूर्णन गति को आगे के पहियों के कोणीय मोड़ में बदलता है।

Options :

1. ✔ स्टीयरिंग गियर बॉक्स

2. ✘ स्टीयरिंग आर्म
3. ✘ ट्रैक आर्म
4. ✘ ट्रैक रॉड या टाई रॉड

Question Number : 80 Question Id : 5406267521 Question Type : MCQ Option Shuffling : Yes Is Question Mandatory : No Option Orientation : Vertical

Correct Marks : 1 Wrong Marks : 0.25

The condenser of an auto air conditioner that looks like a fin and tube radiator is usually placed _____ of the car.

Options :

1. ✔ in front
2. ✘ at the rear
3. ✘ near the driver seat
4. ✘ near the rear seat

Question Number : 80 Question Id : 5406267521 Question Type : MCQ Option Shuffling : Yes Is Question Mandatory : No Option Orientation : Vertical

Correct Marks : 1 Wrong Marks : 0.25

ऑटो एयर कंडीशनर का फिन और ट्यूब रेडिएटर की तरह दिखने वाला कंडेंसर समान्यतया कार के _____ स्थित होता है।

Options :

1. ✔ सामने
2. ✘ पीछे
3. ✘ ड्राइवर की सीट के पास
4. ✘ पिछली सीट के पास

Arithmetic Ability1

Group Number :	5
Group Id :	540626236
Group Maximum Duration :	0
Group Minimum Duration :	0
Show Attended Group? :	No

Edit Attended Group? :	No
Break time :	0
Group Marks :	20
Is this Group for Examiner? :	No

Arithmetical and Numerical ability1

Section Id :	540626315
Section Number :	1
Section type :	Online
Mandatory or Optional :	Mandatory
Number of Questions :	20
Number of Questions to be attempted :	20
Section Marks :	20
Enable Mark as Answered Mark for Review and Clear Response :	Yes
Sub-Section Number :	1
Sub-Section Id :	540626366
Question Shuffling Allowed :	Yes

Question Number : 81 Question Id : 5406267522 Question Type : MCQ Option Shuffling : Yes Is Question Mandatory : No Option Orientation : Vertical

Correct Marks : 1 Wrong Marks : 0.25

Two containers contain 840 litres of liquid P and 960 litres of liquid Q respectively. They are filled into smaller bottles. Each bottle has equal capacity. A bottle can contain either liquid P or liquid Q. What can be maximum capacity of one such bottle?

Options :

1. ✘ 12
2. ✘ 60
3. ✘ 30
4. ✔ 120

Question Number : 81 Question Id : 5406267522 Question Type : MCQ Option Shuffling : Yes Is Question Mandatory : No Option Orientation : Vertical

Correct Marks : 1 Wrong Marks : 0.25

दो कंटेनरों में क्रमशः 840 लीटर तरल P और 960 लीटर तरल Q हैं। उन्हें छोटी बोतलों में भर दिया जाता है। प्रत्येक बोतल की क्षमता समान है। एक बोतल में या तो तरल P या तरल Q हो सकता है। ऐसी एक बोतल की अधिकतम क्षमता क्या हो सकती है?

Options :

- ✘ 12
- ✘ 60
- ✘ 30
- ✔ 120

Question Number : 82 Question Id : 5406267523 Question Type : MCQ Option Shuffling : Yes Is Question Mandatory : No Option Orientation : Vertical

Correct Marks : 1 Wrong Marks : 0.25

What is the value of $32 \div 12 + 16 \times 4 + 12 \times 10 - 72 \div 10$?

Options :

- ✔ 2692/15
- ✘ 1897/18
- ✘ 2704/18
- ✘ 1924/15

Question Number : 82 Question Id : 5406267523 Question Type : MCQ Option Shuffling : Yes Is Question Mandatory : No Option Orientation : Vertical

Correct Marks : 1 Wrong Marks : 0.25

$32 \div 12 + 16 \times 4 + 12 \times 10 - 72 \div 10$ का मान क्या है?

Options :

- ✔ 2692/15
- ✘ 1897/18
- ✘ 2704/18
- ✘ 1924/15

Question Number : 83 Question Id : 5406267524 Question Type : MCQ Option Shuffling : Yes Is Question Mandatory : No Option Orientation : Vertical

Correct Marks : 1 Wrong Marks : 0.25

Simplify the below equation.

$$7\frac{1}{2} + 12\frac{1}{3} + 3\frac{1}{6} - 4\frac{1}{2} - 3\frac{1}{2}$$

Options :

1. ✓ 15
2. ✗ 16
3. ✗ 14
4. ✗ 13

Question Number : 83 Question Id : 5406267524 Question Type : MCQ Option Shuffling : Yes Is Question Mandatory : No Option Orientation : Vertical

Correct Marks : 1 Wrong Marks : 0.25

नीचे दिए गए समीकरण को सरल कीजिए।

$$7\frac{1}{2} + 12\frac{1}{3} + 3\frac{1}{6} - 4\frac{1}{2} - 3\frac{1}{2}$$

Options :

1. ✓ 15
2. ✗ 16
3. ✗ 14
4. ✗ 13

Question Number : 84 Question Id : 5406267525 Question Type : MCQ Option Shuffling : Yes Is Question Mandatory : No Option Orientation : Vertical

Correct Marks : 1 Wrong Marks : 0.25

Simplify the equation given below:

$$\frac{(0.42)^2 + (0.36)^2 + (0.25)^2}{(0.042)^2 + (0.036)^2 + (0.025)^2}$$

Options :

1. ✘ 10
2. ✘ 0.01
3. ✔ 100
4. ✘ 0.1

Question Number : 84 Question Id : 5406267525 Question Type : MCQ Option Shuffling : Yes Is Question Mandatory : No Option Orientation : Vertical

Correct Marks : 1 Wrong Marks : 0.25

नीचे दिए गए समीकरण को सरल कीजिए।

$$\frac{(0.42)^2 + (0.36)^2 + (0.25)^2}{(0.042)^2 + (0.036)^2 + (0.025)^2}$$

Options :

1. ✘ 10
2. ✘ 0.01
3. ✔ 100
4. ✘ 0.1

Question Number : 85 Question Id : 5406267526 Question Type : MCQ Option Shuffling : Yes Is Question Mandatory : No Option Orientation : Vertical

Correct Marks : 1 Wrong Marks : 0.25

What is the least number which when divided by 35 leaves 13 as the remainder, when divided by 70 leaves 48 as remainder and when divided by 175 leaves 153 as remainder?

Options :

1. ✘ 378

2. ✘ 360
3. ✘ 350
4. ✔ 328

Question Number : 85 Question Id : 5406267526 Question Type : MCQ Option Shuffling : Yes Is Question Mandatory : No Option Orientation : Vertical

Correct Marks : 1 Wrong Marks : 0.25

वह न्यूनतम संख्या क्या है जिसे 35 से विभाजित किये जाने पर शेषफल 13 आता है, 70 से विभाजित किये जाने पर शेषफल 48 आता है तथा 175 से विभाजित किये जाने पर शेषफल 153 आता है?

Options :

1. ✘ 378
2. ✘ 360
3. ✘ 350
4. ✔ 328

Question Number : 86 Question Id : 5406267527 Question Type : MCQ Option Shuffling : Yes Is Question Mandatory : No Option Orientation : Vertical

Correct Marks : 1 Wrong Marks : 0.25

Average of 12 numbers is 10. If every number is doubled, then what will be the new average of the numbers?

Options :

1. ✔ 20
2. ✘ 21
3. ✘ 22
4. ✘ 24

Question Number : 86 Question Id : 5406267527 Question Type : MCQ Option Shuffling : Yes Is Question Mandatory : No Option Orientation : Vertical

Correct Marks : 1 Wrong Marks : 0.25

12 संख्याओं का औसत 10 है। यदि प्रत्येक संख्या दो गुनी हो जाए, तो संख्याओं का नया औसत क्या होगा?

Options :

1. ✔ 20
2. ✘ 21

3. ✘ 22

4. ✘ 24

Question Number : 87 Question Id : 5406267528 Question Type : MCQ Option Shuffling : Yes Is Question Mandatory : No Option Orientation : Vertical

Correct Marks : 1 Wrong Marks : 0.25

A trader allowed a discount of 20 percent on a trolley bag having list price of Rs. 1100 and earns a profit of 10 percent. What is the cost price of the trolley bag?

Options :

1. ✘ 850

2. ✔ 800

3. ✘ 760

4. ✘ 750

Question Number : 87 Question Id : 5406267528 Question Type : MCQ Option Shuffling : Yes Is Question Mandatory : No Option Orientation : Vertical

Correct Marks : 1 Wrong Marks : 0.25

एक व्यापारी एक ट्रॉली बैग जिसका अंकित मूल्य 1100 रुपये है, पर 20 प्रतिशत की छूट देता है तथा 10 प्रतिशत का लाभ कमाता है। ट्रॉली बैग का क्रय मूल्य क्या है?

Options :

1. ✘ 850

2. ✔ 800

3. ✘ 760

4. ✘ 750

Question Number : 88 Question Id : 5406267529 Question Type : MCQ Option Shuffling : Yes Is Question Mandatory : No Option Orientation : Vertical

Correct Marks : 1 Wrong Marks : 0.25

Which of the following statement is true?

I. If the marked price is Rs. 2400 and selling price is Rs. 2280, then the discount is 15 percent.

II. If the marked price is Rs. 3200 and selling price is Rs. 2800, then the discount is 17.5 percent.

Options :

1. ✘ Only I
2. ✘ Only II
3. ✘ Both I and II
4. ✔ Neither I nor II

Question Number : 88 Question Id : 5406267529 Question Type : MCQ Option Shuffling : Yes Is Question Mandatory : No Option Orientation : Vertical

Correct Marks : 1 Wrong Marks : 0.25

निम्नलिखित में से कौन सा कथन सत्य है?

- I. यदि अंकित मूल्य 2400 रुपये है तथा विक्रय मूल्य 2280 रुपये है, तो छुट 15 प्रतिशत है।
- II. यदि अंकित मूल्य 3200 रुपये है तथा विक्रय मूल्य 2800 रुपये है, तो छुट 17.5 प्रतिशत है।

Options :

1. ✘ केवल I
2. ✘ केवल II
3. ✘ I तथा II दोनों
4. ✔ ना तो I ना तो II

Question Number : 89 Question Id : 5406267530 Question Type : MCQ Option Shuffling : Yes Is Question Mandatory : No Option Orientation : Vertical

Correct Marks : 1 Wrong Marks : 0.25

If A gets 25 percent more marks than B, then by what percentage marks of B are less than the marks of A?

Options :

1. ✘ 25 percent
2. ✔ 20 percent
3. ✘ 30 percent
4. ✘ 15 percent

Question Number : 89 Question Id : 5406267530 Question Type : MCQ Option Shuffling : Yes Is Question Mandatory : No Option Orientation : Vertical

Correct Marks : 1 Wrong Marks : 0.25

यदि A, B से 25 प्रतिशत अधिक अंक प्राप्त करता है, तो B के अंक A के अंकों से कितने प्रतिशत कम हैं?

Options :

1. ✘ 25 प्रतिशत
2. ✔ 20 प्रतिशत
3. ✘ 30 प्रतिशत
4. ✘ 15 प्रतिशत

Question Number : 90 Question Id : 5406267531 Question Type : MCQ Option Shuffling : Yes Is Question Mandatory : No Option Orientation : Vertical

Correct Marks : 1 Wrong Marks : 0.25

Price of a car depreciates by 30 percent in the first year. Its price depreciates by 20 percent in the second year and by 10 percent in the third year. If the initial price of the car was Rs. 200000, then what will be the price of the car after three years?

Options :

1. ✔ Rs. 100800
2. ✘ Rs. 114200
3. ✘ Rs. 104800
4. ✘ Rs. 102600

Question Number : 90 Question Id : 5406267531 Question Type : MCQ Option Shuffling : Yes Is Question Mandatory : No Option Orientation : Vertical

Correct Marks : 1 Wrong Marks : 0.25

कार की कीमत पहले वर्ष में 30 प्रतिशत से कम हो जाती है। इसकी कीमत दूसरे वर्ष में 20 प्रतिशत से और तीसरे वर्ष में 10 प्रतिशत से कम हो जाती है। अगर कार की शुरुआती कीमत 200000 रूपये है, तो तीन साल बाद कार की कीमत क्या होगी?

Options :

1. ✔ 100800 रूपये
2. ✘ 114200 रूपये
3. ✘ 104800 रूपये
4. ✘ 102600 रूपये

Question Number : 91 Question Id : 5406267532 Question Type : MCQ Option Shuffling : Yes Is Question Mandatory : No Option Orientation : Vertical

Correct Marks : 1 Wrong Marks : 0.25

When a number is successively decreased by 20 percent, 50 percent and 40 percent, then it becomes 1590. What is that number?

Options :

1. ✘ 6425
2. ✔ 6625
3. ✘ 6505
4. ✘ 6650

Question Number : 91 Question Id : 5406267532 Question Type : MCQ Option Shuffling : Yes Is Question Mandatory : No Option Orientation : Vertical

Correct Marks : 1 Wrong Marks : 0.25

जब एक संख्या को क्रमिक रूप से 20 प्रतिशत, 50 प्रतिशत तथा 40 प्रतिशत से कम किया जाता है, तो वह 1590 हो जाती है। वह संख्या क्या है?

Options :

1. ✘ 6425
2. ✔ 6625
3. ✘ 6505
4. ✘ 6650

Question Number : 92 Question Id : 5406267533 Question Type : MCQ Option Shuffling : Yes Is Question Mandatory : No Option Orientation : Vertical

Correct Marks : 1 Wrong Marks : 0.25

A's income is 120 percent of B's income and A's expenditure is 150 percent of B's expenditure. If A's income is 200 percent of B's expenditure, then what is the respective ratio of A's savings and B's savings?

Options :

1. ✔ 3 : 4
2. ✘ 3 : 2
3. ✘ 6 : 5
4. ✘ 7 : 5

Question Number : 92 Question Id : 5406267533 Question Type : MCQ Option Shuffling : Yes Is Question Mandatory : No Option Orientation : Vertical

Correct Marks : 1 Wrong Marks : 0.25

A की आय B की आय की 120 प्रतिशत है तथा A का व्यय B के व्यय का 150 प्रतिशत है। यदि A की आय B के व्यय की 200 प्रतिशत है, तो A की बचत तथा B की बचत का क्रमशः अनुपात क्या है?

Options :

1. ✓ 3 : 4
2. ✗ 3 : 2
3. ✗ 6 : 5
4. ✗ 7 : 5

Question Number : 93 Question Id : 5406267534 Question Type : MCQ Option Shuffling : Yes Is Question Mandatory : No Option Orientation : Vertical

Correct Marks : 1 Wrong Marks : 0.25

40 percent of the cost price of an article is equal to the 10 percent of its selling price. What is the profit percentage?

Options :

1. ✗ 200 percent
2. ✓ 300 percent
3. ✗ 400 percent
4. ✗ 100 percent

Question Number : 93 Question Id : 5406267534 Question Type : MCQ Option Shuffling : Yes Is Question Mandatory : No Option Orientation : Vertical

Correct Marks : 1 Wrong Marks : 0.25

एक वस्तु के क्रय मूल्य का 40 प्रतिशत उसके विक्रय मूल्य के 10 प्रतिशत के बराबर है। लाभ का प्रतिशत क्या है?

Options :

1. ✗ 200 प्रतिशत
2. ✓ 300 प्रतिशत
3. ✗ 400 प्रतिशत
4. ✗ 100 प्रतिशत

Question Number : 94 Question Id : 5406267535 Question Type : MCQ Option Shuffling : Yes Is Question Mandatory : No Option Orientation : Vertical

Correct Marks : 1 Wrong Marks : 0.25

The ratio of selling price to the cost price is 3 : 4. What is the loss percentage?

Options :

1. ✗ 30 percent

2. ✘ 20 percent
3. ✔ 25 percent
4. ✘ 10 percent

Question Number : 94 Question Id : 5406267535 Question Type : MCQ Option Shuffling : Yes Is Question Mandatory : No Option Orientation : Vertical

Correct Marks : 1 Wrong Marks : 0.25

विक्रय मूल्य का क्रय मूल्य से अनुपात 3 : 4 है। हानि प्रतिशत क्या है?

Options :

1. ✘ 30 प्रतिशत
2. ✘ 20 प्रतिशत
3. ✔ 25 प्रतिशत
4. ✘ 10 प्रतिशत

Question Number : 95 Question Id : 5406267536 Question Type : MCQ Option Shuffling : Yes Is Question Mandatory : No Option Orientation : Vertical

Correct Marks : 1 Wrong Marks : 0.25

A man gains 20 percent by selling a calculator for a certain price. If he sells it at double the price, then what will be the profit percentage?

Options :

1. ✘ 40 percent
2. ✘ 150 percent
3. ✘ 100 percent
4. ✔ 140 percent

Question Number : 95 Question Id : 5406267536 Question Type : MCQ Option Shuffling : Yes Is Question Mandatory : No Option Orientation : Vertical

Correct Marks : 1 Wrong Marks : 0.25

एक कैलकुलेटर को एक निश्चित कीमत पर बेचने पर एक व्यक्ति को 20 प्रतिशत का लाभ होता है। यदि वह उसे दो गुना कीमत पर बेचता है, तो लाभ प्रतिशत क्या होगा?

Options :

1. ✘ 40 प्रतिशत

2. ✘ 150 प्रतिशत
3. ✘ 100 प्रतिशत
4. ✔ 140 प्रतिशत

Question Number : 96 Question Id : 5406267537 Question Type : MCQ Option Shuffling : Yes Is Question Mandatory : No Option Orientation : Vertical

Correct Marks : 1 Wrong Marks : 0.25

A shopkeeper sold a book at a loss of 40 percent. Had he sold the book for Rs. 140 more, then he would have lost 20 percent. To gain 20 percent, what should be the selling price of the book?

Options :

1. ✘ Rs. 800
2. ✔ Rs. 840
3. ✘ Rs. 750
4. ✘ Rs. 880

Question Number : 96 Question Id : 5406267537 Question Type : MCQ Option Shuffling : Yes Is Question Mandatory : No Option Orientation : Vertical

Correct Marks : 1 Wrong Marks : 0.25

एक दुकानदार एक पुस्तक को 40 प्रतिशत की हानि पर बेचता है। यदि उसने पुस्तक को 140 रुपये अधिक में बेचा होता, तो उसे 20 प्रतिशत की हानि होती। 20 प्रतिशत का लाभ कमाने के लिए, पुस्तक का विक्रय मूल्य क्या होगा?

Options :

1. ✘ 800 रुपये
2. ✔ 840 रुपये
3. ✘ 750 रुपये
4. ✘ 880 रुपये

Question Number : 97 Question Id : 5406267538 Question Type : MCQ Option Shuffling : Yes Is Question Mandatory : No Option Orientation : Vertical

Correct Marks : 1 Wrong Marks : 0.25

If $2X = 3Y = 6Z$, then what is $X : Y : Z$?

Options :

1. ✘ 4 : 2 : 1

2. ✘ 6 : 8 : 5
3. ✔ 3 : 2 : 1
4. ✘ 1 : 2 : 3

Question Number : 97 Question Id : 5406267538 Question Type : MCQ Option Shuffling : Yes Is Question Mandatory : No Option Orientation : Vertical

Correct Marks : 1 Wrong Marks : 0.25

यदि $2X = 3Y = 6Z$ है, तो $X : Y : Z$ क्या है?

Options :

1. ✘ 4 : 2 : 1
2. ✘ 6 : 8 : 5
3. ✔ 3 : 2 : 1
4. ✘ 1 : 2 : 3

Question Number : 98 Question Id : 5406267539 Question Type : MCQ Option Shuffling : Yes Is Question Mandatory : No Option Orientation : Vertical

Correct Marks : 1 Wrong Marks : 0.25

The length, breadth and height of a cuboid are in the ratio of 3 : 5 : 2. If length is 10 cm more than height, then what is the volume of this cuboid?

Options :

1. ✘ 20000 cm³
2. ✘ 40000 cm³
3. ✔ 30000 cm³
4. ✘ 50000 cm³

Question Number : 98 Question Id : 5406267539 Question Type : MCQ Option Shuffling : Yes Is Question Mandatory : No Option Orientation : Vertical

Correct Marks : 1 Wrong Marks : 0.25

एक घनाभ की लम्बाई, चौड़ाई तथा ऊँचाई का अनुपात 3 : 5 : 2 है। यदि लम्बाई, ऊँचाई से 10 से.मी. अधिक है, तो घनाभ का आयतन क्या है?

Options :

1. ✘ 20000 cm³
2. ✘ 40000 cm³

3. ✓ 30000 cm³

4. ✗ 50000 cm³

Question Number : 99 Question Id : 5406267540 Question Type : MCQ Option Shuffling : Yes Is Question Mandatory : No Option Orientation : Vertical

Correct Marks : 1 Wrong Marks : 0.25

The ratio of the current prices of two items is 32 : 43. Two years later the price of the first item increases by 25 percent and the price of the second item increased by Rs. 450. After two years, the ratio of the price of two items becomes 20 : 29. Find the sum of the original prices of the two items.

Options :

1. ✗ 2100

2. ✗ 2625

3. ✗ 2400

4. ✓ 2250

Question Number : 99 Question Id : 5406267540 Question Type : MCQ Option Shuffling : Yes Is Question Mandatory : No Option Orientation : Vertical

Correct Marks : 1 Wrong Marks : 0.25

दो वस्तुओं की वर्तमान कीमतों का अनुपात 32 : 43 है। दो साल बाद पहली वस्तु की कीमत में 25 प्रतिशत की वृद्धि होती है तथा दूसरी वस्तु की कीमत में 450 रुपये की वृद्धि होती है। दो वर्षों के बाद, दो वस्तुओं के मूल्य का अनुपात 20 : 29 हो जाता है। दोनों वस्तुओं के मूल मूल्य का योग ज्ञात कीजिए।

Options :

1. ✗ 2100

2. ✗ 2625

3. ✗ 2400

4. ✓ 2250

Question Number : 100 Question Id : 5406267541 Question Type : MCQ Option Shuffling : Yes Is Question Mandatory : No Option Orientation : Vertical

Correct Marks : 1 Wrong Marks : 0.25

A person lent certain sum of money at 4 percent per annum simple interest. In 16 years the interest amounted to Rs. 1080 less than the sum lent. What was the sum lent?

Options :

1. ✘ Rs. 2160
2. ✔ Rs. 3000
3. ✘ Rs. 3240
4. ✘ Rs. 1687.5

Question Number : 100 Question Id : 5406267541 Question Type : MCQ Option Shuffling : Yes Is Question Mandatory : No Option Orientation : Vertical

Correct Marks : 1 Wrong Marks : 0.25

एक व्यक्ति किसी निश्चित राशि को 4 प्रतिशत की वार्षिक दर से साधारण ब्याज पर उधार देता है। 16 वर्षों में संयोजित ब्याज की राशि उधार दी गई राशि से 1080 रुपये कम है। उधार दी गई राशि क्या थी?

Options :

1. ✘ 2160 रुपये
2. ✔ 3000 रुपये
3. ✘ 3240 रुपये
4. ✘ 1687.5 रुपये

Arithmetic Ability2

Group Number :	6
Group Id :	540626237
Group Maximum Duration :	0
Group Minimum Duration :	0
Show Attended Group? :	No
Edit Attended Group? :	No
Break time :	0
Group Marks :	20
Is this Group for Examiner? :	No

Arithmetical and Numerical ability2

Section Id : 540626316

Section Number :	1
Section type :	Online
Mandatory or Optional :	Mandatory
Number of Questions :	20
Number of Questions to be attempted :	20
Section Marks :	20
Enable Mark as Answered Mark for Review and Clear Response :	Yes
Sub-Section Number :	1
Sub-Section Id :	540626367
Question Shuffling Allowed :	Yes

Question Number : 101 Question Id : 5406267542 Question Type : MCQ Option Shuffling : Yes Is Question Mandatory : No Option Orientation : Vertical

Correct Marks : 1 Wrong Marks : 0.25

R = Rs. 7000 invested at simple interest for 8 years and per annum rate of interest is 18 percent. S = Rs. 21000 invested at simple interest for 12 years and per annum rate of interest is 30 percent. What is the ratio of interests earned in R and S?

Options :

- ✘ 4 : 45
- ✔ 2 : 15
- ✘ 2 : 45
- ✘ 5 : 55

Question Number : 101 Question Id : 5406267542 Question Type : MCQ Option Shuffling : Yes Is Question Mandatory : No Option Orientation : Vertical

Correct Marks : 1 Wrong Marks : 0.25

R = 7000 रुपये, 8 वर्ष के लिए साधारण ब्याज पर निवेश किए गए तथा प्रतिवर्ष ब्याज की दर 18 प्रतिशत है। S = 21000 रुपये, 12 वर्ष के लिए साधारण ब्याज पर निवेश किए गए तथा प्रतिवर्ष ब्याज की दर 30 प्रतिशत है। R तथा S में कमाये गए ब्याज का अनुपात क्या है?

Options :

- ✘ 4 : 45
- ✔ 2 : 15
- ✘ 2 : 45
- ✘ 5 : 55

Question Number : 102 Question Id : 5406267543 Question Type : MCQ Option Shuffling : Yes Is Question Mandatory : No Option Orientation : Vertical

Correct Marks : 1 Wrong Marks : 0.25

A sum amounts to Rs. 5184 at the rate of 20 percent per annum compounded annually after three years. What is the value of the principal?

Options :

1. ✓ Rs. 3000
2. ✗ Rs. 3200
3. ✗ Rs. 3800
4. ✗ Rs. 3600

Question Number : 102 Question Id : 5406267543 Question Type : MCQ Option Shuffling : Yes Is Question Mandatory : No Option Orientation : Vertical

Correct Marks : 1 Wrong Marks : 0.25

एक राशि 20 प्रतिशत की वार्षिक दर से 3 वर्ष बाद वार्षिक संयोजित करने पर 5184 रुपये हो जाती है। मूलधन का मान क्या है?

Options :

1. ✓ 3000 रुपये
2. ✗ 3200 रुपये
3. ✗ 3800 रुपये
4. ✗ 3600 रुपये

Question Number : 103 Question Id : 5406267544 Question Type : MCQ Option Shuffling : Yes Is Question Mandatory : No Option Orientation : Vertical

Correct Marks : 1 Wrong Marks : 0.25

The downstream speed of a boat is 14 km/hr and the upstream speed of the boat is 6 km/hr. What is the speed of the stream?

Options :

1. ✗ 3 km/hr
2. ✓ 4 km/hr
3. ✗ 3.5 km/hr
4. ✗ 4.5 km/hr

Question Number : 103 Question Id : 5406267544 Question Type : MCQ Option Shuffling : Yes Is Question Mandatory : No Option Orientation : Vertical

Correct Marks : 1 Wrong Marks : 0.25

धारा के अनुकूल एक नाव की गति 14 कि.मी./घंटा है तथा धारा के प्रतिकूल नाव की गति 6 कि.मी./घंटा है। धारा की गति क्या है?

Options :

- ✘ 3 कि.मी./घंटा
- ✔ 4 कि.मी./घंटा
- ✘ 3.5 कि.मी./घंटा
- ✘ 4.5 कि.मी./घंटा

Question Number : 104 Question Id : 5406267545 Question Type : MCQ Option Shuffling : Yes Is Question Mandatory : No Option Orientation : Vertical

Correct Marks : 1 Wrong Marks : 0.25

A 500 meters long train can completely cross a 750 meters long platform in 10 seconds. A man is walking with a speed of 25 meter/sec in the same direction of the train. If the man is 2 kms away from the train, then in how much time will train reach the man?

Options :

- ✘ 25 seconds
- ✔ 20 seconds
- ✘ 22.5 seconds
- ✘ 27.5 seconds

Question Number : 104 Question Id : 5406267545 Question Type : MCQ Option Shuffling : Yes Is Question Mandatory : No Option Orientation : Vertical

Correct Marks : 1 Wrong Marks : 0.25

एक 500 मीटर लंबी एक ट्रेन 750 मीटर लंबे प्लेटफार्म को 10 सेकंड में पूरी तरह पार कर सकती है। एक व्यक्ति, रेलगाड़ी की दिशा में 25 मीटर/सेकंड की गति से चल रहा है। यदि व्यक्ति, रेलगाड़ी से 2 किलोमीटर दूर है, तो रेलगाड़ी व्यक्ति तक कितनी देर में पहुँच जायेगी?

Options :

- ✘ 25 सेकंड
- ✔ 20 सेकंड
- ✘ 22.5 सेकंड
- ✘ 27.5 सेकंड

Question Number : 105 Question Id : 5406267546 Question Type : MCQ Option Shuffling : Yes Is Question Mandatory : No Option

Orientation : Vertical**Correct Marks : 1 Wrong Marks : 0.25**

Speed of a bike is 30 percent less than the speed of a train. Both starts from point P at the same time and reach point Q 420 km away at the same time. On the way the train takes 120 minutes for stopping at the stations. What is the speed of the bike?

Options :

1. ✓ 63 km/hr
2. ✗ 54 km/hr
3. ✗ 45 km/hr
4. ✗ 72 km/hr

Question Number : 105 Question Id : 5406267546 Question Type : MCQ Option Shuffling : Yes Is Question Mandatory : No Option**Orientation : Vertical****Correct Marks : 1 Wrong Marks : 0.25**

एक बाइक की गति एक रेलगाड़ी की गति से 30 प्रतिशत कम है। दोनों बिंदु P से एक ही समय पर प्रारंभ करते हैं तथा 420 कि.मी. दूर स्थित बिंदु Q पर एक ही समय पहुँचते हैं। मार्ग में रेलगाड़ी स्टेशनों पर रूकने के लिए 120 मिनट लेती है। बाइक की गति क्या है?

Options :

1. ✓ 63 कि.मी./घंटा
2. ✗ 54 कि.मी./घंटा
3. ✗ 45 कि.मी./घंटा
4. ✗ 72 कि.मी./घंटा

Question Number : 106 Question Id : 5406267547 Question Type : MCQ Option Shuffling : Yes Is Question Mandatory : No Option**Orientation : Vertical****Correct Marks : 1 Wrong Marks : 0.25**

P, Q and R together can complete a work in 20 days. P and Q together can complete the same work in 25 days. R alone can finish the same work in how many days?

Options :

1. ✗ 107 days
2. ✗ 105 days
3. ✗ 110 days
4. ✓ 100 days

Question Number : 106 Question Id : 5406267547 Question Type : MCQ Option Shuffling : Yes Is Question Mandatory : No Option

Orientation : Vertical

Correct Marks : 1 Wrong Marks : 0.25

P, Q तथा R साथ मिलकर एक कार्य को 20 दिनों में पूरा कर सकते हैं। P तथा Q साथ मिलकर उसी कार्य को 25 दिनों में पूरा कर सकते हैं। R अकेला उस कार्य को कितने दिनों में पूरा कर सकता है?

Options :

1. ✘ 107 दिन
2. ✘ 105 दिन
3. ✘ 110 दिन
4. ✔ 100 दिन

Question Number : 107 Question Id : 5406267548 Question Type : MCQ Option Shuffling : Yes Is Question Mandatory : No Option

Orientation : Vertical

Correct Marks : 1 Wrong Marks : 0.25

Raman alone can complete a work in 12 days and Pradeep alone can complete the same work in half of the time taken by Raman. In how many days will both together complete $\frac{3}{4}$ part of the total work?

Options :

1. ✘ 4 days
2. ✔ 3 days
3. ✘ 6 days
4. ✘ 5 days

Question Number : 107 Question Id : 5406267548 Question Type : MCQ Option Shuffling : Yes Is Question Mandatory : No Option

Orientation : Vertical

Correct Marks : 1 Wrong Marks : 0.25

रमन अकेला एक कार्य को 12 दिनों में पूरा कर सकता है तथा प्रदीप अकेला उसी कार्य को रमन द्वारा लिए गए समय के आधे समय में कर सकता है। दोनों मिलकर कार्य का $\frac{3}{4}$ भाग कितने दिनों में पूरा करेंगे?

Options :

1. ✘ 4 दिन
2. ✔ 3 दिन
3. ✘ 6 दिन
4. ✘ 5 दिन

Question Number : 108 Question Id : 5406267549 Question Type : MCQ Option Shuffling : Yes Is Question Mandatory : No Option Orientation : Vertical

Correct Marks : 1 Wrong Marks : 0.25

S1, S2 and S3 together can complete a work in 15 days less than S1, 7.5 days less than S2 and 2.5 days less than S3. S1, S2 and S3 together take 7.5 days to complete the work. In how many days S1 and S2 together can complete the same work?

Options :

1. ✘ 11 days
2. ✔ 9 days
3. ✘ 12 days
4. ✘ 13 days

Question Number : 108 Question Id : 5406267549 Question Type : MCQ Option Shuffling : Yes Is Question Mandatory : No Option Orientation : Vertical

Correct Marks : 1 Wrong Marks : 0.25

S1, S2 तथा S3 साथ मिलकर एक कार्य को S1 से 15 दिन कम में, S2 से 7.5 दिन कम में तथा S3 से 2.5 दिन कम में कर सकते हैं। S1, S2 तथा S3 साथ मिलकर कार्य को पूरा करने के लिए 7.5 दिन लेते हैं। S1 तथा S2 साथ मिलकर उसी कार्य को कितने दिन में पूरा कर सकते हैं?

Options :

1. ✘ 11 दिन
2. ✔ 9 दिन
3. ✘ 12 दिन
4. ✘ 13 दिन

Question Number : 109 Question Id : 5406267550 Question Type : MCQ Option Shuffling : Yes Is Question Mandatory : No Option Orientation : Vertical

Correct Marks : 1 Wrong Marks : 0.25

If diagonals of a rhombus are 18 cm and 24 cm, then what is the perimeter of the rhombus?

Options :

1. ✘ 45 cm
2. ✘ 30 cm
3. ✘ 90 cm
4. ✔ 60 cm

Question Number : 109 Question Id : 5406267550 Question Type : MCQ Option Shuffling : Yes Is Question Mandatory : No Option Orientation : Vertical

Correct Marks : 1 Wrong Marks : 0.25

यदि किसी समचतुर्भुज के विकर्ण 18 से.मी. तथा 24 से.मी. है, तो समचतुर्भुज का परिमाण क्या है?

Options :

1. ✘ 45 से.मी.
2. ✘ 30 से.मी.
3. ✘ 90 से.मी.
4. ✔ 60 से.मी.

Question Number : 110 Question Id : 5406267551 Question Type : MCQ Option Shuffling : Yes Is Question Mandatory : No Option Orientation : Vertical

Correct Marks : 1 Wrong Marks : 0.25

A solid copper sphere of diameter 90 metre is converted into a solid cylinder of length 120 metre. What is the radius of the cylinder?

Options :

1. ✘ 36 metre
2. ✘ 49 metre
3. ✘ $35\sqrt{3}$ metre
4. ✔ $45/\sqrt{2}$ metre

Question Number : 110 Question Id : 5406267551 Question Type : MCQ Option Shuffling : Yes Is Question Mandatory : No Option Orientation : Vertical

Correct Marks : 1 Wrong Marks : 0.25

90 मीटर व्यास वाले एक तांबे के ठोस गोले को एक 120 मीटर लंबाई वाले बेलन में परिवर्तित किया गया। बेलन की त्रिज्या क्या है?

Options :

1. ✘ 36 मीटर
2. ✘ 49 मीटर
3. ✘ $35\sqrt{3}$ मीटर
4. ✔ $45/\sqrt{2}$ मीटर

Question Number : 111 Question Id : 5406267552 Question Type : MCQ Option Shuffling : Yes Is Question Mandatory : No Option

Orientation : Vertical

Correct Marks : 1 Wrong Marks : 0.25

Side of a solid cube is 21 cm. What is the volume of the largest sphere that can cut from this cube?

Options :

1. ✘ 3657 cm^3
2. ✔ 4851 cm^3
3. ✘ 4153 cm^3
4. ✘ 2998 cm^3

Question Number : 111 Question Id : 5406267552 Question Type : MCQ Option Shuffling : Yes Is Question Mandatory : No Option

Orientation : Vertical

Correct Marks : 1 Wrong Marks : 0.25

एक ठोस घन की एक भुजा 21 से.मी. है। इस घन में से काटे जा सकने वाले सबसे बड़े गोले का आयतन क्या है?

Options :

1. ✘ 3657 से.मी.^3
2. ✔ 4851 से.मी.^3
3. ✘ 4153 से.मी.^3
4. ✘ 2998 से.मी.^3

Question Number : 112 Question Id : 5406267553 Question Type : MCQ Option Shuffling : Yes Is Question Mandatory : No Option

Orientation : Vertical

Correct Marks : 1 Wrong Marks : 0.25

The radius of a cone is 7 cm. Its height is 24 cm. Which of the following statement is true about this cone?

- I. $\frac{1}{6}$ of the volume of cone is 208.33 cm^3 .
- II. $\frac{1}{5}$ of the curved surface area is 110 cm^2 .

Options :

1. ✘ Only I
2. ✔ Only II
3. ✘ Both I and II
4. ✘ Neither I nor II

Question Number : 112 Question Id : 5406267553 Question Type : MCQ Option Shuffling : Yes Is Question Mandatory : No Option Orientation : Vertical

Correct Marks : 1 Wrong Marks : 0.25

एक शंकु की त्रिज्या 7 से.मी. है। इसकी ऊंचाई 24 से.मी. है। इस शंकु के संदर्भ में निम्नलिखित में से कौन सा कथन सही है?

I. शंकु के आयतन का $\frac{1}{6}$, 208.33 से.मी.³ है।

II. वक्र पृष्ठीय क्षेत्रफल का $\frac{1}{5}$, 110 से.मी.² है।

Options :

- ✘ केवल I
- ✔ केवल II
- ✘ I तथा II दोनों
- ✘ ना तो I ना तो II

Question Number : 113 Question Id : 5406267554 Question Type : MCQ Option Shuffling : Yes Is Question Mandatory : No Option Orientation : Vertical

Correct Marks : 1 Wrong Marks : 0.25

The table given below shows the number of flats in different towers of a society.

Towers	Flats
A	546
B	328
C	453
D	259
E	638

What is the sum of number of flats in towers A, D and E?

Options :

- ✘ 1533
- ✔ 1443

3. ✖ 1773

4. ✖ 1463

Question Number : 113 Question Id : 5406267554 Question Type : MCQ Option Shuffling : Yes Is Question Mandatory : No Option Orientation : Vertical

Correct Marks : 1 Wrong Marks : 0.25

नीचे दी गई तालिका एक सोसाईटी के विभिन्न टावरों में फ्लैटों की संख्या दर्शाती है।

टावर	फ्लैट
A	546
B	328
C	453
D	259
E	638

टावरों A, D और E में फ्लैटों की संख्या का योग क्या है?

Options :

1. ✖ 1533

2. ✔ 1443

3. ✖ 1773

4. ✖ 1463

Question Number : 114 Question Id : 5406267555 Question Type : MCQ Option Shuffling : Yes Is Question Mandatory : No Option Orientation : Vertical

Correct Marks : 1 Wrong Marks : 0.25

The table given below shows the number of boys and girls in three schools A, B and C.

Schools	Boys	Girls
A	48	36
B	52	60
C	64	48

N_1 = Sum of number of boys in B and number of girls in C.

N_2 = Sum of number of girls in A and number of boys in B.

What is the ratio of N_1 and N_2 ?

Options :

1. ✘ 25 : 23
2. ✘ 5 : 11
3. ✔ 25 : 22
4. ✘ 15 : 11

Question Number : 114 Question Id : 5406267555 Question Type : MCQ Option Shuffling : Yes Is Question Mandatory : No Option Orientation : Vertical

Correct Marks : 1 Wrong Marks : 0.25

नीचे दी गई तालिका तीन स्कूलों A, B और C में लड़कों और लड़कियों की संख्या को दर्शाती है।

स्कूल	लड़के	लड़कियाँ
A	48	36
B	52	60
C	64	48

N_1 = B में लड़कों की संख्या तथा C में लड़कियों की संख्या का योग।

N_2 = A में लड़कियों की संख्या तथा B में लड़कों की संख्या का योग।

N_1 तथा N_2 का अनुपात क्या है?

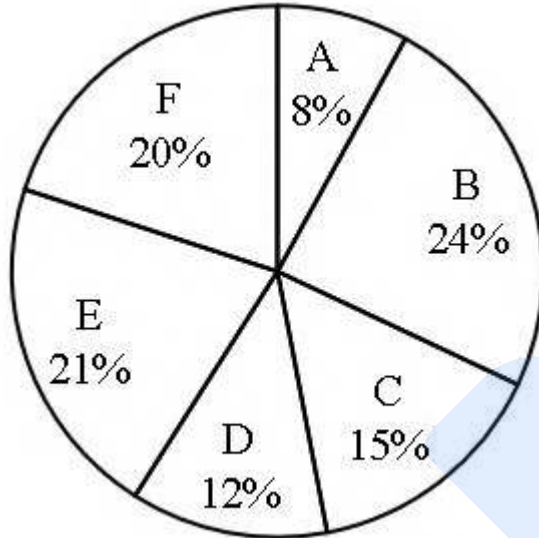
Options :

- ✘ 25 : 23
- ✘ 5 : 11
- ✔ 25 : 22
- ✘ 15 : 11

Question Number : 115 Question Id : 5406267556 Question Type : MCQ Option Shuffling : Yes Is Question Mandatory : No Option Orientation : Vertical

Correct Marks : 1 Wrong Marks : 0.25

The pie chart given below shows the number of bats manufactured by 6 different brands A, B, C, D, E and F. The number of bats are shown as the percentage of total number of bats manufactured by these 6 brands.



If the total number of bats of these 6 brands is 64800, then what is the total number of bats of A, C and F?

Options :

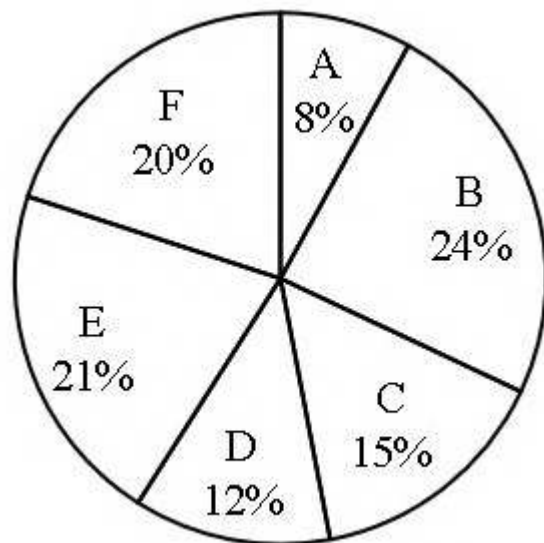
- ✔ 27864
- ✘ 26432
- ✘ 27234
- ✘ 26834

Question Number : 115 Question Id : 5406267556 Question Type : MCQ Option Shuffling : Yes Is Question Mandatory : No Option

Orientation : Vertical

Correct Marks : 1 Wrong Marks : 0.25

नीचे दिया गया पाई चार्ट 6 विभिन्न ब्रांडों A, B, C, D, E और F द्वारा निर्मित बल्लों की संख्या को दर्शाता है। बल्लों की संख्या को इन 6 ब्रांडों द्वारा निर्मित बल्लों की कुल संख्या के प्रतिशत के रूप में दर्शाया गया है।



यदि इन 6 ब्रांडों के बल्लों की कुल संख्या 64800 है, तो A, C तथा F के बल्लों की कुल संख्या कितनी है?

Options :

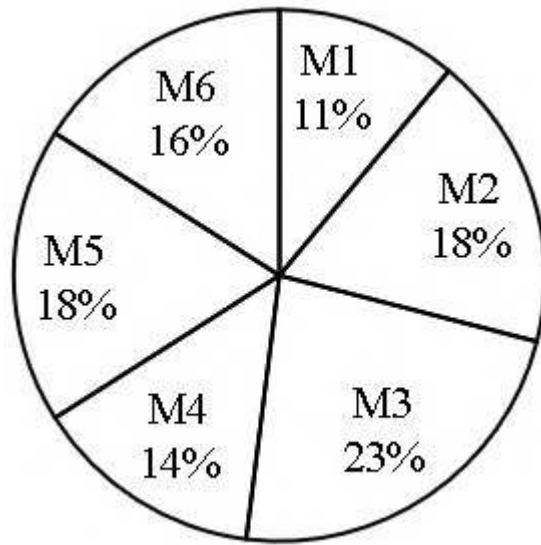
1. ✓ 27864
2. ✗ 26432
3. ✗ 27234
4. ✗ 26834

Question Number : 116 Question Id : 5406267557 Question Type : MCQ Option Shuffling : Yes Is Question Mandatory : No Option

Orientation : Vertical

Correct Marks : 1 Wrong Marks : 0.25

The pie chart given below shows the number of doctors in 6 different medical colleges M1, M2, M3, M4, M5 and M6 of a city. The number of doctors are shown as percentage of the total number of doctors in these 6 medical colleges.



The number of doctors in medical college M4 is 1260.

A = Difference between number of doctors in M1 and M2.

B = Difference between number of doctors in M5 and M3.

What is the value of $A \times B$?

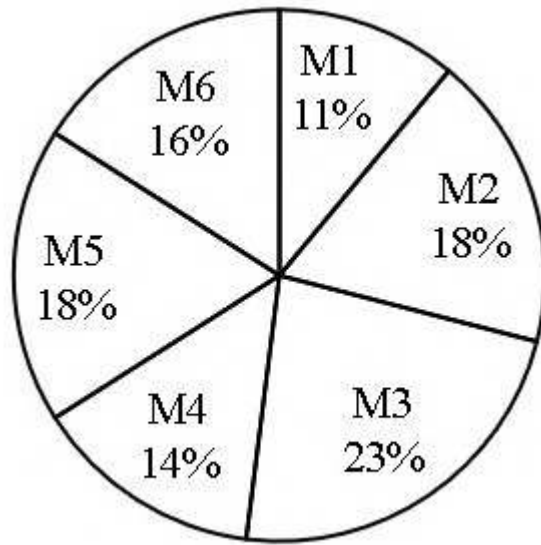
Options :

- ✘ 274400
- ✘ 293500
- ✔ 283500
- ✘ 277500

Question Number : 116 Question Id : 5406267557 Question Type : MCQ Option Shuffling : Yes Is Question Mandatory : No Option Orientation : Vertical

Correct Marks : 1 Wrong Marks : 0.25

नीचे दिया गया पाई चार्ट एक शहर के 6 विभिन्न मेडिकल कॉलेजों M1, M2, M3, M4, M5 तथा M6 में डॉक्टरों की संख्या को दर्शाता है। डॉक्टरों की संख्या को इन 6 मेडिकल कॉलेजों में डॉक्टरों की कुल संख्या के प्रतिशत के रूप में दर्शाया गया है।



मेडिकल कॉलेज M4 में डॉक्टरों की संख्या 1260 है।

A = M1 तथा M2 में डॉक्टरों की संख्या के मध्य का अंतर।

B = M5 तथा M3 में डॉक्टरों की संख्या के मध्य का अंतर।

A × B का मान क्या है?

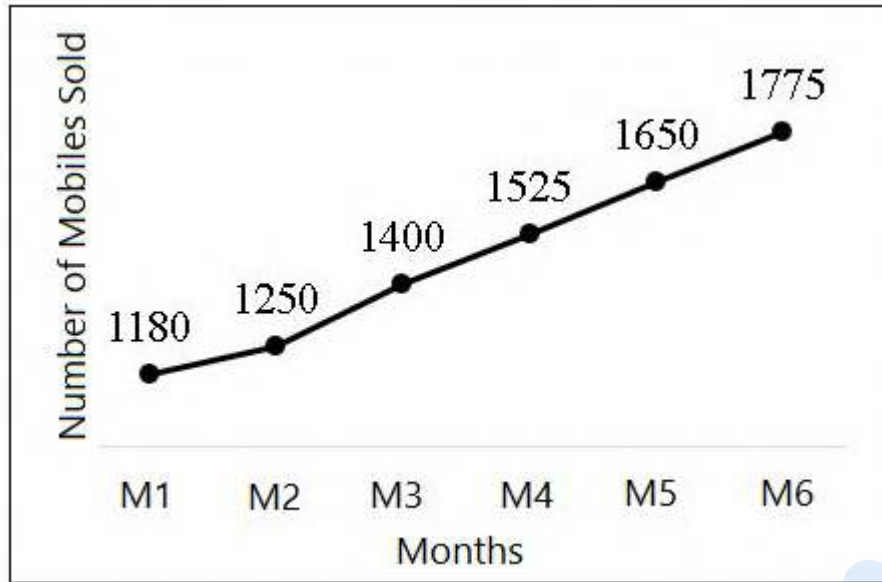
Options :

- ✘ 274400
- ✘ 293500
- ✔ 283500
- ✘ 277500

Question Number : 117 Question Id : 5406267558 Question Type : MCQ Option Shuffling : Yes Is Question Mandatory : No Option Orientation : Vertical

Correct Marks : 1 Wrong Marks : 0.25

The line chart given below shows the number of mobiles sold by a shop in 6 consecutive months.



Which month shows the highest increase in the number of mobiles sold over the previous month?

Note: For this question, discrepancy is found in question/answer. So, this question is ignored for all candidates.

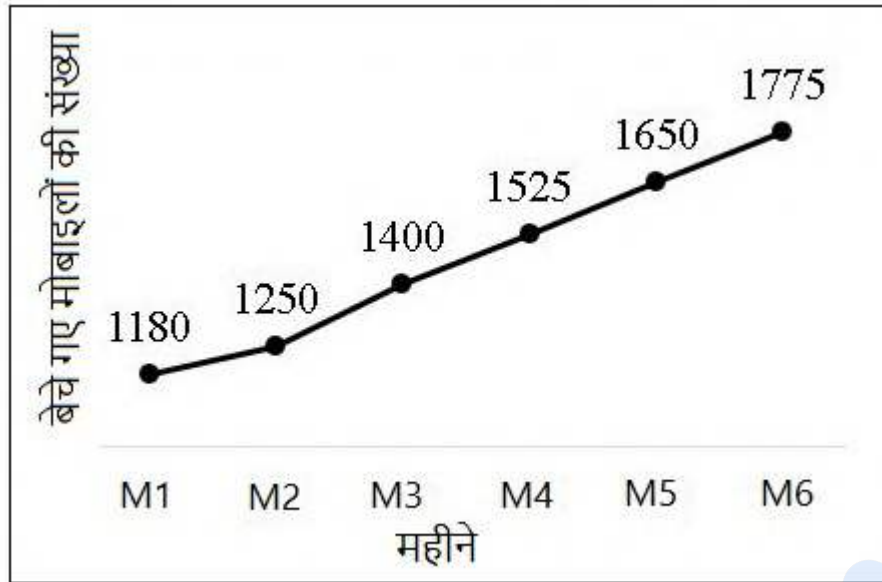
Options :

1. Y6
2. Y4
3. Y2
4. Y3

Question Number : 117 Question Id : 5406267558 Question Type : MCQ Option Shuffling : Yes Is Question Mandatory : No Option Orientation : Vertical

Correct Marks : 1 Wrong Marks : 0.25

नीचे दिया गया रेखा चित्र 6 क्रमागत महीनों में एक दुकान द्वारा बेचे गए मोबाइलों की संख्या को दर्शाता है।



किस महीने में पिछले महीने के संदर्भ में बिकने वाले मोबाइलों की संख्या में सबसे अधिक वृद्धि हुई है?

Note: For this question, discrepancy is found in question/answer. So, this question is ignored for all candidates.

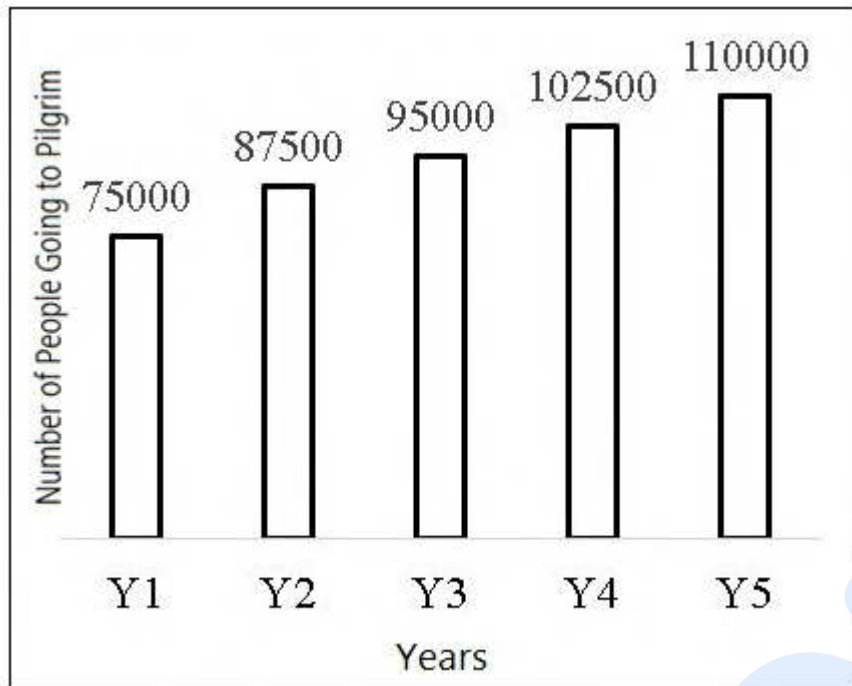
Options :

1. Y6
2. Y4
3. Y2
4. Y3

Question Number : 118 Question Id : 5406267559 Question Type : MCQ Option Shuffling : Yes Is Question Mandatory : No Option Orientation : Vertical

Correct Marks : 1 Wrong Marks : 0.25

The bar chart given below shows the number of people going to pilgrim in 5 consecutive years.



What is the ratio of number of people going to pilgrim in Y1 and Y3 to the number of people going to pilgrim in Y2, Y4 and Y5?

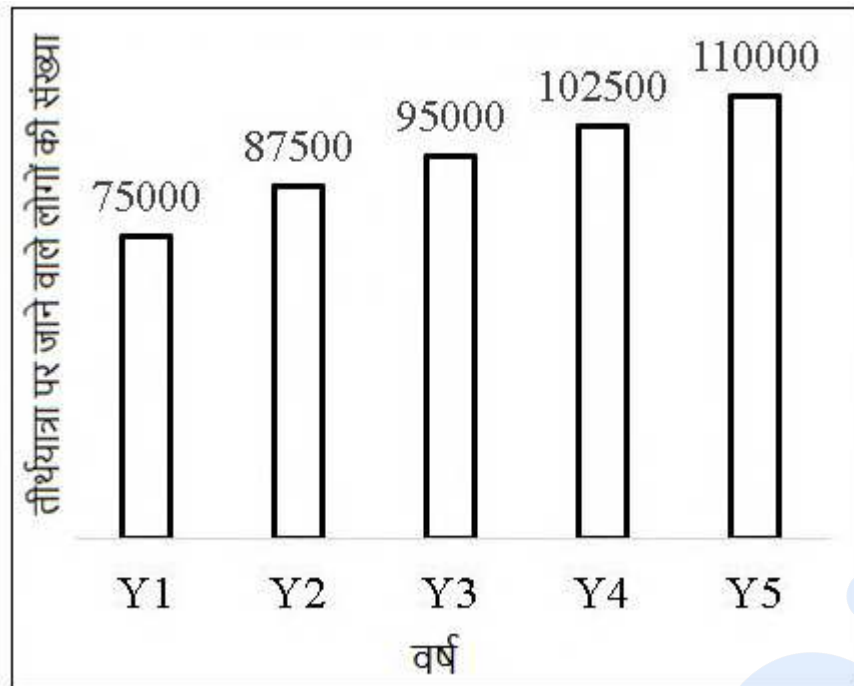
Options :

- ✘ 34 : 15
- ✔ 17 : 30
- ✘ 17 : 15
- ✘ 11 : 30

Question Number : 118 Question Id : 5406267559 Question Type : MCQ Option Shuffling : Yes Is Question Mandatory : No Option Orientation : Vertical

Correct Marks : 1 Wrong Marks : 0.25

नीचे दिया गया दण्ड चित्र 5 क्रमागत वर्षों में तीर्थयात्रा पर जाने वाले लोगों की संख्या को दर्शाता है।



Y1 तथा Y3 में तीर्थयात्रा पर जाने वाले लोगों की संख्या का Y2, Y4 तथा Y5 में तीर्थयात्रा पर जाने वाले लोगों की संख्या से क्या अनुपात है?

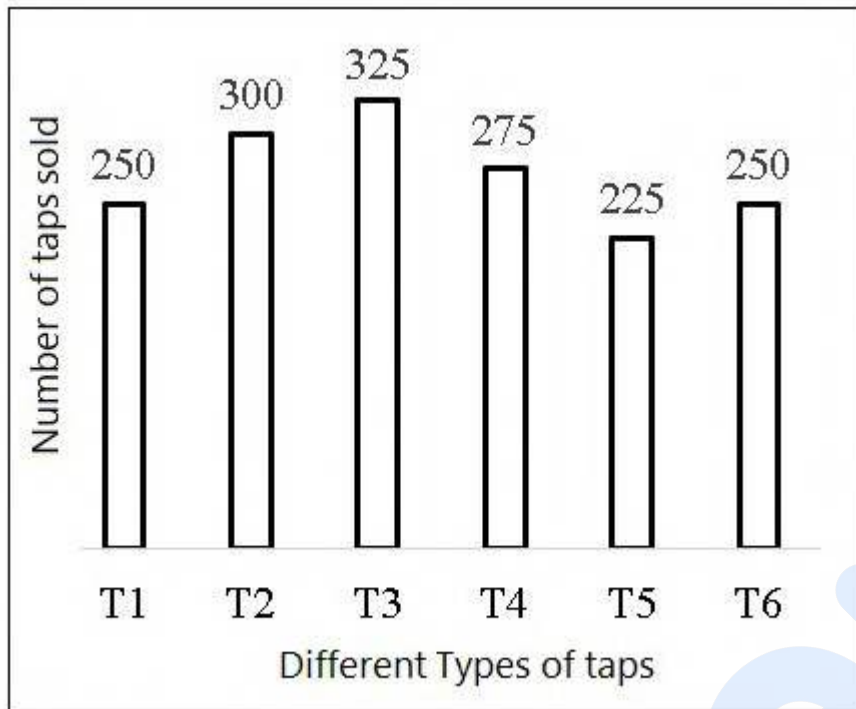
Options :

- ✘ 34 : 15
- ✔ 17 : 30
- ✘ 17 : 15
- ✘ 11 : 30

Question Number : 119 Question Id : 5406267560 Question Type : MCQ Option Shuffling : Yes Is Question Mandatory : No Option Orientation : Vertical

Correct Marks : 1 Wrong Marks : 0.25

The bar chart given below shows the number of taps of 6 different types sold by a shop.



Which of the following statement is correct?

- I. Total number of taps of T4 and T5 are 135 less than the total number of taps of T2 and T3.
- II. Number of taps of T1 are 11.11 percent more than the number of taps of T5.
- III. Total number of taps of T3, T5 and T6 are 800.

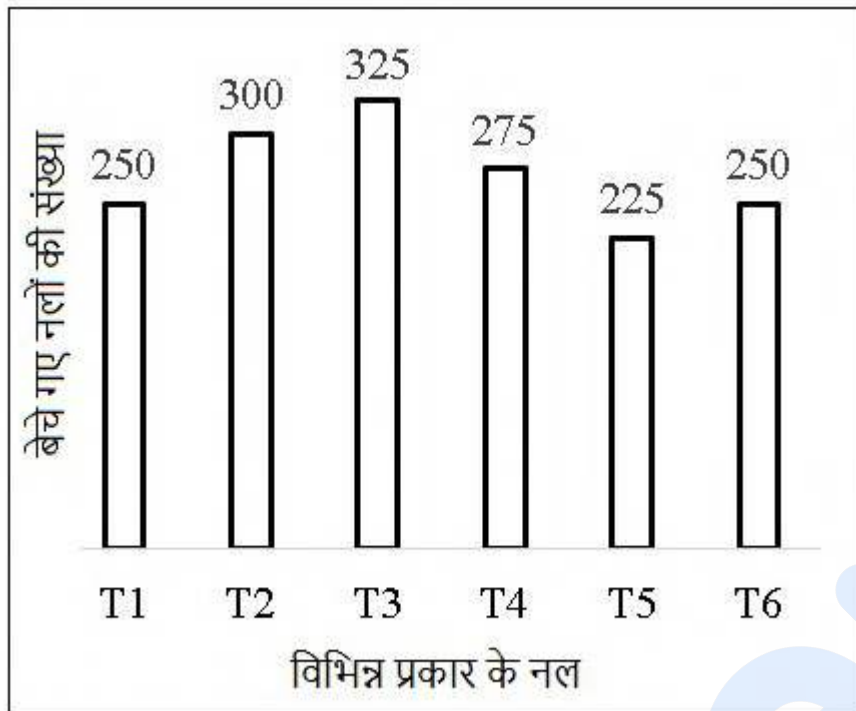
Options :

- 1. ✘ I and III
- 2. ✔ II and III
- 3. ✘ I and II
- 4. ✘ I, II and III

Question Number : 119 Question Id : 5406267560 Question Type : MCQ Option Shuffling : Yes Is Question Mandatory : No Option Orientation : Vertical

Correct Marks : 1 Wrong Marks : 0.25

नीचे दिया गया दण्ड चित्र एक दुकान द्वारा बेचे गए 6 विभिन्न प्रकार के नलों की संख्या को दर्शाता है।



निम्नलिखित में से कौन सा कथन सही है?

- I. T4 तथा T5 के नलों के संख्या, T2 तथा T3 के नलों के संख्या से 135 कम है।
- II. T1 के नलों की संख्या T5 के नलों की संख्या 11.11 प्रतिशत अधिक है।
- III. T3, T5 तथा T6 के नलों की संख्या 800 है।

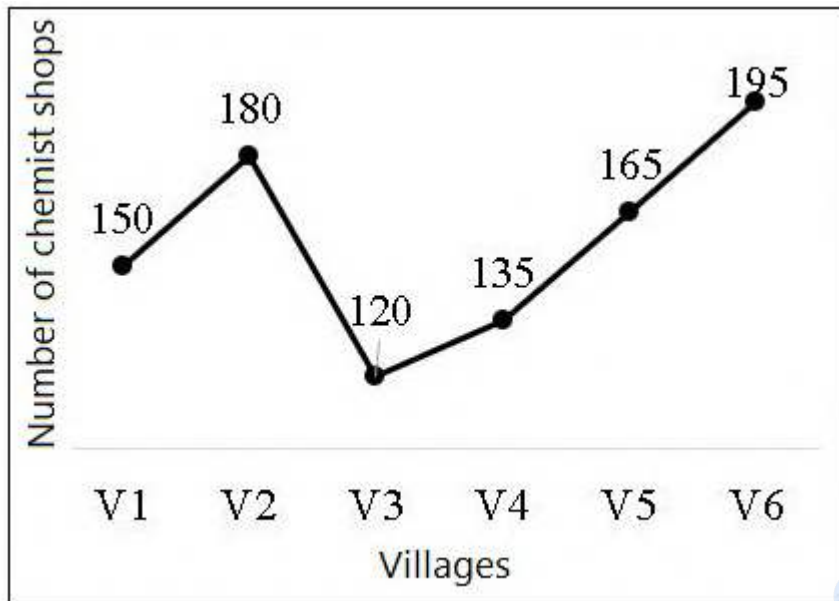
Options :

1. ✘ I तथा III
2. ✔ II तथा III
3. ✘ I तथा II
4. ✘ I, II तथा III

Question Number : 120 Question Id : 5406267561 Question Type : MCQ Option Shuffling : Yes Is Question Mandatory : No Option Orientation : Vertical

Correct Marks : 1 Wrong Marks : 0.25

The line chart given below shows the number of chemist shops in 6 different villages.



Which of the following statement is correct?

- I. Least number of chemist shops are in V3.
- II. Chemist shops in V3 are 11.11 percent less than the chemist shops in V4.
- III. Total number of chemist shops in V4, V5 and V6 are 495.

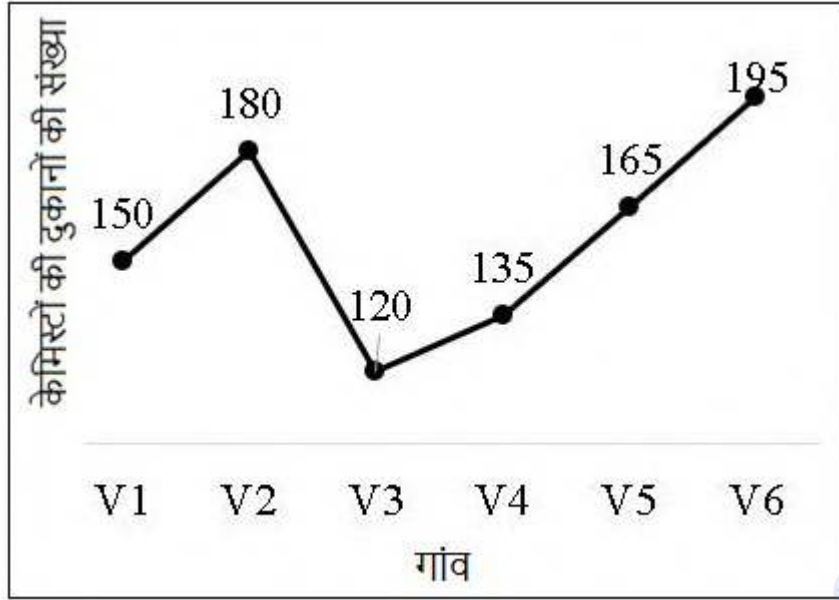
Options :

- 1. ✘ I and II
- 2. ✘ Only III
- 3. ✘ Only II
- 4. ✔ I, II and III

Question Number : 120 Question Id : 5406267561 Question Type : MCQ Option Shuffling : Yes Is Question Mandatory : No Option Orientation : Vertical

Correct Marks : 1 Wrong Marks : 0.25

नीचे दिया गया रेखा चित्र 6 विभिन्न गांवों में केमिस्टों की दुकानों की संख्या को दर्शाता है।



निम्नलिखित में से कौन सा कथन सही है?

- I. V3 में केमिस्टों की दुकानों की संख्या न्यूनतम है।
- II. V3 में केमिस्ट की दुकानों की संख्या, V4 में केमिस्टों की दुकानों की संख्या से 11.11 प्रतिशत कम है।
- III. V4, V5 तथा V6 में केमिस्ट की दुकानों की कुल संख्या 495 है।

Options :

1. ✘ I तथा II
2. ✘ केवल III
3. ✘ केवल II
4. ✔ I, II तथा III

General English1

Group Number :	7
Group Id :	540626238
Group Maximum Duration :	0
Group Minimum Duration :	0
Show Attended Group? :	No

Edit Attended Group? :	No
Break time :	0
Group Marks :	20
Is this Group for Examiner? :	No

English Language & Comprehension1

Section Id :	540626317
Section Number :	1
Section type :	Online
Mandatory or Optional :	Mandatory
Number of Questions :	20
Number of Questions to be attempted :	20
Section Marks :	20
Enable Mark as Answered Mark for Review and Clear Response :	Yes
Sub-Section Number :	1
Sub-Section Id :	540626368
Question Shuffling Allowed :	Yes

Question Number : 121 Question Id : 5406267562 Question Type : MCQ Option Shuffling : Yes Is Question Mandatory : No Option Orientation : Vertical

Correct Marks : 1 Wrong Marks : 0.25

Find the part of the given sentence that has an error in it. If there is no error, choose 'No error'.

Either John and David is having the keys of my car.

Options :

1. ✓ Either John and David
2. ✗ is having the
3. ✗ keys of my car.
4. ✗ No error

Question Number : 121 Question Id : 5406267562 Question Type : MCQ Option Shuffling : Yes Is Question Mandatory : No Option Orientation : Vertical

Correct Marks : 1 Wrong Marks : 0.25

Find the part of the given sentence that has an error in it. If there is no error, choose 'No error'.

Either John and David is having the keys of my car.

Options :

1. ✓ Either John and David
2. ✗ is having the
3. ✗ keys of my car.
4. ✗ No error

Question Number : 122 Question Id : 5406267563 Question Type : MCQ Option Shuffling : Yes Is Question Mandatory : No Option Orientation : Vertical

Correct Marks : 1 Wrong Marks : 0.25

Find the part of the given sentence that has an error in it. If there is no error, choose 'No error'.

My teacher asked me to work hardly to score good marks in exams.

Options :

1. ✗ My teacher asked me
2. ✓ to work hardly to score
3. ✗ good marks in exams.
4. ✗ No error

Question Number : 122 Question Id : 5406267563 Question Type : MCQ Option Shuffling : Yes Is Question Mandatory : No Option Orientation : Vertical

Correct Marks : 1 Wrong Marks : 0.25

Find the part of the given sentence that has an error in it. If there is no error, choose 'No error'.

My teacher asked me to work hardly to score good marks in exams.

Options :

1. ✗ My teacher asked me
2. ✓ to work hardly to score
3. ✗ good marks in exams.
4. ✗ No error

Question Number : 123 Question Id : 5406267564 Question Type : MCQ Option Shuffling : Yes Is Question Mandatory : No Option Orientation : Vertical

Correct Marks : 1 Wrong Marks : 0.25

Find the part of the given sentence that has an error in it. If there is no error, choose 'No error'.

Despite being a rainy day, she went to give the exam.

Options :

1. ✓ Despite being a
2. ✗ rainy day, she went
3. ✗ to give the exam.
4. ✗ No error

Question Number : 123 Question Id : 5406267564 Question Type : MCQ Option Shuffling : Yes Is Question Mandatory : No Option Orientation : Vertical

Correct Marks : 1 Wrong Marks : 0.25

Find the part of the given sentence that has an error in it. If there is no error, choose 'No error'.

Despite being a rainy day, she went to give the exam.

Options :

1. ✓ Despite being a
2. ✗ rainy day, she went
3. ✗ to give the exam.
4. ✗ No error

Question Number : 124 Question Id : 5406267565 Question Type : MCQ Option Shuffling : Yes Is Question Mandatory : No Option Orientation : Vertical

Correct Marks : 1 Wrong Marks : 0.25

Find the part of the given sentence that has an error in it. If there is no error, choose 'No error'.

Dung beetles disperse the seeds that promote revegetation and spreads nutrients in the soil.

Options :

1. ✗ Dung beetles disperse the seeds

2. ✘ that promote revegetation and
3. ✔ spreads nutrients in the soil.
4. ✘ No error

Question Number : 124 Question Id : 5406267565 Question Type : MCQ Option Shuffling : Yes Is Question Mandatory : No Option Orientation : Vertical

Correct Marks : 1 Wrong Marks : 0.25

Find the part of the given sentence that has an error in it. If there is no error, choose 'No error'.

Dung beetles disperse the seeds that promote revegetation and spreads nutrients in the soil.

Options :

1. ✘ Dung beetles disperse the seeds
2. ✘ that promote revegetation and
3. ✔ spreads nutrients in the soil.
4. ✘ No error

Question Number : 125 Question Id : 5406267566 Question Type : MCQ Option Shuffling : Yes Is Question Mandatory : No Option Orientation : Vertical

Correct Marks : 1 Wrong Marks : 0.25

Find the part of the given sentence that has an error in it. If there is no error, choose 'No error'.

Forests damaged by fire and drought will recover much slower.

Options :

1. ✘ Forests damaged by fire
2. ✘ and drought will recover
3. ✘ much slower.
4. ✔ No error

Question Number : 125 Question Id : 5406267566 Question Type : MCQ Option Shuffling : Yes Is Question Mandatory : No Option Orientation : Vertical

Correct Marks : 1 Wrong Marks : 0.25

Find the part of the given sentence that has an error in it. If there is no error, choose 'No error'.

Forests damaged by fire and drought will recover much slower.

Options :

1. ✘ Forests damaged by fire
2. ✘ and drought will recover
3. ✘ much slower.
4. ✔ No error

Question Number : 126 Question Id : 5406267567 Question Type : MCQ Option Shuffling : Yes Is Question Mandatory : No Option Orientation : Vertical

Correct Marks : 1 Wrong Marks : 0.25

Improve the bracketed part of the sentence. If there is no improvement, choose 'No improvement'.

We need to (immediately ensured) universal rationing for the vulnerable population.

Options :

1. ✔ immediately ensure
2. ✘ immediate ensure
3. ✘ ensures immediately
4. ✘ No improvement

Question Number : 126 Question Id : 5406267567 Question Type : MCQ Option Shuffling : Yes Is Question Mandatory : No Option Orientation : Vertical

Correct Marks : 1 Wrong Marks : 0.25

Improve the bracketed part of the sentence. If there is no improvement, choose 'No improvement'.

We need to (immediately ensured) universal rationing for the vulnerable population.

Options :

1. ✔ immediately ensure
2. ✘ immediate ensure
3. ✘ ensures immediately
4. ✘ No improvement

Question Number : 127 Question Id : 5406267568 Question Type : MCQ Option Shuffling : Yes Is Question Mandatory : No Option Orientation : Vertical

Correct Marks : 1 Wrong Marks : 0.25

Improve the bracketed part of the sentence. If there is no improvement, choose 'No improvement'.

The burden of the expenses (is bear) disproportionately by my father.

Options :

1. ✘ are born
2. ✔ was borne
3. ✘ is bore
4. ✘ No improvement

Question Number : 127 Question Id : 5406267568 Question Type : MCQ Option Shuffling : Yes Is Question Mandatory : No Option Orientation : Vertical

Correct Marks : 1 Wrong Marks : 0.25

Improve the bracketed part of the sentence. If there is no improvement, choose 'No improvement'.

The burden of the expenses (is bear) disproportionately by my father.

Options :

1. ✘ are born
2. ✔ was borne
3. ✘ is bore
4. ✘ No improvement

Question Number : 128 Question Id : 5406267569 Question Type : MCQ Option Shuffling : Yes Is Question Mandatory : No Option Orientation : Vertical

Correct Marks : 1 Wrong Marks : 0.25

Improve the bracketed part of the sentence. If there is no improvement, choose 'No improvement'.

This country holds the record for the (largest number) of unemployed persons in the world.

Options :

1. ✘ larger number
2. ✘ large number
3. ✘ the larger count
4. ✔ No improvement

Question Number : 128 Question Id : 5406267569 Question Type : MCQ Option Shuffling : Yes Is Question Mandatory : No Option Orientation : Vertical

Correct Marks : 1 Wrong Marks : 0.25

Improve the bracketed part of the sentence. If there is no improvement, choose 'No improvement'.

This country holds the record for the (largest number) of unemployed persons in the world.

Options :

1. ✘ larger number
2. ✘ large number
3. ✘ the larger count
4. ✔ No improvement

Question Number : 129 Question Id : 5406267570 Question Type : MCQ Option Shuffling : Yes Is Question Mandatory : No Option Orientation : Vertical

Correct Marks : 1 Wrong Marks : 0.25

Improve the bracketed part of the sentence. If there is no improvement, choose 'No improvement'.

You may all go to your respective homerooms where your teachers (will be waiting) for you.

Options :

1. ✘ would be waiting
2. ✘ will has been waiting
3. ✘ will waited
4. ✔ No improvement

Question Number : 129 Question Id : 5406267570 Question Type : MCQ Option Shuffling : Yes Is Question Mandatory : No Option Orientation : Vertical

Correct Marks : 1 Wrong Marks : 0.25

Improve the bracketed part of the sentence. If there is no improvement, choose 'No improvement'.

You may all go to your respective homerooms where your teachers (will be waiting) for you.

Options :

1. ✘ would be waiting

2. ✘ will has been waiting
3. ✘ will waited
4. ✔ No improvement

Question Number : 130 Question Id : 5406267571 Question Type : MCQ Option Shuffling : Yes Is Question Mandatory : No Option Orientation : Vertical

Correct Marks : 1 Wrong Marks : 0.25

Improve the bracketed part of the sentence. If there is no improvement, choose 'No improvement'.

We need to ensure that all people (have accessed) to adequate medicines in the midst of health crisis.

Options :

1. ✔ have access
2. ✘ should had access
3. ✘ have had access
4. ✘ No improvement

Question Number : 130 Question Id : 5406267571 Question Type : MCQ Option Shuffling : Yes Is Question Mandatory : No Option Orientation : Vertical

Correct Marks : 1 Wrong Marks : 0.25

Improve the bracketed part of the sentence. If there is no improvement, choose 'No improvement'.

We need to ensure that all people (have accessed) to adequate medicines in the midst of health crisis.

Options :

1. ✔ have access
2. ✘ should had access
3. ✘ have had access
4. ✘ No improvement

Question Number : 131 Question Id : 5406267572 Question Type : MCQ Option Shuffling : Yes Is Question Mandatory : No Option Orientation : Vertical

Correct Marks : 1 Wrong Marks : 0.25

A sentence has been given with a blank to be filled with an appropriate word. Choose the correct alternative.

Neither Ram nor Priya ____ available tomorrow.

Options :

1. ✓ is
2. ✗ are
3. ✗ were
4. ✗ was

Question Number : 131 Question Id : 5406267572 Question Type : MCQ Option Shuffling : Yes Is Question Mandatory : No Option Orientation : Vertical

Correct Marks : 1 Wrong Marks : 0.25

A sentence has been given with a blank to be filled with an appropriate word. Choose the correct alternative.

Neither Ram nor Priya ____ available tomorrow.

Options :

1. ✓ is
2. ✗ are
3. ✗ were
4. ✗ was

Question Number : 132 Question Id : 5406267573 Question Type : MCQ Option Shuffling : Yes Is Question Mandatory : No Option Orientation : Vertical

Correct Marks : 1 Wrong Marks : 0.25

A sentence has been given with a blank to be filled with an appropriate word. Choose the correct alternative.

One of the animals in the zoo ____ escaped.

Options :

1. ✗ did
2. ✓ has
3. ✗ have
4. ✗ could

Question Number : 132 Question Id : 5406267573 Question Type : MCQ Option Shuffling : Yes Is Question Mandatory : No Option Orientation : Vertical

Correct Marks : 1 Wrong Marks : 0.25

A sentence has been given with a blank to be filled with an appropriate word. Choose the correct alternative.

One of the animals in the zoo ____ escaped.

Options :

1. ✘ did
2. ✔ has
3. ✘ have
4. ✘ could

Question Number : 133 Question Id : 5406267574 Question Type : MCQ Option Shuffling : Yes Is Question Mandatory : No Option Orientation : Vertical

Correct Marks : 1 Wrong Marks : 0.25

A sentence has been given with a blank to be filled with an appropriate word. Choose the correct alternative.

Climate integrates many factors, and so _____ fire.

Options :

1. ✘ did
2. ✘ do
3. ✔ does
4. ✘ as

Question Number : 133 Question Id : 5406267574 Question Type : MCQ Option Shuffling : Yes Is Question Mandatory : No Option Orientation : Vertical

Correct Marks : 1 Wrong Marks : 0.25

A sentence has been given with a blank to be filled with an appropriate word. Choose the correct alternative.

Climate integrates many factors, and so _____ fire.

Options :

1. ✘ did
2. ✘ do
3. ✔ does
4. ✘ as

Question Number : 134 Question Id : 5406267575 Question Type : MCQ Option Shuffling : Yes Is Question Mandatory : No Option Orientation : Vertical

Correct Marks : 1 Wrong Marks : 0.25

A sentence has been given with a blank to be filled with an appropriate word. Choose the correct alternative.

The government is taking all the _____ steps to curb water pollution.

Options :

1. ✘ benign
2. ✘ polite
3. ✔ necessary
4. ✘ fragile

Question Number : 134 Question Id : 5406267575 Question Type : MCQ Option Shuffling : Yes Is Question Mandatory : No Option Orientation : Vertical

Correct Marks : 1 Wrong Marks : 0.25

A sentence has been given with a blank to be filled with an appropriate word. Choose the correct alternative.

The government is taking all the _____ steps to curb water pollution.

Options :

1. ✘ benign
2. ✘ polite
3. ✔ necessary
4. ✘ fragile

Question Number : 135 Question Id : 5406267576 Question Type : MCQ Option Shuffling : Yes Is Question Mandatory : No Option Orientation : Vertical

Correct Marks : 1 Wrong Marks : 0.25

A sentence has been given with a blank to be filled with an appropriate word. Choose the correct alternative.

Some viruses have an outer wrapping, which is _____ an envelope.

Options :

1. ✘ roared

2. ✘ exclaimed
3. ✘ formed
4. ✔ called

Question Number : 135 Question Id : 5406267576 Question Type : MCQ Option Shuffling : Yes Is Question Mandatory : No Option Orientation : Vertical

Correct Marks : 1 Wrong Marks : 0.25

A sentence has been given with a blank to be filled with an appropriate word. Choose the correct alternative.

Some viruses have an outer wrapping, which is _____ an envelope.

Options :

1. ✘ roared
2. ✘ exclaimed
3. ✘ formed
4. ✔ called

Question Number : 136 Question Id : 5406267577 Question Type : MCQ Option Shuffling : Yes Is Question Mandatory : No Option Orientation : Vertical

Correct Marks : 1 Wrong Marks : 0.25

Rearrange the parts of the sentence in the correct order.

The Anglo-Saxons, who
P. a Germanic Language,
Q. conquered Britain at the end
R. of the Roman Empire, spoke
S. which later became English

Options :

1. ✘ PQRS
2. ✔ QRPS
3. ✘ QPRS
4. ✘ SQRP

Question Number : 136 Question Id : 5406267577 Question Type : MCQ Option Shuffling : Yes Is Question Mandatory : No Option Orientation : Vertical

Correct Marks : 1 Wrong Marks : 0.25

Rearrange the parts of the sentence in the correct order.

The Anglo-Saxons, who
P. a Germanic Language,
Q. conquered Britain at the end
R. of the Roman Empire, spoke
S. which later became English

Options :

1. ✘ PQRS
2. ✔ QRPS
3. ✘ QPRS
4. ✘ SQRP

Question Number : 137 Question Id : 5406267578 Question Type : MCQ Option Shuffling : Yes Is Question Mandatory : No Option Orientation : Vertical

Correct Marks : 1 Wrong Marks : 0.25

Rearrange the parts of the sentence in the correct order.

English also contains
P. French-derived words after
Q. following the Norman conquest
R. it was ruled by
S. French-speaking kings

Options :

1. ✘ RQPS
2. ✘ PSRQ
3. ✔ PRSQ
4. ✘ SQPR

Question Number : 137 Question Id : 5406267578 Question Type : MCQ Option Shuffling : Yes Is Question Mandatory : No Option Orientation : Vertical

Correct Marks : 1 Wrong Marks : 0.25

Rearrange the parts of the sentence in the correct order.

English also contains
P. French-derived words after
Q. following the Norman conquest
R. it was ruled by
S. French-speaking kings

Options :

1. ✘ RQPS
2. ✘ PSRQ
3. ✔ PRSQ
4. ✘ SQPR

Question Number : 138 Question Id : 5406267579 Question Type : MCQ Option Shuffling : Yes Is Question Mandatory : No Option Orientation : Vertical

Correct Marks : 1 Wrong Marks : 0.25

The question below consists of a set of labelled sentences. Out of the four options given, select the most logical order of the sentences to form a coherent paragraph.

P. their resulting creation was a variation on the Russian tradition of exchanging decorated Easter eggs
Q. he worked in close collaboration with Peter Carl Fabergé to create the master-piece
R. fabergé was a jeweler known for his fine craftsmanship and creativity
S. in 1885 Alexander III first commissioned a bejeweled egg as a present for his wife

Options :

1. ✘ SPQR
2. ✘ QSPR
3. ✘ QPSR
4. ✔ SQRP

Question Number : 138 Question Id : 5406267579 Question Type : MCQ Option Shuffling : Yes Is Question Mandatory : No Option Orientation : Vertical

Correct Marks : 1 Wrong Marks : 0.25

The question below consists of a set of labelled sentences. Out of the four options given, select the most logical order of the sentences to form a coherent paragraph.

P. their resulting creation was a variation on the Russian tradition of exchanging decorated Easter eggs
Q. he worked in close collaboration with Peter Carl Fabergé to create the master-piece

R. Fabergé was a jeweler known for his fine craftsmanship and creativity
S. In 1885 Alexander III first commissioned a jeweled egg as a present for his wife

Options :

1. ✘ SPQR
2. ✘ QSPR
3. ✘ QPSR
4. ✔ SQRP

Question Number : 139 Question Id : 5406267580 Question Type : MCQ Option Shuffling : Yes Is Question Mandatory : No Option Orientation : Vertical

Correct Marks : 1 Wrong Marks : 0.25

Choose the word that means the same as the given word.

Abridge

Options :

1. ✘ Extend
2. ✘ Extent
3. ✔ Shorten
4. ✘ Stress

Question Number : 139 Question Id : 5406267580 Question Type : MCQ Option Shuffling : Yes Is Question Mandatory : No Option Orientation : Vertical

Correct Marks : 1 Wrong Marks : 0.25

Choose the word that means the same as the given word.

Abridge

Options :

1. ✘ Extend
2. ✘ Extent
3. ✔ Shorten
4. ✘ Stress

Question Number : 140 Question Id : 5406267581 Question Type : MCQ Option Shuffling : Yes Is Question Mandatory : No Option

Orientation : Vertical

Correct Marks : 1 Wrong Marks : 0.25

Choose the word that means the same as the given word.

Recalcitrant

Options :

1. ✘ Reluctant
2. ✔ Unruly
3. ✘ Release
4. ✘ Subdue

Question Number : 140 Question Id : 5406267581 Question Type : MCQ Option Shuffling : Yes Is Question Mandatory : No Option

Orientation : Vertical

Correct Marks : 1 Wrong Marks : 0.25

Choose the word that means the same as the given word.

Recalcitrant

Options :

1. ✘ Reluctant
2. ✔ Unruly
3. ✘ Release
4. ✘ Subdue

General English2

Group Number :	8
Group Id :	540626239
Group Maximum Duration :	0
Group Minimum Duration :	0
Show Attended Group? :	No
Edit Attended Group? :	No
Break time :	0
Group Marks :	20

Is this Group for Examiner? :

No

English Language & Comprehension2

Section Id :	540626318
Section Number :	1
Section type :	Online
Mandatory or Optional :	Mandatory
Number of Questions :	16
Number of Questions to be attempted :	16
Section Marks :	20
Enable Mark as Answered Mark for Review and Clear Response :	Yes
Sub-Section Number :	1
Sub-Section Id :	540626369
Question Shuffling Allowed :	Yes

Question Number : 141 Question Id : 5406267582 Question Type : MCQ Option Shuffling : Yes Is Question Mandatory : No Option Orientation : Vertical

Correct Marks : 1 Wrong Marks : 0.25

Choose the word that means the same as the given word.

Turbulence

Options :

- ✘ Pester
- ✘ Budge
- ✔ Commotion
- ✘ Treachery

Question Number : 141 Question Id : 5406267582 Question Type : MCQ Option Shuffling : Yes Is Question Mandatory : No Option Orientation : Vertical

Correct Marks : 1 Wrong Marks : 0.25

Choose the word that means the same as the given word.

Turbulence

Options :

1. ✘ Pester
2. ✘ Budge
3. ✔ Commotion
4. ✘ Treachery

Question Number : 142 Question Id : 5406267583 Question Type : MCQ Option Shuffling : Yes Is Question Mandatory : No Option Orientation : Vertical

Correct Marks : 1 Wrong Marks : 0.25

Choose the word that is opposite in meaning to the given word.

Puritanical

Options :

1. ✔ Liberated
2. ✘ Suspicious
3. ✘ Prudish
4. ✘ Victorian

Question Number : 142 Question Id : 5406267583 Question Type : MCQ Option Shuffling : Yes Is Question Mandatory : No Option Orientation : Vertical

Correct Marks : 1 Wrong Marks : 0.25

Choose the word that is opposite in meaning to the given word.

Puritanical

Options :

1. ✔ Liberated
2. ✘ Suspicious
3. ✘ Prudish
4. ✘ Victorian

Question Number : 143 Question Id : 5406267584 Question Type : MCQ Option Shuffling : Yes Is Question Mandatory : No Option Orientation : Vertical

Correct Marks : 1 Wrong Marks : 0.25

Choose the word that is opposite in meaning to the given word.

Infantile

Options :

1. ✓ Mature
2. ✗ Perpetual
3. ✗ Periphery
4. ✗ Adolescent

Question Number : 143 Question Id : 5406267584 Question Type : MCQ Option Shuffling : Yes Is Question Mandatory : No Option Orientation : Vertical

Correct Marks : 1 Wrong Marks : 0.25

Choose the word that is opposite in meaning to the given word.

Infantile

Options :

1. ✓ Mature
2. ✗ Perpetual
3. ✗ Periphery
4. ✗ Adolescent

Question Number : 144 Question Id : 5406267585 Question Type : MCQ Option Shuffling : Yes Is Question Mandatory : No Option Orientation : Vertical

Correct Marks : 1 Wrong Marks : 0.25

Choose the word that is opposite in meaning to the given word.

Wanton

Options :

1. ✗ Holster
2. ✓ Wholesome
3. ✗ Wholesale
4. ✗ Whole

Question Number : 144 Question Id : 5406267585 Question Type : MCQ Option Shuffling : Yes Is Question Mandatory : No Option Orientation : Vertical

Correct Marks : 1 Wrong Marks : 0.25

Choose the word that is opposite in meaning to the given word.

Wanton

Options :

1. ✘ Holster
2. ✔ Wholesome
3. ✘ Wholesale
4. ✘ Whole

Question Number : 145 Question Id : 5406267586 Question Type : MCQ Option Shuffling : Yes Is Question Mandatory : No Option Orientation : Vertical

Correct Marks : 1 Wrong Marks : 0.25

In the given question, four words are given out of which one word is correctly spelt. Choose the correctly spelt word.

Options :

1. ✘ Vocabullary
2. ✔ Vocabulary
3. ✘ Voccabulary
4. ✘ Vocabulory

Question Number : 145 Question Id : 5406267586 Question Type : MCQ Option Shuffling : Yes Is Question Mandatory : No Option Orientation : Vertical

Correct Marks : 1 Wrong Marks : 0.25

In the given question, four words are given out of which one word is correctly spelt. Choose the correctly spelt word.

Options :

1. ✘ Vocabullary
2. ✔ Vocabulary
3. ✘ Voccabulary
4. ✘ Vocabulory

Question Number : 146 Question Id : 5406267587 Question Type : MCQ Option Shuffling : Yes Is Question Mandatory : No Option Orientation : Vertical

Correct Marks : 1 Wrong Marks : 0.25

In the given question, four words are given out of which one word is correctly spelt. Choose the correctly spelt word.

Options :

1. ✘ Micsible
2. ✘ Misciblle
3. ✘ Micsiblle
4. ✔ Miscible

Question Number : 146 Question Id : 5406267587 Question Type : MCQ Option Shuffling : Yes Is Question Mandatory : No Option Orientation : Vertical

Correct Marks : 1 Wrong Marks : 0.25

In the given question, four words are given out of which one word is correctly spelt. Choose the correctly spelt word.

Options :

1. ✘ Micsible
2. ✘ Misciblle
3. ✘ Micsiblle
4. ✔ Miscible

Question Number : 147 Question Id : 5406267588 Question Type : MCQ Option Shuffling : Yes Is Question Mandatory : No Option Orientation : Vertical

Correct Marks : 1 Wrong Marks : 0.25

In the given question, four words are given out of which one word is correctly spelt. Choose the correctly spelt word.

Options :

1. ✔ Notoriety
2. ✘ Notoreity
3. ✘ Notoreety
4. ✘ Nottoreity

Question Number : 147 Question Id : 5406267588 Question Type : MCQ Option Shuffling : Yes Is Question Mandatory : No Option

Orientation : Vertical

Correct Marks : 1 Wrong Marks : 0.25

In the given question, four words are given out of which one word is correctly spelt. Choose the correctly spelt word.

Options :

1. ✓ Notoriety
2. ✗ Notoreity
3. ✗ Notoreety
4. ✗ Nottoreity

Question Number : 148 Question Id : 5406267589 Question Type : MCQ Option Shuffling : Yes Is Question Mandatory : No Option

Orientation : Vertical

Correct Marks : 1 Wrong Marks : 0.25

In the given question, four words are given out of which one word is correctly spelt. Choose the correctly spelt word.

Options :

1. ✗ Stallwart
2. ✗ Sstalwart
3. ✓ Stalwart
4. ✗ Stalwaert

Question Number : 148 Question Id : 5406267589 Question Type : MCQ Option Shuffling : Yes Is Question Mandatory : No Option

Orientation : Vertical

Correct Marks : 1 Wrong Marks : 0.25

In the given question, four words are given out of which one word is correctly spelt. Choose the correctly spelt word.

Options :

1. ✗ Stallwart
2. ✗ Sstalwart
3. ✓ Stalwart
4. ✗ Stalwaert

Question Number : 149 Question Id : 5406267590 Question Type : MCQ Option Shuffling : Yes Is Question Mandatory : No Option

Orientation : Vertical

Correct Marks : 1 Wrong Marks : 0.25

In the following question, out of the given four alternatives, select the alternative which best expresses the meaning of the Idiom/Phrase.

To make hay while the sun shines

Options :

1. ✘ To be treated as a personage of great importance
2. ✘ To start a profitable venture
3. ✔ To turn opportunity to the best advantage
4. ✘ To be happy while the good times last

Question Number : 149 Question Id : 5406267590 Question Type : MCQ Option Shuffling : Yes Is Question Mandatory : No Option Orientation : Vertical

Correct Marks : 1 Wrong Marks : 0.25

In the following question, out of the given four alternatives, select the alternative which best expresses the meaning of the Idiom/Phrase.

To make hay while the sun shines

Options :

1. ✘ To be treated as a personage of great importance
2. ✘ To start a profitable venture
3. ✔ To turn opportunity to the best advantage
4. ✘ To be happy while the good times last

Question Number : 150 Question Id : 5406267591 Question Type : MCQ Option Shuffling : Yes Is Question Mandatory : No Option Orientation : Vertical

Correct Marks : 1 Wrong Marks : 0.25

In the following question, out of the given four alternatives, select the alternative which best expresses the meaning of the Idiom/Phrase.

To end in smoke

Options :

1. ✘ To ruin oneself
2. ✘ To pacify an altercation
3. ✘ To set something on fire
4. ✔ To come to nothing

Question Number : 150 Question Id : 5406267591 Question Type : MCQ Option Shuffling : Yes Is Question Mandatory : No Option Orientation : Vertical

Correct Marks : 1 Wrong Marks : 0.25

In the following question, out of the given four alternatives, select the alternative which best expresses the meaning of the Idiom/Phrase.

To end in smoke

Options :

1. ✘ To ruin oneself
2. ✘ To pacify an altercation
3. ✘ To set something on fire
4. ✔ To come to nothing

Question Number : 151 Question Id : 5406267592 Question Type : MCQ Option Shuffling : Yes Is Question Mandatory : No Option Orientation : Vertical

Correct Marks : 1 Wrong Marks : 0.25

In the following question, out of the given four alternatives, select the alternative which best expresses the meaning of the Idiom/Phrase.

To give currency

Options :

1. ✔ To make something credible
2. ✘ To bribe your way out of something
3. ✘ To squander one's time and energy
4. ✘ To lure someone

Question Number : 151 Question Id : 5406267592 Question Type : MCQ Option Shuffling : Yes Is Question Mandatory : No Option Orientation : Vertical

Correct Marks : 1 Wrong Marks : 0.25

In the following question, out of the given four alternatives, select the alternative which best expresses the meaning of the Idiom/Phrase.

To give currency

Options :

1. ✔ To make something credible
2. ✘ To bribe your way out of something

3. ✘ To squander one's time and energy

4. ✘ To lure someone

Question Number : 152 Question Id : 5406267593 Question Type : MCQ Option Shuffling : Yes Is Question Mandatory : No Option Orientation : Vertical

Correct Marks : 1 Wrong Marks : 0.25

Choose the word that can substitute the given sentence.

A place where monks live as a secluded community

Options :

1. ✘ Abbot

2. ✔ Monastery

3. ✘ Priest

4. ✘ Synagogue

Question Number : 152 Question Id : 5406267593 Question Type : MCQ Option Shuffling : Yes Is Question Mandatory : No Option Orientation : Vertical

Correct Marks : 1 Wrong Marks : 0.25

Choose the word that can substitute the given sentence.

A place where monks live as a secluded community

Options :

1. ✘ Abbot

2. ✔ Monastery

3. ✘ Priest

4. ✘ Synagogue

Question Number : 153 Question Id : 5406267594 Question Type : MCQ Option Shuffling : Yes Is Question Mandatory : No Option Orientation : Vertical

Correct Marks : 1 Wrong Marks : 0.25

Choose the word that can substitute the given sentence.

A pole used as a temporary support

Options :

1. ✘ Scaffold
2. ✘ Tent
3. ✔ Prop
4. ✘ Barge

Question Number : 153 Question Id : 5406267594 Question Type : MCQ Option Shuffling : Yes Is Question Mandatory : No Option Orientation : Vertical

Correct Marks : 1 Wrong Marks : 0.25

Choose the word that can substitute the given sentence.

A pole used as a temporary support

Options :

1. ✘ Scaffold
2. ✘ Tent
3. ✔ Prop
4. ✘ Barge

Question Number : 154 Question Id : 5406267595 Question Type : MCQ Option Shuffling : Yes Is Question Mandatory : No Option Orientation : Vertical

Correct Marks : 1 Wrong Marks : 0.25

Choose the word that can substitute the given sentence.

A professional soldier hired to serve in a foreign army

Options :

1. ✘ Venal
2. ✘ Novice
3. ✘ Apprentice
4. ✔ Mercenary

Question Number : 154 Question Id : 5406267595 Question Type : MCQ Option Shuffling : Yes Is Question Mandatory : No Option Orientation : Vertical

Correct Marks : 1 Wrong Marks : 0.25

Choose the word that can substitute the given sentence.

A professional soldier hired to serve in a foreign army

Options :

1. ✘ Venal
2. ✘ Novice
3. ✘ Apprentice
4. ✔ Mercenary

Question Number : 155 Question Id : 5406267596 Question Type : MCQ Option Shuffling : Yes Is Question Mandatory : No Option Orientation : Vertical

Correct Marks : 1 Wrong Marks : 0.25

Choose the word that can substitute the given sentence.

A political leader appealing to popular desires and prejudices

Options :

1. ✔ Demagogue
2. ✘ Dogmatic
3. ✘ Patriot
4. ✘ Politician

Question Number : 155 Question Id : 5406267596 Question Type : MCQ Option Shuffling : Yes Is Question Mandatory : No Option Orientation : Vertical

Correct Marks : 1 Wrong Marks : 0.25

Choose the word that can substitute the given sentence.

A political leader appealing to popular desires and prejudices

Options :

1. ✔ Demagogue
2. ✘ Dogmatic
3. ✘ Patriot
4. ✘ Politician

Sub-Section Number :

Sub-Section Id :

540626370

Question Shuffling Allowed :

Yes

Question Id : 5406267597 Question Type : COMPREHENSION Sub Question Shuffling Allowed : Yes Group Comprehension Questions : No**Question Numbers : (156 to 160)**

Read the following information carefully and answer the given questions.

Human reproductive cloning remains universally condemned, primarily for the psychological, social, and physiological risks associated with cloning. A cloned embryo intended for implantation into a womb requires thorough molecular testing to fully determine whether an embryo is healthy and whether the cloning process is complete. In addition, as demonstrated by 100 failed attempts to generate a cloned macaque in 2007, a viable pregnancy is not guaranteed. Because the risks associated with reproductive cloning in humans introduce a very high likelihood of loss of life, the process is considered unethical. There are other philosophical issues that also have been raised concerning the nature of reproduction and human identity that reproductive cloning might violate. Concerns about eugenics, the once popular notion that the human species could be improved through the selection of individuals possessing desired traits, also have surfaced, since cloning could be used to breed “better” humans, thus violating principles of human dignity, freedom, and equality.

There are laws and international conventions that attempt to uphold certain ethical principles and regulations concerning cloning. In 2005 the United Nations passed a nonbinding Declaration on Human Cloning that calls upon member states “to adopt all measures necessary to prohibit all forms of human cloning in as much as they are incompatible with human dignity and the protection of human life.” This does provide leeway for member countries to pursue cloning. The United Kingdom, through its Human Fertilization and Embryology Authority, issues licenses for creating human embryonic stem cells through nuclear transfer. These licenses ensure that human embryos are cloned for legitimate therapeutic and research purposes aimed at obtaining scientific knowledge about disease and human development. The United States federal government has not passed any laws regarding human cloning due to disagreement within the legislative branch about whether to ban all cloning or to ban only reproductive cloning.

Sub questions**Question Number : 156 Question Id : 5406267598 Question Type : MCQ Option Shuffling : Yes Is Question Mandatory : No Option Orientation : Vertical****Correct Marks : 1 Wrong Marks : 0.25**

The title of the passage can be perfectly represented by:

Options :

1. ✘ The dilemma of designer babies
2. ✘ Designer babies
3. ✔ Ethical controversies around cloning
4. ✘ What is cloning?

Question Number : 157 Question Id : 5406267599 Question Type : MCQ Option Shuffling : Yes Is Question Mandatory : No Option Orientation : Vertical

Correct Marks : 1 Wrong Marks : 0.25

Based on the passage, what is "Eugenics"?

Options :

1. ✘ To only breed cattle that possess desirable qualities and exterminate others
2. ✘ A version of cloning which was practised in 18th Europe
3. ✘ A process where horses are bred for their running capabilities
4. ✔ A notion that held that the human species could be improved by selecting individuals possessing desired traits

Question Number : 158 Question Id : 5406267600 Question Type : MCQ Option Shuffling : Yes Is Question Mandatory : No Option Orientation : Vertical

Correct Marks : 1 Wrong Marks : 0.25

Which word means the same as 'Incompatible'?

Options :

1. ✔ Discrepant
2. ✘ Divine
3. ✘ Disused
4. ✘ Diseased

Question Number : 159 Question Id : 5406267601 Question Type : MCQ Option Shuffling : Yes Is Question Mandatory : No Option Orientation : Vertical

Correct Marks : 1 Wrong Marks : 0.25

According to the passage, which of the following statement is incorrect?

Options :

1. ✘ The United States federal government has not passed any laws regarding human cloning.
2. ✔ In 2006 the United Nations passed a nonbinding Declaration on Human Cloning.
3. ✘ The United Nations has banned only reproductive cloning.
4. ✘ A viable pregnancy is not guaranteed in cloning.

Question Number : 160 Question Id : 5406267602 Question Type : MCQ Option Shuffling : Yes Is Question Mandatory : No Option Orientation : Vertical

Correct Marks : 1 Wrong Marks : 0.25

What is the role of Human Fertilization and Embryology Authority?

Options :

- ✘ It is an UN arm that regulates therapeutic and reproductive cloning in United states
- ✘ It issues licences to Common-Wealth nations to create human stem cells
- ✘ It monitors the nations that practice cloning on large scale
- ✔ It issues licenses for creating human embryonic stem cells in United Kingdom

Question Id : 5406267597 Question Type : COMPREHENSION Sub Question Shuffling Allowed : Yes Group Comprehension Questions : No

Question Numbers : (156 to 160)

Read the following information carefully and answer the given questions.

Human reproductive cloning remains universally condemned, primarily for the psychological, social, and physiological risks associated with cloning. A cloned embryo intended for implantation into a womb requires thorough molecular testing to fully determine whether an embryo is healthy and whether the cloning process is complete. In addition, as demonstrated by 100 failed attempts to generate a cloned macaque in 2007, a viable pregnancy is not guaranteed. Because the risks associated with reproductive cloning in humans introduce a very high likelihood of loss of life, the process is considered unethical. There are other philosophical issues that also have been raised concerning the nature of reproduction and human identity that reproductive cloning might violate. Concerns about eugenics, the once popular notion that the human species could be improved through the selection of individuals possessing desired traits, also have surfaced, since cloning could be used to breed “better” humans, thus violating principles of human dignity, freedom, and equality.

There are laws and international conventions that attempt to uphold certain ethical principles and regulations concerning cloning. In 2005 the United Nations passed a nonbinding Declaration on Human Cloning that calls upon member states “to adopt all measures necessary to prohibit all forms of human cloning in as much as they are incompatible with human dignity and the protection of human life.” This does provide leeway for member countries to pursue cloning. The United Kingdom, through its Human Fertilization and Embryology Authority, issues licenses for creating human embryonic stem cells through nuclear transfer. These licenses ensure that human embryos are cloned for legitimate therapeutic and research purposes aimed at obtaining scientific knowledge about disease and human development. The United States federal government has not passed any laws regarding human cloning due to disagreement within the legislative branch about whether to ban all cloning or to ban only reproductive cloning.

Sub questions

Question Number : 156 Question Id : 5406267598 Question Type : MCQ Option Shuffling : Yes Is Question Mandatory : No Option Orientation : Vertical

Correct Marks : 1 Wrong Marks : 0.25

The title of the passage can be perfectly represented by:

Options :

- ✘ The dilemma of designer babies

2. ✘ Designer babies
3. ✔ Ethical controversies around cloning
4. ✘ What is cloning?

Question Number : 157 Question Id : 5406267599 Question Type : MCQ Option Shuffling : Yes Is Question Mandatory : No Option Orientation : Vertical

Correct Marks : 1 Wrong Marks : 0.25

Based on the passage, what is "Eugenics"?

Options :

1. ✘ To only breed cattle that possess desirable qualities and exterminate others
2. ✘ A version of cloning which was practised in 18th Europe
3. ✘ A process where horses are bred for their running capabilities
4. ✔ A notion that held that the human species could be improved by selecting individuals possessing desired traits

Question Number : 158 Question Id : 5406267600 Question Type : MCQ Option Shuffling : Yes Is Question Mandatory : No Option Orientation : Vertical

Correct Marks : 1 Wrong Marks : 0.25

Which word means the same as 'Incompatible'?

Options :

1. ✔ Discrepant
2. ✘ Divine
3. ✘ Disused
4. ✘ Diseased

Question Number : 159 Question Id : 5406267601 Question Type : MCQ Option Shuffling : Yes Is Question Mandatory : No Option Orientation : Vertical

Correct Marks : 1 Wrong Marks : 0.25

According to the passage, which of the following statement is incorrect?

Options :

1. ✘ The United States federal government has not passed any laws regarding human cloning.
2. ✔ In 2006 the United Nations passed a nonbinding Declaration on Human Cloning.
3. ✘ The United Nations has banned only reproductive cloning.
4. ✘ A viable pregnancy is not guaranteed in cloning.

Question Number : 160 Question Id : 5406267602 Question Type : MCQ Option Shuffling : Yes Is Question Mandatory : No Option Orientation : Vertical

Correct Marks : 1 Wrong Marks : 0.25

What is the role of Human Fertilization and Embryology Authority?

Options :

1. ✘ It is an UN arm that regulates therapeutic and reproductive cloning in United states
2. ✘ It issues licences to Common-Wealth nations to create human stem cells
3. ✘ It monitors the nations that practice cloning on large scale
4. ✔ It issues licenses for creating human embryonic stem cells in United Kingdom

General Hindi1

Group Number :	9
Group Id :	540626240
Group Maximum Duration :	0
Group Minimum Duration :	0
Show Attended Group? :	No
Edit Attended Group? :	No
Break time :	0
Group Marks :	20
Is this Group for Examiner? :	No

Hindi Language & Comprehension1

Section Id :	540626319
Section Number :	1
Section type :	Online
Mandatory or Optional :	Mandatory
Number of Questions :	20
Number of Questions to be attempted :	20
Section Marks :	20

Enable Mark as Answered Mark for Review and Clear Response : Yes
Sub-Section Number : 1
Sub-Section Id : 540626371
Question Shuffling Allowed : Yes

Question Number : 161 Question Id : 5406267603 Question Type : MCQ Option Shuffling : Yes Is Question Mandatory : No Option Orientation : Vertical

Correct Marks : 1 Wrong Marks : 0.25

दिए गए शब्द में उपसर्ग ज्ञात कीजिए।

उनहत्तर

Options :

1. ✘ हत्तर
2. ✘ तर
3. ✘ त्र
4. ✔ उन

Question Number : 161 Question Id : 5406267603 Question Type : MCQ Option Shuffling : Yes Is Question Mandatory : No Option Orientation : Vertical

Correct Marks : 1 Wrong Marks : 0.25

दिए गए शब्द में उपसर्ग ज्ञात कीजिए।

उनहत्तर

Options :

1. ✘ हत्तर
2. ✘ तर
3. ✘ त्र
4. ✔ उन

Question Number : 162 Question Id : 5406267604 Question Type : MCQ Option Shuffling : Yes Is Question Mandatory : No Option Orientation : Vertical

Correct Marks : 1 Wrong Marks : 0.25

दिए गए शब्दों की संधि ज्ञात कीजिए।

मुनि + ईश्वर

Options :

1. ✘ मुनीइश्वर
2. ✘ मुनिईश्वर
3. ✔ मुनीश्वर
4. ✘ मुनिइश्वर

Question Number : 162 Question Id : 5406267604 Question Type : MCQ Option Shuffling : Yes Is Question Mandatory : No Option Orientation : Vertical

Correct Marks : 1 Wrong Marks : 0.25

दिए गए शब्दों की संधि ज्ञात कीजिए।

मुनि + ईश्वर

Options :

1. ✘ मुनीइश्वर
2. ✘ मुनिईश्वर
3. ✔ मुनीश्वर
4. ✘ मुनिइश्वर

Question Number : 163 Question Id : 5406267605 Question Type : MCQ Option Shuffling : Yes Is Question Mandatory : No Option Orientation : Vertical

Correct Marks : 1 Wrong Marks : 0.25

दिए गए शब्द का समास ज्ञात कीजिए।

दुरात्मा

Options :

1. ✘ अव्ययी भाव
2. ✔ कर्मधारय
3. ✘ द्विगु
4. ✘ द्वंद्व

Question Number : 163 Question Id : 5406267605 Question Type : MCQ Option Shuffling : Yes Is Question Mandatory : No Option Orientation : Vertical

Correct Marks : 1 Wrong Marks : 0.25

दिए गए शब्द का समास ज्ञात कीजिए।

दुरात्मा

Options :

1. ✘ अव्ययी भाव
2. ✔ कर्मधारय
3. ✘ द्विगु
4. ✘ द्वंद्व

Question Number : 164 Question Id : 5406267606 Question Type : MCQ Option Shuffling : Yes Is Question Mandatory : No Option Orientation : Vertical

Correct Marks : 1 Wrong Marks : 0.25

निम्नलिखित शब्दों में से कौन सा शब्द व्यक्तिवाचक संज्ञा नहीं है?

Options :

1. ✘ पृथ्वी
2. ✘ चंद्रमा
3. ✘ सूर्य
4. ✔ बादल

Question Number : 164 Question Id : 5406267606 Question Type : MCQ Option Shuffling : Yes Is Question Mandatory : No Option Orientation : Vertical

Correct Marks : 1 Wrong Marks : 0.25

निम्नलिखित शब्दों में से कौन सा शब्द व्यक्तिवाचक संज्ञा नहीं है?

Options :

1. ✘ पृथ्वी
2. ✘ चंद्रमा
3. ✘ सूर्य

4. ✓ बादल

Question Number : 165 Question Id : 5406267607 Question Type : MCQ Option Shuffling : Yes Is Question Mandatory : No Option Orientation : Vertical

Correct Marks : 1 Wrong Marks : 0.25

दिए गए वाक्य में उचित सर्वनाम का चयन करके रिक्त स्थान की पूर्ति कीजिए।

_____ काम आता हो _____ हाथ कभी नहीं रूकते।

Options :

1. ✗ जो, वो
2. ✓ जिसे, उसके
3. ✗ आप, स्वयं
4. ✗ कौन, किससे

Question Number : 165 Question Id : 5406267607 Question Type : MCQ Option Shuffling : Yes Is Question Mandatory : No Option Orientation : Vertical

Correct Marks : 1 Wrong Marks : 0.25

दिए गए वाक्य में उचित सर्वनाम का चयन करके रिक्त स्थान की पूर्ति कीजिए।

_____ काम आता हो _____ हाथ कभी नहीं रूकते।

Options :

1. ✗ जो, वो
2. ✓ जिसे, उसके
3. ✗ आप, स्वयं
4. ✗ कौन, किससे

Question Number : 166 Question Id : 5406267608 Question Type : MCQ Option Shuffling : Yes Is Question Mandatory : No Option Orientation : Vertical

Correct Marks : 1 Wrong Marks : 0.25

दिए गए विशेषण शब्द की उत्तमावस्था ज्ञात कीजिए।

दीर्घ

Options :

1. ✘ दीर्घा
2. ✘ दीर्घतर
3. ✔ दीर्घतम
4. ✘ दीर्घता

Question Number : 166 Question Id : 5406267608 Question Type : MCQ Option Shuffling : Yes Is Question Mandatory : No Option Orientation : Vertical

Correct Marks : 1 Wrong Marks : 0.25

दिए गए विशेषण शब्द की उत्तमावस्था ज्ञात कीजिए।

दीर्घ

Options :

1. ✘ दीर्घा
2. ✘ दीर्घतर
3. ✔ दीर्घतम
4. ✘ दीर्घता

Question Number : 167 Question Id : 5406267609 Question Type : MCQ Option Shuffling : Yes Is Question Mandatory : No Option Orientation : Vertical

Correct Marks : 1 Wrong Marks : 0.25

निम्नलिखित वाक्यों में से कौन सा अकर्मक क्रिया का उदाहरण है?

Options :

1. ✔ लड़के हँसते हैं।
2. ✘ मोची जूता बनाता है।
3. ✘ माँ अंगूर खा रही है।
4. ✘ बच्चा जूस पीता है।

Question Number : 167 Question Id : 5406267609 Question Type : MCQ Option Shuffling : Yes Is Question Mandatory : No Option Orientation : Vertical

Correct Marks : 1 Wrong Marks : 0.25

निम्नलिखित वाक्यों में से कौन सा अकर्मक क्रिया का उदाहरण है?

Options :

1. ✓ लड़के हँसते हैं।
2. ✗ मोची जूता बनाता है।
3. ✗ माँ अंगूर खा रही है।
4. ✗ बच्चा जूस पीता है।

Question Number : 168 Question Id : 5406267610 Question Type : MCQ Option Shuffling : Yes Is Question Mandatory : No Option Orientation : Vertical

Correct Marks : 1 Wrong Marks : 0.25

दिया गया प्रत्यय निम्नलिखित में से किस शब्द में है, ज्ञात कीजिए।

ई

Options :

1. ✓ राक्षसी
2. ✗ इमली
3. ✗ जलेबी
4. ✗ कुर्सी

Question Number : 168 Question Id : 5406267610 Question Type : MCQ Option Shuffling : Yes Is Question Mandatory : No Option Orientation : Vertical

Correct Marks : 1 Wrong Marks : 0.25

दिया गया प्रत्यय निम्नलिखित में से किस शब्द में है, ज्ञात कीजिए।

ई

Options :

1. ✓ राक्षसी
2. ✗ इमली
3. ✗ जलेबी
4. ✗ कुर्सी

Question Number : 169 Question Id : 5406267611 Question Type : MCQ Option Shuffling : Yes Is Question Mandatory : No Option Orientation : Vertical

Correct Marks : 1 Wrong Marks : 0.25

निम्नलिखित में से कौन सा दिए गए शब्द का पर्यायवाची नहीं है?

धन

Options :

1. ✘ दौलत
2. ✘ वसु
3. ✘ द्रव्य
4. ✔ नद

Question Number : 169 Question Id : 5406267611 Question Type : MCQ Option Shuffling : Yes Is Question Mandatory : No Option Orientation : Vertical

Correct Marks : 1 Wrong Marks : 0.25

निम्नलिखित में से कौन सा दिए गए शब्द का पर्यायवाची नहीं है?

धन

Options :

1. ✘ दौलत
2. ✘ वसु
3. ✘ द्रव्य
4. ✔ नद

Question Number : 170 Question Id : 5406267612 Question Type : MCQ Option Shuffling : Yes Is Question Mandatory : No Option Orientation : Vertical

Correct Marks : 1 Wrong Marks : 0.25

दिए गए शब्द का विलोम शब्द ज्ञात कीजिए।

अवर

Options :

1. ✔ प्रवर

2. ✘ सवर
3. ✘ नवर
4. ✘ खवर

Question Number : 170 Question Id : 5406267612 Question Type : MCQ Option Shuffling : Yes Is Question Mandatory : No Option Orientation : Vertical

Correct Marks : 1 Wrong Marks : 0.25

दिए गए शब्द का विलोम शब्द ज्ञात कीजिए।

अवर

Options :

1. ✔ प्रवर
2. ✘ सवर
3. ✘ नवर
4. ✘ खवर

Question Number : 171 Question Id : 5406267613 Question Type : MCQ Option Shuffling : Yes Is Question Mandatory : No Option Orientation : Vertical

Correct Marks : 1 Wrong Marks : 0.25

दिए गए वाक्यांश के लिए उपयुक्त शब्द का चयन कीजिए।

जिसकी पूर्व से कोई आशा न हो

Options :

1. ✘ प्रात्याशित
2. ✘ अप्रत्यासित
3. ✘ अप्रत्याषित
4. ✔ अप्रत्याशित

Question Number : 171 Question Id : 5406267613 Question Type : MCQ Option Shuffling : Yes Is Question Mandatory : No Option Orientation : Vertical

Correct Marks : 1 Wrong Marks : 0.25

दिए गए वाक्यांश के लिए उपयुक्त शब्द का चयन कीजिए।

जिसकी पूर्व से कोई आशा न हो

Options :

1. ✘ प्रात्याशित
2. ✘ अप्रत्यासित
3. ✘ अप्रत्याषित
4. ✔ अप्रत्याशित

Question Number : 172 Question Id : 5406267614 Question Type : MCQ Option Shuffling : Yes Is Question Mandatory : No Option Orientation : Vertical

Correct Marks : 1 Wrong Marks : 0.25

दिए गए शब्द युग्मों का सही अर्थ ज्ञात कीजिए।

विस्मित-विस्मृत

Options :

1. ✘ भूला हुआ-चकित
2. ✔ चकित-भूला हुआ
3. ✘ पृथ्वी-रोग
4. ✘ समूह-डंठल

Question Number : 172 Question Id : 5406267614 Question Type : MCQ Option Shuffling : Yes Is Question Mandatory : No Option Orientation : Vertical

Correct Marks : 1 Wrong Marks : 0.25

दिए गए शब्द युग्मों का सही अर्थ ज्ञात कीजिए।

विस्मित-विस्मृत

Options :

1. ✘ भूला हुआ-चकित
2. ✔ चकित-भूला हुआ
3. ✘ पृथ्वी-रोग
4. ✘ समूह-डंठल

Question Number : 173 Question Id : 5406267615 Question Type : MCQ Option Shuffling : Yes Is Question Mandatory : No Option
Orientation : Vertical

Correct Marks : 1 Wrong Marks : 0.25

निम्नलिखित शब्दों में से शुद्ध वर्तनी का चयन कीजिए।

Options :

1. ✓ आनुषंगिक
2. ✗ अनुषंगिक
3. ✗ अनुषंगिक
4. ✗ अनूषंगिक

Question Number : 173 Question Id : 5406267615 Question Type : MCQ Option Shuffling : Yes Is Question Mandatory : No Option
Orientation : Vertical

Correct Marks : 1 Wrong Marks : 0.25

निम्नलिखित शब्दों में से शुद्ध वर्तनी का चयन कीजिए।

Options :

1. ✓ आनुषंगिक
2. ✗ अनुषंगिक
3. ✗ अनुषंगिक
4. ✗ अनूषंगिक

Question Number : 174 Question Id : 5406267616 Question Type : MCQ Option Shuffling : Yes Is Question Mandatory : No Option
Orientation : Vertical

Correct Marks : 1 Wrong Marks : 0.25

निम्नलिखित शब्द युग्मों में से कौन सा शब्द युग्म सबसे भिन्न है?

Options :

1. ✗ माता-पिता
2. ✗ भाई-बहन
3. ✓ आना-जाना
4. ✗ रोटी-पानी

Question Number : 174 Question Id : 5406267616 Question Type : MCQ Option Shuffling : Yes Is Question Mandatory : No Option

Orientation : Vertical

Correct Marks : 1 Wrong Marks : 0.25

निम्नलिखित शब्द युग्मों में से कौन सा शब्द युग्म सबसे भिन्न है?

Options :

1. ✘ माता-पिता
2. ✘ भाई-बहन
3. ✔ आना-जाना
4. ✘ रोटी-पानी

Question Number : 175 Question Id : 5406267617 Question Type : MCQ Option Shuffling : Yes Is Question Mandatory : No Option

Orientation : Vertical

Correct Marks : 1 Wrong Marks : 0.25

दिए गए वाक्य में रिक्त स्थान की पूर्ति कीजिए।

भोजन _____ वह सोने चला गया।

Options :

1. ✘ के संग
2. ✘ की खातिर
3. ✔ के उपरांत
4. ✘ के ऊपर

Question Number : 175 Question Id : 5406267617 Question Type : MCQ Option Shuffling : Yes Is Question Mandatory : No Option

Orientation : Vertical

Correct Marks : 1 Wrong Marks : 0.25

दिए गए वाक्य में रिक्त स्थान की पूर्ति कीजिए।

भोजन _____ वह सोने चला गया।

Options :

1. ✘ के संग
2. ✘ की खातिर
3. ✔ के उपरांत
4. ✘ के ऊपर

Question Number : 176 Question Id : 5406267618 Question Type : MCQ Option Shuffling : Yes Is Question Mandatory : No Option Orientation : Vertical

Correct Marks : 1 Wrong Marks : 0.25

दिए गए वाक्य में रिक्त स्थान की पूर्ति कीजिए।

_____ मनुष्य का जन्मसिद्ध अधिकार है।

Options :

1. ✓ स्वतंत्रता
2. ✗ विनम्रता
3. ✗ विवेक
4. ✗ संयम

Question Number : 176 Question Id : 5406267618 Question Type : MCQ Option Shuffling : Yes Is Question Mandatory : No Option Orientation : Vertical

Correct Marks : 1 Wrong Marks : 0.25

दिए गए वाक्य में रिक्त स्थान की पूर्ति कीजिए।

_____ मनुष्य का जन्मसिद्ध अधिकार है।

Options :

1. ✓ स्वतंत्रता
2. ✗ विनम्रता
3. ✗ विवेक
4. ✗ संयम

Question Number : 177 Question Id : 5406267619 Question Type : MCQ Option Shuffling : Yes Is Question Mandatory : No Option Orientation : Vertical

Correct Marks : 1 Wrong Marks : 0.25

दिए गए शब्द का स्त्रीलिंग ज्ञात कीजिए।

प्रार्थी

Options :

1. ✘ प्राथा
2. ✔ प्रार्थिनी
3. ✘ प्रार्थिनी
4. ✘ प्रार्थिणी

Question Number : 177 Question Id : 5406267619 Question Type : MCQ Option Shuffling : Yes Is Question Mandatory : No Option Orientation : Vertical

Correct Marks : 1 Wrong Marks : 0.25

दिए गए शब्द का स्त्रीलिंग ज्ञात कीजिए।

प्रार्थी

Options :

1. ✘ प्राथा
2. ✔ प्रार्थिनी
3. ✘ प्रार्थिनी
4. ✘ प्रार्थिणी

Question Number : 178 Question Id : 5406267620 Question Type : MCQ Option Shuffling : Yes Is Question Mandatory : No Option Orientation : Vertical

Correct Marks : 1 Wrong Marks : 0.25

दिए गए शब्द का बहुवचन ज्ञात कीजिए।

मज़दूर

Options :

1. ✘ मज़दूरी
2. ✘ मज़दूरजन
3. ✔ मज़दूर वर्ग
4. ✘ मज़दूर गण

Question Number : 178 Question Id : 5406267620 Question Type : MCQ Option Shuffling : Yes Is Question Mandatory : No Option Orientation : Vertical

Correct Marks : 1 Wrong Marks : 0.25

दिए गए शब्द का बहुवचन ज्ञात कीजिए।

मज़दूर

Options :

1. ✘ मज़दूरी
2. ✘ मज़दूरजन
3. ✔ मज़दूर वर्ग
4. ✘ मज़दूर गण

Question Number : 179 Question Id : 5406267621 Question Type : MCQ Option Shuffling : Yes Is Question Mandatory : No Option Orientation : Vertical

Correct Marks : 1 Wrong Marks : 0.25

दिए गए वाक्य में उचित परसर्ग का चयन करके रिक्त स्थान की पूर्ति कीजिए।

बच्चे _____ ज़िद की।

Options :

1. ✘ को
2. ✘ पर
3. ✔ ने
4. ✘ में

Question Number : 179 Question Id : 5406267621 Question Type : MCQ Option Shuffling : Yes Is Question Mandatory : No Option Orientation : Vertical

Correct Marks : 1 Wrong Marks : 0.25

दिए गए वाक्य में उचित परसर्ग का चयन करके रिक्त स्थान की पूर्ति कीजिए।

बच्चे _____ ज़िद की।

Options :

1. ✘ को
2. ✘ पर
3. ✔ ने
4. ✘ में

Question Number : 180 Question Id : 5406267622 Question Type : MCQ Option Shuffling : Yes Is Question Mandatory : No Option Orientation : Vertical

Correct Marks : 1 Wrong Marks : 0.25

निम्नलिखित वाक्यों में से अशुद्ध वाक्य का चयन कीजिए।

Options :

1. ✘ अमर के दो बेटे हैं।
2. ✘ किताब छत पर पड़ी है।
3. ✘ मैं रेलगाड़ी से आया हूँ।
4. ✔ पेड़ से फल आ रहे हैं।

Question Number : 180 Question Id : 5406267622 Question Type : MCQ Option Shuffling : Yes Is Question Mandatory : No Option Orientation : Vertical

Correct Marks : 1 Wrong Marks : 0.25

निम्नलिखित वाक्यों में से अशुद्ध वाक्य का चयन कीजिए।

Options :

1. ✘ अमर के दो बेटे हैं।
2. ✘ किताब छत पर पड़ी है।
3. ✘ मैं रेलगाड़ी से आया हूँ।
4. ✔ पेड़ से फल आ रहे हैं।

General Hindi2

Group Number :	10
Group Id :	540626241
Group Maximum Duration :	0
Group Minimum Duration :	120
Show Attended Group? :	No
Edit Attended Group? :	No
Break time :	0
Group Marks :	20

Is this Group for Examiner? :

No

Hindi Language & Comprehension2

Section Id :	540626320
Section Number :	1
Section type :	Online
Mandatory or Optional :	Mandatory
Number of Questions :	16
Number of Questions to be attempted :	16
Section Marks :	20
Enable Mark as Answered Mark for Review and Clear Response :	Yes
Sub-Section Number :	1
Sub-Section Id :	540626372
Question Shuffling Allowed :	Yes

Question Number : 181 Question Id : 5406267623 Question Type : MCQ Option Shuffling : Yes Is Question Mandatory : No Option Orientation : Vertical

Correct Marks : 1 Wrong Marks : 0.25

दिए गए वाक्य का संयुक्त वाक्य ज्ञात कीजिए।

मैं चाय पीकर बाज़ार जाऊँगा।

Options :

1. ✓ मैं पहले चाय पीऊँगा फिर बाज़ार जाऊँगा।
2. ✗ मैं चाय पीने के बाद बाज़ार जाऊँगा।
3. ✗ मैं चाय पीता हूँ फिर बाज़ार जाऊँगा।
4. ✗ मैं चाय पीकर फिर बाज़ार जाऊँगा।

Question Number : 181 Question Id : 5406267623 Question Type : MCQ Option Shuffling : Yes Is Question Mandatory : No Option Orientation : Vertical

Correct Marks : 1 Wrong Marks : 0.25

दिए गए वाक्य का संयुक्त वाक्य ज्ञात कीजिए।

मैं चाय पीकर बाज़ार जाऊँगा।

Options :

1. ✓ मैं पहले चाय पीऊँगाँ फिर बाज़ार जाऊँगा।
2. ✗ मैं चाय पीने के बाद बाज़ार जाऊँगा।
3. ✗ मैं चाय पीता हूँ फिर बाज़ार जाऊँगा।
4. ✗ मैं चाय पीकर फिर बाज़ार जाऊँगा।

Question Number : 182 Question Id : 5406267624 Question Type : MCQ Option Shuffling : Yes Is Question Mandatory : No Option Orientation : Vertical

Correct Marks : 1 Wrong Marks : 0.25

दिए गए वाक्य का वाच्य ज्ञात कीजिए।

ड्राइवर द्वारा गाड़ी चलाई जा रही है।

Options :

1. ✗ कर्तृवाच्य
2. ✓ कर्मवाच्य
3. ✗ भाववाच्य
4. ✗ अकर्तृवाच्य

Question Number : 182 Question Id : 5406267624 Question Type : MCQ Option Shuffling : Yes Is Question Mandatory : No Option Orientation : Vertical

Correct Marks : 1 Wrong Marks : 0.25

दिए गए वाक्य का वाच्य ज्ञात कीजिए।

ड्राइवर द्वारा गाड़ी चलाई जा रही है।

Options :

1. ✗ कर्तृवाच्य
2. ✓ कर्मवाच्य
3. ✗ भाववाच्य
4. ✗ अकर्तृवाच्य

Question Number : 183 Question Id : 5406267625 Question Type : MCQ Option Shuffling : Yes Is Question Mandatory : No Option Orientation : Vertical

Correct Marks : 1 Wrong Marks : 0.25

दिए गए वाक्य का काल ज्ञात कीजिए।

गोल्डी ने खाना खाया।

Options :

1. ✓ भूतकाल
2. ✗ वर्तमान काल
3. ✗ भविष्य काल
4. ✗ अपूर्ण काल

Question Number : 183 Question Id : 5406267625 Question Type : MCQ Option Shuffling : Yes Is Question Mandatory : No Option Orientation : Vertical

Correct Marks : 1 Wrong Marks : 0.25

दिए गए वाक्य का काल ज्ञात कीजिए।

गोल्डी ने खाना खाया।

Options :

1. ✓ भूतकाल
2. ✗ वर्तमान काल
3. ✗ भविष्य काल
4. ✗ अपूर्ण काल

Question Number : 184 Question Id : 5406267626 Question Type : MCQ Option Shuffling : Yes Is Question Mandatory : No Option Orientation : Vertical

Correct Marks : 1 Wrong Marks : 0.25

दिए गए वाक्य का पक्ष ज्ञात कीजिए।

वर्षा हो रही थी।

Options :

1. ✗ नित्य पक्ष

2. ✘ सातत्यबोधक पक्ष
3. ✔ पूर्ण पक्ष
4. ✘ स्थित्यामक पक्ष

Question Number : 184 Question Id : 5406267626 Question Type : MCQ Option Shuffling : Yes Is Question Mandatory : No Option Orientation : Vertical

Correct Marks : 1 Wrong Marks : 0.25

दिए गए वाक्य का पक्ष ज्ञात कीजिए।

वर्षा हो रही थी।

Options :

1. ✘ नित्य पक्ष
2. ✘ सातत्यबोधक पक्ष
3. ✔ पूर्ण पक्ष
4. ✘ स्थित्यामक पक्ष

Question Number : 185 Question Id : 5406267627 Question Type : MCQ Option Shuffling : Yes Is Question Mandatory : No Option Orientation : Vertical

Correct Marks : 1 Wrong Marks : 0.25

दिए गए वाक्य की वृत्ति ज्ञात कीजिए।

तुम विद्यालय जाओ।

Options :

1. ✔ आज्ञार्थक वृत्ति
2. ✘ निश्चिद्यार्थक वृत्ति
3. ✘ संकेतार्थक वृत्ति
4. ✘ सामर्थ्य सूचक वृत्ति

Question Number : 185 Question Id : 5406267627 Question Type : MCQ Option Shuffling : Yes Is Question Mandatory : No Option Orientation : Vertical

Correct Marks : 1 Wrong Marks : 0.25

दिए गए वाक्य की वृत्ति ज्ञात कीजिए।

तुम विद्यालय जाओ।

Options :

1. ✓ आज्ञार्थक वृत्ति
2. ✗ निश्चियार्थक वृत्ति
3. ✗ संकेतार्थक वृत्ति
4. ✗ सामर्थ्य सूचक वृत्ति

Question Number : 186 Question Id : 5406267628 Question Type : MCQ Option Shuffling : Yes Is Question Mandatory : No Option Orientation : Vertical

Correct Marks : 1 Wrong Marks : 0.25

निम्नलिखित में से कौन सा उत्तम पुरूष वाचक का उदाहरण नहीं है?

Options :

1. ✗ मैं
2. ✗ हम
3. ✓ वह
4. ✗ मेरा

Question Number : 186 Question Id : 5406267628 Question Type : MCQ Option Shuffling : Yes Is Question Mandatory : No Option Orientation : Vertical

Correct Marks : 1 Wrong Marks : 0.25

निम्नलिखित में से कौन सा उत्तम पुरूष वाचक का उदाहरण नहीं है?

Options :

1. ✗ मैं
2. ✗ हम
3. ✓ वह
4. ✗ मेरा

Question Number : 187 Question Id : 5406267629 Question Type : MCQ Option Shuffling : Yes Is Question Mandatory : No Option Orientation : Vertical

Correct Marks : 1 Wrong Marks : 0.25

दिए गए वाक्यांश का अर्थ ज्ञात कीजिए।

गोद सूनी होना

Options :

1. ✘ काम बिगाड़ना
2. ✔ संतानहीन होना
3. ✘ खुशी मनाना
4. ✘ गहरी नींद में सोना

Question Number : 187 Question Id : 5406267629 Question Type : MCQ Option Shuffling : Yes Is Question Mandatory : No Option Orientation : Vertical

Correct Marks : 1 Wrong Marks : 0.25

दिए गए वाक्यांश का अर्थ ज्ञात कीजिए।

गोद सूनी होना

Options :

1. ✘ काम बिगाड़ना
2. ✔ संतानहीन होना
3. ✘ खुशी मनाना
4. ✘ गहरी नींद में सोना

Question Number : 188 Question Id : 5406267630 Question Type : MCQ Option Shuffling : Yes Is Question Mandatory : No Option Orientation : Vertical

Correct Marks : 1 Wrong Marks : 0.25

निम्नलिखित प्रश्न में, दिए गए चार विकल्पों में से, उस विकल्प का चयन करें जो दिए गए मुहावरे के अर्थ को सर्वश्रेष्ठ रूप से व्यक्त करता है।

बंदर क्या जाने अदरक का स्वाद

Options :

1. ✘ बहुत समय बाद दिखाई देना
2. ✔ किसी वस्तु का महत्त्व न समझने वाला
3. ✘ बिल्कुल अच्छा न लगना
4. ✘ मुश्किलें खत्म होना

Question Number : 188 Question Id : 5406267630 Question Type : MCQ Option Shuffling : Yes Is Question Mandatory : No Option Orientation : Vertical

Correct Marks : 1 Wrong Marks : 0.25

निम्नलिखित प्रश्न में, दिए गए चार विकल्पों में से, उस विकल्प का चयन करें जो दिए गए मुहावरे के अर्थ को सर्वश्रेष्ठ रूप से व्यक्त करता है।

बंदर क्या जाने अदरक का स्वाद

Options :

1. ✘ बहुत समय बाद दिखाई देना
2. ✔ किसी वस्तु का महत्त्व न समझने वाला
3. ✘ बिल्कुल अच्छा न लगना
4. ✘ मुश्किलें खत्म होना

Question Number : 189 Question Id : 5406267631 Question Type : MCQ Option Shuffling : Yes Is Question Mandatory : No Option Orientation : Vertical

Correct Marks : 1 Wrong Marks : 0.25

दिए शब्दों में उपयोग किए गए विराम चिह्न की पहचान कीजिए।

माता-पिता, अन्न-जल

Options :

1. ✘ कोष्ठक
2. ✔ योजक
3. ✘ विवरण
4. ✘ लाघव

Question Number : 189 Question Id : 5406267631 Question Type : MCQ Option Shuffling : Yes Is Question Mandatory : No Option Orientation : Vertical

Correct Marks : 1 Wrong Marks : 0.25

दिए शब्दों में उपयोग किए गए विराम चिह्न की पहचान कीजिए।

माता-पिता, अन्न-जल

Options :

1. ✘ कोष्ठक
2. ✔ योजक
3. ✘ विवरण
4. ✘ लाघव

Question Number : 190 Question Id : 5406267632 Question Type : MCQ Option Shuffling : Yes Is Question Mandatory : No Option Orientation : Vertical

Correct Marks : 1 Wrong Marks : 0.25

दिए गए वाक्य के लिए उचित लोकोक्ति का चयन कीजिए।

आश्रय देने वाले से शत्रुता करना

Options :

1. ✘ घाट-घाट का पानी होना
2. ✘ अंत भला सो भला
3. ✘ एक पंथ दो काज
4. ✔ जल में रहकर मगर से बैर

Question Number : 190 Question Id : 5406267632 Question Type : MCQ Option Shuffling : Yes Is Question Mandatory : No Option Orientation : Vertical

Correct Marks : 1 Wrong Marks : 0.25

दिए गए वाक्य के लिए उचित लोकोक्ति का चयन कीजिए।

आश्रय देने वाले से शत्रुता करना

Options :

1. ✘ घाट-घाट का पानी होना
2. ✘ अंत भला सो भला
3. ✘ एक पंथ दो काज
4. ✔ जल में रहकर मगर से बैर

Question Number : 191 Question Id : 5406267633 Question Type : MCQ Option Shuffling : Yes Is Question Mandatory : No Option Orientation : Vertical

Correct Marks : 1 Wrong Marks : 0.25

निम्नलिखित प्रश्न में, दिए गए चार मुहावरों में से, उस विकल्प का चयन करें जो दिए गए वाक्य के अर्थ को सर्वश्रेष्ठ रूप से व्यक्त करता है।

कुछ भी उत्तर न सुझना

Options :

1. ✘ बंदर धुड़की
2. ✘ पापड़ बेलना
3. ✔ बगलें झाँकना
4. ✘ छक्के छुड़ाना

Question Number : 191 Question Id : 5406267633 Question Type : MCQ Option Shuffling : Yes Is Question Mandatory : No Option Orientation : Vertical

Correct Marks : 1 Wrong Marks : 0.25

निम्नलिखित प्रश्न में, दिए गए चार मुहावरों में से, उस विकल्प का चयन करें जो दिए गए वाक्य के अर्थ को सर्वश्रेष्ठ रूप से व्यक्त करता है।

कुछ भी उत्तर न सुझना

Options :

1. ✘ बंदर धुड़की
2. ✘ पापड़ बेलना
3. ✔ बगलें झाँकना
4. ✘ छक्के छुड़ाना

Question Number : 192 Question Id : 5406267634 Question Type : MCQ Option Shuffling : Yes Is Question Mandatory : No Option Orientation : Vertical

Correct Marks : 1 Wrong Marks : 0.25

दिए गए वाक्य में किस प्रकार के विराम चिह्न का उपयोग किया जाएगा, उसकी पहचान कीजिए।

मोहन कहाँ हैं

Options :

1. ✘ पूर्ण विराम
2. ✔ प्रश्न सूचक
3. ✘ लाघव चिह्न
4. ✘ अल्प विराम

Question Number : 192 Question Id : 5406267634 Question Type : MCQ Option Shuffling : Yes Is Question Mandatory : No Option Orientation : Vertical

Correct Marks : 1 Wrong Marks : 0.25

दिए गए वाक्य में किस प्रकार के विराम चिह्न का उपयोग किया जाएगा, उसकी पहचान कीजिए।

मोहन कहाँ हैं

Options :

1. ✘ पूर्ण विराम
2. ✔ प्रश्न सूचक
3. ✘ लाघव चिह्न
4. ✘ अल्प विराम

Question Number : 193 Question Id : 5406267635 Question Type : MCQ Option Shuffling : Yes Is Question Mandatory : No Option Orientation : Vertical

Correct Marks : 1 Wrong Marks : 0.25

रिक्त स्थान में दिए गए चार विकल्पों में उस विकल्प का चयन करें जो दिए गए मुहावरे के अर्थ को सर्वश्रेष्ठ रूप से व्यक्त करता है।

देश का हर नेता _____ रहा है।

Note: For this question, discrepancy is found in question/answer. So, this question is ignored for all candidates.

Options :

1. अंगारे उगलना
2. अक्ल के घोड़े दौड़ना
3. खिचड़ी पकाना
4. अंगूठा दिखाना

Question Number : 193 Question Id : 5406267635 Question Type : MCQ Option Shuffling : Yes Is Question Mandatory : No Option Orientation : Vertical

Correct Marks : 1 Wrong Marks : 0.25

रिक्त स्थान में दिए गए चार विकल्पों में उस विकल्प का चयन करे जो दिए गए मुहावरे के अर्थ को सर्वश्रेष्ठ रूप से व्यक्त करता है।

देश का हर नेता _____ रहा है।

Note: For this question, discrepancy is found in question/answer. So, this question is ignored for all candidates.

Options :

1. अंगारे उगलना
2. अक्ल के घोड़े दौड़ना
3. खिचड़ी पकाना
4. अंगूठा दिखाना

Question Number : 194 Question Id : 5406267636 Question Type : MCQ Option Shuffling : Yes Is Question Mandatory : No Option Orientation : Vertical

Correct Marks : 1 Wrong Marks : 0.25

दिए गए वाक्य में रेखांकित भाग के लिए उचित मुहावरे का चयन कीजिए।

अनिल कल ही एक मुकदमें में बरी हुआ था, आज फिर पुलिस ने धर लिया।

Options :

1. ✘ छोटा मुँह और बड़ी बात
2. ✘ घर का भेदी लंका ढाए
3. ✔ आसमान से गिरे खजूर में अटके
4. ✘ कोयले की दलाली में मुँह काला

Question Number : 194 Question Id : 5406267636 Question Type : MCQ Option Shuffling : Yes Is Question Mandatory : No Option Orientation : Vertical

Correct Marks : 1 Wrong Marks : 0.25

दिए गए वाक्य में रेखांकित भाग के लिए उचित मुहावरे का चयन कीजिए।

अनिल कल ही एक मुकदमें में बरी हुआ था, आज फिर पुलिस ने धर लिया।

Options :

1. ✘ छोटा मुँह और बड़ी बात

2. ✘ घर का भेदी लंका ढाए
3. ✔ आसमान से गिरे खजूर में अटके
4. ✘ कोयले की दलाली में मुँह काला

Question Number : 195 Question Id : 5406267637 Question Type : MCQ Option Shuffling : Yes Is Question Mandatory : No Option Orientation : Vertical

Correct Marks : 1 Wrong Marks : 0.25

दिया गया वाक्य किस विराम चिह्न का उदाहरण है, ज्ञात कीजिए।

मानव जीवन में कर्म ही प्रधान है।

Options :

1. ✘ योजक चिह्न
2. ✔ पूर्ण विराम
3. ✘ कोष्ठक चिह्न
4. ✘ विवरण चिह्न

Question Number : 195 Question Id : 5406267637 Question Type : MCQ Option Shuffling : Yes Is Question Mandatory : No Option Orientation : Vertical

Correct Marks : 1 Wrong Marks : 0.25

दिया गया वाक्य किस विराम चिह्न का उदाहरण है, ज्ञात कीजिए।

मानव जीवन में कर्म ही प्रधान है।

Options :

1. ✘ योजक चिह्न
2. ✔ पूर्ण विराम
3. ✘ कोष्ठक चिह्न
4. ✘ विवरण चिह्न

Sub-Section Number :

2

Sub-Section Id :

540626373

Question Shuffling Allowed :

Yes

Question Id : 5406267638 Question Type : COMPREHENSION Sub Question Shuffling Allowed : Yes Group Comprehension Questions

: No

Question Numbers : (196 to 200)

एक गद्यांश दिया गया है। गद्यांश को ध्यानपूर्वक पढ़ें तथा प्रत्येक प्रश्न के सही विकल्प चुने।

भारतीय ग्रंथों में मानव जीवन को चार आश्रमों में बांटा गया है - ब्रह्मचार्य आश्रम, गृहस्थ आश्रम, वानप्रस्थ आश्रम और संन्यास आश्रम। जीवन के प्रथम 25 वर्ष ब्रह्मचारी आश्रम के लिए नियत किए गए हैं। इसी अवधि को भारतीय मनीषियों ने विद्या अध्ययन के लिए निर्धारित किया है। इसी अवस्था को विद्यार्थी जीवन भी कहा जाता है। विद्यार्थी शब्द दो शब्दों के मेल से बना है। विद्या + अर्थी। विद्या को चाहने वाला विद्यार्थी, जीवन के शेष चरणों की आधारशिला है जिसकी आधारशिला मजबूत और सशक्त होगी वह सदैव मजबूत रहता है। विद्यार्जन करने का अर्थ मात्र किताबी ज्ञान तक सीमित नहीं है। समाज से, परिवार से, व्यवसाय से सामान्य लोगों से भी जीवनभर कुछ ना कुछ सीखा जा सकता है। एक अच्छा विद्यार्थी वही है जो मन में हमेशा कुछ ना कुछ सीखने को तत्पर होता है। शिक्षा जीवन पर चलने वाली एक निरंतर क्रिया है। यह जीवन की मधुर अवस्था है। यह प्रशांत और आनंद की अवस्थाएं, विद्यार्थी जीवन में किया जाने वाला परिश्रम हमेशा मनुष्य के काम आती हैं। एक आदर्श विद्यार्थी को सदैव अपने कर्तव्य पालन में जागरूक होना चाहिए। अनुशासन द्वारा विद्यार्थी उन्नति की चरम सीमा तक पहुंच सकता है। इसके लिए उसे अनुशासन के महत्व को अवश्य समझना चाहिए।

Sub questions

Question Number : 196 Question Id : 5406267639 Question Type : MCQ Option Shuffling : Yes Is Question Mandatory : No Option Orientation : Vertical

Correct Marks : 1 Wrong Marks : 0.25

मानव जीवन को किसने चार आश्रमों में बाटा है?

Options :

1. ✘ ईश्वर
2. ✘ जज
3. ✘ संविधान
4. ✔ ग्रंथ

Question Number : 197 Question Id : 5406267640 Question Type : MCQ Option Shuffling : Yes Is Question Mandatory : No Option Orientation : Vertical

Correct Marks : 1 Wrong Marks : 0.25

किस आश्रम को विद्या के लिए निर्धारित किया गया है?

Options :

1. ✔ ब्रह्मचार्य आश्रम
2. ✘ गृहस्थ आश्रम
3. ✘ वानप्रस्थ आश्रम
4. ✘ संन्यास आश्रम

Question Number : 198 Question Id : 5406267641 Question Type : MCQ Option Shuffling : Yes Is Question Mandatory : No Option Orientation : Vertical

Correct Marks : 1 Wrong Marks : 0.25

कौन सी प्रक्रिया सदैव मानव के साथ रहती है?

Options :

1. ✘ जवानी
2. ✔ विद्या
3. ✘ सुख
4. ✘ खुशहाली

Question Number : 199 Question Id : 5406267642 Question Type : MCQ Option Shuffling : Yes Is Question Mandatory : No Option Orientation : Vertical

Correct Marks : 1 Wrong Marks : 0.25

दिए गए वाक्य से क्या तात्पर्य है ज्ञात कीजिए।

अनुशासन द्वारा विद्यार्थी उन्नति की चरम सीमा तक पहुँच सकता है।

Options :

1. ✘ विद्यार्थी केवल अनुशासन से ही सफल होता है।
2. ✘ विद्यार्थी केवल अनुशासन से ही असफल होता है।
3. ✘ विद्यार्थी अनुशासन के कारण सीढ़िया चढ़ पाता है।
4. ✔ विद्यार्थी अनुशासन के साथ ही अपने लक्ष्य को प्राप्त कर सकता है।

Question Number : 200 Question Id : 5406267643 Question Type : MCQ Option Shuffling : Yes Is Question Mandatory : No Option Orientation : Vertical

Correct Marks : 1 Wrong Marks : 0.25

उपयुक्त गद्यांश का शीर्षक क्या है?

Options :

1. ✘ अनुशासन का महत्व
2. ✘ ब्रह्मचार्य आश्रम
3. ✘ ग्रंथों की वाणी
4. ✔ विद्यार्थी जीवन

Question Id : 5406267638 Question Type : COMPREHENSION Sub Question Shuffling Allowed : Yes Group Comprehension Questions : No

Question Numbers : (196 to 200)

एक गद्यांश दिया गया है। गद्यांश को ध्यानपूर्वक पढ़ें तथा प्रत्येक प्रश्न के सही विकल्प चुने।

भारतीय ग्रंथों में मानव जीवन को चार आश्रमों में बांटा गया है - ब्रह्माचार्य आश्रम, गृहस्थ आश्रम, वानप्रस्थ आश्रम और संन्यास आश्रम। जीवन के प्रथम 25 वर्ष ब्रह्मचारी आश्रम के लिए नियत किए गए हैं। इसी अवधि को भारतीय मनीषियों ने विद्या अध्ययन के लिए निर्धारित किया है। इसी अवस्था को विद्यार्थी जीवन भी कहा जाता है। विद्यार्थी शब्द दो शब्दों के मेल से बना है। विद्या + अर्थी। विद्या को चाहने वाला विद्यार्थी, जीवन के शेष चरणों की आधारशिला है जिसकी आधारशिला मजबूत और सशक्त होगी वह सदैव मजबूत रहता है। विद्यार्जन करने का अर्थ मात्र किताबी ज्ञान तक सीमित नहीं है। समाज से, परिवार से, व्यवसाय से सामान्य लोगों से भी जीवनभर कुछ ना कुछ सीखा जा सकता है। एक अच्छा विद्यार्थी वही है जो मन में हमेशा कुछ ना कुछ सीखने को तत्पर होता है। शिक्षा जीवन पर चलने वाली एक निरंतर क्रिया है। यह जीवन की मधुर अवस्था है। यह प्रशांत और आनंद की अवस्थाएं, विद्यार्थी जीवन में किया जाने वाला परिश्रम हमेशा मनुष्य के काम आती हैं। एक आदर्श विद्यार्थी को सदैव अपने कर्तव्य पालन में जागरूक होना चाहिए। अनुशासन द्वारा विद्यार्थी उन्नति की चरम सीमा तक पहुंच सकता है। इसके लिए उसे अनुशासन के महत्व को अवश्य समझना चाहिए।

Sub questions

Question Number : 196 Question Id : 5406267639 Question Type : MCQ Option Shuffling : Yes Is Question Mandatory : No Option Orientation : Vertical

Correct Marks : 1 Wrong Marks : 0.25

मानव जीवन को किसने चार आश्रमों में बाटा है?

Options :

1. ✘ ईश्वर
2. ✘ जज
3. ✘ संविधान
4. ✔ ग्रंथ

Question Number : 197 Question Id : 5406267640 Question Type : MCQ Option Shuffling : Yes Is Question Mandatory : No Option Orientation : Vertical

Correct Marks : 1 Wrong Marks : 0.25

किस आश्रम को विद्या के लिए निर्धारित किया गया है?

Options :

1. ✔ ब्रह्माचार्य आश्रम
2. ✘ गृहस्थ आश्रम

3. ✘ वानप्रस्थ आश्रम
4. ✘ सन्यास आश्रम

Question Number : 198 Question Id : 5406267641 Question Type : MCQ Option Shuffling : Yes Is Question Mandatory : No Option Orientation : Vertical

Correct Marks : 1 Wrong Marks : 0.25

कौन सी प्रक्रिया सदैव मानव के साथ रहती है?

Options :

1. ✘ जवानी
2. ✔ विद्या
3. ✘ सुख
4. ✘ खुशहाली

Question Number : 199 Question Id : 5406267642 Question Type : MCQ Option Shuffling : Yes Is Question Mandatory : No Option Orientation : Vertical

Correct Marks : 1 Wrong Marks : 0.25

दिए गए वाक्य से क्या तात्पर्य है ज्ञात कीजिए।

अनुशासन द्वारा विद्यार्थी उन्नति की चरम सीमा तक पहुँच सकता है।

Options :

1. ✘ विद्यार्थी केवल अनुशासन से ही सफल होता है।
2. ✘ विद्यार्थी केवल अनुशासन से ही असफल होता है।
3. ✘ विद्यार्थी अनुशासन के कारण सीढ़िया चढ़ पाता है।
4. ✔ विद्यार्थी अनुशासन के साथ ही अपने लक्ष्य को प्राप्त कर सकता है।

Question Number : 200 Question Id : 5406267643 Question Type : MCQ Option Shuffling : Yes Is Question Mandatory : No Option Orientation : Vertical

Correct Marks : 1 Wrong Marks : 0.25

उपयुक्त गद्यांश का शीर्षक क्या है?

Options :

1. ✘ अनुशासन का महत्व
2. ✘ ब्रह्माचार्य आश्रम

3. ✖ ग्रंथो की वाणी
4. ✔ विद्यार्थी जीवन

prepp
Your Personal Exam Guide