

Question Paper Preview

Notations :

- Options shown in green color and with ✓ icon are correct.
- Options shown in red color and with ✗ icon are incorrect.

Subject Name :	Store Keeper
Creation Date :	2021-04-22 19:26:11
Duration :	120
Total Marks :	200
Display Marks:	Yes
Share Answer Key With Delivery Engine :	No
Actual Answer Key :	Yes
Calculator :	None
Magnifying Glass Required? :	No
Ruler Required? :	No
Eraser Required? :	No
Scratch Pad Required? :	No
Rough Sketch/Notepad Required? :	No
Protractor Required? :	No
Show Watermark on Console? :	Yes
Highlighter :	No
Auto Save on Console? (SA type of questions will be always auto saved) :	No

Mental Ability1

Group Number :	1
Group Id :	600929246
Group Maximum Duration :	0
Group Minimum Duration :	0

Show Attended Group? :	No
Edit Attended Group? :	No
Break time :	0
Group Marks :	20
Is this Group for Examiner? :	No

General intelligence and reasoning Ability1

Section Id :	600929392
Section Number :	1
Section type :	Online
Mandatory or Optional :	Mandatory
Number of Questions :	20
Number of Questions to be attempted :	20
Section Marks :	20
Enable Mark as Answered Mark for Review and Clear Response :	Yes
Sub-Section Number :	1
Sub-Section Id :	600929470
Question Shuffling Allowed :	Yes

Question Number : 1 Question Id : 6009298084 Question Type : MCQ Option Shuffling : Yes Is Question Mandatory : No Option Orientation : Vertical

Correct Marks : 1 Wrong Marks : 0.25

Complete the following letter series:

PK, TG, XC, BY, _____

Options :

- ✘ HS
- ✘ GV
- ✘ ET
- ✔ FU

Question Number : 1 Question Id : 6009298084 Question Type : MCQ Option Shuffling : Yes Is Question Mandatory : No Option

Orientation : Vertical

Correct Marks : 1 Wrong Marks : 0.25

निम्नलिखित अक्षर श्रृंखला को पूरा करें:

PK, TG, XC, BY, _____

Options :

1. ✘ HS
2. ✘ GV
3. ✘ ET
4. ✔ FU

Question Number : 2 Question Id : 6009298085 Question Type : MCQ Option Shuffling : Yes Is Question Mandatory : No Option

Orientation : Vertical

Correct Marks : 1 Wrong Marks : 0.25

Which option word CANNOT be formed by using the letters of the word given below?

ATTRACTIVELY

Options :

1. ✔ LYRIST
2. ✘ TREATY
3. ✘ CATTLE
4. ✘ ATTIRE

Question Number : 2 Question Id : 6009298085 Question Type : MCQ Option Shuffling : Yes Is Question Mandatory : No Option

Orientation : Vertical

Correct Marks : 1 Wrong Marks : 0.25

निम्नलिखित विकल्पों में से कौनसा शब्द ऐसा है जो नीचे दिए शब्द के अक्षरों का प्रयोग कर के नहीं बनाया जा सकता है?

ATTRACTIVELY

Options :

1. ✔ LYRIST
2. ✘ TREATY
3. ✘ CATTLE

4. ✘ ATTIRE

Question Number : 3 Question Id : 6009298086 Question Type : MCQ Option Shuffling : Yes Is Question Mandatory : No Option Orientation : Vertical

Correct Marks : 1 Wrong Marks : 0.25

Arrange the given words in the sequence in which they occur in the dictionary.

1. STEEPED
2. STEMMED
3. STEAMED
4. STEEPLY
5. STEPPED

Options :

1. ✘ 3, 1, 2, 4, 5
2. ✘ 3, 4, 5, 1, 2
3. ✔ 3, 1, 4, 2, 5
4. ✘ 3, 4, 1, 5, 2

Question Number : 3 Question Id : 6009298086 Question Type : MCQ Option Shuffling : Yes Is Question Mandatory : No Option Orientation : Vertical

Correct Marks : 1 Wrong Marks : 0.25

दिए गए शब्दों को उस क्रम में व्यवस्थित करें जिस क्रम में वे शब्दकोश में होते हैं।

1. STEEPED
2. STEMMED
3. STEAMED
4. STEEPLY
5. STEPPED

Options :

1. ✘ 3, 1, 2, 4, 5
2. ✘ 3, 4, 5, 1, 2
3. ✔ 3, 1, 4, 2, 5
4. ✘ 3, 4, 1, 5, 2

Question Number : 4 Question Id : 6009298087 Question Type : MCQ Option Shuffling : Yes Is Question Mandatory : No Option Orientation : Vertical

Correct Marks : 1 Wrong Marks : 0.25

Find the missing term in the following series:

H8S, L12O, _____, T20G, X24C

Options :

1. ✘ S16M
2. ✔ P16K
3. ✘ Q16J
4. ✘ R16L

Question Number : 4 Question Id : 6009298087 Question Type : MCQ Option Shuffling : Yes Is Question Mandatory : No Option Orientation : Vertical

Correct Marks : 1 Wrong Marks : 0.25

निम्नलिखित श्रृंखला में लुप्त पद ज्ञात करें:

H8S, L12O, _____, T20G, X24C

Options :

1. ✘ S16M
2. ✔ P16K
3. ✘ Q16J
4. ✘ R16L

Question Number : 5 Question Id : 6009298088 Question Type : MCQ Option Shuffling : Yes Is Question Mandatory : No Option Orientation : Vertical

Correct Marks : 1 Wrong Marks : 0.25

Which option pair shares the same relationship between its words as that shared by the words in the below pair?

Teacher : School :: ?

Options :

1. ✘ Painter : Brush
2. ✘ Factory : Worker

3. ✘ Judge : Lawyer
4. ✔ Farmer : Field

Question Number : 5 Question Id : 6009298088 Question Type : MCQ Option Shuffling : Yes Is Question Mandatory : No Option Orientation : Vertical

Correct Marks : 1 Wrong Marks : 0.25

निम्नलिखित में से किस विकल्प के शब्द युग्म में वही संबंध है जो संबंध नीचे दिए गए शब्द युग्म के बीच है।

शिक्षक : विद्यालय :: ?

Options :

1. ✘ चित्रकार : ब्रश
2. ✘ कारखाना : कार्यकर्ता
3. ✘ न्यायाधीश : वकील
4. ✔ किसान : खेत

Question Number : 6 Question Id : 6009298089 Question Type : MCQ Option Shuffling : Yes Is Question Mandatory : No Option Orientation : Vertical

Correct Marks : 1 Wrong Marks : 0.25

Select the option that is related to the third term on the same basis as the second term is related to the first term.

PUZ : MRW :: TJS : ?

Options :

1. ✘ RFO
2. ✔ QGP
3. ✘ SIQ
4. ✘ VLU

Question Number : 6 Question Id : 6009298089 Question Type : MCQ Option Shuffling : Yes Is Question Mandatory : No Option Orientation : Vertical

Correct Marks : 1 Wrong Marks : 0.25

उस विकल्प का चयन करें जो तीसरे पद से उसी प्रकार से संबंधित है जिस प्रकार से दूसरा पद पहले पद से संबंधित है।

PUZ : MRW :: TJS : ?

Options :

1. ✘ RFO
2. ✔ QGP
3. ✘ SIQ
4. ✘ VLU

Question Number : 7 Question Id : 6009298090 Question Type : MCQ Option Shuffling : Yes Is Question Mandatory : No Option Orientation : Vertical

Correct Marks : 1 Wrong Marks : 0.25

Which option pair shares the same relationship between its words as that shared by the words in the below pair?

PGN : UBS :: ?

Options :

1. ✘ KTC : PAG
2. ✘ PKE : SMG
3. ✔ KXJ : PSO
4. ✘ MUL : PTN

Question Number : 7 Question Id : 6009298090 Question Type : MCQ Option Shuffling : Yes Is Question Mandatory : No Option Orientation : Vertical

Correct Marks : 1 Wrong Marks : 0.25

निम्नलिखित में से किस विकल्प के शब्द युग्म में वही संबंध है जो संबंध नीचे दिए गए शब्द युग्म के बीच है।

PGN : UBS :: ?

Options :

1. ✘ KTC : PAG
2. ✘ PKE : SMG
3. ✔ KXJ : PSO
4. ✘ MUL : PTN

Question Number : 8 Question Id : 6009298091 Question Type : MCQ Option Shuffling : Yes Is Question Mandatory : No Option Orientation : Vertical

Correct Marks : 1 Wrong Marks : 0.25

If DAM = 18, MICRO = 58, then what is the code for SAME?

Options :

1. ✘ 36
2. ✔ 38
3. ✘ 40
4. ✘ 42

Question Number : 8 Question Id : 6009298091 Question Type : MCQ Option Shuffling : Yes Is Question Mandatory : No Option Orientation : Vertical

Correct Marks : 1 Wrong Marks : 0.25

यदि DAM = 18, MICRO = 58 है, तो SAME के लिए कोड क्या है?

Options :

1. ✘ 36
2. ✔ 38
3. ✘ 40
4. ✘ 42

Question Number : 9 Question Id : 6009298092 Question Type : MCQ Option Shuffling : Yes Is Question Mandatory : No Option Orientation : Vertical

Correct Marks : 1 Wrong Marks : 0.25

If Daisy is Rose, Rose is Lily, Lily is Lotus, Lotus is Sunflower, Sunflower is Orchid, Orchid is Tulip, Tulip is Jasmine, then what is the national flower of India?

Options :

1. ✘ Lotus
2. ✘ Rose
3. ✘ Lily
4. ✔ Sunflower

Question Number : 9 Question Id : 6009298092 Question Type : MCQ Option Shuffling : Yes Is Question Mandatory : No Option Orientation : Vertical

Correct Marks : 1 Wrong Marks : 0.25

यदि गुलबहार गुलाब है, गुलाब लिलि है, लिलि कमल है, कमल सूरजमुखी है, सूरजमुखी ऑर्किड है, ऑर्किड ट्यूलिप है, ट्यूलिप चमेली है, तो भारत का राष्ट्रीय

फूल क्या है?

Options :

1. ✘ कमल
2. ✘ गुलाब
3. ✘ लिलि
4. ✔ सूरजमुखी

Question Number : 10 Question Id : 6009298093 Question Type : MCQ Option Shuffling : Yes Is Question Mandatory : No Option Orientation : Vertical

Correct Marks : 1 Wrong Marks : 0.25

If PERISH is coded as 18-3-20-7-21-6, then what is the code for QUICK?

Options :

1. ✘ 17-19-11-3-13
2. ✘ 17-21-9-3-11
3. ✔ 19-19-11-1-13
4. ✘ 19-17-7-5-15

Question Number : 10 Question Id : 6009298093 Question Type : MCQ Option Shuffling : Yes Is Question Mandatory : No Option Orientation : Vertical

Correct Marks : 1 Wrong Marks : 0.25

यदि PERISH को 18-3-20-7-21-6 के रूप में कोडित किया गया है, तो QUICK के लिए कोड क्या है?

Options :

1. ✘ 17-19-11-3-13
2. ✘ 17-21-9-3-11
3. ✔ 19-19-11-1-13
4. ✘ 19-17-7-5-15

Question Number : 11 Question Id : 6009298094 Question Type : MCQ Option Shuffling : Yes Is Question Mandatory : No Option Orientation : Vertical

Correct Marks : 1 Wrong Marks : 0.25

If STRONG is coded as HGILMT, then what is the code for FLARE?

Options :

1. ✓ UOZIV
2. ✗ VPAJU
3. ✗ WQBKX
4. ✗ UMZKW

Question Number : 11 Question Id : 6009298094 Question Type : MCQ Option Shuffling : Yes Is Question Mandatory : No Option Orientation : Vertical

Correct Marks : 1 Wrong Marks : 0.25

यदि STRONG को HGILMT के रूप में कोडित किया गया है, तो FLARE के लिए कोड क्या है?

Options :

1. ✓ UOZIV
2. ✗ VPAJU
3. ✗ WQBKX
4. ✗ UMZKW

Question Number : 12 Question Id : 6009298095 Question Type : MCQ Option Shuffling : Yes Is Question Mandatory : No Option Orientation : Vertical

Correct Marks : 1 Wrong Marks : 0.25

Manyata is nineteenth from the right end in a row of 50 girls. What is her position from the left end?

Options :

1. ✓ 32
2. ✗ 31
3. ✗ 33
4. ✗ 34

Question Number : 12 Question Id : 6009298095 Question Type : MCQ Option Shuffling : Yes Is Question Mandatory : No Option Orientation : Vertical

Correct Marks : 1 Wrong Marks : 0.25

मान्याता 50 लड़कियों की पंक्ति में दाहिने छोर से उन्नीसवें स्थान पर हैं। बाएं छोर से उसकी स्थिति क्या है?

Options :

1. ✓ 32

2. ✘ 31
3. ✘ 33
4. ✘ 34

Question Number : 13 Question Id : 6009298096 Question Type : MCQ Option Shuffling : Yes Is Question Mandatory : No Option Orientation : Vertical

Correct Marks : 1 Wrong Marks : 0.25

If Bishal is the brother of Ajay, Diksha is the daughter of Ajay, Lara is the sister of Bishal, Manish is the own brother (sibling) of Diksha. Then Bishal is the _____ of Manish.

Options :

1. ✘ father
2. ✔ uncle
3. ✘ brother
4. ✘ brother-in-law

Question Number : 13 Question Id : 6009298096 Question Type : MCQ Option Shuffling : Yes Is Question Mandatory : No Option Orientation : Vertical

Correct Marks : 1 Wrong Marks : 0.25

यदि बिशाल अजय का भाई है, दीक्षा अजय की बेटी है, लारा बिशाल की बहन है, मनीष दीक्षा का सगा भाई है। तो बिशाल मनीष का _____ हैं।

Options :

1. ✘ पिता
2. ✔ चाचा / मामा / मौसा / फूफा
3. ✘ भाई
4. ✘ देवर / साला / बहनोई / जेठ

Question Number : 14 Question Id : 6009298097 Question Type : MCQ Option Shuffling : Yes Is Question Mandatory : No Option Orientation : Vertical

Correct Marks : 1 Wrong Marks : 0.25

Anita, Preksha, Rishi, Yash, Shruti and Manish are sitting in a row. Shruti and Manish are sitting in the centre. Anita and Preksha are sitting at the extreme ends. Rishi is sitting to the left of Anita. Who is to the right of Preksha?

Options :

1. ✔ Yash

2. ✘ Anita
3. ✘ Shruti
4. ✘ Rishi

Question Number : 14 Question Id : 6009298097 Question Type : MCQ Option Shuffling : Yes Is Question Mandatory : No Option Orientation : Vertical

Correct Marks : 1 Wrong Marks : 0.25

अनीता, प्रेक्षा, ऋषि, यश, श्रुति और मनीष एक पंक्ति में बैठे हैं। श्रुति और मनीष केंद्र में बैठे हैं। अनीता और प्रेक्षा चरम छोर पर बैठे हैं। ऋषि अनीता के बाईं ओर बैठा है। प्रेक्षा के दाईं ओर में कौन है?

Options :

1. ✔ यश
2. ✘ अनीता
3. ✘ श्रुति
4. ✘ ऋषि

Question Number : 15 Question Id : 6009298098 Question Type : MCQ Option Shuffling : Yes Is Question Mandatory : No Option Orientation : Vertical

Correct Marks : 1 Wrong Marks : 0.25

In the question one statement is given, followed by two conclusions, I and II. You have to consider the statements to be true even if it seems to be at variance from commonly known facts. You have to decide which of the given conclusions, if any, follows from the given statement.

Statement: Advertisement makes the product of the company very popular.

Conclusion I : Advertisement is very costly.

Conclusion II : Sales of a company increases because of advertisement.

Options :

1. ✘ Only conclusion I follows
2. ✔ Only conclusion II follows
3. ✘ Both I and II follow
4. ✘ Neither I nor II follows

Question Number : 15 Question Id : 6009298098 Question Type : MCQ Option Shuffling : Yes Is Question Mandatory : No Option Orientation : Vertical

Correct Marks : 1 Wrong Marks : 0.25

प्रश्न में एक कथन दिया गया है, जिसके बाद दो निष्कर्ष I और II दिए गए हैं। आपको उस कथन को सत्य मानना है, भले ही यह सामान्यतः ज्ञात तथ्य से भिन्न प्रतीत हो। आपको यह निर्णय लेना है कि दिए गए निष्कर्षों में से कौन सा, यदि कोई हो, तो दिए गए कथन का अनुसरण करता है।

कथन: विज्ञापन कंपनी के उत्पाद को बहुत लोकप्रिय बनाता है।

निष्कर्ष I: विज्ञापन बहुत महंगा है।

निष्कर्ष II: विज्ञापन के कारण किसी कंपनी की बिक्री बढ़ती है।

Options :

1. ✘ केवल निष्कर्ष I अनुसरण करता है
2. ✔ केवल निष्कर्ष II अनुसरण करता है
3. ✘ I और II दोनों अनुसरण करते हैं
4. ✘ न I और न ही II अनुसरण करता है

Question Number : 16 Question Id : 6009298099 Question Type : MCQ Option Shuffling : Yes Is Question Mandatory : No Option Orientation : Vertical

Correct Marks : 1 Wrong Marks : 0.25

In the question one statement is given, followed by two course of actions, I and II. You have to consider the statements to be true even if it seems to be at variance from commonly known facts. You have to decide which of the given course of actions, if any, follows from the given statement.

Statement: Tsunami has hit several parts of the country few days back.

Course of Actions:

I : Food, water and shelter should be arranged for people staying in these areas.

II : Government should make various arrangements for providing financial assistance to help those who are affected by the Tsunami.

Options :

1. ✘ Only I follows
2. ✘ Only II follows
3. ✔ Both I and II follows
4. ✘ Neither I nor II follows

Question Number : 16 Question Id : 6009298099 Question Type : MCQ Option Shuffling : Yes Is Question Mandatory : No Option Orientation : Vertical

Correct Marks : 1 Wrong Marks : 0.25

प्रश्न में एक कथन दिया गया है, जिसके बाद कार्रवाई के दो क्रम I और II दिए गए हैं। आपको उस कथन को सत्य मानना है, भले ही यह सामान्यतः ज्ञात तथ्य से भिन्न प्रतीत हो। आपको यह निर्णय लेना है कि दिए गए कार्रवाई के क्रम में से कौन सा, यदि कोई हो, तो दिए गए कथन का अनुसरण करता है।

कथन: कुछ दिन पहले देश के कई हिस्सों में सूनामी आई थी।

कार्रवाई का क्रम:

I: इन क्षेत्रों में रहने वाले लोगों के लिए भोजन, पानी और आश्रय की व्यवस्था की जानी चाहिए।

II: सरकार को सूनामी से प्रभावित हुए लोगों की मदद के लिए वित्तीय सहायता प्रदान करने के लिए विभिन्न व्यवस्था करनी चाहिए।

Options :

1. ✘ केवल I अनुसरण करता है
2. ✘ केवल II अनुसरण करता है
3. ✔ I और II दोनों अनुसरण करते हैं
4. ✘ न I और न ही II अनुसरण करता है

Question Number : 17 Question Id : 6009298100 Question Type : MCQ Option Shuffling : Yes Is Question Mandatory : No Option Orientation : Vertical

Correct Marks : 1 Wrong Marks : 0.25

In the question two statements are given, followed by three conclusions, I, II and III. You have to consider the statements to be true even if it seems to be at variance from commonly known facts. You have to decide which of the given conclusions, if any, follows from the given statements.

Statement 1 : All potatoes are cabbages.

Statement 2 : No spinach is cabbages.

Conclusion I : Some potatoes are spinach.

Conclusion II : Some cabbages are potatoes.

Conclusion III : No potatoes are spinach.

Options :

1. ✘ Only conclusion I follows
2. ✘ Only conclusion I and II follow
3. ✔ Only conclusion II and III follow
4. ✘ All conclusions I, II and III follow

Question Number : 17 Question Id : 6009298100 Question Type : MCQ Option Shuffling : Yes Is Question Mandatory : No Option

Orientation : Vertical

Correct Marks : 1 Wrong Marks : 0.25

प्रश्न में दो कथन दिए गए हैं, जिसके बाद तीन निष्कर्ष I, II और III दिए गए हैं। आपको उन कथनों को सत्य मानना है, भले ही यह सामान्यतः ज्ञात तथ्य से भिन्न प्रतीत हो। आपको यह निर्णय लेना है कि दिए गए निष्कर्षों में से कौन सा, यदि कोई हो, तो दिए गए कथनों में से अनुसरण करता है।

कथन 1: सभी आलू पत्तागोभी हैं।

कथन 2: कोई भी पालक पत्तागोभी नहीं है।

निष्कर्ष I: कुछ आलू पालक हैं।

निष्कर्ष II: कुछ पत्तागोभी आलू हैं।

निष्कर्ष III: कोई आलू पालक नहीं है।

Options :

1. ✘ केवल निष्कर्ष I अनुसरण करता है
2. ✘ केवल निष्कर्ष I और II अनुसरण करते हैं
3. ✔ केवल निष्कर्ष II और III अनुसरण करते हैं
4. ✘ सभी निष्कर्ष I, II और III अनुसरण करते हैं

Question Number : 18 Question Id : 6009298101 Question Type : MCQ Option Shuffling : Yes Is Question Mandatory : No Option

Orientation : Vertical

Correct Marks : 1 Wrong Marks : 0.25

Find the wrong term in the following number series:

28, 41, 55, 73, 92

Options :

1. ✘ 41
2. ✔ 55
3. ✘ 73
4. ✘ 92

Question Number : 18 Question Id : 6009298101 Question Type : MCQ Option Shuffling : Yes Is Question Mandatory : No Option

Orientation : Vertical

Correct Marks : 1 Wrong Marks : 0.25

निम्नलिखित संख्या श्रृंखला में गलत पद ज्ञात करें:

28, 41, 55, 73, 92

Options :

1. ✘ 41
2. ✔ 55
3. ✘ 73
4. ✘ 92

Question Number : 19 Question Id : 6009298102 Question Type : MCQ Option Shuffling : Yes Is Question Mandatory : No Option Orientation : Vertical

Correct Marks : 1 Wrong Marks : 0.25

Select the option that is related to the third term on the same basis as the second term is related to the first term.

18 : 162 :: 26 : ?

Options :

1. ✔ 338
2. ✘ 468
3. ✘ 572
4. ✘ 342

Question Number : 19 Question Id : 6009298102 Question Type : MCQ Option Shuffling : Yes Is Question Mandatory : No Option Orientation : Vertical

Correct Marks : 1 Wrong Marks : 0.25

उस विकल्प का चयन करें जो तीसरे पद से उसी प्रकार से संबंधित है जिस प्रकार से दूसरा पद पहले पद से संबंधित है।

18 : 162 :: 26 : ?

Options :

1. ✔ 338
2. ✘ 468
3. ✘ 572
4. ✘ 342

Question Number : 20 Question Id : 6009298103 Question Type : MCQ Option Shuffling : Yes Is Question Mandatory : No Option

Orientation : Vertical

Correct Marks : 1 Wrong Marks : 0.25

If $2x - 8 < y - 2$, then which of the following identities are true?

Options :

1. ✘ $2x - y > 6$
2. ✘ $2x - y > 10$
3. ✘ $2x - y < 10$
4. ✔ $2x - y < 6$

Question Number : 20 Question Id : 6009298103 Question Type : MCQ Option Shuffling : Yes Is Question Mandatory : No Option

Orientation : Vertical

Correct Marks : 1 Wrong Marks : 0.25

यदि $2x - 8 < y - 2$ है, तो निम्नलिखित में से कौन सी सर्वसमिका सत्य है?

Options :

1. ✘ $2x - y > 6$
2. ✘ $2x - y > 10$
3. ✘ $2x - y < 10$
4. ✔ $2x - y < 6$

Mental Ability2

Group Number :	2
Group Id :	600929247
Group Maximum Duration :	0
Group Minimum Duration :	0
Show Attended Group? :	No
Edit Attended Group? :	No
Break time :	0
Group Marks :	20
Is this Group for Examiner? :	No

General intelligence and reasoning Ability2

Section Id :	600929393
Section Number :	1
Section type :	Online
Mandatory or Optional :	Mandatory
Number of Questions :	20
Number of Questions to be attempted :	20
Section Marks :	20
Enable Mark as Answered Mark for Review and Clear Response :	Yes
Sub-Section Number :	1
Sub-Section Id :	600929471
Question Shuffling Allowed :	Yes

Question Number : 21 Question Id : 6009298104 Question Type : MCQ Option Shuffling : Yes Is Question Mandatory : No Option Orientation : Vertical

Correct Marks : 1 Wrong Marks : 0.25

Find the missing term in the following series:

812, 808, 799, _____, 758, 722

Options :

1. ✓ 783
2. ✗ 772
3. ✗ 764
4. ✗ 768

Question Number : 21 Question Id : 6009298104 Question Type : MCQ Option Shuffling : Yes Is Question Mandatory : No Option Orientation : Vertical

Correct Marks : 1 Wrong Marks : 0.25

निम्नलिखित श्रृंखला में लुप्त पद ज्ञात करें:

812, 808, 799, _____, 758, 722

Options :

1. ✓ 783

2. ✘ 772
3. ✘ 764
4. ✘ 768

Question Number : 22 Question Id : 6009298105 Question Type : MCQ Option Shuffling : Yes Is Question Mandatory : No Option Orientation : Vertical

Correct Marks : 1 Wrong Marks : 0.25

Complete the following number series:

143, 195, 255, 323, _____.

Options :

1. ✘ 400
2. ✘ 356
3. ✔ 399
4. ✘ 408

Question Number : 22 Question Id : 6009298105 Question Type : MCQ Option Shuffling : Yes Is Question Mandatory : No Option Orientation : Vertical

Correct Marks : 1 Wrong Marks : 0.25

निम्नलिखित संख्या श्रृंखला को पूरा करें:

143, 195, 255, 323, _____

Options :

1. ✘ 400
2. ✘ 356
3. ✔ 399
4. ✘ 408

Question Number : 23 Question Id : 6009298106 Question Type : MCQ Option Shuffling : Yes Is Question Mandatory : No Option Orientation : Vertical

Correct Marks : 1 Wrong Marks : 0.25

What is the greatest five digit number which is divisible by 25, 40 and 75?

Options :

1. ✘ 96000
2. ✔ 99600
3. ✘ 99800
4. ✘ 99999

Question Number : 23 Question Id : 6009298106 Question Type : MCQ Option Shuffling : Yes Is Question Mandatory : No Option Orientation : Vertical

Correct Marks : 1 Wrong Marks : 0.25

सबसे बड़ी पांच अंकीय संख्या क्या है जो 25, 40 और 75 से विभाज्य है?

Options :

1. ✘ 96000
2. ✔ 99600
3. ✘ 99800
4. ✘ 99999

Question Number : 24 Question Id : 6009298107 Question Type : MCQ Option Shuffling : Yes Is Question Mandatory : No Option Orientation : Vertical

Correct Marks : 1 Wrong Marks : 0.25

If $21@15 = 9$, $37@11 = 12$, $45@15 = 15$, then $56@40 = ?$

Options :

1. ✘ 18
2. ✘ 21
3. ✘ 12
4. ✔ 24

Question Number : 24 Question Id : 6009298107 Question Type : MCQ Option Shuffling : Yes Is Question Mandatory : No Option Orientation : Vertical

Correct Marks : 1 Wrong Marks : 0.25

यदि $21@15 = 9$, $37@11 = 12$, $45@15 = 15$ है, तो $56@40 = ?$

Options :

1. ✘ 18

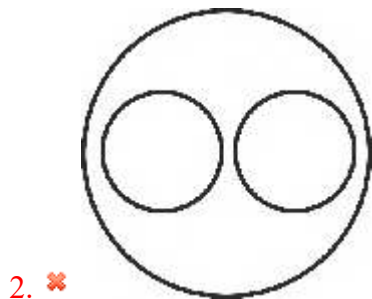
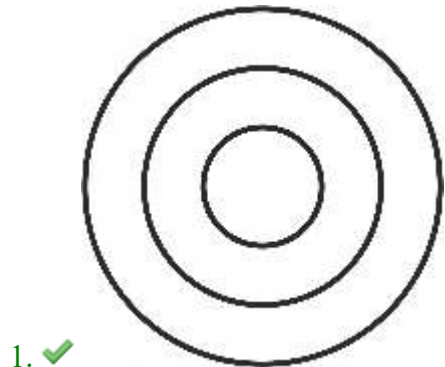
- 2. ✘ 21
- 3. ✘ 12
- 4. ✔ 24

Question Number : 25 Question Id : 6009298108 Question Type : MCQ Option Shuffling : Yes Is Question Mandatory : No Option Orientation : Vertical


Correct Marks : 1 Wrong Marks : 0.25

Which of the following Venn diagrams best represents the relationship between plants, climbers plants, money plants?

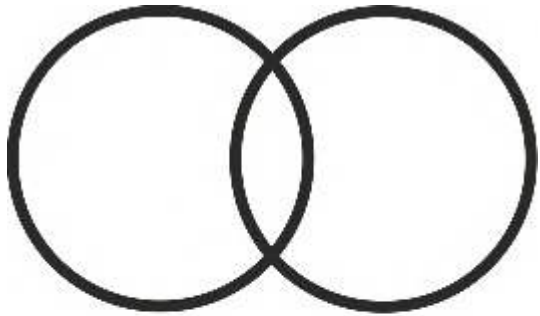
Options :




prepp
Your Personal Exam Guide



3. ✘



4. ✘

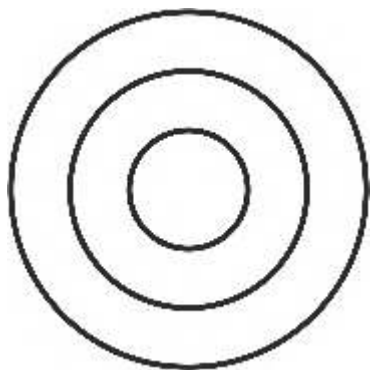


Question Number : 25 Question Id : 6009298108 Question Type : MCQ Option Shuffling : Yes Is Question Mandatory : No Option Orientation : Vertical

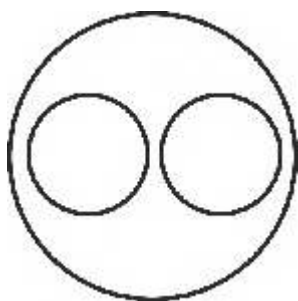
Correct Marks : 1 Wrong Marks : 0.25

निम्नलिखित में से कौन सा वेन आरेख पौधों, क्लैम्बर प्लांट, मनी प्लांट के बीच के संबंध को सबसे अच्छा दर्शाता है?

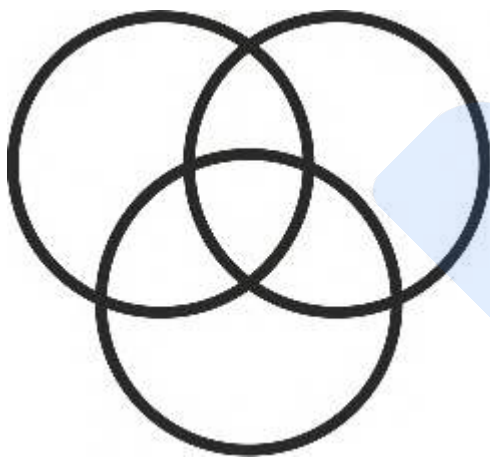
Options :



1. ✓




2. ✗



3. ✗

prepp
Your Personal Exam Guide

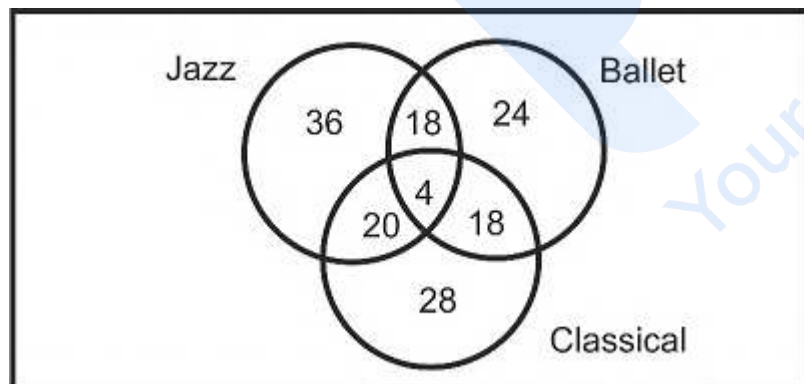


4. ✖

Question Number : 26 Question Id : 6009298109 Question Type : MCQ Option Shuffling : Yes Is Question Mandatory : No Option Orientation : Vertical

Correct Marks : 1 Wrong Marks : 0.25

The given Venn diagram shows the number of students who learn Jazz, Ballet and Classical. There are 150 students in the class. How many of these students did not learn any of the dance forms?



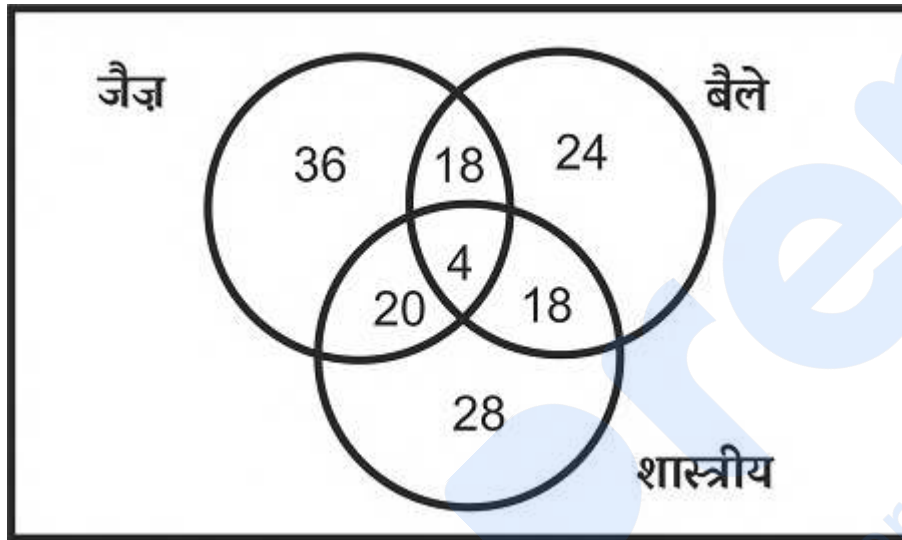
Options :

1. ✘ 4
2. ✘ 18
3. ✔ 2
4. ✘ 20

Question Number : 26 Question Id : 6009298109 Question Type : MCQ Option Shuffling : Yes Is Question Mandatory : No Option Orientation : Vertical

Correct Marks : 1 Wrong Marks : 0.25

दिए गए वेन आरेख में जैज़, बैले और शास्त्रीय सीखने वाले छात्रों की संख्या दर्शायी गई है। कक्षा में 150 छात्र हैं। इनमें से कितने छात्रों ने नृत्य के किसी भी रूप को नहीं सीखा?



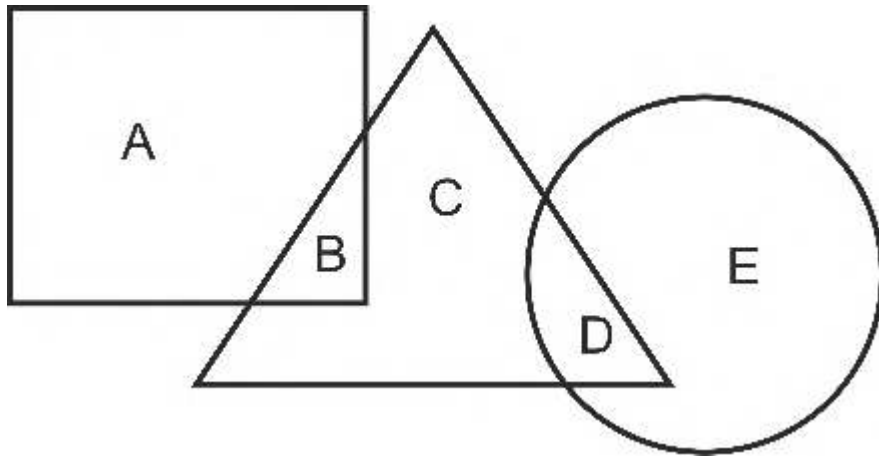
Options :

1. ✘ 4
2. ✘ 18
3. ✔ 2
4. ✘ 20

Question Number : 27 Question Id : 6009298110 Question Type : MCQ Option Shuffling : Yes Is Question Mandatory : No Option Orientation : Vertical

Correct Marks : 1 Wrong Marks : 0.25

In the following figure, triangle represents doctors, square represents lawyers, circle represents housewives. Which area represents doctors who are neither housewives nor lawyers?



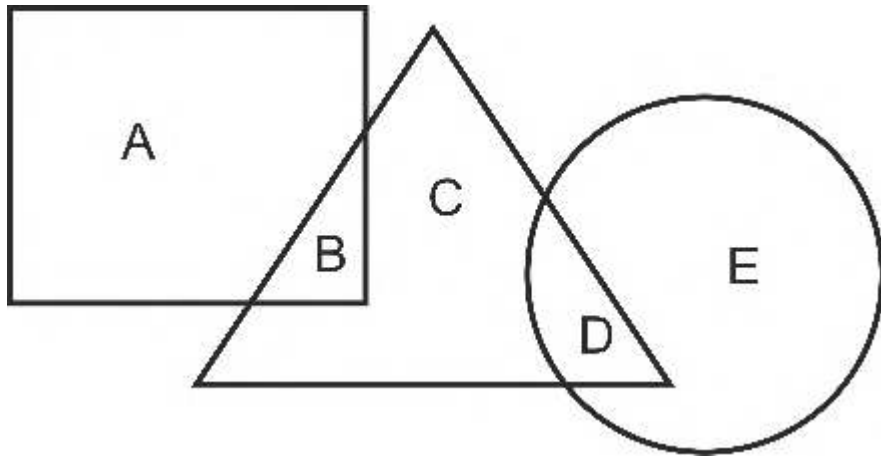
Options :

1. ✘ B
2. ✔ C
3. ✘ D
4. ✘ E

Question Number : 27 Question Id : 6009298110 Question Type : MCQ Option Shuffling : Yes Is Question Mandatory : No Option Orientation : Vertical

Correct Marks : 1 Wrong Marks : 0.25

निम्नलिखित आकृति में, त्रिभुज चिकित्सकों का प्रतिनिधित्व करता है, वर्ग वकीलों का प्रतिनिधित्व करता है, वृत्त गृहिणियों का प्रतिनिधित्व करता है। कौन सा क्षेत्र चिकित्सकों का प्रतिनिधित्व करता है जो न तो गृहिणी हैं और न ही वकील है?



Options :

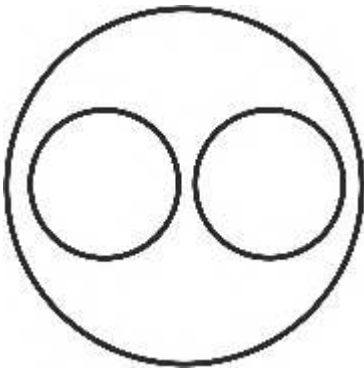
1. ✘ B
2. ✔ C
3. ✘ D
4. ✘ E

Question Number : 28 Question Id : 6009298111 Question Type : MCQ Option Shuffling : Yes Is Question Mandatory : No Option Orientation : Vertical

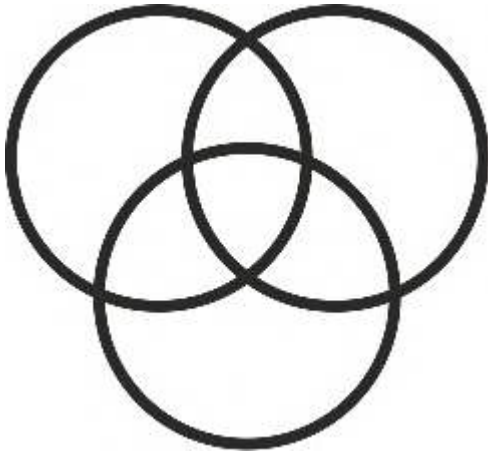
Correct Marks : 1 Wrong Marks : 0.25

Which of the following Venn diagrams best represents the relationship between currency, dinar, euro?

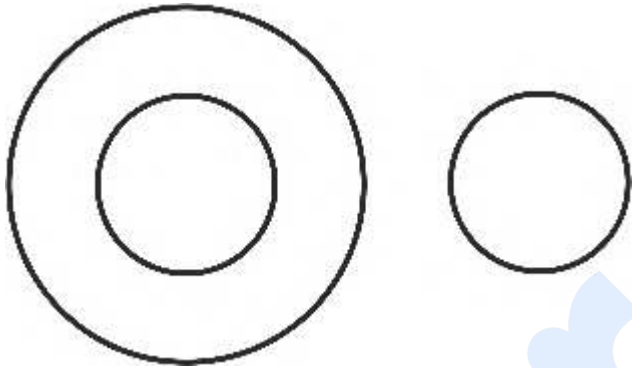
Options :



1. ✔



2. ✖



3. ✖



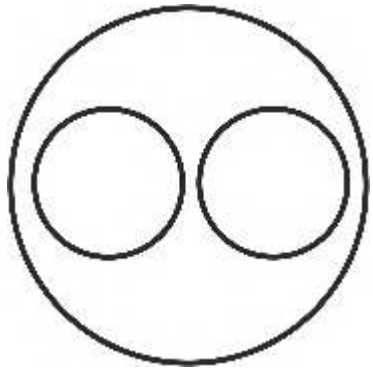
4. ✖

Question Number : 28 Question Id : 6009298111 Question Type : MCQ Option Shuffling : Yes Is Question Mandatory : No Option Orientation : Vertical

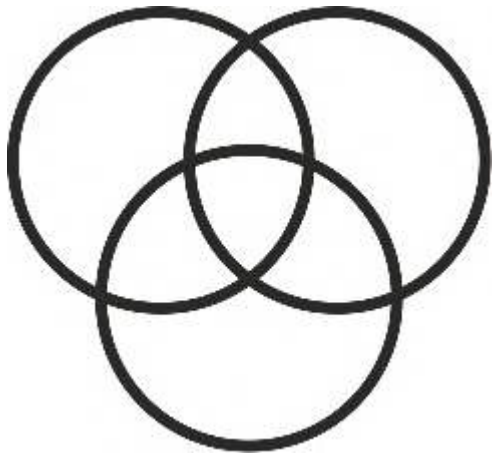
Correct Marks : 1 Wrong Marks : 0.25

निम्नलिखित में से कौन सा वेन आरेख मुद्रा, दीनार, यूरो के बीच के संबंध को सबसे अच्छा दर्शाता है?

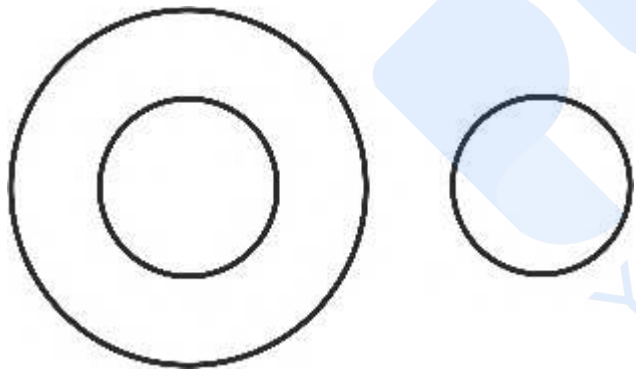
Options :



1. ✓



2. ✗



3. ✗

prepp
Your Personal Exam Guide



4. ✘

Question Number : 29 Question Id : 6009298112 Question Type : MCQ Option Shuffling : Yes Is Question Mandatory : No Option Orientation : Vertical

Correct Marks : 1 Wrong Marks : 0.25

Yash walked 45 m towards the North direction. Then he turned west and walked 30 m. Then he turned south and walked 15 m. Finally turning to the east, he walked 30 m. In which direction is he from the starting point?

Options :

1. ✘ South
2. ✔ North
3. ✘ East
4. ✘ West

Question Number : 29 Question Id : 6009298112 Question Type : MCQ Option Shuffling : Yes Is Question Mandatory : No Option Orientation : Vertical

Correct Marks : 1 Wrong Marks : 0.25

यश उत्तर दिशा की ओर 45 m चलता है। फिर वह पश्चिम की ओर मुड़ा और 30 m चला। फिर वह दक्षिण की ओर मुड़ा और 15 m चला। आखिरकार पूर्व की ओर मुड़ते हुए, वह 30 m तक चला। शुरुआती बिंदु से, वह किस दिशा में है?

Options :

1. ✘ दक्षिण
2. ✔ उत्तर
3. ✘ पूर्व
4. ✘ पश्चिम

Question Number : 30 Question Id : 6009298113 Question Type : MCQ Option Shuffling : Yes Is Question Mandatory : No Option Orientation : Vertical

Correct Marks : 1 Wrong Marks : 0.25

Sameer walks 40 m towards East and turns to right and walks 20 m. Then he turns to the right and walks 18 m. Then, he turns to right and walks 10 m. Then he turns to left and walks 24 m and then he turns to right and walks 12 m. Now to which direction is Sundar facing?

Options :

1. ✘ East
2. ✘ West
3. ✔ North
4. ✘ South

Question Number : 30 Question Id : 6009298113 Question Type : MCQ Option Shuffling : Yes Is Question Mandatory : No Option Orientation : Vertical

Correct Marks : 1 Wrong Marks : 0.25

समीर पूर्व की ओर 40 m चलता है और दाएं मुड़ता है और 20 m चलता है। फिर वह दाईं ओर मुड़ता है और 18 m चलता है। फिर, वह दाईं ओर मुड़ता है और 10 m चलता है। फिर वह बाईं ओर मुड़ता है और 24 m चलता है और फिर वह दाईं ओर मुड़ता है और 12 m चलता है। अब सुंदर का मुँह किस दिशा की ओर है?

Options :

1. ✘ पूर्व
2. ✘ पश्चिम
3. ✔ उत्तर
4. ✘ दक्षिण

Question Number : 31 Question Id : 6009298114 Question Type : MCQ Option Shuffling : Yes Is Question Mandatory : No Option Orientation : Vertical

Correct Marks : 1 Wrong Marks : 0.25

Kishore walks 8 km towards the north, then turns towards his left and walks for 6 km. He again turns left and walks for 8 km. Then, he turns to his right and walks for 8 km. Where is he standing now with respect to the starting point?

Options :

1. ✔ 14 km west
2. ✘ 6 km south
3. ✘ 8 km west
4. ✘ 12 km north

Question Number : 31 Question Id : 6009298114 Question Type : MCQ Option Shuffling : Yes Is Question Mandatory : No Option Orientation : Vertical

Correct Marks : 1 Wrong Marks : 0.25

किशोर उत्तर की ओर 8 km चलता है, फिर अपनी बाईं ओर मुड़ता है और 6 km तक चलता है। वह फिर से बाएं मुड़ता है और 8 km तक चलता है। फिर, वह अपने दाईं ओर मुड़ता है और 8 km चलता है। अब वह शुरुआती बिंदु के संबंध में कहां खड़ा है?

Options :

1. ✓ 14 km पश्चिम
2. ✗ 6 km दक्षिण
3. ✗ 8 km पश्चिम
4. ✗ 12 km उत्तर

Question Number : 32 Question Id : 6009298115 Question Type : MCQ Option Shuffling : Yes Is Question Mandatory : No Option Orientation : Vertical

Correct Marks : 1 Wrong Marks : 0.25

Heema and Seema who are 1.5 km apart start walking towards each other. Heema walks for 0.25 km and takes a right turn and then walks 0.15 km. She then turns left and then walks for another 0.25 km and then turns left again and walks 0.15 km. In the mean time, Seema walked only 0.35 km. What would be the distance between Seema and Heema now?

Options :

1. ✗ 0.90 km
2. ✗ 0.85 km
3. ✗ 0.75 km
4. ✓ 0.65 km

Question Number : 32 Question Id : 6009298115 Question Type : MCQ Option Shuffling : Yes Is Question Mandatory : No Option Orientation : Vertical

Correct Marks : 1 Wrong Marks : 0.25

हीमा और सीमा 1.5 km दूर से एक दूसरे की ओर चलना शुरू करते हैं। हीमा 0.25 km तक चलती है और दाएं मुड़ती है और फिर 0.15 km चलती है। वह फिर बाएं मुड़ती है और 0.25 km तक चलती है और वह फिर एक बार बाएं मुड़ती है और 0.25 km तक चलती है इस बीच, सीमा केवल 0.35 km चली। अब सीमा और हीमा के बीच की दूरी क्या होगी?

Options :

1. ✗ 0.90 km
2. ✗ 0.85 km
3. ✗ 0.75 km
4. ✓ 0.65 km

Question Number : 33 Question Id : 6009298116 Question Type : MCQ Option Shuffling : Yes Is Question Mandatory : No Option

Orientation : Vertical

Correct Marks : 1 Wrong Marks : 0.25

Find the missing figure in the following matrix.

26	16	22
54	48	58
-1	-8	?

Options :

1. ✓ -7
2. ✗ -36
3. ✗ 10
4. ✗ 11

Question Number : 33 Question Id : 6009298116 Question Type : MCQ Option Shuffling : Yes Is Question Mandatory : No Option

Orientation : Vertical

Correct Marks : 1 Wrong Marks : 0.25

निम्नलिखित मैट्रिक्स में लुप्त आंकड़ा ज्ञात करें।

26	16	22
54	48	58
-1	-8	?

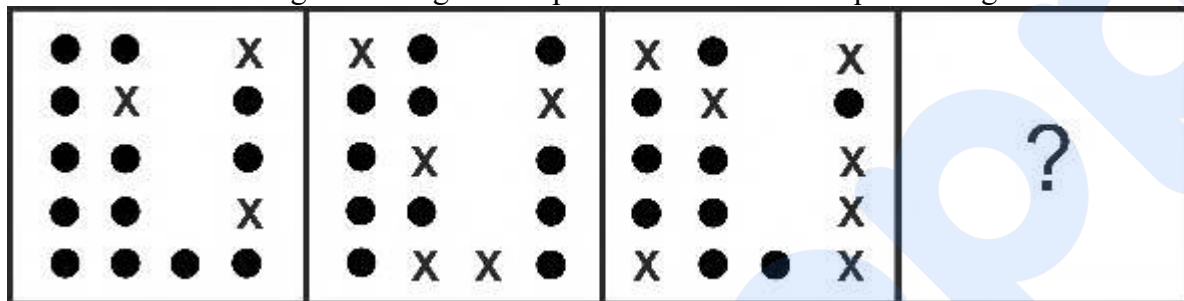
Options :

1. ✓ -7
2. ✗ -36
3. ✗ 10
4. ✗ 11

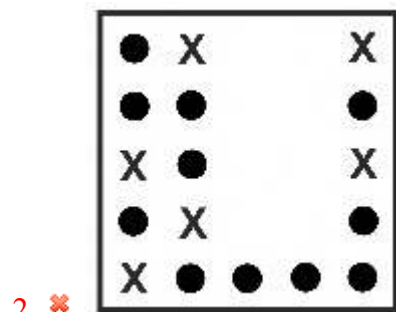
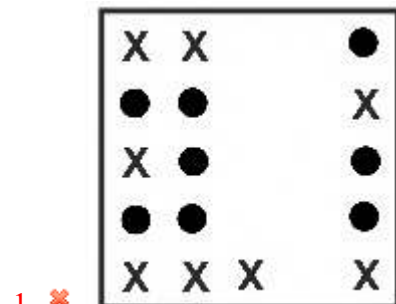
Question Number : 34 Question Id : 6009298117 Question Type : MCQ Option Shuffling : Yes Is Question Mandatory : No Option Orientation : Vertical


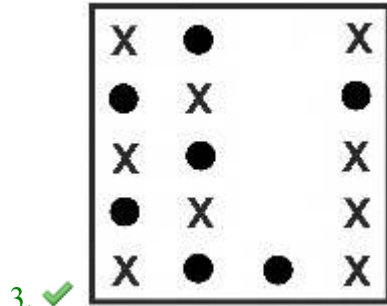
Correct Marks : 1 Wrong Marks : 0.25

Which of the following answer figure completes the series of the question figure?



Options :

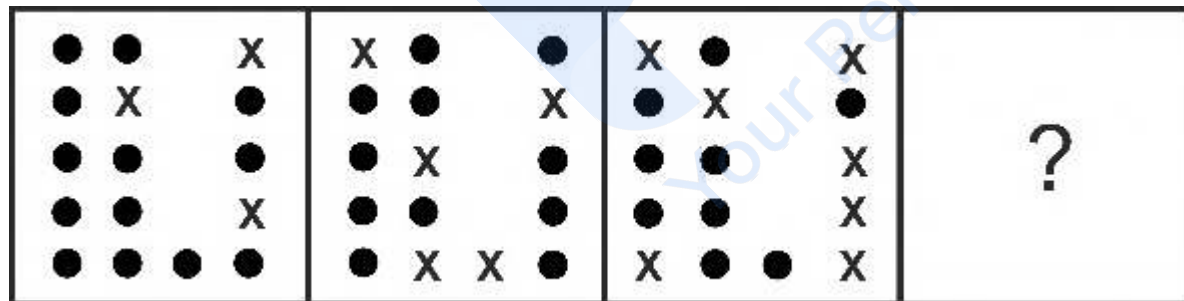




Question Number : 34 Question Id : 6009298117 Question Type : MCQ Option Shuffling : Yes Is Question Mandatory : No Option Orientation : Vertical


Correct Marks : 1 Wrong Marks : 0.25

निम्नलिखित में से कौन सी उत्तर आकृति प्रश्न आकृति की श्रृंखला को पूरा करती है?




Options :


1. ✘



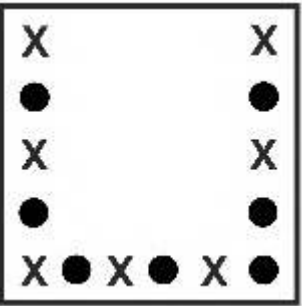
2. ✘



3. ✔



4. ✘

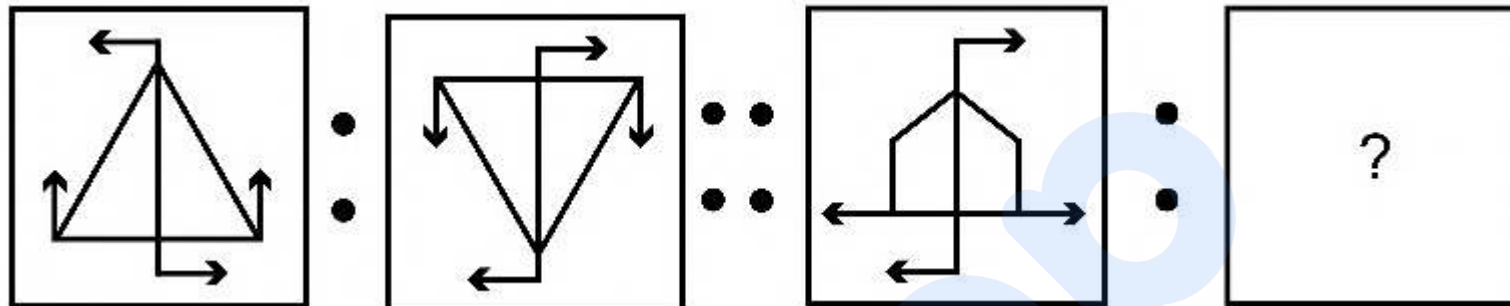


prepp
Your Personal Exam Guide

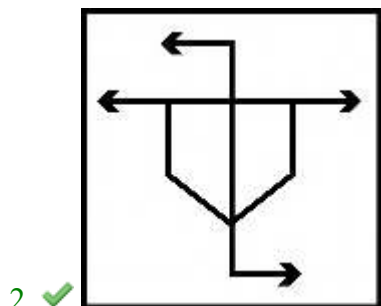
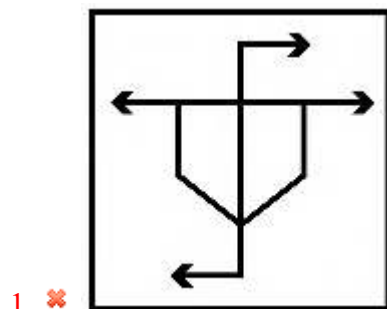
Question Number : 35 Question Id : 6009298118 Question Type : MCQ Option Shuffling : Yes Is Question Mandatory : No Option Orientation : Vertical

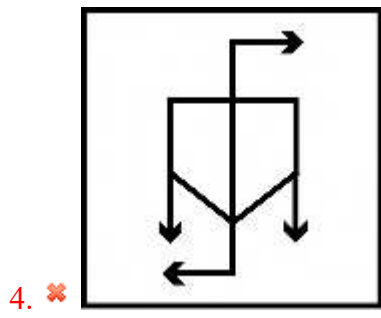
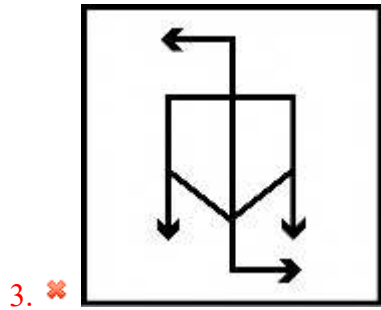
Correct Marks : 1 Wrong Marks : 0.25

Select the option that is related to the third image on the same basis as the second image is related to the first image.



Options :

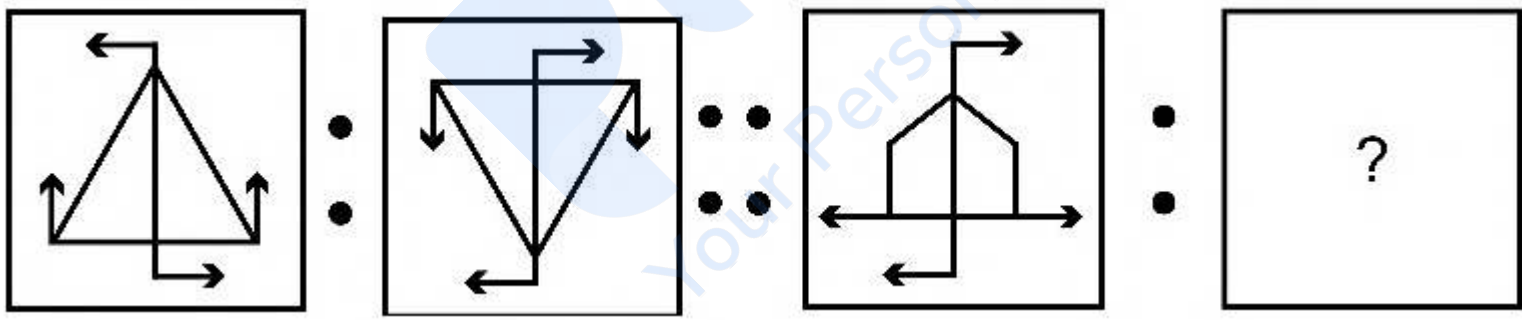




Question Number : 35 Question Id : 6009298118 Question Type : MCQ Option Shuffling : Yes Is Question Mandatory : No Option Orientation : Vertical

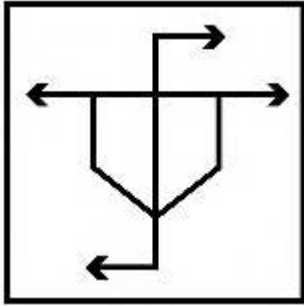
Correct Marks : 1 Wrong Marks : 0.25

उस विकल्प का चयन करें जो तीसरी छवि से उसी प्रकार से संबंधित है जिस प्रकार से दूसरी छवि पहली छवि से संबंधित है।

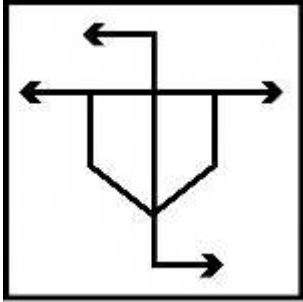


Options :

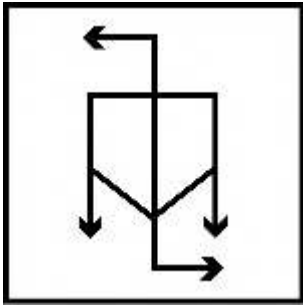
1. ✘



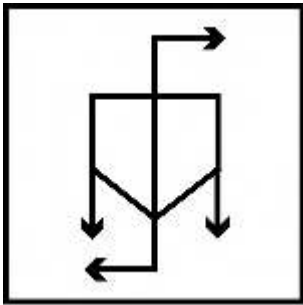
2. ✔



3. ✘



4. ✘

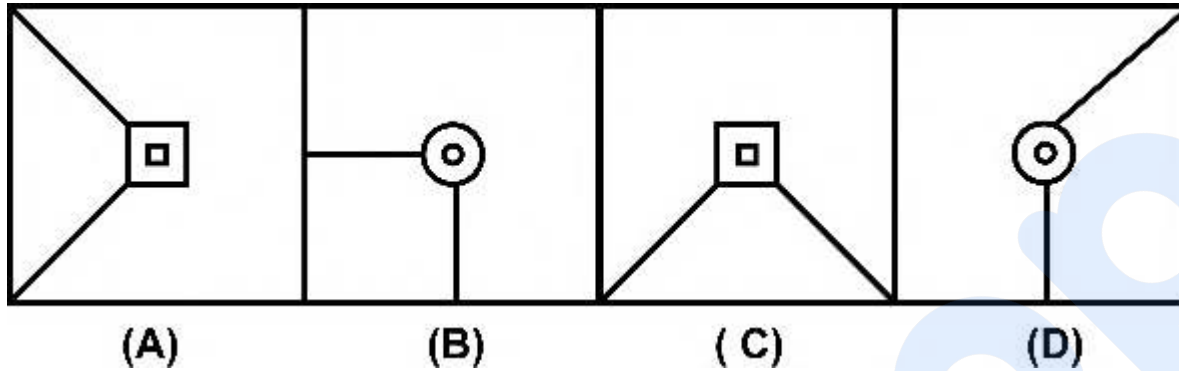


prepp
Your Personal Exam Guide

Question Number : 36 Question Id : 6009298119 Question Type : MCQ Option Shuffling : Yes Is Question Mandatory : No Option Orientation : Vertical

Correct Marks : 1 Wrong Marks : 0.25

Which of the following options is the wrong figure in the series?



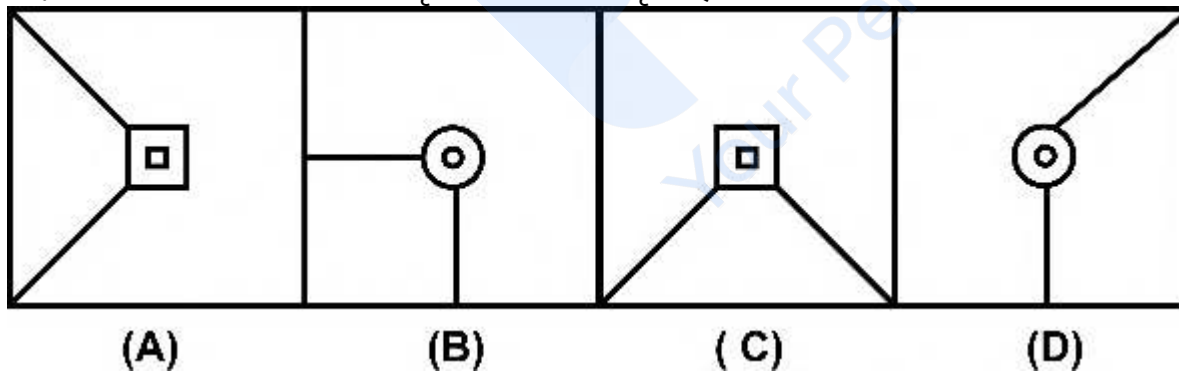
Options :

1. ✘ A
2. ✘ B
3. ✘ C
4. ✔ D

Question Number : 36 Question Id : 6009298119 Question Type : MCQ Option Shuffling : Yes Is Question Mandatory : No Option Orientation : Vertical

Correct Marks : 1 Wrong Marks : 0.25

निम्नलिखित में से कौन सा विकल्प श्रृंखला में गलत आकृति है?




Options :

- 1. ✘ A
- 2. ✘ B
- 3. ✘ C
- 4. ✔ D

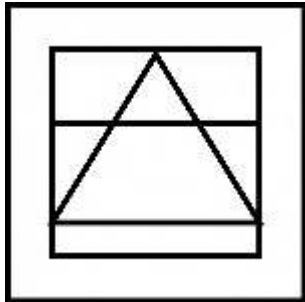
Question Number : 37 Question Id : 6009298120 Question Type : MCQ Option Shuffling : Yes Is Question Mandatory : No Option Orientation : Vertical

Correct Marks : 1 Wrong Marks : 0.25

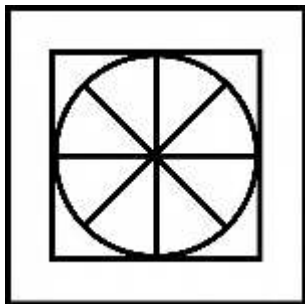
From the given answer figures, select the one in which the question figure is hidden/embedded.



Options :

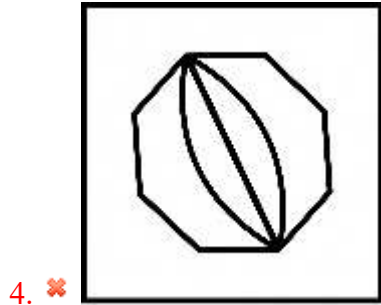
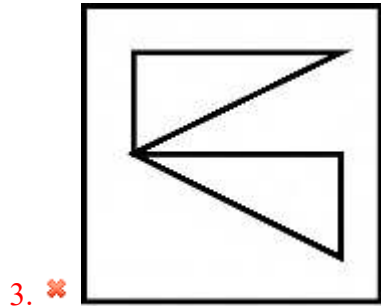


1. ✘



2. ✔

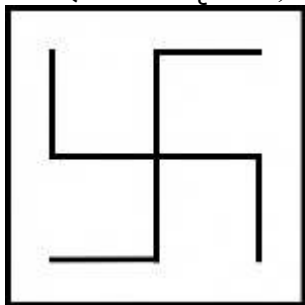
prepp
Your Personal Exam Guide



Question Number : 37 Question Id : 6009298120 Question Type : MCQ Option Shuffling : Yes Is Question Mandatory : No Option Orientation : Vertical

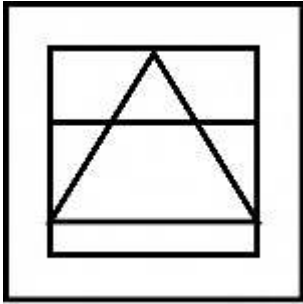
Correct Marks : 1 Wrong Marks : 0.25

दी गई उत्तर आकृति से, उस आकृति का चयन करें जिसमें प्रश्न आकृति छिपी/सन्निहित है।

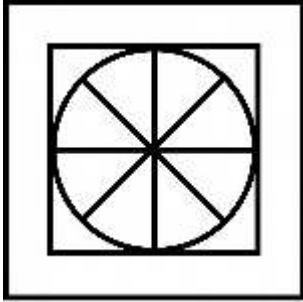


Options :


1. ✘



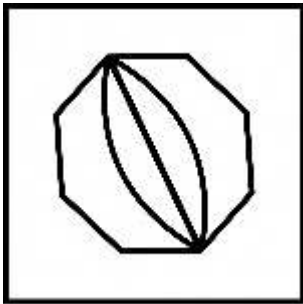
2. ✔



3. ✘



4. ✘




prepp
Your Personal Exam Guide

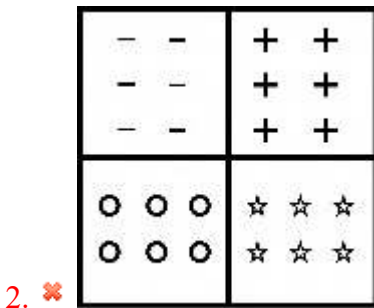
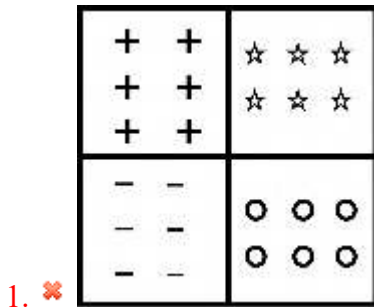
Question Number : 38 Question Id : 6009298121 Question Type : MCQ Option Shuffling : Yes Is Question Mandatory : No Option Orientation : Vertical

Correct Marks : 1 Wrong Marks : 0.25

Which of the following answer figures is the water image of the question figure?




Options :




prepp
Your Personal Exam Guide

3. ✘




4. ✔



Question Number : 38 Question Id : 6009298121 Question Type : MCQ Option Shuffling : Yes Is Question Mandatory : No Option Orientation : Vertical

Correct Marks : 1 Wrong Marks : 0.25

निम्नलिखित में से कौन सी उत्तर आकृति प्रश्न आकृति का जल प्रतिबिंब है?



Options :

1. ✘

+	+	☆	☆	☆
+	+	☆	☆	☆
+	+			
-	-	○	○	○
-	-	○	○	○
-	-			

2. ✘

-	-	+	+	
-	-	+	+	
-	-	+	+	
○	○	☆	☆	☆
○	○	☆	☆	☆

3. ✘

○	○	☆	☆	☆
○	○	☆	☆	☆
-	-	+	+	
-	-	+	+	
-	-	+	+	

4. ✔

+	+	-	-	
+	+	-	-	
+	+	-	-	
☆	☆	○	○	○
☆	☆	○	○	○

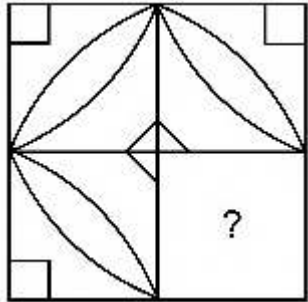
prepp
Your Personal Exam Guide

Question Number : 39 Question Id : 6009298122 Question Type : MCQ Option Shuffling : Yes Is Question Mandatory : No Option

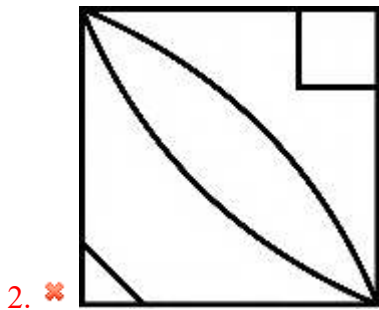
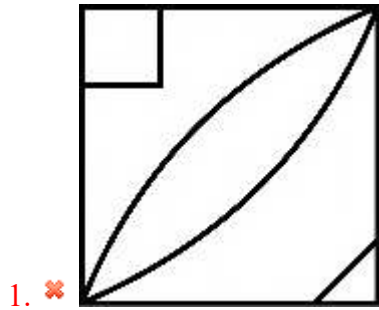
Orientation : Vertical

Correct Marks : 1 Wrong Marks : 0.25

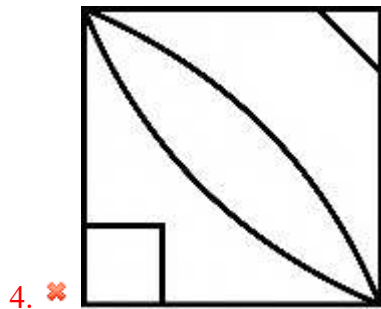
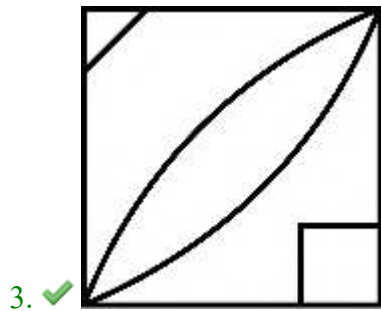
Which of the following answer figure patterns can be combined to complete the question figure?



Options :



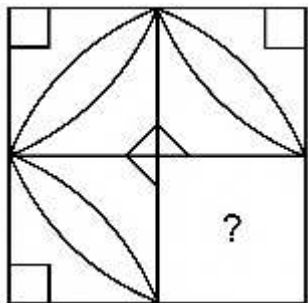
prepp
Your Personal Exam Guide



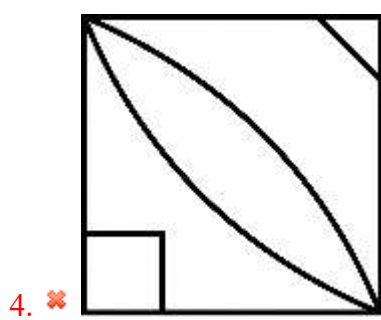
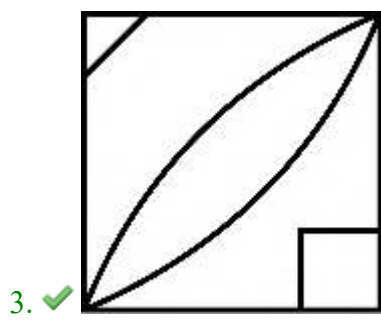
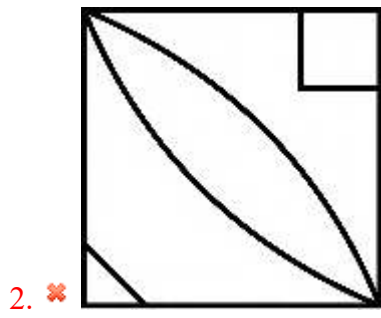
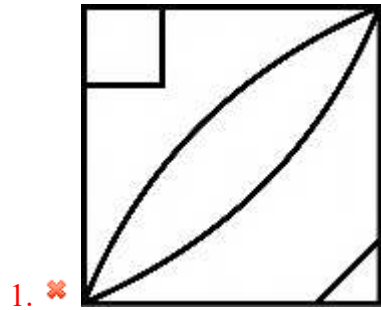
Question Number : 39 Question Id : 6009298122 Question Type : MCQ Option Shuffling : Yes Is Question Mandatory : No Option Orientation : Vertical

Correct Marks : 1 Wrong Marks : 0.25

निम्नलिखित में से कौन सी उत्तर आकृति पैटर्न को प्रश्न आकृति को पूरा करने के लिए जोड़ा जा सकता है?



Options :

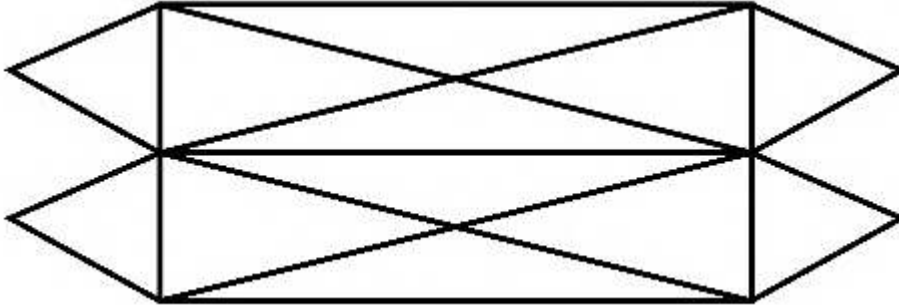


prepp
Your Personal Exam Guide

Question Number : 40 Question Id : 6009298123 Question Type : MCQ Option Shuffling : Yes Is Question Mandatory : No Option Orientation : Vertical

Correct Marks : 1 Wrong Marks : 0.25

How many maximum number of triangles are there in the given question figure?



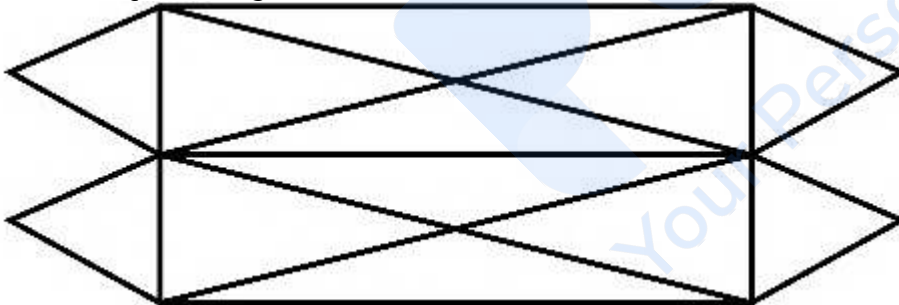
Options :

1. ✓ 22
2. ✗ 28
3. ✗ 18
4. ✗ 16

Question Number : 40 Question Id : 6009298123 Question Type : MCQ Option Shuffling : Yes Is Question Mandatory : No Option Orientation : Vertical

Correct Marks : 1 Wrong Marks : 0.25

दी गई प्रश्न आकृति में त्रिभुज की अधिकतम संख्या क्या है?



Options :

1. ✓ 22
2. ✗ 28
3. ✗ 18

4. ✖ 16

General Awareness1

Group Number :	3
Group Id :	600929248
Group Maximum Duration :	0
Group Minimum Duration :	0
Show Attended Group? :	No
Edit Attended Group? :	No
Break time :	0
Group Marks :	20
Is this Group for Examiner? :	No

General Awareness1

Section Id :	600929394
Section Number :	1
Section type :	Online
Mandatory or Optional :	Mandatory
Number of Questions :	20
Number of Questions to be attempted :	20
Section Marks :	20
Enable Mark as Answered Mark for Review and Clear Response :	Yes
Sub-Section Number :	1
Sub-Section Id :	600929472
Question Shuffling Allowed :	Yes

Question Number : 41 Question Id : 6009298124 Question Type : MCQ Option Shuffling : Yes Is Question Mandatory : No Option Orientation : Vertical

Correct Marks : 1 Wrong Marks : 0.25

Which among the following monuments is not built by Shah Jahan?

Options :

1. ✘ Jama Masjid
2. ✔ Sati Burj
3. ✘ Moti Masjid
4. ✘ Red Fort

Question Number : 41 Question Id : 6009298124 Question Type : MCQ Option Shuffling : Yes Is Question Mandatory : No Option Orientation : Vertical

Correct Marks : 1 Wrong Marks : 0.25

निम्नलिखित स्मारकों में से कौन सा शाह जहाँ द्वारा निर्मित नहीं है?

Options :

1. ✘ जामा मस्जिद
2. ✔ सती बुर्ज
3. ✘ मोती मस्जिद
4. ✘ लाल क़िला

Question Number : 42 Question Id : 6009298125 Question Type : MCQ Option Shuffling : Yes Is Question Mandatory : No Option Orientation : Vertical

Correct Marks : 1 Wrong Marks : 0.25

The Dhangar dance form is performed by the shepherd community of which of the following states?

Options :

1. ✔ Goa
2. ✘ Tamil Nadu
3. ✘ Andhra Pradesh
4. ✘ Madhya Pradesh

Question Number : 42 Question Id : 6009298125 Question Type : MCQ Option Shuffling : Yes Is Question Mandatory : No Option Orientation : Vertical

Correct Marks : 1 Wrong Marks : 0.25

धनगर नृत्य रूप का प्रदर्शन निम्नलिखित में से किस राज्य के चरवाहा समुदाय द्वारा किया जाता है?

Options :

1. ✓ गोवा
2. ✗ तमिल नाडु
3. ✗ आन्ध्र प्रदेश
4. ✗ मध्य प्रदेश

Question Number : 43 Question Id : 6009298126 Question Type : MCQ Option Shuffling : Yes Is Question Mandatory : No Option Orientation : Vertical

Correct Marks : 1 Wrong Marks : 0.25

Which among the following folk music is generally about women fetching water from the nearby well and carrying the water back to their households in matkas over their head?

Options :

1. ✗ Maand
2. ✗ Pandavani
3. ✓ Panihari
4. ✗ Lavani

Question Number : 43 Question Id : 6009298126 Question Type : MCQ Option Shuffling : Yes Is Question Mandatory : No Option Orientation : Vertical

Correct Marks : 1 Wrong Marks : 0.25

निम्नलिखित लोक संगीत में से कौन सा आम तौर पर महिलाओं के बारे में है जो पास के कुएं से पानी लाती हैं और अपने सिर पर मटके में पानी को अपने घरों में वापस ले जाती हैं?

Options :

1. ✗ मांड
2. ✗ पंडवानी
3. ✓ पनिहारी
4. ✗ लावणी

Question Number : 44 Question Id : 6009298127 Question Type : MCQ Option Shuffling : Yes Is Question Mandatory : No Option Orientation : Vertical

Correct Marks : 1 Wrong Marks : 0.25

In which of the following states is the Gudi Padwa festival celebrated on a large scale?

Options :

1. ✘ West Bengal
2. ✘ Punjab
3. ✘ Gujarat
4. ✔ Maharashtra

Question Number : 44 Question Id : 6009298127 Question Type : MCQ Option Shuffling : Yes Is Question Mandatory : No Option Orientation : Vertical

Correct Marks : 1 Wrong Marks : 0.25

निम्नलिखित में से कौनसे राज्य में मुख्य रूप से गुड़ी पाड़वा का त्यौहार मनाया जाता है?

Options :

1. ✘ पश्चिम बंगाल
2. ✘ पंजाब
3. ✘ गुजरात
4. ✔ महाराष्ट्र

Question Number : 45 Question Id : 6009298128 Question Type : MCQ Option Shuffling : Yes Is Question Mandatory : No Option Orientation : Vertical

Correct Marks : 1 Wrong Marks : 0.25

Gross National Income per capita = _____ |

Options :

1. ✘ Net Domestic Income / Total Population
2. ✘ Net National Income / Total Population
3. ✔ Gross National Income / Total Population
4. ✘ Gross Domestic Income / Total Population

Question Number : 45 Question Id : 6009298128 Question Type : MCQ Option Shuffling : Yes Is Question Mandatory : No Option Orientation : Vertical

Correct Marks : 1 Wrong Marks : 0.25

प्रतिव्यक्ति सकल राष्ट्रीय आय = _____ |

Options :

1. ✘ शुद्ध घरेलू आय/ कुल जनसंख्या

2. ✘ शुद्ध राष्ट्रीय आय/ कुल जनसंख्या
3. ✔ सकल राष्ट्रीय आय/ कुल जनसंख्या
4. ✘ सकल घरेलू आय/ कुल जनसंख्या

Question Number : 46 Question Id : 6009298129 Question Type : MCQ Option Shuffling : Yes Is Question Mandatory : No Option Orientation : Vertical

Correct Marks : 1 Wrong Marks : 0.25

According to Economic Survey 2020-21, India's economy will have a _____ shaped recovery post June 2021 spurred by the Covid vaccination drive.

Options :

1. ✔ V
2. ✘ W
3. ✘ K
4. ✘ U

Question Number : 46 Question Id : 6009298129 Question Type : MCQ Option Shuffling : Yes Is Question Mandatory : No Option Orientation : Vertical

Correct Marks : 1 Wrong Marks : 0.25

आर्थिक सर्वेक्षण 2020-21 के अनुसार, भारत की अर्थव्यवस्था को कोविड टीकाकरण अभियान द्वारा _____ आकार का पुनर्प्राप्ति जून 2021 के बाद दिखाई देगा।

Options :

1. ✔ V
2. ✘ W
3. ✘ K
4. ✘ U

Question Number : 47 Question Id : 6009298130 Question Type : MCQ Option Shuffling : Yes Is Question Mandatory : No Option Orientation : Vertical

Correct Marks : 1 Wrong Marks : 0.25

As announced by India's Finance minister Nirmala Sitharaman in the Budget 2021, four Indian astronauts are being trained on Generic Space Flight aspects, in _____, as part of the Gaganyaan mission activities.

Options :

1. ✓ Russia
2. ✗ United States of America
3. ✗ France
4. ✗ China

Question Number : 47 Question Id : 6009298130 Question Type : MCQ Option Shuffling : Yes Is Question Mandatory : No Option Orientation : Vertical

Correct Marks : 1 Wrong Marks : 0.25

जैसा कि बजट 2021 में भारत की वित्त मंत्री निर्मला सीतारामन् ने घोषणा की थी, चार भारतीय खगोलयात्रियों को गगनयान मिशन गतिविधियों के हिस्से के रूप में, _____ में जेनेरिक स्पेस फ़्लाइट पहलुओं पर प्रशिक्षित किया जा रहा है।

Options :

1. ✓ रूस
2. ✗ संयुक्त राज्य अमेरिका
3. ✗ फ़्रान्स
4. ✗ चीन

Question Number : 48 Question Id : 6009298131 Question Type : MCQ Option Shuffling : Yes Is Question Mandatory : No Option Orientation : Vertical

Correct Marks : 1 Wrong Marks : 0.25

The long term rate at which Reserve Bank of India lends to bank is called _____.

Options :

1. ✗ Call rate
2. ✗ Reserve Repo rate
3. ✓ Repo rate
4. ✗ Bank rate

Question Number : 48 Question Id : 6009298131 Question Type : MCQ Option Shuffling : Yes Is Question Mandatory : No Option Orientation : Vertical

Correct Marks : 1 Wrong Marks : 0.25

भारतीय रिज़र्व बैंक जिस दीर्घावधि दर पर बैंक को ऋण देता है उसे _____ कहा जाता है।

Options :

1. ✘ कॉल रेट
2. ✘ रिजर्व रेपो रेट
3. ✔ रेपो रेट
4. ✘ बैंक रेट

Question Number : 49 Question Id : 6009298132 Question Type : MCQ Option Shuffling : Yes Is Question Mandatory : No Option Orientation : Vertical

Correct Marks : 1 Wrong Marks : 0.25

If we buy a product from a different country and import it to India, then we have to pay tax on it. This tax is called _____.

Options :

1. ✘ Capital Gains Tax
2. ✔ Customs Duty
3. ✘ Sales Tax
4. ✘ Corporate Tax

Question Number : 49 Question Id : 6009298132 Question Type : MCQ Option Shuffling : Yes Is Question Mandatory : No Option Orientation : Vertical

Correct Marks : 1 Wrong Marks : 0.25

यदि हम किसी दूसरे देश से उत्पाद खरीदते हैं और उसे भारत में आयात करते हैं, तो हमें उस पर कर देना होगा। इस कर को _____ कहा जाता है।

Options :

1. ✘ पूंजीगत अभिलाभ कर
2. ✔ सीमा शुल्क
3. ✘ बिक्री कर
4. ✘ कॉर्पोरेट कर

Question Number : 50 Question Id : 6009298133 Question Type : MCQ Option Shuffling : Yes Is Question Mandatory : No Option Orientation : Vertical

Correct Marks : 1 Wrong Marks : 0.25

In Microphone, sound energy is converted to _____ energy.

Options :

1. ✓ electrical
2. ✗ chemical
3. ✗ mechanical
4. ✗ wind

Question Number : 50 Question Id : 6009298133 Question Type : MCQ Option Shuffling : Yes Is Question Mandatory : No Option Orientation : Vertical

Correct Marks : 1 Wrong Marks : 0.25

माइक्रोफोन में, ध्वनि ऊर्जा को _____ ऊर्जा में परिवर्तित किया जाता है।

Options :

1. ✓ विद्युत
2. ✗ रासायनिक
3. ✗ यांत्रिक
4. ✗ पवन

Question Number : 51 Question Id : 6009298134 Question Type : MCQ Option Shuffling : Yes Is Question Mandatory : No Option Orientation : Vertical

Correct Marks : 1 Wrong Marks : 0.25

Which among the following is known as laughing gas?

Options :

1. ✗ Calcium oxide
2. ✗ Sulphuric acid
3. ✓ Nitrous oxide
4. ✗ Ferric oxide

Question Number : 51 Question Id : 6009298134 Question Type : MCQ Option Shuffling : Yes Is Question Mandatory : No Option Orientation : Vertical

Correct Marks : 1 Wrong Marks : 0.25

निम्नलिखित में से किसे लाफिंग गैस के रूप में जाना जाता है?

Options :

1. ✗ कैल्सियम आक्साइड

2. ✘ गन्धकाम्ल
3. ✔ नाइट्रस ऑक्साइड
4. ✘ फेरिक आक्साइड

Question Number : 52 Question Id : 6009298135 Question Type : MCQ Option Shuffling : Yes Is Question Mandatory : No Option Orientation : Vertical

Correct Marks : 1 Wrong Marks : 0.25

Which among the following is an example of Arthropods phylum?

Options :

1. ✘ Hydras
2. ✘ Starfish
3. ✘ Earthworms
4. ✔ Butterflies

Question Number : 52 Question Id : 6009298135 Question Type : MCQ Option Shuffling : Yes Is Question Mandatory : No Option Orientation : Vertical

Correct Marks : 1 Wrong Marks : 0.25

निम्नलिखित में से कौन सन्धिपाद संघ का उदाहरण है?

Options :

1. ✘ जलव्याल (हाइड्रा)
2. ✘ तारामीन
3. ✘ केंचुआ
4. ✔ तितली

Question Number : 53 Question Id : 6009298136 Question Type : MCQ Option Shuffling : Yes Is Question Mandatory : No Option Orientation : Vertical

Correct Marks : 1 Wrong Marks : 0.25

The Dudhwa National Park is located in which of the following states?

Options :

1. ✘ Andhra Pradesh
2. ✔ Uttar Pradesh

3. ✘ Gujarat
4. ✘ West Bengal

Question Number : 53 Question Id : 6009298136 Question Type : MCQ Option Shuffling : Yes Is Question Mandatory : No Option Orientation : Vertical

Correct Marks : 1 Wrong Marks : 0.25

दुधवा राष्ट्रीय उद्यान निम्नलिखित में से किस राज्य में स्थित है?

Options :

1. ✘ आन्ध्र प्रदेश
2. ✔ उत्तर प्रदेश
3. ✘ गुजरात
4. ✘ पश्चिम बंगाल

Question Number : 54 Question Id : 6009298137 Question Type : MCQ Option Shuffling : Yes Is Question Mandatory : No Option Orientation : Vertical

Correct Marks : 1 Wrong Marks : 0.25

The Peechi Dam, built across Manali river, is located in which of the following states?

Options :

1. ✘ Uttar Pradesh
2. ✘ Karnataka
3. ✘ Maharashtra
4. ✔ Kerala

Question Number : 54 Question Id : 6009298137 Question Type : MCQ Option Shuffling : Yes Is Question Mandatory : No Option Orientation : Vertical

Correct Marks : 1 Wrong Marks : 0.25

मनाली नदी पर बनाया गया पीची बाँध, निम्नलिखित में से किस राज्य में स्थित है?

Options :

1. ✘ उत्तर प्रदेश
2. ✘ कर्नाटक
3. ✘ महाराष्ट्र

4. ✓ केरल

Question Number : 55 Question Id : 6009298138 Question Type : MCQ Option Shuffling : Yes Is Question Mandatory : No Option Orientation : Vertical

Correct Marks : 1 Wrong Marks : 0.25

Arma Konda peak of Andhra Pradesh, is situated in which of the following mountain ranges?

Options :

1. ✓ Eastern Ghats
2. ✗ Western Ghats
3. ✗ Aravalli range
4. ✗ Karakoram range

Question Number : 55 Question Id : 6009298138 Question Type : MCQ Option Shuffling : Yes Is Question Mandatory : No Option Orientation : Vertical

Correct Marks : 1 Wrong Marks : 0.25

आन्ध्र प्रदेश की अरमा कोंडा चोटी, निम्नलिखित में से किस पर्वतमाला में स्थित है?

Options :

1. ✓ पूर्वी घाट
2. ✗ पश्चिमी घाट
3. ✗ अरावली पर्वतमाला
4. ✗ काराकोरम पर्वतमाला

Question Number : 56 Question Id : 6009298139 Question Type : MCQ Option Shuffling : Yes Is Question Mandatory : No Option Orientation : Vertical

Correct Marks : 1 Wrong Marks : 0.25

The Konar river is a tributary of which of the following rivers?

Options :

1. ✗ Krishna
2. ✗ Chenab
3. ✓ Damodar
4. ✗ Ravi

Question Number : 56 Question Id : 6009298139 Question Type : MCQ Option Shuffling : Yes Is Question Mandatory : No Option Orientation : Vertical

Correct Marks : 1 Wrong Marks : 0.25

कोनार नदी निम्नलिखित में से किस नदी की उपनदी है?

Options :

1. ✘ कृष्णा
2. ✘ चनाब
3. ✔ दामोदर
4. ✘ रवि

Question Number : 57 Question Id : 6009298140 Question Type : MCQ Option Shuffling : Yes Is Question Mandatory : No Option Orientation : Vertical

Correct Marks : 1 Wrong Marks : 0.25

Which among the following is the most productive (fertile) category of soil?

Options :

1. ✘ Arid
2. ✔ Alluvial
3. ✘ Laterite
4. ✘ Red

Question Number : 57 Question Id : 6009298140 Question Type : MCQ Option Shuffling : Yes Is Question Mandatory : No Option Orientation : Vertical

Correct Marks : 1 Wrong Marks : 0.25

निम्नलिखित में से कौन मृदा की सबसे अधिक उत्पादक (उपजाऊ) श्रेणी है?

Options :

1. ✘ शुष्क
2. ✔ जलोढ़
3. ✘ लैटेराइट
4. ✘ लाल

Question Number : 58 Question Id : 6009298141 Question Type : MCQ Option Shuffling : Yes Is Question Mandatory : No Option Orientation : Vertical

Correct Marks : 1 Wrong Marks : 0.25

Which among the following is an example of zaid crops?

Options :

1. ✘ Millets
2. ✘ Rice
3. ✘ Barley
4. ✔ Cucumber

Question Number : 58 Question Id : 6009298141 Question Type : MCQ Option Shuffling : Yes Is Question Mandatory : No Option Orientation : Vertical

Correct Marks : 1 Wrong Marks : 0.25

निम्नलिखित में से कौन सी ज़ायद की फ़सल का एक उदाहरण है?

Options :

1. ✘ बाजरा
2. ✘ चावल
3. ✘ जौ
4. ✔ खीरा

Question Number : 59 Question Id : 6009298142 Question Type : MCQ Option Shuffling : Yes Is Question Mandatory : No Option Orientation : Vertical

Correct Marks : 1 Wrong Marks : 0.25

When was the Battle of Samugarh fought between Aurangzeb and Dara Shikoh?

Options :

1. ✘ 1669
2. ✘ 1685
3. ✔ 1658
4. ✘ 1642

Question Number : 59 Question Id : 6009298142 Question Type : MCQ Option Shuffling : Yes Is Question Mandatory : No Option Orientation : Vertical

Correct Marks : 1 Wrong Marks : 0.25

औरंगज़ेब और दारा शिकोह के बीच सामूगढ़ का युद्ध कब लड़ा गया था?

Options :

1. ✘ 1669
2. ✘ 1685
3. ✔ 1658
4. ✘ 1642

Question Number : 60 Question Id : 6009298143 Question Type : MCQ Option Shuffling : Yes Is Question Mandatory : No Option Orientation : Vertical

Correct Marks : 1 Wrong Marks : 0.25

Who among the following was the President of the Calcutta session of the Indian National Congress in 1917?

Options :

1. ✘ Dadabhai Naoroji
2. ✘ Bal Gangadhar Tilak
3. ✘ Lala Lajpat Rai
4. ✔ Annie Besant

Question Number : 60 Question Id : 6009298143 Question Type : MCQ Option Shuffling : Yes Is Question Mandatory : No Option Orientation : Vertical

Correct Marks : 1 Wrong Marks : 0.25

निम्नलिखित में से कौन, 1917 में भारतीय राष्ट्रीय कांग्रेस के कलकत्ता अधिवेशन के अध्यक्ष थे?

Options :

1. ✘ दादाभाई नौरोजी
2. ✘ बाल गंगाधर तिलक
3. ✘ लाला लाजपत राय
4. ✔ एनी बेसेन्ट

General Awareness2

Group Number :

Group Id :	600929249
Group Maximum Duration :	0
Group Minimum Duration :	0
Show Attended Group? :	No
Edit Attended Group? :	No
Break time :	0
Group Marks :	20
Is this Group for Examiner? :	No

General Awareness2

Section Id :	600929395
Section Number :	1
Section type :	Online
Mandatory or Optional :	Mandatory
Number of Questions :	20
Number of Questions to be attempted :	20
Section Marks :	20
Enable Mark as Answered Mark for Review and Clear Response :	Yes
Sub-Section Number :	1
Sub-Section Id :	600929473
Question Shuffling Allowed :	Yes

Question Number : 61 Question Id : 6009298144 Question Type : MCQ Option Shuffling : Yes Is Question Mandatory : No Option Orientation : Vertical

Correct Marks : 1 Wrong Marks : 0.25

Which among the following consists of the speeches and messages of the Buddha?

Options :

1. ✓ Sutta pitaka
2. ✗ Grihya sutras
3. ✗ Rigveda
4. ✗ Dharmasutras

Question Number : 61 Question Id : 6009298144 Question Type : MCQ Option Shuffling : Yes Is Question Mandatory : No Option Orientation : Vertical

Correct Marks : 1 Wrong Marks : 0.25

निम्नलिखित में से किस में बुद्ध के भाषण और संदेश निहित हैं?

Options :

1. ✓ सुत्तपिटक
2. ✗ गृह्यसूत्र
3. ✗ ऋग्वेद
4. ✗ धर्मसूत्र

Question Number : 62 Question Id : 6009298145 Question Type : MCQ Option Shuffling : Yes Is Question Mandatory : No Option Orientation : Vertical

Correct Marks : 1 Wrong Marks : 0.25

Who among the following adopted the title of Vikramaditya as a mark of victory over the Shaka Kshatrapas of Western India?

Options :

1. ✗ Chandragupta I
2. ✓ Chandragupta II
3. ✗ Kumaragupta I
4. ✗ Skandagupta

Question Number : 62 Question Id : 6009298145 Question Type : MCQ Option Shuffling : Yes Is Question Mandatory : No Option Orientation : Vertical

Correct Marks : 1 Wrong Marks : 0.25

निम्नलिखित में से किसने विक्रमादित्य की उपाधि को पश्चिमी भारत के शक क्षत्राणों पर विजय के चिह्न के रूप में अपनाया?

Options :

1. ✗ चन्द्रगुप्त I
2. ✓ चन्द्रगुप्त II
3. ✗ कुमारगुप्त I
4. ✗ स्कन्दगुप्त

Question Number : 63 Question Id : 6009298146 Question Type : MCQ Option Shuffling : Yes Is Question Mandatory : No Option Orientation : Vertical

Correct Marks : 1 Wrong Marks : 0.25

Who among the following was the first and last Indian Governor-General of India?

Options :

- ✘ Subhas Chandra Bose
- ✘ Mahatma Gandhi
- ✔ Chakravarti Rajagopalachari
- ✘ Jawaharlal Nehru

Question Number : 63 Question Id : 6009298146 Question Type : MCQ Option Shuffling : Yes Is Question Mandatory : No Option Orientation : Vertical

Correct Marks : 1 Wrong Marks : 0.25

निम्नलिखित में से कौन भारत के पहले और अंतिम भारतीय महाराज्यपाल था?

Options :

- ✘ सुभास चन्द्र बोस
- ✘ महात्मा गांधी
- ✔ चक्रवर्ती राजगोपालाचारी
- ✘ जवाहरलाल नेहरू

Question Number : 64 Question Id : 6009298147 Question Type : MCQ Option Shuffling : Yes Is Question Mandatory : No Option Orientation : Vertical

Correct Marks : 1 Wrong Marks : 0.25

Who is also remembered as lakhbaksh or giver of lakhs, because of his generosity?

Options :

- ✘ Ghiyas ud-Din Tughluq
- ✘ Ala-ud-din Khalji
- ✘ Iltutmish
- ✔ Qutb al-Din Aibak

Question Number : 64 Question Id : 6009298147 Question Type : MCQ Option Shuffling : Yes Is Question Mandatory : No Option Orientation : Vertical

Correct Marks : 1 Wrong Marks : 0.25

किसे उसकी उदारता के कारण, लाखबख्श या लाखों के दाता के रूप में याद किया जाता है?

Options :

1. ✘ गयासुद्दीन तुग़लक़
2. ✘ अला-उद-दिन खिलजी
3. ✘ इल्तुतमिश
4. ✔ कुतुब अल दीन ऐबक

Question Number : 65 Question Id : 6009298148 Question Type : MCQ Option Shuffling : Yes Is Question Mandatory : No Option Orientation : Vertical

Correct Marks : 1 Wrong Marks : 0.25

Who among the following won the Dadasaheb Phalke International Film Festival Award in the category of Best Actor Female in 2021?

Options :

1. ✔ Deepika Padukone
2. ✘ Kiara Advani
3. ✘ Kangana Ranaut
4. ✘ Janhvi Kapoor

Question Number : 65 Question Id : 6009298148 Question Type : MCQ Option Shuffling : Yes Is Question Mandatory : No Option Orientation : Vertical

Correct Marks : 1 Wrong Marks : 0.25

निम्नलिखित में से किसने 2021 में सर्वश्रेष्ठ अभिनेता महिला की श्रेणी में दादासाहेब फाल्के अंतर्राष्ट्रीय फिल्म महोत्सव पुरस्कार जीता?

Options :

1. ✔ दीपिका पादुकोण
2. ✘ कियारा आडवाणी
3. ✘ कंगना राणावत
4. ✘ जाह्नवी कपूर

Question Number : 66 Question Id : 6009298149 Question Type : MCQ Option Shuffling : Yes Is Question Mandatory : No Option Orientation : Vertical

Correct Marks : 1 Wrong Marks : 0.25

Pramod Sawant is the Chief Minister of which of the following states as of February 2021?

Options :

1. ✘ Haryana
2. ✘ Kerala
3. ✔ Goa
4. ✘ Gujarat

Question Number : 66 Question Id : 6009298149 Question Type : MCQ Option Shuffling : Yes Is Question Mandatory : No Option Orientation : Vertical

Correct Marks : 1 Wrong Marks : 0.25

फ़रवरी 2021 तक प्रमोद सावंत निम्नलिखित में से किस राज्य के मुख्यमंत्री हैं?

Options :

1. ✘ हरियाणा
2. ✘ केरल
3. ✔ गोवा
4. ✘ गुजरात

Question Number : 67 Question Id : 6009298150 Question Type : MCQ Option Shuffling : Yes Is Question Mandatory : No Option Orientation : Vertical

Correct Marks : 1 Wrong Marks : 0.25

The Hound of the Baskervilles' is written by which of the following authors?

Options :

1. ✔ Arthur Conan Doyle
2. ✘ Agatha Christie
3. ✘ Margaret Atwood
4. ✘ Harper Lee

Question Number : 67 Question Id : 6009298150 Question Type : MCQ Option Shuffling : Yes Is Question Mandatory : No Option Orientation : Vertical

Correct Marks : 1 Wrong Marks : 0.25

द हाउंड ऑफ द बास्करविलेस' किस लेखक द्वारा लिखी गई है?

Options :

1. ✓ आर्थर कॉनन डॉयल
2. ✘ अगाथा क्रिस्टी
3. ✘ मागरिट एटवुड
4. ✘ हार्पर ली

Question Number : 68 Question Id : 6009298151 Question Type : MCQ Option Shuffling : Yes Is Question Mandatory : No Option Orientation : Vertical

Correct Marks : 1 Wrong Marks : 0.25

Long Walk to Freedom' is the autobiography of which of the following famous personalities?

Options :

1. ✘ Mahatma Gandhi
2. ✓ Nelson Mandela
3. ✘ Jawaharlal Nehru
4. ✘ Barack Obama

Question Number : 68 Question Id : 6009298151 Question Type : MCQ Option Shuffling : Yes Is Question Mandatory : No Option Orientation : Vertical

Correct Marks : 1 Wrong Marks : 0.25

लांग वॉक टू फ्रीडम' निम्नलिखित में से किस प्रसिद्ध व्यक्ति की आत्मकथा है?

Options :

1. ✘ महात्मा गांधी
2. ✓ नेल्सन मंडेला
3. ✘ जवाहरलाल नेहरू
4. ✘ बराक ओबामा

Question Number : 69 Question Id : 6009298152 Question Type : MCQ Option Shuffling : Yes Is Question Mandatory : No Option Orientation : Vertical

Correct Marks : 1 Wrong Marks : 0.25

The Abel Prize is awarded for the achievement in the field of _____.

Options :

1. ✘ music

2. ✘ peace
3. ✘ literature
4. ✔ mathematics

Question Number : 69 Question Id : 6009298152 Question Type : MCQ Option Shuffling : Yes Is Question Mandatory : No Option Orientation : Vertical

Correct Marks : 1 Wrong Marks : 0.25

एबेल पुरस्कार _____ के क्षेत्र में उपलब्धि के लिए प्रदान किया जाता है।

Options :

1. ✘ संगीत
2. ✘ शांति
3. ✘ साहित्य
4. ✔ गणित

Question Number : 70 Question Id : 6009298153 Question Type : MCQ Option Shuffling : Yes Is Question Mandatory : No Option Orientation : Vertical

Correct Marks : 1 Wrong Marks : 0.25

Who among the following gave the slogan of "Freedom is my birthright, and I shall have it"?

Options :

1. ✘ Jawaharlal Nehru
2. ✘ Mahatma Gandhi
3. ✔ Bal Gangadhar Tilak
4. ✘ Subhas Chandra Bose

Question Number : 70 Question Id : 6009298153 Question Type : MCQ Option Shuffling : Yes Is Question Mandatory : No Option Orientation : Vertical

Correct Marks : 1 Wrong Marks : 0.25

निम्नलिखित में से किसने "स्वराज मेरा जन्मसिद्ध अधिकार है, और मैं इसे लेकर रहूँगा" का नारा दिया था?

Options :

1. ✘ जवाहरलाल नेहरू
2. ✘ महात्मा गांधी

3. ✓ बाल गंगाधर तिलक
4. ✗ सुभास चन्द्र बोस

Question Number : 71 Question Id : 6009298154 Question Type : MCQ Option Shuffling : Yes Is Question Mandatory : No Option Orientation : Vertical

Correct Marks : 1 Wrong Marks : 0.25

Who among the following was the chairman of "Provincial Constitution Committee " of the Constituent Assembly?

Options :

1. ✗ Jawaharlal Nehru
2. ✗ B. R. Ambedkar
3. ✗ Sachchidananda Sinha
4. ✓ Sardar Vallabhbhai Patel

Question Number : 71 Question Id : 6009298154 Question Type : MCQ Option Shuffling : Yes Is Question Mandatory : No Option Orientation : Vertical

Correct Marks : 1 Wrong Marks : 0.25

निम्नलिखित में से कौन संविधान सभा की "प्रांतीय संविधान समिति" के अध्यक्ष थे?

Options :

1. ✗ जवाहरलाल नेहरू
2. ✗ बी. आर. आम्बेडकर
3. ✗ सच्चिदानन्द सिन्हा
4. ✓ सरदार वल्लभभाई पटेल

Question Number : 72 Question Id : 6009298155 Question Type : MCQ Option Shuffling : Yes Is Question Mandatory : No Option Orientation : Vertical

Correct Marks : 1 Wrong Marks : 0.25

Which among the following Constitutional Amendments incorporated Dadra and Nagar Haveli in the Indian Union?

Options :

1. ✓ 10th
2. ✗ 15th
3. ✗ 20th

4. ✘ 25th

Question Number : 72 Question Id : 6009298155 Question Type : MCQ Option Shuffling : Yes Is Question Mandatory : No Option Orientation : Vertical

Correct Marks : 1 Wrong Marks : 0.25

निम्नलिखित संवैधानिक संशोधनों में से किसने दादरा और नगर हवेली को भारतीय संघ में शामिल किया?

Options :

1. ✔ 10वें
2. ✘ 15वें
3. ✘ 20वें
4. ✘ 25वें

Question Number : 73 Question Id : 6009298156 Question Type : MCQ Option Shuffling : Yes Is Question Mandatory : No Option Orientation : Vertical

Correct Marks : 1 Wrong Marks : 0.25

In which year did the Constituent Assembly adopt the song "Jana Gana Mana" as the national anthem of India?

Options :

1. ✘ 1949
2. ✔ 1950
3. ✘ 1952
4. ✘ 1948

Question Number : 73 Question Id : 6009298156 Question Type : MCQ Option Shuffling : Yes Is Question Mandatory : No Option Orientation : Vertical

Correct Marks : 1 Wrong Marks : 0.25

किस वर्ष में संविधान सभा ने "जन गण मन" गीत को भारत के राष्ट्रगान के रूप में अपनाया था ?

Options :

1. ✘ 1949
2. ✔ 1950
3. ✘ 1952
4. ✘ 1948

Question Number : 74 Question Id : 6009298157 Question Type : MCQ Option Shuffling : Yes Is Question Mandatory : No Option Orientation : Vertical

Correct Marks : 1 Wrong Marks : 0.25

Which among the following Constitutional Amendment provided for an authoritative text of the Constitution in Hindi language and gave the same legal sanctity to the Hindi version of the Constitution?

Options :

1. ✓ 58th
2. ✗ 36th
3. ✗ 72nd
4. ✗ 81st

Question Number : 74 Question Id : 6009298157 Question Type : MCQ Option Shuffling : Yes Is Question Mandatory : No Option Orientation : Vertical

Correct Marks : 1 Wrong Marks : 0.25

निम्नलिखित संवैधानिक संशोधन में से किसने हिंदी भाषा में संविधान के एक आधिकारिक पाठ के लिए प्रावधान दिया और संविधान के हिंदी संस्करण को समान वैधानिक श्रुति प्रदान की?

Options :

1. ✓ 58वें
2. ✗ 36वें
3. ✗ 72वें
4. ✗ 81वें

Question Number : 75 Question Id : 6009298158 Question Type : MCQ Option Shuffling : Yes Is Question Mandatory : No Option Orientation : Vertical

Correct Marks : 1 Wrong Marks : 0.25

Which among the following Schedules in the Indian Constitution contains the powers, authority and responsibilities of Municipalities?

Options :

1. ✗ Eleventh
2. ✗ Ninth
3. ✓ Twelfth
4. ✗ Tenth

Question Number : 75 Question Id : 6009298158 Question Type : MCQ Option Shuffling : Yes Is Question Mandatory : No Option Orientation : Vertical

Correct Marks : 1 Wrong Marks : 0.25

भारतीय संविधान में निम्नलिखित अनुसूचियों में से किसमें नगरपालिकाओं की सत्ता, अधिकार और जिम्मेदारियां शामिल हैं?

Options :

1. ✘ ग्यारहवें
2. ✘ नौवें
3. ✔ बारहवें
4. ✘ दसवें

Question Number : 76 Question Id : 6009298159 Question Type : MCQ Option Shuffling : Yes Is Question Mandatory : No Option Orientation : Vertical

Correct Marks : 1 Wrong Marks : 0.25

Kolkata Knight Riders has won the Indian Premier League (IPL) _____ times till February 2021.

Options :

1. ✘ one
2. ✔ two
3. ✘ three
4. ✘ four

Question Number : 76 Question Id : 6009298159 Question Type : MCQ Option Shuffling : Yes Is Question Mandatory : No Option Orientation : Vertical

Correct Marks : 1 Wrong Marks : 0.25

फ़रवरी 2021 तक कोलकाता नाइट राइडर्स ने इंडियन प्रीमियर लीग (IPL) _____ बार जीता।

Options :

1. ✘ एक
2. ✔ दो
3. ✘ तीन
4. ✘ चार

Question Number : 77 Question Id : 6009298160 Question Type : MCQ Option Shuffling : Yes Is Question Mandatory : No Option Orientation : Vertical

Correct Marks : 1 Wrong Marks : 0.25

Who among the following was the first recipient of Rajiv Gandhi Khel Ratna Award?

Options :

1. ✓ Vishwanathan Anand
2. ✗ Geet Sethi
3. ✗ Homi Motivala
4. ✗ Leander Paes

Question Number : 77 Question Id : 6009298160 Question Type : MCQ Option Shuffling : Yes Is Question Mandatory : No Option Orientation : Vertical

Correct Marks : 1 Wrong Marks : 0.25

निम्नलिखित में से कौन राजीव गांधी खेल रत्न पुरस्कार का पहला प्राप्तकर्ता था?

Options :

1. ✓ विश्वनाथन आनंद
2. ✗ गीत सेठी
3. ✗ होमी मोतीवाला
4. ✗ लिण्डर पेस

Question Number : 78 Question Id : 6009298161 Question Type : MCQ Option Shuffling : Yes Is Question Mandatory : No Option Orientation : Vertical

Correct Marks : 1 Wrong Marks : 0.25

Which among the following countries will host the FIFA World Cup 2022?

Options :

1. ✗ Brazil
2. ✗ Canada
3. ✗ Russia
4. ✓ Qatar

Question Number : 78 Question Id : 6009298161 Question Type : MCQ Option Shuffling : Yes Is Question Mandatory : No Option Orientation : Vertical

Correct Marks : 1 Wrong Marks : 0.25

निम्नलिखित देशों में से कौन फीफा विश्व कप 2022 की मेजबानी करेगा?

Options :

1. ✘ ब्राज़ील
2. ✘ कनाडा
3. ✘ रूस
4. ✔ कतर

Question Number : 79 Question Id : 6009298162 Question Type : MCQ Option Shuffling : Yes Is Question Mandatory : No Option Orientation : Vertical

Correct Marks : 1 Wrong Marks : 0.25

Irani Cup is associated with which of the following sports?

Options :

1. ✘ Tennis
2. ✘ Football
3. ✔ Cricket
4. ✘ Hockey

Question Number : 79 Question Id : 6009298162 Question Type : MCQ Option Shuffling : Yes Is Question Mandatory : No Option Orientation : Vertical

Correct Marks : 1 Wrong Marks : 0.25

ईरानी कप निम्नलिखित में से किस खेल से जुड़ा है?

Options :

1. ✘ टेनिस
2. ✘ फुटबॉल
3. ✔ क्रिकेट
4. ✘ हॉकी

Question Number : 80 Question Id : 6009298163 Question Type : MCQ Option Shuffling : Yes Is Question Mandatory : No Option Orientation : Vertical

Correct Marks : 1 Wrong Marks : 0.25

Which among the following countries will host the 2021 ICC Men's T20 World Cup?

Options :

1. ✘ England
2. ✘ Australia
3. ✔ India
4. ✘ New Zealand

Question Number : 80 Question Id : 6009298163 Question Type : MCQ Option Shuffling : Yes Is Question Mandatory : No Option Orientation : Vertical

Correct Marks : 1 Wrong Marks : 0.25

निम्नलिखित देशों में से कौन 2021 आईसीसी (ICC) पुरुष टी20 विश्व कप की मेजबानी करेगा?

Options :

1. ✘ इंग्लैण्ड
2. ✘ ऑस्ट्रेलिया
3. ✔ भारत
4. ✘ न्यूज़ीलैण्ड

Arithmetic Ability1

Group Number :	5
Group Id :	600929250
Group Maximum Duration :	0
Group Minimum Duration :	0
Show Attended Group? :	No
Edit Attended Group? :	No
Break time :	0
Group Marks :	20
Is this Group for Examiner? :	No

Arithmetical and Numerical ability1

Section Id :	600929396
Section Number :	1
Section type :	Online
Mandatory or Optional :	Mandatory
Number of Questions :	20
Number of Questions to be attempted :	20
Section Marks :	20
Enable Mark as Answered Mark for Review and Clear Response :	Yes
Sub-Section Number :	1
Sub-Section Id :	600929474
Question Shuffling Allowed :	Yes

Question Number : 81 Question Id : 6009298164 Question Type : MCQ Option Shuffling : Yes Is Question Mandatory : No Option Orientation : Vertical

Correct Marks : 1 Wrong Marks : 0.25

Find the value of $(60 \text{ percent of } 3500) + \{(20 \text{ percent of } 1225) \div 5\}$.

Options :

1. ✘ 1849
2. ✔ 2149
3. ✘ 2219
4. ✘ 1964

Question Number : 81 Question Id : 6009298164 Question Type : MCQ Option Shuffling : Yes Is Question Mandatory : No Option Orientation : Vertical

Correct Marks : 1 Wrong Marks : 0.25

$(3500 \text{ का } 60 \text{ प्रतिशत}) + \{(1225 \text{ का } 20 \text{ प्रतिशत}) \div 5\}$ का मान ज्ञात करें।

Options :

1. ✘ 1849
2. ✔ 2149
3. ✘ 2219
4. ✘ 1964

Question Number : 82 Question Id : 6009298165 Question Type : MCQ Option Shuffling : Yes Is Question Mandatory : No Option Orientation : Vertical

Correct Marks : 1 Wrong Marks : 0.25

Find the value of $529 \times 529 + 471 \times 471 - 6 \times 529 \times 471 + 4 \times 529 \times 471$.

Options :

1. ✘ 2276
2. ✘ 1084
3. ✘ 3684
4. ✔ 3364

Question Number : 82 Question Id : 6009298165 Question Type : MCQ Option Shuffling : Yes Is Question Mandatory : No Option Orientation : Vertical

Correct Marks : 1 Wrong Marks : 0.25

$529 \times 529 + 471 \times 471 - 6 \times 529 \times 471 + 4 \times 529 \times 471$ का मान ज्ञात करें।

Options :

1. ✘ 2276
2. ✘ 1084
3. ✘ 3684
4. ✔ 3364

Question Number : 83 Question Id : 6009298166 Question Type : MCQ Option Shuffling : Yes Is Question Mandatory : No Option Orientation : Vertical

Correct Marks : 1 Wrong Marks : 0.25

Find the value of $23/10 \div [(23/6) \div \{ 17/3 - (3/2 + 5/2) \}]$.

Options :

1. ✘ 0
2. ✔ 1
3. ✘ 3
4. ✘ 4

Question Number : 83 Question Id : 6009298166 Question Type : MCQ Option Shuffling : Yes Is Question Mandatory : No Option Orientation : Vertical

Correct Marks : 1 Wrong Marks : 0.25

$23/10 \div [(23/6) \div 17 \{17/3 - (3/2 + 5/2)\}]$ का मान ज्ञात करें।

Options :

1. ✘ 0
2. ✔ 1
3. ✘ 3
4. ✘ 4

Question Number : 84 Question Id : 6009298167 Question Type : MCQ Option Shuffling : Yes Is Question Mandatory : No Option Orientation : Vertical

Correct Marks : 1 Wrong Marks : 0.25

If $P = 0.353535\dots$ And $Q = 0.646464\dots$, then find the value of $(P + Q)^3$.

Options :

1. ✘ 0
2. ✔ 1
3. ✘ 4
4. ✘ 5

Question Number : 84 Question Id : 6009298167 Question Type : MCQ Option Shuffling : Yes Is Question Mandatory : No Option Orientation : Vertical

Correct Marks : 1 Wrong Marks : 0.25

यदि $P = 0.353535\dots$ और $Q = 0.646464\dots$ है, तो $(P + Q)^3$ का मान ज्ञात करें।

Options :

1. ✘ 0
2. ✔ 1
3. ✘ 4
4. ✘ 5

Question Number : 85 Question Id : 6009298168 Question Type : MCQ Option Shuffling : Yes Is Question Mandatory : No Option Orientation : Vertical

Correct Marks : 1 Wrong Marks : 0.25

Find the largest number of the five digit which is exactly divisible by 48, 72 and 108.

Options :

1. ✘ 99584
2. ✘ 99652
3. ✔ 99792
4. ✘ 99664

Question Number : 85 Question Id : 6009298168 Question Type : MCQ Option Shuffling : Yes Is Question Mandatory : No Option Orientation : Vertical

Correct Marks : 1 Wrong Marks : 0.25

पांच अंकीय सबसे बड़ी संख्या ज्ञात करें जो 48, 72 और 108 से बिल्कुल विभाज्य है।

Options :

1. ✘ 99584
2. ✘ 99652
3. ✔ 99792
4. ✘ 99664

Question Number : 86 Question Id : 6009298169 Question Type : MCQ Option Shuffling : Yes Is Question Mandatory : No Option Orientation : Vertical

Correct Marks : 1 Wrong Marks : 0.25

The first and last term of an Arithmetic progression is x and y respectively. What is the average of that Arithmetic progression?

Options :

1. ✘ $xy/2$
2. ✘ $(x - y)/2$
3. ✘ $(x + y)/4$
4. ✔ $(x + y)/2$

Question Number : 86 Question Id : 6009298169 Question Type : MCQ Option Shuffling : Yes Is Question Mandatory : No Option Orientation : Vertical

Correct Marks : 1 Wrong Marks : 0.25

समान्तर श्रेणी का पहला और अंतिम पद क्रमशः x और y है। उस समान्तर श्रेणी का औसत क्या है?

Options :

1. ✘ $xy/2$
2. ✘ $(x - y)/2$
3. ✘ $(x + y)/4$
4. ✔ $(x + y)/2$

Question Number : 87 Question Id : 6009298170 Question Type : MCQ Option Shuffling : Yes Is Question Mandatory : No Option Orientation : Vertical

Correct Marks : 1 Wrong Marks : 0.25

Successive discounts of 20.1 percent and 10.1 percent are equivalent to a single discount of:

Options :

1. ✘ 28.57 percent
2. ✘ 27.15 percent
3. ✔ 28.17 percent
4. ✘ 29.25 percent

Question Number : 87 Question Id : 6009298170 Question Type : MCQ Option Shuffling : Yes Is Question Mandatory : No Option Orientation : Vertical

Correct Marks : 1 Wrong Marks : 0.25

20.1 प्रतिशत और 10.1 प्रतिशत की क्रमिक छूट, एक एकल छूट के समकक्ष है:

Options :

1. ✘ 28.57 प्रतिशत
2. ✘ 27.15 प्रतिशत
3. ✔ 28.17 प्रतिशत
4. ✘ 29.25 प्रतिशत

Question Number : 88 Question Id : 6009298171 Question Type : MCQ Option Shuffling : Yes Is Question Mandatory : No Option Orientation : Vertical

Correct Marks : 1 Wrong Marks : 0.25

If a man weighing 90 kg joins a group of n people the average weight of the group increases by 2. But if a man weighing 60 kg joins the group the average weight drops by 3. Find n.

Options :

1. ✘ 6

2. ✓ 5
3. ✗ 9
4. ✗ 3

Question Number : 88 Question Id : 6009298171 Question Type : MCQ Option Shuffling : Yes Is Question Mandatory : No Option Orientation : Vertical

Correct Marks : 1 Wrong Marks : 0.25

यदि 90 kg वजन का व्यक्ति, n लोगों के समूह में शामिल होता है, तो समूह का औसत वजन 2 से बढ़ जाता है। लेकिन यदि 60 kg वजन वाला कोई व्यक्ति समूह में शामिल होता है तो औसत वजन 3 से कम हो जाता है। n ज्ञात करें।

Options :

1. ✗ 6
2. ✓ 5
3. ✗ 9
4. ✗ 3

Question Number : 89 Question Id : 6009298172 Question Type : MCQ Option Shuffling : Yes Is Question Mandatory : No Option Orientation : Vertical

Correct Marks : 1 Wrong Marks : 0.25

A bookseller had some pens. He sells 70 percent of the pens. If the difference between the total pens and the number of pens sold is 15, then find the number of total pens.

Options :

1. ✗ 100
2. ✗ 75
3. ✓ 50
4. ✗ 25

Question Number : 89 Question Id : 6009298172 Question Type : MCQ Option Shuffling : Yes Is Question Mandatory : No Option Orientation : Vertical

Correct Marks : 1 Wrong Marks : 0.25

एक किताब बेचनेवाले के पास कुछ कलम थे। वह कलम का 70 प्रतिशत बेचता है। यदि कुल कलम और बेची गई कलम की संख्या के बीच का अंतर 15 है, तो कुल कलम की संख्या ज्ञात करें।

Options :

1. ✘ 100
2. ✘ 75
3. ✔ 50
4. ✘ 25

Question Number : 90 Question Id : 6009298173 Question Type : MCQ Option Shuffling : Yes Is Question Mandatory : No Option Orientation : Vertical

Correct Marks : 1 Wrong Marks : 0.25

If a number is increased successively by 30 percent and 40 percent to get 'x' and if the same number is decreased successively by 30 percent and 40 percent to get 'y', then what is the ratio of x : y?

Options :

1. ✘ 7 : 1
2. ✘ 41 : 30
3. ✘ 51 : 29
4. ✔ 13 : 3

Question Number : 90 Question Id : 6009298173 Question Type : MCQ Option Shuffling : Yes Is Question Mandatory : No Option Orientation : Vertical

Correct Marks : 1 Wrong Marks : 0.25

यदि 'x' प्राप्त करने के लिए किसी संख्या में क्रमिक 30 प्रतिशत और 40 प्रतिशत की वृद्धि की जाती है और यदि 'y' प्राप्त करने के लिए उसी संख्या में क्रमिक 30 प्रतिशत और 40 प्रतिशत की कमी की जाती है, तो x : y का अनुपात क्या है?

Options :

1. ✘ 7 : 1
2. ✘ 41 : 30
3. ✘ 51 : 29
4. ✔ 13 : 3

Question Number : 91 Question Id : 6009298174 Question Type : MCQ Option Shuffling : Yes Is Question Mandatory : No Option Orientation : Vertical

Correct Marks : 1 Wrong Marks : 0.25

Out of the total bags, 30 percent of the bags are green coloured. 30 percent of the remaining bags are red coloured. 40 percent of the remaining bags are yellow coloured. The remaining 1176 bags are blue coloured. How many total bags are there?

Options :

1. ✘ 3000
2. ✔ 4000
3. ✘ 5000
4. ✘ 6000

Question Number : 91 Question Id : 6009298174 Question Type : MCQ Option Shuffling : Yes Is Question Mandatory : No Option Orientation : Vertical

Correct Marks : 1 Wrong Marks : 0.25

कुल बैग में से, 30 प्रतिशत बैग हरे रंग के हैं। शेष बैग का 30 प्रतिशत लाल रंग के है। शेष बैग का 40 प्रतिशत पीले रंग के हैं। शेष 1176 बैग नीले रंग के हैं। कुल कितने बैग हैं?

Options :

1. ✘ 3000
2. ✔ 4000
3. ✘ 5000
4. ✘ 6000

Question Number : 92 Question Id : 6009298175 Question Type : MCQ Option Shuffling : Yes Is Question Mandatory : No Option Orientation : Vertical

Correct Marks : 1 Wrong Marks : 0.25

A shopkeeper buys 5 apples for a cost of Rs. 35 each. He gained a total profit of Rs. 85. What is the selling price of each apple?

Options :

1. ✔ Rs. 52
2. ✘ Rs. 42
3. ✘ Rs. 48
4. ✘ Rs. 56

Question Number : 92 Question Id : 6009298175 Question Type : MCQ Option Shuffling : Yes Is Question Mandatory : No Option Orientation : Vertical

Correct Marks : 1 Wrong Marks : 0.25

एक दुकानदार प्रत्येक 35 रुपए की लागत से 5 सेब खरीदता है। उसे 85 रुपए का कुल लाभ प्राप्त हुआ। प्रत्येक सेब का विक्रय मूल्य क्या है?

Options :

1. ✓ 52 रुपए
2. ✗ 42 रुपए
3. ✗ 48 रुपए
4. ✗ 56 रुपए

Question Number : 93 Question Id : 6009298176 Question Type : MCQ Option Shuffling : Yes Is Question Mandatory : No Option Orientation : Vertical

Correct Marks : 1 Wrong Marks : 0.25

An article has a marked price of Rs. 7200 and is available at a discount of 20 percent. The shopkeeper gives another discount to the buyer and sells the article for Rs. 4896. What is the second discount (in percent) offered?

Options :

1. ✗ 20
2. ✗ 12
3. ✓ 15
4. ✗ 10

Question Number : 93 Question Id : 6009298176 Question Type : MCQ Option Shuffling : Yes Is Question Mandatory : No Option Orientation : Vertical

Correct Marks : 1 Wrong Marks : 0.25

एक वस्तु का चिह्नित मूल्य 7200 रुपए है और 20 प्रतिशत की छूट पर उपलब्ध है। दुकानदार खरीदार को एक और छूट देता है और वस्तु को 4896 रुपए में बेचता है। दी गई दूसरी छूट (प्रतिशत में) क्या है?

Options :

1. ✗ 20
2. ✗ 12
3. ✓ 15
4. ✗ 10

Question Number : 94 Question Id : 6009298177 Question Type : MCQ Option Shuffling : Yes Is Question Mandatory : No Option Orientation : Vertical

Correct Marks : 1 Wrong Marks : 0.25

Kaliya and Bheem invested Rs. 85000 and Rs. 75000 respectively in a business and agree that 60 percent of the profit should be divided equally between them and the remaining profit will be divided according to the ratio of their capitals. If Kaliya gets Rs. 560 more than Bheem, then find

the total profit.

Options :

1. ✘ Rs. 12960
2. ✘ Rs. 18400
3. ✘ Rs. 8960
4. ✔ Rs. 22400

Question Number : 94 Question Id : 6009298177 Question Type : MCQ Option Shuffling : Yes Is Question Mandatory : No Option Orientation : Vertical

Correct Marks : 1 Wrong Marks : 0.25

कालिया और भीम ने एक व्यवसाय में क्रमशः 85000 रुपए और 75000 रुपए निवेश किए और इस बात से सहमत हुए कि लाभ का 60 प्रतिशत उनके बीच समान रूप से विभाजित किया जाना चाहिए और शेष लाभ को उनकी पूंजियों के अनुपात के अनुसार विभाजित किया जाएगा। यदि कालिया को भीम से 560 रुपए अधिक मिलते हैं, तो कुल लाभ ज्ञात करें।

Options :

1. ✘ 12960 रुपए
2. ✘ 18400 रुपए
3. ✘ 8960 रुपए
4. ✔ 22400 रुपए

Question Number : 95 Question Id : 6009298178 Question Type : MCQ Option Shuffling : Yes Is Question Mandatory : No Option Orientation : Vertical

Correct Marks : 1 Wrong Marks : 0.25

A wholesaler sold his goods to a shopkeeper at 20 percent loss. The shopkeeper marks his goods at 50 percent more than their original cost price and allows a discount of 30 percent on the marked price. What is the profit percentage of the shopkeeper?

Options :

1. ✘ 25.5 percent
2. ✔ 31.25 percent
3. ✘ 40.5 percent
4. ✘ 10.5 percent

Question Number : 95 Question Id : 6009298178 Question Type : MCQ Option Shuffling : Yes Is Question Mandatory : No Option Orientation : Vertical

Correct Marks : 1 Wrong Marks : 0.25

एक थोक व्यापारी ने अपनी वस्तुओं को एक दुकानदार को 20 प्रतिशत हानि पर बेचा। दुकानदार ने उनके मूल लागत मूल्य से 50 प्रतिशत अधिक पर अपनी वस्तुओं को चिह्नित किया और चिह्नित मूल्य पर 30 प्रतिशत की छूट दी। दुकानदार का लाभ प्रतिशत क्या है?

Options :

1. ✘ 25.5 प्रतिशत
2. ✔ 31.25 प्रतिशत
3. ✘ 40.5 प्रतिशत
4. ✘ 10.5 प्रतिशत

Question Number : 96 Question Id : 6009298179 Question Type : MCQ Option Shuffling : Yes Is Question Mandatory : No Option Orientation : Vertical

Correct Marks : 1 Wrong Marks : 0.25

A, B and C enter into a partnership. A puts Rs. 100 for 3 months, B puts Rs. 200 for 4 months and C puts Rs. 300 for 5 months. Find the ratio of share of the profits of A, B and C.

Options :

1. ✘ 1 : 2 : 3
2. ✔ 3 : 8 : 15
3. ✘ 6 : 16 : 15
4. ✘ 3 : 8 : 12

Question Number : 96 Question Id : 6009298179 Question Type : MCQ Option Shuffling : Yes Is Question Mandatory : No Option Orientation : Vertical

Correct Marks : 1 Wrong Marks : 0.25

A, B और C एक साझेदारी में प्रवेश करते हैं। A, 3 महीने के लिए 100 रुपए लगाता है, B, 4 महीने के लिए 200 रुपए लगाता है और C, 5 महीने के लिए 300 रुपए लगाता है। A, B और C के लाभों के हिस्से का अनुपात ज्ञात करें।

Options :

1. ✘ 1 : 2 : 3
2. ✔ 3 : 8 : 15
3. ✘ 6 : 16 : 15
4. ✘ 3 : 8 : 12

Question Number : 97 Question Id : 6009298180 Question Type : MCQ Option Shuffling : Yes Is Question Mandatory : No Option

Orientation : Vertical

Correct Marks : 1 Wrong Marks : 0.25

If the mean proportional between 18 and 8 is A and the third proportional to 3 and 6 is B, then find the mean proportional between A and B.

Options :

1. ✓ 12
2. ✗ 10
3. ✗ 15
4. ✗ 20

Question Number : 97 Question Id : 6009298180 Question Type : MCQ Option Shuffling : Yes Is Question Mandatory : No Option

Orientation : Vertical

Correct Marks : 1 Wrong Marks : 0.25

यदि 18 और 8 के बीच का मध्यासमानुपाती (मीन प्रोपोर्शनल) A है और 3 और 6 के लिए तीसरा समानुपाती B है, तो A और B के बीच का मध्यासमानुपाती (मीन प्रोपोर्शनल) ज्ञात करें।

Options :

1. ✓ 12
2. ✗ 10
3. ✗ 15
4. ✗ 20

Question Number : 98 Question Id : 6009298181 Question Type : MCQ Option Shuffling : Yes Is Question Mandatory : No Option

Orientation : Vertical

Correct Marks : 1 Wrong Marks : 0.25

If $4P = 3Q$ and R is 25 percent more than Q and S is 20 percent more than R, then find the ratio of $1/P : 1/Q : 1/R : 1/S$.

Options :

1. ✗ 10 : 25 : 12 : 10
2. ✗ 24 : 15 : 21 : 10
3. ✗ 20 : 15 : 12 : 17
4. ✓ 20 : 15 : 12 : 10

Question Number : 98 Question Id : 6009298181 Question Type : MCQ Option Shuffling : Yes Is Question Mandatory : No Option

Orientation : Vertical

Correct Marks : 1 Wrong Marks : 0.25

यदि $4P = 3Q$ है और R, Q से 25 प्रतिशत अधिक है और S, R से 20 प्रतिशत अधिक है, तो $1/P : 1/Q : 1/R : 1/S$ का अनुपात ज्ञात करें।

Options :

1. ✘ 10 : 25 : 12 : 10
2. ✘ 24 : 15 : 21 : 10
3. ✘ 20 : 15 : 12 : 17
4. ✔ 20 : 15 : 12 : 10

Question Number : 99 Question Id : 6009298182 Question Type : MCQ Option Shuffling : Yes Is Question Mandatory : No Option Orientation : Vertical

Correct Marks : 1 Wrong Marks : 0.25

A borrowed Rs. 'X' at a compound interest rate of 20 percent per annum for 2 years. The interest amount payable was Rs. 5280. What was the value of 'X'?

Options :

1. ✔ Rs. 12000
2. ✘ Rs. 11000
3. ✘ Rs. 11750
4. ✘ Rs. 12500

Question Number : 99 Question Id : 6009298182 Question Type : MCQ Option Shuffling : Yes Is Question Mandatory : No Option Orientation : Vertical

Correct Marks : 1 Wrong Marks : 0.25

A ने 2 वर्षों के लिए प्रति वर्ष 20 प्रतिशत की चक्रवृद्धि ब्याज दर पर 'X' रुपए उधार लिए। देय ब्याज की राशि 5280 रुपए थी। 'X' का मूल्य क्या था?

Options :

1. ✔ 12000 रुपए
2. ✘ 11000 रुपए
3. ✘ 11750 रुपए
4. ✘ 12500 रुपए

Question Number : 100 Question Id : 6009298183 Question Type : MCQ Option Shuffling : Yes Is Question Mandatory : No Option Orientation : Vertical

Correct Marks : 1 Wrong Marks : 0.25

A sum of Rs. 26000 is to be paid back in 2 equal annual instalments. How much is each instalment if the interest is compounded annually at 8 percent per annum?

Options :

1. ✘ Rs. 14320
2. ✘ Rs. 14230
3. ✘ Rs. 14420
4. ✔ Rs. 14580

Question Number : 100 Question Id : 6009298183 Question Type : MCQ Option Shuffling : Yes Is Question Mandatory : No Option Orientation : Vertical

Correct Marks : 1 Wrong Marks : 0.25

26000 रुपए की राशि को 2 समान वार्षिक किश्तों में वापस भुगतान किया जाना है। यदि प्रति वर्ष 8 प्रतिशत की दर से चक्रवृद्धि ब्याज किया जाता है तो प्रत्येक किस्त की राशि कितनी है?

Options :

1. ✘ 14320 रुपए
2. ✘ 14230 रुपए
3. ✘ 14420 रुपए
4. ✔ 14580 रुपए

Arithmetic Ability2

Group Number :	6
Group Id :	600929251
Group Maximum Duration :	0
Group Minimum Duration :	0
Show Attended Group? :	No
Edit Attended Group? :	No
Break time :	0
Group Marks :	20
Is this Group for Examiner? :	No

Arithmetical and Numerical ability2

Section Id :	600929397
Section Number :	1
Section type :	Online
Mandatory or Optional :	Mandatory
Number of Questions :	20
Number of Questions to be attempted :	20
Section Marks :	20
Enable Mark as Answered Mark for Review and Clear Response :	Yes
Sub-Section Number :	1
Sub-Section Id :	600929475
Question Shuffling Allowed :	Yes

Question Number : 101 Question Id : 6009298184 Question Type : MCQ Option Shuffling : Yes Is Question Mandatory : No Option Orientation : Vertical

Correct Marks : 1 Wrong Marks : 0.25

On investing Rs. 20000 in simple interest for two years, the interest earned is Rs. 190 more than the interest earned when Rs. 13000 is invested in simple interest for three years, at the same rate. Find the rate of interest (in percent per annum).

Options :

1. ✖ 12
2. ✖ 16
3. ✖ 18
4. ✔ 19

Question Number : 101 Question Id : 6009298184 Question Type : MCQ Option Shuffling : Yes Is Question Mandatory : No Option Orientation : Vertical

Correct Marks : 1 Wrong Marks : 0.25

दो वर्ष के लिए साधारण ब्याज में 20000 रुपए का निवेश करने पर, अर्जित किया गया ब्याज, समान दर पर, तीन वर्ष के लिए साधारण ब्याज में जब 13000 रुपए निवेश करने पर अर्जित किए गए ब्याज से 190 रुपए अधिक है। ब्याज दर ज्ञात करें (प्रति वर्ष प्रतिशत में)।

Options :

1. ✖ 12
2. ✖ 16

3. ✘ 18

4. ✔ 19

Question Number : 102 Question Id : 6009298185 Question Type : MCQ Option Shuffling : Yes Is Question Mandatory : No Option Orientation : Vertical

Correct Marks : 1 Wrong Marks : 0.25

A train travelling at the speed of 100km/hr crosses a pole in 45 seconds. Find the length of the train.

Options :

1. ✘ 1240 m

2. ✘ 1248 m

3. ✔ 1250 m

4. ✘ 1244 m

Question Number : 102 Question Id : 6009298185 Question Type : MCQ Option Shuffling : Yes Is Question Mandatory : No Option Orientation : Vertical

Correct Marks : 1 Wrong Marks : 0.25

100 km/hr की गति से यात्रा करने वाली एक रेलगाड़ी 45 सेकंड में एक खंभे को पार करती है। रेलगाड़ी की लंबाई ज्ञात करें।

Options :

1. ✘ 1240 m

2. ✘ 1248 m

3. ✔ 1250 m

4. ✘ 1244 m

Question Number : 103 Question Id : 6009298186 Question Type : MCQ Option Shuffling : Yes Is Question Mandatory : No Option Orientation : Vertical

Correct Marks : 1 Wrong Marks : 0.25

Rahul goes from point A to point B at the speed of 32km/hr and returns at the speed of 28km/hr. It took 8 hours to complete the journey. Find the (approximate) distance between point A and point B.

Options :

1. ✘ 110.5 km

2. ✘ 114.5 km

3. ✔ 119.5 km

4. ✘ 125.5 km

Question Number : 103 Question Id : 6009298186 Question Type : MCQ Option Shuffling : Yes Is Question Mandatory : No Option Orientation : Vertical

Correct Marks : 1 Wrong Marks : 0.25

राहुल बिंदु A से बिंदु B तक 32 km/hr की गति से जाता है और 28 km/hr की गति से वापस आता है। यात्रा पूरी करने में 8 घंटे का समय लगा। बिंदु A और बिंदु B के बीच (लगभग) दूरी ज्ञात करें।

Options :

1. ✘ 110.5 km

2. ✘ 114.5 km

3. ✔ 119.5 km

4. ✘ 125.5 km

Question Number : 104 Question Id : 6009298187 Question Type : MCQ Option Shuffling : Yes Is Question Mandatory : No Option Orientation : Vertical

Correct Marks : 1 Wrong Marks : 0.25

A boat travels 10.8 km upstream in 36 minutes. If the speed of the boat is 21km/hr, then find how much distance the boat will travel in 28 minutes downstream.

Options :

1. ✘ 12 km

2. ✔ 11.2 km

3. ✘ 13.2 km

4. ✘ 11 km

Question Number : 104 Question Id : 6009298187 Question Type : MCQ Option Shuffling : Yes Is Question Mandatory : No Option Orientation : Vertical

Correct Marks : 1 Wrong Marks : 0.25

एक नाव 36 मिनट में 10.8 km ऊर्ध्वप्रवाह यात्रा करती है। यदि नाव की गति 21 km/hr है, तो ज्ञात करें कि नाव 28 मिनट में अनुप्रवाह में कितनी दूरी तय करेगी।

Options :

1. ✘ 12 km

2. ✔ 11.2 km

3. ✘ 13.2 km

4. ✘ 11 km

Question Number : 105 Question Id : 6009298188 Question Type : MCQ Option Shuffling : Yes Is Question Mandatory : No Option Orientation : Vertical

Correct Marks : 1 Wrong Marks : 0.25

Two men start running from a same point in different direction around a circular path of radius 28 meter at the speed of 42 km/hr and 24 km/hr. After how much time will they meet again at the same place? (Use $\pi = 22/7$)

Options :

1. ✘ 30.4 sec
2. ✘ 65.4 sec
3. ✔ 35.2 sec
4. ✘ 75.4 sec

Question Number : 105 Question Id : 6009298188 Question Type : MCQ Option Shuffling : Yes Is Question Mandatory : No Option Orientation : Vertical

Correct Marks : 1 Wrong Marks : 0.25

दो आदमी एक ही बिंदु से अलग दिशा में 42 km/hr और 24 km/hr की गति से 28 मीटर त्रिज्या के एक गोलाकार पथ के चारों ओर दौड़ना शुरू करते हैं। कितने समय बाद वे फिर से उसी जगह पर मिलेंगे? ($\pi = 22/7$ का प्रयोग करें)

Options :

1. ✘ 30.4 सेकंड
2. ✘ 65.4 सेकंड
3. ✔ 35.2 सेकंड
4. ✘ 75.4 सेकंड

Question Number : 106 Question Id : 6009298189 Question Type : MCQ Option Shuffling : Yes Is Question Mandatory : No Option Orientation : Vertical

Correct Marks : 1 Wrong Marks : 0.25

Rob and Bob can build a wall together in 3 days. If Rob alone can build the same wall in 12 days, then in how many days can Bob build the wall alone?

Options :

1. ✘ 2 days
2. ✘ 9 days

3. ✓ 4 days

4. ✗ 8 days

Question Number : 106 Question Id : 6009298189 Question Type : MCQ Option Shuffling : Yes Is Question Mandatory : No Option Orientation : Vertical

Correct Marks : 1 Wrong Marks : 0.25

रॉब और बॉब 3 दिनों में एक साथ एक दीवार का निर्माण कर सकते हैं। यदि रॉब अकेले 12 दिनों में वही दीवार का निर्माण कर सकता है, तो बॉब अकेले दीवार का निर्माण कितने दिनों में कर सकता है?

Options :

1. ✗ 2 दिन

2. ✗ 9 दिन

3. ✓ 4 दिन

4. ✗ 8 दिन

Question Number : 107 Question Id : 6009298190 Question Type : MCQ Option Shuffling : Yes Is Question Mandatory : No Option Orientation : Vertical

Correct Marks : 1 Wrong Marks : 0.25

A can finish a job in 20 days while B can finish same job in 30 days. A and B both worked for 5 days and C joins them. In next 3.5 days, all three manage to complete the job. Find in how many days C alone can finish the job.

Options :

1. ✗ 9 days

2. ✗ 6 days

3. ✓ 12 days

4. ✗ 24 days

Question Number : 107 Question Id : 6009298190 Question Type : MCQ Option Shuffling : Yes Is Question Mandatory : No Option Orientation : Vertical

Correct Marks : 1 Wrong Marks : 0.25

A, 20 दिनों में एक कार्य समाप्त कर सकता है जबकि B, 30 दिनों में समान कार्य पूरा कर सकता है। A और B दोनों ने 5 दिनों के लिए कार्य किया और C उनके साथ जुड़ा। अगले 3.5 दिनों में, सभी तीनों कार्य पूरा करने में सफल रहे। ज्ञात करें कि C अकेले कितने दिनों में कार्य पूरा कर सकता है।

Options :

1. ✗ 9 दिन

2. ✘ 6 दिन
3. ✔ 12 दिन
4. ✘ 24 दिन

Question Number : 108 Question Id : 6009298191 Question Type : MCQ Option Shuffling : Yes Is Question Mandatory : No Option Orientation : Vertical

Correct Marks : 1 Wrong Marks : 0.25

Three friends Ratish, Satish and Nitesh can do a work in 20, 24 and 32 days respectively. Ratish is assisted by Satish one day and by Nitesh the next day, alternatively. In how many days will the work be finished?

Options :

1. ✘ 11(47/83) days
2. ✔ 11(7/13) days
3. ✘ 10(13/83) days
4. ✘ 12(11/13) days

Question Number : 108 Question Id : 6009298191 Question Type : MCQ Option Shuffling : Yes Is Question Mandatory : No Option Orientation : Vertical

Correct Marks : 1 Wrong Marks : 0.25

तीन दोस्त रतीश, सतीश और नितेश क्रमशः 20, 24 और 32 दिनों में एक काम कर सकते हैं। रतीश को, विकल्पतः एक दिन सतीश द्वारा मदद मिलती है और दूसरे दिन नितेश द्वारा मदद मिलती है। काम कितने दिनों में पूरा होगा?

Options :

1. ✘ 11(47/83) दिन
2. ✔ 11(7/13) दिन
3. ✘ 10(13/83) दिन
4. ✘ 12(11/13) दिन

Question Number : 109 Question Id : 6009298192 Question Type : MCQ Option Shuffling : Yes Is Question Mandatory : No Option Orientation : Vertical

Correct Marks : 1 Wrong Marks : 0.25

Three pipes A, B and C can separately fill a cistern in 15min, 12min and 10 min respectively, and a waste pipe D can carry off 121 litres per min. If all the pipes are opened when the cistern is half full, then it is emptied in 4 hours. How many litres does the cistern hold?

Options :

1. ✘ 4800
2. ✘ 540
3. ✔ 480
4. ✘ 960

Question Number : 109 Question Id : 6009298192 Question Type : MCQ Option Shuffling : Yes Is Question Mandatory : No Option Orientation : Vertical

Correct Marks : 1 Wrong Marks : 0.25

तीन पाइप A, B और C क्रमशः 15 मिनट, 12 मिनट और 10 मिनट में एक कुण्डिका को भर सकते हैं और एक नाली D प्रति मिनट 121 लीटर के हिसाब से ले जा सकती है। यदि सभी पाइपों को तब खोला जाता है जब कुण्डिका आधी भरी हुई है, तो यह 4 घंटे में खाली हो जाती है। कुण्डिका कितने लीटर ग्रहण कर सकती है?

Options :

1. ✘ 4800
2. ✘ 540
3. ✔ 480
4. ✘ 960

Question Number : 110 Question Id : 6009298193 Question Type : MCQ Option Shuffling : Yes Is Question Mandatory : No Option Orientation : Vertical

Correct Marks : 1 Wrong Marks : 0.25

If the area of a trapezium with parallel sides of 8cm and 15cm is 115 sq cm, then find the distance between the parallel sides.

Options :

1. ✘ 7 cm
2. ✘ 8 cm
3. ✘ 9 cm
4. ✔ 10 cm

Question Number : 110 Question Id : 6009298193 Question Type : MCQ Option Shuffling : Yes Is Question Mandatory : No Option Orientation : Vertical

Correct Marks : 1 Wrong Marks : 0.25

यदि 8 cm और 15 cm के समानांतर भुजाओं के समलंब का क्षेत्रफल 115 sq cm है, तो समानांतर भुजाओं के बीच की दूरी ज्ञात करें।

Options :

1. ✘ 7 cm
2. ✘ 8 cm
3. ✘ 9 cm
4. ✔ 10 cm

Question Number : 111 Question Id : 6009298194 Question Type : MCQ Option Shuffling : Yes Is Question Mandatory : No Option Orientation : Vertical

Correct Marks : 1 Wrong Marks : 0.25

A, B and C are three adjacent surfaces of cuboid. Area of A is 20 sq cm and area of B is 40 percent less than that of A while Area of C is 25 percent more than that of B. What is the volume of cuboid?

Options :

1. ✘ 50 cu cm
2. ✘ 20 cu cm
3. ✔ 60 cu cm
4. ✘ 70 cu cm

Question Number : 111 Question Id : 6009298194 Question Type : MCQ Option Shuffling : Yes Is Question Mandatory : No Option Orientation : Vertical

Correct Marks : 1 Wrong Marks : 0.25

A, B और C घनाभ के तीन आसन्न सतहें हैं। A का क्षेत्रफल 20 sq cm है और B का क्षेत्रफल A की तुलना में 40 प्रतिशत कम है जबकि C का क्षेत्रफल B की तुलना में 25 प्रतिशत अधिक है। घनाभ का आयतन क्या है?

Options :

1. ✘ 50 cu cm
2. ✘ 20 cu cm
3. ✔ 60 cu cm
4. ✘ 70 cu cm

Question Number : 112 Question Id : 6009298195 Question Type : MCQ Option Shuffling : Yes Is Question Mandatory : No Option Orientation : Vertical

Correct Marks : 1 Wrong Marks : 0.25

A bigger ball of radius 7 cm is recast into smaller balls of radius of 2 cm each, in this process 20% of the material is wasted, then how many such complete spherical smaller balls can be made?

Options :

1. ✘ 41
2. ✘ 25
3. ✘ 43
4. ✔ 34

Question Number : 112 Question Id : 6009298195 Question Type : MCQ Option Shuffling : Yes Is Question Mandatory : No Option Orientation : Vertical

Correct Marks : 1 Wrong Marks : 0.25

7 cm त्रिज्या की एक बड़ी गेंद को प्रत्येक 2 cm त्रिज्या की छोटी गेंदों में फिर से ढाला गया है, इस प्रक्रिया में सामग्री का 20% खराब हो जाता है, तो इस तरह की कितनी संपूर्ण गोलाकार छोटी गेंदों को बनाया जा सकता है?

Options :

1. ✘ 41
2. ✘ 25
3. ✘ 43
4. ✔ 34

Question Number : 113 Question Id : 6009298196 Question Type : MCQ Option Shuffling : Yes Is Question Mandatory : No Option Orientation : Vertical

Correct Marks : 1 Wrong Marks : 0.25

The ratio of the parallel sides of the trapezoid is 5:2. The difference between them is 18 cm. The perpendicular distance between them is 4 cm. What is the area?

Options :

1. ✔ 84 sq cm
2. ✘ 168 sq cm
3. ✘ 378 sq cm
4. ✘ 189 sq cm

Question Number : 113 Question Id : 6009298196 Question Type : MCQ Option Shuffling : Yes Is Question Mandatory : No Option Orientation : Vertical

Correct Marks : 1 Wrong Marks : 0.25

समलम्ब चतुर्भुज के समानांतर भुजाओं का अनुपात 5 : 2 है। उनके बीच का अंतर 18 cm है। उनके बीच की लंबवत दूरी 4 cm है। क्षेत्रफल क्या है?

Options :

1. ✓ 84 sq cm
2. ✗ 168 sq cm
3. ✗ 378 sq cm
4. ✗ 189 sq cm

Question Number : 114 Question Id : 6009298197 Question Type : MCQ Option Shuffling : Yes Is Question Mandatory : No Option Orientation : Vertical

Correct Marks : 1 Wrong Marks : 0.25

The following table shows the marks obtained by students and the ratio of boys and girls in five different colleges. The number of girls of college A is what percent more than number of girls of college E?

Colleges	Students	Boys : Girls
A	750	3 : 2
B	450	4 : 5
C	480	5 : 3
D	780	7 : 6
E	540	2 : 1

Options :

1. ✗ 33.33 percent
2. ✓ 66.66 percent
3. ✗ 53 percent
4. ✗ 40 percent

Question Number : 114 Question Id : 6009298197 Question Type : MCQ Option Shuffling : Yes Is Question Mandatory : No Option Orientation : Vertical

Correct Marks : 1 Wrong Marks : 0.25

निम्नलिखित तालिका पांच अलग-अलग महाविद्यालयों में छात्रों द्वारा प्राप्त किए गए अंकों और लड़कों और लड़कियों के अनुपात को दर्शाती है। महाविद्यालय A की लड़कियों की संख्या महाविद्यालय E की लड़कियों की संख्या से कितने प्रतिशत अधिक है?

महाविद्यालयों	छात्र	लड़के : लड़कियाँ
A	750	3 : 2
B	450	4 : 5
C	480	5 : 3
D	780	7 : 6
E	540	2 : 1

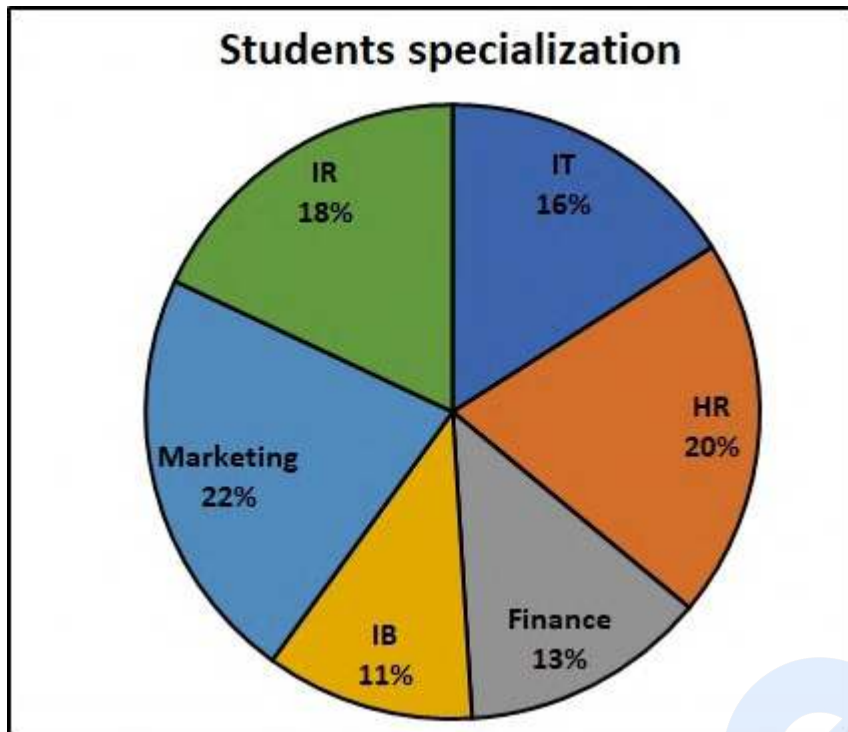
Options :

- ✘ 33.33 प्रतिशत
- ✔ 66.66 प्रतिशत
- ✘ 53 प्रतिशत
- ✘ 40 प्रतिशत

Question Number : 115 Question Id : 6009298198 Question Type : MCQ Option Shuffling : Yes Is Question Mandatory : No Option Orientation : Vertical

Correct Marks : 1 Wrong Marks : 0.25

The following pie chart shows the percentage wise breakup of students in terms of specialization. Total number of students is 12000. What is the total number of students having specialization in IB, Finance and Marketing?



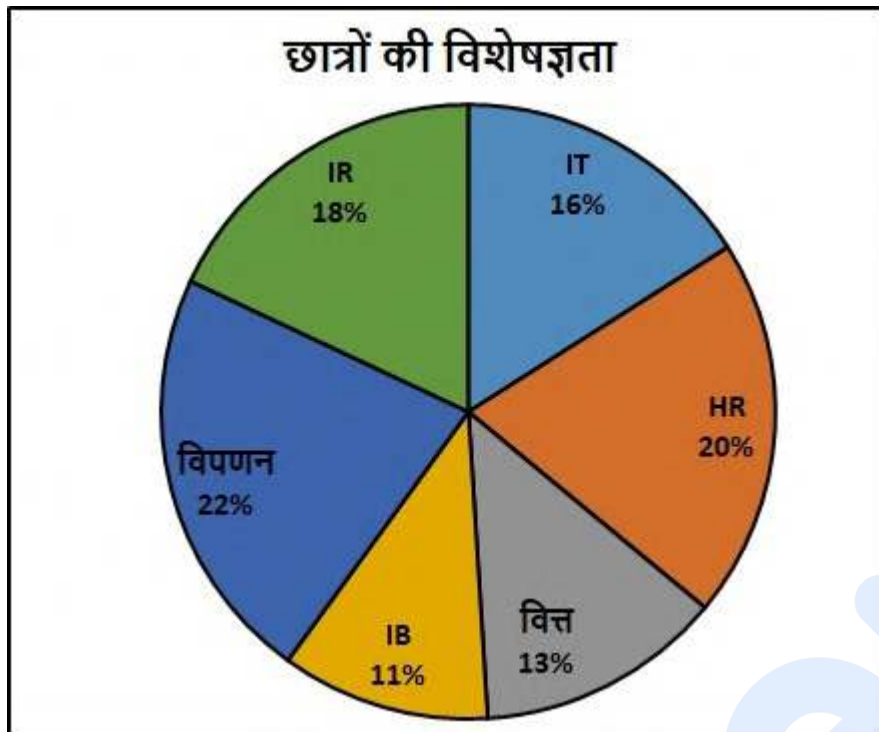
Options :

1. ✘ 4658
2. ✘ 3340
3. ✔ 5520
4. ✘ 4436

Question Number : 115 Question Id : 6009298198 Question Type : MCQ Option Shuffling : Yes Is Question Mandatory : No Option Orientation : Vertical

Correct Marks : 1 Wrong Marks : 0.25

निम्नलिखित पाई चार्ट विशेषज्ञता के संबंध में छात्रों के प्रतिशत-वार विभाजन को दर्शाता है। छात्रों की कुल संख्या 12000 है। IB, वित्त और विपणन में विशेषज्ञता रखने वाले छात्रों की कुल संख्या क्या है?



Options :

1. ✘ 4658
2. ✘ 3340
3. ✔ 5520
4. ✘ 4436

Question Number : 116 Question Id : 6009298199 Question Type : MCQ Option Shuffling : Yes Is Question Mandatory : No Option Orientation : Vertical

Correct Marks : 1 Wrong Marks : 0.25

The following table gives information about monthly rent (in thousands) at five different places in six different years. Monthly rent at Kandivali in the year 2008 was approximately what percent of the total monthly rent at Virar over all the years together?

Year	Place				
	Churchgate	Dadar	Kandivali	Borivali	Virar
2005	5.3	3.8	1.5	2.7	1.1
2006	12.5	8.3	3.4	4.8	2.1
2007	16.7	5.5	5.5	6.6	1.8
2008	13.6	9.8	9.8	12.7	3.6
2009	14.5	11.5	11.5	14.1	5.5
2010	20.9	15.6	15.6	15.9	7.8

Options :

1. ✘ 30
2. ✘ 33
3. ✘ 42
4. ✔ 45

Question Number : 116 Question Id : 6009298199 Question Type : MCQ Option Shuffling : Yes Is Question Mandatory : No Option Orientation : Vertical

Correct Marks : 1 Wrong Marks : 0.25

निम्नलिखित तालिका छह विभिन्न वर्षों में पांच अलग-अलग स्थानों पर मासिक किराए (हजारों में) के बारे में जानकारी देती है। वर्ष 2008 में कांदिवली में मासिक किराया, सभी वर्षों का कुल मिलाकर विरार में कुल मासिक किराए का लगभग कितना प्रतिशत था?

वर्ष	स्थान				
	चर्चगेट	दादर	कांदिवली	बोरीवली	विरार
2005	5.3	3.8	1.5	2.7	1.1
2006	12.5	8.3	3.4	4.8	2.1
2007	16.7	5.5	5.5	6.6	1.8
2008	13.6	9.8	9.8	12.7	3.6
2009	14.5	11.5	11.5	14.1	5.5
2010	20.9	15.6	15.6	15.9	7.8

Options :

1. ✘ 30
2. ✘ 33

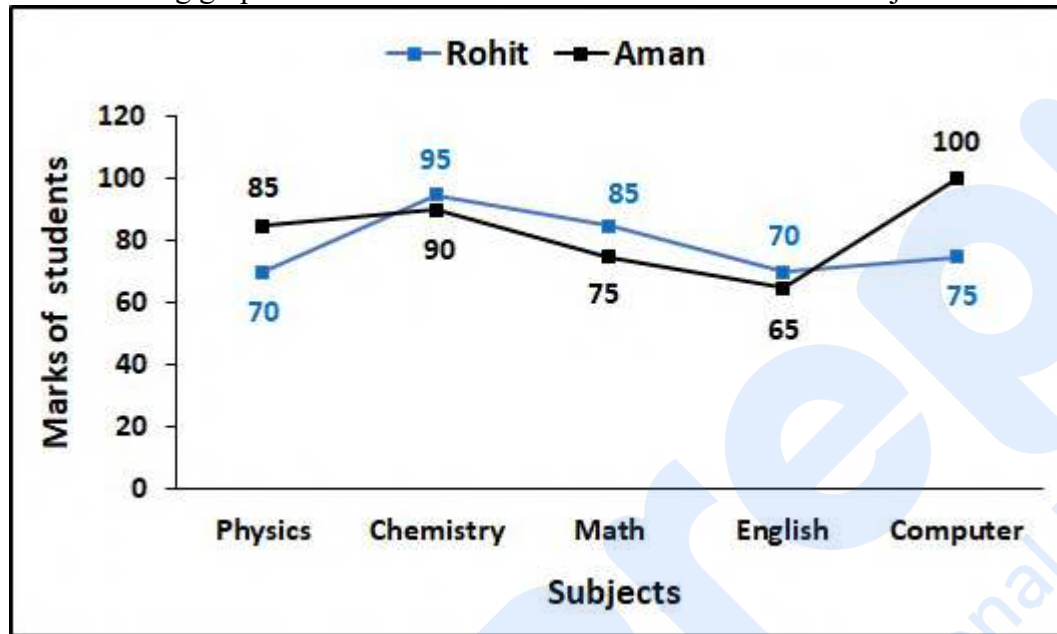
3. ✘ 42

4. ✔ 45

Question Number : 117 Question Id : 6009298200 Question Type : MCQ Option Shuffling : Yes Is Question Mandatory : No Option Orientation : Vertical

Correct Marks : 1 Wrong Marks : 0.25

The following graph shows the marks of 2 students in 5 different subjects. In how many subjects did Rohit score more marks than Aman?



Options :

1. ✘ 1

2. ✘ 2

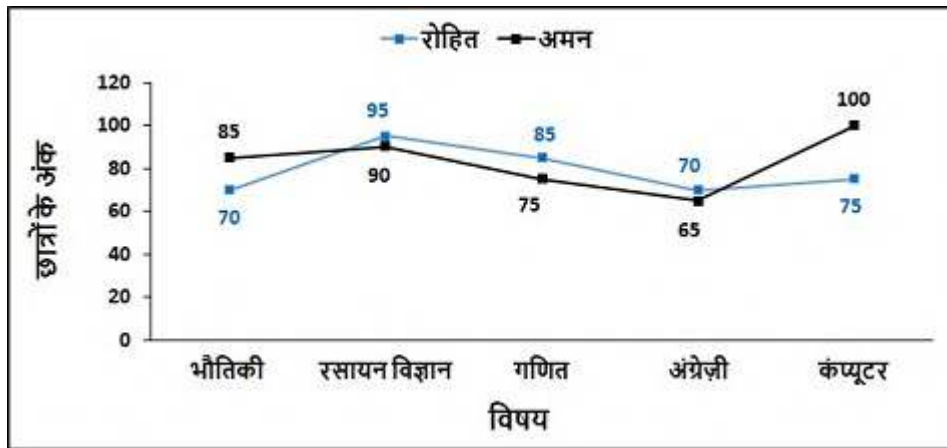
3. ✔ 3

4. ✘ 4

Question Number : 117 Question Id : 6009298200 Question Type : MCQ Option Shuffling : Yes Is Question Mandatory : No Option Orientation : Vertical

Correct Marks : 1 Wrong Marks : 0.25

निम्नलिखित ग्राफ 5 अलग-अलग विषयों में 2 छात्रों के अंकों को दर्शाता है। रोहित ने अमन की तुलना में कितने विषयों में अधिक अंक प्राप्त किए?



Options :

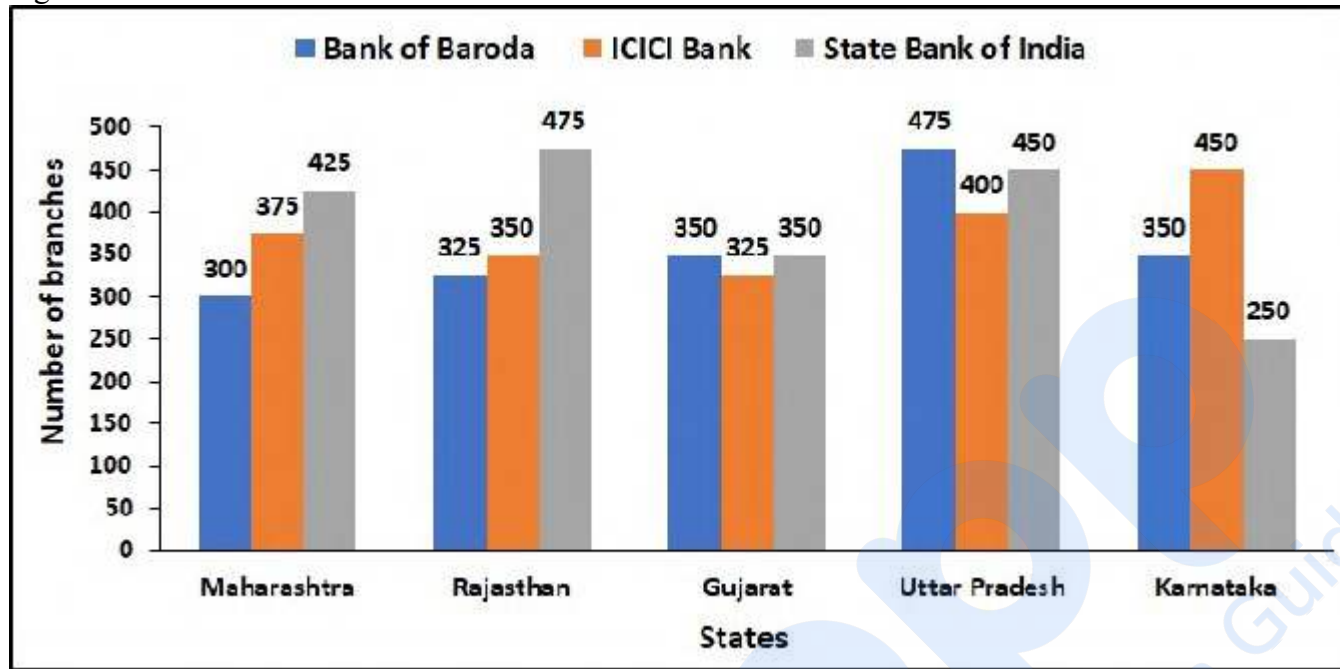
1. ✘ 1
2. ✘ 2
3. ✔ 3
4. ✘ 4

Question Number : 118 Question Id : 6009298201 Question Type : MCQ Option Shuffling : Yes Is Question Mandatory : No Option Orientation : Vertical

Correct Marks : 1 Wrong Marks : 0.25

The following bar graph shows the number of branches of three different banks in five different states. What is the respective ratio of the total number of branches of ICICI Bank in Gujarat and Karnataka together to the number of branches of Bank of Baroda in Maharashtra and Rajasthan

together?



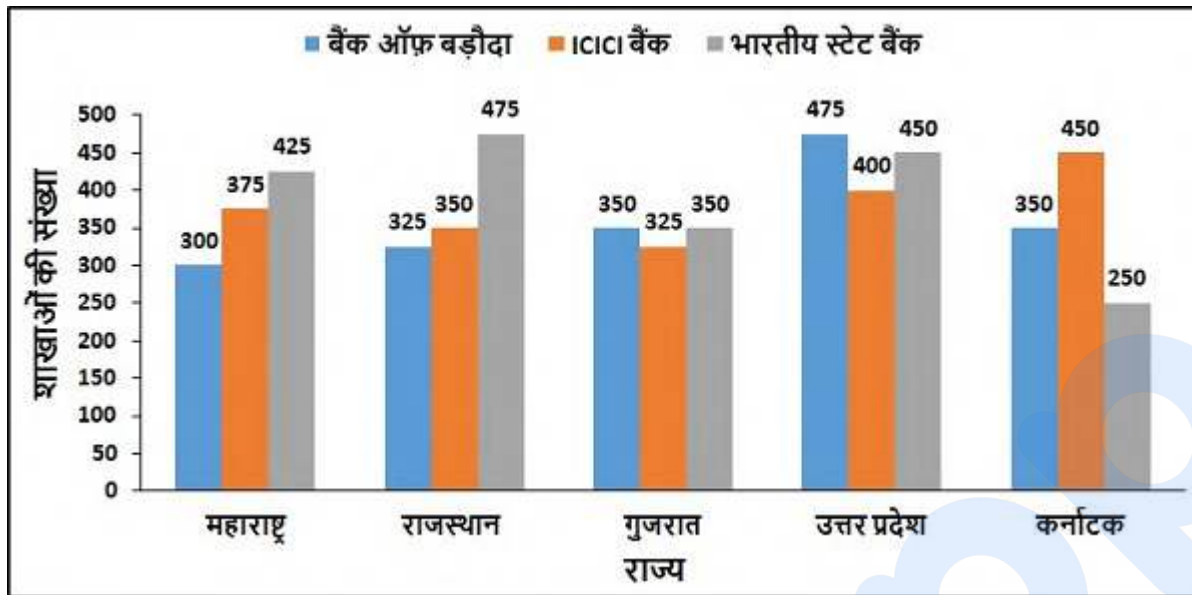
Options :

1. ✘ 24 : 25
2. ✔ 31 : 25
3. ✘ 21 : 25
4. ✘ 28 : 25

Question Number : 118 Question Id : 6009298201 Question Type : MCQ Option Shuffling : Yes Is Question Mandatory : No Option Orientation : Vertical

Correct Marks : 1 Wrong Marks : 0.25

निम्नलिखित बार ग्राफ पांच अलग-अलग राज्यों में तीन विभिन्न बैंकों की शाखाओं की संख्या को दर्शाता है। गुजरात और कर्नाटक में ICICI बैंक की कुल शाखाओं की कुल मिलाकर संख्या का महाराष्ट्र और राजस्थान में बैंक ऑफ बड़ौदा की शाखाओं की कुल मिलाकर संख्या से संबंधित अनुपात क्या है?



Options :

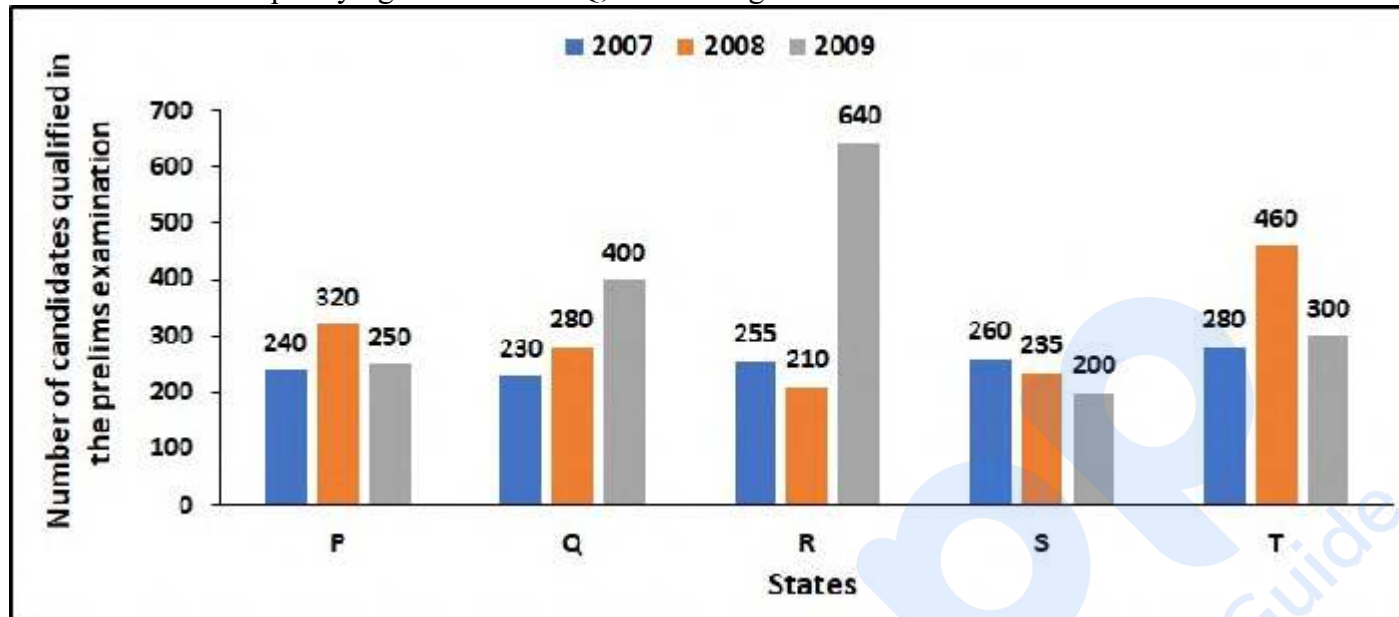
1. ✘ 24 : 25
2. ✔ 31 : 25
3. ✘ 21 : 25
4. ✘ 28 : 25

Question Number : 119 Question Id : 6009298202 Question Type : MCQ Option Shuffling : Yes Is Question Mandatory : No Option Orientation : Vertical

Correct Marks : 1 Wrong Marks : 0.25

The following graph shows the number of candidates qualified in the clerk entrance examination over the years 2007, 2008, 2009 from the five states (P, Q, R, S and T). The total number of students qualifying in 2007 from P, R and T together is what percentage (approximate) of the total

number of students qualifying in 2008 from Q, S and T together?



Options :

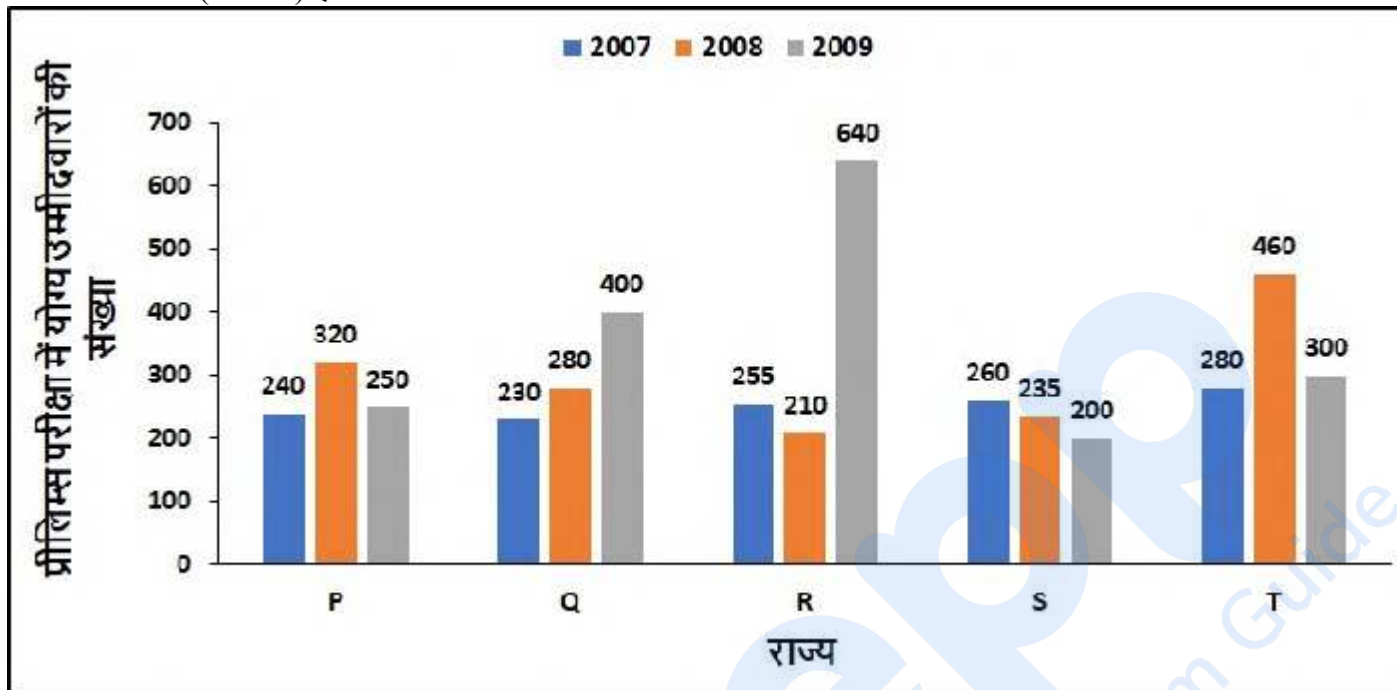
1. ✘ 68.7 percent
2. ✘ 54.3 percent
3. ✘ 71.2 percent
4. ✔ 79.5 percent

Question Number : 119 Question Id : 6009298202 Question Type : MCQ Option Shuffling : Yes Is Question Mandatory : No Option Orientation : Vertical

Correct Marks : 1 Wrong Marks : 0.25

निम्नलिखित ग्राफ पांच राज्यों (P, Q, R, S और T) से पिछले कुछ वर्षों में 2007, 2008, 2009 में क्लर्क प्रवेश परीक्षा में उत्तीर्ण हुए उम्मीदवारों की संख्या को दर्शाता है। कुल मिलाकर P, R और T से 2007 में उत्तीर्ण होने वाले छात्रों की कुल संख्या, 2008 में कुल मिलाकर Q, S और T से उत्तीर्ण छात्रों की कुल संख्या का

कितना प्रतिशत (लगभग) है?



Options :

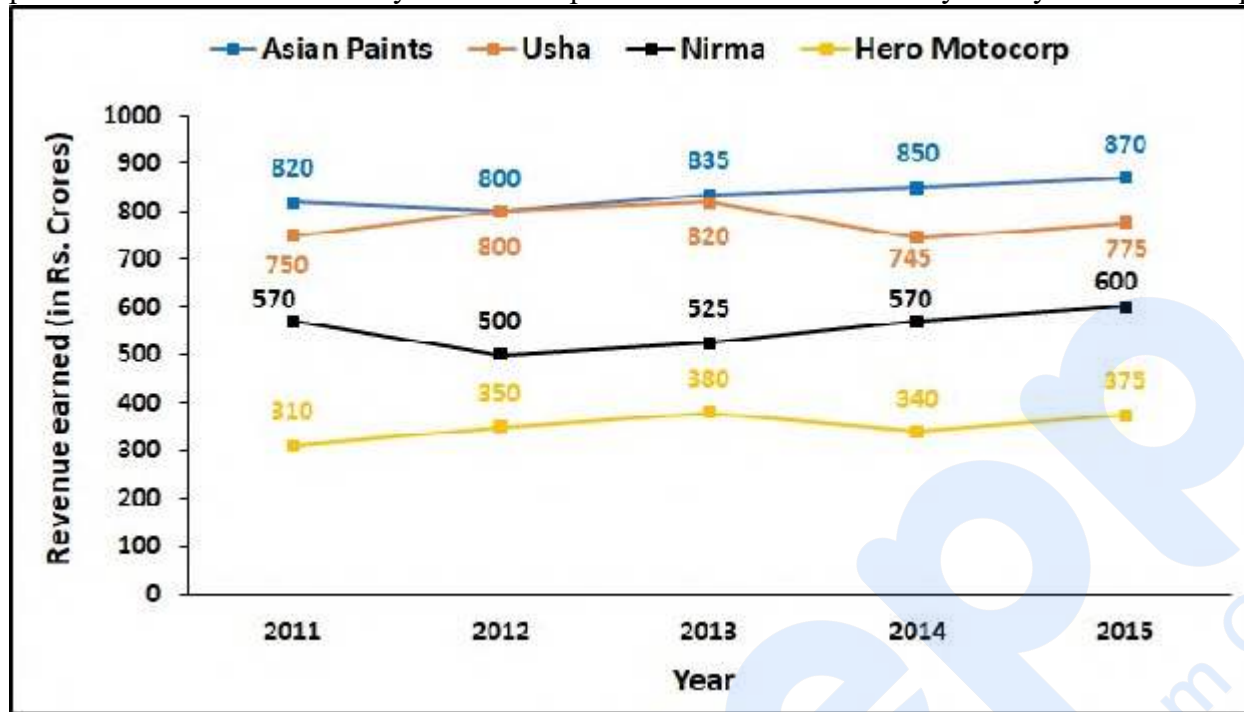
1. ✘ 68.7 प्रतिशत
2. ✘ 54.3 प्रतिशत
3. ✘ 71.2 प्रतिशत
4. ✔ 79.5 प्रतिशत

Question Number : 120 Question Id : 6009298203 Question Type : MCQ Option Shuffling : Yes Is Question Mandatory : No Option Orientation : Vertical

Correct Marks : 1 Wrong Marks : 0.25

The graph shows the revenue earned (in Rs. Crores) by 4 companies namely Asian Paints, Usha, Nirma and Hero Motocorp in 5 years respectively. If the expenditure of Hero Motocorp was same for all the years which is Rs. 240 crores, then what is the difference between the total

profit earned in the first three years and the profit earned in the next two years by Hero Motocorp?



Options :

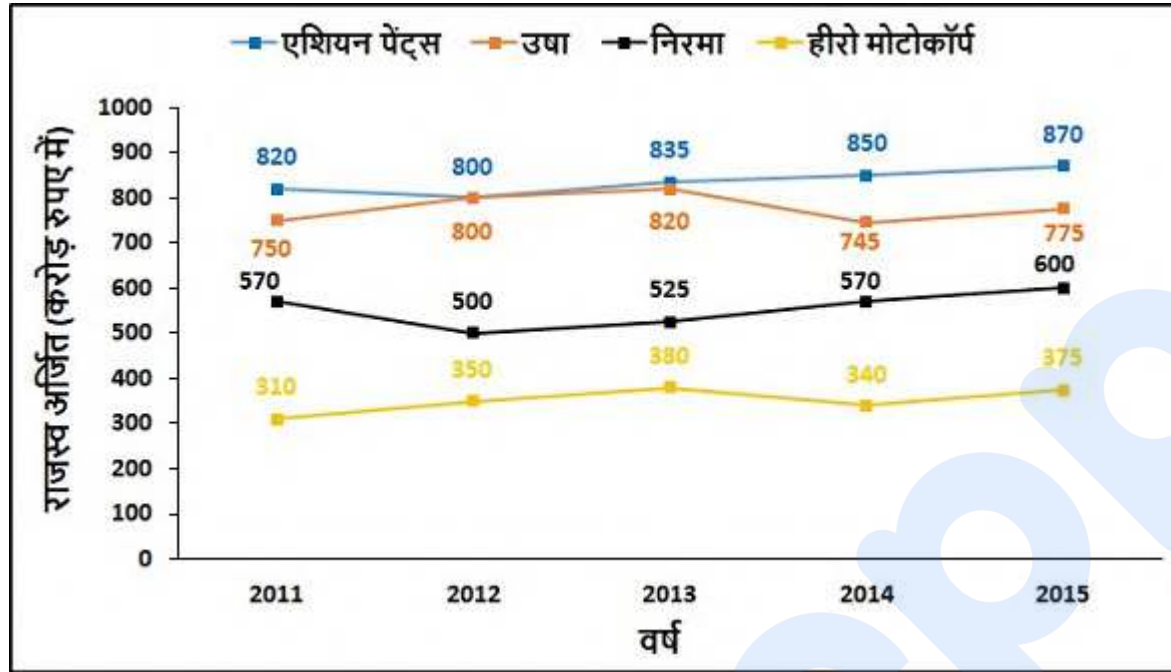
1. ✘ Rs. 62 crores
2. ✔ Rs. 85 crores
3. ✘ Rs. 100 crores
4. ✘ Rs. 55 crores

Question Number : 120 Question Id : 6009298203 Question Type : MCQ Option Shuffling : Yes Is Question Mandatory : No Option Orientation : Vertical

Correct Marks : 1 Wrong Marks : 0.25

ग्राफ 5 वर्षों में क्रमशः 4 कंपनियों नामतः एशियन पेंट्स, उषा, निरमा और हीरो मोटोकॉर्प द्वारा अर्जित राजस्व (करोड़ रुपए में) को दर्शाता है। यदि हीरो मोटोकॉर्प का व्यय सभी वर्षों के लिए समान था जो 240 करोड़ रुपए है, तो पहले तीन वर्षों में अर्जित कुल लाभ और अगले दो वर्षों में हीरो मोटोकॉर्प द्वारा अर्जित

लाभ के बीच क्या अंतर है?



Options :

1. ✘ 62 करोड़ रुपए
2. ✔ 85 करोड़ रुपए
3. ✘ 100 करोड़ रुपए
4. ✘ 55 करोड़ रुपए

General English1

Group Number :	7
Group Id :	600929252
Group Maximum Duration :	0
Group Minimum Duration :	0
Show Attended Group? :	No
Edit Attended Group? :	No
Break time :	0
Group Marks :	20

Is this Group for Examiner? :

No

English Language & Comprehension1

Section Id :	600929398
Section Number :	1
Section type :	Online
Mandatory or Optional :	Mandatory
Number of Questions :	20
Number of Questions to be attempted :	20
Section Marks :	20
Enable Mark as Answered Mark for Review and Clear Response :	Yes
Sub-Section Number :	1
Sub-Section Id :	600929476
Question Shuffling Allowed :	Yes

Question Number : 121 Question Id : 6009298204 Question Type : MCQ Option Shuffling : Yes Is Question Mandatory : No Option Orientation : Vertical

Correct Marks : 1 Wrong Marks : 0.25

The sentence below has been divided into three parts. Select the part of the sentence that has an error. If the sentence has no error, select the option 'No Error'.

Options :

- ✘ Vishal said to Roshnita, " Hear me
- ✔ out, I have had a good news
- ✘ for you".
- ✘ No error

Question Number : 121 Question Id : 6009298204 Question Type : MCQ Option Shuffling : Yes Is Question Mandatory : No Option Orientation : Vertical

Correct Marks : 1 Wrong Marks : 0.25

The sentence below has been divided into three parts. Select the part of the sentence that has an error. If the sentence has no error, select the option 'No Error'.

Options :

1. ✘ Vishal said to Roshnita, " Hear me
2. ✔ out, I have had a good news
3. ✘ for you".
4. ✘ No error

Question Number : 122 Question Id : 6009298205 Question Type : MCQ Option Shuffling : Yes Is Question Mandatory : No Option Orientation : Vertical

Correct Marks : 1 Wrong Marks : 0.25

The sentence below has been divided into three parts. Select the part of the sentence that has an error. If the sentence has no error, select the option 'No Error'.

Options :

1. ✔ The cause and affect
2. ✘ of such a hypothesis is unknown
3. ✘ to mankind at this moment.
4. ✘ No error

Question Number : 122 Question Id : 6009298205 Question Type : MCQ Option Shuffling : Yes Is Question Mandatory : No Option Orientation : Vertical

Correct Marks : 1 Wrong Marks : 0.25

The sentence below has been divided into three parts. Select the part of the sentence that has an error. If the sentence has no error, select the option 'No Error'.

Options :

1. ✔ The cause and affect
2. ✘ of such a hypothesis is unknown
3. ✘ to mankind at this moment.
4. ✘ No error

Question Number : 123 Question Id : 6009298206 Question Type : MCQ Option Shuffling : Yes Is Question Mandatory : No Option Orientation : Vertical

Correct Marks : 1 Wrong Marks : 0.25

The sentence below has been divided into three parts. Select the part of the sentence that has an error. If the sentence has no error, select the option 'No Error'.

Options :

- ✘ Lives of many people
- ✔ were effected by this
- ✘ decision of the government.
- ✘ No error

Question Number : 123 Question Id : 6009298206 Question Type : MCQ Option Shuffling : Yes Is Question Mandatory : No Option Orientation : Vertical

Correct Marks : 1 Wrong Marks : 0.25

The sentence below has been divided into three parts. Select the part of the sentence that has an error. If the sentence has no error, select the option 'No Error'.

Options :

- ✘ Lives of many people
- ✔ were effected by this
- ✘ decision of the government.
- ✘ No error

Question Number : 124 Question Id : 6009298207 Question Type : MCQ Option Shuffling : Yes Is Question Mandatory : No Option Orientation : Vertical

Correct Marks : 1 Wrong Marks : 0.25

The sentence below has been divided into three parts. Select the part of the sentence that has an error. If the sentence has no error, select the option 'No Error'.

Options :

- ✔ The Hurricane Gloria is described the one
- ✘ of the most destructive hurricanes to
- ✘ have hit the East Coast of the United States.
- ✘ No error

Question Number : 124 Question Id : 6009298207 Question Type : MCQ Option Shuffling : Yes Is Question Mandatory : No Option Orientation : Vertical

Correct Marks : 1 Wrong Marks : 0.25

The sentence below has been divided into three parts. Select the part of the sentence that has an error. If the sentence has no error, select the option 'No Error'.

Options :

1. ✓ The Hurricane Gloria is described the one
2. ✗ of the most destructive hurricanes to
3. ✗ have hit the East Coast of the United States.
4. ✗ No error

Question Number : 125 Question Id : 6009298208 Question Type : MCQ Option Shuffling : Yes Is Question Mandatory : No Option Orientation : Vertical

Correct Marks : 1 Wrong Marks : 0.25

The sentence below has been divided into three parts. Select the part of the sentence that has an error. If the sentence has no error, select the option 'No Error'.

Options :

1. ✗ Evidently, the entire Soviet Union
2. ✓ collapsed over the
3. ✗ leadership of Mikhail Sergeyevich Gorbachev.
4. ✗ No error

Question Number : 125 Question Id : 6009298208 Question Type : MCQ Option Shuffling : Yes Is Question Mandatory : No Option Orientation : Vertical

Correct Marks : 1 Wrong Marks : 0.25

The sentence below has been divided into three parts. Select the part of the sentence that has an error. If the sentence has no error, select the option 'No Error'.

Options :

1. ✗ Evidently, the entire Soviet Union
2. ✓ collapsed over the
3. ✗ leadership of Mikhail Sergeyevich Gorbachev.
4. ✗ No error

Question Number : 126 Question Id : 6009298209 Question Type : MCQ Option Shuffling : Yes Is Question Mandatory : No Option Orientation : Vertical

Correct Marks : 1 Wrong Marks : 0.25

Select the word segment that substitutes (replaces) the bracketed word segment correctly and completes the sentence meaningfully. Select the option 'no correction required' if the sentence is correct as given.

(It was a incredible proud moment for every Indian), when the country lifted the World Cup.

Options :

1. ✘ It was a incredibly proud moment for Indian
2. ✔ It was an incredible and proud moment for every Indian
3. ✘ It was an incredibly proud moment with every Indian
4. ✘ No correction required

Question Number : 126 Question Id : 6009298209 Question Type : MCQ Option Shuffling : Yes Is Question Mandatory : No Option Orientation : Vertical

Correct Marks : 1 Wrong Marks : 0.25

Select the word segment that substitutes (replaces) the bracketed word segment correctly and completes the sentence meaningfully. Select the option 'no correction required' if the sentence is correct as given.

(It was a incredible proud moment for every Indian), when the country lifted the World Cup.

Options :

1. ✘ It was a incredibly proud moment for Indian
2. ✔ It was an incredible and proud moment for every Indian
3. ✘ It was an incredibly proud moment with every Indian
4. ✘ No correction required

Question Number : 127 Question Id : 6009298210 Question Type : MCQ Option Shuffling : Yes Is Question Mandatory : No Option Orientation : Vertical

Correct Marks : 1 Wrong Marks : 0.25

Select the word segment that substitutes (replaces) the bracketed word segment correctly and completes the sentence meaningfully. Select the option 'no correction required' if the sentence is correct as given.

(The CEO paid all of his employee's) dues even during the recession.

Options :

1. ✘ The CEO paid all of his employees
2. ✘ The CEO has had paid all of his employee's
3. ✔ The CEO had paid all of his employees'
4. ✘ No correction required

Question Number : 127 Question Id : 6009298210 Question Type : MCQ Option Shuffling : Yes Is Question Mandatory : No Option Orientation : Vertical

Correct Marks : 1 Wrong Marks : 0.25

Select the word segment that substitutes (replaces) the bracketed word segment correctly and completes the sentence meaningfully. Select the option 'no correction required' if the sentence is correct as given.

(The CEO paid all of his employee's) dues even during the recession.

Options :

1. ✘ The CEO paid all of his employees
2. ✘ The CEO has had paid all of his employee's
3. ✔ The CEO had paid all of his employees'
4. ✘ No correction required

Question Number : 128 Question Id : 6009298211 Question Type : MCQ Option Shuffling : Yes Is Question Mandatory : No Option Orientation : Vertical

Correct Marks : 1 Wrong Marks : 0.25

Select the word segment that substitutes (replaces) the bracketed word segment correctly and completes the sentence meaningfully. Select the option 'no correction required' if the sentence is correct as given.

(We hadn't sooner agreed upon) a settlement than the shocking evidence was revealed.

Options :

1. ✘ No sooner did we agreed upon
2. ✔ We had no sooner agreed upon
3. ✘ We had no sooner agree upon
4. ✘ No correction required

Question Number : 128 Question Id : 6009298211 Question Type : MCQ Option Shuffling : Yes Is Question Mandatory : No Option Orientation : Vertical

Correct Marks : 1 Wrong Marks : 0.25

Select the word segment that substitutes (replaces) the bracketed word segment correctly and completes the sentence meaningfully. Select the option 'no correction required' if the sentence is correct as given.

(We hadn't sooner agreed upon) a settlement than the shocking evidence was revealed.

Options :

1. ✘ No sooner did we agreed upon
2. ✔ We had no sooner agreed upon
3. ✘ We had no sooner agree upon
4. ✘ No correction required

Question Number : 129 Question Id : 6009298212 Question Type : MCQ Option Shuffling : Yes Is Question Mandatory : No Option Orientation : Vertical

Correct Marks : 1 Wrong Marks : 0.25

Select the word segment that substitutes (replaces) the bracketed word segment correctly and completes the sentence meaningfully. Select the option 'no correction required' if the sentence is correct as given.

I was told that (I would have spent more time preparing) for the speech.

Options :

1. ✘ I would have had spent more time preparing
2. ✔ I should have spent more time preparing
3. ✘ I should had spent more time preparing
4. ✘ No correction required

Question Number : 129 Question Id : 6009298212 Question Type : MCQ Option Shuffling : Yes Is Question Mandatory : No Option Orientation : Vertical

Correct Marks : 1 Wrong Marks : 0.25

Select the word segment that substitutes (replaces) the bracketed word segment correctly and completes the sentence meaningfully. Select the option 'no correction required' if the sentence is correct as given.

I was told that (I would have spent more time preparing) for the speech.

Options :

1. ✘ I would have had spent more time preparing
2. ✔ I should have spent more time preparing
3. ✘ I should had spent more time preparing
4. ✘ No correction required

Question Number : 130 Question Id : 6009298213 Question Type : MCQ Option Shuffling : Yes Is Question Mandatory : No Option

Orientation : Vertical

Correct Marks : 1 Wrong Marks : 0.25

Fill in the blank with the appropriate word.

The editors reserve the right to _____ the script as per they see it fit.

Options :

1. ✘ adhoc
2. ✘ access
3. ✔ abridge
4. ✘ obdurate

Question Number : 130 Question Id : 6009298213 Question Type : MCQ Option Shuffling : Yes Is Question Mandatory : No Option

Orientation : Vertical

Correct Marks : 1 Wrong Marks : 0.25

Fill in the blank with the appropriate word.

The editors reserve the right to _____ the script as per they see it fit.

Options :

1. ✘ adhoc
2. ✘ access
3. ✔ abridge
4. ✘ obdurate

Question Number : 131 Question Id : 6009298214 Question Type : MCQ Option Shuffling : Yes Is Question Mandatory : No Option

Orientation : Vertical

Correct Marks : 1 Wrong Marks : 0.25

Fill in the blank with the appropriate word.

He tried to explain the jury that he was extremely _____ for his actions.

Options :

1. ✔ contrite
2. ✘ dacite
3. ✘ dunnite

4. ✘ curate

Question Number : 131 Question Id : 6009298214 Question Type : MCQ Option Shuffling : Yes Is Question Mandatory : No Option Orientation : Vertical

Correct Marks : 1 Wrong Marks : 0.25

Fill in the blank with the appropriate word.

He tried to explain the jury that he was extremely _____ for his actions.

Options :

1. ✔ contrite
2. ✘ dacite
3. ✘ dunnite
4. ✘ curate

Question Number : 132 Question Id : 6009298215 Question Type : MCQ Option Shuffling : Yes Is Question Mandatory : No Option Orientation : Vertical

Correct Marks : 1 Wrong Marks : 0.25

Fill in the blank with the appropriate word.

With the economy drowning and the recession about to hit, there is going to be a severe _____ in employment structures.

Options :

1. ✘ raucity
2. ✔ paucity
3. ✘ velocity
4. ✘ opacity

Question Number : 132 Question Id : 6009298215 Question Type : MCQ Option Shuffling : Yes Is Question Mandatory : No Option Orientation : Vertical

Correct Marks : 1 Wrong Marks : 0.25

Fill in the blank with the appropriate word.

With the economy drowning and the recession about to hit, there is going to be a severe _____ in employment structures.

Options :

1. ✘ raucity
2. ✔ paucity
3. ✘ velocity
4. ✘ opacity

Question Number : 133 Question Id : 6009298216 Question Type : MCQ Option Shuffling : Yes Is Question Mandatory : No Option Orientation : Vertical

Correct Marks : 1 Wrong Marks : 0.25

Fill in the blank with the appropriate word.

He started sweating _____ as soon as the evidence which would convict him reached the jury.

Options :

1. ✘ allegedly
2. ✔ profusely
3. ✘ confusingly
4. ✘ intricately

Question Number : 133 Question Id : 6009298216 Question Type : MCQ Option Shuffling : Yes Is Question Mandatory : No Option Orientation : Vertical

Correct Marks : 1 Wrong Marks : 0.25

Fill in the blank with the appropriate word.

He started sweating _____ as soon as the evidence which would convict him reached the jury.

Options :

1. ✘ allegedly
2. ✔ profusely
3. ✘ confusingly
4. ✘ intricately

Question Number : 134 Question Id : 6009298217 Question Type : MCQ Option Shuffling : Yes Is Question Mandatory : No Option Orientation : Vertical

Correct Marks : 1 Wrong Marks : 0.25

The question below consist of a set of labelled sentences. Out of four options given, select the most logical order of the sentences which form a

paragraph.

There are all sorts of ways to reconstruct the history of life on Earth but pinning down when specific events occurred is often tricky.

P. There are problems with each of these methods.

Q. For this, biologists depend mainly on (1) dating the rocks in which fossils are found and (2) by looking at the “molecular clocks” in the DNA of living organisms.

R. The fossil record is like a movie with most of the frames cut out because it is so incomplete, it can be difficult to establish exactly when particular evolutionary changes happened.

S. These difficulties mean that the dates in the timeline should be taken as approximate.

As a general rule, they become more uncertain the further back along the geological timescale we look meaning dates that are very uncertain are marked with a question mark.

Options :

1. ✘ QPSR
2. ✔ QPRS
3. ✘ QSPR
4. ✘ QSRP

Question Number : 134 Question Id : 6009298217 Question Type : MCQ Option Shuffling : Yes Is Question Mandatory : No Option Orientation : Vertical

Correct Marks : 1 Wrong Marks : 0.25

The question below consist of a set of labelled sentences. Out of four options given, select the most logical order of the sentences which form a paragraph.

There are all sorts of ways to reconstruct the history of life on Earth but pinning down when specific events occurred is often tricky.

P. There are problems with each of these methods.

Q. For this, biologists depend mainly on (1) dating the rocks in which fossils are found and (2) by looking at the “molecular clocks” in the DNA of living organisms.

R. The fossil record is like a movie with most of the frames cut out because it is so incomplete, it can be difficult to establish exactly when particular evolutionary changes happened.

S. These difficulties mean that the dates in the timeline should be taken as approximate.

As a general rule, they become more uncertain the further back along the geological timescale we look meaning dates that are very uncertain are marked with a question mark.

Options :

1. ✘ QPSR
2. ✔ QPRS
3. ✘ QSPR
4. ✘ QSRP

Question Number : 135 Question Id : 6009298218 Question Type : MCQ Option Shuffling : Yes Is Question Mandatory : No Option Orientation : Vertical

Correct Marks : 1 Wrong Marks : 0.25

Some parts of a sentence have been jumbled up, and labelled P, Q, R and S. Select the option that gives the correct sequence in which these parts can be rearranged to form a meaningful and grammatically correct sentence.

Born in a family

- P. with providing for
- Q. the youngest; and the
- R. household constantly struggled
- S. of eight, he was

all of them.

Options :

1. ✘ SPRQ
2. ✔ SQRP
3. ✘ SPQR
4. ✘ SRQP

Question Number : 135 Question Id : 6009298218 Question Type : MCQ Option Shuffling : Yes Is Question Mandatory : No Option Orientation : Vertical

Correct Marks : 1 Wrong Marks : 0.25

Some parts of a sentence have been jumbled up, and labelled P, Q, R and S. Select the option that gives the correct sequence in which these parts can be rearranged to form a meaningful and grammatically correct sentence.

Born in a family

- P. with providing for
- Q. the youngest; and the
- R. household constantly struggled
- S. of eight, he was

all of them.

Options :

- 1. ✘ SPRQ
- 2. ✔ SQRP
- 3. ✘ SPQR
- 4. ✘ SRQP

Question Number : 136 Question Id : 6009298219 Question Type : MCQ Option Shuffling : Yes Is Question Mandatory : No Option Orientation : Vertical

Correct Marks : 1 Wrong Marks : 0.25

Some parts of a sentence have been jumbled up, and labelled P, Q, R and S. Select the option that gives the correct sequence in which these parts can be rearranged to form a meaningful and grammatically correct sentence.

Belonging to a privileged class

- P. to overcome many
- Q. barriers that obstruct
- R. can help a woman
- S. women from less

thriving class.

Options :

- 1. ✔ RPQS
- 2. ✘ RSQP
- 3. ✘ RPSQ
- 4. ✘ RQPS

Question Number : 136 Question Id : 6009298219 Question Type : MCQ Option Shuffling : Yes Is Question Mandatory : No Option

Orientation : Vertical

Correct Marks : 1 Wrong Marks : 0.25

Some parts of a sentence have been jumbled up, and labelled P, Q, R and S. Select the option that gives the correct sequence in which these parts can be rearranged to form a meaningful and grammatically correct sentence.

Belonging to a privileged class

- P. to overcome many
- Q. barriers that obstruct
- R. can help a woman
- S. women from less

thriving class.

Options :

- 1. ✓ RPQS
- 2. ✗ RSQP
- 3. ✗ RPSQ
- 4. ✗ RQPS

Question Number : 137 Question Id : 6009298220 Question Type : MCQ Option Shuffling : Yes Is Question Mandatory : No Option

Orientation : Vertical

Correct Marks : 1 Wrong Marks : 0.25

The question below consist of a set of labelled sentences. Out of four options given, select the most logical order of the sentences which form a paragraph.

The year is 1960 and Frank Drake of the National Radio Astronomy Observatory (NRAO) in Green Bank, West Virginia undertakes the first attempt to find extra-terrestrial civilizations.

P. Within a year a meeting is hosted in Green Bank to explore the issue of extra-terrestrial intelligence.

Q. Frank Drake needed to come up with an agenda for the meeting in order to provide some structure to the discussion.

R. To serve as an agenda, he devises the Drake Equation.

S. Dubbed Project Ozma, for a period of 6 hours a day for four months the NRAO radio telescope listens for radio signals of intelligent origin but none are found.

Sometimes also known as the Sagan-Drake Equation, the meeting was attended by approximately a dozen interested parties.

Options :

1. ✓ SPQR
2. ✗ SRQP
3. ✗ SRPQ
4. ✗ SQRP

Question Number : 137 Question Id : 6009298220 Question Type : MCQ Option Shuffling : Yes Is Question Mandatory : No Option Orientation : Vertical

Correct Marks : 1 Wrong Marks : 0.25

The question below consist of a set of labelled sentences. Out of four options given, select the most logical order of the sentences which form a paragraph.

The year is 1960 and Frank Drake of the National Radio Astronomy Observatory (NRAO) in Green Bank, West Virginia undertakes the first attempt to find extra-terrestrial civilizations.

P. Within a year a meeting is hosted in Green Bank to explore the issue of extra-terrestrial intelligence.

Q. Frank Drake needed to come up with an agenda for the meeting in order to provide some structure to the discussion.

R. To serve as an agenda, he devises the Drake Equation.

S. Dubbed Project Ozma, for a period of 6 hours a day for four months the NRAO radio telescope listens for radio signals of intelligent origin but none are found.

Sometimes also known as the Sagan-Drake Equation, the meeting was attended by approximately a dozen interested parties.

Options :

1. ✓ SPQR
2. ✗ SRQP
3. ✗ SRPQ
4. ✗ SQRP

Question Number : 138 Question Id : 6009298221 Question Type : MCQ Option Shuffling : Yes Is Question Mandatory : No Option Orientation : Vertical

Correct Marks : 1 Wrong Marks : 0.25

Select the word that is closest in meaning (SYNONYM) to the word given below

Lascivious

Options :

1. ✘ Ascetic
2. ✘ Puritanical
3. ✔ Lecherous
4. ✘ Incumbent

Question Number : 138 Question Id : 6009298221 Question Type : MCQ Option Shuffling : Yes Is Question Mandatory : No Option Orientation : Vertical

Correct Marks : 1 Wrong Marks : 0.25

Select the word that is closest in meaning (SYNONYM) to the word given below

Lascivious

Options :

1. ✘ Ascetic
2. ✘ Puritanical
3. ✔ Lecherous
4. ✘ Incumbent

Question Number : 139 Question Id : 6009298222 Question Type : MCQ Option Shuffling : Yes Is Question Mandatory : No Option Orientation : Vertical

Correct Marks : 1 Wrong Marks : 0.25

Select the word that is opposite in meaning (ANTONYM) to the word given below

Embroided

Options :

1. ✘ Implicate
2. ✔ Pacify
3. ✘ Entangle
4. ✘ Disturb

Question Number : 139 Question Id : 6009298222 Question Type : MCQ Option Shuffling : Yes Is Question Mandatory : No Option Orientation : Vertical

Correct Marks : 1 Wrong Marks : 0.25

Select the word that is opposite in meaning (ANTONYM) to the word given below

Embroided

Options :

1. ✘ Implicate
2. ✔ Pacify
3. ✘ Entangle
4. ✘ Disturb

Question Number : 140 Question Id : 6009298223 Question Type : MCQ Option Shuffling : Yes Is Question Mandatory : No Option Orientation : Vertical

Correct Marks : 1 Wrong Marks : 0.25

Select the word that is closest in meaning (SYNONYM) to the word given below

Avarice

Options :

1. ✘ Insurance
2. ✘ Promise
3. ✔ Greed
4. ✘ Generosity

Question Number : 140 Question Id : 6009298223 Question Type : MCQ Option Shuffling : Yes Is Question Mandatory : No Option Orientation : Vertical

Correct Marks : 1 Wrong Marks : 0.25

Select the word that is closest in meaning (SYNONYM) to the word given below

Avarice

Options :

1. ✘ Insurance

2. ✘ Promise
3. ✔ Greed
4. ✘ Generosity

General English2

Group Number :	8
Group Id :	600929253
Group Maximum Duration :	0
Group Minimum Duration :	0
Show Attended Group? :	No
Edit Attended Group? :	No
Break time :	0
Group Marks :	20
Is this Group for Examiner? :	No

English Language & Comprehension2

Section Id :	600929399
Section Number :	1
Section type :	Online
Mandatory or Optional :	Mandatory
Number of Questions :	16
Number of Questions to be attempted :	16
Section Marks :	20
Enable Mark as Answered Mark for Review and Clear Response :	Yes
Sub-Section Number :	1
Sub-Section Id :	600929477
Question Shuffling Allowed :	Yes

Question Number : 141 Question Id : 6009298224 Question Type : MCQ Option Shuffling : Yes Is Question Mandatory : No Option Orientation : Vertical

Correct Marks : 1 Wrong Marks : 0.25

Select the word that is opposite in meaning (ANTONYM) to the word given below

Impecunious

Options :

1. ✘ Coward
2. ✘ Intelligent
3. ✘ Caring
4. ✔ Wealthy

Question Number : 141 Question Id : 6009298224 Question Type : MCQ Option Shuffling : Yes Is Question Mandatory : No Option Orientation : Vertical

Correct Marks : 1 Wrong Marks : 0.25

Select the word that is opposite in meaning (ANTONYM) to the word given below

Impecunious

Options :

1. ✘ Coward
2. ✘ Intelligent
3. ✘ Caring
4. ✔ Wealthy

Question Number : 142 Question Id : 6009298225 Question Type : MCQ Option Shuffling : Yes Is Question Mandatory : No Option Orientation : Vertical

Correct Marks : 1 Wrong Marks : 0.25

Select the word that is closest in meaning (SYNONYM) to the word given below

Underwrite

Options :

1. ✔ Sponsor
2. ✘ Reject
3. ✘ Twist
4. ✘ Loop

Question Number : 142 Question Id : 6009298225 Question Type : MCQ Option Shuffling : Yes Is Question Mandatory : No Option Orientation : Vertical

Correct Marks : 1 Wrong Marks : 0.25

Select the word that is closest in meaning (SYNONYM) to the word given below

Underwrite

Options :

1. ✓ Sponsor
2. ✗ Reject
3. ✗ Twist
4. ✗ Loop

Question Number : 143 Question Id : 6009298226 Question Type : MCQ Option Shuffling : Yes Is Question Mandatory : No Option Orientation : Vertical

Correct Marks : 1 Wrong Marks : 0.25

Four words are given, out of which only one word is spelt correctly. Choose the correctly spelt word.

Options :

1. ✓ Cinematograph
2. ✗ Cinematogarth
3. ✗ Cinematogprah
4. ✗ Cinematagraph

Question Number : 143 Question Id : 6009298226 Question Type : MCQ Option Shuffling : Yes Is Question Mandatory : No Option Orientation : Vertical

Correct Marks : 1 Wrong Marks : 0.25

Four words are given, out of which only one word is spelt correctly. Choose the correctly spelt word.

Options :

1. ✓ Cinematograph
2. ✗ Cinematogarth
3. ✗ Cinematogprah
4. ✗ Cinematagraph

Question Number : 144 Question Id : 6009298227 Question Type : MCQ Option Shuffling : Yes Is Question Mandatory : No Option Orientation : Vertical

Correct Marks : 1 Wrong Marks : 0.25

Four words are given, out of which only one word is spelt correctly. Choose the correctly spelt word.

Options :

1. ✘ Euphimism
2. ✔ Euphemism
3. ✘ Eupheism
4. ✘ Eufimism

Question Number : 144 Question Id : 6009298227 Question Type : MCQ Option Shuffling : Yes Is Question Mandatory : No Option Orientation : Vertical

Correct Marks : 1 Wrong Marks : 0.25

Four words are given, out of which only one word is spelt correctly. Choose the correctly spelt word.

Options :

1. ✘ Euphimism
2. ✔ Euphemism
3. ✘ Eupheism
4. ✘ Eufimism

Question Number : 145 Question Id : 6009298228 Question Type : MCQ Option Shuffling : Yes Is Question Mandatory : No Option Orientation : Vertical

Correct Marks : 1 Wrong Marks : 0.25

Four words are given, out of which only one word is spelt correctly. Choose the correctly spelt word.

Options :

1. ✔ Ephemeral
2. ✘ Ephemrial
3. ✘ Ephimeral
4. ✘ Ephemiral

Question Number : 145 Question Id : 6009298228 Question Type : MCQ Option Shuffling : Yes Is Question Mandatory : No Option

Orientation : Vertical

Correct Marks : 1 Wrong Marks : 0.25

Four words are given, out of which only one word is spelt correctly. Choose the correctly spelt word.

Options :

1. ✓ Ephemeral
2. ✗ Ephemrial
3. ✗ Ephimeral
4. ✗ Ephemiral

Question Number : 146 Question Id : 6009298229 Question Type : MCQ Option Shuffling : Yes Is Question Mandatory : No Option

Orientation : Vertical

Correct Marks : 1 Wrong Marks : 0.25

Four words are given, out of which only one word is spelt correctly. Choose the correctly spelt word.

Options :

1. ✗ Castegate
2. ✓ Castigate
3. ✗ Costigate
4. ✗ Costegate

Question Number : 146 Question Id : 6009298229 Question Type : MCQ Option Shuffling : Yes Is Question Mandatory : No Option

Orientation : Vertical

Correct Marks : 1 Wrong Marks : 0.25

Four words are given, out of which only one word is spelt correctly. Choose the correctly spelt word.

Options :

1. ✗ Castegate
2. ✓ Castigate
3. ✗ Costigate
4. ✗ Costegate

Question Number : 147 Question Id : 6009298230 Question Type : MCQ Option Shuffling : Yes Is Question Mandatory : No Option

Orientation : Vertical

Correct Marks : 1 Wrong Marks : 0.25

Select the most appropriate meaning of the given idiom

In the heat of the moment.

Options :

1. ✘ A competition where the outcome is difficult to judge or predict.
2. ✘ A two person conflict where both people are at fault.
3. ✔ Overwhelmed by what is happening in a given situation.
4. ✘ An aggressive and bold confrontation.

Question Number : 147 Question Id : 6009298230 Question Type : MCQ Option Shuffling : Yes Is Question Mandatory : No Option Orientation : Vertical

Correct Marks : 1 Wrong Marks : 0.25

Select the most appropriate meaning of the given idiom

In the heat of the moment.

Options :

1. ✘ A competition where the outcome is difficult to judge or predict.
2. ✘ A two person conflict where both people are at fault.
3. ✔ Overwhelmed by what is happening in a given situation.
4. ✘ An aggressive and bold confrontation.

Question Number : 148 Question Id : 6009298231 Question Type : MCQ Option Shuffling : Yes Is Question Mandatory : No Option Orientation : Vertical

Correct Marks : 1 Wrong Marks : 0.25

Select the most appropriate meaning of the given idiom

Hell in a handbasket.

Options :

1. ✘ To be easily successful in every goal set.
2. ✘ Do something or say something exactly right.
3. ✘ Living in Luxury.
4. ✔ Deteriorating and headed for complete disaster.

Question Number : 148 Question Id : 6009298231 Question Type : MCQ Option Shuffling : Yes Is Question Mandatory : No Option Orientation : Vertical

Correct Marks : 1 Wrong Marks : 0.25

Select the most appropriate meaning of the given idiom

Hell in a handbasket.

Options :

1. ✘ To be easily successful in every goal set.
2. ✘ Do something or say something exactly right.
3. ✘ Living in Luxury.
4. ✔ Deteriorating and headed for complete disaster.

Question Number : 149 Question Id : 6009298232 Question Type : MCQ Option Shuffling : Yes Is Question Mandatory : No Option Orientation : Vertical

Correct Marks : 1 Wrong Marks : 0.25

Select the most appropriate meaning of the given idiom

Great minds think alike.

Options :

1. ✘ Angry and overcome by emotions.
2. ✘ Someone who helps others when they are in need, with no thought of a reward.
3. ✔ Intelligent people think like each other.
4. ✘ A personal intuition you get, especially when feel something may not be right.

Question Number : 149 Question Id : 6009298232 Question Type : MCQ Option Shuffling : Yes Is Question Mandatory : No Option Orientation : Vertical

Correct Marks : 1 Wrong Marks : 0.25

Select the most appropriate meaning of the given idiom

Great minds think alike.

Options :

1. ✘ Angry and overcome by emotions.
2. ✘ Someone who helps others when they are in need, with no thought of a reward.

3. ✓ Intelligent people think like each other.
4. ✗ A personal intuition you get, especially when feel something may not be right.

Question Number : 150 Question Id : 6009298233 Question Type : MCQ Option Shuffling : Yes Is Question Mandatory : No Option Orientation : Vertical

Correct Marks : 1 Wrong Marks : 0.25

Select the most appropriate meaning of the given idiom

Go down like a lead balloon.

Options :

1. ✗ To escape from something.
2. ✓ To be received badly by an audience.
3. ✗ To gamble everything you have.
4. ✗ Going above and beyond whatever is required for the task at hand.

Question Number : 150 Question Id : 6009298233 Question Type : MCQ Option Shuffling : Yes Is Question Mandatory : No Option Orientation : Vertical

Correct Marks : 1 Wrong Marks : 0.25

Select the most appropriate meaning of the given idiom

Go down like a lead balloon.

Options :

1. ✗ To escape from something.
2. ✓ To be received badly by an audience.
3. ✗ To gamble everything you have.
4. ✗ Going above and beyond whatever is required for the task at hand.

Question Number : 151 Question Id : 6009298234 Question Type : MCQ Option Shuffling : Yes Is Question Mandatory : No Option Orientation : Vertical

Correct Marks : 1 Wrong Marks : 0.25

Select the most appropriate meaning of the given idiom

To turn the cover.

Options :

1. ✓ To pass the crisis.
2. ✗ To not be able move beyond something that is bothering you.
3. ✗ Someone who is having a horrible day.
4. ✗ Get fired from a job.

Question Number : 151 Question Id : 6009298234 Question Type : MCQ Option Shuffling : Yes Is Question Mandatory : No Option Orientation : Vertical

Correct Marks : 1 Wrong Marks : 0.25

Select the most appropriate meaning of the given idiom

To turn the cover.

Options :

1. ✓ To pass the crisis.
2. ✗ To not be able move beyond something that is bothering you.
3. ✗ Someone who is having a horrible day.
4. ✗ Get fired from a job.

Question Number : 152 Question Id : 6009298235 Question Type : MCQ Option Shuffling : Yes Is Question Mandatory : No Option Orientation : Vertical

Correct Marks : 1 Wrong Marks : 0.25

Select the most appropriate 'one word ' for the expression given below

Relating to or in a state of coma.

Options :

1. ✓ Comatose
2. ✗ Crustose
3. ✗ Fumettoes
4. ✗ Ketose

Question Number : 152 Question Id : 6009298235 Question Type : MCQ Option Shuffling : Yes Is Question Mandatory : No Option Orientation : Vertical

Correct Marks : 1 Wrong Marks : 0.25

Select the most appropriate 'one word ' for the expression given below

Relating to or in a state of coma.

Options :

1. ✓ Comatose
2. ✗ Crustose
3. ✗ Fumettoes
4. ✗ Ketose

Question Number : 153 Question Id : 6009298236 Question Type : MCQ Option Shuffling : Yes Is Question Mandatory : No Option Orientation : Vertical

Correct Marks : 1 Wrong Marks : 0.25

Select the most appropriate 'one word ' for the expression given below

Come together to form one mass or whole.

Options :

1. ✗ Recrudesce
2. ✗ Convalesce
3. ✗ Effervesce
4. ✓ Coalesce

Question Number : 153 Question Id : 6009298236 Question Type : MCQ Option Shuffling : Yes Is Question Mandatory : No Option Orientation : Vertical

Correct Marks : 1 Wrong Marks : 0.25

Select the most appropriate 'one word ' for the expression given below

Come together to form one mass or whole.

Options :

1. ✗ Recrudesce
2. ✗ Convalesce
3. ✗ Effervesce
4. ✓ Coalesce

Question Number : 154 Question Id : 6009298237 Question Type : MCQ Option Shuffling : Yes Is Question Mandatory : No Option Orientation : Vertical

Correct Marks : 1 Wrong Marks : 0.25

Select the most appropriate 'one word ' for the expression given below

A place where weapons are manufactured and stored.

Options :

1. ✘ Lineal
2. ✔ Arsenal
3. ✘ Pineal
4. ✘ Cuneal

Question Number : 154 Question Id : 6009298237 Question Type : MCQ Option Shuffling : Yes Is Question Mandatory : No Option Orientation : Vertical

Correct Marks : 1 Wrong Marks : 0.25

Select the most appropriate 'one word ' for the expression given below

A place where weapons are manufactured and stored.

Options :

1. ✘ Lineal
2. ✔ Arsenal
3. ✘ Pineal
4. ✘ Cuneal

Question Number : 155 Question Id : 6009298238 Question Type : MCQ Option Shuffling : Yes Is Question Mandatory : No Option Orientation : Vertical

Correct Marks : 1 Wrong Marks : 0.25

Select the most appropriate 'one word ' for the expression given below

Living or often found in trees.

Options :

1. ✘ Corporeal
2. ✘ Boreal

3. ✘ Areal
4. ✔ Arboreal

Question Number : 155 Question Id : 6009298238 Question Type : MCQ Option Shuffling : Yes Is Question Mandatory : No Option Orientation : Vertical

Correct Marks : 1 Wrong Marks : 0.25

Select the most appropriate 'one word ' for the expression given below

Living or often found in trees.

Options :

1. ✘ Corporeal
2. ✘ Boreal
3. ✘ Areal
4. ✔ Arboreal

Sub-Section Number :

2

Sub-Section Id :

600929478

Question Shuffling Allowed :

Yes

Question Id : 6009298239 Question Type : COMPREHENSION Sub Question Shuffling Allowed : Yes Group Comprehension Questions : No

Question Numbers : (156 to 160)

A passage is given with 5 questions following it. Read the passage carefully and choose the best answer to each question out of the four alternatives

Before Williams wrote Streetcar, the theatre had been dominated by melodrama. A brief interlude in the 1930s brought political theatre to centre stage, but by the 1940s, its principal playwright, Clifford Odets, had left New York for Hollywood, and the sensationalized and maudlin form of melodrama once again flourished. The theatre was in limbo, and Williams had a desire to bring something new to the world. It would bring the realism of the political theatre of the 1930s but without the political underpinnings. To that end, he created lifelike characters who spoke in realistic dialect.

But to make his point that melodrama was flawed, he added an equally unrealistic character. Blanche, unlike the other characters, speaks theatrically, acts larger than life on stage, and uses floral language and heightened mannerisms. Blanche Dubois is a character not to be trusted. She lies about everything, and the only thing that finally exposes her lies is reality itself: Stanley Kowalski. He finally forces her off the stage and into the insane asylum by forcing himself on her physically. And with that, realism forcibly removed melodrama from the stage.

Sub questions

Question Number : 156 Question Id : 6009298240 Question Type : MCQ Option Shuffling : Yes Is Question Mandatory : No Option Orientation : Vertical

Correct Marks : 1 Wrong Marks : 0.25

According to the passage, what was the predominant genre of theatre before Streetcar was written?

Options :

1. ✘ Comedy
2. ✘ Tragedy
3. ✘ Drama
4. ✔ Melodrama

Question Number : 157 Question Id : 6009298241 Question Type : MCQ Option Shuffling : Yes Is Question Mandatory : No Option Orientation : Vertical

Correct Marks : 1 Wrong Marks : 0.25

According to the passage, on whose departure from theatre, brought back melodrama to its former glory?

Options :

1. ✔ Odets
2. ✘ Williams
3. ✘ Dubois
4. ✘ Kowalski

Question Number : 158 Question Id : 6009298242 Question Type : MCQ Option Shuffling : Yes Is Question Mandatory : No Option Orientation : Vertical

Correct Marks : 1 Wrong Marks : 0.25

Who is the character that Williams talks about as being as unrealistic as a melodrama character?

Options :

1. ✘ Stanley
2. ✘ Clifford
3. ✔ Blanche
4. ✘ Alice

Question Number : 159 Question Id : 6009298243 Question Type : MCQ Option Shuffling : Yes Is Question Mandatory : No Option Orientation : Vertical

Correct Marks : 1 Wrong Marks : 0.25

According to the passage which of the following given statement is incorrect?

Options :

1. ✘ Clifford Odets was the principle playwright who brought in political theatre into the limelight during the 1930's to 1940's.
2. ✘ The reason behind Williams writing Streetcar was because he wanted to show the flaws of melodrama by bringing something new.
3. ✘ Blanche Dubois is portrayed as the unrealistic character who can be compared with that of melodrama.
4. ✔ Williams wanted to bring back the realistic political theatre, like the one Odets had started in the 1930s.

Question Number : 160 Question Id : 6009298244 Question Type : MCQ Option Shuffling : Yes Is Question Mandatory : No Option Orientation : Vertical

Correct Marks : 1 Wrong Marks : 0.25

According to the passage, what does the line “realism forcibly removed melodrama from the stage” lays its reference to?

Options :

1. ✔ The literal representation of Stanley's physically exertion to force Blanche off the stage and into the mental asylum.
2. ✘ The figurative representation of Stanley's physically exertion to force Blanche off the stage and into the mental asylum.
3. ✘ To show that the play marked the end of the melodramatic era.
4. ✘ To show Blanche's flaw as a representation of melodrama.

Question Id : 6009298239 Question Type : COMPREHENSION Sub Question Shuffling Allowed : Yes Group Comprehension Questions : No

Question Numbers : (156 to 160)

A passage is given with 5 questions following it. Read the passage carefully and choose the best answer to each question out of the four alternatives

Before Williams wrote Streetcar, the theatre had been dominated by melodrama. A brief interlude in the 1930s brought political theatre to centre stage, but by the 1940s, its principal playwright, Clifford Odets, had left New York for Hollywood, and the sensationalized and maudlin form of melodrama once again flourished. The theatre was in limbo, and Williams had a desire to bring something new to the world. It would bring the realism of the political theatre of the 1930s but without the political underpinnings. To that end, he created lifelike characters who spoke in realistic dialect.

But to make his point that melodrama was flawed, he added an equally unrealistic character. Blanche, unlike the other characters, speaks theatrically, acts larger than life on stage, and uses floral language and heightened mannerisms. Blanche Dubois is a character not to be trusted. She lies about everything, and the only thing that finally exposes her lies is reality itself: Stanley Kowalski. He finally forces her off the stage and into the insane asylum by forcing himself on her physically. And with that, realism forcibly removed melodrama from the stage.

Sub questions

Question Number : 156 Question Id : 6009298240 Question Type : MCQ Option Shuffling : Yes Is Question Mandatory : No Option

Orientation : Vertical

Correct Marks : 1 Wrong Marks : 0.25

According to the passage, what was the predominant genre of theatre before Streetcar was written?

Options :

1. ✘ Comedy
2. ✘ Tragedy
3. ✘ Drama
4. ✔ Melodrama

Question Number : 157 Question Id : 6009298241 Question Type : MCQ Option Shuffling : Yes Is Question Mandatory : No Option

Orientation : Vertical

Correct Marks : 1 Wrong Marks : 0.25

According to the passage, on whose departure from theatre, brought back melodrama to its former glory?

Options :

1. ✔ Odets
2. ✘ Williams
3. ✘ Dubois
4. ✘ Kowalski

Question Number : 158 Question Id : 6009298242 Question Type : MCQ Option Shuffling : Yes Is Question Mandatory : No Option

Orientation : Vertical

Correct Marks : 1 Wrong Marks : 0.25

Who is the character that Williams talks about as being as unrealistic as a melodrama character?

Options :

1. ✘ Stanley
2. ✘ Clifford
3. ✔ Blanche
4. ✘ Alice

Question Number : 159 Question Id : 6009298243 Question Type : MCQ Option Shuffling : Yes Is Question Mandatory : No Option

Orientation : Vertical

Correct Marks : 1 Wrong Marks : 0.25

According to the passage which of the following given statement is incorrect?

Options :

1. ✘ Clifford Odets was the principle playwright who brought in political theatre into the limelight during the 1930's to 1940's.
2. ✘ The reason behind Williams writing Streetcar was because he wanted to show the flaws of melodrama by bringing something new.
3. ✘ Blanche Dubois is portrayed as the unrealistic character who can be compared with that of melodrama.
4. ✔ Williams wanted to bring back the realistic political theatre, like the one Odets had started in the 1930s.

Question Number : 160 Question Id : 6009298244 Question Type : MCQ Option Shuffling : Yes Is Question Mandatory : No Option Orientation : Vertical

Correct Marks : 1 Wrong Marks : 0.25

According to the passage, what does the line “realism forcibly removed melodrama from the stage” lays its reference to?

Options :

1. ✔ The literal representation of Stanley's physical exertion to force Blanche off the stage and into the mental asylum.
2. ✘ The figurative representation of Stanley's physical exertion to force Blanche off the stage and into the mental asylum.
3. ✘ To show that the play marked the end of the melodramatic era.
4. ✘ To show Blanche's flaw as a representation of melodrama.

General Hindi1

Group Number :	9
Group Id :	600929254
Group Maximum Duration :	0
Group Minimum Duration :	0
Show Attended Group? :	No
Edit Attended Group? :	No
Break time :	0
Group Marks :	20
Is this Group for Examiner? :	No

Hindi Language & Comprehension1

Section Id :	600929400
Section Number :	1

Section type :	Online
Mandatory or Optional :	Mandatory
Number of Questions :	20
Number of Questions to be attempted :	20
Section Marks :	20
Enable Mark as Answered Mark for Review and Clear Response :	Yes
Sub-Section Number :	1
Sub-Section Id :	600929479
Question Shuffling Allowed :	Yes

Question Number : 161 Question Id : 6009298245 Question Type : MCQ Option Shuffling : Yes Is Question Mandatory : No Option Orientation : Vertical

Correct Marks : 1 Wrong Marks : 0.25

निम्नलिखित प्रश्न में, चार विकल्पों में से, उस विकल्प का चयन करें जो क्रिया के भेद वाला सही विकल्प हो।
सुनार नौकरों से सामान भिजवाता है।

Options :

1. ✘ पूर्वकालिक क्रिया
2. ✔ प्रेरणार्थक क्रिया
3. ✘ नामधातु क्रिया
4. ✘ संयुक्त क्रिया

Question Number : 161 Question Id : 6009298245 Question Type : MCQ Option Shuffling : Yes Is Question Mandatory : No Option Orientation : Vertical

Correct Marks : 1 Wrong Marks : 0.25

निम्नलिखित प्रश्न में, चार विकल्पों में से, उस विकल्प का चयन करें जो क्रिया के भेद वाला सही विकल्प हो।
सुनार नौकरों से सामान भिजवाता है।

Options :

1. ✘ पूर्वकालिक क्रिया
2. ✔ प्रेरणार्थक क्रिया
3. ✘ नामधातु क्रिया
4. ✘ संयुक्त क्रिया

Question Number : 162 Question Id : 6009298246 Question Type : MCQ Option Shuffling : Yes Is Question Mandatory : No Option

Orientation : Vertical

Correct Marks : 1 Wrong Marks : 0.25

निम्नलिखित प्रश्न में, चार विकल्पों में से, उस विकल्प का चयन करें जो कोष्ठक में दिए गए शब्द के अनुसार दिए गए वाक्य के लिए अव्यय के भेद का सही विकल्प हो।

बबिता ने बहुत मेहनत की (फिर भी) सफल नहीं हुई।

Options :

1. ✘ निपात
2. ✔ समुच्चयबोधक अव्यय
3. ✘ विस्मयादिबोधक अव्यय
4. ✘ संबंधबोधक अव्यय

Question Number : 162 Question Id : 6009298246 Question Type : MCQ Option Shuffling : Yes Is Question Mandatory : No Option

Orientation : Vertical

Correct Marks : 1 Wrong Marks : 0.25

निम्नलिखित प्रश्न में, चार विकल्पों में से, उस विकल्प का चयन करें जो कोष्ठक में दिए गए शब्द के अनुसार दिए गए वाक्य के लिए अव्यय के भेद का सही विकल्प हो।

बबिता ने बहुत मेहनत की (फिर भी) सफल नहीं हुई।

Options :

1. ✘ निपात
2. ✔ समुच्चयबोधक अव्यय
3. ✘ विस्मयादिबोधक अव्यय
4. ✘ संबंधबोधक अव्यय

Question Number : 163 Question Id : 6009298247 Question Type : MCQ Option Shuffling : Yes Is Question Mandatory : No Option

Orientation : Vertical

Correct Marks : 1 Wrong Marks : 0.25

निम्नलिखित प्रश्न में, चार विकल्पों में से, उस विकल्प का चयन करें जो भाववाचक संज्ञा का सही विकल्प नहीं है।

Options :

1. ✘ शीतलता
2. ✔ बड़ा
3. ✘ खटास

4. ✖ शैतानियत

Question Number : 163 Question Id : 6009298247 Question Type : MCQ Option Shuffling : Yes Is Question Mandatory : No Option Orientation : Vertical

Correct Marks : 1 Wrong Marks : 0.25

निम्नलिखित प्रश्न में, चार विकल्पों में से, उस विकल्प का चयन करें जो भाववाचक संज्ञा का सही विकल्प नहीं है।

Options :

1. ✖ शीतलता
2. ✔ बड़ा
3. ✖ खटास
4. ✖ शैतानियत

Question Number : 164 Question Id : 6009298248 Question Type : MCQ Option Shuffling : Yes Is Question Mandatory : No Option Orientation : Vertical

Correct Marks : 1 Wrong Marks : 0.25

निम्नलिखित प्रश्न में, चार विकल्पों में से, उस विकल्प का चयन करें जो सर्वनाम के भेद का सही विकल्प हो।
तुम क्या खा रहे हो?

Options :

1. ✔ प्रश्नवाचक
2. ✖ निश्चयवाचक
3. ✖ संबंधवाचक
4. ✖ अनिश्चयवाचक

Question Number : 164 Question Id : 6009298248 Question Type : MCQ Option Shuffling : Yes Is Question Mandatory : No Option Orientation : Vertical

Correct Marks : 1 Wrong Marks : 0.25

निम्नलिखित प्रश्न में, चार विकल्पों में से, उस विकल्प का चयन करें जो सर्वनाम के भेद का सही विकल्प हो।
तुम क्या खा रहे हो?

Options :

1. ✔ प्रश्नवाचक
2. ✖ निश्चयवाचक

3. ✖ संबंधवाचक
4. ✖ अनिश्चयवाचक

Question Number : 165 Question Id : 6009298249 Question Type : MCQ Option Shuffling : Yes Is Question Mandatory : No Option Orientation : Vertical

Correct Marks : 1 Wrong Marks : 0.25

निम्नलिखित प्रश्न में, चार विकल्पों में से, उस विकल्प का चयन करें जो कोष्ठक में दिए गए शब्द के अनुसार विशेषण के भेद वाला विकल्प हो।
मेरे मित्र के (दूसरी) लड़की का विवाह है।

Options :

1. ✖ समुच्चय बोधक
2. ✖ सार्वनामिक
3. ✔ निश्चित संख्यावाचक
4. ✖ गुणवाचक

Question Number : 165 Question Id : 6009298249 Question Type : MCQ Option Shuffling : Yes Is Question Mandatory : No Option Orientation : Vertical

Correct Marks : 1 Wrong Marks : 0.25

निम्नलिखित प्रश्न में, चार विकल्पों में से, उस विकल्प का चयन करें जो कोष्ठक में दिए गए शब्द के अनुसार विशेषण के भेद वाला विकल्प हो।
मेरे मित्र के (दूसरी) लड़की का विवाह है।

Options :

1. ✖ समुच्चय बोधक
2. ✖ सार्वनामिक
3. ✔ निश्चित संख्यावाचक
4. ✖ गुणवाचक

Question Number : 166 Question Id : 6009298250 Question Type : MCQ Option Shuffling : Yes Is Question Mandatory : No Option Orientation : Vertical

Correct Marks : 1 Wrong Marks : 0.25

निम्नलिखित प्रश्न में, चार विकल्पों में से, उस विकल्प का चयन करें जो देशज शब्द का सही विकल्प हो।

Options :

1. ✖ हिम्मत

2. ✘ उम्र
3. ✔ बक-बक
4. ✘ चिराग

Question Number : 166 Question Id : 6009298250 Question Type : MCQ Option Shuffling : Yes Is Question Mandatory : No Option Orientation : Vertical

Correct Marks : 1 Wrong Marks : 0.25

निम्नलिखित प्रश्न में, चार विकल्पों में से, उस विकल्प का चयन करें जो देशज शब्द का सही विकल्प हो।

Options :

1. ✘ हिम्मत
2. ✘ उम्र
3. ✔ बक-बक
4. ✘ चिराग

Question Number : 167 Question Id : 6009298251 Question Type : MCQ Option Shuffling : Yes Is Question Mandatory : No Option Orientation : Vertical

Correct Marks : 1 Wrong Marks : 0.25

निम्नलिखित प्रश्न में, चार विकल्पों में से, उस विकल्प का चयन करें जो दिए गए शब्द के लिए सही बहुब्रीहि समास के विग्रह का विकल्प हो। अनहोनी

Options :

1. ✔ न होने वाली घटना
2. ✘ होने वाली घटना
3. ✘ सब कुछ होना
4. ✘ घटने वाली

Question Number : 167 Question Id : 6009298251 Question Type : MCQ Option Shuffling : Yes Is Question Mandatory : No Option Orientation : Vertical

Correct Marks : 1 Wrong Marks : 0.25

निम्नलिखित प्रश्न में, चार विकल्पों में से, उस विकल्प का चयन करें जो दिए गए शब्द के लिए सही बहुब्रीहि समास के विग्रह का विकल्प हो। अनहोनी

Options :

1. ✓ न होने वाली घटना
2. ✗ होने वाली घटना
3. ✗ सब कुछ होना
4. ✗ घटने वाली

Question Number : 168 Question Id : 6009298252 Question Type : MCQ Option Shuffling : Yes Is Question Mandatory : No Option Orientation : Vertical

Correct Marks : 1 Wrong Marks : 0.25

निम्नलिखित प्रश्न में, चार विकल्पों में से, उस विकल्प का चयन करें जो दिए गए शब्द का तद्भव रूप हो।
प्रस्वेद

Options :

1. ✗ परसों
2. ✓ पसीना
3. ✗ पदम्
4. ✗ पिय

Question Number : 168 Question Id : 6009298252 Question Type : MCQ Option Shuffling : Yes Is Question Mandatory : No Option Orientation : Vertical

Correct Marks : 1 Wrong Marks : 0.25

निम्नलिखित प्रश्न में, चार विकल्पों में से, उस विकल्प का चयन करें जो दिए गए शब्द का तद्भव रूप हो।
प्रस्वेद

Options :

1. ✗ परसों
2. ✓ पसीना
3. ✗ पदम्
4. ✗ पिय

Question Number : 169 Question Id : 6009298253 Question Type : MCQ Option Shuffling : Yes Is Question Mandatory : No Option Orientation : Vertical

Correct Marks : 1 Wrong Marks : 0.25

निम्नलिखित प्रश्न में, चार विकल्पों में से, उस विकल्प का चयन करें जो दिए गए सही संधि विच्छेद की संधि का सही विकल्प हो।

परम + अर्थ

Options :

1. ✓ परमार्थ
2. ✗ परमाअर्थ
3. ✗ परमअर्थ
4. ✗ परमारथ

Question Number : 169 Question Id : 6009298253 Question Type : MCQ Option Shuffling : Yes Is Question Mandatory : No Option Orientation : Vertical

Correct Marks : 1 Wrong Marks : 0.25

निम्नलिखित प्रश्न में, चार विकल्पों में से, उस विकल्प का चयन करें जो दिए गए सही संधि विच्छेद की संधि का सही विकल्प हो।

परम + अर्थ

Options :

1. ✓ परमार्थ
2. ✗ परमाअर्थ
3. ✗ परमअर्थ
4. ✗ परमारथ

Question Number : 170 Question Id : 6009298254 Question Type : MCQ Option Shuffling : Yes Is Question Mandatory : No Option Orientation : Vertical

Correct Marks : 1 Wrong Marks : 0.25

निम्नलिखित प्रश्न में, चार विकल्पों में से, उस विकल्प का चयन करें जो दिए गए शब्द के पर्यायवाची शब्द का सही विकल्प नहीं है।

सम

Options :

1. ✗ समस्त
2. ✗ समग्र
3. ✓ निकट
4. ✗ अखिल

Question Number : 170 Question Id : 6009298254 Question Type : MCQ Option Shuffling : Yes Is Question Mandatory : No Option Orientation : Vertical

Correct Marks : 1 Wrong Marks : 0.25

निम्नलिखित प्रश्न में, चार विकल्पों में से, उस विकल्प का चयन करें जो दिए गए शब्द के पर्यायवाची शब्द का सही विकल्प नहीं है।
सम

Options :

1. ✘ समस्त
2. ✘ समग्र
3. ✔ निकट
4. ✘ अखिल

Question Number : 171 Question Id : 6009298255 Question Type : MCQ Option Shuffling : Yes Is Question Mandatory : No Option Orientation : Vertical

Correct Marks : 1 Wrong Marks : 0.25

निम्नलिखित प्रश्न में, चार विकल्पों में से, उस विकल्प का चयन करें जो विलोम शब्द का सबसे अच्छा विकल्प है।

अधम

Options :

1. ✘ सत्य
2. ✘ सुगम
3. ✘ मर्त्य
4. ✔ उत्तम

Question Number : 171 Question Id : 6009298255 Question Type : MCQ Option Shuffling : Yes Is Question Mandatory : No Option Orientation : Vertical

Correct Marks : 1 Wrong Marks : 0.25

निम्नलिखित प्रश्न में, चार विकल्पों में से, उस विकल्प का चयन करें जो विलोम शब्द का सबसे अच्छा विकल्प है।

अधम

Options :

1. ✘ सत्य
2. ✘ सुगम
3. ✘ मर्त्य
4. ✔ उत्तम

Question Number : 172 Question Id : 6009298256 Question Type : MCQ Option Shuffling : Yes Is Question Mandatory : No Option Orientation : Vertical

Correct Marks : 1 Wrong Marks : 0.25

निम्नलिखित प्रश्न में, चार विकल्पों में से, उस सही विकल्प का चयन करें जो वाक्यांशों के लिए एक शब्द का विकल्प हो।
जिसका ध्यान एक स्थान पर हो

Options :

1. ✘ शैव
2. ✘ गेय
3. ✔ एकाग्र
4. ✘ पारित

Question Number : 172 Question Id : 6009298256 Question Type : MCQ Option Shuffling : Yes Is Question Mandatory : No Option Orientation : Vertical

Correct Marks : 1 Wrong Marks : 0.25

निम्नलिखित प्रश्न में, चार विकल्पों में से, उस सही विकल्प का चयन करें जो वाक्यांशों के लिए एक शब्द का विकल्प हो।
जिसका ध्यान एक स्थान पर हो

Options :

1. ✘ शैव
2. ✘ गेय
3. ✔ एकाग्र
4. ✘ पारित

Question Number : 173 Question Id : 6009298257 Question Type : MCQ Option Shuffling : Yes Is Question Mandatory : No Option Orientation : Vertical

Correct Marks : 1 Wrong Marks : 0.25

निम्नलिखित प्रश्न में, चार विकल्पों में से, उस सही विकल्प का चयन करें जो दिए गए शब्द के सही अर्थ का उचित विकल्प न हो।
आनन

Options :

1. ✘ चेहरा
2. ✔ शास्त्र

3. ✖ मुख
4. ✖ मुखड़ा

Question Number : 173 Question Id : 6009298257 Question Type : MCQ Option Shuffling : Yes Is Question Mandatory : No Option Orientation : Vertical

Correct Marks : 1 Wrong Marks : 0.25

निम्नलिखित प्रश्न में, चार विकल्पों में से, उस सही विकल्प का चयन करें जो दिए गए शब्द के सही अर्थ का उचित विकल्प न हो।
आनन

Options :

1. ✖ चेहरा
2. ✔ शास्त्र
3. ✖ मुख
4. ✖ मुखड़ा

Question Number : 174 Question Id : 6009298258 Question Type : MCQ Option Shuffling : Yes Is Question Mandatory : No Option Orientation : Vertical

Correct Marks : 1 Wrong Marks : 0.25

निम्नलिखित प्रश्न में, चार विकल्पों में से, उस सही विकल्प का चयन करें जो रिक्त स्थान के लिए उपयुक्त शब्द का सही विकल्प है।
राष्ट्रीय एकता, वीरता और बलिदान के कार्यों को _____ देती है।

Options :

1. ✔ बढ़ावा
2. ✖ प्रस्तुति
3. ✖ ललकार
4. ✖ प्रेरित

Question Number : 174 Question Id : 6009298258 Question Type : MCQ Option Shuffling : Yes Is Question Mandatory : No Option Orientation : Vertical

Correct Marks : 1 Wrong Marks : 0.25

निम्नलिखित प्रश्न में, चार विकल्पों में से, उस सही विकल्प का चयन करें जो रिक्त स्थान के लिए उपयुक्त शब्द का सही विकल्प है।
राष्ट्रीय एकता, वीरता और बलिदान के कार्यों को _____ देती है।

Options :

1. ✓ बढ़ावा
2. ✗ प्रस्तुति
3. ✗ ललकार
4. ✗ प्रेरित

Question Number : 175 Question Id : 6009298259 Question Type : MCQ Option Shuffling : Yes Is Question Mandatory : No Option Orientation : Vertical

Correct Marks : 1 Wrong Marks : 0.25

निम्नलिखित प्रश्न में, चार विकल्पों में से, उस विकल्प का चयन करें जो शुद्ध शब्द का सही विकल्प है।

Options :

1. ✗ टीप्पडी
2. ✗ टिप्पड़ी
3. ✓ टिप्पणी
4. ✗ टिपणी

Question Number : 175 Question Id : 6009298259 Question Type : MCQ Option Shuffling : Yes Is Question Mandatory : No Option Orientation : Vertical

Correct Marks : 1 Wrong Marks : 0.25

निम्नलिखित प्रश्न में, चार विकल्पों में से, उस विकल्प का चयन करें जो शुद्ध शब्द का सही विकल्प है।

Options :

1. ✗ टीप्पडी
2. ✗ टिप्पड़ी
3. ✓ टिप्पणी
4. ✗ टिपणी

Question Number : 176 Question Id : 6009298260 Question Type : MCQ Option Shuffling : Yes Is Question Mandatory : No Option Orientation : Vertical

Correct Marks : 1 Wrong Marks : 0.25

निम्नलिखित प्रश्न में, चार विकल्पों में से, उस विकल्प का चयन करें जो शुद्ध शब्द का सही विकल्प है।

Options :

1. ✗ एच्छिक

2. ✘ ऐच्चिक
3. ✔ ऐच्छिक
4. ✘ ऐच्चीक

Question Number : 176 Question Id : 6009298260 Question Type : MCQ Option Shuffling : Yes Is Question Mandatory : No Option Orientation : Vertical

Correct Marks : 1 Wrong Marks : 0.25

निम्नलिखित प्रश्न में, चार विकल्पों में से, उस विकल्प का चयन करें जो शुद्ध शब्द का सही विकल्प है।

Options :

1. ✘ एच्छिक
2. ✘ ऐच्चिक
3. ✔ ऐच्छिक
4. ✘ ऐच्चीक

Question Number : 177 Question Id : 6009298261 Question Type : MCQ Option Shuffling : Yes Is Question Mandatory : No Option Orientation : Vertical

Correct Marks : 1 Wrong Marks : 0.25

निम्नलिखित प्रश्न में, चार विकल्पों में से, उस विकल्प का चयन करें जो दिए गए शब्द के समानार्थी शब्द का विकल्प नहीं है।
ज्ञानी -

Options :

1. ✘ सुविज्ञ
2. ✘ आलिम
3. ✘ विवेकी
4. ✔ चल

Question Number : 177 Question Id : 6009298261 Question Type : MCQ Option Shuffling : Yes Is Question Mandatory : No Option Orientation : Vertical

Correct Marks : 1 Wrong Marks : 0.25

निम्नलिखित प्रश्न में, चार विकल्पों में से, उस विकल्प का चयन करें जो दिए गए शब्द के समानार्थी शब्द का विकल्प नहीं है।
ज्ञानी -

Options :

1. ✘ सुविज्ञ
2. ✘ आलिम
3. ✘ विवेकी
4. ✔ चल

Question Number : 178 Question Id : 6009298262 Question Type : MCQ Option Shuffling : Yes Is Question Mandatory : No Option Orientation : Vertical

Correct Marks : 1 Wrong Marks : 0.25

निम्नलिखित प्रश्न में, चार विकल्पों में से, उस सही विकल्प का चयन करें जो दिए गए शब्द-युग्म के अर्थ का सही विकल्प हो।
संदेह और सदेह

Options :

1. ✘ शक और समिति
2. ✘ शक और सुन्दर
3. ✔ शक और देह के साथ
4. ✘ देह और आदमी

Question Number : 178 Question Id : 6009298262 Question Type : MCQ Option Shuffling : Yes Is Question Mandatory : No Option Orientation : Vertical

Correct Marks : 1 Wrong Marks : 0.25

निम्नलिखित प्रश्न में, चार विकल्पों में से, उस सही विकल्प का चयन करें जो दिए गए शब्द-युग्म के अर्थ का सही विकल्प हो।
संदेह और सदेह

Options :

1. ✘ शक और समिति
2. ✘ शक और सुन्दर
3. ✔ शक और देह के साथ
4. ✘ देह और आदमी

Question Number : 179 Question Id : 6009298263 Question Type : MCQ Option Shuffling : Yes Is Question Mandatory : No Option Orientation : Vertical

Correct Marks : 1 Wrong Marks : 0.25

निम्नलिखित प्रश्न में, चार विकल्पों में से, उस विकल्प का चयन करें जो सदैव स्त्रीलिंग रूप वाला विकल्प नहीं है।

Options :

1. ✘ नसीहत
2. ✔ लोभ
3. ✘ लगाम
4. ✘ चमक

Question Number : 179 Question Id : 6009298263 Question Type : MCQ Option Shuffling : Yes Is Question Mandatory : No Option Orientation : Vertical

Correct Marks : 1 Wrong Marks : 0.25

निम्नलिखित प्रश्न में, चार विकल्पों में से, उस विकल्प का चयन करें जो सदैव स्त्रीलिंग रूप वाला विकल्प नहीं है।

Options :

1. ✘ नसीहत
2. ✔ लोभ
3. ✘ लगाम
4. ✘ चमक

Question Number : 180 Question Id : 6009298264 Question Type : MCQ Option Shuffling : Yes Is Question Mandatory : No Option Orientation : Vertical

Correct Marks : 1 Wrong Marks : 0.25

निम्नलिखित प्रश्न में, चार विकल्पों में से, उस विकल्प का चयन करें जो दिए गए शब्द के स्त्रीलिंग रूप वाला विकल्प है।

ठाकुर

Options :

1. ✔ ठकुराइन
2. ✘ ठाकुरिन
3. ✘ ठकुरी
4. ✘ ठाकुरी

Question Number : 180 Question Id : 6009298264 Question Type : MCQ Option Shuffling : Yes Is Question Mandatory : No Option Orientation : Vertical

Correct Marks : 1 Wrong Marks : 0.25

निम्नलिखित प्रश्न में, चार विकल्पों में से, उस विकल्प का चयन करें जो दिए गए शब्द के स्त्रीलिंग रूप वाला विकल्प है।
ठाकुर

Options :

1. ✓ ठकुराइन
2. ✗ ठाकुरिन
3. ✗ ठकुरी
4. ✗ ठाकुरी

General Hindi2

Group Number :	10
Group Id :	600929255
Group Maximum Duration :	0
Group Minimum Duration :	120
Show Attended Group? :	No
Edit Attended Group? :	No
Break time :	0
Group Marks :	20
Is this Group for Examiner? :	No

Hindi Language & Comprehension2

Section Id :	600929401
Section Number :	1
Section type :	Online
Mandatory or Optional :	Mandatory
Number of Questions :	16
Number of Questions to be attempted :	16
Section Marks :	20
Enable Mark as Answered Mark for Review and Clear Response :	Yes
Sub-Section Number :	1

Sub-Section Id :

600929480

Question Shuffling Allowed :

Yes

Question Number : 181 Question Id : 6009298265 Question Type : MCQ Option Shuffling : Yes Is Question Mandatory : No Option Orientation : Vertical

Correct Marks : 1 Wrong Marks : 0.25

निम्नलिखित प्रश्न में, चार विकल्पों में से, उस विकल्प का चयन करें जो कोष्ठक में दिए गए शब्द के अनुसार अन्य पुरुष वाचक सर्वनाम का सबसे अच्छा विकल्प है।

Options :

- ✘ (आप) जल्द से जल्द अस्पताल जाइए।
- ✔ (इनका) कहना मानना हमारा कर्तव्य है।
- ✘ (मेरा) पता आपको किसने बताया?
- ✘ (मैं) अन्याय होते देख नहीं सकता।

Question Number : 181 Question Id : 6009298265 Question Type : MCQ Option Shuffling : Yes Is Question Mandatory : No Option Orientation : Vertical

Correct Marks : 1 Wrong Marks : 0.25

निम्नलिखित प्रश्न में, चार विकल्पों में से, उस विकल्प का चयन करें जो कोष्ठक में दिए गए शब्द के अनुसार अन्य पुरुष वाचक सर्वनाम का सबसे अच्छा विकल्प है।

Options :

- ✘ (आप) जल्द से जल्द अस्पताल जाइए।
- ✔ (इनका) कहना मानना हमारा कर्तव्य है।
- ✘ (मेरा) पता आपको किसने बताया?
- ✘ (मैं) अन्याय होते देख नहीं सकता।

Question Number : 182 Question Id : 6009298266 Question Type : MCQ Option Shuffling : Yes Is Question Mandatory : No Option Orientation : Vertical

Correct Marks : 1 Wrong Marks : 0.25

निम्नलिखित प्रश्न में, चार विकल्पों में से, उस विकल्प का चयन करें जो दिए गए वाक्य के काल का सही विकल्प हो। वह सामान लाता तो मैं खाना बनता।

Options :

- ✘ संभाव्य वर्तमानकाल

2. ✘ संभाव्य भविष्यकाल
3. ✔ हेतुहेतुमद भूतकाल
4. ✘ आसन्न भूतकाल

Question Number : 182 Question Id : 6009298266 Question Type : MCQ Option Shuffling : Yes Is Question Mandatory : No Option Orientation : Vertical

Correct Marks : 1 Wrong Marks : 0.25

निम्नलिखित प्रश्न में, चार विकल्पों में से, उस विकल्प का चयन करें जो दिए गए वाक्य के काल का सही विकल्प हो। वह सामान लाता तो मैं खाना बनाता।

Options :

1. ✘ संभाव्य वर्तमानकाल
2. ✘ संभाव्य भविष्यकाल
3. ✔ हेतुहेतुमद भूतकाल
4. ✘ आसन्न भूतकाल

Question Number : 183 Question Id : 6009298267 Question Type : MCQ Option Shuffling : Yes Is Question Mandatory : No Option Orientation : Vertical

Correct Marks : 1 Wrong Marks : 0.25

निम्नलिखित प्रश्न में, चार विकल्पों में से, उस विकल्प का चयन करें जो दिए गए वाक्य के लिए वृत्ति के भेद का सबसे अच्छा विकल्प है। अगर दवा मिल जाए तो इस रोग का निवारण हो जाता।

Options :

1. ✔ संकेतार्थ
2. ✘ निश्चयार्थ
3. ✘ संभावनार्थ
4. ✘ विध्यर्थ

Question Number : 183 Question Id : 6009298267 Question Type : MCQ Option Shuffling : Yes Is Question Mandatory : No Option Orientation : Vertical

Correct Marks : 1 Wrong Marks : 0.25

निम्नलिखित प्रश्न में, चार विकल्पों में से, उस विकल्प का चयन करें जो दिए गए वाक्य के लिए वृत्ति के भेद का सबसे अच्छा विकल्प है।
अगर दवा मिल जाए तो इस रोग का निवारण हो जाता।

Options :

1. ✓ संकेतार्थ
2. ✗ निश्चयार्थ
3. ✗ संभावनार्थ
4. ✗ विध्यर्थ

Question Number : 184 Question Id : 6009298268 Question Type : MCQ Option Shuffling : Yes Is Question Mandatory : No Option Orientation : Vertical

Correct Marks : 1 Wrong Marks : 0.25

निम्नलिखित प्रश्न में, चार विकल्पों में से, उस विकल्प का चयन करें जो दिए गए वाक्य के लिए पक्ष के भेद का सबसे अच्छा विकल्प है।
पृथ्वी सूर्य के चक्कर लगाती है!

Options :

1. ✗ सातप्यबोधक
2. ✗ अभ्यासद्योतक
3. ✓ नित्यताद्योतक
4. ✗ आरंभद्योतक

Question Number : 184 Question Id : 6009298268 Question Type : MCQ Option Shuffling : Yes Is Question Mandatory : No Option Orientation : Vertical

Correct Marks : 1 Wrong Marks : 0.25

निम्नलिखित प्रश्न में, चार विकल्पों में से, उस विकल्प का चयन करें जो दिए गए वाक्य के लिए पक्ष के भेद का सबसे अच्छा विकल्प है।
पृथ्वी सूर्य के चक्कर लगाती है!

Options :

1. ✗ सातप्यबोधक
2. ✗ अभ्यासद्योतक
3. ✓ नित्यताद्योतक
4. ✗ आरंभद्योतक

Question Number : 185 Question Id : 6009298269 Question Type : MCQ Option Shuffling : Yes Is Question Mandatory : No Option

Orientation : Vertical

Correct Marks : 1 Wrong Marks : 0.25

निम्नलिखित प्रश्न में, चार विकल्पों में से, उस विकल्प का चयन करें जो शुद्ध वाक्य का सबसे अच्छा विकल्प है।

Options :

1. ✘ खेल हमें विपरीत परिस्थितियों के ऊपर ही झुकने की प्रेरणा देते हैं।
2. ✔ खेल हमें विपरीत परिस्थितियों के आगे न झुकने की प्रेरणा देते हैं।
3. ✘ खेल को विपरीत परिस्थितियों के आगे न झुकने की प्रेरणा देते हैं।
4. ✘ खेल हमें विपरीत परिस्थितियों के आगे ही झुकने की प्रेरणा देते हैं।

Question Number : 185 Question Id : 6009298269 Question Type : MCQ Option Shuffling : Yes Is Question Mandatory : No Option

Orientation : Vertical

Correct Marks : 1 Wrong Marks : 0.25

निम्नलिखित प्रश्न में, चार विकल्पों में से, उस विकल्प का चयन करें जो शुद्ध वाक्य का सबसे अच्छा विकल्प है।

Options :

1. ✘ खेल हमें विपरीत परिस्थितियों के ऊपर ही झुकने की प्रेरणा देते हैं।
2. ✔ खेल हमें विपरीत परिस्थितियों के आगे न झुकने की प्रेरणा देते हैं।
3. ✘ खेल को विपरीत परिस्थितियों के आगे न झुकने की प्रेरणा देते हैं।
4. ✘ खेल हमें विपरीत परिस्थितियों के आगे ही झुकने की प्रेरणा देते हैं।

Question Number : 186 Question Id : 6009298270 Question Type : MCQ Option Shuffling : Yes Is Question Mandatory : No Option

Orientation : Vertical

Correct Marks : 1 Wrong Marks : 0.25

निम्नलिखित प्रश्न में, चार विकल्पों में से, उस विकल्प का चयन करें जो सही वाक्य भेद का विकल्प हो। वह विद्वान बनना चाहता था, इसलिए बड़े-बड़े ग्रंथ पढ़ता था।

Options :

1. ✔ संयुक्त वाक्य
2. ✘ मिश्र वाक्य
3. ✘ संदेहवाचक वाक्य
4. ✘ सरल वाक्य

Question Number : 186 Question Id : 6009298270 Question Type : MCQ Option Shuffling : Yes Is Question Mandatory : No Option

Orientation : Vertical

Correct Marks : 1 Wrong Marks : 0.25

निम्नलिखित प्रश्न में, चार विकल्पों में से, उस विकल्प का चयन करें जो सही वाक्य भेद का विकल्प हो। वह विद्वान बनना चाहता था, इसलिए बड़े-बड़े ग्रंथ पढ़ता था।

Options :

1. ✓ संयुक्त वाक्य
2. ✗ मिश्र वाक्य
3. ✗ संदेहवाचक वाक्य
4. ✗ सरल वाक्य

Question Number : 187 Question Id : 6009298271 Question Type : MCQ Option Shuffling : Yes Is Question Mandatory : No Option

Orientation : Vertical

Correct Marks : 1 Wrong Marks : 0.25

निम्नलिखित प्रश्न में, चार विकल्पों में से, उस विकल्प का चयन करें जो सही वाक्य भेद का विकल्प हो। उसे डर था कि वह मारा जाएगा।

Options :

1. ✗ विधानवाचक वाक्य
2. ✗ सरल वाक्य
3. ✓ मिश्र वाक्य
4. ✗ संयुक्त वाक्य

Question Number : 187 Question Id : 6009298271 Question Type : MCQ Option Shuffling : Yes Is Question Mandatory : No Option

Orientation : Vertical

Correct Marks : 1 Wrong Marks : 0.25

निम्नलिखित प्रश्न में, चार विकल्पों में से, उस विकल्प का चयन करें जो सही वाक्य भेद का विकल्प हो। उसे डर था कि वह मारा जाएगा।

Options :

1. ✗ विधानवाचक वाक्य
2. ✗ सरल वाक्य
3. ✓ मिश्र वाक्य
4. ✗ संयुक्त वाक्य

Question Number : 188 Question Id : 6009298272 Question Type : MCQ Option Shuffling : Yes Is Question Mandatory : No Option Orientation : Vertical

Correct Marks : 1 Wrong Marks : 0.25

निम्नलिखित प्रश्न में, चार विकल्पों में से, उस विकल्प का चयन करें जो विराम चिह्न युक्त वाक्य का सही विकल्प हो।

Options :

1. ✓ "हाँ, हैं। एक क्या, दो गुणी इस गाँव में हैं।" गाँव वालों ने कहा।
2. ✗ "हाँ, हैं एक क्या, दो गुणी इस गाँव में हैं।" गाँव वालों ने कहा
3. ✗ हाँ हैं। एक क्या, दो गुणी इस गाँव में हैं। गाँव वालों ने कहा।
4. ✗ हाँ, हैं। एक क्या, दो गुणी इस गाँव में हैं गाँव वालों ने कहा

Question Number : 188 Question Id : 6009298272 Question Type : MCQ Option Shuffling : Yes Is Question Mandatory : No Option Orientation : Vertical

Correct Marks : 1 Wrong Marks : 0.25

निम्नलिखित प्रश्न में, चार विकल्पों में से, उस विकल्प का चयन करें जो विराम चिह्न युक्त वाक्य का सही विकल्प हो।

Options :

1. ✓ "हाँ, हैं। एक क्या, दो गुणी इस गाँव में हैं।" गाँव वालों ने कहा।
2. ✗ "हाँ, हैं एक क्या, दो गुणी इस गाँव में हैं।" गाँव वालों ने कहा
3. ✗ हाँ हैं। एक क्या, दो गुणी इस गाँव में हैं। गाँव वालों ने कहा।
4. ✗ हाँ, हैं। एक क्या, दो गुणी इस गाँव में हैं गाँव वालों ने कहा

Question Number : 189 Question Id : 6009298273 Question Type : MCQ Option Shuffling : Yes Is Question Mandatory : No Option Orientation : Vertical

Correct Marks : 1 Wrong Marks : 0.25

निम्नलिखित प्रश्न में, चार विकल्पों में से, उस विकल्प का चयन करें जो विराम चिह्न युक्त वाक्य का सही विकल्प हो।

Options :

1. ✗ उन्होंने माँ से कहा, "माँ! आज तुम खाना जल्दी खा लेना मेहमान लोग सात बजे आ जाएँगे।"
2. ✗ उन्होंने माँ से कहा माँ आज तुम खाना जल्दी खा लेना। मेहमान लोग सात बजे आ जाएँगे
3. ✗ उन्होंने माँ से कहा माँ! आज तुम खाना जल्दी खा लेना। मेहमान लोग सात बजे आ जाएँगे।
4. ✓ उन्होंने माँ से कहा, "माँ! आज तुम खाना जल्दी खा लेना। मेहमान लोग सात बजे आ जाएँगे।"

Question Number : 189 Question Id : 6009298273 Question Type : MCQ Option Shuffling : Yes Is Question Mandatory : No Option

Orientation : Vertical

Correct Marks : 1 Wrong Marks : 0.25

निम्नलिखित प्रश्न में, चार विकल्पों में से, उस विकल्प का चयन करें जो विराम चिह्न युक्त वाक्य का सही विकल्प हो।

Options :

1. ✘ उन्होंने माँ से कहा, "माँ! आज तुम खाना जल्दी खा लेना मेहमान लोग सात बजे आ जाएँगे"
2. ✘ उन्होंने माँ से कहा माँ आज तुम खाना जल्दी खा लेना। मेहमान लोग सात बजे आ जाएँगे
3. ✘ उन्होंने माँ से कहा माँ! आज तुम खाना जल्दी खा लेना। मेहमान लोग सात बजे आ जाएँगे।
4. ✔ उन्होंने माँ से कहा, "माँ! आज तुम खाना जल्दी खा लेना। मेहमान लोग सात बजे आ जाएँगे।"

Question Number : 190 Question Id : 6009298274 Question Type : MCQ Option Shuffling : Yes Is Question Mandatory : No Option

Orientation : Vertical

Correct Marks : 1 Wrong Marks : 0.25

निम्नलिखित प्रश्न में, चार विकल्पों में से, उस विकल्प का चयन करें जो दिए गए मुहावरे का सही अर्थ वाला विकल्प है।

त्रिशंकु होना-

Options :

1. ✔ न इधर का होना न उधर का
2. ✘ कठिनाई के समय रक्षा करना
3. ✘ अपमान होना
4. ✘ ऐसा आदमी जिसका कोई सिद्धांत न हो

Question Number : 190 Question Id : 6009298274 Question Type : MCQ Option Shuffling : Yes Is Question Mandatory : No Option

Orientation : Vertical

Correct Marks : 1 Wrong Marks : 0.25

निम्नलिखित प्रश्न में, चार विकल्पों में से, उस विकल्प का चयन करें जो दिए गए मुहावरे का सही अर्थ वाला विकल्प है।

त्रिशंकु होना-

Options :

1. ✔ न इधर का होना न उधर का
2. ✘ कठिनाई के समय रक्षा करना
3. ✘ अपमान होना
4. ✘ ऐसा आदमी जिसका कोई सिद्धांत न हो

Question Number : 191 Question Id : 6009298275 Question Type : MCQ Option Shuffling : Yes Is Question Mandatory : No Option Orientation : Vertical

Correct Marks : 1 Wrong Marks : 0.25

निम्नलिखित प्रश्न में, चार विकल्पों में से, उस विकल्प का चयन करें जो दिए गए मुहावरे का सही अर्थ वाला विकल्प है।
दिल पसीजना-

Options :

1. ✘ भयभीत होना
2. ✔ किसी पर दया आना
3. ✘ बहुत निराश होना
4. ✘ अत्यधिक हर्ष होना

Question Number : 191 Question Id : 6009298275 Question Type : MCQ Option Shuffling : Yes Is Question Mandatory : No Option Orientation : Vertical

Correct Marks : 1 Wrong Marks : 0.25

निम्नलिखित प्रश्न में, चार विकल्पों में से, उस विकल्प का चयन करें जो दिए गए मुहावरे का सही अर्थ वाला विकल्प है।
दिल पसीजना-

Options :

1. ✘ भयभीत होना
2. ✔ किसी पर दया आना
3. ✘ बहुत निराश होना
4. ✘ अत्यधिक हर्ष होना

Question Number : 192 Question Id : 6009298276 Question Type : MCQ Option Shuffling : Yes Is Question Mandatory : No Option Orientation : Vertical

Correct Marks : 1 Wrong Marks : 0.25

निम्नलिखित प्रश्न में, चार विकल्पों में से, उस विकल्प का चयन करें जो दिए गए मुहावरे का सही अर्थ वाला विकल्प है।
दृष्टि फिरना -

Options :

1. ✘ मारे मारे फिरना
2. ✘ शरीर में दर्द होना

3. ✓ पहले जैसा प्रेम या स्नेह न रहना
4. ✗ व्यर्थ की दुश्मनी करना

Question Number : 192 Question Id : 6009298276 Question Type : MCQ Option Shuffling : Yes Is Question Mandatory : No Option Orientation : Vertical

Correct Marks : 1 Wrong Marks : 0.25

निम्नलिखित प्रश्न में, चार विकल्पों में से, उस विकल्प का चयन करें जो दिए गए मुहावरे का सही अर्थ वाला विकल्प है।
दृष्टि फिरना -

Options :

1. ✗ मारे मारे फिरना
2. ✗ शरीर में दर्द होना
3. ✓ पहले जैसा प्रेम या स्नेह न रहना
4. ✗ व्यर्थ की दुश्मनी करना

Question Number : 193 Question Id : 6009298277 Question Type : MCQ Option Shuffling : Yes Is Question Mandatory : No Option Orientation : Vertical

Correct Marks : 1 Wrong Marks : 0.25

निम्नलिखित प्रश्न में, चार विकल्पों में से, उस विकल्प का चयन करें जो दी गई लोकोक्ति का सही अर्थ वाला विकल्प है।
दमड़ी की बुलबुल, नौ टका दलाली -

Options :

1. ✗ सच्चा न्याय
2. ✗ दोनों तरफ लाभ होना
3. ✗ बेमेल काम करना
4. ✓ काम साधारण खर्च अधिक

Question Number : 193 Question Id : 6009298277 Question Type : MCQ Option Shuffling : Yes Is Question Mandatory : No Option Orientation : Vertical

Correct Marks : 1 Wrong Marks : 0.25

निम्नलिखित प्रश्न में, चार विकल्पों में से, उस विकल्प का चयन करें जो दी गई लोकोक्ति का सही अर्थ वाला विकल्प है।
दमड़ी की बुलबुल, नौ टका दलाली -

Options :

1. ✘ सच्चा न्याय
2. ✘ दोनों तरफ लाभ होना
3. ✘ बेमेल काम करना
4. ✔ काम साधारण खर्च अधिक

Question Number : 194 Question Id : 6009298278 Question Type : MCQ Option Shuffling : Yes Is Question Mandatory : No Option Orientation : Vertical

Correct Marks : 1 Wrong Marks : 0.25

निम्नलिखित प्रश्न में, चार विकल्पों में से, उस विकल्प का चयन करें जो दी गई लोकोक्ति का सही अर्थ वाला विकल्प है।
न आव देखा न ताव-

Options :

1. ✔ बिना सोचे-समझे काम करना
2. ✘ जिसका कोई सगा संबंधी न हो
3. ✘ असंभव शर्त रखना
4. ✘ झगड़े की जड़ को नष्ट करना

Question Number : 194 Question Id : 6009298278 Question Type : MCQ Option Shuffling : Yes Is Question Mandatory : No Option Orientation : Vertical

Correct Marks : 1 Wrong Marks : 0.25

निम्नलिखित प्रश्न में, चार विकल्पों में से, उस विकल्प का चयन करें जो दी गई लोकोक्ति का सही अर्थ वाला विकल्प है।
न आव देखा न ताव-

Options :

1. ✔ बिना सोचे-समझे काम करना
2. ✘ जिसका कोई सगा संबंधी न हो
3. ✘ असंभव शर्त रखना
4. ✘ झगड़े की जड़ को नष्ट करना

Question Number : 195 Question Id : 6009298279 Question Type : MCQ Option Shuffling : Yes Is Question Mandatory : No Option Orientation : Vertical

Correct Marks : 1 Wrong Marks : 0.25

निम्नलिखित प्रश्न में, चार विकल्पों में से, उस विकल्प का चयन करें जो दी गई लोकोक्ति का सही अर्थ वाला विकल्प है।

नौ दिन चले अढ़ाई कोस-

Options :

1. ✘ नाम बहुत पर गुण बिलकुल नहीं
2. ✔ बहुत सुस्ती से काम करना
3. ✘ अयोग्य से हानि
4. ✘ परिवर्तनशील स्वभाव

Question Number : 195 Question Id : 6009298279 Question Type : MCQ Option Shuffling : Yes Is Question Mandatory : No Option Orientation : Vertical

Correct Marks : 1 Wrong Marks : 0.25

निम्नलिखित प्रश्न में, चार विकल्पों में से, उस विकल्प का चयन करें जो दी गई लोकोक्ति का सही अर्थ वाला विकल्प है।
नौ दिन चले अढ़ाई कोस-

Options :

1. ✘ नाम बहुत पर गुण बिलकुल नहीं
2. ✔ बहुत सुस्ती से काम करना
3. ✘ अयोग्य से हानि
4. ✘ परिवर्तनशील स्वभाव

Sub-Section Number :

2

Sub-Section Id :

600929481

Question Shuffling Allowed :

Yes

Question Id : 6009298280 Question Type : COMPREHENSION Sub Question Shuffling Allowed : Yes Group Comprehension Questions : No

Question Numbers : (196 to 200)

नीचे दिए गये गद्यांश के बाद 5 प्रश्न दिए गये हैं। इस गद्यांश को ध्यानपूर्वक पढ़ें और चार विकल्पों में से प्रत्येक प्रश्न का सर्वोत्तम उत्तर चुनें।
जिंदगी के सफर में नैतिक और मानवीय उद्देश्यों के प्रति मन में अटूट विश्वास होना जरूरी है। कहा जाता है - आदमी नहीं चलता, उसका विश्वास चलता है। आत्मविश्वास सभी गुणों को एक जगह बाँध देता है, यानी कि विश्वास की रोशनी में मनुष्य का सम्पूर्ण व्यक्तित्व और आदर्श उजागर होता है। गेटे की प्रसिद्ध उक्ति है कि "जब कोई आदमी ठीक काम करता है तो उसे पता तब नहीं चलता कि वह क्या कर रहा है, पर गलत काम करते समय उसे हर क्षण यह ख्याल रहा है कि वह जो कर रहा है, वह गलत है।" गलत को गलत मानते हुए भी इंसान गलत किए जा रहा है। इसी कारण समस्याओं एवं अंधेरो के अंबार लगे हैं। लेकिन कुछ अच्छे लोग भी हैं, शायद उनकी अच्छाइयों के कारण ही जीवन बचा हुआ है। ऐसे लोगों ने नैतिकता और सच्चरित्रता का खिताब ओढ़ा नहीं, उसे जीकर दिखाया। वए भाग्य और नियति के हाथों खिलौना बनकर नहीं बैठे, स्वयं के पसीने से अपना भाग्य लिखा। गाँधी ने इसलिए कहा कि हमें वह परिवर्तन खुद बनना चाहिए, जिसे हम संसार में देखना चाहते हैं। जरूरत है कि हम दर्पण जैसा जीवन जीना सीखें। मनुष्य के व्यवहार में मनुष्यता को देखा जा सके, यही 'आदमी की तलाश' है।

Sub questions

Question Number : 196 Question Id : 6009298281 Question Type : MCQ Option Shuffling : Yes Is Question Mandatory : No Option Orientation : Vertical

Correct Marks : 1 Wrong Marks : 0.25

अनुच्छेद के अनुसार अनुचित कार्य करते समय मनुष्य को क्या ख्याल रहता है?

Options :

1. ✘ उसका अनुचित कार्य किसी को भी पता नहीं चलेगा।
2. ✔ कि वह जो कर रहा है, वह ठीक नहीं है।
3. ✘ कुछ भी पाने का भरोसा नहीं है।
4. ✘ पता ही नहीं चलता कि कुछ गलत हो रहा है।

Question Number : 197 Question Id : 6009298282 Question Type : MCQ Option Shuffling : Yes Is Question Mandatory : No Option Orientation : Vertical

Correct Marks : 1 Wrong Marks : 0.25

विभिन्न समस्याओं के बावजूद जीवन के बचे होने का क्या कारण बताया गया है?

Options :

1. ✔ अच्छे लोगों की अच्छाई।
2. ✘ नैतिकता का बस खिताब ओढ़ना।
3. ✘ लोगों का दिखावा।
4. ✘ मानवीय उद्देश्यों की कमी।

Question Number : 198 Question Id : 6009298283 Question Type : MCQ Option Shuffling : Yes Is Question Mandatory : No Option Orientation : Vertical

Correct Marks : 1 Wrong Marks : 0.25

गाँधी जी ने भविष्य के परिवर्तन के विषय में क्या कहा ?

Options :

1. ✘ भविष्य में परिवर्तन लाना सिर्फ एक की ही बात है।
2. ✘ कोई भी अपने अनुसार परिवर्तन नहीं ला सकता।
3. ✔ वह परिवर्तन खुद बनो जैसा आपको चाहिए।
4. ✘ परिवर्तन लाना आसान नहीं।

Question Number : 199 Question Id : 6009298284 Question Type : MCQ Option Shuffling : Yes Is Question Mandatory : No Option Orientation : Vertical

Correct Marks : 1 Wrong Marks : 0.25

इनमें से कौन - सा शब्द उजागर का पर्यायवाची शब्द नहीं है?

Options :

1. ✖ प्रख्यात
2. ✖ प्रकाशित
3. ✔ उजाड़
4. ✖ कीर्तिशाली

Question Number : 200 Question Id : 6009298285 Question Type : MCQ Option Shuffling : Yes Is Question Mandatory : No Option Orientation : Vertical

Correct Marks : 1 Wrong Marks : 0.25

इस अनुच्छेद का कोई उपयुक्त शीर्षक-

Options :

1. ✖ मनुष्यता का अंत
2. ✖ गुणों का अविष्कार
3. ✖ उद्देश्यों की पूर्ति
4. ✔ सच्चे आदमी की तलाश

Question Id : 6009298280 Question Type : COMPREHENSION Sub Question Shuffling Allowed : Yes Group Comprehension Questions : No

Question Numbers : (196 to 200)

नीचे दिए गये गद्यांश के बाद 5 प्रश्न दिए गये हैं। इस गद्यांश को ध्यानपूर्वक पढ़ें और चार विकल्पों में से प्रत्येक प्रश्न का सर्वोत्तम उत्तर चुनें।
 जिंदगी के सफर में नैतिक और मानवीय उद्देश्यों के प्रति मन में अटूट विश्वास होना जरूरी है। कहा जाता है - आदमी नहीं चलता, उसका विश्वास चलता है।
 आत्मविश्वास सभी गुणों को एक जगह बाँध देता है, यानी कि विश्वास की रोशनी में मनुष्य का सम्पूर्ण व्यक्तित्व और आदर्श उजागर होता है। गेटे की प्रसिद्ध उक्ति है कि जब कोई आदमी ठीक काम करता है तो उसे पता तब नहीं चलता कि वह क्या कर रहा है, पर गलत काम करते समय उसे हर क्षण यह ख्याल रहा है कि वह जो कर रहा है, वह गलत है। गलत को गलत मानते हुए भी इंसान गलत किए जा रहा है। इसी कारण समस्याओं एवं अंधेरो के अंबार लगे हैं। लेकिन कुछ अच्छे लोग भी हैं, शायद उनकी अच्छाइयों के कारण ही जीवन बचा हुआ है। ऐसे लोगों ने नैतिकता और सच्चरित्रता का खिताब ओढ़ा नहीं, उसे जीकर दिखाया।
 वए भाग्य और नियति के हाथों खिलौना बनकर नहीं बैठे, स्वयं के पसीने से अपना भाग्य लिखा। गाँधी ने इसलिए कहा कि हमें वह परिवर्तन खुद बनना चाहिए, जिसे हम संसार में देखना चाहते हैं। जरूरत है कि हम दर्पण जैसा जीवन जीना सीखें। मनुष्य के व्यवहार में मनुष्यता को देखा जा सके, यही 'आदमी की तलाश' है।

Sub questions

Question Number : 196 Question Id : 6009298281 Question Type : MCQ Option Shuffling : Yes Is Question Mandatory : No Option Orientation : Vertical

Correct Marks : 1 Wrong Marks : 0.25

अनुच्छेद के अनुसार अनुचित कार्य करते समय मनुष्य को क्या ख्याल रहता है?

Options :

1. ✘ उसका अनुचित कार्य किसी को भी पता नहीं चलेगा।
2. ✔ कि वह जो कर रहा है, वह ठीक नहीं है।
3. ✘ कुछ भी पाने का भरोसा नहीं है।
4. ✘ पता ही नहीं चलता कि कुछ गलत हो रहा है।

Question Number : 197 Question Id : 6009298282 Question Type : MCQ Option Shuffling : Yes Is Question Mandatory : No Option Orientation : Vertical

Correct Marks : 1 Wrong Marks : 0.25

विभिन्न समस्याओं के बावजूद जीवन के बचे होने का क्या कारण बताया गया है?

Options :

1. ✔ अच्छे लोगों की अच्छाई।
2. ✘ नैतिकता का बस खिताब ओढ़ना।
3. ✘ लोगों का दिखावा।
4. ✘ मानवीय उद्देश्यों की कमी।

Question Number : 198 Question Id : 6009298283 Question Type : MCQ Option Shuffling : Yes Is Question Mandatory : No Option Orientation : Vertical

Correct Marks : 1 Wrong Marks : 0.25

गाँधी जी ने भविष्य के परिवर्तन के विषय में क्या कहा ?

Options :

1. ✘ भविष्य में परिवर्तन लाना सिर्फ एक की ही बात है।
2. ✘ कोई भी अपने अनुसार परिवर्तन नहीं ला सकता।
3. ✔ वह परिवर्तन खुद बनो जैसा आपको चाहिए।
4. ✘ परिवर्तन लाना आसान नहीं।

Question Number : 199 Question Id : 6009298284 Question Type : MCQ Option Shuffling : Yes Is Question Mandatory : No Option

Orientation : Vertical

Correct Marks : 1 Wrong Marks : 0.25

इनमें से कौन - सा शब्द उजागर का पर्यायवाची शब्द नहीं है?

Options :

1. ✘ प्रख्यात
2. ✘ प्रकाशित
3. ✔ उजाड़
4. ✘ कीर्तिशाली

Question Number : 200 Question Id : 6009298285 Question Type : MCQ Option Shuffling : Yes Is Question Mandatory : No Option

Orientation : Vertical

Correct Marks : 1 Wrong Marks : 0.25

इस अनुच्छेद का कोई उपयुक्त शीर्षक-

Options :

1. ✘ मनुष्यता का अंत
2. ✘ गुणों का अविष्कार
3. ✘ उद्देश्यों की पूर्ति
4. ✔ सच्चे आदमी की तलाश

prepp
Your Personal Exam Guide