

Question Paper Preview

Notations :

- Options shown in green color and with ✓ icon are correct.
- Options shown in red color and with ✗ icon are incorrect.

Subject Name :	Junior Stenographer
Creation Date :	2021-04-23 16:16:05
Duration :	120
Total Marks :	200
Display Marks:	Yes
Share Answer Key With Delivery Engine :	No
Actual Answer Key :	Yes
Calculator :	None
Magnifying Glass Required? :	No
Ruler Required? :	No
Eraser Required? :	No
Scratch Pad Required? :	No
Rough Sketch/Notepad Required? :	No
Protractor Required? :	No
Show Watermark on Console? :	Yes
Highlighter :	No
Auto Save on Console? (SA type of questions will be always auto saved) :	No

Mental Ability1

Group Number :	1
Group Id :	976755215
Group Maximum Duration :	0
Group Minimum Duration :	0

Show Attended Group? :	No
Edit Attended Group? :	No
Break time :	0
Group Marks :	20
Is this Group for Examiner? :	No

General intelligence and reasoning Ability1

Section Id :	976755503
Section Number :	1
Section type :	Online
Mandatory or Optional :	Mandatory
Number of Questions :	20
Number of Questions to be attempted :	20
Section Marks :	20
Enable Mark as Answered Mark for Review and Clear Response :	Yes
Sub-Section Number :	1
Sub-Section Id :	976755604
Question Shuffling Allowed :	Yes

Question Number : 1 Question Id : 9767558725 Question Type : MCQ Option Shuffling : Yes Is Question Mandatory : No Option Orientation : Vertical

Correct Marks : 1 Wrong Marks : 0.25

Complete the following letter series:

GI, LN, QS, VX, _____.

Options :

- ✘ CE
- ✘ BD
- ✘ ZB
- ✔ AC

Question Number : 1 Question Id : 9767558725 Question Type : MCQ Option Shuffling : Yes Is Question Mandatory : No Option

Orientation : Vertical

Correct Marks : 1 Wrong Marks : 0.25

निम्नलिखित अक्षर श्रृंखला को पूरा करें:

GI, LN, QS, VX, _____ |

Options :

1. ✘ CE
2. ✘ BD
3. ✘ ZB
4. ✔ AC

Question Number : 2 Question Id : 9767558726 Question Type : MCQ Option Shuffling : Yes Is Question Mandatory : No Option

Orientation : Vertical

Correct Marks : 1 Wrong Marks : 0.25

Find the missing term in the following series :

3K12, 5O20, 7S28, _____, 11A44

Options :

1. ✘ 8W32
2. ✔ 9W36
3. ✘ 8V32
4. ✘ 9V36

Question Number : 2 Question Id : 9767558726 Question Type : MCQ Option Shuffling : Yes Is Question Mandatory : No Option

Orientation : Vertical

Correct Marks : 1 Wrong Marks : 0.25

निम्नलिखित श्रृंखला में लुप्त पद ज्ञात करें:

3K12, 5O20, 7S28, _____, 11A44

Options :

1. ✘ 8W32
2. ✔ 9W36
3. ✘ 8V32

4. ✘ 9V36

Question Number : 3 Question Id : 9767558727 Question Type : MCQ Option Shuffling : Yes Is Question Mandatory : No Option Orientation : Vertical

Correct Marks : 1 Wrong Marks : 0.25

Find the missing term in the following series:

zz_zy__ zzz_z

Options :

1. ✘ yyyz
2. ✘ zyyy
3. ✔ zzzzy
4. ✘ zzyy

Question Number : 3 Question Id : 9767558727 Question Type : MCQ Option Shuffling : Yes Is Question Mandatory : No Option Orientation : Vertical

Correct Marks : 1 Wrong Marks : 0.25

निम्नलिखित श्रृंखला में लुप्त पद ज्ञात करें:

zz_zy__ zzz_z

Options :

1. ✘ yyyz
2. ✘ zyyy
3. ✔ zzzzy
4. ✘ zzyy

Question Number : 4 Question Id : 9767558728 Question Type : MCQ Option Shuffling : Yes Is Question Mandatory : No Option Orientation : Vertical

Correct Marks : 1 Wrong Marks : 0.25

Arrange the given words in the sequence in which they occur in the dictionary.

1. PADDLER
2. PACKING
3. PACIFIC

4. PACKAGE

5. PACKETS

Options :

1. ✓ 3, 4, 5, 2, 1

2. ✗ 3, 5, 4, 1, 2

3. ✗ 4, 5, 2, 3, 1

4. ✗ 4, 2, 5, 3, 1

Question Number : 4 Question Id : 9767558728 Question Type : MCQ Option Shuffling : Yes Is Question Mandatory : No Option Orientation : Vertical

Correct Marks : 1 Wrong Marks : 0.25

दिए गए शब्दों को उस क्रम में व्यवस्थित करें जिस क्रम में वे शब्दकोश में होते हैं।

1. PADDLER

2. PACKING

3. PACIFIC

4. PACKAGE

5. PACKETS

Options :

1. ✓ 3, 4, 5, 2, 1

2. ✗ 3, 5, 4, 1, 2

3. ✗ 4, 5, 2, 3, 1

4. ✗ 4, 2, 5, 3, 1

Question Number : 5 Question Id : 9767558729 Question Type : MCQ Option Shuffling : Yes Is Question Mandatory : No Option Orientation : Vertical

Correct Marks : 1 Wrong Marks : 0.25

Which option pair shares the same relationship between its words as that shared by the words in the below pair?

MF : PC :: ?

Options :

1. ✗ KS : PT

2. ✓ LT : OQ

3. ✗ MH : PL

4. ✘ PF : RD

Question Number : 5 Question Id : 9767558729 Question Type : MCQ Option Shuffling : Yes Is Question Mandatory : No Option Orientation : Vertical

Correct Marks : 1 Wrong Marks : 0.25

निम्नलिखित में से किस विकल्प के शब्द युग्म में वही संबंध है जो संबंध नीचे दिए गए शब्द युग्म के बीच है।

MF : PC :: ?

Options :

1. ✘ KS : PT
2. ✔ LT : OQ
3. ✘ MH : PL
4. ✘ PF : RD

Question Number : 6 Question Id : 9767558730 Question Type : MCQ Option Shuffling : Yes Is Question Mandatory : No Option Orientation : Vertical

Correct Marks : 1 Wrong Marks : 0.25

Select the option that is related to the third term on the same basis as the second term is related to the first term.

Fabric : Yarn :: Rubber : ?

Options :

1. ✘ Boots
2. ✘ Pencil
3. ✔ Latex
4. ✘ Tyre

Question Number : 6 Question Id : 9767558730 Question Type : MCQ Option Shuffling : Yes Is Question Mandatory : No Option Orientation : Vertical

Correct Marks : 1 Wrong Marks : 0.25

उस विकल्प का चयन करें जो तीसरे पद से उसी प्रकार से संबंधित है जिस प्रकार से दूसरा पद पहले पद से संबंधित है।

कपड़ा : सूत :: रबड़ : ?

Options :

1. ✘ बूट
2. ✘ पेंसिल
3. ✔ संक्षीर
4. ✘ टायर

Question Number : 7 Question Id : 9767558731 Question Type : MCQ Option Shuffling : Yes Is Question Mandatory : No Option Orientation : Vertical

Correct Marks : 1 Wrong Marks : 0.25

Select the option that is related to the third term on the same basis as the second term is related to the first term.

MPZ : GJT :: HNU : ?

Options :

1. ✔ BHO
2. ✘ CDE
3. ✘ AJM
4. ✘ DJQ

Question Number : 7 Question Id : 9767558731 Question Type : MCQ Option Shuffling : Yes Is Question Mandatory : No Option Orientation : Vertical

Correct Marks : 1 Wrong Marks : 0.25

उस विकल्प का चयन करें जो तीसरे पद से उसी प्रकार से संबंधित है जिस प्रकार से दूसरा पद पहले पद से संबंधित है।

MPZ : GJT :: HNU : ?

Options :

1. ✔ BHO
2. ✘ CDE
3. ✘ AJM
4. ✘ DJQ

Question Number : 8 Question Id : 9767558732 Question Type : MCQ Option Shuffling : Yes Is Question Mandatory : No Option Orientation : Vertical

Correct Marks : 1 Wrong Marks : 0.25

If BUN = 18, MICE = 32, then what is the code for DEMON?

Options :

1. ✓ 50
2. ✗ 25
3. ✗ 30
4. ✗ 35

Question Number : 8 Question Id : 9767558732 Question Type : MCQ Option Shuffling : Yes Is Question Mandatory : No Option Orientation : Vertical

Correct Marks : 1 Wrong Marks : 0.25

यदि BUN = 18, MICE = 32 है, तो DEMON के लिए कोड क्या है?

Options :

1. ✓ 50
2. ✗ 25
3. ✗ 30
4. ✗ 35

Question Number : 9 Question Id : 9767558733 Question Type : MCQ Option Shuffling : Yes Is Question Mandatory : No Option Orientation : Vertical

Correct Marks : 1 Wrong Marks : 0.25

If TASTE = 30, LAME = 20, then what is the code for FIGURE?

Options :

1. ✗ 36
2. ✓ 42
3. ✗ 48
4. ✗ 24

Question Number : 9 Question Id : 9767558733 Question Type : MCQ Option Shuffling : Yes Is Question Mandatory : No Option Orientation : Vertical

Correct Marks : 1 Wrong Marks : 0.25

यदि TASTE = 30, LAME = 20 है, तो FIGURE के लिए कोड क्या है?

Options :

1. ✘ 36
2. ✔ 42
3. ✘ 48
4. ✘ 24

Question Number : 10 Question Id : 9767558734 Question Type : MCQ Option Shuffling : Yes Is Question Mandatory : No Option Orientation : Vertical

Correct Marks : 1 Wrong Marks : 0.25

If PEACE is coded as MHXFB, then what is the code for TOWER?

Options :

1. ✘ RTUIP
2. ✘ PQRIM
3. ✘ SUVJQ
4. ✔ QRTHO

Question Number : 10 Question Id : 9767558734 Question Type : MCQ Option Shuffling : Yes Is Question Mandatory : No Option Orientation : Vertical

Correct Marks : 1 Wrong Marks : 0.25

यदि PEACE को MHXFB के रूप में कोडित किया गया है, तो TOWER के लिए कोड क्या है?

Options :

1. ✘ RTUIP
2. ✘ PQRIM
3. ✘ SUVJQ
4. ✔ QRTHO

Question Number : 11 Question Id : 9767558735 Question Type : MCQ Option Shuffling : Yes Is Question Mandatory : No Option Orientation : Vertical

Correct Marks : 1 Wrong Marks : 0.25

In a certain code language,
mo co fo means Ram is smart,
fo zo jo means Shyam is late,
mo lo zo means Ram and Shyam,
what is the code for 'smart'?

Options :

1. ✘ mo
2. ✔ co
3. ✘ fo
4. ✘ zo

Question Number : 11 Question Id : 9767558735 Question Type : MCQ Option Shuffling : Yes Is Question Mandatory : No Option Orientation : Vertical

Correct Marks : 1 Wrong Marks : 0.25

एक निश्चित कोड भाषा में,
mo co fo का अर्थ है Ram is smart,
fo zo jo का अर्थ है Shyam is late,
mo lo zo का अर्थ है Ram and Shyam,
'smart' के लिए कोड क्या है?

Options :

1. ✘ mo
2. ✔ co
3. ✘ fo
4. ✘ zo

Question Number : 12 Question Id : 9767558736 Question Type : MCQ Option Shuffling : Yes Is Question Mandatory : No Option Orientation : Vertical

Correct Marks : 1 Wrong Marks : 0.25

How is my mother's brother's mother's only son-in-law's father's wife's daughter's only brother is related to me?

Options :

1. ✔ Father
2. ✘ Brother
3. ✘ Brother-in-law
4. ✘ Grandfather

Question Number : 12 Question Id : 9767558736 Question Type : MCQ Option Shuffling : Yes Is Question Mandatory : No Option Orientation : Vertical

Correct Marks : 1 Wrong Marks : 0.25

मेरी माता के भाई की माता के इकलौते दामाद के पिता की पत्नी की बेटी का इकलौता भाई मुझसे कैसे संबंधित है?

Options :

1. ✓ पिता
2. ✗ भाई
3. ✗ देवर / साला / बहनोई / जेठ
4. ✗ दादा/नाना

Question Number : 13 Question Id : 9767558737 Question Type : MCQ Option Shuffling : Yes Is Question Mandatory : No Option Orientation : Vertical

Correct Marks : 1 Wrong Marks : 0.25

Arrange the following in a logical sequence:

1. Elephant
2. Ant
3. Lizard
4. Fox
5. Cat

Options :

1. ✗ 4, 5, 1, 3, 2
2. ✗ 1, 4, 3, 5, 2
3. ✓ 2, 3, 5, 4, 1
4. ✗ 5, 3, 4, 1, 2

Question Number : 13 Question Id : 9767558737 Question Type : MCQ Option Shuffling : Yes Is Question Mandatory : No Option Orientation : Vertical

Correct Marks : 1 Wrong Marks : 0.25

निम्नलिखित को तार्किक क्रम में व्यवस्थित करें:

1. हाथी
2. चींटी
3. छिपकली

4. लोमड़ी
5. बिल्ली

Options :

1. ✖ 4, 5, 1, 3, 2
2. ✖ 1, 4, 3, 5, 2
3. ✔ 2, 3, 5, 4, 1
4. ✖ 5, 3, 4, 1, 2

Question Number : 14 Question Id : 9767558738 Question Type : MCQ Option Shuffling : Yes Is Question Mandatory : No Option Orientation : Vertical

Correct Marks : 1 Wrong Marks : 0.25

Akash, Binita, Chandan, Daksh, Ekta & Fatima are standing in a circle. Binita is between Daksh & Chandan. Akash is between Ekta & Chandan. Fatima is at the right of Daksh. Who is between Akash & Fatima?

Options :

1. ✖ Binita
2. ✖ Daksh
3. ✖ Chandan
4. ✔ Ekta

Question Number : 14 Question Id : 9767558738 Question Type : MCQ Option Shuffling : Yes Is Question Mandatory : No Option Orientation : Vertical

Correct Marks : 1 Wrong Marks : 0.25

आकाश, बिनीता, चंदन, दक्ष, एकता और फातिमा एक घेरे में खड़े हैं। बिनीता, दक्ष और चंदन के बीच में है। आकाश, एकता और चंदन के बीच में है। फातिमा दक्ष के दाईं ओर है। आकाश और फातिमा के बीच में कौन है?

Options :

1. ✖ बिनीता
2. ✖ दक्ष
3. ✖ चंदन
4. ✔ एकता

Question Number : 15 Question Id : 9767558739 Question Type : MCQ Option Shuffling : Yes Is Question Mandatory : No Option Orientation : Vertical

Correct Marks : 1 Wrong Marks : 0.25

In the question, a question statement is given, followed by two statements, I and II. You have to consider the statement to be true even if it seems to be at variance from commonly known facts. You have to decide which of the given statement, if any, is sufficient to answer the question statement.

Question statement : The average income of Leena, Meena and Kishore is Rs 45,000. What is the income of Leena?

Statement 1 : Leena earns twice as much as Meena.

Statement 2 : Meena and Kishore earn the same amount.

Options :

- ✘ Only Statement I is sufficient
- ✘ Only Statement II is sufficient
- ✔ Both I and II have to be taken together to be sufficient
- ✘ Neither I nor II is sufficient

Question Number : 15 Question Id : 9767558739 Question Type : MCQ Option Shuffling : Yes Is Question Mandatory : No Option Orientation : Vertical

Correct Marks : 1 Wrong Marks : 0.25

प्रश्न में, प्रश्न कथन दिया गया है, जिसके बाद दो कथन, I और II दिए गए हैं। आपको उन कथनों को सत्य मानना है, भले ही यह सामान्यतः ज्ञात तथ्य से भिन्न प्रतीत हो। आपको यह निर्णय लेना है कि दिए गए कथन में से कौन सा, यदि कोई हो, तो प्रश्न कथन का उत्तर देने के लिए पर्याप्त है।

प्रश्न कथन: लीना, मीना और किशोर की औसत आय 45,000 रुपए है। लीना की आय क्या है?

कथन 1: लीना, मीना से दोगुना कमाती है।

कथन 2: मीना और किशोर एक ही राशि कमाते हैं।

Options :

- ✘ केवल कथन I पर्याप्त है
- ✘ केवल कथन II पर्याप्त है
- ✔ पर्याप्त होने के लिए I और II दोनों को एक साथ लेना होगा
- ✘ न I और न ही II पर्याप्त है

Question Number : 16 Question Id : 9767558740 Question Type : MCQ Option Shuffling : Yes Is Question Mandatory : No Option Orientation : Vertical

Correct Marks : 1 Wrong Marks : 0.25

In the question two statements are given, followed by two conclusions, I and II. You have to consider the statements to be true even if it seems to be at variance from commonly known facts. You have to decide which of the given conclusions, if any, follows from the given statements.

Statement 1 : All dates are watermelon.

Statement 2 : Some dates are figs.

Conclusion I : Some watermelon are figs.

Conclusion II : No figs are watermelon.

Options :

1. ✓ Only conclusion I follows
2. ✗ Only conclusion II follows
3. ✗ Both I and II follows
4. ✗ Neither I nor II follows

Question Number : 16 Question Id : 9767558740 Question Type : MCQ Option Shuffling : Yes Is Question Mandatory : No Option Orientation : Vertical

Correct Marks : 1 Wrong Marks : 0.25

प्रश्न में दो कथन दिए गए हैं, जिसके बाद दो निष्कर्ष I और II दिए गए हैं। आपको उन कथनों को सत्य मानना है, भले ही यह सामान्यतः ज्ञात तथ्य से भिन्न प्रतीत हो। आपको यह निर्णय लेना है कि दिए गए निष्कर्षों में से कौन सा, यदि कोई हो, तो दिए गए कथनों में से अनुसरण करता है।

कथन 1: सभी खजूर तरबूज हैं।

कथन 2: कुछ खजूर अंजीर हैं।

निष्कर्ष I: कुछ तरबूज अंजीर हैं।

निष्कर्ष II: कोई अंजीर तरबूज नहीं है।

Options :

1. ✓ केवल निष्कर्ष I अनुसरण करता है
2. ✗ केवल निष्कर्ष II अनुसरण करता है
3. ✗ I और II दोनों अनुसरण करते हैं
4. ✗ न I और न ही II अनुसरण करता है

Question Number : 17 Question Id : 9767558741 Question Type : MCQ Option Shuffling : Yes Is Question Mandatory : No Option Orientation : Vertical

Correct Marks : 1 Wrong Marks : 0.25

In the question one statement is given, followed by two course of actions, I and II. You have to consider the statement to be true even if it seems to be at variance from commonly known facts. You have to decide which of the given course of actions, if any, follows from the given statement.

Statement: A large number of people in area A of the city are diagnosed with COVID-19.

Course of Actions:

I : The city municipal authority should take immediate steps to carry out extensive testing of people in area A.

II : The people in the area should be advised to take necessary precautionary steps to avoid COVID-19.

Options :

1. ✘ Only I follows
2. ✘ Only II follows
3. ✔ Both I and II follow
4. ✘ Neither I nor II follows

Question Number : 17 Question Id : 9767558741 Question Type : MCQ Option Shuffling : Yes Is Question Mandatory : No Option Orientation : Vertical

Correct Marks : 1 Wrong Marks : 0.25

प्रश्न में, एक कथन दिया गया है, जिसके बाद कार्रवाई के दो क्रम I और II दिए गए हैं। आपको उस कथन को सत्य मानना है, भले ही यह सामान्यतः ज्ञात तथ्य से भिन्न प्रतीत हो। आपको यह निर्णय लेना है कि दिए गए कार्रवाई के क्रम में से कौन सा, यदि कोई हो, तो दिए गए कथन का अनुसरण करता है।

कथन: शहर के क्षेत्र A में बड़ी संख्या में लोगों में कोविड-19 का निदान हुआ है।

कार्रवाई का क्रम:

I: क्षेत्र A में लोगों का व्यापक परीक्षण करने के लिए शहर के नगरपालिका अधिकारी को तत्काल कदम उठाने चाहिए।

II: क्षेत्र में लोगों को कोविड -19 से बचने के लिए आवश्यक एहतियाती कदम उठाने की सलाह दी जानी चाहिए।

Options :

1. ✘ केवल I अनुसरण करता है
2. ✘ केवल II अनुसरण करता है
3. ✔ I और II दोनों अनुसरण करते हैं
4. ✘ न I और न ही II अनुसरण करता है

Question Number : 18 Question Id : 9767558742 Question Type : MCQ Option Shuffling : Yes Is Question Mandatory : No Option Orientation : Vertical

Correct Marks : 1 Wrong Marks : 0.25

If $2x - 8 > 4y - 2$, then which of the following identities are true?

Options :

- ✘ $x - 2y < 3$
- ✘ $2y - x < 3$
- ✘ $x - 2y > 6$
- ✔ $x - 2y > 3$

Question Number : 18 Question Id : 9767558742 Question Type : MCQ Option Shuffling : Yes Is Question Mandatory : No Option Orientation : Vertical

Correct Marks : 1 Wrong Marks : 0.25

यदि $2x - 8 > 4y - 2$ है, तो निम्नलिखित में से कौन सी सर्वसमिका सत्य है?

Options :

- ✘ $x - 2y < 3$
- ✘ $2y - x < 3$
- ✘ $x - 2y > 6$
- ✔ $x - 2y > 3$

Question Number : 19 Question Id : 9767558743 Question Type : MCQ Option Shuffling : Yes Is Question Mandatory : No Option Orientation : Vertical

Correct Marks : 1 Wrong Marks : 0.25

If $29@12 = 34$, $57@38 = 38$, $45@29 = 32$, then $67@49 = ?$

Options :

- ✔ 36
- ✘ 18
- ✘ 52
- ✘ 9

Question Number : 19 Question Id : 9767558743 Question Type : MCQ Option Shuffling : Yes Is Question Mandatory : No Option Orientation : Vertical

Correct Marks : 1 Wrong Marks : 0.25

यदि $29@12 = 34$, $57@38 = 38$, $45@29 = 32$ है, तो $67 @ 49 = ?$

Options :

1. ✓ 36
2. ✗ 18
3. ✗ 52
4. ✗ 9

Question Number : 20 Question Id : 9767558744 Question Type : MCQ Option Shuffling : Yes Is Question Mandatory : No Option Orientation : Vertical

Correct Marks : 1 Wrong Marks : 0.25

Select the option that is related to the third term on the same basis as the second term is related to the first term.

16 : 288 :: 23 : ?

Options :

1. ✗ 483
2. ✓ 575
3. ✗ 552
4. ✗ 506

Question Number : 20 Question Id : 9767558744 Question Type : MCQ Option Shuffling : Yes Is Question Mandatory : No Option Orientation : Vertical

Correct Marks : 1 Wrong Marks : 0.25

उस विकल्प का चयन करें जो तीसरे पद से उसी प्रकार से संबंधित है जिस प्रकार से दूसरा पद पहले पद से संबंधित है।

16 : 288 :: 23 : ?

Options :

1. ✗ 483
2. ✓ 575
3. ✗ 552
4. ✗ 506

Mental Ability2

Group Number :

2

Group Id :

976755216

Group Maximum Duration :	0
Group Minimum Duration :	0
Show Attended Group? :	No
Edit Attended Group? :	No
Break time :	0
Group Marks :	20
Is this Group for Examiner? :	No

General intelligence and reasoning Ability2

Section Id :	976755504
Section Number :	1
Section type :	Online
Mandatory or Optional :	Mandatory
Number of Questions :	20
Number of Questions to be attempted :	20
Section Marks :	20
Enable Mark as Answered Mark for Review and Clear Response :	Yes
Sub-Section Number :	1
Sub-Section Id :	976755605
Question Shuffling Allowed :	Yes

Question Number : 21 Question Id : 9767558745 Question Type : MCQ Option Shuffling : Yes Is Question Mandatory : No Option Orientation : Vertical

Correct Marks : 1 Wrong Marks : 0.25

Complete the following number series:

98, 99, 108, 133, 182, _____

Options :

1. ✓ 263
2. ✗ 225
3. ✗ 228
4. ✗ 252

Question Number : 21 Question Id : 9767558745 Question Type : MCQ Option Shuffling : Yes Is Question Mandatory : No Option Orientation : Vertical

Correct Marks : 1 Wrong Marks : 0.25

निम्नलिखित संख्या श्रृंखला को पूरा करें:

98, 99, 108, 133, 182, _____।

Options :

1. ✓ 263
2. ✗ 225
3. ✗ 228
4. ✗ 252

Question Number : 22 Question Id : 9767558746 Question Type : MCQ Option Shuffling : Yes Is Question Mandatory : No Option Orientation : Vertical

Correct Marks : 1 Wrong Marks : 0.25

Find the wrong term in the following number series:

128, 130, 134, 142, 156, 190

Options :

1. ✗ 134
2. ✗ 142
3. ✓ 156
4. ✗ 190

Question Number : 22 Question Id : 9767558746 Question Type : MCQ Option Shuffling : Yes Is Question Mandatory : No Option Orientation : Vertical

Correct Marks : 1 Wrong Marks : 0.25

निम्नलिखित संख्या श्रृंखला में गलत पद ज्ञात करें:

128, 130, 134, 142, 156, 190

Options :

1. ✗ 134
2. ✗ 142
3. ✓ 156
4. ✗ 190

Question Number : 23 Question Id : 9767558747 Question Type : MCQ Option Shuffling : Yes Is Question Mandatory : No Option Orientation : Vertical

Correct Marks : 1 Wrong Marks : 0.25

Which two numbers should be interchanged to make the given equation correct?

$$672 \div 7 \times 8 + 38 - 29 = 597$$

Options :

1. ✘ 7, 38
2. ✘ 8, 38
3. ✘ 38, 29
4. ✔ 7, 8

Question Number : 23 Question Id : 9767558747 Question Type : MCQ Option Shuffling : Yes Is Question Mandatory : No Option Orientation : Vertical

Correct Marks : 1 Wrong Marks : 0.25

नीचे दिए गए समीकरण को सही बनाने के लिए किन दो संख्याओं को परस्पर बदलना चाहिए?

$$672 \div 7 \times 8 + 38 - 29 = 597$$

Options :

1. ✘ 7, 38
2. ✘ 8, 38
3. ✘ 38, 29
4. ✔ 7, 8

Question Number : 24 Question Id : 9767558748 Question Type : MCQ Option Shuffling : Yes Is Question Mandatory : No Option Orientation : Vertical

Correct Marks : 1 Wrong Marks : 0.25

What is the error percentage if a number which was supposed to be divided by $\frac{3}{5}$ was multiplied by $\frac{3}{5}$ instead?

Options :

1. ✘ 56 percent
2. ✔ 64 percent
3. ✘ 72 percent
4. ✘ 48 percent

Question Number : 24 Question Id : 9767558748 Question Type : MCQ Option Shuffling : Yes Is Question Mandatory : No Option Orientation : Vertical

Correct Marks : 1 Wrong Marks : 0.25

यदि एक संख्या जिसे $\frac{3}{5}$ से विभाजित किया जाना था उसके बजाय $\frac{3}{5}$ से गुणा किया गया था, तो त्रुटि प्रतिशत क्या है?

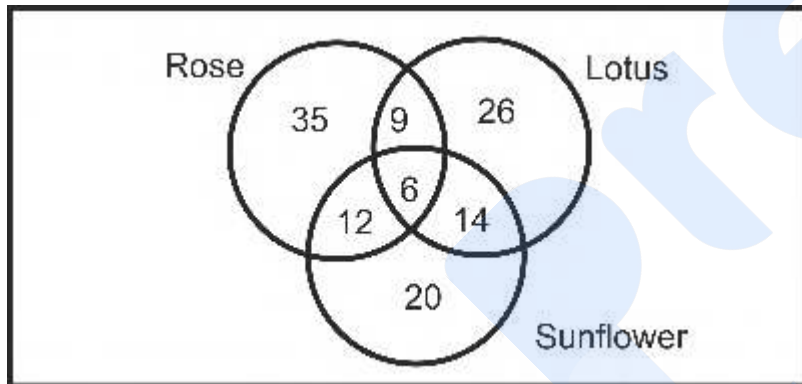
Options :

1. ✘ 56 प्रतिशत
2. ✔ 64 प्रतिशत
3. ✘ 72 प्रतिशत
4. ✘ 48 प्रतिशत

Question Number : 25 Question Id : 9767558749 Question Type : MCQ Option Shuffling : Yes Is Question Mandatory : No Option Orientation : Vertical

Correct Marks : 1 Wrong Marks : 0.25

The given Venn diagram shows the number of friends who have got rose, sunflowers and lotus in an event. How many of these friends have got rose?



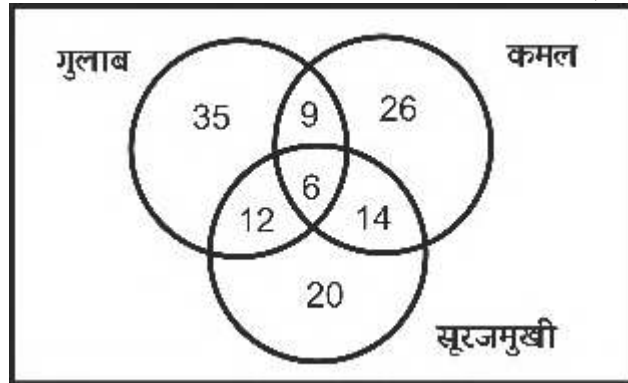
Options :

1. ✘ 41
2. ✘ 35
3. ✔ 62
4. ✘ 56

Question Number : 25 Question Id : 9767558749 Question Type : MCQ Option Shuffling : Yes Is Question Mandatory : No Option Orientation : Vertical

Correct Marks : 1 Wrong Marks : 0.25

दिए गए वेन आरेख में दोस्तों की संख्या दर्शायी गई है जिन्हें एक इवेंट में गुलाब, सूरजमुखी और कमल मिले हैं। इन दोस्तों में से कितनों के पास गुलाब हैं?



Options :


1. ✘ 41
2. ✘ 35
3. ✔ 62
4. ✘ 56

Question Number : 26 Question Id : 9767558750 Question Type : MCQ Option Shuffling : Yes Is Question Mandatory : No Option Orientation : Vertical


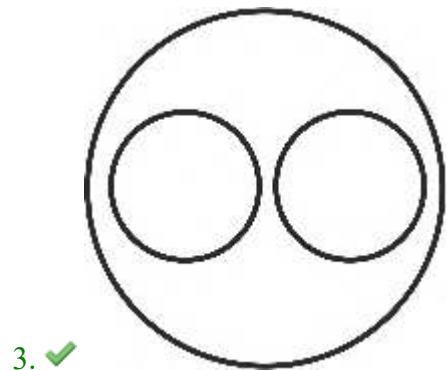
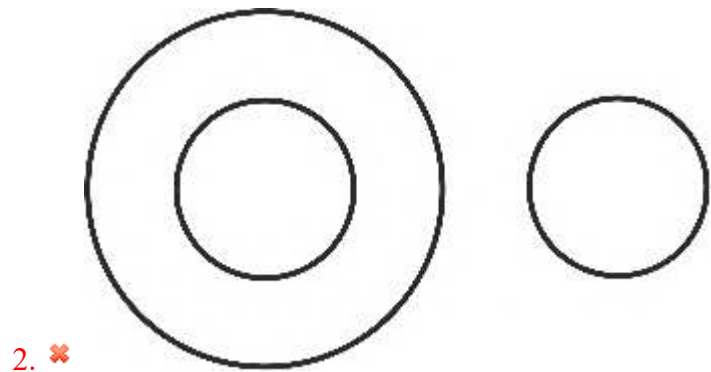
Correct Marks : 1 Wrong Marks : 0.25

Which of the following Venn diagrams best represents the relationship between transport, car and ship?

Options :



1. ✘



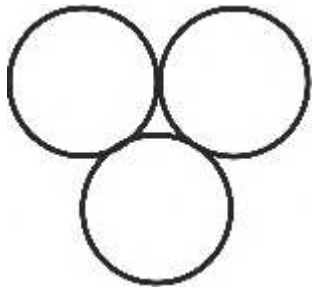
prepp
Your Personal Exam Guide

Question Number : 26 Question Id : 9767558750 Question Type : MCQ Option Shuffling : Yes Is Question Mandatory : No Option Orientation : Vertical

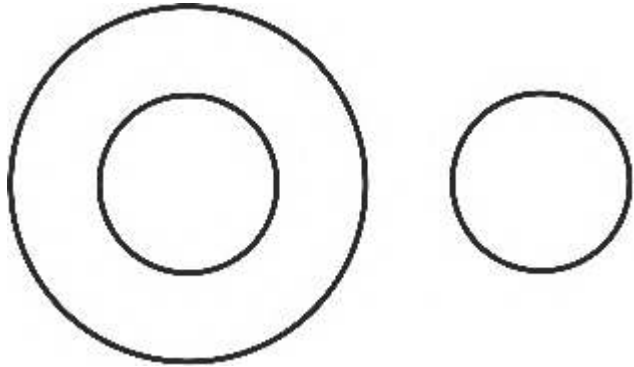
Correct Marks : 1 Wrong Marks : 0.25

निम्नलिखित में से कौन सा वेन आरेख परिवहन, कार और जहाज के बीच के संबंध को सबसे अच्छा दर्शाता है?

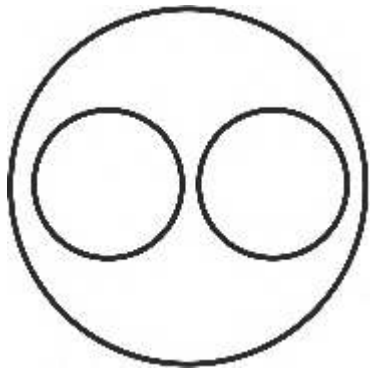
Options :



1. ✘




2. ✘



3. ✔

prepp
Your Personal Exam Guide

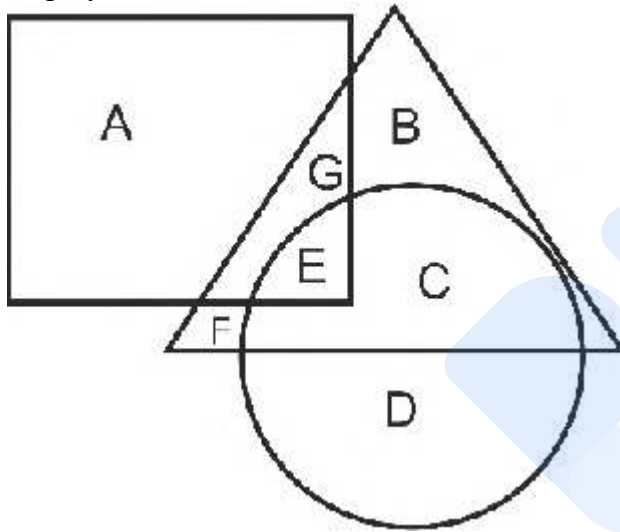


4. ✘

Question Number : 27 Question Id : 9767558751 Question Type : MCQ Option Shuffling : Yes Is Question Mandatory : No Option Orientation : Vertical

Correct Marks : 1 Wrong Marks : 0.25

In the following figure, triangle represents uneducated, square represents employed, circle represents male. Which area represents uneducated employed who are female?



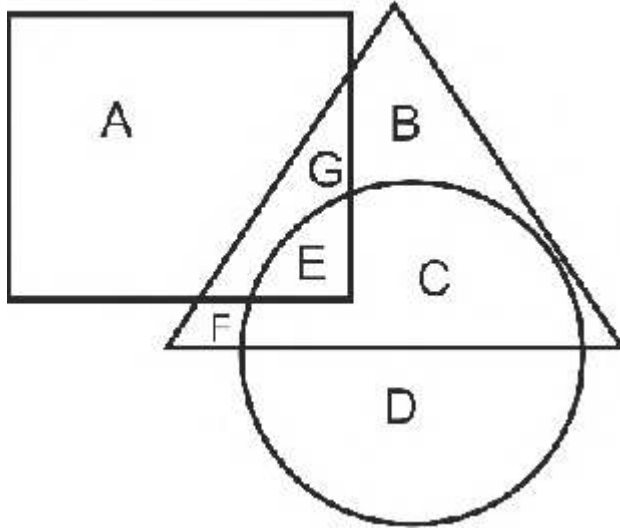
Options :

1. ✘ F
2. ✔ G
3. ✘ E
4. ✘ C

Question Number : 27 Question Id : 9767558751 Question Type : MCQ Option Shuffling : Yes Is Question Mandatory : No Option Orientation : Vertical

Correct Marks : 1 Wrong Marks : 0.25

निम्नलिखित आकृति में, त्रिभुज अशिक्षित का प्रतिनिधित्व करता है, वर्ग नियोजित का प्रतिनिधित्व करता है, वृत्त पुरुष का प्रतिनिधित्व करता है। कौन सा क्षेत्र अशिक्षित नियोजित का प्रतिनिधित्व करता है जो महिला हैं?



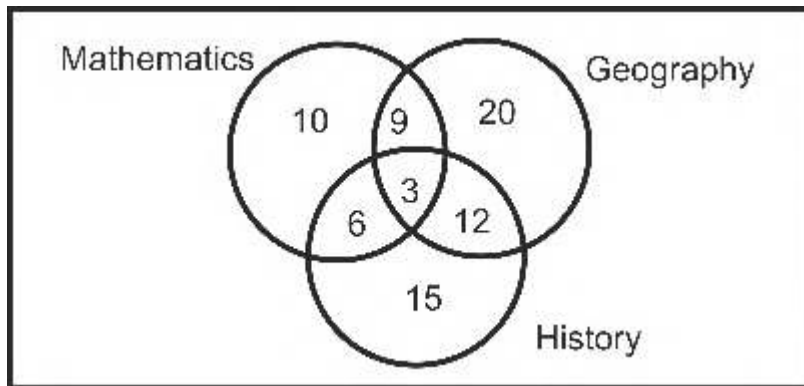
Options :

1. ✘ F
2. ✔ G
3. ✘ E
4. ✘ C

Question Number : 28 Question Id : 9767558752 Question Type : MCQ Option Shuffling : Yes Is Question Mandatory : No Option Orientation : Vertical

Correct Marks : 1 Wrong Marks : 0.25

The given Venn diagram shows the number of students who have passed in Mathematics, Geography and History. How many of these students have passed in only one subject?



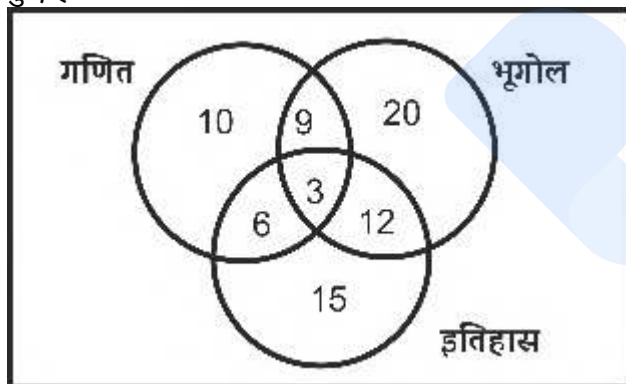
Options :

1. ✘ 28
2. ✘ 30
3. ✘ 27
4. ✔ 45

Question Number : 28 Question Id : 9767558752 Question Type : MCQ Option Shuffling : Yes Is Question Mandatory : No Option Orientation : Vertical

Correct Marks : 1 Wrong Marks : 0.25

दिए गए वेन आरेख में उन छात्रों की संख्या को दर्शाया गया है जो गणित, भूगोल और इतिहास में उत्तीर्ण हुए हैं। इनमें से कितने छात्र केवल एक विषय में उत्तीर्ण हुए हैं?



Options :

1. ✘ 28
2. ✘ 30
3. ✘ 27

4. ✓ 45

Question Number : 29 Question Id : 9767558753 Question Type : MCQ Option Shuffling : Yes Is Question Mandatory : No Option Orientation : Vertical

Correct Marks : 1 Wrong Marks : 0.25

Ashish starts to walk 2 km towards south, turns left and walks 2 km. Then he turns left again and walks 2 km. He is facing which of the following directions?

Options :

1. ✗ East
2. ✗ West
3. ✓ North
4. ✗ South-West

Question Number : 29 Question Id : 9767558753 Question Type : MCQ Option Shuffling : Yes Is Question Mandatory : No Option Orientation : Vertical

Correct Marks : 1 Wrong Marks : 0.25

आशीष दक्षिण की ओर 2 km चलना शुरू करता है, बाईं ओर मुड़ता है और 2 km चलता है। फिर वह फिर से बाईं ओर मुड़ता है और 2 km चलता है। निम्नलिखित में से किस दिशा में उसका मुँह है?

Options :

1. ✗ पूर्व
2. ✗ पश्चिम
3. ✓ उत्तर
4. ✗ दक्षिण-पश्चिम

Question Number : 30 Question Id : 9767558754 Question Type : MCQ Option Shuffling : Yes Is Question Mandatory : No Option Orientation : Vertical

Correct Marks : 1 Wrong Marks : 0.25

Krish walked 250m towards south. Then he turned left and walked 200 m. He then turned left and walked 250 and then turned right and walked 150 m. Where is he standing right now with respect to his starting point?

Options :

1. ✓ 350 m east
2. ✗ 450 m west

3. ✘ 350 m west

4. ✘ 450 m east

Question Number : 30 Question Id : 9767558754 Question Type : MCQ Option Shuffling : Yes Is Question Mandatory : No Option Orientation : Vertical

Correct Marks : 1 Wrong Marks : 0.25

कृष दक्षिण की ओर 250m चलता है। फिर वह बाईं ओर मुड़ा और 200 m चला। वह फिर बाईं ओर मुड़ा और 250m चला और फिर दाईं ओर मुड़ा और 150 m चला। अपने शुरुआती बिंदु के संबंध में वह अभी कहां खड़ा है?

Options :

1. ✔ 350 m पूर्व

2. ✘ 450 m पश्चिम

3. ✘ 350 m पश्चिम

4. ✘ 450 m पूर्व

Question Number : 31 Question Id : 9767558755 Question Type : MCQ Option Shuffling : Yes Is Question Mandatory : No Option Orientation : Vertical

Correct Marks : 1 Wrong Marks : 0.25

Nitin walks 0.2 km towards north. Then he turns right and walks 0.3 km. Then he turns right and walks 0.35 km. Then he turns left and walks 0.15 km. Finally he turns left and walks 0.15 km. Where is he standing now with respect to his initial position?

Options :

1. ✘ 0.45 km west

2. ✔ 0.45 km east

3. ✘ 0.30 km west

4. ✘ 0.30 km east

Question Number : 31 Question Id : 9767558755 Question Type : MCQ Option Shuffling : Yes Is Question Mandatory : No Option Orientation : Vertical

Correct Marks : 1 Wrong Marks : 0.25

नितिन उत्तर की ओर 0.2 km चलता है। फिर वह दाईं ओर मुड़ता है और 0.3 km चलता है। फिर वह दाईं ओर मुड़ता है और 0.35 km चलता है। फिर वह बाईं ओर मुड़ता है और 0.15 km चलता है। आखिरकार वह बाईं ओर मुड़ता है और 0.15 km चलता है। अपनी प्रारंभिक स्थिति के संबंध में अब वह कहां खड़ा है?

Options :

1. ✘ 0.45 km पश्चिम

2. ✓ 0.45 km पूर्व
3. ✗ 0.30 km पश्चिम
4. ✗ 0.30 km पूर्व

Question Number : 32 Question Id : 9767558756 Question Type : MCQ Option Shuffling : Yes Is Question Mandatory : No Option Orientation : Vertical

Correct Marks : 1 Wrong Marks : 0.25

Paras and Shyam start walking from the same point. Paras walks 80 m north, then turns west and walks 60 m, then turns to his right and walks 40 m. Shyam walks 40 m west, then turns north and walks 120 m, then turns to his right and walks 90 m. Where is Shyam with respect to Paras now?

Options :

1. ✗ 120 m west
2. ✗ 110 m west
3. ✗ 120 m east
4. ✓ 110 m east

Question Number : 32 Question Id : 9767558756 Question Type : MCQ Option Shuffling : Yes Is Question Mandatory : No Option Orientation : Vertical

Correct Marks : 1 Wrong Marks : 0.25

पारस और श्याम एक ही बिंदु से चलना शुरू करते हैं। पारस 80 m उत्तर की ओर चलता है, फिर पश्चिम की ओर मुड़ता है और 60 m चलता है, फिर उसके दाईं ओर मुड़ता है और 40 m चलता है। श्याम 40 m पश्चिम की ओर चलता है, फिर उत्तर की ओर मुड़ता है और 120 m चलता है, फिर दाईं ओर मुड़ता है और 90 m चलता है। अब पारस के संबंध में श्याम कहाँ है?

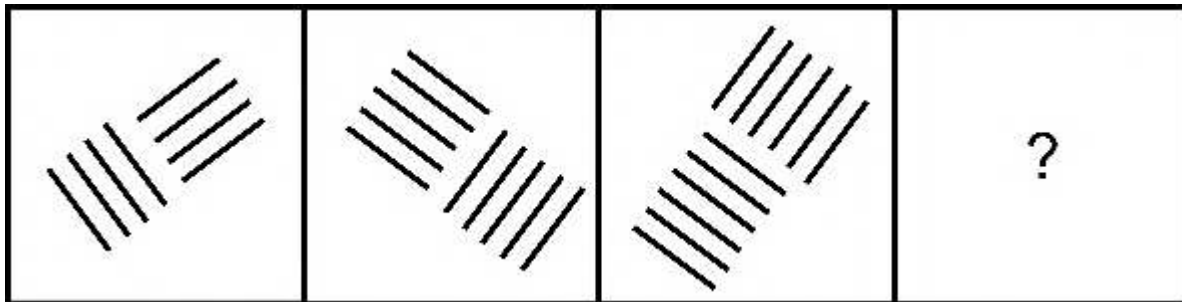
Options :

1. ✗ 120 m पश्चिम
2. ✗ 110 m पश्चिम
3. ✗ 120 m पूर्व
4. ✓ 110 m पूर्व

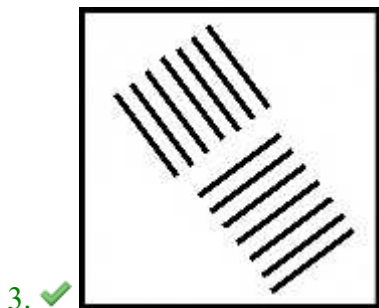
Question Number : 33 Question Id : 9767558757 Question Type : MCQ Option Shuffling : Yes Is Question Mandatory : No Option Orientation : Vertical

Correct Marks : 1 Wrong Marks : 0.25

Which of the following answer figure completes the series of the question figure?



Options :



prepp
Your Personal Exam Guide

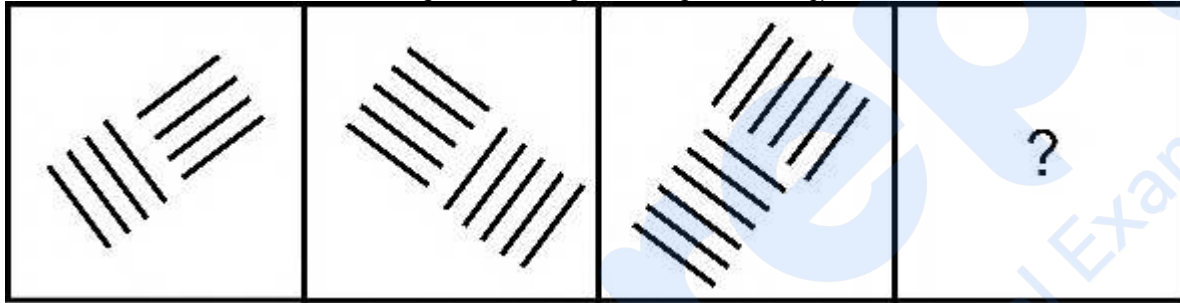


4. ✖


Question Number : 33 Question Id : 9767558757 Question Type : MCQ Option Shuffling : Yes Is Question Mandatory : No Option Orientation : Vertical

Correct Marks : 1 Wrong Marks : 0.25

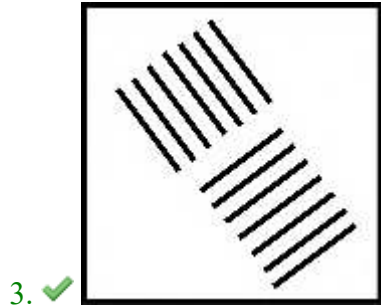
निम्नलिखित में से कौन सी उत्तर आकृति प्रश्न आकृति की श्रृंखला को पूरा करती है?



Options :



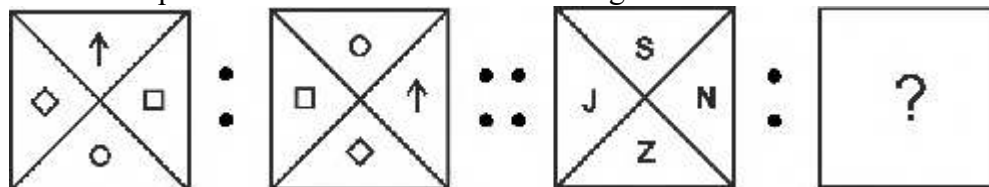
1. ✖



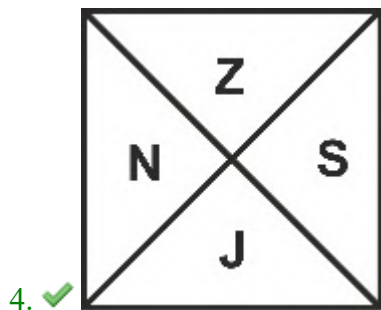
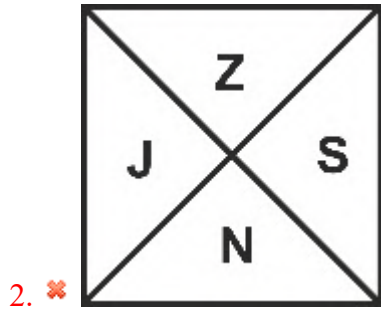
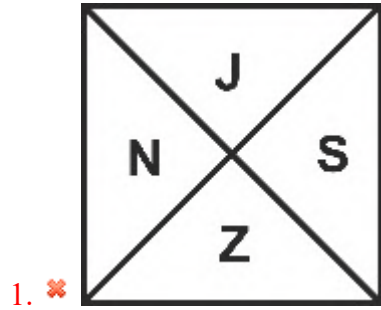
Question Number : 34 Question Id : 9767558758 Question Type : MCQ Option Shuffling : Yes Is Question Mandatory : No Option Orientation : Vertical

Correct Marks : 1 Wrong Marks : 0.25

Select the option that is related to the third image on the same basis as the second image is related to the first image.



Options :

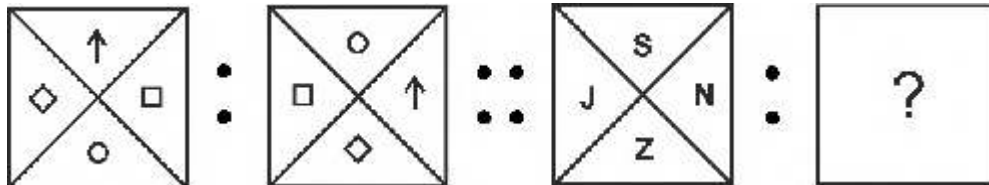


prepp
Your Personal Exam Guide

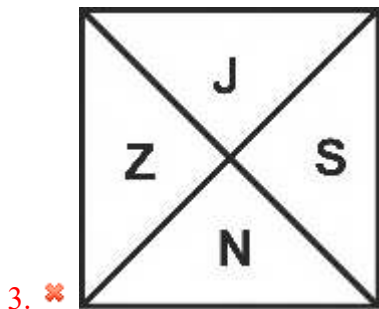
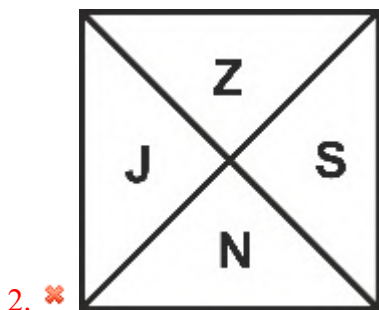
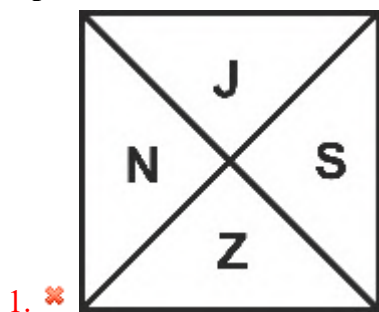
Question Number : 34 Question Id : 9767558758 Question Type : MCQ Option Shuffling : Yes Is Question Mandatory : No Option Orientation : Vertical


Correct Marks : 1 Wrong Marks : 0.25

उस विकल्प का चयन करें जो तीसरी छवि से उसी प्रकार से संबंधित है जिस प्रकार से दूसरी छवि पहली छवि से संबंधित है।



Options :





4. ✓

Question Number : 35 Question Id : 9767558759 Question Type : MCQ Option Shuffling : Yes Is Question Mandatory : No Option Orientation : Vertical

Correct Marks : 1 Wrong Marks : 0.25

Find the missing figure in the following matrix.

63	49	?
99	77	121
135	105	165

Options :

1. ✗ 35
2. ✓ 77
3. ✗ 101
4. ✗ 91

Question Number : 35 Question Id : 9767558759 Question Type : MCQ Option Shuffling : Yes Is Question Mandatory : No Option Orientation : Vertical

Correct Marks : 1 Wrong Marks : 0.25

निम्नलिखित मैट्रिक्स में लुप्त आंकड़ा ज्ञात करें।

63	49	?
99	77	121
135	105	165

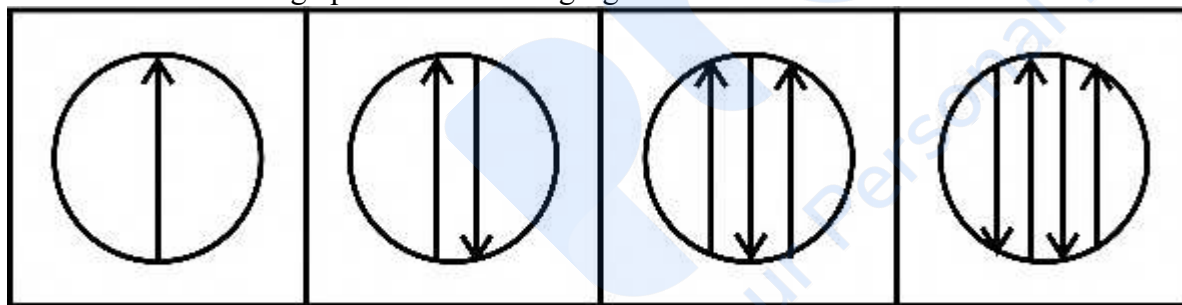
Options :

1. ✘ 35
2. ✔ 77
3. ✘ 101
4. ✘ 91

Question Number : 36 Question Id : 9767558760 Question Type : MCQ Option Shuffling : Yes Is Question Mandatory : No Option Orientation : Vertical

Correct Marks : 1 Wrong Marks : 0.25

Which of the following options is the wrong figure in the series?



(A)

(B)

(C)

(D)

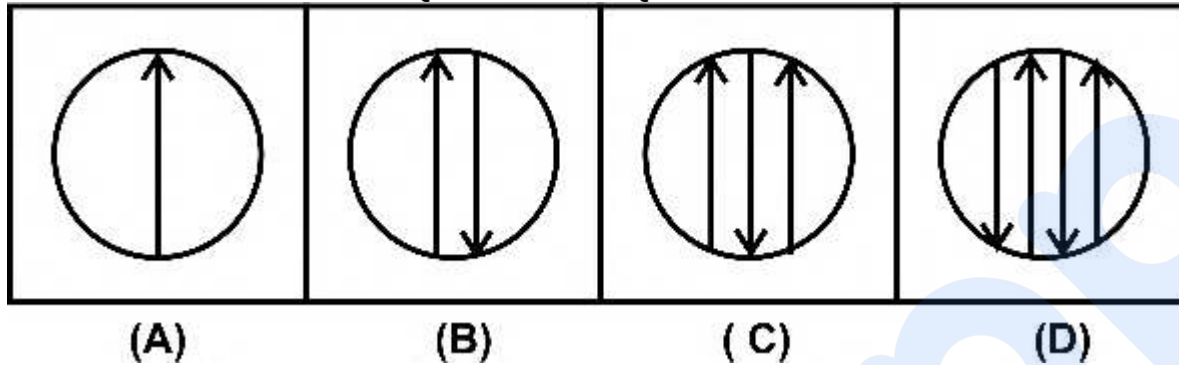
Options :

1. ✘ A
2. ✘ B
3. ✘ C
4. ✔ D

Question Number : 36 Question Id : 9767558760 Question Type : MCQ Option Shuffling : Yes Is Question Mandatory : No Option Orientation : Vertical

Correct Marks : 1 Wrong Marks : 0.25

निम्नलिखित में से कौन सा विकल्प श्रृंखला में गलत आकृति है?



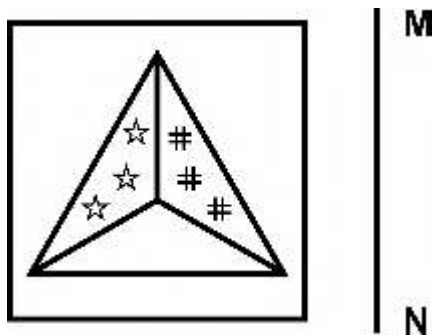
Options :

1. ✘ A
2. ✘ B
3. ✘ C
4. ✔ D

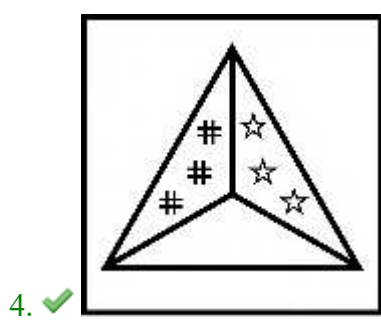
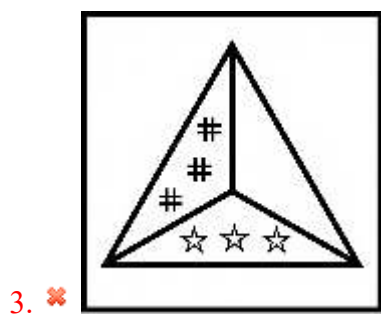

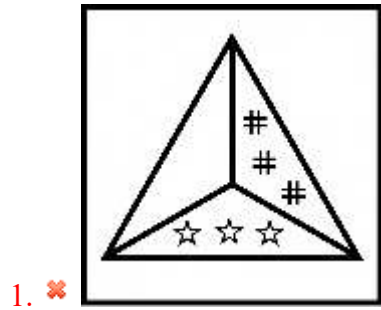
Question Number : 37 Question Id : 9767558761 Question Type : MCQ Option Shuffling : Yes Is Question Mandatory : No Option Orientation : Vertical

Correct Marks : 1 Wrong Marks : 0.25

If a mirror is placed on the line MN, then which of the answer figures is the correct mirror image of the given figure?



Options :

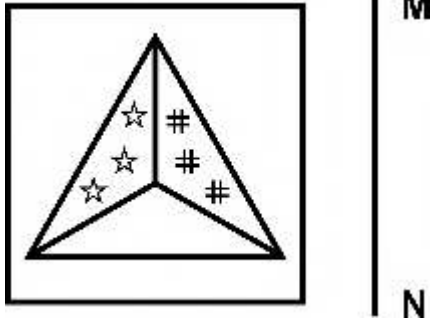


prepp
Your Personal Exam Guide


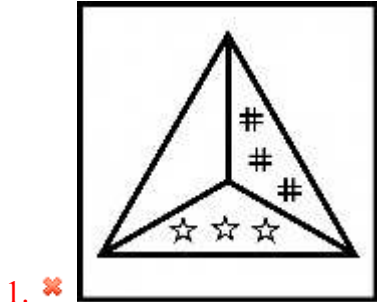
Question Number : 37 Question Id : 9767558761 Question Type : MCQ Option Shuffling : Yes Is Question Mandatory : No Option Orientation : Vertical

Correct Marks : 1 Wrong Marks : 0.25

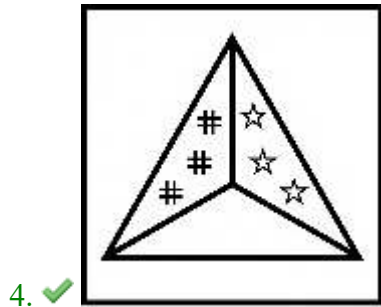
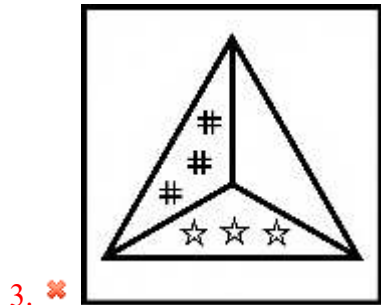
यदि एक दर्पण को रेखा MN पर रखा गया है, तो कौन सी उत्तर आकृति दी गई आकृति का सही दर्पण प्रतिबिंब है?



Options :



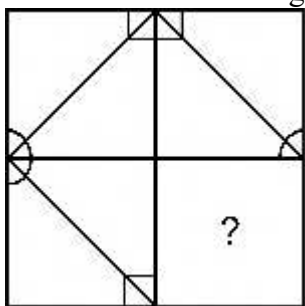
prepp
Your Personal Exam Guide



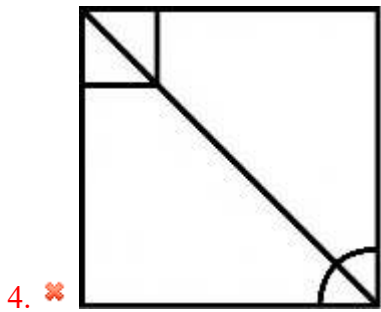
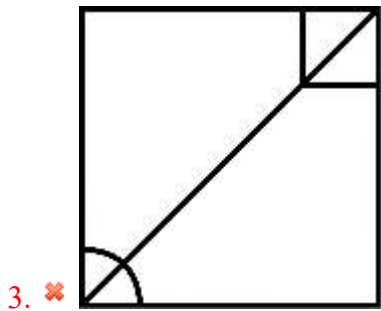
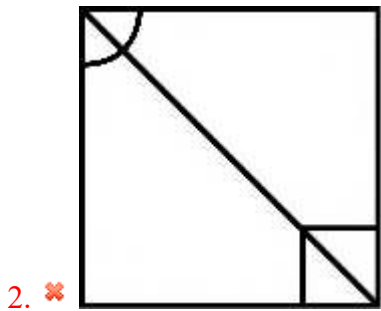
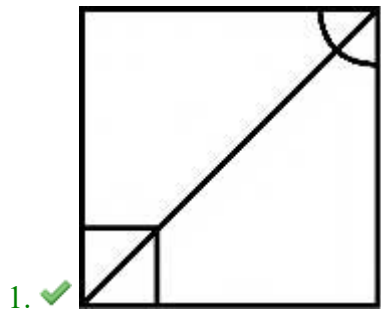
Question Number : 38 Question Id : 9767558762 Question Type : MCQ Option Shuffling : Yes Is Question Mandatory : No Option Orientation : Vertical

Correct Marks : 1 Wrong Marks : 0.25

Which of the following answer figure patterns can be combined to make the question figure?



Options :



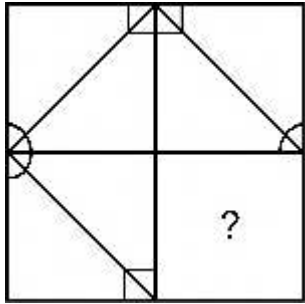
prepp
Your Personal Exam Guide

Question Number : 38 Question Id : 9767558762 Question Type : MCQ Option Shuffling : Yes Is Question Mandatory : No Option

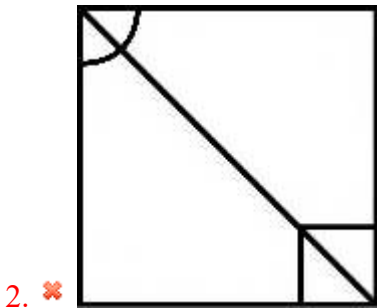
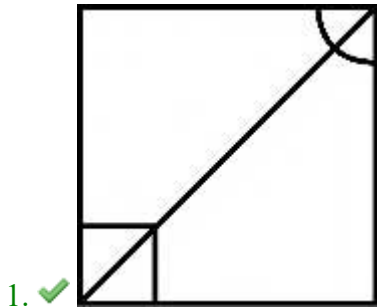
Orientation : Vertical

Correct Marks : 1 Wrong Marks : 0.25

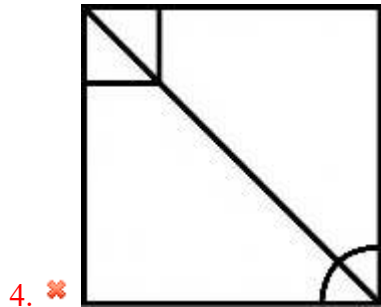
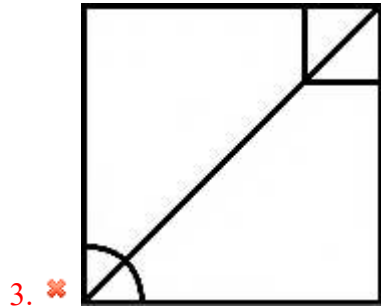
निम्नलिखित में से कौन सी उत्तर आकृति पैटर्न को प्रश्न आकृति बनाने के लिए संयुक्त किया जा सकता है?



Options :



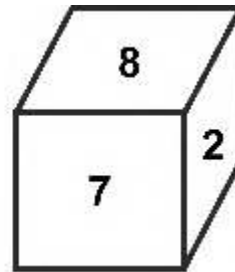
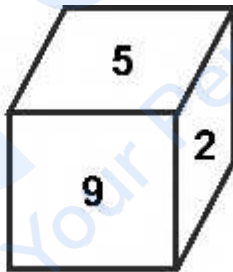
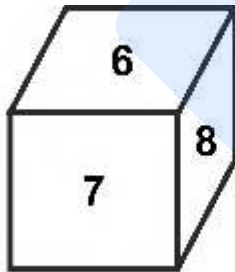
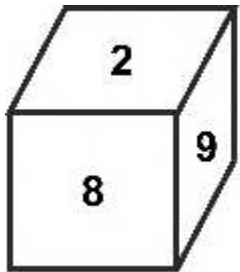
prepp
Your Personal Exam Guide



Question Number : 39 Question Id : 9767558763 Question Type : MCQ Option Shuffling : Yes Is Question Mandatory : No Option Orientation : Vertical

Correct Marks : 1 Wrong Marks : 0.25

In the following question, four positions of the same dice are given. Which number will be at the face opposite to the face having the number 5?



Options :

1. ✘ 7

2. ✘ 6

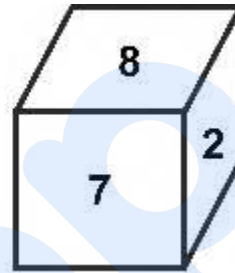
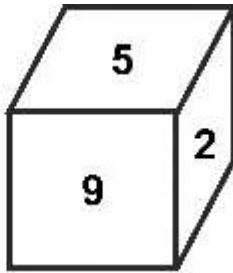
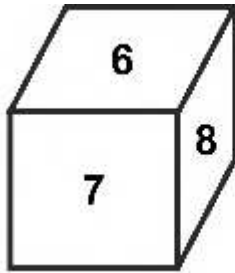
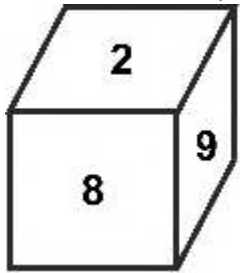
3. ✔ 8

4. ✖ 9

Question Number : 39 Question Id : 9767558763 Question Type : MCQ Option Shuffling : Yes Is Question Mandatory : No Option Orientation : Vertical

Correct Marks : 1 Wrong Marks : 0.25

निम्नलिखित प्रश्न में, एक ही पासे की चार स्थितियां दी गई हैं। 5 संख्या वाले फलक के सामने वाले फलक पर कौन सी संख्या होगी?



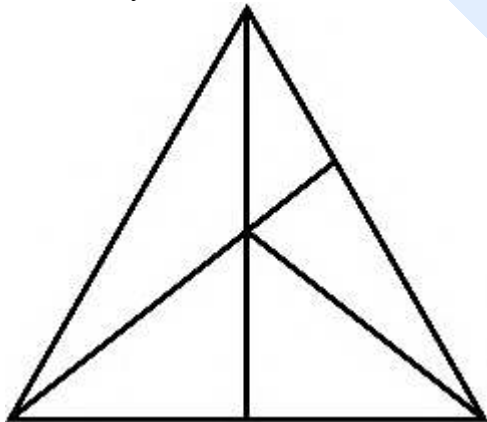
Options :

1. ✖ 7
2. ✖ 6
3. ✔ 8
4. ✖ 9

Question Number : 40 Question Id : 9767558764 Question Type : MCQ Option Shuffling : Yes Is Question Mandatory : No Option Orientation : Vertical

Correct Marks : 1 Wrong Marks : 0.25

How many maximum number of triangles are there in the given question figure?



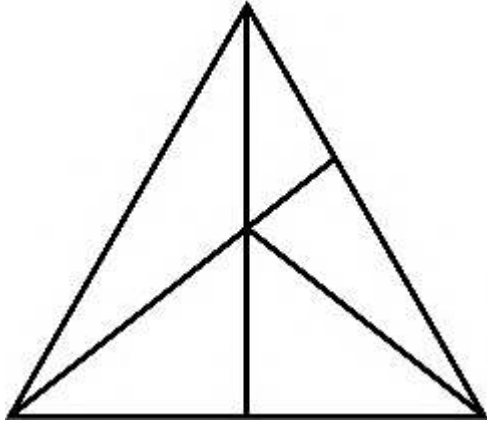
Options :

1. ✘ 15
2. ✔ 12
3. ✘ 17
4. ✘ 20

Question Number : 40 Question Id : 9767558764 Question Type : MCQ Option Shuffling : Yes Is Question Mandatory : No Option Orientation : Vertical

Correct Marks : 1 Wrong Marks : 0.25

दी गई प्रश्न आकृति में त्रिभुज की अधिकतम संख्या क्या है?



Options :

1. ✘ 15
2. ✔ 12
3. ✘ 17
4. ✘ 20

General Awareness1

Group Number :	3
Group Id :	976755217
Group Maximum Duration :	0
Group Minimum Duration :	0
Show Attended Group? :	No

Edit Attended Group? :	No
Break time :	0
Group Marks :	20
Is this Group for Examiner? :	No

General Awareness1

Section Id :	976755505
Section Number :	1
Section type :	Online
Mandatory or Optional :	Mandatory
Number of Questions :	20
Number of Questions to be attempted :	20
Section Marks :	20
Enable Mark as Answered Mark for Review and Clear Response :	Yes
Sub-Section Number :	1
Sub-Section Id :	976755606
Question Shuffling Allowed :	Yes

Question Number : 41 Question Id : 9767558765 Question Type : MCQ Option Shuffling : Yes Is Question Mandatory : No Option Orientation : Vertical

Correct Marks : 1 Wrong Marks : 0.25

The Kanheri Caves, built by Buddhists, are located in which of the following states?

Options :

1. ✘ Rajasthan
2. ✘ Odisha
3. ✔ Maharashtra
4. ✘ Delhi

Question Number : 41 Question Id : 9767558765 Question Type : MCQ Option Shuffling : Yes Is Question Mandatory : No Option Orientation : Vertical

Correct Marks : 1 Wrong Marks : 0.25

बौद्धों द्वारा निर्मित कान्हेरी गुफाएँ, निम्नलिखित में से किस राज्य में स्थित है?

Options :

1. ✘ राजस्थान
2. ✘ ओडिशा
3. ✔ महाराष्ट्र
4. ✘ दिल्ली

Question Number : 42 Question Id : 9767558766 Question Type : MCQ Option Shuffling : Yes Is Question Mandatory : No Option Orientation : Vertical

Correct Marks : 1 Wrong Marks : 0.25

Which among the following dance forms of Madhya Pradesh is also known as "Harvest Dance"?

Options :

1. ✘ Bhagoria
2. ✔ Jawara
3. ✘ Tertali
4. ✘ Matki

Question Number : 42 Question Id : 9767558766 Question Type : MCQ Option Shuffling : Yes Is Question Mandatory : No Option Orientation : Vertical

Correct Marks : 1 Wrong Marks : 0.25

मध्य प्रदेश के निम्नलिखित नृत्य रूपों में से किसे "फसल नृत्य" के रूप में भी जाना जाता है?

Options :

1. ✘ भगोरिया
2. ✔ जावरा
3. ✘ तेराताली
4. ✘ मटकी

Question Number : 43 Question Id : 9767558767 Question Type : MCQ Option Shuffling : Yes Is Question Mandatory : No Option Orientation : Vertical

Correct Marks : 1 Wrong Marks : 0.25

Which among the following folk music evolved among the Goan Catholics of Goa?

Options :

1. ✓ Mando
2. ✗ Maand
3. ✗ Powada
4. ✗ Bhavageete

Question Number : 43 Question Id : 9767558767 Question Type : MCQ Option Shuffling : Yes Is Question Mandatory : No Option Orientation : Vertical

Correct Marks : 1 Wrong Marks : 0.25

निम्नलिखित में से कौन सा लोक संगीत गोवा के गोअन कैथोलिक के बीच विकसित हुआ?

Options :

1. ✓ मांडो
2. ✗ मांड
3. ✗ पोवाड़ा
4. ✗ भावगीते

Question Number : 44 Question Id : 9767558768 Question Type : MCQ Option Shuffling : Yes Is Question Mandatory : No Option Orientation : Vertical

Correct Marks : 1 Wrong Marks : 0.25

Who among the following built the Vijaya Stambha of Rajasthan?

Options :

1. ✗ Surajmal Singh
2. ✗ Pratap Singh
3. ✗ Sawai Jai Singh
4. ✓ Maharana Kumbha

Question Number : 44 Question Id : 9767558768 Question Type : MCQ Option Shuffling : Yes Is Question Mandatory : No Option Orientation : Vertical

Correct Marks : 1 Wrong Marks : 0.25

निम्नलिखित में से किसने राजस्थान के विजय स्तम्भ का निर्माण किया था?

Options :

- ✘ सूरजमल सिंह
- ✘ प्रताप सिंह
- ✘ सवाई जय सिंह
- ✔ महाराणा कुम्भा

Question Number : 45 Question Id : 9767558769 Question Type : MCQ Option Shuffling : Yes Is Question Mandatory : No Option Orientation : Vertical

Correct Marks : 1 Wrong Marks : 0.25

Complementary goods have a _____ cross price elasticity.

Options :

- ✘ infinite
- ✘ zero
- ✔ negative
- ✘ positive

Question Number : 45 Question Id : 9767558769 Question Type : MCQ Option Shuffling : Yes Is Question Mandatory : No Option Orientation : Vertical

Correct Marks : 1 Wrong Marks : 0.25

अनुपूरक वस्तुओं में एक _____ आड़ी मूल्य लोच है।

Options :

- ✘ अनंत
- ✘ शून्य
- ✔ नकारात्मक
- ✘ सकारात्मक

Question Number : 46 Question Id : 9767558770 Question Type : MCQ Option Shuffling : Yes Is Question Mandatory : No Option Orientation : Vertical

Correct Marks : 1 Wrong Marks : 0.25

Which among the following banks was inaugurated by Mahatma Gandhi in 1919?

Options :

- ✔ Union Bank of India

2. ✘ Punjab National Bank
3. ✘ State Bank of India
4. ✘ Central Bank of India

Question Number : 46 Question Id : 9767558770 Question Type : MCQ Option Shuffling : Yes Is Question Mandatory : No Option Orientation : Vertical

Correct Marks : 1 Wrong Marks : 0.25

1919 में महात्मा गांधी द्वारा निम्नलिखित में से किस बैंक का उद्घाटन किया गया था?

Options :

1. ✔ यूनिजन बैंक ऑफ इंडिया
2. ✘ पंजाब नैशनल बैंक
3. ✘ भारतीय स्टेट बैंक
4. ✘ सेन्ट्रल बैंक ऑफ इंडिया

Question Number : 47 Question Id : 9767558771 Question Type : MCQ Option Shuffling : Yes Is Question Mandatory : No Option Orientation : Vertical

Correct Marks : 1 Wrong Marks : 0.25

The Goods and Services Tax was introduced in _____ in India.

Options :

1. ✘ 2016
2. ✔ 2017
3. ✘ 2018
4. ✘ 2019

Question Number : 47 Question Id : 9767558771 Question Type : MCQ Option Shuffling : Yes Is Question Mandatory : No Option Orientation : Vertical

Correct Marks : 1 Wrong Marks : 0.25

वस्तु एवं सेवा कर भारत में _____ में पेश किया गया था।

Options :

1. ✘ 2016
2. ✔ 2017

3. ✘ 2018

4. ✘ 2019

Question Number : 48 Question Id : 9767558772 Question Type : MCQ Option Shuffling : Yes Is Question Mandatory : No Option Orientation : Vertical

Correct Marks : 1 Wrong Marks : 0.25

As per the Economic Survey 2020-21, India's real GDP growth is estimated to contract by _____ in financial year 2020-2021.

Options :

1. ✘ 9 percent

2. ✘ 4.5 percent

3. ✘ 11 percent

4. ✔ 7.7 percent

Question Number : 48 Question Id : 9767558772 Question Type : MCQ Option Shuffling : Yes Is Question Mandatory : No Option Orientation : Vertical

Correct Marks : 1 Wrong Marks : 0.25

आर्थिक सर्वेक्षण 2020-21 के अनुसार, वित्तीय वर्ष 2020-2021 में भारत की वास्तविक GDP वृद्धि _____ से अनुबंधित होने का अनुमान है।

Options :

1. ✘ 9 प्रतिशत

2. ✘ 4.5 प्रतिशत

3. ✘ 11 प्रतिशत

4. ✔ 7.7 प्रतिशत

Question Number : 49 Question Id : 9767558773 Question Type : MCQ Option Shuffling : Yes Is Question Mandatory : No Option Orientation : Vertical

Correct Marks : 1 Wrong Marks : 0.25

Which of the following components is not taken into account while calculating national income by expenditure method?

Options :

1. ✘ Government expenditure

2. ✔ Purchase of shares and bonds

3. ✘ Household consumption

4. ✖ Investment expenditure

Question Number : 49 Question Id : 9767558773 Question Type : MCQ Option Shuffling : Yes Is Question Mandatory : No Option Orientation : Vertical

Correct Marks : 1 Wrong Marks : 0.25

व्यय विधि द्वारा राष्ट्रीय आय की गणना करते समय निम्नलिखित में से किस घटक पर ध्यान नहीं दिया जाता है?

Options :

1. ✖ सरकारी व्यय
2. ✔ शेयरों और बांड्स की खरीद
3. ✖ घरेलू उपभोग
4. ✖ निवेश व्यय

Question Number : 50 Question Id : 9767558774 Question Type : MCQ Option Shuffling : Yes Is Question Mandatory : No Option Orientation : Vertical

Correct Marks : 1 Wrong Marks : 0.25

What is the SI unit of energy?

Options :

1. ✖ Newton
2. ✔ Joule
3. ✖ Ampere
4. ✖ Mole

Question Number : 50 Question Id : 9767558774 Question Type : MCQ Option Shuffling : Yes Is Question Mandatory : No Option Orientation : Vertical

Correct Marks : 1 Wrong Marks : 0.25

ऊर्जा की SI इकाई क्या है?

Options :

1. ✖ न्यूटन
2. ✔ जूल
3. ✖ एम्पियर
4. ✖ मोल

Question Number : 51 Question Id : 9767558775 Question Type : MCQ Option Shuffling : Yes Is Question Mandatory : No Option Orientation : Vertical

Correct Marks : 1 Wrong Marks : 0.25

Which among the following national parks is not located in West Bengal?

Options :

1. ✘ Buxa Tiger Reserve
2. ✘ Gorumara National Park
3. ✘ Jaldapara National Park
4. ✔ Kanha National Park

Question Number : 51 Question Id : 9767558775 Question Type : MCQ Option Shuffling : Yes Is Question Mandatory : No Option Orientation : Vertical

Correct Marks : 1 Wrong Marks : 0.25

निम्नलिखित में से कौन सा राष्ट्रीय उद्यान पश्चिम बंगाल में स्थित नहीं है?

Options :

1. ✘ बुक्सा टाइगर रिजर्व
2. ✘ गोरुमारा राष्ट्रीय उद्यान
3. ✘ जलदापाड़ा राष्ट्रीय उद्यान
4. ✔ कान्हा राष्ट्रीय उद्यान

Question Number : 52 Question Id : 9767558776 Question Type : MCQ Option Shuffling : Yes Is Question Mandatory : No Option Orientation : Vertical

Correct Marks : 1 Wrong Marks : 0.25

The members of chlorophyceae are commonly called which of the following algae?

Options :

1. ✘ red
2. ✘ blue
3. ✔ green
4. ✘ brown

Question Number : 52 Question Id : 9767558776 Question Type : MCQ Option Shuffling : Yes Is Question Mandatory : No Option

Orientation : Vertical

Correct Marks : 1 Wrong Marks : 0.25

क्लोरोफाइसिई के सदस्यों को आमतौर पर निम्नलिखित में से कौन सा शैवाल कहा जाता है?

Options :

1. ✘ लाल
2. ✘ नीला
3. ✔ हरा
4. ✘ भूरा

Question Number : 53 Question Id : 9767558777 Question Type : MCQ Option Shuffling : Yes Is Question Mandatory : No Option

Orientation : Vertical

Correct Marks : 1 Wrong Marks : 0.25

Which among the following phyla is also known as sea walnuts?

Options :

1. ✘ Platyhelminthes
2. ✔ Ctenophora
3. ✘ Porifera
4. ✘ Coelenterata

Question Number : 53 Question Id : 9767558777 Question Type : MCQ Option Shuffling : Yes Is Question Mandatory : No Option

Orientation : Vertical

Correct Marks : 1 Wrong Marks : 0.25

निम्नलिखित में से किस संघ को समुद्री अखरोट (सी वॉल्ट) के नाम से भी जाना जाता है?

Options :

1. ✘ प्लेटीहेल्मिन्थीज
2. ✔ टेनोफोरा
3. ✘ पोरीफेरा
4. ✘ सीलेन्टरेटा

Question Number : 54 Question Id : 9767558778 Question Type : MCQ Option Shuffling : Yes Is Question Mandatory : No Option

Orientation : Vertical

Correct Marks : 1 Wrong Marks : 0.25

Which among the following is an example of kharif crop?

Options :

1. ✓ Maize
2. ✗ Wheat
3. ✗ Watermelon
4. ✗ Almond

Question Number : 54 Question Id : 9767558778 Question Type : MCQ Option Shuffling : Yes Is Question Mandatory : No Option Orientation : Vertical

Correct Marks : 1 Wrong Marks : 0.25

निम्नलिखित में से कौन खरीफ़ की फ़सल का एक उदाहरण है?

Options :

1. ✓ मक्का
2. ✗ गेहूँ
3. ✗ तरबूज
4. ✗ बादाम

Question Number : 55 Question Id : 9767558779 Question Type : MCQ Option Shuffling : Yes Is Question Mandatory : No Option Orientation : Vertical

Correct Marks : 1 Wrong Marks : 0.25

Which among the following states is also known as "Orchid State of India"?

Options :

1. ✗ Tamil Nadu
2. ✗ Madhya Pradesh
3. ✓ Arunachal Pradesh
4. ✗ Andhra Pradesh

Question Number : 55 Question Id : 9767558779 Question Type : MCQ Option Shuffling : Yes Is Question Mandatory : No Option Orientation : Vertical

Correct Marks : 1 Wrong Marks : 0.25

निम्नलिखित में से किस राज्य को "भारत का ऑर्किड राज्य" के रूप में भी जाना जाता है?

Options :

1. ✘ तमिल नाडु
2. ✘ मध्य प्रदेश
3. ✔ अरुणाचल प्रदेश
4. ✘ आन्ध्र प्रदेश

Question Number : 56 Question Id : 9767558780 Question Type : MCQ Option Shuffling : Yes Is Question Mandatory : No Option Orientation : Vertical

Correct Marks : 1 Wrong Marks : 0.25

Which among the following soils is also known as 'Usara soils'?

Options :

1. ✘ Arid
2. ✘ Laterite
3. ✘ Alluvial
4. ✔ Saline

Question Number : 56 Question Id : 9767558780 Question Type : MCQ Option Shuffling : Yes Is Question Mandatory : No Option Orientation : Vertical

Correct Marks : 1 Wrong Marks : 0.25

निम्नलिखित में से किस मृदा को 'ऊसर मृदा' के नाम से भी जाना जाता है?

Options :

1. ✘ शुष्क
2. ✘ लैटेराइट
3. ✘ जलोढ़
4. ✔ लवणीय

Question Number : 57 Question Id : 9767558781 Question Type : MCQ Option Shuffling : Yes Is Question Mandatory : No Option Orientation : Vertical

Correct Marks : 1 Wrong Marks : 0.25

Which among the following rivers is also known as 'Puranik River'?

Options :

1. ✓ Indus
2. ✗ Ganga
3. ✗ Yamuna
4. ✗ Brahmaputra

Question Number : 57 Question Id : 9767558781 Question Type : MCQ Option Shuffling : Yes Is Question Mandatory : No Option Orientation : Vertical

Correct Marks : 1 Wrong Marks : 0.25

निम्नलिखित नदियों में से किसे 'पुराणिक नदी' के नाम से भी जाना जाता है?

Options :

1. ✓ सिन्धु
2. ✗ गंगा
3. ✗ यमुना
4. ✗ ब्रह्मपुत्र

Question Number : 58 Question Id : 9767558782 Question Type : MCQ Option Shuffling : Yes Is Question Mandatory : No Option Orientation : Vertical

Correct Marks : 1 Wrong Marks : 0.25

Kalsubai is the highest peak of which of the following states?

Options :

1. ✗ Odisha
2. ✓ Maharashtra
3. ✗ West Bengal
4. ✗ Tamil Nadu

Question Number : 58 Question Id : 9767558782 Question Type : MCQ Option Shuffling : Yes Is Question Mandatory : No Option Orientation : Vertical

Correct Marks : 1 Wrong Marks : 0.25

कलसूबाई निम्नलिखित में से किस राज्य की सर्वोच्च चोटी है?

Options :

1. ✗ ओडिशा

2. ✓ महाराष्ट्र
3. ✗ पश्चिम बंगाल
4. ✗ तमिल नाडु

Question Number : 59 Question Id : 9767558783 Question Type : MCQ Option Shuffling : Yes Is Question Mandatory : No Option Orientation : Vertical

Correct Marks : 1 Wrong Marks : 0.25

The first session of Indian National Congress to be presided by a lady was held in _____.

Options :

1. ✗ 1929
2. ✗ 1888
3. ✓ 1917
4. ✗ 1920

Question Number : 59 Question Id : 9767558783 Question Type : MCQ Option Shuffling : Yes Is Question Mandatory : No Option Orientation : Vertical

Correct Marks : 1 Wrong Marks : 0.25

एक महिला द्वारा अध्यक्षता की जाने वाली भारतीय राष्ट्रीय कांग्रेस का पहला अधिवेशन _____ में आयोजित किया गया था।

Options :

1. ✗ 1929
2. ✗ 1888
3. ✓ 1917
4. ✗ 1920

Question Number : 60 Question Id : 9767558784 Question Type : MCQ Option Shuffling : Yes Is Question Mandatory : No Option Orientation : Vertical

Correct Marks : 1 Wrong Marks : 0.25

Which among the following vedas is concerned with warfare?

Options :

1. ✓ Dhanurveda
2. ✗ Gandharva Veda
3. ✗ Rigveda

4. ✖ Ayurveda

Question Number : 60 Question Id : 9767558784 Question Type : MCQ Option Shuffling : Yes Is Question Mandatory : No Option Orientation : Vertical

Correct Marks : 1 Wrong Marks : 0.25

निम्नलिखित वेदों में से कौन युद्ध से संबंधित है?

Options :

1. ✔ धनुर्वेद
2. ✖ गंधर्व वेद
3. ✖ ऋग्वेद
4. ✖ आयुर्वेद

General Awareness2

Group Number :	4
Group Id :	976755218
Group Maximum Duration :	0
Group Minimum Duration :	0
Show Attended Group? :	No
Edit Attended Group? :	No
Break time :	0
Group Marks :	20
Is this Group for Examiner? :	No

General Awareness2

Section Id :	976755506
Section Number :	1
Section type :	Online
Mandatory or Optional :	Mandatory
Number of Questions :	20

Number of Questions to be attempted :	20
Section Marks :	20
Enable Mark as Answered Mark for Review and Clear Response :	Yes
Sub-Section Number :	1
Sub-Section Id :	976755607
Question Shuffling Allowed :	Yes

Question Number : 61 Question Id : 9767558785 Question Type : MCQ Option Shuffling : Yes Is Question Mandatory : No Option Orientation : Vertical

Correct Marks : 1 Wrong Marks : 0.25

Captain Hawkins and Sir Thomas Roe visited the court of _____.

Options :

1. ✘ Humayun
2. ✔ Jahangir
3. ✘ Shah Jahan
4. ✘ Aurangzeb

Question Number : 61 Question Id : 9767558785 Question Type : MCQ Option Shuffling : Yes Is Question Mandatory : No Option Orientation : Vertical

Correct Marks : 1 Wrong Marks : 0.25

कैप्टन हॉकिन्स और सर थॉमस रो ने _____ के न्यायालय का दौरा किया।

Options :

1. ✘ हुमायूँ
2. ✔ जहाँगीर
3. ✘ शाह जहाँ
4. ✘ औरंगजेब

Question Number : 62 Question Id : 9767558786 Question Type : MCQ Option Shuffling : Yes Is Question Mandatory : No Option Orientation : Vertical

Correct Marks : 1 Wrong Marks : 0.25

When was the Second battle of Tarain fought?

Options :

1. ✘ 1218
2. ✘ 1156
3. ✘ 1210
4. ✔ 1192

Question Number : 62 Question Id : 9767558786 Question Type : MCQ Option Shuffling : Yes Is Question Mandatory : No Option Orientation : Vertical

Correct Marks : 1 Wrong Marks : 0.25

तराइन का दूसरा युद्ध कब लड़ा गया था?

Options :

1. ✘ 1218
2. ✘ 1156
3. ✘ 1210
4. ✔ 1192

Question Number : 63 Question Id : 9767558787 Question Type : MCQ Option Shuffling : Yes Is Question Mandatory : No Option Orientation : Vertical

Correct Marks : 1 Wrong Marks : 0.25

Who among the following was known as "The Political Guru of Mahatma Gandhi"?

Options :

1. ✘ Dadabhai Naoroji
2. ✘ Bal Gangadhar Tilak
3. ✔ Gopal Krishna Gokhale
4. ✘ Jawaharlal Nehru

Question Number : 63 Question Id : 9767558787 Question Type : MCQ Option Shuffling : Yes Is Question Mandatory : No Option Orientation : Vertical

Correct Marks : 1 Wrong Marks : 0.25

निम्नलिखित में से किसे "महात्मा गांधी के राजनीतिक गुरु" के रूप में जाना जाता था?

Options :

1. ✘ दादाभाई नौरोजी

2. ✘ बाल गंगाधर तिलक
3. ✔ गोपाल कृष्ण गोखले
4. ✘ जवाहरलाल नेहरू

Question Number : 64 Question Id : 9767558788 Question Type : MCQ Option Shuffling : Yes Is Question Mandatory : No Option Orientation : Vertical

Correct Marks : 1 Wrong Marks : 0.25

Who among the following was often called as "the first empire builder of Indian history"?

Options :

1. ✔ Mahapadma
2. ✘ Dhana Nanda
3. ✘ Chandragupta Maurya
4. ✘ Ashoka

Question Number : 64 Question Id : 9767558788 Question Type : MCQ Option Shuffling : Yes Is Question Mandatory : No Option Orientation : Vertical

Correct Marks : 1 Wrong Marks : 0.25

निम्नलिखित में से किसे अक्सर "भारतीय इतिहास का पहला साम्राज्य निर्माता" कहा जाता था?

Options :

1. ✔ महापद्म
2. ✘ धनानंद
3. ✘ चन्द्रगुप्त मौर्य
4. ✘ अशोक

Question Number : 65 Question Id : 9767558789 Question Type : MCQ Option Shuffling : Yes Is Question Mandatory : No Option Orientation : Vertical

Correct Marks : 1 Wrong Marks : 0.25

Who among the following wrote the Bengali song "Vande Mataram"?

Options :

1. ✔ Bankim Chandra Chatterjee
2. ✘ Rabindranath Tagore

3. ✘ Bal Gangadhar Tilak
4. ✘ Subhas Chandra Bose

Question Number : 65 Question Id : 9767558789 Question Type : MCQ Option Shuffling : Yes Is Question Mandatory : No Option Orientation : Vertical

Correct Marks : 1 Wrong Marks : 0.25

निम्नलिखित में से किसने बंगाली गीत "वन्दे मातरम्" लिखा?

Options :

1. ✔ बंकिम चन्द्र चटर्जी
2. ✘ रविंद्रनाथ टैगोर
3. ✘ बाल गंगाधर तिलक
4. ✘ सुभास चन्द्र बोस

Question Number : 66 Question Id : 9767558790 Question Type : MCQ Option Shuffling : Yes Is Question Mandatory : No Option Orientation : Vertical

Correct Marks : 1 Wrong Marks : 0.25

Who among the following is the Chief Minister of Rajasthan as of March 2021?

Options :

1. ✘ Biplab Kumar Deb
2. ✔ Ashok Gehlot
3. ✘ Trivendra Singh Rawat
4. ✘ Naveen Patnaik

Question Number : 66 Question Id : 9767558790 Question Type : MCQ Option Shuffling : Yes Is Question Mandatory : No Option Orientation : Vertical

Correct Marks : 1 Wrong Marks : 0.25

मार्च 2021 तक उपलब्ध जानकारी के अनुसार राजस्थान के मुख्यमंत्री कौन है?

Options :

1. ✘ बिप्लब कुमार देब
2. ✔ अशोक गहलोत
3. ✘ त्रिवेन्द्र सिंह रावत

4. ✘ नवीन पटनायक

Question Number : 67 Question Id : 9767558791 Question Type : MCQ Option Shuffling : Yes Is Question Mandatory : No Option Orientation : Vertical

Correct Marks : 1 Wrong Marks : 0.25

Who among the following is the author of 'To Kill a Mockingbird'?

Options :

1. ✘ Arthur Conan Doyle
2. ✘ Agatha Christie
3. ✔ Harper Lee
4. ✘ Ernest Hemingway

Question Number : 67 Question Id : 9767558791 Question Type : MCQ Option Shuffling : Yes Is Question Mandatory : No Option Orientation : Vertical

Correct Marks : 1 Wrong Marks : 0.25

निम्नलिखित में से कौन 'टू किल अ मॉकिंगबर्ड' का लेखक है?

Options :

1. ✘ आर्थर कॉनन डॉयल
2. ✘ अगाथा क्रिस्टी
3. ✔ हार्पर ली
4. ✘ अर्नेस्ट हेमिंग्वे

Question Number : 68 Question Id : 9767558792 Question Type : MCQ Option Shuffling : Yes Is Question Mandatory : No Option Orientation : Vertical

Correct Marks : 1 Wrong Marks : 0.25

The Pritzker Prize is awarded for the achievement in the field of _____.

Options :

1. ✘ mathematics
2. ✘ literature
3. ✘ music
4. ✔ architecture

Question Number : 68 Question Id : 9767558792 Question Type : MCQ Option Shuffling : Yes Is Question Mandatory : No Option Orientation : Vertical

Correct Marks : 1 Wrong Marks : 0.25

_____ के क्षेत्र में उपलब्धि के लिए प्रिज़रकर प्राइज़ दिया जाता है।

Options :

1. ✘ गणित
2. ✘ साहित्य
3. ✘ संगीत
4. ✔ वास्तुकला (आर्किटेक्चर)

Question Number : 69 Question Id : 9767558793 Question Type : MCQ Option Shuffling : Yes Is Question Mandatory : No Option Orientation : Vertical

Correct Marks : 1 Wrong Marks : 0.25

Who among the following won the Oscars 2020 for "Actress in a Supporting Role"?

Options :

1. ✔ Laura Dern
2. ✘ Kathy Bates
3. ✘ Scarlett Johansson
4. ✘ Margot Robbie

Question Number : 69 Question Id : 9767558793 Question Type : MCQ Option Shuffling : Yes Is Question Mandatory : No Option Orientation : Vertical

Correct Marks : 1 Wrong Marks : 0.25

निम्नलिखित में से किसने "सहायक भूमिका में अभिनेत्री" के लिए ऑस्कर 2020 जीता?

Options :

1. ✔ लौरा डर्न
2. ✘ कैथी बेट्स
3. ✘ स्कार्लेट जोहानसन
4. ✘ मार्गो रॉबी

Question Number : 70 Question Id : 9767558794 Question Type : MCQ Option Shuffling : Yes Is Question Mandatory : No Option Orientation : Vertical

Correct Marks : 1 Wrong Marks : 0.25

Which among the following books is not written by Rudyard Kipling?

Options :

1. ✘ The Jungle Book
2. ✘ In Black and White
3. ✘ Under the Deodars
4. ✔ Midnight's Children

Question Number : 70 Question Id : 9767558794 Question Type : MCQ Option Shuffling : Yes Is Question Mandatory : No Option Orientation : Vertical

Correct Marks : 1 Wrong Marks : 0.25

निम्नलिखित में से कौन सी किताब रुडयार्ड किपलिंग द्वारा नहीं लिखी है?

Options :

1. ✘ द जंगल बुक
2. ✘ इन ब्लैक एंड वाइट
3. ✘ अंडर द देओदार
4. ✔ मिडनाइट'स चिल्ड्रन

Question Number : 71 Question Id : 9767558795 Question Type : MCQ Option Shuffling : Yes Is Question Mandatory : No Option Orientation : Vertical

Correct Marks : 1 Wrong Marks : 0.25

The concept of 'Judicial Review' in the Indian Constitution has been borrowed from the constitution of which of the following countries?

Options :

1. ✘ Japan
2. ✘ Australia
3. ✔ United States of America
4. ✘ United Kingdom

Question Number : 71 Question Id : 9767558795 Question Type : MCQ Option Shuffling : Yes Is Question Mandatory : No Option Orientation : Vertical

Correct Marks : 1 Wrong Marks : 0.25

भारतीय संविधान में "न्यायिक पुनरावलोकन" की अवधारणा निम्नलिखित में से किस देश के संविधान से उधार ली गई है?

Options :

1. ✘ जापान
2. ✘ ऑस्ट्रेलिया
3. ✔ संयुक्त राज्य अमेरिका
4. ✘ यूनाइटेड किंगडम

Question Number : 72 Question Id : 9767558796 Question Type : MCQ Option Shuffling : Yes Is Question Mandatory : No Option Orientation : Vertical

Correct Marks : 1 Wrong Marks : 0.25

The 91st Constitutional Amendment restricted the size of council of ministers to _____ of legislative members.

Options :

1. ✔ 15 percent
2. ✘ 10 percent
3. ✘ 20 percent
4. ✘ 18 percent

Question Number : 72 Question Id : 9767558796 Question Type : MCQ Option Shuffling : Yes Is Question Mandatory : No Option Orientation : Vertical

Correct Marks : 1 Wrong Marks : 0.25

91वें संवैधानिक संशोधन ने विधायकों के _____ तक मंत्रियों की परिषद की संख्या को प्रतिबंधित कर दिया।

Options :

1. ✔ 15 प्रतिशत
2. ✘ 10 प्रतिशत
3. ✘ 20 प्रतिशत
4. ✘ 18 प्रतिशत

Question Number : 73 Question Id : 9767558797 Question Type : MCQ Option Shuffling : Yes Is Question Mandatory : No Option Orientation : Vertical

Correct Marks : 1 Wrong Marks : 0.25

Who among the following is recognised as the "Father of the Constitution of India"?

Options :

- ✘ Rajendra Prasad
- ✘ Jawaharlal Nehru
- ✔ B. R. Ambedkar
- ✘ Sachchidananda Sinha

Question Number : 73 Question Id : 9767558797 Question Type : MCQ Option Shuffling : Yes Is Question Mandatory : No Option Orientation : Vertical

Correct Marks : 1 Wrong Marks : 0.25

निम्नलिखित में से किसे "भारत के संविधान के जनक" के रूप में मान्यता प्राप्त है?

Options :

- ✘ राजेन्द्र प्रसाद
- ✘ जवाहरलाल नेहरू
- ✔ बी. आर. आम्बेडकर
- ✘ सच्चिदानन्द सिन्हा

Question Number : 74 Question Id : 9767558798 Question Type : MCQ Option Shuffling : Yes Is Question Mandatory : No Option Orientation : Vertical

Correct Marks : 1 Wrong Marks : 0.25

The 48th Constitutional Amendment facilitated the extension of President's rule in _____ beyond one year without meeting the two special conditions for such extension.

Options :

- ✘ Assam
- ✔ Punjab
- ✘ Sikkim
- ✘ Mizoram

Question Number : 74 Question Id : 9767558798 Question Type : MCQ Option Shuffling : Yes Is Question Mandatory : No Option Orientation : Vertical

Correct Marks : 1 Wrong Marks : 0.25

48वें संवैधानिक संशोधन ने _____ में राष्ट्रपति शासन के विस्तार-क्षेत्र को एक वर्ष से अधिक के लिए सुगम बनाया जहाँ इस तरह के विस्तार-क्षेत्र के लिए दो

विशेष शर्तों को पूरा नहीं किया गया था।

Options :

1. ✘ असम
2. ✔ पंजाब
3. ✘ सिक्किम
4. ✘ मिज़ोरम

Question Number : 75 Question Id : 9767558799 Question Type : MCQ Option Shuffling : Yes Is Question Mandatory : No Option Orientation : Vertical

Correct Marks : 1 Wrong Marks : 0.25

Which among the following Constitutional Amendments included the Tamil Nadu Reservation Act of 1994 in the 9th Schedule to protect it from judicial review?

Options :

1. ✘ 72nd
2. ✘ 65th
3. ✔ 76th
4. ✘ 89th

Question Number : 75 Question Id : 9767558799 Question Type : MCQ Option Shuffling : Yes Is Question Mandatory : No Option Orientation : Vertical

Correct Marks : 1 Wrong Marks : 0.25

निम्नलिखित संवैधानिक संशोधनों में से किसने न्यायिक पुनरावलोकन से बचाने के लिए तमिल नाडु आरक्षण अधिनियम, 1994 की नौवीं अनुसूची में शामिल किया?

Options :

1. ✘ 72^{वें}
2. ✘ 65^{वें}
3. ✔ 76^{वें}
4. ✘ 89^{वें}

Question Number : 76 Question Id : 9767558800 Question Type : MCQ Option Shuffling : Yes Is Question Mandatory : No Option Orientation : Vertical

Correct Marks : 1 Wrong Marks : 0.25

The All-India Football Federation has announced that _____ will host the Indian Women's League (IWL) 2020-2021.

Options :

1. ✘ West Bengal
2. ✔ Odisha
3. ✘ Maharashtra
4. ✘ Tamil Nadu

Question Number : 76 Question Id : 9767558800 Question Type : MCQ Option Shuffling : Yes Is Question Mandatory : No Option Orientation : Vertical

Correct Marks : 1 Wrong Marks : 0.25

अखिल भारतीय फुटबॉल महासंघ ने घोषणा की है कि _____ इंडियन वुमैन्स लीग (IWL) 2020-2021 की मेजबानी करेगा।

Options :

1. ✘ पश्चिम बंगाल
2. ✔ ओडिशा
3. ✘ महाराष्ट्र
4. ✘ तमिल नाडु

Question Number : 77 Question Id : 9767558801 Question Type : MCQ Option Shuffling : Yes Is Question Mandatory : No Option Orientation : Vertical

Correct Marks : 1 Wrong Marks : 0.25

Who among the following is the first cricket player to be awarded the Arjuna Award?

Options :

1. ✔ Salim Durani
2. ✘ Mansoor Ali Khan Pataudi
3. ✘ Vijay Manjrekar
4. ✘ Chandu Borde

Question Number : 77 Question Id : 9767558801 Question Type : MCQ Option Shuffling : Yes Is Question Mandatory : No Option Orientation : Vertical

Correct Marks : 1 Wrong Marks : 0.25

निम्नलिखित में से कौन अर्जुन पुरस्कार से सम्मानित होने वाला पहला क्रिकेट खिलाड़ी है?

Options :

1. ✓ सलीम दुर्रानी
2. ✗ मंसूर अली खान पटौदी
3. ✗ विजय मांजरेकर
4. ✗ चंद्र बोर्डे

Question Number : 78 Question Id : 9767558802 Question Type : MCQ Option Shuffling : Yes Is Question Mandatory : No Option Orientation : Vertical

Correct Marks : 1 Wrong Marks : 0.25

Which among the following teams won the first edition of Merdeka Tournament in 1957?

Options :

1. ✗ Indonesia
2. ✓ Hong Kong
3. ✗ Singapore
4. ✗ South Vietnam

Question Number : 78 Question Id : 9767558802 Question Type : MCQ Option Shuffling : Yes Is Question Mandatory : No Option Orientation : Vertical

Correct Marks : 1 Wrong Marks : 0.25

निम्नलिखित में से किस टीम ने 1957 में मर्देका टूर्नामेंट का पहला संस्करण जीता?

Options :

1. ✗ इंडोनेशिया
2. ✓ हॉन्ग कॉन्ग
3. ✗ सिंगापुर
4. ✗ दक्षिणी वियतनाम

Question Number : 79 Question Id : 9767558803 Question Type : MCQ Option Shuffling : Yes Is Question Mandatory : No Option Orientation : Vertical

Correct Marks : 1 Wrong Marks : 0.25

Ronjan Sodhi won the Rajiv Gandhi Khel Ratna in 2012 for his contribution in the field of _____.

Options :

1. ❌ hockey
2. ❌ wrestling
3. ❌ tennis
4. ✅ shooting

Question Number : 79 Question Id : 9767558803 Question Type : MCQ Option Shuffling : Yes Is Question Mandatory : No Option Orientation : Vertical

Correct Marks : 1 Wrong Marks : 0.25

रंजन सोढ़ी ने _____ के क्षेत्र में उनके योगदान के लिए 2012 में राजीव गांधी खेल रत्न जीता।

Options :

1. ❌ हॉकी
2. ❌ कुश्ती
3. ❌ टेनिस
4. ✅ शूटिंग

Question Number : 80 Question Id : 9767558804 Question Type : MCQ Option Shuffling : Yes Is Question Mandatory : No Option Orientation : Vertical

Correct Marks : 1 Wrong Marks : 0.25

Which among the following cricket stadiums is not located in South Africa?

Options :

1. ❌ Centurion Park
2. ❌ Kingsmead Stadium
3. ✅ Sophia Gardens
4. ❌ Willowmoore Park

Question Number : 80 Question Id : 9767558804 Question Type : MCQ Option Shuffling : Yes Is Question Mandatory : No Option Orientation : Vertical

Correct Marks : 1 Wrong Marks : 0.25

निम्नलिखित क्रिकेट स्टेडियमों में से कौन सा दक्षिण अफ्रीका में स्थित नहीं है?

Options :

1. ❌ सेंचुरियन पार्क

2. ✘ किंग्समीड स्टेडियम
3. ✔ सोफिया गार्डन्स
4. ✘ विलोमोरा पार्क

Arithmetic Ability1

Group Number :	5
Group Id :	976755219
Group Maximum Duration :	0
Group Minimum Duration :	0
Show Attended Group? :	No
Edit Attended Group? :	No
Break time :	0
Group Marks :	20
Is this Group for Examiner? :	No

Arithmetical and Numerical ability1

Section Id :	976755507
Section Number :	1
Section type :	Online
Mandatory or Optional :	Mandatory
Number of Questions :	20
Number of Questions to be attempted :	20
Section Marks :	20
Enable Mark as Answered Mark for Review and Clear Response :	Yes
Sub-Section Number :	1
Sub-Section Id :	976755608
Question Shuffling Allowed :	Yes

Question Number : 81 Question Id : 9767558805 Question Type : MCQ Option Shuffling : Yes Is Question Mandatory : No Option Orientation : Vertical

Correct Marks : 1 Wrong Marks : 0.25

Which of the following numbers will leave a remainder 1 when divided by 7, 2 and 11?

Options :

1. ✓ 155
2. ✗ 157
3. ✗ 156
4. ✗ 154

Question Number : 81 Question Id : 9767558805 Question Type : MCQ Option Shuffling : Yes Is Question Mandatory : No Option Orientation : Vertical

Correct Marks : 1 Wrong Marks : 0.25

निम्नलिखित में से कौन सी संख्या जब 7, 2 और 11 से विभाजित होती है तो शेषफल 1 छोड़ेगी?

Options :

1. ✓ 155
2. ✗ 157
3. ✗ 156
4. ✗ 154

Question Number : 82 Question Id : 9767558806 Question Type : MCQ Option Shuffling : Yes Is Question Mandatory : No Option Orientation : Vertical

Correct Marks : 1 Wrong Marks : 0.25

A number 'x' on dividing 115, 138 and 191 leaves remainder of 3, 5 and 2 respectively. What is the value of 'x'?

Options :

1. ✗ 6
2. ✓ 7
3. ✗ 1
4. ✗ 9

Question Number : 82 Question Id : 9767558806 Question Type : MCQ Option Shuffling : Yes Is Question Mandatory : No Option Orientation : Vertical

Correct Marks : 1 Wrong Marks : 0.25

एक संख्या 'x' 115, 138 और 191 को विभाजित करने पर क्रमशः 3, 5 और 2 शेषफल छोड़ती है। 'x' का मान क्या है?

Options :

1. ✘ 6
2. ✔ 7
3. ✘ 1
4. ✘ 9

Question Number : 83 Question Id : 9767558807 Question Type : MCQ Option Shuffling : Yes Is Question Mandatory : No Option Orientation : Vertical

Correct Marks : 1 Wrong Marks : 0.25

There are three numbers 116, 135 and 211. What is the largest possible number which divides them leaving the same remainder in each case?

Options :

1. ✘ 7
2. ✘ 6
3. ✔ 19
4. ✘ 11

Question Number : 83 Question Id : 9767558807 Question Type : MCQ Option Shuffling : Yes Is Question Mandatory : No Option Orientation : Vertical

Correct Marks : 1 Wrong Marks : 0.25

तीन संख्याएँ 116, 135 और 211 हैं। सबसे बड़ी संभावित संख्या क्या है जो उन्हें विभाजित करने पर प्रत्येक स्थिति में समान शेषफल छोड़ती है?

Options :

1. ✘ 7
2. ✘ 6
3. ✔ 19
4. ✘ 11

Question Number : 84 Question Id : 9767558808 Question Type : MCQ Option Shuffling : Yes Is Question Mandatory : No Option Orientation : Vertical

Correct Marks : 1 Wrong Marks : 0.25

Five light buttons blink at the interval of 6 s, 7 s, 8 s, 2 s, 3 s respectively. If they start blinking together, then how many times would they have blinked together in an hour?

Options :

1. ✘ 18
2. ✘ 24
3. ✘ 20
4. ✔ 22

Question Number : 84 Question Id : 9767558808 Question Type : MCQ Option Shuffling : Yes Is Question Mandatory : No Option Orientation : Vertical

Correct Marks : 1 Wrong Marks : 0.25

पांच लाईट बटन क्रमशः 6 s, 7 s, 8 s, 2 s, 3 s के अंतराल पर झपकाते हैं। यदि वे एक साथ झपकना शुरू करते हैं, तो एक घंटे में कितनी बार वे एक साथ झपकेंगे?

Options :

1. ✘ 18
2. ✘ 24
3. ✘ 20
4. ✔ 22

Question Number : 85 Question Id : 9767558809 Question Type : MCQ Option Shuffling : Yes Is Question Mandatory : No Option Orientation : Vertical

Correct Marks : 1 Wrong Marks : 0.25

The LCM of $16/25$ and $5/18$ is how many times its HCF?

Options :

1. ✔ 36000
2. ✘ 6000
3. ✘ 44
4. ✘ 60

Question Number : 85 Question Id : 9767558809 Question Type : MCQ Option Shuffling : Yes Is Question Mandatory : No Option Orientation : Vertical

Correct Marks : 1 Wrong Marks : 0.25

$16/25$ और $5/18$ का लघुत्तम समापवर्तक उनके महत्तम समापवर्तक का कितना गुना अधिक है?

Options :

1. ✔ 36000

2. ✘ 6000
3. ✘ 44
4. ✘ 60

Question Number : 86 Question Id : 9767558810 Question Type : MCQ Option Shuffling : Yes Is Question Mandatory : No Option Orientation : Vertical

Correct Marks : 1 Wrong Marks : 0.25

There are two numbers whose sum is 230. If the numbers are in the ratio 3 : 7, then find the their LCM?

Options :

1. ✘ 263
2. ✘ 161
3. ✘ 1449
4. ✔ 483

Question Number : 86 Question Id : 9767558810 Question Type : MCQ Option Shuffling : Yes Is Question Mandatory : No Option Orientation : Vertical

Correct Marks : 1 Wrong Marks : 0.25

दो संख्याएँ हैं जिनका योग 230 है। यदि संख्याएँ 3 : 7 के अनुपात में हैं, तो उनका लघुत्तम समापवर्तक ज्ञात करें ?

Options :

1. ✘ 263
2. ✘ 161
3. ✘ 1449
4. ✔ 483

Question Number : 87 Question Id : 9767558811 Question Type : MCQ Option Shuffling : Yes Is Question Mandatory : No Option Orientation : Vertical

Correct Marks : 1 Wrong Marks : 0.25

A, B, C and D receive Rs. 100, Rs, 150, Rs, 80 and Rs. 70 respectively as lunch money everyday. What is the average lunch money that they get?

Options :

1. ✔ Rs. 100
2. ✘ Rs. 86
3. ✘ Rs. 120

4. ✖ Rs. 70

Question Number : 87 Question Id : 9767558811 Question Type : MCQ Option Shuffling : Yes Is Question Mandatory : No Option Orientation : Vertical

Correct Marks : 1 Wrong Marks : 0.25

A, B, C और D क्रमशः 100 रुपए, 150 रुपए, 80 रुपए और 70 रुपए प्रतिदिन दोपहर के भोजन के पैसों के रूप में प्राप्त करते हैं। उन्हें मिलने वाले दोपहर के भोजन के पैसों का औसत क्या है?

Options :

1. ✔ 100 रुपए
2. ✖ 86 रुपए
3. ✖ 120 रुपए
4. ✖ 70 रुपए

Question Number : 88 Question Id : 9767558812 Question Type : MCQ Option Shuffling : Yes Is Question Mandatory : No Option Orientation : Vertical

Correct Marks : 1 Wrong Marks : 0.25

The average marks of five boys in class was 80. But later it was found that one of the boys marks which was 90 was wrongly written as 60. What is the correct average?

Options :

1. ✖ 80
2. ✔ 86
3. ✖ 85
4. ✖ 90

Question Number : 88 Question Id : 9767558812 Question Type : MCQ Option Shuffling : Yes Is Question Mandatory : No Option Orientation : Vertical

Correct Marks : 1 Wrong Marks : 0.25

कक्षा में पाँच लड़कों के औसत अंक 80 थे। लेकिन बाद में यह पाया गया कि उन लड़कों में से एक के अंक जो 90 थे, वह गलती से 60 लिख दिए गए थे। सही औसत क्या है?

Options :

1. ✖ 80
2. ✔ 86

3. ✖ 85

4. ✖ 90

Question Number : 89 Question Id : 9767558813 Question Type : MCQ Option Shuffling : Yes Is Question Mandatory : No Option Orientation : Vertical

Correct Marks : 1 Wrong Marks : 0.25

An item was sold at Rs. 722.5 after two successive discounts of 15 percent. What would be the selling price if two successive discounts of 20 percent were applied instead?

Options :

1. ✖ Rs. 580

2. ✖ Rs. 720

3. ✔ Rs. 640

4. ✖ Rs. 680

Question Number : 89 Question Id : 9767558813 Question Type : MCQ Option Shuffling : Yes Is Question Mandatory : No Option Orientation : Vertical

Correct Marks : 1 Wrong Marks : 0.25

एक वस्तु को 15 प्रतिशत की दो क्रमिक छूट के बाद 722.5 रुपए में बेचा गया था। यदि इसके बदले में 20 प्रतिशत की दो क्रमिक छूटों को लागू किया जाता तो विक्रय मूल्य क्या होता?

Options :

1. ✖ 580 रुपए

2. ✖ 720 रुपए

3. ✔ 640 रुपए

4. ✖ 680 रुपए

Question Number : 90 Question Id : 9767558814 Question Type : MCQ Option Shuffling : Yes Is Question Mandatory : No Option Orientation : Vertical

Correct Marks : 1 Wrong Marks : 0.25

In a company, 25 employees were laid off in April and another 300 in the next month. If initially there were total 1000 employees, then what percent of the employees were laid off?

Options :

1. ✖ 35

2. ✘ 30
3. ✘ 45
4. ✔ 32.5

Question Number : 90 Question Id : 9767558814 Question Type : MCQ Option Shuffling : Yes Is Question Mandatory : No Option Orientation : Vertical

Correct Marks : 1 Wrong Marks : 0.25

एक कंपनी में, 25 कर्मचारियों को अप्रैल में निकाला गया और अगले महीने में 300 को निकाला गया था। यदि शुरू में कुल 1000 कर्मचारी थे, तो कितने प्रतिशत कर्मचारियों को निकाला गया था?

Options :

1. ✘ 35
2. ✘ 30
3. ✘ 45
4. ✔ 32.5

Question Number : 91 Question Id : 9767558815 Question Type : MCQ Option Shuffling : Yes Is Question Mandatory : No Option Orientation : Vertical

Correct Marks : 1 Wrong Marks : 0.25

A father distributed Rs. 15000 among his sons A and B in the ratio 2 : 3. But B gave away 20 percent of his share to his younger sister. What is the amount that is left with B now?

Options :

1. ✔ Rs. 7200
2. ✘ Rs. 8000
3. ✘ Rs. 9600
4. ✘ Rs. 3600

Question Number : 91 Question Id : 9767558815 Question Type : MCQ Option Shuffling : Yes Is Question Mandatory : No Option Orientation : Vertical

Correct Marks : 1 Wrong Marks : 0.25

एक पिता ने उनके बेटों A और B के बीच 2 : 3 के अनुपात में 15000 रुपए वितरित किए। लेकिन B ने अपने हिस्से का 20 प्रतिशत अपनी छोटी बहन को दे दिया। अब B के पास कितनी राशि बची है?

Options :

1. ✓ 7200 रुपए
2. ✗ 8000 रुपए
3. ✗ 9600 रुपए
4. ✗ 3600 रुपए

Question Number : 92 Question Id : 9767558816 Question Type : MCQ Option Shuffling : Yes Is Question Mandatory : No Option Orientation : Vertical

Correct Marks : 1 Wrong Marks : 0.25

Arun had some money with which he could buy either fifteen chocolates or five notebooks. He decided to put away 12 percent of it for himself. What is the maximum number of notebooks that he can buy with the remaining amount?

Options :

1. ✗ 5
2. ✓ 4
3. ✗ 6
4. ✗ 3

Question Number : 92 Question Id : 9767558816 Question Type : MCQ Option Shuffling : Yes Is Question Mandatory : No Option Orientation : Vertical

Correct Marks : 1 Wrong Marks : 0.25

अरुण के पास कुछ पैसे थे जिससे वह या तो पंद्रह चॉकलेट या पांच नोटबुक खरीद सकता था। उसने इसका 12 प्रतिशत स्वयं के लिए रखने का निर्णय लिया। नोटबुक की अधिकतम संख्या क्या है जो वह शेष राशि से खरीद सकता है?

Options :

1. ✗ 5
2. ✓ 4
3. ✗ 6
4. ✗ 3

Question Number : 93 Question Id : 9767558817 Question Type : MCQ Option Shuffling : Yes Is Question Mandatory : No Option Orientation : Vertical

Correct Marks : 1 Wrong Marks : 0.25

Suman bought 30 kg flour at Rs. 1200. He decided to sell the flour at Rs 52 per kg. What is the percentage of profit he will earn?

Options :

1. ✘ 25
2. ✘ 32
3. ✘ 28
4. ✔ 30

Question Number : 93 Question Id : 9767558817 Question Type : MCQ Option Shuffling : Yes Is Question Mandatory : No Option Orientation : Vertical

Correct Marks : 1 Wrong Marks : 0.25

सुमन ने 1200 रुपए में 30 kg आटा खरीदा। उसने आटा 52 रुपए प्रति kg में बेचने का निर्णय लिया। वह कितने प्रतिशत लाभ अर्जित करेगा?

Options :

1. ✘ 25
2. ✘ 32
3. ✘ 28
4. ✔ 30

Question Number : 94 Question Id : 9767558818 Question Type : MCQ Option Shuffling : Yes Is Question Mandatory : No Option Orientation : Vertical

Correct Marks : 1 Wrong Marks : 0.25

Newton bought an old bike for Rs. 2000 and repaired it by spending Rs. 500. For how much must he sell the bike to earn a profit of 30 percent?

Options :

1. ✔ Rs. 3250
2. ✘ Rs. 3000
3. ✘ Rs. 4500
4. ✘ Rs. 4200

Question Number : 94 Question Id : 9767558818 Question Type : MCQ Option Shuffling : Yes Is Question Mandatory : No Option Orientation : Vertical

Correct Marks : 1 Wrong Marks : 0.25

न्यूटन ने 2000 रुपए में एक पुरानी बाइक खरीदी और 500 रुपए खर्च करके इसकी मरम्मत की। 30 प्रतिशत का लाभ प्राप्त करने के लिए उसे बाइक कितने में बेचनी चाहिए?

Options :

1. ✔ 3250 रुपए

2. ✖ 3000 रुपए
3. ✖ 4500 रुपए
4. ✖ 4200 रुपए

Question Number : 95 Question Id : 9767558819 Question Type : MCQ Option Shuffling : Yes Is Question Mandatory : No Option Orientation : Vertical

Correct Marks : 1 Wrong Marks : 0.25

On selling two items each at Rs 1250, the trader makes an overall profit of 25 percent. If the cost price of one item was Rs. 900, what was the cost price of the other?

Options :

1. ✖ Rs. 1000
2. ✔ Rs. 1100
3. ✖ Rs. 1200
4. ✖ Rs. 1250

Question Number : 95 Question Id : 9767558819 Question Type : MCQ Option Shuffling : Yes Is Question Mandatory : No Option Orientation : Vertical

Correct Marks : 1 Wrong Marks : 0.25

प्रत्येक 1250 रुपए में दो वस्तु बेचने पर, व्यापारी 25 प्रतिशत का समग्र लाभ अर्जित करता है। यदि एक वस्तु की लागत मूल्य 900 रुपए है, तो दूसरे का लागत मूल्य क्या था?

Options :

1. ✖ 1000 रुपए
2. ✔ 1100 रुपए
3. ✖ 1200 रुपए
4. ✖ 1250 रुपए

Question Number : 96 Question Id : 9767558820 Question Type : MCQ Option Shuffling : Yes Is Question Mandatory : No Option Orientation : Vertical

Correct Marks : 1 Wrong Marks : 0.25

Mahesh sold his cycle for Rs 10080 after marking up the price by 40 percent. What was the cost price if he sold it after giving 20 percent discount on the marked price?

Options :

1. ✘ Rs. 8500
2. ✘ Rs. 7500
3. ✔ Rs. 9000
4. ✘ Rs. 8000

Question Number : 96 Question Id : 9767558820 Question Type : MCQ Option Shuffling : Yes Is Question Mandatory : No Option Orientation : Vertical

Correct Marks : 1 Wrong Marks : 0.25

महेश ने 40 प्रतिशत से अधिक मूल्य चिन्हित करने के बाद अपनी साइकिल को 10080 रुपए में बेच दी। यदि उसने चिन्हित मूल्य पर 20 प्रतिशत की छूट देने के बाद उसे बेचा होता तो लागत मूल्य क्या था?

Options :

1. ✘ 8500 रुपए
2. ✘ 7500 रुपए
3. ✔ 9000 रुपए
4. ✘ 8000 रुपए

Question Number : 97 Question Id : 9767558821 Question Type : MCQ Option Shuffling : Yes Is Question Mandatory : No Option Orientation : Vertical

Correct Marks : 1 Wrong Marks : 0.25

What must be added to $17/21$ to make it equal to the ratio to $38 : 21$?

Options :

1. ✘ 1.2
2. ✘ 3
3. ✘ 2
4. ✔ 1

Question Number : 97 Question Id : 9767558821 Question Type : MCQ Option Shuffling : Yes Is Question Mandatory : No Option Orientation : Vertical

Correct Marks : 1 Wrong Marks : 0.25

$17/21$ में क्या जोड़ा जाना चाहिए ताकि उसे $38 : 21$ के अनुपात के बराबर बनाया जा सके?

Options :

1. ✘ 1.2
2. ✘ 3
3. ✘ 2
4. ✔ 1

Question Number : 98 Question Id : 9767558822 Question Type : MCQ Option Shuffling : Yes Is Question Mandatory : No Option Orientation : Vertical

Correct Marks : 1 Wrong Marks : 0.25

The ratio of sugar and salt in a mixture is 5 : 6. After addition of 500 grams sugar the ratio changes to 7 : 8. What is the quantity of salt in the new mixture?

Options :

1. ✘ 10.5 kg
2. ✘ 10 kg
3. ✔ 12 kg
4. ✘ 12.5 kg

Question Number : 98 Question Id : 9767558822 Question Type : MCQ Option Shuffling : Yes Is Question Mandatory : No Option Orientation : Vertical

Correct Marks : 1 Wrong Marks : 0.25

एक मिश्रण में चीनी और नमक का अनुपात 5 : 6 है। 500 ग्राम चीनी जोड़ने के बाद अनुपात 7 : 8 में बदल जाता है। नए मिश्रण में नमक की मात्रा कितनी है?

Options :

1. ✘ 10.5 kg
2. ✘ 10 kg
3. ✔ 12 kg
4. ✘ 12.5 kg

Question Number : 99 Question Id : 9767558823 Question Type : MCQ Option Shuffling : Yes Is Question Mandatory : No Option Orientation : Vertical

Correct Marks : 1 Wrong Marks : 0.25

Salim mixes two types of milk which are 5 percent and 10 percent diluted respectively in the ratio 3 : 2. What is the concentration of milk in the resultant mixture in percentage?

Options :

1. ✘ 71
2. ✔ 93
3. ✘ 80
4. ✘ 95

Question Number : 99 Question Id : 9767558823 Question Type : MCQ Option Shuffling : Yes Is Question Mandatory : No Option Orientation : Vertical

Correct Marks : 1 Wrong Marks : 0.25

सलीम दो प्रकार के दूध को मिश्रित करता है जो 3 : 2 के अनुपात में क्रमशः 5 प्रतिशत और 10 प्रतिशत तनुकृत है। प्रतिशत में परिणामी मिश्रण में दूध की सान्द्रता क्या है?

Options :

1. ✘ 71
2. ✔ 93
3. ✘ 80
4. ✘ 95

Question Number : 100 Question Id : 9767558824 Question Type : MCQ Option Shuffling : Yes Is Question Mandatory : No Option Orientation : Vertical

Correct Marks : 1 Wrong Marks : 0.25

A sum of Rs. 75500 was borrowed at 10 percent compound interest p.a. What is the amount payable after 2 years?

Options :

1. ✘ Rs. 81000
2. ✘ Rs. 91570
3. ✘ Rs. 81355
4. ✔ Rs. 91355

Question Number : 100 Question Id : 9767558824 Question Type : MCQ Option Shuffling : Yes Is Question Mandatory : No Option Orientation : Vertical

Correct Marks : 1 Wrong Marks : 0.25

75500 रुपए की राशि को प्रतिवर्ष 10 प्रतिशत चक्रवृद्धि ब्याज पर उधार लिया गया था। 2 वर्षों के बाद देय राशि क्या है?

Options :

1. ✘ 81000 रुपए

2. ✖ 91570 रुपए
3. ✖ 81355 रुपए
4. ✔ 91355 रुपए

Arithmetic Ability2

Group Number :	6
Group Id :	976755220
Group Maximum Duration :	0
Group Minimum Duration :	0
Show Attended Group? :	No
Edit Attended Group? :	No
Break time :	0
Group Marks :	20
Is this Group for Examiner? :	No

Arithmetical and Numerical ability2

Section Id :	976755508
Section Number :	1
Section type :	Online
Mandatory or Optional :	Mandatory
Number of Questions :	20
Number of Questions to be attempted :	20
Section Marks :	20
Enable Mark as Answered Mark for Review and Clear Response :	Yes
Sub-Section Number :	1
Sub-Section Id :	976755609
Question Shuffling Allowed :	Yes

Question Number : 101 Question Id : 9767558825 Question Type : MCQ Option Shuffling : Yes Is Question Mandatory : No Option Orientation : Vertical

Correct Marks : 1 Wrong Marks : 0.25

Meena took a loan of Rs 8000 at 20 percent per annum compound interest compounded semi annually. She repaid the loan after two years. Had she repaid the loan after a year, how much money she could have saved?

Options :

1. ✘ Rs. 2800.8
2. ✘ Rs. 3505.5
3. ✔ Rs. 2032.8
4. ✘ Rs. 2300.2

Question Number : 101 Question Id : 9767558825 Question Type : MCQ Option Shuffling : Yes Is Question Mandatory : No Option Orientation : Vertical

Correct Marks : 1 Wrong Marks : 0.25

मीना ने अर्धवार्षिक चक्रवृद्धि होते 20 प्रतिशत प्रति वर्ष चक्रवृद्धि ब्याज पर 8000 रुपए का ऋण लिया। उसने दो वर्षों बाद ऋण का भुगतान कर दिया। यदि उसने एक वर्ष के बाद ऋण का भुगतान किया होता, तो वह कितने पैसे की बचत कर सकती थी?

Options :

1. ✘ 2800.8 रुपए
2. ✘ 3505.5 रुपए
3. ✔ 2032.8 रुपए
4. ✘ 2300.2 रुपए

Question Number : 102 Question Id : 9767558826 Question Type : MCQ Option Shuffling : Yes Is Question Mandatory : No Option Orientation : Vertical

Correct Marks : 1 Wrong Marks : 0.25

Sam lent a sum of money at simple interest which amounted to Rs. 9800 in four years and the interest that he earned was Rs. 2800. Had he lent it at compound interest compounded annually for the same time and at same rate, what would be the amount at the end of four years?

Options :

1. ✔ Rs. 10248.7
2. ✘ Rs. 12000.9
3. ✘ Rs. 10000.5
4. ✘ Rs. 10500.6

Question Number : 102 Question Id : 9767558826 Question Type : MCQ Option Shuffling : Yes Is Question Mandatory : No Option

Orientation : Vertical

Correct Marks : 1 Wrong Marks : 0.25

सैम ने साधारण ब्याज पर एक धन राशि उधार दी, जो चार वर्षों में 9800 रुपए के बराबर हुई और उसने जो ब्याज अर्जित किया वह 2800 रुपए था। यदि उसने इसे समान अवधि और समान दर पर वार्षिक चक्रवृद्धि होते चक्रवृद्धि ब्याज पर दिया होता, तो चार वर्ष के अंत में राशि क्या होगी?

Options :

1. ✓ 10248.7 रुपए
2. ✗ 12000.9 रुपए
3. ✗ 10000.5 रुपए
4. ✗ 10500.6 रुपए

Question Number : 103 Question Id : 9767558827 Question Type : MCQ Option Shuffling : Yes Is Question Mandatory : No Option Orientation : Vertical

Correct Marks : 1 Wrong Marks : 0.25

Sia was able to run a race of 500 m in 5 minutes. What is her speed in kmph?

Options :

1. ✗ 5
2. ✓ 6
3. ✗ 4
4. ✗ 4.5

Question Number : 103 Question Id : 9767558827 Question Type : MCQ Option Shuffling : Yes Is Question Mandatory : No Option Orientation : Vertical

Correct Marks : 1 Wrong Marks : 0.25

सिया 500 m की रेस 5 मिनट में दौड़ सकती थी। kmph में उसकी गति क्या है?

Options :

1. ✗ 5
2. ✓ 6
3. ✗ 4
4. ✗ 4.5

Question Number : 104 Question Id : 9767558828 Question Type : MCQ Option Shuffling : Yes Is Question Mandatory : No Option Orientation : Vertical

Correct Marks : 1 Wrong Marks : 0.25

A train is 120 m long and travels at the speed of 54 kmph. How long will it take for the train to cross a platform of 150 m in minutes?

Options :

1. ✘ 0.9
2. ✘ 0.4
3. ✔ 0.3
4. ✘ 0.5

Question Number : 104 Question Id : 9767558828 Question Type : MCQ Option Shuffling : Yes Is Question Mandatory : No Option Orientation : Vertical

Correct Marks : 1 Wrong Marks : 0.25

एक रेलगाड़ी 120 m लंबी है और 54 kmph की गति से यात्रा करती है। रेलगाड़ी को मिनटों में 150 m के प्लेटफार्म को पार करने में कितना समय लगेगा?

Options :

1. ✘ 0.9
2. ✘ 0.4
3. ✔ 0.3
4. ✘ 0.5

Question Number : 105 Question Id : 9767558829 Question Type : MCQ Option Shuffling : Yes Is Question Mandatory : No Option Orientation : Vertical

Correct Marks : 1 Wrong Marks : 0.25

The speed of boat upstream is 5 kmph. Its speed in still water is 10 kmph. How many minutes will it take to row 25 km downstream?

Options :

1. ✔ 100
2. ✘ 120
3. ✘ 90
4. ✘ 85

Question Number : 105 Question Id : 9767558829 Question Type : MCQ Option Shuffling : Yes Is Question Mandatory : No Option Orientation : Vertical

Correct Marks : 1 Wrong Marks : 0.25

नाव की गति ऊर्ध्वप्रवाह 5 kmph है। स्थिर पानी में इसकी गति 10 kmph है। 25 km अनुप्रवाह जाने में उसे कितने मिनट लगेगे?

Options :

1. ✓ 100
2. ✗ 120
3. ✗ 90
4. ✗ 85

Question Number : 106 Question Id : 9767558830 Question Type : MCQ Option Shuffling : Yes Is Question Mandatory : No Option Orientation : Vertical

Correct Marks : 1 Wrong Marks : 0.25

Sumi can complete a job working 5 hours per day in 2 days. If she doubles her working hours per day, then in how many days will she complete the work?

Options :

1. ✗ 3
2. ✗ 4
3. ✓ 1
4. ✗ 1.5

Question Number : 106 Question Id : 9767558830 Question Type : MCQ Option Shuffling : Yes Is Question Mandatory : No Option Orientation : Vertical

Correct Marks : 1 Wrong Marks : 0.25

सुमी प्रति दिन 5 घंटे काम करके 2 दिनों में काम पूरा कर सकती है। यदि वह प्रति दिन अपने काम के घंटे दोगुना करती है, तो वह कितने दिनों में काम पूरा करेगी?

Options :

1. ✗ 3
2. ✗ 4
3. ✓ 1
4. ✗ 1.5

Question Number : 107 Question Id : 9767558831 Question Type : MCQ Option Shuffling : Yes Is Question Mandatory : No Option Orientation : Vertical

Correct Marks : 1 Wrong Marks : 0.25

A can complete a work in 5 days. B can complete the same in 10 days. If B assists A every alternate day starting from the first day in how many

days the work will be completed?

Options :

1. ✘ 1
2. ✘ 2
3. ✘ 3
4. ✔ 4

Question Number : 107 Question Id : 9767558831 Question Type : MCQ Option Shuffling : Yes Is Question Mandatory : No Option Orientation : Vertical

Correct Marks : 1 Wrong Marks : 0.25

A किसी कार्य को 5 दिनों में पूरा कर सकता है। B वही काम को 10 दिनों में पूरा कर सकता है। यदि B पहले दिन से शुरू करके प्रत्येक वैकल्पिक दिन पर A की सहायता करता है तो काम कितने दिनों में पूरा होगा?

Options :

1. ✘ 1
2. ✘ 2
3. ✘ 3
4. ✔ 4

Question Number : 108 Question Id : 9767558832 Question Type : MCQ Option Shuffling : Yes Is Question Mandatory : No Option Orientation : Vertical

Correct Marks : 1 Wrong Marks : 0.25

A man can paint a house working everyday in 20 days. He decided to take a break for 1 day after every 4 days. In how many days will he complete the work now?

Options :

1. ✔ 24
2. ✘ 25
3. ✘ 30
4. ✘ 40

Question Number : 108 Question Id : 9767558832 Question Type : MCQ Option Shuffling : Yes Is Question Mandatory : No Option Orientation : Vertical

Correct Marks : 1 Wrong Marks : 0.25

एक आदमी 20 दिनों में हर रोज काम कर के एक घर को पेंट कर सकता है। उसने हर 4 दिनों के बाद 1 दिन का ब्रेक लेने का फैसला किया। अब वह कितने दिनों में काम पूरा करेगा?

Options :

1. ✓ 24
2. ✗ 25
3. ✗ 30
4. ✗ 40

Question Number : 109 Question Id : 9767558833 Question Type : MCQ Option Shuffling : Yes Is Question Mandatory : No Option Orientation : Vertical

Correct Marks : 1 Wrong Marks : 0.25

A man and a woman can do a work together in 12 days. Their efficiencies are in the ratio 2 : 3. Working alone, in how many days can the woman complete the work?

Options :

1. ✓ 20
2. ✗ 30
3. ✗ 10
4. ✗ 15

Question Number : 109 Question Id : 9767558833 Question Type : MCQ Option Shuffling : Yes Is Question Mandatory : No Option Orientation : Vertical

Correct Marks : 1 Wrong Marks : 0.25

एक आदमी और एक महिला मिलकर 12 दिनों में एक काम कर सकते हैं। उनकी कार्यक्षमताएं 2 : 3 के अनुपात में हैं। अकेले काम करने पर, महिला कितने दिनों में काम पूरा कर सकती है?

Options :

1. ✓ 20
2. ✗ 30
3. ✗ 10
4. ✗ 15

Question Number : 110 Question Id : 9767558834 Question Type : MCQ Option Shuffling : Yes Is Question Mandatory : No Option Orientation : Vertical

Correct Marks : 1 Wrong Marks : 0.25

What is the curved surface area of a hemisphere of radius 28 cm?

Options :

- ✘ 4900 sq cm
- ✔ 4928 sq cm
- ✘ 5000 sq cm
- ✘ 4928.56 sq cm

Question Number : 110 Question Id : 9767558834 Question Type : MCQ Option Shuffling : Yes Is Question Mandatory : No Option Orientation : Vertical

Correct Marks : 1 Wrong Marks : 0.25

28 cm त्रिज्या के अर्धगोले का वक्र पृष्ठीय क्षेत्रफल क्या है?

Options :

- ✘ 4900 sq cm
- ✔ 4928 sq cm
- ✘ 5000 sq cm
- ✘ 4928.56 sq cm

Question Number : 111 Question Id : 9767558835 Question Type : MCQ Option Shuffling : Yes Is Question Mandatory : No Option Orientation : Vertical

Correct Marks : 1 Wrong Marks : 0.25

What is the area of the base of a cone of radius 35 cm in square metres?

Options :

- ✘ 0.395
- ✘ 0.4
- ✘ 0.3
- ✔ 0.385

Question Number : 111 Question Id : 9767558835 Question Type : MCQ Option Shuffling : Yes Is Question Mandatory : No Option Orientation : Vertical

Correct Marks : 1 Wrong Marks : 0.25

35 cm त्रिज्या के शंकु के आधार का वर्ग मीटर में क्षेत्रफल क्या है?

Options :

1. ✘ 0.395
2. ✘ 0.4
3. ✘ 0.3
4. ✔ 0.385

Question Number : 112 Question Id : 9767558836 Question Type : MCQ Option Shuffling : Yes Is Question Mandatory : No Option Orientation : Vertical

Correct Marks : 1 Wrong Marks : 0.25

A hollow metal sphere is of radius 5 m and thickness 20 cm. What is the approximate volume of metal required to make the sphere?

Options :

1. ✘ 55 cu m
2. ✘ 58 cu m
3. ✔ 60.38 cu m
4. ✘ 61 cu m

Question Number : 112 Question Id : 9767558836 Question Type : MCQ Option Shuffling : Yes Is Question Mandatory : No Option Orientation : Vertical

Correct Marks : 1 Wrong Marks : 0.25

एक धातु के खोखले गोले की त्रिज्या 5 m है और मोटाई 20 cm है। गोला बनाने के लिए धातु का अनुमानित आयतन कितना होना चाहिए?

Options :

1. ✘ 55 cu m
2. ✘ 58 cu m
3. ✔ 60.38 cu m
4. ✘ 61 cu m

Question Number : 113 Question Id : 9767558837 Question Type : MCQ Option Shuffling : Yes Is Question Mandatory : No Option Orientation : Vertical

Correct Marks : 1 Wrong Marks : 0.25

A cone of radius 3 cm is mounted on the base of a hemisphere of radius 7 cm. The height of the cone is twice the height of hemisphere. What is the resulting volume of the solid?

Options :

1. ✘ 750.85 cu cm
2. ✔ 850.67 cu cm
3. ✘ 900.01 cu cm
4. ✘ 805.69 cu cm

Question Number : 113 Question Id : 9767558837 Question Type : MCQ Option Shuffling : Yes Is Question Mandatory : No Option Orientation : Vertical

Correct Marks : 1 Wrong Marks : 0.25

3 cm त्रिज्या के एक शंकु को 7 cm त्रिज्या के अर्धगोले के आधार पर रखा गया है। शंकु की ऊंचाई अर्धगोले की ऊंचाई से दोगुनी है। ठोस का परिणामी आयतन क्या है?

Options :

1. ✘ 750.85 cu cm
2. ✔ 850.67 cu cm
3. ✘ 900.01 cu cm
4. ✘ 805.69 cu cm

Question Number : 114 Question Id : 9767558838 Question Type : MCQ Option Shuffling : Yes Is Question Mandatory : No Option Orientation : Vertical

Correct Marks : 1 Wrong Marks : 0.25

The following table shows the numbers of cars sold by 4 different companies in the year 2019. What is the total number of cars sold by these 4 companies in 2019?

Company	Numbers
Hyundai	2500
Ford	4500
Nissan	3500
Tata	3800

Options :

1. ✘ 16050
2. ✘ 10500
3. ✘ 14000
4. ✔ 14300

Question Number : 114 Question Id : 9767558838 Question Type : MCQ Option Shuffling : Yes Is Question Mandatory : No Option Orientation : Vertical

Correct Marks : 1 Wrong Marks : 0.25

निम्नलिखित तालिका वर्ष 2019 में 4 विभिन्न कंपनियों द्वारा बेची गई कारों की संख्या को दर्शाती है। 2019 में इन 4 कंपनियों द्वारा बेची गई कारों की कुल संख्या क्या है?

कंपनी	संख्याएँ
हुंडई	2500
फोर्ड	4500
निस्सान	3500
टाटा	3800

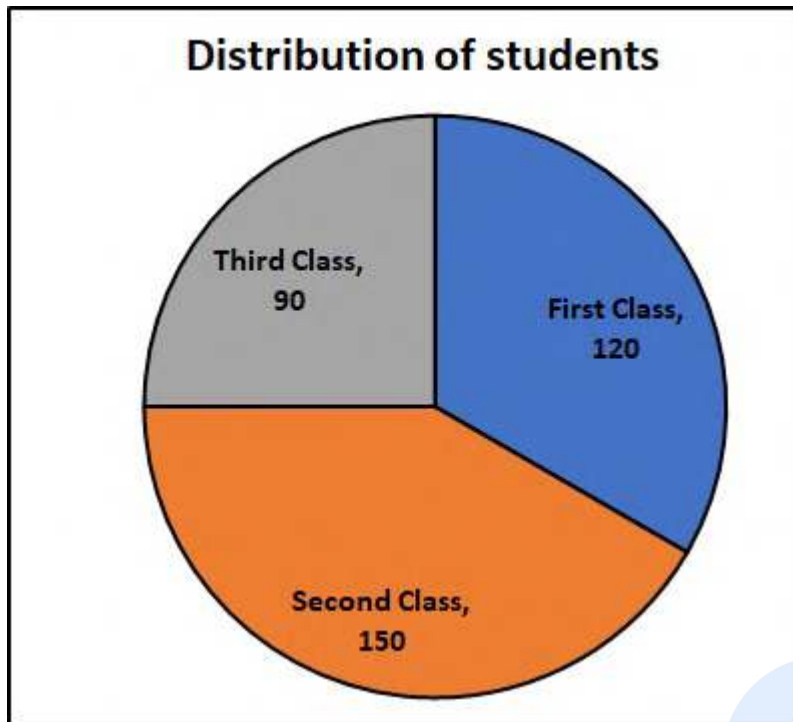
Options :

- ✘ 16050
- ✘ 10500
- ✘ 14000
- ✔ 14300

Question Number : 115 Question Id : 9767558839 Question Type : MCQ Option Shuffling : Yes Is Question Mandatory : No Option Orientation : Vertical

Correct Marks : 1 Wrong Marks : 0.25

The pie chart shows the number of students and the class obtained by them in their exams. What percent of the students secured second class or above?



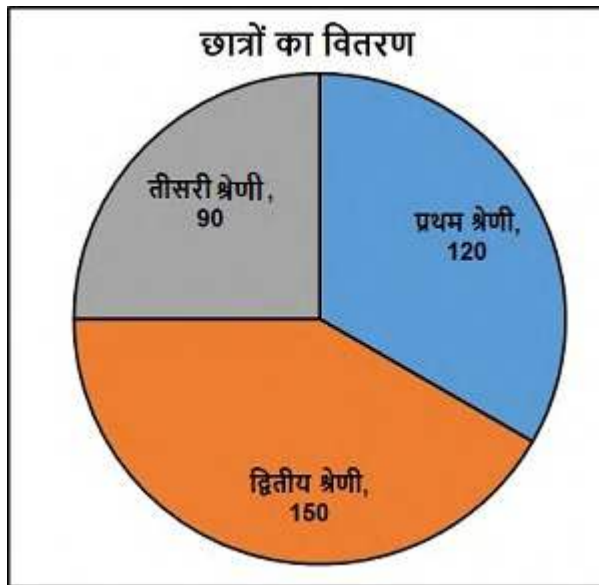
Options :

1. ✘ 55
2. ✘ 60
3. ✔ 75
4. ✘ 80

Question Number : 115 Question Id : 9767558839 Question Type : MCQ Option Shuffling : Yes Is Question Mandatory : No Option Orientation : Vertical

Correct Marks : 1 Wrong Marks : 0.25

पाई चार्ट छात्रों की संख्या और उनकी परीक्षा में उनके द्वारा प्राप्त श्रेणी को दर्शाता है। कितने प्रतिशत छात्रों ने द्वितीय श्रेणी या उससे अधिक हासिल किया है?



Options :

1. ✘ 55
2. ✘ 60
3. ✔ 75
4. ✘ 80

Question Number : 116 Question Id : 9767558840 Question Type : MCQ Option Shuffling : Yes Is Question Mandatory : No Option Orientation : Vertical

Correct Marks : 1 Wrong Marks : 0.25

The table shows the monthly expenditure of Saumya. What percent of her monthly salary is she able to save?

Expense	Amount
Food	5000
Rent	20000
Travel	10000
Clothing	3000
Miscellaneous	15000
Saving	7500

Options :

1. ✘ 20
2. ✔ 12.4
3. ✘ 15
4. ✘ 18

Question Number : 116 Question Id : 9767558840 Question Type : MCQ Option Shuffling : Yes Is Question Mandatory : No Option Orientation : Vertical

Correct Marks : 1 Wrong Marks : 0.25

तालिका सौम्या के मासिक व्यय को दर्शाती है। उसके मासिक वेतन का कितना प्रतिशत वह बचा पाती है?

व्यय	राशि
भोजन	5000
किराया	20000
यात्रा	10000
कपड़े	3000
विविध	15000
बचत	7500

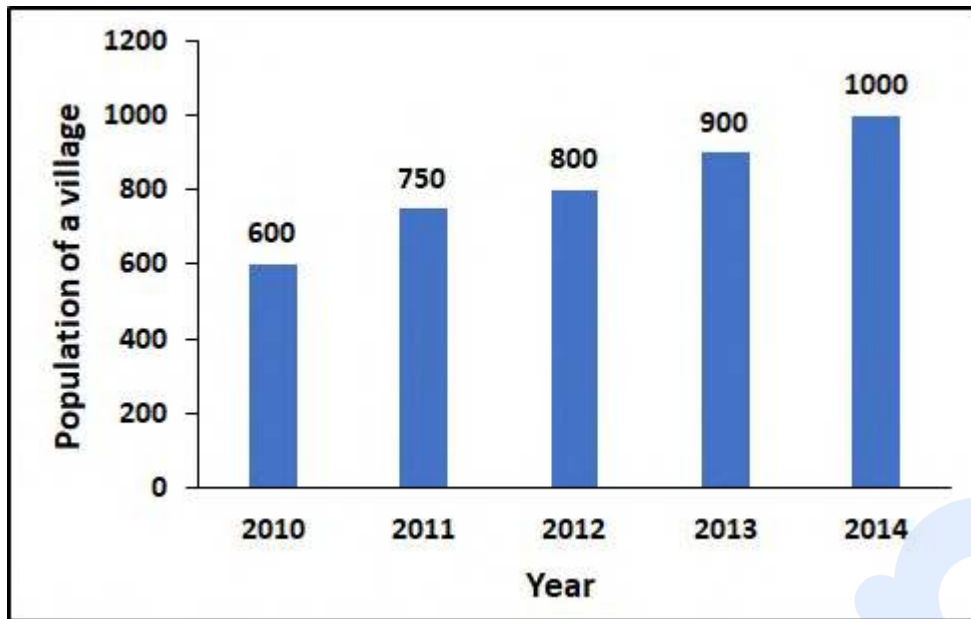
Options :

1. ✘ 20
2. ✔ 12.4
3. ✘ 15
4. ✘ 18

Question Number : 117 Question Id : 9767558841 Question Type : MCQ Option Shuffling : Yes Is Question Mandatory : No Option Orientation : Vertical

Correct Marks : 1 Wrong Marks : 0.25

The following bar graph shows the population of a village for five consecutive years. What is the average population of all the five years?



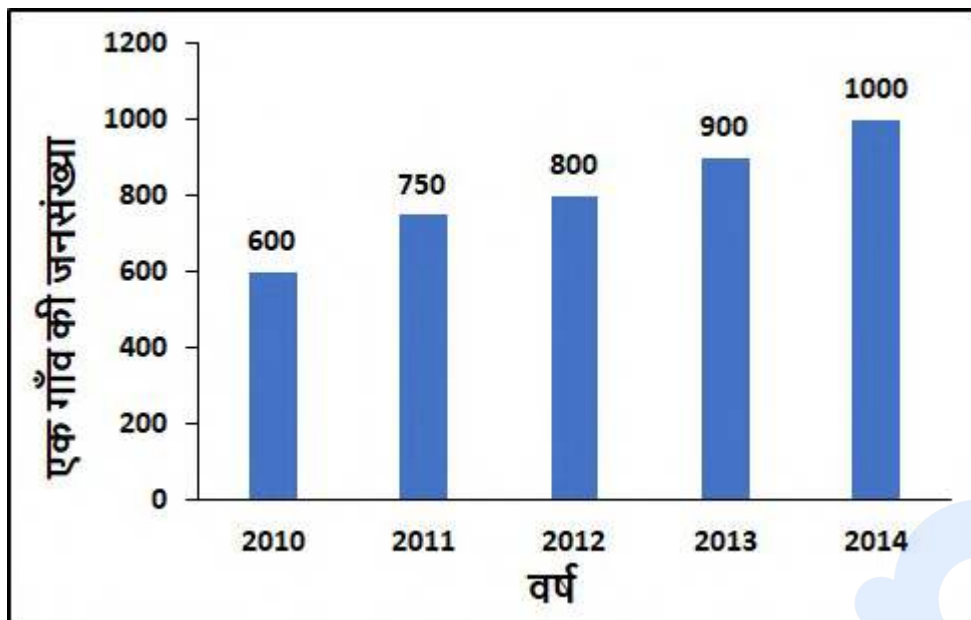
Options :

1. ✖ 680
2. ✖ 750
3. ✖ 800
4. ✔ 810

Question Number : 117 Question Id : 9767558841 Question Type : MCQ Option Shuffling : Yes Is Question Mandatory : No Option Orientation : Vertical

Correct Marks : 1 Wrong Marks : 0.25

निम्नलिखित बार ग्राफ लगातार पाँच वर्षों के लिए एक गाँव की जनसंख्या को दर्शाता है। सभी पाँच वर्षों की औसत जनसंख्या क्या है?



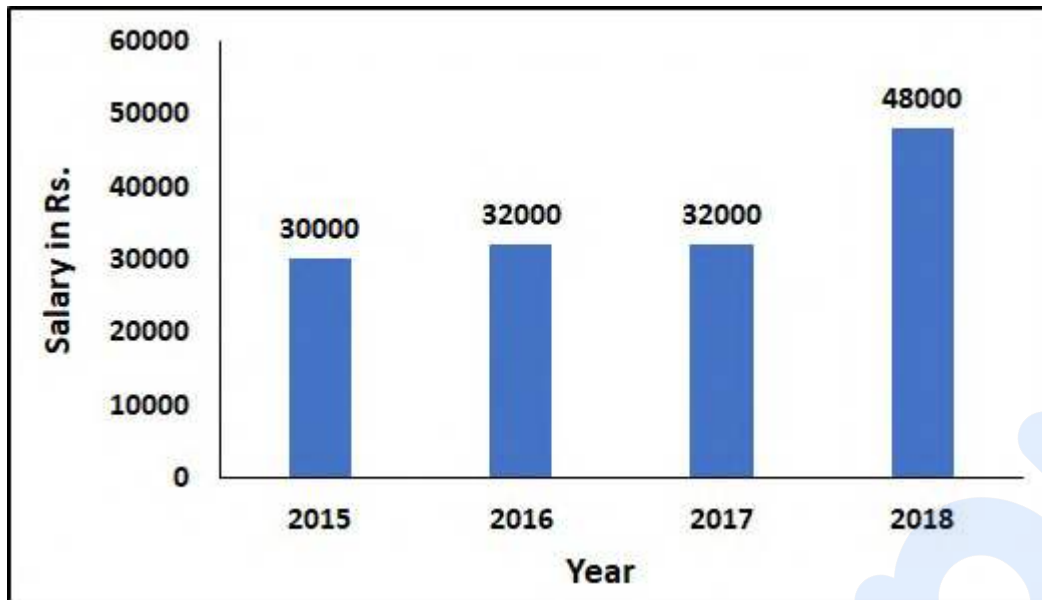
Options :

- ✘ 680
- ✘ 750
- ✘ 800
- ✔ 810

Question Number : 118 Question Id : 9767558842 Question Type : MCQ Option Shuffling : Yes Is Question Mandatory : No Option Orientation : Vertical

Correct Marks : 1 Wrong Marks : 0.25

The following graph shows the monthly salary of Alice over four years. What is the percentage growth in salary that she has seen from year one to year four?



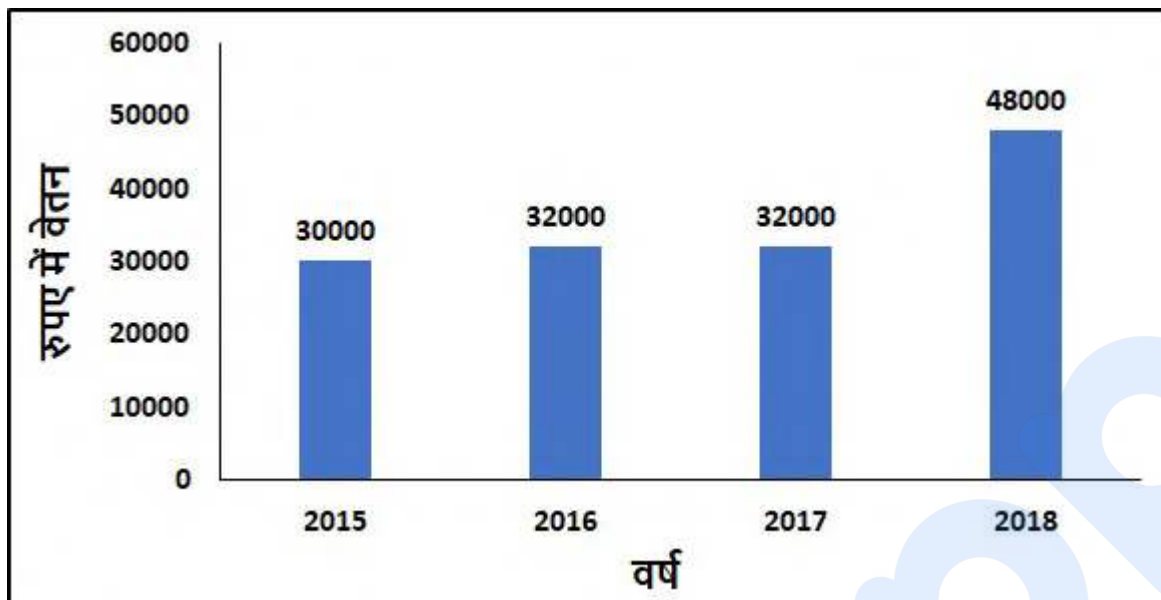
Options :

1. ✘ 30
2. ✘ 45
3. ✔ 60
4. ✘ 75

Question Number : 118 Question Id : 9767558842 Question Type : MCQ Option Shuffling : Yes Is Question Mandatory : No Option Orientation : Vertical

Correct Marks : 1 Wrong Marks : 0.25

निम्नलिखित ग्राफ़ चार वर्षों में ऐलिस के मासिक वेतन को दर्शाता है। वेतन वृद्धि का प्रतिशत क्या है जो उसने एक वर्ष से चार वर्ष तक देखा है?



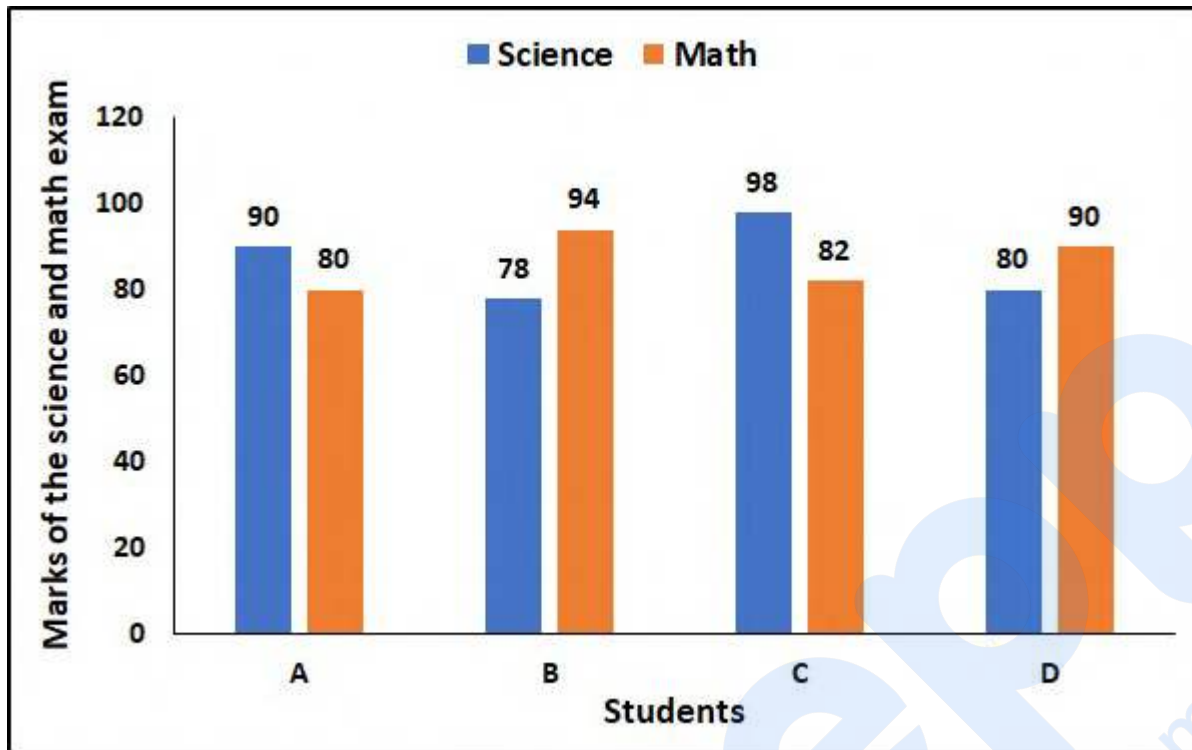
Options :

- ✘ 30
- ✘ 45
- ✔ 60
- ✘ 75

Question Number : 119 Question Id : 9767558843 Question Type : MCQ Option Shuffling : Yes Is Question Mandatory : No Option Orientation : Vertical

Correct Marks : 1 Wrong Marks : 0.25

The following graph shows the marks of the science and math exam of 4 students, A, B, C and D. Who had the highest average of math and science marks?



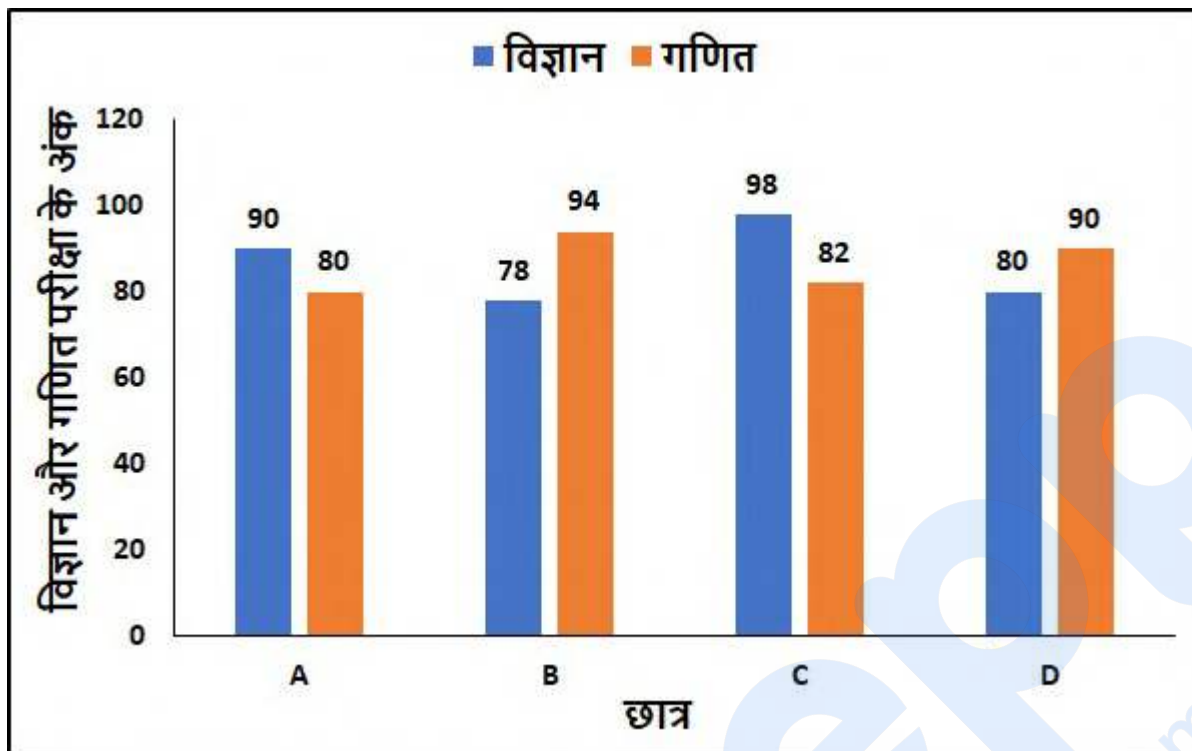
Options :

1. ✘ A
2. ✘ B
3. ✔ C
4. ✘ D

Question Number : 119 Question Id : 9767558843 Question Type : MCQ Option Shuffling : Yes Is Question Mandatory : No Option Orientation : Vertical

Correct Marks : 1 Wrong Marks : 0.25

निम्नलिखित ग्राफ 4 छात्रों, A, B, C और D के विज्ञान और गणित परीक्षा के अंकों को दर्शाता है। गणित और विज्ञान के अंकों का सबसे अधिक औसत किसका था?



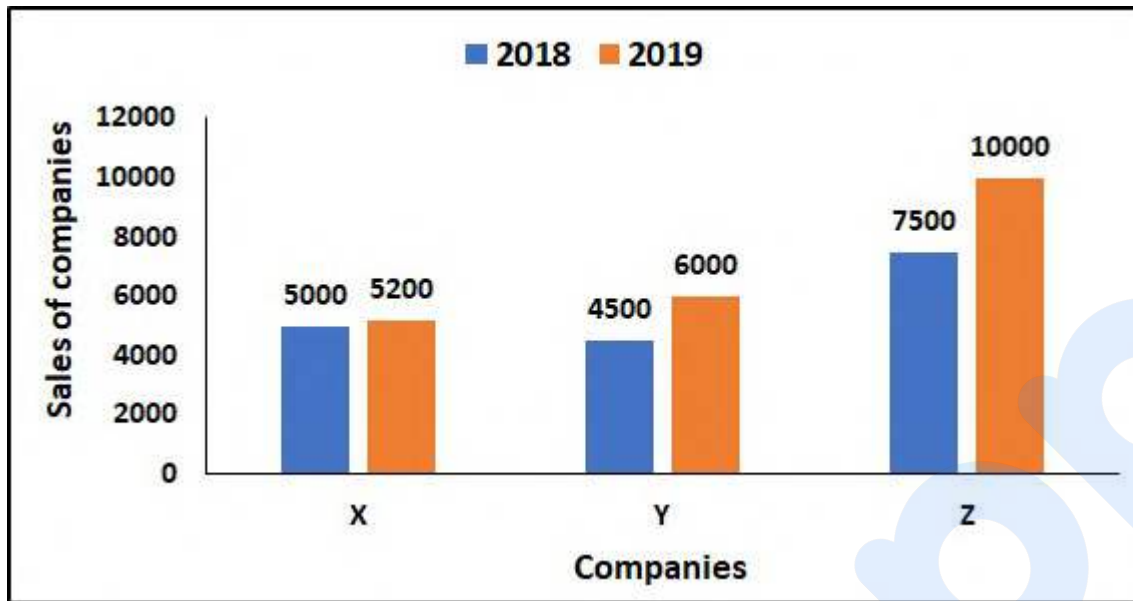
Options :

- ✘ A
- ✘ B
- ✔ C
- ✘ D

Question Number : 120 Question Id : 9767558844 Question Type : MCQ Option Shuffling : Yes Is Question Mandatory : No Option Orientation : Vertical

Correct Marks : 1 Wrong Marks : 0.25

The graph below shows the sales of companies X, Y and Z for two consecutive years. What is the lowest percentage growth a company has seen for the two given years?



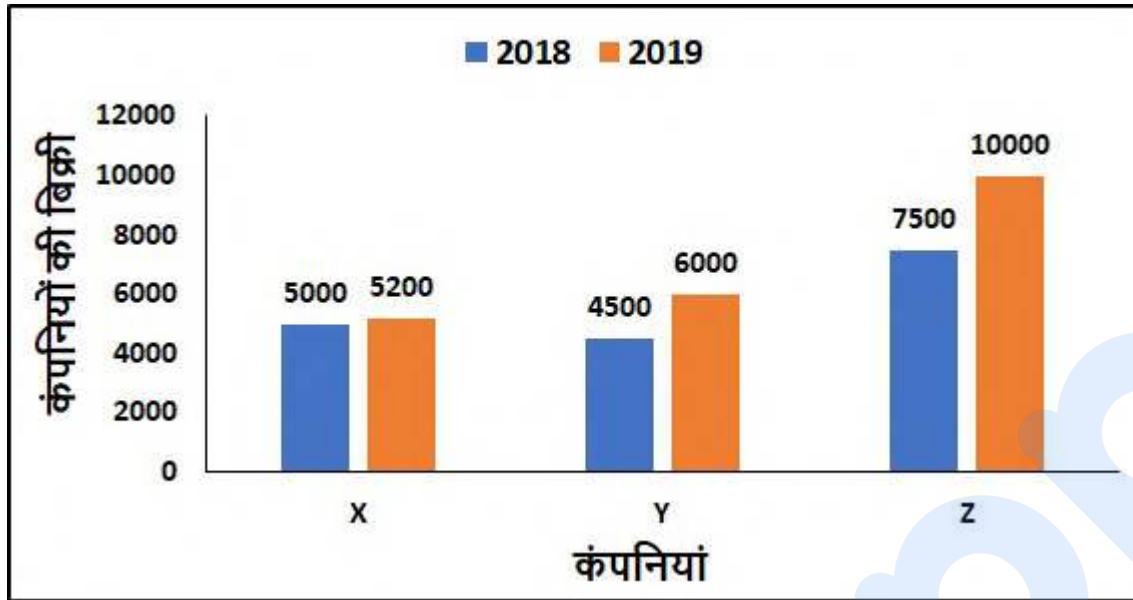
Options :

- ✘ 10.33
- ✘ 25
- ✘ 33.33
- ✔ 4

Question Number : 120 Question Id : 9767558844 Question Type : MCQ Option Shuffling : Yes Is Question Mandatory : No Option Orientation : Vertical

Correct Marks : 1 Wrong Marks : 0.25

नीचे दिया गया ग्राफ़ लगातार दो वर्षों के लिए X, Y और Z कंपनियों की बिक्री को दर्शाता है। दिए गए दो वर्षों के लिए एक कंपनी द्वारा देखी गई सबसे कम प्रतिशत वृद्धि क्या है?



Options :

1. ✘ 10.33
2. ✘ 25
3. ✘ 33.33
4. ✔ 4

General English1

Group Number :	7
Group Id :	976755221
Group Maximum Duration :	0
Group Minimum Duration :	0
Show Attended Group? :	No
Edit Attended Group? :	No
Break time :	0
Group Marks :	20
Is this Group for Examiner? :	No

English Language & Comprehension1

Section Id :	976755509
Section Number :	1
Section type :	Online
Mandatory or Optional :	Mandatory
Number of Questions :	20
Number of Questions to be attempted :	20
Section Marks :	20
Enable Mark as Answered Mark for Review and Clear Response :	Yes
Sub-Section Number :	1
Sub-Section Id :	976755610
Question Shuffling Allowed :	Yes

Question Number : 121 Question Id : 9767558845 Question Type : MCQ Option Shuffling : Yes Is Question Mandatory : No Option Orientation : Vertical

Correct Marks : 1 Wrong Marks : 0.25

The sentence below has been divided into three parts. Select the part of the sentence that has an error. If the sentence has no error, select the option 'No Error'.

Options :

- ✘ In an unexpected turn of events,
- ✘ the president has announced
- ✔ his resignation with the office today.
- ✘ No error

Question Number : 121 Question Id : 9767558845 Question Type : MCQ Option Shuffling : Yes Is Question Mandatory : No Option Orientation : Vertical

Correct Marks : 1 Wrong Marks : 0.25

The sentence below has been divided into three parts. Select the part of the sentence that has an error. If the sentence has no error, select the option 'No Error'.

Options :

- ✘ In an unexpected turn of events,
- ✘ the president has announced
- ✔ his resignation with the office today.

4. ✘ No error

Question Number : 122 Question Id : 9767558846 Question Type : MCQ Option Shuffling : Yes Is Question Mandatory : No Option Orientation : Vertical

Correct Marks : 1 Wrong Marks : 0.25

The sentence below has been divided into three parts. Select the part of the sentence that has an error. If the sentence has no error, select the option 'No Error'.

Options :

1. ✔ The dates allotted last week for the re-examination have had caused
2. ✘ an uproar amongst the students as
3. ✘ they are on the same dates as some other entrance exams.
4. ✘ No Error

Question Number : 122 Question Id : 9767558846 Question Type : MCQ Option Shuffling : Yes Is Question Mandatory : No Option Orientation : Vertical

Correct Marks : 1 Wrong Marks : 0.25

The sentence below has been divided into three parts. Select the part of the sentence that has an error. If the sentence has no error, select the option 'No Error'.

Options :

1. ✔ The dates allotted last week for the re-examination have had caused
2. ✘ an uproar amongst the students as
3. ✘ they are on the same dates as some other entrance exams.
4. ✘ No Error

Question Number : 123 Question Id : 9767558847 Question Type : MCQ Option Shuffling : Yes Is Question Mandatory : No Option Orientation : Vertical

Correct Marks : 1 Wrong Marks : 0.25

The sentence below has been divided into three parts. Select the part of the sentence that has an error. If the sentence has no error, select the option 'No Error'.

Options :

1. ✘ Neither did the authorities warn
2. ✘ the state heads nor did they

3. ✓ ensured necessary quarantine measures.

4. ✗ No error

Question Number : 123 Question Id : 9767558847 Question Type : MCQ Option Shuffling : Yes Is Question Mandatory : No Option Orientation : Vertical

Correct Marks : 1 Wrong Marks : 0.25

The sentence below has been divided into three parts. Select the part of the sentence that has an error. If the sentence has no error, select the option 'No Error'.

Options :

1. ✗ Neither did the authorities warn

2. ✗ the state heads nor did they

3. ✓ ensured necessary quarantine measures.

4. ✗ No error

Question Number : 124 Question Id : 9767558848 Question Type : MCQ Option Shuffling : Yes Is Question Mandatory : No Option Orientation : Vertical

Correct Marks : 1 Wrong Marks : 0.25

The sentence below has been divided into three parts. Select the part of the sentence that has an error. If the sentence has no error, select the option 'No Error'.

Options :

1. ✗ His recovery from the final stage

2. ✓ of cancer is being hailed as the

3. ✗ miracle in the world of medicine.

4. ✗ No error

Question Number : 124 Question Id : 9767558848 Question Type : MCQ Option Shuffling : Yes Is Question Mandatory : No Option Orientation : Vertical

Correct Marks : 1 Wrong Marks : 0.25

The sentence below has been divided into three parts. Select the part of the sentence that has an error. If the sentence has no error, select the option 'No Error'.

Options :

1. ✗ His recovery from the final stage

2. ✓ of cancer is being hailed as the

3. ✘ miracle in the world of medicine.
4. ✘ No error

Question Number : 125 Question Id : 9767558849 Question Type : MCQ Option Shuffling : Yes Is Question Mandatory : No Option Orientation : Vertical

Correct Marks : 1 Wrong Marks : 0.25

The sentence below has been divided into three parts. Select the part of the sentence that has an error. If the sentence has no error, select the option 'No Error'.

Options :

1. ✔ Except for Joseph and I,
2. ✘ everyone else seemed thoroughly
3. ✘ convinced with the plan.
4. ✘ No Error

Question Number : 125 Question Id : 9767558849 Question Type : MCQ Option Shuffling : Yes Is Question Mandatory : No Option Orientation : Vertical

Correct Marks : 1 Wrong Marks : 0.25

The sentence below has been divided into three parts. Select the part of the sentence that has an error. If the sentence has no error, select the option 'No Error'.

Options :

1. ✔ Except for Joseph and I,
2. ✘ everyone else seemed thoroughly
3. ✘ convinced with the plan.
4. ✘ No Error

Question Number : 126 Question Id : 9767558850 Question Type : MCQ Option Shuffling : Yes Is Question Mandatory : No Option Orientation : Vertical

Correct Marks : 1 Wrong Marks : 0.25

Select the word segment that substitutes (replaces) the bracketed word segment correctly and completes the sentence meaningfully. Select the option 'no correction required' if the sentence is correct as given.

The (weather conditions on that day was) dubious at best, so we decided to travel at a later date.

Options :

1. ✘ weather conditions during the day were
2. ✔ weather condition on that day was
3. ✘ weather condition on that day were
4. ✘ No correction required

Question Number : 126 Question Id : 9767558850 Question Type : MCQ Option Shuffling : Yes Is Question Mandatory : No Option Orientation : Vertical

Correct Marks : 1 Wrong Marks : 0.25

Select the word segment that substitutes (replaces) the bracketed word segment correctly and completes the sentence meaningfully. Select the option 'no correction required' if the sentence is correct as given.

The (weather conditions on that day was) dubious at best, so we decided to travel at a later date.

Options :

1. ✘ weather conditions during the day were
2. ✔ weather condition on that day was
3. ✘ weather condition on that day were
4. ✘ No correction required

Question Number : 127 Question Id : 9767558851 Question Type : MCQ Option Shuffling : Yes Is Question Mandatory : No Option Orientation : Vertical

Correct Marks : 1 Wrong Marks : 0.25

Select the word segment that substitutes (replaces) the bracketed word segment correctly and completes the sentence meaningfully. Select the option 'no correction required' if the sentence is correct as given.

A new computer (virus the fastest spreading ever was) this week making the rounds among unprotected computers running on Microsoft Windows.

Options :

1. ✘ virus, the fastest spreading ever was
2. ✔ virus, the fastest spreading ever, was
3. ✘ virus the fastest spreading ever, was
4. ✘ No correction required

Question Number : 127 Question Id : 9767558851 Question Type : MCQ Option Shuffling : Yes Is Question Mandatory : No Option

Orientation : Vertical

Correct Marks : 1 Wrong Marks : 0.25

Select the word segment that substitutes (replaces) the bracketed word segment correctly and completes the sentence meaningfully. Select the option 'no correction required' if the sentence is correct as given.

A new computer (virus the fastest spreading ever was) this week making the rounds among unprotected computers running on Microsoft Windows.

Options :

- ✘ virus, the fastest spreading ever was
- ✔ virus, the fastest spreading ever, was
- ✘ virus the fastest spreading ever, was
- ✘ No correction required

Question Number : 128 Question Id : 9767558852 Question Type : MCQ Option Shuffling : Yes Is Question Mandatory : No Option Orientation : Vertical

Correct Marks : 1 Wrong Marks : 0.25

Select the word segment that substitutes (replaces) the bracketed word segment correctly and completes the sentence meaningfully. Select the option 'no correction required' if the sentence is correct as given.

Last year alone more than 34 billion U.S. (dollars were raised worldwide through crowdfunding).

Options :

- ✘ dollar were raised worldwide through crowdfunding.
- ✘ dollars were raised worldwide by crowd funding.
- ✔ dollars was raised worldwide through crowdfunding
- ✘ No correction required

Question Number : 128 Question Id : 9767558852 Question Type : MCQ Option Shuffling : Yes Is Question Mandatory : No Option Orientation : Vertical

Correct Marks : 1 Wrong Marks : 0.25

Select the word segment that substitutes (replaces) the bracketed word segment correctly and completes the sentence meaningfully. Select the option 'no correction required' if the sentence is correct as given.

Last year alone more than 34 billion U.S. (dollars were raised worldwide through crowdfunding).

Options :

- ✘ dollar were raised worldwide through crowdfunding.
- ✘ dollars were raized worldwide by crowd funding.
- ✔ dollars was raised worldwide through crowdfunding
- ✘ No correction required

Question Number : 129 Question Id : 9767558853 Question Type : MCQ Option Shuffling : Yes Is Question Mandatory : No Option Orientation : Vertical

Correct Marks : 1 Wrong Marks : 0.25

Select the word segment that substitutes (replaces) the bracketed word segment correctly and completes the sentence meaningfully. Select the option 'no correction required' if the sentence is correct as given.

It was phenomenal to watch the way he (keeps his cool in this dire times).

Options :

- ✘ kept his cool in this dire times
- ✘ keeps his cool in these dire time
- ✔ kept his cool in those dire times
- ✘ No correction required

Question Number : 129 Question Id : 9767558853 Question Type : MCQ Option Shuffling : Yes Is Question Mandatory : No Option Orientation : Vertical

Correct Marks : 1 Wrong Marks : 0.25

Select the word segment that substitutes (replaces) the bracketed word segment correctly and completes the sentence meaningfully. Select the option 'no correction required' if the sentence is correct as given.

It was phenomenal to watch the way he (keeps his cool in this dire times).

Options :

- ✘ kept his cool in this dire times
- ✘ keeps his cool in these dire time
- ✔ kept his cool in those dire times
- ✘ No correction required

Question Number : 130 Question Id : 9767558854 Question Type : MCQ Option Shuffling : Yes Is Question Mandatory : No Option Orientation : Vertical

Correct Marks : 1 Wrong Marks : 0.25

Fill in the blank with the appropriate word.

His _____ seemed to reveal more than what he was trying to hide.

Options :

1. ✘ association
2. ✔ prevarication
3. ✘ culmination
4. ✘ jubilation

Question Number : 130 Question Id : 9767558854 Question Type : MCQ Option Shuffling : Yes Is Question Mandatory : No Option Orientation : Vertical

Correct Marks : 1 Wrong Marks : 0.25

Fill in the blank with the appropriate word.

His _____ seemed to reveal more than what he was trying to hide.

Options :

1. ✘ association
2. ✔ prevarication
3. ✘ culmination
4. ✘ jubilation

Question Number : 131 Question Id : 9767558855 Question Type : MCQ Option Shuffling : Yes Is Question Mandatory : No Option Orientation : Vertical

Correct Marks : 1 Wrong Marks : 0.25

Fill in the blank with the appropriate word.

The judge banged his _____ several times to demand silence, but he couldn't be heard above the noise that was increasing by the minute.

Options :

1. ✘ carvel
2. ✘ gravel
3. ✘ swivel
4. ✔ gavel

Question Number : 131 Question Id : 9767558855 Question Type : MCQ Option Shuffling : Yes Is Question Mandatory : No Option Orientation : Vertical

Correct Marks : 1 Wrong Marks : 0.25

Fill in the blank with the appropriate word.

The judge banged his _____ several times to demand silence, but he couldn't be heard above the noise that was increasing by the minute.

Options :

1. ✘ carvel
2. ✘ gravel
3. ✘ swivel
4. ✔ gavel

Question Number : 132 Question Id : 9767558856 Question Type : MCQ Option Shuffling : Yes Is Question Mandatory : No Option Orientation : Vertical

Correct Marks : 1 Wrong Marks : 0.25

Fill in the blank with the appropriate word.

The state and its autocracy always abandoned its _____ poor.

Options :

1. ✘ elated
2. ✘ delighted
3. ✔ benighted
4. ✘ united

Question Number : 132 Question Id : 9767558856 Question Type : MCQ Option Shuffling : Yes Is Question Mandatory : No Option Orientation : Vertical

Correct Marks : 1 Wrong Marks : 0.25

Fill in the blank with the appropriate word.

The state and its autocracy always abandoned its _____ poor.

Options :

1. ✘ elated

2. ✘ delighted
3. ✔ benighted
4. ✘ united

Question Number : 133 Question Id : 9767558857 Question Type : MCQ Option Shuffling : Yes Is Question Mandatory : No Option Orientation : Vertical

Correct Marks : 1 Wrong Marks : 0.25

Fill in the blank with the appropriate word.

He had half expected a divine _____ strike, a thunderbolt maybe, as he queued for the body and blood.

Options :

1. ✔ pre-emptive
2. ✘ postoperative
3. ✘ competitive
4. ✘ consecutive

Question Number : 133 Question Id : 9767558857 Question Type : MCQ Option Shuffling : Yes Is Question Mandatory : No Option Orientation : Vertical

Correct Marks : 1 Wrong Marks : 0.25

Fill in the blank with the appropriate word.

He had half expected a divine _____ strike, a thunderbolt maybe, as he queued for the body and blood.

Options :

1. ✔ pre-emptive
2. ✘ postoperative
3. ✘ competitive
4. ✘ consecutive

Question Number : 134 Question Id : 9767558858 Question Type : MCQ Option Shuffling : Yes Is Question Mandatory : No Option Orientation : Vertical

Correct Marks : 1 Wrong Marks : 0.25

The question below consist of a set of labelled sentences. Out of four options given, select the most logical order of the sentences which form a paragraph.

The Pygmalion effect is a psychological phenomenon wherein high expectations lead to improved performance in a given area.

P. Its name comes from the story of Pygmalion, a mythical Greek sculptor.

Q. She took pity and brought the statue to life and the couple married and went on to have a daughter, Paphos.

R. Unable to love a human, Pygmalion appealed to Aphrodite, the goddess of love.

S. Pygmalion carved a statue of a woman and then became enamoured with it.

The conclusion derived from that story is that the same way Pygmalion's fixation on the statue brought it to life, our focus on a belief or assumption can do the same. The flipside is the Golem effect, wherein low expectations lead to decreased performance.

Options :

1. ✘ PQSR
2. ✘ PSQR
3. ✔ PSRQ
4. ✘ PQRS

Question Number : 134 Question Id : 9767558858 Question Type : MCQ Option Shuffling : Yes Is Question Mandatory : No Option Orientation : Vertical

Correct Marks : 1 Wrong Marks : 0.25

The question below consist of a set of labelled sentences. Out of four options given, select the most logical order of the sentences which form a paragraph.

The Pygmalion effect is a psychological phenomenon wherein high expectations lead to improved performance in a given area.

P. Its name comes from the story of Pygmalion, a mythical Greek sculptor.

Q. She took pity and brought the statue to life and the couple married and went on to have a daughter, Paphos.

R. Unable to love a human, Pygmalion appealed to Aphrodite, the goddess of love.

S. Pygmalion carved a statue of a woman and then became enamoured with it.

The conclusion derived from that story is that the same way Pygmalion's fixation on the statue brought it to life, our focus on a belief or assumption can do the same. The flipside is the Golem effect, wherein low expectations lead to decreased performance.

Options :

1. ✘ PQSR
2. ✘ PSQR
3. ✔ PSRQ
4. ✘ PQRS

Question Number : 135 Question Id : 9767558859 Question Type : MCQ Option Shuffling : Yes Is Question Mandatory : No Option Orientation : Vertical

Correct Marks : 1 Wrong Marks : 0.25

Some parts of a sentence have been jumbled up, and labelled P, Q, R and S. Select the option that gives the correct sequence in which these parts can be rearranged to form a meaningful and grammatically correct sentence.

The existing oath

- P. of allegiance for people
- Q. seeking British nationality
- R. is to be changed
- S. from a royal oath

to a citizenship pledge.

Options :

1. ✔ PQRS
2. ✘ PSQR
3. ✘ QPSR
4. ✘ RSQP

Question Number : 135 Question Id : 9767558859 Question Type : MCQ Option Shuffling : Yes Is Question Mandatory : No Option Orientation : Vertical

Correct Marks : 1 Wrong Marks : 0.25

Some parts of a sentence have been jumbled up, and labelled P, Q, R and S. Select the option that gives the correct sequence in which these parts can be rearranged to form a meaningful and grammatically correct sentence.

The existing oath

- P. of allegiance for people
- Q. seeking British nationality

- R. is to be changed
- S. from a royal oath

to a citizenship pledge.

Options :

1. ✓ PQRS
2. ✗ PSQR
3. ✗ QPSR
4. ✗ RSQP

Question Number : 136 Question Id : 9767558860 Question Type : MCQ Option Shuffling : Yes Is Question Mandatory : No Option Orientation : Vertical

Correct Marks : 1 Wrong Marks : 0.25

Some parts of a sentence have been jumbled up, and labelled P, Q, R and S. Select the option that gives the correct sequence in which these parts can be rearranged to form a meaningful and grammatically correct sentence.

It is not a coincidence that William Wilberforce

- P. and Sir Thomas Foxwell Buxton,
- Q. to abolish the slave trade, helped
- R. two leaders of the movement
- S. found the Royal Society for the Prevention

of cruelty of animals in the 1820s

Options :

1. ✗ PRSQ
2. ✗ PQRS
3. ✗ PSQR
4. ✓ PRQS

Question Number : 136 Question Id : 9767558860 Question Type : MCQ Option Shuffling : Yes Is Question Mandatory : No Option Orientation : Vertical

Correct Marks : 1 Wrong Marks : 0.25

Some parts of a sentence have been jumbled up, and labelled P, Q, R and S. Select the option that gives the correct sequence in which these parts can be rearranged to form a meaningful and grammatically correct sentence.

It is not a coincidence that William Wilberforce

- P. and Sir Thomas Foxwell Buxton,
- Q. to abolish the slave trade, helped
- R. two leaders of the movement
- S. found the Royal Society for the Prevention

of cruelty of animals in the 1820s

Options :

- 1. ✘ PRSQ
- 2. ✘ PQRS
- 3. ✘ PSQR
- 4. ✔ PRQS

Question Number : 137 Question Id : 9767558861 Question Type : MCQ Option Shuffling : Yes Is Question Mandatory : No Option Orientation : Vertical

Correct Marks : 1 Wrong Marks : 0.25

The question below consist of a set of labelled sentences. Out of four options given, select the most logical order of the sentences which form a paragraph.

A Post-it note is a small piece of paper with a strip of low-tack adhesive on the back that allows it to be temporarily attached to documents, walls, computer monitors, and just about anything else.

P. The 3M company was initially sceptical about the product's profitability, but in 1980, the product was introduced around the world.

Q. The idea for the Post-it note was conceived in 1974 by Arthur Fry as a way of holding bookmarks in his hymnal while singing in the church choir.

R. He was aware of an adhesive accidentally developed in 1968 by fellow 3M employee Spencer Silver.

S. No application for the lightly sticky stuff was apparent until Fry's idea.

Today, Post-it notes are sold in more than 100 countries.

Options :

- 1. ✔ QRSP
- 2. ✘ QPSR

3. ✘ QRPS

4. ✘ QSPR

Question Number : 137 Question Id : 9767558861 Question Type : MCQ Option Shuffling : Yes Is Question Mandatory : No Option Orientation : Vertical

Correct Marks : 1 Wrong Marks : 0.25

The question below consist of a set of labelled sentences. Out of four options given, select the most logical order of the sentences which form a paragraph.

A Post-it note is a small piece of paper with a strip of low-tack adhesive on the back that allows it to be temporarily attached to documents, walls, computer monitors, and just about anything else.

P. The 3M company was initially sceptical about the product's profitability, but in 1980, the product was introduced around the world.

Q. The idea for the Post-it note was conceived in 1974 by Arthur Fry as a way of holding bookmarks in his hymnal while singing in the church choir.

R. He was aware of an adhesive accidentally developed in 1968 by fellow 3M employee Spencer Silver.

S. No application for the lightly sticky stuff was apparent until Fry's idea.

Today, Post-it notes are sold in more than 100 countries.

Options :

1. ✔ QRSP

2. ✘ QPSR

3. ✘ QRPS

4. ✘ QSPR

Question Number : 138 Question Id : 9767558862 Question Type : MCQ Option Shuffling : Yes Is Question Mandatory : No Option Orientation : Vertical

Correct Marks : 1 Wrong Marks : 0.25

Select the word that is closest in meaning (SYNONYM) to the word given below

Voracious

Options :

1. ✔ Insatiable

2. ✘ Dainty
3. ✘ Abstemious
4. ✘ Squeamish

Question Number : 138 Question Id : 9767558862 Question Type : MCQ Option Shuffling : Yes Is Question Mandatory : No Option Orientation : Vertical

Correct Marks : 1 Wrong Marks : 0.25

Select the word that is closest in meaning (SYNONYM) to the word given below

Voracious

Options :

1. ✔ Insatiable
2. ✘ Dainty
3. ✘ Abstemious
4. ✘ Squeamish

Question Number : 139 Question Id : 9767558863 Question Type : MCQ Option Shuffling : Yes Is Question Mandatory : No Option Orientation : Vertical

Correct Marks : 1 Wrong Marks : 0.25

Select the word that is opposite in meaning (ANTONYM) to the word given below

Vicissitude

Options :

1. ✘ Corrode
2. ✘ Change
3. ✘ Mutation
4. ✔ Stability

Question Number : 139 Question Id : 9767558863 Question Type : MCQ Option Shuffling : Yes Is Question Mandatory : No Option Orientation : Vertical

Correct Marks : 1 Wrong Marks : 0.25

Select the word that is opposite in meaning (ANTONYM) to the word given below

Vicissitude

Options :

1. ✘ Corrode
2. ✘ Change
3. ✘ Mutation
4. ✔ Stability

Question Number : 140 Question Id : 9767558864 Question Type : MCQ Option Shuffling : Yes Is Question Mandatory : No Option Orientation : Vertical

Correct Marks : 1 Wrong Marks : 0.25

Select the word that is closest in meaning (SYNONYM) to the word given below

Commensurate

Options :

1. ✘ Fictitious
2. ✘ Veracious
3. ✔ Proportionate
4. ✘ Venerate

Question Number : 140 Question Id : 9767558864 Question Type : MCQ Option Shuffling : Yes Is Question Mandatory : No Option Orientation : Vertical

Correct Marks : 1 Wrong Marks : 0.25

Select the word that is closest in meaning (SYNONYM) to the word given below

Commensurate

Options :

1. ✘ Fictitious
2. ✘ Veracious
3. ✔ Proportionate
4. ✘ Venerate

General English2

Group Number :	8
Group Id :	976755222
Group Maximum Duration :	0
Group Minimum Duration :	0
Show Attended Group? :	No
Edit Attended Group? :	No
Break time :	0
Group Marks :	20
Is this Group for Examiner? :	No

English Language & Comprehension2

Section Id :	976755510
Section Number :	1
Section type :	Online
Mandatory or Optional :	Mandatory
Number of Questions :	16
Number of Questions to be attempted :	16
Section Marks :	20
Enable Mark as Answered Mark for Review and Clear Response :	Yes
Sub-Section Number :	1
Sub-Section Id :	976755611
Question Shuffling Allowed :	Yes

Question Number : 141 Question Id : 9767558865 Question Type : MCQ Option Shuffling : Yes Is Question Mandatory : No Option Orientation : Vertical

Correct Marks : 1 Wrong Marks : 0.25

Select the word that is opposite in meaning (ANTONYM) to the word given below

Peruse

Options :

1. ✖ Swindle

2. ✘ Con
3. ✘ Examine
4. ✔ Neglect

Question Number : 141 Question Id : 9767558865 Question Type : MCQ Option Shuffling : Yes Is Question Mandatory : No Option Orientation : Vertical

Correct Marks : 1 Wrong Marks : 0.25

Select the word that is opposite in meaning (ANTONYM) to the word given below

Peruse

Options :

1. ✘ Swindle
2. ✘ Con
3. ✘ Examine
4. ✔ Neglect

Question Number : 142 Question Id : 9767558866 Question Type : MCQ Option Shuffling : Yes Is Question Mandatory : No Option Orientation : Vertical

Correct Marks : 1 Wrong Marks : 0.25

Select the word that is closest in meaning (SYNONYM) to the word given below

Slapdash

Options :

1. ✘ Painstaking
2. ✔ Haphazard
3. ✘ Meticulous
4. ✘ Careful

Question Number : 142 Question Id : 9767558866 Question Type : MCQ Option Shuffling : Yes Is Question Mandatory : No Option Orientation : Vertical

Correct Marks : 1 Wrong Marks : 0.25

Select the word that is closest in meaning (SYNONYM) to the word given below

Slapdash

Options :

1. ✘ Painstaking
2. ✔ Haphazard
3. ✘ Meticulous
4. ✘ Careful

Question Number : 143 Question Id : 9767558867 Question Type : MCQ Option Shuffling : Yes Is Question Mandatory : No Option Orientation : Vertical

Correct Marks : 1 Wrong Marks : 0.25

Four words are given, out of which only one word is spelt correctly. Choose the correctly spelt word.

Options :

1. ✔ Comprehensible
2. ✘ Comprehensible
3. ✘ Comprehensibel
4. ✘ Comprehenisible

Question Number : 143 Question Id : 9767558867 Question Type : MCQ Option Shuffling : Yes Is Question Mandatory : No Option Orientation : Vertical

Correct Marks : 1 Wrong Marks : 0.25

Four words are given, out of which only one word is spelt correctly. Choose the correctly spelt word.

Options :

1. ✔ Comprehensible
2. ✘ Comprehensible
3. ✘ Comprehensibel
4. ✘ Comprehenisible

Question Number : 144 Question Id : 9767558868 Question Type : MCQ Option Shuffling : Yes Is Question Mandatory : No Option Orientation : Vertical

Correct Marks : 1 Wrong Marks : 0.25

Four words are given, out of which only one word is spelt correctly. Choose the correctly spelt word.

Options :

1. ✓ Incarcerate
2. ✗ Incarserate
3. ✗ Incerate
4. ✗ Incarcarate

Question Number : 144 Question Id : 9767558868 Question Type : MCQ Option Shuffling : Yes Is Question Mandatory : No Option Orientation : Vertical

Correct Marks : 1 Wrong Marks : 0.25

Four words are given, out of which only one word is spelt correctly. Choose the correctly spelt word.

Options :

1. ✓ Incarcerate
2. ✗ Incarserate
3. ✗ Incerate
4. ✗ Incarcarate

Question Number : 145 Question Id : 9767558869 Question Type : MCQ Option Shuffling : Yes Is Question Mandatory : No Option Orientation : Vertical

Correct Marks : 1 Wrong Marks : 0.25

Four words are given, out of which only one word is spelt correctly. Choose the correctly spelt word.

Options :

1. ✗ Haemorraghe
2. ✗ Heamorraghe
3. ✗ Heamorrhage
4. ✓ Haemorrhage

Question Number : 145 Question Id : 9767558869 Question Type : MCQ Option Shuffling : Yes Is Question Mandatory : No Option Orientation : Vertical

Correct Marks : 1 Wrong Marks : 0.25

Four words are given, out of which only one word is spelt correctly. Choose the correctly spelt word.

Options :

1. ✗ Haemorraghe
2. ✗ Heamorraghe

3. ✘ Heamorrhage
4. ✔ Haemorrhage

Question Number : 146 Question Id : 9767558870 Question Type : MCQ Option Shuffling : Yes Is Question Mandatory : No Option Orientation : Vertical

Correct Marks : 1 Wrong Marks : 0.25

Four words are given, out of which only one word is spelt correctly. Choose the correctly spelt word.

Options :

1. ✔ Fiduciary
2. ✘ Feduciary
3. ✘ Feduiciary
4. ✘ Fiduiciary

Question Number : 146 Question Id : 9767558870 Question Type : MCQ Option Shuffling : Yes Is Question Mandatory : No Option Orientation : Vertical

Correct Marks : 1 Wrong Marks : 0.25

Four words are given, out of which only one word is spelt correctly. Choose the correctly spelt word.

Options :

1. ✔ Fiduciary
2. ✘ Feduciary
3. ✘ Feduiciary
4. ✘ Fiduiciary

Question Number : 147 Question Id : 9767558871 Question Type : MCQ Option Shuffling : Yes Is Question Mandatory : No Option Orientation : Vertical

Correct Marks : 1 Wrong Marks : 0.25

Select the most appropriate meaning of the given idiom

Add fuel to the fire

Options :

1. ✘ To have a dispute with someone.
2. ✘ When someone is threatening and/or aggressive but not willing to engage in a fight.

3. ✘ When everyone is facing the same challenges.
4. ✔ Whenever something is done to make a bad situation even worse than it is.

Question Number : 147 Question Id : 9767558871 Question Type : MCQ Option Shuffling : Yes Is Question Mandatory : No Option Orientation : Vertical

Correct Marks : 1 Wrong Marks : 0.25

Select the most appropriate meaning of the given idiom

Add fuel to the fire

Options :

1. ✘ To have a dispute with someone.
2. ✘ When someone is threatening and/or aggressive but not willing to engage in a fight.
3. ✘ When everyone is facing the same challenges.
4. ✔ Whenever something is done to make a bad situation even worse than it is.

Question Number : 148 Question Id : 9767558872 Question Type : MCQ Option Shuffling : Yes Is Question Mandatory : No Option Orientation : Vertical

Correct Marks : 1 Wrong Marks : 0.25

Select the most appropriate meaning of the given idiom

Backseat driver

Options :

1. ✘ Someone who fend for themselves and their family even from far away
2. ✘ Someone who is very good at their job.
3. ✘ Someone who doesn't like to participate in anything.
4. ✔ Someone who gives unwanted advice or who tries to control something that is supposed to be controlled by another person.

Question Number : 148 Question Id : 9767558872 Question Type : MCQ Option Shuffling : Yes Is Question Mandatory : No Option Orientation : Vertical

Correct Marks : 1 Wrong Marks : 0.25

Select the most appropriate meaning of the given idiom

Backseat driver

Options :

- ✘ Someone who fend for themselves and their family even from far away
- ✘ Someone who is very good at their job.
- ✘ Someone who doesn't like to participate in anything.
- ✔ Someone who gives unwanted advice or who tries to control something that is supposed to be controlled by another person.

Question Number : 149 Question Id : 9767558873 Question Type : MCQ Option Shuffling : Yes Is Question Mandatory : No Option Orientation : Vertical

Correct Marks : 1 Wrong Marks : 0.25

Select the most appropriate meaning of the given idiom

Beating a dead horse.

Options :

- ✘ When an attempt succeeds and it's time to take up a new one.
- ✘ A task that can be accomplished very easily.
- ✔ To waste effort on something when there is no chance of succeeding.
- ✘ To force an issue that has already ended.

Question Number : 149 Question Id : 9767558873 Question Type : MCQ Option Shuffling : Yes Is Question Mandatory : No Option Orientation : Vertical

Correct Marks : 1 Wrong Marks : 0.25

Select the most appropriate meaning of the given idiom

Beating a dead horse.

Options :

- ✘ When an attempt succeeds and it's time to take up a new one.
- ✘ A task that can be accomplished very easily.
- ✔ To waste effort on something when there is no chance of succeeding.
- ✘ To force an issue that has already ended.

Question Number : 150 Question Id : 9767558874 Question Type : MCQ Option Shuffling : Yes Is Question Mandatory : No Option Orientation : Vertical

Correct Marks : 1 Wrong Marks : 0.25

Select the most appropriate meaning of the given idiom

Finding your feet

Options :

- ✘ To go from being very poor to being very wealthy.
- ✘ Something that shows potential or looks promising in the beginning but fails to deliver anything in the end.
- ✘ Not willing or wanting to change from your normal way of doing something.
- ✔ To become more comfortable in whatever you are doing.

Question Number : 150 Question Id : 9767558874 Question Type : MCQ Option Shuffling : Yes Is Question Mandatory : No Option Orientation : Vertical

Correct Marks : 1 Wrong Marks : 0.25

Select the most appropriate meaning of the given idiom

Finding your feet

Options :

- ✘ To go from being very poor to being very wealthy.
- ✘ Something that shows potential or looks promising in the beginning but fails to deliver anything in the end.
- ✘ Not willing or wanting to change from your normal way of doing something.
- ✔ To become more comfortable in whatever you are doing.

Question Number : 151 Question Id : 9767558875 Question Type : MCQ Option Shuffling : Yes Is Question Mandatory : No Option Orientation : Vertical

Correct Marks : 1 Wrong Marks : 0.25

Select the most appropriate meaning of the given idiom

Dropping like flies

Options :

- ✘ Being inquisitive about a dangerous situation.
- ✔ A large number of people either falling ill or dying
- ✘ To irritate and/or annoy very much.
- ✘ The hottest days of the summer season.

Question Number : 151 Question Id : 9767558875 Question Type : MCQ Option Shuffling : Yes Is Question Mandatory : No Option Orientation : Vertical

Correct Marks : 1 Wrong Marks : 0.25

Select the most appropriate meaning of the given idiom

Dropping like flies

Options :

1. ✘ Being inquisitive about a dangerous situation.
2. ✔ A large number of people either falling ill or dying
3. ✘ To irritate and/or annoy very much.
4. ✘ The hottest days of the summer season.

Question Number : 152 Question Id : 9767558876 Question Type : MCQ Option Shuffling : Yes Is Question Mandatory : No Option Orientation : Vertical

Correct Marks : 1 Wrong Marks : 0.25

Select the most appropriate 'one word' for the expression given below

A strong verbal or written attack on someone or something.

Options :

1. ✘ Demic
2. ✘ Acmic
3. ✘ Gamic
4. ✔ Polemic

Question Number : 152 Question Id : 9767558876 Question Type : MCQ Option Shuffling : Yes Is Question Mandatory : No Option Orientation : Vertical

Correct Marks : 1 Wrong Marks : 0.25

Select the most appropriate 'one word' for the expression given below

A strong verbal or written attack on someone or something.

Options :

1. ✘ Demic
2. ✘ Acmic

3. ✘ Gamic
4. ✔ Polemic

Question Number : 153 Question Id : 9767558877 Question Type : MCQ Option Shuffling : Yes Is Question Mandatory : No Option Orientation : Vertical

Correct Marks : 1 Wrong Marks : 0.25

Select the most appropriate 'one word ' for the expression given below

Intended for or likely to be understood by only a small number of people with a specialized knowledge or interest.

Options :

1. ✘ Isosteres
2. ✔ Esoteric
3. ✘ Concentric
4. ✘ Sophomoric

Question Number : 153 Question Id : 9767558877 Question Type : MCQ Option Shuffling : Yes Is Question Mandatory : No Option Orientation : Vertical

Correct Marks : 1 Wrong Marks : 0.25

Select the most appropriate 'one word ' for the expression given below

Intended for or likely to be understood by only a small number of people with a specialized knowledge or interest.

Options :

1. ✘ Isosteres
2. ✔ Esoteric
3. ✘ Concentric
4. ✘ Sophomoric

Question Number : 154 Question Id : 9767558878 Question Type : MCQ Option Shuffling : Yes Is Question Mandatory : No Option Orientation : Vertical

Correct Marks : 1 Wrong Marks : 0.25

Select the most appropriate 'one word ' for the expression given below

Intended to cause delay.

Options :

1. ✘ Explanatory
2. ✘ Declaratory
3. ✔ Dilatory
4. ✘ Exculpatory

Question Number : 154 Question Id : 9767558878 Question Type : MCQ Option Shuffling : Yes Is Question Mandatory : No Option Orientation : Vertical

Correct Marks : 1 Wrong Marks : 0.25

Select the most appropriate 'one word ' for the expression given below

Intended to cause delay.

Options :

1. ✘ Explanatory
2. ✘ Declaratory
3. ✔ Dilatory
4. ✘ Exculpatory

Question Number : 155 Question Id : 9767558879 Question Type : MCQ Option Shuffling : Yes Is Question Mandatory : No Option Orientation : Vertical

Correct Marks : 1 Wrong Marks : 0.25

Select the most appropriate 'one word ' for the expression given below

Brisk and cheerful readiness.

Options :

1. ✘ Celerity
2. ✔ Alacrity
3. ✘ Felicity
4. ✘ Sorority

Question Number : 155 Question Id : 9767558879 Question Type : MCQ Option Shuffling : Yes Is Question Mandatory : No Option Orientation : Vertical

Correct Marks : 1 Wrong Marks : 0.25

Select the most appropriate 'one word' for the expression given below

Brisk and cheerful readiness.

Options :

1. ✘ Celerity
2. ✔ Alacrity
3. ✘ Felicity
4. ✘ Sorority

Sub-Section Number :

2

Sub-Section Id :

976755612

Question Shuffling Allowed :

Yes

Question Id : 9767558880 Question Type : COMPREHENSION Sub Question Shuffling Allowed : Yes Group Comprehension Questions : No

Question Numbers : (156 to 160)

A passage is given with 5 questions following it. Read the passage carefully and choose the best answer to each question out of the four alternatives.

Erwin Schrödinger was born in Vienna on August 12, 1887 and was awarded the Nobel Prize in Physics in 1933. He is best known for his work regarding quantum theory, particularly about his thought experiment involving a cat in order to explain the flawed interpretation of quantum superposition.

The Copenhagen Interpretation of quantum mechanics essentially states that an object in a physical system can simultaneously exist in all possible configurations, but observing the system forces the system to collapse and forces the object into just one of those possible states. Schrödinger disagreed with this interpretation.

So, what does this have to do with cats? Schrödinger wanted people to imagine that a cat, poison, a Geiger counter, radioactive material, and a hammer were inside of a sealed container. The amount of radioactive material was minuscule enough that it only had a 50/50 shot of being detected over the course of an hour. If the Geiger counter detected radiation, the hammer would smash the poison, killing the cat. Until someone opened the container and observed the system, it was impossible to predict the cat's outcome. Thus, until the system collapsed into one configuration, the cat would exist in some superposition zombie state of being both alive and dead.

Of course, Schrödinger claimed, that was ridiculous. Quantum superposition could not work with large objects such as cats, because it is impossible for an organism to be simultaneously alive and dead. Thus, he reasoned that the Copenhagen Interpretation must be inherently flawed. While many people incorrectly assume Schrödinger supported the premise behind the thought experiment, he really didn't. His entire point was that it was impossible.

While it is true that modern experiments have revealed that while quantum superposition does work for tiny things like electrons, larger objects must be regarded differently.

Sub questions

Question Number : 156 Question Id : 9767558881 Question Type : MCQ Option Shuffling : Yes Is Question Mandatory : No Option Orientation : Vertical

Correct Marks : 1 Wrong Marks : 0.25

When was Erwin Schrödinger awarded the Nobel prize and in which field?

Options :

- ✘ 1927 in Biology
- ✘ 1933 in Maths
- ✘ 1929 in Chemistry
- ✔ 1933 in Physics

Question Number : 157 Question Id : 9767558882 Question Type : MCQ Option Shuffling : Yes Is Question Mandatory : No Option Orientation : Vertical

Correct Marks : 1 Wrong Marks : 0.25

The thought experiment Schrödinger's cat explains the flawed interpretation of which subject matter?

Options :

- ✘ Fluid Dynamics
- ✔ Quantum Superposition
- ✘ Quantum theory
- ✘ Theory of relativity

Question Number : 158 Question Id : 9767558883 Question Type : MCQ Option Shuffling : Yes Is Question Mandatory : No Option Orientation : Vertical

Correct Marks : 1 Wrong Marks : 0.25

According to the passage, in the thought experiment of Schrödinger's cat what are the chances of the cat being alive or dead?

Options :

- ✘ 30 percent alive 70 percent dead
- ✔ 50 percent alive 50 percent dead
- ✘ 70 percent alive 30 percent dead
- ✘ 40 percent alive 60 percent dead

Question Number : 159 Question Id : 9767558884 Question Type : MCQ Option Shuffling : Yes Is Question Mandatory : No Option Orientation : Vertical

Correct Marks : 1 Wrong Marks : 0.25

According to the passage, which of the following given statement is incorrect?

Options :

1. ✘ Modern experiments have revealed that while quantum superposition does work for tiny things like electrons, larger objects must be regarded differently.
2. ✘ The Copenhagen Interpretation of quantum mechanics essentially states that an object in a physical system can simultaneously exist in all possible configurations, but observing the system forces the system to collapse and forces the object into just one of those possible states.
3. ✔ Many people incorrectly assume Schrödinger did not support the premise behind the thought experiment.
4. ✘ Schrödinger disagreed with the Copenhagen Interpretation of quantum mechanics.

Question Number : 160 Question Id : 9767558885 Question Type : MCQ Option Shuffling : Yes Is Question Mandatory : No Option Orientation : Vertical

Correct Marks : 1 Wrong Marks : 0.25

According to the modern experimental physics, the Copenhagen Interpretation works for which kinds of objects?

Options :

1. ✔ Small objects like electrons
2. ✘ Small and large objects alike
3. ✘ Large objects like cats
4. ✘ It does not work for any kinds of object.

Question Id : 9767558880 Question Type : COMPREHENSION Sub Question Shuffling Allowed : Yes Group Comprehension Questions : No

Question Numbers : (156 to 160)

A passage is given with 5 questions following it. Read the passage carefully and choose the best answer to each question out of the four alternatives.

Erwin Schrödinger was born in Vienna on August 12, 1887 and was awarded the Nobel Prize in Physics in 1933. He is best known for his work regarding quantum theory, particularly about his thought experiment involving a cat in order to explain the flawed interpretation of quantum superposition.

The Copenhagen Interpretation of quantum mechanics essentially states that an object in a physical system can simultaneously exist in all possible configurations, but observing the system forces the system to collapse and forces the object into just one of those possible states.

Schrödinger disagreed with this interpretation.

So, what does this have to do with cats? Schrödinger wanted people to imagine that a cat, poison, a Geiger counter, radioactive material, and a hammer were inside of a sealed container. The amount of radioactive material was minuscule enough that it only had a 50/50 shot of being detected over the course of an hour. If the Geiger counter detected radiation, the hammer would smash the poison, killing the cat. Until someone opened the container and observed the system, it was impossible to predict the cat's outcome. Thus, until the system collapsed into one configuration, the cat would exist in some superposition zombie state of being both alive and dead.

Of course, Schrödinger claimed, that was ridiculous. Quantum superposition could not work with large objects such as cats, because it is impossible for an organism to be simultaneously alive and dead. Thus, he reasoned that the Copenhagen Interpretation must be inherently flawed. While many people incorrectly assume Schrödinger supported the premise behind the thought experiment, he really didn't. His entire point was that it was impossible.

While it is true that modern experiments have revealed that while quantum superposition does work for tiny things like electrons, larger objects must be regarded differently.

Sub questions

Question Number : 156 Question Id : 9767558881 Question Type : MCQ Option Shuffling : Yes Is Question Mandatory : No Option Orientation : Vertical

Correct Marks : 1 Wrong Marks : 0.25

When was Erwin Schrödinger awarded the Nobel prize and in which field?

Options :

- ✘ 1927 in Biology
- ✘ 1933 in Maths
- ✘ 1929 in Chemistry
- ✔ 1933 in Physics

Question Number : 157 Question Id : 9767558882 Question Type : MCQ Option Shuffling : Yes Is Question Mandatory : No Option Orientation : Vertical

Correct Marks : 1 Wrong Marks : 0.25

The thought experiment Schrödinger's cat explains the flawed interpretation of which subject matter?

Options :

- ✘ Fluid Dynamics
- ✔ Quantum Superposition
- ✘ Quantum theory
- ✘ Theory of relativity

Question Number : 158 Question Id : 9767558883 Question Type : MCQ Option Shuffling : Yes Is Question Mandatory : No Option Orientation : Vertical

Correct Marks : 1 Wrong Marks : 0.25

According to the passage, in the thought experiment of Schrödinger's cat what are the chances of the cat being alive or dead?

Options :

- ✘ 30 percent alive 70 percent dead
- ✔ 50 percent alive 50 percent dead
- ✘ 70 percent alive 30 percent dead
- ✘ 40 percent alive 60 percent dead

Question Number : 159 Question Id : 9767558884 Question Type : MCQ Option Shuffling : Yes Is Question Mandatory : No Option Orientation : Vertical

Correct Marks : 1 Wrong Marks : 0.25

According to the passage, which of the following given statements are incorrect?

Options :

- ✘ Modern experiments have revealed that while quantum superposition does work for tiny things like electrons, larger objects must be regarded differently.
- ✘ The Copenhagen Interpretation of quantum mechanics essentially states that an object in a physical system can simultaneously exist in all possible configurations, but observing the system forces the system to collapse and forces the object into just one of those possible states.
- ✔ Many people incorrectly assume Schrödinger did not support the premise behind the thought experiment.
- ✘ Schrödinger disagreed with the Copenhagen Interpretation of quantum mechanics.

Question Number : 160 Question Id : 9767558885 Question Type : MCQ Option Shuffling : Yes Is Question Mandatory : No Option Orientation : Vertical

Correct Marks : 1 Wrong Marks : 0.25

According to the modern experimental physics, the Copenhagen Interpretation works for which kinds of objects?

Options :

- ✔ Small objects like electrons
- ✘ Small and large objects alike
- ✘ Large objects like cats
- ✘ It does not work for any kinds of object.

General Hindi1

Group Number :	9
Group Id :	976755223
Group Maximum Duration :	0
Group Minimum Duration :	0
Show Attended Group? :	No
Edit Attended Group? :	No
Break time :	0
Group Marks :	20
Is this Group for Examiner? :	No

Hindi Language & Comprehension1

Section Id :	976755511
Section Number :	1
Section type :	Online
Mandatory or Optional :	Mandatory
Number of Questions :	20
Number of Questions to be attempted :	20
Section Marks :	20
Enable Mark as Answered Mark for Review and Clear Response :	Yes
Sub-Section Number :	1
Sub-Section Id :	976755613
Question Shuffling Allowed :	Yes

Question Number : 161 Question Id : 9767558886 Question Type : MCQ Option Shuffling : Yes Is Question Mandatory : No Option Orientation : Vertical

Correct Marks : 1 Wrong Marks : 0.25

निम्नलिखित प्रश्न में, चार विकल्पों में से, उस विकल्प का चयन करें जो क्रिया के भेद वाला सही विकल्प हो।

अध्यापिका छात्रों से गृहकार्य करवाती है।

Options :

1. ✘ पूर्वकालिक क्रिया
2. ✔ प्रेरणार्थक क्रिया
3. ✘ नामधातु क्रिया
4. ✘ सरल क्रिया

Question Number : 161 Question Id : 9767558886 Question Type : MCQ Option Shuffling : Yes Is Question Mandatory : No Option Orientation : Vertical

Correct Marks : 1 Wrong Marks : 0.25

निम्नलिखित प्रश्न में, चार विकल्पों में से, उस विकल्प का चयन करें जो क्रिया के भेद वाला सही विकल्प हो।
अध्यापिका छात्रों से गृहकार्य करवाती है।

Options :

1. ✘ पूर्वकालिक क्रिया
2. ✔ प्रेरणार्थक क्रिया
3. ✘ नामधातु क्रिया
4. ✘ सरल क्रिया

Question Number : 162 Question Id : 9767558887 Question Type : MCQ Option Shuffling : Yes Is Question Mandatory : No Option Orientation : Vertical

Correct Marks : 1 Wrong Marks : 0.25

निम्नलिखित प्रश्न में, चार विकल्पों में से, उस विकल्प का चयन करें जो कोष्ठक में दिए गए शब्द के अनुसार अव्यय के भेद का सही विकल्प हो।
(शाबाश!) तुमने बहुत अच्छा कार्य किया।

Options :

1. ✘ क्रियाविशेषण अव्यय
2. ✘ समुच्चयबोधक अव्यय
3. ✔ विस्मयादिबोधक अव्यय
4. ✘ संबंधबोधक अव्यय

Question Number : 162 Question Id : 9767558887 Question Type : MCQ Option Shuffling : Yes Is Question Mandatory : No Option Orientation : Vertical

Correct Marks : 1 Wrong Marks : 0.25

निम्नलिखित प्रश्न में, चार विकल्पों में से, उस विकल्प का चयन करें जो कोष्ठक में दिए गए शब्द के अनुसार अव्यय के भेद का सही विकल्प हो।

(शाबाश!) तुमने बहुत अच्छा कार्य किया।

Options :

1. ✘ क्रियाविशेषण अव्यय
2. ✘ समुच्चयबोधक अव्यय
3. ✔ विस्मयादिबोधक अव्यय
4. ✘ संबंधबोधक अव्यय

Question Number : 163 Question Id : 9767558888 Question Type : MCQ Option Shuffling : Yes Is Question Mandatory : No Option Orientation : Vertical

Correct Marks : 1 Wrong Marks : 0.25

निम्नलिखित प्रश्न में, चार विकल्पों में से, उस विकल्प का चयन करें जो भाववाचक संज्ञा का सही विकल्प नहीं है।

Options :

1. ✘ विपन्नता
2. ✘ क्षोभ
3. ✔ बहुत
4. ✘ रोग

Question Number : 163 Question Id : 9767558888 Question Type : MCQ Option Shuffling : Yes Is Question Mandatory : No Option Orientation : Vertical

Correct Marks : 1 Wrong Marks : 0.25

निम्नलिखित प्रश्न में, चार विकल्पों में से, उस विकल्प का चयन करें जो भाववाचक संज्ञा का सही विकल्प नहीं है।

Options :

1. ✘ विपन्नता
2. ✘ क्षोभ
3. ✔ बहुत
4. ✘ रोग

Question Number : 164 Question Id : 9767558889 Question Type : MCQ Option Shuffling : Yes Is Question Mandatory : No Option Orientation : Vertical

Correct Marks : 1 Wrong Marks : 0.25

निम्नलिखित प्रश्न में, चार विकल्पों में से, उस विकल्प का चयन करें जो कोष्ठक में दिए गए शब्द के अनुसार सर्वनाम के भेद का सही विकल्प हो।

दीपा बाज़ार गई थी, (वह) लौट आई है।

Options :

1. ✘ निजवाचक
2. ✘ सम्बन्ध वाचक
3. ✘ प्रश्नवाचक
4. ✔ निश्चय वाचक

Question Number : 164 Question Id : 9767558889 Question Type : MCQ Option Shuffling : Yes Is Question Mandatory : No Option Orientation : Vertical

Correct Marks : 1 Wrong Marks : 0.25

निम्नलिखित प्रश्न में, चार विकल्पों में से, उस विकल्प का चयन करें जो कोष्ठक में दिए गए शब्द के अनुसार सर्वनाम के भेद का सही विकल्प हो।
दीपा बाज़ार गई थी, (वह) लौट आई है।

Options :

1. ✘ निजवाचक
2. ✘ सम्बन्ध वाचक
3. ✘ प्रश्नवाचक
4. ✔ निश्चय वाचक

Question Number : 165 Question Id : 9767558890 Question Type : MCQ Option Shuffling : Yes Is Question Mandatory : No Option Orientation : Vertical

Correct Marks : 1 Wrong Marks : 0.25

निम्नलिखित प्रश्न में, चार विकल्पों में से, उस विकल्प का चयन करें जो कोष्ठक में दिए गए शब्द के अनुसार विशेषण के भेद वाला विकल्प हो।
मेरा घर बहुत (सुन्दर) है।

Options :

1. ✘ सार्वनामिक
2. ✘ अनिश्चित परिमाण वाचक
3. ✘ निश्चित संख्यावाचक
4. ✔ गुणवाचक

Question Number : 165 Question Id : 9767558890 Question Type : MCQ Option Shuffling : Yes Is Question Mandatory : No Option Orientation : Vertical

Correct Marks : 1 Wrong Marks : 0.25

निम्नलिखित प्रश्न में, चार विकल्पों में से, उस विकल्प का चयन करें जो कोष्ठक में दिए गए शब्द के अनुसार विशेषण के भेद वाला विकल्प हो।
मेरा घर बहुत (सुन्दर) है।

Options :

1. ✘ सार्वनामिक
2. ✘ अनिश्चित परिमाण वाचक
3. ✘ निश्चित संख्यावाचक
4. ✔ गुणवाचक

Question Number : 166 Question Id : 9767558891 Question Type : MCQ Option Shuffling : Yes Is Question Mandatory : No Option Orientation : Vertical

Correct Marks : 1 Wrong Marks : 0.25

निम्नलिखित प्रश्न में, चार विकल्पों में से, उस विकल्प का चयन करें जो देशज शब्द का सही विकल्प हो।

Options :

1. ✘ आमदनी
2. ✔ खटपट
3. ✘ देहात
4. ✘ मलाई

Question Number : 166 Question Id : 9767558891 Question Type : MCQ Option Shuffling : Yes Is Question Mandatory : No Option Orientation : Vertical

Correct Marks : 1 Wrong Marks : 0.25

निम्नलिखित प्रश्न में, चार विकल्पों में से, उस विकल्प का चयन करें जो देशज शब्द का सही विकल्प हो।

Options :

1. ✘ आमदनी
2. ✔ खटपट
3. ✘ देहात
4. ✘ मलाई

Question Number : 167 Question Id : 9767558892 Question Type : MCQ Option Shuffling : Yes Is Question Mandatory : No Option Orientation : Vertical

Correct Marks : 1 Wrong Marks : 0.25

निम्नलिखित प्रश्न में, चार विकल्पों में से, उस विकल्प का चयन करें जो दिए गए शब्द के लिए सही द्वन्द्व समास के विग्रह का विकल्प हो।
अपना पराया

Options :

1. ✘ अपना है जो पराया
2. ✘ अपना समान पराया
3. ✔ अपना और पराया
4. ✘ अपना का पराया

Question Number : 167 Question Id : 9767558892 Question Type : MCQ Option Shuffling : Yes Is Question Mandatory : No Option Orientation : Vertical

Correct Marks : 1 Wrong Marks : 0.25

निम्नलिखित प्रश्न में, चार विकल्पों में से, उस विकल्प का चयन करें जो दिए गए शब्द के लिए सही द्वन्द्व समास के विग्रह का विकल्प हो।
अपना पराया

Options :

1. ✘ अपना है जो पराया
2. ✘ अपना समान पराया
3. ✔ अपना और पराया
4. ✘ अपना का पराया

Question Number : 168 Question Id : 9767558893 Question Type : MCQ Option Shuffling : Yes Is Question Mandatory : No Option Orientation : Vertical

Correct Marks : 1 Wrong Marks : 0.25

निम्नलिखित प्रश्न में, चार विकल्पों में से, उस विकल्प का चयन करें जो दिए गए शब्द का तत्सम रूप हो।
फंदा

Options :

1. ✘ पर्पट
2. ✔ पाष
3. ✘ पक्क
4. ✘ पर्ण

Question Number : 168 Question Id : 9767558893 Question Type : MCQ Option Shuffling : Yes Is Question Mandatory : No Option Orientation : Vertical

Correct Marks : 1 Wrong Marks : 0.25

निम्नलिखित प्रश्न में, चार विकल्पों में से, उस विकल्प का चयन करें जो दिए गए शब्द का तत्सम रूप हो।
फंदा

Options :

1. ✘ पर्पट
2. ✔ पाष
3. ✘ पक्क
4. ✘ पर्ण

Question Number : 169 Question Id : 9767558894 Question Type : MCQ Option Shuffling : Yes Is Question Mandatory : No Option Orientation : Vertical

Correct Marks : 1 Wrong Marks : 0.25

निम्नलिखित प्रश्न में, चार विकल्पों में से, उस विकल्प का चयन करें जो दिए गए शब्द के सही संधि विच्छेद का विकल्प हो।
परीक्षार्थी

Options :

1. ✔ परीक्षा + अर्थी
2. ✘ परीक्षा + र्थी
3. ✘ परीक्षा + आर्थी
4. ✘ परी + क्षार्थी

Question Number : 169 Question Id : 9767558894 Question Type : MCQ Option Shuffling : Yes Is Question Mandatory : No Option Orientation : Vertical

Correct Marks : 1 Wrong Marks : 0.25

निम्नलिखित प्रश्न में, चार विकल्पों में से, उस विकल्प का चयन करें जो दिए गए शब्द के सही संधि विच्छेद का विकल्प हो।
परीक्षार्थी

Options :

1. ✔ परीक्षा + अर्थी
2. ✘ परीक्षा + र्थी
3. ✘ परीक्षा + आर्थी

4. ✖ परी + क्षार्थी

Question Number : 170 Question Id : 9767558895 Question Type : MCQ Option Shuffling : Yes Is Question Mandatory : No Option Orientation : Vertical

Correct Marks : 1 Wrong Marks : 0.25

निम्नलिखित प्रश्न में, चार विकल्पों में से, उस विकल्प का चयन करें जो दिए गए शब्द के पर्यायवाची शब्द का सही विकल्प नहीं है।
लाचार

Options :

1. ✖ बाध्य
2. ✔ हया
3. ✖ असमर्थ
4. ✖ विवश

Question Number : 170 Question Id : 9767558895 Question Type : MCQ Option Shuffling : Yes Is Question Mandatory : No Option Orientation : Vertical

Correct Marks : 1 Wrong Marks : 0.25

निम्नलिखित प्रश्न में, चार विकल्पों में से, उस विकल्प का चयन करें जो दिए गए शब्द के पर्यायवाची शब्द का सही विकल्प नहीं है।
लाचार

Options :

1. ✖ बाध्य
2. ✔ हया
3. ✖ असमर्थ
4. ✖ विवश

Question Number : 171 Question Id : 9767558896 Question Type : MCQ Option Shuffling : Yes Is Question Mandatory : No Option Orientation : Vertical

Correct Marks : 1 Wrong Marks : 0.25

निम्नलिखित प्रश्न में, चार विकल्पों में से, उस विकल्प का चयन करें जो विलोम शब्द का सबसे अच्छा विकल्प है।
अथ

Options :

1. ✖ अस्त

2. ✘ शकुन
3. ✔ इति
4. ✘ मिलन

Question Number : 171 Question Id : 9767558896 Question Type : MCQ Option Shuffling : Yes Is Question Mandatory : No Option Orientation : Vertical

Correct Marks : 1 Wrong Marks : 0.25

निम्नलिखित प्रश्न में, चार विकल्पों में से, उस विकल्प का चयन करें जो विलोम शब्द का सबसे अच्छा विकल्प है।
अथ

Options :

1. ✘ अस्त
2. ✘ शकुन
3. ✔ इति
4. ✘ मिलन

Question Number : 172 Question Id : 9767558897 Question Type : MCQ Option Shuffling : Yes Is Question Mandatory : No Option Orientation : Vertical

Correct Marks : 1 Wrong Marks : 0.25

निम्नलिखित प्रश्न में, चार विकल्पों में से, उस सही विकल्प का चयन करें जो वाक्यांशों के लिए एक शब्द का विकल्प हो।
जिसमें सहन शक्ति हो

Options :

1. ✘ असहिष्णु
2. ✘ अधीर
3. ✘ अकिंचन
4. ✔ सहिष्णु

Question Number : 172 Question Id : 9767558897 Question Type : MCQ Option Shuffling : Yes Is Question Mandatory : No Option Orientation : Vertical

Correct Marks : 1 Wrong Marks : 0.25

निम्नलिखित प्रश्न में, चार विकल्पों में से, उस सही विकल्प का चयन करें जो वाक्यांशों के लिए एक शब्द का विकल्प हो।
जिसमें सहन शक्ति हो

Options :

1. ✘ असहिष्णु
2. ✘ अधीर
3. ✘ अकिंचन
4. ✔ सहिष्णु

Question Number : 173 Question Id : 9767558898 Question Type : MCQ Option Shuffling : Yes Is Question Mandatory : No Option Orientation : Vertical

Correct Marks : 1 Wrong Marks : 0.25

निम्नलिखित प्रश्न में, चार विकल्पों में से, उस सही विकल्प का चयन करें जो दिए गए शब्द के सही अर्थ का उचित विकल्प हो।
वज्र

Options :

1. ✘ बीज
2. ✘ वृष्टि
3. ✔ उग्र
4. ✘ गाछ

Question Number : 173 Question Id : 9767558898 Question Type : MCQ Option Shuffling : Yes Is Question Mandatory : No Option Orientation : Vertical

Correct Marks : 1 Wrong Marks : 0.25

निम्नलिखित प्रश्न में, चार विकल्पों में से, उस सही विकल्प का चयन करें जो दिए गए शब्द के सही अर्थ का उचित विकल्प हो।
वज्र

Options :

1. ✘ बीज
2. ✘ वृष्टि
3. ✔ उग्र
4. ✘ गाछ

Question Number : 174 Question Id : 9767558899 Question Type : MCQ Option Shuffling : Yes Is Question Mandatory : No Option Orientation : Vertical

Correct Marks : 1 Wrong Marks : 0.25

निम्नलिखित प्रश्न में, चार विकल्पों में से, उस सही विकल्प का चयन करें जो रिक्त स्थान के लिए उपयुक्त शब्द का सही विकल्प है। सभी ने रामू की ईमानदारी और _____ की प्रशंसा की।

Options :

1. ✘ बेईमानी
2. ✘ निर्दोष
3. ✔ सूझबूझ
4. ✘ खोट

Question Number : 174 Question Id : 9767558899 Question Type : MCQ Option Shuffling : Yes Is Question Mandatory : No Option Orientation : Vertical

Correct Marks : 1 Wrong Marks : 0.25

निम्नलिखित प्रश्न में, चार विकल्पों में से, उस सही विकल्प का चयन करें जो रिक्त स्थान के लिए उपयुक्त शब्द का सही विकल्प है। सभी ने रामू की ईमानदारी और _____ की प्रशंसा की।

Options :

1. ✘ बेईमानी
2. ✘ निर्दोष
3. ✔ सूझबूझ
4. ✘ खोट

Question Number : 175 Question Id : 9767558900 Question Type : MCQ Option Shuffling : Yes Is Question Mandatory : No Option Orientation : Vertical

Correct Marks : 1 Wrong Marks : 0.25

निम्नलिखित प्रश्न में, चार विकल्पों में से, उस विकल्प का चयन करें जो शुद्ध शब्द का सही विकल्प है।

Options :

1. ✘ गवाँना
2. ✔ गँवाना
3. ✘ गवाना
4. ✘ गवानं

Question Number : 175 Question Id : 9767558900 Question Type : MCQ Option Shuffling : Yes Is Question Mandatory : No Option Orientation : Vertical

Correct Marks : 1 Wrong Marks : 0.25

निम्नलिखित प्रश्न में, चार विकल्पों में से, उस विकल्प का चयन करें जो शुद्ध शब्द का सही विकल्प है।

Options :

1. ✘ गवाँना
2. ✔ गँवाना
3. ✘ गवाना
4. ✘ गवानं

Question Number : 176 Question Id : 9767558901 Question Type : MCQ Option Shuffling : Yes Is Question Mandatory : No Option Orientation : Vertical

Correct Marks : 1 Wrong Marks : 0.25

निम्नलिखित प्रश्न में, चार विकल्पों में से, उस विकल्प का चयन करें जो शुद्ध शब्द का सही विकल्प है।

Options :

1. ✔ आशीर्वाद
2. ✘ अशिर्वाद
3. ✘ आशिर्वाद
4. ✘ आशिरवाद

Question Number : 176 Question Id : 9767558901 Question Type : MCQ Option Shuffling : Yes Is Question Mandatory : No Option Orientation : Vertical

Correct Marks : 1 Wrong Marks : 0.25

निम्नलिखित प्रश्न में, चार विकल्पों में से, उस विकल्प का चयन करें जो शुद्ध शब्द का सही विकल्प है।

Options :

1. ✔ आशीर्वाद
2. ✘ अशिर्वाद
3. ✘ आशिर्वाद
4. ✘ आशिरवाद

Question Number : 177 Question Id : 9767558902 Question Type : MCQ Option Shuffling : Yes Is Question Mandatory : No Option Orientation : Vertical

Correct Marks : 1 Wrong Marks : 0.25

निम्नलिखित प्रश्न में, चार विकल्पों में से, उस विकल्प का चयन करें जो दिए गए शब्द के समानार्थी शब्द का विकल्प नहीं है।
वणिक -

Options :

1. ✘ व्यापारी
2. ✔ प्रतिज्ञा
3. ✘ बनिया
4. ✘ रोजगारी

Question Number : 177 Question Id : 9767558902 Question Type : MCQ Option Shuffling : Yes Is Question Mandatory : No Option Orientation : Vertical

Correct Marks : 1 Wrong Marks : 0.25

निम्नलिखित प्रश्न में, चार विकल्पों में से, उस विकल्प का चयन करें जो दिए गए शब्द के समानार्थी शब्द का विकल्प नहीं है।
वणिक -

Options :

1. ✘ व्यापारी
2. ✔ प्रतिज्ञा
3. ✘ बनिया
4. ✘ रोजगारी

Question Number : 178 Question Id : 9767558903 Question Type : MCQ Option Shuffling : Yes Is Question Mandatory : No Option Orientation : Vertical

Correct Marks : 1 Wrong Marks : 0.25

निम्नलिखित प्रश्न में, चार विकल्पों में से, उस सही विकल्प का चयन करें जो दिए गए शब्द-युग्म के अर्थ का सही विकल्प हो।
चिर और चीर

Options :

1. ✘ कार्य और वस्त्र
2. ✘ सदा और सुन्दर
3. ✔ सदा और वस्त्र
4. ✘ घेरा और वस्त्र

Question Number : 178 Question Id : 9767558903 Question Type : MCQ Option Shuffling : Yes Is Question Mandatory : No Option

Orientation : Vertical

Correct Marks : 1 Wrong Marks : 0.25

निम्नलिखित प्रश्न में, चार विकल्पों में से, उस सही विकल्प का चयन करें जो दिए गए शब्द-युग्म के अर्थ का सही विकल्प हो।
चिर और चीर

Options :

1. ✘ कार्य और वस्त्र
2. ✘ सदा और सुन्दर
3. ✔ सदा और वस्त्र
4. ✘ घेरा और वस्त्र

Question Number : 179 Question Id : 9767558904 Question Type : MCQ Option Shuffling : Yes Is Question Mandatory : No Option

Orientation : Vertical

Correct Marks : 1 Wrong Marks : 0.25

निम्नलिखित प्रश्न में, चार विकल्पों में से, उस विकल्प का चयन करें जो दिए गए शब्द के स्त्रीलिंग रूप वाला सही विकल्प है।
नौकर

Options :

1. ✘ नौकरिन
2. ✘ नौकराइन
3. ✘ नौकरी
4. ✔ नौकरानी

Question Number : 179 Question Id : 9767558904 Question Type : MCQ Option Shuffling : Yes Is Question Mandatory : No Option

Orientation : Vertical

Correct Marks : 1 Wrong Marks : 0.25

निम्नलिखित प्रश्न में, चार विकल्पों में से, उस विकल्प का चयन करें जो दिए गए शब्द के स्त्रीलिंग रूप वाला सही विकल्प है।
नौकर

Options :

1. ✘ नौकरिन
2. ✘ नौकराइन
3. ✘ नौकरी

4. ✓ नौकरानी

Question Number : 180 Question Id : 9767558905 Question Type : MCQ Option Shuffling : Yes Is Question Mandatory : No Option Orientation : Vertical

Correct Marks : 1 Wrong Marks : 0.25

निम्नलिखित प्रश्न में, चार विकल्पों में से, उस विकल्प का चयन करें जो दिए गए शब्द के बहुवचन रूप का सबसे अच्छा विकल्प है।
बिंदिया

Options :

1. ✘ बिंदियों
2. ✘ बिंदिया
3. ✓ बिंदियाँ
4. ✘ बिन्दियाओं

Question Number : 180 Question Id : 9767558905 Question Type : MCQ Option Shuffling : Yes Is Question Mandatory : No Option Orientation : Vertical

Correct Marks : 1 Wrong Marks : 0.25

निम्नलिखित प्रश्न में, चार विकल्पों में से, उस विकल्प का चयन करें जो दिए गए शब्द के बहुवचन रूप का सबसे अच्छा विकल्प है।
बिंदिया

Options :

1. ✘ बिंदियों
2. ✘ बिंदिया
3. ✓ बिंदियाँ
4. ✘ बिन्दियाओं

General Hindi2

Group Number :	10
Group Id :	976755224
Group Maximum Duration :	0
Group Minimum Duration :	120
Show Attended Group? :	No

Edit Attended Group? :	No
Break time :	0
Group Marks :	20
Is this Group for Examiner? :	No

Hindi Language & Comprehension2

Section Id :	976755512
Section Number :	1
Section type :	Online
Mandatory or Optional :	Mandatory
Number of Questions :	16
Number of Questions to be attempted :	16
Section Marks :	20
Enable Mark as Answered Mark for Review and Clear Response :	Yes
Sub-Section Number :	1
Sub-Section Id :	976755614
Question Shuffling Allowed :	Yes

Question Number : 181 Question Id : 9767558906 Question Type : MCQ Option Shuffling : Yes Is Question Mandatory : No Option Orientation : Vertical

Correct Marks : 1 Wrong Marks : 0.25

निम्नलिखित प्रश्न में, चार विकल्पों में से, उस विकल्प का चयन करें जो कोष्ठक में दिए गए शब्द के अनुसार मध्यम पुरुष वाचक सर्वनाम का सबसे अच्छा विकल्प है।

Options :

- ✘ (इनको) शतरंज के खेल में कोई भी हरा नहीं सकता है।
- ✔ (आपने) आने से पहले कुछ खबर नहीं दी।
- ✘ (उनसे) बात करना बहुत कठिन है।
- ✘ (वे) अब अपने घर पर जाना चाहते हैं।

Question Number : 181 Question Id : 9767558906 Question Type : MCQ Option Shuffling : Yes Is Question Mandatory : No Option Orientation : Vertical

Correct Marks : 1 Wrong Marks : 0.25

निम्नलिखित प्रश्न में, चार विकल्पों में से, उस विकल्प का चयन करें जो कोष्ठक में दिए गए शब्द के अनुसार मध्यम पुरुष वाचक सर्वनाम का सबसे अच्छा विकल्प है।

Options :

1. ✘ (इनको) शतरंज के खेल में कोई भी हरा नहीं सकता है।
2. ✔ (आपने) आने से पहले कुछ खबर नहीं दी।
3. ✘ (उनसे) बात करना बहुत कठिन है।
4. ✘ (वे) अब अपने घर पर जाना चाहते हैं।

Question Number : 182 Question Id : 9767558907 Question Type : MCQ Option Shuffling : Yes Is Question Mandatory : No Option Orientation : Vertical

Correct Marks : 1 Wrong Marks : 0.25

निम्नलिखित प्रश्न में, चार विकल्पों में से, उस विकल्प का चयन करें जो दिए गए वाक्य के काल का सही विकल्प हो।
अवनीश ने खाना खा लिया होगा।

Options :

1. ✔ संदिग्ध भूतकाल
2. ✘ हेतुहेतुमद भूतकाल
3. ✘ सामान्य भविष्यकाल
4. ✘ सामान्य भूतकाल

Question Number : 182 Question Id : 9767558907 Question Type : MCQ Option Shuffling : Yes Is Question Mandatory : No Option Orientation : Vertical

Correct Marks : 1 Wrong Marks : 0.25

निम्नलिखित प्रश्न में, चार विकल्पों में से, उस विकल्प का चयन करें जो दिए गए वाक्य के काल का सही विकल्प हो।
अवनीश ने खाना खा लिया होगा।

Options :

1. ✔ संदिग्ध भूतकाल
2. ✘ हेतुहेतुमद भूतकाल
3. ✘ सामान्य भविष्यकाल
4. ✘ सामान्य भूतकाल

Question Number : 183 Question Id : 9767558908 Question Type : MCQ Option Shuffling : Yes Is Question Mandatory : No Option Orientation : Vertical

Correct Marks : 1 Wrong Marks : 0.25

निम्नलिखित प्रश्न में, चार विकल्पों में से, उस विकल्प का चयन करें जो दिए गए वाक्य के लिए वृत्ति के भेद का सबसे अच्छा विकल्प है।
सूर्य अस्त हो रहा है।

Options :

1. ✓ निश्चयार्थ
2. ✗ संदेहार्थ
3. ✗ संभावनार्थ
4. ✗ विध्यर्थ

Question Number : 183 Question Id : 9767558908 Question Type : MCQ Option Shuffling : Yes Is Question Mandatory : No Option Orientation : Vertical

Correct Marks : 1 Wrong Marks : 0.25

निम्नलिखित प्रश्न में, चार विकल्पों में से, उस विकल्प का चयन करें जो दिए गए वाक्य के लिए वृत्ति के भेद का सबसे अच्छा विकल्प है।
सूर्य अस्त हो रहा है।

Options :

1. ✓ निश्चयार्थ
2. ✗ संदेहार्थ
3. ✗ संभावनार्थ
4. ✗ विध्यर्थ

Question Number : 184 Question Id : 9767558909 Question Type : MCQ Option Shuffling : Yes Is Question Mandatory : No Option Orientation : Vertical

Correct Marks : 1 Wrong Marks : 0.25

निम्नलिखित प्रश्न में, चार विकल्पों में से, उस विकल्प का चयन करें जो दिए गए वाक्य के लिए पक्ष के भेद का सबसे अच्छा विकल्प है।
बच्चे का बुखार बढ़ता ही जा रहा है!

Options :

1. ✗ पूर्णताद्योतक
2. ✗ सातप्यद्योतक
3. ✓ प्रगतिद्योतक

4. ✖ आरंभद्योतक

Question Number : 184 Question Id : 9767558909 Question Type : MCQ Option Shuffling : Yes Is Question Mandatory : No Option Orientation : Vertical

Correct Marks : 1 Wrong Marks : 0.25

निम्नलिखित प्रश्न में, चार विकल्पों में से, उस विकल्प का चयन करें जो दिए गए वाक्य के लिए पक्ष के भेद का सबसे अच्छा विकल्प है। बच्चे का बुखार बढ़ता ही जा रहा है!

Options :

1. ✖ पूर्णताद्योतक
2. ✖ सातप्यद्योतक
3. ✔ प्रगतिद्योतक
4. ✖ आरंभद्योतक

Question Number : 185 Question Id : 9767558910 Question Type : MCQ Option Shuffling : Yes Is Question Mandatory : No Option Orientation : Vertical

Correct Marks : 1 Wrong Marks : 0.25

निम्नलिखित प्रश्न में, चार विकल्पों में से, उस विकल्प का चयन करें जो शुद्ध वाक्य का सबसे अच्छा विकल्प है।

Options :

1. ✖ पड़ोसी देश ने गोलों और तोपों से आक्रमण कराया जाएगा।
2. ✖ पड़ोसी देश ने गोलों और तोपों से आक्रमण किया।
3. ✖ पड़ोसी देश को गोलों से तोपों से आक्रमण किया है।
4. ✔ पड़ोसी देश ने गोलों और तोपों से आक्रमण किया।

Question Number : 185 Question Id : 9767558910 Question Type : MCQ Option Shuffling : Yes Is Question Mandatory : No Option Orientation : Vertical

Correct Marks : 1 Wrong Marks : 0.25

निम्नलिखित प्रश्न में, चार विकल्पों में से, उस विकल्प का चयन करें जो शुद्ध वाक्य का सबसे अच्छा विकल्प है।

Options :

1. ✖ पड़ोसी देश ने गोलों और तोपों से आक्रमण कराया जाएगा।
2. ✖ पड़ोसी देश ने गोलों और तोपों से आक्रमण किया।
3. ✖ पड़ोसी देश को गोलों से तोपों से आक्रमण किया है।

4. ✓ पड़ोसी देश ने गोलों और तोपों से आक्रमण किया।

Question Number : 186 Question Id : 9767558911 Question Type : MCQ Option Shuffling : Yes Is Question Mandatory : No Option Orientation : Vertical

Correct Marks : 1 Wrong Marks : 0.25

निम्नलिखित प्रश्न में, चार विकल्पों में से, उस विकल्प का चयन करें जो सही वाक्य भेद का विकल्प हो। वह इस आशा में प्रतीक्षा करता रहा कि मुझसे मुलाकात हो जाएगी।

Options :

1. ✗ संयुक्त वाक्य
2. ✓ मिश्र वाक्य
3. ✗ प्रश्नवाचक वाक्य
4. ✗ सरल वाक्य

Question Number : 186 Question Id : 9767558911 Question Type : MCQ Option Shuffling : Yes Is Question Mandatory : No Option Orientation : Vertical

Correct Marks : 1 Wrong Marks : 0.25

निम्नलिखित प्रश्न में, चार विकल्पों में से, उस विकल्प का चयन करें जो सही वाक्य भेद का विकल्प हो। वह इस आशा में प्रतीक्षा करता रहा कि मुझसे मुलाकात हो जाएगी।

Options :

1. ✗ संयुक्त वाक्य
2. ✓ मिश्र वाक्य
3. ✗ प्रश्नवाचक वाक्य
4. ✗ सरल वाक्य

Question Number : 187 Question Id : 9767558912 Question Type : MCQ Option Shuffling : Yes Is Question Mandatory : No Option Orientation : Vertical

Correct Marks : 1 Wrong Marks : 0.25

निम्नलिखित प्रश्न में, चार विकल्पों में से, उस विकल्प का चयन करें जो सही वाक्य भेद का विकल्प हो। उसने वह पुस्तकालय खरीद लिया है जो मेरा था।

Options :

1. ✗ विधानवाचक वाक्य

2. ✘ सरल वाक्य
3. ✔ मिश्र वाक्य
4. ✘ संयुक्त वाक्य

Question Number : 187 Question Id : 9767558912 Question Type : MCQ Option Shuffling : Yes Is Question Mandatory : No Option Orientation : Vertical

Correct Marks : 1 Wrong Marks : 0.25

निम्नलिखित प्रश्न में, चार विकल्पों में से, उस विकल्प का चयन करें जो सही वाक्य भेद का विकल्प हो।
उसने वह पुस्तकालय खरीद लिया है जो मेरा था।

Options :

1. ✘ विधानवाचक वाक्य
2. ✘ सरल वाक्य
3. ✔ मिश्र वाक्य
4. ✘ संयुक्त वाक्य

Question Number : 188 Question Id : 9767558913 Question Type : MCQ Option Shuffling : Yes Is Question Mandatory : No Option Orientation : Vertical

Correct Marks : 1 Wrong Marks : 0.25

निम्नलिखित प्रश्न में, चार विकल्पों में से, उस विकल्प का चयन करें जो विराम चिह्न युक्त वाक्य का सही विकल्प हो।

Options :

1. ✔ "स्वीकार है।" राजा ने कहा और मंत्री को आज्ञा दी , "परीक्षा के लिए व्यवस्था की जाए।"
2. ✘ स्वीकार है। राजा ने कहा और मंत्री को आज्ञा दी , "परीक्षा के लिए व्यवस्था की जाए"
3. ✘ "स्वीकार है" राजा ने कहा और मंत्री को आज्ञा दी , परीक्षा के लिए व्यवस्था की जाए"
4. ✘ स्वीकार है। राजा ने कहा और मंत्री को आज्ञा दी , "परीक्षा के लिए व्यवस्था की जाए"

Question Number : 188 Question Id : 9767558913 Question Type : MCQ Option Shuffling : Yes Is Question Mandatory : No Option Orientation : Vertical

Correct Marks : 1 Wrong Marks : 0.25

निम्नलिखित प्रश्न में, चार विकल्पों में से, उस विकल्प का चयन करें जो विराम चिह्न युक्त वाक्य का सही विकल्प हो।

Options :

1. ✔ "स्वीकार है।" राजा ने कहा और मंत्री को आज्ञा दी , "परीक्षा के लिए व्यवस्था की जाए।"

2. ✘ स्वीकार है। राजा ने कहा और मंत्री को आज्ञा दी , "परीक्षा के लिए व्यवस्था की जाए"
3. ✘ "स्वीकार है" राजा ने कहा और मंत्री को आज्ञा दी , परीक्षा के लिए व्यवस्था की जाए"
4. ✘ स्वीकार है। राजा ने कहा और मंत्री को आज्ञा दी , "परीक्षा के लिए व्यवस्था की जाए"

Question Number : 189 Question Id : 9767558914 Question Type : MCQ Option Shuffling : Yes Is Question Mandatory : No Option Orientation : Vertical

Correct Marks : 1 Wrong Marks : 0.25

निम्नलिखित प्रश्न में, चार विकल्पों में से, उस विकल्प का चयन करें जो विराम चिह्न युक्त वाक्य का सही विकल्प हो।

Options :

1. ✘ वह चिल्ला चिल्लाकर कह रहा था, "मुझे पकड़-लो! मैंने ही वह पटरी उखाड़ी है।"
2. ✔ वह चिल्ला-चिल्लाकर कह रहा था, "मुझे पकड़-लो! मैंने ही वह पटरी उखाड़ी है।"
3. ✘ वह चिल्ला-चिल्लाकर कह रहा था, मुझे पकड़-लो! मैंने ही वह पटरी उखाड़ी है।"
4. ✘ वह चिल्ला-चिल्लाकर कह रहा था मुझे पकड़-लो! मैंने ही वह पटरी उखाड़ी है।"

Question Number : 189 Question Id : 9767558914 Question Type : MCQ Option Shuffling : Yes Is Question Mandatory : No Option Orientation : Vertical

Correct Marks : 1 Wrong Marks : 0.25

निम्नलिखित प्रश्न में, चार विकल्पों में से, उस विकल्प का चयन करें जो विराम चिह्न युक्त वाक्य का सही विकल्प हो।

Options :

1. ✘ वह चिल्ला चिल्लाकर कह रहा था, "मुझे पकड़-लो! मैंने ही वह पटरी उखाड़ी है।"
2. ✔ वह चिल्ला-चिल्लाकर कह रहा था, "मुझे पकड़-लो! मैंने ही वह पटरी उखाड़ी है।"
3. ✘ वह चिल्ला-चिल्लाकर कह रहा था, मुझे पकड़-लो! मैंने ही वह पटरी उखाड़ी है।"
4. ✘ वह चिल्ला-चिल्लाकर कह रहा था मुझे पकड़-लो! मैंने ही वह पटरी उखाड़ी है।"

Question Number : 190 Question Id : 9767558915 Question Type : MCQ Option Shuffling : Yes Is Question Mandatory : No Option Orientation : Vertical

Correct Marks : 1 Wrong Marks : 0.25

निम्नलिखित प्रश्न में, चार विकल्पों में से, उस विकल्प का चयन करें जो दिए गए मुहावरे का सही अर्थ वाला विकल्प है।
तलवार की धार पर चलना-

Options :

1. ✘ कोई बड़ा काम कर लेना

2. ✘ मौके की तलाश में रहना
3. ✔ बहुत कठिन कार्य करना
4. ✘ व्यर्थ समझना

Question Number : 190 Question Id : 9767558915 Question Type : MCQ Option Shuffling : Yes Is Question Mandatory : No Option Orientation : Vertical

Correct Marks : 1 Wrong Marks : 0.25

निम्नलिखित प्रश्न में, चार विकल्पों में से, उस विकल्प का चयन करें जो दिए गए मुहावरे का सही अर्थ वाला विकल्प है।
तलवार की धार पर चलना-

Options :

1. ✘ कोई बड़ा काम कर लेना
2. ✘ मौके की तलाश में रहना
3. ✔ बहुत कठिन कार्य करना
4. ✘ व्यर्थ समझना

Question Number : 191 Question Id : 9767558916 Question Type : MCQ Option Shuffling : Yes Is Question Mandatory : No Option Orientation : Vertical

Correct Marks : 1 Wrong Marks : 0.25

निम्नलिखित प्रश्न में, चार विकल्पों में से, उस विकल्प का चयन करें जो दिए गए मुहावरे का सही अर्थ वाला विकल्प है।
दो टुक बात कहना-

Options :

1. ✘ मतभेद पैदा करना
2. ✘ बहुत तुच्छ
3. ✘ अनुभव हीन
4. ✔ थोड़े शब्दों में स्पष्ट बात कहना

Question Number : 191 Question Id : 9767558916 Question Type : MCQ Option Shuffling : Yes Is Question Mandatory : No Option Orientation : Vertical

Correct Marks : 1 Wrong Marks : 0.25

निम्नलिखित प्रश्न में, चार विकल्पों में से, उस विकल्प का चयन करें जो दिए गए मुहावरे का सही अर्थ वाला विकल्प है।
दो टुक बात कहना-

Options :

1. ✘ मतभेद पैदा करना
2. ✘ बहुत तुच्छ
3. ✘ अनुभव हीन
4. ✔ थोड़े शब्दों में स्पष्ट बात कहना

Question Number : 192 Question Id : 9767558917 Question Type : MCQ Option Shuffling : Yes Is Question Mandatory : No Option Orientation : Vertical

Correct Marks : 1 Wrong Marks : 0.25

निम्नलिखित प्रश्न में, चार विकल्पों में से, उस विकल्प का चयन करें जो दिए गए मुहावरे का सही अर्थ वाला विकल्प है।
थाह लेना-

Options :

1. ✘ भेद खुलना
2. ✘ बहुत थक जाना
3. ✘ भयभीत होना
4. ✔ मन का भाव जानना

Question Number : 192 Question Id : 9767558917 Question Type : MCQ Option Shuffling : Yes Is Question Mandatory : No Option Orientation : Vertical

Correct Marks : 1 Wrong Marks : 0.25

निम्नलिखित प्रश्न में, चार विकल्पों में से, उस विकल्प का चयन करें जो दिए गए मुहावरे का सही अर्थ वाला विकल्प है।
थाह लेना-

Options :

1. ✘ भेद खुलना
2. ✘ बहुत थक जाना
3. ✘ भयभीत होना
4. ✔ मन का भाव जानना

Question Number : 193 Question Id : 9767558918 Question Type : MCQ Option Shuffling : Yes Is Question Mandatory : No Option Orientation : Vertical

Correct Marks : 1 Wrong Marks : 0.25

निम्नलिखित प्रश्न में, चार विकल्पों में से, उस विकल्प का चयन करें जो दी गई लोकोक्ति का सही अर्थ वाला विकल्प है।
हलक से निकली खलक से पड़ी -

Options :

1. ✘ होनहार के लक्षण पहले से ही दिखाई देना
2. ✘ बिना खर्च किए काम बन जाना
3. ✔ मुँह से निकली बात सारे संसार में फैल जाती है
4. ✘ जैसा काम वैसा ही फल मिलना

Question Number : 193 Question Id : 9767558918 Question Type : MCQ Option Shuffling : Yes Is Question Mandatory : No Option Orientation : Vertical

Correct Marks : 1 Wrong Marks : 0.25

निम्नलिखित प्रश्न में, चार विकल्पों में से, उस विकल्प का चयन करें जो दी गई लोकोक्ति का सही अर्थ वाला विकल्प है।
हलक से निकली खलक से पड़ी -

Options :

1. ✘ होनहार के लक्षण पहले से ही दिखाई देना
2. ✘ बिना खर्च किए काम बन जाना
3. ✔ मुँह से निकली बात सारे संसार में फैल जाती है
4. ✘ जैसा काम वैसा ही फल मिलना

Question Number : 194 Question Id : 9767558919 Question Type : MCQ Option Shuffling : Yes Is Question Mandatory : No Option Orientation : Vertical

Correct Marks : 1 Wrong Marks : 0.25

निम्नलिखित प्रश्न में, चार विकल्पों में से, उस विकल्प का चयन करें जो दी गई लोकोक्ति का सही अर्थ वाला विकल्प है।
ठेस लगे, बुद्धि बढे-

Options :

1. ✘ शांत प्रकृति वाला मनुष्य क्रोधी मनुष्य को हारा देता है
2. ✔ हानि मनुष्य को बुद्धिमान बनती है
3. ✘ किसी की चाल को खूब समझना
4. ✘ किसी कार्य का परिणाम देखना

Question Number : 194 Question Id : 9767558919 Question Type : MCQ Option Shuffling : Yes Is Question Mandatory : No Option

Orientation : Vertical

Correct Marks : 1 Wrong Marks : 0.25

निम्नलिखित प्रश्न में, चार विकल्पों में से, उस विकल्प का चयन करें जो दी गई लोकोक्ति का सही अर्थ वाला विकल्प है।
ठेस लगे, बुद्धि बढे-

Options :

1. ✘ शांत प्रकृति वाला मनुष्य क्रोधी मनुष्य को हारा देता है
2. ✔ हानि मनुष्य को बुद्धिमान बनती है
3. ✘ किसी की चाल को खूब समझना
4. ✘ किसी कार्य का परिणाम देखना

Question Number : 195 Question Id : 9767558920 Question Type : MCQ Option Shuffling : Yes Is Question Mandatory : No Option

Orientation : Vertical

Correct Marks : 1 Wrong Marks : 0.25

निम्नलिखित प्रश्न में, चार विकल्पों में से, उस विकल्प का चयन करें जो दी गई लोकोक्ति का सही अर्थ वाला विकल्प है।
तबेले की बाला बंदर के सिर -

Options :

1. ✔ दोष किसी का, सजा किसी और को
2. ✘ विपत्ति में पड़े मनुष्य को थोड़ा सहारा मिलना
3. ✘ परिणाम कुछ न निकलना
4. ✘ चालाक को चालाकी से काम करना पड़ता है

Question Number : 195 Question Id : 9767558920 Question Type : MCQ Option Shuffling : Yes Is Question Mandatory : No Option

Orientation : Vertical

Correct Marks : 1 Wrong Marks : 0.25

निम्नलिखित प्रश्न में, चार विकल्पों में से, उस विकल्प का चयन करें जो दी गई लोकोक्ति का सही अर्थ वाला विकल्प है।
तबेले की बाला बंदर के सिर -

Options :

1. ✔ दोष किसी का, सजा किसी और को
2. ✘ विपत्ति में पड़े मनुष्य को थोड़ा सहारा मिलना
3. ✘ परिणाम कुछ न निकलना
4. ✘ चालाक को चालाकी से काम करना पड़ता है

Sub-Section Number :	2
Sub-Section Id :	976755615
Question Shuffling Allowed :	Yes

Question Id : 9767558921 Question Type : COMPREHENSION Sub Question Shuffling Allowed : Yes Group Comprehension Questions : No

Question Numbers : (196 to 200)

नीचे दिए गये गद्यांश के बाद 5 प्रश्न दिए गये हैं। इस गद्यांश को ध्यानपूर्वक पढ़ें और चार विकल्पों में से प्रत्येक प्रश्न का सर्वोत्तम उत्तर चुनें। स्वतंत्र व्यवसाय की अर्थनीति के नए वैश्विक वातावरण ने विदेशी पूँजी निवेश को खुली छूट दे रखी है जिसके कारण दूरदर्शन में ऐसे विज्ञापनों की भरमार हो गई है जो उन्मुक्त वासना, हिंसा, अपराध, लालच और ईर्ष्या जैसे मानव की हीनतम प्रवृत्तियों को आधार मानकर चल रहे हैं। अत्यंत खेद का विषय है कि राष्ट्रीय दूरदर्शन ने भी उनकी भौंडी नकल की ठान ली है। आधुनिकता के नाम पर जो कुछ दिखाया जा रहा है, सुनाया जा रहा है, उससे भारतीय जीवन मूल्यों का दूर का भी रिश्ता नहीं है, वे सत्य से भी कोसों दूर हैं। नयी पीढ़ी जो स्वयं में रचनात्मक गुणों के विकास करने की जगह दूरदर्शन के सामने बैठकर कुछ सीखना, जानना और मनोरंजन करना चाहती है, उसका भगवान ही मालिक है। जो असत्य है, वह सत्य नहीं हो सकता। समाज को शिव बनाने का प्रयत्न नहीं होगा तो समाज शव बनेगा ही। आज यह मजबूरी हो गई है कि दूरदर्शन पर दिखाए जाने वाले अश्लील दृश्यों से चार पीढ़ियाँ एक साथ आँखें चार कर रही हैं। नतीजा सामने है। छोटे शिशु भी दूरदर्शन पर दिखाए और सुनाए जा रहे स्वर और भंगिमाओं पर अपनी कमर लचकाने लगे हैं। ऐसे कार्यक्रम न शिव हैं, न समाज को शिव बनाने की शक्ति है इनमें। फिर जो शिव नहीं, वह सुंदर कैसे हो सकता है।

Sub questions

Question Number : 196 Question Id : 9767558922 Question Type : MCQ Option Shuffling : Yes Is Question Mandatory : No Option Orientation : Vertical

Correct Marks : 1 Wrong Marks : 0.25

अर्थनीति के नए वैश्विक वातावरण के कारण संपूर्ण छूट किसे प्राप्त है?

Options :

- ❌ किसी को भी नहीं
- ❌ स्वदेशी वस्तुओं में निवेश को
- ✅ विदेशी पूँजी निवेश को
- ❌ भारतीयों को

Question Number : 197 Question Id : 9767558923 Question Type : MCQ Option Shuffling : Yes Is Question Mandatory : No Option Orientation : Vertical

Correct Marks : 1 Wrong Marks : 0.25

अनुच्छेद के अनुसार नई आर्थिक व्यवस्था का भारतीय दूरदर्शन पर क्या प्रभाव पड़ा है?

Options :

1. ✘ बड़े-छोटे सभी के रुचिकर कार्यक्रम दिखाए जा रहे हैं
2. ✘ दूरदर्शन का प्रचार-प्रसार कम हो गया है
3. ✘ भारतीय जीवन मूल्यों से सम्बंधित कार्यक्रम दिखाए जा रहे हैं
4. ✔ मानव की हीन वृत्तियों से संबंधित कार्यक्रमों का भरमार हो गया है

Question Number : 198 Question Id : 9767558924 Question Type : MCQ Option Shuffling : Yes Is Question Mandatory : No Option Orientation : Vertical

Correct Marks : 1 Wrong Marks : 0.25

दूरदर्शन पर दिखाए जाने वाले हीनतम कार्यक्रमों का क्या प्रभाव हो रहा है?

Options :

1. ✘ अपराधों में कमी
2. ✘ सभी का विकास होना
3. ✔ नई पीढ़ी पर बुरा प्रभाव जिससे विभिन्न अपराधों की वृद्धि
4. ✘ नई पीढ़ी का मानसिक विकास

Question Number : 199 Question Id : 9767558925 Question Type : MCQ Option Shuffling : Yes Is Question Mandatory : No Option Orientation : Vertical

Correct Marks : 1 Wrong Marks : 0.25

इनमें से कौन - सा शब्द निवेश का पर्यायवाची शब्द नहीं है?

Options :

1. ✘ घर
2. ✔ आवरण
3. ✘ प्रवेश
4. ✘ वित्तीय अंशदान

Question Number : 200 Question Id : 9767558926 Question Type : MCQ Option Shuffling : Yes Is Question Mandatory : No Option Orientation : Vertical

Correct Marks : 1 Wrong Marks : 0.25

इस अनुच्छेद का कोई उपयुक्त शीर्षक-

Options :

1. ✔ भारतीय दूरदर्शन की विनाशकारी भूमिका।
2. ✘ भारतीय दूरदर्शन की सकारात्मक भूमिका

3. ✖ आज का वातावरण
4. ✖ विज्ञापनों की भरमार

Question Id : 9767558921 Question Type : COMPREHENSION Sub Question Shuffling Allowed : Yes Group Comprehension Questions : No

Question Numbers : (196 to 200)

नीचे दिए गये गद्यांश के बाद 5 प्रश्न दिए गये हैं। इस गद्यांश को ध्यानपूर्वक पढ़ें और चार विकल्पों में से प्रत्येक प्रश्न का सर्वोत्तम उत्तर चुनें। स्वतंत्र व्यवसाय की अर्थनीति के नए वैश्विक वातावरण ने विदेशी पूँजी निवेश को खुली छूट दे रखी है जिसके कारण दूरदर्शन में ऐसे विज्ञापनों की भरमार हो गई है जो उन्मुक्त वासना, हिंसा, अपराध, लालच और ईर्ष्या जैसे मानव की हीनतम प्रवृत्तियों को आधार मानकर चल रहे हैं। अत्यंत खेद का विषय है कि राष्ट्रीय दूरदर्शन ने भी उनकी भौंडी नकल की ठान ली है। आधुनिकता के नाम पर जो कुछ दिखाया जा रहा है, सुनाया जा रहा है, उससे भारतीय जीवन मूल्यों का दूर का भी रिश्ता नहीं है, वे सत्य से भी कोसों दूर हैं। नयी पीढ़ी जो स्वयं में रचनात्मक गुणों के विकास करने की जगह दूरदर्शन के सामने बैठकर कुछ सीखना, जानना और मनोरंजन करना चाहती है, उसका भगवान ही मालिक है। जो असत्य है, वह सत्य नहीं हो सकता। समाज को शिव बनाने का प्रयत्न नहीं होगा तो समाज शव बनेगा ही। आज यह मजबूरी हो गई है कि दूरदर्शन पर दिखाए जाने वाले अश्लील दृश्यों से चार पीढ़ियाँ एक साथ आँखें चार कर रही हैं। नतीजा सामने है। छोटे शिशु भी दूरदर्शन पर दिखाए और सुनाए जा रहे स्वर और भंगिमाओं पर अपनी कमर लचकाने लगे हैं। ऐसे कार्यक्रम न शिव हैं, न समाज को शिव बनाने की शक्ति है इनमें। फिर जो शिव नहीं, वह सुंदर कैसे हो सकता है।

Sub questions

Question Number : 196 Question Id : 9767558922 Question Type : MCQ Option Shuffling : Yes Is Question Mandatory : No Option Orientation : Vertical

Correct Marks : 1 Wrong Marks : 0.25

अर्थनीति के नए वैश्विक वातावरण के कारण संपूर्ण छूट किसे प्राप्त है?

Options :

1. ✖ किसी को भी नहीं
2. ✖ स्वदेशी वस्तुओं में निवेश को
3. ✔ विदेशी पूँजी निवेश को
4. ✖ भारतीयों को

Question Number : 197 Question Id : 9767558923 Question Type : MCQ Option Shuffling : Yes Is Question Mandatory : No Option Orientation : Vertical

Correct Marks : 1 Wrong Marks : 0.25

अनुच्छेद के अनुसार नई आर्थिक व्यवस्था का भारतीय दूरदर्शन पर क्या प्रभाव पड़ा है?

Options :

1. ✘ बड़े-छोटे सभी के रुचिकर कार्यक्रम दिखाए जा रहे हैं
2. ✘ दूरदर्शन का प्रचार-प्रसार कम हो गया है
3. ✘ भारतीय जीवन मूल्यों से सम्बंधित कार्यक्रम दिखाए जा रहे हैं
4. ✔ मानव की हीन वृत्तियों से संबंधित कार्यक्रमों का भरमार हो गया है

Question Number : 198 Question Id : 9767558924 Question Type : MCQ Option Shuffling : Yes Is Question Mandatory : No Option Orientation : Vertical

Correct Marks : 1 Wrong Marks : 0.25

दूरदर्शन पर दिखाए जाने वाले हीनतम कार्यक्रमों का क्या प्रभाव हो रहा है?

Options :

1. ✘ अपराधों में कमी
2. ✘ सभी का विकास होना
3. ✔ नई पीढ़ी पर बुरा प्रभाव जिससे विभिन्न अपराधों की वृद्धि
4. ✘ नई पीढ़ी का मानसिक विकास

Question Number : 199 Question Id : 9767558925 Question Type : MCQ Option Shuffling : Yes Is Question Mandatory : No Option Orientation : Vertical

Correct Marks : 1 Wrong Marks : 0.25

इनमें से कौन - सा शब्द निवेश का पर्यायवाची शब्द नहीं है?

Options :

1. ✘ घर
2. ✔ आवरण
3. ✘ प्रवेश
4. ✘ वित्तीय अंशदान

Question Number : 200 Question Id : 9767558926 Question Type : MCQ Option Shuffling : Yes Is Question Mandatory : No Option Orientation : Vertical

Correct Marks : 1 Wrong Marks : 0.25

इस अनुच्छेद का कोई उपयुक्त शीर्षक-

Options :

1. ✔ भारतीय दूरदर्शन की विनाशकारी भूमिका।
2. ✘ भारतीय दूरदर्शन की सकारात्मक भूमिका

3. ✖ आज का वातावरण
4. ✖ विज्ञापनों की भरमार

prepp
Your Personal Exam Guide