

## Multi Tasking Non Technical Staff and Havaladar CBIC and CBN Examination 2024

Exam Date	07/10/2024
Exam Time	12:30 PM - 2:30 PM
Subject	MTS Non Tech Havaladar CBIC and CBN Examination 2024

### Section : Numerical and Mathematical Ability

Q.1 साधारण ब्याज पर कितने प्रतिशत की वार्षिक दर पर ₹760 की राशि 5 वर्षों में ₹912 हो जाएगी?

Ans A). 3%                      B). 4%                      C). 6%                      D). 5%                      Correct Answer: B

Q.2 3 वर्षों के लिए 4% प्रति वर्ष की ब्याज दर पर उधार ली गई राशि ₹4000 पर साधारण ब्याज (₹ में) ज्ञात कीजिए।

Ans A). 480                      B). 440                      C). 420                      D). 520                      Correct Answer: A

Q.3 40 kg, 49 kg, 56 kg, 66 kg और 35 kg वजन वाले पांच सदस्यों के एक परिवार का औसत वजन (kg में) कितना होगा?

Ans A). 51.2                      B). 49.2                      C). 48.2                      D). 50.2                      Correct Answer: B

Q.4 किसी बेलन की त्रिज्या दोगुनी कर दी जाती है जिसके कारण नए बेलन का आयतन भी दोगुना हो जाता है। नए बेलन की ऊंचाई, पुराने बेलन की ऊंचाई की कितने प्रतिशत होगी?

Ans A). 200%                      B). 50%                      C). 100%                      D). 25%                      Correct Answer: B

Q.5 दी गई तालिका, वर्ष 2022 में पांच डीलरों द्वारा बेची गई टैबलेटों की संख्या दर्शाती है।

डीलर	बेची गई टैबलेट की संख्या (लाख में)
A	12
B	15
C	10
D	25
E	22

A, B और D, E द्वारा बेची गई टैबलेटों की कुल संख्या (लाख में) का अंतर क्या है?

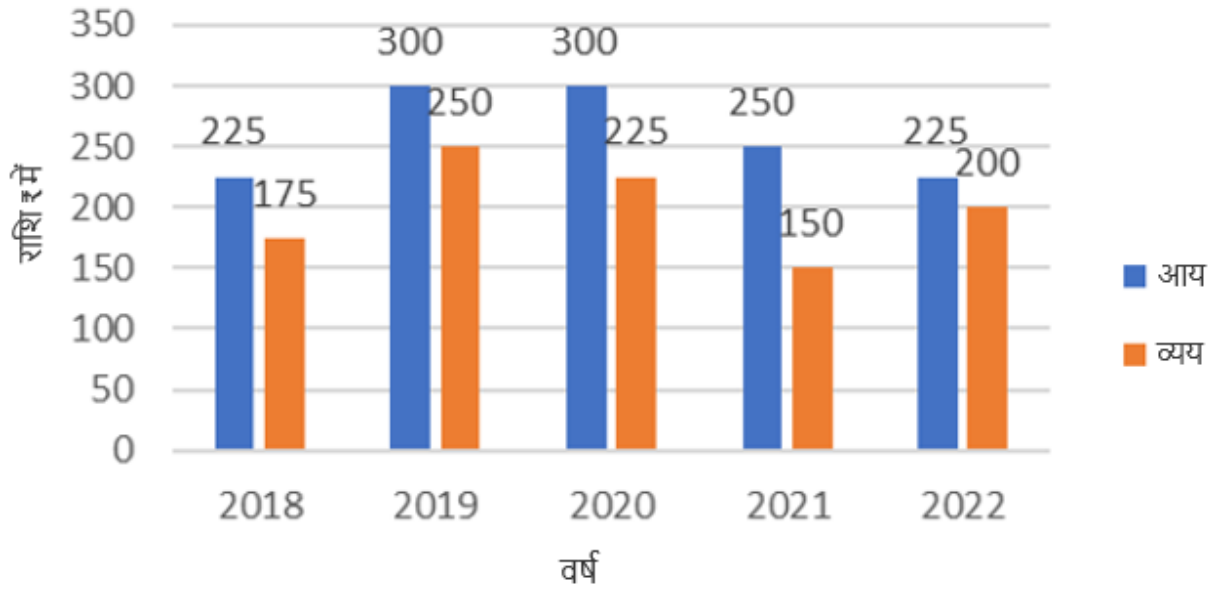
Ans A). 22                      B). 18                      C). 25                      D). 20                      Correct Answer: D

Q.6 ₹20 में एक वस्तु को बेचकर, एक विक्रेता 10% का लाभ अर्जित करता है। उसे अपना विक्रय मूल्य (₹ में, दो दशमलव स्थान तक सन्निकटित) कितना बढ़ाना चाहिए, ताकि 50% का लाभ अर्जित कर सके?

Ans A). 10.27                      B). 9.27                      C). 7.27                      D). 8.27                      Correct Answer: C

Q.7	किसान द्वारा एक खेत पर गिने गए सिरों की संख्या 60 है। जब उसने गिनती की तो उसने पाया कि वहाँ 150 पैर थे। यदि वहाँ उपस्थित सभी कबूतर या घोड़े हैं, और खेत पर प्रत्येक घोड़े के चार पैर थे, जबकि प्रत्येक कबूतर के दो पैर थे, तो खेत पर कितने घोड़े थे?
Ans A). 10	B). 14 C). 15 D). 12 <b>Correct Answer: C</b>
Q.8	240 m लंबी एक रेलगाड़ी विपरीत दिशा में 4.5 km/h की चाल से चल रहे एक व्यक्ति को 12 सेकंड में पार करती है। रेलगाड़ी की चाल (km/h में) क्या है?
Ans A). 61.5	B). 60.5 C). 58.5 D). 67.5 <b>Correct Answer: D</b>
Q.9	40 kg, 49 kg, 56 kg, 67 kg और 36 kg वजन के पांच सदस्यों वाले परिवार का औसत वजन (kg में) ज्ञात कीजिए।
Ans A). 50.6	B). 48.6 C). 49.6 D). 51.6 <b>Correct Answer: C</b>
Q.10	14 cm व्यास वाले एक अर्द्धगोलाकार कटोरे को अंदर और बाहर से पेंट किया जाना है। ₹20 प्रति 40 cm <sup>2</sup> की दर से पेंट करने का खर्च कितना आएगा?
Ans A). ₹308	B). ₹224 C). ₹616 D). ₹154 <b>Correct Answer: A</b>
Q.11	व्यापारी A, 45% की एकल छूट देता है और व्यापारी B समान अंकित मूल्य वाली एक समान वस्तु पर 35% और 10% की दो क्रमिक छूट देता है। यदि व्यापारी A द्वारा दी गई छूट, व्यापारी B द्वारा दी गई छूट से ₹539 अधिक है, तो वस्तु का अंकित मूल्य (₹ में) कितना है?
Ans A). 15,400	B). 16,500 C). 15,600 D). 14,500 <b>Correct Answer: A</b>
Q.12	वह बड़ी से बड़ी संख्या निम्न में से कौनसी है, जिससे 147, 183 और 271 को भाग देने पर शेषफल क्रमशः 11, 13 और 16 प्राप्त होते हैं?
Ans A). 16	B). 15 C). 17 D). 14 <b>Correct Answer: C</b>
Q.13	सात क्रमागत संख्याओं का औसत 95 है। सात क्रमागत संख्याओं की श्रृंखला में मध्य संख्या (middle number) ज्ञात कीजिए।
Ans A). 96	B). 95 C). 98 D). 92 <b>Correct Answer: B</b>
Q.14	एक अर्धगोले का आयतन $486\pi$ cm <sup>3</sup> है। यदि त्रिज्या को तीन गुना कर दिया जाए, तो इसका वक्र पृष्ठीय क्षेत्रफल (cm <sup>2</sup> में) कितना होगा?
Ans A). 1458	B). $1458\pi$ C). $1025\pi$ D). 1546 <b>Correct Answer: B</b>
Q.15	एक कार 5 घंटे में 275 km की दूरी तय कर सकती है। यदि इसकी चाल 5 km/h कम कर दी जाए, तो कार को 250 km की दूरी तय करने में कितना समय लगेगा?
Ans A). 4 घंटे 30 मिनट	B). 5 घंटे 30 मिनट C). 6 घंटे D). 5 घंटे <b>Correct Answer: D</b>
Q.16	अनिल चीनी को क्रय मूल्य पर बेचता है लेकिन गलत वजन का उपयोग करता है और इस प्रकार 20% लाभ कमाता है। वह 1 किग्रा में कितने ग्राम चीनी देता है?
Ans A). 823.33	B). 833.23 C). 833.13 D). 833.33 <b>Correct Answer: D</b>

Q.17 बार-ग्राफ का अध्ययन कीजिए और निम्नलिखित प्रश्न का उत्तर दीजिए। यह बार-ग्राफ 2018 से 2022 के दौरान 5 वर्षों में एक कंपनी की आय और व्यय (₹ करोड़ में) को दर्शाता है।



किस वर्ष में आय और व्यय का अनुपात दूसरा सबसे अधिक है?

- Ans A). 2019                      B). 2022                      C). 2020                      D). 2018

Correct Answer: C

Q.18 141 को दो भागों में इस प्रकार बांटा जाता है कि पहले का आठवाँ भाग (one-eighth part) और दूसरे का नौवाँ भाग (one-ninth part), 5 : 6 के अनुपात में हैं। पहला भाग ज्ञात कीजिए।

- Ans A). 36                      B). 72                      C). 60                      D). 48

Correct Answer: C

Q.19 5 वर्षों के लिए 6% वार्षिक की ब्याज दर पर उधार ली गई राशि ₹3000 पर साधारण ब्याज (₹ में) ज्ञात कीजिए।

- Ans A). 940                      B). 860                      C). 840                      D). 900

Correct Answer: D

Q.20 A और B का वेतन 2 : 3 के अनुपात में है। उनकी बचत बराबर है। यदि A का व्यय उसके वेतन का  $\frac{1}{2}$  है, तो B अपनी आय का कितने प्रतिशत भाग व्यय करता है?

- Ans A). 66.67%                      B). 50%                      C). 78.5%                      D). 75%

Correct Answer: A

Section : Reasoning Ability and Problem Solving

Q.1 निम्नलिखित संख्या-युग्मों में, दूसरी संख्या, पहली संख्या पर निश्चित गणितीय संक्रियाएँ करके प्राप्त की जाती है। उस समुच्चय का चयन कीजिए जिसमें संख्याएँ उसी प्रकार संबंधित हैं जिस प्रकार दिए गए समुच्चयों की संख्याएँ संबंधित हैं।

(ध्यान दें: संख्याओं को उनके घटक अंकों में अलग-अलग किए बिना पूर्ण संख्याओं पर संक्रियाएँ की जानी चाहिए। उदाहरण के लिए संख्या 13 - संख्या 13 पर संक्रियाएँ जैसे 13 को जोड़ना/घटाना/गुणा करना आदि किया जा सकता है। 13 को 1 और 3 में अलग-अलग करने की और फिर 1 और 3 पर गणितीय संक्रियाएँ करने की अनुमति नहीं है।)

10 , 99  
21 , 440

- Ans A). 26, 298                      B). 30, 899                      C). 3, 23                      D). 15, 285

Correct Answer: B

Q.2 एक निश्चित कूट भाषा में, 'BUY' को 'ACTVXZ' के रूप में लिखा जाता है और 'CAP' को 'BDZBOQ' के रूप में लिखा जाता है। उसी भाषा में 'BOX' को किस प्रकार लिखा जाएगा?

- Ans A). CDPQYZ                      B). ACMPWY                      C). ACNPWY                      D). ACMPUY

Correct Answer: C

Q.3 दिए गए कथनों और निष्कर्षों को ध्यानपूर्वक पढ़िए। यह मानते हुए कि कथनों में दी गई जानकारी सत्य है, भले ही वे सामान्यतः ज्ञात तथ्यों से भिन्न प्रतीत होते हों, तय कीजिए कि दिए गए निष्कर्षों में से कौन-सा/से निष्कर्ष कथनों का तार्किक रूप से अनुसरण करता है/करते हैं।

कथन:

कुछ लाइट, पंखे हैं।  
कुछ पंखे, पलंग हैं।

निष्कर्ष:

(I) कुछ लाइट, पलंग हैं।  
(II) सभी पलंग, पंखे हैं।

Ans A). निष्कर्ष I और II दोनों अनुसरण करते हैं

B). केवल निष्कर्ष I अनुसरण करता है

C). केवल निष्कर्ष II अनुसरण करता है

D). न तो निष्कर्ष I और न ही II अनुसरण करता है

Correct Answer: D

Q.4 GYEV अंग्रेजी वर्णमाला क्रम के आधार पर एक निश्चित तरीके से DBBY से संबंधित है। उसी तरीके से XHVE, UKSH से संबंधित है। उसी तर्क का अनुसरण करते हुए, LTJQ निम्नलिखित में से किससे संबंधित है?

Ans A). IGWT

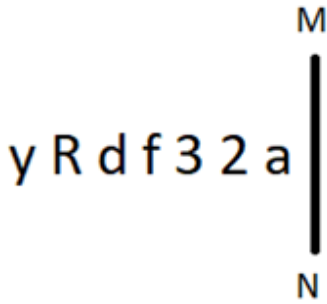
B). TYHU

C). IWGT

D). IGTR

Correct Answer: C

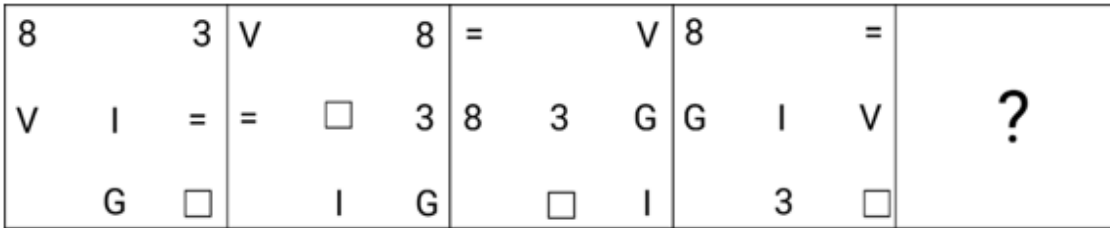
Q.5 दी गई आकृति के उस सही दर्पण प्रतिबिंब को चुनिए, जो नीचे दर्शाए गए अनुसार दर्पण को MN पर रखने पर बनेगा।



Ans A). B). C). D).

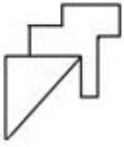
Correct Answer: A

Q.6 दिए गए विकल्पों में से उस आकृति को चुनिए जो निम्नलिखित श्रृंखला में प्रश्न चिह्न (?) के स्थान पर आ सकती है और पैटर्न को पूरा कर सकती है।

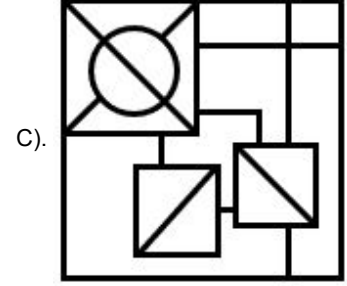
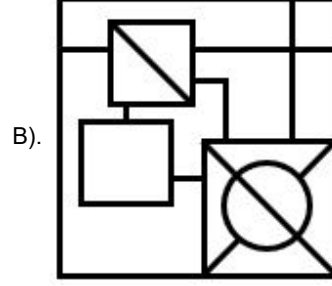
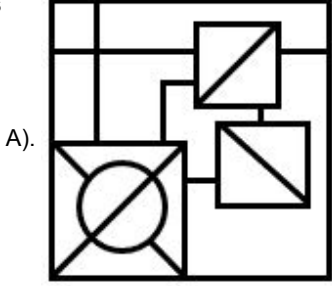


Ans A). B). C). D). Correct Answer: B

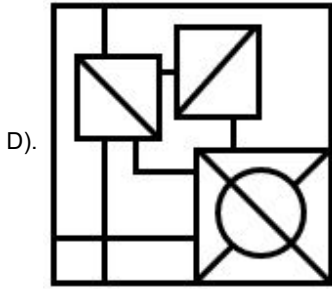
Q.7 उस विकल्प का चयन कीजिए जिसमें दी गई आकृति सन्निहित है (घूर्णन की अनुमति नहीं है)।



Ans



Correct Answer: C



Q.8 एक निश्चित कूट भाषा में, 'good bright boy' को 'xd yf vj' के रूप में कूटबद्ध किया जाता है और 'boy is lazy' को 'sb xd ql' के रूप में कूटबद्ध किया जाता है। दी गई भाषा में 'boy' को किस प्रकार कूटबद्ध किया गया है?

Ans A). vj                      B). xd                      C). yf                      D). ql

Correct Answer: B

Q.9 यदि '+' और '-' को आपस में बदल दिया जाए तथा 'x' और '÷' को आपस में बदल दिया जाए, तो निम्नलिखित समीकरण में प्रश्नवाचक चिह्न (?) के स्थान पर क्या आएगा?  
 $5 \div 4 - 3 \times 1 + 2 = ?$

Ans A). 16                      B). 21                      C). 19                      D). 20

Correct Answer: B

Q.10 दी गई श्रृंखला में '?' के स्थान पर क्या आना चाहिए?

16, 8.5, 9.5, 15.75, 33.5, ?

Ans A). 83.75                      B). 69                      C). 67                      D). 86.25

Correct Answer: D

Q.11 दिए गए कथनों और निष्कर्षों को ध्यानपूर्वक पढ़िए। कथनों में दी गई जानकारी को सत्य मानते हुए, भले ही यह सामान्यतः ज्ञात तथ्यों से भिन्न प्रतीत होती हो, तब कीजिए कि कौन-सा/से निष्कर्ष कथनों का तार्किक रूप से अनुसरण करता है/करते हैं।

कथन:

सभी गुलाब, लिली हैं।  
कुछ लिली, सूरजमुखी हैं।

निष्कर्ष:

(I): कुछ गुलाब, सूरजमुखी हैं।  
(II): सभी लिली, गुलाब हैं।

Ans A). केवल निष्कर्ष I अनुसरण करता है।                      B). न तो निष्कर्ष I और न ही II अनुसरण करता है।                      C). निष्कर्ष I और II, दोनों अनुसरण करते हैं।  
D). केवल निष्कर्ष II अनुसरण करता है।

Correct Answer: B

Q.12 EX04 एक निश्चित प्रकार से ZS16 से संबंधित है। ठीक उसी प्रकार UN06, PI36 से संबंधित है। समान तर्क का अनुसरण करते हुए, WP07 निम्नलिखित में से किससे संबंधित है?

Ans A). RK94                      B). KR94                      C). KR49                      D). RK49

Correct Answer: D

Q.13 सात लोग A, B, C, D, E, F और G एक वृत्ताकार मेज के चारों ओर केंद्र की ओर मुख करके बैठे हैं (परंतु जरूरी नहीं कि वे इसी क्रम में बैठे हों)। F, D के दाएँ से चौथे स्थान पर बैठा है। E, F के बाएँ से दूसरे स्थान पर बैठा है। B, G के ठीक बाएँ बैठा है। A, F का निकटतम पड़ोसी नहीं है।

D के दाएँ से गिनने पर C और D के बीच में कितने लोग बैठे हैं?

Ans A). तीन                      B). एक                      C). दो                      D). चार

Correct Answer: C

Q.14 अंग्रेजी वर्णानुक्रम के आधार पर दी गई श्रृंखला में प्रश्न-चिह्न (?) के स्थान पर क्या आना चाहिए?  
XJP, VMN, TPL, RSJ, ?

Ans A). QVG B). PUG C). PVG D). PVH

Correct Answer: D

Q.15 एक निश्चित कूट भाषा में 'like my pet' को 'nj kj lk' के रूप में लिखा जाता है और 'pet is wet' को 'lk mk bt' के रूप में लिखा जाता है। उसी कूट भाषा में 'pet' को कैसे लिखा जाएगा?

Ans A). mk B). lk C). nj D). kj

Correct Answer: B

Q.16 एक निश्चित कूट भाषा में, 'bring hot food' को 'ud lp sj' के रूप में कूटबद्ध किया जाता है और 'food is tasty' को 'sj xk jt' के रूप में कूटबद्ध किया जाता है। दी गई भाषा में 'food' को किस प्रकार कूटबद्ध किया जाता है?

Ans A). xk B). sj C). ud D). lp

Correct Answer: B

Q.17 दिए गए विकल्पों में से उस आकृति का चयन कीजिए जो निम्नलिखित श्रृंखला में प्रश्न चिह्न (?) के स्थान पर आ सकती है।

C = X	= C	A C X	A	?
	X X		C	

Ans

Correct Answer: C

3 C X	X 3 A	X C 3	C A X
----------	-------	----------	-------

Q.18 यदि '+' और '-' को आपस में बदल दिया जाए तथा 'x' और '÷' को आपस में बदल दिया जाए, तो निम्नलिखित समीकरण में '?' के स्थान पर क्या आएगा?  
 $14 \div 7 - 27 \times 9 + 12 = ?$

Ans A). 71 B). 79 C). 81 D). 89

Correct Answer: D

Q.19 A, B, P, Q, Y और Z एक वृत्ताकार मेज के चारों ओर केंद्र की ओर मुख करके बैठे हैं (परंतु जरूरी नहीं कि वे इसी क्रम में बैठे हों)। Q, B के ठीक बाएँ बैठा है। Y, B के ठीक दाएँ बैठा है। A, B के दाएँ से दूसरे स्थान पर बैठा है। P, A के दाएँ से दूसरे स्थान पर बैठा है। Z के दाएँ से तीसरे स्थान पर कौन बैठा है?

Ans A). P B). Q C). B D). A

Correct Answer: C

Q.20 14, किसी निश्चित तर्क का अनुसरण करते हुए 93 से संबंधित है। 6, समान तर्क का अनुसरण करते हुए 37 से संबंधित है। समान तर्क का अनुसरण करते हुए 11, निम्नलिखित में से किससे संबंधित है?

(ध्यान दें: संख्याओं को उनके घटक अंकों में अलग-अलग किए बिना पूर्ण संख्याओं पर संक्रियाएं की जानी चाहिए। उदाहरण के लिए संख्या 13 - संख्या 13 पर संक्रियाएं जैसे 13 को जोड़ना/घटाना/गुणा करना आदि किया जा सकता है। 13 को 1 और 3 में अलग-अलग करने की और फिर 1 और 3 पर गणितीय संक्रियाएं करने की अनुमति नहीं है।)

Ans A). 72 B). 67 C). 77 D). 90

Correct Answer: A

Section : General Awareness

Q.1 अनूठी वास्तुकला वाले गंगैकोण्ड चोलपुरम (Gangaikonda-Cholapuram) के मंदिर, किस राजा/बादशाह द्वारा बनवाए गए थे?

Ans A). राजा महेन्द्रवर्मन B). राजा राजेंद्र C). राजा विजयालय D). बादशाह अकबर

Correct Answer: B

Q.2 खेलों के संदर्भ में डबल्यूएफआई (WFI) का पूर्ण रूप क्या है?

Ans A). विंटर गेम्स फेडरेशन ऑफ इंडिया (Winter Games Federation of India) B). वुमन फेडरेशन ऑफ इंडिया (Women Federation of India)  
C). रेसलिंग फेडरेशन ऑफ इंडिया (Wrestling Federation of India) D). वुमन स्पोर्ट्स फेडरेशन ऑफ इंडिया (Women Sports Federation of India)

Correct Answer: C

Q.3 साइना नेहवाल की आत्मकथा का नाम \_\_\_\_\_ है।

- Ans A). स्ट्रेट फ्रॉम द हार्ट (Straight from the heart) B). प्लेइंग इट माई वे (Playing it my way) C). अनब्रेकेबल (Unbreakable)  
D). प्लेइंग टू विन, माई लाइफ ऑन एंड ऑफ कोर्ट (Playing to win, my life on and off court)

Correct Answer: D

Q.4 निम्नलिखित में से कौन-सा विकल्प 'लैगून (Lagoon)' का उदाहरण नहीं है?

- Ans A). नैनीताल (Nainital) B). पुलिकट (Pulicat) C). चिलका (Chilika) D). कोल्लेरू (Kolleru)

Correct Answer: A

Q.5 रामपुर के सहसवान (Sahaswan) घराने की स्थापना निम्नलिखित में से किस शख्सियत द्वारा की गई थी?

- Ans A). उस्ताद इनायत हुसैन खान B). उस्ताद घघे खुदा बख्श C). अमानत अली खान D). अब्दुल करीम खान

Correct Answer: A

Q.6 फरवरी 2024 तक के तथ्यानुसार, यानथुंगो पैटन (Yanthungo Patton) निम्नलिखित में से किस राज्य के उप मुख्यमंत्री हैं?

- Ans A). मेघालय B). सिक्किम C). असम D). नागालैंड

Correct Answer: D

Q.7 सकल घरेलू उत्पाद (Gross Domestic Product) का प्राक्कलन करते समय, केवल अंतिम वस्तुओं के मौद्रिक मूल्य पर विचार किया जाता है क्योंकि \_\_\_\_\_।

- a. इसकी गतिहीनता (immobility) से सक्रिय आर्थिक प्रवाह समाप्त हो जाता है  
b. इसमें दोहरी गणना (double counting) की समस्या होती है  
c. उत्पादन प्रक्रिया के प्रत्येक चरण में मूल्यवर्धित (value added) शामिल किया जाता है

- Ans A). सभी a, b और c B). केवल b और c C). केवल a D). केवल b

Correct Answer: D

Q.8 पीएम-स्वनिधि योजना (2020) में, शहरी पथ-विक्रेता \_\_\_\_\_ की अवधि के लिए 10,000 तक की कार्यशील पूंजी ऋण प्राप्त करने के पात्र हैं।

- Ans A). 3 वर्ष B). 2 वर्ष C). 5 वर्ष D). 1 वर्ष

Correct Answer: D

Q.9 मिर्गी (Epilepsy) एक विकार है जो मानव शरीर के निम्नलिखित में से किस भाग को प्रभावित करता है?

- Ans A). मांसपेशियों B). दाँत और हड्डियों C). मस्तिष्क कोशिकाओं D). त्वचा

Correct Answer: C

Q.10 भारतीय संविधान में सरकार के अर्द्ध-संघीय (Quasi Federal) स्वरूप का मॉडल किस देश से लिया गया है?

- Ans A). जर्मनी B). कनाडा C). ऑस्ट्रेलिया D). यूनाइटेड किंगडम

Correct Answer: B

Q.11 राष्ट्रीय ग्रामीण रोजगार गारंटी अधिनियम (National Rural Employment Guarantee Act), निम्नलिखित में से किस वर्ष पारित किया गया था?

- Ans A). 2004 B). 2009 C). 2005 D). 2006

Correct Answer: C

Q.12 किस घटना से अशोक की प्रशासनिक नीति में गहरा परिवर्तन आया?

- Ans A). उनका सीलोन में मिशनरी भेजना B). तृतीय बौद्ध संगीति C). उनका बौद्ध धर्म ग्रहण करना D). कलिंग युद्ध

Correct Answer: D

Q.13 प्रसिद्ध कथक नृत्य कलाकार, पुरुषोत्तम दाधीच (Purushottam Dadheech), जिन्हें वर्ष 2020 में पद्म श्री से सम्मानित किया गया था, निम्नलिखित में से किस स्थान से संबंधित हैं?

- Ans A). बिहार B). हरियाणा C). मध्य प्रदेश D). उत्तर प्रदेश

Correct Answer: C

Q.14 निम्नलिखित में से कौन-सा खनिज की कमी से होने वाला रोग है?

- Ans A). मरास्मस (Marasmus) B). स्कर्वी (Scurvy) C). घेंघा (Goitre) D). सूखा रोग (Rickets)

Correct Answer: C

Q.15 नागालैंड का सेक्रेनी महोत्सव (Sekrenyi festival) प्रति वर्ष \_\_\_\_\_ के महीने में मिनी हॉर्नबिल ट्राइबल फेस्टिवल (Mini Hornbill Tribal Festival) के एक हिस्से के रूप में मनाया जाता है, जो दावत और गायन के साथ शुद्धिकरण का महोत्सव है।

- Ans A). जुलाई B). अगस्त C). मार्च D). फरवरी

Correct Answer: D

Q.16 डप्पू नृत्य (Dappu dance) निम्नलिखित में से किस राज्य की प्रसिद्ध नृत्य शैली है?

- Ans A). पंजाब B). केरल C). आंध्र प्रदेश D). बिहार

Correct Answer: C

Q.17 जनवरी 2023 में महिला इंडियन प्रीमियर लीग (WPL) की शुरुआत में पाँच टीमों की विक्री के जरिये बीसीसीआई (BCCI) ने कितनी धनराशि अर्जित की थी?

- Ans A). ₹4,669.99 करोड़ B). ₹7,245.89 करोड़ C). ₹951.25 करोड़ D). ₹1,289.50 करोड़

Correct Answer: A

Q.18	'कर्तन दहन प्रणाली (slash and burn)' कृषि के संदर्भ में, निम्नलिखित में से कौन-सा नाम ओडिशा से संबंधित नहीं है?				
Ans A).	पामा डाबी (Pama Dabi)	B). कोमान (Koman)	C). रोका (Roca)	D). ब्रिंगा (Bringa)	Correct Answer: C
Q.19	अनुच्छेद _____ के अनुसार, संघ (State) के अधीन किसी भी पद (office) पर रोजगार या नियुक्ति से संबंधित मामलों में सभी नागरिकों के लिए अवसरों की समानता होगी।				
Ans A).	18	B). 19	C). 16	D). 17	Correct Answer: C
Q.20	1875 में स्वामी दयानंद सरस्वती ने निम्नलिखित में से किस सामाजिक संगठन की स्थापना की थी?				
Ans A).	आर्य समाज	B). ब्रह्म समाज	C). प्रार्थना समाज	D). सत्यशोधक समाज	Correct Answer: A
Q.21	निम्नलिखित में से किस अधिनियम के तहत, वारेन हेस्टिंग्स (Warren Hastings) को बंगाल का गवर्नर-जनरल नियुक्त किया गया था?				
Ans A).	भारत सरकार अधिनियम, 1858	B). भारत सरकार अधिनियम, 1909	C). रेग्युलेटिंग ऐक्ट, 1773	D). भारत सरकार अधिनियम, 1935	Correct Answer: C
Q.22	अप्रैल 2023 में जारी अपनी 279वीं रिपोर्ट में भारत के विधि आयोग (Law Commission of India) ने किस कानून के प्रावधान को बरकरार रखने की अनुशंसा की है?				
Ans A).	संविदा कानून (Contract Law)	B). राजद्रोह कानून (Sedition Law)	C). श्रम कानून (Labour Law)	D). राजस्व कानून (Revenue Law)	Correct Answer: B
Q.23	निम्नलिखित में से किस विकल्प में सभी सदिश राशियाँ (vector quantities) हैं?				
Ans A).	शक्ति, संवेग, ऊर्जा, चाल और कार्य	B). बल, वेग, संवेग, भार और त्वरण	C). बल, वेग, संवेग, ऊर्जा और शक्ति	D). बल, वेग, संवेग, ऊर्जा और त्वरण	Correct Answer: B
Q.24	महाबलीपुरम में शोर मंदिर (Shore Temple) का निर्माण _____ राजा नरसिंहवर्मन द्वितीय के शासनकाल में किया गया था।				
Ans A).	पल्लव	B). चालुक्य	C). चोल	D). चेर	Correct Answer: A
Q.25	अभ्रक (Mica) किस प्रकार का खनिज है?				
Ans A).	अ-धात्विक	B). ऊर्जा खनिज	C). लौह धात्विक	D). अ-लौह धात्विक	Correct Answer: A

#### Section : English Language and Comprehension

Q.1	Select the option that has an error in the use of phrasal verb.				
Ans A).	Please turn up the heater. The weather is too cold today .	B). Please suggest me some tips to get out nervousness.	C). Back up your essential files. Technology is only sometimes reliable.	D). Pushpa came across an old photo in the album and asked me to recognise the face in it.	Correct Answer: B
Q.2	Select the most appropriate option that can substitute the underlined segment in the given sentence. One of the <u>most horrified serials</u> of the Indian television industry was broadcast twenty years ago.				
Ans A).	horrified serials	B). most horror serials	C). more horrify serials	D). most horrifying serials	Correct Answer: D
Q.3	Select the most appropriate meaning of the underlined idiom. The situation was <u>out of hand</u> . So, the manager called the police station for help.				
Ans A).	To be abrupt	B). To be uncontrollable	C). To be serious	D). In an undecided state	Correct Answer: B
Q.4	The following sentence has been split into four segments. Identify the segment that contains a grammatical error. She is studying / the medicine / at university / to become a doctor.				
Ans A).	to become a doctor.	B). at university	C). She is studying	D). the medicine	Correct Answer: D
Q.5	Select the most appropriate idiom that can substitute the underlined segment in the given sentence. This is going to be overwhelming for you as you have <u>taken on work beyond your capabilities</u> .				
Ans A).	called it a day	B). at the eleventh hour	C). bitten off more than you can chew	D). put something on ice	Correct Answer: C
Q.6	Rectify the following sentence by selecting the correct spelling of the underlined word from the options. Life is a collection of <u>ephmeral</u> moments.				
Ans A).	Ephameral	B). Ephemerl	C). Epmeral	D). Ephemeral	Correct Answer: D

**Q.7** Select the **INCORRECTLY** spelt word.

Ans A). Proposal                      B). Explanation                      C). Accolades                      D). Myriad

**Correct Answer: B**

**Q.8** Select the most appropriate **ANTONYM** of the given word.  
Foremost

Ans A). Premature                      B). Unimportant                      C). Forecast                      D). Disposed

**Correct Answer: B**

**Q.9** Select the most appropriate **ANTONYM** of the highlighted word.

The new syllabus of Final Semester of MBA is very difficult.

Ans A). easy                      B). rigid                      C). problematical                      D). perplexing

**Correct Answer: A**

**Q.10** The following sentence has been split into four segments. Identify the segment that contains a grammatical error.  
It has been / noticed that / across all his faults, / he is admired.

Ans A). It has been                      B). noticed that                      C). across all his faults                      D). he is admired

**Correct Answer: C**

**Q.11** Select the most appropriate option that can substitute the underlined words in the given sentence.

My mother asked me who did accompany me to the airport.

Ans A). who accompanied me    B). who must accompanied me    C). who accompany me    D). whom I was accompanied

**Correct Answer: A**

**Q.12** Select the most appropriate synonym for the given word.  
Fusion

Ans A). Blend                      B). Glide                      C). Grind                      D). Ingredient

**Correct Answer: A**

**Q.13** Select the **INCORRECTLY** spelt word.

Ans A). Crowded                      B). Defecteev                      C). Efficient                      D). Elegant

**Correct Answer: B**

**Q.14** The given sentence is divided into four parts. One of them contains a grammatical error. Select the part that contains the error from the given options.

He was acquitted to / a cyber crime / on the basis of evidence / given to the court.

Ans A). He was acquitted to    B). a cyber crime    C). given to the court    D). on the basis of evidence

**Correct Answer: A**

**Q.15** In the following passage, some words have been deleted. Read the passage carefully and select the most appropriate option to fill in the blanks.

Leif Erikson is a Viking \_\_\_\_\_ believed to have sailed from the Green Lands to Vinland. Vinland is now thought to be the northern tip of Canada's Newfoundland island where \_\_\_\_\_ found evidence of Erikson's \_\_\_\_\_ in 1960s.

Ans A). astronomer; sculptors; colony                      B). explorer; archaeologists; settlement                      C). sailor; excavators; packed  
D). calligrapher; historians; community

**Correct Answer: B**

**Q.16** Select the most appropriate form of comparative degree that can substitute the underlined segment in the given sentence.

Bilingual children are so intelligent than those who speak just one language.

Ans A). so intelligent to    B). better intelligent than    C). more intelligent than    D). the most intelligent to

**Correct Answer: C**

**Q.17** Select the most appropriate synonym of the given word.  
Restraint

Ans A). Self-esteem                      B). Self-control                      C). Self-appraisal                      D). Self-acceptance

**Correct Answer: B**

**Q.18** The following sentence has been split into four segments. Identify the segment that contains a grammatical error.  
The gold watch / look really expensive / and is not affordable / for common people.

Ans A). and is not affordable    B). look really expensive    C). The gold watch    D). for common people

**Correct Answer: B**

**Q.19** Select the most appropriate meaning of the underlined phrase.

This sentence can have multiple meanings. Could you please specify what it means?

Ans A). Amorphous                      B). Ambiguous                      C). Heterogeneous                      D). Homogeneous

**Correct Answer: B**

**Q.20** Select the most appropriate synonym of the underlined word in the given sentence.

His decision to quit his stable job and travel the world was driven by a sudden caprice.

Ans A). Sorrow                      B). Delight                      C). Determination                      D). Impulse

**Correct Answer: D**

**Comprehension:**

In the following passage, some words have been deleted. Read the passage carefully and select the most appropriate option to fill in each blank.

The newspaper is one of the significant signs of (1) \_\_\_\_\_ civilisation. It is the most popular form of reading in the (2) \_\_\_\_\_ times because it interests all sorts of people. It is full of political news, sports and commercial news, as well as articles by well-known writers. A newspaper keeps us (3) \_\_\_\_\_ entertained and informed.

In these days of democracy, public opinion rules everywhere. (4) \_\_\_\_\_ government can long withstand the pressure of a strong public opinion. It is, therefore, quite clear that the press controls public opinion, and public opinion, in turn, controls the government. Ultimately, the press controls the government. It acts as an interpreter between the government and the people and brings the rulers and the ruled (5) \_\_\_\_\_.

**SubQuestion No : 21**

**Q.21** Select the most appropriate option to fill in blank number 1.

Ans A). modern                      B). monolithic                      C). ancient                      D). prehistoric

**Correct Answer: A**

**Comprehension:**

In the following passage, some words have been deleted. Read the passage carefully and select the most appropriate option to fill in each blank.

The newspaper is one of the significant signs of (1) \_\_\_\_\_ civilisation. It is the most popular form of reading in the (2) \_\_\_\_\_ times because it interests all sorts of people. It is full of political news, sports and commercial news, as well as articles by well-known writers. A newspaper keeps us (3) \_\_\_\_\_ entertained and informed.

In these days of democracy, public opinion rules everywhere. (4) \_\_\_\_\_ government can long withstand the pressure of a strong public opinion. It is, therefore, quite clear that the press controls public opinion, and public opinion, in turn, controls the government. Ultimately, the press controls the government. It acts as an interpreter between the government and the people and brings the rulers and the ruled (5) \_\_\_\_\_.

**SubQuestion No : 22**

**Q.22** Select the most appropriate option to fill in blank number 2.

Ans A). dark                      B). past                      C). future                      D). present

**Correct Answer: D**

**Comprehension:**

In the following passage, some words have been deleted. Read the passage carefully and select the most appropriate option to fill in each blank.

The newspaper is one of the significant signs of (1) \_\_\_\_\_ civilisation. It is the most popular form of reading in the (2) \_\_\_\_\_ times because it interests all sorts of people. It is full of political news, sports and commercial news, as well as articles by well-known writers. A newspaper keeps us (3) \_\_\_\_\_ entertained and informed.

In these days of democracy, public opinion rules everywhere. (4) \_\_\_\_\_ government can long withstand the pressure of a strong public opinion. It is, therefore, quite clear that the press controls public opinion, and public opinion, in turn, controls the government. Ultimately, the press controls the government. It acts as an interpreter between the government and the people and brings the rulers and the ruled (5) \_\_\_\_\_.

**SubQuestion No : 23**

**Q.23** Select the most appropriate option to fill in blank number 3.

Ans A). or                      B). nor                      C). both                      D). either

**Correct Answer: C**

**Comprehension:**

In the following passage, some words have been deleted. Read the passage carefully and select the most appropriate option to fill in each blank.

The newspaper is one of the significant signs of (1) \_\_\_\_\_ civilisation. It is the most popular form of reading in the (2) \_\_\_\_\_ times because it interests all sorts of people. It is full of political news, sports and commercial news, as well as articles by well-known writers. A newspaper keeps us (3) \_\_\_\_\_ entertained and informed.

In these days of democracy, public opinion rules everywhere. (4) \_\_\_\_\_ government can long withstand the pressure of a strong public opinion. It is, therefore, quite clear that the press controls public opinion, and public opinion, in turn, controls the government. Ultimately, the press controls the government. It acts as an interpreter between the government and the people and brings the rulers and the ruled (5) \_\_\_\_\_.

**SubQuestion No : 24**

**Q.24** Select the most appropriate option to fill in blank number 4.

Ans A). Some                      B). Both                      C). All                      D). No

**Correct Answer: D**

**Comprehension:**

In the following passage, some words have been deleted. Read the passage carefully and select the most appropriate option to fill in each blank.

The newspaper is one of the significant signs of (1) \_\_\_\_\_ civilisation. It is the most popular form of reading in the (2) \_\_\_\_\_ times because it interests all sorts of people. It is full of political news, sports and commercial news, as well as articles by well-known writers. A newspaper keeps us (3) \_\_\_\_\_ entertained and informed.

In these days of democracy, public opinion rules everywhere. (4) \_\_\_\_\_ government can long withstand the pressure of a strong public opinion. It is, therefore, quite clear that the press controls public opinion, and public opinion, in turn, controls the government. Ultimately, the press controls the government. It acts as an interpreter between the government and the people and brings the rulers and the ruled (5) \_\_\_\_\_.

**SubQuestion No : 25**

**Q.25** Select the most appropriate option to fill in blank number 5.

Ans A). overall

B). jointed

C). together

D). apart

**Correct Answer: C**