

## Combined Graduate Level Examination 2024 Tier I

Roll Number	
Candidate Name	
Venue Name	
Exam Date	13/09/2024
Exam Time	4:00 PM - 5:00 PM
Subject	Combined Graduate Level Examination Tier I

### Section : General Intelligence and Reasoning

Q.1 एक निश्चित कूट भाषा में, 'ESTATE' को '80' लिखा जाता है, 'FAMOUS' को '85' लिखा जाता है, उसी कूट भाषा में 'FOREST' को कैसे लिखा जाएगा?

- Ans
- ☒ 1. 83
  - ☒ 2. 88
  - ☒ 3. 93
  - ☒ 4. 90

Question ID : 630680416122

Option 1 ID : 6306801623251

Option 2 ID : 6306801623253

Option 3 ID : 6306801623252

Option 4 ID : 6306801623254

Status : Answered

Chosen Option : 3

Q.2 उस विकल्प का चयन कीजिए जिसमें संख्याओं के मध्य वही संबंध है जो नीचे दिए गए युग्म की संख्याओं के मध्य है।

(ध्यान दें: संख्याओं को उनके घटक अंकों में विभाजित किए बिना, पूर्ण संख्याओं पर संक्रियाएं की जानी चाहिए। उदाहरण के लिए 13 को लें- 13 पर की जाने वाली संक्रियाएं जैसे जोड़ना/ घटाना/ गुणा करना आदि केवल 13 पर की जा सकती हैं। 13 को 1 और 3 में तोड़ना और फिर 1 और 3 पर गणितीय संक्रियाएं करने की अनुमति नहीं है।)

63 : 441

51 : 357

- Ans
- ☒ 1. 89 : 96
  - ☒ 2. 68 : 340
  - ☒ 3. 54 : 324
  - ☒ 4. 39 : 273

Question ID : 630680326562

Option 1 ID : 6306801270334

Option 2 ID : 6306801270335

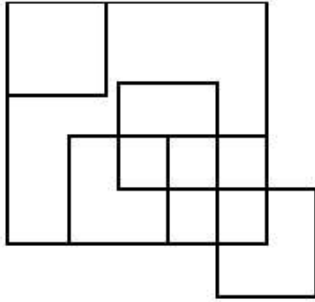
Option 3 ID : 6306801270333

Option 4 ID : 6306801270336

Status : Answered

Chosen Option : 4

Q.3 नीचे दर्शायी गयी आकृति में कितने वर्ग हैं?



Ans ☒ 1. 11

☐ 2. 10

☐ 3. 9

☐ 4. 13

Question ID : 630680296649

Option 1 ID : 6306801154250

Option 2 ID : 6306801154247

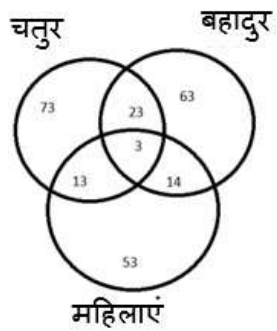
Option 3 ID : 6306801154248

Option 4 ID : 6306801154249

Status : Answered

Chosen Option : 4

Q.4 दिए गए वेन आरेख का अध्ययन करें और नीचे दिए गए प्रश्न का उत्तर दें।



कितनी महिलाएं या तो चतुर हैं या बहादुर हैं या दोनों हैं?

Ans ☐ 1. 23

☐ 2. 27

☒ 3. 30

☐ 4. 26

Question ID : 630680199102

Option 1 ID : 630680772117

Option 2 ID : 630680772118

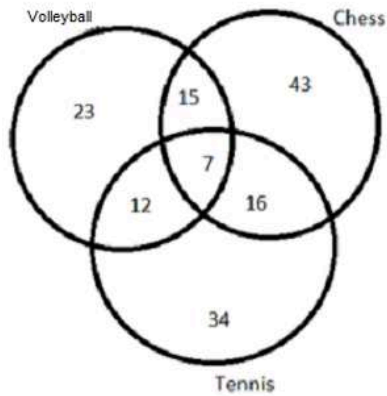
Option 3 ID : 630680772116

Option 4 ID : 630680772115

Status : Answered

Chosen Option : 3

Q.5 दिए गए वेन आरेख के अनुसार ऐसे कितने लोग हैं जो या तो केवल वॉलीबॉल या केवल शतरंज खेलते हैं?



Volleyball = वॉलीबॉल Chess = शतरंज Tennis = टेनिस

- Ans
- ☒ 1. 81
  - ☒ 2. 88
  - ☒ 3. 66
  - ☒ 4. 15

Question ID : 630680137035

Option 1 ID : 630680530739

Option 2 ID : 630680530741

Option 3 ID : 630680530740

Option 4 ID : 630680530738

Status : Answered

Chosen Option : 3

Q.6 निम्नलिखित श्रृंखला को जारी रखने के लिए प्रश्न चिह्न (?) के स्थान पर कौन-सी आकृति आनी चाहिए?

2		D	X		↑	D		X	2		↑	?
O	X	5	2	O	7	7	2	O	D	7	S	
↑			D			↑			X			

Ans

✗ 1.

X		2
7	S	D
↑		

✗ 2.

↑		X
S	D	7
2		

✗ 3.

↑		X
7	S	D
2		

✓ 4.

X		2
S	D	7
↑		

Question ID : 630680214427

Option 1 ID : 630680831739

Option 2 ID : 630680831742

Option 3 ID : 630680831741

Option 4 ID : 630680831740

Status : Answered

Chosen Option : 4

Q.7 शब्द 'REDUCTION' के प्रत्येक अक्षर को अंग्रेजी वर्णानुक्रम में व्यवस्थित किया गया है। इस प्रकार बने अक्षरों के समूह में बाएं से तीसरे और बाएं से चौथे अक्षर के बीच अंग्रेजी वर्णानुक्रम में कितने अक्षर हैं?

Ans

- ✗ 1. दो
- ✗ 2. एक
- ✗ 3. चार
- ✓ 4. तीन

Question ID : 630680313410

Option 1 ID : 6306801219506

Option 2 ID : 6306801219505


Option 3 ID : 6306801219508

Option 4 ID : 6306801219507

Status : Answered

Chosen Option : 4

Q.8 निम्नलिखित चार विकल्पों में से तीन किसी न किसी रूप में समान हैं और इस प्रकार, एक समूह बनाते हैं। कौन-सा विकल्प उस समूह से संबंधित नहीं है?  
(ध्यान दें: संख्याओं को उनके घटक अंकों में तोड़े बिना, संक्रियाएं पूर्ण संख्याओं पर की जानी चाहिए। उदाहरण के लिए 13 को लें- संख्या 13 में की जाने वाली संक्रिया, जैसे कि जोड़ना/घटाना/गुणा करना केवल 13 में किया जा सकता है। 13 को अंक 1 और 3 में तोड़ना और फिर 1 और 3 के साथ गणितीय संक्रियाएं करने की अनुमति नहीं है।)

Ans  1.  $360 - 12 - 6$

 2.  $82 - 8 - 2$

 3.  $63 - 6 - 3$

 4.  $164 - 10 - 4$

Question ID : 630680196582

Option 1 ID : 630680762630

Option 2 ID : 630680762628

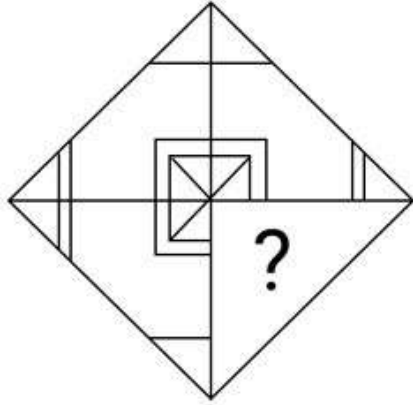
Option 3 ID : 630680762627

Option 4 ID : 630680762629

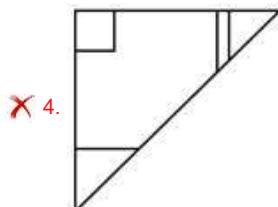
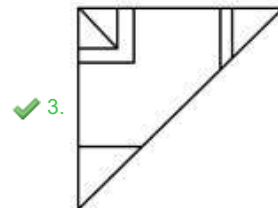
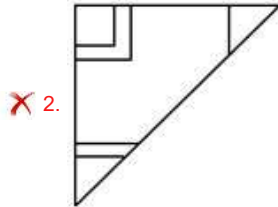
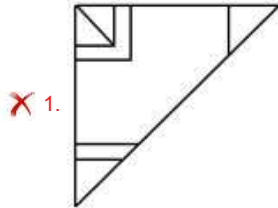
Status : Answered

Chosen Option : 1

Q.9 उस विकल्प आकृति का चयन कीजिए, जो पैटर्न को पूरा करने के लिए नीचे दी गई आकृति में प्रश्न चिह्न (?) को प्रतिस्थापित करेगी।



Ans



Question ID : 630680318351

Option 1 ID : 6306801238484

Option 2 ID : 6306801238482

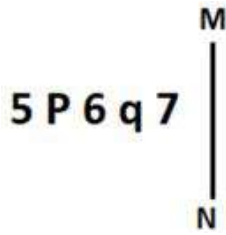
Option 3 ID : 6306801238483

Option 4 ID : 6306801238481

Status : Answered

Chosen Option : 3

Q.10 जब दर्पण को नीचे दर्शाए गए अनुसार MN पर रखा जाता है तो दी गई आकृति के सही दर्पण प्रतिबिंब का चयन कीजिए।



- Ans
- ☒ 1.  $\angle p \partial q \tau$
  - ☒ 2.  $\angle p \partial q \tau$
  - ☒ 3.  $\angle p \partial q 5$
  - ☒ 4.  $\angle p \partial P \tau$

Question ID : 630680356668

Option 1 ID : 6306801388676

Option 2 ID : 6306801388674

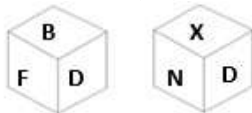
Option 3 ID : 6306801388673

Option 4 ID : 6306801388675

Status : Answered

Chosen Option : 2

Q.11 एक पासे के विभिन्न फलकों पर छह अक्षर B, F, D, X, N और A लिखे गए हैं। इस पासे की दो स्थितियाँ नीचे चित्र में दर्शाई गई हैं। D के विपरीत वाले फलक पर आने वाला अक्षर ज्ञात कीजिए।



- Ans
- ☒ 1. B
  - ☒ 2. N
  - ☒ 3. F
  - ☒ 4. A

Question ID : 630680222367

Option 1 ID : 630680863302

Option 2 ID : 630680863299

Option 3 ID : 630680863301

Option 4 ID : 630680863300

Status : Answered

Chosen Option : 4

Q.12 उस विकल्प का चयन कीजिए जो उन अक्षरों को प्रदर्शित करता है जिन्हें नीचे दिए गए रिक्त स्थानों में बाएं से दाएं क्रमिक रूप से रखने पर अक्षर श्रृंखला पूर्ण हो जाएगी।

\_ O \_ O \_ \_ O \_ P \_ O \_

- Ans
- ☒ 1. OPOPOOP
  - ☒ 2. PPOOPOP
  - ☒ 3. PPOOPOO
  - ☒ 4. OOPPPOO

Question ID : 630680262381

Option 1 ID : 6306801019164

Option 2 ID : 6306801019163

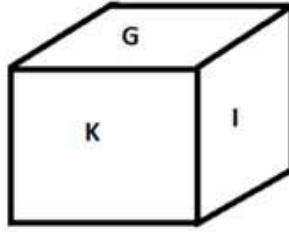
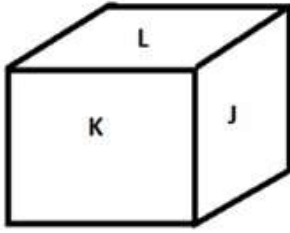
Option 3 ID : 6306801019165

Option 4 ID : 6306801019166

Status : Answered

Chosen Option : 1

Q.13 एक पासे के विभिन्न फलकों पर छः अक्षर G, H, I, J, K और L लिखे गए हैं। नीचे दिए गए चित्र में इस पासे की दो स्थितियों को दर्शाया गया है। दिए गए विकल्पों में से G के विपरीत फलक पर लिखा अक्षर ज्ञात कीजिए।



- Ans
- ☒ 1. K
  - ☒ 2. L
  - ☒ 3. I
  - ☒ 4. J

Question ID : 630680189139

Option 1 ID : 630680733365

Option 2 ID : 630680733368

Option 3 ID : 630680733367

Option 4 ID : 630680733366

Status : Answered

Chosen Option : 2

Q.14 नीचे संख्याओं के दो समुच्चय दिए गए हैं। संख्याओं के प्रत्येक समुच्चय में, पहली संख्या पर कुछ निश्चित गणितीय संक्रिया करने पर दूसरी संख्या प्राप्त होती है। इसी प्रकार, दूसरी संख्या पर कुछ निश्चित गणितीय संक्रिया करने पर तीसरी संख्या प्राप्त होती है और इसी तरह आगे भी होती है। दिए गए विकल्पों में से कौन-सा विकल्प दिए गए समुच्चयों की तरह संक्रियाओं के समान समुच्चय का अनुसरण करता है?

(नोट: संख्याओं को उनके घटक अंकों में तोड़े बिना, पूर्ण संख्याओं पर संक्रियाएँ की जानी चाहिए। उदाहरण के लिए 13 लीजिए - 13 पर की जाने वाली संक्रियाएँ जैसे कि 13 में जोड़ना/घटाना/गुणा करना आदि केवल 13 पर किया जा सकता है। 13 को 1 और 3 में तोड़ना, तथा 1 और 3 पर गणितीय संक्रिया करने की अनुमति नहीं है।)

9 – 27 – 31 – 36; 10 – 30 – 34 – 39

- Ans
- ☒ 1. 15 – 45 – 50 – 55
  - ☒ 2. 5 – 15 – 19 – 24
  - ☒ 3. 11 – 33 – 38 – 44
  - ☒ 4. 8 – 24 – 28 – 35

Question ID : 630680814081

Option 1 ID : 6306803189544

Option 2 ID : 6306803189541

Option 3 ID : 6306803189543

Option 4 ID : 6306803189542

Status : Answered

Chosen Option : 2



Q.15 निम्नलिखित में से कौन-सा पद दी गई श्रृंखला में प्रश्न चिह्न (?) को प्रतिस्थापित करेगा?  
BHVC, ZLTG, XPRK, ?, TXNS

- Ans ☒ 1. VTPN  
☒ 2. VPTN  
☒ 3. VTPO  
☒ 4. VPTO

Question ID : 630680416984  
Option 1 ID : 6306801626699  
Option 2 ID : 6306801626702  
Option 3 ID : 6306801626700  
Option 4 ID : 6306801626701  
Status : Answered  
Chosen Option : 3

Q.16 एक निश्चित तर्क का अनुसरण करते हुए 13, 117 से संबंधित है। उसी तर्क का अनुसरण करते हुए, 23, 207 से संबंधित है। उसी तर्क का अनुसरण करते हुए, 51 निम्नलिखित में से किससे संबंधित है?

(नोट: संख्याओं को उसके घटक अंकों में तोड़े बिना, पूर्ण संख्याओं पर संक्रियाएं की जानी चाहिए।  
उदाहरण के लिए संख्या 13 को लें - 13 पर संक्रियाएं, जैसे कि 13 में जोड़ना/घटाना/गुणा करना आदि,  
की जा सकती हैं। 13 को 1 और 3 में तोड़ने और फिर 1 और 3 पर गणितीय संक्रियाएं करने की अनुमति  
नहीं है)

- Ans ☒ 1. 359  
☒ 2. 459  
☒ 3. 450  
☒ 4. 350

Question ID : 630680344652  
Option 1 ID : 6306801340920  
Option 2 ID : 6306801340917  
Option 3 ID : 6306801340918  
Option 4 ID : 6306801340919  
Status : Answered  
Chosen Option : 2

Q.17 विकल्पों में दी गई उस आकृति की पहचान कीजिए जिसे प्रश्न चिह्न (?) के स्थान पर रखने पर श्रृंखला तार्किक रूप से पूरी हो जाएगी।

P	0	W	P	X	W	1	X	
1		0		P		W		?
W	X	X	1	1	0	0	P	

Ans

✗ 1.

P	0
1	
W	X

✓ 2.

0	1
	X
P	W

✗ 3.

0	1
	X
W	P

✗ 4.

0	1
	P
W	X

Question ID : 630680471486  
 Option 1 ID : 6306801841660  
 Option 2 ID : 6306801841661  
 Option 3 ID : 6306801841658  
 Option 4 ID : 6306801841659  
 Status : Answered  
 Chosen Option : 2

Q.18 निम्नलिखित में से कौन सी संख्या दी गई श्रृंखला में प्रश्न चिह्न (?) का स्थान लेगी?  
 22, 23, 27, 54, 70, 195, ?

- Ans
- ✗ 1. 196
  - ✗ 2. 200
  - ✓ 3. 231
  - ✗ 4. 230

Question ID : 630680411888  
 Option 1 ID : 6306801606390  
 Option 2 ID : 6306801606389  
 Option 3 ID : 6306801606387  
 Option 4 ID : 6306801606388  
 Status : Answered  
 Chosen Option : 3

Q.19 उस शब्द-युग्म का चयन करें, जो नीचे दिए गए शब्दों के युग्म में व्यक्त किए गए संबंध के समान संबंधों का सबसे बेहतर ढंग से प्रतिनिधित्व करता है।  
(शब्दों को अर्थपूर्ण हिंदी शब्द माना जाना चाहिए और शब्द में अक्षरों की संख्या/व्यंजनों/स्वरों की संख्या के आधार पर एक दूसरे से संबंधित नहीं होना चाहिए)  
Kaziranga : Rhinoceros (काजीरंगा : गैंडा)

- Ans
- ☒ 1. Ranthambore : Peacocks (रणथंभौर : मोर)
  - ☒ 2. Gahirmatha : Lions (गहिरमाथा : सिंह)
  - ☒ 3. Gir : Leopards (गिर : तेंदुआ)
  - ☒ 4. Periyar : Elephants (पेरियार : हाथी)

Question ID : 630680417410

Option 1 ID : 6306801628404

Option 2 ID : 6306801628406

Option 3 ID : 6306801628403

Option 4 ID : 6306801628405

Status : Marked For Review

Chosen Option : 4

Q.20 यदि '+' और '-' को आपस में बदल दिया जाए और 'x' और '÷' को आपस में बदल दिया जाए, तो निम्नलिखित समीकरण में प्रश्न चिह्न (?) के स्थान पर क्या आएगा?  
 $2864 \times 4 - 168 \div 2 + 69 = ?$

- Ans
- ☒ 1. 839
  - ☒ 2. 389
  - ☒ 3. 983
  - ☒ 4. 938

Question ID : 630680411725

Option 1 ID : 6306801605738

Option 2 ID : 6306801605736

Option 3 ID : 6306801605737

Option 4 ID : 6306801605735

Status : Answered

Chosen Option : 3

Q.21 यहाँ दो शब्दों के युग्म दिए गए हैं जो एक निश्चित तरीके से एक दूसरे से संबंधित हैं। निम्नलिखित चार शब्द-युग्मों में से तीन शब्द-युग्म एक समान हैं क्योंकि इनके बीच में समान संबंध है और इस प्रकार एक समूह बनाते हैं। निम्नलिखित में से कौन-सा शब्द-युग्म इस समूह से संबंधित नहीं है?  
(शब्दों को सार्थक हिंदी शब्दों के रूप में माना जाना चाहिए और शब्द में अक्षरों की संख्या/व्यंजनों/स्वरों की संख्या के आधार पर समूहीकृत नहीं किया जाना चाहिए)

- Ans
- ☒ 1. चिंता - भय
  - ☒ 2. आनंद - शांति
  - ☒ 3. कष्ट - खुशी
  - ☒ 4. समस्या - चिंता

Question ID : 630680798595

Option 1 ID : 6306803129251

Option 2 ID : 6306803129254

Option 3 ID : 6306803129252

Option 4 ID : 6306803129253

Status : Answered

Chosen Option : 3

Q.22 उस विकल्प का चयन करें जो तीसरे शब्द से उसी प्रकार संबंधित है जिस प्रकार दूसरा शब्द पहले शब्द से संबंधित है। (शब्दों को अर्थपूर्ण अंग्रेजी/हिन्दी शब्दों के रूप में माना जाना चाहिए और इन्हें शब्द में अक्षरों की संख्या/व्यंजनों की संख्या/स्वरों की संख्या के आधार पर एक दूसरे से संबद्ध नहीं किया जाना चाहिए।)

जादूगर : जादू :: नर्तक : ?

- Ans
- ☒ 1. चलचित्र
  - ☒ 2. नृत्य
  - ☒ 3. गीत
  - ☒ 4. थिएटर

Question ID : 630680416217  
Option 1 ID : 6306801623633  
Option 2 ID : 6306801623632  
Option 3 ID : 6306801623631  
Option 4 ID : 6306801623634

Status : Answered

Chosen Option : 2

Q.23 निम्नलिखित समीकरण में यदि '+' और 'x' को आपस में बदल दिया जाए और '-' और '÷' को आपस में बदल दिया जाए तो प्रश्न चिह्न (?) के स्थान पर कौन सी संख्या आएगी?  
 $27 - 6 + 4 \times 8 \div 6 = ?$

- Ans
- ☒ 1. 18
  - ☒ 2. 16
  - ☒ 3. 20
  - ☒ 4. 22

Question ID : 630680336514  
Option 1 ID : 6306801308778  
Option 2 ID : 6306801308777  
Option 3 ID : 6306801308779  
Option 4 ID : 6306801308780

Status : Answered

Chosen Option : 3

Q.24 एक निश्चित कूट भाषा में, 'VAT' को '43' के रूप में कूटबद्ध किया जाता है और 'AWW' को '47' के रूप में कूटबद्ध किया जाता है। उसी भाषा में 'ZHU' को किस प्रकार कूटबद्ध किया जाएगा?

- Ans
- ☒ 1. 62
  - ☒ 2. 48
  - ☒ 3. 55
  - ☒ 4. 63

Question ID : 630680172176  
Option 1 ID : 630680667142  
Option 2 ID : 630680667143  
Option 3 ID : 630680667141  
Option 4 ID : 630680667140

Status : Answered

Chosen Option : 3

Q.25 एक निश्चित कूट भाषा में,  
'A ? B' का अर्थ है कि 'A, B की माता है',  
'A ! B' का अर्थ है कि 'A, B की पत्नी है',  
'A & B' का अर्थ है कि 'A, B का भाई है' और  
'A x B' का अर्थ है कि 'A, B का पिता है'।  
निम्नलिखित में से किसका अर्थ यह है कि Z, L की परसास (पत्नी के पिता की माता) है?

Ans ☒ 1. Z ? B x T & J ! L

☒ 2. Z & B ! T x J ? L

☒ 3. Z ? B ! T & J x L

☒ 4. Z ! B x T ? J & L

Question ID : 630680797530

Option 1 ID : 6306803125076

Option 2 ID : 6306803125078

Option 3 ID : 6306803125079

Option 4 ID : 6306803125077

Status : Answered

Chosen Option : 1

Section : General Awareness

Q.1 एक सामान्य इलेक्ट्रोलाइट विकार का नाम बताइए जो तब घटित होता है जब आपके रक्त में सोडियम की मात्रा असामान्य रूप से कम हो जाती है।

Ans ☒ 1. अवपोटेशियम रक्तता (hypokalemia)

☒ 2. अवसोडियम रक्तता (Hyponatremia)

☒ 3. अतिसोडियम रक्तता (hypernatremia)

☒ 4. अतिपोटेशियम रक्तता (Hyperkalemia)

Question ID : 630680295296

Option 1 ID : 6306801148909

Option 2 ID : 6306801148908

Option 3 ID : 6306801148911

Option 4 ID : 6306801148910

Status : Answered

Chosen Option : 2

Q.2 निम्नलिखित में से कौन-सी फसल भारत में जायद के मौसम में नहीं उगाई जाती है?

Ans ☒ 1. खरबूजा

☒ 2. तरबूज

☒ 3. खीरा

☒ 4. चावल

Question ID : 630680111987

Option 1 ID : 630680433674

Option 2 ID : 630680433677

Option 3 ID : 630680433676

Option 4 ID : 630680433675

Status : Answered

Chosen Option : 4

Q.3 भारत और ऑस्ट्रेलिया के बीच खेले गए T20 महिला विश्व कप 2023 के सेमीफाइनल में प्लेयर ऑफ द मैच कौन रही थी?

- Ans ☒ 1. एशले गार्डनर (Ashleigh Gardner)
- ☒ 2. हरमनप्रीत कौर (Harmanpreet kaur)
- ☒ 3. मेग लैनिंग (Meg Lanning)
- ☒ 4. दीप्ति शर्मा (Deepti Sharma)

Question ID : 630680329493  
Option 1 ID : 6306801281713  
Option 2 ID : 6306801281714  
Option 3 ID : 6306801281715  
Option 4 ID : 6306801281716  
Status : Not Answered  
Chosen Option : --

Q.4 भारत में विशेष रूप से केरल, कर्नाटक और तमिलनाडु के कुछ हिस्सों में पूर्व-मानसून वर्षा की घटना का वर्णन करने के लिए आम बोलचाल में इस्तेमाल होने वाला शब्द कौन-सा है?

- Ans ☒ 1. कालबैसाखी
- ☒ 2. आम की वर्षा (मैंगो शॉवर्स)
- ☒ 3. नोर वेस्टर्स
- ☒ 4. संतरे की वर्षा (ऑरेंज शॉवर्स)

Question ID : 63068085804  
Option 1 ID : 630680332679  
Option 2 ID : 630680332676  
Option 3 ID : 630680332678  
Option 4 ID : 630680332677  
Status : Marked For Review  
Chosen Option : 3

Q.5 वर्ष 1791 में हिंदू कॉलेज की स्थापना कहाँ हुई थी?

- Ans ☒ 1. पटना
- ☒ 2. बनारस
- ☒ 3. कोलकाता
- ☒ 4. मथुरा

Question ID : 630680511541  
Option 1 ID : 6306801999287  
Option 2 ID : 6306801999289  
Option 3 ID : 6306801999286  
Option 4 ID : 6306801999288  
Status : Marked For Review  
Chosen Option : 2

Q.6 संगीत नाटक अकादमी पुरस्कार से सम्मानित सुलोचना चव्हाण एक प्रसिद्ध \_\_\_\_\_ गायिका थीं।

- Ans ☒ 1. लावणी
- ☒ 2. गिद्धा
- ☒ 3. घूमर
- ☒ 4. झूमर

Question ID : 630680216243  
Option 1 ID : 630680838947  
Option 2 ID : 630680838950  
Option 3 ID : 630680838948  
Option 4 ID : 630680838949  
Status : Answered  
Chosen Option : 3

Q.7 निम्नलिखित मौर्य राजाओं में से 'पियदस्सी' नाम किससे संबंधित है?

- Ans
- ☒ 1. बिंदुसार
  - ☒ 2. चन्द्रगुप्त मौर्य
  - ☒ 3. अशोक
  - ☒ 4. बृहद्रथ

Question ID : 630680412481  
Option 1 ID : 6306801608748  
Option 2 ID : 6306801608747  
Option 3 ID : 6306801608749  
Option 4 ID : 6306801608750  
Status : Answered  
Chosen Option : 3

Q.8 निम्नलिखित में से किसने बुडापेस्ट, हंगरी में आयोजित 2021 विश्व कैडेट कुश्ती चैम्पियनशिप में स्वर्ण पदक जीता?

- Ans
- ☒ 1. पूजा ढांडा
  - ☒ 2. गीता फोगाट
  - ☒ 3. प्रिया मलिक
  - ☒ 4. विनेश फोगाट

Question ID : 630680134102  
Option 1 ID : 630680519304  
Option 2 ID : 630680519303  
Option 3 ID : 630680519302  
Option 4 ID : 630680519305  
Status : Marked For Review  
Chosen Option : 4

Q.9 निम्नलिखित में से कौन-सा औद्योगिक नीति वक्तव्य 1980 का सामाजिक-आर्थिक उद्देश्य नहीं है?

- Ans
- ☒ 1. अधिकतम प्रत्यक्ष विदेशी निवेश की अनुमति
  - ☒ 2. उच्च रोजगार सृजन
  - ☒ 3. ऊँची कीमतों और खराब गुणवत्ता के विरुद्ध उपभोक्ता संरक्षण
  - ☒ 4. निर्यातमुख उद्योगों को बढ़ावा देना

Question ID : 6306801048053  
Option 1 ID : 6306804114261  
Option 2 ID : 6306804114258  
Option 3 ID : 6306804114260  
Option 4 ID : 6306804114259  
Status : Marked For Review  
Chosen Option : 1

Q.10 डॉ. बी.आर. अंबेडकर ने भारतीय संविधान के \_\_\_\_\_ के रूप में राज्य के नीति निर्देशक तत्वों का वर्णन किया है।

- Ans
- ☒ 1. संविधान के पहचान-पत्र
  - ☒ 2. संविधान के सर्वाधिक बहुमूल्य भाग
  - ☒ 3. राज्य की आत्मा
  - ☒ 4. संविधान की एक नवीन विशेषता

Question ID : 630680329453  
Option 1 ID : 6306801281554  
Option 2 ID : 6306801281555  
Option 3 ID : 6306801281553  
Option 4 ID : 6306801281556  
Status : Answered  
Chosen Option : 3

Q.11 Grignard reagent is represented as:

- Ans ☒ 1.  $\text{CH}_3\text{-Ca-F}$   
☒ 2.  $\text{CH}_3\text{-Mg-Cl}$   
☒ 3.  $\text{H-Mg-H}$   
☒ 4.  $\text{CH}_3\text{-Be-F}$

Question ID : 630680102247

Option 1 ID : 630680397272

Option 2 ID : 630680397271

Option 3 ID : 630680397273

Option 4 ID : 630680397274

Status : Marked For Review

Chosen Option : 2

Q.12 निम्नलिखित में से किस वर्ष में भारत विश्व बैडमिंटन चैम्पियनशिप की मेजबानी करेगा?

- Ans ☒ 1. 2028 में  
☒ 2. 2027 में  
☒ 3. 2025 में  
☒ 4. 2026 में

Question ID : 630680510791

Option 1 ID : 6306801996297

Option 2 ID : 6306801996296

Option 3 ID : 6306801996294

Option 4 ID : 6306801996295

Status : Not Answered

Chosen Option : --

Q.13 मन्नार की खाड़ी कहाँ स्थित है?

- Ans ☒ 1. भारत के दक्षिण-पूर्वी सिरे और श्रीलंका के उत्तर-पश्चिमी तट के बीच  
☒ 2. भारत के दक्षिण-पूर्वी सिरे और श्रीलंका के पश्चिमी तट के बीच  
☒ 3. भारत के दक्षिण-पूर्वी सिरे और श्रीलंका के दक्षिणी तट के बीच  
☒ 4. भारत के दक्षिण-पूर्वी सिरे और श्रीलंका के पूर्वी तट के बीच

Question ID : 630680137261

Option 1 ID : 630680531638

Option 2 ID : 630680531639

Option 3 ID : 630680531641

Option 4 ID : 630680531640

Status : Answered

Chosen Option : 1

Q.14 राष्ट्रपति द्वारा राज्यसभा के लिए कितने सदस्यों को मनोनीत किया जाता है?

- Ans ☒ 1. 12  
☒ 2. 10  
☒ 3. 15  
☒ 4. 20

Question ID : 630680413113

Option 1 ID : 6306801611278

Option 2 ID : 6306801611275

Option 3 ID : 6306801611277

Option 4 ID : 6306801611276

Status : Answered

Chosen Option : 1



Q.15 26 अगस्त 2021 को असंगठित क्षेत्र के कामगारों और मजदूरों के कल्याण के लिए निम्नलिखित में से कौन-सी योजना शुरू की गई थी?

- Ans
- ☒ 1. ग्राम उजाला योजना
  - ☒ 2. पीएम मेटरिंग युवा स्कीम
  - ☒ 3. पीएम दक्ष योजना
  - ☒ 4. ई-श्रम पोर्टल

Question ID : 63068099698  
Option 1 ID : 630680387490  
Option 2 ID : 630680387488  
Option 3 ID : 630680387491  
Option 4 ID : 630680387489  
Status : Answered  
Chosen Option : 4

Q.16 निम्नलिखित में से कौन-सा फूल का घटक नहीं है?

- Ans
- ☒ 1. कर्णिका
  - ☒ 2. पुमंग
  - ☒ 3. काँटा
  - ☒ 4. दलपुंज

Question ID : 630680321340  
Option 1 ID : 6306801250070  
Option 2 ID : 6306801250072  
Option 3 ID : 6306801250069  
Option 4 ID : 6306801250071  
Status : Not Answered  
Chosen Option : --

Q.17 निम्नलिखित में से कौन मुगल सम्राट अकबर के शासनकाल में वकील था, जिसे खान-ए-खाना की उपाधि प्राप्त थी?

- Ans
- ☒ 1. राजा टोडरमल
  - ☒ 2. मुल्ला दो-पियाज़ा
  - ☒ 3. बीरबल
  - ☒ 4. बैरम खान

Question ID : 630680412401  
Option 1 ID : 6306801608429  
Option 2 ID : 6306801608428  
Option 3 ID : 6306801608427  
Option 4 ID : 6306801608430  
Status : Marked For Review  
Chosen Option : 2

Q.18 तेरह ताली लोक नृत्य मुख्य रूप से निम्नलिखित में से किस राज्य से संबंधित है?

- Ans
- ☒ 1. असम
  - ☒ 2. राजस्थान
  - ☒ 3. हरियाणा
  - ☒ 4. मध्य प्रदेश

Question ID : 630680164533  
Option 1 ID : 630680637249  
Option 2 ID : 630680637248  
Option 3 ID : 630680637251  
Option 4 ID : 630680637250  
Status : Answered  
Chosen Option : 3

Q.19 निम्नलिखित में से कौन-सा सरकार के लिए गैर-कर राजस्व स्रोत का उदाहरण है?

- Ans
- ☒ 1. व्यक्तिगत आय कर
  - ☒ 2. कॉर्पोरेट आय कर
  - ☒ 3. शुल्क और जुर्माना
  - ☒ 4. मूल्य वर्धित कर

Question ID : 630680324090  
Option 1 ID : 6306801260854  
Option 2 ID : 6306801260853  
Option 3 ID : 6306801260855  
Option 4 ID : 6306801260856  
Status : Answered  
Chosen Option : 3

Q.20 धारा का SI मात्रक क्या है?

- Ans
- ☒ 1. ओम
  - ☒ 2. मीटर
  - ☒ 3. वोल्ट
  - ☒ 4. एम्पियर

Question ID : 630680184307  
Option 1 ID : 630680714237  
Option 2 ID : 630680714240  
Option 3 ID : 630680714239  
Option 4 ID : 630680714238  
Status : Answered  
Chosen Option : 4

Q.21 गांधी-इरविन समझौते पर किस वर्ष हस्ताक्षर किए गए थे?

- Ans
- ☒ 1. 1941
  - ☒ 2. 1931
  - ☒ 3. 1929
  - ☒ 4. 1935

Question ID : 630680412374  
Option 1 ID : 6306801608322  
Option 2 ID : 6306801608319  
Option 3 ID : 6306801608321  
Option 4 ID : 6306801608320  
Status : Answered  
Chosen Option : 2

Q.22 ओडिशा में पुरी की 'रथ यात्रा' का त्योहार किस देवता को समर्पित है?

- Ans
- ☒ 1. भगवान जगन्नाथ
  - ☒ 2. भगवान शिव
  - ☒ 3. भगवान गणेश
  - ☒ 4. भगवान हनुमान

Question ID : 630680216007  
Option 1 ID : 630680838004  
Option 2 ID : 630680838003  
Option 3 ID : 630680838005  
Option 4 ID : 630680838006  
Status : Answered  
Chosen Option : 1

Q.23 अनुच्छेद 123 के अनुसार, अध्यादेश बनाने की शक्ति \_\_\_\_\_ की सबसे महत्वपूर्ण विधायी शक्ति है।

- Ans
- ☒ 1. विधान परिषद
  - ☒ 2. भारत के मुख्य न्यायाधीश
  - ☒ 3. राष्ट्रपति
  - ☒ 4. राज्य सभा

Question ID : 630680329455  
Option 1 ID : 6306801281563  
Option 2 ID : 6306801281564  
Option 3 ID : 6306801281561  
Option 4 ID : 6306801281562  
Status : Marked For Review  
Chosen Option : 3

Q.24 निम्नलिखित में से किस पौधे का उपयोग सर्दी और खांसी को ठीक करने के लिए किया जाता है?

- Ans
- ☒ 1. अर्जुन
  - ☒ 2. जामुन
  - ☒ 3. बबूल
  - ☒ 4. तुलसी

Question ID : 630680309108  
Option 1 ID : 6306801202612  
Option 2 ID : 6306801202609  
Option 3 ID : 6306801202610  
Option 4 ID : 6306801202611  
Status : Answered  
Chosen Option : 4

Q.25 वर्ष 1993 से प्रत्येक वर्ष किस संस्था द्वारा संगीत कला आचार्य पुरस्कार दिया जाता है?

- Ans
- ☒ 1. कलकत्ता संगीत विद्यालय
  - ☒ 2. शंकर महादेवन अकादमी
  - ☒ 3. मद्रास संगीत अकादमी
  - ☒ 4. सुब्रमण्यम एकेडमी ऑफ परफॉर्मिंग आर्ट्स

Question ID : 630680511793  
Option 1 ID : 6306802000143  
Option 2 ID : 6306802000144  
Option 3 ID : 6306802000142  
Option 4 ID : 6306802000145  
Status : Marked For Review  
Chosen Option : 2

Q.1 दी गई सारणी का अध्ययन कीजिए और प्रश्न का उत्तर दीजिए।

सारणी 2018 और 2023 के बीच छः अलग-अलग ब्रांड द्वारा उत्पादित कारों की संख्या (लाखों में) को दर्शाती है।

ब्रांड	2018	2019	2020	2021	2022	2023
A	36	40	42	45	47	42
B	23	37	28	32	34	26
C	45	47	51	54	56	48
D	35	37	42	32	36	28
E	57	56	52	38	48	42
F	43	45	56	41	52	40

किस ब्रांड का उत्पादन सबसे अधिक और किस वर्ष में है?

Ans ☒ 1. E और 2018

☐ 2. F और 2020

☐ 3. E और 2019

☐ 4. C और 2022

Question ID : 630680459188

Option 1 ID : 6306801793724

Option 2 ID : 6306801793722

Option 3 ID : 6306801793723

Option 4 ID : 6306801793721

Status : Answered

Chosen Option : 1

Q.2 कल्याण अपनी आय का 80% खर्च करता है। उसकी आय 15% बढ़ जाती है और उसका व्यय भी 5% बढ़ जाता है। उसकी बचत में वृद्धि का प्रतिशत क्या है?

Ans ☒ 1. 55%

☐ 2. 40%

☐ 3. 20%

☐ 4. 50%

Question ID : 630680397318

Option 1 ID : 6306801549330

Option 2 ID : 6306801549331

Option 3 ID : 6306801549329

Option 4 ID : 6306801549328

Status : Answered

Chosen Option : 1

Q.3

$$\frac{1.5 \times 1.5 + 2.5 \times 2.5 + 3.5 \times 3.5 + 2 \times 1.5 \times 2.5 + 2 \times 2.5 \times 3.5 + 2 \times 1.5 \times 3.5}{1.5 + 2.5 + 3.5}$$
 को सरल कीजिए।

Ans ☐ 1. 9.5

☒ 2. 7.5

☐ 3. 6.5

☐ 4. 8.5

Question ID : 630680413526

Option 1 ID : 6306801612931

Option 2 ID : 6306801612928

Option 3 ID : 6306801612929

Option 4 ID : 6306801612930

Status : Answered

Chosen Option : 2

Q.4 दी गई तालिका लिंग और साक्षरता के अनुसार जनसंख्या (केवल पुरुष और महिला) का प्रतिशत बंटन दर्शाती है।

राज्य	प्रतिशत साक्षर	लिंग	
		साक्षर	निरक्षर
		पुरुष : महिला	पुरुष : महिला
A	55	5 : 6	4 : 5
B	72	1 : 1	3 : 2
C	78	4 : 3	3 : 2

यदि राज्य A की साक्षर पुरुष जनसंख्या 5,00,000 है, तो राज्य की कुल जनसंख्या ज्ञात करें।

Ans  1. 20,00,000

 2. 30,00,000

 3. 40,00,000

 4. 16,00,000

Question ID : 630680135846

Option 1 ID : 630680526092

Option 2 ID : 630680526090

Option 3 ID : 630680526091

Option 4 ID : 630680526093

Status : Not Answered

Chosen Option : --

Q.5  $(17^{13} - 21) \div 18$  का शेषफल ज्ञात करें।

Ans  1. 15

 2. 17

 3. 14

 4. 21

Question ID : 630680137168

Option 1 ID : 630680531269

Option 2 ID : 630680531267

Option 3 ID : 630680531268

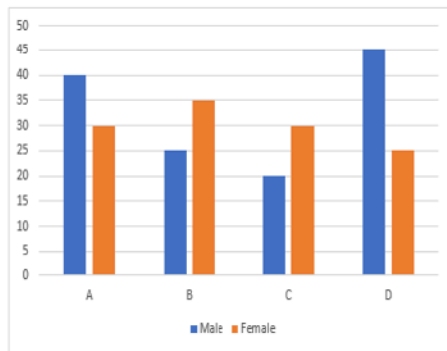
Option 4 ID : 630680531266

Status : Not Answered

Chosen Option : --

Q.6 दिए गए ग्राफ़ का ध्यानपूर्वक अध्ययन करें और उसके बाद पूछे गए प्रश्न का उत्तर दें।

दिया गया ग्राफ़ विकलांग लोगों की मदद के लिए चार विभिन्न जिलों A, B, C और D से पुरुष और महिला स्वयंसेवकों की संख्या को दर्शाता है।



स्वयंसेवकों की कुल संख्या ज्ञात कीजिए।

Male-पुरुष, Female-महिला

Ans ☒ 1. 250

☒ 2. 260

☒ 3. 230

☒ 4. 240

Question ID : 630680428002

Option 1 ID : 6306801670054

Option 2 ID : 6306801670053

Option 3 ID : 6306801670055

Option 4 ID : 6306801670052

Status : Answered

Chosen Option : 1

Q.7 दो समरूप त्रिभुजों  $\Delta RST$  और  $\Delta ABC$  का परिमाण क्रमशः 26 cm और 39 cm है। यदि  $AB = 24$  cm है, तो  $RS$  \_\_\_\_\_ है।

Ans ☒ 1. 16 cm

☒ 2. 18 cm

☒ 3. 36 cm

☒ 4. 24 cm

Question ID : 630680526524

Option 1 ID : 6306802058165

Option 2 ID : 6306802058163

Option 3 ID : 6306802058162

Option 4 ID : 6306802058164

Status : Answered

Chosen Option : 1

Q.8 यदि एक बेलन का वक्र पृष्ठीय क्षेत्रफल  $880 \text{ cm}^2$  है, तो उसकी ऊँचाई और त्रिज्या का गुणनफल क्या होगा?

- Ans
- ☐ 1.  $90 \text{ cm}^2$
  - ☐ 2.  $220 \text{ cm}^2$
  - ☒ 3.  $140 \text{ cm}^2$
  - ☐ 4.  $120 \text{ cm}^2$

Question ID : 630680421527  
Option 1 ID : 6306801644571  
Option 2 ID : 6306801644574  
Option 3 ID : 6306801644573  
Option 4 ID : 6306801644572  
Status : Answered  
Chosen Option : 3

Q.9 निम्नलिखित का सरलीकरण करें।  
 $16 \div 2 - 7 \times 15 \div 3 + 5 \times 5 + 4 \times 3 - 10$

- Ans
- ☐ 1. 1
  - ☐ 2. 2
  - ☐ 3. -1
  - ☒ 4. 0

Question ID : 6306801047991  
Option 1 ID : 6306804114008  
Option 2 ID : 6306804114009  
Option 3 ID : 6306804114006  
Option 4 ID : 6306804114007  
Status : Answered  
Chosen Option : 4

Q.10 किसी घड़ी में मिनट की सुई द्वारा 25 मिनट में बनाया गया कोण कितना है?

- Ans
- ☐ 1.  $\pi$
  - ☐ 2.  $\frac{5\pi}{3}$
  - ☒ 3.  $\frac{5\pi}{6}$
  - ☐ 4.  $\frac{\pi}{2}$

Question ID : 630680397675  
Option 1 ID : 6306801550628  
Option 2 ID : 6306801550626  
Option 3 ID : 6306801550627  
Option 4 ID : 6306801550625  
Status : Answered  
Chosen Option : 3

Q.11

निम्न तालिका में चार राज्यों में गरीबी रेखा से नीचे रहने वाली जनसंख्या का प्रतिशत तथा गरीबी रेखा से ऊपर एवं गरीबी रेखा से नीचे रहने वाले पुरुष-महिला के अनुपात को दर्शाया गया है।

राज्य	गरीबी रेखा से नीचे रहने वाली जनसंख्या का प्रतिशत	पुरुष-महिला अनुपात	
		गरीबी रेखा से नीचे	गरीबी रेखा से ऊपर
		पुरुष : महिला	पुरुष : महिला
P	13	1 : 2	1 : 4
Q	19	2 : 5	3 : 5
R	11	3 : 4	2 : 9
S	15	1 : 6	7 : 4

यदि Q और S प्रत्येक राज्य की जनसंख्या 14,700 है, तो इन राज्यों में गरीबी रेखा से नीचे रहने वाले पुरुषों की कुल संख्या कितनी है?

- Ans
- ☒ 1. 1479
  - ☒ 2. 1276
  - ☒ 3. 1364
  - ☒ 4. 1113

Question ID : 630680523819  
 Option 1 ID : 6306802047427  
 Option 2 ID : 6306802047429  
 Option 3 ID : 6306802047428  
 Option 4 ID : 6306802047430  
 Status : Marked For Review  
 Chosen Option : 1

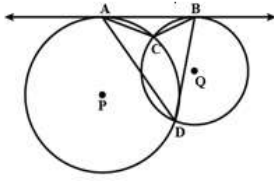
Q.12 एक नाविक को नाव से 30 km की दूरी तक जाने और वापस आने में 14 घंटे का समय लगता है। वह पाता है कि वह जितने समय में धारा की दिशा में 10 km नाव चला सकता है, उतने ही समय में धारा के विपरीत दिशा में 4 km नाव चला सकता है। धारा की चाल (km/h में) ज्ञात कीजिए।

- Ans
- ☒ 1.  $\frac{4}{9}$
  - ☒ 2.  $\frac{2}{9}$
  - ☒ 3.  $\frac{9}{4}$
  - ☒ 4.  $\frac{9}{2}$

Question ID : 630680428571  
 Option 1 ID : 6306801672329  
 Option 2 ID : 6306801672330  
 Option 3 ID : 6306801672328  
 Option 4 ID : 6306801672331  
 Status : Marked For Review  
 Chosen Option : 4



- Q.13 P और Q केंद्र वाले दो वृत्त दो बिंदुओं C और D पर प्रतिच्छेदित करते हैं। AB, बिन्दु A और बिन्दु B पर खींची गई दोनों वृत्तों की स्पर्श रेखा है। यदि  $\angle ADB = 68^\circ$  है, तो  $\angle ACB =$  \_\_\_\_\_ होगा।



- Ans ☒ 1.  $132^\circ$   
☒ 2.  $112^\circ$   
☒ 3.  $124^\circ$   
☒ 4.  $102^\circ$

Question ID : 630680296209

Option 1 ID : 6306801152504

Option 2 ID : 6306801152507

Option 3 ID : 6306801152505

Option 4 ID : 6306801152506

Status : Answered

Chosen Option : 3

- Q.14 एक बेईमान फल-विक्रेता 20% लाभ पर फल बेचता है लेकिन वह 1 kg के स्थान पर 950 gm बाट(weight) का उपयोग करता है। लाभ प्रतिशत क्या है?

- Ans ☒ 1.  $\frac{500}{19}\%$   
☒ 2.  $\frac{700}{19}\%$   
☒ 3.  $\frac{500}{32}\%$   
☒ 4.  $\frac{500}{17}\%$

Question ID : 630680137016

Option 1 ID : 630680530662

Option 2 ID : 630680530664

Option 3 ID : 630680530665

Option 4 ID : 630680530663

Status : Answered

Chosen Option : 1

- Q.15 दो पाइप P और Q एक टंकी को क्रमशः 36 मिनट और 45 मिनट में भर सकते हैं। यदि दोनों पाइपों को एक साथ खोल दिया जाए, तो टंकी को भरने में कितना समय लगेगा?

- Ans ☒ 1. 40.5 मिनट  
☒ 2. 81 मिनट  
☒ 3. 20 मिनट  
☒ 4. 10 मिनट

Question ID : 630680426588

Option 1 ID : 6306801664444

Option 2 ID : 6306801664442

Option 3 ID : 6306801664443

Option 4 ID : 6306801664445

Status : Answered

Chosen Option : 3

Q.16 राजेश द्वारा ₹10,000 की राशि 2 वर्षों के लिए 15% साधारण ब्याज की दर पर ऋण के रूप में ली जाती है। लेकिन राजेश इसे तय समय पर नहीं चुका सका और उसने दो और वर्ष का समय मांगा। इसलिए, ऋणदाता ने उस अवधि की ब्याज राशि को उसी ब्याज दर पर अगले दो वर्षों के लिए मूलधन के रूप में शामिल किया। 4 वर्ष के अंत में राजेश द्वारा भुगतान की गई कुल राशि ज्ञात करें।

Ans ☒ 1. ₹16,900

☐ 2. ₹15,630

☐ 3. ₹17,650

☐ 4. ₹18,590

Question ID : 630680374180

Option 1 ID : 6306801457993

Option 2 ID : 6306801457992

Option 3 ID : 6306801457991

Option 4 ID : 6306801457994

Status : Answered

Chosen Option : 1

Q.17 यदि  $m = a \sec A$  और  $y = b \tan A$  है, तो  $b^2 m^2 - a^2 y^2 + \frac{a^2 y^2}{b^2 m^2} + \cos^2 A$  का मान ज्ञात कीजिए।

Ans ☐ 1.  $1 - a^2 b^2$

☐ 2.  $a^2 b^2$

☐ 3.  $a^2 b^2 + 2$

☒ 4.  $a^2 b^2 + 1$

Question ID : 630680401760

Option 1 ID : 6306801566808

Option 2 ID : 6306801566806

Option 3 ID : 6306801566809

Option 4 ID : 6306801566807

Status : Not Answered

Chosen Option : --

Q.18 12.96 और 0.16 का माध्यानुपाती ज्ञात करें।

Ans ☐ 1. 1.69

☐ 2. 1.21

☐ 3. 1.96

☒ 4. 1.44

Question ID : 630680428538

Option 1 ID : 6306801672198

Option 2 ID : 6306801672196

Option 3 ID : 6306801672199

Option 4 ID : 6306801672197

Status : Answered

Chosen Option : 4

Q.19  $A = 60^\circ$  होने पर  $\left(\frac{\operatorname{cosec} A}{\operatorname{cosec} A - 1} + \frac{\operatorname{cosec} A}{\operatorname{cosec} A + 1}\right) \left(\frac{\sec A}{\sec A - 1} + \frac{\sec A}{\sec A + 1}\right)^{-1}$  का मान क्या होगा ?

- Ans ☐ 1. 4  
☒ 2. 3  
☐ 3. 2  
☐ 4. 1

Question ID : 630680183249

Option 1 ID : 630680710065

Option 2 ID : 630680710066

Option 3 ID : 630680710067

Option 4 ID : 630680710068

Status : Answered

Chosen Option : 4

Q.20 12 cm त्रिज्या वाले एक वृत्त के एक त्रिज्यखंड का क्षेत्रफल कितना होगा, जो 7 cm लंबे चाप द्वारा निर्मित हुआ है?

- Ans ☒ 1.  $42 \text{ cm}^2$   
☐ 2.  $84 \text{ cm}^2$   
☐ 3.  $21 \text{ cm}^2$   
☐ 4.  $28 \text{ cm}^2$

Question ID : 630680397484

Option 1 ID : 6306801549860

Option 2 ID : 6306801549858

Option 3 ID : 6306801549859

Option 4 ID : 6306801549861

Status : Answered

Chosen Option : 2

Q.21 निम्नलिखित व्यंजक को हल कीजिए।

$$(g - h)^2 - (g + h)^2 + 4gh$$

- Ans ☐ 1.  $-4gh$   
☐ 2. 4  
☒ 3. 0  
☐ 4.  $4gh$

Question ID : 630680413542

Option 1 ID : 6306801612992

Option 2 ID : 6306801612994

Option 3 ID : 6306801612995

Option 4 ID : 6306801612993

Status : Answered

Chosen Option : 4

Q.22 30 छात्रों वाली एक कक्षा के सभी छात्रों ने एक टेस्ट दिया। 12 छात्रों का औसत स्कोर 62 है और बाकी छात्रों का औसत स्कोर 72 है। कक्षा का औसत स्कोर ज्ञात करें।

- Ans ☒ 1. 69  
☒ 2. 66  
☒ 3. 67  
☒ 4. 68

Question ID : 630680566261  
Option 1 ID : 6306802214034  
Option 2 ID : 6306802214035  
Option 3 ID : 6306802214033  
Option 4 ID : 6306802214032  
Status : Answered  
Chosen Option : 4

Q.23 निम्नलिखित समुच्चयों में से कौन सा समुच्चय एक त्रिभुज के कोणों को दर्शाता है?

- Ans ☒ 1.  $\{80^\circ, 50^\circ, 90^\circ\}$   
☒ 2.  $\{30^\circ, 50^\circ, 110^\circ\}$   
☒ 3.  $\{30^\circ, 60^\circ, 90^\circ\}$   
☒ 4.  $\{30^\circ, 50^\circ, 90^\circ\}$

Question ID : 630680421382  
Option 1 ID : 6306801643993  
Option 2 ID : 6306801643994  
Option 3 ID : 6306801643992  
Option 4 ID : 6306801643991  
Status : Answered  
Chosen Option : 3

Q.24 2 बिस्कुट और 1 चॉकलेट की कीमत ₹69 है। 2 चॉकलेट और 3 कप कॉफी की कीमत ₹127 है। 3 बिस्कुट, 4 चॉकलेट और 2 कप कॉफी की कीमत ₹229 है। 5 बिस्कुट, 5 चॉकलेट और 5 कप कॉफी की कुल कीमत (₹ में) ज्ञात करें।

- Ans ☒ 1. 375  
☒ 2. 304  
☒ 3. 345  
☒ 4. 355

Question ID : 630680378647  
Option 1 ID : 6306801475638  
Option 2 ID : 6306801475635  
Option 3 ID : 6306801475636  
Option 4 ID : 6306801475637  
Status : Not Answered  
Chosen Option : --

Q.25 एक निर्माता अपने डीलरों को अपने उत्पाद पर 30% की व्यापार छूट प्रदान करता है। एक डीलर Rs.25,000 प्रत्येक की दर से कंपनी द्वारा निर्मित 6 स्मार्ट फ़ोन खरीदता है। व्यापार छूट की राशि क्या होगी?

- Ans
- ☒ 1. Rs.55,000
  - ☒ 2. Rs.50,000
  - ☒ 3. Rs.45,000
  - ☒ 4. Rs.1,05,000

Question ID : 63068071092  
Option 1 ID : 630680274962  
Option 2 ID : 630680274963  
Option 3 ID : 630680274965  
Option 4 ID : 630680274964  
Status : Answered  
Chosen Option : 3

Section : English Comprehension

Q.1 In the given question, a statement divided into different segments is given. Rearrange all the segments to form a coherent statement.

O: also benefit from knowing

P: there are several reasons

Q: why even parents would

R: more about how and why

S: children do the things that they do

- Ans
- ☒ 1. PQROS
  - ☒ 2. PQORS
  - ☒ 3. RQOPS
  - ☒ 4. OPQSR

Question ID : 630680383223  
Option 1 ID : 6306801493800  
Option 2 ID : 6306801493802  
Option 3 ID : 6306801493801  
Option 4 ID : 6306801493799  
Status : Answered  
Chosen Option : 2

Q.2 Choose the most appropriate ANTONYM for the underlined word in the given sentence.

The war was followed by a long period of prosperity.

- Ans
- ☒ 1. Security
  - ☒ 2. Secure
  - ☒ 3. Failure
  - ☒ 4. Affluence

Question ID : 630680517483  
Option 1 ID : 6306802022330  
Option 2 ID : 6306802022329  
Option 3 ID : 6306802022328  
Option 4 ID : 6306802022331  
Status : Marked For Review  
Chosen Option : 3

**Q.3** Select the most appropriate meaning of the given idiom.

Radhika stood by Monica's side through thick and thin.

- Ans ☒ 1. Under all conditions, no matter how challenging or difficult
- ☐ 2. In the moments when Monica couldn't complete some simple tasks
- ☐ 3. In all the happy moments, personally spending most of her time
- ☐ 4. Under easy situations wherein she could ensure Monica's safety and security

Question ID : 630680366853

Option 1 ID : 6306801428891

Option 2 ID : 6306801428890

Option 3 ID : 6306801428889

Option 4 ID : 6306801428892

Status : Answered

Chosen Option : 1

**Q.4** Select the option that can be used as a one-word substitute for the given group of words.

One who speaks less in a forum.

- Ans ☐ 1. Gabby
- ☐ 2. Loquacious
- ☒ 3. Reticent
- ☐ 4. Eccentric

Question ID : 630680414787

Option 1 ID : 6306801617891

Option 2 ID : 6306801617892

Option 3 ID : 6306801617894

Option 4 ID : 6306801617893

Status : Answered

Chosen Option : 2

**Q.5** Select the most appropriate option that can substitute the underlined part in the following sentence.

Everyone called the reporter a daredevil after he came back safely from the war zone.

- Ans ☐ 1. a hypocrite
- ☐ 2. a common man
- ☐ 3. an insignificant person
- ☒ 4. a fearless person

Question ID : 630680317821

Option 1 ID : 6306801236378

Option 2 ID : 6306801236380

Option 3 ID : 6306801236379

Option 4 ID : 6306801236377

Status : Answered

Chosen Option : 4

**Q.6** Select the most appropriate ANTONYM of the word in the brackets to fill in the blank.

Akash went to \_\_\_\_\_ his school uniform. [sell]

- Ans ☒ 1. buy  
☒ 2. make  
☒ 3. rent  
☒ 4. loan

Question ID : 630680132561

Option 1 ID : 630680513380

Option 2 ID : 630680513381

Option 3 ID : 630680513379

Option 4 ID : 630680513378

Status : Answered

Chosen Option : 1

**Q.7** Give one word substitution for :  
A person who is unsure about God's existence

- Ans ☒ 1. Ignorant  
☒ 2. Theist  
☒ 3. Agnostic  
☒ 4. Atheist

Question ID : 630680147489

Option 1 ID : 630680570726

Option 2 ID : 630680570727

Option 3 ID : 630680570729

Option 4 ID : 630680570728

Status : Marked For Review

Chosen Option : 3

**Q.8** The following sentence has been divided into five segments. The first segment has no error. Select the option that has the segment with the grammatical error.  
Due to the pandemic, / the prices of / medicines increased / every day since / last December.

- Ans ☒ 1. the prices of  
☒ 2. medicines increased  
☒ 3. every day since  
☒ 4. last December.

Question ID : 630680317872

Option 1 ID : 6306801236577

Option 2 ID : 6306801236578

Option 3 ID : 6306801236579

Option 4 ID : 6306801236580

Status : Answered

Chosen Option : 3

**Q.9** Select the most appropriate ANTONYM of the given word.  
**Affirmative**

- Ans ☒ 1. Sanction  
☒ 2. Negative  
☒ 3. Acquiescence  
☒ 4. Accession

Question ID : 630680517372  
Option 1 ID : 6306802021886  
Option 2 ID : 6306802021887  
Option 3 ID : 6306802021884  
Option 4 ID : 6306802021885  
Status : Answered  
Chosen Option : 2

**Q.10** Select the option that can be used as a one-word substitute for the given phrase.

**An important person who represents his/her country in a foreign country**

- Ans ☒ 1. Ambassador  
☒ 2. Amateur  
☒ 3. Anonymous  
☒ 4. Altruist

Question ID : 630680353987  
Option 1 ID : 6306801378021  
Option 2 ID : 6306801378022  
Option 3 ID : 6306801378024  
Option 4 ID : 6306801378023  
Status : Answered  
Chosen Option : 1

**Q.11** Select the most appropriate synonym of the underlined word in the given sentence.  
His approach was filled with such perseverance that it was difficult to overlook his merit.

- Ans ☒ 1. Monotonous  
☒ 2. Reluctance  
☒ 3. Ignorance  
☒ 4. Doggedness

Question ID : 630680182623  
Option 1 ID : 630680707601  
Option 2 ID : 630680707602  
Option 3 ID : 630680707603  
Option 4 ID : 630680707600  
Status : Marked For Review  
Chosen Option : 2



Q.12 Parts of the given sentence have been underlined. Identify the part that has an error.

Select 'No error' if there is no error.

Although the team had trained diligently for months, they had still overwhelmed by the opponent's unexpected tactics.

Ans ☒ 1. had still overwhelmed

☐ 2. trained diligently

☐ 3. No error

☐ 4. for months

Question ID : 630680415146

Option 1 ID : 6306801619333

Option 2 ID : 6306801619331

Option 3 ID : 6306801619334

Option 4 ID : 6306801619332

Status : Marked For Review

Chosen Option : 1

Q.13 In the following sentence, four words are underlined out of which one word is misspelt. Identify the INCORRECTLY spelt word.

I felt absolutely (A) fit at the summit. My mind was absolutely clear. (B) I didn't feel tired, I felt exhelarated. (C) It was a very clear sensation. (D)

Ans ☐ 1. D

☐ 2. B

☐ 3. A

☒ 4. C

Question ID : 630680409955

Option 1 ID : 6306801598650

Option 2 ID : 6306801598651

Option 3 ID : 6306801598649

Option 4 ID : 6306801598652

Status : Answered

Chosen Option : 4

Q.14 Parts of a sentence are given below in jumbled order. Select the option that gives their correct logical sequence and forms a meaningful sentence.

In November, Lakshman fell (P) / with fever (Q) / seriously ill (R) and pneumonia (S).

Ans ☐ 1. P, Q, S, R

☐ 2. P, Q, R, S

☐ 3. R, Q, S, P

☒ 4. P, R, Q, S

Question ID : 630680114195

Option 1 ID : 630680442184

Option 2 ID : 630680442183

Option 3 ID : 630680442185

Option 4 ID : 630680442182

Status : Answered

Chosen Option : 4

**Q.15** Select the most appropriate meaning of the given word.  
**Illiterate**

- Ans ☒ 1. One who is well-educated  
☒ 2. A person who cannot speak  
☒ 3. A person who cannot read and write  
☒ 4. Highly rated thing

Question ID : 630680184925

Option 1 ID : 630680716652

Option 2 ID : 630680716649

Option 3 ID : 630680716650

Option 4 ID : 630680716651

Status : Answered

Chosen Option : 1

**Q.16** Select the most appropriate ANTONYM of the underlined word.  
If someone babbles, it means that they talk in a confused or excited way.

- Ans ☒ 1. Talkative  
☒ 2. Gossips  
☒ 3. Quiet  
☒ 4. Rants

Question ID : 630680401027

Option 1 ID : 6306801563940

Option 2 ID : 6306801563939

Option 3 ID : 6306801563938

Option 4 ID : 6306801563937

Status : Answered

Chosen Option : 3

**Q.17** Select the option that expresses the given sentence in active voice.  
I will be gifted a fancy doll by them the next day.

- Ans ☒ 1. They gift me a fancy doll the previous day.  
☒ 2. They will gift me a fancy doll tomorrow.  
☒ 3. They gifted me a fancy doll yesterday.  
☒ 4. They are gifting me a fancy doll the next day.

Question ID : 630680415281

Option 1 ID : 6306801619871

Option 2 ID : 6306801619873

Option 3 ID : 6306801619872

Option 4 ID : 6306801619874

Status : Answered

Chosen Option : 2

**Q.18** Select the most appropriate option to substitute the underlined word segment in the given sentence.

Carnatic music is usually performed by a small troupe of actors, consisting of a principal performer, a melodic accompaniment, and a rhythm accompaniment.

Ans ☒ 1. ensemble of musicians

☒ 2. panel of judges

☒ 3. board of directors

☒ 4. band of singers

Question ID : 630680168517

Option 1 ID : 630680652682

Option 2 ID : 630680652680

Option 3 ID : 630680652683

Option 4 ID : 630680652681

Status : Answered

Chosen Option : 1

**Q.19** Select the option that expresses the given sentence in passive voice.  
Martha made pancakes yesterday.

Ans ☒ 1. Pancakes had been made by Martha yesterday.

☒ 2. Pancakes was made by Martha yesterday.

☒ 3. Pancakes were made by Martha yesterday.

☒ 4. Pancakes were being made by Martha yesterday.

Question ID : 630680206654

Option 1 ID : 630680801217

Option 2 ID : 630680801218

Option 3 ID : 630680801216

Option 4 ID : 630680801215

Status : Answered

Chosen Option : 3

**Q.20** Select the most appropriate option that can rectify the incorrectly spelt word in the following sentence.

The government has ordered for the maintainance of the roads.

Ans ☒ 1. maintenance

☒ 2. maintainence

☒ 3. maintennance

☒ 4. maintainiance

Question ID : 630680360092

Option 1 ID : 6306801402315

Option 2 ID : 6306801402313

Option 3 ID : 6306801402316

Option 4 ID : 6306801402314

Status : Answered

Chosen Option : 2

**Comprehension:**

In the following passage, some words have been deleted. Read the passage carefully and select the most appropriate option to fill in each blank.

(1) \_\_\_\_\_ a letter came to inform them that Raka's mother Tara had another breakdown and was in a nursing home in Geneva and that Raka's grandmother Asha, (2) \_\_\_\_\_ seen another grandchild safely into the world, was flying to Switzerland to be with her, Nanda Kaul (3) \_\_\_\_\_ her lips, (4) \_\_\_\_\_ the blue sheets of paper with that distasteful sprawl (5) \_\_\_\_\_ them, and hid them in her desk.

**SubQuestion No : 21**

**Q.21** Select the most appropriate option to fill in blank number 1.

- Ans ☒ 1. Unless  
☒ 2. For  
☒ 3. When  
☒ 4. Sooner

Question ID : 630680162908

Option 1 ID : 630680630862

Option 2 ID : 630680630860

Option 3 ID : 630680630861

Option 4 ID : 630680630863

Status : Answered

Chosen Option : 3

**Comprehension:**

In the following passage, some words have been deleted. Read the passage carefully and select the most appropriate option to fill in each blank.

(1) \_\_\_\_\_ a letter came to inform them that Raka's mother Tara had another breakdown and was in a nursing home in Geneva and that Raka's grandmother Asha, (2) \_\_\_\_\_ seen another grandchild safely into the world, was flying to Switzerland to be with her, Nanda Kaul (3) \_\_\_\_\_ her lips, (4) \_\_\_\_\_ the blue sheets of paper with that distasteful sprawl (5) \_\_\_\_\_ them, and hid them in her desk.

**SubQuestion No : 22**

**Q.22** Select the most appropriate option to fill in blank number 2.

- Ans ☒ 1. had  
☒ 2. has  
☒ 3. having  
☒ 4. have

Question ID : 630680162909

Option 1 ID : 630680630865

Option 2 ID : 630680630864

Option 3 ID : 630680630867

Option 4 ID : 630680630866

Status : Answered

Chosen Option : 1

**Comprehension:**

In the following passage, some words have been deleted. Read the passage carefully and select the most appropriate option to fill in each blank.

(1) \_\_\_\_\_ a letter came to inform them that Raka's mother Tara had another breakdown and was in a nursing home in Geneva and that Raka's grandmother Asha, (2) \_\_\_\_\_ seen another grandchild safely into the world, was flying to Switzerland to be with her, Nanda Kaul (3) \_\_\_\_\_ her lips, (4) \_\_\_\_\_ the blue sheets of paper with that distasteful sprawl (5) \_\_\_\_\_ them, and hid them in her desk.

**SubQuestion No : 23**

**Q.23** Select the most appropriate option to fill in blank number 3.

- Ans  1. dirt  
 2. stuck  
 3. pursed  
 4. dusted

Question ID : **630680162910**

Option 1 ID : **630680630869**

Option 2 ID : **630680630868**

Option 3 ID : **630680630870**

Option 4 ID : **630680630871**

Status : **Answered**

Chosen Option : **2**


**Comprehension:**

In the following passage, some words have been deleted. Read the passage carefully and select the most appropriate option to fill in each blank.

(1) \_\_\_\_\_ a letter came to inform them that Raka's mother Tara had another breakdown and was in a nursing home in Geneva and that Raka's grandmother Asha, (2) \_\_\_\_\_ seen another grandchild safely into the world, was flying to Switzerland to be with her, Nanda Kaul (3) \_\_\_\_\_ her lips, (4) \_\_\_\_\_ the blue sheets of paper with that distasteful sprawl (5) \_\_\_\_\_ them, and hid them in her desk.

**SubQuestion No : 24**

**Q.24** Select the most appropriate option to fill in blank number 4.

- Ans  1. folded up  
 2. hid away  
 3. cleared up  
 4. tucked away

Question ID : **630680162911**

Option 1 ID : **630680630872**

Option 2 ID : **630680630875**

Option 3 ID : **630680630874**

Option 4 ID : **630680630873**

Status : **Marked For Review**

Chosen Option : **2**

**Comprehension:**

In the following passage, some words have been deleted. Read the passage carefully and select the most appropriate option to fill in each blank.

(1) \_\_\_\_\_ a letter came to inform them that Raka's mother Tara had another breakdown and was in a nursing home in Geneva and that Raka's grandmother Asha, (2) \_\_\_\_\_ seen another grandchild safely into the world, was flying to Switzerland to be with her, Nanda Kaul (3) \_\_\_\_\_ her lips, (4) \_\_\_\_\_ the blue sheets of paper with that distasteful sprawl (5) \_\_\_\_\_ them, and hid them in her desk.

**SubQuestion No : 25**

**Q.25** Select the most appropriate option to fill in blank number 5.

**Ans**  1. across

 2. in

 3. by

 4. at

Question ID : **630680162912**

Option 1 ID : **630680630878**

Option 2 ID : **630680630879**

Option 3 ID : **630680630876**

Option 4 ID : **630680630877**

Status : **Not Answered**

Chosen Option : --