

# Constable GD in CAPFs and SSF Rifleman GD in AR and Sepoy in NCB Examination 2025

|           |                               |
|-----------|-------------------------------|
| Exam Date | 06/02/2025                    |
| Exam Time | 9:00 AM - 10:00 AM            |
| Subject   | Constable GD Examination 2025 |

## Section : Part-A-General Intelligence and Reasoning

**Q.1** Select the combination of letters that when sequentially placed in the blanks of the given series, will logically complete the series.

\_NJOK\_LQMR\_SOTP\_QVR\_

- Ans
- 1. HOQVX
  - 2. IPNUW
  - 3. IONVQ
  - 4. HPQUX

**Q.2** The position(s) of how many letters will remain unchanged if each of the letters in the word TREASURE is arranged in the reverse English alphabetical order?

- Ans
- 1. One
  - 2. Two
  - 3. Three
  - 4. Zero

**Q.3** Seven people, E, F, G, H, K, L and N, are sitting in a row facing north (but not necessarily in the same order) .No one sits to the left of H. Only four people sit between H and F. Only three people sit to the right of N. K sits to the immediate left of L. G is not an immediate neighbour of N. Who sits fourth to the left of G?

- Ans
- 1. L
  - 2. E
  - 3. K
  - 4. N

**Q.4** In a certain code language, 'can I go' is coded as 'pr nt gs' and 'he can swim' is coded as 'li ed pr'. How is 'can' coded in the given language?

- Ans
- 1. ed
  - 2. pr
  - 3. gs
  - 4. nt

**Q.5** What should come in place of the question mark (?) in the given series?

12 31 59 114 214 ?

- Ans
- 1. 368
  - 2. 307
  - 3. 377
  - 4. 386

**Q.6** Seven people, A, B, L, M, N, S and T, are sitting in a row, facing north (but not necessarily in the same order).  
No one sits to the right of N. Only three people sit between N and S. Only two people sit between S and T. M sits third to the left of L. A sits to the immediate right of L.  
How many people sit between B and T?

- Ans**
- 1. Two
  - 2. Three
  - 3. One
  - 4. Four

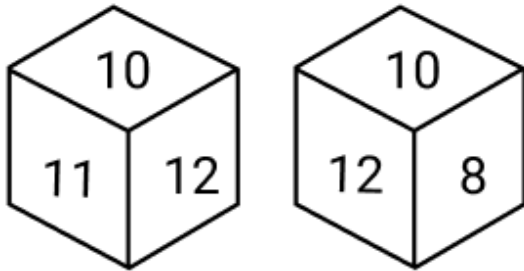
**Q.7** P is the sister of R. R is the father of Q. S is the wife of Q. T is the daughter of S. How is P related to T?

- Ans**
- 1. Father's mother
  - 2. Father's father's sister
  - 3. Father's father's mother
  - 4. Father's mother's sister

**Q.8** ER 32 is related to DS 34 in a certain way. In the same way, XW 54 is related to WX 56. To which of the given options is ZB 78 related, following the same logic?

- Ans**
- 1. YC 80
  - 2. YA 78
  - 3. YA 80
  - 4. YA 79

**Q.9** Two different positions of the same dice are given below. Which is the number on the face opposite to the face containing 11?

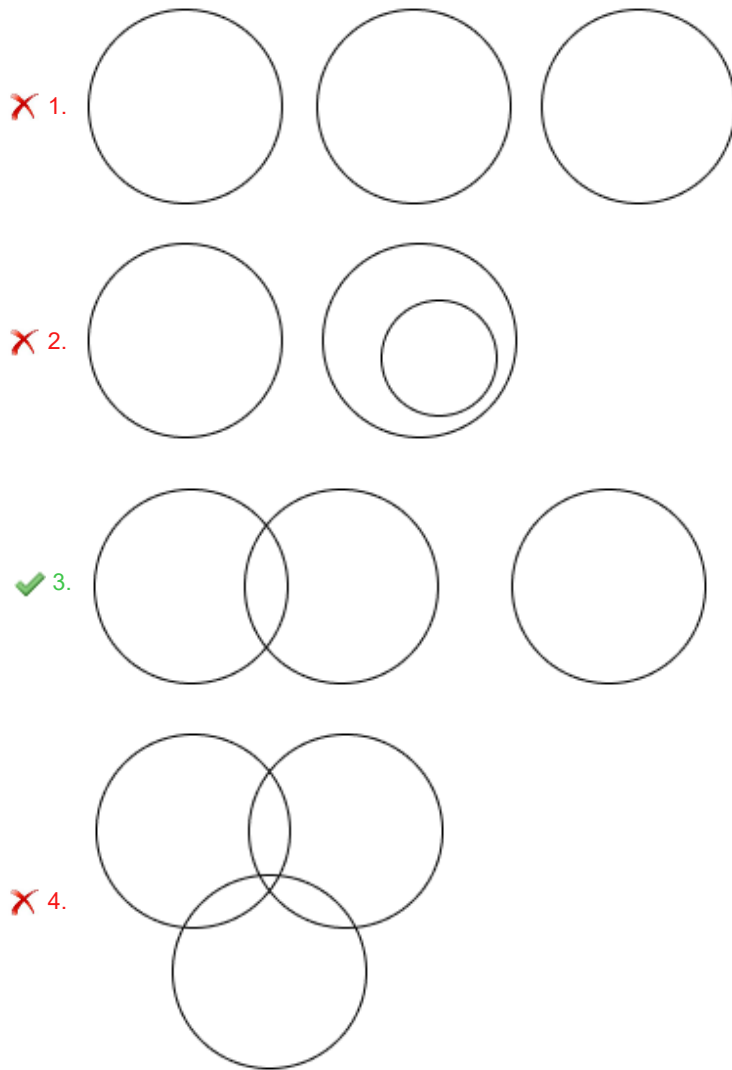


- Ans**
- 1. 8
  - 2. 7
  - 3. 10
  - 4. 9

Q.10 Select the Venn diagram that best illustrate the relationship between the following classes.

Grapes, Green, Table

Ans



Q.11 Read the given statements and conclusions carefully. Assuming that the information given in the statements is true, even if it appears to be at variance with commonly known facts, decide which of the given conclusions logically follow(s) from the statements.

Statements:

All tops are bags.

Some bags are cats.

No cat is a dog.

Conclusions:

(I): No top is a dog.

(II): Some cats are tops.

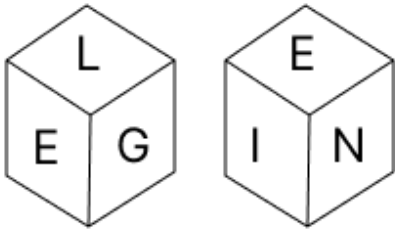
Ans ✓ 1. Neither conclusion (I) nor (II) follows.

✗ 2. Both conclusions (I) and (II) follow.

✗ 3. Only conclusion (I) follows.

✗ 4. Only conclusion (II) follows.

Q.12 A dice has its faces marked by letters B, G, N, E, I and L. Two positions of the same dice are shown in the given figures. Which face is opposite to face B?



- Ans
- 1. I
  - 2. E
  - 3. G
  - 4. N

Q.13 Identify the figure given in the options which when put in place of the question mark (?) will logically complete the series.

|   |   |     |       |   |
|---|---|-----|-------|---|
| R | R |     |       |   |
|   | A | M   |       | T |
|   |   | R A | M R A | ? |

- Ans
- 1.
 

|   |   |
|---|---|
| T | A |
|   | R |
| L | M |
  - 2.
 

|   |   |
|---|---|
| T | M |
|   | R |
| L | A |
  - 3.
 

|   |   |
|---|---|
| M | T |
|   | A |
| L | R |
  - 4.
 

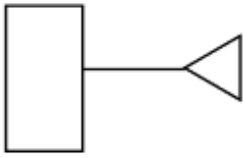
|   |   |
|---|---|
| T | R |
|   | A |
| L | M |

Q.14 Based on the English alphabetical order, three of the following four letter-clusters are alike in a certain way and thus form a group. Which letter-cluster DOES NOT belong to that group?

(Note: The odd one out is not based on the number of consonants/vowels or their position in the letter-cluster.)

- Ans
- 1. WXQ
  - 2. JMS
  - 3. EHN
  - 4. KNT

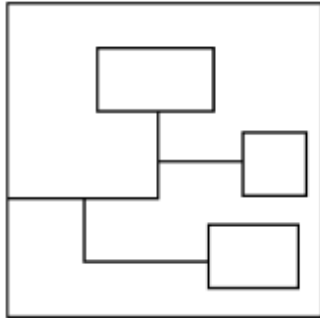
Q.15 Select the option in which the given figure (X) is embedded (rotation is NOT allowed).



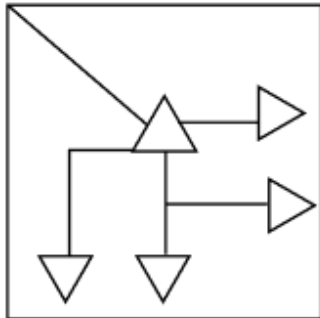
(X)

Ans

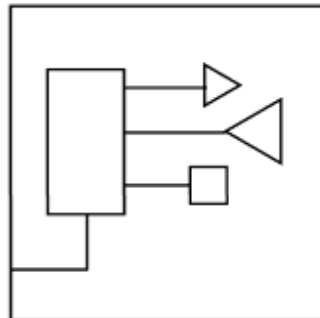
✗ 1.



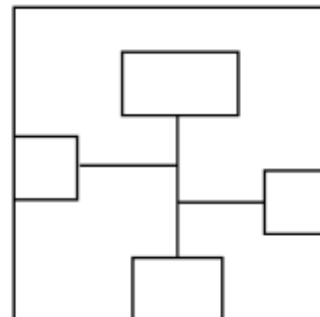
✗ 2.



✓ 3.



✗ 4.



Q.16 What should come in place of the question mark (?) in the given series?

673 670 664 655 643 ?

Ans ✗ 1. 632

✗ 2. 625

✓ 3. 628

✗ 4. 630

Q.17 What should come in place of the question mark (?) in the given series based on the English alphabetical order?

CEA GIE KMI OQM ?

- Ans
- 1. SUQ
  - 2. RUQ
  - 3. USQ
  - 4. SVQ

Q.18 In a certain code language, 'ZIYJ' is coded as '38' and 'PXBO' is coded as '51'. What is the code for 'VTUC' in the given code language?

- Ans
- 1. 51
  - 2. 42
  - 3. 49
  - 4. 56

Q.19 Based on some logic, 'CLICHE' is written as 'IHJAMF' and 'KINDLY' is written as 'QEObQZ'. Following the same logic, 'FUMBLE' can be written as:

- Ans
- 1. MQNZQE
  - 2. KQNZQE
  - 3. LQNZQF
  - 4. LQNZWG

Q.20 What will come in the place of the question mark (?) in the following equation, if '+' and 'x' are interchanged?

$$11 \div 4 + 3 \times 3 - 1 = ?$$

- Ans
- 1. 42
  - 2. 36
  - 3. 44
  - 4. 56

Section : Part-B-General Knowledge and General awareness

Q.1 The Indian badminton team won the Thomas Cup title for the first time in 2022 with a spectacular victory over the team of \_\_\_\_\_.

- Ans
- 1. Malaysia
  - 2. Indonesia
  - 3. Japan
  - 4. Denmark

Q.2 Rangarajan Committee is related to which of the following?

- Ans
- 1. Unemployment
  - 2. Banking
  - 3. Poverty
  - 4. Education

Q.3 Which of the following Constitutional Amendment Acts constituted the State Finance Commission?

- Ans
- 1. 74<sup>th</sup> Amendment Act
  - 2. 76<sup>th</sup> Amendment Act
  - 3. 75<sup>th</sup> Amendment Act
  - 4. 73<sup>rd</sup> Amendment Act

Q.4 'Roppi' is a popular folk dance from the state of \_\_\_\_\_.

- Ans
- 1. Kerala
  - 2. Assam
  - 3. Karnataka
  - 4. Arunachal Pradesh

Q.5 Lanthanides along with which two elements are sometimes called 'rare earth elements'?

- Ans
- 1. Molybdenum and Palladium
  - 2. Ruthenium and Zirconium
  - 3. Yttrium and Scandium
  - 4. Vanadium and Niobium

Q.6 Which Five-Year Plan is also known as the 'Mahalanobis Plan'?

- Ans
- 1. Second Plan
  - 2. Seventh Plan
  - 3. First Plan
  - 4. Fourth Plan

Q.7 Which Indian leader known as the 'Frontier Gandhi'?

- Ans
- 1. Khan Abdul Ghaffar Khan
  - 2. Maulana Abul Kalam Azad
  - 3. Liaquat Ali Khan
  - 4. Shaukat Ali

Q.8 Which of the following Articles of the Constitution of India provides for Fundamental Rights?

- Ans
- 1. Articles 10 to 40
  - 2. Articles 12 to 35
  - 3. Articles 2 to 7
  - 4. Articles 15 to 35

Q.9 Which edition of the Khelo India University Games was held in Uttar Pradesh in 2023?

- Ans
- 1. 3<sup>rd</sup>
  - 2. 4<sup>th</sup>
  - 3. 1<sup>st</sup>
  - 4. 2<sup>nd</sup>

Q.10 Lalrinpui is the Health & Family Welfare Minister of which of the following states as of October 2024?

- Ans
- 1. Nagaland
  - 2. Mizoram
  - 3. Assam
  - 4. Haryana

Q.11 Which state government started the 'Shantala Natya Sri Award' in 1995 in the field of classical dance?

- Ans
- 1. Assam
  - 2. Andhra Pradesh
  - 3. Karnataka
  - 4. Tami Nadu

**Q.12** The region of the Earth's atmosphere where weather events occur is known as the:

- Ans**
- 1. stratosphere
  - 2. mesosphere
  - 3. troposphere
  - 4. exosphere

**Q.13** Select the **INCORRECT** statement from the following about mitosis.

- Ans**
- 1. Each cell called mother cell divides to form two identical daughter cells.
  - 2. The daughter cells have half the number of chromosomes as mother cell.
  - 3. It helps in growth and repair of tissues in organisms.
  - 4. Cells divide for growth.

**Q.14** What was the central objective of planning in India?

- Ans**
- 1. To follow British culture
  - 2. To initiate a process of development
  - 3. To initiate a process of privatisation
  - 4. To initiate uniqueness

**Q.15** How can a high fiscal deficit lead to crowding out in the economy?

- Ans**
- 1. By enhancing the availability of credit for businesses
  - 2. By leading to higher interest rates and reduced private investment
  - 3. By reducing government borrowing and debt
  - 4. By increasing private investment in the market

**Q.16** Chapchar Kut Festival, which is celebrated in anticipation of a golden harvest, is primarily a festival from \_\_\_\_\_.

- Ans**
- 1. Mizoram
  - 2. Uttarakhand
  - 3. Madhya Pradesh
  - 4. Kerala

**Q.17** Which is the best Indian state for farming in 2024, as per the 15<sup>th</sup> Agriculture Leadership Awards Committee?

- Ans**
- 1. Haryana
  - 2. Punjab
  - 3. Maharashtra
  - 4. Gujarat

**Q.18** Which of the following religions is practiced by most people in China?

- Ans**
- 1. Christianity
  - 2. Islam
  - 3. Buddhism
  - 4. Hinduism

**Q.19** Which Mauryan archaeological site is associated with the remains of a wooden palisade?

- Ans**
- 1. Bhita
  - 2. Taxila
  - 3. Mathura
  - 4. Bulandibagh

Q.20 Ramnad V. Raghavan was associated with which of the following musical instruments?

- Ans
- 1. Dholak
  - 2. Nadaswaram
  - 3. Sarangi
  - 4. Mridangam

Section : Part-C-Elementary Mathematics

Q.1 What is a single discount equivalent to the three successive discounts of 30%, 25% and 40%?

- Ans
- 1. 60.1%
  - 2. 64.2%
  - 3. 68.5%
  - 4. 65.8%

Q.2 The price (per litre) of petrol increases by 50%. By what percent should its consumption be reduced such that the expenditure on it increases by 14% only?

- Ans
- 1. 77%
  - 2. 76%
  - 3. 29%
  - 4. 24%

Q.3 Ravi can complete one-fourth of the total work in 15 days, Chavi can complete one-third of the total work in 18 days, Dhani can complete half of the total work in 24 days. In how much time can Ravi, Chavi and Dhani complete three-fourth of the work together?

- Ans
- 1.  $13\frac{47}{121}$  days
  - 2.  $10\frac{25}{31}$  days
  - 3.  $11\frac{19}{78}$  days
  - 4.  $12\frac{23}{103}$  days

Q.4 What is the greatest number which when divides 92 and 215, leaves remainders 7 and 11, respectively?

- Ans
- 1. 17
  - 2. 23
  - 3. 21
  - 4. 19

Q.5 The greatest number, which divides 406 and 1388 to leave 1 and 3 respectively as remainders, is:

- Ans
- 1. 23
  - 2. 20
  - 3. 5
  - 4. 15

Q.6 In a race, there are 100 bikes, consisting of yellow and green bikes. The average speed of all the bikes is 35 km/hr. The average speed of the yellow bikes is 55 km/hr, and the average speed of the green bikes is 30 km/hr. How many of the bikes are green?

- Ans
- 1. 50
  - 2. 80
  - 3. 65
  - 4. 70

**Q.7** Zakir travels from City A to City B. If Zakir drives his car at  $\frac{2}{3}$  of his normal speed, then he reaches City B 10 minutes late.

Find the time (in minutes) that Zakir would have taken to travel from City A to City B if he drove at his normal speed.

- Ans**
- 1. 20
  - 2. 30
  - 3. 26
  - 4. 24

**Q.8** If 4% of  $x = 132$ , then  $x$  is equal to:

- Ans**
- 1. 6700
  - 2. 3300
  - 3. 3400
  - 4. 6600

**Q.9** What is the third proportional to 28 and 112?

- Ans**
- 1. 84
  - 2. 336
  - 3. 224
  - 4. 448

**Q.10** Amit bought a piano and sold it to Gopal at a profit of 5%. Gopal sold it to Akshay at a loss of 25%. If Akshay paid ₹1890, then the cost price (in ₹) of the piano Amit bought is

- Ans**
- 1. 2550
  - 2. 2200
  - 3. 2400
  - 4. 2150

**Q.11** The mean proportion of  $\frac{a^2}{b^3}$  and  $\frac{9b^2}{4a^3}$  is \_\_\_\_\_.

- Ans**
- 1.  $\frac{9}{4\sqrt{ab}}$
  - 2.  $\frac{3}{2\sqrt{ab}}$
  - 3.  $\frac{3}{2(ab)}$
  - 4.  $\frac{9}{4(ab)}$

**Q.12** Ashish has ₹1617 with him. He divided it amongst his sons Arun and Mahesh and asked them to invest it at 10% rate of interest compounded annually. It was seen that Arun and Mahesh got same amount after 14 and 15 years respectively. How much (in ₹) did Ashish give to Arun?

- Ans**
- 1. 697
  - 2. 770
  - 3. 847
  - 4. 870

Q.13

Find the value of  $\left[ (23 \times 16) \times \left\{ 3 \div 3 \times \frac{(19 - 13)}{3} \right\} \right]$

- Ans
- 1. 724
  - 2. 736
  - 3. 738
  - 4. 745

Q.14 A sum of ₹x amounts to ₹54571 in  $2\frac{1}{2}$  years at 12% p.a., interest compounded after every 10 months.

What is the value of x?

- Ans
- 1. 41000
  - 2. 39000
  - 3. 42000
  - 4. 40000

Q.15 The average weight of Rupesh, Mandar and Ketan is 45 kg. If the average weight of Rupesh and Mandar be 43 kg and that of Mandar and Ketan be 45 kg, then the weight of Mandar (in kg) is:

- Ans
- 1. 56
  - 2. 41
  - 3. 61
  - 4. 51

Q.16 Evaluate:  $(-9) - (-60) \div (-15) + (-4) \times 6$

- Ans
- 1. -36
  - 2. -37
  - 3. -40
  - 4. -39

Q.17 If a train runs at 40 km/hr, it reaches its destination late by 10 min, but if it runs by 45 km/hr, it is late by 4 min.

The correct time for the train to complete the journey is:

- Ans
- 1. 34 min
  - 2. 45 min
  - 3. 44 min
  - 4. 24 min

Q.18 A hemispherical bowl has 3.5 cm radius. It is to be painted inside as well as outside. Find the cost of painting it at the rate of ₹15 per  $10 \text{ cm}^2$ . (Use  $\pi = 22/7$ .)

- Ans
- 1. ₹431
  - 2. ₹331
  - 3. ₹231
  - 4. ₹531

Q.19 Gill sold two dogs at the same price. In one, he gets a profit of 22% and in the other, he gets a loss of 22%. What is Gill's profit or loss percentage?

- Ans
- 1. 4.4% profit
  - 2. 4.84% loss
  - 3. 4.84% profit
  - 4. 4.4% loss

Q.20 Varun invests a sum of ₹5400 and Ashish invests a sum of ₹9400 at the same rate of simple interest per annum. If, at the end of 3 years, Ashish gets ₹960 more interest than Varun, then find the rate of interest per annum (in percentage).

- Ans  1. 8  
 2. 10  
 3. 7  
 4. 6

Section : Part-D-English

Q.1 Select the most appropriate option that can substitute the underlined words in the given sentence.

Esther is making wrong choices with that argument.

- Ans  1.  
barking at the sky  
 2.  
barking about the bush  
 3.  
barking her arms off  
 4.  
barking up the wrong tree

Q.2 Change the meaning of the given sentence by replacing the underlined word with its ANTONYM from the following options.

Her overly fastidious approach to life is making her erratic.

- Ans  1. Lackadaisical  
 2. Impeccable  
 3. Sincere  
 4. Serious

Q.3 The following sentence has been split into four segments. Identify the segment that contains a grammatical error.

The elevator / in the mall / is temporary / out of service.

- Ans  1. in the mall  
 2. The elevator  
 3. out of service  
 4. is temporary

Q.4 Select the most appropriate ANTONYM of the given word.

Hostile

- Ans  1. Hospitable  
 2. Antagonistic  
 3. Frigid  
 4. Icy

Q.5 Select the most appropriate option to fill in the blank.

Her \_\_\_\_\_ in the face of adversity was truly commendable and inspired everyone around her.

- Ans  1. cowardice  
 2. resilience  
 3. negligence  
 4. indifference

**Q.6** Select the most appropriate option to substitute the underlined segment in the given sentence.

Shakuntala was very amazed to see her name on the list.

- Ans
- 1. astonished
  - 2. accurate
  - 3. swamped
  - 4. worried

**Q.7** Select the most appropriate synonym of the given word.

Blissful

- Ans
- 1. Joyful
  - 2. Frightful
  - 3. Wishful
  - 4. Bountiful

**Q.8** Select the most appropriate synonym of the word 'firm' to fill in the blank.

Despite facing numerous obstacles, the explorer remained \_\_\_\_\_ in her quest to reach the summit.

- Ans
- 1. confused
  - 2. cautious
  - 3. determined
  - 4. exhausted

**Q.9** Select the INCORRECTLY spelt word.

- Ans
- 1. Critiqued
  - 2. Inacuracies
  - 3. Numerous
  - 4. Inconsistencies

**Q.10** Select the most appropriate option to fill in the blank.

The project must be completed \_\_\_\_\_ the end of the week.

- Ans
- 1. on
  - 2. in
  - 3. at
  - 4. by

**Q.11** The given sentence is divided into four segments. Select the option that has the segment with an adverbial usage error.

Dravid and / his team / beautifully entered / the competition.

- Ans
- 1. the competition
  - 2. Dravid and
  - 3. beautifully entered
  - 4. his team

Q.12 Select the most appropriate option that can substitute the underlined segment in the given sentence. If there is no need to substitute it, select 'No substitution required'.

As the news of the atomic attack reached Einstein, he is becoming aware of the glaring horror of the abuse of atomic energy.

- Ans
- 1. will be aware of
  - 2. became aware of
  - 3. No substitution required
  - 4. become the awareness

Q.13 Select the INCORRECTLY spelt word in the following sentence. The accomodation was spacious enough for the entire family.

- Ans
- 1. accomodation
  - 2. spacious
  - 3. entire
  - 4. enough

Q.14 Select the most appropriate option to fill in the blank.

She was deeply \_\_\_\_\_ by the gesture of kindness from her friend.

- Ans
- 1. alerted
  - 2. touched
  - 3. disheartened
  - 4. raised

Q.15 Select the most appropriate ANTONYM of the given word.

Prostration

- Ans
- 1. Counterpart
  - 2. Acridness
  - 3. Refreshment
  - 4. Impression

Comprehension:

In the following passage, some words have been deleted. Read the passage carefully and select the most appropriate option to fill in each blank.

Climate change will (1) \_\_\_\_\_ every aspect of our health and well-being. But its potential harms do (2) \_\_\_\_\_ the body's ability to handle (3) \_\_\_\_\_ heat, important as this is. Extreme weather events such as floods, droughts, storms and wildfires are becoming more (4) \_\_\_\_\_ and severe. These affect our mental health in a multitude of ways. Coping with climate change can be overwhelming. It could increase the (5) \_\_\_\_\_ of harmful substance use.

SubQuestion No : 16

Q.16 Select the most appropriate option to fill in blank no. 1.

- Ans
- 1. offend
  - 2. affect
  - 3. effect
  - 4. afflict

**Comprehension:**

In the following passage, some words have been deleted. Read the passage carefully and select the most appropriate option to fill in each blank.

Climate change will (1) \_\_\_\_\_ every aspect of our health and well-being. But its potential harms do (2) \_\_\_\_\_ the body's ability to handle (3) \_\_\_\_\_ heat, important as this is. Extreme weather events, such as floods, droughts, storms and wildfires, are becoming more (4) \_\_\_\_\_ and severe. These affect our mental health in a multitude of ways. Coping with climate change can be overwhelming. It could increase the (5) \_\_\_\_\_ of harmful substance use.

**SubQuestion No : 17**

**Q.17** Select the most appropriate option to fill in blank no. 2.

- Ans**  1.  
before
-  2.  
beyond
-  3.  
besides
-  4.  
between

**Comprehension:**

In the following passage, some words have been deleted. Read the passage carefully and select the most appropriate option to fill in each blank.

Climate change will (1) \_\_\_\_\_ every aspect of our health and well-being. But its potential harms do (2) \_\_\_\_\_ the body's ability to handle (3) \_\_\_\_\_ heat, important as this is. Extreme weather events, such as floods, droughts, storms and wildfires, are becoming more (4) \_\_\_\_\_ and severe. These affect our mental health in a multitude of ways. Coping with climate change can be overwhelming. It could increase the (5) \_\_\_\_\_ of harmful substance use.

**SubQuestion No : 18**

**Q.18** Select the most appropriate option to fill in blank no. 3.

- Ans**  1.  
strange
-  2.  
extreme
-  3.  
calm
-  4.  
farther

**Comprehension:**

In the following passage, some words have been deleted. Read the passage carefully and select the most appropriate option to fill in each blank.

Climate change will (1) \_\_\_\_\_ every aspect of our health and well-being. But its potential harms do (2) \_\_\_\_\_ the body's ability to handle (3) \_\_\_\_\_ heat, important as this is. Extreme weather events, such as floods, droughts, storms and wildfires, are becoming more (4) \_\_\_\_\_ and severe. These affect our mental health in a multitude of ways. Coping with climate change can be overwhelming. It could increase the (5) \_\_\_\_\_ of harmful substance use.

**SubQuestion No : 19**

Q.19 Select the most appropriate option to fill in blank no. 4.

- Ans  1.  
selected
2.  
pertinent
3.  
frequent
4.  
marginal

**Comprehension:**

In the following passage, some words have been deleted. Read the passage carefully and select the most appropriate option to fill in each blank.

Climate change will (1) \_\_\_\_\_ every aspect of our health and well-being. But its potential harms do (2) \_\_\_\_\_ the body's ability to handle (3) \_\_\_\_\_ heat, important as this is. Extreme weather events, such as floods, droughts, storms and wildfires, are becoming more (4) \_\_\_\_\_ and severe. These affect our mental health in a multitude of ways. Coping with climate change can be overwhelming. It could increase the (5) \_\_\_\_\_ of harmful substance use.

**SubQuestion No : 20**

Q.20 Select the most appropriate option to fill in blank no. 5.

- Ans  1.  
plan
2.  
task
3.  
risk
4.  
track

**Section : Part-D-Hindi**

Q.1 'गृहस्थ' का विलोम शब्द नीचे दिए विकल्पों में से चुनिए-

- Ans  1. ब्रह्मचर्य
2. संन्यासी
3. ग्रामवासी
4. वानप्रस्थ

Q.2 कौआ डाली से उड़ गया। इस वाक्य में कौआ शब्द का तत्सम रूप प्रयुक्त कर वाक्य पूर्ण कीजिए।

- Ans  1. काग डाली से उड़ गया।
2. पिक डाली से उड़ गया।
3. कोकिल डाली से उड़ गई।
4. कलघोष डाली से उड़ गया।

Q.3 निम्नलिखित वाक्य में वर्तनी संबंधी त्रुटि की पहचान करें।

रेलगाड़ी अपनी रफ्तार में जंगलों और नदीयों को पार करते हुए दौड़े जा रही थी।

- Ans
- 1. रेलगाड़ी
  - 2. जंगलों
  - 3. नदीयों
  - 4. रफ्तार

Q.4 मेरी माँ अत्यन्त \_\_\_\_\_ व्यंजन बनाती है।  
रिक्त स्थान की पूर्ति के लिए उचित सार्थक शब्द है -

- Ans
- 1. भोजन
  - 2. हिमी
  - 3. स्वादिष्ट
  - 4. पकवान

Q.5 'गार्ड ने सीटी बजायी और ट्रेन चल दी।' निम्नलिखित विकल्पों में से इस वाक्य के लिए कौन सा एक उचित सरल वाक्य होगा?

- Ans
- 1. सीटी बजाते ही ट्रेन चल दी गार्ड के।
  - 2. गार्ड की सीटी से ट्रेन चल दी।
  - 3. ज्यों ही गार्ड ने सीटी दी ट्रेन चल दी।
  - 4. गार्ड के सीटी बजाते ही ट्रेन चल दी।

Q.6 निम्नलिखित वाक्य में रेखांकित खंड के स्थान पर प्रयुक्त होने वाले सबसे उपयुक्त विकल्प का चयन कीजिए-

सिंट्र बड़ों की सेवा के तत्पर लिए है।

- Ans
- 1. तत्पर है
  - 2. है के लिए तत्पर
  - 3. के लिए तत्पर है
  - 4. का तत्पर है

Q.7 शब्द या वाक्यखण्ड बदलें और उत्तर के रूप में सही विकल्प चुनें।  
मैंने एक वर्ष तक उनकी प्रतीक्षा देखी।

- Ans
- 1. मैंने सिर्फ वर्ष उनकी प्रतीक्षा देखी।
  - 2. मैं एक वर्ष उसकी प्रतीक्षा किया।
  - 3. मैंने एक वर्ष तक उनकी प्रतीक्षा की।
  - 4. मैंने एक वर्ष उनकी प्रतीक्षा की।

Q.8 निम्नलिखित मुहावरे के रेखांकित अशुद्ध भाग को उचित विकल्प से बदलें-  
'छाती पर चुना दलना'

- Ans
- 1. जौ
  - 2. उड़द
  - 3. चावल
  - 4. मूँग

Q.9 महाभारत के युद्ध में कौरवों के \_\_\_\_\_ का नाश हो गया।  
'तुम्हारे पास \_\_\_\_\_ कितने रुपये हैं?'

उपर्युक्त वाक्यों में रिक्त स्थान की पूर्ति के लिए उपयुक्त अनेकार्थी शब्द है -

- Ans
- 1. परिवार
  - 2. दस
  - 3. वंश
  - 4. कुल

Q.10 'निहत्या' का विलोम है-

- Ans
- 1. हथियारविहीन
  - 2. हत्यारा
  - 3. हथियारबंद
  - 4. हथियारहीन

Q.11 'जिसे मारना उचित न हो'  
उपरोक्त वाक्यांश के लिए एक शब्द होगा-

- Ans
- 1. अवंश
  - 2. अवज्ञेय
  - 3. अवध्य
  - 4. अवक्र

Q.12 दिए गए वाक्य के रेखांकित शब्द के आधार पर संज्ञा की दृष्टि से अशुद्ध वाक्य की पहचान करें--

- Ans
- 1. लड़कपन में कई बार बड़ी गलतियाँ हो जाती हैं।
  - 2. जिसके व्यवहार में नम्रता नहीं वह मनुष्य सफल नहीं हो सकता।
  - 3. आजकल बहुत सर्दी पड़ रही है।
  - 4. यह पानी तो बहुत गर्म है इससे नहाना मुश्किल है।

Q.13 'कृतज्ञ' का विलोम शब्द है-

- Ans
- 1. कृपण
  - 2. कुटिल
  - 3. कपटी
  - 4. कृतघ्न

Q.14 निम्न में से किस वाक्य में कारक चिह्न का अशुद्ध प्रयोग हुआ है--

- Ans
- 1. उसे पत्र द्वारा सूचित कर दिया गया है।
  - 2. पेट के वास्ते मनुष्य क्या नहीं करता।
  - 3. यमुना यमुनोत्री द्वारा निकलती है।
  - 4. हे भगवान! मुझे दुखों से बचाइए।

Q.15 वर्तनी की दृष्टि से अशुद्ध वाक्य की पहचान कीजिए।

- Ans
- 1. अगामी दिनों में हम घुमने चलेंगे।
  - 2. कार्यक्रम शुरू किया जाए।
  - 3. गणित पढ़ना अच्छा होता है।
  - 4. उसे क्षमा कर दो।

**Comprehension:**

निम्नलिखित गद्यांश को पढ़कर प्रश्नों के उत्तर दीजिए-

यह संतोष और गर्व की बात है कि देश वैज्ञानिक और (21) \_\_\_\_\_ क्षेत्र में आशातीत प्रगति कर रहा है। विश्व के समृद्ध अर्थव्यवस्था वाले देशों से टक्कर ले रहा है और उनसे आगे निकल जाना चाहता है, किंतु इस प्रगति के उजले पहलू के साथ एक धुंधला पहलू भी है जिससे हम (22) \_\_\_\_\_ चाहते हैं। वह है नैतिकता का पहलू। यदि हमारे हृदय में सत्य, ईमानदारी, कर्तव्यनिष्ठा और मानवीय भावनाएँ नहीं हैं; देश के मान-सम्मान का ध्यान नहीं है; तो सारी प्रगति निरर्थक होगी। आज यह आम धारणा है कि बिना हथेली गर्म किए साधारण-सा काम भी नहीं हो सकता। भ्रष्ट अधिकारियों और भ्रष्ट जनसेवकों में अपना घर भरने की (23) \_\_\_\_\_ लगी है। उन्हें न समाज की चिंता है, न देश की। समाचार-पत्रों में अब रोजमर्रा की घटनाएँ आम हो गई हैं। लोग मान बैठे हैं कि यही हमारा राष्ट्रीय चरित्र है, जब कि वह सच नहीं है। (24) \_\_\_\_\_ मरी नहीं है, पर प्रचार अनैतिकता का हो रहा है। लोगों में यह धारणा घर करती जा रही है कि जब बड़े लोग ही ऐसा कर रहे हैं तो हम क्या करें? सबसे पहले तो इस सोच से मुक्ति पाना जरूरी है, और उसके बाद यह संकल्प किके भ्रष्टाचार से मुक्त समाज बनाएँगे। उन्हें (25) \_\_\_\_\_ करेंगे जो देश के नैतिक चरित्र को बिगाड़ रहे हैं।

**SubQuestion No : 16**

Q.16 विकल्पों में से उचित शब्द चयन कर अनुच्छेद में रिक्त स्थान की पूर्ति करें।(21)

- Ans  1. ऐतिहासिक  
 2. औद्योगिक  
 3. काल्पनिक  
 4. सामाजिक

**Comprehension:**

निम्नलिखित गद्यांश को पढ़कर प्रश्नों के उत्तर दीजिए-

यह संतोष और गर्व की बात है कि देश वैज्ञानिक और (21) \_\_\_\_\_ क्षेत्र में आशातीत प्रगति कर रहा है। विश्व के समृद्ध अर्थव्यवस्था वाले देशों से टक्कर ले रहा है और उनसे आगे निकल जाना चाहता है, किंतु इस प्रगति के उजले पहलू के साथ एक धुंधला पहलू भी है जिससे हम (22) \_\_\_\_\_ चाहते हैं। वह है नैतिकता का पहलू। यदि हमारे हृदय में सत्य, ईमानदारी, कर्तव्यनिष्ठा और मानवीय भावनाएँ नहीं हैं; देश के मान-सम्मान का ध्यान नहीं है; तो सारी प्रगति निरर्थक होगी। आज यह आम धारणा है कि बिना हथेली गर्म किए साधारण-सा काम भी नहीं हो सकता। भ्रष्ट अधिकारियों और भ्रष्ट जनसेवकों में अपना घर भरने की (23) \_\_\_\_\_ लगी है। उन्हें न समाज की चिंता है, न देश की। समाचार-पत्रों में अब रोजमर्रा की घटनाएँ आम हो गई हैं। लोग मान बैठे हैं कि यही हमारा राष्ट्रीय चरित्र है, जब कि वह सच नहीं है। (24) \_\_\_\_\_ मरी नहीं है, पर प्रचार अनैतिकता का हो रहा है। लोगों में यह धारणा घर करती जा रही है कि जब बड़े लोग ही ऐसा कर रहे हैं तो हम क्या करें? सबसे पहले तो इस सोच से मुक्ति पाना जरूरी है, और उसके बाद यह संकल्प किके भ्रष्टाचार से मुक्त समाज बनाएँगे। उन्हें (25) \_\_\_\_\_ करेंगे जो देश के नैतिक चरित्र को बिगाड़ रहे हैं।

**SubQuestion No : 17**

Q.17 विकल्पों में से उचित शब्द चयन कर अनुच्छेद में रिक्त स्थान रिक्त स्थान की पूर्ति करें।(22)

- Ans  1. स्वाधीनता  
 2. छुटकारा  
 3. पलायन  
 4. रक्षा

**Comprehension:**

निम्नलिखित गद्यांश को पढ़कर प्रश्नों के उत्तर दीजिए-

यह संतोष और गर्व की बात है कि देश वैज्ञानिक और (21) \_\_\_\_\_ क्षेत्र में आशातीत प्रगति कर रहा है। विश्व के समृद्ध अर्थव्यवस्था वाले देशों से टक्कर ले रहा है और उनसे आगे निकल जाना चाहता है, किंतु इस प्रगति के उजले पहलू के साथ एक धुंधला पहलू भी है जिससे हम (22) \_\_\_\_\_ चाहते हैं। वह है नैतिकता का पहलू। यदि हमारे हृदय में सत्य, ईमानदारी, कर्तव्यनिष्ठा और मानवीय भावनाएँ नहीं हैं; देश के मान-सम्मान का ध्यान नहीं है; तो सारी प्रगति निरर्थक होगी। आज यह आम धारणा है कि बिना हथेली गर्म किए साधारण-सा काम भी नहीं हो सकता। भ्रष्ट अधिकारियों और भ्रष्ट जनसेवकों में अपना घर भरने की (23) \_\_\_\_\_ लगी है। उन्हें न समाज की चिंता है, न देश की। समाचार-पत्रों में अब रोजमर्रा की घटनाएँ आम हो गई हैं। लोग मान बैठे हैं कि यही हमारा राष्ट्रीय चरित्र है, जब कि वह सच नहीं है। (24) \_\_\_\_\_ मरी नहीं है, पर प्रचार अनैतिकता का हो रहा है। लोगों में यह धारणा घर करती जा रही है कि जब बड़े लोग ही ऐसा कर रहे हैं तो हम क्या करें? सबसे पहले तो इस सोच से मुक्ति पाना जरूरी है, और उसके बाद यह संकल्प किके भ्रष्टाचार से मुक्त समाज बनाएँगे। उन्हें (25) \_\_\_\_\_ करेंगे जो देश के नैतिक चरित्र को बिगाड़ रहे हैं।

**SubQuestion No : 18**

Q.18 निम्न विकल्पों में से उचित शब्द चयन कर अनुच्छेद में रिक्त स्थान रिक्त स्थान की पूर्ति करें।(23)

- Ans  1. बाजी  
 2. शर्त  
 3. होड़  
 4. पट्टी

**Comprehension:**

निम्नलिखित गद्यांश को पढ़कर प्रश्नों के उत्तर दीजिए-

यह संतोष और गर्व की बात है कि देश वैज्ञानिक और (21) \_\_\_\_\_ क्षेत्र में आशातीत प्रगति कर रहा है। विश्व के समृद्ध अर्थव्यवस्था वाले देशों से टक्कर ले रहा है और उनसे आगे निकल जाना चाहता है, किंतु इस प्रगति के उजले पहलू के साथ एक धुंधला पहलू भी है जिससे हम (22) \_\_\_\_\_ चाहते हैं। वह है नैतिकता का पहलू। यदि हमारे हृदय में सत्य, ईमानदारी, कर्तव्यनिष्ठा और मानवीय भावनाएँ नहीं हैं; देश के मान-सम्मान का ध्यान नहीं है; तो सारी प्रगति निरर्थक होगी। आज यह आम धारणा है कि बिना हथेली गर्म किए साधारण-सा काम भी नहीं हो सकता। भ्रष्ट अधिकारियों और भ्रष्ट जनसेवकों में अपना घर भरने की (23) \_\_\_\_\_ लगी है। उन्हें न समाज की चिंता है, न देश की। समाचार-पत्रों में अब रोजमर्रा की घटनाएँ आम हो गई हैं। लोग मान बैठे हैं कि यही हमारा राष्ट्रीय चरित्र है, जब कि वह सच नहीं है। (24) \_\_\_\_\_ मरी नहीं है, पर प्रचार अनैतिकता का हो रहा है। लोगों में यह धारणा घर करती जा रही है कि जब बड़े लोग ही ऐसा कर रहे हैं तो हम क्या करें? सबसे पहले तो इस सोच से मुक्ति पाना जरूरी है, और उसके बाद यह संकल्प किके भ्रष्टाचार से मुक्त समाज बनाएँगे। उन्हें (25) \_\_\_\_\_ करेंगे जो देश के नैतिक चरित्र को बिगाड़ रहे हैं।

**SubQuestion No : 19**

Q.19 निम्न विकल्पों में से उचित शब्द चयन कर अनुच्छेद में रिक्त स्थान रिक्त स्थान की पूर्ति करें।(24)

- Ans
- 1. मानविकता
  - 2. अलौकिकता
  - 3. अराजकता
  - 4. नैतिकता

**Comprehension:**

निम्नलिखित गद्यांश को पढ़कर प्रश्नों के उत्तर दीजिए-

यह संतोष और गर्व की बात है कि देश वैज्ञानिक और (21) \_\_\_\_\_ क्षेत्र में आशातीत प्रगति कर रहा है। विश्व के समृद्ध अर्थव्यवस्था वाले देशों से टक्कर ले रहा है और उनसे आगे निकल जाना चाहता है, किंतु इस प्रगति के उजले पहलू के साथ एक धुंधला पहलू भी है जिससे हम (22) \_\_\_\_\_ चाहते हैं। वह है नैतिकता का पहलू। यदि हमारे हृदय में सत्य, ईमानदारी, कर्तव्यनिष्ठा और मानवीय भावनाएँ नहीं हैं; देश के मान-सम्मान का ध्यान नहीं है; तो सारी प्रगति निरर्थक होगी। आज यह आम धारणा है कि बिना हथेली गर्म किए साधारण-सा काम भी नहीं हो सकता। भ्रष्ट अधिकारियों और भ्रष्ट जनसेवकों में अपना घर भरने की (23) \_\_\_\_\_ लगी है। उन्हें न समाज की चिंता है, न देश की। समाचार-पत्रों में अब रोजमर्रा की घटनाएँ आम हो गई हैं। लोग मान बैठे हैं कि यही हमारा राष्ट्रीय चरित्र है, जब कि वह सच नहीं है। (24) \_\_\_\_\_ मरी नहीं है, पर प्रचार अनैतिकता का हो रहा है। लोगों में यह धारणा घर करती जा रही है कि जब बड़े लोग ही ऐसा कर रहे हैं तो हम क्या करें? सबसे पहले तो इस सोच से मुक्ति पाना जरूरी है, और उसके बाद यह संकल्प किके भ्रष्टाचार से मुक्त समाज बनाएँगे। उन्हें (25) \_\_\_\_\_ करेंगे जो देश के नैतिक चरित्र को बिगाड़ रहे हैं।

**SubQuestion No : 20**

Q.20 निम्न विकल्पों में से उचित शब्द चयन कर अनुच्छेद में रिक्त स्थान की पूर्ति करें।(25)

- Ans
- 1. बेकदर
  - 2. बेनकाब
  - 3. बेकसूर
  - 4. बेअदब