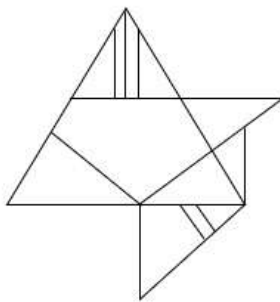


Constable GD in CAPFs SSF Rifleman GD in Assam Rifles and Sepoy in NCB Examination 2022

Roll Number	
Candidate Name	
Venue Name	Pawan Ganga Educational Centre 1
Exam Date	06/02/2023
Exam Time	5:15 PM - 6:15 PM
Subject	Constable GD Examination 2022

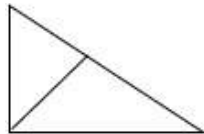
Section : Part-A-General Intelligence and Reasoning

Q.1 Select the option figure which is embedded in the given figure. (Rotation is NOT allowed)




Ans

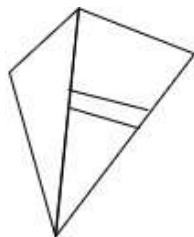
✗ 1.



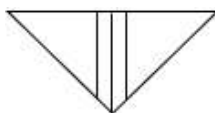
✓ 2.



✗ 3.



✗ 4.



Question ID : 26433069341
Status : Answered
Chosen Option : 2

Q.2 If A denotes +, B denotes -, and C denotes \times , then what will be the value of the following equation?
 $20 C 5 A 3 C 2 B 16$

- Ans
- 1. 80
 - 2. 100
 - 3. 90
 - 4. 85

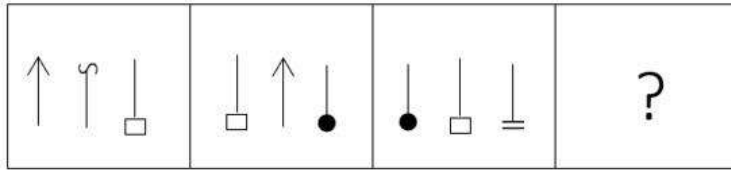
Question ID : 26433092971
Status : Answered
Chosen Option : 3

Q.3 Six friends Sarthi, Pari, Vani, Kabir, Arshi, and Kamal, are sitting in a circle. All of them are facing the centre. Sarthi sits second to the left of Pari. Vani sits third to the right of Kabir. Arshi is an immediate neighbour of Pari and Kabir. Who sits fourth to the left of Vani?

- Ans
- 1. Pari
 - 2. Kabir
 - 3. Arshi
 - 4. Kamal

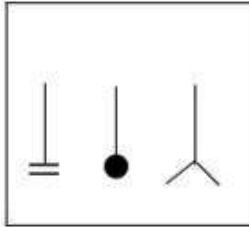
Question ID : 26433069506
Status : Answered
Chosen Option : 3

Q.4 Select the figure from among the given options that can replace the question mark (?) in the following series.

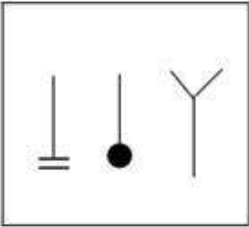


Ans

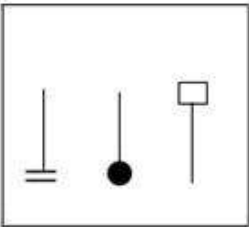
✓ 1.



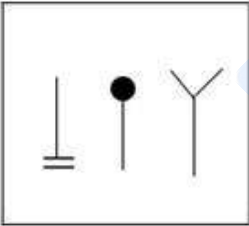
✗ 2.



✗ 3.

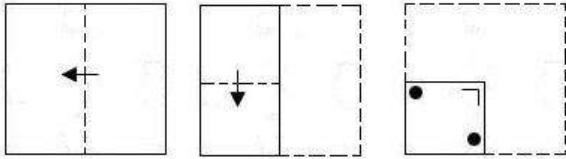


✗ 4.

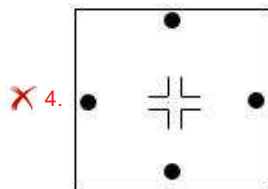
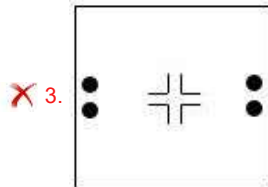
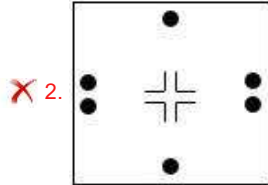
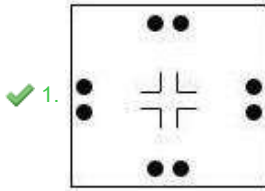


Question ID : 26433080760
Status : Answered
Chosen Option : 2

Q.5 A paper is folded and cut as shown below. How will it appear when unfolded?



Ans



Question ID : 26433090090
Status : Answered
Chosen Option : 1

Q.6 Select the correct mirror image of the given figure when the mirror is placed at MN as shown below.

R S 2 T z x w
M ————— N

Ans



Question ID : 26433080803
Status : Answered
Chosen Option : 2

Q.7 Which of the following terms will replace the question mark (?) in the given series?
FSCW, HQEU, JOGS, LMIQ, ?

- Ans
- 1. NKLO
 - 2. MLJP
 - 3. MNKO
 - 4. NKKO

Question ID : 26433069445
Status : Answered
Chosen Option : 4

Q.8 O,P,Q,R and S are sitting on a circular table facing towards the centre. R is sitting to the immediate left of S. Q is sitting to the immediate right of O. S is the immediate neighbour of R and O. P is sitting to the immediate left of R. Who is sitting to the immediate right of Q?

- Ans
- 1. O
 - 2. P
 - 3. R
 - 4. S

Question ID : 26433074606
Status : Answered
Chosen Option : 2

Q.9 Select the option that is related to the fifth letter-cluster in the same way as the second letter-cluster is related to the first letter-cluster and the fourth letter-cluster is related to the third letter-cluster.

REALITY : YEALITR :: SCIENCE : ECIENCS :: ADVERSE : ?

- Ans
- 1. VERSEAD
 - 2. EDVERSA
 - 3. VDAERSE
 - 4. ESREVDVA

Question ID : 26433069636
Status : Answered
Chosen Option : 2

Q.10 Which of the following numbers will replace the question mark (?) in the given series?
96, 48, 60, 30, 42, 21, ?

- Ans
- 1. 30
 - 2. 37
 - 3. 33
 - 4. 32

Question ID : 26433067882
Status : Not Answered
Chosen Option : --

Q.11 Which of the following numbers will replace the question mark (?) in the given series?
12, 23, 45, 56, 78, 89, 111, 122, ?

- Ans 1. 322
 2. 144
 3. 43
 4. 133

Question ID : 26433082736
 Status : Answered
 Chosen Option : 2

Q.12 Select the option that is related to the fifth letter-cluster in the same way as the second letter-cluster is related to the first letter-cluster and the fourth letter-cluster is related to the third letter-cluster.

GLOW: SOMF :: LIKE: NRQX :: SAVE: ?

- Ans 1. UCTX
 2. GZFX
 3. GYEW
 4. HZEW

Question ID : 26433057493
 Status : Answered
 Chosen Option : 4

Q.13 In a certain code language, STAR is coded as 58, and ALARM is coded as 45. How will STAGE be coded in the same language?

- Ans 1. 51
 2. 50
 3. 49
 4. 52

Question ID : 26433067994
 Status : Answered
 Chosen Option : 4

Q.14 A @ B means 'A is the sister of B'.

A & B means 'A is the brother of B'.

A # B means 'A is the wife of B'.

A ^ B means 'A is the mother of B'.

A + B means 'A is the father of B'.

If A & C + E ^ G # I & K + M @ O, then which of the following statements is NOT correct?

- Ans 1. K is the father of O.
 2. I is the son of E.
 3. M is the daughter of K.
 4. C is the maternal grandfather of G.

Question ID : 26433068951
 Status : Answered
 Chosen Option : 2

Q.15 Which of the following terms will replace the question mark (?) in the given series?
ADLU, EGOO, ?, OMUE, U PXA

- Ans 1. ILIR
 2. JIIR
 3. IJRI
 4. IKRI

Question ID : 26433068307
Status : Answered
Chosen Option : 2

Q.16 Select the set in which the numbers are related in the same way as are the numbers of the following set.

(NOTE : Operations should be performed on the whole numbers, without breaking down the numbers into its constituent digits. E.g. 13 – Operations on 13 such as adding /subtracting/multiplying etc. to 13 can be performed. Breaking down 13 into 1 and 3 and then performing mathematical operations on 1 and 3 is NOT allowed)
(9, 14, 161)
(12, 18, 210)

- Ans 1. (23, 40, 371)
 2. (40, 20, 340)
 3. (11, 33, 348)
 4. (29, 17, 322)

Question ID : 26433076486
Status : Answered
Chosen Option : 2

Q.17 Select the option that represents the correct order of the given words as they would appear in an English dictionary.

1. TOPOLOGY
2. TOPIC
3. TOPAZ
4. TOUR
5. TORTILLA
6. TORN

- Ans 1. 2, 3, 1, 6, 5, 4
 2. 1, 3, 2, 6, 5, 4
 3. 1, 2, 3, 6, 5, 4
 4. 3, 2, 1, 6, 5, 4

Question ID : 26433079380
Status : Answered
Chosen Option : 4

Q.18 In this question, three statements are given, followed by two conclusions numbered I and II. Assuming the statements to be true, even if they seem to be at variance with commonly known facts, decide which of the conclusions logically follows/follow from the statements.

Statements:

All bangles are coins.

All coins are anklets.

All anklets are lockets.

Conclusions:

I. All lockets are bangles.

II. Some lockets are coins.

- Ans
- 1. Both conclusions I and II follow.
 - 2. Neither conclusion I nor II follows.
 - 3. Only conclusion I follows.
 - 4. Only conclusion II follows.

Question ID : 26433070392

Status : Answered

Chosen Option : 4

Q.19 Which two signs should be interchanged to make the below equation mathematically correct?

$$104 \div 13 + 60 - 5 \times 2 = 115$$

- Ans
- 1. \div and \times
 - 2. \div and $-$
 - 3. $+$ and \times
 - 4. \times and $-$

Question ID : 264330117498

Status : Answered

Chosen Option : 2

Q.20 In a certain code language, 'ENTITY' is written as 'UOFAVK' and 'EQUITY' is written as 'VRFAVK'. How will 'ESCAPE' be written as in that language?

- Ans
- 1. CSEEP A
 - 2. DTFEPA
 - 3. DTFGRC
 - 4. EPACSE

Question ID : 26433090043

Status : Answered

Chosen Option : 3

Section : Part-B-General Knowledge and General awareness

Q.1 What was the targeted economic growth rate as per the Sixth Five year plan?

- Ans
- 1. 5.8
 - 2. 6.3
 - 3. 5.2
 - 4. 6.0

Question ID : 264330116125

Status : Answered

Chosen Option : 3

Q.2 What is the minimum age of a candidate to become the president of India?

- Ans
- 1. 25
 - 2. 20
 - 3. 35
 - 4. 30

Question ID : 264330115662
Status : Answered
Chosen Option : 3

Q.3 Public debt is burdensome if it _____ future growth in output.

- Ans
- 1. reduces
 - 2. magnifies
 - 3. increases
 - 4. expands

Question ID : 264330115285
Status : Answered
Chosen Option : 1

Q.4 Who became the youngest speaker in the history of the Maharashtra State Assembly in July 2022?

- Ans
- 1. Sajan Shah
 - 2. Sandeep Maheshwari
 - 3. Rahul Narwekar
 - 4. Vivek Bindra

Question ID : 264330114988
Status : Answered
Chosen Option : 3

Q.5 In which of the following climates you cannot grow a rubber crop?

- Ans
- 1. tropical climate
 - 2. sub-tropical climate
 - 3. equatorial climate
 - 4. polar climate

Question ID : 264330115532
Status : Answered
Chosen Option : 2

Q.6 Who became the Member of Legislative Assembly from Andheri East constituency in Maharashtra, India in November 2022?

- Ans
- 1. Devendra Fadnavis
 - 2. Rutuja Latke
 - 3. Narayan Rane
 - 4. Chandrakant Jadhav

Question ID : 264330114963
Status : Answered
Chosen Option : 3

Q.7 Which is the second most populated state of India as per the Census 2011?

- Ans
- 1. Bihar
 - 2. Uttar Pradesh
 - 3. Jharkhand
 - 4. Maharashtra

Question ID : 264330116035
Status : Answered
Chosen Option : 1

Q.8 Given among the following, _____ is a food crop

- Ans
- 1. jute
 - 2. cotton
 - 3. rice
 - 4. rubber

Question ID : 264330115425
Status : Answered
Chosen Option : 3

Q.9 The Resolution of Non-Cooperation movement was confirmed in the annual session of the Indian National Congress at _____ in December 1920.

- Ans
- 1. Madras
 - 2. Nagpur
 - 3. Bhopal
 - 4. Surat

Question ID : 26433089882
Status : Answered
Chosen Option : 4

Q.10 Which of the following dancer won a Sangeet Natak Akademi Award in 2004?

- Ans 1. Krishna Ella
 2. Anuradha Pandey
 3. Jatin Goswami
 4. Amala Akkineni

Question ID : 264330115826
Status : Answered
Chosen Option : 3

Q.11 The Sattriya dance, one of the classical dances of India depicts the teachings of which of the following religions?

- Ans 1. Hinduism
 2. Sikhism
 3. Jainism
 4. Buddhism

Question ID : 26433071484
Status : Answered
Chosen Option : 4

Q.12 Karaga, one of the oldest festivals of _____, is celebrated in honour of Goddess Shakti.

- Ans 1. Karnataka
 2. Andhra Pradesh
 3. Kerala
 4. Tamil Nadu

Question ID : 264330115128
Status : Answered
Chosen Option : 1

Q.13 What obstructs the South-West monsoon winds which come from the Arabian Sea while flowing towards the Intertropical Convergence Zone?

- Ans 1. Great Himalayan range
 2. Western Ghats
 3. Aravalli Range
 4. Eastern Ghats

Question ID : 264330115987
Status : Answered
Chosen Option : 2

Q.14 Which is the largest Democracy in the world?

- Ans 1. India
 2. USA
 3. Brazil
 4. China

Question ID : 264330115620
Status : Answered
Chosen Option : 1

Q.15 The Satavahana kingdom was established about how many years ago?

- Ans 1. 2400
 2. 2100
 3. 1700
 4. 2800

Question ID : 264330115465
Status : Answered
Chosen Option : 3

Q.16 The 35th National Games of India were held in which year?

- Ans 1. 2014
 2. 2015
 3. 2017
 4. 2013

Question ID : 264330116254
Status : Answered
Chosen Option : 3

Q.17 Saikhom Mirabai Chanu is an _____.

- Ans 1. Indian Boxer
 2. Indian weightlifter
 3. Indian Wrestler
 4. Indian cyclist

Question ID : 264330115956
Status : Answered
Chosen Option : 2

Q.18 Chemical formula for the marble is _____.

- Ans 1. CaO
 2. Ca(OH)₂
 3. CaCO₃
 4. CO₂

Question ID : 26433066471
Status : Answered
Chosen Option : 3

Q.19 _____ is the fluid content inside the plasma membrane.

- Ans
- 1. mitochondria
 - 2. nucleus
 - 3. chromatin
 - 4. cytoplasm

Question ID : 264330115209
Status : Answered
Chosen Option : 4

Q.20 _____ intends to provide skill development and placement oriented training across the entire textile value chain, excluding Spinning and Weaving in the organized sector.

- Ans
- 1. Merchandise Export From India Scheme
 - 2. Sewa Scheme
 - 3. MPLADS (Members of Parliament Local Area Development Scheme)
 - 4. Samarth Scheme

Question ID : 264330116172
Status : Answered
Chosen Option : 4

Section : Part-C-Elementary Mathematics

Q.1 In a certain rectangle, the ratio of length to width of the rectangle is 3 : 2 and the area is 150 cm^2 . The perimeter of the rectangle is:

- Ans
- 1. 25 cm
 - 2. 50 cm
 - 3. 100 cm
 - 4. 30 cm

Question ID : 26433075881
Status : Answered
Chosen Option : 2

Q.2 Mukesh took some loan from a bank at the rate of 5% per annum compounded annually. If he cleared his loan by paying ₹7,05,600 at the end of 2 years, then what was the amount of loan that he had taken?

- Ans
- 1. ₹5,96,000
 - 2. ₹6,40,000
 - 3. ₹6,68,000
 - 4. ₹5,60,000

Question ID : 26433080045
Status : Answered
Chosen Option : 2

Q.3 A motor-cycle covers 50 km with a speed of 25 km/hr. What must be the speed of the motor-cycle for the next 50 km journey so that the average speed of the whole journey is 30 km/hr?

Ans

1. $25 \frac{1}{2}$ km/hr

2. $35 \frac{1}{2}$ km/hr

3. $37 \frac{1}{2}$ km/hr

4. $38 \frac{1}{2}$ km/hr

Question ID : 26433081593

Status : Answered

Chosen Option : 1

Q.4 If A is the average of first 5 natural numbers and B is the average of first 5 natural numbers which are perfect squares, then what is the average of A and B?

Ans

1. 8

2. 10

3. 7

4. 9

Question ID : 264330116692

Status : Answered

Chosen Option : 2

Q.5 A sum of money is lent out at compound interest rate of 20% per annum, compounding annually for two years. It would fetch ₹3,133 more interest, if interest is compounding half yearly. Find the sum.

Ans

1. ₹1,20,000

2. ₹13,000

3. ₹1,30,000

4. ₹65,000

Question ID : 26433076194

Status : Answered

Chosen Option : 4

Q.6 20 men can finish a piece of work in 5 days, whereas it takes 24 women to finish it in 5 days. If 30 men and 12 women undertake to complete the work, how many days will they take to complete it?

- Ans 1. 3
 2. 1.5
 3. 5
 4. 2.5

Question ID : 26433076207
Status : Answered
Chosen Option : 4

Q.7 The diameter and height of a cylindrical tower are 10 m and 21m, respectively. What will be the cost of painting its curved surface, at the rate of Rs.8 per m^2 ? (Use $\pi = 22/7$)

- Ans 1. Rs.4,980
 2. Rs.5,280
 3. Rs.5,490
 4. Rs.5,130

Question ID : 26433075484
Status : Answered
Chosen Option : 2

Q.8 The Rajdhani train travels in a straight line at a constant speed of 75 km/h for a particular distance 'd' and then travels another distance equal to '2d' at a constant speed of 100 km/h in the same direction as earlier. Find the average speed of the train during the whole journey?

- Ans 1. 84 km/h
 2. 90 km/h
 3. 96 km/h
 4. 88 km/h

Question ID : 26433076233
Status : Answered
Chosen Option : 2

Q.9 In a school, the ratio of boys to girls is 7 : 11. If there are 3420 students in the school, then how many girls are there in the school? (There are only boys and girls in the school.)

- Ans 1. 1330
 2. 2090
 3. 902
 4. 760

Question ID : 26433082719
Status : Answered
Chosen Option : 2

Q.10 If the radius of the base and the height of a cylinder are 11cm and 21 cm respectively, then what is the volume of the cylinder? (Use $\pi = 22/7$)

- Ans
- 1. 8988 cm³
 - 2. 7988 cm³
 - 3. 8986 cm³
 - 4. 7986 cm³

Question ID : 26433075709

Status : Answered

Chosen Option : 2

Q.11 Applied to a bill for Rs. 10000 the difference between a discount of 30 percent and two successive discounts of 22 percent and 8 percent is:

- Ans
- 1. Rs. 138
 - 2. Rs. 144
 - 3. Rs. 176
 - 4. Rs. 124

Question ID : 264330116741

Status : Answered

Chosen Option : 2

Q.12 The ratio of the salaries of A and B is 4 : 5 and the ratio of their expenditures is 5 : 6. If both save ₹200 and ₹300, respectively, then what is the salary of A?

- Ans
- 1. ₹1,100
 - 2. ₹1,000
 - 3. ₹1,200
 - 4. ₹1,300

Question ID : 26433080217

Status : Answered

Chosen Option : 3

Q.13 The greatest number, by which when the numbers 1658 and 2038 are divided, the remainders are 7 and 6, respectively, is:

- Ans
- 1. 112
 - 2. 127
 - 3. 117
 - 4. 137

Question ID : 26433087336

Status : Answered

Chosen Option : 1

Q.14 A trader mixes 26 kg of raw salt which costs Rs.2 per kg with 30 kg of raw salt which costs Rs.3.60 per kg. If he sells the mixture for Rs.3 per kg, find his gain%.

- Ans
- 1. 8%
 - 2. 3%
 - 3. 10%
 - 4. 5%

Question ID : 26433075494

Status : Answered

Chosen Option : 1

Q.15 A, B, and C can complete a work in 4 days, 8 days, and 16 days respectively. If all three work on alternate days such that A works on first day, B works on second day, C works on third day and A works on fourth day and so on, then find the number of days in which 175% of the work is done.

- Ans
- 1. 12 days
 - 2. 5 days
 - 3. 9 days
 - 4. 11 days

Question ID : 264330116856

Status : Answered

Chosen Option : 3

Q.16 Two successive price increases of 5% and 5% of an article are equivalent to a single price increase of:

- Ans
- 1. 10.25%
 - 2. 10.50%
 - 3. 10.00%
 - 4. 9.75%

Question ID : 26433075100

Status : Answered

Chosen Option : 2

Q.17 In which ratio a trader must mix two quantities of ₹18 per kg and ₹27 per kg, so that the price of the mixture becomes ₹25 per kg?

- Ans
- 1. 1 : 7
 - 2. 3 : 7
 - 3. 2 : 7
 - 4. 2 : 5

Question ID : 26433079845

Status : Answered

Chosen Option : 3

Q.18 A man purchased 25 litres of milk at the cost price of Rs.25 per litre. Now he added 5 litres of water to it and sold the mixture at the cost price. Find the profit percentage for the man.

- Ans
- 1. 10%
 - 2. 20%
 - 3. 25%
 - 4. 15%

Question ID : 26433075941
Status : Answered
Chosen Option : 2

Q.19 A discount of 20% on one article is the same as a discount of 25% on another article. The marked price of article can be?

- Ans
- 1. ₹100 and ₹120
 - 2. ₹100 and ₹60
 - 3. ₹100 and ₹80
 - 4. ₹100 and ₹40

Question ID : 26433073010
Status : Answered
Chosen Option : 1

Q.20 Which number is one less than the sum of all the prime factors of 2310?

- Ans
- 1. 33
 - 2. 29
 - 3. 27
 - 4. 25

Question ID : 26433080374
Status : Answered
Chosen Option : 2

Section : Part-D-English

Q.1 Select the most appropriate option that can substitute the underlined segment in the given sentence. If there is no need to substitute it, select 'No substitution required'.

Nalini was not satisfy with her birthday dress, but she wore it anyway.

- Ans
- 1. Nalini was not satisfied for her birthday dress
 - 2. No substitution required
 - 3. Nalini was not satisfied with her birthday dress
 - 4. Nalini were not satisfied by her birthday dress

Question ID : 26433091873
Status : Answered
Chosen Option : 3

Q.2 Select the most appropriate ANTONYM of the given word.

Abolish

- Ans 1. Construct
 2. Reverberate
 3. Eradicate
 4. Pontificate

Question ID : 26433071849
Status : Answered
Chosen Option : 2

Q.3 Select the most appropriate option to substitute the underlined segment in the given sentence.

Experiences lead you towards the most fascinating stage of your living that you will cherish forever.

- Ans 1. feature of your work
 2. set of your routine
 3. part of your life
 4. glory of your day

Question ID : 26433092913
Status : Answered
Chosen Option : 3

Q.4 Parts of the following sentence have been given as options. Select the option that contains an error.

Sam shall went to / the office tomorrow to / get back his original documents / lying with the staff.

- Ans 1. get back his original documents
 2. Sam shall went to
 3. the office tomorrow to
 4. lying with the staff

Question ID : 26433088464
Status : Answered
Chosen Option : 2

Q.5 Select the most appropriate meaning of the given idiom.

White elephant

- Ans 1. A business company in bankruptcy
 2. Something that costs a lot of money but has no useful purpose
 3. Something very rare and precious
 4. A big lie that is concealed from all

Question ID : 26433072361
Status : Answered
Chosen Option : 3

Q.6 Select the most appropriate synonym of the given word to fill in the blank in the sentence.

Deceive

My mother said, "Don't _____ yourself, Adi. Pay attention to your studies."

- Ans
- 1. shine
 - 2. handle
 - 3. trick
 - 4. believe

Question ID : 26433060558

Status : Answered

Chosen Option : 3

Q.7 Select the most appropriate ANTONYM of the given word.

Worthless

- Ans
- 1. Insult
 - 2. Productive
 - 3. Kind
 - 4. Ineffective

Question ID : 26433090789

Status : Answered

Chosen Option : 2

Q.8 Select the most appropriate option that can substitute the underlined segment in the given sentence.

The captain feels very proudly as his team has won the match.

- Ans
- 1. feel very proudly
 - 2. feels most pride
 - 3. feels much proud
 - 4. feels very proud

Question ID : 26433088166

Status : Answered

Chosen Option : 4

Q.9 Select the most appropriate homophone to fill in the blank.

There was a big hole in the wall which they are trying to close. It took a _____ day for them to do the job.

- Ans
- 1. while
 - 2. whale
 - 3. hold
 - 4. whole

Question ID : 26433088792

Status : Answered

Chosen Option : 4

Q.10 Select the most appropriate synonym of the underlined word in the given sentence.

The novelist depicted the moral decay of the society through his novels.

- Ans
- 1. Conviction
 - 2. Degeneration
 - 3. Integrity
 - 4. Indignation

Question ID : 26433071959
Status : Answered
Chosen Option : 2

Q.11 Select the most appropriate synonym of the given word.

Culpable

- Ans
- 1. Absolved
 - 2. Vindicated
 - 3. Guilty
 - 4. Acquitted

Question ID : 26433088201
Status : Answered
Chosen Option : 3

Q.12 Select the most appropriate ANTONYM of the given word.

Mandatory

- Ans
- 1. Imperative
 - 2. Requisite
 - 3. Unavoidable
 - 4. Optional

Question ID : 26433073574
Status : Answered
Chosen Option : 4

Q.13 Identify the correctly spelt sentence.

- Ans
- 1. Scientists are looking for alternative energy to save non-renewable resources.
 - 2. Scientists are looking for alternative energy to save non-reneable resources.
 - 3. Scientists are looking for allternative energy to save non-renewable resources.
 - 4. Scientists are looking for alternetive energy to save non-renewable resources.

Question ID : 26433072829
Status : Answered
Chosen Option : 1

Q.14 Select the most appropriate meaning of the given idiom.

Like oil and water

- Ans 1. Two people who like each other
2. Two people who are different from each other
3. Two people who are similar to each other
4. Two people who like to work with each other

Question ID : 26433072674

Status : Answered

Chosen Option : 2

Q.15 Select the INCORRECTLY spelt word.

- Ans 1. Constipation
2. Hallucination
3. Reverberation
4. Ockupation

Question ID : 26433073512

Status : Answered

Chosen Option : 1

Comprehension:

In the following passage, some words have been deleted. Read the passage carefully and select the most appropriate option to fill in each blank.

Amidst all the chaos and suffering caused by the pandemic, there are some positive stories of grit, (1)_____ and bravado. Some businesses understood the needs of the times to make (2)_____ profits. Businesses diversified and (3)_____ successful. Although there are numerous stories of people and business owners (4)_____ due to lockdowns, this small percentage of success stories is like the light at the end of the (5)_____.

SubQuestion No : 16

Q.16 Select the most appropriate option to fill in blank number 1.

- Ans 1. persistence
2. perspiration
3. silence
4. laxity

Question ID : 26433091782

Status : Answered

Chosen Option : 1

Comprehension:

In the following passage, some words have been deleted. Read the passage carefully and select the most appropriate option to fill in each blank.

Amidst all the chaos and suffering caused by the pandemic, there are some positive stories of grit, (1)_____ and bravado. Some businesses understood the needs of the times to make (2)_____ profits. Businesses diversified and (3)_____ successful. Although there are numerous stories of people and business owners (4)_____ due to lockdowns, this small percentage of success stories is like the light at the end of the (5)_____.

SubQuestion No : 17

Q.17 Select the most appropriate option to fill in blank number 2.

- Ans
- 1. elite
 - 2. slow
 - 3. tiny
 - 4. huge

Question ID : 26433091783

Status : Answered

Chosen Option : 4

Comprehension:

In the following passage, some words have been deleted. Read the passage carefully and select the most appropriate option to fill in each blank.

Amidst all the chaos and suffering caused by the pandemic, there are some positive stories of grit, (1)_____ and bravado. Some businesses understood the needs of the times to make (2)_____ profits. Businesses diversified and (3)_____ successful. Although there are numerous stories of people and business owners (4)_____ due to lockdowns, this small percentage of success stories is like the light at the end of the (5)_____.

SubQuestion No : 18

Q.18 Select the most appropriate option to fill in blank number 3.

- Ans
- 1. were
 - 2. are
 - 3. can
 - 4. aren't

Question ID : 26433091784

Status : Answered

Chosen Option : 1

Comprehension:

In the following passage, some words have been deleted. Read the passage carefully and select the most appropriate option to fill in each blank.

Amidst all the chaos and suffering caused by the pandemic, there are some positive stories of grit, (1)_____ and bravado. Some businesses understood the needs of the times to make (2)_____ profits. Businesses diversified and (3)_____ successful. Although there are numerous stories of people and business owners (4)_____ due to lockdowns, this small percentage of success stories is like the light at the end of the (5)_____.

SubQuestion No : 19

Q.19 Select the most appropriate option to fill in blank number 4.

- Ans 1. relishing
 2. pushing
 3. emptying
 4. suffering

Question ID : 26433091785

Status : Answered

Chosen Option : 4

Comprehension:

In the following passage, some words have been deleted. Read the passage carefully and select the most appropriate option to fill in each blank.

Amidst all the chaos and suffering caused by the pandemic, there are some positive stories of grit, (1)_____ and bravado. Some businesses understood the needs of the times to make (2)_____ profits. Businesses diversified and (3)_____ successful. Although there are numerous stories of people and business owners (4)_____ due to lockdowns, this small percentage of success stories is like the light at the end of the (5)_____.

SubQuestion No : 20

Q.20 Select the most appropriate option to fill in blank number 5.

- Ans 1. kernel
 2. hill
 3. rope
 4. tunnel

Question ID : 26433091786

Status : Answered

Chosen Option : 4

Section : Part-D-Hindi

Q.1 निम्नलिखित वाक्य में त्रुटि पहचानें-
 उसने चार मन चावल खरीदी।

- Ans 1. उसने
 2. चावल
 3. चार
 4. खरीदी

Question ID : 26433066820

Status : Not Answered

Chosen Option : --

Q.2 निम्नलिखित में से किस मुहावरे का अर्थ 'जी दुखाना' है?

- Ans
- 1. छाती पर सांप लोटना
 - 2. धज्जियां उड़ाना
 - 3. छक्के छुड़ाना
 - 4. छाती पर मूंग दलना

Question ID : 26433066810

Status : Not Answered

Chosen Option : --

Q.3 'जिस पर मुकदमा चल रहा हो' वाक्यांश के लिए उचित शब्द बताइए -

- Ans
- 1. मुक्किल
 - 2. अभियुक्त
 - 3. कैदी
 - 4. मुजरिम

Question ID : 26433065907

Status : Not Answered

Chosen Option : --

Q.4 धरती माता की पूजा करनी चाहिए।

उपरोक्त वाक्य में रेखांकित शब्द के उचित पर्यायवाची शब्द का चयन विकल्पों में से कीजिए।

- Ans
- 1. दारा
 - 2. तनया
 - 3. वसुधा
 - 4. धीया

Question ID : 26433079619

Status : Not Answered

Chosen Option : --

Q.5 निम्न वाक्य में रेखांकित शब्द के सही विलोम शब्द से रिक्त स्थान की पूर्ति कीजिए।

'सज्जन मृदुभाषी होते हैं लेकिन दुर्जन _____ होते हैं।'

- Ans
- 1. कटुभाषी
 - 2. मधुर
 - 3. स्निग्ध
 - 4. ललित

Question ID : 26433066908

Status : Not Answered

Chosen Option : --

Q.6 निम्नलिखित में से कौन-सा शब्द संबंध कारक चिह्न नहीं है?

- Ans 1. की
 2. का
 3. हे
 4. के

Question ID : 26433085030
 Status : Not Answered
 Chosen Option : --

Q.7 निम्न वाक्य में रेखांकित शब्द के लिए विकल्पों में से सर्वाधिक उपयुक्त शब्द कौन सा होगा?
 'मैं आज भारी दुखी हूँ।'

- Ans 1. गंभीर
 2. सही
 3. हल्का
 4. बहुत

Question ID : 26433066714
 Status : Not Answered
 Chosen Option : --

Q.8 निम्नलिखित वाक्यांश के लिए उपयुक्त सार्थक शब्द क्या होगा?
 जो व्यर्थ की बातें करता हो

- Ans 1. कठोर
 2. वक्ता
 3. वाचाल
 4. जड़

Question ID : 26433065755
 Status : Not Answered
 Chosen Option : --

Q.9 विकल्पों में दिए गए किस वाक्य में निम्न शब्द के सही पर्यायवाची का प्रयोग किया गया है?
 मछली

- Ans 1. सर्पगंधा पानी में रहती है।
 2. मत्स्य जल में रहती है।
 3. हस्ति जल में रहती है।
 4. इग्लू पानी में ही रहती है।

Question ID : 26433066936
 Status : Not Answered
 Chosen Option : --

Q.10 'यशोदा' व्यक्तिवाचक संज्ञा शब्द है। इसे जातिवाचक संज्ञा के रूप में प्रयोग करने से कौन सा विकल्प शुद्ध होगा?

- Ans
- 1. यशोदा की तस्वीर मैंने देखी है।
 - 2. वह यशोदा है।
 - 3. कृष्ण की माँ यशोदा थीं।
 - 4. यशोदा हमारे घर की लक्ष्मी है।

Question ID : 26433079224

Status : Not Answered

Chosen Option : --

Q.11 दिए गए मुहावरे में रेखांकित अंश के स्थान पर सबसे उपयुक्त विकल्प कौन-सा होगा?
'आकाश से गिरा, जमीन पर अटका'

- Ans
- 1. नारियल
 - 2. खजूर
 - 3. अमरूद
 - 4. आम

Question ID : 26433066739

Status : Not Answered

Chosen Option : --

Q.12 निम्न वाक्य में रेखांकित शब्द-समूह के लिए सर्वाधिक उपयुक्त विकल्प चुनें।
जिसके पास कुछ भी न हो, वह क्या खोएगा।

- Ans
- 1. अभावग्रस्त
 - 2. बेसहारा
 - 3. अपाहिज
 - 4. अकिंचन

Question ID : 26433062280

Status : Not Answered

Chosen Option : --

Q.13 "शायद विद्युत आज घर आ जाए।"
सामान्य भविष्य काल का प्रयोग करते हुए उपरोक्त वाक्य को पुनः लिखिए।

- Ans
- 1. विद्युत घर आया था।
 - 2. विद्युत आज घर आ रहा होगा।
 - 3. विद्युत आज घर आएगा।
 - 4. विद्युत आज घर आया।

Question ID : 26433066983

Status : Not Answered

Chosen Option : --

Q.14 निम्नलिखित वाक्यों में अशुद्ध वर्तनी वाले वाक्य का चयन कीजिए।

- Ans 1. घर में बिस्तर और बर्तन आदि हैं।
 2. जो धन का भूखा है, वह साधु नहीं है।
 3. यद्यपि हम अपढ़ हैं तथापि बूद्धु नहीं है।
 4. राम कसरत करता है ताकि वह पहलवान बन जाए।

Question ID : 26433063070

Status : Not Answered

Chosen Option : --

Q.15 निम्न वाक्य में रेखांकित शब्द के विलोम से दिए गए वाक्य का रिक्त स्थान पूर्ण करें।
 परिश्रमी व्यक्ति सदैव अपना लक्ष्य प्राप्त करते हैं और _____ व्यर्थ में समय नष्ट करते हैं।

- Ans 1. आलसी
 2. साहसी
 3. वीर
 4. दुष्ट

Question ID : 26433085006

Status : Not Answered

Chosen Option : --

Comprehension:

प्रश्न संख्या 1 से 5 तक के प्रश्नों का उत्तर दिए गए गद्यांश के आधार पर दिजिए।
 तानाशाह जनमानस के 1. _____ को कोई महत्व नहीं देता। उसका निर्माण ऊपर से चलता है, किंतु यह लादा हुआ भार-स्वरूप निर्माण हो जाता है। सच्चा राष्ट्र-निर्माण वह है, जो जनमानस की तैयारी पर आधारित रहता है। योजनाएँ शासन और सत्ता बनाएँ, उन्हें कार्यरूप में परिणत भी करें; किंतु साथ ही उन्हें चिर-स्थायी बनाए रखने एवं पूर्णतया उद्देश्य-पूर्ति के लिए यह आवश्यक है कि जनमानस उन योजनाओं के लिए तैयार हो। स्पष्ट शब्दों में हम कह सकते हैं कि सत्ता राष्ट्र-निर्माण रूपी 2. _____ के लिए हल चलाने वाले किसान का कार्य तो कर सकती है, किंतु उसकी भूमि जनमानस को ही बनानी पड़ेगी। अन्यथा फसल या तो हवाई होगी या फिर गमलों की फसल होगी। इस फसल को किस-किस बुभुक्षित के सामने रखेगी शासन-सत्ता? यह प्रश्न 3. _____ में चक्कर ही काटा करता है। यह जनमानस किस प्रकार तैयार होता है? इस प्रश्न का उत्तर आपको समाचार-पत्र देगा। निर्माण-काल में यदि समाचार-पत्र सत्समालोचना से उतरकर ध्वंसात्मक हो गया तो निश्चित रूप से वह 4. _____ हो जाता है, किंतु सत्समालोचना निर्माण के लिए उतनी ही आवश्यक है, जितना निर्माण का समर्थन। जनमानस को तैयार करने के लिए समाचार-पत्र किस नीति को अपनाएँ? यह प्रश्न अपने में एक विवाद लिए हुए है; क्योंकि भिन्न-भिन्न समाचार-पत्र भिन्न-भिन्न नीतियों को उद्देश्य बनाकर 5. _____ होते हैं।

SubQuestion No : 16

Q.16 विकल्पों में से उपयुक्त शब्द के चयन द्वारा गद्यांश के रिक्त स्थान 1 की पूर्ति करें।

- Ans 1. आचरण
 2. सुषुप्ता
 3. जागरण
 4. स्वरूप

Question ID : 26433080845

Status : Not Answered

Chosen Option : --

Comprehension:

प्रश्न संख्या 1 से 5 तक के प्रश्नों का उत्तर दिए गए गद्यांश के आधार पर दिजिए।
तानाशाह जनमानस के 1. _____ को कोई महत्त्व नहीं देता। उसका निर्माण ऊपर से चलता है, किंतु यह लादा हुआ भार-स्वरूप निर्माण हो जाता है। सच्चा राष्ट्र-निर्माण वह है, जो जनमानस की तैयारी पर आधारित रहता है। योजनाएँ शासन और सत्ता बनाएँ, उन्हें कार्यरूप में परिणत भी करें; किंतु साथ ही उन्हें चिर-स्थायी बनाए रखने एवं पूर्णतया उद्देश्य-पूर्ति के लिए यह आवश्यक है कि जनमानस उन योजनाओं के लिए तैयार हो। स्पष्ट शब्दों में हम कह सकते हैं कि सत्ता राष्ट्र-निर्माण रूपी 2. _____ के लिए हल चलाने वाले किसान का कार्य तो कर सकती है, किंतु उसकी भूमि जनमानस को ही बनानी पड़ेगी। अन्यथा फसल या तो हवाई होगी या फिर गमलों की फसल होगी। इस फसल को किस-किस बुभुक्षित के सामने रखेगी शासन-सत्ता? यह प्रश्न 3. _____ में चक्कर ही काटा करता है। यह जनमानस किस प्रकार तैयार होता है? इस प्रश्न का उत्तर आपको समाचार-पत्र देगा। निर्माण-काल में यदि समाचार-पत्र सत्समालोचना से उतरकर ध्वंसात्मक हो गया तो निश्चित रूप से वह 4. _____ हो जाता है, किंतु सत्समालोचना निर्माण के लिए उतनी ही आवश्यक है, जितना निर्माण का समर्थन। जनमानस को तैयार करने के लिए समाचार-पत्र किस नीति को अपनाएँ? यह प्रश्न अपने में एक विवाद लिए हुए है; क्योंकि भिन्न-भिन्न समाचार-पत्र भिन्न-भिन्न नीतियों को उद्देश्य बनाकर 5. _____ होते हैं।

SubQuestion No : 17

Q.17 विकल्पों में से उपयुक्त शब्द के चयन द्वारा गद्यांश के रिक्त स्थान 2 की पूर्ति करें।

- Ans 1. जंगल
 2. परियोजना
 3. फसल
 4. मशीन

Question ID : 26433080846

Status : Not Answered

Chosen Option : --

Comprehension:

प्रश्न संख्या 1 से 5 तक के प्रश्नों का उत्तर दिए गए गद्यांश के आधार पर दिजिए।
तानाशाह जनमानस के 1. _____ को कोई महत्त्व नहीं देता। उसका निर्माण ऊपर से चलता है, किंतु यह लादा हुआ भार-स्वरूप निर्माण हो जाता है। सच्चा राष्ट्र-निर्माण वह है, जो जनमानस की तैयारी पर आधारित रहता है। योजनाएँ शासन और सत्ता बनाएँ, उन्हें कार्यरूप में परिणत भी करें; किंतु साथ ही उन्हें चिर-स्थायी बनाए रखने एवं पूर्णतया उद्देश्य-पूर्ति के लिए यह आवश्यक है कि जनमानस उन योजनाओं के लिए तैयार हो। स्पष्ट शब्दों में हम कह सकते हैं कि सत्ता राष्ट्र-निर्माण रूपी 2. _____ के लिए हल चलाने वाले किसान का कार्य तो कर सकती है, किंतु उसकी भूमि जनमानस को ही बनानी पड़ेगी। अन्यथा फसल या तो हवाई होगी या फिर गमलों की फसल होगी। इस फसल को किस-किस बुभुक्षित के सामने रखेगी शासन-सत्ता? यह प्रश्न 3. _____ में चक्कर ही काटा करता है। यह जनमानस किस प्रकार तैयार होता है? इस प्रश्न का उत्तर आपको समाचार-पत्र देगा। निर्माण-काल में यदि समाचार-पत्र सत्समालोचना से उतरकर ध्वंसात्मक हो गया तो निश्चित रूप से वह 4. _____ हो जाता है, किंतु सत्समालोचना निर्माण के लिए उतनी ही आवश्यक है, जितना निर्माण का समर्थन। जनमानस को तैयार करने के लिए समाचार-पत्र किस नीति को अपनाएँ? यह प्रश्न अपने में एक विवाद लिए हुए है; क्योंकि भिन्न-भिन्न समाचार-पत्र भिन्न-भिन्न नीतियों को उद्देश्य बनाकर 5. _____ होते हैं।

SubQuestion No : 18

Q.18 विकल्पों में से उपयुक्त शब्द के चयन द्वारा गद्यांश के रिक्त स्थान 3 की पूर्ति करें।

- Ans 1. हृदय
 2. मस्तिष्क
 3. कलेजे
 4. वित्त

Question ID : 26433080847

Status : Not Answered

Chosen Option : --

Comprehension:

प्रश्न संख्या 1 से 5 तक के प्रश्नों का उत्तर दिए गए गद्यांश के आधार पर दिजिए।
तानाशाह जनमानस के 1. _____ को कोई महत्त्व नहीं देता। उसका निर्माण ऊपर से चलता है, किंतु यह लादा हुआ भार-स्वरूप निर्माण हो जाता है। सच्चा राष्ट्र-निर्माण वह है, जो जनमानस की तैयारी पर आधारित रहता है। योजनाएँ शासन और सत्ता बनाएँ, उन्हें कार्यरूप में परिणत भी करें; किंतु साथ ही उन्हें चिर-स्थायी बनाए रखने एवं पूर्णतया उद्देश्य-पूर्ति के लिए यह आवश्यक है कि जनमानस उन योजनाओं के लिए तैयार हो। स्पष्ट शब्दों में हम कह सकते हैं कि सत्ता राष्ट्र-निर्माण रूपी 2. _____ के लिए हल चलाने वाले किसान का कार्य तो कर सकती है, किंतु उसकी भूमि जनमानस को ही बनानी पड़ेगी। अन्यथा फसल या तो हवाई होगी या फिर गमलों की फसल होगी। इस फसल को किस-किस बुभुक्षित के सामने रखेगी शासन-सत्ता? यह प्रश्न 3. _____ में चक्कर ही काटा करता है। यह जनमानस किस प्रकार तैयार होता है? इस प्रश्न का उत्तर आपको समाचार-पत्र देगा। निर्माण-काल में यदि समाचार-पत्र सत्समालोचना से उतरकर ध्वंसात्मक हो गया तो निश्चित रूप से वह 4. _____ हो जाता है, किंतु सत्समालोचना निर्माण के लिए उतनी ही आवश्यक है, जितना निर्माण का समर्थन। जनमानस को तैयार करने के लिए समाचार-पत्र किस नीति को अपनाएँ? यह प्रश्न अपने में एक विवाद लिए हुए है; क्योंकि भिन्न-भिन्न समाचार-पत्र भिन्न-भिन्न नीतियों को उद्देश्य बनाकर 5. _____ होते हैं।

SubQuestion No : 19

Q.19 विकल्पों में से उपयुक्त शब्द के चयन द्वारा गद्यांश के रिक्त स्थान 4 की पूर्ति करें।

- Ans**
- 1. कर्मनिष्ठ
 - 2. सफल
 - 3. कर्तव्यच्युत
 - 4. कर्मठ

Question ID : 26433080848

Status : Not Answered

Chosen Option : --

Comprehension:

प्रश्न संख्या 1 से 5 तक के प्रश्नों का उत्तर दिए गए गद्यांश के आधार पर दिजिए।
तानाशाह जनमानस के 1. _____ को कोई महत्त्व नहीं देता। उसका निर्माण ऊपर से चलता है, किंतु यह लादा हुआ भार-स्वरूप निर्माण हो जाता है। सच्चा राष्ट्र-निर्माण वह है, जो जनमानस की तैयारी पर आधारित रहता है। योजनाएँ शासन और सत्ता बनाएँ, उन्हें कार्यरूप में परिणत भी करें; किंतु साथ ही उन्हें चिर-स्थायी बनाए रखने एवं पूर्णतया उद्देश्य-पूर्ति के लिए यह आवश्यक है कि जनमानस उन योजनाओं के लिए तैयार हो। स्पष्ट शब्दों में हम कह सकते हैं कि सत्ता राष्ट्र-निर्माण रूपी 2. _____ के लिए हल चलाने वाले किसान का कार्य तो कर सकती है, किंतु उसकी भूमि जनमानस को ही बनानी पड़ेगी। अन्यथा फसल या तो हवाई होगी या फिर गमलों की फसल होगी। इस फसल को किस-किस बुभुक्षित के सामने रखेगी शासन-सत्ता? यह प्रश्न 3. _____ में चक्कर ही काटा करता है। यह जनमानस किस प्रकार तैयार होता है? इस प्रश्न का उत्तर आपको समाचार-पत्र देगा। निर्माण-काल में यदि समाचार-पत्र सत्समालोचना से उतरकर ध्वंसात्मक हो गया तो निश्चित रूप से वह 4. _____ हो जाता है, किंतु सत्समालोचना निर्माण के लिए उतनी ही आवश्यक है, जितना निर्माण का समर्थन। जनमानस को तैयार करने के लिए समाचार-पत्र किस नीति को अपनाएँ? यह प्रश्न अपने में एक विवाद लिए हुए है; क्योंकि भिन्न-भिन्न समाचार-पत्र भिन्न-भिन्न नीतियों को उद्देश्य बनाकर 5. _____ होते हैं।

SubQuestion No : 20

Q.20 विकल्पों में से उपयुक्त शब्द के चयन द्वारा गद्यांश के रिक्त स्थान 5 की पूर्ति करें।

- Ans**
- 1. रचित
 - 2. प्रकाशित
 - 3. मुद्रित
 - 4. प्रचारित

Question ID : 26433080849

Status : Not Answered

Chosen Option : --