

## Multi Tasking Non Technical Staff and Havaladar CBIC and CBN Examination 2022

Roll Number	
Candidate Name	
Venue Name	
Exam Date	03/05/2023
Exam Time	3:30 PM - 5:00 PM
Subject	MTS Non Tech Havaladar CBIC and CBN Examination 2022

### Section : Numerical and Mathematical Ability

Q.1 एक निश्चित धनराशि पर 2 वर्षों में 3% वार्षिक दर पर साधारण ब्याज और चक्रवृद्धि ब्याज में 90 पैसे (paise) का अंतर है। वह धनराशि क्या है?

- Ans
- 1. Rs. 3000
  - 2. Rs. 9000
  - 3. Rs. 1000
  - 4. Rs. 5000

Question Type : MCQ

Question ID : 264330135121

Option 1 ID : 264330529421

Option 2 ID : 264330529420

Option 3 ID : 264330529419

Option 4 ID : 264330529422

Status : Answered

Chosen Option : 3

Q.2 निम्नलिखित तालिका में एक सप्ताह में चार अलग-अलग ब्रांड स्टोर में आने वाले खरीदारों की संख्या को दर्शाया गया है। इस सप्ताह के दौरान ब्रांड R के खरीदारों की संख्या, ब्रांड P के खरीदारों की संख्या से कितने प्रतिशत अधिक है?

Brand	Number of buyers
P	400
Q	530
R	415
S	310

Brand - ब्रांड, Number of buyers - खरीदारों की संख्या

- Ans
- 1. 2.25%
  - 2. 5.50%
  - 3. 3.75%
  - 4. 4.25%

Question Type : MCQ

Question ID : 264330138741

Option 1 ID : 264330543574

Option 2 ID : 264330543572

Option 3 ID : 264330543573

Option 4 ID : 264330543571

Status : Answered

Chosen Option : 3

Q.3  $841 + 6 \times 15 + 45\% \text{ of } 60$  का मान ज्ञात कीजिए:

- Ans
- 1. 765
  - 2. 888
  - 3. 958
  - 4. 654

Question Type : MCQ  
Question ID : 264330135130  
Option 1 ID : 264330529458  
Option 2 ID : 264330529457  
Option 3 ID : 264330529456  
Option 4 ID : 264330529455  
Status : Answered  
Chosen Option : 3

Q.4 साजिद ने 60 km/hr की चाल से 6 घंटे और 50 km/hr की चाल से 4 घंटे गाड़ी चलाई। पूरी यात्रा के दौरान उसकी औसत चाल क्या थी?

- Ans
- 1. 52 kmph
  - 2. 58 kmph
  - 3. 56 kmph
  - 4. 54 kmph

Question Type : MCQ  
Question ID : 264330141022  
Option 1 ID : 264330552436  
Option 2 ID : 264330552438  
Option 3 ID : 264330552435  
Option 4 ID : 264330552437  
Status : Answered  
Chosen Option : 3

Q.5 1.05 और 6.23 का महत्तम समापवर्तक (HCF) क्या है?

- Ans
- 1. 0.21
  - 2. 0.89
  - 3. 0.35
  - 4. 0.07

Question Type : MCQ  
Question ID : 264330141021  
Option 1 ID : 264330552433  
Option 2 ID : 264330552432  
Option 3 ID : 264330552434  
Option 4 ID : 264330552431  
Status : Answered  
Chosen Option : 4

Q.6 एक उत्पाद, जिसका अंकित मूल्य Rs. 840 है, एक थोक व्यापारी द्वारा Rs. 798 में बेचा जाता है। व्यापारी द्वारा दिया गया बड़ा प्रतिशत क्या है?

- Ans
- 1. 6%
  - 2. 5%
  - 3. 4%
  - 4. 3%

Question Type : MCQ  
Question ID : 264330135139  
Option 1 ID : 264330529491  
Option 2 ID : 264330529494  
Option 3 ID : 264330529492  
Option 4 ID : 264330529493  
Status : Answered  
Chosen Option : 2

Q.7 8, 14 और 24 का चतुर्थ समानुपाती ज्ञात कीजिए।

- Ans
- 1. 36
  - 2. 26
  - 3. 42
  - 4. 40

Question Type : MCQ  
Question ID : 264330135141  
Option 1 ID : 264330529502  
Option 2 ID : 264330529499  
Option 3 ID : 264330529501  
Option 4 ID : 264330529500  
Status : Answered  
Chosen Option : 3

Q.8 अखिल ने 13 kg सेब Rs. 2,400 में खरीदे। उसने 7 kg सेब के विक्रय मूल्य के बराबर लाभ पर इन्हें बेच दिया। सेब का प्रति किलोग्राम विक्रय मूल्य ज्ञात कीजिए।

- Ans
- 1. Rs. 400
  - 2. Rs. 600
  - 3. Rs. 650
  - 4. Rs. 350

Question Type : MCQ  
Question ID : 264330135138  
Option 1 ID : 264330529488  
Option 2 ID : 264330529487  
Option 3 ID : 264330529489  
Option 4 ID : 264330529490  
Status : Answered  
Chosen Option : 1

Q.9 एक बेलन और शंकु की विज्याओं का अनुपात 3:1 है। यदि उनकी ऊँचाइयाँ बराबर हैं, तो उनके आयतनों का अनुपात क्या है?

- Ans  1. 27:1  
 2. 9:1  
 3. 1:9  
 4. 1:3

Question Type : MCQ  
Question ID : 264330138367  
Option 1 ID : 264330542075  
Option 2 ID : 264330542077  
Option 3 ID : 264330542078  
Option 4 ID : 264330542076  
Status : Answered  
Chosen Option : 1

Q.10 A अकेले किसी कार्य का आधा भाग 150 दिनों में पूरा कर सकता है। 50 दिनों में, A द्वारा कितने प्रतिशत कार्य पूरा किया जाएगा?

- Ans  1. 15 प्रतिशत  
 2. 16.67 प्रतिशत  
 3. 22.5 प्रतिशत  
 4. 20 प्रतिशत

Question Type : MCQ  
Question ID : 264330135042  
Option 1 ID : 264330529106  
Option 2 ID : 264330529105  
Option 3 ID : 264330529103  
Option 4 ID : 264330529104  
Status : Answered  
Chosen Option : 2

Q.11 यदि ब्याज अर्धवार्षिक रूप से संयोजित किया जा रहा है, तो कितनी राशि चक्रवृद्धि ब्याज पर 40 प्रतिशत वार्षिक दर से 2 वर्ष में Rs. 51840 हो जाएगी।

- Ans  1. Rs.20000  
 2. Rs.15000  
 3. Rs.25000  
 4. Rs.30000

Question Type : MCQ  
Question ID : 264330137186  
Option 1 ID : 264330537388  
Option 2 ID : 264330537387  
Option 3 ID : 264330537389  
Option 4 ID : 264330537390  
Status : Answered  
Chosen Option : 3

Q.12

$\left[ \frac{1}{4} \text{ of } 18 \div \frac{6}{5} + \left( \frac{1}{8} + \frac{7}{4} \right) \right] \times \frac{1}{15}$  का मान है:

- Ans
- 1. 4/5
  - 2. 5/8
  - 3. 6/7
  - 4. 3/8

Question Type : MCQ

Question ID : 264330138725

Option 1 ID : 264330543508

Option 2 ID : 264330543510

Option 3 ID : 264330543509

Option 4 ID : 264330543507

Status : Answered

Chosen Option : 1

Q.13 स्थिर जल में एक नाव की चाल 17 km/hr है और धारा की चाल 11 km/hr है। नाव की धारा के प्रतिकूल चाल और धारा के अनुकूल चाल के बीच का अंतर ज्ञात कीजिए।

- Ans
- 1. 21 km/hr
  - 2. 18 km/hr
  - 3. 28 km/hr
  - 4. 22 km/hr

Question Type : MCQ

Question ID : 264330135144

Option 1 ID : 264330529511

Option 2 ID : 264330529514

Option 3 ID : 264330529513

Option 4 ID : 264330529512

Status : Answered

Chosen Option : 4

Q.14 संख्या A और B का औसत 16 है। संख्या B और C का औसत 40 है। संख्या C और A में कितना अंतर है?

- Ans
- 1. 48
  - 2. 12
  - 3. 66
  - 4. 80

Question Type : MCQ

Question ID : 264330135133

Option 1 ID : 264330529470

Option 2 ID : 264330529469

Option 3 ID : 264330529467

Option 4 ID : 264330529468

Status : Answered

Chosen Option : 1

Q.15 a:b = 5:8 और b:c = 2:6, यदि a = 25 है, तो c का मान ज्ञात कीजिए।

- Ans
- 1. 90
  - 2. 140
  - 3. 120
  - 4. 96

Question Type : MCQ

Question ID : 264330135140

Option 1 ID : 264330529496

Option 2 ID : 264330529498

Option 3 ID : 264330529495

Option 4 ID : 264330529497

Status : Answered

Chosen Option : 3

Q.16 D अकेले किसी कार्य को 20 दिनों में कर सकता है और E अकेले उसी कार्य को 25 दिनों में कर सकता है। यदि वे 8 दिनों तक साथ मिलकर कार्य करते हैं, तो शेष रह गए कार्य का अंश है:

- Ans
- 1. 7/25
  - 2. 9/100
  - 3. 11/25
  - 4. 51/100

Question Type : MCQ

Question ID : 264330138362

Option 1 ID : 264330542055

Option 2 ID : 264330542058

Option 3 ID : 264330542057

Option 4 ID : 264330542056

Status : Answered

Chosen Option : 1

Q.17 एक घनाभ की लंबाई उसकी चौड़ाई की छः गुनी है और घनाभ की ऊँचाई उसकी चौड़ाई की चार गुनी है। यदि घनाभ की चौड़ाई 3 cm है, तो घनाभ का कुल पृष्ठीय क्षेत्रफल कितना है?

- Ans
- 1. 612 cm<sup>2</sup>
  - 2. 576 cm<sup>2</sup>
  - 3. 484 cm<sup>2</sup>
  - 4. 676 cm<sup>2</sup>

Question Type : MCQ

Question ID : 264330135057

Option 1 ID : 264330529166

Option 2 ID : 264330529164

Option 3 ID : 264330529163

Option 4 ID : 264330529165

Status : Answered

Chosen Option : 1

Q.18 रोहित Rs.880 में एक पुराना बल्ला खरीदता है और उसकी मरम्मत पर Rs.120 खर्च करता है। यदि वह इसे Rs.800 में बेचता है, तो हानि प्रतिशत क्या है?

- Ans
- 1. 25 प्रतिशत
  - 2. 20 प्रतिशत
  - 3. 10 प्रतिशत
  - 4. 30 प्रतिशत

Question Type : MCQ

Question ID : 264330137651

Option 1 ID : 264330539211

Option 2 ID : 264330539213

Option 3 ID : 264330539214

Option 4 ID : 264330539212

Status : Answered

Chosen Option : 2

Q.19 किसी वस्तु के मूल्य में क्रमागत 20% और 30% की कमी, वस्तु के मूल्य में \_\_\_\_\_ एकल कमी के बराबर है।

- Ans
- 1. 50%
  - 2. 40%
  - 3. 44%
  - 4. 25%

Question Type : MCQ

Question ID : 264330135114

Option 1 ID : 264330529391

Option 2 ID : 264330529394

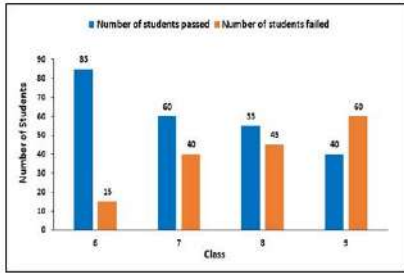
Option 3 ID : 264330529393

Option 4 ID : 264330529392

Status : Answered

Chosen Option : 3

**Q.20** निम्न दंड आलेख में एक विद्यालय में विभिन्न कक्षाओं में उत्तीर्ण और अनुत्तीर्ण होने वाले छात्रों की संख्या को दर्शाया गया है। यदि प्रत्येक कक्षा में विद्यार्थियों की कुल संख्या 100 है, तो परीक्षा में उत्तीर्ण होने वाले विद्यार्थियों का प्रतिशत ज्ञात कीजिए।



number of students - छात्रों की संख्या

number of students passed - उत्तीर्ण छात्रों की संख्या

number of students failed - अनुत्तीर्ण छात्रों की संख्या

class- कक्षा

- Ans**
- 1. 25%
  - 2. 65%
  - 3. 55%
  - 4. 60%

Question Type : **MCQ**

Question ID : **264330135148**

Option 1 ID : **264330529527**

Option 2 ID : **264330529530**

Option 3 ID : **264330529529**

Option 4 ID : **264330529528**

Status : **Answered**

Chosen Option : **4**

Section : Reasoning Ability and Problem Solving

**Q.1** एक निश्चित कूट भाषा में, 'CUT' को 'BD21SU' लिखा जाता है। उस कूट भाषा में 'DRY' को कैसे लिखा जाएगा?

- Ans**
- 1. CE18XZ
  - 2. CE18ZX
  - 3. C18EXZ
  - 4. CZ18EX

Question Type : **MCQ**

Question ID : **264330137812**

Option 1 ID : **264330539855**

Option 2 ID : **264330539858**

Option 3 ID : **264330539856**

Option 4 ID : **264330539857**

Status : **Answered**

Chosen Option : **1**

Q.2 दो कथन दिए गए हैं और दो निष्कर्ष I और II दिए गए हैं। कथनों को सत्य मानते हुए, चाहे वे सामान्यतः ज्ञात तथ्यों से अलग प्रतीत हों, निश्चय कीजिए कि कौन-सा निष्कर्ष तार्किक रूप से कथनों के अनुसार है।

कथन:

कुछ गाने, बर्फ हैं।

कुछ बर्फ, जूते हैं।

निष्कर्ष:

I. कुछ जूते, बर्फ हैं।

II. कुछ बर्फ, गाने हैं।

Ans  1.

न तो निष्कर्ष I और न ही निष्कर्ष II कथनों के अनुसार है।

2. केवल निष्कर्ष II कथनों के अनुसार है।

3. दोनों निष्कर्ष I और II कथनों के अनुसार हैं।

4. केवल निष्कर्ष I कथनों के अनुसार है।

Question Type : MCQ

Question ID : 264330135031

Option 1 ID : 264330529062

Option 2 ID : 264330529060

Option 3 ID : 264330529061

Option 4 ID : 264330529059

Status : Answered

Chosen Option : 3

Q.3 उस विकल्प को चुनिए जो तीसरे शब्द से ठीक उसी प्रकार संबंधित है जिस प्रकार दूसरा शब्द पहले शब्द से संबंधित है।

सेल्सियस : तापमान :: पाउंड : ?

Ans  1. कोण

2. दूरी

3. समय

4. वजन

Question Type : MCQ

Question ID : 264330135022

Option 1 ID : 264330529026

Option 2 ID : 264330529023

Option 3 ID : 264330529025

Option 4 ID : 264330529024

Status : Answered

Chosen Option : 4

Q.4 दिए गए समीकरण को सही करने के लिए किन दो संख्याओं को आपस में बदला जाना चाहिए?  
 $120 \div 12 \times 6 + 24 - 15 = 27$

- Ans
- 1. 6 और 24
  - 2. 12 और 24
  - 3. 12 और 15
  - 4. 12 और 6

Question Type : MCQ  
Question ID : 264330137361  
Option 1 ID : 264330538073  
Option 2 ID : 264330538072  
Option 3 ID : 264330538074  
Option 4 ID : 264330538071  
Status : Answered  
Chosen Option : 2

Q.5 तीन कथन दिए गए हैं और दो निष्कर्ष I और II दिए गए हैं। कथनों को सत्य मानते हुए, चाहे वे सामान्यतः ज्ञात तथ्यों से अलग प्रतीत होते हों, निश्चय कीजिए कि कौन-सा निष्कर्ष तार्किक रूप से कथनों के अनुसार है।

कथन:

- सभी कागज, कुर्सी हैं।
- कुछ कुर्सी, जमीन हैं।
- सभी बिल्ली, जमीन हैं।

निष्कर्ष:

- I. कुछ बिल्ली, कुर्सी हैं।
- II. कुछ कुर्सी, कागज नहीं हैं।

- Ans
- 1. केवल निष्कर्ष II कथनों के अनुसार है।
  - 2. केवल निष्कर्ष I कथनों के अनुसार है।
  - 3. न तो निष्कर्ष I और न ही निष्कर्ष II कथनों के अनुसार है।
  - 4. दोनों निष्कर्ष I और II कथनों के अनुसार हैं।

Question Type : MCQ  
Question ID : 264330135032  
Option 1 ID : 264330529064  
Option 2 ID : 264330529063  
Option 3 ID : 264330529066  
Option 4 ID : 264330529065  
Status : Answered  
Chosen Option : 2

Q.6 A, B और C एक बेंच पर दक्षिण की ओर मुख करके बैठे हैं। D, E, और F एक समानांतर बेंच पर उत्तर की ओर मुख करके बैठे हैं। D किसी एक सिरे पर और F के ठीक बाईं ओर बैठा है। B, D की ओर उन्मुख होकर बैठा है। C, A के दाईं ओर बैठा है। A की ओर उन्मुख होकर कौन बैठा है?

- Ans
- 1. F
  - 2. E
  - 3. C
  - 4. D

Question Type : MCQ

Question ID : 264330135028

Option 1 ID : 264330529050

Option 2 ID : 264330529049

Option 3 ID : 264330529047

Option 4 ID : 264330529048

Status : Answered

Chosen Option : 2

Q.7 दिए गए पैटर्न का ध्यानपूर्वक अध्ययन कीजिए और उस संख्या को चुनिए जो इसमें प्रश्न चिन्ह (?) के स्थान पर आ सकती है।  
पहली पंक्ति - 14, 42, 84  
दूसरी पंक्ति - 21, 63, 126  
तीसरी पंक्ति - 8, 24, ?

- Ans
- 1. 82
  - 2. 38
  - 3. 48
  - 4. 65

Question Type : MCQ

Question ID : 264330135036

Option 1 ID : 264330529081

Option 2 ID : 264330529080

Option 3 ID : 264330529082

Option 4 ID : 264330529079

Status : Answered

Chosen Option : 3

Q.8 एक निश्चित कूट भाषा में, 'ALBUMS' को 'UMWBNA' लिखा जाता है। उस कूट भाषा में 'CLEVER' को कैसे लिखा जाएगा?

- Ans
- 1. XETENC
  - 2. TEXNEC
  - 3. TEXENC
  - 4. TXEENC

Question Type : MCQ

Question ID : 264330138588

Option 1 ID : 264330542960

Option 2 ID : 264330542961

Option 3 ID : 264330542962

Option 4 ID : 264330542959

Status : Answered

Chosen Option : 3

Q.9 दी गई श्रृंखला में निम्नलिखित में से कौन-सी संख्या प्रश्न चिन्ह (?) के स्थान पर आएगी?  
-34, -31, -25, -16, -4, 11, 29, ?

- Ans
- 1. 80
  - 2. 70
  - 3. 60
  - 4. 50

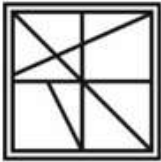
Question Type : MCQ  
Question ID : 264330135034  
Option 1 ID : 264330529073  
Option 2 ID : 264330529074  
Option 3 ID : 264330529071  
Option 4 ID : 264330529072  
Status : Answered  
Chosen Option : 4

Q.10 उस विकल्प आकृति को चुनिए जिसमें दी गई आकृति निहित है। (घूर्णन की अनुमति नहीं है)



Ans

1.



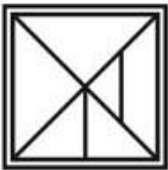
2.



3.



4.



Question Type : MCQ  
Question ID : 264330138600  
Option 1 ID : 264330543007  
Option 2 ID : 264330543010  
Option 3 ID : 264330543009  
Option 4 ID : 264330543008  
Status : Answered  
Chosen Option : 1

Q.11 एक निश्चित कूट भाषा में, 'STOCK' को '19V15E11' लिखा जाता है। उस भाषा में 'CRYPTO' को कैसे लिखा जाएगा?

- Ans
- 1. 3T25S6VT5
  - 2. 3T2F1AV15
  - 3. 2T2316V15
  - 4. 3T25R20Q

Question Type : MCQ

Question ID : 264330133529

Option 1 ID : 264330523148

Option 2 ID : 264330523149

Option 3 ID : 264330523147

Option 4 ID : 264330523150

Status : Answered

Chosen Option : 4

Q.12 दिए गए समीकरण को सही करने के लिए किन दो चिन्हों को आपस में बदला जाना चाहिए?  
 $2 - 8 \div 4 = 6 \times 3 + 18$

- Ans
- 1.  $\times$  और  $-$
  - 2.  $+$  और  $-$
  - 3.  $\times$  और  $+$
  - 4.  $=$  और  $+$

Question Type : MCQ

Question ID : 264330135037

Option 1 ID : 264330529083

Option 2 ID : 264330529084

Option 3 ID : 264330529085

Option 4 ID : 264330529086

Status : Answered

Chosen Option : 4

Q.13 उमेश, सतीश से बड़ा है। सुरेश, नीरज से छोटा है लेकिन उमेश से बड़ा है। तरुण, रितेश से बड़ा है लेकिन सतीश से छोटा है। मनीष सबसे छोटा है। उनमें से सबसे बड़ा कौन है?

- Ans
- 1. रितेश
  - 2. नीरज
  - 3. सतीश
  - 4. सुरेश

Question Type : MCQ

Question ID : 264330135030

Option 1 ID : 264330529055

Option 2 ID : 264330529057

Option 3 ID : 264330529058

Option 4 ID : 264330529056

Status : Answered

Chosen Option : 2

Q.14 अमर, बिदिशा, कारमेल, दीपा और एलेन एक बेंच पर दक्षिण की ओर मुख करके बैठे हैं। एलेन बेंच के किसी एक सिरे पर बैठी है और उसकी बाईं ओर पर कोई नहीं है। कारमेल, दीपा के ठीक बाईं ओर बैठा है, जो बेंच के एक सिरे पर बैठी है। अमर, बिदिशा की दाहिनी ओर बैठा है। अमर किस स्थान पर बैठा है?

- Ans
- 1. ठीक दीपा और कारमेल के बीच
  - 2. ठीक बिदिशा और एलेन के बीच
  - 3. ठीक दीपा और बिदिशा के बीच
  - 4. ठीक कारमेल और बिदिशा के बीच

Question Type : MCQ

Question ID : 264330135029

Option 1 ID : 264330529051

Option 2 ID : 264330529053

Option 3 ID : 264330529054

Option 4 ID : 264330529052

Status : Answered

Chosen Option : 4

Q.15 उस विकल्प को चुनिए जो तीसरी संख्या से ठीक उसी प्रकार संबंधित है जिस प्रकार दूसरी संख्या पहली संख्या से संबंधित है।

17 : 272 :: 22 : ?

- Ans
- 1. 394
  - 2. 596
  - 3. 462
  - 4. 448

Question Type : MCQ

Question ID : 264330135013

Option 1 ID : 264330528988

Option 2 ID : 264330528987

Option 3 ID : 264330528990

Option 4 ID : 264330528989

Status : Answered

Chosen Option : 3

Q.16 दी गई श्रृंखला में निम्नलिखित में से कौन-सी संख्या प्रश्न चिन्ह (?) के स्थान पर आएगी?  
1, 8, 9, 64, 25, 216, 49, ?

- Ans
- 1. 552
  - 2. 385
  - 3. 512
  - 4. 612

Question Type : MCQ

Question ID : 264330135011

Option 1 ID : 264330528982

Option 2 ID : 264330528980

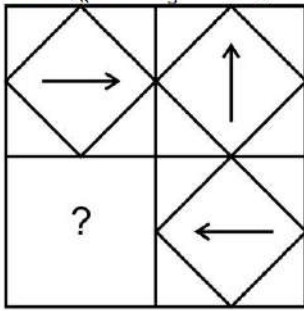
Option 3 ID : 264330528981

Option 4 ID : 264330528979

Status : Answered

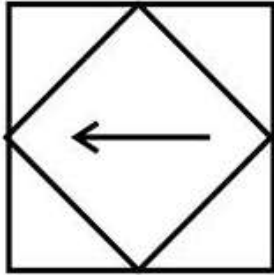
Chosen Option : 3

Q.17 उस विकल्प आकृति को चुनिए जो पैटर्न को पूरा करने के लिए नीचे दी गई आकृति में प्रश्न चिन्ह (?) के स्थान पर आएगी। (घूर्णन की अनुमति नहीं है)

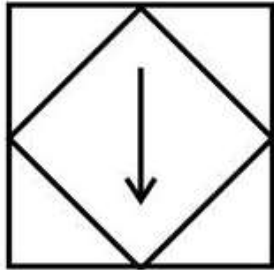


Ans

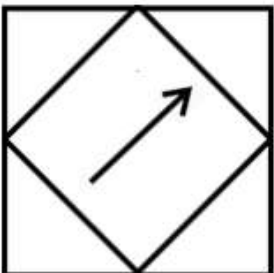
✗ 1.



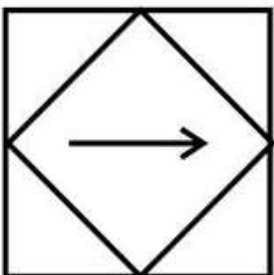
✓ 2.



✗ 3.



✗ 4.



Question Type : MCQ

Question ID : 264330135041

Option 1 ID : 264330529102

Option 2 ID : 264330529100

Option 3 ID : 264330529099

Option 4 ID : 264330529101

Status : Answered

Chosen Option : 2

Q.18 दी गई श्रृंखला में निम्नलिखित में से कौन-सा अक्षर प्रश्न चिन्ह (?) के स्थान पर आएगा?  
O, N, L, K, I, H, F, ?

- Ans
- 1. A
  - 2. H
  - 3. F
  - 4. E

Question Type : MCQ

Question ID : 264330135020

Option 1 ID : 264330529016

Option 2 ID : 264330529018

Option 3 ID : 264330529015

Option 4 ID : 264330529017

Status : Answered

Chosen Option : 4

Q.19 यदि एक दर्पण को रेखा AB पर रखा जाए, तो दी गई विकल्प आकृतियों में से कौन-सी आकृति प्रश्न आकृति का सही प्रतिबिम्ब होगी?



Ans

- 1.
- 2.
- 3.
- 4.

Question Type : MCQ

Question ID : 264330138601

Option 1 ID : 264330543011

Option 2 ID : 264330543013

Option 3 ID : 264330543014

Option 4 ID : 264330543012

Status : Answered

Chosen Option : 4

Q.20 उस विकल्प को चुनिए जो तीसरे शब्द से ठीक उसी प्रकार संबंधित है जिस प्रकार दूसरा शब्द पहले शब्द से संबंधित है।

पंखा : पंखड़ियाँ :: साइकिल : ?

- Ans
- 1. कार
  - 2. हाथ
  - 3. बाइक
  - 4. पहिये

Question Type : MCQ

Question ID : 264330135023

Option 1 ID : 264330529027

Option 2 ID : 264330529029

Option 3 ID : 264330529030

Option 4 ID : 264330529028

Status : Answered

Chosen Option : 4

Section : General Awareness

Q.1 वर्ष 2011 की जनगणना के अनुसार, वर्ष 2001-11 के बीच किस केंद्र शासित प्रदेश की दशकीय जनसंख्या वृद्धि दर सबसे अधिक है?

- Ans
- 1. दादरा और नगर हवेली
  - 2. दिल्ली राष्ट्रीय राजधानी क्षेत्र (NCT of Delhi)
  - 3. लक्षद्वीप
  - 4. चंडीगढ़

Question Type : MCQ

Question ID : 264330137030

Option 1 ID : 264330536765

Option 2 ID : 264330536764

Option 3 ID : 264330536766

Option 4 ID : 264330536763

Status : Answered

Chosen Option : 2

Q.2 "मिशन कर्मयोगी (Mission Karmayogi)" कार्यक्रम \_\_\_\_\_ के लिए है।

- Ans
- 1. प्रशासनिक सेवक
  - 2. चिकित्सक
  - 3. महिला उद्यमी
  - 4. निर्माण श्रमिक

Question Type : MCQ

Question ID : 264330137062

Option 1 ID : 264330536892

Option 2 ID : 264330536893

Option 3 ID : 264330536894

Option 4 ID : 264330536891

Status : Answered

Chosen Option : 3

Q.3 \_\_\_\_\_ में, अपने मद्रास अधिवेशन में, भारतीय राष्ट्रीय कांग्रेस ने भारत के संविधान का मसौदा (draft) तैयार करने के लिए एक सर्वदलीय बैठक आयोजित की थी।

- Ans
- 1. 1922
  - 2. 1932
  - 3. 1927
  - 4. 1915

Question Type : MCQ

Question ID : 264330137076

Option 1 ID : 264330536948

Option 2 ID : 264330536947

Option 3 ID : 264330536949

Option 4 ID : 264330536950

Status : Answered

Chosen Option : 3

Q.4 निम्नलिखित में से कौन-सा देश 2024 दक्षिण एशियाई खेलों की मेज़बानी करेगा?

- Ans
- 1. नेपाल
  - 2. भारत
  - 3. पाकिस्तान
  - 4. भूटान

Question Type : MCQ

Question ID : 264330134716

Option 1 ID : 264330527819

Option 2 ID : 264330527822

Option 3 ID : 264330527821

Option 4 ID : 264330527820

Status : Answered

Chosen Option : 2

Q.5 निम्नलिखित में से किस पवन का संबंध अत्यधिक ठंड और शुष्कता से है?

- Ans
- 1. व्यापारिक पवनें
  - 2. पछुआ पवनें
  - 3. ध्रुवीय पूर्वी पवनें
  - 4. मानसूनी पवनें

Question Type : MCQ

Question ID : 264330134677

Option 1 ID : 264330527663

Option 2 ID : 264330527666

Option 3 ID : 264330527665

Option 4 ID : 264330527664

Status : Answered

Chosen Option : 3

Q.6 फर्न किस पादप वर्ग का एक उदाहरण है ?

- Ans
- ✗ 1. ब्रायोफ़ाइट (Bryophyta)
  - ✗ 2. फैनरोगैम (Phanerogams)
  - ✓ 3. टैरिडोफ़ाइट (Pteridophyta)
  - ✗ 4. थैलोफ़ाइट (Thallophyta)

Question Type : MCQ

Question ID : 264330134700

Option 1 ID : 264330527757

Option 2 ID : 264330527758

Option 3 ID : 264330527755

Option 4 ID : 264330527756

Status : Answered

Chosen Option : 1

Q.7 कौन-सा अम्ल आमाशय में प्रवेश करने वाले जीवाणुओं को नष्ट कर देता है?

- Ans
- ✗ 1. नाइट्रिक अम्ल
  - ✗ 2. बोरिक अम्ल
  - ✓ 3. हाइड्रोक्लोरिक अम्ल
  - ✗ 4. यूरिक अम्ल

Question Type : MCQ

Question ID : 264330134676

Option 1 ID : 264330527659

Option 2 ID : 264330527660

Option 3 ID : 264330527662

Option 4 ID : 264330527661

Status : Answered

Chosen Option : 3

Q.8 पद्मा सुब्रह्मण्यम (Padma Subrahmanyam) निम्नलिखित में से किस नृत्य शैली की प्रसिद्ध नृत्यांगना हैं?

- Ans
- ✗ 1. मणिपुरी
  - ✗ 2. कुचिपुड़ी
  - ✓ 3. भरतनाट्यम
  - ✗ 4. ओडिसी

Question Type : MCQ

Question ID : 264330134696

Option 1 ID : 264330527741

Option 2 ID : 264330527740

Option 3 ID : 264330527739

Option 4 ID : 264330527742

Status : Answered

Chosen Option : 3

Q.9 वी. सत्यनारायण सरमा को वर्ष 1970 में \_\_\_\_\_ नृत्य के क्षेत्र में उनके योगदान के लिए पद्म श्री से सम्मानित किया गया था।

- Ans
- 1. कथक
  - 2. मणिपुरी
  - 3. ओडिसी
  - 4. कुचिपुडी

Question Type : MCQ

Question ID : 264330138656

Option 1 ID : 264330543232

Option 2 ID : 264330543231

Option 3 ID : 264330543234

Option 4 ID : 264330543233

Status : Answered

Chosen Option : 1

Q.10 1895 में अन्य भारतीयों के साथ महात्मा गांधी ने नस्लीय भेदभाव का विरोध करने के लिए \_\_\_\_\_ का गठन किया था।

- Ans
- 1. साबरमती आश्रम (Sabarmati Ashram)
  - 2. देव समाज (Dev Samaj)
  - 3. ब्रह्म समाज (Brahmo Samaj)
  - 4. नेटाल कांग्रेस (Natal Congress)

Question Type : MCQ

Question ID : 264330138673

Option 1 ID : 264330543300

Option 2 ID : 264330543302

Option 3 ID : 264330543301

Option 4 ID : 264330543299

Status : Answered

Chosen Option : 4

Q.11 स्वर्ण सिंह समिति की सिफारिशों पर \_\_\_\_\_ संवैधानिक संशोधन अधिनियम, 1976 द्वारा संविधान के भाग IV-A में मौलिक कर्तव्यों को शामिल किया गया था।

- Ans
- 1. 42वें
  - 2. 35वें
  - 3. 51वें
  - 4. 47वें

Question Type : MCQ

Question ID : 264330134714

Option 1 ID : 264330527814

Option 2 ID : 264330527813

Option 3 ID : 264330527811

Option 4 ID : 264330527812

Status : Answered

Chosen Option : 1

Q.12 बैसाखी महोत्सव प्रमुख रूप से \_\_\_\_\_ और \_\_\_\_\_ राज्यों में मनाया जाता है।

- Ans
- 1. नगालैंड, त्रिपुरा
  - 2. पंजाब, हरियाणा
  - 3. राजस्थान, मध्यप्रदेश
  - 4. तमिलनाडु, केरल

Question Type : MCQ  
Question ID : 264330138650  
Option 1 ID : 264330543208  
Option 2 ID : 264330543209  
Option 3 ID : 264330543210  
Option 4 ID : 264330543207  
Status : Answered  
Chosen Option : 2

Q.13 अंतर-राज्य परिषद में भारत के प्रधानमंत्री द्वारा मनोनीत केंद्रीय मंत्रिपरिषद में केंद्र के \_\_\_\_\_ मंत्री होते हैं।

- Ans
- 1. दो
  - 2. दस
  - 3. चार
  - 4. छः

Question Type : MCQ  
Question ID : 264330134715  
Option 1 ID : 264330527818  
Option 2 ID : 264330527815  
Option 3 ID : 264330527817  
Option 4 ID : 264330527816  
Status : Answered  
Chosen Option : 1

Q.14 'इंडियाज स्ट्रगल फॉर इंडिपेंडेंस (India's Struggle for Independence)' \_\_\_\_\_ द्वारा लिखी गई उल्लेखनीय पुस्तकों में से एक है।

- Ans
- 1. आर.के. नारायण
  - 2. शेखर बंधोपाध्याय
  - 3. आर.सी. मजूमदार
  - 4. विपिन चंद्र

Question Type : MCQ  
Question ID : 264330138654  
Option 1 ID : 264330543223  
Option 2 ID : 264330543226  
Option 3 ID : 264330543224  
Option 4 ID : 264330543225  
Status : Answered  
Chosen Option : 2

Q.15 केंद्रीय कृषि मंत्री नरेंद्र सिंह तोमर ने अक्टूबर 2022 में यह घोषणा की है कि केंद्र सरकार कृषि व्यवसायों के लाभकारी विचारों (productive ideas) का समर्थन करने के लिए \_\_\_\_\_ करोड़ का एक्सेलरेटर (accelerator) प्रोग्राम शुरू करेगी।

- Ans
- 1. Rs.300
  - 2. Rs.350
  - 3. Rs.500
  - 4. Rs.450

Question Type : MCQ

Question ID : 264330134694

Option 1 ID : 264330527732

Option 2 ID : 264330527731

Option 3 ID : 264330527734

Option 4 ID : 264330527733

Status : Not Answered

Chosen Option : --

Q.16 किस युद्ध के कारण विजयनगर साम्राज्य का पतन हुआ?

- Ans
- 1. आर्कोट का युद्ध
  - 2. हल्दीघाटी का युद्ध
  - 3. तालीकोटा का युद्ध
  - 4. रायचूर का युद्ध

Question Type : MCQ

Question ID : 264330134683

Option 1 ID : 264330527687

Option 2 ID : 264330527688

Option 3 ID : 264330527690

Option 4 ID : 264330527689

Status : Answered

Chosen Option : 3

Q.17 आरक्षित नकदी तिथि अनुपात मुद्रा आपूर्ति को नियंत्रित करने के लिए एक \_\_\_\_\_ साधन है।

I. गुणात्मक

II. परिमाणात्मक

- Ans
- 1. केवल II
  - 2. केवल I
  - 3. न तो I और न ही II
  - 4. I और II दोनों

Question Type : MCQ

Question ID : 264330138659

Option 1 ID : 264330543244

Option 2 ID : 264330543243

Option 3 ID : 264330543246

Option 4 ID : 264330543245

Status : Not Answered

Chosen Option : --

Q.18 निम्नलिखित में से किसे वर्ष 2001 में भारत रत्न से सम्मानित किया गया था और जिन्हें शहनाई को विवाह मंडप से कंसर्ट हॉल तक ले जाने का श्रेय भी ही दिया जाता है?

- Ans
- 1. अली अकबर खान
  - 2. हरिप्रसाद चौरसिया
  - 3. रवि शंकर
  - 4. बिस्मिल्लाह खान

Question Type : MCQ  
Question ID : 264330134712  
Option 1 ID : 264330527804  
Option 2 ID : 264330527803  
Option 3 ID : 264330527806  
Option 4 ID : 264330527805  
Status : Answered  
Chosen Option : 4

Q.19 चन्द्रगुप्त मौर्य के दरबार में यूनानी राजा सेल्यूकस निकेटर (Seleucus Nicator) का राजदूत \_\_\_\_\_ था।

- Ans
- 1. हेरोडोटस (Herodotus)
  - 2. स्ट्रैबो (Strabo)
  - 3. होमर (Homer)
  - 4. मेगस्थनीज़ (Megasthenes)

Question Type : MCQ  
Question ID : 264330138670  
Option 1 ID : 264330543290  
Option 2 ID : 264330543287  
Option 3 ID : 264330543288  
Option 4 ID : 264330543289  
Status : Answered  
Chosen Option : 4

Q.20 Hindustan Aeronautics limited comes under which sector?

- Ans
- 1. Private sector
  - 2. Foreign sector
  - 3. Public sector
  - 4. Co-operative sector

Question Type : MCQ  
Question ID : 264330138666  
Option 1 ID : 264330543271  
Option 2 ID : 264330543273  
Option 3 ID : 264330543272  
Option 4 ID : 264330543274  
Status : Answered  
Chosen Option : 3

Q.21 नेपाल भारत के निम्नलिखित में से किस राज्य के साथ अपनी सीमा साझा नहीं करता है?

- Ans
- 1. पश्चिम बंगाल
  - 2. सिक्किम
  - 3. बिहार
  - 4. मणिपुर

Question Type : MCQ

Question ID : 264330137931

Option 1 ID : 264330540332

Option 2 ID : 264330540333

Option 3 ID : 264330540331

Option 4 ID : 264330540334

Status : Answered

Chosen Option : 4

Q.22 कोनेरू हंपी (Koneru Humpy) निम्नलिखित में से किस खेल से संबंधित हैं?

- Ans
- 1. शतरंज
  - 2. क्रिकेट
  - 3. मुक्केबाज़ी
  - 4. बैडमिंटन

Question Type : MCQ

Question ID : 264330134692

Option 1 ID : 264330527726

Option 2 ID : 264330527724

Option 3 ID : 264330527725

Option 4 ID : 264330527723

Status : Answered

Chosen Option : 1

Q.23 निम्न में से कौन-सी भारतीय प्रायद्वीप की तीसरी सबसे बड़ी और उड़ीसा राज्य की सबसे बड़ी नदी है?

- Ans
- 1. महानदी
  - 2. गोदावरी
  - 3. कृष्णा
  - 4. नर्मदा

Question Type : MCQ

Question ID : 264330134704

Option 1 ID : 264330527773

Option 2 ID : 264330527771

Option 3 ID : 264330527774

Option 4 ID : 264330527772

Status : Answered

Chosen Option : 1

Q.24 महाबलीपुरम स्मारक \_\_\_\_\_ वंश स्थापत्यकला शैली में बनाए गए थे।

- Ans
- 1. चंदेल
  - 2. पाली
  - 3. पल्लव
  - 4. गुप्त

Question Type : MCQ  
Question ID : 264330137065  
Option 1 ID : 264330536903  
Option 2 ID : 264330536906  
Option 3 ID : 264330536904  
Option 4 ID : 264330536905  
Status : Answered  
Chosen Option : 3

Q.25 न्यूटन के गति के प्रथम नियम को \_\_\_\_\_ भी कहते हैं।

- Ans
- 1. परिमाण का नियम (Law of magnitude)
  - 2. प्रतिक्रिया का नियम (Law of reaction)
  - 3. जड़ता का नियम (Law of Inertia)
  - 4. द्रव्यमान का नियम (Law of masses)

Question Type : MCQ  
Question ID : 264330134674  
Option 1 ID : 264330527653  
Option 2 ID : 264330527654  
Option 3 ID : 264330527651  
Option 4 ID : 264330527652  
Status : Answered  
Chosen Option : 3

Section : English Language and Comprehension

Q.1 Find the part of the given sentence that has an error in it. If there is no error, choose 'No error'.

Soap removes traces of pesticides and heavy metals that hand sanitizers can left behind.

- Ans
- 1. and heavy metals that hand
  - 2. Soap removes traces of pesticides
  - 3. No error
  - 4. sanitizers can left behind.

Question Type : MCQ  
Question ID : 264330134825  
Option 1 ID : 264330528240  
Option 2 ID : 264330528239  
Option 3 ID : 264330528242  
Option 4 ID : 264330528241  
Status : Not Answered  
Chosen Option : --

Q.2 Choose the word that can substitute the given group of words.

A sound that cannot be heard

- Ans
- 1. Delible
  - 2. Autonomous
  - 3. Inaudible
  - 4. Audacious

Question Type : MCQ  
Question ID : 264330134811  
Option 1 ID : 264330528185  
Option 2 ID : 264330528184  
Option 3 ID : 264330528186  
Option 4 ID : 264330528183  
Status : Answered  
Chosen Option : 3

Q.3 A sentence has been given with a blank to be filled with an appropriate option. Choose the correct alternative.

Potato milk is \_\_\_\_\_ another option for those wanting an alternative to cow's milk.

- Ans
- 1. yet
  - 2. so
  - 3. but
  - 4. though

Question Type : MCQ  
Question ID : 264330136828  
Option 1 ID : 264330536007  
Option 2 ID : 264330536009  
Option 3 ID : 264330536008  
Option 4 ID : 264330536010  
Status : Answered  
Chosen Option : 1

Q.4 Select the appropriate antonym for the underlined word.

Social justice has been one of the cherished goals of the makers of our Constitution.

- Ans
- 1. relished
  - 2. valued
  - 3. despised
  - 4. treasured

Question Type : MCQ  
Question ID : 264330134842  
Option 1 ID : 264330528304  
Option 2 ID : 264330528305  
Option 3 ID : 264330528303  
Option 4 ID : 264330528306  
Status : Answered  
Chosen Option : 3

**Q.5** Choose the word that can substitute the given group of words.

Something that is necessary or crucial

- Ans**
- 1. Trivial
  - 2. Indispensable
  - 3. Auxiliary
  - 4. Pedantic

Question Type : **MCQ**  
Question ID : **264330134838**  
Option 1 ID : **264330528287**  
Option 2 ID : **264330528290**  
Option 3 ID : **264330528288**  
Option 4 ID : **264330528289**  
Status : **Answered**  
Chosen Option : **2**

**Q.6** Identify the segment that contains a grammatical error. If there is no error, select 'No error'

The police released a statement saying/, "This was one of the most vicious/ attack we have ever seen."

- Ans**
- 1. No error
  - 2. "This was one of the most vicious
  - 3. attack we have ever seen."
  - 4. The police released a statement saying,

Question Type : **MCQ**  
Question ID : **264330136292**  
Option 1 ID : **264330533950**  
Option 2 ID : **264330533948**  
Option 3 ID : **264330533949**  
Option 4 ID : **264330533947**  
Status : **Answered**  
Chosen Option : **3**

**Q.7** Choose the incorrectly spelt word.

- Ans**
- 1. Monitour
  - 2. Chemical
  - 3. Constant
  - 4. Slope

Question Type : **MCQ**  
Question ID : **264330134845**  
Option 1 ID : **264330528317**  
Option 2 ID : **264330528315**  
Option 3 ID : **264330528318**  
Option 4 ID : **264330528316**  
Status : **Answered**  
Chosen Option : **1**

Q.8 Select the most appropriate option to fill in the blank.

His father was killed in a \_\_\_\_\_, when the boy was nine years old.

- Ans
- 1. duel
  - 2. drool
  - 3. dual
  - 4. dwell

Question Type : MCQ  
Question ID : 264330136793  
Option 1 ID : 264330535872  
Option 2 ID : 264330535874  
Option 3 ID : 264330535871  
Option 4 ID : 264330535873  
Status : Answered  
Chosen Option : 4

Q.9 Improve the underlined part of the sentence. Choose 'No improvement' as an answer if the sentence is grammatically correct.

After the concert, his voice has hoarse from cheering.

- Ans
- 1. voice were
  - 2. voice was
  - 3. voiced was
  - 4. No improvement

Question Type : MCQ  
Question ID : 264330134479  
Option 1 ID : 264330526885  
Option 2 ID : 264330526884  
Option 3 ID : 264330526883  
Option 4 ID : 264330526886  
Status : Answered  
Chosen Option : 2

Q.10 Select the appropriate synonym for the underlined word.

There is no need to panic, not yet.

- Ans
- 1. mock
  - 2. cheer
  - 3. block
  - 4. fright

Question Type : MCQ  
Question ID : 264330134839  
Option 1 ID : 264330528292  
Option 2 ID : 264330528294  
Option 3 ID : 264330528291  
Option 4 ID : 264330528293  
Status : Answered  
Chosen Option : 4

**Q.11** Choose the sentence with no spelling error.

- Ans**
- 1. And he wanted to sea him sufer.
  - 2. And he wanted to see him suffer.
  - 3. And he wanted to see him suffer.
  - 4. And he wanted to see him sufer.

Question Type : **MCQ**  
Question ID : **264330136792**  
Option 1 ID : **264330535868**  
Option 2 ID : **264330535867**  
Option 3 ID : **264330535869**  
Option 4 ID : **264330535870**  
Status : **Answered**  
Chosen Option : **3**

**Q.12** Find the part of the given sentence that has an error in it. If there is no error, choose 'No error'.

Why is your friend giving me weird looks?

- Ans**
- 1. No error
  - 2. giving me
  - 3. Why is your friend
  - 4. weird looks?

Question Type : **MCQ**  
Question ID : **264330134719**  
Option 1 ID : **264330527834**  
Option 2 ID : **264330527832**  
Option 3 ID : **264330527831**  
Option 4 ID : **264330527833**  
Status : **Answered**  
Chosen Option : **1**

**Q.13** A sentence has been given with a blank to be filled with an appropriate option. Choose the correct alternative.

She had no \_\_\_\_\_ of telling him the truth.

- Ans**
- 1. intents
  - 2. intending
  - 3. intended
  - 4. intention

Question Type : **MCQ**  
Question ID : **264330134829**  
Option 1 ID : **264330528257**  
Option 2 ID : **264330528258**  
Option 3 ID : **264330528255**  
Option 4 ID : **264330528256**  
Status : **Answered**  
Chosen Option : **4**

**Q.14** In the following question, out of the given four alternatives, select the alternative which best expresses the meaning of the Idiom/Phrase.

To make one's mouth water.

- Ans**
- 1. To make faces
  - 2. To feel no pain
  - 3. Feel hungry
  - 4. To tremble with fear

Question Type : **MCQ**  
Question ID : **264330134817**  
Option 1 ID : **264330528207**  
Option 2 ID : **264330528209**  
Option 3 ID : **264330528210**  
Option 4 ID : **264330528208**  
Status : **Answered**  
Chosen Option : **4**

**Q.15** Select the most appropriate antonym of the given word.

Misunderstand

- Ans**
- 1. Impossible
  - 2. Delayed
  - 3. Comprehend
  - 4. Sluggish

Question Type : **MCQ**  
Question ID : **264330135785**  
Option 1 ID : **264330532018**  
Option 2 ID : **264330532016**  
Option 3 ID : **264330532017**  
Option 4 ID : **264330532015**  
Status : **Answered**  
Chosen Option : **3**

**Q.16** Select the most appropriate option to substitute the bracketed segment in the given sentence. If there is no need to substitute it, select 'no substitution required'.

This looks (like one of those unwelcome social summons which call upon a man) either to be bored or to lie.

- Ans**
- 1. No substitution required
  - 2. like one of these unwelcome social summons that call upon a man
  - 3. like one of those unwelcome social summon that call upon a man
  - 4. like one of those unwelcome social summonses which call upon a man

Question Type : **MCQ**  
Question ID : **264330136295**  
Option 1 ID : **264330533962**  
Option 2 ID : **264330533959**  
Option 3 ID : **264330533961**  
Option 4 ID : **264330533960**  
Status : **Answered**  
Chosen Option : **2**

**Q.17** Select the most appropriate option to fill in the blank.

Each band is known across a wide area because all residents of a given region are typically tied to one another through a large \_\_\_\_\_ of kinship and reciprocity

- Ans**
- 1. variation
  - 2. network
  - 3. clash
  - 4. mesh

Question Type : **MCQ**  
Question ID : **264330134848**  
Option 1 ID : **264330528329**  
Option 2 ID : **264330528330**  
Option 3 ID : **264330528327**  
Option 4 ID : **264330528328**  
Status : **Answered**  
Chosen Option : **2**

**Q.18** Choose the word that means the same as the given word.

Wage

- Ans**
- 1. Sycophant
  - 2. Emolument
  - 3. Jackpot
  - 4. Jocular

Question Type : **MCQ**  
Question ID : **264330136812**  
Option 1 ID : **264330535945**  
Option 2 ID : **264330535946**  
Option 3 ID : **264330535944**  
Option 4 ID : **264330535943**  
Status : **Not Answered**  
Chosen Option : **--**

**Q.19** In the following question, out of the given four alternatives, select the alternative which best expresses the meaning of the Idiom/Phrase.

To turn over a new leaf

- Ans**
- 1. To have an inclination towards gardening
  - 2. To turn your back on someone
  - 3. To make a fresh start
  - 4. To reply brazenly

Question Type : **MCQ**  
Question ID : **264330134844**  
Option 1 ID : **264330528312**  
Option 2 ID : **264330528313**  
Option 3 ID : **264330528311**  
Option 4 ID : **264330528314**  
Status : **Answered**  
Chosen Option : **3**

**Q.20** Improve the underlined part of the sentence. Choose 'No improvement' as an answer if the sentence is grammatically correct.

When I was eight years old, I used to played with toys.

- Ans**
- 1. used to play
  - 2. use to played
  - 3. No improvement
  - 4. used to playing

Question Type : **MCQ**

Question ID : **264330135183**

Option 1 ID : **264330529664**

Option 2 ID : **264330529665**

Option 3 ID : **264330529666**

Option 4 ID : **264330529663**

Status : **Answered**

Chosen Option : **3**

**Comprehension:**

In the following passage some words have been deleted. Fill in the blanks with the help of the alternatives given. Select the most appropriate option for each number.

To mark the 25th anniversary of the run, (1) \_\_\_\_\_ Royal Canadian Mint unveiled a one-dollar commemorative circulation coin (2) \_\_\_\_\_ Monday on the campus of Simon Fraser University. Fox was (3) \_\_\_\_\_ undergraduate student and basketball player at SFU when a malignant tumour was discovered in his right leg in 1977. It resulted in (4) \_\_\_\_\_. A bronze statue of Fox, one of many such tributes across Canada, looks over the academic quadrangle of the university, just a short stroll from the theatre where Monday's (5) \_\_\_\_\_ was held.

**SubQuestion No : 21**

**Q.21** Select the most appropriate option to fill in the blank No. 1

- Ans**
- 1. a
  - 2. in
  - 3. the
  - 4. of

Question Type : **MCQ**

Question ID : **264330135776**

Option 1 ID : **264330531979**

Option 2 ID : **264330531982**

Option 3 ID : **264330531980**

Option 4 ID : **264330531981**

Status : **Answered**

Chosen Option : **1**

**Comprehension:**

In the following passage some words have been deleted. Fill in the blanks with the help of the alternatives given. Select the most appropriate option for each number.

To mark the 25th anniversary of the run, (1) \_\_\_\_\_ Royal Canadian Mint unveiled a one-dollar commemorative circulation coin (2) \_\_\_\_\_ Monday on the campus of Simon Fraser University. Fox was (3) \_\_\_\_\_ undergraduate student and basketball player at SFU when a malignant tumour was discovered in his right leg in 1977. It resulted in (4) \_\_\_\_\_. A bronze statue of Fox, one of many such tributes across Canada, looks over the academic quadrangle of the university, just a short stroll from the theatre where Monday's (5) \_\_\_\_\_ was held.

**SubQuestion No : 22**

**Q.22** Select the most appropriate option to fill in the blank No. 2 .

- Ans**
- 1. through
  - 2. on
  - 3. at
  - 4. over

Question Type : **MCQ**  
Question ID : **264330135777**  
Option 1 ID : **264330531983**  
Option 2 ID : **264330531985**  
Option 3 ID : **264330531986**  
Option 4 ID : **264330531984**  
Status : **Answered**  
Chosen Option : **2**

**Comprehension:**

In the following passage some words have been deleted. Fill in the blanks with the help of the alternatives given. Select the most appropriate option for each number.

To mark the 25th anniversary of the run, (1) \_\_\_\_\_ Royal Canadian Mint unveiled a one-dollar commemorative circulation coin (2) \_\_\_\_\_ Monday on the campus of Simon Fraser University. Fox was (3) \_\_\_\_\_ undergraduate student and basketball player at SFU when a malignant tumour was discovered in his right leg in 1977. It resulted in (4) \_\_\_\_\_. A bronze statue of Fox, one of many such tributes across Canada, looks over the academic quadrangle of the university, just a short stroll from the theatre where Monday's (5) \_\_\_\_\_ was held.

**SubQuestion No : 23**

**Q.23** Select the most appropriate option to fill in the blank No. 3.

- Ans**
- 1. the
  - 2. a
  - 3. an
  - 4. their

Question Type : **MCQ**  
Question ID : **264330135778**  
Option 1 ID : **264330531990**  
Option 2 ID : **264330531988**  
Option 3 ID : **264330531989**  
Option 4 ID : **264330531987**  
Status : **Answered**  
Chosen Option : **3**

**Comprehension:**

In the following passage some words have been deleted. Fill in the blanks with the help of the alternatives given. Select the most appropriate option for each number.

To mark the 25th anniversary of the run, (1) \_\_\_\_\_ Royal Canadian Mint unveiled a one-dollar commemorative circulation coin (2) \_\_\_\_\_ Monday on the campus of Simon Fraser University. Fox was (3) \_\_\_\_\_ undergraduate student and basketball player at SFU when a malignant tumour was discovered in his right leg in 1977. It resulted in (4) \_\_\_\_\_. A bronze statue of Fox, one of many such tributes across Canada, looks over the academic quadrangle of the university, just a short stroll from the theatre where Monday's (5) \_\_\_\_\_ was held.

**SubQuestion No : 24**

**Q.24** Select the most appropriate option to fill in the blank No. 4.

- Ans**
- 1. implantation
  - 2. vasodilation
  - 3. fragmentation
  - 4. amputation

Question Type : **MCQ**  
Question ID : **264330135779**  
Option 1 ID : **264330531991**  
Option 2 ID : **264330531993**  
Option 3 ID : **264330531992**  
Option 4 ID : **264330531994**  
Status : **Not Answered**  
Chosen Option : --

**Comprehension:**

In the following passage some words have been deleted. Fill in the blanks with the help of the alternatives given. Select the most appropriate option for each number.

To mark the 25th anniversary of the run, (1) \_\_\_\_\_ Royal Canadian Mint unveiled a one-dollar commemorative circulation coin (2) \_\_\_\_\_ Monday on the campus of Simon Fraser University. Fox was (3) \_\_\_\_\_ undergraduate student and basketball player at SFU when a malignant tumour was discovered in his right leg in 1977. It resulted in (4) \_\_\_\_\_. A bronze statue of Fox, one of many such tributes across Canada, looks over the academic quadrangle of the university, just a short stroll from the theatre where Monday's (5) \_\_\_\_\_ was held.

**SubQuestion No : 25**

**Q.25** Select the most appropriate option to fill in the blank No. 5.

- Ans**
- 1. countervailing
  - 2. unveiling
  - 3. reconciling
  - 4. veiling

Question Type : **MCQ**  
Question ID : **264330135780**  
Option 1 ID : **264330531997**  
Option 2 ID : **264330531996**  
Option 3 ID : **264330531998**  
Option 4 ID : **264330531995**  
Status : **Not Answered**  
Chosen Option : --