

## Multi Tasking Non Technical Staff and Havaladar CBIC and CBN Examination 2022

|                |  |
|----------------|--|
| Roll Number    |  |
| Candidate Name |  |
| Venue Name     |  |
| Exam Date      | 08/05/2023   |
| Exam Time      | 9:00 AM - 10:30 AM                                   |
| Subject        | MTS Non Tech Havaladar CBIC and CBN Examination 2022 |

### Section : Numerical and Mathematical Ability

**Q.1** एक व्यक्ति 2.5 km प्रति घंटे की चाल से 10 km चलता है, फिर 5 km प्रति घंटे की चाल से 10 km दौड़ता है और फिर 30 km प्रति घंटे की चाल से बस से 30 km का सफर करता है। व्यक्ति की औसत चाल क्या है?

- Ans**
- 1. 8.25 kmph
  - 2. 7 kmph
  - 3. 7.14 kmph
  - 4. 9 kmph

Question Type : **MCQ**

Question ID : **264330138049**

Option 1 ID : **264330540805**

Option 2 ID : **264330540806**

Option 3 ID : **264330540804**

Option 4 ID : **264330540803**

Status : **Answered**

Chosen Option : **3**

**Q.2** एक क्रिकेट खिलाड़ी के 10 पारियों में औसत रन 40 थे। उसे अपनी अगली पारी में कितने रन बनाने चाहिए जिससे उसके रनों के औसत में 3 की वृद्धि हो जाए?

- Ans**
- 1. 43
  - 2. 63
  - 3. 73
  - 4. 53

Question Type : **MCQ**

Question ID : **264330138038**

Option 1 ID : **264330540760**

Option 2 ID : **264330540761**

Option 3 ID : **264330540759**

Option 4 ID : **264330540762**

Status : **Answered**

Chosen Option : **3**

Q.3 अनिल, सचिन से 12.5 प्रतिशत अधिक कुशल है। यदि सचिन अकेले किसी कार्य को 10 दिनों में पूरा कर सकता है, तो अनिल अकेले उसी कार्य को कितने दिनों में पूरा करेगा?

- Ans
- ✓ 1. (80/9) दिनों में
  - ✗ 2. (80/7) दिनों में
  - ✗ 3. (70/11) दिनों में
  - ✗ 4. (70/9) दिनों में

Question Type : MCQ

Question ID : 264330139057

Option 1 ID : 264330544837

Option 2 ID : 264330544835

Option 3 ID : 264330544838

Option 4 ID : 264330544836

Status : Answered

Chosen Option : 1

Q.4 X, Y और Z एक साझेदारी में हिस्सा लेते हैं। X शुरुआत में कुछ राशि का निवेश करता है। 4 माह के बाद Y, X की राशि से तीन गुना राशि का निवेश करता है और हिस्सेदारी की शुरुआत से 9 माह के बाद Z, Y की राशि से दोगुना राशि का निवेश करता है। यदि वार्षिक लाभ Rs. 450000 है, तो उसमें Y का हिस्सा कितना है?

- Ans
- ✗ 1. Rs. 300000
  - ✗ 2. Rs. 150000
  - ✓ 3. Rs. 200000
  - ✗ 4. Rs. 100000

Question Type : MCQ

Question ID : 264330138043

Option 1 ID : 264330540782

Option 2 ID : 264330540781

Option 3 ID : 264330540780

Option 4 ID : 264330540779

Status : Answered

Chosen Option : 3

Q.5 अर्ध-वार्षिक रूप से देय 10% वार्षिक नामित (nominal) दर के अनुरूप प्रभावी वार्षिक ब्याज दर कितनी है?

- Ans
- ✓ 1. 10.25%
  - ✗ 2. 11.50%
  - ✗ 3. 9.25%
  - ✗ 4. 12.75%

Question Type : MCQ

Question ID : 264330133684

Option 1 ID : 264330523761

Option 2 ID : 264330523759

Option 3 ID : 264330523762

Option 4 ID : 264330523760

Status : Answered

Chosen Option : 1

**Q.6** 8 cm, 27 cm और 64 cm भुजाओं वाले एक घनाभ को पिघलाकर एक नया घन बनाया जाता है। घनाभ और घन के कुल पृष्ठीय क्षेत्रफल का क्रमशः अनुपात कितना है?

- Ans  1. 307 : 216  
 2. 291 : 203  
 3. 329 : 237  
 4. 349 : 248

Question Type : MCQ

Question ID : 264330137167

Option 1 ID : 264330537314

Option 2 ID : 264330537312

Option 3 ID : 264330537311

Option 4 ID : 264330537313

Status : Answered

Chosen Option : 1

**Q.7** सेल में एक बॉटल प्यूरिफायर को उसके वास्तविक मूल्य पर 10% के बट्टे के साथ बेचा जाता है। एक स्टोर-वाइड सेल के परिणामस्वरूप प्यूरिफायर पर 15% का अतिरिक्त बट्टा दिया जाता है। वास्तविक मूल्य पर कुल कितना बट्टा दिया गया?

- Ans  1. 18.50%  
 2. 19.50%  
 3. 22.50%  
 4. 23.50%

Question Type : MCQ

Question ID : 264330138044

Option 1 ID : 264330540786

Option 2 ID : 264330540785

Option 3 ID : 264330540784

Option 4 ID : 264330540783

Status : Answered

Chosen Option : 4

**Q.8** एक व्यक्ति 0.5 meters/second की चाल से चल सकता है। वह 8 मिनट में कितनी दूरी तय करेगा?

- Ans  1. 120 m  
 2. 200 m  
 3. 240 m  
 4. 250 m

Question Type : MCQ

Question ID : 264330138750

Option 1 ID : 264330543609

Option 2 ID : 264330543610

Option 3 ID : 264330543608

Option 4 ID : 264330543607

Status : Answered

Chosen Option : 3

Q.9 एक तार वर्ग के आकार में है जिसकी भुजा 44 cm है। इसे मोड़कर एक वृत्त बनाया जाता है। इस वृत्त की त्रिज्या क्या है?

- Ans
- 1. 21 cm
  - 2. 32 cm
  - 3. 28 cm
  - 4. 16 cm

Question Type : MCQ

Question ID : 264330139070

Option 1 ID : 264330544888

Option 2 ID : 264330544889

Option 3 ID : 264330544890

Option 4 ID : 264330544887

Status : Answered

Chosen Option : 3

Q.10 एक धनराशि पर 2 वर्ष के लिए 30 प्रतिशत वार्षिक दर से चक्रवृद्धि ब्याज (वार्षिक रूप से संयोजित) और साधारण ब्याज के बीच का अंतर Rs. 3600 है। वह धनराशि क्या है?

- Ans
- 1. Rs. 40000
  - 2. Rs. 60000
  - 3. Rs. 75000
  - 4. Rs. 50000

Question Type : MCQ

Question ID : 264330139007

Option 1 ID : 264330544635

Option 2 ID : 264330544636

Option 3 ID : 264330544637

Option 4 ID : 264330544638

Status : Answered

Chosen Option : 1

Q.11 4 और 6 का तृतीय समानुपाती क्या है?

- Ans
- 1. 16
  - 2. 36
  - 3. 9
  - 4. 6

Question Type : MCQ

Question ID : 264330138045

Option 1 ID : 264330540790

Option 2 ID : 264330540789

Option 3 ID : 264330540788

Option 4 ID : 264330540787

Status : Answered

Chosen Option : 3

Q.12 एक वस्तु पर 5% और 8% की दो क्रमागत मूल्य वृद्धियों के लिए एकल समतुल्य मूल्य वृद्धि क्या है?

- Ans
- 1. 12.5%
  - 2. 14.2%
  - 3. 13.4%
  - 4. 15.5%

Question Type : MCQ

Question ID : 264330133677

Option 1 ID : 264330523731

Option 2 ID : 264330523734

Option 3 ID : 264330523732

Option 4 ID : 264330523733

Status : Answered

Chosen Option : 3

Q.13  $0.8 \times 0.8 \times 0.8 + 0.7 \times 0.7 \times 0.7 + 2.52$  का मान क्या है?

- Ans
- 1. 2.125
  - 2. 5.165
  - 3. 4.275
  - 4. 3.375

Question Type : MCQ

Question ID : 264330138032

Option 1 ID : 264330540737

Option 2 ID : 264330540735

Option 3 ID : 264330540736

Option 4 ID : 264330540738

Status : Answered

Chosen Option : 4

Q.14 एक मिश्रण में दूध और पानी का अनुपात 5:2 है। यदि मिश्रण में 4 लीटर पानी मिला दिया जाए, तो अनुपात 5:4 हो जाता है। दिए गए मिश्रण में दूध की मात्रा कितनी है?

- Ans
- 1. 5 लीटर
  - 2. 10 लीटर
  - 3. 2 लीटर
  - 4. 8 लीटर

Question Type : MCQ

Question ID : 264330138046

Option 1 ID : 264330540792

Option 2 ID : 264330540794

Option 3 ID : 264330540793

Option 4 ID : 264330540791

Status : Answered

Chosen Option : 2

Q.15 नीचे दी गई तालिका में दो परिवारों A और B द्वारा छः वस्तुओं पर किए गए व्यय को दर्शाया गया है।

| वस्तुएँ | A   | B   |
|---------|-----|-----|
| P       | 40  | 120 |
| Q       | 60  | 70  |
| R       | 80  | 90  |
| S       | 100 | 50  |
| T       | 110 | 40  |
| U       | 90  | 80  |

निम्नलिखित में से कौन-सा कथन सही नहीं है?

- I. A द्वारा वस्तु R पर किया गया व्यय, B द्वारा वस्तु Q पर किए गए व्यय से 28.56 प्रतिशत अधिक है।
- II. A द्वारा वस्तु P और Q पर किया गया औसत व्यय और B द्वारा वस्तु R और S पर किए गए औसत व्यय के बीच का अंतर 20 है।

Ans

- ✓ 1. केवल I
- ✗ 2. केवल II
- ✗ 3. न तो I और न ही II
- ✗ 4. I और II दोनों

Question Type : MCQ

Question ID : 264330138033

Option 1 ID : 264330540739

Option 2 ID : 264330540740

Option 3 ID : 264330540742

Option 4 ID : 264330540741

Status : Answered

Chosen Option : 2

Q.16 रोहन अकेले किसी कार्य को 10 दिनों में कर सकता है और मोहन अकेले उसी कार्य को 15 दिनों में कर सकता है। वे मिलकर उसी कार्य को कितने दिनों में पूरा करेंगे?

Ans

- ✗ 1. 5 दिन
- ✗ 2. 7 दिन
- ✓ 3. 6 दिन
- ✗ 4. 4 दिन

Question Type : MCQ

Question ID : 264330137152

Option 1 ID : 264330537251

Option 2 ID : 264330537254

Option 3 ID : 264330537252

Option 4 ID : 264330537253

Status : Answered

Chosen Option : 3

Q.17 एक व्यक्ति ने एक रुपए में 30 पेन की दर से कुछ पेन खरीदे और उन्हें एक रुपए में 20 पेन की दर से बेच दिया।  
उसका लाभ प्रतिशत क्या है?

- Ans
- 1. 33.33 प्रतिशत
  - 2. 50 प्रतिशत
  - 3. 66.66 प्रतिशत
  - 4. 75 प्रतिशत

Question Type : MCQ

Question ID : 264330139002

Option 1 ID : 264330544617

Option 2 ID : 264330544615

Option 3 ID : 264330544616

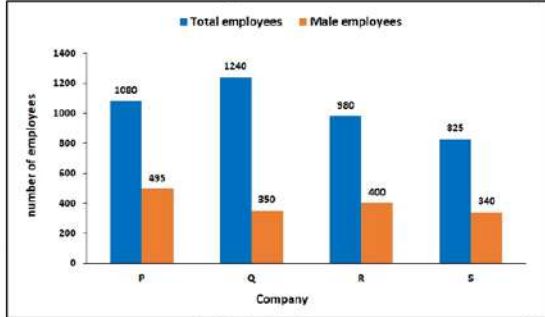
Option 4 ID : 264330544618

Status : Answered

Chosen Option : 2

Q.18 निम्नलिखित दंड आलेख में 4 अलग-अलग कंपनियों में कर्मचारियों की कुल संख्या को दर्शाया गया है।

कंपनी Q और कंपनी S में महिला कर्मचारियों की संख्या का योग क्या है?



No of employees - कर्मचारियों की संख्या, Total employees - कर्मचारियों की कुल संख्या, Company - कंपनी,  
Male Employee - पुरुष कर्मचारी

- Ans
- 1. 485
  - 2. 890
  - 3. 1240
  - 4. 1375

Question Type : MCQ

Question ID : 264330138053

Option 1 ID : 264330540820

Option 2 ID : 264330540819

Option 3 ID : 264330540822

Option 4 ID : 264330540821

Status : Answered

Chosen Option : 4

Q.19  $\frac{66-55+44-33+22}{13 \times 3 + 2 \times 3 - 1}$  का मान क्या है?

- Ans
- 1. 44
  - 2. 4
  - 3. 1
  - 4. 11

Question Type : MCQ

Question ID : 264330137339

Option 1 ID : 264330537985

Option 2 ID : 264330537984

Option 3 ID : 264330537983

Option 4 ID : 264330537986

Status : Answered

Chosen Option : 3

Q.20  $8000 \div 10 \times \{(8 - 4) + (36 - 24)\}$  का मान है:

- Ans
- 1. 12800
  - 2. 50
  - 3. 6400
  - 4. 800

Question Type : MCQ

Question ID : 264330138035

Option 1 ID : 264330540750

Option 2 ID : 264330540747

Option 3 ID : 264330540749

Option 4 ID : 264330540748

Status : Answered

Chosen Option : 1

Section : Reasoning Ability and Problem Solving

Q.1 छः बहनें अनु, अंकिता, आशा, एमी, अन्वेषी और आयशा एक वृत्ताकार मेज के चारों ओर एक-दूसरे की ओर मुख करके बैठी हैं। अनु, अंकिता के ठीक बाईं ओर बैठी है। एमी, आशा और आयशा के ठीक बीच में बैठी है। आयशा, अन्वेषी के आसन्न नहीं बैठी है, जो अनु के दाईं ओर से दूसरे स्थान पर बैठी है। अंकिता के ठीक दाईं ओर कौन बैठा है?

- Ans
- 1. आयशा
  - 2. एमी
  - 3. अन्वेषी
  - 4. आशा

Question Type : MCQ

Question ID : 264330137839

Option 1 ID : 264330539966

Option 2 ID : 264330539965

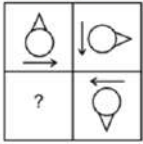
Option 3 ID : 264330539964

Option 4 ID : 264330539963

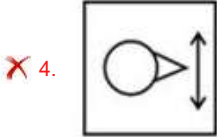
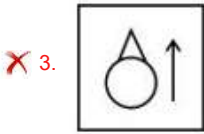
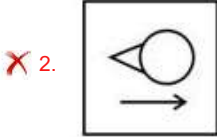
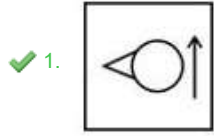
Status : Answered

Chosen Option : 1

Q.2 उस विकल्प आकृति को चुनिए जो पैटर्न को पूरा करने के लिए नीचे दी गई आकृति में प्रश्न चिन्ह (?) के स्थान पर आएगी। (घूर्णन की अनुमति नहीं है)



Ans



Question Type : MCQ

Question ID : 264330137851

Option 1 ID : 264330540011

Option 2 ID : 264330540013

Option 3 ID : 264330540012

Option 4 ID : 264330540014

Status : Answered

Chosen Option : 1

Q.3 उस विकल्प को चुनिए जो तीसरे अक्षर-समूह से ठीक उसी प्रकार संबंधित है जिस प्रकार दूसरा अक्षर-समूह पहले अक्षर-समूह से संबंधित है।

DMK : ENJ :: QOC : ?

Ans

✓ 1. RPB

✗ 2. RBP

✗ 3. BRP

✗ 4. PRM

Question Type : MCQ

Question ID : 264330137833

Option 1 ID : 264330539939

Option 2 ID : 264330539941

Option 3 ID : 264330539940

Option 4 ID : 264330539942

Status : Answered

Chosen Option : 1

Q.4 एक निश्चित कूट भाषा में, 'BONE' को 'F15R5' लिखा जाता है। उस कूट भाषा में 'NOSE' को कैसे लिखा जाएगा?

- Ans
- 1. R5W51
  - 2. R61W5
  - 3. R15W5
  - 4. R51W5

Question Type : MCQ

Question ID : 264330135024

Option 1 ID : 264330529033

Option 2 ID : 264330529034

Option 3 ID : 264330529032

Option 4 ID : 264330529031

Status : Answered

Chosen Option : 3

Q.5 दिए गए समीकरण को सही करने के लिए किन दो संख्याओं को आपस में बदला जाना चाहिए?

$$4 \times 8 - 12 + 5 = 16$$

- Ans
- 1. 12 और 16
  - 2. 8 और 5
  - 3. 16 और 8
  - 4. 4 और 5

Question Type : MCQ

Question ID : 264330137847

Option 1 ID : 264330539996

Option 2 ID : 264330539998

Option 3 ID : 264330539995

Option 4 ID : 264330539997

Status : Answered

Chosen Option : 2

Q.6 उस विकल्प को चुनिए जो तीसरे शब्द से ठीक उसी प्रकार संबंधित है जिस प्रकार दूसरा शब्द पहले शब्द से संबंधित है।

तितली : इल्ली :: भेड़ : ?

- Ans
- 1. बिल्ली का बच्चा (Kitty)
  - 2. कबूतर
  - 3. मेमना
  - 4. बिल्ली

Question Type : MCQ

Question ID : 264330137832

Option 1 ID : 264330539936

Option 2 ID : 264330539938

Option 3 ID : 264330539937

Option 4 ID : 264330539935

Status : Answered

Chosen Option : 3

Q.7 एक निश्चित कूट भाषा में, 'WORLD' को '5' लिखा जाता है, 'UPDATE' को '6' लिखा जाता है। उस कूट भाषा में 'GLOBALLY' को कैसे लिखा जाएगा?

- Ans
- 1. 7
  - 2. 8
  - 3. 19
  - 4. 9

Question Type : MCQ

Question ID : 264330137370

Option 1 ID : 264330538109

Option 2 ID : 264330538107

Option 3 ID : 264330538110

Option 4 ID : 264330538108

Status : Answered

Chosen Option : 2

Q.8 दो कथन दिए गए हैं और दो निष्कर्ष I और II दिए गए हैं। कथनों को सत्य मानते हुए, चाहे वे सामान्यतः जात तथ्यों से अलग प्रतीत होते हों, निश्चय कीजिए कि कौन-सा निष्कर्ष तार्किक रूप से कथनों के अनुसार है।  
कथन:

कुछ दूध, दही हैं।

कुछ दही, मक्खन हैं।

निष्कर्ष:

I. कुछ दूध, मक्खन हैं।

II. कुछ मक्खन, दही हैं।

- Ans
- 1. केवल निष्कर्ष II कथनों के अनुसार है।
  - 2. न तो निष्कर्ष I और न ही II कथनों के अनुसार है।
  - 3. केवल निष्कर्ष I कथनों के अनुसार है।
  - 4. दोनों निष्कर्ष I और II कथनों के अनुसार हैं।

Question Type : MCQ

Question ID : 264330137841

Option 1 ID : 264330539972

Option 2 ID : 264330539974

Option 3 ID : 264330539971

Option 4 ID : 264330539973

Status : Answered

Chosen Option : 4

Q.9 एक निश्चित कूट भाषा में, 'WODMF' को 'ZRDKD' लिखा जाता है। उस भाषा में 'EIDMC' को कैसे लिखा जाएगा?

- Ans
- 1. HDLKA
  - 2. HLDKA
  - 3. HALDA
  - 4. HDLAK

Question Type : MCQ

Question ID : 264330134960

Option 1 ID : 264330528775

Option 2 ID : 264330528776

Option 3 ID : 264330528777

Option 4 ID : 264330528778

Status : Answered

Chosen Option : 2

Q.10 यदि A का अर्थ 'जोड़', B का अर्थ 'गुणा', C का अर्थ 'घटाव' और D का अर्थ 'भाग' हो, तो निम्नलिखित समीकरण का मान क्या होगा?  
6 A (9 D 3) C 4 =?

- Ans
- 1. 5
  - 2. 7
  - 3. 12
  - 4. 8

Question Type : MCQ

Question ID : 264330138825

Option 1 ID : 264330543907

Option 2 ID : 264330543908

Option 3 ID : 264330543909

Option 4 ID : 264330543910

Status : Answered

Chosen Option : 1

Q.11 उस विकल्प आकृति को चुनें जिसमें दी गई आकृति निहित है।(घूर्णन की अनुमति नहीं है)



Ans

✗ 1.



✓ 2.



✗ 3.



✗ 4.



Question Type : MCQ

Question ID : 264330137827

Option 1 ID : 264330539916

Option 2 ID : 264330539917

Option 3 ID : 264330539915

Option 4 ID : 264330539918

Status : Answered

Chosen Option : 2

Q.12 सात मित्रों M, N, O, P, Q, R, और S का कद अलग-अलग है। वे अपनी लंबाई के अनुसार आरोही क्रम में खड़े हैं। सबसे लंबा व्यक्ति दाईं ओर और सबसे छोटे कद वाला व्यक्ति बाईं ओर खड़ा है। केवल तीन मित्र O से लंबे हैं। R का कद केवल Q से छोटा है। N, P और M दोनों से लंबा है लेकिन S से कद में छोटा है। तीसरा सबसे लंबा व्यक्ति कौन है?

Ans

✓ 1. S

✗ 2. N

✗ 3. P

✗ 4. O

Question Type : MCQ

Question ID : 264330137840

Option 1 ID : 264330539970

Option 2 ID : 264330539968

Option 3 ID : 264330539967

Option 4 ID : 264330539969

Status : Answered

Chosen Option : 2

Q.13 उस विकल्प को चुनिए जो तीसरी संख्या से ठीक उसी प्रकार संबंधित है जिस प्रकार दूसरी संख्या पहली संख्या से संबंधित है।

13 : 182 :: 17 : ?

- Ans  1. 306  
 2. 360  
 3. 440  
 4. 280

Question Type : MCQ

Question ID : 264330133399

Option 1 ID : 264330522627

Option 2 ID : 264330522628

Option 3 ID : 264330522629

Option 4 ID : 264330522630

Status : Answered

Chosen Option : 1

Q.14 दी गई श्रृंखला में निम्नलिखित में से कौन-सी संख्या प्रश्न चिन्ह (?) के स्थान पर आएगी?

13, 9, 5, 1, -3, -7, -11, ?

- Ans  1. -13  
 2. -16  
 3. -15  
 4. -14

Question Type : MCQ

Question ID : 264330137844

Option 1 ID : 264330539984

Option 2 ID : 264330539983

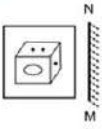
Option 3 ID : 264330539986

Option 4 ID : 264330539985

Status : Answered

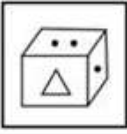
Chosen Option : 3

Q.15 दी गई आकृति के उस सही दर्पण प्रतिबिंब को चुनिए, जो दर्पण MN को आकृति के दाईं ओर रखने पर बनेगा।

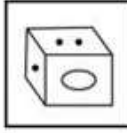


Ans

✗ 1.



✓ 2.



✗ 3.



✗ 4.



Question Type : MCQ

Question ID : 264330137828

Option 1 ID : 264330539920

Option 2 ID : 264330539921

Option 3 ID : 264330539922

Option 4 ID : 264330539919

Status : Answered

Chosen Option : 2

Q.16 दी गई श्रृंखला में निम्नलिखित में से कौन-सी संख्या प्रश्न चिन्ह (?) के स्थान पर आएगी?

75, 76, 78, 79, 81, 82, 84, 85, 87, ?

Ans

✗ 1. 80

✗ 2. 90

✓ 3. 88

✗ 4. 96

Question Type : MCQ

Question ID : 264330133397

Option 1 ID : 264330522622

Option 2 ID : 264330522619

Option 3 ID : 264330522621

Option 4 ID : 264330522620

Status : Answered

Chosen Option : 3

**Q.17** तीन कथन दिए गए हैं और दो निष्कर्ष I और II दिए गए हैं। कथनों को सत्य मानते हुए, चाहे वे सामान्यतः ज्ञात तथ्यों से अलग प्रतीत होते हों, निश्चय कीजिए कि कौन-सा निष्कर्ष तार्किक रूप से कथनों के अनुसार है।  
कथन:

सभी पक्षी, कौए हैं।

कुछ कौए, तोते हैं।

कोई कौआ, कबूतर नहीं है।

निष्कर्ष:

I. कोई तोता, कबूतर नहीं है।

II. कुछ पक्षी, तोते हैं।

**Ans**

✓ 1. न तो निष्कर्ष I और न ही II कथनों के अनुसार है।

✗ 2. केवल निष्कर्ष I कथनों के अनुसार है।

✗ 3. दोनों निष्कर्ष I और II कथनों के अनुसार हैं।

✗ 4. केवल निष्कर्ष II कथनों के अनुसार है।

Question Type : MCQ

Question ID : 264330137842

Option 1 ID : 264330539978

Option 2 ID : 264330539975

Option 3 ID : 264330539977

Option 4 ID : 264330539976

Status : Answered

Chosen Option : 4

**Q.18** पाँच भाई ड्रेक, डेविड, डैनी, डर्क और डिम उत्तर की ओर मुख करके एक बेंच पर बैठे हैं। डर्क, डैनी के ठीक दाईं ओर बैठा है। डिम, ड्रेक और डेविड के ठीक बीच में बैठा है। ड्रेक के बाईं ओर कोई नहीं बैठा है। डैनी के ठीक बाईं ओर कौन बैठा है?

**Ans**

✗ 1. डिम

✗ 2. डर्क

✓ 3. डेविड

✗ 4. ड्रेक

Question Type : MCQ

Question ID : 264330137838

Option 1 ID : 264330539961

Option 2 ID : 264330539959

Option 3 ID : 264330539960

Option 4 ID : 264330539962

Status : Answered

Chosen Option : 2

Q.19 दिए गए पैटर्न का ध्यानपूर्वक अध्ययन कीजिए और उस संख्या को चुनिए जो इसमें प्रश्न चिन्ह (?) के स्थान पर आ सकती है।  
पहली पंक्ति- 64, 69, 74  
दूसरी पंक्ति- 26, 31, 36  
तीसरी पंक्ति - 49, 54, ?

- Ans
- 1. 53
  - 2. 65
  - 3. 59
  - 4. 37

Question Type : **MCQ**  
Question ID : **264330137846**  
Option 1 ID : **264330539994**  
Option 2 ID : **264330539992**  
Option 3 ID : **264330539991**  
Option 4 ID : **264330539993**  
Status : **Answered**  
Chosen Option : **3**

Q.20 दी गई श्रृंखला में निम्नलिखित में से कौन-सा अक्षर प्रश्न चिन्ह (?) के स्थान पर आएगा?  
D, H, L, P, T, ?

- Ans
- 1. R
  - 2. M
  - 3. X
  - 4. P

Question Type : **MCQ**  
Question ID : **264330137830**  
Option 1 ID : **264330539929**  
Option 2 ID : **264330539930**  
Option 3 ID : **264330539928**  
Option 4 ID : **264330539927**  
Status : **Answered**  
Chosen Option : **3**

Section : **General Awareness**

Q.1 भारत में जनसंख्या की गणना सामान्यतः कितने वर्षों के बाद की जाती है?

- Ans
- 1. 15
  - 2. 20
  - 3. 5
  - 4. 10

Question Type : **MCQ**  
Question ID : **264330138341**  
Option 1 ID : **264330541973**  
Option 2 ID : **264330541974**  
Option 3 ID : **264330541971**  
Option 4 ID : **264330541972**  
Status : **Answered**  
Chosen Option : **4**

Q.2 भारतीय संविधान का कौन-सा अनुच्छेद राष्ट्रपति द्वारा शपथ या प्रतिज्ञान की बात करता है?

- Ans
- 1. अनुच्छेद 72
  - 2. अनुच्छेद 45
  - 3. अनुच्छेद 60
  - 4. अनुच्छेद 56

Question Type : MCQ

Question ID : 264330137965

Option 1 ID : 264330540470

Option 2 ID : 264330540467

Option 3 ID : 264330540468

Option 4 ID : 264330540469

Status : Answered

Chosen Option : 4

Q.3 रानी-की-वाव (रानी की बावड़ी) किस नदी के तट पर स्थित है?

- Ans
- 1. गंगा
  - 2. सरस्वती
  - 3. यमुना
  - 4. कृष्णा

Question Type : MCQ

Question ID : 264330138873

Option 1 ID : 264330544099

Option 2 ID : 264330544101

Option 3 ID : 264330544100

Option 4 ID : 264330544102

Status : Answered

Chosen Option : 4

Q.4 अंडमान द्वीप समूह और निकोबार द्वीप समूह को एक-दूसरे से अलग करने वाले जल निकाय को \_\_\_\_\_ कहा जाता है।

- Ans
- 1. मन्नार की खाड़ी (Gulf of Mannar)
  - 2. दस डिग्री जलसंधि (Ten Degree Channel)
  - 3. पाक जलसंधि (Palk Strait)
  - 4. कोनोली नहर (Conolly Canal)

Question Type : MCQ

Question ID : 264330137954

Option 1 ID : 264330540424

Option 2 ID : 264330540425

Option 3 ID : 264330540423

Option 4 ID : 264330540426

Status : Answered

Chosen Option : 2

Q.5 महाद्वीपीय संहति मुख्य रूप से \_\_\_\_\_ एवं \_\_\_\_\_ जैसे खनिजों से बनी है।

- Ans
- 1. सिलिका, मैग्नीशियम
  - 2. सिलिका, एलुमिना
  - 3. ऑक्सीजन, कार्बन
  - 4. एलुमिना, मैग्नीशियम

Question Type : MCQ  
Question ID : 264330133896  
Option 1 ID : 264330524608  
Option 2 ID : 264330524610  
Option 3 ID : 264330524607  
Option 4 ID : 264330524609  
Status : Answered  
Chosen Option : 2

Q.6 'I2U2' पहल को \_\_\_\_\_ के नाम से भी जाना जाता है।

- Ans
- 1. पूर्वी यूरोपीय क्वाड (East European Quad)
  - 2. पश्चिम यूरोपीय क्वाड (West European Quad)
  - 3. पूर्वी एशियाई क्वाड (East Asian Quad)
  - 4. पश्चिम एशियाई क्वाड (West Asian Quad)

Question Type : MCQ  
Question ID : 264330134628  
Option 1 ID : 264330527470  
Option 2 ID : 264330527469  
Option 3 ID : 264330527468  
Option 4 ID : 264330527467  
Status : Answered  
Chosen Option : 3

Q.7 नवरेह, एक चंद्र नव वर्ष है जो निम्नलिखित में से किस राज्य/केंद्र शासित प्रदेश में मनाया जाता है?

- Ans
- 1. असम
  - 2. सिक्किम
  - 3. जम्मू और कश्मीर
  - 4. मणिपुर

Question Type : MCQ  
Question ID : 264330137922  
Option 1 ID : 264330540295  
Option 2 ID : 264330540296  
Option 3 ID : 264330540297  
Option 4 ID : 264330540298  
Status : Marked For Review  
Chosen Option : 1

Q.8 नवंबर 2022 में, प्रधान मंत्री राष्ट्रीय शिक्षता मेला ( Pradhan Mantri National Apprenticeship Mela )  
में आयोजित किया गया था।

- Ans
- 1. 120 जिलों
  - 2. 182 जिलों
  - 3. 152 जिलों
  - 4. 199 जिलों

Question Type : MCQ  
Question ID : 264330137944  
Option 1 ID : 264330540384  
Option 2 ID : 264330540386  
Option 3 ID : 264330540383  
Option 4 ID : 264330540385  
Status : Answered  
Chosen Option : 4

Q.9 भारतीय संविधान की 8वीं अनुसूची के अनुसार, भारत में कितनी आधिकारिक भाषाएँ हैं?

- Ans
- 1. 32
  - 2. 22
  - 3. 12
  - 4. 42

Question Type : MCQ  
Question ID : 264330137964  
Option 1 ID : 264330540465  
Option 2 ID : 264330540464  
Option 3 ID : 264330540463  
Option 4 ID : 264330540466  
Status : Answered  
Chosen Option : 2

Q.10 रोजर फेडरर ( Roger Federer ) \_\_\_\_\_ खेल के एक प्रसिद्ध खिलाड़ी हैं।

- Ans
- 1. लॉन टेनिस
  - 2. रग्बी
  - 3. लॉन बोल्ल्स
  - 4. फुटबॉल

Question Type : MCQ  
Question ID : 264330137966  
Option 1 ID : 264330540472  
Option 2 ID : 264330540473  
Option 3 ID : 264330540471  
Option 4 ID : 264330540474  
Status : Answered  
Chosen Option : 1

Q.11 वर्ष 1835 के अंग्रेजों के शिक्षा अधिनियम के परिणामस्वरूप \_\_\_\_\_ को \_\_\_\_\_ शिक्षा का माध्यम बनाया गया।

- Ans
- 1. अंग्रेज़ी, प्राथमिक
  - 2. स्थानीय भाषा, प्राथमिक
  - 3. स्थानीय भाषा, उच्च
  - 4. अंग्रेज़ी, उच्च

Question Type : MCQ  
Question ID : 264330138894  
Option 1 ID : 264330544183  
Option 2 ID : 264330544185  
Option 3 ID : 264330544186  
Option 4 ID : 264330544184  
Status : Answered  
Chosen Option : 4

Q.12 18वीं शताब्दी की शुरुआत में, राजपूत शासक सवाई राजा जय सिंह ने \_\_\_\_\_ में अपनी नई राजधानी की स्थापना की।

- Ans
- 1. अजमेर
  - 2. उदयपुर
  - 3. जयपुर
  - 4. जोधपुर

Question Type : MCQ  
Question ID : 264330133903  
Option 1 ID : 264330524635  
Option 2 ID : 264330524638  
Option 3 ID : 264330524637  
Option 4 ID : 264330524636  
Status : Answered  
Chosen Option : 3

Q.13 राउत नाचा ( Raut Nacha ) भारत के \_\_\_\_\_ राज्य का एक प्रसिद्ध लोक नृत्य है।

- Ans
- 1. छत्तीसगढ़
  - 2. पंजाब
  - 3. कर्नाटक
  - 4. सिक्किम

Question Type : MCQ  
Question ID : 264330137946  
Option 1 ID : 264330540392  
Option 2 ID : 264330540391  
Option 3 ID : 264330540393  
Option 4 ID : 264330540394  
Status : Answered  
Chosen Option : 3

Q.14 तत्वबोधिनी सभा (Tattvabodhini Sabha) की स्थापना देबेंद्र नाथ टैगोर ने किस वर्ष में की थी?

- Ans
- 1. 1854
  - 2. 1845
  - 3. 1839
  - 4. 1832

Question Type : MCQ

Question ID : 264330137935

Option 1 ID : 264330540347

Option 2 ID : 264330540348

Option 3 ID : 264330540350

Option 4 ID : 264330540349

Status : Not Answered

Chosen Option : --

Q.15 निम्नलिखित में से कौन राष्ट्रपति के निर्वाचन में भाग नहीं लेगा?

- Ans
- 1. निर्वाचित लोकसभा सदस्य
  - 2. निर्वाचित राज्यसभा सदस्य
  - 3. राज्य विधान सभाओं के निर्वाचित सदस्य
  - 4. राज्य विधान परिषद के निर्वाचित सदस्य

Question Type : MCQ

Question ID : 264330138882

Option 1 ID : 264330544135

Option 2 ID : 264330544136

Option 3 ID : 264330544137

Option 4 ID : 264330544138

Status : Answered

Chosen Option : 4

Q.16 किस संस्था का संबंध भारत में गरीबी रेखा के आकलन से है?

- Ans
- 1. भारतीय कृषि अनुसंधान परिषद
  - 2. राष्ट्रीय नमूना सर्वेक्षण संगठन
  - 3. भारतीय रिज़र्व बैंक
  - 4. नीति आयोग

Question Type : MCQ

Question ID : 264330134681

Option 1 ID : 264330527680

Option 2 ID : 264330527679

Option 3 ID : 264330527682

Option 4 ID : 264330527681

Status : Answered

Chosen Option : 2

Q.17 कोशिकीय अंगक के किस घटक का मुख्य कार्य द्रव्य को संवेष्टित कर अंतर-कोशिकी लक्ष्य तक पहुँचाना या कोशिका के बाहर स्रवण करना है?

- Ans
- ✓ 1. गॉल्जीकाय
  - ✗ 2. गुणसूत्र
  - ✗ 3. हरितलवक
  - ✗ 4. सूत्रकणिका (माइटोकॉन्ड्रिया)

Question Type : MCQ  
Question ID : 264330137950  
Option 1 ID : 264330540410  
Option 2 ID : 264330540408  
Option 3 ID : 264330540407  
Option 4 ID : 264330540409  
Status : Answered  
Chosen Option : 1

Q.18 वर्ष 2011 की जनगणना के अनुसार भारत का दूसरा सबसे बड़ा धार्मिक अल्पसंख्यक समाज कौन-सा है?

- Ans
- ✗ 1. सिख
  - ✗ 2. बौद्ध
  - ✗ 3. मुस्लिम
  - ✓ 4. ईसाई

Question Type : MCQ  
Question ID : 264330134638  
Option 1 ID : 264330527508  
Option 2 ID : 264330527510  
Option 3 ID : 264330527507  
Option 4 ID : 264330527509  
Status : Answered  
Chosen Option : 2

Q.19 निम्नलिखित में से किस पल्लव शासक के शासनकाल में ह्वेन-त्सांग (Hiuen Tsang) ने पल्लवों की राजधानी कांची का भ्रमण किया था?

- Ans
- ✓ 1. नरसिंहवर्मन प्रथम
  - ✗ 2. महेन्द्रवर्मन प्रथम
  - ✗ 3. नरसिंहवर्मन द्वितीय
  - ✗ 4. महेन्द्रवर्मन द्वितीय

Question Type : MCQ  
Question ID : 264330137932  
Option 1 ID : 264330540336  
Option 2 ID : 264330540335  
Option 3 ID : 264330540337  
Option 4 ID : 264330540338  
Status : Answered  
Chosen Option : 1

Q.20 प्रसिद्ध भारतीय संगीतकार उस्ताद अलाउद्दीन ख़ाँ का संबंध निम्न में से किस वाद्य यंत्र से है?

- Ans
- 1. संतूर
  - 2. सितार
  - 3. सरोद
  - 4. सुरबहार

Question Type : MCQ  
Question ID : 264330137962  
Option 1 ID : 264330540458  
Option 2 ID : 264330540455  
Option 3 ID : 264330540457  
Option 4 ID : 264330540456  
Status : Answered  
Chosen Option : 2

Q.21 केन्द्रक एवं कोशिका झिल्ली के मध्य एक जेली के समान मौजूद पदार्थ को क्या कहते हैं?

- Ans
- 1. प्लैज्मा
  - 2. कोशिका भित्ति
  - 3. कोशिका द्रव्य
  - 4. प्लैज्मा झिल्ली

Question Type : MCQ  
Question ID : 264330133895  
Option 1 ID : 264330524605  
Option 2 ID : 264330524603  
Option 3 ID : 264330524604  
Option 4 ID : 264330524606  
Status : Answered  
Chosen Option : 3

Q.22 भारतीय क्रिकेट कंट्रोल बोर्ड (BCCI) की स्थापना सन् \_\_\_\_\_ में हुई थी।

- Ans
- 1. 1926
  - 2. 1922
  - 3. 1928
  - 4. 1924

Question Type : MCQ  
Question ID : 264330133885  
Option 1 ID : 264330524565  
Option 2 ID : 264330524563  
Option 3 ID : 264330524566  
Option 4 ID : 264330524564  
Status : Answered  
Chosen Option : 3

Q.23 विद्युत धारा के प्रवाह को रोकने या प्रारंभ करने के लिए परिपथ को तोड़ने अथवा पूरा करने के लिए किस युक्ति (device) का प्रयोग किया जाता है?

- Ans
- 1. बल्ब
  - 2. तार
  - 3. विद्युत-रोधक
  - 4. स्विच

Question Type : MCQ  
Question ID : 264330133897  
Option 1 ID : 264330524611  
Option 2 ID : 264330524613  
Option 3 ID : 264330524614  
Option 4 ID : 264330524612  
Status : Answered  
Chosen Option : 4

Q.24 गेहूँ की खेती किस प्रकार की मृदा में सर्वोत्तम ढंग से होती है।

- Ans
- 1. काली मृदा
  - 2. सु-अपवाहित दुमट मृदा
  - 3. पीली मृदा
  - 4. लाल मृदा

Question Type : MCQ  
Question ID : 264330134636  
Option 1 ID : 264330527500  
Option 2 ID : 264330527501  
Option 3 ID : 264330527502  
Option 4 ID : 264330527499  
Status : Answered  
Chosen Option : 1

Q.25 वर्ष 1905 में बंगाल के विभाजन के बाद अंग्रेजों द्वारा आधिकारिक कारण क्या दिया गया?

- Ans
- 1. सेना की आवाजाही को आसान बनाना
  - 2. उग्रवादी कार्यावर्तीची तपासणी
  - 3. प्रशासकीय सुविधा
  - 4. आर्थिक प्रगति

Question Type : MCQ  
Question ID : 264330134643  
Option 1 ID : 264330527529  
Option 2 ID : 264330527530  
Option 3 ID : 264330527527  
Option 4 ID : 264330527528  
Status : Answered  
Chosen Option : 3

**Q.1** Select the word from the options which is exactly opposite in meaning to the bracketed word given in the sentence below.

She must have an (affinity) for women with dark hair.

- Ans**
- 1. Stand
  - 2. Dislike
  - 3. Dodge
  - 4. Tendency

Question Type : **MCQ**  
Question ID : **264330136403**  
Option 1 ID : **264330534376**  
Option 2 ID : **264330534378**  
Option 3 ID : **264330534375**  
Option 4 ID : **264330534377**  
Status : **Answered**  
Chosen Option : **2**

**Q.2** Select the most appropriate option to fill in the blank.

Very special care should be taken to proportion the sand so as to make a perfectly \_\_\_\_\_ mixture.

- Ans**
- 1. obvious
  - 2. envious
  - 3. devious
  - 4. impervious

Question Type : **MCQ**  
Question ID : **264330136315**  
Option 1 ID : **264330534036**  
Option 2 ID : **264330534038**  
Option 3 ID : **264330534037**  
Option 4 ID : **264330534035**  
Status : **Answered**  
Chosen Option : **3**

**Q.3** Identify the segment that contains a grammatical error. If there is no error, select 'No error'.

Your ears are itching / because you are having an / allergic reaction.

- Ans**
- 1. allergic reaction.
  - 2. No error
  - 3. Your ears are itching
  - 4. because you are having an

Question Type : **MCQ**  
Question ID : **264330136692**  
Option 1 ID : **264330535485**  
Option 2 ID : **264330535486**  
Option 3 ID : **264330535483**  
Option 4 ID : **264330535484**  
Status : **Answered**  
Chosen Option : **3**

**Q.4** Improve the underlined part of the sentence. Choose 'No improvement' as an answer if the sentence is grammatically correct.

Watch your step—the third stair have a broken tread.

- Ans**
- 1. has a broke
  - 2. No improvement
  - 3. has a broken
  - 4. has a break

Question Type : **MCQ**  
Question ID : **264330134826**  
Option 1 ID : **264330528243**  
Option 2 ID : **264330528246**  
Option 3 ID : **264330528245**  
Option 4 ID : **264330528244**  
Status : **Answered**  
Chosen Option : **3**

**Q.5** Fill in the blank with the most appropriate option.

Every story in this collection is unique, inspirational, and \_\_\_\_\_.

- Ans**
- 1. sustainable
  - 2. culpable
  - 3. apprehensive
  - 4. relatable

Question Type : **MCQ**  
Question ID : **264330136409**  
Option 1 ID : **264330534401**  
Option 2 ID : **264330534402**  
Option 3 ID : **264330534399**  
Option 4 ID : **264330534400**  
Status : **Answered**  
Chosen Option : **1**

**Q.6** Select the word segment that substitutes (replaces) the bracketed word segment correctly and completes the sentence meaningfully. Select the option 'no correction required' if the sentence is correct as given.

There were creatures (stood between) the carriage shafts.

- Ans**
- 1. standing between
  - 2. stood among
  - 3. No correction required
  - 4. stands among

Question Type : **MCQ**  
Question ID : **264330136695**  
Option 1 ID : **264330535495**  
Option 2 ID : **264330535497**  
Option 3 ID : **264330535498**  
Option 4 ID : **264330535496**  
Status : **Answered**  
Chosen Option : **2**

**Q.7** Select the most appropriate word for the given group of words.

Abundant garbage kept at one place.

- Ans**
- 1. Mound of garbage
  - 2. Hill of garbage
  - 3. Heap of garbage
  - 4. Lot of garbage

Question Type : **MCQ**  
Question ID : **264330136399**  
Option 1 ID : **264330534361**  
Option 2 ID : **264330534359**  
Option 3 ID : **264330534360**  
Option 4 ID : **264330534362**  
Status : **Answered**  
Chosen Option : **2**

**Q.8** Four words are given, out of which only one word is spelt correctly. Choose the correctly spelt word.

- Ans**
- 1. SIEZE
  - 2. FLOWWER
  - 3. RHYTHM
  - 4. RECOMEND

Question Type : **MCQ**  
Question ID : **264330136406**  
Option 1 ID : **264330534387**  
Option 2 ID : **264330534390**  
Option 3 ID : **264330534388**  
Option 4 ID : **264330534389**  
Status : **Answered**  
Chosen Option : **3**

**Q.9** Choose the word that can substitute the given group of words.  
A person who leaves his native country to settle in another

- Ans**
- 1. Domicile
  - 2. Itinerant
  - 3. Nomad
  - 4. Emigrant

Question Type : **MCQ**  
Question ID : **264330134360**  
Option 1 ID : **264330526424**  
Option 2 ID : **264330526423**  
Option 3 ID : **264330526425**  
Option 4 ID : **264330526426**  
Status : **Answered**  
Chosen Option : **4**

Q.10 Select the most appropriate option to fill in the blank.

And his \_\_\_\_\_ manner should not be mistaken for a lack of energy.

- Ans
- 1. debase
  - 2. daunt
  - 3. diffident
  - 4. deem

Question Type : MCQ  
Question ID : 264330136516  
Option 1 ID : 264330534808  
Option 2 ID : 264330534809  
Option 3 ID : 264330534807  
Option 4 ID : 264330534810  
Status : Answered  
Chosen Option : 4

Q.11 Identify the segment that contains a grammatical error. If there is no error, select 'No error'.

'Don't you get / involve!' Sandhya / whispered urgently to him.

- Ans
- 1. whispered urgently to him.
  - 2. Don't you get
  - 3. involve!' Sandhya
  - 4. No error

Question Type : MCQ  
Question ID : 264330136386  
Option 1 ID : 264330534313  
Option 2 ID : 264330534311  
Option 3 ID : 264330534312  
Option 4 ID : 264330534314  
Status : Answered  
Chosen Option : 1

Q.12 In the following question, out of the given four alternatives, select the alternative which best expresses the meaning of the Idiom/Phrase.  
Born with silver spoon in one's mouth

- Ans
- 1. Useful for one's purpose
  - 2. To accomplish two tasks in one attempt
  - 3. Born in a very rich family
  - 4. A work which needs tremendous energy

Question Type : MCQ  
Question ID : 264330134366  
Option 1 ID : 264330526450  
Option 2 ID : 264330526449  
Option 3 ID : 264330526448  
Option 4 ID : 264330526447  
Status : Answered  
Chosen Option : 3

**Q.13** The statement below has been given with bracketed text. Select the option with correct idiom for the bracketed text.

His mother and I (share the same opinion) about his decision to drop out of college.

- Ans**
- 1. leave no stone unturned
  - 2. feel blue
  - 3. paint the town red
  - 4. see eye to eye

Question Type : **MCQ**  
Question ID : **264330136405**  
Option 1 ID : **264330534384**  
Option 2 ID : **264330534385**  
Option 3 ID : **264330534386**  
Option 4 ID : **264330534383**  
Status : **Answered**  
Chosen Option : **4**

**Q.14** Select the wrongly spelt word.

- Ans**
- 1. Anonyomus
  - 2. Perfidious
  - 3. Circuitous
  - 4. Adulation

Question Type : **MCQ**  
Question ID : **264330136314**  
Option 1 ID : **264330534034**  
Option 2 ID : **264330534032**  
Option 3 ID : **264330534031**  
Option 4 ID : **264330534033**  
Status : **Answered**  
Chosen Option : **1**

**Q.15** Select the most appropriate option to substitute the bracketed segment in the given sentence. If there is no need to substitute it, select 'no substitution required'.

When it comes to face masks, the (market are flooded with choices).

- Ans**
- 1. No substitution required
  - 2. market are flooded off choices
  - 3. market is flooded with choices
  - 4. markets is flooded with choices

Question Type : **MCQ**  
Question ID : **264330136514**  
Option 1 ID : **264330534802**  
Option 2 ID : **264330534801**  
Option 3 ID : **264330534799**  
Option 4 ID : **264330534800**  
Status : **Answered**  
Chosen Option : **3**

**Q.16** Select the word from the options which is similar in meaning to the bracketed word given in the sentence below.

The sky was alight from (top) to horizon.

- Ans**
- 1. zenith
  - 2. summit
  - 3. base
  - 4. start

Question Type : **MCQ**  
Question ID : **264330136401**  
Option 1 ID : **264330534368**  
Option 2 ID : **264330534370**  
Option 3 ID : **264330534369**  
Option 4 ID : **264330534367**  
Status : **Answered**  
Chosen Option : **1**

**Q.17** Find the part of the given sentence that has an error in it. If there is no error, choose 'No error'.

The political economy of reforms teaches us one major lesson loud and clearer.

- Ans**
- 1. lesson loud and clearer.
  - 2. No error
  - 3. The political economy of reforms
  - 4. teaches us one major

Question Type : **MCQ**  
Question ID : **264330135308**  
Option 1 ID : **264330530145**  
Option 2 ID : **264330530146**  
Option 3 ID : **264330530143**  
Option 4 ID : **264330530144**  
Status : **Answered**  
Chosen Option : **1**

**Q.18** Choose the word that is opposite in meaning to the given word.

Absence

- Ans**
- 1. Dearth
  - 2. Vanity
  - 3. Surfeit
  - 4. Privation

Question Type : **MCQ**  
Question ID : **264330136839**  
Option 1 ID : **264330536050**  
Option 2 ID : **264330536047**  
Option 3 ID : **264330536048**  
Option 4 ID : **264330536049**  
Status : **Not Answered**  
Chosen Option : **--**

Q.19 Fill in the blank with the most appropriate option.

Towel off and \_\_\_\_\_ your moisturizer immediately.

- Ans
- 1. surrender
  - 2. apply
  - 3. refer
  - 4. touch

Question Type : **MCQ**  
Question ID : **264330136390**  
Option 1 ID : **264330534327**  
Option 2 ID : **264330534328**  
Option 3 ID : **264330534330**  
Option 4 ID : **264330534329**  
Status : **Answered**  
Chosen Option : **1**

Q.20 Select the most appropriate synonym of the given word.

Withdraw

- Ans
- 1. Combine
  - 2. Engage
  - 3. Persevere
  - 4. Retreat

Question Type : **MCQ**  
Question ID : **264330136400**  
Option 1 ID : **264330534365**  
Option 2 ID : **264330534364**  
Option 3 ID : **264330534363**  
Option 4 ID : **264330534366**  
Status : **Answered**  
Chosen Option : **3**

**Comprehension:**

In the following passage some of the words have been deleted. Read the passage carefully and select the correct answer for the given blank out of the four alternatives.

The study, published today in a magazine, finds that kids (1) \_\_\_\_\_ played only individual sports, like tennis or gymnastics, tended to (2) \_\_\_\_\_ more mental health difficulties. As a researcher, Hoffmann has long been interested in how sports (3) \_\_\_\_\_ the psychological health of young people, partly because studies have (4) \_\_\_\_\_ both positive and negative associations between mental health and sports (5) \_\_\_\_\_ in children and adolescents.

**SubQuestion No : 21**

Q.21 Select the most appropriate option to fill in the blank No. 1.

- Ans
- 1. whose
  - 2. who
  - 3. which
  - 4. that

Question Type : MCQ

Question ID : 264330136830

Option 1 ID : 264330536011

Option 2 ID : 264330536012

Option 3 ID : 264330536013

Option 4 ID : 264330536014

Status : Answered

Chosen Option : 2

**Comprehension:**

In the following passage some of the words have been deleted. Read the passage carefully and select the correct answer for the given blank out of the four alternatives.

The study, published today in a magazine, finds that kids (1) \_\_\_\_\_ played only individual sports, like tennis or gymnastics, tended to (2) \_\_\_\_\_ more mental health difficulties. As a researcher, Hoffmann has long been interested in how sports (3) \_\_\_\_\_ the psychological health of young people, partly because studies have (4) \_\_\_\_\_ both positive and negative associations between mental health and sports (5) \_\_\_\_\_ in children and adolescents.

**SubQuestion No : 22**

Q.22 Select the most appropriate option to fill in the blank No. 2.

- Ans
- 1. claim
  - 2. face
  - 3. absorb
  - 4. breathe

Question Type : MCQ

Question ID : 264330136831

Option 1 ID : 264330536016

Option 2 ID : 264330536017

Option 3 ID : 264330536015

Option 4 ID : 264330536018

Status : Answered

Chosen Option : 3

**Comprehension:**

In the following passage some of the words have been deleted. Read the passage carefully and select the correct answer for the given blank out of the four alternatives.

The study, published today in a magazine, finds that kids (1) \_\_\_\_\_ played only individual sports, like tennis or gymnastics, tended to (2) \_\_\_\_\_ more mental health difficulties. As a researcher, Hoffmann has long been interested in how sports (3) \_\_\_\_\_ the psychological health of young people, partly because studies have (4) \_\_\_\_\_ both positive and negative associations between mental health and sports (5) \_\_\_\_\_ in children and adolescents.

**SubQuestion No : 23**

**Q.23** Select the most appropriate option to fill in the blank No. 3.

- Ans**
- 1. impact
  - 2. torment
  - 3. thrash
  - 4. request

Question Type : **MCQ**  
Question ID : **264330136832**  
Option 1 ID : **264330536022**  
Option 2 ID : **264330536019**  
Option 3 ID : **264330536020**  
Option 4 ID : **264330536021**  
Status : **Answered**  
Chosen Option : **1**

**Comprehension:**

In the following passage some of the words have been deleted. Read the passage carefully and select the correct answer for the given blank out of the four alternatives.

The study, published today in a magazine, finds that kids (1) \_\_\_\_\_ played only individual sports, like tennis or gymnastics, tended to (2) \_\_\_\_\_ more mental health difficulties. As a researcher, Hoffmann has long been interested in how sports (3) \_\_\_\_\_ the psychological health of young people, partly because studies have (4) \_\_\_\_\_ both positive and negative associations between mental health and sports (5) \_\_\_\_\_ in children and adolescents.

**SubQuestion No : 24**

**Q.24** Select the most appropriate option to fill in the blank No. 4.

- Ans**
- 1. find
  - 2. founds
  - 3. found
  - 4. founded

Question Type : **MCQ**  
Question ID : **264330136833**  
Option 1 ID : **264330536025**  
Option 2 ID : **264330536023**  
Option 3 ID : **264330536026**  
Option 4 ID : **264330536024**  
Status : **Answered**  
Chosen Option : **4**

**Comprehension:**

In the following passage some of the words have been deleted. Read the passage carefully and select the correct answer for the given blank out of the four alternatives.

The study, published today in a magazine, finds that kids (1) \_\_\_\_\_ played only individual sports, like tennis or gymnastics, tended to (2) \_\_\_\_\_ more mental health difficulties. As a researcher, Hoffmann has long been interested in how sports (3) \_\_\_\_\_ the psychological health of young people, partly because studies have (4) \_\_\_\_\_ both positive and negative associations between mental health and sports (5) \_\_\_\_\_ in children and adolescents.

**SubQuestion No : 25**

**Q.25** Select the most appropriate option to fill in the blank No. 5.

- Ans**
- 1. celebration
  - 2. establishment
  - 3. remuneration
  - 4. participation

Question Type : **MCQ**

Question ID : **264330136834**

Option 1 ID : **264330536028**

Option 2 ID : **264330536029**

Option 3 ID : **264330536030**

Option 4 ID : **264330536027**

Status : **Answered**

Chosen Option : **4**