

Exam Date: 20-Nov-2021 Exam Time: 16:00-18:00 Post Name: SI Civil 2021	
GENERAL HINDI - GENERAL HINDI	
Question No.1	Marks: 2.50 Bookmark <input type="checkbox"/>
"आप गाएँ तो मैं नाचूँ ।" – इस वाक्य में क्रिया किस काल का बोध करा रही है? "आप गाएँ तो मैं नाचूँ ।" – इस वाक्य में क्रिया किस काल का बोध करा रही है? (A) <input type="radio"/> हेतुहेतुमद् भविष्यत् (Correct Answer) हेतुहेतुमद् भविष्यत् (B) <input type="radio"/> हेतुहेतुमद्भूत (Chosen option) हेतुहेतुमद्भूत (C) <input type="radio"/> अपूर्ण वर्तमान अपूर्ण वर्तमान (D) <input type="radio"/> सामान्य वर्तमान सामान्य वर्तमान	
Question No.2	Marks: 2.50 Bookmark <input type="checkbox"/>
हास्य रस का स्थायीभाव क्या होता है? हास्य रस का स्थायीभाव क्या होता है? (A) <input type="radio"/> निर्वेद निर्वेद (B) <input type="radio"/> रति रति (C) <input type="radio"/> शोक शोक (D) <input type="radio"/> हास (Correct Answer) (Chosen option) हास	
Question No.3	Marks: 2.50 Bookmark <input type="checkbox"/>
"जब तक साँस तब तक आस"– इस लोकोक्ति का अर्थ क्या है? "जब तक साँस तब तक आस"– इस लोकोक्ति का अर्थ क्या है? (A) <input type="radio"/> न पूरी होनेवाली आशा न पूरी होनेवाली आशा (B) <input type="radio"/> साँस रुकने की चिंता होना साँस रुकने की चिंता होना (C) <input checked="" type="radio"/> आशा जीवन पर्यंत बनी रहती है (Correct Answer) (Chosen option) आशा जीवन पर्यंत बनी रहती है (D) <input type="radio"/> साँस रहने तक जीवित रहना साँस रहने तक जीवित रहना	
Question No.4	Marks: 2.50 Bookmark <input type="checkbox"/>
'विज्ञान' शब्द में कौन-सा उपसर्ग है? 'विज्ञान' शब्द में कौन-सा उपसर्ग है? (A) <input type="radio"/> विज्ञ विज्ञ (B) <input checked="" type="radio"/> वि (Correct Answer) (Chosen option) वि (C) <input type="radio"/> आन आन (D) <input type="radio"/> विग्या विग्या	
Question No.5	Marks: 2.50 Bookmark <input type="checkbox"/>
छत्तीसगढ़ी किस हिंदी की बोली है? छत्तीसगढ़ी किस हिंदी की बोली है? (A) <input type="radio"/> पश्चिमी हिंदी पश्चिमी हिंदी (B) <input type="radio"/> पहाड़ी पहाड़ी (C) <input type="radio"/> राजस्थानी हिंदी राजस्थानी हिंदी (D) <input checked="" type="radio"/> पूर्वी हिंदी (Correct Answer) (Chosen option) पूर्वी हिंदी	
Question No.6	Marks: 2.50 Bookmark <input type="checkbox"/>
"यथासंभव दूसरों की मदद करो।" – इस वाक्य में किस प्रकार के क्रियाविशेषण का प्रयोग हुआ है? "यथासंभव दूसरों की मदद करो।" – इस वाक्य में किस प्रकार के क्रियाविशेषण का प्रयोग हुआ है? (A) <input checked="" type="radio"/> रीतिवाचक (Correct Answer) (Chosen option) रीतिवाचक (B) <input type="radio"/> परिमाणवाचक परिमाणवाचक (C) <input type="radio"/> कालवाचक कालवाचक	

<div>(D) <input type="radio"/> स्थानवाचक स्थानवाचक</div>	
<div><div>Question No.7</div><div>Marks: 2.50</div><div>Bookmark <input type="checkbox"/></div><div>सही वर्तनी वाला शब्द कौन-सा है? सही वर्तनी वाला शब्द कौन-सा है? (A) <input type="radio"/> उपलब्द उपलब्द (B) <input checked="" type="radio"/> उपलब्ध (Correct Answer) (Chosen option) उपलब्ध (C) <input type="radio"/> उप्पलब्ध उप्पलब्ध (D) <input type="radio"/> उपलब्ध उपलब्ध</div></div>	
<div><div>Question No.8</div><div>Marks: 2.50</div><div>Bookmark <input type="checkbox"/></div><div>द्वैताद्वैतवाद के प्रवर्तक कौन हैं? द्वैताद्वैतवाद के प्रवर्तक कौन हैं? (A) <input type="radio"/> निम्बार्क (Correct Answer) निम्बार्क (B) <input checked="" type="radio"/> रामानुजाचार्य (Chosen option) रामानुजाचार्य (C) <input type="radio"/> बल्लभाचार्य बल्लभाचार्य (D) <input type="radio"/> शंकराचार्य शंकराचार्य</div></div>	
<div><div>Question No.9</div><div>Marks: 2.50</div><div>Bookmark <input type="checkbox"/></div><div>गोवा की मुख्य राजभाषा कौन-सी है? गोवा की मुख्य राजभाषा कौन-सी है? (A) <input type="radio"/> कन्नड़ कन्नड़ (B) <input type="radio"/> हिंदी हिंदी (C) <input type="radio"/> मराठी मराठी (D) <input checked="" type="radio"/> कोंकणी (Correct Answer) (Chosen option) कोंकणी</div></div>	
<div><div>Question No.10</div><div>Marks: 2.50</div><div>Bookmark <input type="checkbox"/></div><div>"तारे आकाश में चमक रहे हैं।" - इस वाक्य में 'आकाश' में किस प्रकार का क्रियाविशेषण है? "तारे आकाश में चमक रहे हैं।" - इस वाक्य में 'आकाश' में किस प्रकार का क्रियाविशेषण है? (A) <input type="radio"/> कालवाचक क्रियाविशेषण कालवाचक क्रियाविशेषण (B) <input type="radio"/> परिमाणवाचक क्रियाविशेषण परिमाणवाचक क्रियाविशेषण (C) <input type="radio"/> रीतिवाचक क्रियाविशेषण रीतिवाचक क्रियाविशेषण (D) <input checked="" type="radio"/> स्थानवाचक क्रियाविशेषण (Correct Answer) (Chosen option) स्थानवाचक क्रियाविशेषण</div></div>	
<div><div>Question No.11</div><div>Marks: 2.50</div><div>Bookmark <input type="checkbox"/></div><div>'अरण्य रोदन' - मुहावरे का अर्थ क्या है? 'अरण्य रोदन' - मुहावरे का अर्थ क्या है? (A) <input type="radio"/> रूठना रूठना (B) <input type="radio"/> जंगल में उदासी जंगल में उदासी (C) <input checked="" type="radio"/> व्यर्थ प्रयास (Correct Answer) (Chosen option) व्यर्थ प्रयास (D) <input type="radio"/> जंगल में खो जाना जंगल में खो जाना</div></div>	
<div><div>Question No.12</div><div>Marks: 2.50</div><div>Bookmark <input type="checkbox"/></div><div>इनमें से कौन-सा शब्द एक से अधिक उपसर्गों से बना है? इनमें से कौन-सा शब्द एक से अधिक उपसर्गों से बना है? (A) <input type="radio"/> पर्यावरण (Correct Answer) पर्यावरण (B) <input checked="" type="radio"/> असुरक्षित (Chosen option) असुरक्षित (C) <input type="radio"/> अधिकचरा अधिकचरा (D) <input type="radio"/> अत्याचार अत्याचार</div></div>	
<div><div>Question No.13</div><div>Marks: 2.50</div><div>Bookmark <input type="checkbox"/></div><div>इनमें स्त्रीलिंग शब्द कौन-सा है? इनमें स्त्रीलिंग शब्द कौन-सा है?</div></div>	

<div><div>(A) <input type="radio"/> निर्देश निर्देश</div><div>(B) <input checked="" type="radio"/> बात (Correct Answer) (Chosen option) बात</div><div>(C) <input type="radio"/> संदेश संदेश</div><div>(D) <input type="radio"/> कथन कथन</div></div>	
<div><div>Question No.14</div><div>Marks: 2.50 Bookmark <input type="checkbox"/></div><div>तालव्य महाप्राण घोष वर्ण का उदाहरण कौन-सा है? तालव्य महाप्राण घोष वर्ण का उदाहरण कौन-सा है?</div><div>(A) <input type="radio"/> घ् घ्</div><div>(B) <input type="radio"/> ज् ज्</div><div>(C) <input checked="" type="radio"/> झ् (Correct Answer) झ्</div><div>(D) <input type="radio"/> छ् (Chosen option) छ्</div></div>	
<div><div>Question No.15</div><div>Marks: 2.50 Bookmark <input type="checkbox"/></div><div>'नीलकंठ' शब्द में कौन-सा समास है? 'नीलकंठ' शब्द में कौन-सा समास है?</div><div>(A) <input checked="" type="radio"/> बहुव्रीहि समास (Correct Answer) (Chosen option) बहुव्रीहि समास</div><div>(B) <input type="radio"/> कर्मधारय समास कर्मधारय समास</div><div>(C) <input type="radio"/> द्विगु समास द्विगु समास</div><div>(D) <input type="radio"/> अव्ययीभाव समास अव्ययीभाव समास</div></div>	
<div><div>Question No.16</div><div>Marks: 2.50 Bookmark <input type="checkbox"/></div><div>राजस्थान की राजभाषा कौन-सी है? राजस्थान की राजभाषा कौन-सी है?</div><div>(A) <input type="radio"/> गुजराती गुजराती</div><div>(B) <input checked="" type="radio"/> राजस्थानी (Chosen option) राजस्थानी</div><div>(C) <input type="radio"/> पंजाबी पंजाबी</div><div>(D) <input checked="" type="radio"/> हिंदी (Correct Answer) हिंदी</div></div>	
<div><div>Question No.17</div><div>Marks: 2.50 Bookmark <input type="checkbox"/></div><div>इनमें से कौन-सा शब्द आकाश का विलोम है? इनमें से कौन-सा शब्द आकाश का विलोम है?</div><div>(A) <input type="radio"/> अंतरिक्ष अंतरिक्ष</div><div>(B) <input type="radio"/> पृथ्वी पृथ्वी</div><div>(C) <input type="radio"/> धरती धरती</div><div>(D) <input checked="" type="radio"/> पाताल (Correct Answer) (Chosen option) पाताल</div></div>	
<div><div>Question No.18</div><div>Marks: 2.50 Bookmark <input type="checkbox"/></div><div>"भाइयो और बहनो! नोट के लिए किसी को वोट मत दो!" – इस वाक्य में कौन-सा कारक है? "भाइयो और बहनो! नोट के लिए किसी को वोट मत दो!" – इस वाक्य में कौन-सा कारक है?</div><div>(A) <input type="radio"/> अधिकरण कारक अधिकरण कारक</div><div>(B) <input type="radio"/> कर्म कारक कर्म कारक</div><div>(C) <input type="radio"/> संबंध कारक संबंध कारक</div><div>(D) <input checked="" type="radio"/> संबोधन कारक (Correct Answer) (Chosen option) संबोधन कारक</div></div>	
<div><div>Question No.19</div><div>Marks: 2.50 Bookmark <input type="checkbox"/></div><div>इनमें से कौन-सा शब्द 'ताल' शब्द का अर्थ नहीं है? इनमें से कौन-सा शब्द 'ताल' शब्द का अर्थ नहीं है?</div><div>(A) <input checked="" type="radio"/> ताड़ का वृक्ष (Chosen option) ताड़ का वृक्ष</div><div>(B) <input type="radio"/> झील झील</div><div>(C) <input type="radio"/> संगीत का ताल संगीत का ताल</div><div>(D) <input checked="" type="radio"/> चाबी (Correct Answer)</div></div>	

चाबी

Question No.20

Marks: 2.50

Bookmark

- नौवाँ विश्व हिंदी सम्मेलन कहाँ संपन्न हुआ था?
- नौवाँ विश्व हिंदी सम्मेलन कहाँ संपन्न हुआ था?
- (A) ☐ पोर्ट ऑफ़ स्पेन (त्रिनिदाद)  
पोर्ट ऑफ़ स्पेन (त्रिनिदाद)
- (B) ☒ जोहानिसबर्ग (दक्षिण अफ्रीका) (Correct Answer) (Chosen option)  
जोहानिसबर्ग (दक्षिण अफ्रीका)
- (C) ☐ नई दिल्ली (भारत)  
नई दिल्ली (भारत)
- (D) ☐ पोर्ट लुई (मॉरिशस)  
पोर्ट लुई (मॉरिशस)

Question No.21

Marks: 2.50

Bookmark

- महादेवी वर्मा का प्रथम काव्य-संग्रह कौन-सा है?
- महादेवी वर्मा का प्रथम काव्य-संग्रह कौन-सा है?
- (A) ☒ नीहार (Correct Answer)  
नीहार
- (B) ☐ नीरजा (Chosen option)  
नीरजा
- (C) ☐ रश्मि  
रश्मि
- (D) ☐ सांध्यगीत  
सांध्यगीत

Question No.22

Marks: 2.50

Bookmark

- ‘जिसकी उत्पत्ति स्वभावगत न हो’ – इस वाक्यांश के लिए सही शब्द कौन-सा है?
- ‘जिसकी उत्पत्ति स्वभावगत न हो’ – इस वाक्यांश के लिए सही शब्द कौन-सा है?
- (A) ☐ द्विज  
द्विज
- (B) ☒ कृत्रिम (Correct Answer) (Chosen option)  
कृत्रिम
- (C) ☐ स्वाभाविक  
स्वाभाविक
- (D) ☐ उद्भूत  
उद्भूत

Question No.23

Marks: 2.50

Bookmark

- ‘आज्ञानुपालन’ का सही संधि-विच्छेद कौन-सा है?
- ‘आज्ञानुपालन’ का सही संधि-विच्छेद कौन-सा है?
- (A) ☐ आज्ञा+पालन  
आज्ञा+पालन
- (B) ☐ आ+ज्ञानुपालन  
आ+ज्ञानुपालन
- (C) ☐ आग+यापालन  
आग+यापालन
- (D) ☒ आज्ञा+अनुपालन (Correct Answer) (Chosen option)  
आज्ञा+अनुपालन

Question No.24

Marks: 2.50

Bookmark

- ‘तरल’ का विलोम शब्द क्या है?
- ‘तरल’ का विलोम शब्द क्या है?
- (A) ☒ ठोस (Correct Answer) (Chosen option)  
ठोस
- (B) ☐ विरल  
विरल
- (C) ☐ सरल  
सरल
- (D) ☐ अविरल  
अविरल

Question No.25

Marks: 2.50

Bookmark

- ‘Action(एक्शन)’ का हिंदी पर्याय क्या है?
- ‘Action(एक्शन)’ का हिंदी पर्याय क्या है?
- (A) ☐ कार्यनीति  
कार्यनीति
- (B) ☐ कार्यकारी  
कार्यकारी
- (C) ☐ कार्यवाही  
कार्यवाही
- (D) ☒ कार्रवाई (Correct Answer) (Chosen option)  
कार्रवाई

Question No.26

Marks: 2.50

Bookmark

- “आज मुझे बहुत काम है।” - इस वाक्य में ‘बहुत’ किस प्रकार का विशेषण है?
- “आज मुझे बहुत काम है।” - इस वाक्य में ‘बहुत’ किस प्रकार का विशेषण है?

<div>(A) <input type="radio"/> सार्वनामिक विशेषण सार्वनामिक विशेषण</div> <div>(B) <input checked="" type="radio"/> परिमाणवाचक विशेषण (Correct Answer) (Chosen option) परिमाणवाचक विशेषण</div> <div>(C) <input type="radio"/> गुणवाचक विशेषण गुणवाचक विशेषण</div> <div>(D) <input type="radio"/> संख्यावाचक विशेषण संख्यावाचक विशेषण</div>	
<div>Question No.27</div> <div>Marks: 2.50</div> <div>Bookmark <input type="checkbox"/></div> <div>"कंकन, किकिनि, नूपुर, धुनि, सुनि" - इस पंक्ति में कौन-सा अलंकार है? "कंकन, किकिनि, नूपुर, धुनि, सुनि" - इस पंक्ति में कौन-सा अलंकार है?</div> <div>(A) <input type="radio"/> अत्यनुप्रास अलंकार अत्यनुप्रास अलंकार</div> <div>(B) <input type="radio"/> लाटानुप्रास अलंकार लाटानुप्रास अलंकार</div> <div>(C) <input type="radio"/> श्रुत्यनुप्रास अलंकार श्रुत्यनुप्रास अलंकार</div> <div>(D) <input checked="" type="radio"/> वृत्यानुप्रास अलंकार (Correct Answer) (Chosen option) वृत्यानुप्रास अलंकार</div>	
<div>Question No.28</div> <div>Marks: 2.50</div> <div>Bookmark <input type="checkbox"/></div> <div>किस कृति के लिए अनामिका को साहित्य अकादमी पुरस्कार प्राप्त हुआ? किस कृति के लिए अनामिका को साहित्य अकादमी पुरस्कार प्राप्त हुआ?</div> <div>(A) <input type="radio"/> पर कौन सुनेगा पर कौन सुनेगा</div> <div>(B) <input checked="" type="radio"/> टोकरी में दिगन्तः धेरीगाथा (Correct Answer) (Chosen option) टोकरी में दिगन्तः धेरीगाथा</div> <div>(C) <input type="radio"/> अवांतर कथा अवांतर कथा</div> <div>(D) <input type="radio"/> दस द्वारे का पिंजरा दस द्वारे का पिंजरा</div>	
<div>Question No.29</div> <div>Marks: 2.50</div> <div>Bookmark <input type="checkbox"/></div> <div>'तैराक' शब्द में कौन-सा प्रत्यय है? 'तैराक' शब्द में कौन-सा प्रत्यय है?</div> <div>(A) <input checked="" type="radio"/> आक (Correct Answer) (Chosen option) आक</div> <div>(B) <input type="radio"/> तैर तैर</div> <div>(C) <input type="radio"/> क क</div> <div>(D) <input type="radio"/> राक राक</div>	
<div>Question No.30</div> <div>Marks: 2.50</div> <div>Bookmark <input type="checkbox"/></div> <div>इनमें से कौन-सा शब्द 'त्रुटि' का पर्यायवाची शब्द नहीं है? इनमें से कौन-सा शब्द 'त्रुटि' का पर्यायवाची शब्द नहीं है?</div> <div>(A) <input type="radio"/> गलती गलती</div> <div>(B) <input type="radio"/> अशुद्धि अशुद्धि</div> <div>(C) <input type="radio"/> भूल-चूक भूल-चूक</div> <div>(D) <input checked="" type="radio"/> पल (Correct Answer) (Chosen option) पल</div>	
<div>Case Study - 31 to 33</div> <div>7.50</div> <div>अनुच्छेद पढ़कर, दिए गए सवालों के सही जवाब चुनिए :-</div> <div>चाबहार ईरान का तटीय शहर है जो दक्षिण-पूर्व में मौजूद दूसरे सबसे बड़े प्रांत सिस्तान और बलूचिस्तान में ओमान की खाड़ी से सटा है। इस बंदरगाह के विकास के लिए भारत और ईरान के बीच 2003 में सहमति बनी थी लेकिन फिर परमाणु कार्यक्रम के बारे में ईरान पर अंतरराष्ट्रीय प्रतिबंधों के कारण इस परियोजना में रुकावटें पैदा होती रहीं। भारत को सिस्तान और बलूचिस्तान प्रांत की राजधानी जाहेदान तक रेलमार्ग बनाने के लिए भी निमंत्रण दिया गया था। अब ईरान ने इस पाँच सौ किलोमीटर लंबी रेल परियोजना से भारत को अलग कर दिया लेकिन चाबहार बंदरगाह के टर्मिनल का संचालन भारत के पास है। पर ईरान को अमरिका के साथ भारत की मैत्री रास नहीं आ रही तो धीरे- धीरे चीन के पाले में जा रहा है।</div>	
<div>Question No.31</div> <div>Marks: 2.50</div> <div>Bookmark <input type="checkbox"/></div> <div>चाबहार बंदरगाह के विकास के लिए भारत और ईरान के बीच सहमति कब बनी थी? चाबहार बंदरगाह के विकास के लिए भारत और ईरान के बीच सहमति कब बनी थी?</div> <div>(A) <input type="radio"/> 2013 2013</div> <div>(B) <input type="radio"/> 2001 2001</div> <div>(C) <input checked="" type="radio"/> 2003 (Correct Answer) (Chosen option) 2003</div> <div>(D) <input type="radio"/> 2020 2020</div>	
<div>Question No.32</div> <div>Marks: 2.50</div> <div>Bookmark <input type="checkbox"/></div> <div>चाबहार किस देश के तट पर स्थित है? चाबहार किस देश के तट पर स्थित है?</div>	

<div><div>(A) <input type="radio"/> सिस्तान सिस्तान</div><div>(B) <input type="radio"/> भारत भारत</div><div>(C) <input checked="" type="radio"/> ईरान (Correct Answer) (Chosen option) ईरान</div><div>(D) <input type="radio"/> बलूचिस्तान बलूचिस्तान</div></div>	
<div><div>Question No.33</div><div>Marks: 2.50 Bookmark <input type="checkbox"/></div><div>सिस्तान और बलूचिस्तान प्रांत की राजधानी जाहेदान तक रेलमार्ग बनाने के लिए निर्मंत्रण पहले किस देश को दिया गया था? सिस्तान और बलूचिस्तान प्रांत की राजधानी जाहेदान तक रेलमार्ग बनाने के लिए निर्मंत्रण पहले किस देश को दिया गया था?</div><div><div>(A) <input type="radio"/> चीन को चीन को</div><div>(B) <input checked="" type="radio"/> भारत को (Correct Answer) (Chosen option) भारत को</div><div>(C) <input type="radio"/> ईरान को ईरान को</div><div>(D) <input type="radio"/> अमरिका को अमरिका को</div></div></div>	
<div><div>Question No.34</div><div>Marks: 2.50 Bookmark <input type="checkbox"/></div><div>इनमें अष्टछाप के कवि कौन नहीं हैं? इनमें अष्टछाप के कवि कौन नहीं हैं?</div><div><div>(A) <input type="radio"/> नंददास नंददास</div><div>(B) <input checked="" type="radio"/> नाभादास (Correct Answer) नाभादास</div><div>(C) <input checked="" type="radio"/> सुरदास (Chosen option) सुरदास</div><div>(D) <input type="radio"/> कृष्णदास कृष्णदास</div></div></div>	
<div><div>Question No.35</div><div>Marks: 2.50 Bookmark <input type="checkbox"/></div><div>"आपकी यात्रा सुखद हो।" – यह किस प्रकार का वाक्य है? "आपकी यात्रा सुखद हो।" – यह किस प्रकार का वाक्य है?</div><div><div>(A) <input type="radio"/> निषेधवाचक वाक्य निषेधवाचक वाक्य</div><div>(B) <input checked="" type="radio"/> इच्छावाचक वाक्य (Correct Answer) (Chosen option) इच्छावाचक वाक्य</div><div>(C) <input type="radio"/> संकेतवाचक वाक्य संकेतवाचक वाक्य</div><div>(D) <input type="radio"/> प्रश्नवाचक वाक्य प्रश्नवाचक वाक्य</div></div></div>	
<div><div>Question No.36</div><div>Marks: 2.50 Bookmark <input type="checkbox"/></div><div>"तुमको पीड़ा में ढूँढ़ा, तुममें ढूँढ़ूँगी पीड़ा..." – यह उक्ति किस रचनाकार की है? "तुमको पीड़ा में ढूँढ़ा, तुममें ढूँढ़ूँगी पीड़ा..." – यह उक्ति किस रचनाकार की है?</div><div><div>(A) <input type="radio"/> अज्ञेय अज्ञेय</div><div>(B) <input type="radio"/> जयशंकर प्रसाद जयशंकर प्रसाद</div><div>(C) <input type="radio"/> सूर्यकांत त्रिपाठी निराला सूर्यकांत त्रिपाठी निराला</div><div>(D) <input checked="" type="radio"/> महादेवी वर्मा (Correct Answer) (Chosen option) महादेवी वर्मा</div></div></div>	
<div><div>Question No.37</div><div>Marks: 2.50 Bookmark <input type="checkbox"/></div><div>इनमें से 'ईमानदार' शब्द क्या है? इनमें से 'ईमानदार' शब्द क्या है?</div><div><div>(A) <input type="radio"/> तद्भव तद्भव</div><div>(B) <input type="radio"/> तत्सम तत्सम</div><div>(C) <input checked="" type="radio"/> विदेशज (Correct Answer) (Chosen option) विदेशज</div><div>(D) <input type="radio"/> देशज देशज</div></div></div>	
<div><div>Question No.38</div><div>Marks: 2.50 Bookmark <input type="checkbox"/></div><div>इनमें से कौन-सा शब्द 'झंडा' का पर्यायवाची है? इनमें से कौन-सा शब्द 'झंडा' का पर्यायवाची है?</div><div><div>(A) <input type="radio"/> प्रसाद प्रसाद</div><div>(B) <input type="radio"/> खेचर खेचर</div><div>(C) <input type="radio"/> कृपाण कृपाण</div><div>(D) <input checked="" type="radio"/> पताका (Correct Answer) (Chosen option)</div></div></div>	

पताका

Question No.39

Marks: 2.50  
Bookmark ☐

‘करुणालय’ के रचनाकार कौन हैं?  
‘करुणालय’ के रचनाकार कौन हैं?

- (A) ☐ अज्ञेय (Chosen option)  
अज्ञेय
- (B) ☒ जयशंकर प्रसाद (Correct Answer)  
जयशंकर प्रसाद
- (C) ☐ सूर्यकांत त्रिपाठी निराला  
सूर्यकांत त्रिपाठी निराला
- (D) ☐ भारतेन्दु हरिश्चंद्र  
भारतेन्दु हरिश्चंद्र

Question No.40

Marks: 2.50  
Bookmark ☐

‘मृत्तिका’ शब्द का तद्भव रूप क्या है?  
‘मृत्तिका’ शब्द का तद्भव रूप क्या है?

- (A) ☐ मिर्च  
मिर्च
- (B) ☒ मिट्टी (Correct Answer) (Chosen option)  
मिट्टी
- (C) ☐ मोती  
मोती
- (D) ☐ मौत  
मौत

BASIC LAW - CONSTITUTION AND GENERAL KNOWLEDGE - BASIC LAW - CONSTITUTION AND GENERAL KNOWLEDGE

Question No.1

Marks: 2.50  
Bookmark ☐

Barakah nuclear power plant is the first nuclear power station of \_\_\_\_\_.  
बाराकाह परमाणु ऊर्जा संयंत्र \_\_\_\_\_ का पहला परमाणु ऊर्जा केंद्र है।

- (A) ☐ Oman  
ओमान
- (B) ☐ Saudi Arabia  
सऊदी अरब
- (C) ☒ United Arab Emirates (Correct Answer) (Chosen option)  
संयुक्त अरब अमीरात
- (D) ☐ Iran  
ईरान

Question No.2

Marks: 2.50  
Bookmark ☐

How many fundamental duties are there in Indian Constitution?  
भारतीय संविधान में कितने मौलिक कर्तव्य हैं?

- (A) ☐ Eight Duties  
आठ कर्तव्य
- (B) ☒ Eleven Duties (Correct Answer) (Chosen option)  
ग्यारह कर्तव्य
- (C) ☐ Fourteen Duties  
चौदह कर्तव्य
- (D) ☐ Ten Duties  
दस कर्तव्य

Question No.3

Marks: 2.50  
Bookmark ☐

In which country was the doctrine of Judicial Review first originated and then developed?  
न्यायिक समीक्षा का सिद्धांत किस देश में उत्पन्न हुआ और फिर विकसित हुआ?

- (A) ☒ United States of America (Correct Answer) (Chosen option)  
संयुक्त राज्य अमेरिका
- (B) ☐ United Kingdom  
यूनाइटेड किंगडम
- (C) ☐ New Zealand  
न्यूजीलैंड
- (D) ☐ India  
भारत

Question No.4

Marks: 2.50  
Bookmark ☐

Under the National Security Act, no order shall be made by a State Government under Section 5(b) for the removal of a person from one State to another State except \_\_\_\_\_.  
राष्ट्रीय सुरक्षा अधिनियम के तहत, राज्य सरकार द्वारा धारा 5(b) के तहत किसी व्यक्ति को एक राज्य से दूसरे राज्य में हटाने का कोई भी आदेश नहीं दिया जाएगा, सिवाय \_\_\_\_\_।

- (A) ☐ With the consent of the competent magistrate empowered for the same  
इसके लिए अधिकृत सक्षम मजिस्ट्रेट की सहमति के
- (B) ☒ With the consent of the detaining State's Human Rights Commission (Chosen option)  
निरुद्ध करने वाले राज्य के मानवाधिकार आयोग की सहमति के
- (C) ☐ With the consent of the Chief Justice of that other State  
उस दूसरे राज्य के मुख्य न्यायाधीश की सहमति के
- (D) ☐ With the consent of the Government of that other State (Correct Answer)  
उस दूसरे राज्य की सरकार की सहमति के

Question No.5

Marks: 2.50  
Bookmark ☐

Which dynasty was associated with the construction of the Purushottama Jagannatha temple at Puri?  
पुरी में पुरुषोत्तम जगन्नाथ मंदिर के निर्माण का संबंध किस राजवंश से था?

- (A) ☒ Rashtrakutas (Chosen option)  
राष्ट्रकूट

<div>(B) <input type="radio"/> Palas पाल</div> <div>(C) <input type="radio"/> Ganga (Correct Answer) गंगा</div> <div>(D) <input type="radio"/> Kalinga कलिंग</div>	
<div>Question No.6</div> <div>Marks: 2.50</div> <div>Bookmark <input type="checkbox"/></div> <div>Which among the following committees recommended for the establishment of the Central Vigilance Commission? निम्नलिखित में से किस समिति द्वारा केंद्रीय सतर्कता आयोग की स्थापना के लिए अनुशंसा की गई थी?</div> <div>(A) <input type="radio"/> U.K. Sharma Committee यू.के. शर्मा समिति</div> <div>(B) <input type="radio"/> S.N. Verma Committee एस.एन. वर्मा समिति</div> <div>(C) <input checked="" type="radio"/> K. Santhanam Committee (Correct Answer) (Chosen option) के. संधानम समिति</div> <div>(D) <input type="radio"/> Y.V. Reddy Committee वाई.वी. रेड्डी समिति</div>	
<div>Question No.7</div> <div>Marks: 2.50</div> <div>Bookmark <input type="checkbox"/></div> <div>Which theory is used to make long-term predictions about exchange rates in a flexible exchange rate system? लचीली विनिमय दर प्रणाली में विनिमय दरों के बारे में दीर्घकालिक पूर्वकथन करने के लिए किस सिद्धांत का उपयोग किया जाता है?</div> <div>(A) <input type="radio"/> Dow Theory डाउ सिद्धांत</div> <div>(B) <input type="radio"/> Behavioural Economics Theory व्यवहारवादी अर्थशास्त्र सिद्धांत</div> <div>(C) <input type="radio"/> Game Theory खेल सिद्धांत</div> <div>(D) <input checked="" type="radio"/> Purchasing Power Parity Theory (Correct Answer) (Chosen option) क्रय शक्ति समानता सिद्धांत</div>	
<div>Question No.8</div> <div>Marks: 2.50</div> <div>Bookmark <input type="checkbox"/></div> <div>Which of the following Articles of the Indian Constitution guarantees 'freedom of conscience'? भारतीय संविधान के निम्नलिखित अनुच्छेदों में से कौन सा अनुच्छेद 'अंतःकरण की स्वतंत्रता' की गारंटी देता है?</div> <div>(A) <input type="radio"/> Article 25 (Correct Answer) अनुच्छेद 25</div> <div>(B) <input type="radio"/> Article 45 अनुच्छेद 45</div> <div>(C) <input checked="" type="radio"/> Article 36 (Chosen option) अनुच्छेद 36</div> <div>(D) <input type="radio"/> Article 15 अनुच्छेद 15</div>	
<div>Question No.9</div> <div>Marks: 2.50</div> <div>Bookmark <input type="checkbox"/></div> <div>Genocide under the Convention on the Prevention and Punishment of the Crime of Genocide, 1948 shall not be considered as _____. 1948 के नरसंहार के अपराध की रोकथाम और दंड पर संधि के तहत नरसंहार को _____ के रूप में नहीं माना जाएगा।</div> <div>(A) <input type="radio"/> religious crimes for the purpose of extradition प्रत्यर्पण के उद्देश्य के लिए धार्मिक अपराध</div> <div>(B) <input type="radio"/> political crimes for the purpose of extradition (Correct Answer) प्रत्यर्पण के उद्देश्य के लिए राजनीतिक अपराध</div> <div>(C) <input checked="" type="radio"/> social crimes for the purpose of extradition (Chosen option) प्रत्यर्पण के उद्देश्य के लिए सामाजिक अपराध</div> <div>(D) <input type="radio"/> racial crimes for the purpose of extradition प्रत्यर्पण के उद्देश्य से नस्लीय अपराध</div>	
<div>Question No.10</div> <div>Marks: 2.50</div> <div>Bookmark <input type="checkbox"/></div> <div>The zig-zag movement of the small particles suspended in a liquid or gas is called _____. द्रव या गैस में निलंबित छोटे कणों की टेढ़ी-मेढ़ी (ज़िग-ज़ैग) गतिविधि को _____ कहा जाता है।</div> <div>(A) <input type="radio"/> Diffusion विसरण</div> <div>(B) <input type="radio"/> Osmosis परासरण</div> <div>(C) <input checked="" type="radio"/> Brownian motion (Correct Answer) (Chosen option) ब्राउनी गति</div> <div>(D) <input type="radio"/> Compressibility संपीड्यता</div>	
<div>Question No.11</div> <div>Marks: 2.50</div> <div>Bookmark <input type="checkbox"/></div> <div>A person files an application on request for certain information to a public authority and if such information is held by another public authority, then such authority shall _____. एक व्यक्ति एक सार्वजनिक प्राधिकरण को किसी जानकारी के लिए अनुरोध करते हुए एक आवेदन दायर करता है और यदि ऐसी जानकारी किसी अन्य सार्वजनिक प्राधिकरण के पास है, तो ऐसा प्राधिकरण _____ करेगा।</div> <div>(A) <input type="radio"/> return the application आवेदन लौटा देगा</div> <div>(B) <input type="radio"/> impose fine जुर्माना लगाएगा</div> <div>(C) <input checked="" type="radio"/> forward the application to the concerned authority (Correct Answer) (Chosen option) संबद्ध प्राधिकरण के पास आवेदन अग्रसरित करेगा</div> <div>(D) <input type="radio"/> reject the application आवेदन खारिज कर देगा</div>	
<div>Question No.12</div> <div>Marks: 2.50</div> <div>Bookmark <input type="checkbox"/></div>	



<p>Which is the state bird of Uttar Pradesh? उत्तर प्रदेश का राज्य पक्षी कौन सा है?</p> <p>(A) <input type="radio"/> Emerald dove पत्रा कबूतर</p> <p>(B) <input type="radio"/> Monal मोनल</p> <p>(C) <input checked="" type="radio"/> Sarus crane (Correct Answer) (Chosen option) सारस क्रेन</p> <p>(D) <input type="radio"/> King fisher रामचिरया</p>	
<p>Question No.13</p> <p>What are the main sources of land revenue? A) Agricultural Land Tax B) Water Tax C) Non-agricultural land assessment. भू-राजस्व के मुख्य स्रोत क्या हैं? A) कृषि भूमि कर B) जल कर C) गैर-कृषि भूमि का मूल्यांकन। (A) <input checked="" type="radio"/> A,B and C (Correct Answer) (Chosen option) A,B और C</p> <p>(B) <input type="radio"/> C C</p> <p>(C) <input type="radio"/> B B</p> <p>(D) <input type="radio"/> A A</p>	<p>Marks: 2.50</p> <p>Bookmark <input type="checkbox"/></p>
<p>Question No.14</p> <p>Which of the following schemes is launched to create robust modern infrastructure for agriculture and agro-based industries in Food Processing sector? खाद्य प्रसंस्करण क्षेत्र में कृषि और कृषि आधारित उद्योगों के लिए मजबूत आधुनिक अवसंरचना का निर्माण करने के लिए निम्नलिखित में से कौन सी योजना शुरू की गई है?</p> <p>(A) <input type="radio"/> Gramin Bhandaran Yojana ग्रामीण भंडारण योजना</p> <p>(B) <input checked="" type="radio"/> National Agriculture Market (e-NAM) (Chosen option) राष्ट्रीय कृषि बाजार (e-NAM)</p> <p>(C) <input type="radio"/> Pradhan Mantri Krishi Sinchayee Yojana प्रधानमंत्री कृषि सिंचाई योजना</p> <p>(D) <input checked="" type="radio"/> Pradhan Mantri Kisan Sampada Yojana (Correct Answer) प्रधानमंत्री किसान सम्पदा योजना</p>	<p>Marks: 2.50</p> <p>Bookmark <input type="checkbox"/></p>
<p>Question No.15</p> <p>In which year the Central Council for Local Government and Urban Development was constituted under "Article 263" of the Indian Constitution? भारतीय संविधान के "अनुच्छेद 263" के तहत स्थानीय सरकार और शहरी विकास के लिए केंद्रीय परिषद का गठन किस वर्ष में किया गया था?</p> <p>(A) <input checked="" type="radio"/> 1956 (Chosen option) 1956</p> <p>(B) <input type="radio"/> 1952 1952</p> <p>(C) <input checked="" type="radio"/> 1954 (Correct Answer) 1954</p> <p>(D) <input type="radio"/> 1950 1950</p>	<p>Marks: 2.50</p> <p>Bookmark <input type="checkbox"/></p>
<p>Question No.16</p> <p>The Constitution of India guarantees Right to free and compulsory education to all children of the age of six to fourteen years under _____. भारतीय संविधान, _____ के तहत छः से चौदह वर्ष की आयु के सभी बच्चों को निःशुल्क और अनिवार्य शिक्षा का अधिकार देता है।</p> <p>(A) <input type="radio"/> Article 51 A अनुच्छेद 51 A</p> <p>(B) <input type="radio"/> Article 46 अनुच्छेद 46</p> <p>(C) <input checked="" type="radio"/> Article 21 A (Correct Answer) (Chosen option) अनुच्छेद 21 A</p> <p>(D) <input type="radio"/> Article 14 अनुच्छेद 14</p>	<p>Marks: 2.50</p> <p>Bookmark <input type="checkbox"/></p>
<p>Question No.17</p> <p>In which of the following countries "Twitter" headquarters located? निम्नलिखित में से किस देश में "ट्विटर" का मुख्यालय स्थित है?</p> <p>(A) <input type="radio"/> United Arab Emirates संयुक्त अरब अमीरात</p> <p>(B) <input type="radio"/> China चीन</p> <p>(C) <input checked="" type="radio"/> United States of America (Correct Answer) (Chosen option) संयुक्त राज्य अमेरिका</p> <p>(D) <input type="radio"/> India भारत</p>	<p>Marks: 2.50</p> <p>Bookmark <input type="checkbox"/></p>
<p>Question No.18</p> <p>Which of the following districts in Uttar Pradesh is also called 'City of Nawabs'? उत्तर प्रदेश के निम्नलिखित में से किस जिले को 'नवाबों का शहर' भी कहा जाता है?</p> <p>(A) <input type="radio"/> Allahabad इलाहाबाद</p> <p>(B) <input checked="" type="radio"/> Lucknow (Correct Answer) (Chosen option) लखनऊ</p>	<p>Marks: 2.50</p> <p>Bookmark <input type="checkbox"/></p>

<div>(C) <input type="radio"/> Jhansi झांसी</div> <div>(D) <input type="radio"/> Agra आगरा</div>	
<div>Question No.19</div> <div>Marks: 2.50</div> <div>Bookmark <input type="checkbox"/></div> <div>Which of the following has diluted the 'socialist credentials' of the Indian State? निम्नलिखित में से किसने भारत देश की 'समाजवादी साख' को कमज़ोर किया है?</div> <div>(A) <input type="radio"/> Five Year Plans पंच वर्षीय योजना</div> <div>(B) <input type="radio"/> Nationalisation of Banks (1969) बैंकों का राष्ट्रीयकरण (1969)</div> <div>(C) <input checked="" type="radio"/> The New Economic Policy (1991) (Correct Answer) नई आर्थिक नीति (1991)</div> <div>(D) <input type="radio"/> Industry Policy Resolution (1956) (Chosen option) औद्योगिक नीति संकल्प (1956)</div>	
<div>Question No.20</div> <div>Marks: 2.50</div> <div>Bookmark <input type="checkbox"/></div> <div>How many women were elected to the Lok Sabha in the 17th General Election(2019)? 17वें आम चुनाव (2019) में लोकसभा में कितनी महिलाएं निर्वाचित हुईं?</div> <div>(A) <input type="radio"/> 158 158</div> <div>(B) <input type="radio"/> 100 100</div> <div>(C) <input checked="" type="radio"/> 78 (Correct Answer) (Chosen option) 78</div> <div>(D) <input type="radio"/> 200 200</div>	
<div>Question No.21</div> <div>Marks: 2.50</div> <div>Bookmark <input type="checkbox"/></div> <div>In which year the Central Information Commission was established by the Government of India? भारत सरकार द्वारा केंद्रीय सूचना आयोग की स्थापना किस वर्ष में की गई थी?</div> <div>(A) <input type="radio"/> 2007 2007</div> <div>(B) <input type="radio"/> 2003 2003</div> <div>(C) <input type="radio"/> 2001 2001</div> <div>(D) <input checked="" type="radio"/> 2005 (Correct Answer) (Chosen option) 2005</div>	
<div>Question No.22</div> <div>Marks: 2.50</div> <div>Bookmark <input type="checkbox"/></div> <div>In which year did the Parliament enact the "All India Services Act"? संसद द्वारा "अखिल भारतीय सेवा अधिनियम" किस वर्ष में अधिनियमित किया गया था?</div> <div>(A) <input type="radio"/> 1981 1981</div> <div>(B) <input checked="" type="radio"/> 1951 (Correct Answer) 1951</div> <div>(C) <input type="radio"/> 1961 1961</div> <div>(D) <input type="radio"/> 1971 (Chosen option) 1971</div>	
<div>Question No.23</div> <div>Marks: 2.50</div> <div>Bookmark <input type="checkbox"/></div> <div>The offence of Tampering with computer source code is mentioned in section _____ of the Information Technology Act. कंप्यूटर स्रोत कोड के साथ छेड़छाड़ का अपराध सूचना प्रौद्योगिकी अधिनियम की धारा _____ में उल्लिखित है।</div> <div>(A) <input type="radio"/> 60 60</div> <div>(B) <input checked="" type="radio"/> 62 (Chosen option) 62</div> <div>(C) <input type="radio"/> 64 64</div> <div>(D) <input type="radio"/> 65 (Correct Answer) 65</div>	
<div>Question No.24</div> <div>Marks: 2.50</div> <div>Bookmark <input type="checkbox"/></div> <div>What is the full form of 'FIR', a written document prepared by the police? पुलिस द्वारा तैयार किए जाने वाले लिखित दस्तावेज एफ.आई.आर. (FIR) का पूर्ण रूप क्या है?</div> <div>(A) <input type="radio"/> First Inquiry Report First Inquiry Report (फर्स्ट इन्क्वायरी रिपोर्ट)</div> <div>(B) <input type="radio"/> First Investigation Report First Investigation Report (फर्स्ट इन्वेस्टीगेशन रिपोर्ट)</div> <div>(C) <input type="radio"/> First Interrogation Report First Interrogation Report (फर्स्ट इन्टेरोगेशन रिपोर्ट)</div> <div>(D) <input checked="" type="radio"/> First Information Report (Correct Answer) (Chosen option) First Information Report (फर्स्ट इनफार्मेशन रिपोर्ट)</div>	
<div>Question No.25</div> <div>Marks: 2.50</div> <div>Bookmark <input type="checkbox"/></div> <div>The special provision to safeguard food security is dealt under _____ of the Right to Fair Compensation and Transparency in Land Acquisition, Rehabilitation and Resettlement Act, 2013. खाद्य सुरक्षा के सुरक्षण के लिए विशेष प्रावधान, भूमि अधिग्रहण, पुनर्वास और पुनर्स्थापन अधिनियम, 2013 में उचित मुआवजे और पारदर्शिता के अधिकार की _____ से संबंधित है।</div> <div>(A) <input type="radio"/> Section 20 धारा 20</div> <div>(B) <input type="radio"/> Section 5</div>	

<div>धारा 5</div> <div>(C) <input checked="" type="radio"/> <b>Section 10 (Correct Answer)</b> (Chosen option)</div> <div>धारा 10</div> <div>(D) <input type="radio"/> Section 15</div> <div>धारा 15</div>	
<div>Question No.26</div> <div>Indo-Aryan language group belongs to which family?</div> <div>इंडो-आर्यन भाषा समूह किस परिवार से संबंधित है?</div> <div>(A) <input type="radio"/> Dravidian</div> <div>द्रविड़</div> <div>(B) <input type="radio"/> Austro-Asiatic</div> <div>ऑस्ट्रो-एशियाई</div> <div>(C) <input checked="" type="radio"/> <b>Indo-European (Correct Answer)</b> (Chosen option)</div> <div>इंडो-यूरोपियन</div> <div>(D) <input type="radio"/> Sino-Tibetan</div> <div>चीनी-तिब्बती</div>	<div>Marks: 2.50</div> <div>Bookmark <input type="checkbox"/></div>
<div>Question No.27</div> <div>Gwadar Port is located in _____.</div> <div>ग्वादर बंदरगाह _____ में स्थित है।</div> <div>(A) <input type="radio"/> China</div> <div>चीन</div> <div>(B) <input type="radio"/> Nepal</div> <div>नेपाल</div> <div>(C) <input checked="" type="radio"/> <b>Pakistan (Correct Answer)</b> (Chosen option)</div> <div>पाकिस्तान</div> <div>(D) <input type="radio"/> Bangladesh</div> <div>बांग्लादेश</div>	<div>Marks: 2.50</div> <div>Bookmark <input type="checkbox"/></div>
<div>Question No.28</div> <div>A person should wear a helmet while driving a motor vehicle. This is mandated under _____ of the Motor Vehicles Act, 1988</div> <div>मोटर वाहन चलाते समय व्यक्ति को हेलमेट पहनना चाहिए। यह मोटर वाहन अधिनियम, 1988 की _____ के तहत अनिवार्य है।</div> <div>(A) <input type="radio"/> Section 132</div> <div>धारा 132</div> <div>(B) <input checked="" type="radio"/> <b>Section 129 (Correct Answer)</b> (Chosen option)</div> <div>धारा 129</div> <div>(C) <input type="radio"/> Section 135</div> <div>धारा 135</div> <div>(D) <input type="radio"/> Section 119</div> <div>धारा 119</div>	<div>Marks: 2.50</div> <div>Bookmark <input type="checkbox"/></div>
<div>Question No.29</div> <div>The first Income Tax Act was introduced in the year _____.</div> <div>पहला आयकर अधिनियम वर्ष _____ में पेश किया गया था।</div> <div>(A) <input checked="" type="radio"/> <b>1860 (Correct Answer)</b> (Chosen option)</div> <div>1860</div> <div>(B) <input type="radio"/> 1844</div> <div>1844</div> <div>(C) <input type="radio"/> 1938</div> <div>1938</div> <div>(D) <input type="radio"/> 1880</div> <div>1880</div>	<div>Marks: 2.50</div> <div>Bookmark <input type="checkbox"/></div>
<div>Question No.30</div> <div>A person aggrieved by the order or decision of the State pollution control board under the Water (Prevention and Control of Pollution) Act, 1974 can directly approach _____.</div> <div>जल (प्रदूषण निवारण और नियंत्रण) अधिनियम, 1974 के तहत राज्य प्रदूषण नियंत्रण बोर्ड के आदेश या निर्णय से व्यथित व्यक्ति सीधे _____ से संपर्क कर सकता है।</div> <div>(A) <input checked="" type="radio"/> <b>National Green Tribunal (Correct Answer)</b> (Chosen option)</div> <div>राष्ट्रीय हरित प्राधिकरण</div> <div>(B) <input type="radio"/> High Court</div> <div>उच्च न्यायालय</div> <div>(C) <input type="radio"/> Supreme Court</div> <div>उच्चतम न्यायालय</div> <div>(D) <input type="radio"/> District Court</div> <div>ज़िला न्यायालय</div>	<div>Marks: 2.50</div> <div>Bookmark <input type="checkbox"/></div>
<div>Question No.31</div> <div>Which of the following waterways drains into the Caspian Sea?</div> <div>निम्नलिखित में से कौन से जलमार्ग की निकासी कैस्पियन सागर में होती है?</div> <div>(A) <input type="radio"/> Rhine Waterways</div> <div>राइन जलमार्ग</div> <div>(B) <input checked="" type="radio"/> <b>Volga Waterways (Correct Answer)</b></div> <div>वोल्गा जलमार्ग</div> <div>(C) <input type="radio"/> Mississippi Waterways</div> <div>मिसिसिपी जलमार्ग</div> <div>(D) <input checked="" type="radio"/> Danube Waterways (Chosen option)</div> <div>डेन्यूब जलमार्ग</div>	<div>Marks: 2.50</div> <div>Bookmark <input type="checkbox"/></div>
<div>Question No.32</div> <div>Who was the founder of Grameen bank?</div> <div>ग्रामीण बैंक के संस्थापक कौन थे?</div>	<div>Marks: 2.50</div> <div>Bookmark <input type="checkbox"/></div>

<div>(A) <input type="radio"/> Amartya Sen अमर्त्य सेन</div> <div>(B) <input checked="" type="radio"/> Muhammad Yunus (Correct Answer) (Chosen option) मुहम्मद युनुस</div> <div>(C) <input type="radio"/> Netra Singh नेत्रा सिंह</div> <div>(D) <input type="radio"/> Mahbub Ul Huq महबूब उल हक़</div>	
<div>Question No.33</div> <div>Which of the following is an image file format? निम्नलिखित में से कौन सा एक इमेज फ़ाइल प्रारूप (फॉर्मेट) है?</div> <div>(A) <input type="radio"/> AVI AVI</div> <div>(B) <input type="radio"/> MP4 MP4</div> <div>(C) <input checked="" type="radio"/> PNG (Correct Answer) (Chosen option) PNG</div> <div>(D) <input type="radio"/> FLAC FLAC</div>	<div>Marks: 2.50</div> <div>Bookmark <input type="checkbox"/></div>
<div>Question No.34</div> <div>Under which Article of the Constitution of India is the Finance Commission constituted by the President of India? भारतीय संविधान के किस अनुच्छेद के तहत भारत के राष्ट्रपति द्वारा वित्त आयोग का गठन किया जाता है?</div> <div>(A) <input checked="" type="radio"/> Article 280 (Correct Answer) (Chosen option) अनुच्छेद 280</div> <div>(B) <input type="radio"/> Article 270 अनुच्छेद 270</div> <div>(C) <input type="radio"/> Article 275 अनुच्छेद 275</div> <div>(D) <input type="radio"/> Article 285 अनुच्छेद 285</div>	<div>Marks: 2.50</div> <div>Bookmark <input type="checkbox"/></div>
<div>Question No.35</div> <div>Which among the following committees has its elected members only from the Lok Sabha? निम्नलिखित समितियों में से किसके निर्वाचित सदस्य केवल लोकसभा से होते हैं?</div> <div>(A) <input type="radio"/> Committee on Public Undertakings लोक उपक्रम समिति</div> <div>(B) <input checked="" type="radio"/> Estimates Committee (Correct Answer) (Chosen option) प्राक्कलन समिति</div> <div>(C) <input type="radio"/> Committee on Government Assurances सरकारी आश्वासनों संबंधी समिति</div> <div>(D) <input type="radio"/> Public Accounts Committee लोक लेखा समिति</div>	<div>Marks: 2.50</div> <div>Bookmark <input type="checkbox"/></div>
<div>Question No.36</div> <div>In which among the following subjects both the Parliament and the State Legislatures has authority to make laws? निम्नलिखित में से किस विषय में संसद और राज्य विधायिकाएं दोनों को कानून बनाने का अधिकार है?</div> <div>(A) <input checked="" type="radio"/> Extradition (Chosen option) प्रत्यर्पण</div> <div>(B) <input type="radio"/> Agriculture कृषि</div> <div>(C) <input type="radio"/> Intoxicating Liquors नशीले पेय</div> <div>(D) <input type="radio"/> Electricity (Correct Answer) विद्युत्</div>	<div>Marks: 2.50</div> <div>Bookmark <input type="checkbox"/></div>
<div>Question No.37</div> <div>Which city is known as Manchester of India? किस शहर को भारत के मैनचेस्टर के रूप में जाना जाता है?</div> <div>(A) <input checked="" type="radio"/> Surat (Chosen option) सूरत</div> <div>(B) <input type="radio"/> Ahmedabad (Correct Answer) अहमदाबाद</div> <div>(C) <input type="radio"/> Bhopal भोपाल</div> <div>(D) <input type="radio"/> Kanpur कानपुर</div>	<div>Marks: 2.50</div> <div>Bookmark <input type="checkbox"/></div>
<div>Question No.38</div> <div>In which case it was held that a person cannot file an anticipatory bail application apprehending arrest following the cancellation of his regular bail? किस मामले में यह कहा गया था कि कोई व्यक्ति अपनी नियमित जमानत रद्द होने के बाद अग्रिम जमानत की अर्जी दायर नहीं कर सकता है?</div> <div>(A) <input checked="" type="radio"/> Lily Thomas vs Union Of India &amp; Ors. (Chosen option) लिली थॉमस बनाम भारतीय संघ और अन्य</div> <div>(B) <input type="radio"/> Indra Sawhney etc. Vs. Union of India and others इंदिरा साहनी, आदि बनाम भारतीय संघ और अन्य</div> <div>(C) <input type="radio"/> Manish Jain v. Haryana Pollution Control Board (Correct Answer) मनीष जैन बनाम हरियाणा प्रदूषण नियंत्रण बोर्ड</div> <div>(D) <input type="radio"/> Arnab Manoranjan Goswami v. State of Maharashtra अर्नब मनोरंजन गोस्वामी बनाम महाराष्ट्र राज्य</div>	<div>Marks: 2.50</div> <div>Bookmark <input type="checkbox"/></div>
<div>Question No.39</div>	<div>Marks: 2.50</div> <div>Bookmark <input type="checkbox"/></div>

<p>In which session did the Moderates and Extremists of the Indian National Congress split? भारतीय राष्ट्रीय कांग्रेस के नरमपंथी और चरमपंथी किस सत्र में विभाजित हुए थे?</p> <p>(A) <input type="radio"/> Madras session मद्रास सत्र</p> <p>(B) <input type="radio"/> Bombay session बंबई सत्र</p> <p>(C) <input type="radio"/> Calcutta session कलकत्ता सत्र</p> <p>(D) <input checked="" type="radio"/> Surat session (Correct Answer) (Chosen option) सूरत सत्र</p>	
<p>Question No.40</p> <p>Which of the following diseases spreads through flying fox or fruit bats? निम्नलिखित में से कौन सा रोग फ्लाईंग फॉक्स या फल जतूक के माध्यम से फैलता है?</p> <p>(A) <input type="radio"/> Rotavirus रोटावायरस</p> <p>(B) <input type="radio"/> Poliovirus पोलियो वायरस</p> <p>(C) <input type="radio"/> Calicivirus कैलिसीवायरस</p> <p>(D) <input checked="" type="radio"/> Nipah Virus (Correct Answer) (Chosen option) निपाह वायरस</p>	<p>Marks: 2.50</p> <p>Bookmark <input type="checkbox"/></p>
NUMERICAL AND MENTAL ABILITY TEST - NUMERICAL AND MENTAL ABILITY TEST	
<p>Question No.1</p> <p>A trader sells the article after two successive discounts of 23% and 24% respectively. If the marked price of the article is Rs.21400, find the selling price? (In Rs.) एक व्यापारी क्रमशः 23% और 24% की दो क्रमिक छूट के बाद एक वस्तु बेचता है। यदि वस्तु का अंकित मूल्य Rs. 21400 है, तो इसका विक्रय मूल्य ज्ञात कीजिए? (Rs. में)</p> <p>(A) <input type="radio"/> 14523.28 14523.28</p> <p>(B) <input type="radio"/> 15523.28 15523.28</p> <p>(C) <input checked="" type="radio"/> 12523.28 (Correct Answer) (Chosen option) 12523.28</p> <p>(D) <input type="radio"/> 13523.28 13523.28</p>	<p>Marks: 2.50</p> <p>Bookmark <input type="checkbox"/></p>
<p>Question No.2</p> <p>The H.C.F. of the two numbers is 31 and the other two divisors of their Least Common Multiple are 18 and 21. Find the smallest number among them. दो संख्याओं का म.स.प. (महत्तम समापवर्तक) 31 है और उनके लघुत्तम समापवर्त्य के दो अन्य भाजक 18 और 21 हैं। उनमें से छोटी संख्या ज्ञात कीजिए।</p> <p>(A) <input type="radio"/> 240 240</p> <p>(B) <input type="radio"/> 368 368</p> <p>(C) <input type="radio"/> 464 464</p> <p>(D) <input checked="" type="radio"/> 558 (Correct Answer) (Chosen option) 558</p>	<p>Marks: 2.50</p> <p>Bookmark <input type="checkbox"/></p>
<p>Question No.3</p> <p>Find the sum of the G.P.: 2/11, 2/121, 2/1331, 2/14641, ... to n terms. निम्न गुणोत्तर श्रेणी का योगफल ज्ञात कीजिए: 2/11, 2/121, 2/1331, 2/14641, ... n पदों तक</p> <p>(A) <input type="radio"/> <math>\frac{1}{5}(1-(\frac{1}{11^n}))</math> (Correct Answer) <math>\frac{1}{5}(1-(\frac{1}{11^n}))</math></p> <p>(B) <input type="radio"/> <math>\frac{3}{11}(1-(\frac{1}{11^n}))</math> <math>\frac{3}{11}(1-(\frac{1}{11^n}))</math></p> <p>(C) <input type="radio"/> <math>\frac{7}{10}(1-(\frac{1}{11^n}))</math> <math>\frac{7}{10}(1-(\frac{1}{11^n}))</math></p> <p>(D) <input checked="" type="radio"/> <math>\frac{2}{7}(1-(\frac{1}{11^n}))</math> (Chosen option) <math>\frac{2}{7}(1-(\frac{1}{11^n}))</math></p>	<p>Marks: 2.50</p> <p>Bookmark <input type="checkbox"/></p>
<p>Question No.4</p> <p>A can finish a work in 114 days and B can do the same work in 171 days. Working together, they will complete the same work in how many days? A, किसी कार्य को 114 दिनों में पूरा कर सकता है और B उसी कार्य को 171 दिनों में कर सकता है। एक साथ कार्य करते हुए, वे उसी कार्य को कितने दिनों में पूरा करेंगे?</p> <p>(A) <input type="radio"/> 70.4 70.4</p> <p>(B) <input type="radio"/> 62.4 62.4</p> <p>(C) <input checked="" type="radio"/> 68.4 (Correct Answer) (Chosen option) 68.4</p> <p>(D) <input type="radio"/> 66.4 66.4</p>	<p>Marks: 2.50</p> <p>Bookmark <input type="checkbox"/></p>
<p>Question No.5</p> <p>Find the value of X in the given image.</p>	<p>Marks: 2.50</p> <p>Bookmark <input type="checkbox"/></p>

$$\sqrt{128-X} = \sqrt{129-\sqrt{64}}$$

दी गए चित्र में X का मान ज्ञात कीजिए।

$$\sqrt{128-X} = \sqrt{129-\sqrt{64}}$$

- (A) ☐ 10  
10
- (B) ☒ 7 (Correct Answer) (Chosen option)  
7
- (C) ☐ 12  
12
- (D) ☐ 6  
6

Case Study - 6 to 7

Directions: The following table shows the percentage of marks obtained by six students in four different subjects.  
Answer the following questions based on the table.

5.00

Student	Physics (out of 50)	Chemistry (out of 50)	Maths (out of 50)	English (out of 50)
P	34	28	40	30
Q	41	45	45	43
R	45	48	30	32
S	35	36	38	34
T	32	35	34	48
U	48	37	42	46

Question No.6

Marks: 2.50

Bookmark ☐

What is the overall percentage of marks scored by student T?  
विद्यार्थी T द्वारा प्राप्त किए गए अंकों का कुल प्रतिशत क्या है?

(A) ☐ 74%  
74%

(B) ☐ 72.5%  
72.5%

(C) ☐ 73%  
73%

(D) ☒ 74.5% (Correct Answer) (Chosen option)  
74.5%

Question No.7

Marks: 2.50

Bookmark ☐

The marks scored by student R in Physics is what percent of the marks scored by him in Chemistry?  
भौतिकी में विद्यार्थी R द्वारा प्राप्त किए गए अंक, रसायन विज्ञान में उसके द्वारा प्राप्त किए गए अंकों का कितना प्रतिशत है?

(A) ☐ 95.75%  
95.75%

(B) ☐ 90.50%  
90.50%

(C) ☒ 93.75% (Correct Answer) (Chosen option)  
93.75%

(D) ☐ 92.75%  
92.75%

Question No.8

Marks: 2.50

Bookmark ☐

If A stands for +, B stands for -, C stands for ×, then what is the value of (9C3)A(2C5)B7 ?  
यदि A का अर्थ + है, B का अर्थ - है, C का अर्थ × है, तो (9C3)A(2C5)B7 का मान क्या है?

(A) ☐ 15  
15

(B) ☐ 35  
35

(C) ☐ 25  
25

(D) ☒ 30 (Correct Answer) (Chosen option)  
30

Question No.9

Marks: 2.50

Bookmark ☐

Find the next term in given series.  
INDEPENDENCE, DEPENDEN, NDEPENDENC, EPENDE, ?  
दी गई श्रेणी में अगला पद ज्ञात कीजिए।  
INDEPENDENCE, DEPENDEN, NDEPENDENC, EPENDE, ?

(A) ☐ DEPEND  
DEPEND

<div><div>(B) <input type="radio"/> PENDE PENDE</div><div>(C) <input checked="" type="radio"/> <b>DEPENDEN (Correct Answer)</b> (Chosen option) DEPENDEN</div><div>(D) <input type="radio"/> PENDEN PENDEN</div></div>	
<div><div>Question No.10</div><div>Marks: 2.50 Bookmark <input type="checkbox"/></div><div>Pipe A can fill a tank in 780 minutes and Pipe B can empty the same tank in 975 minutes. If both pipes are opened together, how many hours will it take to fill the empty tank? पाइप A, 780 मिनट में एक टैंक भर सकता है और पाइप B उसी टैंक को 975 मिनट में खाली कर सकता है। यदि दोनों पाइप एक साथ खोले जाते हैं, तो खाली टैंक को भरने में कितने घंटे लगेंगे?</div><div><div>(A) <input type="radio"/> 67 67</div><div>(B) <input checked="" type="radio"/> <b>65 (Correct Answer)</b> (Chosen option) 65</div><div>(C) <input type="radio"/> 69 69</div><div>(D) <input type="radio"/> 63 63</div></div></div>	
<div><div>Question No.11</div><div>Marks: 2.50 Bookmark <input type="checkbox"/></div><div>Today is Saturday. After 41 days, it will be? आज शनिवार है। 41 दिनों के बाद, कौन सा दिन होगा?</div><div><div>(A) <input type="radio"/> Thursday गुरुवार</div><div>(B) <input type="radio"/> Tuesday मंगलवार</div><div>(C) <input checked="" type="radio"/> <b>Friday (Correct Answer)</b> (Chosen option) शुक्रवार</div><div>(D) <input type="radio"/> Sunday रविवार</div></div></div>	
<div><div>Question No.12</div><div>Marks: 2.50 Bookmark <input type="checkbox"/></div><div>What is the difference between the compound interests on Rs.24000 for 1 year at 8% per annum compounded yearly and half-yearly? (In Rs.) ब्याज की गणना वार्षिक और अर्धवार्षिक चक्रवृद्धि आधार पर करते हुए, 8% प्रति वर्ष की दर से 1 वर्ष के लिए Rs.24000 पर चक्रवृद्धि ब्याजों के बीच क्या अंतर है? (Rs. में)</div><div><div>(A) <input type="radio"/> 36.4 36.4</div><div>(B) <input checked="" type="radio"/> <b>38.4 (Correct Answer)</b> (Chosen option) 38.4</div><div>(C) <input type="radio"/> 32.4 32.4</div><div>(D) <input type="radio"/> 34.4 34.4</div></div></div>	
<div><div>Question No.13</div><div>Marks: 2.50 Bookmark <input type="checkbox"/></div><div>Ragul donates 15% of his savings to old age home, 15% of the savings to orphanage and 20% of his savings to foundations for medical help. The remaining amount of Rs.7600 of savings is been deposited in bank. Find the salary of Ragul, if 76% of the salary is his savings amount. (In Rs.) रागुल अपनी बचत का 15% वृद्धाश्रम को, बचत का 15% अनाथालय को और बचत का 20% चिकित्सा सहायता संस्थानों को दान करता है। बचत की Rs.7600 की शेष राशि बैंक में जमा की गई है। रागुल का वेतन ज्ञात करें, यदि वेतन का 76% उसकी बचत राशि है। (Rs. में)</div><div><div>(A) <input checked="" type="radio"/> <b>20000 (Correct Answer)</b> (Chosen option) 20000</div><div>(B) <input type="radio"/> 50000 50000</div><div>(C) <input type="radio"/> 40000 40000</div><div>(D) <input type="radio"/> 55000 55000</div></div></div>	
<div><div>Question No.14</div><div>Marks: 2.50 Bookmark <input type="checkbox"/></div><div>The average height of 37 telecom towers is 282 m. If the average height of first 18 telecom towers is 282 m and that of last 18 telecom towers is 286 m, then what is the height of 19<sup>th</sup> telecom tower? (In m) 37 दूरसंचार टावरों की औसत ऊंचाई 282 m है। यदि पहले 18 दूरसंचार टावरों की औसत ऊंचाई 282 m है और अंतिम 18 दूरसंचार टावरों की ऊंचाई 286 m है, तो 19वें दूरसंचार टावर की ऊंचाई क्या है? (m में)</div><div><div>(A) <input type="radio"/> 230 230</div><div>(B) <input checked="" type="radio"/> <b>210 (Correct Answer)</b> (Chosen option) 210</div><div>(C) <input type="radio"/> 220 220</div><div>(D) <input type="radio"/> 200 200</div></div></div>	
<div><div>Question No.15</div><div>Marks: 2.50 Bookmark <input type="checkbox"/></div><div>A Shopkeeper purchased an article for Rs.10400 and sold it for a loss of 20%. From that money he purchased another article and sold it for a gain of 20%. What is the overall gain or loss? (In Rs.) एक दुकानदार ने Rs.10400 में एक वस्तु खरीदी और इसे 20% की हानि पर बेचा। उस धन से उसने एक और वस्तु खरीदी और उसे 20% के लाभ पर बेचा। समग्र लाभ या हानि क्या है? (Rs. में)</div><div><div>(A) <input checked="" type="radio"/> <b>416 loss (Correct Answer)</b> (Chosen option) 416 हानि</div><div>(B) <input type="radio"/> 414 profit 414 लाभ</div><div>(C) <input type="radio"/> 412 loss 412 हानि</div><div>(D) <input type="radio"/> 418 profit 418 लाभ</div></div></div>	
<div><div>Question No.16</div><div>Marks: 2.50 Bookmark <input type="checkbox"/></div></div>	

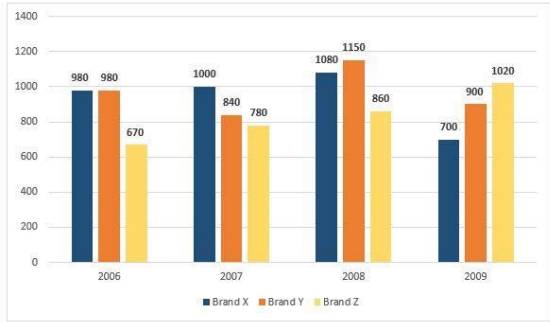
A train of length 825 m which travels at a speed of 144 kmph crosses a Tunnel in 62 seconds. Find the length of the Tunnel? (In metres)  
144 kmph की चाल से चल रही 825 m लंबी एक ट्रेन 62 सेकेंड में एक सुरंग को पार करती है। सुरंग की लंबाई ज्ञात करें। (मीटर में)

- (A) ☒ 1655 (Correct Answer) (Chosen option)  
1655  
(B) ☐ 1755  
1755  
(C) ☐ 1855  
1855  
(D) ☐ 1555  
1555

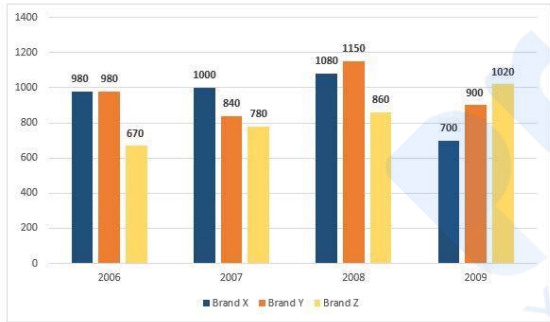
Question No.17

Marks: 2.50  
Bookmark ☐

Directions:  
Study the following Bar-chart and the data provided to answer the questions that follow:  
Sales of 3-different companies selling T-Shirts for the years from 2006 to 2009 are given.  
What percentage of total sale of Brand Y T-shirt is Brand Z T-shirt sold in 2009. (Up to two decimal)



निर्देश:  
निम्नलिखित प्रश्नों का उत्तर देने के लिए निम्न दंड-अरेख और आंकड़े का अध्ययन करें:  
2006 से 2009 तक टी-शर्ट्स बेचने वाली 3-अलग-अलग कंपनियों की बिक्री दी गई है।  
2009 में ब्रांड Z टी-शर्ट की कुल बिक्री, ब्रांड Y टी-शर्ट की कुल बिक्री का कितना प्रतिशत है। (दो दशमलव तक)



- (A) ☐ 52.56%  
52.56%  
(B) ☐ 36.34%  
36.34%  
(C) ☐ 29.27%  
29.27%  
(D) ☒ 26.35% (Correct Answer) (Chosen option)  
26.35%

Question No.18

Marks: 2.50  
Bookmark ☐

The amount doubles itself under simple interest in 3.5 years. In how many years will it become 48 times of itself?  
साधारण ब्याज के तहत, एक धन राशि 3.5 वर्षों में अपने आप की दोगुनी हो जाती है। कितने वर्षों में यह अपने आप की 48 गुनी हो जाएगी?

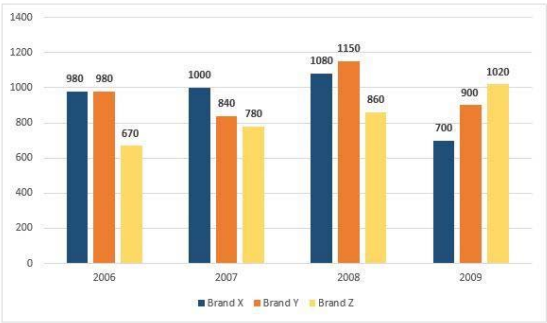
- (A) ☐ 184.5  
184.5  
(B) ☒ 164.5 (Correct Answer) (Chosen option)  
164.5  
(C) ☐ 154.5  
154.5  
(D) ☐ 174.5  
174.5

Question No.19

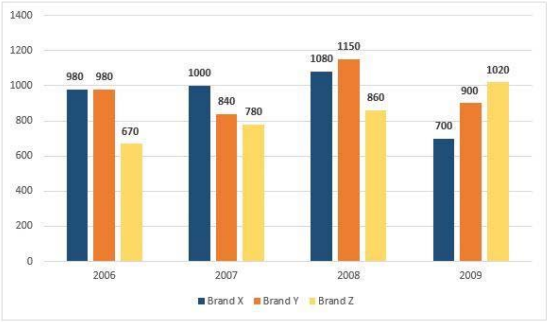
Marks: 2.50  
Bookmark ☐

Directions:  
Study the following Bar-chart and the data provided to answer the questions that follow:  
Sales of 3-different companies selling T-Shirts for the years from 2006 to 2009 are given.  
How much percentage of sales decreased for Brand X T-Shirt in 2009 compared with 2007?





निर्देश:  
निम्नलिखित प्रश्नों का उत्तर देने के लिए निम्न दंड-अरेख और आंकड़े का अध्ययन करें:  
2006 से 2009 तक टी-शर्ट्स बेचने वाली 3-अलग-अलग कंपनियों की बिक्री दी गई है।  
2007 की तुलना में 2009 में ब्रांड X टी-शर्ट की बिक्री में कितने प्रतिशत की कमी हुई?



- (A) ☐ 25%  
25%
- (B) ☐ 24%  
24%
- (C) ☐ 10%  
10%
- (D) ☒ 30% (Correct Answer) (Chosen option)  
30%

Question No.20

Marks: 2.50  
Bookmark ☐

After walking 2km, a boy turned left and walked 3km. He then took a left turn and walked 4km. If he stood facing North-West direction finally, towards which direction did he walk the first 2km?

2 km चलने के बाद, एक लड़का बाएँ मुड़ गया और 3 km चला। वह फिर बाएँ मुड़ा और 4 km चला। यदि वह अंततः उत्तर-पश्चिम दिशा की ओर अभिमुख होकर खड़ा है, तो पहले 2km वह किस दिशा में चला था?

- (A) ☐ South-West  
दक्षिण-पश्चिम
- (B) ☒ South-East (Correct Answer) (Chosen option)  
दक्षिण-पूर्व
- (C) ☐ North-East  
उत्तर-पूर्व
- (D) ☐ North-West  
उत्तर-पश्चिम

Question No.21

Marks: 2.50  
Bookmark ☐

Select the appropriate set of sequence of mathematical operators to replace all \* sign in the following equation and hence to balance it.

11 \* 3 \* 7 \* 40

निम्नलिखित समीकरण में सभी \* को प्रतिस्थापित करने तथा इसे संतुलित करने के लिए गणितीय संकारकों के अनुक्रम के उपयुक्त समुच्चय का चयन कीजिए।

11 \* 3 \* 7 \* 40

- (A) ☐ + x =  
+ x =
- (B) ☐ - + =  
- + =
- (C) ☐ - x =  
- x =
- (D) ☒ x + = (Correct Answer) (Chosen option)  
x + =

Question No.22

Marks: 2.50  
Bookmark ☐

Mano, Naresh, Ganesh enter into a partnership. Mano contributes one-third of the whole capital while Naresh contributes as much as Mano and Ganesh together contribute. If the profit at the end of the year is Rs.99,000, how much would Ganesh receive? (In Rs.)

मनो, नरेश, गणेश एक साझेदारी शुरू करते हैं। मनो पूरी पूंजी की एक-तिहाई का योगदान करता है जबकि नरेश उतना ही योगदान करता है जितना कि मनो और गणेश मिलकर योगदान करते हैं। यदि वर्ष के अंत में लाभ Rs. 99,000 है, तो गणेश को कितना प्राप्त होगा? (Rs. में)

- (A) ☐ 43000  
43000
- (B) ☐ 14500  
14500
- (C) ☒ 16500 (Correct Answer) (Chosen option)  
16500
- (D) ☐ 28000  
28000

Question No.23

Marks: 2.50  
Bookmark ☐

If a mirror is placed on the shaded line, then which of the following options is the mirror image of the given figure?

t4a7s93y 

यदि एक दर्पण को छायांकित रेखा पर रखा जाता है, तो निम्नलिखित में से कौन सा विकल्प दी गई आकृति का दर्पण प्रतिबिम्ब है?

t4a7s93y 

(A) ☒

y39s7at  
y39s7at

(Correct Answer) (Chosen option)

(B) ☐

λ3δp∟s†  
λ3δp∟s†

(C) ☐

y3δ2∟at4  
y3δ2∟at4

(D) ☐

λ3δ2∟at†  
λ3δ2∟at†

Question No.24

Marks: 2.50  
Bookmark ☐

What will be written in the place of question mark in the given series?

B2E5Q17G7?20

दी गई श्रेणी में प्रश्न चिह्न के स्थान पर क्या लिखा जाएगा?

B2E5Q17G7?20

- (A) ☐ Q
- (B) ☐ R
- (C) ☒ T (Correct Answer) (Chosen option)
- (D) ☐ S

Question No.25

Marks: 2.50

Bookmark ☐

What value should come in the place of question mark (?) in the following equation?

$(0.005 + ?) + (0.003 + 0.03) - (0.02 + 0.2) = 0.1$

निम्नलिखित समीकरण में प्रश्न चिह्न (?) के स्थान पर क्या मान आना चाहिए?

$(0.005 + ?) + (0.003 + 0.03) - (0.02 + 0.2) = 0.1$

- (A) ☐ 0.5
- (B) ☒ 0.05 (Correct Answer) (Chosen option)
- (C) ☐ 0.001
- (D) ☐ 0.005

Question No.26

Marks: 2.50

Bookmark ☐

Replace the question mark with an option that follows the same logic applied in the first pair.

LEG : 120 :: RIM : ??

प्रश्नचिह्न को उस विकल्प से प्रतिस्थापित कीजिए जो प्रथम युग्म में लागू तर्क का अनुसरण करता है।

LEG : 120 :: RIM : ??

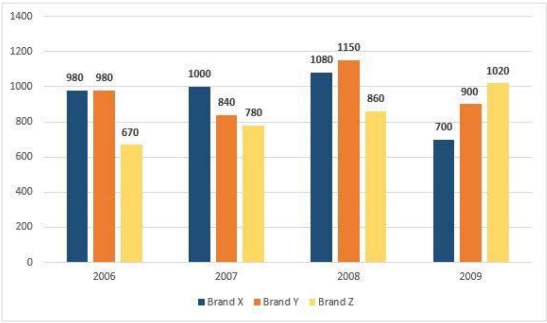
- (A) ☐ 150
- (B) ☐ 250
- (C) ☒ 300 (Chosen option)
- (D) ☐ 200 (Correct Answer)

Question No.27

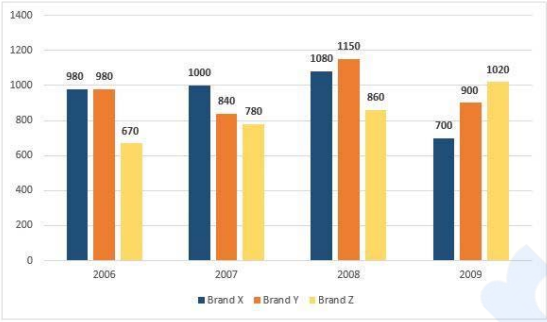
Marks: 2.50

Bookmark ☐

**Directions:**  
Study the following Bar-chart and the data provided to answer the questions that follow:  
Sales of 3-different companies selling T-Shirts for the years from 2006 to 2009 are given.  
What is the difference between half of the total sale of brand X T-Shirt and the total sale of brand Z T-Shirt?



**निर्देश:**  
निम्नलिखित प्रश्नों का उत्तर देने के लिए निम्न दंड-आरेख और आंकड़े का अध्ययन करें:  
2006 से 2009 तक टी-शर्ट्स बेचने वाली 3-अलग-अलग कंपनियों की बिक्री दी गई है।  
ब्रांड X टी-शर्ट की कुल बिक्री के आधे और ब्रांड Z टी-शर्ट की कुल बिक्री के बीच क्या अंतर है?



- (A) ☐ 1575  
1575
- (B) ☐ 3025  
3025
- (C) ☒ 1450 (Correct Answer) (Chosen option)  
1450
- (D) ☐ 2075  
2075

Case Study - 28 to 29

5.00

**Directions:** In the following questions, few statements are given and these statements are followed by two conclusions numbered i and ii. You have to take the given statements to be true even if they seem to be at variance from commonly known facts. Read the conclusions and then decide which of the given conclusions logically follows from the given statements, disregarding commonly known facts.  
Choose,  
(A) Only (i) conclusion follows  
(B) Only (ii) conclusion follows  
(C) Neither (i) nor (ii) follows  
(D) Both (i) and (ii) follow  
(E) Either (i) or (ii) follows

Question No.28

Marks: 2.50

Bookmark ☐

Statements:  
No bud is flower.  
No flower is colourful.

Conclusions:  
i) All buds are colourful.  
ii) Some colourful are buds.

कथन:  
कोई कली, फूल नहीं है।  
कोई फूल, रंगीन नहीं है।

निष्कर्ष:  
i) सभी कलियाँ, रंगीन हैं।  
ii) कुछ रंगीन, कलियाँ हैं।

- (A) ☐ B  
B
- (B) ☐ D  
D
- (C) ☐ A  
A
- (D) ☒ C (Correct Answer) (Chosen option)  
C

Question No.29

Marks: 2.50

Bookmark ☐

Statements:  
All girls are boys.  
Some boys are men.  
All men are women.

Conclusions:  
i) Some girls are men.  
ii) Some women are girls.  
कथन:  
सभी लड़कियाँ, लड़के हैं।  
कुछ लड़के, पुरुष हैं।  
सभी पुरुष, महिलाएँ हैं।

निष्कर्ष:  
i) कुछ लड़कियाँ, पुरुष हैं।  
ii) कुछ महिलाएँ, लड़कियाँ हैं।  
(A) ☐ B  
B  
(B) ☐ A  
A  
(C) ☒ D (Chosen option)  
D  
(D) ☐ C (Correct Answer)  
C

Question No.30

Marks: 2.50  
Bookmark ☐

In this question, a statement is given followed by two conclusions numbered i and ii. You have to assume everything in the statement to be true, then consider the two conclusions together and decide which of them logically follows beyond a reasonable doubt from the information given in the statement.

**Statement:**  
P and Q are the parents of Z.  
**Conclusions:**  
i) P is the father of Z  
ii) Q is the mother of Z

Choose the appropriate one from the following options  
(A) Only conclusion i follows  
(B) Only conclusion ii follows  
(C) Either i or ii follows  
(D) Neither i nor ii follows  
(E) Both i and ii follow.

इस प्रश्न में, एक कथन और उसके बाद i और ii से संख्यांकित दो निष्कर्ष दिए गए हैं। कथन में दी गई समस्त जानकारी को सत्य मानते हुए एक साथ दोनों निष्कर्षों पर विचार करें और निर्धारित करें कि उनमें से कौन सा निष्कर्ष कथन में दी गई जानकारी का समुचित संदेह से परे तार्किक रूप से अनुसरण करता है।

**कथन:**  
P और Q, Z के माता-पिता हैं।  
**निष्कर्ष:**  
i) P, Z का पिता है।  
ii) Q, Z की माँ है।

निम्नलिखित विकल्पों में से उपयुक्त विकल्प का चयन कीजिए  
(A) केवल निष्कर्ष i अनुसरण करता है।  
(B) केवल निष्कर्ष ii अनुसरण करता।  
(C) या तो i या ii अनुसरण करता है  
(D) न तो i और न ही ii अनुसरण करता है और  
(E) i और ii दोनों अनुसरण करते हैं।  
(A) ☒ E (Chosen option)  
E  
(B) ☐ A  
A  
(C) ☐ D (Correct Answer)  
D  
(D) ☐ B  
B

Question No.31

Marks: 2.50  
Bookmark ☐

Each question given below consists of a statement, followed by two arguments numbered I and II. You have to decide which of the arguments is a 'strong' argument and which is a 'weak' argument.

Give answer:

(A) If only argument I is strong  
(B) If only argument II is strong  
(C) If either I or II is strong  
(D) If neither I nor II is strong and  
(E) If both I and II are strong.

**Statement:**  
Should India stop exporting its surplus goods?

**Arguments:**  
I. Yes, the country has to fulfil its own needs first.  
II. No, because the goods are already surplus.

नीचे दिए गए प्रत्येक प्रश्न में एक कथन है, जिसके बाद i और ii से संख्यांकित दो तर्क दिए गए हैं। आपको यह निर्णय लेना है कि कौन सा तर्क एक 'प्रबल' तर्क है और कौन सा तर्क 'दुर्बल' तर्क है।

उत्तर दीजिए:

(A) यदि केवल तर्क i प्रबल है।  
(B) यदि केवल तर्क ii प्रबल है।  
(C) यदि i या ii प्रबल है।  
(D) यदि न तो i और न ही ii प्रबल है और  
(E) यदि i और ii दोनों प्रबल हैं।

**कथन:**  
क्या भारत को अपने अधिशेष माल का निर्यात रोकना चाहिए?  
**तर्क:**  
I. हाँ, देश को पहले अपनी जरूरतों को पूर्ण करना होगा।  
II. नहीं, क्योंकि माल पहले से ही अधिशेष है।  
(A) ☐ E  
E  
(B) ☒ B (Correct Answer) (Chosen option)  
B

<div>(C) <input type="radio"/> C</div> <div>C</div> <div>(D) <input type="radio"/> A</div> <div>A</div>	
<div>Question No.32</div> <div>Marks: 2.50</div> <div>Bookmark <input type="checkbox"/></div> <div>What is the digit in the units place of the number 12547^151? संख्या 12547^151 के इकाई स्थान पर कौन सा अंक होगा?</div> <div>(A) <input type="radio"/> 3 (Correct Answer) <span>3</span></div> <div>(B) <input type="radio"/> 5</div> <div>5</div> <div>(C) <input type="radio"/> 9</div> <div>9</div> <div>(D) <input checked="" type="radio"/> 7 (Chosen option)</div> <div>7</div>	
<div>Question No.33</div> <div>Marks: 2.50</div> <div>Bookmark <input type="checkbox"/></div> <div>Find the volume of the cylinder whose radius is 24.5 cm and height is 14 cm. (In cm<sup>3</sup> and use π = 22/7) उस बेलन का आयतन ज्ञात करें, जिसकी त्रिज्या 24.5 cm और ऊँचाई 14 cm है। (cm<sup>3</sup> में और π = 22/7 का उपयोग करें)</div> <div>(A) <input checked="" type="radio"/> 26411 (Correct Answer) <span>(Chosen option)</span> 26411</div> <div>(B) <input type="radio"/> 28411</div> <div>28411</div> <div>(C) <input type="radio"/> 29411</div> <div>29411</div> <div>(D) <input type="radio"/> 27411</div> <div>27411</div>	
<div>Question No.34</div> <div>Marks: 2.50</div> <div>Bookmark <input type="checkbox"/></div> <div>Rearrange the word in question and find the option most similar in meaning to rearranged word. A M C P I T प्रश्न में शब्द को पुनर्व्यवस्थित करें और वो विकल्प खोजें जो पुनर्व्यवस्थित शब्द के अर्थ के सबसे समान हो। A M C P I T</div> <div>(A) <input type="radio"/> FAILURE</div> <div>FAILURE</div> <div>(B) <input type="radio"/> LOSS</div> <div>LOSS</div> <div>(C) <input checked="" type="radio"/> PRAISE (Chosen option)</div> <div>PRAISE</div> <div>(D) <input type="radio"/> COLLISION (Correct Answer)</div> <div>COLLISION</div>	
<div>Question No.35</div> <div>Marks: 2.50</div> <div>Bookmark <input type="checkbox"/></div> <div>A shopkeeper sells an article for Rs.860 and earned some profit. By selling the article for Rs.300 he incurred a loss equal to 13 times of the profit earned. If he wants to make a profit of 30% then at what price should he sell the article? (In Rs.) एक दुकानदार Rs.860 में एक वस्तु बेचता है और कुछ लाभ कमाता है। वस्तु को Rs.300 में बेचने पर उसे अर्जित लाभ के 13 गुना के बराबर हानि हुई। यदि वह 30% का लाभ अर्जित करना चाहता है तो उसे किस मूल्य पर वस्तु को बेचना चाहिए? (Rs. में)</div> <div>(A) <input type="radio"/> 1166</div> <div>1166</div> <div>(B) <input type="radio"/> 1266</div> <div>1266</div> <div>(C) <input type="radio"/> 1366</div> <div>1366</div> <div>(D) <input checked="" type="radio"/> 1066 (Correct Answer) <span>(Chosen option)</span> 1066</div>	
<div>Question No.36</div> <div>Marks: 2.50</div> <div>Bookmark <input type="checkbox"/></div> <div>Find the sum of all 3 digit numbers that leave a remainder of 4 when divided by 5. उन सभी 3 अंकों की संख्याओं का योगफल ज्ञात करें, जिन्हें 5 से विभाजित करने पर शेषफल 4 प्राप्त होता है।</div> <div>(A) <input type="radio"/> 97270</div> <div>97270</div> <div>(B) <input checked="" type="radio"/> 99270 (Correct Answer) <span>(Chosen option)</span> 99270</div> <div>(C) <input type="radio"/> 96270</div> <div>96270</div> <div>(D) <input type="radio"/> 98270</div> <div>98270</div>	
<div>Question No.37</div> <div>Marks: 2.50</div> <div>Bookmark <input type="checkbox"/></div> <div>When a positive number n is divided by 13 leaves the remainder 3, Find the remainder when 7n is divided by 13. जब एक धनात्मक संख्या n को 13 से विभाजित किया जाता है तो शेषफल 3 रहता है, जब 7n को 13 से विभाजित किया जाता है, तो प्राप्त शेषफल ज्ञात कीजिए।</div> <div>(A) <input checked="" type="radio"/> 8 (Correct Answer) <span>(Chosen option)</span> 8</div> <div>(B) <input type="radio"/> 12</div> <div>12</div> <div>(C) <input type="radio"/> 14</div> <div>14</div> <div>(D) <input type="radio"/> 10</div> <div>10</div>	
<div>Question No.38</div> <div>Marks: 2.50</div> <div>Bookmark <input type="checkbox"/></div> <div>Two vessels containing 31 litres and 43 litres quantity of solution, have milk and water in the ratio of 15:16 and 26:17 respectively. If the solutions are mixed with each other, then how many litres of water has to be added in the final solution to make the resulting solution in the ratio 1:1? दो पात्रों में 31 लीटर और 43 लीटर की मात्रा में क्रमशः 15:16 और 26:17 के अनुपात में दूध और पानी का घोल है। घोल को एक-दूसरे के साथ मिलाया जाता है, तो 1:1 के अनुपात में परिणामी घोल बनाने के लिए अंतिम घोल में कितना लीटर पानी मिलाया जाना चाहिए?</div>	

- (A) ☐ 12  
12
- (B) ☐ 6  
6
- (C) ☒ 10 (Chosen option)  
10
- (D) ☐ 8 (Correct Answer)  
8

Question No.39

Marks: 2.50  
Bookmark ☐

Replace the question mark with an option that follows the same logic applied in the first pair.  
BABY : CRAWL :: CROCODILE : ??  
प्रश्नचिन्ह को उस विकल्प से प्रतिस्थापित कीजिए जो प्रथम युग्म में लागू तर्क का अनुसरण करता है।  
BABY : CRAWL :: CROCODILE : ??

- (A) ☐ EAT  
EAT
- (B) ☐ DANCE  
DANCE
- (C) ☐ LIVE  
LIVE
- (D) ☒ SWIM (Correct Answer) (Chosen option)  
SWIM

Question No.40

Marks: 2.50  
Bookmark ☐

A truck, 1625 metres long is running at a speed of 115 km/hr. How many seconds will it take to cross a 1525 metres long train running in the same direction at a speed of 85 km/hr?  
1625 मीटर लंबा एक ट्रक 115 km/hr की चाल से चल रहा है। इसे 85 km/hr की चाल से समान दिशा में चलने वाली 1525 मीटर लंबी ट्रेन को पार करने में कितने सेकंड लगेंगे?

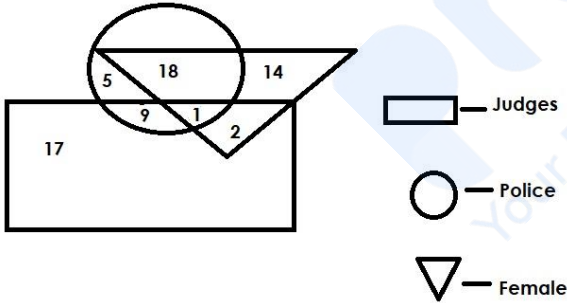
- (A) ☐ 388  
388
- (B) ☐ 408  
408
- (C) ☒ 378 (Correct Answer) (Chosen option)  
378
- (D) ☐ 398  
398

MENTAL APTITUDE - INTELLIGENCE -TEST OF REASONING - MENTAL APTITUDE - INTELLIGENCE -TEST OF REASONING

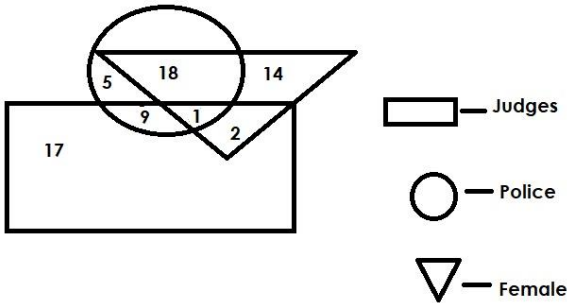
Question No.1

Marks: 2.50  
Bookmark ☐

Which of the following numbers in the Venn Diagram represents females who are judges but not police?



वेन आरेख में निम्नलिखित में से कौन सी संख्या उन महिलाओं को दर्शाती है जो न्यायाधीश हैं लेकिन पुलिस नहीं हैं?



- (A) ☐ 9  
9
- (B) ☐ 1  
1
- (C) ☐ 5  
5
- (D) ☒ 2 (Correct Answer) (Chosen option)  
2

Question No.2

Marks: 2.50  
Bookmark ☐

Four of the following five are alike in a certain way and so form a group. Which is the one that does not belong to that group?  
LP, VZ, CG, MQ, SY  
निम्नलिखित पाँच में से चार एक निश्चित रूप से समान हैं और इसलिए एक समूह बनाते हैं। वह कौन सा है जो उस समूह से संबंधित नहीं है?  
LP, VZ, CG, MQ, SY

- (A) ☐ LP  
LP
- (B) ☒ SY (Correct Answer) (Chosen option)  
SY
- (C) ☐ CG  
CG

CG  
(D) ☐ MQ  
MQ

Question No.3

Marks: 2.50  
Bookmark ☐

In a certain code language, if MUMBAI is coded as UMMBIA, then how is NATURE coded in that language?  
एक निश्चित कूट भाषा में, यदि MUMBAI को UMMBIA के रूप में कूटबद्ध किया जाता है, तो NATURE को उस भाषा में कैसे कूटबद्ध किया जाएगा?

(A) ☒ **ANTUER (Correct Answer)** (Chosen option)  
ANTUER

(B) ☐ ANUTER  
ANUTER

(C) ☐ NURATE  
NURATE

(D) ☐ NTARUE  
NTARUE

Question No.4

Marks: 2.50  
Bookmark ☐

"The Final Form/report (IF5) to be submitted to the court on the completion of the investigation by a Police officer" comes under which of the following sections of the Criminal Procedure Code,1973?  
"पुलिस अधिकारी द्वारा जांच पूरी होने पर अदालत को प्रस्तुत किया जाने वाला अंतिम फॉर्म/रिपोर्ट (IF5)" दंड प्रक्रिया संहिता, 1973 की निम्नलिखित में से किस धारा के अंतर्गत आता है?

(A) ☐ 179 Cr.P.C  
दंड प्रक्रिया संहिता 179

(B) ☐ 182 Cr.P.C (Chosen option)  
दंड प्रक्रिया संहिता 182

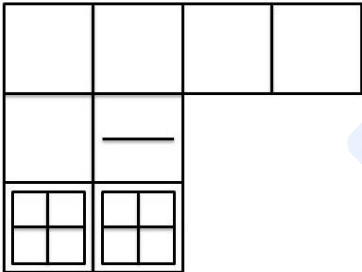
(C) ☒ **173 Cr.P.C (Correct Answer)**  
दंड प्रक्रिया संहिता 173

(D) ☐ 193 Cr.P.C  
दंड प्रक्रिया संहिता 193

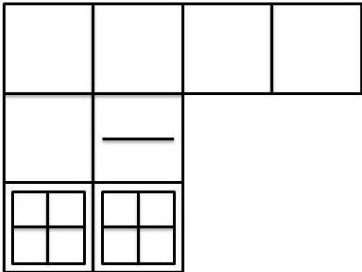
Question No.5

Marks: 2.50  
Bookmark ☐

How many squares are there in the given figure?



दी गई आकृति में कितने वर्ग हैं?



- (A) ☐ 21  
21
- (B) ☐ 24  
24
- (C) ☒ **20 (Correct Answer)** (Chosen option)  
20
- (D) ☐ 18  
18

Question No.6

Marks: 2.50  
Bookmark ☐



Which among the following bodies makes direct recruitment to non-Gazetted ranks in the state police service?  
निम्नलिखित में से कौन सा निकाय राज्य पुलिस सेवा में अराजपत्रित पदों पर सीधी भर्ती करता है?

- (A) ☐ Bureau of Police Research and Development (Chosen option)  
पुलिस अनुसंधान और विकास ब्यूरो
- (B) ☐ Union Public Service Commission  
संघ लोक सेवा आयोग
- (C) ☒ State-level Police Recruitment Board (Correct Answer)  
राज्य स्तरीय पुलिस भर्ती बोर्ड
- (D) ☐ Staff Selection Commission, New Delhi  
कर्मचारी चयन आयोग, नई दिल्ली

Question No.7

Marks: 2.50  
Bookmark ☐

If A = 54, B = 4, C = 18, D = 8, E = 7, then  
A + C × D - B + E = ?  
यदि A = 54, B = 4, C = 18, D = 8, E = 7 है, तो  
A + C × D - B + E = ?

- (A) ☒ 27 (Correct Answer) (Chosen option)  
27
- (B) ☐ 42  
42
- (C) ☐ 45  
45
- (D) ☐ 36  
36

Question No.8

Marks: 2.50  
Bookmark ☐

Choose the alternative which is an odd word/number/letter pair out of the given alternatives.  
वह विकल्प चुनें जो दिए गए विकल्पों में से एक असंगत शब्द/संख्या/अक्षर युग्म हो।

- (A) ☐ Paddy  
Paddy
- (B) ☐ Wheat  
Wheat
- (C) ☒ Meat (Correct Answer) (Chosen option)  
Meat
- (D) ☐ Maize  
Maize

Question No.9

Marks: 2.50  
Bookmark ☐

Find the next term in the given series.  
96, 100, 108, 120, 136, ?  
दी गई श्रेणी में अगली संख्या ज्ञात कीजिए।  
96, 100, 108, 120, 136, ?

- (A) ☐ 160  
160
- (B) ☒ 156 (Correct Answer) (Chosen option)  
156
- (C) ☐ 148  
148
- (D) ☐ 142  
142

Question No.10

Marks: 2.50  
Bookmark ☐

Find the next number in the series.  
697, 602, 486, 349, 191, ?  
श्रेणी में अगली संख्या ज्ञात कीजिए।  
697, 602, 486, 349, 191, ?

- (A) ☐ 11  
11
- (B) ☒ 12 (Correct Answer) (Chosen option)  
12
- (C) ☐ 14  
14
- (D) ☐ 13  
13

Question No.11

Marks: 2.50  
Bookmark ☐

In this question, a passage is given followed by a statement. Read the passage carefully and judge the statement based on the given passage.  
The strong olfactory sense elephants are known for has come as a blessing in disguise for the police in curbing illicit liquor trade in Uttarakhand's Udham Singh Nagar district. The animals find lahan, the substance used for brewing liquor, hidden in forests of Khatima in the district, and destroy them. Manufacturers brew it near nullahs/deep inside the forests or near the villages to avoid police raids as flowing water is required for fermentation.

Lahan is sealed in barrels or polythene bags and buried for four to five days for fermentation. Elephants reach the spot by smelling the substance and destroy the barrels to consume the liquor, said Yogesh Upadhaya, inspector, Khatima police station. He said some traders keep the barrels on scaffoldings on trees but they are easily spotted by the police. "We have destroyed thousands litres of lahan in the past 2-3 months. They were stored in barrels on scaffoldings," said Yogesh Upadhyay, inspector. "Miscreants place barrels of lahan on trees to keep them away from elephants. Elephants find them and destroy the barrels to consume the substance, causing heavy loss to the manufacturers," he added. A villager, said: "The liquor is sold for Rs 80 to 100 per litre in villages. Since it is cheaper than liquor available in the market, people buy it even after knowing its impact on health. Elephants are playing vital role in curbing the trade."

Statement:  
The villagers buy this liquor because it is comparatively cheaper.

Choose the appropriate one from the following options  
A - The statement is definitely true.  
B -The statement is probably true.  
C -The statement cannot be determined.  
D -The statement is definitely false.

इस प्रश्न में, एक गद्यांश के बाद एक कथन दिया गया है। गद्यांश को ध्यान से पढ़ें और दिए गए गद्यांश के आधार पर कथन का आकलन करें।  
हाथी जिस मज़बूत घ्राण संवेदना के लिए जाने जाते हैं वह उत्तराखंड के उधमसिंह नगर जिले में अवैध शराब के कारोबार पर अंकुश लगाने हेतु पुलिस के लिए अभिशाप, वरदान के रूप में साबित हुआ। ये पशु, जिले में खटीमा के वनों में छिपे पदार्थ लाहन को ढूंढ़ते हैं, जो शराब के निसवन के लिए इस्तेमाल किया जाने वाला एक पदार्थ है, और उसे नष्ट कर देते हैं। शराब बनाने वाले, पुलिस के छापे से बचने के लिए जंगलों के अंदर या गांवों में नालों के पास इसका निसवन करते हैं क्योंकि खमीरण के लिए बहता हुआ जल आवश्यक होता है।

लाहन को बैरल या पॉलीथीन बैग में सील कर दिया जाता है और खमीरण के लिए चार से पांच दिनों के लिए दबा दिया जाता है। खटीमा थाने के निरीक्षक योगेश उपाध्याय ने कहा कि हाथी इस पदार्थ को सूंघकर उस स्थान पर पहुँचते हैं और शराब का सेवन करने के लिए बैरल को नष्ट कर देते हैं। उन्होंने कहा कि कुछ व्यापारी पेड़ों के ऊपर मचानों पर बैरल रखते हैं परन्तु पुलिस द्वारा उन्हें आसानी से देखा जा सकता है। योगेश उपाध्याय, निरीक्षक ने कहा "हमने पिछले 2-3 महीनों में हजारों लीटर लाहन को नष्ट किया है। वे मचानों पर बैरल में संग्रहीत थे,"। उन्होंने कहा "बदमाश लाहन के बैरल को हाथियों से दूर रखने के लिए पेड़ों पर रखते हैं। हाथी इस पदार्थ का सेवन करने के लिए इन्हें ढूँढ़ते हैं और बैरल को नष्ट कर देते हैं, जिससे शराब बनाने वालों को भारी नुकसान होता है"। एक ग्रामीण ने कहा, "गाँवों में शराब 80 से 100 रुपये प्रति लीटर में बेची जाती है। क्योंकि यह बाजार में उपलब्ध शराब से सस्ती है, इसलिए लोग स्वास्थ्य पर इसके प्रभाव को जानने के बाद भी इसे खरीदते हैं। हाथी व्यापार पर अंकुश लगाने में महत्वपूर्ण भूमिका निभा रहे हैं।"

**कथन:**  
ग्रामीण इस शराब को इसलिए खरीदते हैं क्योंकि यह तुलनात्मक सस्ती है।

- निम्नलिखित विकल्पों में से उपयुक्त एक चुनें
- A - कथन निश्चित रूप से सत्य है।  
B - कथन शायद सत्य है।  
C - कथन निर्धारित नहीं किया जा सकता है।  
D - कथन निश्चित रूप से असत्य है।
- (A) ☒ **A (Correct Answer)** (Chosen option)  
**A**  
(B) ☐ B  
(C) ☐ D  
(D) ☐ C

Question No.12

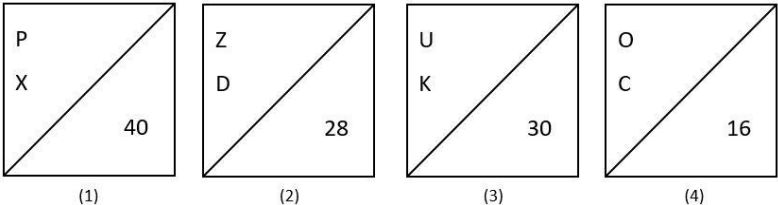
Marks: 2.50  
Bookmark ☐

- In a dice, each face is colored as follows:  
1) Blue is opposite to orange  
2) Green is opposite to Brown  
3) Yellow is opposite to Black  
Which of the following is definitely false?  
A) Black is not adjacent to Green and Brown  
B) Yellow is adjacent to Brown  
C) Black is adjacent to Brown  
D) Green is adjacent to Orange  
एक पासे में, प्रत्येक फलक के रंग इस प्रकार है:  
1) नीला, नारंगी रंग के विपरीत है  
2) हरा, भूरे रंग के विपरीत है  
3) पीला, काले रंग के विपरीत है  
निम्नलिखित में से कौन सा निश्चित रूप से गलत है?  
A) काला, हरे और भूरे रंग के सन्निकट नहीं है  
B) पीला, भूरे रंग के सन्निकट है  
C) काला, भूरे रंग के सन्निकट है  
D) हरा, नारंगी रंग के सन्निकट है
- (A) ☐ D  
**A**  
(B) ☒ **A (Correct Answer)** (Chosen option)  
**A**  
(C) ☐ C  
(D) ☐ B

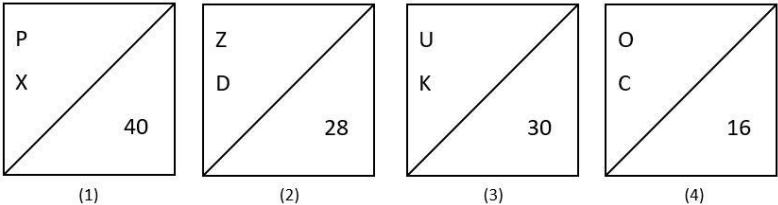
Question No.13

Marks: 2.50  
Bookmark ☐

Find the odd image out in the given series.



दी गई श्रृंखला में से असंगत छवि ज्ञात कीजिए।



- (A) ☐ 2  
**1**  
(B) ☐ 4  
(C) ☐ 3  
(D) ☒ **1 (Correct Answer)** (Chosen option)

Question No.14

Marks: 2.50  
Bookmark ☐

Read the information carefully and answer the following question.

A+B means A is the father of B  
A-B means A is the mother of B  
A\*B means A is the sister of B  
A/B means A is the brother of B

In the given expression **M\*N\*O/P**, if P is male then how is N related to P?  
जानकारी को ध्यान से पढ़ें और निम्नलिखित प्रश्न का उत्तर दें।

A + B का अर्थ है A, B का पिता है  
A - B का अर्थ है A, B की माँ है  
A \* B का अर्थ है A, B की बहन है  
A / B का अर्थ है A, B का भाई है

दिए गए व्यंजक **M\*N\*O/P**, में, यदि P पुरुष है तो N का P से क्या संबंध है?

- (A) ☐ Brother (Chosen option)  
भाई
- (B) ☐ Father  
पिता
- (C) ☐ Mother  
माँ
- (D) ☒ Sister (Correct Answer)  
बहन

Question No.15

Marks: 2.50  
Bookmark ☐

A girl starts at point A and walks 2km towards South, turns right and walks 7km; turns another left and walks 4km. She then takes a right turn and walks 6km; turns left and walks 3km. She then walks 3km towards East and turns left and walks 9km to reach B. How far is A from B?  
एक लड़की बिंदु A से चलना आरंभ करती है और दक्षिण की ओर 2km चलती है, फिर दाएँ मुड़ती है और 7km चलती है; एक बार और बाएँ मुड़ती है और 4km चलती है। फिर वह, दाएँ मुड़ती है और 6km चलती है। फिर वह बाएँ मुड़ने के बाद 3km चलती है। वह फिर पूर्व की ओर 3km चलती है और बाएँ मुड़ती है और B तक पहुँचने के लिए 9km चलती है। A, B से कितनी दूर है?

- (A) ☐ 8km  
8km
- (B) ☐ 12km  
12km
- (C) ☒ 10km (Correct Answer) (Chosen option)  
10km
- (D) ☐ 13km  
13km

Question No.16

Marks: 2.50  
Bookmark ☐

Pointing to a woman, a girl said, "She is the mother of niece of my sister's only maternal aunt who has no brother." How is the woman related to the girl?  
एक महिला को इंगित करते हुए, एक लड़की ने कहा, "वह मेरी बहन की इकलौती मैटरनल आंट, जिसका कोई भाई नहीं है, की नौस की माँ है।" महिला का लड़की से क्या संबंध है?

- (A) ☐ Aunt  
आंट
- (B) ☐ Grandmother  
ग्रैंडमदर
- (C) ☒ Sister (Chosen option)  
बहन
- (D) ☒ Mother (Correct Answer)  
माँ

Question No.17

Marks: 2.50  
Bookmark ☐

Find the next number in the series.  
3, 5, 12, 38, 154, ?  
श्रेणी में अगली संख्या ज्ञात कीजिए।  
3, 5, 12, 38, 154, ?

- (A) ☐ 774  
774
- (B) ☒ 772 (Correct Answer) (Chosen option)  
772
- (C) ☐ 773  
773
- (D) ☐ 775  
775

Question No.18

Marks: 2.50  
Bookmark ☐

If in the number sequence 5 8 9 3 4 6 7 2 6 7 9, all the odd numbers are decreased by one and all the even numbers are decreased by two, then the new number sequence is arranged in ascending order, which will be the fourth number from the left?  
यदि संख्या अनुक्रम 5 8 9 3 4 6 7 2 6 7 9 में, सभी विषम संख्याओं में से एक घटाया जाता है और सभी सम संख्याओं में से दो घटाया जाता है, फिर नए संख्या अनुक्रम को आरोही क्रम में व्यवस्थित किया जाता है, तो बाईं ओर से चौथी संख्या कौन सी होगी?

- (A) ☒ 4 (Correct Answer) (Chosen option)  
4
- (B) ☐ 6  
6
- (C) ☐ 2  
2
- (D) ☐ 8  
8

Question No.19

Marks: 2.50  
Bookmark ☐

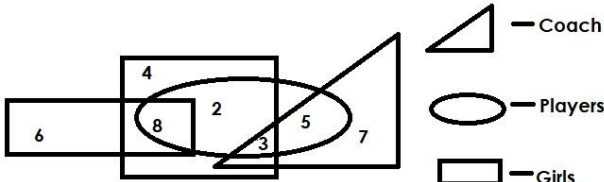
Replace the question mark with an option that follows the same logic applied in the first pair.

46:20::34: ?  
प्रश्नचिह्न को उस विकल्प से प्रतिस्थापित कीजिए, जो प्रथम युग्म में लागू तर्क का अनुसरण करता है।

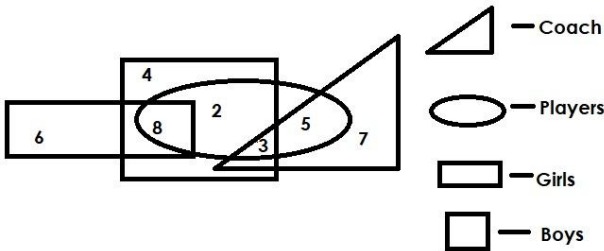
- 46:20::34: ?  
(A) ☒ 14 (Correct Answer) (Chosen option)  
14
- (B) ☐ 13

13 (C) <input type="radio"/> 15 15 (D) <input type="radio"/> 12 12	
<div>Question No.20</div> <div>Marks: 2.50</div> <div>Bookmark <input type="checkbox"/></div> <div>Which of the following states has 'Uniform Civil Code'? निम्नलिखित में से किस राज्य में 'समान नागरिक संहिता' है? (A) <input type="radio"/> Odisha ओडिसा (B) <input type="radio"/> Assam असम (C) <input checked="" type="radio"/> Goa (Correct Answer) (Chosen option) गोवा (D) <input type="radio"/> Haryana हरियाणा</div>	
<div>Question No.21</div> <div>Marks: 2.50</div> <div>Bookmark <input type="checkbox"/></div> <div>Suppose the first and the second letters of the word <b>PERSPIRATION</b> changed places, also the third and the fourth, the fifth and the sixth, and so on. In the new word, thus formed, which letter would be the 6<sup>th</sup> from left? मान लीजिए <b>PERSPIRATION</b> शब्द के पहले और दूसरे अक्षरों के स्थान बदल दिए गए हैं, इसी तरह से तीसरे और चौथे, पाँचवे और छठे और आगे के अक्षरों के भी स्थान बदल दिए गए हैं। इस प्रकार बने नए शब्द में बाएँ से छठा अक्षर कौन सा होगा? (A) <input checked="" type="radio"/> P (Correct Answer) (Chosen option) P (B) <input type="radio"/> T T (C) <input type="radio"/> R R (D) <input type="radio"/> I I</div>	
<div>Question No.22</div> <div>Marks: 2.50</div> <div>Bookmark <input type="checkbox"/></div> <div>Which Article of the Indian Constitution provides that "no person who is arrested shall be denied the right to consult a legal practitioner of his choice"? भारतीय संविधान के किस अनुच्छेद में प्रावधान है कि "गिरफ्तार किया गया कोई भी व्यक्ति अपनी पसंद के विधि व्यवसायी से परामर्श करने के अधिकार से वंचित नहीं रहेगा"? (A) <input type="radio"/> Article 49 अनुच्छेद 49 (B) <input checked="" type="radio"/> Article 22 (Correct Answer) (Chosen option) अनुच्छेद 22 (C) <input type="radio"/> Article 64 अनुच्छेद 64 (D) <input type="radio"/> Article 17 अनुच्छेद 17</div>	
<div>Question No.23</div> <div>Marks: 2.50</div> <div>Bookmark <input type="checkbox"/></div> <div>Kumar's father Arun's son Shankar's wife Hema is the daughter in law of Kumar's father's wife Prema. How is Shankar related to Prema? कुमार के पिता अरुण के बेटे शंकर की पत्नी हेमा, कुमार के पिता की पत्नी प्रेमा की बहू है। शंकर का प्रेमा से क्या संबंध है? (A) <input type="radio"/> Father पिता (B) <input type="radio"/> Daughter बेटी (C) <input checked="" type="radio"/> Son (Correct Answer) (Chosen option) बेटा (D) <input type="radio"/> Mother माँ</div>	
<div>Question No.24</div> <div>Marks: 2.50</div> <div>Bookmark <input type="checkbox"/></div> <div>Find the wrong term in the given series. 87, 94, 100, 108, 115, 120 दो गई श्रेणी में गलत संख्या ज्ञात कीजिए। 87, 94, 100, 108, 115, 120 (A) <input type="radio"/> 115 115 (B) <input checked="" type="radio"/> 108 (Chosen option) 108 (C) <input type="radio"/> 94 94 (D) <input checked="" type="radio"/> 120 (Correct Answer) 120</div>	
<div>Question No.25</div> <div>Marks: 2.50</div> <div>Bookmark <input type="checkbox"/></div> <div>In a certain code language, if SUGAR is coded as HFTZI, then how is MOUTH coded in that language? एक निश्चित कूट भाषा में, यदि SUGAR को HFTZI के रूप में कूटबद्ध किया जाता है, तो MOUTH को उस भाषा में कैसे कूटबद्ध किया जाएगा? (A) <input type="radio"/> PXRKW PXRKW (B) <input type="radio"/> NFLSG NFLSG (C) <input checked="" type="radio"/> NLFGS (Correct Answer) (Chosen option) NLFGS (D) <input type="radio"/> PRXWK PRXWK</div>	
<div>Question No.26</div> <div>Marks: 2.50</div> <div>Bookmark <input type="checkbox"/></div>	

Which of the following numbers in the Venn Diagram represents only players who are boys and girls?



वेन आरेख में निम्नलिखित में से कौन सी संख्या केवल उन खिलाड़ियों को दर्शाती है जो लड़के और लड़कियाँ हैं?



- (A) ☐ 3  
3
- (B) ☒ 8 (Correct Answer) (Chosen option)  
8
- (C) ☐ 2  
2
- (D) ☐ 5  
5

Question No.27

Marks: 2.50  
Bookmark ☐

Read the following statements and answer the following question.

M2N means M is the husband of N  
M4N means M is the wife of N  
M6N means M is the sister of N  
M8N means M is the brother of N

In the equation **P2Q6R6S**, how is P's son related to S?  
निम्नलिखित कथनों को पढ़िए और निम्नलिखित प्रश्न का उत्तर दीजिए।

M2N का अर्थ है, M, N का पति है।  
M4N का अर्थ है, M, N की पत्नी है।  
M6N का अर्थ है, M, N की बहन है।  
M8N का अर्थ है, M, N का भाई है।

समीकरण **P2Q6R6S**, में, P के बेटे का S से क्या संबंध है?

- (A) ☒ Nephew (Correct Answer) (Chosen option)  
नेप्यू
- (B) ☐ Uncle  
अंकल
- (C) ☐ Cousin  
कज़िन
- (D) ☐ Brother  
भाई

Question No.28

Marks: 2.50  
Bookmark ☐

"Creation and Publication of Electronic Signature Certificate for fraudulent purpose" is a punishable offence under which of the following sections of The Information Technology Act, 2000?

धोखाधड़ी के उद्देश्य से इलेक्ट्रॉनिक हस्ताक्षर प्रमाणपत्र का निर्माण और प्रकाशन सूचना प्रौद्योगिकी अधिनियम, 2000 की निम्नलिखित में से किस धारा के तहत एक दंडनीय अपराध है?

- (A) ☐ Section 47  
धारा 47
- (B) ☒ Section 64 (Chosen option)  
धारा 64
- (C) ☐ Section 74 (Correct Answer)  
धारा 74
- (D) ☐ Section 48  
धारा 48

Question No.29

Marks: 2.50  
Bookmark ☐

Replace the question mark with an option that follows the same logic applied in the first pair.

Spearhead : Mislead :: Conceal : ??

प्रश्न चिह्न को उस विकल्प के साथ बदलें, जो पहले युग्म में लागू तर्क का अनुसरण करता है।

Spearhead : Mislead :: Conceal : ??

- (A) ☒ Reveal (Correct Answer) (Chosen option)  
Reveal
- (B) ☐ Hide  
Hide
- (C) ☐ Mask  
Mask
- (D) ☐ Disguise  
Disguise

<div>Question No.30</div> <div>Marks: 2.50</div> <div>Bookmark <input type="checkbox"/></div> <div>All the persons in a row are facing North, A is 8<sup>th</sup> from right and B is 15<sup>th</sup> from the right. If A and B exchange the positions, what is the position of A from left if 25 persons are there in the row? एक पंक्ति के सभी व्यक्ति उत्तर की ओर अभिमुख हैं, A दाईं ओर से 8वें स्थान पर है और B दाईं ओर से 15वें स्थान पर है। यदि A और B स्थानों को आपस में परस्पर बदलते हैं और पंक्ति में 25 व्यक्ति हैं, तो बाईं ओर से A किस स्थान पर है? (A) <input checked="" type="radio"/> 11 (Correct Answer) (Chosen option) 11 (B) <input type="radio"/> 13 13 (C) <input type="radio"/> 12 12 (D) <input type="radio"/> 10 10</div>	
<div>Question No.31</div> <div>Marks: 2.50</div> <div>Bookmark <input type="checkbox"/></div> <div>In India, the minority communities are notified by the Union Government under: भारत में, अल्पसंख्यक समुदायों को केंद्र सरकार द्वारा _____ के अंतर्गत अधिसूचित किया जाता है। (A) <input checked="" type="radio"/> National Commission for Minorities Act, 1992 (Correct Answer) (Chosen option) राष्ट्रीय अल्पसंख्यक आयोग अधिनियम, 1992 (B) <input type="radio"/> National Commission for Scheduled Tribes, 2004 राष्ट्रीय अनुसूचित जनजाति आयोग, 2004 (C) <input type="radio"/> National Commission for Backward Classes, 1993 राष्ट्रीय पिछड़ा वर्ग आयोग, 1993 (D) <input type="radio"/> National Human Rights Commission, 1993 राष्ट्रीय मानवाधिकार आयोग, 1993</div>	
<div>Question No.32</div> <div>Marks: 2.50</div> <div>Bookmark <input type="checkbox"/></div> <div>In this question, relationship between different elements is shown in the statement. This statement is followed by two conclusions:  Statement: <math>H &lt; I \leq S = T; Y &lt; R \leq O &lt; T</math> Conclusions: i) <math>R &lt; I</math> ii) <math>I \leq R</math>  Choose the appropriate one from the following options (A) Only conclusion i follows (B) Only conclusion ii follows (C) Either i or ii follows (D) Neither i nor ii follows (E) Both i and ii follow इस प्रश्न में, कथन में विभिन्न तत्वों के बीच संबंध दर्शाया गया है। इस कथन के बाद दो निष्कर्ष दिए गए हैं:  कथन: <math>H &lt; I \leq S = T; Y &lt; R \leq O &lt; T</math> निष्कर्ष: i) <math>R &lt; I</math> ii) <math>I \leq R</math>  निम्नलिखित विकल्पों में से उपयुक्त विकल्प चुनें (A) केवल निष्कर्ष i अनुसरण करता है (B) केवल निष्कर्ष ii अनुसरण करता है (C) या तो निष्कर्ष i या ii अनुसरण करता है (D) न ही निष्कर्ष i और न ii अनुसरण करता है (E) दोनों निष्कर्ष i और निष्कर्ष ii अनुसरण करते हैं (A) <input type="radio"/> B B (B) <input type="radio"/> A A (C) <input checked="" type="radio"/> D (Chosen option) D (D) <input type="radio"/> C (Correct Answer) C</div>	
<div>Question No.33</div> <div>Marks: 2.50</div> <div>Bookmark <input type="checkbox"/></div> <div>How many such 7s are there in the following number sequence which are neither immediately preceded by 6 nor immediately followed by 8? 8 7 4 3 7 6 7 7 1 7 6 7 9 6 7 4 9 7 6 7 8 7 8 5 6 निम्नलिखित संख्या अनुक्रम में ऐसे कितने 7 हैं जिनके ठीक पहले 6 नहीं है और ठीक बाद में 8 नहीं है? 8 7 4 3 7 6 7 7 1 7 6 7 9 6 7 4 9 7 6 7 8 7 8 5 6 (A) <input type="radio"/> four चार (B) <input checked="" type="radio"/> five (Correct Answer) (Chosen option) पाँच (C) <input type="radio"/> six छः (D) <input type="radio"/> three तीन</div>	
<div>Question No.34</div> <div>Marks: 2.50</div> <div>Bookmark <input type="checkbox"/></div> <div>A box containing the denominations of fifty paise coins, one rupee coins and two rupee coins amount to Rs.315. There are equal number of coins in all denominations. What is the value of fifty paise coins in the box? (In Rs.) एक बॉक्स में पचास पैसे, एक रुपये और दो रुपये के मूल्यवर्ग के सिक्के हैं, जिनका कुल मूल्य Rs.315 है। सभी मूल्यवर्गों में सिक्कों की संख्या समान है। बॉक्स में पचास पैसे के सिक्कों का मूल्य क्या है? (Rs. में) (A) <input type="radio"/> 55 55 (B) <input checked="" type="radio"/> 45 (Correct Answer) (Chosen option) 45 (C) <input type="radio"/> 35 35 (D) <input type="radio"/> 25</div>	

Question No.35

Marks: 2.50  
Bookmark ☐

In which year Jain community was notified as minority community in India?  
भारत में जैन समुदाय को अल्पसंख्यक समुदाय के रूप में किस वर्ष अधिसूचित किया गया था?

(A) ☐ 2000  
2000

(B) ☐ 2010  
2010

(C) ☐ 1995 (Chosen option)  
1995

(D) ☐ 2014 (Correct Answer)  
2014

Question No.36

Marks: 2.50  
Bookmark ☐

A and B are facing North, starting from extreme right A moves to the 6<sup>th</sup> place in left and starting from extreme left B moves to the 7<sup>th</sup> place in right. Now A is to the immediate right of B.  
How many persons are there in the row?  
A और B उत्तर की ओर अभिमुख हैं, दाएँ छोर से शुरू होकर A बाएँ ओर छठे स्थान पर चला जाता है और बाएँ छोर से शुरू होकर B, दाएँ ओर 7वें स्थान पर चला जाता है। अब A, B के ठीक दाएँ है। पंक्ति में कितने व्यक्ति हैं?

(A) ☐ 16  
16

(B) ☐ 17  
17

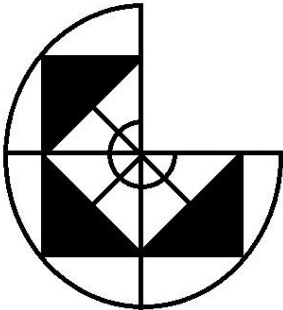
(C) ☐ 15  
15

(D) ☐ 13 (Correct Answer) (Chosen option)  
13

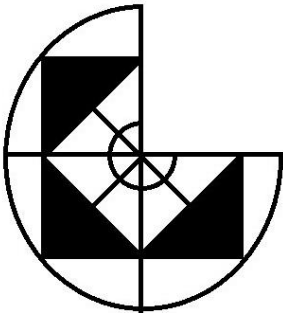
Question No.37

Marks: 2.50  
Bookmark ☐

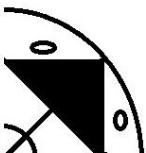
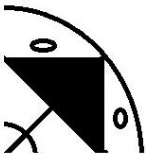
Which one of the following alternatives will perfectly complete the given figure?



निम्नलिखित विकल्पों में से कौन सा विकल्प दी गई आकृति को उत्तम रूप से पूरा करेगा?



(A) ☐



(B) ☐



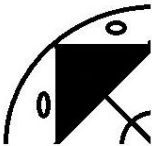
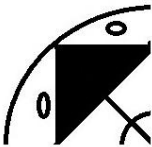
(C) ☒



(Correct Answer) (Chosen option)



(D) ☐



Question No.38

Marks: 2.50

Bookmark ☐

A boy walks 9km towards South, turns right and walks 12km; turns left and walks 6km and reaches the destination. What is the distance travelled by the boy?  
एक लड़का दक्षिण दिशा की ओर 9 km चलता है, दाएँ मुड़ता है और 12 km चलता है; फिर बाएँ मुड़ता है और 6km चलता है और गंतव्य स्थान तक पहुँचता है। लड़के द्वारा तय की गई दूरी क्या है?

- (A) ☐ 32km  
32km
- (B) ☐ 30km  
30km
- (C) ☒ 27km (Correct Answer) (Chosen option)  
27km
- (D) ☐ 25km  
25km

Question No.39

Marks: 2.50

Bookmark ☐

If the last nine letters of the English alphabet series is reversed, which of the following will be the third to the left of the fifth letter from the right end?  
यदि अंग्रेजी वर्णमाला श्रृंखला के अंतिम नौ अक्षरों को व्युत्क्रमित किया गया है, तो निम्नलिखित में से दाएँ छोर से पाँचवें अक्षर के बाईं ओर तीसरा अक्षर कौन सा होगा?

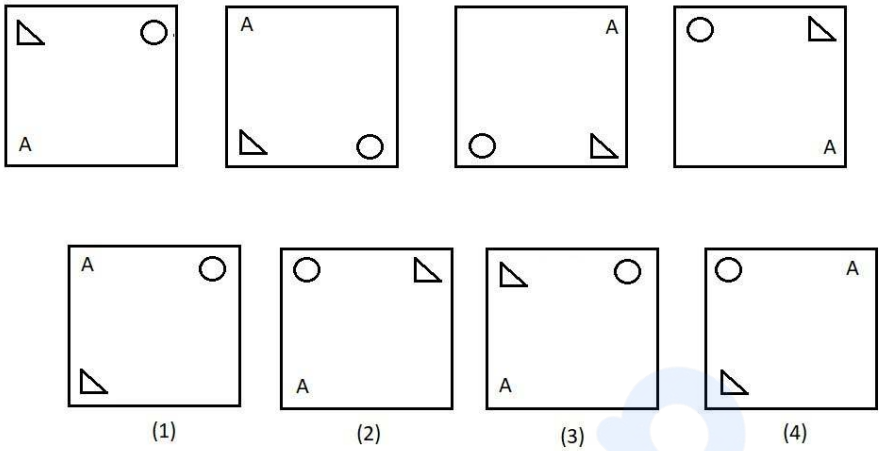
- (A) ☒ Y (Correct Answer) (Chosen option)  
Y
- (B) ☐ X  
X
- (C) ☐ U  
U
- (D) ☐ T  
T



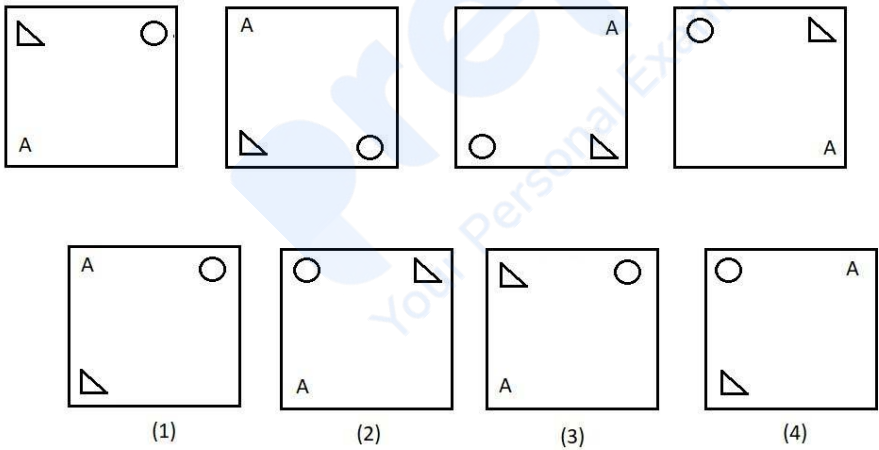
Question No.40

Marks:  
2.50  
Bookmark ☐

Which one of the following images numbered as (1), (2), (3), (4) will be the next image for the given series?



निम्नलिखित (1), (2), (3), (4) से संख्याकित कौन सी छवि दी गई श्रृंखला के लिए अगली छवि होगी?



- (A) ☐ 1  
1  
(B) ☐ 2  
2  
(C) ☒ 3 (Correct Answer) (Chosen option)  
3  
(D) ☐ 4  
4