

Roll No:
Registration No:
Name:
Exam Date: **21-Nov-2021** Exam
Time: **12:30-14:30**
Post Name: **SI Civil 2021**

GENERAL HINDI - GENERAL HINDI

<div><div>Question No.1</div><div>Marks: 2.50</div><div>Bookmark <input type="checkbox"/></div><div>इनमें से 'विद्वान' का स्त्रीलिंग क्या है? इनमें से 'विद्वान' का स्त्रीलिंग क्या है? (A) <input checked="" type="radio"/> विदुषी (Correct Answer) विदुषी (B) <input type="radio"/> विद्वत्ता विद्वत्ता (C) <input type="checkbox"/> विद्वानी (Chosen option) विद्वानी (D) <input type="radio"/> विज्ञ विज्ञ</div></div>
<div><div>Question No.2</div><div>Marks: 2.50</div><div>Bookmark <input checked="" type="checkbox"/></div><div>इनमें से किस कवि को 'कठिन काव्य का प्रेत' कहा गया है? इनमें से किस कवि को 'कठिन काव्य का प्रेत' कहा गया है? (A) <input checked="" type="radio"/> केशवदास (Correct Answer) केशवदास (B) <input type="radio"/> मतिराम मतिराम (C) <input type="checkbox"/> भिखारीदास (Chosen option) भिखारीदास (D) <input type="radio"/> घनानंद घनानंद</div></div>
<div><div>Question No.3</div><div>Marks: 2.50</div><div>Bookmark <input type="checkbox"/></div><div>'मोम-सा तन घुल चुका अब दीप-सा मन जल चुका है।' इस पंक्ति में कौन-सा अलंकार है? 'मोम-सा तन घुल चुका अब दीप-सा मन जल चुका है।' इस पंक्ति में कौन-सा अलंकार है? (A) <input checked="" type="radio"/> पूर्णोपमा (Correct Answer) पूर्णोपमा (B) <input type="checkbox"/> रशनोपमा (Chosen option) रशनोपमा (C) <input type="radio"/> लुप्तोपमा लुप्तोपमा (D) <input type="radio"/> मालोपमा मालोपमा</div></div>
<div><div>Question No.4</div><div>Marks: 2.50</div><div>Bookmark <input type="checkbox"/></div><div>'लेखक की मृत्यु' की घोषणा इनमें से किस विद्वान ने की? 'लेखक की मृत्यु' की घोषणा इनमें से किस विद्वान ने की? (A) <input checked="" type="radio"/> रोला बार्थ (Correct Answer) रोला बार्थ (B) <input type="radio"/> लायन टिलिंग लायन टिलिंग (C) <input type="radio"/> एडमंड विल्सन एडमंड विल्सन (D) <input type="checkbox"/> जैक देरिदा (Chosen option) जैक देरिदा</div></div>
<div><div>Question No.5</div><div>Marks: 2.50</div><div>Bookmark <input type="checkbox"/></div><div>इनमें से किस शब्द की वर्तनी शुद्ध है? इनमें से किस शब्द की वर्तनी शुद्ध है? (A) <input type="checkbox"/> तिरस्कार (Correct Answer) (Chosen option) तिरस्कार (B) <input type="radio"/> तीरश्कार तीरश्कार (C) <input type="radio"/> तिष्कार तिष्कार (D) <input type="radio"/> तिरसकार तिरसकार</div></div>

Question No.6

Marks: 2.50
Bookmark ☒

किस समास का समस्त पद वाक्य में क्रियाविशेषण का काम करता है?
किस समास का समस्त पद वाक्य में क्रियाविशेषण का काम करता है?

(A) ☐ अव्ययीभाव समास (Correct Answer) (Chosen option)
अव्ययीभाव समास

(B) ☐ बहुब्रीहि समास
बहुब्रीहि समास

(C) ☐ द्वंद्व समास
द्वंद्व समास

(D) ☐ द्विगु समास
द्विगु समास

Question No.7

Marks: 2.50
Bookmark ☐

स्थायी भावों के उद्धोधन के कारणों को क्या कहते हैं?
स्थायी भावों के उद्धोधन के कारणों को क्या कहते हैं?

(A) ☐ इनमें से कोई नहीं
इनमें से कोई नहीं

(B) ☐ विभाव (Correct Answer)
विभाव

(C) ☐ संचारी भाव
संचारी भाव

(D) ☐ अनुभाव (Chosen option)
अनुभाव

Question No.8

Marks: 2.50
Bookmark ☐

'बहाव' शब्द में कौन-सा प्रत्यय प्रयुक्त हुआ है?
'बहाव' शब्द में कौन-सा प्रत्यय प्रयुक्त हुआ है?

(A) ☐ हाव
हाव

(B) ☐ बह
बह

(C) ☐ आवा
आवा

(D) ☐ आव (Correct Answer) (Chosen option)
आव

Question No.9

Marks: 2.50
Bookmark ☐

इनमें से कौन-सा व्यंजन 'उष्म' है?
इनमें से कौन-सा व्यंजन 'उष्म' है?

(A) ☐ ज
ज

(B) ☐ ष (Correct Answer) (Chosen option)
ष

(C) ☐ प
प

(D) ☐ व
व

Question No.10

Marks: 2.50
Bookmark ☐

निम्नलिखित में कौन-सा शब्द तद्भव है?
निम्नलिखित में कौन-सा शब्द तद्भव है?

(A) ☐ भिक्षा
भिक्षा

(B) ☐ परशु
परशु

(C) ☐ बिंदु (Chosen option)
बिंदु

(D) ☐ भौरा (Correct Answer)
भौरा

Question No.11

Marks: 2.50
Bookmark ☐

'पूजा' में कौन-सा प्रत्यय है?
'पूजा' में कौन-सा प्रत्यय है?

(A) ☐ आ (Correct Answer) (Chosen option)
आ

(B) ☐ पूज
पूज

(C) ☐ पू
पू

(D) <input type="radio"/> पूज पूज
<div><div>Question No.12</div><div>Marks: 2.50</div><div>Bookmark <input type="checkbox"/></div></div> <p>पालि भाषा का संबंध निम्न में से किस साहित्य से मुख्य रूप से जुड़ा हुआ है?</p> <p>पालि भाषा का संबंध निम्न में से किस साहित्य से मुख्य रूप से जुड़ा हुआ है?</p> <p>(A) <input type="radio"/> सिद्ध साहित्य सिद्ध साहित्य</p> <p>(B) <input type="radio"/> इनमें से कोई नहीं इनमें से कोई नहीं</p> <p>(C) <input checked="" type="radio"/> बौद्ध साहित्य (Correct Answer) (Chosen option) बौद्ध साहित्य</p> <p>(D) <input type="radio"/> जैन साहित्य जैन साहित्य</p>
<div><div>Question No.13</div><div>Marks: 2.50</div><div>Bookmark <input checked="" type="checkbox"/></div></div> <p>'गरुड़' का पर्यायवाची शब्द इनमें से कौन-सा है?</p> <p>'गरुड़' का पर्यायवाची शब्द इनमें से कौन-सा है?</p> <p>(A) <input checked="" type="radio"/> खगेश (Correct Answer) खगेश</p> <p>(B) <input type="radio"/> मघवा मघवा</p> <p>(C) <input type="radio"/> पक्षीनाथ पक्षीनाथ</p> <p>(D) <input type="checkbox"/> जातवेद (Chosen option) जातवेद</p>
<div><div>Question No.14</div><div>Marks: 2.50</div><div>Bookmark <input type="checkbox"/></div></div> <p>जब कर्ता एक काम समाप्त कर उसी क्षण दूसरी क्रिया में प्रवृत्त हो जाए तो उस पहली क्रिया को क्या कहते हैं?</p> <p>जब कर्ता एक काम समाप्त कर उसी क्षण दूसरी क्रिया में प्रवृत्त हो जाए तो उस पहली क्रिया को क्या कहते हैं?</p> <p>(A) <input type="radio"/> सहायक क्रिया सहायक क्रिया</p> <p>(B) <input type="radio"/> संयुक्त क्रिया संयुक्त क्रिया</p> <p>(C) <input type="radio"/> इनमें से कोई नहीं इनमें से कोई नहीं</p> <p>(D) <input checked="" type="radio"/> पूर्वकालिक क्रिया (Correct Answer) (Chosen option) पूर्वकालिक क्रिया</p>
<div><div>Question No.15</div><div>Marks: 2.50</div><div>Bookmark <input checked="" type="checkbox"/></div></div> <p>'वातावरण' में कौन-सा समास है?</p> <p>'वातावरण' में कौन-सा समास है?</p> <p>(A) <input type="radio"/> अव्ययीभाव अव्ययीभाव</p> <p>(B) <input checked="" type="radio"/> षष्ठी तत्पुरुष (Correct Answer) षष्ठी तत्पुरुष</p> <p>(C) <input type="radio"/> द्वंद्व द्वंद्व</p> <p>(D) <input type="checkbox"/> कर्मधारय (Chosen option) कर्मधारय</p>
<div><div>Question No.16</div><div>Marks: 2.50</div><div>Bookmark <input type="checkbox"/></div></div> <p>'जिसकी दो माताएँ हों' के लिए इनमें से उपयुक्त शब्द क्या है?</p> <p>'जिसकी दो माताएँ हों' के लिए इनमें से उपयुक्त शब्द क्या है?</p> <p>(A) <input checked="" type="radio"/> द्वैमातुर (Correct Answer) (Chosen option) द्वैमातुर</p> <p>(B) <input type="radio"/> द्वैमातृका द्वैमातृका</p> <p>(C) <input type="radio"/> सौतेला सौतेला</p> <p>(D) <input type="radio"/> द्विमाता द्विमाता</p>
<div><div>Question No.17</div><div>Marks: 2.50</div><div>Bookmark <input type="checkbox"/></div></div> <p>"रोगी चल नहीं सकता" का भाववाच्य में रूपांतरण क्या होगा?</p> <p>"रोगी चल नहीं सकता" का भाववाच्य में रूपांतरण क्या होगा?</p> <p>(A) <input type="checkbox"/> रोगी से चला नहीं जाता (Correct Answer) (Chosen option) रोगी से चला नहीं जाता</p> <p>(B) <input type="radio"/> रोगी चल नहीं पाएगा</p>

<div>रोगी चल नहीं पाएगा</div> <div>(C) <input type="radio"/> रोगी चल नहीं पा रहा है रोगी चल नहीं पा रहा है</div> <div>(D) <input type="radio"/> रोगी नहीं चलेगा रोगी नहीं चलेगा</div>	
<div>Question No.18</div> <div>Marks: 2.50</div> <div>Bookmark <input type="checkbox"/></div> <div>साहित्य अकादमी की स्थापना कब हुई थी? साहित्य अकादमी की स्थापना कब हुई थी?</div> <div>(A) <input type="radio"/> 12 मार्च 1954 (Correct Answer) 12 मार्च 1954</div> <div>(B) <input type="radio"/> 4 मार्च 1955 4 मार्च 1955</div> <div>(C) <input type="radio"/> 10 मार्च 1956 (Chosen option) 10 मार्च 1956</div> <div>(D) <input type="radio"/> 10 मई 1957 10 मई 1957</div>	
<div>Question No.19</div> <div>Marks: 2.50</div> <div>Bookmark <input checked="" type="checkbox"/></div> <div>इनमें से 'चिरंतन' का विलोम क्या है? इनमें से 'चिरंतन' का विलोम क्या है?</div> <div>(A) <input type="radio"/> अनश्वर अनश्वर</div> <div>(B) <input type="radio"/> अल्पजीवी अल्पजीवी</div> <div>(C) <input type="radio"/> नश्वर (Correct Answer) नश्वर</div> <div>(D) <input type="radio"/> क्षणिक (Chosen option) क्षणिक</div>	
<div>Question No.20</div> <div>Marks: 2.50</div> <div>Bookmark <input type="checkbox"/></div> <div>निम्न में से कौन-सा शब्द 'अज' के अर्थ को स्पष्ट कर रहा है? निम्न में से कौन-सा शब्द 'अज' के अर्थ को स्पष्ट कर रहा है?</div> <div>(A) <input type="radio"/> अमर अमर</div> <div>(B) <input type="radio"/> ब्रह्मा (Correct Answer) (Chosen option) ब्रह्मा</div> <div>(C) <input type="radio"/> इतर इतर</div> <div>(D) <input type="radio"/> लेप लेप</div>	
<div>Question No.21</div> <div>Marks: 2.50</div> <div>Bookmark <input checked="" type="checkbox"/></div> <div>"दांत गिनना" मुहावरे का क्या अर्थ है? "दांत गिनना" मुहावरे का क्या अर्थ है?</div> <div>(A) <input type="radio"/> गहरी दोस्ती गहरी दोस्ती</div> <div>(B) <input type="radio"/> उम्र पता लगाना (Correct Answer) (Chosen option) उम्र पता लगाना</div> <div>(C) <input type="radio"/> चकित करना चकित करना</div> <div>(D) <input type="radio"/> बोलने से रोकना बोलने से रोकना</div>	
<div>Case Study - 22 to 24</div> <div>Marks: 7.50</div> <div>अनुच्छेद पढ़कर दिए गए प्रश्नों के सही उत्तर चुनिए :- श्रम का महत्व सर्वविदित है। इसके माध्यम से मानव विशाल बाढ़ को नियंत्रित करता है। गरजते तथा उफनते सागर की लहरों को चीरकर जलपोत चलाकर आगे बढ़ता है। विशाल पर्वतों के मध्य से राह खोजता है। दुरूह समस्याओं को पलक झपकते ही हल करता है। उद्योगी मानव को ही लक्ष्मी वरण करती है। श्रम जीवन में उत्थान की कुंजी है। श्रम लक्ष्य की ओर बढ़ने तथा उसे प्राप्त कराने में सहायक है। श्रमजीवी मानव राष्ट्र का आभूषण है। आदर्श जीवन का प्रतीक है। किसी कवि के शब्दों में, 'गति का नाम अमर जीवन है। निष्क्रियता ही घोर मरण है। जीवन के क्षेत्र में श्रम अनिवार्य है। श्रम किए बिना किसी भी व्यक्ति को रोटी खाने का अधिकार नहीं है। ईश्वर ने हमें दो हाथ-पैर दिए हैं, वे परिश्रम करने के लिए ही हैं। राष्ट्रीय उत्थान और आत्मोन्नति के लिए श्रम तथा सतत उद्यमशीलता परम आवश्यक है। अतः जो आदमी एक क्षण भी व्यर्थ गँवाता है, वह ईश्वर का अपमान करता है। अपने राष्ट्र का अहित करता है। आज देश में जो भयानक गरीबी और बेकारी है उसे देखकर अत्यंत दुख होता है। शरीर श्रम करने में जो गौरव है, उसे हम नहीं जानते। भारत का मनुष्य अपने व्यवसाय से हटकर कार्य में अपमान समझता है यदि सब श्रम करें तो धनी-गरीब ऊँच-नीच का भेदभाव समाप्त हो जाए। आज जो जनसंख्या वृद्धि हो रही है, उसके मूल में श्रम न करना है। महात्मा गाँधी जी ने कहा था, यदि सब लोग अपने को परिश्रम की कमाई खाएँ तो दुनिया में अन्न की कमी न रहे, और सबको अवकाश का समय भी मिले।</div>	
<div>Question No.22</div> <div>Marks: 2.50</div> <div>Bookmark <input type="checkbox"/></div> <div>श्रम के बिना व्यक्ति को क्या खाने का अधिकार नहीं है? श्रम के बिना व्यक्ति को क्या खाने का अधिकार नहीं है?</div> <div>(A) <input type="radio"/> सब्जी सब्जी</div> <div>(B) <input type="radio"/> मिठाई</div>	

<div>मिठाई</div> <div>(C) <input type="radio"/> रोटी (Correct Answer) (Chosen option)</div> <div>रोटी</div> <div>(D) <input type="radio"/> पैसा</div> <div>पैसा</div>	
<div>Question No.23</div> <div>Marks: 2.50</div> <div>Bookmark <input type="checkbox"/></div> <div>राष्ट्र का आभूषण किसको कहा गया है?</div> <div>राष्ट्र का आभूषण किसको कहा गया है?</div> <div>(A) <input type="radio"/> श्रमजीवी मानव (Correct Answer) (Chosen option)</div> <div>श्रमजीवी मानव</div> <div>(B) <input type="radio"/> संतोषी मानव</div> <div>संतोषी मानव</div> <div>(C) <input type="radio"/> आलसी मानव</div> <div>आलसी मानव</div> <div>(D) <input type="radio"/> बुद्धिजीवी मानव</div> <div>बुद्धिजीवी मानव</div>	
<div>Question No.24</div> <div>Marks: 2.50</div> <div>Bookmark <input type="checkbox"/></div> <div>महात्मा गाँधी जी लोगों को किसकी कमाई खाने के लिए कहा है?</div> <div>महात्मा गाँधी जी लोगों को किसकी कमाई खाने के लिए कहा है?</div> <div>(A) <input type="radio"/> खेती</div> <div>खेती</div> <div>(B) <input type="radio"/> दुकान</div> <div>दुकान</div> <div>(C) <input type="radio"/> ईमानदारी</div> <div>ईमानदारी</div> <div>(D) <input type="radio"/> परिश्रम (Correct Answer) (Chosen option)</div> <div>परिश्रम</div>	
<div>Question No.25</div> <div>Marks: 2.50</div> <div>Bookmark <input checked="" type="checkbox"/></div> <div>‘आवारा मसीहा’ इनमें से किसके जीवन पर केन्द्रित कृति है?</div> <div>‘आवारा मसीहा’ इनमें से किसके जीवन पर केन्द्रित कृति है?</div> <div>(A) <input type="radio"/> राहुल सांकृत्यायन</div> <div>राहुल सांकृत्यायन</div> <div>(B) <input type="radio"/> प्रेमचंद</div> <div>प्रेमचंद</div> <div>(C) <input type="radio"/> रवीन्द्रनाथ टैगोर</div> <div>रवीन्द्रनाथ टैगोर</div> <div>(D) <input type="radio"/> शरतचंद्र (Correct Answer) (Chosen option)</div> <div>शरतचंद्र</div>	
<div>Question No.26</div> <div>Marks: 2.50</div> <div>Bookmark <input type="checkbox"/></div> <div>निम्नलिखित में से किस भाषा को 92वे संविधान संशोधन अधिनियम, 2003 के तहत संविधान की आठवीं अनुसूची में नहीं शामिल किया गया-</div> <div>निम्नलिखित में से किस भाषा को 92वे संविधान संशोधन अधिनियम, 2003 के तहत संविधान की आठवीं अनुसूची में नहीं शामिल किया गया-</div> <div>(A) <input type="radio"/> संथाली</div> <div>संथाली</div> <div>(B) <input type="radio"/> मैथिली</div> <div>मैथिली</div> <div>(C) <input type="radio"/> डोगरी</div> <div>डोगरी</div> <div>(D) <input type="radio"/> तमिल (Correct Answer) (Chosen option)</div> <div>तमिल</div>	
<div>Question No.27</div> <div>Marks: 2.50</div> <div>Bookmark <input type="checkbox"/></div> <div>निम्नलिखित शब्दों में से कौन-सा शब्द भिन्न है?</div> <div>निम्नलिखित शब्दों में से कौन-सा शब्द भिन्न है?</div> <div>(A) <input type="radio"/> लावारिस (Correct Answer)</div> <div>लावारिस</div> <div>(B) <input type="radio"/> सजग</div> <div>सजग</div> <div>(C) <input type="radio"/> संयोग (Chosen option)</div> <div>संयोग</div> <div>(D) <input type="radio"/> विदेश</div> <div>विदेश</div>	
<div>Question No.28</div> <div>Marks: 2.50</div> <div>Bookmark <input checked="" type="checkbox"/></div> <div>सर्वनाम के कितने भेद होते हैं?</div> <div>सर्वनाम के कितने भेद होते हैं?</div>	

<div>(A) <input type="radio"/> 3 3</div> <div>(B) <input type="radio"/> 7 7</div> <div>(C) <input checked="" type="radio"/> 6 (Correct Answer) 6</div> <div>(D) <input type="radio"/> 5 (Chosen option) 5</div>	
<div>Question No.29</div> <div>Marks: 2.50</div> <div>Bookmark <input type="checkbox"/></div> <div>"मैं पढ़ूँगा" किस काल का उदाहरण है? "मैं पढ़ूँगा" किस काल का उदाहरण है?</div> <div>(A) <input type="radio"/> संभाव्य भविष्य का संभाव्य भविष्य का</div> <div>(B) <input type="radio"/> सामान्य भविष्य का (Correct Answer) (Chosen option) सामान्य भविष्य का</div> <div>(C) <input type="radio"/> इनमें से कोई नहीं इनमें से कोई नहीं</div> <div>(D) <input type="radio"/> हेतुहेतुमद भविष्य हेतुहेतुमद भविष्य</div>	
<div>Question No.30</div> <div>Marks: 2.50</div> <div>Bookmark <input checked="" type="checkbox"/></div> <div>भक्ति आंदोलन को इनमें से किस विद्वान ने 'इस्लामी आक्रमण की प्रतिक्रिया' कहा है? भक्ति आंदोलन को इनमें से किस विद्वान ने 'इस्लामी आक्रमण की प्रतिक्रिया' कहा है?</div> <div>(A) <input type="radio"/> विश्वनाथ प्रसाद मिश्र विश्वनाथ प्रसाद मिश्र</div> <div>(B) <input type="radio"/> महावीर प्रसाद द्विवेदी महावीर प्रसाद द्विवेदी</div> <div>(C) <input type="radio"/> रामचंद्र शुक्ल (Correct Answer) (Chosen option) रामचंद्र शुक्ल</div> <div>(D) <input type="radio"/> हजारी प्रसाद द्विवेदी हजारी प्रसाद द्विवेदी</div>	
<div>Question No.31</div> <div>Marks: 2.50</div> <div>Bookmark <input type="checkbox"/></div> <div>'काशिका' किस क्षेत्र की बोली को कहा जाता है? 'काशिका' किस क्षेत्र की बोली को कहा जाता है?</div> <div>(A) <input type="radio"/> आगरा आगरा</div> <div>(B) <input type="radio"/> देहरादून देहरादून</div> <div>(C) <input type="radio"/> आरा-भोजपुर आरा-भोजपुर</div> <div>(D) <input type="radio"/> बनारस (Correct Answer) (Chosen option) बनारस</div>	
<div>Question No.32</div> <div>Marks: 2.50</div> <div>Bookmark <input type="checkbox"/></div> <div>'यति' का क्या अर्थ है? 'यति' का क्या अर्थ है?</div> <div>(A) <input type="radio"/> चरण चरण</div> <div>(B) <input type="radio"/> गुण गुण</div> <div>(C) <input type="radio"/> विराम (Correct Answer) (Chosen option) विराम</div> <div>(D) <input type="radio"/> प्रवाह प्रवाह</div>	
<div>Question No.33</div> <div>Marks: 2.50</div> <div>Bookmark <input type="checkbox"/></div> <div>दो शब्दों के बीच प्रयोग किए जाने वाले चिह्न को क्या कहा जाता है? दो शब्दों के बीच प्रयोग किए जाने वाले चिह्न को क्या कहा जाता है?</div> <div>(A) <input type="radio"/> उद्धरण चिह्न उद्धरण चिह्न</div> <div>(B) <input type="radio"/> विवरण चिह्न विवरण चिह्न</div> <div>(C) <input type="radio"/> निर्देशक निर्देशक</div> <div>(D) <input type="radio"/> योजक चिह्न (Correct Answer) (Chosen option) योजक चिह्न</div>	
<div>Question No.34</div> <div>Marks: 2.50</div> <div>Bookmark <input checked="" type="checkbox"/></div>	

इनमें से किस पत्रिका का संपादन भारतेंदु हरिश्चन्द्र ने किया था?
इनमें से किस पत्रिका का संपादन भारतेंदु हरिश्चन्द्र ने किया था?

- (A) ☐ भारत बंधु
भारत बंधु
- (B) ☐ भारत मित्र
भारत मित्र
- (C) ☒ बालाबोधिनी (Correct Answer) (Chosen option)
बालाबोधिनी
- (D) ☐ काशी पत्रिका
काशी पत्रिका

Question No.35

Marks: 2.50
Bookmark ☒

'आनंद कादम्बिनी' पत्रिका कहीं से प्रकाशित होती थी?
'आनंद कादम्बिनी' पत्रिका कहीं से प्रकाशित होती थी?

- (A) ☒ मिर्जापुर (Correct Answer)
मिर्जापुर
- (B) ☐ जबलपुर (Chosen option)
जबलपुर
- (C) ☐ काशी
काशी
- (D) ☐ कानपुर
कानपुर

Question No.36

Marks: 2.50
Bookmark ☐

'सबसे पहले गिना जाने वाला ' के लिए इनमें से उपयुक्त शब्द क्या है?
'सबसे पहले गिना जाने वाला ' के लिए इनमें से उपयुक्त शब्द क्या है?

- (A) ☐ अग्रहरि
अग्रहरि
- (B) ☐ अग्रगणक
अग्रगणक
- (C) ☐ अग्रगामी
अग्रगामी
- (D) ☒ अग्रगण्य (Correct Answer) (Chosen option)
अग्रगण्य

Question No.37

Marks: 2.50
Bookmark ☒

इनमें से कौन-सा शब्द 'नाग' का समानार्थी है?
इनमें से कौन-सा शब्द 'नाग' का समानार्थी है?

- (A) ☐ रथ
रथ
- (B) ☒ हाथी (Correct Answer)
हाथी
- (C) ☐ मोक्ष (Chosen option)
मोक्ष
- (D) ☐ पारा
पारा

Question No.38

Marks: 2.50
Bookmark ☐

इनमें से कौन-सा शब्द हमेशा एकवचन में नहीं रहता है?
इनमें से कौन-सा शब्द हमेशा एकवचन में नहीं रहता है?

- (A) ☐ आकाश
आकाश
- (B) ☐ जनता (Chosen option)
जनता
- (C) ☐ भीड़
भीड़
- (D) ☒ प्राण (Correct Answer)
प्राण

Question No.39

Marks: 2.50
Bookmark ☐

'चूँकि' के साथ आने वाला दूसरा उपवाक्य इनमें से किससे शुरू होता है?
'चूँकि' के साथ आने वाला दूसरा उपवाक्य इनमें से किससे शुरू होता है?

- (A) ☐ प्रायः
प्रायः
- (B) ☒ इसलिए (Correct Answer) (Chosen option)
इसलिए
- (C) ☐ क्योंकि
क्यूँकि
- (D) ☐ जबकि
जबकि

Question No.40

Marks: 2.50
Bookmark ☒

- 'मूर्ति देवी पुरस्कार' किस संस्था द्वारा प्रदान किया जाता है?
'मूर्ति देवी पुरस्कार' किस संस्था द्वारा प्रदान किया जाता है?
- (A) ☐ साहित्य अकादमी
साहित्य अकादमी
- (B) ☐ उत्तर प्रदेश हिंदी संस्थान (Chosen option)
उत्तर प्रदेश हिंदी संस्थान
- (C) ☐ दिल्ली हिंदी अकादमी
दिल्ली हिंदी अकादमी
- (D) ☐ भारतीय ज्ञानपीठ (Correct Answer)
भारतीय ज्ञानपीठ

BASIC LAW - CONSTITUTION AND GENERAL KNOWLEDGE - BASIC LAW - CONSTITUTION AND GENERAL KNOWLEDGE

Question No.1

Marks: 2.50
Bookmark ☐

- The United Nations has recommended _____ police personnel per 1,00,000 citizens to ensure the safety and security of a country.
संयुक्त राष्ट्र ने देश की सलामती और सुरक्षा सुनिश्चित करने के लिए प्रति 1,00,000 नागरिकों के लिए _____ पुलिस कर्मियों की अनुशंसा की है।
- (A) ☐ 237 (Chosen option)
237
- (B) ☐ 222 (Correct Answer)
222
- (C) ☐ 310
310
- (D) ☐ 110
110

Question No.2

Marks: 2.50
Bookmark ☒

- Who was the Governor General of India during the Great Revolt of 1857?
1857 के महान विद्रोह के दौरान भारत के गवर्नर जनरल कौन थे?
- (A) ☐ William Bentinck
विलियम बेंटिक
- (B) ☐ Lord Wellesley (Chosen option)
लॉर्ड वेलेस्ली
- (C) ☐ Lord Canning (Correct Answer)
लॉर्ड कैनिंग
- (D) ☐ Lord Dalhousie
लॉर्ड डलहौजी

Question No.3

Marks: 2.50
Bookmark ☐

- Who was the first Chief Minister of Uttar Pradesh after independence?
स्वतंत्रता के बाद उत्तर प्रदेश के पहले मुख्यमंत्री कौन थे?
- (A) ☐ Pandit Govind Ballabh Pant (Correct Answer) (Chosen option)
पंडित गोविंद बल्लभ पंत
- (B) ☐ Shri Ram Naresh Yadav
श्री राम नरेश यादव
- (C) ☐ Shri Chandrabhanu Gupta
श्री चंद्रभानु गुप्त
- (D) ☐ Dr. Sampooranananda
डॉ. सम्पूर्णानंद

Question No.4

Marks: 2.50
Bookmark ☒

- Which part of the Indian Constitution is described as the 'Magna Carta' of India?
भारतीय संविधान के किस भाग को भारत का 'मैग्ना कार्टा' कहा जाता है?
- (A) ☐ Part V
भाग V
- (B) ☐ Part III (Correct Answer) (Chosen option)
भाग III
- (C) ☐ Part I
भाग I
- (D) ☐ Part IX
भाग IX

Question No.5

Marks: 2.50
Bookmark ☐

In the Indian Constitution the "Financial Emergency" is mentioned in:
भारतीय संविधान में "वित्तीय आपातकाल" का उल्लेख _____ में किया गया है।

- (A) ☐ Article 352
अनुच्छेद 352
- (B) ☒ Article 360 (Correct Answer) (Chosen option)
अनुच्छेद 360
- (C) ☐ Article 320
अनुच्छेद 320
- (D) ☐ Article 275
अनुच्छेद 275

Question No.6

Marks: 2.50
Bookmark ☐

An individual is treated as resident if he/she resides in India for _____ days or more during the relevant financial year.
यदि कोई व्यक्ति संबद्ध वित्तीय वर्ष में _____ दिनों या उससे अधिक दिनों के लिए भारत में रहता/रहती है, तो उसे एक निवासी माना जाता है।

- (A) ☐ 152
152
- (B) ☐ 162
162
- (C) ☒ 182 (Correct Answer) (Chosen option)
182
- (D) ☐ 92
92

Question No.7

Marks: 2.50
Bookmark ☐

Which of the following is not an example of operating system?
निम्नलिखित में से कौन सा, ऑपरेटिंग सिस्टम का एक उदाहरण नहीं है?

- (A) ☒ Internet Explorer (Correct Answer) (Chosen option)
इंटरनेट एक्सप्लोरर
- (B) ☐ Windows
विंडोज़
- (C) ☐ Linux
लिनक्स
- (D) ☐ Unix
यूनिक्स

Question No.8

Marks: 2.50
Bookmark ☐

Who is the Ex-officio Chairman of the Rajya Sabha of India?
भारत की राज्यसभा के पदेन अध्यक्ष कौन हैं?

- (A) ☒ Vice-President of India (Correct Answer) (Chosen option)
भारत के उपराष्ट्रपति
- (B) ☐ Home Minister of India
भारत के गृहमंत्री
- (C) ☐ Prime Minister of India
भारत के प्रधानमंत्री
- (D) ☐ President of India
भारत के राष्ट्रपति

Question No.9

Marks: 2.50
Bookmark ☒

Divorce by mutual consent is dealt under _____ of the Hindu Marriage Act, 1955.
आपसी सहमति से तलाक, हिंदू विवाह अधिनियम, 1955 की _____ के तहत आता है।

- (A) ☐ Section 14 (Chosen option)
धारा 14
- (B) ☐ Section 5
धारा 5
- (C) ☐ Section 13
धारा 13
- (D) ☒ Section 13 B (Correct Answer)
धारा 13 B

Question No.10

Marks: 2.50
Bookmark ☐

The Court of Session after passing a sentence of death, shall submit the said proceedings before the _____ for confirmation and execution.
मौत की सज़ा सुनाने के बाद सत्र न्यायालय, उक्त मामले को पुष्टि और कार्यान्वयन के लिए _____ के समक्ष प्रस्तुत करेगा।

- (A) ☐ Tribunal
न्यायाधिकरण
- (B) ☐ Supreme Court
सर्वोच्च न्यायालय
- (C) ☐ Judicial Magistrate (Chosen option)
न्यायिक दंडाधिकारी
- (D) ☒ High Court (Correct Answer)
उच्च न्यायालय

Question No.11

Marks: 2.50
Bookmark ☐

Which of the following organisations is regarded as the successor to the General Agreement on Trade and Tariffs (GATT) ?
निम्नलिखित में से किस संगठन को प्रशुल्क एवं व्यापार पर सामान्य समझौते (जीएटीटी) का परवर्ती (सक्सेसर) माना जाता है?

- (A) ☐ UNESCO
यूनेस्को
- (B) ☐ IMF
अंतर्राष्ट्रीय मुद्रा कोष
- (C) ☐ World Bank
विश्व बैंक
- (D) ☒ WTO (Correct Answer) (Chosen option)
विश्व व्यापार संगठन

Question No.12

Marks: 2.50
Bookmark ☒

Which of the following Articles of the Indian Constitution directs the state "to prohibit the slaughter of cows"?
भारतीय संविधान के निम्नलिखित अनुच्छेद में से कौन सा राज्यों को "गायों के वध पर रोक लगाने" का निर्देश देता है?

- (A) ☐ Article 54
अनुच्छेद 54
- (B) ☐ Article 50
अनुच्छेद 50
- (C) ☒ Article 52 (Chosen option)
अनुच्छेद 52
- (D) ☐ Article 48 (Correct Answer)
अनुच्छेद 48

Question No.13

Marks: 2.50
Bookmark ☐

Which of the following missions aims to promote adolescents' health and well-being through Social and Behaviour Change?
निम्नलिखित में से कौन से मिशन का लक्ष्य, सामाजिक और व्यवहार परिवर्तन के माध्यम से किशोरों के स्वास्थ्य और कल्याण को बढ़ावा देना है?

- (A) ☐ Mother's Absolute Affection Programme
माँ का पूर्ण स्नेह कार्यक्रम
- (B) ☒ Rashtriya Kishor Swasthya Karyakram (Correct Answer) (Chosen option)
राष्ट्रीय किशोर स्वास्थ्य कार्यक्रम
- (C) ☐ Janani Suraksha Yojana
जननी सुरक्षा योजना
- (D) ☐ Swastha Nagrik Abhiyan
स्वस्थ नागरिक अभियान

Question No.14

Marks: 2.50
Bookmark ☐

Which country has joined Global Partnership on Artificial Intelligence (GPAI) as a founding member?
एक संस्थापक सदस्य के रूप में कौन सा देश आर्टिफिशियल इंटेलिजेंस पर वैश्विक साझेदारी (GPAI) में शामिल हुआ है?

- (A) ☐ China
चीन
- (B) ☐ Russia
रूस
- (C) ☐ USA
यू.एस.ए.
- (D) ☒ India (Correct Answer) (Chosen option)
भारत

Question No.15

Marks: 2.50
Bookmark ☐

Who appoints the Attorney General of India?
भारत के महान्यायवादी की नियुक्ति कौन करता है?

- (A) ☐ Prime Minister of India
भारत के प्रधानमंत्री
- (B) ☒ President of India (Correct Answer) (Chosen option)
भारत के राष्ट्रपति
- (C) ☐ Chief Justice of India
भारत के मुख्य न्यायाधीश
- (D) ☐ Union Law Minister
केंद्रीय कानून मंत्री

Question No.16

Marks: 2.50
Bookmark ☐

The National Human Rights Commission established under the Protection of Human Rights Act, 1993 is a _____.
राष्ट्रीय मानवाधिकार आयोग, मानव अधिकार संरक्षण अधिनियम, 1993 के तहत स्थापित एक _____ है।

- (A) ☐ Constitutional body (Chosen option)
संवैधानिक निकाय
- (B) ☒ Statutory body (Correct Answer)
सांविधिक निकाय
- (C) ☐ Executive body
कार्यकारी निकाय
- (D) ☐ None of the Above
अर्ध-न्यायिक निकाय

Question No.17

Marks: 2.50
Bookmark ☐

Which of the following acts provides the regulations for "Transfer or issue of security by a person living outside India"?
निम्नलिखित में से कौन सा अधिनियम "भारत से बाहर रहने वाले व्यक्ति द्वारा प्रतिभूति के स्थानांतरण या निर्गम" के लिए विनियम प्रदान करता है?

(A) ☐ Foreign Corrupt Practices Act (FCPA)
विदेशी भ्रष्ट आचरण अधिनियम (एफसीपीए)

(B) ☐ Foreign Contribution (Regulation) Act
विदेशी योगदान (विनियमन) अधिनियम

(C) ☐ Securities and Exchange Commission Act (SEC) (Chosen option)
प्रतिभूति और विनियम आयोग अधिनियम (एसईसी)

(D) ☒ Foreign Exchange Management Act (FEMA) (Correct Answer)
विदेशी मुद्रा प्रबंधन अधिनियम (फेमा)

Question No.18

Marks: 2.50
Bookmark ☐

Coral is an example of symbiotic relationship between coral polyps and _____.
प्रवाल (कोरल), प्रवाल पुर्वगक (कोरल पॉलीप्स) और _____ के बीच सहजीवी संबंध का एक उदाहरण है।

(A) ☒ Zooxanthellae (Correct Answer) (Chosen option)
ज़ोक्सांथेला

(B) ☐ Clostridium
क्लोस्ट्रीडियम

(C) ☐ Salmonella
साल्मोनेला

(D) ☐ Rhizobium
राइज़ोबियम

Question No.19

Marks: 2.50
Bookmark ☐

The National Green Tribunal was established in the year _____.
राष्ट्रीय हरित अधिकरण (नेशनल ग्रीन ट्रिब्यूनल) वर्ष _____ में स्थापित किया गया था।

(A) ☒ 2010 (Correct Answer) (Chosen option)
2010

(B) ☐ 2015
2015

(C) ☐ 2005
2005

(D) ☐ 2020
2020

Question No.20

Marks: 2.50
Bookmark ☐

Which among the following is an example of laws passed by the Parliament after States made a request to the Parliament to legislate on a matter in the State List?
निम्नलिखित में से कौन सा, राज्य सूची में किसी मामले पर संसद को कानून बनाने के लिए राज्यों द्वारा अनुरोध करने के बाद संसद द्वारा पारित कानूनों का एक उदाहरण है?

(A) ☐ The Rights of Persons with Disabilities Act, 2016
विकलांग व्यक्तियों का अधिकार अधिनियम, 2016

(B) ☒ The Muslim Women (Protection of Rights on Marriage) Act, 2019 (Chosen option)
मुस्लिम महिला (विवाह पर अधिकारों का संरक्षण) अधिनियम, 2019

(C) ☐ The Fugitive Economic Offenders Act, 2018
भगोड़ा आर्थिक अपराधी अधिनियम, 2018

(D) ☒ Wild Life (Protection) Act, 1972 (Correct Answer)
वन्यजीव (संरक्षण) अधिनियम, 1972

Question No.21

Marks: 2.50
Bookmark ☐

Who has the authority to make provisions with respect to the maintenance of accounts by the Panchayats and the auditing of such accounts?
पंचायतों द्वारा खातों के रखरखाव और ऐसे खातों की लेखापरीक्षा (ऑडिटिंग) के संबंध में प्रावधान करने का अधिकार किसे है?

(A) ☐ Comptroller and Auditor General of India
भारत के नियंत्रक और महालेखा परीक्षक

(B) ☒ State Legislature (Correct Answer)
राज्य विधायिका

(C) ☐ Parliament
संसद

(D) ☒ State Finance Commission (Chosen option)
राज्य वित्त आयोग

Question No.22

Marks: 2.50
Bookmark ☐

To which among the following authorities, does National commission for Backward Classes submit its annual report?
पिछड़े वर्ग का राष्ट्रीय आयोग निम्नलिखित में से किस प्राधिकारी को अपनी वार्षिक रिपोर्ट प्रस्तुत करता है?

(A) ☒ President of India (Correct Answer)
भारत के राष्ट्रपति

(B) ☒ Union Minister for Minority Affairs (Chosen option)
अल्पसंख्यक मामलों के केंद्रीय मंत्री

(C) ☐ Prime Minister of India
भारत के प्रधानमंत्री

(D) ☐ Speaker of Lok Sabha
लोकसभा अध्यक्ष

Question No.23

Marks: 2.50
Bookmark ☐

When was the Poona Pact signed between Gandhiji and Dr. BR Ambedkar?
गांधीजी और डॉ. बी.आर. अंबेडकर के बीच हुए पूना समझौते (पैक्ट) पर कब हस्ताक्षर किए गए थे?

(A) ☐ July, 1932
जुलाई 1932

(B) ☐ November, 1932
नवंबर, 1932

(C) ☐ August, 1932 (Chosen option)
अगस्त, 1932

(D) ☐ September, 1932 (Correct Answer)
सितंबर, 1932

Question No.24

Marks: 2.50
Bookmark ☐

The price for crops that announced at the beginning of the sowing season is called _____.
बुवाई के मौसम की शुरुआत में घोषित फसलों का मूल्य _____ कहलाता है।

(A) ☐ Minimum Support Price (Correct Answer) (Chosen option)
न्यूनतम समर्थन मूल्य

(B) ☐ Issue Price
निर्गम मूल्य

(C) ☐ Ceiling Price
उच्चतम मूल्य

(D) ☐ Buffer Price
बफर मूल्य

Question No.25

Marks: 2.50
Bookmark ☐

Which of the following is an indicator of Human Development Index?
निम्नलिखित में से कौन सा, मानव विकास सूचकांक का एक संकेतक है?

(A) ☐ Livelihood Opportunities (Chosen option)
आजीविका के अवसर

(B) ☐ Poverty Ratio
गरीबी अनुपात

(C) ☐ Life Expectancy at Birth (Correct Answer)
जन्म के समय अनुमानित जीवन-काल

(D) ☐ Condition of Environment
पर्यावरण की स्थिति

Question No.26

Marks: 2.50
Bookmark ☐

When did the historic case of Kesavananda Bharati vs State of Kerala come to conclusion in the Supreme Court?
केशवानंद भारती बनाम केरल राज्य का ऐतिहासिक मामला सर्वोच्च न्यायालय में कब समाप्त हुआ था?

(A) ☐ 1967
1967

(B) ☐ 1969
1969

(C) ☐ 1971
1971

(D) ☐ 1973 (Correct Answer) (Chosen option)
1973

Question No.27

Marks: 2.50
Bookmark ☐

No person shall be granted a learners licence to drive a transport vehicle unless he has held a driving Licence to drive light motor vehicles for at least _____
किसी व्यक्ति को परिवहन वाहन चलाने के लिए शिक्षार्थी अनुज्ञा पत्र (लर्नर लाइसेंस) नहीं दिया जाएगा जब तक कि उसे कम से कम _____ तक हल्के मोटर वाहन चलाने का चालन अनुज्ञा पत्र (डाइविंग लाइसेंस) न प्राप्त हो।

(A) ☐ Two years
दो वर्ष

(B) ☐ One year (Correct Answer)
एक वर्ष

(C) ☐ Four years
चार वर्ष

(D) ☐ Three years (Chosen option)
तीन वर्ष

Question No.28

Marks: 2.50
Bookmark ☒

Presenting someone's ideas as one's own idea is called _____.
किसी दूसरे के विचारों को अपने स्वयं के विचार के रूप में प्रस्तुत करना _____ कहलाता है।

(A) ☐ Anonymity
अनामिता

(B) ☐ Plagiarism (Correct Answer)
साहित्यिक चोरी

(C) ☐ Nepotism
स्वजन-पक्षपात

(D) ☐ Despotism (Chosen option)
स्वेच्छाचारिता

Question No.29

Marks: 2.50
Bookmark ☐

Land acquisition made for private companies for public purposes requires prior consent of at least _____ of landholders.
सार्वजनिक प्रयोजनों के लिए निजी कंपनियों द्वारा भूमि अधिग्रहण के लिए, कम से कम _____ भूमिधारकों की पूर्व सहमति की आवश्यकता होती है।

(A) ☐ 60%
60%

(B) ☐ 50% (Chosen option)
50%

(C) ☐ 70%
70%

(D) ☒ 80% (Correct Answer)
80%

Question No.30

Marks: 2.50
Bookmark ☒

Which of the following Constitutional amendment Acts inserted new Part XIVA on 'Tribunals' in the Constitution?
किस संवैधानिक संशोधन द्वारा भारतीय संविधान में 'न्यायाधिकरण (ट्रिब्यूनल)' पर नया भाग XIVA से संबंधित प्रावधानों को जोड़ा गया था?

(A) ☐ 99th Amendment (Chosen option)
99वाँ संशोधन

(B) ☒ 42nd Amendment (Correct Answer)
42वाँ संशोधन

(C) ☐ 71st Amendment
71वाँ संशोधन

(D) ☐ 50th Amendment
50वाँ संशोधन

Question No.31

Marks: 2.50
Bookmark ☐

Which of the following festivals is also called spring festival?
निम्नलिखित में से किस त्योहार को वसंत त्योहार भी कहा जाता है?

(A) ☒ Holi (Correct Answer) (Chosen option)
होली

(B) ☐ Maha Shivratri
महा शिवरात्रि

(C) ☐ Ayudha Puja
आयुध पूजा

(D) ☐ Diwali
दिवाली

Question No.32

Marks: 2.50
Bookmark ☐

The Measurement of land for correct boundaries in a city is done by _____.
एक शहर में सही सीमाओं के लिए भूमि का मापन _____ द्वारा किया जाता है।

(A) ☐ Municipality officers
नगरपालिका अधिकारियों

(B) ☐ Land Acquisition officers (Chosen option)
भूमि अधिग्रहण अधिकारियों

(C) ☒ City survey officers (Correct Answer)
शहर/नगर सर्वेक्षण अधिकारियों

(D) ☐ Law enforcement officers
कानून प्रवर्तन अधिकारियों

Question No.33

Marks: 2.50
Bookmark ☒

Inclusive Internet Index is released by which organisation?
समावेशी इंटरनेट सूचकांक (इन्क्लुज़िव इंटरनेट इंडेक्स) किस संगठन द्वारा जारी किया जाता है?

(A) ☒ Economist Intelligence Unit (Correct Answer)
अर्थशास्त्री खुफ़ीया इकाई

(B) ☐ Organisation for Economic Cooperation And Development
आर्थिक सहयोग और विकास संगठन

(C) ☐ International Institute for Economics and Peace
अर्थशास्त्र और शांति के लिए अंतर्राष्ट्रीय संस्थान

(D) ☐ United Nations Conference For Trade and Development (Chosen option)
व्यापार और विकास के लिए संयुक्त राष्ट्र सम्मेलन

Question No.34

Marks: 2.50
Bookmark ☐

What is the basis of identity theft and identity fraud?
पहचान की चोरी और पहचान की धोखेबाज़ी का आधार क्या है?

(A) ☐ access to public information
सार्वजनिक सूचना तक पहुँच

(B) ☒ Access to personal information (Correct Answer) (Chosen option)
व्यक्तिगत जानकारी तक पहुँच

(C) ☐ public access to information
सूचना तक सार्वजनिक पहुँच

(D) ☐ denial of access to personal information
व्यक्तिगत जानकारी तक पहुँच से इनकार

Question No.35

Marks: 2.50
Bookmark ☐

In which of the following Indian states Nanda Devi Biosphere Reserve is located?
नंदा देवी जैवमण्डल निचय (बायोस्फीयर रिजर्व) निम्नलिखित में से किस भारतीय राज्य में स्थित है?

(A) ☐ Punjab
पंजाब

(B) ☐ Haryana
हरियाणा

(C) ☐ Himachal Pradesh
हिमाचल प्रदेश

(D) ☒ Uttarakhand (Correct Answer) (Chosen option)
उत्तराखंड

Question No.36

Marks: 2.50
Bookmark ☒

As per the Indian Constitution, the retirement age for the High Court judges is:
भारतीय संविधान के अनुसार, उच्च न्यायालय के न्यायाधीशों के लिए सेवानिवृत्ति की आयु क्या है?

(A) ☐ 65 Years
65 वर्ष

(B) ☒ 62 Years (Correct Answer) (Chosen option)
62 वर्ष

(C) ☐ 55 Years
55 वर्ष

(D) ☐ 60 Years
60 वर्ष

Question No.37

Marks: 2.50
Bookmark ☐

The practice of 'talaq-e-biddat' - triple talaq was set aside in the case of _____.
'तलाक़-ए-बिद्दत' - तिहरा तलाक़ की प्रथा को _____ के मामले में अलग रखा गया था।

(A) ☐ Shabnam Hashmi v. Union of India
शबनम हाशमी बनाम भारत संघ

(B) ☒ Shayara Bano v. Union of India (Correct Answer)
शायरा बानो बनाम भारत संघ

(C) ☐ Jubair Ahmad vs Ishrat Bano
जुबैर अहमद बनाम इशरत बानो

(D) ☐ Sarla Mudgal v. Union Of India (Chosen option)
सरला मुद्गल बनाम भारत संघ

Question No.38

Marks: 2.50
Bookmark ☐

Which constitutional amendment act reduced the voting age from 21 years to 18 years?
किस संवैधानिक संशोधन अधिनियम ने मतदान की आयु को 21 वर्ष से घटाकर 18 वर्ष कर दिया था?

(A) ☐ 31st Constitutional Amendment Act, 1973
31वां संवैधानिक संशोधन अधिनियम, 1973

(B) ☐ 44th Constitutional Amendment Act, 1976
44वां संवैधानिक संशोधन अधिनियम, 1976

(C) ☐ 73rd Constitutional Amendment Act, 1992
73वां संवैधानिक संशोधन अधिनियम, 1992

(D) ☒ 61st Constitutional Amendment Act, 1988 (Correct Answer) (Chosen option)
61वां संवैधानिक संशोधन अधिनियम, 1988

Question No.39

Marks: 2.50
Bookmark ☒

The base component present in the Milk of Magnesia, that is used up as a laxative, is _____.
मिल्क ऑफ मैग्नीशिया में मौजूद क्षारीय घटक, जिसका उपयोग रेचक (लैक्सेटिव) के रूप में किया जाता है, वह _____ है।

(A) ☐ Magnesium chloride
मैग्नीशियम क्लोराइड

(B) ☐ Magnesium carbonate
मैग्नीशियम कार्बोनेट

(C) ☐ Magnesium oxide
मैग्नीशियम ऑक्साइड

(D) ☒ Magnesium hydroxide (Correct Answer) (Chosen option)
मैग्नीशियम हाईड्रॉक्साइड

Question No.40

Marks: 2.50
Bookmark ☐

Which of the following will not be entertained as PIL?
निम्नलिखित में से किसपर, जनहित याचिका (पीआईएल) के रूप में विचार नहीं किया जाएगा?

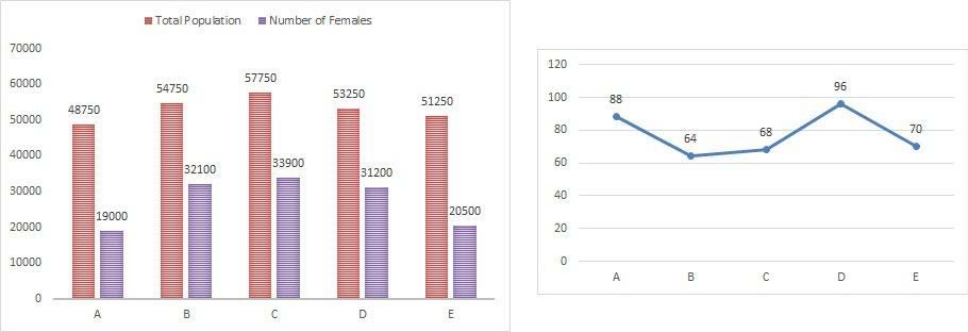
A) Landlord and Tenant matters
B) Service matters Pertaining to pension
C) Petitions from riot-victims
मकान मालिक और किरायेदार मामले
पेंशन (निवृत्ति आय) से संबंधित सेवा मामले
दंगा-पीड़ितों से याचिकाएँ

(A) ☐ B
B

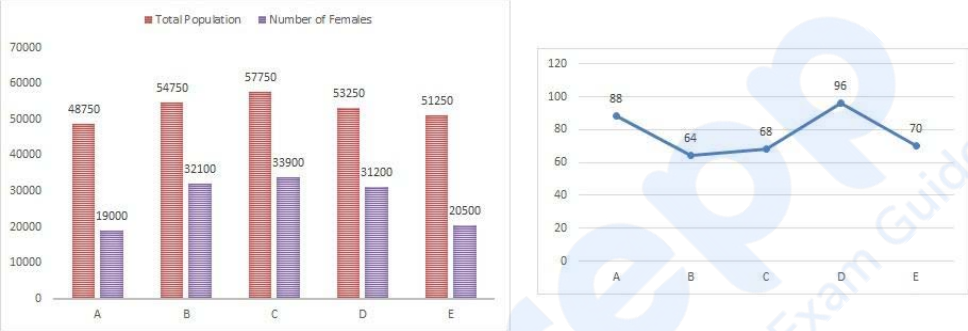
(B) ☒ A&B (Correct Answer)
A और B

<div>(C) <input type="radio"/> A (Chosen option)</div> <div>A</div> <div>(D) <input type="radio"/> C</div> <div>C</div>	
NUMERICAL AND MENTAL ABILITY TEST - NUMERICAL AND MENTAL ABILITY TEST	
<div>Question No.1</div> <div>Replace the question mark with an option that follows the same logic applied in the first pair. ACCOMODATION : ACCOOMTDANIO :: CONSULTATION : ?? प्रश्न चिह्न को उस विकल्प से प्रतिस्थापित करें जो पहले युग्म में लागू तर्क का अनुसरण करता है। ACCOMODATION : ACCOOMTDANIO :: CONSULTATION : ?? (A) <input checked="" type="radio"/> CONLSUTTANIO (Correct Answer) (Chosen option)</div> <div>CONLSUTTANIO</div> <div>(B) <input type="radio"/> CONTULSATNIO</div> <div>CONTULSATNIO</div> <div>(C) <input type="radio"/> CONULSATTNIO</div> <div>CONULSATTNIO</div> <div>(D) <input type="radio"/> CONLUSTATNOI</div> <div>CONLUSTATNOI</div>	<div>Marks: 2.50</div> <div>Bookmark <input type="checkbox"/></div>
<div>Question No.2</div> <div>Select the appropriate set of sequence of mathematical operators to replace all * sign in the following equation & hence to balance it. $8 * 7 * 3 * 29$ निम्नलिखित समीकरण में सभी * चिह्नों को प्रतिस्थापित करने और इसे संतुलित करने के लिए गणितीय संकारकों (ऑपरेटर्स) के अनुक्रम के उपयुक्त समुच्चय का चयन कीजिए। $8 * 7 * 3 * 29$ (A) <input type="radio"/> $x + =$</div> <div>$x + =$</div> <div>(B) <input type="radio"/> $+ x =$</div> <div>$+ x =$</div> <div>(C) <input checked="" type="radio"/> $+ x =$ (Correct Answer) (Chosen option)</div> <div>$+ x =$</div> <div>(D) <input type="radio"/> $- x =$</div> <div>$- x =$</div>	<div>Marks: 2.50</div> <div>Bookmark <input type="checkbox"/></div>
<div>Question No.3</div> <div>What will be written in the place of question mark in the given series? C3H8T20F6?22 दी गई श्रृंखला में प्रश्न चिह्न के स्थान पर क्या लिखा जाएगा? C3H8T20F6?22 (A) <input type="radio"/> T</div> <div>T</div> <div>(B) <input type="radio"/> S</div> <div>S</div> <div>(C) <input checked="" type="radio"/> V (Correct Answer) (Chosen option)</div> <div>V</div> <div>(D) <input type="radio"/> U</div> <div>U</div>	<div>Marks: 2.50</div> <div>Bookmark <input type="checkbox"/></div>
<div>Question No.4</div> <div>A boat goes 279 km downstream in 31 hours and a distance of 210 km upstream in 30 hours. Find the speed of the water. (In kmph) एक नाव 31 घंटे में 279 km धारा प्रवाह के साथ (अनुदिश) चलती है और 30 घंटे में 210 km धारा प्रवाह के प्रतिकूल चलती है। जल की गति ज्ञात कीजिए। (kmph में) (A) <input type="radio"/> 4</div> <div>4</div> <div>(B) <input type="radio"/> 3</div> <div>3</div> <div>(C) <input checked="" type="radio"/> 1 (Correct Answer) (Chosen option)</div> <div>1</div> <div>(D) <input type="radio"/> 2</div> <div>2</div>	<div>Marks: 2.50</div> <div>Bookmark <input type="checkbox"/></div>
<div>Question No.5</div> <div>Find the total surface area of cone whose radius is 5 cm and slant height is 16 cm. (Use $\pi = 22/7$ and $\ln \text{ cm}^2$) उस शंकु का कुल पृष्ठीय क्षेत्रफल ज्ञात कीजिए जिसकी त्रिज्या 5 cm और तिर्यक ऊँचाई 16 cm है। (उपयोग करें $\pi = 22/7$ और cm^2 में) (A) <input type="radio"/> 350</div> <div>350</div> <div>(B) <input type="radio"/> 360</div> <div>360</div> <div>(C) <input checked="" type="radio"/> 330 (Correct Answer) (Chosen option)</div> <div>330</div> <div>(D) <input type="radio"/> 340</div> <div>340</div>	<div>Marks: 2.50</div> <div>Bookmark <input type="checkbox"/></div>
<div>Question No.6</div> <div>Directions: These data are based on the bar graph and line graph. The following bar graph gives the total population of five cities(A, B, C, D and E) and number of females in the cities.</div>	<div>Marks: 2.50</div> <div>Bookmark <input type="checkbox"/></div>

The following line graph gives the percentage of literates among females for each cities.
Find the number of females who are literate from city E.



दिशा-निर्देश:
ये आंकड़े, दण्ड आरेख और रेखा आरेख पर आधारित हैं।
निम्नलिखित दण्ड आरेख, पांच शहरों (A, B, C, D और E) की कुल जनसँख्या और शहरों में महिलाओं की संख्या दर्शाता है।
निम्नलिखित रेखा आरेख, प्रत्येक शहर के लिए साक्षर महिलाओं का प्रतिशत दर्शाता है।
शहर E से साक्षर महिलाओं की संख्या ज्ञात कीजिए।



- (A) ☐ 14350 (Correct Answer) (Chosen option)
14350
- (B) ☐ 15350
15350
- (C) ☐ 13350
13350
- (D) ☐ 16350
16350

Question No.7

Marks: 2.50
Bookmark ☐

When an article sold at Rs.22050 earned a profit of 25% more than that of the loss incurred when the same article is sold at Rs.11025. Find the cost price of the article. (In Rs.)

Rs.22050 में एक वस्तु को बेचने से होने वाला लाभ, उसी वस्तु को Rs.11025 पर बेचने पर होने वाली हानि से 25% अधिक है। वस्तु का क्रय मूल्य ज्ञात कीजिए। (Rs. में)

- (A) ☐ 17925
17925
- (B) ☐ 15925 (Correct Answer)
15925
- (C) ☐ 18925 (Chosen option)
18925
- (D) ☐ 16925
16925

Question No.8

Marks: 2.50
Bookmark ☐

Replace the question mark with an option that follows the same logic applied in the first pair.

DRIVEN : EIDRVN :: SQUARE : ??

प्रश्न चिह्न को उस विकल्प से प्रतिस्थापित करें जो पहले युग्म में लागू तर्क का अनुसरण करता है।

DRIVEN : EIDRVN :: SQUARE : ??

- (A) ☐ RSAQEU
RSAQEU
- (B) ☐ RUSQAE (Correct Answer) (Chosen option)
RUSQAE
- (C) ☐ RSUAQE
RSUAQE
- (D) ☐ RUQSEA
RUQSEA

Question No.9

Marks: 2.50
Bookmark ☐

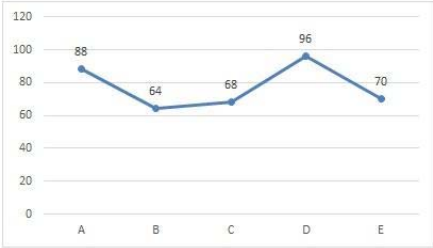
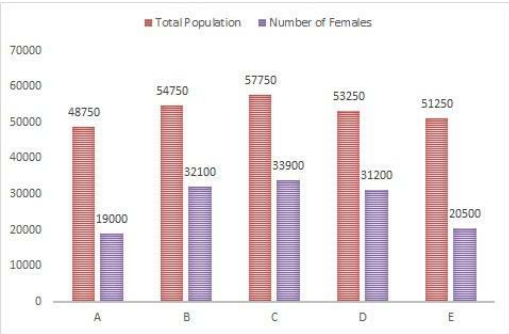
Directions:

These data are based on the bar graph and line graph.

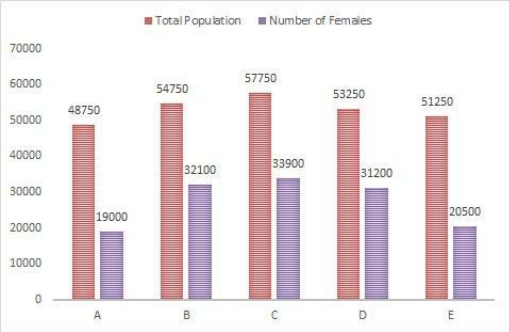
The following bar graph gives the total population of five cities(A, B, C, D and E) and number of females in the cities.

The following line graph gives the percentage of literates among females for each cities.

Find the number of males in city C.



दिशा-निर्देश:
ये आंकड़े, दण्ड आरेख और रेखा आरेख पर आधारित हैं।
निम्नलिखित दण्ड आरेख, पाँच शहरों (A, B, C, D और E) की कुल जनसँख्या और शहरों में महिलाओं की संख्या दर्शाता है।
निम्नलिखित रेखा आरेख, प्रत्येक शहर के लिए साक्षर महिलाओं का प्रतिशत दर्शाता है।
शहर C में पुरुषों की संख्या ज्ञात कीजिए।



- (A) ☐ 24850
24850
- (B) ☒ 23850 (Correct Answer) (Chosen option)
23850
- (C) ☐ 25850
25850
- (D) ☐ 26850
26850

Case Study - 10 to 11

5.00

Directions: In the following questions, few statements are given and these statements are followed by two conclusions numbered i and ii. You have to take the given statements to be true even if they seem to be at variance from commonly known facts. Read the conclusions and then decide which of the given conclusions logically follows from the given statements, disregarding commonly known facts.

- Choose,
- (A) Only (i) conclusion follows
- (B) Only (ii) conclusion follows
- (C) Neither (i) nor (ii) follows
- (D) Both (i) and (ii) follow
- (E) Either (i) or (ii) follows

Question No.10

Marks: 2.50
Bookmark ☐

Statements:
No cycle is motor.
No motor is vehicle.

- Conclusions:**
i) All cycles are vehicles.
ii) Some vehicles are cycles.

कथन:
कोई साइकिल, मोटर नहीं है।
कोई मोटर, वाहन नहीं है।

- निष्कर्ष:**
i) सभी साइकिल, वाहन हैं।
ii) कुछ वाहन, साइकिल हैं।

- (A) ☐ A
A
- (B) ☐ B
B
- (C) ☒ C (Correct Answer) (Chosen option)
C
- (D) ☐ D
D

Question No.11

Marks: 2.50
Bookmark ☐

Statements:
All roads are lanes.
Some lanes are streets.
All streets are blocks.

Conclusions:
i) Some roads are streets.
ii) Some blocks are roads.

कथन:
सभी सड़कें, गलियाँ हैं।
कुछ गलियाँ, स्ट्रीट हैं।
सभी स्ट्रीट, ब्लॉक हैं।

निष्कर्ष:
i) कुछ सड़कें, स्ट्रीट हैं।
ii) कुछ ब्लॉक, सड़कें हैं।

- (A) ☐ A
- (B) ☐ B
- (C) ☒ C (Correct Answer) (Chosen option)
- (D) ☐ D

Case Study - 12 to 13

5.00

Directions: Read the following table and answer the questions given below.
The table represents the marks scored in different subjects by five students.
Maximum mark in each subject is 100.

Students	Subjects				
	Accountancy	Economics	Commerce	computer Science	English
Xin	90	50	70	65	80
Min	65	80	80	70	85
Yin	70	60	65	70	70
Zin	95	65	50	85	80
Win	80	75	70	95	85

Question No.12

Marks: 2.50

Bookmark ☐

What is the overall percentage of Yin?
यिन का कुल प्रतिशत क्या है?

- (A) ☐ 65%
65%
- (B) ☐ 63%
63%
- (C) ☒ 67% (Correct Answer) (Chosen option)
- (D) ☐ 72%
72%

Question No.13

Marks: 2.50

Bookmark ☐

What is the overall percentage of marks obtained by all the students in the subject Economics ?
अर्थशास्त्र विषय में सभी छात्रों द्वारा प्राप्त अंकों का कुल प्रतिशत क्या है?

- (A) ☐ 75%
75%
- (B) ☒ 66% (Correct Answer) (Chosen option)
- (C) ☐ 72%
72%
- (D) ☐ 68%
68%

Question No.14

Marks: 2.50

Bookmark ☐

Select the combination of numbers so that letters arranged accordingly will form a meaningful word.
1. N 2. O 3. A 4. R 5. G
संख्याओं के संयोजन का चयन करें ताकि उसके अनुसार व्यवस्थित किए गए अक्षरों से एक अर्थपूर्ण शब्द बन जाए।

1. N 2. O 3. A 4. R 5. G
- (A) ☐ 2, 4, 1, 3, 5
2, 4, 1, 3, 5
- (B) ☒ 2, 4, 5, 3, 1 (Correct Answer) (Chosen option)
- (C) ☐ 3, 2, 1, 4, 5
3, 2, 1, 4, 5
- (D) ☐ 4, 5, 1, 3, 2
4, 5, 1, 3, 2

Question No.15

Marks: 2.50

Bookmark ☐

A sum of money invested at simple interest becomes 4 times of itself in 9 years. How many times will it become in 21 years time?
साधारण ब्याज पर निवेश की गई धनराशि 9 वर्षों में अपने आप की 4 गुना हो जाती है। ज्ञात कीजिए कि 21 वर्षों में वह कितना गुना हो जाएगी।

<div>(A) <input type="radio"/> 10 (Chosen option) 10</div> <div>(B) <input type="radio"/> 8 (Correct Answer) 8</div> <div>(C) <input type="radio"/> 12 12</div> <div>(D) <input type="radio"/> 6 6</div>	
<div><div>Question No.16</div><div>Marks: 2.50</div><div>Bookmark <input type="checkbox"/></div><div>A child is standing in a lawn facing South-West direction. If the child turns 152.5 degrees in clockwise direction and 62.5 degrees in anti-clockwise direction, which direction will he face now? एक बच्चा मैदान में खड़ा है और दक्षिण-पश्चिम दिशा की ओर अभिमुख है। यदि बच्चा दक्षिणावर्त दिशा में 152.5 डिग्री और वामावर्त दिशा में 62.5 डिग्री मुड़ता है, तो वह अब किस दिशा की ओर अभिमुख है?</div><div>(A) <input type="radio"/> North-East उत्तर-पूर्व</div><div>(B) <input type="radio"/> South-West दक्षिण-पश्चिम</div><div>(C) <input type="radio"/> North-West (Correct Answer) (Chosen option) उत्तर-पश्चिम</div><div>(D) <input type="radio"/> South-East दक्षिण-पूर्व</div></div>	
<div><div>Question No.17</div><div>Marks: 2.50</div><div>Bookmark <input type="checkbox"/></div><div>In this question, a statement is given followed by two conclusions numbered i and ii. You have to assume everything in the statement to be true, then consider the two conclusions together and decide which of them logically follows beyond a reasonable doubt from the information given in the statement. Statement: Only those who score more than 70% in Board exams will get admission in ABC college of Engineering. Vinod scored 76% in Board exams. Conclusion: i) Vinod is eligible to get admission in ABC College of Engineering. ii) Vinod will join ABC College of Engineering. Choose the appropriate one from the following options (A) Only conclusion i follows (B) Only conclusion ii follows (C) Either i or ii follows (D) Neither i nor ii follows and (E) Both i and ii follow. इस प्रश्न में, एक कथन के बाद दो निष्कर्ष i और ii दिए गए हैं। आपको कथन में दिया सब कुछ सत्य मानना है, फिर दोनों निष्कर्षों पर एक साथ विचार करें और निर्णय लें कि उनमें से कौन सा निष्कर्ष, कथन में दी गई जानकारी का उचित संदेह से परे, तार्किक रूप से अनुसरण करता है। कथन: केवल वे लोग जो बोर्ड परीक्षा में 70% से अधिक अंक प्राप्त करेंगे, उन्हें ABC कॉलेज ऑफ इंजीनियरिंग में प्रवेश मिलेगा। बोर्ड परीक्षा में विनोद ने 76% अंक प्राप्त किए। निष्कर्ष: i) विनोद ABC कॉलेज ऑफ इंजीनियरिंग में प्रवेश पाने के लिए पात्र है। ii) विनोद ABC कॉलेज ऑफ इंजीनियरिंग में दाखिला लेगा। निम्नलिखित विकल्पों में से उपयुक्त विकल्प चुनें (A) केवल निष्कर्ष i अनुसरण करता है (B) केवल निष्कर्ष ii अनुसरण करता है (C) या तो i या ii अनुसरण करता है (D) न तो i और न ही ii अनुसरण करता है और (E) i और ii दोनों अनुसरण करते हैं। (A) <input type="radio"/> A (Correct Answer) (Chosen option) A (B) <input type="radio"/> D D (C) <input type="radio"/> E E (D) <input type="radio"/> B B</div></div>	
<div><div>Question No.18</div><div>Marks: 2.50</div><div>Bookmark <input checked="" type="checkbox"/></div><div>Find the highest length which can be used to measure exactly the lengths 72 m, 108 m, 144 m and 180 m. वह अधिकतम लंबाई ज्ञात करें, जिसका उपयोग 72 m, 108 m, 144 m और 180 m की लम्बाइयों को पूर्णतः मापने के लिए किया जा सकता है।</div><div>(A) <input type="radio"/> 42 42</div><div>(B) <input type="radio"/> 38 38</div><div>(C) <input type="radio"/> 40 40</div><div>(D) <input type="radio"/> 36 (Correct Answer) (Chosen option) 36</div></div>	
<div><div>Question No.19</div><div>Marks: 2.50</div><div>Bookmark <input type="checkbox"/></div><div>How many terms are there in G.P 5, 20, 80, ... , 81920? गुणोत्तर श्रेणी 5, 20, 80, ... , 81920 में कितने पद हैं?</div></div>	

- (A) ☐ 6
6
- (B) ☐ 10
10
- (C) ☐ 12
12
- (D) ☒ 8 (Correct Answer) (Chosen option)
8

Question No.20

Marks: 2.50
Bookmark ☒

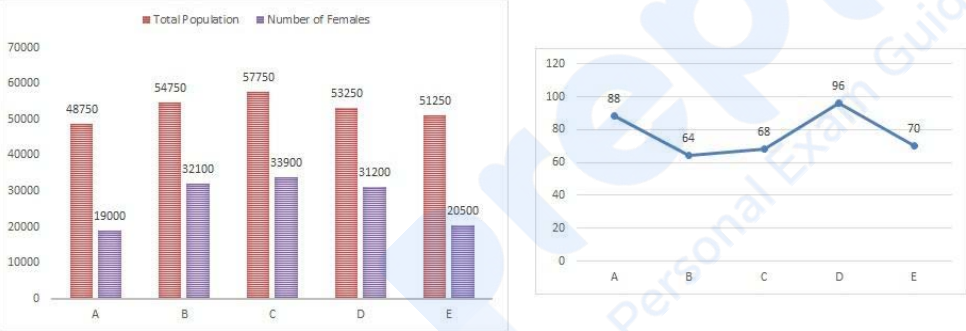
Find the highest power of 7 that completely divides 84!
7 की उच्चतम घात ज्ञात करें जो 84! को पूरी तरह से विभाजित करती है।

- (A) ☐ 11
11
- (B) ☐ 7
7
- (C) ☒ 13 (Correct Answer) (Chosen option)
13
- (D) ☐ 9
9

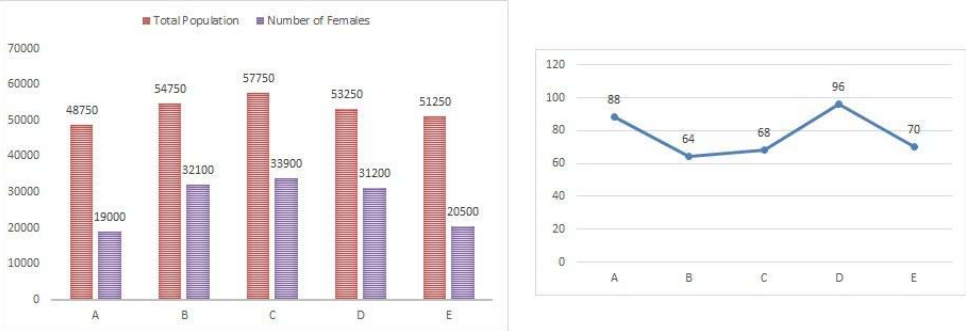
Question No.21

Marks: 2.50
Bookmark ☐

Directions:
These data are based on the bar graph and line graph.
The following bar graph gives the total population of five cities(A, B, C, D and E) and number of females in the cities.
The following line graph gives the percentage of literates among females for each cities.
Find the number of females who are illiterate from city D.



दिशा-निर्देश:
ये आंकड़े, दण्ड आरेख और रेखा आरेख पर आधारित हैं।
निम्नलिखित दण्ड आरेख, पांच शहरों (A, B, C, D और E) की कुल जनसँख्या और शहरों में महिलाओं की संख्या दर्शाता है।
निम्नलिखित रेखा आरेख, प्रत्येक शहर के लिए साक्षर महिलाओं का प्रतिशत दर्शाता है।
शहर D से निरक्षर महिलाओं की संख्या ज्ञात करें।



- (A) ☐ 1348
1348
- (B) ☐ 1048
1048
- (C) ☐ 1148
1148
- (D) ☒ 1248 (Correct Answer) (Chosen option)
1248

Question No.22

Marks: 2.50
Bookmark ☐

What value should come in the place of question mark (?) in the following question:
 $858 = ? + 429 - (317 + 4 \times 8.8)$
निम्नलिखित प्रश्न में प्रश्न चिह्न (?) के स्थान पर क्या मान आना चाहिए:
 $858 = ? + 429 - (317 + 4 \times 8.8)$

- (A) ☐ 1136.4
1136.4
- (B) ☒ 1126.4 (Correct Answer) (Chosen option)
1126.4

<div>(C) <input type="radio"/> 1146.4 1146.4</div> <div>(D) <input type="radio"/> 1116.4 1116.4</div>	
<div>Question No.23</div> <div>Marks: 2.50</div> <div>Bookmark <input type="checkbox"/></div> <div>What is 25% of 50% of 75% of 80% of 4520? 4520 के 80% के 75% के 50% के 25% का मान क्या है?</div> <div>(A) <input type="radio"/> 339 (Correct Answer) (Chosen option) 339</div> <div>(B) <input type="radio"/> 329 329</div> <div>(C) <input type="radio"/> 349 349</div> <div>(D) <input type="radio"/> 359 359</div>	
<div>Question No.24</div> <div>Marks: 2.50</div> <div>Bookmark <input type="checkbox"/></div> <div>Three friends A, B, C invested in a business in the ratio of 5:10:12. After 6 months C withdraw half his capital. Find the profit earned by C out of the total profit of Rs.148000. (In Rs.) तीन दोस्तों A, B, C ने 5:10:12 के अनुपात में एक व्यापार में निवेश किया। 6 महीने बाद C ने अपनी आधी पूंजी निकाल ली। Rs.148000 के कुल लाभ में से C द्वारा अर्जित लाभ ज्ञात कीजिए। (Rs. में)</div> <div>(A) <input type="radio"/> 56500 56500</div> <div>(B) <input type="radio"/> 58500 58500</div> <div>(C) <input type="radio"/> 55500 (Correct Answer) (Chosen option) 55500</div> <div>(D) <input type="radio"/> 57500 57500</div>	
<div>Question No.25</div> <div>Marks: 2.50</div> <div>Bookmark <input type="checkbox"/></div> <div>X can finish a work in 135 days, Y can finish a work in 225 days and Z can finish the same piece of work in 300 days. How many days will they require to complete the work, If X, Y and Z are working together? X एक कार्य को 135 दिनों में पूरा कर सकता है, Y एक कार्य को 225 दिनों में पूरा कर सकता है और Z उसी कार्य को 300 दिनों में पूरा कर सकता है। यदि X, Y और Z एक साथ कार्य करते हैं तो कार्य को पूरा करने के लिए उन्हें कितने दिनों की आवश्यकता होगी?</div> <div>(A) <input type="radio"/> 61(35/41) 61(35/41)</div> <div>(B) <input type="radio"/> 67(35/41) 67(35/41)</div> <div>(C) <input type="radio"/> 65(35/41) (Correct Answer) (Chosen option) 65(35/41)</div> <div>(D) <input type="radio"/> 63(35/41) 63(35/41)</div>	
<div>Question No.26</div> <div>Marks: 2.50</div> <div>Bookmark <input type="checkbox"/></div> <div>A train takes 60 seconds to cross a bridge of length 77 m. If the same train takes 53 seconds to cross a man standing on the bridge, find the length of the train. (In m) एक ट्रेन द्वारा 77 मीटर लंबाई के पुल को पार करने में 60 सेकंड का समय लगता है। यदि उसी ट्रेन द्वारा पुल पर खड़े व्यक्ति को पार करने में 53 सेकंड लगते हैं, तो ट्रेन की लंबाई ज्ञात कीजिए। (m में)</div> <div>(A) <input type="radio"/> 603 603</div> <div>(B) <input type="radio"/> 593 593</div> <div>(C) <input type="radio"/> 613 613</div> <div>(D) <input type="radio"/> 583 (Correct Answer) (Chosen option) 583</div>	
<div>Question No.27</div> <div>Marks: 2.50</div> <div>Bookmark <input type="checkbox"/></div> <div>The average weight of 24 students in a class is 51.25 kg, and that of the remaining 8 students is 46.5 kg. Find the average weight of all the students in the class. (approximately) एक कक्षा में 24 छात्रों का औसत वजन 51.25 kg है, और शेष 8 छात्रों का वजन 46.5 kg है। कक्षा में सभी छात्रों का औसत वजन ज्ञात कीजिए। (लगभग)</div> <div>(A) <input type="radio"/> 44.063 44.063</div> <div>(B) <input type="radio"/> 48.063 48.063</div> <div>(C) <input type="radio"/> 46.063 46.063</div> <div>(D) <input type="radio"/> 50.063 (Correct Answer) (Chosen option) 50.063</div>	
<div>Question No.28</div> <div>Marks: 2.50</div> <div>Bookmark <input checked="" type="checkbox"/></div> <div>The calendar for the year 2033 will be the same for the year: वर्ष 2033 का कैलेंडर, वर्ष _____ के कैलेंडर के समान होगा।</div>	

- (A) ☐ 2037
2037
- (B) ☐ 2038
2038
- (C) ☒ 2039 (Correct Answer)
2039
- (D) ☐ 2040 (Chosen option)
2040

Question No.29

Marks: 2.50
Bookmark ☐

A tradesman marks the price of his goods such that after allowing a discount of 20%, he earns a profit of 30%. What is the marked price of an article whose cost price is Rs.18800?

एक बनिया अपने माल के मूल्य को ऐसे अंकित करता है कि 20% की छूट देने के बाद, वह 30% का लाभ कमाता है। उस वस्तु का अंकित मूल्य क्या होगा जिसका क्रय मूल्य Rs.18800 है?

- (A) ☐ 27550
27550
- (B) ☒ 30550 (Correct Answer) (Chosen option)
30550
- (C) ☐ 29550
29550
- (D) ☐ 28550
28550

Question No.30

Marks: 2.50
Bookmark ☐

If a mirror is placed on the shaded line, then which of the following options is the mirror image of the given figure?



यदि एक दर्पण को छायांकित रेखा पर रखा जाता है, तो निम्नलिखित में से कौन सा विकल्प दी गई आकृति का दर्पण प्रतिबिम्ब है?



- (A) ☐

eldbirɔz (Correct Answer) (Chosen option)

- (B) ☐

elbbircs
elbbircs
- (C) ☐

eldbirɔz

eldbir๓๒

(D) ☐

elbbir๓๒

elbbir๓๒

Question No.31

Marks: 2.50

Bookmark ☐

A two digit number is such that the sum of the digits is 9. When the number with the same digits are reversed is subtracted from the original number, the difference is 27. What is the original number?
दो अंकों की संख्या इस प्रकार है कि अंकों का योग 9 होता है। जब उन्हीं अंकों वाली संख्या को व्युत्क्रमित किया जाता है, तो प्राप्त संख्या को मूल संख्या से घटाने पर, अंतर 27 होता है। मूल संख्या क्या है?

- (A) ☐ 65
65
- (B) ☐ 67
67
- (C) ☐ 69
69
- (D) ☒ 63 (Correct Answer) (Chosen option)
63

Question No.32

Marks: 2.50

Bookmark ☐

The question given below consists of a statement, followed by two arguments numbered 1 and 2. You have to decide which of the arguments is a 'strong' argument and which is a 'weak' argument.

Give answer:

- (A) If only argument1 is strong
- (B) If only argument 2 is strong
- (C) If either 1 or 2 is strong
- (D) If neither 1 nor 2 is strong and
- (E) If both 1 and 2 are strong.

Statement:

Does a country need many plans for development?

Argument:

1. Yes, Nothing can be achieved without proper planning.
2. No, too much money, time and energy is wasted on planning.

नीचे दिए गए प्रश्न में एक कथन है, जिसके बाद 1 और 2, दो तर्क दिए गए हैं। आपको यह तय करना होगा कि कौन सा तर्क एक 'प्रबल' तर्क है और कौन सा एक 'दुर्बल' तर्क है।

उत्तर दीजिए:

- (A) यदि केवल तर्क 1 प्रबल है
- (B) यदि केवल तर्क 2 प्रबल है
- (C) यदि तो या 1 या 2 प्रबल है
- (D) यदि न तो 1 और न ही 2 प्रबल है और
- (E) यदि 1 और 2 दोनों प्रबल हैं।

कथन:

क्या किसी देश को विकास के लिए कई योजनाओं की आवश्यकता होती है?

तर्क:

1. हाँ, उचित योजना के बिना कुछ भी हासिल नहीं किया जा सकता।
2. नहीं, योजना बनाने पर बहुत ज्यादा पैसा, समय और ऊर्जा व्यर्थ खर्च होता है।

- (A) ☐ B
B
- (B) ☒ A (Correct Answer) (Chosen option)
A
- (C) ☐ C
C
- (D) ☐ D
D

Question No.33

Marks: 2.50

Bookmark ☐

Which of the following sets of signs should be used to replace * in the following?

$120 * 6 * 2 = 7 * 2 * 4$

दिए गए समीकरण में * को प्रतिस्थापित करने के लिए, निम्नलिखित में से चिह्नों के किस समुच्चय का प्रयोग किया जाना चाहिए?

$120 * 6 * 2 = 7 * 2 * 4$

- (A) ☐ + × + +
+ × + +
- (B) ☐ + × ÷ -

निम्नलिखित प्रश्न में प्रश्न चिह्न (?) के स्थान पर क्या मान आना चाहिए:

$0.5\overline{47} - 0.3\overline{45} + 0.2\overline{44} = ?$

- (A) ☐ 422/990
422/990
- (B) ☐ 432/990
432/990
- (C) ☒ 442/990 (Correct Answer) (Chosen option)
442/990
- (D) ☐ 452/990
452/990

Question No.40

Marks: 2.50

Bookmark ☐

A shopkeeper sold goods for \$29520 and made a profit of 23% in the process. Find his profit percent if he had sold his goods for \$25800.
एक दुकानदार ने \$29520 में सामान बेचा और इस प्रक्रिया में 23% का लाभ कमाया। यदि उसने अपना माल \$25800 में बेचा होता, तो उसका लाभ प्रतिशत ज्ञात कीजिए।

- (A) ☐ 8.5
8.5
- (B) ☐ 5.5
5.5
- (C) ☐ 6.5
6.5
- (D) ☒ 7.5 (Correct Answer) (Chosen option)
7.5

MENTAL APTITUDE - INTELLIGENCE -TEST OF REASONING - MENTAL APTITUDE - INTELLIGENCE - TEST OF REASONING

Question No.1

Marks: 2.50

Bookmark ☐

Which among the following boards, decide on transfers, postings, promotions, and other service related issues of police force?
निम्नलिखित में से कौन सा बोर्ड पुलिस बल के स्थानान्तरण, पोस्टिंग, पदोन्नति, और सेवा संबंधी अन्य मुद्दों पर फैसला लेता है?

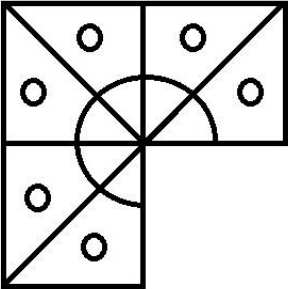
- (A) ☒ Police Establishment Board (Correct Answer) (Chosen option)
पुलिस स्थापना बोर्ड
- (B) ☐ State Security Commission
राज्य सुरक्षा आयोग
- (C) ☐ Staff selection commission
कर्मचारी चयन आयोग
- (D) ☐ Police Complaints Authorities
पुलिस शिकायत प्राधिकरण

Question No.2

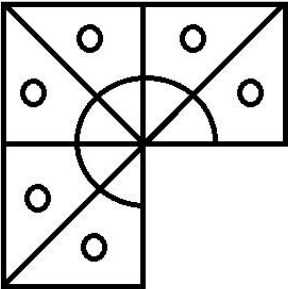
Marks: 2.50

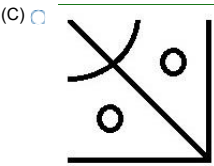
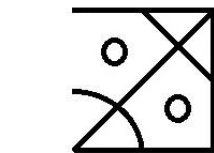
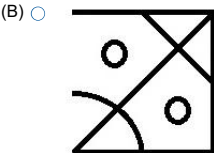
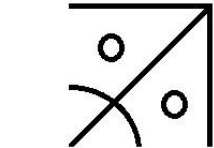
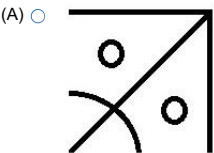
Bookmark ☐

Which one of the following alternatives will perfectly complete the given figure?

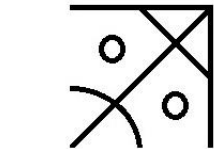
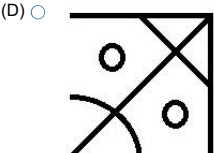
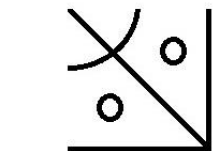


निम्नलिखित में से कौन सा विकल्प दी गई आकृति को उत्तम रूप से पूर्ण करेगा?





(Correct Answer) (Chosen option)



Question No.3

Marks: 2.50
Bookmark ☐

Four of the following five are alike in a certain way and so form a group. Which is the one that does not belong to that group?
O, E, A, T, U
निम्नलिखित पांच में से चार एक निश्चित रूप से एक जैसे हैं और इसलिए एक समूह बनाते हैं। वह कौन सा है जो उस समूह से संबंधित नहीं है?

- (A) ☒ T (Correct Answer) (Chosen option)
T
(B) ☐ O
O
(C) ☐ A
A
(D) ☐ U
U

Question No.4

Marks: 2.50
Bookmark ☐

Find the next number in the series.

16, 109, 198, 283, 364, ?

श्रेणी में अगली संख्या ज्ञात कीजिए।

16, 109, 198, 283, 364, ?

- (A) ☐ 461
461
- (B) ☐ 471
471
- (C) ☐ 451
451
- (D) ☒ 441 (Correct Answer) (Chosen option)
441

Question No.5

Marks: 2.50

Bookmark ☐

A stands in the 45th position from the front of the queue and there are 5 persons between A and B. B stands after A. If the first 10 persons are removed from the queue then what is the position of B from the front of the queue?

A, पंक्ति के आरंभ से 45वें स्थान पर खड़ा है तथा A और B के बीच 5 व्यक्ति हैं। B, A के बाद खड़ा है। यदि पहले 10 व्यक्तियों को पंक्ति से हटा दिया जाता है तो पंक्ति के आरंभ से B का स्थान कौन सा होगा?

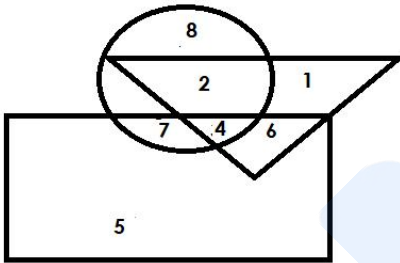
- (A) ☐ 43
43
- (B) ☒ 41 (Correct Answer) (Chosen option)
41
- (C) ☐ 45
45
- (D) ☐ 47
47

Question No.6

Marks: 2.50

Bookmark ☐

Which of the following numbers in the Venn Diagram represents men who are honest and hardworking but not intelligent?

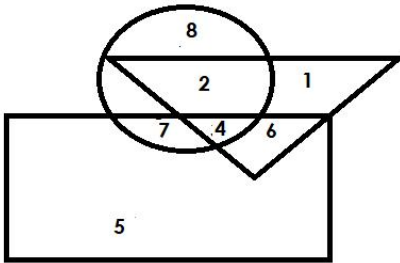


☐ — HARDWORKING MEN

☐ — INTELLIGENT MEN

— HONEST MEN

वेन आरेख में निम्नलिखित में से कौन सी संख्या उन पुरुषों को दर्शाती है, जो ईमानदार और मेहनती हैं लेकिन बुद्धिमान नहीं?



☐ — HARDWORKING MEN

☐ — INTELLIGENT MEN

— HONEST MEN

- (A) ☐ 1
1
- (B) ☐ 5
5
- (C) ☒ 6 (Correct Answer) (Chosen option)
6
- (D) ☐ 4
4

Question No.7

Marks: 2.50

Bookmark ☐

Read the information carefully and answer the following question.

A+B means A is the Brother of B

A-B means A is the Sister of B

A*B means A is the mother of B

A/B means A is the father of B

In the given expression **P+Q+R*S**, how is P related to S?

दी गई जानकारी को ध्यान से पढ़िए और निम्नलिखित प्रश्न का उत्तर दीजिए।

A+B का अर्थ है, A, B का भाई है
A-B का अर्थ है, A, B की बहन है
A*B का अर्थ है, A, B की माँ है
A/B का अर्थ है, A, B का पिता है

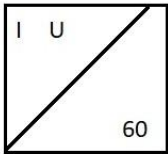
दिए गए व्यंजक $P+Q+R*S$ में, P का S से क्या संबंध है?

- ☐ (A) Paternal Uncle
पैटरनल अंकल
- ☐ (B) Paternal Aunt
पैटरनल आंट
- ☒ (C) Maternal Uncle (Correct Answer) (Chosen option)
मैटरनल अंकल
- ☐ (D) Maternal Aunt
मैटरनल आंट

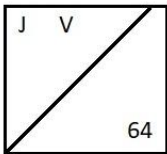
Question No.8

Marks: 2.50
Bookmark ☐

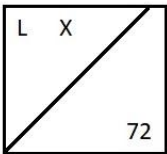
Find the odd image out in the given series.



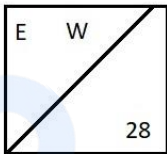
(1)



(2)

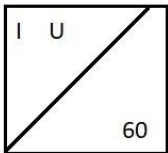


(3)

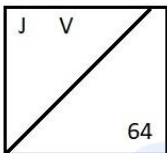


(4)

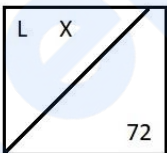
दी गई श्रेणी में असंगत छवि ज्ञात कीजिए।



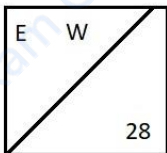
(1)



(2)



(3)



(4)

- ☐ (A) 2
2
- ☒ (B) 4 (Correct Answer)
4
- ☐ (C) 1 (Chosen option)
1
- ☐ (D) 3
3

Question No.9

Marks: 2.50
Bookmark ☐

If 3 is subtracted from the middle digit of each of the following numbers and then the position of the digits are reversed, which of the following will be the first digit of the middle number?

954 273 564 782 442

यदि निम्नलिखित संख्याओं में प्रत्येक के मध्य अंक से 3 घटाया जाता है और फिर अंकों की स्थिति को व्युत्क्रम में लिखा जाता है, तो निम्न में से कौन सा मध्य संख्या का पहला अंक होगा?

954 273 564 782 442

- ☐ (A) 5
5
- ☒ (B) 4 (Correct Answer) (Chosen option)
4
- ☐ (C) 7
7
- ☐ (D) 3
3

Question No.10

Marks: 2.50
Bookmark ☐

If $R = 52, P = 5, Q = 8, S = 4, T = 2$, then $R + S + P \times Q - T = ?$

यदि $R = 52, P = 5, Q = 8, S = 4, T = 2$, तो $R + S + P \times Q - T = ?$

- ☒ (A) 51 (Correct Answer) (Chosen option)
51
- ☐ (B) 28
28
- ☐ (C) 45
45
- ☐ (D) 37
37

Question No.11

Marks: 2.50
Bookmark ☐

In this question, relationship between different elements is shown in the statement. This statement is followed by two conclusions:

Statement:

$H < I \leq S = T; Y < R \leq O < T$

Conclusions:

- i) $H < O$
ii) $I < R$

Choose the appropriate one from the following options

- (A) Only conclusion i follows
(B) Only conclusion ii follows
(C) Either i or ii follows
(D) Neither i nor ii follows
(E) Both i and ii follow

इस प्रश्न में, कथन में विभिन्न तत्वों के बीच का संबंध दर्शाया गया है। इस कथन के बाद दो निष्कर्ष दिए हैं:

कथन :

$H < I \leq S = T; Y < R \leq O < T$

निष्कर्ष :

- i) $H < O$
ii) $I < R$

निम्नलिखित विकल्पों में से उपयुक्त विकल्प का चयन कीजिए

- (A) केवल निष्कर्ष i अनुसरण करता है
(B) केवल निष्कर्ष ii अनुसरण करता है
(C) या तो i या ii अनुसरण करता है
(D) न तो i और न ही ii अनुसरण करता है
(E) i और ii दोनों अनुसरण करते हैं
(A) ☒ **D (Correct Answer)** (Chosen option)
D
(B) ☐ B
B
(C) ☐ A
A
(D) ☐ C
C

Question No.12

Marks: 2.50
Bookmark ☐

A girl walks 20km towards East, turns a right, a left and finally a right before taking another right. Which direction is she facing now?

एक लड़की पूर्व की ओर 20km चलती है, दाएँ मुड़ती है, बाएँ मुड़ती है और अंत में दाएँ मुड़ने से पहले एक बार और दाएँ मुड़ती है। वह अब किस दिशा की ओर अभिमुख है?

- (A) ☐ North
उत्तर
(B) ☒ **West (Correct Answer)** (Chosen option)
पश्चिम
(C) ☐ East
पूर्व
(D) ☐ South
दक्षिण

Question No.13

Marks: 2.50
Bookmark ☐

Choose the alternative which is an odd word/number/letter pair out of the given alternatives.

वह विकल्प चुनिए जो दिए गए विकल्पों में से एक असंगत शब्द / संख्या / वर्ण युग्म है।

- (A) ☐ Apple
Apple
(B) ☐ Mango
Mango
(C) ☒ **Beetroot (Correct Answer)** (Chosen option)
Beetroot
(D) ☐ Guava
Guava

Question No.14

Marks: 2.50
Bookmark ☐

"Granth Sahib" is the sacred script of:

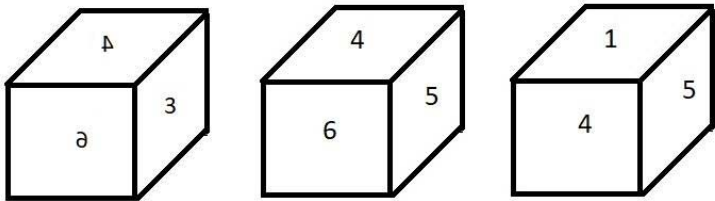
"ग्रंथ साहिब" किस धर्म का पवित्र ग्रन्थ है?

- (A) ☒ **Sikhism (Correct Answer)** (Chosen option)
सिख धर्म
(B) ☐ Christianity
ईसाई धर्म
(C) ☐ Islam
इस्लाम
(D) ☐ Hinduism
हिंदू धर्म

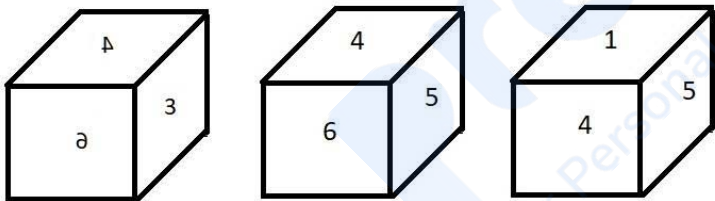
Question No.15

Marks: 2.50
Bookmark ☐

A dice is numbered from 1 to 6. Which number is opposite to 4?



एक पासा 1 से 6 तक संख्याकित है। कौन सी संख्या 4 के विपरीत है?



- (A) ☐ 2 (Correct Answer)
2
(B) ☐ 3
3
(C) ☐ 5
5
(D) ☐ 1 (Chosen option)
1

Question No.16

Marks: 2.50
Bookmark ☐

Find the next number in the series.

4, 7, 16, 29, 62, ?

श्रेणी में अगली संख्या ज्ञात कीजिए।

4, 7, 16, 29, 62, ?

- (A) ☐ 120 (Chosen option)
120
(B) ☐ 123
123
(C) ☐ 119 (Correct Answer)
119
(D) ☐ 121
121

Question No.17

Marks: 2.50
Bookmark ☐

The first jail training school in India was established in which state?

भारत में पहला जेल प्रशिक्षण स्कूल किस राज्य में स्थापित किया गया था?

<div>(A) <input type="radio"/> Madhya Pradesh मध्य प्रदेश</div> <div>(B) <input type="radio"/> Andhra Pradesh आंध्र प्रदेश</div> <div>(C) <input type="radio"/> Uttar Pradesh (Correct Answer) (Chosen option) उत्तर प्रदेश</div> <div>(D) <input type="radio"/> Kerala केरल</div>	
<div>Question No.18</div> <div>Replace the question mark with an option that follows the same logic applied in the first pair. 530:2::612: ? प्रश्न चिह्न को उस विकल्प के साथ प्रतिस्थापित कीजिए जो पहले युग्म में लागू तर्क का अनुसरण करता है 530:2::612: ?</div> <div>(A) <input type="radio"/> 4 4</div> <div>(B) <input type="radio"/> 1 1</div> <div>(C) <input type="radio"/> 2 2</div> <div>(D) <input type="radio"/> 3 (Correct Answer) (Chosen option) 3</div>	<div>Marks: 2.50</div> <div>Bookmark <input checked="" type="checkbox"/></div>
<div>Question No.19</div> <div>If the second half of the word EXCRUCIATING is reversed, which of the following will be the fifth to the right of the second letter from the left end? यदि शब्द EXCRUCIATING के दूसरे आधे हिस्से को व्युत्क्रम में लिखा जाता है, तो निम्नलिखित में से कौन सा अक्षर बाएं छोर से दूसरे अक्षर की दाईं ओर पांचवें स्थान पर होगा?</div> <div>(A) <input type="radio"/> T T</div> <div>(B) <input type="radio"/> I I</div> <div>(C) <input type="radio"/> G (Correct Answer) (Chosen option) G</div> <div>(D) <input type="radio"/> N N</div>	<div>Marks: 2.50</div> <div>Bookmark <input type="checkbox"/></div>
<div>Question No.20</div> <div>In which year "The Family Court Act" was enacted by Parliament of India? भारत के संसद द्वारा "पारिवारिक न्यायालय अधिनियम" किस वर्ष में अधिनियमित किया गया था?</div> <div>(A) <input type="radio"/> 1994 1994</div> <div>(B) <input type="radio"/> 1984 (Correct Answer) (Chosen option) 1984</div> <div>(C) <input type="radio"/> 1980 1980</div> <div>(D) <input type="radio"/> 1990 1990</div>	<div>Marks: 2.50</div> <div>Bookmark <input checked="" type="checkbox"/></div>
<div>Question No.21</div> <div>Which of the following numbers is wrong in the given series? 3, 7, 22, 45, 137, 273 दी गई श्रृंखला में निम्नलिखित में से कौन सी संख्या गलत है? 3, 7, 22, 45, 137, 273</div> <div>(A) <input type="radio"/> 45 45</div> <div>(B) <input type="radio"/> 7 7</div> <div>(C) <input type="radio"/> 22 (Chosen option) 22</div> <div>(D) <input type="radio"/> 137 (Correct Answer) 137</div>	<div>Marks: 2.50</div> <div>Bookmark <input type="checkbox"/></div>
<div>Question No.22</div> <div>If all the vowels are replaced by the immediate next consonant from the English alphabet series in the word NEIGHBORHOOD, then the letters of the word are arranged alphabetically, which letter will be sixth to the right of the third letter from the left? यदि NEIGHBORHOOD शब्द में सभी स्वरों को अंग्रेजी वर्णमाला श्रृंखला के ठीक अगले व्यंजन द्वारा बदल दिया जाता है, फिर शब्द के अक्षरों को वर्णानुक्रम में व्यवस्थित किया जाता है, तो कौन सा अक्षर बाएं से तीसरे अक्षर के दाईं ओर छठे स्थान पर होगा?</div> <div>(A) <input type="radio"/> J J</div> <div>(B) <input type="radio"/> P (Correct Answer) (Chosen option) P</div> <div>(C) <input type="radio"/> R R</div> <div>(D) <input type="radio"/> N N</div>	<div>Marks: 2.50</div> <div>Bookmark <input type="checkbox"/></div>
<div>Question No.23</div>	<div>Marks: 2.50</div> <div>Bookmark <input type="checkbox"/></div>

A boy starts from point A and walks 5km towards West; turns left and walks 7km and turns another left and walks 5km. He then walks 3km towards North; turns left and walks 3km; turns right and walks 4km. He then finally walks 5km after turning right and reaches B. How far is A from B?
एक लड़का बिंदु A से चलना शुरू करता है और पश्चिम की ओर 5km चलता है; बाएँ मुड़ता है और 7km चलता है और एक बार फिर बाएँ मुड़ता है और 5km चलता है। वह फिर उत्तर की ओर 3km चलता है; बाएँ मुड़ता है और 3km चलता है; दाएँ मुड़ता है और 4km चलता है। अंत में वह फिर दाईँ ओर मुड़ने के बाद 5km चलता है और B तक पहुँचता है। A, B से कितनी दूर है?

- (A) ☒ 2km (Correct Answer) (Chosen option)
- 2km
- (B) ☐ 4km
- 4km
- (C) ☐ 6km
- 6km
- (D) ☐ 8km
- 8km

Question No.24

Marks: 2.50
Bookmark ☒

A box containing the denominations of twenty-five paise coins, fifty paise coins and one rupee coins amount to Rs.420. There are equal number of coins in all denominations. What is the total number of coins in the box?
एक बॉक्स में पच्चीस पैसे, पचास पैसे और एक रुपए के मूल्यवर्गों के सिक्के हैं जिनकी कुल राशि Rs.420 है। सभी मूल्यवर्गों के सिक्के समान संख्या में हैं। बॉक्स में सिक्कों की कुल संख्या कितनी है?

- (A) ☒ 720 (Correct Answer) (Chosen option)
- 720
- (B) ☐ 270
- 270
- (C) ☐ 240
- 240
- (D) ☐ 760
- 760

Question No.25

Marks: 2.50
Bookmark ☐

Replace the question mark with an option that follows the same logic applied in the first pair.
Butterfly : Caterpillar :: Pig : ??
प्रश्न चिह्न को उस विकल्प से प्रतिस्थापित करें जो पहले युग्म में लागू तर्क का अनुसरण करता है।
Butterfly : Caterpillar :: Pig : ??

- (A) ☐ Kitten
- Kitten
- (B) ☐ Joey
- Joey
- (C) ☒ Shoat (Correct Answer) (Chosen option)
- Shoat
- (D) ☐ Puppy
- Puppy

Question No.26

Marks: 2.50
Bookmark ☐

A is 8th from the left end. If A is shifted two places to the right, then A will be at the extreme right. How many persons are there in the row?
A, बाएँ छोर से 8वें स्थान पर है। यदि A को दो स्थान दाईँ ओर स्थानांतरित किया जाता है, तो A सबसे दाईँ ओर होगा। पंक्ति में कितने व्यक्ति हैं?

- (A) ☐ 8
- 8
- (B) ☐ 6
- 6
- (C) ☒ 10 (Correct Answer) (Chosen option)
- 10
- (D) ☐ 12
- 12

Question No.27

Marks: 2.50
Bookmark ☐

If every alternate letter starting from B is deleted from the English alphabet series, which of the following will be the thirteenth letter from the right end?
यदि B से शुरू करते हुए प्रत्येक दूसरे अक्षर को अंग्रेजी वर्णमाला श्रृंखला से हटा दिया जाता है, तो निम्नलिखित में से कौन सा अक्षर दाएँ छोर से तेरहवें स्थान पर होगा?

- (A) ☐ G
- G
- (B) ☐ C
- C
- (C) ☐ E
- E
- (D) ☒ A (Correct Answer) (Chosen option)
- A

Question No.28

Marks: 2.50
Bookmark ☐

Which of the following numbers is wrong in the given series?
58, 60, 63, 67, 75, 86, 99
दी गई श्रृंखला में निम्नलिखित में से कौन सी संख्या गलत है?
58, 60, 63, 67, 75, 86, 99

- (A) ☒ 67 (Correct Answer)
67
- (B) ☐ 86
86
- (C) ☐ 60 (Chosen option)
60
- (D) ☐ 75
75

Question No.29

Marks: 2.50
Bookmark ☐

Arun's wife is the sister of Neha. How is Neha's mother related to Arun?
अरुण की पत्नी, नेहा की बहन है। नेहा की माँ का अरुण से क्या संबंध है?

- (A) ☐ Father in law
ससुर
- (B) ☐ Mother in law (Correct Answer) (Chosen option)
सास
- (C) ☐ Brother in law
ब्रदर-इन-लॉ
- (D) ☐ Sister in law
सिस्टर-इन-लॉ

Question No.30

Marks: 2.50
Bookmark ☐

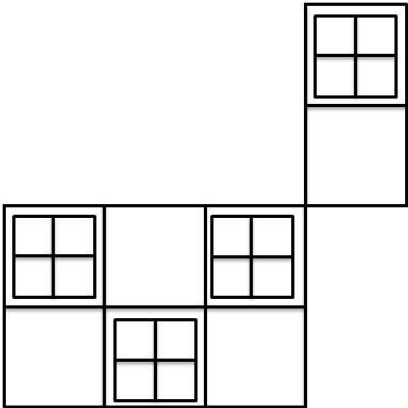
National Investigation Agency (NIA) set up under the _____.
राष्ट्रीय जांच एजेंसी (एनआईए) _____ के तहत स्थापित की गई।

- (A) ☐ Unlawful Activities (Prevention) Act, 1967
गैरकानूनी गतिविधियाँ (रोकथाम) अधिनियम, 1967
- (B) ☐ National Investigation Agency Act, 2008 (Correct Answer) (Chosen option)
राष्ट्रीय जांच एजेंसी अधिनियम, 2008
- (C) ☐ Anti-Hijacking Act, 1982
अपहरण विरोधी अधिनियम, 1982
- (D) ☐ Delhi Special Police Establishment Act, 1946.
दिल्ली विशेष पुलिस स्थापना अधिनियम, 1946

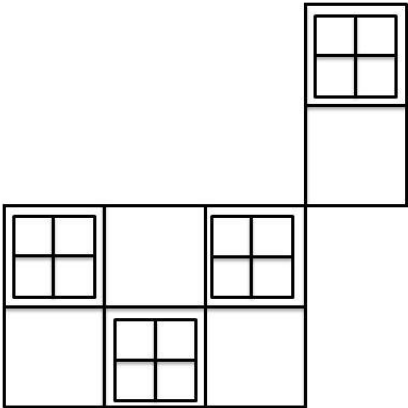
Question No.31

Marks: 2.50
Bookmark ☐

How many squares are there in the given figure?



दी गई आकृति में कितने वर्ग हैं?



- (A) ☐ 20
20
- (B) ☐ 21
21
- (C) ☐ 24
24
- (D) ☒ 30 (Correct Answer) (Chosen option)
30

Question No.32

Marks: 2.50
Bookmark ☐

P is the brother of T and S whose mother is U. R is the daughter of S whose wife is Q. How is Q related to U?
P, T और S का भाई है, जिनकी माँ U है। R, S की बेटी है, जिसकी पत्नी Q है। Q का U से क्या संबंध है?

- (A) ☐ Niece
नीस
- (B) ☐ Mother-in-law (Chosen option)
सास
- (C) ☐ Daughter
बेटी
- (D) ☒ Daughter-in-law (Correct Answer)
पुत्रवधु

Question No.33

Marks: 2.50
Bookmark ☐

In a certain code language, if GRACE is coded as VKEIG, then how is RADIO coded in that language?
एक निश्चित कूटभाषा में, यदि GRACE को VKEIG के रूप में कूटबद्ध किया जाता है, तो उस भाषा में RADIO को कैसे कूटबद्ध किया जाएगा?

- (A) ☐ VOJGX
VOJGX
- (B) ☒ EVHSM (Correct Answer) (Chosen option)
EVHSM
- (C) ☐ IZWRL
IZWRL
- (D) ☐ VEHMS
VEHMS

Question No.34

Marks: 2.50
Bookmark ☐

Pointing to a girl, a lady said, "She is my husband's brother's wife's only son's sister." How is the girl related to the lady's husband?
एक लड़की की ओर इशारा करते हुए एक महिला ने कहा, "वह मेरे पति के भाई की पत्नी के इकलौते बेटे की बहन है।" लड़की का महिला के पति से क्या संबंध है?

- (A) ☒ Niece (Correct Answer) (Chosen option)
नीस
- (B) ☐ Daughter
बेटी
- (C) ☐ Sister
बहन
- (D) ☐ Cousin
कज़िन

Question No.35

Marks: 2.50
Bookmark ☐

Which of the following sections of Indian Penal Code provides punishment for rape?
भारतीय दंड संहिता की निम्नलिखित में से कौन सी धारा बलात्कार के लिए सजा का प्रावधान करती है?

- (A) ☒ Section 376 IPC (Correct Answer) (Chosen option)
धारा 376 IPC
- (B) ☐ Section 147 IPC
धारा 147 IPC
- (C) ☐ Section 140 IPC
धारा 140 IPC

(D) ☐ Section 144 IPC
धारा 144 IPC

Question No.36

Marks: 2.50
Bookmark ☐

Which one of the following images numbered as (1), (2), (3), (4) will be the next image for the given series?

LBC

DEF

JBC

DEF

JBC

DEF

JBC

DEF

JBC

DEF

JBC

DEF

JBC

DEF

JBC

DEF

(1)

(2)

(3)

(4)

निम्नलिखित(1), (2), (3), (4) संख्यांकित छवियों में से दी गई श्रेणी के लिए अगली छवि कौन सी होगी?

LBC

DEF

JBC

DEF

JBC

DEF

JBC

DEF

JBC

DEF

JBC

DEF

JBC

DEF

JBC

DEF

(1)

(2)

(3)

(4)

- (A) ☐ 4
4
- (B) ☐ 1
1
- (C) ☒ 2 (Correct Answer) (Chosen option)
2
- (D) ☐ 3
3

Question No.37

Marks: 2.50
Bookmark ☐

In a certain code language, if ALTER is coded as 11220518, then how is DEPTH coded in that language?
एक निश्चित कूटभाषा में, यदि ALTER को 11220518 के रूप में कूटबद्ध किया जाता है, तो उस भाषा में DEPTH को कैसे कूटबद्ध किया जाएगा?

(A) ☐ 5416208
5416208

(B) ☐ 4506218
4506218

(C) ☐ 5406218

5406218

(D) ☐ 4516208 (Correct Answer) (Chosen option)
4516208

Question No.38

Marks: 2.50
Bookmark ☐

Which one of the following writs is issued to courts, corporation or a person directing them to perform their public duty?
निम्नलिखित में से कौन सा आज्ञापत्र (रिट) अदालतों, निगमों या एक व्यक्ति को जारी किया जाता है जो उन्हें अपना सार्वजनिक कर्तव्य करने के लिए निर्देश देता है?

- (A) ☐ Quo Warranto
अधिकार-पृच्छा (कुओ वारंटो)
- (B) ☒ Mandamus (Correct Answer) (Chosen option)
परमादेश (मैंडेमस)
- (C) ☐ Prohibition
निषेध (प्रोहिबिशन)
- (D) ☐ Habeas Corpus
बन्दी प्रत्यक्षीकरण (हैबियस कॉरपस)

Question No.39

Marks: 2.50
Bookmark ☐

In this question, a passage is given followed by a statement. Read the passage carefully and judge the statement based on the given passage.

This will probably make you want to visit Luxembourg on your next family vacation: The tiny EU country is seeking to make travel free on its trains, trams and buses as part of efforts to reduce traffic congestion and air pollution. The re-elected coalition government of liberal Prime Minister Xavier Bettel said "free public transport will be introduced in the Grand Duchy of Luxembourg's territory" from early 2020.

Georges Merenz, who heads the FNCTTFEL-Landesverband, Luxembourg's main transport union, expressed concerns that the government plan would lead to job losses if nobody was needed to sell tickets. "As long as it is not cleared up, we cannot accept that," Merenz told AFP. He added he was also concerned people in rural areas would not benefit from free travel.

Statement:
Luxembourg wants to make travel free on its trains to encourage people to use public transport.

- Choose the appropriate one from the following options
A -The statement is definitely true
B -The statement is probably true
C -The statement is cannot be determined
D -The statement is definitely false

इस प्रश्न में, एक गद्यांश के बाद एक कथन दिया गया है। गद्यांश को ध्यानपूर्वक पढ़ें और दिए गए गद्यांश के आधार पर कथन का आकलन करें।

इसके कारण आप संभवतः अपने अगली पारिवारिक छुट्टी पर लक्समबर्ग यात्रा करना चाहेंगे: यूरोपीय संघ का यह छोटा देश, यातायात की भीड़ और वायु प्रदूषण को कम करने के प्रयासों के तहत अपनी ट्रेनों, ट्रामों और बसों में यात्रा को निःशुल्क करने का प्रयास कर रहा है। उदारवादी प्रधानमंत्री जेवियर बेटेल की पुनः चुनी हुई गठबंधन सरकार ने कहा कि 2020 की शुरुआत से "लक्समबर्ग के राज्य क्षेत्र के ग्रैंड डची में निःशुल्क सार्वजनिक परिवहन की शुरुआत की जाएगी"।

लक्समबर्ग के मुख्य परिवहन संघ एफ.एन.सी.टी.टी.एफ.ई.एल.-लैंड्सवरबैंड के अध्यक्ष जार्ज मेरेन्ज ने चिंता व्यक्त की, कि यदि टिकट बेचने के लिए किसी की आवश्यकता नहीं होगी तो सरकार की इस योजना के कारण नौकरियों को नुकसान पहुंचेगा। मेरेन्ज ने एएफपी को बताया, "जब तक कि इसे स्पष्ट नहीं किया जाता है, हम इसे स्वीकार नहीं कर सकते"। उन्होंने कहा कि उन्हें इस बात की भी चिंता थी कि ग्रामीण इलाकों के लोग निःशुल्क यात्रा से लाभान्वित नहीं होंगे।

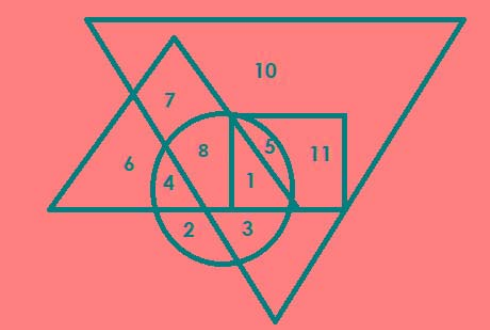
कथन:
लक्समबर्ग जनता को सार्वजनिक वाहनों के उपयोग हेतु प्रोत्साहित करने के लिए अपनी रेलगाड़ियों पर यात्रा को निःशुल्क करना चाहता है।

- निम्नलिखित विकल्पों में से उपयुक्त विकल्प का चयन करें
A- कथन निश्चित रूप से सत्य है
B- कथन संभवतः सत्य है
C- कथन निर्धारित नहीं किया जा सकता है
D- कथन निश्चित रूप से असत्य है
- (A) ☐ C
C
- (B) ☒ A (Correct Answer) (Chosen option)
A
- (C) ☐ B
B
- (D) ☐ D
D

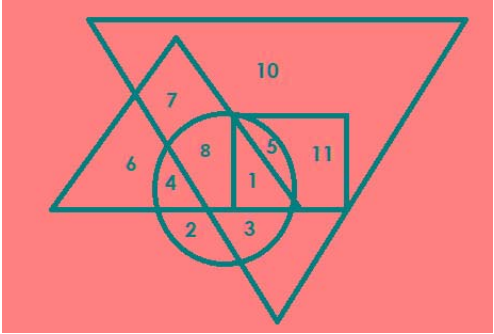
Question No.40

Marks: 2.50
Bookmark ☐

Which of the following numbers in the Venn Diagram represents only MBA graduates, where the biggest triangle represents MBA graduates, the second bigger triangle represents Engineers, circle represents M.Sc graduates and Square represents MCA graduates?



वेन आरेख में निम्नलिखित में से कौन सी संख्या केवल MBA स्नातकों को दर्शाती है, जहां सबसे बड़ा त्रिभुज MBA स्नातकों को दर्शाता है, दूसरा बड़ा त्रिभुज इंजीनियर्स को दर्शाता है, वृत्त M.Sc स्नातकों को दर्शाता है और वर्ग MCA स्नातकों को दर्शाता है?



- (A) ☐ 8
8
- (B) ☒ 10 (Correct Answer) (Chosen option)
10
- (C) ☐ 2
2
- (D) ☐ 3
3