

Exam Date: 29-Nov-2021 Exam
Time: 09:00-11:00
Post Name: SI Civil 2021

GENERAL HINDI - GENERAL HINDI

Question No.1

Marks: 2.50
Bookmark ☐

इनमें स्त्रीलिंग शब्द कौन-सा है?
इनमें स्त्रीलिंग शब्द कौन-सा है?

(A) ☐ पर्वत
पर्वत

(B) ☒ ख्याति (Correct Answer) (Chosen option)
ख्याति

(C) ☐ मोती
मोती

(D) ☐ पत्थर
पत्थर

Question No.2

Marks: 2.50
Bookmark ☐

"मैं चाहता हूँ कि तुम्हारे साथ खेलूँ।" – यह किस प्रकार का वाक्य है?
"मैं चाहता हूँ कि तुम्हारे साथ खेलूँ।" – यह किस प्रकार का वाक्य है?

(A) ☐ निषेध वाक्य
निषेध वाक्य

(B) ☐ संयुक्त वाक्य (Chosen option)
संयुक्त वाक्य

(C) ☒ मिश्र वाक्य (Correct Answer)
मिश्र वाक्य

(D) ☐ सरल वाक्य
सरल वाक्य

Question No.3

Marks: 2.50
Bookmark ☐

"वह सालभर अनुपस्थित रहा।" – इस वाक्य में किस प्रकार के क्रियाविशेषण का प्रयोग हुआ है?
"वह सालभर अनुपस्थित रहा।" – इस वाक्य में किस प्रकार के क्रियाविशेषण का प्रयोग हुआ है?

(A) ☒ कालवाचक (Correct Answer) (Chosen option)
कालवाचक

(B) ☐ परिमाणवाचक
परिमाणवाचक

(C) ☐ रीतिवाचक
रीतिवाचक

(D) ☐ स्थानवाचक
स्थानवाचक

Question No.4

Marks: 2.50
Bookmark ☐

'बर्बर' का विलोम शब्द कौन-सा है?
'बर्बर' का विलोम शब्द कौन-सा है?

(A) ☐ पंडित
पंडित

(B) ☒ सभ्य (Correct Answer) (Chosen option)
सभ्य

(C) ☐ संगत
संगत

(D) ☐ बलिष्ठ
बलिष्ठ

Question No.5

Marks: 2.50
Bookmark ☐

'गिरधर' शब्द में कौन-सा समास है?
'गिरधर' शब्द में कौन-सा समास है?

(A) ☐ द्विगु समास
द्विगु समास

(B) ☐ द्वंद्व समास (Chosen option)
द्वंद्व समास

(C) ☐ तत्पुरुष समास
तत्पुरुष समास

(D) ☒ बहुव्रीहि समास (Correct Answer)
बहुव्रीहि समास

Question No.6

Marks: 2.50
Bookmark ☐

पहला विश्व हिंदी सम्मेलन किस वर्ष संपन्न हुआ था?
पहला विश्व हिंदी सम्मेलन किस वर्ष संपन्न हुआ था?

(A) ☐ 1976 (Chosen option)
1976

(B) ☐ 1993
1993

(C) ☒ 1975 (Correct Answer)
1975

(D) ☐ 1983

1983	
<div>Question No.7</div> <div>Marks: 2.50</div> <div>Bookmark <input type="checkbox"/></div> <div>भारतीय संविधान के किस अनुच्छेद में उच्चतम न्यायालय और उच्च न्यायालयों की कार्यवाहियों में प्रयुक्त भाषा के संबंध में उल्लेख हैं? भारतीय संविधान के किस अनुच्छेद में उच्चतम न्यायालय और उच्च न्यायालयों की कार्यवाहियों में प्रयुक्त भाषा के संबंध में उल्लेख हैं?</div> <div><div>(A) <input type="radio"/> 344 (Chosen option)</div><div>344</div><div>(B) <input type="radio"/> 351</div><div>351</div><div>(C) <input type="radio"/> 343</div><div>343</div><div>(D) <input type="radio"/> 348 (Correct Answer)</div><div>348</div></div>	
<div>Question No.8</div> <div>Marks: 2.50</div> <div>Bookmark <input type="checkbox"/></div> <div>'तृण पकड़ना' - मुहावरे का अर्थ क्या है? 'तृण पकड़ना' - मुहावरे का अर्थ क्या है?</div> <div><div>(A) <input type="radio"/> घास काटना</div><div>घास काटना</div><div>(B) <input type="radio"/> बिना मतलब का काम करना (Chosen option)</div><div>बिना मतलब का काम करना</div><div>(C) <input type="radio"/> फूल गुच्छा तैयार करना</div><div>फूल गुच्छा तैयार करना</div><div>(D) <input type="radio"/> शरण में जाना (Correct Answer)</div><div>शरण में जाना</div></div>	
<div>Question No.9</div> <div>Marks: 2.50</div> <div>Bookmark <input type="checkbox"/></div> <div>"होनहार बलवान इसे कोई मत मानो झूठी" – यह उक्ति किस रचनाकार की है? "होनहार बलवान इसे कोई मत मानो झूठी" – यह उक्ति किस रचनाकार की है?</div> <div><div>(A) <input type="radio"/> विद्यापति</div><div>विद्यापति</div><div>(B) <input type="radio"/> सूरदास (Chosen option)</div><div>सूरदास</div><div>(C) <input type="radio"/> नानकदेव (Correct Answer)</div><div>नानकदेव</div><div>(D) <input type="radio"/> कबीरदास</div><div>कबीरदास</div></div>	
<div>Question No.10</div> <div>Marks: 2.50</div> <div>Bookmark <input type="checkbox"/></div> <div>वैज्ञानिक तथा तकनीकी शब्दावली आयोग भारत सरकार के किस मंत्रालय के तहत है? वैज्ञानिक तथा तकनीकी शब्दावली आयोग भारत सरकार के किस मंत्रालय के तहत है?</div> <div><div>(A) <input type="radio"/> गृह मंत्रालय</div><div>गृह मंत्रालय</div><div>(B) <input type="radio"/> विज्ञान एवं प्रौद्योगिकी मंत्रालय (Chosen option)</div><div>विज्ञान एवं प्रौद्योगिकी मंत्रालय</div><div>(C) <input type="radio"/> शिक्षा मंत्रालय (Correct Answer)</div><div>शिक्षा मंत्रालय</div><div>(D) <input type="radio"/> विधि मंत्रालय</div><div>विधि मंत्रालय</div></div>	
<div>Question No.11</div> <div>Marks: 2.50</div> <div>Bookmark <input type="checkbox"/></div> <div>"आप यहीं आइए, अन्यत्र न जाइए।" - इस वाक्य में 'अन्यत्र' किस प्रकार का क्रियाविशेषण है? "आप यहीं आइए, अन्यत्र न जाइए।" - इस वाक्य में 'अन्यत्र' किस प्रकार का क्रियाविशेषण है?</div> <div><div>(A) <input type="radio"/> परिमाणवाचक क्रियाविशेषण (Chosen option)</div><div>परिमाणवाचक क्रियाविशेषण</div><div>(B) <input type="radio"/> रीतिवाचक क्रियाविशेषण</div><div>रीतिवाचक क्रियाविशेषण</div><div>(C) <input type="radio"/> स्थानवाचक क्रियाविशेषण (Correct Answer)</div><div>स्थानवाचक क्रियाविशेषण</div><div>(D) <input type="radio"/> कालवाचक क्रियाविशेषण</div><div>कालवाचक क्रियाविशेषण</div></div>	
<div>Question No.12</div> <div>Marks: 2.50</div> <div>Bookmark <input type="checkbox"/></div> <div>'Mass consumption(मास कंज़म्पशन)' का हिंदी पर्याय कौन-सा है? 'Mass consumption(मास कंज़म्पशन)' का हिंदी पर्याय कौन-सा है?</div> <div><div>(A) <input type="radio"/> भार प्रयोग</div><div>भार प्रयोग</div><div>(B) <input type="radio"/> जन संचार</div><div>जन संचार</div><div>(C) <input type="radio"/> व्यापक उपभोग (Correct Answer) (Chosen option)</div><div>व्यापक उपभोग</div><div>(D) <input type="radio"/> व्यापक प्रतिरक्षण</div><div>व्यापक प्रतिरक्षण</div></div>	
<div>Question No.13</div> <div>Marks: 2.50</div> <div>Bookmark <input type="checkbox"/></div> <div>'आजीवन' शब्द में कौन-सा समास है? 'आजीवन' शब्द में कौन-सा समास है?</div> <div><div>(A) <input type="radio"/> द्विगु समास</div><div>द्विगु समास</div></div>	

<div>(B) <input type="radio"/> बहुब्रीहि समास (Chosen option) बहुब्रीहि समास</div> <div>(C) <input type="radio"/> अव्ययीभाव समास (Correct Answer) अव्ययीभाव समास</div> <div>(D) <input type="radio"/> कर्मधारय समास कर्मधारय समास</div>	
<div>Question No.14</div> <div>Marks: 2.50 Bookmark <input type="checkbox"/></div> <div>'सुजान भगत', 'अलग्योझा', 'गृहदाह', 'नशा', 'माता का हृदय' – ये सब किस विधा की रचनाएँ हैं? 'सुजान भगत', 'अलग्योझा', 'गृहदाह', 'नशा', 'माता का हृदय' – ये सब किस विधा की रचनाएँ हैं?</div> <div>(A) <input type="radio"/> कहानी (Correct Answer) कहानी</div> <div>(B) <input type="radio"/> काव्य (Chosen option) काव्य</div> <div>(C) <input type="radio"/> उपन्यास उपन्यास</div> <div>(D) <input type="radio"/> नाटक नाटक</div>	
<div>Question No.15</div> <div>Marks: 2.50 Bookmark <input type="checkbox"/></div> <div>अरुण कमल को किस कृति के लिए साहित्य अकादमी पुरस्कार प्राप्त हुआ? अरुण कमल को किस कृति के लिए साहित्य अकादमी पुरस्कार प्राप्त हुआ?</div> <div>(A) <input type="radio"/> अपनी केवल धार अपनी केवल धार</div> <div>(B) <input type="radio"/> सबूत सबूत</div> <div>(C) <input type="radio"/> पुतली में संसार (Chosen option) पुतली में संसार</div> <div>(D) <input type="radio"/> नये इलाके में (Correct Answer) नये इलाके में</div>	
<div>Question No.16</div> <div>Marks: 2.50 Bookmark <input type="checkbox"/></div> <div>इनमें से कौन-सी भाषा द्रविड़ भाषा नहीं है? इनमें से कौन-सी भाषा द्रविड़ भाषा नहीं है?</div> <div>(A) <input type="radio"/> मलयालम मलयालम</div> <div>(B) <input type="radio"/> तेलुगु तेलुगु</div> <div>(C) <input type="radio"/> तमिल तमिल</div> <div>(D) <input type="radio"/> सौराष्ट्र (Correct Answer) (Chosen option) सौराष्ट्र</div>	
<div>Question No.17</div> <div>Marks: 2.50 Bookmark <input type="checkbox"/></div> <div>"वह अचानक बोल पड़ा।" - इस वाक्य में 'अचानक' किस प्रकार का क्रियाविशेषण है? "वह अचानक बोल पड़ा।" - इस वाक्य में 'अचानक' किस प्रकार का क्रियाविशेषण है?</div> <div>(A) <input type="radio"/> कालवाचक क्रियाविशेषण (Chosen option) कालवाचक क्रियाविशेषण</div> <div>(B) <input type="radio"/> रीतिवाचक क्रियाविशेषण (Correct Answer) रीतिवाचक क्रियाविशेषण</div> <div>(C) <input type="radio"/> स्थानवाचक क्रियाविशेषण स्थानवाचक क्रियाविशेषण</div> <div>(D) <input type="radio"/> परिमाणवाचक क्रियाविशेषण परिमाणवाचक क्रियाविशेषण</div>	
<div>Question No.18</div> <div>Marks: 2.50 Bookmark <input type="checkbox"/></div> <div>"रामायण सुंदर रचना है।" - इस वाक्य में 'सुंदर' किस प्रकार का विशेषण है? "रामायण सुंदर रचना है।" - इस वाक्य में 'सुंदर' किस प्रकार का विशेषण है?</div> <div>(A) <input type="radio"/> सार्वनामिक विशेषण सार्वनामिक विशेषण</div> <div>(B) <input type="radio"/> परिमाणवाचक विशेषण परिमाणवाचक विशेषण</div> <div>(C) <input type="radio"/> संख्यावाचक विशेषण संख्यावाचक विशेषण</div> <div>(D) <input type="radio"/> गुणवाचक विशेषण (Correct Answer) (Chosen option) गुणवाचक विशेषण</div>	
<div>Question No.19</div> <div>Marks: 2.50 Bookmark <input type="checkbox"/></div> <div>किसी भाव या शब्द की व्याख्या करने के लिए, उस अंश को मूल वाक्य से अलग रखने के लिए किस चिह्न का प्रयोग किया जाता है? किसी भाव या शब्द की व्याख्या करने के लिए, उस अंश को मूल वाक्य से अलग रखने के लिए किस चिह्न का प्रयोग किया जाता है?</div> <div>(A) <input type="radio"/> अर्द्ध विराम अर्द्ध विराम</div> <div>(B) <input type="radio"/> कोष्ठक (Correct Answer) (Chosen option) कोष्ठक</div> <div>(C) <input type="radio"/> उद्धरण चिह्न उद्धरण चिह्न</div> <div>(D) <input type="radio"/> निर्देशक निर्देशक</div>	

<div>Question No.20</div> <div>Marks: 2.50</div> <div>Bookmark <input type="checkbox"/></div> <div>‘ऐनवक्ता’ शब्द में कौन-सा उपसर्ग है? ‘ऐनवक्ता’ शब्द में कौन-सा उपसर्ग है? (A) <input type="radio"/> ऐनव ऐनव (B) <input type="radio"/> वक्त वक्त (C) <input type="radio"/> ऐ ऐ (D) <input type="radio"/> ऐन (Correct Answer) (Chosen option) ऐन</div>
<div>Question No.21</div> <div>Marks: 2.50</div> <div>Bookmark <input type="checkbox"/></div> <div>इनमें से कौन-सा शब्द ‘पानी’ शब्द का अर्थ नहीं है? इनमें से कौन-सा शब्द ‘पानी’ शब्द का अर्थ नहीं है? (A) <input type="radio"/> इज्जत (Chosen option) इज्जत (B) <input type="radio"/> कांति कांति (C) <input type="radio"/> जल जल (D) <input type="radio"/> हाथ (Correct Answer) हाथ</div>
<div>Question No.22</div> <div>Marks: 2.50</div> <div>Bookmark <input type="checkbox"/></div> <div>‘खत्री’ शब्द का तत्सम रूप कौन-सा है? ‘खत्री’ शब्द का तत्सम रूप कौन-सा है? (A) <input type="radio"/> क्षत्रिय (Correct Answer) (Chosen option) क्षत्रिय (B) <input type="radio"/> क्षेत्र क्षेत्र (C) <input type="radio"/> क्षेत्रज्ञ क्षेत्रज्ञ (D) <input type="radio"/> शिष्य शिष्य</div>
<div>Question No.23</div> <div>Marks: 2.50</div> <div>Bookmark <input type="checkbox"/></div> <div>‘नैतिक’ शब्द में कौन-सा प्रत्यय है? ‘नैतिक’ शब्द में कौन-सा प्रत्यय है? (A) <input type="radio"/> तिक तिक (B) <input type="radio"/> क क (C) <input type="radio"/> नै (Chosen option) नै (D) <input type="radio"/> इक (Correct Answer) इक</div>
<div>Question No.24</div> <div>Marks: 2.50</div> <div>Bookmark <input type="checkbox"/></div> <div>ओष्ठ्य दीर्घ स्वर का उदाहरण कौन-सा है? ओष्ठ्य दीर्घ स्वर का उदाहरण कौन-सा है? (A) <input type="radio"/> उ उ (B) <input type="radio"/> इ इ (C) <input type="radio"/> ऋ ऋ (D) <input type="radio"/> ऊ (Correct Answer) (Chosen option) ऊ</div>
<div>Question No.25</div> <div>Marks: 2.50</div> <div>Bookmark <input type="checkbox"/></div> <div>इनमें से कौन-सी भाषा भारतीय संविधान की आठवीं अनुसूची में शामिल नहीं है? इनमें से कौन-सी भाषा भारतीय संविधान की आठवीं अनुसूची में शामिल नहीं है? (A) <input type="radio"/> उर्दू उर्दू (B) <input type="radio"/> छत्तीसगढ़ी (Correct Answer) (Chosen option) छत्तीसगढ़ी (C) <input type="radio"/> नेपाली नेपाली (D) <input type="radio"/> तमिल तमिल</div>
<div>Case Study - 26 to 28</div> <div>Marks: 7.50</div> <div>अनुच्छेद पढ़कर, दिए गए सवालों के सही जवाब चुनिए :- धरती पर अमीर और गरीब के बीच खाई चौड़ी होती जा रही है। हाल ही में संयुक्त राष्ट्र के मानव विकास सूचकांक से भी इस बात की पुष्टि हुई है। भारत भी इस रुझान से अछूता नहीं है। बार्कलेड इरून इंडिया रिच लिस्ट के अनुसार इस समय देश के 831 लोगों के पास एक हजार करोड़ रुपए से अधिक की संपत्ति है। इन लोगों की संपत्ति सकल घरेलू उत्पाद की 25 प्रतिशत है। भारत उभरती हुई अर्थव्यवस्था है लेकिन विकास का लाभ सबको बराबर नहीं मिल रहा है। बॉस्टन कंसल्टिंग ग्रुप की रिपोर्ट के अनुसार देश में निजी संपदा में स्थिर रूप से वृद्धि हो रही है। 2018 में निजी संपदा 3 ट्रिलियन डॉलर है जो 13 प्रतिशत वृद्धि के साथ 2022 तक 5 ट्रिलियन डॉलर तक पहुँचने की उम्मीद है। तब इस मामले में वह दुनिया का 11वां धनी देश बन जाएगा। गरीब कौन है? इसे परिभाषित करने के लिए दुनिया के सभी देशों में अलग-अलग मानदंड हैं। अमरीका में ऐसे परिवार को गरीब माना जाता है जिसके पास दो से कम कार हैं</div>

लेकिन भारत में ऐसे परिवार को मध्यम या उच्च मध्यम वर्ग में शामिल किया जाता है।

Question No.26

Marks: 2.50

Bookmark ☐

भारत में इस समय कितने लोगों के पास एक हज़ार करोड़ रुपए से अधिक की संपत्ति है?
भारत में इस समय कितने लोगों के पास एक हज़ार करोड़ रुपए से अधिक की संपत्ति है?

- (A) ☐ 11 प्रतिशत
11 प्रतिशत
- (B) ☒ 831 (Correct Answer) (Chosen option)
831
- (C) ☐ 13 प्रतिशत
13 प्रतिशत
- (D) ☐ 25 प्रतिशत
25 प्रतिशत

Question No.27

Marks: 2.50

Bookmark ☐

निजी संपदा 2022 तक कहीं पहुँचने की उम्मीद है?
निजी संपदा 2022 तक कहीं पहुँचने की उम्मीद है?

- (A) ☐ 3 ट्रिलियन डॉलर तक (Chosen option)
3 ट्रिलियन डॉलर तक
- (B) ☐ हज़ार करोड़ रुपए
हज़ार करोड़ रुपए
- (C) ☒ 5 ट्रिलियन डॉलर तक (Correct Answer)
5 ट्रिलियन डॉलर तक
- (D) ☐ 13 ट्रिलियन डॉलर तक
13 ट्रिलियन डॉलर तक

Question No.28

Marks: 2.50

Bookmark ☐

उक्त अनुच्छेद के अनुसार इनमें से कौन-सा कथन सही है?
उक्त अनुच्छेद के अनुसार इनमें से कौन-सा कथन सही है?

- (A) ☐ भारत उभरती हुई अर्थव्यवस्था है और विकास का लाभ सबको बराबर मिलने की संभावना एक सपना है।
भारत उभरती हुई अर्थव्यवस्था है और विकास का लाभ सबको बराबर मिलने की संभावना एक सपना है।
- (B) ☐ भारत उभरती हुई अर्थव्यवस्था है और विकास का लाभ सबको बराबर मिलने की संभावना है।
भारत उभरती हुई अर्थव्यवस्था है और विकास का लाभ सबको बराबर मिलने की संभावना है।
- (C) ☒ भारत उभरती हुई अर्थव्यवस्था है लेकिन विकास का लाभ सबको बराबर नहीं मिल रहा है। (Correct Answer) (Chosen option)
भारत उभरती हुई अर्थव्यवस्था है लेकिन विकास का लाभ सबको बराबर नहीं मिल रहा है।
- (D) ☐ भारत उभरती हुई अर्थव्यवस्था है और विकास का लाभ सबको बराबर मिल रहा है।
भारत उभरती हुई अर्थव्यवस्था है और विकास का लाभ सबको बराबर मिल रहा है।

Question No.29

Marks: 2.50

Bookmark ☐

14 सितंबर को किस दिवस के रूप में मनाया जाता है?
14 सितंबर को किस दिवस के रूप में मनाया जाता है?

- (A) ☒ हिंदी दिवस (Correct Answer) (Chosen option)
हिंदी दिवस
- (B) ☐ मातृभाषा दिवस
मातृभाषा दिवस
- (C) ☐ विश्व हिंदी दिवस
विश्व हिंदी दिवस
- (D) ☐ अनुवाद दिवस
अनुवाद दिवस

Question No.30

Marks: 2.50

Bookmark ☐

"आप यात्रा न कीजिए।" – यह किस प्रकार का वाक्य है?
"आप यात्रा न कीजिए।" – यह किस प्रकार का वाक्य है?

- (A) ☒ निषेधवाचक वाक्य (Correct Answer) (Chosen option)
निषेधवाचक वाक्य
- (B) ☐ प्रश्नवाचक वाक्य
प्रश्नवाचक वाक्य
- (C) ☐ विधानवाचक वाक्य
विधानवाचक वाक्य
- (D) ☐ संकेतवाचक वाक्य
संकेतवाचक वाक्य

Question No.31

Marks: 2.50

Bookmark ☐

हृदय में मूलरूप से विद्यमान रहने वाले भावों को क्या संज्ञा दी जाती है?
हृदय में मूलरूप से विद्यमान रहने वाले भावों को क्या संज्ञा दी जाती है?

- (A) ☐ अनुभाव (Chosen option)
अनुभाव
- (B) ☐ विभाव
विभाव
- (C) ☒ स्थायी भाव (Correct Answer)
स्थायी भाव
- (D) ☐ संचारी भाव
संचारी भाव

Question No.32

Marks: 2.50

Bookmark ☐

"राम एक पुस्तक मुझे दो।" - इस वाक्य में 'एक' किस प्रकार का विशेषण है?
"राम एक पुस्तक मुझे दो।" - इस वाक्य में 'एक' किस प्रकार का विशेषण है?

<div>(A) <input type="radio"/> संख्यावाचक विशेषण (Correct Answer) (Chosen option) संख्यावाचक विशेषण</div> <div>(B) <input type="radio"/> परिमाणवाचक विशेषण परिमाणवाचक विशेषण</div> <div>(C) <input type="radio"/> सार्वनामिक विशेषण सार्वनामिक विशेषण</div> <div>(D) <input type="radio"/> गुणवाचक विशेषण गुणवाचक विशेषण</div>		
<div>Question No.33</div> <div>‘कुकुरमुत्ता’ के कवि कौन हैं? ‘कुकुरमुत्ता’ के कवि कौन हैं?</div> <div>(A) <input type="radio"/> रामनरेश त्रिपाठी रामनरेश त्रिपाठी</div> <div>(B) <input type="radio"/> अज्ञेय अज्ञेय</div> <div>(C) <input type="radio"/> जयशंकर प्रसाद जयशंकर प्रसाद</div> <div>(D) <input type="radio"/> सूर्यकांत त्रिपाठी निराला (Correct Answer) (Chosen option) सूर्यकांत त्रिपाठी निराला</div>		<div>Marks: 2.50</div> <div>Bookmark <input type="checkbox"/></div>
<div>Question No.34</div> <div>सही वर्तनी वाला शब्द कौन-सा है? सही वर्तनी वाला शब्द कौन-सा है?</div> <div>(A) <input type="radio"/> प्रतमाक्षर प्रतमाक्षर</div> <div>(B) <input type="radio"/> प्रथमाच्छर (Chosen option) प्रथमाच्छर</div> <div>(C) <input type="radio"/> प्रथमाक्षर (Correct Answer) प्रथमाक्षर</div> <div>(D) <input type="radio"/> प्रितमाक्षर प्रितमाक्षर</div>		<div>Marks: 2.50</div> <div>Bookmark <input type="checkbox"/></div>
<div>Question No.35</div> <div>"मजदूर को मजदूरी दीजिए!" – इस वाक्य में कौन-सा कारक है? "मजदूर को मजदूरी दीजिए!" – इस वाक्य में कौन-सा कारक है?</div> <div>(A) <input type="radio"/> कर्म कारक (Correct Answer) कर्म कारक</div> <div>(B) <input type="radio"/> संबंध कारक संबंध कारक</div> <div>(C) <input type="radio"/> संबोधन कारक संबोधन कारक</div> <div>(D) <input type="radio"/> अधिकरण कारक (Chosen option) अधिकरण कारक</div>		<div>Marks: 2.50</div> <div>Bookmark <input type="checkbox"/></div>
<div>Question No.36</div> <div>"वह कविता गायन करती है।" – इस वाक्य में क्रिया किस काल का बोध करा रही है? "वह कविता गायन करती है।" – इस वाक्य में क्रिया किस काल का बोध करा रही है?</div> <div>(A) <input type="radio"/> सामान्य भूत सामान्य भूत</div> <div>(B) <input type="radio"/> सामान्य भविष्यत् सामान्य भविष्यत्</div> <div>(C) <input type="radio"/> अपूर्ण वर्तमान अपूर्ण वर्तमान</div> <div>(D) <input type="radio"/> सामान्य वर्तमान (Correct Answer) (Chosen option) सामान्य वर्तमान</div>		<div>Marks: 2.50</div> <div>Bookmark <input type="checkbox"/></div>
<div>Question No.37</div> <div>‘हिमालय’ का सही संधि-विच्छेद कौन-सा है? ‘हिमालय’ का सही संधि-विच्छेद कौन-सा है?</div> <div>(A) <input type="radio"/> हिमा+लय हिमा+लय</div> <div>(B) <input type="radio"/> हिमा+अलय हिमा+अलय</div> <div>(C) <input type="radio"/> हिमा+आलय (Chosen option) हिमा+आलय</div> <div>(D) <input type="radio"/> हिम+आलय (Correct Answer) हिम+आलय</div>		<div>Marks: 2.50</div> <div>Bookmark <input type="checkbox"/></div>
<div>Question No.38</div> <div>इनमें से कौन-सा शब्द ‘घट’ शब्द का अर्थ नहीं है? इनमें से कौन-सा शब्द ‘घट’ शब्द का अर्थ नहीं है?</div> <div>(A) <input type="radio"/> मन (Chosen option) मन</div> <div>(B) <input type="radio"/> शरीर शरीर</div> <div>(C) <input type="radio"/> घड़ा घड़ा</div> <div>(D) <input type="radio"/> समूह (Correct Answer)</div>		<div>Marks: 2.50</div> <div>Bookmark <input type="checkbox"/></div>

समूह

<div>Question No.39</div> <div>Marks: 2.50</div> <div>Bookmark <input type="checkbox"/></div> <div>इनमें से कौन-सा शब्द 'आचरण' शब्द का अर्थ नहीं है? इनमें से कौन-सा शब्द 'आचरण' शब्द का अर्थ नहीं है? (A) <input type="radio"/> व्यवहार व्यवहार (B) <input checked="" type="radio"/> आकांक्षा (Correct Answer) (Chosen option) आकांक्षा (C) <input type="radio"/> आदत आदत (D) <input type="radio"/> चाल-चलन चाल-चलन</div>
<div>Question No.40</div> <div>Marks: 2.50</div> <div>Bookmark <input type="checkbox"/></div> <div>"छटांक चून चौबारे रसोई" – इस लोकोक्ति का अर्थ क्या है? "छटांक चून चौबारे रसोई" – इस लोकोक्ति का अर्थ क्या है? (A) <input type="radio"/> संपन्नता का निशान संपन्नता का निशान (B) <input checked="" type="radio"/> झूठा दिखावा और शान (Correct Answer) (Chosen option) झूठा दिखावा और शान (C) <input type="radio"/> बेईमानी के ऐसे बेईमानी के ऐसे (D) <input type="radio"/> शानदार जीवन शानदार जीवन</div>

BASIC LAW - CONSTITUTION AND GENERAL KNOWLEDGE - BASIC LAW - CONSTITUTION AND GENERAL KNOWLEDGE

<div>Question No.1</div> <div>Marks: 2.50</div> <div>Bookmark <input type="checkbox"/></div> <div>Which lake is the largest of the 5 Great Lakes of the North America? उत्तरी अमेरिका की 5 विशाल झीलों में से सबसे बड़ी झील कौन सी है? (A) <input checked="" type="radio"/> Lake Superior (Correct Answer) (Chosen option) सुपीरियर झील (B) <input type="radio"/> Lake Ontario ओण्टारियो झील (C) <input type="radio"/> Lake Huron हूरन झील (D) <input type="radio"/> Lake Erie ईरी झील</div>
<div>Question No.2</div> <div>Marks: 2.50</div> <div>Bookmark <input type="checkbox"/></div> <div>Which of these alternatives is not a device covered as a "computer system" under the Information Technology Act, 2000? इनमें से कौन सा विकल्प सूचना प्रौद्योगिकी अधिनियम, 2000 के तहत "कंप्यूटर सिस्टम" के रूप में शामिल एक उपकरण नहीं है? (A) <input checked="" type="radio"/> Calculators (Correct Answer) (Chosen option) कैलकुलेटर (B) <input type="radio"/> Microphones माइक्रोफोन (C) <input type="radio"/> Joysticks जॉयस्टिक्स (D) <input type="radio"/> Digital cameras डिजिटल कैमरे</div>
<div>Question No.3</div> <div>Marks: 2.50</div> <div>Bookmark <input type="checkbox"/></div> <div>What is the meaning of the writ 'Quo-Warranto', which is issued by the court to enquire into the legality of the claim of a person to a public office? 'अधिकार पृच्छा' याचिका का क्या अर्थ है, जो किसी सरकारी कार्यालय में किसी व्यक्ति के दावे की वैधता की जांच करने के लिए अदालत द्वारा जारी की जाती है? (A) <input type="radio"/> To be certified प्रमाणित किया जाए (B) <input checked="" type="radio"/> By what authority (Correct Answer) (Chosen option) किस अधिकार से (C) <input type="radio"/> To forbid निषिद्ध करना (D) <input type="radio"/> We command हम आज्ञा देते हैं</div>
<div>Question No.4</div> <div>Marks: 2.50</div> <div>Bookmark <input type="checkbox"/></div> <div>Which of these is not considered as a part of the international Bill of Human Rights? इनमें से किसे मानवाधिकार के अंतराष्ट्रीय विधेयक का हिस्सा नहीं माना जाता है? (A) <input type="radio"/> Universal Declaration of Human Rights मानव-अधिकारों की विश्वव्यापी घोषणा (B) <input checked="" type="radio"/> Convention on the Prevention and Punishment of the Crime of Genocide (Correct Answer) (Chosen option) नरसंहार के अपराध की रोकथाम और सजा पर सम्मेलन (C) <input type="radio"/> International Covenant on Civil and Political Rights नागरिक तथा राजनीतिक अधिकारों पर अंतराष्ट्रीय प्रण (D) <input type="radio"/> International Covenant on Economic, Social and Cultural Rights आर्थिक, सामाजिक और सांस्कृतिक अधिकारों पर अंतराष्ट्रीय प्रण</div>
<div>Question No.5</div> <div>Marks: 2.50</div> <div>Bookmark <input type="checkbox"/></div> <div>The Right to Information Act under _____ provides that any information which would harm the competitive position of a third party need not be disclosed. _____ के तहत सूचना का अधिकार अधिनियम यह प्रावधान करता है कि कोई भी जानकारी जो किसी तीसरे पक्ष की प्रतिस्पर्धी स्थिति को नुकसान पहुंचाती है, उसे प्रकट करने की आवश्यकता नहीं है।</div>

<div>(A) <input type="radio"/> Section 8(1)(a) धारा 8(1)(a)</div> <div>(B) <input type="radio"/> Section 8(1)(c) (Chosen option) धारा 8(1)(c)</div> <div>(C) <input checked="" type="radio"/> Section 8(1)(d) (Correct Answer) धारा 8(1)(d)</div> <div>(D) <input type="radio"/> Section 8(1)(f) धारा 8(1)(f)</div>	
<div>Question No.6</div> <div>Where can the resolution for removal of vice president be introduced? उप-राष्ट्रपति को हटाने का प्रस्ताव कहाँ पेश किया जा सकता है?</div> <div>(A) <input type="radio"/> Only in Lok Sabha केवल लोक सभा में</div> <div>(B) <input type="radio"/> Either in Lok Sabha or Rajya Sabha या तो लोक सभा या राज्य सभा में</div> <div>(C) <input checked="" type="radio"/> Only in Rajya Sabha (Correct Answer) केवल राज्य सभा में</div> <div>(D) <input type="radio"/> Joint sitting of Parliament (Chosen option) संसद की संयुक्त बैठक में</div>	<div>Marks: 2.50</div> <div>Bookmark <input type="checkbox"/></div>
<div>Question No.7</div> <div>What is the correct expansion of the "BBM" platform? "BBM" प्लेटफॉर्म का सही विस्तार क्या है?</div> <div>(A) <input type="radio"/> B612 Messenger B612 मैसेन्जर</div> <div>(B) <input type="radio"/> BlueBerry Messenger ब्लूबेरी मैसेन्जर</div> <div>(C) <input type="radio"/> BlackBerry Messages (Chosen option) ब्लैकबेरी मैसेज्स</div> <div>(D) <input checked="" type="radio"/> BlackBerry Messenger (Correct Answer) ब्लैकबेरी मैसेन्जर</div>	<div>Marks: 2.50</div> <div>Bookmark <input type="checkbox"/></div>
<div>Question No.8</div> <div>Which of the following Parts of the Indian Constitution contains the Chapter regarding "Subordinate Courts" in the States? भारतीय संविधान के निम्नलिखित में से किस भाग में राज्यों में "अधीनस्थ न्यायालयों" से संबंधित अध्याय है?</div> <div>(A) <input type="radio"/> Part VIII भाग VIII</div> <div>(B) <input type="radio"/> Part IV भाग IV</div> <div>(C) <input checked="" type="radio"/> Part VI (Correct Answer) भाग VI</div> <div>(D) <input type="radio"/> Part VII (Chosen option) भाग VII</div>	<div>Marks: 2.50</div> <div>Bookmark <input type="checkbox"/></div>
<div>Question No.9</div> <div>The Advisory Board constituted under the National Security Act shall submit its report to the appropriate Government within _____. राष्ट्रीय सुरक्षा अधिनियम के तहत गठित सलाहकार बोर्ड _____ के भीतर उपयुक्त सरकार को अपनी रिपोर्ट प्रस्तुत करेगा।</div> <div>(A) <input type="radio"/> Two weeks from the date of detention of the person concerned संबंधित व्यक्ति के निरोध की तिथि से दो सप्ताह</div> <div>(B) <input checked="" type="radio"/> Seven weeks from the date of detention of the person concerned (Correct Answer) संबंधित व्यक्ति के निरोध की तिथि से सात सप्ताह</div> <div>(C) <input type="radio"/> Ten days from the date of detention of the person concerned संबंधित व्यक्ति के निरोध की तिथि से दस दिन</div> <div>(D) <input type="radio"/> Four weeks from the date of detention of the person concerned (Chosen option) संबंधित व्यक्ति के निरोध की तिथि से चार सप्ताह</div>	<div>Marks: 2.50</div> <div>Bookmark <input type="checkbox"/></div>
<div>Question No.10</div> <div>The correct interpretation of Section 24 of the Right to Fair Compensation and Transparency in Land Acquisition, Rehabilitation and Resettlement Act, 2013, was the subject matter of reference before a five Judge Bench in the case of _____. भूमि अधिग्रहण, पुनर्वास और पुनर्स्थापन अधिनियम, 2013 में उचित मुआवजे और पारदर्शिता के अधिकार की धारा 24 की सही व्याख्या, _____ के मामले में पांच न्यायाधीशों के पीठ के समक्ष संदर्भ का विषय था।</div> <div>(A) <input type="radio"/> BALCO v. Kaiser Aluminium Technical Services Inc. बाल्को बनाम कैसर एल्युमिनियम टेक्निकल सर्विसेज इंक.</div> <div>(B) <input checked="" type="radio"/> Indore Development Authority v. Manoharlal (Correct Answer) इंदौर विकास प्राधिकरण बनाम मनोहरलाल</div> <div>(C) <input type="radio"/> K.S. Paripoornan v. State of Kerala (Chosen option) के.एस. परिपूर्णन बनाम केरल राज्य</div> <div>(D) <input type="radio"/> V.L.S. Finance Ltd. v. Union of India वी.एल.एस. फाइनेंस लिमिटेड बनाम भारत संघ</div>	<div>Marks: 2.50</div> <div>Bookmark <input type="checkbox"/></div>
<div>Question No.11</div> <div>Which of the following diseases is characterised by poor quality and quantity of sleep? नींद की खराब गुणवत्ता और नींद में कमी निम्नलिखित में से कौन सी बीमारी के लक्षण है?</div> <div>(A) <input checked="" type="radio"/> Insomnia (Correct Answer) (Chosen option) निद्रालोष</div> <div>(B) <input type="radio"/> Pneumonia न्यूमोनिया</div> <div>(C) <input type="radio"/> Jaundice पीलिया</div> <div>(D) <input type="radio"/> Asthma</div>	<div>Marks: 2.50</div> <div>Bookmark <input type="checkbox"/></div>

दमा
<div><div>Question No.12</div><div>Marks: 2.50</div><div>Bookmark <input type="checkbox"/></div></div> <div><p>Which among the following Committees had recommended the setting up of two special authorities designated as Lokpal and Lokayuktas?</p><p>निम्नलिखित समितियों में से किसने लोकपाल और लोकायुक्त के रूप में नामित दो विशेष प्राधिकरणों की स्थापना की अनुशंसा की थी?</p><div><div>(A) <input type="radio"/> P. K. Thungon Committee</div><div>पी.के. थुंगन समिति</div><div>(B) <input type="radio"/> Gadgil Committee</div><div>गाडगिल समिति</div><div>(C) <input checked="" type="radio"/> First Administrative Reforms Commission (Correct Answer)</div><div>प्रथम प्रशासनिक सुधार आयोग</div><div>(D) <input type="radio"/> Ashok Mehta Committee (Chosen option)</div><div>अशोक मेहता समिति</div></div></div>
<div><div>Question No.13</div><div>Marks: 2.50</div><div>Bookmark <input type="checkbox"/></div></div> <div><p>With reference to the Constitution of India, which one of the following subjects was transferred from the state list to concurrent list?</p><p>भारतीय संविधान के संदर्भ में, निम्नलिखित में से किस विषय को राज्य सूची से समवर्ती सूची में स्थानांतरित किया गया था?</p><div><div>(A) <input type="radio"/> Armed forces</div><div>सशस्त्र बल</div><div>(B) <input type="radio"/> Citizenship</div><div>नागरिकता</div><div>(C) <input checked="" type="radio"/> Forests (Correct Answer) (Chosen option)</div><div>वन</div><div>(D) <input type="radio"/> Foreign Affairs</div><div>विदेशी मामले</div></div></div>
<div><div>Question No.14</div><div>Marks: 2.50</div><div>Bookmark <input type="checkbox"/></div></div> <div><p>Tax rate for collecting income tax is fixed by _____.</p><p>आयकर एकत्र करने के लिए कर की दर _____ द्वारा निर्धारित की जाती है।</p><div><div>(A) <input type="radio"/> The President of India</div><div>भारत के राष्ट्रपति</div><div>(B) <input checked="" type="radio"/> The annual Finance Act (Correct Answer)</div><div>वार्षिक वित्त अधिनियम</div><div>(C) <input type="radio"/> The Governor of each State</div><div>प्रत्येक राज्य के राज्यपाल</div><div>(D) <input type="radio"/> The Union Government (Chosen option)</div><div>केंद्र सरकार</div></div></div>
<div><div>Question No.15</div><div>Marks: 2.50</div><div>Bookmark <input type="checkbox"/></div></div> <div><p>_____ was a Writ Petition filed in the Supreme Court of India to hold talaq-e-biddat, polygamy, nikah-halala practiced in Muslim Community as unconstitutional.</p><p>मुस्लिम समुदाय में प्रचलित तलाक-ए-बिद्दत, बहुविवाह, निकाह-हलाला को असंवैधानिक ठहराने के लिए, _____, भारत के सर्वोच्च न्यायालय में दायर एक रिट याचिका थी।</p><div><div>(A) <input type="radio"/> National Legal Services Authority v. Union of India</div><div>राष्ट्रीय विधिक सेवा प्राधिकरण बनाम भारत संघ</div><div>(B) <input type="radio"/> Peoples Union for Democratic Rights v. Union of India</div><div>पीपल्स यूनियन फॉर डेमोक्रेटिक राइट्स बनाम भारत संघ</div><div>(C) <input checked="" type="radio"/> Shayara Bano v. Union of India (Correct Answer) (Chosen option)</div><div>शायरा बानो बनाम भारत संघ</div><div>(D) <input type="radio"/> Mohd. Ahmed Khan v. Shah Bano Begum</div><div>मो. अहमद खान बनाम शाह बानो बेगम</div></div></div>
<div><div>Question No.16</div><div>Marks: 2.50</div><div>Bookmark <input type="checkbox"/></div></div> <div><p>Which union territory has the highest total literacy rate in India?</p><p>भारत में किस केंद्र शासित प्रदेश की साक्षरता दर सर्वाधिक है?</p><div><div>(A) <input type="radio"/> Andaman and Nicobar Islands</div><div>अंडमान तथा निकोबार द्वीपसमूह</div><div>(B) <input type="radio"/> Chandigarh</div><div>चंडीगढ़</div><div>(C) <input checked="" type="radio"/> Lakshadweep (Correct Answer)</div><div>लक्षद्वीप</div><div>(D) <input type="radio"/> Delhi (Chosen option)</div><div>दिल्ली</div></div></div>
<div><div>Question No.17</div><div>Marks: 2.50</div><div>Bookmark <input type="checkbox"/></div></div> <div><p>How many gram sabhas are there in Uttar Pradesh for administrative convenience?</p><p>प्रशासनिक सुविधा के लिए उत्तर प्रदेश में कितनी ग्राम सभाएँ हैं?</p><div><div>(A) <input type="radio"/> 59275</div><div>59275</div><div>(B) <input checked="" type="radio"/> 59163 (Correct Answer)</div><div>59163</div><div>(C) <input type="radio"/> 58173 (Chosen option)</div><div>58173</div><div>(D) <input type="radio"/> 60267</div><div>60267</div></div></div>
<div><div>Question No.18</div><div>Marks: 2.50</div><div>Bookmark <input type="checkbox"/></div></div> <div><p>The process in which plants combine water, carbon dioxide, and solar energy to form carbohydrates is called _____.</p><p>वह प्रक्रिया जिसमें पौधे, कार्बोहाइड्रेट बनाने के लिए पानी, कार्बन डाइऑक्साइड और सौर ऊर्जा को मिलाते हैं, उसे _____ कहा जाता है।</p><div><div>(A) <input type="radio"/> Osmosis</div><div>परासरण</div><div>(B) <input type="radio"/> Respiration</div><div>श्वसन</div></div></div>

- (C) ☐ **Photosynthesis (Correct Answer)** (Chosen option)
प्रकाश-संश्लेषण
- (D) ☐ Transpiration
वाष्पोत्सर्जन

Question No.19

Marks: 2.50
Bookmark ☐

The constitution of Joint Pollution Control Board is laid down under _____ of the Water (Prevention and Control of Pollution) Act, 1974.
संयुक्त प्रदूषण नियंत्रण बोर्ड का गठन, जल (प्रदूषण की रोकथाम और नियंत्रण) अधिनियम, 1974 की _____ के तहत निर्धारित किया गया है।

- (A) ☐ Section 16 (Chosen option)
धारा 16
- (B) ☒ **Section 13 (Correct Answer)**
धारा 13
- (C) ☐ Section 17
धारा 17
- (D) ☐ Section 14
धारा 14

Question No.20

Marks: 2.50
Bookmark ☐

Who was the real founder of the Portuguese power in the East?
पूर्व में पुर्तगाली सत्ता के वास्तविक संस्थापक कौन थे?

- (A) ☐ Pedro Alvares Cabral
पेड्रो अल्वारेस कैब्रल
- (B) ☒ **Alfonso de Albuquerque (Correct Answer)**
अलफोंसो डी अल्वुकर्क
- (C) ☐ Vasco Da Gama (Chosen option)
वास्को डि गामा
- (D) ☐ Nuno da Cunha
नून्हु दा कुन्हा

Question No.21

Marks: 2.50
Bookmark ☐

Which Constitutional Amendment Act added Eleventh Fundamental Duty in the Indian Constitution?
भारतीय संविधान में किस संवैधानिक संशोधन अधिनियम ने ग्यारहवें मौलिक कर्तव्य को जोड़ा?

- (A) ☐ 44th Constitutional Amendment Act, 1978
44वां संवैधानिक संशोधन अधिनियम, 1978
- (B) ☐ 97th Constitutional Amendment Act, 2011 (Chosen option)
97वां संवैधानिक संशोधन अधिनियम, 2011
- (C) ☒ **86th Constitutional Amendment Act, 2002 (Correct Answer)**
86वां संवैधानिक संशोधन अधिनियम, 2002
- (D) ☐ 42nd Constitutional Amendment Act, 1976
42वां संवैधानिक संशोधन अधिनियम, 1976

Question No.22

Marks: 2.50
Bookmark ☐

Which country is the largest democracy in the world?
विश्व का सबसे बड़ा लोकतांत्रिक देश कौन सा है?

- (A) ☐ United Kingdom
यूनाइटेड किंगडम
- (B) ☒ **India (Correct Answer)** (Chosen option)
भारत
- (C) ☐ United States Of America
संयुक्त राज्य अमेरिका
- (D) ☐ Canada
कनाडा

Question No.23

Marks: 2.50
Bookmark ☐

Which one of the following subjects is included in the 'Union List' of Indian Constitution?
निम्नलिखित में से कौन सा विषय भारतीय संविधान की 'संघ सूची' में शामिल है?

- (A) ☐ Prisons
बन्दी गृह
- (B) ☐ Agriculture
कृषि
- (C) ☒ **Atomic Energy (Correct Answer)** (Chosen option)
परमाणु ऊर्जा
- (D) ☐ Marriage and divorce
विवाह और तलाक

Question No.24

Marks: 2.50
Bookmark ☐

Reciprocal Provision of Supplies and Services Agreement has been signed by India and which of the following countries?
आपूर्ति और सेवाओं के पारस्परिक प्रावधान के समझौते पर भारत तथा निम्नलिखित देशों में से किसने हस्ताक्षर किए हैं?

- (A) ☐ Indonesia
इंडोनेशिया
- (B) ☒ **Japan (Correct Answer)** (Chosen option)
जापान
- (C) ☐ China
चीन
- (D) ☐ US
अमेरिका

Question No.25

Marks: 2.50
Bookmark ☐

Which of the following acts governs the anti-dumping duty in India?
निम्नलिखित में से कौन सा अधिनियम भारत में एंटी-डंपिंग शुल्क को नियंत्रित करता है?

<div>(A) <input type="radio"/> The Commercial Courts Act वाणिज्यिक न्यायालय अधिनियम</div> <div>(B) <input checked="" type="radio"/> The Customs Tariff Act (Correct Answer) सीमा शुल्क अधिनियम</div> <div>(C) <input type="radio"/> The Bureau of Indian Standards Act (Chosen option) भारतीय मानक ब्यूरो अधिनियम</div> <div>(D) <input type="radio"/> The National Waterways Act राष्ट्रीय जलमार्ग अधिनियम</div>	
<div>Question No.26</div> <div>What is the fixed term for the Election Commissioner in the Indian Constitution? भारतीय संविधान में निर्वाचन आयुक्त के लिए निश्चित अवधि क्या है?</div> <div>(A) <input type="radio"/> 5 years or upto the age of 65 years (Chosen option) 5 वर्ष या 65 वर्ष की आयु तक</div> <div>(B) <input type="radio"/> 6 years or upto the age of 70 years 6 वर्ष या 70 वर्ष की आयु तक</div> <div>(C) <input checked="" type="radio"/> 6 years or upto the age of 65 years (Correct Answer) 6 वर्ष या 65 वर्ष की आयु तक</div> <div>(D) <input type="radio"/> 5 years or upto the age of 70 years 5 वर्ष या 70 वर्ष की आयु तक</div>	<div>Marks: 2.50</div> <div>Bookmark <input type="checkbox"/></div>
<div>Question No.27</div> <div>As per budget 2020-21, the beneficiaries of which of the following schemes will be included now under Kisan Credit Card (KCC) scheme? 2020-21 के बजट के अनुसार, किसान क्रेडिट कार्ड (KCC) योजना के तहत अब निम्नलिखित में से किस योजना के लाभार्थियों को शामिल किया जाएगा?</div> <div>(A) <input type="radio"/> Village Storage Scheme ग्राम भंडारण योजना</div> <div>(B) <input checked="" type="radio"/> Pradhan Mantri Kisan Samman Nidhi (PM-KISAN) (Correct Answer) प्रधानमंत्री किसान सम्मान निधि (PM-KISAN)</div> <div>(C) <input type="radio"/> Pradhan Mantri Fasal Bima Yojana (PM- FBY) प्रधानमंत्री फसल बीमा योजना (PM- FBY)</div> <div>(D) <input type="radio"/> Soil Health Card Scheme (Chosen option) मृदा स्वास्थ्य कार्ड योजना</div>	<div>Marks: 2.50</div> <div>Bookmark <input type="checkbox"/></div>
<div>Question No.28</div> <div>The punishment for imposing or threatening a social or economic boycott of any person or a family or a group belonging to a Scheduled Caste or a Scheduled Tribe is _____. अनुसूचित जाति या अनुसूचित जनजाति के किसी व्यक्ति या परिवार या समूह के सामाजिक या आर्थिक बहिष्कार को लागू करने या इसकी धमकी देने की सजा _____ है।</div> <div>(A) <input type="radio"/> Imprisonment for a term which shall not be less than two months but which may extend to three years and with fine एक अवधि के लिए कारावास जो दो महीने से कम नहीं होगा लेकिन जिसे तीन वर्ष तक बढ़ाया जा सकता है और जुर्माना</div> <div>(B) <input checked="" type="radio"/> Imprisonment for a term which shall not be less than six months but which may extend to five years and with fine (Correct Answer) (Chosen option) एक अवधि के लिए कारावास जो छह महीने से कम नहीं होगा लेकिन जिसे पांच वर्ष तक बढ़ाया जा सकता है और जुर्माना</div> <div>(C) <input type="radio"/> Imprisonment for a term which shall not be less than one year but which may extend to ten years and with fine एक अवधि के लिए कारावास जो एक वर्ष से कम नहीं होगा लेकिन जिसे दस वर्ष तक बढ़ाया जा सकता है और जुर्माना</div> <div>(D) <input type="radio"/> Imprisonment for a term which shall not be less than one month but which may extend to one year and with fine एक अवधि के लिए कारावास जो एक महीने से कम नहीं होगा लेकिन जिसे एक वर्ष तक बढ़ाया जा सकता है और जुर्माना</div>	<div>Marks: 2.50</div> <div>Bookmark <input type="checkbox"/></div>
<div>Question No.29</div> <div>Which among the following animals is not depicted in the 'Pashupati Shiva seal' discovered from Harappan city? हड़प्पा शहर से खोजे गए 'पशुपति शिव सील' में निम्नलिखित जानवरों में से किसे दर्शाया नहीं गया है?</div> <div>(A) <input type="radio"/> Tiger बाघ</div> <div>(B) <input checked="" type="radio"/> Lion (Correct Answer) शेर</div> <div>(C) <input type="radio"/> Elephant हाथी</div> <div>(D) <input type="radio"/> Rhino (Chosen option) गैंडा</div>	<div>Marks: 2.50</div> <div>Bookmark <input type="checkbox"/></div>
<div>Question No.30</div> <div>A public hearing for Social Impact Assessment is to be ensured by the appropriate Government under _____ of the Right to Fair Compensation and Transparency in Land Acquisition, Rehabilitation and Resettlement Act, 2013, to ascertain the views of the affected families. प्रभावित परिवारों के विचारों का पता लगाने के लिए भूमि अधिग्रहण, पुनर्वास और पुनर्स्थापन अधिनियम, 2013 में उचित मुआवजे और पारदर्शिता के अधिकार की _____ के तहत उपयुक्त सरकार द्वारा सामाजिक प्रभाव आकलन के लिए एक सार्वजनिक सुनवाई सुनिश्चित की जानी है।</div> <div>(A) <input checked="" type="radio"/> Section 5 (Correct Answer) धारा 5</div> <div>(B) <input type="radio"/> Section 15 (Chosen option) धारा 15</div> <div>(C) <input type="radio"/> Section 11 धारा 11</div> <div>(D) <input type="radio"/> Section 26 धारा 26</div>	<div>Marks: 2.50</div> <div>Bookmark <input type="checkbox"/></div>

<div>Question No.31</div> <div>Marks: 2.50</div> <div>Bookmark <input type="checkbox"/></div> <div>In calculating fractions of terms of punishment, imprisonment for life shall be reckoned as equivalent to _____. सजा की अवधि की समय-सीमाओं की गणना में, आजीवन कारावास को _____ के बराबर माना जाएगा। (A) <input type="radio"/> Imprisonment for twenty five years (Chosen option) पच्चीस वर्ष का कारावास (B) <input checked="" type="radio"/> Imprisonment for twenty years (Correct Answer) बीस वर्ष का कारावास (C) <input type="radio"/> Imprisonment for fifteen years पंद्रह वर्ष का कारावास (D) <input type="radio"/> Imprisonment for ten years दस वर्ष का कारावास</div>
<div>Question No.32</div> <div>Marks: 2.50</div> <div>Bookmark <input type="checkbox"/></div> <div>'Right of Children to Free and Compulsory Education Act' was established in the year: 'बच्चों के लिए मुफ्त और अनिवार्य शिक्षा का अधिकार अधिनियम' किस वर्ष में स्थापित किया गया था? (A) <input type="radio"/> 2000 (Chosen option) 2000 (B) <input checked="" type="radio"/> 2009 (Correct Answer) 2009 (C) <input type="radio"/> 2003 2003 (D) <input type="radio"/> 2015 2015</div>
<div>Question No.33</div> <div>Marks: 2.50</div> <div>Bookmark <input type="checkbox"/></div> <div>Which among the following States is not covered under the 6th Schedule of Indian Constitution? निम्नलिखित में से कौन सा राज्य भारतीय संविधान की छठी अनुसूची के अंतर्गत नहीं आता है? (A) <input type="radio"/> Meghalaya मेघालय (B) <input type="radio"/> Mizoram मिज़ोरम (C) <input checked="" type="radio"/> Manipur (Correct Answer) मणिपुर (D) <input type="radio"/> Assam (Chosen option) असम</div>
<div>Question No.34</div> <div>Marks: 2.50</div> <div>Bookmark <input type="checkbox"/></div> <div>Where is the Mattala International Airport located? मट्टला अंतर्राष्ट्रीय हवाई अड्डा कहाँ स्थित है? (A) <input type="radio"/> Nepal नेपाल (B) <input checked="" type="radio"/> Sri Lanka (Correct Answer) श्री लंका (C) <input type="radio"/> Myanmar (Chosen option) म्यांमार (D) <input type="radio"/> Bhutan भूटान</div>
<div>Question No.35</div> <div>Marks: 2.50</div> <div>Bookmark <input type="checkbox"/></div> <div>Which one of the following Constitutional Amendment Acts provided for the formation of the "Metropolitan Planning Committee" in India? भारत में "महानगर योजना समिति" के गठन के लिए निम्नलिखित में से किस संवैधानिक संशोधन अधिनियम ने प्रावधान किए? (A) <input type="radio"/> 101st Amendment 101वां संशोधन (B) <input type="radio"/> 73rd Amendment 73वां संशोधन (C) <input type="radio"/> 42nd Amendment 42वां संशोधन (D) <input checked="" type="radio"/> 74th Amendment (Correct Answer) (Chosen option) 74वां संशोधन</div>
<div>Question No.36</div> <div>Marks: 2.50</div> <div>Bookmark <input type="checkbox"/></div> <div>Who was the Governor -General of Bengal when 'Permanent Settlement' was introduced in 1793? 1793 में 'स्थायी बंदोबस्त' के लागू होने के समय बंगाल का गवर्नर-जनरल कौन था? (A) <input type="radio"/> Warren Hastings वारेन हेस्टिंग्स (B) <input type="radio"/> Lord Dalhousie लॉर्ड डलहौजी (C) <input checked="" type="radio"/> Lord Cornwallis (Correct Answer) लॉर्ड कार्नवालिस (D) <input type="radio"/> Lord Canning (Chosen option) लॉर्ड कैनिंग</div>
<div>Question No.37</div> <div>Marks: 2.50</div> <div>Bookmark <input type="checkbox"/></div> <div>Under the Motor Vehicles Act, 1988, the term "maxicab" means any motor vehicle constructed or adapted to carry _____, excluding the driver, for hire or reward. मोटर वाहन अधिनियम, 1988 के तहत, "मैक्सीकैब" शब्द का अर्थ है कोई भी मोटर वाहन जिसे, भाड़े या पारिश्रमिक के लिए, चालक को छोड़कर, _____, का वहन करने के लिए निर्मित या अनुकूलित किया गया है। (A) <input type="radio"/> More than six passengers, but not more than sixteen passengers छह से अधिक यात्री, लेकिन सोलह से अधिक यात्री नहीं (B) <input checked="" type="radio"/> More than six passengers, but not more than twelve passengers (Correct Answer) (Chosen option) छह से अधिक यात्री, लेकिन बारह से अधिक यात्री नहीं (C) <input type="radio"/> More than seven passengers, but not more than twelve passengers</div>

- सात से अधिक यात्री, लेकिन बारह से अधिक यात्री नहीं
- (D) ☐ More than ten passengers, but not more than sixteen passengers
दस से अधिक यात्री, लेकिन सोलह से अधिक यात्री नहीं

Question No.38

Marks: 2.50
Bookmark ☐

As of december 2020, which is the fastest supercomputer in the world?
दिसंबर 2020 तक उपलब्ध जानकारी के अनुसार विश्व का सबसे तेज़ सुपर कंप्यूटर कौन सा है?

- (A) ☐ Fugaku (Correct Answer) (Chosen option)
फुगाकू
- (B) ☐ Summit
समिट
- (C) ☐ Param
परम
- (D) ☐ Sierra
सिएरा

Question No.39

Marks: 2.50
Bookmark ☐

The genetic information in the DNA is not expressed directly but is transferred via messenger RNA (mRNA). This process is called _____.
डीएनए में अनुवांशिक जानकारी को प्रत्यक्ष रूप से व्यवहार में नहीं लाया जाता, बल्कि इसे मैसेंजर आरएनए (mRNA) के माध्यम से स्थानांतरित किया जाता है। इस प्रक्रिया को _____ कहा जाता है।

- (A) ☐ Translation
रूपांतरण
- (B) ☐ DNA Replication
डीएनए प्रतिकृति
- (C) ☐ PCR (Chosen option)
पीसीआर
- (D) ☐ Transcription (Correct Answer)
प्रतिलिपि

Question No.40

Marks: 2.50
Bookmark ☐

In which year was the National Security Act, a preventive detention law, enacted by the Parliament?
राष्ट्रीय सुरक्षा अधिनियम, एक निवारक निरोध कानून, संसद द्वारा किस वर्ष में अधिनियमित किया गया था?

- (A) ☐ 1985 (Chosen option)
1985
- (B) ☐ 1980 (Correct Answer)
1980
- (C) ☐ 1975
1975
- (D) ☐ 1990
1990

NUMERICAL AND MENTAL ABILITY TEST - NUMERICAL AND MENTAL ABILITY TEST

Question No.1

Marks: 2.50
Bookmark ☐

When the article sold at the rate of Rs.12096 earned a profit of 24% more than that of the loss incurred when the same article sold at the rate of Rs.6048. Find the cost price of the article. (In Rs.)

जब किसी वस्तु को Rs.12096 में बेचा जाता है तो अर्जित लाभ, उसी वस्तु को Rs.6048 की दर से बेचे जाने से होने वाली हानि से 24% अधिक होता है, वस्तु का क्रय मूल्य ज्ञात कीजिए। (Rs. में)

- (A) ☐ 8648
8648
- (B) ☐ 8448
8448
- (C) ☐ 8748 (Correct Answer) (Chosen option)
8748
- (D) ☐ 8548
8548

Question No.2

Marks: 2.50
Bookmark ☐

A shopkeeper has 3 different qualities of Milk. 621 litres of 1st quality, 644 litres of 2nd quality and 690 litres of 3rd quality. Find the least possible number of bottles of equal size in which different Milk of different qualities can be filled without mixing?

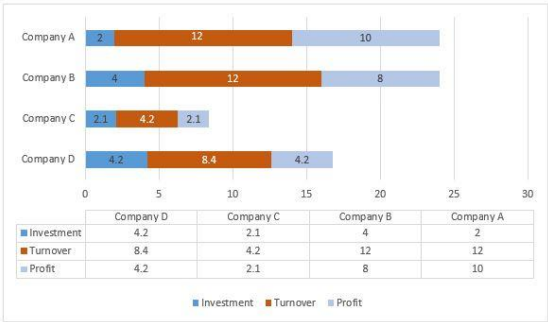
एक दुकानदार के पास 3 विभिन्न गुणवत्ताओं वाला दूध हैं। पहली गुणवत्ता का 621 लीटर, दूसरी गुणवत्ता का 644 लीटर और तीसरी गुणवत्ता का 690 लीटर है। समान आमाप की बोतलों की न्यूनत संभावित संख्या ज्ञात कीजिए, जिसमें विभिन्न गुणवत्ता के अलग-अलग दूध को बिना मिलाए भरा जा सकता है?

- (A) ☐ 35
35
- (B) ☐ 85 (Correct Answer)
85
- (C) ☐ 65
65
- (D) ☐ 23 (Chosen option)
23

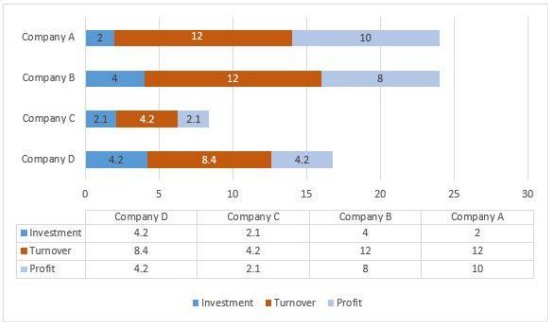
Question No.3

Marks: 2.50
Bookmark ☐

Directions:
Study the following Bar-chart and the data provided to answer the questions that follow:
Investment, Turnover and Profit of four different companies A, B, C and D are given. (In Lakhs)
What is the gain percentage of Company B?



दिशा-निर्देश:
निम्न प्रश्नों का उत्तर देने के लिए दिए गए दण्ड आरेख (बार-चार्ट) और आँकड़ों का अध्ययन करें:
चार अलग-अलग कंपनियों A, B, C और D का निवेश, टर्नओवर और लाभ दिया गया है। (लाख में)
कंपनी B का लाभ प्रतिशत क्या है?



- (A) ☐ 200% (Correct Answer) 200%
- (B) ☐ 150% (Chosen option) 150%
- (C) ☐ 300% 300%
- (D) ☐ 250% 250%

Question No.4

Marks: 2.50

Bookmark ☐

Which of the following sets of signs should be used to replace * in the following?
 $42 * 7 * 9 = 2 * 9 * 3$
निम्नलिखित में * को प्रतिस्थापित करने के लिए चिह्नों के किस समुच्चय का उपयोग किया जाना चाहिए?
 $42 * 7 * 9 = 2 * 9 * 3$

(A) ☐ + + x - (Correct Answer) (Chosen option) + + x -

(B) ☐ + - x + + - x +

(C) ☐ x - + + x - + +

(D) ☐ + x x + + x x +

Question No.5

Marks: 2.50

Bookmark ☐

J can finish the work in 69 days and K can finish the same work in 72 days. How many days are required to complete the entire work if they work together?
J, किसी कार्य को 69 दिन में पूर्ण कर सकता है और K, उसी कार्य को 72 दिन में पूर्ण कर सकता है। यदि वे एक साथ कार्य करते हैं, तो संपूर्ण कार्य को पूर्ण करने के लिए कितने दिनों की आवश्यकता होगी?

(A) ☐ 33(11/47) 33(11/47)

(B) ☐ 35(11/47) (Correct Answer) (Chosen option) 35(11/47)

(C) ☐ 31(11/47) 31(11/47)

(D) ☐ 29(11/47) 29(11/47)

Question No.6

Marks: 2.50

Bookmark ☐

Replace the question mark with an option that follows the same logic applied in the first pair.
INCOME : JPFNKB :: BLANDE : ??
प्रश्नचिह्न को उस विकल्प से प्रतिस्थापित कीजिए जो प्रथम युग्म में लागू तर्क का अनुसरण करता है।
INCOME : JPFNKB :: BLANDE : ??

(A) ☐ CMDMCB CMDMCB

(B) ☐ CMDMCA CMDMCA

(C) ☐ CNDMBA CNDMBA

(D) ☐ CNDMBB (Correct Answer) (Chosen option) CNDMBB

Question No.7

Marks: 2.50

Bookmark ☐

Find the next term in given series.
CONSTITUTION, STITUT, ONSTITUTIO, TITU, ?
दी गई श्रृंखला में अगला पद ज्ञात कीजिए।
CONSTITUTION, STITUT, ONSTITUTIO, TITU, ?

- (A) ☐ TITUTI
TITUTI
- (B) ☒ NSTITUTI (Correct Answer) (Chosen option)
NSTITUTI
- (C) ☐ STITUT
STITUT
- (D) ☐ UTION
UTION

Question No.8

Marks: 2.50
Bookmark ☐

Rearrange the letters in the question and find the option opposite to the rearranged word.
T R E L T I
प्रश्न में दिए गए अक्षरों को पुनर्व्यवस्थित कीजिए और वह विकल्प ज्ञात कीजिए जिसका अर्थ पुनर्व्यवस्थित शब्द के विपरीत है।
T R E L T I

- (A) ☐ RUBBISH (Chosen option)
RUBBISH
- (B) ☐ CLUTTER
CLUTTER
- (C) ☐ TRASH
TRASH
- (D) ☒ POSSESSION (Correct Answer)
POSSESSION

Question No.9

Marks: 2.50
Bookmark ☐

If the first day of 1812 was a Wednesday, what day was the last day of that year?
यदि 1812 का पहला दिन बुधवार था, तो उस वर्ष का अंतिम दिन क्या था?

- (A) ☐ Tuesday
मंगलवार
- (B) ☐ Wednesday
बुधवार
- (C) ☐ Friday
शुक्रवार
- (D) ☒ Thursday (Correct Answer) (Chosen option)
बृहस्पतिवार

Question No.10

Marks: 2.50
Bookmark ☐

A certain amount was to be distributed among X, Y and Z in the ratio 13:14:15 respectively. But was erroneously distributed in the ratio 7:6:8 respectively. As a result of this, Y got Rs.170 less. What is the amount? (In Rs.)
एक निश्चित राशि X, Y और Z के बीच क्रमशः 13:14:15 के अनुपात में वितरित की जानी थी। लेकिन गलती से क्रमशः 7: 6: 8 के अनुपात में वितरित की गई थी। इसके परिणामस्वरूप, Y को Rs.170 कम प्राप्त हुए।
राशि क्या है? (Rs. में)

- (A) ☒ 3570 (Correct Answer)
3570
- (B) ☐ 3470 (Chosen option)
3470
- (C) ☐ 3770
3770
- (D) ☐ 3670
3670

Question No.11

Marks: 2.50
Bookmark ☐

A sum of Rs.66500 invested under simple interest at rate of 10% p.a. If the amount after 17 years is been withdrawn and 2/3 of the total amount is been invested in share market. Find the remaining amount. (In Rs.)
राशि Rs.66500, 10% वार्षिक दर से साधारण ब्याज पर निवेश की गई, यदि 17 वर्ष के बाद राशि निकाल ली गई है और कुल राशि का 2/3 भाग शेयर बाजार में निवेश किया गया है। तो शेष राशि ज्ञात कीजिए। (Rs. में)

- (A) ☐ 58850
58850
- (B) ☐ 57850
57850
- (C) ☒ 59850 (Correct Answer) (Chosen option)
59850
- (D) ☐ 60850
60850

Question No.12

Marks: 2.50
Bookmark ☐

Each question given below consists of a statement, followed by two arguments numbered I and II. You have to decide which of the arguments is a 'strong' argument and which is a 'weak' argument.

Give answer:
(A) If only argument I is strong
(B) If only argument II is strong
(C) If either I or II is strong
(D) If neither I nor II is strong and
(E) If both I and II are strong.

Statement:
Should kids be allowed to drink coffee?

Arguments:
I. Yes, kids might suffer from stomach problems that occur from a decreased appetite due to the stimulating nature of caffeine.
II. No, drinking coffee at night causes sleep issues.
नीचे दिए गए प्रत्येक प्रश्न में एक कथन है, जिसके बाद I और II से संख्यांकित दो तर्क दिए गए हैं। आपको यह निर्णय लेना है कि कौन सा तर्क एक 'प्रबल' तर्क है और कौन सा तर्क 'दुर्बल' तर्क है।

- उत्तर दीजिए:
- (A) यदि केवल तर्क I प्रबल है
- (B) यदि केवल तर्क II प्रबल है
- (C) यदि तर्क I या तर्क II प्रबल है
- (D) यदि न तो तर्क I प्रबल है तथा न ही तर्क II प्रबल है और

(E) यदि I और II दोनों प्रबल हैं।

कथन:
क्या बच्चों को कॉफी पीने की अनुमति होनी चाहिए?

तर्क:
I. हां, बच्चे पेट की समस्याओं से पीड़ित हो सकते हैं जो कैफीन की उत्तेजक प्रकृति के कारण कम भूख से होता है।
II. नहीं, रात में कॉफी पीने से नींद की समस्या होती है।

- (A) ☐ A
- (B) ☒ D (Correct Answer)
D
- (C) ☐ B (Chosen option)
B
- (D) ☐ C
C

Case Study - 13 to 145.00

Directions :
In the following questions, few statements are given and these statements are followed by two conclusions numbered i and ii. You have to take the given statements to be true even if they seem to be at variance from commonly known facts. Read the conclusions and then decide which of the given conclusions logically follows from the given statements, disregarding commonly known facts.

Choose,
(A) Only (i) conclusion follows
(B) Only (ii) conclusion follows
(C) Neither (i) nor (ii) follows
(D) Both (i) and (ii) follow
(E) Either (i) or (ii) follows

Question No.13Marks: 2.50Bookmark ☐

Statements:
Some herbivores are omnivores.
All omnivores are carnivores.

Conclusions:
i) Some herbivores are carnivores.
ii) No herbivore is carnivore

कथन:
कुछ शाकाहारी, सर्वाहारी हैं।
सभी सर्वाहारी, मांसाहारी हैं।

निष्कर्ष:
i) कुछ शाकाहारी, मांसाहारी हैं।
ii) कोई शाकाहारी, मांसाहारी नहीं हैं।

(A) ☐ E
E
(B) ☐ C
C
(C) ☒ A (Correct Answer) (Chosen option)
A
(D) ☐ B
B

Question No.14Marks: 2.50Bookmark ☐

Statements:
Some sweets are snacks.
All snacks are crisps.
Some crisps are tasty.

Conclusions:
i) Some sweets are crisps.
ii) Some tasty are snacks.

कथन:
कुछ मिठाइयां, सैंक्स हैं।
सभी सैंक्स, क्रिस्प हैं।
कुछ क्रिस्प, स्वादिष्ट हैं।

निष्कर्ष:
i) कुछ मिठाइयां, क्रिस्प हैं।
ii) कुछ स्वादिष्ट, सैंक्स हैं।

(A) ☒ A (Correct Answer) (Chosen option)
A
(B) ☐ B
B
(C) ☐ E
E
(D) ☐ C
C

Question No.15Marks: 2.50Bookmark ☐

Solve:

(24×36×24×36)÷(2(√1296÷2))²

हल कीजिए:

$$(24 \times 36 \times 24 \times 36) \div (2(\sqrt{1296 \div 2}))^2$$

- (A) ☐ 526
526
- (B) ☒ 576 (Correct Answer) (Chosen option)
576
- (C) ☐ 512
512
- (D) ☐ 276
276

Question No.16

Marks: 2.50
Bookmark ☐

Replace the question mark with an option that follows the same logic applied in the first pair.
STOP : UXUX :: POLE : ??
प्रश्चिन्ह को उस विकल्प से प्रतिस्थापित कीजिए जो प्रथम युग्म में लागू तर्क का अनुसरण करता है।
STOP : UXUX :: POLE : ??

- (A) ☐ RMSM
RMSM
- (B) ☐ RMMS
RMMS
- (C) ☐ RSMR
RSMR
- (D) ☒ RSRM (Correct Answer) (Chosen option)
RSRM

Question No.17

Marks: 2.50
Bookmark ☐

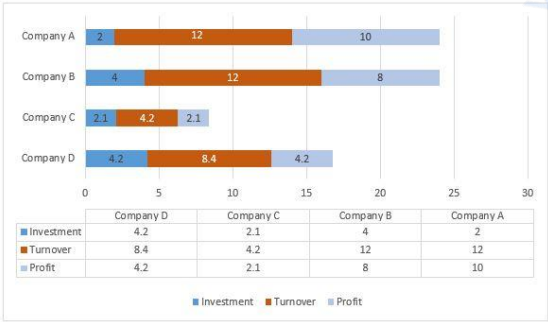
What should be written in the place of question mark in the given series?
F1, H4, ?, L16, N25
दो गई श्रृंखला में प्रश्नचिह्न के स्थान पर क्या लिखा जाएगा?
F1, H4, ?, L16, N25

- (A) ☐ K9
K9
- (B) ☐ J8 (Chosen option)
J8
- (C) ☒ J9 (Correct Answer)
J9
- (D) ☐ K11
K11

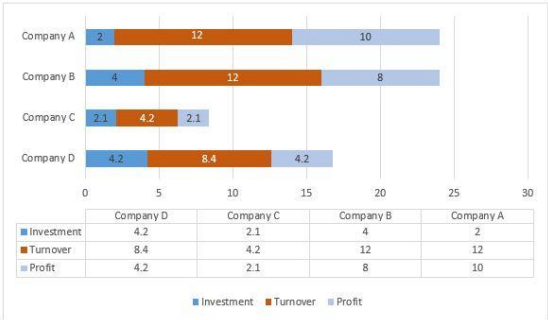
Question No.18

Marks: 2.50
Bookmark ☐

Directions:
Study the following Bar-chart and the data provided to answer the questions that follow:
Investment, Turnover and Profit of four different companies A, B, C and D are given. (In Lakhs)
What percentage of turnover of company D is profit of company C. (Up to two decimals)



दिशा-निर्देश:
निम्न प्रश्नों का उत्तर देने के लिए दिए गए दण्ड आरेख (बार-चार्ट) और आंकड़ों का अध्ययन करें:
चार अलग-अलग कंपनियों A, B, C और D का निवेश, टर्नओवर और लाभ दिया गया है। (लाख में)
कंपनी D के टर्नओवर का कितना प्रतिशत कंपनी C का लाभ है? (दो दशमलव स्थानों तक)



- (A) ☐ 72%
72%
- (B) ☒ 400% (Chosen option)

<div>400%</div> <div>(C) <div><div></div></div> 250%</div> <div>250%</div> <div>(D) <div><div></div></div> 25% (Correct Answer)</div> <div>25%</div>	
<div>Question No.19</div> <div>Marks: 2.50</div> <div>Bookmark <div><div></div></div></div> <div>A sum of money is invested at 20% per annum compounding annually for 2 years. If the interest received is Rs.2332, find the principal. (In Rs.) एक राशि 2 वर्ष के लिए 20% वार्षिक दर पर चक्रवृद्धि ब्याज पर निवेश की गई। यदि प्राप्त ब्याज Rs.2332 है, तो मूलधन ज्ञात कीजिए। (Rs. में)</div> <div>(A) <div><div></div></div> 5300 (Correct Answer) (Chosen option)</div> <div>5300</div> <div>(B) <div><div></div></div> 5200</div> <div>5200</div> <div>(C) <div><div></div></div> 5000</div> <div>5000</div> <div>(D) <div><div></div></div> 5100</div> <div>5100</div>	
<div>Question No.20</div> <div>Marks: 2.50</div> <div>Bookmark <div><div></div></div></div> <div>Find the surface area of the sphere (in cm²) whose radius is 147 cm and $\pi = 22/7$. उस गोले का पृष्ठीय क्षेत्रफल (cm² में) ज्ञात कीजिए, जिसकी त्रिज्या 147 cm और $\pi = 22/7$ है।</div> <div>(A) <div><div></div></div> 281656</div> <div>281656</div> <div>(B) <div><div></div></div> 271656 (Correct Answer)</div> <div>271656</div> <div>(C) <div><div></div></div> 301656 (Chosen option)</div> <div>301656</div> <div>(D) <div><div></div></div> 291656</div> <div>291656</div>	
<div>Question No.21</div> <div>Marks: 2.50</div> <div>Bookmark <div><div></div></div></div> <div>Arjun started a business with Rs.28,000 and is joined afterwards by Baskar with Rs.84,000. After how many months did Baskar join if the profits at the end of the year are divided equally? अर्जुन ने Rs.28,000 से एक व्यवसाय शुरू किया और बाद में Rs.84,000 के साथ भास्कर इसमें शामिल हो गया। यदि वर्ष के अंत में लाभ को समान रूप से विभाजित किया जाता है तो भास्कर कितने महीने बाद शामिल हुआ?</div> <div>(A) <div><div></div></div> 4</div> <div>4</div> <div>(B) <div><div></div></div> 7 (Chosen option)</div> <div>7</div> <div>(C) <div><div></div></div> 6</div> <div>6</div> <div>(D) <div><div></div></div> 8 (Correct Answer)</div> <div>8</div>	
<div>Question No.22</div> <div>Marks: 2.50</div> <div>Bookmark <div><div></div></div></div> <div>Select the appropriate set of sequence of mathematical operators to replace all * sign in the following equation and hence to balance it. $75 * 3 * 5 * 60$ निम्नलिखित समीकरण में सभी * को प्रतिस्थापित करने तथा इसे संतुलित करने के लिए गणितीय संकारकों के अनुक्रम के उपयुक्त समुच्चय का चयन कीजिए। $75 * 3 * 5 * 60$</div> <div>(A) <div><div></div></div> + x =</div> <div>+ x =</div> <div>(B) <div><div></div></div> x + =</div> <div>x + =</div> <div>(C) <div><div></div></div> - x = (Correct Answer) (Chosen option)</div> <div>- x =</div> <div>(D) <div><div></div></div> - ÷ =</div> <div>- ÷ =</div>	
<div>Question No.23</div> <div>Marks: 2.50</div> <div>Bookmark <div><div></div></div></div> <div>What is the sum of the first 19 terms of an A.P whose 14th and 10th terms are 22.25 and 18.25 respectively? एक समांतर श्रेणी (A.P) के पहले 19 पदों का योग क्या है, जिसका 14 वां और 10 वां पद क्रमशः 22.25 और 18.25 है?</div> <div>(A) <div><div></div></div> 320</div> <div>320</div> <div>(B) <div><div></div></div> 376.54</div> <div>376.54</div> <div>(C) <div><div></div></div> 346.75 (Correct Answer) (Chosen option)</div> <div>346.75</div> <div>(D) <div><div></div></div> 356.25</div> <div>356.25</div>	
<div>Question No.24</div> <div>Marks: 2.50</div> <div>Bookmark <div><div></div></div></div> <div>If a man drives at 65 kmph instead of 61 kmph, he had travelled 100 kms more. Find the distance travelled by him when he travels at 65 kmph. (In km) यदि कोई व्यक्ति 61 kmph की बजाय 65 kmph की चाल से गाड़ी चलाता है, तो वह 100 km अधिक यात्रा करता है। जब वह 65 kmph की चाल से गाड़ी चलाता है तो उसके द्वारा तय की गई दूरी ज्ञात कीजिए। (km में)</div> <div>(A) <div><div></div></div> 1525</div> <div>1525</div> <div>(B) <div><div></div></div> 1825</div> <div>1825</div> <div>(C) <div><div></div></div> 1625 (Correct Answer) (Chosen option)</div> <div>1625</div> <div>(D) <div><div></div></div> 1725</div> <div>1725</div>	
<div>Question No.25</div> <div>Marks: 2.50</div> <div>Bookmark <div><div></div></div></div> <div>Pipe A can fill a tank in 130 hours, Pipe B can fill the same tank in 156 hours, Pipe C can fill the same tank in 195 hours. If all three pipes are open together for first 26 hours and then pipe B is closed. In how many hours the remaining part of the tank is filled by Pipe A and Pipe C?</div>	

पाइप A, टैंक को 130 घंटे में भर सकता है, पाइप B उसी टैंक को 156 घंटे में भर सकता है, पाइप C उसी टैंक को 195 घंटे में भर सकता है। यदि सभी तीनों पाइप पहले 26 घंटों के लिए एक साथ खोले जाते हैं और फिर पाइप B को बंद कर दिया जाता है। पाइप A और पाइप C द्वारा टैंक का शेष भाग कितने घंटे में भरा जाएगा?

- (A) ☐ 39 (Correct Answer) (Chosen option)
- (B) ☐ 41
- (C) ☐ 37
- (D) ☐ 43

Question No.26

Marks: 2.50
Bookmark ☐

In this question, a statement is given followed by two conclusions numbered i and ii. You have to assume everything in the statement to be true, then consider the two conclusions together and decide which of them logically follows beyond a reasonable doubt from the information given in the statement.

Statement:

Only Automobiles and Auto parts, are considered as luxury goods. ABC Ltd., produces luxury goods.

Conclusions:

- i) ABC Ltd., produces only automobiles.
- ii) ABC Ltd., produces only auto parts.

Choose the appropriate one from the following options

- (A) Only conclusion i follows
- (B) Only conclusion ii follows
- (C) Either i or ii follows
- (D) Neither i nor ii follows
- (E) Both i and ii follow.

इस प्रश्न में, एक कथन और उसके बाद i और ii से संख्यांकित दो निष्कर्ष दिए गए हैं। कथन में दी गई समस्त जानकारी को सत्य मानते हुए एक साथ दोनों निष्कर्षों पर विचार करें और निर्धारित करें कि उनमें से कौन सा निष्कर्ष कथन में दी गई जानकारी का उचित संदेह से परे तार्किक रूप से अनुसरण करता है।

कथन:

केवल ऑटोमोबाइल और ऑटो पार्ट्स को विलास की वस्तुएं माना जाता है। ABC लिमिटेड, विलास की वस्तुओं का उत्पादन करता है।

निष्कर्ष:

- i) ABC लिमिटेड केवल ऑटोमोबाइल का उत्पादन करता है।
- ii) ABC लिमिटेड केवल ऑटो पार्ट्स का उत्पादन करता है।

निम्नलिखित विकल्पों में से उपयुक्त विकल्प चुनें

- (A) केवल निष्कर्ष i अनुसरण करता है
- (B) केवल निष्कर्ष ii अनुसरण करता है
- (C) या तो निष्कर्ष i या ii अनुसरण करता है
- (D) न ही निष्कर्ष i और न ii अनुसरण करता है
- (E) निष्कर्ष i और ii दोनों अनुसरण करते हैं

- (A) ☐ B
- (B) ☐ A
- (C) ☒ D (Correct Answer)
- (D) ☐ C (Chosen option)

Question No.27

Marks: 2.50
Bookmark ☐

Solve:

$(\sqrt{33.64} + \sqrt{8.41} \times \sqrt{75.69} + \sqrt{8.41}) + (\sqrt{33.64} + \sqrt{8.41} \times \sqrt{75.69} + \sqrt{8.41}) = ?$

हल कीजिए:

$(\sqrt{33.64} + \sqrt{8.41} \times \sqrt{75.69} + \sqrt{8.41}) + (\sqrt{33.64} + \sqrt{8.41} \times \sqrt{75.69} + \sqrt{8.41}) = ?$

- (A) ☐ 19
- (B) ☒ 12 (Correct Answer)
- (C) ☐ 17 (Chosen option)
- (D) ☐ 15

Question No.28

Marks: 2.50
Bookmark ☐

Aswin bought a new plot which need to be fenced immediately, due to this the length as well as the breadth of the rectangular working place is reduced by 14%. Find the % decrease in the area.

अश्विन ने एक नया प्लॉट खरीदा, जिसमें तुरंत बाड़ लगाने की आवश्यकता है, इस वजह से आयताकार कार्यस्थल की लंबाई के साथ-साथ चौड़ाई 14% कम हो जाती है। क्षेत्रफल में हुई % कमी ज्ञात कीजिए।

- (A) ☐ 18.04%
- (B) ☒ 26.04% (Correct Answer)
- (C) ☐ 24.04% (Chosen option)
- (D) ☐ 20.04%

Question No.29

Marks: 2.50
Bookmark ☐

The average of 10 data is 57.5. In this the average of first 3 data is 52 and the next 4 data is 62. If the 8th data is 7 less than the 9th data and also 5 less than the 10th data, then find the eighth data?

10 आंकड़ों का औसत 57.5 है। इसमें पहले 3 आंकड़ों का औसत 52 और अगले 4 आंकड़ों का औसत 62 है। यदि 8 वां आंकड़ा 9 वें आंकड़े से 7 कम है और 10 वें आंकड़े से भी 5 कम है, तो आठवां आंकड़ा ज्ञात कीजिए?

- (A) ☐ 51
- (B) ☐ 55
- (C) ☐ 57 (Chosen option)

- 57
- (D) ☐ 53 (Correct Answer)
- 53

Question No.30

Marks: 2.50
Bookmark ☐

A travels from X to Y at a speed of 143 kmph and reaches 240 minutes late. If he travels at a speed of 154 kmph and reaches early by 180 minutes, find the distance between X and Y.
(In km)

A, 143 kmph की चाल से X से Y तक की यात्रा करता है और 240 मिनट देरी से पहुंचता है। यदि वह 154 kmph की चाल से यात्रा करता है और 180 मिनट जल्दी पहुंचता है, तो X और Y के बीच की दूरी ज्ञात कीजिए।
(Km में)

- (A) ☐ 14214
- 14214
- (B) ☐ 14014 (Correct Answer) (Chosen option)
- 14014
- (C) ☐ 14314
- 14314
- (D) ☐ 14114
- 14114

Question No.31

Marks: 2.50
Bookmark ☐

Find the remainder when 989^{129} divided by 33.
जब 989^{129} को 33 से विभाजित किया जाता है, तो शेषफल ज्ञात कीजिए।

- (A) ☐ 32 (Correct Answer)
- 32
- (B) ☐ 30 (Chosen option)
- 30
- (C) ☐ 24
- 24
- (D) ☐ 28
- 28

Question No.32

Marks: 2.50
Bookmark ☐

Choose the correct water image of the given image from the following options.

E3nt42er

निम्नलिखित विकल्पों में से दिए गए चित्र के सही जल प्रतिबिंब का चयन कीजिए।

E3nt42er

(A) ☐

E3nt42er

E3nt42er

(B) ☐

E3nt42er

E3nt42er

(C) ☐

E3nt42er

E3nt42er

(D) ☐

E3nt42er

E3nt42er

(Correct Answer) (Chosen option)

Question No.33

Marks: 2.50
Bookmark ☐

Find the sum of the G.P.:
1/5, 1/25, 1/125, 1/625, ... to n terms.
गुणोत्तर श्रेणी (G.P) का योग ज्ञात कीजिए:
1/5, 1/25, 1/125, 1/625, ... n पदों तक।

(A) ☐ $\frac{3}{4}(1 - \frac{1}{5^n})$
 $\frac{3}{4}((1 - \frac{1}{5^n}))$

(B) ☒ $\frac{1}{4}(1 - \frac{1}{5^n})$ (Correct Answer) (Chosen option)
 $\frac{1}{4}((1 - \frac{1}{5^n}))$

(C) ☐ $(1 - \frac{1}{5^n})$
 $((1 - \frac{1}{5^n}))$

(D) ☐ $\frac{4}{5}(1 - \frac{1}{5^n})$
 $\frac{4}{5}((1 - \frac{1}{5^n}))$

Question No.34

Marks: 2.50
Bookmark ☐

C sits to the North of B and left of D. E sits to the North of B but not to the South of C. If everyone is facing North, which direction of D, is E?
C, B के उत्तर और D के बाएँ बैठा है। E, B के उत्तर में बैठा है परन्तु C के दक्षिण में नहीं बैठा है। यदि सभी उत्तर दिशा की ओर अभिमुख हैं, तो E, D की किस दिशा में है?

(A) ☒ North-West (Correct Answer)
उत्तर-पश्चिम

(B) ☐ North-East (Chosen option)
उत्तर-पूर्व

(C) ☐ South-West
दक्षिण-पश्चिम

(D) ☐ South-East
दक्षिण-पूर्व

Question No.35

Marks: 2.50
Bookmark ☐

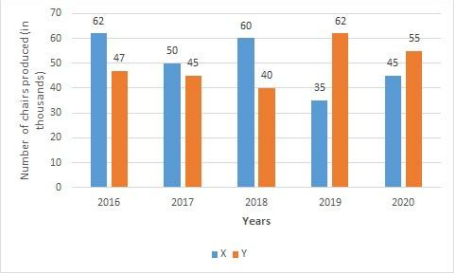
Find the number of factors in 1680.
1680 में गुणन खंडों की संख्या ज्ञात कीजिए।

- (A) ☐ 34
34
- (B) ☐ 36 (Chosen option)
36
- (C) ☐ 38
38
- (D) ☒ 40 (Correct Answer)
40

Case Study - 36 to 37

5.00

Directions : The following bar graph shows the number of chairs produced by two companies X and Y during five different years (in thousands). Study the graph carefully to answer the following questions.



Question No.36

Marks: 2.50
Bookmark ☐

Find the total number of chairs produced by Company Y over the given years. (in thousands)
दिए गए वर्षों में कंपनी Y द्वारा उत्पादित कुर्सियों की कुल संख्या ज्ञात कीजिए। (हज़ारों में)

- (A) ☐ 265
265
- (B) ☐ 254
254
- (C) ☐ 247 (Chosen option)
247
- (D) ☒ 249 (Correct Answer)
249

Question No.37

Marks: 2.50
Bookmark ☐

What is the average number of chairs produced by the Company X over the given years? (in thousands)
दिए गए वर्षों में कंपनी X द्वारा उत्पादित कुर्सियों की औसत संख्या क्या है? (हज़ारों में)

- (A) ☐ 54.6 (Chosen option)
54.6
- (B) ☐ 52.4
52.4
- (C) ☐ 53.4
53.4
- (D) ☒ 50.4 (Correct Answer)
50.4

Question No.38

Marks: 2.50
Bookmark ☐

By selling a watch for Rs.16264 a man loses 24%. Find the cost price of the watch. (In Rs.)
Rs.16264 में घड़ी बेचकर किसी व्यक्ति को 24% की हानि होती है। घड़ी का क्रय मूल्य ज्ञात कीजिए। (Rs. में)

- (A) ☒ 21400 (Correct Answer) (Chosen option)
21400
- (B) ☐ 22400
22400
- (C) ☐ 19400
19400
- (D) ☐ 20400
20400

Question No.39

Marks: 2.50
Bookmark ☐

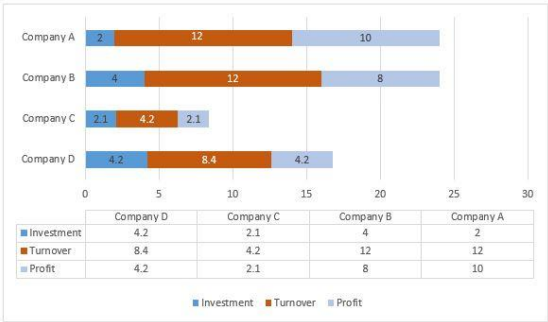
The selling price of the table is Rs.28800 after a discount of 20%. If the cost price is 60% of the marked price, then what is the cost price? (In Rs.)
20% की छूट के बाद मेज का विक्रय मूल्य Rs.28800 है। यदि क्रय मूल्य, अंकित मूल्य का 60% है, तो क्रय मूल्य क्या है? (Rs.में)

- (A) ☐ 21500
21500
- (B) ☐ 21400
21400
- (C) ☐ 21300 (Chosen option)
21300
- (D) ☒ 21600 (Correct Answer)
21600

Question No.40

Marks: 2.50
Bookmark ☐

Directions:
Study the following Bar-chart and the data provided to answer the questions that follow: Investment, Turnover and Profit of four different companies A, B, C and D are given. (In Lakhs)
Out of the given four companies which one has highest profit proportion? (Profit proportion = Profit/Investment)



दिशा-निर्देश:

निम्न प्रश्नों का उत्तर देने के लिए दिए गए दण्ड आरेख (बार-चार्ट) और आंकड़ों का अध्ययन करें: चार अलग-अलग कंपनियों A, B, C और D का निवेश, टर्नओवर और लाभ दिया गया है। (लाख में) दी गई चार कंपनियों में से किसका लाभ अनुपात सबसे अधिक है? (लाभ अनुपात = लाभ/निवेश)



- (A) ☐ Company D
कंपनी D
- (B) ☐ Company B
कंपनी B
- (C) ☒ Company A (Correct Answer)
कंपनी A
- (D) ☐ Company C (Chosen option)
कंपनी C

MENTAL APTITUDE - INTELLIGENCE -TEST OF REASONING - MENTAL APTITUDE - INTELLIGENCE -TEST OF REASONING

Question No.1

Marks: 2.50

Bookmark ☐

Pointing to a girl, a man said, She is the daughter of my grandmother's only child's husband's only son's wife." How is the girl related to the man?
एक लड़की की ओर इशारा करते हुए, एक आदमी कहता है, "वह मेरी ग्रेंडमदर की इकलौती संतान के पति के इकलौते बेटे की पत्नी की बेटी है।" उस लड़की का आदमी से क्या संबंध है?

(A) ☐ Niece
नीस

(B) ☒ Daughter (Correct Answer)
बेटी

(C) ☐ Sister
बहन

(D) ☐ Cousin (Chosen option)
कज़िन

Question No.2

Marks: 2.50

Bookmark ☐

The States of the Indian Union can be reorganised or their boundaries altered by _____.
भारतीय संघ के राज्यों का पुनर्गठन अथवा उनकी सीमाओं में परिवर्तन _____ द्वारा किया जा सकता है।

(A) ☐ Two thirds majority of both the Houses of Parliament and the consent of the concerned State Legislature (Chosen option)
संसद के दोनों सदनों का दो तिहाई बहुमत और संबंधित राज्य विधानमंडल की सहमति

(B) ☐ Two thirds majority of both the Houses of Parliament
संसद के दोनों सदनों का दो-तिहाई बहुमत

(C) ☒ The Union Parliament by a simple majority in the ordinary process of legislation (Correct Answer)
संघ की संसद द्वारा कानून की साधारण प्रक्रिया में सामान्य बहुमत से

(D) ☐ An executive order of the Union Government with the consent of the concerned State Government
संबंधित राज्य सरकार की सहमति से केंद्र सरकार का एक कार्यकारी आदेश

Question No.3

Marks: 2.50

Bookmark ☐

In this question, relationship between different elements is shown in the statement. This statement is followed by two conclusions:

Statement:
 $T > H > O \geq U = S < A < N \leq D$

Conclusions:
i) $H > A$
ii) $N > O$

Choose the appropriate one from the following options
(A) Only conclusion i follows
(B) Only conclusion ii follows
(C) Either i or ii follows
(D) Neither i nor ii follows
(E) Both i and ii follow

इस प्रश्न में, कथन में विभिन्न तत्वों के बीच संबंध दिखाया गया है। इस कथन के बाद दो निष्कर्ष हैं:

कथन:
 $T > H > O \geq U = S < A < N \leq D$

निष्कर्ष:
i) $H > A$
ii) $N > O$

निम्नलिखित विकल्पों में से उपयुक्त विकल्प चुनें
(A) केवल निष्कर्ष i अनुसरण करता है।
(B) केवल निष्कर्ष ii अनुसरण करता है।
(C) या तो i या ii अनुसरण करता है।
(D) न तो i और न ही ii अनुसरण करता है।
(E) दोनों i और ii अनुसरण करते हैं।
(A) ☐ C (Chosen option)
C
(B) ☐ A
A
(C) ☐ D (Correct Answer)
D
(D) ☐ B
B

Question No.4

Marks: 2.50

Bookmark ☐

Which of the following Chapters of the Indian Penal Code deals with "General Exceptions"?

भारतीय दंड संहिता का निम्नलिखित में से कौन सा अध्याय "सामान्य अपवाद" से संबंधित है?

(A) ☐ Chapter IV (Correct Answer)
अध्याय IV

(B) ☐ Chapter III (Chosen option)
अध्याय III

(C) ☐ Chapter I
अध्याय I

(D) ☐ Chapter II
अध्याय II

Question No.5

Marks: 2.50

Bookmark ☐

In a certain code language,

'178' means 'read history books';
'586' means 'they made history' and
'741' means 'read good books'.

Which of the following digits stands for 'made'?

एक निश्चित कूट भाषा में,

'178' का अर्थ है 'read history books';
'586' का अर्थ है 'they made history' और
'741' का अर्थ है 'read good books'.

निम्नलिखित में से किस अंक का अर्थ 'made' है?

(A) ☐ 5 (Chosen option)
5

(B) ☐ 7
7

(C) ☐ 6
6

(D) ☐ Either 1 or 3 (Correct Answer)
या तो 1 या 3

Question No.6

Marks: 2.50

Bookmark ☐

Find the wrong term in the given series.
96, 103, 117, 136, 166

दी गई श्रेणी में गलत संख्या ज्ञात कीजिए।
96, 103, 117, 136, 166

(A) ☐ 103
103

(B) ☐ 166
166

(C) ☐ 117
117

(D) ☐ 136 (Correct Answer) (Chosen option)
136

Question No.7

Marks: 2.50

Bookmark ☐

In this question, a passage is given followed by a statement. Read the passage carefully and judge the statement based on the given passage.

The majority of the Antarctic continent is covered by permanent ice and snow leaving less than 1% available for colonisation by plants. Most of this ice and snow-free lands are found along the Antarctic Peninsula, its associated islands and in coastal regions around the edge of the Antarctic continent. Even in the most inhospitable ice-free habitats, such as inland mountains and nunataks, life can still be found. There are no trees or shrubs, and only two species of flowering plants are found: Antarctic hair grass and Antarctic pearlwort. The vegetation is predominantly made up of lower plant groups (mosses, liverworts, lichens and fungi) that are specially adapted to surviving in extreme environments – in particular tolerating low temperatures and dehydration. There are around 100 species of mosses, 25 species of liverworts, 300 to 400 species of lichens and 20 species of macro-fungi. The greatest diversity of species is found along the western side of the Antarctic Peninsula where the climate is generally warmer and wetter than elsewhere in the Antarctic continent.

Statement:
Antarctic hair grass is the only flowering plant species found in the Antarctic continent.

Choose the appropriate one from the following options
A - The statement is definitely true.
B - The statement is probably true.
C - The statement cannot be determined.
D - The statement is definitely false.

इस प्रश्न में, गद्यांश के बाद एक कथन दिया गया है। गद्यांश को ध्यान से पढ़ें और दिए गए गद्यांश के आधार पर कथन का आकलन करें।

अंटार्कटिका का अधिकांश भाग स्थायी बर्फ और हिमपात से ढका है, जिसके कारण पौधों द्वारा उपनिवेशन के लिए उपलब्ध क्षेत्र 1% से भी कम है। इस बर्फ और हिमपात से मुक्त भूमि का अधिकांश भाग, अंटार्कटिक प्रायद्वीप, इसके संबंधित द्वीपों और अंटार्कटिका के किनारे के आसपास के तटीय क्षेत्रों में पाया जाता है। यहां तक कि सबसे दुर्गम बर्फ-मुक्त प्राकृतवास में, जैसे अंतर्देशीय पर्वत और नुनातक, अभी भी जीवन पाया जा सकता है। यहां कोई पेड़ या झाड़ियाँ नहीं हैं, और फूलों के पौधों की केवल दो प्रजातियाँ पाई जाती हैं: अंटार्कटिक हेयर ग्रास और अंटार्कटिक पर्लवॉर्ट। वनस्पति प्रवर्धन मुख्यतः निम्न कोटि पादप समूहों (काई, लिवरवॉर्ट्स, शेवाल और कवक) से निर्मित है, जो विशेष रूप से कम तापमान और निर्जलीकरण को सहन करने हेतु चरम वातावरण में जीवित रहने के लिए अनुकूलित होती हैं। यहां काई की लगभग 100 प्रजातियाँ, लीवरवॉर्ट की 25 प्रजातियाँ, शेवाल की 300 से 400 प्रजातियाँ और स्थूल-कवक की 20 प्रजातियाँ हैं। अंटार्कटिक प्रायद्वीप के पश्चिमी भाग में प्रजातियों की सबसे बड़ी विविधता पाई जाती है जहाँ जलवायु आमतौर पर अंटार्कटिका में अन्य स्थानों की तुलना में गर्म और आर्द्रक होती है।

कथन:
अंटार्कटिक हेयर ग्रास, अंटार्कटिका प्रायद्वीप में पाए जाने वाले फूल के पौधे की एकमात्र प्रजाति है।

- निम्नलिखित विकल्पों में से उपयुक्त एक चुनें
- A - कथन निश्चित रूप से सत्य है।
- B - कथन संभवतः सत्य है।
- C - कथन निश्चित नहीं किया जा सकता है।
- D - कथन निश्चित रूप से असत्य है।
- (A) ☐ C
- (B) ☐ B (Chosen option)
- (C) ☒ D (Correct Answer)
- (D) ☐ A

Question No.8

Marks: 2.50
Bookmark ☐

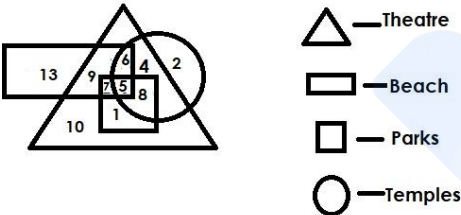
Which article deals with the representation of the Anglo-Indian community in the legislative assemblies of the states? कौन सा अनुच्छेद, राज्यों की विधान सभाओं में एंग्लो-इंडियन समुदाय के प्रतिनिधित्व से संबंधित है?

- (A) ☐ Article 360
अनुच्छेद 360
- (B) ☒ Article 333 (Correct Answer)
अनुच्छेद 333
- (C) ☐ Article 332 (Chosen option)
अनुच्छेद 332
- (D) ☐ Article 350
अनुच्छेद 350

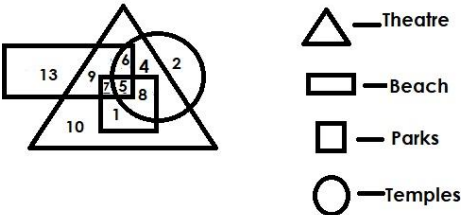
Question No.9

Marks: 2.50
Bookmark ☐

Which of the following numbers in the Venn Diagram represents temple, parks and theatre region but not beach?



वेन आरेख में निम्नलिखित में से कौन सी संख्या मंदिर, पार्क और थिएटर के क्षेत्र को दर्शाती है परंतु समुद्र-तट को नहीं?



- (A) ☒ 8 (Correct Answer) (Chosen option)
- (B) ☐ 4
- (C) ☐ 6
- (D) ☐ 5

Question No.10

Marks: 2.50
Bookmark ☐

Find the next number in the series.
765, 686, 576, 435, 263, ?
श्रेणी में अगली संख्या ज्ञात करें।
765, 686, 576, 435, 263, ?

- (A) ☐ 59
- (B) ☐ 61
- (C) ☐ 62
- (D) ☒ 60 (Correct Answer) (Chosen option)

Question No.11

Marks: 2.50
Bookmark ☐

Four of the following five are alike in a certain way and so form a group. Which is the one that does not belong to that group?
End, Resume, Stop, Terminate, Finish

निम्नलिखित पाँच में से चार, एक निश्चित रूप से समान हैं अतः एक समूह बनाते हैं। इनमें से कौन सा उस समूह से संबंधित नहीं है?

End, Resume, Stop, Terminate, Finish

- (A) ☐ End
End
- (B) ☒ Resume (Correct Answer) (Chosen option)
Resume
- (C) ☐ Finish
Finish
- (D) ☐ Terminate
Terminate

Question No.12

Marks: 2.50

Bookmark ☐

A lady started from her house and walked 5km in West direction; took a left turn and walked 3km in that direction and finally walked 2km and reached the destination after taking a left.
In which direction is the house from the destination?

एक महिला अपने घर से चलना आरंभ करती है और पश्चिम दिशा की ओर 5 km चलती है; बाएँ मुड़ती है और उस दिशा में 3 km चलती है और अंततः 2 km चल कर बाएँ मुड़ने के बाद गंतव्य तक पहुँचती है। उसका घर, गंतव्य से किस दिशा में है?

- (A) ☐ South-West
दक्षिण-पश्चिम
- (B) ☒ North-East (Correct Answer)
उत्तर-पूर्व
- (C) ☐ North-West
उत्तर-पश्चिम
- (D) ☐ South-East (Chosen option)
दक्षिण-पूर्व

Question No.13

Marks: 2.50

Bookmark ☐

A man walks 3km towards East; turns right and walks 4km and turns another right and walks 3km. He then turns right and walks 4km; takes a left turn and walks 7km. He then walks 7km towards South; turns left and walks 7km and finally turns right and walks 3km. How far is he from the starting point?

एक व्यक्ति 3 km पूर्व दिशा की ओर चलता है; दाएँ मुड़ता है और 4 km चलता है और फिर से दाएँ मुड़ता है और 3 km चलता है। फिर वह दाएँ मुड़ता है और 4 km चलता है; बाएँ मुड़ता है और 7 km चलता है। फिर वह 7 km दक्षिण दिशा में चलता है; बाएँ मुड़ता है और 7 km चलता है और अंततः दाएँ मुड़ता है और 3 km चलता है। वह आरंभिक बिंदु से कितनी दूर है?

- (A) ☒ 10km (Correct Answer) (Chosen option)
10km
- (B) ☐ 11km
11km
- (C) ☐ 8km
8km
- (D) ☐ 12km
12km

Question No.14

Marks: 2.50

Bookmark ☐

In a certain code language, if MONKEY is coded as YEKNOM, then how is CHANGE coded in that language?

एक निश्चित कूट भाषा में, यदि MONKEY को YEKNOM के रूप में कूटबद्ध किया जाता है, तो उस भाषा में CHANGE को कैसे कूटबद्ध किया जाएगा?

- (A) ☐ AEGHCN
AEGHCN
- (B) ☐ AHCEGN
AHCEGN
- (C) ☐ HCNAEG
HCNAEG
- (D) ☒ EGNAHC (Correct Answer) (Chosen option)
EGNAHC

Question No.15

Marks: 2.50

Bookmark ☐

A box containing the denominations of one rupee coins, two rupee coins and five rupee coins amount to Rs.1080. There are equal number of coins in all denominations. Find the total number of two rupee coins in the box.

एक बॉक्स में एक रुपये के सिक्के, दो रुपये के सिक्के और पांच रुपये मूल्यवर्ग के सिक्कों का मूल्य Rs.1080 है। सभी मूल्यवर्ग में समान संख्या में सिक्के हैं। बॉक्स में दो रुपये के सिक्कों की कुल संख्या ज्ञात कीजिए।

- (A) ☒ 135 (Correct Answer) (Chosen option)
135
- (B) ☐ 134
134
- (C) ☐ 133
133
- (D) ☐ 132
132

Question No.16

Marks: 2.50

Bookmark ☐

Replace the question mark with an option that follows the same logic applied in the first pair.

21:400::9: ?

प्रश्न चिह्न को उस विकल्प से प्रतिस्थापित करें, जो पहले युग्म में प्रयुक्त तर्क का अनुसरण करता है।

21:400::9: ?

- (A) ☒ 64 (Correct Answer) (Chosen option)
64
- (B) ☐ 66
66
- (C) ☐ 65
65
- (D) ☐ 67
67

Question No.17

Marks: 2.50

Bookmark ☐

Read the following statements and answer the following question.

M5N means M is the mother of N

M4N means M is the father of N

M6N means M is the son of N

M8N means M is the daughter of N

In the equation **P8Q4R5S**, How is P's father related to S?
निम्नलिखित कथनों को ध्यानपूर्वक पढ़ें और दिए गए प्रश्नों का उत्तर दें।

M5N का अर्थ है, M, N की माँ है
M4N का अर्थ है, M, N का पिता है
M6N का अर्थ है, M, N का बेटा है
M8N का अर्थ है, M, N की बेटी है

समीकरण **P8Q4R5S** में, P के पिता का S से क्या संबंध है?

- (A) ☐ Father
पिता
- (B) ☐ Uncle
अंकल
- (C) ☐ Grandmother
ग्रैंडमदर
- (D) ☒ **Grandfather (Correct Answer)** (Chosen option)
ग्रैंडफ़ादर

Question No.18

Marks: 2.50
Bookmark ☐

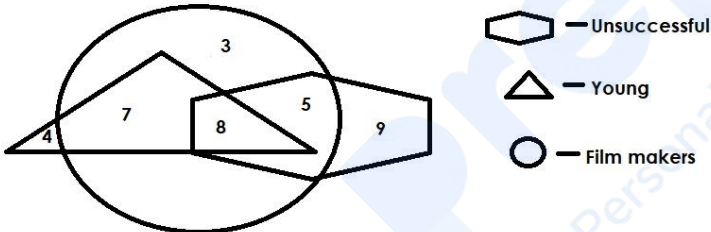
In the series given below, how many pairs of successive numbers have a difference of 3 each?
2 5 6 3 5 8 4 3 6 8 9 1 2 5 6 3 7 8 4 2 3 6 9
नीचे दी गई श्रृंखला में, क्रमागत संख्याओं के कितने युग्मों में से प्रत्येक के बीच का अंतर 3 है?
2 5 6 3 5 8 4 3 6 8 9 1 2 5 6 3 7 8 4 2 3 6 9

- (A) ☐ seven
सात
- (B) ☐ six
छः
- (C) ☒ **eight (Correct Answer)** (Chosen option)
आठ
- (D) ☐ five
पाँच

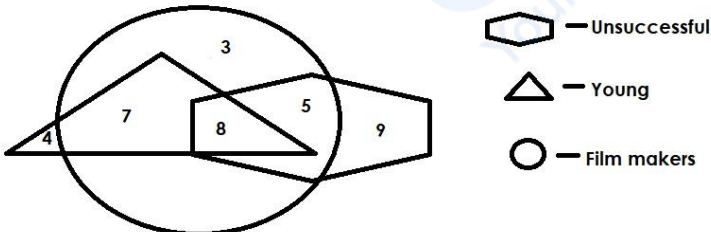
Question No.19

Marks: 2.50
Bookmark ☐

Which of the following numbers in the Venn Diagram represents unsuccessful film-makers but not young ?



वेन आरेख में निम्नलिखित में से कौन सी संख्या असफल फिल्म-निर्माताओं को दर्शाती है परंतु युवा को नहीं?

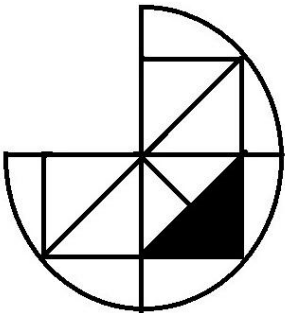


- (A) ☒ **5 (Correct Answer)** (Chosen option)
5
- (B) ☐ 7
7
- (C) ☐ 3
3
- (D) ☐ 8
8

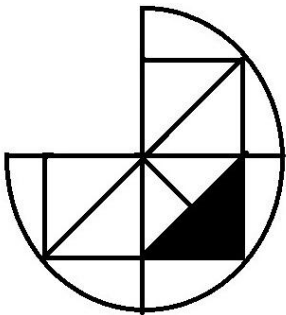
Question No.20

Marks: 2.50
Bookmark ☐


Which one of the following alternatives will perfectly complete the given figure?



निम्नलिखित विकल्पों में से कौन सा विकल्प दी गई आकृति को पूर्णतः पूरा करेगा?



(A) ☐

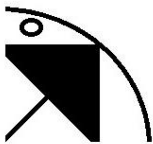


(B) ☐



(C) ☐






(D) ☐



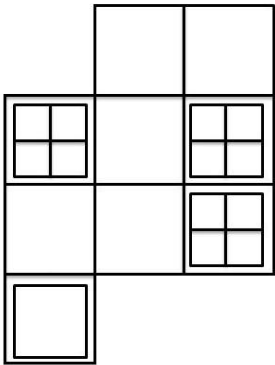
(Correct Answer) (Chosen option)



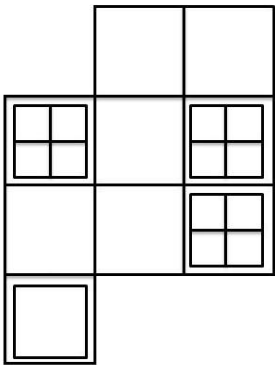
Question No.21

How many squares are there in the given figure?

Marks: 2.50
Bookmark ☐



दी गई आकृति में कितने वर्ग हैं?



- (A) ☐ 25 (Chosen option)
25
(B) ☐ 21
21
(C) ☐ 28 (Correct Answer)

28

(D) ☐ 24

24

Question No.22

Marks: 2.50

Bookmark ☐

In a dice, each face is numbered as follows:
1) 4 is opposite to 2
2) 5 is opposite to 3
3) 1 is opposite to 6

Which of the following is definitely false?
A) 1 is not adjacent to 5 and 3
B) 4 is adjacent to 3
C) 4 is adjacent to 5
D) 2 is adjacent to 1

एक पासे में, प्रत्येक फलक की संख्या इस प्रकार है:
1) 4, 2 के विपरीत है
2) 5, 3 के विपरीत है
3) 1, 6 के विपरीत है

निम्नलिखित में से कौन सा निश्चित रूप से गलत है?
A) 1, 5 और 3 के सन्निकट नहीं है
B) 4, 3 के सन्निकट है
C) 4, 5 के सन्निकट है
D) 2, 1 के सन्निकट है
(A) ☐ C
C
(B) ☐ A (Correct Answer) (Chosen option)
A
(C) ☐ B
B
(D) ☐ D
D

Question No.23

Marks: 2.50

Bookmark ☐

Read the information carefully and answer the following question.

A+B means A is the father of B
A-B means A is the mother of B
A*B means A is the sister of B
A/B means A is the brother of B

In the given expression **M+N*O/P**, how is O related to M?
निम्नलिखित जानकारी ध्यानपूर्वक पढ़ें और नीचे दिए गए प्रश्नों का उत्तर दें।

A+B का अर्थ है A, B का पिता है।
A-B का अर्थ है A, B की माँ है।
A*B का अर्थ है A, B की बहन है।
A/B का अर्थ है A, B का भाई है।

दिए गए व्यंजक **M+N*O/P** में, O का M से क्या संबंध है?
(A) ☐ Father
पिता
(B) ☐ Daughter (Chosen option)
बेटी
(C) ☐ Mother
माँ
(D) ☐ Son (Correct Answer)
बेटा

Question No.24

Marks: 2.50

Bookmark ☐

Atharva's father Magesh's brother Jayanthan's only son Mithran's mother is Priya. How is Magesh related to Mithran?
अथर्व के पिता मगेश के भाई जयन्थन के इकलौते बेटे मिथरन की माँ प्रिया है। मगेश का मिथरन से क्या संबंध है?

(A) ☐ Paternal Uncle (Correct Answer) (Chosen option)
पैटरनल अंकल
(B) ☐ Maternal Aunt
मैटरनल आंट
(C) ☐ Maternal Uncle
मैटरनल अंकल
(D) ☐ Paternal Aunt
पैटरनल आंट

Question No.25

Marks: 2.50

Bookmark ☐

The book "Idea of Justice" was written by:
"आइडिया ऑफ जस्टिस" ("Idea of Justice") पुस्तक किसके द्वारा लिखी गई थी?

(A) ☐ Hamid Ansari
हामिद अंसारी
(B) ☐ A P J Abdul Kalam
ए पी जे अब्दुल कलाम
(C) ☐ Shashi Tharoor (Chosen option)
शाशि थरूर
(D) ☐ Amartya Sen (Correct Answer)
अमर्त्य सेन

Question No.26

Marks: 2.50

Bookmark ☐

In a row of 45 persons facing North, Person A is 17th from the right side. After shifting him FOURTH to the left from the existing position, what is his position from the left side now?
एक पंक्ति में 45 व्यक्ति उत्तर की ओर अभिमुख हैं, व्यक्ति A दाईं ओर से 17वां है। उसे मौजूदा स्थान से बाईं ओर चौथे स्थान पर स्थानांतरित करने के बाद, अब बाईं ओर से उसका स्थान क्या है?

- (A) ☐ 29
29
- (B) ☐ 27
27
- (C) ☒ 25 (Correct Answer)
25
- (D) ☐ 23 (Chosen option)
23

Question No.27

Marks: 2.50
Bookmark ☐

Replace the question mark with an option that follows the same logic applied in the first pair.

Tranquil : Violent :: Belligerent : ??

प्रश्रचिन्ह को उस विकल्प से प्रतिस्थापित कीजिए जो प्रथम युग्म में लागू तर्क का अनुसरण करता है।

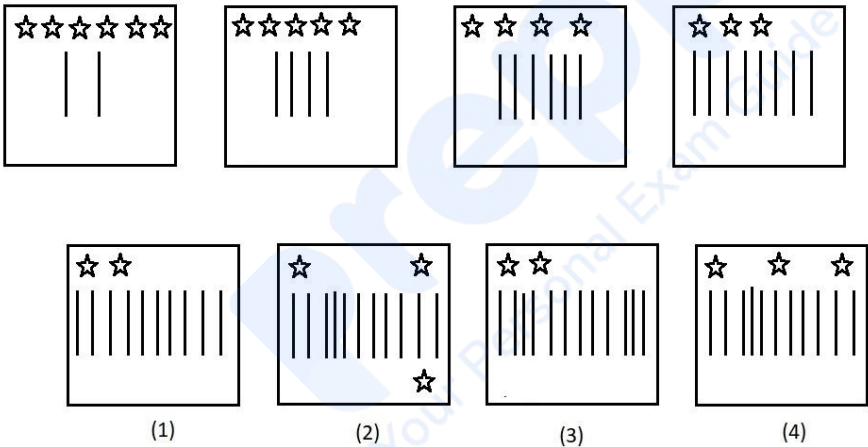
Tranquil : Violent :: Belligerent : ??

- (A) ☐ Hostile
Hostile
- (B) ☐ Bellicose (Chosen option)
Bellicose
- (C) ☐ Aggressive
Aggressive
- (D) ☒ Friendly (Correct Answer)
Friendly

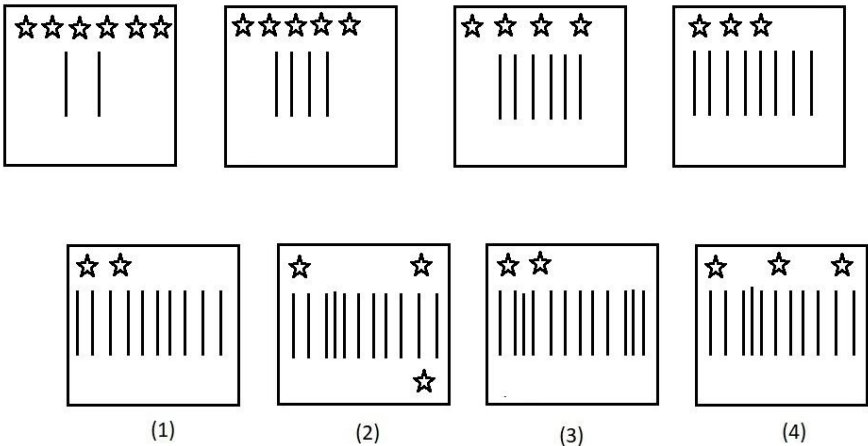
Question No.28

Marks: 2.50
Bookmark ☐

Which one of the following images numbered as (1), (2), (3), (4) will be the next image for the given series?



(1), (2), (3), (4) के रूप में संख्याकित, निम्नलिखित में से कौन सी छवि दी गई श्रेणी के लिए अगली छवि होगी?



- (A) ☒ 1 (Correct Answer) (Chosen option)
1
- (B) ☐ 4
4
- (C) ☐ 2
2

(D) ☐ 3
3

Question No.29

Marks: 2.50
Bookmark ☐

If @ = 23, @ = 4, \$ = 6, & = 17, % = 90, then @ + & × @ - % + \$
यदि @ = 23, @ = 4, \$ = 6, & = 17, % = 90 है, तो @ + & × @ - % + \$

- (A) ☐ 76 (Correct Answer) (Chosen option)
76
- (B) ☐ 85
85
- (C) ☐ 49
49
- (D) ☐ 78
78

Question No.30

Marks: 2.50
Bookmark ☐

When was the United Nations Commission on the Status of Women established?
महिलाओं की स्थिति पर संयुक्त राष्ट्र आयोग की स्थापना कब की गई थी?

- (A) ☐ 1946 (Correct Answer) (Chosen option)
1946
- (B) ☐ 1921
1921
- (C) ☐ 1989
1989
- (D) ☐ 2001
2001

Question No.31

Marks: 2.50
Bookmark ☐

The Police Act of 1861 was enacted based on the recommendations of the police commission headed by_____.

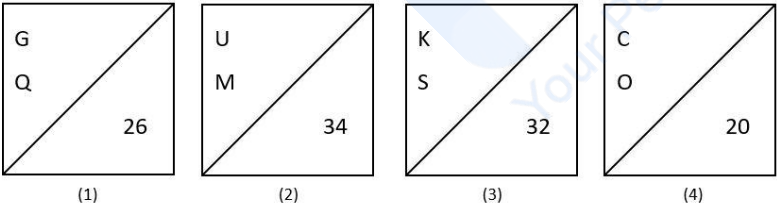
1861 का पुलिस अधिनियम _____ की अध्यक्षता में पुलिस आयोग की अनुशंसाओं के आधार पर अधिनियमित किया गया था।

- (A) ☐ William Hunter (Chosen option)
विलियम हंटर
- (B) ☐ H.M. Court (Correct Answer)
एच.एम. कोर्ट
- (C) ☐ Thomas Raleigh
थॉमस रेले
- (D) ☐ Lord Macaulay
लॉर्ड मैकाले

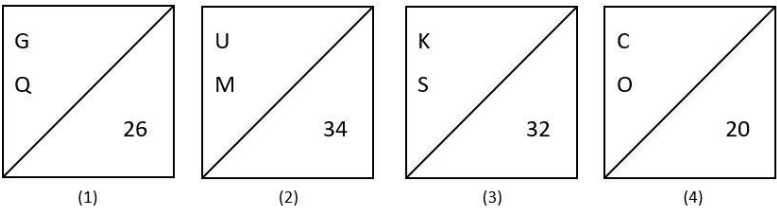
Question No.32

Marks: 2.50
Bookmark ☐

Find the odd image out in the given series.



दी गई श्रेणी में से असंगत छवि ज्ञात कीजिए।



- (A) ☐ 4
4
- (B) ☐ 3
3
- (C) ☐ 1
1
- (D) ☐ 2 (Correct Answer) (Chosen option)
2

<div>Question No.33</div> <div>Marks: 2.50</div> <div>Bookmark <input type="checkbox"/></div> <div>M is in the middle of a row where he is 16th from the right. What is the total number of persons in the row? M पंक्ति के मध्य में है जहां वह दाईं ओर से 16वां है। पंक्ति में कुल कितने व्यक्ति हैं? (A) <input type="radio"/> 29 29 (B) <input type="radio"/> 32 32 (C) <input type="radio"/> 30 30 (D) <input checked="" type="radio"/> 31 (Correct Answer) (Chosen option) 31</div>
<div>Question No.34</div> <div>Marks: 2.50</div> <div>Bookmark <input type="checkbox"/></div> <div>Choose the alternative which is an odd word/number/letter pair out of the given alternatives. वह विकल्प चुनें, जो दिए गए विकल्पों में से एक असंगत शब्द/संख्या/अक्षर युग्म हो। (A) <input checked="" type="radio"/> Car (Correct Answer) (Chosen option) Car (B) <input type="radio"/> Brake Brake (C) <input type="radio"/> Engine Engine (D) <input type="radio"/> Accelerator Accelerator</div>
<div>Question No.35</div> <div>Marks: 2.50</div> <div>Bookmark <input type="checkbox"/></div> <div>If all the vowels are replaced by the immediate next consonants from the English alphabet series in the word UNDISCRIMINATING, then the letters of the word are arranged alphabetically, which letter will be seventh to the right of the third letter from the left? यदि शब्द UNDISCRIMINATING में सभी स्वरों को अंग्रेजी वर्णमाला श्रृंखला के उनके ठीक अगले व्यंजन से प्रतिस्थापित किया जाता है, फिर अक्षरों को वर्णानुक्रम में व्यवस्थित किया जाता है, तो बाईं ओर से तीसरे अक्षर के दाईं ओर सातवां अक्षर कौन सा होगा? (A) <input type="radio"/> R R (B) <input type="radio"/> M M (C) <input type="radio"/> J (Chosen option) J (D) <input checked="" type="radio"/> N (Correct Answer) N</div>
<div>Question No.36</div> <div>Marks: 2.50</div> <div>Bookmark <input type="checkbox"/></div> <div>The members of Parsi community in India are followers of which of the following religions? भारत में पारसी समुदाय के लोग निम्नलिखित में से किस धर्म के अनुयायी हैं? (A) <input type="radio"/> Jainism जैन धर्म (B) <input checked="" type="radio"/> Zoroastrianism (Correct Answer) (Chosen option) ज़रथुष्ट्र धर्म (C) <input type="radio"/> Islam इस्लाम धर्म (D) <input type="radio"/> Hinduism हिंदू धर्म</div>
<div>Question No.37</div> <div>Marks: 2.50</div> <div>Bookmark <input type="checkbox"/></div> <div>Find the next number in the series. 5, 14, 39, 112, 329, ? श्रेणी में अगली संख्या ज्ञात करें। 5, 14, 39, 112, 329, ? (A) <input type="radio"/> 977 977 (B) <input checked="" type="radio"/> 978 (Correct Answer) 978 (C) <input type="radio"/> 976 976 (D) <input type="radio"/> 979 (Chosen option) 979</div>
<div>Question No.38</div> <div>Marks: 2.50</div> <div>Bookmark <input type="checkbox"/></div> <div>If the second half of the word INNOVATION is reversed, which of the following will be the seventh to the right of the second letter from the left end? यदि शब्द INNOVATION के दूसरे आधे भाग को व्युत्क्रमित किया जाता है, तो निम्नलिखित में से कौन सा अक्षर बाएँ छोर से दूसरे अक्षर की दाएँ ओर सातवां अक्षर होगा? (A) <input checked="" type="radio"/> T (Correct Answer) (Chosen option) T (B) <input type="radio"/> V V (C) <input type="radio"/> O O (D) <input type="radio"/> N N</div>
<div>Question No.39</div> <div>Marks: 2.50</div> <div>Bookmark <input type="checkbox"/></div> <div>Find the next term in the given series. 35, 49, 77, 91, ? दी गई श्रेणी में अगली संख्या ज्ञात कीजिए। 35, 49, 77, 91, ? (A) <input type="radio"/> 118 118 (B) <input type="radio"/> 121 121</div>

- (C) ☐ 119 (Correct Answer) (Chosen option)
119
- (D) ☐ 128
128

Question No.40

Marks: 2.50
Bookmark ☐

If every alternate letter starting from B of the English alphabet series is written in small letters, rest all are written in capital letters, how will the given word 'Fantastic' be written?

यदि अंग्रेजी वर्णमाला श्रृंखला के B से आरंभ करते हुए प्रत्येक दूसरे अक्षर को छोटे अक्षरों में लिखा जाता है, बाकी सभी को बड़े अक्षरों में लिखा जाता है, तो शब्द 'Fantastic' को कैसे लिखा जाएगा?

- (A) ☐ fAnTAsTiC
fAnTAsTiC
- (B) ☐ FAntAStlc (Chosen option)
FAntAStlc
- (C) ☐ fAntAStlC (Correct Answer)
fAntAStlC
- (D) ☐ faNTaSTiC
faNTaSTiC