

Exam Date: 29-Nov-2021 Exam
Time: 16:00-18:00
Post Name: SI Civil 2021

GENERAL HINDI - GENERAL HINDI

<div>Question No.1</div> <div>Marks: 2.50</div> <div>Bookmark <input type="checkbox"/></div> <div>तुलसीदास के गुरु कौन थे? तुलसीदास के गुरु कौन थे? (A) <input type="radio"/> वल्लभाचार्य वल्लभाचार्य (B) <input type="radio"/> रामानंद (Chosen option) रामानंद (C) <input checked="" type="radio"/> नरहरिदास (Correct Answer) नरहरिदास (D) <input type="radio"/> राघवानंद राघवानंद</div>	
<div>Question No.2</div> <div>Marks: 2.50</div> <div>Bookmark <input type="checkbox"/></div> <div>'बुन्देली' का क्षेत्र है - 'बुन्देली' का क्षेत्र है - (A) <input type="radio"/> जयपुर-अजमेर-जोधपुर जयपुर-अजमेर-जोधपुर (B) <input checked="" type="radio"/> झाँसी-जालौन-दतिया (Correct Answer) (Chosen option) झाँसी-जालौन-दतिया (C) <input type="radio"/> आगरा-मथुरा-भरतपुर आगरा-मथुरा-भरतपुर (D) <input type="radio"/> पानीपत-सोनीपत-कुरुक्षेत्र पानीपत-सोनीपत-कुरुक्षेत्र</div>	
<div>Question No.3</div> <div>Marks: 2.50</div> <div>Bookmark <input type="checkbox"/></div> <div>'श्याम बाजार जा रहा है।' इस वाक्य में क्रिया का कौन-सा प्रकार है? 'श्याम बाजार जा रहा है।' इस वाक्य में क्रिया का कौन-सा प्रकार है? (A) <input type="radio"/> पूर्वकालिक क्रिया पूर्वकालिक क्रिया (B) <input type="radio"/> अकर्मक क्रिया अकर्मक क्रिया (C) <input checked="" type="radio"/> सकर्मक क्रिया (Correct Answer) (Chosen option) सकर्मक क्रिया (D) <input type="radio"/> अनेकार्थक क्रिया अनेकार्थक क्रिया</div>	
<div>Question No.4</div> <div>Marks: 2.50</div> <div>Bookmark <input type="checkbox"/></div> <div>'मैला आँचल' किसका आंचलिक उपन्यास है? 'मैला आँचल' किसका आंचलिक उपन्यास है? (A) <input checked="" type="radio"/> फणीश्वरनाथ रेणु (Correct Answer) (Chosen option) फणीश्वरनाथ रेणु (B) <input type="radio"/> रामदरश मिश्र रामदरश मिश्र (C) <input type="radio"/> जैनेन्द्र जैनेन्द्र (D) <input type="radio"/> अज्ञेय अज्ञेय</div>	
<div>Question No.5</div> <div>Marks: 2.50</div> <div>Bookmark <input type="checkbox"/></div> <div>यह बोली पूर्वी हिंदी वर्ग की बोली नहीं है। यह बोली पूर्वी हिंदी वर्ग की बोली नहीं है। (A) <input checked="" type="radio"/> बुन्देली (Correct Answer) बुन्देली (B) <input type="radio"/> अवधी अवधी</div>	

<div>(C) <input type="radio"/> छत्तीसगढ़ी (Chosen option) छत्तीसगढ़ी</div> <div>(D) <input type="radio"/> बघेली बघेली</div>	
<div><div>Question No.6</div><div>Marks: 2.50</div><div>Bookmark <input type="checkbox"/></div></div> <div>निम्नलिखित में से कौन-सा शब्द 'कंचन' का पर्यायवाची है? निम्नलिखित में से कौन-सा शब्द 'कंचन' का पर्यायवाची है?</div> <div>(A) <input type="radio"/> कनक (Correct Answer) कनक</div> <div>(B) <input type="radio"/> चन्द्रमा (Chosen option) चन्द्रमा</div> <div>(C) <input type="radio"/> काया काया</div> <div>(D) <input type="radio"/> चाँदी चाँदी</div>	
<div><div>Question No.7</div><div>Marks: 2.50</div><div>Bookmark <input type="checkbox"/></div></div> <div>'जिसके पास कुछ न हो' इस वाक्यांश के लिए उपयुक्त शब्द लिखिए। 'जिसके पास कुछ न हो' इस वाक्यांश के लिए उपयुक्त शब्द लिखिए।</div> <div>(A) <input type="radio"/> कर्जदार कर्जदार</div> <div>(B) <input type="radio"/> अकिंचन (Correct Answer) अकिंचन</div> <div>(C) <input type="radio"/> निरामिष (Chosen option) निरामिष</div> <div>(D) <input type="radio"/> उरुण उरुण</div>	
<div><div>Case Study - 8 to 10</div><div>Marks: 7.50</div></div> <div>अनुच्छेद पढ़कर, दिए गए सवालों के सही जवाब चुनिए :-</div> <div>अहिंसात्मक अभ्यास का मार्ग ही अलग है। फौज में प्रतिदिन कवायद, कसरत, क्रूरतापूर्ण शिकार इत्यादि कराए जाते हैं। अहिंसात्मक अभ्यास इससे बिल्कुल भिन्न है। उसका साधन, यदि एक शब्द में कहना चाहें, तो बस, संयम है। यहाँ संयम व्यापक अर्थ में उन तमाम नियमों के लिए व्यक्त किया गया है, जिनका जिक्र हिंदुओं के तथा दूसरे धर्मों के धर्मग्रंथों में पाया जाता है। यह साधारण सदाचार के नियम सख्ती से पालन करके सीखे जाते हैं। इन सब नियमों का झुकाव अहिंसा और सत्य की ओर ही होता है। गांधी जी ने बार-बार लिखा है कि ईश्वर पर विश्वास इसका एक बहुत बड़ा सहायक होता है। यदि इस अहिंसात्मक प्रवृत्ति को जागृत और पुष्ट करने में समय लगाया जाए, बचपन से ही अभ्यास कराया जाए और इस पर पूरा ध्यान दिया जाए तो निर्भयता इत्यादि जो इसके मुख्य बाह्य रूप देखने में आते हैं, अवश्य ही प्राप्त किए जा सकते हैं। यह कहना कि यह मनुष्य के लिए संभव नहीं, बे-बुनियाद बात है।</div> <div>अनुच्छेद पढ़कर, दिए गए सवालों के सही जवाब चुनिए :-</div> <div>अहिंसात्मक अभ्यास का मार्ग ही अलग है। फौज में प्रतिदिन कवायद, कसरत, क्रूरतापूर्ण शिकार इत्यादि कराए जाते हैं। अहिंसात्मक अभ्यास इससे बिल्कुल भिन्न है। उसका साधन, यदि एक शब्द में कहना चाहें, तो बस, संयम है। यहाँ संयम व्यापक अर्थ में उन तमाम नियमों के लिए व्यक्त किया गया है, जिनका जिक्र हिंदुओं के तथा दूसरे धर्मों के धर्मग्रंथों में पाया जाता है। यह साधारण सदाचार के नियम सख्ती से पालन करके सीखे जाते हैं। इन सब नियमों का झुकाव अहिंसा और सत्य की ओर ही होता है। गांधी जी ने बार-बार लिखा है कि ईश्वर पर विश्वास इसका एक बहुत बड़ा सहायक होता है। यदि इस अहिंसात्मक प्रवृत्ति को जागृत और पुष्ट करने में समय लगाया जाए, बचपन से ही अभ्यास कराया जाए और इस पर पूरा ध्यान दिया जाए तो निर्भयता इत्यादि जो इसके मुख्य बाह्य रूप देखने में आते हैं, अवश्य ही प्राप्त किए जा सकते हैं। यह कहना कि यह मनुष्य के लिए संभव नहीं, बे-बुनियाद बात है।</div>	
<div><div>Question No.8</div><div>Marks: 2.50</div><div>Bookmark <input type="checkbox"/></div></div> <div>उपर्युक्त गद्यांश में फौजी की गतिविधियों का इसलिए उल्लेख किया गया है कि – उपर्युक्त गद्यांश में फौजी की गतिविधियों का इसलिए उल्लेख किया गया है कि –</div> <div>(A) <input type="radio"/> फौजी का महत्व निरूपित किया जाए। फौजी का महत्व निरूपित किया जाए।</div> <div>(B) <input type="radio"/> अहिंसात्मक अभ्यास का विवेचन किया जा सके। (Chosen option) अहिंसात्मक अभ्यास का विवेचन किया जा सके।</div> <div>(C) <input type="radio"/> सैनिक शिक्षा की अनिवार्यता संकेतित की जाए। सैनिक शिक्षा की अनिवार्यता संकेतित की जाए।</div> <div>(D) <input type="radio"/> अहिंसात्मक अभ्यास की उससे पृथकता प्रतिपादित की जा सके। (Correct Answer) अहिंसात्मक अभ्यास की उससे पृथकता प्रतिपादित की जा सके।</div>	
<div><div>Question No.9</div><div>Marks: 2.50</div><div>Bookmark <input type="checkbox"/></div></div> <div>धर्मग्रंथ में सर्वाधिक बल दिया गया है – धर्मग्रंथ में सर्वाधिक बल दिया गया है –</div> <div>(A) <input type="radio"/> सदाचार के नियमों पर (Correct Answer) (Chosen option) सदाचार के नियमों पर</div> <div>(B) <input type="radio"/> धर्म-पालन पर धर्म-पालन पर</div> <div>(C) <input type="radio"/> सहिष्णुता पर सहिष्णुता पर</div> <div>(D) <input type="radio"/> भक्ति और ज्ञान पर</div>	

भक्ति और ज्ञान पर

Question No.10

Marks: 2.50
Bookmark ☐

- निर्भयता आदि गुणों को सीखने के लिए आवश्यक है –
निर्भयता आदि गुणों को सीखने के लिए आवश्यक है –
- (A) ☐ युवावस्था में सत्य का आचरण
युवावस्था में सत्य का आचरण
- (B) ☒ बचपन से ही अहिंसात्मक प्रवृत्ति का अभ्यास (Correct Answer) (Chosen option)
बचपन से ही अहिंसात्मक प्रवृत्ति का अभ्यास
- (C) ☐ प्रत्येक अवस्था में निडर रहना
प्रत्येक अवस्था में निडर रहना
- (D) ☐ बचपन में सैनिक शिक्षा का अभ्यास
बचपन में सैनिक शिक्षा का अभ्यास

Question No.11

Marks: 2.50
Bookmark ☐

- किस शब्द का अर्थ सूर्य, पंडित, अंधा, शूरवीर आदि होता है?
किस शब्द का अर्थ सूर्य, पंडित, अंधा, शूरवीर आदि होता है?
- (A) ☐ भानु
भानु
- (B) ☒ सूर (Correct Answer)
सूर
- (C) ☐ भास्कर (Chosen option)
भास्कर
- (D) ☐ सुर
सुर

Question No.12

Marks: 2.50
Bookmark ☐

- मैथिलीशरण गुप्त को किस कृति पर मंगला प्रसाद पारितोषिक प्राप्त हुआ?
मैथिलीशरण गुप्त को किस कृति पर मंगला प्रसाद पारितोषिक प्राप्त हुआ?
- (A) ☐ भारत भारती (Chosen option)
भारत भारती
- (B) ☒ साकेत (Correct Answer)
साकेत
- (C) ☐ पंचवटी
पंचवटी
- (D) ☐ यशोधरा
यशोधरा

Question No.13

Marks: 2.50
Bookmark ☐

- तत्सम शब्द का मूल स्रोत कौन-सी भाषा है?
तत्सम शब्द का मूल स्रोत कौन-सी भाषा है?
- (A) ☐ अपभ्रंश
अपभ्रंश
- (B) ☐ हिंदी
हिंदी
- (C) ☐ प्राकृत
प्राकृत
- (D) ☒ संस्कृत (Correct Answer) (Chosen option)
संस्कृत

Question No.14

Marks: 2.50
Bookmark ☐

- 'अद्वितीय' में कौन-सा समास है?
'अद्वितीय' में कौन-सा समास है?
- (A) ☒ बहुव्रीहि समास (Correct Answer)
बहुव्रीहि समास
- (B) ☐ अव्ययीभाव समास
अव्ययीभाव समास
- (C) ☐ द्विगु समास
द्विगु समास
- (D) ☐ द्वंद्व समास (Chosen option)
द्वंद्व समास

Question No.15

Marks: 2.50
Bookmark ☐

<p>'आपके घर में इतने मेहमान आए हैं, कुछ मेहमान हमारे यहाँ भेज दीजिए।' इस वाक्य में अधोरेखित शब्दों का सर्वनाम का प्रकार लिखिए।</p> <p>'आपके घर में इतने मेहमान आए हैं, कुछ मेहमान हमारे यहाँ भेज दीजिए।' इस वाक्य में अधोरेखित शब्दों का सर्वनाम का प्रकार लिखिए।</p> <p>(A) <input type="radio"/> संबंधवाचक सर्वनाम संबंधवाचक सर्वनाम</p> <p>(B) <input type="radio"/> अनिश्चयवाचक सर्वनाम (Correct Answer) (Chosen option) अनिश्चयवाचक सर्वनाम</p> <p>(C) <input type="radio"/> निश्चयवाचक सर्वनाम निश्चयवाचक सर्वनाम</p> <p>(D) <input type="radio"/> निजवाचक सर्वनाम निजवाचक सर्वनाम</p>	
<div>Question No.16</div> <div>Marks: 2.50</div> <div>Bookmark <input type="checkbox"/></div> <p>"निज भाषा उन्नति अहे सब उन्नति को मूल।" यह किसकी प्रसिद्ध उक्ति है?</p> <p>"निज भाषा उन्नति अहे सब उन्नति को मूल।" यह किसकी प्रसिद्ध उक्ति है?</p> <p>(A) <input type="radio"/> प्रतापनारायण मिश्र प्रतापनारायण मिश्र</p> <p>(B) <input type="radio"/> भारतेन्दु (Correct Answer) (Chosen option) भारतेन्दु</p> <p>(C) <input type="radio"/> सदल मिश्र सदल मिश्र</p> <p>(D) <input type="radio"/> बालकृष्ण भट्ट बालकृष्ण भट्ट</p>	
<div>Question No.17</div> <div>Marks: 2.50</div> <div>Bookmark <input type="checkbox"/></div> <p>वीर रस से युक्त काव्य में किस गुण की प्रधानता रहती है?</p> <p>वीर रस से युक्त काव्य में किस गुण की प्रधानता रहती है?</p> <p>(A) <input type="radio"/> माधुर्य माधुर्य</p> <p>(B) <input type="radio"/> प्रसाद (Chosen option) प्रसाद</p> <p>(C) <input type="radio"/> ओज (Correct Answer) ओज</p> <p>(D) <input type="radio"/> इनमें से कोई नहीं इनमें से कोई नहीं</p>	
<div>Question No.18</div> <div>Marks: 2.50</div> <div>Bookmark <input type="checkbox"/></div> <p>निम्न में से कौन-सा शब्द तद्भव नहीं है?</p> <p>निम्न में से कौन-सा शब्द तद्भव नहीं है?</p> <p>(A) <input type="radio"/> गेंद गेंद</p> <p>(B) <input type="radio"/> गोरा गोरा</p> <p>(C) <input type="radio"/> गेहूँ (Chosen option) गेहूँ</p> <p>(D) <input type="radio"/> एकादश (Correct Answer) एकादश</p>	
<div>Question No.19</div> <div>Marks: 2.50</div> <div>Bookmark <input type="checkbox"/></div> <p>"आजकल भारत की जनता भी अधिकाधिक शिक्षित हो गई है।" इस वाक्य में 'जनता' शब्द का वचन है -</p> <p>"आजकल भारत की जनता भी अधिकाधिक शिक्षित हो गई है।" इस वाक्य में 'जनता' शब्द का वचन है -</p> <p>(A) <input type="radio"/> द्विवचन द्विवचन</p> <p>(B) <input type="radio"/> बहुवचन (Chosen option) बहुवचन</p> <p>(C) <input type="radio"/> एकवचन (Correct Answer) एकवचन</p> <p>(D) <input type="radio"/> इनमें से कोई नहीं इनमें से कोई नहीं</p>	
<div>Question No.20</div> <div>Marks: 2.50</div> <div>Bookmark <input type="checkbox"/></div> <p>"बना लो जहाँ ही वहीं स्वर्ग होगा, स्वयंभूत थोड़ा कहीं स्वर्ग होगा। खलों को कहीं भी नहीं स्वर्ग होगा, भलों के लिये तो यही स्वर्ग होगा।" में कौन-सा छन्द है?</p> <p>"बना लो जहाँ ही वहीं स्वर्ग होगा, स्वयंभूत थोड़ा कहीं स्वर्ग होगा। खलों को कहीं भी नहीं स्वर्ग होगा, भलों के लिये तो यही स्वर्ग होगा।" में कौन-सा छन्द है?</p> <p>(A) <input type="radio"/> मालिनी मालिनी</p>	

<div>(B) <input type="radio"/> भुजंगप्रयात (Correct Answer) (Chosen option) भुजंगप्रयात</div> <div>(C) <input type="radio"/> उल्लाला उल्लाला</div> <div>(D) <input type="radio"/> वसंततिलका वसंततिलका</div>	
<div>Question No.21</div> <div>Marks: 2.50</div> <div>Bookmark <input type="checkbox"/></div> <div>निम्नलिखित में से कौन-सा शब्द पुल्लिंग है? निम्नलिखित में से कौन-सा शब्द पुल्लिंग है?</div> <div>(A) <input type="radio"/> व्यय (Correct Answer) व्यय</div> <div>(B) <input type="radio"/> लहर (Chosen option) लहर</div> <div>(C) <input type="radio"/> आय आय</div> <div>(D) <input type="radio"/> नहर नहर</div>	
<div>Question No.22</div> <div>Marks: 2.50</div> <div>Bookmark <input type="checkbox"/></div> <div>"लोभ", यह संज्ञा का कौन-सा प्रकार है? "लोभ", यह संज्ञा का कौन-सा प्रकार है?</div> <div>(A) <input type="radio"/> भाववाचक संज्ञा (Correct Answer) (Chosen option) भाववाचक संज्ञा</div> <div>(B) <input type="radio"/> व्यक्तिवाचक संज्ञा व्यक्तिवाचक संज्ञा</div> <div>(C) <input type="radio"/> जातिवाचक संज्ञा जातिवाचक संज्ञा</div> <div>(D) <input type="radio"/> समूहवाचक संज्ञा समूहवाचक संज्ञा</div>	
<div>Question No.23</div> <div>Marks: 2.50</div> <div>Bookmark <input type="checkbox"/></div> <div>'उसने कहा था' किसकी प्रसिद्ध कहानी है? 'उसने कहा था' किसकी प्रसिद्ध कहानी है?</div> <div>(A) <input type="radio"/> चंद्रधर शर्मा 'गुलेरी' (Correct Answer) चंद्रधर शर्मा 'गुलेरी'</div> <div>(B) <input type="radio"/> भीष्म साहनी भीष्म साहनी</div> <div>(C) <input type="radio"/> माधवप्रसाद मिश्र (Chosen option) माधवप्रसाद मिश्र</div> <div>(D) <input type="radio"/> प्रेमचंद प्रेमचंद</div>	
<div>Question No.24</div> <div>Marks: 2.50</div> <div>Bookmark <input type="checkbox"/></div> <div>केन्द्रीय हिंदी निदेशालय, भारत सरकार द्वारा प्रकाशित पत्रिका कौन-सी है? केन्द्रीय हिंदी निदेशालय, भारत सरकार द्वारा प्रकाशित पत्रिका कौन-सी है?</div> <div>(A) <input type="radio"/> विपाशा विपाशा</div> <div>(B) <input type="radio"/> भाषा (Correct Answer) भाषा</div> <div>(C) <input type="radio"/> अक्षर अक्षर</div> <div>(D) <input type="radio"/> आजकल (Chosen option) आजकल</div>	
<div>Question No.25</div> <div>Marks: 2.50</div> <div>Bookmark <input type="checkbox"/></div> <div>निम्न में से कौन-सा शब्द उपसर्ग-रहित है? निम्न में से कौन-सा शब्द उपसर्ग-रहित है?</div> <div>(A) <input type="radio"/> न्यून न्यून</div> <div>(B) <input type="radio"/> विधान विधान</div> <div>(C) <input type="radio"/> उज्ज्वल (Chosen option) उज्ज्वल</div>	

(D) <input type="radio"/> त्र्यम्बक (Correct Answer) त्र्यम्बक	
<div>Question No.26</div> <div>Marks: 2.50</div> <div>Bookmark <input type="checkbox"/></div> <div>निम्न में से कौन-सा शब्द तद्भव नहीं है? निम्न में से कौन-सा शब्द तद्भव नहीं है?</div> <div>(A) <input type="radio"/> चना चना</div> <div>(B) <input type="radio"/> चमार चमार</div> <div>(C) <input type="radio"/> चकवा चकवा</div> <div>(D) <input type="radio"/> चन्द्र (Correct Answer) (Chosen option) चन्द्र</div>	
<div>Question No.27</div> <div>Marks: 2.50</div> <div>Bookmark <input type="checkbox"/></div> <div>'रसोईघर' में कौन-सा समास है? 'रसोईघर' में कौन-सा समास है?</div> <div>(A) <input type="radio"/> द्विगु समास द्विगु समास</div> <div>(B) <input type="radio"/> अव्ययीभाव समास अव्ययीभाव समास</div> <div>(C) <input type="radio"/> तत्पुरुष समास (Correct Answer) (Chosen option) तत्पुरुष समास</div> <div>(D) <input type="radio"/> बहुव्रीहि समास बहुव्रीहि समास</div>	
<div>Question No.28</div> <div>Marks: 2.50</div> <div>Bookmark <input type="checkbox"/></div> <div>निम्नलिखित में से कौन-सा शब्द पुल्लिङ्ग है? निम्नलिखित में से कौन-सा शब्द पुल्लिङ्ग है?</div> <div>(A) <input type="radio"/> प्लेट (Chosen option) प्लेट</div> <div>(B) <input type="radio"/> तलवार तलवार</div> <div>(C) <input type="radio"/> पायल पायल</div> <div>(D) <input type="radio"/> कैमरा (Correct Answer) कैमरा</div>	
<div>Question No.29</div> <div>Marks: 2.50</div> <div>Bookmark <input type="checkbox"/></div> <div>"साहित्य जनता की चित्तवृत्ति का संचित प्रतिबिंब होता है।" यह किसका प्रसिद्ध कथन है? "साहित्य जनता की चित्तवृत्ति का संचित प्रतिबिंब होता है।" यह किसका प्रसिद्ध कथन है?</div> <div>(A) <input type="radio"/> रामचंद्र शुक्ल (Correct Answer) (Chosen option) रामचंद्र शुक्ल</div> <div>(B) <input type="radio"/> बाबू गुलाबराय बाबू गुलाबराय</div> <div>(C) <input type="radio"/> रामकुमार वर्मा रामकुमार वर्मा</div> <div>(D) <input type="radio"/> गणपतिचन्द्र गुप्त गणपतिचन्द्र गुप्त</div>	
<div>Question No.30</div> <div>Marks: 2.50</div> <div>Bookmark <input type="checkbox"/></div> <div>हिंदी में वैज्ञानिक आलोचना का सूत्रपात किसने किया? हिंदी में वैज्ञानिक आलोचना का सूत्रपात किसने किया?</div> <div>(A) <input type="radio"/> महावीर प्रसाद द्विवेदी महावीर प्रसाद द्विवेदी</div> <div>(B) <input type="radio"/> रामस्वरूप चतुर्वेदी रामस्वरूप चतुर्वेदी</div> <div>(C) <input type="radio"/> रामविलास शर्मा रामविलास शर्मा</div> <div>(D) <input type="radio"/> रामचंद्र शुक्ल (Correct Answer) (Chosen option) रामचंद्र शुक्ल</div>	
<div>Question No.31</div> <div>Marks: 2.50</div> <div>Bookmark <input type="checkbox"/></div>	

<p>किसी कठिन शब्द को स्पष्ट करने के लिए किस विराम चिह्न का प्रयोग होता है?</p> <p>किसी कठिन शब्द को स्पष्ट करने के लिए किस विराम चिह्न का प्रयोग होता है?</p> <p>(A) <input type="radio"/> निर्देशक निर्देशक</p> <p>(B) <input type="radio"/> उप विराम उप विराम</p> <p>(C) <input type="radio"/> कोष्ठक (Correct Answer) (Chosen option) कोष्ठक</p> <p>(D) <input type="radio"/> विवरण चिह्न विवरण चिह्न</p>	
<p>Question No.32</p> <p>Marks: 2.50</p> <p>Bookmark <input type="checkbox"/></p> <p>'तीव्र' का विलोम शब्द है - 'तीव्र' का विलोम शब्द है -</p> <p>(A) <input type="radio"/> क्षिप्र क्षिप्र</p> <p>(B) <input type="radio"/> तेज तेज</p> <p>(C) <input type="radio"/> जलद जलद</p> <p>(D) <input type="radio"/> मंथर (Correct Answer) (Chosen option) मंथर</p>	
<p>Question No.33</p> <p>Marks: 2.50</p> <p>Bookmark <input type="checkbox"/></p> <p>'थका ऊँट सराय तकता है' इस लोकोक्ति का सही अर्थ है - 'थका ऊँट सराय तकता है' इस लोकोक्ति का सही अर्थ है -</p> <p>(A) <input type="radio"/> दिनभर की मेहनत के बाद घर की याद आती है। (Correct Answer) (Chosen option) दिनभर की मेहनत के बाद घर की याद आती है।</p> <p>(B) <input type="radio"/> असाध्य रोग से ग्रस्त व्यक्ति मौत चाहता है। असाध्य रोग से ग्रस्त व्यक्ति मौत चाहता है।</p> <p>(C) <input type="radio"/> विश्राम जीवन की अनिवार्यता है। विश्राम जीवन की अनिवार्यता है।</p> <p>(D) <input type="radio"/> गुलाम अपने मालिक के संकेत पर चलता है। गुलाम अपने मालिक के संकेत पर चलता है।</p>	
<p>Question No.34</p> <p>Marks: 2.50</p> <p>Bookmark <input type="checkbox"/></p> <p>कौन-सा शब्द अर्थ की दृष्टि से 'अंक' से संबद्ध नहीं है? कौन-सा शब्द अर्थ की दृष्टि से 'अंक' से संबद्ध नहीं है?</p> <p>(A) <input type="radio"/> भाग्य (Chosen option) भाग्य</p> <p>(B) <input type="radio"/> चिह्न चिह्न</p> <p>(C) <input type="radio"/> गोद गोद</p> <p>(D) <input type="radio"/> शब्द (Correct Answer) शब्द</p>	
<p>Question No.35</p> <p>Marks: 2.50</p> <p>Bookmark <input type="checkbox"/></p> <p>"के वह टूटी-सी छानी हती, कहूँ कंचन के अब धाम सुहावत।" में कौन-सा अलंकार है? "के वह टूटी-सी छानी हती, कहूँ कंचन के अब धाम सुहावत।" में कौन-सा अलंकार है?</p> <p>(A) <input type="radio"/> यमक यमक</p> <p>(B) <input type="radio"/> उपमा (Correct Answer) (Chosen option) उपमा</p> <p>(C) <input type="radio"/> रूपक रूपक</p> <p>(D) <input type="radio"/> श्लेष श्लेष</p>	
<p>Question No.36</p> <p>Marks: 2.50</p> <p>Bookmark <input type="checkbox"/></p> <p>'हल्दी' का तत्सम शब्द है - 'हल्दी' का तत्सम शब्द है -</p> <p>(A) <input type="radio"/> हीरक हीरक</p>	

<div>(B) <input type="radio"/> हरिद्रा (Correct Answer) (Chosen option) हरिद्रा</div> <div>(C) <input type="radio"/> हरि हरि</div> <div>(D) <input type="radio"/> हस्ती हस्ती</div>	
<div>Question No.37</div> <div>Marks: 2.50</div> <div>Bookmark <input type="checkbox"/></div> <div>'राम हँसता है।' इस वाक्य में क्रिया का कौन-सा प्रकार है? 'राम हँसता है।' इस वाक्य में क्रिया का कौन-सा प्रकार है?</div> <div>(A) <input type="radio"/> सकर्मक क्रिया सकर्मक क्रिया</div> <div>(B) <input type="radio"/> पूर्वकालिक क्रिया पूर्वकालिक क्रिया</div> <div>(C) <input checked="" type="radio"/> अकर्मक क्रिया (Correct Answer) (Chosen option) अकर्मक क्रिया</div> <div>(D) <input type="radio"/> अनेकार्थक क्रिया अनेकार्थक क्रिया</div>	
<div>Question No.38</div> <div>Marks: 2.50</div> <div>Bookmark <input type="checkbox"/></div> <div>मेवाती किस वर्ग की बोली है? मेवाती किस वर्ग की बोली है?</div> <div>(A) <input type="radio"/> बिहारी बिहारी</div> <div>(B) <input checked="" type="radio"/> राजस्थानी (Correct Answer) (Chosen option) राजस्थानी</div> <div>(C) <input type="radio"/> पहाड़ी पहाड़ी</div> <div>(D) <input type="radio"/> पश्चिमी हिंदी पश्चिमी हिंदी</div>	
<div>Question No.39</div> <div>Marks: 2.50</div> <div>Bookmark <input type="checkbox"/></div> <div>'कोई' और 'कुछ' का प्रयोग निम्न में से किस सर्वनाम में किया जाता है? 'कोई' और 'कुछ' का प्रयोग निम्न में से किस सर्वनाम में किया जाता है?</div> <div>(A) <input type="radio"/> संबंधवाचक संबंधवाचक</div> <div>(B) <input type="radio"/> प्रश्नवाचक प्रश्नवाचक</div> <div>(C) <input checked="" type="radio"/> अनिश्चयवाचक (Correct Answer) (Chosen option) अनिश्चयवाचक</div> <div>(D) <input type="radio"/> निश्चयवाचक निश्चयवाचक</div>	
<div>Question No.40</div> <div>Marks: 2.50</div> <div>Bookmark <input type="checkbox"/></div> <div>'आज प्राचार्य द्वारा मधुर गीत गाया गया।' इस वाक्य का कर्तृवाच्य में परिवर्तित रूप है - 'आज प्राचार्य द्वारा मधुर गीत गाया गया।' इस वाक्य का कर्तृवाच्य में परिवर्तित रूप है -</div> <div>(A) <input type="radio"/> आज प्राचार्य गीत को गायेंगे। आज प्राचार्य गीत को गायेंगे।</div> <div>(B) <input type="radio"/> प्राचार्य द्वारा आज गाया गीत मधुर गीत था। प्राचार्य द्वारा आज गाया गीत मधुर गीत था।</div> <div>(C) <input checked="" type="radio"/> आज प्राचार्य ने मधुर गीत गाया। (Correct Answer) (Chosen option) आज प्राचार्य ने मधुर गीत गाया।</div> <div>(D) <input type="radio"/> आज प्राचार्य मधुर गीत गायेंगे। आज प्राचार्य मधुर गीत गायेंगे।</div>	
BASIC LAW - CONSTITUTION AND GENERAL KNOWLEDGE - BASIC LAW - CONSTITUTION AND GENERAL KNOWLEDGE	
<div>Question No.1</div> <div>Marks: 2.50</div> <div>Bookmark <input type="checkbox"/></div> <div>Which of the following Articles of the Indian Constitution provides for an Office of Attorney General of India? भारतीय संविधान के निम्नलिखित अनुच्छेदों में से कौन-सा अनुच्छेद भारत के महान्यायवादी के पद का प्रावधान करता है?</div> <div>(A) <input type="radio"/> Article 84 अनुच्छेद 84</div> <div>(B) <input type="radio"/> Article 194 अनुच्छेद 194</div> <div>(C) <input checked="" type="radio"/> Article 76 (Correct Answer) अनुच्छेद 76</div>	

(D) <input type="radio"/> Article 154 (Chosen option) अनुच्छेद 154	
<div>Question No.2</div> <div>Marks: 2.50</div> <div>Bookmark <input type="checkbox"/></div> <div>Which among the following is an example of Fungal Infection? निम्नलिखित में से कौन-सा विकल्प कवक (फंगल) संक्रमण का एक उदाहरण है?</div> <div>(A) <input type="radio"/> Malaria मलेरिया</div> <div>(B) <input type="radio"/> Tetanus धनुष्टंकार (टिटनेस)</div> <div>(C) <input type="radio"/> Ringworm (Correct Answer) (Chosen option) दाद (रिंगवर्म)</div> <div>(D) <input type="radio"/> Rabies जलांतक (रेबीज)</div>	
<div>Question No.3</div> <div>Marks: 2.50</div> <div>Bookmark <input type="checkbox"/></div> <div>Right in 're aliena' means a right over _____. रि एलियेना में अधिकार का आशय _____ पर अधिकार होता है।</div> <div>(A) <input type="radio"/> his own property अपनी संपत्ति</div> <div>(B) <input type="radio"/> property situated in a foreign country (Chosen option) विदेश में स्थित संपत्ति</div> <div>(C) <input type="radio"/> property situated in his/ her own country अपने देश में स्थित संपत्ति</div> <div>(D) <input type="radio"/> a property of someone else (Correct Answer) किसी और की संपत्ति</div>	
<div>Question No.4</div> <div>Marks: 2.50</div> <div>Bookmark <input type="checkbox"/></div> <div>Protection of Women from Domestic Violence Act was enacted in the year _____. घरेलू हिंसा से महिलाओं का संरक्षण अधिनियम वर्ष _____ में अधिनियमित किया गया था।</div> <div>(A) <input type="radio"/> 2010 2010</div> <div>(B) <input type="radio"/> 2000 (Chosen option) 2000</div> <div>(C) <input type="radio"/> 2020 2020</div> <div>(D) <input type="radio"/> 2005 (Correct Answer) 2005</div>	
<div>Question No.5</div> <div>Marks: 2.50</div> <div>Bookmark <input type="checkbox"/></div> <div>At present, sanctioned strength of Judges of the High Court of Judicature at Allahabad is: वर्तमान में, इलाहाबाद में न्यायपालिका के उच्च न्यायालय के न्यायाधीशों की अनुमोदित संख्या कितनी है?</div> <div>(A) <input type="radio"/> 170 170</div> <div>(B) <input type="radio"/> 160 (Correct Answer) (Chosen option) 160</div> <div>(C) <input type="radio"/> 140 140</div> <div>(D) <input type="radio"/> 90 90</div>	
<div>Question No.6</div> <div>Marks: 2.50</div> <div>Bookmark <input type="checkbox"/></div> <div>National Innovations on Climate Resilient Agriculture (NICRA) is an initiative of _____. राष्ट्रीय जलवायु अनुकूल कृषि पहल (NICRA), _____ की एक पहल है।</div> <div>(A) <input type="radio"/> Commission for Agricultural Costs and Prices (CACP) कृषि लागत एवं मूल्य आयोग (CACP)</div> <div>(B) <input type="radio"/> Food Corporation of India (FCI) भारतीय खाद्य निगम (FCI)</div> <div>(C) <input type="radio"/> Indian Council of Agricultural Research (ICAR) (Correct Answer) (Chosen option) भारतीय कृषि अनुसंधान परिषद (ICAR)</div> <div>(D) <input type="radio"/> National Agricultural Cooperative Marketing Federation of India Ltd (NAFED) भारतीय राष्ट्रीय कृषि सहकारी विपणन संघ मर्यादित (NAFED)</div>	
<div>Question No.7</div> <div>Marks: 2.50</div> <div>Bookmark <input type="checkbox"/></div> <div>What is Solder, an alloy of low melting point and used for welding electrical wires together made of? सोल्डर, जो कम गलनांक की एक मिश्रधातु है और इसका उपयोग विद्युत तारों को जोड़ने (वैलडिंग) के लिए किया जाता है, यह किन से मिलकर बना है?</div>	

<div><div>(A) <input type="radio"/> Lead and Nickel सीसा और निकल</div><div>(B) <input checked="" type="radio"/> Lead and Tin (Correct Answer) सीसा और टिन</div><div>(C) <input type="radio"/> Copper and Tin (Chosen option) तांबा और टिन</div><div>(D) <input type="radio"/> Chromium and Manganese क्रोमियम और मैंगनीज</div></div>	
<div><div>Question No.8</div><div>Marks: 2.50</div><div>Bookmark <input type="checkbox"/></div><div>Major amendments to Information Technology Act 2000 was introduced in the form of IT (amendment) Act in the year _____. वर्ष _____ में सूचना प्रौद्योगिकी अधिनियम 2000 के प्रमुख संशोधनों को आईटी (संशोधन) अधिनियम के रूप में पेश किया गया था।</div><div><div>(A) <input type="radio"/> 2010 2010</div><div>(B) <input type="radio"/> 2015 2015</div><div>(C) <input checked="" type="radio"/> 2008 (Correct Answer) 2008</div><div>(D) <input type="radio"/> 2019 (Chosen option) 2019</div></div></div>	
<div><div>Question No.9</div><div>Marks: 2.50</div><div>Bookmark <input type="checkbox"/></div><div>The ratio of nominal to real Gross Domestic Product is called : नाममात्र सकल घरेलू उत्पाद से वास्तविक सकल घरेलू उत्पाद के अनुपात को क्या कहा जाता है?</div><div><div>(A) <input type="radio"/> National Income राष्ट्रीय आय</div><div>(B) <input type="radio"/> Gross Domestic Product Inflator (Chosen option) सकल घरेलू उत्पाद इन्फ्लेटर</div><div>(C) <input type="radio"/> Net Domestic Product शुद्ध घरेलू उत्पाद</div><div>(D) <input checked="" type="radio"/> Gross Domestic Product Deflator (Correct Answer) सकल घरेलू उत्पाद अवस्फीतिक (डिफ्लेटर)</div></div></div>	
<div><div>Question No.10</div><div>Marks: 2.50</div><div>Bookmark <input type="checkbox"/></div><div>_____ is the act of unauthorised access to a computer, computer network or any digital system. _____ एक कंप्यूटर, कंप्यूटर नेटवर्क या किसी भी डिजिटल सिस्टम में अनाधिकृत प्रवेश की क्रिया है।</div><div><div>(A) <input type="radio"/> Plagiarism साहित्यिक चोरी (प्लेजरिज्म)</div><div>(B) <input checked="" type="radio"/> Hacking (Correct Answer) (Chosen option) निषिद्ध पहुँच (हैकिंग)</div><div>(C) <input type="radio"/> Nepotism स्वजन पक्षपात (नेपोटिज्म)</div><div>(D) <input type="radio"/> Copyright Infringement सत्त्वाधिकार उल्लंघन (कॉपीराइट इन्फ्रिजमेंट)</div></div></div>	
<div><div>Question No.11</div><div>Marks: 2.50</div><div>Bookmark <input type="checkbox"/></div><div>Which of the following organisations releases the 'Trade and Development Report'? निम्नलिखित में से किस संगठन द्वारा 'व्यापार और विकास रिपोर्ट' जारी की जाती है?</div><div><div>(A) <input type="radio"/> Asian Development Bank एशियाई विकास बैंक</div><div>(B) <input type="radio"/> World Trade Organisation (Chosen option) विश्व व्यापार संगठन</div><div>(C) <input checked="" type="radio"/> United Nations Conference on Trade and Development (Correct Answer) व्यापार एवं विकास पर संयुक्त राष्ट्र सम्मेलन</div><div>(D) <input type="radio"/> World Bank विश्व बैंक</div></div></div>	
<div><div>Question No.12</div><div>Marks: 2.50</div><div>Bookmark <input type="checkbox"/></div><div>Which Article of the Indian Constitution states that "there shall be a Council of Ministers with the Prime Minister at the head to aid and advice the President? भारतीय संविधान के किस अनुच्छेद में उल्लिखित है कि "राष्ट्रपति को सहायता एवं सुझाव देने के लिए एक मंत्रिपरिषद होगी, जिसके शीर्ष पर प्रधानमंत्री होंगे"?</div><div><div>(A) <input type="radio"/> Article 64 अनुच्छेद 64</div><div>(B) <input checked="" type="radio"/> Article 74 (Correct Answer) (Chosen option) अनुच्छेद 74</div><div>(C) <input type="radio"/> Article 80 अनुच्छेद 80</div><div>(D) <input type="radio"/> Article 99</div></div></div>	

अनुच्छेद 99

Question No.13

Marks: 2.50
Bookmark ☐

A District Magistrate can order conditional order for removal of nuisance under section _____ of Cr.P.C. जिला मैजिस्ट्रेट, दण्ड प्रक्रिया संहिता (Cr.P.C) की धारा _____ के तहत उपद्रव दूर करने के लिए सशर्त आदेश दे सकता है।

- (A) ☒ 133 (Correct Answer)
133
- (B) ☐ 132
132
- (C) ☐ 144 (Chosen option)
144
- (D) ☐ 145
145

Question No.14

Marks: 2.50
Bookmark ☐

The special Judge appointed under the Prevention of Corruption Act, 1988 shall follow the procedure prescribed by the _____. भ्रष्टाचार निरोधक अधिनियम, 1988 के तहत नियुक्त विशेष न्यायाधीश, _____ द्वारा निर्धारित प्रक्रिया का पालन करेंगे।

- (A) ☐ Civil Procedure Code, 1906
नागरिक प्रक्रिया संहिता, 1906
- (B) ☐ Indian Evidence Act, 1872
भारतीय साक्ष्य अधिनियम, 1872
- (C) ☒ Code of Criminal Procedure, 1973 (Correct Answer)
दण्ड प्रक्रिया संहिता, 1973
- (D) ☐ Indian Penal Code, 1860 (Chosen option)
भारतीय दण्ड संहिता, 1860

Question No.15

Marks: 2.50
Bookmark ☐

Driving without insurance is charged with fine of Rupees _____ as per the new traffic rules under the Motor Vehicles (Amendment) Act 2019. मोटर वाहन (संशोधन) अधिनियम 2019 के तहत नए यातायात नियमों के अनुसार बीमा के बिना गाड़ी चलाने पर _____ रुपये का जुर्माना लगाया जाता है।

- (A) ☒ 2000 (Correct Answer)
2000
- (B) ☐ 4000
4000
- (C) ☐ 10000 (Chosen option)
10000
- (D) ☐ 5000
5000

Question No.16

Marks: 2.50
Bookmark ☐

The National Human Rights Commission will not entertain complaints in regard to events which happened more than _____ before the making of complaints.

- राष्ट्रीय मानवाधिकार आयोग उन घटनाओं के संबंध में शिकायतों पर ध्यान नहीं देगा, जो शिकायतें दर्ज करने से _____ की अवधि से पहले हुई थीं।
- (A) ☐ 6 months
6 महीने
- (B) ☒ one year (Correct Answer)
एक वर्ष
- (C) ☐ two years
दो वर्ष
- (D) ☐ three years (Chosen option)
तीन वर्ष

Question No.17

Marks: 2.50
Bookmark ☐

Which is the outermost layer of the atmosphere that gradually merges with the Outer Space? वायुमंडल की सबसे बाह्य परत कौन-सी है जो धीरे-धीरे बाह्य अंतरिक्ष में विलीन हो जाती है?

- (A) ☐ Thermosphere
बाह्य वायुमंडल
- (B) ☐ Ionosphere
आयनमण्डल
- (C) ☒ Exosphere (Correct Answer) (Chosen option)
बहिर्मण्डल
- (D) ☐ Mesopause
मध्यमण्डल

Question No.18

Marks: 2.50
Bookmark ☐

According to Indian Constitution, which of the following is not a fundamental right? भारतीय संविधान के अनुसार निम्नलिखित में से कौन-सा एक मौलिक अधिकार नहीं है?

<div><div>(A) <input type="radio"/> Right to property (Correct Answer) (Chosen option) संपत्ति का अधिकार</div><div>(B) <input type="radio"/> Right to freedom of Speech and expression भाषण और अभिव्यक्ति की स्वतंत्रता का अधिकार</div><div>(C) <input type="radio"/> Right to equality of opportunity in matters of public employment सार्वजनिक रोजगार के मामलों में अवसर की समानता का अधिकार</div><div>(D) <input type="radio"/> Right to life and Personal Liberty जीवन और निजी स्वतंत्रता का अधिकार</div></div>	
<div><div>Question No.19</div><div>Marks: 2.50</div><div>Bookmark <input type="checkbox"/></div><div>The term "equality" in Indian Constitution refers to: भारतीय संविधान में "समानता" शब्द किसे संदर्भित करता है?</div><div>(A) <input type="radio"/> Absence of social privilege (Correct Answer) सामाजिक विशेषाधिकार का अभाव</div><div>(B) <input type="radio"/> Presence of restraints संयम का होना</div><div>(C) <input type="radio"/> Presence of social privilege (Chosen option) सामाजिक विशेषाधिकार का होना</div><div>(D) <input type="radio"/> Absence of restraints संयम का अभाव</div></div>	
<div><div>Question No.20</div><div>Marks: 2.50</div><div>Bookmark <input type="checkbox"/></div><div>Which of the following Parts of the Indian Constitution deals with the "Union Territories"? भारतीय संविधान के निम्नलिखित भागों में से कौन-सा भाग "केंद्र शासित प्रदेशों" से संबंधित है?</div><div>(A) <input type="radio"/> Part IV A भाग IV A</div><div>(B) <input type="radio"/> Part VIII (Correct Answer) भाग VIII</div><div>(C) <input type="radio"/> Part II (Chosen option) भाग II</div><div>(D) <input type="radio"/> Part VII भाग VII</div></div>	
<div><div>Question No.21</div><div>Marks: 2.50</div><div>Bookmark <input type="checkbox"/></div><div>'CRZ' means _____. 'CRZ(सीआरज़ेड)' का अर्थ है _____।</div><div>(A) <input type="radio"/> Coastal Reserve Zone (Chosen option) कोस्टल रिजर्व ज़ोन</div><div>(B) <input type="radio"/> Coast Related Zone कोस्ट रिलेटेड ज़ोन</div><div>(C) <input type="radio"/> Conservation and Regulation Zone कन्ज़र्वेशन एंड रेग्यूलेशन ज़ोन</div><div>(D) <input type="radio"/> Coastal Regulation Zone (Correct Answer) कोस्टल रेग्यूलेशन ज़ोन</div></div>	
<div><div>Question No.22</div><div>Marks: 2.50</div><div>Bookmark <input type="checkbox"/></div><div>Infant Mortality Rate (IMR) is referred to as the number of infant deaths for every _____. शिशु मृत्यु दर (IMR) को प्रत्येक _____ के लिए मृत शिशु की संख्या के रूप में जाना जाता है।</div><div>(A) <input type="radio"/> 100 live births 100 जीवित जन्मों</div><div>(B) <input type="radio"/> 10,000 live births 10,000 जीवित जन्मों</div><div>(C) <input type="radio"/> 1,000 live births (Correct Answer) (Chosen option) 1,000 जीवित जन्मों</div><div>(D) <input type="radio"/> 1 lakh live births 1 लाख जीवित जन्मों</div></div>	
<div><div>Question No.23</div><div>Marks: 2.50</div><div>Bookmark <input type="checkbox"/></div><div>All the State Governments except the north-eastern region, imposed ceilings on land holdings in _____. उत्तर-पूर्वी क्षेत्र को छोड़कर सभी राज्य सरकारों ने _____ में भूमि के स्वामित्व की उच्चतम सीमा निर्धारित की है।</div><div>(A) <input type="radio"/> 1960s (Correct Answer) (Chosen option) 1960 के दशक</div><div>(B) <input type="radio"/> 1970s 1970 के दशक</div><div>(C) <input type="radio"/> 1940s 1940 के दशक</div></div>	

<div>(D) <input type="radio"/> 1950s 1950 के दशक</div>	
<div><div>Question No.24</div><div>Marks: 2.50</div><div>Bookmark <input type="checkbox"/></div><div>Which of the following monuments is a UNESCO-acclaimed World Heritage site in Uttar Pradesh? इनमें से कौन-सा स्मारक उत्तर प्रदेश में यूनेस्को द्वारा प्रशंसित विश्व धरोहर स्थल है?</div><div>(A) <input type="radio"/> Deogarh monuments देवगढ़ स्मारक</div><div>(B) <input checked="" type="radio"/> Fatehpur Sikri (Correct Answer) (Chosen option) फ़तेहपुर सीकरी</div><div>(C) <input type="radio"/> Kushinagar Ruins Stupa कुशीनगर खंडहर स्तूप</div><div>(D) <input type="radio"/> All Saints Cathedral ऑल सेंट कैथेड्रल</div></div>	
<div><div>Question No.25</div><div>Marks: 2.50</div><div>Bookmark <input type="checkbox"/></div><div>Which Act of British Parliament introduced an 'open competition' system for the selection and recruitment of civil servants? ब्रिटिश संसद के किस अधिनियम ने सिविल सेवकों के चयन और भर्ती के लिए एक 'खुली प्रतियोगिता' प्रणाली शुरू की?</div><div>(A) <input checked="" type="radio"/> Charter Act of 1853 (Correct Answer) (Chosen option) 1853 का चार्टर अधिनियम</div><div>(B) <input type="radio"/> Charter Act of 1833 1833 का चार्टर अधिनियम</div><div>(C) <input type="radio"/> Indian Council Act of 1861 1861 का भारतीय परिषद अधिनियम</div><div>(D) <input type="radio"/> Pitt's India Act of 1784 1784 का पिट का भारत अधिनियम</div></div>	
<div><div>Question No.26</div><div>Marks: 2.50</div><div>Bookmark <input type="checkbox"/></div><div>Which of the following sectors produces manufactured goods? निम्नलिखित में से कौन-सा क्षेत्र निर्मित वस्तुओं का उत्पादन करता है?</div><div>(A) <input checked="" type="radio"/> Secondary Sector (Correct Answer) द्वितीयक क्षेत्र</div><div>(B) <input type="radio"/> Primary Sector प्राथमिक क्षेत्र</div><div>(C) <input type="radio"/> Tertiary Sector (Chosen option) तृतीयक क्षेत्र</div><div>(D) <input type="radio"/> Quaternary Sector चतुर्थक क्षेत्र</div></div>	
<div><div>Question No.27</div><div>Marks: 2.50</div><div>Bookmark <input type="checkbox"/></div><div>Which of the following dams in Afghanistan have been/are to be constructed by India's assistance? अफ़गानिस्तान में निम्नलिखित में से कौन-सा बांध भारत की सहायता से बनाया गया है/बनाया जाना है?</div><div>(A) <input type="radio"/> Dahla Dam दहला बाँध</div><div>(B) <input type="radio"/> Grishk Dam ग्रिशक बाँध</div><div>(C) <input checked="" type="radio"/> Salma dam (Correct Answer) सलमा बाँध</div><div>(D) <input type="radio"/> Kajaki dam (Chosen option) कजाकी बाँध</div></div>	
<div><div>Question No.28</div><div>Marks: 2.50</div><div>Bookmark <input type="checkbox"/></div><div>Which of the following Constitutional Amendment Acts added a new Directive Principle regarding 'co-operative societies' in 2011? 2011 में निम्न में से किस संवैधानिक संशोधन अधिनियम ने 'सहकारी समितियों' से संबंधित एक नया निर्देशक सिद्धांत जोड़ा था?</div><div>(A) <input checked="" type="radio"/> 97th Amendment (Correct Answer) 97वां संशोधन</div><div>(B) <input type="radio"/> 73rd Amendment 73वां संशोधन</div><div>(C) <input type="radio"/> 101th Amendment (Chosen option) 101वां संशोधन</div><div>(D) <input type="radio"/> 62nd Amendment 62वां संशोधन</div></div>	
<div><div>Question No.29</div><div>Marks: 2.50</div><div>Bookmark <input type="checkbox"/></div><div>Which of the following matter shall not be entertained as a Public Interest Litigation? निम्नलिखित में से कौन-सा मामला जनहित याचिका के रूप में स्वीकार नहीं किया जाएगा?</div></div>	

<div><div>(A) <input type="radio"/> Bonded Labours बंधुआ मजदूर</div><div>(B) <input type="radio"/> Non -payment of minimum wages न्यूनतम मजदूरी का भुगतान नहीं करना</div><div>(C) <input type="radio"/> Atrocities against SCs and STs अनुसूचित जाति और अनुसूचित जनजाति पर अत्याचार</div><div>(D) <input type="radio"/> personal matters (Correct Answer) (Chosen option) निजी मामले</div></div>	
<div><div>Question No.30</div><div>Marks: 2.50</div><div>Bookmark <input type="checkbox"/></div><div>Who appoints the Chairperson and the Members of National Human Rights Commission? राष्ट्रीय मानवाधिकार आयोग के अध्यक्ष और सदस्यों की नियुक्ति कौन करता है?</div><div>(A) <input type="radio"/> President of India (Correct Answer) (Chosen option) भारत के राष्ट्रपति</div><div>(B) <input type="radio"/> Chief Justice of India भारत के मुख्य न्यायाधीश</div><div>(C) <input type="radio"/> Speaker of Lok Sabha लोकसभा अध्यक्ष</div><div>(D) <input type="radio"/> Union Home Minister केंद्रीय गृह मंत्री</div></div>	
<div><div>Question No.31</div><div>Marks: 2.50</div><div>Bookmark <input type="checkbox"/></div><div>Which body prepares and periodically revises 'electoral rolls' for Parliamentary elections in India? भारत में कौन-सा निकाय, संसदीय चुनावों के लिए 'मतदाता सूची' तैयार करता है और समय-समय पर इसकी समीक्षा करता है?</div><div>(A) <input type="radio"/> The Delimitation Commission of India भारतीय परिसीमन आयोग</div><div>(B) <input type="radio"/> The Registrar General of India भारत के महापंजीयक</div><div>(C) <input type="radio"/> The Election Commission of India (Correct Answer) (Chosen option) भारत निर्वाचन आयोग</div><div>(D) <input type="radio"/> Central Statistics Office केंद्रीय सांख्यिकी कार्यालय</div></div>	
<div><div>Question No.32</div><div>Marks: 2.50</div><div>Bookmark <input type="checkbox"/></div><div>Which schedule was added to the Indian Constitution by the 52nd Constitutional Amendment Act of 1985? 1985 के 52वें संवैधानिक संशोधन अधिनियम द्वारा भारतीय संविधान में कौन-सी अनुसूची जोड़ी गई थी?</div><div>(A) <input type="radio"/> 6th Schedule छठी अनुसूची</div><div>(B) <input type="radio"/> 10th Schedule (Correct Answer) (Chosen option) दसवीं अनुसूची</div><div>(C) <input type="radio"/> 7th Schedule सातवीं अनुसूची</div><div>(D) <input type="radio"/> 4th Schedule चौथी अनुसूची</div></div>	
<div><div>Question No.33</div><div>Marks: 2.50</div><div>Bookmark <input type="checkbox"/></div><div>Which among the following committees recommended that "the Panchayati Raj institutions should be constitutionally recognised, protected and preserved"? निम्नलिखित समितियों में से किसने अनुशंसा की थी कि "पंचायती राज संस्थाओं को संवैधानिक रूप से स्वीकृत, संरक्षित और परिरक्षित किया जाना चाहिए"?</div><div>(A) <input type="radio"/> UK Sharma committee यू.के. शर्मा समिति</div><div>(B) <input type="radio"/> LM Singhvi committee (Correct Answer) एल.एम. सिंघवी समिति</div><div>(C) <input type="radio"/> SN Verma committee एस.एन. वर्मा समिति</div><div>(D) <input type="radio"/> Shivraman committee (Chosen option) शिवरमन समिति</div></div>	
<div><div>Question No.34</div><div>Marks: 2.50</div><div>Bookmark <input type="checkbox"/></div><div>What does the International Organisation "QUAD" stand for? अंतर्राष्ट्रीय संगठन "QUAD" का पूर्ण रूप क्या है?</div><div>(A) <input type="radio"/> Quadrilateral Union of Developing Countries (Chosen option) क्वाड्रिलैटरल युनियन ऑफ़ डेवलपिंग कन्ट्रीज़</div><div>(B) <input type="radio"/> Quadrilateral Security Dialogue (Correct Answer) क्वाड्रिलैटरल सिक्यूरिटी डाइलॉग</div><div>(C) <input type="radio"/> Quadrilateral Dialogue क्वाड्रिलैटरल डाइलॉग</div><div>(D) <input type="radio"/> Quadrilateral Union Dialogue</div></div>	

काङ्ग्रीलैटरल युनियन डाइलॉग

Question No.35

Marks: 2.50
Bookmark ☐

Who composed the National Anthem of Bangladesh?
बांग्लादेश के राष्ट्रीय गान के रचियता कौन थे?

(A) ☐ Surendranath Banerjee
सुरेन्द्रनाथ बनर्जी

(B) ☒ Rabindranath Tagore (Correct Answer) (Chosen option)
रबिन्द्रनाथ टैगोर

(C) ☐ Anand Mohan Bose
आनंद मोहन बोस

(D) ☐ Krishna Kumar Mitra
कृष्ण कुमार मित्र

Question No.36

Marks: 2.50
Bookmark ☐

What is the full form of IP in computer?
कंप्यूटर में IP (आईपी) का पूर्ण रूप क्या होता है?

(A) ☐ Internet Preprocessor
Internet Preprocessor (इंटरनेट प्रीप्रोसेसर)

(B) ☐ International Preprocessor
International Preprocessor (इंटरनेशनल प्रीप्रोसेसर)

(C) ☐ International Protocol
International Protocol (इंटरनेशनल प्रोटोकॉल)

(D) ☒ Internet Protocol (Correct Answer) (Chosen option)
Internet Protocol (इंटरनेट प्रोटोकॉल)

Question No.37

Marks: 2.50
Bookmark ☐

The constitutional validity of S.124A of the Indian Penal Code was upheld by a Constitution Bench of the Supreme Court in the case of _____
के मामले में भारतीय दंड संहिता की धारा 124A की संवैधानिक वैधता को सर्वोच्च न्यायालय की संविधान पीठ ने बरकरार रखा था।

(A) ☐ Ram Nandan v. State
राम नन्दन बनाम राज्य

(B) ☐ ADM Jabalpur v. S Shukla
एडीएम जबलपुर बनाम एस. शुक्ला

(C) ☒ Kedar Nath Singh v. State of Bihar (Correct Answer)
केदार नाथ सिंह बनाम बिहार राज्य

(D) ☐ KT Moopil Nair v. State of Kerala (Chosen option)
के.टी. मूपिल नायर बनाम केरल राज्य

Question No.38

Marks: 2.50
Bookmark ☐

The temporary release of person detained under the National Security Act is provided in Section _____ of the Act.
राष्ट्रीय सुरक्षा अधिनियम के तहत निरुद्ध किए गए व्यक्ति की अस्थायी रिहाई का प्रावधान अधिनियम की धारा _____ में प्रदत्त है।

(A) ☐ 18 (Chosen option)
18

(B) ☒ 15 (Correct Answer)
15

(C) ☐ 17
17

(D) ☐ 16
16

Question No.39

Marks: 2.50
Bookmark ☐

Which canal was said to have irrigated the valley that separated the Sacred Centre from the Urban Core in the Vijayanagara empire?
किस नहर के बारे में यह कहा जाता है कि उसके द्वारा विजयनगर साम्राज्य में शहरी क्रोड से पवित्र केंद्र को विभक्त करने वाली घाटी की सिंचाई की गई थी?

(A) ☒ Hiriya canal (Correct Answer)
हिरिया नहर

(B) ☐ First wall canal
पहली दीवार (फर्स्ट वॉल) नहर

(C) ☐ Kamalapuram tank canal (Chosen option)
कमलापुरम टैंक नहर

(D) ☐ Mandalay canal
मांडले नहर

Question No.40

Marks: 2.50
Bookmark ☐

Which of the following Articles of the Indian Constitution deals with the Administrative Relations between the Centre and the states?
भारतीय संविधान के निम्नलिखित में से कौन-से अनुच्छेद केंद्र और राज्यों के बीच प्रशासनिक संबंधों से संबंधित हैं?

- (A) ☐ Article 245 to 255
अनुच्छेद 245 से 255
- (B) ☐ Article 268 to 293
अनुच्छेद 268 से 293
- (C) ☐ Article 300 to 310
अनुच्छेद 300 से 310
- (D) ☐ Article 256 to 263 (Correct Answer) (Chosen option)
अनुच्छेद 256 से 263

NUMERICAL AND MENTAL ABILITY TEST - NUMERICAL AND MENTAL ABILITY TEST

Question No.1

Marks: 2.50
Bookmark ☐

A train of length 775 m which travels at a speed of 108 kmph crosses a Tunnel in 60 seconds. Find the length of the Tunnel? (In metres)
775 m लंबी एक ट्रेन 108 kmph की गति से चलती है और 60 सेकंड में एक सुरंग को पार करती है। सुरंग की लंबाई ज्ञात कीजिए। (मीटर में)

- (A) ☐ 1025 (Correct Answer) (Chosen option)
1025
- (B) ☐ 1045
1045
- (C) ☐ 1035
1035
- (D) ☐ 1015
1015

Question No.2

Marks: 2.50
Bookmark ☐

A trader mixes 215 kg of rice at Rs.110 per kg with 225 kg of rice of other variety at Rs.110 per kg and sells the mixture at Rs.132 per kg. Find his profit percent.
एक व्यापारी Rs.110 प्रति किलोग्राम के 215 kg चावल को Rs.110 प्रति किलोग्राम के अन्य किस्म के 225 kg चावल में मिलाता है और इस मिश्रण को Rs.132 प्रति किलोग्राम के मूल्य पर बेचता है। उसका लाभ प्रतिशत ज्ञात कीजिए।

- (A) ☐ 35
35
- (B) ☐ 30
30
- (C) ☐ 20 (Correct Answer) (Chosen option)
20
- (D) ☐ 25
25

Question No.3

Marks: 2.50
Bookmark ☐

How many numbers up to 800 are divisible by both 3 and 5?
800 तक कितनी संख्याएँ 3 और 5 दोनों से विभाज्य हैं?

- (A) ☐ 45
45
- (B) ☐ 53 (Correct Answer) (Chosen option)
53
- (C) ☐ 46
46
- (D) ☐ 39
39

Question No.4

Marks: 2.50
Bookmark ☐

The letters of the name of a reptile are R, I, D, L, A and Z. If the letters are rearranged correctly, then what is the last letter of the word formed?
एक सरीसृप (कीड़े) के नाम के अक्षर R, I, D, L, A और Z हैं। यदि अक्षरों को ठीक प्रकार से पुनः व्यवस्थित किया जाता है, तो बनने वाले शब्द का अंतिम शब्द क्या होगा?

- (A) ☐ A
A
- (B) ☐ R
R
- (C) ☐ I
I
- (D) ☐ D (Correct Answer) (Chosen option)
D

Question No.5

Marks: 2.50
Bookmark ☐

Pipe A can fill a tank in 756 minutes and Pipe B can empty the same tank in 945 minutes. If both pipes are opened together, how many hours will it take to fill the empty tank?
पाइप A, 756 मिनटों में एक टैंक भर सकता है और पाइप B, 945 मिनटों में उसी टैंक को खाली कर सकता है। यदि दोनों पाइप एक साथ खोले जाते हैं, तो खाली टैंक को भरने में कितने घंटों का समय लगेगा?

- (A) ☐ 63 (Correct Answer) (Chosen option)
63
- (B) ☐ 67
67
- (C) ☐ 65

65

(D) ☐ 61
61

Question No.6

Marks: 2.50
Bookmark ☐

If March 20, 2314 is a Thursday, March 20, 2320 falls on which day of the week?

यदि 20 मार्च, 2314 को गुरुवार है, तो 20 मार्च, 2320 को सप्ताह का कौन-सा दिन होगा?

(A) ☐ Sunday
रविवार

(B) ☐ Saturday (Chosen option)
शनिवार

(C) ☒ Friday (Correct Answer)
शुक्रवार

(D) ☐ Thursday
गुरुवार

Question No.7

Marks: 2.50
Bookmark ☐

Which of the following sets of signs should be used to replace * in the following?

$13 * 12 * 2 = 80 * 2 * 3$

निम्नलिखित समीकरण में सभी * चिह्नों को प्रतिस्थापित करने के लिए इनमें से चिह्नों के किस समुच्चय का उपयोग किया जाना चाहिए?

$13 * 12 * 2 = 80 * 2 * 3$

(A) ☒ + × ÷ - (Correct Answer) (Chosen option)
+ × ÷ -

(B) ☐ × - ÷ +
× - ÷ +

(C) ☐ + × × +
+ × × +

(D) ☐ × ÷ × +
× ÷ × +

Question No.8

Marks: 2.50
Bookmark ☐

If 20% of 340 is x less than 40% of 480, find x ?

यदि 340 का 20%, 480 के 40% से x कम है, तो x का मान ज्ञात कीजिए।

(A) ☐ 126
126

(B) ☐ 128
128

(C) ☒ 124 (Correct Answer) (Chosen option)
124

(D) ☐ 130
130

Question No.9

Marks: 2.50
Bookmark ☐

Directions:

Study the following Line-chart and the data provided to answer the questions that follow :

Sales of 3-different companies A, B and C selling mobiles for the given years 2001, 2011, 2021 and 2031.(in thousands)

How much percentage company A has sold more than that of company B over all the given years.(Up to two decimals)

	2001	2011	2021	2031
Company A	1100	1050	1100	950
Company B	980	1050	950	1100
Company C	650	750	850	800

दिशा-निर्देश:

निम्नलिखित प्रश्नों का उत्तर देने के लिए निम्नलिखित रेखा-चार्ट (तालिका) और दी गई जानकारी का अध्ययन कीजिए:

दिए गए वर्षों 2001, 2011, 2021 और 2031 में 3-अलग-अलग मोबाइल कंपनियों A, B और C की बिक्री। (हजारों में)

दिए गए सभी वर्षों में कंपनी A ने कंपनी B से कितने प्रतिशत अधिक बिक्री की है। (दो दशमलव तक))



- (A) ☐ 2.65%
2.65%
- (B) ☐ 36.32%
36.32%
- (C) ☒ 2.94% (Correct Answer) (Chosen option)
2.94%
- (D) ☐ 15.24%
15.24%

Question No.10

Marks: 2.50
Bookmark ☐

A truck, 1575 metres long is running at a speed of 109 km/hr. How many seconds will it take to cross a 1475 metres long train running in the same direction at a speed of 79 km/hr?

1575 मीटर लंबा एक ट्रक 109 km/hr की गति से चल रहा है। 79 km/hr की गति से उसी दिशा में चलने वाली 1475 मीटर लंबी एक ट्रेन को पार करने में उसे कितने सेकंड लगेंगे?

- (A) ☐ 376
376
- (B) ☐ 396 (Chosen option)
396
- (C) ☒ 366 (Correct Answer)
366
- (D) ☐ 386
386

Question No.11

Marks: 2.50
Bookmark ☐

Find the value of X in the given image.

$$\sqrt{164-X}=\sqrt{213+\sqrt{144}}$$

दी गए छवि में X का मान ज्ञात कीजिए।

$$\sqrt{164-X}=\sqrt{213+\sqrt{144}}$$

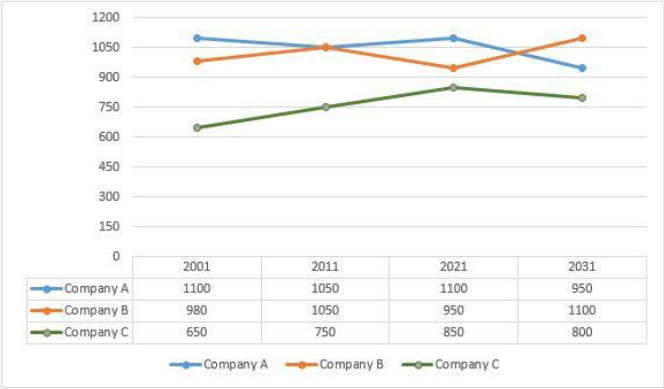
- (A) ☐ 225
225
- (B) ☒ -61 (Correct Answer) (Chosen option)
-61
- (C) ☐ 61
61
- (D) ☐ 65
65

Question No.12

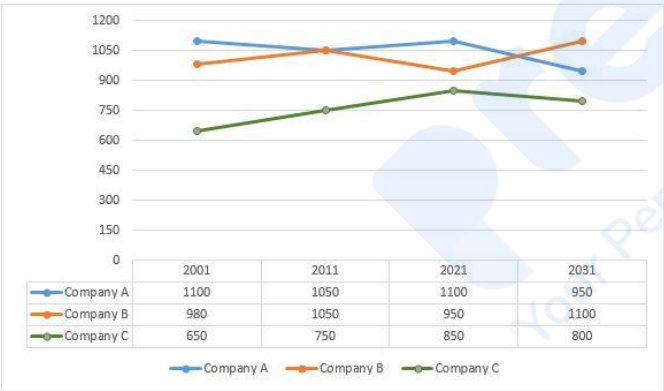
Marks: 2.50
Bookmark ☐

Directions:
Study the following Line-chart and the data provided to answer the questions that follow :

Sales of 3-different companies A, B and C selling mobiles for the given years 2001, 2011, 2021 and 2031.(in thousands)
Which year Company B has maximum sale ?



दिशा-निर्देश:
निम्नलिखित प्रश्नों का उत्तर देने के लिए निम्नलिखित रेखा-चार्ट (तालिका) और दी गई जानकारी का अध्ययन कीजिए:
दिए गए वर्षों 2001, 2011, 2021 और 2031 में 3-अलग-अलग मोबाइल कंपनियों A, B और C की बिक्री। (हजारों में)
कंपनी B ने अधिकतम बिक्री कौन-से वर्ष में की है?



- (A) ☐ 2021
- (B) ☐ 2001
- (C) ☐ 2011
- (D) ☒ 2031 (Correct Answer) (Chosen option)

Question No.13

Marks: 2.50
Bookmark ☐

Find the remainder when $121 \times 135 \times 141 \times 156 \times 171$ is divided by 21.
 $121 \times 135 \times 141 \times 156 \times 171$ को 21 से विभाजित करने पर शेषफल क्या रह जाता है?

- (A) ☐ 5
- (B) ☐ 9 (Chosen option)
- (C) ☐ 7
- (D) ☒ 3 (Correct Answer)

Question No.14

Marks: 2.50
Bookmark ☐

A can finish a work in 106 days and B can do the same work in 159 days. Working together, they will complete the same work in how many days?
A, एक कार्य को 106 दिनों में पूरा कर सकता है और B वही कार्य 159 दिनों में कर सकता है। एक साथ कार्य करते हुए, वे दोनों वही कार्य कितने दिनों में पूरा करेंगे?

- (A) ☒ 63.6 (Correct Answer) (Chosen option)
- (B) ☐ 61.6

<div>(C) <input type="radio"/> 57.6 57.6</div> <div>(D) <input type="radio"/> 59.6 59.6</div>	
<div>Question No.15</div> <div>Find the smallest 4 digit number which is divided by 4,5,6,15,10 and leaves the remainder as 3. 4 अंकों की सबसे छोटी संख्या ज्ञात कीजिए जो 4,5,6,15,10 से विभाजित होने पर शेषफल 3 छोड़ती है।</div> <div>(A) <input type="radio"/> 1073 1073</div> <div>(B) <input checked="" type="radio"/> 1023 (Correct Answer) (Chosen option) 1023</div> <div>(C) <input type="radio"/> 1083 1083</div> <div>(D) <input type="radio"/> 1080 1080</div>	<div>Marks: 2.50</div> <div>Bookmark <input type="checkbox"/></div>
<div>Question No.16</div> <div>What is the difference between the compound interests on Rs. 22000 for 1 year at 6% per annum compounded yearly and half-yearly? (In Rs.) Rs.22000 पर 1 वर्ष के लिए 6% प्रति वर्ष वार्षिक और अर्धवार्षिक रूप से संयोजित चक्रवृद्धि ब्याज के बीच में कितना अंतर है? (Rs. में)</div> <div>(A) <input type="radio"/> 13.8 13.8</div> <div>(B) <input type="radio"/> 15.8 15.8</div> <div>(C) <input checked="" type="radio"/> 19.8 (Correct Answer) (Chosen option) 19.8</div> <div>(D) <input type="radio"/> 17.8 17.8</div>	<div>Marks: 2.50</div> <div>Bookmark <input type="checkbox"/></div>
<div>Question No.17</div> <div>Which of the following is divisible by 11? निम्नलिखित में से कौन-सी संख्या 11 से विभाज्य है?</div> <div>(A) <input checked="" type="radio"/> 2699840 (Correct Answer) (Chosen option) 2699840</div> <div>(B) <input type="radio"/> 2899840 2899840</div> <div>(C) <input type="radio"/> 2799840 2799840</div> <div>(D) <input type="radio"/> 2999840 2999840</div>	<div>Marks: 2.50</div> <div>Bookmark <input type="checkbox"/></div>
<div>Question No.18</div> <div>Find the next term in the given series. D73, Y64, T55, O46, ? दी गई श्रेणी में अगला पद ज्ञात करें। D73, Y64, T55, O46, ?</div> <div>(A) <input checked="" type="radio"/> J37 (Correct Answer) (Chosen option) J37</div> <div>(B) <input type="radio"/> H36 H36</div> <div>(C) <input type="radio"/> I37 I37</div> <div>(D) <input type="radio"/> I36 I36</div>	<div>Marks: 2.50</div> <div>Bookmark <input type="checkbox"/></div>
<div>Question No.19</div> <div>Find the volume of the cylinder whose radius is 17.5 cm and height is 12 cm.(Use $\pi = 22/7$ and Volume In cm^3) उस बेलन का आयतन ज्ञात कीजिए जिसकी त्रिज्या 17.5 cm है और ऊँचाई 12 cm है। (उपयोग करें, $\pi = 22/7$ तथा आयतन cm^3 में)</div> <div>(A) <input type="radio"/> 12550 12550</div> <div>(B) <input checked="" type="radio"/> 11550 (Correct Answer) (Chosen option) 11550</div> <div>(C) <input type="radio"/> 13550 13550</div> <div>(D) <input type="radio"/> 14550 14550</div>	<div>Marks: 2.50</div> <div>Bookmark <input type="checkbox"/></div>
<div>Question No.20</div>	<div>Marks: 2.50</div> <div>Bookmark <input type="checkbox"/></div>

<p>The average height of 33 telecom towers which is arranged in an order is 286 m. If the average height of first 16 telecom towers is 286 m and that of last 16 telecom towers is 286 m, then what is the height of 17th telecom tower? (In m)</p> <p>एक क्रम में व्यवस्थित 33 दूरसंचार टॉवर की औसत ऊंचाई 286 m है। यदि पहले 16 दूरसंचार टॉवरों की औसत ऊंचाई 286 m है और अंतिम 16 दूरसंचार टॉवरों की औसत ऊंचाई 286 m है, तो 17वें दूरसंचार टॉवर की ऊंचाई क्या है? (m में)</p> <p>(A) <input type="radio"/> 306 306</p> <p>(B) <input type="radio"/> 286 (Correct Answer) (Chosen option) 286</p> <p>(C) <input type="radio"/> 296 296</p> <p>(D) <input type="radio"/> 276 276</p>	
<p>Question No.21</p> <p>Akash and Babu started a partnership business investing some amount in the ratio of 4 : 7. Charan joined them after six months with an amount equal to that of Babu. In what proportion should the profit at the end of one year be distributed among Akash, Babu and Charan?</p> <p>आकाश और बाबू ने 4: 7 के अनुपात में कुछ राशि निवेश कर के एक साझेदारी व्यवसाय शुरू किया। छह महीने बाद बाबू के बराबर की राशि देकर चरण उनके साथ जुड़ गया। एक वर्ष के बाद आकाश, बाबू और चरण के बीच लाभ को किस अनुपात में वितरित किया जाना चाहिए?</p> <p>(A) <input type="radio"/> 14:7:8 14:7:8</p> <p>(B) <input type="radio"/> 8:14:7 (Correct Answer) (Chosen option) 8:14:7</p> <p>(C) <input type="radio"/> 8:7:14 8:7:14</p> <p>(D) <input type="radio"/> 7:8:14 7:8:14</p>	<p>Marks: 2.50</p> <p>Bookmark <input type="checkbox"/></p>
<p>Question No.22</p> <p>Find the next term in given series. CONFIDENCE, FIDE, ONFIDENC, ID, ? दी गई श्रेणी में अगला पद ज्ञात करें। CONFIDENCE, FIDE, ONFIDENC, ID, ?</p> <p>(A) <input type="radio"/> FIDENC FIDENC</p> <p>(B) <input type="radio"/> FIDEN FIDEN</p> <p>(C) <input type="radio"/> NFIDE NFIDE</p> <p>(D) <input type="radio"/> NFIDEN (Correct Answer) (Chosen option) NFIDEN</p>	<p>Marks: 2.50</p> <p>Bookmark <input type="checkbox"/></p>
<p>Question No.23</p> <p>The sum of three terms is 9340. If the ratio between first term and second term is 11:12 and that of second term and the third term is 13:14. Find the difference between first and last term.</p> <p>तीन पदों का योगफल 9340 है। यदि पहले पद और दूसरे पद के बीच का अनुपात 11:12 है और दूसरे पद तथा तीसरे पद के बीच का अनुपात 13:14 है, तो पहले और अंतिम पद के बीच अंतर ज्ञात कीजिए।</p> <p>(A) <input type="radio"/> 600 (Chosen option) 600</p> <p>(B) <input type="radio"/> 550 550</p> <p>(C) <input type="radio"/> 500 (Correct Answer) 500</p> <p>(D) <input type="radio"/> 450 450</p>	<p>Marks: 2.50</p> <p>Bookmark <input type="checkbox"/></p>
<p>Question No.24</p> <p>Rani walks 26km towards West. She then walks 15km in South direction and then 10km towards East direction. She then continue in the same direction for 16km. How far is she from the starting point?</p> <p>रानी 26 km पश्चिम की ओर चलती है। फिर वह दक्षिण दिशा की ओर 15km चलती है और फिर 10 km पूर्व दिशा की ओर चलती है। फिर वह उसी दिशा में 16km तक चलना जारी रखती है। वह आरंभिक बिंदु से कितनी दूरी पर है?</p> <p>(A) <input type="radio"/> 17km 17km</p> <p>(B) <input type="radio"/> 12km 12km</p> <p>(C) <input type="radio"/> 14km 14km</p> <p>(D) <input type="radio"/> 15km (Correct Answer) (Chosen option) 15km</p>	<p>Marks: 2.50</p> <p>Bookmark <input type="checkbox"/></p>
<p>Question No.25</p>	<p>Marks: 2.50</p> <p>Bookmark <input type="checkbox"/></p>

A smart TV was purchased for Rs.161500. Its price was marked up by 20%. It was sold at a discount of 15% on the marked price. What was the profit percent of the smart TV? (In Rs.)
एक स्मार्ट टी.वी. को Rs.161500 में खरीदा गया था। इसका मूल्य 20% अधिक अंकित किया गया। इसे अंकित मूल्य पर 15% की छूट पर बेचा गया। स्मार्ट टी.वी. पर लाभ प्रतिशत क्या था? (Rs. में)

- (A) ☐ 2 (Correct Answer)
2
- (B) ☐ 4 (Chosen option)
4
- (C) ☐ 3
3
- (D) ☐ 1
1

Question No.26

Marks: 2.50
Bookmark ☐

When an article sold at 25% loss by the shopkeeper, if he had sold it for Rs.550 more he would have earned a profit of 30%. Find the cost price of the article. (In Rs.)
एक दुकानदार एक वस्तु को 25% की हानि पर बेचता है, यदि वह इसे Rs.550 अधिक मूल्य में बेचता, तो उसे 30% का लाभ होता। वस्तु का क्रय मूल्य ज्ञात कीजिए। (Rs. में)

- (A) ☐ 900
900
- (B) ☐ 1050
1050
- (C) ☐ 1000 (Correct Answer) (Chosen option)
1000
- (D) ☐ 950
950

Question No.27

Marks: 2.50
Bookmark ☐

At what rate of simple interest per annum will a sum of Rs.45500 earns an interest of Rs.143325 in 15 years? (In %)
Rs.45500 की एक धनराशि साधारण ब्याज की किस वार्षिक दर पर 15 वर्षों में Rs.143325 का ब्याज अर्जित करेगी? (% में)

- (A) ☐ 19
19
- (B) ☐ 23
23
- (C) ☐ 25
25
- (D) ☐ 21 (Correct Answer) (Chosen option)
21

Question No.28

Marks: 2.50
Bookmark ☐

What value should come in the place of question mark (?) in the following question?

$$\sqrt{10.24} \times \sqrt{7.29} \div \sqrt{2.56} \times \sqrt{29.16} = ?$$

निम्नलिखित प्रश्न में प्रश्नचिह्न (?) के स्थान का मान क्या आना चाहिए?

$$\sqrt{10.24} \times \sqrt{7.29} \div \sqrt{2.56} \times \sqrt{29.16} = ?$$

- (A) ☐ 29.16 (Correct Answer)
29.16
- (B) ☐ 32.36 (Chosen option)
32.36
- (C) ☐ 28.16
28.16
- (D) ☐ 31.36
31.36

Question No.29

Marks: 2.50
Bookmark ☐

Replace the question mark with an option that follows the same logic applied in the first pair.
GLUCOMETER : BLOOD GLUCOSE :: THERMOMETER : ??
प्रश्न-चिह्न को उस विकल्प के साथ प्रतिस्थापित करें जो पहले युग्म में लागू तर्क का अनुसरण करता है।
GLUCOMETER : BLOOD GLUCOSE :: THERMOMETER : ??

- (A) ☐ RADIATION
RADIATION
- (B) ☐ TEMPERATURE (Correct Answer) (Chosen option)
TEMPERATURE
- (C) ☐ HEAT

HEAT
(D) ☐ ENERGY
ENERGY

Question No.30

Marks: 2.50
Bookmark ☐

Replace the question mark with an option that follows the same logic applied in the first pair.
BD : 8 :: FH : ??
प्रश्न-चिह्न को उस विकल्प के साथ प्रतिस्थापित करें जो पहले युग्म में लागू तर्क का अनुसरण करता है।
BD : 8 :: FH : ??

- (A) ☐ 14
14
(B) ☐ 42
42
(C) ☒ 48 (Correct Answer) (Chosen option)
48
(D) ☐ 24
24

Question No.31

Marks: 2.50
Bookmark ☐

If A stands for +, B stands for -, C stands for ×, then what is the value of (12C3)B(2C5)A4?
यदि A का अर्थ है +, B का अर्थ है -, C का अर्थ है ×, तो (12C3)B(2C5)A4 का मान क्या है?

- (A) ☐ 20
20
(B) ☐ 25
25
(C) ☒ 30 (Correct Answer) (Chosen option)
30
(D) ☐ 22
22

Question No.32

Marks: 2.50
Bookmark ☐

Choose the correct water image of the given image from the following options.

w2e4a5k

निम्न विकल्पों से दी गई आकृति के सही जल प्रतिबिंब का चयन करें।

w2e4a5k

(A) ☐



(Correct Answer) (Chosen option)

(B) ☐

k5a4e2w
k5a4e2w

(C) ☐

କଟପଡ଼େଇ
କଟପଡ଼େଇ

(D) ☐

ଝୁଣ୍ଟାଢ଼ାଟି
ଝୁଣ୍ଟାଢ଼ାଟି

Question No.33

Marks: 2.50
Bookmark ☐

In this question, a statement is given followed by two conclusions numbered i and ii. You have to assume everything in the statement to be true, then consider the two conclusions together and decide which of them logically follows beyond a reasonable doubt from the information given in the statement.

Statement:
Only rich people live in Seoul. Kim lives in Seoul.

Conclusion:
i) Kim must be rich.
ii) Kim leads a happy life.

Choose the appropriate one from the following options
(A) Only conclusion i follows
(B) Only conclusion ii follows
(C) Either i or ii follows
(D) Neither i nor ii follows
(E) Both i and ii follow

इस प्रश्न में, एक कथन और उसके बाद i और ii से संख्यांकित दो निष्कर्ष दिए गए हैं। कथन में दी गई समस्त सूचना को सत्य मानते हुए एक साथ दोनों निष्कर्षों पर विचार करें और निर्धारित करें कि उनमें से कौन-सा निष्कर्ष कथन में दी गई सूचना का समुचित संदेह से परे तार्किक रूप से अनुसरण करता है।

कथन:
सिओल में केवल अमीर लोग रहते हैं। किम सिओल में रहता है।

निष्कर्ष:
i) किम ज़रूर अमीर होगा।
ii) किम एक खुशहाल जीवन जीता है।

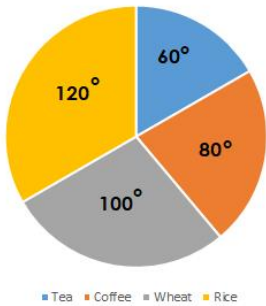
निम्नलिखित विकल्पों में से उचित विकल्प का चयन करें
(A) केवल (i) अनुसरण करता है
(B) केवल (ii) अनुसरण करता है
(C) या तो (i) या (ii) अनुसरण करता है
(D) न (i) न ही (ii) अनुसरण करता है
(E) दोनों (i) और (ii) अनुसरण करते हैं

- (A) ☐ E
E
(B) ☐ B
B
(C) ☒ A (Correct Answer) (Chosen option)
A
(D) ☐ D
D

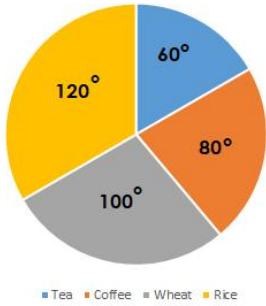
Case Study - 34 to 35

5.00

Directions: Study the following pie-chart to answer the questions given below.
The pie-chart represents the production of different food crops of a country in a year.
Total production of crops in a year = 720 lakh tonnes.



दिशा-निर्देश: नीचे दिए गए प्रश्नों का उत्तर देने के लिए निम्न पाई-चार्ट का अध्ययन करें।
पाई-चार्ट एक वर्ष में किसी देश की विभिन्न खाद्य फसलों के उत्पादन को दर्शाता है।
एक वर्ष में फसलों का कुल उत्पादन = 720 लाख टन



Question No.34

Marks: 2.50
Bookmark ☐

What is the total production of Tea and Rice (in lakh tonnes) in a given year?
दिए गए वर्ष में चाय और चावल का कुल उत्पादन (लाख टन में) कितना है?

- (A) ☐ 360 (Correct Answer) (Chosen option)
360
- (B) ☐ 340
340
- (C) ☐ 320
320
- (D) ☐ 300
300

Question No.35

Marks: 2.50
Bookmark ☐

What is the total production of Wheat (in lakh tonnes) in the given year?
दिए गए वर्ष में गेहूँ का कुल उत्पादन (लाख टन में) कितना है?

- (A) ☐ 180
180
- (B) ☐ 220
220
- (C) ☐ 200 (Correct Answer) (Chosen option)
200
- (D) ☐ 240
240

Question No.36

Marks: 2.50
Bookmark ☐

Directions:
Study the following Line-chart and the data provided to answer the questions that follow :

Sales of 3-different companies A, B and C selling mobiles for the given years 2001, 2011, 2021 and 2031.(in thousands)

How much percentage of sale has been increased from 2011 to 2021 for the company A?(Up to two decimal)



दिशा-निर्देश:
निम्नलिखित प्रश्नों का उत्तर देने के लिए निम्नलिखित रेखा-चार्ट (तालिका) और दी गई जानकारी का अध्ययन कीजिए:
दिए गए वर्षों 2001, 2011, 2021 और 2031 में 3-अलग-अलग मोबाइल कंपनियों A, B और C की बिक्री। (हजारों में)

कंपनी A के लिए 2011 से 2021 तक बिक्री में कितने प्रतिशत वृद्धि हुई? (दो दशमलव तक)



- (A) ☐ 5.76%
5.76%
- (B) ☐ 6.52%
6.52%
- (C) ☐ 28.58%
28.58%
- (D) ☒ 4.76% (Correct Answer) (Chosen option)
4.76%

Question No.37

Marks: 2.50
Bookmark ☐

The question given below consists of a statement, followed by two arguments numbered 1 and 2. You have to decide which of the arguments is a 'strong' argument and which is a 'weak' argument.

- Give answer:
(A) If only argument1 is strong
(B) If only argument 2 is strong
(C) If either 1 or 2 is strong
(D) If neither 1 nor 2 is strong and
(E) If both 1 and 2 are strong.

Statement:
Should there be a ban on cosmetic surgery?

Argument:
1. Yes, there is always a risk undergoing surgery.
2. No, it helps people to feel more accepted by other and less inferior.
निम्नलिखित प्रश्न में एक कथन दिया गया है, और उसके बाद 1 और 2 संख्यांकित दो तर्क दिए गए हैं। आपको निर्णय करना है कि उनमें से कौन-सा तर्क 'प्रबल' है और कौन-सा तर्क 'दुर्बल' है।

उत्तर दें:

- (A) यदि केवल तर्क 1 प्रबल है
(B) यदि केवल तर्क 2 प्रबल है
(C) यदि या तो तर्क 1 या 2 प्रबल है
(D) यदि न तो तर्क 1 न 2 प्रबल है
(E) यदि दोनों तर्क 1 और 2 प्रबल हैं

कथन:
क्या कॉस्मेटिक सर्जरी पर प्रतिबंध लगाया जाना चाहिए?

- तर्कः
1. हाँ, सर्जरी कराने पर हमेशा खतरा बना रहता है।
2. नहीं, इससे लोगों को दूसरों द्वारा स्वीकार्यता पाने का और कम हीनता का अनुभव मिलने में मदद मिलती है।
- (A) ☐ E
- (B) ☒ B (Correct Answer)
- (C) ☐ D
- (D) ☐ A (Chosen option)

Question No.38

Marks: 2.50
Bookmark ☐

- Find the sum of the G.P. :
3/5 , 3/25 , 3/125 , 3/625 ,... to n terms.
निम्न गुणोत्तर श्रेणी का योगफल ज्ञात कीजिए:
3/5 , 3/25 , 3/125 , 3/625 ,...n पदों तक
- (A) ☐ $\frac{3}{4}(1-(\frac{1}{5}^n))$ (Correct Answer) (Chosen option)
- (B) ☐ $\frac{4}{5}(1-(\frac{1}{5}^n))$
- (C) ☐ $\frac{5}{4}(1-(\frac{1}{5}^n))$
- (D) ☐ $\frac{2}{5}(1-(\frac{1}{5}^n))$

Case Study - 39 to 40

5.00

Directions: In the following questions, few statements are given and these statements are followed by two conclusions numbered i and ii. You have to take the given statements to be true even if they seem to be at variance from commonly known facts. Read the conclusions and then decide which of the given conclusions logically follows from the given statements, disregarding commonly known facts.

- Choose,
- (A) Only (i) conclusion follows
- (B) Only (ii) conclusion follows
- (C) Neither (i) nor (ii) follows
- (D) Both (i) and (ii) follow
- (E) Either (i) or (ii) follows

दिशा-निर्देश: इस प्रश्न में, कुछ कथन दिए गए हैं और उसके बाद i और ii से संख्यांकित दो निष्कर्ष दिए गए हैं। आपको कथनों में दी गई समस्त जानकारी को सत्य मानना है, भले ही वे सामान्यतः ज्ञात तथ्यों से भिन्न प्रतीत होते हों। निष्कर्षों को पढ़ें तथा सामान्यतः ज्ञात तथ्यों को नज़रंदाज़ करते हुए निर्णय लें कि उनमें से कौन-सा निष्कर्ष, कथनों में दी गई जानकारी का तार्किक रूप से अनुसरण करता है।

- चुनें,
- (A) केवल निष्कर्ष (i) अनुसरण करता है
- (B) केवल निष्कर्ष (ii) अनुसरण करता है
- (C) न निष्कर्ष (i) न ही (ii) अनुसरण करता है
- (D) दोनों निष्कर्ष (i) और (ii) अनुसरण करते हैं
- (E) या तो निष्कर्ष (i) या (ii) अनुसरण करता है

Question No.39

Marks: 2.50
Bookmark ☐

- Statements:
All women are people.
All men are women.
- Conclusions:
i) All men are people.
ii) All people are women.
- कथन:
सभी महिलाएँ, लोग हैं।
सभी पुरुष, महिलाएँ हैं।

- निष्कर्ष:
i) सभी पुरुष, लोग हैं।
ii) सभी लोग, महिलाएँ हैं।
- (A) ☐ A (Correct Answer) (Chosen option)
- (B) ☐ B
- (C) ☐ C
- (D) ☐ E

Question No.40

Marks: 2.50
Bookmark ☐

Statements:
All materials are products.
Some products are goods.
No good is bad.

Conclusions:
i) Some materials are goods.
ii) No material is bad.

कथन:
सभी पदार्थ, उत्पाद हैं।
कुछ उत्पाद, वस्तुएँ हैं।
कोई वस्तु, बेकार नहीं है।

निष्कर्ष:
i) कुछ पदार्थ, वस्तुएँ हैं।
ii) कोई पदार्थ, बेकार नहीं है।

- (A) ☐ A
- (B) ☐ B
- (C) ☒ C (Correct Answer) (Chosen option)
- (D) ☐ D

MENTAL APTITUDE - INTELLIGENCE -TEST OF REASONING - MENTAL APTITUDE - INTELLIGENCE -TEST OF REASONING

Question No.1

Marks: 2.50
Bookmark ☐

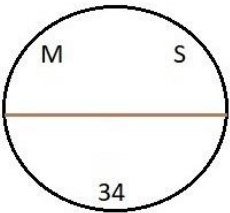
If in the word **VENTILLATION**, all the consonants are replaced by the previous letter in the alphabet and all the vowels are replaced by the next letter then all the letters are arranged alphabetically, which will be the sixth letter from the right?
यदि शब्द **VENTILLATION** में, सभी व्यंजनों को वर्णमाला में उनके पिछले अक्षर से प्रतिस्थापित कर दिया जाए और सभी स्वरों को वर्णमाला में उनके अगले अक्षर से प्रतिस्थापित किया जाए फिर सभी अक्षरों को वर्णमाला अनुक्रम में पुनर्व्यवस्थित किया जाए, तो दाएँ से छठा अक्षर कौन-सा होगा?

- (A) ☐ P
- (B) ☒ M (Correct Answer)
- (C) ☐ J
- (D) ☐ K (Chosen option)

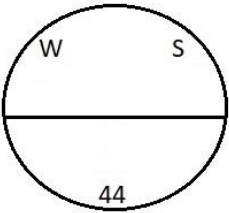
Question No.2

Marks: 2.50
Bookmark ☐

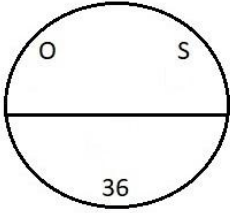
Find the odd image out in the given series.



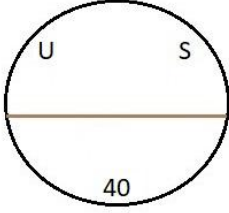
(1)



(2)

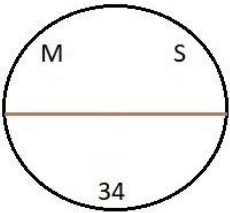


(3)

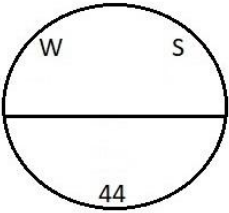


(4)

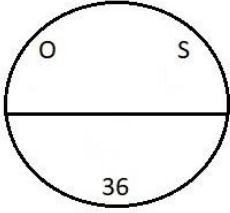
दी गई श्रृंखला में असंगत छवि ज्ञात कीजिए।



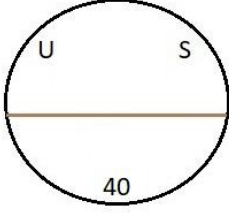
(1)



(2)



(3)



(4)

- (A) ☒ 4 (Correct Answer) (Chosen option)
- (B) ☐ 1
- (C) ☐ 2

- 2
- (D) ☐ 3
- 3

Question No.3

Marks: 2.50

Bookmark ☐

A girl is facing South direction. If she turns 100 degrees in clockwise direction and 55 degrees in the anti-clockwise direction, which direction will she face now?
एक लड़की दक्षिण दिशा की ओर अभिमुख है। यदि वह 100 डिग्री दक्षिणावर्त दिशा में और 55 डिग्री वामावर्त दिशा में घूमती है, तो वह किस दिशा की ओर अभिमुख होगी?

(A) ☐ North-West (Chosen option)

उत्तर-पश्चिम

(B) ☒ South-West (Correct Answer)

दक्षिण-पश्चिम

(C) ☐ South-East

दक्षिण-पूर्व

(D) ☐ North-East

उत्तर-पूर्व

Question No.4

Marks: 2.50

Bookmark ☐

In a certain code language, if GIANT is coded as TRZMG, then how is ROUTE coded in that language?
एक निश्चित कूट भाषा में, यदि GIANT को TRZMG लिखा जाता है, तो ROUTE को उस कोड भाषा में कैसे लिखा जाएगा?

(A) ☒ ILFGV (Correct Answer) (Chosen option)

ILFGV

(B) ☐ SVYIX

SVYIX

(C) ☐ VSYXI

VSYXI

(D) ☐ KZAUX

KZAUX

Question No.5

Marks: 2.50

Bookmark ☐

Replace the question mark with an option that follows the same logic applied in the first pair.
Embryology : Embryos :: Meteorology : ??
प्रश्न-चिह्न को उस विकल्प से प्रतिस्थापित करें जो पहले युग्म में लागू तर्क का अनुसरण करता है।
Embryology : Embryos :: Meteorology : ??

(A) ☐ Insects

Insects

(B) ☐ Enzymes

Enzymes

(C) ☐ Measurement (Chosen option)

Measurement

(D) ☒ Weather (Correct Answer)

Weather

Question No.6

Marks: 2.50

Bookmark ☐

Pointing to Shiva, Ganesh said, " He is the only son of wife of my only daughter's father." How is Shiva related to Ganesh?
शिवा की ओर संकेत करते हुए गणेश ने कहा, "वह मेरी इकलौती बेटी के पिता की पत्नी का इकलौता बेटा है"। शिवा का गणेश से क्या संबंध है?

(A) ☐ Brother

भाई

(B) ☐ Cousin

कज़िन

(C) ☐ Brother-in-law

ब्रदर-इन-लॉ

(D) ☒ Son (Correct Answer) (Chosen option)

बेटा

Question No.7

Marks: 2.50

Bookmark ☐

Which one of the following images numbered as (1), (2), (3), (4) will be the next image for the given series?

000000
TTTTT
UUUUUU

0000000
TTTTTT
UUUUUUU

00000000
TTTTTTTT
UUUUUUUU

000000000
TTTTTTTTT
UUUUUUUUU

0000000000
TTTTTTTTTT
UUUUUUUUUU

00000000
TTTTTTTT
UUUUUUUUU

000000000
TTTTTTTT
UUUUUUUUU

000000
TTTTTTTT
UUUUUUUUU

(1)

(2)

(3)

(4)

(1), (2), (3), (4) के रूप में संख्यांकित निम्न में से कौन-सी छवि दी गई श्रृंखला के लिए अगली छवि होगी?

000000
TTTTT
UUUUUU

0000000
TTTTTT
UUUUUUU

00000000
TTTTTTTT
UUUUUUUU

000000000
TTTTTTTTT
UUUUUUUUU

0000000000
TTTTTTTTTT
UUUUUUUUUU

00000000
TTTTTTTT
UUUUUUUUU

000000000
TTTTTTTT
UUUUUUUUU

000000
TTTTTTTT
UUUUUUUUU

(1)

(2)

(3)

(4)

- (A) ☐ 1 (Correct Answer) (Chosen option)

(B) ☐ 3

(C) ☐ 4

(D) ☐ 2

Question No.8

Marks: 2.50
Bookmark ☐

How is Kannan's father's only son's daughter related to Kannan's sister?
कन्नन के पिता के इकलौते बेटे की बेटी का कन्नन की बहन से क्या संबंध है?

- (A) ☐ Sister
बहन

(B) ☐ Nephew (Chosen option)
नेफ्यू

(C) ☐ Niece (Correct Answer)
नीस

(D) ☐ Brother
भाई

Question No.9

Marks: 2.50
Bookmark ☐

A box containing the denominations of one rupee coins, two rupee coins and ten rupee coins amount to Rs.1560. There are equal number of coins in all denominations. What is the value of ten rupee coins in the box (In Rs.)?
एक बॉक्स में एक रुपये के, दो रुपये के, और दस रुपये के मूल्यवर्ग के सिक्के हैं, जिनका कुल मूल्य Rs.1560 है। सभी मूल्यवर्गों के सिक्कों की संख्या समान है। बॉक्स में दस रुपये के सिक्कों का मूल्य कितना है? (Rs. में)

- (A)

☐ 1180
1180
- (B)

☐ 1210
1210
- (C)

☒ 1200 (Correct Answer) (Chosen option)
1200
- (D)

☐ 1190
1190

Question No.10

Marks: 2.50
Bookmark ☐

If in the number sequence 8 4 1 5 6 3 2 7 9 4 5 2, all the odd numbers are decreased by one and all the even numbers are increased by one, then the new number sequence is arranged in descending order, which will be the ninth digit from the left?
संख्या अनुक्रम 8 4 1 5 6 3 2 7 9 4 5 2 में, सभी विषम संख्याओं से एक घटाया जाता है और सभी सम संख्याओं में एक बढ़ाया जाता है, फिर नए संख्या अनुक्रम को अवरोही क्रम में पुनर्व्यवस्थित किया जाता है, तो बाएँ से नौवां अंक क्या होगा?

- (A)

☐ 2
2
- (B)

☐ 7
7
- (C)

☒ 3 (Correct Answer) (Chosen option)
3
- (D)

☐ 6
6

Question No.11

Marks: 2.50
Bookmark ☐

Find the next number in the series.
23, 32, 50, 77, 113, ?
श्रेणी में अगली संख्या ज्ञात करें।
23, 32, 50, 77, 113, ?

- (A)

☐ 145
145
- (B)

☐ 153
153
- (C)

☒ 158 (Correct Answer) (Chosen option)
158
- (D)

☐ 140
140

Question No.12

Marks: 2.50
Bookmark ☐

Choose the alternative which is an odd word/number/letter pair out of the given alternatives.
वह विकल्प चुनिए जो दिए गए विकल्पों में से एक असंगत शब्द/संख्या/वर्ण-युग्म है।

- (A)

☒ Avoid (Correct Answer) (Chosen option)
Avoid
- (B)

☐ Tackle
Tackle
- (C)

☐ Handle
Handle
- (D)

☐ Manage
Manage

Question No.13

Marks: 2.50
Bookmark ☐

"PCPNDT" an Act of Parliament of India stands for:
"PCPNDT" भारतीय संसद का एक अधिनियम है, जिसका पूर्ण रूप _____ है।
(A) ☐ Preventing of Crimes and Preventing Natural Disaster Techniques
Preventing of Crimes and Preventing Natural Disaster Techniques (प्रिवेंटिंग ऑफ़ क्राइम्स एंड प्रिवेंटिंग नेचरल डिज़ास्टर टेक्निक्स)
(B) ☐ Prevention of Crimes and Prevention of Nationalist Development Trade
Prevention of Crimes and Prevention of Nationalist Development Trade(प्रिवेंशन ऑफ़ क्राइम्स एंड प्रिवेंशन ऑफ़ नेशनालिस्ट डेवलपमेंट ट्रेड)
(C) ☒ Pre Conception and Pre Natal Diagnostic Techniques Act (Correct Answer) (Chosen option)
Pre Conception and Pre Natal Diagnostic Techniques Act(प्री-कन्सेप्शन एंड प्री-नेटल डायग्नोस्टिक टेक्निक्स एक्ट)
(D) ☐ Prevention of Child Protection and National Development Techniques
Prevention of Child Protection and National Development Techniques (प्रिवेंशन ऑफ़ चाइल्ड प्रोटेक्शन एंड नेशनल डेवलपमेंट टेक्निक्स)

Question No.14

Marks: 2.50
Bookmark ☐

Find the next number in the series.
11, -30, 93, -276, ?

<p>श्रेणी में अगली संख्या ज्ञात करें। 11, -30, 93, -276, ? (A) <input type="radio"/> 810 810 (B) <input checked="" type="radio"/> 831 (Correct Answer) (Chosen option) 831 (C) <input type="radio"/> 828 828 (D) <input type="radio"/> 729 729</p>	
<div><div>Question No.15</div><div>Marks: 2.50</div><div>Bookmark <input type="checkbox"/></div></div> <p>In this question, a passage is given followed by a statement. Read the passage carefully and judge the statement based on the given passage.</p> <p>Using knives and shears, a pair of Russian spacewalkers on Tuesday cut samples of material around a mysterious hole in a Soyuz spacecraft docked on the International Space Station that a Moscow official suggested could have been deliberately sabotaged. The 2 mm cavity on the Soyuz spaceship docked at the ISS caused an air leak detected in August, two months after the craft's last voyage. Roscosmos space agency said the aim was to discover whether the small but dangerous hole had been made on Earth or in space, to cut away the insulation covering the hole, take out a sample of the material around it to analyse and put new insulation over the area. Roscosmos chief stated that an investigation had ruled out a manufacturing error.</p> <p>The veteran cosmonauts struggled but eventually succeeded in their mission. Before this spacewalk, astronauts had only been able to examine the hole from inside the spacecraft. What made it especially hard is that the Soyuz spacecraft, unlike the ISS, was not designed to be repaired in spacewalks and has no outside railings for astronauts to hold onto.</p> <p>Statement: The size of the mysterious hole is calculated to be large. and dangerous.</p> <p>Choose the appropriate one from the following options A - The statement is definitely true B - The statement is probably true C - The statement cannot be determined D - The statement is definitely false</p> <p>इस प्रश्न में, एक गद्यांश के बाद एक कथन दिया गया है। गद्यांश को ध्यान से पढ़ें और दिए गए गद्यांश के आधार पर कथन का आकलन करें।</p> <p>चाकू और कैची का उपयोग करते हुए, मंगलवार को रूसी स्पेसवॉर्कर्स की एक जोड़ी ने अंतर्राष्ट्रीय अंतरिक्ष स्टेशन पर डॉक हुए एक सोयूज अंतरिक्ष यान में एक रहस्यमय छेद के चारों ओर की सामग्री को काट कर नमूने लिए थे जिसके बारे में मास्को के एक अधिकारी ने सुझाव दिया था कि यह जानबूझ कर की गई तोड़-फोड़ हो सकती है। अंतरिक्ष यान की अंतिम यात्रा के दो महीने बाद, ISS में डॉक किए गए सोयूज अंतरिक्ष यान पर 2 मिमी का छेद अगस्त में वायु रिसाव का कारण बना था। रूसी संघीय अंतरिक्ष अभिकरण (रॉसकॉसमॉस) अंतरिक्ष एजेंसी ने कहा कि इसका उद्देश्य यह पता लगाना था कि क्या वह छोटा लेकिन खतरनाक छेद पृथ्वी पर या अंतरिक्ष में किया गया था, छेद के आस-पास रोधक सामग्री को काट कर उसके आस-पास की सामग्री का विश्लेषण करना और उसके स्थान पर नया रोधक लगाना। रॉसकॉसमॉस प्रमुख ने कहा कि इस जांच ने किसी विनिर्माण त्रुटि को खारिज कर दिया था।</p> <p>अनुभवी अंतरिक्ष यात्रियों ने संघर्ष किया लेकिन अंततः अपने मिशन में सफल रहे। इस स्पेसवॉक से पहले, अंतरिक्ष यात्री केवल अंतरिक्ष यान के अंदर से छिद्र की जांच करने में सक्षम थे। इस बात को यह विशेष रूप से कठिन बनाता है कि ISS के विपरीत, यह सोयूज अंतरिक्ष यान स्पेसवॉक में मरम्मत करने के लिए डिज़ाइन नहीं किया गया था और इसमें अंतरिक्ष यात्रियों के पकड़ने के लिए कोई बाहरी रेलिंग नहीं है।</p> <p>कथन: रहस्यमय छेद का आमाप बड़ा और खतरनाक होने की गणना की गई है।</p> <p>निम्नलिखित विकल्पों में से एक उपयुक्त चुनिए A - कथन निश्चित रूप से सही है। B - कथन शायद सही है। C - कथन निर्धारित नहीं किया जा सकता है। D - कथन निश्चित रूप से गलत है। (A) <input type="radio"/> B (Chosen option) B (B) <input checked="" type="radio"/> D (Correct Answer) D (C) <input type="radio"/> A A (D) <input type="radio"/> C C</p>	
<div><div>Question No.16</div><div>Marks: 2.50</div><div>Bookmark <input type="checkbox"/></div></div> <p>A man starts from point A and walks 4km towards East. He turns right and walks 2km; turns right again and walks 3km. He then takes another right and walks 8km. He walks 7km towards East; turns right and walks 6km and turns left and walks 3km. How far is A from B? एक व्यक्ति बिंदु A से शुरू करके पूर्व की ओर 4km चलता है। वह दाएँ मुड़ता है और 2km चलता है; फिर से दाएँ मुड़ता है 3km चलता है। फिर वह एक बार और दाएँ मुड़ता है और 8km चलता है। वह पूर्व की ओर 7km चलता है; दाएँ मुड़ता है और 6km चलता है और बाएँ मुड़ता है और 3km चलता है। A से B कितनी दूरी पर है?</p> <p>(A) <input type="radio"/> 12km 12km (B) <input type="radio"/> 7km 7km (C) <input checked="" type="radio"/> 11km (Correct Answer) (Chosen option) 11km (D) <input type="radio"/> 9km 9km</p>	

Question No.17

Marks: 2.50
Bookmark ☐

Person A is standing exactly in-between P and Q in a queue. P is 31st from the front of the queue and Q is 9th from the end of the queue. P and A have 4 persons between them. What is the total number people in the queue?
एक कतार में व्यक्ति A, यह P और Q के बिल्कुल बीच में खड़ा है। P, कतार के आरंभ से 31वें और Q, कतार के अंत से 9वें स्थान पर है। P और A के बीच 4 व्यक्ति हैं। कतार में व्यक्तियों की कुल संख्या कितनी है?

- (A) ☐ 49 (Correct Answer) (Chosen option)
49
(B) ☐ 47
47
(C) ☐ 53
53
(D) ☐ 51
51

Question No.18

Marks: 2.50
Bookmark ☐

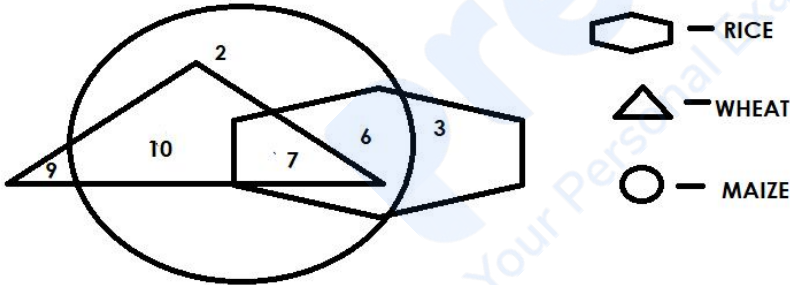
As per the census 2011, the percentage of Christians in India is _____.
2011 की जनगणना के अनुसार, भारत में ईसाइयों का प्रतिशत _____ है।

- (A) ☐ 2.30% (Correct Answer)
2.30%
(B) ☐ 3.30%
3.30%
(C) ☐ 1.30% (Chosen option)
1.30%
(D) ☐ 4.30%
4.30%

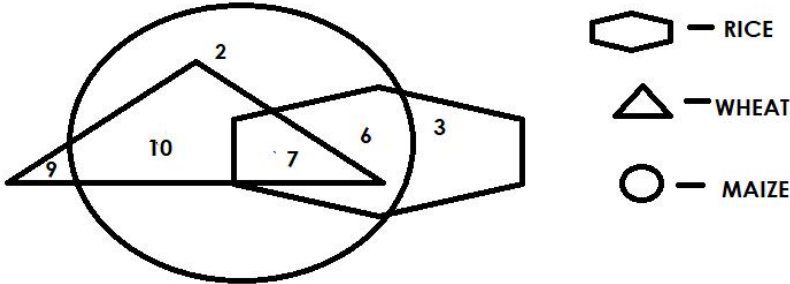
Question No.19

Marks: 2.50
Bookmark ☐

Which of the following numbers in the Venn Diagram represents rice, wheat and maize?



वेन आरेख में निम्न में से कौन-सी संख्या चावल, गेहूँ और मक्का को दर्शाती है?



- (A) ☐ 7 (Correct Answer) (Chosen option)
7
(B) ☐ 6
6
(C) ☐ 2
2
(D) ☐ 10
10

Question No.20

Marks: 2.50
Bookmark ☐

In this question, relationship between different elements is shown in the statement. This statement is followed by two conclusions:

Statement:
 $S < A \leq N < D = W > I \geq C > H$

Conclusions:
i) $H \leq I$
ii) $A < W$

Choose the appropriate one from the following options

- (A) Only conclusion i follows
- (B) Only conclusion ii follows
- (C) Either i or ii follows
- (D) Neither i nor ii follows
- (E) Both i and ii follow

इस प्रश्न में, कथन में विभिन्न तत्वों के बीच संबंध दिखाया गया है। इस कथन के बाद दो निष्कर्ष हैं:

कथन:

$S < A \leq N < D = W > I \geq C > H$

निष्कर्ष:

- i) $H \leq I$
- ii) $A < W$

निम्नलिखित विकल्पों में से उपयुक्त विकल्प चुनिए

- (A) केवल निष्कर्ष i अनुसरण करता है
- (B) केवल निष्कर्ष ii अनुसरण करता है
- (C) या तो i या ii अनुसरण करता है
- (D) न तो i और न ही ii अनुसरण करता है
- (E) i और ii दोनों अनुसरण करते हैं

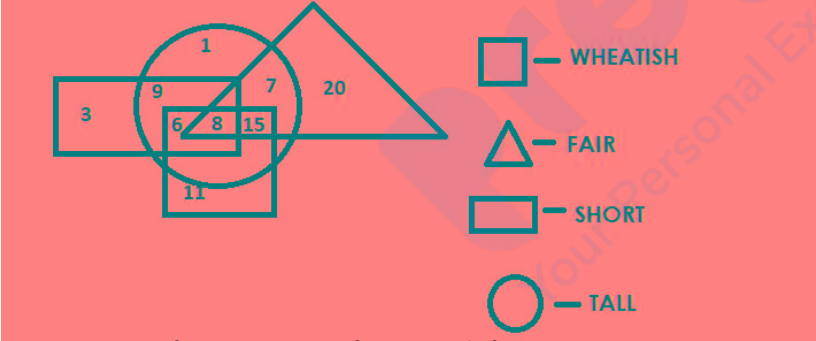
- (A) ☐ C
- (B) ☐ D
- (C) ☒ A (Chosen option)
- (D) ☐ B (Correct Answer)

Question No.21

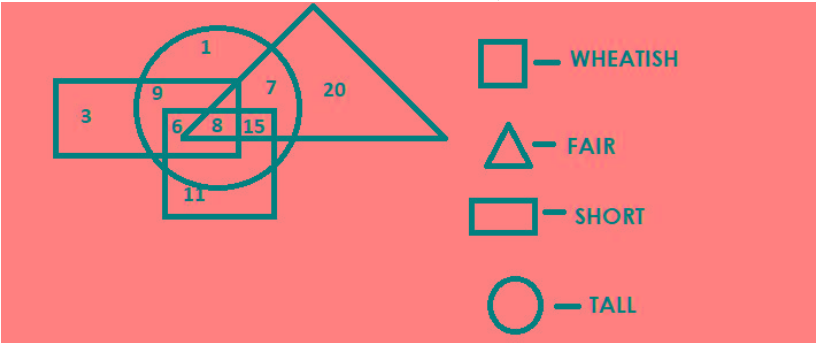
Marks: 2.50

Bookmark ☐

Which of the following numbers in the Venn Diagram represents only 'tall and fair'?



वेन आरेख में निम्न में से कौन-सी संख्या केवल लंबे और गोरो को दर्शाती है?



- (A) ☐ 8
- (B) ☒ 7 (Correct Answer) (Chosen option)
- (C) ☐ 6
- (D) ☐ 15

Question No.22

Marks: 2.50

Bookmark ☐

How many such 2s are there in the following number sequence which are neither immediately preceded by 3 nor immediately followed by 9?

5 2 4 9 7 3 2 8 3 2 7 2 9 5 2 9 2 6 4 2 5 1 2 3

निम्नलिखित संख्या अनुक्रम में ऐसे कितने 2 हैं, जिनके ठीक पहले न तो 3 है ठीक बाद न ही 9 है?

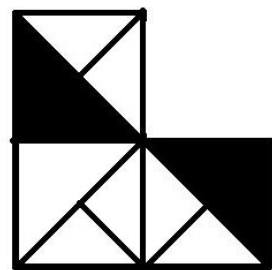
5 2 4 9 7 3 2 8 3 2 7 2 9 5 2 9 2 6 4 2 5 1 2 3

- (A) ☐ five
पाँच
- (B) ☒ four (Correct Answer) (Chosen option)
चार
- (C) ☐ three
तीन
- (D) ☐ six
छह

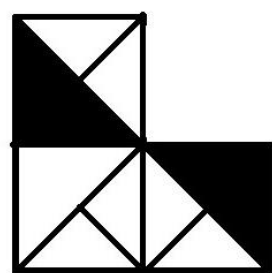
Question No.23


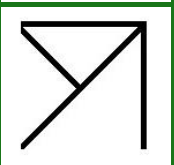
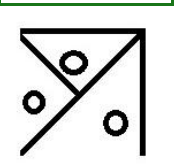
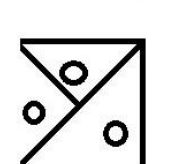
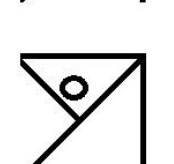
Marks: 2.50
Bookmark ☐

Which one of the following alternatives will **perfectly** complete the given figure?



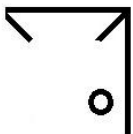
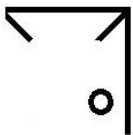
निम्नलिखित विकल्पों में से कौन-सा विकल्प दी गई आकृति को **उत्तमता से** पूरा करेगा?



- (A) ☒  (Correct Answer) (Chosen option)
- (B) ☐ 
- (C) ☐ 
- (D) ☐ 
- (E) ☐ 



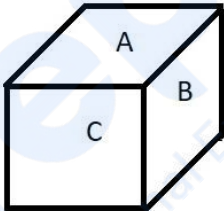
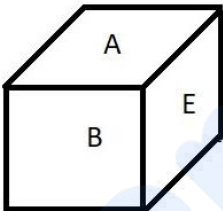
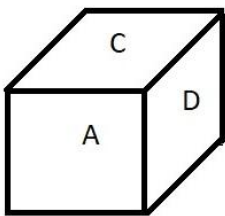
(D) ☐



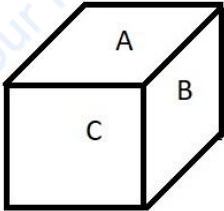
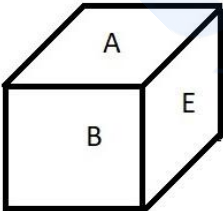
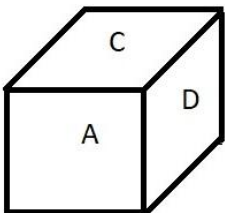
Question No.24

Marks: 2.50
Bookmark ☐

The dice contains A, B, C, D, E, F on the six faces. Which alphabet is opposite to E?



पासे के छह फलकों पर A, B, C, D, E, F वर्ण हैं। E के विपरीत कौन-सा वर्ण है?



- (A) ☐ D
D
- (B) ☐ A
A
- (C) ☐ B
B
- (D) ☒ C (Correct Answer) (Chosen option)
C

Question No.25

Marks: 2.50
Bookmark ☐

In a certain code language, if ABOUT is coded as DERXW, then how is DAILY coded in that language?
एक निश्चित कूट भाषा में, यदि ABOUT को DERXW लिखा जाता है, तो DAILY को उस कोड भाषा में कैसे लिखा जाएगा?

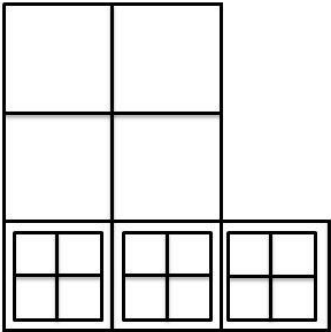
- (A) ☐ DGLBO
DGLBO
- (B) ☒ GDLOB (Correct Answer) (Chosen option)
GDLOB
- (C) ☐ WZROB
WZROB
- (D) ☐ CPMEH
CPMEH

Question No.26

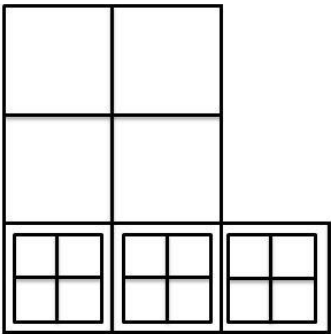
Marks: 2.50
Bookmark ☐

<p>Which word will be the second after rearranging the following words according to the English dictionary? निम्नलिखित शब्दों को अंग्रेजी शब्दकोश के अनुसार पुनर्व्यवस्थित करने पर कौन-सा शब्द दूसरा शब्द होगा?</p> <p>(A) <input type="radio"/> SPARED SPARED</p> <p>(B) <input type="radio"/> SPRADE SPRADE</p> <p>(C) <input checked="" type="radio"/> SPEARD (Correct Answer) (Chosen option) SPEARD</p> <p>(D) <input type="radio"/> SPREAD SPREAD</p>	
<div>Question No.27</div> <div>Marks: 2.50</div> <div>Bookmark <input type="checkbox"/></div> <p>Read the information carefully and answer the following question.</p> <p>A+B means A is the father of B A-B means A is the mother of B A*B means A is the sister of B A/B means A is the brother of B</p> <p>In the given expression M*N*O-P, how is N related to P? दी गई जानकारी को ध्यान से पढ़ें और निम्नलिखित प्रश्न का उत्तर दें।</p> <p>A+B का अर्थ है, A, यह B का पिता है A-B का अर्थ है, A, यह B की माता है A*B का अर्थ है, A, यह B की बहन है A/B का अर्थ है, A, यह B का भाई है</p> <p>दिए गए व्यंजक M*N*O-P में, N का P से क्या संबंध है?</p> <p>(A) <input type="radio"/> Paternal Aunt पैटर्नल आंट</p> <p>(B) <input type="radio"/> Maternal Uncle मैटर्नल अंकल</p> <p>(C) <input checked="" type="radio"/> Maternal Aunt (Correct Answer) (Chosen option) मैटर्नल आंट</p> <p>(D) <input type="radio"/> Paternal Uncle पैटर्नल अंकल</p>	
<div>Question No.28</div> <div>Marks: 2.50</div> <div>Bookmark <input type="checkbox"/></div> <p>Four of the following five are alike in a certain way and so form a group. Which is the one that does not belong to that group? A, I, U, O, J निम्न पांच में से कोई चार किसी निश्चित रूप से समान हैं और इसलिए एक समूह बनाते हैं। वह कौन-सा है जो उस समूह से संबंधित नहीं है? A, I, U, O, J</p> <p>(A) <input type="radio"/> I I</p> <p>(B) <input checked="" type="radio"/> J (Correct Answer) (Chosen option) J</p> <p>(C) <input type="radio"/> O O</p> <p>(D) <input type="radio"/> U U</p>	
<div>Question No.29</div> <div>Marks: 2.50</div> <div>Bookmark <input type="checkbox"/></div> <p>X is 4 places to the left of H who is on the extreme right and 5 places to the right of Y who is on the extreme left. How many persons are there in the row? X, यह H से, जो कि बिल्कुल दाएं छोर पर है, 4 स्थान बाएं है और Y से, जो कि बिल्कुल बाएं छोर पर है, 5 स्थान दाएं है। पंक्ति में कितने व्यक्ति हैं?</p> <p>(A) <input checked="" type="radio"/> 10 (Correct Answer) 10</p> <p>(B) <input type="radio"/> 6 (Chosen option) 6</p> <p>(C) <input type="radio"/> 8 8</p> <p>(D) <input type="radio"/> 4 4</p>	
<div>Question No.30</div> <div>Marks: 2.50</div> <div>Bookmark <input type="checkbox"/></div> <p>Find the next number in the series. 4, 5, 12, 39, 160, ? श्रेणी में अगली संख्या ज्ञात कीजिए। 4, 5, 12, 39, 160, ?</p> <p>(A) <input checked="" type="radio"/> 805 (Correct Answer) (Chosen option) 805</p> <p>(B) <input type="radio"/> 806 806</p>	

<div>(C) <input type="radio"/> 810 810</div> <div>(D) <input type="radio"/> 807 807</div>	
<div>Question No.31</div> <div>E is the only daughter of C whose husband is B who is the father-in-law of D. How is B's sister related to E? E, यह C की इकलौती बेटी है, जिसका (C का) पति B है जो D का ससुर है। B की बहन का E से क्या संबंध है?</div> <div>(A) <input type="radio"/> Cousin कज़िन</div> <div>(B) <input checked="" type="radio"/> Aunt (Correct Answer) (Chosen option) आँट</div> <div>(C) <input type="radio"/> Mother माँ</div> <div>(D) <input type="radio"/> Grandmother ग्रैंडमदर</div>	<div>Marks: 2.50</div> <div>Bookmark <input type="checkbox"/></div>
<div>Question No.32</div> <div>Who among the following is the highest ranking officer in a state police? निम्नलिखित में से कौन, राज्य पुलिस में सर्वोच्च रैंकिंग वाला अधिकारी होता है?</div> <div>(A) <input checked="" type="radio"/> DGP (Correct Answer) (Chosen option) डीजीपी</div> <div>(B) <input type="radio"/> SSP एसएसपी</div> <div>(C) <input type="radio"/> IG आईजी</div> <div>(D) <input type="radio"/> ADGP एडीजीपी</div>	<div>Marks: 2.50</div> <div>Bookmark <input type="checkbox"/></div>
<div>Question No.33</div> <div>Replace the question mark with an option that follows the same logic applied in the first pair. 58:40::86: ? प्रश्न-चिह्न को उस विकल्प से बदलें जो पहले युग्म में लागू तर्क का अनुसरण करता है। 58:40::86: ?</div> <div>(A) <input type="radio"/> 49 49</div> <div>(B) <input checked="" type="radio"/> 48 (Correct Answer) (Chosen option) 48</div> <div>(C) <input type="radio"/> 47 47</div> <div>(D) <input type="radio"/> 46 46</div>	<div>Marks: 2.50</div> <div>Bookmark <input type="checkbox"/></div>
<div>Question No.34</div> <div>Find the next number in the series. 670, 614, 521, 391, 224, ? श्रेणी में अगली संख्या ज्ञात कीजिए। 670, 614, 521, 391, 224, ?</div> <div>(A) <input checked="" type="radio"/> 20 (Correct Answer) (Chosen option) 20</div> <div>(B) <input type="radio"/> 19 19</div> <div>(C) <input type="radio"/> 21 21</div> <div>(D) <input type="radio"/> 25 25</div>	<div>Marks: 2.50</div> <div>Bookmark <input type="checkbox"/></div>
<div>Question No.35</div> <div>How many squares are there in the given figure?</div>	<div>Marks: 2.50</div> <div>Bookmark <input type="checkbox"/></div>



दी गई आकृति में कितने वर्ग हैं?



- (A) ☐ 24 (Correct Answer) (Chosen option)
- 24
- (B) ☐ 21
- 21
- (C) ☐ 20
- 20
- (D) ☐ 18
- 18

Question No.36

Marks: 2.50

Bookmark ☐

"We Serve to Save" is the motto of which organization in Uttar Pradesh?
"हम बचाने के लिए सेवारत हैं" उत्तर प्रदेश के किस संगठन का आदर्श वाक्य है?

- (A) ☐ Uttar Pradesh Fire Service (Correct Answer)
- उत्तर प्रदेश फायर सर्विस
- (B) ☐ Uttar Pradesh Anti-Terrorism Squad
- उत्तर प्रदेश आतंकवाद निरोधक दस्ता
- (C) ☐ Uttar Pradesh Police (Chosen option)
- उत्तर प्रदेश पुलिस
- (D) ☐ Uttar Pradesh Railway police
- उत्तर प्रदेश रेलवे पुलिस

Question No.37

Marks: 2.50

Bookmark ☐

The Concept of welfare state in Indian Constitution is included in _____.
भारतीय संविधान में कल्याणकारी राज्य की अवधारणा _____ में शामिल है।

- (A) ☐ Directive Principles of State Policy (Correct Answer) (Chosen option)
- राज्य की नीति के निदेशक तत्व
- (B) ☐ Fundamental Rights
- मौलिक अधिकार
- (C) ☐ Provision of Election Commission
- निर्वाचन आयोग का प्रावधान
- (D) ☐ Citizenship
- नागरिकता

Question No.38

Marks: 2.50

Bookmark ☐

If \$ = 4, @ = 5, # = 27, & = 7, != 3, then \$ × # ÷ ! + @ - & = ?
यदि \$ = 4, @ = 5, # = 27, & = 7, != 3 है, तो \$ × # ÷ ! + @ - & = ?

- (A) ☐ 34 (Correct Answer) (Chosen option)
34
- (B) ☐ 36
36
- (C) ☐ 42
42
- (D) ☐ 64
64

Question No.39

Marks: 2.50
Bookmark ☐

The Victim compensation scheme was inserted and made a part of the _____.
पीडित क्षतिपूर्ति योजना को शामिल कर _____ का भाग बनाया गया है।

- (A) ☐ Code of criminal procedure (Correct Answer)
दण्ड प्रक्रिया संहिता
- (B) ☐ Civil procedure
सिविल प्रक्रिया
- (C) ☐ Indian Penal Code (Chosen option)
भारतीय दंड संहिता
- (D) ☐ Indian Evidence Act
भारतीय साक्ष्य अधिनियम

Question No.40

Marks: 2.50
Bookmark ☐

Who stated "Religion can never be separated from Politics"?
किसने कहा था "धर्म को कभी भी राजनीति से अलग नहीं किया जा सकता है"?

- (A) ☐ Raja Ram Mohan Roy (Chosen option)
राजा राम मोहन रॉय
- (B) ☐ Mahatma Gandhi (Correct Answer)
महात्मा गांधी
- (C) ☐ Dr.Ambedkar
डॉ. अम्बेडकर
- (D) ☐ Pandit Jawaharlal Nehru
पंडित जवाहरलाल नेहरू