

# National Testing Agency

<b>Question Paper Name :</b>	Applied Geography and Geoinformatics 7th March 2026 Shift 2
<b>Subject Name :</b>	Applied Geography and Geoinformatics
<b>Creation Date :</b>	2026-03-07 20:03:08
<b>Duration :</b>	90
<b>Total Marks :</b>	300
<b>Display Marks:</b>	Yes

## Applied Geography and Geoinformatics

<b>Group Number :</b>	1
<b>Group Id :</b>	43244988
<b>Group Maximum Duration :</b>	0
<b>Group Minimum Duration :</b>	90
<b>Show Attended Group? :</b>	No
<b>Edit Attended Group? :</b>	No
<b>Break time :</b>	0
<b>Group Marks :</b>	300

## Applied Geography and Geoinformatics

<b>Section Id :</b>	432449182
<b>Section Number :</b>	1
<b>Section type :</b>	Online
<b>Mandatory or Optional :</b>	Mandatory
<b>Number of Questions :</b>	75
<b>Number of Questions to be attempted :</b>	75
<b>Section Marks :</b>	300
<b>Maximum Instruction Time :</b>	0
<b>Sub-Section Number :</b>	1
<b>Sub-Section Id :</b>	432449540
<b>Question Shuffling Allowed :</b>	Yes
<b>Is Section Default? :</b>	No

**Question Number : 1 Question Id : 43244913809 Question Type : MCQ Option Shuffling : No Display Question Number : Yes Is Question Mandatory : No Single Line Question Option : No Option Orientation : Vertical**

Which of the following laid great emphasis on vivid experience and also on the perception of space by social categories based on ethnicity, race and religion, etc. ?

- (1) Radical School of Thought
- (2) Post-Modernism
- (3) Behavioural School of Thought
- (4) Quantitative Revolution

**Options :**

- 43244953801. 1
- 43244953802. 2
- 43244953803. 3
- 43244953804. 4

**Question Number : 1 Question Id : 43244913809 Question Type : MCQ Option Shuffling : No Display Question Number : Yes Is Question Mandatory : No Single Line Question Option : No Option Orientation : Vertical**

निम्नलिखित में से किसमें प्रत्यक्ष अनुभव के साथ-साथ मानव जातीयता, प्रजाति, धर्म इत्यादि पर आधारित सामाजिक संवर्गों के दिक्काल बोध पर ज्यादा जोर दिया गया ?

- (1) आमूलवादी विचारधारा
- (2) उत्तर-आधुनिकतावाद
- (3) व्यवहारवादी विचारधारा
- (4) मात्रात्मक क्रांति

**Options :**

43244953801. 1  
43244953802. 2  
43244953803. 3  
43244953804. 4

**Question Number : 2 Question Id : 43244913810 Question Type : MCQ Option Shuffling : No Display Question Number : Yes Is Question Mandatory : No Single Line Question Option : No Option Orientation : Vertical**

Who defined human geography as the study of the changing relationship between the unresting man and unstable Earth ?

- (1) Ratzel
- (2) Semple
- (3) Blache
- (4) Humboldt

**Options :**

43244953805. 1  
43244953806. 2  
43244953807. 3  
43244953808. 4

**Question Number : 2 Question Id : 43244913810 Question Type : MCQ Option Shuffling : No Display Question Number : Yes Is Question Mandatory : No Single Line Question Option : No Option Orientation : Vertical**

किसने परिभाषित किया कि मानव भूगोल अस्थिर पृथ्वी और क्रियाशील मानव के बीच परिवर्तनशील सम्बंधों का अध्ययन है ?

- (1) रैटजेल
- (2) सेंपल
- (3) ब्लाश
- (4) हम्बोल्ट

**Options :**

43244953805. 1  
43244953806. 2  
43244953807. 3  
43244953808. 4

**Question Number : 3 Question Id : 43244913811 Question Type : MCQ Option Shuffling : No Display Question Number : Yes Is Question Mandatory : No Single Line Question Option : No Option Orientation : Vertical**

Who remarked that "Asia has many places where people are few and few places where people are very many" ?

- (1) Malthus
- (2) Cressey
- (3) Trewartha
- (4) Taylor

**Options :**

- 43244953809. 1
- 43244953810. 2
- 43244953811. 3
- 43244953812. 4

**Question Number : 3 Question Id : 43244913811 Question Type : MCQ Option Shuffling : No Display Question Number : Yes Is Question Mandatory : No Single Line Question Option : No Option Orientation : Vertical**

किसने कहा था, “एशिया में ऐसे बहुत स्थान हैं जहाँ लोग कम हैं और ऐसे कम स्थान हैं जहाँ लोग बहुत अधिक हैं ?

- (1) माल्थस
- (2) क्रेसी
- (3) ट्रिवार्था
- (4) टेलर

**Options :**

- 43244953809. 1
- 43244953810. 2
- 43244953811. 3
- 43244953812. 4

**Question Number : 4 Question Id : 43244913812 Question Type : MCQ Option Shuffling : No Display Question Number : Yes Is Question Mandatory : No Single Line Question Option : No Option Orientation : Vertical**

What type of rural settlements are commonly found in the eastern and north-eastern parts of Rajasthan?

- (1) Isolated homesteads
- (2) Dispersed
- (3) Semi-dispersed
- (4) Compact

**Options :**

- 43244953813. 1
- 43244953814. 2
- 43244953815. 3
- 43244953816. 4

**Question Number : 4 Question Id : 43244913812 Question Type : MCQ Option Shuffling : No Display Question Number : Yes Is Question Mandatory : No Single Line Question Option : No Option Orientation : Vertical**

किस प्रकार की ग्रामीण बस्तियाँ, सामान्य रूप से राजस्थान के पूर्वी और उत्तर पूर्वी हिस्सों में पाई जाती हैं ?

- (1) एकाकी वासभूमि
- (2) परिक्षिप्त
- (3) अर्ध-परिक्षिप्त
- (4) गुच्छित

**Options :**

- 43244953813. 1
- 43244953814. 2
- 43244953815. 3
- 43244953816. 4

**Question Number : 5 Question Id : 43244913813 Question Type : MCQ Option Shuffling : No Display Question Number : Yes Is Question Mandatory : No Single Line Question Option : No Option Orientation : Vertical**

Which of the following map serves as a guide to small units like battalions and patrol units prior to and during the movement anywhere near the front line ?

- (1) General
- (2) Tactical
- (3) Photomap
- (4) Political

**Options :**

43244953817. 1  
43244953818. 2  
43244953819. 3  
43244953820. 4

**Question Number : 5 Question Id : 43244913813 Question Type : MCQ Option Shuffling : No Display Question Number : Yes Is Question Mandatory : No Single Line Question Option : No Option Orientation : Vertical**

निम्नलिखित में से कौन-सा मानचित्र अग्रिम रेखा के निकट किसी भी स्थान पर गतिविधि से पहले और गतिविधि के दौरान, छोटी टुकड़ियों जैसे बटालियों और निगरानी टुकड़ियों को, एक मार्गदर्शक के रूप में सेवा प्रदान करता है ?

- (1) सामान्य
- (2) सामरिक
- (3) फोटोमानचित्र
- (4) राजनैतिक

**Options :**

43244953817. 1  
43244953818. 2  
43244953819. 3  
43244953820. 4

**Question Number : 6 Question Id : 43244913814 Question Type : MCQ Option Shuffling : No Display Question Number : Yes Is Question Mandatory : No Single Line Question Option : No Option Orientation : Vertical**

Identify the scale of topographical sheet No. 71E/NW.

- (1) 1 inch to 1 mile
- (2) 1 inch to 4 miles
- (3) 1 inch to 2 miles
- (4) 1 inch to 16 miles

**Options :**

43244953821. 1  
43244953822. 2  
43244953823. 3  
43244953824. 4

**Question Number : 6 Question Id : 43244913814 Question Type : MCQ Option Shuffling : No Display Question Number : Yes Is Question Mandatory : No Single Line Question Option : No Option Orientation : Vertical**

स्थलाकृतिक मानचित्र (शीट) संख्या 71E/NW की मापनी की पहचान कीजिए।

- (1) 1 इंच बराबर है 1 मील
- (2) 1 इंच बराबर है 4 मील
- (3) 1 इंच बराबर है 2 मील
- (4) 1 इंच बराबर है 16 मील

**Options :**

43244953821. 1  
43244953822. 2  
43244953823. 3  
43244953824. 4

**Question Number : 7 Question Id : 43244913815 Question Type : MCQ Option Shuffling : No Display Question Number : Yes Is Question Mandatory : No Single Line Question Option : No Option Orientation : Vertical**

Identify the point of light to cast the image in a perspective cylindrical projection :

- (1) at a point diametrically opposed to the point of contact of plane
- (2) at infinity
- (3) centre of the generating globe
- (4) at the point where the plane touches the generating globe

**Options :**

43244953825. 1  
43244953826. 2  
43244953827. 3  
43244953828. 4

**Question Number : 7 Question Id : 43244913815 Question Type : MCQ Option Shuffling : No Display Question Number : Yes Is Question Mandatory : No Single Line Question Option : No Option Orientation : Vertical**

एक संदर्श बेलनाकार प्रक्षेप में प्रतिबिम्ब की रचना के लिए प्रकाश बिन्दु की पहचान कीजिए :

- (1) एक बिन्दु पर जो तल (प्लेन) के संपर्क वाले बिन्दु के व्यासतः विपरीत है
- (2) अनन्त पर
- (3) जनित ग्लोब के केन्द्र में
- (4) एक बिन्दु पर जहाँ तल (प्लेन) जनित ग्लोब को छूता है

**Options :**

43244953825. 1  
43244953826. 2  
43244953827. 3  
43244953828. 4

**Question Number : 8 Question Id : 43244913816 Question Type : MCQ Option Shuffling : No Display Question Number : Yes Is Question Mandatory : No Single Line Question Option : No Option Orientation : Vertical**

Which of the following will be most suitable two standard parallels when the area to be represented extends from 20°S to 80°S ?

- (1) 30° S and 70° S
- (2) 20° S and 40° S
- (3) 80° S and 40° S
- (4) 40° S and 50° S

**Options :**

43244953829. 1  
43244953830. 2  
43244953831. 3  
43244953832. 4

**Question Number : 8 Question Id : 43244913816 Question Type : MCQ Option Shuffling : No Display Question Number : Yes Is Question Mandatory : No Single Line Question Option : No Option Orientation : Vertical**

निम्नलिखित में से कौनसे दो मानक अक्षांश अत्यधिक उपयुक्त रहेंगे यदि दर्शाया जाने वाला क्षेत्र 20°S से 80°S तक विस्तृत है ?

- (1) 30° S और 70° S
- (2) 20° S और 40° S
- (3) 80° S और 40° S
- (4) 40° S और 50° S

**Options :**

43244953829. 1  
43244953830. 2  
43244953831. 3  
43244953832. 4

**Question Number : 9 Question Id : 43244913817 Question Type : MCQ Option Shuffling : No Display Question Number : Yes Is Question Mandatory : No Single Line Question Option : No Option Orientation : Vertical**

Based on which of the following, it can be said that the biological processes which operate today might have operated in the past though with varying degree of relationship between biological communities and physical environment and between organisms ?

- (1) Black box model
- (2) Law of Uniformitarianism
- (3) Climatic climax
- (4) Taxonomic division

**Options :**

43244953833. 1  
43244953834. 2  
43244953835. 3  
43244953836. 4

**Question Number : 9 Question Id : 43244913817 Question Type : MCQ Option Shuffling : No Display Question Number : Yes Is Question Mandatory : No Single Line Question Option : No Option Orientation : Vertical**

निम्नलिखित में से किसके आधार पर यह कहा जा सकता है कि जो जैविक प्रक्रम आज क्रियाशील हैं वे भूतकाल में भी क्रियाशील रहे होंगे यद्यपि जैविक समुदाय और भौतिक पर्यावरण के मध्य और जीवों के मध्य के संबंधों की मात्रा परिवर्तनशील रही है ?

- (1) ब्लैक बॉक्स मॉडल
- (2) एकरूपतावाद का नियम
- (3) जलवायु चरम
- (4) वर्गीकीय विभाजन

**Options :**

43244953833. 1  
43244953834. 2  
43244953835. 3  
43244953836. 4

**Question Number : 10 Question Id : 43244913818 Question Type : MCQ Option Shuffling : No Display Question Number : Yes Is Question Mandatory : No Single Line Question Option : No Option Orientation : Vertical**

Which of the following is characterised by two or three layered crowns of trees, numerous epiphytes, a wide variety of species and little vegetation on the ground ?

- (1) Taiga
- (2) Temperate rainforest
- (3) Monsoon forest
- (4) Equatorial rainforest

**Options :**

43244953837. 1  
43244953838. 2  
43244953839. 3  
43244953840. 4

**Question Number : 10 Question Id : 43244913818 Question Type : MCQ Option Shuffling : No Display Question Number : Yes Is Question Mandatory : No Single Line Question Option : No Option Orientation : Vertical**

निम्नलिखित में से किसकी विशेषता है दो या तीन वृक्षों के संस्तर, अत्यधिक अधिपादप, प्रजातियों की विस्तृत किस्म और धरातल पर कम वनस्पति ?

- (1) टैगा
- (2) शीतोष्ण वर्षावन
- (3) मानसून वन
- (4) भूमध्यरेखीय वर्षावन

**Options :**

43244953837. 1  
43244953838. 2  
43244953839. 3  
43244953840. 4

**Question Number : 11 Question Id : 43244913819 Question Type : MCQ Option Shuffling : No Display Question Number : Yes Is Question Mandatory : No Single Line Question Option : No Option Orientation : Vertical**

Identify the name of the movement which successfully highlighted the adverse impact of mining activities in the Western Ghats ?

- (1) Chilika Movement
- (2) Save Tunga Movement
- (3) Silent Valley Movement
- (4) Appiko Movement

**Options :**

43244953841. 1  
43244953842. 2  
43244953843. 3  
43244953844. 4

**Question Number : 11 Question Id : 43244913819 Question Type : MCQ Option Shuffling : No Display Question Number : Yes Is Question Mandatory : No Single Line Question Option : No Option Orientation : Vertical**

उस आंदोलन की पहचान कीजिए जिसने पश्चिमी घाट में खनन गतिविधियों के नकारात्मक प्रभावों को सफलतापूर्वक उजागर किया ?

- (1) चिलिका आंदोलन
- (2) तुंगा बचाओ आंदोलन
- (3) शांत घाटी (साइलेंट वैली) आंदोलन
- (4) अण्डको आंदोलन

**Options :**

43244953841. 1  
43244953842. 2  
43244953843. 3  
43244953844. 4

**Question Number : 12 Question Id : 43244913820 Question Type : MCQ Option Shuffling : No Display Question Number : Yes Is Question Mandatory : No Single Line Question Option : No Option Orientation : Vertical**

In which of the following methods solid wastes are broken down through process of destructive distillation in an oxygen free atmosphere into gases ?

- (1) Incineration
- (2) Pyrolysis
- (3) Composting
- (4) Burning in multiple hearth furnaces

**Options :**

43244953845. 1  
43244953846. 2  
43244953847. 3  
43244953848. 4

**Question Number : 12 Question Id : 43244913820 Question Type : MCQ Option Shuffling : No Display Question Number : Yes Is Question Mandatory : No Single Line Question Option : No Option Orientation : Vertical**

निम्नलिखित विधियों में से किस में ठोस अवशिष्ट को एक ऑक्सीजन मुक्त वायुमण्डल में विनाशात्मक आसवन प्रक्रिया द्वारा गैसों में विखण्डित किया जाता है ?

- (1) भस्मीकरण
- (2) ताप-अपघटन
- (3) संमिश्रण
- (4) अनेक चुल्हा भट्ठीयों में जलाकर

**Options :**

43244953845. 1  
43244953846. 2  
43244953847. 3  
43244953848. 4

**Question Number : 13 Question Id : 43244913821 Question Type : MCQ Option Shuffling : No Display Question Number : Yes Is Question Mandatory : No Single Line Question Option : No Option Orientation : Vertical**

The length of India's border is longest with which one of the following neighbouring countries ?

- (1) Bangladesh
- (2) China
- (3) Pakistan
- (4) Nepal

**Options :**

43244953849. 1  
43244953850. 2  
43244953851. 3  
43244953852. 4

**Question Number : 13 Question Id : 43244913821 Question Type : MCQ Option Shuffling : No Display Question Number : Yes Is Question Mandatory : No Single Line Question Option : No Option Orientation : Vertical**

निम्नलिखित में से किस पड़ोसी देश के साथ भारतीय सीमा की लंबाई सर्वाधिक है ?

- (1) बांग्लादेश
- (2) चीन
- (3) पाकिस्तान
- (4) नेपाल

**Options :**

43244953849. 1  
43244953850. 2  
43244953851. 3  
43244953852. 4

**Question Number : 14 Question Id : 43244913822 Question Type : MCQ Option Shuffling : No Display Question Number : Yes Is Question Mandatory : No Single Line Question Option : No Option Orientation : Vertical**

Which of the following are economically the most important rocks of India as they possess valuable minerals like high grade iron-ore, manganese, copper, lead, gold, etc ?

- (1) Cuddapah
- (2) Gondwana
- (3) Carboniferous
- (4) Dharwar

**Options :**

43244953853. 1  
43244953854. 2  
43244953855. 3  
43244953856. 4

**Question Number : 14 Question Id : 43244913822 Question Type : MCQ Option Shuffling : No Display Question Number : Yes Is Question Mandatory : No Single Line Question Option : No Option Orientation : Vertical**

निम्नलिखित में से कौनसी आर्थिक रूप से भारत की सर्वाधिक महत्वपूर्ण चट्टानें हैं क्योंकि इनमें मूल्यवान खनिजों जैसे उच्च गुणवत्ता वाला लौह-अयस्क, मैंगनीज, तांबा, सीसा, सोना इत्यादी पाए जाते हैं ?

- (1) कुड़प्पा
- (2) गोंडवाना
- (3) कार्बनीफेरस
- (4) धारवाड़

**Options :**

43244953853. 1  
43244953854. 2  
43244953855. 3  
43244953856. 4

**Question Number : 15 Question Id : 43244913823 Question Type : MCQ Option Shuffling : No Display Question Number : Yes Is Question Mandatory : No Single Line Question Option : No Option Orientation : Vertical**

The 20th Livestock Census of India was conducted in which one of the following years ?

- (1) 2011
- (2) 2019
- (3) 2021
- (4) 2025

**Options :**

43244953857. 1  
43244953858. 2  
43244953859. 3  
43244953860. 4

**Question Number : 15 Question Id : 43244913823 Question Type : MCQ Option Shuffling : No Display Question Number : Yes Is Question Mandatory : No Single Line Question Option : No Option Orientation : Vertical**

निम्नलिखित वर्षों में से किस में भारत की 20वीं पशुधन जनगणना सम्पन्न की गई थी ?

- (1) 2011
- (2) 2019
- (3) 2021
- (4) 2025

**Options :**

43244953857. 1  
43244953858. 2  
43244953859. 3  
43244953860. 4

**Question Number : 16 Question Id : 43244913824 Question Type : MCQ Option Shuffling : No Display Question Number : Yes Is Question Mandatory : No Single Line Question Option : No Option Orientation : Vertical**

Neyveli lignite coal fields are located in which one of the following districts of India ?

- (1) West Singhbhum
- (2) Karimnagar
- (3) Sibsagar
- (4) Cuddalore

**Options :**

43244953861. 1  
43244953862. 2  
43244953863. 3  
43244953864. 4

**Question Number : 16 Question Id : 43244913824 Question Type : MCQ Option Shuffling : No Display Question Number : Yes Is Question Mandatory : No Single Line Question Option : No Option Orientation : Vertical**

भारत के निम्नलिखित जिलों में से किस एक में नेवेली लिग्नाइट कोयला क्षेत्र स्थित है ?

- (1) पश्चिमी सिंहभूम
- (2) करीमनगर
- (3) शिबसागर
- (4) कुड्डालोर

**Options :**

43244953861. 1
43244953862. 2
43244953863. 3
43244953864. 4

**Question Number : 17 Question Id : 43244913825 Question Type : MCQ Option Shuffling : No Display Question Number : Yes Is Question Mandatory : No Single Line Question Option : No Option Orientation : Vertical**

At the time of setting up of the plant which one of the following iron and steel plants used charcoal for smelting as coal was not available ?

- (1) Tata
- (2) Salem
- (3) Visweswaraya
- (4) Vishakhapatnam

**Options :**

43244953865. 1
43244953866. 2
43244953867. 3
43244953868. 4

**Question Number : 17 Question Id : 43244913825 Question Type : MCQ Option Shuffling : No Display Question Number : Yes Is Question Mandatory : No Single Line Question Option : No Option Orientation : Vertical**

निम्नलिखित लौह-इस्पात संयंत्रों में से किस ने अपनी स्थापना के समय पर कोयले की अनुपलब्धता के कारण प्रगलन के लिए चारकोल का उपयोग किया था ?

- (1) टाटा
- (2) सलेम
- (3) विश्वेश्वरैया
- (4) विशाखापट्टनम

**Options :**

43244953865. 1
43244953866. 2
43244953867. 3
43244953868. 4

**Question Number : 18 Question Id : 43244913826 Question Type : MCQ Option Shuffling : No Display Question Number : Yes Is Question Mandatory : No Single Line Question Option : No Option Orientation : Vertical**

Big Inch pipeline is functional in which of the following countries ?

- (1) New Zealand
- (2) Libya
- (3) U.S.A
- (4) Algeria

**Options :**

43244953869. 1  
43244953870. 2  
43244953871. 3  
43244953872. 4

**Question Number : 18 Question Id : 43244913826 Question Type : MCQ Option Shuffling : No Display Question Number : Yes Is Question Mandatory : No Single Line Question Option : No Option Orientation : Vertical**

निम्नलिखित देशों में से किसमें बिग इंच पाइपलाईन कार्यशील है ?

- (1) न्यूजीलैंड
- (2) लीबिया
- (3) यू.एस.ए.
- (4) अल्जीरिया

**Options :**

43244953869. 1  
43244953870. 2  
43244953871. 3  
43244953872. 4

**Question Number : 19 Question Id : 43244913827 Question Type : MCQ Option Shuffling : No Display Question Number : Yes Is Question Mandatory : No Single Line Question Option : No Option Orientation : Vertical**

According to Weber which of the following is NOT an important factor in determining the optimum location for an industry ?

- (1) Transport cost
- (2) Interest on borrowed capital
- (3) Labour cost
- (4) Benefits of agglomeration

**Options :**

43244953873. 1  
43244953874. 2  
43244953875. 3  
43244953876. 4

**Question Number : 19 Question Id : 43244913827 Question Type : MCQ Option Shuffling : No Display Question Number : Yes Is Question Mandatory : No Single Line Question Option : No Option Orientation : Vertical**

वेबर के अनुसार निम्नलिखित में से कौनसा कारक एक उद्योग की अनुकूलतम अवस्थिति के निर्धारण के लिए महत्वपूर्ण नहीं है ?

- (1) परिवहन लागत
- (2) उधार की पूँजी का ब्याज
- (3) श्रम लागत
- (4) समूहन के लाभ

**Options :**

43244953873. 1  
43244953874. 2  
43244953875. 3  
43244953876. 4

**Question Number : 20 Question Id : 43244913828 Question Type : MCQ Option Shuffling : No Display Question Number : Yes Is Question Mandatory : No Single Line Question Option : No Option Orientation : Vertical**

Von Thunen's theory of agricultural land use is based on which concept ?

- (1) Agglomeration
- (2) Fertility differentials
- (3) Economic rent
- (4) Naturalisation of Humans

**Options :**

43244953877. 1  
43244953878. 2  
43244953879. 3  
43244953880. 4

**Question Number : 20 Question Id : 43244913828 Question Type : MCQ Option Shuffling : No Display Question Number : Yes Is Question Mandatory : No Single Line Question Option : No Option Orientation : Vertical**

वॉन थ्यूनेन का कृषि भूमि उपयोग सिद्धान्त किस संकल्पना पर आधारित है ?

- (1) समूहन
- (2) उर्वरकता विभेदन
- (3) आर्थिक लगान
- (4) मानव का प्राकृतिकरण

**Options :**

43244953877. 1  
43244953878. 2  
43244953879. 3  
43244953880. 4

**Question Number : 21 Question Id : 43244913829 Question Type : MCQ Option Shuffling : No Display Question Number : Yes Is Question Mandatory : No Single Line Question Option : No Option Orientation : Vertical**

Which of the following has now become the "rust bowl" of U.S.A ?

- (1) Ruhr
- (2) Krivoi Rog
- (3) Tula-Garki
- (4) Pittsburgh

**Options :**

43244953881. 1  
43244953882. 2  
43244953883. 3  
43244953884. 4

**Question Number : 21 Question Id : 43244913829 Question Type : MCQ Option Shuffling : No Display Question Number : Yes Is Question Mandatory : No Single Line Question Option : No Option Orientation : Vertical**

निम्नलिखित में से कौन सा अब यू.एस.ए. का "जंग का कटोरा" बन गया है ?

- (1) रुहर
- (2) क्रिवोई-रोग
- (3) टुला-गार्की
- (4) पिट्सबर्ग

**Options :**

43244953881. 1  
43244953882. 2

43244953883. 3

43244953884. 4

**Question Number : 22 Question Id : 43244913830 Question Type : MCQ Option Shuffling : No Display Question Number : Yes Is Question Mandatory : No Single Line Question Option : No Option Orientation : Vertical**

Which one of the following states is located in the lowest risk zone of tropical cyclones ?

- (1) Gujarat
- (2) Haryana
- (3) Andhra Pradesh
- (4) West Bengal

**Options :**

43244953885. 1

43244953886. 2

43244953887. 3

43244953888. 4

**Question Number : 22 Question Id : 43244913830 Question Type : MCQ Option Shuffling : No Display Question Number : Yes Is Question Mandatory : No Single Line Question Option : No Option Orientation : Vertical**

निम्नलिखित राज्यों में से कौनसा उष्णकटिबंधीय चक्रवातों के निम्नतम जोखिम क्षेत्र में स्थित है ?

- (1) गुजरात
- (2) हरियाणा
- (3) आंध्र प्रदेश
- (4) पश्चिम बंगाल

**Options :**

43244953885. 1

43244953886. 2

43244953887. 3

43244953888. 4

**Question Number : 23 Question Id : 43244913831 Question Type : MCQ Option Shuffling : No Display Question Number : Yes Is Question Mandatory : No Single Line Question Option : No Option Orientation : Vertical**

The National Disaster Response Force (NDRF) has been constituted as per which one of the chapters of the Disaster Management Act, 2005 ?

- (1) Chapter - IX
- (2) Chapter - VIII
- (3) Chapter - VII
- (4) Chapter - VI

**Options :**

43244953889. 1

43244953890. 2

43244953891. 3

43244953892. 4

**Question Number : 23 Question Id : 43244913831 Question Type : MCQ Option Shuffling : No Display Question Number : Yes Is Question Mandatory : No Single Line Question Option : No Option Orientation : Vertical**

आपदा प्रबंधन अधिनियम 2005 के अध्यायों में से किस एक के अंतर्गत राष्ट्रीय आपदा प्रतिक्रिया बल (एन.डी.आर.एफ.) की स्थापना की गई है?

- (1) अध्याय - IX
- (2) अध्याय - VIII
- (3) अध्याय - VII
- (4) अध्याय - VI

**Options :**

43244953889. 1  
43244953890. 2  
43244953891. 3  
43244953892. 4

**Question Number : 24 Question Id : 43244913832 Question Type : MCQ Option Shuffling : No Display Question Number : Yes Is Question Mandatory : No Single Line Question Option : No Option Orientation : Vertical**

Indian Prime Minister's Agenda for Disaster Risk Reduction consists of how many key elements or points ?

- (1) 06
- (2) 10
- (3) 12
- (4) 15

**Options :**

43244953893. 1  
43244953894. 2  
43244953895. 3  
43244953896. 4

**Question Number : 24 Question Id : 43244913832 Question Type : MCQ Option Shuffling : No Display Question Number : Yes Is Question Mandatory : No Single Line Question Option : No Option Orientation : Vertical**

भारत के प्रधानमंत्री की आपदा जोखिम न्यूनीकरण कार्यसूची कितने प्रमुख तत्वों या बिन्दुओं से मिलकर बनी है?

- (1) 06
- (2) 10
- (3) 12
- (4) 15

**Options :**

43244953893. 1  
43244953894. 2  
43244953895. 3  
43244953896. 4

**Question Number : 25 Question Id : 43244913833 Question Type : MCQ Option Shuffling : No Display Question Number : Yes Is Question Mandatory : No Single Line Question Option : No Option Orientation : Vertical**

The "Incredible India" campaign was proposed by whom ?

- (1) Jagdish Mukhi
- (2) Manohar Parekar
- (3) Amitabh Kant
- (4) Amit Sen

**Options :**

43244953897. 1

43244953898. 2  
43244953899. 3  
43244953900. 4

**Question Number : 25 Question Id : 43244913833 Question Type : MCQ Option Shuffling : No Display Question Number : Yes Is Question Mandatory : No Single Line Question Option : No Option Orientation : Vertical**

“अतुल्य भारत” अभियान किसके द्वारा प्रस्तावित किया गया था ?

- (1) जगदीश मुखी
- (2) मनोहर पारेकर
- (3) अमिताभ कांत
- (4) अमित सेन

**Options :**

43244953897. 1  
43244953898. 2  
43244953899. 3  
43244953900. 4

**Question Number : 26 Question Id : 43244913834 Question Type : MCQ Option Shuffling : No Display Question Number : Yes Is Question Mandatory : No Single Line Question Option : No Option Orientation : Vertical**

The ‘Atithi Devo Bhavah’ campaign was launched in which one of the following years ?

- (1) 2002
- (2) 2008
- (3) 2014
- (4) 2018

**Options :**

43244953901. 1  
43244953902. 2  
43244953903. 3  
43244953904. 4

**Question Number : 26 Question Id : 43244913834 Question Type : MCQ Option Shuffling : No Display Question Number : Yes Is Question Mandatory : No Single Line Question Option : No Option Orientation : Vertical**

‘अतिथि देवो भवः’ अभियान निम्नलिखित वर्षों में से किस में आरंभ किया गया था ?

- (1) 2002
- (2) 2008
- (3) 2014
- (4) 2018

**Options :**

43244953901. 1  
43244953902. 2  
43244953903. 3  
43244953904. 4

**Question Number : 27 Question Id : 43244913835 Question Type : MCQ Option Shuffling : No Display Question Number : Yes Is Question Mandatory : No Single Line Question Option : No Option Orientation : Vertical**

In MICE sector of tourism which of the following represents exhibition component ?

- (1) Board meetings
- (2) Cost-effective way for buyers and sellers to meet
- (3) Corporate-sponsored trips for distributors
- (4) Large formal meetings/discussions

**Options :**

- 43244953905. 1
- 43244953906. 2
- 43244953907. 3
- 43244953908. 4

**Question Number : 27 Question Id : 43244913835 Question Type : MCQ Option Shuffling : No Display Question Number : Yes Is Question Mandatory : No Single Line Question Option : No Option Orientation : Vertical**

पर्यटन के एम.आई.सी.इ (MICE) सेक्टर में, निम्नलिखित में से प्रदर्शनी घटक को कौन प्रदर्शित करता है ?

- (1) बोर्ड बैठकें
- (2) क्रेताओं और विक्रेताओं के मिलन का लागत-प्रभावी तरीका
- (3) वितरकों के लिए कंपनी-प्रत्योजित यात्रा
- (4) बड़ी औपचारिक बैठकें/चर्चाएं

**Options :**

- 43244953905. 1
- 43244953906. 2
- 43244953907. 3
- 43244953908. 4

**Question Number : 28 Question Id : 43244913836 Question Type : MCQ Option Shuffling : No Display Question Number : Yes Is Question Mandatory : No Single Line Question Option : No Option Orientation : Vertical**

In India the Good Governance Day is observed to honour the birth anniversary of which one of the following ?

- (1) Dr. Rajendra Prasad
- (2) Dr. Abdul Kalam
- (3) Atal Bihari Vajpayee
- (4) Indira Gandhi

**Options :**

- 43244953909. 1
- 43244953910. 2
- 43244953911. 3
- 43244953912. 4

**Question Number : 28 Question Id : 43244913836 Question Type : MCQ Option Shuffling : No Display Question Number : Yes Is Question Mandatory : No Single Line Question Option : No Option Orientation : Vertical**

निम्नलिखित में से किसकी जन्म शताब्दी के सम्मान में भारत में सुशासन दिवस मनाया जाता है ?

- (1) डॉ. राजेंद्र प्रसाद
- (2) डॉ अब्दुल कलाम
- (3) अटल बिहारी वाजपेयी
- (4) इन्दिरा गाँधी

**Options :**

- 43244953909. 1

43244953910. 2  
43244953911. 3  
43244953912. 4

**Question Number : 29 Question Id : 43244913837 Question Type : MCQ Option Shuffling : No Display Question Number : Yes Is Question Mandatory : No Single Line Question Option : No Option Orientation : Vertical**

Clean Development Mechanism was suggested as one of the market-based mechanisms in which of the following ?

- (1) Montreal Protocol
- (2) Kyoto Protocol
- (3) Beyond the Limit Report
- (4) Agenda 21

**Options :**

43244953913. 1  
43244953914. 2  
43244953915. 3  
43244953916. 4

**Question Number : 29 Question Id : 43244913837 Question Type : MCQ Option Shuffling : No Display Question Number : Yes Is Question Mandatory : No Single Line Question Option : No Option Orientation : Vertical**

निम्नलिखित में से किसमें एक बाजार आधारित क्रियाविधियों के तौर पर स्वच्छ विकास क्रियाविधि का सुझाव दिया था ?

- (1) मांट्रियल प्रोटोकॉल
- (2) क्योटो प्रोटोकॉल
- (3) बीयोन्ड द लिमिट रिपोर्ट
- (4) एजेंडा 21

**Options :**

43244953913. 1  
43244953914. 2  
43244953915. 3  
43244953916. 4

**Question Number : 30 Question Id : 43244913838 Question Type : MCQ Option Shuffling : No Display Question Number : Yes Is Question Mandatory : No Single Line Question Option : No Option Orientation : Vertical**

Which one of the following reports defined sustainable development as a "development that meets the needs of the present without compromising the ability of future generations to meet their own needs" ?

- (1) Kyoto Report
- (2) Club of Rome Report
- (3) Meadows Report
- (4) Brundtland Report

**Options :**

43244953917. 1  
43244953918. 2  
43244953919. 3  
43244953920. 4

**Question Number : 30 Question Id : 43244913838 Question Type : MCQ Option Shuffling : No Display Question Number : Yes Is Question Mandatory : No Single Line Question Option : No Option Orientation : Vertical**

निम्नलिखित में से कौनसी रिपोर्ट सतत विकास को “विकास जो भावी पीढ़ी की अपनी जरूरतों के पूरा करने की योग्यता से समझौता किए बिना वर्तमान की जरूरतों को पूरा करता है” के रूप में परिभाषित किया?

- (1) क्योटो रिपोर्ट
- (2) क्लब ऑफ रोम रिपोर्ट
- (3) मीडोज रिपोर्ट
- (4) ब्रंटलैण्ड रिपोर्ट

**Options :**

43244953917. 1  
43244953918. 2  
43244953919. 3  
43244953920. 4

**Question Number : 31 Question Id : 43244913839 Question Type : MCQ Option Shuffling : No Display Question Number : Yes Is Question Mandatory : No Single Line Question Option : No Option Orientation : Vertical**

Given below are two statements : one is labelled as **Assertion (A)** and the other is labelled as **Reason (R)**.

**Assertion (A) :** During 1951-61 the growth of urbanisation in India was slowed down.

**Reason (R) :** There was a change in the definition of urban places and some towns were declassified in 1961 census.

In the light of the above statements, choose the **most appropriate answer** from the options given below :

- (1) Both **(A)** and **(R)** are correct and **(R)** is the correct explanation of **(A)**
- (2) Both **(A)** and **(R)** are correct but **(R)** is **not** the correct explanation of **(A)**
- (3) **(A)** is correct but **(R)** is not correct
- (4) **(A)** is not correct but **(R)** is correct

**Options :**

43244953921. 1  
43244953922. 2  
43244953923. 3  
43244953924. 4

**Question Number : 31 Question Id : 43244913839 Question Type : MCQ Option Shuffling : No Display Question Number : Yes Is Question Mandatory : No Single Line Question Option : No Option Orientation : Vertical**

नीचे दो कथन दिए गए हैं: एक **अभिकथन (A)** के रूप में लिखित है तो दूसरा उसके **कारण (R)** के रूप में है।

**अभिकथन (A) :** 1951-61 के दौरान भारत में नगरीकरण की वृद्धि धीमी हो गई थी।

**कारण (R) :** 1961 की जनगणना में नगरीय स्थानों की परिभाषा में परिवर्तन किया गया था और कुछ नगरों को अवर्गीकृत कर दिया गया था।

उपरोक्त कथन के आलोक में, नीचे दिए गए विकल्पों में से **सबसे उपयुक्त उत्तर** का चयन कीजिए :

- (1) **(A)** और **(R)** दोनों सही हैं और **(R)**, **(A)** की सही व्याख्या है
- (2) **(A)** और **(R)** दोनों सही हैं, लेकिन **(R)**, **(A)** की सही व्याख्या नहीं है
- (3) **(A)** सही है, लेकिन **(R)** सही नहीं है
- (4) **(A)** सही नहीं है, लेकिन **(R)** सही है

**Options :**

43244953921. 1  
43244953922. 2  
43244953923. 3

Question Number : 32 Question Id : 43244913840 Question Type : MCQ Option Shuffling : No Display Question Number : Yes  
Is Question Mandatory : No Single Line Question Option : No Option Orientation : Vertical

Given below are two statements : one is labelled as **Assertion (A)** and the other is labelled as **Reason (R)**.

**Assertion (A) :** The shapes of areas shown in the Zenithal Stereographic (Polar Case) Projection are maintained correctly.

**Reason (R) :** In the Zenithal Stereographic (Polar Case) Projection the scales along the meridians increase away from the centre at the same rate at which they increase along the parallels.

In the light of the above statements, choose the **most appropriate answer** from the options given below :

- (1) Both (A) and (R) are correct and (R) is the correct explanation of (A)
- (2) Both (A) and (R) are correct but (R) is **not** the correct explanation of (A)
- (3) (A) is correct but (R) is not correct
- (4) (A) is not correct but (R) is correct

**Options :**

43244953925. 1  
43244953926. 2  
43244953927. 3  
43244953928. 4

Question Number : 32 Question Id : 43244913840 Question Type : MCQ Option Shuffling : No Display Question Number : Yes  
Is Question Mandatory : No Single Line Question Option : No Option Orientation : Vertical

नीचे दो कथन दिए गए हैं: एक **अभिकथन (A)** के रूप में लिखित है तो दूसरा उसके **कारण (R)** के रूप में है।

**अभिकथन (A) :** खमध्य त्रिविम प्रक्षेप ( ध्रुवीय केस) में दर्शाये गए क्षेत्रों की आकृतियां सही होती हैं।

**कारण (R) :** खमध्य त्रिविम प्रक्षेप ( ध्रुवीय केस) में देशांतरों के साथ मापक में, केंद्र से दूर जाते हुए, उसी दर से वृद्धि होती है जिस दर से अक्षांशों के साथ वृद्धि होती है।

उपरोक्त कथन के आलोक में, नीचे दिए गए विकल्पों में से **सबसे उपयुक्त उत्तर** का चयन कीजिए :

- (1) (A) और (R) दोनों सही है और (R), (A) की सही व्याख्या है
- (2) (A) और (R) दोनों सही हैं, लेकिन (R), (A) की सही व्याख्या नहीं है
- (3) (A) सही है, लेकिन (R) सही नहीं है
- (4) (A) सही नहीं है, लेकिन (R) सही है

**Options :**

43244953925. 1  
43244953926. 2  
43244953927. 3  
43244953928. 4

Question Number : 33 Question Id : 43244913841 Question Type : MCQ Option Shuffling : No Display Question Number : Yes  
Is Question Mandatory : No Single Line Question Option : No Option Orientation : Vertical

Given below are two statements : one is labelled as **Assertion (A)** and the other is labelled as **Reason (R)**.

**Assertion (A) :** Economically rich societies of western developed world produce much larger quantities of solid waste substances.

**Reason (R) :** There is inverse relationship between the amount of solid wastes produced and richness.

In the light of the above statements, choose the **most appropriate answer** from the options given below :

- (1) Both (A) and (R) are correct and (R) is the correct explanation of (A)
- (2) Both (A) and (R) are correct but (R) is **not** the correct explanation of (A)
- (3) (A) is correct but (R) is not correct
- (4) (A) is not correct but (R) is correct

**Options :**

43244953929. 1  
43244953930. 2  
43244953931. 3  
43244953932. 4

**Question Number : 33 Question Id : 43244913841 Question Type : MCQ Option Shuffling : No Display Question Number : Yes Is Question Mandatory : No Single Line Question Option : No Option Orientation : Vertical**

नीचे दो कथन दिए गए हैं: एक **अभिकथन (A)** के रूप में लिखित है तो दूसरा उसके **कारण (R)** के रूप में है।

**अभिकथन (A) :** पश्चिमी विकसित दुनिया के आर्थिक रूप से समृद्ध समाज बहुत अधिक मात्रा में ठोस अपशिष्ट पदार्थों को उत्पन्न करते हैं।

**कारण (R) :** ठोस अपशिष्ट उत्पादन की मात्रा और समृद्धि के मध्य प्रतिलोम सहसंबंध पाया जाता है।

उपरोक्त कथन के आलोक में, नीचे दिए गए विकल्पों में से **सबसे उपयुक्त उत्तर** का चयन कीजिए :

- (1) (A) और (R) दोनों सही है और (R), (A) की सही व्याख्या है
- (2) (A) और (R) दोनों सही हैं, लेकिन (R), (A) की सही व्याख्या नहीं है
- (3) (A) सही है, लेकिन (R) सही नहीं है
- (4) (A) सही नहीं है, लेकिन (R) सही है

**Options :**

43244953929. 1  
43244953930. 2  
43244953931. 3  
43244953932. 4

**Question Number : 34 Question Id : 43244913842 Question Type : MCQ Option Shuffling : No Display Question Number : Yes Is Question Mandatory : No Single Line Question Option : No Option Orientation : Vertical**

Given below are two statements : one is labelled as **Assertion (A)** and the other is labelled as **Reason (R)**.

**Assertion (A) :** Western Rajasthan region suffers from chronic deficiency of water and frequent droughts.

**Reason (R) :** Western Rajasthan is a region of low average annual rainfall and also of low average annual variability of rainfall.

In the light of the above statements, choose the **most appropriate answer** from the options given below :

- (1) Both (A) and (R) are correct and (R) is the correct explanation of (A)
- (2) Both (A) and (R) are correct but (R) is **not** the correct explanation of (A)
- (3) (A) is correct but (R) is not correct
- (4) (A) is not correct but (R) is correct

**Options :**

43244953933. 1  
43244953934. 2  
43244953935. 3  
43244953936. 4

**Question Number : 34 Question Id : 43244913842 Question Type : MCQ Option Shuffling : No Display Question Number : Yes Is Question Mandatory : No Single Line Question Option : No Option Orientation : Vertical**

नीचे दो कथन दिए गए हैं: एक **अभिकथन (A)** के रूप में लिखित है तो दूसरा उसके **कारण (R)** के रूप में है।

**अभिकथन (A) :** पश्चिमी राजस्थान का क्षेत्र पानी की दीर्घकालिक न्यूनता और बारंबार सूखे से पीड़ित रहता है।

**कारण (R) :** पश्चिमी राजस्थान एक कम औसत वार्षिक वर्षा तथा कम औसत वार्षिक वर्षा की परिवर्तनशीलता का भी प्रदेश है।

उपरोक्त कथन के आलोक में, नीचे दिए गए विकल्पों में से **सबसे उपयुक्त उत्तर** का चयन कीजिए :

- (1) (A) और (R) दोनों सही हैं और (R), (A) की सही व्याख्या है
- (2) (A) और (R) दोनों सही हैं, लेकिन (R), (A) की सही व्याख्या नहीं है
- (3) (A) सही है, लेकिन (R) सही नहीं है
- (4) (A) सही नहीं है, लेकिन (R) सही है

**Options :**

43244953933. 1  
43244953934. 2  
43244953935. 3  
43244953936. 4

**Question Number : 35 Question Id : 43244913843 Question Type : MCQ Option Shuffling : No Display Question Number : Yes Is Question Mandatory : No Single Line Question Option : No Option Orientation : Vertical**

Given below are two statements : one is labelled as **Assertion (A)** and the other is labelled as **Reason (R)**.

**Assertion (A) :** The Silicon Valley is an example of technopolies.

**Reason (R) :** In high technology industries the highly skilled specialist (blue collar professionals) workers are greatly outnumbered by the actual production (white collar) workers .

In the light of the above statements, choose the **most appropriate answer** from the options given below :

- (1) Both (A) and (R) are correct and (R) is the correct explanation of (A)
- (2) Both (A) and (R) are correct but (R) is **not** the correct explanation of (A)
- (3) (A) is correct but (R) is not correct
- (4) (A) is not correct but (R) is correct

**Options :**

43244953937. 1  
43244953938. 2  
43244953939. 3  
43244953940. 4

**Question Number : 35 Question Id : 43244913843 Question Type : MCQ Option Shuffling : No Display Question Number : Yes Is Question Mandatory : No Single Line Question Option : No Option Orientation : Vertical**

नीचे दो कथन दिए गए हैं: एक **अभिकथन (A)** के रूप में लिखित है तो दूसरा उसके **कारण (R)** के रूप में है।

**अभिकथन (A) :** सिलिकन घाटी (वैली) प्रौद्योगिक ध्रुवों का एक उदाहरण है।

**कारण (R) :** उच्च प्रौद्योगिकी उद्योगों में उच्च, दक्ष एवं विशिष्ट (नीला कॉलर व्यावसायिकों) श्रमिक, वास्तविक उत्पादन (सफेद कॉलर) श्रमिकों की तुलना में अध्यधिक कम होते हैं।

उपरोक्त कथन के आलोक में, नीचे दिए गए विकल्पों में से **सबसे उपयुक्त उत्तर** का चयन कीजिए :

- (1) (A) और (R) दोनों सही है और (R), (A) की सही व्याख्या है
- (2) (A) और (R) दोनों सही हैं, लेकिन (R), (A) की सही व्याख्या नहीं है
- (3) (A) सही है, लेकिन (R) सही नहीं है
- (4) (A) सही नहीं है, लेकिन (R) सही है

**Options :**

43244953937. 1  
43244953938. 2  
43244953939. 3  
43244953940. 4

**Question Number : 36 Question Id : 43244913844 Question Type : MCQ Option Shuffling : No Display Question Number : Yes Is Question Mandatory : No Single Line Question Option : No Option Orientation : Vertical**

Given below are two statements : one is labelled as **Assertion (A)** and the other is labelled as **Reason (R)**.

**Assertion (A) :** Himalayan region comes in very high and high damage risk zones of earthquakes.

**Reason (R) :** Himalayas are located on the constructive plate margin.

In the light of the above statements, choose the **most appropriate answer** from the options given below :

- (1) Both (A) and (R) are correct and (R) is the correct explanation of (A)
- (2) Both (A) and (R) are correct but (R) is **not** the correct explanation of (A)
- (3) (A) is correct but (R) is not correct
- (4) (A) is not correct but (R) is correct

**Options :**

- 43244953941. 1
- 43244953942. 2
- 43244953943. 3
- 43244953944. 4

**Question Number : 36 Question Id : 43244913844 Question Type : MCQ Option Shuffling : No Display Question Number : Yes Is Question Mandatory : No Single Line Question Option : No Option Orientation : Vertical**

नीचे दो कथन दिए गए हैं: एक **अभिकथन (A)** के रूप में लिखित है तो दूसरा उसके **कारण (R)** के रूप में है।

**अभिकथन (A) :** हिमालयन क्षेत्र भूकंप के अति उच्च और उच्च क्षति जोखिम क्षेत्र में आता है।

**कारण (R) :** हिमालय निर्माणकारी प्लेट सीमांत पर स्थित हैं।

उपरोक्त कथन के आलोक में, नीचे दिए गए विकल्पों में से **सबसे उपयुक्त उत्तर** का चयन कीजिए :

- (1) (A) और (R) दोनों सही हैं और (R), (A) की सही व्याख्या है
- (2) (A) और (R) दोनों सही हैं, लेकिन (R), (A) की सही व्याख्या नहीं है
- (3) (A) सही है, लेकिन (R) सही नहीं है
- (4) (A) सही नहीं है, लेकिन (R) सही है

**Options :**

- 43244953941. 1
- 43244953942. 2
- 43244953943. 3
- 43244953944. 4

**Question Number : 37 Question Id : 43244913845 Question Type : MCQ Option Shuffling : No Display Question Number : Yes Is Question Mandatory : No Single Line Question Option : No Option Orientation : Vertical**

Given below are two statements : one is labelled as **Assertion (A)** and the other is labelled as **Reason (R)**.

**Assertion (A) :** The Disaster Management Act 2005, represents paradigm shift from a relief-centric approach to one of proactive prevention, mitigation and preparedness.

**Reason (R) :** With proactive approach all natural hazards can be easily avoided.

In the light of the above statements, choose the **most appropriate answer** from the options given below :

- (1) Both (A) and (R) are correct and (R) is the correct explanation of (A)
- (2) Both (A) and (R) are correct but (R) is **not** the correct explanation of (A)
- (3) (A) is correct but (R) is not correct
- (4) (A) is not correct but (R) is correct

**Options :**

- 43244953945. 1
- 43244953946. 2
- 43244953947. 3
- 43244953948. 4

**Question Number : 37 Question Id : 43244913845 Question Type : MCQ Option Shuffling : No Display Question Number : Yes Is Question Mandatory : No Single Line Question Option : No Option Orientation : Vertical**

नीचे दो कथन दिए गए हैं: एक **अभिकथन (A)** के रूप में लिखित है तो दूसरा उसके **कारण (R)** के रूप में है।

**अभिकथन (A) :** आपदा प्रबंधन अधिनियम 2005, एक राहत-केंद्रित उपागम से एक सतर्क रोकथाम, न्यूनीकरण और तैयारीपूर्ण प्रतिमान को स्थानांतरण दर्शाता है।

**कारण (R) :** सतर्क उपागम के साथ सभी प्राकृतिक जोखिमों को आसानी से टाला जा सकता है।

उपरोक्त कथन के आलोक में, नीचे दिए गए विकल्पों में से **सबसे उपयुक्त उत्तर** का चयन कीजिए :

- (1) (A) और (R) दोनों सही हैं और (R), (A) की सही व्याख्या है
- (2) (A) और (R) दोनों सही हैं, लेकिन (R), (A) की सही व्याख्या नहीं है
- (3) (A) सही है, लेकिन (R) सही नहीं है
- (4) (A) सही नहीं है, लेकिन (R) सही है

**Options :**

43244953945. 1
43244953946. 2
43244953947. 3
43244953948. 4

**Question Number : 38 Question Id : 43244913846 Question Type : MCQ Option Shuffling : No Display Question Number : Yes Is Question Mandatory : No Single Line Question Option : No Option Orientation : Vertical**

Given below are two statements : one is labelled as **Assertion (A)** and the other is labelled as **Reason (R)**.

**Assertion (A) :** December is the peak month for foreign tourist arrivals in India.

**Reason (R) :** Indian tourism pattern is influenced by vacations and weather-related seasonality.

In the light of the above statements, choose the **most appropriate answer** from the options given below :

- (1) Both (A) and (R) are correct and (R) is the correct explanation of (A)
- (2) Both (A) and (R) are correct but (R) is **not** the correct explanation of (A)
- (3) (A) is correct but (R) is not correct
- (4) (A) is not correct but (R) is correct

**Options :**

43244953949. 1
43244953950. 2
43244953951. 3
43244953952. 4

**Question Number : 38 Question Id : 43244913846 Question Type : MCQ Option Shuffling : No Display Question Number : Yes Is Question Mandatory : No Single Line Question Option : No Option Orientation : Vertical**

नीचे दो कथन दिए गए हैं: एक **अभिकथन (A)** के रूप में लिखित है तो दूसरा उसके **कारण (R)** के रूप में है।

**अभिकथन (A) :** दिसंबर भारत में विदेशी पर्यटक आगमन का चरम महीना होता है।

**कारण (R) :** भारतीय पर्यटन का प्रतिरूप अवकाश एवं ऋतु-संबंधी मौसमीयता से प्रभावित होता है।

उपरोक्त कथन के आलोक में, नीचे दिए गए विकल्पों में से **सबसे उपयुक्त उत्तर** का चयन कीजिए :

- (1) (A) और (R) दोनों सही हैं और (R), (A) की सही व्याख्या है
- (2) (A) और (R) दोनों सही हैं, लेकिन (R), (A) की सही व्याख्या नहीं है
- (3) (A) सही है, लेकिन (R) सही नहीं है
- (4) (A) सही नहीं है, लेकिन (R) सही है

**Options :**

43244953949. 1

43244953950. 2  
43244953951. 3  
43244953952. 4

Question Number : 39 Question Id : 43244913847 Question Type : MCQ Option Shuffling : No Display Question Number : Yes  
Is Question Mandatory : No Single Line Question Option : No Option Orientation : Vertical

Given below are two statements : one is labelled as **Assertion (A)** and the other is labelled as **Reason (R)**.

**Assertion (A) :** The National Environmental Policy is a response to our national commitment to a clean environment.

**Reason (R) :** Article 48A, 51(A)(g) along with judicial interpretation of Article 21 recognise that maintaining a healthy environment is responsibility of the state as well as that of every citizen.

In the light of the above statements, choose the **most appropriate answer** from the options given below :

- (1) Both (A) and (R) are correct and (R) is the correct explanation of (A)
- (2) Both (A) and (R) are correct but (R) is **not** the correct explanation of (A)
- (3) (A) is correct but (R) is not correct
- (4) (A) is not correct but (R) is correct

**Options :**

43244953953. 1  
43244953954. 2  
43244953955. 3  
43244953956. 4

Question Number : 39 Question Id : 43244913847 Question Type : MCQ Option Shuffling : No Display Question Number : Yes  
Is Question Mandatory : No Single Line Question Option : No Option Orientation : Vertical

नीचे दो कथन दिए गए हैं: एक **अभिकथन (A)** के रूप में लिखित है तो दूसरा उसके **कारण (R)** के रूप में है।

**अभिकथन (A) :** राष्ट्रीय पर्यावरण नीति, स्वच्छ पर्यावरण के लिए हमारी राष्ट्रीय वचनबद्धता की अनुक्रिया है।

**कारण (R) :** अनुच्छेद 48A, 51A(g) के साथ अनुच्छेद 21 की न्यायिक व्याख्या स्वीकार करती है कि एक स्वस्थ पर्यावरण को बनाकर रखना, राज्य और इसके प्रत्येक नागरिक का दायित्व है।

उपरोक्त कथन के आलोक में, नीचे दिए गए विकल्पों में से **सबसे उपयुक्त उत्तर** का चयन कीजिए :

- (1) (A) और (R) दोनों सही है और (R), (A) की सही व्याख्या है
- (2) (A) और (R) दोनों सही हैं, लेकिन (R), (A) की सही व्याख्या नहीं है
- (3) (A) सही है, लेकिन (R) सही नहीं है
- (4) (A) सही नहीं है, लेकिन (R) सही है

**Options :**

43244953953. 1  
43244953954. 2  
43244953955. 3  
43244953956. 4

Question Number : 40 Question Id : 43244913848 Question Type : MCQ Option Shuffling : No Display Question Number : Yes  
Is Question Mandatory : No Single Line Question Option : No Option Orientation : Vertical

Arrange the following in chronological order :

- A. Locational Analysis in Human Geography (Hagget)
- B. Origin of Species (Darwin)
- C. Humanistic Geography (Tuan)
- D. Influences of Geographic Environment (Semple)

Choose the **correct** answer from the options given below :

- (1) A, B, C, D
- (2) D, C, B, A
- (3) C, A, D, B
- (4) B, D, A, C

**Options :**

- 43244953957. 1
- 43244953958. 2
- 43244953959. 3
- 43244953960. 4

**Question Number : 40 Question Id : 43244913848 Question Type : MCQ Option Shuffling : No Display Question Number : Yes Is Question Mandatory : No Single Line Question Option : No Option Orientation : Vertical**

निम्नलिखित को कालानुक्रम में व्यवस्थित कीजिए :

- A. लोकेशनल एनेलिसिस इन ह्यूमन ज्योग्राफी (हैगेट)
- B. ओरिजन ऑफ स्पीसिज (डार्विन)
- C. ह्यूमनिस्टिक ज्योग्राफी (टुआन)
- D. इन्फ्लुएंस ऑफ ज्योग्राफीक इनवायरमेंट (सेम्पल)

नीचे दिए गए विकल्पों में से **सही** उत्तर का चयन कीजिए :

- (1) A, B, C, D
- (2) D, C, B, A
- (3) C, A, D, B
- (4) B, D, A, C

**Options :**

- 43244953957. 1
- 43244953958. 2
- 43244953959. 3
- 43244953960. 4

**Question Number : 41 Question Id : 43244913849 Question Type : MCQ Option Shuffling : No Display Question Number : Yes Is Question Mandatory : No Single Line Question Option : No Option Orientation : Vertical**

Arrange the following countries in descending order on the basis of rate of natural increase of population in 2024 :

- A. Somalia
- B. Nigeria
- C. Bangladesh
- D. China

Choose the correct answer from the options given below :

- (1) D, C, B, A
- (2) A, B, C, D
- (3) B, D, A, C
- (4) C, A, D, B

**Options :**

- 43244953961. 1
- 43244953962. 2
- 43244953963. 3
- 43244953964. 4

**Question Number : 41 Question Id : 43244913849 Question Type : MCQ Option Shuffling : No Display Question Number : Yes Is Question Mandatory : No Single Line Question Option : No Option Orientation : Vertical**

2024 में जनसंख्या की प्राकृतिक वृद्धि दर के आधार पर निम्नलिखित देशों को अवरोही क्रम में व्यवस्थित कीजिए।

- A. सोमालिया
- B. नाइजीरिया
- C. बांग्लादेश
- D. चीन

नीचे दिए गए विकल्पों में से सही उत्तर का चयन कीजिए :

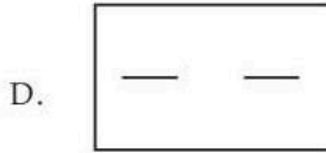

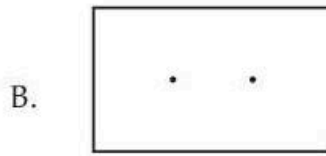

- (1) D, C, B, A
- (2) A, B, C, D
- (3) B, D, A, C
- (4) C, A, D, B

**Options :**

- 43244953961. 1
- 43244953962. 2
- 43244953963. 3
- 43244953964. 4

**Question Number : 42 Question Id : 43244913850 Question Type : MCQ Option Shuffling : No Display Question Number : Yes Is Question Mandatory : No Single Line Question Option : No Option Orientation : Vertical**

Arrange the following in ascending order on the basis of intensity of the data represented by these shades on map.



Choose the **correct** answer from the options given below :

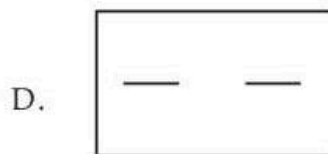



- (1) A, B, C, D
- (2) D, C, B, A
- (3) B, D, A, C
- (4) C, A, D, B

**Options :**

43244953965. 1  
 43244953966. 2  
 43244953967. 3  
 43244953968. 4

**Question Number : 42 Question Id : 43244913850 Question Type : MCQ Option Shuffling : No Display Question Number : Yes Is Question Mandatory : No Single Line Question Option : No Option Orientation : Vertical**

मानचित्र में निम्नलिखित आभाओं द्वारा प्रदर्शित आँकड़ों की गहनता के आधार पर आरोही क्रम में व्यवस्थित कीजिए।



नीचे दिए गए विकल्पों में से **सही** उत्तर का चयन कीजिए :

- (1) A, B, C, D
- (2) D, C, B, A
- (3) B, D, A, C
- (4) C, A, D, B

**Options :**

43244953965. 1  
 43244953966. 2  
 43244953967. 3  
 43244953968. 4

**Question Number : 43 Question Id : 43244913851 Question Type : MCQ Option Shuffling : No Display Question Number : Yes Is Question Mandatory : No Single Line Question Option : No Option Orientation : Vertical**

Arrange the following Indian Wildlife projects chronologically.

- A. Project Elephant
- B. Inter Continental Translocation of Wild Cheetahs in Kuno National Park
- C. Project Tiger
- D. Asiatic Lion Conservation Project

Choose the **correct** answer from the options given below :

- (1) C, A, D, B
- (2) C, A, B, D
- (3) A, C, D, B
- (4) A, C, B, D

**Options :**

- 43244953969. 1
- 43244953970. 2
- 43244953971. 3
- 43244953972. 4

**Question Number : 43 Question Id : 43244913851 Question Type : MCQ Option Shuffling : No Display Question Number : Yes Is Question Mandatory : No Single Line Question Option : No Option Orientation : Vertical**

निम्नलिखित भारतीय वन्यजीवन परियोजनाओं को कालानुक्रम में व्यवस्थित कीजिए।

- A. हाथी परियोजना
- B. कुनो राष्ट्रीय उद्यान में जंगली चीतों का अंतर-महाद्वीपीय स्थानान्तरण
- C. बाघ (टाईगर) परियोजना
- D. एशियाई शेर संरक्षण परियोजना

नीचे दिए गए विकल्पों में से **सही उत्तर** का चयन कीजिए :

- (1) C, A, D, B
- (2) C, A, B, D
- (3) A, C, D, B
- (4) A, C, B, D

**Options :**

- 43244953969. 1
- 43244953970. 2
- 43244953971. 3
- 43244953972. 4

**Question Number : 44 Question Id : 43244913852 Question Type : MCQ Option Shuffling : No Display Question Number : Yes Is Question Mandatory : No Single Line Question Option : No Option Orientation : Vertical**

Arrange the following states of India in descending order of their population growth rates during 2001-2011.

- A. Rajasthan
- B. Bihar
- C. Madhya Pradesh
- D. Jharkhand

Choose the **correct** answer from the options given below :

- (1) A, C, D, B
- (2) B, D, C, A
- (3) D, B, A, C
- (4) B, D, A, C

**Options :**

- 43244953973. 1
- 43244953974. 2
- 43244953975. 3
- 43244953976. 4

**Question Number : 44 Question Id : 43244913852 Question Type : MCQ Option Shuffling : No Display Question Number : Yes Is Question Mandatory : No Single Line Question Option : No Option Orientation : Vertical**

निम्नलिखित भारतीय राज्यों को 2001-2011के दौरान उनकी जनसंख्या वृद्धि दर के आधार पर अवरोही क्रम में व्यवस्थित कीजिए।

- A. राजस्थान
- B. बिहार
- C. मध्य प्रदेश
- D. झारखंड

नीचे दिए गए विकल्पों में से सही उत्तर का चयन कीजिए :

- (1) A, C, D, B
- (2) B, D, C, A
- (3) D, B, A, C
- (4) B, D, A, C

**Options :**

- 43244953973. 1
- 43244953974. 2
- 43244953975. 3
- 43244953976. 4

**Question Number : 45 Question Id : 43244913853 Question Type : MCQ Option Shuffling : No Display Question Number : Yes Is Question Mandatory : No Single Line Question Option : No Option Orientation : Vertical**

Arrange the following concentric land use zones from centre to the periphery as per Von Thunen's Theory.

- A. Market Gardens
- B. Three-field system
- C. Extensive cattle raising
- D. Wood production

Choose the correct answer from the options given below :

- (1) A, C, D, B
- (2) D, A, B, C
- (3) C, B, A, D
- (4) A, D, B, C

**Options :**

- 43244953977. 1
- 43244953978. 2
- 43244953979. 3
- 43244953980. 4

**Question Number : 45 Question Id : 43244913853 Question Type : MCQ Option Shuffling : No Display Question Number : Yes Is Question Mandatory : No Single Line Question Option : No Option Orientation : Vertical**

वान थ्यूनेन के सिद्धांत के अनुसार संकेन्द्रीय भूमि उपयोग खण्डों को केन्द्र से परिधि की ओर व्यवस्थित कीजिए।

- A. बाजार बागान
- B. तीन-फील्ड तंत्र
- C. विस्तृत पशुपालन
- D. लकड़ी उत्पादन

नीचे दिए गए विकल्पों में से सही उत्तर का चयन कीजिए :

- (1) A, C, D, B
- (2) D, A, B, C
- (3) C, B, A, D
- (4) A, D, B, C

**Options :**

- 43244953977. 1
- 43244953978. 2
- 43244953979. 3
- 43244953980. 4

**Question Number : 46 Question Id : 43244913854 Question Type : MCQ Option Shuffling : No Display Question Number : Yes Is Question Mandatory : No Single Line Question Option : No Option Orientation : Vertical**

Arrange the following Industrial centres from east to west.

- A. Boston
- B. Chicago
- C. Seattle
- D. Pittsburgh

Choose the **correct** answer from the options given below :

- (1) D, A, C, B
- (2) B, C, A, D
- (3) A, D, B, C
- (4) C, B, D, A

**Options :**

- 43244953981. 1
- 43244953982. 2
- 43244953983. 3
- 43244953984. 4

**Question Number : 46 Question Id : 43244913854 Question Type : MCQ Option Shuffling : No Display Question Number : Yes Is Question Mandatory : No Single Line Question Option : No Option Orientation : Vertical**

निम्नलिखित औद्योगिक केंद्रों को पूर्व से पश्चिम की ओर व्यवस्थित कीजिए।

- A. बोस्टन
- B. शिकागो
- C. सिएटल
- D. पीट्सबर्ग

नीचे दिए गए विकल्पों में से सही उत्तर का चयन कीजिए :

- (1) D, A, C, B
- (2) B, C, A, D
- (3) A, D, B, C
- (4) C, B, D, A

**Options :**

- 43244953981. 1
- 43244953982. 2
- 43244953983. 3
- 43244953984. 4

**Question Number : 47 Question Id : 43244913855 Question Type : MCQ Option Shuffling : No Display Question Number : Yes Is Question Mandatory : No Single Line Question Option : No Option Orientation : Vertical**

Arrange the following stations on Trans-Canadian Railway from East to West :

- A. Winnipeg
- B. Regina
- C. Calgary
- D. Montreal

Choose the **correct** answer from the options given below :

- (1) D, A, B, C
- (2) A, B, C, D
- (3) D, C, B, A
- (4) B, A, D, C

**Options :**

- 43244953985. 1
- 43244953986. 2
- 43244953987. 3
- 43244953988. 4

**Question Number : 47 Question Id : 43244913855 Question Type : MCQ Option Shuffling : No Display Question Number : Yes Is Question Mandatory : No Single Line Question Option : No Option Orientation : Vertical**

पार-कैनेडियन रेलमार्ग पर निम्नलिखित स्टेशनों को पूर्व से पश्चिम में व्यवस्थित कीजिए।

- A. विनिपेग
- B. रेगिना
- C. कैलगरी
- D. मॉन्ट्रियल

नीचे दिए गए विकल्पों में से सही उत्तर का चयन कीजिए :

- (1) D, A, B, C
- (2) A, B, C, D
- (3) D, C, B, A
- (4) B, A, D, C

**Options :**

- 43244953985. 1
- 43244953986. 2
- 43244953987. 3
- 43244953988. 4

**Question Number : 48 Question Id : 43244913856 Question Type : MCQ Option Shuffling : No Display Question Number : Yes Is Question Mandatory : No Single Line Question Option : No Option Orientation : Vertical**

Arrange the following states in order of high to low affected by landslides.

- A. Haryana
- B. Karnataka
- C. Manipur
- D. Chattisgarh

Choose the correct answer from the options given below :

- (1) B, C, D, A
- (2) C, B, D, A
- (3) C, B, A, D
- (4) B, C, A, D

**Options :**

- 43244953989. 1
- 43244953990. 2
- 43244953991. 3
- 43244953992. 4

**Question Number : 48 Question Id : 43244913856 Question Type : MCQ Option Shuffling : No Display Question Number : Yes Is Question Mandatory : No Single Line Question Option : No Option Orientation : Vertical**

निम्नलिखित राज्यों को भूस्खलन से प्रभावित के आधार पर उच्च से निम्न के क्रम में व्यवस्थित कीजिए।

- A. हरियाणा
- B. कर्नाटक
- C. मणिपुर
- D. छत्तीसगढ़

नीचे दिए गए विकल्पों में से सही उत्तर का चयन कीजिए :

- (1) B, C, D, A
- (2) C, B, D, A
- (3) C, B, A, D
- (4) B, C, A, D

**Options :**

- 43244953989. 1
- 43244953990. 2
- 43244953991. 3
- 43244953992. 4

**Question Number : 49 Question Id : 43244913857 Question Type : MCQ Option Shuffling : No Display Question Number : Yes Is Question Mandatory : No Single Line Question Option : No Option Orientation : Vertical**

Arrange the following tourism projects under PRASAD scheme from north to south.

- A. Srisailam
- B. Kamakhya
- C. Guruvayoor
- D. Hazratbal

Choose the correct answer from the options given below :

- (1) B, D, A, C
- (2) D, B, A, C
- (3) D, B, C, A
- (4) B, C, D, A

**Options :**

- 43244953993. 1
- 43244953994. 2
- 43244953995. 3
- 43244953996. 4

**Question Number : 49 Question Id : 43244913857 Question Type : MCQ Option Shuffling : No Display Question Number : Yes Is Question Mandatory : No Single Line Question Option : No Option Orientation : Vertical**

प्रसाद (PRASAD) योजना के अंतर्गत निम्नलिखित पर्यटन परियोजनाओं को उत्तर से दक्षिण की ओर व्यवस्थित कीजिए।

- A. श्रीसेलम
- B. कामाख्या
- C. गुरुवयूर
- D. हजरतबल

नीचे दिए गए विकल्पों में से सही उत्तर का चयन कीजिए :

- (1) B, D, A, C
- (2) D, B, A, C
- (3) D, B, C, A
- (4) B, C, D, A

**Options :**

- 43244953993. 1
- 43244953994. 2
- 43244953995. 3
- 43244953996. 4

**Question Number : 50 Question Id : 43244913858 Question Type : MCQ Option Shuffling : No Display Question Number : Yes Is Question Mandatory : No Single Line Question Option : No Option Orientation : Vertical**

Arrange the following countries in descending order on the basis of international tourist arrivals in India (2024).

- A. Turkiye
- B. Spain
- C. France
- D. USA

Choose the correct answer from the options given below :

- (1) B, C, A, D
- (2) C, B, A, D
- (3) C, B, D, A
- (4) B, C, D, A

**Options :**

- 43244953997. 1
- 43244953998. 2
- 43244953999. 3
- 43244954000. 4

**Question Number : 50 Question Id : 43244913858 Question Type : MCQ Option Shuffling : No Display Question Number : Yes Is Question Mandatory : No Single Line Question Option : No Option Orientation : Vertical**

भारत में अंतर्राष्ट्रीय पर्यटक आगमन (2024) के आधार पर निम्नलिखित देशों को अवरोही क्रम में व्यवस्थित कीजिए।

- A. तुर्किये (टर्की)
- B. स्पेन
- C. फ्रांस
- D. यू.एस.ए.

नीचे दिए गए विकल्पों में से सही उत्तर का चयन कीजिए :

- (1) B, C, A, D
- (2) C, B, A, D
- (3) C, B, D, A
- (4) B, C, D, A

**Options :**

- 43244953997. 1
- 43244953998. 2
- 43244953999. 3
- 43244954000. 4

**Question Number : 51 Question Id : 43244913859 Question Type : MCQ Option Shuffling : No Display Question Number : Yes Is Question Mandatory : No Single Line Question Option : No Option Orientation : Vertical**

Arrange the following publications chronologically.

- A. The Future We Want
- B. Our Common Future
- C. Limits to Growth
- D. Agenda 21

Choose the correct answer from the options given below :

- (1) B, C, A, D
- (2) D, C, A, B
- (3) C, B, A, D
- (4) C, B, D, A

**Options :**

- 43244954001. 1
- 43244954002. 2
- 43244954003. 3
- 43244954004. 4

**Question Number : 51 Question Id : 43244913859 Question Type : MCQ Option Shuffling : No Display Question Number : Yes Is Question Mandatory : No Single Line Question Option : No Option Orientation : Vertical**

निम्नलिखित प्रकाशनों को कालानुक्रम में व्यवस्थित कीजिए।

- A. द फ्यूचर वी वांट
- B. आवर कॉमन फ्यूचर
- C. लिमिट्स टू ग्रोथ
- D. एजेंडा 21

नीचे दिए गए विकल्पों में से सही उत्तर का चयन कीजिए :

- (1) B, C, A, D
- (2) D, C, A, B
- (3) C, B, A, D
- (4) C, B, D, A

**Options :**

- 43244954001. 1
- 43244954002. 2
- 43244954003. 3
- 43244954004. 4

**Question Number : 52 Question Id : 43244913860 Question Type : MCQ Option Shuffling : No Display Question Number : Yes Is Question Mandatory : No Single Line Question Option : No Option Orientation : Vertical**

Identify correct statements about urbanisation.

- A. Bahrain is characterised with 100 percent urbanisation.
- B. Level of urbanisation is very low in Trinidad and Tobago.
- C. Manila, Bangkok and Seoul are examples of primate city.
- D. During the last one hundred years highest urban growth has been observed in the small cities.

Choose the **correct** answer from the options given below :

- (1) A and B only
- (2) B and C only
- (3) A, B and C only
- (4) B, C and D only

**Options :**

- 43244954005. 1
- 43244954006. 2
- 43244954007. 3
- 43244954008. 4

**Question Number : 52 Question Id : 43244913860 Question Type : MCQ Option Shuffling : No Display Question Number : Yes Is Question Mandatory : No Single Line Question Option : No Option Orientation : Vertical**

नगरीकरण के बारे में सही कथनों की पहचान कीजिए।

- A. बहरेन की विशेषता इसका 100 प्रतिशत नगरीकरण है।
- B. त्रिनिदाद और टोबागो में नगरीकरण का स्तर बहुत निम्न है।
- C. मनीला, बैंकॉक और सियॉल, प्रधान (प्राथमिक) नगर के उदाहरण हैं।
- D. पिछले सौ वर्षों के दौरान, अधिकतम नगरीय वृद्धि छोटे शहरों में देखी गई है।

नीचे दिए गए विकल्पों में से सही उत्तर का चयन कीजिए :

- (1) केवल A और B
- (2) केवल B और C
- (3) केवल A, B और C
- (4) केवल B, C और D

**Options :**

- 43244954005. 1
- 43244954006. 2
- 43244954007. 3
- 43244954008. 4

**Question Number : 53 Question Id : 43244913861 Question Type : MCQ Option Shuffling : No Display Question Number : Yes Is Question Mandatory : No Single Line Question Option : No Option Orientation : Vertical**

Identify correct statements about literacy in India, Census 2011.

- A. Literacy rate was lowest in Bihar.
- B. The gap between male-female literacy rate increased in 2001-2011 as compared to 1991-2001.
- C. Literacy rate was highest in Kerala.
- D. Literacy rate was calculated based on the 5 and above years population.

Choose the correct answer from the options given below :

- (1) A and B only
- (2) B and C only
- (3) A and C only
- (4) A and D only

**Options :**

- 43244954009. 1
- 43244954010. 2
- 43244954011. 3
- 43244954012. 4

**Question Number : 53 Question Id : 43244913861 Question Type : MCQ Option Shuffling : No Display Question Number : Yes Is Question Mandatory : No Single Line Question Option : No Option Orientation : Vertical**

जनगणना 2011, भारत में साक्षरता के संदर्भ में सही कथनों की पहचान कीजिए।

- A. साक्षरता दर बिहार में न्यूनतम थी।
- B. 1991-2001 की तुलना में 2001-2011 में पुरुष-महिला साक्षरता दर में अन्तराल बढ़ गया।
- C. साक्षरता दर केरल में सर्वाधिक थी।
- D. साक्षरता दर की गणना 5 या अधिक वर्षों की जनसंख्या के आधार पर की गई।

नीचे दिए गए विकल्पों में से सही उत्तर का चयन कीजिए :

- (1) केवल A और B
- (2) केवल B और C
- (3) केवल A और C
- (4) केवल A और D

**Options :**

- 43244954009. 1
- 43244954010. 2
- 43244954011. 3
- 43244954012. 4

**Question Number : 54 Question Id : 43244913862 Question Type : MCQ Option Shuffling : No Display Question Number : Yes Is Question Mandatory : No Single Line Question Option : No Option Orientation : Vertical**

Identify correct statements about early popularity of the Mercator projection.

- A. Shipment being the chief mode of international transportation during the 19<sup>th</sup> century.
- B. Major portions of the then British Empire were shown relatively smaller.
- C. The colony countries of the old world were exaggerated in areal coverage.
- D. On this projection Greenland appears to be larger than the whole of South America.

Choose the **correct** answer from the options given below :

- (1) A and C only
- (2) A and D only
- (3) B and C only
- (4) C and D only

**Options :**

- 43244954013. 1
- 43244954014. 2
- 43244954015. 3
- 43244954016. 4

**Question Number : 54 Question Id : 43244913862 Question Type : MCQ Option Shuffling : No Display Question Number : Yes Is Question Mandatory : No Single Line Question Option : No Option Orientation : Vertical**

मर्केटर प्रक्षेप की शुरुआती प्रसिद्धि के बारे में सही कथनों की पहचान कीजिए ।

- A. 19 वीं शताब्दी के दौरान समुद्री यात्रा अंतर्राष्ट्रीय परिवहन का प्रमुख प्रकार था।
- B. तात्कालिक ब्रिटिश साम्राज्य का अधिकांश हिस्सा अपेक्षाकृत छोटा दर्शाया गया था।
- C. पुरानी दुनिया के औपनिवेशित देशों का क्षेत्रीय विस्तार अतिरंजित था।
- D. इस प्रक्षेप पर ग्रीनलैंड, संपूर्ण दक्षिणी अमेरिका से भी बड़ा प्रतीत होता है।

नीचे दिए गए विकल्पों में से सही उत्तर का चयन कीजिए :

- (1) केवल A और C
- (2) केवल A और D
- (3) केवल B और C
- (4) केवल C और D

**Options :**

- 43244954013. 1
- 43244954014. 2
- 43244954015. 3
- 43244954016. 4

**Question Number : 55 Question Id : 43244913863 Question Type : MCQ Option Shuffling : No Display Question Number : Yes Is Question Mandatory : No Single Line Question Option : No Option Orientation : Vertical**

Identify incorrect statements with reference to the functioning of ecosystems.

- A. Plants are primary consumers.
- B. Herbivorous animals are secondary consumers.
- C. Energy flow is always unidirectional.
- D. Ecological pyramid of biomass is always upright.

Choose the correct answer from the options given below :

- (1) A, B and C only
- (2) B, C and D only
- (3) A, B and D only
- (4) C and D only

**Options :**

- 43244954017. 1
- 43244954018. 2
- 43244954019. 3
- 43244954020. 4

**Question Number : 55 Question Id : 43244913863 Question Type : MCQ Option Shuffling : No Display Question Number : Yes Is Question Mandatory : No Single Line Question Option : No Option Orientation : Vertical**

पारिस्थितिकी तंत्रों की कार्यशीलता के संदर्भ में गलत कथनों की पहचान कीजिए।

- A. पौधे प्राथमिक उपभोक्ता हैं।
- B. शाकाहारी पशु द्वितीयक उपभोक्ता हैं।
- C. ऊर्जा प्रवाह सदैव एक दिशा में होता है।
- D. जैवभार का पारिस्थितिकीय पिरामिड सदैव ऊर्ध्वाधर होता है।

नीचे दिए गए विकल्पों में से सही उत्तर का चयन कीजिए :

- (1) केवल A, B और C
- (2) केवल B, C और D
- (3) केवल A, B और D
- (4) केवल C और D

**Options :**

- 43244954017. 1
- 43244954018. 2
- 43244954019. 3
- 43244954020. 4

**Question Number : 56 Question Id : 43244913864 Question Type : MCQ Option Shuffling : No Display Question Number : Yes Is Question Mandatory : No Single Line Question Option : No Option Orientation : Vertical**

Which of the following are identified as guiding principles in the National Environment Policy ?

- A. The Right to Development
- B. The Precautionary Approach
- C. Economic Inefficiency but Environmental Efficiency
- D. The state is an absolute owner of all resources

Choose the **correct** answer from the options given below :

- (1) A, C and D only
- (2) C and D only
- (3) B and C only
- (4) A and B only

**Options :**

- 43244954021. 1
- 43244954022. 2
- 43244954023. 3
- 43244954024. 4

**Question Number : 56 Question Id : 43244913864 Question Type : MCQ Option Shuffling : No Display Question Number : Yes Is Question Mandatory : No Single Line Question Option : No Option Orientation : Vertical**

निम्नलिखित में से कौनसे राष्ट्रीय पर्यावरण नीति में मार्गदर्शक सिद्धांतों के रूप में पहचाने गए हैं ?

- A. विकास का अधिकार
- B. एहतियाती उपागम
- C. आर्थिक अदक्षता परंतु पर्यावरणीय दक्षता
- D. राज्य (देश) सभी संसाधनों का वास्तविक स्वामी है।

नीचे दिए गए विकल्पों में से सही उत्तर का चयन कीजिए :

- (1) केवल A, C और D
- (2) केवल C और D
- (3) केवल B और C
- (4) केवल A और B

**Options :**

- 43244954021. 1
- 43244954022. 2
- 43244954023. 3
- 43244954024. 4

**Question Number : 57 Question Id : 43244913865 Question Type : MCQ Option Shuffling : No Display Question Number : Yes Is Question Mandatory : No Single Line Question Option : No Option Orientation : Vertical**

Identify correct statements with reference to Indian crops.

- A. Wheat needs plenty of heat, plenty of rain and plenty of labour to provide plenty of food for plenty of people.
- B. Cotton is grown in areas having at least 210 frost free days in a year.
- C. Tamil Nadu state reported highest yield in sugarcane in 2020-21.
- D. Gujarat was the leading producer of groundnut in India in 2020-21.

Choose the correct answer from the options given below :

- (1) A, B and D only
- (2) A, C and D only
- (3) B, C and D only
- (4) A and D only

**Options :**

- 43244954025. 1
- 43244954026. 2
- 43244954027. 3
- 43244954028. 4

**Question Number : 57 Question Id : 43244913865 Question Type : MCQ Option Shuffling : No Display Question Number : Yes Is Question Mandatory : No Single Line Question Option : No Option Orientation : Vertical**

भारतीय फसलों के संदर्भ में सही कथनों की पहचान कीजिए।

- A. गेहूँ को अत्यधिक लोगों के लिए अत्यधिक खाना प्रदान करने के लिए अत्यधिक उष्मा, अत्यधिक वर्षा और अत्यधिक श्रम की आवश्यकता होती है।
- B. कपास को वर्ष में कम से कम 210 पाला रहित दिनों वाले क्षेत्रों में उगाया जाता है।
- C. तमिलनाडु राज्य में 2020-21 में गन्ने की उच्चतम उपज (उत्पादकता) रिपोर्ट की गई।
- D. गुजरात भारत का 2020-21 में मूंगफली का अग्रणी उत्पादक राज्य था।

नीचे दिए गए विकल्पों में से सही उत्तर का चयन कीजिए :

- (1) केवल A, B और D
- (2) केवल A, C और D
- (3) केवल B, C और D
- (4) केवल A और D

**Options :**

- 43244954025. 1
- 43244954026. 2
- 43244954027. 3
- 43244954028. 4

**Question Number : 58 Question Id : 43244913866 Question Type : MCQ Option Shuffling : No Display Question Number : Yes Is Question Mandatory : No Single Line Question Option : No Option Orientation : Vertical**

Identify correct statements regarding Indian Railways.

- A. Metre gauge track length share is highest in total track length.
- B. Only 25 percent of the route length is electrified (2024).
- C. Jammu-Baramulla railway line passes through the Pir Panjal tunnel.
- D. Kolkata is headquarter of the Eastern Railway zone.

Choose the **correct** answer from the options given below :

- (1) A, C and D only
- (2) A and B only
- (3) B and C only
- (4) C and D only

**Options :**

- 43244954029. 1
- 43244954030. 2
- 43244954031. 3
- 43244954032. 4

**Question Number : 58 Question Id : 43244913866 Question Type : MCQ Option Shuffling : No Display Question Number : Yes Is Question Mandatory : No Single Line Question Option : No Option Orientation : Vertical**

भारतीय रेलवे के संदर्भ में सही कथनों की पहचान कीजिए।

- A. कुल मार्ग लंबाई में मीटर गेज मार्ग की लंबाई का हिस्सा अधिकतम है।
- B. केवल 25 प्रतिशत मार्ग की लंबाई का विद्युतीकरण (2024) हुआ है।
- C. जम्मू-बारामूला रेलमार्ग, पीर-पंजाल सुरंग से होकर गुजरता है।
- D. कोलकत्ता पूर्व रेलवे मंडल का मुख्यालय है।

नीचे दिए गए विकल्पों में से सही उत्तर का चयन कीजिए :

- (1) केवल A, C और D
- (2) केवल A और B
- (3) केवल B और C
- (4) केवल C और D

**Options :**

- 43244954029. 1
- 43244954030. 2
- 43244954031. 3
- 43244954032. 4

**Question Number : 59 Question Id : 43244913867 Question Type : MCQ Option Shuffling : No Display Question Number : Yes Is Question Mandatory : No Single Line Question Option : No Option Orientation : Vertical**

Identify the correct statements :

- A. Niti pass is located in Uttarakhand.
- B. Jelep La lies at the Sikkim-Bhutan border.
- C. Saddle Peak is the highest peak of Great Nicobar Island.
- D. Minicoy is the largest island in Lakshadweep.

Choose the **correct** answer from the options given below :

- (1) A, B and D only
- (2) A, B and C only
- (3) B, C and D only
- (4) A, C and D only

**Options :**

- 43244954033. 1
- 43244954034. 2
- 43244954035. 3
- 43244954036. 4

**Question Number : 59 Question Id : 43244913867 Question Type : MCQ Option Shuffling : No Display Question Number : Yes Is Question Mandatory : No Single Line Question Option : No Option Orientation : Vertical**

सही कथनों की पहचान कीजिए :

- A. नीति दर्रा उत्तराखंड में स्थित है।
- B. जेलेप-ला सिक्किम-भूटान सीमा पर स्थित है।
- C. सैडल-चोटी ग्रेट निकोबार द्वीप की उच्चतम चोटी है।
- D. मिनिर्काय लक्षद्वीप का सबसे बड़ा द्वीप है।

नीचे दिए गए विकल्पों में से सही उत्तर का चयन कीजिए :

- (1) केवल A, B और D
- (2) केवल A, B और C
- (3) केवल B, C और D
- (4) केवल A, C और D

**Options :**

- 43244954033. 1
- 43244954034. 2
- 43244954035. 3
- 43244954036. 4

**Question Number : 60 Question Id : 43244913868 Question Type : MCQ Option Shuffling : No Display Question Number : Yes Is Question Mandatory : No Single Line Question Option : No Option Orientation : Vertical**

Identify correct statements with reference to tropical cyclones in India.

- A. More cyclones form in the Bay of Bengal than in the Arabian sea.
- B. Almost all storms in the Bay of Bengal have their genesis between equator and 10°N.
- C. The October-November months recorded the highest frequency of cyclones (1897-2014).
- D. Cyclone warning and cyclone shelters are effective means of reducing loss of human lives.

Choose the **correct** answer from the options given below :

- (1) A and B only
- (2) B, C and D only
- (3) A, B and D only
- (4) A, C and D only

**Options :**

- 43244954037. 1
- 43244954038. 2
- 43244954039. 3
- 43244954040. 4

**Question Number : 60 Question Id : 43244913868 Question Type : MCQ Option Shuffling : No Display Question Number : Yes Is Question Mandatory : No Single Line Question Option : No Option Orientation : Vertical**

भारत में उष्णकटिबंधीय चक्रवातों के संदर्भ में सही कथनों की पहचान कीजिए।

- A. अरब सागर की तुलना में बंगाल की खाड़ी में अधिक चक्रवात निर्मित होते हैं।
- B. बंगाल की खाड़ी के लगभग सभी तूफान, भूमध्यरेखा और 10°N के मध्य विकसित होते हैं।
- C. अक्टूबर-नवंबर के महीनों में चक्रवातों (1897-2014) की अधिकतम आवृत्ति दर्ज की गई है।
- D. चक्रवात चेतावनी और चक्रवात आश्रय, मानव जीवन की क्षति को कम करने के प्रभावी साधन हैं।

नीचे दिए गए विकल्पों में से सही उत्तर का चयन कीजिए :

- (1) केवल A और B
- (2) केवल B, C और D
- (3) केवल A, B और D
- (4) केवल A, C और D

**Options :**

- 43244954037. 1
- 43244954038. 2
- 43244954039. 3
- 43244954040. 4

**Question Number : 61 Question Id : 43244913869 Question Type : MCQ Option Shuffling : No Display Question Number : Yes Is Question Mandatory : No Single Line Question Option : No Option Orientation : Vertical**

Identify the correct statements with reference to tourism.

- A. India's share in total international tourist arrivals is about 1.4 percent (2024).
- B. South Asia is largest source region of international tourist arrivals in India therefore 83.41 percent foreign tourists arrived by land.
- C. In foreign tourist arrivals in India the share of females is more than males.
- D. Foreign tourist arrivals in India are dominantly (about 40 percent) in the age group of 35-54 years.

Choose the correct answer from the options given below :

- (1) A and B only
- (2) B and C only
- (3) C and D only
- (4) A and D only

**Options :**

- 43244954041. 1
- 43244954042. 2
- 43244954043. 3
- 43244954044. 4

**Question Number : 61 Question Id : 43244913869 Question Type : MCQ Option Shuffling : No Display Question Number : Yes Is Question Mandatory : No Single Line Question Option : No Option Orientation : Vertical**

पर्यटन के संदर्भ में सही कथनों की पहचान कीजिए।

- A. कुल अंतर्राष्ट्रीय पर्यटक आगमन में, भारत का हिस्सा लगभग 1.4 प्रतिशत है (2024)।
- B. भारत में अंतर्राष्ट्रीय पर्यटक आगमन में दक्षिण एशिया बृहत्तम स्रोत प्रदेश है इसलिए 83.41 प्रतिशत विदेशी पर्यटक स्थलमार्ग से पहुँचे।
- C. भारत में विदेशी पर्यटक आगमनों में महिलाओं की हिस्सेदारी पुरुषों से अधिक है।
- D. भारत में विदेशी पर्यटक आगमनों में मुख्यतः (लगभग 40 प्रतिशत) 35 से 54 वर्ष आयु वर्ग में हैं।

नीचे दिए गए विकल्पों में से सही उत्तर का चयन कीजिए :

- (1) केवल A और B
- (2) केवल B और C
- (3) केवल C और D
- (4) केवल A और D

**Options :**

- 43244954041. 1
- 43244954042. 2
- 43244954043. 3
- 43244954044. 4

**Question Number : 62 Question Id : 43244913870 Question Type : MCQ Option Shuffling : No Display Question Number : Yes Is Question Mandatory : No Single Line Question Option : No Option Orientation : Vertical**

Identify the correct matches of goal numbers and themes of United Nations Sustainable Development Goals.

- A. Goal 3 : Quality Education
- B. Goal 5 : Gender Equality
- C. Goal 7 : Affordable and Clean Energy
- D. Goal 13 : Climate Action

Choose the correct answer from the options given below :

- (1) A, B and C only
- (2) B, C and D only
- (3) A, C and D only
- (4) A and C only

**Options :**

- 43244954045. 1
- 43244954046. 2
- 43244954047. 3
- 43244954048. 4

**Question Number : 62 Question Id : 43244913870 Question Type : MCQ Option Shuffling : No Display Question Number : Yes Is Question Mandatory : No Single Line Question Option : No Option Orientation : Vertical**

संयुक्त राष्ट्र सतत विकास लक्ष्यों की उचित विषय-वस्तु और लक्ष्य संख्या के सही युग्मों की पहचान कीजिए।

- A. लक्ष्य 3 : गुणवत्तापूर्ण शिक्षा
- B. लक्ष्य 5 : लिंग समानता
- C. लक्ष्य 7 : स्वच्छ और वहनीय ऊर्जा
- D. लक्ष्य 13 : जलवायु कार्यवाही

नीचे दिए गए विकल्पों में से सही उत्तर का चयन कीजिए :

- (1) केवल A, B और C
- (2) केवल B, C और D
- (3) केवल A, C और D
- (4) केवल A और C

**Options :**

- 43244954045. 1
- 43244954046. 2
- 43244954047. 3
- 43244954048. 4

**Question Number : 63 Question Id : 43244913871 Question Type : MCQ Option Shuffling : No Display Question Number : Yes Is Question Mandatory : No Single Line Question Option : No Option Orientation : Vertical**

Identify the correct characteristics of Good Governance.

- A. Participatory
- B. Accountable
- C. Majoritarian
- D. Transparent

Choose the correct answer from the options given below :

- (1) A, B and D only
- (2) B, C and D only
- (3) A, B and C only
- (4) A, C and D only

**Options :**

- 43244954049. 1
- 43244954050. 2
- 43244954051. 3
- 43244954052. 4

**Question Number : 63 Question Id : 43244913871 Question Type : MCQ Option Shuffling : No Display Question Number : Yes Is Question Mandatory : No Single Line Question Option : No Option Orientation : Vertical**

सुशासन की सही विशेषताओं की पहचान कीजिए।

- A. सहभागिता
- B. उत्तरदायी
- C. बहुमत-प्रधान
- D. पारदर्शी

नीचे दिए गए विकल्पों में से सही उत्तर का चयन कीजिए :

- (1) केवल A, B और D
- (2) केवल B, C और D
- (3) केवल A, B और C
- (4) केवल A, C और D

**Options :**

- 43244954049. 1
- 43244954050. 2
- 43244954051. 3
- 43244954052. 4

**Question Number : 64 Question Id : 43244913872 Question Type : MCQ Option Shuffling : No Display Question Number : Yes Is Question Mandatory : No Single Line Question Option : No Option Orientation : Vertical**

**Match List - I with List - II.**

<b>List - I</b>	<b>List - II</b>
<b>(Relative levels of Infant Mortality Rate in 2024)</b>	<b>(Country)</b>
A. High	I. Israel
B. Medium	II. Mongolia
C. Low	III. Sierra Leone
D. Very low	IV. Nepal

Choose the **correct** answer from the options given below :

- (1) A-I, B-II, C-III, D-IV
- (2) A-II, B-III, C-I, D-IV
- (3) A-III, B-IV, C-II, D-I
- (4) A-IV, B-I, C-III, D-II

**Options :**

- 43244954053. 1
- 43244954054. 2
- 43244954055. 3
- 43244954056. 4

**Question Number : 64 Question Id : 43244913872 Question Type : MCQ Option Shuffling : No Display Question Number : Yes Is Question Mandatory : No Single Line Question Option : No Option Orientation : Vertical**

सूची-I से सूची-II का मिलान कीजिए :

सूची-I ( 2024 में शिशु मृत्यु दर के सापेक्ष स्तर )	सूची-II ( देश )
A. उच्च	I. इजराईल
B. मध्यम	II. मंगोलिया
C. निम्न	III. सियरा लियोन
D. अति निम्न	IV. नेपाल

नीचे दिए गए विकल्पों में से सही उत्तर का चयन कीजिए :

- (1) A-I, B-II, C-III, D-IV
- (2) A-II, B-III, C-I, D-IV
- (3) A-III, B-IV, C-II, D-I
- (4) A-IV, B-I, C-III, D-II

Options :

43244954053. 1  
43244954054. 2  
43244954055. 3  
43244954056. 4

Question Number : 65 Question Id : 43244913873 Question Type : MCQ Option Shuffling : No Display Question Number : Yes  
Is Question Mandatory : No Single Line Question Option : No Option Orientation : Vertical

Match List - I with List - II.

List - I (Slope Zones by Miller )	List - II (Slope in degrees)
A. Waxing slope	I. $34^{\circ} 14' - 90^{\circ}$
B. Free face slope	II. $14^{\circ} 24' - 34^{\circ} 14'$
C. Constant slope	III. $3^{\circ} 35' - 14^{\circ} 24'$
D. Waning slope	IV. $0^{\circ} - 3^{\circ} 35'$

Choose the correct answer from the options given below :

- (1) A-IV, B-III, C-II, D-I
- (2) A-I, B-II, C-III, D-IV
- (3) A-II, B-I, C-IV, D-III
- (4) A-III, B-IV, C-I, D-II

Options :

43244954057. 1  
43244954058. 2  
43244954059. 3  
43244954060. 4

Question Number : 65 Question Id : 43244913873 Question Type : MCQ Option Shuffling : No Display Question Number : Yes  
Is Question Mandatory : No Single Line Question Option : No Option Orientation : Vertical

सूची-I से सूची-II का मिलान कीजिए :

सूची-I ( मिलर के ढाल क्षेत्र )	सूची-II ( ढाल डिग्री में )
A. वद्रधमान ढाल	I. $34^{\circ} 14' - 90^{\circ}$
B. स्वच्छंद मुख ढाल	II. $14^{\circ} 24' - 34^{\circ} 14'$
C. अविरत/सतत ढाल	III. $3^{\circ} 35' - 14^{\circ} 24'$
D. क्षीयमाण ढाल	IV. $0^{\circ} - 3^{\circ} 35'$

नीचे दिए गए विकल्पों में से सही उत्तर का चयन कीजिए :

- (1) A-IV, B-III, C-II, D-I
- (2) A-I, B-II, C-III, D-IV
- (3) A-II, B-I, C-IV, D-III
- (4) A-III, B-IV, C-I, D-II

Options :

43244954057. 1
43244954058. 2
43244954059. 3
43244954060. 4

Question Number : 66 Question Id : 43244913874 Question Type : MCQ Option Shuffling : No Display Question Number : Yes Is Question Mandatory : No Single Line Question Option : No Option Orientation : Vertical

Match List - I with List - II.

List - I (Map Types)	List - II (Example)
A. Choroscopic	I. Land use Maps
B. Chorochromatic	II. Population Density Maps
C. Choropleth	III. Unusual form of Map
D. Cartogram	IV. Political Maps

Choose the correct answer from the options given below :

- (1) A-II, B-IV, C-III, D-I
- (2) A-II, B-I, C-IV, D-III
- (3) A-III, B-II, C-I, D-IV
- (4) A-IV, B-I, C-II, D-III

Options :

43244954061. 1
43244954062. 2
43244954063. 3
43244954064. 4

Question Number : 66 Question Id : 43244913874 Question Type : MCQ Option Shuffling : No Display Question Number : Yes Is Question Mandatory : No Single Line Question Option : No Option Orientation : Vertical

सूची-I से सूची-II का मिलान कीजिए :

सूची-I ( मानचित्र प्रकारें )	सूची-II ( उदाहरण )
A. वर्णप्रतीकी	I. भूमि-उपयोग मानचित्र
B. रंगारेख	II. जनसंख्या घनत्व मानचित्र
C. वर्णमात्री	III. मानचित्र का अप्रत्याशित रूप
D. कार्टोग्राम/ मानारेख	IV. राजनीतिक मानचित्र

नीचे दिए गए विकल्पों में से सही उत्तर का चयन कीजिए :

- (1) A-II, B-IV, C-III, D-I
- (2) A-II, B-I, C-IV, D-III
- (3) A-III, B-II, C-I, D-IV
- (4) A-IV, B-I, C-II, D-III

Options :

43244954061. 1
43244954062. 2
43244954063. 3
43244954064. 4

Question Number : 67 Question Id : 43244913875 Question Type : MCQ Option Shuffling : No Display Question Number : Yes Is Question Mandatory : No Single Line Question Option : No Option Orientation : Vertical

Match List - I with List - II.

List - I (Ecosystem)	List - II (Example of Sustainable Practice)
A. Marine	I. Drip Irrigation
B. Tropical Forest	II. Social Forestry
C. Semi-arid	III. Mangrove restoration
D. Agricultural	IV. Protected Area-National Park

Choose the correct answer from the options given below :

- (1) A-II, B-III, C-I, D-IV
- (2) A-I, B-III, C-II, D-IV
- (3) A-I, B-II, C-III, D-IV
- (4) A-III, B-IV, C-I, D-II

Options :

43244954065. 1
43244954066. 2
43244954067. 3
43244954068. 4

Question Number : 67 Question Id : 43244913875 Question Type : MCQ Option Shuffling : No Display Question Number : Yes Is Question Mandatory : No Single Line Question Option : No Option Orientation : Vertical

सूची-I से सूची-II का मिलान कीजिए :

सूची-I ( पारिस्थितिकी तंत्र )	सूची-II ( सतत पोषकीय अभ्यास का उदाहरण )
A. समुद्री	I. टपकन ( ड्रिप ) सिंचाई
B. उष्णकटिबंधीय वन	II. सामाजिक वानिकी
C. अर्द्ध-शुष्क	III. मैनग्रोव पुनरुद्धार
D. कृषिय	IV. संरक्षित क्षेत्र-राष्ट्रीय उद्यान

नीचे दिए गए विकल्पों में से सही उत्तर का चयन कीजिए :

- (1) A-II, B-III, C-I, D-IV
- (2) A-I, B-III, C-II, D-IV
- (3) A-I, B-II, C-III, D-IV
- (4) A-III, B-IV, C-I, D-II

Options :

43244954065. 1
43244954066. 2
43244954067. 3
43244954068. 4

Question Number : 68 Question Id : 43244913876 Question Type : MCQ Option Shuffling : No Display Question Number : Yes Is Question Mandatory : No Single Line Question Option : No Option Orientation : Vertical

Match List - I with List - II.

List - I (Relative Level of Urbanisation in India, 2011)	List - II (State)
A. High	I. Karnataka
B. Medium	II. Mizoram
C. Low	III. Rajasthan
D. Very Low	IV. Himachal Pradesh

Choose the correct answer from the options given below :

- (1) A-I, B-II, C-IV, D-III
- (2) A-I, B-II, C-III, D-IV
- (3) A-II, B-I, C-III, D-IV
- (4) A-II, B-I, C-IV, D-III

Options :

43244954069. 1
43244954070. 2
43244954071. 3
43244954072. 4

Question Number : 68 Question Id : 43244913876 Question Type : MCQ Option Shuffling : No Display Question Number : Yes Is Question Mandatory : No Single Line Question Option : No Option Orientation : Vertical

सूची-I से सूची-II का मिलान कीजिए :

सूची-I ( भारत में नगरीकरण का सापेक्ष स्तर, 2011 )	सूची-II ( राज्य )
A. उच्च	I. कर्नाटक
B. मध्यम	II. मिजोरम
C. निम्न	III. राजस्थान
D. अति निम्न	IV. हिमाचल प्रदेश

नीचे दिए गए विकल्पों में से सही उत्तर का चयन कीजिए :

- (1) A-I, B-II, C-IV, D-III
- (2) A-I, B-II, C-III, D-IV
- (3) A-II, B-I, C-III, D-IV
- (4) A-II, B-I, C-IV, D-III

**Options :**

43244954069. 1  
43244954070. 2  
43244954071. 3  
43244954072. 4

Question Number : 69 Question Id : 43244913877 Question Type : MCQ Option Shuffling : No Display Question Number : Yes  
Is Question Mandatory : No Single Line Question Option : No Option Orientation : Vertical

Match List - I with List - II.

List - I (Rural Settlement Pattern)	List - II (Characteristic)
A. Checker board	I. Heritage of old system of land measurement in 'Bighas'
B. Rectangular	II. A refined form of radial pattern
C. Semi-Circular	III. Village grows along the river meander
D. Star-Like	IV. Two roads meet almost at right angles

Choose the correct answer from the options given below :

- (1) A-IV, B-I, C-III, D-II
- (2) A-IV, B-I, C-II, D-III
- (3) A-I, B-IV, C-III, D-II
- (4) A-I, B-IV, C-II, D-III

**Options :**

43244954073. 1  
43244954074. 2  
43244954075. 3  
43244954076. 4

Question Number : 69 Question Id : 43244913877 Question Type : MCQ Option Shuffling : No Display Question Number : Yes  
Is Question Mandatory : No Single Line Question Option : No Option Orientation : Vertical

सूची-I से सूची-II का मिलान कीजिए :

सूची-I ( ग्रामीण बस्ती प्रतिरूप )	सूची-II ( विशेषता )
A. शतरंजी	I. बीघा में भूमि मापन का परंपरागत प्राचीन तंत्र
B. आयताकार	II. अरीय प्रतिरूप का परिष्कृत रूप
C. अर्ध-वृताकार	III. नदी विसर्प के साथ गाँव का विकास
D. तारा प्रकार/तारानुमा	IV. दो सड़क लगभग समकोण पर मिलती हैं।

नीचे दिए गए विकल्पों में से सही उत्तर का चयन कीजिए :

- (1) A-IV, B-I, C-III, D-II
- (2) A-IV, B-I, C-II, D-III
- (3) A-I, B-IV, C-III, D-II
- (4) A-I, B-IV, C-II, D-III

Options :

43244954073. 1  
43244954074. 2  
43244954075. 3  
43244954076. 4

Question Number : 70 Question Id : 43244913878 Question Type : MCQ Option Shuffling : No Display Question Number : Yes  
Is Question Mandatory : No Single Line Question Option : No Option Orientation : Vertical

Match List - I with List - II.

List - I (Main Fishing Grounds)	List - II (Characteristics)
A. The North-East Atlantic Region	I. Grand Bank is an important fishing area.
B. The North-West Atlantic Coastal Region	II. The North Pacific Drift brings warm water in this region.
C. The North-West Pacific Region	III. The Doggar Bank is one of the most important fishing area.
D. The North-East Pacific Region	IV. The warm current Kuroshio and cold current Oyashio converge

Choose the correct answer from the options given below :

- (1) A-I, B-III, C-II, D-IV
- (2) A-III, B-I, C-IV, D-II
- (3) A-II, B-IV, C-III, D-I
- (4) A-IV, B-II, C-I, D-III

Options :

43244954077. 1  
43244954078. 2  
43244954079. 3  
43244954080. 4

Question Number : 70 Question Id : 43244913878 Question Type : MCQ Option Shuffling : No Display Question Number : Yes  
Is Question Mandatory : No Single Line Question Option : No Option Orientation : Vertical

सूची-I से सूची-II का मिलान कीजिए :

सूची-I

( प्रमुख मत्स्यन प्रदेश )

- A. उत्तरी-पूर्वी अटलांटिक प्रदेश
- B. उत्तरी-पश्चिम अटलांटिक तटीय प्रदेश
- C. उत्तरी-पश्चिम प्रशांत प्रदेश
- D. उत्तरी-पूर्वी प्रशांत प्रदेश

सूची-II

( विशेषता )

- I. ग्रांड बैंक एक महत्वपूर्ण मत्स्यन क्षेत्र है।
- II. उत्तरी प्रशांत ड्रिफ्ट इस क्षेत्र में गर्म जल लाती है।
- III. डोगर बैंक एक महत्वपूर्ण मत्स्यन क्षेत्र है।
- IV. गर्म जलधारा क्यूरोशियो तथा ठण्डी जलधारा ओयाशिओं मिलती हैं।

नीचे दिए गए विकल्पों में से सही उत्तर का चयन कीजिए :

- (1) A-I, B-III, C-II, D-IV
- (2) A-III, B-I, C-IV, D-II
- (3) A-II, B-IV, C-III, D-I
- (4) A-IV, B-II, C-I, D-III

Options :

- 43244954077. 1
- 43244954078. 2
- 43244954079. 3
- 43244954080. 4

Question Number : 71 Question Id : 43244913879 Question Type : MCQ Option Shuffling : No Display Question Number : Yes Is Question Mandatory : No Single Line Question Option : No Option Orientation : Vertical

Match List - I with List - II.

List - I

(Types of Agriculture)

- A. Primitive Subsistence Agriculture
- B. Intensive Subsistence Agriculture
- C. Plantation Agriculture
- D. Extensive Commercial Grain Cultivation

List - II

(Characteristics)

- I. Large farms and highly mechanized
- II. Introduced by Europeans in colonies situated in the tropics
- III. Wet paddy dominated
- IV. Slash and burn

Choose the correct answer from the options given below :

- (1) A-I, B-II, C-III, D-IV
- (2) A-IV, B-II, C-III, D-I
- (3) A-IV, B-III, C-II, D-I
- (4) A-III, B-IV, C-I, D-II

Options :

- 43244954081. 1
- 43244954082. 2
- 43244954083. 3
- 43244954084. 4

Question Number : 71 Question Id : 43244913879 Question Type : MCQ Option Shuffling : No Display Question Number : Yes Is Question Mandatory : No Single Line Question Option : No Option Orientation : Vertical

सूची-I से सूची-II का मिलान कीजिए :

सूची-I ( कृषि के प्रकार )	सूची-II ( विशेषताएं )
A. आदिकालीन निर्वाह कृषि	I. बड़े खेत तथा अत्यधिक यांत्रिकृत
B. गहन निर्वाह कृषि	II. यूरोपीय लोगों द्वारा उष्ण कटिबन्ध में स्थित उपनिवेशों में प्रारम्भ
C. रोपण कृषि	III. आर्द्र चावल प्रधान
D. विस्तृत वाणिज्य अनाज कृषि	IV. कर्तन एवं दहन

नीचे दिए गए विकल्पों में से सही उत्तर का चयन कीजिए :

- (1) A-I, B-II, C-III, D-IV
- (2) A-IV, B-II, C-III, D-I
- (3) A-IV, B-III, C-II, D-I
- (4) A-III, B-IV, C-I, D-II

Options :

43244954081. 1  
43244954082. 2  
43244954083. 3  
43244954084. 4

Question Number : 72 Question Id : 43244913880 Question Type : MCQ Option Shuffling : No Display Question Number : Yes Is Question Mandatory : No Single Line Question Option : No Option Orientation : Vertical

Match List - I with List - II.

List - I (Disaster Losses and Gains)	List - II (Example)
A. Direct Loss	I. Tourism potential (e.g. Volcanic site)
B. Indirect Loss	II. Physical damage to property
C. Direct Gain	III. Reconstruction grant
D. Indirect Gain	IV. Loss of Business

Choose the correct answer from the options given below :

- (1) A-II, B-IV, C-III, D-I
- (2) A-II, B-IV, C-I, D-III
- (3) A-IV, B-II, C-III, D-I
- (4) A-IV, B-II, C-I, D-III

Options :

43244954085. 1  
43244954086. 2  
43244954087. 3  
43244954088. 4

Question Number : 72 Question Id : 43244913880 Question Type : MCQ Option Shuffling : No Display Question Number : Yes Is Question Mandatory : No Single Line Question Option : No Option Orientation : Vertical

सूची-I से सूची-II का मिलान कीजिए :

सूची-I

( आपदा हानि और लाभ )

- A. प्रत्यक्ष क्षति ( हानि )
- B. अप्रत्यक्ष क्षति ( हानि )
- C. प्रत्यक्ष प्राप्ति ( लाभ )
- D. अप्रत्यक्ष प्राप्ति ( लाभ )

सूची-II

( उदाहरण )

- I. पर्यटन क्षमता ( उदाहरण : ज्वालामुखी स्थान )
- II. सम्पत्ति की भौतिक क्षति
- III. पुर्ननिर्माण राशि
- IV. बिजनेस ( व्यापार ) की क्षति

नीचे दिए गए विकल्पों में से सही उत्तर का चयन कीजिए :

- (1) A-II, B-IV, C-III, D-I
- (2) A-II, B-IV, C-I, D-III
- (3) A-IV, B-II, C-III, D-I
- (4) A-IV, B-II, C-I, D-III

Options :

- 43244954085. 1
- 43244954086. 2
- 43244954087. 3
- 43244954088. 4

Question Number : 73 Question Id : 43244913881 Question Type : MCQ Option Shuffling : No Display Question Number : Yes Is Question Mandatory : No Single Line Question Option : No Option Orientation : Vertical

Match List - I with List - II.

List - I

(Decision Making Bodies)

- A. National Disaster Management Authority
- B. National Crisis Management Committee
- C. National Executive Committee
- D. State Disaster Management Authority

List - II

(Chairperson)

- I. Cabinet Secretary
- II. Chief Minister
- III. Prime Minister
- IV. Union Home Secretary

Choose the correct answer from the options given below :

- (1) A-I, B-III, C-II, D-IV
- (2) A-III, B-IV, C-I, D-II
- (3) A-III, B-I, C-IV, D-II
- (4) A-I, B-III, C-IV, D-II

Options :

- 43244954089. 1
- 43244954090. 2
- 43244954091. 3
- 43244954092. 4

Question Number : 73 Question Id : 43244913881 Question Type : MCQ Option Shuffling : No Display Question Number : Yes Is Question Mandatory : No Single Line Question Option : No Option Orientation : Vertical

सूची-I से सूची-II का मिलान कीजिए :

सूची-I

( निर्णायक संस्थान )

- A. राष्ट्रीय आपदा प्रबंधन प्राधिकरण
- B. राष्ट्रीय संकट प्रबंधन समिति
- C. राष्ट्रीय कार्यकारिणी समिति
- D. राज्य आपदा प्रबंधन प्राधिकरण

सूची-II

( अध्यक्ष )

- I. मंत्रीमंडल (कैबिनेट) सचिव
- II. मुख्यमंत्री
- III. प्रधानमंत्री
- IV. संघ गृह सचिव

नीचे दिए गए विकल्पों में से सही उत्तर का चयन कीजिए :

- (1) A-I, B-III, C-II, D-IV
- (2) A-III, B-IV, C-I, D-II
- (3) A-III, B-I, C-IV, D-II
- (4) A-I, B-III, C-IV, D-II

Options :

- 43244954089. 1
- 43244954090. 2
- 43244954091. 3
- 43244954092. 4

Question Number : 74 Question Id : 43244913882 Question Type : MCQ Option Shuffling : No Display Question Number : Yes Is Question Mandatory : No Single Line Question Option : No Option Orientation : Vertical

Match List - I with List - II.

List - I

(Name of tourist experience)

- A. Waterfall Trails Experience
- B. Immersive Experience at shore temple
- C. Spiritual Experience
- D. Eco-Wellness Experience at Yukson Cluster

List - II

(Destination)

- I. Chitrakoot
- II. Gyalshing
- III. Mamallapuram
- IV. Sohra

Choose the correct answer from the options given below :

- (1) A-III, B-II, C-I, D-IV
- (2) A-IV, B-III, C-I, D-II
- (3) A-IV, B-III, C-II, D-I
- (4) A-III, B-IV, C-I, D-II

Options :

- 43244954093. 1
- 43244954094. 2
- 43244954095. 3
- 43244954096. 4

Question Number : 74 Question Id : 43244913882 Question Type : MCQ Option Shuffling : No Display Question Number : Yes Is Question Mandatory : No Single Line Question Option : No Option Orientation : Vertical

सूची-I से सूची-II का मिलान कीजिए :

सूची-I ( पर्यटन अनुभव का नाम )	सूची-II ( गंतव्य )
A. जलप्रपात खोज अनुभव	I. चित्रकूट
B. तटिय मंदिर का तल्लीन/गहन ( इमर्सिव ) अनुभव	II. ग्यालसिंग
C. आध्यात्मिक अनुभव	III. मामलापुरम
D. युकसोन पुंज पर प्राकृतिक-स्वास्थ्य अनुभव	IV. सोहरा

नीचे दिए गए विकल्पों में से सही उत्तर का चयन कीजिए :

- (1) A-III, B-II, C-I, D-IV
- (2) A-IV, B-III, C-I, D-II
- (3) A-IV, B-III, C-II, D-I
- (4) A-III, B-IV, C-I, D-II

Options :

43244954093. 1
43244954094. 2
43244954095. 3
43244954096. 4

Question Number : 75 Question Id : 43244913883 Question Type : MCQ Option Shuffling : No Display Question Number : Yes Is Question Mandatory : No Single Line Question Option : No Option Orientation : Vertical

Match List - I with List - II.

List - I (Millennium Development Goals)	List - II (Theme)
A. Goal 1	I. Eradicate Extreme Hunger and Poverty
B. Goal 4	II. Ensure Environmental Sustainability
C. Goal 7	III. Develop a Global Partnership for Development
D. Goal 8	IV. Reduce Child Mortality

Choose the correct answer from the options given below :

- (1) A-IV, B-I, C-III, D-II
- (2) A-I, B-IV, C-III, D-II
- (3) A-IV, B-I, C-II, D-III
- (4) A-I, B-IV, C-II, D-III

Options :

43244954097. 1
43244954098. 2
43244954099. 3
43244954100. 4

Question Number : 75 Question Id : 43244913883 Question Type : MCQ Option Shuffling : No Display Question Number : Yes Is Question Mandatory : No Single Line Question Option : No Option Orientation : Vertical

सूची-I से सूची-II का मिलान कीजिए :

सूची-I

( मिलेनियम विकास लक्ष्य )

- A. लक्ष्य - 1
- B. लक्ष्य - 4
- C. लक्ष्य - 7
- D. लक्ष्य - 8

सूची-II

( विषय )

- I. चरम भूखमरी और गरीबी का उन्मूलन
- II. पर्यावरणीय संधारणीता को सुनिश्चित करना
- III. विकास के लिए एक विश्वस्तरीय सांझेदारी का विकास
- IV. बाल मर्त्यता में कमी

नीचे दिए गए विकल्पों में से सही उत्तर का चयन कीजिए :

- (1) A-IV, B-I, C-III, D-II
- (2) A-I, B-IV, C-III, D-II
- (3) A-IV, B-I, C-II, D-III
- (4) A-I, B-IV, C-II, D-III

**Options :**

- 43244954097. 1
- 43244954098. 2
- 43244954099. 3
- 43244954100. 4