

Multi Tasking Non Technical Staff Havaladar CBIC and CBN Examination 2021

Roll Number	
Candidate Name	
Venue Name	
Exam Date	11/07/2022
Exam Time	9:00 AM - 10:30 AM
Subject	MTS Non technical and Havaladar Examination 2021

Section : **General English**

Q.1 Select the option that will improve the underlined part of the sentence. In case no improvement is needed, select 'No improvement required'.

Thank you all for coming so earlier at the morning.

- Ans 1. early in the
 2. earliest on the
 3. No improvement required
 4. the early in a

Question ID : **26433051038**
Status : **Answered**
Chosen Option : 1

Q.2 Select the most appropriate meaning of the given idiom.

Spill the beans

- Ans 1. To find out something
 2. To get a new idea
 3. Give away a secret
 4. To drop something

Question ID : **26433051333**
Status : **Answered**
Chosen Option : 3

Q.3 Select the most appropriate synonym of the underlined word in the given sentence.

These figures have been greatly exaggerated.

- Ans 1. ignore
 2. magnified
 3. belittled
 4. understated

Question ID : **26433050723**
Status : **Answered**
Chosen Option : 2

Q.4 Select the option that will improve the underlined part of the given sentence. In case no improvement is needed, select 'No improvement required'.

None only did the men aid in the work, but the women also did their part.

- Ans
- 1. Only
 - 2. No improvement required
 - 3. Not only
 - 4. No only

Question ID : 26433051292
Status : Answered
Chosen Option : 3

Q.5 Select the correctly spelt word.

- Ans
- 1. Hypothesis
 - 2. Millennia
 - 3. Prihistoric
 - 4. Monothistic

Question ID : 26433051388
Status : Answered
Chosen Option : 1

Q.6 The following sentence has been divided into parts. One of them may contain an error. Select the part that contains the error from the given options. If you don't find any error, mark 'No error' as your answer.

My teacher said to me that / all that / glitters were not gold.

- Ans
- 1. all that
 - 2. My teacher said to me that
 - 3. No error
 - 4. glitters were not gold

Question ID : 26433051367
Status : Answered
Chosen Option : 4

Q.7 Select the most appropriate synonym of the given word.

Provoke

- Ans
- 1. Arouse
 - 2. Inhibit
 - 3. Constrain
 - 4. Slack

Question ID : 26433050861
Status : Answered
Chosen Option : 1

Q.8 Select the most appropriate option to fill in the blank.

His autobiography will be one of the most _____ awaited books.

- Ans
- 1. badly
 - 2. slowly
 - 3. deftly
 - 4. eagerly

Question ID : 26433051424
Status : Answered
Chosen Option : 4

Q.9 The following sentence has been divided into parts. One of them may contain an error.
Select the part that contains the error from the given options. If you don't find any error, mark 'No error' as your answer.

Anosmia is the / completed loss or / absence of the sense of smell.

- Ans
- 1. completed loss or
 - 2. Anosmia is the
 - 3. absence of the sense of smell
 - 4. No error

Question ID : 26433050845
Status : Answered
Chosen Option : 1

Q.10 Select the INCORRECTLY spelt word.

- Ans
- 1. Appease
 - 2. Arbitrary
 - 3. Aberrant
 - 4. Incipid

Question ID : 26433051717
Status : Answered
Chosen Option : 3

Q.11 Select the most appropriate option to fill in the blank.

Your explanation was simpler _____ Rekha's explanation.

- Ans
- 1. than
 - 2. then
 - 3. that
 - 4. of

Question ID : 26433050709
Status : Answered
Chosen Option : 1

Q.12 Select the most appropriate ANTONYM of the given word.

Impartial

- Ans 1. Biased
 2. Pious
 3. objective
 4. Intellectual

Question ID : 26433051713
Status : Answered
Chosen Option : 3

Q.13 Select the option that will improve the underlined part of the sentence. In case no improvement is needed, select 'No improvement required'.

Austin can be saw chasing cops with a sickle.

- Ans 1. been saw chasing
 2. No improvement required
 3. being seen chase
 4. be seen chasing

Question ID : 26433050779
Status : Answered
Chosen Option : 4

Q.14 The following sentence has been split into four segments. Identify the segment that contains a grammatical error.

To descend a cragged / mountain, however, was most/ difficult and dangerous / than to ascend it.

- Ans 1. difficult and dangerous
 2. than to ascend it
 3. mountain however was most
 4. To descend a cragged

Question ID : 26433051696
Status : Answered
Chosen Option : 2

Q.15 Select the option that will improve the underlined part of the given sentence. In case no improvement is needed, select 'No improvement required'.

The probable side effects of this medication include burning and itching.

- Ans 1. includes burning and itching
 2. can be including burning and itching
 3. No improvement required
 4. including burning and itching

Question ID : 26433051594
Status : Answered
Chosen Option : 1

Q.16 Select the most appropriate option to fill in the blank.

Today, your presentation was _____ better than Saba's presentation.

- Ans
- 1. many
 - 2. much
 - 3. more
 - 4. most

Question ID : 26433050554
Status : Answered
Chosen Option : 2

Q.17 Select the option that can be used as a one-word substitute for the given group of words.

Climb or move with difficulty or a lot of effort, typically using one's hands and feet

- Ans
- 1. Retreat
 - 2. Clamber
 - 3. Quack
 - 4. Pedagogy

Question ID : 26433051683
Status : Answered
Chosen Option : 2

Q.18 Select the most appropriate ANTONYM of the underlined word in the given sentence.

These types of insects are usually very difficult to eradicate.

- Ans
- 1. devastate
 - 2. annihilate
 - 3. conserve
 - 4. emancipate

Question ID : 26433050938
Status : Answered
Chosen Option : 3

Q.19 Select the most appropriate meaning of the underlined idiom in the given sentence.

If you keep dodging your manager's call, you will be on thin ice.

- Ans
- 1. Change plans in the middle of a process
 - 2. In a risky situation
 - 3. Perform adequately
 - 4. Go to jail

Question ID : 26433051072
Status : Answered
Chosen Option : 2

Q.20 Select the most appropriate option to fill in the blank.

The defendant's lawyer argued that his past offenses were _____ to this case.

- Ans 1. irrelevant
 2. contagious
 3. spacious
 4. arrogant

Question ID : 26433051772
Status : Answered
Chosen Option : 1

Comprehension:

In the following passage, some words have been deleted. Read the passage carefully and select the most appropriate option to fill in each blank.

With up to 50,000 species of spiders, spider habitats vary (1) _____. Spiders are (2) _____ to live anywhere in the world except Antarctica. They (3) _____ not live in bodies of water or in the air, but can adapt (4) _____ almost any type of environment: hot or cool, wet or (5) _____, in the garden or in your house.

SubQuestion No : 21

Q.21 Select the most appropriate option to fill in blank number 1.

- Ans 1. widely
 2. widest
 3. wide
 4. wider

Question ID : 26433050712
Status : Answered
Chosen Option : 1

Comprehension:

In the following passage, some words have been deleted. Read the passage carefully and select the most appropriate option to fill in each blank.

With up to 50,000 species of spiders, spider habitats vary (1) _____. Spiders are (2) _____ to live anywhere in the world except Antarctica. They (3) _____ not live in bodies of water or in the air, but can adapt (4) _____ almost any type of environment: hot or cool, wet or (5) _____, in the garden or in your house.

SubQuestion No : 22

Q.22 Select the most appropriate option to fill in blank number 2.

- Ans 1. courageous
 2. authorised
 3. harboured
 4. able

Question ID : 26433050713
Status : Answered
Chosen Option : 4

Comprehension:

In the following passage, some words have been deleted. Read the passage carefully and select the most appropriate option to fill in each blank.

With up to 50,000 species of spiders, spider habitats vary (1) _____. Spiders are (2) _____ to live anywhere in the world except Antarctica. They (3) _____ not live in bodies of water or in the air, but can adapt (4) _____ almost any type of environment: hot or cool, wet or (5) _____, in the garden or in your house.

SubQuestion No : 23

Q.23 Select the most appropriate option to fill in blank number 3.

- Ans 1. do
 2. did
 3. done
 4. does

Question ID : 26433050714
Status : Answered
Chosen Option : 1

Comprehension:

In the following passage, some words have been deleted. Read the passage carefully and select the most appropriate option to fill in each blank.

With up to 50,000 species of spiders, spider habitats vary (1) _____. Spiders are (2) _____ to live anywhere in the world except Antarctica. They (3) _____ not live in bodies of water or in the air, but can adapt (4) _____ almost any type of environment: hot or cool, wet or (5) _____, in the garden or in your house.

SubQuestion No : 24

Q.24 Select the most appropriate option to fill in blank number 4.

- Ans 1. to
 2. on
 3. at
 4. of

Question ID : 26433050715
Status : Answered
Chosen Option : 1

Comprehension:

In the following passage, some words have been deleted. Read the passage carefully and select the most appropriate option to fill in each blank.

With up to 50,000 species of spiders, spider habitats vary (1) _____. Spiders are (2) _____ to live anywhere in the world except Antarctica. They (3) _____ not live in bodies of water or in the air, but can adapt (4) _____ almost any type of environment: hot or cool, wet or (5) _____, in the garden or in your house.

SubQuestion No : 25

Q.25 Select the most appropriate option to fill in blank number 5.

- Ans 1. dewy
 2. damp
 3. dry
 4. muggy

Question ID : 26433050716
Status : Answered
Chosen Option : 3

Section : **General Intelligence and Reasoning**

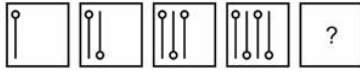
Q.1 दिए गए विकल्पों में से उस संख्या का चयन करें, जो निम्नलिखित श्रृंखला में प्रश्न चिह्न (?) के स्थान पर आ सकती है।

12, 37, 110, 331, 992, ?

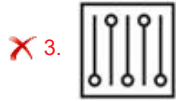
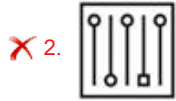
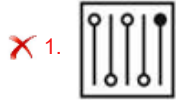
- Ans 1. 2947
 2. 2867
 3. 2877
 4. 2977

Question ID : 26433049019
Status : Answered
Chosen Option : 4

Q.2 दिए गए विकल्पों में से उस आकृति का चयन करें, जो नीचे दी गई श्रृंखला में प्रश्न चिह्न (?) के स्थान पर आ सकती है।



Ans



Question ID : 26433048759

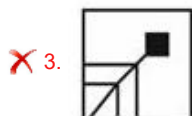
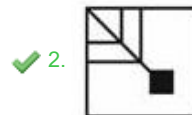
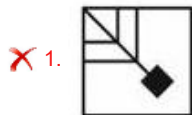
Status : Answered

Chosen Option : 4

Q.3 विकल्पों में से उस आकृति का चयन करें जो प्रश्न चिह्न (?) को प्रतिस्थापित कर सकती है और पैटर्न को पूरा कर सकती है (आकृति को घुमाने की अनुमति नहीं है)।



Ans



Question ID : 26433048688

Status : Answered

Chosen Option : 2

Q.4 उस विकल्प का चयन कीजिए जो पांचवें पद से उसी प्रकार संबंधित है जिस प्रकार दूसरा पद, पहले पद से संबंधित है और चौथा पद, तीसरे पद से संबंधित है।

USER : USRE :: TIRING : TRNIIG :: DEVOTED : ?

- Ans 1. DDEEVTO
 2. DOVTEED
 3. VTOEEDD
 4. DEDETOV

Question ID : 26433048044

Status : Answered

Chosen Option : 3

Q.5 8 लड़के G, H, I, J, K, L, M और N एक वर्गाकार मेज़ के चारों ओर मेज़ के केंद्र की ओर मुख करके (आवश्यक नहीं है कि इसी क्रम में हों) बैठे हैं। चार लड़के कोनों पर बैठे हैं और चार लड़के मेज़ की भुजाओं के मध्य भाग में बैठे हैं। J, G और H के निकटतम स्थान पर है और वह एक कोने में बैठा है। M, N और K के निकटतम स्थान पर है। L मेज़ की भुजा के मध्य भाग में बैठा है। G, L के सामने नहीं बैठा है। N, H के दाईं ओर निकटतम स्थान पर बैठा है। I के सामने तिर्यक रूप से कौन बैठा है?

- Ans 1. J
 2. L
 3. N
 4. K

Question ID : 26433048755

Status : Answered

Chosen Option : 3

Q.6 उस समूह का चयन कीजिए, जिसमें संख्याओं के बीच वही संबंध है जो नीचे दिए गए समूहों की संख्याओं के बीच है।

(13, 12, 2)
(25, 22, 6)

- Ans 1. (24, 12, 19)
 2. (15, 5, 15)
 3. (26, 22, 10)
 4. (6, 3, 6)

Question ID : 26433048109

Status : Answered

Chosen Option : 4

Q.7 उस विकल्प का चयन करें जो छठी संख्या से उसी प्रकार संबंधित है, जिस प्रकार पहली संख्या दूसरी संख्या से संबंधित है और तीसरी संख्या चौथी संख्या से संबंधित है।

56 : 11 :: 34 : 7 :: ? : 13

Ans 1. 76

2. 62

3. 54

4. 84

Question ID : 26433049016

Status : Answered

Chosen Option : 1

Q.8 सात महिलाओं W1, W2, W3, W4, W5, W6 और W7 के भारों की तुलना की गई है। W4 का भार W7 से अधिक है। W5 का भार केवल तीन महिलाओं से अधिक है, और W2 का भार केवल W1 और W3 से कम है। यदि W7 का भार सबसे कम है, तो W6 से अधिक भार वाली महिलाओं की न्यूनतम संख्या क्या होगी?

Ans 1. 2

2. 3

3. 1

4. 4

Question ID : 26433049032

Status : Answered

Chosen Option : 4

Q.9 दिए गए कथनों और निष्कर्षों को ध्यानपूर्वक पढ़ें। यह मानते हुए कि कथनों में दी गई जानकारी सत्य है, भले ही वह सामान्य रूप से ज्ञात तथ्यों से भिन्न प्रतीत होती हो, तय करें कि दिए गए निष्कर्षों में से कौन सा/से निष्कर्ष तार्किक रूप से कथनों का अनुसरण करता/ते है/हैं।

कथन:

I. कोई भी पीला, हरा नहीं है।

II. कुछ गुलाबी, पीले हैं।

निष्कर्ष:

I. कोई भी हरा, पीला नहीं है।

II. कुछ पीले, गुलाबी हैं।

III. सभी हरे, गुलाबी हैं।

Ans 1. केवल निष्कर्ष I और II अनुसरण करते हैं।

2. निष्कर्ष I, II और III अनुसरण करते हैं।

3. केवल निष्कर्ष II और III अनुसरण करते हैं।

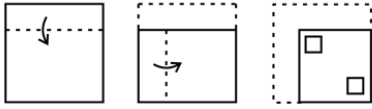
4. केवल निष्कर्ष III अनुसरण करता है।

Question ID : 26433049029

Status : Answered

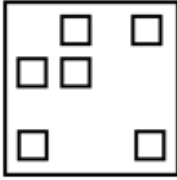
Chosen Option : 1

Q.10 एक कागज़ को मोड़ने का क्रम, और मोड़े गए कागज़ को काटे जाने का तरीका, नीचे दी गई आकृतियों में प्रदर्शित किया गया है। खोले जाने पर यह कागज़ किस प्रकार का दिखाई देगा?

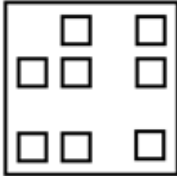


Ans

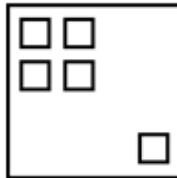
✗ 1.



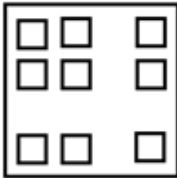
✗ 2.



✓ 3.



✗ 4.



Question ID : 26433048166

Status : Answered

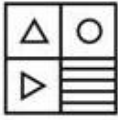
Chosen Option : 3

Q.11 दी गई आकृति के उस सही दर्पण-प्रतिबिंब का चयन करें, जो दर्पण को AB पर रखे जाने पर बनता है, जैसा कि दर्शाया गया है।

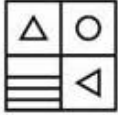


Ans

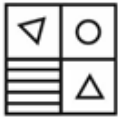
✗ 1.



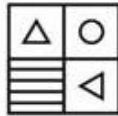
✗ 2.



✗ 3.



✓ 4.



Question ID : 26433048861

Status : Answered

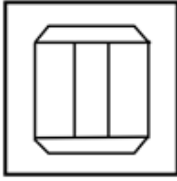
Chosen Option : 4

Q.12 उस विकल्प आकृति का चयन कीजिए, जिसमें नीचे दी गई आकृति अंतर्निहित है (घुमाने की अनुमति नहीं है)।



Ans

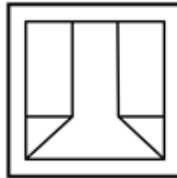
✗ 1.



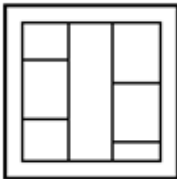
✗ 2.



✓ 3.



✗ 4.



Question ID : 26433048114

Status : Answered

Chosen Option : 3

Q.13 उस विकल्प का चयन करें जो तीसरे पद से उसी प्रकार संबंधित है, जिस प्रकार दूसरा पद पहले पद से संबंधित है।

CRAW : DZIX :: MOCK : ?

Ans ✗ 1. PXMN

✗ 2. PLXN

✓ 3. PXLN

✗ 4. PYLN

Question ID : 26433049026

Status : Answered

Chosen Option : 3

Q.14 दिए गए विकल्पों में से उस अक्षर-समूह का चयन करें, जो निम्नलिखित श्रृंखला में प्रश्नवाचक चिह्न (?) के स्थान पर आ सकता है।

IDK, LFL, OHM, RJN, ?

Ans 1. STO

2. SLP

3. ULO

4. TLN

Question ID : 26433048218

Status : Answered

Chosen Option : 3

Q.15 एक निश्चित कूट भाषा में, 'TAPE' को '4825', 'SHART' को '93814' और 'TUBE' को '4675' के रूप में कूटबद्ध किया जाता है। उसी कूट भाषा में 'E' अक्षर का कूट क्या होगा?

Ans 1. 8

2. 4

3. 5

4. 6

Question ID : 26433048445

Status : Answered

Chosen Option : 3

Q.16 दिए गए विकल्पों में से उस संख्या का चयन करें, जो निम्नलिखित श्रृंखला में प्रश्न चिह्न (?) के स्थान पर आ सकती है।

57, 59, 56, 60, ?, 61, 54

Ans 1. 54

2. 55

3. 53

4. 63

Question ID : 26433048743

Status : Answered

Chosen Option : 2

Q.17 दिए गए कथनों और निष्कर्षों को ध्यानपूर्वक पढ़िए। कथनों में दी गई जानकारी को सही मानते हुए, चाहे वह सामान्यतः ज्ञात तथ्यों से असंगत प्रतीत होती हो, निर्धारित करें कि दिए गए निष्कर्षों में से कौन सा/से कथनों का तार्किक ढंग से अनुसरण करता/ते है/हैं।

कथन:

अक्षय की आय रजनीश से अधिक है, जिसकी आय सैम से अधिक है।
सैम की आय दीक्षित से कम है।

निष्कर्ष:

I: अक्षय की आय सैम से अधिक है।

II: दीक्षित की आय अक्षय से अधिक है।

- Ans 1. केवल I अनुसरण करता है।
 2. न तो I और न ही II अनुसरण करता है।
 3. केवल II अनुसरण करता है।
 4. I और II दोनों अनुसरण करते हैं।

Question ID : 26433048104

Status : Answered

Chosen Option : 1

Q.18 दिए गए समीकरण को संतुलित करने के लिए किन दो संख्याओं को आपस में बदलना चाहिए?

$$20 \div 6 + 10 - 5 \times 2 = 2$$

- Ans 1. 10 और 20
 2. 5 और 6
 3. 5 और 10
 4. 6 और 10

Question ID : 26433048236

Status : Answered

Chosen Option : 2

Q.19 एक निश्चित कूट भाषा में, 'hairs are golden black' को '@ rm pr kt' के रूप में कोडित किया जाता है, 'golden bells are sound' को 'ak @ kt #' के रूप में कोडित किया जाता है, और 'bells being loud' को '# jm jk' के रूप में कोडित किया जाता है। उसी भाषा में 'bell sound' के लिए कूट क्या हो सकता है?

- Ans 1. ak @
 2. ak #
 3. jm jk
 4. ak jm

Question ID : 26433048947

Status : Answered

Chosen Option : 2

Q.20 6 लड़के J, K, L, M, N और P एक आयताकार मेज़ के चारों ओर मेज़ के केंद्र की ओर मुख करके (आवश्यक नहीं है कि इसी क्रम में हों) बैठे हैं। 4 लड़के कोनों पर इस प्रकार बैठे हैं, प्रत्येक कोने पर एक लड़का बैठा है। मेज़ की प्रत्येक छोटी भुजा के बीच में एक लड़का बैठा है। N, K के दाईं ओर दूसरे स्थान पर और J के बाईं ओर दूसरे स्थान पर बैठा है। M, N के ठीक सामने बैठा है, और M कोने में नहीं बैठा है।

निम्नलिखित में से कौन सा/से कथन निश्चित रूप से सही है/हैं?

I. L और P दोनों N के बगल में हैं।

II. K, L के विकर्णतः सामने बैठा है।

Ans 1. केवल I सही है।

2. न तो I और न ही II सही है।

3. I और II दोनों सही हैं।

4. केवल II सही है।

Question ID : 26433049031

Status : Answered

Chosen Option : 1

Q.21 दी गई दो संख्याओं (अंक नहीं) को आपस में बदलने पर निम्नलिखित समीकरण का मान क्या होगा?

5 और 6

$6 \times 12 - 4 + 5 - 1 = ?$

Ans 1. 41

2. 51

3. 71

4. 61

Question ID : 26433049014

Status : Answered

Chosen Option : 4

Q.22 उस विकल्प का चयन करें जो तीसरे अक्षर-समूह से उसी प्रकार संबंधित है, जिस प्रकार दूसरा अक्षर-समूह पहले अक्षर-समूह से संबंधित है।

TV : MO :: GR : ?

Ans 1. ZK

2. AK

3. AM

4. ZL

Question ID : 26433048625

Status : Answered

Chosen Option : 1

Q.23 एक निश्चित कूट भाषा में, 'COFFEE' को '40' के रूप में कूटबद्ध किया जाता है, 'LEMON' को '59' के रूप में कूटबद्ध किया जाता है, और 'GINGER' को '60' के रूप में कूटबद्ध किया जाता है। उसी भाषा में 'TEA' को किस रूप में कूटबद्ध किया जाएगा?

Ans 1. 43

2. 29

3. 32

4. 26

Question ID : 26433048047

Status : Answered

Chosen Option : 4

Q.24 एक निश्चित कूट भाषा में, 'GOP' को '38' कूटबद्ध किया जाता है, और 'HVN' को '44' कूटबद्ध किया जाता है। उसी भाषा में 'PNG' को किस प्रकार कूटबद्ध किया जाएगा?

Ans 1. 42

2. 29

3. 37

4. 32

Question ID : 26433048621

Status : Answered

Chosen Option : 3

Q.25 दिए गए विकल्पों में से उस आकृति का चयन करें, जो निम्नलिखित श्रृंखला में प्रश्न चिह्न (?) के स्थान पर आ सकती है।



Ans

✗ 1.



✗ 2.



✗ 3.



✓ 4.



Question ID : 26433049033

Status : Answered

Chosen Option : 4

Section : Numerical Aptitude

Q.1 एक गोले की त्रिज्या और एक बेलन के आधार की त्रिज्या बराबर है। बेलन के आधार की त्रिज्या और बेलन की ऊंचाई का अनुपात 3 : 4 है। गोले के आयतन और बेलन के आयतन का अनुपात ज्ञात कीजिए।

Ans ✗ 1. 1 : 2

✗ 2. 27 : 64

✗ 3. 9 : 16

✓ 4. 1 : 1

Question ID : 26433050365

Status : Answered

Chosen Option : 4

Q.2 किसी वस्तु को 25% की छूट पर बेचने से 15% की हानि होती है। यदि वस्तु को उसके अंकित मूल्य पर बेचा जाता, तो कितने प्रतिशत लाभ प्राप्त होता? [2 दशमलव स्थान तक पूर्णांकित उत्तर दीजिए]

- Ans
- ✓ 1. 13.33%
 - ✗ 2. 15.66%
 - ✗ 3. 12.66%
 - ✗ 4. 10.22%

Question ID : 26433049574
Status : Answered
Chosen Option : 1

Q.3 छह पुरुषों और कुछ महिलाओं के एक परिवार में, प्रति व्यक्ति अनाज की औसत मासिक खपत 14.4 kg है। यदि पुरुषों के मामले में प्रति व्यक्ति औसत मासिक खपत 20 kg और महिलाओं के मामले में 6 kg हो, तो परिवार में महिलाओं की संख्या ज्ञात करें।

- Ans
- ✗ 1. 6
 - ✗ 2. 8
 - ✓ 3. 4
 - ✗ 4. 7

Question ID : 26433050398
Status : Answered
Chosen Option : 3

Q.4 सोनू एक कार्य को 15 दिनों में पूरा कर सकता है, मोनू उस कार्य को 10 दिनों में पूरा कर सकता है और टीपू उस कार्य को 12 दिनों में पूरा कर सकता है। सोनू, मोनू और टीपू साथ मिलकर उस कार्य को कितने दिनों में पूरा कर सकते हैं?

- Ans
- ✗ 1. 10 दिन
 - ✗ 2. 5 दिन
 - ✗ 3. 8 दिन
 - ✓ 4. 4 दिन

Question ID : 26433049336
Status : Answered
Chosen Option : 4

Q.5 निम्न में से वह सबसे बड़ी संख्या कौन सी है, जिससे 342 और 480 को विभाजित करने पर शेषफल क्रमशः 6 और 4 बचते हैं?

- Ans
- ✗ 1. 14
 - ✗ 2. 4
 - ✗ 3. 7
 - ✓ 4. 28

Question ID : 26433049445
Status : Answered
Chosen Option : 4

Q.6 एक कक्षा की आठ लड़कियों की औसत आयु y वर्ष है। $y + 3$, $y - 6$, $y + 15$, $y + 8$, और $y + 6$ आयु (वर्ष में) वाली 5 नई लड़कियाँ कक्षा में शामिल होती हैं। अब कक्षा की लड़कियों की औसत आयु कितनी है?

- Ans
- 1. $(y + 3)$ वर्ष
 - 2. $(y + 6)$ वर्ष
 - 3. $(y + 1)$ वर्ष
 - 4. $(y + 2)$ वर्ष

Question ID : 26433049579
Status : Answered
Chosen Option : 4

Q.7 निम्न तालिका में दिए गए आंकड़ों के अनुसार, 18 वर्ष से कम आयु के विद्यार्थियों और 18 वर्ष या उससे अधिक आयु के विद्यार्थियों की संख्या का अनुपात क्या है?

आयु-वर्ग	6-9	9-12	12-15	15-18	18-21	21-24
विद्यार्थियों की संख्या	14	26	18	12	17	7

- Ans
- 1. 35 : 27
 - 2. 5 : 9
 - 3. 4 : 3
 - 4. 35 : 12

Question ID : 26433050362
Status : Answered
Chosen Option : 4

Q.8 एक कपड़ा विक्रेता 65 m कपड़ा ₹11/m के लाभ पर ₹5,850 में बेचता है। 1 m कपड़े का क्रय मूल्य कितना है?

- Ans
- 1. ₹79
 - 2. ₹70
 - 3. ₹89
 - 4. ₹80

Question ID : 26433049451
Status : Answered
Chosen Option : 1

Q.9 निम्न समीकरण में प्रश्न चिह्न (?) के स्थान पर कौन-सी संख्या आ सकती है?

$$8^2 + 16^2 - 19^2 = ?^3 - 257$$

- Ans
- 1. 6
 - 2. 8
 - 3. 9
 - 4. 2

Question ID : 26433050343
Status : Answered
Chosen Option : 1

Q.10 ₹32,000 की राशि पर समान वार्षिक दर से 2 वर्षों में प्राप्त साधारण ब्याज और चक्रवृद्धि ब्याज का अंतर ₹80 है। ब्याज वार्षिक रूप से संयोजित होने की स्थिति में चक्रवृद्धि ब्याज की दर ज्ञात कीजिए।

- Ans
- 1. 8% वार्षिक
 - 2. 12% वार्षिक
 - 3. 5% वार्षिक
 - 4. 2% वार्षिक

Question ID : 26433049457
Status : Answered
Chosen Option : 3

Q.11 2 उम्मीदवारों ने चुनाव लड़ा। विजयी उम्मीदवार को वैध मतों के 52% मत प्राप्त हुए और वह 360 मतों के अंतर से जीत गया। यदि 10% मतों को अवैध घोषित कर दिया गया था, तो डाले गए कुल मतों की संख्या कितनी थी?

- Ans
- 1. 8,000
 - 2. 11,000
 - 3. 10,000
 - 4. 12,000

Question ID : 26433049776
Status : Answered
Chosen Option : 3

Q.12 प्रकाश ने 2 वस्तुएं खरीदीं, जिनमें से प्रत्येक का मूल्य समान था। उसने एक वस्तु को 20% के लाभ पर और दूसरी वस्तु को 25% के लाभ पर बेचा। उसे कुल कितने प्रतिशत लाभ प्राप्त हुआ?

- Ans
- 1. 16.5%
 - 2. 22.5%
 - 3. 24.5%
 - 4. 37.5%

Question ID : 26433050352
Status : Answered
Chosen Option : 2

Q.13 एक वर्ग की भुजा एक गोले की त्रिज्या के 40% के बराबर है। यदि गोले का आयतन $\frac{500\pi}{3}m^3$ है, तो वर्ग का क्षेत्रफल क्या होगा?

- Ans
- ✓ 1. $4 m^2$
 - ✗ 2. $9 m^2$
 - ✗ 3. $1 m^2$
 - ✗ 4. $2 m^2$

Question ID : 26433050417
Status : Answered
Chosen Option : 1

Q.14 निम्न समीकरण को संतुलित करने के लिए इसमें प्रश्नचिह्न (?) के स्थान पर कौन-सी संख्या आ सकती है?

$$(9576 \div 21) \times (462 \div 42) - 563 \times 8 = (?)^3$$

- Ans
- ✗ 1. 3
 - ✓ 2. 8
 - ✗ 3. 7
 - ✗ 4. 5

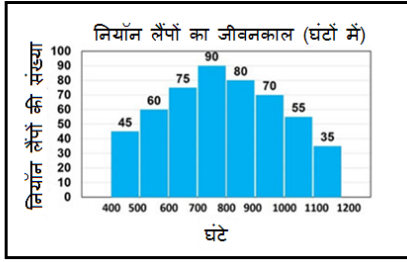
Question ID : 26433050069
Status : Answered
Chosen Option : 2

Q.15 $600 - A = 200$ का 65% है। A का मान ज्ञात कीजिए।

- Ans
- ✗ 1. 490
 - ✓ 2. 470
 - ✗ 3. 450
 - ✗ 4. 460

Question ID : 26433050025
Status : Answered
Chosen Option : 2

Q.16 नीचे दिया गया बार ग्राफ नियॉन लैंपों के जीवनकाल (घंटों में) के बारे में जानकारी प्रदान करता है। दिए गए बार ग्राफ का अध्ययन कीजिए और उससे संबंधित प्रश्न का उत्तर दीजिए।



उन लैंपों की संख्या ज्ञात कीजिए जिनका जीवनकाल 600 घंटे से अधिक लेकिन 900 घंटे से कम है।

- Ans
- ✗ 1. 270
 - ✗ 2. 305
 - ✓ 3. 245
 - ✗ 4. 180

Question ID : 26433050088

Status : Answered

Chosen Option : 3

Q.17 एक शिक्षक $\frac{1}{3} : \frac{1}{5} : \frac{1}{6} : \frac{1}{4}$ के अनुपात में अपने चार छात्रों के बीच कुछ टॉफियां बांटता है। शिक्षक के पास न्यूनतम कितनी टॉफियां होनी चाहिए, ताकि किसी भी टॉफी को बांटने के लिए उसे तोड़ना न पड़े?

- Ans
- ✗ 1. 76
 - ✗ 2. 71
 - ✗ 3. 77
 - ✓ 4. 57

Question ID : 26433050355

Status : Answered

Chosen Option : 4

Q.18 एक संख्या को जब दूसरी संख्या के 3 गुने से घटाया जाता है, तो परिणाम पहली संख्या के $\frac{3}{4}$ के रूप में प्राप्त होता है। पहली संख्या और दूसरी संख्या का अनुपात ज्ञात कीजिए।

- Ans
- ✗ 1. 11:6
 - ✗ 2. 9:5
 - ✗ 3. 10:7
 - ✓ 4. 12:7

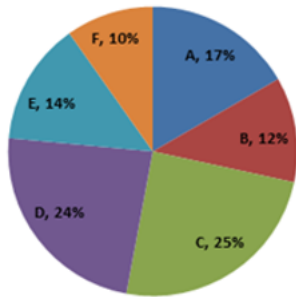
Question ID : 26433050079

Status : Answered

Chosen Option : 4

Q.19 निम्न पाई-चार्ट का अध्ययन करें और उसके आधार पर दिए गए प्रश्न का उत्तर दें।

जनवरी 2020 में विभिन्न बैंकों में स्केल-I अधिकारियों का प्रतिशत



सभी छः बैंकों में स्केल-I अधिकारियों की कुल संख्या = 500

बैंक D, E और F में स्केल-I के अधिकारियों की औसत संख्या कितनी है?

- Ans
- 1. 90
 - 2. 85
 - 3. 75
 - 4. 80

Question ID : 26433050364

Status : Answered

Chosen Option : 4

Q.20 एक बंद घन का संपूर्ण पृष्ठीय क्षेत्रफल एक वर्ग के क्षेत्रफल से 128 cm^2 अधिक है। यदि घन की प्रत्येक भुजा की लंबाई 8 cm है, तो वर्ग की प्रत्येक भुजा की लंबाई कितनी होगी?

- Ans
- 1. 18 cm
 - 2. 16 cm
 - 3. 12 cm
 - 4. 9 cm

Question ID : 26433049660

Status : Answered

Chosen Option : 2

Q.21 आशु की चाल विशु की चाल से 15 km/h अधिक है। वे एक ही समय पर एक ही दिशा में चलना शुरू करते हैं, लेकिन आरंभ में विशु, आशु से कुछ दूरी आगे था। यदि आशु उनके चलने के 6 घंटे बाद विशु को पार करता है, तो उनके बीच आरंभिक दूरी ज्ञात कीजिए।

- Ans
- 1. 45 km
 - 2. 80 km
 - 3. 90 km
 - 4. 60 km

Question ID : 26433050083

Status : Answered

Chosen Option : 3

Q.22 24 महिलाएँ और 9 पुरुष एक निश्चित कार्य को 18 दिनों में पूरा कर सकते हैं। प्रत्येक महिला कार्य को पूरा करने में एक पुरुष द्वारा लिए गए समय का दोगुना समय लेती है। केवल 9 आदमी उसी काम को कितने दिनों में पूरा कर सकते हैं?

- Ans
- 1. 48
 - 2. 42
 - 3. 39
 - 4. 35

Question ID : 26433050411
Status : Answered
Chosen Option : 2

Q.23 दस संख्याओं का औसत 24 है। यदि प्रत्येक संख्या को 2 से विभाजित कर दिया जाए, तो नया औसत क्या होगा?

- Ans
- 1. 12
 - 2. 6
 - 3. 20
 - 4. 5

Question ID : 26433049652
Status : Answered
Chosen Option : 1

Q.24 वार्षिक साधारण ब्याज की किस दर से कोई धनराशि 30 वर्ष में स्वयं तीन गुनी हो जाएगी? [2 दशमलव स्थान तक पूर्णांकित उत्तर दीजिए]

- Ans
- 1. 6.67%
 - 2. 8.33%
 - 3. 4.75%
 - 4. 3.33%

Question ID : 26433049582
Status : Answered
Chosen Option : 1

Q.25 100 m की दौड़ में, A, B को 20 m से हराता है और B, C को 5 m से हराता है। उसी दौड़ में, A, C को कितने m से हराएगा?

- Ans
- 1. 25 m
 - 2. 22 m
 - 3. 24 m
 - 4. 26 m

Question ID : 26433050359
Status : Answered
Chosen Option : 1

Q.1 अप्रैल 2022 तक उपलब्ध जानकारी के अनुसार, हॉकी मैच की कुल अवधि कितनी होती है?

- Ans 1. 60 min
 2. 70 min
 3. 50 min
 4. 80 min

Question ID : 26433047191
Status : Answered
Chosen Option : 2

Q.2 प्रसिद्ध बॉलीवुड गीत 'चन्ना मेरेया' निम्नलिखित में से किसने गाया है?

- Ans 1. श्रेया घोषाल
 2. अरिजीत सिंह
 3. सुखबीर
 4. नीति मोहन

Question ID : 26433046986
Status : Answered
Chosen Option : 2

Q.3 बांग्लादेश भारत के निम्नलिखित में से किस राज्य के साथ अपनी सीमा साझा करता है?

- Ans 1. मणिपुर
 2. बिहार
 3. नागालैंड
 4. मेघालय

Question ID : 26433047805
Status : Answered
Chosen Option : 1

Q.4 निम्नलिखित में से कौन सा कथन गलत है?

- Ans 1. ऑटोमोबाइल के निर्माण में धातुओं का उपयोग किया जाता है।
 2. धातुओं का उपयोग बर्तन बनाने में किया जाता है।
 3. सजीव श्वसन के दौरान धातुओं को अंदर खींचते हैं।
 4. धातुओं का उपयोग आभूषण निर्माण में किया जाता है।

Question ID : 26433047748
Status : Answered
Chosen Option : 3

Q.5 छठी शताब्दी ईसा पूर्व में, निम्नलिखित में से महाजनपद गांधार की राजधानी क्या थी?

- Ans 1. हस्तिनापुर
 2. वाराणसी
 3. मथुरा
 4. तक्षशिला

Question ID : 26433046981
Status : Answered
Chosen Option : 4

Q.6 भारतीय संविधान ने _____ के संविधान से 'संविधान में संशोधन की प्रक्रिया' गृहीत की है।

- Ans
- 1. ऑस्ट्रेलिया
 - 2. फ्रांस
 - 3. दक्षिण अफ्रीका
 - 4. यूनाइटेड किंगडम

Question ID : 26433046863
Status : Answered
Chosen Option : 3

Q.7 निम्नलिखित में से किस प्रतियोगिता में भारत ने ग्रीष्मकालीन ओलंपिक 2020 (2021 में आयोजित किया गया) में स्वर्ण पदक जीता था?

- Ans
- 1. भारोत्तोलन
 - 2. बैडमिंटन
 - 3. कुश्ती
 - 4. भाला फेंक

Question ID : 26433047440
Status : Answered
Chosen Option : 4

Q.8 'एलेलाक्कराडी' (Elalakkaradi) किस भारतीय राज्य का आदिवासी नृत्य है?

- Ans
- 1. केरल
 - 2. गोवा
 - 3. झारखंड
 - 4. राजस्थान

Question ID : 26433047470
Status : Answered
Chosen Option : 1

Q.9 ओड़िशा और आसपास के जिलों के मंदिरों की वास्तुकला में मंदिर के शीर्ष पर दिखाई देने वाली पत्थर जैसी चकती (डिस्क) को क्या कहा जाता है?

- Ans
- 1. आमलक
 - 2. जगती
 - 3. अंतराल
 - 4. कलश

Question ID : 26433046847
Status : Not Attempted and Marked For Review
Chosen Option : --

Q.10 1991 की LPG रणनीति में 'L' का क्या अर्थ है?

- Ans
- 1. लेजिस्लेटिव
 - 2. लैंडमार्क
 - 3. लिबरलाइज़ेशन
 - 4. लिक्विड

Question ID : 26433046992
Status : Answered
Chosen Option : 4

Q.11 निम्नलिखित में से कौन दर्पण एकेडमी ऑफ परफॉर्मिंग आर्ट्स के सह-संस्थापक हैं?

- Ans
- 1. पं. बिरजू महाराज
 - 2. मल्लिका साराभाई
 - 3. उदय शंकर
 - 4. मृणालिनी साराभाई

Question ID : 26433047762
Status : Not Answered
Chosen Option : --

Q.12 2011 की जनगणना के अनुसार, भारत में नगरीय जनसंख्या का प्रतिशत क्या था? (अनुमानित परास बताएँ!)

- Ans
- 1. 40% से 45% के बीच
 - 2. 30% से 35% के बीच
 - 3. 20% से 25% के बीच
 - 4. 10% से 15% के बीच

Question ID : 26433047054
Status : Answered
Chosen Option : 2

Q.13 निम्नलिखित में से कौन सा एक कठोर, संरंध्र और काला पदार्थ है। यह कार्बन का लगभग शुद्ध रूप है?

- Ans
- 1. बिट्टूमेन
 - 2. कोल तार
 - 3. कोक
 - 4. कोयला गैस

Question ID : 26433047749
Status : Answered
Chosen Option : 3

Q.14 आयतन के अनुसार, वायु में नाइट्रोजन का प्रतिशत लगभग _____ है।

Ans 1. 78%

2. 82%

3. 76%

4. 74%

Question ID : 26433047475

Status : Answered

Chosen Option : 3

Q.15 2022 में शुरू किया गया 'स्वनिधि से समृद्धि' कार्यक्रम _____ मंत्रालय से जुड़ा है।

Ans 1. रक्षा

2. वित्त

3. आवास और शहरी मामले

4. शिक्षा

Question ID : 26433046843

Status : Answered

Chosen Option : 2

Q.16 गोरखपुर भारत के _____ रेलवे का मुख्यालय है।

Ans 1. पूर्वी

2. पश्चिमी

3. उत्तर-पूर्वी

4. उत्तरी

Question ID : 26433046852

Status : Answered

Chosen Option : 3

Q.17 निम्नलिखित में से कौन-सी कृति प्रसिद्ध भारतीय लेखक खुशवंत सिंह की है?

Ans 1. सैक्रेड गेम्स

2. द गाइड

3. ट्रेन टू पाकिस्तान

4. ए सुटेबल बॉय

Question ID : 26433046985

Status : Answered

Chosen Option : 3

Q.18 प्लासी के युद्ध में सिराजुद्दौला की हार का मुख्य कारण क्या था?

- Ans 1. सेनापति मीर जाफर के नेतृत्व वाली सेना ने युद्ध में भाग नहीं लिया।
 2. सिराजुद्दौला के प्रधान मंत्री ने अंग्रेजों के स्थान की गलत सूचना दी।
 3. अंग्रेजों ने सिराजुद्दौला की सेना की खाद्य आपूर्ति बंद कर दी और उन्हें आत्मसमर्पण करने के लिए मजबूर किया।
 4. अंग्रेजों को सिराजुद्दौला के महल में प्रवेश करने का गुप्त रास्ता पता था।

Question ID : 26433047758
Status : Answered
Chosen Option : 1

Q.19 अप्रैल 2022 में _____ को, भारत का नया विदेश सचिव नियुक्त किया गया था।

- Ans 1. सुब्रह्मण्यम जयशंकर
 2. हर्षवर्धन श्रृंगला
 3. मीनाक्षी लेखी
 4. विनय मोहन क्रात्रा

Question ID : 26433046969
Status : Answered
Chosen Option : 3

Q.20 चेरा पंहारा (Chera Panhara) अनुष्ठान किससे संबंधित है?

- Ans 1. ओडिशा की रथ यात्रा
 2. पंजाब की बैसाखी
 3. गुजरात की नवरात्रि
 4. पश्चिम बंगाल की दुर्गा पूजा

Question ID : 26433047746
Status : Not Answered
Chosen Option : --

Q.21 निम्नलिखित में से कौन सी भारत की सबसे ऊंची पर्वत चोटी है?

- Ans 1. नंदा देवी
 2. नमचा बरवा
 3. कामेट
 4. मकालु

Question ID : 26433047753
Status : Answered
Chosen Option : 1

Q.22 मॉर्ले-मिटो सुधारों की शुरुआत के समय भारत का वायसरॉय कौन था?

- Ans
- 1. लॉर्ड वेवेल
 - 2. लॉर्ड एटली
 - 3. लॉर्ड मिटो
 - 4. लॉर्ड लिनलिथगो

Question ID : 26433047484
Status : Answered
Chosen Option : 3

Q.23 इल्बारी वंश (दिल्ली सल्तनत) का प्रथम शासक कौन था?

- Ans
- 1. रजिया सुल्तान
 - 2. गयासुद्दीन तुगलक
 - 3. कुतुबुद्दीन ऐबक
 - 4. इल्तुतमिश

Question ID : 26433046857
Status : Answered
Chosen Option : 4

Q.24 समशीतोष्ण घास के मैदान _____ की खेती के लिए आदर्श होते हैं।

- Ans
- 1. अंगूर
 - 2. सेब
 - 3. गेहूँ
 - 4. कपास

Question ID : 26433046851
Status : Answered
Chosen Option : 2

Q.25 उपाधियों का उन्मूलन किसके अंतर्गत आता है?

- Ans
- 1. सांस्कृतिक और शैक्षिक अधिकार
 - 2. शोषण के विरुद्ध अधिकार
 - 3. स्वतंत्रता के अधिकार
 - 4. समता के अधिकार

Question ID : 26433047764
Status : Answered
Chosen Option : 4