

Multi Tasking Non Technical Staff Havaladar CBIC and CBN Examination 2021

Roll Number	
Candidate Name	
Venue Name	
Exam Date	11/07/2022
Exam Time	1:00 PM - 2:30 PM
Subject	MTS Non technical and Havaladar Examination 2021

Section : General English

Q.1 Select the option that can be used as a one-word substitute for the given group of words.

A place for ammunition and weapons

- Ans 1. Abattoir
 2. Arsenal
 3. Arena
 4. Aviary

Question ID : 26433050969
Status : Answered
Chosen Option : 2

Q.2 Select the most appropriate option to fill in the blank.

Your district is exposed to _____ and also to destructive floods.

- Ans 1. draft
 2. drought
 3. dot
 4. draught

Question ID : 26433050678
Status : Answered
Chosen Option : 2

Q.3 The following sentence has been divided into parts. One of them may contain an error. Select the part that contains the error from the given options. If you don't find any error, mark 'No error' as your answer.

The students looked confused, / so the teacher / explain the topic again.

- Ans 1. explain the topic again
 2. The students looked confused
 3. No error
 4. so the teacher

Question ID : 26433051799
Status : Answered
Chosen Option : 2

Q.4 Select the most appropriate option to fill in the blank.

Officials said thousands of office-goers were _____ the Metro, and the trains were running full during peak hours.

- Ans 1. taking
 2. running
 3. fasting
 4. adapting

Question ID : 26433051745
Status : Answered
Chosen Option : 4

Q.5 Select the option that can be used as a one-word substitute for the given group of words.

The expression of a wish that misfortune or doom befall a person

- Ans 1. Blessing
 2. Curse
 3. Praise
 4. Oath

Question ID : 26433051250
Status : Answered
Chosen Option : 1

Q.6 Select the option that can be used as a one-word substitute for the given group of words.

Property left to someone by a will

- Ans 1. Legacy
 2. Windfall
 3. Alimony
 4. Prophecy

Question ID : 26433051814
Status : Answered
Chosen Option : 3

Q.7 Select the most appropriate option to fill in the blank.

Sun Tzu says that _____ the enemy without battle requires greater skill than winning on the battlefield.

- Ans 1. defeat
 2. defeating
 3. defeated
 4. in defeating

Question ID : 26433051598
Status : Answered
Chosen Option : 1

Q.8 Select the most appropriate synonym of the given word.

Innate

- Ans 1. Learnt
 2. Inured
 3. Inherent
 4. Inane

Question ID : 26433051737
Status : Answered
Chosen Option : 4

Q.9 Select the correctly spelt word.

- Ans 1. Meticulous
 2. Exilerate
 3. Narrative
 4. Monotonous

Question ID : 26433051128
Status : Not Answered
Chosen Option : --

Q.10 Select the most appropriate ANTONYM of the underlined word in the given sentence.

It is important to verify the credibility of an online master's program.

- Ans 1. accuracy
 2. integrity
 3. improbability
 4. serenity

Question ID : 26433050808
Status : Answered
Chosen Option : 4

Q.11 Select the most appropriate option to fill in the blank.

The girl ran into the house to get some _____ of bread, cold potatoes and other such morsels as were suitable for the fowls.

- Ans 1. shells
 2. heaps
 3. bars
 4. crumbs

Question ID : 26433051390
Status : Answered
Chosen Option : 2

Q.12 Select the most appropriate option to substitute the underlined segment in the given sentence. If there is no need to substitute it, select 'No substitution required'.

It is a story about Mr. and Mrs. Ansari, who had look to rent an apartment in the city.

- Ans
- 1. No substitution required
 - 2. were looking to
 - 3. is looking to
 - 4. were looking for

Question ID : 26433051186
Status : Answered
Chosen Option : 4

Q.13 Select the most appropriate synonym of the given word.

Luxuriant

- Ans
- 1. Combative
 - 2. Sparse
 - 3. Flourishing
 - 4. Meagre

Question ID : 26433051816
Status : Answered
Chosen Option : 2

Q.14 Select the most appropriate meaning of the underlined idiom in the given sentence.

It was raining cats and dogs when I reached there.

- Ans
- 1. Place full of animals
 - 2. Lots of appreciation
 - 3. To rain very heavily
 - 4. Not raining at all

Question ID : 26433050725
Status : Answered
Chosen Option : 3

Q.15 Select the correctly spelt word.

- Ans
- 1. Persaverance
 - 2. Privelege
 - 3. Inadvertant
 - 4. Indispensable

Question ID : 26433051309
Status : Answered
Chosen Option : 2

Q.16 Select the most appropriate **ANTONYM** of the given word.

Frail

- Ans** 1. Robust
 2. Fragile
 3. Fresh
 4. Unreliable

Question ID : **26433051306**
Status : **Not Answered**
Chosen Option : --

Q.17 Select the option that will improve the underlined part of the given sentence. In case no improvement is needed, select 'No improvement required'.

Your doctor will recommend a treatment based to the types of infection.

- Ans** 1. based on the type
 2. basing of the type
 3. No improvement required
 4. bases to the types

Question ID : **26433050884**
Status : **Answered**
Chosen Option : 1

Q.18 Parts of the following sentence have been given as options. One of them may contain an error. Select the part that contains the error from the given options. If you don't find any error, mark 'No error' as your answer.

One of the most important tasks in agriculture is turning the soil and loosening it.

- Ans** 1. No error
 2. the soil and loosening it
 3. in agriculture is turning
 4. One of the most important tasks

Question ID : **26433051107**
Status : **Answered**
Chosen Option : 3

Q.19 Select the most appropriate meaning of the given idiom.

Ignorance is bliss

- Ans** 1. To gain attention and be the topic of conversation
 2. To have rage underneath a calm expression
 3. To want something that has been denied
 4. To remain ignorant of things that may cause stress

Question ID : **26433051820**
Status : **Answered**
Chosen Option : 2

Q.20 The following sentence has been divided into parts. One of them may contain an error. Select the part that contains the error from the given options. If you don't find any error, mark 'No error' as your answer.

As a game, astrology and / its predictions of fate / and personality can being fun.

- Ans 1. its predictions of fate
 2. and personality can being fun
 3. As a game, astrology and
 4. No error

Question ID : 26433050977
Status : Answered
Chosen Option : 2

Comprehension:

In the following passage, some words have been deleted. Read the passage carefully and select the most appropriate option to fill in each blank.

More (1) _____ half the States (2) _____ Union Territories, including Covid-19 hotspots Maharashtra and Tamil Nadu, have not yet decided on a date (3) _____ reopening schools, the Centre was told at a meeting. The remaining States are split between those (4) _____ to reopen in August, (5) _____ include Delhi and Bihar, and others who will not open until September, such as Andhra Pradesh, Karnataka and Kerala.

SubQuestion No : 21

Q.21 Select the most appropriate option to fill in blank number 1.

- Ans 1. where
 2. than
 3. when
 4. then

Question ID : 26433051730
Status : Answered
Chosen Option : 4

Comprehension:

In the following passage, some words have been deleted. Read the passage carefully and select the most appropriate option to fill in each blank.

More (1) _____ half the States (2) _____ Union Territories, including Covid-19 hotspots Maharashtra and Tamil Nadu, have not yet decided on a date (3) _____ reopening schools, the Centre was told at a meeting. The remaining States are split between those (4) _____ to reopen in August, (5) _____ include Delhi and Bihar, and others who will not open until September, such as Andhra Pradesh, Karnataka and Kerala.

SubQuestion No : 22

Q.22 Select the most appropriate option to fill in blank number 2.

- Ans 1. and
 2. or
 3. yet
 4. though

Question ID : 26433051731
Status : Answered
Chosen Option : 1

Comprehension:

In the following passage, some words have been deleted. Read the passage carefully and select the most appropriate option to fill in each blank.

More (1) _____ half the States (2) _____ Union Territories, including Covid-19 hotspots Maharashtra and Tamil Nadu, have not yet decided on a date (3) _____ reopening schools, the Centre was told at a meeting. The remaining States are split between those (4) _____ to reopen in August, (5) _____ include Delhi and Bihar, and others who will not open until September, such as Andhra Pradesh, Karnataka and Kerala.

SubQuestion No : 23

Q.23 Select the most appropriate option to fill in blank number 3.

- Ans 1. at
 2. from
 3. for
 4. since

Question ID : 26433051732

Status : Answered

Chosen Option : 3

Comprehension:

In the following passage, some words have been deleted. Read the passage carefully and select the most appropriate option to fill in each blank.

More (1) _____ half the States (2) _____ Union Territories, including Covid-19 hotspots Maharashtra and Tamil Nadu, have not yet decided on a date (3) _____ reopening schools, the Centre was told at a meeting. The remaining States are split between those (4) _____ to reopen in August, (5) _____ include Delhi and Bihar, and others who will not open until September, such as Andhra Pradesh, Karnataka and Kerala.

SubQuestion No : 24

Q.24 Select the most appropriate option to fill in blank number 4.

- Ans 1. wills
 2. willed
 3. will
 4. willing

Question ID : 26433051733

Status : Answered

Chosen Option : 3

Comprehension:

In the following passage, some words have been deleted. Read the passage carefully and select the most appropriate option to fill in each blank.

More (1) _____ half the States (2) _____ Union Territories, including Covid-19 hotspots Maharashtra and Tamil Nadu, have not yet decided on a date (3) _____ reopening schools, the Centre was told at a meeting. The remaining States are split between those (4) _____ to reopen in August, (5) _____ include Delhi and Bihar, and others who will not open until September, such as Andhra Pradesh, Karnataka and Kerala.

SubQuestion No : 25

Q.25 Select the most appropriate option to fill in blank number 5.

- Ans 1. what
 2. whose
 3. which
 4. whom

Question ID : 26433051734

Status : Answered

Chosen Option : 4

Section : General Intelligence and Reasoning

Q.1 दिए गए समीकरण को गणितीय रूप से सही बनाने के लिए किन दो अंकों को परस्पर बदला जाना चाहिए?

$$20 \div 7 \times 2 + 5 - 3 = 12$$

- Ans 1. 7 और 2
 2. 2 और 3
 3. 7 और 5
 4. 2 और 5

Question ID : 26433048360

Status : Answered

Chosen Option : 3

Q.2 (::) के बाईं ओर दी गई संख्याएँ कुछ तर्क/नियम/संबंध द्वारा एक दूसरे से संबंधित हैं। उसी तर्क/नियम/संबंध के आधार पर दिए गए विकल्पों से (::) के दाईं ओर विलुप्त संख्या-युग्म का चयन करें।

$$1331 : 11 :: ?$$

- Ans 1. 2197 : 13
 2. 1728 : 15
 3. 10 : 1000
 4. 3375 : 14

Question ID : 26433049042

Status : Answered

Chosen Option : 1

Q.3 दर्पण को रेखा AB पर रखे जाने पर, जैसा कि दर्शाया गया है, विकल्पों में से नीचे दिए गए संयोजन के सही दर्पण प्रतिबिंब का चयन कीजिए।



A  B

Ans

✗ 1.



✓ 2.



✗ 3.



✗ 4.

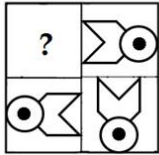


Question ID : 26433048090

Status : Answered

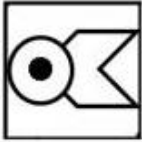
Chosen Option : 2

Q.4 विकल्पों में से उस आकृति का चयन करें, जो प्रश्न चिह्न (?)के स्थान पर आ सकती है और पैटर्न को पूरा कर सकती है।

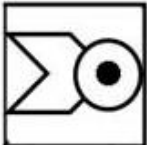


Ans

✗ 1.



✗ 2.



✓ 3.



✗ 4.



Question ID : 26433049138

Status : Answered

Chosen Option : 3

Q.5 एक निश्चित कूट भाषा में, 591 का अर्थ है 'sky is blue', 256 का अर्थ है 'sea is deep', और 609 का अर्थ है 'sea looks blue'। उस भाषा में 'blue' के लिए कौन-सा संख्या कूट है?

Ans ✗ 1.0

✗ 2.5

✓ 3.9

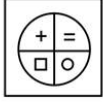
✗ 4.1

Question ID : 26433048496

Status : Answered

Chosen Option : 3

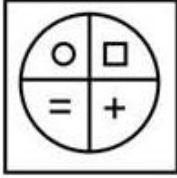
Q.6 दी गई आकृति के सही दर्पण प्रतिबिंब का चयन करें जब दर्पण को दिखाए गए अनुसार रेखा AB पर रखा गया है।



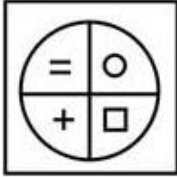
A  B

Ans

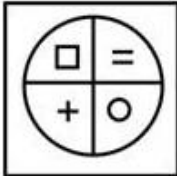
✗ 1.



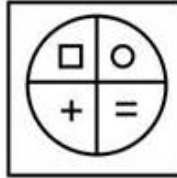
✗ 2.



✗ 3.



✓ 4.



Question ID : 26433048486

Status : Answered

Chosen Option : 4

Q.7 सात लड़कियाँ - A, B, C, D, E, F और G एक सीधी पंक्ति में उत्तर की ओर मुँह करके बैठी हैं (अनिवार्यतः इसी क्रम में नहीं)। D, C के दाईं ओर तीसरे स्थान पर बैठी है, जो बाएँ छोर से दूसरे स्थान पर बैठी है। E, B और C की निकटतम पड़ोसन है। G, C के बाईं ओर बैठी है। A दाएँ छोर से दूसरे स्थान पर बैठी है। निम्नलिखित में से कौन-सा कथन सही है?

Ans ✗ 1. B, D और A के ठीक बीच में बैठी है।

✗ 2. E, D के ठीक बगल में बाईं ओर बैठी है।

✓ 3. F दाएँ छोर पर बैठी है।

✗ 4. F बाएँ छोर पर बैठी है।

Question ID : 26433048352

Status : Answered

Chosen Option : 3

Q.8 दिए गए विकल्पों में से उस अक्षर-समूह का चयन करें, जो निम्नलिखित श्रृंखला में प्रश्न चिह्न (?) के स्थान पर आ सकता है।

ZC, XF, VI, TL, ?

Ans 1. RO

2. LQ

3. RQ

4. KO

Question ID : 26433049114

Status : Answered

Chosen Option : 1

Q.9 उस विकल्प का चयन करें जो पांचवीं संख्या से उसी प्रकार संबंधित है जैसे दूसरी संख्या पहली संख्या से संबंधित है और चौथी संख्या तीसरी संख्या से संबंधित है।

3462 : 2250 :: 4424 : 3212 :: 2424 : ?

Ans 1. 1212

2. 1122

3. 1221

4. 2211

Question ID : 26433048503

Status : Answered

Chosen Option : 1

Q.10 उस विकल्प का चयन करें जो पाँचवीं संख्या से उसी प्रकार संबंधित है, जिस प्रकार दूसरी संख्या पहली संख्या से संबंधित है और चौथी संख्या तीसरी संख्या से संबंधित है।

63 : 36 :: 94 : 49 :: 81 : ?

Ans 1. 18

2. 54

3. 36

4. 44

Question ID : 26433048666

Status : Answered

Chosen Option : 1

Q.11 एक निश्चित कूट भाषा में, 'TRAIN' को '14911820' के रूप में कोडित किया जाता है, और 'POLIT' को '209121516' के रूप में कोडित किया जाता है। उसी भाषा में 'SHNKE' को किस रूप में कोडित किया जाएगा?

Ans 1. 51114919

2. 5114819

3. 51114819

4. 51411819

Question ID : 26433048822

Status : Answered

Chosen Option : 3

Q.12 दिए गए विकल्पों में से उस विकल्प का चुनाव कीजिए जो निम्नलिखित श्रृंखला में प्रश्नवाचक चिह्न (?) के स्थान पर आ सकता है।

48, 52, 61, 77, 102, ?

- Ans 1. 138
 2. 238
 3. 128
 4. 148

Question ID : 26433048356
Status : Answered
Chosen Option : 1

Q.13 यदि JPG = 19 और PNG = 23 है, तो TIF = ?

- Ans 1. 13
 2. 23
 3. 15
 4. 20

Question ID : 26433049095
Status : Answered
Chosen Option : 2

Q.14 एक निश्चित कूट भाषा में, 'BOOK' को '47' कूटबद्ध किया जाता है, और 'PEN' को '38' कूटबद्ध किया जाता है। उसी भाषा में 'NOTEPAD' को किस प्रकार कूटबद्ध किया जाएगा?

- Ans 1. 84
 2. 80
 3. 75
 4. 82


Question ID : 26433048249
Status : Answered
Chosen Option : 4

Q.15 सात मित्र A, B, C, D, E, F और G एक ही महाविद्यालय (कॉलेज) में पढ़ते हैं। उनमें से F और G क्रमशः दूसरा सबसे बड़ा और सबसे बड़ा है। E केवल A और C से बड़ा है। D चौथा सबसे बड़ा है। A सबसे छोटा नहीं है। कितने मित्र E से बड़े हैं?

- Ans 1. 4
 2. 3
 3. 2
 4. 1

Question ID : 26433048353
Status : Answered
Chosen Option : 1

Q.16 उस विकल्प का चयन करें, जिसमें दी गई आकृति अंतर्निहित है। (घुमाने की अनुमति नहीं है)



Ans

✓ 1.



✗ 2.



✗ 3.



✗ 4.



Question ID : 26433049060

Status : Answered

Chosen Option : 1

Q.17 दिए गए कथनों और निष्कर्षों को ध्यानपूर्वक पढ़ें। यह मानते हुए कि कथनों में दी गई जानकारी सत्य है, भले ही वह सामान्यतः ज्ञात तथ्यों से भिन्न प्रतीत होती हो, तय करें कि दिए गए निष्कर्षों में से कौन-सा/ से निष्कर्ष कथनों का तार्किक रूप से अनुसरण करता है/ करते हैं।

कथन:

- I. कुछ X, B हैं।
- II. कुछ Y, X हैं।

निष्कर्ष:

- I. कुछ B, Y हैं।
- II. कुछ B, X हैं।
- III. कुछ X, Y हैं।

- Ans
- 1. केवल निष्कर्ष I और II अनुसरण करते हैं।
 - 2. केवल निष्कर्ष II और III अनुसरण करते हैं।
 - 3. केवल निष्कर्ष III अनुसरण करता है।
 - 4. केवल निष्कर्ष II अनुसरण करता है।

Question ID : 26433048679

Status : Answered

Chosen Option : 2

Q.18 उस विकल्प का चयन करें, जिसमें शब्द वही संबंध साझा करते हैं, जो संबंध शब्दों के दिए गए युग्म द्वारा साझा किया जाता है।

रेगिस्तान : रेत

- Ans
- 1. श्वसन : वायु
 - 2. कीचड़ : वन
 - 3. नदी : जलयान
 - 4. समुद्र : जल

Question ID : 26433049091

Status : Answered

Chosen Option : 4

Q.19 उस विकल्प का चयन करें जिसमें अक्षर-समूहों का युग्म वही संबंध साझा करता है जो दिए गए अक्षर-समूहों के युग्म द्वारा साझा किया गया है।

TANK : NATK :: ?

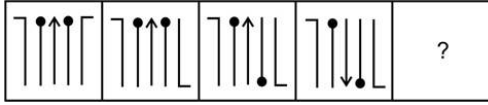
- Ans
- 1. SAMP : AMSP
 - 2. PING : NIPG
 - 3. LEFT : ELFT
 - 4. KORB : ROBK

Question ID : 26433048676

Status : Answered

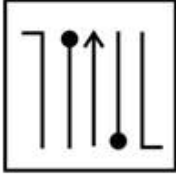
Chosen Option : 2

Q.20 दिए गए विकल्पों में से उस आकृति का चयन करें जो निम्नलिखित श्रृंखला में प्रश्नवाचक चिह्न (?) का स्थान ले सके।

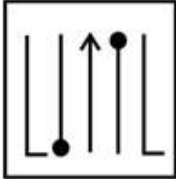


Ans

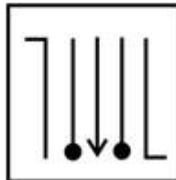
✗ 1.



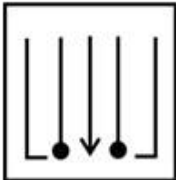
✗ 2.



✓ 3.



✗ 4.



Question ID : 26433048509

Status : Answered

Chosen Option : 3

Q.21 उस विकल्प का चयन करें जो पांचवें अक्षरांकीय समूह से उसी तरह संबंधित है जैसे दूसरा अक्षरांकीय समूह पहले अक्षरांकीय समूह से संबंधित है और चौथा अक्षरांकीय समूह तीसरे अक्षरांकीय समूह से संबंधित है।

l81 : K121 :: D16 : F36 :: O225 : ?

Ans ✗ 1. P256

✗ 2. P265

✗ 3. R324

✓ 4. Q289

Question ID : 26433048492

Status : Answered

Chosen Option : 4

Q.22 दिए गए कथन और निष्कर्षों को ध्यानपूर्वक पढ़ें। यह मानते हुए कि कथनों में दी गई जानकारी सत्य है, भले ही वह सामान्य रूप से ज्ञात तथ्यों से भिन्न प्रतीत होती हो, तय करें कि दिए गए निष्कर्षों में से कौन सा/से निष्कर्ष तार्किक रूप से कथनों का अनुसरण करता/ते है/हैं।

कथन:

- I. कोई भी F, A नहीं है।
- II. कोई भी A, K नहीं है।

निष्कर्ष:

- I. कुछ F's, K नहीं हैं।
- II. कुछ K's, A नहीं हैं।

Ans 1. केवल निष्कर्ष II अनुसरण करता है।

2. केवल निष्कर्ष I अनुसरण करता है।

3. निष्कर्ष I और II दोनों अनुसरण करते हैं।

4. न तो निष्कर्ष I और न ही निष्कर्ष II अनुसरण करता है।

Question ID : 26433049053

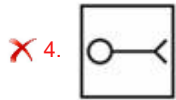
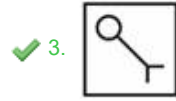
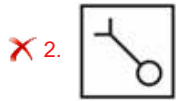
Status : Answered

Chosen Option : 4

Q.23 दिए गए विकल्पों में से उस आकृति का चयन करें जो निम्न श्रृंखला में प्रश्नवाचक चिह्न (?) को प्रतिस्थापित कर सकती है।



Ans



Question ID : 26433048683

Status : Answered

Chosen Option : 3

Q.24 निम्नलिखित समीकरण को संतुलित करने के लिए कौन से दो चिह्न आपस में बदले जाने चाहिए?

$$18 - 60 \div 45 + 6 \times 128 = 138$$

Ans 1. - और =

2. + और +

3. × और -

4. + और ×

Question ID : 26433049131

Status : Answered

Chosen Option : 4

Q.25 Z, Y, X, W और V एक सोफे पर उत्तर की ओर मुख करके बैठे हैं। Z, Y के ठीक बगल में बैठा है। X, W के ठीक बगल में बैठा है। V सबसे बाईं सीट पर बैठा है। X दायें से दूसरे स्थान पर है। Z और X एक साथ बैठे हैं।

मध्य स्थान पर कौन बैठा है?

- Ans 1. Z
 2. X
 3. W
 4. U

Question ID : 26433048497
Status : Answered
Chosen Option : 1

Section : Numerical Aptitude

Q.1 $[0.7 \times 0.4 \div (0.28 - 0.2 \times 0.3) + 1.2 \times 1.6]$ का मान ज्ञात कीजिए।

- Ans 1. $\frac{878}{275}$
 2. $\frac{1161}{550}$
 3. $\frac{1273}{550}$
 4. $\frac{971}{275}$

Question ID : 26433050013
Status : Answered
Chosen Option : 1

Q.2 यदि 20 पुरुष प्रतिदिन 5 घंटे काम करते हुए एक काम को 18 दिनों में पूरा कर सकते हैं, तो 25 पुरुष प्रतिदिन 6 घंटे काम करते हुए उसी काम को कितने दिनों में पूरा कर सकते हैं?

- Ans 1. 10 दिन
 2. 13 दिन
 3. 12 दिन
 4. 11 दिन

Question ID : 26433050236
Status : Answered
Chosen Option : 3

Q.3 एक परीक्षा में 5 छात्रों द्वारा प्राप्त अंक 12, 14, 8, 10 और 16 हैं। इन पांचों छात्रों द्वारा प्राप्त अंकों का औसत ज्ञात कीजिए।

- Ans
- 1. 14
 - 2. 12
 - 3. 11
 - 4. 10

Question ID : 26433050073
Status : Answered
Chosen Option : 2

Q.4 एक मिश्रण में पानी और दूध का अनुपात 2 : 3 है। इस मिश्रण के 20 kg में कितना पानी और मिलाना होगा जिससे नये बनने वाले मिश्रण में पानी और दूध का अनुपात 1 : 1 हो जाए?

- Ans
- 1. 2 kg
 - 2. 3 kg
 - 3. 4 kg
 - 4. 5 kg

Question ID : 26433050448
Status : Answered
Chosen Option : 3

Q.5 एक बल्लेबाज ने 120 रन बनाए, जिसमें 4 छक्के और 6 चौके शामिल हैं। उसने अपने कुल स्कोर का कितना प्रतिशत विकेटों के बीच दौड़कर बनाया (वह रन जो केवल विकेटों के बीच दौड़कर बनाए गए थे न कि चौके और छक्के लगाकर)?

- Ans
- 1. 40%
 - 2. 50%
 - 3. 30%
 - 4. 60%

Question ID : 26433050450
Status : Answered
Chosen Option : 4

Q.6 यदि कोई धनराशि साधारण ब्याज पर 4 वर्षों में तिगुनी हो जाती है, तो उसी ब्याज दर पर 5 गुना होने में लगने वाला समय ज्ञात करें।

- Ans
- 1. 8 वर्ष
 - 2. 6 वर्ष
 - 3. 3 वर्ष
 - 4. 5 वर्ष

Question ID : 26433050382
Status : Answered
Chosen Option : 1

Q.7 यदि कोई धनराशि 15 वर्ष में स्वयं की 6 गुनी हो जाती है, तो साधारण ब्याज की वार्षिक दर लगभग कितनी है?

- Ans
- 1. 2.5%
 - 2. 33.33%
 - 3. 30%
 - 4. 25%

Question ID : 26433050456

Status : Answered

Chosen Option : 2

Q.8 J_1 अकेले किसी कार्य को 10 दिन में पूरा कर सकता है, J_2 अकेले उसी कार्य को 12 दिन में पूरा कर सकता है, जबकि J_3 अकेले उसी कार्य को 15 दिन में पूरा कर सकता है। वे एक साथ काम करते हैं और कार्य पूरा करते हैं, और कार्य को करने के लिए कुल ₹2,250 प्राप्त करते हैं। J_1 और J_3 के हिस्सों में कितना अंतर है?

- Ans
- 1. ₹350
 - 2. ₹450
 - 3. ₹400
 - 4. ₹300

Question ID : 26433049793

Status : Answered

Chosen Option : 4

Q.9 ट्रेन P उसकी विपरीत दिशा से आ रही ट्रेन Q को 45 सेकंड में पूरी तरह से पार कर जाती है। ट्रेन P और ट्रेन Q की लंबाइयां क्रमशः 1200 m और 1500 m हैं। ट्रेन Q की चाल 144 km/h है। ट्रेन P, 1800 m लंबे एक प्लेटफॉर्म को कितने समय में पार करेगी?

- Ans
- 1. 180 सेकंड
 - 2. 120 सेकंड
 - 3. 175 सेकंड
 - 4. 150 सेकंड

Question ID : 26433049696

Status : Answered

Chosen Option : 4

Q.10 रीमा एक शॉपिंग मॉल में उपहार खरीदने गई। उसने देखा कि एक दुकान में 50% और 30% की क्रमागत छूटें मिल रही हैं। उसने वहाँ से एक उपहार का चयन किया, जिसका MRP ₹1,700 था। रीमा को उपहार खरीदने के लिए कितना भुगतान करना पड़ा?

- Ans
- 1. ₹255
 - 2. ₹850
 - 3. ₹595
 - 4. ₹340

Question ID : 26433050453

Status : Answered

Chosen Option : 3

Q.11

$$\frac{\frac{1}{2} \times \frac{1}{24} \div \frac{1}{36} + \frac{1}{48} - \frac{1}{60}}{\frac{1}{12} + \frac{1}{24} + \frac{1}{36} \times \frac{1}{6}} \text{ का मान कितना है?}$$

Ans

✗ 1. $\frac{733}{145}$

✗ 2. $\frac{1841}{119}$

✗ 3. $\frac{1131}{124}$

✓ 4. $\frac{1629}{280}$

Question ID : 26433049839

Status : Answered

Chosen Option : 4

Q.12 निम्न तालिका दो शोरूमों द्वारा बेची गई 5 ब्रांडों की घड़ियों की संख्या दर्शाती है।

	शोरूम 1	शोरूम 2
ब्रांड 1	60	35
ब्रांड 2	55	75
ब्रांड 3	75	50
ब्रांड 4	48	62
ब्रांड 5	52	38

M = शोरूम 1 द्वारा बेची गई प्रति ब्रांड की घड़ियों की औसत संख्या है।

शोरूम 2 द्वारा बेची गई ब्रांड 3 की घड़ियों की संख्या और M का अनुपात ज्ञात कीजिए।

Ans

✗ 1. 28 : 37

✓ 2. 25 : 29

✗ 3. 26 : 33

✗ 4. 27 : 31

Question ID : 26433049715

Status : Answered

Chosen Option : 2

Q.13 यदि एक वस्तु को 6% हानि के बजाय 6% लाभ पर बेचा जाता है, तो विक्रेता को ₹60.72 अधिक मिलते हैं। वस्तु का क्रय मूल्य (CP) क्या है?

- Ans
- 1. ₹572
 - 2. ₹606
 - 3. ₹506
 - 4. ₹672

Question ID : 26433050376
Status : Answered
Chosen Option : 3

Q.14 एक वस्तु का विक्रय मूल्य उसके क्रय मूल्य का चार गुना है। यदि विक्रय मूल्य में ₹300 की कमी की जाती है, तो लाभ 250% हो जाता है। उस वस्तु का क्रय मूल्य कितना है?

- Ans
- 1. ₹800
 - 2. ₹600
 - 3. ₹450
 - 4. ₹400

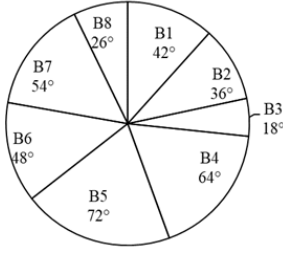
Question ID : 26433049998
Status : Answered
Chosen Option : 2

Q.15 एक वर्ग का परिमाण 36 cm है। इस वर्ग की प्रत्येक भुजा की लंबाई कितनी है?

- Ans
- 1. 8 cm
 - 2. 6 cm
 - 3. 9 cm
 - 4. 12 cm

Question ID : 26433050009
Status : Answered
Chosen Option : 3

Q.16 निम्न पाई चार्ट उन खंडों के केंद्रीय कोणों के माप दर्शाता है जो 8 पुस्तकों में एक साथ लिए गए प्रश्नों की कुल संख्या के संबंध में 8 विभिन्न पुस्तकों में से प्रत्येक में प्रश्नों की संख्या को दर्शाते हैं।



यदि पुस्तकों B3 और B6 में कुल मिलाकर प्रश्नों की संख्या 165 है, तो आठों पुस्तकों में प्रश्नों की कुल संख्या कितनी है?

- Ans
- 1. 850
 - 2. 800
 - 3. 900
 - 4. 750

Question ID : 26433050017
Status : Answered
Chosen Option : 3

Q.17 100 m की दौड़ में A ने B को 10 m से हरा दिया। 100 m की दौड़ में B ने C को 10 m से हरा दिया। 100 m की दौड़ में A, C को कितनी दूरी से हराएगा?

- Ans
- 1. 18 m
 - 2. 19 m
 - 3. 21 m
 - 4. 20 m

Question ID : 26433049820
Status : Answered
Chosen Option : 3

Q.18 ₹4,500 को चार दोस्तों में $\frac{1}{6} : \frac{1}{4} : \frac{1}{3} : \frac{1}{2}$ के अनुपात में बांटा जाता है। सबसे छोटा हिस्सा पाने वाले व्यक्ति को प्राप्त धनराशि कितनी है?

- Ans
- 1. ₹500
 - 2. ₹800
 - 3. ₹1,100
 - 4. ₹600

Question ID : 26433049830
Status : Answered
Chosen Option : 4

Q.19 3 वर्ष पहले पति और उसकी पत्नी की औसत आयु 39 वर्ष थी। 2 वर्ष बाद, पति, पत्नी और उनके बच्चे की औसत आयु 34 वर्ष होगी। बच्चे की वर्तमान आयु ज्ञात कीजिए।

- Ans
- ✓ 1. 12 वर्ष
 - ✗ 2. 16 वर्ष
 - ✗ 3. 15 वर्ष
 - ✗ 4. 18 वर्ष

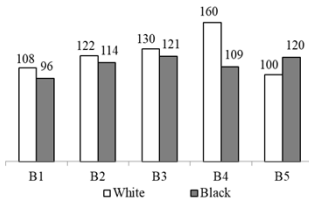
Question ID : 26433049521
Status : Answered
Chosen Option : 1

Q.20 वह छोटी से छोटी संख्या ज्ञात करें, जिसे 19 और 23 से विभाजित करने पर क्रमशः 13 और 17 शेषफल प्राप्त होता है।

- Ans
- ✗ 1. 429
 - ✓ 2. 431
 - ✗ 3. 419
 - ✗ 4. 437

Question ID : 26433050370
Status : Answered
Chosen Option : 2

Q.21 निम्नलिखित बार चार्ट एक शहर में एक वर्ष के दौरान 5 विभिन्न ब्रांड्स की बेची गई सफेद और काली कारों की संख्या को दर्शाता है।



X = प्रति ब्रांड बिकने वाली काली कारों की औसत संख्या।
Y = प्रति ब्रांड बिकने वाली सफेद कारों की औसत संख्या।
Y - X का मान कितना है?

- Ans
- ✗ 1. 20
 - ✗ 2. 16
 - ✗ 3. 18
 - ✓ 4. 12

Question ID : 26433049841
Status : Answered
Chosen Option : 4

Q.22 एक वस्तु के मूल्य में 4% की वृद्धि होती है। यदि वृद्धि के बाद वस्तु का मूल्य ₹832 है, तो वस्तु का आरंभिक मूल्य कितना था?

- Ans
- 1. ₹900
 - 2. ₹940
 - 3. ₹812
 - 4. ₹800

Question ID : 26433049450
Status : Answered
Chosen Option : 4

Q.23 एक त्रिभुज की तीनों भुजाओं की लंबाइयों का अनुपात 2 : 2 : 3 है। यदि त्रिभुज का परिमाण 42 cm है, तो सबसे बड़ी भुजा की लंबाई ज्ञात कीजिए।

- Ans
- 1. 12 cm
 - 2. 15 cm
 - 3. 18 cm
 - 4. 20 cm

Question ID : 26433049706
Status : Answered
Chosen Option : 3

Q.24 30 cm त्रिज्या वाले एक अर्ध-गोलाकार कटोरे को एक बेलनाकार गिलास का उपयोग करके पानी से भरा जाता है। यदि अर्ध-गोलाकार कटोरे को पानी से पूरी तरह भरने के लिए बेलनाकार गिलास से 72 बार पानी डालना पड़ता है और गिलास की ऊंचाई 10 cm है, तो बेलनाकार गिलास के आधार त्रिज्या का माप ज्ञात कीजिए।

- Ans
- 1. 8 cm
 - 2. 7.5 cm
 - 3. 5 cm
 - 4. 6 cm

Question ID : 26433050092
Status : Answered
Chosen Option : 3

Q.25 6 cm त्रिज्या वाले एक ठोस तांबे के गोले को पिघलाकर एक तार बनाया जाता है, जिसके अनुप्रस्थ काट की त्रिज्या 8 cm है। तार की लंबाई ज्ञात कीजिए।

- Ans
- 1. 6 cm
 - 2. 4.5 cm
 - 3. 2.25 cm
 - 4. 9 cm

Question ID : 26433049541
Status : Answered
Chosen Option : 3

Q.1 सोनल मानसिंह को 1987 में संगीत नाटक अकादमी पुरस्कार से सम्मानित किया गया था। वह एक प्रशिक्षित _____ नृत्यांगना हैं।

- Ans 1. ओडिसी
 2. बिह
 3. कुचिपुड़ी
 4. मणिपुरी

Question ID : 26433047412
Status : Answered
Chosen Option : 1

Q.2 किस प्राचीन भारतीय खेल में बहादुर युवकों की भीड़ को क्रोधित सांडों का सामना करना होता है?

- Ans 1. जल्लीकट्टू
 2. कबड्डी
 3. मल्लखंभ
 4. खो-खो

Question ID : 26433046866
Status : Answered
Chosen Option : 1

Q.3 निम्नलिखित में से कौन डेक्कन एजुकेशन सोसाइटी (1884) के संस्थापकों में से एक थे?

- Ans 1. जी. जी अगारकर
 2. तुलसी राम
 3. दादोबा पांडुरंग
 4. वी. आर शिंदे

Question ID : 26433047856
Status : Not Answered
Chosen Option : --

Q.4 राज्य सभा की अध्यक्षता _____ द्वारा की जाती है, जबकि लोकसभा की अध्यक्षता _____ द्वारा की जाती है।

- Ans 1. राष्ट्रपति, प्रधान मंत्री
 2. सभापति, उप राष्ट्रपति
 3. उप राष्ट्रपति, प्रधानमंत्री
 4. उप राष्ट्रपति, सभापति

Question ID : 26433047788
Status : Answered
Chosen Option : 4

Q.5 उधारकर्ता के पास मौजूद वह संपत्ति (जैसे भूमि, भवन, वाहन, पशुधन, बैंकों में जमा राशि) क्या कहलाती है, जिसका उपयोग वह ऋण चुकाए जाने तक ऋणदाता को गारंटी के रूप में देने के लिए करता है?

- Ans
- 1. क्रेडिट
 - 2. संपार्श्विक
 - 3. फ्रिल्स
 - 4. लीज़

Question ID : 26433047867
Status : Answered
Chosen Option : 4

Q.6 निम्नलिखित में से कौन सा एक ध्रुवीय जानवर नहीं है?

- Ans
- 1. वालरस (Walrus)
 - 2. लीमर (Lemur)
 - 3. रिंग्ड सील (Ringed seals)
 - 4. कस्तूरी बैल (Musk oxen)

Question ID : 26433047776
Status : Answered
Chosen Option : 4

Q.7 2011 की जनगणना के अनुसार, भारत की महिला साक्षरता दर क्या है (अनुमानित दर बताएँ)?

- Ans
- 1. 50-59%
 - 2. 80-89%
 - 3. 60-69%
 - 4. 70-79%

Question ID : 26433046929
Status : Answered
Chosen Option : 1

Q.8 2021 तक प्राप्त जानकारी के अनुसार, दुनिया का एकमात्र ऐसा कौन सा देश है, जहाँ बाघ और शेर दोनों पाए जाते हैं?

- Ans
- 1. दक्षिण अफ्रीका
 - 2. मेक्सिको
 - 3. तंजानिया
 - 4. भारत

Question ID : 26433047403
Status : Answered
Chosen Option : 4

Q.9 पंडित हरिप्रसाद चौरसिया एक प्रसिद्ध _____ है।

- Ans
- 1. तबला वादक
 - 2. सितार वादक
 - 3. गायक
 - 4. बांसुरी वादक

Question ID : 26433047861
Status : Answered
Chosen Option : 4

Q.10 _____ भारतीय राष्ट्रीय कांग्रेस की अध्यक्ष बनने वाली पहली भारतीय महिला थीं।

- Ans
- 1. आशालता सेन
 - 2. सरोजिनी नायडू
 - 3. सुचेता कृपलानी
 - 4. अरुणा आसफ अली

Question ID : 26433047408
Status : Answered
Chosen Option : 2

Q.11 संसद का सत्र _____ से शुरू होता है।

- Ans
- 1. प्रश्नकाल
 - 2. शून्यकाल
 - 3. ध्यानाकर्षण प्रस्ताव
 - 4. अवकाश

Question ID : 26433047414
Status : Answered
Chosen Option : 1

Q.12 एक खगोलीय इकाई (Astronomical Unit) और एक पारसेक (Parsec) _____ के मात्रक हैं।

- Ans
- 1. द्रव्यमान
 - 2. लंबाई
 - 3. धारा
 - 4. आयतन

Question ID : 26433047098
Status : Answered
Chosen Option : 2

Q.13 केंद्रीय मंत्रिमंडल द्वारा प्रधान मंत्री गरीब कल्याण अन्न योजना को _____ तक के विस्तार को मंजूरी दी गई है।

- Ans
- 1. अक्टूबर 2022
 - 2. सितंबर 2022
 - 3. नवंबर 2022
 - 4. जनवरी 2023

Question ID : 26433047768
Status : Answered
Chosen Option : 1

Q.14 सीमा सड़क संगठन (Border Roads Organisation) की स्थापना किस वर्ष हुई थी?

- Ans
- 1. 1958
 - 2. 1954
 - 3. 1960
 - 4. 1966

Question ID : 26433047777
Status : Answered
Chosen Option : 1

Q.15 2022 के राज्य चुनावों के बाद पंजाब का मुख्यमंत्री कौन बना?

- Ans
- 1. भगवंत मान
 - 2. राघव चड्ढा
 - 3. चरणजीत सिंह चन्नी
 - 4. सुखबीर सिंह बादल

Question ID : 26433047844
Status : Answered
Chosen Option : 1

Q.16 निम्नलिखित में से क्या बौद्ध स्तूपों की संरचना का एक हिस्सा नहीं है?

- Ans
- 1. गोपुर
 - 2. छत्र
 - 3. अंड
 - 4. हर्मिका

Question ID : 26433047772
Status : Not Answered
Chosen Option : --

Q.17 निम्नलिखित में से, भारत की भूमि सीमा किस देश के साथ नहीं लगती?

- Ans
- 1. बांग्लादेश
 - 2. श्रीलंका
 - 3. म्यांमार
 - 4. चीन

Question ID : 26433047480
Status : Answered
Chosen Option : 2

Q.18 निम्नलिखित में से किसने मोहम्मडन एंग्लो-ओरिएंटल कॉलेज की स्थापना की थी?

- Ans
- 1. श्री अरबिंदो
 - 2. सर सैयद अहमद खान
 - 3. मोहम्मद अली जिन्ना
 - 4. खान अब्दुल गफ्फार खान

Question ID : 26433047234
Status : Answered
Chosen Option : 2

Q.19 कुचिपुड़ी किस भारतीय राज्य का शास्त्रीय नृत्य है?

- Ans
- 1. केरल
 - 2. आंध्र प्रदेश
 - 3. कर्नाटक
 - 4. तमिलनाडु

Question ID : 26433047220
Status : Answered
Chosen Option : 2

Q.20 अन्ना करेनिना (Anna Karenina) के लेखक कौन हैं?

- Ans
- 1. लियो टॉल्स्टॉय (Leo Tolstoy)
 - 2. जॉर्ज एलियट (George Eliot)
 - 3. ईएम फोर्स्टर (EM Forster)
 - 4. गेब्रियल गार्सिया मार्केज़ (Gabriel Garcia Marquez)

Question ID : 26433047860
Status : Answered
Chosen Option : 4

Q.21 IPL की शुरुआत किस वर्ष से हुई थी?

- Ans
- 1. 2010
 - 2. 2008
 - 3. 2009
 - 4. 2007

Question ID : 26433047866
Status : Answered
Chosen Option : 4

Q.22 1526 में, बाबर ने दिल्ली के सुल्तान इब्राहिम लोदी को _____ में हराया और दिल्ली व आगरा पर कब्जा कर लिया।

- Ans 1. पानीपत
 2. मालवा
 3. लाहौर
 4. मथुरा

Question ID : 26433047782
Status : Answered
Chosen Option : 1

Q.23 निम्नलिखित में से किस कोशिकांग को कोशिका की 'आत्मघाती थैली' के रूप में भी जाना जाता है?

- Ans 1. रिक्तिका (वैक्यूओल)
 2. लयनकाय (लाइसोसोम)
 3. सूत्रकणिका (माइटोकॉन्ड्रिया)
 4. राइबोसोम

Question ID : 26433047399
Status : Answered
Chosen Option : 2

Q.24 शिल्पग्राम में आयोजित किया जाने वाला, भारत का इनमें से कौन-सा सांस्कृतिक उत्सव, शास्त्रीय नृत्य, लोक कला और सुगम संगीत का दस दिवसीय आयोजन होता है?

- Ans 1. मामल्लपुरम उत्सव
 2. निशागंधी महोत्सव
 3. ताज महोत्सव
 4. नाट्यांजलि उत्सव

Question ID : 26433047096
Status : Answered
Chosen Option : 3

Q.25 निम्नलिखित में से कौन सा/से कथन सही है/हैं?

- I. अमीबा कूटपादों (स्पूडोपोडिया) की मदद से अपना भोजन ग्रहण करता है।
II. अमीबा लगातार अपना आकार और स्थिति बदलता रहता है।

- Ans 1. I और II दोनों
 2. केवल II
 3. केवल I
 4. न तो I और न ही II

Question ID : 26433047225
Status : Answered
Chosen Option : 1