

Multi Tasking Non Technical Staff Havaladar CBIC and CBN Examination 2021

Roll Number	
Candidate Name	
Venue Name	
Exam Date	11/07/2022
Exam Time	5:00 PM - 6:30 PM
Subject	MTS Non technical and Havaladar Examination 2021

Section : General English

Q.1 Select the option that can be used as a one-word substitute for the given group of words.

A person who looks at the bright side of things

- Ans
- 1. Pessimist
 - 2. Atheist
 - 3. Optimist
 - 4. Oculist

Question ID : 26433051276
Status : Answered
Chosen Option : 3

Q.2 Select the most appropriate synonym of the bracketed word in the given sentence.

They saw fit to (banish) him from the party and exclude him from the election campaign.

- Ans
- 1. revolt
 - 2. distress
 - 3. exile
 - 4. persevere

Question ID : 26433050679
Status : Answered
Chosen Option : 3

Q.3 The following sentence has been divided into parts. One of them may contain an error. Select the part that contains the error from the given options. If you don't find any error, mark 'No error' as your answer.

The new media / is more faster / and more popular.

- Ans
- 1. No error
 - 2. and more popular
 - 3. The new media
 - 4. is more faster

Question ID : 26433050872
Status : Answered
Chosen Option : 1

Q.4 Select the most appropriate meaning of the given idiom.

To smell a rat

- Ans** 1. To detect a dead rat
 2. To catch someone during a crime
 3. To suspect something
 4. To leave things undisturbed

Question ID : **26433051386**
Status : **Answered**
Chosen Option : **3**

Q.5 Select the most appropriate synonym of the given word.

Dissolve

- Ans** 1. Consolidate
 2. Repair
 3. Emerge
 4. Fade

Question ID : **26433050991**
Status : **Answered**
Chosen Option : **1**

Q.6 Select the correctly spelt word.

- Ans** 1. Concent
 2. Consent
 3. Conscent
 4. Concsent

Question ID : **26433050971**
Status : **Marked For Review**
Chosen Option : **2**

Q.7 Select the option that can be used as a one-word substitute for the given group of words.

One who does not tire easily

- Ans** 1. Pedantic
 2. Indefatigable
 3. Libertine
 4. Recluse

Question ID : **26433051074**
Status : **Answered**
Chosen Option : **2**

Q.8 Select the most appropriate option to fill in the blank.

A person must speak eloquently and _____ while making a speech.

- Ans
- 1. rudely
 - 2. politely
 - 3. disrespectfully
 - 4. hurriedly

Question ID : 26433051442
Status : Answered
Chosen Option : 2

Q.9 Select the option that can be used as a one-word substitute for the given group of words.

One who is unable to pay his debts

- Ans
- 1. Debonair
 - 2. Bankrupt
 - 3. Novice
 - 4. Fatalist

Question ID : 26433050596
Status : Answered
Chosen Option : 2

Q.10 Select the option that will improve the underlined part of the given sentence. In case no improvement is needed, select 'No improvement required'.

I would agreed that these programs can be good for learning things that nobody else will teach you.

- Ans
- 1. No improvement required
 - 2. I agree that these programs
 - 3. I will have to agreed that these program
 - 4. I will have agreed that these programs

Question ID : 26433051622
Status : Answered
Chosen Option : 2

Q.11 Parts of the following sentence have been given as options. One of them may contain an error. Select the part that contains the error from the given options. If you don't find any error, mark 'No error' as your answer.

Over the years, the threat of cyberattacks on satellites has gotten more direr.

- Ans
- 1. Over the years, the
 - 2. has gotten more direr
 - 3. threat of cyberattacks on satellites
 - 4. No error

Question ID : 26433051081
Status : Answered
Chosen Option : 2

Q.12 Select the most appropriate synonym of the underlined word in the given sentence.

The laws are strong but never enforced.

- Ans
- 1. Abandoned
 - 2. Disregarded
 - 3. Diluted
 - 4. Imposed

Question ID : 26433050593
Status : Answered
Chosen Option : 4

Q.13 Select the most appropriate meaning of the underlined idiom in the given sentence.

Samuel accused Jane of stealing the thunder on the capital punishment issue.

- Ans
- 1. Fail miserably at something
 - 2. Get praise for doing something before someone
 - 3. Go on a futile search
 - 4. Pass wrong judgments

Question ID : 26433050786
Status : Marked For Review
Chosen Option : 2

Q.14 The following sentence has been divided into parts. One of them may contain an error. Select the part that contains the error from the given options. If you don't find any error, mark 'No error' as your answer.

Wind is one / of biggest factors / in the spread of fire.

- Ans
- 1. No error
 - 2. in the spread of fire
 - 3. of biggest factors
 - 4. Wind is one

Question ID : 26433050975
Status : Answered
Chosen Option : 3

Q.15 Select the option that will improve the underlined part of the given sentence. In case no improvement is needed, select 'No improvement required'.

Adam and I are planning a grand party at our office.

- Ans
- 1. I is planning
 - 2. No improvement required
 - 3. me are planning
 - 4. me is planning

Question ID : 26433050909
Status : Answered
Chosen Option : 2

Q.16 Select the option that will improve the underlined part of the given sentence. In case no improvement is needed, select 'No improvement required'.

As a young girl, Mary lived in France, where she have married the king of France, Francis II.

- Ans
- 1. she married
 - 2. she did married
 - 3. she has married
 - 4. No improvement required

Question ID : 26433051473
Status : Answered
Chosen Option : 1

Q.17 Select the most appropriate ANTONYM of the given word.

Stormy

- Ans
- 1. Sporadic
 - 2. Ferocious
 - 3. Rough
 - 4. Serene

Question ID : 26433050963
Status : Answered
Chosen Option : 1

Q.18 Select the most appropriate option to fill in the blank.

You need to put the baby very _____ on the bed.

- Ans
- 1. gentle
 - 2. much gently
 - 3. gently
 - 4. more gentle

Question ID : 26433050579
Status : Answered
Chosen Option : 3

Q.19 Select the option that rectifies the incorrectly spelt words in the given sentence.

The young worms are fedd tender leaves.

- Ans
- 1. The young worms are feid tendre leaves.
 - 2. The young worms are fed tender leaves.
 - 3. The young worms are fed tander leaves.
 - 4. The young worms are fed tendor leaves.

Question ID : 26433050894
Status : Marked For Review
Chosen Option : 2

Q.20 Select the option that will improve the underlined part of the sentence. In case no improvement is needed, select 'No improvement required'.

Either Supriya or Nikunj are lying off this situation.

- Ans
- 1. were lying to
 - 2. is lying in relation to
 - 3. No improvement required
 - 4. has lie on

Question ID : 26433050511
Status : Answered
Chosen Option : 2

Comprehension:

In the following passage, some words have been deleted. Read the passage carefully and select the most appropriate option to fill in each blank.

The Small Indian Mongoose, (1) _____ its little round ears, is an (2) _____ hunter and has a long snout-like face and short legs that have sharp claws. It (3) _____ brown or grey-grizzly fur and (4) _____ in abandoned burrows or tunnels. (5) _____ the rat-like appearance, mongooses are not rodents.

SubQuestion No : 21

Q.21 Select the most appropriate option to fill in blank number 1.

- Ans
- 1. of
 - 2. to
 - 3. with
 - 4. from

Question ID : 26433050582
Status : Answered
Chosen Option : 3

Comprehension:

In the following passage, some words have been deleted. Read the passage carefully and select the most appropriate option to fill in each blank.

The Small Indian Mongoose, (1) _____ its little round ears, is an (2) _____ hunter and has a long snout-like face and short legs that have sharp claws. It (3) _____ brown or grey-grizzly fur and (4) _____ in abandoned burrows or tunnels. (5) _____ the rat-like appearance, mongooses are not rodents.

SubQuestion No : 22

Q.22 Select the most appropriate option to fill in blank number 2.

- Ans
- 1. agile
 - 2. alike
 - 3. alive
 - 4. awake

Question ID : 26433050583
Status : Answered
Chosen Option : 1

Comprehension:

In the following passage, some words have been deleted. Read the passage carefully and select the most appropriate option to fill in each blank.

The Small Indian Mongoose, (1) _____ its little round ears, is an (2) _____ hunter and has a long snout-like face and short legs that have sharp claws. It (3) _____ brown or grey-grizzly fur and (4) _____ in abandoned burrows or tunnels. (5) _____ the rat-like appearance, mongooses are not rodents.

SubQuestion No : 23

Q.23 Select the most appropriate option to fill in blank number 3.

- Ans 1. have
 2. had
 3. having
 4. has

Question ID : 26433050584

Status : Answered

Chosen Option : 4

Comprehension:

In the following passage, some words have been deleted. Read the passage carefully and select the most appropriate option to fill in each blank.

The Small Indian Mongoose, (1) _____ its little round ears, is an (2) _____ hunter and has a long snout-like face and short legs that have sharp claws. It (3) _____ brown or grey-grizzly fur and (4) _____ in abandoned burrows or tunnels. (5) _____ the rat-like appearance, mongooses are not rodents.

SubQuestion No : 24

Q.24 Select the most appropriate option to fill in blank number 4.

- Ans 1. learns
 2. leaves
 3. leans
 4. lives

Question ID : 26433050585

Status : Answered

Chosen Option : 4

Comprehension:

In the following passage, some words have been deleted. Read the passage carefully and select the most appropriate option to fill in each blank.

The Small Indian Mongoose, (1) _____ its little round ears, is an (2) _____ hunter and has a long snout-like face and short legs that have sharp claws. It (3) _____ brown or grey-grizzly fur and (4) _____ in abandoned burrows or tunnels. (5) _____ the rat-like appearance, mongooses are not rodents.

SubQuestion No : 25

Q.25 Select the most appropriate option to fill in blank number 5.

- Ans 1. Instead
 2. Apart
 3. Despite
 4. Often

Question ID : 26433050586
Status : Answered
Chosen Option : 3

Section : **General Intelligence and Reasoning**

Q.1 उस विकल्प का चयन कीजिए जिसका पाँचवीं संख्या से वही संबंध है, जिस प्रकार से दूसरी संख्या, पहली संख्या से संबंधित है और चौथी संख्या, तीसरी संख्या से संबंधित है।

196 : 226 :: 256 : 290 :: 324 : ?

- Ans 1. 358
 2. 362
 3. 352
 4. 372

Question ID : 26433048333
Status : Marked For Review
Chosen Option : 2

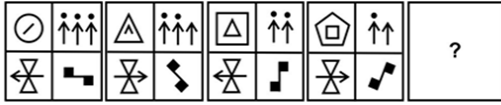
Q.2 निम्नलिखित व्यंजक का मान क्या होगा, यदि '+' और '-' को आपस में बदल दिया जाए और 'x' और '÷' को भी आपस में बदल दिया जाए?

$5 - 3 \div 4 + 6 \times 2 = ?$

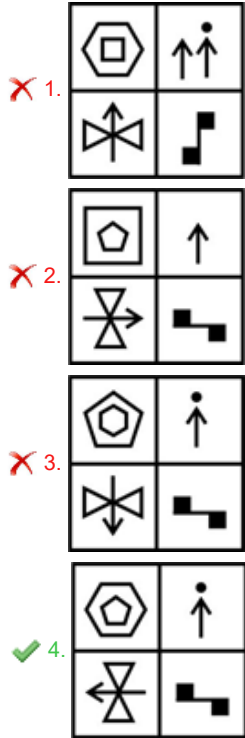
- Ans 1. 18
 2. 12
 3. 14
 4. 16

Question ID : 26433048481
Status : Answered
Chosen Option : 3

Q.3 दिए गए विकल्पों में से उस आकृति का चयन कीजिए, जो निम्नलिखित श्रृंखला में प्रश्नवाचक चिह्न (?) के स्थान पर आ सकती है।



Ans



Question ID : 26433048263

Status : Answered

Chosen Option : 4

Q.4 उस विकल्प का चयन कीजिए जिसका पांचवें पद के साथ वही संबंध है, जो दूसरे पद का पहले पद के साथ और चौथे पद का तीसरे पद के साथ है।

ERA : ETA :: HONEST : JOPEUV :: GRAIN : ?

- Ans
- ✗ 1. IRAKP
 - ✓ 2. ITAIP
 - ✗ 3. GTCIN
 - ✗ 4. ITCIP

Question ID : 26433048096

Status : Answered

Chosen Option : 2

Q.5 पांच व्यक्ति I, II, III, IV और V एक पंक्ति में उत्तर की ओर मुख करके खड़े हैं। V और II एक साथ खड़े हैं। V और III एक साथ खड़े हैं। सबसे बाईं ओर खड़ा है। II दायें छोर से दूसरे स्थान पर है। सबसे दाहिनी ओर कौन खड़ा है?

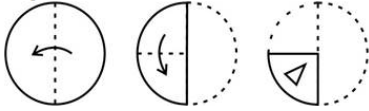
- Ans 1. III
 2. IV
 3. II
 4. V

Question ID : 26433048473

Status : Answered

Chosen Option : 2

Q.6 कागज के एक टुकड़े को मोड़ने का क्रम और जिस तरीके से मुड़े हुए कागज को काटा गया है, उसे निम्नलिखित आकृतियों में दिखाया गया है। अनफोल्ड होने पर (मुड़े हुए कागज को खोलने पर) यह कागज कैसा दिखेगा?



Ans

- 1.
- 2.
- 3.
- 4.

Question ID : 26433048512

Status : Answered

Chosen Option : 1

Q.7 दिए गए कथनों और निष्कर्षों को ध्यानपूर्वक पढ़ें। यह मानते हुए कि कथनों में दी गई जानकारी सही है, भले ही वह सामान्य ज्ञात तथ्यों से भिन्न प्रतीत होती हो और फिर निर्णय कीजिए कि कौन सा/से निष्कर्ष कथन/कथनों का तार्किक रूप से अनुसरण करता है/करते हैं।

कथन:

सभी चिप्स लेज़ हैं।

कुछ लेज़ सैक्स हैं।

निष्कर्ष:

I. सभी लेज़ चिप्स हैं।

II. सभी चिप्स सैक्स हैं।

Ans 1. केवल निष्कर्ष I अनुसरण करता है।

2. केवल निष्कर्ष II अनुसरण करता है।

3. न तो निष्कर्ष I और न ही निष्कर्ष II अनुसरण करता है।

4. निष्कर्ष I और II दोनों अनुसरण करते हैं।

Question ID : 26433047979

Status : Answered

Chosen Option : 3

Q.8 एक ट्यूशन कक्षा के सात छात्र/छात्रा प्रेम, काजी, ऋषव, शुभम, तानिया, उर्वशी और विनीता की आयु

इस प्रकार है:

प्रेम सबसे अधिक आयु के मामले में दुसरे नंबर पर है। विनीता कक्षा में केवल एक छात्र/छात्रा से बड़ी है।

शुभम, तानिया से बड़ा है लेकिन प्रेम से छोटा है। तीन छात्र/छात्रा, तानिया से बड़े हैं और तीन, तानिया से

छोटे हैं। न तो ऋषव और न ही काजी सबसे छोटा है।

यह देखते हुए कि किन्हीं भी दो छात्र/छात्रा की आयु समान नहीं है, सबसे छोटा कौन है?

Ans 1. शुभम

2. विनीता

3. तानिया

4. उर्वशी

Question ID : 26433048474

Status : Answered

Chosen Option : 4

Q.9 दिए गए विकल्पों में से उस संख्या का चयन कीजिए जो निम्नलिखित श्रृंखला में प्रश्नवाचक चिह्न (?) के स्थान पर आ सकती है।

16, 23, 31, 40, 50, ?

Ans 1. 60

2. 62

3. 63

4. 61

Question ID : 26433048257

Status : Answered

Chosen Option : 4

Q.10 एक विशिष्ट कूट भाषा में, 'Toys are hard' को '# % @' कोडित किया जाता है और 'Games magnet is toys' को 'fr lm ag #' कोडित किया जाता है। इस भाषा में 'Toys' का कोड क्या है?

Ans 1. fr

2. #

3. %

4. @

Question ID : 26433048570

Status : Answered

Chosen Option : 2

Q.11 उस विकल्प का चयन करें जो तीसरे अक्षर-समूह से उसी प्रकार संबंधित है, जिस प्रकार दूसरा अक्षर-समूह पहले अक्षर-समूह से संबंधित है।

GMP : IKS :: FOL : ?

Ans 1. HNP

2. HMP

3. HMO

4. HNO

Question ID : 26433048574

Status : Answered

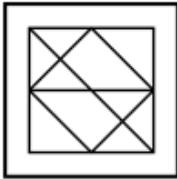
Chosen Option : 3

Q.12 उस विकल्प का चयन कीजिए जिसमें दी गई आकृति अंतर्निहित है (घूर्णन की अनुमति नहीं है)।

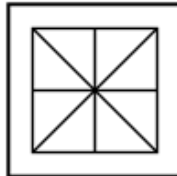


Ans

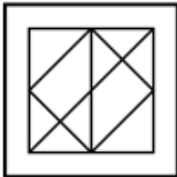
✗ 1.



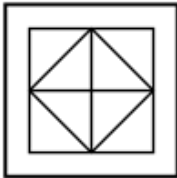
✓ 2.



✗ 3.



✗ 4.



Question ID : 26433047989

Status : Answered

Chosen Option : 2

Q.13 दिए गए समीकरण को गणितीय रूप से सही बनाने के लिए किन दो चिह्नों को परस्पर बदला जाना चाहिए?

$$26 \div 24 + 6 \times 27 - 105 = 29$$

Ans ✗ 1. + और ×

✓ 2. + और ÷

✗ 3. × और -

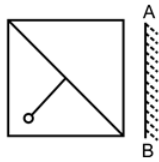
✗ 4. × और ÷

Question ID : 26433048361

Status : Answered

Chosen Option : 2

Q.14 दी गई आकृति के सही दर्पण प्रतिबिंब का चयन कीजिए, जब दर्पण को दाहिनी ओर रखा जाता है।

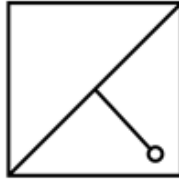


Ans

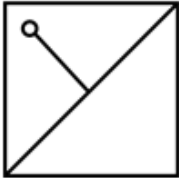
✗ 1.



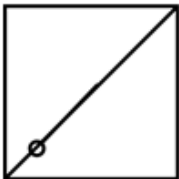
✓ 2.



✗ 3.



✗ 4.



Question ID : 26433048015

Status : Answered

Chosen Option : 2

Q.15 एक निश्चित कूट भाषा में, यदि फरवरी को मार्च कहा जाता है, मार्च को अप्रैल कहा जाता है, अप्रैल को जून कहा जाता है, जून को सितम्बर कहा जाता है, और सितम्बर को नवम्बर कहा जाता है, तो किस माह में दिनों की संख्या सबसे अधिक होगी?

Ans ✗ 1. जून

✗ 2. मार्च

✗ 3. सितम्बर

✓ 4. अप्रैल

Question ID : 26433048100

Status : Answered

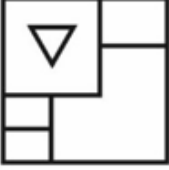
Chosen Option : 4

Q.16 दिए गए विकल्पों में से उस आकृति का चयन करें, जो प्रश्न चिह्न (?) के स्थान पर आ सकती है और पैटर्न को पूरा कर सकती है। (घुमाने की अनुमति नहीं है)

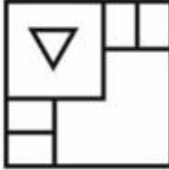


Ans

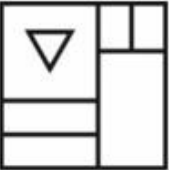
✗ 1.



✓ 2.



✗ 3.



✗ 4.



Question ID : 26433048888

Status : Answered

Chosen Option : 2

Q.17 उस समुच्चय का चयन कीजिए जिसकी संख्याएँ आपस में उसी प्रकार संबंधित हैं, जिस प्रकार नीचे दिए गए समुच्चयों की संख्याएँ आपस में संबंधित हैं।

(टिप्पणी: संख्याओं को उनके घटक अंकों में विभाजित किए बिना, पूर्णांक संख्याओं पर संक्रियाएं की जानी चाहिए। उदाहरण के लिए 13 - 13 पर जोड़ने/ घटाने / गुणा करने आदि संक्रियाओं को 13 में किया जा सकता है। 13 को 1 और 3 में विभाजित करने और फिर 1 और 3 पर गणितीय संक्रियाएं करने की अनुमति नहीं है)

(3, 4, 24)

(4, 5, 40)

Ans ✗ 1. (5, 7, 42)

✗ 2. (3, 7, 21)

✓ 3. (2, 7, 28)

✗ 4. (4, 6, 36)

Question ID : 26433047984

Status : Answered

Chosen Option : 3

Q.18 एक निश्चित कूट भाषा में, 'WATER' को 'RETAW' के रूप में लिखा जाता है, 'CERTAIN' को 'NIATREC' के रूप में लिखा जाता है, और 'GENERAL' को 'LARENEG' के रूप में लिखा जाता है। उसी भाषा में 'LOVELY' को किस रूप में लिखा जाएगा?

- Ans
- 1. YOVELL
 - 2. YLEVOL
 - 3. LOVELY
 - 4. YLVEOL

Question ID : 26433048098
Status : Answered
Chosen Option : 2

Q.19 उस विकल्प का चयन कीजिए जो निम्नलिखित श्रृंखला में प्रश्नवाचक चिह्न (?) के स्थान पर आ सकता है।

E, H, K, N, Q, ?

- Ans
- 1. V
 - 2. U
 - 3. S
 - 4. T

Question ID : 26433048343
Status : Answered
Chosen Option : 4

Q.20 उस विकल्प का चयन कीजिए जिसका पाँचवें अक्षर-समूह से वही संबंध है, जिस प्रकार से दूसरा अक्षर-समूह, पहले अक्षर-समूह से संबंधित है और चौथा अक्षर-समूह, तीसरे अक्षर-समूह से संबंधित है।

METHOD : OIZPYP :: SAFETY : UELMDK :: YELLOW : ?

- Ans
- 1. AIRTYI
 - 2. AIRTYJ
 - 3. AIRTXI
 - 4. AIRTXJ

Question ID : 26433048320
Status : Answered
Chosen Option : 1

Q.21 Five people, I, J, K, L, and M, are sitting in a straight row, facing north. K sits to the immediate right of L. Only two people sit between L and I. M sits to the immediate right of I and to the immediate left of J. Who sits in the middle of the row?

- Ans
- 1. M
 - 2. K
 - 3. L
 - 4. J

Question ID : 26433048251
Status : Answered
Chosen Option : 4

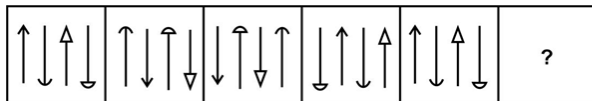
Q.22 दिए गए विकल्पों में से वह संख्या चुनिए जो निम्नलिखित श्रृंखला में प्रश्नवाचक चिह्न (?) का स्थान ले सके।

31, 62, 65, 260, 265, ?

- Ans
- 1. 860
 - 2. 555
 - 3. 1590
 - 4. 1240

Question ID : 26433048477
 Status : Answered
 Chosen Option : 3

Q.23 दिए गए विकल्पों में से उस आकृति का चयन कीजिए, जो निम्नलिखित श्रृंखला में प्रश्न चिह्न (?) के स्थान पर आ सकती है।



Ans

- 1.
- 2.
- 3.
- 4.

Question ID : 26433048337
 Status : Answered
 Chosen Option : 2

Q.24 Read the given statements and conclusions carefully. Assuming that the information given in the statements is true, even if it appears to be at variance with commonly known facts, decide which of the given conclusions logically follow(s) from the statements.

Statements:

Some pilots are cutes.

All ballers are cutes.

Conclusions:

I. All cutes are ballers.

II. Some pilots are ballers.

Ans ✓ 1. Neither conclusion I nor II follows.

✗ 2. Only conclusion II follows.

✗ 3. Both conclusions I and II follow.

✗ 4. Only conclusion I follows.

Question ID : 26433048330

Status : Answered

Chosen Option : 1

Q.25 एक निश्चित कूट भाषा में, 'TEAM' को '41' और 'FEAD' को '18' के रूप में कूटबद्ध किया जाता है। उसी भाषा में 'GROW' को किस प्रकार कूटबद्ध किया जाएगा?

Ans ✓ 1. 65

✗ 2. 67

✗ 3. 63

✗ 4. 61

Question ID : 26433048698

Status : Answered

Chosen Option : 1

Section : Numerical Aptitude

Q.1 एक घनीय पासे के सभी 6 फलकों पर प्रदर्शित होने वाली 1 से 6 तक की संख्याओं का औसत ज्ञात कीजिए।

Ans ✗ 1. 3.2

✓ 2. 3.5

✗ 3. 3.4

✗ 4. 3.6

Question ID : 26433050123

Status : Answered

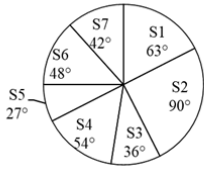
Chosen Option : 2

Q.2 प्रथम 7 प्राकृतिक संख्याओं के घनों का औसत ज्ञात कीजिए।

- Ans
- 1. 96
 - 2. 84
 - 3. 112
 - 4. 105

Question ID : 26433049704
Status : Answered
Chosen Option : 3

Q.3 निम्न पाई-चार्ट सात अलग-अलग दुकानों द्वारा बेची गई बोतलों की संख्या को सभी सात दुकानों द्वारा बेची गई बोतलों की कुल संख्या के संदर्भ में, त्रिज्यखंडों के केंद्रीय कोणों (डिग्री में) के रूप में निरूपित करता है।



यदि सभी 7 दुकानों द्वारा बेची गई बोतलों की कुल संख्या 1500 है, तो S4 द्वारा बेची गई बोतलों की संख्या ज्ञात कीजिए।

- Ans
- 1. 240
 - 2. 165
 - 3. 225
 - 4. 180

Question ID : 26433049692
Status : Answered
Chosen Option : 3

Q.4 एक खिलौना एक अर्धगोले के ऊपर एक बेलन के आकार का है। खिलौने की कुल ऊंचाई 15 cm है और अर्धगोले की त्रिज्या 6 cm है। खिलौने का आयतन ज्ञात कीजिए।

- Ans
- 1. $476\pi \text{ cm}^3$
 - 2. $458\pi \text{ cm}^3$
 - 3. $496\pi \text{ cm}^3$
 - 4. $468\pi \text{ cm}^3$

Question ID : 26433049417
Status : Answered
Chosen Option : 4

Q.5 $17 \div 34 + 2 \times 12 \div 6 - 5 \times 3 \div 6$ का मान ज्ञात कीजिए।

- Ans
- 1. 4.5
 - 2. 2
 - 3. 3.5
 - 4. 3

Question ID : 26433049688
Status : Answered
Chosen Option : 2

Q.6 If $\frac{2x+3}{18 \div 3 \times 4 + 2} = \frac{12 \times 3 + 5}{2 \times 4 \div 2}$, then what is the value of x?

- Ans
- 1. 131.75
 - 2. 134.35
 - 3. 132.25
 - 4. 120.5

Question ID : 26433049614
Status : Answered
Chosen Option : 1

Q.7 दो संख्याओं का अंतर 24 है जबकि उन दो संख्याओं का योग 120 है। नीचे दिए गए विकल्पों में से कौन-सा, उन दो संख्याओं का अनुपात हो सकता है?

- Ans
- 1. 3 : 5
 - 2. 4 : 5
 - 3. 3 : 2
 - 4. 5 : 8

Question ID : 26433049806
Status : Answered
Chosen Option : 3

Q.8 एक निश्चित धनराशि पर 7% की वार्षिक दर से 2 वर्षों में प्राप्त साधारण ब्याज, ₹1,000 की राशि पर 10% की वार्षिक दर से 2 वर्षों में प्राप्त चक्रवृद्धि ब्याज (ब्याज वार्षिक रूप में संयोजित होने पर) का दोगुना है। साधारण ब्याज पर निवेश की गई धनराशि ज्ञात कीजिए।

- Ans
- 1. ₹3,000
 - 2. ₹2,000
 - 3. ₹4,000
 - 4. ₹1,000

Question ID : 26433049332
Status : Answered
Chosen Option : 1

Q.9 दो उम्मीदवारों के बीच एक चुनाव में, डाले गए मतों की कुल संख्या 'y' थी। उनमें से 40 फीसदी मत अवैध थे। जीतने वाले उम्मीदवार को वैध मतों के 60% मत प्राप्त हुए, जबकि दूसरे उम्मीदवार को 6,000 मतों से हार का सामना करना पड़ा। 'y' का मान ज्ञात कीजिए।

- Ans
- ✓ 1. 50,000
 - ✗ 2. 45,000
 - ✗ 3. 30,000
 - ✗ 4. 40,000

Question ID : 26433049500
Status : Answered
Chosen Option : 1

Q.10 नीचे दी गई तालिका एक विशेष दिन पर एक दुकान द्वारा बेचे गए 5 विभिन्न ब्रांडों के सीमेंट के बैगों की संख्या दर्शाती है।

सीमेंट	बैग
C1	61
C2	39
C3	19
C4	51
C5	40

सीमेंट के प्रत्येक बैग का वजन समान है और 45 kg के बराबर है। एक साथ ली गई सभी सीमेंट बैगों का कुल वजन कितना है?

- Ans
- ✗ 1. 9150 kg
 - ✓ 2. 9450 kg
 - ✗ 3. 9850 kg
 - ✗ 4. 8750 kg

Question ID : 26433049815
Status : Answered
Chosen Option : 2

Q.11 निम्न में से वह छोटी से छोटी संख्या कौन सी है जिसे 18, 24 और 36 से विभाजित करने पर प्रत्येक स्थिति में शेष 3 बचता है?

- Ans
- ✗ 1. 93
 - ✗ 2. 111
 - ✓ 3. 75
 - ✗ 4. 99

Question ID : 26433049320
Status : Answered
Chosen Option : 3

Q.12 एक शिविर में एक ही आकृति और आकार के तंबू लगाए गए हैं। प्रत्येक तंबू 4 मीटर की ऊंचाई तक बेलनाकार और उसके ऊपर शंक्वाकार है। बेलनाकार भाग और शंक्वाकार भाग दोनों के आधारों का व्यास 10.5 m है और शंक्वाकार भाग की तिर्यक ऊंचाई 10 m है। यदि सभी तंबूओं को बनाने में कुल 3861 m² कैनवास का उपयोग किया गया है, तो शिविर में कितने तंबू हैं? [$\pi = \frac{22}{7}$ मानिए]

- Ans
- ✓ 1. 13
 - ✗ 2. 19
 - ✗ 3. 11
 - ✗ 4. 7

Question ID : 26433050142
Status : Answered
Chosen Option : 1

Q.13 एक व्यक्ति कुछ केले ₹Y प्रति दर्जन की दर से खरीदता है और उन्हें ₹ $\frac{Y}{4}$ प्रति केले की दर से बेचता है। उसका लाभ प्रतिशत क्या है?

- Ans
- ✗ 1. 80%
 - ✗ 2. 50%
 - ✓ 3. 200%
 - ✗ 4. 100%

Question ID : 26433049326
Status : Answered
Chosen Option : 3

Q.14 एक घन का आयतन 512 cm³ है। इस घन की प्रत्येक भुजा की लंबाई ज्ञात कीजिए।

- Ans
- ✗ 1. 12 cm
 - ✗ 2. 9 cm
 - ✗ 3. 6 cm
 - ✓ 4. 8 cm

Question ID : 26433049684
Status : Answered
Chosen Option : 4

Q.15 एक व्यक्ति 7.5 km की दूरी 25 m/sec की चाल से तय करता है। इस दूरी (7.5 km) को तय करने में उस व्यक्ति को कितना समय लगेगा?

- Ans
- ✗ 1. 7.5 min
 - ✓ 2. 5 min
 - ✗ 3. 8 min
 - ✗ 4. 6 min

Question ID : 26433049595
Status : Answered
Chosen Option : 2

Q.16 मिट्टी के तेल के मूल्य में प्रति वर्ष 10% की वृद्धि होती है। यदि मिट्टी के तेल का वर्तमान मूल्य ₹50 प्रति लीटर है, तो 2 वर्ष बाद मिट्टी के तेल का प्रति लीटर मूल्य क्या होगा?

- Ans
- 1. ₹52.8
 - 2. ₹65.6
 - 3. ₹60.5
 - 4. ₹55.6

Question ID : 26433049707
Status : Answered
Chosen Option : 3

Q.17 1 से 43 तक की प्राकृतिक संख्याओं का औसत क्या होगा?

- Ans
- 1. 44
 - 2. 43
 - 3. 22
 - 4. 32

Question ID : 26433049397
Status : Answered
Chosen Option : 3

Q.18 एक काम को P और Q मिलकर 24 दिनों में पूरा कर सकते हैं और उसी काम को R अकेले 60 दिनों में पूरा कर सकता है। यदि P और R मिलकर उसी काम को 36 दिनों में पूरा कर सकते हैं, तो Q द्वारा अकेले उस काम को पूरा करने में कितने दिन लगेंगे?

- Ans
- 1. $8\frac{4}{5}$ दिन
 - 2. $32\frac{8}{11}$ दिन
 - 3. $3\frac{6}{7}$ दिन
 - 4. $29\frac{9}{13}$ दिन

Question ID : 26433050085
Status : Answered
Chosen Option : 2

Q.19 किसी वस्तु के अंकित मूल्य का $\frac{2}{5}$ उसके क्रय मूल्य के $\frac{4}{7}$ के बराबर है। यदि इसकी बिक्री पर 15% की छूट दी जाती है, तो लगभग कितने प्रतिशत का लाभ प्राप्त होगा?

- Ans
- 1. 19.84%
 - 2. 21.43%
 - 3. 14.28%
 - 4. 23.63%

Question ID : 26433049699
Status : Answered
Chosen Option : 2

Q.20 A ने ₹1,600 में एक पुस्तक खरीदी। A ने इसे 10% की हानि पर B को बेच दिया और B ने इसे 20% की हानि पर C को बेच दिया। C ने यह पुस्तक किस मूल्य पर खरीदी?

- Ans
- ✓ 1. ₹1,152
 - ✗ 2. ₹1,442
 - ✗ 3. ₹1,098
 - ✗ 4. ₹1,224

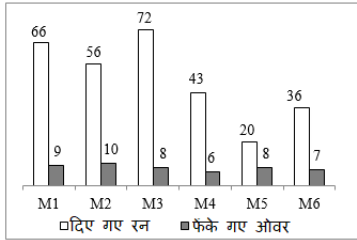
Question ID : 26433049673

Status : Answered

Chosen Option : 1

Q.21 निम्न बार चार्ट 6 अलग-अलग मैचों में एक गेंदबाज द्वारा दिए गए रनों और फेंके गए ओवरों को दर्शाता है।

$$\text{इकॉनमी रेट} = \frac{\text{दिए गए रन}}{\text{फेंके गए ओवर}}$$



सभी 6 मैचों में गेंदबाज का इकॉनमी रेट क्या है? [दो दशमलव स्थानों तक पूर्णांकित उत्तर दीजिए]

- Ans
- ✗ 1. 7.22
 - ✗ 2. 5.46
 - ✓ 3. 6.10
 - ✗ 4. 6.93

Question ID : 26433049616

Status : Answered

Chosen Option : 3

Q.22 A अकेले एक कार्य को 7 दिनों में कर सकता है, जबकि B अकेले उसे 10 दिनों में कर सकता है। यदि वे दोनों एक साथ कार्य करें, तो वे उसी कार्य को कितने दिनों में पूरा कर लेंगे?

- Ans
- ✗ 1. $\frac{35}{17}$ दिन
 - ✓ 2. $\frac{70}{17}$ दिन
 - ✗ 3. $\frac{105}{17}$ दिन
 - ✗ 4. $\frac{84}{17}$ दिन

Question ID : 26433049285

Status : Answered

Chosen Option : 2

Q.23 यदि $a : b : c = 2 : 3 : 7$ है, तो $2a : 3b : 7c$ का मान क्या होगा?

- Ans
- 1. 6 : 10 : 49
 - 2. 6 : 10 : 47
 - 3. 4 : 9 : 49
 - 4. 5 : 10 : 52

Question ID : 26433049605
Status : Answered
Chosen Option : 3

Q.24 यदि A का 80%, B के 90% से 13 अधिक है और A के 40% तथा B के 60% का अनुपात 10:9 है, तो A - B का मान क्या होगा?

- Ans
- 1. 80
 - 2. 50
 - 3. 20
 - 4. 60

Question ID : 26433050075
Status : Answered
Chosen Option : 3

Q.25 एक रेलगाड़ी एक स्थिर खंभे को पूरी तरह से 18 s में और एक पुल को 44 s में पूरी तरह से पार कर लेती है। यदि पुल की लंबाई 650 m है, तो ट्रेन की लंबाई कितनी है?

- Ans
- 1. 540 m
 - 2. 270 m
 - 3. 360 m
 - 4. 450 m

Question ID : 26433049796
Status : Answered
Chosen Option : 4

Section : General Awareness

Q.1 प्राचीन नीमराना बावड़ी राजस्थान के निम्नलिखित में से किस जिले में स्थित है?

- Ans
- 1. बीकानेर
 - 2. जयपुर
 - 3. अलवर
 - 4. अजमेर

Question ID : 26433046722
Status : Not Answered
Chosen Option : --

Q.2 Which of the following is the world's largest inland sea?

- Ans 1. Mediterranean Sea
 2. Red Sea
 3. Azov Sea
 4. Caspian Sea

Question ID : 26433046726
Status : Not Answered
Chosen Option : --

Q.3 Which of the following types of agriculture is known as Jhum in Assam?

- Ans 1. Intensive Farming
 2. Shifting Agriculture
 3. Subsistence Farming
 4. Plantation Agriculture

Question ID : 26433046727
Status : Not Answered
Chosen Option : --

Q.4 फ़िल्ड हॉकी टीम में कितने खिलाड़ी होते हैं?

- Ans 1. 7
 2. 15
 3. 11
 4. 19

Question ID : 26433046916
Status : Answered
Chosen Option : 3

Q.5 निम्नलिखित में से कौन एक प्रसिद्ध भारतीय नृत्य-निर्देशक (कोरियोग्राफर) थीं?

- Ans 1. सरोज खान
 2. माधुरी दीक्षित
 3. काजोल
 4. श्रेया घोषाल

Question ID : 26433046995
Status : Answered
Chosen Option : 1

Q.6 फ्रीडम इन एक्जाइल _____ की आत्मकथा है।

- Ans 1. महात्मा गांधी
 2. दलाई लामा
 3. ए. पी. जे. अब्दुल कलाम
 4. नेल्सन मंडेला

Question ID : 26433047110
Status : Answered
Chosen Option : 2

Q.7 प्रधानमंत्री कौशल विकास योजना 2015 में _____ के तहत शुरू की गई थी।

- Ans
- 1. ग्रामीण विकास मंत्रालय
 - 2. आवास और शहरी मामलों के मंत्रालय
 - 3. कौशल विकास और उद्यमिता मंत्रालय
 - 4. वित्त मंत्रालय

Question ID : 26433046805
Status : Marked For Review
Chosen Option : 3

Q.8 कुतुब-उद-दीन ऐबक ने निम्नलिखित में से किस राजवंश की स्थापना की थी?

- Ans
- 1. खिलजी वंश
 - 2. गुलाम वंश
 - 3. सैय्यद वंश
 - 4. तुगलक वंश

Question ID : 26433046732
Status : Answered
Chosen Option : 2

Q.9 किस ब्रिटिश गवर्नर ने बंगाल में द्वैध शासन व्यवस्था को समाप्त कर दिया?

- Ans
- 1. जॉन शोर
 - 2. वारेन हेस्टिंग्स
 - 3. रॉबर्ट क्लाइव
 - 4. विलियम बेंटिक

Question ID : 26433047083
Status : Answered
Chosen Option : 2

Q.10 किसी राज्य के राज्यपाल को _____ द्वारा नियुक्त किया जाता है।

- Ans
- 1. भारत के राष्ट्रपति
 - 2. उस राज्य के मुख्यमंत्री
 - 3. भारत के महाधिवक्ता
 - 4. भारत के प्रधानमंत्री

Question ID : 26433047089
Status : Answered
Chosen Option : 1

Q.11 Which winds are also known by the name of 'Roaring Forties'?

- Ans
- 1. Trade winds
 - 2. Polar easterlies
 - 3. Polar winds
 - 4. westerly winds

Question ID : 26433047078
Status : Not Answered
Chosen Option : --

Q.12 दिल्ली नगर निगम (संशोधन) विधेयक, 2022, 25 मार्च 2022 को लोकसभा में _____ ने पेश किया था।

- Ans
- 1. नरेंद्र मोदी
 - 2. रमेश बिधूड़ी
 - 3. निर्मला सीतारमण
 - 4. अमित शाह

Question ID : 26433046718
Status : Answered
Chosen Option : 4

Q.13 हस्तिनापुर का लौह कार्यान्वयन स्थल भारत के इनमें से किस वर्तमान राज्य में पाया गया था?

- Ans
- 1. बिहार
 - 2. मध्य प्रदेश
 - 3. हरियाणा
 - 4. उत्तर प्रदेश

Question ID : 26433047106
Status : Marked For Review
Chosen Option : 4

Q.14 The Annual Financial Statement shows the receipts and payments of Government in the form of _____.

- Ans
- 1. Contingency Fund and Consolidated Funds
 - 2. Contingency Fund, Public Account, and Capital Projects
 - 3. Public Account and Consolidate Funds
 - 4. Contingency Fund, Public Account, and Consolidated Funds

Question ID : 26433047117
Status : Answered
Chosen Option : 3

Q.15 इनमें से किस खनिज द्वारा थायरॉक्सिन हार्मोन का संश्लेषण किया जाता है?

- Ans
- 1. आयरन
 - 2. आयोडीन
 - 3. कैल्शियम
 - 4. कोबाल्ट

Question ID : 26433047075
Status : Answered
Chosen Option : 2

Q.16 निम्नलिखित में से कौन सा खेल ग्रीष्मकालीन ओलंपिक खेलों 2020 (2021 में आयोजित किया गया) में नहीं खेला गया था?

- Ans 1. वुशु
 2. कुश्ती
 3. मुक्केबाज़ी
 4. भारोत्तोलन

Question ID : 26433047491
Status : Answered
Chosen Option : 1

Q.17 हॉर्नबिल उत्सव भारत के किस राज्य से संबंधित है?

- Ans 1. बिहार
 2. नागालैंड
 3. कर्नाटक
 4. केरल

Question ID : 26433047196
Status : Answered
Chosen Option : 2

Q.18 भरतनाट्यम हेतु पद्मश्री पुरस्कार से सम्मानित प्रथम परलैंगिक (ट्रांस) महिला इनमें से कौन-सी है?

- Ans 1. नर्तकी नटराज
 2. श्रुति सितारा
 3. साधना मिश्रा
 4. बिशेष हुइरेम

Question ID : 26433047087
Status : Marked For Review
Chosen Option : 2

Q.19 निम्नलिखित में से किसमें सबसे अधिक मात्रा में एस्कॉर्बिक एसिड (विटामिन C) होता है?

- Ans 1. खजूर
 2. अमरूद
 3. मूंगफली
 4. गेहूँ

Question ID : 26433046999
Status : Marked For Review
Chosen Option : 2

Q.20 Assam and most of the Peninsular states have _____ population densities.

- Ans 1. high to very high
 2. moderate
 3. very low
 4. moderate to high

Question ID : 26433047530
Status : **Marked For Review**
Chosen Option : 4

Q.21 निम्नलिखित में से कौन सा मौलिक अधिकार मानव तस्करी, बेगार और अन्य प्रकार के जबरन श्रम को प्रतिबंधित करने से संबंधित है?

- Ans 1. सांस्कृतिक और शैक्षिक अधिकार
 2. शोषण के विरुद्ध अधिकार
 3. संवैधानिक उपचार का अधिकार
 4. धार्मिक स्वतंत्रता का अधिकार

Question ID : 26433046738
Status : **Answered**
Chosen Option : 2

Q.22 Loudness of sound is proportional to the _____ of the amplitude of the vibration producing the sound.

- Ans 1. cube root
 2. Cube
 3. square root
 4. Square

Question ID : 26433047198
Status : **Not Answered**
Chosen Option : --

Q.23 डॉ. एन. राजम _____ के वादक के रूप में विख्यात हैं।

- Ans 1. वायलिन
 2. बांसुरी
 3. वीणा
 4. गिटार

Question ID : 26433047111
Status : **Marked For Review**
Chosen Option : 1

Q.24 निम्नलिखित में से किसने ब्रिटिश ईस्ट इंडिया कंपनी की ओर से बक्सर के युद्ध का नेतृत्व किया था?

- Ans 1. हेक्टर मुनरो
 2. जॉन विलियम फ़ोटेस्क्यू
 3. चार्ल्स स्टुअर्ट
 4. रॉबर्ट क्लाइव

Question ID : 26433047009
Status : Answered
Chosen Option : 1

Q.25 इनमें से किसे, 2021 में पेटा (PETA) इंडिया पर्सन ऑफ़ द ईयर चुना गया?

- Ans 1. दीपिका पादुकोण
 2. अनुष्का शर्मा
 3. आलिया भट्ट
 4. कियारा आडवाणी

Question ID : 26433047094
Status : Answered
Chosen Option : 3