

Multi Tasking Non Technical Staff Havaladar CBIC and CBN Examination 2021

Roll Number	
Candidate Name	
Venue Name	
Exam Date	12/07/2022
Exam Time	1:00 PM - 2:30 PM
Subject	MTS Non technical and Havaladar Examination 2021

Section : General English

Q.1 The following sentence has been divided into parts. One of them may contain an error. Select the part that contains the error from the given options. If you don't find any error, mark 'No error' as your answer.

Residents should keep an / eye out for strangers / acting suspecting in their areas

- Ans 1. eye out for strangers
 2. acting suspecting in their areas
 3. No error
 4. Residents should keep an

Question ID : 26433051565
Status : Answered
Chosen Option : 1

Q.2 Select the option that will improve the underlined part of the given sentence. In case no improvement is needed, select 'No improvement required'.

When a plastic comb is rubbed on dry hair, they acquired a static charge.

- Ans 1. it acquires a
 2. No improvement required
 3. it acquired a
 4. they acquire an

Question ID : 26433051776
Status : Answered
Chosen Option : 1

Q.3 Select the most appropriate meaning of the underlined idiom in the given sentence.

Come rain or shine, I will go to Paris tomorrow.

- Ans 1. To come before the decided time
 2. At the last moment
 3. To decide later
 4. Whatever happens

Question ID : 26433050838
Status : Answered
Chosen Option : 4

Q.4 Select the most appropriate ANTONYM of the underlined word in the given sentence.

The list included many mundane, routine tasks.

- Ans
- 1. standard
 - 2. temporal
 - 3. exceptional
 - 4. customary

Question ID : 26433051068
Status : Answered
Chosen Option : 2

Q.5 Select the most appropriate meaning of the underlined idiom in the given sentence.

I had never seen him lose his temper, and he governed our company with an iron hand.

- Ans
- 1. strict and harsh control
 - 2. At the service
 - 3. To any degree
 - 4. In anxiety

Question ID : 26433051715
Status : Answered
Chosen Option : 1

Q.6 Select the most appropriate synonym of the given word.

Hurdle

- Ans
- 1. Accessory
 - 2. Progress
 - 3. Impediment
 - 4. Aid

Question ID : 26433051355
Status : Answered
Chosen Option : 2

Q.7 Select the option that will improve the underlined part of the given sentence. In case no improvement is needed, select 'No improvement required'.

Suspend all the employees which has been coming late.

- Ans
- 1. who have been coming
 - 2. that was been coming
 - 3. No improvement required
 - 4. who had came

Question ID : 26433050988
Status : Answered
Chosen Option : 1

Q.8 Select the most appropriate option to fill in the blank.

We are selling a single orange _____ ₹10 but nobody is ready to buy it.

- Ans
- 1. to
 - 2. for
 - 3. with
 - 4. on

Question ID : 26433050771
Status : Answered
Chosen Option : 2

Q.9 Select the most appropriate synonym of the given word.

Laborious

- Ans
- 1. Profane
 - 2. Unsophisticated
 - 3. Pompous
 - 4. Assiduous

Question ID : 26433051581
Status : Answered
Chosen Option : 4

Q.10 Select the option that can be used as a one-word substitute for the given group of words.

A keeper or custodian of a museum

- Ans
- 1. Curator
 - 2. Master
 - 3. Creator
 - 4. Developer

Question ID : 26433051302
Status : Answered
Chosen Option : 3

Q.11 The following sentence has been split into four segments. Identify the segment that contains a grammatical error.

But this immortality / will have purchased / at the price of / his immortal part.

- Ans
- 1. will have purchased
 - 2. his immortal part
 - 3. But this immortality
 - 4. at the price of

Question ID : 26433051671
Status : Answered
Chosen Option : 3

Q.12 Select the option that can be used as a one-word substitute for the given group of words.

Any award, honour or laudatory notice

- Ans
- 1. Deal
 - 2. Statute
 - 3. Complement
 - 4. Accolade

Question ID : 26433051761
Status : Answered
Chosen Option : 3

Q.13 Select the option that can be used as a one-word substitute for the given group of words.

Something happening in three years

- Ans
- 1. Biennial
 - 2. Annual
 - 3. Triennial
 - 4. millennial

Question ID : 26433051099
Status : Answered
Chosen Option : 3

Q.14 Select the most appropriate option to fill in the blank.

As he went through the street on an _____ that morning, he saw a woman with a cat under her arm.

- Ans
- 1. Amendment
 - 2. Objection
 - 3. encasement
 - 4. Errand

Question ID : 26433051363
Status : Not Answered
Chosen Option : --

Q.15 Select the correctly spelt word.

- Ans
- 1. Imprudence
 - 2. Imprudence
 - 3. Imprudence
 - 4. Imprudence

Question ID : 26433051692
Status : Answered
Chosen Option : 4

Q.16 Select the correctly spelt word.

- Ans 1. Tendensy
 2. Tendency
 3. Tendancy
 4. Tendincy

Question ID : 26433050702
Status : Answered
Chosen Option : 2

Q.17 Select the most appropriate option to fill in the blank.

Thinking of talent as innate makes our world more manageable and more comfortable as it relieves a person of the _____ of expectation.

- Ans 1. assistance
 2. blessing
 3. compensation
 4. burden

Question ID : 26433051494
Status : Answered
Chosen Option : 4

Q.18 Select the most appropriate ANTONYM of the given word.

Agitate

- Ans 1. Blame
 2. Distress
 3. Soothe
 4. Strike

Question ID : 26433050694
Status : Answered
Chosen Option : 3

Q.19 Parts of the following sentence have been given as options. One of them may contain an error. Select the part that contains the error from the given options. If you don't find any error, mark 'No error' as your answer.

Apart from Germany, they also visited Italy and Austria during its business trip.

- Ans 1. also visited Italy and Austria
 2. during its business trip
 3. No error.
 4. Apart from Germany, they

Question ID : 26433051184
Status : Answered
Chosen Option : 4

Q.20 Select the option that will improve the underlined part of the sentence. In case no improvement is needed, select 'No improvement required'.

The smell of this flower make me felt dizzy.

- Ans 1. makes me feel
 2. No improvement required
 3. make me feeling
 4. making I feel

Question ID : 26433050535
Status : Answered
Chosen Option : 1

Comprehension:

In the following passage, some words have been deleted. Read the passage carefully and select the most appropriate option to fill in each blank.

Coca-Cola is to become the new sponsor of the London Eye after (1) _____ a deal to replace France's EDF Energy. The capital's giant Ferris Wheel has been a (2) _____ tourist attraction since it was introduced in 2000, when it was (3) _____ as the Millennium Wheel. It was previously (4) _____ by British Airways before becoming the EDF Energy London Eye in 2011. Coca-Cola will take over in January after (5) _____ a two-year deal with the wheel's owner, Merlin Entertainments, for an undisclosed sum.

SubQuestion No : 21

Q.21 Select the most appropriate option to fill in blank number 1.

- Ans 1. Signing
 2. Enclosing
 3. Clearing
 4. Assorting

Question ID : 26433051348
Status : Answered
Chosen Option : 3

Comprehension:

In the following passage, some words have been deleted. Read the passage carefully and select the most appropriate option to fill in each blank.

Coca-Cola is to become the new sponsor of the London Eye after (1) _____ a deal to replace France's EDF Energy. The capital's giant Ferris Wheel has been a (2) _____ tourist attraction since it was introduced in 2000, when it was (3) _____ as the Millennium Wheel. It was previously (4) _____ by British Airways before becoming the EDF Energy London Eye in 2011. Coca-Cola will take over in January after (5) _____ a two-year deal with the wheel's owner, Merlin Entertainments, for an undisclosed sum.

SubQuestion No : 22

Q.22 Select the most appropriate option to fill in blank number 2.

- Ans 1. Mandatory
 2. Leading
 3. Susceptible
 4. Supportive

Question ID : 26433051349
Status : Answered
Chosen Option : 1

Comprehension:

In the following passage, some words have been deleted. Read the passage carefully and select the most appropriate option to fill in each blank.

Coca-Cola is to become the new sponsor of the London Eye after (1) _____ a deal to replace France's EDF Energy. The capital's giant Ferris Wheel has been a (2) _____ tourist attraction since it was introduced in 2000, when it was (3) _____ as the Millennium Wheel. It was previously (4) _____ by British Airways before becoming the EDF Energy London Eye in 2011. Coca-Cola will take over in January after (5) _____ a two-year deal with the wheel's owner, Merlin Entertainments, for an undisclosed sum.

SubQuestion No : 23

Q.23 Select the most appropriate option to fill in blank number 3.

- Ans 1. Inscribed
 2. Based
 3. Known
 4. Published

Question ID : 26433051350

Status : Answered

Chosen Option : 3

Comprehension:

In the following passage, some words have been deleted. Read the passage carefully and select the most appropriate option to fill in each blank.

Coca-Cola is to become the new sponsor of the London Eye after (1) _____ a deal to replace France's EDF Energy. The capital's giant Ferris Wheel has been a (2) _____ tourist attraction since it was introduced in 2000, when it was (3) _____ as the Millennium Wheel. It was previously (4) _____ by British Airways before becoming the EDF Energy London Eye in 2011. Coca-Cola will take over in January after (5) _____ a two-year deal with the wheel's owner, Merlin Entertainments, for an undisclosed sum.

SubQuestion No : 24

Q.24 Select the most appropriate option to fill in blank number 4.

- Ans 1. Sponsored
 2. kept
 3. Authenticated
 4. Refused

Question ID : 26433051351

Status : Answered

Chosen Option : 1

Comprehension:

In the following passage, some words have been deleted. Read the passage carefully and select the most appropriate option to fill in each blank.

Coca-Cola is to become the new sponsor of the London Eye after (1) _____ a deal to replace France's EDF Energy. The capital's giant Ferris Wheel has been a (2) _____ tourist attraction since it was introduced in 2000, when it was (3) _____ as the Millennium Wheel. It was previously (4) _____ by British Airways before becoming the EDF Energy London Eye in 2011. Coca-Cola will take over in January after (5) _____ a two-year deal with the wheel's owner, Merlin Entertainments, for an undisclosed sum.

SubQuestion No : 25

Q.25 Select the most appropriate option to fill in blank number 5.

- Ans**
- 1. Hedging
 - 2. Discovering
 - 3. Striking
 - 4. Forging

Question ID : **26433051352**

Status : **Answered**

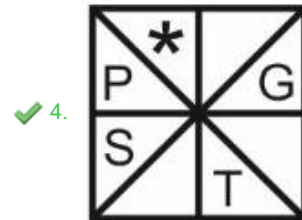
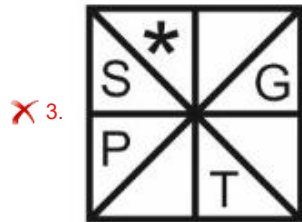
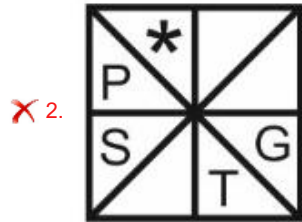
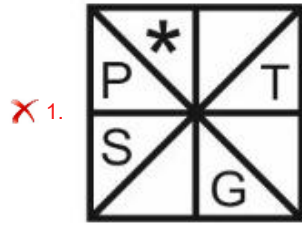
Chosen Option : **3**

Section : **General Intelligence and Reasoning**

Q.1 दिए गए विकल्पों में से उस आकृति का चयन करें, जो नीचे दी गई श्रृंखला में प्रश्न चिह्न (?) के स्थान पर आ सकती है।



Ans

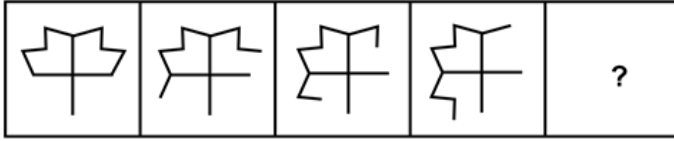


Question ID : 26433049009

Status : Answered

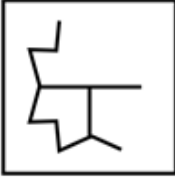
Chosen Option : 4

Q.2 उस आकृति का चयन कीजिए, जो नीचे प्रदर्शित आकृति शृंखला को आगे बढ़ाएगी।

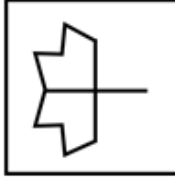


Ans

✗ 1.



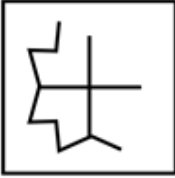
✓ 2.



✗ 3.



✗ 4.



Question ID : 26433048087

Status : Answered

Chosen Option : 2

Q.3 दिए गए कथनों और निष्कर्षों को ध्यानपूर्वक पढ़िए। कथनों में दी गई जानकारी को सही मानते हुए, चाहे वह सामान्यतः ज्ञात तथ्यों से असंगत प्रतीत होती हो, निर्धारित करें कि दिए गए निष्कर्षों में से कौन सा/से, कथनों का तार्किक ढंग से अनुसरण करता/ते है/हैं।

कथन:

कुछ आम, मूलियाँ हैं, और कोई मूली सेब नहीं है।
सभी सेब टमाटर हैं।

निष्कर्ष:

I: सभी मूलियों के टमाटर होने की संभावना है।

II: कुछ मूलियाँ टमाटर हैं।

Ans

✗ 1. केवल II अनुसरण करता है।

✗ 2. I और II दोनों अनुसरण करते हैं।

✓ 3. केवल I अनुसरण करता है।

✗ 4. न तो I और न ही II अनुसरण करता है।

Question ID : 26433048080

Status : Answered

Chosen Option : 4

Q.4 सात लड़के B1, B2, B3, B4, B5, B6 और B7 एक वृताकार मेज के परितः केंद्र की ओर मुँह करके बैठे हैं (आवश्यक नहीं कि वे इसी क्रम में हों)। B3, B6 के बाएँ दूसरे स्थान पर है। B1, B3 के बाएँ तीसरे स्थान पर है। B7, B6 के बाएँ तीसरे स्थान पर है। B4, B6 का निकटतम पड़ोसी नहीं है। B2, B1 का निकटतम पड़ोसी नहीं है। B5, B1 और B6 का निकटतम पड़ोसी है। निम्नलिखित चार विकल्पों में से तीन किसी निश्चित तर्क से एक जैसे हैं और एक समूह बनाते हैं। निम्नलिखित में से कौन-सा उस समूह से संबंधित नहीं है?

- Ans 1. B7, B4, B1
 2. B3, B6, B1
 3. B6, B1, B7
 4. B2, B5, B4

Question ID : 26433048581

Status : Answered

Chosen Option : 1

Q.5 6 व्यक्ति A, B, C, D, E और F एक आयताकार मेज के चारों ओर मेज के केंद्र की ओर मुख करके (आवश्यक नहीं कि इसी क्रम में हों) बैठे हैं। 4 व्यक्ति इस प्रकार बैठे हैं कि प्रत्येक कोने पर एक व्यक्ति बैठा है, और मेज की प्रत्येक छोटी भुजा के बीचोबीच एक व्यक्ति बैठा है। B, D और C का सन्निकट पड़ोसी है। F, A और D का सन्निकट पड़ोसी है। E, A और C का सन्निकट पड़ोसी है। F किसी भी कोने में नहीं बैठा है। निम्नलिखित में से कौन सा युग्म उन व्यक्तियों का प्रतिनिधित्व करता है, जो एक दूसरे के ठीक सामने बैठे हैं?

- Ans 1. BE
 2. AD
 3. CD
 4. FC

Question ID : 26433049005

Status : Not Answered

Chosen Option : --

Q.6 उस विकल्प का चयन करें जिसमें दो संख्याएँ उसी प्रकार संबंधित हैं, जिस प्रकार संख्याएँ दिए गए संख्या-युग्म में संबंधित हैं।

(टिप्पणी: संख्याओं को उसके घटक अंकों में विभाजित किए बिना पूर्ण संख्याओं पर संक्रियाएँ की जानी चाहिए। उदाहरण के लिए 13 - 13 पर संक्रियाएँ जैसे कि जोड़ने/घटाने/गुणा करने आदि को 13 पर किया जा सकता है। 13 को 1 और 3 में विभाजित करने और फिर 1 और 3 पर गणितीय संक्रियाएँ करने की अनुमति नहीं है)

17 : 19

- Ans 1. 29 : 31
 2. 43 : 53
 3. 23 : 27
 4. 31 : 41

Question ID : 26433048717

Status : Answered

Chosen Option : 1

Q.7 एक निश्चित कूट भाषा में, 'GANT' को '126' के रूप में कोडित किया जाता है, और 'PROM' को '186' के रूप में कोडित किया जाता है। उसी भाषा में 'GAIL' को किस रूप में कोडित किया जाएगा?

- Ans
- 1. 58
 - 2. 63
 - 3. 79
 - 4. 87

Question ID : 26433049072
Status : Answered
Chosen Option : 4

Q.8 उस विकल्प का चयन करें जो तीसरे अक्षर-समूह से उसी प्रकार संबंधित है, जिस प्रकार दूसरा अक्षर-समूह पहले अक्षर-समूह से संबंधित है।

RL : VJ :: AN : ?

- Ans
- 1. EL
 - 2. FL
 - 3. EM
 - 4. FM

Question ID : 26433048925
Status : Answered
Chosen Option : 1

Q.9 उस विकल्प का चयन करें, जिसमें दी गई आकृति अंतर्निहित है (घुमाने की अनुमति नहीं है)



Ans

- 1.
- 2.
- 3.
- 4.

Question ID : 26433048735
Status : Answered
Chosen Option : 4

Q.10 दिए गए विकल्पों में से उस संख्या का चयन करें, जो निम्नलिखित श्रृंखला में प्रश्न चिह्न (?) के स्थान पर आ सकती है।

121, 144, 169, ?, 225, 256

Ans 1. 192

2. 188

3. 196

4. 194

Question ID : 26433048993

Status : Answered

Chosen Option : 3

Q.11 विकल्पों में से उस आकृति का चयन करें जो प्रश्नवाचक चिह्न (?) के स्थान पर आ सकती है और पैटर्न को पूरा करती है (घूर्णन/रोटेशन की अनुमति नहीं है)।



Ans

1.



2.



3.



4.



Question ID : 26433048538

Status : Answered

Chosen Option : 4

Q.12 उस विकल्प का चयन कीजिए जिसका पांचवें अक्षर-समूह के साथ वही संबंध है, जो दूसरे अक्षर-समूह का पहले अक्षर-समूह के साथ और चौथे अक्षर-समूह का तीसरे अक्षर-समूह के साथ है।

GAP : EYN :: MAD : KYB :: FILE : ?

Ans 1. DKHE

2. EJGC

3. DGJC

4. EHKD

Question ID : 26433048070

Status : Answered

Chosen Option : 3

Q.13 एक निश्चित कूट भाषा में, 'SLID' को 'TMHC' के रूप में लिखा जाता है, और 'LIST' को 'MJRS' के रूप में लिखा जाता है। उसी कूट भाषा में 'PILE' को किस रूप में लिखा जाएगा?

- Ans
- 1. OHMF
 - 2. OMHF
 - 3. QJKD
 - 4. QIKC

Question ID : 26433048393
Status : Answered
Chosen Option : 3

Q.14 दिए गए विकल्पों में से उस संख्या का चयन करें, जो निम्नलिखित श्रृंखला में प्रश्नवाचक चिह्न (?) के स्थान पर आ सकती है।

16, 32, 14, 19, 37, 21, 22, 42, ?, 25, 47, 35

- Ans
- 1. 26
 - 2. 28
 - 3. 32
 - 4. 34

Question ID : 26433048569
Status : Answered
Chosen Option : 2

Q.15 एक निश्चित कूट भाषा में, 'GRAY' को '718125' के रूप में कोडित किया जाता है, और 'FOMK' को '6151311' के रूप में कोडित किया जाता है। उसी कूट भाषा में 'CBHL' को किस रूप में कोडित किया जाएगा?

- Ans
- 1. 23812
 - 2. 32812
 - 3. 32821
 - 4. 38212

Question ID : 26433048921
Status : Answered
Chosen Option : 2

Q.16 दिए गए कथन और निष्कर्षों को ध्यानपूर्वक पढ़ें। यह मानते हुए कि कथनों में दी गई जानकारी सत्य है, भले ही वह सामान्य रूप से ज्ञात तथ्यों से भिन्न प्रतीत होती हो, तय करें कि दिए गए निष्कर्षों में से कौन सा/से निष्कर्ष तार्किक रूप से कथनों का अनुसरण करता/ते है/हैं।

कथन:

- I. सभी X, B हैं।
- II. सभी N, X हैं।

निष्कर्ष:

- I. सभी N, B हैं।
- II. कुछ B, X हैं।

- Ans 1. निष्कर्ष I और II दोनों अनुसरण करते हैं
2. केवल निष्कर्ष II अनुसरण करता है
3. केवल निष्कर्ष I अनुसरण करता है
4. न तो निष्कर्ष I और न ही निष्कर्ष II अनुसरण करता है

Question ID : 26433048728

Status : Answered

Chosen Option : 1

Q.17 सात दोस्तों A, B, C, D, E, F और G के पास अलग-अलग संख्या में बाइक हैं। D के पास F से अधिक बाइक हैं, लेकिन G से कम बाइक हैं। F के पास A से कम बाइक हैं, और A के पास सबसे अधिक बाइक नहीं है। चार व्यक्तियों के पास C से अधिक बाइक हैं। E के पास सबसे कम और D के पास तीसरी सबसे अधिक संख्या में बाइक हैं। B के पास G से कम बाइक हैं। किसके पास सबसे अधिक बाइक हैं?

- Ans 1. G
2. A
3. D
4. B

Question ID : 26433048582

Status : Answered

Chosen Option : 1

Q.18 उस विकल्प का चयन कीजिए जिसका पांचवीं संख्या के साथ वही संबंध है, जो दूसरी संख्या का पहली संख्या के साथ है, और चौथी संख्या का तीसरी संख्या के साथ है।

8 : 32 :: 12 : 72 :: 18 : ?

- Ans 1. 234
2. 162
3. 208
4. 180

Question ID : 26433048083

Status : Answered

Chosen Option : 2

Q.19 दिए गए दो चिह्नों को आपस में बदलने पर, निम्नलिखित में से कौन सा समीकरण सही नहीं होगा?

× और –

I. $17 - 21 + 86 \div 2 \times 13 = 387$

II. $10 + 63 - 12 \times 259 \div 7 = 739$

Ans 1. I और II दोनों

2. न तो I और न ही II

3. समीकरण II

4. समीकरण I

Question ID : 26433048890

Status : Answered

Chosen Option : 2

Q.20 उस विकल्प का चयन कीजिए जिसका पांचवें शब्द के साथ वही संबंध है जो दूसरे शब्द का पहले शब्द के साथ तथा चौथे शब्द का तीसरे शब्द के साथ है।

पानी : प्यास :: भोजन : भूख :: विश्राम : ?

Ans 1. थकावट

2. शराब

3. उन्मत्तता

4. विचार

Question ID : 26433048390

Status : Answered

Chosen Option : 1

Q.21 विकल्पों में से उस आकृति का चयन करें, जो प्रश्न चिह्न (?) के स्थान पर आ सकती है और पैटर्न को पूर्ण कर सकती है। (घुमाने की अनुमति नहीं है)



Ans

1.



2.



3.



4.



Question ID : 26433049063

Status : Answered

Chosen Option : 2

Q.22 दिए गए विकल्पों में से उस अक्षर-समूह का चयन करें, जो निम्नलिखित श्रृंखला में प्रश्न चिह्न (?) के स्थान पर आ सकता है।

TOM, UMP, VKS, ?, XGY

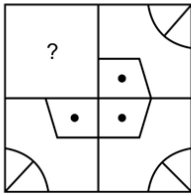
- Ans
- 1. WIU
 - 2. WHU
 - 3. WHV
 - 4. WIV

Question ID : 26433048902

Status : Answered

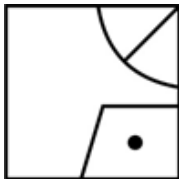
Chosen Option : 4

Q.23 विकल्पों में से उस आकृति का चयन करें जो प्रश्नवाचक चिन्ह (?) का स्थान ले सके और दिए गए पैटर्न को पूरा कर सके।

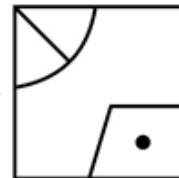


Ans

1.



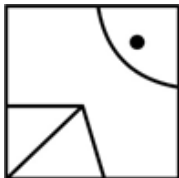
2.



3.



4.



Question ID : 26433048242

Status : Answered

Chosen Option : 2

Q.24 एक विशिष्ट कूट भाषा में, '693' का अर्थ 'Neha likes cakes', '135' का अर्थ 'cakes are sweet', '254' का अर्थ 'we are girls' है, तो इस कूट भाषा में 'sweet' का कोड क्या है?

- Ans
- 1. 1
 - 2. 3
 - 3. 2
 - 4. 5

Question ID : 26433047973
Status : Answered
Chosen Option : 1

Q.25 निम्नलिखित समीकरण में यदि '+' और '×' को तथा '5' और '9' को परस्पर बदल दिया जाए, तो '?' के स्थान पर कौन-सी संख्या आएगी?

$$3 + 9 - 6 \times 5 \div 3 = ?$$

- Ans
- 1. 10
 - 2. 14
 - 3. 12
 - 4. 16

Question ID : 26433048564
Status : Answered
Chosen Option : 3

Section : Numerical Aptitude

Q.1 यदि P₁, P₂ और P₃ तीन अलग-अलग अभाज्य संख्याएं हैं, तो P₁, P₂ और P₃ का सबसे छोटा उभयनिष्ठ गुणज क्या होगा?

- Ans
- 1. $P_1 \times P_2 \times P_3$
 - 2. P_1
 - 3. $P_1 + P_2 + P_3$
 - 4. $P_2 \times P_3$

Question ID : 26433050062
Status : Answered
Chosen Option : 1

Q.2 8 वर्ष पहले, राहुल के 6 सदस्यों वाले परिवार की औसत आयु 35 वर्ष थी। एक वर्ष पहले इस परिवार में एक नए बच्चे का जन्म हुआ था। चार वर्ष बाद इस परिवार की औसत आयु क्या होगी?

- Ans
- 1. 43 वर्ष
 - 2. 41 वर्ष
 - 3. 37 वर्ष
 - 4. 40 वर्ष

Question ID : 26433050173
Status : Answered
Chosen Option : 2

Q.3 एक वर्ग की प्रत्येक भुजा 12 cm लंबी है। इस वर्ग का परिमाण एक आयत के परिमाण के बराबर है जिसकी लंबाई 16 cm है। इस आयत का क्षेत्रफल कितना होगा?

- Ans
- ✓ 1. 128 cm²
 - ✗ 2. 156 cm²
 - ✗ 3. 184 cm²
 - ✗ 4. 112 cm²

Question ID : 26433049785
Status : Answered
Chosen Option : 1

Q.4 एक लंबवृत्तीय शंकु की तिर्यक ऊंचाई 11 cm और त्रिज्या 6 cm है। शंकु का वक्र पृष्ठीय क्षेत्रफल कितना है?

- Ans
- ✗ 1. 74π cm²
 - ✗ 2. 60π cm²
 - ✓ 3. 66π cm²
 - ✗ 4. 44π cm²

Question ID : 26433049440
Status : Answered
Chosen Option : 3

Q.5 27 वस्तुओं का क्रय मूल्य, 18 वस्तुओं के विक्रय मूल्य के बराबर है। लाभ या हानि प्रतिशत कितना है?

- Ans
- ✗ 1. 90% लाभ
 - ✗ 2. 60% हानि
 - ✗ 3. 30% हानि
 - ✓ 4. 50% लाभ

Question ID : 26433049427
Status : Answered
Chosen Option : 4

Q.6 एक थैले में, ₹5 के सिक्कों की संख्या ₹10 के सिक्कों की संख्या से 8 अधिक है लेकिन ₹2 के सिक्कों की संख्या से 20% कम है। यदि थैले में कुल राशि ₹270 है, तो ₹5 के सिक्कों की संख्या ज्ञात कीजिए।

- Ans
- ✗ 1. 15
 - ✗ 2. 25
 - ✗ 3. 18
 - ✓ 4. 20

Question ID : 26433050329
Status : Not Attempted and Marked For Review
Chosen Option : --

Q.7 ₹13.50 प्रति ft की दर से एक वृत्ताकार मैदान के परितः बाड़ लगाने की लागत ₹7,425 है। उस वृत्ताकार मैदान का क्षेत्रफल ज्ञात कीजिए। [$\pi = \frac{22}{7}$ मानिए]

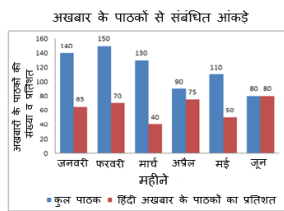
- Ans
- ✗ 1. 25018.5 ft²
 - ✗ 2. 24644.5 ft²
 - ✓ 3. 24062.5 ft²
 - ✗ 4. 23864.4 ft²

Question ID : 26433050192

Status : Answered

Chosen Option : 3

Q.8 निम्न बार ग्राफ किसी विशेष वर्ष के 6 क्रमागत महीनों के दौरान एक शहर में अखबार के पाठकों की कुल संख्या (हजार में) और उपरोक्त पाठकों की संख्या के संदर्भ में हिंदी अखबार पढ़ने वाले पाठकों का प्रतिशत दर्शाता है। बाकी पाठक अंग्रेजी अखबार पढ़ते हैं।



नोट: कुल पाठक = हिंदी अखबार के पाठक + अंग्रेजी अखबार के पाठक

जनवरी, फरवरी और अप्रैल के दौरान हिंदी अखबार के पाठकों की कुल संख्या और मार्च, मई और जून के दौरान अंग्रेजी अखबार के पाठकों की कुल संख्या का अंतर ज्ञात कीजिए।

- Ans
- ✓ 1. 114500
 - ✗ 2. 154500
 - ✗ 3. 138700
 - ✗ 4. 176500

Question ID : 26433050338

Status : Not Answered

Chosen Option : --

Q.9 शिवानी ने ₹600 में पांच पेन खरीदे। वह इन पांचों पेनों को ₹50 प्रति पेन की दर से बेचती है। पांचों पेन बेचने पर शिवानी को हुई प्रतिशत हानि ज्ञात कीजिए।

- Ans
- ✗ 1. 48.33%
 - ✗ 2. 53.33%
 - ✗ 3. 61.66%
 - ✓ 4. 58.33%

Question ID : 26433050047

Status : Answered

Chosen Option : 4

Q.10 एक व्यक्ति 8 h में P से Q तक जाता है। वह सुबह 8 (8 a.m.) बजे P से चलना शुरू करता है। एक अन्य व्यक्ति Q से P तक 12 h में जाता है। वह सुबह 9 (9 a.m.) बजे Q से चलना शुरू करता है। वे किस समय मिलेंगे?

- Ans
- 1. 1:20 p.m.
 - 2. 12:12 p.m.
 - 3. 1:12 p.m.
 - 4. 12:20 p.m.

Question ID : 26433049896
Status : Not Answered
Chosen Option : --

Q.11 A, B से ₹3,600 की राशि 20% की साधारण ब्याज दर पर 2 वर्षों के लिए उधार लेता है और इस राशि का 75%, C को 20% की चक्रवृद्धि ब्याज दर पर 2 वर्षों के लिए उधार देता है। A शेष राशि का उपयोग अपने निजी खर्चों के लिए करता है। A को हुई कुल हानि ज्ञात कीजिए।

- Ans
- 1. ₹928
 - 2. ₹1,152
 - 3. ₹852
 - 4. ₹1,024

Question ID : 26433050231
Status : Not Answered
Chosen Option : --

Q.12 पुनीत अपने घर से अपने रिश्तेदार के घर 45 km/h की चाल से जाता है। रिश्तेदार के घर से लौटते समय, ट्रैफिक के कारण, उसे एक घंटा अधिक समय लगता है क्योंकि वह केवल 40 km/h की चाल से ही गाड़ी चला सका। उसके घर से उसके रिश्तेदार के घर की दूरी (km में) ज्ञात कीजिए।

- Ans
- 1. 400
 - 2. 720
 - 3. 360
 - 4. 180

Question ID : 26433050333
Status : Answered
Chosen Option : 3

Q.13 $3\frac{2}{7} + 14\frac{4}{9} + 5\frac{3}{9}$ का मान ज्ञात कीजिए।

- Ans
- ✓ 1. $23\frac{4}{63}$
 - ✗ 2. $22\frac{4}{63}$
 - ✗ 3. $25\frac{4}{63}$
 - ✗ 4. $21\frac{4}{63}$

Question ID : 26433050319
Status : Answered
Chosen Option : 1

Q.14 दो कारीगरों, A और B को उनके नियोक्ता द्वारा प्रति सप्ताह कुल ₹700 का भुगतान किया जाता है। यदि A को, B को भुगतान की गई धनराशि का 250% भुगतान किया जाता है, तो A को प्रति सप्ताह कितना भुगतान किया जाता है?

- Ans
- ✗ 1. ₹200
 - ✗ 2. ₹450
 - ✗ 3. ₹300
 - ✓ 4. ₹500

Question ID : 26433049550
Status : Answered
Chosen Option : 4

Q.15 A के 80% के 45% और B के 40% के 30% का अनुपात 15 : 4 है। यदि A और B का औसत 67.5 है, तो A - B का मान ज्ञात कीजिए।

- Ans
- ✗ 1. 12
 - ✗ 2. 10
 - ✓ 3. 15
 - ✗ 4. 18

Question ID : 26433050349
Status : Answered
Chosen Option : 2

Q.16 एक मिश्रधातु में दो धातुओं X और Y का अनुपात 2:3 है। एक अन्य मिश्रधातु में समान धातुओं X और Y का अनुपात 7:3 है। दोनों मिश्रधातुओं को किस अनुपात में मिलाया जाना चाहिए जिससे नये बने मिश्रण में धातु X का प्रतिशत 50% हो?

- Ans
- ✗ 1. 3:4
 - ✓ 2. 2:1
 - ✗ 3. 5:6
 - ✗ 4. 3:1

Question ID : 26433050222
Status : Answered
Chosen Option : 1

Q.17 The marked price of one pen is '₹x'. The selling price of one packet of 'x' pens, after a discount of 15%, is ₹1,360. What is the value of 'x'?

- Ans
- ✓ 1. 40
 - ✗ 2. 20
 - ✗ 3. 45
 - ✗ 4. 30

Question ID : 26433050228
Status : Not Answered
Chosen Option : --

Q.18 16 लड़के या 12 महिलाएं किसी काम को 28 दिन में पूरा कर सकती हैं। 4 लड़के और 4 महिलाएं उसी काम को कितने दिनों में पूरा करेंगे, यदि वे सभी एक साथ काम करते हैं?

- Ans
- ✓ 1. 48 दिन
 - ✗ 2. 36 दिन
 - ✗ 3. 44 दिन
 - ✗ 4. 40 दिन

Question ID : 26433049619
Status : Not Answered
Chosen Option : --

Q.19 एक बैग में ₹5, ₹10 और ₹20 मूल्यवर्ग के सिक्के हैं। बैग में सिक्कों की कुल संख्या 240 है। यदि ₹5, ₹10 और ₹20 मूल्यवर्ग के सिक्कों की संख्या 2 : 3 : 5 के अनुपात में है, तो बैग में कुल कितनी धनराशि है?

- Ans
- ✓ 1. ₹3,360
 - ✗ 2. ₹4,620
 - ✗ 3. ₹4,600
 - ✗ 4. ₹3,540

Question ID : 26433049906
Status : Answered
Chosen Option : 1

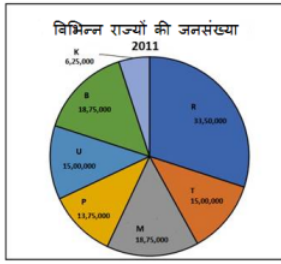
Q.20 निम्नलिखित समीकरण में y का मान क्या होगा?

$$(1 \div 23) \text{ of } [2\{3 + 4(35 \div 7)\}] = y$$

- Ans
- ✓ 1. 2
 - ✗ 2. 5
 - ✗ 3. 21
 - ✗ 4. 23

Question ID : 26433049419
Status : Answered
Chosen Option : 1

Q.21 निम्न पाई-चार्ट वर्ष 2011 में विभिन्न राज्यों (K, R, T, M, P, U, B) की अनुमानित जनसंख्या को दर्शाता है।



ऊपर दिए गए पाई चार्ट के आंकड़ों के अनुसार R और T की कुल जनसंख्या और U और B की कुल जनसंख्या का अंतर कितना है?
For graph-2011 में

- Ans
- ✗ 1. 15,40,000
 - ✗ 2. 13,82,000
 - ✗ 3. 12,56,000
 - ✓ 4. 14,75,000

Question ID : 26433049439
Status : Answered
Chosen Option : 4

Q.22 एक कार्य को 20 पुरुष 50 दिन में पूरा कर सकते हैं। 10 दिन कार्य करने के बाद 30 और पुरुष उनके साथ जुड़ जाते हैं। इससे कार्य पूरा होने में कितने दिन की बचत होगी?

- Ans
- ✗ 1. 28 दिन
 - ✗ 2. 20 दिन
 - ✗ 3. 18 दिन
 - ✓ 4. 24 दिन

Question ID : 26433049943
Status : Answered
Chosen Option : 4

Q.23 पहली 13 विषम संख्याओं का औसत क्या होगा?

- Ans
- ✗ 1. 13.5
 - ✗ 2. 14
 - ✓ 3. 13
 - ✗ 4. 12

Question ID : 26433049777
Status : Answered
Chosen Option : 2

Q.24 एक निश्चित राशि पर, 10% की वार्षिक दर से 2 वर्षों में प्राप्त साधारण ब्याज ₹150 है। यदि ब्याज वार्षिक रूप में संयोजित हो, तो उसी राशि पर 10% की वार्षिक दर से 2 वर्षों के चक्रवृद्धि ब्याज और साधारण ब्याज का अंतर ज्ञात कीजिए।

- Ans
- 1. ₹5
 - 2. ₹12.5
 - 3. ₹7.5
 - 4. ₹10

Question ID : 26433050058
Status : Answered
Chosen Option : 3

Q.25 निम्न तालिका 5 अलग-अलग रंगों में प्लास्टिक और स्टील से बनी कुर्सियों की संख्या दर्शाती है जो एक बिक्री के दौरान एक फर्नीचर शोरूम से बेची गई थीं।

रंग	स्टील	प्लास्टिक
C1	10	12
C2	12	6
C3	8	14
C4	6	18
C5	9	11

बेची गई C3 रंग की कुर्सियों की कुल संख्या, प्लास्टिक और स्टील दोनों तरह की बेची गई इन 5 रंगों की सभी कुर्सियों की कितनी प्रतिशत है? [अपना उत्तर दशमलव के दो स्थानों तक सही दें।]

- Ans
- 1. 14.75%
 - 2. 17.75%
 - 3. 20.75%
 - 4. 23.75%

Question ID : 26433049915
Status : Answered
Chosen Option : 3

Section : General Awareness

Q.1 निम्नलिखित में से किस टीम ने ISL (इंडियन सुपर लीग) का पहला संस्करण जीता?

- Ans
- 1. एटलेटिको डी कोलकाता
 - 2. केरल ब्लास्टर्स FC
 - 3. चेन्नईयिन FC
 - 4. बेंगलुरु FC

Question ID : 26433047765
Status : Answered
Chosen Option : 4

Q.2 मुक्तेश्वर मंदिर, _____ में स्थित शिवजी को समर्पित 10वीं शताब्दी का हिंदू मंदिर है।

- Ans
- 1. असम
 - 2. गुजरात
 - 3. महाराष्ट्र
 - 4. ओडिशा

Question ID : 26433047447
Status : Answered
Chosen Option : 4

Q.3 _____ श्रीलंका को भारत से अलग करता है।

- Ans
- 1. पाक जलडमरूमध्य
 - 2. मलक्का जलडमरूमध्य
 - 3. जिब्राल्टर जलडमरूमध्य
 - 4. बेरिंग जलडमरूमध्य

Question ID : 26433047179
Status : Answered
Chosen Option : 1

Q.4 ग्रैमी पुरस्कार जीतने वाली पहली भारतीय महिला कौन हैं?

- Ans
- 1. सुनिधि चौहान
 - 2. लता मंगेशकर
 - 3. आशा भोसले
 - 4. तन्वी शाही

Question ID : 26433047636
Status : Answered
Chosen Option : 3

Q.5 निम्नलिखित में से कौन खिलाफत आंदोलन के/की नेता/नेत्री थे/थीं?

- Ans
- 1. मौलाना अबुल कलाम आज़ाद
 - 2. भगत सिंह
 - 3. कस्तूरबा गांधी
 - 4. ज्योतिबा फुले

Question ID : 26433046833
Status : Answered
Chosen Option : 4

Q.6 Which of the following is known as artificial silk?

- Ans
- 1. Rayon
 - 2. Nylon
 - 3. Acrylic
 - 4. Polyester

Question ID : 26433047725
Status : Answered
Chosen Option : 2

Q.7 गौतमीपुत्र श्री सातकर्णी किस राजवंश के शासक थे?

- Ans 1. राष्ट्रकूट
 2. सातवाहन
 3. चोल
 4. चेर

Question ID : 26433047631
Status : Answered
Chosen Option : 1

Q.8 शेर खान ने कन्नौज में हुमायूँ को किस वर्ष हराया था?

- Ans 1. 1540
 2. 1543
 3. 1541
 4. 1542

Question ID : 26433047457
Status : Not Answered
Chosen Option : --

Q.9 भारतीय संविधान के किस अनुच्छेद में उल्लेखित है कि 'राष्ट्र, भारत के पूरे क्षेत्र में नागरिकों के लिए एक समान नागरिक संहिता को सुरक्षित करने का प्रयास करेगा'?

- Ans 1. अनुच्छेद 44
 2. अनुच्छेद 46
 3. अनुच्छेद 40
 4. अनुच्छेद 42

Question ID : 26433047463
Status : Not Answered
Chosen Option : --

Q.10 तापी नदी का उद्गम किस राज्य में है?

- Ans 1. आंध्र प्रदेश
 2. महाराष्ट्र
 3. कर्नाटक
 4. मध्य प्रदेश

Question ID : 26433046828
Status : Not Answered
Chosen Option : --

Q.11 कौन सी भरतनाट्यम नर्तकी 1991 में 'पद्म श्री' पुरस्कार से सम्मानित होने वाली दूसरी सबसे कम उम्र की नर्तकी बनी?

- Ans
- 1. नर्तकी नटराज
 - 2. सरोज खान
 - 3. अलार्मेल वल्ली
 - 4. हेमा मालिनी

Question ID : 26433046837
Status : Not Answered
Chosen Option : --

Q.12 निम्नलिखित में से किस नृत्य को गोटीपुआ नृत्य के नाम से जाना जाता है?

- Ans
- 1. भांगड़ा
 - 2. गरबा
 - 3. बंध नृत्य
 - 4. लावणी

Question ID : 26433047720
Status : Answered
Chosen Option : 1

Q.13 केंद्रीय वित्त मंत्री, निर्मला सीतारमण ने 2022-23 के लिए केंद्रीय बजट पेश करते हुए 'पर्वतमाला' नामक एक कार्यक्रम की घोषणा की है। इस कार्यक्रम की घोषणा _____ को विकसित करने के लिए की गई थी।

- Ans
- 1. पहाड़ी क्षेत्रों में रोपवे
 - 2. पहाड़ी क्षेत्रों में स्मार्ट घरों
 - 3. पहाड़ी क्षेत्रों में सड़कों
 - 4. पहाड़ी क्षेत्रों में आतिथ्य संस्कृति

Question ID : 26433047443
Status : Answered
Chosen Option : 1

Q.14 भारत सरकार ने _____ में व्यापक परिवार नियोजन कार्यक्रम शुरू किया।

- Ans
- 1. 1955
 - 2. 1958
 - 3. 1952
 - 4. 1954

Question ID : 26433047580
Status : Not Answered
Chosen Option : --

Q.15 किसकी कप्तानी में भारत ने 2021 तक सफ़ेद गेंद वाले क्रिकेट में तीनों प्रमुख आई.सी.सी. (ICC) ट्राफियाँ जीतीं?

- Ans
- 1. सौरव गांगुली
 - 2. कपिल देव
 - 3. विराट कोहली
 - 4. महेंद्र सिंह धोनी

Question ID : 26433046966
Status : Answered
Chosen Option : 3

Q.16 अप्रैल 2022 तक लोकसभा के कितने आम चुनाव हुए हैं?

- Ans
- 1. 10
 - 2. 13
 - 3. 17
 - 4. 24

Question ID : 26433046839
Status : Answered
Chosen Option : 1

Q.17 नोंगक्रेम नृत्य उत्सव भारत के किस राज्य में मनाया जाता है?

- Ans
- 1. केरल
 - 2. बिहार
 - 3. मेघालय
 - 4. मध्य प्रदेश

Question ID : 26433047296
Status : Answered
Chosen Option : 3

Q.18 1857 के विद्रोह के बाद अंग्रेजों द्वारा किस मुगल शासक को देश छोड़ने के लिए मजबूर किया गया था?

- Ans
- 1. बहादुर शाह ज़फ़र
 - 2. अहमद शाह बहादुर
 - 3. फ़रूख़ सियर
 - 4. मुहम्मद शाह

Question ID : 26433047734
Status : Answered
Chosen Option : 3

Q.19 निम्नलिखित में से कौन सा रोग इंसुलिन की कमी या इंसुलिन प्रतिरोध के कारण होता है?

- Ans 1. मधुमेह
 2. बेरी बेरी
 3. खाँसी
 4. संक्रामक जुकाम

Question ID : 26433046825
Status : Answered
Chosen Option : 1

Q.20 'द रेस ऑफ माई लाइफ : एन ऑटोबायोग्राफी (The Race of My Life : An Autobiography)' निम्नलिखित में से किस व्यक्ति की आत्मकथा है?

- Ans 1. मिर्खा सिंह
 2. पी.टी उषा
 3. टिटू लुक्का
 4. दूती चंद

Question ID : 26433047635
Status : Answered
Chosen Option : 1

Q.21 श्वेत प्रकाश का अपने घटक रंगों में विभाजित होने की घटना को _____ कहा जाता है।

- Ans 1. वर्ण विक्षेपण
 2. प्रकीर्णन
 3. अपवर्तन
 4. परावर्तन

Question ID : 26433047298
Status : Answered
Chosen Option : 3

Q.22 किसी विशेष समय में जनता के बीच प्रचलन में रहने वाले धन के कुल स्टॉक को क्या कहा जाता है?

- Ans 1. धन-शोधन (Money laundering)
 2. अल्पावधि मुद्रा (Short money)
 3. मुद्रा आपूर्ति (Money supply)
 4. मनी आर्डर (Money order)

Question ID : 26433047642
Status : Answered
Chosen Option : 3

Q.23 निम्न में से कौन 2022 में भारतीय प्रतिभूति और विनियम बोर्ड (SEBI) की पहली महिला अध्यक्ष बनीं?

- Ans 1. माधवी पुरी बुच
 2. रेखा शर्मा
 3. गीता गोपीनाथ
 4. चंदा कोचर

Question ID : 26433047619
Status : Not Answered
Chosen Option : --

Q.24 निम्नलिखित में से कौन सा गरम धारा (वॉर्म करंट) है?

- Ans 1. फॉकलैंड धारा
 2. कैनरी धारा
 3. लैब्राडोर धारा
 4. गल्फ स्ट्रीम

Question ID : 26433047451
Status : Answered
Chosen Option : 4

Q.25 महात्मा गांधी राष्ट्रीय ग्रामीण रोजगार गारंटी अधिनियम (मनरेगा) 2005, प्रत्येक ग्रामीण परिवार को प्रति वर्ष _____ दिनों का सुनिश्चित रोजगार प्रदान करता है।

- Ans 1. 200
 2. 150
 3. 120
 4. 100

Question ID : 26433047452
Status : Not Answered
Chosen Option : --