

Multi Tasking Non Technical Staff Havaladar CBIC and CBN Examination 2021

Roll Number	
Candidate Name	
Venue Name	
Exam Date	12/07/2022
Exam Time	5:00 PM - 6:30 PM
Subject	MTS Non technical and Havaladar Examination 2021

Section : **General English**

Q.1 Parts of the following sentence have been given as options. One of them may contain an error. Select the part that contains the error from the given options. If you don't find any error, mark 'No error' as your answer.

Elizabeth beat her rival with the gold medal in the 2021 summer Olympics.

- Ans
- 1. Elizabeth beat her rival
 - 2. No error
 - 3. with the gold medal in the
 - 4. 2021 summer Olympics

Question ID : 26433051158
Status : Answered
Chosen Option : 4

Q.2 Select the option that can be used as a one-word substitute for the given group of words.

Story of an individual written by himself

- Ans
- 1. Novel
 - 2. History
 - 3. Biography
 - 4. Autobiography

Question ID : 26433051301
Status : Answered
Chosen Option : 4

Q.3 Select the most appropriate ANTONYM of the given word.

Insatiable

- Ans
- 1. Greedy
 - 2. Urgent
 - 3. Insistent
 - 4. Fulfilled

Question ID : 26433051487
Status : Answered
Chosen Option : 4

Q.4 Select the most appropriate **ANTONYM** of the given word.

Alleviate

- Ans**
- 1. Destroy
 - 2. Ameliorate
 - 3. Soothe
 - 4. Aggravate

Question ID : **26433051436**
Status : **Answered**
Chosen Option : **4**

Q.5 Select the most appropriate option to fill in the blank.

Green tea is good for not only the health but also for _____ skin.

- Ans**
- 1. emotional
 - 2. laborious
 - 3. glowing
 - 4. caustic

Question ID : **26433050523**
Status : **Answered**
Chosen Option : **3**

Q.6 Select the **INCORRECTLY** spelt word.

- Ans**
- 1. Securities
 - 2. Essentially
 - 3. Fiscal
 - 4. Mismatche

Question ID : **26433051439**
Status : **Answered**
Chosen Option : **4**

Q.7 Select the most appropriate synonym of the given word.

Grieve

- Ans**
- 1. Rejoice
 - 2. Tame
 - 3. Mourn
 - 4. Assure

Question ID : **26433050670**
Status : **Not Answered**
Chosen Option : **--**

Q.8 Select the most appropriate synonym of the underlined word in the given sentence.

Some simple changes in eating habits can alleviate nausea.

- Ans 1. relieve
 2. plague
 3. sharpen
 4. exacerbate

Question ID : 26433051044
Status : Answered
Chosen Option : 4

Q.9 Select the option that will improve the underlined part of the sentence. In case no improvement is needed, select 'No improvement required'.

Why are you looking on my face like this?

- Ans 1. looking at my
 2. looking on mine
 3. No improvement required
 4. looked at my

Question ID : 26433050831
Status : Answered
Chosen Option : 1

Q.10 Select the option that will improve the underlined part of the given sentence. In case no improvement is needed, select 'No improvement required'.

Major hubs of the information technology industry is the Silicon Valley of Central California.

- Ans 1. Major hub by
 2. The majors hub of
 3. No improvement required
 4. A major hub of

Question ID : 26433051369
Status : Answered
Chosen Option : 4

Q.11 Select the most appropriate meaning of the given idiom.

Hold someone or something at bay

- Ans 1. To thrive or to grow very successfully
 2. Trap or corner a person or animal being hunted or chased
 3. Prevent someone or something from moving closer
 4. To seek punishment for a person or group

Question ID : 26433051230
Status : Answered
Chosen Option : 3

Q.12 Parts of the following sentence have been given as options. One of them may contain an error. Select the part that contains the error from the given options. If you don't find any error, mark 'No error' as your answer.

She is brave than any other girl in the office.

- Ans
- 1. in the office
 - 2. No error
 - 3. She is brave
 - 4. than any other girl

Question ID : 26433050654
Status : Answered
Chosen Option : 3

Q.13 Select the most appropriate option to fill in the blank.

I like eating chocolates, _____ I hate dark ones.

- Ans
- 1. but
 - 2. while
 - 3. for
 - 4. because

Question ID : 26433051030
Status : Answered
Chosen Option : 1

Q.14 The following sentence has been divided into parts. One of them may contain an error. Select the part that contains the error from the given options. If you don't find any error, mark 'No error' as your answer.

India has joined / the global fight / among tax evasion.

- Ans
- 1. No error
 - 2. India has joined
 - 3. the global fight
 - 4. among tax evasion

Question ID : 26433050551
Status : Answered
Chosen Option : 4

Q.15 Select the most appropriate meaning of the given idiom.

Chase rainbows

- Ans
- 1. To pursue unrealistic goals
 - 2. To lose one's patience
 - 3. To be unprepared for something
 - 4. To judge someone

Question ID : 26433050837
Status : Answered
Chosen Option : 1

Q.16 Select the most appropriate option to substitute the underlined segment in the given sentence. If there is no need to substitute it, select 'No substitution required.'

We made sure our new house were closer to a good primary school when moving home last summer.

- Ans
- 1. was closing
 - 2. No substitution required
 - 3. were closed
 - 4. was close

Question ID : 26433051214
Status : Answered
Chosen Option : 1

Q.17 Select the most appropriate option to fill in the blank.

I _____ wish I hadn't invited him.

- Ans
- 1. not
 - 2. almost
 - 3. about
 - 4. else

Question ID : 26433051502
Status : Answered
Chosen Option : 2

Q.18 Select the option that corrects the incorrectly spelt words in the given sentence.

Ventilaton system is mising in this room.

- Ans
- 1. Wentilation system is mesing in this room.
 - 2. Ventiltion system is missing in this room.
 - 3. Ventilation system is missing in this rum.
 - 4. Ventilation system is missing in this room.

Question ID : 26433050573
Status : Answered
Chosen Option : 4

Q.19 Select the option that will improve the underlined part of the given sentence. In case no improvement is needed, select 'No improvement required'.

My mother's sister work since eight hours every weekday.

- Ans
- 1. work for eight
 - 2. No improvement required
 - 3. working of eight
 - 4. works for eight

Question ID : 26433050717
Status : Answered
Chosen Option : 4

Q.20 Select the most appropriate option to fill in the blank.

The situation turned ugly as the crowd _____ to riot.

- Ans
- 1. beginning
 - 2. begins
 - 3. begun
 - 4. began

Question ID : 26433050658
Status : Answered
Chosen Option : 4

Comprehension:

In the following passage, some words have been deleted. Read the passage carefully and select the most appropriate option to fill in each blank.

Ants, like most insects, have (1) _____ are known as compound eyes. This means their eyes have multiple lenses, (2) _____ in general, most species of ant do not have particularly great eyes for seeing (3) _____ far. Ants can detect movement and see the areas around them, but (4) _____ more on senses and information they get from their legs and antennae (5) _____ from their eyes.

SubQuestion No : 21

Q.21 Select the most appropriate option to fill in blank number 1.

- Ans
- 1. who
 - 2. whose
 - 3. how
 - 4. what

Question ID : 26433051033
Status : Answered
Chosen Option : 2

Comprehension:

In the following passage, some words have been deleted. Read the passage carefully and select the most appropriate option to fill in each blank.

Ants, like most insects, have (1) _____ are known as compound eyes. This means their eyes have multiple lenses, (2) _____ in general, most species of ant do not have particularly great eyes for seeing (3) _____ far. Ants can detect movement and see the areas around them, but (4) _____ more on senses and information they get from their legs and antennae (5) _____ from their eyes.

SubQuestion No : 22

Q.22 Select the most appropriate option to fill in blank number 2.

- Ans
- 1. rather
 - 2. so
 - 3. whether
 - 4. but

Question ID : 26433051034
Status : Answered
Chosen Option : 4

Comprehension:

In the following passage, some words have been deleted. Read the passage carefully and select the most appropriate option to fill in each blank.

Ants, like most insects, have (1) _____ are known as compound eyes. This means their eyes have multiple lenses, (2) _____ in general, most species of ant do not have particularly great eyes for seeing (3) _____ far. Ants can detect movement and see the areas around them, but (4) _____ more on senses and information they get from their legs and antennae (5) _____ from their eyes.

SubQuestion No : 23

Q.23 Select the most appropriate option to fill in blank number 3.

- Ans 1. some
 2. enough
 3. many
 4. very

Question ID : 26433051035

Status : Answered

Chosen Option : 4

Comprehension:

In the following passage, some words have been deleted. Read the passage carefully and select the most appropriate option to fill in each blank.

Ants, like most insects, have (1) _____ are known as compound eyes. This means their eyes have multiple lenses, (2) _____ in general, most species of ant do not have particularly great eyes for seeing (3) _____ far. Ants can detect movement and see the areas around them, but (4) _____ more on senses and information they get from their legs and antennae (5) _____ from their eyes.

SubQuestion No : 24

Q.24 Select the most appropriate option to fill in blank number 4.

- Ans 1. rely
 2. calculate
 3. shout
 4. struggle

Question ID : 26433051036

Status : Answered

Chosen Option : 1

Comprehension:

In the following passage, some words have been deleted. Read the passage carefully and select the most appropriate option to fill in each blank.

Ants, like most insects, have (1) _____ are known as compound eyes. This means their eyes have multiple lenses, (2) _____ in general, most species of ant do not have particularly great eyes for seeing (3) _____ far. Ants can detect movement and see the areas around them, but (4) _____ more on senses and information they get from their legs and antennae (5) _____ from their eyes.

SubQuestion No : 25

Q.25 Select the most appropriate option to fill in blank number 5.

Ans 1. than

2. thus

3. then

4. when

Question ID : 26433051037

Status : Answered

Chosen Option : 3

Section : General Intelligence and Reasoning

Q.1 उस विकल्प का चयन करें जिसमें दी गई संख्याएँ आपस में उसी प्रकार संबंधित हों, जिस प्रकार निम्नलिखित समुच्चयों की संख्याएँ आपस में संबंधित हैं।

(नोट: संख्याओं को उसके घटक अंकों में विभाजित किए बिना, पूर्णांक संख्याओं पर संक्रिया की जानी चाहिए। उदाहरण के लिए 13 - 13 पर जोड़ने/घटाने/गुणे आदि जैसी गणितीय संक्रियाएँ 13 में की जा सकती हैं। 13 को 1 और 3 में विभाजित करके और फिर 1 और 3 पर गणितीय संक्रियाएँ करने की अनुमति नहीं है)

(48, 8, 12)

(42, 6, 14)

Ans 1. (62, 12, 2)

2. (44, 22, 4)

3. (36, 18, 2)

4. (88, 22, 4)

Question ID : 26433048430

Status : Answered

Chosen Option : 2

Q.2 उस विकल्प का चयन कीजिए जो पाँचवें अक्षर-समूह से उसी प्रकार संबंधित है जैसे दूसरा अक्षर-समूह पहले अक्षर-समूह से संबंधित है और चौथा अक्षर-समूह तीसरे अक्षर-समूह से संबंधित है।

MET : NGW :: SAF : TCI :: YEL : ?

Ans 1. ZGO

2. ZHO

3. ZGN

4. AGO

Question ID : 26433047946

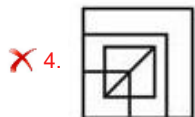
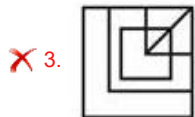
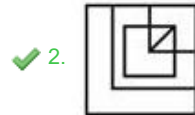
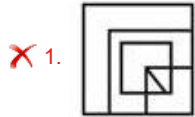
Status : Answered

Chosen Option : 1

Q.3 दिए गए विकल्पों में से उस आकृति का चयन करें, जो प्रश्न चिह्न (?) के स्थान पर आ सकती है और पैटर्न को पूरा कर सकती है। (धुमाने की अनुमति नहीं है)



Ans



Question ID : 26433048788

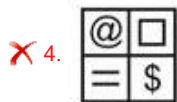

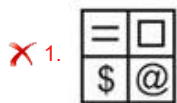
Status : Answered

Chosen Option : 2

Q.4 दिए गए विकल्पों में से उस आकृति का चयन करें, जो नीचे दी गई श्रृंखला में प्रश्न चिह्न (?) के स्थान पर आ सकती है।



Ans



Question ID : 26433048808

Status : Answered

Chosen Option : 3

Q.5 यदि 'x' और '.' को आपस में बदल दिया जाए और साथ ही '+' और '-' को भी आपस में बदल दिया जाए, तो निम्नलिखित समीकरण में '?' के स्थान पर क्या आएगा?

$$27 \times 8 - 3 \div 4 + 2 = ?$$

Ans 1. 7

2. 5

3. 1

4. 2

Question ID : 26433048061

Status : Answered

Chosen Option : 2

Q.6 एक विशिष्ट कूट भाषा में, 'GREATR' को 'OZMIBZ' लिखा जाता है और 'POINTA' को 'XWQVBI' लिखा जाता है। उसी भाषा में, 'FORTAP' को कैसे लिखा जाएगा?

Ans 1. NYZBIX

2. NWZBIX

3. NWZBHY

4. NXZBIX

Question ID : 26433048548

Status : Answered

Chosen Option : 2

Q.7 एक सुपरमार्केट में अलग-अलग लंबाई के सात खिलौने A, K, L, P, M, S और T हैं। L, S से लंबा है, लेकिन M से छोटा है। K, P से लंबा है। A केवल T से लंबा है। L केवल तीन खिलौनों से छोटा है। T सबसे छोटा है और M, K से लंबा है। S की लंबाई कितने खिलौनों से कम है?

Ans 1. चार

2. दो

3. तीन

4. एक

Question ID : 26433048557

Status : Answered

Chosen Option : 1

Q.8 उस विकल्प का चयन करें जो तीसरे अक्षर-समूह से उसी प्रकार संबंधित है, जिस प्रकार दूसरा अक्षर-समूह पहले अक्षर-समूह से संबंधित है।

BJ : HP :: TQ : ?

Ans 1. ZX

2. YW

3. ZW

4. YX

Question ID : 26433048775

Status : Answered

Chosen Option : 3

Q.9 उस विकल्प का चयन करें, जिसमें अक्षर-समूहों का युग्म उसी प्रकार संबंध साझा करता है, जिस प्रकार दिए गए अक्षर-समूहों द्वारा साझा किया जाता है।

FAIR : GYJP

Ans ✓ 1. CROW : DPPU

✗ 2. RANK : SYPI

✗ 3. TOUR : UNVP

✗ 4. MINT : NGMR

Question ID : 26433048801

Status : Answered

Chosen Option : 1

Q.10 आठ लड़कियाँ A, B, C, D, E, F, G और H एक पंक्ति में उत्तर की ओर मुँह करके बैठी हैं (लेकिन आवश्यक नहीं कि वे इसी क्रम में हों)। न तो C न ही D पंक्ति के छोर पर बैठी है। H पंक्ति के दाएँ छोर पर है। D और F के बीच केवल E बैठी है। F और H के बीच केवल G बैठी है। C और A, B की निकटतम पड़ोसी हैं। निम्नलिखित में से कौन-सा/से कथन सही है/हैं?

I. D, H के बाएँ चौथे स्थान पर है।

II. D, B की निकटतम पड़ोसी है।

Ans ✗ 1. न तो I और न ही II

✗ 2. केवल II

✓ 3. केवल I

✗ 4. I और II दोनों

Question ID : 26433048556

Status : Answered

Chosen Option : 3

Q.11 दिए गए कथनों और निष्कर्षों को ध्यानपूर्वक पढ़ें। यह मानते हुए कि कथनों में दी गई जानकारी सत्य है, भले ही वह सामान्य रूप से ज्ञात तथ्यों से भिन्न प्रतीत होती हो, निर्णय लें कि दिए गए निष्कर्षों में से कौन-सा/से निष्कर्ष कथनों का तार्किक रूप से अनुसरण करता है/करते हैं।

कथन:

कोई भी टोकरी ट्रॉली नहीं है।

कोई भी ट्रॉली सूटकेस नहीं है।

निष्कर्ष:

I. कुछ टोकरियों के सूटकेस होने की संभावना है।

II. कुछ सूटकेस टोकरियां हैं।

Ans ✗ 1. न तो निष्कर्ष I और न ही II अनुसरण करता है।

✓ 2. केवल निष्कर्ष I अनुसरण करता है।

✗ 3. केवल निष्कर्ष II अनुसरण करता है।

✗ 4. निष्कर्ष I और II दोनों अनुसरण करते हैं।

Question ID : 26433048425

Status : Answered

Chosen Option : 1

Q.12 दिए गए विकल्पों में से उस संख्या का चयन करें, जो निम्नलिखित श्रृंखला में प्रश्नवाचक चिह्न (?) के स्थान पर आ सकती है।

34, 102, 612, 5508, ?

Ans 1. 66096

2. 68026

3. 64046

4. 68098

Question ID : 26433048544

Status : Answered

Chosen Option : 1

Q.13 दर्पण को MN पर रखे जाने पर, जैसा कि दर्शाया गया है, विकल्पों में से नीचे दिए गए संयोजन के सही दर्पण प्रतिबिंब का चयन कीजिए।

W O N D E R L I S T 

Ans 1. T S I J R E D N O W

2. M O N I J R E D S T

3. O W N E D R L T S I

4. T S I D E R L N O W

Question ID : 26433047915

Status : Answered

Chosen Option : 1

Q.14 छह मित्र A, B, C, D, E और F एक वृत्ताकार मेज के चारों ओर मेज़ के केंद्र की ओर मुँह करके बैठे हैं (अनिवार्यतः इसी क्रम में नहीं)। A, D के बाएँ से तीसरे स्थान पर बैठा है। D, B के दाएँ निकटतम स्थान पर बैठा है। B, E के बाएँ से दूसरे स्थान पर बैठा है। C, F के दाएँ से दूसरे स्थान पर बैठा है। A के दाएँ से दूसरे स्थान पर कौन बैठा है?

Ans 1. F

2. E

3. B

4. C

Question ID : 26433047951

Status : Answered

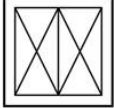
Chosen Option : 3

Q.15 एक निश्चित कूट भाषा में, 'BALL' को '27' के रूप में कोडित किया जाता है और 'BACK' को '17' के रूप में कोडित किया जाता है। उसी कूट भाषा में 'RACE' को किस रूप में कोडित किया जाएगा?

- Ans
- 1. 22
 - 2. 27
 - 3. 17
 - 4. 37

Question ID : 26433047950
Status : Answered
Chosen Option : 2

Q.16 उस विकल्प का चयन करें जो दिए गए चित्र में अंतर्निहित है (आकृति को घुमाने की अनुमति नहीं है)।



- Ans
- 1.
 - 2.
 - 3.
 - 4.

Question ID : 26433048435
Status : Answered
Chosen Option : 2

Q.17 दिए गए दो अंकों 4 और 6 को परस्पर बदलने पर निम्नलिखित समीकरण का मान कितना होगा?

$$5 + 3 \times 4 - 6 \div 2 = ?$$

- Ans
- 1. 15
 - 2. 41
 - 3. 21
 - 4. 35

Question ID : 26433048539
Status : Answered
Chosen Option : 3

Q.18 उस विकल्प का चयन करें जो चौथी संख्या से उसी प्रकार संबंधित है, जिस प्रकार पहली संख्या दूसरी संख्या से संबंधित है और पाँचवीं संख्या छठी संख्या से संबंधित है।

11 : 1000 :: ? : 1728 :: 9 : 512

Ans 1. 7

2. 13

3. 5

4. 15

Question ID : 26433048791

Status : Answered


Chosen Option : 2

Q.19 कागज के एक टुकड़े को मोड़ने का क्रम और जिस तरीके से मुड़े हुए कागज को काटा गया है, उसे निम्नलिखित आकृतियों में दर्शाया गया है। खोलने पर यह कागज कैसा दिखाई देगा?




Ans


1.




2.



3.



4.



Question ID : 26433048537

Status : Answered

Chosen Option : 4

Q.20 एक निश्चित कूट भाषा में, 'EARTH' को '5118208' लिखा जाता है और 'BOOK' को '2151511' लिखा जाता है। उसी भाषा में 'COUNTRY' को किस प्रकार लिखा जाएगा?

Ans 1. 3152114201824

2. 3152114201825

3. 3152114201725

4. 3152114191825

Question ID : 26433048323

Status : Answered

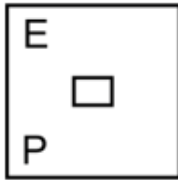
Chosen Option : 2

Q.21 दिए गए विकल्पों में से उस आकृति का चयन कीजिए जो निम्नलिखित श्रृंखला में प्रश्नवाचक चिह्न (?) के स्थान पर आ सकती है।

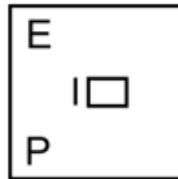
E	∩	∩	P	∩	∩	□	?
P	∩	∩	E	∩	∩	□	

Ans

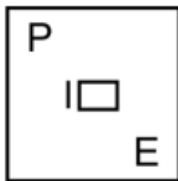
✗ 1.



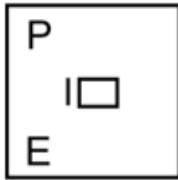
✓ 2.



✗ 3.



✗ 4.



Question ID : 26433047963

Status : Answered

Chosen Option : 2

Q.22 एक निश्चित कूट भाषा में, 'KING' को '16181320' के रूप में कोडित किया जाता है, और 'HOP' को '191211' के रूप में कोडित किया जाता है। उसी भाषा में 'STA' को किस रूप में कोडित किया जाएगा?

Ans ✗ 1. 8627

✗ 2. 8276

✓ 3. 8726

✗ 4. 8926

Question ID : 26433048771

Status : Answered

Chosen Option : 3

Q.23 दिए गए विकल्पों में से उस संख्या का चयन कीजिए जो निम्नलिखित श्रृंखला में प्रश्नवाचक चिह्न (?) के स्थान पर आ सकती है।

45, 46, 50, 59, 75, ?

- Ans
- 1. 105
 - 2. 90
 - 3. 100
 - 4. 95

Question ID : 26433047957

Status : Answered

Chosen Option : 3

Q.24 दिए गए कथन और निष्कर्षों को ध्यानपूर्वक पढ़ें। यह मानते हुए कि कथनों में दी गई जानकारी सत्य है, भले ही वह सामान्य रूप से ज्ञात तथ्यों से भिन्न प्रतीत होती हो, तय करें कि दिए गए निष्कर्षों में से कौन सा/से निष्कर्ष तार्किक रूप से कथनों का अनुसरण करता/ते है/हैं।

कथन:

- I. कोई भी X, L नहीं है।
- II. सभी M, X हैं।

निष्कर्ष:

- I. कोई भी L, X नहीं है।
- II. कोई भी L, M नहीं है।
- III. सभी M, L हैं।

- Ans
- 1. केवल निष्कर्ष III अनुसरण करता है
 - 2. सभी निष्कर्ष अनुसरण करते हैं
 - 3. केवल निष्कर्ष II और III अनुसरण करते हैं
 - 4. केवल निष्कर्ष I और II अनुसरण करते हैं

Question ID : 26433048804

Status : Answered

Chosen Option : 4

Q.25 दिए गए विकल्पों में से उस अक्षर-समूह का चयन कीजिए जो निम्नलिखित श्रृंखला में प्रश्नवाचक चिह्न (?) को प्रतिस्थापित कर सकता है।

AAI, AEI, AII, AOI, ?

- Ans
- 1. IIA
 - 2. IAA
 - 3. AUI
 - 4. EAI

Question ID : 26433048043

Status : Answered

Chosen Option : 3

Q.1 यदि एक वृत्त की परिधि एक वर्ग के परिमाण के बराबर है और दिए गए वृत्त की त्रिज्या धनात्मक है, तो निम्नलिखित में से कौन-सा विकल्प सही होगा?

- Ans
- 1. वृत्त का क्षेत्रफल < वर्ग का क्षेत्रफल
 - 2. वृत्त का क्षेत्रफल \geq वर्ग का क्षेत्रफल
 - 3. वृत्त का क्षेत्रफल > वर्ग का क्षेत्रफल
 - 4. वृत्त का क्षेत्रफल = वर्ग का क्षेत्रफल

Question ID : 26433050140
Status : Answered
Chosen Option : 3

Q.2 यदि a का 30% = b है, तो 50 का b% निम्न में से किसके बराबर होगा?

- Ans
- 1. a के 10%
 - 2. a के 15%
 - 3. a के 5%
 - 4. a के 12%

Question ID : 26433049549
Status : Answered
Chosen Option : 2

Q.3 एक वस्तु का अंकित मूल्य ₹5,000 था। उस वस्तु को बेचते समय, विक्रेता ने 15% और 5% की दो क्रमागत छूटें दीं। उस वस्तु का अंतिम विक्रय मूल्य कितना था?

- Ans
- 1. ₹4,370.50
 - 2. ₹4,037.50
 - 3. ₹4,730
 - 4. ₹4,250

Question ID : 26433049403
Status : Answered
Chosen Option : 2

Q.4 यदि कोई व्यक्ति 10 km/h की चाल से एक निश्चित दूरी तय करता है और उसी मार्ग से 20 km/h की चाल से वापस लौटता है, तो पूरी यात्रा के दौरान उसकी औसत चाल क्या होगी?

- Ans
- ✓ 1. $\frac{40}{3}$ km/h
 - ✗ 2. $\frac{10}{3}$ km/h
 - ✗ 3. $\frac{20}{3}$ km/h
 - ✗ 4. 15 km/h

Question ID : 26433049247
Status : Answered
Chosen Option : 1

Q.5 वास्तविक विक्रय मूल्य के $\frac{5}{6}$ मूल्य पर किसी वस्तु को बेचने से 10% का लाभ प्राप्त होता है। यदि वस्तु को वास्तविक विक्रय मूल्य पर ही बेचा जाता, तो क्रय मूल्य पर होने वाला प्रतिशत लाभ ज्ञात कीजिए।

- Ans
- ✗ 1. 30%
 - ✗ 2. 28%
 - ✗ 3. 26%
 - ✓ 4. 32%

Question ID : 26433050127
Status : Answered
Chosen Option : 4

Q.6 एक आयताकार LCD का क्षेत्रफल 480 cm^2 और परिमाण 92 cm है। यदि LCD के आकार को विकर्ण की लंबाई के रूप में परिभाषित किया जाता है, तो LCD का आकार क्या होगा?

- Ans
- ✗ 1. 35 cm
 - ✗ 2. 31 cm
 - ✗ 3. 39 cm
 - ✓ 4. 34 cm

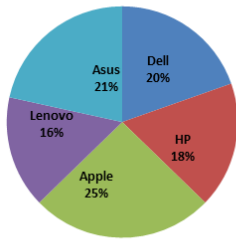
Question ID : 26433050191
Status : Answered
Chosen Option : 4

Q.7 अजय, विजय और शशि एक कार्य को क्रमशः 20, 40 और 60 दिन में पूरा कर सकते हैं। यदि विजय और शशि हर चौथे दिन उसकी सहायता करते हैं, तो अजय उस काम को कितने दिन में पूरा कर सकता है?

- Ans
- ✗ 1. 15 दिन
 - ✗ 2. $\frac{44}{3}$ दिन
 - ✗ 3. 12 दिन
 - ✓ 4. $\frac{50}{3}$ दिन

Question ID : 26433049486
Status : Answered
Chosen Option : 4

Q.8 निम्न पाई-चार्ट एक निश्चित अवधि के दौरान पांच अलग-अलग कंपनियों के लैपटॉप की बिक्री के आंकड़ों के प्रतिशत-वार वितरण को दर्शाता है।



यदि सभी कंपनियों की कुल बिक्री ₹55,00,000 है, तो HP और Apple की बिक्री का अंतर ज्ञात कीजिए।

- Ans
- 1. ₹4,25,000
 - 2. ₹7,50,000
 - 3. ₹3,85,000
 - 4. ₹3,65,000

Question ID : 26433050139
Status : Answered
Chosen Option : 3

Q.9 एक थैले में 25 p, 10 p और 5 p के सिक्के क्रमशः 2 : 3 : 5 के अनुपात में हैं। यदि सभी सिक्कों का मूल्य ₹5.25 है, तो थैले में 5 p के कितने सिक्के हैं?

- Ans
- 1. 45
 - 2. 25
 - 3. 15
 - 4. 35

Question ID : 26433049305
Status : Answered
Chosen Option : 2

Q.10 एक वस्तु का विक्रय मूल्य और क्रय मूल्य क्रमशः ₹6,000 और ₹5,000 है। लाभ प्रतिशत ज्ञात कीजिए।

- Ans
- 1. 25%
 - 2. 20%
 - 3. 15%
 - 4. 10%

Question ID : 26433049747
Status : Answered
Chosen Option : 2

Q.11 यदि ब्याज वार्षिक रूप से चक्रवृद्धि हो, तो वार्षिक ब्याज की एक निश्चित दर से निवेश की गई राशि पर 2 वर्षों में प्राप्त मिश्रधन ₹3,600 और 4 वर्षों में प्राप्त मिश्रधन ₹6,480 है। निवेश की गई राशि ज्ञात कीजिए।

- Ans
- 1. ₹2,400
 - 2. ₹3,600
 - 3. ₹2,500
 - 4. ₹2,000

Question ID : 26433049758

Status : Answered

Chosen Option : 3

Q.12 एक व्यक्ति कुल 15 घंटे के समय में नाव खेते हुए J से K (धारा की विपरीत दिशा में) की ओर जाता है और K से J (धारा की दिशा में) की ओर वापस आता है। J और K के बीच की दूरी 300 km है। धारा की दिशा में 9 km की दूरी तक नाव खेने में व्यक्ति द्वारा लिया गया समय धारा की विपरीत दिशा में 3 km की दूरी तक नाव खेने में उसके द्वारा लिए गए समय के समान है। शांत पानी में नाव की अनुमानित चाल क्या है?

- Ans
- 1. 47.67 km/h
 - 2. 43.67 km/h
 - 3. 53.33 km/h
 - 4. 51.33 km/h

Question ID : 26433049871

Status : Not Answered

Chosen Option : --

Q.13 निम्न समीकरण में प्रश्नचिह्न (?) के स्थान पर कौन-सी संख्या आ सकती है?

$$?^3 \div 16 = 108$$

- Ans
- 1. 17
 - 2. 8
 - 3. 10
 - 4. 12

Question ID : 26433050118

Status : Answered

Chosen Option : 4

Q.14 निम्नलिखित व्यंजक को सरल कीजिए।

$$12 + 2.5 + (1.5 \text{ of } 4) - 2.6$$

- Ans
- 1. 18.1
 - 2. 18.9
 - 3. 17.1
 - 4. 17.9

Question ID : 26433049293
Status : Answered
Chosen Option : 4

Q.15 एक सुपरमार्केट में लगातार 5 महीने में ₹1,48,500, ₹2,00,000, ₹1,64,000, ₹1,88,600 और ₹2,40,400 की बिक्री होती है।
छठे महीने में सुपरमार्केट में कितनी बिक्री होनी चाहिए ताकि इन 6 महीनों की औसत बिक्री ₹1,88,300 हो जाए?

- Ans
- 1. ₹2,00,500
 - 2. ₹1,90,020
 - 3. ₹1,88,300
 - 4. ₹1,64,000

Question ID : 26433049398
Status : Answered
Chosen Option : 3

Q.16 यदि $A = 2^3 \times 3^7$, $B = 2^7 \times 3^5$ और $C = 2^8 \times 3^4$ हैं, तो A, B और C का लघुत्तम समापवर्त्य (LCM) ज्ञात कीजिए।

- Ans
- 1. $2^6 \times 3^7$
 - 2. $2^7 \times 3^7$
 - 3. $2^9 \times 3^7$
 - 4. $2^8 \times 3^7$

Question ID : 26433049762
Status : Answered
Chosen Option : 4

Q.17 छः लोगों की लंबाई क्रमशः 6 फीट 6 इंच, 6 फीट, 5 फीट 8 इंच, 6 फीट 2 इंच, 6 फीट 4 इंच और 5 फीट 10 इंच है। इन छः लोगों की औसत लंबाई ज्ञात कीजिए।

- Ans
- 1. 6 फीट 6 इंच
 - 2. 6 फीट 1 इंच
 - 3. 6 फीट
 - 4. 6 फीट 4 इंच

Question ID : 26433050171
Status : Answered
Chosen Option : 1

Q.18 42 लड़के प्रतिदिन 8 घंटे काम करते हुए एक काम को 20 दिनों में पूरा कर सकते हैं। यदि प्रत्येक लड़का प्रतिदिन 12 घंटे काम करे, तो 14 लड़के उसी काम को कितने दिनों में पूरा कर सकते हैं?

- Ans
- 1. 39 दिन
 - 2. 42 दिन
 - 3. 40 दिन
 - 4. 41 दिन

Question ID : 26433050310
Status : Answered
Chosen Option : 3

Q.19 एक बैग में ₹2, ₹5 और ₹10 मूल्यवर्ग के सिक्के हैं। बैग में सिक्कों की कुल संख्या 300 है। यदि ₹2, ₹5 और ₹10 मूल्यवर्ग के सिक्कों की संख्या 1 : 2 : 3 के अनुपात में है, तो बैग में कुल धनराशि कितनी है?

- Ans
- 1. ₹2,500
 - 2. ₹2,400
 - 3. ₹3,000
 - 4. ₹2,100

Question ID : 26433049881
Status : Answered
Chosen Option : 4

Q.20 निम्नलिखित तालिका एक सप्ताह के दौरान एक दुकान से बेचे गए 5 विभिन्न ब्रांड्स की लोहे की छड़ों के बंडलों की संख्या दर्शाती है।

ब्रांड	बंडल
B1	60
B2	50
B3	40
B4	45
B5	55

B1 और B3 के प्रत्येक बंडल में लोहे की छड़ों की संख्या 5 है। B2, B4 और B5 के प्रत्येक बंडल में लोहे की छड़ों की संख्या 4 है। उस सप्ताह के दौरान सभी 5 ब्रांड्स को एक साथ मिलाकर दुकान से बेची गई लोहे की छड़ों की कुल संख्या कितनी है?

- Ans
- 1. 1250
 - 2. 1150
 - 3. 1200
 - 4. 1100

Question ID : 26433049890
Status : Answered
Chosen Option : 4

Q.21 चीनी का मूल्य 15% बढ़ जाता है। चीनी की खपत में कितने प्रतिशत की कमी करनी चाहिए, जिससे कि चीनी की खरीद पर होने वाला खर्च समान रहे? [दशमलव के दो स्थानों तक शुद्ध मान दें।]

- Ans
- 1. 13.04%
 - 2. 12.5%
 - 3. 11.11%
 - 4. 14.16%

Question ID : 26433049926
Status : Answered
Chosen Option : 1

Q.22 समान राशि को साधारण ब्याज की समान दर पर क्रमशः 6 वर्ष और 15 वर्ष के लिए निवेश करने पर अर्जित ब्याजों का अनुपात क्या होगा?

- Ans
- 1. 5 : 2
 - 2. 2 : 5
 - 3. 5 : 3
 - 4. 3 : 5

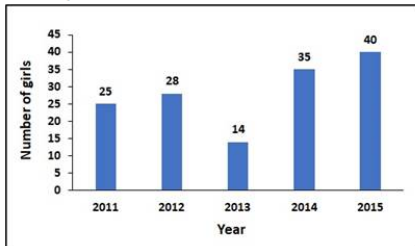
Question ID : 26433049406
Status : Answered
Chosen Option : 2

Q.23 यदि एक घर का एक भंडार कक्ष घनाभ के आकार का है जिसकी लंबाई 3 m, चौड़ाई 2 m और ऊंचाई 4 m है, तो इसकी चारों दीवारों का कुल क्षेत्रफल ज्ञात कीजिए।

- Ans
- 1. 50 m²
 - 2. 40 m²
 - 3. 24 m²
 - 4. 20 m²

Question ID : 26433049267
Status : Answered
Chosen Option : 3

Q.24 नीचे प्रदर्शित बार ग्राफ एक विद्यालय में 5 वर्ष से अधिक आयु की लड़कियों की संख्या (Number of girls) को दर्शाता है।



वर्ष 2012 के सापेक्ष 2013 में लड़कियों की संख्या में कमी का प्रतिशत ज्ञात कीजिए।

- Ans
- 1. 50%
 - 2. 40%
 - 3. 30%
 - 4. 20%

Question ID : 26433049313
Status : Answered
Chosen Option : 1

Q.25 कार्यालय जाते समय, स्नेहा 10 km/h की चाल से यात्रा करती है और वापस आते समय वह 15 km/h की चाल से यात्रा करती है। पूरी यात्रा में उसकी औसत चाल क्या है?

- Ans
- 1. 13 km/h
 - 2. 14 km/h
 - 3. 11 km/h
 - 4. 12 km/h

Question ID : 26433049308
Status : Answered
Chosen Option : 4

Q.1 भारतीय संविधान के अनुसार सरकार के कितने अंग हैं?

- Ans
- 1. चार
 - 2. तीन
 - 3. एक
 - 4. दो

Question ID : 26433047163
Status : Answered
Chosen Option : 2

Q.2 पृथ्वी का केंद्र-भाग (कोर) मुख्य रूप से _____ से निर्मित है।

- Ans
- 1. निकिल और सिलिका
 - 2. निकिल और लोहा
 - 3. सिलिका और मैग्नीशियम
 - 4. सिलिका और एल्यूमिना

Question ID : 26433047151
Status : Not Answered
Chosen Option : --

Q.3 फॉर्मूला वन 2013 इंडियन ग्रैंड प्रिक्स कहाँ आयोजित किया गया था?

- Ans
- 1. मद्रास मोटर रेस ट्रैक
 - 2. चिकेन सर्किट
 - 3. कारी मोटर स्पीडवे
 - 4. बुद्ध अंतर्राष्ट्रीय सर्किट

Question ID : 26433046965
Status : Not Answered
Chosen Option : --

Q.4 निम्नलिखित में से किस चौहान (चाहमान) शासक ने 1191 में सुल्तान मुहम्मद गोरी को हराया था?

- Ans
- 1. अजयराज द्वितीय
 - 2. दुर्लभराज तृतीय
 - 3. विग्रहराज तृतीय
 - 4. पृथ्वीराज तृतीय

Question ID : 26433047157
Status : Answered
Chosen Option : 4

Q.5 2011 की जनगणना के अनुसार, भारत के निम्नलिखित में से किस केंद्र शासित प्रदेश की जनसंख्या सबसे कम है?

- Ans
- 1. दिल्ली
 - 2. चंडीगढ़
 - 3. लक्षद्वीप
 - 4. दमन और दीव

Question ID : 26433047152
Status : Answered
Chosen Option : 3

Q.6 निम्नलिखित में से कौन राष्ट्रकूट वंश के संस्थापक थे?

- Ans
- 1. ध्रुव
 - 2. गोविंद तृतीय
 - 3. अमोघवर्ष
 - 4. दन्तिदुर्ग

Question ID : 26433046806
Status : Answered
Chosen Option : 3

Q.7 बीदर किला भारत के किस राज्य में स्थित है?

- Ans
- 1. गुजरात
 - 2. राजस्थान
 - 3. मेघालय
 - 4. कर्नाटक

Question ID : 26433047147
Status : Not Answered
Chosen Option : --

Q.8 जुलाई 2021 में खादी प्राकृतिक पेंट के ब्रांड एंबेसडर निम्नलिखित में से कौन बने?

- Ans
- 1. नितिन गडकरी
 - 2. राजनाथ सिंह
 - 3. अर्जुन मुंडा
 - 4. नरेंद्र सिंह तोमर

Question ID : 26433046794
Status : Not Answered
Chosen Option : --

Q.9 आलू में स्टार्च _____ के साथ अभिक्रिया करने के बाद नीले रंग में परिवर्तित हो जाता है।

- Ans
- 1. ब्रोमिन
 - 2. आयोडीन
 - 3. फ्लोरिन
 - 4. क्लोरीन

Question ID : 26433046699
Status : Not Answered
Chosen Option : --

Q.10 पीएम-डिवाइन (PM-DevINE) _____ भारत के लिए प्रधान मंत्री की विकास पहल है।

- Ans
- 1. उत्तर-पश्चिम
 - 2. उत्तर-पूर्व
 - 3. दक्षिण-पश्चिम
 - 4. दक्षिण-पूर्व

Question ID : 26433047143
Status : Not Answered
Chosen Option : --

Q.11 भारत में किस वर्ष सती प्रथा पर प्रतिबंध लगाया गया था?

- Ans
- 1. 1824
 - 2. 1829
 - 3. 1831
 - 4. 1826

Question ID : 26433047533
Status : Answered
Chosen Option : 3

Q.12 नीचे सूचीबद्ध विकल्पों में से, ध्वनि की गति _____ में 25°C पर उच्चतम होती है।

- Ans
- 1. एल्युमीनियम
 - 2. ऑक्सीजन
 - 3. हाइड्रोजन
 - 4. इथेनॉल

Question ID : 26433047273
Status : Not Answered
Chosen Option : --

Q.13 बास्केटबॉल में, एक फ्री-थ्रो कितने अंकों का होता है?

- Ans
- 1. 4
 - 2. 2
 - 3. 1
 - 4. 3

Question ID : 26433047341
Status : Not Answered
Chosen Option : --

Q.14 भारत के किस राज्य में वंगाला उत्सव मनाया जाता है?

- Ans
- 1. झारखंड
 - 2. गोवा
 - 3. मेघालय
 - 4. केरल

Question ID : 26433047271
Status : Not Answered
Chosen Option : --

Q.15 भारतीय जनगणना आम तौर पर हर _____ बाद की जाती है।

- Ans
- 1. चार वर्ष
 - 2. सात वर्ष
 - 3. दस वर्ष
 - 4. पांच वर्ष

Question ID : 26433047579
Status : Answered
Chosen Option : 3

Q.16 जैसा कि वित्तीय वर्ष 2022 के केंद्रीय बजट में घोषित किया गया था, कॉर्पोरेट अधिभार को 12% से घटाकर _____ कर दिया गया है।

- Ans
- 1. 1%
 - 2. 8%
 - 3. 7%
 - 4. 9%

Question ID : 26433046817
Status : Answered
Chosen Option : 2

Q.17 उपन्यास 'द व्हाइट टाइगर', वैश्वीकृत दुनिया में भारत के वर्ग संघर्ष का गहरा विनोदी परिप्रेक्ष्य प्रदान करता है। इसे _____ द्वारा लिखा गया है।

- Ans
- 1. विक्रम सेठ
 - 2. अमिताभ घोष
 - 3. शशि थरूर
 - 4. अरविंद अडिगा

Question ID : 26433046810
Status : Not Answered
Chosen Option : --

Q.18 भगवान खंडोबा से जुड़ा 'वाघ्य मुरली' नृत्य, मूल रूप से निम्न में से किस राज्य से संबंधित है?

- Ans
- 1. बिहार
 - 2. राजस्थान
 - 3. महाराष्ट्र
 - 4. गुजरात

Question ID : 26433046695
Status : Not Answered
Chosen Option : --

Q.19 निम्नलिखित में से कौन भारत के सर्वोच्च नागरिक सम्मान भारत रत्न से सम्मानित होने वाले/वाली पहले/पहली गायक/गायिका हैं?

- Ans
- 1. उस्ताद अली अकबर खान
 - 2. हरिप्रसाद चौरसिया
 - 3. बिस्मिल्लाह खान
 - 4. मदुरै षण्मुखादिवु सुब्बुलक्ष्मी

Question ID : 26433046811
Status : Not Answered
Chosen Option : --

Q.20 भारतीय संविधान के अनुसार, लोक सभा में केंद्र शासित प्रदेशों का प्रतिनिधित्व करने के लिए _____ से अधिक सदस्य नहीं होंगे।

- Ans
- 1. पंद्रह
 - 2. तीस
 - 3. पैंतीस
 - 4. बीस

Question ID : 26433047539
Status : Not Answered
Chosen Option : --

Q.21 निम्नलिखित में से किसने पंजाब, भारत में ईश्वर की निरंकार (निराकार) के रूप में पूजा-अर्चना पर जोर दिया था?

- Ans
- 1. गुरु गोबिंद सिंह
 - 2. बाबारा मसिंह
 - 3. बाबा दयालदास
 - 4. महाराजा रणजीत सिंह

Question ID : 26433046709
Status : Answered
Chosen Option : 1

Q.22 निम्नलिखित में से कौन-सा, टेरीडोफाइट (Pteridophyta) का उदाहरण नहीं है?

- Ans
- 1. इक्वीसेटम (Equisetum)
 - 2. सिलैजिनेला (Selaginella)
 - 3. टैरिस (Pteris)
 - 4. फ्यूनेरिया (Funaria)

Question ID : 26433047524
Status : Not Answered
Chosen Option : --

Q.23 2011 की जनगणना के अनुसार, भारत की साक्षरता दर निम्नलिखित में से किस परास (रेंज) के अंतर्गत है?

- Ans
- 1. 50% - 55%
 - 2. 30% - 35%
 - 3. 70% - 75%
 - 4. 90% - 95%

Question ID : 26433046655
Status : Answered
Chosen Option : 1

Q.24 इंद्राणी रहमान भारत के किस शास्त्रीय नृत्य से जुड़ी थीं?

- I. भरतनाट्यम नृत्य
- II. ओडिसी नृत्य

- Ans
- 1. केवल I
 - 2. केवल II
 - 3. I और II दोनों
 - 4. न तो I और न ही II

Question ID : 26433047537
Status : Not Answered
Chosen Option : --

Q.25 पृथ्वी पर प्लेट प्रवाह (plate movements) को _____ प्रकारों में वर्गीकृत किया गया है।

- Ans
- 1. तीन
 - 2. पांच
 - 3. छह
 - 4. दो

Question ID : 26433047528
Status : Not Answered
Chosen Option : --