

Multi Tasking Non Technical Staff Havaladar CBIC and CBN Examination 2021

Roll Number	
Candidate Name	
Venue Name	
Exam Date	13/07/2022
Exam Time	1:00 PM - 2:30 PM
Subject	MTS Non technical and Havaladar Examination 2021

Section : General English

Q.1 Select the most appropriate meaning of the given idiom.

Make a living

- Ans 1. To make excuses for everything
2. To earn enough money for things you need
3. To abuse someone
4. To rely on corrupt money

Question ID : 26433050620
Status : Answered
Chosen Option : 2

Q.2 Select the most appropriate option to fill in the blank.

Most employers _____ the use of mobile phones during office hours.

- Ans 1. prohibit
2. cultivate
3. submerge
4. spirit

Question ID : 26433050575
Status : Answered
Chosen Option : 1

Q.3 Select the most appropriate synonym of the given word.

Pleasant

- Ans 1. Sorrowful
2. Delightful
3. Awful
4. Faithful

Question ID : 26433050488
Status : Answered
Chosen Option : 2

Q.4 Select the most appropriate option to fill in the blank.

_____ is going to take the responsibility for this failure?

- Ans
- 1. Whom
 - 2. Whose
 - 3. Who
 - 4. Which

Question ID : 26433051082
Status : Answered
Chosen Option : 3

Q.5 Select the option that will improve the bracketed part of the sentence. In case no improvement is needed, select 'No improvement required'.(Neither of the leading political parties have had much) success in the southern region.

- Ans
- 1. Neither of the leading political parties have had any
 - 2. Neither of the leading political parties has had much
 - 3. No improvement required
 - 4. Neither of the leading political party has had much

Question ID : 26433050857
Status : Answered
Chosen Option : 2

Q.6 Select the option that will improve the underlined part of the given sentence. In case no improvement is needed, select 'No improvement required'.

One of the baby elephants broke off from the herd and lost its way.

- Ans
- 1. down
 - 2. away
 - 3. in
 - 4. No improvement required

Question ID : 26433051396
Status : Answered
Chosen Option : 2

Q.7 Select the most appropriate meaning of the given idiom.

To take with a grain of salt

- Ans
- 1. To believe with some scepticism
 - 2. To take seriously
 - 3. To have total disbelief
 - 4. To accept wholeheartedly

Question ID : 26433051151
Status : Answered
Chosen Option : 1

Q.8 Select the most appropriate ANTONYM of the given word.

Miniature

- Ans 1. Teeny
 2. Mammoth
 3. Average
 4. Miniscule

Question ID : 26433051279
Status : Answered
Chosen Option : 2

Q.9 Select the option that corrects the misspelt words in the given sentence.

He maintins the unity and fredom of the suol.

- Ans 1. He maintains the unity and freedom of the soul.
 2. He maintins the unitty and freedom of the soul.
 3. He maintains the unity and freedomm of the soul.
 4. He maintins the unity and fredom of the soul.

Question ID : 26433050677
Status : Answered
Chosen Option : 1

Q.10 Select the option that can be used as a one-word substitute for the given group of words.

A person who sells flowers

- Ans 1. Chauffeur
 2. Florist
 3. Invigilator
 4. horticulturist

Question ID : 26433050675
Status : Answered
Chosen Option : 2

Q.11 Select the option that can be used as a one-word substitute for the given group of words.

The collection and study of postage stamps

- Ans 1. Ornithology
 2. Philanthropy
 3. Philately
 4. Philosophy

Question ID : 26433051457
Status : Answered
Chosen Option : 3

Q.12 Select the option that can be used as a one-word substitute for the given group of words.

A disturbed state of mind caused by an illness.

- Ans
- 1. Discrepancy
 - 2. Depreciation
 - 3. Dilemma
 - 4. Delirium

Question ID : 26433051197
Status : Answered
Chosen Option : 4

Q.13 Parts of the following sentence have been given as options. One of them may contain an error. Select the part that contains the error from the given options. If you don't find any error, mark 'No error' as your answer.

Your infidelity have given me too much pain in life.

- Ans
- 1. Your infidelity have
 - 2. much pain in life
 - 3. given me too
 - 4. No error

Question ID : 26433050472
Status : Answered
Chosen Option : 1

Q.14 Parts of the following sentence have been given as options. One of them may contain an error. Select the part that contains the error from the given options. If you don't find any error, mark 'No error' as your answer.

We usually sleep in bedrooms with the door firmly shuted behind us.

- Ans
- 1. No error
 - 2. We usually sleep in
 - 3. firmly shuted
 - 4. bedrooms with the door

Question ID : 26433050655
Status : Answered
Chosen Option : 3

Q.15 Select the most appropriate synonym of the underlined word in the given sentence.

These colours add a vivacious and fairy-like effect to my dress.

- Ans
- 1. gloomy
 - 2. sparky
 - 3. repressed
 - 4. impassive

Question ID : 26433051096
Status : Answered
Chosen Option : 2

Q.16 Select the most appropriate option to substitute the underlined segment in the given sentence. If there is no need to substitute it, select 'No substitution required'.

His wise choice of men like Wolfe in Canada and Clive in India, and his vigorous measures in managing foreign affairs, made England respected in every part of the world.

- Ans 1. wisely choice
 2. wise choose
 3. No substitution required
 4. wisely chosen

Question ID : 26433051135
Status : Answered
Chosen Option : 3

Q.17 Select the INCORRECTLY spelt word.

- Ans 1. Bouket
 2. Prosperity
 3. Dissatisfied
 4. Barricade

Question ID : 26433051179
Status : Answered
Chosen Option : 1

Q.18 Select the most appropriate ANTONYM of the given word.

Sturdy

- Ans 1. Dragging
 2. Tiny
 3. Drab
 4. Delicate

Question ID : 26433051176
Status : Answered
Chosen Option : 4

Q.19 Select the option that can be used as a one-word substitute for the given group of words.

One who believes in fate

- Ans 1. Mercenary
 2. Fatalist
 3. Ascetic
 4. Optimist

Question ID : 26433050648
Status : Answered
Chosen Option : 2

Q.20 The following sentence has been divided into parts. One of them may contain an error. Select the part that contains the error from the given options. If you don't find any error, mark 'No error' as your answer.

You have to constant consider how your personal behaviour is going to impact everyone around you.

- Ans
- 1. how your personal behaviour is going
 - 2. to impact everyone around you
 - 3. You have to constant consider
 - 4. No error

Question ID : 26433050743
Status : Answered
Chosen Option : 3

Comprehension:

In the following passage, some words have been deleted. Read the passage carefully and select the most appropriate option to fill in each blank.

In Andhra Pradesh, low rainfall and increased (1) _____ on borewells have led to soil aridity, while (2) _____ snow and more rainfall has (3) _____ the desertification crisis in Himachal Pradesh. On the other (4) _____, in Rajasthan, canals, tube-well irrigation and shelterbelts have (5) _____ to an increase in the green cover.

SubQuestion No : 21

Q.21 Select the most appropriate option to fill in blank number 1.

- Ans
- 1. addiction
 - 2. support
 - 3. dependence
 - 4. growth

Question ID : 26433051085
Status : Answered
Chosen Option : 3

Comprehension:

In the following passage, some words have been deleted. Read the passage carefully and select the most appropriate option to fill in each blank.

In Andhra Pradesh, low rainfall and increased (1) _____ on borewells have led to soil aridity, while (2) _____ snow and more rainfall has (3) _____ the desertification crisis in Himachal Pradesh. On the other (4) _____, in Rajasthan, canals, tube-well irrigation and shelterbelts have (5) _____ to an increase in the green cover.

SubQuestion No : 22

Q.22 Select the most appropriate option to fill in blank number 2.

- Ans
- 1. less
 - 2. least
 - 3. fewer
 - 4. few

Question ID : 26433051086
Status : Answered
Chosen Option : 1

Comprehension:

In the following passage, some words have been deleted. Read the passage carefully and select the most appropriate option to fill in each blank.

In Andhra Pradesh, low rainfall and increased (1) _____ on borewells have led to soil aridity, while (2) _____ snow and more rainfall has (3) _____ the desertification crisis in Himachal Pradesh. On the other (4) _____, in Rajasthan, canals, tube-well irrigation and shelterbelts have (5) _____ to an increase in the green cover.

SubQuestion No : 23

Q.23 Select the most appropriate option to fill in blank number 3.

- Ans 1. deepen
 2. deep
 3. deepened
 4. deeper

Question ID : 26433051087

Status : Answered

Chosen Option : 1

Comprehension:

In the following passage, some words have been deleted. Read the passage carefully and select the most appropriate option to fill in each blank.

In Andhra Pradesh, low rainfall and increased (1) _____ on borewells have led to soil aridity, while (2) _____ snow and more rainfall has (3) _____ the desertification crisis in Himachal Pradesh. On the other (4) _____, in Rajasthan, canals, tube-well irrigation and shelterbelts have (5) _____ to an increase in the green cover.

SubQuestion No : 24

Q.24 Select the most appropriate option to fill in blank number 4.

- Ans 1. half
 2. hand
 3. case
 4. sides

Question ID : 26433051088

Status : Answered

Chosen Option : 2

Comprehension:

In the following passage, some words have been deleted. Read the passage carefully and select the most appropriate option to fill in each blank.

In Andhra Pradesh, low rainfall and increased (1) _____ on borewells have led to soil aridity, while (2) _____ snow and more rainfall has (3) _____ the desertification crisis in Himachal Pradesh. On the other (4) _____, in Rajasthan, canals, tube-well irrigation and shelterbelts have (5) _____ to an increase in the green cover.

SubQuestion No : 25

Q.25 Select the most appropriate option to fill in blank number 5.

- Ans 1. leading
 2. leads
 3. led
 4. lead

Question ID : 26433051089

Status : Answered

Chosen Option : 3

Section : General Intelligence and Reasoning

Q.1 निम्नलिखित समीकरण को संतुलित करने के लिए किन दो चिन्हों को आपस में बदलने की आवश्यकता है?

$$352 \times 8 - 330 + 125 \div 4 = 214$$

- Ans 1. + और +
 2. × और ÷
 3. + और ×
 4. - और ÷

Question ID : 26433047886

Status : Answered

Chosen Option : 2

Q.2 उस विकल्प का चयन कीजिए जो पाँचवें पद से उसी प्रकार संबंधित है जैसे दूसरा पद पहले पद से संबंधित है और चौथा पद तीसरे पद से संबंधित है।

$$A 1 : E 3 :: M 7 : Q 9 :: S 5 : ?$$

- Ans 1. W 7
 2. W 5
 3. U 7
 4. V 7

Question ID : 26433047869

Status : Answered

Chosen Option : 1

Q.3 A, B, C, D, E, F और G ने एक परीक्षा दी। A को B, C और D से अधिक अंक प्राप्त हुए। G को E और F से अधिक अंक प्राप्त हुए। F को A से अधिक अंक प्राप्त हुए। परीक्षा में सर्वाधिक अंक किसे प्राप्त हुए?

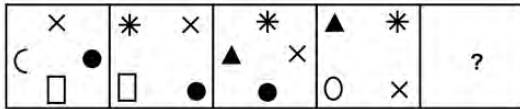
- Ans
- 1. F
 - 2. A
 - 3. G
 - 4. E

Question ID : 26433048128

Status : Answered

Chosen Option : 3

Q.4 दिए गए विकल्पों में से उस आकृति का चयन कीजिए जो नीचे दी गई श्रृंखला में प्रश्नवाचक चिह्न (?) को प्रतिस्थापित कर सकती है।



Ans

- 1.
- 2.
- 3.
- 4.

Question ID : 26433048063

Status : Answered

Chosen Option : 4

Q.5 दिए गए कथनों और निष्कर्षों को ध्यानपूर्वक पढ़ें। यह मानते हुए कि कथनों में दी गई जानकारी सही है, भले ही वे सामान्य ज्ञात तथ्यों से भिन्न प्रतीत होती हो और फिर निर्णय कीजिए कि कौन-सा/से निष्कर्ष दिए गए कथनों का तार्किक रूप से अनुसरण करता/करते है/हैं।

कथन:

- I. कुछ A, B हैं।
- II. सभी C, B हैं।

निष्कर्ष:

- I. कुछ B के A होने की संभावना है।
- II. कोई भी C, A नहीं है।
- III. सभी A, C हैं।

Ans 1. कोई भी निष्कर्ष अनुसरण नहीं करता है।

2. केवल निष्कर्ष III अनुसरण करता है।

3. सभी निष्कर्ष अनुसरण करते हैं।

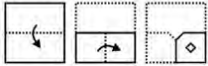
4. केवल निष्कर्ष I अनुसरण करता है।

Question ID : 26433048554

Status : Answered

Chosen Option : 4

Q.6 कागज़ के एक टुकड़े को मोड़ने का क्रम, और मोड़े गए टुकड़े को काटने का तरीका नीचे दी गई आकृतियों में दर्शाया गया है। कागज़ को खोले जाने पर वह कैसा दिखेगा देगा?



Ans

1.



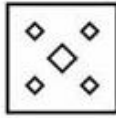
2.



3.



4.



Question ID : 26433048737

Status : Answered

Chosen Option : 4

Q.7 दिए गए विकल्पों में से उस अक्षर-समूह को चयन कीजिए, जो निम्नलिखित श्रृंखला में प्रश्नवाचक चिन्ह (?) का स्थान ले सकता है।

TX, ZD, FJ, LP, ?

- Ans 1. SV
 2. SU
 3. RU
 4. RV

Question ID : 26433047868
Status : Answered
Chosen Option : 4

Q.8 उस विकल्प का चयन करें जिसमें संख्याएँ उसी प्रकार संबंधित हैं जैसे निम्नलिखित समुच्चय की संख्याएँ संबंधित हैं।

(2, 4, 36)
(4, 6, 100)

- Ans 1. (14, 2, 75)
 2. (12, 4, 230)
 3. (8, 4, 1020)
 4. (4, 4, 64)

Question ID : 26433048480
Status : Answered
Chosen Option : 4

Q.9 उस विकल्प का चयन कीजिए जो छठी संख्या से उसी प्रकार संबंधित है जिस प्रकार पहली संख्या, दूसरी संख्या से संबंधित है और तीसरी संख्या, चौथी संख्या से संबंधित है।

1503 : 3004 :: 871 : 1740 :: ? : 142

- Ans 1. 110
 2. 65
 3. 98
 4. 72

Question ID : 26433048057
Status : Answered
Chosen Option : 4

Q.10 एक विशिष्ट कूट भाषा में, 'POINT' को '11' कूटबद्ध किया जाता है और 'GRANDST' को '11' कूटबद्ध किया जाता है। इस भाषा में 'HEMANT' को कैसे कूटबद्ध किया जाएगा?

- Ans 1. 7
 2. 8
 3. 4
 4. 9

Question ID : 26433048598
Status : Answered
Chosen Option : 1

Q.11 उस विकल्प का चयन करें जो तीसरे अक्षर-समूह से उसी प्रकार संबंधित है, जिस प्रकार दूसरा अक्षर-समूह पहले अक्षर-समूह से संबंधित है।

DGP : WTK :: MOS : ?

- Ans
- 1. MLH
 - 2. NEH
 - 3. NLH
 - 4. NLT

Question ID : 26433048800
Status : Answered
Chosen Option : 3

Q.12 एक निश्चित कूट भाषा में, 'Flames are bright' को '@ # %' के रूप में लिखा जाता है, और 'Bright is sun flames' को '* # 7 @' के रूप में लिखा जाता है। उसी कूट भाषा में 'is' के लिए निम्नलिखित में से कौन सा संभावित कूट है?

- Ans
- 1. %
 - 2. @
 - 3. #
 - 4. *

Question ID : 26433048796
Status : Answered
Chosen Option : 4

Q.13 एक निश्चित कोड भाषा में, 'PIZZA' को 'QJAAB' लिखा जाता है और 'BLACK' को 'CMBDL' लिखा जाता है। उसी भाषा में 'BUZZY' को कैसे लिखा जाएगा?

- Ans
- 1. CTAAZ
 - 2. CVAZZ
 - 3. CVAAZ
 - 4. CVABZ

Question ID : 26433047872
Status : Answered
Chosen Option : 3

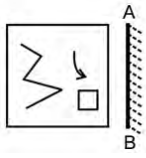
Q.14 उस विकल्प का चयन करें जो तीसरी संख्या से उसी प्रकार संबंधित है, जिस प्रकार दूसरी संख्या पहली संख्या से संबंधित है और छठी संख्या पाँचवीं संख्या से संबंधित है।

3856 : 8563 :: 4893 : ? :: 2873 : 8732

- Ans
- 1. 3948
 - 2. 8934
 - 3. 3984
 - 4. 8943

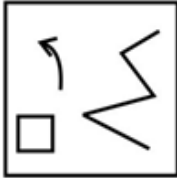
Question ID : 26433048541
Status : Answered
Chosen Option : 2

Q.15 दर्पण को रेखा AB पर रखे जाने पर, जैसा कि दर्शाया गया है, विकल्पों में से दिए गए संयोजन के सही दर्पण प्रतिबिंब का चयन कीजिए।



Ans

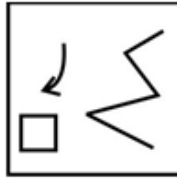
1.



2.



3.



4.



Question ID : 26433048411

Status : Answered

Chosen Option : 3

Q.16 उस विकल्प का चयन करें जो तीसरे अक्षर-समूह से उसी प्रकार संबंधित है, जिस प्रकार दूसरा अक्षर-समूह पहले अक्षर-समूह से संबंधित है।

ROM : SRT :: PNA : ?

Ans

1. QQI

2. QRH

3. RQI

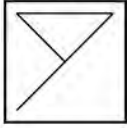
4. QQH

Question ID : 26433048551

Status : Answered

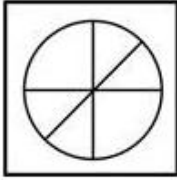
Chosen Option : 4

Q.17 उस विकल्प का चयन करें जिसमें दी गई आकृति सन्निकित है (घुमाने की अनुमति नहीं है)।

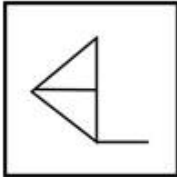


Ans

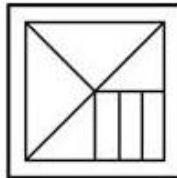
1.



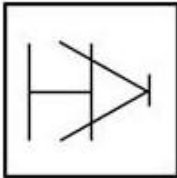
2.



3.



4.



Question ID : 26433048485

Status : Answered

Chosen Option : 3

Q.18 दिए गए विकल्पों में से उस संख्या का चयन कीजिए, जो निम्नलिखित श्रृंखला में प्रश्नवाचक चिह्न (?) के स्थान पर आएगी।

6, 9, 7, 10, 8, 11, ?

Ans 1. 12

2. 11

3. 9

4. 10

Question ID : 26433048131

Status : Answered

Chosen Option : 3

Q.19 नौ व्यक्ति आशा, विशाल, कैरोल, डिंकी, एमिली, फराह, गोलू, हर्ष और इतिका, सिनेमाघर में एक सीधी पंक्ति में सीटों पर बैठे उत्तर दिशा की ओर अभिमुख होकर फिल्म देख रहे हैं। विशाल, पंक्ति के एक सिरे पर है। हर्ष की सीट फराह और गोलू दोनों के बिल्कुल बगल में है। कैरोल, डिंकी के बगल में दाईं ओर, और एमिली के दाईं ओर तीसरे स्थान पर है। आशा, फराह के बगल में बाईं ओर बैठी है। फराह, विशाल के बाईं ओर तीसरे स्थान पर है। पंक्ति के सिरों पर कौन-कौन है?

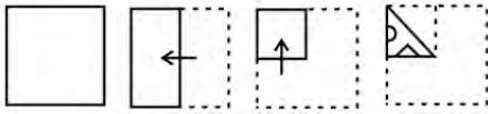
- Ans
- 1. हर्ष और इतिका
 - 2. विशाल और डिंकी
 - 3. एमिली और विशाल
 - 4. कैरोल और एमिली

Question ID : 26433048127

Status : Answered

Chosen Option : 3

Q.20 कागज के एक टुकड़े को मोड़ने का क्रम और जिस तरीके से मुड़े हुए कागज को काटा गया है, उसे नीचे दी गई आकृतियों में दिखाया गया है। खोलने पर यह कागज कैसा दिखेगा?



Ans

- 1.
- 2.
- 3.
- 4.

Question ID : 26433047941

Status : Answered

Chosen Option : 3

Q.21 यदि '+' और '-' को परस्पर बदल दिया जाता है और 'x' और '÷' को भी परस्पर बदल दिया जाता है, तो निम्नलिखित समीकरण में '?' के स्थान पर क्या आएगा?

$$40 \times 10 - 20 + 10 \div 2 = ?$$

- Ans 1. 2
 2. 4
 3. 8
 4. 6

Question ID : 26433048135
Status : Answered
Chosen Option : 2

Q.22 दिए गए कथनों और निष्कर्षों को ध्यानपूर्वक पढ़ें। यह मानते हुए कि कथनों में दी गई जानकारी सत्य है, भले ही वह सामान्य रूप से ज्ञात तथ्यों से भिन्न प्रतीत होती हो, तय करें कि दिए गए निष्कर्षों में से कौन-सा/से निष्कर्ष कथनों का तार्किक रूप से अनुसरण करता है/करते हैं।

कथन:
कोई भी परमाणु, अणु नहीं है।
कोई भी अणु, तत्व नहीं है।

निष्कर्ष:
I. कुछ परमाणुओं का तत्व होना संभव है।
II. कुछ तत्व, अणु हैं।

- Ans 1. केवल निष्कर्ष II अनुसरण करता है।
 2. न तो निष्कर्ष I और न ही II अनुसरण करता है।
 3. निष्कर्ष I और II दोनों अनुसरण करते हैं।
 4. केवल निष्कर्ष I अनुसरण करता है।

Question ID : 26433048475
Status : Answered
Chosen Option : 4

Q.23 Six people Ali, Parth, Roy, Minal, Sudhir and Zeeshan are sitting in a straight row facing North. Sudhir and Zeeshan are in the centre. Ali and Parth are at the corners. Roy is sitting to the immediate left of Ali. Who is sitting to the immediate right of Parth?

- Ans 1. Minal
 2. Zeeshan
 3. Roy
 4. Sudhir

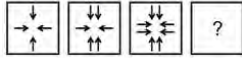
Question ID : 26433048051
Status : Answered
Chosen Option : 1

Q.24 एक निश्चित कूट भाषा में, 'ri ti gi' को 'Usha playing cards' लिखा जाता है, 'si ni gi' को 'Asha playing tennis' लिखा जाता है और 'ri si wi' को 'cards and tennis' लिखा जाता है। उस भाषा में 'tennis' शब्द का कूट क्या होगा?

- Ans
- 1. wi
 - 2. ri
 - 3. ni
 - 4. si

Question ID : 26433048198
Status : Answered
Chosen Option : 4

Q.25 दिए गए विकल्पों में से उस आकृति का चयन करें, जो निम्नलिखित श्रृंखला में प्रश्नवाचक चिह्न (?) के स्थान पर आ सकती है।



Ans

- 1.
- 2.
- 3.
- 4.

Question ID : 26433048558
Status : Answered
Chosen Option : 1

Section : Numerical Aptitude

Q.1 एक मिश्रधातु में एल्युमीनियम की मात्रा 30% है। मिश्र धातु की कितनी मात्रा में 300 g एल्युमीनियम होगा?

- Ans
- 1. 1.2 kg
 - 2. 0.6 kg
 - 3. 1 kg
 - 4. 0.8 kg

Question ID : 26433049349
Status : Answered
Chosen Option : 3

Q.2 निम्नलिखित समीकरण में p का मान ज्ञात कीजिए।

$$64 - [16 + \{23 - (12 + 10)\}] = p$$

Ans 1. 49

2. 47

3. 3

4. 81

Question ID : 26433049393

Status : Answered

Chosen Option : 2

Q.3 पांच संख्याओं का माध्य 45 है। यदि इनमें छठी संख्या को भी शामिल कर लिया जाए, तो माध्य 48 हो जाता है। छठी संख्या ज्ञात कीजिए।

Ans 1. 53

2. 43

3. 73

4. 63

Question ID : 26433049297

Status : Answered

Chosen Option : 4

Q.4 यदि A, B और C तीन अलग-अलग अभाज्य संख्याएँ हैं, तो A, B और C का महत्तम समापवर्तक (HCF) कितना है?

Ans 1. 0

2. 5

3. 1

4. 7

Question ID : 26433049812

Status : Answered

Chosen Option : 3

Q.5 क्रमशः 9 cm, 12 cm और 15 cm की लंबाई, चौड़ाई और ऊंचाई वाले एक ठोस घनाभ को पिघलाकर 3 cm की भुजा वाले कितने समरूप ठोस घन बनाए जा सकते हैं?

Ans 1. 60

2. 90

3. 50

4. 120

Question ID : 26433049985

Status : Answered

Chosen Option : 1

Q.6 एक ट्रक 75 km/h की चाल से गतिमान है। 4 h में वह कितनी दूरी तय करेगा?

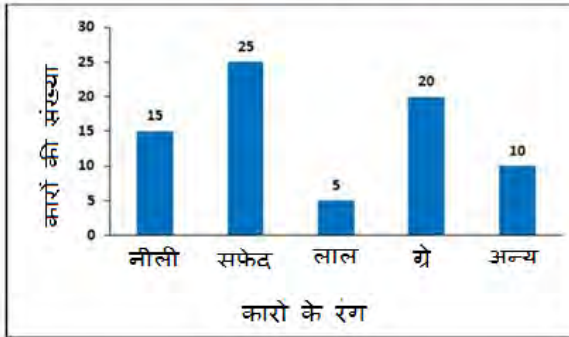
- Ans
- 1. 280 km
 - 2. 300 km
 - 3. 320 km
 - 4. 240 km

Question ID : 26433049408

Status : Answered

Chosen Option : 2

Q.7 निम्न ग्राफ एक सोसाइटी में विभिन्न रंगों की कारों की संख्या दर्शाता है।



सोसाइटी में सभी कारों में से सफेद रंग की कारों का प्रतिशत लगभग कितना है?

- Ans
- 1. 66.67%
 - 2. 25%
 - 3. 15%
 - 4. 33.33%

Question ID : 26433049413

Status : Answered

Chosen Option : 4

Q.8 यदि दो संख्याओं का माध्य 12 है और इन दोनों संख्याओं का अंतर 6 है, तो वे दोनों संख्याएं ज्ञात कीजिए।

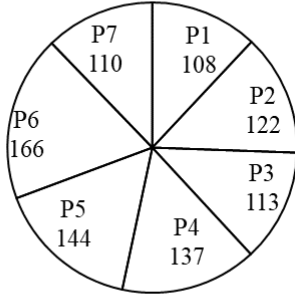
- Ans
- 1. 2 और 22
 - 2. 3 और 24
 - 3. 14 और 10
 - 4. 15 और 9

Question ID : 26433049223

Status : Answered

Chosen Option : 4

Q.9 नीचे दिया गया पाई चार्ट 7 अलग-अलग सोशल मीडिया प्लेटफार्मों में से प्रत्येक पर एक व्यक्ति द्वारा साझा की गई तस्वीरों की वास्तविक संख्या को दर्शाता है।



त्रिज्यखंड P5 और त्रिज्यखंड P1 द्वारा बनाए गए केंद्रीय कोणों में कितना अंतर है?

- Ans
- 1. 21.6°
 - 2. 10.8°
 - 3. 18°
 - 4. 14.4°

Question ID : 26433049892
Status : Answered
Chosen Option : 4

Q.10 एक ट्रेन 80 m लंबे पुल को 15 s में पूरी तरह से पार कर जाती है। यदि ट्रेन की चाल 72 km/h है, तो उसकी लंबाई ज्ञात कीजिए।

- Ans
- 1. 300 m
 - 2. 270 m
 - 3. 220 m
 - 4. 150 m

Question ID : 26433049484
Status : Answered
Chosen Option : 3

Q.11 $P = 18 \times 9 \div 6 + 5 \times 15 \div 25$ और $Q = 15 \div 5 \times 5 - 25 \div 5$ है, तो $(P+Q)$ का मान क्या है?

- Ans
- 1. 2
 - 2. 1.5
 - 3. 2.5
 - 4. 3

Question ID : 26433049888
Status : Answered
Chosen Option : 4

Q.12 A, 1500 के 60% से 40% कम है। A का मान क्या है?

- Ans 1. 540
 2. 500
 3. 480
 4. 360

Question ID : 26433049850
Status : Answered
Chosen Option : 1

Q.13 निम्न तालिका 2015 से 2018 तक चार कंपनियों द्वारा कारों की कुल बिक्री को दर्शाती है।

वर्ष/कार	टाटा	हुंडई	महिंद्रा	टोयोटा
2015	465	472	486	482
2016	375	427	379	419
2017	246	357	236	523
2018	456	357	484	475

इन चारों कंपनियों द्वारा बेची गई कारों की कुल संख्या किस वर्ष में अधिकतम थी?

- Ans 1. 2018
 2. 2016
 3. 2015
 4. 2017

Question ID : 26433049487
Status : Answered
Chosen Option : 3

Q.14 10% और 5% की दो क्रमागत छूटों के बराबर एकल छूट ज्ञात कीजिए।

- Ans 1. 90%
 2. 75.5%
 3. 14.5%
 4. 85.5%

Question ID : 26433049228
Status : Answered
Chosen Option : 3

Q.15 ₹18,000 की राशि पर 2 वर्ष में प्राप्त चक्रवृद्धि ब्याज ₹7,920 है। ब्याज को वार्षिक रूप से चक्रवृद्धि किया जाता है। वार्षिक ब्याज दर कितना है?

- Ans
- 1. 15%
 - 2. 20%
 - 3. 12.5%
 - 4. 25%

Question ID : 26433049808
Status : Answered
Chosen Option : 2

Q.16 एक कमरा एक घनाभ के आकार का है जिसकी विमाएं 4 m, 2 m और 8 m हैं। यदि अनाज का एक थैला 0.50 m³ स्थान घेरता है, तो ऐसे कितने थैले कमरे में रखे जा सकते हैं?

- Ans
- 1. 108 थैले
 - 2. 144 थैले
 - 3. 128 थैले
 - 4. 118 थैले

Question ID : 26433049317
Status : Answered
Chosen Option : 3

Q.17 T₁ और T₂ का औसत 15 है। T₃ और T₄ का औसत 35 है। T₁, T₂, T₃ और T₄ का औसत कितना होगा?

- Ans
- 1. 24
 - 2. 28
 - 3. 25
 - 4. 30

Question ID : 26433049977
Status : Answered
Chosen Option : 3

Q.18 यदि $8 : x :: x : 32$ है, तो x का धनात्मक मान ज्ञात कीजिए।

- Ans
- 1. 20
 - 2. 4
 - 3. 12
 - 4. 16

Question ID : 26433049479
Status : Answered
Chosen Option : 4

Q.19 एक कप का विक्रय मूल्य और क्रय मूल्य क्रमशः ₹576 और ₹800 है। हानि प्रतिशत कितना है?

- Ans
- 1. 28%
 - 2. 32%
 - 3. 22%
 - 4. 24%

Question ID : 26433049797

Status : Answered

Chosen Option : 1

Q.20 पिया और रिया एकसाथ किसी प्रोजेक्ट को 26 दिनों में पूरा कर सकती हैं। पिया अकेले इस प्रोजेक्ट को 78 दिनों में पूरा कर सकती है। उन्होंने एकसाथ प्रोजेक्ट शुरू किया लेकिन पिया 12 दिनों के बाद प्रोजेक्ट छोड़ देती है। रिया शेष प्रोजेक्ट कितने दिनों में पूरा कर सकती है?

- Ans
- 1. 13 दिन
 - 2. 21 दिन
 - 3. 24 दिन
 - 4. 25 दिन

Question ID : 26433050185

Status : Answered

Chosen Option : 2

Q.21 एक वस्तु को 20% के लाभ पर ₹4,800 में बेचा जाता है। यदि विक्रय मूल्य में ₹600 की वृद्धि की जाती है, तो लाभ प्रतिशत क्या होगा?

- Ans
- 1. 25%
 - 2. 40%
 - 3. 30%
 - 4. 35%

Question ID : 26433049873

Status : Answered

Chosen Option : 4

Q.22 एक वर्ग की प्रत्येक भुजा की लम्बाई 16 cm है। वर्ग का क्षेत्रफल क्या है?

- Ans
- 1. 128 cm²
 - 2. 176 cm²
 - 3. 256 cm²
 - 4. 112 cm²

Question ID : 26433049884

Status : Answered

Chosen Option : 3

Q.23 ₹2,300 को P, Q, R और S में इस प्रकार बांटा जाना है कि P : Q : R : S का अनुपात क्रमशः 2 : 6 : 9 : 6 हो। P और S के हिस्सों का योगफल ज्ञात कीजिए।

- Ans
- 1. ₹800
 - 2. ₹1,100
 - 3. ₹1,200
 - 4. ₹230

Question ID : 26433049405
Status : Answered
Chosen Option : 1

Q.24 ₹2,000 की धनराशि पर 10% की वार्षिक ब्याज दर से 2 वर्षों के चक्रवृद्धि ब्याज, ब्याज वार्षिक रूप से संयोजित होने पर और साधारण ब्याज का अंतर कितना होगा?

- Ans
- 1. ₹80
 - 2. ₹40
 - 3. ₹60
 - 4. ₹20

Question ID : 26433049231
Status : Answered
Chosen Option : 4

Q.25 यदि कोई अन्य नल नहीं खुला है तो नल A, एक खाली टंकी को 8 घंटे में भर सकता है और जब कोई अन्य नल नहीं खुला है तो नल B उसी भरी हुई टंकी को 12 घंटे में खाली कर सकता है। यदि दोनों नलों को एक साथ खोल दिया जाता है, तो खाली टंकी को भरने में कितना समय लगेगा?

- Ans
- 1. 36 घंटे
 - 2. 12 घंटे
 - 3. 24 घंटे
 - 4. 16 घंटे

Question ID : 26433049511
Status : Answered
Chosen Option : 3

Section : General Awareness

Q.1 निम्नलिखित में से कौन सी नदी नेपाल हिमालय से निकलती है?

- Ans
- 1. चिनाब
 - 2. घाघरा
 - 3. बेतवा
 - 4. चंबल

Question ID : 26433047278
Status : Answered
Chosen Option : 2

Q.2 सिंधु घाटी सभ्यता में निम्नलिखित में से कौन सा शहर अस्तित्व में था?

- Ans
- 1. साँची
 - 2. मुज़िरिस
 - 3. हड़प्पा
 - 4. अयोध्या

Question ID : 26433046631
Status : Answered
Chosen Option : 3

Q.3 फरवरी 2022 में किस भारतीय राज्य सरकार ने सद्भावना परियोजना आरंभ की?

- Ans
- 1. गुजरात
 - 2. असम
 - 3. तमिलनाडु
 - 4. महाराष्ट्र

Question ID : 26433047193
Status : Answered
Chosen Option : 2

Q.4 मेंडलीफ की आवर्त सारणी के अनुसार कार्बन का परमाणु क्रमांक कितना है?

- Ans
- 1. 6
 - 2. 3
 - 3. 10
 - 4. 1

Question ID : 26433046873
Status : Answered
Chosen Option : 1

Q.5 एवीज गर्म रक्त वाले जीव होते हैं और उनका दिल _____ होता है।

- Ans
- 1. दो कक्षों वाला
 - 2. तीन कक्षों वाला
 - 3. पांच कक्षों वाला
 - 4. चार कक्षों वाला

Question ID : 26433047274
Status : Answered
Chosen Option : 4

Q.6 उस्ताद जाकिर हुसैन एक प्रसिद्ध भारतीय _____ वादक हैं।

- Ans
- 1. गिटार
 - 2. सितार
 - 3. तबला
 - 4. वायलिन

Question ID : 26433046636
Status : Answered
Chosen Option : 3

Q.7 निम्नलिखित में से कौन-सा अरज्जुकी संघ (नॉन-कॉर्डेट्स) के अंतर्गत नहीं आता है?

- Ans 1. कशेरुकी (वर्टेब्रैटा)
 2. वलयांकित कृमि (एनेलिडा)
 3. चूर्णप्रावार (मोलस्का)
 4. छिद्रिण (पोरिफेरा)

Question ID : 26433046799
Status : Answered
Chosen Option : 1

Q.8 महात्मा गांधी की आत्मकथा का नाम क्या है?

- Ans 1. माई म्यूजिक, माय लाइफ
 2. जस्टिस फॉर द जज
 3. सत्य के प्रयोग (द स्टोरी ऑफ माय एक्सपेरिमेंट्स विद ट्रुथ)
 4. द बैडिट क्वीन ऑफ इंडिया

Question ID : 26433046635
Status : Answered
Chosen Option : 3

Q.9 In which state of India is the Irvatanesvara temple situated?

- Ans 1. Telangana
 2. Rajasthan
 3. West Bengal
 4. Tamil Nadu

Question ID : 26433047197
Status : Answered
Chosen Option : 4

Q.10 निम्नलिखित में से क्या भारतीय संविधान की प्रमुख विशेषताओं में से एक है?

- Ans 1. गैर-धर्मनिरपेक्ष
 2. संघवाद
 3. निरंकुश सरकार
 4. आश्रित न्यायपालिका

Question ID : 26433047213
Status : Answered
Chosen Option : 2

Q.11 मानव जनसंख्या का वह अध्ययन जिसमें उनके आकार, संरचना और स्थान-क्षेत्र में वितरण और प्रक्रिया जिसके माध्यम से आबादी में परिवर्तन होता है, को _____ कहा जाता है।

- Ans 1. जनसांख्यिकी (डेमोग्राफी)
 2. आशुलिपि (स्टेनोग्राफी)
 3. नृवंशविज्ञान (एथनोग्राफी)
 4. स्थलाकृति (टोपोग्राफी)

Question ID : 26433047379
Status : Answered
Chosen Option : 1

Q.12 निम्नलिखित में से महिला शतरंज विश्व रैपिड चैंपियन बनने वाली पहली भारतीय ग्रैंडमास्टर कौन हैं?

- Ans 1. हरिका द्रोणवल्ली
 2. कोनेरू हम्पी
 3. भक्ति कुलकर्णी
 4. तानिया सचदेव

Question ID : 26433046765
Status : Answered
Chosen Option : 1

Q.13 _____ के आधार पर उद्योगों के वर्गीकरण में से एक 'संयुक्त क्षेत्र उद्योग' है।

- Ans 1. कच्चे माल के परिमाण और वजन
 2. स्वामित्व
 3. पूंजी निवेश
 4. कच्चे माल के स्रोत

Question ID : 26433047202
Status : Answered
Chosen Option : 2

Q.14 2011 की जनगणना के अनुसार, निम्नलिखित में से कौन सा मेट्रो शहर भारत में सबसे अधिक जनसंख्या वाला था?

- Ans 1. मुंबई
 2. दिल्ली
 3. चेन्नई
 4. कोलकाता

Question ID : 26433046705
Status : Answered
Chosen Option : 1

Q.15 2022 के भारतीय केंद्रीय बजट में, डिजिटल संपत्ति (क्रिप्टोकॉरेसी) के हस्तांतरण पर कितने प्रतिशत कर लगाया गया है?

- Ans
- 1. 20%
 - 2. 10%
 - 3. 30%
 - 4. 5%

Question ID : 26433046642
Status : Answered
Chosen Option : 3

Q.16 निम्नलिखित में से किस चोल शासक ने तंजावुर में निशुंभसुदिनी देवी मंदिर का निर्माण करवाया था?

- Ans
- 1. आदित्य प्रथम
 - 2. अरिंजय
 - 3. राजराजा प्रथम
 - 4. विजयालय

Question ID : 26433047207
Status : Answered
Chosen Option : 1

Q.17 अजित कुमार डोभाल पाँचवें और भारत के प्रधानमंत्री के वर्तमान _____ हैं।

- Ans
- 1. निजी सचिव
 - 2. प्रमुख सचिव
 - 3. अपर सचिव
 - 4. राष्ट्रीय सुरक्षा सलाहकार

Question ID : 26433046619
Status : Answered
Chosen Option : 4

Q.18 निम्नलिखित में से कौन-सा लोक नृत्य और संबंधित राज्य का युग्म गलत ढंग से सुमेलित है?

- Ans
- 1. वांचो - अरुणाचल प्रदेश
 - 2. गिद्दा - पंजाब
 - 3. घूमर - बिहार
 - 4. नोंगक्रेम - मेघालय

Question ID : 26433046795
Status : Answered
Chosen Option : 3

Q.19 अंतर्राष्ट्रीय रेत कला उत्सव आमतौर पर _____ में आयोजित किया जाता है।

- Ans 1. केरल
 2. ओड़िशा
 3. तमिलनाडु
 4. महाराष्ट्र

Question ID : 26433046871
Status : Answered
Chosen Option : 2

Q.20 टीपू सुल्तान की मृत्यु किस वर्ष अपनी राजधानी सेरिंगपट्टम (Seringapatam) की रक्षा करते हुए हुई थी?

- Ans 1. 1802
 2. 1794
 3. 1799
 4. 1792

Question ID : 26433047283
Status : Answered
Chosen Option : 3

Q.21 सौरमंडल के किस ग्रह को पृथ्वी का जुड़वाँ ग्रह माना जाता है?

- Ans 1. वरुण ग्रह (नेपच्यून)
 2. बुध ग्रह (मर्करी)
 3. शनि ग्रह (सैटर्न)
 4. शुक्र ग्रह (वीनस)

Question ID : 26433047201
Status : Answered
Chosen Option : 4

Q.22 _____ की स्थापना 1863 में दादोबा पांडुरंग और उनके भाई आत्माराम पांडुरंग द्वारा की गई थी, जब केशव चंद्र सेन ने लोगों को एक ईश्वर में विश्वास करने और केवल एक ईश्वर की पूजा करने के उद्देश्य से महाराष्ट्र का दौरा किया था।

- Ans 1. ब्रह्म समाज
 2. सत्यशोधक समाज
 3. प्रार्थना समाज
 4. आर्य समाज

Question ID : 26433046809
Status : Answered
Chosen Option : 3

Q.23 पद्मा सुब्रह्मण्यम को किस शास्त्रीय नृत्य के लिए जाना जाता है?

- Ans 1. कथक
 2. कुचिपुड़ी
 3. मोहिनीअट्टम
 4. भरतनाट्यम

Question ID : 26433047287
Status : Answered
Chosen Option : 4

Q.24 निम्नलिखित में से किस टीम ने ICC महिला विश्व कप 2021/22 जीता?

- Ans 1. भारत
 2. ऑस्ट्रेलिया
 3. दक्षिण अफ्रीका
 4. इंग्लैंड

Question ID : 26433047265
Status : Answered
Chosen Option : 2

Q.25 How many different levels of courts are there in India?

- Ans 1. Four
 2. Three
 3. Five
 4. Two

Question ID : 26433047289
Status : Answered
Chosen Option : 2