

Multi Tasking Non Technical Staff Havaladar CBIC and CBN Examination 2021

| | |
|----------------|--|
| Roll Number | |
| Candidate Name | |
| Venue Name | |
| Exam Date | 14/07/2022 |
| Exam Time | 5:00 PM - 6:30 PM |
| Subject | MTS Non technical and Havaladar Examination 2021 |

Section : General English

Q.1 Select the most appropriate option to fill in the blank.

Can you please _____ this sauce over the pasta?

- Ans
- 1. pore
 - 2. power
 - 3. purr
 - 4. pour

Question ID : 26433050791
Status : Answered
Chosen Option : 4

Q.2 Select the option that can be used as a one-word substitute for the given group of words.

An imaginary name assumed by an author

- Ans
- 1. Platonic
 - 2. Pseudonym
 - 3. Almanac
 - 4. Nomenclature

Question ID : 26433050814
Status : Answered
Chosen Option : 2

Q.3 Select the most appropriate synonym of the given word.

Mandate

- Ans
- 1. Command
 - 2. Request
 - 3. Enquire
 - 4. Question

Question ID : 26433051659
Status : Answered
Chosen Option : 1

Q.4 Select the most appropriate option to fill in the blank.

A _____ body will fight off the illness naturally without any medicine.

- Ans 1. healthy
 2. fresh
 3. flabby
 4. happy

Question ID : 26433051780
Status : Answered
Chosen Option : 1

Q.5 Parts of the following sentence have been given as options. One of them may contain an error. Select the part that contains the error from the given options. If you don't find any error, mark 'No error' as your answer.

Educators must roll up their sleeves and do a more best job of teaching critical thinking.

- Ans 1. of teaching critical thinking
 2. No error
 3. Educators must roll up their sleeves
 4. and do a more best job

Question ID : 26433050708
Status : Answered
Chosen Option : 4

Q.6 Select the sentence in which all words are correctly spelt.

- Ans 1. With him he had one of his cheif councellors.
 2. Work is due to comence in the coming year.
 3. We did it becuase we felt it our duty to encorage him.
 4. Melt the white and dark chocolate in separate bowls.

Question ID : 26433051640
Status : Answered
Chosen Option : 4

Q.7 Select the most appropriate ANTONYM of the underlined word in the given sentence.

I do not feel it is a laudable plan.

- Ans 1. noticeable
 2. precious
 3. disrespected
 4. commendable

Question ID : 26433051042
Status : Answered
Chosen Option : 3

Q.8 Select the most appropriate option to fill in the blank.

We _____ learn to meet adversity gracefully.

- Ans 1. have
 2. must
 3. ought
 4. had

Question ID : 26433051190
Status : Answered
Chosen Option : 2

Q.9 Select the most appropriate meaning of the underlined idiom in the given sentence.

I accidentally let the cat out of the bag about your promotion.

- Ans 1. To discourage someone
 2. To state the wrong facts
 3. To reveal a secret
 4. To say something unrealistic

Question ID : 26433050595
Status : Answered
Chosen Option : 3

Q.10 Select the most appropriate option to fill in the blank.

India continues to _____ the highest amount of e-waste, more than China, the US, Japan and Germany.

- Ans 1. generate
 2. select
 3. remake
 4. stake

Question ID : 26433051493
Status : Answered
Chosen Option : 1

Q.11 Select the most appropriate option to fill in the blank.

We deplore the use of _____ against innocent people.

- Ans 1. gentleness
 2. reduction
 3. humour
 4. violence

Question ID : 26433051260
Status : Answered
Chosen Option : 4

Q.12 The following sentence has been divided into parts. One of them may contain an error. Select the part that contains the error from the given options. If you don't find any error, mark 'No error' as your answer.

If he had not dropped out, / he will most certainly have completed / his education by 2023.

- Ans
- 1. No error
 - 2. his education by 2023
 - 3. If he had not dropped out
 - 4. he will most certainly have completed

Question ID : 26433051619
Status : Answered
Chosen Option : 4

Q.13 The following sentence has been divided into parts. One of them may contain an error. Select the part that contains the error from the given options. If you don't find any error, mark 'No error' as your answer.

The panel will / investigate the allegations / owing to the concerned officials.

- Ans
- 1. owing to the concerned officials
 - 2. No error
 - 3. The panel will
 - 4. investigate the allegations

Question ID : 26433051643
Status : Answered
Chosen Option : 1

Q.14 Select the most appropriate meaning of the given idiom.

In the heat of the moment

- Ans
- 1. Saying or doing something without thinking due to anger
 - 2. In a confused or befuddled state of mind
 - 3. Keep something away from everyone
 - 4. To share information that was previously concealed

Question ID : 26433051742
Status : Answered
Chosen Option : 1

Q.15 Select the most appropriate ANTONYM of the given word.

Hideous

- Ans
- 1. Ghastly
 - 2. Shocking
 - 3. Attractive
 - 4. Disgusting

Question ID : 26433051766
Status : Answered
Chosen Option : 3

Q.16 Select the option that will improve the underlined part of the sentence. In case no improvement is needed, select 'No improvement required'.

He sounded like he were to going cry.

- Ans 1. was going to
 2. No improvement required
 3. were going to
 4. going to

Question ID : 26433051090
Status : Answered
Chosen Option : 1

Q.17 Select the correctly spelt word.

- Ans 1. Rudimentary
 2. Coalece
 3. Conciuous
 4. Reliant

Question ID : 26433051769
Status : Answered
Chosen Option : 3

Q.18 Select the option that will improve the underlined part of the given sentence. In case no improvement is needed, select 'No improvement required'.

Grammar is just a natural function of children's brains, and they apply it to whatever they find.

- Ans 1. they applied them to
 2. they apply that in
 3. they apply them for
 4. No improvement required

Question ID : 26433051751
Status : Answered
Chosen Option : 4

Q.19 Select the most appropriate synonym of the given word.

August

- Ans 1. Permanent
 2. Illicit
 3. Eminent
 4. Imminent

Question ID : 26433051485
Status : Marked For Review
Chosen Option : 2

Q.20 Select the option that will improve the underlined part of the given sentence. In case no improvement is needed, select 'No improvement required'.

He went to bed early to get up on time to attend his morning lecture.

- Ans
- 1. get up for time
 - 2. No improvement required
 - 3. get up at time
 - 4. get up over time

Question ID : 26433051317

Status : Answered

Chosen Option : 2

Comprehension:

In the following passage, some words have been deleted. Read the passage carefully and select the most appropriate option to fill in each blank.

Words convey meaning, because they are used in human activities in different forms. Different words may (1) _____ the same thing in different languages and this is what is referred to as 'family resemblance.' In other words, languages help us (2) _____ reality and then communicate it to others. There are tens and thousands of languages in the world and all of them help us (3) _____ express ourselves, which in turn, gives meaning to our life. One's mother tongue is (4) _____ for one's literary growth, but if you want to communicate to a wider audience, then you will (5) _____ to reach out to the target audience in a language they understand.

SubQuestion No : 21

Q.21 Select the most appropriate option to fill in blank number 1.

- Ans
- 1. mean
 - 2. meaningful
 - 3. meaning
 - 4. meant

Question ID : 26433051478

Status : Answered

Chosen Option : 1

Comprehension:

In the following passage, some words have been deleted. Read the passage carefully and select the most appropriate option to fill in each blank.

Words convey meaning, because they are used in human activities in different forms. Different words may (1) _____ the same thing in different languages and this is what is referred to as 'family resemblance.' In other words, languages help us (2) _____ reality and then communicate it to others. There are tens and thousands of languages in the world and all of them help us (3) _____ express ourselves, which in turn, gives meaning to our life. One's mother tongue is (4) _____ for one's literary growth, but if you want to communicate to a wider audience, then you will (5) _____ to reach out to the target audience in a language they understand.

SubQuestion No : 22

Q.22 Select the most appropriate option to fill in blank number 2.

Ans 1. comprehend

2. commend

3. amend

4. depend

Question ID : 26433051479

Status : Answered

Chosen Option : 1

Comprehension:

In the following passage, some words have been deleted. Read the passage carefully and select the most appropriate option to fill in each blank.

Words convey meaning, because they are used in human activities in different forms. Different words may (1) _____ the same thing in different languages and this is what is referred to as 'family resemblance.' In other words, languages help us (2) _____ reality and then communicate it to others. There are tens and thousands of languages in the world and all of them help us (3) _____ express ourselves, which in turn, gives meaning to our life. One's mother tongue is (4) _____ for one's literary growth, but if you want to communicate to a wider audience, then you will (5) _____ to reach out to the target audience in a language they understand.

SubQuestion No : 23

Q.23 Select the most appropriate option to fill in blank number 3.

Ans 1. effectively

2. retrospectively

3. lately

4. secretly

Question ID : 26433051480

Status : Answered

Chosen Option : 1

Comprehension:

In the following passage, some words have been deleted. Read the passage carefully and select the most appropriate option to fill in each blank.

Words convey meaning, because they are used in human activities in different forms. Different words may (1) _____ the same thing in different languages and this is what is referred to as 'family resemblance.' In other words, languages help us (2) _____ reality and then communicate it to others. There are tens and thousands of languages in the world and all of them help us (3) _____ express ourselves, which in turn, gives meaning to our life. One's mother tongue is (4) _____ for one's literary growth, but if you want to communicate to a wider audience, then you will (5) _____ to reach out to the target audience in a language they understand.

SubQuestion No : 24

Q.24 Select the most appropriate option to fill in blank number 4.

- Ans
- 1. unimportant
 - 2. auspicious
 - 3. silent
 - 4. essential

Question ID : 26433051481

Status : Answered

Chosen Option : 4

Comprehension:

In the following passage, some words have been deleted. Read the passage carefully and select the most appropriate option to fill in each blank.

Words convey meaning, because they are used in human activities in different forms. Different words may (1) _____ the same thing in different languages and this is what is referred to as 'family resemblance.' In other words, languages help us (2) _____ reality and then communicate it to others. There are tens and thousands of languages in the world and all of them help us (3) _____ express ourselves, which in turn, gives meaning to our life. One's mother tongue is (4) _____ for one's literary growth, but if you want to communicate to a wider audience, then you will (5) _____ to reach out to the target audience in a language they understand.

SubQuestion No : 25

Q.25 Select the most appropriate option to fill in blank number 5.

- Ans
- 1. have
 - 2. should
 - 3. has
 - 4. had

Question ID : 26433051482

Status : Answered

Chosen Option : 1

Q.1 दिए गए कथनों और निष्कर्षों को ध्यानपूर्वक पढ़ें। यह मानते हुए कि कथनों में दी गई जानकारी सत्य है, भले ही वह सामान्य रूप से ज्ञात तथ्यों से भिन्न प्रतीत होती हो, तय करें कि दिए गए निष्कर्षों में से कौन सा/से निष्कर्ष तार्किक रूप से कथनों का अनुसरण करता/ते है/हैं।

कथन:

- I. कुछ कारें, सफ़ेद हैं।
- II. कुछ ताले, सफ़ेद हैं।

निष्कर्ष:

- I. सभी सफ़ेद, ताले हैं।
- II. कोई भी कार, ताला नहीं है।
- III. सभी ताले, कारें हैं।

- Ans
- 1. सभी निष्कर्ष अनुसरण करते हैं।
 - 2. केवल निष्कर्ष II अनुसरण करता है
 - 3. कोई भी निष्कर्ष अनुसरण नहीं करता है
 - 4. केवल निष्कर्ष III अनुसरण करता है।

Question ID : 26433049079

Status : Answered

Chosen Option : 3

Q.2 उस विकल्प का चयन करें जो तीसरे अक्षर-समूह से उसी प्रकार संबंधित है, जिस प्रकार दूसरा अक्षर-समूह पहले अक्षर-समूह से संबंधित है।

GRV : IUE :: XCB : ?

- Ans
- 1. ZEY
 - 2. YFX
 - 3. ZFY
 - 4. YEX

Question ID : 26433049076

Status : Answered

Chosen Option : 3

Q.3 एक विशिष्ट कूट भाषा में, 'BAG' को '71' और 'VICE' को '69' के रूप में कूटबद्ध किया जाता है। उसी कूट भाषा में 'LIKE' को किस प्रकार कूटबद्ध किया जाएगा?

- Ans
- 1. 76
 - 2. 71
 - 3. 65
 - 4. 68

Question ID : 26433048421

Status : Answered

Chosen Option : 2

Q.4 एक निश्चित कूट भाषा में, 'PAINTS' को 'HGMRZK' के रूप में लिखा जाता है, और 'ROCKY' को 'BPXLI' के रूप में लिखा जाता है। उसी भाषा में 'HUNTER' को किस रूप में लिखा जाएगा?


- Ans
- 1. IVGMES
 - 2. IUGMSF
 - 3. IVGMFS
 - 4. IUGMFS

Question ID : 26433049047

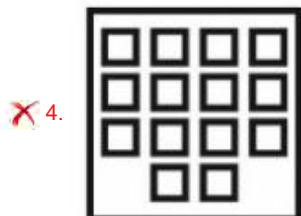
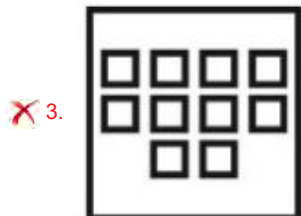

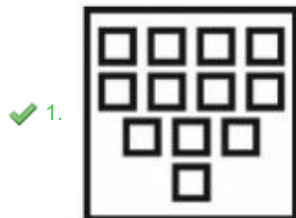
Status : Answered

Chosen Option : 3

Q.5 दिए गए विकल्पों में से उस आकृति का चयन करें, जो नीचे दी गई श्रृंखला में प्रश्न चिह्न (?) के स्थान पर आ सकती है।



Ans



Question ID : 26433049083

Status : Answered

Chosen Option : 1

Q.6 किन दो संख्याओं को परस्पर बदलने से निम्नलिखित समीकरण सही हो जाएगा ?

$$9 + 6 \div 4 - 5 + 3 = 10$$

- Ans 1. 9 और 3
 2. 4 और 3
 3. 6 और 10
 4. 10 और 5

Question ID : 26433048110

Status : Answered

Chosen Option : 2

Q.7 उस विकल्प का चयन करें जो पाँचवें अक्षर-संख्या समूह से उसी तरह संबंधित है जिस प्रकार दूसरा अक्षर-संख्या समूह पहले अक्षर-संख्या समूह से संबंधित है और चौथा अक्षर-संख्या समूह तीसरे अक्षर-संख्या समूह से संबंधित है।

STV20 : WXZ24 :: ABD2 : EFH6 :: IJL10 : ?

- Ans 1. MNP14
 2. NOP15
 3. MNO14
 4. NOQ15

Question ID : 26433048417

Status : Answered

Chosen Option : 1

Q.8 उस विकल्प का चयन करें जो तीसरे अक्षर-समूह से उसी प्रकार संबंधित है, जिस प्रकार दूसरा अक्षर-समूह पहले अक्षर-समूह से संबंधित है।

GRM : MGR :: PAR : ?

- Ans 1. RAP
 2. ARP
 3. PRA
 4. RPA

Question ID : 26433048999

Status : Answered

Chosen Option : 4

Q.9 दिए गए कथन और निष्कर्षों को ध्यानपूर्वक पढ़ें। यह मानते हुए कि कथनों में दी गई जानकारी सत्य है, भले ही वह सामान्य रूप से ज्ञात तथ्यों से भिन्न प्रतीत होती हो, तय करें कि दिए गए निष्कर्षों में से कौन सा/से निष्कर्ष तार्किक रूप से कथनों का अनुसरण करता/ते है/हैं।

कथन:

- I. कुछ लाल, चूहे हैं।
- II. कोई भी धूसर, चूहा नहीं है।

निष्कर्ष:

- I. सभी लाल, धूसर हैं।
- II. कोई भी चूहा धूसर नहीं है।

- Ans
- 1. कोई भी निष्कर्ष अनुसरण नहीं करता है
 - 2. केवल निष्कर्ष I अनुसरण करता है
 - 3. केवल निष्कर्ष II अनुसरण करता है
 - 4. निष्कर्ष I और II दोनों अनुसरण करते हैं

Question ID : 26433048853

Status : Answered

Chosen Option : 3

Q.10 Six boys G1, G2, G3, G4, G5 and G6 are sitting in a row facing towards the north (not necessarily in the same order). G4 is second to the right of G5. G2 is second to the left of G5. G3 is to the immediate left of G2. G6 is second to the right of G3. How many boys are sitting to the left of G6?

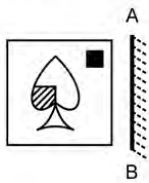
- Ans
- 1. 1
 - 2. 0
 - 3. 2
 - 4. 3

Question ID : 26433048955

Status : Answered

Chosen Option : 3

Q.11 दी गई आकृति के सही दर्पण प्रतिबिम्ब का चयन कीजिए जब दर्पण को दिखाए अनुसार रेखा AB पर रखा गया है।



Ans


✓ 1.



✗ 2.



✗ 3.



✗ 4.



Question ID : 26433048240

Status : Answered

Chosen Option : 1

Q.12 उस विकल्प का चयन करें जिसमें दो संख्याएँ उसी प्रकार संबंधित हैं, जिस प्रकार संख्याएँ दिए गए संख्या-युग्म में संबंधित हैं।

23 : 529

26 : 676

Ans ✓ 1. 24 : 576

✗ 2. 18 : 400

✗ 3. 16 : 196

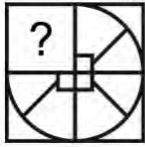
✗ 4. 22 : 444

Question ID : 26433048842

Status : Answered

Chosen Option : 1

Q.13 दिए गए विकल्पों में से उस आकृति का चयन करें, जो प्रश्न चिह्न (?) के स्थान पर आ सकती है और पैटर्न को पूरा कर सकती है। (घुमाने की अनुमति नहीं है)



Ans

- ✗ 1.
- ✗ 2.
- ✓ 3.
- ✗ 4.

Question ID : 26433049088

Status : Answered

Chosen Option : 3

Q.14 उस विकल्प का चयन कीजिए जिसका पांचवीं संख्या के साथ वही संबंध है, जो दूसरी संख्या का पहली संख्या के साथ है, और चौथी संख्या का तीसरी संख्या के साथ है।

339 : 1022 :: 58 : 179 :: 25 : ?

- Ans ✗ 1. 125
- ✗ 2. 70
- ✗ 3. 75
- ✓ 4. 80

Question ID : 26433048106

Status : Answered

Chosen Option : 4

Q.15 दिए गए विकल्पों में से उस संख्या का चयन करें, जो नीचे दी गई श्रृंखला में प्रश्न चिह्न (?) के स्थान पर आ सकती है।

48, 54, 45, 51, 42, 48, ?

- Ans ✗ 1. 35
- ✗ 2. 37
- ✓ 3. 39
- ✗ 4. 33

Question ID : 26433048943

Status : Answered

Chosen Option : 3

Q.16 उस विकल्प का चयन करें जो पाँचवीं संख्या से उसी प्रकार संबंधित है, जिस प्रकार दूसरी संख्या पहली संख्या से संबंधित है और चौथी संख्या तीसरी संख्या से संबंधित है।

29 : 31 :: 19 : 23 :: 31 : ?

- Ans
- 1. 43
 - 2. 47
 - 3. 37
 - 4. 41

Question ID : 26433049066

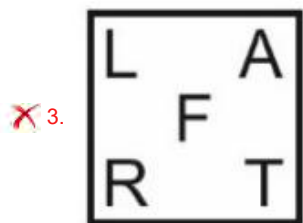
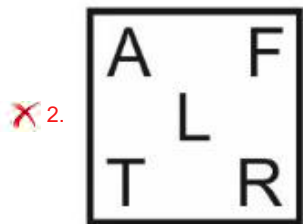
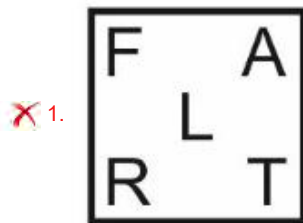
Status : Answered

Chosen Option : 3

Q.17 दिए गए विकल्पों में से उस आकृति का चयन करें, जो निम्नलिखित शृंखला में प्रश्न चिह्न (?) के स्थान पर आ सकती है।



Ans



Question ID : 26433048959

Status : Answered

Chosen Option : 4

Q.18 उस विकल्प आकृति का चयन करें, जिसमें दी गई आकृति अंतर्निहित है। (घुमाने की अनुमति नहीं है)



Ans

1.



2.



3.



4.



Question ID : 26433048860

Status : Answered

Chosen Option : 2

Q.19 दिए गए व्यंजक को सही करने के लिए कौन सी दो संख्याओं (अंक नहीं) और दो चिह्नों को आपस में बदलने की आवश्यकता है?

$$35 \div 4 \times 48 + 70 - 10 = 40$$

Ans 1. 4 और 48, \times और +

2. 70 और 10, + और -

3. 70 और 48, \div और \times

4. 35 और 48, - और +

Question ID : 26433048965

Status : Answered

Chosen Option : 3

Q.20 एक निश्चित कूट भाषा में, 'HOPE' को 'KRSH' के रूप में लिखा जाता है, और 'RAGF' को 'UDJI' के रूप में लिखा जाता है। उसी भाषा में 'MNCK' को किस रूप में लिखा जाएगा?

Ans 1. PQFM

2. PQFN

3. PQEN

4. PQEM

Question ID : 26433048995

Status : Answered

Chosen Option : 2

Q.21 एक निश्चित कूट भाषा में, यदि 'उल्लू' को 'मोर' के रूप में जाना जाता है, 'मोर' को 'कोयल' के रूप में जाना जाता है, 'कोयल' को 'कबूतर' के रूप में जाना जाता है, और 'कबूतर' को 'गौरैया' के रूप में जाना जाता है, तो उस पक्षी का नाम क्या होगा जो अच्छा गाता है?

- Ans 1. कबूतर
 2. मोर
 3. कोयल
 4. गौरैया

Question ID : 26433048470
Status : Answered
Chosen Option : 1

Q.22 छह व्यक्ति अक्षय, अनुराग, अमित, अनुभव, आर्यन और आशीष एक सीधी पंक्ति में, उत्तर की ओर अभिमुख होकर बैठे हैं। अक्षय और अमित किसी भी सिरे पर नहीं बैठे हैं। अमित और अनुभव परस्पर निकटतम पड़ोसी हैं। आर्यन दाएं सिरे से दूसरे स्थान पर बैठा है। अनुभव और आशीष के बीच केवल अक्षय बैठा है। अमित, अनुराग के बाईं ओर दूसरे स्थान पर बैठा है। अनुराग और अमित के बीच में कौन बैठा है?

- Ans 1. आर्यन
 2. अक्षय
 3. आशीष
 4. अनुभव

Question ID : 26433048102
Status : Answered
Chosen Option : 1

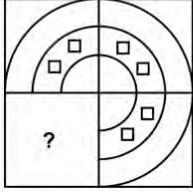
Q.23 दिए गए विकल्पों में से उस अक्षर-समूह का चयन करें, जो निम्नलिखित श्रृंखला में प्रश्न चिह्न (?) के स्थान पर आ सकता है।

TRO, RQM, PPK, NOI, ?

- Ans 1. LNG
 2. LNH
 3. LMH
 4. LMG

Question ID : 26433048977
Status : Answered
Chosen Option : 1

Q.24 दिए गए विकल्पों में से उस विकल्प का चयन कीजिए जो प्रश्नवाचक चिह्न (?) के स्थान पर आ सकता है और पैटर्न को पूरा करता है (आकृति को घुमाने की अनुमति नहीं है)।



Ans

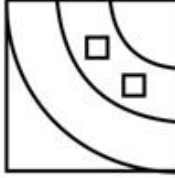
1.



2.



3.



4.



Question ID : 26433048367

Status : Answered

Chosen Option : 3

Q.25 सात विद्यार्थियों पवन, अमन, रमन, सनम, तन्मय, उमंग और विक्रम ने कुछ परीक्षाएँ दीं। किन्हीं भी दो विद्यार्थियों को एक समान अंक नहीं मिले। विक्रम को पवन से अधिक अंक मिले और पवन को अमन से अधिक अंक मिले। रमन और तन्मय को सबसे अधिक व सबसे कम अंक मिले लेकिन अनिवार्य रूप से इसी क्रम में नहीं। उमंग को मिले अंक, केवल रमन को मिले अंकों से कम थे। सनम के अंक केवल एक व्यक्ति से अधिक थे। किसके अंक पवन और सनम के बीच में थे?

Ans 1. अमन

2. विक्रम

3. रमन

4. उमंग

Question ID : 26433048103

Status : Answered

Chosen Option : 1

Q.1 एक ट्रेन P, 15 m/s की चाल से यात्रा करते हुए 200 m लंबे प्लेटफॉर्म को 30 सेकंड में पूरी तरह से पार कर लेती है। बाइक द्वारा 27 km/h की चाल से ट्रेन की ओर आ रहे एक व्यक्ति को पार करने में ट्रेन P लगभग कितना समय लेगी? [नोट: बाइक की लंबाई को नगण्य मानिए]

- Ans
- 1. 15 सेकंड
 - 2. 16.7 सेकंड
 - 3. 18.3 सेकंड
 - 4. 11.1 सेकंड

Question ID : 26433050283
Status : Answered
Chosen Option : 4

Q.2 निम्न तालिका एक शहर के स्कूलों में किए गए सर्वेक्षण दर्शाती है। यह सर्वेक्षण दर्शाता है कि किशोर (13 से 19 वर्ष आयु) अपने खाली समय के दौरान किस प्रकार की गतिविधियों में शामिल होते हैं।

| गतिविधियां | गतिविधियों में व्यतीत समय का वितरण |
|-------------|------------------------------------|
| सेल फोन | 25% |
| मित्र | 30% |
| नेट सर्फिंग | 20% |
| टीवी देखना | 20% |
| खेल खेलना | 5% |

यदि एक किशोर के पास एक दिन में 6 h का खाली समय है, तो वह प्रतिदिन नेट सर्फिंग पर कितना समय व्यतीत करता है?

- Ans
- 1. 2 h 12 min
 - 2. 1 h 12 min
 - 3. 1 h 15 min
 - 4. 2 h 30 min

Question ID : 26433049462
Status : Answered
Chosen Option : 2

Q.3 कांति और जिया एक साथ मिलकर एक कार्य को 3 दिनों में पूरा कर सकती हैं। यदि जिया कार्य को अकेले 6 दिनों में पूरा कर सकती है, तो कांति अकेले उस कार्य को कितने दिनों में पूरा कर सकती है?

- Ans
- 1. 6 दिन
 - 2. 8 दिन
 - 3. 4 दिन
 - 4. 10 दिन

Question ID : 26433050436
Status : Answered
Chosen Option : 1

Q.4 A अकेला किसी काम को 10 दिनों में कर सकता है। B अकेला उसी काम को 12 दिनों में कर सकता है। वे एक-एक दिन छोड़कर काम करते हैं, जिसकी शुरुआत A करता है। वे कुल काम का $\frac{3}{4}$ भाग कितने दिनों में पूरा करेंगे?

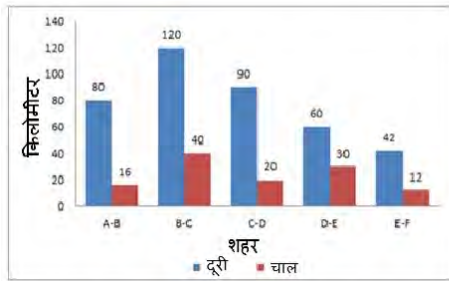
- Ans
- 1. $\frac{53}{6}$ दिन
 - 2. $\frac{47}{3}$ दिन
 - 3. $\frac{50}{3}$ दिन
 - 4. $\frac{49}{6}$ दिन

Question ID : 26433049693

Status : Answered

Chosen Option : 4

Q.5 निम्न बार-ग्राफ का अध्ययन करें और उसके आधार पर दिए गए प्रश्न का उत्तर दें। बार-ग्राफ दो शहरों के बीच की दूरी (km में) और संबंधित दूरियों को तय करने के लिए एक व्यक्ति की चालों (km/h में) को दर्शाता है।



शहर A से शहर F की यात्रा करते समय व्यक्ति की औसत चाल लगभग कितनी है?

- Ans
- 1. 23.91 km/h
 - 2. 21.78 km/h
 - 3. 19.47 km/h
 - 4. 28.55 km/h

Question ID : 26433050288

Status : Answered

Chosen Option : 2

Q.6 रमेश को एक फोन बेचने पर 10% की हानि होती है। यदि उसने फोन को ₹1,260 अधिक पर बेचा होता, तो उसे 5% का लाभ होता। फोन का लागत मूल्य क्या है?

- Ans
- 1. ₹8,000
 - 2. ₹8,600
 - 3. ₹9,000
 - 4. ₹8,400

Question ID : 26433050402

Status : Answered

Chosen Option : 4

Q.7 अपित 10 h में एक यात्रा पूरी करता है। वह आधी दूरी 30 km/h की चाल से तय करता है और शेष आधी दूरी 70 km/h की चाल से तय करता है। यात्रा की कुल दूरी कितनी है?

- Ans
- 1. 210 km
 - 2. 500 km
 - 3. 420 km
 - 4. 320 km

Question ID : 26433049459
Status : Answered
Chosen Option : 3

Q.8 दो संख्याएँ इस प्रकार हैं कि पहली संख्या दूसरी संख्या की 5 गुनी है। यदि पहली और दूसरी संख्या के बीच का अंतर 120 है, तो इन दोनों संख्याओं का औसत कितना है?

- Ans
- 1. 95
 - 2. 80
 - 3. 85
 - 4. 90

Question ID : 26433049953
Status : Answered
Chosen Option : 4

Q.9 $a : b :: b : c$ होने पर संख्याओं a, b, और c को सतत अनुपात में माना जाएगा। 1, 7 और 25 में से प्रत्येक संख्या में कौन सी संख्या जोड़ी जानी चाहिए ताकि परिणामी योगफल उसी क्रम में सतत अनुपात में रहें?

- Ans
- 1. 4
 - 2. 5
 - 3. 2
 - 4. 6

Question ID : 26433049454
Status : Answered
Chosen Option : 3

Q.10 The larger diagonal of a rhombus is 150% of its smaller diagonal, and its area is 432 cm^2 . Find the length (in cm) of the side of the rhombus?

- Ans
- 1. $4\sqrt{13}$
 - 2. $2\sqrt{13}$
 - 3. $8\sqrt{13}$
 - 4. $6\sqrt{13}$

Question ID : 26433050415
Status : Answered
Chosen Option : 4

Q.11 एक बंद घन में रखे जा सकने वाले सबसे लंबे विकर्ण की लंबाई $50\sqrt{3}$ cm है। इस घन का संपूर्ण पृष्ठीय क्षेत्रफल कितना होगा?

- Ans
- 1. 12000 cm²
 - 2. 15000 cm²
 - 3. 10000 cm²
 - 4. 6000 cm²

Question ID : 26433049760
Status : Answered
Chosen Option : 2

Q.12 निम्नलिखित समीकरण में प्रश्न चिह्न (?) के स्थान पर क्या आना चाहिए?

$$(?)^2 + ? + 12^3 = 13^2 + 22^2 + 2715$$

- Ans
- 1. 38
 - 2. 40
 - 3. 50
 - 4. 34

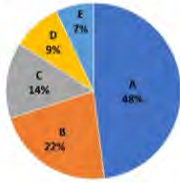
Question ID : 26433050393
Status : Answered
Chosen Option : 2

Q.13 एक पार्क में, प्रतिदिन केवल टहलने आने वाले वयस्कों की संख्या 140 है। 18% वयस्क केवल अपने बच्चों का साथ देने के लिए पार्क में आते हैं। 54% वयस्क केवल दौड़ने के लिए पार्क में आते हैं। पार्क में प्रतिदिन आने वाले वयस्कों की कुल संख्या कितनी है (यदि वयस्क दिए गए कारणों के अलावा किसी अन्य गतिविधि के लिए नहीं आते हैं)?

- Ans
- 1. 560
 - 2. 500
 - 3. 400
 - 4. 700

Question ID : 26433050375
Status : Answered
Chosen Option : 2

Q.14 दिया गया पाई चार्ट 2021 के दौरान पाँच शो रूमों- A, B, C, D और E से बाइक के एक विशेष ब्रांड की बिक्री के प्रतिशत के वितरण को निरूपित करता है। पाँच शोरूम से उस वर्ष के दौरान बेची गई बाइक की कुल संख्या 6000 है।



शोरूम C और D से बेची गई बाइक की कुल संख्या कितनी है?

- Ans
- 1. 1640
 - 2. 1550
 - 3. 1280
 - 4. 1380

Question ID : 26433050414
Status : Answered
Chosen Option : 4

Q.15 680 के 30% + 1331 के $2\frac{3}{11}$ का मान ज्ञात कीजिए।

- Ans
- 1. 3225
 - 2. 3231
 - 3. 3229
 - 4. 3230

Question ID : 26433050269
Status : Answered
Chosen Option : 3

Q.16 एक वृत्त की त्रिज्या और व्यास की लंबाई का योग 84 cm है। इस वृत्त की परिधि की लंबाई और त्रिज्या के बीच कितना अंतर है? [दिया है, $\pi = \frac{22}{7}$]

- Ans
- 1. 172 cm
 - 2. 128 cm
 - 3. 148 cm
 - 4. 156 cm

Question ID : 26433049961
Status : Answered
Chosen Option : 3

Q.17 एक व्यक्ति अपनी पत्नी, अपने बेटे और अपनी बेटी के बीच एक निश्चित धनराशि बांटता है। उसकी पत्नी को धनराशि का 45%, उसके बेटे को धनराशि का 30% और उसकी बेटी को शेष ₹6,25,000 मिलते हैं। उसकी पत्नी को कितनी धनराशि मिली?

- Ans
- 1. ₹5,00,000
 - 2. ₹11,25,000
 - 3. ₹7,50,000
 - 4. ₹6,25,000

Question ID : 26433049325
Status : Answered
Chosen Option : 2

Q.18 तीन आदमियों वाले एक घर में बिल्लियों और कुत्तों की संख्या का अनुपात 1:2 है। यदि घर में पैंरों की कुल संख्या 42 है, तो घर में बिल्लियों की कुल संख्या कितनी है?

- Ans
- 1. 6
 - 2. 12
 - 3. 3
 - 4. 9

Question ID : 26433050279
Status : Answered
Chosen Option : 3

Q.19 अनुषा ने क्रमशः ₹12,000 और ₹8,000 में एक टेलीविजन और एक कैमरा खरीदा। उसने टेलीविजन को 10% की हानि पर और कैमरे को 12% के लाभ पर बेचा। उसे कुल कितना हानि/लाभ हुआ?

- Ans
- 1. ₹450 लाभ
 - 2. ₹450 हानि
 - 3. ₹240 हानि
 - 4. ₹240 लाभ

Question ID : 26433050176
Status : Answered
Chosen Option : 3

Q.20 राजा ने 13% की वार्षिक साधारण ब्याज दर पर ₹15,000 उधार लिए और इसे वार्षिक रूप से चक्रवृद्धि होने वाले, 15% की वार्षिक चक्रवृद्धि ब्याज दर पर किसी और को उधार दे दिया। दो वर्षों में राजा को प्राप्त लाभ ज्ञात कीजिए।

- Ans
- 1. ₹1,080.00
 - 2. ₹1,125.00
 - 3. ₹937.50
 - 4. ₹865.50

Question ID : 26433050182
Status : Answered
Chosen Option : 3

Q.21 नौ व्यक्तियों का औसत भार 25 kg है। यदि कोई नया व्यक्ति इस समूह में शामिल होता है, तो औसत भार 26 kg हो जाता है। नये व्यक्ति का भार कितना है?

- Ans
- 1. 28 kg
 - 2. 30 kg
 - 3. 35 kg
 - 4. 34 kg

Question ID : 26433049752
Status : Answered
Chosen Option : 3

Q.22 दूध और पानी के 470 लीटर मिश्रण में 5% पानी है। एक शरारती लड़के ने मिश्रण में थोड़ा पानी और मिला दिया जिससे नये मिश्रण में पानी की मात्रा 6% हो गई। लड़के द्वारा मिश्रण में मिलाए गए पानी की मात्रा ज्ञात कीजिए।

- Ans
- 1. 6 लीटर
 - 2. 5 लीटर
 - 3. 8 लीटर
 - 4. 10 लीटर

Question ID : 26433050297
Status : Answered
Chosen Option : 2

Q.23 वह छोटी से छोटी संख्या ज्ञात कीजिए, जिसे 60, 84 और 96 से विभाजित करने पर शेषफल क्रमशः 28, 52 और 64 प्राप्त होते हैं।

- Ans
- 1. 3392
 - 2. 3360
 - 3. 3318
 - 4. 3328

Question ID : 26433050170
Status : Answered
Chosen Option : 3

Q.24 राम अपने वेतन का 45% एक योजना में 3 वर्ष के लिए निवेश करता है, जिस पर ब्याज 10% की वार्षिक दर से वार्षिक आधार पर चक्रवृद्धि होता है। यदि उसे ब्याज के रूप में कुल ₹5,958 प्राप्त होते हैं, तो राम का वेतन ज्ञात कीजिए।

- Ans
- 1. ₹40,000
 - 2. ₹45,000
 - 3. ₹50,000
 - 4. ₹36,000

Question ID : 26433050306
Status : Not Answered
Chosen Option : --

Q.25 वीनस ने एक वस्तु का अंकित मूल्य क्रय मूल्य से 60% अधिक रखा। उसने इसे 20% के लाभ पर बेचा। वस्तु पर उसके द्वारा कितने प्रतिशत की छूट दी गई?

- Ans 1. 25%
 2. 15%
 3. 40%
 4. 75%

Question ID : 26433050303
Status : Answered
Chosen Option : 1

Section : General Awareness

Q.1 निम्नलिखित में से कौन सा महोत्सव गुवाहाटी के कामाख्या मंदिर से जुड़ा है?

- Ans 1. अंबुबाची महोत्सव
 2. माजुली महोत्सव
 3. मांडू महोत्सव
 4. सनबर्न महोत्सव

Question ID : 26433046846
Status : Answered
Chosen Option : 1

Q.2 पुष्कर झील राजस्थान के किस जिले में स्थित है?

- Ans 1. अलवर
 2. जयपुर
 3. अजमेर
 4. बीकानेर

Question ID : 26433047572
Status : Answered
Chosen Option : 3

Q.3 स्वर्णिम चतुर्भुज सुपर हाईवे का उत्तर-दक्षिण गलियारा श्रीनगर और _____ को जोड़ता है।

- Ans 1. कन्याकुमारी
 2. कन्नूर
 3. कांचीपुरम
 4. कोझिकोड

Question ID : 26433047577
Status : Answered
Chosen Option : 1

Q.4 हवा में मौजूद नमी की मात्रा को क्या कहते हैं?

- Ans 1. वर्षण
 2. आर्द्रता
 3. अपारदर्शिता
 4. अपघर्षण

Question ID : 26433047576
Status : Answered
Chosen Option : 2

Q.5 "मानवता के लिए एक धर्म, एक जाति और एक ईश्वर" का सिद्धांत किसने दिया था?

- Ans 1. ज्योतिराव फुले
 2. श्री नारायण गुरु
 3. महात्मा गांधी
 4. डॉ. राजेंद्र प्रसाद

Question ID : 26433047808
Status : Not Attempted and
Marked For Review
Chosen Option : --

Q.6 निम्नलिखित में से किस राज्य ने अक्टूबर 2021 में 'मुख्यमंत्री राशन आपके द्वार योजना' शुरू की?

- Ans 1. उत्तराखंड
 2. मध्य प्रदेश
 3. झारखंड
 4. पंजाब

Question ID : 26433047568
Status : Marked For Review
Chosen Option : 2

Q.7 मार्च 2022 तक की स्थिति के अनुसार निम्नलिखित में से किस राज्य में द्विसदनीय विधानमंडल है?

- Ans 1. ओडिशा
 2. गुजरात
 3. कर्नाटक
 4. केरल

Question ID : 26433047717
Status : Answered
Chosen Option : 4

Q.8 टीपू सुल्तान _____ में मैसूर का शासक बना।

- Ans
- 1. 1775
 - 2. 1765
 - 3. 1782
 - 4. 1762

Question ID : 26433047684
Status : Not Answered
Chosen Option : --

Q.9 _____ ने आई.सी.सी. (ICC) महिला क्रिकेट विश्व कप 2022 जीता।

- Ans
- 1. भारत
 - 2. इंग्लैंड
 - 3. न्यूज़ीलैंड
 - 4. ऑस्ट्रेलिया

Question ID : 26433046741
Status : Answered
Chosen Option : 1

Q.10 टीएच विनायकराम का संबंध किस वाद्य यंत्र से है?

- Ans
- 1. ढोलक
 - 2. घटम
 - 3. सरोद
 - 4. तबला

Question ID : 26433047711
Status : Not Answered
Chosen Option : --

Q.11 निम्नलिखित में से कौन सी सिंधु नदी की एक सहायक नदी नहीं है?

- Ans
- 1. सोन
 - 2. काबुल
 - 3. गिलगित
 - 4. श्योक

Question ID : 26433047803
Status : Answered
Chosen Option : 1

Q.12 फरवरी 2022 में, शीतल पेय निर्माता कंपनी कोका-कोला ने थम्स अप के ब्रांड एंबेसडर के रूप में को साइन किया।

- Ans
- 1. अक्षय कुमार
 - 2. शाहरुख खान
 - 3. महेंद्र सिंह धोनी
 - 4. रणवीर सिंह

Question ID : 26433047694

Status : **Not Attempted and Marked For Review**

Chosen Option : --

Q.13 Which cell organelle performs the principal function of packaging materials?

- Ans
- 1. Vacuoles
 - 2. Endoplasmic reticulum
 - 3. Lysosome
 - 4. Golgi apparatus

Question ID : 26433047799

Status : **Answered**

Chosen Option : 2

Q.14 राज्य के नीति निर्देशक सिद्धांतों के तहत भारत के संविधान का कौन-सा अनुच्छेद ग्राम पंचायतों के संगठन के बारे में बात करता है?

- Ans
- 1. अनुच्छेद 40
 - 2. अनुच्छेद 48
 - 3. अनुच्छेद 39A
 - 4. अनुच्छेद 43

Question ID : 26433047588

Status : **Not Answered**

Chosen Option : --

Q.15 'पद्म विभूषण' विजेता पंडित बिरजू महाराज एक प्रसिद्ध _____ नर्तक थे।

- Ans
- 1. ओडिसी
 - 2. भरतनाट्यम
 - 3. कथक
 - 4. मणिपुरी

Question ID : 26433047812

Status : **Answered**

Chosen Option : 3

Q.16 बाणभट्ट ने 'हर्षचरित' की रचना किस भाषा में की थी?

- Ans 1. संस्कृत
 2. पालि
 3. प्राकृत
 4. तमिल

Question ID : 26433047706
Status : Answered
Chosen Option : 1

Q.17 विज्ञान की आवर्त सारणी में 'H' किस रासायनिक तत्व का प्रतीक है?

- Ans 1. हीलियम
 2. हाइड्रोजन
 3. होल्मियम
 4. पारा

Question ID : 26433046848
Status : Answered
Chosen Option : 2

Q.18 संगराई (Sangrai) भारत के किस राज्य का एक लोक नृत्य है?

- Ans 1. कर्नाटक
 2. गोवा
 3. बिहार
 4. त्रिपुरा

Question ID : 26433047670
Status : Answered
Chosen Option : 4

Q.19 निम्न दिए गए कथनों में से कौन से सत्य हैं?

I. किचन से निकलने वाले कचरे को भी शामिल करते हुए पौधों और जानवरों के अवशिष्ट का खाद में परिवर्तित होना कम्पोस्टिंग कहलाता है।

II. केंचुए का उपयोग करके रसोई के कचरे से खाद बनाने की विधि को वर्मी-कम्पोस्टिंग कहा जाता है।

- Ans 1. न तो I और न ही II सही है।
 2. I और II दोनों सही हैं।
 3. केवल I सही है।
 4. केवल II सही है।

Question ID : 26433047675
Status : Answered
Chosen Option : 2

Q.20 निम्नलिखित में से किसने भारत के लिए पहला वैयक्तिक ओलंपिक पदक जीता था?

- Ans
- 1. अभिनव बिंद्रा
 - 2. राज्यवर्धन राठौर
 - 3. खाशाबा जाधव
 - 4. पीटी उषा

Question ID : 26433047791

Status : **Not Attempted and Marked For Review**

Chosen Option : --

Q.21 संविधान के भाग VI में अनुच्छेद _____ राज्य विधानमंडल के घटकों से संबंधित हैं।

- Ans
- 1. 198 से 220
 - 2. 112 से 175
 - 3. 168 से 212
 - 4. 134 से 198

Question ID : 26433047814

Status : **Not Answered**

Chosen Option : --

Q.22 'करज एंड कन्विक्शन : एन ऑटोबायोग्राफी (Courage and Conviction : An Autobiography)' निम्न में से किस व्यक्ति की आत्मकथा है?

- Ans
- 1. मनोज मुकुंद नरवणे
 - 2. दलबीर सिंह सुहाग
 - 3. योगेश कुमार जोशी
 - 4. वीके सिंह

Question ID : 26433047710

Status : **Not Attempted and Marked For Review**

Chosen Option : --

Q.23 स्वतंत्र भारत की पहली जनगणना _____ में आयोजित की गई थी।

- Ans
- 1. 1956
 - 2. 1951
 - 3. 1953
 - 4. 1948

Question ID : 26433047154

Status : **Answered**

Chosen Option : 2

Q.24 1206 से 1290 तक दिल्ली पर शासन करने वाले प्रारंभिक तुर्की शासकों का सही कालक्रम निम्नलिखित में से कौन-सा है?

- Ans
- 1. शम्सुद्दीन इल्तुतमिश, रज़िया, कुतुबुद्दीन ऐबक
 - 2. कुतुबुद्दीन ऐबक, रज़िया, शम्सुद्दीन इल्तुतमिश
 - 3. कुतुबुद्दीन ऐबक, शम्सुद्दीन इल्तुतमिश, रज़िया
 - 4. रज़िया, शम्सुद्दीन इल्तुतमिश, कुतुबुद्दीन ऐबक

Question ID : 26433047582

Status : Not Answered

Chosen Option : --

Q.25 समुद्र के पार भारत के दक्षिणी पड़ोसियों में _____ द्वीप देश शामिल हैं।

- Ans
- 1. पाँच
 - 2. चार
 - 3. तीन
 - 4. दो

Question ID : 26433047355

Status : Not Attempted and
Marked For Review

Chosen Option : --