

Multi Tasking Non Technical Staff Havaladar CBIC and CBN Examination 2021

Roll Number	
Candidate Name	
Venue Name	
Exam Date	15/07/2022
Exam Time	5:00 PM - 6:30 PM
Subject	MTS Non technical and Havaladar Examination 2021

Section : General English

Q.1 Select the correctly spelt word.

- Ans 1. Television
 2. Televisoin
 3. Televison
 4. Television

Question ID : 26433051023
Status : Answered
Chosen Option : 3

Q.2 Select the most appropriate meaning of the given idiom.

Move the goalposts

- Ans 1. To put a lot of effort into something
 2. Unfairly alter the conditions or rules of a procedure during its course
 3. To do your research and understand clearly what your goals are
 4. To move the goalpost after an attempt has been made to score a goal

Question ID : 26433051256
Status : Answered
Chosen Option : 2

Q.3 Select the most appropriate ANTONYM of the given word.

Flared

- Ans 1. Darkened
 2. Radiated
 3. Glared
 4. Flamed

Question ID : 26433050591
Status : Answered
Chosen Option : 1

Q.4 Select the most appropriate option to fill in the blank.

She refused to back _____, so she was fired from the company.

- Ans 1. upon
 2. down
 3. over
 4. into

Question ID : 26433051242
Status : Answered
Chosen Option : 2

Q.5 Select the most appropriate synonym of the given word.

Tenderness

- Ans 1. Ruthlessness
 2. Severity
 3. Kindness
 4. Spitefulness

Question ID : 26433050722
Status : Answered
Chosen Option : 1

Q.6 Select the option that will improve the underlined part of the sentence. In case no improvement is needed, select 'No improvement required'.

Antibiotics are one off the most commonly prescribed drugs in the world.

- Ans 1. No improvement required
 2. is one of the
 3. are one of a
 4. are one of the

Question ID : 26433051092
Status : Answered
Chosen Option : 4

Q.7 Select the option that can be used as a one-word substitute for the given group of words.

Of or relating to the moon

- Ans 1. Platonic
 2. Solar
 3. Fatal
 4. Lunar

Question ID : 26433050865
Status : Answered
Chosen Option : 4

Q.8 Select the most appropriate **ANTONYM** of the given word.

Impolite

- Ans 1. Blunt
 2. Uncivil
 3. Superior
 4. Courteous

Question ID : 26433051015
Status : Answered
Chosen Option : 4

Q.9 Parts of the following sentence have been given as options. One of them may contain an error. Select the part that contains the error from the given options. If you don't find any error, mark 'No error' as your answer.

Sometimes we interact to people who are closed-minded and not willing to listen.

- Ans 1. No error
 2. Sometimes we interact
 3. to people who are closed-minded
 4. and not willing to listen

Question ID : 26433050706
Status : Answered
Chosen Option : 3

Q.10 Select the most appropriate meaning of the underlined idiom in the given sentence.

Stop crying for the moon and start coming up with some sensible demands.

- Ans 1. To praise one's efforts
 2. To make money unfairly
 3. To understand the hidden meaning
 4. To make an impractical or unreasonable request

Question ID : 26433050699
Status : Answered
Chosen Option : 4

Q.11 Parts of the following sentence have been given as options. One of them may contain an error. Select the part that contains the error from the given options. If you don't find any error, mark 'No error' as your answer.

Age doesn't seeming to diminish our capacity to speak, write and learn new things.

- Ans 1. No error
 2. diminish our capacity to speak
 3. write and learn new things
 4. Age doesn't seeming to

Question ID : 26433050681
Status : Answered
Chosen Option : 4

Q.12 Select the most appropriate option to fill in the blank.

Da Vinci's paintings reveal an obsessive fascination with _____ rituals, like those of the Freemasons.

- Ans 1. Enigmatic
 2. Pathetic
 3. Static
 4. Magnetic

Question ID : 26433051364
Status : Answered
Chosen Option : 3

Q.13 Select the most appropriate option to fill in the blank.

The Intergovernmental Panel on Climate Change (IPCC) _____ the idea of 'tipping points' two decades ago.

- Ans 1. withdrawn
 2. introduced
 3. shortened
 4. wounded

Question ID : 26433051797
Status : Answered
Chosen Option : 2

Q.14 Select the option that corrects the misspelt words in the given sentence.

My freind is blessed with perfect gines.

- Ans 1. My friend is blessed with perfect gines.
 2. My freind is blested with perfect genes.
 3. My friend is blessed with perfect genes.
 4. My freind is bllesed with perfect gines.

Question ID : 26433050703
Status : Answered
Chosen Option : 3

Q.15 Select the most appropriate synonym of the given word.

Artful

- Ans 1. Ignorant
 2. Prudent
 3. Benign
 4. Crafty

Question ID : 26433051789
Status : Answered
Chosen Option : 4

Q.16 Select the option that will improve the underlined part of the given sentence. In case no improvement is needed, select 'No improvement required'.

You is not allowed to sit here without permission.

- Ans
- 1. No improvement required
 - 2. are not allowed
 - 3. has not allowed
 - 4. is no allowing

Question ID : 26433050613
Status : Answered
Chosen Option : 2

Q.17 Select the most appropriate option to fill in the blank.

Fasting _____ some festivals increases the consumption of fruits.

- Ans
- 1. while
 - 2. during
 - 3. about
 - 4. when

Question ID : 26433050901
Status : Answered
Chosen Option : 2

Q.18 Select the option that will improve the underlined part of the given sentence. In case no improvement is needed, select 'No improvement required'.

A clinical thermometer consists of a long, narrow, uniform glass tube.

- Ans
- 1. consisted in a
 - 2. consist of a
 - 3. consisting of a
 - 4. No improvement required

Question ID : 26433051420
Status : Answered
Chosen Option : 2

Q.19 Parts of the given sentence have been given as options. One of them may contain an error. Select the part that contains the error from the given options. If you don't find any error, mark 'No error' as your answer.

I have watched a lot of students excel in online courses, taking fully advantage of the convenience.

- Ans
- 1. advantage of the convenience
 - 2. No error
 - 3. I have watched a lot of students
 - 4. excel in online courses, taking fully

Question ID : 26433050925
Status : Answered
Chosen Option : 4

Q.20 Select the option that can be used as a one-word substitute for the given group of words.

A system of government by the wealthy class

- Ans 1. Theocracy
 2. Democracy
 3. Plutocracy
 4. Autocracy

Question ID : 26433051510

Status : Answered

Chosen Option : 3

Comprehension:

In the following passage, some words have been deleted. Read the passage carefully and select the most appropriate option to fill in each blank.

Delhi's meteorology (1) _____ the quantity of chaff burnt play a greater role in (2) _____ air quality than the time chosen by farmers in Punjab to start crop burning, a study argues. Crop burning, a traditional practice in Punjab and Haryana of (3) _____ fields off rice chaff to prepare for winter sowing, begins around October and (4) _____ in November, coinciding with the (5) _____ of southwest monsoon.

SubQuestion No : 21

Q.21 Select the most appropriate option to fill in blank number 1.

- Ans 1. among
 2. and
 3. but
 4. yet

Question ID : 26433051782

Status : Answered

Chosen Option : 2

Comprehension:

In the following passage, some words have been deleted. Read the passage carefully and select the most appropriate option to fill in each blank.

Delhi's meteorology (1) _____ the quantity of chaff burnt play a greater role in (2) _____ air quality than the time chosen by farmers in Punjab to start crop burning, a study argues. Crop burning, a traditional practice in Punjab and Haryana of (3) _____ fields off rice chaff to prepare for winter sowing, begins around October and (4) _____ in November, coinciding with the (5) _____ of southwest monsoon.

SubQuestion No : 22

Q.22 Select the most appropriate option to fill in blank number 2.

- Ans 1. worsening
 2. worsens
 3. worsen
 4. worse

Question ID : 26433051783

Status : Answered

Chosen Option : 3

Comprehension:

In the following passage, some words have been deleted. Read the passage carefully and select the most appropriate option to fill in each blank.

Delhi's meteorology (1) _____ the quantity of chaff burnt play a greater role in (2) _____ air quality than the time chosen by farmers in Punjab to start crop burning, a study argues. Crop burning, a traditional practice in Punjab and Haryana of (3) _____ fields off rice chaff to prepare for winter sowing, begins around October and (4) _____ in November, coinciding with the (5) _____ of southwest monsoon.

SubQuestion No : 23

Q.23 Select the most appropriate option to fill in blank number 3.

Ans 1. razing

2. racing

3. rising

4. raising

Question ID : 26433051784

Status : Answered

Chosen Option : 4

Comprehension:

In the following passage, some words have been deleted. Read the passage carefully and select the most appropriate option to fill in each blank.

Delhi's meteorology (1) _____ the quantity of chaff burnt play a greater role in (2) _____ air quality than the time chosen by farmers in Punjab to start crop burning, a study argues. Crop burning, a traditional practice in Punjab and Haryana of (3) _____ fields off rice chaff to prepare for winter sowing, begins around October and (4) _____ in November, coinciding with the (5) _____ of southwest monsoon.

SubQuestion No : 24

Q.24 Select the most appropriate option to fill in blank number 4.

Ans 1. falls

2. creaks

3. leaks

4. peaks

Question ID : 26433051785

Status : Answered

Chosen Option : 1

Comprehension:

In the following passage, some words have been deleted. Read the passage carefully and select the most appropriate option to fill in each blank.

Delhi's meteorology (1) _____ the quantity of chaff burnt play a greater role in (2) _____ air quality than the time chosen by farmers in Punjab to start crop burning, a study argues. Crop burning, a traditional practice in Punjab and Haryana of (3) _____ fields off rice chaff to prepare for winter sowing, begins around October and (4) _____ in November, coinciding with the (5) _____ of southwest monsoon.

SubQuestion No : 25

Q.25 Select the most appropriate option to fill in blank number 5.

- Ans 1. running
 2. withdrawal
 3. availing
 4. managing

Question ID : 26433051786

Status : Answered

Chosen Option : 3

Section : General Intelligence and Reasoning

Q.1 P, Q, R, S, T, U और V सात मित्र हैं जिन्होंने परीक्षा में अलग-अलग अंक अर्जित किए। केवल दो व्यक्तियों के अंक, S और P के अंकों के बीच में हैं और P के अंक, S से अधिक हैं। R ने सर्वाधिक अंक अर्जित किए हैं। T ने Q से अधिक अंक अर्जित किए हैं। U और V ने क्रमशः द्वितीय सबसे कम और सबसे कम अंक अर्जित किए हैं। चौथे सर्वाधिक अंक किसने अर्जित किए हैं?

- Ans 1. P
 2. S
 3. R
 4. Q

Question ID : 26433048303

Status : Answered

Chosen Option : 4

Q.2 उस संख्या का चयन कीजिए जो निम्नलिखित श्रृंखला को आगे बढ़ाती है।

2, 4, 7, 11, 16, ?

- Ans 1. 21
 2. 20
 3. 22
 4. 23

Question ID : 26433048082

Status : Answered

Chosen Option : 3

Q.3 उस विकल्प का चयन करें जो तीसरी संख्या से उसी प्रकार संबंधित है, जिस प्रकार दूसरी संख्या पहली संख्या से संबंधित है।

2041 : 346 :: 5310 : ?

- Ans
- 1. 956
 - 2. 664
 - 3. 732
 - 4. 516

Question ID : 26433049104

Status : Answered

Chosen Option : 3

Q.4 उस विकल्प का चयन कीजिए जिसका पांचवीं संख्या के साथ वही संबंध है जो दूसरी संख्या का पहली संख्या के साथ तथा चौथी संख्या का तीसरी संख्या के साथ है।

(टिप्पणी: संख्याओं को उनके निर्माणक अंकों में विभाजित किए बिना, पूर्ण संख्याओं पर संक्रियाएं की जानी चाहिए, उदाहरण के लिए 13 -13 पर योग/घटाना/गुणा इत्यादि संक्रियाएं पूर्ण 13 पर की जा सकती हैं। 13 को 1 और 3 में बांटने और तत्पश्चात 1 और 3 पर गणितीय संक्रियाएं करने की अनुमति नहीं है)

2 : 16 :: 3 : 81 :: 6 : ?

- Ans
- 1. 1666
 - 2. 1326
 - 3. 1524
 - 4. 1296

Question ID : 26433048404

Status : Answered

Chosen Option : 4

Q.5 दिए गए कथनों और निष्कर्षों को सावधानीपूर्वक पढ़िए। कथनों में दी गई जानकारी को सत्य मानते हुए, चाहे वह सामान्यतः ज्ञात तथ्यों से असंगत प्रतीत होती हो, निर्धारित करें कि दिए गए निष्कर्षों में से कौन सा/से निष्कर्ष, कथनों का तार्किक रूप से अनुसरण करता है/ करते हैं?

कथन:
सभी बोतलें, जग हैं।
सभी जग, कप हैं।

निष्कर्ष:
I. सभी बोतलें, कप हैं।
II. सभी कप, बोतलें हैं।

- Ans
- 1. केवल निष्कर्ष I अनुसरण करता है।
 - 2. निष्कर्ष I और II दोनों अनुसरण करते हैं।
 - 3. निष्कर्ष I या II में से कोई भी अनुसरण नहीं करता है।
 - 4. केवल निष्कर्ष II अनुसरण करता है।

Question ID : 26433048401

Status : Answered

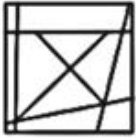
Chosen Option : 1

Q.6 उस विकल्प का चयन करें, जिसमें दी गई आकृति अंतर्निहित है (घुमाने की अनुमति नहीं है)




Ans

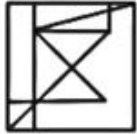
✓ 1.



✗ 2.



✗ 3.



✗ 4.



Question ID : 26433049110

Status : Answered

Chosen Option : 1

Q.7 दिए गए कथनों और निष्कर्षों को ध्यानपूर्वक पढ़ें। यह मानते हुए कि कथनों में दी गई जानकारी सत्य है, भले ही वह सामान्य रूप से ज्ञात तथ्यों से भिन्न प्रतीत होती हो, तय करें कि दिए गए निष्कर्षों में से कौन सा/से निष्कर्ष तार्किक रूप से कथनों का अनुसरण करता/ते है/हैं।

कथन:

कुछ बेल्ट्स, चमड़ा हैं।

सभी चमड़े, त्वचाएँ हैं।

कुछ त्वचाएँ, सफ़ेद हैं।

निष्कर्ष:

I. कुछ बेल्ट्स त्वचाएँ हैं।

II. कुछ बेल्ट्स सफ़ेद हैं।

Ans

✗ 1. केवल निष्कर्ष II अनुसरण करता है

✓ 2. केवल निष्कर्ष I अनुसरण करता है

✗ 3. या तो निष्कर्ष I या II अनुसरण करता है

✗ 4. न तो निष्कर्ष I और न ही II अनुसरण करता है

Question ID : 26433049100

Status : Answered

Chosen Option : 2

Q.8 उस विकल्प का चयन कीजिए जो निम्नलिखित श्रृंखला में प्रश्न चिह्न (?) के स्थान पर आएगा।

78, 89, 82, 87, 84, ?

- Ans 1. 80
 2. 78
 3. 86
 4. 88

Question ID : 26433048306
Status : Answered
Chosen Option : 3

Q.9 एक निश्चित कूट भाषा में, 'ABKN' को '84' कूटबद्ध किया जाता है, और 'PNCL' को '135' कूटबद्ध किया जाता है। उसी भाषा में 'HONT' को किस प्रकार कूटबद्ध किया जाएगा?

- Ans 1. 147
 2. 171
 3. 169
 4. 181

Question ID : 26433048622
Status : Answered
Chosen Option : 2

Q.10 Six girls are sitting in two straight rows, facing the North. Their names are Farah, Urvashi, Yukti, Kritika, Neha and Mudita. Farah and Mudita are sitting diagonally opposite. Urvashi is in the top row and to the immediate right of Farah. Kritika is second to the left of Mudita while Yukti and Kritika are not in the same row. Who is sitting diagonally opposite to Yukti?

- Ans 1. Urvashi
 2. Kritika
 3. Neha
 4. Mudita

Question ID : 26433048302
Status : Answered
Chosen Option : 2

Q.11 गणितीय रूप से सही बनाने के लिए दिए गए समीकरण में कौन-सी संख्याओं (अंक नहीं) को परस्पर बदलना चाहिए?

$$12 \div 3 - 2 + 5 \times 4 = 23$$

- Ans 1. 4 और 5
 2. 3 और 4
 3. 3 और 5
 4. 3 और 2

Question ID : 26433048310
Status : Answered
Chosen Option : 4

Q.12 छह मित्र एक वृत्ताकार मेज के चतुर्दिक मेज़ के केंद्र की ओर अभिमुख होकर बैठे हैं। दिलीप, प्रिया और पायल दोनों का निकटतम पड़ोसी है। प्रीति, मुकेश और लीला दोनों की निकटतम पड़ोसी है। पायल, मुकेश के दाईं ओर निकटतम स्थान पर बैठी है। प्रिया के दाईं ओर निकटतम स्थान पर कौन बैठा/बैठी है?

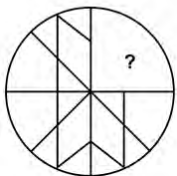
- Ans
- 1. दिलीप
 - 2. पायल
 - 3. लीला
 - 4. मुकेश

Question ID : 26433048076

Status : Answered

Chosen Option : 1

Q.13 दिए गए विकल्पों में से उस आकृति का चयन कीजिए जो प्रश्नवाचक चिह्न (?) के स्थान पर आ सकता है और पैटर्न को पूरा करती है।



Ans

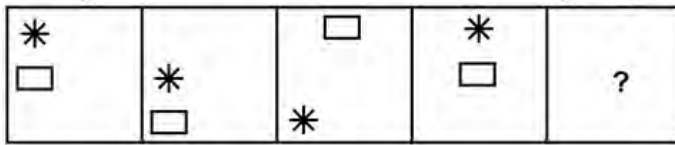
- 1.
- 2.
- 3.
- 4.

Question ID : 26433047942

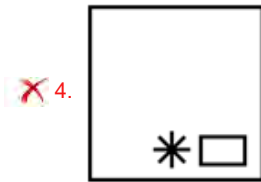
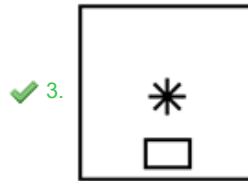
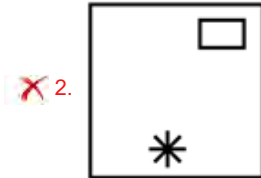
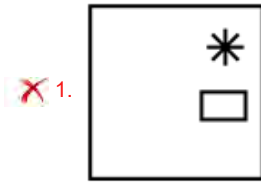
Status : Answered

Chosen Option : 3

Q.14 उस आकृति का चयन कीजिए, जो नीचे प्रदर्शित आकृति शृंखला को आगे बढ़ाएगी।



Ans



Question ID : 26433048088

Status : Answered

Chosen Option : 3

Q.15 एक निश्चित कूट भाषा में, '456' को 'sky is high' के रूप में लिखा जाता है, '678' को 'sky has dark' के रूप में लिखा जाता है, और '147' को 'star is dark' के रूप में लिखा जाता है। उस भाषा में 'star' शब्द के लिए कौन सा कूट होगा?

Ans 1. 5

2. 1

3. 4

4. 7

Question ID : 26433048123

Status : Answered

Chosen Option : 2

Q.16 दिए गए विकल्पों में से उस अक्षर-समूह का चयन कीजिए जो निम्नलिखित श्रृंखला में प्रश्नवाचक चिह्न (?) के स्थान पर आएगा।

WUE, XXG, YAI, ?

Ans 1. ZDK

2. ZOK

3. ZBH

4. ZAJ

Question ID : 26433048093

Status : Answered

Chosen Option : 1

Q.17 उस विकल्प का चयन करें, जिसमें शब्द वही संबंध साझा करते हैं, जो संबंध शब्दों के दिए गए युग्म द्वारा साझा किया जाता है।

धन : बटुआ

Ans 1. थैला : बक्सा

2. पत्र : लिफ़ाफ़ा

3. सुरक्षा : लॉकर

4. पुस्तकें : गत्ता

Question ID : 26433049116

Status : Answered

Chosen Option : 2

Q.18 If ORDER = \$*5@* और MATTER = 2&33@* है, तो ROAD = ?

Ans 1. #*5\$

2. \$*5&

3. *\$&5

4. \$\$5&

Question ID : 26433049120

Status : Answered

Chosen Option : 3

Q.19 उस विकल्प का चयन कीजिए जो पाँचवें अक्षर-समूह से उसी प्रकार संबंधित है, जिस प्रकार दूसरा अक्षर-समूह पहले अक्षर-समूह से और चौथा अक्षर-समूह तीसरे अक्षर-समूह से संबंधित है।

CAM : EES :: OAT : QEZ :: TOI : ?

Ans 1. VTO

2. USO

3. VSO

4. VSP

Question ID : 26433047971

Status : Answered

Chosen Option : 3

Q.20 एक विशिष्ट कूट भाषा में, 'O' को '15' कोडित किया जाता है और 'ADD' को '9' कोडित किया जाता है। इस भाषा में 'PURE' किस प्रकार कोडित किया जाएगा?

Ans 1. 60

2. 59

3. 57

4. 58

Question ID : 26433047975

Status : Answered

Chosen Option : 1

Q.21 यदि '×' और '-' को परस्पर बदल दिया जाता है और '+' और '÷' को भी परस्पर बदल दिया जाता है, तो निम्नलिखित समीकरण में '?' के स्थान पर क्या आएगा,?

$$60 + 2 - 3 \times 4 \div 2 = ?$$

Ans 1. 45

2. 88

3. 27

4. 90

Question ID : 26433048111

Status : Answered

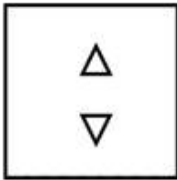
Chosen Option : 2

Q.22 कागज के एक टुकड़े को मोड़ने का क्रम और मुड़े हुए कागज को काटने का तरीका नीचे चित्रों में दर्शाया गया है। कागज के टुकड़े को खोलने पर यह कैसा दिखेगा?




Ans


1.



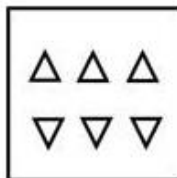
2.



3.

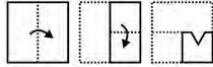


4.



Question ID : 26433048462
Status : Answered
Chosen Option : 4

Q.23 कागज़ के एक टुकड़े को मोड़ने का क्रम, और मोड़े गए टुकड़े को काटने का तरीका नीचे दी गई आकृतियों में दर्शाया गया है। कागज़ को खोले जाने पर वह कैसा दिखाई देगा?

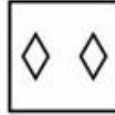


Ans


1.



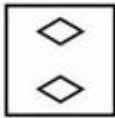
2.



3.



4.



Question ID : 26433048812

Status : Answered

Chosen Option : 2

Q.24 उस विकल्प का चयन कीजिए जिसका पांचवें पद के साथ वही संबंध है जो दूसरे पद का पहले पद के साथ तथा चौथे पद का तीसरे पद के साथ है।

SACRIFY : ARFYICS :: NUMERAL : UEALRMN :: SHALLOW : ?

Ans 1. HLWLASO

2. HLOLAWS

3. HLOWLAS

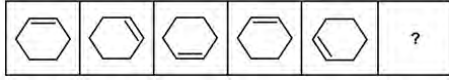
4. HLLWOAS

Question ID : 26433048391

Status : Answered

Chosen Option : 3

Q.25 दिए गए विकल्पों में से उस आकृति का चयन कीजिए, जो नीचे दी गई श्रृंखला में प्रश्न चिह्न (?) के स्थान पर आ सकती है।



Ans

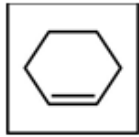
1.



2.



3.



4.



Question ID : 26433048408

Status : Answered

Chosen Option : 3

Section : Numerical Aptitude

Q.1 एक हवाई जहाज 900 km की दूरी 1.5 घंटे में तय करता है। हवाई जहाज की चाल ज्ञात कीजिए।

Ans 1. 600 km/h

2. 400 km/h

3. 300 km/h

4. 500 km/h

Question ID : 26433049433

Status : Answered

Chosen Option : 1

Q.2 दो बेलनों की ऊंचाइयों का अनुपात 1 : 2 और उनकी त्रिज्याओं का अनुपात 2 : 1 है। उनके आयतनों का अनुपात क्या होगा?

Ans 1. 3 : 1

2. 2 : 1

3. 1 : 2

4. 1 : 3

Question ID : 26433049341

Status : Answered

Chosen Option : 2

Q.3 2 उम्मीदवारों के बीच चुनाव में, 5% मत अमान्य हो गए थे। विजयी उम्मीदवार को 2,200 वोट और पराजित उम्मीदवार को 1,600 वोट मिले। पराजित उम्मीदवार को डाले गए कुल मतों का कितना प्रतिशत मत प्राप्त हुआ?

- Ans
- 1. 30%
 - 2. 40%
 - 3. 45%
 - 4. 35%

Question ID : 26433049951
Status : Answered
Chosen Option : 2

Q.4 एक निश्चित धनराशि पर 4.2% की वार्षिक दर से 2 वर्षों में प्राप्त चक्रवृद्धि ब्याज (ब्याज वार्षिक रूप में संयोजित होने पर) और साधारण ब्याज का अंतर ₹8.82 है। धनराशि ज्ञात कीजिए।

- Ans
- 1. ₹5,000
 - 2. ₹3,000
 - 3. ₹2,100
 - 4. ₹4,500

Question ID : 26433050432
Status : Answered
Chosen Option : 1

Q.5 संख्या X, संख्याओं 20, 28 और 36 के औसत की 60% है। X का मान ज्ञात कीजिए।

- Ans
- 1. 16.8
 - 2. 15.5
 - 3. 25.6
 - 4. 29.5

Question ID : 26433049321
Status : Answered
Chosen Option : 1

Q.6 यदि ₹39,500 को 24 : 15 : 40 के अनुपात में तीन भागों में विभाजित किया जाता है, तो दिए गए क्रम में तीसरे भाग का मान कितना है?

- Ans
- 1. ₹18,000
 - 2. ₹12,000
 - 3. ₹20,000
 - 4. ₹7,500

Question ID : 26433049430
Status : Answered
Chosen Option : 3

Q.7 एक शरणार्थी शिविर में की गई खाद्य आपूर्ति 300 शरणार्थियों को 45 दिनों तक भोजन कराने के लिए पर्याप्त थी। लेकिन 15 दिनों के बाद 60 और शरणार्थी शिविर में शामिल हो गए। शेष खाद्य आपूर्ति कितने दिनों तक चलेगी?

- Ans
- 1. 24 दिन
 - 2. 22 दिन
 - 3. 23 दिन
 - 4. 25 दिन

Question ID : 26433050110
Status : Answered
Chosen Option : 4

Q.8 सोमवार से गुरुवार तक माध्य (औसत) तापमान 39.25°C है। गुरुवार से रविवार तक औसत तापमान 40.25°C है। यदि सोमवार से रविवार तक सप्ताह के सभी दिनों के दैनिक तापमानों का योगफल 277.5°C है, तो गुरुवार का तापमान कितना है?

- Ans
- 1. 38.5°C
 - 2. 40.5°C
 - 3. 41.5°C
 - 4. 39.5°C

Question ID : 26433049448
Status : Answered
Chosen Option : 2

Q.9 ₹600 की क्रय मूल्य वाली वस्तु खरीदते समय, राशि को 5% बिक्री कर का भुगतान करना पड़ा। राशि को बिक्री कर के रूप में कितनी राशि का भुगतान करना पड़ा?

- Ans
- 1. ₹30
 - 2. ₹15
 - 3. ₹60
 - 4. ₹45

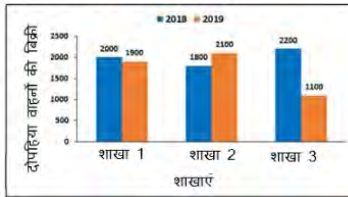
Question ID : 26433049425
Status : Answered
Chosen Option : 1

Q.10 ₹1,200 में एक वस्तु बेचने पर दुकानदार को 20% की हानि होती है। उस वस्तु का क्रय मूल्य ज्ञात कीजिए।

- Ans
- 1. ₹1,020
 - 2. ₹1,000
 - 3. ₹1,500
 - 4. ₹1,180

Question ID : 26433050426
Status : Answered
Chosen Option : 3

Q.11 निम्न बार ग्राफ लगातार दो वर्ष 2018 और 2019 के दौरान एक कंपनी की तीन अलग-अलग शाखाओं से दोपहिया वाहनों की बिक्री को दर्शाता है।



वर्ष 2019 में सभी शाखाओं की औसत बिक्री कितनी है?

- Ans
- 1. 2000
 - 2. 1700
 - 3. 1900
 - 4. 1500

Question ID : 26433049438
Status : Answered
Chosen Option : 2

Q.12 यदि 20, 40, 50, Y और Z का औसत 45 है, तो Y और Z का औसत ज्ञात कीजिए।

- Ans
- 1. 57.5
 - 2. 56.5
 - 3. 55
 - 4. 58.5

Question ID : 26433050053
Status : Answered
Chosen Option : 1

Q.13 एक वृत्त का क्षेत्रफल 2464 cm^2 है। इस वृत्त का व्यास ज्ञात कीजिए। [$\pi = \frac{22}{7}$ मानिए]

- Ans
- 1. 56 cm
 - 2. 48 cm
 - 3. 24 cm
 - 4. 28 cm

Question ID : 26433049734
Status : Answered
Chosen Option : 1

Q.14 एक दुकान द्वारा एक वर्ष में बेची गई 6 विभिन्न प्रकार की मिठाइयों की मात्रा (किबंटल में) निम्न तालिका में दर्शाई गई है।

मिठाई	मात्रा
S1	32
S2	48
S3	23
S4	37
S5	39
S6	21

उस वर्ष बेची गई S1 मिठाई की मात्रा उसी वर्ष बेची गई प्रत्येक प्रकार की मिठाइयों की औसत मात्रा की कितने प्रतिशत है?

- Ans
- 1. 80%
 - 2. 84%
 - 3. 88%
 - 4. 96%

Question ID : 26433049665

Status : Answered

Chosen Option : 4

Q.15 $\frac{7}{11} \div \frac{21}{33} \times \frac{5}{12} + \frac{10}{36} \times \frac{6}{11} \div \frac{18}{33}$ का मान क्या होगा?

- Ans
- 1. $\frac{28}{39}$
 - 2. $\frac{24}{41}$
 - 3. $\frac{25}{36}$
 - 4. $\frac{29}{35}$

Question ID : 26433049738

Status : Answered

Chosen Option : 3

Q.16 $(3 \div 4)$ of 20 + $16 \div 2 - \{(1 \div 3)$ of 12 + $(2 \div 5)$ of 25} का मान क्या होगा?

- Ans
- 1. 7
 - 2. 10
 - 3. 9
 - 4. 8

Question ID : 26433049418

Status : Answered

Chosen Option : 3

Q.17 एक समचतुर्भुज की प्रत्येक भुजा की लंबाई 10 cm है। यदि इसके एक विकर्ण की लंबाई 16 cm है, तो समचतुर्भुज का क्षेत्रफल ज्ञात कीजिए।

- Ans
- 1. 128 cm²
 - 2. 108 cm²
 - 3. 96 cm²
 - 4. 112 cm²

Question ID : 26433050061
Status : Answered
Chosen Option : 3

Q.18 एक मेज और एक कुर्सी के क्रय मूल्य क्रमशः ₹400 और ₹1,200 हैं। मेज और कुर्सी को क्रमशः 50% और 20% के लाभ पर बेचा जाता है। दोनों की बिक्री पर कुल लाभ प्रतिशत कितना होगा?

- Ans
- 1. 22.5%
 - 2. 24.5%
 - 3. 23.5%
 - 4. 27.5%

Question ID : 26433049723
Status : Answered
Chosen Option : 4

Q.19 यदि $a : b = b : c$ है, तो $a^6 : b^6$ का मान क्या होगा?

- Ans
- 1. $b^3 : ac$
 - 2. $a^2 : b^2$
 - 3. $a^3 : c^3$
 - 4. $a^3 : b^3$

Question ID : 26433049656
Status : Answered
Chosen Option : 3

Q.20 5% की वार्षिक दर से उधार दी गई ₹6,000 की राशि पर प्राप्त साधारण ब्याज कितने वर्षों में, 4% की वार्षिक दर से 30 वर्षों के लिए उधार दी गई ₹2000 की राशि पर प्राप्त साधारण ब्याज के बराबर होगा?

- Ans
- 1. 20 वर्ष
 - 2. 6 वर्ष
 - 3. 12 वर्ष
 - 4. 8 वर्ष

Question ID : 26433049456
Status : Answered
Chosen Option : 4

Q.21 एक ट्रेन एक स्थिर खंभे को 20 सेकंड में और एक पुल को 32 सेकंड में पार करती है। यदि पुल की लंबाई 1200 m है, तो ट्रेन की चाल कितनी है?

- Ans
- 1. 270 km/h
 - 2. 360 km/h
 - 3. 450 km/h
 - 4. 180 km/h

Question ID : 26433049646
Status : Answered
Chosen Option : 2

Q.22 एक विक्रेता को अपने माल पर क्रय मूल्य से कितने प्रतिशत अधिक मूल्य अंकित करना चाहिए ताकि अंकित मूल्य पर 20% की छूट देने के बाद, वह 4% का लाभ अर्जित कर सके?

- Ans
- 1. 25%
 - 2. 30%
 - 3. 42%
 - 4. 28%

Question ID : 26433049453
Status : Answered
Chosen Option : 2

Q.23 K_1 किसी कार्य को अकेले 4 दिन में पूरा कर सकता है, K_2 उसी कार्य को अकेले 8 दिन में पूरा कर सकता है, जबकि K_3 उसी कार्य को अकेले 32 दिन में पूरा कर सकता है। वे एक साथ काम करते हैं और कार्य पूरा करते हैं, और कार्य करने के लिए भुगतान के रूप में कुल ₹3,900 प्राप्त करते हैं। अधिकतम धनराशि प्राप्त करने वाले व्यक्ति का हिस्सा कितना है?

- Ans
- 1. ₹1,200
 - 2. ₹2,000
 - 3. ₹1,600
 - 4. ₹2,400

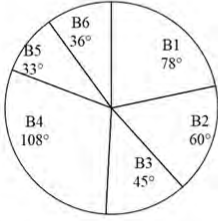
Question ID : 26433049818
Status : Answered
Chosen Option : 4

Q.24 निम्न में से वह सबसे बड़ी संख्या कौन सी है जिससे 784 और 857 को विभाजित करने पर शेषफल क्रमशः 4 और 2 प्राप्त होते हैं?

- Ans
- 1. 3
 - 2. 15
 - 3. 30
 - 4. 5

Question ID : 26433050420
Status : Answered
Chosen Option : 2

Q.25 निम्न पाई-चार्ट का अध्ययन कीजिए और उसके आधार पर दिए गए प्रश्न का उत्तर दीजिए।
पाई-चार्ट किसी दिए गए वर्ष में छः अलग-अलग ब्रांडों की कुल कुर्सियों के उत्पादन के संदर्भ में, छः अलग-अलग ब्रांडों में से प्रत्येक ब्रांड की कुर्सियों के उत्पादन की संख्या से संबंधित विज्यखंडों को केंद्रीय कोणों (डिग्री में) के साथ निरूपित करता है।



यदि इन छः ब्रांडों की उत्पादित कुर्सियों की कुल संख्या 7200 है, तो ब्रांड B2 और B3 को मिलाकर उत्पादित कुर्सियों की कुल संख्या कितनी है?

- Ans
- 1. 1750
 - 2. 2400
 - 3. 1800
 - 4. 2100

Question ID : 26433049742
Status : Answered
Chosen Option : 4

Section : General Awareness

Q.1 पंडित शिव कुमार शर्मा का संबंध _____ नामक संगीत वाद्ययंत्र से है।

- Ans
- 1. पियानो
 - 2. सरोद
 - 3. संतूर
 - 4. माउथ ऑर्गन / अकार्डियन

Question ID : 26433046861
Status : Answered
Chosen Option : 2

Q.2 मिन्हाज-ए-सिराज ने निम्नलिखित में से किस शासक का इतिहास लिपिबद्ध किया था?

- Ans
- 1. बाबर
 - 2. रजिया सुल्तान
 - 3. गयासुद्दीन तुगलक
 - 4. अकबर

Question ID : 26433047832
Status : Answered
Chosen Option : 1

Q.3 आर्य समाज, सुधार आंदोलन की स्थापना इनमें से किसने की थी?

- Ans 1. स्वामी दयानंद सरस्वती
 2. एम. जी. रानाडे
 3. आनंद मोहन बोस
 4. राजा राममोहन राय

Question ID : 26433047133
Status : Answered
Chosen Option : 1

Q.4 बास्केटबॉल में, एक शॉट में अधिकतम कितने अंक स्कोर किए जा सकते हैं?

- Ans 1. 3
 2. 1
 3. 4
 4. 2

Question ID : 26433047366
Status : Answered
Chosen Option : 3

Q.5 इनमें से किस प्रकार के वनों में 200 cm से अधिक वार्षिक वर्षा होती है?

- Ans 1. टैगा
 2. समशीतोष्ण मिश्रित वन
 3. टुंड्रा वन
 4. उष्णकटिबंधीय सदाबहार वर्षा वन

Question ID : 26433047128
Status : Answered
Chosen Option : 4

Q.6 भारत का राष्ट्रीय खेल दिवस _____ को मनाया जाता है।

- Ans 1. 15 अगस्त
 2. 26 जनवरी
 3. 30 जनवरी
 4. 29 अगस्त

Question ID : 26433046841
Status : Answered
Chosen Option : 4

Q.7 भारत का प्रथम विधि अधिकारी इनमें से कौन होता है?

- Ans 1. महान्यायवादी
 2. राज्यपाल
 3. राष्ट्रपति
 4. प्रधानमंत्री

Question ID : 26433047139
Status : Answered
Chosen Option : 1

Q.8 अपर्णा सतीशन ने इनमें से किस नृत्य शैली के लिए प्रतिष्ठित राष्ट्रीय नृत्य शिरोमणि पुरस्कार 2022 प्राप्त किया?

- Ans
- 1. मोहिनीअट्टम
 - 2. ओडिसी
 - 3. कुचिपुड़ी
 - 4. कथकली

Question ID : 26433047137
Status : Answered
Chosen Option : 4

Q.9 अप्रैल 2022 में की गई घोषणा के अनुसार भारत के अगले विदेश सचिव कौन होंगे?

- Ans
- 1. डॉ. एस. जयशंकर
 - 2. हर्षवर्धन श्रृंगला
 - 3. विनय मोहन क्रात्रा
 - 4. सुषमा स्वराज

Question ID : 26433046844
Status : Answered
Chosen Option : 3

Q.10 2011 की जनगणना के अनुसार, निम्न दिए गए राज्यों में से कौन सा राज्य कम साक्षरता दर के मामले में तीसरे स्थान पर है?

- Ans
- 1. राजस्थान
 - 2. बिहार
 - 3. मध्य प्रदेश
 - 4. सिक्किम

Question ID : 26433047827
Status : Answered
Chosen Option : 1

Q.11 निम्नलिखित में से कौन सा प्राणिजगत के एनेलिडा संघ (फ़ाइलम) का उदाहरण है?

- Ans
- 1. कंगारू
 - 2. मधु मक्खी
 - 3. स्किड
 - 4. केंचुआ

Question ID : 26433046824
Status : Answered
Chosen Option : 4

Q.12 Kelucharan Mohapatra is associated with _____ dance form of India.

Ans 1. Odissi

2. Salsa

3. Kathak

4. Hiphop

Question ID : 26433046820

Status : Answered

Chosen Option : 3

Q.13 बी.आर. अंबेडकर ने अस्पृश्यता के अपने अनुभवों के बारे में 20 पत्रों की आत्मकथा लिखी, जिसे _____ के रूप में जाना जाता है।

Ans 1. वेटिंग फॉर अ वीसा (Waiting for a Visa)

2. करेज एंड कन्विक्शन (Courage and Conviction)

3. माय एक्सपरिमेंट्स विथ साइलेंस (My Experiments with Silence)

4. आल फ्रॉम मेमोरी (All from Memory)

Question ID : 26433046860

Status : Answered

Chosen Option : 4

Q.14 निम्नलिखित में से कौन भारत में एक शक शासक (130-150 ई.) था?

Ans 1. रुद्रदमन

2. बिन्दुसार

3. मिनांडर

4. अशोक

Question ID : 26433046856

Status : Answered

Chosen Option : 1

Q.15 2021 की जनगणना के अनुसार निम्नलिखित में से कौन सा राज्य भारत का सबसे कम साक्षर राज्य है?

Ans 1. असम

2. बिहार

3. ओड़िशा

4. गुजरात

Question ID : 26433046729

Status : Answered

Chosen Option : 2

Q.16 दो बिंदु आवेशों के बीच आकर्षण या प्रतिकर्षण बल पर निम्नलिखित में से कौन-सा नियम लागू होता है?

- Ans 1. किरचॉफ का नियम
 2. कूलॉम का नियम
 3. न्यूटन के गति के नियम
 4. न्यूटन का सार्वत्रिक गुरुत्वाकर्षण का नियम

Question ID : 26433047048
Status : Answered
Chosen Option : 2

Q.17 भारतीय अर्थव्यवस्था के FRBM अधिनियम, 2003 में F का क्या अर्थ है?

- Ans 1. Freedom (स्वतंत्रता)
 2. Functional (कार्यात्मक)
 3. Fiscal (राजकोषीय)
 4. Financial (वित्तीय)

Question ID : 26433046867
Status : Answered
Chosen Option : 3

Q.18 किस राज्य सरकार ने IPE ग्लोबल के सहयोग से उड़ान परियोजना शुरू की, जो माध्यमिक स्तर पर लड़कियों को उनके नामांकन के माध्यम से स्कूलों में रखने का प्रयास करती है, और साथ ही यह भी सुनिश्चित करती है कि उनमें से योग्य लड़कियों को उनकी छात्रवृत्ति भी मिले?

- Ans 1. पंजाब
 2. राजस्थान
 3. असम
 4. महाराष्ट्र

Question ID : 26433047818
Status : Answered
Chosen Option : 2

Q.19 The World Health Organisation defines adolescents as individuals in the age-group of _____.

- Ans 1. 6 to 14 years
 2. 8 to 15 years
 3. 12 to 16 years
 4. 10 to 19 years

Question ID : 26433047455
Status : Answered
Chosen Option : 1

Q.20 निम्नलिखित में से किसे भू-आकृति प्रक्रियाओं में मंद संचलन के अंतर्गत वर्गीकृत किया गया है?

- Ans 1. भूस्खलन (Landslide)
 2. मंद विरूपण (Creep)
 3. पंक प्रवाह (Mudflow)
 4. मृदा प्रवाह (Earthflow)

Question ID : 26433047826
Status : Answered
Chosen Option : 2

Q.21 प्रार्थना समाज या 'प्रेयर सोसाइटी', जो एक धार्मिक और सामाजिक सुधार था, की स्थापना 1863 में _____ में हुई थी।

- Ans 1. दिल्ली
 2. बॉम्बे (अब मुंबई)
 3. सूरत
 4. पुणे

Question ID : 26433046834
Status : Answered
Chosen Option : 2

Q.22 Which part of the Indian Constitution has been drawn from the British Constitution?

- Ans 1. Appointment of state governors by the centre
 2. Fundamental Rights and the Directive Principles of State Policy
 3. Federation with a strong centre
 4. Principle of Cabinet Government and the relations between the executive and the legislature

Question ID : 26433047838
Status : Answered
Chosen Option : 4

Q.23 'गणगौर' एक भारतीय त्योहार है जो प्रमुख रूप से _____ में मनाया जाता है।

- Ans 1. हिमाचल प्रदेश
 2. त्रिपुरा
 3. राजस्थान
 4. अरुणाचल प्रदेश

Question ID : 26433047046
Status : Answered
Chosen Option : 1

Q.24 _____ नामक रोग एडीज मच्छर के कारण फैलता है जो पानी से भरे स्थानों पर अंडे देता है और समय के साथ बहुगुणित होता है।

- Ans
- 1. फ़ीलपाँव
 - 2. दस्त
 - 3. डेंगू
 - 4. मलेरिया

Question ID : 26433047125
Status : Answered
Chosen Option : 3

Q.25 मोहनजोदड़ो के विशाल स्नानागार की आकृति कैसी थी?

- Ans
- 1. दीर्घवृत्ताकार
 - 2. वर्गाकार
 - 3. वृत्ताकार
 - 4. आयताकार

Question ID : 26433047822
Status : Answered
Chosen Option : 4

Multi Tasking Non Technical Staff Havaladar CBIC and CBN Examination 2021

Roll Number	
Candidate Name	
Venue Name	
Exam Date	18/07/2022
Exam Time	9:00 AM - 10:30 AM
Subject	MTS Non technical and Havaladar Examination 2021

Section : General English

Q.1 Select the most appropriate option to fill in the blank.

She smashed a _____ of glass with the metal vase.

Ans 1. pane

2. pawn

3. pain

4. pion

Question ID : 26433050947

Status : Answered

Chosen Option : 2

Q.2 Parts of the following sentence have been given as options. One of them may contain an error. Select the part that contains the error from the given options. If you don't find any error, mark 'No error' as your answer.

The goons fled after kill a boy in the street.

Ans 1. after kill a

2. boy in the street

3. No error

4. The goons fled

Question ID : 26433051028

Status : Answered

Chosen Option : 2

Q.3 Select the most appropriate ANTONYM of the given word.

Outstanding

Ans 1. Ordinary

2. Remarkable

3. Astounding

4. Honest

Question ID : 26433051149

Status : Answered

Chosen Option : 1