

Multi Tasking Non Technical Staff Havaladar CBIC and CBN Examination 2021

Roll Number	
Candidate Name	
Venue Name	
Exam Date	18/07/2022
Exam Time	9:00 AM - 10:30 AM
Subject	MTS Non technical and Havaladar Examination 2021

Section : General English

Q.1 Select the most appropriate option to fill in the blank.

She smashed a _____ of glass with the metal vase.

Ans 1. pane

2. pawn

3. pain

4. pion

Question ID : 26433050947

Status : Answered

Chosen Option : 2

Q.2 Parts of the following sentence have been given as options. One of them may contain an error. Select the part that contains the error from the given options. If you don't find any error, mark 'No error' as your answer.

The goons fled after kill a boy in the street.

Ans 1. after kill a

2. boy in the street

3. No error

4. The goons fled

Question ID : 26433051028

Status : Answered

Chosen Option : 2

Q.3 Select the most appropriate ANTONYM of the given word.

Outstanding

Ans 1. Ordinary

2. Remarkable

3. Astounding

4. Honest

Question ID : 26433051149

Status : Answered

Chosen Option : 1

Q.4 Select the most appropriate meaning of the given idiom.

Below the belt

- Ans 1. Suspiciously
 2. Very quickly
 3. Without any effort
 4. Cruel and unfair

Question ID : 26433050490
Status : Answered
Chosen Option : 4

Q.5 Select the most appropriate option to fill in the blank.

Most mainliners do not view modern culture as inherently _____ to religious belief.

- Ans 1. inchoate
 2. inimical
 3. inconclusive
 4. inadvertent

Question ID : 26433051572
Status : Answered
Chosen Option : 4

Q.6 Select the most appropriate synonym of the underlined word in the given sentence.

Simon had always been an ardent follower.

- Ans 1. averse
 2. passionate
 3. objective
 4. casual

Question ID : 26433050810
Status : Answered
Chosen Option : 2

Q.7 Select the most appropriate ANTONYM of the given word.

Vanish

- Ans 1. Conquer
 2. Emerge
 3. Depart
 4. Disappear

Question ID : 26433051792
Status : Answered
Chosen Option : 2

Q.8 Select the INCORRECTLY spelt word.

- Ans 1. Compere
 2. specielist
 3. Anchor
 4. Chauffeur

Question ID : 26433051795
Status : Answered
Chosen Option : 2

Q.9 Select the most appropriate option to fill in the blank.

I have visited _____ coaching institutes in your region.

- Ans 1. any
 2. mostly
 3. much
 4. many

Question ID : 26433050796
Status : Answered
Chosen Option : 4

Q.10 Select the most appropriate synonym of the given word.

Acute

- Ans 1. Faithful
 2. Chronic
 3. Obtuse
 4. Dire

Question ID : 26433051304
Status : Answered
Chosen Option : 2

Q.11 Select the option that will improve the underlined part of the given sentence. In case no improvement is needed, select 'No improvement required'.

Next month, she was going to the institute to study for a master's degree.

- Ans 1. went to
 2. has gone to
 3. is going to
 4. No improvement required

Question ID : 26433051318
Status : Answered
Chosen Option : 3

Q.12 Select the most appropriate meaning of the given idiom.

Keep body and soul together

- Ans 1. Be mentally and physically fit
 2. Live happily
 3. Live as long as possible
 4. Stay alive during hard times

Question ID : 26433051490

Status : Answered

Chosen Option : 4

Q.13 Parts of the following sentence have been given as options. One of them may contain an error. Select the part that contains the error from the given options. If you don't find any error, mark 'No error' as your answer.

Both of my parents are dependent on my salary of their living.

- Ans 1. No error
 2. salary of their living
 3. are dependent on my
 4. Both of my parents

Question ID : 26433050474

Status : Answered

Chosen Option : 4

Q.14 Parts of the following sentence have been given as options. One of them may contain an error. Select the part that contains the error from the given options. If you don't find any error, mark 'No error' as your answer.

He sat down in a darkly corner and covered his face, and would not say a single word to anyone.

- Ans 1. not say a single word to anyone
 2. and covered his face, and would
 3. No error
 4. He sat down in a darkly corner

Question ID : 26433051183

Status : Answered

Chosen Option : 4

Q.15 Select the option that corrects the misspelt words in the given sentence.

A number of measres have been sugested by her.

- Ans 1. A number of mesures have been suggested by her.
 2. A number of measrues have been suggessted by her.
 3. A number of measures have been sujested by her.
 4. A number of measures have been suggested by her.

Question ID : 26433051050

Status : Answered

Chosen Option : 4

Q.16 Select the option that will improve the underlined part of the given sentence. In case no improvement is needed, select 'No improvement required'.

Her forty-fourth birthday had just passed, unnoticed by all but herself.

- Ans
- 1. has just passed, unnoticed by but all herself
 - 2. had just passed, unnoticed by but all herself
 - 3. has just passed, unnoticed by all herself
 - 4. No improvement required

Question ID : 26433051674
Status : Answered
Chosen Option : 4

Q.17 Select the most appropriate option to fill in the blank.

I organised my dressing table by putting all the rubber bands _____ the drawer.

- Ans
- 1. in
 - 2. for
 - 3. on
 - 4. at

Question ID : 26433051137
Status : Answered
Chosen Option : 1

Q.18 Select the most appropriate option to fill in the blank.

_____ I learned that there was a gift for each child, I was delighted.

- Ans
- 1. While
 - 2. When
 - 3. Which
 - 4. Though

Question ID : 26433050580
Status : Answered
Chosen Option : 2

Q.19 Select the most appropriate option to fill in the blank.

That fellow pushed me so hard that my vision got _____ for a second.

- Ans
- 1. blurred
 - 2. simplified
 - 3. illuminated
 - 4. exposed

Question ID : 26433050766
Status : Answered
Chosen Option : 1

Q.20 Select the option that will improve the underlined part of the sentence. In case no improvement is needed, select 'No improvement required'.

He blew out the candle and went to sleepy.

- Ans 1. No improvement required
 2. gone to sleep
 3. go on sleep
 4. went to sleep

Question ID : 26433050804

Status : Answered

Chosen Option : 4

Comprehension:

In the following passage, some words have been deleted. Read the passage carefully and select the most appropriate option to fill in each blank.

Many forests are cleared to (1) _____ way for palm oil plantations. Palm oil is the most (2) _____ produced vegetable oil and is found in half of all supermarket products. It's cheap, versatile and can be added to (3) _____ food and personal products like lipsticks and shampoo. (4) _____ popularity has (5) _____ people to clear tropical forests to grow more palm trees.

SubQuestion No : 21

Q.21 Select the most appropriate option to fill in blank number 1.

- Ans 1. take
 2. made
 3. make
 4. give

Question ID : 26433050799

Status : Answered

Chosen Option : 3

Comprehension:

In the following passage, some words have been deleted. Read the passage carefully and select the most appropriate option to fill in each blank.

Many forests are cleared to (1) _____ way for palm oil plantations. Palm oil is the most (2) _____ produced vegetable oil and is found in half of all supermarket products. It's cheap, versatile and can be added to (3) _____ food and personal products like lipsticks and shampoo. (4) _____ popularity has (5) _____ people to clear tropical forests to grow more palm trees.

SubQuestion No : 22

Q.22 Select the most appropriate option to fill in blank number 2.

- Ans 1. casually
 2. commonly
 3. lovingly
 4. usually

Question ID : 26433050800

Status : Answered

Chosen Option : 2

Comprehension:

In the following passage, some words have been deleted. Read the passage carefully and select the most appropriate option to fill in each blank.

Many forests are cleared to (1) _____ way for palm oil plantations. Palm oil is the most (2) _____ produced vegetable oil and is found in half of all supermarket products. It's cheap, versatile and can be added to (3) _____ food and personal products like lipsticks and shampoo. (4) _____ popularity has (5) _____ people to clear tropical forests to grow more palm trees.

SubQuestion No : 23

Q.23 Select the most appropriate option to fill in blank number 3.

- Ans 1. one
 2. both
 3. between
 4. each

Question ID : 26433050801

Status : Answered

Chosen Option : 2

Comprehension:

In the following passage, some words have been deleted. Read the passage carefully and select the most appropriate option to fill in each blank.

Many forests are cleared to (1) _____ way for palm oil plantations. Palm oil is the most (2) _____ produced vegetable oil and is found in half of all supermarket products. It's cheap, versatile and can be added to (3) _____ food and personal products like lipsticks and shampoo. (4) _____ popularity has (5) _____ people to clear tropical forests to grow more palm trees.

SubQuestion No : 24

Q.24 Select the most appropriate option to fill in blank number 4.

- Ans 1. Their
 2. Its
 3. Our
 4. It's

Question ID : 26433050802

Status : Answered

Chosen Option : 2

Comprehension:

In the following passage, some words have been deleted. Read the passage carefully and select the most appropriate option to fill in each blank.

Many forests are cleared to (1) _____ way for palm oil plantations. Palm oil is the most (2) _____ produced vegetable oil and is found in half of all supermarket products. It's cheap, versatile and can be added to (3) _____ food and personal products like lipsticks and shampoo. (4) _____ popularity has (5) _____ people to clear tropical forests to grow more palm trees.

SubQuestion No : 25

Q.25 Select the most appropriate option to fill in blank number 5.

Ans 1. prompted

2. delighted

3. curated

4. baffled

Question ID : 26433050803

Status : Answered

Chosen Option : 1

Section : General Intelligence and Reasoning

Q.1 उस विकल्प का चयन कीजिए जो पाँचवें अक्षर-समूह से उसी प्रकार संबंधित है जैसे दूसरा अक्षर-समूह पहले अक्षर-समूह से संबंधित है और चौथा अक्षर-समूह तीसरे अक्षर-समूह से संबंधित है।

RNP : SOQ :: CSN : DTO :: EJM : ?

Ans 1. FKL

2. FLN

3. FKO

4. FKN

Question ID : 26433048246

Status : Answered

Chosen Option : 4

Q.2 एक निश्चित कूट भाषा में, 'ELITE' को '3' कूटबद्ध किया जाता है और 'BLUE' को '2' कूटबद्ध किया जाता है। उसी भाषा में 'ABSENCE' को किस प्रकार कूटबद्ध किया जाएगा?

Ans 1. 2

2. 3

3. 4

4. 1

Question ID : 26433048250

Status : Answered

Chosen Option : 2

Q.3 एक निश्चित कूट भाषा में, यदि 'आकाश' को 'पृथ्वी' के रूप में जाना जाता है, 'पृथ्वी' को 'जल' के रूप में जाना जाता है, 'जल' को 'हवा' के रूप में जाना जाता है, 'हवा' को 'प्रकाश' और 'प्रकाश' को 'ध्वनि' के रूप में जाना जाता है, तो वह क्या है जिसे मनुष्य सांस में लेते हैं?

- Ans
- 1. हवा
 - 2. जल
 - 3. प्रकाश
 - 4. पृथ्वी

Question ID : 26433048494

Status : Answered

Chosen Option : 3

Q.4 निम्नलिखित समीकरण को संतुलित करने के लिए किन दो चिन्हों को आपस में बदलने की आवश्यकता है?

$$35 + 7 \times 12 - 6 \div 2 = 6$$

- Ans
- 1. - और ×
 - 2. × और +
 - 3. - और +
 - 4. + और ×

Question ID : 26433047885

Status : Answered

Chosen Option : 1

Q.5 छह किताबें हिंदी, जीव विज्ञान, गणित, अर्थशास्त्र, भौतिकी और रसायन शास्त्र दो रैक में एक दूसरे के सामने रखी गई हैं और प्रत्येक रैक में तीन किताबें हैं। हिंदी और रसायन शास्त्र एक ही रैक में हैं लेकिन एक दूसरे के निकटतम स्थान पर नहीं हैं। जीव विज्ञान को अर्थशास्त्र के बिल्कुल सामने रखा गया है। जीव विज्ञान का आवरण पृष्ठ दक्षिण दिशा की ओर है, और यह हिंदी के बाएँ निकटतम स्थान पर रखी है। भौतिकी को रसायन शास्त्र के बिल्कुल सामने रखा है। निम्नलिखित में से किसे हिंदी के बिल्कुल सामने रखा गया है?

- Ans
- 1. जीव विज्ञान
 - 2. रसायन शास्त्र
 - 3. अर्थशास्त्र
 - 4. गणित

Question ID : 26433047877

Status : Answered

Chosen Option : 4

Q.6 उस विकल्प का चयन करें जो तीसरे अक्षर-समूह से उसी प्रकार संबंधित है, जिस प्रकार दूसरा अक्षर-समूह पहले अक्षर-समूह से संबंधित है।

THROUGH : UJUSZMO :: COSTUME : ?

- Ans
- 1. DQYXZSL
 - 2. DQWXZSL
 - 3. DQVXZSK
 - 4. DQVXZSL

Question ID : 26433049090

Status : Answered

Chosen Option : 4

Q.7 दिए गए विकल्पों में से उस आकृति का चयन करें, जो नीचे दी गई श्रृंखला में प्रश्न चिह्न (?) के स्थान पर आ सकती है।



Ans

✗ 1.



✗ 2.



✗ 3.



✓ 4.

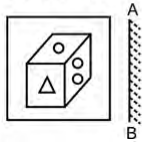


Question ID : 26433049109

Status : Answered

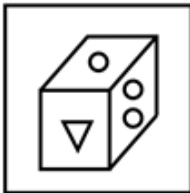
Chosen Option : 4

Q.8 विकल्पों में से, दी गई आकृति के उस सही दर्पण प्रतिबिंब का चयन कीजिए, जो दर्पण को आकृति के दाईं ओर रखने पर बनता है।

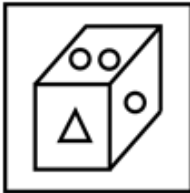


Ans

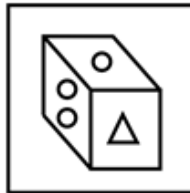
1.



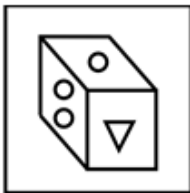
2.



3.



4.



Question ID : 26433048065

Status : Answered

Chosen Option : 3

Q.9 Select the set in which the numbers are related in the same way as are the numbers of the following sets.

(8, 4, 1)

(12, 4, 5)

Ans 1. (33, 10, 21)

2. (17, 8, 6)

3. (20, 2, 12)

4. (44, 20, 20)

Question ID : 26433048184

Status : Answered

Chosen Option : 2

Q.10 दिए गए विकल्पों में से उस संख्या का चयन कीजिए जिसे निम्नलिखित श्रृंखला में प्रश्नवाचक चिन्ह (?) के स्थान पर रखा जा सके।

4, 34, 58, 76, 88, ?

Ans 1. 94

2. 98

3. 92

4. 96

Question ID : 26433047881

Status : Answered

Chosen Option : 1

Q.11 एक निश्चित कूट भाषा में, 'PEARL' को '24153' कोडित किया जाता है, 'EARTH' को '41590' कोडित किया जाता है और 'PILE' को '2634' कोडित किया जाता है। उस भाषा में 'HEAR' शब्द का कूट क्या होगा?

Ans 1. 1520

2. 2651

3. 0415

4. 9054

Question ID : 26433048200

Status : Answered

Chosen Option : 3

Q.12 उस विकल्प का चयन करें जो तीसरे अक्षर-समूह से उसी प्रकार संबंधित है जिस प्रकार दूसरा अक्षर-समूह, पहले अक्षर-समूह से संबंधित है।

TNG : RLD :: LAC : ?

Ans 1. JYZ

2. JXZ

3. JXA

4. JYA

Question ID : 26433048674

Status : Answered

Chosen Option : 1

Q.13 उस विकल्प का चयन करें जो पाँचवीं संख्या से उसी प्रकार संबंधित है जिस प्रकार दूसरी संख्या पहली संख्या से संबंधित है और चौथी संख्या तीसरी संख्या से संबंधित है।

(नोट : संख्याओं को उसके घटक अंकों में विभाजित किए बिना, पूर्ण संख्याओं पर संक्रियाएं की जानी चाहिए। उदाहरण के लिए 13 लीजिए – संक्रियाएं जैसे कि जोड़ना/ घटाना/ गुणा करना आदि को सम्पूर्ण 13 पर कर सकते हैं। 13 को 1 और 3 में विभक्त करके उन अंको पर की गई गणितीय संक्रियाएँ अमान्य है।)

125 : 25 :: 64 : 16 :: 216 : ?

- Ans
- 1. 39
 - 2. 36
 - 3. 22
 - 4. 24

Question ID : 26433048428
Status : Answered
Chosen Option : 2

Q.14 दिए गए विकल्पों में से उस अक्षर-समूह का चयन करें, जो निम्नलिखित श्रृंखला में प्रश्नवाचक चिह्न (?) के स्थान पर आ सकता है।

TOR, ?, VQT, WRU, XSV

- Ans
- 1. UPS
 - 2. VPT
 - 3. UNS
 - 4. VPS

Question ID : 26433048577
Status : Answered
Chosen Option : 1

Q.15 दिए गए कथनों और निष्कर्षों को सावधानीपूर्वक पढ़िए। कथनों में दी गई जानकारी को सत्य मानते हुए, चाहे वह सामान्यतः ज्ञात तथ्यों से असंगत प्रतीत होती हो, यह निर्धारित करें कि दिए गए निष्कर्षों में से कौन सा/से निष्कर्ष कथनों का तार्किक रूप से अनुसरण करता/करते है/हैं।

कथन I: सभी मोबाइल्स, इलेक्ट्रॉनिक्स हैं।
कथन II: सभी लैपटॉप्स, इलेक्ट्रॉनिक्स हैं।

निष्कर्ष I: कुछ मोबाइल्स, लैपटॉप्स हैं।
निष्कर्ष II: सभी मोबाइल्स, लैपटॉप्स हैं।

- Ans
- 1. केवल निष्कर्ष II अनुसरण करता है।
 - 2. या तो निष्कर्ष I या II अनुसरण करता है।
 - 3. न तो निष्कर्ष I और न ही II अनुसरण करता है।
 - 4. केवल निष्कर्ष I अनुसरण करता है।

Question ID : 26433048179
Status : Answered
Chosen Option : 3

Q.16 दिए गए पैटर्न का ध्यानपूर्वक अध्ययन करें और दिए गए विकल्पों में से उस संख्या का चयन करें जो इसमें प्रश्न चिह्न (?) के स्थान पर आ सकती है।

(8, 4, 48), (3, 6, 36), (8, 6, ?)

Ans 1. 56

2. 28

3. 14

4. 52

Question ID : 26433049105

Status : Answered

Chosen Option : 1

Q.17 एक निश्चित कूट भाषा में, 'HAPREB' को 'IEUQAW' के रूप में लिखा जाता है, और 'GBCDFA' को 'HFHCBV' के रूप में लिखा जाता है। उसी भाषा में 'QRPLAC' को किस रूप में लिखा जाएगा?

Ans 1. RVUKWX

2. RVUJWX

3. RVUKXW

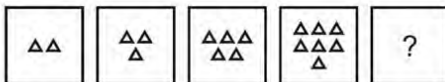
4. RVUJXW

Question ID : 26433048773

Status : Answered

Chosen Option : 1

Q.18 दिए गए विकल्पों में से उस आकृति का चयन करें जो निम्नलिखित श्रृंखला में प्रश्नवाचक चिह्न (?) को प्रतिस्थापित कर सकती है।



Ans

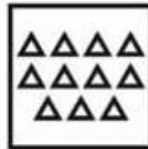
1.




2.



3.



4.



Question ID : 26433048434

Status : Answered

Chosen Option : 3

Q.19 छह छात्राएँ, रिया, माला, अंबिका, काजल, हीना और सान्या, एक वृत्ताकार मेज के परितः केंद्र की ओर मुख करके बैठी हैं (लेकिन जरूरी नहीं कि वे इसी क्रम में हों)। अंबिका, हीना के दाएँ तीसरे स्थान पर बैठी है। रिया, हीना और काजल की निकटतम पड़ोसी है। माला, हीना की निकटतम पड़ोसी नहीं है। काजल, अंबिका के ठीक दाएँ है। रिया के दाएँ दूसरे स्थान पर कौन बैठी है?

Ans 1. काजल

2. हीना

3. सान्या

4. माला

Question ID : 26433048422

Status : Answered

Chosen Option : 3

Q.20 दिए गए कथनों और निष्कर्षों को ध्यानपूर्वक पढ़ें। यह मानते हुए कि कथनों में दी गई जानकारी सत्य है, भले ही वह सामान्य रूप से ज्ञात तथ्यों से भिन्न प्रतीत होती हो, तय करें कि दिए गए निष्कर्षों में से कौन सा/से निष्कर्ष तार्किक रूप से कथनों का अनुसरण करता/ते है/हैं।

कथन:

कुछ त्योहार आतिशबाज़ी हैं।

कोई भी पटाखा आतिशबाज़ी नहीं है।

कोई भी बम त्योहार नहीं है।

निष्कर्ष:

I. कोई भी बम पटाखा नहीं है।

II. कुछ बम पटाखे हैं।

Ans 1. केवल निष्कर्ष II अनुसरण करता है

2. न तो निष्कर्ष I और न ही II अनुसरण करता है

3. निष्कर्ष I और II दोनों अनुसरण करते हैं

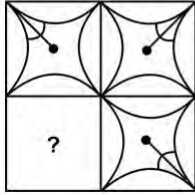
4. या तो निष्कर्ष I या II अनुसरण करता है

Question ID : 26433049101

Status : Answered

Chosen Option : 4

Q.21 दिए गए विकल्पों में से उस आकृति का चयन कीजिए जो प्रश्नवाचक चिह्न (?) के स्थान पर आ सकती है और दिए गए पैटर्न को पूरा कर सकती है।



Ans

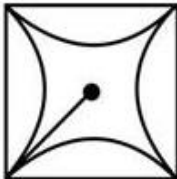
1.



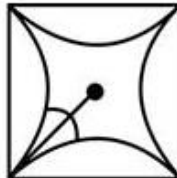
2.



3.

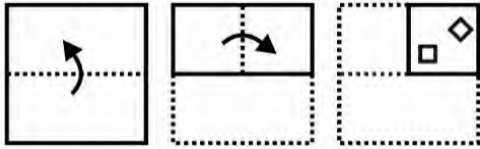


4.



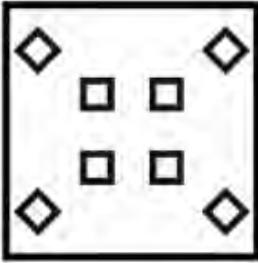
Question ID : 26433048292
Status : Answered
Chosen Option : 4

Q.22 कागज़ के एक टुकड़े को मोड़ने का क्रम, और मोड़े गए टुकड़े को काटने का तरीका नीचे दी गई आकृतियों में दर्शाया गया है। कागज़ को खोले जाने पर वह कैसा दिखाई देगा?



Ans

✓ 1.



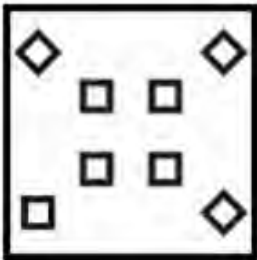
✗ 2.



✗ 3.



✗ 4.



Question ID : 26433048962

Status : Answered

Chosen Option : 1

Q.23 उस विकल्प का चयन कीजिए, जिसमें नीचे दी गई आकृति अंतर्निहित है। (घुमाने की अनुमति नहीं है)।

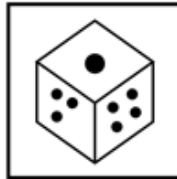


Ans

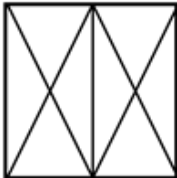
1.



2.



3.



4.



Question ID : 26433048189

Status : Answered

Chosen Option : 2

Q.24 पाँच मित्रों P, Q, R, S और T में से, T केवल तीन अन्य मित्रों से लंबा है। R सभी मित्रों में सबसे लंबा है। Q केवल एक मित्र से लंबा है। केवल दो मित्र P से लंबे हैं। सभी मित्रों में सबसे छोटे कद का कौन है?

Ans 1. Q

2. T

3. S

4. P

Question ID : 26433047878

Status : Answered

Chosen Option : 3

Q.25 दिए गए दो चिह्नों \div और $-$ को परस्पर बदलने पर, निम्नलिखित में से कौन-सा समीकरण सही होगा?

I. $143 + 6 \times 18 \div 45 - 3 = 236$

II. $133 - 7 + 16 \times 11 \div 37 = 158$

- Ans
- 1. केवल II
 - 2. केवल I
 - 3. न तो I और न ही II
 - 4. I और II दोनों

Question ID : 26433048565

Status : Answered

Chosen Option : 4

Section : Numerical Aptitude

Q.1 60 विद्यार्थियों की एक कक्षा में, लड़कियों और लड़कों की संख्या का अनुपात 2 : 3 है। 20 और लड़कियों के कक्षा में शामिल हो जाने पर कक्षा में लड़कियों संख्या कितनी होगी?

- Ans
- 1. 50
 - 2. 44
 - 3. 45
 - 4. 56

Question ID : 26433049755

Status : Answered

Chosen Option : 2

Q.2 यदि $\frac{1}{2} : x :: x : \frac{1}{8}$ है, तो x का धनात्मक मान ज्ञात कीजिए।

- Ans
- 1. $\frac{1}{25}$
 - 2. $\frac{1}{11}$
 - 3. $\frac{1}{12}$
 - 4. $\frac{1}{4}$

Question ID : 26433049229

Status : Answered

Chosen Option : 4

Q.3 जब एक घड़ी को अंकित मूल्य के $\frac{7}{11}$ पर बेचा जाता है, तो 20% की हानि होती है। इस घड़ी के अंकित मूल्य और क्रय मूल्य का अनुपात कितना है?

- Ans
- 1. 38 : 35
 - 2. 31 : 25
 - 3. 41 : 25
 - 4. 44 : 35

Question ID : 26433049899
Status : Answered
Chosen Option : 4

Q.4 A और B साथ मिलकर एक कार्य को 24 दिनों में पूरा कर सकते हैं। A अकेला इस कार्य को 40 दिनों में पूरा कर सकता है। B अकेला इस कार्य को कितने दिनों में पूरा कर सकता है?

- Ans
- 1. 40 दिन
 - 2. 60 दिन
 - 3. 56 दिन
 - 4. 16 दिन

Question ID : 26433050460
Status : Answered
Chosen Option : 2

Q.5 एक वृत्त का क्षेत्रफल 1386 cm^2 है। वृत्त की त्रिज्या ज्ञात कीजिए। [$\pi = \frac{22}{7}$ मानिए]

- Ans
- 1. 18 cm
 - 2. 7 cm
 - 3. 21 cm
 - 4. 14 cm

Question ID : 26433050440
Status : Answered
Chosen Option : 3

Q.6 50 m की ऊंचाई वाले एक पेड़ को इस तरह काटा जाता है ताकि पेड़ की ऊंचाई 10% कम हो जाती है। पेड़ की वर्तमान ऊंचाई ज्ञात कीजिए।

- Ans
- 1. 15 m
 - 2. 25 m
 - 3. 45 m
 - 4. 35 m

Question ID : 26433049224
Status : Answered
Chosen Option : 3

Q.7 कपिला ने ₹320 प्रति फ्रॉक की दर से 100 फ्रॉक्स खरीदीं। परिवहन व्यय ₹1,000 था। उसने प्रति फ्रॉक ₹1.50 का कर दिया और श्रम शुल्क ₹500 था। यदि वह 10% का लाभ कमाना चाहती है, तो प्रति फ्रॉक विक्रय मूल्य कितना होना चाहिए?

- Ans
- 1. ₹390.80
 - 2. ₹385.45
 - 3. ₹370.15
 - 4. ₹336.50

Question ID : 26433050427
Status : Answered
Chosen Option : 3

Q.8 Ritika bought each set of 10 shirts for ₹8,000 and sold them at a rate of ₹9,000 for every 12 shirts. Find her profit or loss percentage.

- Ans
- 1. 6.25% loss
 - 2. 7% profit
 - 3. 8% loss
 - 4. 7.25% profit

Question ID : 26433049526
Status : Answered
Chosen Option : 1

Q.9 यदि एक नाव की चाल धारा की दिशा में 12 km/h और चाल धारा की विपरीत दिशा में 4 km/h है, तो शांत जल में नाव की चाल ज्ञात कीजिए।

- Ans
- 1. 7 km/h
 - 2. 9 km/h
 - 3. 10 km/h
 - 4. 8 km/h

Question ID : 26433049234
Status : Answered
Chosen Option : 4

Q.10 दो गोलों के पृष्ठीय क्षेत्रफल 64 : 81 के अनुपात में हैं। दिए गए क्रम में उनके आयतनों का अनुपात ज्ञात कीजिए।

- Ans
- 1. 8 : 81
 - 2. 512 : 729
 - 3. 4 : 9
 - 4. 64 : 729

Question ID : 26433049492
Status : Answered
Chosen Option : 2

Q.11 $0.0045 \div 4.5 \times 100 - 45 \div 5$ का मान क्या होगा?

- Ans
- 1. -9.9
 - 2. -9
 - 3. -8.1
 - 4. -8.9

Question ID : 26433050418
Status : Answered
Chosen Option : 4

Q.12 एक वृत्त का व्यास 42 cm है। वृत्त की परिधि की लंबाई और त्रिज्या की लंबाई के बीच क्या अंतर है? [$\pi = \frac{22}{7}$ लें]

- Ans
- 1. 105 cm
 - 2. 98 cm
 - 3. 111 cm
 - 4. 94 cm

Question ID : 26433049860
Status : Answered
Chosen Option : 3

Q.13 A ने सावधि जमा योजना (फिक्स्ड डिपॉजिट स्कीम) में 2 वर्ष के लिए 5% की वार्षिक ब्याज दर पर ₹12,000 की धनराशि का निवेश किया, जो वार्षिक रूप से संयोजित होती है। सावधि जमा की परिपक्वता (मेच्योरिटी) पर A को कितनी धनराशि प्राप्त होगी?

- Ans
- 1. ₹11,280
 - 2. ₹12,450
 - 3. ₹13,230
 - 4. ₹14,560

Question ID : 26433049532
Status : Answered
Chosen Option : 3

Q.14 क्रमागत 10 पूर्णाकों का औसत $\frac{11}{2}$ है। इन पूर्णाकों में से "सबसे छोटी चार" संख्याओं का औसत कितना है?

- Ans
- 1. 2.5
 - 2. 3.5
 - 3. 2
 - 4. 3

Question ID : 26433049904
Status : Answered
Chosen Option : 1

Q.15 एक ट्रेन 6 m/sec की चाल से 2 घंटे की यात्रा करती है। इस अवधि में ट्रेन द्वारा तय की गई दूरी ज्ञात कीजिए।

- Ans
- 1. 43.2 km
 - 2. 40.8 km
 - 3. 46.6 km
 - 4. 36.4 km

Question ID : 26433049745

Status : Answered

Chosen Option : 1

Q.16 यदि $A = \frac{2}{3} + \frac{4}{7}$ of $\frac{14}{12}$ और $B = \frac{5}{12}$ of $\frac{7}{15} \times \frac{36}{21}$ है, तो $A + B$ का मान क्या होगा?

- Ans
- 1. $\frac{5}{3}$
 - 2. $\frac{4}{3}$
 - 3. 2
 - 4. $\frac{2}{3}$

Question ID : 26433049764

Status : Answered

Chosen Option : 1

Q.17 अमित का वेतन अमन के वेतन का 75% है। अमित के वेतन में 40% की वृद्धि होती है और अमन के वेतन में 10% की वृद्धि होती है। अमन का नया वेतन, अमित के नये वेतन से लगभग कितने प्रतिशत अधिक है?

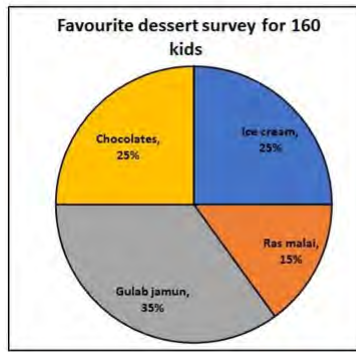
- Ans
- 1. 9.6%
 - 2. 4.8%
 - 3. 6.2%
 - 4. 5.5%

Question ID : 26433050175

Status : Answered

Chosen Option : 2

Q.18 नीचे प्रदर्शित पाई-चार्ट 160 बच्चों पर उनके पसंदीदा डेज़र्ट्स के संबंध में किए गए एक सर्वेक्षण के परिणाम दर्शाता है।



आइसक्रीम (Ice cream) पसंद करने वाले बच्चों की संख्या कितनी है?

- Ans
- 1. 40
 - 2. 20
 - 3. 50
 - 4. 30

Question ID : 26433050439

Status : Answered

Chosen Option : 1

Q.19 निम्न तालिका दिए गए 4 वर्षों (years) में पांच अलग-अलग व्यक्तियों (A, B, C, D, E) की आय (₹ में) दर्शाती है।

Years	2015	2016	2017	2018
A	12000	12500	13000	13500
B	10000	11000	12000	13000
C	5000	6000	7000	8000
D	20000	25000	30000	35000
E	15000	16000	17000	18000

वर्ष (year) 2015 में पांचों व्यक्तियों की औसत आय ज्ञात कीजिए।

- Ans
- 1. ₹12,600
 - 2. ₹12,500
 - 3. ₹12,700
 - 4. ₹12,400

Question ID : 26433049237

Status : Answered

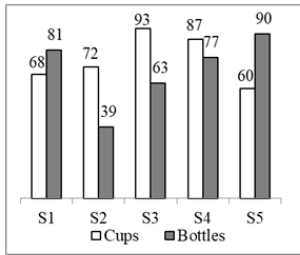
Chosen Option : 4

Q.20 11 के प्रथम पंद्रह गुणजों का औसत ज्ञात कीजिए।

- Ans
- 1. 55
 - 2. 88
 - 3. 35.5
 - 4. 77

Question ID : 26433049472
Status : Answered
Chosen Option : 2

Q.21 निम्न बार ग्राफ का अध्ययन कीजिए और उसके आधार पर दिए गए प्रश्न का उत्तर दीजिए।
बार-ग्राफ एक सप्ताह के दौरान पांच अलग-अलग दुकानों द्वारा बेची गई बोतलों (Bottles) की संख्या और कपों (Cups) की संख्या को दर्शाता है।



दिए गए सप्ताह के दौरान पांचों दुकानों द्वारा बेची गई बोतलों की कुल संख्या, दिए गए सप्ताह के दौरान पांचों दुकानों द्वारा बेचे गए कपों की कुल संख्या का लगभग कितने प्रतिशत है?

- Ans
- 1. 92.11%
 - 2. 87.22%
 - 3. 89.07%
 - 4. 96.43%

Question ID : 26433049766
Status : Answered
Chosen Option : 1

Q.22 छह व्यक्तियों का औसत वजन 30 kg है। यदि कोई नया व्यक्ति इस समूह में शामिल हो जाता है, तो औसत वजन 28 kg हो जाता है। नए व्यक्ति का वजन क्या है?

- Ans
- 1. 22 kg
 - 2. 15 kg
 - 3. 14 kg
 - 4. 16 kg

Question ID : 26433049852
Status : Answered
Chosen Option : 4

Q.23 आदिश एक कार्य को 14 दिनों में पूरा कर सकता है। यदि वह 8 दिन कार्य करता है, तो कार्य का कितना भाग शेष रह जाएगा?

- Ans
- 1. $\frac{3}{7}$
 - 2. $\frac{1}{7}$
 - 3. $\frac{2}{7}$
 - 4. $\frac{4}{7}$

Question ID : 26433049385
Status : Answered
Chosen Option : 1

Q.24 ₹24,000 के मूलधन पर 5% वार्षिक की दर से 4 वर्ष का साधारण ब्याज कितना होगा?

- Ans
- 1. ₹5,000
 - 2. ₹4,800
 - 3. ₹3,600
 - 4. ₹5,600

Question ID : 26433049907
Status : Answered
Chosen Option : 2

Q.25 दो संख्याएं 3 : 5 के अनुपात में हैं। यदि उनका महत्तम समापवर्तक (HCF) 8 है, तो दोनों संख्याएं ज्ञात कीजिए।

- Ans
- 1. 36 और 60
 - 2. 48 और 80
 - 3. 12 और 20
 - 4. 24 और 40

Question ID : 26433049520
Status : Answered
Chosen Option : 4

Q.1 Which of the following is the largest gland in the human body?

- Ans 1. Pineal
 2. Hypothalamus
 3. Pancreas
 4. Liver

Question ID : 26433047150
Status : Answered
Chosen Option : 4

Q.2 Which of the following was an integral part of the Indo-Islamic form of architecture?

- Ans 1. Domes
 2. Shutter windows
 3. Square roofs
 4. Tall and steep slopes

Question ID : 26433046922
Status : Answered
Chosen Option : 1

Q.3 Which organelle is found both in eukaryotic and prokaryotic cells?

- Ans 1. Golgi bodies
 2. Mitochondria
 3. Lysosome
 4. Ribosome

Question ID : 26433047824
Status : Answered
Chosen Option : 3

Q.4 लाहो _____ राज्य का लोक नृत्य है

- Ans 1. केरला
 2. मेघालय
 3. महाराष्ट्र
 4. मणिपुर

Question ID : 26433047294
Status : Not Answered
Chosen Option : --

Q.5 अमजद अली खान का नाम किस वाद्य यंत्र से जुड़ा है?

- Ans 1. सारंगी
 2. सरोद
 3. वीणा
 4. नादस्वरम

Question ID : 26433047311
Status : Not Answered
Chosen Option : --

Q.6 भारतीय संविधान का कौन सा अनुच्छेद धार्मिक मामलों के प्रबंधन की स्वतंत्रता प्रदान करता है?

- Ans
- 1. अनुच्छेद 5
 - 2. अनुच्छेद 210
 - 3. अनुच्छेद 370
 - 4. अनुच्छेद 26

Question ID : 26433046938
Status : Answered
Chosen Option : 4

Q.7 अप्रैल 2022 तक उपलब्ध जानकारी के अनुसार, भारत में गन्ने का प्रमुख उत्पादक राज्य कौन सा है?

- Ans
- 1. तमिलनाडु
 - 2. तेलंगाना
 - 3. मध्य प्रदेश
 - 4. उत्तर प्रदेश

Question ID : 26433046927
Status : Answered
Chosen Option : 4

Q.8 'फियरलेस गवर्नेस' पुस्तक के/की लेखक/लेखिका कौन हैं?

- Ans
- 1. अरुण शौरी
 - 2. एम. जे. अकबर
 - 3. किरण बेदी
 - 4. जसवंत सिंह

Question ID : 26433047310
Status : Answered
Chosen Option : 3

Q.9 1576 में हल्दीघाटी के युद्ध में महाराणा प्रताप को किसने हराया था?

- Ans
- 1. निज़ाम शाह
 - 2. जहांगीर
 - 3. अकबर
 - 4. हरिहर प्रथम

Question ID : 26433046932
Status : Answered
Chosen Option : 3

Q.10 भारत में सर्वोच्च न्यायालय की स्थापना किस अधिनियम के तहत की गई थी?

- Ans
- 1. 1853 का चार्टर अधिनियम
 - 2. 1773 का विनियमन अधिनियम
 - 3. 1784 का पिट्स इंडिया अधिनियम
 - 4. 1793 का चार्टर अधिनियम

Question ID : 26433047159
Status : Answered
Chosen Option : 4

Q.11 'कथकली' किस भारतीय राज्य का शास्त्रीय नृत्य है?

- Ans 1. केरल
 2. कर्नाटक
 3. असम
 4. मणिपुर

Question ID : 26433047145
Status : Answered
Chosen Option : 1

Q.12 कैसर जैसी स्थितियों के इलाज के लिए विकिरण-समस्थानिक (रेडियोआइसोटोप) कोबाल्ट-60 से, कोबाल्ट थेरेपी _____ किरणों का चिकित्सकीय प्रयोग है।

- Ans 1. अल्फा
 2. बीटा
 3. पराबैंगनी (अल्ट्रावायलेट)
 4. गामा

Question ID : 26433046623
Status : Answered
Chosen Option : 4

Q.13 प्रसिद्ध भारतीय शास्त्रीय नृत्यांगना मृणालिनी साराभाई को 1965 में _____ से सम्मानित किया गया था।

- Ans 1. पद्म विभूषण
 2. पद्म श्री
 3. पद्म भूषण
 4. कालिदास सम्मान

Question ID : 26433047837
Status : Not Answered
Chosen Option : --

Q.14 तटीय क्षेत्रों में, रात के समय हवा जमीन से समुद्र की ओर चलती है क्योंकि _____।

- Ans 1. जल, भूमि की तुलना में धीमी गति से ठंडा होता है
 2. भूमि पर निम्न दाब बनता है
 3. भूमि, जल की तुलना में धीमी गति से ठंडी होती है
 4. समुद्र में उच्च दाब बनता है

Question ID : 26433047828
Status : Answered
Chosen Option : 1

Q.15 स्वर्णजयंती ग्राम स्वरोजगार योजना (SGSY) वर्ष _____ में शुरू की गई थी।

- Ans 1. 1995
 2. 1992
 3. 1994
 4. 1999

Question ID : 26433047254
Status : Answered
Chosen Option : 2

Q.16 राज्य में विधान परिषद को समाप्त करने या बनाने उसका गठन की शक्ति किसके पास है?

- Ans 1. संबंधित राज्य के उच्च न्यायालय
 2. राष्ट्रपति
 3. संबंधित राज्य के मुख्यमंत्री
 4. संसद

Question ID : 26433047839
Status : Answered
Chosen Option : 3

Q.17 निम्नलिखित में से कौन सा त्योहार सूर्य की पूजा के लिए समर्पित है, और मुख्य रूप से बिहार के लोगों द्वारा मनाया जाता है?

- Ans 1. उगादी
 2. बोहाग बिहू
 3. छठ पूजा
 4. लोहड़ी

Question ID : 26433046621
Status : Answered
Chosen Option : 3

Q.18 मध्य भारत में उभरे सतनामी आंदोलन का उद्देश्य क्या था?

- Ans 1. बालिकाओं के लिए विद्यालय खोलना
 2. बाल विवाह पर रोक
 3. चमड़ा श्रमिकों की सामाजिक स्थिति में सुधार करना
 4. विधवाओं की स्थिति में सुधार करना

Question ID : 26433047833
Status : Not Answered
Chosen Option : --

Q.19 ओलिंपिक खेलों में व्यक्तिगत स्वर्ण पदक जीतने वाला/वाली पहला/पहली भारतीय निम्नलिखित में से कौन है?

- Ans
- 1. महेश भूपति
 - 2. अभिनव बिंद्रा
 - 3. अंजू बाबी जॉर्ज
 - 4. साइना नेहवाल

Question ID : 26433046640
Status : Answered
Chosen Option : 2

Q.20 राजस्थान में 2022 में शुरू की गई कौन सी योजना राज्य की ग्रामीण लड़कियों को छात्रवृत्ति योजनाएँ प्रदान करती है?

- Ans
- 1. स्टार्स (STARS) परियोजना
 - 2. विजन 2035
 - 3. समर्थ
 - 4. उड़ान

Question ID : 26433046918
Status : Answered
Chosen Option : 1

Q.21 निम्नलिखित में से कौन गुप्त वंश का पहला शासक था, जिसने महाराज-अधिराज की भव्य उपाधि धारण की थी?

- Ans
- 1. चंद्रगुप्त प्रथम
 - 2. स्कन्दगुप्त
 - 3. विष्णुगुप्त
 - 4. समुद्रगुप्त

Question ID : 26433047306
Status : Answered
Chosen Option : 1

Q.22 निम्नलिखित में से कौन-सा खेल ग्रीष्मकालीन ओलंपिक खेल, 2020 (2021 में आयोजित) में नहीं खेला गया था?

- Ans
- 1. बास्केटबॉल
 - 2. टेनिस
 - 3. ब्रिज
 - 4. जूडो

Question ID : 26433047591
Status : Not Answered
Chosen Option : --

Q.23 अप्रैल 2022 तक उपलब्ध जानकारी के अनुसार, भारत के पड़ोसी देश म्यांमार की राजधानी क्या है?

- Ans
- 1. ढाका
 - 2. थिम्पू
 - 3. बीजिंग
 - 4. नेपीडॉ (नेप्पीडॉ)

Question ID : 26433046880
Status : Answered
Chosen Option : 4

Q.24 पृथ्वी पर सबसे निचला ज्ञात बिंदु _____ को कहा जाता है, जो प्रशांत महासागर में स्थित है।

- Ans
- 1. ग्रेट ब्लू होल
 - 2. ग्रेट बैरियर रीफ
 - 3. चैलेंजर डीप
 - 4. फैक्टोरियल डीप

Question ID : 26433046926
Status : Answered
Chosen Option : 1

Q.25 निम्नलिखित में से कौन-सा, भारत में सार्वजनिक क्षेत्र के बैंक का उदाहरण है?

- Ans
- 1. फेडरल बैंक
 - 2. एच.डी.एफ.सी. बैंक
 - 3. पंजाब नेशनल बैंक
 - 4. ऐक्सिस बैंक

Question ID : 26433047317
Status : Answered
Chosen Option : 3