

# Multi Tasking Non Technical Staff Havaladar CBIC and CBN Examination 2021

|                |  |
|----------------|--|
| Roll Number    |  |
| Candidate Name |  |
| Venue Name     |  |
| Exam Date      | 18/07/2022                                       |
| Exam Time      | 1:00 PM - 2:30 PM                                |
| Subject        | MTS Non technical and Havaladar Examination 2021 |

Section : General English

**Q.1** Select the most appropriate **ANTONYM** of the given word.

**Ambitious**

- Ans  1. Dynamic  
 2. Vigorous  
 3. Lively  
 4. Lazy

Question ID : 26433050486  
Status : Answered  
Chosen Option : 4

**Q.2** Select the option that can be used as a one-word substitute for the given group of words.

**One who runs away from justice or a dangerous situation**

- Ans  1. Sadist  
 2. Insolvent  
 3. Fugitive  
 4. Altruist

Question ID : 26433050918  
Status : Answered  
Chosen Option : 3

**Q.3** Select the option that can be used as a one-word substitute for the given group of words.

**Having or forming a hard outer layer**

- Ans  1. Crushed  
 2. Cursed  
 3. Crunched  
 4. Crusted

Question ID : 26433051657  
Status : Answered  
Chosen Option : 4

**Q.4** Select the option that will improve the underlined part of the given sentence. In case no improvement is needed, select 'No improvement required'.

We have the responsibility of finding our daughter.

Ans  1. No improvement required

2. of finding us

3. to finding our

4. finding of our

Question ID : 26433051013

Status : Answered

Chosen Option : 1

**Q.5** Select the most appropriate synonym of the underlined word in the given sentence.

Try to sound more innocent than sarcastic.

Ans  1. caustic

2. playful

3. mild

4. rational

Question ID : 26433050940

Status : Answered

Chosen Option : 2

**Q.6** Select the option that can be used as a one-word substitute for the given group of words.

The study of the heart and its action and disease

Ans  1. Pharmacology

2. Anthropology

3. Cardiology

4. Microbiology

Question ID : 26433050623

Status : Answered

Chosen Option : 3

**Q.7** Select the most appropriate synonym of the given word.

Propitious

Ans  1. Conciliatory

2. Auspicious

3. Cogent

4. Inimical

Question ID : 26433051738

Status : Not Answered

Chosen Option : --

**Q.8 Select the correctly spelt word.**

**Ans**  1. Tolerate

2. Tolrate

3. Toilerate

4. Tolreite

Question ID : 26433050494

Status : Answered

Chosen Option : 1

**Q.9 The following sentence has been divided into parts. One of them may contain an error. Select the part that contains the error from the given options. If you don't find any error, mark 'No error' as your answer.**

**San Francisco is more bigger / than Boston in terms of / population density.**

**Ans**  1. San Francisco is more bigger

2. than Boston in terms of

3. No error

4. population density

Question ID : 26433051721

Status : Answered

Chosen Option : 1

**Q.10 Select the most appropriate meaning of the given idiom.**

**Hit the nail on the head**

**Ans**  1. To be exactly right about something

2. To injure someone fatally

3. To be extremely hard working

4. To be extremely cautious

Question ID : 26433051125

Status : Answered

Chosen Option : 1

**Q.11 Select the correctly spelt word.**

**Ans**  1. Despottic

2. Amorphuous

3. Contentous

4. Adamant

Question ID : 26433051310

Status : Not Attempted and  
Marked For Review

Chosen Option : --

**Q.12** Select the most appropriate option to fill in the blank.

I feel so lazy and \_\_\_\_\_ after doing any strenuous work.

- Ans
- 1. lively
  - 2. fortunate
  - 3. bouncing
  - 4. sluggish

Question ID : 26433050896  
Status : Answered  
Chosen Option : 4

**Q.13** Select the most appropriate meaning of the given idiom.

Once in a blue moon

- Ans
- 1. Occasionally
  - 2. Frequently
  - 3. Incessantly
  - 4. Very rarely

Question ID : 26433051793  
Status : Answered  
Chosen Option : 4

**Q.14** Select the most appropriate option to fill in the blank.

My mother is a \_\_\_\_\_ and forgiving person.

- Ans
- 1. compassionate
  - 2. respective
  - 3. difficult
  - 4. vital

Question ID : 26433051805  
Status : Answered  
Chosen Option : 1

**Q.15** Select the most appropriate ANTONYM of the given word.

Fleeting

- Ans
- 1. Lasting
  - 2. Passing
  - 3. Feeble
  - 4. Brief

Question ID : 26433051817  
Status : Answered  
Chosen Option : 1

**Q.16** The following sentence has been split into four segments. Identify the segment that contains a grammatical error.

Continuous heavy / rainfall may / further worse / the flood situation.

- Ans
- 1. rainfall may
  - 2. Continuous heavy
  - 3. further worse
  - 4. the flood situation

Question ID : 26433051774  
Status : Answered  
Chosen Option : 3

**Q.17** Select the most appropriate option to fill in the blank.

Ritu had gone out to drink water \_\_\_\_\_ her examination started.

- Ans
- 1. now
  - 2. before
  - 3. whether
  - 4. even

Question ID : 26433051449  
Status : Answered  
Chosen Option : 2

**Q.18** The following sentence has been split into four segments. Identify the segment that contains a grammatical error.

In the primitive / oceans, / life begins / nearly 3.5 billion years ago.

- Ans
- 1. nearly 3.5 billion years ago
  - 2. In the primitive
  - 3. oceans
  - 4. life begins

Question ID : 26433051289  
Status : Answered  
Chosen Option : 4

**Q.19** Select the most appropriate option to fill in the blank.

I am \_\_\_\_\_ willing to sign this contract with your company.

- Ans
- 1. no
  - 2. nor
  - 3. not
  - 4. none

Question ID : 26433050926  
Status : Answered  
Chosen Option : 3

**Q.20** Select the option that will improve the underlined part of the given sentence. In case no improvement is needed, select 'No improvement required'.

I am not gone to harm this dog.

- Ans
- 1. are not going
  - 2. is not gone
  - 3. No improvement required
  - 4. am not going

Question ID : 26433050483

Status : Answered

Chosen Option : 4

**Comprehension:**

In the following passage, some words have been deleted. Read the passage carefully and select the most appropriate option to fill in each blank.

Speech pathologists are (1) \_\_\_\_\_ in communication disabilities. They work within multidisciplinary health-care teams (2) \_\_\_\_\_ a variety of hospital and community-based sites. This (3) \_\_\_\_\_ working with medical, nursing, and allied health professionals such (4) \_\_\_\_\_ psychologists, occupational therapists, social (5) \_\_\_\_\_ and physiotherapists.

**SubQuestion No : 21**

**Q.21** Select the most appropriate option to fill in blank number 1.

- Ans
- 1. relatives
  - 2. teachers
  - 3. quacks
  - 4. experts

Question ID : 26433050929

Status : Answered

Chosen Option : 4

**Comprehension:**

In the following passage, some words have been deleted. Read the passage carefully and select the most appropriate option to fill in each blank.

Speech pathologists are (1) \_\_\_\_\_ in communication disabilities. They work within multidisciplinary health-care teams (2) \_\_\_\_\_ a variety of hospital and community-based sites. This (3) \_\_\_\_\_ working with medical, nursing, and allied health professionals such (4) \_\_\_\_\_ psychologists, occupational therapists, social (5) \_\_\_\_\_ and physiotherapists.

**SubQuestion No : 22**

**Q.22** Select the most appropriate option to fill in blank number 2.

- Ans
- 1. by
  - 2. across
  - 3. about
  - 4. after

Question ID : 26433050930

Status : Answered

Chosen Option : 2

**Comprehension:**

In the following passage, some words have been deleted. Read the passage carefully and select the most appropriate option to fill in each blank.

Speech pathologists are (1) \_\_\_\_\_ in communication disabilities. They work within multidisciplinary health-care teams (2) \_\_\_\_\_ a variety of hospital and community-based sites. This (3) \_\_\_\_\_ working with medical, nursing, and allied health professionals such (4) \_\_\_\_\_ psychologists, occupational therapists, social (5) \_\_\_\_\_ and physiotherapists.

**SubQuestion No : 23**

**Q.23 Select the most appropriate option to fill in blank number 3.**

- Ans  1. including  
 2. include  
 3. includes  
 4. included

Question ID : 26433050931  
Status : Answered  
Chosen Option : 3

**Comprehension:**

In the following passage, some words have been deleted. Read the passage carefully and select the most appropriate option to fill in each blank.

Speech pathologists are (1) \_\_\_\_\_ in communication disabilities. They work within multidisciplinary health-care teams (2) \_\_\_\_\_ a variety of hospital and community-based sites. This (3) \_\_\_\_\_ working with medical, nursing, and allied health professionals such (4) \_\_\_\_\_ psychologists, occupational therapists, social (5) \_\_\_\_\_ and physiotherapists.

**SubQuestion No : 24**

**Q.24 Select the most appropriate option to fill in blank number 4.**

- Ans  1. as  
 2. than  
 3. like  
 4. so

Question ID : 26433050932  
Status : Answered  
Chosen Option : 1

**Comprehension:**

In the following passage, some words have been deleted. Read the passage carefully and select the most appropriate option to fill in each blank.

Speech pathologists are (1) \_\_\_\_\_ in communication disabilities. They work within multidisciplinary health-care teams (2) \_\_\_\_\_ a variety of hospital and community-based sites. This (3) \_\_\_\_\_ working with medical, nursing, and allied health professionals such (4) \_\_\_\_\_ psychologists, occupational therapists, social (5) \_\_\_\_\_ and physiotherapists.

**SubQuestion No : 25**

**Q.25** Select the most appropriate option to fill in blank number 5.

- Ans  1. migrants  
 2. manuals  
 3. amateurs  
 4. workers

Question ID : 26433050933  
Status : Answered  
Chosen Option : 4

Section : **General Intelligence and Reasoning**

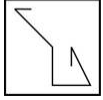
**Q.1** उस अक्षर-समूह का चयन करें, जो निम्नलिखित श्रृंखला में प्रश्न चिह्न (?) के स्थान पर आ सकता है।

TOC, SLX, RIS, QFN, ?

- Ans  1. PCI  
 2. PDI  
 3. PCJ  
 4. PEI

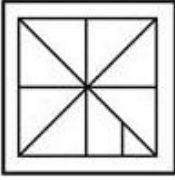
Question ID : 26433049052  
Status : Answered  
Chosen Option : 1

Q.2 उस विकल्प का चयन कीजिए जिसमें निम्नांकित आकृति उसके भाग के रूप में अंतर्निहित है। (आकृति को घुमाने की अनुमति नहीं है।)

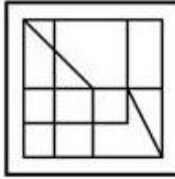


Ans


✗ 1.



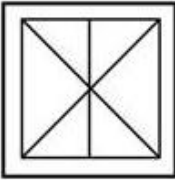
✓ 2.



✗ 3.



✗ 4.



Question ID : 26433048314

Status : Answered

Chosen Option : 2

Q.3 दिए गए विकल्पों में से वह संख्या चुनिए जो निम्नलिखित श्रृंखला में प्रश्नवाचक चिह्न (?) को प्रतिस्थापित कर सके।

53, 55, 58, 63, ?, 81

Ans ✗ 1. 69

✗ 2. 68

✗ 3. 71

✓ 4. 70

Question ID : 26433048668

Status : Answered

Chosen Option : 4

Q.4 उस विकल्प का चयन कीजिए जिसमें संख्याएँ उसी प्रकार संबंधित हैं जैसे निम्नलिखित समुच्चय की संख्याएँ संबंधित हैं।

(नोट : संख्याओं को उसके घटक अंकों में विभाजित किए बिना, पूर्ण संख्याओं पर संक्रियाएं की जानी चाहिए। उदाहरण के लिए 13 लीजिए – संक्रियाएं जैसे कि जोड़ना/ घटाना/ गुणा करना आदि को सम्पूर्ण 13 पर कर सकते हैं। 13 को 1 और 3 में विभक्त करके उन अंको पर की गई गणितीय संक्रियाएँ अमान्य है।

(4, 5, 81) (2, 5, 49)

- Ans  1. (3, 5, 64)  
 2. (3, 5, 74)  
 3. (4, 7, 111)  
 4. (4, 6, 90)

Question ID : 26433048309

Status : Answered

Chosen Option : 1

Q.5 उस विकल्प का चयन कीजिए जो पाँचवीं संख्या से उसी प्रकार संबंधित है जैसे दूसरी संख्या पहली संख्या से संबंधित है और चौथी संख्या तीसरी संख्या से संबंधित है।

225 : 36 :: 257 : 56 :: 358 : ?

- Ans  1. 60  
 2. 54  
 3. 44  
 4. 64

Question ID : 26433047883

Status : Answered

Chosen Option : 4

Q.6 छह व्यक्ति - अरुण, बृज, चमन, दानिश, इवान और फ़ारुख़ एक वृत्ताकार मेज़ के चतुर्दिक मेज़ के केंद्र की ओर मुख करके बैठे हैं। फ़ारुख़, अरुण के दाईं ओर दूसरे स्थान पर है। दानिश, चमन के बाईं ओर दूसरे स्थान पर है। बृज, फ़ारुख़ के दाईं ओर बिल्कुल बगल में है। एहसान के बाईं ओर तीसरे स्थान पर कौन बैठा है?

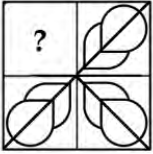
- Ans  1. चमन  
 2. दानिश  
 3. अरुण  
 4. फ़ारुख़

Question ID : 26433049098

Status : Answered

Chosen Option : 1

Q.7 विकल्पों में से उस आकृति का चयन करें, जो प्रश्न चिह्न (?) के स्थान पर आ सकती है और पैटर्न को पूर्ण कर सकती है।



Ans

✓ 1.



✗ 2.



✗ 3.



✗ 4.



Question ID : 26433049113

Status : Answered

Chosen Option : 1

Q.8 एक निश्चित कूट भाषा में, 'TRAIND' को 'FPKBSU' के रूप में लिखा जाता है, और 'POKRSB' को 'DUTLPQ' के रूप में लिखा जाता है। उसी भाषा में 'ANLCGH' को किस रूप में लिखा जाएगा?

Ans ✗ 1. JIENOB

✗ 2. JHEMOB

✓ 3. JIEMOB

✗ 4. JIFMOB

Question ID : 26433048898

Status : Answered

Chosen Option : 3

Q.9 दिए गए कथनों और निष्कर्षों को ध्यानपूर्वक पढ़ें। यह मानते हुए कि कथनों में दी गई जानकारी सत्य है, भले ही वह सामान्य रूप से ज्ञात तथ्यों से भिन्न प्रतीत होती हो और तय करें कि दिए गए निष्कर्षों में से कौन सा/से निष्कर्ष कथनों का तार्किक रूप से अनुसरण करता/ते है/हैं।

कथन:

सभी रेडियो इलेक्ट्रॉनिक वस्तुएँ हैं।  
कुछ स्पीकर इलेक्ट्रॉनिक वस्तुएँ हैं।

निष्कर्ष:

- I. कोई रेडियो स्पीकर नहीं है।
- II. कुछ रेडियो स्पीकर हैं।

- Ans
- 1. केवल निष्कर्ष I अनुसरण करता है।
  - 2. या तो निष्कर्ष I या II अनुसरण करता है।
  - 3. निष्कर्ष I और II दोनों अनुसरण करते हैं।
  - 4. केवल निष्कर्ष II अनुसरण करता है।

Question ID : 26433047880

Status : Answered

Chosen Option : 2

Q.10 एक निश्चित कूट भाषा में, 'Grains contain wheat rice' को '# 6 # %' के रूप में कोडित किया जाता है, और 'Rice are hard grains' को '# pr % lm' के रूप में कोडित किया जाता है। उसी कूट भाषा में 'grains rice' का कूट क्या होगा?

- Ans
- 1. # pr
  - 2. % 6
  - 3. lm 6
  - 4. # %

Question ID : 26433048721

Status : Answered

Chosen Option : 4

Q.11 एक निश्चित कोड भाषा में, '251' का अर्थ 'Water is Black' है, '509' का अर्थ 'Black Her Eyes' है और '981' का अर्थ 'Eyes Like Water' है। 'is' का कोड ज्ञात कीजिए।

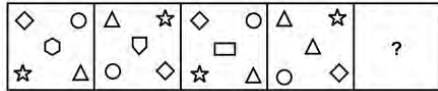
- Ans
- 1. 5
  - 2. 9
  - 3. 2
  - 4. 1

Question ID : 26433047873

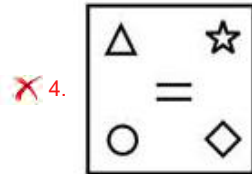
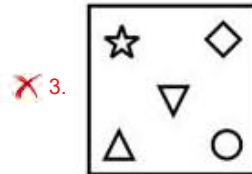
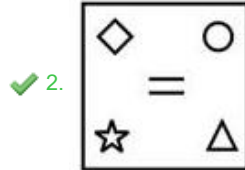
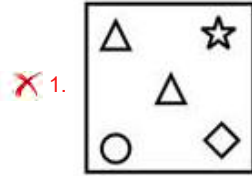
Status : Answered

Chosen Option : 3

Q.12 दिए गए विकल्पों में से उस आकृति का चयन कीजिए जिसे निम्नलिखित श्रृंखला में प्रश्नवाचक चिन्ह (?) के स्थान पर रखा जा सके।



Ans



Question ID : 26433047887

Status : Answered

Chosen Option : 2

Q.13 दिए गए दो चिह्नों और दो संख्याओं (अंक नहीं) को आपस में बदलने पर निम्नलिखित में से कौन सा समीकरण सही होगा?

÷ और ×, 25 और 12

I.  $105 \div 10 \times 75 + 25 - 12 = 3$

II.  $75 \times 12 \div 25 + 14 - 10 = 40$

Ans ✗ 1. I और II दोनों सही हैं।

✗ 2. केवल I सही है।

✓ 3. केवल II सही है।

✗ 4. न तो I सही है और न ही II सही है।

Question ID : 26433049040

Status : Answered

Chosen Option : 3

Q.14 उस विकल्प का चयन करें जो तीसरे अक्षर-समूह से उसी प्रकार संबंधित है, जिस प्रकार दूसरा अक्षर-समूह पहले अक्षर-समूह से संबंधित है।

POK : HLM :: ORT : ?

- Ans
- 1. QPL
  - 2. QPM
  - 3. QOM
  - 4. QOL

Question ID : 26433048725

Status : Answered

Chosen Option : 4

Q.15 एक निश्चित कूट भाषा में, 'SWISS' को 'HDRHH' लिखा जाता है, और 'TABOO' को 'GZYL' लिखा जाता है। उस भाषा में 'REHAB' को कैसे लिखा जाएगा?

- Ans
- 1. BAHRE
  - 2. HHGAK
  - 3. IGASH
  - 4. IVSZY

Question ID : 26433048468

Status : Answered

Chosen Option : 4

Q.16 दिए गए कथनों और निष्कर्षों को ध्यानपूर्वक पढ़िए। कथनों में दी गई सूचना को सत्य मानते हुए, चाहे यह सामान्यतया ज्ञात तथ्यों से असंगत प्रतीत होती हो, यह निर्धारित करें कि दिए गए निष्कर्षों में से कौन-सा/से निष्कर्ष, कथनों का तार्किक रूप से अनुसरण करता है/करते हैं।

कथन:

कोई भी सेब, पेड़ नहीं है  
कुछ पेड़, घने हैं।

निष्कर्ष:

- I. कुछ सेब, घने हैं।
- II. कोई भी पेड़, सेब नहीं है।

- Ans
- 1. केवल निष्कर्ष I अनुसरण करता है।
  - 2. न तो निष्कर्ष I न ही II अनुसरण करता है।
  - 3. केवल निष्कर्ष II अनुसरण करता है।
  - 4. निष्कर्ष I और II दोनों अनुसरण करते हैं।

Question ID : 26433048304

Status : Answered

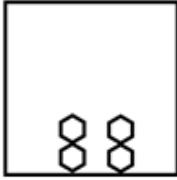
Chosen Option : 3

Q.17 एक कागज़ को मोड़ने का क्रम, तथा मुड़े हुए कागज़ को काटे जाने का ढंग, नीचे दिए गए चित्रों में प्रदर्शित है। खोले जाने पर यह कागज़ कैसा दिखाई देगा?

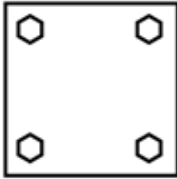


Ans

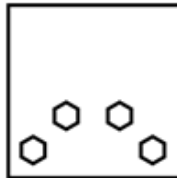
1.



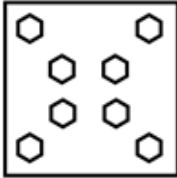
2.



3.



4.



Question ID : 26433048141

Status : Answered

Chosen Option : 3

Q.18 यदि '-' का अर्थ '×' है, '×' का अर्थ '+' है, '+' का अर्थ '÷' है और '÷' का अर्थ '-' है, तो  $516 - 2558 + 172 \times 12 \div 7086$  का मान क्या होगा?

Ans  1. 700

2. 500

3. 600

4. 400

Question ID : 26433049107

Status : Answered

Chosen Option : 3

Q.19 छह व्यक्तियों, F, G, H, I, J और K ने अपनी परीक्षा में अलग-अलग अंक प्राप्त किए। G ने F और K से अधिक अंक प्राप्त किए। F ने I से अधिक अंक प्राप्त किए, किंतु उच्चतम अंक प्राप्त नहीं किए। G ने H से अधिक अंक प्राप्त किए। K ने J से अधिक अंक प्राप्त किए, किंतु H से कम अंक प्राप्त किए। सबसे कम अंक प्राप्त करने वालों में I का तीसरा स्थान है। F ने K से अधिक अंक प्राप्त किए किंतु H से कम अंक प्राप्त किए। F ने 59 अंक प्राप्त किए और K ने 46 अंक प्राप्त किए। निम्नलिखित में से किसने सबसे अधिक अंक प्राप्त किए?

- Ans
- 1. K
  - 2. H
  - 3. G
  - 4. J

Question ID : 26433049099  
Status : Answered  
Chosen Option : 3

Q.20 उस विकल्प का चयन करें जो तीसरे अक्षर-समूह से उसी तरह संबंधित है जैसे दूसरा अक्षर-समूह पहले अक्षर-समूह से संबंधित है।

LON : RRN :: MAD : ?

- Ans
- 1. HDO
  - 2. IDO
  - 3. HEO
  - 4. IEO


Question ID : 26433048465  
Status : Answered  
Chosen Option : 1

Q.21 तीन पुरुष K, J और M दक्षिण की ओर अभिमुख होकर एक पंक्ति में बैठे हैं (आवश्यक नहीं कि वे इसी क्रम में)। तीन महिलाएँ R, F और T एक पंक्ति में इन पुरुषों के मुँह की ओर मुँह करके बैठी हैं (आवश्यक नहीं कि वे इसी क्रम में हों)। R, F और T की निकटतम पड़ोसी है। K, M के दाईं ओर दूसरे स्थान पर है। R, F के ठीक बाईं ओर है। यदि हम महिलाओं को बाएँ छोर से दाएँ छोर तक उनके नाम के वर्णानुक्रम में व्यवस्थित करते हैं, तो कितनी महिलाएँ उसी पुरुष के अभिमुख होंगी, जिनके अभिमुख वे इस नई व्यवस्था से पहले थीं?

- Ans
- 1. दो
  - 2. एक
  - 3. तीन
  - 4. शून्य

Question ID : 26433048680  
Status : Answered  
Chosen Option : 2

Q.22 विकल्पों में से उस आकृति का चयन करें जो प्रश्न चिह्न (?) को प्रतिस्थापित कर सकती है और पैटर्न को पूरा कर सकती है (आकृति को घुमाने की अनुमति नहीं है)।



Ans

1.



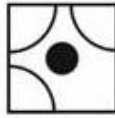
2.



3.



4.

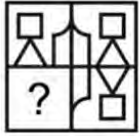


Question ID : 26433048684

Status : Answered

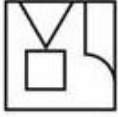
Chosen Option : 1

Q.23 विकल्पों में से उस आकृति का चयन कीजिए जो प्रश्न चिह्न (?) को प्रतिस्थापित कर सकती है और पैटर्न को पूरा कर सकती है (आकृति को घुमाने की अनुमति नहीं है)।



Ans

✓ 1.



✗ 2.



✗ 3.



✗ 4.



Question ID : 26433048713

Status : Answered

Chosen Option : 1

Q.24 दिए गए विकल्पों में से उस संख्या का चयन करें, जो निम्नलिखित श्रृंखला में प्रश्न चिह्न (?) के स्थान पर आ सकती है।

8, 18, 57, 232, ?, 6996

Ans ✗ 1. 828

✓ 2. 1165

✗ 3. 924

✗ 4. 888

Question ID : 26433049102

Status : Answered

Chosen Option : 2

Q.25 उस विकल्प का चयन कीजिए जो पाँचवें पद से उसी प्रकार संबंधित है जैसे दूसरा पद पहले पद से संबंधित है और चौथा पद तीसरे पद से संबंधित है।

ACADEMY : ZXZVVNB :: FINANCE : URMZMXV :: PACKAGE : ?

Ans ✗ 1. KZXPZTU

✓ 2. KZXPZTV

✗ 3. KZXQZTV

✗ 4. KZXPZUV

Question ID : 26433047870

Status : Answered

Chosen Option : 2

Q.1 निम्न तालिका चार अलग-अलग कंपनियों द्वारा बनाई गई वस्तुओं की मांग और उत्पादन को दर्शाती है।

| कंपनी का नाम | मांग(वस्तुओं की संख्या) | उत्पादन (वस्तुओं की संख्या) |
|--------------|-------------------------|-----------------------------|
| कंपनी A      | 3500                    | 1500                        |
| कंपनी B      | 500                     | 2000                        |
| कंपनी C      | 2500                    | 1000                        |
| कंपनी D      | 1000                    | 3500                        |

कंपनी B ने अपेक्षित वस्तुओं (मांग) की संख्या से कितनी अतिरिक्त वस्तुओं का उत्पादन किया है?

- Ans
- 1. 1,500
  - 2. 500
  - 3. 2,500
  - 4. 2,000

Question ID : 26433050437

Status : Answered

Chosen Option : 1

Q.2  $\frac{5}{11} \div \frac{7}{25} \times \frac{33}{28} + \frac{5}{12} \times \frac{2}{3} \div \frac{25}{27}$  का मान ज्ञात कीजिए।  
 $\frac{6}{11} \times \frac{5}{12} \div \frac{15}{44}$

- Ans
- 1.  $\frac{8408}{1955}$
  - 2.  $\frac{6507}{1960}$
  - 3.  $\frac{9670}{1866}$
  - 4.  $\frac{9567}{1860}$

Question ID : 26433050014

Status : Answered

Chosen Option : 2

Q.3 600 m लंबी एक ट्रेन 45 km/h की चाल से चल रही है। ट्रेन एक स्थिर खंभे को पूरी तरह से पार करने में कितना समय लेगी?

- Ans
- 1. 42 s
  - 2. 54 s
  - 3. 48 s
  - 4. 60 s

Question ID : 26433049995  
Status : Answered  
Chosen Option : 3

Q.4 एक समलंब के आकार के मैदान का क्षेत्रफल  $1,785 \text{ ft}^2$  है। इसकी दो समानांतर भुजाओं के बीच की दूरी 35 ft है और समानांतर भुजाओं में से एक की लंबाई 42 ft है। दूसरी समानांतर भुजा की लंबाई कितनी है?

- Ans
- 1. 40 ft
  - 2. 60 ft
  - 3. 35 ft
  - 4. 65 ft

Question ID : 26433050466  
Status : Answered  
Chosen Option : 2

Q.5 समीरा कोई काम 9 दिन में कर सकती है। सुजाता उसी काम के  $\frac{1}{3}$  भाग को 3 दिन में कर सकती है। यदि समीरा अकेले 2 दिन काम करती है और फिर काम छोड़कर चली जाती है, तो शेष काम को सुजाता अकेले कितने दिन में कर सकती है?

- Ans
- 1. 9 दिन
  - 2. 8 दिन
  - 3. 7 दिन
  - 4. 12 दिन

Question ID : 26433049436  
Status : Answered  
Chosen Option : 3

Q.6 एक आयत की लंबाई उसकी चौड़ाई की 4 गुनी है। यदि आयत का क्षेत्रफल  $576 \text{ cm}^2$  है, तो इस आयत का परिमाण क्या होगा?

- Ans
- 1. 60 cm
  - 2. 56 cm
  - 3. 112 cm
  - 4. 120 cm

Question ID : 26433049611  
Status : Answered  
Chosen Option : 4

Q.7 दो संख्याएं इस प्रकार हैं कि पहली संख्या दूसरी संख्या की दोगुनी है। यदि उनका औसत 30 है, तो दोनों संख्याओं का धनात्मक अंतर ज्ञात कीजिए।

- Ans
- 1. 25
  - 2. 10
  - 3. 20
  - 4. 15

Question ID : 26433049603

Status : Answered

Chosen Option : 3

Q.8 निम्न बार चार्ट एक वर्ष के दौरान 6 विभिन्न दुकानों द्वारा बेचे गए पेनों ('000s में) की संख्या दर्शाता है।



यदि प्रत्येक पेन का मूल्य ₹4.50 है, तो प्रति दुकान अर्जित औसत राजस्व कितना है?

- Ans
- 1. ₹92,000
  - 2. ₹84,000
  - 3. ₹90,000
  - 4. ₹96,000

Question ID : 26433050016

Status : Answered

Chosen Option : 3

Q.9 दो घनों, जिनमें से प्रत्येक का संपूर्ण पृष्ठीय क्षेत्रफल  $150 \text{ cm}^2$  है, को आपस में जोड़कर एक घनाभ बनाया जाता है। परिणामी घनाभ का संपूर्ण पृष्ठीय क्षेत्रफल ज्ञात कीजिए।

- Ans
- 1.  $275 \text{ cm}^2$
  - 2.  $300 \text{ cm}^2$
  - 3.  $225 \text{ cm}^2$
  - 4.  $250 \text{ cm}^2$

Question ID : 26433049240

Status : Answered

Chosen Option : 4

Q.10 5 संख्याओं का औसत 15 है। यदि पहली 4 संख्याएं 12, 17, 23 और 8 हैं, तो पांचवीं संख्या ज्ञात कीजिए।

- Ans
- 1. 22
  - 2. 20
  - 3. 15
  - 4. 30

Question ID : 26433050446  
Status : Answered  
Chosen Option : 3

Q.11 निम्न पाई-चार्ट एक परिवार द्वारा किसी सप्ताह के दौरान विभिन्न मर्दों पर किए गए व्ययों (Various kinds of expenses) को निरूपित करता है।



यदि सप्ताह में खरीदारी (Shopping) पर व्यय की गई राशि ₹1,000 है, तो भोजन (Food) पर व्यय की गई कुल राशि कितनी है?

- Ans
- 1. ₹1,750
  - 2. ₹1,450
  - 3. ₹1,650
  - 4. ₹1,550

Question ID : 26433049239  
Status : Answered  
Chosen Option : 1

Q.12 यदि एक व्यक्ति ₹3,000 में कोई वस्तु खरीदता है और इसे 10% के लाभ पर बेचता है, तो उस वस्तु का विक्रय मूल्य ज्ञात कीजिए।

- Ans
- 1. ₹3,200
  - 2. ₹3,100
  - 3. ₹3,300
  - 4. ₹3,400

Question ID : 26433049227  
Status : Answered  
Chosen Option : 3

Q.13 एक थैले में ₹1, ₹2 और ₹5 के सिक्के क्रमशः 5 : 10 : 6 के अनुपात में हैं। थैले में कुल धनराशि ₹275 है। थैले में ₹5 के कितने सिक्के हैं?

- Ans
- 1. 30
  - 2. 20
  - 3. 25
  - 4. 35

Question ID : 26433050429  
Status : Answered  
Chosen Option : 1

Q.14 एक वस्तु का अंकित मूल्य ₹20,000 है, और बेचते समय दुकानदार 12% और  $d\%$  की दो क्रमागत छूट प्रदान करता है। यदि वस्तु का विक्रय मूल्य ₹16,720 है, तो  $d$  का मान क्या होगा?

- Ans
- 1. 4
  - 2. 8
  - 3. 10
  - 4. 5

Question ID : 26433050378  
Status : Answered  
Chosen Option : 4

Q.15 अपनी सामान्य चाल की  $\frac{5}{7}$  चाल से बस स्टॉप की ओर जा रहे राकेश की बस 10 मिनट के अंतर से छूट जाती है। बस स्टॉप से बस पकड़ने के लिए ठीक समय पर पहुंचने में राकेश को सामान्यतः कितना समय लगता है?

- Ans
- 1. 30 मिनट
  - 2. 15 मिनट
  - 3. 25 मिनट
  - 4. 20 मिनट

Question ID : 26433050434  
Status : Answered  
Chosen Option : 3

Q.16 एक कक्षा में 45 विद्यार्थी हैं। परीक्षा में 80% विद्यार्थी उत्तीर्ण हुए। कितने विद्यार्थी परीक्षा में अनुत्तीर्ण हुए?

- Ans
- 1. 9
  - 2. 11
  - 3. 8
  - 4. 5

Question ID : 26433050424  
Status : Answered  
Chosen Option : 1

Q.17 एक मिश्रधातु में A और B का अनुपात 2 : 5 है। यदि मिश्रधातु केवल A और B से बनी है, तो उस मिश्रधातु के 210 kg में B की मात्रा कितनी होगी?

- Ans
- 1. 135 kg
  - 2. 150 kg
  - 3. 180 kg
  - 4. 60 kg

Question ID : 26433050005  
Status : Answered  
Chosen Option : 2

Q.18 विजय ने एक घड़ी 50% की हानि पर बेची। यदि उसे ₹2,400 की हानि हुई है, तो घड़ी का विक्रय मूल्य ज्ञात कीजिए?

- Ans
- 1. ₹3,600
  - 2. ₹2,400
  - 3. ₹1,200
  - 4. ₹4,800

Question ID : 26433049647  
Status : Answered  
Chosen Option : 4

Q.19 एक परीक्षा में, 85% छात्र उत्तीर्ण हुए। यदि 75 छात्र अनुत्तीर्ण हुए, तो कितने छात्र परीक्षा में सम्मिलित हुए थे?

- Ans
- 1. 480
  - 2. 500
  - 3. 540
  - 4. 520

Question ID : 26433049825  
Status : Answered  
Chosen Option : 2

Q.20 लड़कों और लड़कियों की एक कक्षा में, लड़कों द्वारा प्राप्त औसत अंक 90 हैं। यदि पूरी कक्षा का औसत 92 है, तथा लड़कों और लड़कियों की संख्याओं का अनुपात 3 : 2 है, तो लड़कियों द्वारा प्राप्त अंकों का औसत क्या है?

- Ans
- 1. 95
  - 2. 97
  - 3. 96
  - 4. 94

Question ID : 26433050372  
Status : Answered  
Chosen Option : 1

Q.21 ब्याज वार्षिक रूप में संयोजित होने पर, 10% की वार्षिक चक्रवृद्धि ब्याज दर से 3 वर्षों के लिए निवेश की गई ₹12,000 की राशि परिपक्वता अवधि पर कितनी हो जाएगी?

- Ans
- 1. ₹16,826
  - 2. ₹18,922
  - 3. ₹15,972
  - 4. ₹14,928

Question ID : 26433049658  
Status : Answered  
Chosen Option : 3

Q.22 10% प्रति वर्ष की दर से जमा की गई धनराशि पर 4 वर्ष के लिए साधारण ब्याज ₹20,000 है। उसी धनराशि पर 2 वर्ष के लिए उपर्युक्त ब्याज दर की आधी दर पर, वार्षिक रूप से संयोजित होने वाला चक्रवृद्धि ब्याज क्या होगा?

- Ans
- 1. ₹5,020
  - 2. ₹5,015
  - 3. ₹5,125
  - 4. ₹5,010

Question ID : 26433050381  
Status : Answered  
Chosen Option : 3

Q.23 दो संख्याओं का गुणनफल 1296 है। यदि इन दोनों संख्याओं का महत्तम समापवर्तक (HCF) 12 है, तो दोनों संख्याओं का लघुतम समापवर्त्य (LCM) कितना होगा?

- Ans
- 1. 108
  - 2. 120
  - 3. 60
  - 4. 84

Question ID : 26433049662  
Status : Answered  
Chosen Option : 1

Q.24 P एक कार्य को अकेले 16 दिनों में कर सकता है, Q अकेले उसी कार्य को 24 दिनों में कर सकता है, जबकि R अकेले उसी कार्य को 48 दिनों में कर सकता है। वे एक साथ मिलकर काम करके कार्य पूरा करते हैं, और उन्हें कार्य के लिए कुल ₹744 का भुगतान प्राप्त होता है। सबसे कम धनराशि प्राप्त करने वाले व्यक्ति का हिस्सा क्या है?

- Ans
- 1. ₹112
  - 2. ₹118
  - 3. ₹132
  - 4. ₹124

Question ID : 26433049843  
Status : Answered  
Chosen Option : 4

Q.25 निम्नलिखित व्यंजक को सरल कीजिए।

$$15 - \{4 - (4 - 1)\} + 27$$

- Ans
- 1. 40
  - 2. 38
  - 3. 42
  - 4. 41

Question ID : 26433049219  
Status : Answered  
Chosen Option : 4

Section : General Awareness

Q.1 निम्नलिखित में से कौन पश्चिम बंगाल का पारंपरिक नकाबपोश नृत्य (मास्कड डांस) है?

- Ans
- 1. जवारा
  - 2. गंभीरा
  - 3. कावड़ी
  - 4. गिद्धा

Question ID : 26433047395  
Status : Not Answered  
Chosen Option : --

Q.2 लाई हराओबा (Lai Haraoba) महोत्सव \_\_\_\_\_ जनजाति द्वारा मनाया जाता है।

- Ans
- 1. मेइतेई (Meiteis)
  - 2. देओरी (Deoris)
  - 3. खासी (Khasis)
  - 4. सुमी (Sumis)

Question ID : 26433047821  
Status : Not Answered  
Chosen Option : --

Q.3 यदि किसी व्यक्ति ने जनगणना से पूर्व वाले वर्ष में \_\_\_\_\_ महीनों से कम समय तक के लिए काम किया है, तो उसे सीमांत रोजगार (marginal employment) वाला व्यक्ति कहा जाएगा।

- Ans
- 1. 6
  - 2. 12
  - 3. 9
  - 4. 3

Question ID : 26433047854  
Status : Not Answered  
Chosen Option : --

Q.4 निम्नलिखित में से किन यौगिकों को ऐलिफैटिक यौगिकों के रूप में भी जाना जाता है?

- Ans
- 1. चक्रीय यौगिकों
  - 2. अचक्रीय यौगिकों
  - 3. ऐरोमैटिक यौगिकों
  - 4. बेन्जोनोंड यौगिकों

Question ID : 26433047823  
Status : Not Answered  
Chosen Option : --

Q.5 निम्नलिखित में से कौन सा पारिस्थितिक तंत्र के अजैविक घटक का उदाहरण नहीं है?

- Ans
- 1. वर्षा
  - 2. पशु
  - 3. पवन
  - 4. मृदा

Question ID : 26433047400  
Status : Answered  
Chosen Option : 2

Q.6 निम्नलिखित में से कौन 2019 में पद्म श्री प्राप्त करने वाली पहली विपरीतलिंगी (ट्रांसजेंडर) भरतनाट्यम नर्तकी थीं?

- Ans
- 1. लक्ष्मी नारायण त्रिपाठी
  - 2. नर्तकी नटराज
  - 3. मंजम्मा जोगती
  - 4. नाज़ जोशी

Question ID : 26433046637  
Status : Not Answered  
Chosen Option : --

Q.7 भारत की संसद \_\_\_\_\_ सदनों में विभाजित है।

- Ans
- 1. दो
  - 2. पाँच
  - 3. चार
  - 4. तीन

Question ID : 26433046639  
Status : Answered  
Chosen Option : 1

Q.8 मेगस्थनीज एक राजदूत था, जिसे \_\_\_\_\_ शासक द्वारा \_\_\_\_\_ के दरबार में भेजा गया था।

- Ans
- 1. चीनी, शाहजहां
  - 2. यूनानी, चंद्रगुप्त
  - 3. यूनानी, बाबर
  - 4. चीनी, सिकंदर लोधी

Question ID : 26433047781  
Status : Answered  
Chosen Option : 2

Q.9 \_\_\_\_\_ एक सरोद वादक थे।

- Ans
- 1. भजन सोपौरी
  - 2. बुद्धदेव दास गुप्ता
  - 3. अन्नपूर्णा देवी
  - 4. पं. शिव कुमार शर्मा

Question ID : 26433047786  
Status : Answered  
Chosen Option : 2

Q.10 फरवरी 2022 तक की जानकारी के अनुसार निम्नलिखित में से किसे UGC के अध्यक्ष के रूप में नियुक्त किया गया था?

- Ans
- 1. रवींद्र कटोटी
  - 2. राजीव सरन
  - 3. एम जगदीश कुमार
  - 4. जगजीवन देसाई

Question ID : 26433047769  
Status : Answered  
Chosen Option : 3

Q.11 निम्नलिखित में से कौन सा उपन्यास ईएम फोर्स्टर द्वारा लिखा गया है?

- Ans
- 1. अ पैसेज टू इंडिया (A passage to India)
  - 2. इन्विजिबल मैन (Invisible Man)
  - 3. डॉन क्विजोट (Don Quixote)
  - 4. बीलव्ड (Beloved)

Question ID : 26433047785  
Status : Answered  
Chosen Option : 1

Q.12 मुगल बादशाह औरंगजेब ने अपनी पत्नी दिलरस बानो बेगम की याद में किस मुगल स्मारक का निर्माण करवाया था?

- Ans
- 1. ताज महल
  - 2. रानी की वाव
  - 3. बीबी कब्र (टूंब)
  - 4. बीबी का मकबरा

Question ID : 26433047047  
Status : Answered  
Chosen Option : 4

Q.13 भारतीय संविधान का निम्नलिखित में से कौन सा अनुच्छेद जीवन और व्यक्तिगत स्वतंत्रता की सुरक्षा प्रदान करता है?

- Ans
- 1. अनुच्छेद 250
  - 2. अनुच्छेद 57
  - 3. अनुच्छेद 370
  - 4. अनुच्छेद 21

Question ID : 26433047063  
Status : Answered  
Chosen Option : 4

Q.14 मनु ने एक ऐसे समुद्र के बारे में लिखा है जो इतना खारा है कि उसमें डूबना बहुत मुश्किल है। इस समुद्र का नाम बताएँ।

- Ans
- 1. मृत सागर
  - 2. हरा सागर
  - 3. अरब सागर
  - 4. लाल सागर

Question ID : 26433047051  
Status : Answered  
Chosen Option : 1

Q.15 निम्नलिखित में से कौन अकबर के नवरत्नों में से एक नहीं थे?

- Ans
- 1. राणा अमर सिंह
  - 2. अबुल फजल
  - 3. राजा टोडरमल
  - 4. राजा मान सिंह

Question ID : 26433047057  
Status : Answered  
Chosen Option : 1

Q.16 निम्नलिखित भारतीय स्वतंत्रता सेनानियों में से किसकी हत्या कर दी गई थी?

- Ans
- 1. नाना साहब
  - 2. महात्मा गांधी
  - 3. जवाहरलाल नेहरू
  - 4. बाल गंगाधर तिलक

Question ID : 26433046633  
Status : Answered  
Chosen Option : 4

Q.17 तोते निम्नलिखित में से किस वर्ग से संबंधित हैं?

- Ans
- 1. एम्फीबिया
  - 2. स्तनी वर्ग (मैमेलिया)
  - 3. सरीसृप
  - 4. एवीज

Question ID : 26433046625  
Status : Answered  
Chosen Option : 4

Q.18 ग्रे-वाटर प्रबंधन के लिए केंद्रीय जल शक्ति मंत्री गजेन्द्र सिंह शेखावत द्वारा मार्च 2022 में \_\_\_\_\_ अभियान शुरू किया गया।

- Ans
- 1. समर्थ (SAMARTH)
  - 2. डोनेट ए पेंशन (Donate-a-Pension)
  - 3. सुजलाम 2.0 (Sujalam 2.0)
  - 4. स्टैंड अप इंडिया (Stand Up India)

Question ID : 26433047043  
Status : Answered  
Chosen Option : 3

Q.19 MICR में R का पूर्णरूप क्या है?

- Ans
- 1. Reader (रीडर)
  - 2. Route (रूट)
  - 3. Request (रिक्वेस्ट)
  - 4. Recognition (रिकोग्निशन)

Question ID : 26433047792  
Status : Answered  
Chosen Option : 4

Q.20 साइमन कमीशन के संबंध में निम्नलिखित में से कौन सा कथन सही है?  
I. 1927 में, इंग्लैंड में ब्रिटिश सरकार ने भारत के राजनीतिक भविष्य को तय करने के लिए लॉर्ड साइमन की अध्यक्षता में एक आयोग भेजने का फैसला किया।  
II. आयोग में कोई भारतीय प्रतिनिधि नहीं था।

- Ans
- 1. न तो I और न ही II
  - 2. केवल II
  - 3. केवल I
  - 4. I और II दोनों

Question ID : 26433047409  
Status : Answered  
Chosen Option : 4

Q.21 HVJ पाइपलाइन \_\_\_\_\_ से होकर नहीं गुजरती है।

- Ans
- 1. कर्नाटक
  - 2. मध्य प्रदेश
  - 3. राजस्थान
  - 4. गुजरात

Question ID : 26433047052  
Status : Answered  
Chosen Option : 1

Q.22 निम्नलिखित में से कौन सा भारत का एकमात्र सक्रिय ज्वालामुखी द्वीप है?

- Ans
- 1. अमीनदीवी द्वीप
  - 2. बैरन द्वीप
  - 3. लक्कादीव द्वीप
  - 4. मिनिकॉय द्वीप

Question ID : 26433046628  
Status : Answered  
Chosen Option : 2

Q.23 निम्नलिखित में से कौन-सा भारत में बेरोजगारी का कारण नहीं है?

- Ans
- 1. बुनियादी ढांचे के विकास का अभाव
  - 2. आवासीय सुविधाओं का अभाव
  - 3. धीमी आर्थिक वृद्धि
  - 4. श्रम बल में वृद्धि

Question ID : 26433047005  
Status : Answered  
Chosen Option : 4

Q.24 फील्ड-हॉकी में साइड-लाइन की लंबाई कितनी होती है?

- Ans  1. 110.0 m  
 2. 72.3 m  
 3. 102.1 m  
 4. 91.4 m

Question ID : 26433047840  
Status : Not Answered  
Chosen Option : --

Q.25 नवंबर 2021 में खेले गए आई.सी.सी. पुरुष T20 विश्व कप फाइनल में ऑस्ट्रेलिया ने किस टीम को हराया था?

- Ans  1. इंग्लैंड  
 2. भारत  
 3. पाकिस्तान  
 4. न्यूज़ीलैंड

Question ID : 26433047240  
Status : Not Answered  
Chosen Option : --