

# Multi Tasking Non Technical Staff Havaladar CBIC and CBN Examination 2021

Roll Number	
Candidate Name	
Venue Name	
Exam Date	18/07/2022
Exam Time	5:00 PM - 6:30 PM
Subject	MTS Non technical and Havaladar Examination 2021

Section : General English

**Q.1** The following sentence has been divided into parts. One of them may contain an error. Select the part that contains the error from the given options. If you don't find any error, mark 'No error' as your answer.

We cancelled our trip / last week as the / car breaks down.

- Ans  1. car breaks down  
 2. We cancelled our trip  
 3. No error  
 4. last week as the

Question ID : 26433051443  
Status : Answered  
Chosen Option : 1

**Q.2** Select the option that will improve the underlined part of the given sentence. In case no improvement is needed, select 'No improvement required'.

My assistant will see you in the meets next week.

- Ans  1. at the meeting  
 2. in an meeting  
 3. No improvement required  
 4. on the meets

Question ID : 26433050692  
Status : Answered  
Chosen Option : 1

**Q.3** Select the most appropriate meaning of the underlined idiom in the given sentence.

If your son has lied to me, then he has to face the music.

- Ans  1. To relocate  
 2. To accept consequences  
 3. To work hard  
 4. To sacrifice oneself

Question ID : 26433051098  
Status : Answered  
Chosen Option : 2

**Q.4** The following sentence has been split into four segments. Identify the segment that contains a grammatical error.

Thunderstorms develop / in hot, humid, tropical areas / like India much to / frequently.

- Ans
- 1. in hot, humid, tropical areas
  - 2. like India much to
  - 3. frequently
  - 4. Thunderstorms develop

Question ID : 26433051748  
Status : Answered  
Chosen Option : 2

**Q.5** Select the option that can be used as a one-word substitute for the given group of words.

A moral or legal obligation

- Ans
- 1. Object
  - 2. Duty
  - 3. Discipline
  - 4. Principal

Question ID : 26433051736  
Status : Answered  
Chosen Option : 4

**Q.6** Select the most appropriate option to fill in the blank.

The court has absolved him \_\_\_\_\_ all the charges levied against him.

- Ans
- 1. in
  - 2. to
  - 3. with
  - 4. of

Question ID : 26433051111  
Status : Answered  
Chosen Option : 3

**Q.7** Select the option that will improve the underlined part of the given sentence. In case no improvement is needed, select 'No improvement required'.

Please fill away this application form while you wait for your turn.

- Ans
- 1. out
  - 2. No improvement required
  - 3. on
  - 4. by

Question ID : 26433051778  
Status : Answered  
Chosen Option : 1

**Q.8** The following sentence has been divided into parts. One of them may contain an error. Select the part that contains the error from the given options. If you don't find any error, mark 'No error' as your answer.

The Prime Minister said that / everyone must keep there / surroundings clean.

- Ans  1. everyone must keep there  
 2. No error  
 3. surroundings clean  
 4. The Prime Minister said that

Question ID : 26433051723  
Status : Answered  
Chosen Option : 3

**Q.9** Select the INCORRECTLY spelt word.

- Ans  1. Vulnerable  
 2. Euphoric  
 3. Viseral  
 4. Wondrous

Question ID : 26433051361  
Status : Answered  
Chosen Option : 4

**Q.10** Select the most appropriate option to substitute the underlined segment in the given sentence. If there is no need to substitute it, select 'No substitution required'.

The Himalayas is the highest and one of the more beautiful mountain ranges of the world.

- Ans  1. one of the such  
 2. No substitution required  
 3. one of the most  
 4. one of the much

Question ID : 26433051188  
Status : Answered  
Chosen Option : 3

**Q.11** Select the most appropriate ANTONYM of the underlined word in the given sentence.

The use of cluster bombs seems morally dubious.

- Ans  1. indecisive  
 2. ambiguous  
 3. improbable  
 4. definitive

Question ID : 26433051094  
Status : Answered  
Chosen Option : 3

Q.12 Select the most appropriate option to fill in the blank.

They were getting closer to \_\_\_\_\_ goal.

- Ans  1. their  
 2. them  
 3. there  
 4. its

Question ID : 26433050501  
Status : Answered  
Chosen Option : 1

Q.13 Select the most appropriate ANTONYM of the given word.

Encourage

- Ans  1. Advance  
 2. Establish  
 3. Frustrate  
 4. Conquer

Question ID : 26433051358  
Status : Answered  
Chosen Option : 4

Q.14 Select the correctly spelt word.

- Ans  1. Excevation  
 2. Evidense  
 3. Cortyard  
 4. Spearhead

Question ID : 26433051744  
Status : Answered  
Chosen Option : 2

Q.15 Select the most appropriate synonym of the underlined word in the given sentence.

It was easy for the opposition to criticise the colonial policy.

- Ans  1. decay  
 2. worship  
 3. sanction  
 4. condemn

Question ID : 26433050515  
Status : Answered  
Chosen Option : 1

Q.16 Select the idiom that can substitute the underlined segment in the given sentence.

He was bragging about how he bullied the newcomers, I told him in a sarcastic manner that nobody cared.

- Ans
- 1. it was a blessing in disguise
  - 2. to put a rose on the nose
  - 3. that when it rains it pours
  - 4. he was dressed to kill

Question ID : 26433051664  
Status : Not Answered  
Chosen Option : --

Q.17 Select the most appropriate synonym of the given word.

Rebuke

- Ans
- 1. Recall
  - 2. Commend
  - 3. Coerce
  - 4. Scold

Question ID : 26433051460  
Status : Not Answered  
Chosen Option : --

Q.18 Select the most appropriate option to fill in the blank.

I knocked at the door but got no \_\_\_\_\_.

- Ans
- 1. question
  - 2. creation
  - 3. whisper
  - 4. response

Question ID : 26433051798  
Status : Answered  
Chosen Option : 4

Q.19 Select the option that will improve the underlined part of the given sentence. In case no improvement is needed, select 'No improvement required'.

Please clean your room first and than meet I downstairs.

- Ans
- 1. or then meeting me
  - 2. No improvement required
  - 3. and than meets me
  - 4. and then meet me

Question ID : 26433050485  
Status : Answered  
Chosen Option : 4

**Q.20** Select the option that can be used as a one-word substitute for the given group of words.

**Rules governing socially acceptable behaviour**

- Ans  1. Misconduct  
 2. Euthenics  
 3. Etymology  
 4. Etiquette

Question ID : 26433051432

Status : Answered

Chosen Option : 2

**Comprehension:**

In the following passage, some words have been deleted. Read the passage carefully and select the most appropriate option to fill in each blank.

With the rise of the sun, Rakesh started to go (1) \_\_\_\_\_ the construction site where he asked a few labourers to come for a meet and greet. He preferred to go (2) \_\_\_\_\_ foot as the roads were (3) \_\_\_\_\_ flat on the way. Midway, he (4) \_\_\_\_\_ a sweet shop and rested for a while, and then again (5) \_\_\_\_\_ his journey.

**SubQuestion No : 21**

**Q.21** Select the most appropriate option to fill in blank number 1.

- Ans  1. towards  
 2. on  
 3. for  
 4. upon

Question ID : 26433050504

Status : Answered

Chosen Option : 2

**Comprehension:**

In the following passage, some words have been deleted. Read the passage carefully and select the most appropriate option to fill in each blank.

With the rise of the sun, Rakesh started to go (1) \_\_\_\_\_ the construction site where he asked a few labourers to come for a meet and greet. He preferred to go (2) \_\_\_\_\_ foot as the roads were (3) \_\_\_\_\_ flat on the way. Midway, he (4) \_\_\_\_\_ a sweet shop and rested for a while, and then again (5) \_\_\_\_\_ his journey.

**SubQuestion No : 22**

**Q.22** Select the most appropriate option to fill in blank number 2.

- Ans  1. on  
 2. in  
 3. by  
 4. at

Question ID : 26433050505

Status : Answered

Chosen Option : 3

**Comprehension:**

In the following passage, some words have been deleted. Read the passage carefully and select the most appropriate option to fill in each blank.

With the rise of the sun, Rakesh started to go (1) \_\_\_\_\_ the construction site where he asked a few labourers to come for a meet and greet. He preferred to go (2) \_\_\_\_\_ foot as the roads were (3) \_\_\_\_\_ flat on the way. Midway, he (4) \_\_\_\_\_ a sweet shop and rested for a while, and then again (5) \_\_\_\_\_ his journey.

**SubQuestion No : 23**

**Q.23** Select the most appropriate option to fill in blank number 3.

- Ans  1. quietly  
 2. meanly  
 3. mostly  
 4. casually

Question ID : 26433050506

Status : Answered

Chosen Option : 3

**Comprehension:**

In the following passage, some words have been deleted. Read the passage carefully and select the most appropriate option to fill in each blank.

With the rise of the sun, Rakesh started to go (1) \_\_\_\_\_ the construction site where he asked a few labourers to come for a meet and greet. He preferred to go (2) \_\_\_\_\_ foot as the roads were (3) \_\_\_\_\_ flat on the way. Midway, he (4) \_\_\_\_\_ a sweet shop and rested for a while, and then again (5) \_\_\_\_\_ his journey.

**SubQuestion No : 24**

**Q.24** Select the most appropriate option to fill in blank number 4.

- Ans  1. founds  
 2. founded  
 3. find  
 4. found

Question ID : 26433050507

Status : Answered

Chosen Option : 4

**Comprehension:**

In the following passage, some words have been deleted. Read the passage carefully and select the most appropriate option to fill in each blank.

With the rise of the sun, Rakesh started to go (1) \_\_\_\_\_ the construction site where he asked a few labourers to come for a meet and greet. He preferred to go (2) \_\_\_\_\_ foot as the roads were (3) \_\_\_\_\_ flat on the way. Midway, he (4) \_\_\_\_\_ a sweet shop and rested for a while, and then again (5) \_\_\_\_\_ his journey.

**SubQuestion No : 25**

**Q.25** Select the most appropriate option to fill in blank number 5.

- Ans
- 1. renewed
  - 2. deferred
  - 3. resumed
  - 4. established

Question ID : 26433050508

Status : Answered

Chosen Option : 3

**Section : General Intelligence and Reasoning**

**Q.1** दिए गए कथनों और निष्कर्षों को ध्यानपूर्वक पढ़ें। यह मानते हुए कि कथनों में दी गई जानकारी सत्य है, भले ही वह सामान्य रूप से ज्ञात तथ्यों से भिन्न प्रतीत होती हो, तय करें कि दिए गए निष्कर्षों में से कौन सा/से निष्कर्ष कथनों का तार्किक रूप से अनुसरण करता/ते है/हैं।

कथन:

सभी कुर्सियाँ मेज़ें हैं।  
सभी मेज़ें चटाइयाँ हैं।

निष्कर्ष:

- I. कुछ चटाइयाँ कुर्सियाँ हैं।
- II. सभी मेज़ें कुर्सियाँ हैं।

- Ans
- 1. केवल निष्कर्ष I अनुसरण करता है।
  - 2. केवल निष्कर्ष II अनुसरण करता है।
  - 3. निष्कर्ष I और II दोनों अनुसरण करते हैं।
  - 4. न तो निष्कर्ष I और न ही II अनुसरण करते हैं।

Question ID : 26433047904

Status : Answered

Chosen Option : 1

**Q.2** सात मोटरसाइकिलों B1, B2, B3, B4, B5, B6 और B7 की गति की तुलना की जाती है। B4 की गति B1 से अधिक और B6 से कम है। B7 की गति B3 से अधिक है। B5 की गति B2 से कम है। B5 की गति B6 से अधिक है। B1 की गति B3 से अधिक है।

कितनी मोटरसाइकिलों की गति B1 से अधिक है?

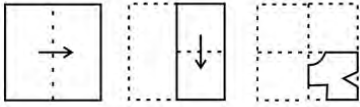
- Ans
- 1. 4
  - 2. 3
  - 3. 1
  - 4. 2

Question ID : 26433049082

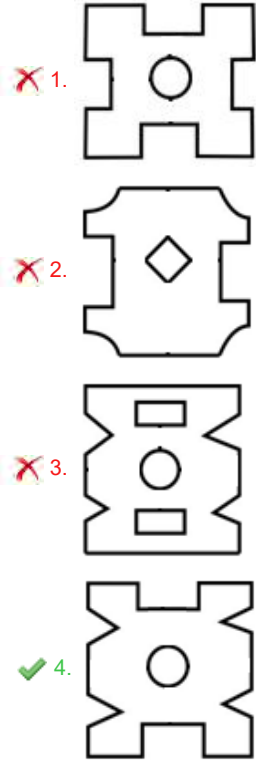
Status : Answered

Chosen Option : 1

Q.3 निम्नलिखित आकृतियों में एक कागज को मोड़ने का क्रम और मुड़े हुए कागज को काटने का तरीका दर्शाया गया है। खोलने पर यह कागज कैसा दिखाई देगा?



Ans



Question ID : 26433048266

Status : Answered

Chosen Option : 4

Q.4 दिए गए विकल्पों में से उस संख्या का चयन करें, जो निम्नलिखित श्रृंखला में प्रश्न चिह्न (?) के स्थान पर आ सकती है।

64, 125, 216, 343, ?, 729

Ans

- 1. 564
- 2. 1331
- 3. 512
- 4. 524

Question ID : 26433049043

Status : Answered

Chosen Option : 3

Q.5 यदि 'P' का अर्थ '+', 'Q' का अर्थ '-', 'R' का अर्थ 'x', और 'S' का अर्थ '÷' है, तो दिए गए व्यंजक का मान क्या होगा?

$$4 R 12 S 3 P 6 Q 2 = ?$$

Ans  1. 20

2. 10

3. 60

4. 30

Question ID : 26433049064

Status : Answered

Chosen Option : 1

Q.6 उस समुच्चय का चयन कीजिए जिसमें संख्याएँ उसी प्रकार संबंधित हैं जैसे निम्नलिखित समुच्चयों की संख्याएँ संबंधित हैं।

(टिप्पणी: संख्याओं को उनके घटक अंकों में विभाजित किए बिना, पूर्णांक संख्याओं पर संक्रियाएं की जानी चाहिए। उदाहरण के लिए 13 - 13 पर जोड़ने / घटाने / गुणा करने आदि संक्रियाओं को 13 में किया जा सकता है। 13 को 1 और 3 में विभाजित करने और फिर 1 और 3 पर गणितीय संक्रियाएं करने की अनुमति नहीं है।)

(12, 26, 80)

(17, 36, 110)

Ans  1. (11, 24, 74)

2. (7, 15, 45)

3. (15, 32, 68)

4. (9, 20, 40)

Question ID : 26433047909

Status : Answered

Chosen Option : 1

Q.7 एक निश्चित कूट भाषा में 'CAKE' को '16' और 'EARTH' को '47' लिखा जाता है। उसी भाषा में 'SHIFT' कैसे लिखा जाएगा?

Ans  1. 57

2. 56

3. 58

4. 55

Question ID : 26433048274

Status : Answered

Chosen Option : 4

Q.8 दिए गए कथन और निष्कर्षों को ध्यानपूर्वक पढ़ें। यह मानते हुए कि कथनों में दी गई जानकारी सत्य है, भले ही वह सामान्य रूप से ज्ञात तथ्यों से भिन्न प्रतीत होती हो, तय करें कि दिए गए निष्कर्षों में से कौन सा/से निष्कर्ष तार्किक रूप से कथनों का अनुसरण करता/ते है/हैं।

कथन:

- I. कुछ X, G हैं।
- II. कोई भी H, G नहीं है।

निष्कर्ष:

- I. कोई भी G, H नहीं है।
- II. कोई भी X, H नहीं है।
- III. कुछ G, X हैं।

- Ans  1. केवल निष्कर्ष I और III अनुसरण करते हैं
2. केवल निष्कर्ष I और II अनुसरण करते हैं
3. कोई भी निष्कर्ष अनुसरण नहीं करता है
4. केवल निष्कर्ष II और III अनुसरण करते हैं

Question ID : 26433048729

Status : Answered

Chosen Option : 1

Q.9 उस विकल्प का चयन कीजिए जिसका पाँचवें अक्षर-समूह से वही संबंध है, जिस प्रकार से दूसरा अक्षर-समूह, पहले अक्षर-समूह से संबंधित है और चौथा अक्षर-समूह, तीसरे अक्षर-समूह से संबंधित है।

NET : OGW :: CAF : DCI :: TEL : ?

- Ans  1. UGN
2. UGP
3. UGO
4. UHO

Question ID : 26433048321

Status : Answered

Chosen Option : 3

Q.10 एक निश्चित कूट भाषा में, 'DAY' को '30' लिखा जाता है और 'FOG' को '28' लिखा जाता है। उसी भाषा में 'CUB' को किस प्रकार लिखा जाएगा?

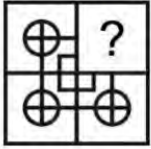
- Ans  1. 26
2. 27
3. 25
4. 28

Question ID : 26433048325

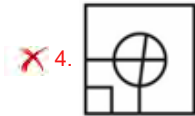
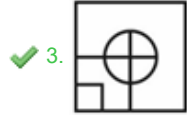
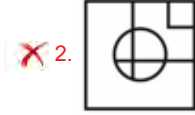
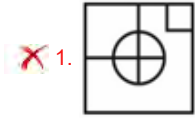
Status : Answered

Chosen Option : 1

Q.11 विकल्पों में से उस आकृति का चयन करें, जो प्रश्न चिह्न (?) के स्थान पर आ सकती है और पैटर्न को पूर्ण कर सकती है। (घुमाने की अनुमति नहीं है)



Ans



Question ID : 26433049038

Status : Answered

Chosen Option : 3

Q.12 एक निश्चित कूट भाषा में, 'TALENT' को 'VCNGPV' लिखा जाता है, और 'VAGUES' को 'XCIWGU' लिखा जाता है। उस भाषा में 'HEART' को कैसे लिखा जाएगा?

Ans  1. JHCTV

2. JGDTV

3. JGCTV

4. JGCTU

Question ID : 26433048521

Status : Answered

Chosen Option : 3

Q.13 उस विकल्प का चयन करें जिसमें दी गई आकृति सन्नहित है (घुमाव की अनुमति नहीं है)।

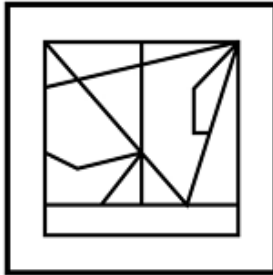


Ans

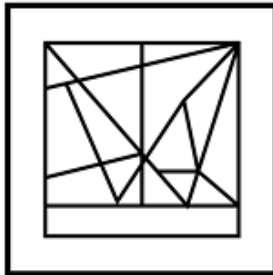
1.



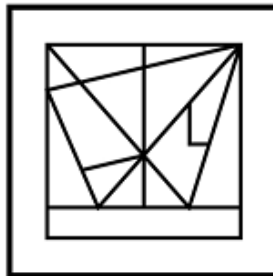
2.



3.



4.



Question ID : 26433047914

Status : Answered

Chosen Option : 4

Q.14 दिए गए विकल्पों में से उस आकृति का चयन करें, जो नीचे दी गई श्रृंखला में प्रश्न चिह्न (?) को प्रतिस्थापित कर सकती है।

+	U	V	+	W	V	U	W	?
V	W	W	U	U	+	+	V	

Ans

1.

V	U
+	W

2.

V	+
W	U

3.

+	U
V	W

4.

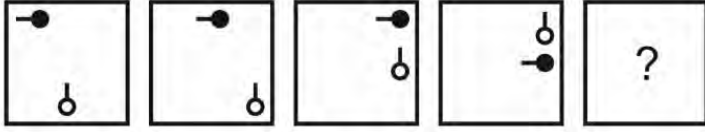
+	U
W	V

Question ID : 26433048733

Status : Answered

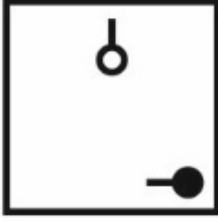
Chosen Option : 3

Q.15 दिए गए विकल्पों में से उस आकृति का चयन करें, जो नीचे दी गई श्रृंखला में प्रश्न चिह्न (?) के स्थान पर आ सकती है।

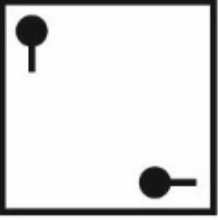


Ans

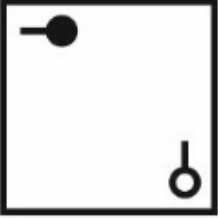
✓ 1.



✗ 2.



✗ 3.



✗ 4.



Question ID : 26433049059

Status : Answered

Chosen Option : 1

Q.16 आठ विद्यार्थी S1, S2, S3, S4, S5, S6, S7 और S8 एक वृत्ताकार मेज़ के चतुर्दिक मेज़ के केंद्र की ओर मुख करके (आवश्यक नहीं है कि इसी क्रम में हों) बैठे हैं। S2, S4 के दाईं ओर दूसरे स्थान पर बैठा है। S6, S4 के बाईं ओर तीसरे स्थान पर बैठा है। S3, S1 के बाईं ओर दूसरे स्थान पर बैठा है। S6, S1 के दाईं ओर दूसरे स्थान पर बैठा है। S7, S5 के दाईं ओर तीसरे स्थान पर बैठा है।

निम्नलिखित चार विकल्पों में से तीन एक निश्चित तर्क द्वारा एक समान हैं और एक समूह बनाते हैं। निम्नलिखित में से कौन सा विकल्प उस समूह से संबंधित नहीं है?

Ans ✓ 1. S7, S8

✗ 2. S3, S1

✗ 3. S5, S8

✗ 4. S4, S2

Question ID : 26433049081

Status : Answered

Chosen Option : 1

Q.17 उस विकल्प का चयन करें जो तीसरे अक्षर-समूह से उसी प्रकार संबंधित है, जिस प्रकार दूसरा अक्षर-समूह पहले अक्षर-समूह से संबंधित है।

PAN : VHV :: FOM : ?

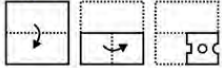
- Ans
- 1. LVX
  - 2. LUV
  - 3. LVU
  - 4. LUW

Question ID : 26433048726

Status : Answered

Chosen Option : 3

Q.18 कागज़ के एक टुकड़े को मोड़ने का क्रम और जिस तरीके से मुड़े हुए कागज़ को काटा गया है, उसे निम्नलिखित आकृतियों में दिखाया गया है। खोलने पर यह कागज़ कैसा दिखाई देगा?



Ans

- 1.
- 2.
- 3.
- 4.

Question ID : 26433048712

Status : Answered

Chosen Option : 3

Q.19 उस विकल्प का चयन करें जो तीसरे अक्षर-समूह से उसी प्रकार संबंधित है जैसे दूसरा अक्षर-समूह, पहले अक्षर-समूह से संबंधित है।

GRA : FPX :: PON : ?

- Ans
- 1. ONL
  - 2. ONK
  - 3. OML
  - 4. OMK

Question ID : 26433048525

Status : Answered

Chosen Option : 4

Q.20 एक निश्चित कूट भाषा में, H को 11 के रूप में कोडित किया जाता है और NOW को 171826 के रूप में कोडित किया जाता है। उसी भाषा में PICKET को किस रूप में कोडित किया जाएगा?

- Ans  1. 2013715924  
 2. 1912614823  
 3. 1913615823  
 4. 2012614824

Question ID : 26433049093  
Status : Answered  
Chosen Option : 2

Q.21 किन दो संख्याओं को आपस में बदलने पर दिए गए व्यंजक का मान '248' हो जाएगा?

$$29 \div 7 \times 9 - 203 + 16$$

- Ans  1. 9 और 7  
 2. 16 और 7  
 3. 29 और 16  
 4. 203 और 29

Question ID : 26433048815  
Status : Answered  
Chosen Option : 4

Q.22 छः व्यक्ति M1, M2, M3, M4, M5 और M6 एक पंक्ति में उत्तर की ओर मुख करके (आवश्यक नहीं है कि इसी क्रम में हों) बैठे हैं। M2, M4 के दाईं ओर दूसरे स्थान पर बैठा है। M1, M6 के बाईं ओर चौथे स्थान पर बैठा है। M6 पंक्ति के छोर पर नहीं बैठा है। M3, M2 के दाईं ओर दूसरे स्थान पर बैठा है। M4 और M2 के बीच कितने व्यक्ति बैठे हैं?

- Ans  1. 4  
 2. 3  
 3. 2  
 4. 1

Question ID : 26433049055  
Status : Answered  
Chosen Option : 4

Q.23 उस संख्या की पहचान करें, जो निम्नलिखित श्रृंखला से संबंधित नहीं है।

$$460, 461, 469, 496, 560, 695$$

- Ans  1. 560  
 2. 469  
 3. 695  
 4. 496

Question ID : 26433049069  
Status : Answered  
Chosen Option : 3

Q.24 दिए गए विकल्पों में से उस अक्षर-समूह का चयन करें, जो निम्नलिखित श्रृंखला में प्रश्न चिह्न (?) के स्थान पर आ सकता है।

RL, VR, ZX, ?, HJ

Ans  1. DD

2. CE

3. CD

4. DC

Question ID : 26433048827

Status : Answered

Chosen Option : 1

Q.25 उस विकल्प का चयन करें जो तीसरी संख्या से उसी प्रकार संबंधित है, जिस प्रकार दूसरी संख्या पहली संख्या से संबंधित है और छठी संख्या पाँचवीं संख्या से संबंधित है।

(टिप्पणी: संख्याओं को उसके घटक अंकों में विभाजित किए बिना, पूर्ण संख्याओं पर संक्रियाएँ की जानी चाहिए। उदाहरण के लिए 13 - 13 पर संक्रियाएँ जैसे कि जोड़ने/घटाने/गुणा करने आदि को 13 पर किया जा सकता है। 13 को 1 और 3 में विभाजित करने और फिर 1 और 3 पर गणितीय संक्रियाएँ करने की अनुमति नहीं है)

47 : 92 :: 53 : ? :: 61 : 120

Ans  1. 106

2. 212

3. 104

4. 159

Question ID : 26433048716

Status : Answered

Chosen Option : 3

Section : Numerical Aptitude

Q.1 A : B = 2 : 3 है और B, C से 20% कम है। C, A से कितने प्रतिशत अधिक है?

Ans  1. 87.5%

2. 85%

3. 82.5%

4. 75%

Question ID : 26433049801

Status : Answered

Chosen Option : 1

Q.2 40 आदमी 8 घंटे में 60 पेड़ काट सकते हैं। यदि इन 40 में से 10 आदमी काम में शामिल नहीं होते हैं, तो शेष आदमियों द्वारा 16 घंटे में कितने पेड़ काटे जाएंगे?

- Ans
- 1. 84
  - 2. 156
  - 3. 90
  - 4. 120

Question ID : 26433050261  
Status : Answered  
Chosen Option : 3

Q.3 यदि ब्याज अर्धवार्षिक संयोजित होनेवाली ₹1,000 की धनराशि को 1 वर्ष के लिए 10% वार्षिक ब्याज की दर से निवेश किया जाता है तो चक्रवृद्धि ब्याज ज्ञात कीजिए।

- Ans
- 1. ₹1,302
  - 2. ₹124
  - 3. ₹102.50
  - 4. ₹105.20

Question ID : 26433049257  
Status : Answered  
Chosen Option : 3

Q.4 ₹1,200 क्रय मूल्य वाले रेडियो का अंकित मूल्य कितना रखना चाहिए जिससे अंकित मूल्य पर 20% की छूट देकर बेचने पर भी दुकानदार को उस पर 25% का लाभ प्राप्त हो?

- Ans
- 1. ₹1,675
  - 2. ₹1,900
  - 3. ₹1,875
  - 4. ₹2,025

Question ID : 26433050153  
Status : Answered  
Chosen Option : 3

Q.5 एक सेब और एक संतरे के विक्रय मूल्य क्रमशः ₹90 और ₹40 हैं। यदि एक सेब और एक संतरे की बिक्री पर प्राप्त प्रतिशत लाभ क्रमशः 50% और 100% हैं, तो एक सेब और एक संतरे का कुल क्रय मूल्य कितना है?

- Ans
- 1. ₹100
  - 2. ₹80
  - 3. ₹65
  - 4. ₹85

Question ID : 26433050048  
Status : Answered  
Chosen Option : 2

Q.6 एक वृत्त की परिधि वृत्त की त्रिज्या से 481 cm अधिक है। इस वृत्त की त्रिज्या क्या है? [मान लीजिए  $\pi = \frac{22}{7}$ ]

- Ans
- 1. 98 cm
  - 2. 70 cm
  - 3. 78 cm
  - 4. 91 cm

Question ID : 26433049810

Status : Answered

Chosen Option : 4

Q.7 एक समबाहु त्रिभुज के परिमाण का आधा 36 cm है। समबाहु त्रिभुज की भुजा की लंबाई ज्ञात कीजिए।

- Ans
- 1. 30 cm
  - 2. 36 cm
  - 3. 24 cm
  - 4. 20 cm

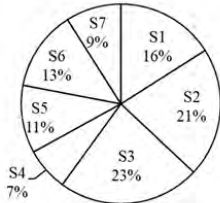
Question ID : 26433050059

Status : Answered

Chosen Option : 3

Q.8 निम्न पाई चार्ट एक देश के 7 विभिन्न राज्यों में से प्रत्येक की जनसंख्या को इन 7 राज्यों की कुल जनसंख्या के प्रतिशत के रूप में दर्शाता है।

S1 से S7 तक 7 राज्यों को निरूपित करते हैं। पाई चार्ट का प्रत्येक खंड देश की कुल जनसंख्या में किसी राज्य विशेष की जनसंख्या के हिस्से को दर्शाता है।



यदि S4 की जनसंख्या 4,550 है, तो S5 की जनसंख्या कितनी है?

- Ans
- 1. 7,150
  - 2. 6,250
  - 3. 7,350
  - 4. 6,850

Question ID : 26433050067

Status : Answered

Chosen Option : 1

Q.9 एक पिता और उसके पुत्र की औसत आयु 24 वर्ष है। 6 वर्ष बाद उनकी आयु का औसत क्या होगा?

- Ans
- 1. 30 वर्ष
  - 2. 32 वर्ष
  - 3. 36 वर्ष
  - 4. 27 वर्ष

Question ID : 26433049802  
Status : Answered  
Chosen Option : 1

Q.10  $\frac{880}{8} - 4 \times 14 + \sqrt{324}$  का मान क्या होगा?

- Ans
- 1. 84
  - 2. 81
  - 3. 72
  - 4. 69

Question ID : 26433050369  
Status : Answered  
Chosen Option : 3

Q.11 187, 215, 190, 203 और 195 का औसत क्या होगा?

- Ans
- 1. 185
  - 2. 198
  - 3. 200
  - 4. 195

Question ID : 26433050422  
Status : Answered  
Chosen Option : 2

Q.12 निम्नलिखित में से कौन सा दो संख्याओं का महत्तम समापवर्तक (HCF) और लघुत्तम समापवर्त्य (LCM) नहीं हो सकता है?

- Ans
- 1. 15 और 60
  - 2. 13 और 65
  - 3. 12 और 24
  - 4. 12 और 65

Question ID : 26433049245  
Status : Answered  
Chosen Option : 4

Q.13 ब्याज की गणना त्रैमासिक चक्रवृद्धि आधार पर होने पर P द्वारा ₹5,000 की राशि को 5% की वार्षिक दर पर निवेश करने से एक वर्ष की परिपक्वता अवधि पर प्राप्त राशि ज्ञात कीजिए। [अपना उत्तर निकटतम पूर्णांक में दें]

- Ans
- 1. ₹5,200
  - 2. ₹5,945
  - 3. ₹5,330
  - 4. ₹5,255

Question ID : 26433050156  
Status : Answered  
Chosen Option : 4

Q.14 एक थैले में ₹5 और ₹10 के सिक्के इस प्रकार हैं कि उनकी संख्याओं का गुणनफल 135 है और थैले में कुल धनराशि ₹165 है। ₹10 के सभी सिक्कों की कुल धनराशि कितनी है?

- Ans
- 1. ₹90
  - 2. ₹85
  - 3. ₹95
  - 4. ₹80

Question ID : 26433050379  
Status : Answered  
Chosen Option : 1

Q.15  $\frac{0.2 \times 0.1 \div 0.3 + 0.2 \times 0.3 \div 0.1}{0.1 - 0.2 \times 0.2}$  का मान ज्ञात कीजिए।

- Ans
- 1.  $\frac{50}{3}$
  - 2.  $\frac{100}{3}$
  - 3.  $\frac{100}{9}$
  - 4.  $\frac{40}{9}$

Question ID : 26433050063  
Status : Answered  
Chosen Option : 3

Q.16 यदि करण और किरण ने ₹4,000 और ₹5,000 का निवेश क्रमशः 'x' और 'y' महीनों की अवधि के लिए किया, और यदि करण ने ₹52,000 के लाभ में से ₹32,000 प्राप्त किए, तो x : y का मान क्या है?

- Ans
- 1. 4 : 3
  - 2. 4 : 1
  - 3. 3 : 2
  - 4. 2 : 1

Question ID : 26433050405  
Status : Answered  
Chosen Option : 4

Q.17 40% दूध वाले 'X' लीटर विलयन में 60 लीटर पानी मिलाए जाने पर उसमें पानी की सांद्रता 70% हो जाती है। 'X' का मान ज्ञात कीजिए।

- Ans
- 1. 466
  - 2. 180
  - 3. 20
  - 4. 60

Question ID : 26433050147  
Status : Answered  
Chosen Option : 2

Q.18 निम्नांकित दंड आरेख दिए गए वर्षों में सचिन की आय (लाख ₹ में) और कुल व्यय (लाख ₹ में) दिखाता है।



नोट : बचत प्रतिशत =  $(\text{बचत}/\text{आय}) \times 100\%$   
दी गई अवधि के दौरान बचत प्रतिशत का औसत क्या है?

- Ans
- 1. 62.8%
  - 2. 64.5%
  - 3. 59.3%
  - 4. 63.6%

Question ID : 26433050388  
Status : Answered  
Chosen Option : 4

Q.19 यदि ट्रेन L, ट्रेन T की लंबाई से तीन गुना लंबाई वाले प्लेटफॉर्म को 28 sec में पार करती है, तो ट्रेन L द्वारा L से दोगुनी लंबाई वाली एक स्थिर ट्रेन T को पार करने में लिया गया कुल समय क्या होगा?

- Ans
- 1. 25 sec
  - 2. 12 sec
  - 3. 21 sec
  - 4. 18 sec

Question ID : 26433050383  
Status : Answered  
Chosen Option : 3

Q.20 प्रिया अकेले एक कार्य को 15 दिन में पूरा कर सकती है। प्रिया और स्नेहा मिलकर उसी कार्य को 10 दिन में पूरा कर सकती हैं। स्नेहा अकेले उसी कार्य को कितने दिन में पूरा कर सकती है?

- Ans
- 1. 10 दिन
  - 2. 13 दिन
  - 3. 30 दिन
  - 4. 12 दिन

Question ID : 26433049236  
Status : Answered  
Chosen Option : 3

Q.21 बादाम के मूल्य में पहले 40% की वृद्धि हुई और फिर दो बार क्रमशः 25% और 20% की कमी हुई। यदि बादाम का नया मूल्य ₹546/ kg है, तो इसका प्रारंभिक मूल्य ज्ञात कीजिए।

- Ans
- 1. ₹700
  - 2. ₹600
  - 3. ₹550
  - 4. ₹650

Question ID : 26433050300  
Status : Answered  
Chosen Option : 4

Q.22 यदि एक नाव की चाल धारा के प्रतिकूल और धारा के अनुकूल क्रमशः 24 km/h और 30 km/h है, तो नाव द्वारा स्थिर पानी में 90 min में कितनी दूरी तय की जा सकती है?

- Ans
- 1. 35 km
  - 2. 40.5 km
  - 3. 37.5 km
  - 4. 42.5 km

Question ID : 26433050409  
Status : Answered  
Chosen Option : 2

Q.23 निम्नलिखित तालिका पाँच राज्यों में जिलों की संख्या दर्शाती है।

राज्य	ज़िले
A	44
B	38
C	32
D	42
E	31

यदि राज्य A में 3 नए ज़िले, राज्य C में 4 नए ज़िले और राज्य D में 6 नए ज़िले बनाए जाते हैं, तो प्रति राज्य ज़िलों की औसत संख्या, और राज्य E में ज़िलों की संख्या के बीच अंतर की गणना करें?

Ans  1. 6

2. 9

3. 5

4. 4

Question ID : 26433050412

Status : Answered

Chosen Option : 2

Q.24 35 cm ऊंचाई और 10 cm आधार त्रिज्या वाले एक बेलन से 10 cm व्यास की कितनी गोलाकार गेंदें बनाई जा सकती हैं?

Ans  1. 21

2. 15

3. 42

4. 60

Question ID : 26433050442

Status : Answered

Chosen Option : 1

Q.25 30 वस्तुओं का क्रय मूल्य  $x$  वस्तुओं के विक्रय मूल्य के बराबर है। यदि लाभ 20% है, तो  $x$  का मान ज्ञात कीजिए।

Ans  1. 15

2. 20

3. 12

4. 25

Question ID : 26433049251

Status : Answered

Chosen Option : 4

Section : General Awareness

Q.1 एक प्रसिद्ध वैज्ञानिक ने देखा कि हरे रंग की फफूंद जीवाणुओं की वृद्धि को रोकती है। वैज्ञानिक का नाम बताइए, और इस अवलोकन ने किस खोज को जन्म दिया?

- Ans
- 1. अलेक्जेंडर फ्लेमिंग, पेनिसिलिन
  - 2. एडवर्ड जेनर, पेनिसिलिन
  - 3. एडवर्ड जेनर, चिकन पॉक्स का टीका
  - 4. अलेक्जेंडर फ्लेमिंग, चिकन पॉक्स का टीका

Question ID : 26433047775  
Status : Answered  
Chosen Option : 1

Q.2 बाल विवाह निषेध (संशोधन) विधेयक, 2021 भारत सरकार के \_\_\_\_\_ मंत्रालय के अंतर्गत आता है।

- Ans
- 1. विधि और न्याय
  - 2. युवा मामले और खेल
  - 3. महिला एवं बाल विकास
  - 4. जनजातीय मामले

Question ID : 26433046643  
Status : Answered  
Chosen Option : 3

Q.3 हॉकी मैच के दौरान मैदान पर मौजूद प्रत्येक टीम के खिलाड़ियों की कुल संख्या कितनी होती है?

- Ans
- 1. 10
  - 2. 16
  - 3. 9
  - 4. 11

Question ID : 26433047216  
Status : Answered  
Chosen Option : 4

Q.4 करेंसी नोट और सिक्कों को क्या कहा जाता है?

- Ans
- 1. वस्तु मुद्रा (Commodity money)
  - 2. आरक्षित मुद्रा (Reserve money)
  - 3. वैध मुद्रा (Fiat money)
  - 4. धातु मुद्रा (Metallic money)

Question ID : 26433047567  
Status : Answered  
Chosen Option : 3

Q.5 जनरल बिपिन रावत, जिनका निधन दिसंबर 2021 में हुआ, \_\_\_\_\_ के प्रमुख थे।

- Ans
- 1. नौसेना
  - 2. डिफेंस स्टाफ
  - 3. थलसेना
  - 4. केंद्रीय सतर्कता आयोग

Question ID : 26433047544  
Status : Answered  
Chosen Option : 2

Q.6 भूटान की सीमा, भारत के निम्नलिखित में से कौन से राज्यों के साथ लगती है?

- Ans
- 1. सिक्किम, बिहार, असम, अरुणाचल प्रदेश
  - 2. मेघालय, पश्चिम बंगाल, असम, अरुणाचल प्रदेश
  - 3. सिक्किम, पश्चिम बंगाल, असम, अरुणाचल प्रदेश
  - 4. सिक्किम, पश्चिम बंगाल, नागालैंड, मेघालय

Question ID : 26433047830  
Status : Answered  
Chosen Option : 1

Q.7 वर्ष 1192 में तराइन के दूसरे युद्ध में मुहम्मद गोरी ने निम्नलिखित में से किसकी हत्या की थी?

- Ans
- 1. जयचंद गढ़वाल
  - 2. भोज परमार
  - 3. नागभट्ट प्रथम
  - 4. पृथ्वीराज चौहान

Question ID : 26433046657  
Status : Answered  
Chosen Option : 4

Q.8 भारत में गरीबी रेखा का अनुमान आमतौर पर \_\_\_\_\_ नमूना सर्वेक्षण करके लगाया जाता है।

- Ans
- 1. प्रत्येक दस वर्ष में
  - 2. वर्ष में दो बार
  - 3. प्रत्येक पाँच वर्ष में
  - 4. प्रत्येक छह वर्ष में

Question ID : 26433047204  
Status : Answered  
Chosen Option : 3

Q.9 'खुल्लम खुल्ला' नामक पुस्तक, इनमें से किस की आत्मकथा है?

- Ans
- 1. अमिताभ बच्चन
  - 2. शत्रुघ्न सिन्हा
  - 3. ऋषि कपूर
  - 4. शशि कपूर

Question ID : 26433047560  
Status : Answered  
Chosen Option : 2

Q.10 निम्नलिखित में से कौन भारत की बौद्ध वास्तुकला का नायाब नमूना नहीं है?

- Ans
- 1. भरहुत स्तूप
  - 2. अजंता की गुफाएँ
  - 3. पातालेश्वर की गुफाएँ
  - 4. साँची स्तूप

Question ID : 26433046647  
Status : Answered  
Chosen Option : 3

Q.11 एशियाई शेर निम्नलिखित में से केवल किस वन में पाए जाते हैं?

- Ans
- 1. गिर वन
  - 2. कुकरैल रिज़र्व वन
  - 3. मोलाई वन
  - 4. बैकुंठपुर वन

Question ID : 26433047453  
Status : Answered  
Chosen Option : 1

Q.12 फ्लोट फेस्टिवल (Float Festival) निम्नलिखित में से किस राज्य में मनाया जाता है?

- Ans
- 1. नगालैंड
  - 2. तमिलनाडु
  - 3. राजस्थान
  - 4. हिमाचल प्रदेश

Question ID : 26433047796  
Status : Answered  
Chosen Option : 1

Q.13 निम्नलिखित में से कौन भारतीय संविधान सभा के पहले अध्यक्ष (अस्थायी) थे, जिसकी बैठक 9 दिसंबर 1946 को हुई थी?

- Ans
- 1. डॉ. राजेंद्र प्रसाद
  - 2. डॉ. सच्चिदानंद सिन्हा
  - 3. पंडित जवाहरलाल नेहरू
  - 4. डॉ. बाबासाहेब आंबेडकर

Question ID : 26433046663  
Status : Answered  
Chosen Option : 2

Q.14 गुरू वेम्पति चित्रा सत्यम को निम्नलिखित में से किस भारतीय शास्त्रीय नृत्य के लिए जाना जाता है?

Ans  1. कुचिपुड़ी

2. ओडिसी

3. कथक

4. कथकली

Question ID : 26433047770

Status : Not Answered

Chosen Option : --

Q.15 सुनील छेत्री का संबंध किस खेल से है?

Ans  1. फुटबॉल

2. क्रिकेट

3. टेनिस

4. हॉकी

Question ID : 26433047716

Status : Answered

Chosen Option : 1

Q.16 मुस्लिम लीग ने \_\_\_\_\_ को 'प्रत्यक्ष कार्यवाही दिवस (Direct Action Day)' के रूप में मनाया।

Ans  1. 10 अगस्त 1946

2. 14 अगस्त 1946

3. 16 अगस्त 1946

4. 12 अगस्त 1946

Question ID : 26433047458

Status : Answered

Chosen Option : 2

Q.17 निम्नलिखित में से कौन भारत का पहला छह लेन वाला एक्सप्रेस-वे है?

Ans  1. मुंबई - पुणे एक्सप्रेस-वे

2. अहमदाबाद - वडोदरा नेशनल एक्सप्रेस-वे

3. यमुना एक्सप्रेस-वे

4. ग्रांड ट्रंक रोड

Question ID : 26433046652

Status : Answered

Chosen Option : 3

Q.18 निम्नलिखित में से किसे अमूमन ग्रह नहीं माना जाता है?

Ans  1. मंगल (मार्स)

2. यम (प्लूटो)

3. बृहस्पति (जुपिटर)

4. शनि (सैटर्न)

Question ID : 26433046651

Status : Answered

Chosen Option : 2

Q.19 लच्छू महाराज, भारत के किस शास्त्रीय नृत्य से संबंधित थे?

- Ans
- 1. सत्रीया
  - 2. भरतनाट्यम
  - 3. कथक
  - 4. मणिपुरी

Question ID : 26433047462  
Status : Answered  
Chosen Option : 3

Q.20 एथेनोइक अम्ल (Ethanoic acid) को \_\_\_\_\_ के रूप में भी जाना जाता है।

- Ans
- 1. एसिटिक अम्ल
  - 2. नाइट्रिक अम्ल
  - 3. फॉर्मिक अम्ल
  - 4. सल्फ्यूरिक अम्ल

Question ID : 26433047798  
Status : Not Attempted and  
Marked For Review  
Chosen Option : --

Q.21 पादप कोशिका में, \_\_\_\_\_ मुख्य रूप से ऐसे कोशिकांग होते हैं जिनमें स्टार्च, तेल और प्रोटीन कणिकाओं जैसे पदार्थ जमा होते हैं।

- Ans
- 1. अवर्णालवक (ल्यूकोप्लास्ट)
  - 2. वर्णक लवक (क्रोमोप्लास्ट)
  - 3. सूत्रकणिका (माइटोकॉन्ड्रिया)
  - 4. रिक्तिकाएँ (वैक्यूओल)

Question ID : 26433047449  
Status : Answered  
Chosen Option : 2

Q.22 भारत के राष्ट्रपति द्वारा राज्य सभा के लिए कितने सदस्य मनोनीत किए जाते हैं?

- Ans
- 1. आठ
  - 2. चौदह
  - 3. बारह
  - 4. दस

Question ID : 26433047464  
Status : Answered  
Chosen Option : 3

Q.23 सिंधु घाटी सभ्यता के निम्नलिखित में से किस स्थल पर एक बंदरगाह पाया गया था?

- Ans  1. लोथल  
 2. मोहनजोदड़ो  
 3. धोलावीरा  
 4. कालीबंगा

Question ID : 26433047556  
Status : Answered  
Chosen Option : 1

Q.24 पंडित रविशंकर ने कितने ग्रैमी पुरस्कार जीते हैं?

- Ans  1. 3  
 2. 2  
 3. 4  
 4. 6

Question ID : 26433047561  
Status : Answered  
Chosen Option : 3

Q.25 सहायक संधि के बारे में निम्नलिखित में से कौन सा कथन गलत है?

- Ans  1. अवध का नवाब पहला शासक था जिसने अंग्रेजों पर एक सहायक संधि थोपी थी।  
 2. यदि भारतीय शासक भुगतान करने में विफल रहे, तो उनके क्षेत्र का एक हिस्सा दंड के रूप में छीन लिया गया।  
 3. भारतीय शासकों को अपनी स्वतंत्र सशस्त्र सेना रखने की अनुमति नहीं थी।  
 4. भारतीय शासकों को 'सहायक बलों' के लिए भुगतान करना पड़ा।

Question ID : 26433047784  
Status : Answered  
Chosen Option : 1