

Multi Tasking Non Technical Staff Havaladar CBIC and CBN Examination 2021

Roll Number	
Candidate Name	
Venue Name	
Exam Date	19/07/2022
Exam Time	9:00 AM - 10:30 AM
Subject	MTS Non technical and Havaladar Examination 2021

Section : General English

Q.1 Select the option that will improve the underlined part of the given sentence. In case no improvement is needed, select 'No improvement required'.

My son has been sleeping for twelve hours at a stretch.

Ans 1. No improvement required

2. have been sleeping

3. were sleeping

4. is been sleeping

Question ID : 26433051803

Status : Answered

Chosen Option : 1

Q.2 The following sentence has been divided into parts. One of them may contain an error. Select the part that contains the error from the given options. If you don't find any error, mark 'No error' as your answer.

New fashion trends / come onto the / scene periodically.

Ans 1. No error

2. New fashion trends

3. scene periodically

4. come onto the

Question ID : 26433051775

Status : Answered

Chosen Option : 4

Q.3 Select the most appropriate synonym of the underlined word.

Our company wants to collaborate with your team.

Ans 1. Captivate

2. Repel

3. Defy

4. Collude

Question ID : 26433050992

Status : Answered

Chosen Option : 2

Q.4 Select the most appropriate synonym of the given word.

Polished

- Ans** 1. Crude
 2. Cultured
 3. Paramount
 4. Boring

Question ID : 26433051122
Status : Answered
Chosen Option : 3

Q.5 Parts of the following sentence have been given as options. One of them may contain an error. Select the part that contains the error from the given options. If you don't find any error, mark 'No error' as your answer.

My friend Jatin usually wears a spectacle.

- Ans** 1. No error
 2. a spectacle
 3. My friend Jatin
 4. usually wears

Question ID : 26433051105
Status : Answered
Chosen Option : 4

Q.6 Select the most appropriate option to fill in the blank.

The weather patterns _____ that we will have a winter season, perhaps a good one.

- Ans** 1. suggest
 2. suggests
 3. have been suggested
 4. has suggested

Question ID : 26433051649
Status : Answered
Chosen Option : 2

Q.7 Select the most appropriate ANTONYM of the given word.

Divergence

- Ans** 1. Confluence
 2. Separation
 3. Departure
 4. Dissonance

Question ID : 26433051514
Status : Answered
Chosen Option : 1

Q.8 Select the INCORRECTLY spelt word.

- Ans 1. Focal
 2. Vocal
 3. Local
 4. Vehical

Question ID : 26433051517
Status : Answered
Chosen Option : 4

Q.9 Select the most appropriate option to fill in the blank.

Smoking is _____ in my office building.

- Ans 1. bend
 2. banned
 3. bated
 4. band

Question ID : 26433050730
Status : Answered
Chosen Option : 2

Q.10 Select the most appropriate ANTONYM of the given word.

Scold

- Ans 1. Praise
 2. Avoid
 3. Nag
 4. Alarm

Question ID : 26433051123
Status : Answered
Chosen Option : 1

Q.11 Select the most appropriate meaning of the given idiom.

Go the extra mile

- Ans 1. Going above and beyond whatever is required for the task at hand
 2. Overwhelming the competitors
 3. Going in search of something better
 4. Wasting time in unnecessary efforts

Question ID : 26433051463
Status : Answered
Chosen Option : 1

Q.12 Select the option that will improve the underlined part of the given sentence. In case no improvement is needed, select 'No improvement required'.! didn't saw any point in spending money on new clothes.

- Ans 1. don't sees any
 2. didn't see any
 3. didn't seen any
 4. No improvement required

Question ID : 26433050641
Status : Answered
Chosen Option : 3

Q.13 The following sentence has been divided into parts. One of them may contain an error. Select the part that contains the error from the given options. If you don't find any error, mark 'No error' as your answer.

Most of the families in / my research rely at phone calls / for almost all of their communication.

- Ans 1. No error
 2. Most of the families in
 3. my research rely at phone calls
 4. for almost all of their communication

Question ID : 26433050847
Status : Answered
Chosen Option : 4

Q.14 Select the most appropriate ANTONYM of the given word.

Irrational

- Ans 1. Peaceful
 2. Reasonable
 3. Gloomy
 4. Illogical

Question ID : 26433051331
Status : Not Answered
Chosen Option : --

Q.15 Select the option that will improve the underlined part of the given sentence. In case no improvement is needed, select 'No improvement required'.

Doctor Bayley tripped under some large roots and cuts her head on a rock.

- Ans 1. tripped over and above some large roots and cut
 2. No improvement required
 3. tripped upon some larger roots and cuts
 4. tripped over some large roots and cut

Question ID : 26433050978
Status : Answered
Chosen Option : 3

Q.16 Select the option that can be used as a one-word substitute for the given group of words.

The action of using someone or something as a model

- Ans 1. Imitation
 2. Caption
 3. Foundation
 4. Magic

Question ID : 26433051119
Status : Answered
Chosen Option : 1

Q.17 Select the most appropriate option to substitute the underlined segment in the given sentence. If there is no need to substitute it, select 'No substitution required.'

The main road was entirely blocked till the time the cranes move the damage vehicles.

- Ans 1. No substitution required
 2. moving the damage
 3. moved the damaged
 4. moves the damaged

Question ID : 26433051240
Status : Answered
Chosen Option : 3

Q.18 Select the option that can be used as a one-word substitute for the given group of words.

A place for breeding and keeping birds

- Ans 1. Den
 2. Kennel
 3. Apiary
 4. Aviary

Question ID : 26433051223
Status : Answered
Chosen Option : 3

Q.19 Select the correctly spelt word.

- Ans 1. Tremandous
 2. Institutionalised
 3. Immersive
 4. Experienses

Question ID : 26433051796
Status : Answered
Chosen Option : 3

Q.20 Select the most appropriate meaning of the given idiom.

A gut feeling

- Ans 1. A liability
 2. An instinct or intuition
 3. A suppressed feeling
 4. False attempt

Question ID : 26433050672
Status : Answered
Chosen Option : 3

Comprehension:

In the following passage, some words have been deleted. Read the passage carefully and select the most appropriate option to fill in each blank.

Regular check-ups are (1)___ for a car's top-notch performance, but did you know that there is a direct link (2)___ your car health and its emissions? A well-maintained car engine is (3)___ efficient and burns less gas, (4)___ reducing airborne emissions. Secondly, tyre pressure (5)___ always match the manufacturer-recommended Pounds Per Square Inch (PSI) rating.

SubQuestion No : 21

Q.21 Select the most appropriate option to fill in blank number 1.

- Ans 1. nominal
 2. vital
 3. acute
 4. trivial

Question ID : 26433050981
Status : Answered
Chosen Option : 4

Comprehension:

In the following passage, some words have been deleted. Read the passage carefully and select the most appropriate option to fill in each blank.

Regular check-ups are (1)___ for a car's top-notch performance, but did you know that there is a direct link (2)___ your car health and its emissions? A well-maintained car engine is (3)___ efficient and burns less gas, (4)___ reducing airborne emissions. Secondly, tyre pressure (5)___ always match the manufacturer-recommended Pounds Per Square Inch (PSI) rating.

SubQuestion No : 22

Q.22 Select the most appropriate option to fill in blank number 2.

- Ans 1. across
 2. among
 3. along
 4. between

Question ID : 26433050982
Status : Answered
Chosen Option : 4

Comprehension:

In the following passage, some words have been deleted. Read the passage carefully and select the most appropriate option to fill in each blank.

Regular check-ups are (1)___ for a car's top-notch performance, but did you know that there is a direct link (2)___ your car health and its emissions? A well-maintained car engine is (3)___ efficient and burns less gas, (4)___ reducing airborne emissions. Secondly, tyre pressure (5)___ always match the manufacturer-recommended Pounds Per Square Inch (PSI) rating.

SubQuestion No : 23

Q.23 Select the most appropriate option to fill in blank number 3.

Ans 1. such

2. many

3. more

4. few

Question ID : 26433050983

Status : Answered

Chosen Option : 3

Comprehension:

In the following passage, some words have been deleted. Read the passage carefully and select the most appropriate option to fill in each blank.

Regular check-ups are (1)___ for a car's top-notch performance, but did you know that there is a direct link (2)___ your car health and its emissions? A well-maintained car engine is (3)___ efficient and burns less gas, (4)___ reducing airborne emissions. Secondly, tyre pressure (5)___ always match the manufacturer-recommended Pounds Per Square Inch (PSI) rating.

SubQuestion No : 24

Q.24 Select the most appropriate option to fill in blank number 4.

Ans 1. thereby

2. hereby

3. though

4. yet

Question ID : 26433050984

Status : Answered

Chosen Option : 2

Comprehension:

In the following passage, some words have been deleted. Read the passage carefully and select the most appropriate option to fill in each blank.

Regular check-ups are (1)___ for a car's top-notch performance, but did you know that there is a direct link (2)___ your car health and its emissions? A well-maintained car engine is (3)___ efficient and burns less gas, (4)___ reducing airborne emissions. Secondly, tyre pressure (5)___ always match the manufacturer-recommended Pounds Per Square Inch (PSI) rating.

SubQuestion No : 25

Q.25 Select the most appropriate option to fill in blank number 5.

- Ans 1. must
 2. lest
 3. have to
 4. would

Question ID : 26433050985

Status : Answered

Chosen Option : 1

Section : General Intelligence and Reasoning

Q.1 उस विकल्प का चयन करें, जिसमें संख्याएँ उसी प्रकार संबंधित हैं जिस प्रकार संख्याएँ निम्नलिखित समुच्चय में संबंधित हैं।

(टिप्पणी: संख्याओं को उसके घटक अंकों में विभाजित किए बिना, पूर्ण संख्याओं पर संक्रियाएँ की जानी चाहिए। उदाहरण के लिए 13 - 13 पर संक्रियाएँ जैसे कि जोड़ने / घटाने / गुणा करने आदि को 13 पर किया जा सकता है। 13 को 1 और 3 में विभाजित करने और फिर 1 और 3 पर गणितीय संक्रियाएँ करने की अनुमति नहीं है)

(16, 18, 20)
(17, 19, 21)

- Ans 1. (28, 30, 26)
 2. (64, 66, 68)
 3. (24, 26, 30)
 4. (36, 40, 42)

Question ID : 26433048866

Status : Answered

Chosen Option : 2

Q.2 उस विकल्प का चयन करें, जिसमें अक्षर-समूहों का युग्म उसी प्रकार संबंध साझा करता है जिस प्रकार दिए गए अक्षर-समूहों द्वारा साझा किया जाता है।

TAP : JUN

- Ans 1. DOC : JUI
 2. TXA : VRY
 3. FED : XYZ
 4. KIB : VEE

Question ID : 26433048876

Status : Answered

Chosen Option : 3

Q.3 निम्नलिखित समीकरण को सही बनाने के लिए किन दो संख्याओं (अंकों को नहीं) को आपस में बदला जाना चाहिए?

$$26 \div 2 + 13 \times 6 - 4 = 10$$

- Ans
- 1. 13 और 4
 - 2. 2 और 4
 - 3. 2 और 10
 - 4. 2 और 13

Question ID : 26433048507
Status : Answered
Chosen Option : 4

Q.4 दिए गए विकल्पों में से उस संख्या का चयन करें जो निम्नलिखित श्रृंखला में प्रश्नवाचक चिन्ह (?) के स्थान पर आ सकती है।

264, 288, 312, ?, 360, 384

- Ans
- 1. 324
 - 2. 342
 - 3. 348
 - 4. 336

Question ID : 26433048231
Status : Answered
Chosen Option : 4

Q.5 उस समुच्चय का चयन कीजिए जिसमें संख्याएँ उसी प्रकार से संबंधित हैं जैसे निम्नलिखित समुच्चयों की संख्याएँ संबंधित हैं।

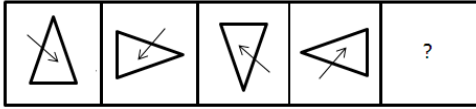
(नोट : संख्याओं को उसके घटक अंकों में विभाजित किए बिना, पूर्ण संख्याओं पर संक्रियाएँ की जानी चाहिए। उदाहरण के लिए 13 लीजिए – संक्रियाएँ जैसे कि जोड़ना/ घटाना/ गुणा करना आदि को सम्पूर्ण 13 पर कर सकते हैं। 13 को 1 और 3 में विभक्त करके उन अंकों पर की गई गणितीय संक्रियाएँ अमान्य हैं।)

(3, 5, 30)
(6, 5, 60)

- Ans
- 1. (3, 9, 44)
 - 2. (4, 6, 38)
 - 3. (6, 7, 84)
 - 4. (4, 7, 28)

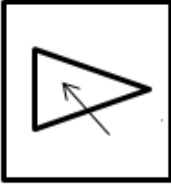
Question ID : 26433048359
Status : Answered
Chosen Option : 3

Q.6 दिए गए विकल्पों में से उस आकृति का चयन करें, जो नीचे दी गई श्रृंखला में प्रश्न चिह्न (?) के स्थान पर आ सकती है।

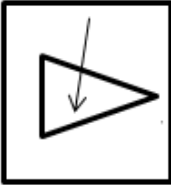


Ans

✗ 1.



✗ 2.



✗ 3.



✓ 4.



Question ID : 26433049108

Status : Answered

Chosen Option : 4

Q.7 उस विकल्प का चयन करें, जिसमें अक्षर-समूहों का युग्म उसी प्रकार संबंध साझा करता है जिस प्रकार दिए गए अक्षर-समूहों द्वारा साझा किया जाता है।

RN : UQ

Ans ✗ 1. PN : SR

✗ 2. TG : WL

✗ 3. LA : OX

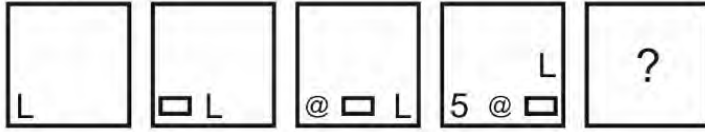
✓ 4. KR : NU

Question ID : 26433048750

Status : Answered

Chosen Option : 4

Q.8 दिए गए विकल्पों में से उस आकृति का चयन करें, जो नीचे दी गई श्रृंखला में प्रश्न चिह्न (?) के स्थान पर आ सकती है।



Ans

✗ 1.



✗ 2.



✓ 3.



✗ 4.



Question ID : 26433048883

Status : Answered

Chosen Option : 3

Q.9 नौ व्यक्ति, A, B, C, D, E, F, G, H, और I, एक पंक्ति में दक्षिण की ओर मुख करके बैठे हैं। E, कतार के मध्य में बैठा है। E और G के बीच में तीन व्यक्ति बैठे हैं। G और B के बीच में छह व्यक्ति बैठे हैं। B और A के बीच में तीन व्यक्ति बैठे हैं। F, A के दाईं ओर दूसरे स्थान पर बैठा है। I, F के बाईं ओर चौथे स्थान पर बैठा है। I और E निकटतम पड़ोसी नहीं हैं। B और C पड़ोसी नहीं हैं। H, D के दाईं ओर बैठा है। G के दाईं ओर चौथे स्थान पर कौन बैठा है?

Ans ✗ 1. A

✓ 2. E

✗ 3. F

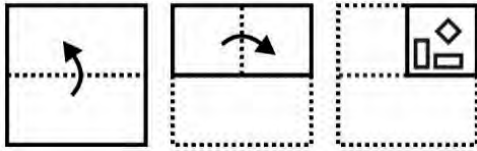
✗ 4. C

Question ID : 26433049097

Status : Answered

Chosen Option : 2

Q.10 कागज़ के एक टुकड़े को मोड़ने का क्रम, और मोड़े गए टुकड़े को काटने का तरीका नीचे दी गई आकृतियों में दर्शाया गया है। कागज़ को खोले जाने पर वह कैसा दिखाई देगा?

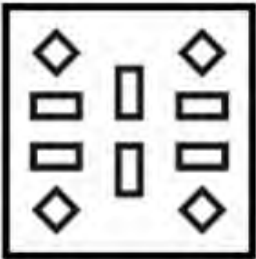


Ans

✗ 1.




✗ 2.



✓ 3.



✗ 4.



Question ID : 26433048937

Status : Answered

Chosen Option : 3

Q.11 S, T, U, V और W एक वृताकार मेज के चारों ओर केंद्र की ओर मुख करके बैठे हैं (लेकिन जरूरी नहीं कि इसी क्रम में हों)। S, T और W का निकटतम पड़ोसी है। U, T के दाएँ निकटतम स्थान पर बैठा है। V, U और W का निकटतम पड़ोसी है। S के बाएँ निकटतम स्थान पर कौन बैठा है?

- Ans
- 1. U
 - 2. T
 - 3. W
 - 4. V

Question ID : 26433048227
 Status : Answered
 Chosen Option : 3

Q.12 दी गई आकृति के सही दर्पण प्रतिबिंब का चयन कीजिए जब दर्पण को रेखा MN पर रखा हो जैसा कि नीचे दिखाया गया है।



- Ans
- 1. G N I I W O R F
 - 2. G N I I M O F R
 - 3. G N I I W O R F
 - 4. G N I I W O R F

Question ID : 26433048290
 Status : Answered
 Chosen Option : 3

Q.13 एक निश्चित कूट भाषा में, 'BRAVE' को '43' और 'BOTH' को '41' लिखा जाता है। उसी कूट भाषा में 'ABACUS' को कैसे लिखा जाएगा?

- Ans
- 1. 43
 - 2. 41
 - 3. 31
 - 4. 47

Question ID : 26433048349
 Status : Answered
 Chosen Option : 2

Q.14 दिए गए कथनों और निष्कर्षों को ध्यानपूर्वक पढ़िए। यह मानते हुए कि कथनों में दी गई जानकारी सही है, भले ही वह सामान्य रूप से ज्ञात तथ्यों से भिन्न प्रतीत होती हो, यह तय करें कि दिए गए निष्कर्षों में से कौन-सा/से निष्कर्ष कथन/कथनों का तार्किक रूप से अनुसरण करता/करते है/हैं।

कथन:

सभी कुकीज, मिठाई हैं।

कुछ मिठाइयाँ, सैंक्स हैं।

निष्कर्ष:

I. सभी मिठाइयाँ, कुकीज हैं।

II. सभी कुकीज, सैंक्स हैं।

Ans 1. न तो निष्कर्ष I और न ही II अनुसरण करता है।

2. केवल निष्कर्ष I अनुसरण करता है।

3. निष्कर्ष I और II दोनों अनुसरण करते हैं।

4. केवल निष्कर्ष II अनुसरण करता है।

Question ID : 26433048354

Status : Answered

Chosen Option : 1

Q.15 निम्नलिखित समीकरण में यदि '+' और 'x' को आपस में बदल दिया जाए और साथ ही '-' और '÷' को भी आपस में बदल दिया जाए तो '?' के स्थान पर क्या आएगा, ?

$$1 \times 14 + 30 - 20 \div 10 = ?$$

Ans 1. 21

2. 43

3. 39

4. 12

Question ID : 26433048235

Status : Answered

Chosen Option : 4

Q.16 यदि $\&@\$! = 8213$ और $\&\%# = 860$ है, तो $\%#\&\$$ का मान क्या होगा?

Ans 1. 6810

2. 6801

3. 6018

4. 6081

Question ID : 26433049118

Status : Answered

Chosen Option : 4

Q.17 दिए गए कथन और निष्कर्षों को ध्यानपूर्वक पढ़ें। यह मानते हुए कि कथनों में दी गई जानकारी सत्य है, भले ही वह सामान्य रूप से ज्ञात तथ्यों से भिन्न प्रतीत होती हो, तय करें कि दिए गए निष्कर्षों में से कौन सा/से निष्कर्ष तार्किक रूप से कथनों का अनुसरण करता/ते है/हैं।

कथन:

- I. कोई भी B, A नहीं है।
- II. कोई भी C, B नहीं है।

निष्कर्ष:

- I. कोई भी C, A नहीं है।
- II. कोई भी A, B नहीं है।
- III. कुछ B, C नहीं हैं।

- Ans 1. निष्कर्ष II और III दोनों अनुसरण करते हैं
2. कोई भी निष्कर्ष अनुसरण नहीं करता है
3. केवल निष्कर्ष III अनुसरण करता है
4. निष्कर्ष I और II दोनों अनुसरण करते हैं

Question ID : 26433048879

Status : Answered

Chosen Option : 1

Q.18 एक निश्चित कूट भाषा में, 'HELP' को '851216' के रूप में कोडित किया जाता है, और 'GRAN' को '718114' के रूप में कोडित किया जाता है। उसी भाषा में 'FOMS' को किस रूप में कोडित किया जाएगा?

- Ans 1. 6141319
2. 6511319
3. 615139
4. 6151319

Question ID : 26433048746

Status : Answered

Chosen Option : 4

Q.19 दिए गए विकल्पों में से उस संख्या का चयन करें, जो निम्नलिखित श्रृंखला में प्रश्न चिह्न (?) के स्थान पर आ सकती है।

6, 24, 60, 120, 210, ?

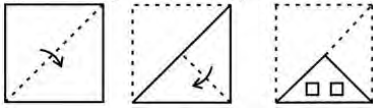
- Ans 1. 336
2. 343
3. 432
4. 322

Question ID : 26433049103

Status : Answered

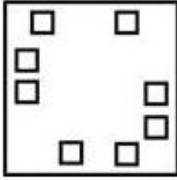
Chosen Option : 1

Q.20 निम्न आकृति में कागज के एक टुकड़े को मोड़ने का क्रम और जिस तरीके से मुड़े हुए कागज को काटा गया है, वह दिखाया गया है। खोलने पर यह कागज कैसा दिखेगा?

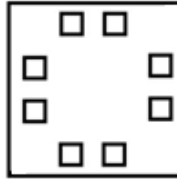


Ans

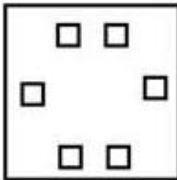
1.




2.



3.



4.



Question ID : 26433048437

Status : Answered

Chosen Option : 2

Q.21 दिए गए विकल्पों में से उस अक्षर-समूह को चुनिए जो निम्नलिखित श्रृंखला में प्रश्नवाचक चिह्न (?) का स्थान ले सके।

WXYZ, YZWX, ABUV, CDST, ?

Ans 1. EFUV

2. EFGR

3. ABQR

4. EFQR

Question ID : 26433048489

Status : Answered

Chosen Option : 4

Q.22 एक निश्चित कूट भाषा में, यदि नीले को गुलाबी कहा जाता है, गुलाबी को पीला कहा जाता है, पीले को नारंगी कहा जाता है, नारंगी को लाल कहा जाता है, और लाल को बैंगनी कहा जाता है, तो सूरजमुखी का रंग कैसा होगा?

- Ans
- 1. गुलाबी
 - 2. लाल
 - 3. पीला
 - 4. नारंगी

Question ID : 26433048172

Status : Answered

Chosen Option : 4

Q.23 उस विकल्प का चयन कीजिए जिसमें दी गई आकृति अंतर्निहित है (आकृति को घुमाने की अनुमति नहीं है)।

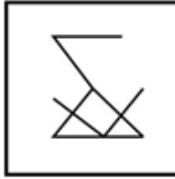


Ans

1.



2.



3.



4.



Question ID : 26433048364

Status : Answered

Chosen Option : 2

Q.24 उस विकल्प का चयन कीजिए जिसका पांचवें शब्द के साथ वही संबंध है, जो दूसरे शब्द का पहले शब्द के साथ है, और चौथे शब्द का तीसरे शब्द के साथ है।

प्याला : कॉफी :: गिलास : रस :: कटोरा : ?

- Ans 1. चम्मच
 2. सूप
 3. डिश
 4. चाकू

Question ID : 26433048169

Status : Answered

Chosen Option : 2

Q.25 यहाँ पाँच छात्रों आकृति, किरण, लीसा, मनीषा और रेखा के कद की तुलना की गई है। किरण केवल दो छात्रों से ऊँची है। मनीषा, रेखा से ऊँची है। रेखा, किरण से ऊँची है। कितनी छात्राएं रेखा से लंबी हैं?

- Ans 1. दो
 2. एक
 3. चार
 4. तीन

Question ID : 26433048228

Status : Answered

Chosen Option : 2

Section : Numerical Aptitude

Q.1 35 लड़कियाँ एक काम को 12 दिनों में पूरा कर सकती हैं। यदि 5 कम लड़कियों को काम पर लगाया जाता है, तो वे काम को कितने दिनों में पूरा कर पाएंगी?

- Ans 1. 12
 2. 14
 3. 13
 4. 15

Question ID : 26433050336

Status : Answered

Chosen Option : 2

Q.2 एक व्यापारी ने ₹120 प्रति भेड़ की दर से 60 भेड़ें खरीदीं। उनमें से 40 को उसने ₹150 प्रत्येक की दर से बेचा। 10 भेड़ों की मौत हो गई। यदि वह कुल ₹800 का लाभ कमाना चाहता है, तो शेष भेड़ों का विक्रय मूल्य प्रति भेड़ कितना होना चाहिए?

- Ans 1. ₹200
 2. ₹150
 3. ₹180
 4. ₹250

Question ID : 26433050202

Status : Answered

Chosen Option : 1

Q.3 50 छात्रों और 6 शिक्षकों वाली एक कक्षा में, प्रत्येक छात्र को कुछ चॉकलेट दी गईं, जिनकी संख्या कुल छात्रों की संख्या के 16% के बराबर है और प्रत्येक शिक्षक को मिली चॉकलेटों की संख्या छात्रों की कुल संख्या के 12% के बराबर है। चॉकलेटों की कुल संख्या ज्ञात कीजिए।

- Ans
- 1. 450
 - 2. 420
 - 3. 360
 - 4. 436

Question ID : 26433050149
Status : Answered
Chosen Option : 4

Q.4 एक समलंब चतुर्भुज की समांतर भुजाओं की लंबाई 10 cm और 20 cm है। यदि इन समांतर रेखाओं के बीच की दूरी 5 cm है, तो समलंब चतुर्भुज का क्षेत्रफल कितना है?

- Ans
- 1. 60 cm²
 - 2. 50 cm²
 - 3. 75 cm²
 - 4. 45 cm²

Question ID : 26433049835
Status : Answered
Chosen Option : 3

Q.5 यदि किसी धनराशि पर 25 वर्ष के लिए प्राप्त कुल साधारण ब्याज मूलधन का $\frac{5}{8}$ है, तो प्रति वर्ष भुगतान किए जाने वाले साधारण ब्याज की दर कितनी है?

- Ans
- 1. 3.5%
 - 2. 2.5%
 - 3. 3%
 - 4. 2%

Question ID : 26433049832
Status : Answered
Chosen Option : 2

Q.6 एक वृत्त का क्षेत्रफल 15400 cm² है। त्रिज्या तथा वृत्त की परिधि का धनात्मक अंतर ज्ञात कीजिए। [$\pi = \frac{22}{7}$ मानिए]

- Ans
- 1. 410 cm
 - 2. 420 cm
 - 3. 370 cm
 - 4. 330 cm

Question ID : 26433050035
Status : Answered
Chosen Option : 3

Q.7 यदि कोई व्यक्ति घर से अपने कॉलेज 12 km/h की चाल से जाता है, तो 7 min पहले पहुंच जाता है। यदि वह 8 km/h की चाल से जाता है, तो 14 min की देरी से पहुंचता है। उसके घर और उसके कॉलेज के बीच की दूरी कितनी है?

- Ans
- 1. 8.4 km
 - 2. 9.2 km
 - 3. 9.6 km
 - 4. 7.6 km

Question ID : 26433049571
Status : Answered
Chosen Option : 1

Q.8 एक पेन का विक्रय मूल्य ₹660 है। यदि इस मूल्य पर प्राप्त लाभ 20% है, तो पेन को बेचने पर प्राप्त लाभ रुपये में ज्ञात कीजिए।

- Ans
- 1. ₹130
 - 2. ₹140
 - 3. ₹90
 - 4. ₹110

Question ID : 26433049697
Status : Answered
Chosen Option : 4

Q.9 एक विक्रेता ₹60 प्रति kg और ₹45 प्रति kg मूल्य के चावल की दो किस्मों को 3 : 7 के अनुपात में मिलाता है। यदि वह मिश्रित किस्म को ₹65 प्रति kg की दर से बेचता है, तो उसका लाभ प्रतिशत क्या होगा? [दशमलव के दो स्थानों तक पूर्णांकित उत्तर दें]

- Ans
- 1. 15.5%
 - 2. 5.5%
 - 3. 31.31%
 - 4. 49.5%

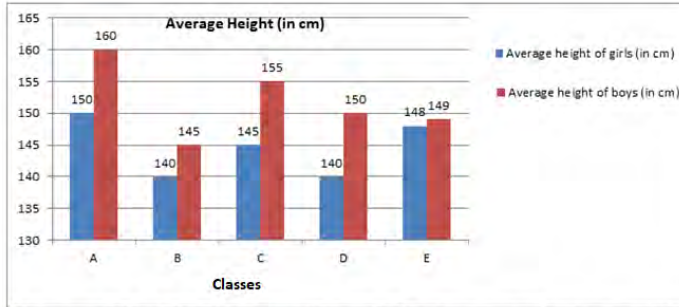
Question ID : 26433050430
Status : Answered
Chosen Option : 3

Q.10 एक बोटल का अंकित मूल्य ₹2,600 है। 10% और 30% की दो क्रमागत छूट दी जाती है। विक्रय मूल्य कितना है?

- Ans
- 1. ₹1,518
 - 2. ₹1,768
 - 3. ₹1,458
 - 4. ₹1,638

Question ID : 26433049824
Status : Answered
Chosen Option : 4

Q.11 दिए गए ग्राफ का अध्ययन करें और उससे संबंधित नीचे दिए गए प्रश्न का उत्तर दें।
ग्राफ किसी स्कूल की पांच कक्षाओं में लड़कों और लड़कियों की औसत ऊंचाई (cm में) को निरूपित करता है।



यदि कक्षा C में लड़कियों की संख्या और लड़कों की संख्या बराबर है, तो कक्षा C के सभी छात्रों (लड़कियों और लड़कों) की संयुक्त औसत ऊंचाई कितनी है?

- Ans
- 1. 135 cm
 - 2. 150 cm
 - 3. 145 cm
 - 4. 140 cm

Question ID : 26433050214
Status : Answered
Chosen Option : 2

Q.12 एक कार्य जो 10 दिन में पूरा किया जा सकता था, उसे 8 दिन में ही पूरा कर लिया गया क्योंकि कार्य की शुरुआत में 5 अधिक पुरुष शामिल हो गए। 5 पुरुषों के शामिल होने से पहले, पुरुषों की कुल संख्या कितनी थी?

- Ans
- 1. 18
 - 2. 12
 - 3. 20
 - 4. 10

Question ID : 26433049461
Status : Answered
Chosen Option : 3

Q.13 दो अंकों की वह बड़ी से बड़ी संख्या ज्ञात कीजिए, जो 7 और 3 दोनों से विभाज्य है?

- Ans
- 1. 63
 - 2. 96
 - 3. 84
 - 4. 91

Question ID : 26433049712
Status : Answered
Chosen Option : 3

Q.14 यदि 90 में x% की वृद्धि की जाए, तो यह 117 हो जाता है। x का मान कितना है?

- Ans 1. 15
 2. 30
 3. 25
 4. 20

Question ID : 26433049399
Status : Answered
Chosen Option : 2

Q.15 X, Y और Z का औसत $2X$ है। यदि Y और Z का औसत 20 है, तो X का मान कितना है?

- Ans 1. 5
 2. 6
 3. 10
 4. 8

Question ID : 26433049829
Status : Answered
Chosen Option : 4

Q.16 निम्न समीकरण में प्रश्न चिह्न (?) के स्थान पर कौन-सी संख्या आ सकती है?

$$\frac{12}{15} \text{ of } 40\% \text{ of } 1800 = ? \times 480$$

- Ans 1. 0.8
 2. 0.9
 3. 1.2
 4. 1.05

Question ID : 26433050193
Status : Answered
Chosen Option : 3

Q.17 यदि $24X + 24Y = 192$ है, तो X और Y का औसत कितना है?

- Ans 1. 4
 2. 8
 3. 6
 4. 2

Question ID : 26433049827
Status : Answered
Chosen Option : 1

Q.18 निम्न तालिका किसी दिए गए वर्ष के दौरान सड़कों पर 6 विभिन्न ब्रांडों की कारों की संख्या दर्शाती है।

ब्रांड	कारें
B1	2000
B2	2200
B3	2700
B4	1800
B5	1300
B6	3000

ब्रांड B2 की कारें दिए गए सभी 6 ब्रांडों की कारों की कुल संख्या की कितने प्रतिशत हैं? [2 दशमलव स्थान तक पूर्णांकित उत्तर दीजिए]

- Ans
- 1. 13.85%
 - 2. 11.43%
 - 3. 16.92%
 - 4. 19.81%

Question ID : 26433049590

Status : Answered

Chosen Option : 3

Q.19 ₹15,000 की राशि 20% की वार्षिक दर पर एक वर्ष के लिए उधार दी जाती है, जिस पर ब्याज वार्षिक रूप से चक्रवृद्धि होता है। यदि ब्याज अर्ध-वार्षिक रूप से चक्रवृद्धि हो, तो एक वर्ष की अवधि के अंत में उसी राशि पर कितना अधिक ब्याज प्राप्त होगा?

- Ans
- 1. ₹200
 - 2. ₹250
 - 3. ₹150
 - 4. ₹180

Question ID : 26433049708

Status : Answered

Chosen Option : 3

Q.20 X, Y और Z का औसत 52 है। X और Y का औसत 48 है। Y और Z का औसत 60 है। Y का मान ज्ञात कीजिए।

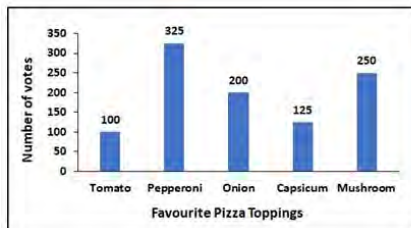
- Ans
- 1. 56
 - 2. 54
 - 3. 48
 - 4. 60

Question ID : 26433050027

Status : Answered

Chosen Option : 4

Q.21 नीचे प्रदर्शित बार ग्राफ पसंदीदा पिज्जा टॉपिंग (favourite pizza toppings) के लिए मतों की संख्या (number of votes) दर्शाता है।



सभी मतों में से पेपरनी (pepperoni) के लिए मतों का प्रतिशत कितना है?

- Ans
- 1. 325%
 - 2. 32.5%
 - 3. 0.325%
 - 4. 3.25%

Question ID : 26433050438

Status : Answered

Chosen Option : 2

Q.22 एक लंबवृत्तीय शंकु का आयतन $196\pi \text{ cm}^3$ है। यदि इसके आधार का क्षेत्रफल 154 cm^2 है, तो शंकु की उर्ध्वाधर ऊंचाई ज्ञात कीजिए। [$\pi = \frac{22}{7}$ मानिए]

- Ans
- 1. 12 cm
 - 2. 10 cm
 - 3. 14 cm
 - 4. 16 cm

Question ID : 26433050215

Status : Answered

Chosen Option : 1

Q.23 72 km/h की चाल से गतिमान एक कार 10 sec में कितनी दूरी तय करेगी?

- Ans
- 1. 200 m
 - 2. 20 m
 - 3. 100 m
 - 4. 50 m

Question ID : 26433050433

Status : Answered

Chosen Option : 1

Q.24 $-19 + 11 - 5 - (1 \div 8)$ of 32 का मान क्या होगा?

- Ans
- 1. 17
 - 2. 19
 - 3. -17
 - 4. -19

Question ID : 26433050419
Status : Answered
Chosen Option : 3

Q.25 एक व्यक्ति ₹1,100 को तीन बच्चों में $\frac{1}{2} : \frac{2}{5} : \frac{3}{4}$ के अनुपात में बांटा है। सबसे अधिक हिस्सा पाने वाले बच्चे को कितने रुपए मिलेंगे?

- Ans
- 1. ₹750
 - 2. ₹800
 - 3. ₹500
 - 4. ₹600

Question ID : 26433049581
Status : Answered
Chosen Option : 3

Section : General Awareness

Q.1 प्रो कबड्डी लीग का सीजन 8 किस टीम ने जीता है?

- Ans
- 1. पटना पाइरेट्स
 - 2. बेंगलुरु बुल्स
 - 3. दबंग दिल्ली KC
 - 4. UP योद्धा

Question ID : 26433047565
Status : Answered
Chosen Option : 3

Q.2 तेंदुलकर पद्धति भारत में _____ के अनुमान से संबंधित है।

- Ans
- 1. राष्ट्रीय आय
 - 2. बेरोजगारी
 - 3. जनसंख्या आकार
 - 4. गरीबी

Question ID : 26433047429
Status : Answered
Chosen Option : 4

Q.3 निम्नलिखित में से किस भारतीय त्योहार में भगवान राम के हाथों राक्षस राजा रावण की मृत्यु का जश्न मनाया जाता है?

- Ans
- 1. दीवाली
 - 2. दशहरा
 - 3. नवरात्रि
 - 4. होली

Question ID : 26433046971
Status : Answered
Chosen Option : 2

Q.4 निम्नलिखित में से किस राज्य के राज्य विधानमंडल में एक सदन है?

- Ans
- 1. आंध्र प्रदेश
 - 2. कर्नाटक
 - 3. गुजरात
 - 4. महाराष्ट्र

Question ID : 26433047614
Status : Answered
Chosen Option : 3

Q.5 निम्नलिखित में से फॉर्मूला वन 2022 बहरीन ग्रांड प्रिक्स किसने जीता?

- Ans
- 1. लुईस हैमिल्टन
 - 2. मैक्स वस्टपिन
 - 3. चार्ल्स लेक्लर्स
 - 4. कार्लोस सैंज जूनियर

Question ID : 26433046815
Status : Answered
Chosen Option : 4

Q.6 मार्च 2022 में पंजाब के 28वें मुख्यमंत्री के रूप में किसने शपथ ली?

- Ans
- 1. चरणजीत सिंह चन्नी
 - 2. प्रकाश सिंह बादल
 - 3. अमरिंदर सिंह
 - 4. भगवंत मान

Question ID : 26433047219
Status : Answered
Chosen Option : 4

Q.7 भारत की आधी जनसंख्या केवल पाँच राज्यों में रहती है। निम्नलिखित में से कौन उन राज्यों में से एक है?

- Ans
- 1. उत्तराखंड
 - 2. केरल
 - 3. गुजरात
 - 4. पश्चिम बंगाल

Question ID : 26433047229
Status : Answered
Chosen Option : 4

Q.8 निम्नलिखित में से कौन-सा कथन गलत है?

- Ans
- 1. विद्युत आवेश एक सदिश राशि है।
 - 2. विद्युत आवेश एक अदिश राशि है।
 - 3. इलेक्ट्रॉन्स ऋणात्मक रूप से आवेशित (चार्ज) होते हैं।
 - 4. प्रोटॉन्स धनात्मक रूप से आवेशित (चार्ज) होते हैं।

Question ID : 26433046973
Status : Answered
Chosen Option : 2

Q.9 मुगल सम्राट शाह आलम द्वितीय ने किस वर्ष ईस्ट इंडिया कंपनी को बंगाल के दीवान के रूप में नियुक्त किया था?

- Ans
- 1. 1765
 - 2. 1755
 - 3. 1760
 - 4. 1758

Question ID : 26433047608
Status : Not Answered
Chosen Option : --

Q.10 अमीबा _____ प्रक्रिया के माध्यम से अपना भोजन प्राप्त करता है।

- Ans
- 1. एंडोसाइटोसिस
 - 2. प्रकाश संश्लेषण
 - 3. एक्सोसाइटोसिस
 - 4. विसरण

Question ID : 26433047599
Status : Answered
Chosen Option : 1

Q.11 नीति आयोग के अटल इनोवेशन मिशन (ए.आई.एम.) द्वारा प्रारंभ की गई डिजि-बुक का इनमें से क्या नाम है?

- Ans
- 1. इनोवेशंस एंड यू
 - 2. इनोवेशंस फॉर यूथ
 - 3. इनोवेशंस फॉर ऑल
 - 4. इनोवेशंस फॉर यू

Question ID : 26433047093
Status : Answered
Chosen Option : 4

Q.12 निम्नलिखित में से क्या असहयोग आंदोलन के मंद पड़ने का एक कारण नहीं था?

- Ans
- 1. वैकल्पिक भारतीय संस्था के अभाव में ब्रिटिश संस्थाओं के बहिष्कार ने एक समस्या खड़ी कर दी।
 - 2. कई वकीलों ने इस्तीफा दे दिया लेकिन फिर लंबे समय तक आय की अनुपस्थिति ने उन्हें फिर से जॉइन होने के लिए मजबूर किया गया।
 - 3. खादी का कपड़ा अक्सर बड़े पैमाने पर उत्पादित मिल के कपड़े की तुलना में अधिक महंगा होता था और गरीब लोग इसे खरीद नहीं सकते थे।
 - 4. आंदोलन के नेताओं ने अपना ध्यान घरेलू कामों की ओर मोड़ दिया जिससे आंदोलन मंद पड़ गया।

Question ID : 26433047834
Status : Answered
Chosen Option : 4

Q.13 सत्रीया नृत्य, कहां के मठों से विकसित हुआ है?

- Ans
- 1. पश्चिम बंगाल
 - 2. त्रिपुरा
 - 3. असम
 - 4. लद्दाख

Question ID : 26433047820
Status : Answered
Chosen Option : 3

Q.14 उस्ताद बिस्मिल्लाह खाँ किस वाद्य यंत्र से संबंधित थे?

- Ans
- 1. गिटार
 - 2. संतूर
 - 3. सितार
 - 4. शहनाई

Question ID : 26433047236
Status : Answered
Chosen Option : 3

Q.15 अशोक ने कलिंग को जीतने के लिए युद्ध लड़ा। कलिंग तटीय _____ का प्राचीन नाम था।

- Ans
- 1. मद्रास (अब चेन्नई)
 - 2. बंगाल (अब पश्चिम बंगाल)
 - 3. उड़ीसा (अब ओड़िशा)
 - 4. बाम्बे (अब मुंबई)

Question ID : 26433047231
Status : Answered
Chosen Option : 3

Q.16 इनमें से किस प्रसिद्ध राष्ट्रकूट शासक ने एलोरा में शैलकृत कैलाश मंदिर का निर्माण करवाया था?

- Ans
- 1. भोज
 - 2. राष्ट्रकूट राजा कृष्ण प्रथम
 - 3. गोविंद तृतीय
 - 4. जय चंद

Question ID : 26433047107
Status : Answered
Chosen Option : 2

Q.17 भारत का सबसे बड़ा बांध हीराकुंड (हीराकुद) बांध इनमें से किस नदी पर निर्मित है?

- Ans
- 1. कावेरी
 - 2. गोदावरी
 - 3. तापी
 - 4. महानदी

Question ID : 26433047102
Status : Answered
Chosen Option : 4

Q.18 सतलुज और काली नदियों के बीच स्थित हिमालय के हिस्से को _____ के रूप में जाना जाता है।

- Ans
- 1. पंजाब हिमालय
 - 2. कुमाऊं हिमालय
 - 3. कश्मीर हिमालय
 - 4. हिमाचल हिमालय

Question ID : 26433047603
Status : Answered
Chosen Option : 1

Q.19 'ट्रेन टू पाकिस्तान' पुस्तक के लेखक कौन हैं?

- Ans
- 1. शशि थरूर
 - 2. खुशवंत सिंह
 - 3. अमिताभ घोष
 - 4. मुल्क राज आनंद

Question ID : 26433047235
Status : Answered
Chosen Option : 4

Q.20 वाणिज्यिक बैंक अपनी जमा राशि भारतीय रिजर्व बैंक (RBI) के पास रखते हैं। इन जमा राशियों को _____ कहा जाता है।

- Ans 1. आरक्षित निधियाँ
 2. धरोहर
 3. ऋण
 4. देयता

Question ID : 26433047242
Status : Answered
Chosen Option : 1

Q.21 पंडित राजेंद्र गंगानी भारत के किस शास्त्रीय नृत्य से जुड़े हैं?

- Ans 1. ओडिसी नृत्य
 2. कथक नृत्य
 3. मणिपुरी नृत्य
 4. सत्रीया नृत्य

Question ID : 26433047612
Status : Not Answered
Chosen Option : --

Q.22 इनमें से कौन-सा, एक मौलिक अधिकार है?

- Ans 1. चुनाव का अधिकार
 2. सूचना का अधिकार
 3. मौलिक कर्तव्यों का अधिकार
 4. संवैधानिक उपचारों का अधिकार

Question ID : 26433047113
Status : Answered
Chosen Option : 3

Q.23 मोरैन (Moraine) शब्द का इनमें से क्या अर्थ होता है?

- Ans 1. उच्चतर स्तर की सहायक नदी
 2. जमी हुई बर्फ का पिघलना
 3. हिमनद द्वारा परिवहन की गई और निक्षेपित की गई सामग्री
 4. ऊर्ध्व पार्श्वी और चौड़े तल वाली घाटी

Question ID : 26433047101
Status : Answered
Chosen Option : 3

Q.24 निम्नलिखित में से कौन सा सूक्ष्म पोषक तत्वों का एक युग्म नहीं है?

- Ans 1. आयोडीन और खनिज
 2. खनिज और आयरन
 3. कैल्शियम और वसा
 4. आयोडीन और आयरन

Question ID : 26433047825

Status : Answered

Chosen Option : 1

Q.25 उत्तरी भारत में मंदिर वास्तुकला की लोकप्रिय शैली _____ कहलाती है।

- Ans 1. द्रविड़
 2. पंचायतन
 3. शिकारा
 4. नागर

Question ID : 26433047097

Status : Answered

Chosen Option : 2