

Multi Tasking Non Technical Staff Havaladar CBIC and CBN Examination 2021

Roll Number	
Candidate Name	
Venue Name	
Exam Date	19/07/2022
Exam Time	1:00 PM - 2:30 PM
Subject	MTS Non technical and Havaladar Examination 2021

Section : General English

Q.1 Select the option that will improve the underlined part of the given sentence. In case no improvement is needed, select 'No improvement required'.

Drink a mixture of wormwood oil and olive oil to got rid of worms.

- Ans 1. to get rid of
 2. No improvement required
 3. to rid off
 4. to getting rid by

Question ID : 26433050962
Status : Answered
Chosen Option : 1

Q.2 Select the option that will improve the underlined part of the given sentence. In case no improvement is needed, select 'No improvement required'.

The novels of Jane Austen give us a glimpse into the world of women.

- Ans 1. gave them the
 2. gives us a
 3. No improvement required
 4. given us a

Question ID : 26433051724
Status : Answered
Chosen Option : 1

Q.3 Select the option that will improve the underlined part of the sentence. In case no improvement is needed, select 'No improvement required'.

Bring me the finest dress from an finest shop.

- Ans 1. No improvement required
 2. from the finest
 3. of the finer
 4. through a finer

Question ID : 26433051064
Status : Answered
Chosen Option : 2

Q.4 Select the correctly spelt word.

Ans 1. Acknowledge

2. Anceistors

3. Religiocity

4. Precurser

Question ID : 26433051492

Status : Answered

Chosen Option : 1

Q.5 Select the most appropriate option to fill in the blank.

Please sit down and have breakfast _____ us.

Ans 1. at

2. to

3. with

4. on

Question ID : 26433050770

Status : Answered

Chosen Option : 3

Q.6 Select the most appropriate meaning of the given idiom.

Drop in the bucket

Ans 1. An alarming or unexpected announcement, especially an unpleasant one

2. An extreme overreaction to something very small or insignificant

3. Something small and unimportant, especially when compared with something else

4. To be involved in or be a part of something great or revolutionary

Question ID : 26433051204

Status : Answered

Chosen Option : 3

Q.7 Select the most appropriate meaning of the given idiom.

A piece of cake

Ans 1. A thoughtful mind

2. A dangerous situation

3. A very easy task

4. A hidden enemy

Question ID : 26433050568

Status : Answered

Chosen Option : 3

Q.8 Parts of the following sentence have been given as options. One of them may contain an error. Select the part that contains the error from the given options. If you don't find any error, mark 'No error' as your answer.

Caramel is made from several thousand compounds, making it one of the much complex food products.

- Ans 1. the much complex food products
 2. No error
 3. thousand compounds, making it one of
 4. Caramel is made from several

Question ID : 26433050630
Status : Answered
Chosen Option : 3

Q.9 Select the most appropriate synonym of the underlined word in the given sentence.

My most vivid recollection of last summer is the ocean.

- Ans 1. vague
 2. lucid
 3. composed
 4. blurry

Question ID : 26433050784
Status : Answered
Chosen Option : 2

Q.10 Select the option that can be used as a one-word substitute for the given group of words.

A non-professional who is inept at a particular activity

- Ans 1. Amateur
 2. Expert
 3. Director
 4. Fatalist

Question ID : 26433051171
Status : Answered
Chosen Option : 1

Q.11 Select the option that can be used as a one-word substitute for the given group of words.

One who can use either hand with ease

- Ans 1. Pedantic
 2. Virtuoso
 3. Ambidextrous
 4. Gregarious

Question ID : 26433050571
Status : Answered
Chosen Option : 3

Q.12 The following sentence has been divided into parts. One of them may contain an error. Select the part that contains the error from the given options. If you don't find any error, mark 'No error' as your answer.

Their are numerous / buildings outside our / school premises.

- Ans 1. school premises
 2. No error
 3. Their are numerous
 4. buildings outside our

Question ID : 26433051471
Status : Answered
Chosen Option : 3

Q.13 Select the most appropriate synonym of the given word.

Bloom

- Ans 1. Drop
 2. Fade
 3. Flower
 4. Wither

Question ID : 26433050618
Status : Answered
Chosen Option : 4

Q.14 The following sentence has been divided into parts. One of them may contain an error. Select the part that contains the error from the given options. If you don't find any error, mark 'No error' as your answer.

It were so painful / to give up / my last hope.

- Ans 1. to give up
 2. my last hope
 3. No error
 4. It were so painful

Question ID : 26433050602
Status : Answered
Chosen Option : 4

Q.15 Select the correctly spelt word.

- Ans 1. Continent
 2. Conttinent
 3. Contenant
 4. Contienent

Question ID : 26433050624
Status : Answered
Chosen Option : 1

Q.16 Select the option that will improve the underlined part of the sentence. In case no improvement is needed, select 'No improvement required'.

Both of mine child passed the examination successfully.

- Ans 1. No improvement required
2. my children passed
3. my child pass
4. our children passes

Question ID : 26433050510
Status : Answered
Chosen Option : 2

Q.17 Select the most appropriate ANTONYM of the given word.

Relapse

- Ans 1. Pine
2. Validate
3. Warrant
4. Improve

Question ID : 26433051227
Status : Not Answered
Chosen Option : --

Q.18 Select the most appropriate ANTONYM of the underlined word.

Strenuous exercise can result in muscle pain.

- Ans 1. Aggressive
2. Impelling
3. Effortless
4. Irksome

Question ID : 26433050990
Status : Answered
Chosen Option : 2

Q.19 Select the most appropriate ANTONYM of the given word.

Glad

- Ans 1. Cheery
2. Delighted
3. Gloomy
4. Joyous

Question ID : 26433050616
Status : Answered
Chosen Option : 1

Q.20 Select the option that can be used as a one-word substitute for the given group of words.

Having a common centre, as circles or spheres

- Ans 1. Elliptical
 2. Concentric
 3. Cylindrical
 4. Centrifugal

Question ID : 26433051484
Status : Answered
Chosen Option : 2

Comprehension:

In the following passage, some words have been deleted. Read the passage carefully and select the most appropriate option to fill in each blank.

Latin may be the language that we (1) _____ with the Roman Empire, but the question of (2) _____ the Romans spoke Latin or not (3) _____ not have a simple answer. Rome grew from a tiny community in the middle of a culturally diverse peninsula into an empire that reached (4) _____ Britain to Syria. As Rome's power spread, Romans also interacted with (5) _____ of dozens of other languages

SubQuestion No : 21

Q.21 Select the most appropriate option to fill in blank number 1.

- Ans 1. associate
 2. remind
 3. imply
 4. delink

Question ID : 26433050773
Status : Answered
Chosen Option : 2

Comprehension:

In the following passage, some words have been deleted. Read the passage carefully and select the most appropriate option to fill in each blank.

Latin may be the language that we (1) _____ with the Roman Empire, but the question of (2) _____ the Romans spoke Latin or not (3) _____ not have a simple answer. Rome grew from a tiny community in the middle of a culturally diverse peninsula into an empire that reached (4) _____ Britain to Syria. As Rome's power spread, Romans also interacted with (5) _____ of dozens of other languages

SubQuestion No : 22

Q.22 Select the most appropriate option to fill in blank number 2.

- Ans 1. whether
 2. either
 3. do
 4. did

Question ID : 26433050774
Status : Answered
Chosen Option : 1

Comprehension:

In the following passage, some words have been deleted. Read the passage carefully and select the most appropriate option to fill in each blank.

Latin may be the language that we (1) _____ with the Roman Empire, but the question of (2) _____ the Romans spoke Latin or not (3) _____ not have a simple answer. Rome grew from a tiny community in the middle of a culturally diverse peninsula into an empire that reached (4) _____ Britain to Syria. As Rome's power spread, Romans also interacted with (5) _____ of dozens of other languages

SubQuestion No : 23

Q.23 Select the most appropriate option to fill in blank number 3.

Ans 1. does

2. should

3. do

4. done

Question ID : 26433050775

Status : Answered

Chosen Option : 3

Comprehension:

In the following passage, some words have been deleted. Read the passage carefully and select the most appropriate option to fill in each blank.

Latin may be the language that we (1) _____ with the Roman Empire, but the question of (2) _____ the Romans spoke Latin or not (3) _____ not have a simple answer. Rome grew from a tiny community in the middle of a culturally diverse peninsula into an empire that reached (4) _____ Britain to Syria. As Rome's power spread, Romans also interacted with (5) _____ of dozens of other languages

SubQuestion No : 24

Q.24 Select the most appropriate option to fill in blank number 4.

Ans 1. from

2. of

3. between

4. both

Question ID : 26433050776

Status : Answered

Chosen Option : 1

Comprehension:

In the following passage, some words have been deleted. Read the passage carefully and select the most appropriate option to fill in each blank.

Latin may be the language that we (1) _____ with the Roman Empire, but the question of (2) _____ the Romans spoke Latin or not (3) _____ not have a simple answer. Rome grew from a tiny community in the middle of a culturally diverse peninsula into an empire that reached (4) _____ Britain to Syria. As Rome's power spread, Romans also interacted with (5) _____ of dozens of other languages

SubQuestion No : 25

Q.25 Select the most appropriate option to fill in blank number 5.

Ans 1. speakers

2. capitals

3. principals

4. sleepers

Question ID : 26433050777

Status : Answered

Chosen Option : 1

Section : General Intelligence and Reasoning

Q.1 एक निश्चित कूट भाषा में, 'Homonym is antonym' को '# kr pg' कूटबद्ध किया जाता है, और 'Antonym are synonym' को 'lm pg 6' कूटबद्ध किया जाता है। उसी भाषा में 'Antonym' का क्या कूट है?

Ans 1. pg

2. #

3. lm

4. kr

Question ID : 26433048646

Status : Answered

Chosen Option : 1

Q.2 उस समूह का चयन कीजिए, जिसमें संख्याएं उसी प्रकार से संबंधित हैं जिस प्रकार निम्नलिखित समूहों में संख्याएं संबंधित हैं।

(16, 4, 8)
(12, 2, 12)

Ans 1. (18, 8, 3)

2. (28, 7, 8)

3. (20, 2, 8)

4. (32, 3, 10)

Question ID : 26433048159

Status : Answered

Chosen Option : 2

Q.5 दिए गए विकल्पों में से वह संख्या चुनिए जो निम्नलिखित श्रृंखला में प्रश्नवाचक चिह्न (?) का स्थान ले सकती है।

425, 442, 459, 476, ?

Ans 1. 493

2. 503

3. 482

4. 498

Question ID : 26433048031

Status : Answered

Chosen Option : 1

Q.6 सात व्यक्ति प्रवीण, राहुल, शिखर, तीर्थ, उदय, विनय और वसीम एक सीधी पंक्ति में उत्तर की ओर मुख करके बैठे हैं। राहुल, तीर्थ के बायीं ओर दूसरे स्थान पर बैठा है। तीर्थ, वसीम के बायीं ओर तीसरे स्थान पर बैठा है। राहुल और शिखर में से कोई भी किसी भी कोने पर नहीं बैठा है। उदय, विनय का निकटतम पड़ोसी है। विनय दाएं कोने से बायीं ओर दूसरे स्थान पर बैठा है। राहुल के ठीक बायें कौन बैठा है?

Ans 1. विनय

2. तीर्थ

3. प्रवीण

4. उदय

Question ID : 26433048027

Status : Answered

Chosen Option : 3

Q.7 दिए गए कथनों और निष्कर्षों को सावधानीपूर्वक पढ़िए। कथनों में दी गई जानकारी को सत्य मानते हुए, चाहे वह सामान्यतः ज्ञात तथ्यों से असंगत प्रतीत होती हो, यह निर्धारित करें कि दिए गए निष्कर्षों में से कौन सा/से निष्कर्ष कथनों का तार्किक रूप से अनुसरण करता /करते है/हैं।

कथन I: सभी तेंदुए चीते हैं।

कथन II: कोई भी चीता बिल्ली नहीं है।

निष्कर्ष I: कुछ बिल्लियां, तेंदुए हैं।

निष्कर्ष II: कुछ बिल्लियां, चीते हैं।

Ans 1. न तो निष्कर्ष I और न ही II अनुसरण करता है।

2. केवल निष्कर्ष I अनुसरण करता है।

3. निष्कर्ष I और II अनुसरण करते हैं।

4. केवल निष्कर्ष II अनुसरण करता है।

Question ID : 26433048154

Status : Answered

Chosen Option : 1

Q.8 दिए गए विकल्पों में से उस अक्षर का चयन कीजिए जो निम्नलिखित श्रृंखला में प्रश्नवाचक चिह्न (?) के स्थान पर आ सकता है।

D, F, I, ?, R, X

Ans 1. M

2. L

3. O

4. N

Question ID : 26433047993

Status : Answered

Chosen Option : 1

Q.9 एक निश्चित कूट भाषा में, '524' का अर्थ 'are you fine' है, '785' का अर्थ 'you come home' है और '6271' का अर्थ 'we are at home' है। उसी भाषा में 'come home' के लिए कूट क्या होगा?

Ans 1. 87

2. 91

3. 54

4. 28

Question ID : 26433047924

Status : Answered

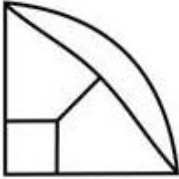
Chosen Option : 1

Q.10 उस विकल्प का चयन कीजिए जिसे निम्नांकित आकृति में प्रश्न चिह्न (?) के स्थान पर रखा जा सकता है और जो पैटर्न को पूरा करता है।

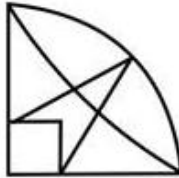


Ans

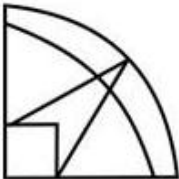
1.



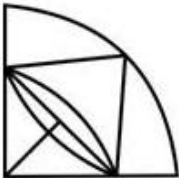
2.



3.



4.



Question ID : 26433048342

Status : Answered

Chosen Option : 2

Q.11 उस विकल्प का चयन कीजिए जो पाँचवें अक्षर-समूह से उसी प्रकार संबंधित है जैसे दूसरा अक्षर-समूह पहले अक्षर-समूह से संबंधित है और चौथा अक्षर-समूह तीसरे अक्षर-समूह से संबंधित है।

GOOD : CKKZ :: BEST : XAOP :: COOL : ?

Ans 1. YKKH

2. YKKI

3. WKKH

4. YJJH

Question ID : 26433047921

Status : Answered

Chosen Option : 1

Q.12 सात बहनों अनु, बरशा, चंपा, दिशा, एम्मा, फरहीन और गीता में से; बरशा केवल चार अन्य बहनों से बड़ी है। चंपा दिशा से बड़ी है। अनु फरहीन से बड़ी है। एम्मा केवल किसी एक से बड़ी है, वह गीता है, जो सभी बहनों में सबसे छोटी है। बरशा, अनु से बड़ी है। यह देखते हुए कि किन्हीं भी दो बहनों की आयु समान नहीं है, ज्ञात कीजिए कि सबसे बड़ी बहन कौन है।

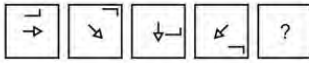
- Ans
- 1. दिशा
 - 2. फरहीन
 - 3. चंपा
 - 4. अनु

Question ID : 26433048028

Status : Answered

Chosen Option : 3

Q.13 दिए गए विकल्पों में से उस आकृति का चयन करें, जो नीचे दी गई शृंखला में प्रश्न चिह्न (?) के स्थान पर आ सकती है।



Ans

- 1.
- 2.
- 3.
- 4.

Question ID : 26433048859

Status : Answered

Chosen Option : 2

Q.14 एक निश्चित कूट भाषा में, 'ROMKSG' को 'SQPJQD' के रूप में लिखा जाता है, और 'PNDABC' को 'QPGZZZ' के रूप में लिखा जाता है। उसी भाषा में 'QJLMTF' को किस रूप में लिखा जाएगा?

- Ans
- 1. RLOLSC
 - 2. RLLORC
 - 3. RLOLRC
 - 4. RLLOSC

Question ID : 26433048997

Status : Answered

Chosen Option : 3

Q.15 उस विकल्प का चयन कीजिए जो चौथी संख्या से उसी प्रकार से संबंधित है जैसे पहली संख्या दूसरी संख्या से संबंधित है और पाँचवीं संख्या छठी संख्या से संबंधित है।

7: 42 :: ? : 110 :: 9 : 72

- Ans 1. 11
 2. 8
 3. 12
 4. 6

Question ID : 26433048008
Status : Answered
Chosen Option : 1

Q.16 दिए गए विकल्पों में से उस संख्या का चयन करें, जो निम्नलिखित श्रृंखला में प्रश्न चिह्न (?) के स्थान पर आ सकती है।

13, 17, 19, 23, 29, ?

- Ans 1. 43
 2. 31
 3. 53
 4. 37

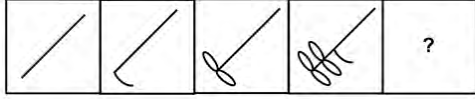
Question ID : 26433048843
Status : Answered
Chosen Option : 2

Q.17 एक निश्चित कूट भाषा में, 'WORLD' को 'CUXRJ' लिखा जाता है और 'SMOKE' को 'YSUQK' लिखा जाता है। उसी भाषा में 'INDIA' को कैसे लिखा जाएगा?

- Ans 1. OSJOG
 2. OTJOG
 3. OTKOG
 4. OTJOH


Question ID : 26433047925
Status : Answered
Chosen Option : 2

Q.18 दिए गए विकल्पों में से उस आकृति का चयन कीजिए जो निम्नलिखित श्रृंखला में प्रश्नवाचक चिह्न (?) के स्थान पर आ सकती है।

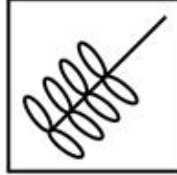


Ans


1.




2.



3.



4.



Question ID : 26433048012

Status : Answered

Chosen Option : 2

Q.19 उस विकल्प का चयन करें जो तीसरे अक्षर-समूह से उसी प्रकार संबंधित है, जिस प्रकार दूसरा अक्षर-समूह पहले अक्षर-समूह से संबंधित है।

RO : WJ :: PJ : ?

Ans 1. VF

2. VE

3. UF

4. UE

Question ID : 26433048650

Status : Answered

Chosen Option : 4

Q.20 दिए गए कथनों और निष्कर्षों को ध्यानपूर्वक पढ़िए। यह मानते हुए कि कथनों में दी गई जानकारी सही है, भले ही वह सामान्य रूप से ज्ञात तथ्यों से भिन्न प्रतीत होती हो, यह तय करें कि दिए गए निष्कर्षों में से कौन सा/से कथन/कथनों का तार्किक रूप से अनुसरण करता/करते हैं।

कथन I : सभी काले हरे हैं और कोई हरा लाल नहीं है।
कथन II : सभी लाल गुलाबी हैं।

निष्कर्ष I : सभी काले गुलाबी हैं।
निष्कर्ष II : कुछ हरा गुलाबी हैं।

- Ans
- 1. केवल निष्कर्ष I अनुसरण करता है
 - 2. केवल निष्कर्ष II अनुसरण करता है
 - 3. निष्कर्ष I और II दोनों अनुसरण करते हैं
 - 4. न तो निष्कर्ष I और न ही II अनुसरण करता है

Question ID : 26433048005

Status : Answered

Chosen Option : 4

Q.21 निम्नलिखित समीकरण में यदि '+' और 'x' को परस्पर बदल दिया जाए और साथ ही '-' और '÷' को भी परस्पर बदल दिया जाए तो प्रश्न चिह्न (?) के स्थान पर क्या आएगा?

$$42 + 6 - 3 \times 15 \div 5 = ?$$

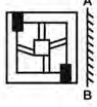
- Ans
- 1. 94
 - 2. 63
 - 3. 74
 - 4. 85

Question ID : 26433048011

Status : Answered

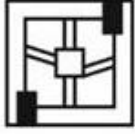
Chosen Option : 1

Q.22 दी गई आकृति के उस सही दर्पण-प्रतिबिंब का चयन करें, जो दर्पण को आकृति के दाईं ओर रखे जाने पर बनता है।

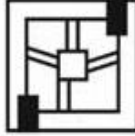


Ans

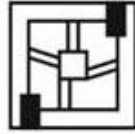
1.



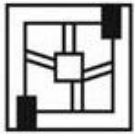
2.



3.



4.



Question ID : 26433048786

Status : Answered

Chosen Option : 3

Q.23 चार लड़के A, R, K और M एक पंक्ति में उत्तर की ओर मुख करके (आवश्यक नहीं है कि इसी क्रम में हों) बैठे हैं, और चार लड़कियाँ P, Q, L और B एक पंक्ति में इन लड़कों के मुख की ओर मुख करके (आवश्यक नहीं है कि इसी क्रम में हों) बैठी हैं। B, P के दाईं ओर दूसरे स्थान पर बैठी है। K और A छोरों पर बैठे हैं। P एक छोर पर बैठी है। K पंक्ति के बाएँ छोर पर बैठा है। एक लड़का A और R के बीच में बैठा है।

यदि Q एक छोर पर बैठी है, तो किसका मुख L की ओर है?

Ans 1. R

2. A

3. K

4. M

Question ID : 26433048855

Status : Answered

Chosen Option : 4

Q.24 यदि '+' और '-' को आपस में बदल दिया जाए और साथ ही '×' और '÷' को भी आपस में बदल दिया जाए, तो निम्नलिखित समीकरण में '?' के स्थान पर क्या आएगा?

$$42 + 10 \times 5 - 9 \div 1 = ?$$

Ans 1. 31

2. 49

3. 44

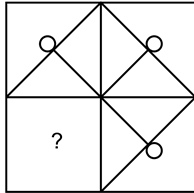
4. 38

Question ID : 26433048035

Status : Answered

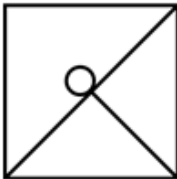
Chosen Option : 2

Q.25 दिए गए विकल्पों में से उस आकृति का चयन कीजिए, जो प्रश्नवाचक चिह्न (?) को बदलते हुए निम्नांकित पैटर्न को पूरा कर सकती है।

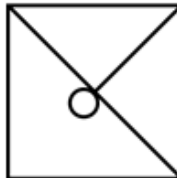


Ans

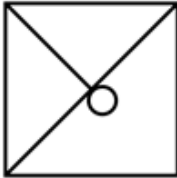
1.



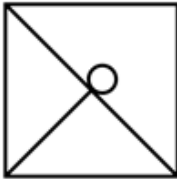
2.



3.



4.



Question ID : 26433048192

Status : Answered

Chosen Option : 2

Q.1 X और Y साथ मिलकर एक काम को 30 दिनों में पूरा कर सकते हैं, Y और Z साथ मिलकर उसी काम को 40 दिनों में पूरा कर सकते हैं तथा Z और X साथ मिलकर उसी काम को 24 दिनों में पूरा कर सकते हैं। X, Y और Z साथ मिलकर इस काम को कितने दिनों में पूरा कर सकते हैं?

- Ans
- 1. 5 दिन
 - 2. 15 दिन
 - 3. 10 दिन
 - 4. 20 दिन

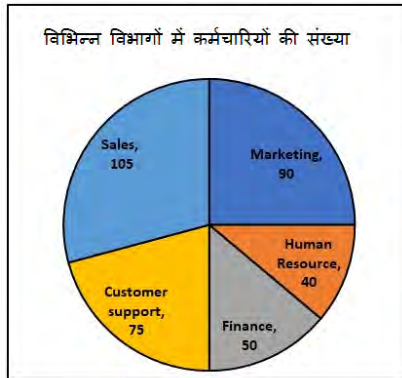
Question ID : 26433049361
Status : Answered
Chosen Option : 4

Q.2 तीन संख्याओं का अनुपात क्रमशः $\frac{1}{4} : \frac{5}{6} : \frac{1}{3}$ है। यदि इन संख्याओं का योग 68 है, तो पहली संख्या के $\frac{1}{3}$ का मान ज्ञात कीजिए।

- Ans
- 1. 4
 - 2. 6
 - 3. 2
 - 4. 8

Question ID : 26433050179
Status : Answered
Chosen Option : 1

Q.3 निम्न पाई-चार्ट एक कंपनी के विभिन्न विभागों में कर्मचारियों की संख्या का निरूपण करने वाले विभिन्न त्रिज्यखंडों के केंद्रीय कोणों को निरूपित करता है।



मार्केटिंग (marketing) विभाग के कर्मचारियों की संख्या सभी विभागों में कर्मचारियों की कुल संख्या की कितने प्रतिशत है?

- Ans
- 1. 12.5%
 - 2. 50%
 - 3. 20%
 - 4. 25%

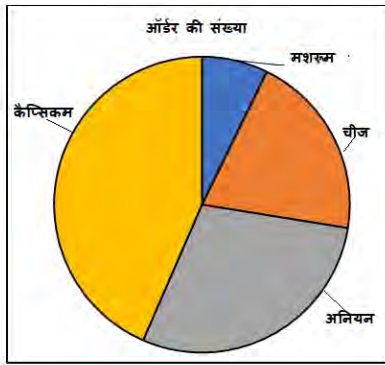
Question ID : 26433050188
Status : Answered
Chosen Option : 4

Q.4 टमाटर का मूल्य 10% बढ़ जाता है। इससे टमाटर की खपत 15% कम हो जाती है। टमाटर पर व्यय में कितने प्रतिशत का परिवर्तन हुआ?

- Ans
- ✓ 1. 6.5% कमी
 - ✗ 2. 7% कमी
 - ✗ 3. 8% कमी
 - ✗ 4. 7.5% कमी

Question ID : 26433049901
Status : Answered
Chosen Option : 1

Q.5 दिए गए पाई-चार्ट का अध्ययन करें और नीचे दिए गए प्रश्न का उत्तर दें।
पाई-चार्ट एक यादृच्छिक (रैंडम) दिन पर बेचे जाने वाले पिज्जा के विभिन्न स्वादों (फ्लेवर) की संख्या के शेयरों को दर्शाता है।



[चित्र को पैमाने पर खींचा गया है।]

पिज्जा का कौन सा स्वाद (फ्लेवर) सबसे ज्यादा ऑर्डर किया जाता है?

- Ans
- ✗ 1. अनियन
 - ✓ 2. कैप्सिकम
 - ✗ 3. चीज़
 - ✗ 4. मशरूम

Question ID : 26433049364
Status : Answered
Chosen Option : 2

Q.6 एक निश्चित दूरी की यात्रा में, 3 h में 10 km की दूरी पैदल, 3 h में 120 km की दूरी कार से और 4 h में 70 km की दूरी स्कूटर से तय की जाती है। पूरी यात्रा के दौरान औसत चाल ज्ञात कीजिए।

- Ans
- 1. 50 km/h
 - 2. 20 km/h
 - 3. 35 km/h
 - 4. 45 km/h

Question ID : 26433049384
Status : Answered
Chosen Option : 2

Q.7 नियत देय तारीख से पहले बिजली बिल का भुगतान करने पर बिल की राशि पर 2% की छूट मिलती है। नियत देय तारीख से पहले बिल का भुगतान करने पर राजीव को ₹40 और रवीना को ₹80 की छूट मिली। राजीव और रवीना के बिजली बिलों का योग कितना है?

- Ans
- 1. ₹8,000
 - 2. ₹2,000
 - 3. ₹4,000
 - 4. ₹6,000

Question ID : 26433049353
Status : Answered
Chosen Option : 4

Q.8 एक समचतुर्भुज के विकर्णों की लंबाइयां क्रमशः 16 cm और 30 cm हैं। समचतुर्भुज का परिमाप ज्ञात कीजिए।

- Ans
- 1. 68 cm
 - 2. 80 cm
 - 3. 72 cm
 - 4. 76 cm

Question ID : 26433049710
Status : Answered
Chosen Option : 1

Q.9 यदि 66 m परिमाप वाले एक आयत की आसन्न भुजाओं का अनुपात 5 : 6 है, तो आयत का क्षेत्रफल कितना होगा?

- Ans
- 1. 270 m²
 - 2. 160 m²
 - 3. 230 m²
 - 4. 180 m²

Question ID : 26433049365
Status : Answered
Chosen Option : 1

Q.10 एक वृत्त की परिधि एक समबाहु त्रिभुज के परिमाण के बराबर है। यदि वृत्त की त्रिज्या 84 cm है, तो समबाहु त्रिभुज की प्रत्येक भुजा की लंबाई कितनी होगी? [यदि $\pi = \frac{22}{7}$]

- Ans
- 1. 192 cm
 - 2. 172 cm
 - 3. 176 cm
 - 4. 184 cm

Question ID : 26433049935
Status : Answered
Chosen Option : 3

Q.11 B₁ और B₂ एक साथ एक कार्य को 8 दिन में पूरा कर सकते हैं, B₂ और B₃ एक साथ उसी कार्य को 16 दिन में पूरा कर सकते हैं, जबकि B₁ और B₃ एक साथ उसी कार्य को 32 दिन में पूरा कर सकते हैं। सभी 3 व्यक्ति, एक साथ कार्य करते हुए 4 दिन में कुल कार्य का कितना प्रतिशत पूरा कर सकते हैं?

- Ans
- 1. 40.75%
 - 2. 38.5%
 - 3. 43.75%
 - 4. 41.25%

Question ID : 26433049894
Status : Answered
Chosen Option : 3

Q.12 एक शो में प्रत्येक दर्शक से पहले दिन ₹10, दूसरे दिन ₹5 और तीसरे दिन ₹2 का शुल्क लिया गया और तीन दिनों की कुल उपस्थिति का अनुपात 15 : 2 : 3 था। तीन दिनों में शो में आने वाले सभी दर्शकों के लिए प्रति व्यक्ति औसत शुल्क कितना है?

- Ans
- 1. ₹20.00
 - 2. ₹7.50
 - 3. ₹8.30
 - 4. ₹6.80

Question ID : 26433049348
Status : Answered
Chosen Option : 3

Q.13 11 और 27 के बीच सभी सम संख्याओं का औसत कितना होगा?

- Ans
- 1. 20
 - 2. 18
 - 3. 17.5
 - 4. 19

Question ID : 26433049927
Status : Answered
Chosen Option : 4

Q.14 ₹2,500 की एक धनराशि पर 2 वर्षों के चक्रवृद्धि ब्याज और साधारण ब्याज का अंतर ₹100 है। यदि साधारण ब्याज और चक्रवृद्धि ब्याज दोनों के लिए वार्षिक ब्याज की दर समान है और चक्रवृद्धि ब्याज के मामले में, ब्याज वार्षिक रूप से संयोजित होता है, तो वार्षिक ब्याज दर ज्ञात कीजिए।

- Ans
- 1. 20%
 - 2. 25%
 - 3. 12%
 - 4. 40%

Question ID : 26433049507
Status : Answered
Chosen Option : 1

Q.15 $[1000 + 300 - \{500 \div 5 + 100\} \times 4]$ का मान कितना होगा?

- Ans
- 1. 500
 - 2. 1,300
 - 3. 800
 - 4. 400

Question ID : 26433049344
Status : Answered
Chosen Option : 1

Q.16 36 km/h की चाल से गतिमान 200 m लंबी एक ट्रेन किसी पुल को पूरी तरह से पार करने में 55 सेकंड का समय लेती है। पुल की लंबाई कितनी है?

- Ans
- 1. 350 m
 - 2. 375 m
 - 3. 300 m
 - 4. 320 m

Question ID : 26433050183
Status : Answered
Chosen Option : 1

Q.17 एक दूधवाला ₹a प्रति लीटर की दर से दूध खरीदता है और ₹1.5a प्रति लीटर की दर से बेचता है। इसके अतिरिक्त वह प्रति 9 लीटर शुद्ध दूध में 2 लीटर पानी मिलाता है। उसका लाभ प्रतिशत कितना है?

- Ans
- 1. $\frac{789}{5} \%$
 - 2. $\frac{250}{3} \%$
 - 3. $\frac{328}{9} \%$
 - 4. $\frac{1000}{3} \%$

Question ID : 26433049352
Status : Answered
Chosen Option : 2

Q.18 पंद्रह संख्याओं के एक समुच्चय का औसत 12 है। यदि दिए गए समुच्चय की प्रत्येक संख्या में 7 जोड़ दिया जाए, तो नया औसत क्या होगा?

- Ans
- 1. 105
 - 2. 19
 - 3. 22
 - 4. 84

Question ID : 26433049702
Status : Answered
Chosen Option : 2

Q.19 120 आमों को बेचने पर, एक दुकानदार को 20 आमों के विक्रय मूल्य के बराबर लाभ प्राप्त होता है। उसका लाभ प्रतिशत ज्ञात कीजिए।

- Ans
- 1. 20%
 - 2. 10%
 - 3. 25%
 - 4. 12%

Question ID : 26433049501
Status : Answered
Chosen Option : 1

Q.20 यदि A का वेतन, B के वेतन से 12% अधिक है, तो B का वेतन A के वेतन से कितने प्रतिशत कम है? [दशमलव के बाद 1 स्थान तक पूर्णांकित उत्तर दें]

- Ans
- 1. 12.7%
 - 2. 13.7%
 - 3. 11.7%
 - 4. 10.7%

Question ID : 26433049299
Status : Answered
Chosen Option : 4

Q.21 4% की वार्षिक साधारण ब्याज पर उधार दी गई ₹13,000 की धनराशि कितने समय में ₹13,780 हो जाएगी?

- Ans
- 1. 1 वर्ष 5 माह
 - 2. 2 वर्ष 3 माह
 - 3. 2 वर्ष 6 माह
 - 4. 1 वर्ष 6 माह

Question ID : 26433049356
Status : Answered
Chosen Option : 4

Q.22 भिन्नो (2/3), (8/15) और (4/27) का लघुत्तम समापवर्त्य (LCM) क्या होगा?

- Ans
- 1. 3/8
 - 2. 12/5
 - 3. 8/3
 - 4. 24/7

Question ID : 26433049495
Status : Answered
Chosen Option : 3

Q.23 एक शहर में, 80% जनसंख्या वयस्क है, जिसमें पुरुषों और महिलाओं की जनसंख्या का अनुपात 2 : 3 है। यदि वयस्क पुरुषों की संख्या 1.2 लाख है, तो शहर की कुल जनसंख्या कितनी है?

- Ans
- 1. 1.5 लाख
 - 2. 3 लाख
 - 3. 2 लाख
 - 4. 3.75 लाख

Question ID : 26433049379
Status : Answered
Chosen Option : 4

Q.24 निम्न तालिका एक बगीचे में विभिन्न रंगों के फूलों की संख्या दर्शाती है।

फूलों के रंग	फूलों की संख्या
गुलाबी	4
बैगनी	6
नीले	7
लाल	3
पीले	8

नीले रंग के फूलों को छोड़कर बगीचे में फूलों की कुल संख्या कितनी है?

- Ans
- 1. 21
 - 2. 28
 - 3. 22
 - 4. 20

Question ID : 26433049387
Status : Answered
Chosen Option : 1

Q.25 3375 के $\frac{1}{27}$ + 2775 के 44% का मान ज्ञात कीजिए।

Ans 1. 1351

2. 1342

3. 1346

4. 1349

Question ID : 26433050169
Status : Answered
Chosen Option : 3

Section : General Awareness

Q.1 _____ धातुओं का वह गुण है जिसके कारण उन्हें खींचकर पतले तार बनाए जा सकते हैं।

Ans 1. आघातवर्धनीयता

2. परिष्करण

3. तन्यता

4. वाहकता

Question ID : 26433046773
Status : Answered
Chosen Option : 3

Q.2 _____ पांड्य राजवंश की राजधानी थी।

Ans 1. मद्रुरै

2. करूर

3. दिल्ली

4. उरैयूर

Question ID : 26433046907
Status : Not Answered
Chosen Option : --

Q.3 अंतर्द्रव्यी जालिका (endoplasmic reticulum) के बारे में निम्नलिखित में से कौन-सा कथन सही है?

I. यह झिल्ली युक्त नलिकाओं तथा शीट का एक बहुत बड़ा नेटवर्क है।

II. यह संरचना में प्लाज्मा झिल्ली के समान है।

Ans 1. न तो I और न ही II

2. I और II दोनों

3. केवल I

4. केवल II

Question ID : 26433047575
Status : Not Answered
Chosen Option : --

Q.4 पृथ्वी का सबसे बड़ा महासागर _____ है।

- Ans
- 1. आर्कटिक महासागर
 - 2. अटलांटिक महासागर
 - 3. हिंद महासागर
 - 4. प्रशांत महासागर

Question ID : 26433046901
Status : Answered
Chosen Option : 4

Q.5 सिलसिला और चांदनी जैसी ब्लॉकबस्टर फिल्मों किसके संगीत और उनकी संगीत प्रतिभा की बेहतरीन अभिव्यक्ति हैं?

- Ans
- 1. उस्ताद बिस्मिल्लाह खान
 - 2. जगजीत सिंह
 - 3. पंडित शिवकुमार शर्मा
 - 4. उस्ताद जाकिर हुसैन

Question ID : 26433046761
Status : Answered
Chosen Option : 1

Q.6 रुक्मिणी देवी अरुंडेल भारत के किस शास्त्रीय नृत्य से जुड़ी थीं?

- Ans
- 1. सत्रीया
 - 2. कुचिपुड़ी
 - 3. भरतनाट्यम
 - 4. कथक

Question ID : 26433047570
Status : Not Answered
Chosen Option : --

Q.7 वित्त वर्ष 2022 के केंद्रीय बजट में की गई घोषणा के अनुसार कोयला गैसीकरण के लिए कितनी मार्गदर्शी परियोजनाएँ (पायलट प्रोजेक्ट्स) स्थापित की जानी हैं?

- Ans
- 1. 4
 - 2. 6
 - 3. 2
 - 4. 8

Question ID : 26433046767
Status : Not Answered
Chosen Option : --

Q.8 एक पारंपरिक बास्केटबॉल टीम में 12 खिलाड़ी होते हैं, जिसमें से किसी भी समय कोर्ट पर _____ बास्केटबॉल खिलाड़ी होते हैं।

- Ans
- 1. 6
 - 2. 4
 - 3. 7
 - 4. 5

Question ID : 26433047316
Status : Not Answered
Chosen Option : --

Q.9 तंजावुर में स्थित बृहदेश्वर मंदिर भारत के सबसे बड़े मंदिरों में से एक है और _____ राजवंश के काल के दौरान निर्मित यह मंदिर द्रविड़ वास्तुकला का एक उदाहरण है।

- Ans
- 1. चेरा
 - 2. चोल
 - 3. होयसला
 - 4. पांड्य

Question ID : 26433046897
Status : Not Answered
Chosen Option : --

Q.10 2022 में अंतर्राष्ट्रीय हवाई संपर्क योजना (IACS) की शुरुआत किसने की थी?

- Ans
- 1. ज्योतिरादित्य सिंधिया
 - 2. अमित शाह
 - 3. सुरेश प्रभु
 - 4. सचिन पायलट

Question ID : 26433046893
Status : Not Answered
Chosen Option : --

Q.11 निम्नलिखित में से कौन महानदी की एक सहायक नदी नहीं है?

- Ans
- 1. हसदेव
 - 2. शिवनाथ
 - 3. इंद्रावती
 - 4. तेलन

Question ID : 26433046753
Status : Not Answered
Chosen Option : --

Q.12 मोत्सु महोत्सव बहुत हर्ष उल्लास का अवसर होता है, क्योंकि बुवाई का मौसम समाप्त हो चुका होता है। यह उत्सव _____ की एओ जनजातियों द्वारा मनाया जाता है।

- Ans 1. अरुणाचल प्रदेश
 2. नागालैंड
 3. मेघालय
 4. मणिपाल

Question ID : 26433046771
Status : Not Answered
Chosen Option : --

Q.13 आय या उपभोग के स्तरों के आधार पर, निर्धनता मापन के लिए इनमें से किस सामान्य शब्द का प्रयोग किया जाता है?

- Ans 1. निर्धनता प्राक्कलन (Poverty estimates)
 2. भेद्यता (Vulnerability)
 3. निर्धनता रेखा (Poverty line)
 4. सामाजिक अपवर्जन (Social exclusion)

Question ID : 26433047104
Status : Answered
Chosen Option : 4

Q.14 अप्रैल 2022 तक उपलब्ध जानकारी के अनुसार, भारत में कपास का अग्रणी/प्रमुख उत्पादक राज्य कौन सा है?

- Ans 1. मध्य प्रदेश
 2. गुजरात
 3. तेलंगाना
 4. कर्नाटक

Question ID : 26433046902
Status : Not Answered
Chosen Option : --

Q.15 महात्मा गांधी ने किस वर्ष नील की खेती करने वालों के खिलाफ चंपारण आंदोलन का नेतृत्व किया था?

- Ans 1. 1917
 2. 1918
 3. 1915
 4. 1916

Question ID : 26433047584
Status : Not Answered
Chosen Option : --

Q.16 पत्रा राष्ट्रीय उद्यान निम्नलिखित में से किस राज्य में स्थित है?

- Ans 1. मेघालय
 2. मध्य प्रदेश
 3. ओड़िशा
 4. तमिलनाडु

Question ID : 26433046750
Status : Not Answered
Chosen Option : --

Q.17 निम्नलिखित में से कौन वर्ल्ड कोरियोग्राफी अवार्ड 2020 जीतने वाले/ली पहले/ली भारतीय थे/थीं?

- Ans 1. रेमो डिसूजा
 2. सुरेश मुकुंद
 3. अपर्णा सतीसन
 4. बॉस्को-सीजर

Question ID : 26433046762
Status : Answered
Chosen Option : 1

Q.18 निम्नलिखित में से कौन 6 अप्रैल 2022 तक की तिथि के अनुसार भारत के सबसे धनी व्यक्ति हैं?

- Ans 1. साइरस पूनावाला
 2. गौतम अदाणी
 3. मुकेश अंबानी
 4. शिव नाडार

Question ID : 26433046744
Status : Not Answered
Chosen Option : --

Q.19 कोई भी व्यक्ति _____ अधिनियम के तहत राष्ट्रीय ध्वज, भारतीय संविधान और राष्ट्रगान का अनादर नहीं कर सकता है।

- Ans 1. व्हिसल ब्लोअर संरक्षण
 2. देनदार वित्तपोषण (फ़ैक्टर) विनियमन
 3. सशस्त्र बल न्यायाधिकरण
 4. राष्ट्रीय गौरव अपमान निवारण

Question ID : 26433046913
Status : Answered
Chosen Option : 4

Q.20 राज्य सभा का सदस्य बनने के लिए किसी भी व्यक्ति का भारतीय नागरिक और कम से कम _____ आयु का होना आवश्यक है।

- Ans
- 1. 35 वर्ष
 - 2. 32 वर्ष
 - 3. 28 वर्ष
 - 4. 30 वर्ष

Question ID : 26433046764
Status : Answered
Chosen Option : 4

Q.21 आत्मकथा और उसके लेखक से संबंधित निम्नलिखित में से कौन सा युग्म गलत है?

- Ans
- 1. अनब्रेकेबल - मैरी कॉम
 - 2. एस अगेस्ट ऑड्स - सानिया मिर्ज़ा
 - 3. द टेस्ट ऑफ़ माई लाइफ़ - कपिल देव
 - 4. प्लेइंग इट माई वे - सचिन तेंदुलकर

Question ID : 26433046760
Status : Not Answered
Chosen Option : --

Q.22 निम्नलिखित गुप्त शासकों में से किसे 'भारत का नेपोलियन' कहा जाता है?

- Ans
- 1. समुद्रगुप्त
 - 2. स्कंदगुप्त
 - 3. चंद्रगुप्त प्रथम
 - 4. विष्णुगुप्त

Question ID : 26433046756
Status : Answered
Chosen Option : 1

Q.23 निम्नलिखित में से कौन लिबरल पार्टी के टिकट पर ब्रिटिश संसद 'हाउस ऑफ कॉमन्स' के लिए चुने जाने वाले पहले भारतीय थे?

- Ans
- 1. चंद्रशेखर आज़ाद
 - 2. भीमराव रामजी अंबेडकर
 - 3. दादाभाई नौरोजी
 - 4. भगत सिंह

Question ID : 26433046758
Status : Not Answered
Chosen Option : --

Q.24 भारत ने 2020 तक किस खेल में आठ ओलंपिक स्वर्ण पदक जीते हैं?

- Ans
- 1. 10m एयर राइफल
 - 2. कुश्ती
 - 3. फील्ड हॉकी
 - 4. मुक्केबाज़ी

Question ID : 26433046715
Status : Not Answered
Chosen Option : --

Q.25 एक वर्ष में प्रति हजार व्यक्तियों पर होने वाली मौतों की संख्या को _____ के रूप में जाना जाता है।

- Ans
- 1. सकल प्रजनन दर
 - 2. जन्म दर
 - 3. मृत्यु दर
 - 4. अपरिष्कृत दर

Question ID : 26433047329
Status : Answered
Chosen Option : 3