

Multi Tasking Non Technical Staff Havaladar CBIC and CBN Examination 2021

Roll Number	
Candidate Name	
Venue Name	
Exam Date	06/07/2022
Exam Time	5:00 PM - 6:30 PM
Subject	MTS Non technical and Havaladar Examination 2021

Section : General English

Q.1 Select the option that will improve the underlined part of the given sentence. In case no improvement is needed, select 'No improvement required'.

My company beliefs that no one should turn up late for work.

- Ans 1. believes
 2. belief
 3. No improvement required
 4. believing

Question ID : 26433051422
Status : Answered
Chosen Option : 1

Q.2 The following sentence has been divided into parts. One of them may contain an error. Select the part that contains the error from the given options. If you don't find any error, mark 'No error' as your answer.

Safety measures makes risky activities less risky.

- Ans 1. less risky
 2. risky activities
 3. Safety measures makes
 4. No error

Question ID : 26433050741
Status : Answered
Chosen Option : 3

Q.3 Select the option that corrects the misspelt words in the given sentence.

The anti-terrorist squod is investgating this case.

- Ans 1. The anti-terrorist squod is investigatng this case.
 2. The anti-terrorist squad is investigating this case.
 3. The anti-terroist squad is investegating this case.
 4. The anti-terrorrist squad is invstigating this case.

Question ID : 26433050764
Status : Answered
Chosen Option : 2

Q.4 Select the option that will improve the underlined part of the given sentence. In case no improvement is needed, select 'No improvement required'.

In his memoir, Attenborough said that, "Lisa would have been 11 if she was with us today."

- Ans
- 1. Attenborough said that, "Lisa will have been 11 if she were
 - 2. No improvement required
 - 3. Attenborough said, "Lisa would have been 11 if she was
 - 4. Attenborough said, "Lisa would have been 11 if she were

Question ID : 26433051568
Status : Answered
Chosen Option : 3

Q.5 Select the most appropriate synonym of the given word.

Obstruct

- Ans
- 1. Unclog
 - 2. Curb
 - 3. Replace
 - 4. Release

Question ID : 26433050757
Status : Answered
Chosen Option : 2

Q.6 The following sentence has been split into four segments. Identify the segment that contains a grammatical error.

Human being are / the producers and the / consumers of Earth's / resources.

- Ans
- 1. consumers of Earth's
 - 2. the producers and the
 - 3. resources
 - 4. Human being are

Question ID : 26433051418
Status : Answered
Chosen Option : 2

Q.7 Select the most appropriate option to fill in the blank.

The ocean waves swelled and reached _____ her head, and she started screaming.

- Ans
- 1. at
 - 2. among
 - 3. upon
 - 4. above

Question ID : 26433051371
Status : Answered
Chosen Option : 4

Q.8 Select the correctly spelt word.

- Ans 1. Assembly
 2. Assembly
 3. Asembly
 4. Assemmbly

Question ID : 26433050841
Status : Answered
Chosen Option : 2

Q.9 Select the option that will improve the underlined part of the given sentence. In case no improvement is needed, select 'No improvement required'.

Why should we give up everything?

- Ans 1. gives up
 2. No improvement required
 3. gave at
 4. given off

Question ID : 26433050562
Status : Answered
Chosen Option : 2

Q.10 Select the most appropriate option to fill in the blank.

If I _____ a doctor, I would have treated you all.

- Ans 1. were
 2. would
 3. am
 4. could

Question ID : 26433050900
Status : Answered
Chosen Option : 1

Q.11 Select the most appropriate ANTONYM of the given word.

Decay

- Ans 1. Breakdown
 2. Disintegrate
 3. Growth
 4. Spoilage

Question ID : 26433050833
Status : Answered
Chosen Option : 3

Q.12 Select the most appropriate ANTONYM of the underlined word in the given sentence.

He learned to endure hunger and cold.

- Ans
- 1. Persist
 - 2. Reconcile
 - 3. Resist
 - 4. Sustain

Question ID : 26433050617
Status : Not Answered
Chosen Option : --

Q.13 Select the most appropriate ANTONYM of the underlined word.

He carries that sorrow with him now, just under the surface, almost tangible.

- Ans
- 1. Actual
 - 2. Abstract
 - 3. Detectable
 - 4. Distinct

Question ID : 26433051662
Status : Answered
Chosen Option : 4

Q.14 Select the most appropriate meaning of the given idiom.

To lead one by the nose

- Ans
- 1. To be anxious to start something
 - 2. To have the freedom to choose
 - 3. To control someone completely
 - 4. To try again after failing at something

Question ID : 26433051281
Status : Answered
Chosen Option : 3

Q.15 Select the option that will improve the underlined part of the given sentence. In case no improvement is needed, select 'No improvement required'.

I am sorry of which my mother said.

- Ans
- 1. No improvement required
 - 2. off that
 - 3. for what
 - 4. for which

Question ID : 26433050882
Status : Answered
Chosen Option : 3

Q.16 Select the most appropriate synonym of the underlined word.

I don't know why she wears these eccentric outfits.

- Ans
- 1. Expensive
 - 2. Elegant
 - 3. Lavish
 - 4. Bizarre

Question ID : 26433050914
Status : Not Answered
Chosen Option : --

Q.17 Select the most appropriate meaning of the given idiom.

Play with fire

- Ans
- 1. To play a game honestly
 - 2. To waste time on worthless things
 - 3. To please someone
 - 4. To do something risky

Question ID : 26433050967
Status : Answered
Chosen Option : 4

Q.18 Select the option that will improve the underlined part of the given sentence. In case no improvement is needed, select 'No improvement required'.

These days, judging someone is easier then respecting them.

- Ans
- 1. is easier than
 - 2. is easiest than
 - 3. No improvement required
 - 4. is more easier then

Question ID : 26433050615
Status : Answered
Chosen Option : 1

Q.19 Select the most appropriate option to fill in the blank.

He said the cooperative will continue to invest _____ per its usual yearly rate.

- Ans
- 1. that
 - 2. as
 - 3. such
 - 4. so

Question ID : 26433051031
Status : Answered
Chosen Option : 2

Q.20 The following sentence has been divided into parts. One of them may contain an error. Select the part that contains the error from the given options. If you don't find any error, mark 'No error' as your answer.

Young scientists have fresh ideas; they are ambitious and highly productive.

Ans 1. and highly productive

2. No error

3. Young scientists have fresh ideas

4. they are ambitious

Question ID : 26433050742

Status : Answered

Chosen Option : 3

Comprehension:

In the following passage, some words have been deleted. Read the passage carefully and select the most appropriate option to fill in each blank.

Strong mental health is not just the (1) _____ of mental health problems. (2) _____ mentally or emotionally healthy is (3) _____ more than being free of depression, anxiety or other psychological issues. (4) _____ than the absence of mental illness, mental health (5) _____ to the presence of positive characteristics and positive outlook towards life.

SubQuestion No : 21

Q.21 Select the most appropriate option to fill in blank number 1.

Ans 1. leave

2. absence

3. attendance

4. adequacy

Question ID : 26433050903

Status : Answered

Chosen Option : 2

Comprehension:

In the following passage, some words have been deleted. Read the passage carefully and select the most appropriate option to fill in each blank.

Strong mental health is not just the (1) _____ of mental health problems. (2) _____ mentally or emotionally healthy is (3) _____ more than being free of depression, anxiety or other psychological issues. (4) _____ than the absence of mental illness, mental health (5) _____ to the presence of positive characteristics and positive outlook towards life.

SubQuestion No : 22

Q.22 Select the most appropriate option to fill in blank number 2.

Ans 1. Be

2. Been

3. As

4. Being

Question ID : 26433050904

Status : Answered

Chosen Option : 4

Comprehension:

In the following passage, some words have been deleted. Read the passage carefully and select the most appropriate option to fill in each blank.

Strong mental health is not just the (1) _____ of mental health problems. (2) _____ mentally or emotionally healthy is (3) _____ more than being free of depression, anxiety or other psychological issues. (4) _____ than the absence of mental illness, mental health (5) _____ to the presence of positive characteristics and positive outlook towards life.

SubQuestion No : 23

Q.23 Select the most appropriate option to fill in blank number 3.

- Ans 1. much
 2. very
 3. many
 4. most

Question ID : 26433050905
Status : Answered
Chosen Option : 1

Comprehension:

In the following passage, some words have been deleted. Read the passage carefully and select the most appropriate option to fill in each blank.

Strong mental health is not just the (1) _____ of mental health problems. (2) _____ mentally or emotionally healthy is (3) _____ more than being free of depression, anxiety or other psychological issues. (4) _____ than the absence of mental illness, mental health (5) _____ to the presence of positive characteristics and positive outlook towards life.

SubQuestion No : 24

Q.24 Select the most appropriate option to fill in blank number 4.

- Ans 1. Whether
 2. Sooner
 3. Neither
 4. Rather

Question ID : 26433050906
Status : Answered
Chosen Option : 4

Comprehension:

In the following passage, some words have been deleted. Read the passage carefully and select the most appropriate option to fill in each blank.

Strong mental health is not just the (1) _____ of mental health problems. (2) _____ mentally or emotionally healthy is (3) _____ more than being free of depression, anxiety or other psychological issues. (4) _____ than the absence of mental illness, mental health (5) _____ to the presence of positive characteristics and positive outlook towards life.

SubQuestion No : 25

Q.25 Select the most appropriate option to fill in blank number 5.

- Ans 1. names
 2. refers
 3. resembles
 4. means

Question ID : 26433050907
Status : Answered
Chosen Option : 3

Section : General Intelligence and Reasoning

Q.1 एक निश्चित कूट भाषा में, 'Trucks are heavy and good' को '6 8 7 2 @' कूटबद्ध किया जाता है, 'Weight lifts human heavy' को '# % 4 8' कूटबद्ध किया जाता है, और 'good are multiples' को '@ pr 6' कूटबद्ध किया जाता है। उसी भाषा में 'heavy good' का संभावित कूट क्या होगा?

- Ans 1. 4 6
 2. 6 @
 3. 7 8
 4. 8 6

Question ID : 26433048647
Status : Answered
Chosen Option : 4

Q.2 उस विकल्प का चयन कीजिए जो पाँचवें शब्द से उसी प्रकार से संबंधित है जैसे दूसरा शब्द पहले शब्द से संबंधित है और चौथा शब्द तीसरे शब्द से संबंधित है।

किताब : लेखक :: फ़िल्म : निर्देशक :: कविता : ?

- Ans 1. नर्तकी
 2. गायक
 3. अभिनेता
 4. कवि

Question ID : 26433047994
Status : Answered
Chosen Option : 4

Q.3 दिए गए कथनों और निष्कर्षों को ध्यानपूर्वक पढ़ें। यह मानते हुए कि कथनों में दी गई जानकारी सही है, भले ही वह सामान्य रूप से ज्ञात तथ्यों से भिन्न प्रतीत होती हो, तय करें कि दिए गए निष्कर्षों में से कौन-सा/ से निष्कर्ष, कथनों का तार्किक रूप से अनुसरण करता है/ करते हैं।

कथन:

सभी ट्राउजर पैट हैं।

सभी पैट कपड़े हैं।

निष्कर्ष:

I. कुछ कपड़े ट्राउजर हैं।

II. सभी पैट ट्राउजर हैं।

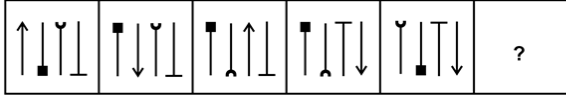
- Ans 1. केवल निष्कर्ष I अनुसरण करता है।
 2. निष्कर्ष I और II दोनों अनुसरण करते हैं।
 3. न तो निष्कर्ष I और न ही II अनुसरण करता है।
 4. केवल निष्कर्ष II अनुसरण करता है।

Question ID : 26433048279

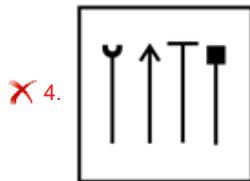
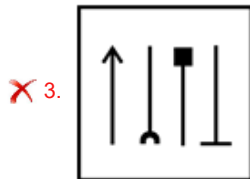
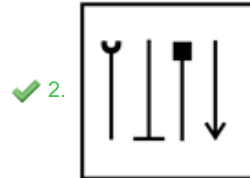
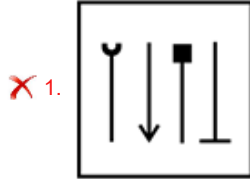
Status : Answered

Chosen Option : 1

Q.4 दिए गए विकल्पों में से उस आकृति का चयन कीजिए जो निम्नलिखित शृंखला में प्रश्नवाचक चिह्न (?) के स्थान पर आ सकती है।



Ans



Question ID : 26433048138

Status : Answered

Chosen Option : 2

Q.5 सात महिलाएँ A, B, C, D, E, F और G एक पंक्ति में दक्षिण की ओर मुख करके (आवश्यक नहीं है कि इसी क्रम में हो) बैठी हैं। A, G के दाईं ओर पाँचवें स्थान पर बैठी है। A एक छोर पर बैठी है। E पंक्ति के बीचोबीच बैठी है। F, G के दाईं ओर चौथे स्थान पर बैठी है। B, E के निकटतम स्थान पर नहीं है। D, E के बाईं ओर निकटतम स्थान पर बैठी है।
निम्नलिखित में से कौन सा/से कथन सही नहीं है/हैं?
I. D, F के बाईं ओर तीसरे स्थान पर बैठी है।
II. F, C और D के बीच में बैठी है।

- Ans 1. न तो I और न ही II
 2. केवल II
 3. केवल I
 4. I और II दोनों

Question ID : 26433048806

Status : Answered

Chosen Option : 2

Q.6 उस विकल्प का चयन कीजिए जिसमें संख्याएँ उसी प्रकार संबंधित हैं जैसे निम्नलिखित समुच्चय की संख्याएँ संबंधित हैं।

(नोट : संख्याओं को उसके घटक अंकों में विभाजित किए बिना, पूर्ण संख्याओं पर संक्रियाएं की जानी चाहिए। उदाहरण के लिए 13 लीजिए – संक्रियाएं जैसे कि जोड़ना/ घटाना/ गुणा करना आदि को सम्पूर्ण 13 पर कर सकते हैं। 13 को 1 और 3 में विभक्त करके उन अंकों पर की गई गणितीय संक्रियाएँ अमान्य है।

(13, 28, 86)
(18, 38, 116)

- Ans 1. (11, 24, 76)
 2. (9, 18, 56)
 3. (10, 22, 68)
 4. (8, 18, 54)

Question ID : 26433048284

Status : Answered

Chosen Option : 1

Q.7 सात मित्र पर्व, काज़ी, रईस, सुशील, तानिया, उमा और विष्णु, एक वृत्ताकार मेज के चतुर्दिक मेज़ के केंद्र की ओर अभिमुख होकर बैठे हैं। पर्व, तानिया और सुशील दोनों का निकटतम पड़ोसी है। उमा, काज़ी और विष्णु दोनों की निकटतम पड़ोसन है। काज़ी, तानिया के दाईं ओर दूसरे स्थान पर बैठा है। काज़ी के बगल में बाईं ओर कौन बैठा/बैठी है?

- Ans 1. रईस
 2. विष्णु
 3. उमा
 4. सुशील

Question ID : 26433048126

Status : Answered

Chosen Option : 1

Q.8 दिए गए कथनों और निष्कर्षों को ध्यानपूर्वक पढ़ें। यह मानते हुए कि कथनों में दी गई जानकारी सही है, भले ही वह सामान्य रूप से ज्ञात तथ्यों से भिन्न प्रतीत होती हो, तय करें कि दिए गए निष्कर्षों में से कौन सा/से निष्कर्ष कथनों का तार्किक रूप से अनुसरण करता/करते है/हैं।

कथन:

कोई भी शर्ट पैट नहीं है। कुछ शर्ट्स जैकेट्स हैं।
सभी जैकेट्स पतलूनें हैं।

निष्कर्ष:

- I) कुछ शर्ट्स के पतलून होने की संभावना है।
II) कोई भी पैट जैकेट नहीं है।

- Ans 1. निष्कर्ष I और II दोनों अनुसरण करते हैं।
 2. केवल निष्कर्ष I अनुसरण करता है।
 3. केवल निष्कर्ष II अनुसरण करता है।
 4. न तो निष्कर्ष I और न ही II अनुसरण करता है।

Question ID : 26433048205

Status : Answered

Chosen Option : 1

Q.9 उस विकल्प का चयन कीजिए जो पाँचवें शब्द से उसी प्रकार संबंधित है जैसे दूसरा शब्द पहले शब्द से संबंधित है और चौथा शब्द तीसरे शब्द से संबंधित है।

नेत्रपटल : नेत्र :: पोंस : मस्तिष्क :: कर्णावर्त : ?

- Ans 1. हृदय
 2. गला
 3. नाक
 4. कान

Question ID : 26433048195

Status : Answered

Chosen Option : 4

Q.10 सात लड़कों B1, B2, B3, B4, B5, B6 और B7 की ऊँचाइयों की तुलना की गई है। उन सभी की ऊँचाइयाँ भिन्न हैं। B2, B1 और B6 से ऊँचा है। B7, B3 और B4 से छोटा है किंतु B5 से ऊँचा है। B5 केवल तीन लड़कों से ऊँचा है और B3 सबसे ऊँचा है। कितने लड़के B4 से छोटे और B2 से ऊँचे हैं?

- Ans 1. 3
 2. 4
 3. 1
 4. 2

Question ID : 26433048807

Status : Answered

Chosen Option : 4

Q.11 यदि 'A' का अर्थ '+', 'B' का अर्थ '-', 'C' का अर्थ 'x' और 'D' का अर्थ '÷' है, तो दिए गए व्यंजक का मान क्या होगा?

20 B 30 A 15 C 20 D 5

Ans 1. 60

2. 40

3. 50

4. 55

Question ID : 26433048789

Status : Answered

Chosen Option : 3

Q.12 उस विकल्प का चयन करें जो पाँचवीं संख्या से उसी प्रकार संबंधित है जैसे दूसरी संख्या पहली संख्या से संबंधित है और चौथी संख्या तीसरी संख्या से संबंधित है।

(टिप्पणी: संख्याओं को उनके घटक अंकों में विभाजित किए बिना, पूर्णांक संख्याओं पर संक्रियाएँ की जानी चाहिए। उदाहरण के लिए 13 - 13 पर जोड़ने/ घटाने/ गुणा करने आदि जैसी संक्रियाएँ 13 पर की जा सकती हैं। 13 को 1 और 3 में विभाजित करने और फिर 1 और 3 पर गणितीय संक्रियाएँ करने की अनुमति नहीं है)

139 : 228 :: 122 : 211 :: 2 : ?

Ans 1. 189

2. 91

3. 89

4. 198

Question ID : 26433048208

Status : Answered

Chosen Option : 2

Q.13 उस विकल्प का चयन कीजिए जिसका पाँचवीं संख्या के साथ वही संबंध है, जो दूसरी संख्या का पहली संख्या के साथ है, और चौथी संख्या का तीसरी संख्या के साथ है।

24 : 36 :: 38 : 57 :: 58 : ?

Ans 1. 69

2. 79

3. 87

4. 75

Question ID : 26433048132

Status : Answered

Chosen Option : 3

Q.14 एक निश्चित कूट भाषा में, 'TRAM' को 'UQBL' लिखा जाता है और 'PAST' को 'QZTS' लिखा जाता है।
उसी कूट भाषा में 'DEED' को किस प्रकार लिखा जाएगा?

- Ans 1. EFCD
 2. FEDC
 3. EDFC
 4. CEFD

Question ID : 26433047997
Status : Answered
Chosen Option : 3

Q.15 उस संख्या की पहचान करें, जो निम्नलिखित श्रृंखला से संबंधित नहीं है।

46, 93, 188, 379, 764, 1529

- Ans 1. 93
 2. 188
 3. 764
 4. 379


Question ID : 26433048794
Status : Answered
Chosen Option : 3

Q.16 उस विकल्प का चयन कीजिए जिसमें दी गई आकृति इसके भाग के रूप में अंतर्निहित है (आकृति को घुमाने की अनुमति नहीं है)।

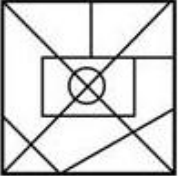


Ans

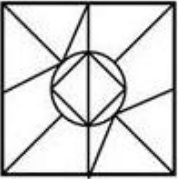
✓ 1.



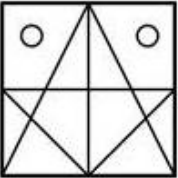
✗ 2.



✗ 3.



✗ 4.



Question ID : 26433048289

Status : Answered

Chosen Option : 1

Q.17 दिए गए विकल्पों में से उस अक्षर का चयन कीजिए जो निम्नलिखित श्रृंखला में प्रश्न चिह्न (?) के स्थान पर आएगा।

I, M, Q, U, ?, C

Ans ✗ 1. V

✗ 2. W

✓ 3. Y

✗ 4. A

Question ID : 26433048118

Status : Answered

Chosen Option : 3

Q.18 किन दो संख्याओं को परस्पर बदलने पर, निम्नलिखित समीकरण सही हो जाएगा ?

$$42 \times 15 \div 3 + 6 - 5 = 94$$

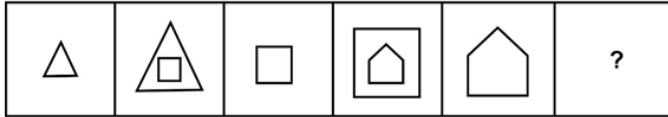
- Ans
- 1. 5 और 3
 - 2. 15 और 6
 - 3. 6 और 3
 - 4. 15 और 5

Question ID : 26433048136

Status : Answered

Chosen Option : 2

Q.19 दिए गए विकल्पों में से उस आकृति का चयन करें जो नीचे दी गई शृंखला में प्रश्नवाचक चिह्न (?) के स्थान पर आ सकती है।



Ans

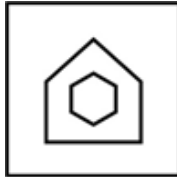
1.



2.



3.



4.



Question ID : 26433048212

Status : Answered

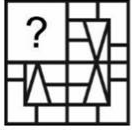
Chosen Option : 3

Q.20 एक निश्चित कूट भाषा में, 'Numbers are even' को '5 3 +' के रूप में कोडित किया जाता है, और 'Odd factors are multiples' को '+ 7 6 @' के रूप में कोडित किया जाता है। उसी कूट भाषा में 'even' का कूट क्या हो सकता है?

- Ans
- 1. 7
 - 2. 6
 - 3. 5 या 3
 - 4. +

Question ID : 26433048720
Status : Answered
Chosen Option : 3

Q.21 दिए गए विकल्पों में से उस आकृति का चयन करें, जो प्रश्न चिह्न (?) के स्थान पर आ सकती है और पैटर्न को पूरा कर सकती है।



- Ans
- 1.
 - 2.
 - 3.
 - 4.

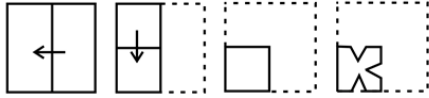
Question ID : 26433048813
Status : Answered
Chosen Option : 3

Q.22 एक निश्चित कूट भाषा में, यदि किसी पोशाक को कंघी कहा जाता है, कंघी को हेअर ड्रायर कहा जाता है, हेअर ड्रायर को लिपस्टिक कहा जाता है, लिपस्टिक को चंदन कहा जाता है, और चंदन को आभूषण कहा जाता है, तो होठों को रंगने के लिए किसका उपयोग किया जाता है?

- Ans
- 1. कंघी
 - 2. हेअर ड्रायर
 - 3. चंदन
 - 4. आभूषण

Question ID : 26433048024
Status : Answered
Chosen Option : 3

Q.23 कागज के एक टुकड़े को मोड़ने का क्रम और जिस तरीके से मुड़े हुए कागज को काटा गया है, उसे नीचे दी गई आकृतियों में दिखाया गया है। खोले जाने पर यह कागज कैसा दिखेगा?



Ans

✗ 1.




✗ 2.



✗ 3.



✓ 4.



Question ID : 26433047966

Status : Answered

Chosen Option : 4

Q.24 उस विकल्प का चयन करें जो तीसरे अक्षर-समूह से उसी प्रकार संबंधित है, जिस प्रकार दूसरा अक्षर-समूह पहले अक्षर-समूह से संबंधित है।

POLE : SROH :: HAIR : ?

Ans ✗ 1. KDLV

✓ 2. KDLU

✗ 3. KGLU

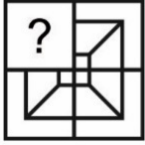
✗ 4. KELU

Question ID : 26433048724

Status : Answered

Chosen Option : 2

Q.25 विकल्पों में से उस आकृति का चयन करें जो प्रश्न-चिह्न (?) के स्थान पर आ सकती है और पैटर्न को पूर्ण करती है।



Ans

- ✓ 1.
- ✗ 2.
- ✗ 3.
- ✗ 4.

Question ID : 26433048613
Status : Answered
Chosen Option : 1

Section : Numerical Aptitude

Q.1 निम्नलिखित समीकरण में प्रश्नचिह्न (?) के स्थान पर मान लगभग कितना होना चाहिए?
 $305.03 \div 61.09 \times 11.47 = ?$

- Ans ✗ 1. 12
- ✗ 2. 47
- ✗ 3. 63
- ✓ 4. 57

Question ID : 26433049544
Status : Answered
Chosen Option : 4

Q.2 यदि $M = 8x$ और $N = 6x$ है, तो N, M से कितने प्रतिशत कम है?

- Ans ✗ 1. 22.5%
- ✓ 2. 25%
- ✗ 3. 33.33%
- ✗ 4. 20%

Question ID : 26433049675
Status : Answered
Chosen Option : 2

Q.3 एक आयत की लंबाई और चौड़ाई का अंतर 16 cm है। यदि इसका परिमाप 188 cm है, तो इसका क्षेत्रफल ज्ञात कीजिए।

- Ans
- 1. 2050 cm²
 - 2. 2100 cm²
 - 3. 2145 cm²
 - 4. 2375 cm²

Question ID : 26433050316
Status : Answered
Chosen Option : 3

Q.4 कुश, एक काम को 4 दिन में कर सकता है, जबकि ऋषि उसी काम को 6 दिन में कर सकता है। वे दोनों एक साथ काम करते हैं और कुल ₹1,600 प्राप्त करते हैं। इस राशि में ऋषि का हिस्सा कितना है?

- Ans
- 1. ₹580
 - 2. ₹640
 - 3. ₹720
 - 4. ₹800

Question ID : 26433049435
Status : Answered
Chosen Option : 2

Q.5 $\{(0.51)^3 + (0.49)^3\} \div \{(0.51)^2 - 0.2499 + (0.49)^2\}$ का मान ज्ञात कीजिए।

- Ans
- 1. 1.57
 - 2. 3.31
 - 3. 2.9
 - 4. 1.00

Question ID : 26433049468
Status : Not Attempted and Marked For Review
Chosen Option : --

Q.6 यदि G का 60% = H का $\frac{4}{5}$ है, तो G, H का लगभग कितने प्रतिशत है?

- Ans
- 1. 115%
 - 2. 140%
 - 3. 125%
 - 4. 133.33%

Question ID : 26433049975
Status : Answered
Chosen Option : 4

Q.7 6 लड़कियों के समूह में 38 kg वजन वाली एक लड़की के स्थान पर एक नई लड़की के आ जाने से उनके औसत वजन में 2.5 kg की वृद्धि हो जाती है। नई लड़की का वजन ज्ञात कीजिए।

- Ans**
- 1. 46 kg
 - 2. 58 kg
 - 3. 49 kg
 - 4. 53 kg

Question ID : **26433049473**
Status : **Answered**
Chosen Option : **4**

Q.8 यदि ब्याज वार्षिक रूप से संयोजित होता है, तो ₹10,000 के मूलधन पर 12% की वार्षिक दर से 2 वर्ष में प्राप्त होने वाला मिश्रधन ज्ञात कीजिए।

- Ans**
- 1. ₹13,446
 - 2. ₹12,544
 - 3. ₹13,526
 - 4. ₹11,526

Question ID : **26433049633**
Status : **Answered**
Chosen Option : **2**

Q.9 एक कार यात्रा के पहले आधे भाग को 80 km/h की चाल से और अगले आधे भाग को 100 km/h की चाल से तय करती है। कार की औसत चाल ज्ञात कीजिए। [दशमलव के 2 स्थानों तक पूर्णांकित उत्तर दीजिए]

- Ans**
- 1. 82.28 km/h
 - 2. 92.29 km/h
 - 3. 88.89 km/h
 - 4. 45.41 km/h

Question ID : **26433049483**
Status : **Answered**
Chosen Option : **1**

Q.10 निम्न तालिका पिछले चार विधानसभा चुनावों के दौरान एक गांव के मतदान केंद्र पर डाले गए मतों की कुल संख्या और अवैध मतों का प्रतिशत दर्शाती है।

वर्ष	डाले गए कुल मत	अवैध मतों का प्रतिशत
2005	6500	5%
2010	8000	7%
2015	9400	15%
2020	10400	12%

इस केंद्र पर 2010 और 2015 में डाले गए वैध मतों की संख्या का योग ज्ञात कीजिए।

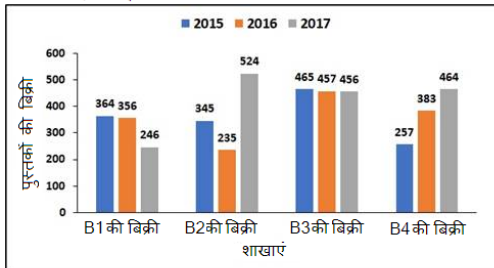
- Ans
- ✗ 1. 16425
 - ✓ 2. 15430
 - ✗ 3. 16140
 - ✗ 4. 15600

Question ID : 26433050137

Status : Answered

Chosen Option : 2

Q.11 निम्न बार ग्राफ तीन क्रमिक वर्षों में एक प्रकाशन गृह की चार अलग-अलग शाखाओं, B1, B2, B3 और B4 से बेची गई पुस्तकों की संख्या को दर्शाता है।



इन तीन वर्षों के दौरान शाखा B3 से बेची गई पुस्तकों की कुल संख्या की गणना करें।

- Ans
- ✗ 1. 1322
 - ✓ 2. 1378
 - ✗ 3. 1783
 - ✗ 4. 1432

Question ID : 26433049488

Status : Answered

Chosen Option : 2

Q.12 U, V और W का औसत 48 है तथा V और W का औसत 48 है। U का मान कितना है?

- Ans
- ✗ 1. 46
 - ✓ 2. 48
 - ✗ 3. 42
 - ✗ 4. 44

Question ID : 26433049346

Status : Answered

Chosen Option : 2

Q.13 एक वस्तु को ₹450 में बेचने पर, रियान को 10% की हानि हुई। 12% लाभ अर्जित करने के लिए उसे उस वस्तु को किस मूल्य पर बेचना चाहिए था?

- Ans
- 1. ₹480
 - 2. ₹600
 - 3. ₹560
 - 4. ₹440

Question ID : 26433049552

Status : Answered

Chosen Option : 3

Q.14 निम्न में से वह सबसे बड़ी संख्या कौन सी है, जो 403 और 496 को पूर्णतः विभाजित करती है?

- Ans
- 1. 93
 - 2. 62
 - 3. 13
 - 4. 31

Question ID : 26433049637

Status : Answered

Chosen Option : 4

Q.15 एक हाउसिंग सोसाइटी में, दोपहिया और चार पहिया वाहनों की संख्या का अनुपात 11 : 9 है। चार पहिया वाहनों में, एक चौथाई पेट्रोल वाहन हैं और शेष 81 डीजल वाहन हैं। इस हाउसिंग सोसाइटी में दुपहिया वाहनों की संख्या कितनी है?

- Ans
- 1. 121
 - 2. 99
 - 3. 88
 - 4. 132

Question ID : 26433050130

Status : Not Attempted and Marked For Review

Chosen Option : --

Q.16 रवि ने एक कुर्सी 40% की हानि पर बेची। कुर्सी का विक्रय मूल्य ₹900 है। कुर्सी का क्रय मूल्य ज्ञात कीजिए।

- Ans
- 1. ₹1,500
 - 2. ₹1,660
 - 3. ₹1,260
 - 4. ₹1,800

Question ID : 26433049622

Status : Answered

Chosen Option : 1

Q.17 यदि ₹1,200 की राशि पर 4 वर्षों में प्राप्त मिश्रधन ₹1,800 है, तो साधारण ब्याज की वार्षिक दर ज्ञात कीजिए।

- Ans
- 1. 14%
 - 2. 15%
 - 3. 12.5%
 - 4. 10%

Question ID : 26433049481

Status : Answered

Chosen Option : 3

Q.18 A अकेले किसी काम को 12 दिनों में पूरा कर सकता है। B, A से 20% अधिक कुशल और C, B से 25% अधिक कुशल है। B और C एक साथ काम को कितने दिनों में पूरा कर सकते हैं?

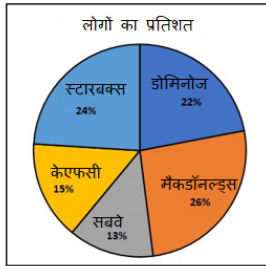
- Ans
- 1. $\frac{40}{9}$ दिन
 - 2. $\frac{35}{7}$ दिन
 - 3. $\frac{35}{9}$ दिन
 - 4. $\frac{40}{7}$ दिन

Question ID : 26433049994

Status : Not Attempted and Marked For Review

Chosen Option : --

Q.19 सर्वाधिक लोकप्रिय कैफे चेन का पता लगाने के लिए 3,000 लोगों पर एक सर्वेक्षण किया गया था। निचे दिया गया पाई-चार्ट लोगों के पसंदीदा कैफे की पसंद के अनुसार प्रतिशत के वितरण को दर्शाता है।



दी गई कैफे चेन में से सर्वाधिक लोकप्रिय कैफे को अपने पसंदीदा कैफे के रूप में चुनने वाले लोगों की संख्या और उन लोगों की संख्या का अनुपात ज्ञात कीजिए, जिन्होंने दी गई कैफे चेन में से सबसे कम लोकप्रिय कैफे को अपनी पसंद के रूप में चुना।

- Ans
- 1. 3 : 1
 - 2. 1 : 3
 - 3. 1 : 2
 - 4. 2 : 1

Question ID : 26433049564

Status : Answered

Chosen Option : 4

Q.20 उस समलंब चतुर्भुज का क्षेत्रफल ज्ञात कीजिए जिसकी समानांतर भुजाओं की लंबाइयां क्रमशः 15 cm और 20 cm हैं और जिसकी समानांतर भुजाओं के बीच की दूरी 12 cm है।

- Ans
- 1. 360 cm²
 - 2. 120 cm²
 - 3. 210 cm²
 - 4. 280 cm²

Question ID : 26433049565
Status : Answered
Chosen Option : 3

Q.21 पद $x - 1$, $x + 2$, $3x + 5$ और y समानुपाती हैं। यदि $x = 5$ हो, तो y का मान ज्ञात कीजिए।

- Ans
- 1. 45
 - 2. 24
 - 3. 35
 - 4. 29

Question ID : 26433049480
Status : Answered
Chosen Option : 3

Q.22 एक कक्षा के 24 छात्रों की औसत आयु 15 वर्ष है। जब शिक्षक की आयु को भी इसमें शामिल कर लिया जाता है, तो औसत में 1 की वृद्धि हो जाती है। शिक्षक की आयु (वर्षों में) कितनी है?

- Ans
- 1. 55
 - 2. 45
 - 3. 50
 - 4. 40

Question ID : 26433050296
Status : Answered
Chosen Option : 4

Q.23 शांत जल में एक नाव की चाल 16 km/h है। नाव द्वारा धारा की विपरीत दिशा में 18 km की दूरी तय करने में लिया गया समय धारा की दिशा में 30 km की यात्रा करने में लिए गए समय के बराबर है। धारा की चाल ज्ञात कीजिए।

- Ans
- 1. 5 km/h
 - 2. 6 km/h
 - 3. 7 km/h
 - 4. 4 km/h

Question ID : 26433050134
Status : Not Answered
Chosen Option : --

Q.24 एक वस्तु का अंकित मूल्य क्रय मूल्य से 25% अधिक रखा गया है। यदि वस्तु को 8% की छूट पर बेचा जाता है, तो उसके विक्रय मूल्य और उसके क्रय मूल्य का अनुपात ज्ञात कीजिए।

- Ans**
- ✓ 1. 23 : 20
 - ✗ 2. 20 : 23
 - ✗ 3. 23 : 40
 - ✗ 4. 43 : 40

Question ID : 26433049478
Status : Answered
Chosen Option : 1

Q.25 बराबर आयतन वाले दो लंबवृत्तीय शंकुओं की ऊँचाइयों का अनुपात 4 : 9 है। यदि शंकुओं का क्रम उनकी दी गई ऊँचाइयों के अनुपात में ही हो, तो उनके आधारों की विज्याओं का अनुपात क्या होगा?

- Ans**
- ✗ 1. 9 : 4
 - ✗ 2. 2 : 3
 - ✗ 3. 4 : 9
 - ✓ 4. 3 : 2

Question ID : 26433049366
Status : Answered
Chosen Option : 2

Section : General Awareness

Q.1 निम्नलिखित में से कौन सा, प्राणिजगत के मोलस्का संघ का एक उदाहरण है?

- Ans**
- ✗ 1. डॉल्फिन
 - ✗ 2. समुद्री घोड़ा
 - ✗ 3. राज कर्कट (किंग क्रैब)
 - ✓ 4. ऑक्टोपस

Question ID : 26433046874
Status : Not Answered
Chosen Option : --

Q.2 निम्नलिखित में से किस बंदरगाह को 'डायमंड हार्बर' के नाम से जाना जाता है?

- Ans**
- ✗ 1. मंगलोर
 - ✗ 2. पोर्ट ब्लेयर
 - ✗ 3. कोच्चि
 - ✓ 4. कोलकाता

Question ID : 26433047027
Status : Not Answered
Chosen Option : --

Q.3 निम्नलिखित में से किसने ग्रीष्मकालीन ओलंपिक 2020 (2021 में खेला गया) में कांस्य पदक जीता था?

- Ans 1. पी.वी. सिंधु
 2. नीरज चोपड़ा
 3. मीराबाई चानू
 4. रवि दहिया

Question ID : 26433047390
Status : Answered
Chosen Option : 3

Q.4 नीचे दिए गए विकल्पों में से सर्वाधिक अभिक्रियाशील धातु का चयन कीजिए।

- Ans 1. सोडियम
 2. लोहा
 3. जस्ता
 4. ताँबा

Question ID : 26433047523
Status : Answered
Chosen Option : 1

Q.5 भारतीय संविधान में राज्य के नीति निर्देशक सिद्धांतों के तहत निम्नलिखित में से किस अनुच्छेद में ग्राम पंचायतों के संगठन का प्रावधान है?

- Ans 1. अनुच्छेद 50
 2. अनुच्छेद 30
 3. अनुच्छेद 60
 4. अनुच्छेद 40

Question ID : 26433047038
Status : Answered
Chosen Option : 4

Q.6 आई.सी.सी. क्रिकेट विश्व कप 2011 में, इनमें से किस पशु को आधिकारिक शुभंकर बनाया गया था?

- Ans 1. हाथी
 2. बाघ
 3. शेर
 4. घोड़ा

Question ID : 26433047090
Status : Answered
Chosen Option : 2

Q.7 राष्ट्रीय भारतीय शास्त्रीय नृत्य संस्थान की ओर से अभिनंदन सरोज राष्ट्रीय पुरस्कार 2021 किसे दिया गया?

- Ans
- 1. छाया कुमार
 - 2. शोभना नारायण
 - 3. अपर्णा सतीसन
 - 4. प्रभु देवा

Question ID : 26433046962
Status : Not Answered
Chosen Option : --

Q.8 दिल्ली नगर निगम (संशोधन) विधेयक, 2022 लोकसभा में _____ मंत्रालय द्वारा प्रस्तावित किया गया था।

- Ans
- 1. गृह मंत्रालय
 - 2. सामाजिक न्याय और अधिकारिता
 - 3. विधि और न्याय
 - 4. रक्षा

Question ID : 26433047018
Status : Answered
Chosen Option : 1

Q.9 निम्नलिखित में से कौन औरंगजेब के अधीन मुगल वास्तुकला का एक उदाहरण है?

- Ans
- 1. मोती मस्जिद, दिल्ली
 - 2. ताज महल, आगरा
 - 3. जामा मस्जिद, दिल्ली
 - 4. कुतुब मीनार, दिल्ली

Question ID : 26433047022
Status : Answered
Chosen Option : 3

Q.10 आर्थिक प्रबुद्ध मंडल (थिंक-टैंक), भारतीय अर्थव्यवस्था निगरानी केंद्र (CMIE) के आंकड़ों के अनुसार, निम्नलिखित में से किस राज्य में जनवरी 2022 तक सबसे अधिक बेरोजगारी दर देखी गई?

- Ans
- 1. राजस्थान
 - 2. त्रिपुरा
 - 3. दिल्ली
 - 4. हरियाणा

Question ID : 26433046754
Status : Answered
Chosen Option : 4

Q.11 भारतीय निशानेबाज और स्वर्ण पदक विजेता अभिनव बिंद्रा की आत्मकथात्मक पुस्तक को _____ कहा जाता है।

- Ans
- 1. 'हंटिंग द हार्ड वे'
 - 2. 'शॉट्स फायर्ड'
 - 3. 'फायरिंग पॉइंट'
 - 4. 'अ शॉट ऐट हिस्ट्री'

Question ID : 26433046885
Status : Answered
Chosen Option : 3

Q.12 1527 में खानवा के युद्ध में राणा सांगा को हराने के बाद निम्नलिखित में से किसने 'गाजी' की उपाधि धारण की?

- Ans
- 1. बाबर
 - 2. दौलत खान लोदी
 - 3. महमूद शाह प्रथम
 - 4. हुमायूं

Question ID : 26433047032
Status : Answered
Chosen Option : 1

Q.13 किस मौर्य शासक को यूनानियों द्वारा 'अमित्रघात' कहा जाता था?

- Ans
- 1. चंद्रगुप्त प्रथम
 - 2. बिन्दुसार
 - 3. समुद्रगुप्त
 - 4. कनिष्क

Question ID : 26433046881
Status : Answered
Chosen Option : 2

Q.14 2011 की जनगणना के अनुसार, भारत का सबसे अधिक जनसंख्या वाला राज्य कौन सा है?

- Ans
- 1. उत्तर प्रदेश
 - 2. राजस्थान
 - 3. केरल
 - 4. मध्य प्रदेश

Question ID : 26433047704
Status : Answered
Chosen Option : 1

Q.15 अप्रैल 2022 में आसनसोल (पश्चिम बंगाल) उपचुनाव में किस TMC उम्मीदवार ने जीत हासिल की?

- Ans 1. शत्रुघ्न सिन्हा
 2. राहुल गांधी
 3. ममता बनर्जी
 4. अग्निमित्र पॉल

Question ID : 26433046869
Status : Answered
Chosen Option : 3

Q.16 कौन-सा प्राकृतिक यौगिक, पौधों के प्रकाश संश्लेषण में मदद करता है?

- Ans 1. शर्करा (ग्लूकोज)
 2. करक्यूमिन
 3. क्लोरोफिल
 4. लेक्टिन

Question ID : 26433046950
Status : Answered
Chosen Option : 3

Q.17 निम्नलिखित में से किस सामाजिक-धार्मिक समुदाय की स्थापना राजा राम मोहन राय ने की थी?

- Ans 1. प्रार्थना समाज
 2. ब्रह्मो समाज
 3. अकाली दल
 4. आर्य समाज

Question ID : 26433046884
Status : Answered
Chosen Option : 2

Q.18 निशागंधी उत्सव भारत के किस राज्य में मनाया जाता है?

- Ans 1. मध्य प्रदेश
 2. ओडिशा
 3. केरल
 4. राजस्थान

Question ID : 26433047521
Status : Not Answered
Chosen Option : --

Q.19 भारतीय संविधान के अनुसार भारत में राज्य विधान सभा का कार्यकाल कितना होता है?

- Ans 1. 5 वर्ष
 2. 7 वर्ष
 3. 4 वर्ष
 4. 3 वर्ष

Question ID : 26433046964
Status : Answered
Chosen Option : 1

Q.20 भारत और श्रीलंका _____ बनाने वाले टापुओं के एक समूह से जुड़े हुए हैं।

- Ans
- 1. भूपेन हजारिका सेतु
 - 2. सिसेरी नदी सेतु
 - 3. एडम्स सेतु
 - 4. महात्मा गांधी सेतु

Question ID : 26433046953
Status : Answered
Chosen Option : 1

Q.21 निम्नलिखित में से, 1913 में भारत के बाहर स्थापित एक क्रांतिकारी संगठन कौन-सा था?

- Ans
- 1. भारतीय जनता पार्टी
 - 2. ग़दर पार्टी
 - 3. भारतीय राष्ट्रीय कांग्रेस
 - 4. साइमन कमीशन

Question ID : 26433046958
Status : Answered
Chosen Option : 2

Q.22 निम्नलिखित में से किसे 1956 में भारत सरकार द्वारा निजी क्षेत्र की सभी मौजूदा जीवन बीमा कंपनियों का राष्ट्रीयकरण करके स्थापित किया गया था?

- Ans
- 1. यूनाइटेड इंडिया इंश्योरेंस कंपनी लिमिटेड
 - 2. न्यू इंडिया इंश्योरेंस कंपनी ऑफ इंडिया लिमिटेड
 - 3. साधारण बीमा निगम
 - 4. भारतीय जीवन बीमा निगम

Question ID : 26433046892
Status : Answered
Chosen Option : 4

Q.23 प्रसिद्ध गीत 'ऐ मेरे वतन के लोगो' मूल रूप से _____ द्वारा गाया गया था।

- Ans
- 1. श्रेया घोषाल
 - 2. आशा भोंसले
 - 3. अरिजीत सिंह
 - 4. लता मंगेशकर

Question ID : 26433046886
Status : Answered
Chosen Option : 4

Q.24 मोना एक ऐसे महासागर के बारे में लिखती हैं जो उत्तरी अमेरिका को यूरोप से अलग करता है। इस महासागर का क्या नाम है?

- Ans 1. अटलांटिक महासागर
 2. हिंद महासागर
 3. प्रशांत महासागर
 4. आर्कटिक महासागर

Question ID : 26433047026
Status : Answered
Chosen Option : 1

Q.25 'पंथी' नृत्य शैली का संबंध भारत के किस राज्य से है?

- Ans 1. छत्तीसगढ़
 2. महाराष्ट्र
 3. पंजाब
 4. केरल

Question ID : 26433046870
Status : Not Answered
Chosen Option : --