

# Multi Tasking Non Technical Staff Havaladar CBIC and CBN Examination 2021

Roll Number	
Candidate Name	
Venue Name	
Exam Date	07/07/2022
Exam Time	5:00 PM - 6:30 PM
Subject	MTS Non technical and Havaladar Examination 2021

Section : General English

**Q.1** Select the option that will improve the underlined part of the given sentence. In case no improvement is needed, select 'No improvement required'.

No sooner had he got out of her sight that she proceeded to tamper with the letter.

- Ans
- 1. No sooner had he got out of her sight than
  - 2. As soon as he got out of her sight than
  - 3. No improvement required
  - 4. No sooner did he got out of her sight and

Question ID : 26433051596

Status : Answered

Chosen Option : 2

**Q.2** Select the option that will improve the underlined part of the given sentence. In case no improvement is needed, select 'No improvement required'.

While the symptoms are troubling, they typically resolve within two weeks.

- Ans
- 1. was troubling
  - 2. are troubled
  - 3. is troubling
  - 4. No improvement required

Question ID : 26433051291

Status : Answered

Chosen Option : 4

**Q.3** Select the option that will improve the underlined part of the sentence. In case no improvement is needed, select 'No improvement required'.

I was thinking about buying an new vehicle.

- Ans
- 1. buy a newly
  - 2. bought a new
  - 3. buying a new
  - 4. No improvement required

Question ID : 26433050778

Status : Answered

Chosen Option : 3

Q.4 Select the most appropriate option to fill in the blank.

Vendors expressed their concerns over the \_\_\_\_\_ price of onion.

- Ans
- 1. raising
  - 2. rising
  - 3. raise
  - 4. rise

Question ID : 26433050710  
Status : Answered  
Chosen Option : 1

Q.5 Select the most appropriate meaning of the underlined idiom in the given sentence.

Neha stood beside my sister through thick and thin.

- Ans
- 1. under all circumstances
  - 2. in good times only
  - 3. In a strange manner
  - 4. Without any result

Question ID : 26433050812  
Status : Answered  
Chosen Option : 1

Q.6 Select the option that will improve the underlined part of the given sentence. In case no improvement is needed, select 'No improvement required'.

Everyone must participate in this session as it is on a subject that affects the community.

- Ans
- 1. No improvement required
  - 2. affect
  - 3. affecting
  - 4. effects

Question ID : 26433051725  
Status : Answered  
Chosen Option : 2

Q.7 Select the most appropriate option to fill in the blank.

The agility of the acrobat \_\_\_\_\_ and thrilled the audience.

- Ans
- 1. amazes
  - 2. amazing
  - 3. amaze
  - 4. amazed

Question ID : 26433051294  
Status : Answered  
Chosen Option : 4

**Q.8** Select the most appropriate option to fill in the blank.

The garret where he lay at night had long been \_\_\_\_\_, and a great number of mice had made their home in it.

- Ans
- 1. visible
  - 2. thick
  - 3. partial
  - 4. vacant

Question ID : 26433051207  
Status : Answered  
Chosen Option : 4

**Q.9** Select the most appropriate synonym of the given word.

**Merry**

- Ans
- 1. Morose
  - 2. Happy
  - 3. Angry
  - 4. Somber

Question ID : 26433050887  
Status : Answered  
Chosen Option : 2

**Q.10** Select the option that will improve the underlined part of the sentence. In case no improvement is needed, select 'No improvement required'.

My mother looked at Sana and me with her mouth slight openly.

- Ans
- 1. slightly open
  - 2. No improvement required
  - 3. open slight
  - 4. an openly slight

Question ID : 26433051065  
Status : Answered  
Chosen Option : 1

**Q.11** The following sentence has been divided into parts. One of them may contain an error. Select the part that contains the error from the given options. If you don't find any error, mark 'No error' as your answer.

I am dealing with / some family issues / right now.

- Ans
- 1. I am dealing with
  - 2. some family issues
  - 3. right now
  - 4. No error

Question ID : 26433050871  
Status : Answered  
Chosen Option : 1

Q.12 Select the most appropriate ANTONYM of the given word.

Luminous

- Ans  1. Hunched  
 2. Simple  
 3. Dim  
 4. Homespun

Question ID : 26433051687  
Status : Answered  
Chosen Option : 3

Q.13 Select the most appropriate option to fill in the blank.

Most people believe that working out and meeting fat loss needs is challenging, but a \_\_\_\_\_ basic program can take you a long way.

- Ans  1. erratic  
 2. strange  
 3. impartial  
 4. consistent

Question ID : 26433051468  
Status : Answered  
Chosen Option : 4

Q.14 The following sentence has been divided into parts. One of them may contain an error. Select the part that contains the error from the given options. If you don't find any error, mark 'No error' as your answer.

Despite the doctor's stern warning, / he continued taking sugar / in his tea.

- Ans  1. he continued taking sugar  
 2. in his tea  
 3. Despite the doctor's stern warning,  
 4. No error

Question ID : 26433051497  
Status : Answered  
Chosen Option : 1

Q.15 Select the most appropriate synonym of the given word.

Advent

- Ans  1. Arrival  
 2. Departure  
 3. Turn  
 4. Purpose

Question ID : 26433051199  
Status : Answered  
Chosen Option : 4

**Q.16** Select the most appropriate meaning of the given idiom.

The lion's share

- Ans  1. The biggest and best part of a whole  
 2. The most important person  
 3. The most challenging goal of many  
 4. The most expensive item

Question ID : 26433051334  
Status : Answered  
Chosen Option : 1

**Q.17** Parts of the following sentence have been given as options. One of them may contain an error. Select the part that contains the error from the given options. If you don't find any error, mark 'No error' as your answer.

I don't know anyone who spoken Portuguese in my school.

- Ans  1. No error  
 2. in my school  
 3. I don't know anyone  
 4. who spoken Portuguese

Question ID : 26433051132  
Status : Answered  
Chosen Option : 4

**Q.18** Select the most appropriate option to fill in the blank.

William \_\_\_\_\_ his friends not to intrude into his family's affairs.

- Ans  1. warned  
 2. claimed  
 3. satisfied  
 4. gambled

Question ID : 26433051000  
Status : Answered  
Chosen Option : 1

**Q.19** Select the INCORRECTLY spelt word.

- Ans  1. Perfidy  
 2. Ingenuos  
 3. Relentless  
 4. Misanthrope

Question ID : 26433051691  
Status : Answered  
Chosen Option : 2

**Q.20 Select the correctly spelt word.**

- Ans  1. Conduisive  
 2. Endognous  
 3. Apparently  
 4. Bottleneck

Question ID : 26433051518  
Status : Answered  
Chosen Option : 3

**Comprehension:**

In the following passage, some words have been deleted. Read the passage carefully and select the most appropriate option to fill in each blank.

Every evening, (1) \_\_\_\_\_ a point midway along the arrow-straight road between Amritsar and Lahore, rival squads of (2) \_\_\_\_\_ uniformed soldiers strut and stomp a 17th-century British military drill known as Beating Retreat. Barked commands, (3) \_\_\_\_\_ glares and preposterously high kicks all signal violent intent. But then, lovingly and in (4) \_\_\_\_\_, the enemies lower their national flags. Opposing guardsmen (5) \_\_\_\_\_ shake hands, and the border gates roll shut for the night.

**SubQuestion No : 21**

**Q.21 Select the most appropriate option to fill in blank number 1.**

- Ans  1. in  
 2. along  
 3. on  
 4. at

Question ID : 26433051192  
Status : Answered  
Chosen Option : 4

**Comprehension:**

In the following passage, some words have been deleted. Read the passage carefully and select the most appropriate option to fill in each blank.

Every evening, (1) \_\_\_\_\_ a point midway along the arrow-straight road between Amritsar and Lahore, rival squads of (2) \_\_\_\_\_ uniformed soldiers strut and stomp a 17th-century British military drill known as Beating Retreat. Barked commands, (3) \_\_\_\_\_ glares and preposterously high kicks all signal violent intent. But then, lovingly and in (4) \_\_\_\_\_, the enemies lower their national flags. Opposing guardsmen (5) \_\_\_\_\_ shake hands, and the border gates roll shut for the night.

**SubQuestion No : 22**

**Q.22 Select the most appropriate option to fill in blank number 2.**

- Ans  1. splendidly  
 2. elatedly  
 3. badly  
 4. gladly

Question ID : 26433051193  
Status : Answered  
Chosen Option : 2

**Comprehension:**

In the following passage, some words have been deleted. Read the passage carefully and select the most appropriate option to fill in each blank.

Every evening, (1) \_\_\_\_\_ a point midway along the arrow-straight road between Amritsar and Lahore, rival squads of (2) \_\_\_\_\_ uniformed soldiers strut and stomp a 17th-century British military drill known as Beating Retreat. Barked commands, (3) \_\_\_\_\_ glares and preposterously high kicks all signal violent intent. But then, lovingly and in (4) \_\_\_\_\_, the enemies lower their national flags. Opposing guardsmen (5) \_\_\_\_\_ shake hands, and the border gates roll shut for the night.

**SubQuestion No : 23**

**Q.23** Select the most appropriate option to fill in blank number 3.

- Ans  1. fierce  
 2. witty  
 3. diverting  
 4. silly

Question ID : 26433051194

Status : Not Answered

Chosen Option : --

**Comprehension:**

In the following passage, some words have been deleted. Read the passage carefully and select the most appropriate option to fill in each blank.

Every evening, (1) \_\_\_\_\_ a point midway along the arrow-straight road between Amritsar and Lahore, rival squads of (2) \_\_\_\_\_ uniformed soldiers strut and stomp a 17th-century British military drill known as Beating Retreat. Barked commands, (3) \_\_\_\_\_ glares and preposterously high kicks all signal violent intent. But then, lovingly and in (4) \_\_\_\_\_, the enemies lower their national flags. Opposing guardsmen (5) \_\_\_\_\_ shake hands, and the border gates roll shut for the night.

**SubQuestion No : 24**

**Q.24** Select the most appropriate option to fill in blank number 4.

- Ans  1. discord  
 2. plenty  
 3. unison  
 4. unlikeliness

Question ID : 26433051195

Status : Answered

Chosen Option : 1

**Comprehension:**

In the following passage, some words have been deleted. Read the passage carefully and select the most appropriate option to fill in each blank.

Every evening, (1) \_\_\_\_\_ a point midway along the arrow-straight road between Amritsar and Lahore, rival squads of (2) \_\_\_\_\_ uniformed soldiers strut and stomp a 17th-century British military drill known as Beating Retreat. Barked commands, (3) \_\_\_\_\_ glares and preposterously high kicks all signal violent intent. But then, lovingly and in (4) \_\_\_\_\_, the enemies lower their national flags. Opposing guardsmen (5) \_\_\_\_\_ shake hands, and the border gates roll shut for the night.

**SubQuestion No : 25**

**Q.25** Select the most appropriate option to fill in blank number 5.

- Ans  1. critically  
 2. radically  
 3. brightly  
 4. curtly

Question ID : 26433051196

Status : Answered

Chosen Option : 2

**Section : General Intelligence and Reasoning**

**Q.1** उस विकल्प का चयन करें जो तीसरे अक्षर-समूह से उसी प्रकार संबंधित है, जिस प्रकार दूसरा अक्षर-समूह पहले अक्षर-समूह से संबंधित है।

**KRY : NWR :: PBX : ?**

- Ans  1. RGQ  
 2. SGQ  
 3. RHQ  
 4. SHQ

Question ID : 26433049001

Status : Answered

Chosen Option : 2

Q.2 कागज़ के एक टुकड़े को मोड़ने का क्रम, और मोड़े गए टुकड़े को काटने का तरीका नीचे दी गई आकृतियों में दर्शाया गया है। कागज़ को खोले जाने पर वह कैसा दिखाई देगा?




Ans

✗ 1.



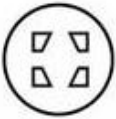
✓ 2.



✗ 3.



✗ 4.



Question ID : 26433048862

Status : Answered

Chosen Option : 2

Q.3 एक निश्चित कूट भाषा में, 'GRAPES' को 'HQBOFR' लिखा जाता है और 'FACTOR' को 'GZDSPQ' लिखा जाता है। उसी कूट भाषा में 'LAYOUT' को क्या लिखा जाएगा?

Ans ✓ 1. MZZNVS

✗ 2. SNLAJS

✗ 3. KZXNTS

✗ 4. MBZPVU

Question ID : 26433048444

Status : Answered

Chosen Option : 1

Q.4 उस संख्या का चयन करें, जो निम्नलिखित श्रृंखला में प्रश्न चिह्न (?) के स्थान पर आ सकती है।

3, 15, 75, 375, ?

Ans ✗ 1. 2075

✗ 2. 1675

✗ 3. 1375

✓ 4. 1875

Question ID : 26433048868

Status : Answered

Chosen Option : 4

Q.5 दिए गए विकल्पों में से उस संख्या का चयन करें जो निम्नलिखित श्रृंखला में प्रश्नवाचक चिह्न (?) के स्थान पर आ सकती है।

834, 836, 844, 876, 1004, ?

Ans  1. 1518

2. 1516

3. 1524

4. 1520

Question ID : 26433048519

Status : Answered

Chosen Option : 2

Q.6 सात लड़के M, K, C, P, S, T और U एक प्रतियोगिता में भाग लेते हैं। ये सभी 1 से 7 तक अलग-अलग रैंकों पर हैं, 1 उच्चतम और 7 निम्नतम है। S की रैंक K से कम है, लेकिन C से अधिक है। T की रैंक U से एक कम और P से एक अधिक है। U की दूसरी सर्वोच्च रैंक है। S की रैंक केवल चार लड़कों से कम है। C की रैंक सबसे कम है। अंतिम से तीसरे स्थान पर किसकी रैंक है?

Ans  1. S

2. T

3. P

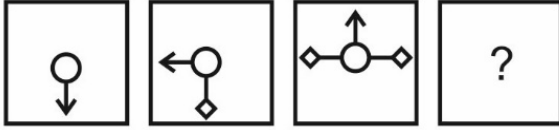
4. K

Question ID : 26433048532

Status : Answered

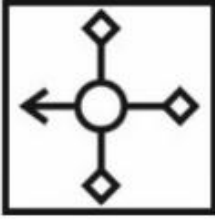
Chosen Option : 1

Q.7 दिए गए विकल्पों में से उस आकृति का चयन करें, जो नीचे दी गई श्रृंखला में प्रश्न चिह्न (?) के स्थान पर आ सकती है।

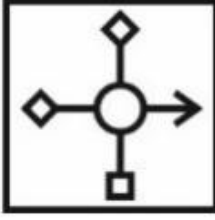


Ans

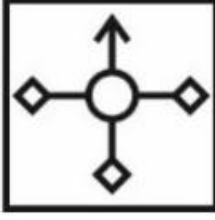
✗ 1.



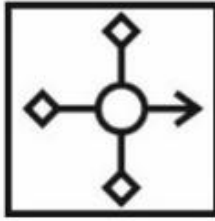
✗ 2.



✗ 3.



✓ 4.



Question ID : 26433049008

Status : Answered

Chosen Option : 4

Q.8 उस विकल्प का चयन कीजिए जो पांचवें शब्द से उसी प्रकार संबंधित है जिस प्रकार दूसरा शब्द, पहले शब्द से संबंधित है और चौथा शब्द, तीसरे शब्द से संबंधित है।

अस्थमा : फेफड़े :: गठिया रोग (आर्थराइटिस) : अस्थियाँ (हड्डियाँ) :: नेत्रशोथ (कन्जंक्टिवाइटिस) : ?

Ans ✗ 1. त्वचा (स्किन)

✗ 2. मस्तिष्क

✓ 3. आँखें

✗ 4. हृदय

Question ID : 26433048046

Status : Answered

Chosen Option : 3

Q.9 दिए गए कथनों और निष्कर्षों को ध्यानपूर्वक पढ़ें। यह मानते हुए कि कथनों में दी गई जानकारी सही है, भले ही वह सामान्य ज्ञात तथ्यों से भिन्न प्रतीत होती हो और फिर निर्णय कीजिए कि कौन-सा/से निष्कर्ष दिए गए कथनों का तार्किक रूप से अनुसरण करता/करते है/हैं।

कथन:

- I. सभी T, F हैं।
- II. कुछ P, T हैं।

निष्कर्ष:

- I. कोई भी F, P नहीं है।
- II. कुछ F के P होने की संभावना है।

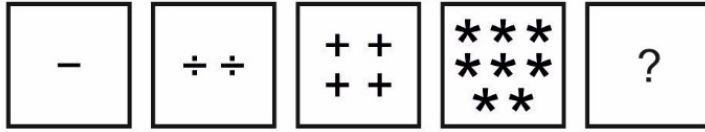
- Ans
- 1. I और II दोनों निष्कर्ष अनुसरण करते हैं।
  - 2. केवल निष्कर्ष II अनुसरण करता है।
  - 3. केवल निष्कर्ष I अनुसरण करता है।
  - 4. न तो निष्कर्ष I और न ही निष्कर्ष II अनुसरण करता है।

Question ID : 26433048578

Status : Answered


Chosen Option : 2

Q.10 दिए गए विकल्पों में से उस आकृति का चयन करें, जो नीचे दी गई श्रृंखला में प्रश्न चिह्न (?) के स्थान पर आ सकती है।




Ans

✗ 1.



✓ 2.



✗ 3.



✗ 4.



Question ID : 26433048884

Status : Answered

Chosen Option : 2

Q.11 एक निश्चित कूट भाषा में, 'calculator are numbers' को '8 # pg' के रूप में कोडित किया जाता है, 'numbers being odd even' को '# rm ts kp' के रूप में कोडित किया जाता है, और 'odd are strong' को 'kp 8 ab' के रूप में कोडित किया जाता है। उसी भाषा में 'calculator odd' के लिए क्या कूट हो सकता है?

Ans ✓ 1. pg kp

✗ 2. rm ts

✗ 3. ts #

✗ 4. pg 8

Question ID : 26433048998

Status : Answered

Chosen Option : 1

Q.12 दिए गए कथन और निष्कर्षों को ध्यानपूर्वक पढ़ें। यह मानते हुए कि कथनों में दी गई जानकारी सत्य है, भले ही वह सामान्य रूप से ज्ञात तथ्यों से भिन्न प्रतीत होती हो, तय करें कि दिए गए निष्कर्षों में से कौन सा/से निष्कर्ष तार्किक रूप से कथनों का अनुसरण करता/ते है/हैं।

कथन:

- I. सभी W, B हैं।
- II. कोई भी X, W नहीं है।

निष्कर्ष:

- I. कुछ B, W हैं।
- II. कुछ W, X हैं।
- III. सभी X, B हैं।

- Ans
- 1. केवल निष्कर्ष III अनुसरण करता है
  - 2. केवल निष्कर्ष I अनुसरण करता है
  - 3. सभी निष्कर्ष अनुसरण करते हैं
  - 4. केवल निष्कर्ष II अनुसरण करता है

Question ID : 26433049004

Status : Answered

Chosen Option : 2

Q.13 उस विकल्प का चयन करें जो चौथी संख्या से उसी प्रकार संबंधित है, जिस प्रकार पहली संख्या दूसरी संख्या से संबंधित है और पाँचवीं संख्या छठी संख्या से संबंधित है।

4284 : 18 :: ? : 16 :: 1482 : 15

- Ans
- 1. 3854
  - 2. 3256
  - 3. 1486
  - 4. 2854

Question ID : 26433048991

Status : Answered

Chosen Option : 2

Q.14 उस विकल्प का चयन करें जो तीसरे अक्षर-समूह से उसी प्रकार संबंधित है, जिस प्रकार दूसरा अक्षर-समूह पहले अक्षर-समूह से संबंधित है।

DOW : WDO :: RAM : ?

- Ans
- 1. ARM
  - 2. RMA
  - 3. MRA
  - 4. MAR

Question ID : 26433048850

Status : Answered

Chosen Option : 3

Q.15 पाँच व्यक्ति M1, M2, M3, M4 और M5 एक वृत्ताकार मेज़ के चारों ओर मेज़ के केंद्र की ओर मुख करके (आवश्यक नहीं है की इसी क्रम में हों) बैठे हैं। केवल एक व्यक्ति M3 और M4 के बीच में बैठा है। M2, M4 के बाईं ओर दूसरे स्थान पर बैठा है। M1, M2 के सन्निकट दाईं ओर बैठा है।

M2 के बाईं ओर से गिने जाने पर M2 और M1 के बीच में कितने व्यक्ति बैठे हैं?

- Ans
- 1. 0
  - 2. 2
  - 3. 1
  - 4. 3

Question ID : 26433048880  
Status : Answered  
Chosen Option : 4

Q.16 दिए गए विकल्पों में से उस अक्षर-समूह का चयन कीजिए जिसे निम्नलिखित श्रृंखला में प्रश्नवाचक चिह्न (?) के स्थान पर रखा जा सकता है।

UY, ZD, EI, JN, ?

- Ans
- 1. PS
  - 2. OR
  - 3. OS
  - 4. OT

Question ID : 26433048243  
Status : Answered  
Chosen Option : 3

Q.17 निम्नलिखित समीकरण को सही करने के लिए किन दो संख्याओं को परस्पर बदला जाना चाहिए?

$$72 \div 9 \times 8 + 6 - 5 = 100$$

- Ans
- 1. 9 और 5
  - 2. 9 और 8
  - 3. 6 और 8
  - 4. 9 और 6

Question ID : 26433048261  
Status : Answered  
Chosen Option : 4

Q.18 एक निश्चित कूट भाषा में, 'SOBER' को 'TQEIW' लिखा जाता है, 'MACHO' को 'NCFLT' लिखा जाता है, और 'MAGIC' को 'NCJMH' लिखा जाता है। उसी भाषा में 'ALTAR' को क्या लिखा जाएगा?

- Ans
- 1. BNWEW
  - 2. BWNEW
  - 3. BNWBW
  - 4. BMUBS

Question ID : 26433048050  
Status : Answered  
Chosen Option : 1

Q.19 उस विकल्प का चयन करें जिसमें दी गई संख्याएँ उसी प्रकार संबंधित हैं, जिस प्रकार दिए गए समुच्चयों की संख्याएँ संबंधित हैं।

(4, 9, 16)  
(81, 100, 121)

- Ans  1. (25, 49, 81)  
 2. (9, 16, 36)  
 3. (36, 49, 64)  
 4. (16, 36, 25)

Question ID : 26433048567

Status : Answered

Chosen Option : 3

Q.20 जब दर्पण को दाईं ओर रखा जाए, तो दी गई आकृति के सही दर्पण प्रतिबिंब का चयन करें।



Ans

- 1.
- 2.
- 3.
- 4.

Question ID : 26433048536

Status : Answered

Chosen Option : 2

Q.21 उस विकल्प का चयन करें जिसमें दी गई आकृति अंतर्निहित है (आकृति को घुमाने की अनुमति नहीं है)।



Ans

✗ 1.



✓ 2.



✗ 3.



✗ 4.

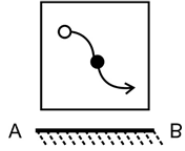


Question ID : 26433048585

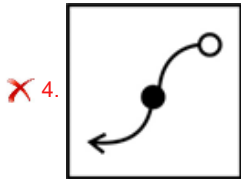
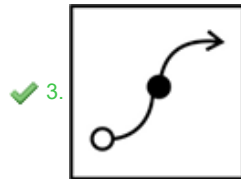
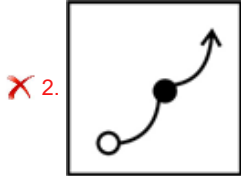
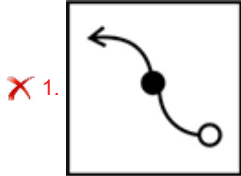
Status : Answered

Chosen Option : 2

Q.22 दर्पण को रेखा AB पर रखे जाने पर, जैसा कि दर्शाया गया है, विकल्पों में से दिए गए संयोजन के सही दर्पण प्रतिबिंब का चयन कीजिए।



Ans



Question ID : 26433048215

Status : Answered

Chosen Option : 3

Q.23 एक निश्चित कूट भाषा में, 'PINKYS' को 'OJMLXT' के रूप में लिखा जाता है, और 'TORQUE' को 'SPQRTF' के रूप में लिखा जाता है। उसी कूट भाषा में 'GAMPST' को किस रूप में लिखा जाएगा?

Ans ✗ 1. FBLQRV

✗ 2. FBLRRU

✗ 3. FBLRQU

✓ 4. FBLQRU

Question ID : 26433048846

Status : Answered

Chosen Option : 4

Q.24 यदि 'A' का अर्थ '+' है, 'B' का अर्थ '-' है, 'C' का अर्थ 'x' है, और 'D' का अर्थ '÷' है, तो निम्नलिखित समीकरण में प्रश्नवाचक चिह्न (?) के स्थान पर क्या आएगा?

44 A 36 B 60 D 30 C 5 = ?

Ans  1. 70

2. 60

3. 40

4. 50

Question ID : 26433048514

Status : Answered

Chosen Option : 1

Q.25 सात पुरुष M1, M2, M3, M4, M5, M6 और M7 एक गोलाकार मेज के चारों ओर केंद्र की ओर मुख करके बैठे हैं (जरूरी नहीं कि इसी क्रम में हों)। M5, M1 और M4 दोनों का निकटतम पड़ोसी है। M6, M1 के ठीक दाएँ है। M7, M6 या M3 का निकटतम पड़ोसी नहीं है। M7 के दाईं ओर दूसरे स्थान पर कौन है?

Ans  1. M2

2. M5

3. M1

4. M3

Question ID : 26433048531

Status : Answered

Chosen Option : 2

Section : Numerical Aptitude

Q.1 यदि ब्याज वार्षिक रूप से संयोजित किया जाता है, तो ₹7,200 की धनराशि पर 15% की वार्षिक दर से 2 वर्षों में प्राप्त चक्रवृद्धि ब्याज कितना होगा?

Ans  1. ₹2,829

2. ₹2,322

3. ₹2,428

4. ₹2,527

Question ID : 26433049607

Status : Answered

Chosen Option : 2

Q.2 एक परिवार में चार लोग हैं। इन चारों सदस्यों की औसत आयु 32 वर्ष है। पिता की आयु 50 वर्ष, माँ की आयु 46 वर्ष और पुत्री की आयु 20 वर्ष है। परिवार के इकलौते पुत्र की आयु ज्ञात कीजिए।

- Ans
- 1. 16 वर्ष
  - 2. 12 वर्ष
  - 3. 18 वर्ष
  - 4. 14 वर्ष

Question ID : 26433050148  
Status : Answered  
Chosen Option : 2

Q.3 10 के पहले 6 गुणजों का औसत क्या होगा?

- Ans
- 1. 34.5
  - 2. 36
  - 3. 35
  - 4. 32

Question ID : 26433049703  
Status : Answered  
Chosen Option : 3

Q.4 पाइप A एक खाली टंकी को 10 h में भर सकता है, पाइप B उसी टंकी को, पूरी तरह से खाली होने पर, 15 h में भर सकता है और पाइप C पूरी तरह से भरी उसी टंकी को 12 h में खाली कर सकता है। यदि खाली टंकी में तीनों पाइपों को एक साथ खोल दिया जाए, तो आधी टंकी भरने में लगने वाला समय ज्ञात कीजिए।

- Ans
- 1. 4 h
  - 2. 6 h
  - 3. 12 h
  - 4. 8 h

Question ID : 26433049561  
Status : Answered  
Chosen Option : 2

Q.5 एक कुर्सी को 20% की छूट पर बेचने से 20% का लाभ होता है। यदि कुर्सी को 30% की छूट पर बेचा जाए, तो लाभ प्रतिशत ज्ञात कीजिए।

- Ans
- 1. 7.5%
  - 2. 10%
  - 3. 12.5%
  - 4. 5%

Question ID : 26433049599  
Status : Answered  
Chosen Option : 4

Q.6 दो संख्याओं का महत्तम समापवर्तक 6 है, और इन दो संख्याओं का गुणनफल 72 है। इन दो संख्याओं का लघुत्तम समापवर्तक कितना है?

- Ans
- 1. 16
  - 2. 18
  - 3. 14
  - 4. 12

Question ID : 26433049912  
Status : Answered  
Chosen Option : 4

Q.7 तीन पाइप- D, E और F एक टैंक को क्रमशः 6 min, 8 min और 12 min में भर सकते हैं। सभी पाइपों को एक साथ खोल दिया जाता है, और फिर पाइप D और E को टैंक भरने से 3 min पहले बंद कर दिया जाता है। टैंकी को पूरा भरने में कितना समय लगेगा?

- Ans
- 1. 6 min
  - 2. 5 min
  - 3. 3 min
  - 4. 4 min

Question ID : 26433050410  
Status : Answered  
Chosen Option : 2

Q.8 यदि  $\frac{A}{2} = \frac{B}{3} = \frac{C}{7}$  है, तो अनुपात  $(4A + 3B - C) : (A + B + C)$  का मान क्या है?

- Ans
- 1. 5 : 6
  - 2. 9 : 8
  - 3. 8 : 5
  - 4. 7 : 6

Question ID : 26433049856  
Status : Answered  
Chosen Option : 1

Q.9 यदि कोई लड़का अपने घर से अपने विद्यालय की ओर 40 km/h की चाल से जाता है, तो वह 10 min पहले पहुँच जाता है। यदि वह 35 km/h की चाल से जाता है, तो वह 5 min देरी से पहुंचता है। 35 km/h की चाल से यात्रा करने में लगने वाला समय क्या होगा?

- Ans
- 1. 115 min
  - 2. 120 min
  - 3. 125 min
  - 4. 135 min

Question ID : 26433049846  
Status : Answered  
Chosen Option : 3

Q.10 एक नगरपालिका चुनाव में तीन प्रत्याशियों, संतोष, रवि और विपिन ने चुनाव लड़ा और उन्हें मिले वैध मत 11:4:9 के अनुपात में थे। यदि विजेता ने अपने निकटतम प्रतिद्वंद्वी को 8350 मतों से हराया, तो चुनाव में पड़े वैध मतों की संख्या ज्ञात कीजिए।

- Ans
- 1. 1,90,000
  - 2. 2,10,000
  - 3. 1,00,200
  - 4. 1,02,000

Question ID : 26433050204  
Status : Answered  
Chosen Option : 3

Q.11 एक शहर की जनसंख्या में प्रतिवर्ष 5% की वृद्धि होती है। यदि शहर की वर्तमान जनसंख्या 2,82,240 है, तो 2 वर्ष पहले शहर की जनसंख्या कितनी थी?

- Ans
- 1. 2,66,000
  - 2. 2,56,000
  - 3. 2,28,000
  - 4. 2,25,000

Question ID : 26433049908  
Status : Answered  
Chosen Option : 2

Q.12 N में क्रमशः 12.5% और 16% की वृद्धि की जाती है। यदि N = 400 है, तो कितने रुपये की वृद्धि हुई?

- Ans
- 1. 92
  - 2. 122
  - 3. 172
  - 4. 142

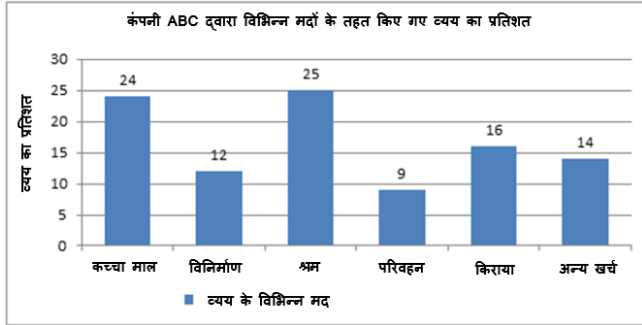
Question ID : 26433050026  
Status : Answered  
Chosen Option : 2

Q.13 एक वस्तु के क्रय मूल्य और वस्तु को बेचते समय प्राप्त लाभ का अनुपात 4 : 1 है। लाभ प्रतिशत कितना है?

- Ans
- 1. 18%
  - 2. 15%
  - 3. 25%
  - 4. 20%

Question ID : 26433049897  
Status : Answered  
Chosen Option : 3

**Q.14** निम्न बार ग्राफ का अध्ययन कीजिए और उसके आधार पर दिए गए प्रश्न का उत्तर दीजिए।  
बार-ग्राफ किसी दिए गए वर्ष के दौरान कंपनी के कुल व्यय के प्रतिशत के रूप में विभिन्न मदों के तहत कंपनी ABC के व्यय के वितरण को दर्शाता है। कंपनी का कुल वार्षिक व्यय ₹30 करोड़ है।



किराए पर और अन्य खर्चों पर व्यय की गई राशि का अंतर (₹ में) ज्ञात कीजिए।

- Ans
- ✓ 1. 0.6 करोड़
  - ✗ 2. 1.5 करोड़
  - ✗ 3. 1.2 करोड़
  - ✗ 4. 0.8 करोड़

Question ID : 26433050213  
Status : Answered  
Chosen Option : 1

**Q.15** एक छात्र को एक परीक्षा में उत्तीर्ण होने के लिए न्यूनतम 50% अंक प्राप्त करने होंगे। उसने 40% अंक प्राप्त किए और 30 अंकों से अनुत्तीर्ण हो गया। परीक्षा का पूर्णांक ज्ञात कीजिए।

- Ans
- ✗ 1. 400
  - ✓ 2. 300
  - ✗ 3. 280
  - ✗ 4. 320

Question ID : 26433049525  
Status : Answered  
Chosen Option : 2

Q.16 नीचे दी गई तालिका 6 विभिन्न दुकानों द्वारा बेची गई सब्जियों का वजन (kg में) दर्शाती है। यह इनमें से प्रत्येक दुकान द्वारा बेची गई कुल सब्जियों में से बेचे गए टमाटरों का वजन (kg में) भी दर्शाती है।

दुकान	सब्जियां (kg में)	टमाटर (kg में)
S1	5000	1200
S2	6000	1000
S3	4800	800
S4	6400	1400
S5	5600	1800
S6	6800	2000

दुकान S1, S2 और S5 को एक साथ लेने पर, इन तीनों दुकानों को मिलाकर बेची जाने वाली सभी सब्जियों का लगभग कितना प्रतिशत टमाटरों का है?

- Ans
- 1. 25.89%
  - 2. 21.28%
  - 3. 19.11%
  - 4. 24.10%

Question ID : 26433049865

Status : Answered

Chosen Option : 4

Q.17 शीतल 40 km/h की चाल से 9 घंटे में एक निश्चित दूरी तय करती है। यदि वह उसी दूरी को 6 घंटे में तय करना चाहती है, तो उसे अपनी चाल में कितनी वृद्धि (km/h में) करनी होगी?

- Ans
- 1. 12
  - 2. 20
  - 3. 18
  - 4. 15

Question ID : 26433050208

Status : Answered

Chosen Option : 2

Q.18 544 के 25% + 1400 के 38% + 2880 के 60% का मान ज्ञात कीजिए।

- Ans
- 1. 2395
  - 2. 2392
  - 3. 2396
  - 4. 2400

Question ID : 26433050194

Status : Answered

Chosen Option : 3

Q.19 ठोस घनाकार पासे बनाने में 4 cm व्यास और 14 cm लंबाई वाली एक स्टील की छड़ का उपयोग किया जाता है। यदि प्रत्येक पासे की प्रत्येक भुजा की लंबाई 4 mm है, तो इस छड़ से ऐसे कितने पासे बनाए जा सकते हैं? [ $\pi =$

$\frac{22}{7}$  मानिए]

- Ans
- 1. 3275
  - 2. 2250
  - 3. 2750
  - 4. 2050

Question ID : 26433050167  
Status : Answered  
Chosen Option : 3

Q.20 निम्न समीकरण में प्रश्न चिह्न (?) के स्थान पर कौन-सी संख्या आ सकती है?

$$25\% \text{ of } (?)^2 = 7 + 145 \div 5$$

- Ans
- 1. 12
  - 2. 62
  - 3. 27
  - 4. 37

Question ID : 26433050318  
Status : Answered  
Chosen Option : 1

Q.21 एक बाइक को ₹68,250 में बेचने पर प्राप्त लाभ, बाइक को ₹47,250 में बेचने पर हुई हानि के बराबर है। बाइक का क्रय मूल्य ज्ञात कीजिए।

- Ans
- 1. ₹57,750
  - 2. ₹57,250
  - 3. ₹57,500
  - 4. ₹57,375

Question ID : 26433050327  
Status : Answered  
Chosen Option : 1

Q.22 धातु के एक बंद बॉक्स की बाह्य भुजाओं का माप  $15\text{ cm} \times 18\text{ cm} \times 8\text{ cm}$  है। धातु की मोटाई  $1.5\text{ cm}$  है। इस बॉक्स को बनाने में लगी धातु का आयतन ज्ञात कीजिए।

- Ans
- ✓ 1.  $1260\text{ cm}^3$
  - ✗ 2.  $950\text{ cm}^3$
  - ✗ 3.  $1680\text{ cm}^3$
  - ✗ 4.  $1440\text{ cm}^3$

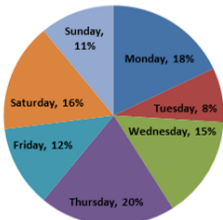
Question ID : 26433050340  
Status : Answered  
Chosen Option : 4

Q.23 समबाहु त्रिभुज की एक भुजा की लंबाई उसके परिमाण से  $120\text{ cm}$  कम है। उस समबाहु त्रिभुज का क्षेत्रफल ज्ञात कीजिए।

- Ans
- ✓ 1.  $900\sqrt{3}\text{ cm}^2$
  - ✗ 2.  $450\sqrt{3}\text{ cm}^2$
  - ✗ 3.  $1200\sqrt{3}\text{ cm}^2$
  - ✗ 4.  $1800\sqrt{3}\text{ cm}^2$

Question ID : 26433049711  
Status : Answered  
Chosen Option : 1

Q.24 दिया गया पाई-चार्ट एक दुकानदार द्वारा सप्ताह के विभिन्न दिनों में बेचे गए सैंडविचों की संख्या के प्रतिशत वितरण को दर्शाता है।



मंगलवार (Tuesday) को बेचे गए सैंडविचों की कुल संख्या शनिवार (Saturday) को बेचे गए सैंडविचों की कुल संख्या की कितने प्रतिशत है?

- Ans
- ✗ 1. 60%
  - ✗ 2. 45%
  - ✓ 3. 50%
  - ✗ 4. 40%

Question ID : 26433050339  
Status : Answered  
Chosen Option : 3

Q.25 5 क्रमागत विषम संख्याओं का औसत 33 है। इन पांचों संख्याओं में से सबसे छोटी और सबसे बड़ी संख्याओं का गुणनफल क्या होगा?

- Ans  1. 1073  
 2. 1147  
 3. 957  
 4. 1237

Question ID : 26433049604  
Status : Answered  
Chosen Option : 1

Section : General Awareness

Q.1 निम्नलिखित में से कौन अपने नवीन दृष्टिकोण और कार्यों के साथ आधुनिक नृत्य की अवधारणा को भारत में लाने वाले/वाली पहले/पहली व्यक्ति थे/थी?

- Ans  1. उदय शंकर  
 2. पद्मा सुब्रह्मण्यम  
 3. गुरू बिपिन सिंह  
 4. केलुचरण महापात्र

Question ID : 26433047595  
Status : Answered  
Chosen Option : 4

Q.2 भारतीय संविधान के अनुसार, \_\_\_\_\_ वर्ष से कम उम्र के किसी भी बच्चे को किसी कारखाने या खदान में काम करने के लिए या किसी अन्य खतरनाक रोजगार में नहीं लगाया जाएगा।

- Ans  1. दस  
 2. सोलह  
 3. चौदह  
 4. बारह

Question ID : 26433047313  
Status : Answered  
Chosen Option : 3

Q.3 राष्ट्रीय नृत्य शिरोमणि पुरस्कार 2022 से किसे सम्मानित किया गया?

- Ans  1. अपर्णा सतीशन  
 2. शांता धनंजयन  
 3. बिरजू महाराज  
 4. अर्निदिता नियोगी अनाम

Question ID : 26433047737  
Status : Answered  
Chosen Option : 3

Q.4 मनुष्य, निम्नलिखित में से किस वर्गीकरण के अंतर्गत नहीं आता है?

- Ans
- 1. वर्टीब्रेटा (Vertebrata)
  - 2. कॉर्डेटा (Chordata)
  - 3. होमीनिडी (Hominidae)
  - 4. पोरीफेरा (Porifera)

Question ID : 26433047724  
Status : Answered  
Chosen Option : 2

Q.5 भोपाल की बेगमों ने बीसवीं सदी की शुरुआत में \_\_\_\_\_ में लड़कियों के लिए एक प्राथमिक विद्यालय की स्थापना की थी।

- Ans
- 1. अलीगढ़
  - 2. पुणे
  - 3. बॉम्बे
  - 4. लाहौर

Question ID : 26433047733  
Status : Not Answered  
Chosen Option : --

Q.6 \_\_\_\_\_ असम का एक लोकप्रिय खेल है और गेंद से खेला जाने वाली कबड्डी से मिलता जुलता है।

- Ans
- 1. फील्ड हॉकी
  - 2. खो-खो
  - 3. धोपखेल
  - 4. क्रिकेट

Question ID : 26433046941  
Status : Answered  
Chosen Option : 3

Q.7 निम्नलिखित में से किस भौतिक राशि (physical quantities) की SI इकाई वही है जो कार्य (work) की है?

- Ans
- 1. बल
  - 2. शक्ति
  - 3. दबाव
  - 4. ऊर्जा

Question ID : 26433047248  
Status : Answered  
Chosen Option : 4

Q.8 ओणम प्रतिवर्ष मनाया जाने वाला एक हिंदू त्योहार है जिसकी उत्पत्ति भारत के \_\_\_\_\_ राज्य में हुई है।

- Ans
- 1. मिजोरम
  - 2. झारखंड
  - 3. केरल
  - 4. मणिपुर

Question ID : 26433047246  
Status : Answered  
Chosen Option : 3

Q.9 प्रतिकर्ष और अपकर्ष कारक, जनसंख्या के किस घटक से जुड़े हैं?

- Ans
- 1. जन्म दर
  - 2. आयु
  - 3. मृत्यु दर
  - 4. प्रवास

Question ID : 26433047555  
Status : Answered  
Chosen Option : 2

Q.10 निम्नलिखित में से कौन-सा हवाई अड्डा अमृतसर में स्थित है?

- Ans
- 1. तिरुवनंतपुरम अंतर्राष्ट्रीय हवाई अड्डा
  - 2. इंदिरा गांधी अंतर्राष्ट्रीय हवाई अड्डा
  - 3. डॉ. बाबासाहेब अम्बेडकर अंतर्राष्ट्रीय हवाई अड्डा
  - 4. श्री गुरु राम दास जी अंतर्राष्ट्रीय हवाई अड्डा

Question ID : 26433047302  
Status : Answered  
Chosen Option : 4

Q.11 किस योद्धा ने 322 ईसा पूर्व में कौटिल्य की सहायता से अंतिम नंद शासक धनानंद को पराजित किया था?

- Ans
- 1. कालाशोक
  - 2. अशोक
  - 3. अकबर
  - 4. चंद्रगुप्त मौर्य

Question ID : 26433047006  
Status : Answered  
Chosen Option : 4

Q.12 शहरी क्षेत्रों में इनमें से प्रायः किस प्रकार की बेरोजगारी पाई जाती है?

- Ans
- 1. चक्रीय बेरोजगारी
  - 2. मौसमी बेरोजगारी
  - 3. खुली बेरोजगारी
  - 4. शिक्षित बेरोजगारी

Question ID : 26433047105  
Status : Answered  
Chosen Option : 1

Q.13 निम्नलिखित में से किस भारतीय गायक/गायिका को 2001 में 'भारत रत्न' प्राप्त हुआ था?

- Ans
- 1. आशा भोसले
  - 2. श्रेया घोषाल
  - 3. लता मंगेशकर
  - 4. अली अकबर खान

Question ID : 26433047011  
Status : Answered  
Chosen Option : 3

Q.14 2022 के विधानसभा चुनाव में आदित्यनाथ योगी किस निर्वाचन क्षेत्र से जीते?

- Ans
- 1. गोरखपुर (शहर)
  - 2. बिलासपुर
  - 3. मुजफ्फरनगर
  - 4. नोएडा

Question ID : 26433047739  
Status : Answered  
Chosen Option : 1

Q.15 कोरिओलिस बल किसके कारण होता है?

- Ans
- 1. सूर्य के प्रकाश
  - 2. ज्वारीय तरंगों
  - 3. पवन
  - 4. पृथ्वी के घूर्णन

Question ID : 26433047728  
Status : Answered  
Chosen Option : 4

Q.16 ट्रांसजेंडर (विपरीतलिंगी) समुदाय और भीख मांगने वाले लोगों के कल्याण और पुनर्वास के लिए फरवरी 2022 में कौन-सी योजना शुरू की गई थी?

- Ans
- 1. क्लैप (CLAP) योजना
  - 2. डिवाइन (DevINE) योजना
  - 3. स्माइल (SMILE) योजना
  - 4. सद्भावना योजना

Question ID : 26433047293  
Status : Answered  
Chosen Option : 1

Q.17 सैम की वार्षिक आय ₹9 लाख है। भारत का कौन सा टैक्स स्लैब (नई व्यवस्था) उस पर लागू होता है?

- Ans
- 1. 10%
  - 2. 20%
  - 3. 5%
  - 4. 15%

Question ID : 26433047017  
Status : Answered  
Chosen Option : 3

Q.18 18 वीं शताब्दी में, अंग्रेजों ने मैसूर शासकों के साथ \_\_\_\_\_ युद्ध लड़े।

- Ans
- 1. छह
  - 2. तीन
  - 3. चार
  - 4. दो

Question ID : 26433047609  
Status : Answered  
Chosen Option : 3

Q.19 'प्राकृतिक स्रोत - अम्ल' का निम्नलिखित में से कौन-सा युग्म सही सुमेलित नहीं है?

- Ans
- 1. संतरा - साइट्रिक अम्ल
  - 2. सिरका - एसिटिक अम्ल
  - 3. दही - लैक्टिक अम्ल
  - 4. इमली - ऑक्सैलिक अम्ल

Question ID : 26433047600  
Status : Answered  
Chosen Option : 4

Q.20 रामभर स्तूप, वह स्थान जहां भगवान बुद्ध का अंतिम संस्कार किया गया था, भारत के किस राज्य में स्थित है?

- Ans
- 1. मध्य प्रदेश
  - 2. हिमाचल प्रदेश
  - 3. बिहार
  - 4. उत्तर प्रदेश

Question ID : 26433047297  
Status : Answered  
Chosen Option : 4

Q.21 प्रसिद्ध उपन्यास 'द व्हाइट टाइगर' किस लेखक/लेखिका ने लिखा है?

- Ans
- 1. अरुंधति रॉय
  - 2. झुम्मा लाहिड़ी
  - 3. अरविंद अडिगा
  - 4. विक्रम सेठ

Question ID : 26433047010  
Status : Answered  
Chosen Option : 3

Q.22 अदिति अशोक का संबंध निम्नलिखित में से किस खेल से है?

- Ans
- 1. शूटिंग
  - 2. टेनिस
  - 3. शतरंज
  - 4. गोल्फ़

Question ID : 26433047441  
Status : Answered  
Chosen Option : 4

Q.23 2021 में जम्मू और कश्मीर से भारतीय वायु सेना की प्रथम महिला फाइटर पायलट कौन बनीं?

- Ans
- 1. मिताली मधुमिता
  - 2. माव्या सूडान
  - 3. पद्मावती बंदोपाध्याय
  - 4. पुनीता अरोड़ा

Question ID : 26433046994  
Status : Answered  
Chosen Option : 1

Q.24 दिन का न्यूनतम तापमान सामान्यतः \_\_\_\_\_ होता है।

- Ans
- 1. शाम को
  - 2. रात को
  - 3. प्रातःकाल (सुबह)
  - 4. दोपहर में

Question ID : 26433047301  
Status : Answered  
Chosen Option : 3

Q.25 चंगेज खान के नेतृत्व में मंगोलों ने किस वर्ष उत्तर-पूर्वी ईरान में ट्रांसऑक्सियाना पर आक्रमण किया था?

- Ans
- 1. 1208
  - 2. 1213
  - 3. 1205
  - 4. 1219

Question ID : 26433047307  
Status : Not Answered  
Chosen Option : --