

# Multi Tasking Non Technical Staff Havaladar CBIC and CBN Examination 2021

Roll Number	
Candidate Name	
Venue Name	
Exam Date	07/07/2022
Exam Time	9:00 AM - 10:30 AM
Subject	MTS Non technical and Havaladar Examination 2021

Section : **General English**

**Q.1** Select the option that will improve the underlined part of the given sentence. In case no improvement is needed, select 'No improvement required'.

It has been my great misfortune to follow a speech more notable for its volume than for any sense.

- Ans
- 1. No improvement required
  - 2. to have being following a speech more notable
  - 3. to follow a speech much notable
  - 4. following a speech most notable

Question ID : 26433051647  
Status : Answered  
Chosen Option : 4

**Q.2** Select the option that can be used as a one-word substitute for the given group of words.

The study of different skin diseases

- Ans
- 1. Dermatology
  - 2. Neurology
  - 3. Psychology
  - 4. Radiology

Question ID : 26433050840  
Status : Answered  
Chosen Option : 1

**Q.3** Select the correctly spelt word.

- Ans
- 1. Magestic
  - 2. Stringent
  - 3. Flexibal
  - 4. Faltoring

Question ID : 26433051258  
Status : Answered  
Chosen Option : 3

**Q.4** Select the most appropriate option to fill in the blank.

I \_\_\_\_\_ your remaining project if you get groceries for me from the market.

- Ans**
- 1. would have done
  - 2. would do
  - 3. will do
  - 4. will have done

Question ID : 26433051320  
Status : Answered  
Chosen Option : 3

**Q.5** Select the most appropriate option to fill in the blank.

I can't control my \_\_\_\_\_ these days because I got selected for a job.

- Ans**
- 1. nepotism
  - 2. casualness
  - 3. pollution
  - 4. excitement

Question ID : 26433050870  
Status : Answered  
Chosen Option : 4

**Q.6** Select the option that can be used as a one-word substitute for the given group of words.

One who is hostile and violent

- Ans**
- 1. Agreeable
  - 2. Idle
  - 3. Legendary
  - 4. Aggressive

Question ID : 26433051787  
Status : Answered  
Chosen Option : 4

**Q.7** Select the most appropriate ANTONYM of the given word.

Hilarious

- Ans**
- 1. Humourless
  - 2. Ridiculous
  - 3. Pretentious
  - 4. Usual

Question ID : 26433051228  
Status : Answered  
Chosen Option : 4

Q.8 The following sentence has been split into four segments. Identify the segment that contains a grammatical error.

He had begun to dig / diligent along the / low tideline and had / captured two clams.

- Ans
- 1. He had begun to dig
  - 2. diligent along the
  - 3. captured two clams
  - 4. low tideline and had

Question ID : 26433051669  
Status : Answered  
Chosen Option : 2

Q.9 Parts of the following sentence have been given as options. One of them may contain an error. Select the part that contains the error from the given options. If you don't find any error, mark 'No error' as your answer.

A significant number of students volunteers each year for environmental projects.

- Ans
- 1. volunteers each year for
  - 2. No error
  - 3. environmental projects
  - 4. A significant number of students

Question ID : 26433051236  
Status : Answered  
Chosen Option : 4

Q.10 Select the most appropriate option to fill in the blank.

Writing books about how to \_\_\_\_\_ on the internet seems like a great idea.

- Ans
- 1. make a fortune
  - 2. make a habit
  - 3. make a list
  - 4. make a promise

Question ID : 26433051615  
Status : Answered  
Chosen Option : 1

Q.11 Select the most appropriate option to substitute the underlined segment in the given sentence. If there is no need to substitute it, select 'No substitution required'.

The playground was way large then I had imagined, and in cleaning it, my back began to ache.

- Ans
- 1. No substitution required
  - 2. largest to what I have
  - 3. large then I have
  - 4. larger than I had

Question ID : 26433051160  
Status : Answered  
Chosen Option : 4

**Q.12** Parts of the following sentence have been given as options. One of them contains an error. Select the part that contains the error from the given options.

Time and technology are two important factor that change substances into resources.

- Ans  1. resources  
 2. factor that  
 3. two important  
 4. Time and technology

Question ID : 26433051237  
Status : Answered  
Chosen Option : 2

**Q.13** Select the most appropriate synonym of the given word.

Sacred

- Ans  1. Adamant  
 2. Passionate  
 3. Submissive  
 4. Consecrated

Question ID : 26433051608  
Status : Answered  
Chosen Option : 4

**Q.14** Select the option that will improve the underlined part of the sentence. In case no improvement is needed, select 'No improvement required'.

Shall you pass me that pasta bowl?

- Ans  1. Shall pass you  
 2. No improvement required  
 3. Can you pass  
 4. Could passing you

Question ID : 26433050665  
Status : Answered  
Chosen Option : 3

**Q.15** Select the correctly spelt word.

- Ans  1. Reveneue  
 2. Pashion  
 3. Conversatian  
 4. Exploitation

Question ID : 26433051231  
Status : Answered  
Chosen Option : 4

Q.16 Select the most appropriate meaning of the underlined idiom in the given sentence.

My elder brother is so innocent that winning an argument against him is like shooting fish in a barrel.

- Ans  1. Exceptionally easy to do  
 2. Making someone uneasy  
 3. Asking for charity  
 4. Indulge in an illegal activity

Question ID : 26433050864  
Status : Answered  
Chosen Option : 1

Q.17 Select the most appropriate synonym of the given word.

Plausible

- Ans  1. Credible  
 2. Untenable  
 3. irresistible  
 4. Irrational

Question ID : 26433051685  
Status : Answered  
Chosen Option : 1

Q.18 Select the most appropriate option to fill in the blank.

The Lebanese army raided the boat and \_\_\_\_\_ dozens of water bottles, tuna cans, loaves of bread, boxes of Picon cheese and life jackets.

- Ans  1. learnt  
 2. created  
 3. discovered  
 4. invented

Question ID : 26433051520  
Status : Answered  
Chosen Option : 1

Q.19 Select the most appropriate option to fill in the blank.

Which \_\_\_\_\_ should I take to reach the railway station?

- Ans  1. root  
 2. route  
 3. riot  
 4. rote

Question ID : 26433050999  
Status : Answered  
Chosen Option : 2

**Q.20** Select the most appropriate meaning of the given idiom.

**To foot the bill**

- Ans**  1. To make payment  
 2. To be friendly  
 3. To reveal a secret  
 4. To hold grudges

Question ID : 26433051767

Status : Answered

Chosen Option : 1

**Comprehension:**

In the following passage, some words have been deleted. Read the passage carefully and select the most appropriate option to fill in each blank.

Can you (1) \_\_\_\_\_ a deaf woman writing stories about a war? Well, Laura Redden Searing did this. Moreover, she went to foreign countries to write stories. She was very ill when she was 11 years old. Because of this, she lost her (2) \_\_\_\_\_. She went to the Missouri School for the Deaf. Laura was 19 years old when she went to work for a newspaper. She wrote about people, places and art. In 1859, most women were just wives and (3) \_\_\_\_\_. They did not work outside the home; otherwise, their husbands would be angry. Due to this feeling, Laura used a (4) \_\_\_\_\_ name when she wrote her stories. She called herself Howard Glyndon. She thought that unless she used a masculine name, people would be (5) \_\_\_\_\_ since they did not think that women should write for newspapers.

**SubQuestion No : 21**

**Q.21** Select the most appropriate option to fill in blank number 1.

- Ans**  1. create  
 2. imagine  
 3. malign  
 4. conjure

Question ID : 26433051600

Status : Answered

Chosen Option : 2

**Comprehension:**

In the following passage, some words have been deleted. Read the passage carefully and select the most appropriate option to fill in each blank.

Can you (1) \_\_\_\_\_ a deaf woman writing stories about a war? Well, Laura Redden Searing did this. Moreover, she went to foreign countries to write stories. She was very ill when she was 11 years old. Because of this, she lost her (2) \_\_\_\_\_. She went to the Missouri School for the Deaf. Laura was 19 years old when she went to work for a newspaper. She wrote about people, places and art. In 1859, most women were just wives and (3) \_\_\_\_\_. They did not work outside the home; otherwise, their husbands would be angry. Due to this feeling, Laura used a (4) \_\_\_\_\_ name when she wrote her stories. She called herself Howard Glyndon. She thought that unless she used a masculine name, people would be (5) \_\_\_\_\_ since they did not think that women should write for newspapers.

**SubQuestion No : 22**

**Q.22** Select the most appropriate option to fill in blank number 2.

- Ans  1. hearing  
 2. inspiring  
 3. enduring  
 4. suffering

Question ID : 26433051601

Status : Answered

Chosen Option : 1

**Comprehension:**

In the following passage, some words have been deleted. Read the passage carefully and select the most appropriate option to fill in each blank.

Can you (1) \_\_\_\_\_ a deaf woman writing stories about a war? Well, Laura Redden Searing did this. Moreover, she went to foreign countries to write stories. She was very ill when she was 11 years old. Because of this, she lost her (2) \_\_\_\_\_. She went to the Missouri School for the Deaf. Laura was 19 years old when she went to work for a newspaper. She wrote about people, places and art. In 1859, most women were just wives and (3) \_\_\_\_\_. They did not work outside the home; otherwise, their husbands would be angry. Due to this feeling, Laura used a (4) \_\_\_\_\_ name when she wrote her stories. She called herself Howard Glyndon. She thought that unless she used a masculine name, people would be (5) \_\_\_\_\_ since they did not think that women should write for newspapers.

**SubQuestion No : 23**

**Q.23** Select the most appropriate option to fill in blank number 3.

- Ans  1. artists  
 2. writers  
 3. mothers  
 4. teachers

Question ID : 26433051602

Status : Answered

Chosen Option : 3

**Comprehension:**

In the following passage, some words have been deleted. Read the passage carefully and select the most appropriate option to fill in each blank.

Can you (1) \_\_\_\_\_ a deaf woman writing stories about a war? Well, Laura Redden Searing did this. Moreover, she went to foreign countries to write stories. She was very ill when she was 11 years old. Because of this, she lost her (2) \_\_\_\_\_. She went to the Missouri School for the Deaf. Laura was 19 years old when she went to work for a newspaper. She wrote about people, places and art. In 1859, most women were just wives and (3) \_\_\_\_\_. They did not work outside the home; otherwise, their husbands would be angry. Due to this feeling, Laura used a (4) \_\_\_\_\_ name when she wrote her stories. She called herself Howard Glyndon. She thought that unless she used a masculine name, people would be (5) \_\_\_\_\_ since they did not think that women should write for newspapers.

**SubQuestion No : 24**

**Q.24** Select the most appropriate option to fill in blank number 4.

- Ans  1. children's  
 2. woman's  
 3. man's  
 4. adult's

Question ID : 26433051603

Status : Answered

Chosen Option : 3

**Comprehension:**

In the following passage, some words have been deleted. Read the passage carefully and select the most appropriate option to fill in each blank.

Can you (1) \_\_\_\_\_ a deaf woman writing stories about a war? Well, Laura Redden Searing did this. Moreover, she went to foreign countries to write stories. She was very ill when she was 11 years old. Because of this, she lost her (2) \_\_\_\_\_. She went to the Missouri School for the Deaf. Laura was 19 years old when she went to work for a newspaper. She wrote about people, places and art. In 1859, most women were just wives and (3) \_\_\_\_\_. They did not work outside the home; otherwise, their husbands would be angry. Due to this feeling, Laura used a (4) \_\_\_\_\_ name when she wrote her stories. She called herself Howard Glyndon. She thought that unless she used a masculine name, people would be (5) \_\_\_\_\_ since they did not think that women should write for newspapers.

**SubQuestion No : 25**

**Q.25** Select the most appropriate option to fill in blank number 5.

- Ans  1. infertile  
 2. hostile  
 3. versatile  
 4. infantile

Question ID : 26433051604

Status : Answered

Chosen Option : 2

Q.1 एक निश्चित कूट भाषा में 'who are you' को 'Sue Re Nik' लिखा जाता है, 'they is you' को 'Pi Re Sor' लिखा जाता है और 'they are dangerous' को 'Pi Nik Zhi' लिखा जाता है। उसी कूट भाषा में 'dangerous' को क्या लिखा जाएगा?

Ans  1. Zhi

2. Pi

3. Nik

4. Sue

Question ID : 26433048443

Status : Answered

Chosen Option : 1

Q.2 छः व्यक्ति A, B, C, D, E और F एक आयताकार मेज़ के चारों ओर केंद्र की ओर मुँह करके बैठे हैं (इसी क्रम में हों, यह आवश्यक नहीं है)। प्रत्येक छोटी भुजा पर एक व्यक्ति बैठा है। प्रत्येक बड़ी भुजा पर दो व्यक्ति बैठे हैं। कौनों पर कोई भी व्यक्ति नहीं बैठा है। C और F एक ही भुजा पर बैठे हैं। B, A के सामने बैठा है। F, B का निकटतम पड़ोसी है। A, D के बाईं ओर दूसरे स्थान पर बैठा है। D के बाईं ओर गिनती करते हुए, A और D के बीच कितने व्यक्ति बैठे हैं?

Ans  1. एक

2. दो

3. तीन

4. एक भी नहीं

Question ID : 26433048630

Status : Answered

Chosen Option : 3

Q.3 उस विकल्प का चयन करें, जिसमें संख्याएँ वही संबंध साझा करती हैं, जो संबंध दिए गए समुच्चय में संख्याओं द्वारा साझा किया जाता है।

(132, 186, 240)

(टिप्पणी: संख्याओं को उसके घटक अंकों में विभाजित किए बिना पूर्ण संख्याओं पर संक्रियाएँ की जानी चाहिए। उदाहरण के लिए 13 - 13 पर संक्रियाएँ जैसे कि जोड़ने/घटाने/गुणा करने आदि को 13 पर किया जा सकता है। 13 को 1 और 3 में विभाजित करने और फिर 1 और 3 पर गणितीय संक्रियाएँ करने की अनुमति नहीं है)

Ans  1. (148, 202, 256)

2. (142, 176, 194)

3. (118, 172, 198)

4. (124, 158, 202)

Question ID : 26433048917

Status : Not Attempted and Marked For Review

Chosen Option : --

Q.4 उस विकल्प का चयन करें जो पाँचवें शब्द से उसी प्रकार संबंधित है जिस प्रकार दूसरा शब्द पहले शब्द से और चौथा शब्द तीसरे शब्द से संबंधित है।

पिच : क्रिकेट :: कोर्ट : बैडमिंटन :: रिग : ?


- Ans
- 1. रग्बी
  - 2. हॉकी
  - 3. मुक्केबाज़ी
  - 4. फुटबॉल

Question ID : 26433048440

Status : Answered

Chosen Option : 3

Q.5 दिए गए विकल्पों में से उस आकृति का चयन करें जो नीचे दी गई श्रृंखला में प्रश्न-चिह्न (?) के स्थान पर आ सकती है।



- Ans
- 1.
  - 2.
  - 3.
  - 4.

Question ID : 26433048634

Status : Answered

Chosen Option : 1

Q.6 दिए गए विकल्पों में से उस अक्षर-समूह का चयन करें, जो निम्नलिखित श्रृंखला में प्रश्न चिह्न (?) के स्थान पर आ सकता है।

BOND, FKZR, JGVV, NCZR, ?

- Ans
- 1. RYDM
  - 2. RXDN
  - 3. RYDN
  - 4. RYCN

Question ID : 26433049002

Status : Answered

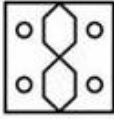
Chosen Option : 3

Q.7 निम्नलिखित आकृतियों में कागज के एक टुकड़े को मोड़ने के क्रम और मुड़े हुए कागज को काटने का तरीका दिखाया गया है। कागज को खोलने पर यह कैसा दिखाई देगा?

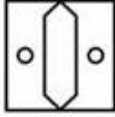


Ans

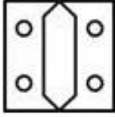
✓ 1.



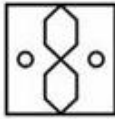
✗ 2.



✗ 3.



✗ 4.



Question ID : 26433048562

Status : Answered

Chosen Option : 1

Q.8 दिए गए दो चिह्नों को परस्पर बदलने पर निम्नलिखित व्यंजक का मान कितना हो जाएगा?

× और ÷

$$20 + 5 \div 6 \times 2 - 5$$

Ans ✗ 1. 25

✗ 2. 40

✗ 3. 35

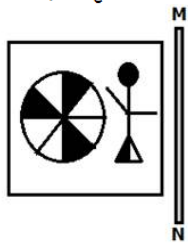
✓ 4. 30

Question ID : 26433048614

Status : Answered

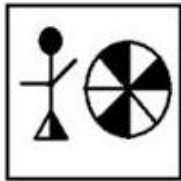
Chosen Option : 4

Q.9 दी गई आकृति के उस सही दर्पण-प्रतिबिंब का चयन करें, जो दर्पण को MN पर रखे जाने पर बनता है।

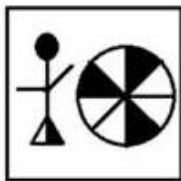


Ans


✓ 1.



✗ 2.



✗ 3.



✗ 4.



Question ID : 26433049111

Status : Answered

Chosen Option : 1

Q.10 दिए गए कथनों और निष्कर्षों को ध्यानपूर्वक पढ़ें। यह मानते हुए कि कथनों में दी गई जानकारी सही है, भले ही वे सामान्य ज्ञात तथ्यों से भिन्न प्रतीत होती हो और फिर निर्णय कीजिए कि कौन-सा/से निष्कर्ष दिए गए कथनों का तार्किक रूप से अनुसरण करता/करते है/हैं।

कथन:

- I. सभी X, B हैं।
- II. कोई भी C, X नहीं है।

निष्कर्ष:

- I. कुछ B, C नहीं हैं।
- II. सभी C, B हैं।
- III. कुछ X, C हैं।

- Ans
- 1. कोई भी निष्कर्ष अनुसरण नहीं करता है।
  - 2. केवल निष्कर्ष I अनुसरण करता है।
  - 3. केवल निष्कर्ष II और III अनुसरण करते हैं।
  - 4. केवल निष्कर्ष I और II अनुसरण करते हैं।

Question ID : 26433048604

Status : Answered

Chosen Option : 2

Q.11 उस संख्या की पहचान करें, जो निम्नलिखित श्रृंखला से संबंधित नहीं है।

49, 98, 196, 394, 784, 1568

- Ans
- 1. 394
  - 2. 784
  - 3. 1568
  - 4. 196

Question ID : 26433048618

Status : Answered

Chosen Option : 1

Q.12 दिए गए विकल्पों में से उस आकृति का चयन करें, जो निम्नलिखित श्रृंखला में प्रश्नवाचक चिह्न (?) के स्थान पर आ सकती है।



Ans

✗ 1.



✗ 2.



✗ 3.



✓ 4.

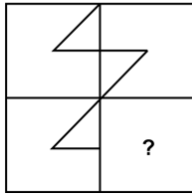


Question ID : 26433048608

Status : Answered

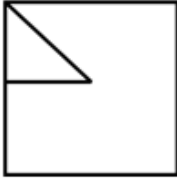
Chosen Option : 4

Q.13 दिए गए विकल्पों में से उस आकृति का चयन कीजिए, जो प्रश्नचिह्न (?) को बदलते हुए पैटर्न को पूरा कर सकती है।

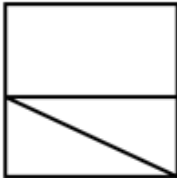


Ans

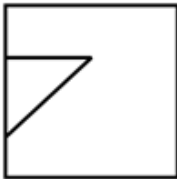
✗ 1.



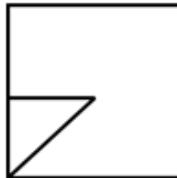
✗ 2.



✗ 3.



✓ 4.



Question ID : 26433048117

Status : Answered

Chosen Option : 4

Q.14 उस विकल्प का चयन करें जिसमें युग्म के अक्षर-समूहों के बीच वही संबंध है, जो निम्न युग्म में दिए गए अक्षर-समूहों के बीच है।

ROP : NMP :: ?

Ans ✗ 1. LAN : LXJ

✗ 2. TIN : LGV

✓ 3. MUG : ESK

✗ 4. CRB : DPA

Question ID : 26433048601

Status : Answered

Chosen Option : 3

Q.15 एक निश्चित कोड भाषा में, 'DELHI' को 'CDKGH' लिखा जाता है, 'NERVOUS' को 'MDQUNTR' लिखा जाता है और 'SURE' को 'RTQD' लिखा जाता है। उस कोड भाषा में 'MILLION' शब्द के लिए कोड क्या है?

- Ans  1. SKHHALO  
 2. HHSKNMK  
 3. LHKKHNM  
 4. LADAKHN

Question ID : 26433048223  
Status : Answered  
Chosen Option : 3

Q.16 उस संख्या की पहचान करें, जो निम्नलिखित श्रृंखला से संबंधित नहीं है।

14, 21, 63, 378, 3402

- Ans  1. 378  
 2. 21  
 3. 3402  
 4. 14

Question ID : 26433048619  
Status : Answered  
Chosen Option : 3

Q.17 एक निश्चित कूट भाषा में, 'random boys talk' को '8 3 P' के रूप में लिखा जाता है, और 'talk too much girls' को '3 4 2 6' के रूप में लिखा जाता है। उसी भाषा में 'talk' को किस रूप में लिखा जाएगा?

- Ans  1. P  
 2. 2  
 3. 8  
 4. 3

Question ID : 26433049021  
Status : Answered  
Chosen Option : 4

Q.18 किन दो चिह्नों को आपस में बदलने पर दिए गए व्यंजक का मान '35' हो जाएगा?

$13 + 91 - 3 \div 529 \times 23$

- Ans  1. - और +  
 2.  $\times$  और  $\div$   
 3. + और -  
 4.  $\times$  और +

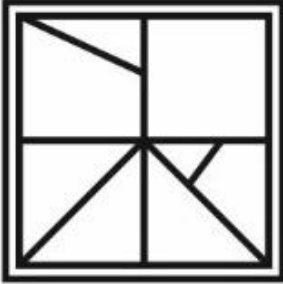
Question ID : 26433048990  
Status : Answered  
Chosen Option : 2

Q.19 उस विकल्प का चयन करें, जिसमें दी गई आकृति अंतर्निहित है।  
(घुमाने की अनुमति नहीं है)




Ans

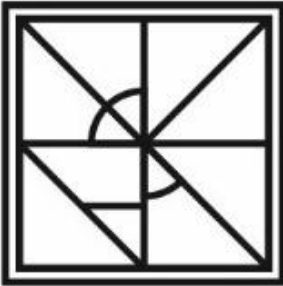
✗ 1.




✓ 2.



✗ 3.



✗ 4.



Question ID : 26433048935  
Status : Answered  
Chosen Option : 2

Q.20 उस विकल्प का चयन करें जो छठी संख्या से उसी प्रकार संबंधित है, जिस प्रकार पहली संख्या दूसरी संख्या से संबंधित है और तीसरी संख्या चौथी संख्या से संबंधित है।

34 : 12 :: 28 : 16 :: ? : 15

- Ans
- 1. 26
  - 2. 24
  - 3. 35
  - 4. 32

Question ID : 26433048591  
Status : Answered  
Chosen Option : 3

Q.21 उस विकल्प का चयन करें जो तीसरे अक्षर-समूह से उसी प्रकार संबंधित है, जिस प्रकार दूसरा अक्षर-समूह पहले अक्षर-समूह से संबंधित है।

PV : MQ :: FB : ?

- Ans
- 1. DX
  - 2. CW
  - 3. CX
  - 4. DW

Question ID : 26433049025  
Status : Answered  
Chosen Option : 2

Q.22 एक निश्चित कूट भाषा में, 'POKAR' को 'IHDXK' के रूप में लिखा जाता है, और 'FANDS' को 'YTGWL' के रूप में लिखा जाता है। उसी कूट भाषा में 'AQBCG' किस रूप में लिखा जाएगा?

- Ans
- 1. TKUVZ
  - 2. TJUVZ
  - 3. TJVUZ
  - 4. TJVVG

Question ID : 26433048873  
Status : Answered  
Chosen Option : 2

Q.23 7 लड़कों B1, B2, B3, B4, B5, B6 और B7 के IQ का परीक्षण किया जाता है और परिणाम की तुलना की जाती है। B2 का IQ, B6 से अधिक है। B5 का IQ तीसरा सबसे कम है। B4 का IQ, 6 लड़कों से अधिक है। B3 का IQ, B2 से कम है। B1 का IQ, B2 से अधिक है। B7 का IQ सबसे कम है। दूसरा उच्चतम IQ किसका है?

- Ans
- 1. B7
  - 2. B3
  - 3. B2
  - 4. B1

Question ID : 26433048632  
Status : Answered  
Chosen Option : 4

Q.24 8 व्यक्ति D, E, F, G, H, I, J और K एक वर्गाकार मेज़ के चारों ओर केंद्र की ओर मुँह करके बैठे हैं (इसी क्रम में हों, यह आवश्यक नहीं है)। चार व्यक्ति कोनों पर बैठे हैं और चार व्यक्ति वर्गाकार मेज़ की भुजाओं के मध्य भाग में बैठे हैं। D एक भुजा पर और K के सामने बैठा है। G एक कोने पर और D के ठीक दाईं ओर बैठा है। D, E और G का निकटतम पड़ोसी है। I, H का निकटतम पड़ोसी नहीं है। F एक भुजा पर और H के सामने बैठा है। विकर्ण स्थिति में। के सामने कौन बैठा है?

- Ans
- 1. D
  - 2. K
  - 3. E
  - 4. H

Question ID : 26433048631

Status : Answered

Chosen Option : 3

Q.25 दिए गए कथनों और निष्कर्षों को ध्यानपूर्वक पढ़ें। यह मानते हुए कि कथनों में दी गई जानकारी सत्य है, भले ही वह सामान्य रूप से ज्ञात तथ्यों से भिन्न प्रतीत होती हो, तय करें कि दिए गए निष्कर्षों में से कौन सा/से निष्कर्ष तार्किक रूप से कथनों का अनुसरण करता/ते है/हैं।

कथन:

कोई भी T, G नहीं है।  
कुछ M, T हैं।

निष्कर्ष:

- I. कोई भी G, T नहीं है।
- II. सभी M, G हैं।

- Ans
- 1. न तो निष्कर्ष I और न ही II अनुसरण करता है।
  - 2. निष्कर्ष I और II दोनों अनुसरण करते हैं।
  - 3. केवल निष्कर्ष I अनुसरण करता है।
  - 4. केवल निष्कर्ष II अनुसरण करता है।

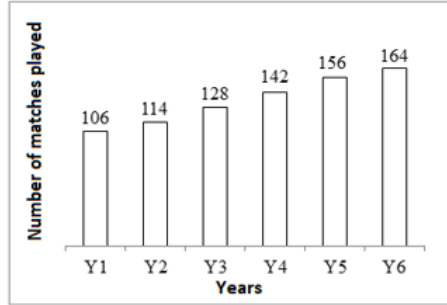
Question ID : 26433048928

Status : Answered

Chosen Option : 3

Section : Numerical Aptitude

Q.1 निम्नांकित दंड आरेख (बार चार्ट) क्रमागत 6 वर्ष (years) में एक टीम द्वारा खेले गए मैचों की संख्या (number of matches played) को दर्शाता है।



Y7 में खेले गए मैचों की संख्या Y3 और Y4 में खेले गए मैचों की औसत संख्या के बराबर है। Y8 में खेले गए मैचों की संख्या Y7 में खेले गए मैचों की संख्या से 20% अधिक है। Y8 में टीम द्वारा कितने मैच खेले गए?

- Ans
- 1. 152
  - 2. 162
  - 3. 156
  - 4. 168

Question ID : 26433049966

Status : Not Attempted and Marked For Review

Chosen Option : --

Q.2 2 पुरुष और 5 महिलाएं एक प्रोजेक्ट को 8 दिनों में पूरा कर सकते हैं जबकि 4 पुरुष और 6 महिलाएं उसी प्रोजेक्ट को 5 दिनों में पूरा कर सकते हैं। इस प्रोजेक्ट को 4 दिनों में पूरा करने के लिए कितने पुरुषों की आवश्यकता होगी?

- Ans
- 1. 8
  - 2. 9
  - 3. 10
  - 4. 12

Question ID : 26433050210

Status : Answered

Chosen Option : 1

Q.3 साधारण ब्याज पर, ₹708 की राशि 4 वर्षों में ₹944 हो जाती है। यदि ब्याज की दर में 5% की वृद्धि की जाती है, तो ₹675 की राशि 4 वर्षों में बढ़कर कितनी हो जाएगी?

- Ans
- 1. ₹1,035
  - 2. ₹965
  - 3. ₹1,145
  - 4. ₹1,075

Question ID : 26433050331

Status : Answered

Chosen Option : 1

Q.4 एक वस्तु का अंकित मूल्य ₹840 है। एक दुकानदार इस वस्तु के अंकित मूल्य पर 15% की छूट देते हुए भी 19% का लाभ प्राप्त करता है। वस्तु का क्रय मूल्य ज्ञात कीजिए।

- Ans
- 1. ₹580
  - 2. ₹640
  - 3. ₹600
  - 4. ₹540

Question ID : 26433050328  
Status : Answered  
Chosen Option : 3

Q.5 पांच सदस्यों वाले परिवार की वर्तमान औसत आयु 24 वर्ष है। यदि परिवार के सबसे छोटे सदस्य की वर्तमान आयु 8 वर्ष है, तो इस सबसे छोटे सदस्य के जन्म के ठीक पहले परिवार के सदस्यों की औसत आयु क्या थी?

- Ans
- 1. 16 वर्ष
  - 2. 20 वर्ष
  - 3. 28 वर्ष
  - 4. 24 वर्ष

Question ID : 26433050198  
Status : Answered  
Chosen Option : 2

Q.6 A ने कुल ₹900 में एक बैग और एक बोतल खरीदी। उसने बोतल को 12% के लाभ पर और बैग को 20% के लाभ पर बेचा। यदि उसने कुल ₹160.80 का लाभ अर्जित किया, तो बोतल का क्रय मूल्य ज्ञात कीजिए।

- Ans
- 1. ₹240
  - 2. ₹300
  - 3. ₹320
  - 4. ₹200

Question ID : 26433050251  
Status : Marked For Review  
Chosen Option : 1

Q.7 150 सैनिकों वाले एक शिविर में 400 दिनों के लिए खाद्य सामग्री है। 50 दिनों के बाद, 100 और सैनिक शिविर में शामिल हो जाते हैं। उसके बाद से खाद्य सामग्री कितने दिनों तक चलेगी?

- Ans
- 1. 210 दिन
  - 2. 220 दिन
  - 3. 230 दिन
  - 4. 250 दिन

Question ID : 26433049719  
Status : Not Attempted and Marked For Review  
Chosen Option : --

Q.8 निम्न तालिका एक निश्चित समय अवधि में एक फर्नीचर स्टोर द्वारा बेची गई 5 विभिन्न धातुओं से बनी मेजों की संख्या और कुर्सियों की संख्या को दर्शाती है।

धातु	मेज	कुर्सी
M1	100	50
M2	150	70
M3	120	40
M4	125	25
M5	200	60

N = प्रति धातु बेची गई कुर्सियों की औसत संख्या  
धातु M3 से बनी बेची गई मेजों की संख्या, N से लगभग कितने प्रतिशत अधिक है?

- Ans
- 1. 188.89%
  - 2. 122.22%
  - 3. 144.90%
  - 4. 166.67%

Question ID : 26433049965  
Status : Answered  
Chosen Option : 3

Q.9 एक वर्ग की प्रत्येक भुजा की लंबाई 15 cm है। वर्ग का परिमाण कितना है?

- Ans
- 1. 60 cm
  - 2. 80 cm
  - 3. 70 cm
  - 4. 100 cm

Question ID : 26433049934  
Status : Answered  
Chosen Option : 1

Q.10  $\frac{0.6 \times 0.6 \div 0.3 + 0.2 \times 0.3 - 0.6}{0.1 \times 0.2 \div 0.4}$  का मान कितना है?

- Ans
- 1. 12.5
  - 2. 13.2
  - 3. 14.6
  - 4. 15.2

Question ID : 26433049938  
Status : Answered  
Chosen Option : 2

Q.11 A 100 m की दौड़ में B को 10 m से हरा सकता है। B 100 m की दौड़ में C को 10 m से हरा सकता है। अनुपात ( $t_A : t_B : t_C$ ) क्या है, जो दौड़ को पूरा करने के लिए A, B और C द्वारा लिया गया संबंधित समय है?

- Ans
- ✓ 1. 81 : 90 : 100
  - ✗ 2. 100 : 81 : 90
  - ✗ 3. 90 : 81 : 100
  - ✗ 4. 100 : 90 : 81

Question ID : 26433049946  
Status : Answered  
Chosen Option : 4

Q.12  $\frac{5}{14}$  of  $\frac{7}{12} + \left[ \frac{5}{24} - \left( \frac{1}{6} + \frac{1}{2} - \frac{1}{3} \times \frac{1}{4} \right) \right]$  का मान कितना है?

- Ans
- ✗ 1.  $-\frac{2}{5}$
  - ✓ 2.  $-\frac{1}{6}$
  - ✗ 3.  $-\frac{1}{8}$
  - ✗ 4.  $-\frac{3}{4}$

Question ID : 26433049964  
Status : Answered  
Chosen Option : 2

Q.13 एक सुनार 1 mm व्यास के तार को बनाने के लिए  $110 \text{ cm}^3$  सोने का उपयोग करता है। वह इस तार का उपयोग बराबर लंबाई की सोने की चेन बनाने में करेगा। यदि वह प्रत्येक चेन की लंबाई 56 cm रखना चाहता है, तो इस तार से कितनी चेन बन सकती हैं? [ $\pi = \frac{22}{7}$  मानिए]

- Ans
- ✓ 1. 250
  - ✗ 2. 210
  - ✗ 3. 320
  - ✗ 4. 160

Question ID : 26433050217  
Status : Not Attempted and Marked For Review  
Chosen Option : --

Q.14 5 छात्रों के औसत अंक 85 हैं। यदि एक नये छात्र के अंकों को भी उनमें शामिल कर लिया जाए, तो औसत अंक 84 हो जाते हैं। नये छात्र ने कितने अंक प्राप्त किए हैं?

- Ans
- 1. 78
  - 2. 83
  - 3. 79
  - 4. 81

Question ID : 26433049578  
Status : Answered  
Chosen Option : 3

Q.15 पुनीत ने एक वस्तु को 50% की हानि पर ₹1,750 में बेचा। यदि पुनीत वस्तु को 30% की हानि पर बेचता है, तो विक्रय मूल्य कितना होगा?

- Ans
- 1. ₹2,640
  - 2. ₹2,100
  - 3. ₹2,450
  - 4. ₹2,180

Question ID : 26433049923  
Status : Answered  
Chosen Option : 3

Q.16 किसी सड़क की 3 अलग-अलग क्रॉसिंग पर ट्रैफिक लाइटें क्रमशः प्रत्येक 48 सेकंड, 72 सेकंड और 108 सेकंड के बाद बदल जाती हैं। यदि वे सभी 8:20 a.m. पर एक साथ बदलती हैं, तो अगली बार वे किस समय फिर से एकसाथ बदलेंगी?

- Ans
- 1. 9:12:18 a.m.
  - 2. 8:33:32 a.m.
  - 3. 8:40:14 a.m.
  - 4. 8:27:12 a.m.

Question ID : 26433050245  
Status : Answered  
Chosen Option : 4

Q.17 एक वर्ग की भुजा में 25% की वृद्धि की जाती है। इसके क्षेत्रफल में कितने प्रतिशत की वृद्धि होगी?

- Ans
- 1. 62.5%
  - 2. 50%
  - 3. 57.5%
  - 4. 56.25%

Question ID : 26433049576  
Status : Answered  
Chosen Option : 4

Q.18 A boat can travel 18 km in 3 hours while going upstream, and 40 km in 4 hours while going downstream. What is the speed of the boat in still water?

- Ans
- 1. 9 km/h
  - 2. 8 km/h
  - 3. 10 km/h
  - 4. 6 km/h

Question ID : 26433049945  
Status : Answered  
Chosen Option : 2

Q.19 किसी पत्थर का मान उसके भार के वर्ग के समानुपाती होता है। ₹1,20,000 मूल्य के एक पत्थर को 2 : 3 के अनुपात में दो टुकड़ों में तोड़ा जाता है। दो छोटे पत्थरों का कुल मूल्य कितना है?

- Ans
- 1. ₹65,400
  - 2. ₹68,400
  - 3. ₹62,400
  - 4. ₹66,500

Question ID : 26433049956  
Status : Marked For Review  
Chosen Option : 3

Q.20 मोहन ने एक बैंक में ₹5,000 का निवेश किया, जो अर्ध-वार्षिक रूप से चक्रवृद्धि होने वाली 10% की वार्षिक ब्याज दर की पेशकश करता है। 2 वर्ष बाद उसे कितना मिश्रधन प्राप्त होगा? (अपना उत्तर निकटतम पूर्णांक में दें)

- Ans
- 1. ₹6,078
  - 2. ₹6,250
  - 3. ₹6,320
  - 4. ₹6,512

Question ID : 26433050257  
Status : Not Attempted and Marked For Review  
Chosen Option : --

Q.21 एक वर्ग की प्रत्येक भुजा की लंबाई एक वृत्त की त्रिज्या की दोगुनी है। यदि वृत्त की त्रिज्या 7 cm है, तो वर्ग और वृत्त के क्षेत्रफलों का कितना अंतर क्या होगा? [ $\pi = \frac{22}{7}$  मानिए]

- Ans
- 1. 42 cm<sup>2</sup>
  - 2. 44 cm<sup>2</sup>
  - 3. 48 cm<sup>2</sup>
  - 4. 46 cm<sup>2</sup>

Question ID : 26433049586  
Status : Answered  
Chosen Option : 1

Q.22 45% ऐल्कोहॉल वाले एक विलयन और 60% ऐल्कोहॉल वाले एक अन्य विलयन को 2:3 के अनुपात में मिलाया जाता है। इस प्रकार बने विलयन को, 72% ऐल्कोहॉल वाले विलयन में किस अनुपात में मिलाया जाना चाहिए जिससे प्राप्त विलयन में 66% ऐल्कोहॉल हो?

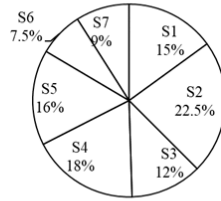
- Ans
- ✓ 1. 1:2
  - ✗ 2. 2:3
  - ✗ 3. 1:3
  - ✗ 4. 4:7

Question ID : 26433050322

Status : Not Attempted and Marked For Review

Chosen Option : --

Q.23 निम्नलिखित पाई चार्ट एक निश्चित अवधि के दौरान 7 अलग-अलग दुकानों में से प्रत्येक द्वारा बेचे गए कर्पों की संख्या को उपर्युक्त समय अवधि के दौरान इन 7 दुकानों द्वारा बेचे गए कर्पों की कुल संख्या के प्रतिशत के रूप में दर्शाता है।



यदि इस अवधि के दौरान S6 द्वारा बेचे गए कर्पों की संख्या 165 है, तो इन सभी 7 दुकानों को मिलाकर इस अवधि के दौरान कुल कितने कप बेचे गए?

- Ans
- ✗ 1. 2,000
  - ✗ 2. 2,600
  - ✓ 3. 2,200
  - ✗ 4. 2,400

Question ID : 26433049942

Status : Answered

Chosen Option : 3

Q.24 M, N के व्युत्क्रमानुपाती है। यदि M 20 है, तो N 70 है। यदि N = 50 है, M का मान कितना है?

- Ans
- ✗ 1. 700
  - ✓ 2. 28
  - ✗ 3. 600
  - ✗ 4. 20

Question ID : 26433049955

Status : Answered

Chosen Option : 2

Q.25 दो संख्याएँ- 'x' और 'y' हैं। 'x' का 40%, 'y' के 60% के बराबर है। यदि 'x' और 'y' का औसत 225 है, तो 'x' और 'y' के बीच कितना अंतर है?

- Ans
- 1. 80
  - 2. 85
  - 3. 75
  - 4. 90

Question ID : 26433050399  
Status : Answered  
Chosen Option : 4

Section : General Awareness

Q.1 निम्नलिखित में से कौन-सा वृक्ष पर्वतीय वनों में पाया जाता है?

- Ans
- 1. देवदार
  - 2. आबनूस
  - 3. टीक
  - 4. शीशम

Question ID : 26433047328  
Status : Marked For Review  
Chosen Option : 1

Q.2 चापचार कुट उत्सव भारत के किस राज्य में मनाया जाता है?

- Ans
- 1. मिजोरम
  - 2. गोवा
  - 3. झारखंड
  - 4. केरल

Question ID : 26433047346  
Status : Answered  
Chosen Option : 1

Q.3 मानव की आहार नाल में विली कहाँ पाई जाती है?

- Ans
- 1. छोटी आंत
  - 2. अग्रमाशय
  - 3. ग्रासनली
  - 4. आमाशय

Question ID : 26433047324  
Status : Answered  
Chosen Option : 1

Q.4 निहंग सिख योद्धाओं की एक पारंपरिक लड़ाई शैली, गतका, जिसका इस्तेमाल आत्मरक्षा के साथ-साथ खेल के लिए भी किया जाता है, भारत के निम्नलिखित में से किस राज्य से उत्पन्न हुई है?

- Ans
- 1. बिहार
  - 2. गुजरात
  - 3. पंजाब
  - 4. राजस्थान

Question ID : 26433046991  
Status : Answered  
Chosen Option : 3

Q.5 युद्ध के नाम और वर्ष के निम्नलिखित युगों में से कौन-सा/से सही सुमेलित है/हैं?  
I. बक्सर का युद्ध - 1764  
II. प्लासी का युद्ध - 1757

- Ans
- 1. न तो I और न ही II
  - 2. I और II दोनों
  - 3. केवल II
  - 4. केवल I

Question ID : 26433047359  
Status : Answered  
Chosen Option : 2

Q.6 पांडुलिपियां सामान्यतः \_\_\_\_\_ पर लिखी जाती थीं?

- Ans
- 1. ताड़पत्रों
  - 2. पत्थरों
  - 3. लोहे
  - 4. तुलसी के पत्तों

Question ID : 26433047731  
Status : Answered  
Chosen Option : 1

Q.7 फोर्ब्स की रीयल-टाइम अरबपतियों की सूची 2022 में निम्नलिखित में से किसे दुनिया के सबसे अमीर व्यक्ति के रूप में स्थान दिया गया है?

- Ans
- 1. जेफ बेजोस
  - 2. बर्नार्ड अर्नाल्ड
  - 3. वारेन बफ़ेट
  - 4. एलन मस्क

Question ID : 26433047719  
Status : Answered  
Chosen Option : 2

Q.8 भारतीय संविधान में अनुच्छेद 43B को \_\_\_\_\_ के रूप में जोड़ा गया था।

- Ans
- 1. मौलिक अधिकारों
  - 2. मौलिक कर्तव्यों
  - 3. राज्य नीति के निर्देशक तत्वों
  - 4. संवैधानिक निकाय

Question ID : 26433047663

Status : **Not Attempted and Marked For Review**

Chosen Option : --

Q.9 वर्षा को \_\_\_\_\_ नामक उपकरण द्वारा मापा जाता है।

- Ans
- 1. अल्टीमीटर
  - 2. पिरानी गेज
  - 3. बैरोमीटर
  - 4. रेन गेज

Question ID : 26433047651

Status : **Answered**

Chosen Option : 4

Q.10 गुरु बिपिन सिंह किस शास्त्रीय नृत्य शैली के लिए जाने जाते थे?

- Ans
- 1. कथकली
  - 2. बिहू
  - 3. कथक
  - 4. मणिपुरी

Question ID : 26433047337

Status : **Not Attempted and Marked For Review**

Chosen Option : --

Q.11 नींद की बीमारी के लिए निम्नलिखित में से कौन सा जीव जिम्मेदार है?

- Ans
- 1. जीवाणु (बैक्टीरिया)
  - 2. शैवाल
  - 3. विषाणु (वायरस)
  - 4. प्रोटोजोआ

Question ID : 26433047350

Status : **Not Attempted and Marked For Review**

Chosen Option : --

Q.12 कोई बल्लेबाज अपने विकेट की रक्षा के उद्देश्य से या विरोधी टीम की सहमति के अलावा यदि गेंद को दो बार हिट करता है, तो \_\_\_\_\_।

- Ans
- 1. बल्लेबाज को चेतावनी दी जाती है
  - 2. उसे आउट घोषित किया जाता है
  - 3. गेंद को डेड घोषित किया जाता है
  - 4. बाइ के पांच रन घोषित किए जाते हैं

Question ID : 26433047815  
Status : Answered  
Chosen Option : 2

Q.13 हरिप्रसाद चौरसिया एक \_\_\_\_\_ वादक हैं।

- Ans
- 1. मेंडोलिन
  - 2. गिटार
  - 3. बांसुरी
  - 4. शहनाई

Question ID : 26433047736  
Status : Marked For Review  
Chosen Option : 4

Q.14 खजुराहो के मंदिर, मंदिरों की \_\_\_\_\_ का एक शानदार उदाहरण हैं।

- Ans
- 1. नागर शैली
  - 2. द्रविड़ शैली
  - 3. वेसर शैली
  - 4. पूर्वी शैली

Question ID : 26433047647  
Status : Answered  
Chosen Option : 2

Q.15 \_\_\_\_\_ सरकार द्वारा 'रेड लाइट ऑन गाडी ऑफ' अभियान शुरू किया गया था।

- Ans
- 1. पंजाब
  - 2. हरियाणा
  - 3. उत्तर प्रदेश
  - 4. दिल्ली

Question ID : 26433047643  
Status : Answered  
Chosen Option : 4

Q.16 'टोटल रिकॉल : माई अनबिलिवली टू लाइफ स्टोरी (Total Recall : My Unbelievably True Life Story)' किसकी आत्मकथा है?

- Ans  1. अर्नाल्ड श्वार्ज़नेगर  
 2. क्रिस गेल  
 3. एडी हुआंग  
 4. आईके गुजराल

Question ID : 26433047735

Status : Not Attempted and Marked For Review

Chosen Option : --

Q.17 भारत की 2011 की जनगणना के अनुसार, निम्नलिखित में से किस राज्य का जनसंख्या घनत्व 100 व्यक्ति प्रति वर्ग किलोमीटर से कम था?

- Ans  1. हिमाचल प्रदेश  
 2. राजस्थान  
 3. सिक्किम  
 4. त्रिपुरा

Question ID : 26433047605

Status : Answered

Chosen Option : 3

Q.18 भारत के संविधान में कहा गया है कि 'कोई भी व्यक्ति भारत के राष्ट्रपति के रूप में चुनाव के लिए तब तक योग्य नहीं होगा जब तक कि उसने \_\_\_\_\_ वर्ष की आयु पूरी नहीं कर ली हो।'

- Ans  1. पच्चीस  
 2. चालीस  
 3. पैंतीस  
 4. पैतालीस

Question ID : 26433047339

Status : Answered

Chosen Option : 3

Q.19 यदि 'u' वस्तु-दूरी है, 'v' प्रतिबिम्ब-दूरी है और 'f' गोलीय दर्पण की फोकल लम्बाई है, तो दर्पण सूत्र के लिए निम्नलिखित में से कौन सा सही व्यंजक है?

- Ans  1.  $1/v + 1/u = -1/f$   
 2.  $1/v + 1/u = 1/f$   
 3.  $1/v - 1/u = 1/f$   
 4.  $1/v - 1/u = -1/f$

Question ID : 26433047348

Status : Not Attempted and Marked For Review

Chosen Option : --

Q.20 भारत का प्रमुख लौह अयस्क निर्यातक बंदरगाह \_\_\_\_\_ में स्थित है।

- Ans
- 1. उत्तर प्रदेश
  - 2. गुजरात
  - 3. महाराष्ट्र
  - 4. गोवा

Question ID : 26433047652

Status : Not Attempted and Marked For Review

Chosen Option : --

Q.21 सबसे शक्तिशाली चोल शासक राजराजा प्रथम, \_\_\_\_\_ ईस्वी में राजा बना।

- Ans
- 1. 995
  - 2. 977
  - 3. 985
  - 4. 970

Question ID : 26433047657

Status : Not Attempted and Marked For Review

Chosen Option : --

Q.22 भगत सिंह और बी.के. दत्त ने किस वर्ष केंद्रीय विधान सभा में बम फेंका था?

- Ans
- 1. 1930
  - 2. 1931
  - 3. 1928
  - 4. 1929

Question ID : 26433047333

Status : Answered

Chosen Option : 4

Q.23 तेंदुलकर समिति की रिपोर्ट (2011-2012) \_\_\_\_\_ पर आधारित थी।

- Ans
- 1. जनसंख्या वृद्धि
  - 2. गरीबी
  - 3. बेरोजगारी
  - 4. व्यापार (वाणिज्य)

Question ID : 26433046980

Status : Not Attempted and Marked For Review

Chosen Option : --

Q.24 केंद्रीय बजट 2022-23 के अनुसार, 14 क्षेत्रों में उत्पादन से जुड़ी प्रोत्साहन योजनाओं के तहत कितने नये जॉब्स का सृजन होगा?

- Ans  1. 60 लाख  
 2. 40 लाख  
 3. 20 लाख  
 4. 80 लाख

Question ID : 26433047742  
Status : Answered  
Chosen Option : 1

Q.25 'भवई' किस भारतीय राज्य की पारंपरिक नाट्य शैली है?

- Ans  1. गुजरात  
 2. नागालैंड  
 3. कर्नाटक  
 4. तमिलनाडु

Question ID : 26433047345  
Status : Not Attempted and  
Marked For Review  
Chosen Option : --