

# Multi Tasking Non Technical Staff Havaladar CBIC and CBN Examination 2021

Roll Number	
Candidate Name	
Venue Name	
Exam Date	07/07/2022
Exam Time	1:00 PM - 2:30 PM
Subject	MTS Non technical and Havaladar Examination 2021

Section : **General English**

**Q.1** Select the option that can be used as a one-word substitute for the given group of words.

One who is not sure about God's existence

- Ans  1. Haggard  
 2. Agnostic  
 3. Pantheist  
 4. Anchor

Question ID : **26433050519**  
Status : **Answered**  
Chosen Option : **2**

**Q.2** Select the most appropriate synonym of the given word.

Gloomy

- Ans  1. Comfortable  
 2. Intrepid  
 3. Bright  
 4. Depressing

Question ID : **26433051174**  
Status : **Answered**  
Chosen Option : **4**

**Q.3** Select the most appropriate word for the given group of words.

A cage for small animals

- Ans  1. Hut  
 2. Shed  
 3. Hutch  
 4. Cave

Question ID : **26433050492**  
Status : **Answered**  
Chosen Option : **3**

**Q.4** Parts of the following sentence have been given as options. One of them may contain an error. Select the part that contains the error from the given options. If you don't find any error, mark 'No error' as your answer.

At seven began the education that was to making the young boy a citizen and a soldier.

- Ans  1. At seven began the education  
 2. that was to making the young  
 3. boy a citizen and a soldier  
 4. No error

Question ID : 26433051157  
Status : Answered  
Chosen Option : 2

**Q.5** Select the most appropriate option to fill in the blank.

He admonished his listeners \_\_\_\_\_ their wicked ways.

- Ans  1. changes  
 2. change  
 3. to change  
 4. changed

Question ID : 26433051164  
Status : Answered  
Chosen Option : 3

**Q.6** Select the most appropriate meaning of the given idiom.

Long in the tooth

- Ans  1. Extremely dangerous  
 2. Too wise for people  
 3. Too old to do something  
 4. Too uncomfortable for words

Question ID : 26433051489  
Status : Answered  
Chosen Option : 3

**Q.7** Select the correctly spelt word.

- Ans  1. Suddenly  
 2. Suddenlly  
 3. Sudenlly  
 4. Sudenly

Question ID : 26433050546  
Status : Answered  
Chosen Option : 1

**Q.8** Select the most appropriate **ANTONYM** of the given word.

**Steady**

- Ans**  1. Shaky  
 2. Dedicate  
 3. Tabular  
 4. Constant

Question ID : **26433050538**  
Status : **Answered**  
Chosen Option : 1

**Q.9** The following sentence has been divided into parts. One of them may contain an error. Select the part that contains the error from the given options. If you don't find any error, mark 'No error' as your answer.

Whatever a writer puts / into a story probably comes with / his own life experience.

- Ans**  1. with his own life experience  
 2. No error  
 3. into a story probably comes  
 4. Whatever a writer puts

Question ID : **26433050604**  
Status : **Answered**  
Chosen Option : 3

**Q.10** Select the most appropriate synonym of the underlined word in the given sentence.

He was critically injured in the accident.

- Ans**  1. Favourably  
 2. severely  
 3. trivially  
 4. Confidently

Question ID : **26433050619**  
Status : **Answered**  
Chosen Option : 2

**Q.11** Select the option that will improve the underlined part of the given sentence. In case no improvement is needed, select 'No improvement required'.

Many an old story were retold, and ancient conundrum repeated.

- Ans**  1. Many old story were retold  
 2. Many an old story was retold  
 3. Many an old stories were retold  
 4. No improvement required

Question ID : **26433051672**  
Status : **Answered**  
Chosen Option : 2

**Q.12** Select the most appropriate option to fill in the blank.

The US has become far more \_\_\_\_\_ to people with all kinds of food sensitivities and diet regimens.

- Ans  1. accommodating  
 2. lodging  
 3. deviated  
 4. selective

Question ID : 26433051208  
Status : Answered  
Chosen Option : 4

**Q.13** The following sentence has been divided into parts. One of them may contain an error. Select the part that contains the error from the given options. If you don't find any error, mark 'No error' as your answer.

Frank has being making / the rounds, advancing a theory / that I believe is not without merit.

- Ans  1. Frank has being making  
 2. the rounds, advancing a theory  
 3. that I believe is not without merit  
 4. No error

Question ID : 26433051593  
Status : Answered  
Chosen Option : 3

**Q.14** Select the most appropriate option to fill in the blank.

I am not going to buy \_\_\_\_\_ toys for you.

- Ans  1. these  
 2. this  
 3. they  
 4. them

Question ID : 26433050605  
Status : Answered  
Chosen Option : 1

**Q.15** Select the most appropriate option to fill in the blank.

My sister treats me well in the morning but at night she becomes \_\_\_\_\_.

- Ans  1. eloquent  
 2. acceptable  
 3. awful  
 4. exemplary

Question ID : 26433051026  
Status : Answered  
Chosen Option : 4

**Q.16** Select the **INCORRECTLY** spelt word.

- Ans  1. Obsequious  
 2. Nascent  
 3. Dissiminate  
 4. Malleable

Question ID : 26433051614  
Status : Answered  
Chosen Option : 3

**Q.17** Select the most appropriate meaning of the underlined idiom in the given sentence.

I want you to give me this contract in black and white.

- Ans  1. in the morning  
 2. in writing  
 3. at night  
 4. quickly

Question ID : 26433050543  
Status : Answered  
Chosen Option : 2

**Q.18** Select the option that will improve the underlined part of the given sentence. In case no improvement is needed, select 'No improvement required'.

Scientific discoveries is often result of hard work by many people.

- Ans  1. No improvement required  
 2. is often resulting  
 3. are often the result  
 4. are often resulted

Question ID : 26433051750  
Status : Answered  
Chosen Option : 4

**Q.19** Select the most appropriate option to fill in the blank.

All of my efforts to save her life have gone in \_\_\_\_\_.

- Ans  1. van  
 2. vein  
 3. vain  
 4. vane

Question ID : 26433051077  
Status : Answered  
Chosen Option : 2

**Q.20** Select the option that will improve the underlined part of the sentence. In case no improvement is needed, select 'No improvement required'.

Getting a good night's sleep has a positively effect on our wellbeing.

- Ans  1. has a positive effect  
 2. No improvement required  
 3. have a positively affect  
 4. has a positive affects

Question ID : 26433050936  
Status : Answered  
Chosen Option : 1

**Comprehension:**

In the following passage, some words have been deleted. Read the passage carefully and select the most appropriate option to fill in each blank.

In its 47 years of history, ISRO (1) \_\_\_\_\_ breakthrough work in the field of technology and even (2) \_\_\_\_\_ many vehicles into space. (3) \_\_\_\_\_ the last 47 years, ISRO has improvised and developed technology, launching (4) \_\_\_\_\_ indigenously created vehicles into space (5) \_\_\_\_\_ form a part of the Indian space journey.

**SubQuestion No : 21**

**Q.21** Select the most appropriate option to fill in blank number 1.

- Ans  1. does  
 2. has done  
 3. done  
 4. do

Question ID : 26433050608  
Status : Answered  
Chosen Option : 2

**Comprehension:**

In the following passage, some words have been deleted. Read the passage carefully and select the most appropriate option to fill in each blank.

In its 47 years of history, ISRO (1) \_\_\_\_\_ breakthrough work in the field of technology and even (2) \_\_\_\_\_ many vehicles into space. (3) \_\_\_\_\_ the last 47 years, ISRO has improvised and developed technology, launching (4) \_\_\_\_\_ indigenously created vehicles into space (5) \_\_\_\_\_ form a part of the Indian space journey.

**SubQuestion No : 22**

**Q.22** Select the most appropriate option to fill in blank number 2.

- Ans  1. stocked  
 2. blocked  
 3. shared  
 4. launched

Question ID : 26433050609  
Status : Answered  
Chosen Option : 3

**Comprehension:**

In the following passage, some words have been deleted. Read the passage carefully and select the most appropriate option to fill in each blank.

In its 47 years of history, ISRO (1) \_\_\_\_\_ breakthrough work in the field of technology and even (2) \_\_\_\_\_ many vehicles into space. (3) \_\_\_\_\_ the last 47 years, ISRO has improvised and developed technology, launching (4) \_\_\_\_\_ indigenously created vehicles into space (5) \_\_\_\_\_ form a part of the Indian space journey.

**SubQuestion No : 23**

**Q.23 Select the most appropriate option to fill in blank number 3.**

- Ans  1. Over  
 2. Across  
 3. Among  
 4. Along

Question ID : 26433050610  
Status : Answered  
Chosen Option : 2

**Comprehension:**

In the following passage, some words have been deleted. Read the passage carefully and select the most appropriate option to fill in each blank.

In its 47 years of history, ISRO (1) \_\_\_\_\_ breakthrough work in the field of technology and even (2) \_\_\_\_\_ many vehicles into space. (3) \_\_\_\_\_ the last 47 years, ISRO has improvised and developed technology, launching (4) \_\_\_\_\_ indigenously created vehicles into space (5) \_\_\_\_\_ form a part of the Indian space journey.

**SubQuestion No : 24**

**Q.24 Select the most appropriate option to fill in blank number 4.**

- Ans  1. much  
 2. several  
 3. very  
 4. lots

Question ID : 26433050611  
Status : Answered  
Chosen Option : 2

**Comprehension:**

In the following passage, some words have been deleted. Read the passage carefully and select the most appropriate option to fill in each blank.

In its 47 years of history, ISRO (1) \_\_\_\_\_ breakthrough work in the field of technology and even (2) \_\_\_\_\_ many vehicles into space. (3) \_\_\_\_\_ the last 47 years, ISRO has improvised and developed technology, launching (4) \_\_\_\_\_ indigenously created vehicles into space (5) \_\_\_\_\_ form a part of the Indian space journey.

**SubQuestion No : 25**

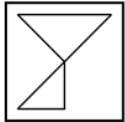
**Q.25** Select the most appropriate option to fill in blank number 5.

- Ans  1. who  
 2. how  
 3. that  
 4. when

Question ID : 26433050612  
Status : Answered  
Chosen Option : 3

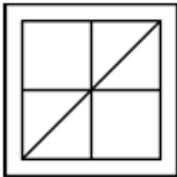
Section : General Intelligence and Reasoning

**Q.1** उस विकल्प का चयन कीजिए जिसमें दी गई आकृति अंतर्निहित है (घूर्णन की अनुमति नहीं है)

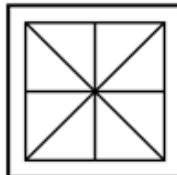


Ans

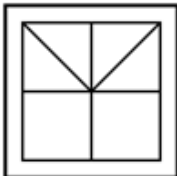
1.



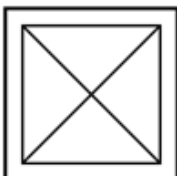
2.



3.



4.



Question ID : 26433048014  
Status : Answered  
Chosen Option : 2

Q.2 छह व्यक्ति सुमित, अमिष, सैफ, आशुतोष, अनुभव और पीयूष एक सीधी पंक्ति में उत्तर की ओर मुँह करके बैठे हैं। पीयूष के बाईं ओर केवल एक व्यक्ति बैठा था। अमिष किसी भी कोने में नहीं बैठा है। अनुभव, सैफ के ठीक बाईं ओर बैठा है। पीयूष और आशुतोष के बीच केवल एक व्यक्ति बैठा है। आशुतोष के ठीक बाईं ओर कौन बैठा है?

- Ans
- 1. सुमित
  - 2. अमिष
  - 3. सैफ
  - 4. अनुभव

Question ID : 26433048002

Status : Answered

Chosen Option : 4

Q.3 दो कथन और उनके बाद I और II से संख्यांकित दो निष्कर्ष दिए गए हैं। यह मानते हुए कि दिए गए कथन सत्य हैं, भले ही वे सामान्य रूप से ज्ञात तथ्यों से भिन्न प्रतीत होते हों, बताइए कि कौन से निष्कर्ष दिए गए कथनों का तार्किक रूप से अनुपालन करते हैं?

कथन :  
सभी पुस्तकें पेन हैं।  
सभी पेन पेंसिलें हैं।

निष्कर्ष :  
I. सभी पुस्तकें पेंसिलें हैं।  
II. सभी पेंसिलें पुस्तकें हैं।

- Ans
- 1. केवल निष्कर्ष I अनुपालन करता है।
  - 2. निष्कर्ष I और II दोनों अनुपालन करते हैं।
  - 3. केवल निष्कर्ष II अनुपालन करता है।
  - 4. न तो निष्कर्ष I और न ही निष्कर्ष II अनुपालन करता है।

Question ID : 26433047930

Status : Answered

Chosen Option : 1

Q.4 एक विशिष्ट कूट भाषा में, 'TOIR' को '62' कूटबद्ध किया जाता है और 'HATE' को '34' कूटबद्ध किया जाता है। इस भाषा में 'GAYL' को कैसे कूटबद्ध किया जाएगा?

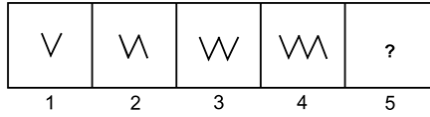
- Ans
- 1. 43
  - 2. 46
  - 3. 44
  - 4. 45

Question ID : 26433048571

Status : Answered

Chosen Option : 4

Q.5 दिए गए विकल्पों में से उस आकृति का चयन कीजिए जो निम्नलिखित श्रृंखला में प्रश्नवाचक चिह्न (?) के स्थान पर आ सकती है।



Ans

✗ 1.



✗ 2.



✗ 3.



✓ 4.



Question ID : 26433047937

Status : Answered

Chosen Option : 4

Q.6 उस विकल्प का चयन कीजिए जो पाँचवें अक्षर-समूह से उसी प्रकार संबंधित है जैसे दूसरा अक्षर-समूह पहले अक्षर-समूह से संबंधित है और चौथा अक्षर-समूह तीसरे अक्षर-समूह से संबंधित है।

ACT : KCD :: EAR : OAB :: EYE : ?

Ans ✗ 1. OYE

✗ 2. OYN

✗ 3. OZO

✓ 4. OYO

Question ID : 26433047920

Status : Answered

Chosen Option : 4

Q.7 एक निश्चित कूट भाषा में, यदि दीवार को दरवाजा कहा जाता है, दरवाजे को खिड़की कहा जाता है, खिड़की को छत कहा जाता है, छत को झरोखा कहा जाता है और झरोखे को तल कहा जाता है, तो कमरे में जाने का रास्ता कौन सा है?

- Ans
- 1. तल
  - 2. खिड़की
  - 3. झरोखा
  - 4. छत

Question ID : 26433048197  
Status : Answered  
Chosen Option : 2

Q.8 उस विकल्प का चयन कीजिए जो पाँचवें अक्षर-समूह से उसी प्रकार संबंधित है जैसे दूसरा अक्षर-समूह पहले अक्षर-समूह से संबंधित है और चौथा अक्षर-समूह तीसरे अक्षर-समूह से संबंधित है।

MARS : NLBZSQTR :: PLUTO : QOMKVTUSPN :: EARTH : ?

- Ans
- 1. FDZBQSSUIG
  - 2. FDBZSQUSIG
  - 3. QUIESDILA
  - 4. QOSFDDIUAS

Question ID : 26433048194  
Status : Answered  
Chosen Option : 2

Q.9 दिए गए कथनों और निष्कर्षों को ध्यानपूर्वक पढ़िए। यह मानते हुए कि कथनों में दी गई जानकारी सही है, भले ही वह सामान्य रूप से ज्ञात तथ्यों से भिन्न प्रतीत होती हो, यह तय करें कि दिए गए निष्कर्षों में से कौन सा/से कथन/कथनों का तार्किक रूप से अनुसरण करता/करते हैं।

कथन I : कुछ दाँत नाक हैं और कुछ नाक हाथ हैं।  
कथन II : कुछ हाथ पैर हैं।

निष्कर्ष I : कुछ दाँत पैर हैं।  
निष्कर्ष II : सभी हाथ नाक हैं।

- Ans
- 1. न तो निष्कर्ष I और न ही II अनुसरण करता है
  - 2. केवल निष्कर्ष I अनुसरण करता है
  - 3. केवल निष्कर्ष II अनुसरण करता है
  - 4. निष्कर्ष I और II दोनों अनुसरण करते हैं

Question ID : 26433048004  
Status : Answered  
Chosen Option : 1

Q.10 दिए गए विकल्पों में से उस संख्या का चयन कीजिए जो निम्नलिखित श्रृंखला में प्रश्नवाचक चिह्न (?) के स्थान पर आ सकती है।

1703, 1668, 1633, 1598, 1563, ?

Ans  1. 1528

2. 1526

3. 1530

4. 1533

Question ID : 26433048006

Status : Answered

Chosen Option : 1

Q.11 दिए गए विकल्पों में से उस अक्षर-समूह का चयन करें, जो निम्नलिखित श्रृंखला में प्रश्नवाचक चिह्न (?) के स्थान पर आ सकता है।

LAS, IYR, FWQ, CUP, ?

Ans  1. ZSO

2. YSO

3. ZSQ

4. ZRP

Question ID : 26433048552

Status : Answered

Chosen Option : 1

Q.12 उस विकल्प का चयन कीजिए जो पाँचवीं संख्या से उसी प्रकार संबंधित है जैसे दूसरी संख्या पहली संख्या से संबंधित है और चौथी संख्या तीसरी संख्या से संबंधित है।

15 : 36 :: 25 : 56 :: 35 : ?

Ans  1. 66

2. 86

3. 96

4. 76

Question ID : 26433047933

Status : Answered

Chosen Option : 4

Q.13 निम्नलिखित श्रृंखला में कौन सी संख्या प्रश्न चिह्न (?) के स्थान पर आ सकती है?

819, 829, 840, 852, ?

Ans  1. 858

2. 864

3. 865

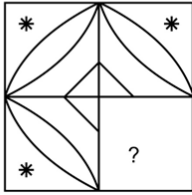
4. 880

Question ID : 26433048918

Status : Answered

Chosen Option : 3

Q.14 दिए गए विकल्पों में से उस आकृति का चयन करें जो प्रश्न चिह्न (?) के स्थान पर आ सकती है और दिए गए पैटर्न को पूरा करती है (घुमाने की अनुमति नहीं है)।

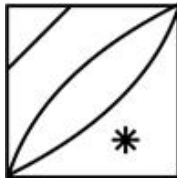


Ans


✗ 1.



✓ 2.



✗ 3.



✗ 4.



Question ID : 26433048217

Status : Answered

Chosen Option : 2

Q.15 निम्नलिखित समीकरण में यदि '+' और '-' को परस्पर बदल दिया जाए और साथ ही 'x' और '÷' को भी परस्पर बदल दिया जाए तो प्रश्न चिह्न (?) के स्थान पर क्या आएगा?

$$20 \times 5 - 10 + 5 \div 2 = ?$$

Ans ✗ 1.8

✗ 2.6

✗ 3.2

✓ 4.4

Question ID : 26433048010

Status : Answered

Chosen Option : 4

Q.16 उस समुच्चय का चयन कीजिए जिसमें संख्याएँ उसी प्रकार से संबंधित हैं जैसे निम्नलिखित समुच्चयों की संख्याएँ संबंधित हैं।  
(15, 135, 6)(12, 84, 5)

Ans  1. (21, 315, 6)

2. (17, 165, 7)

3. (24, 145, 18)

4. (9, 89, 3)

Question ID : 26433048009

Status : Answered

Chosen Option : 1

Q.17 उस विकल्प का चयन करें जो तीसरे अक्षर-समूह से उसी प्रकार संबंधित है, जिस प्रकार दूसरा अक्षर-समूह पहले अक्षर-समूह से संबंधित है।

GROW : ITQY :: MATE : ?

Ans  1. OBVG

2. OCUG

3. OCVH

4. OCVG

Question ID : 26433048575

Status : Answered

Chosen Option : 4

Q.18 दी गई आकृति के उस सही दर्पण-प्रतिबिंब का चयन करें, जो दर्पण को आकृति के दाईं ओर रखे जाने पर बनता है।



Ans

✓ 1.



✗ 2.



✗ 3.



✗ 4.



Question ID : 26433048961

Status : Answered

Chosen Option : 1

Q.19 छह मित्रों U, V, W, X, Y और Z में से कोई भी दो मित्र समान लंबाई के नहीं हैं। V केवल तीन अन्य मित्रों से लंबा है। Z, केवल X, से लंबा है। W, केवल U से छोटा है। ज्ञात कीजिए कि सभी मित्रों में से तीसरा सबसे छोटा कौन है।

Ans  1. Y

2. Z

3. U

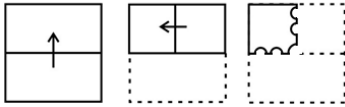
4. V

Question ID : 26433048003

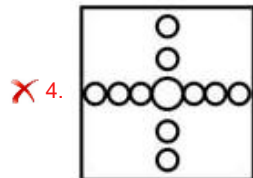
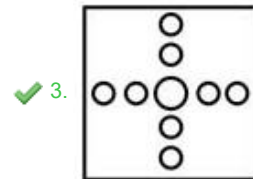
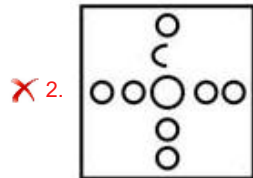
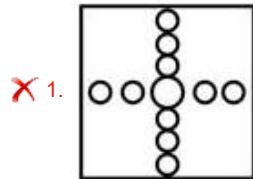
Status : Answered

Chosen Option : 4

Q.20 एक कागज़ को मोड़ने का क्रम, और मोड़े गए कागज़ को काटने का तरीका, निम्नांकित चित्रों में प्रदर्शित किया गया है। खोले जाने पर यह कागज़ किस प्रकार का दिखाई देगा?



Ans



Question ID : 26433048341

Status : Answered

Chosen Option : 3

Q.21 6 लड़कियाँ J, K, L, A, B और C एक वर्गाकार मेज़ के चारों ओर मेज़ के केंद्र की ओर मुख करके (आवश्यक नहीं है कि इसी क्रम में हों) बैठी हैं। 4 लड़कियाँ कोनों में बैठी हैं और 2 लड़कियों में से प्रत्येक, वर्गाकार मेज़ की दो विपरीत भुजाओं के मध्य में बैठी हैं। L और C एक दूसरे के सामने बैठी हैं। L, A और B की सन्निकट पड़ोसन हैं। C कोने में नहीं बैठी है। C की सन्निकट पड़ोसनें कौन हैं?

- Ans
- 1. J और B
  - 2. J और K
  - 3. K और B
  - 4. K और A

Question ID : 26433048930

Status : Answered

Chosen Option : 2

Q.22 एक निश्चित कूट भाषा में, 'mould soft gel' को '8 6 4' के रूप में लिखा जाता है, 'gel is not hard' को 'pr kc 8 3' के रूप में लिखा जाता है, और 'hard is grey mould' को 'kc 3 4 9' के रूप में लिखा जाता है। उसी भाषा में 'grey soft' को किस रूप में लिखा जाएगा?

- Ans
- 1. 9 6
  - 2. 9 4
  - 3. lm 4
  - 4. lm 6

Question ID : 26433049023

Status : Answered

Chosen Option : 1

Q.23 एक निश्चित कूट भाषा में, 'This is my brother' को 'Bo UvZs Mn' लिखा जाता है, 'That is my dog' को 'Zs Pt Uv Ga' लिखा जाता है, 'This is your father' को 'Bo Uv Ex Yz' लिखा जाता है। उस भाषा में 'brother' कैसे लिखा जाएगा?

- Ans
- 1. Zs
  - 2. Mn
  - 3. Uv
  - 4. Bo

Question ID : 26433047898

Status : Answered

Chosen Option : 2

Q.24 दिए गए समीकरण को सही बनाने के लिए किन दो संख्याओं (अंकों को नहीं) को परस्पर बदलने की आवश्यकता है?

$$10 \times 18 + 216 \div 5 - 41 = 21$$

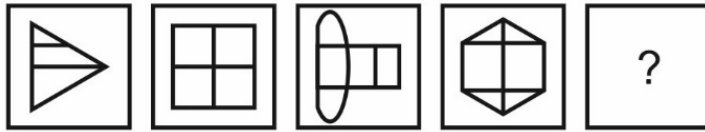
- Ans
- 1. 10 और 41
  - 2. 18 और 5
  - 3. 5 और 10
  - 4. 216 और 18

Question ID : 26433048540

Status : Answered

Chosen Option : 2

Q.25 दिए गए विकल्पों में से उस आकृति का चयन करें, जो नीचे दी गई श्रृंखला में प्रश्न चिह्न (?) के स्थान पर आ सकती है।



Ans

✓ 1.



✗ 2.



✗ 3.



✗ 4.



Question ID : 26433048934

Status : Answered

Chosen Option : 1

Section : Numerical Aptitude

Q.1 यदि एक वस्तु का क्रय मूल्य ₹2,000 है और उसे 25% की हानि पर बेचा जाता है, तो उसका विक्रय मूल्य ज्ञात कीजिए।

Ans

✓ 1. ₹1,500

✗ 2. ₹1,000

✗ 3. ₹2,000

✗ 4. ₹3,500

Question ID : 26433049277

Status : Answered

Chosen Option : 1

Q.2 निम्न तालिका का अध्ययन करें और उसके आधार पर दिए गए प्रश्न का उत्तर दें।

तालिका एक औचक परीक्षा में पांच विद्यार्थियों द्वारा प्राप्त अंकों को दर्शाती है।

विद्यार्थियों के नाम	औचक परीक्षा में प्राप्त अंक
हिमांशु	7
आयुषी	4
योगराज	2
सब्बीर	5
मिली	10

यदि औचक परीक्षा में उत्तीर्ण होने के लिए विद्यार्थी के प्राप्तांक 5 या उससे अधिक निर्धारित हों, तो कितने विद्यार्थी उत्तीर्ण नहीं हो पाएंगे?

- Ans
- 1. 4
  - 2. 2
  - 3. 3
  - 4. 1

Question ID : 26433049362  
Status : Answered  
Chosen Option : 2

Q.3 दो स्कूटरों की चालों का अनुपात 9 : 5 है। यदि दूसरा स्कूटर 6 h में 75 km की दूरी तय करता है, तो पहले स्कूटर की चाल (km/h में) ज्ञात कीजिए।

- Ans
- 1. 22.5
  - 2. 11.5
  - 3. 10.5
  - 4. 12.5

Question ID : 26433049359  
Status : Answered  
Chosen Option : 1

Q.4 एक बस और एक ट्रेन की चाल का अनुपात 15 : 27 है। साथ ही, एक कार 9 घंटे में 720 km की दूरी तय करती है। बस की चाल कार की चाल की तीन-चौथाई है। ट्रेन 7 घंटे में कितनी दूरी तय करेगी?

- Ans
- 1. 784 km
  - 2. 760 km
  - 3. 770 km
  - 4. 756 km

Question ID : 26433050258  
Status : Answered  
Chosen Option : 4

Q.5 ₹15,250 की राशि को श्रिंजा, शीतल और चिराग के बीच इस प्रकार बांटा जाता है कि श्रिंजा को शीतल से 40% अधिक राशि प्राप्त होती है और शीतल को चिराग से 40% राशि कम प्राप्त होती है। चिराग को कितनी राशि प्राप्त होगी?

- Ans
- 1. ₹7,250
  - 2. ₹5,250
  - 3. ₹6,250
  - 4. ₹6,000

Question ID : 26433050174  
Status : Answered  
Chosen Option : 3

Q.6  $26.4 \times 12.5 + \sqrt{22^2 + 20 + 11^2} - 31$  का मान ज्ञात कीजिए।

- Ans
- 1. 18
  - 2. 324
  - 3. 384
  - 4. 284

Question ID : 26433050244  
Status : Answered  
Chosen Option : 2

Q.7 15 से छोटी सभी अभाज्य संख्याओं का औसत लगभग कितना होगा?

- Ans
- 1. 7.33
  - 2. 6.33
  - 3. 6.83
  - 4. 5.67

Question ID : 26433049728  
Status : Answered  
Chosen Option : 3

Q.8 यदि ब्याज अर्ध-वार्षिक रूप में संयोजित होता है, तो ₹80,000 की राशि पर 10% की वार्षिक दर से 1 वर्ष का चक्रवृद्धि ब्याज कितना होगा?

- Ans
- 1. ₹7,200
  - 2. ₹8,800
  - 3. ₹8,200
  - 4. ₹7,000

Question ID : 26433049357  
Status : Answered  
Chosen Option : 3

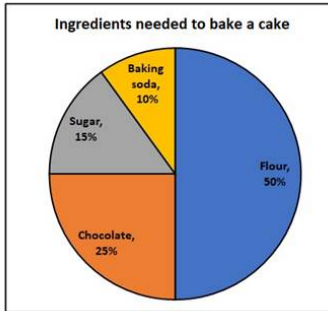
Q.9 निम्नलिखित व्यंजक को सरल कीजिए।

$$20 + 3 - 2 + (4 - 1)$$

- Ans
- 1. 120
  - 2. -120
  - 3. 24
  - 4. 21

Question ID : 26433049269  
Status : Answered  
Chosen Option : 3

Q.10 नीचे प्रदर्शित पाई चार्ट केक को बेक करने के लिए आवश्यक सामग्रियों के संबंधित भागों (Ingredients needed to bake a cake) को दर्शाता है।



यदि केक का वजन 2 kg है, तो केक को बेक करने के लिए बेकिंग सोडा (Baking soda) की कितनी मात्रा की आवश्यकता होगी?

- Ans
- 1. 900 g
  - 2. 100 g
  - 3. 200 g
  - 4. 450 g

Question ID : 26433049289  
Status : Answered  
Chosen Option : 3

Q.11 P और Q के औसत तथा Q और R के औसत के बीच का अंतर 25 है। P और R का अंतर कितना होगा?

- Ans
- 1. 12.5
  - 2. 25
  - 3. 50
  - 4. 40

Question ID : 26433049903  
Status : Answered  
Chosen Option : 3

Q.12 एक लंब वृत्तीय शंकु की ऊँचाई 24 cm है। यदि इसके आधार की त्रिज्या 7 cm है, तो इस शंकु का वक्र पृष्ठीय क्षेत्रफल कितना होगा? [दिया है,  $\pi = \frac{22}{7}$ ]

- Ans
- 1. 610 cm<sup>2</sup>
  - 2. 590 cm<sup>2</sup>
  - 3. 550 cm<sup>2</sup>
  - 4. 630 cm<sup>2</sup>

Question ID : 26433049911  
Status : Answered  
Chosen Option : 3

Q.13 47 क्रमागत प्राकृत संख्याओं का औसत 99 है। इन संख्याओं में सबसे बड़ी संख्या क्या है?

- Ans
- 1. 124
  - 2. 123
  - 3. 122
  - 4. 121

Question ID : 26433049879  
Status : Answered  
Chosen Option : 3

Q.14 साई अकेले एक कार्य को 50 दिनों में कर सकता है। रिया, साई से 25% अधिक कुशल है। रिया अकेले उसी कार्य को करने में कितने दिन लेगी?

- Ans
- 1. 30 दिन
  - 2. 60 दिन
  - 3. 40 दिन
  - 4. 56 दिन

Question ID : 26433049286  
Status : Answered  
Chosen Option : 3

Q.15 एक ठोस गोले की त्रिज्या और व्यास का योग 63 cm है। इस गोले का आयतन क्या होगा? [ $\pi = \frac{22}{7}$  मानिए]

- Ans
- 1. 41244 cm<sup>3</sup>
  - 2. 39206 cm<sup>3</sup>
  - 3. 38808 cm<sup>3</sup>
  - 4. 34604 cm<sup>3</sup>

Question ID : 26433049736  
Status : Answered  
Chosen Option : 3

Q.16 X और Y तांबे और एल्युमिनियम की दो मिश्र धातुएं हैं जो धातुओं को क्रमशः 6 : 5 और 5 : 9 के अनुपात में मिलाकर तैयार की गई हैं। यदि मिश्र धातुओं की समान मात्रा को पिघलाकर तीसरी मिश्र धातु Z बनाई जाए, तो Z में तांबे और एल्युमिनियम का अनुपात कितना होगा?

- Ans
- ✗ 1. 154 : 163
  - ✗ 2. 139 : 154
  - ✗ 3. 165 : 139
  - ✓ 4. 139 : 169

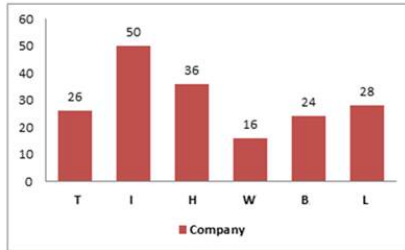
Question ID : 26433049354  
Status : Answered  
Chosen Option : 4

Q.17 यदि एक संख्या के 30% का मान 135 से 15 अधिक है, तो उस संख्या के 50% का मान ज्ञात कीजिए।

- Ans
- ✓ 1. 250
  - ✗ 2. 230
  - ✗ 3. 210
  - ✗ 4. 200

Question ID : 26433049275  
Status : Answered  
Chosen Option : 1

Q.18 निम्न बार ग्राफ अध्ययन कीजिए और उसके आधार पर दिए गए प्रश्न का उत्तर दीजिए।  
बार-ग्राफ एक कॉलेज के उन छात्रों की संख्या को दर्शाता है, जिन्हें 2020 में छः कंपनियों में नौकरी मिली।



यदि 2020 में कॉलेज के 60 छात्रों को इन छः कंपनियों में से किसी में भी नौकरी नहीं मिली, तो इस कॉलेज के कितने प्रतिशत छात्रों को कंपनी H में नौकरी मिली?

- Ans
- ✗ 1. 12.5%
  - ✗ 2. 20%
  - ✓ 3. 15%
  - ✗ 4. 22%

Question ID : 26433050263  
Status : Answered  
Chosen Option : 3

Q.19 एक व्यक्ति अपनी कार की कीमत क्रय मूल्य से 50% अधिक अंकित करता है। वह B% की छूट देता है और 10% का लाभ अर्जित करता है। B का अनुमानित मूल्य क्या है?

- Ans
- 1. 21.33
  - 2. 24.33
  - 3. 26.67
  - 4. 29.67

Question ID : 26433049874  
Status : Answered  
Chosen Option : 3

Q.20 गोले 1 और गोले 2 के आयतनों का अनुपात 27 : 64 है। गोले 1 और गोले 2 के पृष्ठीय क्षेत्रफलों का अनुपात ज्ञात कीजिए।

- Ans
- 1. 3 : 4
  - 2. 9 : 16
  - 3. 16 : 9
  - 4. 1 : 3

Question ID : 26433049290  
Status : Answered  
Chosen Option : 2

Q.21 रॉबर्ट ने ₹1,250 में एक पुरानी साइकिल खरीदी और उसकी मरम्मत पर ₹250 खर्च किए। उसने इसे ₹1,470 में बेच दिया। उसका हानि प्रतिशत कितना है?

- Ans
- 1. 4%
  - 2. 3%
  - 3. 2%
  - 4. 1%

Question ID : 26433049351  
Status : Answered  
Chosen Option : 3

Q.22 एक कार्य में, L<sub>1</sub>, L<sub>2</sub> और L<sub>3</sub> क्रमशः 3, 4 और 6 दिनों के लिए काम करते हैं। L<sub>1</sub>, L<sub>2</sub> और L<sub>3</sub> की दैनिक मजदूरी का अनुपात क्रमशः 2 : 3 : 1 है। यदि उन्हें कुल मजदूरी के रूप में ₹2,400 मिलते हैं, तो L<sub>1</sub> का हिस्सा क्या है?

- Ans
- 1. ₹1,600
  - 2. ₹1,200
  - 3. ₹800
  - 4. ₹600

Question ID : 26433049868  
Status : Answered  
Chosen Option : 4

Q.23 दो संख्याओं के लघुत्तम समापवर्त्य (LCM) और महत्तम समापवर्तक (HCF) का गुणनफल 216 है। दोनों संख्याओं का अंतर 6 है। वे संख्याएं कौन सी हैं?

- Ans
- 1. 9, 24
  - 2. 6, 36
  - 3. 8, 27
  - 4. 12, 18

Question ID : 26433049345  
Status : Answered  
Chosen Option : 4

Q.24 यदि  $a:b:c = 3:2:4$  और  $b:d = 2:3$  है, तो  $\left(\frac{a+c+d}{c-b}\right)^3$  का मान ज्ञात कीजिए।

- Ans
- 1. 729/8
  - 2. 216
  - 3. 125
  - 4. 1000/27

Question ID : 26433050254  
Status : Answered  
Chosen Option : 3

Q.25 ₹16,000 के मूलधन पर 3 वर्ष के लिए 10% वार्षिक की दर से साधारण ब्याज कितना है?

- Ans
- 1. ₹5,600
  - 2. ₹6,400
  - 3. ₹4,800
  - 4. ₹5,200

Question ID : 26433049882  
Status : Answered  
Chosen Option : 3

Section : General Awareness

Q.1 पालक में निम्न में से कौन सा अम्ल पाया जाता है?

- Ans
- 1. फॉर्मिक अम्ल
  - 2. लैक्टिक अम्ल
  - 3. ऑक्सैलिक अम्ल
  - 4. साइट्रिक अम्ल

Question ID : 26433047650  
Status : Not Answered  
Chosen Option : --

Q.2 \_\_\_\_\_ एक ऐसी तकनीक है जिसमें आस-पास के स्वस्थ ऊतकों को कम से कम नुकसान पहुंचाकर कैंसर कोशिकाओं को विकिरणों द्वारा नष्ट किया जाता है।

- Ans
- 1. शल्य चिकित्सा (सर्जरी)
  - 2. रसोचिकित्सा (कीमोथेरेपी)
  - 3. भौतिक चिकित्सा (फिजियोथेरेपी)
  - 4. विकिरण चिकित्सा (रेडियोथेरेपी)

Question ID : 26433046675  
Status : Answered  
Chosen Option : 4

Q.3 भारतीय संविधान का निम्नलिखित में से कौन सा अनुच्छेद निदेशक सिद्धांतों के अनुप्रयोग के बारे में बताता है?

- Ans
- 1. 31
  - 2. 37
  - 3. 45
  - 4. 42

Question ID : 26433046763  
Status : Answered  
Chosen Option : 1

Q.4 निम्नलिखित में से कौन सी भारतीय मार्शल आर्ट है जिसकी उत्पत्ति आधुनिक केरल में हुई थी?

- Ans
- 1. गटका
  - 2. कराटे
  - 3. कलारीप्पयाट्टू
  - 4. मय थाई

Question ID : 26433046691  
Status : Answered  
Chosen Option : 3

Q.5 पूर्वी रेलवे जोन का मुख्यालय \_\_\_\_\_ में स्थित है।

- Ans
- 1. कोलकाता
  - 2. पटना
  - 3. दुर्गापुर
  - 4. भुवनेश्वर

Question ID : 26433046752  
Status : Answered  
Chosen Option : 1

Q.6 हरिषेण \_\_\_\_\_ के दरबारी कवि थे।

- Ans
- 1. अशोक
  - 2. बिन्दुसार
  - 3. समुद्रगुप्त
  - 4. बिबिसार

Question ID : 26433047281  
Status : Answered  
Chosen Option : 4

Q.7 होजागिरि भारत के किस राज्य का एक लोक नृत्य है?

- Ans
- 1. उत्तर प्रदेश
  - 2. कर्नाटक
  - 3. गोवा
  - 4. त्रिपुरा

Question ID : 26433047645  
Status : Not Answered  
Chosen Option : --

Q.8 निम्नलिखित में से कौन ओडिशा का पहला ओडिसी नर्तक/नृत्यांगना हैं जिन्हें वर्ष 2000 में 'पद्म विभूषण' सम्मान प्राप्त हुआ है?

- Ans
- 1. रुक्मिणी देवी अरुंडेल
  - 2. केलुचरण महापात्र
  - 3. उदय शंकर
  - 4. इलियाना सितारिस्टी

Question ID : 26433046687  
Status : Not Answered  
Chosen Option : --

Q.9 \_\_\_\_\_ was established in 1948 with 23 countries as a global trade organisation to administer all multilateral trade agreements.

- Ans
- 1. World Chamber of Commerce
  - 2. World Trade Organization
  - 3. General Agreement on Tariffs and Trade
  - 4. International Reciprocal Trade Association

Question ID : 26433047292  
Status : Answered  
Chosen Option : 2

Q.10 As of March 2022, which of the following is the highest motorable pass in India?

Ans  1. Khardung La

2. Lanak La

3. Umling La

4. Chang-La

Question ID : 26433046751

Status : Answered

Chosen Option : 1

Q.11 'द ग्रेट इंडियन नॉवेल' पुस्तक के लेखक कौन हैं?

Ans  1. के. नटवर सिंह

2. शशि थरूर

3. किरण बेदी

4. अरुण शौरी

Question ID : 26433047285

Status : Answered

Chosen Option : 4

Q.12 निम्नलिखित में से किस राजनीतिक दल ने भारत में पंजाबी सूबा आंदोलन का नेतृत्व किया था?

Ans  1. शिरोमणि अकाली दल

2. गदर पार्टी

3. भारतीय राष्ट्रीय कांग्रेस

4. भारतीय जनता पार्टी

Question ID : 26433046683

Status : Answered

Chosen Option : 3

Q.13 अमित भारत में लोकसभा चुनाव लड़ना चाहता है। निर्वाचन क्षेत्रों की अधिकतम सीमा कितनी है जहाँ-जहाँ से वह चुनाव लड़ सकता है?

Ans  1. अनंत

2. तीन

3. दो

4. एक

Question ID : 26433046689

Status : Answered

Chosen Option : 4

Q.14 निम्नलिखित में से कौन लिटिल अंडमान को भारत के दक्षिण अंडमान से अलग करता है?

- Ans
- 1. मिनिक्ॉय द्वीप
  - 2. अमीनदीवी द्वीप समूह
  - 3. रीयूनियन हॉटस्पॉट
  - 4. डंकन मार्ग (पेसेज)

Question ID : 26433046678  
Status : Not Answered  
Chosen Option : --

Q.15 दिए गए कथनों में से कौन से कथन सत्य हैं?

- I. 1756 में अलीवर्दी खान की मृत्यु के बाद सिराजुद्दौला बंगाल का नवाब बना।  
II. 1757 में रॉबर्ट क्लाइव ने प्लासी में सिराजुद्दौला के विरुद्ध युद्ध में कंपनी की सेना का नेतृत्व किया था।

- Ans
- 1. न तो I और न ही II
  - 2. I और II दोनों
  - 3. केवल I
  - 4. केवल II

Question ID : 26433047659  
Status : Answered  
Chosen Option : 2

Q.16 महावीर जयंती \_\_\_\_\_ माह में मनाई जाती है।

- Ans
- 1. मई
  - 2. दिसंबर
  - 3. अप्रैल
  - 4. सितंबर

Question ID : 26433046746  
Status : Answered  
Chosen Option : 3

Q.17 2011 की भारत की जनगणना के, अनुसार देश का सबसे कम जनसंख्या वाला राज्य कौन-सा है?

- Ans
- 1. बिहार
  - 2. असम
  - 3. झारखंड
  - 4. सिक्किम

Question ID : 26433047305  
Status : Answered  
Chosen Option : 4

Q.18 रजिया सुल्तान \_\_\_\_\_ की बेटी थी।

- Ans
- 1. बाबर
  - 2. कुतुबुद्दीन ऐबक
  - 3. इल्तुतमिश
  - 4. अकबर

Question ID : 26433046757  
Status : Answered  
Chosen Option : 3

Q.19 नीति आयोग द्वारा प्रतिस्थापित किए जाने से पूर्व, इनमें से किस संगठन द्वारा लकड़ावाला सूत्र का प्रयोग करके बेरोजगारी से संबंधित आंकड़ों को संकलित किया जाता था?

- Ans
- 1. वित्त आयोग
  - 2. योजना आयोग
  - 3. श्रम आयोग
  - 4. वेतन आयोग

Question ID : 26433047130  
Status : Answered  
Chosen Option : 3

Q.20 संविधान (अनुसूचित जनजाति) आदेश (संशोधन) विधेयक, 2022, 7 फरवरी 2022 को लोकसभा में \_\_\_\_\_ ने पेश किया था।

- Ans
- 1. अर्जुन मुंडा
  - 2. रमेश बिधूड़ी
  - 3. अमित शाह
  - 4. राजनाथ सिंह

Question ID : 26433046743  
Status : Answered  
Chosen Option : 1

Q.21 बैटरी एसिड का रासायनिक नाम क्या है?

- Ans
- 1. बेरियम सल्फेट
  - 2. हाइपोक्लोरस एसिड
  - 3. बोरिक एसिड
  - 4. सल्फ्यूरिक एसिड

Question ID : 26433046748  
Status : Not Answered  
Chosen Option : --

Q.22 अली अकबर खान का संबंध किस वाद्य यंत्र से था?

- Ans  1. सरोद  
 2. मंजीरा  
 3. वीणा  
 4. सारंगी

Question ID : 26433047286  
Status : Answered  
Chosen Option : 4

Q.23 भारतीय टीम के किस खिलाड़ी ने 2022 में श्रीलंका के दौरे के दौरान क्रिकेट टेस्ट सीरीज़ में मैन ऑफ़ द सीरीज़ पुरस्कार जीता?

- Ans  1. श्रेयस अय्यर  
 2. ऋषभ पंत  
 3. रोहित शर्मा  
 4. केएल राहुल

Question ID : 26433047590  
Status : Not Answered  
Chosen Option : --

Q.24 निम्नलिखित में से कौन भारत का सबसे बड़ा स्तूप है?

- Ans  1. भरहुत  
 2. धमेख  
 3. केसरिया  
 4. अमरावती

Question ID : 26433046747  
Status : Answered  
Chosen Option : 2

Q.25 मार्च 2022 में लगातार दूसरी बार उत्तर प्रदेश के मुख्यमंत्री के रूप में किसने शपथ ली?

- Ans  1. मोहन प्रकाश  
 2. अखिलेश यादव  
 3. योगी आदित्यनाथ  
 4. हरीश रावत

Question ID : 26433047269  
Status : Answered  
Chosen Option : 3